



ANADOLU ÜNİVERSİTESİ
AÇIKÖĞRETİM FAKÜLTESİ
BA - AÇIKÖĞRETİM OKULLARI

T.C. MİLLÎ EĞİTİM BAKANLIĞI
Hayat Boyu Öğrenme Genel Müdürlüğü
AÇIK ÖĞRETİM LİSESİ – BATI AVRUPA PROGRAMI
2012-2013 ÖĞRETİM YILI III.DÖNEM SINAVI
BİRİNCİ OTURUM - Cumartesi 09.00

TEST GRUBUNUZ

A 0101

CEVAP KÂĞIDINIZA İŞARETLEMİYİ UNUTMAYINIZ.

ÖĞRENCİNİN

SOYADI :

ADI :

ÖĞRENCİ NO :

SINAV SALON NO: SIRA NO:

Soyadınızı, adınızı, öğrenci numaranızı, salon ve sıra numaranızı yukarıya yazmayı unutmayınız.

GENEL AÇIKLAMA

1. Bu soru kitapçığındaki testler şunlardır:

Testin Adı	Soru Sayısı	Sayfa No	Testin Adı	Soru Sayısı	Sayfa No
TARİH 4	20	2	SANAT TARİHİ 1	20	38
DİN KÜLTÜRÜ VE AHLAK BİLGİSİ 7	20	4	SEÇMELİ TÜRK EDEBİYATI 4	20	40
COĞRAFYA 1	20	6	ALMANCA 1	20	42
COĞRAFYA 8	20	8	SEÇMELİ ALMANCA 5	20	45
MATEMATİK 3	20	10	SEÇMELİ ALMANCA 6	20	48
MATEMATİK 4	20	14	İNGİLİZCE 1	20	51
GEOMETRİ 2	20	17	SEÇMELİ İNGİLİZCE 5	20	54
SOSYOLOJİ 2	20	21	SEÇMELİ İNGİLİZCE 6	20	57
TURİZM 1	20	23	FRANSIZCA 1	20	60
TÜRK EDEBİYATI 2	20	25	SEÇMELİ FRANSIZCA 5	20	62
KİMYA 2	20	27	SEÇMELİ FRANSIZCA 6	20	64
BİYOLOJİ 3	20	30	TRAFİK VE İLK YARDIM BİLGİSİ 2	20	66
SEÇMELİ TÜRK EDEBİYATI 8	20	32			
DEMOKRASİ VE İNSAN HAKLARI 1	20	34			
İŞ GÜVENLİĞİ 2	20	36			

2. Bu kitapçıkta yer alan her bir test için cevaplama süresi **30** dakika, toplam sınav süresi **150** dakikadır.
3. Cevaplamaya istediğiniz testin, istediğiniz sorusundan başlayabilirsiniz. Yalnız cevaplarınızı, cevap kâğıdında o test için ayrılmış olan bölümdeki aynı numaralı cevap yerine işaretlemeyi unutmayınız.
4. Cevaplarınızı koyu siyah ve yumuşak bir kurşunkalemle işaretleyiniz. İşaretinizi cevap yerinin dışına taşırmayınız. Tükenmez veya mürekkepli kalem kullanmayınız.
5. Değiştirmek istediğiniz bir cevabı yumuşak bir silgi ile, cevap kâğıdını örselemeden temizce siliniz ve doğru cevabınızı işaretlemeyi unutmayınız.
6. Cevap kâğıdınızı buruşturmayınız, katlamayınız ve üzerine gereksiz hiçbir işaret koymayınız.
7. Bu kitapçıkta her sorunun bir tek doğru cevabı vardır. Bir soru için birden çok cevap yeri işaretlenmişse o soru yanlış cevaplanmış sayılacaktır.
8. Cevaplarınız puanlanırken her doğru cevabınıza eşit puan verilecek, yanlış cevaplarınız dikkate alınmayacaktır. Bu nedenle kitapçıkta tüm sorular için size doğru gelen seçeneği işaretleyerek cevapsiz soru bırakmanız yararınıza olacaktır.
9. Kitapçığın sayfalarındaki boş yerleri müsvedde için kullanabilirsiniz.

Anadolu Üniversitesi tarafından hazırlanmış olan bu testlerin her hakkı saklıdır. Hangi amaçla olursa olsun, testlerin tamamının veya bir kısmının Anadolu Üniversitesi'nin yazılı izni olmadan kopya edilmesi, fotoğraflarının çekilmesi, herhangi bir yolla çoğaltılması, yayımlanması ya da kullanılması yasaktır. Bu yasağa uymayanlar gerekli cezai sorumluluğu ve testlerin hazırlanmasındaki mali külfeti peşinen kabullenmiş sayılır.

1. Arapçada seyf kelimesinin anlamı aşağıdakilerden hangisidir?
- A) Silah
B) Ok
C) Kılıç
D) Mermi
2. Padişahın sofraya hizmetlerine bakanların bulunduğu oda aşağıdakilerden hangisidir?
- A) Seferli Odası
B) Hazine Odası
C) Has Oda
D) Kiler Odası
3. Kalemiyenin en üst derecede görev yapan kalem şeflerine verilen ad aşağıdakilerden hangisidir?
- A) Vezir
B) Reisülküttap
C) Kadı
D) Hacegân
4. Aşağıdakilerden hangisi ordunun yardımcı sınıflarından biridir?
- A) Altı Bölük Halkı
B) Cebeciler
C) Yeniçeriler
D) Mehterler
5. Aşağıdakilerden hangisi Deniz kuvvetlerinin komutanıdır?
- A) Kaptanıderya
B) Müderris
C) Beylerbeyi
D) Yeniçeri Ağası
6. Aşağıdakilerden hangisi hükümdarların kullandıkları unvanlardan biri değildir?
- A) Bey
B) Kral
C) Gazi
D) Hüdavendigâr
7. Aşağıdakilerden hangisi reâyânın özelliklerinden biri değildir?
- A) Yönetilenlerden oluşması
B) Geçimini tarım, hayvancılık, sanayi ve ticaretle uğraşarak sağlaması
C) Aynı dine mensup olanlardan oluşması
D) Askeri sınıfın dışında kalanlardan oluşması
8. Aşağıdakilerden hangisi, Osmanlı toplum yapısında esnaf sınıfının en alt grubunu oluşturur?
- A) Şeyh
B) Yiğitbaşı
C) Kethüda
D) Usta
9. Aşağıdakilerden hangisi tımar sisteminin Osmanlı Devleti'ne sağladığı faydalardan biri değildir?
- A) Devleti, vergi toplayıp hazineye aktarma ve yeniden maaş olarak dağıtma külfetinden kurtarması
B) Devletin, para harcamadan sürekli hazır bir orduya sahip olması
C) Dirlük sahiplerinin tüketime katkıda bulunarak örfi bir görevi yerine getirmesi
D) Toprağın sürekli işlenmesiyle bol ürün elde edilmesi
10. Aşağıdakilerden hangisi, Osmanlı ekonomik düzeninin başarısında etkili olan toplum ve insan özelliklerinden biri değildir?
- A) Devletin ekonomik yönden gelişmesi için her türlü fedakarlığın yapılması
B) İnsanların maceracı olması
C) Kazanma hırsının sınırlı olması
D) İnsanların yumuşak başlı olması
11. Osmanlılarda, mülkiyet hakkı devlete ait olan, yalnız işlemek şartıyla sahiplerinin üzerinde bırakılan topraklara verilen ad aşağıdakilerden hangisidir?
- A) Öşriye
B) Haraciye
C) Tımar
D) Arz-ı miri

12. Dış borçlar konusu, aşağıdaki antlaşmaların hangisiyle kesin çözüme ulaşmıştır?

- A) Kasr-ı Şirin Antlaşması
- B) Karlofça Antlaşması
- C) Lozan Antlaşması
- D) Uşi Antlaşması

13. Osmanlılarda, özel sektörün elindeki en büyük sanayi dalı aşağıdakilerden hangisidir?

- A) Tekstil
- B) Maden
- C) Makine sanayi
- D) Gıda

14. Aşağıdakilerden hangisi Milli Edebiyat akımının özelliklerinden biri değildir?

- A) Atasözlerine ve deyimlere daha çok yer verilmesi
- B) Türkçenin sadeleştirilmesi
- C) Şiirde hece ölçüsünün kullanılması
- D) Milli konulara değinilmesi

15. Aşağıdakilerden hangisi tekke edebiyatının önemli temsilcilerinden biridir?

- A) Karacaoğlan
- B) Nef'i
- C) Kaygusuz Abdal
- D) Bâki

16. Aşağıdakilerden hangisi Osmanlı düşünce hayatında etkili olan kurumlardan biri değildir?

- A) Camiler
- B) Kütüphaneler
- C) Tekkeler
- D) Kervansaraylar

17. İkinci Viyana Kuşatması'ndan sonra, Osmanlı Devleti içinde bulunduğu çöküntüden kurtulmak için öncelikle aşağıdaki alanların hangisinde yenileşme hareketi başlatmıştır?

- A) Askeri
- B) Hukuki
- C) Ticari
- D) Dini

18. Osmanlı Devleti'nde eğitim anlayışının temel amacı aşağıdakilerden hangisidir?

- A) Toplumun ilgisini sanatsal konulara çekmek
- B) İdeal insan tipini ortaya çıkarmak
- C) Toplumun kültürel faaliyetlerini artırmak
- D) Okuma-yazma oranını artırmak

19. Aşağıdakilerden hangisi Enderun mektebinde eğitimi verilen konulardan biri değildir?

- A) Sanat eğitimi
- B) İslami bilgiler eğitimi
- C) Ticaret eğitimi
- D) Beden eğitimi

20. Osmanlı Devleti topraklarında açılan ilk yabancı okul aşağıdakilerden hangisidir?

- A) Musevî Asri Mektebi
- B) Saint Benoît Okulu
- C) Heybeliada Papaz Mektebi
- D) İngiliz Erkek Lisesi

1. Kıyametin kopuşu aşağıdaki meleklerden hangisinin sur borusuna üflemesiyle başlayacaktır?

- A) Mikail
- B) Azrail
- C) Cebrail
- D) İsrail

2. O demde ki, perdeler kalkar perdeler iner Azrail'e "hoş geldin" diyebilmekte hüner. Kapı kapı bu yolun sonu kapısı ölümse; Her kapıda ağlayıp, o kapıda gülümse.

Ölüm duygusunun bahsedildiği bu dörtlüğün yazarı aşağıdakilerden hangisidir?

- A) Yusuf Has Hacıp
- B) Necip Fazıl Kısakürek
- C) Hz. Mevlana
- D) Yunus Emre

3. Sevap ve günahların tartıldığı özel adalet terazisine ne ad verilir?

- A) Haşır
- B) Mahşer
- C) Mizan
- D) Hesap

4. İnsan ömrünün sonlandığı ana ne ad verilir?

- A) Kader
- B) Ahiret
- C) Ecel
- D) Kıyamet

5. Yeniden diriliş ile birlikte insanların hesap vermek üzere toplanacakları yere ne ad verilir?

- A) Haşır
- B) Mahşer
- C) Mizan
- D) Hesap

6. Aşağıdakilerden hangisi tövbenin şartlarından biri değildir?

- A) Sadakasını ödemek
- B) Günahı terk etmek
- C) Yaptığından pişman olmak
- D) Bir daha yapmamaya karar vermek

7. Bağışlama ile ilgili aşağıdaki ifadelerden hangisi yanlıştır?

- A) Sevgi temellidir.
- B) İnsanı yüceltir.
- C) Bireysel çözümlenin temelidir.
- D) Toplumsal hoşgörünün temelidir.

8. Aşağıdakilerden hangisi Allah'ın bağışlayıcı sıfatlarından biri değildir?

- A) Semi
- B) Tevvab
- C) Settar
- D) Afüvv

9. Kişinin işlediği bir günah veya hatadan pişmanlık duyarak bir daha yapmamaya karar vermesine ne ad verilir?

- A) Helalleşme
- B) Tövbe
- C) İman etme
- D) Mağfiret

10. Aşağıdakilerden hangisi Hz. Peygamberin Kur'an'ı açıklama konusundaki temel görevlerinden biri değildir?

- A) Destekleyicilik
- B) Zikircilik
- C) Yorumlayıcılık
- D) Hüküm koyuculuk

11. Kur'an'dan sonra en sağlam kitap olarak İslam alimlerinin beğenisine mazhar olan kitap aşağıdakilerden hangisidir?

- A) Sahih-i Müslim
- B) Sünen-i Tirmizi
- C) Sahih-i Buhari
- D) Sünen-i Ebu Davud

12. Hz. Peygamber'e hangi hayvanların etinin yenilip yenilemeyeceği sorulduğunda; "Azı dişi olan her yırtıcı hayvanın ve pençesiyle avlanan her kuşun yenilmesi yasaktır." şeklinde buyurması, Hz. Peygamber'in Kur'an'ı açıklama konusundaki hangi görevini örnekler?
- A) Destekleyicilik
B) Hüküm koyuculuk
C) Yorumlayıcılık
D) Tefsir
13. Hz. Muhammed'in şahit olduğu olaya veya kendisine arz edilen bir meseleye karşı çıkmaması, onu tasdik etmesi sünnet türlerinden hangisidir?
- A) Fiili sünnet
B) Sözlü sünnet
C) Te'kidi sünnet
D) Takriri sünnet
14. Aşağıdakilerden hangisi Sünen türünde eserler vermemiştir?
- A) Ebu Davud
B) Tirmizi
C) Nesai
D) Buhari
15. Mevleviliğin en önemli iki özelliği aşağıdakilerden hangisinde birlikte verilmiştir?
- A) Sema ve çile
B) Aşk ve tövbe
C) Gayret ve yakarmak
D) İstiğfar ve zikir
16. Anadolu'da varlığını Bektaşilik ve Nakşibendilik tarikatları ile devam ettiren Yesevi tarikatının en önemli özelliği aşağıdakilerden hangisidir?
- A) Bektaşilik ve Nakşibendiliği birleştirmesi
B) Hizmeti ibadet sayması
C) Hadisleri sünnetten daha kapsamlı sayması
D) Tasavvuf kültürü ile Türkçe'nin bir araya getirilmesi
17. Aşağıdakilerden hangisi Alevilik- Bektaşilikte "Üç Sünnet Yedi Farz" kavramında geçen yedi farzdan biri değildir?
- A) Hakkı zikretmek
B) Sırrını izhar etmemek
C) Gördüğünü örtmek
D) Özür ile niyaz eylemek
18. Aşağıdakilerden hangisi tasavvufi düşüncenin oluşumunu hızlandıran etkenlerden biridir?
- A) Dinin özünden çok dış görünüşüne önem verilmesi
B) Anadolu'nun Türkleşmesi
C) Mevlana'nın pir tanınması
D) Sade yaşama özlem duygusunun artması
19. Tasavvufi anlayışta hem dinin hem de aklın reddettiği bütün kötü huyların ve çirkin davranışların kaynağı aşağıdakilerden hangisidir?
- A) Vakit
B) Öfke
C) Nefis
D) Sabır
20. Aşağıdakilerden hangisi Hünkâr Hacı Bektaş Veli'nin tespit ettiği inanan Dört kapıdan biri değildir?
- A) Şeriat
B) Tarikat
C) Marifet
D) Şefkat

1. Başlangıç meridyeni olarak belirlenmiş olan 0° meridyeni aşağıdakilerden hangisinin yakınından geçer?
 - A) Moskova
 - B) Tahran
 - C) Londra
 - D) Viyana
2. Birbiri ardından gelen iki meridyen arasındaki uzaklık kaç dakikadır?
 - A) 4
 - B) 15
 - C) 30
 - D) 40
3. Dünya'nın kutuplardan basık, Ekvator'da şişkin şekline ne ad verilir?
 - A) Küre
 - B) Ekliptik
 - C) Geoit
 - D) Eksen
4. Yeryüzünün bütünün veya bir bölümünün, belli bir ölçeğe göre küçültülerek bir düzlem üzerinde gösterilmesine ne ad verilir?
 - A) İzdüşüm
 - B) Çizgi ölçeği
 - C) Meridyen
 - D) Harita
5. Çapı ve çevresi en uzun paralel dairesi aşağıdakilerden hangisidir?
 - A) Yengeç dönencesi
 - B) Oğlak dönencesi
 - C) Ekvator
 - D) 45° Kuzey enlemi
6. Dünya, kendi eksenini çevresindeki hareketini kaç saatte tamamlar?
 - A) 12 saat
 - B) 24 saat
 - C) 32 saat
 - D) 48 saat
7. Haritalarda ölçek küçüldükçe aşağıdakilerden hangisi meydana gelir?
 - A) Belirli bir yüzey üzerine sığdırılması mümkün olan ayrıntılar o derece azalır.
 - B) Belirli bir yüzey üzerine sığdırılması mümkün olan ayrıntılar o derece artar.
 - C) Belirli bir yüzey üzerine sığdırılması mümkün olan arazi küçülür.
 - D) Mücemesem küre adıyla anılan yuvarlak haritaların yapımı kolaylaşır.
8. 40° doğu boylamında yer alan Diyarbakır' da yerel saat 17.00 iken, 30° doğu boylamında yer alan İzmit' te yerel saat kaçtır?
 - A) 16.20
 - B) 16.40
 - C) 17.20
 - D) 17.40
9. Aşağıdakilerden hangisi meridyenlerin özelliklerinden biri değildir?
 - A) Ardışık iki meridyen arasındaki yerel saat farkının 4 dakika olması
 - B) Doğudaki meridyenlerin saatlerinin batıdakilerden daha ileri olması
 - C) Aynı meridyen üzerinde bulunan tüm noktaların yerel saatlerinin aynı olması
 - D) Başlangıç meridyeninin ekvator olması
10. Aşağıdakilerden hangisi atmosfer, iklim ve iklim elemanlarını inceleyen coğrafyanın koludur?
 - A) Jeomorfoloji
 - B) Hidrografya
 - C) Klimatoloji
 - D) Biyocoğrafya
11. Aşağıdaki gazlardan hangisinin atmosferdeki oranı en yüksektir?
 - A) Azot
 - B) Oksijen
 - C) Hidrojen
 - D) Ozon

12. Aşağıdaki ölçeklerden hangisi harita üzerinde ayrıntıları daha fazla gösterir?

- A) 1:100 000
- B) 1:200 000
- C) 1:300 000
- D) 1:400 000

13. Bir yamacın Güneş'in karşısındaki konumuna ne ad verilir?

- A) İklim
- B) Bakı
- C) Yörüngen
- D) Ekvator

14. Yeryuvarlığının kendi eksenini etrafında dönmesi ile aşağıdakilerden hangisi meydana gelir?

- A) İlkbahar
- B) Kış
- C) Gece-gündüz
- D) Sonbahar

15. Hava olaylarının oluştuğu ortamın harekete geçmesini sağlayan temel güç aşağıdakilerden hangisidir?

- A) Basınç
- B) Rüzgâr
- C) Nemlilik
- D) Sıcaklık

16. Yükselti basamakları hangi tür haritalar yardımı ile tespit edilir?

- A) Beşeri haritalar
- B) Fiziki haritalar
- C) Atlas haritalar
- D) Siyasi haritalar

17. Aşağıdakilerden hangisi dünyanın güneş etrafında dönüşünün meydana getirdiği sonuçlardan biri değildir?

- A) Gece gündüz süreleri yıl boyunca değişme gösterir.
- B) Mevsimlik sıcaklık farkları oluşur.
- C) Gün ve gece arasında sıcaklık farkları oluşur.
- D) Sıcaklık farkları kara ve denizler arasında basınç farklarının oluşmasını sağlar.

18. 21 Mart 23 Eylül tarihlerinde Dünyanın her yerinde gece ve gündüz sürelerinin birbirine eşit olmasına ne ad verilir?

- A) İzohips
- B) Ölçek
- C) Ekliptik
- D) Ekinoks

19. Dik kıyılara hızla çarpan dalgaların, kıyıların alt tarafını aşındırarak oluşturduğu şekillere ne ad verilir?

- A) Falez
- B) Barkan
- C) Aysberg
- D) Lagün

20. Buzul çağı ve buzul sonrası dönemlerin yaşandığı çağ aşağıdakilerden hangisidir?

- A) Paleozoik
- B) Neozoik
- C) Mezozoik
- D) Prekambrien

1. Aşağıdakilerden hangisi Birleşmiş Milletlerin kuruluş amacıdır?
- A) Dünya para meselelerinin çözülmesi için ülkeler arasında işbirliği sağlamak
B) Petrol fiyatlarını ve üretim miktarlarını belirlemek
C) Ülkeler arasında ayırım gözetmeksizin dünya ticaretinin geliştirilmesine destek vermek
D) İkinci Dünya Savaşı'nı kazanan ülkeler tarafından savaş sonunda ortaya çıkabilecek anlaşmazlıkları çözmek, dünya barış ve güvenliğini sağlamak
2. Aşağıdakilerden hangisi nüfusa ait, 1960 yılına kadar izlenen politikaları destekleyen önlemlerden biri değildir?
- A) Nüfus artırma politikası ile doğum evi kurmak
B) Az çocuk sahibi olan ailelerin yol vergisinden muaf tutulması
C) Çok çocuklu ailelere vergi muafiyetini getirmek
D) Göçleri teşvik etmek amacıyla göçmenlere gümrük muafiyeti getirmek
3. Aşağıdakilerden hangisi Güneydoğu Anadolu'da sulama imkânlarının geliştirilmesi ile ortaya çıkması hedeflenen sonuçlardan biri değildir?
- A) Tarım ürünlerinde çeşitliliğin artması
B) Bölgedeki kalabalık nüfusun giderek azalması
C) Toprağın verim gücünün artması
D) Toprağın her yıl ekilmesinin sağlanması
4. Ege Bölgesi'nde yer alan İzmir kenti yalnız bölgenin değil Türkiye'nin de ekonomik gelişmişlik bakımından önemli kentlerinden biridir.
- Bu durumun temel nedeni aşağıdakilerden hangisidir?**
- A) Yer şekillerinin sade olması
B) Deniz kıyısında yer alması
C) İklimin ılıman olması
D) Art bölgesi çok geniş bir liman kenti olması

5. Dünyanın akciğerleri olarak adlandırılan Amazon yağmur ormanları hangi kıtada yer almaktadır?
- A) Güney Amerika
B) Afrika
C) Avustralya
D) Kuzey Amerika
6. Aşağıdaki barajlardan hangisi GAP projesi kapsamında yer almaktadır?
- A) Kemer
B) Hirfanlı
C) Demirköprü
D) Atatürk
7. Aşağıdakilerden hangisi Türkiye'nin jeopolitik önemini artıran unsurlardan biri değildir?
- A) Farklı kültür bölgelerine yakın olması
B) Zengin petrol kaynakları bölgelerine komşu olması
C) Üç tarafının denizlerle çevrili olması
D) Yükseltisinin batıdan doğuya doğru artması
8. Aşağıdakilerden hangisi, fizibilite çalışmaları tamamlanan projelerin hayata geçirilmesiyle projelerin uygulandığı bölgelerle ilgili hedeflenen temel gelişmelerden biri değildir?
- A) Kişi başına düşen milli geliri artırmak
B) Bölge içinde sermaye birikimini sağlamak
C) Bölgeyi sanayi ve hizmet merkezi haline getirmek
D) Bölge dışında yapılan göçleri artırmak
9. Aşağıdakilerden hangisi petrol bakımından zengin olan Hazar Bölgesi'nde yer alan ülkelerdendir?
- A) Hindistan-Pakistan
B) Malezya-Endonezya
C) Azerbaycan-Türkmenistan
D) Afganistan-Tacikistan
10. Aşağıdakilerden hangisi kurutularak kaybolan sulak alanlardan biridir?
- A) Amik Gölü
B) Van Gölü
C) Beyşehir Gölü
D) Tuz Gölü

11. Karadeniz kıyısında yer alan Sinop Limanı'nın fazla gelişmemesinin en önemli nedeni aşağıdakilerden hangisidir?

- A) Tarım alanlarının yetersizliği
- B) Yer altı kaynakları açısından fakir olması
- C) İç bölgelerle bağlantısının çok zor olması
- D) Karadeniz'in çok dalgalı bir deniz olması

12. Almanya Federal Cumhuriyeti'nin başkenti aşağıdakilerden hangisidir?

- A) Paris
- B) Berlin
- C) Oslo
- D) Atina

13. Aşağıdakilerden hangisi Cumhuriyet'in ilk yıllarında uygulanan nüfus politikalarından biri değildir?

- A) Gümrük muafiyeti
- B) Ücretsiz ilaç dağıtımı
- C) Çok çocuklu ailelerin para ya da madalya ile ödüllendirilmesi
- D) Şehirlere göçün teşviki

14. Türkiye'nin nüfusu 1927'den 2000 yılına kadar 13.6 milyondan 67.8 milyona yükselmiştir. Bu hızlı artışın nedenleri arasında aşağıdakilerden hangisi gösterilemez?

- A) Sağlık hizmetlerinin gelişmesi
- B) Yurtdışına işçi göçü ile sağlanan gelirin artması
- C) Ekonomik koşulların iyileşmesi
- D) Beslenme koşullarının düzelmesi

15. GAP (Güneydoğu Anadolu Sulama Projesi) hangi akarsuların havzasından yararlanılarak yapılmıştır?

- A) Fırat-Kızılırmak
- B) Dicle-Sakarya
- C) Fırat-Dicle
- D) Sakarya-Porsuk

16. Kafkas ülkeleri, Karadeniz ile Hazar Denizi arasındaki Kafkas dağlarının uzandığı bölgede yer alır.

Buna göre aşağıdaki ülkelerden hangisi Kafkas ülkeleri arasında yer alır?

- A) Kazakistan
- B) Gürcistan
- C) Türkmenistan
- D) Moldova

17. Aşağıdakilerden hangisi sınır komşusu olduğumuz ülkeler arasında yer almaz?

- A) Afganistan
- B) İran
- C) Irak
- D) Gürcistan

18. Cumhuriyetin ilk yıllarında nüfus artışını özendirici politikalar izlenmiş ancak 1940-1945 yılları arasında nüfus artış hızının düştüğü görülmüştür.

Aşağıdakilerden hangisi bu durumun nedenlerinden biridir?

- A) İkinci Dünya Savaşı'nın ülkemizde yarattığı olumsuz sonuçlar
- B) Salgın hastalıkların artması
- C) Yurtdışına olan göçün hızlanması
- D) Yurt dışından göçmen kabulünün yasaklanması

19. 1949 yılında kurulan askeri amaçlı bir savunma örgütüdür. Türkiye 18 Şubat 1952'de örgüte üye olmuştur.

Yukarıdaki bilgiye göre belirtilen örgüt aşağıdakilerden hangisidir?

- A) AĞİT
- B) AB
- C) NATO
- D) İKÖ

20. Artvin, Bayburt, Giresun gibi illeri kapsayan proje aşağıdakilerden hangisidir?

- A) GAP
- B) DAP
- C) DOKAP
- D) ZBK

1. $P(x) = 2x^{\frac{2m+1}{m-2}} - 3x^2 + 4$

Yukarıdaki polinomun üçüncü dereceden bir polinomu belirtmesi için m nin alacağı değer aşağıdakilerden hangisidir?

- A) 4
B) 7
C) 11
D) 14

2. $\frac{P(3x-4)}{Q(x)} = 4x^2 - 10x + 8$ bağıntısı veriliyor.

Q(x) polinomunun (x-3) ile bölümünden kalan 6 olduğuna göre, P(5) in değeri kaçtır?

- A) 36
B) 44
C) 67
D) 84

3. $P(x) = 7x^4 - 3x^3 + 5x + 1$
 $Q(x) = -2x^4 + 4x^2 - 8x + 12$

Yukarıdaki polinomların toplamı aşağıdakilerden hangisidir?

- A) $5x^4 - 3x^3 + 4x^2 + 1$
B) $5x^4 - 3x^3 + 4x^2 - 3x + 13$
C) $9x^4 + 4x^2 - 11x + 13$
D) $9x^4 + x^3 + 4x^2 + 13x + 13$

4. $P(x) = (6x^3 - 9x^2 + x + 2)^4$ polinomunda sabit terim kaçtır?

- A) 16
B) 18
C) 24
D) 29

5. $P(x) = -8x^4 - 5mx^3 + 3x^2 - 10$ polinomunun (x-1) ile tam bölünebilmesi için m kaç olmalıdır?

- A) -5
B) -3
C) 1
D) 3

6. $\left(x - \frac{x^2-4}{x}\right) : \left(1 - \frac{x-4}{x}\right)$

Yukarıdaki ifadenin sadeleşmiş biçimi aşağıdakilerden hangisidir?

- A) -2
B) 1
C) x-4
D) x²-2

7. $a^2-b^2 = (a-b) \cdot (a+b)$

özdeşliğinden yararlanılarak 121.129 çarpımı aşağıdakilerden hangisi ile ifade edilir?

- A) 121²-2²
B) 125²-3²
C) 125²-4²
D) 129²-5²

8. $\frac{3x-7}{x^2-9x+20}$ rasyonel ifadesinin basit kesirlerin toplamı olarak yazılmış biçimi aşağıdakilerden hangisidir?

- A) $\frac{1}{x-1} + \frac{3}{x+2}$
B) $\frac{3}{x-2} + \frac{5}{x+2}$
C) $\frac{7}{x-5} - \frac{4}{x+3}$
D) $\frac{8}{x-5} - \frac{5}{x-4}$

9. $\frac{3x}{12} - \frac{x-1}{8} = \frac{1}{4}$

Yukarıdaki denklemin çözüm kümesi aşağıdakilerden hangisidir?

- A) {1}
B) {2}
C) {3}
D) {5}

10. $\frac{4x+1}{3x^2+5x-2} = \frac{A}{3x-1} + \frac{B}{x+2}$

Yukarıdaki özdeşlikte A+B kaçtır?

- A) -1
B) 1
C) 2
D) 3

11. $(5x-2).(x^2-3x+2)=0$

Yukarıdaki denklemin çözüm kümesi aşağıdakilerden hangisidir?

A) $\{-3, 1, 4\}$

B) $\left\{-\frac{1}{8}, \frac{1}{8}\right\}$

C) $\left\{\frac{3}{4}, 2\right\}$

D) $\left\{\frac{2}{5}, 1, 2\right\}$

12. Kökleri $x_1=5$ ve $x_2=-\frac{1}{5}$ olan ikinci derece denklem aşağıdakilerden hangisidir?

A) $x^2 - \frac{24}{5}x - 1 = 0$

B) $x^2 - \frac{2}{5}x + 5 = 0$

C) $3x^2 - 5x + 10 = 0$

D) $6x^2 - \frac{12}{7}x + 11 = 0$

13. $3x^2 - mx + m - 7 = 0$ denkleminin bir kökü $x_1=3$ ise diğer kökü kaçtır?

A) $-\frac{5}{4}$

B) -1

C) $\frac{1}{3}$

D) 1

14. $x^2 - 5x + m - 5 = 0$ denkleminin kökleri arasında $3x_1 + 2x_2 = 11$ bağıntısının olması için m kaç olmalıdır?

A) 2

B) 3

C) 5

D) 9

15. $|12x - 10| = 8x + 5$

Yukarıdaki denklemin çözüm kümesi aşağıdakilerden hangisidir?

A) $\left\{-\frac{7}{9}, 3\right\}$

B) $\left\{\frac{1}{4}, \frac{15}{4}\right\}$

C) $\left\{\frac{3}{5}, \frac{9}{5}\right\}$

D) $\left\{\frac{1}{2}, 4\right\}$

16. $5x^2 - 2x + 2m - 3 = 0$

Yukarıdaki denklemin birbirinden farklı iki gerçek kökünün olması için m aşağıdakilerden hangisi olmalıdır?

A) $m < \frac{8}{5}$

B) $m < \frac{9}{8}$

C) $m > \frac{3}{4}$

D) $m > 1$

17. $f(x) = m^2x^2 - (m-1)x + \frac{1}{4}$

Yukarıdaki fonksiyonun OX eksenine teğet olması için m aşağıdakilerden hangisi olmalıdır?

A) $-\frac{3}{4}$

B) $-\frac{1}{2}$

C) $\frac{1}{2}$

D) $\frac{3}{4}$

18. $4x - 9 < 2x + 5$
 $7 - 3x < x - 9$

Yukarıdaki eşitsizlik sisteminin çözümü aşağıdakilerden hangisidir?

A) $-3 < x < 1$

B) $-1 < x < 8$

C) $2 < x < 6$

D) $4 < x < 7$

19. $y = x^2 + (4m-6)x + 10$

Yukarıdaki fonksiyonun simetri eksenini $x=5$ doğrusu ise m kaçtır?

A) -1

B) 2

C) 3

D) 5

20. $\frac{x^2 + x - 6}{x^2 - 16} < 0$

Yukarıdaki eşitsizliğin çözüm kümesi aşağıdakilerden hangisidir?

A) $(-\infty, -4] \cup [4, \infty)$

B) $(-3, 2) \cup (4, \infty)$

C) $(-4, -3) \cup (2, 4)$

D) $[-3, 2]$

1. $m(\hat{A}) = 25^\circ 12' 40''$ ve $m(\hat{B}) = 37^\circ 45' 12''$ olduğuna göre; $2m(\hat{A}) - m(\hat{B})$ işleminin sonucu kaçtır?
- A) $12^\circ 33' 04''$
 B) $12^\circ 40' 08''$
 C) $13^\circ 27' 46''$
 D) $13^\circ 40' 26''$

2. Ölçümlerinden biri $-\frac{13}{6}\pi$ radyan olan açının esas ölçüsü aşağıdakilerden hangisidir?
- A) $\frac{\pi}{3}$
 B) $\frac{2\pi}{3}$
 C) $\frac{5\pi}{6}$
 D) $\frac{11\pi}{6}$

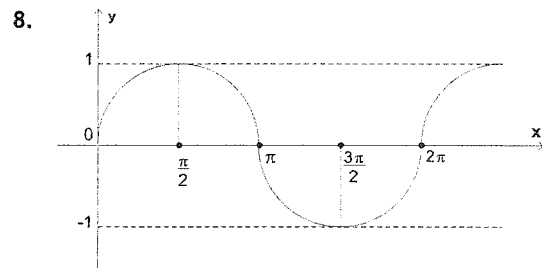
3. $\frac{3\pi}{4}$ radyanın grad cinsinden değeri aşağıdakilerden hangisidir?
- A) 80
 B) 100
 C) 150
 D) 180

4. 60 gradın derece cinsinden değeri aşağıdakilerden hangisidir?
- A) 45°
 B) 54°
 C) 63°
 D) 72°

5. 45682 saniyelik açı kaç derece, kaç dakika ve kaç saniyedir?
- A) $12^\circ 41' 22''$
 B) $12^\circ 52' 15''$
 C) $14^\circ 12' 22''$
 D) $14^\circ 40' 14''$

6. Ölçülerinden biri -2740° olan açının esas ölçüsü aşağıdakilerden hangisidir?
- A) 80°
 B) 120°
 C) 140°
 D) 220°

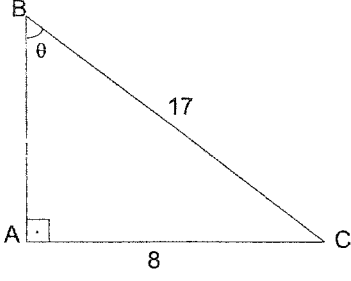
7. Yarıçapı 8 m olan çemberin merkez açısının karşısındaki yayın ölçüsü 40 m ise merkez açının ölçüsü kaç radyandır?
- A) 5
 B) 6
 C) 7
 D) 8



Yukarıdaki grafik, aşağıdaki fonksiyonlardan hangisinin $[0,2\pi]$ aralığındaki grafiğidir?

- A) $k(x) = \sec x$
 B) $l(x) = \cos x$
 C) $m(x) = \tan x$
 D) $n(x) = \sin x$

9.

Yukarıdaki dik üçgende $\cot\theta$ kaçtır?

- A) $\frac{8}{15}$
 B) $\frac{15}{8}$
 C) $\frac{17}{8}$
 D) $\frac{17}{15}$

10. $\theta \in \left(\frac{3\pi}{2}, 2\pi\right)$ ve $\cos\theta = \frac{4}{5}$ ise $\operatorname{cosec}\theta$ kaçtır?

- A) $-\frac{5}{3}$
 B) $-\frac{3}{4}$
 C) $\frac{4}{5}$
 D) $\frac{5}{4}$

11. Bir ABC üçgeninde, $b=6$ cm, $m(\hat{B}) = 60^\circ$ ve $m(\hat{A}) = 30^\circ$ olduğuna göre, a kaç cm dir?

- A) $3\sqrt{2}$
 B) 4
 C) $2\sqrt{3}$
 D) 3

12. I. $\tan\theta \cdot \cos\theta = \sin\theta$

II. $\frac{\tan\theta}{\cot\theta} = 1$

III. $\frac{\sin\theta}{\tan\theta} = \cos\theta$

Yukarıdaki trigonometrik özdeşliklerden hangileri doğrudur?

- A) Yalnız I
 B) Yalnız II
 C) I ve III
 D) II ve III

13. $f(x) = \tan^6\left(\frac{5}{6}x - 8\right)$

fonksiyonunun

periyodu kaçtır?

- A) $\frac{\pi}{3}$
 B) $\frac{2\pi}{5}$
 C) $\frac{5\pi}{6}$
 D) $\frac{6\pi}{5}$

14. $\sin 2\theta = 2\sin\theta \cdot \cos\theta$ olduğuna göre; $\sin 15^\circ \cdot \cos 15^\circ$ ifadesinin değeri kaçtır?

- A) $\frac{\sqrt{3}}{4}$
 B) $\frac{1}{4}$
 C) $\frac{1}{2}$
 D) 2

15. $\cos x = -\frac{1}{2}$ denkleminin R deki çözüm kümesi aşağıdakilerden hangisidir?

- A) $\left\{x : x = \frac{2\pi}{3} + 2k\pi \vee x = -\frac{2\pi}{3} + 2k\pi, k \in \mathbb{Z}\right\}$
 B) $\left\{x : x = \frac{\pi}{3} + 2k\pi \vee x = -\frac{\pi}{3} + 2k\pi, k \in \mathbb{Z}\right\}$
 C) $\left\{-\frac{\pi}{3}, \frac{\pi}{3}\right\}$
 D) $\left\{-\frac{\pi}{4}, \frac{\pi}{4}\right\}$

16. $\sin a \cdot \cos b = -\frac{1}{2}[\sin(a+b) + \sin(a-b)]$ olduğuna göre; $\frac{4\sin 55^\circ \cdot \cos 25^\circ - 1}{\cos 10^\circ}$ işleminin sonucu aşağıdakilerden hangisidir?

- A) -1
 B) $\frac{1}{2}$
 C) 1
 D) 2

17. $\sin(2\pi - \theta) = -\sin \theta$ olduğuna göre, $\sin 675^\circ$ nin değeri aşağıdakilerden hangisidir?

- A) $-\frac{\sqrt{2}}{2}$
 B) $-\frac{1}{2}$
 C) $-\frac{\sqrt{3}}{2}$
 D) 1

18. $\sin 2a = 2\sin a \cdot \cos a$
 $\cos 2a = 1 - 2\sin^2 a$ olduğuna göre;

$\frac{\cos 2a - \sin a - 1}{\sin 2a + \cos a}$ ifadesinin sadeleşmiş biçimi aşağıdakilerden hangisidir?

- A) $-\sin a + \cos a$
 B) $-\tan a$
 C) $\cot a$
 D) $\cos^2 a$

19. $x = \frac{\pi}{12}$ ise $\frac{\cos 12x + \cos 8x}{\sin 12x - \sin 8x}$ ifadesinin değeri kaçtır?

$$\begin{cases} \cos x + \cos y = 2 \cos \frac{x+y}{2} \cdot \cos \frac{x-y}{2} \\ \sin x - \sin y = 2 \cos \frac{x+y}{2} \cdot \sin \frac{x-y}{2} \end{cases}$$

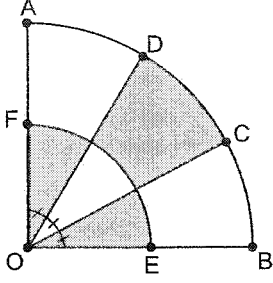
- A) $\frac{1}{\sqrt{2}}$
 B) $\sqrt{2}$
 C) $\frac{2}{\sqrt{3}}$
 D) $\sqrt{3}$

20. $\cos^2 32^\circ + \sin^2 58^\circ = \frac{a}{5}$ olduğuna göre, a nin değeri yaklaşık kaçtır?

$$\begin{cases} \cos 2a = 2 \cos^2 a - 1 \\ \cos 64^\circ = 0,8988 \end{cases}$$

- A) 8,20
 B) 8,60
 C) 9,50
 D) 12,00

1.



Yukarıda $|OB| = r = 6$ cm yarıçaplı daire diliminin içine $|OE| = 3$ cm yarıçaplı daire dilimi çizilmiştir.

$m(\widehat{AOD}) = m(\widehat{DOC}) = m(\widehat{COB}) = 30^\circ$ ise, taralı bölgelerin alanları toplamı kaç cm^2 dir?

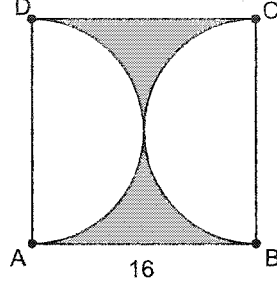
- A) $\frac{15\pi}{4}$
- B) 4π
- C) $\frac{17\pi}{4}$
- D) 5π

2.

Alanları oranı $\frac{25}{49}$ olan iki dairenin çevre uzunlukları oranı aşağıdakilerden hangisidir?

- A) $\frac{3}{7}$
- B) $\frac{5}{8}$
- C) $\frac{5}{7}$
- D) $\frac{6}{7}$

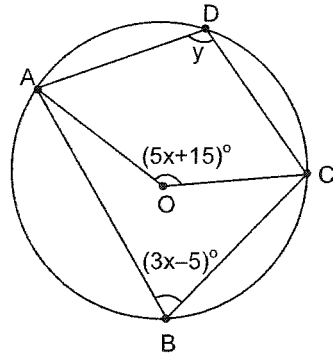
3.



Yukarıdaki kenar uzunluğu 16 cm olan ABCD karesinin içine yarım daireler çizilmiştir. Buna göre, taralı bölgelerin alanları toplamı kaç cm^2 dir?

- A) $256 - 56\pi$
- B) $256 - 64\pi$
- C) $256 - 68\pi$
- D) $256 - 70\pi$

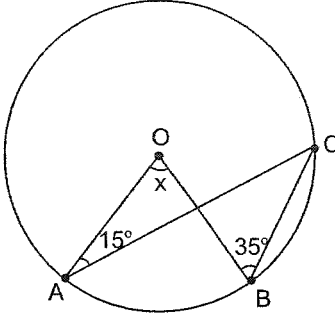
4.



Yukarıda O merkezli çemberde $m(\widehat{AOC}) = (5x+15)^\circ$ ve $m(\widehat{ABC}) = (3x-5)^\circ$ ise, $m(\widehat{ADC}) = y$ kaç derecedir?

- A) 110
- B) 125
- C) 140
- D) 150

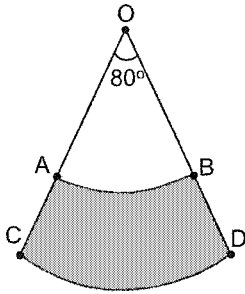
5.



Yukarıdaki O merkezli çemberde $m(\widehat{OAC})=15^\circ$, $m(\widehat{OBC})=35^\circ$ ise, $m(\widehat{AOB})=x$ kaç derecedir?

- A) 70
- B) 50
- C) 55
- D) 40

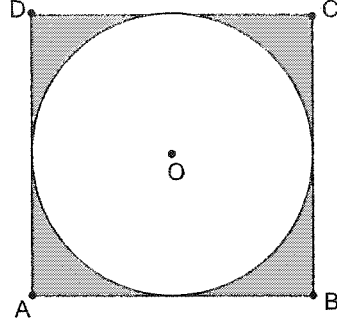
6.



Yukarıdaki O merkezli $|OC|=r=9$ cm yarıçaplı daireden elde edilen daire diliminde $m(\widehat{AOB})=80^\circ$ ve $|OA|=6$ cm ise, taralı bölgenin alanı kaç cm^2 dir?

- A) 8π
- B) 10π
- C) 12π
- D) 15π

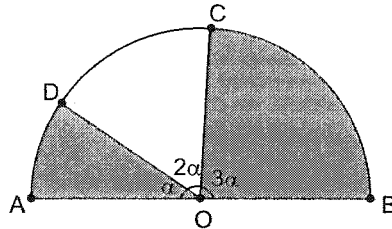
7.



Yukarıdaki ABCD karesinin içine kenarlara teğet olacak şekilde O merkezli bir daire çizilmiştir. $|AB|=10$ cm ise, taralı bölgelerin alanları toplamı kaç cm^2 dir?

- A) $100-15\pi$
- B) $100-16\pi$
- C) $100-20\pi$
- D) $100-25\pi$

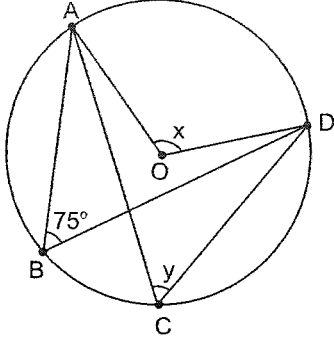
8.



Yukarıdaki O merkezli $r=12$ cm yarıçaplı dairede $m(\widehat{AOD})=\alpha$, $m(\widehat{DOC})=2\alpha$ ve $m(\widehat{COB})=3\alpha$ ise, taralı bölgelerin alanları toplamı kaç cm^2 dir?

- A) 40π
- B) 42π
- C) 48π
- D) 52π

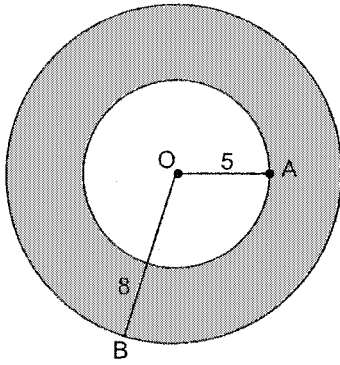
9.



Yukarıdaki O merkezli çemberde $m(\widehat{ABD})=75^\circ$, $m(\widehat{AOD})=x$ ve $m(\widehat{ACD})=y$ ise, $x+y$ kaç derecedir?

- A) 225
- B) 210
- C) 180
- D) 120

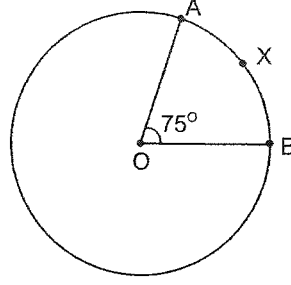
10.



Yukarıda O merkezli yarıçapları sırasıyla $|OA|=5$ cm ve $|OB|=8$ cm olan daireler verilmiştir. Taralı bölgenin alanı kaç cm^2 dir?

- A) 32π
- B) 35π
- C) 37π
- D) 39π

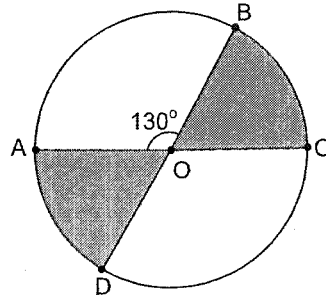
11.



Yukarıdaki O merkezli $r=6$ cm yarıçaplı çemberde $m(\widehat{AOB})=75^\circ$ ise, $|\widehat{AXB}|$ kaç cm dir?

- A) $\frac{\pi}{2}$
- B) $\frac{3\pi}{2}$
- C) $\frac{5\pi}{2}$
- D) 3π

12.



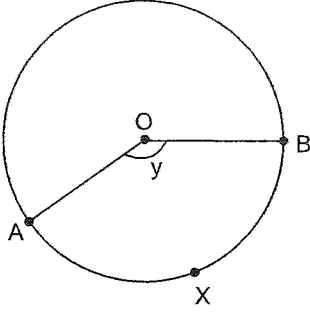
Yukarıda O merkezli $r=6$ cm yarıçaplı dairede $m(\widehat{AOB})=130^\circ$ ise, taralı bölgelerin alanları toplamı kaç cm^2 dir?

- A) 10π
- B) 12π
- C) 13π
- D) 15π

13. Çevresi 30π cm olan bir dairenin alanı kaç cm^2 dir?

- A) 144π
- B) 169π
- C) 196π
- D) 225π

14.



Yukarıdaki O merkezli çemberde \widehat{AXB} yayı tüm çember yayının $\frac{2}{5}$ ine eşit ise, $m(\widehat{AOB})=y$ kaç derecedir?

- A) 135
- B) 144
- C) 156
- D) 160

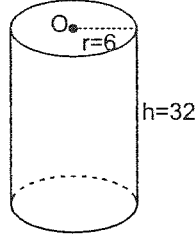
15. Yarıçap uzunluğu $r=15$ cm olan bir kürenin hacmi kaç cm^3 tür?

- A) 2200π
- B) 2304π
- C) 3840π
- D) 4500π

16. Taban yarıçap uzunluğu $r=8$ cm ve hacmi 704π cm^3 olan dik dairesel koninin yükseklik uzunluğu h kaç cm dir?

- A) 33
- B) 36
- C) 42
- D) 45

17.



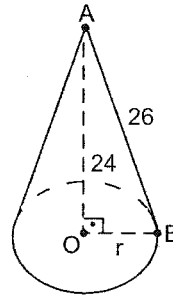
Yukarıda taban yarıçap uzunluğu $r=6$ cm ve yüksekliği $h=32$ cm olan dik dairesel silindirin hacmi kaç cm^3 tür?

- A) 1120π
- B) 1152π
- C) 1184π
- D) 1236π

18. Taban yarıçap uzunluğu $r=12$ cm ve yüksekliği 22 cm olan dik dairesel silindirin alanı kaç cm^2 dir?

- A) 816π
- B) 842π
- C) 864π
- D) 896π

19.



Yukarıdaki dik dairesel koninin yükseklik uzunluğu $h=24$ cm, ana doğru parçasının uzunluğu 26 cm ise, bu koninin tüm yüzey alanı kaç cm^2 dir?

- A) 348π
- B) 354π
- C) 360π
- D) 382π

20. Yüzey alanı 1600π cm^2 olan bir kürenin yarıçap uzunluğu kaç cm dir?

- A) 18
- B) 20
- C) 25
- D) 30

1. Bir toplumda bütünleşme için mekanik ve organik dayanışmanın olması gerektiğini savunan düşünür aşağıdakilerden hangisidir?

- A) K. Popper
- B) A. Comte
- C) W. James
- D) E. Durkheim

2. Aşağıdakilerden hangisi Atatürk'ün önderliğinde gerçekleşen önemli kültürel gelişmelerden biridir?

- A) Ticaret Kanunu
- B) Şapka Kanunu
- C) İş Kanunu
- D) Sendikalar Kanunu

3. Aşağıdakilerden hangisi doğa güçlerine tapınma (güneş, ay, yıldız vb.) anlamına gelen ilk dinlerden biridir?

- A) Fetişizm
- B) Natürizm
- C) Animizm
- D) Monoteizm

4. İnsanda yokluk duygusuyla birlikte sıkıntı doğuran ve karşılanması gereken biyolojik ve toplumsal olguya ne ad verilir?

- A) Hizmet
- B) Üretim
- C) Fayda
- D) İhtiyaç

5. Fiyatların düşmesi ile birlikte paranın alım gücünün yükselmesine ne ad verilir?

- A) Enflasyon
- B) Revalüasyon
- C) Deflasyon
- D) Enformasyon

- 6. I. Gelenek
- II. Örf
- III. Görenekler

Yukarıdakilerden hangileri kökleşmiş kültür içeriklerindedir?

- A) Yalnız III
- B) I ve II
- C) II ve III
- D) I, II ve III

7. Aşağıdakilerden hangisi Sultan II. Mahmut döneminde toplumsal çözümlerden kurtulmak için yapılan ıslahat hareketlerinden biri değildir?

- A) İlköğretimin herkes için zorunlu kılması
- B) Yeniçeri ocağının kaldırılması
- C) Kanun-ı Esasi'nin ilan edilmesi
- D) Posta örgütünün kurulması

8. Aşağıdakilerden hangisi ailenin özelliklerinden biri değildir?

- A) Toplumun en eski birimi olması
- B) Bireyin sevgi ve saygıyı, dayanışmayı bu kurumun içinde öğrenmesi
- C) Toplumun en temel kurumu olması
- D) Ekonomik kalkınmanın temelini oluşturması

9. Bir defada iktidar değişikliğini gerçekleştirmeye yönelik yapılan müdahaleye ne ad verilir?

- A) İsyân
- B) Baskın
- C) İhtilâl
- D) Reform

10. Aşağıdakilerden hangisi Atatürk'ün kadınları sosyal ve siyasal hayattaki ikincil konumlarından kurtarmak için yaptığı değişimlerden biri değildir?

- A) 1921 Teşkilat-ı Esasiye Kanunu
- B) 1924 Tevhid-i Tedrisat Kanunu
- C) 1926 Medeni Kanun
- D) 1934 Milletvekili Seçme Seçilme Hakkı

11. Aşağıdakilerden hangisi manevi kültür ögesidir?

- A) Kitaplar
- B) Sanat
- C) Okullar
- D) Otomobiller

12. Aşağıdakilerden hangisi siyasetin alt kurumlarından biri değildir?

- A) Demokrasi
- B) Siyasi partiler
- C) Baskı grupları
- D) Hükümet

13. Otoriteyi annenin büyük erkek kardeşin kullandığı, akrabalığın kadının soyundan geçtiği aile türü aşağıdakilerden hangisidir?

- A) Ataerkil aile
- B) Anaerkil aile
- C) Büyük aile
- D) Küçük aile

14. Bir toplumda maddi ve manevi kültür öğelerinin bir araya gelerek işleyen bir bütün oluşturacak biçimde birbirini tamamlayamamasına ne ad verilir?

- A) Toplumsal kaynaşma
- B) Toplumsal kargaşa
- C) Toplumsal çözülme
- D) Toplumsal yabancılaşma

15. Özellikle metropollerde farklı etnik, sınıfsal, dinsel temelde yoğun olarak oluşan kültür öğeleri aşağıdakilerden hangisi ile ilgilidir?

- A) Kültürel kaynaşma
- B) Kültürlenme
- C) Alt kültür
- D) Kültürel çatışma

16. İkel toplumdan tarım toplumuna, tarım toplumundan sanayi toplumuna geçiş aşağıdakilerden hangisi ile adlandırılabilir?

- A) Evrim
- B) İhtilal
- C) Gelişme
- D) Rejim

17. I. Halifeliğin kaldırılması
II. Medeni Kanununun kabulü
III. Şapka Kanununun çıkarılması

Yukarıdakilerden hangileri Atatürk'ün çağdaş bir devlet ve toplum oluşturmak için gerçekleştirdiği devrimlerdendir?

- A) Yalnız I
- B) I ve II
- C) II ve III
- D) I, II ve III

18. Bireyin üyesi olduğu grubun dışından evlenmesine ne ad verilir?

- A) Egzogami
- B) Endogami
- C) Monogami
- D) Poligami

19. Aşağıdakilerden hangisi toplumsal siyasal farklılıklarda ortaya çıkan baskı gruplarından biri değildir?

- A) Öğrenci kulüpleri
- B) Sendikalar
- C) Dernekler
- D) Meslek örgütleri

20. Birden fazla kişinin, bir grubun ya da zümrenin egemenliğine dayanan yönetim şekline ne ad verilir?

- A) Aristokrasi
- B) Oligarşi
- C) Teokrasi
- D) Monarşi

1. Aşağıdakilerden hangisi sosyal turizmin geliştirilmesi amacıyla yapılabilecek çalışmalardan biri değildir?

- A) Konaklama tesisleri ile sosyal turizm bireyi arasında bağlantı kurulması
- B) Taksitle tatil imkânı sağlanması
- C) Tasarruf sandıklarının kurulması ve yaygınlaştırılması
- D) Okul tatillerinin yılın çeşitli dönemlerine dağıtılmaması

2. Eğlence ve boş zamanları değerlendirme amaçlı yapılan seyahatler hangi turizm sınıfına dâhil edilir?

- A) İş
- B) Rekreasyon
- C) Lüks
- D) Sağlık

3. I. Ulaşım araçlarından faydalanmak
II. Yemek yemek
III. Tarihi yerleri gezmek

Yukarıdakilerden hangileri turizmin ekonomik yönünü ortaya koymaktadır?

- A) Yalnız I
- B) I ve II
- C) II ve III
- D) I, II ve III

4. Gittiği ülkede 24 saatten az kalan ya da bu ülkenin bir konaklama tesisinde geceleme yapmadan seyahat eden kişiye ne ad verilir?

- A) Yabancı turist
- B) Yerli turist
- C) Ekskürsiyonist
- D) Turist olmayan yabancılar

5. Güç kazanabilmek ya da yorgunluğu gidermek için çalışmaya bir süre ara vermeye ne ad verilir?

- A) Dinleme
- B) Eğlence
- C) Yenilenme
- D) Rahatlama

6. Türkiye'de sosyal turizm nasıl başlamıştır?

- A) Ekonomik koşulların iyileşmesi ile yeni yatırımlara kaynak tahsil edilmesiyle
- B) Kamu kuruluşlarının sosyal tesis ve kamplarından herkesin yararlanmasını öneren taslak çalışmasının kabul edilmesiyle
- C) Ücretli yıllık izin hakkının yürürlüğe girmesiyle
- D) İnsanların gelir düzeylerinin yükselmesinin sağlanmasıyla

7. Aşağıdakilerden hangisi katılanların amaçlarına göre turizm türlerinden biri değildir?

- A) Çiftlik turizmi
- B) Tanıtım turizmi
- C) Kongre turizmi
- D) Av turizmi

8. Şeb-i Aruz töreni aşağıdaki şehirlerden hangisinde gerçekleştirilmektedir?

- A) İstanbul
- B) Urfa
- C) Konya
- D) Bursa

9. Sınıf farkı gözetilen toplumlarda, imtiyazlı ve satın alma gücü yüksek olan soylu kişilerin, turizm hareketlerine katılmalarına ne ad verilir?

- A) Kişisel turizm
- B) Kitle turizmi
- C) Rekreasyon turizmi
- D) Aristokratik turizm

10. Rafting, doğa yürüyüşü, balık avlama gibi amaçlarla yapılan turizm aşağıdakilerden hangisidir?

- A) Tarih turizmi
- B) Akarsu turizmi
- C) Eğlenme turizmi
- D) Dinlenme turizmi

11. Turizmin önemine ilişkin aşağıdaki ifadelerden hangisi yanlıştır?

- A) Yurt dışında iş imkânları yaratmaktadır.
- B) Turistik seyahatler sonucunda ülkeler döviz geliri elde etmektedir.
- C) Turizm, ülkelerin kalkınmasını olumlu yönde etkilemektedir.
- D) Türkiye'nin dış ticaret açığını gidermede önemli bir rol oynamaktadır.

12. Aşağıdakilerden hangisi, Dünya turizm hareketlerini geliştiren belirgin unsurlardan biri değildir?

- A) Hızla artan nüfus
- B) Refah düzeyi
- C) Artan eğitim
- D) Sosyal statü

13. Bir ülkeye farklı nedenlerle gelen, ancak turist ve g n birlik i kabul edilmeyen yabancılara ne ad verilir?

- A) Turist olmayan yabancılar
- B) Eksk rsiyonist
- C) Transit yolcu
- D) Yabancı ziyaret i

14. R nesans  aęında turizme aŐaęıdakilerden hangisi  rnek verilebilir?

- A) Ha lı seferleri
- B) Hac ziyareti
- C) Macellan'ın d nya seyahati
- D) Evliya  elebi'nin seyahati

15. AŐaęıdakilerden hangisi, seyahat ettięi halde turist olarak kabul edilemez?

- A) Ticari nedenlerle seyahat edenler
- B) Bir sınır b lgesinde ikamet edenler ve baŐka bir  lkede yaŐayıp komŐu  lkeye  alıŐmak i in gelenler
- C) Bir baŐka  lkede kamu ama lı g revlendirilen kimseler
- D)  lkeye iŐ s zleŐmesi ile gelip, bir iŐ yapmak veya bir iŐte  alıŐmak isteyenler

16. Satın alma g c  d Ő k olan dar gelirlilerin,  eŐitli kolaylıklarla turizm hareketlerine katıldıkları turizm aŐaęıdakilerden hangisidir?

- A) Spor turizmi
- B) Sosyal turizm
- C) KiŐisel turizm
- D) Kitle turizmi

17. Sosyal turizmde  l t aŐaęıdakilerden hangisidir?

- A) Meslek grubu
- B) Ekonomik g  
- C) Cinsiyet
- D) Sosyal stat 

18. AŐaęıdakilerden hangisi, turizmin baŐlica  zelliklerinden biri deęildir?

- A) Alt yapı yatırımlarını gerektirmemesi
- B) Turist  eken  lkeye d viz giriŐi saęlaması
- C) Turistin seyahat ettięi yerde para kazanma amacının olmaması
- D) Bir hizmet sekt r  olması

19. GeniŐ kitlelerin oluŐturduęu grupların paket turları tercihlerinden oluŐan turizm t r ne ne ad verilir?

- A) Aktif dıŐ turizm
- B) I  turizm
- C) Grup turizmi
- D) Kitle turizmi

20. AŐaęıdakilerden hangisi, insanları turistik hareketlere y nelten dıŐ fakt rlere  rnektir?

- A) IŐ
- B) Merak
- C) Tanıtım, reklam ve propaganda
- D) Saęlık

1. "Kaşığı" öyküsünün yazarı aşağıdakilerden hangisidir?
- A) Nurullah Ataç
B) Ömer Seyfettin
C) Necati Cumalı
D) Yaşar Kemal
2. Hayatın hem acıklı hem de gülünç yanlarını bir arada veren sahne eserlerine ne ad verilir?
- A) Komedi
B) Dram
C) Trajedi
D) Fars
3. Aşağıdakilerden hangisi anlatmaya bağlı sanat eserlerinden biri değildir?
- A) Masal
B) Destan
C) Orta oyunu
D) Hikâye
4. "Göç Destanı" aşağıdaki Türk boylarından hangisine aittir?
- A) Uygur
B) Saka
C) Gök Türk
D) Hun
5. Aşağıdakilerden hangisi halk edebiyatı kökenli bir hikâyedir?
- A) Leyla vü Mecnun
B) Arzu ile Kanber
C) Yusuf u Züleyha
D) Hüsrev-i Şirin
6. Aşağıdakilerden hangisi öykü planlanırken oluşturulan bölümlerden biri değildir?
- A) Giriş bölümü
B) Serim bölümü
C) Düşüm bölümü
D) Çözüm bölümü
7. "Yaban" romanının yazarı aşağıdakilerden hangisidir?
- A) Yakup Kadri Karaosmanoğlu
B) Sait Faik Abasıyanık
C) Necati Cumalı
D) Reşat Nuri Güntekin
8. Aşağıdakilerden hangisi yapma destanlardan biridir?
- A) Şehname
B) Çılgın Orlando
C) İlyada ve Odissea
D) Kalevâla
9. Aşağıdakilerden hangisi düşünce eserlerinden biridir?
- A) Deneme
B) Roman
C) Şiir
D) Masal
10. Orta oyununda, asıl konuya ait olayın anlatıldığı bölüm aşağıdakilerden hangisidir?
- A) Giriş
B) Muhavere
C) Fasıllık
D) Bitiş

11. Aşağıdakilerden hangisi romanın öğelerinden biri değildir?

- A) Olay
- B) Gelecek
- C) Kişiler
- D) Zaman

12. Aşağıdakilerden hangisi Fransız edebiyatının fabl yazarıdır?

- A) Balzac
- B) Moliere
- C) Lamartin
- D) La Fontaine

13. Halka hitap eden müzikli komedilere ne ad verilir?

- A) Bale
- B) Opera
- C) Dram
- D) Operet

14. Aşağıdakilerden hangisi "aşk hikâyeleri mesnevisi" türünde eserlerden biri değildir?

- A) Hüsn ü Aşk
- B) Yusuf u Züleyha
- C) Hayriyye-i Nabi
- D) Leyla vü Mecnun

15. Divan edebiyatında bulunmayan öykü ve roman türünü karşılayan edebi eser türü aşağıdakilerden hangisidir?

- A) Kaside
- B) Manzume
- C) Mesnevi
- D) Gazel

16. Olmuş ya da olma olasılığı bulunan olayların bir büyük olayla örülerek ayrıntılı bir şekilde yer ve zaman gösterilerek anlatıldığı uzun yazılara ne ad verilir?

- A) Roman
- B) Masal
- C) Hikâye
- D) Destan

17. Aşağıdakilerden hangisi kişisel hayatı konu alan türlerden biri değildir?

- A) Mektup
- B) Anı
- C) Biyografi
- D) Makale

18. Aşağıdakilerden hangisi Türk edebiyatındaki deneme yazarlarından biri değildir?

- A) Nurullah Ataç
- B) Oktay Akbal
- C) Ömer Seyfettin
- D) Suut Kemal Yetkin

19. Aşağıdakilerden hangisi kişisel hayatı konu alan yazı türlerinden biridir?

- A) Makale
- B) Deneme
- C) Fıkra
- D) Mektup

20. Bir yazarın ya da sanatçıların gezip gördükleri yerleri edebi bir anlatımla ele aldığı yazılara ne ad verilir?

- A) Anı
- B) Günlük
- C) Mektup
- D) Gezi

1. ${}_{17}\text{X}^{-1}$ ve ${}_{20}\text{Y}^a$ iyonlarının elektron sayıları birbirine eşit ise, Y iyonunun yükü (a) kaçtır?

- A) +2
- B) +1
- C) -1
- D) -2

2. X^{+2} iyonunun elektron sayısı 22, nötron sayısı 24 ise, kütle numarası kaçtır?

- A) 24
- B) 44
- C) 46
- D) 48

3. İyonik yapıli bileşikler için aşağıdaki yargılardan hangisi yanlıştır?

- A) İyon yapıli bileşiklerdir.
- B) Suda iyonlarına ayrışır.
- C) Katı halde elektrik akımını iletir.
- D) Elektron alış-verişi ile oluşur.

4. X^{+3} iyonu $1s^2 2s^2 2p^6$ elektron dağılımına sahiptir. Buna göre, x elementinin periyodik cetveldeki yeri neresidir?

- A) 2. periyot, 8A grubu
- B) 3. periyot, 1A grubu
- C) 3. periyot, 3A grubu
- D) 3. periyot, 5A grubu

5. Demir (III) oksit bileşiğinde demirin oksijen ile kütlece birleşme oranı 7/3'tür. Demir (III) oksit oluşturmak üzere, 10,5 gr. demir ile 6 gr. oksijen tepkimeye sokulduğunda kaç gram Demir (III) oksit bileşiği oluşur?

- A) 22,4
- B) 15
- C) 12
- D) 4,8

6. Bir atomun, (-2) yüklü iyon durumuna geçmesi için aşağıdaki olaylardan hangisinin gerçekleşmesi gerekir?

- A) 2 elektron vermeli
- B) 2 proton almalı
- C) 2 nötron almalı
- D) 2 elektron almalı

7. ${}_{10}\text{X}$, ${}_{11}\text{Y}$ ve ${}_{12}\text{Z}$ elementleri ile ilgili

- I Her üçü de aynı periyottadır.
- II Atom çapı en büyük Y dir.
- III Değerlik elektron sayıları sırasıyla 8, 1, 2 dir.

yargılarından hangileri doğrudur?

- A) Yalnız II
- B) I ve II
- C) I ve III
- D) II ve III

8. Demir (II) oksit bileşiğinin formülü aşağıdakilerden hangisidir?

- A) Fe₂O
- B) FeO
- C) FeO₂
- D) Fe₃O₄

9. ${}_{17}\text{Cl}^{-1}$ iyonunun elektron dizilişi aşağıdakilerden hangisidir?

- A) $1s^2 2s^2 2p^6 3s^2 3p^6$
- B) $1s^2 s^2 2p^6 3p^7$
- C) $1s^2 2s^2 2p^4 3s^2 3p^6$
- D) $1s^2 2s^2 2p^5 3s^2 3p^5$

10. Aşağıdakilerden hangisi metallerin ortak özelliklerinden biri değildir?

- A) Kendi aralarında bileşik oluşturması
- B) Isıyı ve elektriği iyi iletmesi
- C) Cıva hariç, oda sıcaklığında katı halde olması
- D) Erime ve kaynama noktalarının yüksek olması

11. C₂H₅OH bileşiğinin mol kütlesi kaç gr/mol dür? (C:12, O:16, H:1)

- A) 46
- B) 24
- C) 16
- D) 12

12. Aşağıdaki bileşiklerin hangisinde iyonik bağ bulunmaz?

- A) CaCl₂
- B) KCl
- C) HCl
- D) BaO

13. Nötr bir X atomunun nötron sayısı 12, elektron sayısı 11 olduğuna göre, X atomunun atom numarası ve kütle numarası kaçtır?

Atom numarası	Kütle numarası
A) 12	23
B) 12	11
C) 11	23
D) 23	11

14. ${}_{13}\text{X}$ ile ${}_{8}\text{Y}$ elementlerinin oluşturabileceği kararlı bileşiğin formülü aşağıdakilerden hangisidir?

- A) XY
- B) XY₃
- C) X₂Y₃
- D) X₃Y₂

15. 0,5 mol C₂H₆ kaç tane atom içerir?

- A) $8.6,02.10^{23}$
- B) $4.6,02.10^{23}$
- C) 4
- D) 0,5

16. CaCO_3 (kalsiyum karbonat) bileşiğinin mol kütlesi kaçtır? (Ca: 40, C:12, O:16)
- A) 40
B) 60
C) 80
D) 100

17. 3.periyot 6A grubunda bulunan elementin atom numarası kaçtır?
- A) 9
B) 16
C) 18
D) 22

18. I $\text{SO}_2 - \text{SO}_3$
II $\text{C}_2\text{H}_4 - \text{C}_4\text{H}_8$
III $\text{NO} - \text{CO}_2$

Yukarıdaki bileşik çiftlerinden hangileri katlı oranlar yasasına uymaz?

- A) Yalnız II
B) Yalnız III
C) I ve II
D) I ve III

19. Aşağıdakilerden hangisi ametaller için doğrudur?

- A) Metallerle bileşiklerinde eksi yük alırlar.
B) Bileşiklerinde daima eksi yük alırlar.
C) Kendi aralarında bileşik yapamazlar.
D) Dövülerek kolayca işlenebilirler.

- 20.
- | | Bileşik | Bağ türü |
|------|----------------------|-----------------|
| I. | X_2 | Apolar kovalent |
| II. | Y_2T | Polar kovalent |
| III. | ZX | İyonik |

Yukarıda verilen bileşik ve bağ türlerine göre X, Y, Z ve T atomlarından hangileri ametaldir?

- A) X ve Y
B) Y ve Z
C) X, Y ve Z
D) X, Y ve T

1. Sadece beş duyu ile algılanan, ölçme aletleri ile sayısal sonuçlar elde etmeye dayanmayan eylem aşağıdakilerden hangisidir?
 - A) Nitel gözlem
 - B) Gerçek
 - C) Veri
 - D) Nicel gözlem

2. İlk bilimsel sınıflandırmayı yapan bilim insanı kimdir?
 - A) Darwin
 - B) Röntgen
 - C) Linnaeus
 - D) Watson

3. Aşağıdakilerden hangisi biyolojinin alt bilim dallarından biri değildir?
 - A) Sitoloji
 - B) Ekoloji
 - C) Meteoroloji
 - D) Evrim

4. Aşağıdakilerden hangisi biyolojinin uygulama alanlarından biri değildir?
 - A) Genetik mühendisliği
 - B) Sosyoloji
 - C) Mikrobiyoloji
 - D) Fizyoloji

5. Herkes tarafından aynı koşullarda tekrarlandığında aynı sonuçlar alınan ve tüm dünyada kabul edilen kurallara ne ad verilir?
 - A) Teori
 - B) Gerçek
 - C) Kanun
 - D) Problem

6. Aşırı artan karbon dioksitin, atmosferin üst katmanlarında birikerek ısının, atmosferin dışına çıkmasını engellemesi sonucu dünya yüzeyinde sıcaklığın artmasıyla gerçekleşen olay aşağıdakilerden hangisidir?
 - A) Su kirliliği
 - B) Toprak kirliliği
 - C) Sera etkisi
 - D) Radyasyon

7. Aşağıdakilerden hangisi besin zincirinin halkalardan biri değildir?
 - A) Herbivorlar
 - B) Simbiyotikler
 - C) Karnivorlar
 - D) Omnivorlar

8. İki veya daha fazla türün karşılıklı olarak birbirlerinden yararlandığı birlikteliklere ne ad verilir?
 - A) Kommensalizm
 - B) Mutualizm
 - C) Parazit yaşam
 - D) Saprofit beslenme

9. Olumsuz şartlar sonucu baskın türün yerine başka bir türün baskın duruma geçmesine ne ad verilir?
 - A) Komünite
 - B) Ötrifikasyon
 - C) Süksesyon
 - D) Populasyon

10. Üreticiler, besin piramidinin hangi basamağında yer alır?
 - A) 1.
 - B) 2.
 - C) 3.
 - D) 4.

11. Aşağıdakilerden hangisi inorganik besinlerden biridir?

- A) Tuzlar
- B) Yağlar
- C) Vitaminler
- D) Karbonhidratlar

12. Aşağıdakilerden hangisi sosyal hiyerarşinin hayvanlara sağladığı avantajlardan biri değildir?

- A) Beslenmede öncelik
- B) Eş seçiminde öncelik
- C) Hayatta kalma şansı
- D) Av tercihi

13. Akşamsefası bitkisinin çiçeklerinin akşam açıp, ışıkta kapanması hangi nasti hareketidir?

- A) Fotonasti
- B) Kemonasti
- C) Termonasti
- D) Hidronasti

14. Bir canlı çeşidinin birden fazla besin zincirinde yer almasıyla oluşan iç içe geçmiş besin zincirlerinin bütününe ne ad verilir?

- A) Besin piramidi
- B) Besin ağı
- C) Besin topluluğu
- D) Besin döngüsü

15. Aşağıdakilerden hangisi günlük döngüdür?

- A) İnsan uykusu
- B) Ağaçların yaprak dökmesi
- C) Menstrüasyon
- D) Kuşların göç etmesi

16. Aşağıdakilerden hangisi evrimi destekleyen kanıtlardan biri değildir?

- A) Biyokimyadan elde edilen kanıtlar
- B) Genetikten elde edilen kanıtlar
- C) Biyocoğrafyadan elde edilen kanıtlar
- D) Mantıktan elde edilen kanıtlar

17. Bazı canlıların kendi besinini yapabilme yeteneğine sahip olduğunu savunan görüş aşağıdakilerden hangisidir?

- A) Abiyogenez
- B) Heterotrof
- C) Panspermia
- D) Ototrof

18. "Canlı kendiliğinden var olabilir, yani cansız maddelerden kendiliğinden meydana gelebilir" görüşünü savunan bilim insanı aşağıdakilerden hangisidir?

- A) Lamarck
- B) Aristo
- C) Miller
- D) Darwin

19. Yaptığı deneyler sonucunda birçok organik bileşiğin yanında en yaygın üç amino asitin oluştuğunu bularak heterotrof görüşü destekleyen bilim insanı aşağıdakilerden hangisidir?

- A) Lamarck
- B) Darwin
- C) Redi
- D) Miller

20. Çevrenin etkisiyle vücut hücrelerinde görülen ve kalıtsal olmayan değişikliklere ne ad verilir?

- A) Seleksiyon
- B) Mutasyon
- C) Adaptasyon
- D) Modifikasyon

1. "Endülüs'te Raks" adlı şiir aşağıdaki şairlerden hangisine aittir?
 - A) Sezai Karakoç
 - B) Turgut Uyar
 - C) Behçet Necatigil
 - D) Yahya Kemal Beyatlı
2. Anadolucu edebiyatın en tanınmış şairi aşağıdakilerden hangisidir?
 - A) Şükufe Nihal
 - B) Faruk Nafiz Çamlıbel
 - C) Kemalettin Kamu
 - D) Ahmet Muhip Dıranas
3. Aşağıdakilerden hangisi, Yahya Kemal Beyatlı'nın şiir sanatının özelliklerinden biri değildir?
 - A) Şiiri "musikiden başka türlü bir musiki" olarak kabul etmesi
 - B) Hece ölçüsünü kullanması
 - C) Klasik divan şiirini Batı şiirindeki bütünlük anlayışıyla ele alması
 - D) Şiirlerinde daha çok aşk, tabiat, deniz, ölüm ve sonsuzluk konularını işlemesi
4. "Kitabe-i Seng-i Mezar" adlı şiir aşağıdaki şairlerden hangisine aittir?
 - A) Kemalettin Kamu
 - B) Ahmet Kutsi Tecer
 - C) Ahmet Arif
 - D) Orhan Veli Kanık
5. Toplum hayatını anlatmak, mahalli bir edebiyat yapmak sanatının en önemli özelliği olan şair, aşağıdakilerden hangisidir?
 - A) Mehmet Âkif Ersoy
 - B) Ercüment Behzat Lav
 - C) Arif Nihat Asya
 - D) Attila İlhan
6. Aşağıdakilerden hangisi halk şiirinin özelliklerinden biri değildir?
 - A) Aşk, doğa, özlem, yığıtlık, din, günlük bireysel ve toplumsal yaşantıların en çok işlenen temalar olması
 - B) Anonim olması
 - C) Hece ölçüsüyle yazılması
 - D) Genellikle yarım uyak kullanılması
7. Aşağıdaki şairlerden hangisi, şiirlerinde zamanın Batı'da moda olan fütürist, kübik ve gerçek üstücü şiir akımlarını denemiştir?
 - A) Ercüment Behzat Lav
 - B) Bedri Rahmi Eyuboğlu
 - C) Attila İlhan
 - D) Ahmet Muhip Dıranas
8. Aşağıdakilerden hangisi "İkinci Yeni" de öne çıkan temalardan biri değildir?
 - A) Boşluk duygusu
 - B) Şüphe
 - C) Doğa
 - D) Bezginlik
9. Aşağıdaki şair ve şiiri eşleştirmelerinden hangisi doğrudur?
 - A) Bedri Rahmi Eyüboğlu-Karadut
 - B) Necip Fazıl Kısakürek-Vapur
 - C) Nazım Hikmet-Sihirli Değnek
 - D) Aşık Veysel-Rüzgâr
10. Toplumcu şiire tepki olan "Garip" hareketinin üç temsilcisi, aşağıdakilerin hangisinde birlikte ve doğru olarak verilmiştir?
 - A) Mehmet Kemal-Enver Gökçe-Ömer Faruk Toprak
 - B) Oktay Rifat-Attila İlhan-A. Kadir
 - C) Orhan Veli Kanık- Oktay Rifat-Melih Cevdet Anday
 - D) Arif Damar-Şükran Kurdakul-Orhan Veli Kanık
11. "Mukaddime, Merdiven, Süvari" adlı şiirler aşağıdaki şairlerden hangisine aittir?
 - A) Turgut Uyar
 - B) İlhan Berk
 - C) Ahmet Haşim
 - D) Ahmet Muhip Dıranas
12. Aşağıdakilerden hangisi, "Garip" şiirinin temalarından biri değildir?
 - A) Aşk
 - B) Çocukluğa dönüş
 - C) İnsan sevgisi
 - D) Bireyin yalnızlığı

13. "Fotoğraf" adlı şiir, aşağıdaki şairlerden hangisine aittir?

- A) Necati Cumalı
- B) Ahmet Oktay
- C) Cemal Süreya
- D) Fazıl Hüsni Dağlarca

14. "Uy Havar" adlı şiir, aşağıdaki şairlerden hangisine aittir?

- A) Melih Cevdet Anday
- B) Ahmet Arif
- C) Oktay Rifat
- D) A. Kadir

15. "Ben Ölürsem Akşamüstü Ölürüm" şiiri aşağıdaki şairlerden hangisine aittir?

- A) İsmet Özel
- B) Ahmet Oktay
- C) Süreyya Berfe
- D) Atıf Behramoğlu

16. Şiir coğrafyasını Türk ve Batı şiiri özelliklerini kendinde birleştirerek oluşturan; serbest tarzda kaleme aldığı şiirlerinde yalnızlık, hüznün, kaçış, ölüm tutkusu temalarını işleyen şair, aşağıdakilerden hangisidir?

- A) Hilmi Yavuz
- B) İlhan Geçer
- C) Behçet Necatigil
- D) Cemal Süreya

17. Aşağıdakilerden hangisi "İkinci Yeni" şiirinin özelliklerinden biri değildir?

- A) Romantizm akımının etkisinde olması
- B) Daha çok betimleyici metinlerden oluşması
- C) Bireyci bir şiir anlayışının hâkim olması
- D) Nükte, şaşkırtmaca ve tekerlemeden uzaklaşması

18. Aşağıdaki yazar ve eseri eşleştirmelerinden hangisi yanlıştır?

- A) Oğuz Atay-Tutunamayanlar
- B) Nâbizade Nâzım-Karabibik
- C) Peyami Safa-Dokuzuncu Hariciye Koğuşu
- D) Yusuf Atılgan-Yeni Hayat

19. Halk şiirinde kişiye, topluma, feleğe, tabiata aşık tarafından yöneltilen yergi, alay, eleştiri içeren şiirlere ne ad verilir?

- A) Ağıt
- B) Taşlama
- C) Güzelleme
- D) Öğüt

20. "Kocaoğlan" adlı tiyatro oyunu aşağıdaki yazarlardan hangisine aittir?

- A) Melih Cevdet Anday
- B) Orhan Kemal
- C) Orhan Asena
- D) Necati Cumalı

DEMOKRASİ VE İNSAN HAKLARI 1

A

2013 III.DÖNEM 0101-A

1. Aşağıdakilerden hangisi 1924 Anayasası'nın bir özelliği değildir?
 - A) Meclis üstünlüğüne dayalı olması
 - B) Yargı yetkisini bağımsız mahkemelere bırakması
 - C) Temel hak ve özgürlüklere sınırlı biçimde yer vermesi
 - D) Çift meclis sisteminin oluşturulması
2. Batıda Rönesans adı verilen dönem hangi yüzyılda ortaya çıkmaya başlamıştır?
 - A) 11
 - B) 13
 - C) 15
 - D) 17
3. Türk kadınlarına seçme ve seçilme hakkı hangi yıl çıkarılan yasayla verilmiştir?
 - A) 1923
 - B) 1925
 - C) 1934
 - D) 1945
4. Herkesin dininin gereklerini özgürce yaşayabilmesinin önkoşulu aşağıdakilerden hangisidir?
 - A) Devletçilik
 - B) Laiklik
 - C) Milliyetçilik
 - D) Ekonomik kalkınmışlık
5. Aşağıdakilerden hangisi, bir tüzel kişi değildir?
 - A) Vakıflar
 - B) Toplumsal gruplar
 - C) Dernekler
 - D) Siyasi partiler
6. Amerikan bağımsızlık bildirgesi hangi tarihte ilan edilmiştir?
 - A) 24 Ekim 1686
 - B) 24 Ekim 1717
 - C) 4 Temmuz 1776
 - D) 4 Temmuz 1851
7. Aydınlanmayı "insanın aklını kendinin kullanmaya başlaması" şeklinde ifade eden düşünür aşağıdakilerden hangisidir?
 - A) Comte
 - B) Kant
 - C) Sokrates
 - D) Bacon
8. Cemiyet-i Akvam (Milletler Cemiyeti) hangi barış antlaşması ile kurulmuştur?
 - A) 1919 Versailles
 - B) 1929 Paris
 - C) 1939 Londra
 - D) 1945 Roma
9. Avrupa İnsan Hakları Mahkemesi'nin kararlarının yerine getirilmesini denetleyen, yılda iki kez toplanan ve siyasi yaptırıma sahip olan denetim organı aşağıdakilerden hangisidir?
 - A) Danışma Komitesi
 - B) Kıdemli Memurlar Komitesi
 - C) Delegeler Komitesi
 - D) Bakanlar Komitesi
10. Bir ülkede belli bir dönemde geçerli olan kuralların zorla ve köklü bir değişikliğe tabi tutularak yerine yenilerinin getirilmesine ne ad verilir?
 - A) Devrim
 - B) Reform
 - C) Liberalizm
 - D) Demokrasi
11. Birleşmiş Milletler Örgütü'nün ilk denetim organı aşağıdakilerden hangisidir?
 - A) İşkenceye Karşı Komite
 - B) Kadınlara Karşı Ayrımcılığın Kaldırılması Komitesi
 - C) Irk Ayrımcılığının Kaldırılması Komitesi
 - D) Ekonomik Sosyal ve Kültürel Haklar Komitesi

12. Üyelerinin düşünce ve menfaatlerini gerçekleştirmek için iktidarı kısmen ya da tamamen elde etmek amacıyla siyasi hayata katılan gruba ne ad verilir?

- A) Sendika
- B) Dernek
- C) Siyasi parti
- D) Bürokrasi

13. Bir hukuk düzeninin öznesi aşağıdakilerden hangisidir?

- A) Dünya
- B) Evren
- C) Çevre
- D) Kişi

14. İnsan haklarına yer veren ilk yazılı ulusal belgelerden olan Fransız ve Yurttaş Hakları Bildirgesi hangi tarihte ilan edilmiştir?

- A) 1789
- B) 1839
- C) 1889
- D) 1939

15. Fransız İnsan ve Yurttaş Hakları Bildirgesi hangi yıl ilan edilmiştir?

- A) 1776
- B) 1789
- C) 1876
- D) 1908

16. Belli bir ülkede belli bir dönemde yürürlükte bulunan hukuk kurallarına ne ad verilir?

- A) Doğal hukuk
- B) Norm
- C) Adalet
- D) Pozitif hukuk

17. Halkın seçmen olabilmesi için ırk, servet, cinsiyet, yetenek gibi şartların aranmadığı oy türü aşağıdakilerden hangisidir?

- A) Genel
- B) Temsili
- C) Doğal
- D) Pozitif

18. Bir ülkede yaşayan, bir devlete vatandaşlık bağı ile bağlı, kendini o ülkenin kaderine bağlamış insanlardan oluşan bütüne ne ad verilir?

- A) Topluluk
- B) Grup
- C) Örgüt
- D) Halk

19. Birleşmiş Milletler Örgütü hangi tarihte kurulmuştur?

- A) 24 Ekim 1945
- B) 20 Nisan 1946
- C) 24 Temmuz 1949
- D) 15 Mayıs 1954

20. Aşağıdakilerden hangisi cumhuriyet öncesi demokratikleşme ve insan hakları ile ilgili gelişmelerden biri değildir?

- A) Islahat Fermanı'nın ilan edilmesi
- B) Medeni Kanun'un kabul edilmesi
- C) Birinci Meşrutiyet'in kabul edilmesi
- D) Sened-i İttifak'ın imzalanması

1. Vücudun normal şeklini, yapısını, vücudu oluşturan organları ve bu organlar arasındaki yapısal, görevsel ilişkileri inceleyen bilim dalına ne ad verilir?
 - A) Filoloji
 - B) Genetik
 - C) Histoloji
 - D) Anatomi
2. Aşağıdakilerden hangisi sağlıklı halin hayat boyunca devam etmesi için gerekli şartlardan biri değildir?
 - A) Bebeğin mümkün olduğu kadar anne sütüyle beslenmesi
 - B) Bireyin ruhsal açıdan toplumsal hayata ve iş hayatına hazırlanması
 - C) Sadece annenin çocuğun her yaş döneminde sorunları ile ilgilenmesi
 - D) Doğum sonrası aşı takvimine göre aşıları düzenli yaptırma
3. Aşağıdakilerden hangisi yaralanmanın ağırlığına göre ortaya çıkan sorunlardan biri değildir?
 - A) Sınırlı iş görme yeteneği
 - B) Geçici iş görmezlik
 - C) Kısmi iş görmezlik
 - D) Tam iş görmezlik
4. Atardamar, toplardamar ve kılcal damarlardan oluşan damar ağının içinde dolaşan akıcı plazma ve hücrelerden oluşmuş kırmızı renkli yaşamsal sıvının adı nedir?
 - A) Alyuvar
 - B) Akyuvar
 - C) Kan
 - D) Trombosit
5. Aşağıdakilerden hangisi insanın, iş kazası meydana gelmemesi için yapması gerekenler arasında yer almaz?
 - A) Akılcıca hareket etmek
 - B) Güvenlikle ilgili her türlü kurala uymak
 - C) Sorumluluk duymak
 - D) İşe uyum sağlamamak
6. Aşağıdakilerden hangisi çevre güvenliğini etkileyen kimyasal tehditlerden biri değildir?
 - A) Suni kimyasal tehditler
 - B) Hava ve suların kirliliği
 - C) Endüstriyel kirlilik
 - D) Aydınlatma bozuklukları
7. Aşağıdakilerden hangisi kanama çeşitlerinden biridir?
 - A) Kesik kanamaları
 - B) Toplardamar kanamaları
 - C) Turnike kanamaları
 - D) Yara kanamaları
8. Vücuttaki dokulara yeterli oksijenin gitmemesi sonucu dokularda bozulma meydana gelmesine ne denir?
 - A) Boğulma
 - B) Daralma
 - C) Heyecan
 - D) Kırılma
9. Uçakların kanatlarında ve bazı bölümlerinde soğuk havalarda ve sürat nedeniyle donmayı önlemek için kullanılan yanma özelliğine sahip maddenin adı nedir?
 - A) Hidroliz
 - B) Diyazol
 - C) Epitelyum
 - D) Anti-icing
10. Aşağıdakilerden hangisi iş yerinde elektrik enerjisi kullanırken alınacak tedbirler arasında yer almaz?
 - A) Kullanım talimatnameye uygun olmalıdır.
 - B) Elektrikli aletler mutlaka topraklı prizle kullanılmalıdır.
 - C) Kullanıldıkları sırada fiş prizden çıkarılmalıdır.
 - D) Temizlik, bakım ve onarımları aksatılmamalıdır.

11. Aşağıdakilerden hangisi sıcak su aygıtlarının kullanılmasında dikkat edilecek önemli hususlardan biri değildir?
- A) Şofben mutfağa monte edilmeli
B) Şofben kullanıldıktan sonra gaz devresi kesilmeli
C) Termosifonlar, içinde su bulunurken aşırı derecede yakılmamalı
D) Termosifonda su sıcaklığını gösteren termometre bulunmalı

12. Türkiye'de Cumhuriyetin ilanından sonra iş sağlığı ve iş güvenliği alanında ilk düzenleme hangisidir?
- A) Hafta Tatili Yasası
B) Umumi Hıfzıssıhha Yasası
C) Belediyeler Yasası
D) Sosyal Güvenlik Yasası

13. Makinelerin bir maddeyi işlerken çıkardıkları ince ve kalın parçalara ne ad verilir?
- A) Torna
B) Talaş
C) Revörler
D) Bileme çarkı

14. Aşağıdakilerden hangisi ölçme ayar ve kontrol makineleri arasında yer almaz?
- A) Optik-mekanik
B) Pnömatik
C) Akustik
D) Mekanik

15. Aşağıdakilerden hangisi kaza zincirini meydana getiren kişisel kusurlardan biri değildir?
- A) Dikkatsizlik
B) Tabiat şartları
C) Sinirlilik
D) Yorgunluk

16. Aşağıdakilerden hangisi boğucu gazlar sınıflandırması içerisinde yer almaz?
- A) Basit boğucular
B) Sistemik zehirli gazlar
C) Tahriş edici gazlar
D) Bileşik gazlar

17. Aşağıdakilerden hangisi işverenin kanuna göre Sosyal Güvenlik Kurumuna karşı sorumluluklarından biri değildir?
- A) İş yeri bildirgesi ve eklerinin verilmesi
B) Çalıştırmadığı işçilerin bildirgesinin verilmesi
C) Aylık prim ve hizmet belgesinin belirtilen biçimde ve sürede verilmesi
D) İş kazası ve meslek hastalığı bildirimini yapılması

18. Aşağıdakilerden hangisi görünmeyen kazalar arasında yer almaz?
- A) Toplumun uğradığı zararlar
B) Kaybolan iş günü
C) Tazminat ödemeleri
D) Üretim kayıpları

19. Olayların akışında önceden planlanmamış, bilinmeyen ve sık sık kişisel yaralanmalara, sakatlanmalara, makine, alet, malzeme ve çevrenin zarara uğramasına sebebiyet veren olaya ne ad verilir?
- A) Kusur
B) Kaza
C) Beklenmeyen durum
D) Mücbir sebep

20. Aşağıdakilerden hangisi elektrikten kaynaklanan iş kazalarının önlenmesinde alınacak önlemlerden biri değildir?
- A) Büyük gerilim kullanmak
B) İzolasyon trafosu
C) Topraklamak
D) Yalıtılmak

1. Yunan kentlerinde gençlerin antrenman yapımları ve eğitim görmelerini sağlamak amacı ile inşa edilmiş olan yapı tipi aşağıdakilerden hangisidir?
 - A) Bouleterion
 - B) Gymnasium
 - C) Stadion
 - D) Mausoleum
2. İvriz Kaya Kabartması günümüzde hangi ilimizin sınırları içinde yer alır?
 - A) Nevşehir
 - B) Eskişehir
 - C) Burdur
 - D) Konya
3. Aşağıdakilerden hangisi Sümer'ler tarafından kurulan şehir devletlerinden biri değildir?
 - A) Ur
 - B) Teb
 - C) Umma
 - D) Lagas
4. Küçük boyutlu renkli taş, cam ve değişik malzemelerin yan yana dizilmesiyle elde edilen resim türüne ne ad verilir?
 - A) Mozaik
 - B) Rölyef
 - C) Gravür
 - D) Vitray
5. Aşağıdaki imparatorların hangisinin zamanında Bizans İmparatorluğu en parlak dönemini yaşamıştır?
 - A) III. Leo
 - B) Aleksios Komnenos
 - C) Justinianus
 - D) I.Konstantin
6. Mısır Mimarisinde önemli bir yeri olan Gize piramitleri aşağıda adı verilen krallardan hangileri için yapılmıştır?
 - A) Coser, III. Ramses, Kefren
 - B) IV. Amenhotep, Mikerinos, Tutmosis
 - C) Keops, Kefren, Mikerinos
 - D) II. Ramses, Tutmosis, Amenhotep IV
7. Anadolu'da kurulan devletlerden biri olan Urartu Uygarlığının başkenti aşağıdakilerden hangisidir?
 - A) Sard
 - B) Alacahöyük
 - C) Gordion
 - D) Tuşpa
8. M.Ö. II. Binin başlarında Kafkaslar üzerinden gelerek, Orta Anadolu'ya yerleşen ve başkentleri Hattuşaş (Boğazköy) olan devlet aşağıdakilerden hangisidir?
 - A) Lidya
 - B) Hitit
 - C) Pers
 - D) Frig
9. Aşağıdakilerden hangisi olayların tarihlerini saptayarak oluşum sıralarını düzenleyen bir bilim dalıdır?
 - A) Kronoloji
 - B) Antropoloji
 - C) Arkeoloji
 - D) Etnoloji
10. Bizans mimarisi içerisinde dini mimarinin en önemli yapı tipleri bazilikalardır. Birkaç çeşit plan tiplerinde inşa edilen bu yapılarda orta neflerin merkezindeki kare bölümlerinin kubbe ile örtülmüş olanlarına "Kubbeli Bazilika" adı verilir. Bu yapı tipine en güzel örnek aşağıdaki mimari eserlerden hangisidir?
 - A) Atik Mustafa Paşa Camii
 - B) Zeus Tapınağı
 - C) Sergios Bacchos (Küçük Ayasofya) Kilisesi
 - D) Ayasofya
11. Aşağıdaki sanat türlerinden hangisi güzel sanatlardan biri değildir?
 - A) Müzik
 - B) Kuyumculuk
 - C) Mimari
 - D) Tiyatro

12. Anadolu'da eski çağlarda birçok tümülüs tipi mezarın bulunmuş olduğu, önemli bir sanat merkezi olan Sard şehri, aşağıdaki uygarlıklardan hangisinin başkentiydi?

- A) Lidya
- B) Frigya
- C) Urartu
- D) Geç Hitit

13. Tapınak ve saraylarda görülen, "apadana" adı verilen çok sütunlu kabul salonları, İlk Çağda Anadolu'da yaşayan hangi devletin mimariye getirdiği bir yeniliktir?

- A) Lidyalılar
- B) Hititler
- C) Urartular
- D) Frigyalılar

14. İlk çağlarda Dicle ve Fırat arasındaki bölgeye Mezopotamya adı verilmiştir. Mezopotamya kültür, sanat ve uygarlığının ilk temsilcisi olarak bilinen uygarlık aşağıdakilerden hangisidir?

- A) Urartu
- B) Babil
- C) Hitit
- D) Sümer

15. Sanat tarihine yardımcı bilimlerden biri de nümizmatiktir. Nümizmatik biliminin ilgi alanı aşağıdakilerden hangisidir?

- A) Olayların tarihlerini saptayarak oluşum sıralarını düzenleme
- B) Anıt, heykel vb. eserler üzerindeki yazıları okuma
- C) Eski paraları tanıma-inceleme
- D) Coğrafi bölgelerin, şehirlerin tarihini inceleme

16. Hazar Denizi, Malatya, Erzurum, Musul ve Halep arasındaki bölgede yaşayan Asya kökenli Hurri kabileleri tarafından M.Ö. IX yüzyılda Van Gölü ve çevresinde kurulan, başkenti Tuşpa olan devlet aşağıdakilerden hangisidir?

- A) Hitit
- B) Asur
- C) Frig
- D) Urartu

17. İmparator Hadrianus döneminde M.S.2.yüzyılda yaptırılan yuvarlak planlı Panteon tapınağı aşağıdaki şehirlerden hangisinde yer alır?

- A) Venedik
- B) Napoli
- C) Roma
- D) Milano

18. Yaş siva üzerine boya ile yapılan duvar sanatına ne ad verilir?

- A) Fresko
- B) Mozaik
- C) Gravür
- D) Rölyef

19. Aşağıdakilerden hangisi Anadolu'daki tarih öncesi çağlardan biri değildir?

- A) Paleolitik
- B) Nümizmatik
- C) Neolitik
- D) Mezolitik

20. 57. Mezopotamya'da Ur, Uruk, Umma ve Kaş gibi önemli şehir devletleri aşağıdaki uygarlıklardan hangisi tarafından kurulmuştur?

- A) Sümerler
- B) Babiller
- C) Hititler
- D) Akadlar

1. Halk şiirinin unutulmaz ustasıdır. 17. yüzyılda Toroslar'da Türkmen aşiretleri arasında yaşamıştır. Şiirlerini dördlük nazım birimiyle, hece ölçüsüyle saz eşliğinde söyledi.

Yukarıda tanıtılan ünlü halk ozanı aşağıdakilerden hangisidir?

- A) Pîr Sultan Abdal
B) Karacaoğlan
C) Dadaloğlu
D) Âşık Veysel

2. Gazelin ilk beytine ne ad verilir?

- A) Medhiye
B) Matla
C) Girizgâh
D) Taç

3. Gazel nazım şeklinde şairin takma adının geçtiği son beyite ne ad verilir?

- A) Makta beyit
B) Matla beyit
C) Musammat gazel
D) Mahlas

4. Aşağıdakilerden hangisi Tanrı aşkını, tasavvuf düşüncesini işleyen türlerden biridir?

- A) Ağıt
B) Öğüt
C) Hikmet
D) Tegazzül

5. Şairlerin dünya görüşlerini, dini-tasavvufi düşüncelerini, aşk anlayışlarını kısa ve özlü bir şekilde işleyen, dört mısralık Divan edebiyatı nazım şeklidir. Özel aruz kalıplarıyla yazılır, aaxa şeklinde uyaklanır. En güzel örneklerini Ömer Hayyam ve Haleti vermiştir.

Yukarıda sözü edilen nazım şekli aşağıdakilerden hangisidir?

- A) Gazel
B) Mesnevi
C) Rubai
D) Murabba

6. İçinde destan, sav, sagu, koşuk örneklerinin de bulunduğu ansiklopedik sözlük Divân-ı Lûgati't Türk'ün yazarı kimdir?

- A) Ahmet Yesevî
B) Edip Ahmet
C) Yusuf Has Hacıp
D) Kaşgarlı Mahmut

7. Bir devlet büyüğünün ölümünden duyulan derin üzüntüyü dile getiren şiirlere, Divan edebiyatında ne ad verilir?

- A) Fahriye
B) Hicviye
C) Mersiye
D) Medhiye

8. W. Shakespeare'in kavuşamayan iki sevgilinin aşk hikâyesini anlattığı tiyatro eseri aşağıdakilerden hangisidir?

- A) Romeo ve Juliet
B) Kızıl ile Kara
C) Kerem ile Aslı
D) Madam Bovary

9. İslamiyet'in Türk dili ve edebiyatına yansıyan özellikleriyle ilgili aşağıdaki ifadelerden hangisi yanlıştır?

- A) Türk dili ayrı coğrafi bölgelerde Doğu Türkçesi ve Batı Türkçesi adıyla ikiye ayrılmıştır.
B) Şiirde hece ölçüsü kullanılmaya başlanmıştır.
C) Bilim dili olarak Arapça, edebiyat dili olarak Farsça kullanılmaya başlamıştır.
D) İslamiyet öncesi sözlü edebiyat halk arasında devam etmiştir.

10. Aşağıdakilerden hangisi XIV. yüzyıl Divan şairi Ahmedî'nin eseridir?

- A) Tahir ile Zühre
B) Arzu ile Kamber
C) Leyla ile Mecnun
D) Cemşid ü Hurşit

11. Eserlerinde ilahi aşkı, mutlak varlığı, tasavvufi konuları işlemiştir. Amacı tasavvufu öğretmektir. Önemli eserlerinden biri olan Dilgüşa, kolayca okunup anlaşılabilir. Hangisidir?

Yukarıda tanıtılan yazar aşağıdakilerden hangisidir?

- A) Edip Ahmet
- B) Mevlâna
- C) Kaygusuz Abdal
- D) Yunus Emre

12. Şairin kaside içinde medhiye bölümünden sonra uygun bir yerde aynı vezin ve kafiye ile söylediği bölüme ne ad verilir?

- A) Girizgâh
- B) Fahriye
- C) Dua
- D) Tegazzül

13. Divan edebiyatında şairlerin kendilerini övme geleneği vardı. Kaside nazım şekli içinde şairin kendini ovduğu bölüme ne ad verilir?

- A) Medhiye
- B) Fahriye
- C) Mersiye
- D) Girizgâh

14. Aşağıdakilerden hangisi tasavvuf düşüncesini şiirlerine yansıtan şair ve düşünürlerden biri değildir?

- A) Hoca Dehhani
- B) Mevlâna
- C) Yunus Emre
- D) Hacı Bektaş Velî

15. Anonim halk şiiri örneği olup genellikle dört dizeden oluşan, 7'li hece ölçüsüyle söylenen, aaba şeklinde uyaklanan nazım şekline ne ad verilir?

- A) Mânî
- B) Türkü
- C) Mesnevî
- D) Semaî

16. Tarihçi, şair ve dilcidir. Başarılı sözlük tercüme çalışmaları gerçekleştirmiştir. Burhan-ı Kaatı adlı sözlük çalışmasının bir bölümünü Sultan III. Selim'e sunmuştur.

Yukarıda tanıtılan tarihçi aşağıdakilerden hangisidir?

- A) Ahmet Resmî Efendi
- B) Kâtip Çelebi
- C) Dadaloğlu
- D) Mütercim Âsım

17. Yurtdışına elçi olarak gönderilen devlet adamlarının, kaldıkları yerlerle ilgili gözlemlerini dile getirdikleri eserlere ne ad verilir?

- A) Sefaretname
- B) Harname
- C) Surname
- D) Saltukname

18. Aşağıdakilerden hangisi, Türklerin İslamiyet'i kabulünden sonra, Karahanlılar döneminde oluşturduğu eserlerinden biridir?

- A) Manas Destanı
- B) Kutadgu Bilig
- C) Gilgamiş Destanı
- D) İlyada ve Odyssea

19. Türkülerle ilgili aşağıdaki ifadelerden hangisi yanlıştır?

- A) Hece ölçüsüyle yazılır.
- B) Dize sayılarına göre üçleme, beşleme gibi isimler alır.
- C) Divan edebiyatı eserleridir.
- D) Her bendin sonunda tekrarlanan kavuştak dizelerinden oluşur.

20. Tanzimat'la başlayan yenileşme hareketinin öncülerinden olan, Türk Edebiyatının yenileşmesi ve öz kaynaklarına dönmesini savunan yazar aşağıdakilerden hangisidir?

- A) Namık Kemal
- B) Ziya Paşa
- C) Yahya Kemal
- D) Faruk Nafiz Çamlıbel

1. Was macht drei mal sechs?

Welche Antwort passt zur obigen Frage?

Verilen sorunun cevabı aşağıdakilerden hangisidir?

- A) Siebzehn
- B) Zwanzig
- C) Achtzehn
- D) Einundzwanzig

2. Tolga Melda sind Geschwister.

Welches Wort passt in die obige Lücke?

Cümlede boş bırakılan yeri aşağıdakilerden hangisi doğru şekilde tamamlar?

- A) aber
- B) und
- C) weil
- D) somit

3., er ist schön.

Welches ergänzt die Lücke im obigen Satz?

Verilen cümleyi aşağıdakilerden hangisi tamamlar?

- A) Eine Giraffe ist sehr lang
- B) Ein Affe kann nicht klettern
- C) Ein Kanarienvogel ist nicht häßlich
- D) Eine Schildkröte kann schnell laufen

4. Ja, er hat eine Brille.

Welche Frage passt zur obigen Antwort?

Verilen cevabı gerektirecek soru aşağıdakilerden hangisidir?

- A) Haben sie eine Brille?
- B) Wo ist die Sonnenbrille?
- C) Hat er eine Brille?
- D) Woher hast du diese Sonnenbrille?

5. A: Kennst du Freund?
B: Ja, ich kenne Freund.

Welche Wörter ergänzen die Lücken im obigen Dialog?

Verilen karşılıklı konuşmada boş bırakılan yerleri aşağıdakilerden hangisi tamamlar?

- A) mich / dich
- B) meinen / deinen
- C) mein / dein
- D) mir / dir

6. A: Ich kann dir beim Abwaschen nicht helfen!
B: Warum?
A:

Welches ergänzt nicht den obigen Dialog?

Verilen karşılıklı konuşmayı aşağıdakilerden hangisi tamamlamaz?

- A) Ich habe keine Zeit!
- B) Ich muß noch meine Hausaufgaben machen!
- C) Ich habe das Auto neu gekauft!
- D) Ich bin sehr müde!

7. Der Vater möchte Zeitung lesen. Wir

Welches ergänzt die Lücke im obigen Satz?

Verilen cümleyi aşağıdakilerden hangisi tamamlar?

- A) soll heute ein Buch lesen.
- B) sollst neue Zeitung lesen.
- C) sollen ihm Zeitung kaufen.
- D) solltet immer Zeitung kaufen.

8. 18 Jahren lerne ich Auto fahren und dann ich ein Auto kaufen.

Welche Wörter passen in die obigen Lücken?

Cümlede boş bırakılan yerleri aşağıdakilerden hangisi doğru şekilde tamamlar?

- A) Auf / möchte
B) In / sollst
C) Für / wirst
D) Mit / will

9. Meine Mutter ist krank

Welches ergänzt die Lücke im obigen Satz?

Verilen cümleyi aşağıdakilerden hangisi tamamlar?

- A) wir gehen zum Picknick.
B) sie muß zum Arzt.
C) er geht in die Bibliothek.
D) ich gehe schnell in die Schule.

10. Ein ist sehr interessant und billig.

Welches Wort passt in die obige Lücke?

Cümlede boş bırakılan yeri aşağıdakilerden hangisi doğru şekilde tamamlar?

- A) Flohmarkt
B) Haus
C) Zimmer
D) Ferien

11. Er schreibt einen Brief an seine Freundin.

Wie lautet der obige Satz im Präteritum?

Verilen cümlelerin geçmiş zaman şekli aşağıdakilerden hangisidir?

- A) Er hätte einen Brief an seine Freundin schreiben können.
B) Er schrieb einen Brief an seine Freundin.
C) Er wollte einen Brief an seine Freundin schreiben.
D) Er soll einen Brief an seine Freundin schreiben.

12. Sabine legt die Bücher den Tisch.

Welches Wort passt in die obige Lücke?

Cümlede boş bırakılan yeri aşağıdakilerden hangisi doğru şekilde tamamlar?

- A) in
B) aus
C) über
D) auf

13. A: Kommst du heute Abend zur Party?

B:

A: Das ist aber Schade!

Welches ergänzt den obigen Dialog?

Verilen karşılıklı konuşmayı aşağıdakilerden hangisi tamamlar?

- A) Nein, ich kann leider nicht kommen.
B) Nein, er kommt nicht mit mir.
C) Ja, sie kommen zu dir.
D) Ja, wir wollen unbedingt zu dir kommen.

14. Ja, gut aber die grüne Bluse gefällt mir besser.

Welche Frage passt zur obigen Antwort?

Verilen cevabı gerektirecek soru aşağıdakilerden hangisidir?

- A) Willst du die Bluse kaufen?
B) Wie gefällt dir die blaue Bluse?
C) Wo ist die rote Bluse?
D) Wer hat eine grüne Bluse?

15. Wir trinken abends Tee.

Welches Wort passt in die obige Lücke?

Cümlede boş bırakılan yeri aşağıdakilerden hangisi doğru şekilde tamamlar?

- A) außer
- B) dank
- C) für
- D) nur

16. Welche Strasse nimmst du? Die Autobahn oder die Landstrasse?

Welche Antwort passt zur obigen Frage?

Verilen sorunun cevabı aşağıdakilerden hangisidir?

- A) Lieber die Autobahn, weil sie kürzer und schneller ist.
- B) Ich gehe gerne zu Fuß in die Stadt und kaufe ein.
- C) Ich würde lieber auf dem Land leben.
- D) Lieber nehme ich das Fahrrad, weil es gesünder ist.

17. Ayşe findet die Modezeitungen die politischen Zeitungen.

Welches passt in die obige Lücke?

Cümlede boş bırakılan yeri aşağıdakilerden hangisi doğru şekilde tamamlar?

- A) schnell wie
- B) nicht so klein wie
- C) fleißiger als
- D) interessanter als

18. Ja, sehr.

Welche Frage passt zur obigen Antwort?

Verilen cevabı gerektirecek soru aşağıdakilerden hangisidir?

- A) Wann gehst du zur Schule?
- B) Hast du einen Regenschirm?
- C) Wohnst du in Eskişehir?
- D) Sehnt du dich nach deiner Heimat?

19. Das ist das Mofa mein..... Freund.....

Welche Endungen passen in die obigen Lücken?

Cümlede boş bırakılan yerleri aşağıdaki son eklerden hangileri doğru şekilde tamamlar?

- A) -es / -es
- B) -en / -er
- C) -em / -en
- D) -er / -rem

20. Der Arbeiter prüft den Motor.

Wie lautet der obige Satz in der Passivform?

Verilen cümlenin edilgen hali aşağıdakilerden hangisidir?

- A) Der Motor wird von dem Arbeiter geprüft.
- B) Der Motor ist geprüft worden.
- C) Der Arbeiter möchte den Motor prüfen.
- D) Der Arbeiter soll den Motor prüfen.

1. Städte werden, aber die Welt wird immer kleiner.

Welches Wort passt in die obige Lücke?

Cümlede boş bırakılan yeri aşağıdakilerden hangisi doğru şekilde tamamlar?

- A) lange
B) schwierig
C) größer
D) dauert

2. Der vierte Monat des Jahres ist

Welches Wort passt in die obige Lücke?

Cümlede boş bırakılan yeri aşağıdakilerden hangisi doğru şekilde tamamlar?

- A) Mai
B) Juni
C) Juli
D) April

3. Das Auto ist schneller als das Fahrrad. Das Flugzeug ist aber

Welches Wort passt in die obige Lücke?

Cümlede boş bırakılan yeri aşağıdakilerden hangisi doğru şekilde tamamlar?

- A) als schneller
B) am schnellsten
C) schnell
D) schnellste

4. Frauen arbeiten, weil Sie Ihre Familie unterstützen wollen.

Welche Frage passt zur obigen Antwort?

Verilen cevabı gerektirecek soru aşağıdakilerden hangisidir?

- A) Wo arbeiten Männer?
B) Wie arbeiten die Frauen?
C) Warum arbeiten Frauen?
D) Wann arbeiten die Männer?

5. Warum steigen Ölpreise ständig?

Welche Antwort passt zur obigen Frage?

Verilen sorunun cevabı aşağıdakilerden hangisidir?

- A) Weil ich viel Geld habe.
B) Weil die Inflation ständig steigt.
C) Weil sie studieren wollen.
D) Weil wir früh aufgestanden sind.

6. Er jeden Tag mindestens eine Zeitung.

Welches Wort passt in die obige Lücke?

Cümlede boş bırakılan yeri aşağıdakilerden hangisi doğru şekilde tamamlar?

- A) steigt
B) habt
C) macht
D) kauft

7. A: Hallo, Ayşe!
B: Hallo, Atilla!
A: Wo wohnst du zur Zeit?
B: In Bursa.
A: Warum wohnst du in Bursa?
B:

Welcher Satz ergänzt den obigen Dialog?

Verilen karşılıklı konuşmayı aşağıdakilerden hangisi tamamlar?

- A) Ich wohne in Bursa, weil ich dort arbeite.
B) Ich arbeite in Istanbul, weil ich dort viel verdiene.
C) Wir möchten nach Bursa fahren, weil wir unsere Freunde besuchen wollen.
D) Wir wollen auch in Bursa arbeiten, denn wir wohnen dort.

8. Das ganze Personal muss morgens um 8 Uhr in der Bank sein.

Welches Wort passt in die obige Lücke?

Cümlede boş bırakılan yeri aşağıdakilerden hangisi doğru şekilde tamamlar?

- A) nur
B) sondern
C) spätestens
D) seltsam

9. 1980 1984 habe ich die Realschule besucht.

Welche Wörter passen in die obigen Lücken?

Cümlede boş bırakılan yerleri aşağıdakilerden hangileri doğru şekilde tamamlar?

- A) Von / bis
B) Aus / ab
C) Zu / für
D) In / auf

10. A:
B: Selten, weil ich keine Zeit habe.
A: Das ist aber Schade!

Welches ergänzt den obigen Dialog?

Verilen karşılıklı konuşmayı aşağıdakilerden hangisi tamamlar?

- A) Wie oft gehen Sie ins Theater?
B) Gehst du auch ins Kino?
C) Um wieviel Uhr geht ihr ins Kino?
D) Wann fängt der Film an?

11. Das Bild hängt hier Wand.

Welches Wort passt in die obige Lücke?

Cümlede boş bırakılan yeri aşağıdakilerden hangisi doğru şekilde tamamlar?

- A) für die
B) aus dem
C) zu der
D) an der

12. Du nicht in der Schule? Ich dachte, du wärst in der Schule!

Welches Wort passt in die obige Lücke?

Cümlede boş bırakılan yeri aşağıdakilerden hangisi doğru şekilde tamamlar?

- A) war
B) wäre
C) warst
D) wären

13. A:
B: Ja, er hat dort zwei Jahre gearbeitet.
A: Ich dachte, er hätte im Restaurant gearbeitet.

Welches ergänzt den obigen Dialog?

Verilen karşılıklı konuşmayı aşağıdakilerden hangisi tamamlar?

- A) Hatte Jürgen in der Werkstatt gearbeitet?
B) Seit wann arbeitest du in dieser Werkstatt?
C) Wer arbeitet hier?
D) Hast du in einer Werkstatt arbeiten wollen?

14., unsere Mutter könnte alle Sprachen sprechen!

Welches ergänzt den obigen Satz?

Verilen cümleyi aşağıdakilerden hangisi tamamlar?

- A) Stellt euch vor
B) Stellst du dir vor
C) Hast du das Plan gemacht
D) Haben Sie den Wunsch

15. Was bedeutet "uçurum" auf Deutsch?

"uçurum" sözcüğünün Almancası aşağıdakilerden hangisidir?

- A) Die Mannschaft
- B) Die Schlucht
- C) Der Erfolg
- D) Der Ernst

16. Der Arzt kommt am Samstag zu mir.

Wie lautet der obige Satz in der Konjunktiv I Form?

Verilen cümlelerin Konjunktif I şekli aşağıdakilerden hangisidir?

- A) Ich habe gehört, daß der Arzt am Samstag hier ist.
- B) Der Arzt hat es mir geagt, er will am Samstag kommen.
- C) Der Arzt meint, daß er am Samstag unbedingt kommen muß.
- D) Man sagt, der Arzt käme am Samstag zu mir.

17. Die Banken sind der Reperatur durchgehend geschlossen.

Welches Wort passt in die obige Lücke?

Cümlede boş bırakılan yeri aşağıdakilerden hangisi doğru şekilde tamamlar?

- A) nur
- B) sonst
- C) versorgt
- D) wegen

18. Mein Freund hatte keine Gelegenheit Englisch zu lernen.

Welches Wort passt nicht in die obige Lücke?

Cümlede boş bırakılan yeri aşağıdakilerden hangisi doğru şekilde tamamlamaz?

- A) bis jetzt
- B) noch
- C) zu
- D) aber

19. Die Nudeln kommen aus Italien.

Welche Frage paßt zur obigen Antwort?

Verilen cevabı gerektirecek soru aşağıdakilerden hangisidir?

- A) Wer macht Nudeln?
- B) Woher kommen die Nudeln?
- C) Hast du das Essen vorbereitet?
- D) Haben Sie die italienische Nudeln probiert?

20. Die Frau, Kinder in der Schule sind, ist Lehrerin.

Welches Wort passt in die obige Lücke?

Cümlede boş bırakılan yeri aşağıdakilerden hangisi doğru şekilde tamamlar?

- A) denen
- B) deren
- C) der
- D) die

1. Du bist noch hier? Ich dachte,

Welches ergänzt die Lücke im obigen Satz?

Verilen cümleyi aşağıdakilerden hangisi tamamlar?

- A) sie kann im Kino arbeiten.
B) er wohnt nicht hier.
C) du wärst schon in der Schule.
D) wärst du auch mitgekommen, hätten wir viel Spaß.

2. A:

B: Man sagt, sie wäre aus Deutschland.

A: Ach so, ich dachte, sie wäre aus Frankreich.

Welches ergänzt den obigen Dialog?

Verilen karşılıklı konuşmayı aşağıdakilerden hangisi tamamlar?

- A) Woher kommt sie?
B) Wann kommst du?
C) Wer kommt mit?
D) Was machst du heute?

3. Atilla ist, alles in der Prüfung wäre gut gelaufen.

Welches Wort passt in die obige Lücke?

Cümlede boş bırakılan yeri aşağıdakilerden hangisi doğru şekilde tamamlar?

- A) die Frage
B) das Denken
C) die Hoffnung
D) der Meinung

4. Ich jetzt sehr gern in Ferien!

Welches Wort passt in die obige Lücke?

Cümlede boş bırakılan yeri aşağıdakilerden hangisi doğru şekilde tamamlar?

- A) wärst
B) war
C) wäre
D) warst

5. A: Wo warst du gestern Abend?

B: Ich war im Kino!

A:

Welches ergänzt den obigen Dialog?

Verilen karşılıklı konuşmayı aşağıdakilerden hangisi tamamlar?

- A) Wir wollen auch zu Hause bleiben!
B) Ich gehe lieber nach Hause!
C) Er hat keine Zeit ins Theater zu gehen!
D) Ich dachte du wärst zu Hause!

6. wir jetzt Zeit hätten, wir einen Ausflug machen.

Welche Wörter passen in die obigen Lücken?

Cümlede boş bırakılan yerleri aşağıdakilerden hangileri doğru şekilde tamamlar?

- A) Als / wird
B) Für / wirst
C) Wenn / würden
D) Damit / würdest

7. Er meint,

Welches ergänzt nicht die Lücke im obigen Satz?

Verilen cümleyi aşağıdakilerden hangisi tamamlamaz?

- A) wird die Prüfung bestehen.
B) wir hätten morgen keine Schule.
C) der Lehrer sei krank.
D) sie kämen heute Nachmittag.

8. Es gab gestern einen Verkehrsunfall, bei dem keiner verletzt wurde.

Welches Wort passt in die obige Lücke?

Cümlede boş bırakılan yeri aşağıdakilerden hangisi doğru şekilde tamamlar?

- A) rechtzeitig
B) glücklicherweise
C) durchgehend
D) privat

9. Weil er noch arbeiten muß!

Welche Frage passt zur obigen Antwort?

Verilen cevabı gerektirecek soru aşağıdakilerden hangisidir?

- A) Seit wann lebst du hier?
B) Wer kommt heute zur Versammlung?
C) Bist du immer erfolgreich?
D) Warum hat dein Freund keine Zeit?

10. Was bedeutet "Yaşasın!" auf Deutsch?

"Yaşasın!" sözcüğünün Alıncası aşağıdakilerden hangisidir?

- A) Er möge kommen!
B) Er sei krank!
C) Er lebe hoch!
D) Er möge Erfolg haben!

11. Meine Mutter sagte, sie hätte bis jetzt keine Gelegenheit gehabt,.....

Welches ergänzt die Lücke im obigen Satz?

Verilen cümleyi aşağıdakilerden hangisi tamamlar?

- A) würde gerne in Deutschland leben.
B) nie hätte sie Paris gesehen.
C) Englisch zu lernen.
D) selten spiele ich mit den Kindern.

12. dem Baum sei eine Brücke, die führe über eine

Welche Wörter passen in die obigen Lücken?

Cümlede boş bırakılan yerleri aşağıdakilerden hangileri doğru şekilde tamamlar?

- A) Aus / Grab
B) Zum / Turm
C) Da / Ausgang
D) Hinter / Schlucht

13. Dieser Roman ist von einem Schriftsteller geschrieben worden.

Welches Wort passt in die obige Lücke?

Cümlede boş bırakılan yeri aşağıdakilerden hangisi doğru şekilde tamamlar?

- A) kleines
B) weltberühmten
C) vielen
D) preiswerten

14. Die Frauen, Taschen wir getragen haben, sind meine Freunde.

Welches Wort passt in die obige Lücke?

Cümlede boş bırakılan yeri aşağıdakilerden hangisi doğru şekilde tamamlar?

- A) deren
B) dessen
C) dem
D) denen

15. Der Mann, der aus der Türkei kommt,

Welches ergänzt nicht den obigen Satz?

Verilen cümleyi aşağıdakilerden hangisi tamamlamaz?

- A) spricht sehr gut Deutsch.
- B) haben sich sehr gefreut.
- C) ist jung.
- D) arbeitet in der Bank.

16. Der Füller, den ich heute gekauft habe,

Welches ergänzt den obigen Satz?

Verilen cümleyi aşağıdakilerden hangisi tamamlar?

- A) schmeckt gut.
- B) schreibt sehr gut.
- C) ist sehr glücklich.
- D) war immer berühmt.

17. Der Döner,, soll sehr gut schmecken.

Welches ergänzt die Lücke im obigen Satz?

Verilen cümleyi aşağıdakilerden hangisi tamamlar?

- A) dem wir viel bezahlt haben
- B) der in der Türkei sehr berühmt ist
- C) die wir im Buch lesen
- D) das hier sehr berühmt ist

18. Das Mädchen, dem der Vater ein Fahrrad kaufte, freute sich sehr.

Wie lautet der obige Satz auf Türkisch?

Verilen cümlelerin Türkçesi aşağıdakilerden hangisidir?

- A) Çocuk babasından bisiklet almasını istedi.
- B) Babasına bisiklet alan kız çok mutlu oldu.
- C) Baba kızına bisiklet aldığı için çok mutlu.
- D) Babasının bisiklet aldığı kız çok sevindi.

19. Das Kind, Fahrrad neu ist, ist sehr glücklich.

Welches Wort passt in die obige Lücke?

Cümlede boş bırakılan yeri aşağıdakilerden hangisi doğru şekilde tamamlar?

- A) dessen
- B) deren
- C) dieser
- D) denen

20. Der Vater, dessen Sohn heute heiratet, ist sehr glücklich.

Wie lautet der obige Satz auf Türkisch?

Verilen cümlelerin Türkçesi aşağıdakilerden hangisidir?

- A) Bugün oğlu evlenen baba çok mutlu.
- B) Oğlu evlenen baba çok telaşlı.
- C) Babanın oğlu evlendiği için çok gergin.
- D) Oğlunun düğününe çok heyecanlanan baba yorgun düştü.

1. The students have been studying8 o'clock.

Which of the following completes the sentence above?

Aşağıdakilerden hangisi yukarıdaki cümleyi doğru olarak tamamlar?

- A) since
B) for
C) ago
D) after

2. Saat onbire çeyrek var.

Which of the following is the English translation of the sentence above?

Aşağıdakilerden hangisi yukarıdaki cümlenin İngilizce karşılığıdır?

- A) It's quarter past eleven.
B) It's eleven o'clock.
C) It's twenty to eleven.
D) It's quarter to eleven.

3. Tom : Mary has finished her school, she?
Mike : Yes, she has.

Which of the following completes the dialogue above?

Aşağıdakilerden hangisi yukarıdaki konuşmayı doğru olarak tamamlar?

- A) doesn't
B) don't
C) hasn't
D) won't

4. The children have been TV since 10 o'clock.

Which of the following completes the sentence above?

Aşağıdakilerden hangisi yukarıdaki cümleyi doğru olarak tamamlar?

- A) will watch
B) watch
C) watched
D) watching

5. Jane: Is there money in the wallet?
John: Yes, there is.

Which of the following completes the dialogue above?

Aşağıdakilerden hangisi yukarıdaki konuşmayı doğru olarak tamamlar?

- A) many
B) a few
C) very
D) any

6. I will go to Ankara Wednesday.

Which of the following completes the sentence above?

Aşağıdakilerden hangisi yukarıdaki cümleyi doğru olarak tamamlar?

- A) at
B) in
C) on
D) under

7. Jack doesn't like chocolate, and Tom doesn't ,

Which of the following completes the sentence above?

Aşağıdakilerden hangisi yukarıdaki cümleyi doğru olarak tamamlar?

- A) too
B) either
C) any
D) many

8. She has been living in New York two years.

Which of the following completes the sentence above?

Aşağıdakilerden hangisi yukarıdaki cümleyi doğru olarak tamamlar?

- A) since
B) ago
C) for
D) before

9. A : Excuse me, I borrow your sharpener?
B : Certainly.

Which of the following completes the dialogue above?

Aşağıdakilerden hangisi yukarıdaki konuşmayı doğru olarak tamamlar?

- A) could
- B) may
- C) have
- D) must

10. Mary : How money is there in the wallet?
Jill : There is a little.

Which of the following completes the dialogue above?

Aşağıdakilerden hangisi yukarıdaki konuşmayı doğru olarak tamamlar?

- A) many
- B) more
- C) much
- D) any

11. Alice down the road now. She sometimes to get to work in the morning.

Which of the following completes the sentence above?

Aşağıdakilerden hangisi yukarıdaki cümleyi doğru olarak tamamlar?

- A) is walking/ walks
- B) walk/ is walking
- C) was walking/walk
- D) has walked/ walked

12. Tom is intelligent student in his class.

Which of the following completes the sentence above?

Aşağıdakilerden hangisi yukarıdaki cümleyi doğru olarak tamamlar?

- A) the most
- B) more
- C) much
- D) little

13. Michael likes coffee, and Nick does,

Which of the following completes the sentence above?

Aşağıdakilerden hangisi yukarıdaki cümleyi doğru olarak tamamlar?

- A) either
- B) any
- C) many
- D) too

14. When she , we lunch.

Which of the following completes the sentence above?

Aşağıdakilerden hangisi yukarıdaki cümleyi doğru olarak tamamlar?

- A) arrives / was having
- B) arrived / were having
- C) were arriving / have
- D) have arrived / had

15. Kathy: Where is Susanne?
Fred: I don't know. She be in the kitchen.

Which of the following completes the dialogue above?

Aşağıdakilerden hangisi yukarıdaki konuşmayı doğru olarak tamamlar?

- A) should
- B) may
- C) have
- D) ought

16. The students just the exam.

Which of the following completes the sentence above?

Aşağıdakilerden hangisi yukarıdaki cümleyi doğru olarak tamamlar?

- A) have / finished
- B) has / finishes
- C) - / finish
- D) were / finished

17. Summer is not as as winter.

Which of the following completes the sentence above?

Aşağıdakilerden hangisi yukarıdaki cümleyi doğru olarak tamamlar?

- A) hot
- B) cold
- C) strong
- D) tall

18. Peter to music last night.

Which of the following completes the sentence above?

Aşağıdakilerden hangisi yukarıdaki cümleyi doğru olarak tamamlar?

- A) listen
- B) will listen
- C) listened
- D) is going to listen

19. Jack : Have you ever to Italy?
Bob : No, I haven't.

Which of the following completes the dialogue above?

Aşağıdakilerden hangisi yukarıdaki konuşmayı doğru olarak tamamlar?

- A) been
- B) visit
- C) go
- D) went

20. I always watch TV..... the evening.

Which of the following completes the sentence above?

Aşağıdakilerden hangisi yukarıdaki cümleyi doğru olarak tamamlar?

- A) for
- B) to
- C) at
- D) in

SEÇMELİ İNGİLİZCE 5

A

2013 III.DÖNEM 0101-A

1. I used to milk when I was a child.

Which of the following completes the sentence above?

Aşağıdakilerden hangisi yukarıdaki cümleyi doğru olarak tamamlar?

- A) is drinking
- B) drunk
- C) was drinking
- D) drink

2. Mary : I want to keep fit. What should I do?
Sue : Well, you swim everyday.

Which of the following completes the dialogue above?

Aşağıdakilerden hangisi yukarıdaki konuşmayı doğru olarak tamamlar?

- A) might have
- B) could have
- C) ought
- D) could

3. Jane: Who translated this letter? You?
Mary: No.I got my friend it.

Which of the following completes the dialogue above?

Aşağıdakilerden hangisi yukarıdaki konuşmayı doğru olarak tamamlar?

- A) translate
- B) translating
- C) to translate
- D) translated

4. paying the bill,George left the restaurant.

Which of the following completes the sentence above?

Aşağıdakilerden hangisi yukarıdaki cümleyi doğru olarak tamamlar?

- A) As
- B) After
- C) So
- D) Where

5. Ken used to with a toy guitar when he was a child.

Which of the following completes the sentence above?

Aşağıdakilerden hangisi yukarıdaki cümleyi doğru olarak tamamlar?

- A) play
- B) have played
- C) was playing
- D) played

6. If you have a cold, you see a doctor.

Which of the following completes the sentence above?

Aşağıdakilerden hangisi yukarıdaki cümleyi doğru olarak tamamlar?

- A) ought to have
- B) ought
- C) should
- D) would

7. they got to cinema, the film started.

Which of the following completes the sentence above?

Aşağıdakilerden hangisi yukarıdaki cümleyi doğru olarak tamamlar?

- A) Such
- B) Where
- C) So that
- D) As soon as

8. Mary : What shall we do tomorrow night?
Brenda : We go to a movie.

Which of the following completes the dialogue above?

Aşağıdakilerden hangisi yukarıdaki konuşmayı doğru olarak tamamlar?

- A) must have
- B) ought
- C) could
- D) could have

9. Ali usually at ten o'clock every night.

Which of the following completes the sentence above?

Aşağıdakilerden hangisi yukarıdaki cümleyi doğru olarak tamamlar?

- A) sleep
- B) have slept
- C) sleeping
- D) sleeps

10. she heard the news, she began to cry.

Which of the following completes the sentence above?

Aşağıdakilerden hangisi yukarıdaki cümleyi doğru olarak tamamlar?

- A) So that
- B) As soon as
- C) Such
- D) The sooner

11. He in his room at nights.

Which of the following completes the sentence above?

Aşağıdakilerden hangisi yukarıdaki cümleyi doğru olarak tamamlar?

- A) usually works
- B) work usually
- C) works usually
- D) usually working

12. I have to go to school tomorrow. I wish I to school tomorrow.

Which of the following completes the sentence above?

Aşağıdakilerden hangisi yukarıdaki cümleyi doğru olarak tamamlar?

- A) didn't have to go
- B) don't have to go
- C) should go
- D) must go

13. I live in Los Angeles. I wish I in New York.

Which of the following completes the sentence above?

Aşağıdakilerden hangisi yukarıdaki cümleyi doğru olarak tamamlar?

- A) lived
- B) have lived
- C) live
- D) had lived

14. Did the students do their homework?

Which of the following completes the sentence above?

Aşağıdakilerden hangisi yukarıdaki cümleyi doğru olarak tamamlar?

- A) himself
- B) yourselves
- C) ourselves
- D) themselves

15. He talk to his friend in the cinema.

Which of the following completes the sentence above?

Aşağıdakilerden hangisi yukarıdaki cümleyi doğru olarak tamamlar?

- A) mustn't
- B) isn't
- C) had
- D) shall

16. Bob : Have you visited your grandmother?
Bill : No, I don't have much time her.

Which of the following completes the dialogue above?

Aşağıdakilerden hangisi yukarıdaki konuşmayı doğru olarak tamamlar?

- A) visited
- B) will visit
- C) to visit
- D) can visit

17. If you want to learn English, you go to a language school.

Which of the following completes the sentence above?

Aşağıdakilerden hangisi yukarıdaki cümleyi doğru olarak tamamlar?

- A) ought
- B) should
- C) would
- D) ought to have

18. I study hard, because I'm going to have an exam tomorrow.

Which of the following completes the sentence above?

Aşağıdakilerden hangisi yukarıdaki cümleyi doğru olarak tamamlar?

- A) are
- B) must
- C) mustn't
- D) am

19. getting on the bus, he bought a ticket.

Which of the following completes the sentence above?

Aşağıdakilerden hangisi yukarıdaki cümleyi doğru olarak tamamlar?

- A) So
- B) Before
- C) Whether
- D) Which

20. What did he do last night?

Which of the following can be the answer to the question above?

Aşağıdakilerden hangisi yukarıdaki sorunun yanıtı olabilir?

- A) He studies English.
- B) He is going to study English.
- C) He studied English.
- D) He is studying English.

SEÇMELİ İNGİLİZCE 6

A

2013 III.DÖNEM 0101-A

1. We usually visit our friends on Saturdays.

Which of the following is the Turkish translation of the sentence above?

Aşağıdakilerden hangisi yukarıdaki cümlenin Türkçe karşılığıdır?

- A) Biz Cumartesi günü genellikle arkadaşlarımızı ziyaret ediyoruz.
B) Biz Cumartesi günü genellikle arkadaşlarımızı ziyaret edeceğiz.
C) Biz Cumartesi günü genellikle arkadaşlarımızı ziyaret ederiz.
D) Biz Cumartesi günü genellikle arkadaşlarımızı ziyaret ederdik.

2. A: Was Mehmet at school last Thursday?
B: Yes,

Which of the following completes the dialogue above?

Aşağıdakilerden hangisi yukarıdaki konuşmayı doğru olarak tamamlar?

- A) she was
B) he wasn't
C) he was
D) he is

3. A: What are you doing at the moment?
B: I breakfast with my sister.

Which of the following completes the dialogue above?

Aşağıdakilerden hangisi yukarıdaki konuşmayı doğru olarak tamamlar?

- A) have
B) had
C) am having
D) was having

4. There some flowers in the vase.

Which of the following completes the sentence above?

Aşağıdakilerden hangisi yukarıdaki cümleyi doğru olarak tamamlar?

- A) is
B) isn't
C) was
D) are

5. A: do you read newspapers?
B: Always.

Which of the following completes the dialogue above?

Aşağıdakilerden hangisi yukarıdaki konuşmayı doğru olarak tamamlar?

- A) What kind
B) Where
C) Who
D) How often

6. A: What time do you usually get up?
B: I usually at seven o'clock in the mornings.

Which of the following completes the dialogue above?

Aşağıdakilerden hangisi yukarıdaki konuşmayı doğru olarak tamamlar?

- A) get up
B) gets up
C) getting up
D) got up

7. They spend their summer holiday by the sea.

Which of the following is the negative form of the sentence above?

Aşağıdakilerden hangisi yukarıdaki cümlelerin olumsuz biçimidir?

- A) They didn't spend their summer holiday by the sea.
B) They doesn't spend their summer holiday by the sea.
C) They haven't spent their summer holiday by the sea.
D) They don't spend their summer holiday by the sea.

8. I'm writing a composition now.

Which of the following is the Turkish translation of the sentence above?

Aşağıdakilerden hangisi yukarıdaki cümlelerin Türkçe karşılığıdır?

- A) Şu anda bir kompozisyon yazabilirim.
B) Şu anda bir kompozisyon yazıyorum.
C) Şu anda bir kompozisyon yazacağım.
D) Şu anda bir kompozisyon yazdım.

9. Semra often lunch out but now she lunch in the office.

Which of the following completes the sentence above?

Aşağıdakilerden hangisi yukarıdaki cümleyi doğru olarak tamamlar?

- A) eating / eat
B) eats / is eating
C) eats / eats
D) ate / eating

10. A:What's the weather like today?
B:It's and cold.

Which of the following completes the dialogue above?

Aşağıdakilerden hangisi yukarıdaki konuşmayı doğru olarak tamamlar?

- A) rainy
B) rain
C) sun
D) snow

11. How much pink socks?

Which of the following completes the sentence above?

Aşağıdakilerden hangisi yukarıdaki cümleyi doğru olarak tamamlar?

- A) is this
B) are these
C) is it
D) are they

12. A:What Lale at weekends?
B:She usually goes to the cinema with her friends.

Which of the following completes the dialogue above?

Aşağıdakilerden hangisi yukarıdaki konuşmayı doğru olarak tamamlar?

- A) does /do
B) is /doing
C) do /do
D) was / doing

13. A:Is it cloudy today?
B:No, It's windy.

Which of the following completes the dialogue above?

Aşağıdakilerden hangisi yukarıdaki konuşmayı doğru olarak tamamlar?

- A) it wasn't
B) it didn't
C) it doesn't
D) it isn't

14. My dad usually to work but today he because the car is broken.

Which of the following completes the sentence above?

Aşağıdakilerden hangisi yukarıdaki cümleyi doğru olarak tamamlar?

- A) drives / is walking
B) drive /is walking
C) is driving / walks
D) has driven / walks

15. A: Is your mum cooking now?
B: No, she isn't. But she usually

Which of the following completes the dialogue above?

Aşağıdakilerden hangisi yukarıdaki konuşmayı doğru olarak tamamlar?

- A) cook
- B) cooks
- C) is cook
- D) has cooked

16. A: Are you watching TV now?
B: No, I'm not. But I sometimesthe quiz shows.

Which of the following completes the dialogue above?

Aşağıdakilerden hangisi yukarıdaki konuşmayı doğru olarak tamamlar?

- A) watch
- B) am watching
- C) will watch
- D) watches

17. A: Is Betty playing snowball?
B: No, She's skiing.

Which of the following completes the dialogue above?

Aşağıdakilerden hangisi yukarıdaki konuşmayı doğru olarak tamamlar?

- A) she hasn't
- B) she wasn't
- C) she didn't
- D) she isn't

18. A musician is someone who

Which of the following completes the sentence above?

Aşağıdakilerden hangisi yukarıdaki cümleyi doğru olarak tamamlar?

- A) designs buildings
- B) looks after animals
- C) plays music
- D) sells things

19. A: Where were you last night?
B: I at home with my family.

Which of the following completes the dialogue above?

Aşağıdakilerden hangisi yukarıdaki konuşmayı doğru olarak tamamlar?

- A) were
- B) am
- C) was
- D) are

20. Look at the people! They cheerful songs.

Which of the following completes the sentence above?

Aşağıdakilerden hangisi yukarıdaki cümleyi doğru olarak tamamlar?

- A) sing
- B) are singing
- C) were singing
- D) has sing

1. I. Je me réveille à 7 heures du matin.
II. Je prends mon petit déjeuner.
III. Je me couche tard.
IV. Je m'habille et je sors de la maison à 8 heures.

Choisissez la phrase qui **ne convient pas** à l'ensemble.

Sırasıyla okunduğunda anlam bütünlüğünü bozan cümle aşağıdakilerden hangisidir?

- A) I
B) II
C) III
D) IV

2. Je ne suis pas marié; je suis

Choisissez le mot qui convient.

Cümlede boş bırakılan yeri aşağıdakilerden hangisi doğru şekilde tamamlar?

- A) marié
B) célibataire
C) optimiste
D) gaie

3. -?
- Je pèse 62 kilos.

Choisissez la question qui convient.

Yukarıdaki karşılıklı konuşmada cevabı gerektiren soru aşağıdakilerden hangisidir?

- A) Combien mesurez-vous
B) Portez-vous des lunettes
C) Combien pesez-vous
D) Etes-vous de bonne humeur

4. - Tu as déjà vu ce film?
- Non, je ne l'ai pas vu.

Choisissez le mot qui convient.

Yukarıdaki konuşmada boş bırakılan yeri aşağıdakilerden hangisi doğru şekilde tamamlar?

- A) encore
B) personne
C) quelque chose
D) aucune

5. - Avez-vous visité le Musée de Topkapı?
- Oui, nous avons visité.

Choisissez le mot qui convient.

Yukarıdaki konuşmada boş bırakılan yeri aşağıdakilerden hangisi doğru şekilde tamamlar?

- A) les
B) nous
C) lui
D) l'

6. - Vous avez quelque chose à dire?
- Non, je n'ai à dire.

Choisissez le mot qui convient.

Yukarıdaki konuşmada boş bırakılan yeri aşağıdakilerden hangisi doğru şekilde tamamlar?

- A) toujours
B) jamais
C) déjà
D) rien

7. Elles sont à dix heures.

Choisissez le mot qui convient.

Cümledeki boşluğu aşağıdakilerden hangisi doğru şekilde tamamlar?

- A) arrivés
B) arrivée
C) arrivées
D) arrivé

8. Hier soir, nous allés au théâtre.

Choisissez le mot qui convient.

Cümlede boş bırakılan yeri aşağıdakilerden hangisi doğru şekilde tamamlar?

- A) êtes
B) sommes
C) sont
D) ont

9. Nous n'attendons personne.

Choisissez l'antonyme du mot souligné.

Yukarıdaki cümlede altı çizili sözcüğün zıt anlamlısı aşağıdakilerden hangisidir?

- A) quelque chose
B) quelqu'un
C) jamais
D) pas encore

10. nous / fini / devoirs / avons / nos
I II III IV V

Mettez dans le bon ordre.

Yukarıdaki kelimelerin anlamlı ve kurallı bir cümle oluşturan sırası aşağıdakilerin hangisinde verilmiştir?

- A) I, II, IV, V, III
B) I, IV, II, V, III
C) V, I, IV, II, III
D) V, III, IV, I, II

11. Bu müzeyi daha önce ziyaret ettiniz mi?

Choisissez la traduction qui convient.

Yukarıdaki cümlelerin Fransızca karşılığı aşağıdakilerden hangisidir?

- A) Vous aimez les musées?
- B) Vous travaillez dans ce musée?
- C) Vous avez déjà visité ce musée?
- D) Vous aimez visiter les musées?

12. - Tu t'es lavé?

- Non, je ne suis pas encore lavé.

Choisissez le mot qui convient.

Yukarıdaki konuşmada boş bırakılan yeri aşağıdakilerden hangisi doğru şekilde tamamlar?

- A) me
- B) te
- C) lui
- D) se

13. Je suis sorti de la maison.

Choisissez la traduction qui convient.

Yukarıda verilen cümlelerin Türkçe karşılığı aşağıdakilerden hangisidir?

- A) Evden çıktım.
- B) Eve döndüm.
- C) Eve geldim.
- D) Evde bekledim.

14. Si j'avais beaucoup d'argent, je(j') le tour du monde.

Choisissez le mot qui convient.

Cümlede boş bırakılan yeri aşağıdakilerden hangisi doğru şekilde tamamlar?

- A) fais
- B) ai fait
- C) fera
- D) ferais

15. Nous avons une voiture.

Choisissez le mot qui convient.

Cümledeki boşluğu aşağıdakilerden hangisi doğru şekilde tamamlar?

- A) était
- B) eu
- C) mon
- D) ont

16. Elle des lunettes de soleil.

Choisissez le mot qui convient.

Cümledeki boşluğu aşağıdakilerden hangisi doğru şekilde tamamlar?

- A) porte
- B) est
- C) as
- D) voyage

17. les enfants aiment jouer aux jeux en ligne.

Choisissez le mot qui convient.

Cümledeki boşluğu aşağıdakilerden hangisi doğru şekilde tamamlar?

- A) Tout
- B) Toutes
- C) On
- D) Tous

18. - est votre veste?

- Elle est en laine.

Choisissez le mot qui convient.

Yukarıdaki konuşmada boş bırakılan yeri aşağıdakilerden hangisi doğru şekilde tamamlar?

- A) À quoi sert
- B) Combien
- C) De quelle couleur
- D) En quoi

19. - couleur est ta veste?

- Elle est rouge.

Choisissez l'expression qui convient.

Yukarıdaki konuşmada boş bırakılan yeri aşağıdakilerden hangisi doğru şekilde tamamlar?

- A) De quelle
- B) Est-ce que
- C) Quelque chose
- D) Comment

20. I. Il a les yeux noirs.

II. Il a un gros nez.

III. Il arrive à sept heures.

IV. Il porte des lunettes.

Choisissez la phrase qui ne convient pas.

Sırasıyla okunduğunda anlam bütünlüğünü bozan cümle aşağıdakilerden hangisidir?

- A) I
- B) II
- C) III
- D) IV

1. J'ai vu mon cousin à l'école.

Choisissez le mot qui convient.

Cümledeki boşluğu aşağıdakilerden hangisi doğru şekilde tamamlar?

- A) venant
B) souffrants
C) allant
D) ayant

2. Le pantolon j'ai acheté était trop cher.

Choisissez le mot qui convient.

Cümledeki boşluğu aşağıdakilerden hangisi doğru şekilde tamamlar?

- A) celui
B) qui
C) où
D) dont

3. Elle part vacances chaque été.

Choisissez le mot qui convient.

Cümledeki boşluğu aşağıdakilerden hangisi doğru şekilde tamamlar?

- A) en
B) à
C) de
D) les

4. A : - Qu'est-ce que tu as fait hier soir?

B : -

Choisissez la réponse qui convient.

Yukarıdaki konuşmada boş bırakılan yeri aşağıdakilerden hangisi doğru şekilde tamamlar?

- A) Je vais partir pour Paris.
B) J'aime la musique classique.
C) Je suis allée au concert.
D) Je suis technicien.

5. malade, elle n'est pas allée à l'école.

Choisissez le mot qui convient.

Cümledeki boşluğu aşağıdakilerden hangisi doğru şekilde tamamlar?

- A) Ayant
B) Marchant
C) Faisant
D) Etant

6. Yorucu bir işim var.

Choisissez la traduction qui convient.

Yukarıdaki cümlenin Fransızca karşılığı aşağıdakilerden hangisidir?

- A) J'ai une chose à faire.
B) J'aime beaucoup travailler.
C) J'ai un travail fatiguant.
D) Ce travail ne me fatigue pas.

7. Il est tombé en courant.

Choisissez la traduction qui convient.

Yukarıdaki cümlenin Türkçe karşılığı aşağıdakilerden hangisidir?

- A) Koşmadan duramaz.
B) Koşarken düştü.
C) Çok hızlı koşar.
D) Yürürken birden düşüverdi.

8. Elle prend son petit déjeuner en la radio.

Choisissez le mot qui convient.

Cümledeki boşluğu aşağıdakilerden hangisi doğru şekilde tamamlar?

- A) écoutant
B) regardant
C) étant
D) partant

9. les / j'aime / brillantes / lumières

I II III IV

Mettez dans le bon ordre.

Yukarıdaki kelimelerin anlamlı ve kurallı bir bütün oluşturan sırası aşağıdakilerin hangisinde doğru olarak verilmiştir?

- A) II, I, III, IV
B) II, I, IV, III
C) III, IV, II, I
D) III, IV, I, II

10. J'ai vu mon neveu venant de l'école.

Choisissez la traduction qui convient.

Yukarıdaki cümlenin Türkçe karşılığı aşağıdakilerden hangisidir?

- A) Yeğenimi okuldan gelirken gördüm.
B) Yeğenimi okulda gördüm.
C) Yeğenimi okula götürdüm.
D) Yeğenimle okuldan birlikte döndük.

11. Il peut jouer piano.

Choisissez le mot qui convient.

Cümledeki boşluğu aşağıdakilerden hangisi doğru şekilde tamamlar?

- A) au
- B) de la
- C) de
- D) du

12. L'homme travaille dans cette usine est mon oncle.

Choisissez le mot qui convient.

Cümledeki boşluğu aşağıdakilerden hangisi doğru şekilde tamamlar?

- A) qui
- B) que
- C) où
- D) dont

13. L'appartement elle habite est très grand.

Choisissez le mot qui convient.

Cümledeki boşluğu aşağıdakilerden hangisi doğru şekilde tamamlar?

- A) mes
- B) où
- C) d'
- D) pourquoi

14. Pierre la valise est lourde, a appelé un taxi.

Choisissez le mot qui convient.

Cümledeki boşluğu aşağıdakilerden hangisi doğru şekilde tamamlar?

- A) celle
- B) celui
- C) qui
- D) dont

15. A : - Elle travaille où?

B : -

Choisissez la réponse qui convient.

Yukarıdaki konuşmada boş bırakılan yeri aşağıdakilerden hangisi doğru şekilde tamamlar?

- A) Elle part en vacances.
- B) Elle travaille dans une banque.
- C) Elle aime faire du ski.
- D) Elle travaille sans cesse.

16. Pierre va faire du ski cet

Choisissez le mot qui convient.

Cümledeki boşluğu aşağıdakilerden hangisi doğru şekilde tamamlar?

- A) automne
- B) printemps
- C) hiver
- D) été

17. -

- En hiver.

Choisissez la question qui convient.

Yukarıdaki konuşmada cevabı gerektiren soru aşağıdakilerden hangisidir?

- A) Où peut-on partir en vacances, l'hiver, en Turquie?
- B) Savez-vous combien de jours de vacances peuvent prendre les travailleurs turcs?
- C) Quand est-ce que vous partez en vacances?
- D) Tu partiras comment?

18. La femme vient est ma tante.

Choisissez le mot qui convient.

Cümledeki boşluğu aşağıdakilerden hangisi doğru şekilde tamamlar?

- A) que
- B) où
- C) dont
- D) qui

19. Elle joue piano chaque jour.

Choisissez le mot qui convient.

Cümledeki boşluğu aşağıdakilerden hangisi doğru şekilde tamamlar?

- A) du
- B) une
- C) les
- D) en

20. en chantant / fait / ménage / le / elle

I II III IV V

Mettez dans le bon ordre.

Yukarıdaki kelimelerin anlamlı ve kurallı bir cümle oluşturan sırası aşağıdakilerin hangisinde doğru olarak verilmiştir?

- A) V, IV, II, I, III
- B) V, II, IV, III, I
- C) IV, III, I, V, II
- D) III, V, II, IV, I

SEÇMELİ FRANSIZCA 6

2013 III.DÖNEM 0101-A

A

1. En général, je me à 23 heures.

Choisissez le mot qui convient.

Cümledeki boşluğu aşağıdakilerden hangisi doğru şekilde tamamlar?

- A) couche
B) suis
C) promené
D) rencontré

2. Ils ne s'entendent pas bien, ils vont

Choisissez le mot qui convient.

Cümledeki boşluğu aşağıdakilerden hangisi doğru şekilde tamamlar?

- A) élever
B) divorcer
C) épouser
D) se marier

3. Il a fait ses études en France.

Choisissez la traduction qui convient.

Yukarıdaki cümlenin Türkçe karşılığı aşağıdakilerden hangisidir?

- A) Öğrenimini Fransa'da yaptı.
B) Fransa'da öğrenimine ara verdi.
C) Öğrenimine Fransa'da başladı.
D) Fransa'ya öğrenimini tamamlamaya gitti.

4. Cette lettre sera écrite Paul Mehmet.

Choisissez les mots qui conviennent.

Cümledeki boşlukları aşağıdakilerden hangisi doğru şekilde tamamlar?

- A) à / par
B) une / à
C) de / par
D) de / à

5. Claudine n'a pas reçue au Bac.

Choisissez le mot qui convient.

Cümledeki boşluğu aşağıdakilerden hangisi doğru şekilde tamamlar?

- A) ayant
B) eu
C) fini
D) été

6. A condition faire mes devoirs, je pourrai aller au théâtre.

Choisissez le mot qui convient.

Cümledeki boşluğu aşağıdakilerden hangisi doğru şekilde tamamlar?

- A) à
B) de
C) en
D) qui

7. Le gâteau est mangé par mon frère.

Choisissez la forme active de la phrase ci-dessus.

Yukarıda verilen cümlenin aktif hali aşağıdakilerden hangisidir?

- A) Mon frère mangera le gâteau.
B) Mon frère a mangé le gâteau.
C) Mon frère mange le gâteau.
D) Mon frère mangeait le gâteau.

8. Il a un cadeau à sa sœur.

Choisissez le mot qui convient.

Cümledeki boşluğu aşağıdakilerden hangisi doğru şekilde tamamlar?

- A) ramassé
B) envoyé
C) préféré
D) invité

9. plus fort, je n'entends rien.

Choisissez le mot qui convient.

Cümledeki boşluğu aşağıdakilerden hangisi doğru şekilde tamamlar?

- A) Manges
B) Tiens
C) Parlez
D) Travaillez

10. Les élèves font le devoir.

Choisissez la forme passive de la phrase ci-dessus.

Yukarıdaki cümlenin edilgen hali aşağıdakilerden hangisidir?

- A) Le devoir sera fait par les élèves.
B) Le devoir a été fait par les élèves.
C) Le devoir était fait par les élèves.
D) Le devoir est fait par les élèves.

11. C'est un enfant bien élevé.

Choisissez l'antonyme du mot souligné.

Yukarıdaki cümlede altı çizili kelimenin zıt anlamlısı aşağıdakilerden hangisidir?

- A) mal
- B) bon
- C) gentil
- D) belle

12. plus lentement.

Choisissez le mot qui convient.

Cümledeki boşluğu aşağıdakilerden hangisi doğru şekilde tamamlar?

- A) Rencontrez
- B) Taisez-vous
- C) Parlez
- D) Regardez

13. Kapı, Ahmet tarafından açıldı.

Choisissez la traduction qui convient.

Yukarıdaki cümlelerin Fransızca karşılığı aşağıdakilerden hangisidir?

- A) La porte sera ouverte par Ahmet.
- B) La porte a été ouverte par Ahmet.
- C) La porte n'ouvre jamais.
- D) Ahmet a ouvert la porte.

14. Bu mektup Gamze'ye Erkin tarafından yazıldı.

Choisissez la traduction qui convient.

Yukarıdaki cümlelerin Fransızca karşılığı aşağıdakilerden hangisidir?

- A) Cette lettre est écrite par Erkin à Gamze.
- B) Erkin a écrit cette lettre à Gamze.
- C) Erkin écrit une lettre à Gamze.
- D) Cette lettre a été écrite à Gamze par Erkin.

15. -

- Non, j'étudie en lettres.

Choisissez la question qui convient.

Yukarıdaki konuşmada cevabı gerektiren soru aşağıdakilerden hangisidir?

- A) Est-ce que tu as trouvé un travail?
- B) Est-ce que tu étudies en médecine?
- C) Pourquoi as-tu abandonné tes études?
- D) Quand est-ce que tu as reçu au Bac?

16. Ne promène pas dans le jardin.

Choisissez le mot qui convient.

Cümledeki boşluğu aşağıdakilerden hangisi doğru şekilde tamamlar?

- A) toi
- B) vous
- C) te
- D) nous

17. Ma lettre lue par ma mère.

Choisissez le mot qui convient.

Cümledeki boşluğu aşağıdakilerden hangisi doğru şekilde tamamlar?

- A) font
- B) chez
- C) famille
- D) a été

18. C'est la sœur de ma mère; c'est

Choisissez le mot qui convient.

Cümledeki boşluğu aşağıdakilerden hangisi doğru şekilde tamamlar?

- A) ma tante
- B) mon oncle
- C) mon cousin
- D) ma grand-mère

19. -

- Je suis instituteur.

Choisissez la question qui convient.

Yukarıdaki konuşmada cevabı gerektiren soru aşağıdakilerden hangisidir?

- A) Comment s'appelle cet examen?
- B) Que peut-on faire, après cet examen?
- C) Quel est votre métier?
- D) Qu'est-ce que tu as fait l'été dernier?

20. Attendez cinq minutes.

Choisissez la traduction qui convient.

Yukarıdaki cümlelerin Türkçe karşılığı aşağıdakilerden hangisidir?

- A) Beş dakika zamanınız var.
- B) Beş dakikalık bir iş.
- C) Zamanı iyi kullanmalısınız.
- D) Beş dakika bekleyiniz.

1. Sürücü adayları ve sürücüler aşağıdakilerden hangisi için sağlık kontrolünden geçmez?
 - A) Deri hastalıkları
 - B) Görme kaybı
 - C) İşitme kaybı
 - D) İç hastalıkları
2. Sürücü adaylarında aranacak şartlar ile ilgili aşağıdaki ifadelerden hangisi doğrudur?
 - A) A1 ve A2 sınıfı sürücü belgesi alacakların 22 yaşını bitirmiş olmaları gerekmektedir.
 - B) B ve G sınıfı sürücü belgesi alacakların 18 yaşını bitirmiş olmaları gerekmektedir.
 - C) Görme derecesine göre sürücü belgeleri üç gruba ayrılır.
 - D) B sınıfı sürücü belgesi alacak olanların lise mezunu olmaları gerekmektedir.
3. Sürücü adaylarında aranacak sağlık şartları ile ilgili aşağıdakilerden hangisi yanlıştır?
 - A) Kas hastalıkları olan şahıslara sürücü belgesi verilmez.
 - B) Boyun ve bel hareketleri, kişinin baş ve boynunu arkaya döndürmesini ve bakmasını %60'tan fazla engelleyen boyun bölgesi hastalıklarında sürücü belgesi verilmez.
 - C) Alkol bağımlılığı olanlar veya alkollü araç kullanmaktan vazgeçmeyenlere sürücü belgesi verilmez.
 - D) Psikotrop maddelere bağımlı olanlar veya bağımlı olmasa da düzenli kullananlar sürücü belgesi alamazlar.
4. İlgili uzman hekimin vermiş olduğu sağlık raporu doğrultusunda sürücülüğe engel hali tespit edilen veya hakkında karar verilemeyen aday, bu durumla ilgili aşağıdaki kurumlardan hangisine itiraz edebilir?
 - A) En yakın Sağlık Ocağına
 - B) Devlet hastanesine
 - C) Doğrudan Sağlık Bakanlığına
 - D) Raporun verildiği ilin sağlık müdürlüğüne
5. Görme derecelerine göre sürücü belgeleri kaç grupta incelenir?
 - A) 2
 - B) 3
 - C) 4
 - D) 5
6. Sürücü olma şartlarına sahip kişilerden, sürücü kurslarına katıldıktan sonra yapılan sınavda başarılı olanlara aşağıdakilerden hangisi verilmektedir?
 - A) Sürücü Belgesi
 - B) Tescil Belgesi
 - C) Yeterlilik Belgesi
 - D) Motorlu Taşıt Sürücü Sertifikası
7. Aşağıdakilerden hangisi sürücülerin kazalara sebep olma nedenlerinden biri değildir?
 - A) Trafik kurallarına uymama
 - B) Yayaya yol verme
 - C) Uykusuz taşıt kullanma
 - D) Alkollü taşıt kullanma
8. Aşağıdaki sürücüye ait kusurlardan hangisi kazalarda en çok paya sahiptir?
 - A) Geçme yasağı olan yerlerden geçme
 - B) Şeride tecavüz etme
 - C) Park etmiş araçlara çarpma
 - D) Arkadan çarpma
9. Toplam kazalar içinde kusurlu araçların sebep olduğu kazaların oranı yüzde kaçtır?
 - A) 0,24
 - B) 0,32
 - C) 0,44
 - D) 0,50
10. Aşağıdakilerden hangisi sürücüye ait kusurlardan biridir?
 - A) Yola birden çıkmak
 - B) Lastik patlaması
 - C) Arkadan çarpma
 - D) Şaft kırılması

11. Çocukların trafik eğitimi ile ilgili aşağıdaki ifadelerden hangisi yanlıştır?

- A) Çocukların trafik ortamından uzak bir yerde oynaması sağlanmalıdır.
- B) Anne ve babalar davranışlarıyla çocuklara iyi örnek olmalıdır.
- C) Okula yeni başlayan çocuklara eşlik edilmemeli, tek başlarına okula gitmelerine izin verilmelidir.
- D) Kara yolunda karşıya güvenli geçişler için alt, üst geçitler ve yaya geçitleri yapılmalıdır.

12. Aşağıdakilerden hangisi kazalara sebep olan araca ait kusurlardan biridir?

- A) Kırmızı ışıkta geçmek
- B) Lastik patlaması
- C) Görüntü artırıcı tedbirler almamak
- D) Geçme yasağı olan yerlerde geçme

13. Deri üzerinde kızarıklıkların görüldüğü yüzeysel yanıklara ne ad verilir?

- A) 1. Derece yanıklar
- B) 2. Derece yanıklar
- C) 3. Derece yanıklar
- D) 4. Derece yanıklar

14. Hafif kazazedelerin (çocuk gibi) taşınmasında kullanılan ve yaralının tek kişi tarafından kucağa alınıp taşındığı taşıma yöntemine ne ad verilir?

- A) Çekme yöntemi
- B) Omuzlama
- C) Beşik yöntemi
- D) İtfaiyeci yöntemi

15. İlk yardımda kalp masajı yapılması gerektiğinde dakikada kaç baskı uygulanmalıdır?

- A) 60
- B) 70
- C) 80
- D) 90

16. İç kanamalarda ilk yardım ile ilgili aşağıdaki ifadelerden hangisi yanlıştır?

- A) Hasta bir an önce hastaneye ulaştırılmalıdır.
- B) Üstü örtülerek vücudun ısı kaybetmesi önlenmelidir.
- C) Hastaya bol su içirilmelidir.
- D) Hasta, elbiseleri ve yakası gevşetilerek rahat ettirilmelidir.

17. Dirsek ile omuz arasındaki kırıklara ilk yardım ile ilgili aşağıdaki ifadelerden hangisi yanlıştır?

- A) Sargı için atılan düğüm vücudun sağlam tarafında kalmalıdır.
- B) Kol dirsekten göğse doğru yavaşça bükülerek omuza askıya alınmalıdır.
- C) Hasta ayakta veya oturur durumda hastaneye sevk edilmelidir.
- D) Kırık bölge sargı içinde kalmalıdır.

18. Deri bütünlüğünün bozulmadığı, ancak iç kanama ve şişmenin görüldüğü kırık türü aşağıdakilerden hangisidir?

- A) Kapalı kırık
- B) Açık kırık
- C) Hafif kırık
- D) İleri derecede kırık

19. Aşağıdakilerden hangisi zehirlenme belirtilerinden biri değildir?

- A) Mide bulantısı
- B) İshal ve kusma
- C) Zehirlenmenin miktarına göre bilinç kaybı ve bayılma
- D) Kalp-damar ve solunum sistemlerinin işlevlerinin hızlanması

20. Emniyet kemeri kullanımı, kazalar nedeniyle meydana gelen ölüm ve yaralanmaları yaklaşık olarak yüzde kaç azaltır?

- A) 20-30
- B) 40-50
- C) 60-70
- D) 80-90

SINAVDA UYGULANACAK KURALLAR

1. Sınav süresince görevlilerle konuşmak ve soru sormak yasaktır. Aynı şekilde görevlilerin de öğrencilerle yakından ve alçak sesle konuşmaları yasaktır. Yanınızda ve sıranızda dersle ilgili kitap not vb. bulundurmamak yasaktır. Sınav sırasında kopya yapan, yapmaya teşebbüs eden, kopya veren, kopya yapılmasına yardım edenlerin kimlikleri BİREYSEL SINAV İPTAL TUTANAĞINA yazılacak ve bu öğrencilerin sınavları geçersiz sayılacaktır. Görevliler kopya yapmaya veya vermeye kalkışanları uyararak zorunda değildir, sorumluluk size aittir.
Sınavda yetki verilmiş görevliler, bu salondaki sınavın kurallara uygun biçimde yapılmadığını, toplu kopya girişiminde bulunulduğunu raporlarında bildirdikleri veya üniversite sınav merkezince yapılan incelemeler sonucu toplu kopya yapıldığı saptandığı takdirde, Anadolu Üniversitesinin yetkili organları bu salonda sınava giren öğrencilerin tümünün sınavını geçersiz sayar.
2. Öğrenciler sınav sırasında görevlilerin her türlü uyarılarına uymak zorundadır. Gerekliğinde görevliler oturduğunuz yerleri değiştirebilir. Sınavınızın geçerli sayılması, her şeyden önce sınav kurallarına uymanıza bağlıdır. Kurallara aykırı davranışta bulunanların ve yapılacak uyarılara uymayanların kimlikleri BİREYSEL SINAV İPTAL TUTANAĞINA yazılacak ve sınavları geçersiz sayılacaktır.
3. Sınav sırasında herhangi bir nedenle dışarı çıkmak yasaktır. Sınavın başlamasını izleyen ilk 30 dakika ve sınav süresinin son 5 dakikası içinde, sınavlarınızı tamamlasalar bile hiçbir öğrencinin salondan çıkmasına izin verilmeyecektir. Sınavın başlamasını izleyen ilk 15 dakikadan sonra hiç bir öğrenci sınava alınamaz.
4. Biraz sonra soru kitapçıkları dağıtılacaktır. Cevaplamaya geçmeden önce size verilecek soru kitapçığının üzerinde ayrılan yere, adınızı, soyadınızı, öğrenci numaranızı ve bu salonun numarasını yazınız. Sınav sonunda soru kitapçıkları toplanacak ve sınav merkezinde tek tek incelenecektir. Soru Kitapçığının bir tek sayfası eksik çıksa bile sınavınız geçersiz sayılacaktır.
5. Size verilen Cevap Kâğıdının üzerinde yazan numara ve ismin size ait olduğunu kontrol ediniz. Cevap Kâğıdı size ait değilse, görevlileri uyarıp size ait Cevap Kâğıdını alınız. Daha sonra Cevap Kâğıdı üzerinde ayrılmış olan yerlere öğrenci numaranızı ve test grubunuzu kodlayınız, adınızı soyadınızı yazınız ve ilgili yeri imzalayınız.
6. Cevap Kâğıdına yazılacak her türlü yazı, rakam ve yapılacak işaretlemeler için siyah kurşun kalem kullanılacaktır. Tükenmez kalem veya dolmakalem kesinlikle kullanılmayacaktır. Cevapların tümü CEVAP KÂĞIDINA İŞARETLENECEKTİR. Soru Kitapçıkları üzerine yapılan işaretlemeler kesinlikle değerlendirilmez. Her dersin cevabı, o dersin isminin yazılı olduğu sütuna işaretlenmelidir. Yanlış sütuna yapacağınız işaretlemeler kesinlikle değerlendirilmez.
7. Soru Kitapçığının sayfalarındaki boş yerleri müsvedde yapmak için kullanabilirsiniz. Başka bir kâğıdı müsvedde olarak kullanmak yasaktır. Bu tür işlemleri yapanların sınavları geçersiz sayılır.
8. Öğrencilerin sorulara verdikleri yanıtları herhangi bir yere yazmaları ve bunu sınav salonundan dışarıya çıkarmaları yasaktır. Bu kurala uymayanların sınavları geçersiz sayılır.
9. Sınav sırasında öğrencilerin birbirinden kalem, silgi vb. şeyleri istemesi kesinlikle yasaktır. Yasağa uymayanların sınavı geçersiz sayılır.
10. Sınav sırasında hesap makinesi kullanılabilir. Ancak, hesap makinesinin sınav sırasında ödünç alınması, verilmesi ve değiştirilmesi yasaktır. (Data Bank vb. gibi özel elektronik donanımlar kullanılamaz.) Bu tür davranışlarda bulunanların sınavları geçersiz sayılır.
11. Öğrenciler sınava gelirken telsiz, cep telefonu, çağrı cihazı vb. iletişim araçları ile görüntü kaydetmeye yarayan fotoğraf makinesi, kamera vb. araçları getirmemeleri konusunda sınava giriş belgelerinde uyarılmışlardır. Buna rağmen yanlarında bu tür cihazları getirenlerin, bunları sınav sonrasında almak üzere salon başkanına teslim etmeleri gerekir. Bu cihazları sınav salonunda yanlarında bulduran öğrencilerin, cihazları kapalı bile olsa, o oturma odasındaki sınavı geçersiz sayılacaktır. Bu cihazların kaybolmasından Üniversitemiz sorumlu olmayacaktır.
12. Biraz sonra dağıtılacak olan soru kitapçığında test ile ilgili açıklamalar yazılıdır. Bu açıklamaları okumadan ve size "SINAV BAŞLAMIŞTIR" denmeden soruları cevaplamaya başlamayınız.

SINAVLARINIZDA BAŞARILAR DİLERİZ.