



ANADOLU ÜNİVERSİTESİ
AÇIKÖĞRETİM FAKÜLTESİ
BA - AÇIKÖĞRETİM OKULLARI

T.C. MİLLÎ EĞİTİM BAKANLIĞI
Hayat Boyu Öğrenme Genel Müdürlüğü
AÇIK ÖĞRETİM LİSESİ – BATI AVRUPA PROGRAMI
2012-2013 ÖĞRETİM YILI III.DÖNEM SINAVI
İKİNCİ OTURUM - Pazar 09.00

TEST GRUBUNUZ

A 0102

CEVAP KÂĞIDINIZA İŞARETLEMİYİ UNUTMAYINIZ.

ÖĞRENCİNİN

SOYADI :

ADI :

ÖĞRENCİ NO :

SINAV SALON NO: SIRA NO:

Soyadınızı, adınızı, öğrenci numaranızı, salon ve sıra numaranızı yukarıya yazmayı unutmayınız.

GENEL AÇIKLAMA

1. Bu soru kitapçığındaki testler şunlardır:

Testin Adı	Soru Sayısı	Sayfa No	Testin Adı	Soru Sayısı	Sayfa No
DİN KÜLTÜRÜ VE AHLAK BİLGİSİ 2	20	2	SEÇMELİ DİL VE ANLATIM 7	20	31
COĞRAFYA 7	20	4	SEÇMELİ TÜRK EDEBİYATI 6	20	33
GEOMETRİ 1	20	6	BİYOLOJİ 7	20	35
TURİZM 2	20	9	SEÇMELİ ALMANCA 3	20	37
SOSYOLOJİ 1	20	11	SEÇMELİ İNGLİZCE 3	20	40
DİL VE ANLATIM 2	20	13	SEÇMELİ FRANSIZCA 3	20	43
DİL VE ANLATIM 4	20	15	T.C. İNKILAP TARİHİ VE ATATÜRKÇÜLÜK 1	20	45
DİL VE ANLATIM 5	20	17	DİL VE ANLATIM 6	20	47
TÜRK EDEBİYATI 8	20	19	SEÇMELİ COĞRAFYA 3	20	49
TÜRK EDEBİYATI 1	20	21			
BİYOLOJİ 2	20	23			
İŞ GÜVENLİĞİ 1	20	25			
SANAT TARİHİ 2	20	27			
TRAFİK VE İLK YARDIM BİLGİSİ 1	20	29			

2. Bu kitapçıkta yer alan her bir test için cevaplama süresi **30 dakika**, toplam sınav süresi **150 dakikadır**.
3. Cevaplamaya istediğiniz testin, istediğiniz sorusundan başlayabilirsiniz. Yalnız cevaplarınızı, cevap kâğıdında o test için ayrılmış olan bölümdeki aynı numaralı cevap yerine işaretlemeyi unutmayınız.
4. Cevaplarınızı koyu siyah ve yumuşak bir kurşunkalemle işaretleyiniz. İşaretinizi cevap yerinin dışına taşırmayınız. Tükenmez veya mürekkepli kalem kullanmayınız.
5. Değiştirmek istediğiniz bir cevabı yumuşak bir silgi ile, cevap kâğıdını örselemeden temizce siliniz ve doğru cevabınızı işaretlemeyi unutmayınız.
6. Cevap kâğıdınızı buruşturmayınız, katlamayınız ve üzerine gereksiz hiçbir işaret koymayınız.
7. Bu kitapçıkta her sorunun bir tek doğru cevabı vardır. Bir soru için birden çok cevap yeri işaretlenmişse o soru yanlış cevaplanmış sayılacaktır.
8. Cevaplarınız puanlanırken her doğru cevabınıza eşit puan verilecek, yanlış cevaplarınız dikkate alınmayacaktır. Bu nedenle kitapçıkta tüm sorular için size doğru gelen seçeneği işaretleyerek cevapsiz soru bırakmanız yararınıza olacaktır.
9. Kitapçığın sayfalarındaki boş yerleri müsvedde için kullanabilirsiniz.

Anadolu Üniversitesi tarafından hazırlanmış olan bu testlerin her hakkı saklıdır. Hangi amaçla olursa olsun, testlerin tamamının veya bir kısmının Anadolu Üniversitesi'nin yazılı izni olmadan kopya edilmesi, fotoğraflarının çekilmesi, herhangi bir yolla çoğaltılması, yayımlanması ya da kullanılması yasaktır. Bu yasağa uymayanlar gerekli cezai sorumluluğu ve testlerin hazırlanmasındaki mali külfeti peşinen kabullenmiş sayılır.

1. Bir toplumda genel kabul gören veya benimsenen her türlü duygu, düşünce, davranış ve kurala ne ad verilir?
- A) Değer
B) Fikir
C) Kanun
D) Devlet
2. Aşağıdakilerden hangisi İslam dininin korunmasını istediği beş temel ilke arasında yer almaz?
- A) Namusun korunması
B) Komşunun korunması
C) Malın korunması
D) Aklın korunması
3. Her insanın kendine has ve özgü olan, az veya çok her zaman gözlenebilen davranış ve alışkanlıklarına ne denir?
- A) Alışkanlık
B) Örf
C) Kişilik
D) Asabiyet
4. Aşağıdakilerden hangisi, Hz. Musa'ya indirilen ve Yahudilerin dini öğretileri içerisinde yer alan "on emir" arasında sayılamaz?
- A) Zina etmeyeceksin
B) Çalmayacaksın
C) Anne ve babana hürmet edeceksin
D) Öldüreceksin
5. Aşağıdakilerden hangisi Türk milletini bir arada tutan, toplumu birleştiren ortak değerlerden biri değildir?
- A) Vatan ve vüku birliği
B) Bayrak
C) Ferdiyetçilik
D) Milli seciye
6. İlk evrensel insan hakları ilkeleri aşağıdakilerden hangisinde yer almaktadır?
- A) Veda Hutbesi
B) İnsan Hakları Evrensel Beyannamesi
C) Birleşmiş Milletler Sözleşmesi
D) Magna Carta
7. Değerlerin en üst seviyesinde hangi kaynak yer almaktadır?
- A) Sevgi
B) Hoşgörü
C) Ahlak
D) Vatanseverlik
8. Avrupa'daki kilise otoritesi hangi olayla son bulmuştur?
- A) 1789 Fransa İhtilali
B) Yüzyıl Savaşları
C) İslahat Fermanı
D) Tanzimat Fermanı
9. Aşağıdakilerden hangisi laikliğin temel amaçlarından biridir?
- A) Dinin istismar edilmesine müsaade etmek
B) Herkesin kanun önünde eşit olmasını sağlamak
C) Dinde ruhbanlık anlayışının oluşmasını sağlamak
D) Devletin din ve mezheplere karşı taraflı davranmasını sağlamak
10. Laikliğin Batı ülkelerinde doğuş sebebi aşağıdakilerden hangisidir?
- A) Derebeylerin kattanılmaz hale gelen zulümleri
B) İslami yükselişin önüne geçme
C) Dünya işlerinin herşeyden önemli hale gelmesi
D) Kilisenin baskıcı tutumuna tepki
11. Osmanlı Devletinde "din ve vicdan hürriyeti ilkesi" ilk kez hangi belgede yer almıştır?
- A) Tanzimat Fermanı
B) İslahat Fermanı
C) Kanun-i Esasi
D) Gülhane Hattı Hümayunu
12. Dini emirlerin ilk muhatabı olan yeryüzündeki ilk peygamber aşağıdakilerden hangisidir?
- A) Hz. Nuh
B) Hz. İdris
C) Hz. Adem
D) Hz. Musa

13. İnsanın bu dünyada yaptıklarından dolayı hesaba çekileceği yer neresidir?

- A) Mahkeme
- B) Ahiret
- C) Vicdan
- D) Arafat

14. Türklerin Müslüman Araplarla yakınlaşmasına sebep olan ve Müslümanlığa geçişlerini hızlandıran asıl olay nedir ve kimlerin zamanında gerçekleşmiştir?

- A) Talas Savaşı – Emeviler
- B) Talas Savaşı – Abbasiler
- C) Kadisiye Savaşı – Abbasiler
- D) Nihavent Savaşı – Emeviler

15. Ebu Hanife'nin asıl adı nedir?

- A) Numan Bin Sabit
- B) Cafer Bin Tayyar
- C) Amr Bin As
- D) İmam Maturidi

16. Aşağıdakilerden hangisi Türklerin İslamiyetten önce benimsediği dinlerden biri değildir?

- A) Budizm
- B) Zerdüştlük
- C) Musevilik
- D) Manihaizm

17. Mesnevi kimin eseridir?

- A) Mevlana
- B) Yunus Emre
- C) Hacı Bektaş Veli
- D) Ahmet Yesevi

18. İlk Müslüman Türk Devleti aşağıdakilerden hangisidir?

- A) Karahanlılar
- B) İtil Volga Bulgar Devleti
- C) Gazneliler
- D) Selçuklular

19. Aşağıdakilerden hangisi Türklerin benimsediği Gök Tanrı inancının esasları arasında yer almaz?

- A) Tanrı yaratan, yaşatan ve koruyandır.
- B) Dünyada iyilik edenler öldükten sonra karşılık olarak iyi bir yere gideceklerdir.
- C) Bir ve tek olan Gök Tanrı vardır.
- D) Dünya hayatından sonra sonlu bir hayat vardır.

20. Aşağıdakilerden hangisi Türklerin İslamiyeti benimsemesinde etkili olan sebeplerden biri değildir?

- A) İslamın hak ve gerçek din olması
- B) Müslüman tüccarların dürüstlüğü
- C) İslam dininin hoşgörü ve sevgi anlayışı
- D) Gök Tanrı inancı ile İslam dininin benzeşmemesi

1. Şiddetli depremler ya da volkanizma nedeniyle okyanus tabanında kırılan büyük plakaların oluşturdukları büyük dalgalara ne ad verilir?
- A) Kasırga
B) Tsunami
C) Tayfun
D) Volkanizma
2. Türkiye'nin; etkilendiği hava kütleleri, basınç yapılarının özelliği, genel fiziki coğrafya koşulları ve bulunduğu enlem derecesi nedeniyle aşırı sıcak ve soğuklar ile kuraklığın sıkça görülebildiği bir ülke olması aşağıdaki olumsuzluklardan hangisine neden olmaz?
- A) İnsan ve diğer canlıların yaşamlarının etkilenmesine
B) Göller ve göletlerin donmasına
C) Tsunaminin yaşanmasına
D) Enerji üretiminin aksamasına
3. Mısır Medeniyeti nerede kurulmuştur?
- A) Suriye ve Arabistan çöllerinin etrafında
B) Kuzey Afrika' da Nil Nehri etrafında
C) Akdeniz kıyılarında
D) Dicle ve Fırat nehirleri arasında
4. Aşağıdakilerden hangisi hidrolojik karakterli ekstrem olaylardan biridir?
- A) Şiddetli rüzgarlar
B) Aşırı sıcaklar
C) Deprem
D) Aşırı yağışlar
5. Aşağıdakilerden hangisi Mezopotamya' da tarıma uygun olmayan alanları tarıma kazandırmak için yapılan çalışmalardan biri değildir?
- A) Sulama kanalları yapılması
B) Nil nehrinden su getirilmesi
C) Bataklıkların drene edilmesi
D) Taşkın sonrası oluşan alüvyon birikintilerinin düzenlenmesi
6. Aşağıdakilerden hangisi ilk kültür merkezlerinin kurulduğu bölgelerin ortak özelliklerindedir?
- A) Yüksek platolar üzerinde gelişmiş olmaları
B) Yüzey şekillerinin arızalı ve engebeli olması
C) Yoğun orman özelliklerine sahip olmaları
D) Genellikle orta kuşakta yer almaları
7. Aşağıdakilerden hangisi küresel ısınmaya bağlı olarak yaşanabilecek olaylar arasında yer almaz?
- A) Volkanik olayların artması
B) Buzulların erimesi
C) Havada bulunan gazların oranlarının değişmesi
D) Deniz seviyesinin yükselmesi
8. Yüksek kayalara yerleştirdikleri elips şeklindeki altın yansıtıcılarla astronomik gözlemler yapmış, güneşin yıllık hareketlerini incelemiş ve güneş saatini yapmış olan uygarlık aşağıdakilerden hangisidir?
- A) Maya
B) Aztek
C) Çin
D) İnka
9. Aşağıdakilerden hangisi teknolojinin insana sağladığı yararlarından biri değildir?
- A) Mal ve hizmet üretimini artırması
B) Yeni iş sahaları oluşturması
C) Doğal kaynakların tükenmesi
D) Yüksek hayat standardı sağlaması
10. Aşağıdakilerden hangisi deniz seviyelerinin yükselmesiyle birlikte kıyılarda yaşanabilecek olaylardan biri değildir?
- A) Her 1 metrelik yükselme, denizlerdeki canlı ortamın yok olmasına neden olabilir.
B) Bangladeş'te 1 metreden biraz fazla yükselme 70 milyon kişiyi yerinden edebilir.
C) Her 1 cm yükselme, erozyona bağlı olarak kumluk kıyı şeritlerinde 1 m genişliğinde geri çekilmeye yol açabilir.
D) Tuzlu su, tatlı suya karıştığında, kıyı kesimlerde canlılar için gerekli olan tatlı su kaynakları kaybedilebilir.

11. Aşağıdakilerden hangisi jeolojik ve jeomorfolojik karakterli ekstrem olaylardan biridir?

- A) Aşırı yağışlar
- B) Volkanizma
- C) Kuraklık
- D) Kasırga

12. Hint Okyanusu'nda Ocak ve Mart ayları arasındaki fırtınalara ne ad verilir?

- A) Tayfun
- B) Tropikal fırtına
- C) Tufan
- D) Hortum

13. Aşağıdakilerden hangisi klimatolojik karakterli ekstrem olaylardan biridir?

- A) Şiddetli fırtınalar
- B) Şiddetli deprem
- C) Tsunami
- D) Aşırı yağışlar

14. Herhangi bir yerde hava sıcaklığının uzun süre aşırı yüksek veya aşırı düşük değerlerle seyretmesi aşağıdakilerden hangisine sebep olmaktadır?

- A) Tsunami
- B) Kuraklık
- C) Volkanizma
- D) Aşırı yağış

15. Aşağıdaki ekonomik faaliyet türlerinin hangisinde, insanın doğaya müdahalesi en azdır?

- A) Turizm
- B) Madencilik
- C) Tarım
- D) Sanayi

16. Aşağıdaki ülkelerden hangileri arasında Manş Tüneli ile bağlantı kurulmuştur?

- A) Türkiye-Yunanistan
- B) İsveç-Hollanda
- C) Fransa-İngiltere
- D) Norveç-Finlandiya

17. Yaşanması muhtemel bir kuraklıktan aşağıdaki ülkelerden hangisinin en az etkilenmesi beklenir?

- A) Kanada
- B) Sudan
- C) Çad
- D) Suriye

18. Aşağıdakilerden hangisi Akdeniz uygarlıklarından biri değildir?

- A) Lidya
- B) Yunan
- C) İnkâ
- D) Fenike

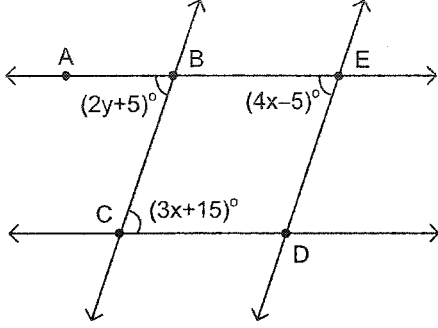
19. Ganj ve İndus Nehirleri arasında kurulan medeniyet aşağıdakilerden hangisidir?

- A) Mısır
- B) Çin
- C) Aztek
- D) Hint

20. Aşağıdakilerden hangisi göç olgusunun doğurduğu sonuçlardan biridir?

- A) İşsizlik sorununun azalması
- B) Eğitim sorunun azalması
- C) Ulaşım sorunun azalması
- D) Arsa ve arazi değerlerinin artması

1.



Yukarıdaki şekilde $BC \parallel DE$, $AB \parallel CD$
 $m(\widehat{ABC}) = (2y+5)^\circ$, $m(\widehat{BED}) = (4x-5)^\circ$ ve
 $m(\widehat{BCD}) = (3x+15)^\circ$ ise $x+y$ kaç derecedir?

- A) 45
- B) 50
- C) 55
- D) 65

2. $d_1 : x - 2y + 3 = 0$
 $d_2 : 2x + y - 8 = 0$
 $d_3 : -3x + 6y + 5 = 0$

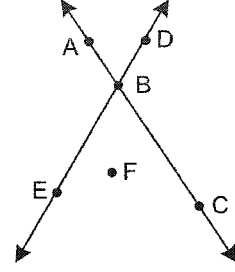
Yukarıdaki doğrularla ilgili aşağıdaki bilgilerden hangisi yanlıştır?

- A) Bu üç doğru birbirine paraleldir.
- B) d_2 doğrusu d_3 doğrusuna diktir.
- C) d_1 doğrusu d_3 doğrusuna paraleldir.
- D) d_1 doğrusu d_2 doğrusuna diktir.

3. $A(-2, 5)$ noktasından geçen ve eğimi 2 olan doğrunun denklemi aşağıdakilerden hangisidir?

- A) $2x + y + 5 = 0$
- B) $5x - 2y + 2 = 0$
- C) $2x - y + 9 = 0$
- D) $x - 2y + 9 = 0$

4.



Yukarıdaki şekle göre, aşağıdakilerden hangisinde verilen noktalar doğrusaldır?

- A) A, B, E
- B) A, C, F
- C) E, F, C
- D) D, B, E

5. Koordinat doğrusu üzerinde $A(x)$ ve $B(15)$ olmak üzere $[AB]$ 'ni $\frac{|AC|}{|CB|} = 3$ olacak şekilde içten bölen nokta $C(6)$ ise, x kaçtır?

- A) -15
- B) -17
- C) -18
- D) -21

6. $\vec{u} = (k, -6)$, $\vec{v} = (4, m)$ vektörleri için $4\vec{u} + 2\vec{v} = \vec{0}$ ise, $k+m$ kaçtır?

- A) -8
- B) 6
- C) 10
- D) 14

7. $A(2, 3)$ noktasından geçen $kx - y + (n+1) = 0$ doğrusu $3x - y + 5 = 0$ doğrusuna paraleldir.

Buna göre, $k+n$ kaçtır?

- A) -3
- B) -1
- C) 8
- D) 13

8. Düzlemde bir doğrunun parametrik denklemleri $x=-5k+3$, $y=8k-10$ olarak veriliyor. Bu doğrunun vektörel denklemleri aşağıdakilerden hangisidir?

- A) $(x+5, y-8)=k(3, -10)$
 B) $(x+10, y-3)=k(8, -5)$
 C) $(x+3, y-10)=k(-8, 5)$
 D) $(x-3, y+10)=k(-5, 8)$

9. Bir açının derece cinsinden ölçüsü 210° ise, radyan cinsinden ölçüsü aşağıdakilerden hangisidir?

- A) $\frac{5\pi}{6}$
 B) $\frac{7\pi}{6}$
 C) $\frac{4\pi}{3}$
 D) $\frac{5\pi}{3}$

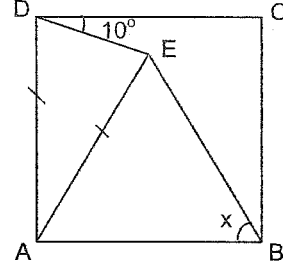
10. Düzlemde bir doğrunun kapalı formdaki denklemleri $-4x+5y+3=0$ olarak veriliyor. Bu doğrunun k parametresine bağlı parametrik denklemleri aşağıdakilerden hangisidir?

- A) $x = 5k + \frac{3}{4}$, $y = 4k$
 B) $x = 4k + 3$, $y = 5k$
 C) $x = 5k + \frac{1}{4}$, $y = 3k$
 D) $x = 3k + \frac{4}{5}$, $y = 4k$

11. Alanı $150\sqrt{3}$ cm² olan bir düzgün altıgenin çevresi kaç cm dir?

- A) 54
 B) 60
 C) 66
 D) 72

12.



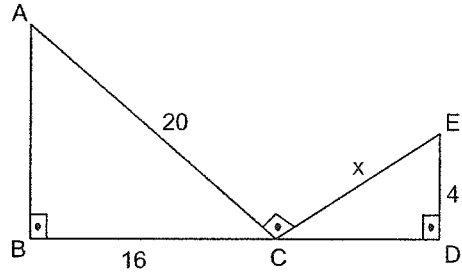
Yukarıdaki ABCD karesinde $|AE|=|AD|$ ve $m(\angle EDC)=10^\circ$ ise, $m(\angle ABE)=x$ kaç derecedir?

- A) 40
 B) 45
 C) 50
 D) 55

13. İç açılarının ölçüleri toplamı 1080° olan bir düzgün çokgenin bir iç açısının ölçüsü kaç derecedir?

- A) 108
 B) 120
 C) 135
 D) 140

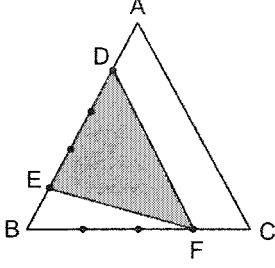
14.



Yukarıdaki şekilde $[AB] \perp [BC]$, $[CD] \perp [DE]$, $[AC] \perp [CE]$, $|AC|=20$ cm, $|BC|=16$ cm, $|ED|=4$ cm ise, $|CE|=x$ kaç cm dir?

- A) 5
 B) 6
 C) 8
 D) 10

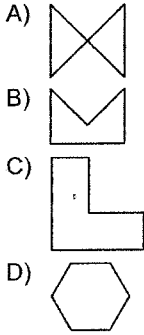
15.



Yukarıdaki ABC üçgeninde [BC] kenarı 4 eşit parçaya, [AB] kenarı 5 eşit parçaya bölünmüştür. $A(ABC)=40 \text{ cm}^2$ ise taralı bölgenin alanı kaç cm^2 dir?

- A) 15
- B) 16
- C) 18
- D) 20

16. Aşağıdakilerden hangisi dışbükey çokgendir?



17. Taban ayrıt uzunlukları 3 cm, 7 cm ve yüksekliği 10 cm olan dikdörtgen dik prizmanın hacmi kaç cm^3 tür?

- A) 210
- B) 230
- C) 244
- D) 248

18. Taban ayrıtının uzunluğu 10 cm, yüksekliği 12 cm olan kare dik piramidin hacmi kaç cm^3 tür?

- A) 420
- B) 400
- C) 394
- D) 390

19. Taban ayrıtının uzunluğu 8 cm, yüksekliği 15 cm olan kare dik prizmanın tüm alanı kaç cm^2 dir?

- A) 608
- B) 596
- C) 584
- D) 580

20. Bir küpün ayrıt uzunlukları 3 katına çıkarılırsa bu küpün alanı kaç katına çıkar?

- A) 3
- B) 9
- C) 27
- D) 81

1. Turistlerin gittikleri ülkelerde yeme, içme, konaklama gibi ihtiyaçlarını karşılamak için yaptıkları harcamaları aşağıdakilerden hangisi kapsamaktadır?
 - A) Turizmin gelir kaynağı olma etkisi
 - B) Turizmin politik önemi
 - C) Turizmin sosyal önemi
 - D) Turizmin yatırım kaynağı olma etkisi
2. 15-24 yaş grupları arasındaki bireylerin anne, baba ve diğer aile yakınları olmaksızın katıldıkları turizm aşağıdakilerden hangisidir?
 - A) Av turizmi
 - B) Kitle turizmi
 - C) Gençlik turizmi
 - D) Rekreasyon turizmi
3. Av turizmine açılacak avlaklar aşağıdakilerden hangisi tarafından tespit ve ilan edilmektedir?
 - A) Kaymakam
 - B) Orman Müdürlükleri
 - C) Muhtar
 - D) Çevre ve Orman Bakanlığı
4. Türkiye'de bilinçsizce avlanma sonucunda aşağıdaki hayvanlardan hangisinin soyu tükenmiştir?
 - A) Telli turnalar
 - B) Anadolu parsı
 - C) Vaşak
 - D) Kelaynak kuşları
5. Ülkemizin kültür turizminin önündeki en büyük engel aşağıdakilerden hangisidir?
 - A) Kültür hazinelerine gereken değerin verilmemesi
 - B) Tanıtım eksikliği
 - C) Ülkemiz coğrafyasında dağlık bölgelerin fazla olması
 - D) Kültür mirası bilincinin olmaması
6. Aşağıdakilerden hangisi tarafından öğrencilere yönelik eğitim ve gelişim kampları düzenlenmektedir?
 - A) Belediyelerin bünyesindeki turizm örgütleri
 - B) Okul içi Beden Eğitimi Spor ve İzcilik Dairesi Başkanlığı
 - C) Çocuk Esirgeme Kurumu Müdürlüğü
 - D) Milli Eğitim Bakanlığı
7. Türkiye'de turizm geliri en fazla olan bölge aşağıdakilerden hangisidir?
 - A) Akdeniz Bölgesi
 - B) Karadeniz Bölgesi
 - C) Marmara Bölgesi
 - D) İç Anadolu Bölgesi
8. Turizm bakımından güçlü çekim alanlarına ve turistik donanımına sahip olan yere ne ad verilir?
 - A) Turistik bölge
 - B) Turistik yöre
 - C) Turizm alanı
 - D) Tarihi yerler
9. İnsanların sinirsel ve bedensel yorgunluklarını gidermek, çeşitli rahatsızlıklarına, fayda bulmak amacıyla katıldıkları turizm hareketlerine ne ad verilir?
 - A) Spor turizmi
 - B) Kültürel turizm
 - C) Kişisel turizm
 - D) Sağlık turizmi
10. Aşağıdakilerden hangisi İıkçağ antik kent kalıntılarının bulunduğu yerlerden biri değildir?
 - A) Bergama
 - B) Milet
 - C) Çeşme
 - D) Efes
11. Türkiye'nin şimdiye dek kullanmayı başaramadığı, kıyı turizminin aksine az bulunan bir ürün olması ve getirisinin yüksek olması turizmin hangi önemini ifade etmektedir?
 - A) Politik
 - B) Sosyal
 - C) Kültürel
 - D) Çevresel
12. Aşağıdakilerden hangisi kaplıcalarda uygulanan tedavilerden biri değildir?
 - A) Bebek sahibi olabilmek için uygulanan tedavi
 - B) Romatizma tedavisi
 - C) Sindirim sistemi hastalıkları tedavisi
 - D) Deri hastalıkları tedavisi

13. Türkiye'nin doğu ve batı arasında köprü vazifesi görmesi zengin turizm potansiyelinin ana kaynaklarından hangisi kapsamındadır?

- A) Tarihi konum
- B) Politik konum
- C) Doğal konum
- D) Coğrafi konum

14. Ilıcaların kaplıcalardan farkı aşağıdakilerden hangisidir?

- A) Üzerinin açık olması
- B) Su sıcaklığının daha fazla olması
- C) Sularında magnezyum olmaması
- D) Gelen kişi sayısının daha az olması

15. Aşağıdakilerden hangisi gençlik turizmi imkanları sağlayan kurum ve kurumlardan biri değildir?

- A) Milli Eğitim Bakanlığı
- B) YURT-KUR
- C) Çevre ve Orman Bakanlığı orman içi dinlenme yerleri
- D) Özel Tesisler

16. Toprak altından çıkan ve banyo yapmak için kullanılan, şifalı su kaynaklarına ne ad verilir?

- A) Ilıcalar
- B) Kaplıcalar
- C) Termal
- D) İçmece

17. Vatandaşlara avcılık yapma olanağı veren, yetkili kurumlardan alınmış sertifikaya ne ad verilir?

- A) Av turizmi izin belgesi
- B) Av tezkeresi
- C) Avlanma ruhsatı
- D) Av bölgelerine giriş sertifikası

18. Aşağıdakilerden hangisi turizm yatırımlarının doğrudan ulusal gelir üzerinde etkide bulunmasının yanı sıra, olumlu etkide bulunduğu iş alanlarından biri değildir?

- A) Gıda
- B) Tarım
- C) Mobilya-dekorasyon
- D) Demir-çelik

19. Ekonomik ve siyasi istikrarsızlıklardan çok çabuk ve önemli düzeyde etkilenen turizm sektörünün kaç yılında gelişme ritmini düşürdüğü gözlemlenmiştir?

- A) 1994
- B) 1996
- C) 2000
- D) 1991

20. Yol, liman, hava alanı, elektrik yatırımları turizm alanında gerçekleştirilen yatırımlardan hangisi kapsamındadır?

- A) Diğer hizmet tesisleri yatırımları
- B) Konaklama tesisleri yatırımları
- C) Altyapı yatırımları
- D) Teşvik yatırımları

1. Atatürkçü düşüncede milletin en önemli ve ilk unsuru aşağıdakilerden hangisidir?
 - A) Ekonomik kalkınma
 - B) Birlikte yaşam ruhu
 - C) Din birliğini sağlama
 - D) Tarihine sahip çıkma

2. Türkiye'de özellikle kentleşme süreci hangi yıllarda başlamıştır?
 - A) 1930'lu
 - B) 1940'lı
 - C) 1950'li
 - D) 1960'lı

3. Aşağıdakilerden hangisi verilmiş statülerden biridir?
 - A) Öğretmenlik
 - B) Babalık
 - C) Milliyet
 - D) Esnaflık

4. Aşağıdakilerden hangisi geçici gruplara örnek olarak verilemez?
 - A) İnşaatta çalışan işçiler
 - B) Yapı kooperatifi kuranlar
 - C) Bir konuda araştırma yapan bilim insanları
 - D) Her hafta kurulan pazarlar

5. Belli bir durumda toplum içinde nasıl davranılması gerektiğini gösteren ve yaptırım gücü taşıyan kurallar sistemine ne ad verilir?
 - A) Toplumsal norm
 - B) Toplumsal değer
 - C) Toplumsal statü
 - D) Toplumsal kontrol

6. Sosyolojinin antropolojiden temel farkı aşağıdakilerden hangisidir?
 - A) İnsanın kökenini incelemesi
 - B) İnsanın evrimini incelemesi
 - C) İlk toplulukları konu edinmesi
 - D) Günümüz toplumlarını inceleme konusu edinmesi

7. Yolculuk yaparken ya da markette alışveriş yaparken kurulan ilişki türü aşağıdakilerden hangisidir?
 - A) Anlık
 - B) Periyodik
 - C) Uzun süreli
 - D) Kısa süreli

8. Aşağıdakilerden hangisi birincil grubun özelliklerinden biri değildir?
 - A) Yazılı normlara dayanması
 - B) Bizlik bilincinin hâkim olması
 - C) Üyeler arası ilişkinin sürekli olması
 - D) Üye sayısının az olması

9. Gecekondu ailesi üzerinde araştırma yapılırken, gecekondu tarihsel gelişimi, gecekondu yaşayan ailelerin ekonomik ve kültürel durumları, dini ve ahlaki değerleri, gelir düzeyleri, yaşadıkları ortam, tüketim alışkanlıkları, dinlenme ve eğlenme alışkanlıklarının derinlemesine incelenmesini sağlayan araştırma tekniği aşağıdakilerden hangisidir?
 - A) Sosyometri
 - B) Olay inceleme
 - C) Monografi
 - D) Anket

10. Antik çağın en büyük kenti aşağıdakilerden hangisidir?
 - A) Napoli
 - B) Roma
 - C) Venedik
 - D) Milano

11. Aşağıdakilerden hangisi sosyolojinin ilgilendiği konulardan biridir?

- A) Duyum
- B) İşsizlik
- C) Öğrenme
- D) Bireyin davranışları

12. Aşağıdakilerden hangisi bilimin temel niteliklerinden biri değildir?

- A) Mantıksal olması
- B) Genelleyici olması
- C) Olgulara dayanması
- D) Sübjektif olması

13. Köyün toplumsal yapısında büyük değişmelere ve yapısal dönüşümlere neden olan olay aşağıdakilerden hangisidir?

- A) Sanayi devrimi
- B) Coğrafi keşifler
- C) Rönesans
- D) Reform hareketleri

14. İnsanların üretmeden, doğadan topladığı ürünleri tüketerek varlığını sürdürdükleri dönem aşağıdakilerden hangisidir?

- A) Toprağa yerleşme
- B) Köy öncesi dönem
- C) Köy dönemi
- D) Merkez köy dönemi

15. Topluları açık toplum ve kapalı toplum olarak sınıflandıran bilim insanı aşağıdakilerden hangisidir?

- A) Robert Redfield
- B) Karl Popper
- C) Karl Marx
- D) Auguste Comte

16. Aşağıdakilerden hangisi insan bilimlerinden biridir?

- A) Mantık
- B) Matematik
- C) Siyaset bilimi
- D) Jeoloji bilimi

17. Aşağıdakilerden hangisi sistematik gözlemde kullanılan araçlardan biri değildir?

- A) Tepegöz
- B) Teyp
- C) Fotoğraf makinası
- D) Kamera

18. I. İlişkilerin belirli bir süre devam etmesi
II. Bireyler arasında etkileşimin olması
III. Bireylerin birbirinden haberdar olması

Yukarıdakilerden hangileri toplumsal ilişkide olması gereken özelliklerdendir?

- A) Yalnız I
- B) I ve II
- C) II ve III
- D) I, II ve III

19. Toprağa yerleşmiş toplumlarda ilk yazılı hukuk ve mahkemeler aşağıdaki hangi toplumsal yapılanmada ortaya çıkmıştır?

- A) İmparatorluklar
- B) Feodal toplumlar
- C) Siteler
- D) Özler

20. Aşağıdakilerden hangisi ilk kentlerin özellikle göl ve nehir kenarlarına kurulma nedenlerinden biri değildir?

- A) Savunma
- B) Tarımsal faaliyetler
- C) Ulaşım
- D) Ticaret

1. Nesnelerin zihinde aldığı biçime ne ad verilir?
 - A) Kavram
 - B) Terim
 - C) Tamlama
 - D) Kaynaşma
2. Aşağıdaki altı çizili sözcüklerden hangisi çokluk eki almıştır?
 - A) Çantamı yeni aldım.
 - B) Okullar açıldı.
 - C) Dolapta yiyecek bitti.
 - D) Yeni bir kardeşimiz oldu.
3. Aşağıdakilerden hangisi eş sesli bir sözcük değildir?
 - A) çay
 - B) yüz
 - C) araba
 - D) bağ
4. Aşağıdaki cümlelerden hangisinde deyim kullanılmıştır?
 - A) Anadolu'da ne güzel, ne yeşil bostanlar gördüm.
 - B) Sanatın ne olduğunu anlamıyordu.
 - C) Yangın yarım saatten beri devam ediyordu.
 - D) İşte şimdi ayıkla pirincin taşını.
5. Aşağıdakilerden hangisi edebiyatla ilgili bir terimdir?
 - A) kare
 - B) nota
 - C) küpe
 - D) hece
6. Aşağıdakilerden hangisi temel anlamlı bir sözcüktür?
 - A) kara
 - B) kulak
 - C) kaynak
 - D) delik
7. Aşağıdaki sözcüklerden hangisi isimden isim yapma eki almıştır?
 - A) verici
 - B) yığın
 - C) akıntı
 - D) sırdaş
8. Aşağıdaki sözcüklerden hangisi fiilden isim yapma eki almıştır?
 - A) yürüyüş
 - B) pişirmek
 - C) sulamak
 - D) gençlik
9. Aşağıdakilerden hangisi yapısı bakımından birleşik sözcüktür?
 - A) mum
 - B) vergi
 - C) dönem
 - D) onbaşı
10. Aşağıdaki cümlelerden hangisinde zıt anlamlı sözcükler kullanılmıştır?
 - A) Ali okuldan yeni geldi.
 - B) Öğretmen bizi pikniğe götürdü.
 - C) Acı tatlı pek çok günlerimiz geçti.
 - D) Çardak beşik gibi sallandı.
11. Aşağıdaki cümlelerin hangisinde bir söz grubu kullanılmamıştır?
 - A) Ya sen gel ya da ben geleyim.
 - B) Ha o ha bu ne fark eder.
 - C) Bu çocuk neden bağılıyor?
 - D) Kırk elli kişi ya var ya yoktu.
12. Aşağıdakilerden hangisi devrik cümledir?
 - A) Sen ne anlatıyorsun be adam?
 - B) Kırk yıldır bu sanatı işlerim.
 - C) Ben bu kitabı okuyacağım.
 - D) Gözlerinden yaşlar aktı.
13. "Merdivenleri üçer üçer atlayarak indim." cümlesinin yüklemi hangi sözcüktür?
 - A) atlayarak
 - B) merdivenleri
 - C) indim
 - D) üçer üçer

14. Aşağıdaki cümlelerden hangisinde gizli özne vardır?

- A) Tarlayı otlardan temizledi.
- B) Hasan, pencereyi açarken camı kırdı.
- C) Ayşe, kapıyı hızlı hızlı çaldı.
- D) Annem çiçekleri çok sever.

15. "Yarın akşam maç yapacaklar." cümlesi yapı bakımından aşağıdakilerden hangisine örnektir?

- A) Yalın cümle
- B) Birleşik cümle
- C) Sıralı cümle
- D) Bağlı cümle

16. Aşağıdaki cümlelerden hangisi yalın cümle değildir?

- A) Sabah geldik.
- B) Kendini bir bırakırsa, hemen uyuyacaktı.
- C) Öğrenciyim.
- D) Bilmiyorum.

17. "Hasan bahçedeki ağaçları budadı." cümlesinin öznesi hangi sözcüktür?

- A) bahçedeki
- B) ağaçları
- C) Hasan
- D) budadı

18. "Bahçe duvarının önü" tamlaması aşağıdaki tamlama türlerinden hangisine örnektir?

- A) Belirtisiz isim tamlaması
- B) Zincirleme isim tamlaması
- C) Belirtili isim tamlaması
- D) Takısız isim tamlaması

19. Aşağıdakilerden hangisi yüklemi bakımından isim cümlesidir?

- A) Düzenli olarak çalışmalısınız.
- B) Annem bu sözleri duyunca çok üzüldü.
- C) Ordunun yaklaştığını anladı.
- D) En sevdiğim çiçek güldü.

20. Paragrafta iletilmek istenen iletinin en kısa ve açık ifadesine ne ad verilir?

- A) Yardımcı düşünce
- B) Ana düşünce
- C) Asıl metin
- D) Ana metin

1. Aşağıdaki cümlelerden hangisinde yalın durum isteyen edat kullanılmıştır?
 A) Bu kitabı akşama kadar bitirmeye çalışıyorum.
 B) Köpek için kemik aldım.
 C) Senden başka arkadaşım yok.
 D) Bunun gibi adamlar artık çok az yetiştiriyor.
2. Aşağıdaki cümlelerin hangisinde altı çizili sözcük küçültme eki almamıştır?
 A) Zavallı kedicik çok açtı.
 B) Sana o beğendiğin ayakkabıyı aldım.
 C) Küçük yavrucak çok üşümüştü.
 D) Adamcağız hemen doktora götürülmeli.
3. Aşağıdakilerden hangisi bilimkurgu eserlerle ilgili yanlış bir ifadedir?
 A) Bilimkurgu yazarları insanın akıl gücünü kullanarak her problemi çözeceğine inanır.
 B) Bilimkurgu eserleri geçmişe yöneliktir.
 C) Masalla teknolojinin bir araya gelmesidir.
 D) Büyük bir düşün gücünün sonucudur.
4. Aşağıdakilerden hangisi isimden türeyen bir isimdir?
 A) durak
 B) sayaç
 C) sevinç
 D) demirci
5. Aşağıdakilerden hangisi somut bir sözcüktür?
 A) sevgi
 B) akıl
 C) kuş
 D) duygu
6. Eylemin belirttiği işin nasıl, ne zaman ve ne biçimde yapıldığını bildiren anlatım biçimine ne ad verilir?
 A) ortaç
 B) ulaç
 C) eylemsi
 D) kip
7. Dünya edebiyatından "Gulliver'in Gezileri" adlı eser, aşağıdaki anlatımlardan hangisine örnektir?
 A) Kanıtlayıcı
 B) Emredici
 C) Düşsel
 D) Destansı
8. Aşağıdaki anlatım türlerinden hangisinde emir, yöneltme ve öneri ifade eden sözcükler kullanılmaktadır?
 A) Kanıtlayıcı
 B) Açıklayıcı
 C) Emredici
 D) Tartışmacı
9. Hikâyedeki olay ve olayların düğümlerinin çözüldüğü, merak edilen konuların ortadan kalktığı, bütün soruların cevaplandırıldığı bölüm aşağıdakilerden hangisidir?
 A) Giriş
 B) Sonuç
 C) Gelişme
 D) Düğüm
10. Toplumunu derinden etkilemiş bir olayın şairlerce saz eşliğinde söylenen biçimine ne ad verilir?
 A) Doğal destan
 B) Yapma destan
 C) Çağdaş destan
 D) Modern destan
11. "O gitti, bilmem nereye? Galiba Plevne'ye gitti ve gelmedi; bir daha hiç gelmedi." cümlesindeki "O" sözcüğünün görevi aşağıdakilerden hangisidir?
 A) Zamir
 B) Sıfat
 C) Edat
 D) Fiil
12. Aşağıdaki cümlelerin hangisinde basit sıfat kullanılmıştır?
 A) Kiralık dükkan aradık bugün.
 B) Işıksız sokaktan geçtik.
 C) Küçük çocuk ağlıyordu.
 D) Yorgun çiftçi, evinin yolunu tuttu.

13. Aşağıdakilerden hangisi bileşik isimdir?

- A) silgi
- B) sözlük
- C) İstanbullu
- D) aslanağzı

14. Aşağıdakilerden hangisi divan edebiyatının mizahi örneklerinden biri değildir?

- A) Göktürk Kitabeleri
- B) Harname
- C) Şikayetname
- D) Hırrename

15. Bir şeyin söz ya da yazı ile göz önünde canlanacak şekilde anlatılmasına ne ad verilir?

- A) Örnekleme
- B) Betimleme
- C) Açıklama
- D) Tanımlama

16. Aşağıdakilerden hangisi bir topluluk ismidir?

- A) kitap
- B) zekâ
- C) ev
- D) ordu

17. Dante'nin yazdığı İlahi Komedyâ, aşağıdaki destan türlerinden hangisine örnektir?

- A) Doğal destan
- B) Çağdaş destan
- C) Yapma destan
- D) Modern destan

18. Aşağıdaki cümlelerin hangisinde sayı sıfatı kullanılmıştır?

- A) Birçok memleket gezdim.
- B) Her duyduğuna inanma.
- C) Bu eve kim gelecek?
- D) Üç kilo kiraz aldım.

19. Tiyatro oyunlarında kahramanlardan birinin sahnede kendi kendine yaptığı uzun konuşmanın bütününe ne ad verilir?

- A) Monolog
- B) Diyalog
- C) Gülmece
- D) Benzetme

20. Aşağıdaki cümlelerin hangisinde bileşik bağlaç kullanılmıştır?

- A) Onu çalışkan, uslu bir genç sanırdım; meğerse tembelin, yaramazın biri imiş.
- B) Yolculukta göz ve gönül mütemediyen çile doldurur.
- C) Vatan işlerinde ölmek olabilir, fakat korkmak asla!
- D) Veli ile öbür bahçe sahipleri büsbütün susuz kaldılar.

1. Aşağıdakilerin hangisinde sözcük grubu yer almamaktadır?

- A) İğne atsan yere düşmüyor.
- B) Bekle istersen, geleceğim.
- C) İyi kötü günlerimiz geçti.
- D) Kimseyi senin kadar sevmedim.

2. Aşağıdaki cümlelerde hangi tür isim tamlaması yer aldığına dair verilen açıklamalardan hangisi yanlıştır?

- A) Gülün rengi soldu. (Belirtili isim tamlaması)
- B) Bilgisayarın klavyesinin tuşları bozulmuş. (Zincirleme isim tamlaması)
- C) Okuldan çocuk sesleri geliyor. (Belirtisiz isim tamlaması)
- D) Karanfilin kokusu kalmamış. (Takısız isim tamlaması)

3. Dilekçeyle ilgili aşağıdaki ifadelerden hangisi yanlıştır?

- A) Dilekçe yazımında kalemin rengi ve türü önemli değildir.
- B) Anlatım yalın ve duru olmalıdır.
- C) Sol alt köşeye adres yazılır.
- D) Sağ alt köşeye ad ve soyadı yazılır ve imza atılır.

4. Aşağıdaki sözcüklerden hangisinin aldığı ek sözcüğün köküne ses benzeşmesi kuralına uygun bir biçimde eklenmemiştir?

- A) Kaçtı
- B) Çiçekçi
- C) Sınıfta
- D) Tarihten

5. Aşağıdakilerin hangisinde sözcük grubu yer almamaktadır?

- A) İğne atsan yere düşmüyor.
- B) İyi kötü günlerimiz geçti.
- C) Bekle istersen, geleceğim.
- D) Kimseyi senin kadar sevmedim.

6. Haber yazıları ile ilgili aşağıdakilerden hangisi yanlıştır?

- A) Anlatılanlar ilgi çekici olmalıdır.
- B) Haber yazılarının günlük ve önemli olması gerekir.
- C) Kolay anlaşılır olmalıdır.
- D) Yazan kişi yorumunu da habere katmalıdır.

7. Aşağıdaki cümlelerden hangisinde sessiz türemesine örnek bir sözcük vardır?

- A) Hükmen yenik sayıldı.
- B) Teklifimi reddetmedi.
- C) Fikrini kendine sakla.
- D) Bana emretme.

8. Aşağıdakilerden hangisinde ünsüz yumuşamasına uymayan bir kullanım vardır?

- A) Ankara'ya gidelim.
- B) Sevinçim kursağımda kaldı.
- C) Ocağı yaktım.
- D) Canım yurdum.

9. Aşağıdaki cümlelerin hangisinde soyut anlamlı bir sözcük kullanılmamıştır?

- A) Sevgi bulaşıcıdır.
- B) Sıla hasreti aklıma düştü.
- C) Keşke herkes mutlu olsa.
- D) Masadaki kalem yere düştü.

10. Aşağıdakilerden hangisi kişisel hayatı konu alan metinlerden biridir?

- A) Mesnevi
- B) Şiir
- C) Anı
- D) Sohbet

11. Aşağıdaki cümlelerin hangisinde dünya sözcüğü terim anlamıyla kullanılmıştır?

- A) Dünya kadar işim var.
- B) Sen de dünyadan bihabersin ya.
- C) Öyle sıkıldım ki artık dünyamdan geçtim.
- D) Ay, Dünya'nın uydusudur.

12. Makale türü Türk edebiyatına hangi dönemde girmiştir?

- A) Fetret
- B) Tanzimat
- C) Cumhuriyet
- D) Islahat

13. Aşağıdakilerden hangisi modern Türk tiyatrosu içerisinde yer almaz?

- A) Dram
- B) Komedi
- C) Orta oyunu
- D) Trajedi

14. Deneme türü özellikle hangi çağda önemli bir gelişme göstermiştir?

- A) Aydınlanma Çağı'nda
- B) Ortaçağ'da
- C) Yeniçağ'da
- D) Bilgi Çağı'nda

15. Bugün Eskişehir() e kar yağacakmış() ama ben pek inanmadım() Sen ne dersin()

Yukarıdaki cümlelerde parantez içlerine sırasıyla hangi noktalama işaretleri gelmelidir?

- A) (,) (,) (,) (,)
- B) (') (") (!) (.)
- C) (') (:) (:) (?)
- D) (') (:) (.) (?)

16. Aşağıdaki cümlelerden hangisinde bir yazım yanlışı vardır?

- A) Yağmurda ıslandık.
- B) Sanki kış gelmişti.
- C) Sende gel istiyorum.
- D) Benim mektubum gelmiş, seninki nerede?

17. "Sakıp Sabancı, 7 Nisan 1933 tarihinde Kayseri'de dünyaya geldi. Çok genç yaşlarda çalışma hayatına atıldı."

Yukarıda bir parçası verilen metnin türü aşağıdakilerden hangisidir?

- A) Biyografi
- B) Makale
- C) Mülakat
- D) Anı

18. Aşağıdaki deyimlerin hangisinde ünlü düşmesine uğrayan bir sözcük yoktur?

- A) Ağzı sıkı
- B) Bahtı açık
- C) Göğsü kabarmak
- D) Aklını çelmek

19. Sanat metinleriyle ilgili aşağıdaki ifadelerden hangisi yanlıştır?

- A) Her okunduğunda farklı yorumlanmaz.
- B) Estetik ön plandadır.
- C) Edebiyat biliminin içerisinde yer alır.
- D) Sanat metinlerine edebi metinler de denir.

20. Edebiyatımızın gezi türündeki ilk ve en büyük eseri olan Seyahatname adlı eserin yazarı aşağıdakilerden hangisidir?

- A) Evliya Çelebi
- B) Katip Çelebi
- C) Pierre Loti
- D) Edip Ahmet Yükneki

1. Aşağıdaki şair ve şiiri eşleştirmelerinden hangisi doğrudur?

- A) Necip Fazıl Kısakürek-Vapur
- B) Bedri Rahmi Eyüboğlu-Karadut
- C) Nazım Hikmet-Sihirli Değnek
- D) Aşık Veysel-Rüzgâr

2. "Yedi tepeye kurulmuş

Pul pul
Gümüş gümüş balıkları
Pul pul
Işıktan sudan örülmüş
Canım İstanbul"

Yukarıdaki şiir, aşağıdaki şairlerden hangisine aittir?

- A) Sezai Karakoç
- B) Bedri Rahmi Eyüboğlu
- C) Ahmet Haşim
- D) Ahmet Muhip Dıranas

3. Aşağıdaki şairlerden hangisi, şiirlerinde zamanın Batı'da moda olan fütürist, kübik ve gerçek üstücü şiir akımlarını denemiştir?

- A) Bedri Rahmi Eyüboğlu
- B) Attila İlhan
- C) Ercüment Behzat Lav
- D) Ahmet Muhip Dıranas

4. Aşağıdakilerden hangisi "İkinci Yeni" şiirinin özelliklerinden biri değildir?

- A) Daha çok betimleyici metinlerden oluşması
- B) Bireyci bir şiir anlayışının hâkim olması
- C) Nükte, şaşırtmaca ve tekerlemeden uzaklaşması
- D) Romantizm akımının etkisinde olması

5. İlk şiirinden son şiirine kadar çocuksu duyarlılığı, dünyayı hayranlıkla, şaşkınlıkla bakışını ve şakacı çocuk yaklaşımını yitirmeyen şair, aşağıdakilerden hangisidir?

- A) Ülkü Tamer
- B) Refik Durbaş
- C) Ece Ayhan
- D) Turgut Uyar

6. Anadolu edebiyatın en tanınmış şairi aşağıdakilerden hangisidir?

- A) Şükufe Nihal
- B) Kemalettin Kamu
- C) Faruk Nafiz Çamlıbel
- D) Ahmet Muhip Dıranas

7. "Mukaddime, Merdiven, Süvari" adlı şiirler aşağıdaki şairlerden hangisine aittir?

- A) Ahmet Haşim
- B) Turgut Uyar
- C) İlhan Berk
- D) Ahmet Muhip Dıranas

8. Aşağıdakilerden hangisi "Garip" şiirinin özelliklerinden biri değildir?

- A) Sahte değerlerle, samimiyetsizlik ve felsefeyle, aşırı duyarlılıkla alay etmesi
- B) Açık ve yalın bir dil kullanılması
- C) Hece ölçüsü ve uyak kullanılması
- D) Günlük hayatın işlenmesi

9. Şiir coğrafyasını Türk ve Batı şiiri özelliklerini kendinde birleştirerek oluşturan; serbest tarzda kaleme aldığı şiirlerinde yalnızlık, hüznün, kaçış, ölüm tutkusu temalarını işleyen şair, aşağıdakilerden hangisidir?

- A) Hilmi Yavuz
- B) İlhan Geçer
- C) Behçet Necatigil
- D) Cemal Süreya

10. "Uy Havar" adlı şiir, aşağıdaki şairlerden hangisine aittir?

- A) Melih Cevdet Anday
- B) Ahmet Arif
- C) Oktay Rifat
- D) A. Kadir

11. Aşağıdaki şiirlerden hangisi Orhan Veli Kanık'a aittir?

- A) Birdenbire
- B) Pul pul
- C) Çocukluğumuz
- D) Acının tarihi

12. "Orda bir köy var uzakta
O köy bizim köyümüzdür"

Yukarıdaki dizeler aşağıdaki şairlerden hangisine aittir?

- A) Necmettin Halil Onan
B) Behçet Kemal Çağlar
C) Ahmet Kutsi Tecer
D) Kemalettin Kamu

13. "Ben Ölürsem Akşamüstü Ölürüm" şiiri
aşağıdaki şairlerden hangisine aittir?

- A) İsmet Özel
B) Atıf Behramoğlu
C) Ahmet Oktay
D) Süreyya Berfe

14. Aşağıdakilerden hangisi William
Shakespeare'in tiyatro oyunlarından
biridir?

- A) Cimri
B) Köşebaşı
C) Nişanlılar
D) Kral Lear

15. Fırtına Kuşu adlı eser aşağıdaki yazarlardan
hangisine aittir?

- A) Hamdullah Suphi Tanrıöver
B) Reşat Nuri Güntekin
C) Yaşar Kemal
D) Latife Tekin

16. Aşağıdakilerden hangisi "Beş Hececiler"
diye anılan şairler arasında yer almaz?

- A) Orhan Seyfi Orhon
B) Cevdet Kudret
C) Enis Behiç Koryürek
D) Faruk Nafiz Çamlıbel

17. Aşağıdakilerden hangisi Orhan Asena'nın
tiyatro oyunlarından biridir?

- A) Kerem ile Aslı
B) Yunus Emre
C) Karanlıkta Bir Işık
D) Kocaoğlan

18. Mekân olarak Edremit ve yöresinin
ayrıntılarıyla anlatıldığı "Kuyucaklı Yusuf"
adlı roman, aşağıdaki yazarlardan
hangisine aittir?

- A) Refik Halit Karay
B) Sait Faik Abasıyanık
C) Peride Celal
D) Sabahattin Âli

19. "Kocaoğlan" adlı tiyatro oyunu aşağıdaki
yazarlardan hangisine aittir?

- A) Melih Cevdet Anday
B) Orhan Kemal
C) Orhan Asena
D) Necati Cumalı

20. Halk şiirinde kişiye, topluma, feleğe, tabiata
aşık tarafından yöneltilen yergi, alay,
eleştiri içeren şiirlere ne ad verilir?

- A) Ağıt
B) Güzelleme
C) Öğüt
D) Taşlama

1. Yazılan edebi eserin ana düşüncesi ya da ana duygusuna ne ad verilir?
 - A) Amaç
 - B) Tema
 - C) Sonuç
 - D) Başlık
2. Aşağıdakilerden hangisi düşünce eserlerinden biri değildir?
 - A) Deneme
 - B) Tiyatro
 - C) Söyleşi
 - D) Günlük
3. Duyguları, düşünceleri, olayları söz ve yazı ile güzel ve etkili bir biçimde anlatma sanatına ne ad verilir?
 - A) Tiyatro
 - B) Sinema
 - C) Müzik
 - D) Edebiyat
4. "Dokuzuncu Hariciye Koşuşu" romanının yazarı aşağıdakilerden hangisidir?
 - A) Peyami Safa
 - B) Yaşar Kemal
 - C) Reşat Nuri Güntekin
 - D) Necati Cumalı
5. Duygu, düşünce ve hayallerin cümle ve paragraflar halinde dil bilgisi kurallarına uygun olarak anlatılmasına ne ad verilir?
 - A) Tema
 - B) Nazım
 - C) Yargı
 - D) Nesir
6. Bir duyguyu, bir düşünceyi bir isteği ya da bir olayı tam olarak anlatan ve bir yargı bildiren söz grubuna ne ad verilir?
 - A) Kelime
 - B) Paragraf
 - C) İsim tamlaması
 - D) Cümle
7. Aşağıdakilerden hangisi edebi eserlerden biri değildir?
 - A) Resim
 - B) Roman
 - C) Şiir
 - D) Hikâye
8. "Çalikuşu" romanının yazarı aşağıdakilerden hangisidir?
 - A) Peyami Safa
 - B) Yaşar Kemal
 - C) Reşat Nuri Güntekin
 - D) Ömer Seyfettin
9. Aşağıdakilerden hangisi sözlü edebiyatın ürünlerinden biri değildir?
 - A) Destan
 - B) Koşuk
 - C) Koşma
 - D) Sav
10. Aşağıdakilerden hangisi İslami Devir Türk Edebiyatı dönemlerinden biri değildir?
 - A) Tasavvuf Edebiyatı
 - B) Edebiyat-ı Cedide
 - C) Klasik Edebiyat
 - D) Halk Edebiyatı

11. Aşağıdakilerden hangisi Türk edebiyatında kullanılan nazım birimlerinden biri değildir?

- A) Mısra
- B) Beyit
- C) Bend
- D) Paragraf

12. Aşağıdakilerden hangisi Kaşgarlı Mahmut'un eseridir?

- A) Atabetü'l Hakayık
- B) Divan-ı Hikmet
- C) Kutadgu Bilig
- D) Divanü Lûgati-t Türk

13. Aralarında ortak nitelik bulunan iki varlıktan zayıf olanı güçlü gibi gösterme sanatına ne ad verilir?

- A) Cinas
- B) Teşbih
- C) Kinaye
- D) Tariz

14. Duygu, düşünce ve hayallerin dizelerin ölçü ve uyak kuralına bağlı olmadan şairin isteğine göre kullanılmasıyla oluşan ölçüye ne ad verilir?

- A) Hece ölçüsü
- B) Birleşik hece ölçüsü
- C) Serbest ölçü
- D) Aruz ölçüsü

15. Aşağıdakilerden hangisi halk şiiri nazım biçimlerinden biri değildir?

- A) Şarkı
- B) Türkü
- C) Semai
- D) İlahi

16. Aşağıdakilerden hangisi seslerine göre uyak türlerinden biri değildir?

- A) Sarma uyak
- B) Yarım uyak
- C) Tunç uyak
- D) Cinaslı uyak

17. Halk şiirinde ahengi sağlamak amacıyla sözcüklerin gruplandığı yerlere ne ad verilir?

- A) Ara
- B) Nefes
- C) Durak
- D) Hece

18. Aşağıdakilerden hangisi Türk Edebiyatı dönemlerinden biri değildir?

- A) İslami Devir Türk Edebiyatı
- B) Rönesans Sonrası Türk Edebiyatı
- C) Batı Etkisinde Gelişen Türk Edebiyatı
- D) İslamiyet Öncesi Türk Edebiyatı

19. Aşağıdakilerden hangisi düzenlerine göre uyak türlerinden biri değildir?

- A) Tam uyak
- B) Düz uyak
- C) Sarma uyak
- D) Çapraz uyak

20. Aşağıdakilerden hangisi Göktürk Yazıtlarından biri değildir?

- A) Bilge Kağan Anıtı
- B) Tonyukuk Anıtı
- C) Timur Anıtı
- D) Kül Tiğın Anıtı

1. Memeliler sınıfındaki canlıların tümünde ortak olan özellik aşağıdakilerden hangisidir?

- A) Süt bezleri taşıma
- B) Dış döllenme yapma
- C) Soğukkanlı olma
- D) Aynı yapı ve şekilde dişlere sahip olma

2. Aşağıdaki yapılardan hangisi paramesium (terliksi hayvan) da bulunmaz?

- A) İki çekirdek
- B) Besin kofulu
- C) Kloroplast
- D) Kontraktil koful

3. Aşağıdakilerden hangisi kirli sulardan ya da kirli sularla yıkanmış sebze ve meyvelerden insanlara geçen bulaşıcı bir hastalıktır?

- A) Verem
- B) Ülser
- C) Boğmaca
- D) Dizanteri

4. Aşağıdakilerden hangisi Dünyada yaşam için uygun sıcaklığı sağlayan atmosferdeki sera gazları arasında yer almaz?

- A) Metan
- B) Oksijen
- C) Azotoksitler
- D) Karbondioksit

5. Aşağıdakilerden hangisi ökaryot hücre yapısına sahip, en ilkel canlı grubu olan protista içinde yer almaz?

- A) Virüsler
- B) Kamçılılar
- C) Sililer
- D) Kök ayaklılar

6. Aşağıdakilerden hangisi dünya üzerinde sadece ülkemizde yaşayan endemik hayvan ve bitki türlerinden biri değildir?

- A) Kaya yedi uyuru
- B) Toros kurbağası
- C) Anadolu kekik çiğdemi
- D) Keseli kanguru

7. Aşağıdakilerden hangisi canlıların bilimsel sınıflandırılması yapılırken bir alem olarak kabul edilemez?

- A) Protistalar
- B) Mantarlar
- C) İnsanlar
- D) Bitkiler

8. Aşağıdakilerden hangisi sadece kapalı tohumlu bitkilerde görülen bir özelliktir?

- A) Tohumları meyve içinde bulundurma
- B) Dölalması yapabilme
- C) Rüzgarla tozlaşma yapabilme
- D) Fotosentez yapabilme

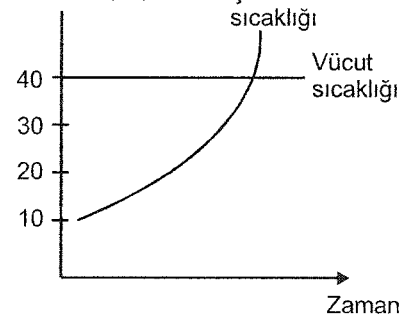
9. Temel özellikleri, sporla üreme, çürükçül ya da parazit yaşama, çok çekirdekli ve klorofilsiz hücre şeklinde olan canlı grubu, aşağıdakilerden hangisidir?

- A) Bakteri
- B) Mantar
- C) Karayosunu
- D) Suyosunu

10. Aşağıdaki sınıflandırma gruplarının hangisine ait bireylerin tümünde kromozom sayısı aynıdır?

- A) Alem
- B) Aile
- C) Cins
- D) Tür

11. Sıcaklık (°C)



Çevre sıcaklığının etkisi ile zamana bağlı olarak vücut sıcaklığında meydana gelen değişme grafikteki gibidir.

Buna göre, aşağıdaki canlılardan hangisi bu değişime uygundur?

- A) Yılan
- B) Kertenkele
- C) Kartal
- D) Kaplumbağa

12. I. Canis lupus
II. Felis tigris
III. Canis aurus
IV. Martes martes

Canlıların bilimsel olarak adlandırılmasında kullanılan sistematik birimlere göre; yukarıdaki türlerden hangileri aynı cinste yer alırlar?

- A) I ve II
B) I ve III
C) II ve IV
D) I, II ve III
13. Aşağıdaki tek hücreli canlılardan hangisi ökaryot (gelişmiş) hücre tipine sahip değildir?
- A) Bakteri
B) Amip
C) Öglena
D) Terliksi
14. I. Bakteriler
II. Protista
III. Mantarlar
- Yukarıdaki canlı gruplarından hangilerine ait bireylerin tümü fotosentez yapabilme yeteneğinden yoksundur?
- A) Yalnız I
B) Yalnız II
C) Yalnız III
D) I ve III
15. Ölü bitki ve hayvan atıkları gibi organik maddelerin inorganik maddelere ayrıştırılmasında görev yapan organizma grubu aşağıdakilerden hangisidir?
- A) Bitkiler
B) Saprotik bakteriler
C) Hayvanlar
D) Virüsler
16. Aşağıdakilerden hangisi hava kirliliğinin neden olduğu ekolojik sorunlar arasında yer almaz?
- A) Erozyon
B) Asit yağmurları
C) Küresel ısınma
D) Ozon tabakasının incilmesi

17. Aşağıdaki bitki gruplarından hangisi döl alması ile çoğalır?

- A) Fasulye
B) Çam
C) Suyosunu
D) Eğreltiotu

18. Aşağıdakilerden hangisi ormanların doğada üstlendiği ekolojik işlevlerden biri değildir?

- A) Hayvanlar için barınak olması
B) Sadece odun hammaddesi olması
C) Oksijen üretmesi
D) İklimi etkilemesi

19. Aşağıdakilerden hangisi türün özelliklerinden biri değildir?

- A) Kromozom sayıları aynıdır.
B) Aynı beslenme grubu içinde yer alırlar.
C) Tüm bireysel genleri aynıdır.
D) Ortak bir atadan gelirler.

20. Dünya üzerindeki belirli bir bölgede bulunan çeşitli canlıların, evrelerindeki canlılar ve cansız varlıklarla karşılıklı etkileşim kurarak oluşturdukları bütüne ne ad verilir?

- A) Habitat
B) Komünite
C) Populasyon
D) Ekosistem

1. Bireyi bir mesleğe hazırlamak, mesleki başarıyı arttırmak ve mesleğinde ilerlemesini sağlamak için gerekli olan bilgi, beceri, tavır ve iş alışkanlıklarını amaç edinen eğitim türüne ne ad verilir?
 - A) Mesleki eğitim
 - B) Teknik eğitim
 - C) Bedensel eğitim
 - D) Fizyolojik eğitim
2. Aşağıdakilerden hangisi "sağlıklı halin" hayat boyunca devam etmesi şartlarından biri değildir?
 - A) Doğumun sağlık kurumlarında ve sağlık personeline yapılması
 - B) Bebeğin mümkün olduğu kadar hazır süt ile beslenmesi
 - C) Bireyin ruhsal açıdan toplumsal hayata ve iş hayatına hazırlanması
 - D) Doğumdan sonra aşıların düzenli yapılması
3. Aşağıdakilerden hangisi işletmelerde beceri eğitimine başlayan öğrencilere sunulan imkânlardan biri değildir?
 - A) Beceri eğitimi sırasında işletmeyi yakından tanıma fırsatı bulacaklarından, mezuniyet sonrası iş bulmaları ve iş yerine uyum sağlamaları kolaylaşmış olur.
 - B) Her yıl tatil aylarında 3 ay ücretli izin alırlar.
 - C) Yaşına uygun asgari ücretin %30'undan az olmak üzere ücret alırlar.
 - D) İş kazaları ve meslek hastalıklarına karşı Milli Eğitim Bakanlığınca sigorta ettirililer.
4. Aşağıdakilerden hangisi iş güvenliğinin başlıca amaçlarından biridir?
 - A) İş yerindeki riskleri arttırmak
 - B) Çalışanlara en sağlıklı ortamı sunmak
 - C) Çalışma verimini azaltmak
 - D) Oluşacak maddi zararları arttırmak
5. Aşağıdakilerden hangisi biyolojik bir tehdit değildir?
 - A) Parazit
 - B) Küf
 - C) Bakteri
 - D) Klor
6. Aşağıdakilerden hangisi tahriş edici maddelerden biri değildir?
 - A) Fenol
 - B) Brom
 - C) Benzin
 - D) Kireç
7. Aşağıdakilerden hangisi işyerindeki yeterli bir aydınlatmanın sağlayabileceği avantajlardan biri değildir?
 - A) Yaralanmalarda azalma
 - B) Üretimde ve mamul kalitesinde artış
 - C) Enerji tasarrufu
 - D) Daha iyi görünüş ve düzen
8. Kimyasal maddelerin genellikle vücuda girme yolları aşağıdakilerden hangisinde tam ve doğru olarak verilmiştir?
 - A) Sindirim-beslenme-işitme
 - B) Deri-toprak-beslenme
 - C) Solunum-sindirim-deri
 - D) Su-solunum-toprak
9. Aşağıdakilerden hangisinde ısıtma sistemi ile ısı taşıyıcısı eşleşmesi doğru olarak verilmiştir?
 - A) Sıcak sulu ısıtma-buhar
 - B) Klima tesisatı-buhar
 - C) Sıcak sulu ısıtma-hava
 - D) Klima tesisatı-hava
10. Aşağıdakilerden hangisi sıcak su aygıtlarının kullanılmasında güvenlik bakımından dikkat edilecek önemli hususlardan biri değildir?
 - A) Şofbende kullanılan gaz boru bağlantıları kullanıldıktan sonra gaz devresi kesilmelidir.
 - B) Termosifonlar içinde su bulunurken aşırı derecede yakılmamalıdır.
 - C) Termosifonlarda su sıcaklığını gösteren termometre bulunmalıdır.
 - D) Şofben banyoya monte edilmelidir.

11. Aşağıdakilerden hangisinde bina pis su tesisatının tüm kısımları tam ve birlikte verilmiştir?

- A) Dış pis su tesisatı-iç pis su tesisatı-yağış suyu tesisatı
- B) Yağış suyu tesisatı-dış pis su tesisatı-drenaj suyu tesisatı
- C) Kanal suyu tesisatı-yağış suyu tesisatı-iç pis su tesisatı
- D) Drenaj suyu tesisatı-kanal suyu tesisatı-yağış suyu tesisatı

12. Aşağıdakilerden hangisi el aletlerinin kullanılması sırasında iş kazalarına karşı alınabilecek tedbirlerden biri değildir?

- A) Emniyet gözlüğü kullanılmalı
- B) Tezgah üzerinde sadece gerekli aletler bulundurulmalı
- C) Sivri ve kesici aletler cepte taşınmalı
- D) Aletler temiz tutulmalı, kontrol edilmeli

13. Aşağıdakilerden hangisi en çok kullanılan freze tezgahları arasında yer almaz?

- A) Üniversal
- B) Dikey
- C) Yatay
- D) Gönyeli

14. Aşağıdakilerden hangisi iş yerinde solunum sisteminin korunması için kullanılan araçlardan biri değildir?

- A) Karbondioksit üretilmi solunum cihazı
- B) Basıncılı oksijen solunum cihazı
- C) Basıncılı temiz hava maskesi
- D) Filtreli toz maskesi

15. İnsanlara, hayvanlara ve bitkilere zararı dokunabilen ve diğer bazı zararlı canlıların etkisini önleyen kimyasal maddelere ne ad verilir?

- A) Pestisitler
- B) Solventler
- C) Hidroksitler
- D) Oksitler

16. Aşağıdakilerden hangisi civanın kullanıldığı iş alanlarından biri değildir?

- A) Dezenfektan üretiminde
- B) Altın filizlerinin işlenmesinde
- C) Saf ipek üretiminde
- D) Ölçü aletlerinin yapımında

17. Karaciğerde tahriş, kansızlık ve kemik iltihabı yapan sistemik zehirli gaz aşağıdakilerden hangisidir?

- A) Civa
- B) Amonyak
- C) Azotdioksit
- D) Fosfor

18. Aşağıdakilerden hangisi kaza raporlarının başlıca yararlarından biri değildir?

- A) İşçilerin sosyal haklarının korunması
- B) Rapor yazma tekniğinin öğrenilmesi
- C) Aynı türden oluşabilecek kazalara karşı çalışanların eğitilmesi
- D) Oluşan kazalarla ilgili gerekli önlemlerin alınması

19. Olayların akışında önceden planlanmamış, bilinmeyen ve sık sık kişisel yaralanmalara, sakatlanmalara, makine, alet malzeme ve çevrenin zarara uğramasına sebebiyet veren olaya ne ad verilir?

- A) Mücbir sebep
- B) Kaza
- C) Beklenmeyen durum
- D) Kişisel kusur

20. Aşağıdakilerden hangisi çalışanların bireysel kaza eğilimlerinin nedenlerinden biri değildir?

- A) Disiplinsizlik
- B) İş önemseme
- C) Tedbirsizlik
- D) İhmal

1. Rönesans sanatı ve mimarisine kaynaklık eden uygarlıklar aşağıdakilerden hangisidir?

- A) Yunan-Roma
- B) Roman-Gotik
- C) Bizans-Venedik
- D) Mısır-Hitit

2. I. Resimde sadece dinsel ve mitolojik konular işlenmiştir.
II. Resim, mimariyi tamamlayan bir öge haline gelmiştir.
III. Savrulan, uçuşan, hareketli figürler eğri çizgiler oluşturacak şekilde resim yüzeylerine yerleştirilmiştir.
IV. Resimlerde özellikle kırmızı, kahverengi ve tonları kalın fırça vuruşlarıyla kullanılmıştır.

Barok resim sanatına ilişkin yukarıdakilerden hangileri doğrudur?

- A) Yalnız IV
- B) II ve III
- C) I, II ve III
- D) II, III ve IV

3. Aşağıdakilerden hangisi Kübizm akımının temsilcilerinden biri değildir?

- A) Vincent Van Gogh
- B) Juan Gris
- C) Pablo Picasso
- D) Georges Braque

4. I. Henry Matisse
II. Albert Marquet
III. Otto Müller

Yukarıdakilerden hangileri fovizm sanat akımının temsilcileri arasındadır?

- A) Yalnız I
- B) I ve II
- C) I ve III
- D) II ve III

5. Aşağıdakilerden hangisi Paris'in renkli dünyasını, insanların, psikolojik yönleriyle, bunalımlarıyla, çirkinlikleriyle canlandıran ressamdır?

- A) Signac
- B) Matisse
- C) Cezanne
- D) Toulouse Lautrec

6. Cezanne'ın "Doğadaki her şey küreye, koniye ve silindire dayanır" sözleriyle çıkış noktasını tanımladığı ve kendisinin de en önemli sanatçılarından olduğu sanat akımı aşağıdakilerden hangisidir?

- A) Sürrealizm
- B) Kübizm
- C) Soyut resim
- D) Fütürizm

7. Venedik Okulunun kurucularındandır. Portre ressamlığı ile tanınmıştır. Bu alanda en ünlü eseri İmparator Şarlman Karl'ın portresi olan İtalyan ressam aşağıdakilerden hangisidir?

- A) Leonardo da Vinci
- B) Giotto
- C) Albrecht Dürer
- D) Tiziano

8. Aşağıdaki sanatçı ve eser eşleştirmelerinden hangisi yanlıştır?

- A) Salvador Dali-Zambak Çiçekleri
- B) Edouard Manet-Balkon
- C) Paul Gauguin-Kumsalda Tahitili Kızlar
- D) Pablo Picasso-Avignonlu Genç Kızlar

9. I. 1950'lerin sonunda İngiltere'de ortaya çıkan, 1960'larda da Avrupa ve Amerika'ya yayılan bir sanat akımıdır.
II. Bu sanat akımı az sayıda resim ve heykel ürünü vermiştir.
III. Akımın temel yönelimi endüstri toplumunun günlük tüketim eşyalarını, kitlesel iletişim çağının teknikleriyle tasvir etmektir.
IV. Tüketim toplumunun sanatı olan bu akımın en önemli temsilcileri Amerikalı Tom Wesselmann ile Alman Roy Linchtenstein'dir.

Yukarıda bazı özellikleri verilen sanat akımı aşağıdakilerden hangisidir?

- A) Soyut resim
- B) Pop Art
- C) Fovizm
- D) Sürrealizm

10. Louvre Sarayı aşağıdaki ülkelerden hangisinde yer alır?

- A) Almanya
- B) İtalya
- C) Fransa
- D) İngiltere

11. Karikatür sanatının önemli ismi olan resimlerinde mahkeme salonu, tiyatro ve sirkten alınma sahneleri realist bir tarzda resimleyen, Fransa'da realizmin öncülerinden biri olan sanatçı aşağıdakilerden hangisidir?

- A) Honore Dauimer
- B) Edouard Manet
- C) Marcel Duchamp
- D) Pablo Picasso

12. Aşağıdaki sanatçılardan hangisi Pop Art akımının temsilcilerinden biridir?

- A) Salvador Dali
- B) Vincent Van Gogh
- C) Tom Wesselmann
- D) Francisco Goya

13. I. Bu dönem heykelleri daha çok şehir meydanlarını, kilisenin içini ve saray bahçelerini süsleme amacıyla yerleştirilmiştir.
II. Malzeme olarak mermerin kullanıldığı heykelerde, elbise kıvrımları ışık ve gölgeyi oluşturacak şekilde işlenmiştir.
III. Yüz ifadelerinde ve vücut hareketlerinde duygusallık başarıyla verilmiştir.

Yukarıda verilen özellikler hangi dönem heykel sanatını anlatır?

- A) Rönesans heykel sanatı
- B) Roma heykel sanatı
- C) Neoklasik heykel sanatı
- D) Barok heykel sanatı

14. "Ağustos Ayında Yamyamlık" aşağıdaki sanatçılardan hangisinin eseridir?

- A) Roy Linchtenstein
- B) Salvador Dali
- C) Tom Wesselmann
- D) Juan Gris

15. Aşağıdakilerden hangisi Rembrandt'ın eserlerinden biridir?

- A) Şövalye ve Melankoli
- B) Urbino Venüsü
- C) Apollon ve Daphne
- D) Dr.Tulp'un Anatomî Dersi

16. I. 19.yüzyıl ortalarında Fransa'da ortaya çıkmış bir güzel sanat akımıdır.
II. Resim ve heykel sanatlarında günlük yaşamı ve sorunları olduğu gibi ve ayrıntılarıyla biçimlemeyi amaçlamıştır.
III. Fransız ressam Gustave Courbet bu akımın kurucusu kabul edilir.

Yukarıda bazı özellikleri verilen bu sanat akımı aşağıdakilerden hangisidir?

- A) Romantizm
- B) Empresyonizm
- C) Realizm
- D) Fovizm

17. Ressamlığın yanı sıra mimarlık, mühendislik ve anatomi alanlarında da çalışmaları bulunmaktadır. Eserleri içerisinde en tanınmış olanı Mona Lisa Portresidir.

Yukarıda tanımlanan Rönesans sanatçısı kimdir?

- A) Giotto
- B) Leonardo da Vinci
- C) Tiziano
- D) Pieter Bruegel

18. Aşağıdakilerden hangisi Lorenzo Bernini'nin eserlerinden biri değildir?

- A) Mutlu Albertoni
- B) Apollon ve Daphne
- C) Davut Heykeli
- D) Prosperina'nın Kaçırılması

19. Fransa'da Barok üslubunu yansıtan en ünlü saray aşağıdakilerden hangisidir?

- A) Vatikan Sarayı
- B) Rucellai Sarayı
- C) Versay Sarayı
- D) Pitti Sarayı

20. Bir kemer gözünün derinlemesine örülmesi ile oluşturulan tavan örtüsüne ne ad verilir?

- A) Tonoz
- B) Nef
- C) Koro
- D) Sarnız

1. Motorlu bisiklet kullanabilmek için aşağıdaki sürücü belgelerinden hangisine sahip olmak gerekir?

- A) A1 Sınıfı
- B) B Sınıfı
- C) C Sınıfı
- D) D sınıfı

2. Araçların park etmesi için kullanılan açık veya kapalı alana ne ad verilir?

- A) Durak
- B) Durma
- C) Park yeri
- D) Duraklama

3. Karayolları Trafik Kanunu ve diğer mevzuata göre, sürücü kursları ve sürücü belgeleri verme ile ilgili yönetmelikler aşağıdakilerden hangisinin sorumluluk alanında yer alır?

- A) Ulaştırma Bakanlığı
- B) İçişleri Bakanlığı
- C) İl Özel İdareleri
- D) Milli Eğitim Bakanlığı

4. I. Sol şerit
II. Yaya ve okul geçitleri
III. Otobüs, taksi, tramvay ve dolmuş durakları

Yukarıdakilerden hangileri duraklamanın yasak olduğu yerlerdir?

- A) Yalnız I
- B) Yalnız II
- C) I ve II
- D) I, II ve III

5. Aşağıdakilerden hangisi sürücüler için önlerindeki bir aracı geçme yasağı olan yerlerden değildir?

- A) Yaya ve okul geçitlerine yaklaşıldığı yerler
- B) Geçmenin herhangi bir trafik işareti ile yasaklanmadığı ve görüş mesafesinin yeterli olduğu yerler
- C) Kavşaklarda ve demiryolu geçitleri ile buralara yakın yerler
- D) Gidiş ve geliş için birer şeridi bulunan iki yönlü trafiğin kullanıldığı köprü ve tüneller

6. Yapısı itibariyle, sürücüsünden başka en çok 7 oturma yeri olan ve insan taşımak için imal edilmiş bulunan araçlara ne ad verilir?

- A) Otomobil
- B) Minibüs
- C) Kamyonet
- D) Arazi Taşıtı

7. Aşağıdakilerden hangisi hızlı trenin avantajlarından biri değildir?

- A) Diğer ulaşım araçlarına göre çok daha güvenli olması
- B) İstasyonları şehir dışında yer aldığı için ulaşımının zor olması
- C) Elektrikle çalıştığı için çevreye zarar vermemesi
- D) Sessiz çalıştığı için gürültü kirliliğine yol açmaması

8. I. Havaalanlarının işletilmesi
II. Meydan yer hizmetlerinin yapılması
III. Hava trafiğinin düzenlenmesi ve kontrolü

Yukarıdakilerden hangileri Devlet Hava Meydanları İşletmesi'nin (DHMI) görevleri arasındadır?

- A) Yalnız I
- B) Yalnız II
- C) I ve II
- D) I, II ve III

9. Yolcunun taşıta bindiği veya eşyanın taşımacıya teslim edildiği yerden varış noktasına götürülmesine ne ad verilir?

- A) Ulaşım
- B) Nakliye (taşıma)
- C) Ulaştırma
- D) Taşıyıcı

10. Aşağıdakilerden hangisi Türkiye'de mevcut doğal gaz boru hatları ve ilgili tesisleri arasında yer almaz?

- A) Rusya Federasyonu-Türkiye Doğal Gaz Boru Hattı
- B) Marmara Ereğlisi Sıvılaştırılmış Doğal Gaz İthal Terminali
- C) Bursa-Çan Doğal Gaz İletim Hattı
- D) Konya-Ereğli Doğal Gaz İletim Hattı

11. Belediye sınırları içindeki ulaşım hizmetleri aşağıdakilerden hangisinin yönetiminde sürdürülür?

- A) Kaymakam
- B) Vali
- C) Belediye Meclis Üyeleri
- D) Belediye başkanı

12. Aşağıdakilerden hangisi Karayolları Genel Müdürlüğü'nün görevlerinden biri değildir?

- A) Trafik ve araç tekniğine ait görüş bildirmek
- B) Kara yolu güvenliğini ilgilendiren konulardaki projeleri incelemek ve onaylamak
- C) Trafik kazalarının oluş nedenlerine göre verileri hazırlamak
- D) Köy ve orman yollarının yapım, bakım ve onarımını sağlamak

13. Aşağıdakilerden hangisi Karayolları Trafik Kanunu'na göre Milli Eğitim Bakanlığı'nın görevleri arasında yer almaz?

- A) Trafik eğitimini düzenleyen trafik genel eğitim planı hazırlamak ve ilgili kuruluşlarla işbirliği yaparak uygulamak
- B) Motorlu araç sürücülerinin yetiştirilmesi için sürücü kursları açmak, özel sürücü kursları açılmasına izin vermek
- C) Kara yollarında trafik akışını düzenlemek
- D) Çocuk trafik parklarının çalışma esaslarını belirlemek

14. Aşağıdakilerden hangisi trafikle ilgili mühendislik hizmetlerinden biri değildir?

- A) Etüt
- B) Planlama
- C) Işıklandırma
- D) Projelendirme

15. Aşağıdakilerden hangisi belediyelerin trafikle ilgili görevlerinden biridir?

- A) Köy ve orman yollarının yapım, bakım ve onarım çalışmalarıyla ilgilenmek
- B) Ana orman yollarını açık tutmak, gerekli bakım ve işaretleme yapmak ve yönetmeliklerle verilen görevleri yerine getirmek
- C) Yolların yapım, ıslah, onarım ve bakımını sağlamak
- D) Açık ve kapalı park yerleri (otopark), alt ve üst geçitler yapmak, yaptırmak, işletmek ve işletilmesine izin vermek

16. Okul öncesi, okul içi ve okul dışı trafik eğitimin düzenleyen trafik genel eğitim planı hazırlamak ve ilgili kuruluşlarla işbirliği yaparak uygulamak aşağıdaki bakanlıklardan hangisinin trafikle ilgili görevlerinden biridir?

- A) İçişleri Bakanlığı
- B) Milli Eğitim Bakanlığı
- C) Maliye Bakanlığı
- D) Çevre ve Orman Bakanlığı

17. Aşağıdakilerden hangisi tescil işlemleri tamamlanmış araçların trafiğe çıkarılmasına müsaade eden ve muayene sürelerini belirleyen bir belgedir?

- A) Sürücü belgesi
- B) Zorunlu trafik sigortası
- C) Motorlu araç trafik belgesi
- D) Satış belgesi

18. Motorlu Araç Tescil Belgesi ve Motorlu Araç Trafik Belgesi'nden oluşan ve kayıt ve tescil işlemlerinin yapıldığını gösteren belgeye ne ad verilir?

- A) Ehliyet
- B) Trafik Sigortası
- C) Ruhsat
- D) Kayıt Belgesi

19. I. Aracın kullanım amacının değişmesi
II. Aracın başkasına devri
III. Araç üzerinde teknik değişiklik yapılması

Yukarıdaki durumlardan hangilerinin sonucunda motorlu araç tescil belgesi geçersiz sayılır?

- A) Yalnız II
- B) Yalnız III
- C) II ve III
- D) I, II ve III

20. Hurdaya çıkarılan araçların "hurda" olarak satışlarında aşağıdakilerden hangisi sahiplik belgesi olarak kullanılır?

- A) Araç satış belgesi
- B) "Hurdaya çıkarılmıştır" damgası vurularak sahiplerine verilen tescil belgesi
- C) Ruhsat
- D) Geçici izin belgesi

1. Bu tiyatronun göze çarpan yönü kalıplaşmış gerçeklere karşı çıkmak, tabiatın ve mantıktan uzaklaşmak ve insanı düşündürmektir. Az olay ve sözle önemli şeyler anlatmak istenir. Bu çeşit tiyatro eserleri semboller, bilmece ve saçma tasarımlarla doludur.

Yukarıda anlatılan tiyatro türü aşağıdakilerden hangisidir?

- A) Epik tiyatro
B) Operet
C) Absürd tiyatro
D) Meddah

2. **Saatleri Ayarlama Enstitüsü** kimin eseridir?

- A) Namık Kemal
B) Ahmet Hamdi Tanpınar
C) Halit Ziya Uşaklıgil
D) Muhsin Ertuğrul

3. **Eşref Bey, Köroğlu, Latif Şah** hikâyeleri hangi türün örnekleridir?

- A) Köy hikâyelerinin
B) Aşk hikâyelerinin
C) Masalsı hikâyelerin
D) Kahramanlık hikâyelerinin

4. "Atmacanın biri alaca burunlu bülbüle demiş,
Ama ne zaman demiş, göklerde bulutlar arasında,
Bülbülü sıkarken yaman pençelerinde,"

Yukarıda bir parçası verilen yazı türü aşağıdakilerden hangisidir?

- A) Deneme
B) Fabl
C) Dram
D) Şiir

5. Tiyatro gelişim süreci içinde ana ve yan dallara ayrılmıştır. Böyle bir ayrımı ilk olarak "Poetika" adlı eserinde tragedya ve komediden söz ederek yapan yazar aşağıdakilerden hangisidir?

- A) Sokrates
B) Eflatun
C) Aristoteles
D) Theokritos

6. Türk tiyatrosunda çağdaş tiyatro tekniğine uygun olarak yazılan ilk önemli eser aşağıdakilerden hangisidir?

- A) Şair Evlenmesi
B) Cimri
C) Müfettiş
D) Figaro'nun Düğünü

7. 1950'li yıllardan günümüze kadar Türk romanının gelişimine ilişkin aşağıdaki ifadelerden hangisi yanlıştır?

- A) 1970'lerde romanda ağırlık şehirlere kaymıştır.
B) 1980 sonrasında romanda postmodern özellikler öne çıkmaya başlar.
C) Köy enstitülerinden yetişen yazarlar köy ve kasaba yaşamı ve sorunlarını dile getirmişlerdir.
D) 1950 sonrası Türk romanına romantizm egemendir.

8. Türk masallarını derleme, yayımlama ve inceleme çalışmaları ne zaman yoğunlaşmıştır?

- A) Tanzimat
B) Cumhuriyet
C) Meşrutiyet
D) İslahat

9. Aşağıdakilerden hangisi Karagöz oyunlarındaki tiplerden biri değildir?

- A) Çelebi
B) Banker
C) Zenne
D) Tuzsuz Deli Bekir

10. Atilla İhan'ın "Leitmotiv" tekniği ile yazdığı romanı aşağıdakilerden hangisidir?

- A) Canbaz
B) Ay Falcısı
C) Beyaz Kale
D) Dersaadet'te Sabah Ezanları

11. Aşağıdakilerden hangisi Türk kültürüne ait başlıca halk tiyatrosu türlerinden biri değildir?

- A) Mesnevi
- B) Karagöz
- C) Meddah
- D) Orta oyunu

12. Biyografi dilimizde hangi sözcükle karşılanmaktadır?

- A) Anı
- B) Deneme
- C) Yaşam öyküsü
- D) Monografi

13. Türk masallarını derleme, yayımlama ve inceleme çalışmaları ne zaman yoğunlaşmıştır?

- A) Cumhuriyet
- B) İslahat
- C) Tanzimat
- D) Meşrutiyet

14. Meddahlıkla ilgili aşağıdaki ifadelerden hangisi yanlıştır?

- A) Meddaha gereken durumlarda Kavuklu ve Pişekar eşlik eder.
- B) Sahne ve dekor bulunmaz.
- C) Hareketten çok, ses taklidi, jest ve mimiklere dayanır.
- D) Meddahın bütün marifeti nükte ve taklit yeteneğiyle kendini dinletme gücünde toplanmıştır.

15. 16.yüzyıldan bu yana sözlü halk geleneğinde süren, hikâyeci âşıkların kahvelerde, köy odalarında, düğünlerde söylediği ve toplum içi ilişkilerin işlendiği anlatılara ne ad verilir?

- A) Halk oyunu
- B) Halk romanı
- C) Halk hikâyesi
- D) Halk şiiri

16. Masalları bastırılmış isteklerin düş biçimde ortaya çıkması olarak açıklayan araştırmacı aşağıdakilerden hangisidir?

- A) Freud
- B) Bloom
- C) Piaget
- D) Bruner

17. Aşağıdakilerden hangisi konularına göre masal gruplarından biri değildir?

- A) Asıl masallar
- B) Hayvan masalları
- C) İnanırcı masallar
- D) Zincirlemeli masallar

18. Aşağıdakilerden hangisi tragedyaadaki üç birlik kuralının öğelerinden biri değildir?

- A) Zaman birliği
- B) Karakter birliği
- C) Yer birliği
- D) Olay birliği

19. Taşşuk-u Talat ve Fitnat adlı ilk yerli roman aşağıdaki yazarlardan hangisine aittir?

- A) Mehmet Rauf
- B) Reşat Nuri Güntekin
- C) Rezaizade Mahmut Ekrem
- D) Şemsettin Sami

20. Aşağıdakilerden hangisi roman sanatının ilk başarılı örneği sayılır?

- A) Uçurum Halkı
- B) Moby Dick
- C) Vahşetin Çağırısı
- D) Don Kişot

SEÇMELİ TÜRK EDEBİYATI 6

A

2013 III.DÖNEM 0102-A

1. Parnasizmin en önemli özelliği aşağıdakilerden hangisidir?
A) Noktalama işaretlerinin atılması
B) Üç birlik kuralına uyulması
C) Duygudan çok tasvire, düşünceye, biçim ve söyleyiş güzelliğine önem verilmesi
D) Sanat için sanat anlayışına karşı çıkılması
2. "Çalılıkusu" adlı roman aşağıdaki yazarlardan hangisine aittir?
A) Mehmet Rauf
B) Reşat Nuri Güntekin
C) Yakup Kadri Karaosmanoğlu
D) Halit Ziya Uşaklıgil
3. "Türk Edebiyatında İlk Mutasavvıflar" adlı eser, aşağıdaki yazarlardan hangisine aittir?
A) Ömer Seyfettin
B) Halit Fahri Ozansoy
C) Fuat Köprülü
D) Yahya Kemal Beyatlı
4. Aşağıdakilerden hangisi Mehmet Rauf'un eserlerinden biri değildir?
A) Son Emel
B) Mai ve Siyah
C) Üç Hikâye
D) Bir Aşkın Tarihi
5. "Kösem Sultan, Hicranlar ve Fırar" adlı tiyatro eserleri aşağıdaki yazarlardan hangisine aittir?
A) Mehmet Rauf
B) Namık Kemal
C) Halit Ziya Uşaklıgil
D) Tahsin Nahit
6. Aşağıdakilerden hangisi, Fecr-i Âti Topluğunda yer alan sanatçılardan biri değildir?
A) Celâl Sahir
B) Resat Nuri
C) Yakup Kadri
D) Emin Bülent
7. Aşağıdakilerden hangisi, Servet-i Fünûn Döneminde şiir alanında eserler vermiştir?
A) Tefik Fikret
B) Ahmet Hikmet Müftüoğlu
C) Mehmet Rauf
D) Hüseyin Cahit Yalçın
8. Aşağıdaki sanatçılardan hangisi, hem Fecr-i Âti, hem de Milli Edebiyat Dönemi içinde yer almıştır?
A) Ahmet Haşim
B) Mehmet Emin Yurdakul
C) Yahya Kemal Beyatlı
D) Celâl Sahir
9. Türk edebiyatında ilk psikolojik roman sayılan "Eylül"ün yazarı kimdir?
A) Hüseyin Cahit Yalçın
B) Hasan Âsaf
C) Hamdullah Suphi
D) Mehmet Rauf
10. Aşağıdakilerden hangisi, Halide Edip Adivar'ın eserlerinden biri değildir?
A) Yaban
B) Türkün Ateşle İmtihanı
C) Ateşten Gömlek
D) Kalp Ağrısı
11. Aşağıdaki yazar ve eseri eşleştirmelerinden hangisi yanlıştır?
A) Tefik Fikret-Ferda
B) Mehmet Rauf-Sansür
C) Hüseyin Cahit Yalçın-Kırk Yıl
D) Halit Ziya Uşaklıgil-Bir Ölünün Defteri
12. Klasik olay hikâyesi tarzında yazan, Ömer Seyfettin'in de örnek aldığı Fransız yazar, aşağıdakilerden hangisidir?
A) Moliere
B) Montaigne
C) Voltaire
D) Guy de Maupassant

13. Aşağıdakilerden hangisi, Servet-i Fünûn Döneminde düz yazı alanında eserler vermiştir?

- A) Hüseyin Cahit Yalçın
- B) Cenap Şehabettin
- C) Ali Ekrem Bolayır
- D) Hüseyin Suat

14. Türk edebiyatında mensur şiirin ilk başarılı örneğini kim vermiştir?

- A) Cenap Şehabettin
- B) Halit Ziya Uşaklıgil
- C) Hüseyin Suat
- D) Süleyman Nazif

15. Aşağıdakilerden hangisi Ahmet Haşim'in eserlerinden biri değildir?

- A) Göl Saatleri
- B) Frankfurt Seyahatnamesi
- C) Piyale
- D) Altın Işık

16. Servet-i Fünûn Döneminin Türk edebiyatına getirdiği en önemli yenilik aşağıdakilerden hangisidir?

- A) Bireysel konuların öne çıkması
- B) Nazmın nesre yaklaşması
- C) Simgelere fazlaca yer verilmesi
- D) Yalın bir dil kullanılması

17. Döneminin "Fikri hür, irfanı hür, vicdanı hür şair"i Tevfik Fikret'in çocuklar için sade bir dille ve hece ölçüsüyle yazdığı şiir kitabı, aşağıdakilerden hangisidir?

- A) Nemide
- B) Feride
- C) Şermin
- D) Handan

18. Aşağıdakilerden hangisi, Milli Edebiyat akımının temsilcilerinden biri değildir?


- A) Ali Canip Yöntem
- B) Ömer Seyfettin
- C) Mehmet Emin Yurdakul
- D) Halit Fahri Ozansoy

19. Servet-i Fünûn dergisinin yazı işleri müdürü, aşağıdakilerden hangisidir?

- A) Rezaizâde M. Ekrem
- B) Cenap Şehabettin
- C) Tevfik Fikret
- D) Süleyman Nazif

20. Yakup Kadri Karaosmanoğlu'nun kuşaklar arasındaki çatışmayı gözler önüne serdiği, Batılılaşmayı yanlış anlayarak bir ailenin dağılmasına neden olan sorumsuz davranışları yediği eseri, aşağıdakilerden hangisidir?

- A) Kiralık Konak
- B) Yaban
- C) Sodom ve Gomore
- D) Nur Baba



Yukarıdaki şemada I ve II numara ile belirtilen yerlere hangi maddeler yazılmalıdır?

I	II
A) CO ₂	O ₂
B) H ₂ O	CO ₂
C) CO ₂	H ₂ O
D) O ₂	Besin

2. Oksijenli solunum yapan bir hücrede 36 molekül oksijen harcadığında yıkıma uğrayan glikoz molekülü sayısı ve elde edilen net ATP miktarı kaçtır?

Glikoz	net ATP
A) 5	190
B) 5	200
C) 6	200
D) 6	228

3. DNA'nın yapısında aşağıdaki bazlardan hangisi bulunmaz?

- A) Adenin
 B) Guanin
 C) Urasil
 D) Sitozin

4. Aşağıdaki olaylardan hangisi yeşil bir bitki hücresinde görülmez?

- A) Oksidatif fosforilasyon
 B) Kemosentetik fosforilasyon
 C) Devirli fosforilasyon
 D) Devirsiz fosforilasyon

5. Aşağıdakilerden hangisi fotosentez hızını etkileyen çevresel faktörlerden biri değildir?

- A) Klorofil miktarı
 B) Işık şiddeti
 C) CO₂ (karbondioksit) yoğunluğu
 D) Sıcaklık

6. Yeterli aminoasitlerinin bulunduğu ortamda protein sentezi için aşağıdakilerden hangisi gerekli değildir?

- A) Ribozom
 B) Enzim
 C) DNA
 D) Lizozom

7. Hücrenin protein sentezinin gerçekleştiği organel aşağıdakilerden hangisidir?

- A) Çekirdek
 B) Mitokondri
 C) Ribozom
 D) Sitoplazma

8. Aşağıdakilerden hangisi DNA ile RNA arasındaki farklardan biri değildir?

- A) RNA'da deoksiriboz şekeri varken DNA'da riboz şekeri vardır.
 B) Kimi özel durumlar dışında RNA'da tek iplik, DNA'da çift iplik bulunur.
 C) RNA'da DNA'daki timin bazı yerine urasil bazı bulunur.
 D) RNA, RNA polimeraz enzimi ile DNA'daki genetik bilgiye göre sentezlenir.

9. Aşağıdakilerden hangisi kemosentetik ototrof canlıların, organik besin sentezi için gerekli olan kimyasal enerjiyi okside ederek elde ettikleri inorganik maddelerden biri değildir?

- A) Amonyak
 B) Oksijen
 C) Nitrit
 D) Demir

10. Glikoliz ile ilgili aşağıdaki ifadelerden hangisi yanlıştır?

- A) Oksijenli ve oksijensiz solunum yapan canlılarda ortak yoldur.
 B) ATP tarafından iki kez aktive edilerek glikoz difosfatı oluşturur.
 C) Glikoliz reaksiyonu sonucunda, 1 molekül glikozdan 2 molekül pirüvatik asit oluşur.
 D) Glikoliz reaksiyonları hücrede mitokondride gerçekleşir.

11. Aşağıdakilerden hangisinin hücrede bol miktarda oluşması hücrenin fermantasyon yaptığını kanıtlar?

- A) Pürvik asit
- B) Asetil Co A
- C) Laktik asit
- D) NADH₂

12. DNA'nın I. ipliğindeki azotlu organik bazların dizilişi G-G-C-T-A-A-T-C şeklinde ise II. ipliğindeki dizilişi aşağıdakilerden hangisidir?

- A) C-C-G-A-T-T-A-G
- B) T-T-A-G-C-C-G-A
- C) G-G-C-A-T-T-A-G
- D) A-A-T-C-G-G-C-T

13. Aşağıdakilerden hangisi DNA'nın özelliklerinden biri değildir?

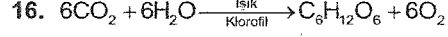
- A) Vücut hücrelerinin tümünde aynı miktarda bulunur.
- B) Gametlerde vücut hücrelerinin yarısı kadar DNA bulunur.
- C) Hücre bölünmesini başlatır.
- D) Ribozomlara bilgi götürür ve protein sentezini başlatır.

14. Aşağıdakilerden hangisi fermantasyonla oksijenli solunumun ortak özelliği değildir?

- A) H₂O nun açığa çıkması
- B) Glikozun hammadde olması
- C) Enzimlerin kullanılması
- D) ATP nin üretilmesi

15. Fotosentetik bakterilerin gerekli organik maddeyi sentezleyebilmeleri için, aşağıdakilerden hangisini dışarıdan almaları gerekir?

- A) Glikoz
- B) Gliserin
- C) Karbondioksit
- D) Oksijen



Yukarıda verilen fotosentez tepkimeleri için, aşağıdaki açıklamalardan hangisi yanlıştır?

- A) Glukozdaki karbon kaynağı CO₂ dir.
- B) Bu tepkime ökaryot bitki hücrelerinin sitoplazmasında gerçekleşir.
- C) Fotosentez sonunda bitki ağırlığında artış olur.
- D) Tüketilen ATP'den daha fazlası organik bileşiklerin kimyasal bağlarında depolanır.

17. Aşağıdakilerden hangisi mitokondrideki solunum zincirinin (ETS nin) elektron taşıyan elemanlarından biri değildir?

- A) Co enzim - Q
- B) Sitobrom b
- C) FAD
- D) Asetil Co - A

18. Aşağıdakilerden hangisi fotosentez hızını etkileyen genetik faktörlerden biri değildir?

- A) Klorofil miktarı
- B) Stoma sayısı
- C) Sıcaklık
- D) Bitkinin yaşı

19. Aşağıdakilerden hangisi fotosentez hızını etkileyen dış (çevresel) faktörlerdendir?

- A) Stoma sayısı
- B) Su miktarı
- C) Enzim miktarı
- D) Klorofil miktarı

20. Aşağıdaki maddelerden hangisinin miktarı fotosentezin karanlık tepkimeleri sırasında sabittir?

- A) CO₂ miktarı
- B) Enzim miktarı
- C) Glukoz miktarı
- D) ATP miktarı

1. Die Frau nimmt ihr Kleid dem Schrank.

Welches Wort passt in die obige Lücke?

Cümlede boş bırakılan yeri aşağıdakilerden hangisi doğru şekilde tamamlar?

- A) aus
B) in
C) zu
D) an

2. Ahmet gestern schon um acht im Bett. Er war sehr müde.

Welches Wort passt in die obige Lücke?

Cümlede boş bırakılan yeri aşağıdakilerden hangisi doğru şekilde tamamlar?

- A) stand
B) lag
C) legte
D) sitzt

3. A: hast du die Bücher gelegt?
B: Hier den Tisch!

Welche Wörter ergänzen die Lücken im obigen Dialog?

Verilen karşılıklı konuşmada boş bırakılan yerleri aşağıdakilerden hangileri tamamlar?

- A) Was / in den
B) Wann / aus dem
C) Wenn / zu den
D) Wohin / auf den

4. Monika sitzt

Welches ergänzt die Lücke im obigen Satz?

Verilen cümleyi aşağıdakilerden hangisi tamamlar?

- A) ein Stück Kuchen auf ihrem Teller.
B) im Bett und schlafen.
C) im Wohnzimmer auf der Couch und lernt Englisch.
D) auf dem Auto und sprechen über Mathematik.

5. Sivrihisar liegt bei Eskişehir.

Welche Frage passt zur obigen Antwort?

Verilen cevabı gerektirecek soru aşağıdakilerden hangisidir?

- A) Kommen Sie aus Eskişehir?
B) Kennen Sie die Leute aus Sivrihisar?
C) Bei welcher Stadt liegt Sivrihisar?
D) Wer geht nach Eskişehir?

6. Mich? Das weiß ich nicht.

Welche Frage passt zur obigen Antwort?

Verilen cevabı gerektirecek soru aşağıdakilerden hangisidir?

- A) Haben Sie mich gehört?
B) Kommen Sie mit?
C) Sagen Sie mal, woher kenne ich Sie?
D) Hast du das schon gehört?

7. Samstags er bis zehn Uhr im Bett.

Welches Wort passt in die obige Lücke?

Cümlede boş bırakılan yeri aşağıdakilerden hangisi doğru şekilde tamamlar?

- A) stellt
B) legt
C) steht
D) liegt

8. Die Post ein Brief für mich.

Welches Wort passt in die obige Lücke?

Cümlede boş bırakılan yeri aşağıdakilerden hangisi doğru şekilde tamamlar?

- A) bringt
B) steht
C) findet
D) legt

9. Das Wetter ist heute sehr

Welches Wort passt in die obige Lücke?

Cümlede boş bırakılan yeri aşağıdakilerden hangisi doğru şekilde tamamlar?

- A) schattig
B) schatten
C) schattlich
D) schatter

10. Was bedeutet "insancıl" auf Deutsch?

"insancıl" sözcüğünün Almancası aşağıdakilerden hangisidir?

- A) sachlich
B) menschlich
C) neulich
D) kindlich

11. Auf diesem Apparat eine grüne Lampe.

Welches Wort passt in die obige Lücke?

Cümlede boş bırakılan yeri aşağıdakilerden hangisi doğru şekilde tamamlar?

- A) sucht
B) stellt
C) wählt
D) leuchtet

12. Ayşe möchte den Wissenschaftler kennen lernen.

Welches Wort passt in die obige Lücke?

Cümlede boş bırakılan yeri aşağıdakilerden hangisi doğru şekilde tamamlar?

- A) berühmten
B) berühmter
C) berühmtem
D) berühmte

13. Ali ist ein moderner Mensch, er interessiert sich für alle

Welches Wort passt in die obige Lücke?

Cümlede boş bırakılan yeri aşağıdakilerden hangisi doğru şekilde tamamlar?

- A) Meisterkoch
B) Lernmaschine
C) Neuigkeiten
D) Anleitung

14. Anita wählt mit dem groß..... grün..... Schalter ihr Programm.

Welche Endungen passen in die obigen Lücken?

Cümlede boş bırakılan yerleri aşağıdaki son eklerden hangileri doğru şekilde tamamlar?

- A) -er / -er
B) -e / -es
C) -es / -en
D) -en / -en

15. ihr mit dem Flugzeug fliegen?

Welches Wort passt in die obige Lücke?

Cümlede boş bırakılan yeri aşağıdakilerden hangisi doğru şekilde tamamlar?

- A) Werden
B) Werdet
C) Wird
D) Würde

16. Heute Nachmittag habe ich meine Mutter besucht.

Wie lautet der obige Satz im Futur?

Verilen cümlelerin gelecek zaman şekli aşağıdakilerden hangisidir?

- A) Heute Nachmittag besuchte ich meine Mutter.
 B) Heute Nachmittag werde ich meine Mutter besuchen.
 C) Heute Nachmittag darf ich meine Mutter besuchen.
 D) Heute Nachmittag hatte ich meine Mutter besucht.

17. Wir werden um acht Uhr frühstücken.

Wie lautet der obige Satz im Präsens?

Verilen cümlelerin şimdiki zaman şekli aşağıdakilerden hangisidir?

- A) Wir können um acht Uhr frühstücken.
 B) Wir haben um acht Uhr gefrühstückt.
 C) Wir hatten um acht gefrühstückt.
 D) Wir frühstücken um acht Uhr.

18. Es wird regnen.

Wie lautet der obige Satz auf Türkisch?

Verilen cümlelerin Türkçesi aşağıdakilerden hangisidir?

- A) Yağmur yağacak.
 B) Yağmur yağdı.
 C) Yağmur yağmalı.
 D) Yağmur yağabilir.

19. Ja, natürlich könnt ihr bei uns übernachten!

Welche Frage passt zur obigen Antwort?

Verilen cevabı gerektirecek soru aşağıdakilerden hangisidir?

- A) Macht es euch was aus, wenn wir eine Woche später kommen?
 B) Ist es nicht möglich, daß wir nur für eine Nacht kommen?
 C) Ist es möglich, daß wir bei euch übernachten?
 D) Hast du Lust für eine Woche bei uns zu bleiben?

20. sonnig / kalt / windig / wandern

Welches Wort passt nicht zu den anderen in der obigen Wortgruppe?

Verilen sözcük grubuna uymayan aşağıdakilerden hangisidir?

- A) sonnig
 B) wandern
 C) kalt
 D) windig

SEÇMELİ İNGİLİZCE 3

A

2013 III.DÖNEM 0102-A

1. That shop is always full. It very cheap.

Which of the following completes the sentence above?

Aşağıdakilerden hangisi yukarıdaki cümleyi doğru olarak tamamlar?

- A) must have been
- B) must be
- C) ought
- D) should be

2. If I had seen him yesterday, I some money from him.

Which of the following completes the sentence above?

Aşağıdakilerden hangisi yukarıdaki cümleyi doğru olarak tamamlar?

- A) could have borrowed
- B) should have borrowed
- C) ought to borrow
- D) have borrowed

3. I can't find my hat. I lost it.

Which of the following completes the sentence above?

Aşağıdakilerden hangisi yukarıdaki cümleyi doğru olarak tamamlar?

- A) will have
- B) must have
- C) should have
- D) could

4. He looks very tired. He worked hard.

Which of the following completes the sentence above?

Aşağıdakilerden hangisi yukarıdaki cümleyi doğru olarak tamamlar?

- A) will have
- B) ought to
- C) must have
- D) could

5. If it, can you bring in the washing from the garden?

Which of the following completes the sentence above?

Aşağıdakilerden hangisi yukarıdaki cümleyi doğru olarak tamamlar?

- A) rains
- B) rained
- C) raining
- D) had rained

6. Mustafa a new car by the beginning of next week.

Which of the following completes the sentence above?

Aşağıdakilerden hangisi yukarıdaki cümleyi doğru olarak tamamlar?

- A) has bought
- B) will have bought
- C) buys
- D) is buying

7. Özlem didn't come to the cinema last night. She..... somewhere else.

Which of the following completes the sentence above?

Aşağıdakilerden hangisi yukarıdaki cümleyi doğru olarak tamamlar?

- A) could have gone
- B) have gone
- C) may go
- D) should have gone

8. When it is snowing, you warm clothing.

Which of the following completes the sentence above?

Aşağıdakilerden hangisi yukarıdaki cümleyi doğru olarak tamamlar?

- A) should wear
- B) would wear
- C) wearing
- D) are wearing

9. If you don't like your salary, you find another job.

Which of the following completes the sentence above?

Aşağıdakilerden hangisi yukarıdaki cümleyi doğru olarak tamamlar?

- A) should have
- B) could have
- C) would
- D) ought to

10. A : It's my father's birthday tomorrow. What shall I buy him?
B : Well, you buy him a shirt.

Which of the following completes the dialogue above?

Aşağıdakilerden hangisi yukarıdaki konuşmayı doğru olarak tamamlar?

- A) must have
- B) ought
- C) could
- D) could have

11. A : What's wrong with you?
B : I have a stomachache
A : Well, youa lot of fruits last night.

Which of the following completes the dialogue above?

Aşağıdakilerden hangisi yukarıdaki konuşmayı doğru olarak tamamlar?

- A) ought to eat
- B) mustn't have eaten
- C) shouldn't eat
- D) shouldn't have eaten

12. I'll be my homework at this time tomorrow.

Which of the following completes the sentence above?

Aşağıdakilerden hangisi yukarıdaki cümleyi doğru olarak tamamlar?

- A) did
- B) do
- C) was doing
- D) doing

13. You less, you are too fat.

Which of the following completes the sentence above?

Aşağıdakilerden hangisi yukarıdaki cümleyi doğru olarak tamamlar?

- A) eating
- B) would eat
- C) have ate
- D) should eat

14. A : I couldn't find any fresh orange yesterday.
B : You in the corner supermarket.

Which of the following completes the dialogue above?

Aşağıdakilerden hangisi yukarıdaki konuşmayı doğru olarak tamamlar?

- A) ought to have looked
- B) will have looked
- C) have looked
- D) look

15. John school by this time next year.

Which of the following completes the sentence above?

Aşağıdakilerden hangisi yukarıdaki cümleyi doğru olarak tamamlar?

- A) leave
- B) was leaving
- C) will have left
- D) is leaving

16. Itaking a driving license test this time tomorrow.

Which of the following completes the sentence above?

Aşağıdakilerden hangisi yukarıdaki cümleyi doğru olarak tamamlar?

- A) can
- B) be
- C) will be
- D) is

17. A : What shall we do tomorrow morning?
B : We go somewhere for breakfast.

Which of the following completes the dialogue above?

Aşağıdakilerden hangisi yukarıdaki konuşmayı doğru olarak tamamlar?

- A) could have
- B) should have
- C) must have
- D) could

18. A : Why didn't he say hello when he passed us in the street?
B : He been day-dreaming.

Which of the following completes the dialogue above?

Aşağıdakilerden hangisi yukarıdaki konuşmayı doğru olarak tamamlar?

- A) would
- B) must
- C) might have
- D) can

19. A : Have you seen my dictionary? I can't find it anywhere.
B : Have you looked in the class? It there.

Which of the following completes the dialogue above?

Aşağıdakilerden hangisi yukarıdaki konuşmayı doğru olarak tamamlar?

- A) wasn't
- B) might be
- C) wasn't be
- D) has been

20. You eat less, you are putting on weight.

Which of the following completes the sentence above?

Aşağıdakilerden hangisi yukarıdaki cümleyi doğru olarak tamamlar?

- A) might have
- B) ought to
- C) would
- D) must have

1. Lorsqu'il est triste, il trop.

Choisissez le mot qui convient.

Cümledeki boşluğu aşağıdakilerden hangisi doğru şekilde tamamlar?

- A) mangera
B) mange
C) amangé
D) avait mangé

2. C'est cette maison que je veux acheter.

Choisissez la traduction qui convient.

Yukarıdaki cümlenin Türkçe karşılığı aşağıdakilerden hangisidir?

- A) Satın almak istediğim ev bu.
B) Bu evi satın almak istiyorum.
C) Satın almak için bu evi seçtim.
D) Satın alacağım ev böyle olmalı.

3. Je conseille d'acheter cette cravate.

Choisissez le mot qui convient.

Cümledeki boşluğu aşağıdakilerden hangisi doğru şekilde tamamlar?

- A) vous
B) suis
C) le
D) la

4. Qu'est-ce que tu penses de ma voiture?

Choisissez la traduction qui convient.

Yukarıdaki cümlenin Türkçe karşılığı aşağıdakilerden hangisidir?

- A) Arabam hakkında ne düşünüyorsun?
B) Arabanı satmayı mı düşünüyorsun?
C) Arabanı bana satar mısın?
D) Arabanı bana satmayı düşünür müsün?

5. Achetez vous voulez.

Choisissez le mot qui convient.

Cümledeki boşluğu aşağıdakilerden hangisi doğru şekilde tamamlar?

- A) puisque
B) que
C) ce que
D) qui

6. Quand je buvais du café, je ne pouvais pas dormir.

Choisissez la traduction qui convient.

Yukarıdaki cümlenin Türkçe karşılığı aşağıdakilerden hangisidir?

- A) Kahve içmeden uyuyamıyorum.
B) Kahve içince uyku tutmuyor.
C) Uykum gelmesin diye kahve içiyorum.
D) Kahve içtiğim zaman uyuyamıyorum.

7. C'est qui avons vu le voleur.

Choisissez le mot qui convient.

Cümledeki boşluğu aşağıdakilerden hangisi doğru şekilde tamamlar?

- A) vous
B) nous
C) toi
D) lui

8. Elle n'est ni grosse ni maigre.

Choisissez la traduction qui convient.

Yukarıdaki cümlenin Türkçe karşılığı aşağıdakilerden hangisidir?

- A) O, şişman ama çirkin değildir.
B) O, ne ince ne de şişmandır.
C) O, hem uzun hem de incedir.
D) O, ne şişman ne de zayıftır.

9. Ils me demandent je travaille la nuit.

Choisissez le mot qui convient.

Cümledeki boşluğu aşağıdakilerden hangisi doğru şekilde tamamlar?

- A) qui
B) pas
C) que
D) si

10. tu n'as pas d'argent, tu ne peux pas aller au cinéma.

Choisissez le mot qui convient.

Cümledeki boşluğu aşağıdakilerden hangisi doğru şekilde tamamlar?

- A) Puisque
B) Car
C) Personne
D) Pourquoi

11. Ce roman a été écrit par une jeune fille.

Choisissez la traduction qui convient.

Yukarıdaki cümlelerin Türkçe karşılığı aşağıdakilerden hangisidir?

- A) Bu roman, bir genç kız tarafından yazıldı.
- B) Bu romanda bir genç kızın öyküsü anlatılmaktadır.
- C) Bu roman, bir genç kızın yaşamından esinlenerek yazılmıştır.
- D) Bu romanın en önemli kahramanı bir genç kızdır.

12. -
- Je veux bien un thé.

Choisissez la question qui convient.

Yukarıdaki konuşmada cevabı gerektiren soru aşağıdakilerden hangisidir?

- A) Entendez-vous quelque chose?
- B) Vous voulez quelque chose à boire?
- C) Tu as quelque chose pour ouvrir cette bouteille?
- D) Qu'est-ce que tu fais pendant la nuit?

13. nous finissons nos devoirs, nous allons dehors.

Choisissez le mot qui convient.

Cümledeki boşluğu aşağıdakilerden hangisi doğru şekilde tamamlar?

- A) Depuis que
- B) Dès que
- C) C'est qui
- D) Parce que

14. Eric: -
M.Loulou: - Non, j'y vais une fois par mois.

Choisissez la question qui convient.

Yukarıdaki konuşmada cevabı gerektiren soru aşağıdakilerden hangisidir?

- A) Combien de fois allez-vous au cinéma par mois?
- B) On peut aller au cinéma ce soir?
- C) Vous allez souvent au cinéma?
- D) Etes-vous allé au cinéma la semaine dernière?

15. - Tu attends longtemps?
- Oh, ça fait 20 minutes.

Choisissez le mot qui convient.

Cümledeki boşluğu aşağıdakilerden hangisi doğru şekilde tamamlar?

- A) quand
- B) depuis
- C) combien
- D) combien de temps

16. - Faut-il aller chez le médecin?
- Oui, il faut aller.

Choisissez le mot qui convient.

Yukarıdaki konuşmada boş bırakılan yeri aşağıdakilerden hangisi doğru şekilde tamamlar?

- A) en
- B) ni
- C) lui
- D) y

17. Depuis quand travaillez-vous dans cette banque?

Choisissez la traduction qui convient.

Yukarıdaki cümlelerin Türkçe karşılığı aşağıdakilerden hangisidir?

- A) Uzun zamandan beri bu bankada mı çalışıyorsunuz?
- B) Bankada çalışmak yorucu olmuyor mu?
- C) Ne zamandan beri bu bankada çalışıyorsunuz?
- D) Bu bankanın çalışma koşulları farklı mı?

18. je joue avec lui, il est très heureux.

Choisissez le mot qui convient.

Cümledeki boşluğu aşağıdakilerden hangisi doğru şekilde tamamlar?

- A) Depuis
- B) Parce que
- C) Lorsque
- D) Avant

19. il pleut, je ne sors pas.

Choisissez le mot qui convient.

Cümledeki boşluğu aşağıdakilerden hangisi doğru şekilde tamamlar?

- A) Car
- B) Depuis
- C) Comme
- D) Combien

20. Il me demande j'aime aller au théâtre.

Choisissez le mot qui convient.

Cümledeki boşluğu aşağıdakilerden hangisi doğru şekilde tamamlar?

- A) que
- B) qui
- C) de
- D) si

1. Temsil Heyetinin İstanbul Hükümeti ile ilişkilerini kesmesinin sonucunda zor durumda kalan ve istifa eden Damat Ferit Hükümeti yerine yeni hükümeti kuran aşağıdakilerden hangisidir?
 - A) Salih Paşa
 - B) Ali Rıza Paşa
 - C) Bekir Sami Paşa
 - D) Rauf Paşa
2. Temsil Heyeti ilk olarak aşağıdaki kongrelerden hangisinde seçilmiştir?
 - A) Sivas Kongresi
 - B) Alaşehir Kongresi
 - C) Erzurum Kongresi
 - D) Balıkesir Kongresi
3. Amasya Genelgesinin önemi ile ilgili aşağıdaki ifadelerden hangisi yanlıştır?
 - A) Kurtuluş Savaşı'nın gerekçesi belirtilmiştir.
 - B) Mustafa Kemal'in sivil bir vatandaş olarak hazırladığı ilk önemli belgedir.
 - C) Kurtuluşa Savaşı'nın yöntemi ve amacı açıklanmıştır.
 - D) Milli Mücadele'nin sonuna kadar yapılacak işlerin ilk çerçeve planıdır.
4. 14 Mayıs 1920'de Postacı Nazım ile Çerkez Kara Mustafa'nın tarafından başlatılan ve kısa sürede Tokat, Zile ve Boğazlıyan taraflarına yayılan, Antep bölgesinden gelen Kılıç Ali Bey ve Erzurum'dan gelen milli kuvvetler tarafından bastırılan isyan aşağıdakilerden hangisidir?
 - A) Yenihan (Yıldızeli) Ayaklanması
 - B) Yozgat Ayaklanması
 - C) Bolu Ayaklanması
 - D) Anzavur Ayaklanması
5. Osmanlı Devleti, aşağıdakilerden hangisini imzalayarak I. Dünya Savaşı'ndan çekilmiştir?
 - A) Sevr Antlaşması
 - B) Mudanya Ateşkes Antlaşması
 - C) Nöyyi Antlaşması
 - D) Mondros Ateşkes Antlaşması
6. Aşağıdakilerden hangisi azınlıkların kurduğu cemiyetlerden biridir?
 - A) Pontus Rum Cemiyeti
 - B) Wilson Prensipleri Cemiyeti
 - C) İngiliz Muhipleri Cemiyeti
 - D) Teali İslam Cemiyeti
7. Aşağıdaki devletlerden hangisi Lozan Barış Görüşmeleri'ne, yalnızca Boğazlar rejimiyle ilgili görüşmelerde katılmıştır?
 - A) İtalya
 - B) Rusya
 - C) İngiltere
 - D) Yunanistan
8. Aşağıdakilerden hangisi Mondros Ateşkes Antlaşması'ndan sonra Anadolu'yu işgal eden devletlerden biri değildir?
 - A) Rusya
 - B) İngiltere
 - C) Fransa
 - D) Yunanistan
9. Mudanya ateşkes görüşmelerinde Türkiye'yi, aşağıdakilerden hangisi temsil etmiştir?
 - A) Ali Rıza Paşa
 - B) Kazım Karabekir Paşa
 - C) İsmet Paşa
 - D) Mustafa Kemal Paşa
10. İngiltere'nin çabası sonucu Yunanistan'ın İzmir'i işgal etmesi kararı aşağıdakilerden hangisinde verilmiştir?
 - A) Londra Konferansı'nda
 - B) Paris Barış Konferansı'nda
 - C) İngiltere Parlamentosu'nda
 - D) Milletler Cemiyeti'nde
11. Aşağıdakilerden hangisi Sevr Antlaşması ile ilgili değildir?
 - A) Doğu Anadolu'da iki yeni devletin kurulması
 - B) Antalya ve Konya çevresinin İtalya'ya verilmesi
 - C) Adana, Malatya ve Sivas'ın Fransız nüfuzu altına girmesi
 - D) Osmanlı Devleti sınırları içinde bulunan Arap topraklarının Almanlara verilmesi

12. Osmanlı tarihinde, Meşrutiyet yönetimine karşı olanların 1909 yılında İstanbul'da çıkarmış olduğu ayaklanma, aşağıdakilerden hangisidir?

- A) Çerkez Etemlsyanı
- B) 31 Mart Olayı
- C) Kuva-yi İnzibatiye İsyanı
- D) Kabakçı Mustafa İsyanı

13. Aşağıdakilerden hangisi Türklerin aleyhine faaliyet gösteren cemiyetlerden (derneklerden) biri değildir?

- A) İngiliz Muhipleri Cemiyeti
- B) Mavri Mira Cemiyeti
- C) Sulh ve Selâmet-i Osmaniye Partisi
- D) Reddi İlhak Cemiyeti

14. Trablusgarp Savaşı'nın temel nedeni aşağıdakilerden hangisidir?

- A) İtalya'nın sömürge bulma arayışı
- B) İtalya'nın askeri üs kurmak istemesi
- C) İtalyan Milliyetçiliği
- D) Trablusgarp halkının İtalyan yönetimini istemesi

15. Lozan Barış Konferansı'ndan hemen önce gerçekleştirilen siyasal devrim aşağıdakilerden hangisidir?

- A) Cumhuriyet'in ilan edilmesi
- B) Halifeliğin kaldırılması
- C) Saltanatın kaldırılması
- D) Çok partili yaşama geçilmesi

16. Aşağıdaki devletlerden hangisi Birinci Dünya Savaşı'na katılmamıştır?

- A) İngiltere
- B) Rusya
- C) Ürdün
- D) Bulgaristan

17. Aşağıdakilerden hangisi Türkiye Büyük Millet Meclisi'ne karşı çıkarılan ayaklanmaların sonuçlarından biri değildir?

- A) Kurtuluş Savaşı'nın uzamasına neden olması
- B) Maddi yönden büyük kayıplara neden olması
- C) İtilaf Devletleri'nin işgallerini kolaylaştırması
- D) Düzenli orduya katılımın artması

18. Osmanlı Devleti'nin Ege Denizi'ndeki varlığı hangi olayla sona erdi?

- A) Balkan Savaşı'yla
- B) Sevr Barış Antlaşması'yla
- C) Trablusgarp Savaşı'yla
- D) Mondros Ateşkes Antlaşması'yla

19. Aşağıdakilerden hangisi Balkan Savaşı'nın en önemli nedenlerinden biridir?

- A) Osmanlı Devleti'nde Meşrutiyet sisteminin kurulmasına tepki gösterilmesi
- B) Osmanlı Devleti'nin Almanya'ya yaklaşması
- C) Balkan devletlerinin topraklarını genişletmek istemesi
- D) Boğazların ele geçirilmek istenmesi

20. Mustafa Kemal Paşa 19 Mayıs 1919'da Samsun'a çıktığında resmi unvanı aşağıdakilerden hangisidir?

- A) Yıldırım Orduları Komutanı
- B) Osmanlı Devleti'nin Büyükelçisi
- C) Samsun Valisi
- D) 9. Ordu Müfettişi

1. Atatürk'ün "Söylev" adlı eserinde üzerinde durduğu en önemli dönem aşağıdakilerden hangisidir?
- A) Osmanlı'nın son dönemleri
B) Çanakkale savaşları
C) Cumhuriyetin ilanı
D) Kurtuluş Savaşı yılları
2. Söylevin amacı nedir?
- A) Bilgi vermek
B) Dinleyenleri kendi düşüncesinden yana çekmek
C) Bir sorunu değişik boyutları ile incelenmek
D) Ünlü birini tanıtmak
3. Aşağıdakilerden hangisinde hem yapım hem de çekim eki vardır?
- A) Korkuluğu
B) Bencillik
C) Evden
D) Sence
4. Aşağıdaki sözcüklerden hangisi yapı bakımından diğerlerinden farklıdır?
- A) Saygıdan
B) Korkusuz
C) Kalemler
D) Karışım
5. Aşağıdaki sözcüklerden hangisi aldığı ekte yapı bakımından diğerlerinden farklı hâle gelmiştir?
- A) Dutlar
B) Boşluk
C) Sözlerim
D) Pazardan
6. Aşağıdaki sözcüklerden hangisi hem yapım hem de çekim eki almıştır?
- A) Gelir
B) Bilimin
C) Saygısız
D) Bilimsel
7. Aşağıdaki cümlelerden hangisinde birleşik sözcük yoktur?
- A) Gaziantep'te oturuyormuş.
B) Bütün dualar gökyüzüne yükseldi.
C) Akşamsefası en sevdiği çiçekmiş.
D) Bilimin ışığında yürüyoruz.
8. Aşağıdakilerden hangisinde birleşik sözcük yoktur?
- A) Tatile güneşli bir yerlere gitmek istiyordum.
B) Alerjimi bilmez gibi hanımeli almış bana.
C) Bozyaplar, en sevdiğim oyuncaklardı.
D) Tayini Şanlıurfa'ya çıkmış.
9. Aşağıdakilerden hangisinde yapım eki almış sözcük yoktur?
- A) Saygıdan susuyorum.
B) Bu şımarıklıkların yanına kalmaz.
C) Bugün İstanbul'a gidiyorum.
D) Yayınevinden yeni bir yapıt daha çıktı.
10. Aşağıdakilerden hangisi bileşik sözcük değildir?
- A) Kuşburnu
B) İmambayıldı
C) Çekyat
D) Uykusuzluk
11. Aşağıdakilerin hangisinde birleşik sözcük yoktur?
- A) Masmavi bir gökyüzü karşıladı bizi.
B) Kuzene yapboz aldım.
C) Hanımelleri kokar mis gibi.
D) Resimle, çizimle uğraşma artık.
12. "Türk Milleti! Kurtuluş Savaşı'na başladığımızın on beşinci yılındayız. Bugün cumhuriyetimizin onuncu yılını doldurduğu en büyük bayramdır. Kutlu olsun!"
- Yukarıda bir parçası alıntılanan Atatürk'ün konuşmasının türü aşağıdakilerden hangisidir?
- A) Tirad
B) Nesir
C) Nutuk
D) Hatırat

13. Röportajın özelliklerine ilişkin aşağıdaki ifadelerden hangisi yanlıştır?

- A) Röportajcı gördükleri ve izlenimleriyle yetinmeyip araştırma ve inceleme de yapar.
- B) Röportajcının amacı konuyu çarpıtmadan belgesel olarak okuyucuya sunmak ve okuyucuyu konunun içinde yaşatmaktır.
- C) Röportaj tek bir yazıdan oluşmalıdır.
- D) Röportajlar okuyucunun dikkatini çekecek ve onları bazı konularda düşündürecek biçimde düzenlenir.

14. Aşağıdakilerin hangisinde bileşik sözcük vardır?

- A) Sana da bu kitabı vereyim.
- B) Arabayı yola bıraktım.
- C) Onun kocaman bir kalbi var.
- D) İlkokul öğretmenimi unutamam.

15. Aşağıdaki türlerden hangisi tiyatro ile birlikte gelişmiştir?

- A) Söylev
- B) Mülakat
- C) Görüşme
- D) Röportaj

16. Aşağıdakilerden hangisi sadece bir yapım eki almıştır?

- A) Korkuluğu
- B) Soylular
- C) Bozgunculuk
- D) Sorgucu

17. Mahkemelerde yargılama sırasında suçlamak ya da savunmak amacıyla söylenen söylevlere ne ad verilir?

- A) Hukuksal söylev
- B) Askeri söylev
- C) Sosyal söylev
- D) Siyasi söylev

18. Altı çizili sözcüklerden hangisi yapı bakımından diğerlerinden farklıdır?

- A) Elimizdeki verilere bakmak lazım.
- B) Masadan sinirle kalktı.
- C) Bilinçsizce konuşuyor.
- D) Bütün gün bulaşık yıkadı.

19. Aşağıdakilerden hangisinde tüm sözcükler türemiştir?

- A) Sorgu-sayı-biliç
- B) Çimen-yaprak-dallar
- C) Gözleme-vergi-kalemin
- D) Algı-gözler-gül

20. Aşağıdaki sözcük ve sözcüğün yapısı eşleştirmelerinden hangisi yanlıştır?

- A) Okulda-basit sözcük
- B) Hanımeli-bileşik sözcük
- C) Silgi-basit sözcük
- D) Saygısız-türemiş sözcük

SEÇMELİ COĞRAFYA 3

2013 III.DÖNEM 0102-A

A

1. Aşağıdakilerden hangisi kimyasal tortullardan biridir?
A) Kumtaşı
B) Mermer
C) Traverten
D) Granit
2. Yeryüzünde aktif volkanların büyük bir kısmının ateş çemberi adı verilen Büyük Okyanus çevresinde ve Akdeniz ülkelerinin bazılarında bulunduğuna göre aşağıdaki ülkelerin hangisinde aktif volkan yoktur?
A) Japonya
B) Malezya
C) Filipinler
D) İngiltere
3. Aşağıdakilerden hangisi dış püskürük kayalardan biridir?
A) Jips
B) Bazalt
C) Kaya tuzu
D) Kömür
4. Magmanın volkanik faaliyetler sonucu yeryüzüne çıkmasıyla aşağıdaki kayalardan hangisi oluşur?
A) Tortul
B) Organik tortul
C) İç püskürük
D) Dış püskürük
5. Aşağıdakilerden hangisi kimyasal tortullardan biridir?
A) Kumtaşı
B) Mermer
C) Granit
D) Traverten
6. İki okyanusal kıtanın birbirine yaklaştığı yerlerde aşağıdakilerden hangisi oluşmaktadır?
A) Volkanik ada yayları
B) Sıra dağlar
C) Yanardağ
D) Kıta kabuğu
7. Fay hatları, yer kabuğunun zayıf hareket halindeki bölgeleridir. Aşağıdakilerden hangisi bazı alanların fay hatlarına paralellik gösterdiği yerlerden biri değildir?
A) Deprem alanları
B) Karstik araziler
C) Volkanik alanlar
D) Genç kıvrım dağları
8. Yer kabuğu hareketleri sonucunda çöken alanlarda oluşan çukurlarda biriken su kütlelerinin oluşturduğu göllere ne ad verilir?
A) Tektonik göller
B) Karstik göller
C) Buzul göller
D) Set gölleri
9. Kayaların sadece çatlaması, parçalanması ve ufalanması şeklinde görülen ayrışma aşağıdakilerden hangisidir?
A) Kimyasal ayrışma
B) Volkanizma
C) Fiziksel ayrışma
D) Organik ayrışma
10. Aşağıdakilerden hangisi çalı formasyonunun içinde yer almaktadır?
A) Savan
B) Garig
C) Step
D) Çayır

11. Aşağıdakilerden hangisi zonal topraklardan biri değildir?

- A) Alüvyal topraklar
- B) Lateritler
- C) Podzol topraklar
- D) Tundra toprakları

12. Bir ülkenin nüfus piramidinden aşağıdaki bilgilerden hangisi çıkarılamaz?

- A) Ülkenin gelişmişlik durumu
- B) Şehir ve köy nüfusu
- C) Cinsiyet dağılımı
- D) Yaşlı nüfusun oranı

13. Aşağıdakilerden hangisi doğum oranlarının yüksek olduğu ülkelerin özelliklerinden biri değildir?

- A) Az gelişmiş veya ekonomik kalkınmasını henüz tamamlamamış ülkelerde görülmesi
- B) Çocuk ve genç nüfus oranının fazla olması
- C) Gelişmiş ülkelerde görülmesi
- D) Kaynaklarının büyük kısmını eğitim faaliyetlerine ayırması

14. Aşağıdakilerden hangisi nüfus dağılışında etkili olan doğal etmenlerden biri değildir?

- A) Sanayi
- B) Toprak verimliliği
- C) Bitki örtüsü
- D) Yer şekilleri

15. 1960'lı yıllardan sonra ülkemizden Batı Avrupa'ya yapılan göçlerin nedeni aşağıdakilerden hangisidir?

- A) Savaşlar
- B) Nüfus artışı
- C) İşçi ihtiyacı
- D) Erozyon

16. Mevsimlik göçler yılın belirli bir döneminde gerçekleştiğine göre aşağıdakilerden hangisi mevsimlik göçlerin bir nedeni değildir?

- A) Yayılcılık
- B) Tarım
- C) Eğitim
- D) Madencilik

17. Aşağıdakilerden hangisi hızlı ve çarpık kentleşmenin nedenlerinden biridir?

- A) Fabrikaların kent merkezi içinde kalması
- B) Köyden kente göç
- C) Altyapı yetersizliği
- D) Çevre kirliliği

18. İlk insanların barınaklarının mağara, kaya sığınaklarının olduğu, geçimlerini avcılık yaparak sağladıkları, küçük gruplar halinde ve göçebe olarak yaşadıkları dönem aşağıdakilerden hangisidir?

- A) Mezolitik çağ
- B) Neolitik çağ
- C) Kalkolitik çağ
- D) Paleolitik çağ

19. Neolitik çağda insanların geçim tarzlarında nasıl bir değişme olmuştur?

- A) Tarım başlamıştır.
- B) Madencilik gelişmiştir.
- C) Avcılık ve toplayıcılık başlamıştır.
- D) Devletler arası ticaret gelişmiştir.

20. Aşağıdakilerden hangisi gelişmiş ülkelerin özelliklerinden biri değildir?

- A) Sanayi ürünlerinin ihraç edilmesi
- B) Gazete ve dergi okuma oranının yüksek olması
- C) Beslenmenin yetersiz olması
- D) Ortalama ömrün uzun olması

SINAVDA UYGULANACAK KURALLAR

1. Sınav süresince görevlilerle konuşmak ve soru sormak yasaktır. Aynı şekilde görevlilerin de öğrencilerle yakından ve alçak sesle konuşmaları yasaktır. Yanınızda ve sıranızda dersle ilgili kitap not vb. bulundurmamak yasaktır. Sınav sırasında kopya yapan, yapmaya teşebbüs eden, kopya veren, kopya yapılmasına yardım edenlerin kimlikleri BİREYSEL SINAV İPTAL TUTANAĞINA yazılacak ve bu öğrencilerin sınavları geçersiz sayılacaktır. Görevliler kopya yapmaya veya vermeye kalkışanları uyarmak zorunda değildir, sorumluluk size aittir.
Sınavda yetki verilmiş görevliler, bu salondaki sınavın kurallara uygun biçimde yapılmadığını, toplu kopya girişiminde bulunulduğunu raporlarında bildirdikleri veya üniversite sınav merkezince yapılan incelemeler sonucu toplu kopya yapıldığı saptandığı takdirde, Anadolu Üniversitesinin yetkili organları bu salonda sınava giren öğrencilerin tümünün sınavını geçersiz sayar.
2. Öğrenciler sınav sırasında görevlilerin her türlü uyarılarına uymak zorundadır. Gerekliğinde görevliler oturduğunuz yerleri değiştirebilir. Sınavınızın geçerli sayılması, her şeyden önce sınav kurallarına uymanıza bağlıdır. Kurallara aykırı davranışta bulunanların ve yapılacak uyarılara uymayanların kimlikleri BİREYSEL SINAV İPTAL TUTANAĞINA yazılacak ve sınavları geçersiz sayılacaktır.
3. Sınav sırasında herhangi bir nedenle dışarı çıkmak yasaktır. Sınavın başlamasını izleyen ilk 30 dakika ve sınav süresinin son 5 dakikası içinde, sınavlarınızı tamamlasalar bile hiçbir öğrencinin salondan çıkmasına izin verilmeyecektir. Sınavın başlamasını izleyen ilk 15 dakikadan sonra hiç bir öğrenci sınava alınamaz.
4. Biraz sonra soru kitapçıkları dağıtılacaktır. Cevaplamaya geçmeden önce size verilecek soru kitapçığının üzerinde ayrılan yere, adınızı, soyadınızı, öğrenci numaranızı ve bu salonun numarasını yazınız. Sınav sonunda soru kitapçıkları toplanacak ve sınav merkezinde tek tek incelenecektir. Soru Kitapçığının bir tek sayfası eksik çıksa bile sınavınız geçersiz sayılacaktır.
5. Size verilen Cevap Kâğıdının üzerinde yazan numara ve ismin size ait olduğunu kontrol ediniz. Cevap Kâğıdı size ait değilse, görevlileri uyarıp size ait Cevap Kâğıdını alınız. Daha sonra Cevap Kâğıdı üzerinde ayrılmış olan yerlere öğrenci numaranızı ve test grubunuzu kodlayınız, adınızı soyadınızı yazınız ve ilgili yeri imzalayınız.
6. Cevap Kâğıdına yazılacak her türlü yazı, rakam ve yapılacak işaretlemeler için siyah kurşun kalem kullanılacaktır. Tükenmez kalem veya dolmakalem kesinlikle kullanılmayacaktır. Cevapların tümü CEVAP KÂĞIDINA İŞARETLENECEKTİR. Soru Kitapçıkları üzerine yapılan işaretlemeler kesinlikle değerlendirilmez. Her dersin cevabı, o dersin isminin yazılı olduğu sütuna işaretlenmelidir. Yanlış sütuna yapacağınız işaretlemeler kesinlikle değerlendirilmez.
7. Soru Kitapçığının sayfalarındaki boş yerleri müsvedde yapmak için kullanabilirsiniz. Başka bir kâğıdı müsvedde olarak kullanmak yasaktır. Bu tür işlemleri yapanların sınavları geçersiz sayılır.
8. Öğrencilerin sorulara verdikleri yanıtları herhangi bir yere yazmaları ve bunu sınav salonundan dışarıya çıkarmaları yasaktır. Bu kurala uymayanların sınavları geçersiz sayılır.
9. Sınav sırasında öğrencilerin birbirinden kalem, silgi vb. şeyleri istemesi kesinlikle yasaktır. Yasağa uymayanların sınavı geçersiz sayılır.
10. Sınav sırasında hesap makinesi kullanılabilir. Ancak, hesap makinesinin sınav sırasında ödünç alınması, verilmesi ve değiştirilmesi yasaktır. (Data Bank vb. gibi özel elektronik donanımlar kullanılamaz.) Bu tür davranışlarda bulunanların sınavları geçersiz sayılır.
11. Öğrenciler sınava gelirken telsiz, cep telefonu, çağrı cihazı vb. iletişim araçları ile görüntü kaydetmeye yarayan fotoğraf makinesi, kamera vb. araçları getirmemeleri konusunda sınava giriş belgelerinde uyarılmışlardır. Buna rağmen yanlarında bu tür cihazları getirenlerin, bunları sınav sonrasında almak üzere salon başkanına teslim etmeleri gerekir. Bu cihazları sınav salonunda yanlarında bulunduran öğrencilerin, cihazları kapalı bile olsa, o oturma odasındaki sınavı geçersiz sayılacaktır. Bu cihazların kaybolmasından Üniversitemiz sorumlu olmayacaktır.
12. Biraz sonra dağıtılacak olan soru kitapçığında test ile ilgili açıklamalar yazılıdır. Bu açıklamaları okumadan ve size "SINAV BAŞLAMIŞTIR" denmeden soruları cevaplamaya başlamayınız.

SINAVLARINIZDA BAŞARILAR DİLERİZ.