



ANADOLU ÜNİVERSİTESİ
AÇIKÖĞRETİM FAKÜLTESİ
BA - AÇIKÖĞRETİM OKULLARI

T.C. MİLLÎ EĞİTİM BAKANLIĞI
Hayat Boyu Öğrenme Genel Müdürlüğü
AÇIK ÖĞRETİM LİSESİ – BATI AVRUPA PROGRAMI
2012-2013 ÖĞRETİM YILI III.DÖNEM SINAVI
ÜÇÜNCÜ OTURUM - Cumartesi 13.00

TEST GRUBUNUZ

A

0103

CEVAP KÂĞIDINIZA İŞARETLEMİYİ UNUTMAYINIZ.

ÖĞRENCİNİN

SOYADI :

ADI :

ÖĞRENCİ NO :

SINAV SALON NO: SIRA NO:

Soyadınızı, adınızı, öğrenci numaranızı, salon ve sıra numaranızı yukarıya yazmayı unutmayınız.

GENEL AÇIKLAMA

1. Bu soru kitapçığındaki testler şunlardır:

Testin Adı	Soru Sayısı	Sayfa No	Testin Adı	Soru Sayısı	Sayfa No
DİN KÜLTÜRÜ VE AHLAK BİLGİSİ 1	20	2	SEÇMELİ TARİH 3	20	33
FELSEFE 2	20	4	SEÇMELİ DİL VE ANLATIM 5	20	35
TARİH 1	20	6	ALMANCA 4	20	37
COĞRAFYA 2	20	8	ALMANCA 6	20	40
COĞRAFYA 3	20	10	İNGİLİZCE 4	20	43
TÜRK EDEBİYATI 3	20	12	İNGİLİZCE 6	20	46
DİL VE ANLATIM 1	20	14	FRANSIZCA 4	20	49
TÜRK EDEBİYATI 5	20	16	FRANSIZCA 6	20	51
FİZİK 2	20	18	SEÇMELİ TÜRK EDEBİYATI 7	20	53
ÇAĞDAŞ TÜRK VE DÜNYA TARİHİ 1	20	21	COĞRAFYA 6	20	55
EKONOMİ 2	20	23			
İŞLETME 1	20	25			
MANTIK 2	20	27			
GEOMETRİ 4	20	29			

- Bu kitapçıkta yer alan her bir test için cevaplama süresi **30 dakika**, toplam sınav süresi **150 dakikadır**.
- Cevaplamaya istediğiniz testin, istediğiniz sorusundan başlayabilirsiniz. Yalnız cevaplarınızı, cevap kâğıdında o test için ayrılmış olan bölümdeki aynı numaralı cevap yerine işaretlemeyi unutmayınız.
- Cevaplarınızı koyu siyah ve yumuşak bir kurşunkalemle işaretleyiniz. İşaretinizi cevap yerinin dışına taşırmayınız. Tükenmez veya mürekkepli kalem kullanmayınız.
- Değiştirmek istediğiniz bir cevabı yumuşak bir silgi ile, cevap kâğıdını örselemeden temizce siliniz ve doğru cevabınızı işaretlemeyi unutmayınız.
- Cevap kâğıdınızı buruşturmayınız, katlamayınız ve üzerine gereksiz hiçbir işaret koymayınız.
- Bu kitapçıkta her sorunun bir tek doğru cevabı vardır. Bir soru için birden çok cevap yeri işaretlenmişse o soru yanlış cevaplanmış sayılacaktır.
- Cevaplarınız puanlanırken her doğru cevabınıza eşit puan verilecek, yanlış cevaplarınız dikkate alınmayacaktır. Bu nedenle kitapçıkta tüm sorular için size doğru gelen seçeneği işaretleyerek cevapsiz soru bırakmamanız yararınıza olacaktır.
- Kitapçığın sayfalarındaki boş yerleri müsvedde için kullanabilirsiniz.

Anadolu Üniversitesi tarafından hazırlanmış olan bu testlerin her hakkı saklıdır. Hangi amaçla olursa olsun, testlerin tamamının veya bir kısmının Anadolu Üniversitesi'nin yazılı izni olmadan kopya edilmesi, fotoğraflarının çekilmesi, herhangi bir yolla çoğaltılması, yayımlanması ya da kullanılması yasaktır. Bu yasağa uymayanlar gerekli cezai sorumluluğu ve testlerin hazırlanmasındaki mali külfeti peşinen kabullenmiş sayılır.

1. Aşağıdakilerden hangisi insana ait özelliklerden biri değildir?

- A) İnsanın yapısında yeryüzünde bulunan cansız varlıklara ait fiziki özelliklerde bulunur.
- B) İnsanın ahlaki değerleri genetik yolla diğer nesillere aktarılır.
- C) İnsanın yapısında hayvanların sahip olduğu biyolojik özelliklerde mevcuttur.
- D) İnsan, ne bitki ne de hayvan kategorisinde değerlendirilemez.

2. Ateizmin savunucularına temel oluşturan düşünce aşağıdakilerden hangisidir?

- A) "Var" diyebilmek için görmenin gerekmediği
- B) Bilemediğimiz şeyin var olabileceği
- C) "Yok" diyebilmek için tüm kainatın bilinmesi gerekliliği
- D) "Yok"un ispatlanmasının mümkün olmadığı

3. Hinduizm inancındaki üç tanrı aşağıdakilerden hangisinde tam ve birlikte verilmiştir?

- A) Brahma-Ay Tanrısı-Ateş Tanrısı
- B) Vişnu-Fırtına Tanrısı-Deniz Tanrısı
- C) Şiva-Vişnu-Brahma
- D) Güneş Tanrısı-Brahma-Vişnu

4. Aşağıdakilerden hangisi yalnızca insanda bulunan niteliklerden biri değildir?

- A) Düşünme
- B) Üreme
- C) İradesini kullanabilme
- D) Konuşma

5. Dünyada ilk inanma kimle başlamıştır?

- A) Hz. Adem
- B) Hz. Nuh
- C) Hz. İbrahim
- D) Hz. Musa

6. Hac ve Ümre'de ihrama girerken boy abdesti almanın hükmü nedir?

- A) Farz
- B) Mekruh
- C) Sünnet
- D) Mübah

7. Aşağıdakilerden hangisi abdestin farzlarından biri değildir?

- A) Elleri dirseklere kadar yıkamak
- B) Yüzü yıkamak
- C) Başı mesh etmek
- D) Ağızı bol su ile yıkamak

8. Ağıza ve buruna su çekilerek temizlenmek ve vücudun tamamını hiç kuru yer kalmayacak şekilde yıkamaya ne ad verilir?

- A) Gusül
- B) Teyemmüm
- C) Namaz abdesti
- D) Mesh etmek

9. Teyemmüm yapabilmek için gerekli şart nedir?

- A) Yerleşim yerlerinden çok uzak bir yerde bulunulması
- B) Temiz su bulunamaması veya kullanımına engel bir sebep olması
- C) Vücuttan sürekli bir şekilde kan ve cerahat akması
- D) Namaz vaktinin çıkmasına çok az bir zaman kalması

10. İnsanın yaratılış gayesi nedir?

- A) Gününü gün etmek
- B) Nefsini her isteği ile doyurmak
- C) Boş işlerle uğraşmak
- D) Allah'ı tanıyıp Ona ibadet etmek

11. Peygamberimize ilk inananların sıralaması aşağıdakilerden hangisinde doğru olarak verilmiştir?

- A) Hz. Ayşe – Hz. Osman – Hz. Ebu Bekir – Hz. Ali
- B) Hz. Hatice – Hz. Ebu Bekir – Hz. Ali – Kölesi Zeyd
- C) Hz. Ebu Bekir – Hz. Ali – Hz. Hatice – Kölesi Zeyd
- D) Kölesi Zeyd – Hz. Hatice – Hz. Ebu Bekir – Hz. Ali

12. Peygamberimiz Hz. Muhammed (S.A.V.)'in anne ve babasının isimleri aşağıdakilerden hangisinde birlikte ve doğru olarak verilmiştir?

- A) Hatice-Abdulmuttalip
- B) Fatma-Ebu Talip
- C) Ayşe-Amr b.As
- D) Amine-Abdullah

13. Aşağıdakilerden hangisi Peygamberimizin Hz. Hatice'den olan evlatlarından biri değildir?

- A) Ayşe
- B) Ümmü Gülsüm
- C) Rukiye
- D) Abdullah

14. Hilfü'l-Fudûl ne demektir?

- A) Hilafet Makamı
- B) Dört Halife
- C) Erdemliler Birliği
- D) Birleşmiş Aşiretler

15. Peygamberimize Abdulmuttalip'in verdiği "Muhammed" ismi ne anlama gelmektedir?

- A) Çok övülen
- B) Saygı duyulan
- C) Çok temiz
- D) Güzel ahlaklı

16. "Divan-ı Hikmet" kimin eseridir?

- A) Hoca Ahmet Yesevi
- B) Mevlana Celalettin-i Rumi
- C) Hacı Bektaş-ı Veli
- D) Yunus Emre

17. Kuran-ı Kerim'in indirilme süreci kaç yılda tamamlanmıştır?

- A) 20
- B) 21
- C) 22
- D) 23

18. Günümüze kadar değişmeden, aslına uygun olarak ulaşan tek ilahi kitap aşağıdakilerden hangisidir?

- A) İncil
- B) Tevrat
- C) Kuran-ı Kerim
- D) Zebur

19. 1926 yılında Diyanet İşleri tarafından Kuranı Kerim'in tefsiri görevi kime verilmiştir?

- A) Hasan Basri Çantay
- B) Mehmet Akif Ersoy
- C) Elmalılı Hamdi Yazır
- D) Aşık Paşa Veli

20. Aşağıdakilerden hangisi Kuran-ı Kerim'de yer alan inanç esaslarından biri değildir?

- A) Allah'ın gönderdiği kitaplara inanma
- B) Her dileyenin şefaet edebileceğine inanma
- C) Allah'ın gönderdiği peygamberlere inanma
- D) Hayır ve şerrin Allah'tan olduğuna inanma

1. Yaşadığı dönemin İtalya'sındaki aksaklıklardan yola çıkarak "Güneş Ülkesi" adını verdiği ideal bir toplum düzenini tasarlayan düşünür aşağıdakilerden hangisidir?
 - A) Bacon
 - B) Bentham
 - C) Campanella
 - D) Mill
2. "Her insan idealar dünyasına yönelmeli ve eylemlerini iyi ideasına uydurmalıdır." görüşünü dile getiren düşünür aşağıdakilerden hangisidir?
 - A) Descartes
 - B) Aristoteles
 - C) Demokritos
 - D) Platon
3. Bireyin iyi ve doğru eylemlerde bulunmaya mizaç, eğitim ve moral olgunluk açısından yatkın olma durumuna ne ad verilir?
 - A) Sorumluluk
 - B) Erdem
 - C) Etik
 - D) Vicdan
4. Aşağıdakilerden hangisi din felsefesinin temel kavramlarından biri değildir?
 - A) İman
 - B) İbadet
 - C) Bürokrasi
 - D) Vahiy
5. "Yeni Dünya" adlı eser aşağıdakilerden hangisine aittir?
 - A) Orwell
 - B) Huxley
 - C) Campanella
 - D) More
6. Ahlak yasasını, Tanrı ve insan sevgisiyle temellendiren, bu çerçevede insanların eşitliğini ve kardeşliğini savunan, iyilik, sevgi, çalışkanlık ve dürüstlüğü ahlaki değer olarak benimseyen düşünür aşağıdakilerden hangisidir?
 - A) Pir Sultan Abdal
 - B) Yunus Emre
 - C) Hacı Bektaş Veli
 - D) Mevlana
7. "İnsan ahlaki eylemlerinde yalnızca kendi hazzını, yararını ve mutluluğunu değil, aşka insanların yararını ve mutluluğunu da düşünmek durumundadır. Çünkü toplumun mutluluğu sağlandığında birey de mutluluğa ulaşır." görüşünü savunan düşünür aşağıdakilerden hangisidir?
 - A) Hobbes
 - B) Bacon
 - C) Weber
 - D) Mill
8. "Varolan her şeyin bir yaratıcısı olduğuna, bu yaratıcının mutlak ve sınırsız bir bilgi ve güce sahip olduğuna sarsılmaz bir inanç beslemek" aşağıdakilerden hangisiyle ifade edilir?
 - A) Ateizm
 - B) Deizm
 - C) Agnostisizm
 - D) Teizm
9. Güzelliği ve güzel sanatların doğasını inceleyen felsefe dalı aşağıdakilerden hangisidir?
 - A) Estetik
 - B) Etik
 - C) Ahlak
 - D) Mantık
10. Aşağıdakilerden hangisi siyaset felsefesinin temel kavramlarından biri değildir?
 - A) Devlet
 - B) Toplum
 - C) Bürokrasi
 - D) Ahlak

11. Aşağıdakilerden hangisi din felsefesinin konularından biri değildir?

- A) Tanrının varlığı
- B) Güzel ahlak
- C) Evrenin yaratılışı
- D) Ruhun ölümsüzlüğü

12. Din ile felsefeyi birbirinden ayırarak inceleyen ilk düşünür aşağıdakilerden hangisidir?

- A) Kant
- B) Huxley
- C) Sartre
- D) Orwel

13. İdeal bir toplum düzeni tasarlayan ilk filozof aşağıdakilerden hangisidir?

- A) Platon
- B) Kant
- C) Farabi
- D) Spinoza

14. Aşağıdakilerden hangisi toplumlarda siyasi iktidarın olası kaynaklarından biri değildir?

- A) İçten gelebilecek tehlikelere karşı korunma düşüncesi
- B) Olumsuz coğrafi koşullar
- C) Birlikte yaşama isteği
- D) Egemen din anlayışı

15. "Mesnevi" adlı eser aşağıdakilerden hangisine aittir?

- A) Mevlana
- B) Hacı Bektaş Veli
- C) Ahmet Yesevi
- D) İbn-i Haldun

16. "Evrensel ahlak yasasını belirleyen en önemli öge insanın, kendisinin de bir parçası olduğu doğa düzenini anlayarak ve bu bilgiye dayanarak ahlaki bir biçimde davranmasıdır." görüşünü dile getiren düşünür aşağıdakilerden hangisidir?

- A) Kant
- B) Demokritos
- C) Aristoteles
- D) Spinoza

17. "Erdemli Toplum" adlı eserinde erdemli bir toplumun erdemli, bilgili yöneticiler aracılığıyla oluşturulabileceğini savunan düşünür aşağıdakilerden hangisidir?

- A) Gazali
- B) Fuzuli
- C) Farabi
- D) Mevlana

18. "Anarşizm" akımının kurucusu aşağıdakilerden hangisidir?

- A) Kropotkin
- B) Stimer
- C) Proudhon
- D) Bakunin

19. İnsanların eylemlerini ve birbirleriyle ilişkilerini düzenlemek amacıyla oluşturulmuş normlar ya da değerler sistemine ne ad verilir?

- A) Ahlak
- B) Hukuk
- C) Din
- D) Felsefe

20. "Siyaset hem bir çatışma ve iktidar kavgası hem de toplumun tüm üyelerinin yararına olabilecek bir düzen yaratma aracıdır." görüşünü dile getiren siyaset bilimci aşağıdakilerden hangisidir?

- A) Daver
- B) Duverger
- C) Baumgarten
- D) Smith

1. Aşağıdakilerden hangisi insanların ırk yapısını inceleyen bilim dalıdır?

- A) Etnoloji
- B) Arkeoloji
- C) Antropoloji
- D) Paleografya

2. Aşağıdakilerden hangisi toplumların geleneklerini inceleyen bilim dalıdır?

- A) Filoloji
- B) Diplomatik
- C) Nümizmatik
- D) Etnoloji

3. Aşağıdakilerden hangisi eski paraları inceleyen bilim dalıdır?

- A) Epigrafya
- B) Nümizmatik
- C) Paleografya
- D) Etnoloji

4. Aşağıdakilerden hangisi zamana göre sınıflandırılmış tarih örneğidir?

- A) Türk siyasi tarihi
- B) Türkiye tarihi
- C) Asya tarihi
- D) Kanuni dönemi tarihi

5. Aşağıdakilerden hangisi tarih bilimi açısından yazısız belgelere bir örnektir?

- A) Fermanlar
- B) Destanlar
- C) Mühürler
- D) Tabletler

6. Aşağıdakilerden hangisi tarih biliminin yöntemlerinden biri değildir?

- A) Kaynak arama
- B) Tenkit etme
- C) Deney yapma
- D) Tahlil yapma

7. Zaman nasıl bir kavramdır?

- A) Öznel
- B) Soyut
- C) Sanal
- D) Somut

8. Aşağıdakilerden hangisi Urartu uygarlığı hakkında söylenemez?

- A) Metal sanatında oldukça ilerlemiş olması
- B) Deniz ticaretinde çok gelişmiş olması
- C) Asurlulardan aldığı çivi yazısını kullanması
- D) Hurriler tarafından MÖ IX. yüzyılda Van Gölü çevresinde kurulmuş olması

9. Anadolu'da, Kızılırmak çevresinde Hattilerle birleşerek bir devlet kuran Hititlerin başkenti aşağıdakilerden hangisidir?

- A) Truva
- B) Milet
- C) Hattuşaş
- D) Sard

10. Anadolu uygarlıklarından biri olan İyonyalıların yaşadığı bölge aşağıdakilerden hangisidir?

- A) İzmir ve Büyük Menderes arası
- B) Doğu Anadolu'nun doğusu
- C) Fırat ve Dicle ırmakları arası
- D) Kızılırmak'ın İç Anadolu çizdiği yayın içi

11. Romalıların anavatanı aşağıdakilerden hangisidir?

- A) Mısır
- B) İtalya
- C) Yunanistan
- D) Mezopotamya

12. Aşağıdakilerden hangisi Roma imparatorluğu döneminden günümüze kalan eserlerden biri değildir?

- A) Midas anıt mezarı
- B) Çemberlitaş
- C) Dikilitaş
- D) Bozdoğan su kemeri

13. Tarihte ilk kubbe ve kemer tekniğini kullanan devlet aşağıdakilerden hangisidir?

- A) Sümerler
- B) Hititler
- C) Urartular
- D) İbraniler

14. Eski Türklerde siyasi, askeri ve ekonomik kararların alındığı meclise ne ad verilmekteydi?

- A) Tudun
- B) Toygun
- C) Kurultay
- D) Tekin

15. Orta Asya Türklerinin geliştirdiği takvim aşağıdakilerden hangisidir?

- A) Hicri takvim
- B) Miladi takvim
- C) Rumi takvim
- D) On iki hayvanlı takvim

16. Hazar Hakanlığının büyük çoğunluğunu aşağıdakilerden hangisi oluşturmuştur?

- A) Sabarlar
- B) Bulgarlar
- C) Avarlar
- D) Macarlar

17. Günümüzde Sibiry'a'da yaşayan Yakut Türkleri aşağıdakilerden hangisinin torunlarıdır?

- A) Kıpçaklar
- B) Peçenekler
- C) Oğuzlar
- D) İskitler

18. Moğol soyundan gelen Kitanlar hayvan sürülerini damgalama, kımız yapma, karpuz yetiştirme gibi bazı kültürel olguları aşağıdakilerden hangisinden öğrenmişlerdir?

- A) Göktürkler
- B) Çinliler
- C) Türgeşler
- D) Uygurlar

19. Eski Türk toplumlarında halk yahut milleti oluşturan alt birimlerin küçükten büyüğe doğru sıralaması aşağıdakilerden hangisinde doğru olarak verilmiştir?

- A) Oğuş - urug - boy - bodun
- B) Urug - boy - oğuş - bodun
- C) Boy - bodun - urug - oğuş
- D) Urug - oğuş - bodun - boy

20. Uygurlar en parlak dönemlerini aşağıdaki hükümdarlardan hangisi döneminde yaşamışlardır?

- A) Moyen-Çor Kağan
- B) Kutluk Bilge Kül
- C) Böğü Kağan
- D) Tung Bağa Tarkan

1. Aşağıdaki illerden hangisinin yıllık ortalama sıcaklık değerleri diğerlerinden daha fazladır?
A) İzmir
B) Kayseri
C) Erzurum
D) Bursa
2. Aşağıdaki iklim çeşitlerinin hangisinde yaz ile kış arasındaki sıcaklık farkı daha azdır?
A) Güneydoğu Anadolu Karasal İklimi
B) Doğu Anadolu Karasal İklimi
C) Doğu Karadeniz İklimi
D) İç Ege İklimi
3. Ekvatora uzaklıkları hemen hemen aynı olan Çanakkale ve Ağrı'nın ortalama sıcaklıklarının farklı olmasının nedeni aşağıdakilerden hangisidir?
A) Yükselti
B) Boylam derecesi
C) Bitki örtüsü
D) Enlem derecesi
4. Bir ülkenin siyasi sınırları içinde olmakla beraber gümrük hattı dışında sayılan, ülkede geçerli ticari, mali ve ekonomik alanlara ilişkin hukuki ve idari düzenlemelerin kısmen uygulandığı, sanayi ve ticari faaliyetler için daha geniş teşviklerin tanındığı yerlere ne ad verilir?
A) Fuar
B) Serbest bölge
C) Liman
D) Gümrük bölgesi
5. Aşağıdaki şehirlerden hangisinin nüfusunda mevsimsel farklılık daha fazladır?
A) Eskişehir
B) Antalya
C) Kayseri
D) Nevşehir
6. Aşağıdakilerden hangisi ülkemizdeki volkanik sönmüş yanardağlardan biri değildir?
A) Erciyes Dağı
B) Nemrut Dağı
C) Süphan Dağı
D) Köroğlu Dağı
7. Anadolu arazisinin yükselmeye başlayıp su yüzüne çıkması ve Anadolu yarımadasının genel görünümünü alması jeolojik zamanların hangisinde olmuştur?
A) Kuaterner
B) Tersiyer
C) Paleozoik
D) Mezozoik
8. Özellikle Ürgüp-Göreme çevresinde yaygın olarak görülen, volkanik dağlardan çıkan malzemelerin biriktiği araziler üzerinde sel sularının aşındırma yaparak oluşturduğu şekiller aşağıdakilerden hangisidir?
A) Birikinti konisi
B) Peri bacaları
C) Polye
D) Dev kazanı
9. Türkiye'de kayaların erimesiyle oluşan karstik şekiller hangi kayaların bulunduğu yörelerde daha fazla oluşurlar?
A) Kumtaşı
B) Andezit
C) Kireçtaşı
D) Bazalt
10. Akarsuların eğiminin azaldığı yerlerde sağa sola büküm yaparak akması ile oluşan şekillere ne ad verilir?
A) Kırgıbayır
B) Peribacası
C) Dev kazanı
D) Menderes

11. Aşağıdakilerden hangisi nüfusun çeşitli özelliklerini, dağılışını, hareketlerini ve nüfus hareketlerinden doğan sorunları inceler?

- A) Nüfus coğrafyası
- B) Ulaşım coğrafyası
- C) Tarım coğrafyası
- D) Turizm coğrafyası

12. Aşağıdakilerden hangisi Mezopotamya, İndus Vadisi, Kuzey Çin gibi insanların yerleşik hayata ilk olarak geçtikleri yerlerin ortak özelliklerinden biri değildir?

- A) Yağışın yeterli olması
- B) Akarsuların bulunması
- C) Aşırı soğuk olmaması
- D) Zengin maden yataklarının varlığı

13. Aşağıdakilerden hangisi Türkiye'de görülen en yaygın köy altı yerleşmelerinden biri değildir?

- A) Mezra
- B) Belde
- C) Çiftlik
- D) Kom

14. Aşağıdaki şehirlerden hangisi günümüzde idari kent özelliğinde değildir?

- A) Paris
- B) Moskova
- C) Ankara
- D) New York

15. Doğu Karadeniz'de dağların kıyıya paralel uzanmasının aşağıdakilerden hangisi üzerinde etkili olduğu söylenemez?

- A) Kıyı kesiminde bol yağış isteyen bitkilerin yetişmesi
- B) Dağların denize bakan yamaçlarında bol yağış oluşması
- C) Kıyı ile iç kesimler arasında ulaşımın güç olması
- D) Kuzeyden esen rüzgarların soğuk olması

16. Aşağıdakilerden hangisi zirvesinde takke buzulu olan Türkiye'nin en yüksek dağıdır?

- A) Ağrı
- B) Tendürek
- C) Süphan
- D) Erciyes

17. İşlenmemiş (hammadde) ya da yarı işlenmiş maddelerin, fabrikalarda işlenerek kullanılabilir duruma getirilme işine ne ad verilir?

- A) Ulaşım sektörü
- B) Mesleki eğitim
- C) Sanayi
- D) Ekonomik faaliyet

18. Doğu Anadolu Bölgesi'nde akarsuların enerji üretim potansiyelinin yüksek olmasının temel nedeni aşağıdakilerden hangisidir?

- A) Bölgenin engebeli olması
- B) Kışların kar yağışlı geçmesi
- C) Bölgede tarım yerine hayvancılığın tercih edilmesi
- D) Bölgede karstik arazinin bol olması

19. Aşağıdakilerden hangisi kıyı ovalarından biri değildir?

- A) Çukurova
- B) Çarşamba
- C) Düzce
- D) Bafra

20. Aşağıdaki akarsu havzalarından hangisi dışa akışı olmayan kapalı havza özelliğindedir?

- A) Menderes Havzası
- B) Kızılırmak Havzası
- C) Tuz Gölü Havzası
- D) Sakarya Havzası

1. Aşağıdakilerden hangisi kömürün başkalaşım geçirerek meydana getirdiği kayaç türlerinden biridir?
A) Mermer
B) Elmas
C) Gnaysa
D) Şist
2. Aşağıdakilerden hangisi nüfus sayımı yapılmasında hedeflenen amaçlardan değildir?
A) Ülkenin nüfus miktarı
B) Yaş grupları
C) Kişilerin siyasi eğilimleri
D) Nüfusun eğitim durumu
3. Bazalt, Andezit, Granit gibi kayaçların yaygın olarak bulunduğu bir ülke için aşağıdakilerden hangisi kesin olarak söylenbilir?
A) Volkanizma olayı çok olmuştur.
B) Petrol yatakları zengindir.
C) Buzullaşmanın yaygın olduğu bir ülkedir.
D) Eski bir kara parçasıdır.
4. Mağaralarda oluşan sütunlar aşağıdaki kayaç gruplarından hangisine örnektir?
A) Organik tortul
B) Kırıntılı tortul
C) Başkalaşım
D) Kimyasal tortul
5. Kayaç türlerinin, sıcaklık ve basınç altında başkalaşım geçirerek yeni türlere dönüşmesine ne ad verilir?
A) Kimyasal tortullar
B) Metamorfik kayaçlar
C) Organik tortullar
D) İç püskürük kayaçlar
6. Fay hatları, yer kabuğunun zayıf hareket halindeki bölgeleridir. Aşağıdakilerden hangisi bazı alanların fay hatlarına paralellik gösterdiği yerlerden biri değildir?
A) Karstik araziler
B) Deprem alanları
C) Volkanik alanlar
D) Genç kıvrım dağları
7. İki okyanussal kıtanın birbirine yaklaştığı yerlerde aşağıdakilerden hangisi oluşmaktadır?
A) Volkanik ada yayları
B) Sıra dağlar
C) Yanardağ
D) Kıta kabuğu
8. Rengi kiremit kırmızısı, humus bakımından fakir, dönenceler arasındaki sıcak-nemli iklim bölgesi toprağı aşağıdakilerden hangisidir?
A) Podzol topraklar
B) Tundra toprakları
C) Çöl toprakları
D) Laterit topraklar
9. İki geçirimsiz tabaka arasındaki geçirimli tabakada biriken suların sondaj yapılarak yeryüzüne çıkarılmasıyla oluşan kaynağa ne ad verilir?
A) Gayzer kaynaklar
B) Fay kaynağı
C) Artezyen
D) Karstik kaynaklar
10. Vadi, tektonik çukurluk veya koy gibi yer şekillerinin önünün herhangi bir malzemeyle kapanması sonucu meydana gelen göllere ne ad verilir?
A) Volkanik göller
B) Tektonik göller
C) Karstik göller
D) Set gölleri

11. Aşağıdakilerden hangisi azonal topraklardan biri değildir?

- A) Lösler
- B) Lateritler
- C) Litoseller
- D) Regoseller

12. Yer kabuğu hareketleri sonucunda çöken alanlarda oluşan çukurlarda biriken su kütlelerinin oluşturduğu göllere ne ad verilir?

- A) Karstik göller
- B) Buzul göller
- C) Set gölleri
- D) Tektonik göller

13. Aşağıdakilerden hangisi ülkemizde yer alan yاپay göllerden biridir?

- A) Van gölü
- B) Tuz gölü
- C) Keban gölü
- D) Beyşehir gölü

14. Aşağıdakilerden hangisinde nüfus artış hızı diğerlerine oranla daha düşüktür?

- A) Batı Avrupa
- B) Güney Asya
- C) Doğu Asya
- D) Latin Amerika

15. Aşağıdakilerden hangisi nüfus artışının nedenlerinden biridir?

- A) Ölümlerin doğumlardan fazla olması
- B) Doğumların ölümlerden fazla olması
- C) Tersine göçlerin çoğalması
- D) Salgın hastalıklar

16. Dünya nüfusundaki ilk sıçrama aşağıdakilerden hangisiyle meydana gelmiştir?

- A) Ateşin bulunmasıyla
- B) İnsanların yerleşik hayata geçerek hayvanları evcilleştirmesiyle
- C) İnsanların tarımla uğraşmasıyla
- D) İnsanların alet yapımını keşfetmesiyle

17. Aşağıdakilerden hangisi kırsal kesimden şehirlere olan göçü etkileyen faktörler arasında yer almaz?

- A) Sulama yetersizliği
- B) Üretim teknolojisindeki gelişmeler
- C) Ürün çeşidinin fazlalığı
- D) Hızlı nüfus artışı

18. Beyin göçünün göç veren ülke için en önemli sonucu aşağıdakilerden hangisidir?

- A) Ülke kalkınmasına faydası
- B) İşsizliğin artması
- C) Ülkenin, eğitim görmüş insanlarını kaybetmesi
- D) Ülkeye döviz girmesi

19. Selçuklular zamanında kervansarayların yaygınlaşması hangi ekonomik faaliyetin önem kazanmaya başladığını gösterir?

- A) Endüstri
- B) Ticaret
- C) Tarım
- D) Hayvancılık

20. İlk insanların barınaklarının mağara, kaya sığınaklarının olduğu, geçimlerini avcılık yaparak sağladıkları, küçük gruplar halinde ve göçebe olarak yaşadıkları dönem aşağıdakilerden hangisidir?

- A) Paleolitik çağ
- B) Mezolitik çağ
- C) Neolitik çağ
- D) Kalkolitik çağ

1. Destanın özellikleri ile ilgili aşağıdaki ifadelerden hangisi yanlıştır?

- A) Önce sözlü tür olarak doğmuştur.
- B) Konusu kahramanların yaptıkları üzerine kurulur.
- C) Olaylar sınırlı bir coğrafyada geçer.
- D) Halkı ilgilendiren büyük olaylardan doğmuştur.

2. Aşağıdakilerden hangisi İslamiyet'ten sonraki Türk destanlarından biridir?

- A) Oğuz Kağan Destanı
- B) Türeyiş Destanı
- C) Ergenekon Destanı
- D) Cengiz Han Destanı

3. Divan-ı Ligat'te Türk'teki açıklamaya göre; söz, haber, salık, mektup, risale, atalar sözü, darb-ı mesel, kıssa, hikaye anlamına gelen özlü sözlerle ne ad verilir?

- A) Sav
- B) Koşuk
- C) Sagu
- D) Destan

4. Halk edebiyatında ölen kişinin ardından onun yiğitliklerini, iyiliklerini ve erdemlerini anlatan şiirlere ne ad verilir?

- A) Koşuk
- B) Sav
- C) Ağıt
- D) Güzelleme

5. Türklerin su sevgisinden, kaz, ördek gibi kuşları uğurlu sayan Şaman inanışından yansımalar taşıyan destan aşağıdakilerden hangisidir?

- A) Köroğlu Destanı
- B) Ergenekon Destanı
- C) Şu Destanı
- D) Manas Destanı

6. Orhun Yazıtları ile ilgili aşağıdaki ifadelerden hangisi yanlıştır?

- A) Göktürk alfabesiyle yazılmıştır.
- B) Tarihte Türk sözcüğünün geçtiği ilk metinlerdir.
- C) Türk dilinin en eski ve en değerli yazılı metinleridir.
- D) 19.yüzyıl sonunda Danimarkalı bilim adamı Andersen tarafından okunmuştur.

7. Aşağıdaki edebî dönemlerden hangisi Batı etkisinde gelişen Türk Edebiyatı içinde yer almaz?

- A) Tanzimat Dönemi Türk Edebiyatı
- B) Milli Mücadele Dönemi Edebiyatı
- C) Edebiyat-ı Cedide
- D) Türk Halk Edebiyatı

8. Odysseus'un on yıl aradan sonra ülkesine dönüşünü "Kolları Bağlı Odysseus" adlı uzun şiirinde anlatan Çağdaş Türk edebiyatçımız aşağıdakilerden hangisidir?

- A) Bedri Rahmi Eyüpoğlu
- B) Melih Cevdet Anday
- C) Edip Cansever
- D) Orhan Veli Kanık

9. Ekim 1720 tarihinde Fransa'ya elçi olarak gönderilen ve gördüğü yerlerle ilgili izlenimlerini "Fransa Sefaretnamesi" adlı eseriyle padişaha ve sadrazama sunan Osmanlı devlet adamı kimdir?

- A) Kâtip Çelebi
- B) Süleyman Çelebi
- C) Mercimek Ahmet
- D) Yirmisekiz Mehmet Çelebi

10. Edebiyat tarihi ile ilgili aşağıdaki ifadelerden hangisi doğrudur?

- A) İnsanlık tarihinin başlangıçtan bugüne kadar geçirdiği duygu, düşünce aşamalarını, sanat anlayışlarını bize aktarır.
- B) Pozitif bilimler gibi gözleme ve deneye dayanır.
- C) Edebiyatın konusu içine giren eserleri ve sanatçıları alfabetik sırayla değerlendirir.
- D) Öğretici nitelikte birer sanat eseridir.

11. Aşağıdaki yazarlardan hangisi, 17. yüzyılda yazdığı "Şecere-i Türk" adlı eserinde Ergenekon Destanı'na da yer vermiştir?

- A) Fazıl Hüsnü Dağlarca
- B) Ebü'l-Gazi Bahadır Han
- C) Ali Şîr Nevaî
- D) Melih Cevdet Anday

12. Aşağıdakilerden hangisi Türk edebiyat tarihçileri arasında yer almaz?

- A) Mehmet Fuad Köprülü
- B) Yahya Kemal Beyatlı
- C) Ahmet Hamdi Tanpınar
- D) Nihat Sami Banarlı

13. Türk ruhundan çıkmış, Türk'ün öz benliğini yansıtan eserlerdir. Bunlar, kendilerine yurt edindikleri topraklar üzerinde boy atmışlardır. Aile içinde kök salmış bir ahlak, sağlam bir karakter, doğruluk, sözünün eri olma, kısacası insan olma bu hikâyelerin her yerinde onun en belli çizgisidir. Doğu edebiyatının taklitlerini veren öteki halk hikâyeleri yanında bunlar türlü bakımdan eşsizdirler.

Yukarıda sözü edilen eser aşağıdakilerden hangisidir?

- A) Dede Korkut Hikâyeleri
- B) Battal Gazi Destanı
- C) Halk Hikâyeleri
- D) Danişment Gazi Destanı

14. Aşağıdakilerden hangisi, Uygur destanlarından biri değildir?

- A) Köroğlu Destanı
- B) Göç Destanı
- C) Türeyiş Destanı
- D) Mani Dininin Kabulü Destanı

15. Evliya Çelebi'nin gezip gördüğü yerlerle ilgili gözlem ve izlenimlerini anlattığı on ciltlik eserinin adı nedir?

- A) Şikâyetname
- B) Sefaretname
- C) Selçukname
- D) Seyahatname

16. 1928 yılında Fuad Köprülü tarafından yayımlanan, ülkemizde Batılı anlamda edebiyat tarihi alanında yapılan ilk kapsamlı çalışma aşağıdakilerden hangisidir?

- A) Milli Edebiyatımız
- B) Sanat Tarihi
- C) Edebiyat Tarihi
- D) Türk Edebiyatına Giriş

17. Türk edebiyatının dönemlerinden sözlü edebiyat ile ilgili aşağıdaki ifadelerden hangisi doğrudur?

- A) Destan, ağıt, koşuk vb. sözlü edebiyatın ürünleri arasındadır.
- B) Edebi değer taşıyan ilk ürünler 8. yüzyılda ortaya çıkmıştır.
- C) İslami dönem Türk edebiyatının alt dallarından biridir.
- D) Ürünlerinde İslam dininin etkisi görülür.

18. Bin atlı akınlarda çocuklar gibi şendik;
Bin atlı o gün dev gibi bir orduyu yendik!

Yukarıdaki dizelerin yer aldığı "Akıncı" adlı şiir aşağıdaki şairlerimizden hangisine aittir?

- A) Afşar Timuçin
- B) Yahya Kemal Beyatlı
- C) Ahmet Muhip Dıranas
- D) Ahmet Kutsi Tecer

19. En eski Türk destanlarının tarihsel sınıflandırması için ilk sırada aşağıdaki destanlardan hangisi yer alır?

- A) Türeyiş Destanı
- B) Yaratılış Destanı
- C) Bozkurt Destanı
- D) Göç Destanı

20. Yunan edebiyatının ünlü doğal destanları İlyada ve Odysseia aşağıdakilerden hangisi tarafından kaleme alınmıştır?

- A) Sophokles
- B) Milton
- C) Homeros
- D) Aristo

1. Aşağıdakilerden hangisi dil ile ilgili doğru bir ifadedir?
- A) Dilin sadece bir tane geniş anlamı vardır.
B) İnsanlar dil aracılığıyla duygu, düşünce ve isteklerini karşılarındakine aktarırlar.
C) Dil, bütün canlılara özgü bir iletişim aracıdır.
D) Dilin görme, koklama, tat alma organlarıyla bir ilişkisi yoktur.
2. Aşağıdaki kişilerden hangisi dili kültürün temel unsuru sayar?
- A) Ziya Gökalp
B) Ömer Seyfettin
C) Halide Edip Adivar
D) Reşat Nuri Güntekin
3. Sözcüklerin birbiriyle olan ilişkilerini, cümledeki görevlerini ve durumunu inceleyen bilim dalı aşağıdakilerden hangisidir?
- A) Etimoloji
B) Fonetik
C) Sentaks
D) Semantik
4. Bir toplumun maddi ve manevi alanda ortaya koyduğu tüm eserlere verilen ad aşağıdakilerden hangisidir?
- A) Dil
B) Din
C) Kültür
D) İnanç
5. Aşağıdakilerden hangisi yapı bakımından dünya dillerinden olan, tek heceli dillerin özelliklerinden biri değildir?
- A) Sözcüklerde çekim eki vardır.
B) Sözcükler ek almadan, büküme, değişime uğramazlar.
C) Sözcüklerde vurgu hakimdir.
D) Bir sözcük yerine göre 10-15 anlam kazanabilir.
6. Dil akrabalığı ile ilgili aşağıdaki ifadelerden hangisi doğrudur?
- A) Dil akrabalığında uluslar, farklı soydan olamazlar.
B) Dil akrabalığı olan diller, yakınlık ve benzerliklerine göre üç bakımdan incelenir.
C) Dil akrabalığının diğer adı, dil aileleridir.
D) Dil akrabalığı olan ulusların arasında herhangi bir kültürel bağ yoktur.
7. Türkçenin dünya dilleri arasındaki yeri aşağıdakilerin hangisinde doğru olarak verilmiştir?
- A) Hami-Sami dilleri
B) Hint Avrupa dilleri
C) Bantu dilleri
D) Ural-Altay dilleri
8. Aşağıdakilerden hangisi Ural-Altay dillerinin özelliklerinden biri değildir?
- A) Bazı çekim ekleri, yapım eki olarak da kullanılır.
B) Baştan eklemeli bir yapısı vardır.
C) Sözcüklerde dil bilgisi bakımından diş ve erkek tür ayrımı yoktur.
D) Ses, yapı ve söz dizini bakımından benzerlikler bulunur.
9. Aşağıdakilerin hangisinde büyük harflerin yazımıyla ilgili bir yanlışlık yapılmıştır?
- A) 31 Aralık Cuma günü yılbaşı.
B) Annem kardeşime masal okuyor.
C) Doktor Selim burada mı?
D) Leyla hanım sizi sordu.
10. Aşağıdaki cümlelerden hangisinin sonuna ünlem işareti gelmez?
- A) Bu güzel kız da kim
B) Hey, buraya bak
C) Eyvah, kahve taşıtı
D) Sevgili arkadaşlar
11. Aşağıdaki sözcüklerin hangisine ek getirildiğinde kesme işareti (') kullanılmaz?
- A) Eskişehir
B) Nehir
C) Atatürk
D) Almanya

12. Aşağıdakilerden hangisinde sayıların yazımıyla ilgili bir yazım yanlışı vardır?

- A) Paketleri 2'şer 2'şer dağıttık.
- B) İki hafta sonra buluşacağız.
- C) 200 liralık alışveriş yaptım.
- D) Üçe beş kala orada olurum.

13. Aşağıdakilerin hangisinde "ki"nin yazımı yanlıştır?

- A) Sinemadaki film çok eğlenceliydi.
- B) Elindeki kitap çok eskimiş.
- C) Masada ki silgi kimin?
- D) Dünkü gazete nerede?

14. Aşağıdakilerin hangisinde bir yazım yanlışı vardır?

- A) THY'ye
- B) MEB'in
- C) TDK'nin
- D) TV'na

15. Aşağıdaki sözcüklerden hangisi küçük ünlü uyumu kuralına uymaz?

- A) Melodi
- B) Bahçe
- C) İnce
- D) Okul

16. Aşağıdaki cümlelerin hangisinde virgülün görevi farklıdır?

- A) Kitabını, defterini, kalemimi al.
- B) Annemi, babamı özledim.
- C) Elma, armut, muz aldık.
- D) Kardeşim, bu hafta geliyor.

17. Aşağıdaki altı çizili sözcüklerden hangisinde yumuşama yoktur?

- A) Söğüdün altına uzandı.
- B) Küçük kız, tabağı kırdı.
- C) Ekmeği bıçakla kesti.
- D) Patatesleri, kızgın yağa attı.

18. Aşağıdaki birleşik sözcüklerden hangisi farklı bir yolla oluşturulmuştur?

- A) Hanımeli
- B) Biçerdöver
- C) Aslanağzı
- D) Vezirparmağı

19. Aşağıdaki cümlelerin hangisinde ünlü düşmesine uğramış bir sözcük vardır?

- A) Akşama misafir gelecek.
- B) Oğlu çok iyi bir okulda okuyor.
- C) Giderken bana da haber ver.
- D) Bu elbise sana çok yakıştı.

20. Aşağıdakilerin hangisinde "mi"nin yazımı yanlıştır?

- A) Bana da verecek misin?
- B) Yok mu senden başkası?
- C) Oku muyorsan ver kitabımı.
- D) Daha doymadın mı?

1. Tanzimat dönemi Türk edebiyatında yazılan **ilk makale** aşağıdakilerden hangisidir?
 - A) Cezmi
 - B) Tercüman-ı Ahval Mukaddimesi
 - C) Taaşuk-ı Talat ve Fitnat
 - D) Son Pişmanlık
2. Edebi eserin özellikleri ile ilgili aşağıdaki ifadelerden hangisi **yanlıştır**?
 - A) Toplumun tarihi koşullarından da esinlenir.
 - B) Kaynağını toplumun sosyal ve siyasi yapısından alır.
 - C) Aynı anda hem toplumsal hem de ekonomik alanı ilişkilendirir.
 - D) Dil, yapı ve içerik yönünden yazıldığı dönemi yansıtır.
3. **İlk çeviri roman olan Terceme-i Telemak kim tarafından çevrilmiştir?**
 - A) Yusuf Kamil Paşa
 - B) Ziya Paşa
 - C) Abdülhak Hamid Tarhan
 - D) Şemsettin Sami
4. Aşağıdakilerden hangisi, Muallim Naci'nin eserleri arasında **yer almaz**?
 - A) Ateş-pare
 - B) Şerare
 - C) Fûruzan
 - D) İntibah
5. Tanzimat dönemi Türk edebiyatında kaleme alınan **ilk yerli roman ve yazarı, aşağıdakilerden hangisinde birlikte ve doğru olarak verilmiştir?**
 - A) Celalettin Harzemşah – Namık Kemal
 - B) Sabr u Sebat – Abdülhak Hâmit Tarhan
 - C) Taaşuk-ı Talat ve Fitnat – Şemsettin Sami
 - D) Afife Anjelik – Rezaizâde Mahmut Ekrem
6. Tanzimat dönemi edebiyatı ile ilgili aşağıdaki ifadelerden hangisi **yanlıştır**?
 - A) 1839-1860 yılları kuruluş devresidir.
 - B) İran edebiyatından etkilenmiştir.
 - C) Sanatta sosyal gayeyi esas almıştır.
 - D) Şiir ve nesir sahasında kendini kabul ettirmiştir.
7. Aşağıdakilerden hangisi Tanzimat Edebiyatının birinci dönemine ait (1860-1876) özelliklerden biridir?
 - A) Toplum için sanat anlayışının benimsenmesi
 - B) Dilinin ağır olması
 - C) Bireysel temaların tercih edilmesi
 - D) Açık anlatım yerine, kapalı ve sanatlı bir anlatımın kullanılması
8. Aşağıdakilerden hangisi Tanzimat Döneminde yayınlanan **ilk resmi gazetedir**?
 - A) Diyojen
 - B) Takvim-i Vekayi
 - C) Tercüman-ı Hakikat
 - D) Ceride-i Havadis
9. Tanzimat Fermanı'nı 3 Kasım 1839 tarihinde Gülhane Parkı'nda halka okuyan devlet adamı kimdir?
 - A) Ahmet Vefik Paşa
 - B) I. Abdülmecit
 - C) Damat İbrahim Paşa
 - D) Mustafa Reşit Paşa
10. Ölen bir kişinin ardından onun kahramanlıklarını, yiğitliklerini anlatmak için yazılan eserlere ne ad verilir?
 - A) Rubai
 - B) Murabba
 - C) Terkibibent
 - D) Mersiye
11. Osmanlı Devleti'nde toplumu temsil eden piramidin **en alt** noktasında aşağıdakilerden hangisi yer alır?
 - A) Padişah
 - B) Zanaatçılar
 - C) Halk
 - D) Askerler
12. Aşağıdakilerden hangisi Tanzimat Döneminde Batıdan dilimize tercüme edilen eserlerden biridir?
 - A) Sefiller
 - B) İntibah
 - C) Savaş ve Barış
 - D) Anna Karenina

13. Aşağıdakilerden hangisi Tanzimat Edebiyatının ikinci döneminin önemli temsilcilerinden biri değildir?

- A) Abdülhak Hamit
- B) Şinasi
- C) Recaizâde Mahmut Ekrem
- D) Samipaşazâde Sezaî

14. Divan edebiyatında şairlerin kendilerini övme geleneği vardı. Kaside nazım şekli içinde şairin kendini ovduğu bölüme ne ad verilir?

- A) Fahriye
- B) Medhiye
- C) Mersiye
- D) Girizgâh

15. Yurtdışına elçi olarak gönderilen devlet adamlarının, kaldıkları yerlerle ilgili gözlemlerini dile getirdikleri eserlere ne ad verilir?

- A) Harname
- B) Surname
- C) Saltukname
- D) Sefaretname

16. Türkülerle ilgili aşağıdaki ifadelerden hangisi yanlıştır?

- A) Hece ölçüsüyle yazılır.
- B) Dize sayılarına göre üçleme, beşleme gibi isimler alır.
- C) Divan edebiyatı eserleridir.
- D) Her bendin sonunda tekrarlanan kavuştak dizelerinden oluşur.

17. Şairin kaside içinde medhiye bölümünden sonra uygun bir yerde aynı vezin ve kafiye ile söylediği bölüme ne ad verilir?

- A) Tegazzül
- B) Girizgâh
- C) Fahriye
- D) Dua

18. Tanzimat'la başlayan yenileşme hareketinin öncülerinden olan, Türk Edebiyatının yenileşmesi ve öz kaynaklarına dönmesini savunan yazar aşağıdakilerden hangisidir?

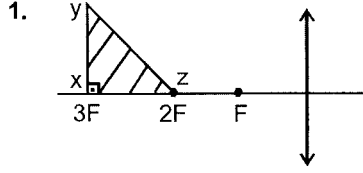
- A) Namık Kemal
- B) Ziya Paşa
- C) Yahya Kemal
- D) Faruk Nafiz Çamlıbel

19. Aşağıdakilerden hangisi, Türklerin İslamiyet'i kabulünden sonra, Karahanlılar döneminde oluşturduğu eserlerinden biridir?

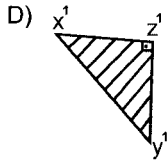
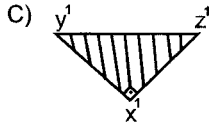
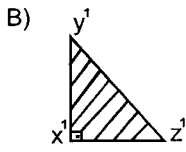
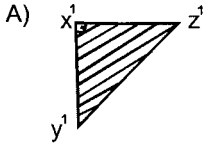
- A) Manas Destanı
- B) Gılgamış Destanı
- C) Kutadgu Bilig
- D) İlyada ve Odysseia

20. Anonim halk şiiri örneği olup genellikle dört dizeden oluşan, 7'li hece ölçüsüyle söylenen, aaba şeklinde uyaklanan nazım şekline ne ad verilir?

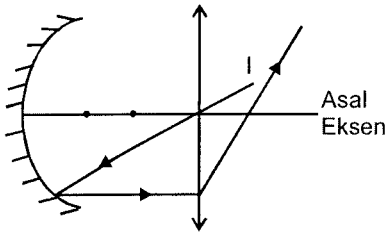
- A) Türkü
- B) Mesnevî
- C) Semaî
- D) Mânî



Yukarıdaki şekilde xyz üçgen cisminin ince kenarlı mercekteki görüntüsü aşağıdakilerden hangisidir?



2. Asal eksenleri çakışık çukur ayna ile ince kenarlı mercek aşağıdaki şekilde gibi konulmuştur. Çukur aynanın odak uzaklığı F_1 , ince kenarlı merceğin uzaklığı F_2 dir.



Yukarıdaki şekilde I ışını aynadan yansıdıktan sonra asal eksene paralel gittiğine göre, F_1/F_2 oranı kaçtır? (Noktalar arası eşit uzunluktadır.)

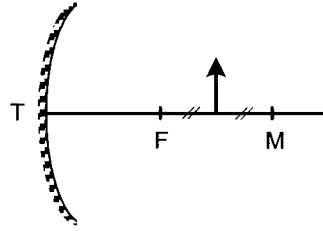
- A) 1/3
B) 1/2
C) 1
D) 2

3. Su yüzeyine gelen ışınla, yansıyan ışın arasındaki açı, gelen ışının su yüzeyine yaptığı açının 2 katıdır.

Buna göre, ışının gelme açısı kaç derecedir?

- A) 15
B) 30
C) 45
D) 60

4. Aşağıdaki şekilde odak uzaklığı 20 cm olan bir çukur aynanın asal eksenine üzerine aynadan 30 cm uzaklığa bir cisim konulmuştur.



Bu bilgilere göre, cismin görüntüsü aynadan kaç cm uzakta oluşur?

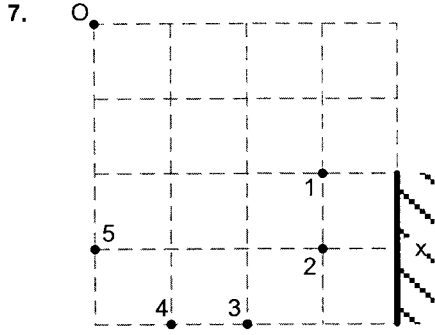
- A) 30
B) 40
C) 50
D) 60

5. Odak uzaklığı 10 cm olan ince kenarlı bir mercekten, 30 cm uzağa konulan bir cismin görüntüsünün merceğe olan uzaklığı kaç cm dir?

- A) 10
B) 20
C) 15
D) 25

6. Aşağıdakilerin hangisi yarı saydam cisimdir?

- A) Yağlı kağıt
B) Bakır levha
C) Tahta
D) Duvar



Yukarıdaki şekilde x düzlem aynasına O noktasından bakan bir gözlemci numaralandırılmış olan noktalardan hangisini göremez?

- A) 3
- B) 4
- C) 5
- D) 6

8. Aşağıdakilerden hangisi temel renklerden biri değildir?

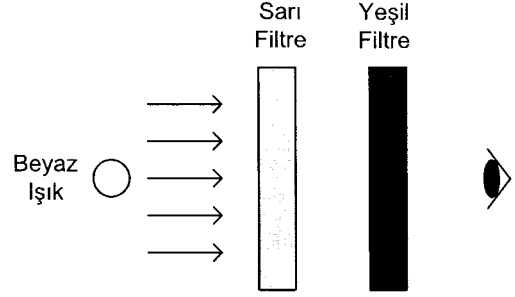
- A) Beyaz
- B) Kırmızı
- C) Mavi
- D) Yeşil

9. Noktasal bir ışık kaynağından 20 cm uzağa bir kenarının uzunluğu 4 cm olan kare şeklinde saydam olmayan bir levha konulmuştur. Bu levhadan 80 cm uzağa ise, bir perde yerleştirilmiştir.

Buna göre, saydam olmayan levhanın merkezinden geçen ışık ışınları perdeye dik ise, perde üzerinde oluşan gölgenin alanı kaç cm^2 dir?

- A) 8
- B) 12
- C) 16
- D) 20

10.



Yukarıdaki şekilde beyaz ışık önüne yerleştirilmiş sırasıyla sarı ve yeşil filtrelerin arka tarafından bakan bir göz aşağıdaki renklerden hangisini görür?

- A) Yeşil
- B) Sarı
- C) Siyah
- D) Mavi

11. Tepe açısı 60° olan bir prizmanın minimum sapma açısı 30° olduğuna göre, prizmanın kırılma indisi kaçtır? ($\text{Sin}30^\circ=0,5$; $\text{Sin}45^\circ=0,7$)

- A) 0,7
- B) 1,4
- C) 2,1
- D) 2,8

12. Her iki yüzeyi de küresel veya bir yüzeyi küresel diğer yüzeyi düzlem olan saydam cisimlere ne ad verilir?

- A) Düzlem ayna
- B) Tümsek ayna
- C) Mercek
- D) Çukur ayna

13. Kesişen iki düzlem ayna arasındaki açı 45° ise, aynalar arasına konulan bir cismin aynalarda oluşan görüntü sayısı kaçtır?

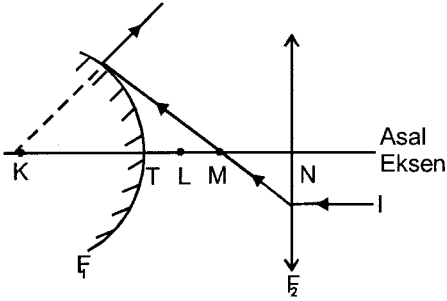
- A) 2
- B) 3
- C) 5
- D) 7

14. Derinliği 1 m olan yeterince büyük bir havuzun tabanının tam ortasında bir ışık yanmaktadır.

Buna göre, bu havuza tepeden bakan bir kişi, havuzun su yüzeyinde gördüğü aydınlık dairenin alanı kaç m^2 dir? (Suyun sınır açısı $=48^\circ$; $\tan 48^\circ=1,1$; $\sin 48^\circ=0,74$; $\pi=3$)

- A) 2,63
B) 3,63
C) 4,63
D) 5,63

15. Aşağıdaki şekilde tümsek aynanın odak uzaklığı F_1 , ince kenarlı merceğin odak uzaklığı F_2 dir.



Buna göre, asal eksene paralel gönderilen I ışını şekildeki gibi bir yol izliyorsa F_1/F_2 oranı kaçtır? (Noktalar arası eşit uzaklıktadır.)

- A) 1/2
B) 1
C) 3/2
D) 2

16. Mutlak kırılma indisi 2 olan camın içinde, ışığın yayılma hızı kaç m/s dir?

- A) $0,75 \cdot 10^8$
B) $1,5 \cdot 10^8$
C) $3 \cdot 10^8$
D) $4,5 \cdot 10^8$

17. Elmasın mutlak kırılma indisi 3, camın mutlak kırılma indisi 2 ise, camdan elmasa geçen ışın için bağıl kırılma indisi kaçtır?

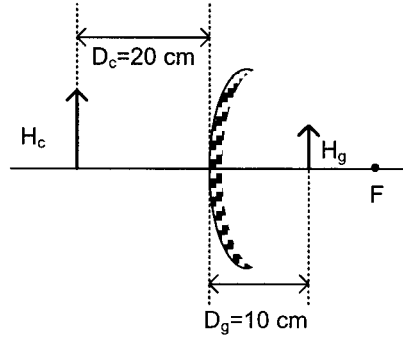
- A) 1,5
B) 2
C) 3
D) 4,5

18. Bir cisim durmakta olan bir düzlem aynaya \vec{v} hızıyla yaklaşırsa, cismin aynaya (yere) göre hızı aşağıdakilerden hangisidir?

- A) $-2\vec{v}$
B) $-\vec{v}$
C) $-0,5\vec{v}$
D) $0,5\vec{v}$

19. VE 20. SORULARI AŞAĞIDAKİ BİLGİLERE GÖRE CEVAPLAYINIZ.

Aşağıdaki şekilde, bir tümsek aynadan 20 cm uzağa asal eksenini üzerine dik olarak yerleştirilmiş bir cismin aynadaki görüntüsü aynadan 10 cm uzakta oluşmaktadır.



19. Bu bilgilere göre, tümsek aynanın odak uzaklığı kaç cm dir?

- A) 10
B) 15
C) 20
D) 25

20. Yukarıdaki bilgilere göre, cismin boyu, görüntüsünün boyunun kaç katıdır?

- A) 1,5
B) 2
C) 2,5
D) 3

1. Türkiye, Milletler Cemiyeti'ne hangi yıl üye olmuştur?
 - A) 1928
 - B) 1930
 - C) 1932
 - D) 1934
2. Boğazlar üzerindeki Türk egemenliği ve kontrolünü esas alan düzenlemelerin yapıldığı ve böylelikle Türkiye'nin Boğazlar üzerinde tam yetki elde ettiği antlaşma aşağıdakilerden hangisidir?
 - A) Balkan Antantı
 - B) Mondros Mütarekesi
 - C) Lozan Barış Antlaşması
 - D) Montrö Boğazlar Sözleşmesi
3. Aşağıdakilerden hangisi, 1. Dünya Savaşı sonunda ittifak devletlerinin yenilen devletlerle imzaladıkları antlaşmaların ortak özelliklerinden biri değildir?
 - A) Yenilen devletlerin topraklarının küçültülmesi
 - B) Yeni devletler kurulması
 - C) Yenilen devletlerin savaş tazminatlarının azaltılması
 - D) Yenilen devletlere ekonomik yükümlülükler getirilmesi
4. Kara Perşembe olarak adlandırılan gün New York Borsası'nın dibe vurmasıyla ortaya çıkan Dünya Ekonomik Krizi'nin başlangıç yılı aşağıdakilerden hangisidir?
 - A) 1919
 - B) 1929
 - C) 1939
 - D) 1949
5. Türkiye, Irak, İran ve Afganistan arasında, bölgedeki barışı korumak amacıyla imzalanan antlaşma aşağıdakilerden hangisidir?
 - A) Sadabat Paktı
 - B) Ankara Antlaşması
 - C) San Remo Antlaşması
 - D) Briand-Kellogg Paktı
6. 18 Ocak 1919'da yapılan Paris Konferansı'na, Milletler Cemiyeti'nin kurulmasını sağlamak, sonrasında da yalnızlık politikasına geri dönmek beklentisiyle katılan ülke aşağıdakilerden hangisidir?
 - A) SSCB
 - B) Japonya
 - C) ABD
 - D) Fransa
7. Aşağıdakilerden hangisi 2. Dünya Savaşı sırasında yayınlanan Atlantik Bildirisi'nin maddelerinden biri değildir?
 - A) Savaşta sonra toprak kazanılmayacaktır.
 - B) Açık denizlerdeki ticaret serbestliği kaldırılacaktır.
 - C) İlgili halkın onayı alınmadan toprak değişikliği yapılmayacaktır.
 - D) Temel hammaddelerden eşit biçimde faydalanılacaktır.
8. Aşağıdakilerden hangisi 2. Dünya Savaşı yıllarında Türkiye'de izlenen ekonomi politikasının amaçlarından biri değildir?
 - A) Fiyat artışlarını desteklemek
 - B) Mal darlığını hafifletmek
 - C) Karaborsa ile mücadele etmek
 - D) Sosyal adaleti sağlamak
9. 2. Dünya Savaşı hangi yıllar arasında olmuştur?
 - A) 1914-1918
 - B) 1920-1925
 - C) 1926-1929
 - D) 1939-1945
10. Aşağıdakilerden hangisi 2. Dünya Savaşı'nın toplumsal sonuçlarından biridir?
 - A) Üretim ve ticaretin olumsuz etkilenmesi
 - B) Avrupa ve Asya'da nüfus hareketleri olması
 - C) Faşizm ve Nazizm gibi akımların tasfiye edilmesi
 - D) Dünyanın siyasi yapısının yeniden inşa edilmesi

11. Aşağıdakilerden hangisi 2. Dünya Savaşı'nın mağlup devletlerinden biridir?

- A) ABD
- B) SSCB
- C) İtalya
- D) Fransa

12. Aşağıdakilerden hangisi İngiltere'nin 1943 başlarında Türkiye'yi 2. Dünya Savaşı'na dahil etmek istemesinin nedenlerinden biridir?

- A) Türkiye'nin silah ve malzemesinden yararlanmak
- B) Boğazları tamamen kontrol altına almak
- C) Türkiye ile olan ekonomik ilişkilerini geliştirmek
- D) Almanya'yı etkisiz hale getirmek için Avrupa içlerine girmek

13. Roosevelt, Churchill ve Stalin arasında barış esaslarını belirlemek amacıyla 4-11 Şubat 1945 tarihinde yapılan konferans aşağıdakilerden hangisidir?

- A) Londra Konferansı
- B) Yalta Konferansı
- C) San Fransisco Konferansı
- D) Paris Konferansı

14. Truman Doktrini ile ilgili aşağıdaki ifadelerden hangisi yanlıştır?

- A) Her Avrupa ülkesine, Amerikan malı malzeme ve makine yardımını kapsamaktadır.
- B) ABD'nin, Batı dünyasının liderliğini üstlenmek için açık bir şekilde yaptığı ilk girişimdir.
- C) SSCB ve ABD mücadelesinin başladığını ilan etmiştir.
- D) ABD yöneticilerinin, dünyanın SSCB tehdidi altında bulunduğu dair endişeleri nedeniyle uygulamaya konmuştur.

15. Aşağıdakilerden hangisi Soğuk Savaş Dönemi'nde dünyada yaşanan gelişmelerden biri değildir?

- A) Ekonomik büyümenin hızlanması
- B) Nüfus artışının hızlanması
- C) Askeri harcamaların azalması
- D) Şehirlere göçün artması

16. Aşağıdakilerden hangisi, 1950-1960 yılları arasında Türkiye ekonomisinde yaşanan gelişmelerden biridir?

- A) Kamu iktisadi teşekküllerinin özelleştirilmesi
- B) İthalat ve döviz üzerindeki devlet denetiminin kaldırılması
- C) Demiryolları yatırımlarına hız verilmesi
- D) Tarım üretiminin düşmesi nedeniyle, buğday ithal etmek zorunda kalınması

17. Aşağıdakilerden hangisi Avrupa Konseyi'nin çalışma alanlarından biri değildir?

- A) Ekonomi
- B) Medya
- C) İnsan hakları
- D) Eğitim

18. 2. Dünya Savaşı sonrası, devletler arası anlaşmazlıklar ve farklı dünya görüşlerinin çatışmasıyla oluşan uluslararası mücadelelerin, sıcak savaşa girmeden sürdürüldüğü döneme ne ad verilir?

- A) Bloklama Dönemi
- B) Yumuşama Dönemi
- C) Barış Dönemi
- D) Soğuk Savaş Dönemi

19. Kore Savaşı hangi tarihler arasında olmuştur?

- A) 1947-1949
- B) 1950-1953
- C) 1954-1957
- D) 1958-1960

20. 2. Dünya Savaşı'nda Almanları durduran ve ilk kez yenilgiye uğratan devlet aşağıdakilerden hangisidir?

- A) SSCB
- B) Fransa
- C) İngiltere
- D) ABD

1. Aşağıdakilerden hangisi, verimliliğe etki eden objektif etkenlerden biridir?

- A) İşletmenin kullanılan hammadde kaynaklarına yakın olması
- B) İşçilerin, işyerine rahat bir şekilde götürülüp getirilmesi
- C) İşletmede kullanılan tekniğin yenilenmesi
- D) İşletme organizasyonunun yapılması

2. Bedenen yapılan çalışmalar hangi emek sınıflaması içinde yer alır?

- A) Sübjektif emek
- B) Yaratıcı emek
- C) Objektif emek
- D) Karşılaştırmalı emek

3. Aşağıdakilerden hangisi sübjektif emeğe bir örnektir?

- A) Kitap okumak
- B) Taş kırıcısının çalışması
- C) Dokuma işçisinin çalışması
- D) Tarladan ürün toplanması

4. Aşağıdakilerden hangisi, sermayenin oluşmasına etki eden sübjektif faktörlerden biri değildir?

- A) Daha geniş tüketim imkânına sahip olma isteği
- B) İktidar sahibi olma isteği
- C) Miras bırakma isteği
- D) Vergi oranlarının artması

5. Maden kömürü ocağında çalışan bir işçinin, bir çalışma günü sonunda ürettiği 3 ton kömür aşağıdaki verimlilik türlerinden hangisine bir örnektir?

- A) Ekonomik verimlilik
- B) Objektif verimlilik
- C) Fiziksel verimlilik
- D) Pozitif verimlilik

6. Aşağıdakilerden hangisi, hızlı nüfus artışının olumsuz yönlerinden biri değildir?

- A) Ücretlerin artmasına neden olması
- B) Bireylerin eğitim ve konut sorunlarının olması
- C) Çevre kirliliğine neden olması
- D) İç ve dış göçlerin artması

7. Uzun vadeli borçların süresiyle ilgili aşağıdakilerden hangisi doğrudur?

- A) 3-6 ay
- B) 6 ay-1 yıl
- C) 1-3 yıl
- D) 3 yıl ve daha fazlası

8. Sermayesinin tamamı devlete ait olan ve tekel niteliğindeki mallar ile temel mal ve hizmet üretmek ve pazarlamak üzere yasayla kurulan, kamu hizmeti niteliği ağır basan kuruluşlara ne ad verilir?

- A) İktisadi Devlet Teşekkülleri
- B) Kamu İktisadi Kuruluşları
- C) Bağlı Ortaklıklar
- D) Kartel

9. Aşağıdakilerden hangisi duran varlıklardan biri değildir?

- A) Stoklar
- B) Binalar
- C) Makineler
- D) Aletler

10. İhtiyaçların karşılanması için gerekli olan malların üretiminde kullanılmak amacıyla elde edilmiş olan aracı mallara ekonomik anlamda ne ad verilir?

- A) Rant
- B) Servet
- C) Sermaye
- D) Dönen varlık

11. Aşağıdakilerden hangisi, şirket durumundaki girişimlerden biri değildir?

- A) Kollektif şirket
- B) Limited şirket
- C) Anonim şirket
- D) Kooperatifler

12. Bir ülkede gelirlerin değişik şekillerde dağılımını gösteren, mutlak eşitlik doğrusunun dışında kalan eğrilere ne ad verilir?

- A) Üretim İmkânları Eğrisi
- B) Lorenz Eğrisi
- C) Dönüşüm Eğrisi
- D) Toplumsal Kayıtsızlık Eğrisi

13. Aşağıdakilerden hangisi sermayenin başlıca kaynaklarından biri değildir?

- A) Yatırım
- B) Tasarruf
- C) Öz finansman
- D) Zorunlu tasarruf

14. Aşağıdaki eşitliklerden hangisi, Safi Milli Hasılayı verir?

- A) GSMH - Sübvansiyonlar
- B) GSMH - Amortismanlar
- C) GSMH + Vergiler
- D) GSMH + Net dış gelir

15. Aşağıdakilerden hangisi, girişimin sosyal rollerinden biri değildir?

- A) Girişimin bulunduğu bölgenin ekonomik gelişmesine katkıda bulunması
- B) Yeni üretim teknikleri yaratarak ekonominin gelişmesini sağlaması
- C) Küçük tasarruf sahiplerinin tasarruflarını değerlendirerek ek gelir elde etmelerini sağlaması
- D) Çalışanlara iş yaşamlarında gelişme fırsatı vermesi

16. Aşağıdakilerden hangisi girişimin (teşebbüs) özelliklerinden biri değildir?

- A) Üretim faktörlerini kullanan bir ünite olması
- B) Üretim faktörlerini sağlayan bir ünite olması
- C) Bir uygulama merkezi olması
- D) Üretim faktörlerinden yararlanarak mal ve hizmet üreten bir ünite olması

17. Kolektif şirket ile ilgili aşağıdaki ifadelerden hangisi yanlıştır?

- A) Ortakların sorumluluğu şirkete koydukları sermaye ile sınırlıdır.
- B) Belirli bir unvan altında az sayıda ortak tarafından kurulur.
- C) Ortaklar çoğunlukla şirketi genişletecek cesareti gösteremezler.
- D) Ortaklar, şirketin çıkarları için çok çaba sarf ederler.

18. Üretim sonunda milli gelirden toprak sahibine ödenen paraya ne ad verilir?

- A) Faiz
- B) Ücret
- C) Rant
- D) Servet

19. Bir servetten doğan gelirlere ne ad verilir?

- A) İtibari gelir
- B) Temelli gelir
- C) Gerçek gelir
- D) Marjinal gelir

20. Bir işçinin itibari ücretinin satın alma gücüne ne ad verilir?

- A) Nakdi ücret
- B) Aynı ücret
- C) Zamana göre ücret
- D) Reel ücret

1. Aşağıdakilerden hangisi bir işletmenin girişim olarak kabul edilebilmesi için taşıması gereken özelliklerden biri değildir?
 - A) Mevcut pazara yeni bir yolla ulaşması
 - B) Yeni bir pazara ulaşması
 - C) Yeni bir teknoloji kullanması
 - D) Personel istihdam sayısının çok olması
2. İşletmede yapılması gereken işlerin belli bir takvime göre zamanlanmasına ne ad verilir?
 - A) Denetim
 - B) Koordinasyon
 - C) Organizasyon
 - D) Planlama
3. Bir işletmede gelirin, giderlerden çok olmasına ne ad verilir?
 - A) Faiz
 - B) Maliyet
 - C) Sermaye
 - D) Kâr
4. Bir işletmede çalışanların üst ya da ast oluşlarına göre sınıflandırılmasına ne ad verilir?
 - A) Sorumluluk
 - B) Hiyerarşi
 - C) Statü
 - D) Görev
5. İşletme mülkiyetinin bakanlıklar ve belediyeler gibi devlet kuruluşlarına ait olduğu işletmelere ne ad verilir?
 - A) Sermaye şirketleri
 - B) Kamu işletmeleri
 - C) Şahıs işletmeleri
 - D) Özel işletmeler
6. Aşağıdakilerden hangisi dayanıksız mal üreten işletmelere örnektir?
 - A) Konserve fabrikaları
 - B) Buzdolabı fabrikaları
 - C) İş makinesi fabrikaları
 - D) Otomobil fabrikaları
7. Aşağıdakilerden hangisi dayanıklı mallar arasında yer almaz?
 - A) Otomobil
 - B) Kağıt
 - C) Mobilya
 - D) Buzdolabı
8. Aşağıdakilerden hangisi sosyal nedenlerle kurulan kamu işletmelerine örnektir?
 - A) Sümerbank
 - B) Atatürk Orman Çiftliği
 - C) Türkiye Kömür İşletmeleri
 - D) Çocuk Esirgeme Kurumu
9. Bir işletmenin kurulması ve işletilmesi için gerekli para ve kredilerin bulunması ve ekonomik olarak kullanılması işlevine ne ad verilir?
 - A) Muhasebe
 - B) Üretim
 - C) Finans
 - D) Yönetim
10. Bir işletmede neyin, niçin, ne zaman, nerede ve kimler tarafından yapılacağı sorularına cevap aranan yönetim fonksiyonu aşağıdakilerden hangisidir?
 - A) Sevk
 - B) Planlama
 - C) Koordinasyon
 - D) Organizasyon
11. İşletmede uygulamada alınan sonuçların amaçlarla karşılaştırılması ve gerekli düzeltmelerin yapılmasına ne ad verilir?
 - A) Taktik
 - B) Bütçe
 - C) Politika
 - D) Denetim
12. İşletmenin amaçlarına en kısa ve kestirme yoldan ulaşmasını sağlamak üzere, işletmeyi oluşturan kişilerin bu ortak amaçlar çerçevesinde düzenli çalışmasının sağlanmasına ne ad verilir?
 - A) Yönetim
 - B) Planlama
 - C) Organizasyon
 - D) Koordinasyon

13. İşletmecilerin ticari faaliyetleri ile ilgili kayıtların belirli bir sisteme göre tutulmasına ne ad verilir?

- A) Muhasebe
- B) Pazarlama
- C) Üretim
- D) Finans

14. Bir teşkilat şemasında genel müdür ve genel müdür yardımcılarının görevleri altlarına yazıldığında meydana gelen şema aşağıdakilerden hangisidir?

- A) Fonksiyonel teşkilat şeması
- B) Koordinasyon yönetim şeması
- C) Yeniden örgütlenme şeması
- D) Yapısal teşkilat şeması

15. Aşağıdakilerden hangisi işletmelerin teşkilatlanmalarında göz önüne alınan faktörlerden biri değildir?

- A) Müşteri grupları
- B) İklim
- C) Üretilen mal
- D) Zaman faktörü

16. Diğer birimlere danışmanlık hizmeti verilmesi şeklinde gerçekleştirilen yetkiye ne ad verilir?

- A) Kurmay yetki
- B) Komuta yetkisi
- C) Çapraz yetki
- D) Yatay yetki

17. Bir işletmede çalışanların bölüm yöneticilerine bağlılığı ve bunların da kendi aralarında sınıflandırılışına ne ad verilir?

- A) Yetki
- B) Bölümlendirme
- C) Hiyerarşi
- D) Otomasyon

18. Aşağıdakilerden hangisi, bürolara alınacak ve kullanılacak araç, gereç ve makine seçiminde dikkate alınması gereken ilkelerden biri değildir?

- A) Standart, parçası bulunan, bakımı ve onarımı ülkede yapılan modeller seçilmelidir.
- B) Araç ve gereçlerin hizmet ya da mal üretimine uygun, ucuz, sağlam ve kullanışlı olmasına dikkat edilmelidir.
- C) Araç gereç alımında kiralama yöntemi asla düşünülmemeli, her zaman satın alma yoluna gidilmelidir.
- D) Alınacak makineyi kullanabilecek, bakım ve onarım yapabilecek servis ve teknisyen bulunmalıdır.

19. Üretimin otomatik makinelerle yapılmasına ne ad verilir?

- A) Aktivasyon
- B) Fonksiyonalizasyon
- C) Otomasyon
- D) Mekanizasyon

20. İşletmelerde büro yerleşimi ile ilgili aşağıdaki ifadelerden hangisi yanlıştır?

- A) Halkla ilişkisi olan çalışanlar giriş katında veya kapıya yakın bulunmalıdır.
- B) Birbirleri ile ilgili ve bağlantılı çalışanlar yakın masa ya da odalarda oturtulmalıdır.
- C) Büro dekorasyonunda koyu renkler kullanılmalıdır.
- D) İşe yaramayan eşyalar büro ve işyerinden atılmalıdır.

1. Aşağıdaki önermelerden hangisi ikili yüklemli bir önermedir?
 A) Mustafa, Taner ile Semih'ten uzundur.
 B) Orhan ile Ahmet arkadaştır.
 C) Özlem başarılıdır.
 D) Fuat, piyano çalar.
2. Kiplik mantığına göre, "üç artı altının dokuz etmesi zorunludur ama ısınan havanın yükselmesi mümkündür." önermesinin sembolleştirilmiş hali aşağıdakilerden hangisidir?
 A) $\square p \rightarrow \diamond p$
 B) $\diamond p \wedge \square q$
 C) $\square q \wedge \diamond p$
 D) $\diamond p \leftrightarrow \square q$
3. $p \vee q$ önermesinin eşdeğeri olan önerme aşağıdakilerden hangisidir?
 A) $p \Rightarrow q$
 B) $p \Leftrightarrow q$
 C) $\sim (\sim p \wedge \sim q)$
 D) $p \wedge q$
4. Doğruluğu açıkça belli olan önermelere ne ad verilir?
 A) Aksiyom
 B) Eşitlik
 C) Tutarlılık
 D) Tanım
5. "Kar yağarsa okullar tatil olmaz." önermesi, önermeler mantığında nasıl sembolleştirilir?
 A) $q \Rightarrow p$
 B) $p \Rightarrow \sim q$
 C) $\sim p \Rightarrow q$
 D) $p \Leftrightarrow \sim q$
6. "İnsanlar paylaşmayı severlerse rahat diyalog kurarlar hem de dürüst ilişkiler yaşarlar." önermesinde kaç tane önerme eklemi ve bileşen kullanılmıştır?
 A) Bir önerme eklemi, bir bileşen
 B) Üç önerme eklemi, bir bileşen
 C) İki önerme eklemi, üç bileşen
 D) Dört önerme eklemi, dört bileşen
7. Aşağıdaki önermelerden hangisi geçerlidir?
 A) $\exists xGx \wedge \exists xHx$
 B) $\forall xFx \vee \forall xGx$
 C) $\sim (\exists xGx \rightarrow \forall xGx)$
 D) $\forall xFx \vee \sim \forall xFx$
8. Aksiyomlardan türetilmiş olan önermelere ne ad verilir?
 A) Teori
 B) Teorem
 C) Tam tümevarım
 D) Eksik tümevarım
9. $\sim \exists xGx$ önermesinin eşdeğeri aşağıdakilerden hangisidir?
 A) $\sim \forall xGx$
 B) $\exists xGx$
 C) $\forall x \sim Gx$
 D) $\sim \exists x \sim Gx$
10. "Ya kilo alacaksın ya da az yemek yiyeceksin." önermesi, önermeler mantığında nasıl sembolleştirilir?
 A) $p \wedge q$
 B) $p \Rightarrow q$
 C) $p \Leftrightarrow q$
 D) $p \vee q$
11. Önerme ile ilgili aşağıdaki ifadelerden hangisi doğrudur?
 A) Bir önermenin tutarlı olabilmesi için doğruluk tablosundaki tüm yorumlamaların doğru olması gerekir.
 B) Her tutarlı önerme geçerlidir.
 C) Her tutarsız önerme geçerlidir.
 D) Bir önermenin doğruluk tablosundaki tüm yorumlamaları yanlışsa önerme tutarsızdır.

12. "Ceren sevimli ve akıllıdır." önermesi niceleme mantığında nasıl sembolleştirilir?

- A) $\forall xFx$
- B) $Fa \Rightarrow Ga$
- C) $\exists x \wedge Ga$
- D) $Fa \wedge Ga$

13. "Uçan halı vardır." önermesi varlık mantığında nasıl sembolleştirilir?

- A) $a \equiv a$
- B) $E ! a$
- C) $\square p$
- D) $a \equiv b$

14. Aşağıdaki önerme çiftlerinden hangisi birbirleriyle tutarlıdır?

- A) $\forall xFx, \sim Fa$
- B) $\sim \exists xFx, Fa$
- C) $\exists xGx, \exists x \sim Gx$
- D) $Ga, \sim Ga$

15. Aşağıdaki önermelerden hangisi sembolik mantıkta bileşik bir önermedir?

- A) Mozart filozof değildir.
- B) Mehmet çok çalışkandır.
- C) Bütün insanlar akıllıdır.
- D) Zeynep yaşlıdır.

16. Aşağıdaki önermelerden hangisi bir tautolojidir?

- A) $p \Rightarrow p$
- B) $p \vee p$
- C) $p \wedge \sim p$
- D) $\sim p \Leftrightarrow p$

17. Aşağıdaki önermelerden hangisi p:Yanlış, q:Yanlış kabul edildiğinde "Doğru" değerini alır?

- A) $p \Leftrightarrow q$
- B) $\sim p \Rightarrow q$
- C) $p \vee q$
- D) $p \wedge q$

18. Üç değerli mantığa göre aşağıdakilerden hangisi doğrudur?

- A) p "belirsiz" ve q "belirsiz" ise, $p \rightarrow q$ "belirsiz" olur.
- B) p "doğru" ve q "belirsiz" ise $p \rightarrow q$ "yanlış" olur.
- C) p "belirsiz" ve q "belirsiz" ise $p \wedge q$ "yanlış" olur.
- D) p "yanlış" ve q "yanlış" ise, $q \vee q$ "yanlış" olur.

19. Aşağıdakilerden hangisi mantık felsefesinin amaçlarından biri değildir?

- A) Mantığın kavramlarını sorgulamak
- B) Mantığı gözlem ve deneye dayandırmanın yollarını araştırmak
- C) Mantığın ilkelerini sorgulamak
- D) Mantık değişmezleri ile ilgili sorunları araştırmak

20. Kiplik mantığına göre aşağıdaki önermelerden hangisi bütün mümkün dünyalarda yanlıştır?

- A) Menekşe mordur ve menekşe mor değildir.
- B) Anıtkabir Ankara'dadır veya Anıtkabir Ankara'da değildir.
- C) Altın sarı değildir.
- D) Dikdörtgen dört kenarlıdır.

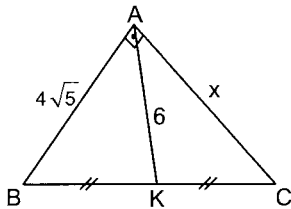
1. İç açıların ölçülerinin her biri 90° den küçük olan üçgene ne ad verilir?

- A) Dar açılı üçgen
- B) Dik açılı üçgen
- C) İkizkenar üçgen
- D) Geniş açılı üçgen

2. Bir üçgenin yardımcı elemanları aşağıdakilerden hangisinde tam ve doğru olarak verilmiştir?

- A) Açortay, kenar, açı
- B) Açı, yükseklik, kenar
- C) Yükseklik, kenar, kenarortay
- D) Kenarortay, açortay, yükseklik

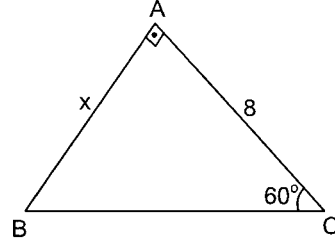
3.



Yukarıdaki ABC üçgeninde $m(\widehat{BAC}) = 90^\circ$, $|AB| = 4\sqrt{5}$ cm, $|AK| = 6$ cm ve $|BK| = |KC|$ olduğuna göre, $|AC| = x$ cm dir?

- A) 5
- B) 7
- C) 8
- D) 10

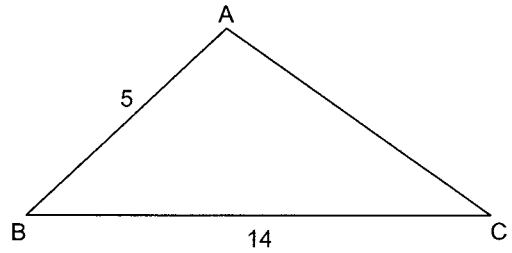
4.



Yukarıdaki ABC üçgeninde $m(\widehat{BAC}) = 90^\circ$, $m(\widehat{ACB}) = 60^\circ$ ve $|AC| = 8$ cm ise, $|AB| = x$ kaç cm dir?

- A) 6
- B) $4\sqrt{3}$
- C) 10
- D) $8\sqrt{3}$

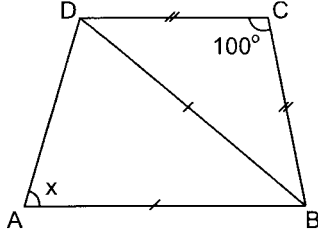
5.



Yukarıdaki ABC üçgeninde \hat{A} açısı geniş açı, $|AB| = 5$ cm, $|BC| = 14$ cm ise, $|AC|$ aşağıdakilerden hangisi olamaz?

- A) 7
- B) 10
- C) 11
- D) 13

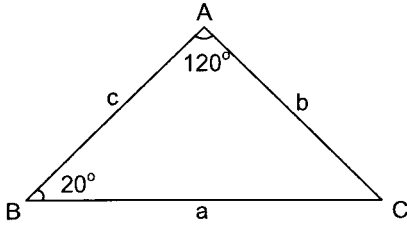
6.



Yukarıdaki şekilde $[DC] \parallel [AB]$, $|DC|=|BC|$, $|DB|=|AB|$ ve $m(\widehat{DCB})=100^\circ$ ise $m(\widehat{DAB})=x$ kaç derecedir?

- A) 75
B) 70
C) 65
D) 60

7.



Yukarıdaki ABC üçgeninde a, b, c üçgenin kenar uzunluklarını göstermektedir. $m(\widehat{BAC})=120^\circ$ ve $m(\widehat{ABC})=20^\circ$ ise, aşağıdaki sıralamalardan hangisi doğrudur?

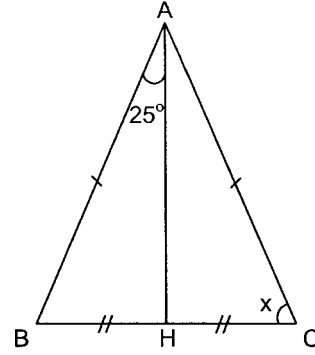
- A) $a > c > b$
B) $c > a > b$
C) $a > b > c$
D) $b > c > a$

8. I. Üç kenar uzunluğu birbirine eşittir.
II. Üç açının ölçüleri birbirinden farklıdır.
III. Tabana ait kenarortay tabana diktir.
IV. Tabana ait kenarortay tepe açısının açıortayıdır.

Eşkenar üçgenle ilgili yukarıdaki ifadelerden en fazla kaç tanesi doğrudur?

- A) 1
B) 2
C) 3
D) 4

9.

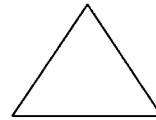


Yukarıdaki ABC üçgeninde $|AB|=|AC|$, $|BH|=|HC|$ ve $m(\widehat{BAH})=25^\circ$ ise, $m(\widehat{ACH})=x$ kaç derecedir?

- A) 70
B) 65
C) 60
D) 55

10. Aşağıdakilerden hangisi bir çokgen değildir?

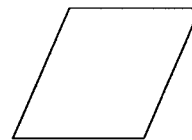
A)



B)



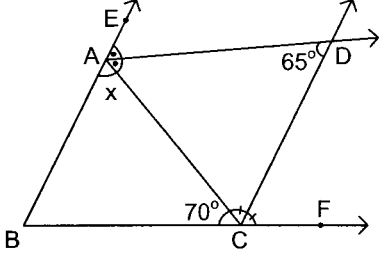
C)



D)



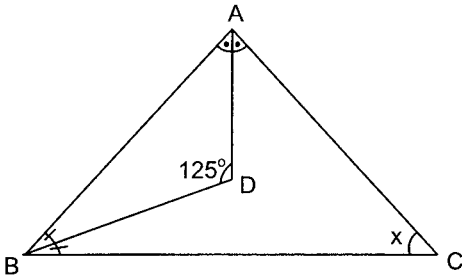
11.



Yukarıdaki şekilde $[AD \perp AC]$ ve $[CD \perp AC]$ sırasıyla (\widehat{EAC}) ve (\widehat{ACF}) açılarının açıortayları, $m(\widehat{ADC}) = 65^\circ$ ve $m(\widehat{ACB}) = 70^\circ$ ise, $m(\widehat{BAC}) = x$ kaç derecedir?

- A) 55
- B) 60
- C) 65
- D) 70

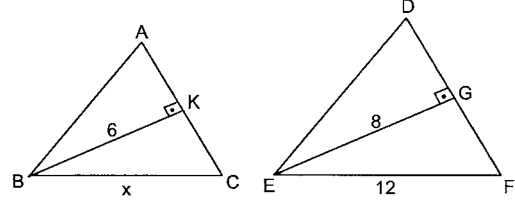
12.



Yukarıdaki ABC üçgeninde $[AD \perp AB]$ ve $[BD \perp AC]$ sırasıyla \hat{A} ve \hat{B} açılarının açıortayları ve $m(\widehat{BDA}) = 125^\circ$ ise, $m(\widehat{ACB}) = x$ kaç derecedir?

- A) 60
- B) 65
- C) 70
- D) 75

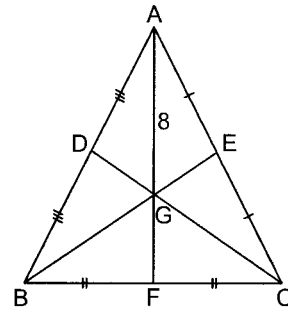
13.



Yukarıdaki şekilde $[BK \perp AC]$, $[EG \perp DF]$, $|BK| = 6$ cm, $|EG| = 8$ cm, $|EF| = 12$ cm ve $\widehat{ABC} \sim \widehat{DEF}$ ise, $|BC| = x$ kaç cm dir?

- A) 9
- B) 10
- C) 11
- D) 12

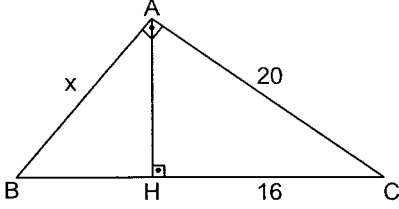
14.



Yukarıdaki ABC üçgeninde G noktası üçgenin ağırlık merkezi ve $|AG| = 8$ cm ise, $|GF|$ kaç cm dir?

- A) 2
- B) 3
- C) 4
- D) 5

15.



Yukarıdaki ABC üçgeninde $[AB] \perp [AC]$, $[AH] \perp [BC]$, $|AC|=20$ cm ve $|HC|=16$ cm ise, $|AB|=x$ kaç cm dir?

- A) 15
- B) 18
- C) 16
- D) 14

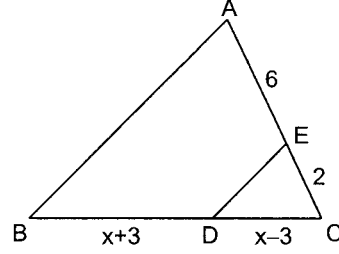
16. $\widehat{ABC} \sim \widehat{DEF}$ ve DEF üçgeninin kenar uzunlukları $|DE|=10$ cm, $|DF|=6$ cm, $|EF|=4$ cm ve $|AB|=15$ cm ise, ABC üçgeninin çevresi kaç cm dir?

- A) 25
- B) 30
- C) 36
- D) 40

17. $\frac{a}{b} = \frac{5}{8}$ ise, $\frac{a+b}{b}$ kaçtır?

- A) $\frac{3}{8}$
- B) $\frac{3}{5}$
- C) $\frac{13}{8}$
- D) $\frac{13}{5}$

18.



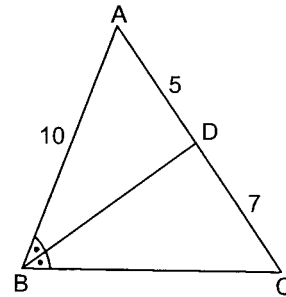
Yukarıdaki ABC üçgeninde $[DE] \parallel [AB]$, $|AE|=6$ cm, $|EC|=2$ cm $|DC|=(x-3)$ cm ve $|BD|=(x+3)$ cm ise, $|BC|$ kaç cm dir?

- A) 10
- B) 12
- C) 14
- D) 16

19. ABC üçgeninin DEF üçgenine benzerlik oranı $\frac{3}{2}$ dir. DEF üçgeninin alanı 24 cm² ise, ABC üçgeninin alanı kaç cm² dir?

- A) 36
- B) 40
- C) 48
- D) 54

20.



Yukarıdaki ABC üçgeninde $[BD]$, \hat{B} açısının açıortayı $|AD|=5$ cm $|DC|=7$ cm ve $|AB|=10$ cm ise, $|BC|$ kaç cm dir?

- A) 13
- B) 14
- C) 15
- D) 16

SEÇMELİ TARİH 3

2013 III.DÖNEM 0103-A

A

1. Aşağıdakilerden hangisi Osman Bey'in Bizans tefurlarının kendi başlarına hareket etmelerinden yararlanarak topraklarına kattığı şehirlerden biri değildir?
A) İnegöl
B) Karacadağ
C) Karacahisar
D) Yarhisar
2. Orhan Bey'in temel politikası aşağıdakilerden hangisidir?
A) Balkanlara yerleşmek
B) Marmara Denizi kıyılarını ele geçirmek
C) Cümpe kalesine asker yerleştirmek
D) Rumeli'de üs edinmek
3. Aşağıdakilerden hangisi Maltepe (Palekanon) dolaylarında yapılan ve Bizans İmparatorunun yenildiği savaştan sonra meydana gelen gelişmelerden biri değildir?
A) İznik' in alınması
B) Devletin başkentinin İznik'e taşınması
C) İzmit'in alınmasıyla Kocaeli yarımadasının büyük bölümünün Osmanlı egemenliğine girmesi
D) Kayıların Söğüt ve Domaniç'i yurt edinmesi
4. Aşağıdakilerden hangisi I. Kosova Savaşı ile ilgili doğru bir ifade değildir?
A) Balkan milletleri (Sırp, Bosna, Arnavutluk kuvvetleri) ittifak kurdu.
B) Haçlı ordusu ile Sultan Murat komutasındaki Türk ordusu Kosova Ovası'nda karşılaştı.
C) I. Bayezit bir Sırp tarafından hançerlenerek şehit edildi.
D) Haçlılar yenildi.
5. 1256 yılında Hülagü Han tarafından İran ve çevresinde kurulan aşağıdakilerden hangisidir?
A) Bizans İmparatorluğu
B) Moğol İmparatorluğu
C) Trabzon İmparatorluğu
D) İlhanlılar
6. Dünyanın en ünlü ressamlarından Rembrandt'ın (Rambrant) eserleri içinde en ünlüsü aşağıdakilerden hangisidir?
A) La Jocond (La Jokand)
B) Bir Anatomi Dersi
C) Danae
D) Pierre Et Paul
7. Rönesans'ın Eski Yunan ve Roma kültürünün etkisinde gelişerek başladığı yer aşağıdakilerden hangisidir?
A) İtalya
B) Almanya
C) Fransa
D) İngiltere
8. Güzel sanatlar alanında Klasik resmin öncüsü aşağıdakilerden hangisidir?
A) Donetello
B) Giberio
C) Giotto
D) Jean Bulant
9. İspanya adına Amerika kıtasını keşfeden kişi aşağıdakilerden hangisidir?
A) Vasko Dö Gama
B) Kristof Kolomb
C) Jean Gutenberg
D) Del Kano
10. Aşağıdakilerden hangisi Avrupa devletlerinin kendi çıkarları doğrultusunda Osmanlı Devleti ile ilgili meseleler için kullandıkları deyimdir?
A) Rum Sorunu
B) Şark Meselesi
C) Ermeni Sorunu
D) Boğazlar Meselesi

11. Birinci Dünya Savaşı sonunda İtilaf Devletleri ve Almanya arasında imzalanan barış antlaşması aşağıdakilerden hangisidir?

- A) Versailles (Versay)
- B) Saint Germain (Sen Jermen)
- C) Neuilly (Nöyyi)
- D) Trianon (Triyanon)

12. İlk anayasal faaliyet olan Kanuniesasiye'ye temel teşkil eden akım aşağıdakilerden hangisidir?

- A) Milliyetçilik
- B) Türkçülük
- C) Osmanlıcılık
- D) Batıcılık

13. Londra Konferansı'ndan sonra devletlerarası bir statü kazanan Boğazlar Meselesi aşağıdakilerden hangisi sonucunda ortaya çıkmıştır?

- A) Rusya'nın kendi içinde çıkan ihtilalden dolayı Birinci Dünya Savaşı'ndan çekilmesi
- B) 1815 Viyana Kongresi
- C) Karlofça Antlaşması
- D) Hünkar İskelesi Antlaşması

14. Aşağıdakilerden hangisi 1848 İhtilalleri'nin önemli nedenlerinden biridir?

- A) 1815 Viyana Kongresi ile konfederasyon haline getirilen Almanya'nın buna karşı tepki göstermesi
- B) Varşova büyük Dükalığı ve Finlandiya'nın Rusya'ya verilmesi
- C) İsveç ve Norveç krallıklarının birleştirilmesi
- D) XIX. yüzyılda sanayideki gelişmeler ile işçi sayısındaki artış ve işçi sınıfı problemlerinin olması

15. Aşağıdaki antlaşmalardan hangisinde Osmanlı Devleti büyük miktarda toprak kaybetmiştir?

- A) Karlofça
- B) Kasr-ı Şirin
- C) Serav
- D) Bucaş

16. Aşağıdakilerden hangisi Uşi Antlaşması'nın önemini ifade etmektedir?

- A) Osmanlı Devleti'nin dağılmasını önlemesi
- B) Rumların yaşadığı tüm toprakların elde edilmesini sağlaması
- C) Osmanlı Devleti'nin Kuzey Afrika'daki varlığını sona erdirmesi
- D) Doğu Anadolu'da özerk veya bağımsız bir Ermeni devletinin kurulmasını sağlaması

17. Avrupa'da 1815-1830 yılları arasında İngiltere, Rusya, Prusya ve Avusturya'nın kurdukları düzeni koruyabilmek için aralarında anlaşmalar yaptıkları döneme verilen ad aşağıdakilerden hangisidir?

- A) Çifte Standart Dönemi
- B) Refah Dönemi
- C) Bloklaşma Dönemi
- D) Restorasyon Dönemi

18. İngiltere'de Monarşi'yi kuran aşağıdakilerden hangisidir?

- A) Kral VI.Henry
- B) Kral V.Henry
- C) Kral IV.Henry
- D) Kral VII.Henry

19. Aşağıdakilerden hangisi Fransız ihtilalinin çıkış sebeplerinden biri değildir?

- A) Fransa'da sosyal sınıf yoktu.
- B) Fransa'nın içindeki ve dışındaki gelişmelerin bir sonucudur.
- C) Devlet masraflarını karşılamak için halktan zorla vergi topluyordu.
- D) Fransa mutlakiyetle yönetiliyordu ve ülkede eşitlik ve özgürlük yoktu.

20. Aşağıdakilerden hangisi Vastfelya Barış Antlaşması'nın sonuçlarından biri değildir?

- A) İspanya'nın gücünün kırılması
- B) Fransa'nın mutlakiyet rejimini sağlamlaştırması
- C) Fransa'daki kuvvetli bürokrasinin sona ermesi
- D) Kutsal Roma-Germen İmparatorluğu'nun parçalanması

1. Mesnevi hangi metin grubu içerisinde yer alır?
A) Anlatmaya bağlı edebi metinler
B) Göstermeye bağlı edebi metinler
C) Tarihi metinler
D) Felsefi metinler
2. Köy tiyatrosu hangi metin grubu içinde yer alır?
A) Öğretici metinler
B) Anlatmaya bağlı edebi metinler
C) Göstermeye bağlı edebi metinler
D) Tarihi metinler
3. Dilekçeyle ilgili aşağıdaki ifadelerden hangisi yanlıştır?
A) Dilekçeyle birlikte verilecek ek varsa kaybolmamaları için mutlaka belirtilir.
B) Hangi kuruma verilecekse makamın adı başa yazılır.
C) Dilekçenin sağ üst köşesi mutlaka imzalanmalıdır.
D) Kâğıdın arka yüzü kullanılmaz, gerek duyulursa ikinci bir kâğıt kullanılır.
4. Aşağıdaki altı çizili sözcüklerden hangisi parantez içinde verilen anlamda kullanılmamıştır?
A) Çekmecenin gözü açılmıyor. (Yan anlam)
B) Ben kimseye kin duyamam ki (Soyut anlam)
C) Sıcak çaydan ağzım yandı. (Deyim anlamı)
D) Derdim çoktur, hangisine yanayım. (Mecaz anlam)
5. Bilimsel bir konuyu veya bir kimsenin yaşamını, kişiliğini, eserlerini ayrıntılı olarak inceleyen eserlere ne ad verilir?
A) Belgesel
B) Monografi
C) Biyografi
D) Mülakat
6. "Bu balığa iyi bak" cümlesinde altı çizili sözcükteki ses olayı aşağıdakilerin hangisinde vardır?
A) Geçen gün, ömürdendir.
B) Şimdi uzaklardasın.
C) Sevginin ödülü kendisidir.
D) Yurdumu çok seviyorum.
7. Aşağıdaki cümlelerin hangisinde ikileme kullanılmamıştır?
A) İyi kötü günler
B) Uzun şeffaf yağmurluk
C) Kara kara bulutlar
D) Yalan yanlış sözler
8. Dil ve anlatım açısından sanat değeri taşıyan mektuplar aşağıdakilerden hangisidir?
A) Edebi mektuplar
B) Davet mektupları
C) Tebrik mektupları
D) Özel mektuplar
9. Bir yazarın özgürce seçtiği bir konu üzerinde kesin yargılara varmadan kişisel görüş ve düşüncelerini serbestçe anlattığı yazılara ne ad verilir?
A) Öykü
B) Fabl
C) Sohbet
D) Deneme
10. Aşağıdakilerin hangisinde edat grubu yoktur?
A) Bu güller senin için.
B) Dünden beri kar fırtınası var.
C) Gitmek istiyorum.
D) Onun kadar becerikli az bulunur.
11. Aşağıdaki cümlelerde hangi tür isim tamlaması yer aldığına dair verilen açıklamalardan hangisi yanlıştır?
A) Gülün rengi soldu. (Belirtili isim tamlaması)
B) Köye asfalt yol yapıldı. (Belirtili isim tamlaması)
C) Bilgisayarın klavyesinin tuşları bozulmuş. (Zincirleme isim tamlaması)
D) Okuldan çocuk sesleri geliyor. (Belirtisiz isim tamlaması)
12. Aşağıdaki cümlelerden hangisinde yazım yanlışı yapılmıştır?
A) İçindeki gücün farkına vardı.
B) Mademki geleceksin, bekleyeyim.
C) Sokakta ki adamda kendini gördü.
D) Öyle söylemek istedi ki kendini tutamadı.

13. Aşağıdaki sözcüklerin hangisinde ses benzeşmesi gerçekleşmemiştir?

- A) Keskin
- B) Kaçtı
- C) Sınıfta
- D) Üçgen

14. Aşağıdaki cümlelerin hangisinde "de" nin kullanımıyla ilgili bir yazım yanlışı yapılmıştır?

- A) Umut çölde bir vahadır.
- B) Ayakta durmakta zorlanıyor.
- C) Sevgide riya olur mu?
- D) Bu yağmur da gidilir mi?

15. Aşağıdaki cümlelerin hangisinde soyut anlamlı bir sözcük kullanılmamıştır?

- A) Masadaki kalem yere düştü.
- B) Sevgi bulaşıcıdır.
- C) Sıla hasreti aklıma düştü.
- D) Keşke herkes mutlu olsa.

16. Olay çevresinde oluşan edebi metinler metinlerin sınıflandırılmasına göre hangi metinler içerisinde yer alır?

- A) Öğretici metinler
- B) Gazete çevresinde gelişen metinler
- C) Tarihi metinler
- D) Sanat metinleri

17. Aşağıdakilerden hangisinde ses daralması kuralına örnek bir sözcük vardır?

- A) Hava soğuyor.
- B) Bu kalem yazmıyor.
- C) Güneş açıyor.
- D) İçim üşüyor.

18. Aşağıdakilerden hangisi makale yazarının sahip olması gereken özelliklerden biri değildir?

- A) Dili iyi kullanmalı
- B) Yazılarında tarafsız bir tavır takınmak yerine yorumunu katmalı
- C) Geniş bir genel kültüre sahip olmalı
- D) Alanında geniş bilgiye sahip olmalı

19. Eldeki en eski mektup örnekleri kimlere aittir?

- A) Mısır firavunları ve Hititlere
- B) Romalılara ve Galyalılara
- C) Keltlere ve İskoçlara
- D) Friglere ve Traklara

20. Güneş sözcüğü hangi cümlede terim anlamıyla kullanılmıştır?

- A) Dünya'nın ısı ve ışık kaynağı Güneş'tir.
- B) Samsun'dan Anadolu'ya bir güneş doğdu.
- C) Güneş balçıkla sıvanmaz.
- D) Bugün sanat güneşinin doğum günü.

1. Die Uhr ist alt. Die Uhr gehört meinem Vater.

Welches Wort passt in die obige Lücke?

Cümlede boş bırakılan yeri aşağıdakilerden hangisi doğru şekilde tamamlar?

- A) altes
B) alte
C) alten
D) alter

2. Ferien im Mittelmeerraum bieten Ihnen

Welches Wort passt nicht in die obige Lücke?

Cümlede boş bırakılan yeri aşağıdakilerden hangisi doğru şekilde tamamlamaz?

- A) Wetter
B) Gastfreundlichkeit
C) Freundschaften
D) Aktivitäten

3. Saat 22.00 de evde olmam gerekir.

Wie lautet der obige Satz auf Deutsch?

Verilen cümlenin Almancası aşağıdakilerden hangisidir?

- A) Ich bin um 22.00 Uhr zu Hause.
B) Ich werde um 22.00 Uhr zu Hause sein.
C) Ich gehe um 22.00 Uhr nach Hause.
D) Ich muss um 22.00 Uhr zu Hause sein.

4. Ich fahre nach Deutschland. Ich Deutsch lernen.

Welches Wort passt nicht in die obige Lücke?

Cümlede boş bırakılan yeri aşağıdakilerden hangisi doğru şekilde tamamlamaz?

- A) will
B) werde
C) dürfen
D) muß

5. Du musst die Hemden bügeln.

Wie lautet der obige Satz in der Imperativ-Form?

Verilen cümlenin emir cümle şekli aşağıdakilerden hangisidir?

- A) Bügelt die Hemden!
B) Bügele die Hemden!
C) Bügelst die Hemde!
D) Bügeln wir die Hemden!

6. Nimm die Tabletten 1 Mal ein!

Welches Wort passt in die obige Lücke?

Cümlede boş bırakılan yeri aşağıdakilerden hangisi doğru şekilde tamamlar?

- A) dasselbe
B) täglich
C) selbst
D) alles

7. Ich möchte sehr gerne ein Fahrrad.

Welche Frage passt zur obigen Antwort?

Verilen cevabı gerektirecek soru aşağıdakilerden hangisidir?

- A) Was willst du zum Geburtstag?
B) Möchtest du noch ein Kilo Tomaten?
C) Willst du im Büro arbeiten?
D) Hast du einen grünen Bleistift?

8. Meine Freundin möchte gern Urlaub machen aber

Welches ergänzt die Lücke im obigen Satz?

Verilen cümleyi aşağıdakilerden hangisi tamamlar?

- A) ich habe meine Zeitung gekauft!
B) ich darf nicht mehr rauchen!
C) ich will ein Auto kaufen!
D) ich habe schon gegessen!

9. Soll ich Ihnen helfen?

Welche Antwort passt zur obigen Frage?

Verilen sorunun cevabı aşağıdakilerden hangisidir?

- A) Ja, ich muss früh aufstehen.
- B) Nein, sie brauchen nicht zu helfen.
- C) Nein, er macht seine Hausaufgaben.
- D) Ja, ich komme mit euch.

10. Ich muss noch meine Hausaufgaben machen.

Wie kann man den obigen Satz mit "haben-zu" bilden?

Verilen cümlelerin "haben-zu" ile oluşturulmuş şekli aşağıdakilerden hangisidir?

- A) Ich hatte meine Hausaufgaben vergessen zu machen.
- B) Ich hätte meine Hausaufgaben machen sollen.
- C) Ich habe schon meine Hausaufgaben gemacht.
- D) Ich habe noch meine Hausaufgaben zu machen.

11. du Ingenieur werden willst, du studieren.

Welche Wörter passen in die obigen Lücken?

Cümlede boş bırakılan yerleri aşağıdakilerden hangileri doğru şekilde tamamlar?

- A) Als / muss
- B) Bei / hast
- C) Wenn / musst
- D) Weil / hattest

12. Was bedeutet "Kurtuluş Savaşı" auf Deutsch?

"Kurtuluş Savaşı" sözcüğünün Almancası aşağıdakilerden hangisidir?

- A) Der Weltkrieg
- B) Der Befreiungskrieg
- C) Der Lebenskrieg
- D) Der Europakrieg

13. A: Gefällt dir diese blaue Jacke?

B: Ja, aber

A: Gut, dann kaufen wir die schwarze Jacke!

Welches ergänzt die Lücke im obigen Dialog?

Verilen karşılıklı konuşmada boş bırakılan yeri aşağıdakilerden hangisi tamamlar?

- A) die rote Jacke ist zu teuer.
- B) die muss ich probieren.
- C) die blaue Hose ist zu teuer.
- D) die schwarze gefällt mir besser.

14. Vergiß die Miete nicht, wir morgen noch bezahlen müssen!

Welches Wort passt in die obige Lücke?

Cümlede boş bırakılan yeri aşağıdakilerden hangisi doğru şekilde tamamlar?

- A) das
- B) der
- C) den
- D) die

15. Ayşe studiert, Ärztin zu werden.

Welches Wort passt in die obige Lücke?

Cümlede boş bırakılan yeri aşağıdakilerden hangisi doğru şekilde tamamlar?

- A) weil
- B) denn
- C) als
- D) um

16., um schön zu sein.

Welches ergänzt die Lücke im obigen Satz?

Verilen cümleyi aşağıdakilerden hangisi tamamlar?

- A) Ich bin zu Hause
- B) Ich fahre selten
- C) Ich schminke mich
- D) Ich bin krank

17. A: Wie lange werden Sie in Antalya bleiben?
 B:
 A: Ja, dann wünsche ich Ihnen viel Spaß!
 B: Vielen Dank!

Welcher Satz ergänzt nicht die Lücke im obigen Dialog?

Verilen karşılıklı konuşmada boş bırakılan yeri aşağıdakilerden hangisi tamamlamaz?

- A) Manchmal gehen ich ins Kino.
 B) Ich glaube länger als ich wollte.
 C) Ungefähr einen Monat.
 D) Etwa drei Wochen.

18. Seit wann verbringst du deine Zeit im Einkaufszentrum?

Wie lautet der obige Satz auf Türkisch?

Verilen cümlelerin Türkçesi aşağıdakilerden hangisidir?

- A) Ne zamandır alışveriş merkezine gidiyorsun?
 B) Zamanını neden alışveriş merkezinde harcadın?
 C) Zamanını ne zamandan beri alışveriş merkezinde geçiriyorsun?
 D) Ne zamandır seninle alışveriş merkezine gidemiyoruz?

19. Brasilien in Südamerika liegt, wußte ich sowieso!

Welches Wort passt in die obige Lücke?

Cümlede boş bırakılan yeri aşağıdakilerden hangisi doğru şekilde tamamlar?

- A) Daß
 B) Der
 C) Da
 D) Denn

20., daß der Fahrer mit 180 km/h gefahren ist.

Welcher Satz ergänzt die obige Lücke?

Verilen cümleyi aşağıdakilerden hangisi tamamlar?

- A) Der Polizist hat festgestellt
 B) Alle Mütter wissen
 C) Der Rockstar hat
 D) Jeder Geschäftsmann hat

1. Wir so gern ein großes neues Haus.

Welches Wort passt in die obige Lücke?

Cümlede boş bırakılan yeri aşağıdakilerden hangisi doğru şekilde tamamlar?

- A) hättest
B) haben
C) hätten
D) hat

2. A: Hast du dich für die Party umgezogen?
B: Ja! Warum?
A:
B: Klar doch! Für dich und für die Party!

Welcher Satz ergänzt die Lücke im obigen Dialog?

Verilen karşılıklı konuşmada boş bırakılan yeri aşağıdakilerden hangisi tamamlar?

- A) Ich komme auch gern mit zur Party.
B) Ich dachte, du hättest dich für mich umgezogen.
C) Er bereitet sich für die Party.
D) Ich habe leider keine Zeit und kann mich nicht umziehen.

3. Mein Sohn hat dieses Buch nicht gelesen.
..... er doch dieses Buch

Welche Wörter passen in die obigen Lücken?

Cümlede boş bırakılan yerleri aşağıdakilerden hangileri doğru şekilde tamamlar?

- A) Hatte / gekommen
B) Hätte / gelesen
C) Hat / gekauft
D) Hattest / geschrieben

4. A: Hallo Ahmet!
B: Hallo Ayşe!
A: Warst du gestern zu Hause?
B: Ja, natürlich!
A: Ich dachte,
B: Nein, ich gehe heute in die Schule!

Welches ergänzt den obigen Dialog?

Verilen karşılıklı konuşmayı aşağıdakilerden hangisi tamamlar?

- A) du hast schon gegessen!
B) du wärst in der Schule!
C) du gehst zu einer Versammlung!
D) du willst mitkommen!

5. Fuhr der Bus zu schnell?

Welche Antwort passt zur obigen Frage?

Verilen sorunun cevabı aşağıdakilerden hangisidir?

- A) Ich möchte sehr langsam fahren!
B) Nein, ich komme mit dem Bus!
C) Er nimmt sein Auto!
D) Ja, der Bus fuhr zu schnell!

6. A: Bist du alleine gefahren?
B: Ja, ich bin alleine gefahren.
A:
B: Das wäre eine gute Idee!

Welches ergänzt den obigen Dialog?

Verilen karşılıklı konuşmayı aşağıdakilerden hangisi tamamlar?

- A) Ich bin noch hier!
B) Sie wäre gerne zu Hause!
C) Sie kommt immer mit uns!
D) Ich wäre doch mit dir gefahren!

7. ist von einem guten Regisseur
..... worden.

Welche Wörter passen in die obigen Lücken?

Cümlede boş bırakılan yerleri aşağıdakilerden hangileri doğru şekilde tamamlar?

- A) Das Buch / geschrieben
B) Der Roman / gedruckt
C) Der Film / gedreht
D) Das Auto / gemacht

8. dem Baum ist eine Brücke, die zur Schlucht führt.

Welches Wort passt in die obige Lücke?

Cümlede boş bırakılan yeri aşağıdakilerden hangisi doğru şekilde tamamlar?

- A) Auf
B) Zum
C) Aus
D) Hinter

9. Er sagte mir,

Welches ergänzt nicht die Lücke im obigen Satz?

Verilen cümleyi aşağıdakilerden hangisi tamamlamaz?

- A) wir möchten essen.
B) der Arzt arbeite privat.
C) er habe die Prüfung bestanden.
D) er käme am Donnerstag.

10. Sie sei Hausfrau und habe zwei Kinder!

Welches ergänzt nicht die Lücke im obigen Satz?

Verilen cümleyi aşağıdakilerden hangisi tamamlamaz?

- A) Hört euch das mal an!
B) Schaut mal was sie sagt!
C) Habt ihr das gehört?
D) Lebt er allein?

11. Der junge Mann nicht mitkommen, er habe viel zu arbeiten.

Welche Wörter passen in die obigen Lücken?

Cümlede boş bırakılan yerleri aşağıdakilerden hangileri doğru şekilde tamamlar?

- A) werden / wenn
B) kann / damit
C) könne / denn
D) wird / weil

12. Was bedeutet "takım" auf Deutsch?

"takım" sözcüğünün Almancası aşağıdakilerden hangisidir?

- A) Der Mann
B) Die Mannschaft
C) Die Gesellschaft
D) Der Gast

13. Ist Peter verheiratet?

Welche Antwort passt zur obigen Frage?

Verilen sorunun cevabı aşağıdakilerden hangisidir?

- A) Ja, wir sind verheiratet.
B) Ja, ich habe gehört, er habe wieder geheiratet.
C) Nein, ich habe keine Kinder.
D) Nein, sie studiert.

14. Der Döner ist eine, die aus der Türkei kommt.

Welches Wort passt in die obige Lücke?

Cümlede boş bırakılan yeri aşağıdakilerden hangisi doğru şekilde tamamlar?

- A) Spezialität
B) Geschmack
C) Geschenk
D) Rückkehr

15. Das Haus,..... Garten voll mit Blumen ist, gefällt mir sehr gut.

Welches Wort passt in die obige Lücke?

Cümlede boş bırakılan yeri aşağıdakilerden hangisi doğru şekilde tamamlar?

- A) dessen
B) deren
C) derer
D) dem

16. Ateşlenen çocuk doktora gitmeli.

Wie lautet der obige Satz auf Deutsch?

Verilen cümlelerin Almancası aşağıdakilerden hangisidir?

- A) Die Kinder des Arztes haben Fieber.
- B) Das Kind, das beim Arzt ist, hat immer Fieber.
- C) Das Kind, das Fieber hat, muß zum Arzt.
- D) Die Kinder, die Fieber haben und zum Arzt gehen, müssen früh schlafen.

17. Der Füller,, hat mir sehr gefallen.

Welches ergänzt nicht die Lücke im obigen Satz?

Verilen cümleyi aşağıdakilerden hangisi tamamlamaz?

- A) den du mir gekauft hast
- B) der neu ist
- C) den sie essen will
- D) den du gestern gekauft hast

18. Die junge Frau, die aus der Türkei kommt, spricht sehr gut Deutsch.

Wie lautet der obige Satz auf Türkisch?

Verilen cümlelerin Türkçesi aşağıdakilerden hangisidir?

- A) Almanca konuşan genç bayan Türkiye'den gelmiş.
- B) Almanya'dan gelen genç bayan çok güzel Türkçe konuşuyor.
- C) Türkçesi iyi olan genç bayan Almanya'dan geliyor.
- D) Türkiye'den gelen genç bayan çok iyi Almanca konuşuyor.

19. Das Mädchen, du Blumen geschenkt hast, ist sehr glücklich.

Welches Wort passt in die obige Lücke?

Cümlede boş bırakılan yeri aşağıdakilerden hangisi doğru şekilde tamamlar?

- A) dem
- B) der
- C) die
- D) das

20. Die Nudeln zum Beispiel kommen aus Italien.

Welche Frage passt zur obigen Antwort?

Verilen cevabı gerektirecek soru aşağıdakilerden hangisidir?

- A) Kennst du Spezialitäten aus anderen Ländern?
- B) Wie schmecken dir die Nudeln?
- C) Ist der Kaffee, der aus England kommt, auch berühmt?
- D) Hast du auch Hunger?

1. If he..... pass his exams, he won't get a good job.

Which of the following completes the sentence above?

Aşağıdakilerden hangisi yukarıdaki cümleyi doğru olarak tamamlar?

- A) won't
B) didn't
C) hasn't
D) doesn't

2. If it, I will wear my raincoat..

Which of the following completes the sentence above?

Aşağıdakilerden hangisi yukarıdaki cümleyi doğru olarak tamamlar?

- A) rain
B) was raining
C) rains
D) rained

3. If he had set his alarm, he late for work.

Which of the following completes the sentence above?

Aşağıdakilerden hangisi yukarıdaki cümleyi doğru olarak tamamlar?

- A) wouldn't have been
B) can't be
C) could have been
D) mustn't be

4. If I enough time, I will visit my friends.

Which of the following completes the sentence above?

Aşağıdakilerden hangisi yukarıdaki cümleyi doğru olarak tamamlar?

- A) had
B) will have
C) have
D) am having

5. I didn't take your advice. That was a mistake. He wishes I your advice.

Which of the following completes the sentence above?

Aşağıdakilerden hangisi yukarıdaki cümleyi doğru olarak tamamlar?

- A) take
B) had taken
C) took
D) will take

6. Ezgi can't speak Japanese. She wishes sheJapanese.

Which of the following completes the sentence above?

Aşağıdakilerden hangisi yukarıdaki cümleyi doğru olarak tamamlar?

- A) can speak
B) could speak
C) must have spoken
D) spoken

7. I came to the office late, so my boss was angry.I wish I come to the office late.

Which of the following completes the sentence above?

Aşağıdakilerden hangisi yukarıdaki cümleyi doğru olarak tamamlar?

- A) hadn't
B) didn't
C) haven't
D) don't

8. I would have Kızılay if I had been to Ankara.

Which of the following completes the sentence above?

Aşağıdakilerden hangisi yukarıdaki cümleyi doğru olarak tamamlar?

- A) visited
- B) will visit
- C) visit
- D) visits

9. I live in Kars. I wish I in Artvin.

Which of the following completes the sentence above?

Aşağıdakilerden hangisi yukarıdaki cümleyi doğru olarak tamamlar?

- A) lived
- B) have lived
- C) live
- D) had lived

10. If you, you can see her..

Which of the following completes the sentence above?

Aşağıdakilerden hangisi yukarıdaki cümleyi doğru olarak tamamlar?

- A) waited
- B) would wait
- C) could wait
- D) wait

11. I missed the plane yesterday. I wish I the plane.

Which of the following completes the sentence above?

Aşağıdakilerden hangisi yukarıdaki cümleyi doğru olarak tamamlar?

- A) didn't miss
- B) haven't missed
- C) hadn't missed
- D) don't miss

12. Jane left the office early. That was a mistake. She wishes she the office early.

Which of the following completes the sentence above?

Aşağıdakilerden hangisi yukarıdaki cümleyi doğru olarak tamamlar?

- A) haven't left
- B) couldn't leave
- C) didn't leave
- D) hadn't left

13. I wish I in Yalova now.

Which of the following completes the sentence above?

Aşağıdakilerden hangisi yukarıdaki cümleyi doğru olarak tamamlar?

- A) am
- B) can be
- C) were
- D) must be

14. Jack wished he had Jill yesterday.

Which of the following completes the sentence above?

Aşağıdakilerden hangisi yukarıdaki cümleyi doğru olarak tamamlar?

- A) is meeting
- B) met
- C) meet
- D) meets

15. If I you, I wouldn't drink alcohol.

Which of the following completes the sentence above?

Aşağıdakilerden hangisi yukarıdaki cümleyi doğru olarak tamamlar?

- A) were
- B) can
- C) am
- D) is

16. If Deniz had had some money, she.....
a new bag.

Which of the following completes the sentence above?

Aşağıdakilerden hangisi yukarıdaki cümleyi doğru olarak tamamlar?

- A) must have bought
- B) must buy
- C) could buy
- D) would have bought

17. If Ann some money, she would have bought new shoes.

Which of the following completes the sentence above?

Aşağıdakilerden hangisi yukarıdaki cümleyi doğru olarak tamamlar?

- A) had
- B) has
- C) had had
- D) have had

18. I don't have an umbrella. I wish I an umbrella.

Which of the following completes the sentence above?

Aşağıdakilerden hangisi yukarıdaki cümleyi doğru olarak tamamlar?

- A) have
- B) am having
- C) will have
- D) had

19. If the rain I will go for a walk.

Which of the following completes the sentence above?

Aşağıdakilerden hangisi yukarıdaki cümleyi doğru olarak tamamlar?

- A) stopped
- B) stops
- C) stop
- D) will stop

20. If Jack has a lot of money, he a new car.

Which of the following completes the sentence above?

Aşağıdakilerden hangisi yukarıdaki cümleyi doğru olarak tamamlar?

- A) bought
- B) will buy
- C) has bought
- D) buy

1. A:What time do you usually get up?
B:I usually at eight o'clock in the mornings.

Which of the following completes the dialogue above?

Aşağıdakilerden hangisi yukarıdaki konuşmayı doğru olarak tamamlar?

- A) gets up
B) getting up
C) get up
D) got up

2. A:Was Alper at school last Wednesday?
B:Yes,.....

Which of the following completes the dialogue above?

Aşağıdakilerden hangisi yukarıdaki konuşmayı doğru olarak tamamlar?

- A) she was
B) he wasn't
C) he was
D) he is

3. Ayten:Are you watching TV now?
Banu:No, I'm not. But I sometimesthe quiz shows.

Which of the following completes the dialogue above?

Aşağıdakilerden hangisi yukarıdaki konuşmayı doğru olarak tamamlar?

- A) am watching
B) will watch
C) watches
D) watch

4. Theresome books in the schoolbag.

Which of the following completes the sentence above?

Aşağıdakilerden hangisi yukarıdaki cümleyi doğru olarak tamamlar?

- A) are
B) is
C) isn't
D) was

5. Ali ve Ayşe spend their summer holiday by the sea.

Which of the following is the negative form of the sentence above?

Aşağıdakilerden hangisi yukarıdaki cümlenin olumsuz biçimidir?

- A) Ali ve Ayşe didn't spend their summer holiday by the sea.
B) Ali ve Ayşe doesn't spend their summer holiday by the sea.
C) Ali ve Ayşe don't spend their summer holiday by the sea.
D) Ali ve Ayşe haven't spent their summer holiday by the sea.

6. A:What Haluk at weekends?
B:He usually goes to the cinema with his friends.

Which of the following completes the dialogue above?

Aşağıdakilerden hangisi yukarıdaki konuşmayı doğru olarak tamamlar?

- A) is /doing
B) does /do
C) do /do
D) was / doing

7. A:What are you doing at the moment?
B:I breakfast with my uncle.

Which of the following completes the dialogue above?

Aşağıdakilerden hangisi yukarıdaki konuşmayı doğru olarak tamamlar?

- A) have
B) had
C) was having
D) am having

8. My brother usually to work but today he because the car is broken.

Which of the following completes the sentence above?

Aşağıdakilerden hangisi yukarıdaki cümleyi doğru olarak tamamlar?

- A) drive /is walking
B) drives / is walking
C) is driving / walks
D) has driven / walks

9. A: Is your sister cooking now?
B: No, she isn't. But she usually

Which of the following completes the dialogue above?

Aşağıdakilerden hangisi yukarıdaki konuşmayı doğru olarak tamamlar?

- A) cook
B) is cook
C) cooks
D) has cooked

10. A musician is someone who

Which of the following completes the sentence above?

Aşağıdakilerden hangisi yukarıdaki cümleyi doğru olarak tamamlar?

- A) designs buildings
B) plays music
C) looks after animals
D) travels in space

11. A: Where were you last night?
B: I at home with my wife.

Which of the following completes the dialogue above?

Aşağıdakilerden hangisi yukarıdaki konuşmayı doğru olarak tamamlar?

- A) were
B) am
C) are
D) was

12. I'm writing a poem now.

Which of the following is the Turkish translation of the sentence above?

Aşağıdakilerden hangisi yukarıdaki cümlenin Türkçe karşılığıdır?

- A) Şu anda bir şiir yazabilirim.
B) Şu anda bir şiir yazacağım.
C) Şu anda bir şiir yazdım.
D) Şu anda bir şiir yazıyorum.

13. Look at the people! They cheerful songs.

Which of the following completes the sentence above?

Aşağıdakilerden hangisi yukarıdaki cümleyi doğru olarak tamamlar?

- A) are singing
B) sing
C) were singing
D) has sing

14. A: Is it cloudy now?
B: No, It's windy.

Which of the following completes the dialogue above?

Aşağıdakilerden hangisi yukarıdaki konuşmayı doğru olarak tamamlar?

- A) it isn't
B) it wasn't
C) it didn't
D) it doesn't

15. We usually visit our family on Saturdays.

Which of the following is the Turkish translation of the sentence above?

Aşağıdakilerden hangisi yukarıdaki cümlenin Türkçe karşılığıdır?

- A) Biz Cumartesi günü genellikle ailemizi ziyaret ediyoruz.
B) Biz Cumartesi günü genellikle ailemizi ziyaret edeceğiz.
C) Biz Cumartesi günü genellikle ailemizi ziyaret ederdik.
D) Biz Cumartesi günü genellikle ailemizi ziyaret ederiz.

16. Betül often lunch out but now she lunch in the office.

Which of the following completes the sentence above?

Aşağıdakilerden hangisi yukarıdaki cümleyi doğru olarak tamamlar?

- A) eating / eat
- B) eats / eats
- C) eats / is eating
- D) ate / eating

17. A:..... do you read books?
B:Always.

Which of the following completes the dialogue above?

Aşağıdakilerden hangisi yukarıdaki konuşmayı doğru olarak tamamlar?

- A) How often
- B) What kind
- C) Where
- D) Who

18. How much black socks?

Which of the following completes the sentence above?

Aşağıdakilerden hangisi yukarıdaki cümleyi doğru olarak tamamlar?

- A) is this
- B) are these
- C) is it
- D) are they

19. A:What's the weather like now?
B:It's and cold.

Which of the following completes the dialogue above?

Aşağıdakilerden hangisi yukarıdaki konuşmayı doğru olarak tamamlar?

- A) rain
- B) rainy
- C) sun
- D) snow

20. A:Is Ahmet playing snowball?
B:No, He's skiing.

Which of the following completes the dialogue above?

Aşağıdakilerden hangisi yukarıdaki konuşmayı doğru olarak tamamlar?

- A) He isn't
- B) He hasn't
- C) He wasn't
- D) He didn't

1. Dans quelques minutes, nous terminer ce travail.

Choisissez le mot qui convient.

Cümledeki boşluğu aşağıdakilerden hangisi doğru şekilde tamamlar?

- A) avons
B) sommes
C) pouvez
D) allons

2. Irène: - Ce chapeau est à toi?
Cécile: -

Choisissez la réponse qui convient.

Yukarıdaki konuşmada boş bırakılan yeri aşağıdakilerden hangisi doğru şekilde tamamlar?

- A) Non, c'est le sien.
B) Non, elle est à moi.
C) Non, c'est la mienne.
D) Oui, c'est le vôtre.

3. Mon ami dira à son professeur qu'il a perdu son livre.

Choisissez la traduction qui convient.

Yukarıdaki cümlelerin Türkçe karşılığı aşağıdakilerden hangisidir?

- A) Arkadaşım, öğretmenine kitabını kaybettiğini söyledi.
B) Arkadaşım, öğretmenine kitabını kaybettiğini söylemişti.
C) Arkadaşım, öğretmenine kitabını bulduğunu söyleyecek.
D) Arkadaşım, öğretmenine kitabını kaybettiğini söyleyecek.

4. Pour moi, l'hiver est des saisons.

Choisissez le mot qui convient.

Cümledeki boşluğu aşağıdakilerden hangisi doğru şekilde tamamlar?

- A) le plus
B) le moindre
C) la moins
D) la pire

5. Il n'a pas travaillé ses leçons cette année scolaire.

Choisissez le mot qui convient.

Cümledeki boşluğu aşağıdakilerden hangisi doğru şekilde tamamlar?

- A) doucement
B) lentement
C) suffisamment
D) bizarrement

6. est / ceci / important / très
I II III IV

Mettez dans le bon ordre.

Yukarıdaki kelimelerin anlamlı ve kurallı bir bütün oluşturan sırası aşağıdakilerin hangisinde doğru olarak verilmiştir?

- A) II, I, III, IV
B) II, I, IV, III
C) III, II, I, IV
D) III, IV, I, II

7. Hier, il faisait très froid,, aujourd'hui il fait beau.

Choisissez le mot qui convient.

Cümledeki boşluğu aşağıdakilerden hangisi doğru şekilde tamamlar?

- A) malgré
B) en revanche
C) lorsque
D) contrairement à

8. Mon père aime aller au cinéma contrairement à mon oncle.

Choisissez la traduction qui convient.

Yukarıdaki cümlelerin Türkçe karşılığı aşağıdakilerden hangisidir?

- A) Amcamın tersine, babam sinemaya gitmeyi seviyor.
B) Babam sinemaya gitmeyi seviyor, fakat amcam sevmiyor.
C) Amcama rağmen babam sinemaya gitmek istiyor.
D) Amcam gibi babam da sinemaya gitmeyi seviyor.

9. Mehmet: - J'ai trouvé un dictionnaire de français.
Ayla: - C'est sans doute de ma soeur.

Choisissez le mot qui convient.

Choisissez le mot qui convient.

Yukarıdaki konuşmada boş bırakılan yeri aşağıdakilerden hangisi doğru şekilde tamamlar?

- A) celle
B) ceux
C) celui
D) celles

10. belles roses; elles sont à combien?

Choisissez le mot qui convient.

Cümledeki boşluğu aşağıdakilerden hangisi doğru şekilde tamamlar?

- A) Quels
B) Quelles
C) Quel
D) Quelle

11., les élèves iront à l'école.

Choisissez le mot qui convient.

Cümledeki boşluğu aşağıdakilerden hangisi doğru şekilde tamamlar?

- A) Hier
- B) La semaine dernière
- C) Demain
- D) Avant-hier

12. Ma cravate est en lain, de mon ami est en cuir.

Choisissez le mot qui convient.

Cümledeki boşluğu aşağıdakilerden hangisi doğru şekilde tamamlar?

- A) celle
- B) celui
- C) ceux
- D) c'est

13. I. Est-ce que ces disques sont à vous?

II. Oui, ces disques sont à nous.

III. Ce sont nos disques.

IV. C'est le sien.

Choisissez la phrase qui ne convient pas à l'ensemble.

Sırasıyla okunduğunda anlam bütünlüğünü bozan cümle aşağıdakilerden hangisidir?

- A) I
- B) II
- C) III
- D) IV

14. Quand elle habitait à Paris, elle dans un magasin.

Choisissez le mot qui convient.

Cümledeki boşluğu aşağıdakilerden hangisi doğru şekilde tamamlar?

- A) travaillant
- B) travaillait
- C) travaillera
- D) travaillé

15. Cécile lui a dit que sa sœur beaucoup.

Choisissez le mot qui convient.

Cümledeki boşluğu aşağıdakilerden hangisi doğru şekilde tamamlar?

- A) lit
- B) lis
- C) lisez
- D) lisait

16. Ali a 25 livres, Hakan a 42 livres. Ali a de livres que Hakan.

Choisissez le mot qui convient.

Cümledeki boşluğu aşağıdakilerden hangisi doğru şekilde tamamlar?

- A) moins
- B) plus
- C) autant
- D) aussi

17. Nous nous sommes promenés longtemps le froid.

Choisissez le mot qui convient.

Cümledeki boşluğu aşağıdakilerden hangisi doğru şekilde tamamlar?

- A) malgré
- B) mais
- C) en revanche
- D) pour

18. Ce sont leurs calculatrices; ce sont

Choisissez le mot qui convient.

Cümledeki boşluğu aşağıdakilerden hangisi doğru şekilde tamamlar?

- A) la leur
- B) les tiennes
- C) les leurs
- D) les siennes

19. Monique: - Lequel de ces deux livres préférez-vous?
Pierre: -

Choisissez la réponse qui convient.

Yukarıdaki konuşmada boş bırakılan yeri aşağıdakilerden hangisi doğru şekilde tamamlar?

- A) Je lis toujours des livres intéressants.
- B) Ce sont les livres de mon frère.
- C) Je préfère celui-la.
- D) J'achète celle-ci.

20. Le train est rapide que l'avion.

Choisissez le mot qui convient.

Cümledeki boşluğu aşağıdakilerden hangisi doğru şekilde tamamlar?

- A) plus
- B) moins
- C) autant
- D) mieux

1. tranquille, tout s'arrangera.

Choisissez le mot qui convient.

Cümledeki boşluğu aşağıdakilerden hangisi doğru şekilde tamamlar?

- A) Aie
B) Soyez
C) Regardez
D) Supprimez

2. Il est allé à l'étranger pour une conférence.

Choisissez le mot qui convient.

Cümledeki boşluğu aşağıdakilerden hangisi doğru şekilde tamamlar?

- A) abandonner
B) suivre
C) arrêter
D) gagner

3. Une lettre sera écrite Paul Mehmet.

Choisissez les mots qui conviennent.

Cümledeki boşlukları aşağıdakilerden hangisi doğru şekilde tamamlar?

- A) une / à
B) de / par
C) à / par
D) de / à

4. Elle veut se marier Paul.

Choisissez le mot qui convient.

Cümledeki boşluğu aşağıdakilerden hangisi doğru şekilde tamamlar?

- A) à
B) avec
C) sans
D) en

5. Ne promène pas dans le jardin.

Choisissez le mot qui convient.

Cümledeki boşluğu aşağıdakilerden hangisi doğru şekilde tamamlar?

- A) toi
B) vous
C) te
D) nous

6. Mon ami a acheté cette chemise.

Choisissez la forme passive de la phrase ci-dessus.

Yukarıdaki cümlenin edilgen hali aşağıdakilerden hangisidir?

- A) Cette chemise est acheté par mon ami.
B) Cette chemise a été achetée par mon ami.
C) Cette chemise sera acheté par mon ami.
D) Cette chemise était acheté par mon ami.

7. ces roses; elles sont belles.

Choisissez le mot qui convient.

Cümledeki boşluğu aşağıdakilerden hangisi doğru şekilde tamamlar?

- A) Attends
B) Lève-toi
C) Arrête
D) Regarde

8. Elle n'a pas été reçue au Bac; elle est au lycée.

Choisissez le mot qui convient.

Cümledeki boşluğu aşağıdakilerden hangisi doğru şekilde tamamlar?

- A) travail
B) facile
C) encore
D) bachelier

9. plus fort, je n'entends rien.

Choisissez le mot qui convient.

Cümledeki boşluğu aşağıdakilerden hangisi doğru şekilde tamamlar?

- A) Parlez
B) Manges
C) Vas-y
D) Travaillez

10. -
- Non, j'étudie en lettres.

Choisissez la question qui convient.

Yukarıdaki konuşmada cevabı gerektiren soru aşağıdakilerden hangisidir?

- A) Est-ce que tu as trouvé un travail?
B) Pourquoi as-tu abandonné tes études?
C) Est-ce que tu es bachelier?
D) Est-ce que tu étudies en médecine?

11. A condition faire mes devoirs, je pourrai aller au théâtre.

Choisissez le mot qui convient.

Cümledeki boşluğu aşağıdakilerden hangisi doğru şekilde tamamlar?

- A) de
B) à
C) en
D) y

12. -
- Non, j'étudie en lettres.

Choisissez la question qui convient.

Yukarıdaki konuşmada cevabı gerektiren soru aşağıdakilerden hangisidir?

- A) Est-ce que tu as trouvé un travail?
B) Pourquoi as-tu abandonné tes études?
C) Est-ce que tu étudies en médecine?
D) Quand est-ce que tu as reçu au Bac?

13. C'est le fils de mon oncle, c'est mon

Choisissez le mot qui convient.

Cümledeki boşluğu aşağıdakilerden hangisi doğru şekilde tamamlar?

- A) gendre
B) fiancé
C) cousin
D) nièce

14. Claudine n'a pas reçue au Bac.

Choisissez le mot qui convient.

Cümledeki boşluğu aşağıdakilerden hangisi doğru şekilde tamamlar?

- A) été
B) ayant
C) eu
D) fini

15. Elle a un enfant bien élevé.

Choisissez l'antonyme du mot souligné.

Yukarıdaki cümlede altı çizili sözcüğün zıt anlamı aşağıdakilerden hangisidir?

- A) bon
B) mal
C) meilleur
D) belle

16. Aie fini tes devoirs avant le dîner.

Choisissez la traduction qui convient.

Yukarıdaki cümlelerin Türkçe karşılığı aşağıdakilerden hangisidir?

- A) Akşam yemeğine kadar ödevlerini yap.
B) Akşam yemeğinden sonra ödevlerini bitir.
C) Ödevlerini bitir, akşam yemeği için dışarı çıkalm.
D) Akşam yemeğinden önce ödevlerini bitirmiş ol.

17. plus lentement.

Choisissez le mot qui convient.

Cümledeki boşluğu aşağıdakilerden hangisi doğru şekilde tamamlar?

- A) Parlez
B) Rencontrez
C) Taisez-vous
D) Regardez

18. Pensez votre père; il est assez agé pour travailler.

Choisissez le mot qui convient.

Cümledeki boşluğu aşağıdakilerden hangisi doğru şekilde tamamlar?

- A) de
B) en
C) toi
D) à

19. bien s'il vous plaît!

Choisissez le mot qui convient.

Cümledeki boşluğu aşağıdakilerden hangisi doğru şekilde tamamlar?

- A) Dont
B) Peuvent
C) Visitant
D) Lisez

20. Il a fait ses études en France.

Choisissez la traduction qui convient.

Yukarıdaki cümlelerin Türkçe karşılığı aşağıdakilerden hangisidir?

- A) Öğrenimini Fransa'da yaptı.
B) Fransa'da öğrenimine ara verdi.
C) Öğrenimine Fransa'da başladı.
D) Fransa'ya öğrenimini tamamlamaya gitti.

SEÇMELİ TÜRK EDEBİYATI 7

A

2013 III.DÖNEM 0103-A

1. **Köy notlarını, "Bizim Köy" adlı eserinde toplayan yazar, aşağıdakilerden hangisidir?**
 - A) Mahmut Makal
 - B) Abdülhak Şinasi Hisar
 - C) Oğuz Atay
 - D) Yusuf Atılgan
2. **Eserlerinde sosyal konuları tarihi plan içinde ele alan yazar, aşağıdakilerden hangisidir?**
 - A) Kemal Tahir
 - B) Cevat Şakir Kabaağaçlı
 - C) Haldun Taner
 - D) Tarık Buğra
3. **"Köşe başı" adlı tiyatro eseri, aşağıdaki yazarlardan hangisine aittir?**
 - A) Murathan Mungan
 - B) Ahmet Kutsi Tecer
 - C) Tomris Uyar
 - D) Enis Batur
4. **Aşağıdaki şairlerden hangisi, "Yedi Meşaleciler" topluluğundan biri değildir?**
 - A) Yahya Kemal Beyatlı
 - B) Yaşar Nabi Nayır
 - C) Ziya Osman Saba
 - D) Cevdet Kudret
5. **Aşağıdaki şair ve eseri eşleştirmelerinden hangisi yanlıştır?**
 - A) Cemal Süreyya-Aşk
 - B) Ece Ayhan-Çocukların Ölüm Şarkıları
 - C) Turgut Uyar-Köy Öğretmenleri
 - D) İlhan Berk-Sayfa Kâğıt Kalem
6. **Şiilerinde daha çok ölüm, sonsuzluk, zaman, an, rüya, hülya ve geçmiş zamana duyulan özlemi konu yapan şair, aşağıdakilerden hangisidir?**
 - A) Halit Fahri Ozansoy
 - B) Yusuf Ziya Ortaç
 - C) Faruk Nafiz Çamlıbel
 - D) Ahmet Hamdi Tanpınar
7. **Tiyatro, roman ve hikâyelerinde toplumun aksayan yönlerini, olayları, tipleri gülünç gösteren bir mizah üslubuyla anlatan yazar, aşağıdakilerden hangisidir?**
 - A) Yakup Kadri Karaosmanoğlu
 - B) Aziz Nesin
 - C) Tarık Buğra
 - D) Yaşar Kemal
8. **Aşağıdakilerden hangisi, Güngör Dilmen'in tiyatro eserlerinden biridir?**
 - A) Midas'ın Kulakları
 - B) İçerdekiler
 - C) Köşe başı
 - D) Ay Işığında Şamata
9. **Harf devrimi kaç yılında yapılmıştır?**
 - A) 1920
 - B) 1924
 - C) 1928
 - D) 1930
10. **Şiirlerinde en çok "deniz" temasını işleyen şair aşağıdakilerden hangisidir?**
 - A) Cahit Sıtkı Tarancı
 - B) Ömer Bedrettin Uşaklı
 - C) Ahmet Hamdi Tanpınar
 - D) Necip Fazıl Kısakürek
11. **Aşağıdaki romanlardan hangisi, Oğuz Atay'a aittir?**
 - A) Devlet Ana
 - B) Yaban
 - C) Eski Şarkı
 - D) Tutunamayanlar
12. **"Çalıkuşu" romanı ile yaygın bir ün kazanan, eserlerinde Anadolu kasaba ve şehirlerini fon olarak almış, insanları sorunlarıyla işleyen yazar, aşağıdakilerden hangisidir?**
 - A) Reşat Nuri Güntekin
 - B) Peyami Safa
 - C) Sait Faik Abasıyanık
 - D) Sabahattin Âli

13. "Otuz Beş Yaş" adlı şiir aşağıdaki şairlerden hangisine aittir?

- A) Ahmet Hamdi Tanpınar
- B) Ömer Bedrettin Uşaklı
- C) Ahmet Muhip Dıranas
- D) Cahit Sıtkı Tarancı

14. İspinozlar, 72. Koğuş, Bekçi Murtaza, Kardeş Payı gibi kendi roman ve öykülerinden oyunlaştırdığı eserleriyle Türk tiyatrosunda toplumcu gerçekçi yaklaşımın başarılı örneklerini veren yazar, aşağıdakilerden hangisidir?

- A) Ahmet Kutsi Tecer
- B) Yaşar Kemal
- C) Oktay Rifat
- D) Orhan Kemal

15. Aşağıdakilerden hangisi, gezi yazısı, anı ve röportaj türünün ortak özelliklerinden biridir?

- A) Konu sınırlamasının olması
- B) Yazarların gözlem, izlenim ve yansımalarına dayanması
- C) İddia ve ispat yazıları olması
- D) Yaşanmakta olan olayların anlatılması

16. İtalyan edebiyatında en tanınmış anı yazarı aşağıdakilerden hangisidir?

- A) Alberto Moraio
- B) Manzoni
- C) Silvio Pellica
- D) Fillippo Marinetti

17. Bilim, sanat, kültür ve başka konularda bilgi vermek, bir düşüncüyü ortaya koymak ya da savunmak amacıyla yazılan, yazarın kişisel görüşlerini de yansıttığı gazete ve dergi yazılarına ne ad verilir?

- A) Fıkra
- B) Makale
- C) Günce
- D) Deneme

18. "Seyir Defteri" adlı gezi kitabı aşağıdaki yazarlardan hangisine aittir?

- A) Yaşar Kemal
- B) Falih Rıfkı Atay
- C) Nedim Gürsel
- D) Özcan Yurdakul

19. Aşağıdakilerden hangisi "deneme" türünün özelliklerinden biri değildir?

- A) Kısa olması
- B) Samimi bir dil kullanılması
- C) Belirli bir planla yazılması
- D) Düşünceyi kabul ettirme, kesin bir sonuca gitme gibi bir amacının olmaması

20. Aşağıdakilerden hangisi gezi yazılarının özelliklerinden biri değildir?

- A) Güçlü bir gözleme dayanması
- B) Yalın bir dil kullanılması
- C) Anlatımda hikâye planına uygunluk gözetilmesi
- D) Gezip görülen yerlerdeki bütün olayların ayrıntılı anlatılması

1. Yanlış kullanım sonucu suları oldukça çekilen Aral Gölü hangi kıtada yer almaktadır?
 - A) Asya
 - B) Güney Amerika
 - C) Afrika
 - D) Kuzey Amerika

2. Aşağıdaki olayların hangisinin sonucunda suyun önemi daha da artmıştır?
 - A) Petrol kuyularının açılması
 - B) Dinamonun icadı
 - C) Matbaanın bulunması
 - D) Sanayi devrimi

3. Petrol üretim alanında meydana gelen bir aksaklık aşağıdaki sektörlerden hangisini daha az etkiler?
 - A) Turizm
 - B) Enerji
 - C) Sanayi
 - D) Tarım

4. Petrolün önem kazanması hangi olay ile olmuştur?
 - A) Matbaanın icadı
 - B) İçten yanmalı motorların icadı
 - C) Arabanın icadı
 - D) Petrolün yanabilirliğinin keşfi

5. Türk kültürü aşağıdaki kültürlerin hangisinden etkilenmemiştir?
 - A) İran
 - B) Arap
 - C) Maya
 - D) Çin

6. Aşağıdakilerden hangisi kültür oluşturmasında etkili olan maddi unsurlar arasında yer alır?
 - A) Dünya görüşü
 - B) İklim özellikleri
 - C) Ahlak kuralları
 - D) Dil

7. Aşağıdakilerden hangisi tarımsal üretim alanları içinde yer almaz?
 - A) Hindistan
 - B) Çin
 - C) Büyük Sahra
 - D) Amazon Havzası

8. Hindistan'ın büyük bölümünde görülen iklim tipi aşağıdakilerden hangisidir?
 - A) Savan
 - B) Karasal
 - C) Tundra
 - D) Muson

9. Dünyanın en uzun akarsularından biri olan Missisipi Nehri aşağıdaki denizlerden hangisine dökülür?
 - A) Akdeniz
 - B) Hint Okyanusu
 - C) Kızıldeniz
 - D) Atlas Okyanusu

10. Aşağıdakilerden hangisi Türkler'in kültür ve sanat eserlerinin yoğun olarak bulunduğu şehirlerdendir?
 - A) Prag
 - B) Londra
 - C) Tokyo
 - D) Üsküp

11. Dış turizm hareketlerinin bir ülkeye kazandırdığı gelire ne ad verilir?
 - A) İthalat
 - B) Görünmeyen ihracat
 - C) Kâr
 - D) Tediye

12. Aşağıdakilerden hangisi, günümüzde milli parkların en fazla olduğu ülkelerden biridir?
 - A) ABD
 - B) Türkiye
 - C) Hindistan
 - D) Yunanistan

13. Bir yada birden fazla güzelliği içerisinde bulunduran, bu nedenle koruma altına alınmış alanlara ne ad verilir?

- A) Mağaralar
- B) Milli parklar
- C) Şelaleler
- D) Kaplıcalar

14. Aşağıdakilerden hangisi Türk kültürünün ilk oluştuğu dönemde etkili olan unsurlardan değildir?

- A) Bozkırlar
- B) Karasal iklim
- C) Göçebelik
- D) Deniz etkisi

15. Aşağıdakilerden hangisi Türk kültürünün genel özelliklerinden biri değildir?

- A) Coğrafi konumundan dolayı sadece göçebe özellikler taşıması
- B) Çok köklü ve eski olması
- C) Tarım ve hayvancılığın çok önemli olması
- D) İnsan sevgisini ve dünya barışını temel alması

16. Aşağıdakilerden hangisi Japonya'nın başkentidir?

- A) Tokyo
- B) Bükreş
- C) Kobe
- D) Seul

17. Aşağıdakilerden hangisi Türk kültürünün önemli simgelerinden biri değildir?

- A) Halı
- B) Lale
- C) Exlibris
- D) At

18. Yerkaşunun işletilebilir derinliklerinde birikmiş olan ısının oluşturduğu enerji aşağıdakilerden hangisidir?

- A) Nükleer
- B) Doğalgaz
- C) Jeotermal
- D) Hidroelektrik

19. Türklerin ilk yazılı ürünü kabul edilen Göktürk yazıtları hangi ülke sınırları içindedir?

- A) İran
- B) Hindistan
- C) Moğolistan
- D) Afganistan

20. Dünyada sanayileşme sürecini ilk yaşayan ülke aşağıdakilerden hangisidir?

- A) İngiltere
- B) Türkiye
- C) Fransa
- D) Amerika

SINAVDA UYGULANACAK KURALLAR

1. Sınav süresince görevlilerle konuşmak ve soru sormak yasaktır. Aynı şekilde görevlilerin de öğrencilerle yakından ve alçak sesle konuşmaları yasaktır. Yanınızda ve sıranızda dersle ilgili kitap not vb. bulundurmamak yasaktır. Sınav sırasında kopya yapan, yapmaya teşebbüs eden, kopya veren, kopya yapılmasına yardım edenlerin kimlikleri BİREYSEL SINAV İPTAL TUTANAĞINA yazılacak ve bu öğrencilerin sınavları geçersiz sayılacaktır. Görevliler kopya yapmaya veya vermeye kalkışanları uyararak zorunda değildir, sorumluluk size aittir.
Sınavda yetki verilmiş görevliler, bu salondaki sınavın kurallara uygun biçimde yapılmadığını, toplu kopya girişiminde bulunulduğunu raporlarında bildirdikleri veya üniversite sınav merkezince yapılan incelemeler sonucu toplu kopya yapıldığı saptandığı takdirde, Anadolu Üniversitesinin yetkili organları bu salonda sınava giren öğrencilerin tümünün sınavını geçersiz sayar.
2. Öğrenciler sınav sırasında görevlilerin her türlü uyarılarına uymak zorundadır. Gerekliğinde görevliler oturduğunuz yerleri değiştirebilir. Sınavınızın geçerli sayılması, her şeyden önce sınav kurallarına uymanıza bağlıdır. Kurallara aykırı davranışta bulunanların ve yapılacak uyarılara uymayanların kimlikleri BİREYSEL SINAV İPTAL TUTANAĞINA yazılacak ve sınavları geçersiz sayılacaktır.
3. Sınav sırasında herhangi bir nedenle dışarı çıkmak yasaktır. Sınavın başlamasını izleyen ilk 30 dakika ve sınav süresinin son 5 dakikası içinde, sınavlarını tamamlasalar bile hiçbir öğrencinin salondan çıkmasına izin verilmeyecektir. Sınavın başlamasını izleyen ilk 15 dakikadan sonra hiç bir öğrenci sınava alınamaz.
4. Biraz sonra soru kitapçıkları dağıtılacaktır. Cevaplamaya geçmeden önce size verilecek soru kitapçığının üzerinde ayrılan yere, adınızı, soyadınızı, öğrenci numaranızı ve bu salonun numarasını yazınız. Sınav sonunda soru kitapçıkları toplanacak ve sınav merkezinde tek tek incelenecektir. Soru Kitapçığının bir tek sayfası eksik çıksa bile sınavınız geçersiz sayılacaktır.
5. Size verilen Cevap Kâğıdının üzerinde yazan numara ve ismin size ait olduğunu kontrol ediniz. Cevap Kâğıdı size ait değilse, görevlileri uyarıp size ait Cevap Kâğıdını alınız. Daha sonra Cevap Kâğıdı üzerinde ayrılmış olan yerlere öğrenci numaranızı ve test grubunuzu kodlayınız, adınızı soyadınızı yazınız ve ilgili yeri imzalayınız.
6. Cevap Kâğıdına yazılacak her türlü yazı, rakam ve yapılacak işaretlemeler için siyah kurşun kalem kullanılacaktır. Tükenmez kalem veya dolmakalem kesinlikle kullanılmayacaktır. Cevapların tümü CEVAP KÂĞIDINA İŞARETLENECEKTİR. Soru Kitapçıkları üzerine yapılan işaretlemeler kesinlikle değerlendirilmez. Her dersin cevabı, o dersin isminin yazılı olduğu sütuna işaretlenmelidir. Yanlış sütuna yapacağınız işaretlemeler kesinlikle değerlendirilmez.
7. Soru Kitapçığının sayfalarındaki boş yerleri müsvedde yapmak için kullanabilirsiniz. Başka bir kâğıdı müsvedde olarak kullanmak yasaktır. Bu tür işlemleri yapanların sınavları geçersiz sayılır.
8. Öğrencilerin sorulara verdikleri yanıtları herhangi bir yere yazmaları ve bunu sınav salonundan dışarıya çıkarmaları yasaktır. Bu kurala uymayanların sınavları geçersiz sayılır.
9. Sınav sırasında öğrencilerin birbirinden kalem, silgi vb. şeyleri istemesi kesinlikle yasaktır. Yasağa uymayanların sınavı geçersiz sayılır.
10. Sınav sırasında hesap makinesi kullanılabilir. Ancak, hesap makinesinin sınav sırasında ödünç alınması, verilmesi ve değiştirilmesi yasaktır. (Data Bank vb. gibi özel elektronik donanımlar kullanılamaz.) Bu tür davranışlarda bulunanların sınavları geçersiz sayılır.
11. Öğrenciler sınava gelirken telsiz, cep telefonu, çağrı cihazı vb. iletişim araçları ile görüntü kaydetmeye yarayan fotoğraf makinesi, kamera vb. araçları getirmemeleri konusunda sınava giriş belgelerinde uyarılmışlardır. Buna rağmen yanlarında bu tür cihazları getirenlerin, bunları sınav sonrasında almak üzere salon başkanına teslim etmeleri gerekir. Bu cihazları sınav salonunda yanlarında bulunduran öğrencilerin, cihazları kapalı bile olsa, o oturumdaki sınavı geçersiz sayılacaktır. Bu cihazların kaybolmasından Üniversitemiz sorumlu olmayacaktır.
12. Biraz sonra dağıtılacak olan soru kitapçığında test ile ilgili açıklamalar yazılıdır. Bu açıklamaları okumadan ve size "SINAV BAŞLAMIŞTIR" denmeden soruları cevaplamaya başlamayınız.

SINAVLARINIZDA BAŞARILAR DİLERİZ.