



ANADOLU ÜNİVERSİTESİ
AÇIKÖĞRETİM FAKÜLTESİ
BA - AÇIKÖĞRETİM OKULLARI

T.C. MİLLÎ EĞİTİM BAKANLIĞI
Hayat Boyu Öğrenme Genel Müdürlüğü
AÇIK ÖĞRETİM LİSESİ – BATI AVRUPA PROGRAMI
2012-2013 ÖĞRETİM YILI III.DÖNEM SINAVI
DÖRDÜNCÜ OTURUM - Pazar 13.00

TEST GRUBUNUZ

A 0104

CEVAP KÂĞIDINIZA İŞARETLEMİYİ UNUTMAYINIZ.

ÖĞRENCİNİN

SOYADI :

ADI :

ÖĞRENCİ NO :

SINAV SALON NO: SIRA NO:

Soyadınızı, adınızı, öğrenci numaranızı, salon ve sıra numaranızı yukarıya yazmayı unutmayınız.

GENEL AÇIKLAMA

1. Bu soru kitapçığındaki testler şunlardır:

Testin Adı	Soru Sayısı	Sayfa No	Testin Adı	Soru Sayısı	Sayfa No
DİN KÜLTÜRÜ VE AHLAK BİLGİSİ 4	20	2	EKONOMİ 1	20	34
DİN KÜLTÜRÜ VE AHLAK BİLGİSİ 6	20	4	SAĞLIK BİLGİSİ 1	20	36
TARİH 3	20	6	GEOMETRİ 5	20	38
T.C. İNKILÂP TARİHİ VE ATATÜRKÇÜLÜK 2	20	8	SEÇMELİ COĞRAFYA 4	20	42
COĞRAFYA 5	20	10	SEÇMELİ DİL VE ANLATIM 8	20	44
MATEMATİK 1	20	12	SEÇMELİ TÜRK EDEBİYATI 5	20	46
PSİKOLOJİ 2	20	16	ALMANCA 7	20	48
HUKUK 2	20	18	İNGİLİZCE 7	20	51
DİL VE ANLATIM 3	20	20	FRANSIZCA 7	20	54
TÜRK EDEBİYATI 4	20	22	TARİH 5	20	56
KİMYA 1	20	24	GİRİŞİMCİLİK 1	20	58
FİZİK 5	20	27			
BİYOLOJİ 6	20	30			
ÇAĞDAŞ TÜRK VE DÜNYA TARİHİ 2	20	32			

2. Bu kitapçıkta yer alan her bir test için cevaplama süresi **30** dakika, toplam sınav süresi **150** dakikadır.
3. Cevaplamaya istediğiniz testin, istediğiniz sorusundan başlayabilirsiniz. Yalnız cevaplarınızı, cevap kâğıdında o test için ayrılmış olan bölümdeki aynı numaralı cevap yerine işaretlemeyi unutmayınız.
4. Cevaplarınızı koyu siyah ve yumuşak bir kurşunkalemle işaretleyiniz. İşaretinizi cevap yerinin dışına taşırmayınız. Tükenmez veya mürekkepli kalem kullanmayınız.
5. Değiştirmek istediğiniz bir cevabı yumuşak bir silgi ile, cevap kâğıdını örselemeden temizce siliniz ve doğru cevabınızı işaretlemeyi unutmayınız.
6. Cevap kâğıdınızı buruşturmayınız, katlamayınız ve üzerine gereksiz hiçbir işaret koymayınız.
7. Bu kitapçıkta her sorunun bir tek doğru cevabı vardır. Bir soru için birden çok cevap yeri işaretlenmişse o soru yanlış cevaplanmış sayılacaktır.
8. Cevaplarınız puanlanırken her doğru cevabınıza eşit puan verilecek, yanlış cevaplarınız dikkate alınmayacaktır. Bu nedenle kitapçıkta tüm sorular için size doğru gelen seçeneği işaretleyerek cevapsız soru bırakmamanız yararınıza olacaktır.
9. Kitapçığın sayfalarındaki boş yerleri müsvedde için kullanabilirsiniz.

Anadolu Üniversitesi tarafından hazırlanmış olan bu testlerin her hakkı saklıdır. Hangi amaçla olursa olsun, testlerin tamamının veya bir kısmının Anadolu Üniversitesi'nin yazılı izni olmadan kopya edilmesi, fotoğraflarının çekilmesi, herhangi bir yolla çoğaltılması, yayımlanması ya da kullanılması yasaktır. Bu yasağa uymayanlar gerekli cezai sorumluluğu ve testlerin hazırlanmasındaki mali külfeti peşinen kabullenmiş sayılır.

1. Aşağıdakilerden hangisi Atatürk'ün din ile ilgili düşüncelerinden biri değildir?
 - A) Din, her türlü siyasi ve şahsi menfaat için alet ve vasıta olarak kullanılmalıdır.
 - B) Dinsiz milletlerin devamı olamaz.
 - C) Din, bir milletin birlik ve beraberliğini sağlar.
 - D) Din, gerekli bir kurumdur.
2. "Hiç bilenlerle bilmeyenler bir olur mu" ayetiyle hangi temel hakka değinilmiştir?
 - A) Yaşam hakkı
 - B) Eğitim hakkı
 - C) İbadet hakkı
 - D) Özel yaşamın gizliliği hakkı
3. Milli mücadelenin kazanılmasından sora, Zağanos Paşa Cami'nde Atatürk'ün Hz.Muhammed'den övgüyle ve hürmetle bahsettiği hutbeyi hangi ilde okumuştur?
 - A) Edirne
 - B) Ankara
 - C) Amasya
 - D) Balıkesir
4. Amerika ve keşfinden önce Antartika'yı gösteren dünya haritasını kim çizmiştir?
 - A) Piri Reis
 - B) Barbaros Hayrettin Paşa
 - C) Ömer Hayyam
 - D) Biruni
5. Suffa ile ilgili aşağıdaki ifadelerden hangisi yanlıştır?
 - A) Hz. Muhammed tarafından kurulmuştur.
 - B) Sadece varlıklı ailelerin çocukları okutulmuştur.
 - C) Gündüzlü ve yatılı olarak hizmet vermiştir.
 - D) Medine'de kurulmuştur.
6. Aşağıdakilerden hangisi ekonomik haklardan biri değildir?
 - A) Mülkiyet hakkı
 - B) Haberleşmenin gizliliği hakkı
 - C) Sendika kurma hakkı
 - D) Toplu sözleşme ve grev hakkı
7. Özgürlük kavramı kaç temel davranış içerir?
 - A) 1
 - B) 2
 - C) 3
 - D) 4
8. Aşağıdakilerden hangisi bireyin bir başkasına zarar vermeden düşündüğünü ve dilediğini yapabilmesidir?
 - A) Mücadele
 - B) Hak
 - C) Hukuk
 - D) Özgürlük
9. Hak ve özgürlüklerin kullanımı ile ilgili aşağıdaki ifadelerden hangisi yanlıştır?
 - A) Hak ve özgürlüklerde kimseye ayrıcalık tanınmaz.
 - B) Özgürlük sınırlıdır ve sınırlandırılabilir.
 - C) Hak ve özgürlükleri kısıtlanan kişi, hakkını kendi almalıdır, devlete bırakmamalıdır.
 - D) Hak ve özgürlükler şahsa bağlıdır, başkasına devredilemez.
10. Aşağıdakilerden hangisi müspet ilimlerden biridir?
 - A) Tefsir
 - B) Fıkıh
 - C) Tıp
 - D) Kelam
11. Kur'an'da başkalarının özel hayatını ve kusurlarını araştırmaya ne ad verilir?
 - A) Tecessüs
 - B) İtikat
 - C) İrşat
 - D) Tağüt
12. Tüm hakların ve özgürlüklerin temelini oluşturan hak aşağıdakilerden hangisidir?
 - A) Özel yaşamın gizliliği hakkı
 - B) Yaşama ve sağlık hakkı
 - C) Seçme ve seçilme hakkı
 - D) Eğitim hakkı

13. "Dinsiz milletlerin dünyadan ve tarihten silineceğini" ifade ederek Atatürk aşağıdakilerden hangisini vurgulamak istemiştir?

- A) Bir toplum için gerekli olduğunu
- B) Bağımsızlığın sadece din aracılığıyla sağlanacağını
- C) Demokrasinin din sayesinde gelişeceğini
- D) Uygarlık ve kalkınmanın olmayacağını

14. Din ve vicdan özgürlüğünün temel boyutu aşağıdakilerden hangisidir?

- A) Ekonomik özgürlük
- B) Mülkiyet hakkı
- C) İnanç özgürlüğü
- D) Eğitim hakkı

15. I. Akıl
II. Vahiy
III. Duyular

Yukarıdakilerden hangileri İslâm'a göre doğru bilgiye ulaşma yolarındandır?

- A) Yalnız I
- B) I ve II
- C) II ve III
- D) I, II ve III

16. I. Üreme
II. Düşünme
III. Akıl

Yukarıdakilerden hangileri insanı, diğer varlıklardan ayıran farklardandır?

- A) Yalnız I
- B) Yalnız II
- C) I ve II
- D) II ve III

17. Beytül Hikme aşağıdaki devletlerden hangisi tarafından kurulmuştur?

- A) Abbasiler
- B) Emeviler
- C) Karahanlılara
- D) Memlukler

18. Bilim ile ilgili aşağıdaki ifadelerden hangisi yanlıştır?

- A) İnsan hayatını kolaylaştırır.
- B) İnsan hayatını güzelleştirir.
- C) Din ile çatışması sonucunda ortaya çıkmıştır.
- D) İnsanın belli konularda araştırma, deney, akıl yoluyla ve sistematik olarak ulaştığı sonuçlardır.

19. Din'i, istismar ve yozlaştırmak için en uygun ortamı hazırlayan unsur aşağıdakilerden hangisidir?

- A) Şirk
- B) Cehalet
- C) Atıfet
- D) İrşat

20. I. Kindî
II. Battânî
III. Harezmi

Yukarıdakilerden hangileri İslam medeniyetine ve insanlığa büyük katkısı olan düşünürlerdendir?

- A) Yalnız I
- B) Yalnız II
- C) I ve III
- D) I, II ve III

1. 1920 yılında Ankara'da Meclis hükûmetince din hizmetlerini yürütmek amacıyla kurulan Bakanlığın adı nedir?
 - A) Tevhid-i Tedrisat
 - B) Sadaret Kethudalığı
 - C) Bab-ı Defter
 - D) Şer'iye ve Evkaf Vekâleti
2. Evlilik ile ilgili aşağıdaki ifadelerden hangisi yanlıştır?
 - A) Hz. Muhammed'le başlayan evlilik günümüze kadar varlığını devam ettirmiştir.
 - B) Doğal bir ihtiyaçtır.
 - C) Çoğalma ve neslin devam etmesinin bir şartıdır.
 - D) Her toplum evlenmeyi kendi inanç ve kültürüne göre belirler.
3. Aşağıdakilerden hangisi Din İşleri Yüksek Kurulu'nun görevlerinden biri değildir?
 - A) Dini konularda araştırmalar yapmak
 - B) Din şurası düzenlenmesi ile ilgili çalışmalar yürütmek
 - C) Yurt içinde ve dışında İslam dini ile ilgili ilmi faaliyetleri değerlendirmek
 - D) Yaygın din eğitimi programlamak
4. İlk Diyanet İşleri Reisi aşağıdakilerden hangisidir?
 - A) Mehmet Akif Ersoy
 - B) Mehmet Rıfat Börekçi
 - C) Mehmet Görmez
 - D) M. Esad Coşan
5. Aşağıdakilerden hangisi dinin de etkisiyle ortaya çıkan mimari eserlerden biri değildir?
 - A) Medrese
 - B) Külliye
 - C) Naat
 - D) Cami
6. Dini konularda insanları bilgilendirici ve doğru yolu gösterici nitelikte genellikle Cuma ve bayram namazı öncesi konuşmalar yapan din görevlisi aşağıdakilerden hangisidir?
 - A) Vaiz
 - B) Müftü
 - C) İmam Hatip
 - D) Müezzin
7. Türkiye'de Diyanet İşleri Başkanlığı aşağıdakilerden hangisine bağlı olarak çalışır?
 - A) Başbakanlık
 - B) Cumhurbaşkanlığı
 - C) İçişleri Bakanlığı
 - D) Milli Eğitim Bakanlığı
8. Yüce Allah'a yakarışı ve kulun acizliğini ifade eden edebi eserlere ne ad verilir?
 - A) Tevhit
 - B) Münacat
 - C) Naat
 - D) Methiye
9. Türk-İslam sanatında kâğıt veya deri üzerine yapılan küçük boyutlu ve renkli resimlere ne ad verilir?
 - A) Hat
 - B) Tezhip
 - C) Minyatür
 - D) Musiki
10. Namaz vakitleri geldiğinde ezan okuyan, kamet getiren, caminin temizliği ve bakımı gibi görevlerde bulunan din görevlisi aşağıdakilerden hangisidir?
 - A) Cemaat
 - B) Vaiz
 - C) İmam
 - D) Müezzin
11. Camideki hizmetlerin yürütülmesinden sorumlu kişidir. Vakit, cenaze, bayram, cuma gibi namazların cemaatle kılınması, halkı dini yönden bilgilendirme gibi faaliyetleri yürütür. Dini gün ve gecelerde mevlit okunmasını sağlar.

Yukarıda anlatılan din görevlisi aşağıdakilerden hangisidir?

 - A) İmam Hatip
 - B) Müftü
 - C) Vaiz
 - D) Müezzin

12. Diyanet İşleri Başkanlığının en yüksek karar ve danışma organı olup, dini soruları yanıtlandırma, dini konularda inceleme ve araştırma faaliyetlerinde bulunan birim aşağıdakilerden hangisidir?
 A) Hac Dairesi
 B) Din Hizmetleri Dairesi
 C) Mushafları İnceleme Kurulu
 D) Din İşleri Yüksek Kurulu
13. Aşağıdaki camilerden hangisi Edirne'de bulunur?
 A) Selimiye
 B) Ayasofya
 C) Sultan Ahmet
 D) Hasan Paşa İmaret
14. Altın tozu ve boya kullanılarak yapılan süsleme sanatı aşağıdakilerden hangisidir?
 A) Ebru
 B) Tezhip
 C) Hat
 D) Minyatür
15. Türkiye'de yaşayan Müslüman halka İslam dini ile ilgili hizmetler vermekle görevli olan kamu kuruluşu aşağıdakilerden hangisidir?
 A) Hayat Boyu Öğrenme Genel Müdürlüğü
 B) İslam Enstitüsü
 C) Diyanet İşleri Başkanlığı
 D) Din İşleri Bakanlığı
16. Allah'ın varlığını ve birliğini ifade eden edebi eserlere ne ad verilir?
 A) Münacat
 B) Naat
 C) Methiye
 D) Tevhit
17. Görevli oldukları il ve ilçelerdeki dini hizmetlerin sağlıklı yürütülmesinden ve diğer din görevlilerinin verimli çalışmasından aşağıdakilerden hangisi sorumludur?
 A) Vaiz
 B) Müftü
 C) Din İşleri Yüksek Kurulu Başkanı
 D) İmam-Hatip
18. Soyca veya evlilik sonucu aralarında bağ bulunanlardan her birine ne ad verilir?
 A) Hasım
 B) Hısım
 C) Dost
 D) Yaren
19. Aşağıdakilerden hangisi Ahmet Yesevi'ye aittir?
 A) Sefahat
 B) Mesnevi
 C) Divan-ı Hikmet
 D) Vesilatün Necat
20. Tezhip sanatı ile ilgilenen sanatçılara ne ad verilir?
 A) Hattat
 B) Neyzen
 C) Müzehhip
 D) Nakkaş

1. Cerbe Zaferinin önemi aşağıdakilerden hangisidir?
- A) Batı Akdeniz ile Kuzey Afrika'da Türk hakimiyeti kesin olarak sağlanmıştır.
B) Osmanlı toprakları Karadan Kırım'la birleşmiştir.
C) Cezayir Osmanlı Devleti'ne katılmıştır.
D) Budin Beyler beyliği kuruldu.
2. Aşağıdakilerden hangisi Osmanlı tarihinde İstanbul'u kuşatanlardan biri değildir?
- A) Musa Çelebi
B) I.Bayezit
C) Orhan Bey
D) II.Murat
3. İlk Osmanlı-Haçlı savaşı aşağıdakilerden hangisidir?
- A) Çimen Savaşı
B) I.Kosova Savaşı
C) Sırp Sındığı Savaşı
D) Niğbolu Savaşı
4. Kapitülasyonlar hangi antlaşma ile kesin olarak kaldırılmıştır?
- A) Sevr Antlaşması
B) Lozan Antlaşması
C) Uşi Antlaşması
D) Karlofça Antlaşması
5. Sazlıdere Savaşı sırasında aşağıdaki şehirlerden hangisi alınmıştır?
- A) Edirne
B) Kayseri
C) Çanakkale
D) İzmir
6. Osmanlı Devleti'nin Avrupa'da kesin üstünlük sağladığı antlaşma aşağıdakilerden hangisidir?
- A) Lozan Antlaşması
B) İstanbul Antlaşması
C) Amasya Antlaşması
D) Edirne Segedin Antlaşması
7. İmparator Şarlken'in Protestan mezhebini resmen tanıdığı antlaşma aşağıdakilerden hangisidir?
- A) Zıttorok Antlaşması
B) Küçük Kaynarca Antlaşması
C) Belgrad Antlaşması
D) Ogsburg Antlaşması
8. Aşağıdakilerden hangisi Reformun sonuçlarından biri değildir?
- A) Din ve devlet işleri birbirinden ayrıldı.
B) Katolik kilisesi, kendini düzeltmeye çalıştı.
C) Ulusal diller doğdu.
D) Papalara ve din adamlarına duyulan saygı azaldı.
9. Aşağıdakilerden hangisi Avrupa'da feodal sistemin yıkılmasının sebeplerinden biri değildir?
- A) Barutun ateşli silahlarda kullanılması
B) Matbaanın geliştirilmesi
C) Çok sayıda eserin basılıp okunması
D) Avrupa'da mezhep birliğinin bozulması
10. Uşi Antlaşması'nın önemi aşağıdakilerden hangisidir?
- A) Girit, fiilen elden çıkmıştır.
B) Osmanlı egemenliğinde bir Bulgar prensliği kurulmuştur.
C) Bulgaristan Krallığı Osmanlı Devleti'nden ayrılmıştır.
D) Osmanlı Devleti'nin Kuzey Afrika'daki varlığı sona ermiştir.
11. "Panislavizm"ın sözcük anlamı aşağıdakilerden hangisidir?
- A) Slav Birliği
B) Güçler Ayrılığı
C) Çokluktan Birliğe
D) Tek Millet

12. Edirne Antlaşmasıyla özerklik kazanan ülke aşağıdakilerden hangisidir?

- A) Sırbistan
- B) Bulgaristan
- C) Yunanistan
- D) Gürcistan

13. Genç Osmanlılar Cemiyetinin savunduğu akım aşağıdakilerden hangisidir?

- A) Türk birliği (Turancılık)
- B) Türkçülük
- C) İslam birliği (İslamcılık)
- D) Osmanlıcılık

14. Osmanlı Devleti hangi savaş sırasında ilk kez dışarıya borçlanmıştır?

- A) Kırım Savaşı
- B) Haçova Savaşı
- C) Niğbolu Savaşı
- D) Ankara Savaşı

15. Kanal hareketinin amacı aşağıdakilerden hangisidir?

- A) Kutsal yerleri kurtarmak
- B) Süveyş Kanalı'nı ele geçirmek
- C) Irak petrollerine hakim olmak
- D) Türk tarihinin seyrini değiştirmek

16. Arnavutluğun bağımsızlığını ilan ettiği savaş aşağıdakilerden hangisidir?

- A) İkinci Balkan Savaşı
- B) Trablusgarp Savaşı
- C) Birinci Balkan Savaşı
- D) 1877-1878 Osmanlı-Rus Savaşı

17. Aşağıdakilerden hangisi Fransa'daki monarşik düzenin değişmesi gerektiğini savunan düşünürlerden biri değildir?

- A) Volter
- B) Belinski
- C) Didero
- D) J.J.Rousseau (Jan Jak Russo)

18. Aşağıdakilerden hangisi Vinaya Kongresi'nde alınan en önemli kararlardan biri değildir?

- A) İtalya'da yedi hükümet kuruldu.
- B) İsveç ve Norveç krallıkları birleştirildi.
- C) Avrupa'da işsizlik azaldı.
- D) Belçika ve Felemenk birleştirildi.

19. Aşağıdakilerden hangisi 1848 İhtilallerinin nedenlerinden biridir?

- A) Kralın meclisi dağıtması
- B) Milliyetçilik hareketlerinin güçlenmesi
- C) Basın özgürlüğünün kaldırılması
- D) Avrupa'da işçi sayısının azalması

20. Sanayi Devrimi ilk olarak hangi ülkede ortaya çıkmıştır?

- A) Almanya
- B) İtalya
- C) Fransa
- D) İngiltere

1. 1925 yılında kabul edilen Tahrir-i Sükun Kanunu aşağıdaki olaylardan hangisinin bir sonucudur?
 - A) Şeyh Said Olayı
 - B) Yozgat Ayaklanması
 - C) Menemen Olayı
 - D) Çerkez Ethem Olayı
2. Egemenliğin kaynağının bir grup, sınıf veya zümreye ait olduğu yönetim şekli aşağıdakilerden hangisidir?
 - A) Teokrazi
 - B) Monarşi
 - C) Meşrutî monarşi
 - D) Oligarşi
3. Türkiye Cumhuriyeti'nin ilk başbakanı kimdir?
 - A) Mustafa Kemal Atatürk
 - B) İsmet İnönü
 - C) Celal Bayar
 - D) Fevzi Çakmak
4. Aşağıdakilerden hangisi Balkan Antantı'nı imzalayan ülkelerden biri değildir?
 - A) Türkiye
 - B) Yunanistan
 - C) Romanya
 - D) Bulgaristan
5. Avrupa devletleri arasında yapılmakta olan silahsızlanma konferansından olumlu sonuç alınamaması ve 1933 yılından sonra devletlerin silahlanmaya başlaması üzerine Türkiye, aşağıdakilerden hangisinin yeniden düzenlenmesi için harekete geçmiştir?
 - A) Hatay sorunu
 - B) Boğazlar sorunu
 - C) Patrikhane sorunu
 - D) Musul sorunu
6. Balkan Antantı'nın kuruluşuna giden yolda ilk siyasal girişim aşağıdakilerden hangisidir?
 - A) Türkiye-Yunanistan Dostluk Antlaşması
 - B) Türkiye-Romanya Dostluk Antlaşması
 - C) Türkiye-Yugoslavya Dostluk Antlaşması
 - D) Lozan Antlaşması
7. Dumbarton Oaks Konferansı önerileri esas alınarak ve geliştirilerek hazırlanan Birleşmiş Milletler Antlaşması aşağıdaki konferanslardan hangisinde kabul edilmiştir?
 - A) Londra Konferansı
 - B) Paris Konferansı
 - C) San Fransisco Konferansı
 - D) Atlantik Konferansı
8. Aşağıdaki devletlerden hangisinin Birleşmiş Milletler Güvenlik Konseyi'nde veto hakkı yoktur?
 - A) Fransa
 - B) Çin
 - C) İngiltere
 - D) İtalya
9. Cumhuriyet'in ilanından sonra kurulan ilk muhalefet partisi aşağıdakilerden hangisidir?
 - A) Ahali Cumhuriyet Partisi
 - B) Terakkiperver Cumhuriyet Partisi
 - C) Cumhuriyet ve Halk Partisi
 - D) Serbest Cumhuriyet Partisi
10. Aşağıdakilerden hangisi Cumhuriyetin ilk yıllarında sanayi ve madencilik alanında yapılan çalışmalardan biri değildir?
 - A) Ziraat okullarının açılması
 - B) Karabük demir çelik fabrikasının kurulması
 - C) Etibank'ın kurulması
 - D) Teşvik-i Sanayi Kanunu'nun çıkarılması
11. Sadabat Paketi'nin imzalayan ülkeler aşağıdakilerden hangisinde tam ve doğru olarak verilmiştir?
 - A) Türkiye, İran, Afganistan
 - B) Suriye, İran, Irak
 - C) Türkiye, İran, Afganistan, Irak
 - D) Türkiye, Afganistan, Irak

12. Türkiye Cumhuriyet 1928'den itibaren dünyadaki silahsızlanma faaliyetlerine katılmış ve aşağıdakilerden hangisini imzalayarak savaşı reddettiğini tüm dünya karşısında açıkça ortaya koymuştur?

- A) Küçük Antant
- B) Balkan Antantı
- C) Briand-Kellog Paktı
- D) Montrö Sözleşmesi

13. I. Dünya Savaşı'ndan sonra Tuna ve Balkanlar bölgesinde kurulan ilk önemli ittifak sistemi aşağıdakilerden hangisidir?

- A) Sadabad Paktı
- B) Briand-Kellog Paktı
- C) Milletler Cemiyeti
- D) Küçük Antant

14. Aşağıdakilerden hangisi Montrö Boğazlar Sözleşmesi'ni imzalayan ülkelerden biri değildir?

- A) Romanya
- B) Japonya
- C) Almanya
- D) Yunanistan

15. Yabancı okullarda bazı derslerin Türk öğretmenler tarafından okutulması ve Türk müfettişler tarafından denetlenmesi esası, aşağıdaki antlaşmalarından hangisindeki bir yönetmelik ile tespit edilmiştir?

- A) Berlin Antlaşması
- B) Lozan Antlaşması
- C) Montrö Sözleşmesi
- D) Ankara Antlaşması

16. Atatürk: "Kırk asırlık Türk yurdu yabancılar elinde kalmaz" sözünü aşağıdaki şehirlerin hangisi için kullanmıştır?

- A) Hatay
- B) İstanbul
- C) Trabzon
- D) Sivas

17. Cumhuriyet döneminde, eğitimde laiklik süreci aşağıdakilerden hangisiyle başlamıştır?

- A) Saltanatın kaldırılması
- B) Tekke ve zaviyelerin kaldırılması
- C) Latin alfabesinin kabulü
- D) Tevhid-i Tedrisat Kanunu'nun çıkarılması

18. Aşağıdakilerden hangisi 1937 yılında Tahran'da Sadabad Sarayı'nda, Sadabat Paktı'na imza atan ülkelerden biri değildir?

- A) Türkiye
- B) Suriye
- C) İran
- D) Afganistan

19. Aşağıdakilerden hangisi Montrö Boğazlar Sözleşmesi'nin şartlarından biri değildir?

- A) Sözleşme 49 yıl yürürlükte kalacaktır.
- B) Türkiye'nin, boğazlarda istediği kadar asker bulundurabilecek.
- C) Ticaret gemileri, Türk denetimi altında her zaman boğazlardan geçebilecekler.
- D) Boğazlar komisyonu kaldırılacak.

20. Atatürk'ün ölümünden sonra kim Cumhurbaşkanı seçilmiştir?

- A) Mareşal Fevzi Çakmak
- B) Cemal Gürsel
- C) İsmet İnönü
- D) Celal Bayar

1. Aşağıdakilerden hangisi dünya eko sistemini oluşturan unsurlardan biri değildir?
- A) Sitosfer
B) Atmosfer
C) Hidrosfer
D) Litosfer
2. Aşağıdakilerden hangisi iktisadi fonksiyonlarına göre sınıflandırması içinde yer almaz?
- A) Askeri
B) Ulaşım
C) Tarım
D) Liman
3. Tundra biyomunun bitki örtüsü aşağıdakilerden hangisidir?
- A) İğne yapraklı orman
B) Ağaçsız kaya yosunları, likenler, otlar ve küçük çalılar
C) Tayga, boreal ormanları
D) Sonbaharda yapraklarını döken ağaçlarda oluşan ormanlar
4. Aşağıdakilerden hangisi dünyanın çok soğuk bölgelerinde yaşayan bir hayvan türüdür?
- A) Fil
B) Leopar
C) Zürafa
D) Penguen
5. Aşağıdaki tarım ürünlerinden hangisi sanayi bitkileri grubuna girmektedir?
- A) Nohut
B) Fasulye
C) Tütün
D) Mercimek
6. Benzer bitki ve hayvan topluluklarını barındıran bölgelere ne ad verilir?
- A) Ekosistem
B) Tundra
C) Savan
D) Biyom
7. Aşağıdaki şehirlerden hangisi liman şehri değildir?
- A) İskenderiye
B) Amsterdam
C) Berlin
D) Marsilya
8. Aşağıdakilerden hangisi üretimi etkileyen beşeri faktörlerden biri değildir?
- A) Sermaye birikimi
B) Tarımsal faaliyetler
C) Teknolojik gelişme
D) Gelir düzeyi
9. Aşağıdakilerden hangisi karbondioksitin açığa çıkma yollarından biri değildir?
- A) Kara ve deniz bitkileri tarafından fotosentez yapılması
B) Canlıların solunum yapması
C) Orman yangınları ve ölen canlıların çürümesi
D) Karbonatlı kayaların, fiziksel ve kimyasal yollarla ayrışması
10. Havadaki su buharının sıvı hale geçmesine ne ad verilir?
- A) Terleme
B) Buharlaşma
C) Yağış
D) Yoğuşma
11. Aşağıdakilerden hangisi canlıların yeryüzüne dağılışını etkileyen coğrafi faktörlerden olan paleocoğrafya içinde yer alır?
- A) İnsan
B) Kıtaların kayması
C) İklim
D) Yer şekilleri
12. Aşağıdakilerden hangisi tükenmeyen doğal kaynaklardan değildir?
- A) Rüzgâr
B) Kömür
C) Güneş
D) Dalga

13. Soğuk iklim bölgelerinde görülen ağaçsız kaya yosunları, likenler, otlar ve bazı çalılardan oluşan bitki topluluğu aşağıdakilerden hangisidir?

- A) Tundra
- B) Savan
- C) İğne yapraklı ormanlar
- D) Ilıman çayırlar

14. Bir ülkede nüfus artış hızının azalması sonucunda aşağıdakilerden hangisinin meydana gelmesi beklenmez?

- A) Kalkınma hızının artması
- B) Doğal kaynakların tüketiminin azalması
- C) Genç nüfus oranının azalması
- D) İç ve dış göçlerin artması

15. Aşağıdakilerden hangisi çöllerde yaşayan hayvanlardan biri değildir?

- A) Yılan
- B) Kertenkele
- C) Lama
- D) Akbaba

16. Akım ve yatak özellikleri dikkate alındığında aşağıdaki akarsulardan hangisinin hidroelektrik potansiyeli daha yüksektir?

- A) Küçük Menderes
- B) Çoruh Nehri
- C) Asi Nehri
- D) Gediz

17. Aşağıdakilerden hangisi canlıların yeryüzüne dağılışını etkileyen coğrafi faktörlerden biri değildir?

- A) İklim
- B) Yer şekilleri
- C) Ekonomi
- D) Toprak

18. Bioçeşitlilik açısından aşağıdaki bölgelerden hangisi daha zengindir?

- A) Ekvatorial bölge
- B) Tundra bölgesi
- C) Step bölgesi
- D) Çöl bölgesi

19. Aşağıdakilerden hangisi karbondioksitin tüketilmesi yollarından biri değildir?

- A) Kara ve deniz bitkileri tarafından yapılan fotosentez
- B) Orman yangınları
- C) Deniz hayvanlarının ve bitkilerinin ölümü ile dibe çöken ve karbonatlı kayalar halinde yapılan depo
- D) Deniz hayvanlarının kabuk oluşumu

20. Nüfus artış hızının artması aşağıdaki ülkelerden hangisinde bir sorun oluşturmaz?

- A) Mısır
- B) Pakistan
- C) Fransa
- D) Hindistan

1. Aşağıdakilerden hangisi bir önerme değildir?

- A) Bir hafta 7 gündür.
- B) Nerede oturuyorsunuz?
- C) Atatürk, 19 Mayıs 1919'da Samsun'a çıktı.
- D) İki tek sayının toplamı bir çift sayıdır.

2. $[(\forall x, x-2 > 4) \vee (\exists x, x+3 = 5)]$ önermesinin olumsuzu aşağıdakilerden hangisidir?

- A) $[(\exists x, x-2 < 4) \wedge (\forall x, x-3 = 5)]$
- B) $[(\forall x, x+2 < 4) \vee (\exists x, x-3 = 5)]$
- C) $[(\forall x, x+2 \leq 4) \vee (\exists x, x+3 \neq 5)]$
- D) $[(\exists x, x-2 \leq 4) \wedge (\forall x, x+3 \neq 5)]$

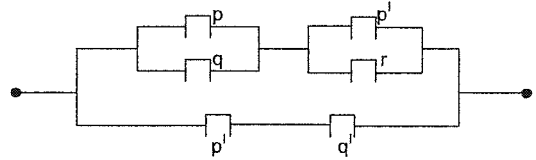
3. Aşağıdakilerden hangisi $[p \vee (q' \vee p')]'$ bileşik önermesine denktir?

- A) 1
- B) $p \wedge q$
- C) 0
- D) p'

4. $[(0 \vee 1)' \wedge (1 \wedge 0)'] \vee a \equiv 0$ önermesi için a yerine aşağıdaki bileşik önermelerden hangisi gelemez?

- A) $(0 \vee 1)'$
- B) $1 \Rightarrow 0$
- C) $(0 \wedge 0)'$
- D) $0 \Leftrightarrow 1$

5.



Şekildeki elektrik devresine karşı gelen bileşik önerme aşağıdakilerden hangisidir?

- A) $[(p \vee q) \vee (p' \vee r)] \vee (p' \vee q')$
- B) $[(p \wedge q) \wedge (p' \wedge r)] \vee (p' \wedge q')$
- C) $[(p \wedge q) \vee (p' \vee r)] \wedge (p' \wedge q')$
- D) $[(p \vee q) \wedge (p' \vee r)] \vee (p' \wedge q')$

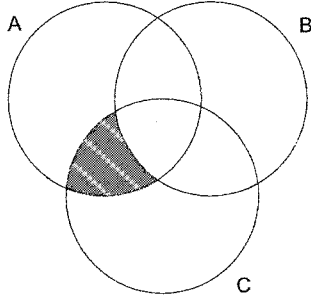
6. Verilen 6 önerme için kaç tane doğruluk değeri vardır?

- A) 16
- B) 24
- C) 32
- D) 64

7. $A=\{a, b, c, d, e\}$ kümesinin kaç tane alt kümesi vardır?

- A) 16
B) 25
C) 32
D) 36

8.



Şekildeki taralı küme aşağıdakilerden hangisidir?

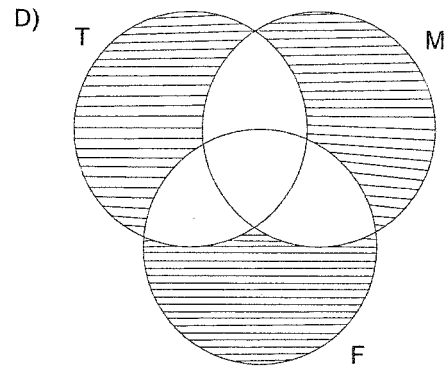
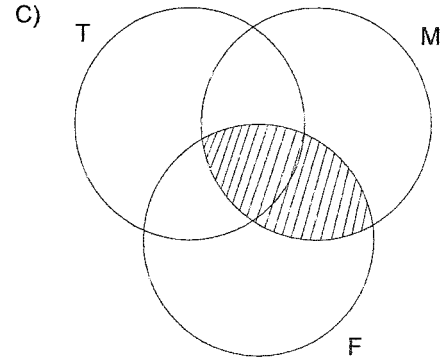
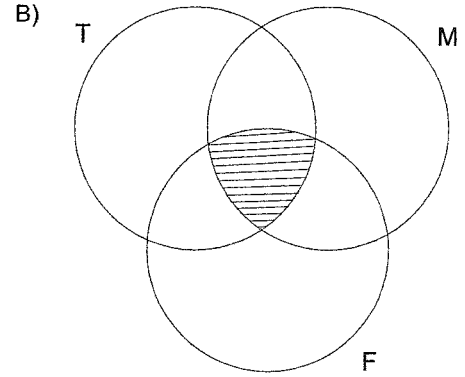
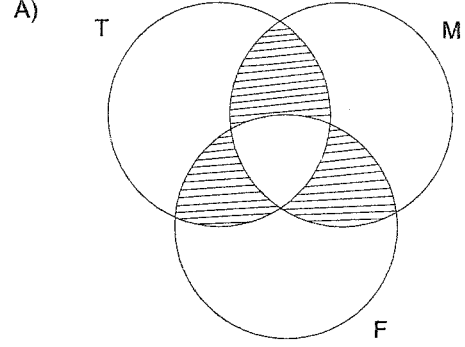
- A) $(A \cap C) \setminus (A \cap B)$
B) $A \cup (B \cap C)$
C) $(A \cap B) \cap (B \cap C)$
D) $(A \cup B) \cap (B \cup C)$

9. $A = \{x \mid |x-2| < 3 \text{ ve } x \in \mathbb{N}\}$ kümesinin liste yöntemi ile gösterimi aşağıdakilerden hangisidir?

- A) $\{-5, 5\}$
B) $\{-5, -4, -3, -2\}$
C) $\{-1, 0, 1, 2, 3\}$
D) $\{0, 1, 2, 3, 4\}$

10. Bir sınıftaki öğrencilerin her biri Türkçe, Matematik ve Fizik derslerinin en az birinden geçmiştir.

Bu sınıfta yalnız iki dersten geçenler aşağıdaki kümelerin hangisinde verilmiştir?



11. $n(A)=15$, $n(B)=11$ ve $n(A \cap B)=6$ ise $n(A \cup B)$ kaçtır?

- A) 14
- B) 20
- C) 22
- D) 24

12. $A=\{7, 8, 9, 10, 11\}$ kümesinin 3 elemanlı alt kümelerinin sayısı kaçtır?

- A) 10
- B) 15
- C) 18
- D) 20

13. $A=\{a, b, c, d\}$ kümesinin alt kümelerinin kaç tanesinde c elemanı bulunmaz?

- A) 4
- B) 6
- C) 8
- D) 10

14. $(3x-2, y+x) = (4, 6)$ olduğuna göre (x,y) ikilisi aşağıdakilerden hangisidir?

- A) (2,4)
- B) (3,4)
- C) (4,2)
- D) (6,4)

15. $A=\{0, 1, 2\}$ olmak üzere $f : A \rightarrow B$ tanımlı bire-bir ve örten bir fonksiyondur.

$f(x) = 4x-3$ kuralı ile verildiğine göre, B kümesi aşağıdakilerden hangisidir?

- A) $\{-1, 4\}$
- B) $\{0, 5\}$
- C) $\{-3, 1, 5\}$
- D) $\{-2, -1, 0\}$

16. $A=\{1, 2\}$ kümesi veriliyor.

Buna göre, A dan B ye tanımlanabilen bağıntıların sayısı 256 olduğuna göre B kaç elemanlıdır?

- A) 3
- B) 4
- C) 5
- D) 6

17. R de tanımlı \bullet işlemi, $x \bullet y = x^y - y^x + 1$ biçiminde veriliyor.

Buna göre, $(2 \bullet 3)$ işleminin değeri aşağıdakilerden hangisidir?

- A) -1
- B) 0
- C) 4
- D) 8

18. $A=\{a,b\}$ ve $B=\{10, 11, 12\}$ kümeleri veriliyor.

Buna göre, aşağıdakilerden hangisi A dan B ye bir bağıntı değildir?

- A) $\beta_1 = \{(10,a), (11,b)\}$
 B) $\beta_2 = \{(b,10), (b,11)\}$
 C) $\beta_3 = \{(a,10), (b,11), (b,12)\}$
 D) $\beta_4 = \{(a,10), (a,11), (a,12)\}$

19. $f : \mathbb{R} - \{2\} \rightarrow \mathbb{R} - \{3\}$ olmak üzere;

$f(x) = \frac{3x+1}{x-2}$ biçiminde tanımlı f fonksiyonu veriliyor.

Buna göre, $f^{-1}(2)$ kaçtır?

- A) -7
 B) -5
 C) 0
 D) 2

20.

Δ	0	1	2	3	4
0	2	3	4	0	1
1	3	4	0	1	2
2	4	0	1	2	3
3	0	1	2	3	4
4	1	2	3	4	0

$A=\{0, 1, 2, 3, 4\}$ kümesinde tanımlı bir Δ işleminin tablosu yukarıda verilmiştir.

Buna göre, $(1\Delta 4)\Delta(3\Delta 0)$ işleminin sonucu kaçtır?

- A) 1
 B) 2
 C) 3
 D) 4

1. Çocuğun, ilk döneminde anne ve babasını taklit etmesi, onların yargılarını ve davranışlarını benimsemesi aşağıdakilerden hangisi ile açıklanabilir?
- A) Özdeşim kurma
B) Yüceltme
C) Yansıtma
D) Olgunlaşma
2. Bakırköy Sinir ve Ruh Hastalıkları hastanesinin kurucusu aşağıdakilerden hangisidir?
- A) İbrahim Çallı
B) Mazhar Osman
C) Ahmet Mithat
D) Fikret Mualla
3. Aşağıdakilerden hangisi kişilik özelliklerinden biri değildir?
- A) İçe dönüklük
B) Girişkenlik
C) Otoriterlik
D) Dürüstlük
4. I. Gerçekle ilişkileri tamamen kesilmiştir.
II. Duygu ve davranışları arasında tutarsızlıklar vardır.
III. İstenilenin zıttı tepki gösterirler.
- Şizofreni hastalarıyla ilgili yukarıdaki ifadelerden hangileri doğrudur?**
- A) Yalnız II
B) I ve II
C) II ve III
D) I, II ve III
5. Aşağıdakilerden hangisi Piaget'e göre zihnin evrelerinden biri değildir?
- A) Oral dönem
B) Duyusal devimsel dönem
C) İşlem öncesi dönem
D) Somut işlemler dönemi
6. Aşağıdakilerden hangisi kaygı nevrozunun nedenlerinden biri değildir?
- A) Kusurlu anne-baba tutumları
B) Yaşamını sürdüreceği gerekli yeteneklerin geliştirilmemiş olması
C) Çocuklukta geçirilen ateşli hastalıklar
D) Geçmişte yaşanan sarsıcı olayların etkileri
7. Başkalarında bulunan iyi, güzel, beğenilen yanları kişinin kendine mal etme çabası aşağıdaki savunma mekanizmalarından hangisi ile ilgilidir?
- A) Yansıtma
B) Yön değiştirme
C) Bastırma
D) Özdeşim kurma
8. Yanlış bir davranışa mantıksal bir açıklama getirerek gerilimden kurtulma çabası aşağıdaki savunma mekanizmalarından hangisi ile ilgilidir?
- A) Kompansasyon
B) Rasyonalizasyon
C) Projeksiyon
D) Repression
9. İlkel benlik ile üst benlik arasında denge sağlayan, kişiliğin etkin ve dışa yansıyan yanı aşağıdakilerden hangisidir?
- A) Ego
B) İd
C) Süper ego
D) Karakter
10. Aşağıdakilerden hangisi bir sahne eserindeki rolleri paylaşarak veya bir hasta grubunun yazdığı rollerden benimsediğini oynayarak bilinçaltı tıkanlıkların giderilmesi için uygulanan tedavi yöntemlerinden biridir?
- A) Grup terapisi
B) İş terapisi
C) Psikodrama
D) Sosyodrama

11. Gencin, genellikle ergenlik döneminde kimlik duygusu kazanabilmek için yaşadığı mücadele süreci aşağıdakilerden hangisidir?

- A) Kimlik karmaşası
- B) Kimlik bunalımı
- C) Kimlik kategorizasyonu
- D) Kimlik paradigması

12. I. İklim ve doğa şartları
II. Hızla değişen yaşam şartları
III. Fiziki mekân şartları

Yukarıdakilerden hangileri çevresel stresin nedenlerindedir?

- A) Yalnız I
- B) I ve II
- C) II ve III
- D) I, II ve III

13. Bir testin ölçmek istediği niteliği ölçme derecesine ne ad verilir?

- A) Geçerlilik
- B) Güvenirlik
- C) Standardizasyon
- D) Yönerge

14. I. Siyasi partiler
II. Sendikalar
III. Dinî cemaatler

Yukarıdakilerden hangileri sürekli gruplara örnek olarak verilebilir?

- A) Yalnız I
- B) I ve II
- C) II ve III
- D) I, II ve III

15. Bireyin kişilere, nesnelere, olaylara ve ortama olumlu ya da olumsuz tepkide bulunma eğilimine ne ad verilir?

- A) Tutum
- B) Motivasyon
- C) Şema
- D) Sosyal etki

16. Bir gruba mensup olmanın, bireyin davranışları üzerindeki etkisini inceleyen alan aşağıdakilerden hangisidir?

- A) Deneysel psikoloji
- B) Kişilik psikolojisi
- C) Sosyal psikoloji
- D) Akademik psikoloji

17. İnsan mizacının temel dayanağı aşağıdakilerden hangisidir?

- A) Çevre
- B) Gelenek ve görenek
- C) Beden kimyası
- D) Alınan eğitim düzeyi

18. Normal zekâ aralığı kaçtır?

- A) 70-89
- B) 90-110
- C) 111-119
- D) 121-140

19. İnsanın saçma olduğunu bildiği halde yaşadığı aşırı korkuya ne ad verilir?

- A) Kalıp yargı
- B) Fobi
- C) Tahrik
- D) Engellenme

20. Aşağıdakilerden hangisi otokratik liderin özelliklerinden biri değildir?

- A) Grupta oldukça belirleyici olması
- B) Grubun tek hâkimi olması
- C) Yeniliğe ve değişime açık olması
- D) Grubu tek başına yönlendirmesi

1. Kiracıya, kiralanan şeyin kullanma hakkını ve semerelerini toplama hakkını veren kira türü aşağıdakilerden hangisidir?
 - A) Finansal kiralama
 - B) Hasılat kirası
 - C) Taşınır kirası
 - D) Adi kira
2. 6570 sayılı Kira Kanunu'nun boşlukları hangi kanuna göre doldurulur?
 - A) Medeni Kanun
 - B) Ticaret Kanunu
 - C) İş Kanunu
 - D) Borçlar Kanunu
3. Bir taşınır mal veya ekonomik değer taşıyan bir hak ile bir miktar paranın değiştirilmesi aşağıdakilerden hangisine konu olur?
 - A) Karz sözleşmesi
 - B) Taşınır mal satımı
 - C) Hizmet sözleşmesi
 - D) Kira sözleşmesi
4. Ticari işlere uygulanacak hukuk kurallarında izlenecek sıra içinde aşağıdakilerden hangisi bulunmamaktadır?
 - A) Diğer kanunlarda yer alan ticari işleme ilişkin hukuk kuralları
 - B) Ticari örf ve adet kuralları
 - C) Hakim bilgi ve tecrübesiyle edindiği ve uyguladığı kuralları
 - D) Genel hukuk kuralları
5. Aşağıdakilerden hangisinde en çok karşılaşılan faiz türleri bir arada verilmiştir?
 - A) Basit-bileşik
 - B) Süreli-süresiz
 - C) Vadeli-vadesiz
 - D) Artan oranlı-azalan oranlı
6. Bilinen bir olay ve olgudan başka bir olay veya olgunun var olduğu sonucunun çıkarılması ve aksi kanıtlanmadıkça bu varsayımın doğru kabul edilmesi haline ne ad verilir?
 - A) Teselsül
 - B) Tekeffül
 - C) Gaib
 - D) Karine
7. Bedeni ve zihni çalışma veya emeğin bir sermaye ile birleştirilmesiyle sağlanan değerlere ne denir?
 - A) Safi tutar
 - B) Temettü
 - C) İrat
 - D) Kazanç
8. Aşağıdaki üretim faktörüne dayanan hasıla eşleşmelerinden hangisi yanlıştır?
 - A) Emek payı-ücret
 - B) Sermaye payı-faiz
 - C) Memur payı-ikramiye
 - D) Müteşebbis payı-kâr
9. Aşağıdakilerden hangisi servet üzerinden alınan vergilerden biri değildir?
 - A) Veraset ve intikal vergisi
 - B) Motorlu taşıtlar vergisi
 - C) Taşıt alım vergisi
 - D) Banka ve sigorta muameleleri vergisi
10. Vergi, sadece değer üzerinden yapılırsa bu hesaplama yöntemine ne ad verilir?
 - A) Advalorem
 - B) Spesifik
 - C) Katma değer
 - D) Dolaysız vergi
11. Aşağıdakilerden hangisi verginin özellikleri arasında yer almaz?
 - A) Hizmet kalitesine göre oranı belirlenir.
 - B) Belirli bir karşılık yoktur.
 - C) Devletin egemenlik gücüne dayanır.
 - D) Gerçek ve tüzel kişilerden alınır.

12. Aşağıdakilerden hangisi kamu hizmetinin niteliklerinden biri değildir?

- A) Ülkenin veya halkın tamamına veya bir bölümüne yönelik olabilir.
- B) Aynı hukuki durumda olanlar hizmetlerden aynı şekilde yararlanamaz.
- C) Kamuya yönelik ve kamuya yararlı olmalıdır.
- D) Eşitlik esasına göre yürütülür.

13. Aşağıdakilerden hangisi ücret şekillerinden biri değildir?

- A) Zamana göre ücret
- B) Mekana göre ücret
- C) Akord ücret
- D) Kârdan pay alma

14. Aşağıdakilerden hangisi, iş sözleşmesini fesih dışı nedenlerle sona erdiren sebeplerden biridir?

- A) Süreli fesih bildirim
- B) Süresiz fesih bildirim
- C) Tarafların anlaşamaması
- D) Tarafların anlaşma niyetinin olması

15. Aşağıdakilerden hangisi işçinin borçları arasında yer almaz?

- A) Sadakat borcu
- B) Rekabet etmeme borcu
- C) Hizmet borcu
- D) Ücret ödeme borcu

16. Aşağıdakilerden hangisi sigorta ettirenin borçları arasında yer almaz?

- A) Malın muayenesine izin verme borcu
- B) Koruyucu önlemler alma borcu
- C) Poliçe düzenleyerek verme borcu
- D) Prim ödeme borcu

17. Gerçekleşmesi halinde tazminatın ödeneceği, yangın, kaza, hastalık, olum, kuraklık gibi olaylar sigortacılık dilinde aşağıdakilerden hangisiyle adlandırılır?

- A) Riziko
- B) Menfaat
- C) Prim
- D) Sigorta bedeli

18. Haksız eylemi işleyen veya onu istihdam eden kişiler tazminat ödemek zorunda kaldıkları zaman uğrayacakları zararı karşılamak için yapılan sigorta hangisidir?

- A) Mükerrer sigorta
- B) Mal sigortası
- C) Mali sorumluluk
- D) Can sigortası

19. Aşağıdakilerden hangisi kambiyo senedir?

- A) Varant
- B) Emtia senedi
- C) Poliçe
- D) Taşıma işleri senedi

20. Aşağıdakilerden hangisi, bonolar için aranan şekil şartlarından biri değildir?

- A) Vade yazılmamışsa bono geçersizdir.
- B) Senedin düzenlendiği tarih yazılmazsa bono geçersizdir.
- C) Bonoyu düzenleyenin imzası bulunmazsa bono geçersizdir.
- D) Bonoda yer alan ödeme borcu kayıtsız ve koşulsuzdur.

1. Aşağıdakilerden hangisi, sunum esnasında dikkat edilmesi gereken özelliklerden biri değildir?
 - A) Sözcüklerin doğru ve yerinde kullanılması
 - B) Hitap edilecek izleyici hakkında bilgi toplanması
 - C) Seyirciyle vücut diliyle iletişim kurulması
 - D) Jest ve mimiklere özen gösterilmesi
2. Aşağıdakilerden hangisi önerge ile ilgili yanlış bir ifadedir?
 - A) Ortaya atılan görüş olumlu ve olumsuz yönleriyle yeteri kadar aydınlanınca oylanır.
 - B) Görüşler, oy çoğunluğu ile kabul veya reddedilir.
 - C) Önerge genellikle sözlü biçimde verilir.
 - D) Bir sorunun çözümü için üyelerin başkanlığa görüş bildirmesidir.
3. Dinleyiciler önünde bir söyleşi havasında yapılan, toplumsal sorunların tartışılmasında en sık uygulanan toplantı biçimi aşağıdakilerden hangisidir?
 - A) Münakaşa
 - B) Münazara
 - C) Panel
 - D) Forum
4. Şeffaf bir asetat kağıt üzerine çizilmiş bir şekli görüntü olarak bir perde veya duvara yansıtan araçlara ne ad verilir?
 - A) Projeksiyon aletleri
 - B) Video
 - C) Disket
 - D) Çok yapraklı pano
5. Aşağıdakilerden hangisi tartışma kurallarından biri değildir?
 - A) Aynı konuda üst üste söz almaya çalışmak
 - B) Kendini övmek ve başkalarını yermek
 - C) Tartışmayı benlik, kişisel üstünlük sorunu yapmamak
 - D) Toplantılarda başkanlığın uyarılarına karşı gelmemek
6. Daha önceden belirlenmiş bir konuda farklı görüşlere sahip kişilerin bir araya gelerek konuyu çözümlmek, kendi görüşlerini açıklamak, kanıtlamak, karşı tarafın zayıf noktalarını aramak için yaptıkları söyleşmeye ne ad verilir?
 - A) Sohbet
 - B) Demeç
 - C) Konferans
 - D) Tartışma
7. Bir kişinin bir gruba karşı bir ürün, değişen şirket politikası veya eğitim programının bir yönü hakkında bilgi vermek amacıyla yaptığı konuşma ve gösterime ne ad verilir?
 - A) Önerge
 - B) Panel
 - C) Sunum
 - D) Tartışma
8. Üyelerden bir ya da birkaçı tarafından bir sorunun çözümü için başkanlığa bildirilen görüşe ne ad verilir?
 - A) Önerge
 - B) Bildirge
 - C) Öngörü
 - D) Tebliğ
9. Sunum ile ilgili aşağıdaki ifadelerden hangisi yanlıştır?
 - A) Hitap edilecek izleyici hakkında bilgi toplanması gerekir.
 - B) Modern iş ortamının bir iletişim prensibidir.
 - C) Sözlü iletişimin en başta gelenlerinden biridir.
 - D) İyi bir sunumda sadece yazılı gereçler kullanılır.
10. Öğretim alanında kullanılan en eski gereç aşağıdakilerden hangisidir?
 - A) Video
 - B) Projeksiyon aletleri
 - C) Çok yapraklı pano
 - D) Yazı tahtası

11. Aşağıdaki cümlelerin hangisinde anlatım bozukluğu vardır?

- A) Bahçedeki zararlı otlar yolunarak bir yere yığılmıştır.
- B) Bu karar, 140'a karşı 380 oyla alınmıştır.
- C) Doğru oturup, eğri konuşalım.
- D) Eğri oturup, doğru konuşalım.

12. Aşağıdaki cümlelerin hangisinde üçüncü kişi anlatımı vardır?

- A) Geldim işte mevsim gibi kapına.
- B) Yıldızlara bakarak öyle dalmışım ki!
- C) Korkuyorum bu gecelerden.
- D) Yeşil pencereden bir gül at bana.

13. Bir hikâyenin bütününün veya bir parçasının kısaltılmasına ne ad verilir?

- A) Not alma
- B) Kompozisyon yazma
- C) Özet çıkarma
- D) Yazı yazma

14. Bir metnin oluşabilmesi için aşağıdakilerden hangilerinin bulunması gerekir?

- A) Duruluk - akıcılık
- B) Tutarlılık - bağdaşıklık
- C) Doğruluk - içtenlik
- D) Özgünlük - akıcılık

15. Aşağıdaki cümlelerin hangisinde birinci kişi anlatımı vardır?

- A) Çocuklar, babalarını gördüler.
- B) Kız, büyükannesine yemek götürdü.
- C) Yavru köpeğe süt verdiler.
- D) Uzaklardan geldim.

16. "Not tutmak, zamanı gelecek için saklamaktır." sözü aşağıdakilerden hangisine aittir?

- A) Andre Gide
- B) Max Jacob
- C) Gustave Flaubert
- D) Jeann Paul Satre

17. Ana fikir ile ilgili aşağıdaki ifadelerden hangisi doğrudur?

- A) Ana fikir, konu demektir.
- B) Ana fikir, bir yazının özüdür.
- C) Bir yazının başlığı ile ana fikri arasında bir bağlantı yoktur.
- D) Her eserin, bir tane ana fikri vardır.

18. Aşağıdaki cümlelerin hangisinde gereksiz sözcük vardır?

- A) Bir gece ansızın gelebilirim.
- B) Bilimkurgu kitaplarını nadiren, ara sıra okurum.
- C) Yarın sinemaya gidelim.
- D) Oğlunuzun durumu yarın kurulda görüşülecek.

19. Bir metnin konusu ile ilgili aşağıdaki ifadelerden hangisi yanlıştır?

- A) Üzerine söz söylenen, yazı yazılan her şey konu olabilir.
- B) Geniş kapsamlı konulara sınırlı konular denir.
- C) Konular, geniş ve dar kapsamlı olmak üzere iki ayrı görüşle ele alınır.
- D) Atasözü, özdeyiş gibi bir düşünce; sevgi, sabır gibi bir duygu konu olabilir.

20. Hiç kimseye benzemeden, öykünmeden biçim ve içerikte benzersiz olmak, anlatımın hangi özelliği ile ilgilidir?

- A) Özgünlük
- B) Duruluk
- C) Akıcılık
- D) Doğruluk

1. İlahilerinde Tanrı aşkını, insan sevgisini, hoşgörüyü yansıtmıştır. Ona göre insan, nefesine hâkim olmakla tutkularından kurtularak Tanrı'ya ulaşabilir. Farsçanın yaygın olduğu bir dönemde sade Türkçeyle şiirler söylemiştir.

Yukarıda sözü edilen XIII. yüzyılın büyük tasavvuf şairi kimdir?

- A) Ahmet Yesevî
B) Kaygusuz Abdal
C) Fuzulî
D) Yunus Emre
2. Allah'a yakarışı işleyen ve bağışlanmayı dileyen şiirlere ne ad verilir?

- A) Tevhit
B) Kaside
C) Naat
D) Münacaat

3. XVII. yüzyıl Türk toplumunun sanatını, tarihini, folklorunu, gelenek ve göreneklerini ayrıntılarıyla anlatan, Türk edebiyatında gezi türündeki eserlerin en ünlüsü olarak kabul edilen "Seyahatnâme" kim tarafından yazılmıştır?

- A) Kâtip Çelebi
B) Evliya Çelebi
C) Çelebi Mehmet
D) Süleyman Çelebi

4. Hz. Muhammed'i öven kasidelere ne ad verilir?

- A) Methiye
B) Münacaat
C) Hicviye
D) Naat

5. Gazel nazım şeklinin en güzel beyitine ne ad verilir?

- A) Beytül-gazel
B) Matla beyit
C) Musammat gazel
D) Makta beyit

6. "Bugünden sonra divanda, dergâhta, bargâhta, mecliste, meydanda Türkçeden başka dil kullanılmayacaktır." diyerek bir fermanla Türkçeye sahip çıkmak isteyen devlet adamı aşağıdakilerden hangisidir?

- A) Yavuz Sultan Selim
B) Kanuni Sultan Süleyman
C) Karamanoğlu Mehmet Bey
D) Fatih Sultan Mehmet

7. Belimizde kılıcımız kirmâni
Taşı deler mızrağımın temreni
Hakkımızda devlet etmiş fermanı
Ferman padişahın dağlar bizimdir.

Dadaloğlu'nun bu dördlüğü aşağıdakilerden hangisine örnektir?

- A) Taşlama
B) Koçaklama
C) Güzelleme
D) Öğüt

8. Aşağıdakilerden hangisi Türk halk tiyatrosu içinde yer almaz?

- A) Orta oyunu
B) Meddah
C) Dram
D) Köy seyirlik oyunu

9. Manas Destanı ile ilgili aşağıdaki ifadelerden hangisi yanlıştır?

- A) Kırgızlara aittir.
B) Dize başlarında aliterasyonlar bulunur.
C) Dörtlükler halinde düzenlenmiştir.
D) Genellikle 7'li ve 8'li hece ölçüsüyle söylenir.

10. Şairin bir kimsenin ölümünden duyduğu üzüntüyü anlattığı kasideye ne ad verilir?

- A) Mersiye
B) Tevhit
C) Hicviye
D) Münacaat

11. Lâle Devri'nin İstanbul'unu, doğal güzelliklerini ve eğlence hayatını gazel ve şarkılarında ölümsüzleştiren; millileşme-mahallileşme akımının temsilcisi, klasik edebiyatın usta şairi aşağıdakilerden hangisidir?

- A) Şeyh Galip
- B) Nedim
- C) Bâkî
- D) Şeyhi

12. Beş mesnevinin bir araya getirilmesi ile meydana gelen eserlere ne ad verilir?

- A) Hamse
- B) Tezkire
- C) Münşeât
- D) Musammat

13. Dört mısralık Divan Edebiyatı nazım şekli aşağıdakilerden hangisidir?

- A) Rubai
- B) Gazel
- C) Mesnevi
- D) Kaside

14. Âşık Paşa'nın didaktik mesnevisi aşağıdakilerden hangisidir?

- A) Hayriyye
- B) Lütfiyye
- C) Hüsn ü Aşk
- D) Garibnâme

15. Aşağıdakilerden hangisi eski Türk edebiyatında romanın yerini tutan uzun kahramanlık hikâyelerinden biridir?

- A) Battalnâme
- B) Vakayınâme
- C) Seyahatnâme
- D) Şikayetnâme

16. Divan-ı Hikmet'in yazarı aşağıdakilerden hangisidir?

- A) Kaşgarlı Mahmut
- B) Ahmet Yesevi
- C) Yunus Emre
- D) Yusuf Has Hacib

17. Aşağıdaki yazar-eser eşleştirmelerinden hangisi yanlıştır?

- A) Süleyman Çelebi – Mevlid
- B) Şeyh Galip – Hüsn ü Aşk
- C) Âşık Paşa – Harnâme
- D) Nâbî – Hayrabad

18. Kırgızların geleneklerini, ahlak ve aile hayatlarını, dünya ve hayat görüşlerini anlatan destan aşağıdakilerden hangisidir?

- A) Göç
- B) Türeyiş
- C) Şu
- D) Manas

19. İlk dizesi yedi heceden az olan mânilere ne ad verilir?

- A) Düz mâni
- B) Eksik mâni
- C) Kesik mâni
- D) Ayaklı mâni

20. Bed-asla necabet mi verir hiç üniforma
Zer-düz palan ursan eşek yine eşektir.

Ziya Paşa'nın bu beyitinde vurgulanmak istenen aşağıdakilerden hangisidir?

- A) Üniforma insana soyluluk verir.
- B) Asalet insanın özündedir.
- C) Eşeğin değeri üstüne vurulan eyer kadardır.
- D) Aslı kötü olanlar üniforma giyemez.

1. Aşağıda verilen metal tozları karışımlarından hangisi mıknatıs yardımıyla birbirinden ayrılabilir?
- A) Demir-kobalt
B) Kobalt-nikel
C) Nikel-platin
D) Gümüş-altın
2. Yemek tuzunun 20°C'deki çözünürlüğü 36gr/100 cm³ sudur. Bu sıcaklıkta, 500 cm³ suda yemek tuzu çözünerek doymuş çözelti oluşturuluyor. Oluşan çözelti kaç gramdır? (d_{su}=1 gr/cm³)
- A) 680
B) 500
C) 360
D) 180
3. 20°C ta 408 gr doymuş sodyum klorür (yemek tuzu) çözeltisi hazırlamak için kaç gr su gerekir? (20°C ta sodyum klorürün çözünürlüğü 36gr/100 gr sudur)
- A) 150
B) 200
C) 250
D) 300
4. 20°C de potasyum klorürün çözünürlüğü 34 gr/100 cm³ sudur. Aynı sıcaklıkta 700 cm³ suyla potasyum klorürün doymuş çözeltisini oluşturmak için kaç gram potasyum klorür gereklidir?
- A) 238
B) 136
C) 68
D) 17
5. Hurda demir yığınları arasına karışmış lehim, çinko, alüminyum parçalarını toplayan biri, hangi yöntemle lehim, çinko ve alüminyumdan demiri ayırabilir?
- A) Genleşme katsayıları farkı ile ayırma
B) Mıknatıs ile ayırma
C) Erime noktaları farkı ile ayırma
D) Elektriklenme ile ayırma
6. $X_{(katı)} + su \rightarrow sulu\ çözelti + ısı$
- Denklemindeki X katısının sudaki çözünürlüğünü artırmak için aşağıdaki işlemlerden hangisi uygulanmalıdır?
- A) Çözeltinin karıştırılması
B) Çözeltinin sıcaklığının artırılması
C) Su miktarının artırılması
D) Katı miktarının artırılması

7. 30°C de sodyum nitratın çözünürlüğü 96 gr/100 cm³ sudur. Aynı sıcaklıkta 240 gr x katısını çözmek için en az kaç cm³ su gerekir?

- A) 720
- B) 300
- C) 250
- D) 80

8. $X + Y \rightarrow Z$

denklemine göre, aşağıdakilerden hangisi kesinlikle yanlıştır?

- A) X, elementtir.
- B) X, bileşiktir.
- C) Y, elementtir.
- D) Z, karışımdır.

9. Aşağıdakilerden hangisi karışımları ayırma yöntemlerinden değildir?

- A) Özkütle farkı ile ayırma
- B) Elektrik enerjisi ile ayırma (elektroliz)
- C) Mıknatıs ile ayırma
- D) Çözünürlük farkı ile ayırma

10. I. Çözücü miktarını arttırmak
II. Basıncı arttırmak
III. Çözeltiyi karıştırmak
IV. Çözelti sıcaklığını değiştirmek

Bir x katısının çözünürlüğünü yukarıdaki etkenlerden hangileri değiştirmez?

- A) I, II ve III
- B) I, III ve IV
- C) II, III ve IV
- D) I, II, III ve IV

11. Aşağıdakilerden hangisi bileşiklerin özelliklerinden biri değildir?

- A) Bileşiği oluşturan maddeler arasında belirli bir oran vardır.
- B) Erime ve kaynama noktaları sabittir.
- C) Bileşenlerine fiziksel yöntemlerle ayrılırlar.
- D) Belirli formülleri vardır.

12. Aşağıdakilerden hangisi heterojen karışıma örnektir?

- A) Hava
- B) Mürekkep
- C) Çelik
- D) Ayran

13. Etil alkol ve asetondan oluşan bir karışımı bileşenlerine ayırmak için aşağıdaki yöntemlerden hangisi seçilmelidir?

- A) Ayrımsal kristallendirme
- B) Ayrımsal damıtma
- C) Basınç altında damıtma
- D) Elektroliz

14. Aşağıdakilerden hangisi maddenin ayırt edici özelliklerinden biridir?

- A) Kütle
- B) Özkütle
- C) Eylemsizlik
- D) Tanecikli yapı

15. I. Etin kokması
II. Reçelin şekerlenmesi
III. Gümüşün kararması
IV. Yeşil yaprağın sararması
V. Ampulün ışık vermesi

Yukarıdaki olaylardan hangileri kimyasal değişmedir?

- A) I, III ve IV
- B) II, III ve IV
- C) II, IV ve V
- D) III, IV ve V

16. Aşağıdakilerden hangisi fiziksel değişmeye örnektir?

- A) Odunun yanması
- B) Yaprığın çürümesi
- C) Şekerin suda çözünmesi
- D) Sütün ekşimesi

17. Karışımları bileşenlerine ayırma tekniklerinden birisi de süzme yöntemidir. Süzme ile ayırma tekniği, maddelerin hangi özelliğine dayanır?

- A) Isınma ısısı
- B) Erime noktası
- C) Çözünürlük
- D) Kaynama noktası

18. Aşağıda verilenlerden hangisindeki çözelti turunun örneği yanlıştır?

Çözücü – Çözünen	Çözelti
A) Sıvı-Sıvı	Cıva
B) Gaz-Gaz	Hava
C) Sıvı-Sıvı	Sirke
D) Katı-Katı	Bronz

19. Aşağıdakilerden hangisi karışımların özelliklerinden biridir?

- A) Karışımı oluşturan maddeler arasında belirli bir oran vardır.
- B) Belirli formülleri vardır.
- C) Bileşenleri özelliklerini kaybeder.
- D) Bileşenlerine fiziksel yöntemlerle ayrılırlar.

20. Aşağıda verilen madde çiftlerinin hangisinden bir çözelti elde edilemez?

- A) Etilalkol-su
- B) Sirke-su
- C) Çay şekeri-su
- D) Acıbadem yağı-su

1. Cam bir çubuk, ipekli bir kumaşa sürtülerek yüklenirse ipekli kumaşın yükü aşağıdakilerden hangisidir?

- A) +
- B) -
- C) Nötr
- D) Yüklenmez.

2. Bir cismin elektrikle yüklü olup olmadığını veya yüklü ise yükünün cinsinin ne olduğunu anlamaya yarayan araca ne ad verilir?

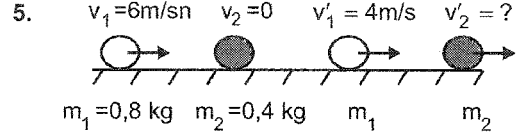
- A) Mikroskop
- B) Teleskop
- C) Elektroskop
- D) Osiloskop

3. Elektrik akımı ileten çözeltilere ne ad verilir?

- A) Elektrolit
- B) Elektron
- C) Katyon
- D) Anot

4. Bir transformatörün primeri 300, sekonderi 30 sarımlıdır. Primere 220 V'luk alternatif gerilim uygulanırsa sekonderdeki gerilim kaç V olur?

- A) 20
- B) 22
- C) 24
- D) 26



(çarpışmadan önce) (çarpışmadan sonra)

Yukarıdaki şekilde $m_1=0,8\text{ kg}$ 'lık çelik bir bilye $v_1=6\text{ m/sn}$ hızla, durmakta olan $m_2=0,4\text{ kg}$ kütleli cam bilyeye merkezi olarak çarpıyor. Çarpışmadan sonra m_1 kütlelerinin hızı $v'_1=4\text{ m/s}$ olduğuna göre, m_2 kütlelerinin v'_2 hızı kaç m/sn olur?

- A) 4
- B) 5
- C) 6
- D) 8

6. 6 m/sn hızla giden 2.000 kg kütleli bir otomobilin momentumu kaç kg.m/sn dir?

- A) 2.000
- B) 3.000
- C) 6.000
- D) 12.000

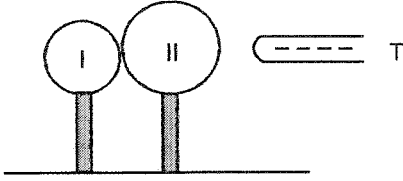
7. 80 metre yükseklikten serbest düşmeye bırakılan bir cisim kaç saniye sonra yere çarpar? (Hava sürtünmesi önemsizdir, $g=10\text{ m/s}^2$)

- A) 4
- B) 6
- C) 8
- D) 10

8. 4 m/s'lik bir hızla yatay olarak fırlatılan bir cismin 0,3 saniye sonra hızı kaç m/s olur? ($g=10\text{ m/s}^2$)

- A) 3
- B) 4
- C) 5
- D) 7

16. Aşağıdaki şekilde yalıtkan destek üzerine oturtulmuş ve birbirine dokunmakta olan yüksüz iki metal küreye önce (-) yüklü T cismi yaklaştırılıyor. Sonra küreler birbirinden ayrılıp, daha sonra da T cismi uzaklaştırılıyor.



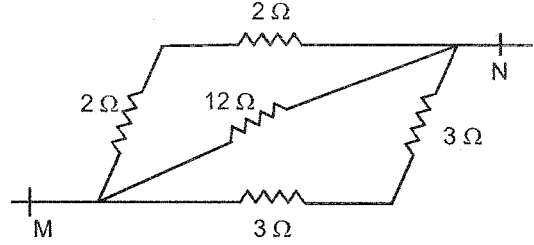
Buna göre, I ve II nolu kürelerin yükleri ne olur?

- A) - ve -
 B) Nötr ve +
 C) - ve Nötr
 D) - ve +
17. Bir cismin iki nokta arasında eş zamanlı (periyodik olarak) ve değişken ivmeli olarak yaptığı titreşim (devir) hareketine ne ad verilir?
- A) Geometrik hareket
 B) Logaritmik hareket
 C) Basit harmonik hareket
 D) Üssel hareket
18. Yüklü bir M cismi, K cismini iterken L cismini çekiyor. L cisminin yükü pozitif (+) olduğuna göre, sırasıyla M ve K cisimlerinin yükleri ne olur?
- A) - ve -
 B) + ve +
 C) + ve -
 D) - ve +

19. Aşağıdakilerden hangisi iletkendir?

- A) Ebonit
 B) Tahta
 C) Altın
 D) Plastik

20.



Yukarıdaki devrenin eşdeğer direnci kaç ohm (Ω) dur?

- A) 1/4
 B) 1/2
 C) 1
 D) 2

1. Bitkilerle yapılan bir deneyde, iletim demetlerinden soymuk boruları çıkarıldığı zaman yapraklarının canlı kaldığı, odun boruları çıkarıldığı zaman yapraklarının solduğu gözlenmiştir.

Bu deneyden çıkarılabilecek temel sonuç aşağıdakilerden hangisidir?

- A) Organik maddelerin odun boruları ile taşındığı
B) Odun borularının fotosentez yapmadığı
C) Suyun taşınmasında soymuk borularının görev almadığı
D) Odun borularının canlı olduğu

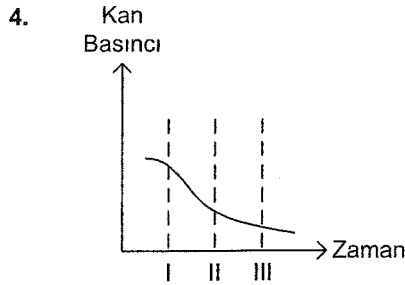
2. Kanın damar dışında pıhtılaşmasında aşağıdakilerden hangisi rol oynamaz?

- A) Hemoglobinin
B) K vitamini
C) Karaciğer
D) Fibrin

3. I. Balık
II. Kurbağa
III. Sürüngen
IV. Kuş

Yukarıdakilerden hangilerinin kalbinde temiz kan kirli kana karışır?

- A) II ve III
B) I ve II
C) III ve IV
D) I, II ve III



İnsanda dolaşım sisteminin çeşitli bölümlerinden geçmekte olan kanın, basınç değişimi grafikte gösterilmektedir.

Grafiğin I. II. ve III. bölgelerinde kan sırasıyla, hangi damardan geçmektedir?

- A) Atardamar- Toplardamar- Kılcal damar
B) Toplardamar- Atardamar- Kılcal damar
C) Kılcal damar- Toplardamar- Atardamar
D) Atardamar- Kılcal damar- Toplardamar

5. İnsan vücudu içerisindeki metabolik olaylar sonucu meydana gelen zehirli maddeleri ilk etapta etkisiz hale getiren ve vücuttan uzaklaştıran organ aşağıdakilerden hangisidir?

- A) Kalp
B) Mide
C) Böbrek
D) Karaciğer

6. Odun ve soymuk boruları ile ilgili aşağıdaki ifadelerden hangisi yanlıştır?

- A) Odun boruları suyun kökten yapraklara taşınmasını sağlar.
B) Soymuk borularının hücreleri canlıdır.
C) Odun borularında suyun yükselmesinde tek etkili faktör kohezyon kuvvetidir.
D) Soymuk boruları fotosentez ürünlerini yapraktan gövdeye ve köklere taşırlar.

7. İskeleti kemikten yapılmış ergin bir omurgalının böbreğinde aşağıdakilerden hangisi bulunmaz?

- A) Homerulus
B) Kirpikli huni
C) Henle kulbu
D) Havuzcuk

8. İnsanın solunum sistemini oluşturan bazı yapılar şunlardır:

- I. Bronş
II. Alveol
III. Soluk borusu
IV. Bronşçuk

Atmosferdeki oksijenin kana karışımına kadar, bu yapılardaki geçiş sırası aşağıdakilerden hangisidir?

- A) III, I, IV ve II
B) I, II, III ve IV
C) III, II, I ve IV
D) IV, III, II ve I

9. Aşağıdakilerden hangisi insanda kanın görevlerinden biri değildir?

- A) Hücrelere oksijen taşımak
B) Hücrelerden akciğere karbondioksit taşımak
C) Sindirim enzimi taşımak
D) Metabolizma artıkları taşımak

10. İnsanın dolaşım sistemi aşağıdakilerden hangisini gerçekleştirmez?

- A) Atık madde taşıma
B) Hormon taşıma
C) Sindirim enzimi taşıma
D) Besin taşıma

11. Aşağıdaki hayvanlardan hangisinin solunum organında temizlenen kan kalbe uğramadan vücuda dağılır?

- A) Kurbağa
- B) Kuş
- C) Memeli
- D) Balık

12. Solungaçları, diğer solunum sistemlerinden ayıran özellik aşağıdakilerden hangisidir?

- A) Geniş bir yüzeye sahip olması
- B) Sudaki çözülmüş oksijeni alabilmesi
- C) Karbondioksiti dışarı atması
- D) Omurgasızlarda görülmesi

13. Aşağıdakilerden hangisi açık dolaşım sisteminin özelliklerinden biri değildir?

- A) Kan damarlarının olması
- B) Canlıya hızlı hareket yeteneği kazandırması
- C) Madde alış-verişinin yavaş olması
- D) Kılcal damarların olmaması

14. I. Stoma sayısı
II. Yaprak yüzeyi genişliği
III. Yapraklardaki damar sayısı

Bitkilerde gaz alış-verişi, yukarıdaki faktörlerden hangilerine bağlıdır?

- A) Yalnız I
- B) I ve II
- C) II ve III
- D) I, II ve III

15. I. Solungaç solunumu
II. Deri solunumu
III. Akciğer solunumu

Yukarıdakilerden hangileri kurbağaların farklı gelişim dönemlerinde yaptıkları solunum türleridir?

- A) Yalnız I
- B) Yalnız II
- C) I ve III
- D) I, II ve III

16. Aşağıdakilerden hangisi solunum sistemlerindeki ortak özelliklerinden biridir?

- A) Oksijen taşınması
- B) Canlının dış ve iç çevresi arasında gaz değişimine aracılık etmesi
- C) Enerji üretilmesi
- D) Karbondioksit taşınması

17. I. Metanefroz
II. Mezonefroz
III. Pronefroz

Yüksek yapılı omurgalılarda böbrek oluşumunun evreleri sırasıyla aşağıdakilerden hangisidir?

- A) I, II ve III
- B) I, III ve II
- C) II, I ve III
- D) III, II ve I

18. Aşağıdaki canlıların hangisinde ürik asit, boşaltım ürünüdür?

- A) Kuşta
- B) Tavşanda
- C) Sincapta
- D) Balıkta

19. Aşağıdaki organizma ve boşaltım sistemleri eşleştirmelerinden hangisi yanlıştır?

- A) Memeli - Nefron
- B) Yer solucanı - Nefridyum
- C) Çekirge - Malpighi kanalları
- D) Sürüngen - Kontraktıl koful

20. Aşağıdakilerden hangisi nefronun bölümlerinden biri değildir?

- A) Üreter
- B) Henle kulbu
- C) Glomerulus
- D) Malpighi cisimciği

1. 1982 Anayasası'nın en belirgin özelliği aşağıdakilerden hangisidir?
 - A) Toplumsal yaşamda bireye ağırlık vermesi
 - B) Devlet yönetiminde bireye ağırlık vermesi
 - C) Hak ve özgürlükler açısından, bireye değil devlete ağırlık vermesi
 - D) Temel hak ve özgürlükleri güvenceli bir statüye oturtması

2. Bağımsızlığına yeni kavuşan Asya ve Afrika ülkelerinin ABD ve SSCB gibi iki büyük nükleer güç karşısında varlıklarını korumak için birlik ve dayanışmalarını sağlamak amacıyla 1955 yılında yapılan konferans aşağıdakilerden hangisidir?
 - A) Helsinki Konferansı
 - B) Bandung Konferansı
 - C) Londra Konferansı
 - D) Kahire konferansı

3. Aşağıdakilerden hangisi Türk ekonomisinde bir dönüm noktası olarak nitelendirilen 24 Ocak Kararları'nın amaçlarından biri değildir?
 - A) Özel sektöre verilen kredilerin faizini yükseltmek
 - B) Enflasyonu düşürmek
 - C) Ödemeler dengesini düzeltmek
 - D) İhracata yönelik üretimi teşvik etmek

4. I. Köyden kente göçün artması
 II. İşçi sayısının azalması
 III. Sendikal faaliyetlerin artması
 IV. Gecekondu sayısının azalması
 Yukarıdakilerden hangileri 1960-1980 yılları arasında Türkiye'deki toplumsal gelişmelerdir?
 - A) Yalnız I
 - B) Yalnız II
 - C) I ve III
 - D) III ve IV

5. Aşağıdakilerden hangisi 1970'li yıllarda Türkiye ile Yunanistan arasında Ege Denizi konusunda ortaya çıkan sorunlardan biri değildir?
 - A) Ege adalarının silahlandırılması
 - B) Meis ve Oniki Ada'nın Yunanistan'a verilmesi
 - C) Karasularının 12 mile çıkarılması
 - D) Ege hava sahası

6. Kıbrıs Barış Harekâtı hangi yıl yapılmıştır?
 - A) 1971
 - B) 1972
 - C) 1973
 - D) 1974

7. Vietnam Savaşı hangi yıl başlamıştır?
 - A) 1960
 - B) 1962
 - C) 1965
 - D) 1969

8. 1961 yılında bir araya gelerek yumuşama sürecini başlatan devletler aşağıdakilerin hangisinde birlikte ve doğru olarak verilmiştir?
 - A) Çin-Japonya
 - B) ABD-SSCB
 - C) Güney Kore-Kuzey Kore
 - D) Fransa-İngiltere

9. 1975 yılında Doğu Bloku ülkelerinin, Avrupa'da güvenlik ve işbirliğini güçlendirmek amacıyla bir konferans toplanması önerisi üzerine, Arnavutluk dışında tüm Avrupa ülkeleri, ABD ve Kanada'nın katılımıyla gerçekleştirilen konferans aşağıdakilerden hangisidir?
 - A) Londra Konferansı
 - B) Camp David Konferansı
 - C) Paris Konferansı
 - D) Helsinki Konferansı

10. Türkiye'de 1980 sonrası yapılan ilk milletvekili genel seçimlerini hangi parti kazanmıştır?
 - A) ANAP
 - B) DYP
 - C) CHP
 - D) MHP

11. Pakistan ile Hindistan arasında 1948 yılından günümüze kadar çözülmemeyen bir sorun olan bölge aşağıdakilerden hangisidir?
 - A) Nepal
 - B) Tibet
 - C) Keşmir
 - D) Tayland

12. Aşağıdakilerden hangisi 27 Mayıs 1960 askeri müdahalesinin nedenlerinden biri değildir?

- A) Ekonomide enflasyonist baskının artması
- B) Siyasi yaşamda hoşgörü eksikliklerinin olması
- C) Ekonomik şartların siyasi ortamı gerginleştirmesi
- D) Dış ülkelerle olan siyasi ilişkilerin gerginleşmesi

13. Aşağıdakilerden hangisi Avrupa Birliği'ne adaylık için başvuruda bulunan Doğu Avrupa ülkelerinin tam üyelik için yerine getirmesi gereken yükümlülükleri belirten Kopenhag Kriterleri kapsamındaki konulardan biri değildir?

- A) Dış siyaset
- B) Hukukun üstünlüğü
- C) İnsan hakları
- D) Azınlık hakları

14. SSCB'nin dağılmasından sonra Nursultan Nazarbayev önderliğinde bağımsızlığını ilan eden, büyük petrol, uranyum, demir, altın ve kurşun rezervlerine sahip olan ve Semey nükleer deneme alanını kapatarak dünya tarihinde ilk defa gönüllü olarak kendi nükleer silah deposundan vazgeçen ülke aşağıdakilerden hangisidir?

- A) Özbekistan
- B) Azerbaycan
- C) Türkmenistan
- D) Kazakistan

15. Aşağıdakilerden hangisi 1990 yılında Irak'ın Kuveyt'i işgal etme sebeplerinden biri değildir?

- A) Kuveyt'in, Osmanlı Devleti döneminde Basra'ya bağlı bir vilayet olması sebebiyle, Irak'ın buranın kendilerine bağlı olması gerektiğini öne sürmesi
- B) Kuveyt'in işgal edilmesi, Suudi Arabistan, İran ve Birleşik Arap Emirlikleri başta olmak üzere bölge ülkelerinin politikaları ile uyumsuzluğu için, işgal fikrinin bu ülkelerce desteklenmesi
- C) Irak'ın, borçlarını ödeyebilmek için batılı ülkelere ve Körfez ülkelerinden istediği krediye olumlu cevap alamaması
- D) Irak'ın, Basra Körfezi'nin doğusunu ve Kuveyt'teki zengin petrol yataklarını ele geçirerek bölgede daha etkili olmayı amaçlaması

16. Aşağıdakilerden hangisi son 25 yılda dünyada etkili olan salgın hastalıklardan biri değildir?

- A) Veba
- B) Kuş gribi
- C) Hepatit
- D) Domuz gribi

17. Endüstriyel gelişmeye ve kitle iletişim araçlarının yaygınlaşmasına paralel olarak siyasi, kültürel ve ekonomik düzeydeki çok yönlü toplumsal ilişkilerin dünya çapında yaygınlaşmasına ne ad verilir?

- A) Toplumsallaşma
- B) Glastnost
- C) Batılılaşma
- D) Küreselleşme

18. Üç Maymun adlı filmiyle Cannes Film Festivali'nde en iyi yönetmen ödülünü alarak, Türkiye'yi sinema dalında uluslararası alanda başarıyla temsil eden yönetmen aşağıdakilerden hangisidir?

- A) Reha Erdem
- B) Nuri Bilge Ceylan
- C) Mustafa Altıoklar
- D) Ferzan Özpetek

19. Berlin Duvarı'nın yıkılarak iki Almanya'nın resmen birleştiği yıl aşağıdakilerden hangisidir?

- A) 1988
- B) 1989
- C) 1990
- D) 1991

20. Avrupa Birliği'nin (AB) uluslararası problemleri çözme konusunda yeterli performansı gösterememesinin başlıca nedeni aşağıdakilerden hangisidir?

- A) Üye devletler arasında farklı siyasi ve ekonomik çıkarların olması
- B) Küresel krizlerin artması
- C) Üye olmak isteyen devletlere ağır şartlar öne sürmesi
- D) Üye ülke sayısına kısıtlama getirmesi

1. Aşağıdakilerden hangisi, İktisat Kongresinde alınan önemli kararlardan biri değildir?
- A) Havacılık çalışmaları ile ilgili bir kurumun kurulması
B) Koruyucu gümrük vergileri ile sanayinin korunması
C) Günlük çalışma süresinin 8 saate indirilmesi
D) Özel teşebbüse kredi sağlayacak bir devlet bankasının kurulması
2. Ekonomi alanında, belirlenmiş hedeflere ulaşmak için ekonomik yapıyı, düzeni ve ekonomik faaliyetleri yönlendiren önlemlerin bütününe ne ad verilir?
- A) İktisat teorisi
B) Teorik ekonomi
C) Ekonomi politikası
D) Kalkınma politikası
3. Ekonomi biliminin klasik sınıflandırılmasında aşağıdakilerden hangisi yer almaz?
- A) Üretim
B) Tüketim
C) Bölüşüm
D) Faktör piyasası
4. İnsanların ihtiyaçlarını doğrudan doğruya karşılamaya uygun olan, üretilebilen ve doğada belirli miktarda bulunan vasıtalara ne ad verilir?
- A) İhtiyaç
B) Mal
C) Değer
D) Emek
5. Aşağıdakilerden hangisi dolaysız tüketimdir?
- A) Bir otobüste seyahat edilmesi
B) Ekmek üretimi için un kullanılması
C) Sanayide tekstil ürünleri üretmek üzere pamuk ve yünün kullanılması
D) Hidro elektrik santralinde su kullanılması
6. Aşağıdakilerden hangisi, yönlendirici vasıtalara bir örnek değildir?
- A) Nüfus planlaması
B) İhracatı destekleme önlemleri
C) Yatırımları destekleme önlemleri
D) Kamulaştırma
7. Aşağıdakilerden hangisi servetin tanımıdır?
- A) İnsanların bir mala verdikleri önemin derecesidir.
B) Malın ihtiyacı karşılayabilmesi ve faydalı olması durumudur.
C) Bir insanın belirli bir zamanda kullanmak yetkisine sahip olduğu mal, hizmet, para ve malların bütünüdür.
D) Malların insanlar için kullanım değeridir.
8. Ekonomide çalışmak isteyen herkese iş alanı sağlanması, var olan kaynakların tam ve etkili şekilde kullanılması ekonomi politikasının aşağıdaki hedeflerinden hangisi içinde yer alır?
- A) Tam istihdamı sağlamak
B) Ekonomik kalkınmayı sağlamak
C) Gelir dağılımını dengelemek
D) Tekel piyasalarını arttırmak
8. Aşağıdakilerden hangisi kuruluş yeri seçiminde göz önünde bulundurulacak faktörlerden biri değildir?
- A) Hammadde kaynaklarına yakınlık
B) Kullanılan üretim teknolojisi
C) Su kaynaklarına yakınlık
D) Enerji kaynaklarına yakınlık
11. Türkiye'de jeotermal enerji en çok hangi bölgede yer alır?
- A) Doğu Anadolu
B) Batı Karadeniz
C) Batı Anadolu
D) Güneydoğu Anadolu
11. Karşılanması ekonomik bir faaliyetin yapılmasını gerektiren ihtiyaçlara ne ad verilir?
- A) Ekonomik olmayan ihtiyaçlar
B) Kültürel ihtiyaçlar
C) Zorunlu ihtiyaçlar
D) Ekonomik ihtiyaçlar

12. Aşağıdakilerden hangisi, birinci enerji kaynaklarından biri değildir?

- A) Kömür
- B) Elektrik
- C) Doğalgaz
- D) Jeotermal enerji

13. Aşağıdakilerden hangisi ihtiyaç yasalarından biri değildir?

- A) İhtiyaçların miktarı sınırsızdır.
- B) İhtiyaçlar yaşla ilgilidir.
- C) İhtiyaçlar birbirine rakiptir.
- D) İhtiyaçlar değişmektedir.

14. İnsanların bir mala verdikleri önemin derecesine ne ad verilir?

- A) Fayda
- B) İhtiyaç
- C) İstek
- D) Değer

15. Üretimle ilgili aşağıdaki ifadelerden hangisi yanlıştır?

- A) Üretim kıt olan herhangi bir malın miktarını artırmaktır.
- B) Üretim ekonomik malların miktarını veya faydasını artırmaktır.
- C) Enerji, doğa üretiminin en önemli faktörlerinden biri değildir.
- D) Üretim değer meydana getirmektir.

16. Aşağıdakilerden hangisi zorunlu ihtiyaçlara cevap veren mallardan biridir?

- A) Ekmek
- B) Elbise
- C) Konut
- D) Kitap

17. Aşağıdakilerden hangisi, Türkiye'deki termik santrallerden biridir?

- A) Hazar
- B) Tunçbilek
- C) Hirfanlı
- D) Keban

18. Aşağıdakilerden hangisi malın özelliklerinden biri değildir?

- A) Bir vasıtanın mal olabilmesi için üretimin mümkün olması gerekir.
- B) Mal kavramı ihtiyaç ile birlikte ortaya çıkmıştır.
- C) Bir vasıtanın mal olabilmesi için o vasıtanın doğada belirli ölçüde olması gerekir.
- D) İnsan bir vasıtayı sağlamak için emek harcamak zorunda değildir.

19. Aşağıdakilerden hangisi, kıt malların faydasını artırarak üretimde bulunmanın yollarından biri değildir?

- A) Şekil faydası yaratan üretim faaliyetleri
- B) Zaman faydası meydana getiren üretim faaliyetleri
- C) İklim faydası yaratan üretim faaliyetleri
- D) Mekân faydası yaratan üretim faaliyetleri

20. Aşağıdakilerden hangisi, hem elektrik hem de sulama amaçlı GAP projelerinden biri değildir?

- A) Adıyaman-Kahta Projesi
- B) Gaziantep Projesi
- C) Aşağı Fırat Projesi
- D) Dicle-Kralkızı Projesi

1. Sağlık hizmetleri ile ilgili doğru ve tarafsız tespit edilmiş sayısal değerlere "sağlık ölçütleri" denir.

Aşağıdakilerden hangisi önemli sağlık ölçütlerinden biri değildir?

- A) Nüfus artış oranı
B) Ana ölüm hızı
C) Kaba doğum ve ölüm hızı
D) Kişi başına düşen gelir oranı

2. Tarımda kullanılan böcek öldürücü kimyasal maddelerin insanda zehirlenmeye yol açması sağlığı etkileyen aşağıdaki çevresel etmenlerden hangisine bir örnektir?

- A) Kimyasal etmenler
B) Biyolojik etmenler
C) Fiziksel etmenler
D) Psikolojik etmenler

3. Koleraya yakalanmamak için bireylerin içtiği suların temizliğine dikkat edilmesi aşağıdakilerden hangisine bir örnektir?

- A) Koruyucu sağlık hizmetleri ikinci aşamasına
B) Koruyucu sağlık hizmetlerin birinci aşamasına
C) Koruyucu sağlık hizmetleri üçüncü aşamasına
D) İkinci basamak tedavi hizmetlerine

4. Sadece hastalık ya da sakatlığın yokluğu değil, bedensel, ruhsal ve sosyal yönden tam bir iyi oluş durumuna ne ad verilir?

- A) Sağlamlık
B) Ruhsal iyilik hali
C) Bedensel iyilik hali
D) Sağlık

5. Aşağıdakilerden hangisi Türkiye'de sık görülen kalıtsal hastalıklardan biridir?

- A) Astım
B) Kemik erimesi
C) Akdeniz ateşi
D) Siyatik

6. Saç temizliği ve bakımı ile ilgili aşağıdaki ifadelerden hangisi doğrudur?

- A) Saçlar, 4-5 günde bir özel saç fırçası ile fırçalanmalıdır.
B) Saçlar yıkandıktan sonra yumuşak bir havlu ile kurulanmalıdır.
C) Saçları yıkamak için azot içerikli sabunlar kullanılmalıdır.
D) Saçlar haftada en az 4-5 defa yıkanmalıdır.

7. Banyo yaparken, banyo suyunun sıcaklığı ortalama kaç °C olmalıdır?

- A) 23-25
B) 26-28
C) 29-32
D) 33-38

8. Temizlik ile ilgili aşağıdaki ifadelerden hangisi yanlıştır?

- A) Temiz bireylerin oluşturduğu toplumlar ekonomik refah içinde yaşarlar.
B) Temizliğin iki önemli aracı su ve sabundur.
C) Sağlıklı yaşamın temeli kişisel temizlikle başlar.
D) Kişisel temizlik uygulamaları çocuk yaşlarda anne, baba ve öğretmenlerden öğrenilir.

9. Aşağıdakilerden hangisi dişlerin özelliklerinden biri değildir?

- A) Besinleri parçalayabilme
B) Besinleri sindirici salgı üretebilme
C) Konuşmaya yardımcı olma
D) Bazı seslerin çıkarılmasını sağlama

10. Aşağıdakilerden hangisi dişler fırçalanırken uyulması gereken kurallardan biridir?

- A) Fırçalama işleminin arka dişlerden ön dişlere doğru yapılması
B) Diş fırçasının diş eti hizasında 45°'lik açı yapacak biçimde tutulması
C) Dişlerin önce iç, sonra dış yüzeylerinin fırçalanması
D) Dişlerin sürekli sağa sola hareketlerle fırçalanması

11. Aşağıdaki büyüme ve gelişme dönemleri ile kapsadıkları yaşlar arası eşleştirmelerden hangisi yanlıştır?

- A) Çocukluk dönemi; 1 - 6 yaş arası
- B) Okulçağı dönemi; 6 - 11 yaş arası
- C) Ergenlik dönemi; 7 - 20 yaş arası
- D) Yetişkinlik dönemi; 21 - 65 yaş arası

12. Aşağıdakilerden hangisi kişinin ruh sağlığını koruması için yapması gerekenlerden biri değildir?

- A) Kişi, kendi özelliklerini koruyarak yaşadığı toplumun gerçeklerine göre davranmalıdır.
- B) Kişi karşılaştığı zorluklarla baş edebilme gücünü kendinde görebilmelidir.
- C) Kişi, yeni durumlara, gerçekçi değerlendirmeler yaparak uyum sağlayabilmelidir.
- D) Kişi olumlu yönlerini kabul etmeli, olumsuz yönlerini kabul etmemelidir.

13. Canlı vücudunun hacim ve kütlece artışına ne ad verilir?

- A) Gelişme
- B) Genişleme
- C) Büyüme
- D) Olgunlaşma

14. Aşağıdakilerden hangisi yeni doğan bebeklik döneminin özelliklerinden biridir?

- A) Ayaklarını refleks olarak oynatır.
- B) Başını dik tutar.
- C) Çıngırağını kavrar.
- D) Nesnelere izler.

15. İnsan ve hayvan davranışlarını ve davranışlarla ilintili durumları sosyal ve biyolojik süreçleri inceleyen bilim dalına ne ad verilir?

- A) Hematoloji
- B) Patoloji
- C) Psikoloji
- D) Psikiyatri

16. Kişinin küçük dozlarda uyuşturucu madde kullanımına bağlı olarak, bedeninde ortaya çıkan etkiyi yakalayabilmek için maddenin dozunu zaman içerisinde artırma gereksinimine ne ad verilir?

- A) Tiryakilik
- B) Yoksunluk sendromu
- C) Tolerans gelişimi
- D) Endikasyon

17. Aşağıdakilerden hangisi nikotinin vücut üzerindeki etkilerinden biri değildir?

- A) Kas kontrolünü azaltma
- B) Merkezi sinir sistemini uyarma
- C) Kan basıncını yükseltme
- D) Çarpıntı yapma

18. Kişinin keyif verici etkisine bağlı olarak madde alma arzusu, bu arzunun zamanla irade dışına çıkması ve maddeyi sürekli alma isteğine ne ad verilir?

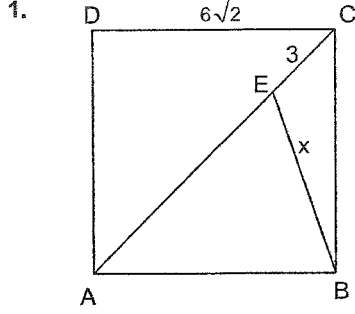
- A) Tolerans gelişimi
- B) Bağımlılık
- C) Yoksunluk sendromu
- D) Endikasyon

19. Aşağıdakilerden hangisi merkezi sinir sistemine depresan etki eden uyuşturucu maddelerden biridir?

- A) Amfetamin
- B) Morfin
- C) Esrar
- D) Diazem

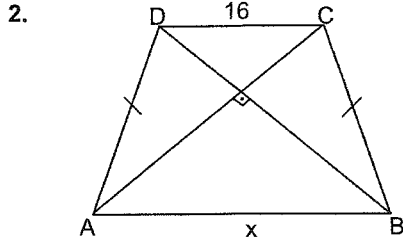
20. B vitamini eksikliği vücutta aşağıdakilerden hangisine neden olur?

- A) Vücudun savunma sisteminin zayıflamasına
- B) Vücudun dolaşım sisteminin bozulmasına
- C) Vücutta immün sistemin yüksek çalışmasına
- D) Dişlerin çürümesine



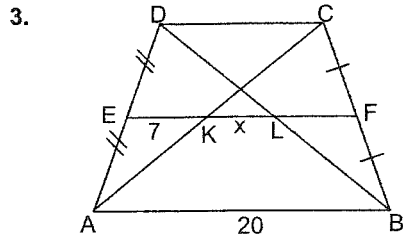
Yukarıdaki ABCD karesinde $IDCI=6\sqrt{2}$ cm ve $IECI=3$ cm ise, $IEBI=x$ kaç cm dir?

- A) $5\sqrt{5}$
- B) $4\sqrt{5}$
- C) $3\sqrt{5}$
- D) $2\sqrt{5}$



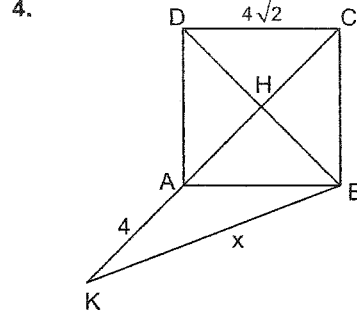
Yukarıdaki ABCD yamuğunda $IADI=IBCI$ ve köşegenler dik olarak kesişmektedir. $IDCI=16$ cm ve yamuğun yüksekliği 19 cm ise, $IABI=x$ kaç cm dir?

- A) 22
- B) 24
- C) 26
- D) 28



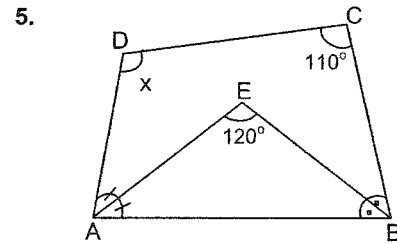
Yukarıdaki ABCD yamuğunda $[EF]$ orta taban, $IEKI=7$ cm ve $IABI=20$ cm ise $IKLI=x$ kaç cm dir?

- A) 2
- B) 3
- C) 4
- D) 6



Yukarıdaki şekilde ABCD bir kare, $IDCI=4\sqrt{2}$ cm ve $IKAI=4$ cm ise, $IKBI=x$ kaç cm dir?

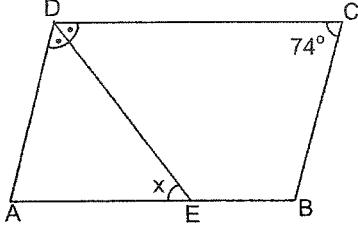
- A) $7\sqrt{5}$
- B) $6\sqrt{5}$
- C) $5\sqrt{5}$
- D) $4\sqrt{5}$



Yukarıdaki ABCD dörtgeninde $[AE]$ ve $[BE]$ sırasıyla \hat{A} ve \hat{B} açılarının açıortayı $m(\widehat{DCB})=110^\circ$ ve $m(\widehat{AEB})=120^\circ$ ise, $m(\widehat{ADC})=x$ kaç derecedir?

- A) 100
- B) 125
- C) 130
- D) 135

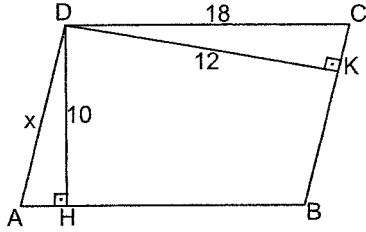
6.



Yukarıdaki ABCD paralelkenarında [DE], \widehat{D} açısının açıortayı $m(\widehat{DCB})=74^\circ$ ise, $m(\widehat{DEA})=x$ kaç derecedir?

- A) 53
B) 58
C) 62
D) 68

7.



Yukarıdaki ABCD paralelkenarında $[DH] \perp [AB]$, $[DK] \perp [BC]$ $|DH|=10$ cm, $|DK|=12$ cm ve $|DC|=18$ cm ise, $|AD|=x$ kaç cm dir?

- A) 9
B) 10
C) 14
D) 15

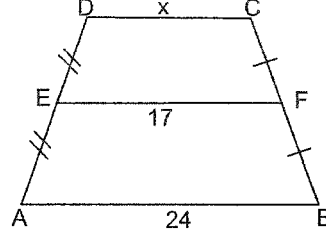
8. Bir iç açısının ölçüsü, bir dış açısının ölçüsünün 3 katı olan bir çokgenin kaç kenarı vardır?

- A) 6
B) 8
C) 10
D) 12

9. Bir iç açısının ölçüsü 144° olan bir çokgenin köşegen sayısı kaçtır?

- A) 25
B) 30
C) 35
D) 40

10.



Yukarıdaki ABCD yamuğunda [EF] orta taban, $|AB|=24$ cm ve $|EF|=17$ cm ise, $|DC|=x$ kaç cm dir?

- A) 10
B) 12
C) 13
D) 15

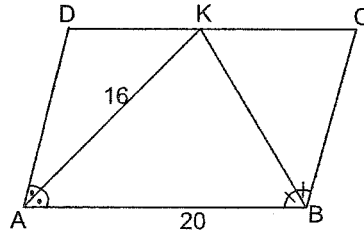
11. Alanı $64\sqrt{3}$ olan eşkenar üçgenin bir kenarının uzunluğu kaç cm dir?

- A) 12
B) 16
C) 18
D) 10

12. Bir eşkenar dörtgenin alanı 24 cm², köşegenlerin uzunlukları toplamı 14 cm ise, bu dörtgenin çevresi kaç cm dir?

- A) 28
B) 25
C) 24
D) 20

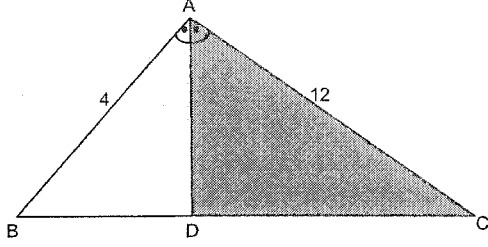
13.



Yukarıdaki ABCD paralelkenarında [AK] ve [BK] sırasıyla \widehat{A} ve \widehat{B} açılarının açıortayları, $|AB|=20$ cm ve $|AK|=16$ cm ise, paralel kenarın alanı kaç cm² dir?

- A) 192
B) 186
C) 174
D) 168

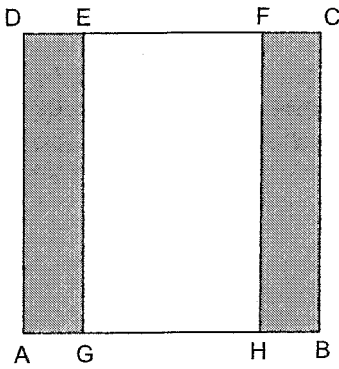
14.



Yukarıdaki ABC üçgeninde $[AD]$ \widehat{A} açısının açıortayı $|AB|=4$ cm, $|AC|=12$ cm ve taralı bölgenin alanı 36 cm² ise, ABC üçgeninin alanı kaç cm² dir?

- A) 45
- B) 48
- C) 52
- D) 60

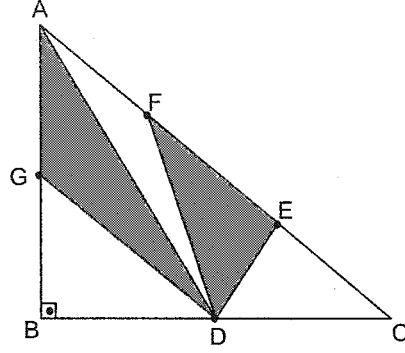
15.



Yukarıdaki ABCD bir kare, AGED ve HCBF birer dikdörtgendir. $|DE|=|FC|$, $|EF|=4|FC|$ ve $A(ABCD)=144$ cm² ise, taralı bölgelerin alanları toplamı kaç cm² dir?

- A) 58
- B) 52
- C) 50
- D) 48

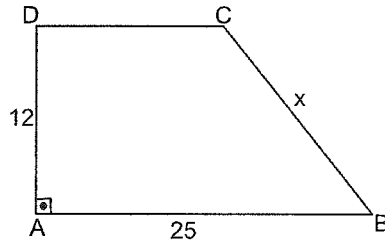
16.



Yukarıdaki ABC üçgeninde $[AB] \perp [BC]$, $|AG|=|GB|$, $|AF|=|FE|=|EC|$, $|AB|=8$ cm, $|BC|=12$ cm ve $|BD|=|DC|$ ise, taralı bölgelerin alanları toplamı kaç cm² dir?

- A) 12
- B) 16
- C) 20
- D) 24

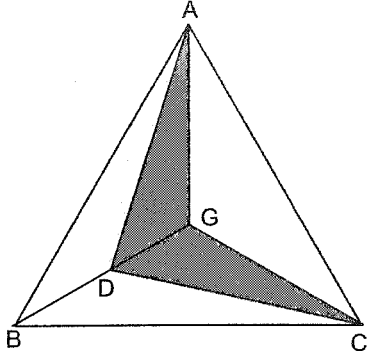
17.



Yukarıdaki ABCD dik yamuğunda $|AD|=12$ cm, $|AB|=25$ cm ve $A(ABCD)=246$ cm² ise, $|BC|=x$ kaç cm dir?

- A) 14
- B) 15
- C) 18
- D) 20

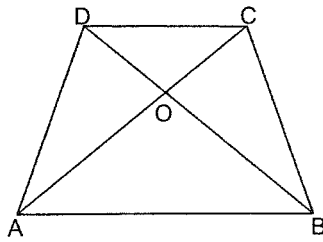
18.



Yukarıdaki ABC üçgeninde G ağırlık merkezi, $IBDI=IDGI$ ve üçgenin alanı 108 cm^2 ise, taralı bölgenin alanı kaç cm^2 dir?

- A) 18
- B) 27
- C) 36
- D) 54

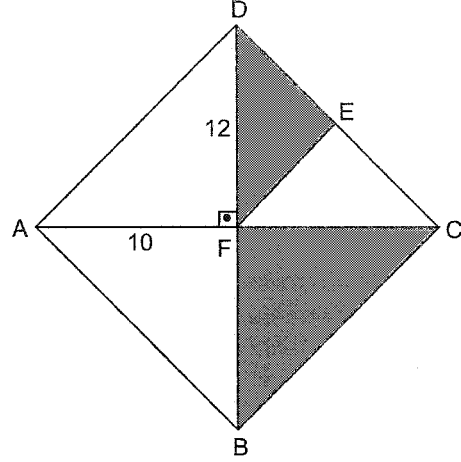
19.



Yukarıdaki ABCD yamuğunda $IOCI = \frac{2}{3} IOAI$ ve $A(OCB)=12 \text{ cm}^2$ ise, $A(ABCD)$ kaç cm^2 dir?

- A) 45
- B) 50
- C) 58
- D) 64

20.



Yukarıdaki ABCD eşkenar dörtgeninde $IAFI=10 \text{ cm}$, $IDFI=12 \text{ cm}$ ve $IDEI=IECI$ olduğuna göre, taralı bölgelerin alanları toplamı kaç cm^2 dir?

- A) 90
- B) 100
- C) 120
- D) 136

1. Aşağıdakilerden hangisi maki türü değildir?
- A) Mersin
B) Yabani zeytin
C) Söğüt
D) Kocayemişi
2. Ülkemizde maki ve çalılıkların yaygın olarak görüldüğü dağlık alanlarda daha çok hangi tür hayvancılık yapılır?
- A) Siğir
B) Kıl keçisi
C) Koyun
D) İpek böceği
3. Aşağıdakilerden hangisi ormanlardan elde edilen asıl ürünlerden biridir?
- A) Kontraplak
B) Reçine
C) Çam kozalağı
D) Keçi boynuzu
4. Aşağıdakilerden hangisi zonal topraklardan biridir?
- A) Vertisoller
B) Tuzlu topraklar
C) Kolüvyal topraklar
D) Kırmızı Akdeniz toprakları
5. Türkiye' de toprak tipleri ve dağılışı üzerinde aşağıdakilerden hangisi etkili değildir?
- A) Bitki örtüsü
B) İklim
C) Heyelanlar
D) Ana kaya
6. Aşağıdakilerden hangisi akarsu kenarında kurulan şehirlerin özelliklerinden biri değildir?
- A) Verimli ve geniş tarım arazisine sahip olması
B) Geniş bir hinterlandı olması
C) Sanayisinin tarıma dayalı olması
D) Ulaşım imkanına sahip olması
7. Özellikle Batı Karadeniz' de yaygın olan, birkaç mahallenin tek muhtarlık olarak birleştiği kır yerleşmelerine ne ad verilir?
- A) Divan
B) Köy
C) Kom
D) Ağıl
8. Aşağıdakilerden hangisi nüfus yoğunluğunun seyrek olduğu yerlerin özelliklerinden biri değildir?
- A) İş olanaklarının az olması
B) Arazinin aşırı engebeli olması
C) Yağışların yeterli olması
D) Olumsuz iklim koşulları
9. Türkiye'nin bazı yerlerinde nüfusun seyrek olmasında aşağıdakilerden hangisinin etkisi yoktur?
- A) Ulaşım olanaklarının çok zor olması
B) Yağış miktarının az olması
C) Ekonomik faaliyetlerin sınırlı olması
D) Akarsu havzasının açık olması
10. Aşağıdakilerden hangisi Türkiye'de yerleşmenin dağılışı etkileyen doğal faktörlerden biridir?
- A) Jeolojik yapı
B) Ulaşım
C) Ekonomi
D) İç ve dış göçler

11. Aşağıdakilerden hangisi nüfus artışının sonuçlarından biri değildir?

- A) Bağımlı nüfusun artması, konut sıkıntısı yaşanması
- B) Milli gelirin artması ve refah seviyesinin düzelmesi
- C) Kırsal kesimlerde yapılan yatırımlardan verim alınmaması
- D) Kırsal kesimde kişi başına düşen arazi miktarının azalması

12. Aşağıdakilerden hangisi Türkiye' de 1927-2000 yılları arasında nüfustaki değişim özelliklerinden biri değildir?

- A) Nüfus artışının hızlanması
- B) Nüfusun eğitim düzeyinin artması
- C) Ortalama yaşam süresinin uzaması
- D) Kadın nüfusunun, erkek nüfusundan fazla olması

13. Aşağıdakilerden hangisi dünyayı dolaşan ilk denizcidir?

- A) Macellan
- B) Marco Polo
- C) Americo Vespuçi
- D) Vasko dö Gama

14. Hindistan'a deniz yolu ile ilk ulaşan denizci aşağıdakilerden hangisidir?

- A) Bartelmi Diyaz
- B) Kolomb
- C) Macellan
- D) Vasko dö Gama

15. Yazı ilk olarak kimler tarafından kullanılmıştır?

- A) Mısırlılar
- B) Çinliler
- C) Sümerler
- D) Urartular

16. Aşağıdakilerden hangisinin bulunması ile kitap ve gazetelerin geniş kitlelere ulaşması ve toplumda kültür ve eğitimin yaygınlaşması sağlanmıştır?

- A) Telgraf
- B) Matbaa
- C) Telefon
- D) Teleks

17. Tarihteki önemli ticaret yollarından biri olan İpek Yolunun başladığı ülke aşağıdakilerden hangisidir?

- A) Çin
- B) Mısır
- C) Japonya
- D) Kanada

18. Süveyş Kanalı ile ilgili aşağıdaki ifadelerden hangisi yanlıştır?

- A) Karadan Afrika ve Asya' yı birbirine bağlar.
- B) Dünyada kapakları olmayan en uzun kanaldır.
- C) En pahalı kanal ve dünyanın mühendislik harikasıdır.
- D) Sefer yapan büyük tankerler için barınma imkanı sağlar.

19. Coğrafi konumlarından dolayı keşifler öncelikle aşağıdaki ülkelerden hangisinin kontrolünde gelişmiştir?

- A) Hindistan ve Çin
- B) Amerika
- C) İtalya ve Fransa
- D) Portekiz ve İspanya

20. Elektronik iletişim aşağıdakilerden hangisiyle başlamıştır?

- A) Yazının kullanılmasıyla
- B) Telgraf hattının kurulmasıyla
- C) Matbaanın icat edilmesiyle
- D) Kağıdın kullanılmasıyla

1. Terzarıma, Türk şiirinde kullanılan hangi nazım biçiminin örneğidir?
A) Batı etkisinde gelişen
B) Klasik Türk şiiri
C) Halk şiiri
D) Divan edebiyatı
2. Halk şiiriyle ilgili aşağıdaki bilgilerden hangisi yanlıştır?
A) Türklerin İslamiyeti kabulü öncesinden başlayarak günümüze kadar sürmüştür.
B) Nazım birimi dördüktür.
C) Arap ve Fars edebiyatlarının etkisi görülür.
D) Konu olarak tabiat güzellikleri, aşk, ayrılık ve gurbet gibi temaları işlemiştir.
3. Adını Romalıların eskiden yaptıkları halk toplantılarından alan, bir sorun üzerinde bütün ilgililerin görüşlerini öğrenmek için yapılan toplantı türü aşağıdakilerden hangisidir?
A) Münazara
B) Söyleşi
C) Sempozyum
D) Forum
4. "Bir nasihatım var zamana uygun
Tut sözümü yattıkça yat uyanma
Meşhur bir kelimadır sen kazan sen ye
El için yok yere ateşe yanma"
Yukarıda bir parçası verilen "Ters Öğüt Destanı" hangi sanata uygun bir örnektir?
A) Mecaz
B) Alegori
C) Tariz
D) İstiare
5. Yazar, düşünür ve sanatçıların veya kendi alanında uzman kişilerin bir konuyu açıklamak, tanıtmak, bilgi vermek, öğretmek amacıyla yaptıkları konuşmalara ne ad verilir?
A) Söyleşi
B) Röportaj
C) Münazara
D) Konferans
6. Aşağıdakilerden hangisi kafiye çeşitlerinden biri değildir?
A) Mecazlı
B) Cinaslı
C) Tam
D) Zengin
7. Şiiri oluşturan dörder, beşer ya da daha fazla dizelik kümelere ne ad verilir?
A) Beyit
B) Mısra
C) Gazel
D) Bend
8. Aşağıdakilerden hangisi başlıca şiir türlerinden biri değildir?
A) Epik
B) Komik
C) Lirik
D) Didaktik
9. Tuyuğ, Türk şiirinde kullanılan hangi nazım biçiminin örneğidir?
A) Divan edebiyatı
B) Klasik Türk Şiiri Nazım biçimleri
C) Halk şiiri nazım biçimleri
D) Batı etkisinde gelişen Türk edebiyatı
10. "Artık demir almak günü gelmişse zamandan
Meçhule giden bir gemi kalkar bu limandan
Hiç yolcusu yokmuş gibi sessizce alır yol;
Sallanmaz o kalkışta ne bir mendil ne bir kol."
Yahya Kemal'in Sessiz Gemi isimli yukarıda bir parçası verilen şiiri hangi sanata dayalı alegorik bir şiirdir?
A) Kinaye
B) Cinas
C) Temsili istiare
D) Tariz
11. Şiirde tema, yapı, dil, ses ve söyleyiş bir araya getirilerek aşağıdakilerden hangisi oluşturulur?
A) Cinas
B) Kafiye
C) Ritm
D) Ahenk

12. Aşağıdakilerden hangisi bilimsel yazılar içerisinde yer almaz?

- A) Değerlendirme yazıları
- B) Bilimsel makaleler
- C) Film senaryoları
- D) Konferans raporları

13. Türk edebiyatında makalenin gelişimine bakıldığında 1860'da ilk makale kim tarafından yazılmıştır?

- A) Şinasi
- B) Nefi
- C) Hüseyin Cahit
- D) Namık Kemal

14. "Ey bu topraklar için toprağa düşmüş asker!
Gökten ecdâd inerek öpse o pâk alını değer.
Ne büyüksün ki kanın kurtarıyor tevhîdi..
Bedr'in aslanları ancak bu kadar şanlı idi."

Yukarıda bir parçası verilen Çanakkale Şehitleri için başlıklı şiirin teması aşağıdakilerden hangisidir?

- A) Aşk
- B) Kahramanlık
- C) Gençlik
- D) Öfke

15. Aşağıdakilerden hangisi Türk edebiyatının gelişim sürecinde Tanzimat sonrası oluşan topluluklardan biri değildir?

- A) Tanzimat Edebiyatı
- B) Tek Hececiler
- C) Serveti Fünun Edebiyatı
- D) Fecr-i Âti Edebiyatı

16. Sözün gerçek anlamı doğru gibi görünse de asıl amacın sözün ters anlamının anlaşılması olduğu, bir kişiyi ya da durumu alaya almak için yapılan sanat aşağıdakilerden hangisidir?

- A) Mürsel mecaz
- B) İstiare
- C) Tariz
- D) Teşbih

17. Aşağıdakilerden hangisi şiirin dış yapı yönünden incelenmesine değil iç yapı yönünden incelenmesine dâhildir?

- A) Vezin
- B) Uyak
- C) Dil
- D) Tema

18. Söylenen sözün ya da kavramın gerçek ve mecazlı anlamı dışında büsbütün tersini söyleme sanatı aşağıdakilerden hangisidir?

- A) Temsili istiare
- B) Tariz
- C) Mecaz-ı mürsel
- D) Cinaz

19. Aşağıdakilerden hangisi makalede söylenenlerin bir yargıya bağlandığı bölümdür?

- A) Sonuç
- B) Dipnot
- C) Malzeme
- D) Yöntemler

20. Divan şiiriyle ilgili aşağıdaki ifadelerden hangisi yanlıştır?

- A) Hece ölçüsüyle yazılır.
- B) Dili halk şiirine göre daha ağırdır.
- C) Arap ve Fars edebiyatlarının etkisi görülür.
- D) Nazım birimi beyittir.

1. Tanzimat Fermanı aşağıdaki padişahlardan hangisi döneminde ilan edilmiştir?

- A) I. Mahmut
- B) Vahdettin
- C) II. Mahmut
- D) I. Abdülmecit

2. Edebiyat ile ilgili aşağıdaki ifadelerden hangisi yanlıştır?

- A) Toplumların gelişimine katkıda bulunur.
- B) Düşünceleri geliştirir, duyguları zenginleştirir.
- C) Toplumların siyasal ve sosyal yapısından etkilenir.
- D) Sadece tanık olduğu çağı anlatır.

3. Terki-i bend ile ilgili aşağıdaki ifadelerden hangisi yanlıştır?

- A) Bentlerin her birine terki-i bend adı verilir.
- B) Dini, felsefi ve sosyal yaşamla ilgili konular işlenir.
- C) Çağdaş Türk Edebiyatının nazım biçimlerindenidir.
- D) Her biri gazel tarzında uyaklanmış 5-10 bentten meydana gelir.

4. Aşağıdakilerden hangisi Tanzimat Edebiyatının birinci döneminin önemli temsilcilerinden biridir?

- A) Abdülhak Hamit
- B) Rezaizade Mahmut Ekrem
- C) Samipaşazade Sezaî
- D) Ahmet Mithat Efendi

5. Aşağıdakilerden hangisi Tanzimat Döneminde Batıdan dilimize tercüme edilen eserlerden biridir?

- A) İntibah
- B) Sefiller
- C) Savaş ve Barış
- D) Anna Karenina

6. Tercüman-ı Ahval Mukaddimesi ile ilgili aşağıdaki ifadelerden hangisi yanlıştır?

- A) Tercüman-ı Ahval gazetesinin ilk sayısında yayınlanmıştır.
- B) Türk edebiyatının ilk makale örneğidir.
- C) Noktalama işaretleri kullanılmamıştır.
- D) Şinasi tarafından yazılmıştır.

7. Aşağıdaki romanlardan hangisi Tanzimat Edebiyatının ikinci döneminde romantizmden realizme geçişin göstergesidir?

- A) Şair Evlenmesi
- B) Sergüzeşt
- C) Telemak
- D) Vatan Yahut Silistre

8. 19. yüzyılda Osmanlı Devleti'nin sosyal ve siyasi yapısıyla ilgili aşağıdakilerden hangisi yanlıştır?

- A) Devlet kurumları Batı esaslarına göre yapılandırılmıştır.
- B) Orduda yapılan düzenlemeler ile savaşlarda büyük başarılar kazanılmıştır.
- C) Yapılması gereken yenilikler Tanzimat Fermanı ile halka duyurulmuştur.
- D) Batıda gerçekleşen bilimsel gelişmeler örnek alınmıştır.

9. I. Toplumdaki tüm gelişmeler ve değişimler edebiyata yansır.
II. Yazar içinde bulunduğu toplumdaki etkilenmez.
III. Toplumların yönlendirilmesinde edebiyatın önemli katkısı vardır.

Edebiyat ve toplum ile ilgili yukarıdaki ifadelerden hangisi ya da hangileri doğrudur?

- A) Yalnız I
- B) Yalnız III
- C) I ve II
- D) I ve III

10. Şiirlerinde lirik ve epik duyguları işleyen, Sahra, Makber, Bunlar Odur gibi şiirlerin yazarı aşağıdakilerden hangisidir?

- A) Rezaizade Mahmut Ekrem
- B) Abdülhak Hamit Tarhan
- C) Ahmet Mithat Efendi
- D) Sami Paşazade Sezaî

11. Tanzimat dönemi Türk Edebiyatında yayımlanan ilk mizahi gazete aşağıdakilerden hangisidir?

- A) Takvim-i Vekayi
- B) Ceride-i Havadis
- C) Diyojen
- D) Tercüman-ı Ahval

12. Aşağıdakilerden hangisi Tanzimat Edebiyatının ikinci dönemine ait (1878-1895) özelliklerden biridir?

- A) Dilde sadeleşme çalışmalarına başlanması
- B) Sanat için sanat anlayışının benimsenmesi
- C) Toplumsal temaların tercih edilmesi
- D) Sanatçıların toplumu bilinçlendirmeye çalışması

13. Aşağıdaki yazar ve eser eşleştirmelerinden hangisi yanlıştır?

- A) Namık Kemal – Afife Anjelik
- B) Şinasi – Şair Evlenmesi
- C) Recaizâde Mahmut Ekrem – Araba Sevdası
- D) Sami Paşazâde Sezâî – Küçük Şeyler

14. Ziya Paşa, aşağıdaki türlerden hangisinde eser vermemiştir?

- A) Tiyatro
- B) Şiir
- C) Makale
- D) Edebiyat tarihi

15. Aşağıdakilerden hangisi Muallim Naci'nin eserlerinden biridir?

- A) İntibah
- B) Gülnihâl
- C) Ateş-pare
- D) Zavallı Çocuk

16. Tanzimat Döneminde yayımlanan ilk çeviri roman ve yazarı, aşağıdakilerden hangisinde birlikte ve doğru olarak verilmiştir?

- A) Terceme-i Telemak – Yusuf Kamil Paşa
- B) Celalettin Harzemşah – Namık Kemal
- C) Sabr u Sebat – Abdülhak Hâmit Tarhan
- D) Afife Anjelik – Recaizâde Mahmut Ekrem

17. Aşağıdakilerden hangisi, Tanzimat Döneminde tiyatro uyarlamalarıyla öne çıkan yazarlardan biridir?

- A) Şemsettin Sami
- B) Ahmet Cevdet Paşa
- C) Orhan Asena
- D) Ahmet Vefik Paşa

18. Tanzimat Döneminde, aşağıdaki Fransız şair ve yazarların hangisinden çeviri yapılmamıştır?

- A) Balzac
- B) Victor Hugo
- C) Lamartine
- D) J.J. Rousseau

19. Türk Edebiyatında yeniliklerin öncüsü olan, noktalama işaretlerini ilk defa kullanan, La Fontaine'den tercümeleyen ve Şair Evlenmesi adlı ilk piyesi yazan sanatçı aşağıdakilerden hangisidir?

- A) Şinasi
- B) Ahmet Mithat Efendi
- C) Ziya Paşa
- D) Recaizâde Mahmut Ekrem

20. Türk Edebiyatında Recaizâde Mahmut Ekrem tarafından yazılan ilk realist roman, aşağıdakilerden hangisidir?

- A) Taşuk-ı Talat ve Fitnat
- B) Küçük Şeyler
- C) Araba Sevdası
- D) Son Pişmanlık

1. hat einen langen Hals.

Welches Wort passt in die obige Lücke?

Cümlede boş bırakılan yeri aşağıdakilerden hangisi doğru şekilde tamamlar?

- A) Das Krokodil
B) Die Giraffe
C) Das Zebra
D) Die Schlange

2. Der Elefant steht dem Nilpferd und dem Tiger.

Welches Wort passt in die obige Lücke?

Cümlede boş bırakılan yeri aşağıdakilerden hangisi doğru şekilde tamamlar?

- A) zwischen
B) über
C) in
D) aus

3. ist klein aber schnell.

Welches Wort passt in die obige Lücke?

Cümlede boş bırakılan yeri aşağıdakilerden hangisi doğru şekilde tamamlar?

- A) Ein Bär
B) Ein Löwe
C) Ein Affe
D) Eine Schildkröte

4. Auf welchem Kontinent leben die Elefanten?

Welche Antwort passt zur obigen Frage?

Verilen sorunun cevabı aşağıdakilerden hangisidir?

- A) Er kommt aus der Türkei.
B) Die Elefanten leben in Asien und in Afrika.
C) Wir arbeiten in einer Firma.
D) Der Elefant ist sehr stark.

5. Meine Tochter hat acht Jahren eine Katze.

Welches Wort passt in die obige Lücke?

Cümlede boş bırakılan yeri aşağıdakilerden hangisi doğru şekilde tamamlar?

- A) aus
B) zu
C) seit
D) im

6. Ich würde eine Posaune kaufen.

Welche Frage passt zur obigen Antwort?

Verilen cevabı gerektirecek soru aşağıdakilerden hangisidir?

- A) Hast du ein Instrument?
B) Für welches Instrument interessierst du dich?
C) Wo ist das Musikgeschäft?
D) Welches Instrument würdest du kaufen?

7. Was bedeutet "iltifat" auf Deutsch?

"iltifat" sözcüğünün Almancası aşağıdakilerden hangisidir?

- A) Der Zuhörer
B) Die Umfrage
C) Das Kompliment
D) Das Ergebnis

8. A: Wie heißt Lieblingssänger?
B: Lieblingssänger heißt Orhan Gencebay.
A: Wirklich? Das ist super!

Welche Wörter passen in die Lücken im obigen Dialog?

Verilen karşılıklı konuşmada boş bırakılan yerleri aşağıdakilerden hangileri tamamlar?

- A) dein / Mein
B) sein / Eure
C) mich / Dich
D) unser / Ihre

9. Ich mag nur populäre Musik.

Welche Frage passt zur obigen Antwort?

Verilen cevabı gerektirecek soru aşağıdakilerden hangisidir?

- A) Welche Sänger kennst du?
B) Welche klassische Musik magst du?
C) Warst du schon im Konzert?
D) Was willst du in der Zukunft werden?

10. Für die Zukunft wünsche ich mir, daß ich in einer Band mitspielen kann., das wäre das Größte für mich!

Welcher Satz ergänzt die obige Lücke?

Verilen cümleyi aşağıdakilerden hangisi tamamlar?

- A) Es hat mir auch gut gefallen
B) In der Woche habe ich zwei Stunden
C) Vielleicht gründe ich sogar eine eigene Band
D) Ich bin daran gewöhnt

11. In der Türkei werden Familienfeste gefeiert, wenn jemand Geburtstag hat.

Welche Frage passt zur obigen Antwort?

Verilen cevabı gerektirecek soru aşağıdakilerden hangisidir?

- A) Für wen willst du ein Geschenk kaufen?
B) Welche religiösen Feste kennst du in der Türkei?
C) Welche Familienfeste werden in der Türkei gefeiert?
D) Wann feiert ihr das Zuckerfest?

12. Jede Generation hat Erziehungsziele.

Welches Wort passt in die obige Lücke?

Cümlede boş bırakılan yeri aşağıdakilerden hangisi doğru şekilde tamamlar?

- A) andere
B) dasselbe
C) eigentliche
D) nächste

13. freundlich / gehorsam / planen / hilfsbereit

Welches Wort passt nicht zu den anderen in der obigen Wortgruppe?

Verilen sözcük grubuna uymayan aşağıdakilerden hangisidir?

- A) gehorsam
B) freundlich
C) hilfsbereit
D) planen

14. Für die Eltern ist es wichtig, daß Ihre Kinder sind.

Welches Wort passt nicht in die obige Lücke?

Cümlede boş bırakılan yeri aşağıdakilerden hangisi doğru şekilde tamamlamaz?

- A) selbstständig
B) selten
C) tolerant
D) glücklich

15. Die Eltern müssen ein Vorbild sein.

Wie lautet der obige Satz auf Türkisch?

Verilen cümlenin Türkçesi aşağıdakilerden hangisidir?

- A) Her zaman ebeveynler örnek alınır.
B) Ebeveynler örnek olmak zorundadır.
C) Ebeveynleri örnek almak zorunda değilsin.
D) Her zaman ebeveynlerimi örnek aldım.

16. Untersuchen / Patientin / die / Ärztin / die

Wie kann man mit den obigen Wortgruppen einen sinnvollen und richtigen Satz bilden?

Verilen sözcük gruplarıyla kurulabilecek en anlamlı ve doğru cümle aşağıdakilerden hangisidir?

- A) Die Ärztin die Patientin untersuchen.
B) Die Patientin die Ärzte untersucht.
C) Die Patientin Ärztin die untersuchen.
D) Die Ärztin untersucht die Patientin.

17. braucht Vitamine und Mineralien, um gesund zu bleiben.

Welches Wort passt in die obige Lücke?

Cümlede boş bırakılan yeri aşağıdakilerden hangisi doğru şekilde tamamlar?

- A) Der Körper
- B) Die Zeit
- C) Das Rezept
- D) Das Essen

18. Was brauchst du, wenn du einen Salat zubereitest?

Welche Antwort passt nicht zur obigen Frage?

Aşağıdakilerden hangisi verilen sorunun cevabı olamaz?

- A) Ich spiele gern Tennis.
- B) Ich brauche einen Kopfsalat.
- C) Für die Soße brauche ich Essig und Salz.
- D) Ein Bund Petersilie und drei Tomaten.

19. A: Hallo, wie geht es dir?
B: Hallo, ich fühle mich krank!
A:
B: Mir tut alles weh!
A: Dann musst du zum Arzt gehen!
B: Ja, das glaube ich auch.

Welches ergänzt die Lücke im obigen Dialog?

Verilen karşılıklı konuşmada boş bırakılan yeri aşağıdakilerden hangisi tamamlar?

- A) Gehst du nach Hause?
- B) Wann nimmst du deine Medikamente?
- C) Kannst du mir das Rezept verraten?
- D) Wo hast du denn Schmerzen?

20. Wo ist der Kraut für den Salat?

Wie lautet der obige Satz in der Pluralform?

Verilen cümlelerin çoğul hali aşağıdakilerden hangisidir?

- A) Wo sind die Krauten für den Salat?
- B) Wo ist die Krautes für das Salat?
- C) Wo ist die Kraut für die Salate?
- D) Wo sind die Kräuter für die Salate?

1. A:How often do you go to the gym?
B:I go to the gym

Which of the following completes the dialogue above?

Aşağıdakilerden hangisi yukarıdaki konuşmayı doğru olarak tamamlar?

- A) last Wednesday
B) yesterday
C) last year
D) twice a week

2. A:What time do you usuallyon Sundays?
B:At 10.30.

Which of the following completes the dialogue above?

Aşağıdakilerden hangisi yukarıdaki konuşmayı doğru olarak tamamlar?

- A) get up
B) gets up
C) getting up
D) got up

3. I want to.....to a university in Eskişehir .

Which of the following completes the sentence above?

Aşağıdakilerden hangisi yukarıdaki cümleyi doğru olarak tamamlar?

- A) go
B) going
C) goes
D) went

4. Nazlı doesn't like eating out.

Which of the following is the positive form of the sentence above?

Aşağıdakilerden hangisi yukarıdaki cümlenin olumlu biçimidir?

- A) Nazlı does like eating out.
B) Nazlı likes eating out.
C) Nazlı like eating out.
D) Nazlı liked eating out.

5. A:Is there butter in the fridge?
B:No, there isn't.

Which of the following completes the dialogue above?

Aşağıdakilerden hangisi yukarıdaki konuşmayı doğru olarak tamamlar?

- A) any
B) some
C) a
D) a little

6. A doctor is someone who

Which of the following completes the sentence above?

Aşağıdakilerden hangisi yukarıdaki cümleyi doğru olarak tamamlar?

- A) makes bread
B) looks after patients
C) looks after animals
D) travels in space

7. I am 1.65 cm and he is 1.90 cm. He isthan me.

Which of the following completes the sentence above?

Aşağıdakilerden hangisi yukarıdaki cümleyi doğru olarak tamamlar?

- A) taller
B) fatter
C) older
D) darker

8. My little brother always early on Sundays.

Which of the following completes the sentence above?

Aşağıdakilerden hangisi yukarıdaki cümleyi doğru olarak tamamlar?

- A) wake up
B) is waking up
C) wakes up
D) woke up

9. A:What would you like to drink?
B:I'd like to drink
please.

Which of the following completes the dialogue above?

Aşağıdakilerden hangisi yukarıdaki konuşmayı doğru olarak tamamlar?

- A) some salad
B) bread
C) milk
D) a piece of cake

10. A:Hello. I am Sena.
B:Hello, my name..... Hamdi.

Which of the following completes the dialogue above?

Aşağıdakilerden hangisi yukarıdaki konuşmayı doğru olarak tamamlar?

- A) has
B) are
C) having
D) is

11. A:What are the kids..... now?
B:They are in the kitchen.

Which of the following completes the dialogue above?

Aşağıdakilerden hangisi yukarıdaki konuşmayı doğru olarak tamamlar?

- A) do/play
B) doing/playing
C) doing/play
D) do/playing

12. The telephone box is in of the museum.

Which of the following completes the sentence above?

Aşağıdakilerden hangisi yukarıdaki cümleyi doğru olarak tamamlar?

- A) behind
B) opposite
C) front
D) next

13. We don't need sugar for the cake. We have some here.

Which of the following completes the sentence above?

Aşağıdakilerden hangisi yukarıdaki cümleyi doğru olarak tamamlar?

- A) many
B) much
C) some
D) a

14. They are Paul and Lucy. parents are in Italy.

Which of the following completes the sentence above?

Aşağıdakilerden hangisi yukarıdaki cümleyi doğru olarak tamamlar?

- A) Her
B) His
C) Our
D) Their

15. Is your mother engineer ordoctor?

Which of the following completes the sentence above?

Aşağıdakilerden hangisi yukarıdaki cümleyi doğru olarak tamamlar?

- A) a/a
B) the/a
C) an/the
D) an/a

16. Selim doesn't like jokes. He is

Which of the following completes the sentence above?

Aşağıdakilerden hangisi yukarıdaki cümleyi doğru olarak tamamlar?

- A) lazy
- B) polite
- C) serious
- D) careful

17. A:Excuse me, can you tell me the library is?
B:It's on the right next to the post office.

Which of the following completes the dialogue above?

Aşağıdakilerden hangisi yukarıdaki konuşmayı doğru olarak tamamlar?

- A) how
- B) when
- C) where
- D) why

18. I sometimes drink water for breakfast.

Which of the following is the Turkish translation of the sentence above?

Aşağıdakilerden hangisi yukarıdaki cümlenin Türkçe karşılığıdır?

- A) Kahvaltıda daima su içerim.
- B) Kahvaltıda bazen su içerim.
- C) Kahvaltıda sık sık su içerim.
- D) Kahvaltıda hiç su içmem.

19. A:Do we have any cucumber for the salad?
B:Yes, we havecucumber.

Which of the following completes the dialogue above?

Aşağıdakilerden hangisi yukarıdaki konuşmayı doğru olarak tamamlar?

- A) any
- B) a
- C) much
- D) some

20. A:Which school subjects do you like most?
B:I like most.

Which of the following completes the dialogue above?

Aşağıdakilerden hangisi yukarıdaki konuşmayı doğru olarak tamamlar?

- A) History
- B) ice cream
- C) rock music
- D) violin

1. - livre voulez-vous acheter?
- Celui-ci.

Choisissez le mot qui convient.

Yukarıdaki konuşmada boş bırakılan yeri aşağıdakilerden hangisi doğru şekilde tamamlar?

- A) Laquelle
B) Lequel
C) Quelle
D) De quoi

2. Je n'ai rien compris.

Choisissez la traduction qui convient.

Yukarıdaki cümlenin Türkçe karşılığı aşağıdakilerden hangisidir?

- A) Hiçbirini tanımıyorum.
B) Hiçbir şey anlamadım.
C) Hiç zamanım yok.
D) Hiçbir şey söylemedim.

3. Nous allons à l'école métro.

Choisissez le mot qui convient.

Cümledeki boşluğu aşağıdakilerden hangisi doğru şekilde tamamlar?

- A) par
B) dans
C) au
D) en

4. S'il fait beau, nous au pique-nique.

Choisissez le mot qui convient.

Cümledeki boşluğu aşağıdakilerden hangisi doğru şekilde tamamlar?

- A) voulons
B) allons
C) sommes
D) avons

5. - Bonjour, je voudrais parler à M. Lenoir.
- Oui,
- De Mme Chantal.

Choisissez l'expression qui convient.

Yukarıdaki konuşmada boş bırakılan yeri aşağıdakilerden hangisi doğru şekilde tamamlar?

- A) c'est moi.
B) il est là?
C) c'est toi.
D) c'est de la part de qui?

6. pas / d'alcool / beaucoup / prenez / ne
I II III IV V

Mettez dans le bon ordre.

Yukarıdaki kelimelerin anlamlı bir bütün oluşturan sırası aşağıdakilerin hangisinde doğru olarak verilmiştir?

- A) V, IV, I, III, II
B) V, IV, III, II, I
C) IV, V, I, II, III
D) IV, III, II, V, I

7. Hier soir, trop chaud.

Choisissez l'expression qui convient.

Cümledeki boşluğu aşağıdakilerden hangisi doğru şekilde tamamlar?

- A) il y avait
B) combien
C) je préfère
D) il faisait

8. A - Je veux acheter un sac.
B -

A - Elle dit qu'elle veut acheter un sac.

Choisissez l'expression qui convient.

Yukarıdaki konuşmada boş bırakılan yeri aşağıdakilerden hangisi doğru şekilde tamamlar?

- A) Où est-ce qu'elle va?
B) Comment va-t-elle?
C) Qu'est-ce qu'elle dit?
D) Quel est votre choix?

9. J'en ai assez cet ordinateur.

Choisissez le mot qui convient.

Cümledeki boşluğu aşağıdakilerden hangisi doğru şekilde tamamlar?

- A) que
B) sur
C) de
D) par

10. Je voudrais payer espèces.

Choisissez le mot qui convient.

Cümledeki boşluğu aşağıdakilerden hangisi doğru şekilde tamamlar?

- A) par
B) en
C) dans
D) pour

11. Je cherche un appartement louer.

Choisissez le mot qui convient.

Cümledeki boşluğu aşağıdakilerden hangisi doğru şekilde tamamlar?

- A) en
- B) par
- C) à
- D) de

12. Je pense je suis.

Choisissez le mot qui convient.

Cümledeki boşluğu aşağıdakilerden hangisi doğru şekilde tamamlar?

- A) jamais
- B) donc
- C) rien
- D) personne

13. Le chat de Mme Perrin est perdu. Elle est donc

Choisissez le mot qui convient.

Cümledeki boşluğu aşağıdakilerden hangisi doğru şekilde tamamlar?

- A) triste
- B) joyeuse
- C) colère
- D) peur

14. - Vous avez changé de style vestimentaire?
- Non, pas de

Choisissez le mot qui convient.

Yukarıdaki konuşmada boş bırakılan yeri aşağıdakilerden hangisi doğru şekilde tamamlar?

- A) changement
- B) changer
- C) changé
- D) changeable

15. Elle ne prend le train, elle préfère le bus.

Choisissez le mot qui convient.

Cümledeki boşluğu aşağıdakilerden hangisi doğru şekilde tamamlar?

- A) rien
- B) personne
- C) ni
- D) jamais

16. Il est un étudiant.

Choisissez le mot qui convient.

Cümledeki boşluğu aşağıdakilerden hangisi doğru şekilde tamamlar?

- A) bien
- B) mieux
- C) bon
- D) meilleur

17. I. Il faisait nuit.

II. Tout d'un coup, j'entendais un bruit.

III. J'ai fini mes devoirs.

IV. J'avais très peur.

Choisissez la phrase qui ne convient pas à l'ensemble.

Sırasıyla okunduğunda anlam bütünlüğünü bozan cümle aşağıdakilerden hangisidir?

- A) I
- B) II
- C) III
- D) IV

18. C'est lui parle toute la soirée.

Choisissez le mot qui convient.

Cümledeki boşluğu aşağıdakilerden hangisi doğru şekilde tamamlar?

- A) qui
- B) que
- C) donc
- D) où

19. La réunion est 20 janvier.

Choisissez le mot qui convient.

Cümledeki boşluğu aşağıdakilerden hangisi doğru şekilde tamamlar?

- A) le
- B) en
- C) au
- D) de la

20. A - Excusez-moi, vous avez l'heure?

B -

A - Je vous demande si vous avez l'heure.

B - Ah oui, il est dix heures et demie.

A - Merci.

Choisissez l'expression qui convient.

Yukarıdaki konuşmada boş bırakılan yeri aşağıdakilerden hangisi doğru şekilde tamamlar?

- A) C'est ça?
- B) Tu vois?
- C) C'est de la part de qui?
- D) Pardon?

1. M.Ö. 3000'lere tarihlenen ve Harizm (Harezmi) bölgesinde (Aral Gölünün güneyi Ceyhun Nehri havzası) yapılan kazılarda ortaya çıkarılan yapılan kazılardan bu kültürü yaşayanların yerleşik bir hayat yaşadıkları anlaşılan kültüre verilen ad aşağıdakilerden hangisidir?
 - A) Andronova
 - B) Karasuk
 - C) Tagar
 - D) Kelteminar
2. Karasuk kültüründen sonra Altay dağları bölgesinde görülmüş olan ve bölgede görülen kültürler içinde en genci ve gelişmiş olan, M.Ö. 700-100 arasında tarihlenen kültür aşağıdakilerden hangisidir?
 - A) Andronova
 - B) Tagar
 - C) Kelteminar
 - D) Afanasyevo
3. İskitler ile ilgili aşağıdaki ifadelerden hangisi yanlıştır?
 - A) En yoğun olarak yaşadıkları yer Kırım yarımadası ve çevresidir.
 - B) Kimmerler, Asurlular, Urartular, özellikle de Medler ve Persler ile mücadele etmişlerdir.
 - C) Tapınak mimarileri ve tanrı heykelleri ile taş işlemeciliğinde oldukça ilerlemişlerdir.
 - D) Ölümden sonra bir hayatın varlığına inanan İskitler, ölen kişiyi mumyalarlardı.
4. Uzun süren İran-Turan savaşlarının anlatıldığı Şehname adlı eserin yazarı aşağıdakilerden hangisidir?
 - A) Hafız-ı Şirazi
 - B) Firdevsi
 - C) Nedim
 - D) Naima
5. Afanasyevo kültürü ile ilgili aşağıdaki ifadelerden hangisi yanlıştır?
 - A) Türklerin en eski kültürü olarak kabul edilir.
 - B) Ele geçen bulgulardan kartalı kutsal bir hayvan olarak kabul ettikleri bilinmektedir.
 - C) Ele geçen bulgulardan koyun ve at gibi hayvanları besledikleri bilinmektedir.
 - D) Abakan bölgesinde yapılan kazılar sonucunda ortaya çıkarılmıştır.
6. Anav kültürü ile ilgili aşağıdaki ifadelerden hangisi yanlıştır?
 - A) Günümüzde bu kültür Türkmenistan'ın başkenti Aşkabat yakınlarında görülür.
 - B) Araştırmalar sonucunda bu kültüre mensup insanların yerleşik hayata geçtikleri öğrenilmiştir.
 - C) Türklerin en eski kültürüdür.
 - D) Elde edilen bilgilere göre bir tarım kültürüne sahiplerdir.
7. Milattan sonraki Türk göçleri ile ilgili aşağıdaki ifadelerden hangisi doğrudur?
 - A) Yakut Türkleri Sibiry'a göç etmişlerdir.
 - B) Çuvaş Türkleri İran üzerinden Anadolu'ya göç etmişlerdir.
 - C) Bu dönemde yapılan göçler daha çok güneye ve batıya doğru yapılmıştır.
 - D) En çok göç eden topluluklar Çin'in içine yerleşmiş olan ve çeşitli devletler kurmuş Türk topluluklarıydı.
8. Orhun Nehri kıyısında Ordu-Balık kentini kurarak Uygur devletinin başkenti yapan Uygur hükümdarı kimdir?
 - A) Bilge Kağan
 - B) Böğü Kağan
 - C) Moyen-Çor Kağan
 - D) Kutluk Bilge Kül Kağan
9. Asya Hunları hükümdarı Mete İpek Yolu'nun kontrolü için aşağıdakilerden hangisi üzerine sefere çıkmıştır?
 - A) Çin
 - B) Yüeciler
 - C) Tung-hular
 - D) Moğollar
10. Ziya Gökalp'e göre Türk kelimesi ne anlama gelmektedir?
 - A) Adet ve gelenek demek olan "türelî"
 - B) Birlik kazanmış halk anlamına gelen "törü"
 - C) Yaratılmış mahluk
 - D) Güçlü kuvvetli

11. 840 yılında Uygur devleti yıkılınca Mengli tarafından kurulan Turfan Uygur Devleti'nin "İdi Kut" adı ad verilen başkentlerinin adı aşağıdakilerden hangisidir?

- A) Beşbalık
- B) Hoço
- C) Karabalagasun
- D) Kutluk

12. Orta Asya'dan Bizans'a ilk Türk elçilik heyeti hangi Türk devleti tarafından gönderilmiştir?

- A) Göktürk
- B) Akhun
- C) Asya Hunları
- D) İskitler

13. İlk Türk devletlerinde "yabgu"dan sonra gelen unvan aşağıdakilerden hangisidir?

- A) Tarkan
- B) Apatarkan
- C) Şad
- D) Ayguci

14. Uygur Devleti'nin ilk hükümdarı aşağıdakilerden hangisidir?

- A) Moyen-Çor
- B) Böğü Kağan
- C) Kutluk Bilge Kül Kağan
- D) Alp Külüg Bilge

15. VI. yüzyıl başlarında hükümdarları Balak zamanında Bizans ve Sasaniler ile iyi ilişkileri olan, Anadolu'ya ve Avrupa'ya ikinci büyük akını gerçekleştiren, Anadolu'da Kayseri, Konya ve Ankara'ya kadar ilerleyen, askeri güç ve savaş teknikleri ile Bizans'ta büyük ilgi uyandıran Türk kavimi aşağıdakilerden hangisidir?

- A) Sabarlar
- B) Avarlar
- C) Kırgızlar
- D) Hazarlar

16. Oğuz adı ilk defa aşağıdakilerden hangisinde geçmektedir?

- A) Yenisey Kitabeleri
- B) Şine Usu Yazıtı
- C) Bumın Kağan Yazıtı
- D) Bilge Kağan Yazıtı,

17. Kırgızlar ile ilgili aşağıdaki ifadelerden hangisi yanlıştır?

- A) Göktürk Hakanı Mukan Kağan döneminde Göktürk hakimiyetine girdiler.
- B) Moğolları hakimiyet altına alan ilk Türk kavmidir.
- C) Göktürklerin Çin hakimiyetine girdiği dönemde bağımsız olarak yaşadılar.
- D) II. Göktürk Devleti'nin yıkılması ile Uygur egemenliğini kabul etmek zorunda kaldılar.

18. Hazar Devleti'nin Türk tarihindeki yeri ve önemi ile ilgili aşağıdaki ifadelerden hangisi yanlıştır?

- A) Rus-Slav Devleti'nin kuruluşunda etkili rol oynamışlardır.
- B) Museviliği kabul eden ilk ve tek Türk devletidir.
- C) Güney Kafkasya'daki Arap ilerleyişini durdurdular.
- D) Sasani Devleti ile birleşerek Bizans'ı zayıflatan saldırılar yapmışlardır.

19. Göktürlere bağlı boylardan biri olan, Altay Dağlarının batısında Kara İrtiş ve Tarbagatay bölgesinde yaşayan II. Göktürk Devleti yıkıldıktan sonra Uygur Devleti'ne bağlı olarak yaşayan Türk kavmi aşağıdakilerden hangisidir?

- A) Basmiller
- B) Türgişler
- C) Kıpçaklar
- D) Karluklar

20. Hazar Devleti'nin Türk tarihindeki yeri ve önemi ile ilgili aşağıdaki ifadelerden hangisi yanlıştır?

- A) Hıristiyanlığı kabul eden ilk ve tek Türk devletidir.
- B) VII.-IX. yüzyıllar boyunca Doğu Avrupa'da asayiş ve güvenli bir ortam sağladılar.
- C) Rus-Slav Devleti'nin kuruluşunda etkili rol oynadılar.
- D) Macar Devleti'nin gerçek kurucusudurlar.

1. Aşağıdakilerden hangisi müteşebbisin işlevlerinden biri değildir?
 - A) Yeni girdi kaynakları bulmak
 - B) Yeni pazarları keşfetmek
 - C) Daha iyiyi daha ucuza üretmek
 - D) Rekabeti azaltmak
2. Aşağıdakilerden hangisi müteşebbisin kişisel özellikleri arasında yer almaz?
 - A) Riskten kaçmak
 - B) Planlama yapmak
 - C) Önder olmak
 - D) Uyumlu olmak
3. Aşağıdakilerden hangisi üretim kapasitesini belirleyen en önemli etkenler arasında yer almaz?
 - A) Teknoloji
 - B) Finansman
 - C) Kuruluş yeri
 - D) Muhasebe sistemi
4. Torna tezgahı ve tekstil tezgahı gibi mallar aşağıdakilerden hangisinin kapsamında yer alır?
 - A) Üretim gereçleri
 - B) Yardımcı araçlar
 - C) Yatırım donatım malları
 - D) İşletme gereçleri
5. Aşağıdakilerden hangisi işletmenin genel amaçları içinde yer alır?
 - A) İş güvenliği
 - B) Hizmet kalitesini artırmak
 - C) Kâr elde etmek
 - D) Düşük maliyet
6. Aşağıdakilerden hangisi yönetimin temel işlevleri arasında yer almaz?
 - A) Pazarlama
 - B) Denetim
 - C) Organizasyon
 - D) Koordinasyon
7. Toplam kalite yönetimi ile ilgili aşağıdaki ifadelerden hangisi yanlıştır?
 - A) Amaç hataların ayıklanmasıdır.
 - B) Müşterinin gereksinim ve beğenileri belirleyicidir.
 - C) Sürekli iyileştirme ve geliştirme benimsenir.
 - D) Toplam performansta en yüksek nokta hedeflenir.
8. Limitet şirketlerin kurulması için gereken en az sermaye miktarı kaç Türk Lirası'dır?
 - A) 5.000
 - B) 10.000
 - C) 20.000
 - D) 50.000
9. Köprü, baraj gibi büyük çaplı sermaye gerektiren projeler için birden fazla işletmenin geçici olarak bir araya gelmesi ile oluşan antlaşmalara ne ad verilir?
 - A) Tröst
 - B) Konsorsiyum
 - C) Kartel
 - D) Holding
10. Aşağıdakilerden hangisi hizmet işletmeleri kapsamında yer almaz?
 - A) İletişim
 - B) Ulaşım
 - C) Sigorta
 - D) Perakendecilik
11. Bir işletmenin, kamu işletmesi sayılabilmesi için, kamu tüzel kişiliğinin sahip olması gereken sermaye miktarı en az yüzde kaçtır?
 - A) 33
 - B) 41
 - C) 48
 - D) 51
12. İşletmelerin kabul edilen ortak antlaşma ile tek bir mali bünyede birleşmesine ne ad verilir?
 - A) Konsern
 - B) Füzyon
 - C) Konsorsiyum
 - D) Merger

13. Limitet şirketlerde ortak sayısı en fazla kaçtır?

- A) 20
- B) 30
- C) 40
- D) 50

14. İki ya da daha fazla işletmenin yöneticilerinin bir ya da birkaç konuda ne yapacaklarını saptayıp geçici olarak işbirliği yapmalarına ne ad verilir?

- A) POOL
- B) RING
- C) Merger
- D) Korner

15. Aşağıdakilerden hangisi satış elemanının görevleri arasında yer almaz?

- A) İsteği talebe dönüştürmek
- B) Sipariş almak
- C) Üretim teknolojisini belirlemek
- D) Tanıtım yapmak

16. Mal veya hizmetle paranın el değiştirmesine ne ad verilir?

- A) Reklam
- B) Dağıtım
- C) Satış
- D) Üretim

17. Pazarlama etkinliklerinin ilk aşaması aşağıdakilerden hangisidir?

- A) Mal ve hizmetlerin niteliklerinin belirlenmesi
- B) Gereksinimlerin belirlenmesi
- C) Fiyatın belirlenmesi
- D) Dağıtımın gerçekleştirilmesi

18. En eski ve en etkin satış yöntemi aşağıdakilerden hangisidir?

- A) Televizyon reklamları
- B) Kişisel satış
- C) Sergi
- D) Katalog bastırma

19. Aşağıdakilerden hangisi pazarlama karması elemanlarından biri değildir?

- A) Tutundurma
- B) Fiyat
- C) Tüketici
- D) Dağıtım

20. Kâr amacı ile üretilen mal ve hizmetlerin tüketicilere ulaştırılması için yapılan devamlı ve düzenli etkinliklere ne ad verilir?

- A) Reklam
- B) Ticaret
- C) Pazarlama
- D) Satış

SINAVDA UYGULANACAK KURALLAR

1. Sınav süresince görevlilerle konuşmak ve soru sormak yasaktır. Aynı şekilde görevlilerin de öğrencilerle yakından ve alçak sesle konuşmaları yasaktır. Yanınızda ve sıranızda dersle ilgili kitap not vb. bulundurmamak yasaktır. Sınav sırasında kopya yapan, yapmaya teşebbüs eden, kopya veren, kopya yapılmasına yardım edenlerin kimlikleri BİREYSEL SINAV İPTAL TUTANAĞINA yazılacak ve bu öğrencilerin sınavları geçersiz sayılacaktır. Görevliler kopya yapmaya veya vermeye kalkışanları uyararak sorumlu size aittir.
Sınavda yetki verilmiş görevliler, bu salondaki sınavın kurallara uygun biçimde yapılmadığını, toplu kopya girişiminde bulunulduğunu raporlarında bildirdikleri veya üniversite sınav merkezince yapılan incelemeler sonucu toplu kopya yapıldığı saptandığı takdirde, Anadolu Üniversitesinin yetkili organları bu salonda sınava giren öğrencilerin tümünün sınavını geçersiz sayar.
2. Öğrenciler sınav sırasında görevlilerin her türlü uyarılarına uymak zorundadır. Gerekliğinde görevliler oturduğunuz yerleri değiştirebilir. Sınavınızın geçerli sayılması, her şeyden önce sınav kurallarına uymaya bağlıdır. Kurallara aykırı davranışta bulunanların ve yapılacak uyarılara uymayanların kimlikleri BİREYSEL SINAV İPTAL TUTANAĞINA yazılacak ve sınavları geçersiz sayılacaktır.
3. Sınav sırasında herhangi bir nedenle dışarı çıkmak yasaktır. Sınavın başlamasını izleyen ilk 30 dakika ve sınav süresinin son 5 dakikası içinde, sınavlarını tamamlasalar bile hiçbir öğrencinin salondan çıkmasına izin verilmeyecektir. Sınavın başlamasını izleyen ilk 15 dakikadan sonra hiç bir öğrenci sınava alınmaz.
4. Biraz sonra soru kitapçıkları dağıtılacaktır. Cevaplamaya geçmeden önce size verilecek soru kitapçığının üzerinde ayrılan yere, adınızı, soyadınızı, öğrenci numaranızı ve bu salonun numarasını yazınız. Sınav sonunda soru kitapçıkları toplanacak ve sınav merkezinde tek tek incelenecektir. Soru Kitapçığının bir tek sayfası eksik çıksa bile sınavınız geçersiz sayılacaktır.
5. Size verilen Cevap Kâğıdının üzerinde yazan numara ve ismin size ait olduğunu kontrol ediniz. Cevap Kâğıdı size ait değilse, görevlileri uyarıp size ait Cevap Kâğıdını alınız. Daha sonra Cevap Kâğıdı üzerinde ayrılmış olan yerlere öğrenci numaranızı ve test grubunuzu kodlayınız, adınızı soyadınızı yazınız ve ilgili yeri imzalayınız.
6. Cevap Kâğıdına yazılacak her türlü yazı, rakam ve yapılacak işaretlemeler için siyah kurşun kalem kullanılacaktır. Tükenmez kalem veya dolmakalem kesinlikle kullanılmayacaktır. Cevapların tümü CEVAP KÂĞIDINA İŞARETLENECEKTİR. Soru Kitapçıkları üzerine yapılan işaretlemeler kesinlikle değerlendirilmez. Her dersin cevabı, o dersin isminin yazılı olduğu sütuna işaretlenmelidir. Yanlış sütuna yapacağınız işaretlemeler kesinlikle değerlendirilmez.
7. Soru Kitapçığının sayfalarındaki boş yerleri müsvetde yapmak için kullanabilirsiniz. Başka bir kâğıdı müsvetde olarak kullanmak yasaktır. Bu tür işlemleri yapanların sınavları geçersiz sayılır.
8. Öğrencilerin sorulara verdikleri yanıtları herhangi bir yere yazmaları ve bunu sınav salonundan dışarıya çıkarmaları yasaktır. Bu kurala uymayanların sınavları geçersiz sayılır.
9. Sınav sırasında öğrencilerin birbirinden kalem, silgi vb. şeyleri istemesi kesinlikle yasaktır. Yasağa uymayanların sınavı geçersiz sayılır.
10. Sınav sırasında hesap makinesi kullanılabilir. Ancak, hesap makinesinin sınav sırasında ödünç alınması, verilmesi ve değiştirilmesi yasaktır. (Data Bank vb. gibi özel elektronik donanımlar kullanılamaz.) Bu tür davranışlarda bulunanların sınavları geçersiz sayılır.
11. Öğrenciler sınava gelirken telsiz, cep telefonu, çağrı cihazı vb. iletişim araçları ile görüntü kaydetmeye yarayan fotoğraf makinesi, kamera vb. araçları getirmemeleri konusunda sınava giriş belgelerinde uyarılmışlardır. Buna rağmen yanlarında bu tür cihazları getirenlerin, bunları sınav sonrasında almak üzere salon başkanına teslim etmeleri gerekir. Bu cihazları sınav salonunda yanlarında bulunduran öğrencilerin, cihazları kapalı bile olsa, o oturma odasındaki sınavı geçersiz sayılacaktır. Bu cihazların kaybolmasından Üniversitemiz sorumlu olmayacaktır.
12. Biraz sonra dağıtılacak olan soru kitapçığında test ile ilgili açıklamalar yazılıdır. Bu açıklamaları okumadan ve size "SINAV BAŞLAMIŞTIR" denmeden soruları cevaplamaya başlamayınız.

SINAVLARINIZDA BAŞARILAR DİLERİZ.