



ANADOLU ÜNİVERSİTESİ  
AÇIKÖĞRETİM FAKÜLTESİ  
BA - AÇIKÖĞRETİM OKULLARI

T.C. MİLLÎ EĞİTİM BAKANLIĞI  
Hayat Boyu Öğrenme Genel Müdürlüğü  
AÇIK ÖĞRETİM LİSESİ – BATI AVRUPA PROGRAMI  
2012-2013 ÖĞRETİM YILI III.DÖNEM SINAVI  
ALTINCI OTURUM - Pazar 16.00

TEST GRUBUNUZ

**A**

**0106**

CEVAP KÂĞIDINIZA İŞARETLEMİYİ UNUTMAYINIZ.

**ÖĞRENCİNİN**

SOYADI : .....

ADI : .....

ÖĞRENCİ NO : .....

SINAV SALON NO: ..... SIRA NO: .....

Soyadınızı, adınızı, öğrenci numaranızı, salon ve sıra numaranızı yukarıya yazmayı unutmayınız.

**GENEL AÇIKLAMA**

1. Bu soru kitapçığındaki testler şunlardır:

Testin Adı	Soru Sayısı	Sayfa No	Testin Adı	Soru Sayısı	Sayfa No
DİN KÜLTÜRÜ VE AHLAK BİLGİSİ 5	20	2	MANTIK 1	20	34
DİN KÜLTÜRÜ VE AHLAK BİLGİSİ 8	20	4	SEÇMELİ DİL VE ANLATIM 3	20	36
TARİH 2	20	6	SEÇMELİ TÜRK EDEBİYATI 3	20	38
COĞRAFYA 4	20	8	ALMANCA 3	20	40
MATEMATİK 2	20	10	İNGLİZCE 3	20	43
HUKUK 1	20	13	FRANSIZCA 3	20	46
DİL VE ANLATIM 8	20	15	SEÇMELİ ALMANCA 4	20	48
TÜRK EDEBİYATI 7	20	17	SEÇMELİ İNGLİZCE 4	20	51
FİZİK 3	20	19	SEÇMELİ ALMANCA 7	20	54
FİZİK 4	20	23	SEÇMELİ İNGLİZCE 7	20	57
BİYOLOJİ 1	20	26	SEÇMELİ FRANSIZCA 7	20	60
BİYOLOJİ 5	20	28			
BİYOLOJİ 8	20	30			
İŞLETME 2	20	32			

2. Bu kitapçıkta yer alan her bir test için cevaplama süresi **30 dakika**, toplam sınav süresi **150 dakikadır**.
3. Cevaplamaya istediğiniz testin, istediğiniz sorusundan başlayabilirsiniz. Yalnız cevaplarınızı, cevap kâğıdında o test için ayrılmış olan bölümdeki aynı numaralı cevap yerine işaretlemeyi unutmayınız.
4. Cevaplarınızı koyu siyah ve yumuşak bir kurşunkalemle işaretleyiniz. İşaretinizi cevap yerinin dışına taşırmayınız. Tükenmez veya mürekkepli kalem kullanmayınız.
5. Değiştirmek istediğiniz bir cevabı yumuşak bir silgi ile, cevap kâğıdını örselemeden temizce siliniz ve doğru cevabınızı işaretlemeyi unutmayınız.
6. Cevap kâğıdınızı buruşturmayınız, katlamayınız ve üzerine gereksiz hiçbir işaret koymayınız.
7. Bu kitapçıkta her sorunun bir tek doğru cevabı vardır. Bir soru için birden çok cevap yeri işaretlenmişse o soru yanlış cevaplanmış sayılacaktır.
8. Cevaplarınız puanlanırken her doğru cevabınıza eşit puan verilecek, yanlış cevaplarınız dikkate alınmayacaktır. Bu nedenle kitapçıkta tüm sorular için size doğru gelen seçeneği işaretleyerek cevapsiz soru bırakmamanız yararınıza olacaktır.
9. Kitapçığın sayfalarındaki boş yerleri müsvetde için kullanabilirsiniz.

Anadolu Üniversitesi tarafından hazırlanmış olan bu testlerin her hakkı saklıdır. Hangi amaçla olursa olsun, testlerin tamamının veya bir kısmının Anadolu Üniversitesi'nin yazılı izni olmadan kopya edilmesi, fotoğraflarının çekilmesi, herhangi bir yolla çoğaltılması, yayımlanması ya da kullanılması yasaktır. Bu yasağa uymayanlar gerekli cezai sorumluluğu ve testlerin hazırlanmasındaki mali külfeti peşinen kabullenmiş sayılır.



1. Malikilik mezhebinin kurucusu olan İmam Malik'in oluşturduğu eser aşağıdakilerden hangisidir?

- A) Nübüvvet
- B) El va'd vel vaid
- C) Muvatta
- D) er-Risale

2. Mekke'den Medine'ye göç edenlere ne ad verilir?

- A) Muhacir
- B) Ensar
- C) Hanif
- D) Mürid

3. Bir kişinin sezaryen doğumla dünyaya gelmesi aşağıdakilerden hangisidir?

- A) Kader
- B) Kaza
- C) İrade
- D) Tevekkül

4. Dini bir terim olarak "Rızık" nedir?

- A) Evrendeki her bir nesnenin belirlenen sürenin sonunda yok oluşu
- B) Kişinin kendi söz ve davranışlarının sonuçlarına katlanması durumu
- C) Allah'ın başlangıçtan sonsuza kadar olmuş ve olacak olan tüm olayların yerini, zamanını bilip takdir etmesi
- D) Yaratıcının, tüm varlıkların yiyip içmesi, yararlanması ve faydalanması amacıyla verdiği nimetler

5. Aşağıdakilerden hangisi kaderle ilişkilendirilen kavramlardan biri değildir?

- A) Ecel ve ömür
- B) Hayır ve Şer
- C) Tesadüf
- D) Afet

6. Hz. Hüseyin'in soyundan gelenlere ne ad verilir?

- A) Şerif
- B) Semih
- C) Habibullah
- D) Seyyid

7. Aşağıdakilerden hangisi ibadetin toplumsal faydalarından biridir?

- A) İnsanın yaratan ile ilişkisini güçlendirir.
- B) İnsanların birbirlerine kaynaşmasına katkıda bulunur.
- C) İnsanın iç huzurunu güçlendirir.
- D) İnsanda güven duygusunu geliştirir.

8. Yönetim yetkisinin Hz. Ali'nin soyuna ait olduğunu ve bu durumun Kıyamet'e kadar devam etmesi gerektiğine inanırlar. Hz. Ali, Hz. Muhammed'den sonra insanların en üstünüdür. En önemli temsilcisi İmamiyye'ye göre, vahiy ve atanmayla imamlığı öngörülen 12 kişi vardır. Açık veya gizli bir tehlike karşısında inancını gizleme (takiyye) esastır.

Yukarıda anlatılan mezhep aşağıdakilerden hangisidir?

- A) Şiilik
- B) Haricilik
- C) Eşarilik
- D) Maturidilik

9. Aşağıdakilerden hangisi cüzi iradeye bir örnektir?

- A) Türk olmak
- B) Namaz kılmak
- C) Erkek olmak
- D) Nefes almak

10. Aşağıdakilerden hangisi Haricilerin görüşlerinden biri değildir?

- A) Ameller, imanın bir parçasıdır.
- B) Hüküm vermek Allah'a aittir.
- C) Yönetimde bulunmak için Kureyşli olmak şarttır.
- D) Kullar ve yöneticiler hüküm veremez.

11. Allah'ın zati ve sıfatları itibarıyla bir olmasına ne ad verilir?

- A) Nübüvvet
- B) Tevhit
- C) Takva
- D) Vahdet

12. Aşağıdakilerden hangisi Şianın temel görüşlerinden biri değildir?
- A) İlk Halifelik Hz. Osman'ın hakkıdır.  
 B) Hz. Ali, Hz. Muhammed'den sonra insanların en üstünüdür.  
 C) Açık veya gizli bir tehlike karşısında takkiye esastır.  
 D) İmamlar hata yapmazlar, günah işlemezler.
13. Aşağıdakilerden hangisi ibadetler ile ilgili temel ilkelerden biri değildir?
- A) İsteklilik  
 B) Gösterişten uzak olma  
 C) Kolaylık  
 D) Karşılık
14. Ömrün bittiği, hayatın sona erdiği zamana ne ad verilir?
- A) Ecel  
 B) Şer  
 C) Kader  
 D) İrade
15. Aşağıdakilerden hangisi tevekkül anlayışı ile bağdaşmaz?
- A) Hasta olduğunda tedavi olmak  
 B) Kader mahkûmuyum diyerek hırsızlık yapmak  
 C) Yolculuk esnasında trafik kurallarına uymak  
 D) Sınav öncesinde ders çalışmak
16. Hz. Muhammed'in hasta olan insanları bizzat evlerinde ziyaret edip, geçmiş olsun deyip onun için dua etmesi hangi özelliği ile ilgilidir?
- A) Dürüst olması  
 B) Otoriter olması  
 C) Merhametli olması  
 D) Adaletli olması
17. Kişinin işlediği günah nedeniyle Allah'tan özür dilemesi ve bir daha suç işlememeye söz vermesine ne ad verilir?
- A) Sabır  
 B) Diğerkamlık  
 C) Sorumluluk  
 D) Tövbe

18. Medineli Müslümanlara ne ad verilir?

- A) Muhacir  
 B) Hanif  
 C) Ensar  
 D) Mürşid

19. Aşağıdakilerden hangisi ibadet etmenin insana kazandırdıklarından biri değildir?

- A) Kişiyi gurur ve kibire yaklaştırması  
 B) Güven duygusunu geliştirmesi  
 C) Sorumluluk bilincini geliştirmesi  
 D) İnsanın yaratan ile ilişkisini güçlendirmesi

20. Aşağıdakilerden hangisi İslam düşüncesinde ortaya çıkan yorum farklılıklarının sebeplerinden biri değildir?

- A) Siyasi durumlar  
 B) Coğrafi farklılıklar  
 C) Dini metinler  
 D) Hak din olması

1. "Gel, ne oluştan ol yine gel." diyerek hiçbir ayırım yapmadan bütün insanları İslam'ın barış ve huzur dolu ortamına çağırarak İslam âlimi aşağıdakilerden hangisidir?
  - A) Mevlana
  - B) Nasreddin Hoca
  - C) Yunus Emre
  - D) Âşık Paşa
2. Son Peygamber aşağıdakilerden hangisidir?
  - A) Hz. İsa
  - B) İmam Mehdi
  - C) Hz. Muhammed
  - D) Hz. Davud
3. Hz. Muhammed'in de gençliğinde aktif olarak görev aldığı, haksızlık ve adaletsizliğin önüne geçebilmek için oluşturulan barış teşkilatı aşağıdakilerden hangisidir?
  - A) Hılful Fudul
  - B) Teşkilat-ı Mahsusa
  - C) Nazm-ı Celil
  - D) Sila-i Rahmi
4. Pir-i Türkistan olarak bilinen İslam âlimi aşağıdakilerden hangisidir?
  - A) Mevlana
  - B) Yunus Emre
  - C) Hacı Bektaş Veli
  - D) Ahmet Yesevi
5. Aşağıdakilerden hangisi sosyal bir varlık olan insanın iletişim kurmasını sağlayan nedenlerden biri değildir?
  - A) Yalnızlıktan korktuğu için
  - B) Bir takım zorlukları aşmak için
  - C) Ortak şeyleri paylaşmak için
  - D) Dayanışmayı sağlamak için
6. Atatürk'ün "Her fert din ve diyanetini, imanını öğrenmek için bir yere muhtaçtır. Orası ....." sözünde boş bırakılan yere aşağıdakilerden hangisi gelmelidir?
  - A) Evdir.
  - B) Camidir.
  - C) Tekkedir.
  - D) Okuldur.
7. Din işlerinin daha sağlıklı ve ehil kimseler tarafından yürütülmesi için Atatürk tarafından kurulan birim aşağıdakilerden hangisidir?
  - A) Maarif Vekâleti
  - B) Divan-ı Harp
  - C) İmam Hatip Liseleri
  - D) Diyanet İşleri Başkanlığı
8. Aşağıdakilerden hangisi Tevhid-i Tedrisat kanunuyla gelen yeniliklerden biri değildir?
  - A) Medreselerin varlığına son verilmesi
  - B) Bütün okulların Maarif Vekâletine bağlanması
  - C) Yüksek ilim konularının öğretiminde tekke ve zaviyelerin desteklenmesi
  - D) İlahiyat fakültelerinin açılması
9. Aşağıdakilerden hangisi Atatürk'ün din ile ilgili görüşlerinden biri değildir?
  - A) Din lüzumlu bir müessesedir.
  - B) Dinsiz milletlerin devamına imkân yoktur.
  - C) Din, Allah ile kul arasındaki bağlılıktır.
  - D) Din, devlet işlerinde etkili bir durumdur.
10. Aşağıdakilerden hangisi sözlükte geçen İslam'ın anlamlarından biri değildir?
  - A) İtaat etmek
  - B) Hüküm sürmek
  - C) Boyun eğmek
  - D) Teslim olmak
11. "Din duygusu insanın yaratılışından gelen bir olgudur. İnsanın yaratılışı itibari ile her zaman sığınacağı, dua edip yalvaracağı yüce varlığa inanma ihtiyacı hissetmiştir." diyerek dinin insan için gerekli ve zorunlu bir ihtiyaç olduğunu ifade eden düşünür aşağıdakilerden hangisidir?
  - A) Emile Durkheim
  - B) Karl Marx
  - C) Max Müller
  - D) Albert Einstein
12. İslamiyet'in özünü oluşturan inanç aşağıdakilerden hangisidir?
  - A) Tevhit
  - B) Namaz
  - C) Oruç
  - D) Doğruluk

13. İslamiyet ile ilgili aşağıdaki ifadelerden hangisi yanlıştır?

- A) Son ilahi dindir.
- B) Teslis inancı vardır.
- C) Bütün insanlar Allah katında eşittir.
- D) Tüm insanlar doğuştan günahsız doğarlar.

14. İşçi ve sanatkârlar sınıfı olarak bilinen Kast sistemi sınıfı aşağıdakilerden hangisidir?

- A) Sudralar
- B) Konsüller
- C) Kşatriyalar
- D) Brahmanlar

15. Budizmin temel amacı olan ihtiyarlıktan, ölümden, dünya çilelerinden, arzu ve ihtiraslardan kurtulup yüceliğe ve huzura erme anlamına gelen kavram aşağıdakilerden hangisidir?

- A) Dhamma
- B) Nirvana
- C) Sangha
- D) Tipitaka

16. Hz. Muhammed nerede doğmuştur?

- A) Medine
- B) Mısır
- C) Mekke
- D) Lübnan

17. Hristiyanlıkta Teslis inancına göre mükemmel olan, her şeyin yaratıcısı, her şeyi işiten bilen ve gören, Hz. İsa'yı yeryüzüne gönderdiğine inanılan kavram aşağıdakilerden hangisidir?

- A) Oğul
- B) Baba
- C) Kutsal Ruh
- D) Havariler

18. Tevrat'ın Yehova tarafından Hz. Musa'ya yazdırıldığı ilahi bir vahiy kitabı olduğuna inananlar aşağıdakilerden hangisidir?

- A) Protestan Yahudiler
- B) Katolik Yahudiler
- C) Ortodoks Yahudiler
- D) Havariler

19. Hinduizmde koruyucu olarak bilinen tanrı aşağıdakilerden hangisidir?

- A) Brahma
- B) Şiva
- C) Sudra
- D) Vişnu

20. Hintlilerin kutsal kabul ettikleri nehir aşağıdakilerden hangisidir?

- A) Nil
- B) Ganj
- C) Fırat
- D) Missisipi

1. Aşağıdakilerden hangisi dört halifeden biri değildir?  
A) Hz. Osman  
B) Hz. Süleyman  
C) Hz. Ömer  
D) Hz. Ebubekir
2. Hicaz adı verilen bölgede yer alan şehirler aşağıdakilerden hangisinde doğru olarak verilmiştir?  
A) İsfahan, Kâbil, Kerbelâ  
B) Kûfe, Kudûs, Şam  
C) Sıffin, Kadisiye, Tebriz  
D) Mekke, Medine, Taif
3. İslamiyet'in doğuşu sırasında Habeşistan'da yaygın olan din aşağıdakilerden hangisidir?  
A) Yahudilik  
B) Zerdüştlük  
C) Hıristiyanlık  
D) Manitaizm
4. İslamiyet'ten önce Arap Yarımadası'ndaki sosyal ve iktisadi hayat ile ilgili aşağıdaki ifadelerden hangisi yanlıştır?  
A) Araplarda ailede erkek egemendi.  
B) Bedeviler geçimlerini hayvancılıkla temin ederlerdi.  
C) Kölelik kurumu kökleşmişti.  
D) Şehirlerde oturan Araplar dokumacılıkla uğraşırđı.
5. İslam devletlerinde, Müslüman olmayan halktan alınan arazi ve gelir vergisine ne ad verilir?  
A) Öşür  
B) Haraç  
C) Ganimet  
D) Cizye
6. Aşağıdaki Türk-İslam devletlerinin hangisinde yönetici seçim ile başa gelirdi?  
A) Karahanlılar  
B) Harizmşahlar  
C) Memlükler  
D) Gazneliler
7. Yusuf Has Hacip tarafından yazılan ve ilk Türkçe siyasetname olarak kabul edilen eser aşağıdakilerden hangisidir?  
A) Kutadgu Bilig  
B) Divanü Lügati't Türk  
C) Atabetül-Hakayık  
D) Divan-ı Hikmet
8. Alp Tigin aşağıdaki devletlerden hangisinin kurucusudur?  
A) Harzemşahlar  
B) Eyyubiler  
C) Gazneliler  
D) Karahanlılar
9. Orta Asya'nın Çin hâkimiyetine girmesinin önlenmesi ve Türklerle, Müslüman Araplar arasında dostluk döneminin başlaması aşağıdaki savaşlardan hangisinden sonra başlamıştır?  
A) Pasinler  
B) Talas  
C) Köseadağ  
D) Dandanakan
10. Nizamiye medreselerinin ilki aşağıdaki şehirlerin hangisinde açılmıştır?  
A) Merv  
B) İstanbul  
C) Bağdat  
D) Nişabur
11. İlhanlılar Devleti'nin kurucusu aşağıdakilerden hangisidir?  
A) Çağatay  
B) Cengiz  
C) Ögedey  
D) Hülagü
12. Aşağıdakilerden hangisi Cengiz Han'ın ölümünden sonra ülkesinin parçalanması sonucu ortaya çıkan devletlerden biri değildir?  
A) Altın Orda Devleti  
B) Kubilay Hanlığı  
C) İlhanlı Devleti  
D) Kazak Hanlığı

13. Aşağıdakilerden hangisi Altın Orda Devleti'nin parçalanmasından sonra ortaya çıkan hanlıklardan biri değildir?

- A) Kazan Hanlığı
- B) Sibir Hanlığı
- C) Kasım Hanlığı
- D) Hive Hanlığı

14. Kazak tarihini ve destanlarını bazen kopuz eşliğinde anlatan hikayecilere ne ad verilirdi?

- A) Şaman
- B) Şeşen
- C) Tayanç
- D) Bahşi

15. Altın Orda ve İlhanlı sahalarında gelişen ve Timurlular devrinde klasik bir mahiyet alan doğu Türkçesi aşağıdakilerden hangisidir?

- A) Çağatayça
- B) Azerice
- C) Hakniye
- D) Kırgızca

16. Aşağıdakilerden hangisi Türkiye Selçuklu Devleti ile Bizans Devleti arasında yapılan Miryakefalon savaşının sonuçlarından biri değildir?

- A) Çukurova'da bazı kale ve şehirlerin ele geçirilmesi
- B) Türklerin batıya yayılmaları için bir engelin kalmaması
- C) Anadolu'nun bir Türk yurdu olduğunun ve geri alınmayacağına Bizans'a ispat edilmesi
- D) Türkiye Selçuklu Devleti'nin yüklü bir tazminat alması

17. Anadolu Selçuklu Devleti döneminde, hükümet nezdinde halkı temsil eden, şehrin önde gelen kişilerine ne ad verilirdi?

- A) Müderris
- B) Şeyh
- C) Ayan
- D) Kadı

18. Anadolu Selçuklu Devleti'nin yıkılışından sonra Kütahya ve Eskişehir yöresinde kurulan beylik aşağıdakilerden hangisidir?

- A) Germiyanogulları
- B) Saruhanoğulları
- C) Candaroğulları
- D) Menteşogulları

19. Aşağıdakilerden hangisi, Selçuklu ve Beylikler dönemindeki halk edebiyatı eserlerinden biri değildir?

- A) Divan-ı Kebir
- B) Battalname Destanı
- C) Dede Korkut hikayeleri
- D) Bektaşî fıkraları

20. Türkiye Selçukluları Yassıçemen Savaşı'nı aşağıdaki devletlerden hangisiyle yapmıştır?

- A) Moğollar
- B) Harzemşahlar
- C) Akkoyunlular
- D) Karamanoğulları



1. Aşağıdakilerden hangisi azonal topraklardan biridir?  
 A) Terra-Rossa  
 B) Regosoller  
 C) Çernezyom  
 D) Vertizoller
2. Aşağıdakilerden hangisi Türkiye'de alüvyal toprakların görüldüğü alanlardan biri değildir?  
 A) Bafra ovası  
 B) Adapazarı ovası  
 C) Ağrı yöresi  
 D) Çukurova
3. Aşağıdakilerden hangisi ormanların doğaya etkilerinden biri değildir?  
 A) Hayvanları koruma  
 B) Suyu düzenleme  
 C) Toprağı koruma  
 D) İklimi etkileme
4. Çay ve kivi yetiştirmek için en uygun toprak aşağıdakilerden hangisidir?  
 A) Kahverengi orman toprakları  
 B) Kırmızı Akdeniz toprakları  
 C) Kahverengi bozkır toprakları  
 D) Kestane renkli bozkır toprakları
5. Ege Bölgesinde makilerin kıydan iç kesimlere doğru genişlemesinde aşağıdakilerden hangisinin payı fazladır?  
 A) Enlem  
 B) Meridyenler  
 C) Yükselti  
 D) Dağların uzanış yönü
6. Turunçgil, bağcılık ve zeytin tarımı yapılan, organik madde bakımından fazla zengin olmayan toprak çeşidi aşağıdakilerden hangisidir?  
 A) Vertisoller  
 B) Kırmızı Akdeniz toprakları  
 C) Regosoller  
 D) Kestane renkli bozkır toprakları
7. Aşağıdakilerden hangisi nüfus yoğunluğunun seyrek olduğu yerlerin özelliklerinden biri değildir?  
 A) İş olanaklarının az olması  
 B) Arazinin aşırı engebeli olması  
 C) Yağışların yeterli olması  
 D) Olumsuz iklim koşulları
8. Aşağıdakilerden hangisi ormanlardan elde edilen asıl ürünlerden biridir?  
 A) Reçine  
 B) Çam kozalağı  
 C) Keçi boynuzu  
 D) Kontraplak
9. Aşağıdaki bitki türlerinden hangisinin dünyadaki en geniş yayılma alanlarından biri Türkiye'dir?  
 A) Kızılçam  
 B) Çay  
 C) Kivi  
 D) Muz
10. Aşağıdakilerden hangisi komların oluşumunda en etkili faktördür?  
 A) Tarım  
 B) Hayvancılık  
 C) Aileden ayrı yaşam isteği  
 D) İklim

11. Aşağıdakilerden hangisi Türkiye' de geçici kır yerleşmelerinden biridir?

- A) Mahalle
- B) Çiftlik
- C) Başkent
- D) Dam

12. Yağışın bol olduğu yerlerde nüfus yoğunudur. Bu özellik aşağıdaki yerlerden hangisi için geçerli değildir?

- A) Ege kıyıları
- B) Zonguldak
- C) Menteşe yöresi
- D) Antalya

13. Köyaltı yerleşme tiplerinden olan divan tipi yerleşme aşağıdaki illerimizin hangisinde daha yaygın olarak görülür?

- A) Antalya, Mersin, Adana
- B) Bolu, Karabük, Kastamonu
- C) Sivas, Kayseri, Nevşehir
- D) Muğla, Denizli, Burdur

14. Aşağıdakilerden hangisi Eskişehir ilinin özelliklerinden biri değildir?

- A) Ulaşım yolları üzerinde olması
- B) Büyükşehir olması
- C) İki üniversiteye sahip olması
- D) Kış turizmine hizmet etmesi

15. 1927-2000 yılları arasında Türkiye'de şehir nüfusu köy nüfusuna göre daha çok artış göstermiştir. Şehir nüfusundaki artış hızının çok olmasında aşağıdakilerden hangisi daha çok etkilidir?

- A) Göçle gelen nüfusun artması
- B) Evli nüfusun artması
- C) Sağlık koşullarının iyileşmesi
- D) Ortalama ömrün uzaması

16. Çalışma çağındaki nüfus dilimi içinde bulunan belirli bir işi olan nüfusa ne ad verilir?

- A) İşsiz nüfus
- B) Pasif nüfus
- C) Aktif nüfus
- D) Hizmet nüfusu

17. Panama Kanalı ile ilgili aşağıdaki ifadelerden hangisi doğrudur?

- A) Dünyada kapakları olmayan en uzun kanaldır.
- B) Kanalin yapımına Fransız ve ABD işbirliğiyle 1880 yılında başlanmış 1914' te tamamlanmıştır.
- C) Hint Okyanusu ve ötesine bağlantıyı sağlamıştır.
- D) Karadan Afrika ve Asya' yı birbirine bağlar.

18. Daima batıya giderek aynı noktaya ulaşan ve böylece dünyanın yuvarlak olduğunu kanıtlayan denizci aşağıdakilerden hangisidir?

- A) Ameriko Vespuçi
- B) Vasko dö Gama
- C) Bartelmi Diyaz
- D) Macellan

19. Aşağıdakilerden hangisi günümüzde İpek Yolu üzerinde bulunan yerlerden biri değildir?

- A) Antakya
- B) Kaşgar
- C) Tibet
- D) Pekin

20. Yazı ilk olarak kimler tarafından kullanılmıştır?

- A) Sümerler
- B) Mısırlılar
- C) Çinliler
- D) Urartular

1.  $15^3 \cdot 2^4$  sayısı kaç basamaklıdır?

- A) 5  
B) 6  
C) 7  
D) 8

2. 12, 15 ve 18 ile tam bölünebilen en küçük doğal sayı kaçtır?

- A) 90  
B) 120  
C) 150  
D) 180

3. Toplamları 200 olan gerçel iki sayıdan büyüğü küçüğüne bölündüğünde bölüm 5, kalan 8 olduğuna göre, bu sayıların farkı kaçtır?

- A) 114  
B) 136  
C) 148  
D) 154

4. Bir tamsayının 8 fazlasının 5 katı, 7 eksiğinin 3 katından çıkarılıyor.

Sonuç 145 olduğuna göre, bu tam sayı kaçtır?

- A) 39  
B) 40  
C) 41  
D) 42

5. a, b, c birer pozitif tam sayı olmak üzere;

$$axb=35$$

$$bxc=28$$

olduğuna göre,  $3a-b+2c$  ifadesinin alabileceği en küçük değer kaçtır?

- A) 12  
B) 14  
C) 16  
D) 18

6.  $x \in \mathbb{R}$  ve  $x < 0$  olmak üzere,  $|x| - |-3x| - 2x + |-x|$  ifadesi aşağıdakilerden hangisine eşittir?

- A)  $-3x$   
B)  $-x$   
C) 0  
D)  $2x$

7.  $\mathbb{Z}/5$  te  $x^2 - 1 \equiv 0$  denkleminin çözüm kümesi aşağıdakilerden hangisidir?

- A)  $\{1\}$   
B)  $\{0, 2\}$   
C)  $\{1, 4\}$   
D)  $\{0, 1, 2\}$

8.  $\mathbb{Z}/7 = \{\bar{0}, \bar{1}, \bar{2}, \bar{3}, \bar{4}, \bar{5}, \bar{6}\}$  kümesinde bir f fonksiyonu,  $f(a) = (\bar{4} \otimes a) \oplus \bar{6}$  biçiminde tanımlanıyor.

Buna göre,  $f(\bar{5})$  in denklik sınıfı kaçtır?

- A)  $\bar{2}$   
B)  $\bar{3}$   
C)  $\bar{4}$   
D)  $\bar{5}$

9.  $\left[ \frac{4 \times (15 : 3)}{2} \right] \times \left[ \frac{8 + (3 \times 4)}{4} \right]$

Yukarıdaki işlemin sonucu kaçtır?

- A) 32  
B) 50  
C) 64  
D) 72

10.  $1 + \frac{1 + \frac{1}{2}}{1 + \frac{1}{2}}$

Yukarıdaki işlemin sonucu kaçtır?

- A)  $\frac{1}{2}$   
B)  $\frac{2}{3}$   
C) 4  
D) 9

11. Can bir işi 6 günde, Hasan aynı işi 8 günde, Can, Hasan ve Fatma birlikte 3 günde bitirebilmektedirler.

Buna göre, Fatma bu işi yalnız başına kaç günde bitirebilir?

- A) 16  
B) 20  
C) 24  
D) 26

12.  $\frac{x^2}{x+y} - \frac{y^2}{x+y}$

Yukarıdaki işlemin sadeleşmiş biçimi aşağıdakilerden hangisidir?

- A)  $x-y$   
B)  $x^2$   
C)  $y+1$   
D)  $x^2+y^2$

13. 6 kız bir halıyı 20 günde dokursa, 4 kız aynı halıyı kaç günde dokur?

- A) 24  
B) 28  
C) 30  
D) 36

14.  $a < b < 0 < c$  olduğuna göre,  $|a-b| - |c-b| - |a|$  ifadesi aşağıdakilerden hangisine eşittir?

- A)  $-c$   
B)  $2a$   
C)  $2b$   
D)  $2b-c$

15.  $\left| \frac{4x-2}{3} \right| \leq 2$  eşitsizliğinin en geniş çözüm aralığı aşağıdakilerden hangisidir?

- A)  $(-3, 8)$   
B)  $[-1, 2]$   
C)  $(4, \infty)$   
D)  $(0, 2]$

16.  $8^8$  sayısının  $\frac{1}{2}$  si aşağıdakilerden hangisidir?

- A)  $2^{10}$
- B)  $2^{15}$
- C)  $2^{23}$
- D)  $2^{26}$

17. I.  $-x$   
 II.  $(-x)^{-3}$   
 III.  $-(-x)^4$   
 IV.  $(x)^5$

$x$  negatif bir sayı olmak üzere, yukarıdakilerden hangileri negatif bir sayıdır?

- A) Yalnız II
- B) I ve III
- C) II ve IV
- D) III ve IV

18.  $\frac{18^2 \times 10^3}{5^3 \times 3^4}$

Yukarıdaki işlemin sonucu kaçtır?

- A)  $3^{-2}$
- B) 1
- C)  $5^2$
- D)  $2^5$

19.  $\sqrt{a + \sqrt{a + \sqrt{a + \dots}}} = 9$  olduğuna göre  $a$  kaçtır?

- A) 63
- B) 72
- C) 81
- D) 90

20.  $\sqrt{3 + \sqrt{41 - \sqrt{22 + \sqrt{13 - \sqrt{16}}}}}$

Yukarıdaki işlemin sonucu kaçtır?

- A) 3
- B) 4
- C) 5
- D) 6

1. Kanunların emrettiği durumları düzenlemek için çıkarılan hukuk kaynağı aşağıdakilerden hangisidir?
- A) Tüzük  
B) Kanun Hükmünde Karamame  
C) Yönetmelik  
D) Tebliğ
2. Aşağıdakilerden hangisi yüksek mahkemelerden biri değildir?
- A) Askeri Yüksek İdare Mahkemesi  
B) Sayıştay  
C) Uyuşmazlık Mahkemesi  
D) Danıştay
3. Bir düzenleyici kurala uygun davranılmadığı takdirde karşılaşacağımız tepkiye ne ad verilir?
- A) Yaptırım  
B) Sosyal düzen kuralı  
C) Örf  
D) Görgü
4. Çalışma hayatını, işçilerin ve işverenlerin hak ve yükümlülüklerini düzenleyen hukuk dalı aşağıdakilerden hangisidir?
- A) Medeni Hukuk  
B) İş Hukuku  
C) Borçlar Hukuku  
D) Ticaret Hukuku
5. Sosyal hayatı düzenleyen kurallardan hangisi iyiliğe ve vicdani ödevlere ilişkin kurallar bütünü olarak tanımlanır?
- A) İktisat kuralları  
B) Hukuk kuralları  
C) Ahlak kuralları  
D) Din kuralları
6. Mülk edinmeye ilişkin düzenlemeler hangi hukuk dalı içerisinde yer almaktadır?
- A) İş Hukuku  
B) Medeni Hukuk  
C) Devletler Özel Hukuku  
D) Fikri Hukuk
7. "Anayasanın üstünlüğü ilkesi" ne anlama gelir?
- A) Anayasadan daha üst bir norm getirilemeyeceği  
B) Kanunların anayasaya aykırı olamayacağı  
C) Anayasanın hükümlerinin değiştirilemeyeceği  
D) Anayasa değişikliğinin öncelikle görüşülemeyeceği
8. Devletin şeklini, yapısını, organların görev ve yetkilerini, birbirleriyle olan ilişkilerini, kişilerin temel hak ve hürriyetlerini düzenleyen kurallar kamu hukukunun hangi bölümünü oluşturur?
- A) Devletler Genel Hukuku  
B) Ceza Hukuku  
C) Anayasa Hukuku  
D) Yargılama Hukuku
9. Hukukun tanıdığı hak ve yetkileri kullanabilen, yüklediği yükümlülükleri yüklenabilen varlığa ne ad verilir?
- A) Kişi  
B) Vasi  
C) Gaip  
D) Kayyum
10. Mal topluluğu grubunun en çok rastlanan örneği aşağıdakilerden hangisidir?
- A) Örgüt  
B) Sendika  
C) Vakıf  
D) Dernek
11. "Mahcur" ne demektir?
- A) Kısıtlı  
B) Savruk  
C) Ehliyetli  
D) Veli

12. Aşağıdakilerden hangisi bir şey veya bir malın mülkiyet hakkına konu olabilmesi için gerekli şartlardan biridir?

- A) Ekonomik bir değer taşımaması
- B) Egemenlik altına girememesi
- C) Üretilbilir olması
- D) Bağımlı bir varlığı olması

13. Sahipsiz bir malın ona sahip olmak niyetiyle ele geçirilmesine ne ad verilir?

- A) İhraz
- B) Tağyir
- C) Zilyetlik
- D) Müruru zaman

14. "Mütemmin cüz" ne demektir?

- A) Eklenti
- B) Mülkiyet
- C) Tasarruf
- D) Tamamlayıcı parça

15. Müsterek mülkiyete ilişkin aşağıdaki ifadelerden hangisi doğrudur?

- A) Malın tamamı üzerindeki önemli kararlarda paydaşların eşit oy hakkı vardır.
- B) Satış veya biçim değiştirme konularında bir oy fazlalığı karar için yeterlidir.
- C) Paydaş payını ipotek edemez.
- D) Her paydaş maldan kendi payı oranında yararlanabilir.

16. Aşağıdakilerden hangisi hapis hakkı şartlarından biri değildir?

- A) Alacaklının alacağı muaccel olmalıdır.
- B) Alacaklı, borçlunun mallarını hapis hakkını kullanmak üzere alıkoyduğunu açıkça söylemelidir.
- C) Alacaklı ile hapis hakkı kullanılan mal arasında tabii bağlantı olmalıdır.
- D) Alacaklının ödeme zamanı gelmemiş olmalıdır.

17. Taraflar arasında sözleşmenin yapıldığına kanıt olmak üzere verilen bir miktar paraya ne ad verilir?

- A) Pişmanlık akçesi
- B) Hava parası
- C) Cezai şart
- D) Pey akçesi

18. Bir sözleşmenin oluşabilmesi için gerekli olan irade açıklamasına ne denir?

- A) Teklif
- B) Edim
- C) Latife
- D) İcap

19. Bir kimsenin bir şey yapmak, bir şey yapmamak veya bir şey vermek biçiminde bir eylemde bulunma yükümlülüğüne ne denir?

- A) Edim
- B) Tazminat
- C) İbra
- D) Borç

20. Borcun ödenmesinde hukukun uygun bulmadığı bir gecikme durumuna ne denir?

- A) İbra
- B) Temerrüt
- C) Ahde vefa
- D) Edim

1. Tek bir sözcüğün, aynı beyitte birden fazla anlama gelecek şekilde kullanıldığı ve divan edebiyatında çok görülen sözcük sanatı aşağıdakilerden hangisidir?

A) Tevriye  
B) Teşbih  
C) Tenasüp  
D) Tariz

2. Murabba, Türk şiirinde kullanılan hangi nazım biçiminin örneğidir?

A) Divan edebiyatı  
B) Klasik Türk Şiiri Nazım biçimleri  
C) Halk şiiri nazım biçimleri  
D) Batı etkisinde gelişen Türk edebiyatı

3. "Sevdiğim yaz geldi yine  
Karıncalar ve sineklerle çıktık yeryüzüne  
Barbunla lüferle marulla zeytinle

Yukarıda bir parçası verilen Yaz başlıklı şiirin teması aşağıdakilerden hangisidir?

A) Tabiat  
B) Aşk  
C) Deniz  
D) Gençlik

4. Aşağıdakilerden hangisi başlıca şiir türlerinden biri değildir?

A) Epik  
B) Lirik  
C) Tragedya  
D) Pastoral

5. Anadolu Türk edebiyatının kurucusu, tekke, divan ve halk edebiyatlarının tümüne esin kaynağı olarak görülen şair aşağıdakilerden hangisidir?

A) Bedri Rahmi  
B) Yunus Emre  
C) Mehmet Akif  
D) İlhan Berk

6. "Hepsi tapardı rengine,  
Rastlamamıştı dengine,  
Hiçbiri mor Teselya'da"

Yukarıdaki şiirin nazım birimi nedir?

A) Bent  
B) Beyit  
C) Üçlük  
D) Kıta

7. "Bir gün meşe dedi ki kamışa:  
-Tabiattan şikayet etmekte hakkınız var"

Yukarıda meşeye insan benliği verilerek hangi sanat yapılmıştır?

A) Teşhis  
B) Kinaye  
C) Tenasüp  
D) Tevriye

8. Aşağıdakilerden hangisi klasik Türk şiiri nazım biçimlerinden biri değildir?

A) Mesnevi  
B) Müstezat  
C) Kaside  
D) Koşma

9. Makaleyle ilgili aşağıdaki ifadelerden hangisi yanlıştır?

A) Üslup yönünden üçüncü tekil anlatım tercih edilir.  
B) Makalede temel öge duygudur.  
C) Gazetede ilk sayfa ve birinci sütunda yer alan ve günlük olaylar, ülke sorunları hakkında görüşleri yansıtan yazılara başmakale adı verilir.  
D) Bilimsel bir anlatım ağır basar.

10. Duygu, düşünce ve hayallerin ölçülü, uyaklı dizeler halinde örülmüş biçimine ne ad verilir?

A) Koşma  
B) Menkıbe  
C) Nazım  
D) Nesir



11. "Altın kulelerden yine kuşlar  
Tekrarını ömrün eder ilan"

**Yukarıdaki dizelerde sabahın gün ışığının kuşlara benzetilmesinde hangi sanat kullanılmıştır?**

- A) Kapalı istiare  
B) Açık istiare  
C) Tariz  
D) Tenasüp
12. Türk edebiyatında makalenin gelişimine bakıldığında 1860'da ilk makale kim tarafından yazılmıştır?
- A) Şinasi  
B) Nefi  
C) Hüseyin Cahit  
D) Namık Kemal
13. Aşağıdakilerden hangisi bilimsel yazılar içerisinde yer almaz?
- A) Değerlendirme yazıları  
B) Bilimsel makaleler  
C) Tiyatro metinleri  
D) Konferans raporları
14. Aşağıdakilerden hangisi Türk halk şiiri nazım biçimlerinden biri değildir?
- A) Semai  
B) Gazel  
C) Mani  
D) İlahi
15. Aşağıdakilerden hangisi halk şiirlerini saz eşliğinde söyleyenlerden biri değildir?
- A) Ozan  
B) Aşık  
C) Kam  
D) Gazelhan
16. Aşağıdakilerden hangisi kafiye çeşitlerinden biri değildir?
- A) Cinaslı  
B) Zengin  
C) Ahenkli  
D) Tam

17. Aşağıdakilerden hangisi Divan şiirinin özelliklerinden biri değildir?

- A) Nazım biriminin dördlük olması  
B) Dilinin ağır olması  
C) Aruz ölçüsünün kullanılması  
D) Arap ve Fars Edebiyatı'nın etkisinin görülmesi

18. Şiirde art arda gelen mısralar içinde birbirlerine benzeyen seslerin sık ve ahenk sağlayacak güzellikte kullanılmasına ne ad verilir?

- A) Cinas  
B) Benzetme  
C) Kafiye  
D) Aliterasyon

19. Yazar, düşünür ve sanatçıların veya kendi alanında uzman olan kişilerin bir konuyu açıklamak, tanıtmak, bilgi vermek, öğretmek amacıyla yola çıkarak yaptıkları konuşmalara ne ad verilir?

- A) Forum  
B) Münazara  
C) Söylev  
D) Konferans

20. Adını Romalıların eskiden yaptıkları halk toplantılarından alan, bir sorun üzerinde bütün ilgililerin görüşlerini öğrenmek için yapılan toplantı türü aşağıdakilerden hangisidir?

- A) Münazara  
B) Söyleşi  
C) Sempozyum  
D) Forum

1. Köy notlarını, "Bizim Köy" adlı eserinde toplayan yazar, aşağıdakilerden hangisidir?
  - A) Mahmut Makal
  - B) Abdülhak Şinasi Hisar
  - C) Oğuz Atay
  - D) Yusuf Atılgan
2. Beş Hececiler topluluğunun ortak özelliği aşağıdakilerden hangisidir?
  - A) Şiirlerinde bireysel duygularını dile getirmeleri
  - B) Süslü, kapalı bir söyleyişe yönelmeleri
  - C) Halk şiiri geleneğinden yararlanmaları
  - D) "Sanat sanat içindir." anlayışına bağlı kalmaları
3. Aşağıdaki romanlardan hangisi, Oğuz Atay'a aittir?
  - A) Tutunamayanlar
  - B) Devlet Ana
  - C) Yaban
  - D) Eski Şarkı
4. Aşağıdaki şair ve eseri eşleştirmelerinden hangisi yanlıştır?
  - A) Ahmet Hamdi Tanpınar-Gezinti
  - B) Nâzım Hikmet-Bugün Pazar
  - C) Orhan Veli Kanık-Dalga
  - D) Attilâ İlhan-Öteki Yaz
5. Tiyatro, roman ve hikâyelerinde toplumun aksayan yönlerini, olayları, tipleri gülünç gösteren bir mizah üslubuyla anlatan yazar, aşağıdakilerden hangisidir?
  - A) Aziz Nesin
  - B) Yakup Kadri Karaosmanoğlu
  - C) Tarık Buğra
  - D) Yaşar Kemal
6. "Akşam Musikîsi" adlı şiir aşağıdaki şairlerden hangisine aittir?
  - A) Halit Fahri Ozansoy
  - B) Enis Behiç Koryürek
  - C) Yahya Kemal Beyatlı
  - D) Yusuf Ziya Ortaç
7. Anlamda kapalılığı, değişik çağrışımlarla imgeci bir şiir anlayışını savunan edebiyat akımı, aşağıdakilerden hangisidir?
  - A) İkinci Yeni
  - B) Yedi Meşaleciler
  - C) Birinci Yeni
  - D) Fecr-i Âti
8. Aşağıdakilerden hangisi, Haldun Taner'in tiyatro eserlerinden biridir?
  - A) Mahmud ile Yezida
  - B) Yangın Yerinde Orkideler
  - C) Kadınlar Arasında
  - D) Keşanlı Ali Destanı
9. Bir kimsenin kendi başından geçenleri veya tanık olduğu olayları anlattığı esere ne ad verilir?
  - A) Gezi yazısı
  - B) Deneme
  - C) Anı
  - D) Günlük
10. "Köşe başı" adlı tiyatro eseri, aşağıdaki yazarlardan hangisine aittir?
  - A) Ahmet Kutsi Tecer
  - B) Murathan Mungan
  - C) Tomris Uyar
  - D) Enis Batur
11. Hikâyelerini, "Abdullah Efendi'nin Rüyaları" adı altında toplamış olan ve eserlerinde rüya ve bilinç altına büyük önem veren yazar, aşağıdakilerden hangisidir?
  - A) Cevat Şakir Kabaağaçlı
  - B) Peyami Safa
  - C) Sabahattin Âli
  - D) Ahmet Hamdi Tanpınar
12. "Bugün Pazar" adlı şiir, aşağıdaki şairlerden hangisine aittir?
  - A) Ömer Faruk Toprak
  - B) Nazım Hikmet
  - C) Arif Damar
  - D) Enver Gökçe

13. Aşağıdakilerden hangisi makalenin özelliklerinden biri değildir?

- A) Öne sürülen düşüncenin inandırıcı biçimde geliştirilmiş olması ve kanıtlanması
- B) Söz oyunlarına başvurulmaması
- C) Konu bakımından sınırlı olması
- D) Anlatımın yalın ve yoğun olması

14. Aşağıdakilerden hangisi "deneme" türünün özelliklerinden biri değildir?

- A) Kısa olması
- B) Belirli bir planla yazılması
- C) Samimi bir dil kullanılması
- D) Düşünceyi kabul ettirme, kesin bir sonuca gitme gibi bir amacının olmaması

15. Bilim, sanat, kültür ve başka konularda bilgi vermek, bir düşünceyi ortaya koymak ya da savunmak amacıyla yazılan, yazarın kişisel görüşlerini de yansıttığı gazete ve dergi yazılarına ne ad verilir?

- A) Fıkra
- B) Günce
- C) Makale
- D) Deneme

16. Aşağıdakilerden hangisi, devlet tarafından çıkarılan ilk resmi gazetedir?

- A) Ceride-i Havadis
- B) Takvim-i Vekayi
- C) İrade-i Mülkiye
- D) Tercüman-ı Ahval

17. Deneme türünün öncüsü kabul edilen Fransız yazar, aşağıdakilerden hangisidir?

- A) Jean Paul Sartre
- B) Andre Malraux
- C) Simone de Beauver
- D) Montaigne

18. Yazarın herhangi bir konu üzerinde kesin hükümlere varmadan, kendi kişisel görüş ve düşüncelerini anlattığı yazı türüne ne ad verilir?

- A) Fıkra
- B) Deneme
- C) Röportaj
- D) Makale

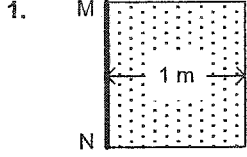
19. "Bu Diyar Baştan Başa" adlı gezi kitabı aşağıdaki yazarlardan hangisine aittir?

- A) Nadir Paksoy
- B) Fikret Otyam
- C) Nedim Gürsel
- D) Yaşar Kemal

20. İtalyan edebiyatında en tanınmış anı yazarı aşağıdakilerden hangisidir?

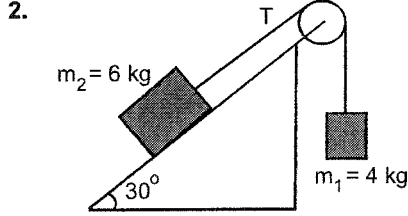
- A) Alberto Moraio
- B) Silvio Pellica
- C) Manzoni
- D) Fillippo Marinetti

2013 III.DÖNEM 0106-A



MN eksenini etrafında dönebilen, eni 1 m olan bir çerçeveye 10 N'luk bir kuvvet etki ederse, dönme eksenine göre momenti kaç N.m olur?

- A) 5  
B) 9  
C) 10  
D) 11




Şekildeki sistem hareket ederken ipteki gerilme kaç N olur? (Sürtünme yoktur.  $g=10 \text{ m/s}^2$ .  $\sin 30=0,5$ )

- A) 24  
B) 36  
C) 48  
D) 60

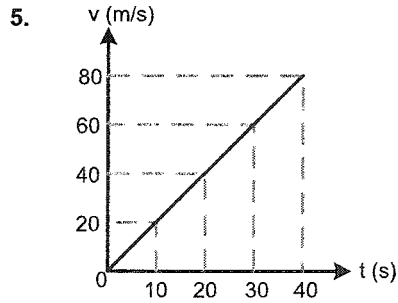
3. Aşağıdaki durumların hangisinde hareketli iki araçtan birinde oturan bir yolcuya göre, öbür aracın hızı en küçüktür?

- A)  $\xrightarrow{80}$   $\xrightarrow{80}$   
B)  $\xrightarrow{50}$   $\xleftarrow{50}$   
C)  $\xrightarrow{70}$   $\downarrow 100$   
D)  $\xrightarrow{90}$   
 $\xrightarrow{60}$



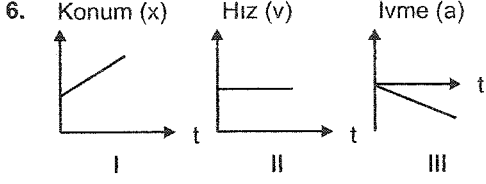
Yukarıdaki vektörlerin bileşkesinin değeri kaç birimdir? (Bölmeler eşit aralıktır.)

- A) 4  
B) 5  
C) 6  
D) 7



Yukarıdaki hız-zaman grafiğinde verilen hareketlinin ivmesi kaç  $\text{m/s}^2$  dir?

- A) 0,5  
B) 1  
C) 1,5  
D) 2

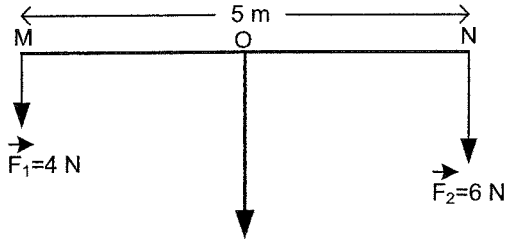


Yukarıdaki konum-zaman grafiklerinden hangileri sabit hızla hareket eden bir cisme ait olamaz?

- A) Yalnız II  
B) Yalnız III  
C) I ve II  
D) I ve III

**7. VE 8. SORULARI AŞAĞIDAKİ BİLGİLERE GÖRE CEVAPLAYINIZ.**

Aşağıdaki şekilde, uzunluğu 5 m olan ağırlığı önemsiz homojen çubuğun uçlarına  $F_1=4$  N ve  $F_2=6$  N kuvvetleri etki etmektedir.

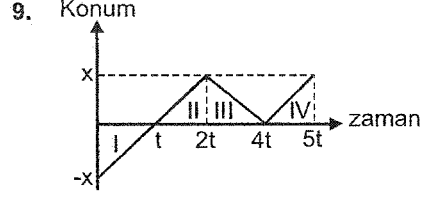


7. Bu bilgilere göre, sistemin dengede durabilmesi için uygulama noktası N noktasından kaç metre uzakta olmalıdır?

- A) 1  
B) 1,5  
C) 2  
D) 2,5

8. Yukarıdaki bilgilere göre,  $F_1$  ve  $F_2$  kuvvetlerinin bileşkesi kaç N dur?

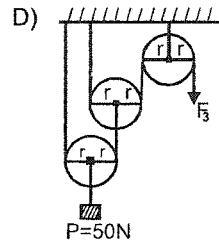
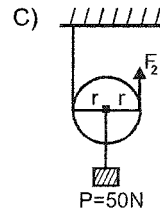
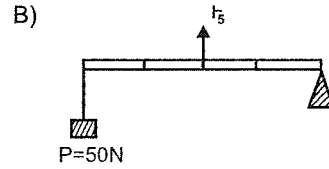
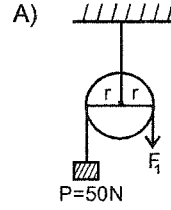
- A) 10  
B) 12  
C) 16  
D) 18



Konum zaman grafiği yukarıdaki şekildeki gibi olan hareketlinin hızı, hangi zaman aralıklarında büyükklük ve yönce aynıdır?

- A) I ve II  
B) I ve III  
C) I ve IV  
D) I, II ve IV

10. Aşağıdaki sistemlerin her biri dengede durmaktadır. Buna göre,  $F_1, F_2, F_3, F_4$  ve  $F_5$  kuvvetlerinden en büyüğü hangi sistemde yer alır?



11. Bir yolcu otobüsü arası 300 km olan M kentinden N kentine 5 saatte ulaşmaktadır.

Buna göre, bu otobüsün ortalama hızı kaç km/h 'tir?

- A) 50  
B) 60  
C) 75  
D) 80

12. VE 13. SORULARI AŞAĞIDAKİ BİLGİLERE GÖRE CEVAPLAYINIZ.

Aralarında 300 m olan iki koşucu birbirlerine doğru 9 m/s ve 6 m/s sabit hızlarla koşmaya başlamışlardır.

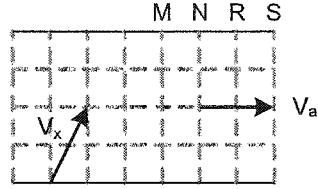
12. Bu bilgilere göre, kaç saniye sonra karşılaşırlar?

- A) 10  
B) 15  
C) 20  
D) 25

13. Yukarıdaki bilgilere göre, 6 m/s ile koşan koşucu diğer koşucu ile karşılaşıncaya kadar kaç metre yol almıştır?

- A) 120  
B) 150  
C) 180  
D) 200

14. Akıntı hızının  $\vec{V}_a$  olduğu bir nehirde yere göre hız vektörü aşağıdaki şekildeki gibi olan bir kayakçı noktasından harekete geçmiştir.



Buna göre, bu kayakçı karşı kıyıda hangi noktaya çıkar? (Bölmeler eşit aralıktır.)

- A) M  
B) N  
C) R  
D) S

15. VE 16. SORULARI AŞAĞIDAKİ BİLGİLERE GÖRE CEVAPLAYINIZ.

Durmakta olan bir araç sabit ivme ile hareket etmeye başlamış ve 2. saniye sonunda 10 m yol almıştır.

15. Bu bilgilere göre, bu aracın 2. saniye sonundaki ivmesi kaç  $m/s^2$  dir?

- A) 0,5  
B) 1  
C) 2  
D) 3

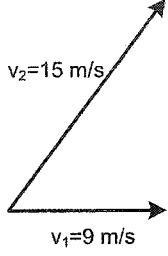
16. Yukarıdaki bilgilere göre, bu aracın 2. saniye sonundaki hızı kaç m/s dir?

- A) 7  
B) 8  
C) 9  
D) 10

17. 90 km/h kaç m/s'dir?

- A) 25  
B) 30  
C) 35  
D) 40

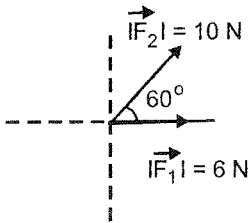
18.



Yukarıdaki şekilde yatay düzlemde  $v_1=9$  m/s hızla doğuya giden bir aracın sürücüsü, kuzeydoğuya doğru  $v_2=15$  m/s hızla giden bir aracı kaç m/s hızla gidiyor olarak görür?

- A) 6
- B) 8
- C) 10
- D) 12

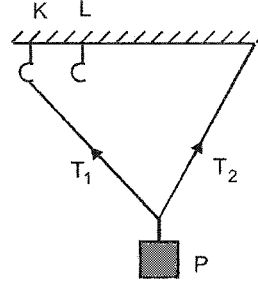
19. Aşağıdaki şekilde aynı düzlemde bulunan, büyüklükleri 6 N ve 10 N olan  $\vec{F}_1$  ve  $\vec{F}_2$  kuvvetleri verilmiştir.



Bu bilgilere göre,  $\vec{F}_1$  ve  $\vec{F}_2$  kuvvetlerinin bileşkesinin büyüklüğü kaç N dur? (Cos60°=0,5)

- A) 8
- B) 12
- C) 13
- D) 14

20. P cismi eşit uzunluktaki  $T_1$  ve  $T_2$  iplerine şekildeki gibi asılarak dengelenmiştir.

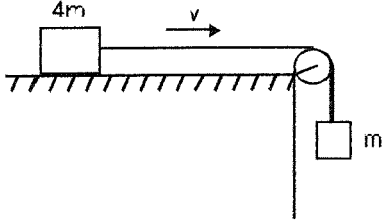


Bu bilgilere göre, ip K kancasından çıkarılıp, L kancasına takıldığında, sırayla  $T_1$  ve  $T_2$  iplerindeki gerilme kuvvetleri için aşağıdakilerden hangisi söylenebilir?

- A) Artar. – Artar.
- B) Artar. – Azalır.
- C) Azalır. – Azalır.
- D) Azalır. – Değişmez.

1. Yay sabiti 2.000 N/m olan bir yay 0,1 m sıkıştırıldığında ya da gerildiğinde yayda depolanan potansiyel enerji kaç J'dür?
- A) 10  
B) 20  
C) 30  
D) 40

2. Aşağıdaki sistem ok yönünde değişmeyen  $v$  hızıyla hareket etmektedir.



Bu bilgilere göre, 4 m kütlesi ile yüzey arasındaki sürtünme katsayısı kaçtır?

- A) 1/2  
B) 1/3  
C) 1/4  
D) 1/5
3. Yatay düzlemde hareketsiz bir cisme, düzleme paralel 100 N'luk sabit bir kuvvet etki ettirilerek cismin 5 m yer değiştirmesi sağlanmıştır.
- Buna göre, yapılan iş kaç J'dür? (Sürtünmeler önemsizdir.)
- A) 50  
B) 100  
C) 250  
D) 500

4. Durmakta olan 1.200 kg kütleli bir otomobile, 100 m içinde 500 N'luk sürtünme kuvvetine karşı, 10 m/s'lik hız kazandırabilecek kuvvetin değeri kaç N'dür?
- A) 1.000  
B) 1.100  
C) 1.500  
D) 2.000

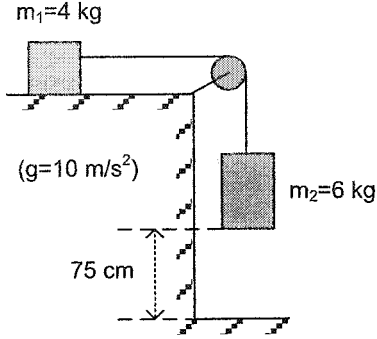
5. VE 6. SORULARI AŞAĞIDAKİ BİLGİLERE GÖRE CEVAPLAYINIZ.

3 kg kütleli bir cisim sürtünmesiz yatay bir zemin üzerinde 50 N'luk yatay bir kuvvetle 12 m çekilmiştir.

5. Bu bilgilere göre, kuvvetin yaptığı iş kaç J'dür?
- A) 100  
B) 300  
C) 500  
D) 600
6. Yukarıdaki bilgilere göre, cismin hızı kaç m/s'dir?
- A) 10  
B) 15  
C) 20  
D) 25
7. 5 m yükseklikten bırakılan bir cismin yere çarptığı andaki hızı kaç m/s olur? ( $g=10 \text{ m/s}^2$ )
- A) 10  
B) 15  
C) 20  
D) 25



8 - 10. SORULARI AŞAĞIDAKİ BİLGİLERE GÖRE CEVAPLAYINIZ.



8. Yukarıdaki sistem serbest bırakıldığında  $m_2$  kütlesi kaç m/s'lik hızla yere çarpar?

- A) 1  
 B) 2  
 C) 3  
 D) 4

9. Yukarıdaki sistemde  $m_1$  kütleli cisimle yatay düzlem arasındaki sürtünme katsayısı 1 ise, sistemin ivmesi  $\text{m/s}^2$  olur?

- A) 0,5  
 B) 1  
 C) 1,5  
 D) 2

10. Yukarıdaki sistemde ipteki gerilme kuvveti kaç N'dur?

- A) 8  
 B) 10  
 C) 12  
 D) 16

11. Ağırlığı 100 N olan bir yük, en fazla 500 N'a kadar dayanabilen bir kablo ile yukarı doğru çekilmektedir.

Buna göre, yükün ivmesi en fazla kaç  $\text{m/s}^2$  olur? ( $g = 10 \text{ m/s}^2$ )

- A) 10  
 B) 20  
 C) 30  
 D) 40

12. Sürtünme katsayısı 0,5 olan yatay konumdaki bir masa üzerinde duran 5 kg'lık bir bloğa 3  $\text{m/s}^2$ 'lik ivme verebilecek yatay kuvvetin büyüklüğü kaç N'dur? ( $g = 10 \text{ m/s}^2$ )

- A) 35  
 B) 40  
 C) 45  
 D) 50

13. Yatay bir yolda 20 m/s sabit hızla gitmekte olan 1.000 kg kütleli bir otomobil fren yapıyor ve düzgün yavaşlayarak 100 m yol alarak duruyor.

Buna göre, bu otomobilin fren kuvveti kaç N'dur?

- A) 1.250  
 B) 1.500  
 C) 1.750  
 D) 2.000

14. I. Kinetik sürtünme kuvveti  
 II. Dinamik sürtünme kuvveti  
 III. Statik sürtünme kuvveti

Yukarıdakilerden hangileri sürtünme kuvvetleri arasında yer almaz?

- A) Yalnız II  
 B) Yalnız III  
 C) I ve II  
 D) I ve III

15. Bir  $F$  kuvveti  $m_1$  kütleline  $3 \text{ m/s}^2$ ,  $m_2$  kütleline  $6 \text{ m/s}^2$  değerinde ivme kazandırmaktadır.

Buna göre, aynı kuvvet  $(m_1+m_2)$  kütleline kaç  $\text{m/s}^2$  ivme kazandırır?

- A) 1  
B) 2  
C) 3  
D) 9

16. Toplam kütleli 400 kg, gücü 80.000 W olan bir asansörün 10 m yükselebilmesi için geçen süre kaç s'dir? ( $g=10 \text{ m/s}^2$ )

- A) 0,3  
B) 0,4  
C) 0,5  
D) 0,6

17. İş yapabilme yeteneğine ne ad verilir?

- A) Enerji  
B) Güç  
C) Kuvvet  
D) Etki

18. Bir otomobil motorunun 10 saniyede yaptığı iş 50.000 J ise, motorun gücü kaç W'tır?

- A) 500  
B) 5.000  
C) 7.500  
D) 10.000

19. Cisimlerin hareketinden dolayı sahip oldukları enerjiye ne ad verilir?

- A) Kinetik enerji  
B) Potansiyel enerji  
C) Statik enerji  
D) Eylem enerjisi

20. Yatay bir düzlemde durmakta olan 4 kg kütleli bir cisim 10 N'luk yatay bir kuvvetle çekilmektedir.

Buna göre, cisim 5 saniyede 25 m yer değiştiriyor ise, cismin ivmesi kaç  $\text{m/s}^2$  dir?

- A) 1  
B) 2  
C) 3  
D) 4

1. I. Esnektir.  
II. Çok incedir.  
III. Akıcı-mozaiik görünümündedir.  
IV. Bileşiminde protein-yağ molekülleri bulunur.  
V. Küçük molekülleri büyük moleküllerden daha kolay geçirir.

Yukarıdaki özelliklerden hangisi hücre zarının seçici geçirgen olduğunu belirtmektedir?

- A) Yalnız I  
B) Yalnız II  
C) Yalnız IV  
D) Yalnız V

2. Hücre yüzeyinin çökmesiyle meydana gelen çukurların içine sıvı veya sıvıda çözülmüş organik moleküllerin alınması, aşağıdaki olayların hangisiyle gerçekleşir?

- A) Pinositoz  
B) Fagositoz  
C) Osmoz  
D) Dializ

3. Aşağıdakilerden hangisi bir polisakkarit çeşidi değildir?

- A) Glikojen  
B) Maltoz  
C) Nişasta  
D) Kitin

4. DNA, mRNA ve tRNA moleküllerinin ortak görevi aşağıdakilerden hangisidir?

- A) Kendilerini eşlemeleri  
B) ATP (enerji) üretmeleri  
C) Amino asit taşımaları  
D) Protein sentezinde görev almaları

5. Fagositoz ve pinositoz yoluyla sitoplazmaya besin alan çok hücreli bir canlının hücresinde, aşağıdaki organellerden hangisi kesinlikle bulunmaz?

- A) Kloroplast  
B) Sentrozom  
C) Lizozom  
D) Ribozom

6. I. Aktif taşıma  
II. Difüzyon  
III. Osmoz  
IV. Fagositoz

Canlı hücreler, yukarıdaki yollardan hangileriyle besin alırken enerji harcamak zorunda kalırlar?

- A) Yalnız I  
B) Yalnız III  
C) I ve IV  
D) II ve III

7. Aşağıdakilerden hangisi sadece RNA (Ribonükleik Asit) molekülüne ait bir özelliktir?

- A) İki zincirli olması  
B) Kendini eşleyebilmesi  
C) Nükleotitlerden oluşması  
D) Riboz şekeri içermesi

8. Aşağıdaki hücrel organellerden hangisi yalnız bitkisel hücrelere özgüdür?

- A) Mitokondri  
B) Kloroplast  
C) Ribozom  
D) Sentrozom

9. ATP sentezlemek, kendi kendine çoğalmak, DNA içermek gibi özelliklerin tümüne sahip olan organel aşağıdakilerden hangisidir?

- A) Kloroplast  
B) Ribozom  
C) Mitokondri  
D) Sentrozom

10. Aşağıdakilerden hangisi hücre zarındaki madde geçişi ile ilgili olaylardan biri değildir?

- A) Pinositoz ile sıvı maddelerin alımı  
B) Fagositoz ile katı maddelerin alımı  
C) Aktif taşıma ile glikozun geçişi  
D) Osmoz ile nişastanın geçişi

11. Beyin hücreleri enerji üretmek amacı ile öncelikle aşağıdaki moleküllerden hangisini oksijen kullanarak tüketirler?

- A) Glikoz
- B) Amino asit
- C) Yağ asiti
- D) Gliserin

12. Aşağıdaki hücre yapısından hangisinin yok edilmesi, o bitkinin nişasta depolamasını engeller?

- A) Kloroplast
- B) Lökoplast
- C) Kromoplast
- D) Sitoplazma

13. DNA'ya ait nükleotitlerin yapısında bulunan, ancak değişken olan kısım aşağıdakilerden hangisidir?

- A) Fosfat grubu
- B) Deoksiriboz
- C) Riboz
- D) Azotlu baz

14. Aşağıdakilerden hangisi DNA ve RNA yapısına katılan sabit (değişmez) bir yapı birimidir?

- A) Timin nükleotit
- B) Urasil nükleotit
- C) Fosforik asit
- D) Deoksiriboz

15. Karbonhidratların memeli hayvan dokularındaki depo şekli aşağıdakilerden hangisidir?

- A) Glikojen
- B) Glikoz
- C) Nişasta
- D) Selüloz

16. Hücre organelleri ve görevleri ile ilgili olarak aşağıdaki eşleştirmelerden hangisi yanlıştır?

- A) Lizozom - Hücre içi sindirim yapar.
- B) Ribozom - Protein sentezi yapar.
- C) Golgi - Glikoz sentezi yapar.
- D) Sentrozom - Hücre bölünmesinde görev yapar.

17. Aşağıdakilerden hangisi biyoloji bilimindeki gelişmeleri gösteren örneklerden biri değildir?

- A) Önemli hastalıkların tedavisinde hormon üreten bakterilerin kullanılması
- B) Besin kaynaklarına yönelik çalışmaların durdurulması
- C) Bitkilerin yanında selüloz üretiminde bakterilerin kullanılması
- D) Mikroorganizmalarla yapılan çalışmalarda ilaç sanayindeki gelişmeler

18. Aşağıdaki nükleotit dizilerinden hangisi kendini eşleyebilir?

- A) AGCTTA
- B) TUGCCA
- C) UGCAAU
- D) GCAUCG

19. Aşağıdakilerden hangisi hücre zarıyla doğrudan ilgili olaylardan biri değildir?

- A) Difüzyon
- B) Osmoz
- C) Organik madde sentezi
- D) Pinositoz

20. Aşağıdakilerden hangisi bitkisel ve hayvansal hücrelerde bulunan ortak yapılardan biridir?

- A) Kloroplast
- B) Mitokondri
- C) Hücre duvarı
- D) Sentrozom

1. Aşağıdaki çok hücreli hayvan gruplarından hangisinin vücudunda nöron (sinir hücresi) olarak farklılaşmış vücut hücresi bulunmaz?

- A) Derisi dikenli
- B) Eklem bacaklı
- C) Sünger
- D) Selenter

2. Aşağıdakilerden hangisi fagositoz yapar?

- A) Nötrofiller
- B) Bazofiller
- C) Makrofajlar
- D) Lenfositler

3. Aşağıdakilerden hangisi kasların görevlerinden biri değildir?

- A) Kalbin çalışmasını sağlamak
- B) İskelet sisteminin hareketini sağlamak
- C) Besinlerin sindirim kanalında ilerlemesini sağlamak
- D) Besin ve oksijeni hücrelere taşımak

4. Dişin taç kısmını örten, sert ve parlak tabaka aşağıdakilerden hangisidir?

- A) Mine tabakası
- B) Dentin
- C) Diş özü
- D) Taç

5. Aşağıdaki vücut bölümlerinden hangisi düz kas yapısına sahiptir?

- A) Ağız
- B) Kol
- C) İdrar kesesi
- D) Sırt

6. Aşağıdaki dokulardan hangisine ait hücreler farklılaşarak stomaları meydana getirir?

- A) Salgı dokusu
- B) Epidermis
- C) Destek doku
- D) Sünger parankimasi

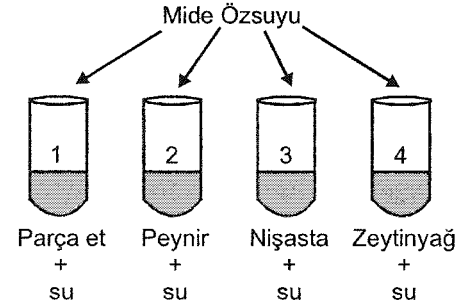
7. Aşağıdakilerden hangisi karaciğerin görevlerinden biri değildir?

- A) A,D,E ve K vitaminlerini depolamak
- B) Boşaltım ürünü amonyağı üreye çevirmek
- C) Glikozu glikojen şeklinde depolamak
- D) İnsülin salgılayarak kandaki glikoz düzeyini düşürmek

8. Aşağıdakilerden hangisi insanlarda östaki borusunun kulak için önemini açıklar?

- A) Kulak zarındaki dış basıncı dengelemesi
- B) Ses titreşimlerini kuvvetlendirmesi
- C) Mukus sıvısının atılması
- D) Korti organını uyarması

9.



Yukarıdaki düzenekler hazırlanıp tüplere mide özsuyu ilave edildikten sonra, hangi tüplerde kimyasal sindirim meydana gelir?

- A) 1 ve 2
- B) 2 ve 4
- C) 1, 3 ve 4
- D) 2, 3 ve 4

10. Akşamsefası bitkisinin gündüz kapanıp, akşam açılması hareketi aşağıdaki olaylardan hangisine örnektir?

- A) Fototropizma
- B) Fotonasti
- C) Gravitropizma
- D) Termonasti

11. İnce ve karmaşık kas faaliyetlerinin kontrolü ile denge aşağıdakilerden hangisi tarafından yapılır?

- A) Beyincik
- B) Hipotalamus
- C) Omurilik soğanı
- D) Beyin yarım küreleri

12. Aşağıdakilerden hangisi sinir hücresidir?

- A) Kollajen
- B) Kondrin
- C) Nöron
- D) Osteoblast

13. Aşağıdakilerden hangisi sitoplazması hafif pembe renkte granüllerle kaplı bir akyuvardır?

- A) Monosit
- B) Eozinofil
- C) Nötrofil
- D) Lenfosit

14. Bir sinir hücresinde dinlenme halinde hücre zarının iç kısmının negatif, dış kısmının ise pozitif elektrik yüklü olmasına ne ad verilir?

- A) Hidroliz
- B) Fotosentez
- C) Fagositoz
- D) Polarizasyon

15. Aşağıdakilerden hangisi iç kulakta yer alır?

- A) Çekiç
- B) Östaki borusu
- C) Örs
- D) Yarım daire kanalları

16. İnsan iskeletinde yaklaşık olarak kaç adet kemik bulunur?

- A) 207
- B) 150
- C) 105
- D) 50

17. Aşağıdakilerden hangisi bitkinin yer çekimine karşı gösterdiği yönelme hareketidir?

- A) Kemotropizma
- B) Tigmotropizma
- C) Fotonasti
- D) Gravitropizma

18. Aşağıdakilerden hangisinde sindirim sistemi bulunmaz?

- A) Yuvarlak solucan
- B) Sünger
- C) Çekirge
- D) Kuş

19. Proteinlerin sindirimi aşağıdakilerin hangisinde başlar?

- A) İncebağırsakta
- B) Midede
- C) Ağızda
- D) Kalınbağırsakta

20. Yağları, yağ asitlerine ve gliserole parçalayan enzim aşağıdakilerden hangisidir?

- A) Kimotripsin
- B) Lipaz
- C) Maltaz
- D) Tripsin

1. Aşağıdakilerden hangisi biyolojik yöntemlerle elde edilen ürünlerden biri değildir?  
A) Maya ürünleri  
B) Penisilin  
C) Et ürünleri  
D) Aşı
2. Süper dişiyile ilgili aşağıdaki ifadelerden hangisi yanlıştır?  
A) 44+XXX genotibindeki dişilerdir.  
B) Deri, iskelet ve boyla ilgili anormallikler vardır.  
C) Zekâ geriliği oranı yüksektir.  
D) Çoğu kısırdır.
3. Vücut hücrelerini kontrol eden kromozomlara ne ad verilir?  
A) Gonozom  
B) Otozom  
C) Homozigot  
D) Fenotip
4. Küçük popülasyonların gen havuzunda şansa bağlı olarak meydana gelen değişmeye ne ad verilir?  
A) Genetik izolasyon  
B) Seleksiyon  
C) Genetik sürüklenme  
D) Mutasyon
5. Bir insan popülasyonda B kan grubunu frekansı 0,2 A kan grubunun frekansı 0,4 olduğuna göre bu popülasyonda BO kan grubunun frekansı nedir?  
A) 0,16  
B) 0,32  
C) 0,45  
D) 0,67
6. Bir özellik için iki farklı alel içeren bireyin fenotipinde etkisi görülmeyen karaktere ne ad verilir?  
A) Baskın karakter  
B) Genotip  
C) Eksik baskınlık  
D) Çekinik karakter

7. Renk körlüğünde aşağıdaki renklerden hangileri bir birine karıştırılır?  
A) Siyah-beyaz  
B) Kırmızı-yeşil  
C) Sarı-kırmızı  
D) Yeşil-siyah
8. I. Endülüs tavukları  
II. Akşamsefası bitkisi  
III. Arslan ağız bitkisi  
Yukarıdakilerden hangilerinde eksik baskınlık görülür?  
A) Yalnız I  
B) I ve II  
C) II ve III  
D) I, II ve III
9. Belirli bir DNA bölümünün kesilerek bir vektör içerisine konulması ve daha sonra bakteri içerisinde çoğaltılması işlemlerine ne ad verilir?  
A) Gen klonlaması  
B) Taşımalı gen sistemi  
C) Gen havuzu  
D) Rekombinant RNA
10. I. Mutasyonlar  
II. Sıcaklık artışı  
III. pH değişiklikleri  
Yukarıdakilerden hangileri DNA yapısında değişiklik meydana getirir?  
A) Yalnız III  
B) I ve II  
C) II ve III  
D) I, II ve III
11. Çok ince uçlu iğneye sahip enjektör ile hücre zarı geçilip, doğrudan hücre çekirdeğine rekombinant DNA'nın enjekte edilmesine ne ad verilir?  
A) Biyolistik yöntem  
B) Elektroporasyon yöntemi  
C) Mikro enjeksiyon yöntemi  
D) Transformasyon yöntemi

12. I. Göç  
II. Ayrılma  
III. Mutasyon

Yukarıdakilerden hangileri popülasyon dengesini bozan etmenlerdendir?

- A) Yalnız III  
B) I ve II  
C) II ve III  
D) I, II ve III

13. Rekombinat DNA'ya sahip canlıya ne ad verilir?

- A) Resesif canlı  
B) Mezoderm canlı  
C) Transgenik canlı  
D) Plazmit canlı

14. I. Ortak hücreli anemi  
II. Fenilketonür  
III. Demütas

Yukarıdakilerden hangileri insanda görülen kalıtsal hastalıklardandır?

- A) Yalnız III  
B) I ve II  
C) II ve III  
D) I, II ve III

15. Fenotipe baskın karakterde olan bir bireyin genotibinin homozigot veya heterozigot olup olmadığını araştırmak için o karakter yönünden çekinik özellik gösteren bir birey ile çaprazlanmasına ne ad verilir?

- A) Doğrusal çaprazlama  
B) Kontrol çaprazlaması  
C) Düzlemsel çaprazlama  
D) Garavitational çaprazlama

16. Bir bireyin kalıtsal yapısına ne ad verilir?

- A) Fenotip  
B) Gamet  
C) Genotip  
D) Mutagen

17. Bir genin içerdiği baz dizilişindeki değişmelere ne ad verilir?

- A) Gen mutasyonları  
B) Kromozom mutasyonları  
C) Nokta mutasyonları  
D) Otozom mutasyonları

18. Eşeye bağlı kalıtım ile ilgili ilk deneyler aşağıdaki bilim insanlarından hangisi tarafından yapılmıştır?

- A) Smith  
B) Dewey  
C) Vincent  
D) Morgan

19. 20.000 kişilik bir popülasyonda 5.000 kişi çekinik karakteri fenotipte gösteriyorsa bu popülasyonda çekinik genin frekansı nedir?

- A) 0,5  
B) 0,6  
C) 1,2  
D) 1,5

20. Bir popülasyona ait gen kaynağında bulunan bir karaktere ait baskın gen ile aynı karaktere ait çekinik genin frekansları toplamı kaç e eşittir?

- A) 1'e  
B) 2'ye  
C) 3'e  
D) 4'e



1. Bir işletmede gelirin, giderlerden çok olmasına ne ad verilir?
  - A) Faiz
  - B) Maliyet
  - C) Kâr
  - D) Sermaye
2. Aşağıdakilerden hangisi bir işletmenin girişim olarak kabul edilebilmesi için taşıması gereken özelliklerden biri değildir?
  - A) Mevcut pazara yeni bir yolla ulaşması
  - B) Personel istihdam sayısının çok olması
  - C) Yeni bir pazara ulaşması
  - D) Yeni bir teknoloji kullanması
3. Bir işletmede çalışanların üst ya da ast oluşlarına göre sınıflandırılmasına ne ad verilir?
  - A) Hiyerarşi
  - B) Sorumluluk
  - C) Statü
  - D) Görev
4. Bir restoran veya bir pastanede malzemeden, işçilikten ve diğer giderlerden azami derecede yararlanılarak üretimin gerçekleştirilmesi ile ulaşılmak istenen öncelikli amaç aşağıdakilerden hangisidir?
  - A) Verimli olmak
  - B) Toplumla hizmet etmek
  - C) Sosyal fayda yaratmak
  - D) Kâr etmek
5. Ekonomik mal veya hizmet üretmek için faaliyette bulunan kuruluşlara verilen genel isim aşağıdakilerden hangisidir?
  - A) Kooperatif
  - B) Dernek
  - C) Vakıf
  - D) İşletme
6. İşletmede yapılması gereken işlerin belli bir takvime göre zamanlanmasına ne ad verilir?
  - A) Denetim
  - B) Planlama
  - C) Koordinasyon
  - D) Organizasyon
7. Aşağıdakilerden hangisi sermaye şirketlerinin olumsuz yönlerinden biri değildir?
  - A) Ortaklığın kolay devredilebilmesi
  - B) Koordinasyonun güç olması
  - C) Kuruluş işlemlerinin karışık olması
  - D) Ortak sayısının çokluğu nedeniyle karar vermenin uzun zaman alması
8. Aşağıdakilerden hangisi dayanıklı mallar arasında yer almaz?
  - A) Otomobil
  - B) Mobilya
  - C) Buzdolabı
  - D) Kağıt
9. Aşağıdakilerden hangisi şahıs işletmelerinin olumlu özelliklerinden biri değildir?
  - A) Borçlara karşı sorumlulukların sınırsız olması
  - B) Kurulmasının kolay olması
  - C) İşletmenin sahibinin ve yöneticisinin kararlarında özgür olması
  - D) Kârın bölüşülmeyerek işletme sahibinin elinde toplanması
10. İşletmenin amaçlarına en kısa ve kestirme yoldan ulaşmasını sağlamak üzere, işletmeyi oluşturan kişilerin bu ortak amaçlar çerçevesinde düzenli çalışmasının sağlanmasına ne ad verilir?
  - A) Planlama
  - B) Yönetim
  - C) Organizasyon
  - D) Koordinasyon
11. Bir işletmede amaçların belirlenmesi ve bu amaçlara ulaşmayı sağlayacak araçların seçimine ne ad verilir?
  - A) Politika
  - B) Taktik
  - C) Strateji
  - D) Planlama

12. İşletmecilerin ticari faaliyetleri ile ilgili kayıtların belirli bir sisteme göre tutulmasına ne ad verilir?

- A) Pazarlama
- B) Muhasebe
- C) Üretim
- D) Finans

13. Bir işletmenin kurulması ve işletilmesi için gerekli para ve kredilerin bulunması ve ekonomik olarak kullanılması işlevine ne ad verilir?

- A) Muhasebe
- B) Finans
- C) Üretim
- D) Yönetim

14. Bir teşkilat şemasında genel müdür ve genel müdür yardımcılarının görevleri altlarına yazıldığında meydana gelen şema aşağıdakilerden hangisidir?

- A) Koordinasyon yönetim şeması
- B) Yeniden örgütlenme şeması
- C) Yapısal teşkilat şeması
- D) Fonksiyonel teşkilat şeması

15. Aşağıdakilerden hangisi bürolara alınacak ve kullanılacak gereç ve makine seçiminde dikkate alınması gereken ilkelerden biri değildir?

- A) Standart, parçası bulunan, bakımı ve onarımı ülkede yapılacak ürünlere öncelik verilmelidir.
- B) Makineyi kullanabilecek, bakım ve onarımını yapabilecek servis ve teknisyen bulunmalıdır.
- C) Sadelik ve konfordan ziyade gösterişe önem verilmelidir.
- D) Ucuz, sağlam ve kullanışlı olmalıdır.

16. Üretimin otomatik makinelerle yapılmasına ne ad verilir?

- A) Aktivasyon
- B) Fonksiyonizasyon
- C) Mekanizasyon
- D) Otomasyon

17. Bir işletmede çalışanların bölüm yöneticilerine bağlanması ve bunların da kendi aralarında sınıflandırılışına ne ad verilir?

- A) Hiyerarşi
- B) Yetki
- C) Bölümlendirme
- D) Otomasyon

18. Yönetim faaliyetlerinin kabul edilen plana, verilen emirlere, konulan ilkelere uygun olarak etken bir şekilde yapılıp yapılmadığının kontrol edilmesine ne ad verilir?

- A) Yönetim
- B) Organizasyon
- C) Denetim
- D) Koordinasyon

19. Büro ortamındaki tehlike ve aksaklıkları önlemek için yapılan teknik ve sistemli çalışmalara ne ad verilir?

- A) Teknik güvenlik
- B) İç denetim
- C) İş güvenliği
- D) İşgücü değerlemesi

20. Çalışanın iş başarısı durumuna yönelik yapılan denetime ne ad verilir?

- A) İdari teftiş
- B) İkincil denetim
- C) Hiyerarşik denetim
- D) İşlevsel denetim

1. Aşağıdaki önermelerden hangisi "Her insan yazardır." önermesi ile eşdeğerdir?
  - A) Her yazar insandır.
  - B) Hiçbir insan olmayan yazar değildir.
  - C) Her yazar olmayan insan olmayandır.
  - D) Her insan yazar olmayandır.
  
2. Aşağıdakilerden hangisi mantık ilkelerinden biri değildir?
  - A) Benzeşim
  - B) Yeter neden
  - C) Özdeşlik
  - D) Çelişmezlik
  
3. Aşağıdakilerden hangisinde, sırasıyla "beyaz" ve "beyazlık" kavramlarının çeşitleri verilmiştir?
  - A) Genel kavram - Tekil kavram
  - B) Tekil kavram - Soyut kavram
  - C) Açık kavram - Genel kavram
  - D) Somut kavram - Soyut kavram
  
4. Aşağıdaki kavram çiftlerinden hangisi çelişik kavramlara bir örnektir?
  - A) Hisli - Duygusuz
  - B) Katı - Katı olmayan
  - C) Kalabalık - Tenha
  - D) Açık - Kapalı
  
5. Karşıolom Karesine göre "Bazı bitkiler kırmızıdır." önermesinin çelişiği olan önerme aşağıdakilerden hangisidir?
  - A) Bazı bitki olmayanlar kırmızıdır.
  - B) Bütün bitkiler kırmızıdır.
  - C) Bazı bitkiler kırmızı değildir.
  - D) Hiçbir bitki kırmızı değildir.
  
6. Aşağıdaki kavram çiftlerinden hangisinde, sırasıyla kolektif kavram ile distribütif kavram verilmiştir?
  - A) İnsan-Hayvan
  - B) Ali-Bazı insanlar
  - C) Aile-Çocuk
  - D) Milletvekili-Meclis

7. Aşağıdakilerden hangisi mantık ile ilgili yanlış bir ifadedir?
  - A) Mantık, düşüncelerin gerçekte olup olmadıklarını denetler.
  - B) Mantık, tüm bilimlerin temelinde yer almak zorundadır.
  - C) Mantıklı düşünmek, doğru akıl yürütmek anlamına gelir.
  - D) Mantık, doğru düşünmenin kurallarını araştırır.
  
8. Aşağıdaki kıyaslardan hangisi bir ikilem örneğidir?
  - A) Ya bu deveyi güdeceksin ya da bu diyardan gideceksin; bu deveyi gütmeyeceksin; o halde bu diyardan gideceksin.
  - B) Dans etmek faydalıdır, çünkü ter atarsın.
  - C) Eğer sen bir öğretmensen, ne korkak ne de sertsindir; ama sen hem korkaksın hem de sert; o halde sen iyi bir öğretmen değilsin.
  - D) Evren ya sonludur ya da sonsuzdur; evren sonlu değildir; o halde evren sonsuzdur.
  
9. "Aynı niteliğin, aynı zamanda, aynı özneye, aynı bakımdan hem ait olması, hem de olmaması imkânsızdır."
 

Aristotels'in yukarıdaki sözü mantık ilkelerinden hangisini ifade eder?

  - A) Özdeşlik
  - B) Üçüncü halin olanaksızlığı
  - C) Belirsizlik
  - D) Çelişmezlik
  
10. Özelden genele yapılan akıl yürütme biçimine ne ad verilir?
  - A) Tümevarım
  - B) Tümdengelim
  - C) Benzeşim
  - D) Analoji
  
11. "Hiçbir insan sağlıklı değildir." önermesinin altık önermesi aşağıdakilerden hangisidir?
  - A) Bazı insanlar sağlıklı değildir.
  - B) Tüm insanlar sağlıklıdır.
  - C) Bazı sağlıklı olmayanlar insandır.
  - D) Hiçbir insan olmayan sağlıklı değildir.

12. Aşağıdaki akıl yürütmelerden hangisi tümdengelim bir örnektir?

- A) Demir ısıtılınca genişler. Bakır ısıtılınca genişler. O halde madenler ısıtılınca genişler.
- B) Bütün kitapların sayfaları vardır. "Sessiz Ev" bir kitaptır. O halde "Sessiz Ev"nin sayfaları vardır.
- C) Maymunların ve yunusların gülme yetileri vardır. Maymunların aynı zamanda konuşma yetileri vardır. O halde yunusların da konuşma yetileri vardır.
- D) Türkiye'de iklimler değişiyor. Japonya'da iklimler değişiyor. İngiltere'de iklimler değişiyor. Amerika'da iklimler değişiyor. O halde dünyada iklimler değişiyor.

13. Aşağıdakilerden hangisi bir önerme değildir?

- A) İnsanlar mutsuzdur.
- B) Karpuzun rengi sarıdır.
- C) Politikacı olmak için etkili konuşmayı bilmek gerekir.
- D) Gidelim artık buralardan.

14. Aşağıdakilerden hangisi zorunlu (apodiktik) bir önermedir?

- A) Balıklar memeli hayvanlardır.
- B) Bazı insanlar güzel yüzlüdür.
- C) Üçgenin iç açıları toplamı 180 derecedir.
- D) "pi" sayısının (3, 14...) virgülden sonraki 665. rakamı "3"tür.

15. Önerme ile ilgili aşağıdaki ifadelerden hangisi yanlıştır?

- A) Tikel olumlu bir önermenin ters döndürmesi yoktur.
- B) Tikel olumsuz bir önermenin düz döndürmesi yoktur.
- C) "Her hakem adildir." önermesinin ters döndürmesi "Her adil olmayan hakemdir." önermesidir.
- D) "Bazı bitkiler kokusuzdur." önermesinin düz döndürmesi "Bazı kokusuzlar bitkidir." önermesidir.

16. Aşağıdakilerden hangisi geçerli akıl yürütmeyi ifade eder?

- A) Akıl yürütmenin sonucu ile verilen öncüllerin gelişmesidir.
- B) Akıl yürütmenin sonucu ile verilen öncüllerin değillemelerinin bir arada tutarlı olmalarıdır.
- C) Hem öncüllerin hem de sonucun doğru önermeler olmalarıdır.
- D) Akıl yürütmenin sonucunun, verilen öncüllerden zorunlu olarak çıkmasıdır.

17. "Hiçbir cimri dost değildir." önermesinin düz döndürmesi aşağıdakilerden hangisidir?

- A) Bazı cimriler dosttur.
- B) Hiçbir dost cimri değildir.
- C) Tüm dostlar cimridir.
- D) Hiçbir cimri olmayan dost olmayandır.

18. Aşağıdaki önermelerden hangisi özdeşlik ilkesine bir örnek değildir?

- A) Bitkiler ya canlıdır ya da canlı değildir.
- B) İnsan insandır.
- C) Her şey güzel ise her şey güzeldir.
- D) Eğer beş kere beş yirmibeş ediyorsa beş kere beş yirmibeş ediyordur.

19. "Düşünüyorum öyleyse varım." kıyası aşağıdakilerden hangisine bir örnektir.

- A) Zincirleme kıyas
- B) Entimem
- C) Basit kıyas
- D) İkilem

20. Aşağıdakilerden hangisi "olumlu-olumsuz" kavram çiftine bir örnektir?

- A) Zengin-Çalışkan
- B) Kredili-Kredisiz
- C) Koyu-Açık
- D) Kaprisli-İnatçı

1. Aşağıdakilerden hangisi özetle yer alması gerekenlerden biri değildir?
- A) Eserin bölümleri  
B) Özet çıkarmanın eserle ilgili görüşleri  
C) Yazar hakkında kısa bilgi  
D) Eserdeki kişilerin hayatları
2. Aşağıdakilerden hangisi önerge ile ilgili yanlış bir ifadedir?
- A) Ortaya atılan görüş olumlu ve olumsuz yönleriyle yeteri kadar aydınlanınca oylanır.  
B) Görüşler, oy çoğunluğu ile kabul veya reddedilir.  
C) Bir sorunun çözümü için üyelerin başkanlığa görüş bildirmesidir.  
D) Önerge genellikle sözlü biçimde verilir.
3. Bir kişinin bir gruba karşı bir ürün, değişen şirket politikası veya eğitim programının bir yönü hakkında bilgi vermek amacıyla yaptığı konuşma ve gösterime ne ad verilir?
- A) Önerge  
B) Sunum  
C) Panel  
D) Tartışma
4. Aşağıdakilerden hangisi panelin planında yoktur?
- A) Konuşmacılara sorulacak sorular  
B) Konuşmaları özetlemek  
C) Panelin yapılış nedeni  
D) Gelecek soruları tahmin etmek
5. "Herkes benim düşünceme katılırsa yanılmış olmaktan korkarım." sözü aşağıdaki yazarlardan hangisine aittir?
- A) Oscar Wilde  
B) Woodrow Wilson  
C) Suut Kemal Yetkin  
D) Haldun Taner
6. Aşağıdakilerden hangisi tartışmalarda seçilen konuların özelliklerinden biri değildir?
- A) Tartışmaya değer olmalıdır.  
B) Tartışmaya uygun olmalıdır.  
C) İstenilen zamana sığabilmelidir.  
D) Düşünmeye yol açmamalıdır.
7. Sunum ile ilgili aşağıdaki ifadelerden hangisi yanlıştır?
- A) Hitap edilecek izleyici hakkında bilgi toplanması gerekir.  
B) Modern iş ortamının bir iletişim prensibidir.  
C) Sözlü iletişimin en başta gelenlerinden biridir.  
D) İyi bir sunumda sadece yazılı gereçler kullanılır.
8. Öğretim alanında kullanılan en eski gereç aşağıdakilerden hangisidir?
- A) Yazı tahtası  
B) Video  
C) Projeksiyon aletleri  
D) Çok yapraklı pano
9. Aşağıdakilerden hangisi bir tartışma konusu değildir?
- A) Türkiye'nin Avrupa'da toprakları vardır.  
B) Kütüphanelerden yeterince yararlanabiliyor muyuz?  
C) Televizyon, sinemayı olumlu mu olumsuz mu etkilemiştir?  
D) Öğrencilere kitap okuma alışkanlığı nasıl kazandırılabilir?
10. Aşağıdaki cümlelerin hangisinde anlatım bozukluğu vardır?
- A) Bahçedeki zararlı otlar yolunarak bir yere yığılmalıdır.  
B) Doğru oturup, eğri konuşalım.  
C) Bu karar, 140'a karşı 380 oyla alınmıştır.  
D) Eğri oturup, doğru konuşalım.

11. Aşağıdaki cümlelerin hangisinde gereksiz sözcük kullanılmıştır?

- A) Onun yarışlarda birinci olduğuna sevindim.
- B) Bu konuda üç yıldır çalışıyoruz.
- C) Bir hafta sonra tatile çıkıyoruz.
- D) Ayhan Bey, çok içli ve duygulu bir insandı.

12. Ana fikir ile ilgili aşağıdaki ifadelerden hangisi doğrudur?

- A) Ana fikir, konu demektir.
- B) Bir yazının başlığı ile ana fikri arasında bir bağlantı yoktur.
- C) Ana fikir, bir yazının özüdür.
- D) Her eserin, bir tane ana fikri vardır.

13. Aşağıdaki cümlelerin hangisinde üçüncü kişi anlatımı vardır?

- A) Yeşil pencereden bir gül at bana.
- B) Geldim işte mevsim gibi kapına.
- C) Yıldızlara bakarak öyle dalmışım ki!
- D) Korkuyorum bu gecelerden.

14. Bir metnin oluşabilmesi için aşağıdakilerden hangilerinin bulunması gerekir?

- A) Duruluk - akıcılık
- B) Doğruluk - içtenlik
- C) Tutarlılık - bağdaşıklık
- D) Özgünlük - akıcılık

15. Aşağıdaki cümlelerin hangisinde gereksiz sözcük vardır?

- A) Bir gece ansızın gelebilirim.
- B) Yarın sinemaya gidelim.
- C) Bilimkurgu kitaplarını nadiren, ara sıra okurum.
- D) Oğlunuzun durumu yarın kurulda görüşülecek.

16. Aşağıdaki cümlelerin hangisinde birinci kişi anlatımı vardır?

- A) Çocuklar, babalarını gördüler.
- B) Kız, büyükannesine yemek götürdü.
- C) Uzaklardan geldim.
- D) Yavru köpeğe süt verdiler.

17. Bir metnin konusu ile ilgili aşağıdaki ifadelerden hangisi yanlıştır?

- A) Üzerine söz söylenen, yazı yazılan her şey konu olabilir.
- B) Geniş kapsamlı konulara sınırlı konular denir.
- C) Konular, geniş ve dar kapsamlı olmak üzere iki ayrı görüşle ele alınır.
- D) Atasözü, özdeyiş gibi bir düşünce; sevgi, sabır gibi bir duygu konu olabilir.

18. Aşağıdakilerden hangisi iyi bir yazarın olmanın yollarından biri değildir?

- A) Özlü sözleri derlemek
- B) Anı defteri tutmak
- C) Konuşmaları dinlemek
- D) Not defteri tutmak

19. "Not tutmak, zamanı gelecek için saklamaktır." sözü aşağıdakilerden hangisine aittir?

- A) Max Jacob
- B) Andre Gide
- C) Gustave Flaubert
- D) Jeann Paul Satre

20. Aşağıdakilerin hangisinde sözcüğün yanlış ek almasından kaynaklanan anlatım bozukluğu vardır?

- A) Gelirkene ekmek aliver.
- B) İyi oldun mu? Çok hastaydın.
- C) Filmi beğendin mi?
- D) Heyecandan ne yapacağımı şaşırdım.

# SEÇMELİ TÜRK EDEBİYATI 3

A

2013 III.DÖNEM 0106-A

1. Aşağıdaki destanlardan hangisinde, Oğuz Kağan'ın doğumu, üstün nitelikleri, askeri başarıları ve ölümünden önce devletini oğulları arasında nasıl paylaştığı anlatılmaktadır?  
A) Göç  
B) Gılgamış  
C) Oğuz Kağan  
D) Türeyiş
2. Başlangıçtan günümüze kadar edebiyatın konusu içine giren eserleri ve sanatçıları, edebiyat ve sanat akımlarını, bunların toplumda uyandırdığı yankıları araştıran inceleyen; belgelere dayanarak objektif bir şekilde değerlendiren bilim dalına ne ad verilir?  
A) Etnografya  
B) Sanat Tarihi  
C) Lisaniyat  
D) Edebiyat Tarihi
3. Ergenekon Destanı'nı 13. yüzyılda yazıya geçiren Moğol tarihçi aşağıdakilerden hangisidir?  
A) Cüveynî  
B) El Harezmi  
C) Gardezî  
D) Reşidüddîn
4. Aşağıdakilerden hangisi, Batı Etkisinde Gelişen Türk Edebiyatı içinde yer alan edebi dönemlerden biridir?  
A) Millî Edebiyat  
B) Klasik Türk Edebiyatı  
C) Anonim Halk Edebiyatı  
D) Yazılı Edebiyat
5. Aşağıdakilerden hangisi sözlü edebiyatın ürünleri arasında yer almaz?  
A) Destan  
B) Gazel  
C) Sagu  
D) Koşuk

6. Türkiye'de Batılı anlamdaki ilk edebiyat çalışmaları hangi dönemde başlamıştır?  
A) Millî Edebiyat  
B) Tanzimat  
C) Servet-i Fünûn  
D) Meşrutiyet
7. Aşağıdakilerden hangisi İslamiyet'ten önceki Türk destanlarından biridir?  
A) Danişment Gazi Destanı  
B) Cengiz Han Destanı  
C) Atilla Destanı  
D) Timur Destanı
8. Nasıl güzel geçti bütün yaz,  
Geceler küçük bahçede...  
Sen zambaklar kadar beyaz  
Ve ürkek bir düşüncede  
Yukarıdaki dizelerin yer aldığı "Bütün Yaz" adlı şiir aşağıdaki şairlerimizden hangisine aittir?  
A) Ahmet Telli  
B) Ahmet Haşim  
C) Ahmet Kutsi Tecer  
D) Ahmet Hamdi Tanpınar
9. Aşağıdakilerden hangisi, tarihte Türk isminin geçtiği ilk metin olma özelliğini taşımaktadır?  
A) Türeyiş Destanı  
B) Göktürk Kitabeleri  
C) Manas Destanı  
D) Oğuz Kağan Destanı
10. Yazının henüz bulunmadığı ya da yaygınlaşmadığı bir kültürde doğan, ancak kuşaktan kuşağa sözlü olarak aktarıldıktan sonra yazıya geçirilen destan türü aşağıdakilerden hangisidir?  
A) Anonim destan  
B) Halk hikâyesi  
C) Masal  
D) Edebi destan

11. 17. yüzyılda Toroslarda Türkmen aşiretleri arasında yaşamış ünlü halk şairimiz aşağıdakilerden hangisidir?

- A) Karacaoğlan
- B) Nailî Kadim
- C) Pir Sultan Abdal
- D) Âşık Veysel

12. Çağdaş Türk Edebiyatı'nın önemli destan örneklerinden biri olan "Atatürk Kurtuluş Savaşı'nda" adlı eserin yazarı aşağıdakilerden hangisidir?

- A) Namık Kemal
- B) Gülten Akın
- C) Cahit Külebi
- D) Fazıl Hüsni Dağlarca

13. Türk edebiyatında Kurtuluş Savaşı üzerine yazılan ilk roman olan Ateşten Gömlek'in yazarı kimdir?

- A) Reşat Nuri Güntekin
- B) Peyami Safa
- C) Halit Ziya Uşaklıgil
- D) Halide Edip Adivar

14. M. Fuad Köprülü ile ilgili aşağıdaki ifadelerden hangisi doğrudur?

- A) İstanbul doğumlu önemli bir divan şairidir.
- B) Türkiye'de ilk defa tarih ve edebiyat tarihi incelemelerinde bilimsel yöntemleri ortaya koymuş bir bilim adamıdır.
- C) Tanzimat dönemi şair ve yazarlarından biridir.
- D) Romantizm akımının öncüsüdür.

15. Uygur ülkesine bereket veren Kutlu Dağ'ın Çinliler tarafından sökülüp taşınmasıyla ülkede başlayan kıtlık ve bunun üzerine başlayan göç anlatılmaktadır. Destan'da vatandan bir parça taş vermeye kalkmanın zamanla bütün yurdu yok edebilecek bir başlangıç olabileceği vurgulanmaktadır.

Yukarıdaki parça hangi destanı anlatır?

- A) Ergenekon Destanı
- B) Oğuz Kağan Destanı
- C) Göç Destanı
- D) Şu Destanı

16. Kalyanankara ve Papamkara masalı ile ilgili aşağıdaki ifadelerden hangisi yanlıştır?

- A) Eserin aslı Türkçedir.
- B) Türk Edebiyatının en önemli eserlerindedir.
- C) Eser adını iyi ve kötü düşünceli iki prenten almaktadır.
- D) Dinsel masal niteliği taşımaktadır.

17. Sagu ile ilgili aşağıdaki ifadelerden hangisi yanlıştır?

- A) Halk şiirinin temel özelliklerini taşır.
- B) Her dördüğün son dizesi ilk dördüğün son dizesiyle uyaklıdır.
- C) Kopuz çalınarak söylenir.
- D) Aşk, tabiat konularını işleyen şiir türüne örnektir.

18. Aşağıdakilerden hangisi, destan dönemi Türk edebiyatında Türklerin kullandıkları alfabelerden biridir?

- A) Kiril
- B) Göktürk
- C) Arap
- D) Latin

19. Alp Er Tunga öldi mü  
İssız ajun kaldı mu  
Ödlek öçin aldı mı  
Emdi yürek yırtılır

Yukarıdaki dördlük aşağıdaki şiir türlerinden hangisine örnektir?

- A) Koşuk
- B) Sav
- C) Sagu
- D) Gazel

20. Yirmisekiz Çelebi Mehmet Efendi'nin Ekim 1720 tarihinde Fransa'ya yaptığı ve bir yıl süren seyahatini, Fransa'ya ilişkin gözlemlerini padişaha sunmak amacıyla kaleme aldığı eserin adı nedir?

- A) Fransa Sefaretnamesi
- B) Fransa Günlükleri
- C) Paris Kasidesi
- D) Paris Şehrinden İzlenimler



1. Der Junge hängt seine Jacke ..... den Schrank.

**Welches Wort passt in die obige Lücke?**

**Cümlede boş bırakılan yeri aşağıdakilerden hangisi doğru şekilde tamamlar?**

- A) zu  
B) in  
C) an  
D) auf

2. Melda ..... morgens gern ..... im Bett liegen.

**Welche Wörter passen in die obigen Lücken?**

**Cümlede boş bırakılan yerleri aşağıdakilerden hangileri doğru şekilde tamamlar?**

- A) blieb / schon  
B) ist / noch  
C) bleibt / lange  
D) sind / früh

3. A: Sagen Sie mal, ..... kenne ich Sie?  
B: Mich? Das weiß ich nicht.  
A: Ach ja, ich kenne Sie ..... dem Buch Deutsch für Ausländer.

**Welche Wörter ergänzen die Lücken im obigen Dialog?**

**Verilen karşılıklı konuşmada boş bırakılan yerleri aşağıdakilerden hangisi tamamlar?**

- A) woher / aus  
B) wohin / in  
C) was / auf  
D) wann / zu

4. Ich komme gerade aus Italien und .....

**Welches ergänzt die Lücke im obigen Satz?**

**Verilen cümleyi aşağıdakilerden hangisi tamamlar?**

- A) spreche ich immer auf Deutsch.  
B) hast für die Prüfung zu arbeiten.  
C) drei Monate später fahre ich nach Spanien.  
D) wollte unbedingt morgen zu mir kommen.

5. Auf den Tisch.

**Welche Frage passt zur obigen Antwort?**

**Verilen cevabı gerektirecek soru aşağıdakilerden hangisidir?**

- A) Was machst du dort?  
B) Wer möchte eine Zeitung lesen?  
C) Wie teuer ist diese Zeitung?  
D) Wohin hast du die Zeitung gelegt?

6. Wohin geht Betül?

**Welche Antwort passt zur obigen Frage?**

**Verilen sorunun cevabı aşağıdakilerden hangisidir?**

- A) Betül geht zu einer Besprechung.  
B) Betül wohnt in Istanbul.  
C) Sie sollte ihre Hausaufgaben machen.  
D) Sie kommt aus Bulgarien.

7. Schnell! ..... die Teller auf den Tisch!

**Welches Wort passt in die obige Lücke?**

**Cümlede boş bırakılan yeri aşağıdakilerden hangisi doğru şekilde tamamlar?**

- A) Stell  
B) Stellst  
C) Stelle  
D) Stellen

8. Wir geben Ihnen ..... Garantie ..... 2 Jahre.

Welche Wörter passen in die obigen Lücken?

Cümlede boş bırakılan yerleri aşağıdakilerden hangileri doğru şekilde tamamlar?

- A) volle / für
- B) nur / zum
- C) noch / schon
- D) immer / aus

9. .... hat uns ein großes Paket gebracht.

Welches Wort passt nicht in die obige Lücke?

Cümlede boş bırakılan yeri aşağıdakilerden hangisi doğru şekilde tamamlamaz?

- A) Die Post
- B) Der Mann
- C) Das Katalog
- D) Die Frau

10. Was bedeutet "Huzurevi" auf Deutsch?

"Huzurevi" sözcüğünün Almancası aşağıdakilerden hangisidir?

- A) Der Fremdenverkehr
- B) Der Bücherwurm
- C) Die Rechenmaschine
- D) Das Altenheim

11. Werden / berühmtest / Professor / auf / Welt / der / ich

Wie kann man mit den obigen Wortgruppen einen sinnvollen und richtigen Satz bilden?

Verilen sözcük gruplarıyla kurulabilecek en anlamlı ve doğru cümle aşağıdakilerden hangisidir?

- A) Professor ich werde der berühmteste der Welt.
- B) Der berühmteste ich werde der Welt Professor.
- C) Ich werde der berühmteste Professor der Welt.
- D) Werde ich der Welt berühmteste Professor der.

12. Der Mann steckt das elektrische Kabel in die .....

Welches Wort passt in die obige Lücke?

Cümlede boş bırakılan yeri aşağıdakilerden hangisi doğru şekilde tamamlar?

- A) Wand
- B) Steckdose
- C) Schalter
- D) Licht

13. .... dem großen Schalter wählen Sie Ihr gewünschtes Programm.

Welches Wort passt in die obige Lücke?

Cümlede boş bırakılan yeri aşağıdakilerden hangisi doğru şekilde tamamlar?

- A) Auf
- B) Um
- C) Zum
- D) Mit

14. Hier sehen Sie verschieden..... Knöpfe mit verschieden..... Buchstaben.

Welche Endungen passen in die obigen Lücken?

Cümlede boş bırakılan yerleri aşağıdaki son eklerden hangileri doğru şekilde tamamlar?

- A) -er / -er  
B) -es / -em  
C) -e / -es  
D) -e / -en

15. Wir ..... im Sommer in die Berge fahren.

Welches Wort passt in die obige Lücke?

Cümlede boş bırakılan yeri aşağıdakilerden hangisi doğru şekilde tamamlar?

- A) werde  
B) wird  
C) werden  
D) würde

16. Ich fahre zurück in die Wohnung und nehme meine Brille.

Wie lautet der obige Satz im Präteritum?

Verilen cümlelerin geçmiş zaman şekli aşağıdakilerden hangisidir?

- A) Ich fuhr zurück in die Wohnung und nahm meine Brille.  
B) Ich werde zurück in die Wohnung fahren und werde meine Brille nehmen.  
C) Ich bin in der Wohnung und nehme meine Brille.  
D) Ich war in der Wohnung und hatte meine Brille genommen.

17. Ayşe geht jeden Freitag ins Kino.

Wie lautet der obige Satz im Futur?

Verilen cümlelerin gelecek zaman şekli aşağıdakilerden hangisidir?

- A) Ayşe will am Freitag ins Kino gehen.  
B) Ayşe sollte Freitags ins Kino gehen.  
C) Ayşe kann am Freitag ins Kino gehen.  
D) Ayşe wird jeden Freitag ins Kino gehen.

18. Banyo su altında kaldı.

Wie lautet der obige Satz auf Deutsch?

Verilen cümlelerin Almancası aşağıdakilerden hangisidir?

- A) Im Badezimmer gibt es warmes Wasser.  
B) Das Badezimmer steht unter Wasser.  
C) Das Badezimmer ist viel zu klein.  
D) Im Badezimmer kann man baden.

19. Ja, Mutti hat mich vom Flughafen abgeholt.

Welche Frage passt zur obigen Antwort?

Verilen cevabı gerektirecek soru aşağıdakilerden hangisidir?

- A) Wo wohnt deine Mutti?  
B) Hat Mutti dich vom Flughafen abgeholt?  
C) Kommt deine Mutti zum Flughafen?  
D) Was macht deine Mutti im Flughafen?

20. Das Hotel / Die Pension / Das Motel / Das Hochhaus

Welches Wort passt nicht zu den anderen in der obigen Wortgruppe?

Verilen sözcük grubuna uymayan aşağıdakilerden hangisidir?

- A) Die Pension  
B) Das Hochhaus  
C) Das Motel  
D) Das Hotel

1. If you often get headaches, you ..... see a doctor.

Which of the following completes the sentence above?

Aşağıdakilerden hangisi yukarıdaki cümleyi doğru olarak tamamlar?

- A) ought to  
B) could  
C) might have  
D) would

2. Banu will have ..... by this time next year.

Which of the following completes the sentence above?

Aşağıdakilerden hangisi yukarıdaki cümleyi doğru olarak tamamlar?

- A) retire  
B) retiring  
C) retires  
D) retired

3. Carol ..... her parents by this time tomorrow.

Which of the following completes the sentence above?

Aşağıdakilerden hangisi yukarıdaki cümleyi doğru olarak tamamlar?

- A) visited  
B) has visited  
C) will have visited  
D) visits

4. Jane ..... the work by tomorrow.

Which of the following completes the sentence above?

Aşağıdakilerden hangisi yukarıdaki cümleyi doğru olarak tamamlar?

- A) has finished  
B) finished  
C) will have finished  
D) is finishing

5. Orçun didn't come to the cinema last night. He ..... somewhere else.

Which of the following completes the sentence above?

Aşağıdakilerden hangisi yukarıdaki cümleyi doğru olarak tamamlar?

- A) ought to go  
B) might go  
C) must go  
D) could have gone

6. She looks very tired. She ..... worked hard.

Which of the following completes the sentence above?

Aşağıdakilerden hangisi yukarıdaki cümleyi doğru olarak tamamlar?

- A) must have  
B) ought to  
C) will have  
D) could

7. Hasan will be ..... to Ürgüp this time tomorrow.

Which of the following completes the sentence above?

Aşağıdakilerden hangisi yukarıdaki cümleyi doğru olarak tamamlar?

- A) going  
B) go  
C) has gone  
D) gone

8. A:İhsan hasn't come yet.  
B:He must have ..... to bus.

Which of the following completes the dialogue above?

Aşağıdakilerden hangisi yukarıdaki konuşmayı doğru olarak tamamlar?

- A) miss  
B) can miss  
C) missing  
D) missed

9. John ..... a new car by this time next year.

Which of the following completes the sentence above?

Aşağıdakilerden hangisi yukarıdaki cümleyi doğru olarak tamamlar?

- A) has bought
- B) will have bought
- C) is buying
- D) bought

10. A:What shall we do tomorrow?  
B:We..... go to a picnic.

Which of the following completes the dialogue above?

Aşağıdakilerden hangisi yukarıdaki konuşmayı doğru olarak tamamlar?

- A) have
- B) could
- C) shall
- D) might have

11. Tim:What's the matter with you?  
Jill:I have a cold.  
Tim:It was cold outside. You ..... out last night.

Which of the following completes the dialogue above?

Aşağıdakilerden hangisi yukarıdaki konuşmayı doğru olarak tamamlar?

- A) can't go
- B) shouldn't have gone
- C) mustn't go
- D) couldn't have gone

12. A:I can't find my ring.  
B:You .....lost it at the library yesterday morning.

Which of the following completes the dialogue above?

Aşağıdakilerden hangisi yukarıdaki konuşmayı doğru olarak tamamlar?

- A) might
- B) could
- C) might have
- D) should have

13. That hotel is always full.It ..... very cheap.

Which of the following completes the sentence above?

Aşağıdakilerden hangisi yukarıdaki cümleyi doğru olarak tamamlar?

- A) must be
- B) will be
- C) should be
- D) ought

14. If you want to learn English, you ..... go to a language school.

Which of the following completes the sentence above?

Aşağıdakilerden hangisi yukarıdaki cümleyi doğru olarak tamamlar?

- A) should have
- B) ought
- C) ought to have
- D) should

15. A:I want to buy that expensive car.  
B:Well, you ..... save some money.

Which of the following completes the dialogue above?

Aşağıdakilerden hangisi yukarıdaki konuşmayı doğru olarak tamamlar?

- A) ought
- B) should
- C) should have
- D) would

16. If you don't like your salary, you ..... find another job.

Which of the following completes the sentence above?

Aşağıdakilerden hangisi yukarıdaki cümleyi doğru olarak tamamlar?

- A) should have
- B) could have
- C) ought to
- D) would

17. Jill: What's wrong with you?  
Mary: I have a cold.  
Jill: You ..... your coat last night.

Which of the following completes the dialogue above?

Aşağıdakilerden hangisi yukarıdaki konuşmayı doğru olarak tamamlar?

- A) should have worn
- B) should wear
- C) ought to wear
- D) must wear

18. Alper hasn't eaten anything since yesterday. He ..... hungry.

Which of the following completes the sentence above?

Aşağıdakilerden hangisi yukarıdaki cümleyi doğru olarak tamamlar?

- A) will be
- B) must be
- C) should have been
- D) could have been

19. Carol will be ..... at the end of the week.

Which of the following completes the sentence above?

Aşağıdakilerden hangisi yukarıdaki cümleyi doğru olarak tamamlar?

- A) work
- B) works
- C) worked
- D) working

20. Nick didn't come to work yesterday. He ..... been ill.

Which of the following completes the sentence above?

Aşağıdakilerden hangisi yukarıdaki cümleyi doğru olarak tamamlar?

- A) will have
- B) ought to
- C) must have
- D) should have

1. ce / résoudre / comment / problème ?  
I II III IV

Mettez dans le bon ordre.

Yukarıdaki kelimelerin anlamlı bir bütün oluşturan sırası aşağıdakilerin hangisinde doğru olarak verilmiştir?

- A) I, IV, II, III  
B) II, IV, III, I  
C) III, II, I, IV  
D) III, I, IV, II

2. Paul: - Je voudrais réserver une place.  
L'employé: - .....  
Paul: - Pour Marseille.

Choisissez la réplique qui convient.

Yukarıdaki konuşmada boş bırakılan yeri aşağıdakilerden hangisi doğru şekilde tamamlar?

- A) Pour une personne?  
B) Oui, Monsieur, quel jour?  
C) On part quand?  
D) Pour où Monsieur?

3. Les gaz d'échappement sont dangereux ..... la santé.

Choisissez le mot qui convient.

Cümledeki boşluğu aşağıdakilerden hangisi doğru şekilde tamamlar?

- A) que  
B) qui  
C) comme  
D) pour

4. Mme Poirier: - Tu connais ce jeune homme?  
M.Poirier: - Oui, je ..... connais bien.

Choisissez le mot qui convient.

Yukarıdaki konuşmada boş bırakılan yeri aşağıdakilerden hangisi doğru şekilde tamamlar?

- A) la  
B) lui  
C) les  
D) le

5. Ces étudiants sont-ils paresseux?

Choisissez la traduction qui convient.

Yukarıdaki cümlelerin Türkçe karşılığı aşağıdakilerden hangisidir?

- A) Bu öğrenciler tembel mi?  
B) Tembel öğrenciler bunlar mı?  
C) Tembel öğrenciler hep başarısız mı olurlar?  
D) Bu öğrenciler neden tembellik ediyorlar?

6. .... les gens sont inconscients, ils détruisent les forêts pour construire des maisons.

Choisissez le mot qui convient.

Cümledeki boşluğu aşağıdakilerden hangisi doğru şekilde tamamlar?

- A) Pour  
B) Quand  
C) Comme  
D) Comment

7. faites / voulez / ce que / vous  
I II III IV

Mettez dans le bon ordre.

Yukarıdaki kelimelerin anlamlı ve kurallı bir cümle oluşturan sırası aşağıdakilerin hangisinde doğru olarak verilmiştir?

- A) I, III, IV, II  
B) I, IV, III, II  
C) II, IV, I, III  
D) III, IV, I, II

8. Robert: - .....  
Michel: - Pas encore, mais dès que j'en trouverai un, je déménagerai.

Choisissez la question qui convient.

Yukarıdaki konuşmada cevabı gerektiren soru aşağıdakilerden hangisidir?

- A) Qu'est-ce qui t'arrive?  
B) As-tu trouvé un appartement?  
C) Qu'est-ce que tu fais quand tu vois un enfant qui pleure?  
D) As-tu rencontré un homme pauvre dans la rue?

9. Lorsque ma fille travaille, .....

Complétez la phrase avec la proposition qui convient.

Yukarıdaki cümleyi aşağıdaki ifadelerden hangisi doğru şekilde tamamlar?

- A) elle aime les gens.  
B) elle écoute de la musique classique.  
C) il mange trop.  
D) il apprend tout.

10. Le voyage a été ..... par nos amis.

Choisissez le mot qui convient.

Cümledeki boşluğu aşağıdakilerden hangisi doğru şekilde tamamlar?

- A) organisé  
B) transporté  
C) écrit  
D) cassé

11. Il ..... les droits des gens, il est avocat.

Choisissez le mot qui convient.

Cümledeki boşluğu aşağıdakilerden hangisi doğru şekilde tamamlar?

- A) peut
- B) entend
- C) défend
- D) fais

12. - Tu attends ..... longtemps?  
- Oh, ça fait 20 minutes.

Choisissez le mot qui convient.

Cümledeki boşluğu aşağıdakilerden hangisi doğru şekilde tamamlar?

- A) quand
- B) combien
- C) combien de temps
- D) depuis

13. C'est cette maison que je veux acheter.

Choisissez la traduction qui convient.

Yukarıdaki cümlelerin Türkçe karşılığı aşağıdakilerden hangisidir?

- A) Bu evi satın almak istiyorum.
- B) Satın almak istediğim ev bu.
- C) Satın almak için bu evi seçtim.
- D) Satın alacağım ev böyle olmalı.

14. - .....  
- Je veux bien un thé.

Choisissez la question qui convient.

Yukarıdaki konuşmada cevabı gerektiren soru aşağıdakilerden hangisidir?

- A) Vous voulez quelque chose à boire?
- B) Entendez-vous quelque chose?
- C) Tu as quelque chose pour ouvrir cette bouteille?
- D) Vous n'avez rien trouvé?

15. Nos clients ..... aiment beaucoup.

Choisissez le mot qui convient.

Cümledeki boşluğu aşağıdakilerden hangisi doğru şekilde tamamlar?

- A) je
- B) il
- C) chez
- D) nous

16. Achetez ..... vous voulez.

Choisissez le mot qui convient.

Cümledeki boşluğu aşağıdakilerden hangisi doğru şekilde tamamlar?

- A) puisque
- B) ce que
- C) que
- D) qui

17. Notre directeur est très gentil. Chaque matin,  
.....

Complétez la phrase avec la proposition qui convient.

Yukarıdaki cümleyi aşağıdaki ifadelerden hangisi doğru şekilde tamamlar?

- A) il nous dit bonjour.
- B) il prend son petit déjeuner.
- C) il arrive tard.
- D) il est malheureux.

18. .... tu n'as pas d'argent, tu ne peux pas aller au cinéma.

Choisissez le mot qui convient.

Cümledeki boşluğu aşağıdakilerden hangisi doğru şekilde tamamlar?

- A) Car
- B) Personne
- C) Puisque
- D) Pourquoi

19. I. Elle arrive quand?  
II. À trois heures.  
III. Vous avez l'heure?  
IV. À trois heures du matin?

Choisissez la phrase qui ne convient pas à l'ensemble.

Sırasıyla okunduğunda anlam bütünlüğünü bozan cümle aşağıdakilerden hangisidir?

- A) I
- B) II
- C) III
- D) IV

20. Louise: - Hier, j'ai rencontré l'une des camarades de classe.  
René: - .....  
Louise: - C'était Agnès.

Choisissez la réplique qui convient.

Yukarıdaki konuşmada boş bırakılan yeri aşağıdakilerden hangisi doğru şekilde tamamlar?

- A) Ça va?
- B) Qui c' était?
- C) C'est où?
- D) Comment t'appelles-tu?



## SEÇMELİ ALMANCA 4

A

2013 III.DÖNEM 0106-A

1. Der Tee ist heiß. .... Tee schmeckt gut.

Welches Wort passt in die obige Lücke?

Cümlede boş bırakılan yeri aşağıdakilerden hangisi doğru şekilde tamamlar?

- A) Das heißes  
B) Der heißte  
C) Der heiße  
D) Das heißen

2. Was für ein brav..... Junge!

Welche Endung passt in die obige Lücke?

Cümlede boş bırakılan yeri aşağıdaki son eklerden hangisi doğru şekilde tamamlar?

- A) -e  
B) -em  
C) -er  
D) -en

3. Burada sigara içemezsiniz!

Wie lautet der obige Satz auf Deutsch?

Verilen cümlenin Almancası aşağıdakilerden hangisidir?

- A) Sie können hier immer rauchen!  
B) Sie müssen hier nicht rauchen!  
C) Sie möchten hier nicht rauchen!  
D) Sie dürfen hier nicht rauchen!

4. Er ..... im Sommer in die Schweiz fahren.

Welches Wort passt in die obige Lücke?

Cümlede boş bırakılan yeri aşağıdakilerden hangisi doğru şekilde tamamlar?

- A) will  
B) willst  
C) sollst  
D) sollt

5. dem Mann / vertrauen / nicht (du)

Wie kann man mit den obigen Wortgruppen einen vollständigen Imperativatz bilden?

Verilen sözcük gruplarıyla kurulabilecek en anlamlı ve doğru emir cümle aşağıdakilerden hangisidir?

- A) Vertrauen wir nicht dem Mann!  
B) Vertrauten dem Mann nicht!  
C) Vertrau dem Mann nicht!  
D) Vertrau dem Mann nie!

6. .... nicht zu lange .....! (fernsehen, ihr)

Welche Wörter passen in die obigen Lücken?

Cümlede boş bırakılan yerleri aşağıdakilerden hangileri doğru şekilde tamamlar?

- A) Sehen / ferner  
B) Siehst / fern  
C) Sah / ferner  
D) Seht / fern

7. Was möchtest du essen?

Welche Antwort passt zur obigen Frage?

Verilen sorunun cevabı aşağıdakilerden hangisidir?

- A) Ich möchte gern einen Kartoffelsalat essen.  
B) Ich würde mir ein Auto kaufen.  
C) Ich hätte neue Kleider kaufen wollen.  
D) Ich werde immer neue Bleistifte kaufen.

8. Ich muss meiner Mutter ....., ..... ich eine neue Tasche brauche.

Welche Wörter passen in die obigen Lücken?

Cümlede boş bırakılan yerleri aşağıdakilerden hangileri doğru şekilde tamamlar?

- A) erklärt / sonst  
B) sagen / hätte  
C) sagte / hatten  
D) erklären / daß

9. Als Schüler muss man immer fleißig sein.

Welches hat die **gleiche** Bedeutung mit dem obigen Satz?

Verilen cümle ile **aynı** anlamı taşıyan aşağıdakilerin hangisidir?

- A) Müssen die Schüler fleißig sein?  
 B) Schüler haben immer fleißig zu sein!  
 C) Schüler müssen nicht immer fleißig zu sein!  
 D) Fleißig sind die Schüler immer!

10. A: Kommst du mit ins Kino?  
 B: Nein, .....  
 A: Schade, dann sehen wir uns später.

Welches ergänzt die Lücke im obigen Dialog?

Verilen karşılıklı konuşmada boş bırakılan yeri aşağıdakilerden hangisi tamamlar?

- A) ich habe noch viel zu arbeiten.  
 B) du übertreibst aber immer.  
 C) wir waren in den Winterferien dort.  
 D) es hat mir gut gefallen heute Abend.

11. Als das Mädchen klein war, stellte sie ihrer Mutter ..... Fragen.

Welches Wort passt in die obige Lücke?

Cümlede boş bırakılan yeri aşağıdakilerden hangisi doğru şekilde tamamlar?

- A) ausser  
 B) peinliche  
 C) über  
 D) breite

12. ...., wird mein Studium im Sommer zu Ende gehen.

Welcher Satz ergänzt die obige Lücke?

Verilen cümleyi aşağıdakilerden hangisi tamamlar?

- A) Wenn die Examen gut ausfallen  
 B) Als ich zur Schule ging  
 C) Weil ich in diesem Jahr nicht kommen kann  
 D) Damit ich die Prüfung bestehe

13. Die ..... Touristen machen Urlaub am Meer. (viel)

Welches Wort passt in die obige Lücke?

Cümlede boş bırakılan yeri aşağıdakilerden hangisi doğru şekilde tamamlar?

- A) vielsten  
 B) vielen  
 C) mehrsten  
 D) meisten

14. Nein, die kältesten Monate des Jahres sind Januar und Februar.

Welche Frage passt zur obigen Antwort?

Verilen cevabı gerektirecek soru aşağıdakilerden hangisidir?

- A) Warum sind Juni und August die kältesten Monate des Jahres?  
 B) Sind Juli und April die kältesten Monate des Jahres?  
 C) Ist dir in den Monaten Juli und August am kältesten?  
 D) Was machst du im Juni und April?

15. Zeynep lernt Englisch, um mit ihren englischen Freunden besser zu .....

Welches Wort passt in die obige Lücke?

Cümlede boş bırakılan yeri aşağıdakilerden hangisi doğru şekilde tamamlar?

- A) exportieren  
 B) kaufen  
 C) fahren  
 D) korrespondieren

16. ...., um mögliche Unfälle zu vermeiden.

Welcher Satz ergänzt die obige Lücke?

Verilen cümleyi aşağıdakilerden hangisi tamamlar?

- A) Die Kinder gehen in die Schule  
 B) Der Polizist reguliert den Verkehr  
 C) Der Kaufmann arbeitet sehr lange  
 D) Die Mutter macht das Essen

17. Hülya geht ..... zum Tanzen.

Welches Wort passt nicht in die obige Lücke?

Cümlede boş bırakılan yeri aşağıdakilerden hangisi doğru şekilde tamamlamaz?

- A) manchmal
- B) immer
- C) sondern
- D) niemals

18. Seit heute morgen ist das Wetter ziemlich kalt.

Wie lautet der obige Satz auf Türkisch?

Verilen cümlelerin Türkçesi aşağıdakilerden hangisidir?

- A) Bugün hava sabahtan beri oldukça soğuk.
- B) Hava bugün biraz ısınacakmış.
- C) Sabahtan beri soğuk rüzgâr esiyor.
- D) Sabahları hava çok soğuk oluyor.

19. Stimmt es, daß Ankara die Hauptstadt der Türkei ist?

Welche Antwort passt zur obigen Frage?

Verilen sorunun cevabı aşağıdakilerden hangisidir?

- A) Nein, ich wohne in Eskişehir.
- B) Ja, aber ich wohne eigentlich in Ankara.
- C) Ja, Ankara ist die Hauptstadt der Türkei.
- D) Nein, die größte Stadt der Türkei ist Eskişehir.

20. A: Sind Sie Deutsche?

B: Nein, ich komme aus der Türkei!

A: Ehrlich?

B: ..... Ich lebe schon seit Jahren hier!

A: Ich bin aber bestimmt nicht der Erste, der sich über Ihre Deutschkenntnisse gewundert hat!

Welcher Satz ergänzt den obigen Dialog?

Verilen karşılıklı konuşmayı aşağıdakilerden hangisi tamamlar?

- A) Studieren Sie auch in Deutschland?
- B) Warum sind Sie so überrascht?
- C) Habe ich mich Ihnen bekanntgemacht?
- D) Das ist ein wohl von grossem Vorteil für die Geschäftsmänner?

## SEÇMELİ İNGİLİZCE 4

A

2013 III.DÖNEM 0106-A

1. If the rain ....., I will go for a walk.

Which of the following completes the sentence above?

Aşağıdakilerden hangisi yukarıdaki cümleyi doğru olarak tamamlar?

- A) would stop  
B) stopped  
C) stops  
D) will stop

2. If I ..... you, I wouldn't wash the dishes

Which of the following completes the sentence above?

Aşağıdakilerden hangisi yukarıdaki cümleyi doğru olarak tamamlar?

- A) were  
B) could be  
C) must be  
D) could have been

3. If they ..... him to the party, he would have gone there.

Which of the following completes the sentence above?

Aşağıdakilerden hangisi yukarıdaki cümleyi doğru olarak tamamlar?

- A) would invite  
B) invite  
C) had invited  
D) were inviting

4. If Ali ..... some money, he would have bought a computer.

Which of the following completes the sentence above?

Aşağıdakilerden hangisi yukarıdaki cümleyi doğru olarak tamamlar?

- A) had had  
B) had  
C) have had  
D) could have

5. If I go to izmir, I .....her.

Which of the following completes the sentence above?

Aşağıdakilerden hangisi yukarıdaki cümleyi doğru olarak tamamlar?

- A) have contacted  
B) would contact  
C) will contact  
D) contacted

6. I would have ..... Venice if I had been to Italy.

Which of the following completes the sentence above?

Aşağıdakilerden hangisi yukarıdaki cümleyi doğru olarak tamamlar?

- A) visits  
B) visited  
C) visit  
D) will visit

7. I am not rich. I wish I .....rich.

Which of the following completes the sentence above?

Aşağıdakilerden hangisi yukarıdaki cümleyi doğru olarak tamamlar?

- A) must be  
B) were  
C) am  
D) can be

8. Jack wishes he ..... a doctor.

Which of the following completes the sentence above?

Aşağıdakilerden hangisi yukarıdaki cümleyi doğru olarak tamamlar?

- A) were  
B) must be  
C) should be  
D) can be

9. Türk Devleti toprağı ve halkı ile bölünmez bir bütündür.

Which of the following is the English translation of the sentence above?

Aşağıdakilerden hangisi yukarıdaki cümlelerin İngilizce karşılığıdır?

- A) Through reformism, Turkey can reach level of contemporary civilization.  
 B) The state should support the private enterprise.  
 C) The Turkish State is an indivisible whole comprising its territory and people.  
 D) The modernization of Turkey is dependent on economic and technological development.

10. The State should support the private enterprise.

Which of the following is the Turkish translation of the sentence above?

Aşağıdakilerden hangisi yukarıdaki cümlelerin Türkçe karşılığıdır?

- A) Devletçilik ilkesi özel sektöre karşı çıkar.  
 B) Devlet, özel sektöre destek vermelidir.  
 C) Ekonomik kalkınmanın gerçekleşmesi için özel sektörün gelişmesi gerekir.  
 D) Devlet özel sektör desteklememelidir.

11. I didn't take your advice. That was a mistake. I wish I ..... your advice.

Which of the following completes the sentence above?

Aşağıdakilerden hangisi yukarıdaki cümleyi doğru olarak tamamlar?

- A) had taken  
 B) take  
 C) took  
 D) will take

12. If I learn Spanish, I ..... Spain.

Which of the following completes the sentence above?

Aşağıdakilerden hangisi yukarıdaki cümleyi doğru olarak tamamlar?

- A) could visit  
 B) had visited  
 C) would visit  
 D) will visit

13. I came to the office late, so my boss was angry. I wish I ..... come to the office late

Which of the following completes the sentence above?

Aşağıdakilerden hangisi yukarıdaki cümleyi doğru olarak tamamlar?

- A) didn't  
 B) don't  
 C) couldn't  
 D) hadn't

14. I can't speak Russian. I wish I ..... Russian.

Which of the following completes the sentence above?

Aşağıdakilerden hangisi yukarıdaki cümleyi doğru olarak tamamlar?

- A) can speak  
 B) spoken  
 C) have spoken  
 D) could speak

15. Bill wishes he ..... visited his grandfather in the hospital.

Which of the following completes the sentence above?

Aşağıdakilerden hangisi yukarıdaki cümleyi doğru olarak tamamlar?

- A) must  
 B) could have  
 C) should  
 D) can

16. Jack wished he had ..... Jill yesterday.

Which of the following completes the sentence above?

Aşağıdakilerden hangisi yukarıdaki cümleyi doğru olarak tamamlar?

- A) meet
- B) meeting
- C) meets
- D) met

17. If it didn't rain, Jane ..... go for a walk.

Which of the following completes the sentence above?

Aşağıdakilerden hangisi yukarıdaki cümleyi doğru olarak tamamlar?

- A) must
- B) might have
- C) ought
- D) would

18. I missed the train yesterday. I wish I ..... the train.

Which of the following completes the sentence above?

Aşağıdakilerden hangisi yukarıdaki cümleyi doğru olarak tamamlar?

- A) didn't miss
- B) don't miss
- C) hadn't missed
- D) can't miss

19. I don't have a car, but I need one.  
I wish I ..... a car.

Which of the following completes the sentence above?

Aşağıdakilerden hangisi yukarıdaki cümleyi doğru olarak tamamlar?

- A) had had
- B) had
- C) could have
- D) have

20. If Debby had had some money, she ..... a new dress.

Which of the following completes the sentence above?

Aşağıdakilerden hangisi yukarıdaki cümleyi doğru olarak tamamlar?

- A) would have bought
- B) could buy
- C) must buy
- D) would buy

1. Der Löwe ist stark, aber ..... ist schwach.

**Welches Wort passt in die obige Lücke?**

**Cümlede boş bırakılan yeri aşağıdakilerden hangisi doğru şekilde tamamlar?**

- A) die Giraffe  
B) der Tiger  
C) der Bär  
D) die Schildkröte

2. Kennst du Menschen mit außergewöhnlichen Haustieren?

**Welche Antwort passt zur obigen Frage?**

**Verilen sorunun cevabı aşağıdakilerden hangisidir?**

- A) Nein, ich möchte kein Haustier.  
B) Ja, meine Tante hat ein Terrarium mit zwei Nattern.  
C) Ja, ich habe eine Katze.  
D) Nein, meine Mutter mag leider keine Tiere im Haus.

3. A: .....  
B: Französisch wird in Frankreich gesprochen.

**Welches ergänzt die Lücke im obigen Dialog?**

**Verilen karşılıklı konuşmada boş bırakılan yeri aşağıdakilerden hangisi tamamlar?**

- A) Warst du schon in Frankreich?  
B) Wer geht nach Frankreich?  
C) Weißt du wo Französisch gesprochen wird?  
D) Weißt du, daß ich meine Ferien in Frankreich verbringe?

4. A: Woher kommt sie?  
B: .....  
A: Ach so, ich dachte, sie wäre aus England!

**Welches ergänzt den obigen Dialog?**

**Verilen karşılıklı konuşmayı aşağıdakilerden hangisi tamamlar?**

- A) Man sagt, sie wäre aus Deutschland!  
B) Ich komme aus England!  
C) Ich habe gesehen, daß sie nach England fährt.  
D) Man erzählt, daß wir nach Deutschland umziehen werden.

5. .... meinem zwanzigsten Geburtstag habe ich ein Auto bekommen.

**Welches Wort passt in die obige Lücke?**

**Cümlede boş bırakılan yeri aşağıdakilerden hangisi doğru şekilde tamamlar?**

- A) Auf  
B) In  
C) Zu  
D) Aus

6. Ahmet ..... Klavier und ich ..... ihm zu.

**Welche Wörter passen in die obigen Lücken?**

**Cümlede boş bırakılan yerleri aşağıdakilerden hangileri doğru şekilde tamamlar?**

- A) hat / frage  
B) möchte / schon  
C) spielt / höre  
D) kann / übe

7. .... für deine Zukunft und viel Glück wünsche ich dir!

**Welches Wort passt in die obige Lücke?**

**Cümlede boş bırakılan yeri aşağıdakilerden hangisi doğru şekilde tamamlar?**

- A) Alles Gute  
B) Jede Musik  
C) Grüßen Sie  
D) Immer zusammen

8. ...., wollte sie eine Band gründen.

**Welches ergänzt die Lücke im obigen Satz?**

**Verilen cümleyi aşağıdakilerden hangisi tamamlar?**

- A) Als meine Tochter 16 war  
B) Wenn ich groß werde  
C) Für meine kleine Katze  
D) Damit ich studieren kann

9. Die Schüler vom Atatürk Gymnasium sitzen ..... einer Bank ..... dem Schulhof.

Welche Wörter passen in die obigen Lücken?

Cümlede boş bırakılan yerleri aşağıdakilerden hangileri doğru şekilde tamamlar?

- A) zum / zur  
B) mit / von  
C) in / aus  
D) auf / auf

10. Gamze ..... sich ..... klassische Musik.

Welche Wörter passen in die obigen Lücken?

Cümlede boş bırakılan yerleri aşağıdakilerden hangileri doğru şekilde tamamlar?

- A) beendet / mit  
B) kauft / aus  
C) spielt / zu  
D) interessiert / für

11. A: Sind Familienfeste wichtig für dich?  
B: Ja, Familienfeste sind für mich wichtig,  
.....  
A: Finde ich auch. Also dann gehen wir zu unseren Eltern!

Welcher Satz ergänzt nicht den obigen Dialog?

Verilen karşılıklı konuşmayı aşağıdakilerden hangisi tamamlamaz?

- A) weil er am Wochenende kommen will.  
B) weil wir in Kontakt bleiben.  
C) weil die Familie für mich wichtig ist.  
D) weil es toll ist, alle zu treffen.

12. Ja, das wird in der Türkei gefeiert!

Welche Frage passt zur obigen Antwort?

Verilen cevabı gerektirecek soru aşağıdakilerden hangisidir?

- A) Wo feiert ihr eure Familienfeste?  
B) Habt ihr schon die Geburt von deiner Schwester gefeiert?  
C) Feiert ihr in der Türkei, wenn jemand ein Jubiläum macht?  
D) Welche Familienfeste gibt es in der Türkei?

13. Wenn man Philosophen befragt, was Glück ist, erhält man ..... Antworten.

Welches Wort passt in die obige Lücke?

Cümlede boş bırakılan yeri aşağıdakilerden hangisi doğru şekilde tamamlar?

- A) lächeln  
B) verschiedene  
C) zusammen  
D) verdoppelt

14. Die Großmutter wird achtzig Jahre alt. Die Kinder und Enkelkinder sind gekommen, .....

Welches ergänzt die Lücke im obigen Satz?

Verilen cümleyi aşağıdakilerden hangisi tamamlar?

- A) damit sie die Fragen beantworten können.  
B) weil sie ein Geschenk bekommt hat.  
C) denn sie sind immer müde.  
D) um die Großmutter zu gratulieren.

15. ...., wenn sie ihre Kinder gut erziehen wollen.

Welches ergänzt die Lücke im obigen Satz?

Verilen cümleyi aşağıdakilerden hangisi tamamlar?

- A) Die Eltern müssen ein Vorbild sein  
B) In unserer Familie sind alle Mädchen gehorsam  
C) Jede Eigenschaft kommt von der Mutter  
D) Das sieht man auf dem Foto



16. Womit hältst du dich fit?

Welche Antwort passt zur obigen Frage?

Verilen sorunun cevabı aşağıdakilerden hangisidir?

- A) Sie will sich fit halten.
- B) Ich muß meine Hausaufgaben ordentlich machen.
- C) Ich spiele dreimal in der Woche Tennis.
- D) Er hat viele neue Ideen für die Schulkinder.

17. Laufen ist eine gute Übung, .....

Welches ergänzt die Lücke im obigen Satz?

Verilen cümleyi aşağıdakilerden hangisi tamamlar?

- A) er soll es auf das Blatt zeichnen.
- B) sie macht den Körper warm.
- C) wir sammeln neue Ideen.
- D) du kannst diese vor der Klasse präsentieren.

18. Doktor kan alıyor.

Wie lautet der obige Satz auf Deutsch?

Verilen cümlenin Almancası aşağıdakilerden hangisidir?

- A) Der Arzt untersucht seine Patientin.
- B) Die Ärztin nimmt Blut ab.
- C) Der Arzt hat eine Spritze gemacht.
- D) Die Ärztin hat mir gute Besserung gewünscht.

19. Ja, ich kann ein Omelett zubereiten.

Welche Frage passt zur obigen Antwort?

Verilen cevabı gerektirecek soru aşağıdakilerden hangisidir?

- A) Habt ihr auch Hunger?
- B) Kannst du etwas zum Essen zubereiten?
- C) Wer hat schon mal einen Salat zubereitet?
- D) Kannst du mir das Rezept vom Salat geben?

20. .... ist für vier Personen.

Welches Wort passt nicht in die obige Lücke?

Cümlede boş bırakılan yeri aşağıdakilerden hangisi doğru şekilde tamamlamaz?

- A) Das Rezept
- B) Das Essen
- C) Der Salat
- D) Der Körper

## SEÇMELİ İNGİLİZCE 7

2013 III.DÖNEM 0106-A

A

1. A:Do we have any tomatoes for the salad?  
B:Yes, we have .....tomatoes.

Which of the following completes the dialogue above?

Aşağıdakilerden hangisi yukarıdaki konuşmayı doğru olarak tamamlar?

- A) any  
B) some  
C) a  
D) much

2. A:What time do you usually .....on Sundays?  
B:At 9.30.

Which of the following completes the dialogue above?

Aşağıdakilerden hangisi yukarıdaki konuşmayı doğru olarak tamamlar?

- A) get up  
B) gets up  
C) getting up  
D) got up

3. A:Excuse me, can you tell me ..... Chinese Restaurant is?  
B:It's on the right next to the post office.

Which of the following completes the dialogue above?

Aşağıdakilerden hangisi yukarıdaki konuşmayı doğru olarak tamamlar?

- A) where  
B) how  
C) when  
D) why

4. Samantha doesn't like eating out.

Which of the following is the positive form of the sentence above?

Aşağıdakilerden hangisi yukarıdaki cümlenin olumlu biçimidir?

- A) Samantha does like eating out.  
B) Samantha likes eating out.  
C) Samantha like eating out.  
D) Samantha liked eating out.

5. A:Is there ..... cheese in the fridge?  
B:No, there isn't.

Which of the following completes the dialogue above?

Aşağıdakilerden hangisi yukarıdaki konuşmayı doğru olarak tamamlar?

- A) some  
B) a  
C) any  
D) a little

6. A doctor is someone who .....

Which of the following completes the sentence above?

Aşağıdakilerden hangisi yukarıdaki cümleyi doğru olarak tamamlar?

- A) makes bread  
B) looks after animals  
C) sells things  
D) looks after patients

7. Is your father ..... engineer or .....teacher?

Which of the following completes the sentence above?

Aşağıdakilerden hangisi yukarıdaki cümleyi doğru olarak tamamlar?

- A) a/a  
B) the/a  
C) an/the  
D) an/a

8. A:What are the kids..... now?  
B:They are ..... in the garden.

Which of the following completes the dialogue above?

Aşağıdakilerden hangisi yukarıdaki konuşmayı doğru olarak tamamlar?

- A) do/play  
B) doing/playing  
C) doing/play  
D) do/playing

9. Mehmet doesn't like jokes. He is .....

Which of the following completes the sentence above?

Aşağıdakilerden hangisi yukarıdaki cümleyi doğru olarak tamamlar?

- A) lazy  
B) polite  
C) serious  
D) careful

10. A:Which school subjects do you like most?  
B:I like ..... most.

Which of the following completes the dialogue above?

Aşağıdakilerden hangisi yukarıdaki konuşmayı doğru olarak tamamlar?

- A) ice cream  
B) rock music  
C) Geography  
D) violin

11. I am 1.55 cm and he is 1.70 cm. He is .....than me.

Which of the following completes the sentence above?

Aşağıdakilerden hangisi yukarıdaki cümleyi doğru olarak tamamlar?

- A) fatter  
B) older  
C) taller  
D) darker

12. We don't need ..... butter for the cake. We have some here.

Which of the following completes the sentence above?

Aşağıdakilerden hangisi yukarıdaki cümleyi doğru olarak tamamlar?

- A) many  
B) some  
C) a  
D) much

13. I want to.....to a university in a big city.

Which of the following completes the sentence above?

Aşağıdakilerden hangisi yukarıdaki cümleyi doğru olarak tamamlar?

- A) going  
B) goes  
C) went  
D) go

14. I sometimes drink milk for breakfast.

Which of the following is the Turkish translation of the sentence above?

Aşağıdakilerden hangisi yukarıdaki cümlenin Türkçe karşılığıdır?

- A) Kahvaltıda daima süt içerim.  
B) Kahvaltıda sık sık süt içerim.  
C) Kahvaltıda bazen süt içerim.  
D) Kahvaltıda hiç süt içmem.

15. My little sister always ..... early on Sundays.

Which of the following completes the sentence above?

Aşağıdakilerden hangisi yukarıdaki cümleyi doğru olarak tamamlar?

- A) wake up
- B) wakes up
- C) is waking up
- D) woke up

16. They are Maria and Franco. .... parents are in Spain.

Which of the following completes the sentence above?

Aşağıdakilerden hangisi yukarıdaki cümleyi doğru olarak tamamlar?

- A) Her
- B) Their
- C) His
- D) Our

17. A:What would you like to drink?  
B:I'd like to drink ..... please.

Which of the following completes the dialogue above?

Aşağıdakilerden hangisi yukarıdaki konuşmayı doğru olarak tamamlar?

- A) orange juice
- B) some salad
- C) bread
- D) a piece of cake

18. A:How often do you go to the gym?  
B:I go to the gym .....

Which of the following completes the dialogue above?

Aşağıdakilerden hangisi yukarıdaki konuşmayı doğru olarak tamamlar?

- A) twice a week
- B) last Sunday
- C) yesterday
- D) last year

19. A:Hello. I am Sarah.  
B:Hello, my name..... John.

Which of the following completes the dialogue above?

Aşağıdakilerden hangisi yukarıdaki konuşmayı doğru olarak tamamlar?

- A) is
- B) has
- C) are
- D) having

20. The telephone box is in ..... of the restaurant.

Which of the following completes the sentence above?

Aşağıdakilerden hangisi yukarıdaki cümleyi doğru olarak tamamlar?

- A) behind
- B) opposite
- C) next
- D) front

1. Les films d'action; je(j') ..... trouve triste.

Choisissez le mot qui convient.

Cümledeki boşluğu aşağıdakilerden hangisi doğru şekilde tamamlar?

- A) la  
B) lui  
C) y  
D) les

2. Selim ..... à l'office du tourisme.

Choisissez le mot qui convient.

Cümledeki boşluğu aşağıdakilerden hangisi doğru şekilde tamamlar?

- A) a  
B) une  
C) sa  
D) est

3. Je cherche un appartement ..... louer.

Choisissez le mot qui convient.

Cümledeki boşluğu aşağıdakilerden hangisi doğru şekilde tamamlar?

- A) en  
B) par  
C) à  
D) de

4. C'est lui ..... parle toute la soirée.

Choisissez le mot qui convient.

Cümledeki boşluğu aşağıdakilerden hangisi doğru şekilde tamamlar?

- A) qui  
B) que  
C) donc  
D) où

5. pas / d'alcool / beaucoup / prenez / ne  
I II III IV V

Mettez dans le bon ordre.

Yukarıdaki kelimelerin anlamlı bir bütün oluşturan sırası aşağıdakilerin hangisinde doğru olarak verilmiştir?

- A) V, IV, I, III, II  
B) V, IV, III, II, I  
C) IV, V, I, II, III  
D) IV, III, II, V, I

6. - ..... livre voulez-vous acheter?  
- Celui-ci.

Choisissez le mot qui convient.

Yukarıdaki konuşmada boş bırakılan yeri aşağıdakilerden hangisi doğru şekilde tamamlar?

- A) Laquelle  
B) Lequel  
C) Lesquels  
D) Quelle

7. A - Excusez-moi, vous avez l'heure?  
B - .....  
A - Je vous demande si vous avez l'heure.  
B - Ah oui, il est dix heures et demie.  
A - Merci.

Choisissez l'expression qui convient.

Yukarıdaki konuşmada boş bırakılan yeri aşağıdakilerden hangisi doğru şekilde tamamlar?

- A) C'est ça?  
B) Tu vois?  
C) C'est de la part de qui?  
D) Pardon?

8. Hier soir, ..... trop chaud.

Choisissez l'expression qui convient.

Cümledeki boşluğu aşağıdakilerden hangisi doğru şekilde tamamlar?

- A) il y avait  
B) il faisait  
C) combien  
D) je préfère

9. ..... du sport pour être en bonne santé.

Choisissez le mot qui convient.

Cümledeki boşluğu aşağıdakilerden hangisi doğru şekilde tamamlar?

- A) Signez  
B) Soyez  
C) Faites  
D) Ouvrez

10. On est ouvert du lundi ..... vendredi.

Choisissez le mot qui convient.

Cümledeki boşluğu aşağıdakilerden hangisi doğru şekilde tamamlar?

- A) la  
B) au  
C) en  
D) de

11. Il est un ..... étudiant.

Choisissez le mot qui convient.

Cümledeki boşluğu aşağıdakilerden hangisi doğru şekilde tamamlar?

- A) bien
- B) mieux
- C) bon
- D) meilleur

12. - .....  
- Ça fait trente euros.

Choisissez la question qui convient.

Yukarıdaki konuşmada cevabı gerektiren soru aşağıdakilerden hangisidir?

- A) Tu pars à quelle heure?
- B) Ça coûte combien?
- C) Tu as quel âge?
- D) Ça vous intéresse?

13. Voudriez-vous rappeler plus tard?

Choisissez la traduction qui convient.

Yukarıdaki cümlelerin Türkçe karşılığı aşağıdakilerden hangisidir?

- A) Daha önce aradınız mı?
- B) Daha sonra sizi arayacaklar mı?
- C) Sizi aramamızı ister misiniz?
- D) Daha sonra yine arar mısınız?

14. Elle est ..... de sa maison à sept heures du matin.

Choisissez le mot qui convient.

Cümledeki boşluğu aşağıdakilerden hangisi doğru şekilde tamamlar?

- A) sortie
- B) sors
- C) sort
- D) sortez

15. J'en ai assez ..... cet ordinateur.

Choisissez le mot qui convient.

Cümledeki boşluğu aşağıdakilerden hangisi doğru şekilde tamamlar?

- A) que
- B) sur
- C) par
- D) de

16. Si tu es malade, tu ..... te reposer.

Choisissez le mot qui convient.

Cümledeki boşluğu aşağıdakilerden hangisi doğru şekilde tamamlar?

- A) vais
- B) dois
- C) as
- D) bien

17. Elle dit qu'elle va venir demain.

Choisissez la traduction qui convient.

Yukarıdaki cümlelerin Türkçe karşılığı aşağıdakilerden hangisidir?

- A) Yarın geleceğini söylüyor.
- B) Yarın gelmek istediğini söyledi.
- C) Yarın gelmek istiyor.
- D) Yarın gelip gelemeyeceği belli değil.

18. Nous allons à l'école ..... métro.

Choisissez le mot qui convient.

Cümledeki boşluğu aşağıdakilerden hangisi doğru şekilde tamamlar?

- A) en
- B) par
- C) dans
- D) au

19. Mon père ..... 75 ans.

Choisissez le mot qui convient.

Cümledeki boşluğu aşağıdakilerden hangisi doğru şekilde tamamlar?

- A) est
- B) ont
- C) a
- D) as

20. - Hier soir, vous ..... mangé à quelle heure?  
- À dix-neuf heures.

Choisissez le mot qui convient.

Yukarıdaki konuşmada boş bırakılan yeri aşağıdakilerden hangisi doğru şekilde tamamlar?

- A) a
- B) ont
- C) avez
- D) êtes



## SINAVDA UYGULANACAK KURALLAR

1. Sınav süresince görevlilerle konuşmak ve soru sormak yasaktır. Aynı şekilde görevlilerin de öğrencilerle yakından ve alçak sesle konuşmaları yasaktır. Yanınızda ve sıranızda dersle ilgili kitap not vb. bulundurmamak yasaktır. Sınav sırasında kopya yapan, yapmaya teşebbüs eden, kopya veren, kopya yapılmasına yardım edenlerin kimlikleri BİREYSEL SINAV İPTAL TUTANAĞINA yazılacak ve bu öğrencilerin sınavları geçersiz sayılacaktır. Görevliler kopya yapmaya veya vermeye kalkışanları uyararak zorunda değildir, sorumluluk size aittir.  
Sınavda yetki verilmiş görevliler, bu salondaki sınavın kurallara uygun biçimde yapılmadığını, toplu kopya girişiminde bulunulduğunu raporlarında bildirdikleri veya üniversite sınav merkezince yapılan incelemeler sonucu toplu kopya yapıldığı saptandığı takdirde, Anadolu Üniversitesinin yetkili organları bu salonda sınava giren öğrencilerin tümünün sınavını geçersiz sayar.
2. Öğrenciler sınav sırasında görevlilerin her türlü uyarılarına uymak zorundadır. Gerekliğinde görevliler oturduğunuz yerleri değiştirebilir. Sınavınızın geçerli sayılması, her şeyden önce sınav kurallarına uymanıza bağlıdır. Kurallara aykırı davranışta bulunanların ve yapılacak uyarılara uymayanların kimlikleri BİREYSEL SINAV İPTAL TUTANAĞINA yazılacak ve sınavları geçersiz sayılacaktır.
3. Sınav sırasında herhangi bir nedenle dışarı çıkmak yasaktır. Sınavın başlamasını izleyen ilk 30 dakika ve sınav süresinin son 5 dakikası içinde, sınavlarınızı tamamlasalar bile hiçbir öğrencinin salondan çıkmasına izin verilmeyecektir. Sınavın başlamasını izleyen ilk 15 dakikadan sonra hiç bir öğrenci sınava alınamaz.
4. Biraz sonra soru kitapçıkları dağıtılacaktır. Cevaplamaya geçmeden önce size verilecek soru kitapçığının üzerinde ayrılan yere, adınızı, soyadınızı, öğrenci numaranızı ve bu salonun numarasını yazınız. Sınav sonunda soru kitapçıkları toplanacak ve sınav merkezinde tek tek incelenecektir. Soru Kitapçığının bir tek sayfası eksik çıksa bile sınavınız geçersiz sayılacaktır.
5. Size verilen Cevap Kâğıdının üzerinde yazan numara ve ismin size ait olduğunu kontrol ediniz. Cevap Kâğıdı size ait değilse, görevlileri uyarıp size ait Cevap Kâğıdını alınız. Daha sonra Cevap Kâğıdı üzerinde ayrılmış olan yerlere öğrenci numaranızı ve test grubunuzu kodlayınız, adınızı soyadınızı yazınız ve ilgili yeri imzalayınız.
6. Cevap Kâğıdına yazılacak her türlü yazı, rakam ve yapılacak işaretlemeler için siyah kurşun kalem kullanılacaktır. Tükenmez kalem veya dolmakalem kesinlikle kullanılmayacaktır. Cevapların tümü CEVAP KÂĞIDINA İŞARETLENCEKTİR. Soru Kitapçıkları üzerine yapılan işaretlemeler kesinlikle değerlendirilmez. Her dersin cevabı, o dersin isminin yazılı olduğu sütuna işaretlenmelidir. Yanlış sütuna yapacağınız işaretlemeler kesinlikle değerlendirilmez.
7. Soru Kitapçığının sayfalarındaki boş yerleri müsvedde yapmak için kullanabilirsiniz. Başka bir kâğıdı müsvedde olarak kullanmak yasaktır. Bu tür işlemleri yapanların sınavları geçersiz sayılır.
8. Öğrencilerin sorulara verdikleri yanıtları herhangi bir yere yazmaları ve bunu sınav salonundan dışarıya çıkarmaları yasaktır. Bu kurala uymayanların sınavları geçersiz sayılır.
9. Sınav sırasında öğrencilerin birbirinden kalem, silgi vb. şeyleri istemesi kesinlikle yasaktır. Yasağa uymayanların sınavı geçersiz sayılır.
10. Sınav sırasında hesap makinesi kullanılabilir. Ancak, hesap makinesinin sınav sırasında ödünç alınması, verilmesi ve değiştirilmesi yasaktır. (Data Bank vb. gibi özel elektronik donanımlar kullanılamaz.) Bu tür davranışlarda bulunanların sınavları geçersiz sayılır.
11. Öğrenciler sınava gelirken telsiz, cep telefonu, çağrı cihazı vb. iletişim araçları ile görüntü kaydetmeye yarayan fotoğraf makinesi, kamera vb. araçları getirmemeleri konusunda sınava giriş belgelerinde uyarılmışlardır. Buna rağmen yanlarında bu tür cihazları getirenlerin, bunları sınav sonrasında almak üzere salon başkanına teslim etmeleri gerekir. Bu cihazları sınav salonunda yanlarında bulunduran öğrencilerin, cihazları kapalı bile olsa, o oturma odasındaki sınavı geçersiz sayılacaktır. Bu cihazların kaybolmasından Üniversitemiz sorumlu olmayacaktır.
12. Biraz sonra dağıtılacak olan soru kitapçığında test ile ilgili açıklamalar yazılıdır. Bu açıklamaları okumadan ve size "SINAV BAŞLAMIŞTIR" denmeden soruları cevaplamaya başlamayınız.

**SINAVLARINIZDA BAŞARILAR DİLERİZ.**