



BA – AÖL / 2012 – III.DÖNEM - Cumartesi 16.00

ÜÇÜNCÜ OTURUM

TEST GRUBUNUZ

A

CEVAP KÂĞIDINIZA İŞARETLEMİYİ UNUTMAYINIZ.

ÖĞRENCİNİN

SOYADI :

ADI :

ÖĞRENCİ NO :

SINAV SALON NO: SIRA NO:

Soyadınızı, adınızı, öğrenci numaranızı, salon ve sıra numaranızı yukarıya yazmayı unutmayınız.

GENEL AÇIKLAMA

1. Bu soru kitapçığındaki testler şunlardır:

| Testin Adı | Soru Sayısı | Sayfa No | Testin Adı | Soru Sayısı | Sayfa No |
|-------------------------------------|-------------|----------|---|-------------|----------|
| DİN KÜLTÜRÜ VE AHLAK BİLGİSİ 4 | 20 | 2 | FİZİK 1 | 20 | 40 |
| FELSEFE 2 | 20 | 4 | KİMYA 3 | 20 | 43 |
| TARİH 4 | 20 | 6 | BİYOLOJİ 4 | 20 | 46 |
| TC İNKILÂP TARİHİ VE ATATÜRKÇÜLÜK 2 | 20 | 8 | MİLLİ GÜVENLİK BİLGİSİ 1 | 20 | 48 |
| MATEMATİK 5 | 20 | 11 | SAĞLIK BİLGİSİ 2 | 20 | 50 |
| YABANCI DİL 2 (ALM.2, FRA.2, İNG.2) | 20 | 14 | GEOMETRİ 3 | 20 | 52 |
| PSİKOLOJİ 1 | 20 | 23 | SEÇMELİ TARİH 4 | 20 | 56 |
| YABANCI DİL 5 (ALM.5, FRA.5, İNG.5) | 20 | 25 | YABANCI DİL 8 (ALM.8, FRA.8, İNG.8) | 20 | 58 |
| DİL VE ANLATIM 7 | 20 | 34 | SEÇMELİ DİL VE ANLATIM 6 | 20 | 67 |
| TÜRK EDEBİYATI 3 | 20 | 36 | SEÇMELİ YABANCI DİL 8 (ALM.8, FRA.8, İNG.8) | 20 | 69 |
| TÜRK EDEBİYATI 8 | 20 | 38 | SEÇMELİ DİL VE ANLATIM 7 | 20 | 78 |

2. Bu kitapçıkta yer alan her bir test için cevaplama süresi **30** dakika, toplam sınav süresi **150** dakikadır.
3. Cevaplamaya istediğiniz testin, istediğiniz sorusundan başlayabilirsiniz. Yalnız cevaplarınızı, cevap kâğıdında o test için ayrılmış olan bölümdeki aynı numaralı cevap yerine işaretlemeyi unutmayınız.
4. Cevaplarınızı koyu siyah ve yumuşak bir kurşunkalemle işaretleyiniz. İşaretinizi cevap yerinin dışına taşırmayınız. Tükenmez veya mürekkepli kalem kullanmayınız.
5. Değiştirmek istediğiniz bir cevabı yumuşak bir silgi ile, cevap kâğıdını örselemeden temizce siliniz ve doğru cevabınızı işaretlemeyi unutmayınız.
6. Cevap kâğıdınızı buruşturmayınız, katlamayınız ve üzerine gereksiz hiçbir işaret koymayınız.
7. Bu kitapçıkta her sorunun bir tek doğru cevabı vardır. Bir soru için birden çok cevap yeri işaretlenmişse o soru yanlış cevaplanmış sayılacaktır.
8. Cevaplarınız puanlanırken her doğru cevabınıza eşit puan verilecek, yanlış cevaplarınız dikkate alınmayacaktır. Bu nedenle kitapçıkta tüm sorular için size doğru gelen seçeneği işaretleyerek cevapsız soru bırakmanız yararınıza olacaktır.
9. Kitapçığın sayfalarındaki boş yerleri müsvedde için kullanabilirsiniz.

Anadolu Üniversitesi tarafından hazırlanmış olan bu testlerin her hakkı saklıdır. Hangi amaçla olursa olsun, testlerin tamamının veya bir kısmının Anadolu Üniversitesi'nin yazılı izni olmadan kopya edilmesi, fotoğraflarının çekilmesi, herhangi bir yolla çoğaltılması, yayımlanması ya da kullanılması yasaktır. Bu yasağa uymayanlar gerekli cezai sorumluluğu ve testlerin hazırlanmasındaki mali külfeti peşinen kabullenmiş sayılır.

DİN KÜLTÜRÜ VE AHLAK BİLGİSİ 4

A

2012 3D 0103-A

1. Toplum hayatında kişilerin birbirleriyle ve topluma olan ilişkilerini düzenleyen ve uyulması kanun gücüyle desteklenmiş olan toplumsal kuralların bütününe ne ad verilir?

- A) Hukuk
- B) Örf
- C) Adet
- D) Laiklik
- E) Milliyetçilik

2. Atom'un parçalanabileceğini ve parçacıklarının döndüğünü söyleyen ve bunu "Sema" ile sembolize eden ünlü âlim kimdir?

- A) Gazali
- B) Mevlâna
- C) Farabi
- D) İbni Heysem
- E) Ömer Hayam

3. "Birbirinizin gizli ve ayıp hallerini araştırmayınız." ayet'i hangi hakla ilgilidir?

- A) Yaşam
- B) Eğitim
- C) Ekonomik
- D) Sağlık
- E) Özel yaşamın gizliliği

4. Nilometre'yi (Su seviye ölçer) icad eden bilim insanı aşağıdakilerden hangisidir?

- A) El-Kindi
- B) İbn Fimas
- C) El-Fergâni
- D) İbn Havkal
- E) İbn ül Heysen

5. Aşağıdakilerden hangisi vatandaşlık görevlerinden biri değildir?

- A) Askere gitmek
- B) Seçimlere katılmak
- C) Kanunlara uymak
- D) Vergi vermek
- E) Eğitim görmek

6. Aşağıdakilerden hangisi ekonomik haklardan biri değildir?

- A) Haberleşmenin gizliliği hakkı
- B) Mülkiyet hakkı
- C) Sendika kurma hakkı
- D) Toplu sözleşme ve grev hakkı
- E) Çalışma ve kazanma hakkı

7. Atatürk'e göre hiçbir kuvvetin Türk Milleti'nin kalbinden çıkaramayacağı iki fazilet aşağıdakilerin hangisinde birlikte verilmiştir?

- A) Din ve vicdan
- B) Din ve özgürlük
- C) Dil ve özgürlük
- D) Din ve dil
- E) Dil ve tarih

8. Kişinin kendi inandığı ve gerçek kabul ettiği fikir ve düşüncelere bağlanmak, kendi dışındaki görüşlere söz hakkı tanımamak ve düşmanlık beslemeye ne ad verilir?

- A) Tecessüs
- B) Menfaat
- C) Gıybet
- D) Şirk
- E) Taassup

9. Aşağıdakilerden hangisi taassubun zararlarından biri değildir?

- A) Hoşgörü, sevgi, saygı gibi duyguları artırması
- B) Toplumun birlik ve beraberliğini bozması
- C) İnsanları mutsuz ve huzursuz etmesi
- D) Dini istismar etmesi ve yozlaştırması
- E) Bir milletin ilerlemesi ve gelişmesini engellemesi

10. "Din lüzumlu bir müessesedir. Dinsiz milletlerin devamına imkan yoktur." sözü kime aittir?

- A) Yunus Emre
- B) Mustafa Kemal Atatürk
- C) Hz. Muhammed
- D) Hz. Ali
- E) Mehmet Akif Ersoy

A

2012 3D 0103-A

11. Amerika ve keşfinden önce Antartika'yı gösteren dünya haritasını kim çizmiştir?

- A) Ömer Hayyam
- B) Biruni
- C) Piri Reis
- D) Akşemsettin
- E) Barbaros Hayrettin Paşa

12. 980-1037 yılları arasında yaşamış, yüzü aşkın eseri ile tıp ve felsefe alanı başta olmak üzere pek çok alanda bilime öncülük etmiş ünlü Müslüman tıp bilgini kimdir?

- A) İbnül Avâm
- B) İbn-i Rüşd
- C) Kindi
- D) İbn-i Sina
- E) Battâni

13. Trigonometri'nin kurucularının en büyüğü kimdir?

- A) Biruni
- B) Ömer Hayyam
- C) Gazali
- D) Farabi
- E) El-Battani

14. "İlim Çin'de olsa bile alınız." sözü kime aittir?

- A) Hz. Ömer
- B) Hz. Ebu Bekir
- C) Hz. Ali
- D) Hz. Muhammed
- E) Mevlâna

15. Aşağıdakilerin hangisinde, Allah'ın ilim sıfatının tanımı verilmiştir?

- A) Allah'ın gizli ve açık her şeyi, her yer ve her zamanda işitmesi
- B) Allah'ın sınırsız ve aletsiz her şeyi bilmesi
- C) Allah'ın her şeyi görmesi, görmek için işığa ve göze ihtiyaç duymaması
- D) Allah'ın her şeye gücünün yetmesi, istediği her şeyi yapması
- E) Allah'ın yaratıcı ve var edici olması

16. Aşağıdakilerden hangisi alışkanlıklardan biri değildir?

- A) Spor yapmak
- B) Kumar oynamak
- C) Alkol almak
- D) Sigara içmek
- E) Uyuşturucu kullanmak

17. Önceleri okuma-yazma öğretiminin verildiği mektep görevini üstlenirken, sonraları çocuklara medrese öncesi eğitim veren ilk mektep olan eğitim kurumu aşağıdakilerden hangisidir?

- A) Beytül hikme
- B) Camii
- C) Rasathane
- D) Küttap
- E) Suffa

18. Vahiy kaç şekilde gelir?

- A) 1
- B) 2
- C) 3
- D) 4
- E) 5

19. Öğrenme, araştırma gözlem veya deney yoluyla elde edilen, insan zekasının ve çalışmasının sonucu ortaya çıkan ürüne ne ad verilir?

- A) Yetenek
- B) Bilgi
- C) Yöntem
- D) Beceri
- E) Kalıtım

20. Selçuklu veziri Nizamülmülk'ün Bağdat'ta kurduğu Medrese aşağıdakilerden hangisidir?

- A) Çift Minareli Medrese
- B) Gök Medrese
- C) Nizamiye Medresesi
- D) Burûciye Medresesi
- E) İnce Minareli Medrese

FELSEFE 2

A

2012 3D 0103-A

1. Aşağıdakilerden hangisi din felsefesinin temel kavramlarından biri değildir?

- A) İman
- B) İbadet
- C) Kutsal
- D) Vahiy
- E) Ahlak

2. "Her insan idealar dünyasına yönelmeli ve eylemlerini iyi ideasına uydurmalıdır" diyen düşünür aşağıdakilerden hangisidir?

- A) Aristoteles
- B) Demokritos
- C) Platon
- D) Heraklitos
- E) Descartes

3. "Varolan her şeyin bir yaratıcısı olduğuna, bu yaratıcının mutlak ve sınırsız bir bilgi ve güce sahip olduğuna sarsılmaz bir inanç beslemek" aşağıdakilerden hangisini açıklamaktadır?

- A) Deizm
- B) Ateizm
- C) Panteizm
- D) Teizm
- E) Agnostisizm

4. Bireyin iyi ve doğru eylemlerde bulunmaya mizaç, eğitim ve moral olgunluk açısından yatkın olma durumuna ne ad verilir?

- A) Vicdan
- B) Erdem
- C) Özgürlük
- D) Etik
- E) Sorumluluk

5. "Yeni Dünya" adlı eser aşağıdaki düşünürlerden hangisine aittir?

- A) T. More
- B) G. Orwell
- C) W. James
- D) T. Campanella
- E) A. Huxley

6. "Anarşizm" akımının kurucusu aşağıdakilerden hangisidir?

- A) Nietzsche
- B) Bakunin
- C) Proudhon
- D) Stimer
- E) Kropotkin

7. "Mesnevi" adlı eserin sahibi aşağıdakilerden hangisidir?

- A) Mevlana
- B) Edip Ahmet
- C) Yusuf Has Hacib
- D) Kaşgarlı Mahmut
- E) Ahmet Yesevi

8. Yaşadığı dönemin İtalya'sındaki aksaklıklardan yola çıkarak "Güneş Ülkesi" adını verdiği ideal bir toplum düzeni tasarlayan düşünür aşağıdakilerden hangisidir?

- A) Hegel
- B) Campanella
- C) Bentham
- D) Bacon
- E) Mill

9. Güzelliği ve güzel sanatların doğasını inceleyen felsefe dalı aşağıdakilerden hangisidir?

- A) Estetik
- B) Yaratım
- C) Zanaat
- D) Etik
- E) Haz

10. "Erdemli Toplum" adlı eserinde erdemli bir toplumun erdemli, bilgili yöneticiler eliyle oluşturulabileceğini savunan düşünür aşağıdakilerden hangisidir?

- A) Fuzuli
- B) Ömer Hayyam
- C) Gazali
- D) Farabi
- E) Ahmet Yesevi

11. İdeal bir toplum düzeni tasarlayan ilk filozof aşağıdakilerden hangisidir?

- A) Farabi
- B) Platon
- C) Aristoteles
- D) Spinoza
- E) Kant

A

2012 3D 0103-A

12. Aşağıdakilerden hangisi din felsefesinin yanıtlamaya çalıştığı sorulardan biri değildir?

- A) Güzel ahlak
- B) Tanrının varlığı
- C) Evrenin yaratılışı
- D) Vahyin olanaklılığı
- E) Ruhun ölümsüzlüğü

13. Aşağıdakilerden hangisi, toplumlarda siyasi iktidarın olası kaynaklarından biri değildir?

- A) Birlikte yaşama isteği
- B) Egemen din anlayışı
- C) Dıştan gelebilecek tehlikelere karşı korunma düşüncesi
- D) Olumsuz coğrafi koşullar
- E) İçten gelebilecek tehlikelere karşı korunma düşüncesi

14. Din ile felsefeyi birbirinden ayırarak ele alan ilk düşünür aşağıdakilerden hangisidir?

- A) T. More
- B) A. Huxley
- C) G. Orwel
- D) I. Kant
- E) J.P. Sartre

15. "Siyaset hem bir çatışma ve iktidar kavgası hem de toplumun tüm üyelerinin yararına olabilecek bir düzen yaratma aracıdır" diyen siyaset bilimci aşağıdakilerden hangisidir?

- A) B. Daver
- B) A. Smith
- C) A. Baumgarten
- D) S. Dali
- E) M. Duverger

16. "İnsan ahlaki eylemlerinde yalnızca kendi hazzını, yararını ve mutluluğunu değil, başka insanların yararını ve mutluluğunu da düşünmek durumundadır. Çünkü toplumun mutluluğu sağlandığında birey de mutluluğa ulaşır" görüşünü savunan düşünür aşağıdakilerden hangisidir?

- A) F. Bacon
- B) J.S. Mill
- C) M. Weber
- D) T. Hobbes
- E) K. Marx

17. "İnsanı insan yapan öz onun ruhudur. Ruh, yüce değerlerin ve asıl varlığın çıkmış olduğu köktür. Ruhun özü ise gönüldür. Gönül'ün özü ise sevgidir."

Yukarıdaki görüş hangi ünlü mutasavvıfa aittir?

- A) Ahmet Yesevi
- B) Mevlâna
- C) Yunus Emre
- D) Hacı Bektaş Veli
- E) İbn-i Haldun

18. "Evrensel ahlak yasasını belirleyen en önemli öge insanın, kendisinin de bir parçası olduğu doğa düzenini anlayarak ve bu bilgiye dayanarak ahlaki bir biçimde davranmasıdır" diyen düşünür aşağıdakilerden hangisidir?

- A) Spinoza
- B) Hegel
- C) Aristoteles
- D) Kant
- E) Demokritos

19. "Ahlak yasasını, tanrı ve insan sevgisiyle temellendiren bu çerçevede insanların eşitliğini ve kardeşliğini savunan, iyilik, sevgi, çalışkanlık ve dürüstlüğü ahlaki değer olarak benimseyen düşünür" aşağıdakilerden hangisidir?

- A) Pir Sultan Abdal
- B) Hoca Ahmet Yesevi
- C) Hacı Bektaş Veli
- D) Yunus Emre
- E) Mevlana

20. I. Kişisel haklar
II. Toplumsal ve ekonomik haklar
III. Siyasi haklar

Yukarıdakilerden hangileri bireyin temel haklarındandır?

- A) Yalnız I
- B) Yalnız II
- C) I ve II
- D) II ve III
- E) I, II ve III

TARİH 4

A

2012 3D 0103-A

1. Sarayda, padişahın özel hayatını geçirdiği bölüme ne ad verilir?

- A) Has oda
- B) Enderun
- C) Bîrûn
- D) Bâbüs-Saade
- E) Arz odası

2. Kapıkulu arasında en önemli grup aşağıdakilerden hangisidir?

- A) Mehterler
- B) Topçular, cebeciler
- C) Müteferikalar
- D) Altı bölük halkı
- E) Yeniçeriler

3. Osmanlı Devleti'nde, devletin iç ve dış işlerini yürüten, en üst yönetim ve yargı kuruluşuna ne ad verilir?

- A) Âsitane
- B) Darülmülk
- C) Dersaadet
- D) Divanı Hümayûn
- E) İslambol

4. I. Devleti Ebed Müddet
II. Halifei Rûyi Zemin
III. Devleti Aliyye

Osmanlı yöneticileri ve toplum tarafından devletin sonsuza kadar yaşayacağına inanılması sebebiyle devlete yukarıdaki sıfatlardan hangileri verilmiştir?

- A) Yalnız I
- B) Yalnız II
- C) I ve II
- D) I ve III
- E) I, II ve III

5. Padişahın camiye gidip, orada namaz kılıp hutbe dinlemesine ve saraya dönmesi törenine ne ad verilir?

- A) Selamlık
- B) Eh-i örf
- C) Ümera
- D) Kethüda
- E) Saray töreni

6. Aşağıdakilerden hangisi Osmanlı toplum düzeni ve yönetim felsefesi bakımından önemli olan dayanaklardan biri değildir?

- A) Halkın bolluk ve huzur içinde yaşamasının adaletle yönetilmesine bağlı olması
- B) Ordunun beslenmesi için servet gerekmesi
- C) Devlet düzeninin laiklik ilkesine dayandırılması
- D) Dünya barışının adaletle sağlanabilmesi
- E) Servetin sağlanabilmesi için bolluk ve huzur içinde yaşayan halka sahip olunması

7. Askeri sınıfın reâyâdan farkı aşağıdakilerden hangisidir?

- A) Güveni temin ederken kadı ile işbirliği yapması
- B) Temel görevlerinin halkın refahını sağlamak olması
- C) Padişahın güç ve otoritesini temsil etmesi
- D) Devlete karşılıksız hizmet vermesi
- E) Vergi vermemesi ve devletten maaş alması

8. İslam dininin esaslarını ve emrettiği dünya nizamını bilen ve onun uygulanmasıyla yükümlü bulunanlar askeri sınıfın hangi zümresini tanımlamaktadır?

- A) Eh-i seyf
- B) Tedris
- C) Eh-i örf
- D) İlmiye
- E) Eh-i şer

9. Aşağıdaki antlaşmalardan hangisinden sonra Osmanlı Devleti Avrupalı tüccarların açık pazarı durumuna gelmiştir?

- A) Bucuş
- B) Pasarofça
- C) Balta Limanı
- D) Kasrı Şirin
- E) Karlofça

10. Aşağıdakilerden hangisi Osmanlı Devleti'nin Avrupa'daki Sanayi İnkılabı'nın etkilerinden kurtulmak için aldığı önlemlerden biri değildir?

- A) Kapitülasyonların kaldırılması
- B) 1840'ta Hereke Dokuma Fabrikası'nın açılması
- C) 1860'lı yıllarda İslah-ı Sanayi Komisyonu'nun kurulması
- D) II. Mahmut'un Müslüman tüccarlara hukuk, ticaret ve vergi yönünden imtiyazlar sağlaması
- E) 1835'te İstanbul'da Feshane adıyla bir imalathane açılması

A

2012 3D 0103-A

11. Osmanlı Devleti'nde açılan ilk banka aşağıdakilerden hangisidir?

- A) Ziraat Bankası
- B) Bank-ı Dersaadet
- C) Sümerbank
- D) Bank-ı Osmani
- E) İtibar-ı Milli Bankası

12. Bir ülkede üretim, dağıtım ve tüketim ilişkilerinin tümüne birden ne ad verilir?

- A) Üretim faktörleri
- B) Bütçe
- C) Ekonomi
- D) Kaynaklar
- E) Beşeri sermaye

13. Aşağıdakilerden hangisi Fatih Sultan Mehmet tarafından yaptırılan Fatih külliyesinin içinde yer almaz?

- A) Kütüphane
- B) İmaret
- C) Tıp medresesi
- D) Kervansaray
- E) Camii

14. Aşağıdakilerden hangisi XVI. Yüzyılda Takiyü'ttin Mehmet tarafından 1578 yılında İstanbul'da kurulmuş, ancak Şeyhülislamın fetvasıyla yıktırılmıştır?

- A) Rasathane
- B) Süleymaniye külliyesi
- C) Sahn-ı seman medreseleri
- D) Kemalpaşazade imarethanesi
- E) Ali Kuşçu kütüphanesi

15. Osmanlı çini sanatının en gelişmiş olduğu dönem aşağıdakilerden hangisidir?

- A) X.
- B) XII.
- C) XIV.
- D) XVI.
- E) XVII.

16. Aşağıdakilerden hangisi Tanzimat'tan itibaren çağdaş toplumun özelliklerinden olan çeşitli düşünce akımlarının temellerinin atıldığı dönemin başlıca düşünce adamlarından biri değildir?

- A) Münif Paşa
- B) Yahya Bey
- C) Ali Suavi
- D) Prens Sabahattin
- E) Şinasi

17. İlk Osmanlı medresesinin 1331 yılında nerede ve kim tarafından açıldığı aşağıdakilerden hangisinde sırasıyla ve birlikte verilmiştir?

- A) İznik, Orhan Bey
- B) Bursa, Orhan Bey
- C) Konya, I. Beyazıt
- D) Bilecik, I. Beyazıt
- E) Söğüt, Osman Bey

18. I. Bâb-ı Ali Mektebi
II. Bâb-ı Defterdarı Mektebi
III. Bâb-ı Fetva Mektebi

Yukarıdakilerden hangileri Enderun dışındaki eğitim ve öğretim kurumlarıdır?

- A) Yalnız I
- B) Yalnız II
- C) I ve II
- D) II ve III
- E) I, II ve III

19. II. Murat zamanında temeli atılan Enderun Mektebi tam anlamıyla aşağıdakilerden hangisi tarafından kurulmuştur?

- A) II. Mahmud
- B) Fatih
- C) Süleyman
- D) IV. Murat
- E) I. Beyazıt

20. I. Dindâr itaatkâr olan ideal insan tipini yetiştirmek
II. Kişilere geçerli bilgileri ve değerleri aktarmak
III. Hedeflenen amaçları gerçekleştirmek için kurulmuş olan kurumlar ile eğitim ve öğretim yapmak

Osmanlı Devleti'nin eğitim işlevleri yukarıdakilerden hangileridir?

- A) Yalnız I
- B) Yalnız II
- C) I ve II
- D) II ve III
- E) I, II ve III

TÜRKİYE CUMHURİYETİ İNKILÂP TARİHİ VE ATATÜRKÇÜLÜK 2

A

2012 3D 0103-A

1. 4-11 Şubat arasında yapılan Yalta Konferansı'na katılan devletler aşağıdakilerden hangisinde bir arada verilmiştir?

- A) İngiltere - ABD - Sovyetler Birliği
- B) ABD - İngiltere - Fransa
- C) Fransa - Almanya - İngiltere
- D) Almanya - İtalya - Rusya
- E) İtalya - Rusya - Çin

2. Türkiye'nin NATO (Kuzey Atlantik İttifakı)'ya katılmak istemesinin en önemli nedeni aşağıdakilerden hangisidir?

- A) Yunanistan'ın saldırgan tutumuna karşı askeri gücünü artırmak istemesi
- B) Ordusunu günün şartlarına uygun olarak yenilemek istemesi
- C) İngiltere tarafından kurulan Orta Doğu Komutanlığı'nın başına geçmek istemesi
- D) Sovyetler Birliği'nin tehditleri
- E) Kore Savaşı'na katılmak istemesi

3. NATO (Kuzey Atlantik İttifakı)'da üye ülkelerin dışişleri bakanlarından oluşan, ittifakın en yetkili organı aşağıdakilerden hangisidir?

- A) NATO Sekreterliği
- B) NATO Asamblesi
- C) NATO Konseyi
- D) NATO Savunma Planlama Komitesi
- E) NATO Askeri Komitesi

4. Sovyetler Birliği'nin Avrupa'daki tehdit ve yayılmasına karşı İngiltere, Fransa, Belçika, Hollanda ve Lüksemburg arasında Mart 1948'de oluşturulmuş ilk askeri ittifak aşağıdakilerden hangisidir?

- A) NATO (Kuzey Atlantik İttifakı)
- B) Batı Avrupa Birliği
- C) Doğu Avrupa İttifakı
- D) Doğu Avrupa Birliği
- E) Kuzey Avrupa Savunma Birliği

5. II. Dünya Savaşı'nın sonuçları ile ilgili aşağıdaki ifadelerden hangisi yanlıştır?

- A) Savaş Mihver Devletleri'nin başarısı ile sonuçlandı.
- B) ABD ve Sovyetler Birliği iki önemli güç olarak dünya siyasetinde etkili hale geldiler.
- C) Savaşın sona Sovyetler Birliği'nin izlediği yayılcı politikayı önlemek için NATO (Kuzey Atlantik İttifakı) kuruldu.
- D) Dünya barışını sağlamakta başarılı olamayan Milletler Cemiyeti yerine Birleşmiş Milletler Teşkilatı kuruldu.
- E) Almanya Doğu ve Batı olmak üzere ikiye ayrıldı.

6. Kurtuluş Savaşı'nın en bunalımlı günlerinde Ankara'da "Maarif Kongresi"nin toplanması aşağıdakilerden hangisine verilen önemi anlatır?

- A) Ekonomi
- B) Ticaret
- C) Sanayi
- D) Tarım
- E) Eğitim

7. Yabancı okullarda bazı derslerin Türk öğretmenler tarafından okutulması ve Türk müfettişler tarafından denetlenmesi esası, hangi antlaşmadaki bir yönetmelikle tespit edilmiştir?

- A) Lozan Antlaşması
- B) Berlin Antlaşması
- C) Montrö Sözleşmesi
- D) Mondros Ateşkes Antlaşması
- E) Ankara Antlaşması

8. Atatürk'ün geçici kabri nerede hazırlanmıştır?

- A) Anıtkabir
- B) Etnografya Müzesi
- C) Topkapı Müzesi
- D) Beylerbeyi Sarayı
- E) Dolmabahçe Sarayı

A

2012 3D 0103-A

9. Toplumda hiç kimsenin diğerlerinden üstün olmadığını, kanun önünde eşit olduğunu savunan ilke aşağıdakilerden hangisidir?

- A) İnkılâpçılık
- B) Cumhuriyetçilik
- C) Halkçılık
- D) Milliyetçilik
- E) Devletçilik

10. Mustafa Kemal Atatürk döneminin temel hedeflerinden biri sanayi kuruluşlarına öncelik vermektir. Ancak halkın elinde bu amaç için yeterli sermaye yoktu. Bu durum aşağıdaki ilkelerden hangisini zorunlu kılmıştır?

- A) İnkılâpçılık
- B) Laiklik
- C) Halkçılık
- D) Cumhuriyetçilik
- E) Devletçilik

11. Ordunun beslenme, barınma, silah, araç-gereç ihtiyacını karşılamak ve vatandaşların askerlik görevlerini düzenlemek aşağıdakilerden hangisinin görevidir?

- A) Genelkurmay Başkanlığı
- B) İçişleri Bakanlığı
- C) Milli Savunma Bakanlığı
- D) Başbakanlık Genel Kurulu
- E) Türkiye Büyük Millet Meclisi

12. Hatay'ın Türkiye Cumhuriyeti'ne katılması sürecinde Fransa başlangıçta karşı olsa da daha sonradan Türkiye'nin isteklerine boyun eğmesinin başlıca nedeni aşağıdakilerden hangisidir?

- A) Cemiyeti Akvam'ın Türkiye lehinde karar vermesi
- B) Türk ordusunun Hatay sınırına gelerek Fransa'ya göz dağı vermesi
- C) Cemiyeti Akvam'da Türkiye'nin Almanya ve İtalya'nın desteğini alarak Fransa üzerinde baskı kurması
- D) 1939 Martından itibaren Avrupa'da II. Dünya Savaşı'na neden olacak tehlikeli gelişmelerin olması.
- E) Hatay Cumhuriyeti'nin bağımsız kalmak yerine Türkiye'ye katılmak istemesi

13. Türkiye Cumhuriyeti'nin ilk başbakanı kimdir?

- A) Abdülhalik Renda
- B) İsmet İnönü
- C) Mustafa Kemal Atatürk
- D) Celal Bayar
- E) Fevzi Çakmak

14. Tevhid-i Tedrisat Kanunu' nun açıklaması aşağıdakilerden hangisidir?

- A) Kültür Birliği
- B) Dil Birliği
- C) Eğitim Politikası
- D) Yeni Tarih Anlayışı
- E) Öğretim Birliği

15. I. Kadınlara istediği mesleği seçme hakkı verilmiştir.
II. Tevhid-i Tedrisat Kanunu çıkartılmıştır.
III. Miladî Takvim kabul edilmiştir.

Cumhuriyet döneminde; yukarıdaki inkılaplar sırasıyla hangi alanlarda yapılmıştır?

- A) Hukuk-Toplumsal-Ekonomi
- B) Hukuk-Ekonomi-Eğitim
- C) Hukuk-Eğitim-Toplumsal
- D) Toplumsal-Eğitim-Ekonomi
- E) Toplumsal-Eğitim-Hukuk

2012 3D 0103-A

16. Aşağıdakilerden hangisi Montrö Boğazlar Sözleşmesi'nin şartlarından biri değildir?

- A) Yabancı savaş gemilerinin boğazlardan geçişlerinin sınırlandırılması
- B) Ticaret gemilerinin, Türk denetimi altında her zaman geçebilmesi
- C) Türkiye'nin, boğazlarda istediği kadar asker bulundurmasının kabul edilmesi
- D) Sözleşmenin, 10 yıl süreyle yürürlükte kalması
- E) Boğazlar komisyonunun kaldırılması

17. Aşağıdaki yeniliklerden hangisi milletlerarası ticari ilişkilerde kolaylık sağlanması amacıyla yapılmıştır?

- A) Ölçü birimlerinin değiştirilmesi
- B) Soyadı Kanunu'nun kabulü
- C) İzmir İktisat Kongresi'nin toplanması
- D) Türkiye İş Bankası'nın kurulması
- E) Toprak reformu yapılması

18. I. Siyasi Güç
II. Polis Gücü
III. Askeri Güç
IV. Ekonomik Güç
V. Deniz Gücü

Yukarıdakilerden hangileri Atatürkçü düşünce sisteminde milli güç unsurlarındandır?

- A) I, II ve IV
- B) I, III ve IV
- C) II, III ve V
- D) II, IV ve V
- E) III, IV ve V

19. Türk kadınına seçme ve seçilme hakkı hangi tarihte verilmiştir?

- A) 1923
- B) 1924
- C) 1930
- D) 1934
- E) 1950

20. Türkler aşağıdaki alfabelerden hangisini kullanmamışlardır?

- A) Uygur alfabesi
- B) Latin alfabesi
- C) Göktürk alfabesi
- D) Arap alfabesi
- E) Japon alfabesi

MATEMATİK 5

A

2012 3D 0103-A

1. $-7i$ karmaşık sayısının eşleniği aşağıdakilerden hangisidir?

- A) -7
- B) $\frac{1}{7}i$
- C) 7
- D) $\sqrt{7}$
- E) $7i$

2. $z_1 = 3 + 4i$ ve $z_2 = -2 + 3i$ ise, $z_1 - z_2$ sayısı aşağıdakilerden hangisidir?

- A) $1 + i$
- B) $1 + 7i$
- C) $5 - 7i$
- D) $5 + i$
- E) $6 + 8i$

3. Karmaşık düzlemde $-3 - 4i$ sayısının orijine olan uzaklığı kaç birimdir?

- A) $\sqrt{5}$
- B) $\sqrt{7}$
- C) 5
- D) 7
- E) 9

4. Aşağıdaki eşitliklerden hangisi yanlıştır?

- A) $\sqrt{-16} = 4i$
- B) $\sqrt{-9} = 3i$
- C) $\sqrt{-2} = 2i$
- D) $\sqrt{-1} = i$
- E) $\sqrt{4} = 2$

5. $P(x) = x^{283} - 3x^{62} + 4x^9$ polinomu veriliyor. $P(i) = ?$

- A) $-4i + 1$
- B) $-i - 3$
- C) $i + 2$
- D) $2i - 5$
- E) $3i + 3$

6. $Z = \sqrt{3} + i$ sayısının kareköklerinden biri aşağıdakilerden hangisidir?

- A) $9(\cos 45^\circ + i \sin 45^\circ)$
- B) $2(\cos 90^\circ + i \sin 90^\circ)$
- C) $\sqrt{3}(\cos 10^\circ + i \sin 10^\circ)$
- D) $\sqrt{2}(\cos 15^\circ + i \sin 15^\circ)$
- E) $(\cos 30^\circ + i \sin 30^\circ)$

7. $z_1 = (3x + 1) - 8i$ ve $z_2 = 13 + (2y - 6)i$ karmaşık sayıları veriliyor.

$z_1 = z_2$ olduğuna göre, x ve y nin değerleri aşağıdakilerden hangisidir?

- | | x | y |
|----|------|------|
| A) | -4 | 1 |
| B) | -2 | 1 |
| C) | 2 | -1 |
| D) | 4 | -2 |
| E) | 4 | -1 |

A

2012 3D 0103-A

8. $z = (4i+5)j + (3 - j)^2 + 9i - 13$ karmaşık sayısının sanal kısmı aşağıdakilerden hangisidir?

A) -9
B) -8
C) 7
D) 8
E) 9

9. $\frac{5 - \sqrt{3}i}{3 + 2\sqrt{3}i}$ işleminin sonucu aşağıdakilerden hangisidir?

A) $\frac{7 - 13\sqrt{3}i}{24}$
B) $\frac{9 - 13\sqrt{3}i}{21}$
C) $\frac{9 + 7\sqrt{3}i}{21}$
D) $\frac{21 - 7\sqrt{3}i}{29}$
E) $\frac{25 + 13\sqrt{3}i}{29}$

10. $z = 3 \cdot (\cos 940^\circ + i \sin 940^\circ)$ karmaşık sayısının esas argümenti kaçtır?

A) 90°
B) 140°
C) 180°
D) 220°
E) 240°

11. $\log \frac{1}{2} + \log \frac{2}{3} + \log \frac{3}{4} + \dots + \log \frac{9}{10}$ işleminin sonucu kaçtır?

A) -2
B) -1
C) 0
D) 1
E) 2

12. $\log_2 6 \cdot \log_5 7 \cdot \log_7 4$ ifadesi aşağıdakilerden hangisine eşittir?

A) $\log_5 4$
B) $2 \cdot \log_5 6$
C) $3 \cdot \log_2 5$
D) $4 \cdot \log_5 3$
E) $7 \cdot \log_2 6$

13. $4^{-3} = \frac{1}{64}$ eşitliğinin, logaritmik ifade olarak yazılışı aşağıdakilerden hangisidir?

A) $\log_4 \frac{1}{64} = -3$
B) $\log_3 4 = \frac{1}{64}$
C) $\log_4 3 = 64$
D) $-3 \log \frac{1}{64} = 4$
E) $\log_4 2 = 16$

14. $\log 264 = a$, $\log 2 = b$ ve $\log 3 = c$ eşitlikleri veriliyor.

Buna göre, $\log 11$ in değeri aşağıdakilerden hangisidir?

A) $a - 3b - c$
B) $a + b - 2c$
C) $a + b + c$
D) $2a + b - c$
E) $3a - 2b + c$

2012 3D 0103-A

15. $f(x) = \log_4(x^2 + x - 2)$ kuralıyla tanımlanan f fonksiyonunun tanımlı olduğu x gerçel sayılarının kümesi aşağıdakilerden hangisidir?

A) $\mathbb{R} - [-3, 2]$
 B) $\mathbb{R} - [-2, 1]$
 C) $(-2, 5)$
 D) $(-4, 2)$
 E) $(3, \infty)$

16. $27^{1-x} = \left(\frac{1}{3}\right)^{5-x}$ ise, x aşağıdakilerden hangisidir?

A) -4
 B) $-\frac{1}{3}$
 C) 0
 D) 1
 E) 2

17. $3\log_2\left(\sin\frac{\pi}{6}\right) : \log_3\left(\cot\frac{\pi}{3}\right)$ işleminin sonucu kaçtır?

A) -3
 B) $-\frac{1}{2}$
 C) 1
 D) 4
 E) 6

18. $2^{3+\log_2 x} = 48$ eşitliğini sağlayan x sayısı kaçtır?

A) 16
 B) 12
 C) 8
 D) 6
 E) 4

19. $\log_2(\log_3 27) = \log_4 x$ eşitliğini sağlayan x sayısı kaçtır?

A) 3
 B) 9
 C) 12
 D) 16
 E) 21

20. $\sqrt{e^{\ln 4} + 10^{\log 21}}$ ifadesinin değeri aşağıdakilerden hangisidir?

A) 2
 B) 3
 C) 4
 D) 5
 E) 6

ALMANCA 2

A

2012 3D 0103-A

Bu testin cevaplarını, cevap anahtarında YABANCI DİL 2 sütununa işaretleyiniz.

1. Die Frau dankt dem Mann.

Welche Frage paßt zur obigen Antwort?

Verilen cevabı gerektirecek soru aşağıdakilerden hangisidir?

- A) Wer ist der Mann?
B) Was macht der Mann?
C) Wem dankt die Frau?
D) Wie geht es der Frau?
E) Wo ist die Frau?

2. Die / schmeckt / gut / Torte / dem / Mädchen

Wie kann man mit den obigen Wortgruppen einen vollständigen Satz bilden?

Verilen sözcük gruplarıyla kurulabilecek en anlamlı ve doğru cümle aşağıdakilerden hangisidir?

- A) Die Mädchen schmeckt dem Torte gut.
B) Die Torte schmeckt dem Mädchen gut.
C) Die Torte gut dem Mädchen schmeckt.
D) Schmeckt dem Torte die Mädchen gut.
E) Die Torte dem Mädchen schmeckt gut.

3. In Ankara regnet es viel. In Bursa regnet es und in Trabzon regnet es am meisten.

Welches Wort paßt in die obige Lücke?

Cümlede boş bırakılan yeri aşağıdakilerden hangisi doğru şekilde tamamlar?

- A) mehrer
B) vieler
C) mehr
D) viele
E) meistens

4. Die Sonne geht

Welches Wort paßt in die obige Lücke?

Cümlede boş bırakılan yeri aşağıdakilerden hangisi doğru şekilde tamamlar?

- A) zu
B) ab
C) auf
D) an
E) aus

5. A: Möchten Sie die rot..... Bluse anprobieren?
B: Nein, die gelb..... Bluse gefällt mir besser.

Welche Endungen passen in die obigen Lücke im obigen Dialog?

Verilen karşılıklı konuşmada boş bırakılan yerleri aşağıdaki soneklerden hangisi doğru şekilde tamamlar?

- A) -en / -en
B) -er / -er
C) -es / -es
D) -e / -e
E) -e / -en

6. Petra nach Hause kam, war sie sehr müde.

Welches Wort paßt in die obige Lücke?

Cümlede boş bırakılan yeri aşağıdakilerden hangisi doğru şekilde tamamlar?

- A) Immer
B) Seit
C) Als
D) Und
E) Weil

7. Meine Tochter fragt,

Welches ergänzt die Lücke im obigen Satz?

Verilen cümleyi aşağıdakilerden hangisi tamamlar?

- A) besuchte ich immer meine Tante.
B) um viele Fremdsprachen zu sprechen.
C) daß wußte ich auch nicht.
D) ob ich nicht mit ihr spielen kann.
E) mache meinen Kindern ein Geschenk.

A

2012 3D 0103-A

8. Ich lerne deutsch, weil ich in Deutschland studieren möchte.

Welche Frage paßt zur obigen Antwort?

Verilen cevabı gerektirecek soru aşağıdakilerden hangisidir?

- A) Sprechen Sie deutsch?
B) Wozu lernen Sie deutsch?
C) Was sind Sie von Beruf?
D) Seit wann sprechen Sie deutsch?
E) Wo haben Sie deutsch gelernt?

9. Ich war sehr müde, als ich gestern abend von der Arbeit kam.

Wie lautet der obige Satz auf türkisch?

Verilen cümlelerin Türkçesi aşağıdakilerden hangisidir?

- A) Akşam eve geldikten sonra yoruldum.
B) Dün evde akşam olunca çok yoruldum.
C) Yorgun olduğum dün akşam eve geç geldim.
D) Dün akşam erken uyudum, çünkü yorgundum.
E) Dün akşam işten eve geldiğimde çok yorgundum.

10. Was willst du trinken? Tee Kaffee?

Welches Wort paßt in die obige Lücke?

Cümlede boş bırakılan yeri aşağıdakilerden hangisi doğru şekilde tamamlar?

- A) damit
B) aber
C) und
D) denn
E) oder

11. Das sind die Kinder, ich Eis gekauft habe.

Welches Wort paßt in die obige Lücke?

Cümlede boş bırakılan yeri aşağıdakilerden hangisi doğru şekilde tamamlar?

- A) deren
B) denen
C) dieses
D) diesen
E) dessen

12. Wie heißt der Junge, du deine Bücher gibst?

Welches Wort paßt in die obige Lücke?

Cümlede boş bırakılan yeri aşağıdakilerden hangisi doğru şekilde tamamlar?

- A) das
B) dem
C) den
D) die
E) der

13. ZDF ist ein Fernsehsender. Ich mag den Sender nicht.

Wie kann man die obigen Sätze verbinden?

Verilen cümlelerin birleştirilmiş hali aşağıdakilerden hangisidir?

- A) ZDF ist der neue Sender.
B) Den Fernsehsender ZDF sehe ich oft.
C) Diesen Sender, der ZDF heißt, kennen alle.
D) Den Sender, der neu ist, mögen wir nicht.
E) ZDF ist ein Fernsehsender, den ich nicht mag.

14. Wie bedeutet das Wort "yapı tasarruf kurumu" auf deutsch?

"yapı tasarruf kurumu" sözcüğünün Almancası aşağıdakilerden hangisidir?

- A) Die Ansparungskasse
B) Die Bauangebote
C) Die Kreditkasse
D) Die Bausparkasse
E) Die Zinslaufzeit

15. Weil ich einen Kredit brauche.

Welche Frage paßt zur obigen Antwort?

Verilen cevabı gerektirecek soru aşağıdakilerden hangisidir?

- A) Wozu lernst du immer Deutsch?
B) Woher hast du das Geld für dein Ferienhaus an der Nordsee?
C) Wie kommt man von hier direkt zur Bank?
D) Wann willst du dir ein neues Haus kaufen?
E) Warum holst du dir Angebote von der Bausparkasse und der Bank?

2012 3D 0103-A

16. Wann ihr eure Hausaufgaben

Welche Wörter passen in die obigen Lücken?**Cümlede boş bırakılan yerleri aşağıdakilerden hangileri doğru şekilde tamamlar?**

- A) werdet / machen
- B) wird / seien
- C) werden / machten
- D) wird / macht
- E) werdet / seien

17. Eğer zaman kalırsa!

Wie lautet der obige Satz auf deutsch?**Verilen cümlelerin Almancası aşağıdakilerden hangisidir?**

- A) Ob ich wohl noch Zeit hätte!
- B) Damit ich Zeit dafür finden kann!
- C) Wenn noch Zeit übrigbleibt!
- D) Weil ich viel Zeit übrig habe!
- E) Daß heißt, ich habe viel Zeit übrig!

18. Wahrscheinlich meine Mutter mich vom Bahnhof abholen.

Welches Wort paßt in die obige Lücke?**Cümlede boş bırakılan yeri aşağıdakilerden hangisi doğru şekilde tamamlar?**

- A) wird
- B) werde
- C) werden
- D) würde
- E) wirst

19. Er hat sich neue Bücher ausgeliehen,
.....**Welches ergänzt die Lücke im obigen Satz?****Verilen cümleyi aşağıdakilerden hangisi tamamlar?**

- A) die er heute Abend lesen wird.
- B) denn er hat Hunger.
- C) du kannst auch mitkommen.
- D) denen Freunde treffen sich heute.
- E) deren Freunde heute kommen.

20. Wenn noch Zeit übrig bleibt, können wir ins Theater gehen.

Wie lautet der obige Satz auf türkisch?**Verilen cümlelerin Türkçesi aşağıdakilerden hangisidir?**

- A) Zamanımız olmadığı için tiyatroya gidemeyiz.
- B) Eğer istersen tiyatroya gidebiliriz.
- C) Tiyatroya gidebilmek için zamanımız kısıtlı.
- D) Eğer zaman kalırsa tiyatroya gidebiliriz.
- E) Tiyatro için çok zamana ihtiyacımız var.

FRANSIZCA 2

A

2012 3D 0103-A

Bu testin cevaplarını, cevap anahtarında YABANCI DİL 2 sütununa işaretleyiniz.

1. Il faut se dépêcher pour ne pas l'avion.

Choisissez le mot qui convient.

Cümledeki boşluğu aşağıdakilerden hangisi doğru şekilde tamamlar?

- A) partir
- B) conduire
- C) manquer
- D) sortir
- E) voyager

2. Ils aiment voyager..... train.

Choisissez le mot qui convient.

Cümledeki boşluğu aşağıdakilerden hangisi doğru şekilde tamamlar?

- A) au
- B) en
- C) le
- D) une
- E) à

3. J'ai cherché mon parapluie partout je ne l'ai pas trouvé.

Choisissez le mot qui convient.

Cümledeki boşluğu aşağıdakilerden hangisi doğru şekilde tamamlar?

- A) car
- B) donc
- C) mais
- D) or
- E) ou

4. - combien de temps tu travailles dans cette banque?
- Je travaille ici depuis six ans.

Choisissez le mot qui convient.

Yukarıdaki konuşmada boş bırakılan yeri aşağıdakilerden hangisi doğru şekilde tamamlar?

- A) Dans
- B) Quand
- C) Depuis
- D) Comment
- E) Donc

5. - Qu'est-ce que tu préfères? Le thé le café?
- Le café, bien sûr.

Choisissez le mot qui convient.

Yukarıdaki konuşmada boş bırakılan yeri aşağıdakilerden hangisi doğru şekilde tamamlar?

- A) car
- B) mais
- C) donc
- D) ou
- E) et

6. En 2002, j'(je) à İstanbul.

Choisissez le mot qui convient.

Cümledeki boşluğu aşağıdakilerden hangisi doğru şekilde tamamlar?

- A) vais
- B) été
- C) étais
- D) ai
- E) serai

A

2012 3D 0103-A

7. Comme elle était malade, elle n'est pas venue à l'école.

Choisissez la traduction qui convient.

Yukarıdaki cümlelerin Türkçe karşılığı aşağıdakilerden hangisidir?

- A) Okula gelmedi, çünkü o çok hasta.
B) Hasta olsa bile okula gitmek ister.
C) Hastalandığından beri okula gelmiyor.
D) Hasta olduğu için okula gelmedi.
E) Okula gelmeme nedeni hasta olması.

8. I. Pour aller au Musée d'Atatürk
II. Visiter les musées, c'est intéressant
III. Vous traversez cette rue
IV. Vous tournez à gauche
V. C'est juste en face

Choisissez la phrase qui ne convient pas à l'ensemble.

Sırasıyla okunduğunda anlam bütünlüğünü bozan cümle aşağıdakilerden hangisidir?

- A) I
B) II
C) III
D) IV
E) V

9. Le match va commencer deux heures.

Choisissez le mot qui convient.

Cümledeki boşluğu aşağıdakilerden hangisi doğru şekilde tamamlar?

- A) quand
B) combien
C) depuis
D) comme
E) en

10. hiver, il fait froid.

Choisissez le mot qui convient.

Cümledeki boşluğu aşağıdakilerden hangisi doğru şekilde tamamlar?

- A) Le jour
B) De
C) Au
D) Le mois
E) En

11. Je te présente mon ami vit à l'étranger.

Choisissez le mot qui convient.

Cümledeki boşluğu aşağıdakilerden hangisi doğru şekilde tamamlar?

- A) ce que
B) qui
C) que
D) où
E) ce qui

12. 29 Octobre est la fête de la République en Turquie.

Choisissez le mot qui convient.

Cümledeki boşluğu aşağıdakilerden hangisi doğru şekilde tamamlar?

- A) Quand
B) Le
C) Au
D) Depuis
E) En

13. Dites-moi vous aimez.

Choisissez le mot qui convient.

Cümledeki boşluğu aşağıdakilerden hangisi doğru şekilde tamamlar?

- A) où
B) c'est
C) ce qui
D) toi
E) ce que

2012 3D 0103-A

14. - D'où venez-vous?

-

Choisissez la réponse qui convient.**Yukarıdaki konuşmada boş bırakılan yeri aşağıdakilerden hangisi doğru şekilde tamamlar?**

- A) J'ai trente ans.
- B) Je suis marié.
- C) De temps en temps.
- D) De Belgique.
- E) Je suis médecin.

15. -

- Oui, ils y vont.

Choisissez la question qui convient.**Yukarıdaki konuşmada cevabı gerektiren soru aşağıdakilerden hangisidir?**

- A) Qu'est-ce qu'ils font
- B) Qu'est-ce qu'ils pensent
- C) Où est-ce qu'ils viennent
- D) Quand est-ce qu'ils vont partir
- E) Est-ce qu'ils vont au cinéma

16. Tous les garçons aiment jouer football.

Choisissez le mot qui convient.**Cümledeki boşluğu aşağıdakilerden hangisi doğru şekilde tamamlar?**

- A) au
- B) à
- C) du
- D) les
- E) aux

17. En quelle année sommes-nous?

Choisissez la traduction qui convient.**Yukarıdaki cümlelerin Türkçe karşılığı aşağıdakilerden hangisidir?**

- A) Hangi aydayız?
- B) Hangi mevsimdeyiz?
- C) Hangi yıldayız?
- D) Kaçınıcı haftadayız?
- E) Bugün günlerden ne?

18. Otel otobüs durağının karşısındadır.

Choisissez la traduction qui convient.**Yukarıdaki cümlelerin Fransızca karşılığı aşağıdakilerden hangisidir?**

- A) L'hôtel est en face de l'arrêt d'autobus.
- B) À côté de l'arrêt d'autobus, il y a un hôtel.
- C) L'hôtel et l'arrêt d'autobus sont en face.
- D) En face de l'arrêt d'autobus, il y a un hôtel.
- E) À côté de l'hôtel, il y a l'arrêt d'autobus.

19. Quand je lui ai téléphoné, il déjà sorti.

Choisissez le mot qui convient.**Cümledeki boşluğu aşağıdakilerden hangisi doğru şekilde tamamlar?**

- A) était
- B) est
- C) a
- D) avait
- E) été

20. Nous au bord de la mer la semaine prochain.

Choisissez le mot qui convient.**Cümledeki boşluğu aşağıdakilerden hangisi doğru şekilde tamamlar?**

- A) allons
- B) vont
- C) allez
- D) irons
- E) sommes allés

İNGİLİZCE 2

A

2012 3D 0103-A

Bu testin cevaplarını, cevap anahtarında YABANCI DİL 2 sütununa işaretleyiniz.

1. Jack had never a penguin before he went to a zoo.

Which of the following completes the sentence above?

Aşağıdakilerden hangisi yukarıdaki cümleyi doğru olarak tamamlar?

- A) has seen
- B) see
- C) seen
- D) sees
- E) saw

2. After we the museum, we had lunch.

Which of the following completes the sentence above?

Aşağıdakilerden hangisi yukarıdaki cümleyi doğru olarak tamamlar?

- A) visiting
- B) had visited
- C) visit
- D) has visited
- E) will visit

3. The film had finished when Sue arrived.

Which of the following completes the sentence above?

Aşağıdakilerden hangisi yukarıdaki cümleyi doğru olarak tamamlar?

- A) before
- B) after
- C) just
- D) until
- E) yet

4. Mary : Why didn't you have breakfast with Paul?
Jill : Because I had had my breakfast .

Which of the following completes the dialogue above?

Aşağıdakilerden hangisi yukarıdaki konuşmayı doğru olarak tamamlar?

- A) before
- B) by the time
- C) already
- D) until
- E) after

5. By the time I at the airport, the plain had already left.

Which of the following completes the sentence above?

Aşağıdakilerden hangisi yukarıdaki cümleyi doğru olarak tamamlar?

- A) will arrive
- B) arriving
- C) arrives
- D) arrived
- E) arrive

6. I arrived at the bus station, the bus had left.

Which of the following completes the sentence above?

Aşağıdakilerden hangisi yukarıdaki cümleyi doğru olarak tamamlar?

- A) What
- B) Where
- C) When
- D) Which
- E) Who

A

2012 3D 0103-A

7. I hadn't known Uğur we met at Filiz's party last month.

Which of the following completes the sentence above?

Aşağıdakilerden hangisi yukarıdaki cümleyi doğru olarak tamamlar?

- A) just
B) yet
C) after
D) until
E) already

8. Ann : Are you a doctor?
Kate : Yes, I am.
Mike : What does Kate want to know?
Ann : She wants to know if I a doctor.

Which of the following completes the dialogue above?

Aşağıdakilerden hangisi yukarıdaki konuşmayı doğru olarak tamamlar?

- A) had been
B) am
C) have been
D) was
E) are

9. Jack : "I can swim well."
Jack said that he well.

Which of the following completes the sentence above?

Aşağıdakilerden hangisi yukarıdaki cümleyi doğru olarak tamamlar?

- A) swimming
B) has swum
C) swam
D) may swim
E) could swim

10. Betty asked George he was a teacher.

Which of the following completes the sentence above?

Aşağıdakilerden hangisi yukarıdaki cümleyi doğru olarak tamamlar?

- A) where
B) who
C) what
D) which
E) whether

11. Ann said, "I have forgotten to call Peter."
Ann said that she to call Peter.

Which of the following completes the sentence above?

Aşağıdakilerden hangisi yukarıdaki cümleyi doğru olarak tamamlar?

- A) forgetting
B) had forgotten
C) has forgotten
D) forgot
E) forget

12. Bob asked Jack, "Do you know Spanish?"
Bob wanted to know if Jack Spanish.

Which of the following completes the sentence above?

Aşağıdakilerden hangisi yukarıdaki cümleyi doğru olarak tamamlar?

- A) has known
B) knew
C) known
D) will know
E) know

13. Mary said to Jane, "I will visit you tomorrow."
Mary said that she Jane the next day.

Which of the following completes the sentence above?

Aşağıdakilerden hangisi yukarıdaki cümleyi doğru olarak tamamlar?

- A) has visited
B) visits
C) may visit
D) visiting
E) would visit

2012 3D 0103-A

14. Dean said, "I bought a new car yesterday."
Dean said that he had bought a new car
.....

Which of the following completes the sentence above?

Aşağıdakilerden hangisi yukarıdaki cümleyi doğru olarak tamamlar?

- A) before
B) then
C) that day
D) the day before
E) the next day

15. Chinese is in China.

Which of the following completes the sentence above?

Aşağıdakilerden hangisi yukarıdaki cümleyi doğru olarak tamamlar?

- A) speak
B) speaks
C) spoke
D) speaking
E) spoken

16. A lot of roses have been in the garden.

Which of the following completes the sentence above?

Aşağıdakilerden hangisi yukarıdaki cümleyi doğru olarak tamamlar?

- A) planted
B) planting
C) plant
D) is planting
E) will plant

17. John by a thief last night.

Which of the following completes the sentence above?

Aşağıdakilerden hangisi yukarıdaki cümleyi doğru olarak tamamlar?

- A) has robbed
B) will rob
C) was robbed
D) robbing
E) robbed

18. The dishes by my sister at the moment.

Which of the following completes the sentence above?

Aşağıdakilerden hangisi yukarıdaki cümleyi doğru olarak tamamlar?

- A) are being washed
B) are washing
C) is washed
D) were washed
E) has washed

19. A hotel will next to the cinema.

Which of the following completes the sentence above?

Aşağıdakilerden hangisi yukarıdaki cümleyi doğru olarak tamamlar?

- A) be built
B) build
C) built
D) is built
E) was built

20. A thief stole Ann's purse.

Which of the following is the passive voice of the sentence above?

Aşağıdakilerden hangisi yukarıdaki cümlenin edilgen yapıda kurulmuş biçimidir ?

- A) A thief has stolen Ann's purse.
B) Ann's purse has been stolen by a thief.
C) Ann's purse had been stolen by a thief.
D) Ann's purse was stolen by a thief.
E) Ann's purse is stolen by a thief.

2012 3D 0103-A

1. Televizyon açıkken seyretmek yerine kitap okuyan bireyin televizyonda ilgisini çeken bir haberi duymasıyla kitabı bırakıp televizyondaki programı izlemeye başlaması aşağıdakilerden hangisine bir örnektir?

A) Algıda beklentiye
B) Derinlik algısına
C) Algıda örgütlenmeye
D) Algıda seçiciliğe
E) Algıda değişmezliğe

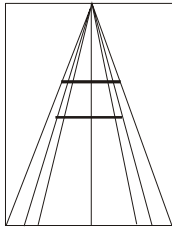
2. Aşağıdakilerden hangisi, fizyolojik güdülerin özelliklerinden biri değildir?

A) Organizmanın varlığını ve soyunu sürdürme gereksiniminden doğması
B) Bu gereksinimler doyurulmadığında organizmanın dengesinin bozulması
C) Fizyolojik güdülerin bütün canlılarda bulunması
D) Doğuştan gelmesi
E) İnsanın sosyal ve kültürel ihtiyaçlarından doğması

3. İnsan kulağının bir sesi duyabilmesi için bu sesin öncelikle aşağıdaki koşullardan hangisini taşıması gerekir?

A) Hoşlanılan bir ses olması
B) Kişinin beklentilerine uygun olması
C) Şiddetinin alt ve üst duyum eşikleri arasında bulunması
D) Diğer seslerden farklı olması
E) Birden bire ortaya çıkması

4.



Yukarıdaki yatay çizgiler aynı uzunluktadır. Ancak üstteki yatay çizgi, alttakinden uzun görülür.

Bu durum aşağıdakilerden hangisine örnektir?

A) Algıda seçicilik
B) Derinlik algısı
C) Algıda değişmezlik
D) Devinim algısı
E) Nesne-fon ilişkisi

5. Dikkatin belirli bir nesne üzerinde yoğunlaştırılmasıyla yaratılan suni uyku durumuna ne ad verilir?

A) Bağımlılık
B) Uyurgezerlik
C) Meditasyon
D) Rüya görme
E) Hipnoz

6. Aşağıdaki konulardan hangisi, Antropoloji ile ilgilidir?

A) İlkel toplumlar
B) Akıl hastalıkları
C) İç salgı bezleri
D) Anormal insan davranışları
E) İnsan ihtiyaçları

7. Aşağıdaki kelime çiftlerinden hangisi bellekte bilgiyi örgütlemek üzere kullanılan çağrışım ilkelerine (benzerlik, zıtlık, eş zamanlılık, aynı yerde olma vb.) uygunluk göstermez?

A) Ak-kara
B) Defter-kitap
C) Masa-gözlük
D) Sıcak-soğuk
E) Kaşık-çatal

8. Kinestezinin (kassal duyum) tanımı aşağıdakilerden hangisidir?

A) Renklerin tonunu ayırdedebilmektir.
B) Organların hareket halinde oluşunu duyabilmektir.
C) Vücudun dengesini sağlayabilmektir.
D) Başkalarına karşı iyi duygular besleyebilmektir.
E) İç organlara yapılan basıncı hissetmektir.

9. Şişman bir kişinin rejim yapması, hasta bir kişinin ilaç içmesi, üşüyen bir kişinin palto giymesi organizmada daha çok aşağıdakilerden hangisini sağlamaya yöneliktir?

A) Dengelenme
B) Aşırı uyarım
C) Güdülenme
D) Yetersiz uyarım
E) Etkileşim

2012 3D 0103-A

10. Pavlov, çingırak sesine koşullanan bir köpeğin, zil sesine de aynı koşullu tepkiyi gösterdiğini saptamıştır.

Bu durum, koşullu öğrenmeyle ilgili aşağıdaki kavramlardan hangisiyle açıklanabilir?

- A) Klasik koşullanmada canlanma
B) Koşullu tepkinin sönmesi
C) Klasik koşullanmada genelleme
D) Klasik koşullanmada ayırtetme
E) Koşullu tepkinin pekiştirilmesi
11. **Aşağıdakilerden hangisi, psikolojinin amaçlarından biri değildir?**
- A) Ergenlik konusunda elde edilen bilgilerle ergenlerin sorunlarına çözüm bulması
B) İnsanın çevresine uyum sağlamasında yardımcı olması
C) İnsan davranışlarını inceleyerek genel yasalara varması
D) Toplum yapısını ve toplumsal sistemleri incelemesi
E) Elde edilen psikolojik bilgileri eğitim alanında kullanarak başarıyı yükseltmesi
12. Organizmaya etki eden, duyu organlarını harekete geçiren her türlü etkiye uyarıcı denir. Duyuma neden olan uyarıcılar dış uyarıcılardır. Davranıma neden olan uyarıcılar ise iç etkenlerdir.
- Buna göre aşağıdaki ifadelerden hangisi, dış uyarıcının oluşturduğu duyuma neden olur?**
- A) Ders çalışmaktan yorgun düşmüştü.
B) Baş ağrısından dersi doğru dürüst dinleyemedi.
C) Susuzluk onun canına tak etmişti.
D) Uykusuzluktan ayakta duramıyordu.
E) Çok tuzlu olduğundan yemeği yiyemedi.
13. **Öğretmenimiz gibi konuşmaya çalışmamız aşağıdakilerden hangisine örnek olur?**
- A) Bilişsel öğrenmeye
B) Sezgisel öğrenmeye
C) Model alarak öğrenmeye
D) Motor öğrenmeye
E) Koşullu öğrenmeye
14. **Aşağıdakilerden hangisi çözülmesi gereken bir problemi sonuçlandırmak için, yapılması gereken işlemlerden biri değildir?**
- A) Bilinç altına atmak
B) Akıl yürütmek
C) Yeni çözüm yolları aramak
D) Problemi yeniden gözden geçirmek
E) Probleme ilgili araştırma yapılarak bilgi toplamak

15. **Yeni bir eve taşındıktan bir süre sonra, artık eski evimizin adresini hatırlamayız. Bu durum aşağıdakilerden hangisine bir örnektir?**

- A) Organik nedenli unutma
B) Geriye ket vurma
C) Yeterli öğrenme yapılmaması
D) İleriye ket vurma
E) Bilinç altına atma

16. **Aşağıdakilerden hangisi uzun süreli belleğin özelliklerinden biri değildir?**

- A) Bilgiler anlam ilişkisi yönünden örgütlenmiştir.
B) Zaman sınırı çok geniştir.
C) Tam bir unutma olmaz.
D) Bilgi alma kapasitesi çok dardır.
E) Bilginin örgütlenişi hatırlamaya ipucu verir.

17. **Bellekte kodlanmış olan imgelerin gerektiği zaman yeniden bilinç düzeyine çıkarılması, yani yeniden zihinde canlandırılmasına ne ad verilmektedir?**

- A) Sembol
B) Akıl yürütme
C) Kavram
D) Yaratıcı düşünce
E) Tasarım

18. **Aşağıdakilerden hangisi problem çözmek için gerekli olan etmenlerden biri değildir?**

- A) Problem çözme aşamasında aşırı kaygılanmak
B) Problemi çözmek için güdülenmiş olmak
C) Probleme ilişkili temel bilgileri kazanmış olmak
D) Temel öğrenme kapasitesine sahip olmak
E) Akıl yürütme yeteneğine sahip olmak

19. **"Zihinde var olan yargılara dayanarak yeni bir yargıya varma" ifadesi, aşağıdaki kavramlardan hangisini tanımlamaktadır?**

- A) Sembol
B) İmge
C) Problem çözme
D) Akıl yürütme
E) Soyutlama

20. **"Klinik psikoloji" psikolojinin aşağıdaki uygulama alanlarından hangisiyle ilgilidir?**

- A) Eğitim
B) Tıp
C) Adalet
D) Ordu
E) Ticaret

ALMANCA 5

A

2012 3D 0103-A

Bu testin cevaplarını, cevap anahtarında YABANCI DİL 5 sütununa işaretleyiniz.

1. Carl Lewis ist der Läufer der Welt.

Welches Wort paßt in die obige Lücke?

Cümlede boş bırakılan yeri aşağıdakilerden hangisi doğru olarak tamamlar?

- A) schneller
- B) höchste
- C) schnell
- D) höchster
- E) schnellste

2. Ein Auto ist ein Fahrrad.

Welches Wort paßt in die obige Lücke?

Cümlede boş bırakılan yeri aşağıdakilerden hangisi doğru şekilde tamamlar?

- A) teuersten
- B) teureren wie
- C) schnellsten
- D) schneller als
- E) schnell wie

3. Das ist der Mann, Haus abgebrannt ist.

Welches Wort paßt in die obige Lücke?

Cümlede boş bırakılan yeri aşağıdakilerden hangisi doğru şekilde tamamlar?

- A) das
- B) dem
- C) dessen
- D) denen
- E) der

4. Ich lese jeden Tag mindestens eine Zeitung, ich die Neuigkeiten verfolgen möchte.

Welches Wort paßt in die obige Lücke?

Cümlede boş bırakılan yeri aşağıdakilerden hangisi doğru şekilde tamamlar?

- A) um
- B) weil
- C) damit
- D) wo
- E) über

5. Wir leben in Deutschland,

Welches ergänzt nicht die Lücke im obigen Satz?

Verilen cümleyi aşağıdakilerden hangisi tamamlamaz?

- A) weil Deutschland sehr schön ist.
- B) weil wir hier arbeiten.
- C) weil ich meinen Führerschein vergessen habe.
- D) um hier eine Karriere zu machen.
- E) damit unsere Kinder Deutsch lernen können.

6. Ahmet hat 14.00 Uhr 18.00 Uhr Mathematikunterricht.

Welche Wörter passen in die obigen Lücken?

Cümlede boş bırakılan yerleri aşağıdakilerden hangileri doğru şekilde tamamlar?

- A) an / vom
- B) von / bis
- C) seit / nur
- D) im / bis
- E) am / seit

7. Juni, Juli und August sind die

Welches Wort paßt in die obige Lücke?

Cümlede boş bırakılan yeri aşağıdakilerden hangisi doğru şekilde tamamlar?

- A) Schneemonate
- B) Herbstmonate
- C) Wintermonate
- D) Sommermonate
- E) Frühlingsmonate

A

2012 3D 0103-A

8. Wie lange treibst du Sport?

Welche Antwort paßt zur obigen Frage?

Verilen sorunun cevabı aşağıdakilerden hangisidir?

- A) Ungefähr zwei Stunden in der Woche.
- B) Ich ziehe mich immer sportlich an.
- C) Ich gehe selten ins Kino.
- D) Manchmal esse ich im Restaurant.
- E) Abends bin ich immer sehr müde.

9. Klaus: Was du machen, wenn du ein Superstar?

Maria: Ich würde viele Konzerte geben und immer singen!

Klaus: Dann du auch viel Geld!

Maria: Natürlich!

Welche Wörter passen in die Lücken im obigen Dialog?

Verilen karşılıklı konuşmada boş bırakılan yerleri aşağıdakilerden hangileri tamamlar?

- A) wärst / wird / hat
- B) kannst / bist / hast
- C) wäre / seist / hättest
- D) würdest / wärst / hättest
- E) würdest / wirst / hätten

10. Jürgen: Bist du allein ins Theater gegangen?

Tina: Ja, leider!

Jürgen: Das ist Schade.

Tina: Na ja, dann ein anderes Mal.

Welches ergänzt den obigen Dialog?

Verilen karşılıklı konuşmayı aşağıdakilerden hangisi tamamlar?

- A) Das Theater ist doch zu weit!
- B) Ich gehe nie ins Theater!
- C) Das Spiel hatte ich schon gesehen!
- D) Wir haben viel über dieses Theaterspiel gehört.
- E) Ich wäre doch mit dir gegangen!

11. Bist du nicht zu Hause?

Wir dachten, du zu Hause.

Welches Wort paßt in die obige Lücke?

Cümlede boş bırakılan yeri aşağıdakilerden hangisi doğru olarak tamamlar?

- A) wärst
- B) wäret
- C) wärt
- D) wären
- E) wäre

12. Thomas lieber mit Sandra

Welche Wörter passen in die obigen Lücken?

Cümlede boş bırakılan yerleri aşağıdakilerden hangileri doğru olarak tamamlar?

- A) würde / tanzen sein
- B) wird / getanzt
- C) würde / tanzen
- D) wird / tanzen sein
- E) wird / tanzen wollte

13. Sie die Prüfung bestehen.

Welches Wort paßt in die obige Lücke?

Cümlede boş bırakılan yeri aşağıdakilerden hangisi doğru şekilde tamamlar?

- A) werdet
- B) wird
- C) wirst
- D) wäre
- E) war

14. Ich habe von der Wettervorhersage gehört, es heute in Berlin keinen Regen.

Welches Wort paßt in die obige Lücke?

Cümlede boş bırakılan yeri aşağıdakilerden hangisi doğru şekilde tamamlar?

- A) habt
- B) habe
- C) wäre
- D) seid
- E) sein

2012 3D 0103-A

15. Der Film ist einem guten Regisseur gedreht worden.

Welches Wort paßt in die obige Lücke?

Cümlede boş bırakılan yeri aşağıdakilerden hangisi doğru olarak tamamlar?

- A) von
B) auf
C) in
D) an
E) zu

16. Bana hasta olduğu söylendi.

Wie lautet der obige Satz auf deutsch?

Verilen cümlelerin Almanca karşılığı aşağıdakilerin hangisinde doğru olarak verilmiştir?

- A) Mir ist gesagt worden, sie wird krank.
B) Mir sagte sie, sie wäre krank.
C) Mir hat sie gesagt, daß sie krank war.
D) Mir wurde gesagt, sie sei krank.
E) Mir wäre gesagt, sie wäre krank gewesen.

17. Der Mann, Sohn heute heiratet, ist sehr nervös.

Welche Wörter passen in die obigen Lücken?

Cümlede boş bırakılan yerleri aşağıdakilerden hangileri doğru olarak tamamlar?

- A) deren
B) den
C) dem
D) denen
E) dessen

18. Ankara'ya giden otobüs saat 20:30'da hareket edecek.

Wie lautet der obige Satz auf deutsch?

Verilen cümlelerin Almanca karşılığı aşağıdakilerin hangisinde doğru olarak verilmiştir?

- A) Der Bus, der nach Ankara fährt, fährt um 20:30 Uhr ab.
B) Der Bus, mit dem du nach Ankara fahren willst, fährt um 20:30 Uhr ab.
C) Um 20:30 Uhr ist der Bus nach Ankara abgefahren.
D) Um 20:30 Uhr wird der Ankara Bus abgefahren sein.
E) Nach Ankara fährt der Bus nur um 20:30 Uhr ab.

19. Menschen, krank, müssen im Bett bleiben.

Welche Wörter passen in die obigen Lücken?

Cümlede boş bırakılan yerleri aşağıdakilerden hangileri doğru olarak tamamlar?

- A) die / hätten
B) das / wären
C) den / seien
D) der / hat
E) die / sind

20. Das Kind,, kommt aus Berlin.

Welches ergänzt den obigen Satz?

Yukarıdaki cümleyi aşağıdakilerden hangisi doğru olarak tamamlar?

- A) die immer zu uns kommen
B) dem neu verheiratet ist
C) das du gestern kennengelernt hast
D) der du ein Buch geschenkt hast
E) die sehr reich sind

2012 3D 0103-A

Bu testin cevaplarını, cevap anahtarında YABANCI DİL 5 sütununa işaretleyiniz.

1. C'est le jardin ma fille aime les roses.

Choisissez le mot qui convient.

Cümledeki boşluğu aşağıdakilerden hangisi doğru şekilde tamamlar?

- A) qui
B) bord
C) à
D) voilà
E) dont

2. Il raconte une histoire est amusante.

Choisissez le mot qui convient.

Cümledeki boşluğu aşağıdakilerden hangisi doğru şekilde tamamlar?

- A) lettre
B) sera
C) où
D) qui
E) mon

3. L'appartement elle habite est très grand.

Choisissez le mot qui convient.

Cümledeki boşluğu aşağıdakilerden hangisi doğru şekilde tamamlar?

- A) plus
B) pourquoi
C) où
D) d'
E) mes

4. La robe ma mère a choisi coûte 50 euros.

Choisissez le mot qui convient.

Cümledeki boşluğu aşağıdakilerden hangisi doğru şekilde tamamlar?

- A) sont
B) que
C) qui
D) où
E) dernière

5. A : - Elle travaille où?
B : -

Choisissez la réponse qui convient.

Yukarıdaki konuşmada boş bırakılan yeri aşağıdakilerden hangisi doğru şekilde tamamlar?

- A) Elle part en vacances.
B) Elle habite à İstanbul.
C) Elle travaille dans une banque.
D) Elle aime faire du ski.
E) Elle travaille sans cesse.

6. Chaque, ils vont au bord de la mer.

Choisissez le mot qui convient.

Cümledeki boşluğu aşağıdakilerden hangisi doğru şekilde tamamlar?

- A) comme
B) été
C) tous
D) seul
E) hiver

2012 3D 0103-A

7. Tu partiras en vacances comment ? ou en famille ?

Choisissez le mot qui convient.

Cümledeki boşluğu aşağıdakilerden hangisi doğru şekilde tamamlar?

- A) Voyage
B) Autre
C) Moi
D) Seul
E) L'étranger

8. Les étudiants marcheront

Choisissez le mot qui convient.

Cümledeki boşluğu aşağıdakilerden hangisi doğru şekilde tamamlar?

- A) en chantant
B) chanté
C) chanteuse
D) chanteront
E) chantaient

9. Des enfants sont venus.

Choisissez le mot qui convient.

Cümledeki boşluğu aşağıdakilerden hangisi doğru şekilde tamamlar?

- A) visité
B) elles
C) quand
D) obéissants
E) combien

10. Il a rencontré son ami de l'école.

Choisissez le mot qui convient.

Cümledeki boşluğu aşağıdakilerden hangisi doğru şekilde tamamlar?

- A) sortira
B) sors
C) est sortie
D) sortez
E) en sortant

11. A : - Qu'est-ce que tu as fait hier soir?
B : -

Choisissez la réponse qui convient.

Yukarıdaki konuşmada boş bırakılan yeri aşağıdakilerden hangisi doğru şekilde tamamlar?

- A) Je suis allée au concert.
B) Je vais partir pour Paris.
C) J'aime la musique classique.
D) J'habite à Paris.
E) Je suis technicien.

12. Il est tombé en courant.

Choisissez la traduction qui convient.

Yukarıdaki cümlelerin Türkçe karşılığı aşağıdakilerden hangisidir?

- A) Yürürken birden düşüverdi.
B) Koşmadan duramaz.
C) Koşarken düştü.
D) Yürümeyi çok sever.
E) Çok hızlı koşar.

13. en chantant / fait / ménage / le / elle
I II III IV V

Mettez dans le bon ordre.

Yukarıdaki kelimelerin anlamlı ve kurallı bir cümle oluşturan sırası aşağıdakilerin hangisinde doğru olarak verilmiştir?

- A) V, IV, II, I, III
B) V, II, IV, III, I
C) IV, III, I, V, II
D) III, V, II, IV, I
E) I, IV, II, V, III

2012 3D 0103-A

14. Elle joue piano chaque jour.

Choisissez le mot qui convient.**Cümledeki boşluğu aşağıdakilerden hangisi doğru şekilde tamamlar?**

- A) les
- B) du
- C) dans
- D) en
- E) une

15. Elle part vacances chaque été.

Choisissez le mot qui convient.**Cümledeki boşluğu aşağıdakilerden hangisi doğru şekilde tamamlar?**

- A) en
- B) à
- C) y
- D) de
- E) les

16. On peut pique-niquer en forêt quand

Complétez la phrase avec la proposition qui convient.**Yukarıdaki cümleyi aşağıdaki ifadelerden hangisi doğru şekilde tamamlar?**

- A) il fait du gris.
- B) il neige.
- C) il y a du vent.
- D) il fait beau.
- E) il pleut.

17. J'ai vu mon neveu venant de l'école.

Choisissez la traduction qui convient.**Yukarıdaki cümlelerin Türkçe karşılığı aşağıdakilerden hangisidir?**

- A) Yeğenimle okuldan birlikte döndük.
- B) Yeğenimle okulda karşılaştık.
- C) Yeğenimi okulda gördüm.
- D) Yeğenimi okula götürdüm.
- E) Yeğenimi okuldan gelirken gördüm.

18. Choisissez le synonyme du verbe "se distraire".

"Se distraire" fiilinin eşanlamlısı aşağıdakilerden hangisidir?

- A) s'amuser
- B) se reposer
- C) s'ennuyer
- D) s'intéresser
- E) s'entendre

19. Monique un championnat de ping-pong chaque samedi.

Choisissez le mot qui convient.**Cümledeki boşluğu aşağıdakilerden hangisi doğru şekilde tamamlar?**

- A) veut
- B) passe
- C) va
- D) joue
- E) organise

20. les / j'aime / brillantes / lumières
I II III IV**Mettez dans le bon ordre.****Yukarıdaki kelimelerin anlamlı ve kurallı bir bütün oluşturan sırası aşağıdakilerin hangisinde doğru olarak verilmiştir?**

- A) I, III, IV, II
- B) II, I, III, IV
- C) II, I, IV, III
- D) III, IV, II, I
- E) III, IV, I, II

İNGİLİZCE 5

A

2012 3D 0103-A

Bu testin cevaplarını, cevap anahtarında YABANCI DİL 5 sütununa işaretleyiniz.

1. A : I can't find my wallet.
B : You have left it in the office.

Which of the following completes the dialogue above?

Aşağıdakilerden hangisi yukarıdaki konuşmayı doğru olarak tamamlar?

- A) ought
B) can
C) have to
D) will
E) must

2. Ken used to with a toy guitar when he was a child.

Which of the following completes the sentence above?

Aşağıdakilerden hangisi yukarıdaki cümleyi doğru olarak tamamlar?

- A) is playing
B) have played
C) was playing
D) play
E) played

3. paying the bill, George left the restaurant.

Which of the following completes the sentence above?

Aşağıdakilerden hangisi yukarıdaki cümleyi doğru olarak tamamlar?

- A) As
B) So
C) After
D) Where
E) While

4. Jane: Who translated this letter? You?
Mary: No. I got my friend it.

Which of the following completes the dialogue above?

Aşağıdakilerden hangisi yukarıdaki konuşmayı doğru olarak tamamlar?

- A) is translated
B) to translate
C) translate
D) translating
E) translated

5. I haven't seen him years.

Which of the following completes the sentence above?

Aşağıdakilerden hangisi yukarıdaki cümleyi doğru olarak tamamlar?

- A) since
B) after
C) for
D) ago
E) now

6. Carol has been playing basketball 1995.

Which of the following completes the sentence above?

Aşağıdakilerden hangisi yukarıdaki cümleyi doğru olarak tamamlar?

- A) for
B) since
C) last
D) ago
E) from

7. I used to milk when I was a child.

Which of the following completes the sentence above?

Aşağıdakilerden hangisi yukarıdaki cümleyi doğru olarak tamamlar?

- A) was drinking
B) is drinking
C) drunk
D) drink
E) have drunk

A

2012 3D 0103-A

8. Nazlı drinks coffee every morning.

Which of the following is the negative form of the sentence above?

Aşağıdakilerden hangisi yukarıdaki cümlelerin olumsuz biçimidir?

- A) Nazlı doesn't drink coffee every morning.
B) Nazlı isn't drinking coffee every morning.
C) Nazlı didn't drink coffee every morning.
D) Nazlı hasn't drunk coffee every morning.
E) Nazlı wasn't drinking coffee every morning.

9. I often play tennis at the weekends.

Which of the following is the Turkish translation of the sentence above?

Aşağıdakilerden hangisi yukarıdaki cümlelerin Türkçe karşılığıdır?

- A) Ben hafta sonları tenis oynayacağım.
B) Ben hafta sonları bazen tenis oynuyorum.
C) Ben hafta sonları sık sık tenis oynardım.
D) Ben hafta sonları sık sık tenis oynarım.
E) Ben hafta sonları tenis oynamayı planlıyorum.

10. Selin: Is the cat sleeping at the moment?
Tolga :No,it isn't.But it usuallyon the sofa.

Which of the following completes the dialogue above?

Aşağıdakilerden hangisi yukarıdaki konuşmayı doğru olarak tamamlar?

- A) sleep
B) has slept
C) sleeping
D) slept
E) sleeps

11. Jane the baby now.

Which of the following completes the sentence above?

Aşağıdakilerden hangisi yukarıdaki cümleyi doğru olarak tamamlar?

- A) is feeding
B) fed
C) have fed
D) feed
E) was feeding

12. I was going to the theatre, I saw an accident.

Which of the following completes the sentence above?

Aşağıdakilerden hangisi yukarıdaki cümleyi doğru olarak tamamlar?

- A) Where
B) Who
C) While
D) Which
E) What

13. They will construct a new road.

Which of the following is the passive voice of the sentence above?

Aşağıdakilerden hangisi yukarıdaki cümlelerin edilgen yapıda kurulumuş biçimidir?

- A) A new road was constructed by them.
B) A new road will be constructed by them.
C) A new road has been constructed by them.
D) A new road is constructed by them.
E) A new road is being constructed by them.

14. Jack has already planted trees along the roads.

Which of the following is the passive voice of the sentence above?

Aşağıdakilerden hangisi yukarıdaki cümlelerin edilgen yapıda kurulumuş biçimidir?

- A) Trees will be planted along the roads by Jack.
B) Trees have already been planted along the roads by Jack.
C) Trees are planted along the roads by Jack.
D) Trees were being planted along the roads by Jack.
E) Trees had already been planted along the roads by Jack.

15. If I were you, I that expensive dress.

Which of the following completes the sentence above?

Aşağıdakilerden hangisi yukarıdaki cümleyi doğru olarak tamamlar?

- A) wouldn't buy
B) hasn't bought
C) won't buy
D) can't buy
E) hadn't bought

2012 3D 0103-A

16. If I you, I wouldn't call him.

Which of the following completes the sentence above?

Aşağıdakilerden hangisi yukarıdaki cümleyi doğru olarak tamamlar?

- A) be
- B) may
- C) am
- D) were
- E) can

17. Jane asked Mary, "Who did you go to the theatre with?
Jane asked Mary who she to the theatre with.

Which of the following completes the sentence above?

Aşağıdakilerden hangisi yukarıdaki cümleyi doğru olarak tamamlar?

- A) has gone
- B) is going
- C) will go
- D) went
- E) had gone

18. Nur asked Aysun "Do you like music?"
Nur asked Aysun if she music.

Which of the following completes the sentence above?

Aşağıdakilerden hangisi yukarıdaki cümleyi doğru olarak tamamlar?

- A) liked
- B) like
- C) liking
- D) will like
- E) has liked

19. I used totwo years ago, but now I don't smoke.

Which of the following completes the sentence above?

Aşağıdakilerden hangisi yukarıdaki cümleyi doğru olarak tamamlar?

- A) have smoked
- B) is smoking
- C) had smoked
- D) smoked
- E) smoke

20. While Mr.White was working in the garden,a burglar into his house.

Which of the following completes the sentence above?

Aşağıdakilerden hangisi yukarıdaki cümleyi doğru olarak tamamlar?

- A) is getting
- B) gets
- C) got
- D) get
- E) have got

DİL VE ANLATIM 7

A

2012 3D 0103-A

1. Bir kimsenin kendi yaşamöyküsünü kendisinin kaleme aldığı eserlere ne ad verilir?

- A) Monografi
- B) Öykü
- C) Söyleşi
- D) Otobiyografi
- E) Sohbet

2. Biyografiyle ilgili verilen bilgilerden hangisi yanlıştır?

- A) Sıradan kişilerin yaşamına ışık tutar.
- B) Türkçe'de yaşamöyküsü ifade ile karşılır.
- C) Biyografi türündeki eserler tarihe, edebiyat tarihine ve eleştiriye kaynaklık eder.
- D) Öyküleyici anlatımla yazılır.
- E) Biyografi yazarı aynı zamanda sanatçı duyarlılığı da gösterir.

3. Anı ve gezi yazılarına ilişkin olarak aşağıda verilen bilgilerden hangisi yanlıştır?

- A) Bir kişinin başından geçenleri ya da tanık olduğu olayları anlattığı yazı türüne deneme adı verilir.
- B) Bir yazarın yazdığı, gördüğü, incelediği yerlerden edindiği bilgi, görgü ve izlenimleri anlatan yazıya gezi yazısı denir.
- C) Gezi yazıları okuyucunun genel kültürüne önemli katkıda bulunur.
- D) Anı yaşanmış olayları anlatır.
- E) Gezi yazıları tarih, coğrafya ve toplumbilim gibi bilim dalları için yararlı bir kaynaktır.

4. Bir öykünün, romanın değeri neye bağlıdır? (ne ile ölçülür)

- A) Ne kadar çok yabancı kelime kullanıldığına
- B) Yazanın işleyişi ve bakış açısına
- C) Hiç argo sözcük kullanılmamasına
- D) Ne kadar uzun bir yazı olduğuna
- E) Okuyucuyu eğlendirmesine

5. Dünya edebiyatında, "fabl" yazı türünün ilk çağlardan başlayarak Doğu'daki ilk temsilcisi, aşağıdakilerden hangisidir?

- A) Hesse
- B) Beydeba
- C) Alkalos
- D) Sappho
- E) Anakreon

6. Eski Türk edebiyatında "Harname" adlı mesnevi aşağıdaki şairlerden hangisine aittir?

- A) Abdî
- B) Hamdullah Hamdi
- C) Cemâlî
- D) Şeyhî
- E) Firdevsî

7. Genellikle yaratıcısı bilinmeyen, olağanüstü öge, kahraman ve olaylara yer veren öyküye ne ad verilir?

- A) Anı
- B) Roman
- C) Masal
- D) Deneme
- E) Fabl

8. Masalları bastırılmış isteklerin düş biçiminde ortaya çıkması şeklinde açıklayan araştırmacı, aşağıdakilerden hangisidir?

- A) Sigmund Freud
- B) Piaget
- C) Vygotsky
- D) Bruner
- E) Bloom

9. Aşağıdakilerden hangisi, Çehov tarzı hikâyenin özelliklerinden biri değildir?

- A) Doğrudan olay örgüsüyle başlaması
- B) Mekân üzerinde fazla durulması
- C) Anlatımının ayrıntılı olmaması
- D) Pek çok şeyin okurun hayal gücüne bırakılması
- E) Kahramanlarının her zaman çevremizde rastladığımız insanlar olması

10. Taaşşuk-u Talât ve Fitnat adlı ilk yerli roman aşağıdaki yazarlardan hangisine aittir?

- A) Halit Ziya Uşaklıgil
- B) Rezaizade M. Ekrem
- C) Reşat Nuri Güntekin
- D) Şemsettin Sami
- E) Mehmet Rauf

11. Attilâ İlhan'ın "Leitmotiv" tekniği ile yazdığı romanı, aşağıdakilerden hangisidir?

- A) Dört Mevsim Sonbahar
- B) Beyaz Kale
- C) Dersaadet'te Sabah Ezanları
- D) Ay Falcısı
- E) Canbaz

A

2012 3D 0103-A

12. Aşağıdaki tiyatro oyunlarından hangisi karakter komedyasına örnektir?

- A) Yanlışlıklar Komedyası
- B) Şair evlenmesi
- C) Müfettiş
- D) Gülünç Kibarlar
- E) Cimri

13. Bu tiyatronun göze çarpan yönü kalıplaşmış gerçeklere karşı çıkmak, tabiattan ve mantıktan uzaklaşmak ve insanı düşündürmektir. Az olay ve sözle önemli şeyler anlatmak istenir. Bu çeşit tiyatro eserleri semboller, bilmeceler ve saçma tasarımlarla doludur.

Yukarıda anlatılan tiyatro türü aşağıdakilerden hangisidir?

- A) Meddah
- B) Karagöz
- C) Absürd tiyatro
- D) Epik tiyatro
- E) Operet

14. Türk tiyatrosunda başarılı bir epik deneme olarak kabul edilen Keşanlı Ali Destanı, kimin eseridir?

- A) Muhsin Ertuğrul
- B) Halit Ziya
- C) Namık Kemal
- D) Haldun Taner
- E) Behçet Necatigil

15. Aşağıdakilerden hangisi Türk kültürüne ait başlıca halk tiyatrosu türlerinden biri değildir?

- A) Mani
- B) Meddah
- C) Köy seyirlik oyunları
- D) Orta oyunu
- E) Karagöz

16. Köy oyunlarının, karagöz ve orta oyunundan farkı aşağıdakilerden hangisidir?

- A) Belli zamanlarda oynanması
- B) Yazının belli olması
- C) Oyun metninin belli olması
- D) Hala geleneksel olarak devam ediyor olması
- E) Oynandıkları yörelerin özelliklerini taşımaları

17. Meddahlıkla ilgili olarak aşağıda verilen bilgilerden hangisi yanlıştır?

- A) Hareketten çok, ses taklidi, jest ve mimiklere dayanır.
- B) Meddahın bütün marifeti nükte ve taklit yeteneğiyle kendini dinletme gücünde toplanmıştır.
- C) Sahne ve dekor bulunmaz.
- D) Meddah, söze başlayacağı zaman elinde bastonu ve omzunda beyaz bir mendille bir iskemleye oturur.
- E) Meddaha gereken durumlarda Kavuklu ve Pişekar eşlik eder.

18. Çağdaş Tiyatro tekniğine uygun olarak yazılan ilk önemli eser kabul edilen Şair Evlenmesi'nin yazarı aşağıdakilerden hangisidir?

- A) Muallim Naci
- B) Şinasi
- C) Namık Kemal
- D) Ahmet Mithat
- E) Tevfik Fikret

19. 1950'li yıllardan günümüze kadar Türk romanının gelişimine ilişkin aşağıda verilen bilgilerden hangisi yanlıştır?

- A) 1970'lerde romanda ağırlık şehirlere kaymıştır.
- B) Anadolu'yu işleyen romanların yanı sıra Oğuz Atay, Yusuf Atılgan gibi yazarlar bireyin sorunlarından yola çıkan eserler yazmışlardır.
- C) 1950 sonrası Türk romanına romantizm egemendir.
- D) 1980 sonrasında romanda postmodern özellikler öne çıkmaya başlar.
- E) Köy enstitülerinden yetişen yazarlar köy ve kasaba yaşamı ve sorunlarını konu dile getirmişlerdir.

20. Aşağıdakilerden hangisi Milli Edebiyat Akımı dönemi özellikleri arasında yer almaz?

- A) Yerli konulara önem verilmiştir.
- B) Romanlarda her kesimden halkı anlatmak istemişlerdir.
- C) Sözlü gelenek ürünü olan masal, destan ve halk hikayeleri yeniden canlandırılmak istenmiştir.
- D) Anadolu'yu gündeme taşımışlardır.
- E) Edebiyatın köklerini eski Yunan edebiyatı ve Yunan mitolojisiyle uyumlaştırmak istemişlerdir.

TÜRK EDEBİYATI 3

A

2012 3D 0103-A

1. Edebiyat, arařtırmalarında ařağıdakilerin hangisinden faydalanır?

- A) Fen
- B) Matematik
- C) Psikoloji
- D) Fizik
- E) Kimya

2. Ařağıdakilerden hangisi sözlü edebiyat döneminde sanatçılara verilen adlardan biri değildir?

- A) Baksı
- B) Şaman
- C) Oyun
- D) Kam
- E) Şair

3. Okuyanların duygu, düşünce ve hayal dünyalarını geliřtirip zenginleřtiren eserlere ne ad verilir?

- A) Sanat eseri
- B) Müzik eseri
- C) Edebi eser
- D) Tiyatro eseri
- E) Tarihi eser

4. Düşünce, duygu, olay ve durumları güzel, etkili biçimde anlatan söz sanatı ařağıdakilerden hangisidir?

- A) Felsefe
- B) Sosyoloji
- C) Edebiyat
- D) Tarih
- E) Psikoloji

5. Ařağıdakilerden hangisi yazılı dönem eserlerindedir?

- A) Sav
- B) Uygur metinleri
- C) Sagu
- D) Destan
- E) Koşuk

6. Türk dilinin günümüze kalan en eski ve değerli belgeleri ařağıdakilerden hangisidir?

- A) Dede Korkut Hikâyeleri
- B) Destanlar
- C) Ergenekon Destanı
- D) Savlar
- E) Göktürk Yazıtları

7. Türk dilinin 8. yüzyıla ait en eski ve en değerli belgelerinden Kültigin Yazıtını hükümdarın ağızından söylev diliyle kim yazmıřtır?

- A) Yoliğ Tigin
- B) Dede Korkut
- C) Thomsene
- D) Tonyukuk
- E) Bilge Kağan

8. Türkler, Cumhuriyet döneminde Atatürk'ün yaptığı harf devrimiyle hangi alfabeyi kullanmaya başladılar?

- A) Göktürk alfabesi
- B) Uygur alfabesi
- C) Arap alfabesi
- D) Lâtin alfabesi
- E) Kiril alfabesi

9. Gezip gördüğü yerlerle ilgili gözlem ve izlenimlerini on ciltlik "Seyahatname" adlı eserinde anlatan yazar kimdir?

- A) Kâtip Çelebi
- B) Evliya Çelebi
- C) Süleyman Çelebi
- D) Naili Kadim
- E) Çelebi Mehmet

10. Ařağıdakilerden hangisi, sözlü edebiyat döneminin ürünlerinden biridir?

- A) Türkü
- B) Koşma
- C) Mâni
- D) Gazel
- E) Koşuk

A

2012 3D 0103-A

11. Aşağıdakilerden hangisi Saka Türklerinin destanlarından biridir?

- A) Manas Destanı
- B) Şu Destanı
- C) Köroğlu Destanı
- D) Ergenekon Destanı
- E) Bozkurt Destanı

12. Elif kaşlarını çatar
Gamzesi sineme batar
Ak elleri kalem tutar
Yazar Elif Elif diye

Yukarıdaki şiirle ilgili olarak, aşağıdakilerden hangisi söylenemez?

- A) Yuğ törenlerinde söylendiği
- B) Dört dizeden oluştuğu
- C) aaab şeklinde uyaklandığı
- D) 8'li hece ölçüsüyle yazıldığı
- E) Samimi, duygulu bir dil kullanıldığı

13. "Ağılda oğlak doğsa ırmakta otu biter."

Yukarıdaki sav örneğiyle aşağıdaki atasözlerinden hangisi örtüşür?

- A) Canı veren Allah rızkını da verir.
- B) Çıkmadık candan umut kesilmez.
- C) Can çıkmadıkça huy çıkmaz.
- D) Canı veren de alan da Allah.
- E) Canı canla ölçmeli.

14. Sanat eserlerine esin kaynağı olan "Gılgamış Destanı" Orhan Asena'nın hangi oyununun konusunu oluşturur?

- A) Kolları Bağlı Odysseus
- B) Tanrılar ve İnsanlar
- C) Ölümsüzlük Ardında Gılgamış
- D) Cengiz Han'ın Bisikleti
- E) Berlin Üçlemesi

15. Gözlem ve uzun deneyimlerden süzülen duygu ve düşüncelerin özlü bir anlatımı olan, yüzyıllara meydan okuyan, eski çağlardan kalma atasözlerine ne ad verilir?

- A) Baskı
- B) Destan
- C) Sav
- D) Şaman
- E) Sagu

16. Aşağıdaki atasözleri anlamca gruplandırıldığında hangisi dışarıda kalır?

- A) Yalnız taş, duvar olmaz.
- B) Birlikten kuvvet doğar.
- C) Bir elin nesi var, iki elin sesi var.
- D) Ağır yongayı yel kaldırmaz.
- E) Baş başa vermeyince, taş yerinden oynamaz.

17. Alp Er Tunga öldi mü
Issız ajun kaldı mu
Ödlek için aldı mu
Emdi yürek yırtılır

Yukarıdaki şiirle ilgili olarak, aşağıdakilerden hangisi söylenemez?

- A) Dilinin ağır, anlatımının yapmacıklı olduğu
- B) 7'li hece ölçüsüyle 4+3 duraklı söylendiği
- C) Dört dizeden oluştuğu
- D) Yuğ törenlerinde söylendiği
- E) aaab şeklinde uyaklandığı

18. Aşağıdakilerden hangisi islâmiyetten önceki Türk destanlarından biridir?

- A) Timur Destanı
- B) Danişment Gazi Destanı
- C) Cengiz Han Destanı
- D) Atillâ Destanı
- E) Köroğlu Destanı

19. Aşağıdakilerden hangisi destanın özelliklerinden biri değildir?

- A) Önce sözlü tür olarak doğması
- B) Konusunu kahramanların yaptıkları üzerine kurması
- C) Yarı Tanrısal nitelikli kahramanların olması
- D) Halkı ilgilendiren büyük olaylardan doğması
- E) Olayların sınırlı bir coğrafyada geçmesi

20. Ebü'l- Gazi Bahadır Han'ın 17. yüzyılda yazdığı Ergenekon Destanı'na da yer verdiği eser, aşağıdakilerden hangisidir?

- A) Siyempi Destanları
- B) Seyran Destanı
- C) Kalevela
- D) Şecere-i Türk
- E) Şehnâme

TÜRK EDEBİYATI 8

A

2012 3D 0103-A

1. Aşağıdaki şairlerden hangisi, şiirlerinde zamanın Batı'da moda olan fütürist, kübik ve gerçeküstücü şiir akımlarını denemiştir?

- A) Ercüment Behzat Lav
- B) Bedri Rahmi Eyuboğlu
- C) Attila İlhan
- D) Ahmet Muhip Dıranas
- E) Sezai Karakoç

2. Anadolucu edebiyatın en tanınmış şairi aşağıdakilerden hangisidir?

- A) Kemalettin Kamu
- B) Faruk Nafiz Çamlıbel
- C) Şükufe Nihal
- D) Ahmet Muhip Dıranas
- E) Halide Nusret Zorlutuna

3. Aşağıdakilerden hangisi "Garip" şiirinin özelliklerinden biri değildir?

- A) Sahte değerlerle, samimiyetsizlik, felsefeyle, aşırı duyarlılıkla alay etmesi
- B) Açık ve yalın bir dil kullanılması
- C) Hece ölçüsü ve uyak kullanılması
- D) Günlük hayatın işlenmesi
- E) Şakaya ve nükteye yer verilmesi

4. Şiir coğrafyasını Türk ve Batı şiiri özelliklerini kendinde birleştirerek oluşturan; serbest tarzda kaleme aldığı şiirlerinde yalnızlık, hüznün, kaçış, ölüm tutkusu temalarını işleyen şair, aşağıdakilerden hangisidir?

- A) Ahmet Muhip Dıranas
- B) Hilmi Yavuz
- C) Cemal Süreya
- D) Behçet Necatigil
- E) İlhan Geçer

5. Aşağıdakilerden hangisi "İkinci Yeni" şiirinin özelliklerinden biri değildir?

- A) Daha çok betimleyici metinlerden oluşması
- B) Nükte, şaşırtmaca ve tekerlemeden uzaklaşması
- C) Bireyci bir şiir anlayışının hâkim olması
- D) Romantizm akımının etkisinde olması
- E) İmgelere yer verilmesi

6. "Kitabe-i Seng-i Mezar" adlı şiir aşağıdaki şairlerden hangisine aittir?

- A) Kemalettin Kamu
- B) Ahmet Kutsi Tecer
- C) Orhan Veli Kanık
- D) Mehmet Akif Ersoy
- E) Ahmet Arif

7. Aşağıdakilerden hangisi, "Garip" şiirinin temalarından biri değildir?

- A) Aşk
- B) Çocukluğa dönüş
- C) Yaşama sevinci
- D) İnsan sevgisi
- E) Bireyin yalnızlığı

8. Aşağıdakilerden hangisi Yahya Kemal Beyatlı'nın sanat anlayışının özelliklerinden biri değildir?

- A) Osmanlı medeniyet ve kültürüne bağlı kalması
- B) İç ahengi her şeyden üstün tutması
- C) Şiir konularını aşk, tabiat, deniz, ölüm ve sonsuzluktan alması
- D) Şiirlerinin çoğunu hece ölçüsüyle yazması
- E) Klasik divan şiirini Batı şiirindeki bütünlük anlayışıyla ele alması

9. İlk şiirinden son şiirine kadar çocuksu duyarlılığını, dünyayı hayranlıkla, şaşkınlıkla bakışını ve şakacı çocuk yaklaşımını yitirmeyen şair, aşağıdakilerden hangisidir?

- A) Refik Durbaş
- B) Ece Ayhan
- C) İlhan Berk
- D) Ülkü Tamer
- E) Turgut Uyar

10. "Ben Ölürsem Akşamüstü Ölürüm" şiiri aşağıdaki şairlerden hangisine aittir?

- A) Ahmet Oktay
- B) Atıf Behramoğlu
- C) Özdemir İnce
- D) İsmet Özel
- E) Süreyya Berfe

A

2012 3D 0103-A

11. "Uy Havar" adlı şiir, aşağıdaki şairlerden hangisine aittir?

- A) A. Kadir
- B) Oktay Rifat
- C) Cemal Süreyya
- D) Melih Cevdet Anday
- E) Ahmet Arif

12. "Yedi tepeye kurulmuş
Pul pul
Gümüş gümüş balıkları
Pul pul
Işıktan sudan örülmüş
Canım İstanbul"

Yukarıdaki şiir, aşağıdaki şairlerden hangisine aittir?

- A) Bedri Rahmi Eyüboğlu
- B) Sezai Karakoç
- C) Ahmet Haşim
- D) Ahmet Muhip Dıranas
- E) Turgut Uyar

13. Aşağıdakilerden hangisi "İkinci Yeni" de öne çıkan temalardan biri değildir?

- A) Bezginlik
- B) Boşluk duygusu
- C) Yenilmişlik
- D) Doğa
- E) Şüphe

14. Mekân olarak Edremit ve yöresinin ayrıntılarıyla anlatıldığı "Kuyucaklı Yusuf" adlı roman, aşağıdaki yazarlardan hangisine aittir?

- A) Sait Faik Abasıyanık
- B) Sabahattin Âli
- C) Refik Halit Karay
- D) Ayfer Tunç
- E) Peride Celal

15. Aşağıdakilerden hangisi "Beş Hececiler" diye anılan şairler arasında yer almaz?

- A) Orhan Seyfi Orhon
- B) Enis Behiç Koryürek
- C) Faruk Nafiz Çamlıbel
- D) Cevdet Kudret
- E) Yusuf Ziya Ortaç

16. "Kocaoğlan" adlı tiyatro oyunu aşağıdaki yazarlardan hangisine aittir?

- A) Nazım Hikmet
- B) Melih Cevdet Anday
- C) Orhan Kemal
- D) Necati Cumalı
- E) Orhan Asena

17. Halk şiirinde kişiye, topluma, feleğe, tabiata âşık tarafından yöneltilen yergi, alay, eleştiri içeren şiirlere ne ad verilir?

- A) Ağıt
- B) Öğüt
- C) Taşlama
- D) Koçaklama
- E) Güzelleme

18. Aşağıdakilerden hangisi Yusuf Atılgan'ın romanlarından biridir?

- A) Aylak Adam
- B) Murtaza
- C) Bay Virgül
- D) Çıkrıklar Durunca
- E) Ateşten Gömlek

19. Aşağıdakilerden hangisi William Shakespeare'in tiyatro oyunlarından biridir?

- A) Nişanlılar
- B) Cimri
- C) Köşebaşı
- D) Çılgın Orlondo
- E) Kral Lear

20. "Bir İlkbahar Hikâyesi" adlı eser aşağıdaki yazarlardan hangisine aittir?

- A) Refik Halit Karay
- B) İlhan Berk
- C) Sait Faik Abasıyanık
- D) Kemal Özer
- E) Tevfik Fikret

FİZİK 1

A

2012 3D 0103-A

1. Bir kenarı 10 cm olan küp şeklindeki bir kutunun hacmi kaç m^3 tür?

- A) 100
- B) 10
- C) 1
- D) 0,001
- E) 0,000001

2. Bir cisme uygulanan yerçekimi kuvvetine ne ad verilir?

- A) Yoğunluk
- B) Hacim
- C) Kütle
- D) Öz kütle
- E) Ağırlık

3. Bir şişe boşken 100 g, su ile dolu iken 150 g geliyor. Aynı şişe öz kütlesi bilinmeyen bir sıvıyla doldurulduğunda 200 g geliyor. Buna göre, bu sıvının öz kütlesi kaç g/cm^3 tür?

- A) 0,5
- B) 1,5
- C) 2
- D) 2,5
- E) 3

4. Bir maddeyi oluşturan taneciklerin kinetik enerjileri toplamına ne ad verilir?

- A) Isı
- B) Sıcaklık
- C) Hız
- D) Ağırlık
- E) Yoğunluk

5. $10\text{ }^\circ\text{C}$ 'ta uzunluğu 100 cm olan çelik bir tel $110\text{ }^\circ\text{C}$ 'a kadar ısıtıldığında boyu kaç cm olur? ($\lambda_{\text{ÇELİK}}=1,2 \cdot 10^{-5}\text{ I/}^\circ\text{C}$)

- A) 50,12
- B) 100,12
- C) 150,12
- D) 200,12
- E) 300,12

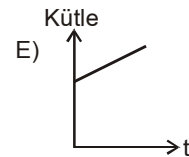
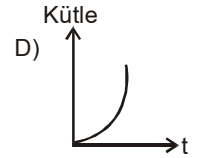
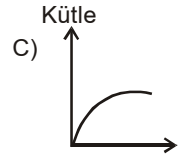
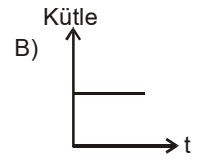
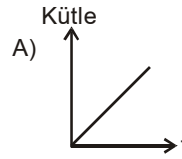
6. İçinde 40 cm^3 kuru kum bulunan dereceli silindire 50 cm^3 su eklendiğinde toplam hacim 80 cm^3 oluyor. Buna göre, kuru kumun hacminin yüzde kaçı havadır?

- A) 90
- B) 75
- C) 50
- D) 25
- E) 10

7.



Yukarıdaki şekildeki boş kap sabit debili olan bir muslukla dolduruluyor. Kap dolana kadar kaptaki sıvı kütlesinin zamana bağlı değişiminin grafiği aşağıdakilerden hangisidir?



A

2012 3D 0103-A

8. Bir kaba d özkütleli sıvıdan $3V$, $2d$ özkütleli sıvıdan da $2V$ hacminde sıvı konarak türdeş bir karışım oluşturuluyor. Buna göre, bu karışımın özkütlesi kaç d dir?

- A) 1,1
B) 1,2
C) 1,3
D) 1,4
E) 1,5

9.



Birbirine perçinlenmiş KL ve LM metal çiftleri yukarıdaki şekilde verilmiştir. Bu metal çiftleri soğutulduklarında doğrusal hale gelmektedir. Buna göre, metallerin yapıldığı maddelerin λ_K , λ_L ve λ_M uzama katsayıları arasındaki ilişki aşağıdakilerden hangisinde doğru olarak verilmiştir?

- A) $\lambda_L > \lambda_K > \lambda_M$
B) $\lambda_M > \lambda_K > \lambda_L$
C) $\lambda_M > \lambda_L > \lambda_K$
D) $\lambda_K > \lambda_M > \lambda_L$
E) $\lambda_K > \lambda_L > \lambda_M$

10. Ele dökülen kolonyanın serinlik hissi vermesindeki fiziksel neden aşağıdakilerden hangisinde gerçekleşir?

- A) Sıcak havada su dolu toprak testinin ıslak beze sarılması
B) Çaydanlık saplarının plastikten yapılması
C) Soğuk günlerde araba camlarının buğulanması
D) Pencerelerin çift camdan yapılması
E) Kışın koyu renk elbise giyilmesi

11. İçinde 10 cm^3 kuru kum bulunan dereceli silindire 20 cm^3 su eklendiğinde toplam hacim 25 cm^3 oluyor. Buna göre, kum tanecikleri arasındaki havanın hacmi kaç cm^3 dür?

- A) 5
B) 10
C) 15
D) 20
E) 25

12. Sıcaklık aşağıdakilerden hangisiyle ölçülür?

- A) Barometre
B) Dinamometre
C) Voltmetre
D) Termometre
E) Ampermetre

13. Bir sıvının ısı alarak gaz haline geçmesine ne ad verilir?

- A) Yoğunlaşma
B) Buharlaşma
C) Kaynama
D) Süblimleşme
E) Erime

14. $30 \text{ }^\circ\text{C}$ 'taki 1 kg suyun sıcaklığını $40 \text{ }^\circ\text{C}$ 'a çıkartmak için gerekli ısı miktarı kaç J dür? ($C_{su}=4.180 \text{ J/kgK}$)

- A) 418
B) 2.090
C) 4.180
D) 20.900
E) 41.800

2012 3D 0103-A

15. Boyutları 10 cm olan küp şeklindeki demir parçasının kütlesi kaç litre suyun kütlesi eşittir? ($d_{\text{demir}}=7,8 \text{ g/cm}^3$, $d_{\text{su}}=1 \text{ g/cm}^3$)

- A) 3,9
- B) 7,8
- C) 15,6
- D) 23,4
- E) 31,2

16. Öz kütleleri $2,4 \text{ g/cm}^3$ ve $1,6 \text{ g/cm}^3$ olan M ve N sıvılarından eşit hacimde alınarak karıştırılmıştır. Buna göre, yeni karışımın öz kütlesi kaç g/cm^3 dür?

- A) 0,8
- B) 1,6
- C) 2
- D) 2,4
- E) 4

17. Aşağıdakilerden hangisi maddelerin ortak özelliklerindedir?

- A) Renk
- B) Kütle
- C) Genişlik
- D) Yükseklik
- E) Uzunluk

18. Eşit kollu bir terazinin sol kefesine bir dolmakalem ve 3 gram, sağ kefesine ise, iki adet 5 gram ve bir adet 2 gram konularak terazi dengeye getirilmiştir. Buna göre dolmakalem kaç gramdır?

- A) 6
- B) 7
- C) 9
- D) 12
- E) 15

19. I. Katı
II. Sıvı
III. Gaz

Yukarıdakilerden hangileri maddelerin fiziksel hallerindedir?

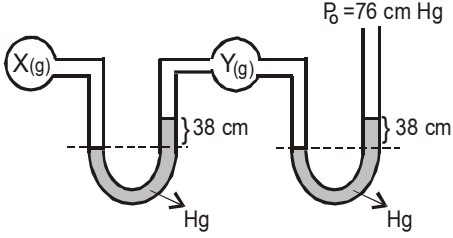
- A) Yalnız I
- B) I ve II
- C) I ve III
- D) II ve III
- E) I, II ve III

20. Küp şeklindeki bir kutunun bir kenarı 5 cm ise, bu kutunun hacmi kaç cm^3 dür?

- A) 15
- B) 25
- C) 75
- D) 125
- E) 625

2012 3D 0103-A

1.



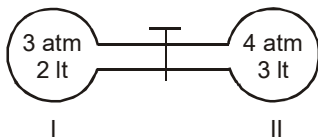
Şekildeki sistemde X gazının basıncı kaç atm dir? (1 atm = 76 cm Hg)

- A) 0,5
- B) 1
- C) 1,5
- D) 2
- E) 4

2. Sabit sıcaklıkta $40 \text{ cm}^3 \text{ O}_2$ gazının basıncı 4 atm dir. Hacmi 10 cm^3 olduğunda basıncı kaç atm olur?

- A) 1
- B) 4
- C) 8
- D) 12
- E) 16

3.



Şekildeki kapların içerisinde birbirleriyle reaksiyon vermeyen iki ideal gaz bulunmaktadır.

Aynı sıcaklıkta musluk açıldığında son basınç kaç atm olur?

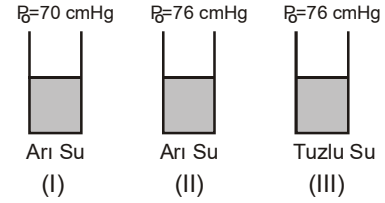
- A) 0,5
- B) 1,4
- C) 3,6
- D) 4,2
- E) 4,8

4. $X_{(kati)} + \text{su} \rightarrow \text{Sulu çözelti} + \text{Isı}$

denklemindeki X katısının sudaki çözünürlüğünü artırmak için aşağıdaki işlemlerden hangisi uygulanmalıdır?

- A) Su miktarının artırılması
- B) Çözeltinin karıştırılması
- C) Çözeltinin sıcaklığının artırılması
- D) X katısının artırılması
- E) X katısının toz haline getirilmesi

5.



Arı su 70 cmHg ve 76 cmHg, tuzlu su 76 cmHg dış basınçlı bir ortamdadır.

Bu sıvıların kaynama noktaları arasındaki ilişki aşağıdakilerin hangisinde doğru olarak verilmiştir?

- A) I>II>III
- B) II>I>III
- C) I=II>III
- D) III>II>I
- E) III>I=II

6. 300 ml 0,2 Molarlık çözeltinin üzerine 200 ml saf su ilave edilirse, çözeltinin molar derişimi kaç olur?

- A) 0,6
- B) 0,3
- C) 0,12
- D) 0,04
- E) 0,06

7. 0,08 mol NO_3^- iyonu içeren $\text{Mg}(\text{NO}_3)_2$ çözeltisi 500 ml dir. Bu çözeltideki Mg^{+2} iyon derişimi kaç mol/lt dir?

- A) 0,08
- B) 0,04
- C) 0,02
- D) 0,16
- E) 0,4

2012 3D 0103-A

8. 0,4 M çözelti hazırlamak için 16 gr. NaOH,

- I. 1 litre suda
- II. 1 litreden az suda
- III. 1 litreden çok suda

hangilerinde çözünmelidir? (NaOH:40)

- A) Yalnız I
- B) Yalnız II
- C) Yalnız III
- D) II ve III
- E) I, II ve III

9. 0,75 M 200 ml şeker ($C_6H_{12}O_6$) çözeltisinde kaç gram şeker çözünmüştür? ($C_6H_{12}O_6$:180)

- A) 180
- B) 54
- C) 27
- D) 18
- E) 9

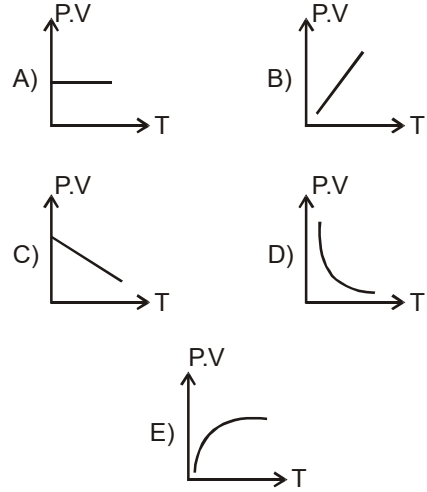
10. X ve Y gazlarının difüzyon hızlarının oranı

$$\frac{V_x}{V_y} = \frac{1}{2} \text{ ise, molekül ağırlıkları arasındaki}$$

oran kaçtır? $\left(\frac{m_x}{m_y}\right)$

- A) $\frac{1}{8}$
- B) $\frac{1}{4}$
- C) $\frac{1}{2}$
- D) 2
- E) 4

11. Sabit kütleli ideal bir gazın basınç-hacim çarpımının (P.V) mutlak sıcaklıkla (T) değişimini gösteren grafik aşağıdakilerden hangisidir?



12. Sabit basınçta, 127°C sıcaklıkta 200 ml hacim kaplayan bir gazın hacminin 600 ml olabilmesi için sıcaklığının kaç °C olması gerekir?

- A) 927
- B) 727
- C) 573
- D) 327
- E) 173

13. NH_3 bileşiğinde azot/hidrojen birleşme oranı 14/3'tür. Bir miktar azot gazı 1,5 gr. hidrojen gazıyla tepkimeye girdiğinde 14 gr. azot gazı artıyor. Buna göre, başlangıçta alınan azot gazı kaç gramdır?

- A) 28
- B) 21
- C) 14
- D) 7
- E) 4,5

14. $Mg_3(PO_4)_2$ bileşiğinin mol kütlesi kaç gr/mol'dür? (Mg: 24, P: 31, O:16)

- A) 62
- B) 72
- C) 128
- D) 134
- E) 262

2012 3D 0103-A

15. 273°C de 11,2 litrelik kaba 0,5 atm. basınç yapan SO₃ gazı kaç moldür?

- A) 7,5
- B) 5
- C) 2,5
- D) 1,25
- E) 0,125

16. 27°C de 300 ml' lik kaba 3 atm basınç yapan bir gazın sıcaklığı 127°C ye, hacmi 500 ml' ye çıkarılırsa basıncı kaç atmosfer olur?

- A) 48
- B) 36
- C) 24
- D) 2,4
- E) 1,5

17. $\text{Cu} + 2\text{H}_2\text{SO}_4 \rightarrow \text{CuSO}_4 + \text{SO}_2 + 2\text{H}_2\text{O}$
4,8 gr Xgr 12gr 4,8 gr 2,7 gr

Yukarıdaki tepkime denkleminde x ile belirtilen H₂SO₄ miktarı kaç gramdır?

- A) 19,5
- B) 18
- C) 14,7
- D) 12
- E) 2,7

18. $\text{Al}_4\text{C}_3 + 12\text{H}_2\text{O} \rightarrow 4\text{Al}(\text{OH})_3 + 3\text{CH}_4$ tepkime denkleminde göre 18 gram Al₄C₃ bileşiğinin kullanılmasıyla, normal şartlar altında kaç litre CH₄ gazı oluşur? (Al: 27, C:12, H:1, O:16)

- A) 67,2
- B) 44,8
- C) 36,8
- D) 22,4
- E) 8,4

19. 0,2 molarlık 200 ml Ca(OH)₂ çözeltisinde kaç gram Ca(OH)₂ çözünmüştür?
(Ca(OH)₂: 74 gr/mol)

- A) 2,96
- B) 1,48
- C) 0,74
- D) 0,04
- E) 0,02

20. CO bileşiğinde karbon ve oksijenin kütlece birleşme oranı 3/4 dür. Eşit kütlede karbon ve oksijen elementleri alınarak CO bileşiği oluşturmak üzere tepkimeye sokulduğunda, karbon elementinin yüzde kaç tüketilir?

- A) 10
- B) 25
- C) 50
- D) 75
- E) 90

2012 3D 0103-A

1. Eşeyli üreme ile ilgili aşağıdaki ifadelerden hangisi yanlıştır?

- A) Bir canlı başka bir canlıya gerek duymadan kendisine benzeyen canlılar meydana getirir.
- B) Gametlerin oluşumu sırasında parça değişimi gerçekleşir.
- C) Yumurta ve sperm oluşur.
- D) Mayoz bölünme vardır.
- E) Yumurta ve spermin birleşmesiyle döllenme görülür.

2. Şekil, büyüklük ve yapı yönünden farklı olan gametlerin birleşmesi sonucu görülen üreme şekli aşağıdakilerden hangisidir?

- A) Partenogenez
- B) İzogami
- C) Hermafroditizm
- D) Konjugasyon
- E) Heterogami

3. İnsanda gebelik süresi kaç gündür?

- A) 320
- B) 280
- C) 250
- D) 220
- E) 200

4. Aşağıdaki hastalıklardan hangisi cinsel temasla bulaşmaz?

- A) Mantar
- B) Bel soğukluğu
- C) Şeker hastalığı
- D) AIDS
- E) Frengi

5. Bölünme olgunluğuna erişen bir canlının eşey hücresi oluşturmadan kendisine benzer yavrular meydana getirmesine ne ad verilir?

- A) Eşeysiz üreme
- B) İzogami
- C) Konjugasyon
- D) Heterogami
- E) Anizogami

6. Yassı parazit kurtlardaki döllenme şekli aşağıdakilerden hangisidir?

- A) Partenogenez
- B) Hermafroditizm
- C) Konjugasyon
- D) İzogami
- E) Anizogami

7. Ovülasyon ile ilgili aşağıdaki ifadelerden hangisi yanlıştır?

- A) İki menstrüasyon ortasında gerçekleşir.
- B) Yumurta, döllenmek için fallop borusunda bekler.
- C) Folikülün çatlaması ile yumurta fallop borusuna geçer.
- D) Testesteron hormonun etkisiyle gerçekleşir.
- E) Hipofizden LH salgılanır.

8. Çiçekli bitkilerde erkek üreme organı aşağıdakilerden hangisidir?

- A) Çiçek sapı
- B) Çanak yaprak
- C) Stamen
- D) Taç yaprak
- E) Polen

9. Aşağıdakilerden hangisi şekil ve büyüklükleri aynı olan gametlerin birleşmesi sonucu görülen üreme şeklidir?

- A) Konjugasyon
- B) Partenogenez
- C) Anizogami
- D) Oogami
- E) İzogami

10. Aşağıdakilerden hangisi iç döllenmede gametlerin döllenme şanslarının artmasının nedenlerinden biri değildir?

- A) Rasyasyondan etkilenmemeleri
- B) Çok sayıda olmaları
- C) Nemden etkilenmemeleri
- D) Isıdan etkilenmemeleri
- E) Kuruma tehlikesinin olmaması

2012 3D 0103-A

11. Aşağıdaki bitkilerden hangisi dikotiledondur?

- A) Lale
- B) Buğday
- C) Fasulye
- D) Orkide
- E) Mısır

12. Aşağıdakilerin hangisinde dış döllenme görülür?

- A) Maymun
- B) Köpek
- C) Kedi
- D) Balık
- E) Kanguru

13. Aşağıdaki organlardan hangisi mezodermden meydana gelir?

- A) Kalp
- B) Beyin
- C) Akciğer
- D) Karaciğer
- E) Pankreas

14. Bebekte kalıtsal hastalık olup olmadığını belirlemek için gebeliğin kaçınıcı haftasında amnion sıvısı alınır?

- A) 2
- B) 6
- C) 8
- D) 10
- E) 16

15. İnsanda döllenmeden sonra 6. günde aşağıdakilerden hangisi gerçekleşir?

- A) Bütün organ sistemlerinin oluşması
- B) Sinir sisteminin gelişmesi
- C) Bağırsak ve kan damarlarının gelişmesi
- D) Nörolasyon
- E) Doğum

16. Aşağıdakilerden hangisi kanser oluşumuna neden olan iç faktörlerden biridir?

- A) Sigara
- B) Genetik şifre bozukluğu
- C) Alkol
- D) İlaçlar
- E) Radyasyon

17. Organ nakli sonrasında aşağıdakilerden hangisinde doku reddi görülmez?

- A) Böbrekler
- B) Kalp
- C) Kornea
- D) Kemik iliği
- E) Karaciğer

18. I. Bölünme
II. Gastrulasyon
III. Farklılaşma
IV. Organogenez

Yukarıdakilerden hangileri embriyonal gelişmede görülen temel olaylardır?

- A) Yalnız I
- B) I ve II
- C) I ve IV
- D) II ve III
- E) I, II, III ve IV

19. Canlılarda yenilenme ile ilgili aşağıdaki ifadelerden hangisi yanlıştır?

- A) İnsanlarda retina hücrelerinde sürekli yenilenme görülür.
- B) Epitel hücreleri sürekli yenilenebilir.
- C) Memelilerde kıl yenilenmesi periyodik olarak görülür.
- D) Beyin hücreleri yenilenme yeteneklerini kaybetmiştir.
- E) Kopan yada yaralanan vücut parçalarının yenilenmesidir.

20. Anne, hamileliğinin ilk dört ayında hangi hastalığa yakalanırsa, bebekte zekâ geriliği gibi anormallikler görülebilir?

- A) Vajinit
- B) Grip
- C) Mide ülseri
- D) Kızamıkçık
- E) Sinüzit

MİLLİ GÜVENLİK BİLGİSİ 1

A

2012 3D 0103-A

1. Devletin anayasal düzenini, milli varlığını, bütünlüğünü, milletler arası alandaki, sosyal, kültürel ve ekonomik bütün çıkarlarının yanı sıra, uluslar arası antlaşmalarla kararlaştırılan haklarını her türlü iç ve dış tehdide karşı korumak ve kollamak üzere gerçekleştirilen faaliyetlerin tümüne ne ad verilir?

- A) Devletin güvenliği
- B) Milli güvenlik
- C) Halkın güvenliği
- D) Vatanın güvenliği
- E) Sosyal güvenlik

2. Cumhurbaşkanı'nın katılmadığı zamanlarda, aşağıdakilerden hangisi Milli Güvenlik Kurulu'na başkanlık eder?

- A) Genel Kurmay Başkanı
- B) TBMM Başkanı
- C) Milli Savunma Bakanı
- D) İçişleri Bakanı
- E) Başbakan

3. Milli Güvenlik Kurulu kaç ayda bir toplanır?

- A) 2
- B) 3
- C) 4
- D) 5
- E) 6

4. Milli güvenliğin sağlanması ve milli hedeflere ulaşılması amacıyla Milli Güvenlik Kurulunun belirlediği görüşler dahilinde Bakanlar Kurulu tarafından tespit edilen içte, dışta ve savunma alanında izlenecek hareket tarzlarına ait esasları kapsayan siyasete ne ad verilir?

- A) Milli güvenlik siyaseti
- B) Politik siyaset
- C) Sosyal siyaset
- D) Milli güç siyaseti
- E) Ekonomik siyaset

5. Aşağıdakilerden hangisi milli güç unsurlarından biri değildir?

- A) Coğrafi güç
- B) Nüfus gücü
- C) Sivil güç
- D) Siyasi güç
- E) Askeri güç

6. Bir milletin varlığını ve refahını sağlamak, aynı zamanda korumak için uluslararası hukuka uygun olarak devletin kabul ettiği genel siyasete ne ad verilir?

- A) Milli güç
- B) Milli varlık
- C) Milli güvenlik
- D) Savunma
- E) Milli strateji

7. Aşağıdakilerden hangisi milli hedeflerimizin niteliklerinden biri değildir?

- A) Tamamen milli nitelik taşıması
- B) Sadece bir siyasi gruba ait olmaması
- C) Sadece bir liderin veya hanedanın hedefi olmaması
- D) Hayallere kapılmaksızın gerçekçi ve akılcı olması
- E) Ülke topraklarını genişletme ve yayılmacı olması

8. Devletin diğer kuruluşları ile silahlı kuvvetler arasındaki ilişkilerin, savaş ve barış ortamlarında faydalı ve koordineli olarak yürütülmesini sağlamak amacıyla eğitim öğretim yapan kuruluş aşağıdakilerden hangisidir?

- A) Milli Güvenlik Akademisi
- B) Harp Akademisi
- C) Sınıf Okulları
- D) Harp Okulu
- E) Hazırlama Okulu

9. Aşağıdaki şehirlerden hangisinde Deniz Lisesi vardır?

- A) İstanbul
- B) Edirne
- C) Çanakkale
- D) İzmir
- E) Aydın

10. Aşağıdakilerden hangisi Türk Silahlı Kuvvetleri'nin ülkemizdeki görev ve işlevlerinden biri değildir?

- A) Okuma yazma kursları açmak
- B) Yoksullara yemek dağıtımını yapmak
- C) Huzur ve güvenliği sağlamak
- D) Koruma ve kollama
- E) Doğal afetlerde halka yardım etmek

A

2012 3D 0103-A

11. Sahil Güvenlik Komutanlığı, savaş halinde aşağıdakilerden hangisinin emrine girer?

- A) İçişleri Bakanlığı
- B) Jandarma Genel Komutanlığı
- C) Başbakanlık
- D) Deniz Kuvvetleri Komutanlığı
- E) Dışişleri Bakanlığı

12. Emniyet Genel Müdürlüğü aşağıdakilerden hangisine bağlıdır?

- A) Milli Savunma Bakanlığı
- B) Kara Kuvvetleri Komutanlığı
- C) Jandarma Genel Komutanlığı
- D) Genel Kurmay Başkanlığı
- E) İçişleri Bakanlığı

13. Emniyet teşkilatının orta ve üst kademe amir ve yöneticilerini yetiştiren Polis Akademisi'ne personel yetiştirmek amacıyla Ankara'da kurulan okul aşağıdakilerden hangisidir?

- A) Güvenlik Bilimleri Enstitüsü
- B) Akademi
- C) Polis Eğitim Merkezi
- D) Polis Koleji
- E) Polis Meslek Yüksek Okulu

14. Polis koleji mezunları ile lise ve dengi okul mezunlarının alındığı, mezunlarının komiser yardımcısı olarak göreve atandıkları okul aşağıdakilerden hangisidir?

- A) Polis Akademisi
- B) Güvenlik Bilimleri Fakültesi
- C) Polis Okulu
- D) Güvenlik Bilimleri Enstitüsü
- E) Polis Eğitim Merkezi Müdürlüğü

15. Başta askeri güç olmak üzere, devletin tüm kaynaklarının savaşın ihtiyaçlarını karşılayacak şekilde hazırlanması, toplanması ve kullanılmasına ilişkin bütün faaliyetlerin uygulandığı, hak ve özgürlüklerin kanunla kısmen ya da tamamen sınırlandırıldığı hale ne ad verilir?

- A) Ekonomik güç
- B) Savaş
- C) Seferberlik
- D) Barış
- E) İhtilal

16. Aşağıdakilerden hangisi genel seferberlik ilanında yapılacak işlemlerden biri değildir?

- A) Bakanlar Kurulu'nun seferberlik emri hazırlanması
- B) Seferberlik emrinin bütün yurda duyurulması
- C) Seferberlik emri ve silah başı levhalarının asılması
- D) Tüm okulların kapatılması
- E) Sefer görev emri alanların görev yerlerine gitmesi

17. Düşmanlık ve savaştan uzak, dostluk ve anlaşmanın üstün olduğu durum aşağıdakilerden hangisidir?

- A) Seferberlik hali
- B) Personel seferberliği
- C) Barış hali
- D) Savaş hali
- E) Bölgesel seferberlik hali

18. Aşağıdakilerden hangisi bir deprem anında yapılması gerekenlerden biri değildir?

- A) Sakin olup, paniğe kapılmamak
- B) Soba ve şöminelerden uzak durmak
- C) Köprü, üst geçit ve tünellerden uzak durmak
- D) Hızla merdiven ve asansörlere koşmak
- E) Sağlam bir masanın altına girmek

19. Aşağıdakilerden hangisi sivil savunma teşkilatının görevleri arasında yer almaz?

- A) Doğal afetlerde can ve mal kurtarmak
- B) Savaş zamanı halkın can ve mal güvenliğinin sağlamak
- C) Savaş zamanı okullarda eğitim öğretim faaliyetlerini yürütmek
- D) Büyük yangınlarda can ve mal kaybını azaltmak
- E) Savaş ve doğal afetlerde toplum için önemli tesislerin korunmasına katkıda bulunmak

20. Bir atomun parçalanması ya da iki atomun birleşmesi halinde açığa çıkan enerjiden yararlanılarak geliştirilen silahlar aşağıdakilerden hangisidir?

- A) Biyolojik silahlar
- B) Nükleer silahlar
- C) Yakıcı silahlar
- D) Lav silahları
- E) Kimyasal silahlar

SAĞLIK BİLGİSİ 2

A

2012 3D 0103-A

1. Aşağıdakilerden hangisi sağlıklı bir gebelikte annenin uyması gereken kurallardan biri değildir?

- A) İlk aylarda röntgen ışınlarından uzak durma
- B) Sigara gibi zararlı alışkanlıklardan uzak durma
- C) Düzenli egzersiz yapmadan, uzun süre hareketsiz kalma
- D) Vücudu sıkmayan bol ve rahat giysiler giyme
- E) Yeterli ve dengeli beslenme

2. İki doğum arasında en az süre ne kadar olmalıdır?

- A) 3-6 ay
- B) 6-8 ay
- C) 9-11 ay
- D) 1-1,5 yıl
- E) 2-3 yıl

3. Toplumun temel birimi aşağıdakilerden hangisidir?

- A) Aile
- B) Okul
- C) Ekonomi
- D) İşletme
- E) Çocuk

4. Aşağıdakilerden hangisi sık ve çok doğum yapan annelerin yaşadığı olumsuzluklardan biridir?

- A) Kansızlık ve beslenme bozukluklarının azalması
- B) Doğum sırasında ölüm oranının azalması
- C) Düşük ve kürtaj oranının azalması
- D) Üreme sistemi hastalıklarının artması
- E) Annenin ruhsal açıdan güçlü olması

5. Gebelikte toprak, sabun vb. zararlı maddeleri yeme gibi alışkanlıkların ortaya çıkmasının nedeni aşağıdakilerden hangisidir?

- A) Protein eksikliği
- B) Demir eksikliği
- C) Folik asit fazlalığı
- D) Kalsiyum eksikliği
- E) İyot fazlalığı

6. Amnion sıvısını aşağıdakilerden hangisi tanımlar?

- A) Lohusalık dönemi sonunda gelen ilk adettir.
- B) Adet döneminde gelen kana verilen addır.
- C) Plasentanın diğer adıdır.
- D) Anne rahminde bebeği çevreleyen kese içindeki sıvıdır.
- E) Doğum sancılarında birkaç saat önce gelen kanlı ve koyu kıvamdaki sıvıdır.

- 7. I. Alkolikler
- II. Organ nakledilenler
- III. Hamileler
- IV. Yaşlılar, çocuklar, bebekler

Yukarıdakilerden hangileri zatürreye yakalanma riski yüksek olan grup içinde yer alır?

- A) I ve II
- B) III ve IV
- C) I, II ve IV
- D) II, III ve IV
- E) I, II, III ve IV

8. Plazmodium malaria'nın neden olduğu hastalık aşağıdakilerden hangisidir?

- A) Sıtma
- B) Kolera
- C) Difteri
- D) Kuduz
- E) AIDS

9. Aşağıdaki hastalıklardan hangisi, vücudun herhangi bir yerindeki hücresel yapının bozulması sonucu kontrolsüz çoğalması ile oluşur?

- A) Grip
- B) Dizanteri
- C) Kolera
- D) Sıtma
- E) Kanser

10. Aşağıdakilerden hangisi bulaşıcı hastalıklarda doğrudan bulaşma yoluna bir örnektir?

- A) Vektörler
- B) Öksürük
- C) Sular
- D) Cerrahi aletler
- E) Bozulmuş gıdalar

A

2012 3D 0103-A

11. Bir canlıda meydana gelen yapım ve yıkım olaylarını içeren kimyasal tepkimelerin tümüne ne ad verilir?

- A) Katılım
- B) Biyoloji
- C) Metabolizma
- D) Fizyoloji
- E) Anatomi

12. I. AIDS
II. Hepatit B
III. Sıtma
IV. Kolera

Yukarıdaki hastalıklardan hangileri doğrudan bulaşma yolu ile bulaşır?

- A) I ve II
- B) I ve IV
- C) II ve III
- D) III ve IV
- E) I, II ve III

13. Halk arasında "sarılık" olarak da bilinen hepatit hastalığı vücutta hangi organı etkiler?

- A) Bağırsak
- B) Kalp
- C) Mide
- D) Karaciğer
- E) Akciğer

14. Aşağıdakilerden hangisi bayılma belirtilerinden biri değildir?

- A) Hızlı ve zayıf nabız
- B) İdrar kaçırma
- C) Baş dönmesi ve yere düşme
- D) Bilinçte bulanıklık
- E) Bacaklarda uyuşma

15. Aşağıdakilerden hangisi atardamar dış kanamalarının belirtilerinden biridir?

- A) Kanamanın açık renkli ve kalp atışıyla uyumlu kesik kesik olması
- B) Kanamanın koyu renkli ve sürekli akış halinde olması
- C) Kanamanın koyu renkli ve kesik kesik olması
- D) Kanamanın sızıntı halinde olması
- E) Kanamanın yavaş ve yoğun olması

16. Aşağıdakilerden hangisi güneş çarpması belirtilerinden biri değildir?

- A) Kusma, bulantı ve bilinç kaybı
- B) Yorgunluk ve baş dönmesi
- C) Solgun ve sıcak deri
- D) Kas krampları
- E) Canlılık ve hareketlilik

17. Aşağıdakilerden hangisi kopan bir organın sağlık kuruluşuna ulaştırılmasında dikkat edilecek uygulamalardan biri değildir?

- A) Kopan organın vücuttan ayrıldığı yere tentürdiyot vb. maddeler sürülmemelidir.
- B) Kopan organ soğuk ortamda dondurularak nakledilmelidir.
- C) Kopan organ önce temiz ve kuru bir kaba ya da poşete konulmalıdır.
- D) Kaza yerinden alınan organ 6-8 saat içinde sağlık kuruluşuna ulaştırılmalıdır.
- E) Kopan organ, asla buz ya da buzlu suya doğrudan temas ettirilmemelidir.

18. Kemik bütünlüğünün bozulmasına ne ad verilir?

- A) Burkulma
- B) Zorlanma
- C) Yara
- D) Kırık
- E) Çıkık

19. Vücuda toksik bir maddenin girmesi sonucu organların ve dokuların normal işleyişinin bozulmasına ne ad verilir?

- A) Yanma
- B) Bayılma
- C) Zorlanma
- D) Koma
- E) Zehirlenme

20. Silvester yöntemi aşağıdakilerden hangisinde uygulanan yöntemlerden biridir?

- A) Kanamalarda
- B) Hasta taşımada
- C) Solunum durmasında
- D) Kalp masajında
- E) Yanıklarda

GEOMETRİ 3

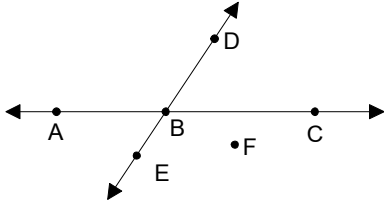
A

2012 3D 0103-A

1. Doğru ile ilgili aşağıdaki ifadelerden hangisi yanlıştır?

- A) Düzlemde paralel olmayan farklı iki doğru en az iki noktada kesişir.
- B) Düzlemde paralel iki doğrudan biriyle kesişen bir doğru diğeriyle de kesişir.
- C) Düzlemde ortak bir noktaya sahip olmayan doğrular birbirine paraleldir.
- D) Düzlemde paralel iki doğrudan birine paralel olan bir doğru diğeri de paraleldir.
- E) Farklı iki noktayı üzerinde bulunduran tek bir doğru vardır.

2.



Yukarıdaki noktalardan hangileri doğru - saldır?

- A) D,B,C
- B) A,B,F
- C) B,E,F
- D) A,C,F
- E) D,B,E

3. Sayı ekseninde uçlarının koordinatları A(-10) ve B(+2) olan [AB] nın orta noktasının koordinatı kaçtır?

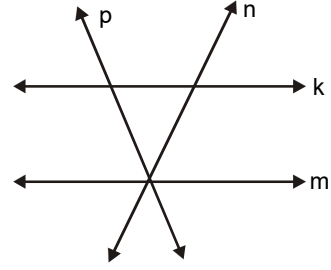
- A) -6
- B) -4
- C) -2
- D) 2
- E) 8

4. I. Bir doğru ile bir düzlemin ortak noktası yoksa, doğru düzleme paraleldir.
II. Bir doğru ile bir düzlemin en az iki ortak noktası varsa, doğru düzlemin içindedir.
III. Bir doğru ile bir düzlemin tek bir ortak noktası varsa, doğru düzlemin içindedir.

Yukarıdaki ifadelerden hangileri doğrudur?

- A) Yalnız I
- B) Yalnız II
- C) I ve II
- D) I ve III
- E) II ve III

5.



Yukarıdaki doğrulardan hangileri birbirine paraleldir?

- A) k ve m
- B) m ve p
- C) p ve n
- D) n ve k
- E) p ve k

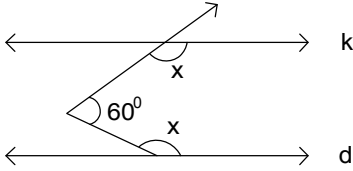
6. A(-5), B(7) ve $\frac{|AC|}{|AB|} = \frac{1}{3}$ ise, [AB] üzerinde olan C noktasının koordinatı aşağıdakilerden hangisidir?

- A) -3
- B) -1
- C) 1
- D) 2
- E) 4

A

2012 3D 0103-A

7.



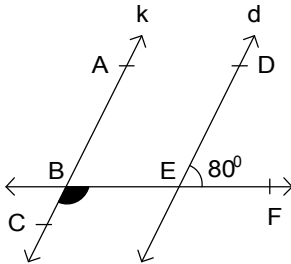
Yukarıdaki şekilde $k//d$ olduğuna göre, x açısının ölçüsü kaç derecedir?

- A) 120
- B) 130
- C) 140
- D) 150
- E) 160

8. Sayı doğrusunda $A(-12)$ ve $B(+3)$ noktaları arasındaki uzaklık kaç birimdir?

- A) 3
- B) 7
- C) 9
- D) 12
- E) 15

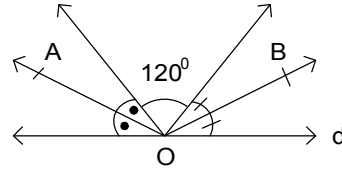
9.



Yukarıdaki şekilde, $k//d$ ve $m(\widehat{DEF}) = 80^\circ$ olduğuna göre, $m(\widehat{CBF})$ açısı kaç derecedir?

- A) 80
- B) 100
- C) 120
- D) 150
- E) 190

10.



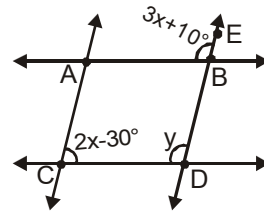
Yukarıdaki şekilde göre, $m(\widehat{AOB})$ kaç derecedir?

- A) 100
- B) 120
- C) 130
- D) 150
- E) 170

11. Aşağıda ölçüleri verilen açılardan hangisi dar açıdır?

- A) 75
- B) 96
- C) 105
- D) 118
- E) 140

12.

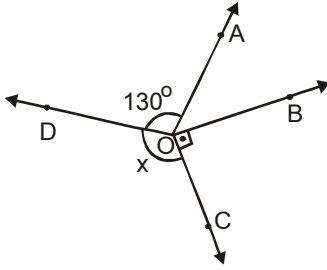


Yukarıdaki şekilde $AB//CD$, $AC//BD$ $m(\widehat{ACD}) = 2x - 30^\circ$ ve $m(\widehat{EBA}) = 3x + 10^\circ$ olduğuna göre, y kaç derecedir?

- A) 100
- B) 110
- C) 115
- D) 120
- E) 130

2012 3D 0103-A

13.



Yukarıdaki şekilde,

$$m(\widehat{DOA}) = 130^\circ, m(\widehat{BOC}) = 90^\circ$$

$$m(\widehat{DOC}) = x \text{ ve } m(\widehat{DOC}) = 4m(\widehat{AOB})$$

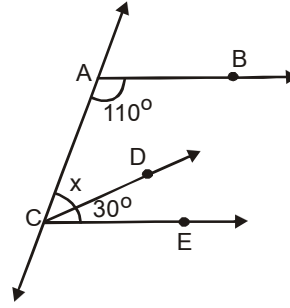
ise, x kaç derecedir?

- A) 108
- B) 110
- C) 112
- D) 120
- E) 134

14. Tümler iki açıdan küçüğünün büyüğüne oranı $3/7$ ise, büyük açı kaç derecedir?

- A) 46
- B) 52
- C) 58
- D) 63
- E) 74

15.

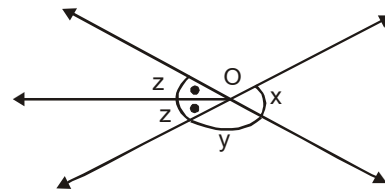
Yukarıdaki şekilde $[AB \parallel [CE$

$$m(\widehat{CAB}) = 110^\circ, m(\widehat{DCE}) = 30^\circ \text{ ise,}$$

 $m(\widehat{ACD}) = x$ kaç derecedir?

- A) 35
- B) 40
- C) 45
- D) 50
- E) 60

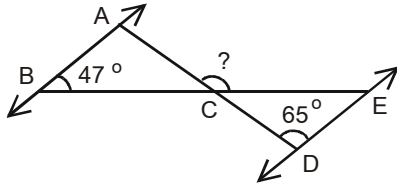
16.

Yukarıdaki şekilde $x + z = 120^\circ$ ise y kaç derecedir?

- A) 100
- B) 110
- C) 125
- D) 140
- E) 160

2012 3D 0103-A

17.



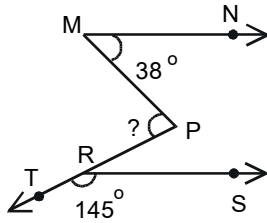
Yukarıdaki şekilde ; $AB \parallel DE$, $m(\widehat{ABE}) = 47^\circ$ ve $m(\widehat{ADE}) = 65^\circ$ olduğuna göre, $m(\widehat{ACE})$ kaç derecedir?

- A) 56
- B) 68
- C) 92
- D) 112
- E) 124

18. Ölçüsü 60° olan bir açının tümlerinin ölçüsü ile bütünlerinin ölçüsünün toplamı kaç derecedir?

- A) 60
- B) 85
- C) 95
- D) 120
- E) 150

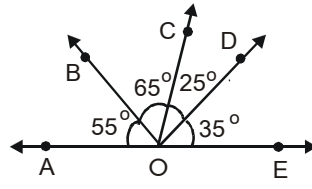
19.



Şekilde, $[MN \parallel [RS$ dir. $m(\widehat{PMN}) = 38^\circ$ $m(\widehat{TRS}) = 145^\circ$ olduğuna göre, $m(\widehat{MPR})$ kaç derecedir?

- A) 97
- B) 82
- C) 73
- D) 68
- E) 56

20.



Yukarıdaki şekle göre, aşağıdaki ifadelerden hangisi yanlıştır?

- A) \widehat{BOD} açısı, dik açıdır.
- B) \widehat{AOE} açısı, doğru açıdır.
- C) \widehat{BOE} açısı, geniş açıdır.
- D) \widehat{AOD} açısı, dar açıdır.
- E) \widehat{AOB} açısı, dar açıdır.

SEÇMELİ TARİH 4

A

2012 3D 0103-A

1. Osmanlılarda eyaletin en yüksek rütbeli komutanı aşağıdakilerden hangisidir?

- A) Tımarlı sipahi
- B) Beylerbeyi
- C) Subaşı
- D) Alaybeyi
- E) Sancakbeyi

2. Aşağıdakilerden hangisi, tımar sisteminin Osmanlı Devleti'ne sağladığı faydalardan biri değildir?

- A) Devleti, vergi toplayıp hazineye aktarma ve yeniden maaş olarak dağıtma külfetinden kurtarması
- B) Devletin, para harcamadan sürekli hazır bir orduya sahip olması
- C) Toprağın sürekli işlenmesiyle, bol ürün elde edilmesi
- D) Köylünün refah içinde yaşaması
- E) Dirlik sahiplerinin, tüketime katkıda bulunarak örfi bir görevi yerine getirmesi

3. 17.yüzyılın en önemli eserlerinden biri olan İstanbul'daki Sultan Ahmet Camii'nin mimarı aşağıdakilerden hangisidir?

- A) Mehmet Ağa
- B) Mimar Sinan
- C) Mimar Kemaleddin
- D) Hacı Özbek
- E) Balyan Efendi

4. Osmanlılarda, yeniçeri ocağının silahlarını yapan, onaran veya temin eden ocak aşağıdakilerden hangisidir?

- A) Humbaracı ocağı
- B) Topçu ocağı
- C) Lağımçı ocağı
- D) Acemi ocağı
- E) Cebeci ocağı

5. Köylünün elde ettiği ürün üzerinden sipahiye ödediği vergiye ne ad verilir?

- A) Çift resmi
- B) Dirlik
- C) Tağşiş
- D) Çiftbozan resmi
- E) Şerefiye

6. Konargöçerlerin devlete ödediği vergi aşağıdakilerden hangisidir?

- A) İşgal vergisi
- B) Yararlanma vergisi
- C) Meslek vergisi
- D) Katılım vergisi
- E) Ağıl vergisi

7. Aşağıdakilerden hangisi, Osmanlı toplum yapısında esnaf sınıfının en alt grubunu oluşturur?

- A) Şeyh
- B) Nakip
- C) Yiğitbaşı
- D) Usta
- E) Kethüda

8. Aşağıdakilerden hangisi reâyânın özelliklerinden biri değildir?

- A) Yönetilenlerden oluşması
- B) Geçimini tarım, hayvancılık, sanayi ve ticaretle uğraşarak sağlaması
- C) Aynı dine mensup olanlardan oluşması
- D) Askeri sınıfın dışında kalanlardan oluşması
- E) Devlete vergi vermesi

9. Aşağıdakilerden hangisi tımar sistemi içinde üretim yapan köylülerin özelliklerinden biri değildir?

- A) Köylünün toprağını sürekli kullanma ve miras olarak bırakma hakkına sahip olması
- B) Köylünün işlediği toprağın mülkiyetine sahip olması
- C) Köylünün toprağını üç yıl üst üste işlemeden bırakmasının yasak olması
- D) Köylünün ürettiği ürünün vergisini, sipahiye ödemek zorunda olması
- E) Köylünün toprağını nedensiz yere terk edememesi

10. Bir ülkede üretim, dağıtım ve tüketim ilişkilerinin tümüne birden ne ad verilir?

- A) Beşeri sermaye
- B) Ekonomi
- C) Bütçe
- D) Üretim faktörleri
- E) Kaynaklar

A

2012 3D 0103-A

11. Osmanlı Devleti'nde Müslüman olmayan halkın elinde bulunan topraklara ne ad verilir?

- A) Haraciye
- B) Öşriyye
- C) Arz-ı miri
- D) Dirlik
- E) Paşmaklık

12. I. Süt
II. Deri
III. Yapağı

Yukarıdakilerden hangileri Osmanlı ekonomisinde önemli bir besin kaynağı ve sanayi hammaddeleridir?

- A) Yalnız I
- B) Yalnız II
- C) I ve II
- D) II ve III
- E) I, II ve III

13. İstanbul'da ilk matbaayı aşağıdakilerden hangisi kurmuştur?

- A) Şinasi
- B) Namık Kemal
- C) Ali Suavi
- D) İbrahim Müteferrika
- E) Münif Paşa

14. Aşağıdaki gazetelerden hangisi Osmanlı Devleti'nde çıkarılan özel gazetelerden biri değildir?

- A) Tercüman-ı Hakikat
- B) Ceride-i Havadis
- C) Takvim-i Vekayi
- D) İbret Gazetesi
- E) Hürriyet Gazetesi

15. Aşağıdakilerden hangisi Mimar Sinan'ın kalfalık dönemi eseridir?

- A) Şehzade cami
- B) Sultan Ahmet cami
- C) Süleymaniye cami
- D) Selimiye cami
- E) Nuru Osmaniye cami

16. I. Mercimek Ahmet
II. Kemalpaşa-zâde
III. Ebussuud Efendi

Yukarıdakilerden hangileri klasik Osmanlı dönemi düşünce hayatını etkileyen bilim adamlarıdır?

- A) Yalnız I
- B) Yalnız II
- C) I ve II
- D) II ve III
- E) I, II ve III

17. Osmanlı Devleti'nde eğitim anlayışının temel amacı aşağıdakilerden hangisidir?

- A) Toplumun ilgisini sanatsal konulara çekmek
- B) Okuma-yazma oranını artırmak
- C) İdeal insan tipini ortaya çıkarmak
- D) Toplumun kültürel faaliyetlerini artırmak
- E) Medreseleri artırmak

18. Azınlık okulları ile ilgili aşağıdaki ifadelerden hangisi yanlıştır?

- A) Sadece batılı devletler değil İran ve Rusya da Osmanlı'da okul açmıştır.
- B) Azınlıklara ait okullar kiliselere bağlı olarak açılmıştır.
- C) Tevhid-i Tedrisat Kanunu'na kadar azınlık ve yabancı okullar tam anlamıyla devlet denetimi altına alınamamıştır.
- D) Yahudilere ait azınlık okulu açılmasına izin verilmemiştir.
- E) Kilise dışında bağımsız azınlık okulları açılmıştır.

19. İkinci Viyana Kuşatması'ndan sonra, Osmanlı Devleti, içinde bulunduğu çöküntüden kurtulmak için öncelikle aşağıdaki alanların hangisinde yenileşme hareketi başlatmıştır?

- A) Hukuki
- B) Askeri
- C) Ticari
- D) Dini
- E) Felsefi

20. Osmanlı Devleti'nin medreselerinde öğretmenlik yapanlara verilen unvan aşağıdakilerden hangisidir?

- A) Şeyh
- B) Kethuda
- C) Naip
- D) Müderris
- E) Atabey

ALMANCA 8

A

2012 3D 0103-A

Bu testin cevaplarını, cevap anahtarında YABANCI DİL 8 sütununa işaretleyiniz.

1. Ich mache eine Woche Urlaub und sie wie ein Tag.

Welches Wort paßt in die obige Lücke?

Cümlede boş bırakılan yeri aşağıdakilerden hangisi doğru şekilde tamamlar?

- A) vergeht
- B) kommt
- C) hat
- D) steht
- E) liegt

2. Es ist Zeit, wir unsere Hausaufgaben machen.

Welches Wort paßt in die obige Lücke?

Cümlede boş bırakılan yeri aşağıdakilerden hangisi doğru şekilde tamamlar?

- A) dessen
- B) dann
- C) denn
- D) dass
- E) damit

3. ich eine Erfinderin wäre, würde ich eine neue Lernmaschine erfinden.

Welche Wörter passen in die obigen Lücken?

Cümlede boş bırakılan yerleri aşağıdakilerden hangileri doğru şekilde tamamlar?

- A) Wie / dessen
- B) Wenn / dann
- C) Weil / damit
- D) Wo / somit
- E) Was / nur

4. Ekonomi danışmanı olmak istiyorum.

Wie lautet der obige Satz auf deutsch?

Verilen cümlelerin Almanca'sı aşağıdakilerden hangisidir?

- A) Mein Freund ist Wirtschaftsberater geworden.
- B) Die Wirtschaft wird sich dieses Jahr verändern.
- C) Die Wirtschaft hat sich verbessert.
- D) Ich möchte Wirtschaftsberaterin werden.
- E) Ich möchte mich über die Wirtschaft beraten.

5. Albert Einstein,, veränderte mit seiner Theorie unser Weltbild.

Welches ergänzt die Lücke im obigen Satz?

Verilen cümleyi aşağıdakilerden hangisi tamamlar?

- A) die viele Erfahrungen haben
- B) das noch in die Schule geht
- C) der in Berlin lebt
- D) der ein genialer Wissenschaftler war
- E) den man erst neu kennen gelernt hat

6. Was willst du mal werden?

Welche Antwort paßt zur obigen Frage?

Verilen sorunun cevabı aşağıdakilerden hangisidir?

- A) Ich möchte Pferdezüchterin werden.
- B) Er hat eine eigene Autowerkstatt.
- C) Sie können im Museum arbeiten.
- D) Wir machen Forschungen an der Universität.
- E) Ich arbeite bei einer Umweltorganisation.

A

2012 3D 0103-A

7. Ja, sie können auch aufs Gymnasium gehen.

Welche Frage paßt zur obigen Antwort?

Verilen cevabı gerektirecek soru aşağıdakilerden hangisidir?

- A) Möchtest du nach dem Abitur an einer Universität oder bei einer Firma arbeiten?
 B) Was müssen die Schüler machen, die im Ausland weiter studieren möchten?
 C) Was möchtest du machen, wenn du das Gymnasium beendest?
 D) Können die Schüler, die eine Realschule besucht haben, aufs Gymnasium gehen?
 E) Kannst du nach der Gesamtschule auch zur Berufsschule gehen?

8. Die Städte haben Probleme:
 Lärm und Abgase.

Welche Wörter passen in die obigen Lücken?

Cümlede boş bırakılan yerleri aşağıdakilerden hangileri doğru şekilde tamamlar?

- A) unteren / Zu
 B) manche / Nur
 C) jeden / So
 D) kleine / Wie
 E) großen/ Viel

9. Ist der Computer der Held der Zukunft?

Welche Antwort paßt zur obigen Frage?

Verilen sorunun cevabı aşağıdakilerden hangisidir?

- A) Ja, ich finde, dass die Spiele im Computer sehr spannend sind.
 B) Ja, ich bin der Meinung, dass der Computer sehr wichtig für die Zukunft ist.
 C) Ja, du kannst an meinem Computer arbeiten, wenn du willst.
 D) Nein, ich habe mir kein Computer gekauft, sondern geschenkt bekommen.
 E) Nein, wir haben heute viele Hausaufgaben, die wir am Computer machen müssen.

10. Was bedeutet das Gegenteil von "der Ärger"?

"der Ärger" sözcüğünün zıt anlamı aşağıdakilerden hangisidir?

- A) die Unzufriedenheit
 B) die Freude
 C) die Spannung
 D) die Unruhe
 E) die Folge

11. Im Sommer ist es wunderbar,

Welches ergänzt die Lücke im obigen Satz?

Verilen cümleyi aşağıdakilerden hangisi tamamlar?

- A) wenn wir eine wissenschaftliche Untersuchung machen müssen.
 B) weil sie kein Benzin und Wasser brauchen.
 C) weil wir dann viel Spaß in den Ferien haben.
 D) wenn wir in Zukunft modern aussehen wollen.
 E) weil ich noch viel arbeiten muss.

12. Was bedeutet das Wort "entspannen" auf türkisch?

"entspannen" sözcüğünün Türkçesi aşağıdakilerden hangisidir?

- A) sunmak
 B) gevşemek
 C) vermek
 D) eğlendirmek
 E) geliştirmek

13. Wie lautet das Singular von "Die Pokale"?

"Die Pokale" sözcüğünün tekil hali aşağıdakilerden hangisidir?

- A) Der Pokal
 B) Die Pokal
 C) Dieses Pokal
 D) Den Pokal
 E) Dem Pokal

2012 3D 0103-A

14. Entwickeln / ein / neues / will / Modell / er

Wie kann man mit den obigen Wortgruppen einen vollständigen Satz bilden?

Verilen sözcük gruplarıyla kurulabilecek en anlamlı ve doğru cümle aşağıdakilerden hangisidir?

- A) Er ein neues Modell will entwickeln.
- B) Entwickeln er will ein neues Modell.
- C) Ein neues Modell er entwickeln will.
- D) Modell er will entwickeln ein neues.
- E) Er will ein neues Modell entwickeln.

15. Das ist ein bekanntes deutsches Volkslied.

Welche Frage paßt zur obigen Antwort?

Verilen cevabı gerektirecek soru aşağıdakilerden hangisidir?

- A) Wer kennt das Loreley-Lied?
- B) Welche Lieder kennst du?
- C) Wie singt man diese Lieder?
- D) Wann wurde das Lied Loreley gedichtet?
- E) Was ist die Loreley?

16. Im Museum kann viele Informationen

Welche Wörter passen in die obigen Lücken?

Cümlede boş bırakılan yerleri aşağıdakilerden hangileri doğru şekilde tamamlar?

- A) am / sehen
- B) aus / finden
- C) man / erhalten
- D) für / lernen
- E) zum / nehmen

17. hat man den schönsten Blick auf das Rheintal.

Welches ergänzt die Lücke im obigen Satz?

Verilen cümleyi aşağıdakilerden hangisi tamamlar?

- A) Zu den Felsen
- B) In den Mythen
- C) liegt direkt in der Mitte.
- D) Über die Geschichte
- E) Von der Hotelterrasse

18. Was weißt du über Heinrich Heine?

Welche Antwort paßt zur obigen Frage?

Verilen sorunun cevabı aşağıdakilerden hangisidir?

- A) Heinrich Heine ist ein berühmter deutscher Dichter.
- B) Das ist unsere neue Lehrerin.
- C) Heinrich Heine hat ein neues Rhythmusinstrument gebastelt.
- D) Das ist ein Maler aus Frankreich.
- E) Heinrich Heine hat viele Schiffe gebaut.

19. A: Welche Mythen gibt es in der Türkei?
B: Wenn du mehr wissen möchtest,

.....
A: Ja, da hast du Recht.

Welches ergänzt die Lücke im obigen Dialog?

Verilen karşılıklı konuşmada boş bırakılan yeri aşağıdakilerden hangisi tamamlar?

- A) kann sie in die Stadt gehen.
- B) darf sie sich in der Klasse umschauchen.
- C) dann kannst du ins Internet gehen.
- D) soll sie viele Informationen vortragen.
- E) musst du dich dafür interessieren.

20. Yol levhasında birkaç şehir ve birkaç yer adı var.

Welche Antwort paßt zur obigen Frage?

Verilen sorunun cevabı aşağıdakilerden hangisidir?

- A) Der Wegweiser zeigt uns viele Lieder und Balladen.
- B) Hier auf dem Wegweiser sehen Sie eine Postkarte von einigen Städten.
- C) Auf dem Wegweiser stehen einige Städte und Orte.
- D) Die Landkarte ist hier zu sehen.
- E) In den Besucherzentren finde Sie ausführliche Auskunft.

FRANSIZCA 8

A

2012 3D 0103-A

Bu testin cevaplarını, cevap anahtarında YABANCI DİL 8 sütununa işaretleyiniz.

1. Je voudrais deux places pour Avatar.

Choisissez le mot qui convient.

Cümledeki boşluğu aşağıdakilerden hangisi doğru şekilde tamamlar?

- A) réserver
- B) souvenir
- C) dîner
- D) aller
- E) agréer

2. Il va aller chercher le livre son professeur demande.

Choisissez le mot qui convient.

Cümledeki boşluğu aşağıdakilerden hangisi doğru şekilde tamamlar?

- A) où
- B) sur
- C) à
- D) que
- E) qui

3. Il peut pleuvoir; n'oubliez pas prendre votre parapluie.

Choisissez le mot qui convient.

Cümledeki boşluğu aşağıdakilerden hangisi doğru şekilde tamamlar?

- A) en
- B) de
- C) sans
- D) à
- E) qui

4. - Tu ne prends pas de dessert?
- Non, je ne(n') veux pas.

Choisissez le mot qui convient.

Yukarıdaki konuşmada boş bırakılan yeri aşağıdakilerden hangisi doğru şekilde tamamlar?

- A) suis
- B) la
- C) y
- D) en
- E) rien

5. pense à soi-même.

Choisissez le mot qui convient.

Cümledeki boşluğu aşağıdakilerden hangisi doğru şekilde tamamlar?

- A) Comment
- B) Comme
- C) Toi
- D) Chacun
- E) Qui

6. fait / choix / avez / votre / vous ?
I II III IV V

Mettez dans le bon ordre.

Yukarıdaki kelimelerin anlamlı ve kurallı bir cümle oluşturan sırası aşağıdakilerin hangisinde doğru olarak verilmiştir?

- A) V, III, I, IV, II
- B) V, IV, II, III, I
- C) IV, II, III, I, V
- D) III, IV, V, I, II
- E) III, I, V, IV, II

A

2012 3D 0103-A

7. Elle est en retard un accident sur la route.

Choisissez le mot qui convient.

Cümledeki boşluğu aşağıdakilerden hangisi doğru şekilde tamamlar?

- A) pourquoi
B) si
C) à l'absence d'
D) à cause d'
E) qui

8. - Le fondateur de la Turquie, c'est ?
- C'est Atatürk.

Choisissez le mot qui convient.

Yukarıdaki konuşmada boş bırakılan yeri aşağıdakilerden hangisi doğru şekilde tamamlar?

- A) comment
B) ça
C) quand
D) où
E) qui

9. C'est une ville; je l'aime beaucoup.

Choisissez le mot qui convient.

Cümledeki boşluğu aşağıdakilerden hangisi doğru şekilde tamamlar?

- A) patient
B) tranquille
C) déçu
D) gentil
E) intelligent

10. Elle n'aime pas la campagne. Elle est la ville.

Choisissez le mot qui convient.

Cümledeki boşluğu aşağıdakilerden hangisi doğru şekilde tamamlar?

- A) sur
B) pour
C) contre
D) avec
E) par

11. - Qu'est-ce que vous préférez? Le cinéma le théâtre?
- Le théâtre, bien sûr.

Choisissez le mot qui convient.

Yukarıdaki konuşmada boş bırakılan yeri aşağıdakilerden hangisi doğru şekilde tamamlar?

- A) et
B) que
C) ou
D) ni
E) avec

12. La semaine prochaine, il au Portugal.

Choisissez le mot qui convient.

Cümledeki boşluğu aşağıdakilerden hangisi doğru şekilde tamamlar?

- A) était
B) sera
C) a
D) est allé
E) es

13. Connaissez-vous ce musicien est allemand?

Choisissez le mot qui convient.

Cümledeki boşluğu aşağıdakilerden hangisi doğru şekilde tamamlar?

- A) qui
B) donc
C) où
D) quel
E) pas

14., nous sommes allés au concert.

Choisissez le mot qui convient.

Cümledeki boşluğu aşağıdakilerden hangisi doğru şekilde tamamlar?

- A) C'était
B) Demain
C) Chacun
D) Le mois prochain
E) Hier

2012 3D 0103-A

15. A - Demain matin, je vais partir au Japon.
B -
A - Merci.

Choisissez l'expression qui convient.

Yukarıdaki konuşmada boş bırakılan yeri aşağıdakilerden hangisi doğru şekilde tamamlar?

- A) Bonne anniversaire!
B) Bonne nuit!
C) Bon appétit!
D) Bon courage!
E) Bon voyage!

16. te / tôt / devrais / tu / coucher
I II III IV V

Mettez dans le bon ordre.

Yukarıdaki kelimelerin kurallı ve anlamlı bir bütün oluşturan dizilişi aşağıdakilerin hangisinde doğru olarak verilmiştir?

- A) III, IV, II, V, I
B) IV, I, V, III, II
C) IV, III, I, V, II
D) V, IV, I, III, II
E) V, II, IV, I, III

17. Il est en section scientifique il donne plus d'importance aux Maths.

Choisissez le mot qui convient.

Cümledeki boşluğu aşağıdakilerden hangisi doğru şekilde tamamlar?

- A) bon
B) ou
C) avec
D) trop
E) donc

18. Mon ami a de mauvaises notes en littéraires. Il dire la vérité à ses parents.

Choisissez le mot qui convient.

Cümledeki boşluğu aşağıdakilerden hangisi doğru şekilde tamamlar?

- A) hésite
B) obligé
C) pardonnez
D) encouragement
E) soutien

19. Si j'ai beaucoup d'argent, je(j') faire un tour de monde.

Choisissez le mot qui convient.

Cümledeki boşluğu aşağıdakilerden hangisi doğru şekilde tamamlar?

- A) suis allé
B) y
C) vais
D) en
E) allais

20. Tu ne penses pas y aller?

Choisissez la traduction qui convient.

Yukarıdaki cümlenin Türkçe karşılığı aşağıdakilerden hangisidir?

- A) Gideceğin yer neresi?
B) Oraya gitmeyi düşünüyor musun?
C) Oraya gitmeyi düşünmez misin?
D) Orada ne kadar kalacaksın?
E) Oraya nasıl gideceksin?

İNGİLİZCE 8

A

2012 3D 0103-A

Bu testin cevaplarını, cevap anahtarında YABANCI DİL 8 sütununa işaretleyiniz.

1. John is 15 years old. Mike is 18 years old. John is than Mike.

Which of the following completes the sentence above?

Aşağıdakilerden hangisi yukarıdaki cümleyi doğru olarak tamamlar?

- A) younger
- B) funnier
- C) cleverer
- D) longer
- E) older

2. Michael Jackson is famous pop star in the world.

Which of the following completes the sentence above?

Aşağıdakilerden hangisi yukarıdaki cümleyi doğru olarak tamamlar?

- A) less
- B) much
- C) more
- D) the most
- E) most

3. Terry : How was the film last night?
Jane : Oh, terrible. It was film I have ever seen.

Which of the following completes the dialogue above?

Aşağıdakilerden hangisi yukarıdaki konuşmayı doğru olarak tamamlar?

- A) worse
- B) the worst
- C) the best
- D) better
- E) bad

4. Jane : Is there money in the wallet?
John : Yes, there is.

Which of the following completes the dialogue above?

Aşağıdakilerden hangisi yukarıdaki konuşmayı doğru olarak tamamlar?

- A) very
- B) many
- C) a few
- D) any
- E) either

5. Joe : Are there any apples in the basket?
Carol : Yes there are apples in the basket.

Which of the following completes the dialogue above?

Aşağıdakilerden hangisi yukarıdaki konuşmayı doğru olarak tamamlar?

- A) much
- B) a little
- C) a lot
- D) a few
- E) any

6. Mary : How money is there in the wallet?
Jill : There is a little.

Which of the following completes the dialogue above?

Aşağıdakilerden hangisi yukarıdaki konuşmayı doğru olarak tamamlar?

- A) much
- B) any
- C) more
- D) some
- E) many

A

2012 3D 0103-A

7. Sam : How bananas are there in the basket?
Jack : There are a few.

Which of the following completes the dialogue above?

Aşağıdakilerden hangisi yukarıdaki konuşmayı doğru olarak tamamlar?

- A) much
B) some
C) any
D) many
E) more

8. Jane : What is James going to do tonight?
Carol : He TV .

Which of the following completes the dialogue above?

Aşağıdakilerden hangisi yukarıdaki konuşmayı doğru olarak tamamlar?

- A) watch
B) has watched
C) watched
D) watching
E) is going to watch

9. Sally : Is the cat sleeping at the moment?
Tim : No it isn't. But it usually on the sofa.

Which of the following completes the dialogue above?

Aşağıdakilerden hangisi yukarıdaki konuşmayı doğru olarak tamamlar?

- A) slept
B) sleeps
C) has slept
D) sleeping
E) sleep

10. Kerem : What did you do last night?
Cenk : I English.

Which of the following completes the dialogue above?

Aşağıdakilerden hangisi yukarıdaki konuşmayı doğru olarak tamamlar?

- A) will study
B) studied
C) study
D) studying
E) studies

11. The concert had just finished Sally arrived.

Which of the following completes the sentence above?

Aşağıdakilerden hangisi yukarıdaki cümleyi doğru olarak tamamlar?

- A) where
B) whether
C) when
D) while
E) that

12. Tom : Here is Sue. Ask her where John is.
Mike : Where John?
Sue : He is in the classroom.

Which of the following completes the dialogue above?

Aşağıdakilerden hangisi yukarıdaki konuşmayı doğru olarak tamamlar?

- A) does
B) is
C) did
D) has been
E) was

2012 3D 0103-A

13. He said, "I can swim well."
He said that swim well.

Which of the following completes the sentence above?

Aşağıdakilerden hangisi yukarıdaki cümleyi doğru olarak tamamlar?

- A) he could
B) I can
C) I could
D) he can
E) he was able to

14. The Suez Canal in the nineteenth century.

Which of the following completes the sentence above?

Aşağıdakilerden hangisi yukarıdaki cümleyi doğru olarak tamamlar?

- A) build
B) has built
C) is built
D) built
E) was built

15. Amy : Is there anything in the refrigerator?
Bob : Yes, there are three

Which of the following completes the dialogue above?

Aşağıdakilerden hangisi yukarıdaki konuşmayı doğru olarak tamamlar?

- A) honey
B) milk
C) cheese
D) apple
E) apples

16. Ken used to piano when he was five.

Which of the following completes the sentence above?

Aşağıdakilerden hangisi yukarıdaki cümleyi doğru olarak tamamlar?

- A) played
B) playing
C) play
D) will play
E) plays

17. Sandy is than Brenda.

Which of the following completes the sentence above?

Aşağıdakilerden hangisi yukarıdaki cümleyi doğru olarak tamamlar?

- A) beautiful
B) the least beautiful
C) the most beautiful
D) most beautiful
E) more beautiful

18. Are apples?

Which of the following completes the sentence above?

Aşağıdakilerden hangisi yukarıdaki cümleyi doğru olarak tamamlar?

- A) those
B) this
C) when
D) then
E) why

19. are oranges?

Which of the following completes the sentence above?

Aşağıdakilerden hangisi yukarıdaki cümleyi doğru olarak tamamlar?

- A) It
B) When
C) These
D) That
E) This

20. There aren't apples in the cupboard.

Which of the following completes the sentence above?

Aşağıdakilerden hangisi yukarıdaki cümleyi doğru olarak tamamlar?

- A) a little
B) very
C) any
D) some
E) much

SEÇMELİ DİL ve ANLATIM 6

A

2012 3D 0103-A

1. Aşağıdaki cümlelerden hangisinde birleşik sözcük yoktur?

- A) Gökyüzünden bir yıldız seç.
- B) Masadaki kitabı verir misin?
- C) Bilgisayarım bozuldu.
- D) Teyzem imambayıldı pişirmiş.
- E) En sevdiğim çiçek hanımeldir.

2. Aşağıdakilerden hangisi isimden türemiştir?

- A) Saygı
- B) Yazıcı
- C) Sorgucu
- D) Gözcü
- E) Örgü

3. Mülakatla ilgili aşağıdaki ifadelerden hangisi yanlıştır?

- A) Görüşülecek kişiden önceden randevu alınmalıdır.
- B) Öğretici ve ufuk açıcıdır.
- C) Mülakat yapan kişi sabırlı, dikkatli ve nazik olmalıdır.
- D) Alınan cevaplar aynen ve yorumlanmadan yayımlanır.
- E) Görüşülecek kişi sıradan bir kişi olabilir.

4. Aşağıdakilerin hangisinde birleşik sözcük iki isimden oluşmuştur?

- A) Kitapsever
- B) Biçerdöver
- C) Yılbaşı
- D) Kapkaç
- E) Atardamar

5. Genellikle parlamentolarda, diplomatik toplantılarda, mitinglerde söylenen söylevler aşağıdakilerden hangisidir?

- A) Askerî söylev
- B) Hukuksal söylev
- C) Siyasi söylev
- D) Dinsel söylev
- E) Akademik söylev

6. Aşağıdakilerin hangisi isimden türemiş bir sözcüktür?

- A) Sevindir
- B) Süzme
- C) Alıcı
- D) Bakış
- E) Gözlük

7. Bir topluluk önünde belirli bir konuda yapılan etkili ve inandırıcı konuşmalara ne ad verilir?

- A) Forum
- B) Söylev
- C) Panel
- D) Mülakat
- E) İletişim

8. Aşağıdakilerin hangisinde basit yapılı sözcükler birlikte ve doğru olarak verilmiştir?

- A) Yazgı-soru-bilim
- B) Sucu-doğruluk-yanlış
- C) Koku-sıra-sayıcı
- D) İyi-kare-haber
- E) Hatır-silgi-borçlu

9. Aşağıdakilerin hangisinde birden fazla yapım eki yoktur?

- A) Tatlıcı
- B) Sevinçli
- C) Saygınlık
- D) Solak
- E) Gözlüklü

10. Aşağıdakilerden hangisi sadece bir yapım eki almıştır?

- A) Sorgucu
- B) Soyguncu
- C) Suçlu
- D) Korkuluğu
- E) Bozgunculuk

A

2012 3D 0103-A

11. Aşağıdaki sözcüklerin hangisinde hem yapım hem de çekim eki vardır?

- A) Masayı
- B) Sözlüğü
- C) Yapıcı
- D) Yazıcı
- E) Kitabın

12. Aşağıdaki cümlelerden hangisinde türemiş sözcük yoktur?

- A) Eğitim, bilinçlenmek için yeterli mi?
- B) Sınırsızca tüketiyoruz doğayı.
- C) Elden ne gelir?
- D) Sonsuzlukta kaybolasım var.
- E) Saygıda kusur etmiyor.

13. Aşağıdakilerden hangisi röportajın özellikleri arasında yer almaz?

- A) Röportaja ses kayıtları, belge ve fotoğraflar da eklenebilir.
- B) Röportajı yapan kişi, röportajında elde ettiği bilgilerle kendi görüş ve düşüncelerine de yer verir.
- C) Röportajcı gördükleri ve izlenimleriyle yetinmeyip araştırma ve inceleme de yapar.
- D) Röportaj, devam eden yazılar biçiminde olamaz, tek bir yazıda tüm bilgiler özetlenmelidir.
- E) Röportajcının amacı konuyu çarpıtmadan belgesel olarak okuyucuya sunmak ve okuyucuyu konunun içinde yaşatmaktır.

14. Aşağıdaki sözcüklerden hangisi farklı cinsten bir kökten türemiştir?

- A) Saygın
- B) Başkan
- C) Suskun
- D) Durgun
- E) Solgun

15. Aşağıdakilerden hangisi iki isimden oluşmuş bir birleşik sözcüktür?

- A) Bilgisayar
- B) Kapkaç
- C) Çekyat
- D) Alışveriş
- E) Anneanne

16. "Onuncu Yıl Nutku" tür olarak aşağıdakilerden hangisine örnektir?

- A) Hitabete
- B) Mülakata
- C) Denemeye
- D) Fıkraya
- E) Mektuba

17. Aşağıdakilerin hangisinde tüm sözcükler türemiştir?

- A) Verici-sorgu-sayı
- B) Ağız-çimen-ağaç
- C) Saygı-kök-yapı
- D) Sisli-yağmur-gül
- E) Şut-kale-maç

18. Aşağıdakilerden hangisi söylev türlerinden biri değildir?

- A) Siyasi
- B) Dinsel
- C) Akademik
- D) Askeri
- E) Edebi

19. Herhangi bir konu ya da sorunun değişik boyutlarıyla ele alınıp işlendiği gazete ve dergi yazılarına ne ad verilir?

- A) Röportaj
- B) Fıkra
- C) Deneme
- D) Makale
- E) Sohbet

20. Aşağıdakilerden hangisi birleşik sözcük değildir?

- A) Sonsuzluk
- B) Mirasyedi
- C) Uyurgezer
- D) Gecekondu
- E) Kuşburnu

SEÇMELİ ALMANCA 8

A

2012 3D 0103-A

Bu testin cevaplarını, cevap anahtarında SEÇMELİ YABANCI DİL 8 sütununa işaretleyiniz.

1. Meine Freundin geht Gymnasium.

Welches Wort paßt in die obige Lücke?

Cümlede boş bırakılan yeri aşağıdakilerden hangisi doğru şekilde tamamlar?

- A) in
- B) zu
- C) vor
- D) über
- E) aufs

2. Ich möchte Architektin

Welches Wort paßt in die obige Lücke?

Cümlede boş bırakılan yeri aşağıdakilerden hangisi doğru şekilde tamamlar?

- A) würden
- B) wirst
- C) würdest
- D) werden
- E) sollst

3. Ich möchte Lehrerin werden.

Welche Frage paßt zur obigen Antwort?

Verilen cevabı gerektirecek soru aşağıdakilerden hangisidir?

- A) Wovon hast du geträumt?
- B) Träumst du jede Nacht?
- C) Möchtest du Pilot werden?
- D) Was ist dein Traumberuf?
- E) Wo arbeiten Sie?

4. Ich mache eine Woche Urlaub und sie wie ein Tag.

Welches Wort paßt in die obige Lücke?

Cümlede boş bırakılan yeri aşağıdakilerden hangisi doğru şekilde tamamlar?

- A) vergeht
- B) kommt
- C) hat
- D) steht
- E) liegt

5. Ekonomi danışmanı olmak istiyorum.

Wie lautet der obige Satz auf deutsch?

Verilen cümlenin Almançası aşağıdakilerden hangisidir?

- A) Ich möchte mich über die Wirtschaft beraten.
- B) Die Wirtschaft hat sich verbessert.
- C) Die Wirtschaft wird sich dieses Jahr verändern.
- D) Mein Freund ist Wirtschaftsberater geworden.
- E) Ich möchte Wirtschaftsberaterin werden.

6. Albert Einstein,, veränderte mit seiner Theorie unser Weltbild.

Welches ergänzt die Lücke im obigen Satz?

Verilen cümleyi aşağıdakilerden hangisi tamamlar?

- A) das noch in die Schule geht
- B) den man erst neu kennen gelernt hat
- C) der ein genialer Wissenschaftler war
- D) die viele Erfahrungen haben
- E) der in Berlin lebt

A

2012 3D 0103-A

7. Ja, sie können auch aufs Gymnasium gehen.

Welche Frage paßt zur obigen Antwort?

Verilen cevabı gerektirecek soru aşağıdakilerden hangisidir?

- A) Möchtest du nach dem Abitur an einer Universität oder bei einer Firma arbeiten?
 B) Was müssen die Schüler machen, die im Ausland weiter studieren möchten?
 C) Was möchtest du machen, wenn du das Gymnasium beendest?
 D) Kannst du nach der Gesamtschule auch zur Berufsschule gehen?
 E) Können die Schüler, die eine Realschule besucht haben, aufs Gymnasium gehen?

8. nannte man es Zweirad, wird es Fahrrad genannt.

Welche Wörter passen in die obigen Lücken?

Cümlede boş bırakılan yerleri aşağıdakilerden hangileri doğru şekilde tamamlar?

- A) Nie / wie
 B) Immer / nur
 C) Um / zu
 D) Früher / heute
 E) Jetzt / etwas

9. Warum machen Menschen Ferien?

Welche Antwort paßt zur obigen Frage?

Verilen sorunun cevabı aşağıdakilerden hangisidir?

- A) Ich habe mir ein Fahrrad gekauft.
 B) Du bekommst ein Fahrrad zum Geburtstag.
 C) Nein, wir kommen nicht mit.
 D) Ja, ich habe ein Fahrrad.
 E) Um sich zu entspannen.

10. Ein Velotaxi, sondern nur menschliche Energie.

Welches ergänzt die Lücke im obigen Satz?

Verilen cümleyi aşağıdakilerden hangisi tamamlar?

- A) lieben besonders die Touristen
 B) braucht kein Benzin
 C) haben mehr Sonne
 D) hat viel Wasser
 E) spart viel Geld

11. Computer / weg / denken / heute / zu / der / ist / nicht

Wie kann man mit den obigen Wortgruppen einen vollständigen Satz bilden?

Verilen sözcük gruplarıyla kurulabilecek en anlamlı ve doğru cümle aşağıdakilerden hangisidir?

- A) Heute der Computer ist wegzudenken nicht.
 B) Der heute Computer nicht ist wegzudenken.
 C) Wegzudenken der Computer ist heute nicht.
 D) Der Computer ist heute nicht wegzudenken.
 E) Nicht der Computer heute wegzudenken ist.

12. Die Städte haben Probleme: Lärm und Abgase.

Welche Wörter passen in die obigen Lücken?

Cümlede boş bırakılan yerleri aşağıdakilerden hangileri doğru şekilde tamamlar?

- A) kleine / Wie
 B) jeden / So
 C) großen/ Viel
 D) manche / Nur
 E) unteren / Zu

13. Im Sommer ist es wunderbar,

Welches ergänzt die Lücke im obigen Satz?

Verilen cümleyi aşağıdakilerden hangisi tamamlar?

- A) weil wir dann viel Spaß in den Ferien haben.
 B) weil sie kein Benzin und Wasser brauchen.
 C) wenn wir in Zukunft modern aussehen wollen.
 D) wenn wir eine wissenschaftliche Untersuchung machen müssen.
 E) weil ich noch viel arbeiten muss.

14. Wie lautet das Singular von "Die Pokale"?

"Die Pokale" sözcüğünün tekil hali aşağıdakilerden hangisidir?

- A) Der Pokal
 B) Die Pokal
 C) Dieses Pokal
 D) Den Pokal
 E) Dem Pokal

2012 3D 0103-A

15. Die Stadt Koblenz liegt links am Rhein.

Welche Frage paßt zur obigen Antwort?**Verilen cevabı gerektirecek soru aşağıdakilerden hangisidir?**

- A) Was willst du in Koblenz machen?
- B) Wo liegt die Stadt Koblenz?
- C) Wer fährt nach Koblenz?
- D) Wie komme ich nach Koblenz?
- E) Warst du schon mal in Koblenz?

16. Der Rhein ist Fluss von Deutschland.

Welches Wort paßt in die obige Lücke?**Cümlede boş bırakılan yeri aşağıdakilerden hangisi doğru şekilde tamamlar?**

- A) der längste
- B) der langem
- C) am langten
- D) länger
- E) lang

17. A: Hallo, wann du den Bericht?

B: Hallo, ich möchte es heute vortragen.

A: Dann wünsche ich dir viel Erfolg!

Welches ergänzt die Lücke im obigen Dialog?**Verilen karşılıklı konuşmada boş bırakılan yeri aşağıdakilerden hangisi tamamlar?**

- A) vor / tragen
- B) ein / trägt
- C) trägst / vor
- D) tragen / ein
- E) vor / trägt

18. Im Museum kann viele Informationen

.....

Welche Wörter passen in die obigen Lücken?**Cümlede boş bırakılan yerleri aşağıdakilerden hangileri doğru şekilde tamamlar?**

- A) am / sehen
- B) man / erhalten
- C) für / lemen
- D) aus / finden
- E) zum / nehmen

19. hat man den schönsten Blick auf das Rheintal.

Welches ergänzt die Lücke im obigen Satz?**Verilen cümleyi aşağıdakilerden hangisi tamamlar?**

- A) Für den Mythen
- B) Von der Hotelterrasse
- C) Liegt direkt in der Mitte
- D) Unter dem Tisch
- E) Über die Geschichte

20. A: Welche Mythen gibt es in der Türkei?

B: Wenn du mehr wissen möchtest,

.....

A: Ja, da hast du Recht.

Welches ergänzt die Lücke im obigen Dialog?**Verilen karşılıklı konuşmada boş bırakılan yeri aşağıdakilerden hangisi tamamlar?**

- A) darf sie sich in der Klasse umschauen.
- B) soll sie viele Informationen vortragen.
- C) dann kannst du es im Internet finden.
- D) interessiert er sich dafür.
- E) kann sie in die Stadt gehen.

SEÇMELİ FRANSIZCA 8

A

2012 3D 0103-A

Bu testin cevaplarını, cevap anahtarında SEÇMELİ YABANCI DİL 8 sütununa işaretleyiniz.

1. Si vous avez soif, de l'eau.

Choisissez le mot qui convient.

Cümledeki boşluğu aşağıdakilerden hangisi doğru şekilde tamamlar?

- A) mangez
- B) oubliez
- C) soyez
- D) pris
- E) buvez

2. - Tu ne prends pas de boisson?
- Non, merci, je ne(n') prends pas.

Choisissez le mot qui convient.

Yukarıdaki konuşmada boş bırakılan yeri aşağıdakilerden hangisi doğru şekilde tamamlar?

- A) jamais
- B) les
- C) y
- D) en
- E) la

3. La cliente :
Le serveur : Tout de suite, Madame.

Choisissez la réplique qui convient.

Yukarıdaki konuşmada boş bırakılan yeri aşağıdakilerden hangisi doğru şekilde tamamlar?

- A) Chacun paie sa part?
- B) C'est trop pour moi!
- C) Vous prenez un thé?
- D) Monsieur, l'addition s'il vous plaît!
- E) Vous voulez commander quelque chose?

4. Elle lit 2 livres mois.

Choisissez le mot qui convient.

Cümledeki boşluğu aşağıdakilerden hangisi doğru şekilde tamamlar?

- A) par
- B) dans
- C) chacune
- D) la
- E) en

5. de litres d'eau vous buvez par jour?

Choisissez le mot qui convient.

Cümledeki boşluğu aşağıdakilerden hangisi doğru şekilde tamamlar?

- A) Quand
- B) Chacun
- C) Est-ce que
- D) Dans
- E) Combien

6. Je suis le théâtre au cinéma.

Choisissez le mot qui convient.

Cümledeki boşluğu aşağıdakilerden hangisi doğru şekilde tamamlar?

- A) qui
- B) dans
- C) pour
- D) à
- E) du

7. Marie est contre la vie en ville.

Choisissez la traduction qui convient.

Yukarıdaki cümlenin Türkçe karşılığı aşağıdakilerden hangisidir?

- A) Marie şehirde yaşamak istiyor.
- B) Marie oturduğu şehri çok seviyor.
- C) Marie için şehir hayatı zordur.
- D) Marie şehirde yaşamayı kolay buluyor.
- E) Marie şehir hayatına karşıdır.

A

2012 3D 0103-A

8. La noir est une couleur je préfère.

Choisissez le mot qui convient.

Cümledeki boşluğu aşağıdakilerden hangisi doğru şekilde tamamlar?

- A) où
B) qui
C) donc
D) que
E) par

9. Il peut pleuvoir; n'oubliez pas prendre votre parapluie.

Choisissez le mot qui convient.

Cümledeki boşluğu aşağıdakilerden hangisi doğru şekilde tamamlar?

- A) en
B) à
C) qui
D) sans
E) de

10. pense à soi-même.

Choisissez le mot qui convient.

Cümledeki boşluğu aşağıdakilerden hangisi doğru şekilde tamamlar?

- A) Comment
B) Chacun
C) Qui
D) Comme
E) Toi

11. - Le fondateur de la Turquie, c'est ?
- C'est Atatürk.

Choisissez le mot qui convient.

Yukarıdaki konuşmada boş bırakılan yeri aşağıdakilerden hangisi doğru şekilde tamamlar?

- A) ça
B) comment
C) quand
D) qui
E) où

12. Le mois prochain, nous en France.

Choisissez le mot qui convient.

Cümledeki boşluğu aşağıdakilerden hangisi doğru şekilde tamamlar?

- A) avons
B) allez
C) irons
D) ira
E) sont

13. fait / choix / avez / votre / vous ?

I II III IV V

Mettez dans le bon ordre.

Yukarıdaki kelimelerin anlamlı ve kurallı bir cümle oluşturan sırası aşağıdakilerin hangisinde doğru olarak verilmiştir?

- A) V, III, I, IV, II
B) V, IV, II, III, I
C) IV, II, III, I, V
D) III, IV, V, I, II
E) III, I, V, IV, II

14. - Il vit en Angleterre?
- Oui, il travaille.

Choisissez le mot qui convient.

Yukarıdaki konuşmada boş bırakılan yeri aşağıdakilerden hangisi doğru şekilde tamamlar?

- A) y
B) en
C) dans
D) le
E) est

2012 3D 0103-A

15. Peux-tu présenter s'il te plait?

Choisissez le mot qui convient.**Cümledeki boşluğu aşağıdakilerden hangisi doğru şekilde tamamlar?**

- A) nous
- B) te
- C) vous
- D) ton
- E) leur

16. J'ai le temps, je peux vous aider.

Choisissez le mot qui convient.**Cümledeki boşluğu aşağıdakilerden hangisi doğru şekilde tamamlar?**

- A) Si
- B) Pour
- C) Contre
- D) À cause de
- E) Il faut

17. Elle a invitée ses amis pour anniversaire.

Choisissez le mot qui convient.**Cümledeki boşluğu aşağıdakilerden hangisi doğru şekilde tamamlar?**

- A) ses
- B) ta
- C) son
- D) leur
- E) les

18. Il est en section scientifique il donne plus d'importance aux Maths.

Choisissez le mot qui convient.**Cümledeki boşluğu aşağıdakilerden hangisi doğru şekilde tamamlar?**

- A) avec
- B) donc
- C) bon
- D) trop
- E) ou

19. Si j'ai beaucoup d'argent, je(j') faire un tour de monde.

Choisissez le mot qui convient.**Cümledeki boşluğu aşağıdakilerden hangisi doğru şekilde tamamlar?**

- A) suis allé
- B) vais
- C) allais
- D) y
- E) en

20. Tu ne penses pas y aller?

Choisissez la traduction qui convient.**Yukarıdaki cümlenin Türkçe karşılığı aşağıdakilerden hangisidir?**

- A) Gideceğin yer neresi?
- B) Oraya gitmeyi düşünüyor musun?
- C) Oraya gitmeyi düşünmez misin?
- D) Orada ne kadar kalacaksın?
- E) Oraya nasıl gideceksin?

SEÇMELİ İNGİLİZCE 8

A

2012 3D 0103-A

Bu testin cevaplarını, cevap anahtarında SEÇMELİ YABANCI DİL 8 sütununa işaretleyiniz.

1. İstanbul is than Ankara.

Which of the following completes the sentence above?

Aşağıdakilerden hangisi yukarıdaki cümleyi doğru olarak tamamlar?

- A) big
- B) taller
- C) cold
- D) large
- E) larger

2. This is the expensive hotel I have ever stayed in.

Which of the following completes the sentence above?

Aşağıdakilerden hangisi yukarıdaki cümleyi doğru olarak tamamlar?

- A) more
- B) much
- C) worst
- D) most
- E) many

3. Mike is cleverest student in his class.

Which of the following completes the sentence above?

Aşağıdakilerden hangisi yukarıdaki cümleyi doğru olarak tamamlar?

- A) more
- B) very
- C) much
- D) the
- E) most

4. Terry : How was the film last night?
Jane : Oh, terrible. It was film I have ever seen.

Which of the following completes the dialogue above?

Aşağıdakilerden hangisi yukarıdaki konuşmayı doğru olarak tamamlar?

- A) the worst
- B) better
- C) worse
- D) the best
- E) bad

5. Jane : Is there money in the wallet?
John : Yes, there is.

Which of the following completes the dialogue above?

Aşağıdakilerden hangisi yukarıdaki konuşmayı doğru olarak tamamlar?

- A) a few
- B) very
- C) many
- D) either
- E) any

6. We sang songs at the party.

Which of the following completes the sentence above?

Aşağıdakilerden hangisi yukarıdaki cümleyi doğru olarak tamamlar?

- A) much
- B) a lot
- C) a few
- D) more than
- E) a little

A

2012 3D 0103-A

7. Ali : How money is there in your pocket?
Can : There is 20 TL.

Which of the following completes the dialogue above?

Aşağıdakilerden hangisi yukarıdaki konuşmayı doğru olarak tamamlar?

- A) some
B) more
C) many
D) any
E) much

8. Sam : How bananas are there in the basket?
Jack : There are a few.

Which of the following completes the dialogue above?

Aşağıdakilerden hangisi yukarıdaki konuşmayı doğru olarak tamamlar?

- A) much
B) some
C) any
D) many
E) more

9. I at eight o'clock tomorrow morning.

Which of the following completes the sentence above?

Aşağıdakilerden hangisi yukarıdaki cümleyi doğru olarak tamamlar?

- A) got up
B) getting up
C) get up
D) have got up
E) am going to get up

10. Carol : What..... Jill at the moment ?
Jill's mother : She is having a shower.

Which of the following completes the dialogue above?

Aşağıdakilerden hangisi yukarıdaki konuşmayı doğru olarak tamamlar?

- A) does / do
B) is / doing
C) was / doing
D) has / done
E) is / do

11. Sally : Is the cat sleeping at the moment?
Tim : No it isn't. But it usually on the sofa.

Which of the following completes the dialogue above?

Aşağıdakilerden hangisi yukarıdaki konuşmayı doğru olarak tamamlar?

- A) sleeping
B) sleep
C) has slept
D) sleeps
E) slept

12. Peter to music last night.

Which of the following completes the sentence above?

Aşağıdakilerden hangisi yukarıdaki cümleyi doğru olarak tamamlar?

- A) listen
B) will listen
C) listened
D) have listened
E) is going to listen

13. Ito swim when I was six.

Which of the following completes the sentence above?

Aşağıdakilerden hangisi yukarıdaki cümleyi doğru olarak tamamlar?

- A) had learnt
B) am learning
C) learn
D) have learnt
E) should learn

14. The concert had just finished Sally arrived.

Which of the following completes the sentence above?

Aşağıdakilerden hangisi yukarıdaki cümleyi doğru olarak tamamlar?

- A) when
B) where
C) whether
D) while
E) that

2012 3D 0103-A

15. Tom : Here is Sue. Ask her where John is.
Mike : Where John?
Sue : He is in the classroom.

Which of the following completes the dialogue above?

Aşağıdakilerden hangisi yukarıdaki konuşmayı doğru olarak tamamlar?

- A) does
B) is
C) did
D) has been
E) was

16. He said, "I can swim well."
He said that swim well.

Which of the following completes the sentence above?

Aşağıdakilerden hangisi yukarıdaki cümleyi doğru olarak tamamlar?

- A) he could
B) I can
C) I could
D) he can
E) he was able to

17. Sandy is than Brenda.

Which of the following completes the sentence above?

Aşağıdakilerden hangisi yukarıdaki cümleyi doğru olarak tamamlar?

- A) beautiful
B) the most beautiful
C) more beautiful
D) most beautiful
E) the least beautiful

18. Mike : Are these apples oranges?
Bob : They are apples.

Which of the following completes the dialogue above?

Aşağıdakilerden hangisi yukarıdaki konuşmayı doğru olarak tamamlar?

- A) and
B) or
C) but
D) a
E) an

19. Are apples?

Which of the following completes the sentence above?

Aşağıdakilerden hangisi yukarıdaki cümleyi doğru olarak tamamlar?

- A) then
B) those
C) when
D) this
E) why

20. They are playing football in the garden
.....

Which of the following completes the sentence above?

Aşağıdakilerden hangisi yukarıdaki cümleyi doğru olarak tamamlar?

- A) last night
B) next year
C) now
D) tomorrow
E) yesterday

SEÇMELİ DİL VE ANLATIM 7

A

2012 3D 0103-A

1. Çehov tarzı da denilen durum hikâyesinin Türk edebiyatındaki ilk temsilcisi aşağıdakilerden hangisidir?
A) Memduh Şevket Esendal
B) Sait Faik Abasıyanık
C) Tahir Alangu
D) Pertev Naili Boratav
E) Eflatun Cem Güney
2. Aşağıdaki yazarlardan hangisi, fablın çocuklarca yanlış yorumlandığını ileri sürerek eğitimde kullanılmasına karşı çıkmıştır?
A) Kleist
B) Hebbel
C) Jean Jack Rousseau
D) Fontane
E) Schiller
3. Türk masallarını derleme, yayımlama ve inceleme çalışmaları ne zaman yoğunlaşmıştır?
A) Meşrutiyet
B) Islahat
C) Fetret
D) Cumhuriyet
E) Tanzimat
4. Aşağıdakilerden hangisi tragedyanın özelliklerinden biri değildir?
A) İlk örnekleri eski Yunan edebiyatında görülür.
B) Eserin üç birlik kuralına uygun olması gerekir.
C) Monolog ve tiradlara çokça yer verilir.
D) 18.yüzyılda klasisizm akımı döneminde Fransa'da yeniden canlanmıştır.
E) Öldürme, yaralama gibi olaylara sahnede, herkesin gözü önünde gerçekçi biçimde yer verilir.
5. Bir yazarın yazdığı, gördüğü ve incelediği yerlerden edindiği bilgi, görgü ve izlenimleri yansıtan yazılara ne ad verilir?
A) Gezi yazısı
B) Anı
C) Fıkra
D) Makale
E) Roman

6. Bu tiyatronun göze çarpan yönü kalıplaşmış gerçeklere karşı çıkmak, tabiattan ve mantıktan uzaklaşmak ve insanı düşündürmektir. Az olay ve sözle önemli şeyler anlatmak istenir. Bu çeşit tiyatro eserleri semboller, bilmeceler ve saçma tasarılarla doludur.
Yukarıda anlatılan tiyatro türü aşağıdakilerden hangisidir?
A) Meddah
B) Absürd tiyatro
C) Epik tiyatro
D) Operet
E) Karagöz
7. Aşağıdakilerden hangisi roman sanatının ilk başarılı örneği sayılır?
A) Uçurum Halkı
B) Vahşetin Çağrısı
C) Tom Sawyer'in Maceraları
D) Don Kişot
E) Moby Dick
8. Aşağıdakilerden hangisi Türk tiyatrosundaki başarılı epik deneme örneğidir?
A) Müfettiş
B) Battal Gazi Destanı
C) Keşanlı Ali Destanı
D) Emekli
E) Yangın Yerinde Orkideler
9. Aşağıdakilerden hangisi Türk kültürüne ait başlıca halk tiyatrosu türlerinden biri değildir?
A) Mani
B) Meddah
C) Köy seyirlik oyunları
D) Orta oyunu
E) Karagöz
10. Pişekar ve Kavuklu hangi oyun türünün baş kişileridir?
A) Köy seyirlik oyunu
B) Meddah
C) Karagöz
D) Orta oyunu
E) Komedi

A

2012 3D 0103-A

11. Sanatta, bilimde, politikada veya başka alanlarda tanınmış kişilerin yaşamlarını anlatan yazı türüne ne ad verilir?

- A) Fıkra
- B) Monografi
- C) Anı
- D) Günce
- E) Biyografi

12. Çağdaş tiyatro tekniğine uygun olarak ülkemizde yazılan ilk önemli eser aşağıdakilerden hangisidir?

- A) Müfettiş
- B) Şair Evlenmesi
- C) Cimri
- D) Figaro'nun Düğünü
- E) Emekli

13. Aşağıdakilerden hangisi halk hikayeleri ile destanların birbirlerinden ayrıldığı noktalar arasında yer almaz?

- A) Anlatı tümüyle düz yazı olarak sürer.
- B) Araya serpiştirilen türküler sazla söylenir.
- C) Toplum katları arasındaki çatışmalar dile getirilir.
- D) Olağanüstü öğeler azdır.
- E) Sadece aşk serüvenleri anlatılır.

14. Aşağıdakilerden hangisi Milli Edebiyat Akımı dönemi özellikleri arasında yer almaz?

- A) Sözlü gelenek ürünü olan masal, destan ve halk hikayeleri yeniden canlandırılmak istenmiştir.
- B) Edebiyatın köklerini eski Yunan edebiyatı ve Yunan mitolojisiyle uyumlaştırmak istemişlerdir.
- C) Anadolu'yu gündeme taşımışlardır.
- D) Yerli konulara önem verilmiştir.
- E) Romanlarda her kesimden halkı anlatmak istemişlerdir.

15. Kahramanları bitkiler, cansız varlıklar ve özellikle hayvanlar olan ve ders verme amacı güden öğretici nitelikteki öykülere ne ad verilir?

- A) Masal
- B) Deneme
- C) Fabl
- D) Öykü
- E) Fıkra

16. Masalları bastırılmış isteklerin düş biçiminde ortaya çıkması şeklinde açıklayan araştırmacı, aşağıdakilerden hangisidir?

- A) Bloom
- B) Sigmund Freud
- C) Vygotsky
- D) Bruner
- E) Piaget

17. Aşağıdakilerden hangisi, Maupassant tarzı hikâyenin özelliklerinden biri değildir?

- A) Tamamen okuyucunun hayal gücüne bırakılması
- B) Çok belirgin bir giriş, gelişme ve sonuç bölümlerini içermesi
- C) Olay örgüsü üzerine kurulması
- D) Okuyucunun merak duygusunu sürekli canlı tutması
- E) Hayatın kusurlu ve üzüntülü taraflarının öne çıkarılması

18. Aşağıdakilerden hangisi, postmodernist romanların özelliklerinden biri değildir?

- A) Farklı anlatım tekniklerine aynı metin içinde yer verilmesi
- B) Gerçekçi bir romanın tersine, romanın uydurma ve kumaca olduğunun altının çizilmesi
- C) Düzensiz sözcük ve imgelerin kullanılması
- D) Çok sesliliğin ve çoğulculuğun önem kazanması
- E) Sanatın bir tür oyun olarak görülmesi

19. Oğuz Atay'ın bilinçakımı tekniğini başarıyla uyguladığı romanı, aşağıdakilerden hangisidir?

- A) Yaralısin
- B) Her Gece Bodrum
- C) Büyük Gözaltı
- D) Aylak Adam
- E) Tutunamayanlar

20. "Lüküs Hayat" adlı operetin yazarı aşağıdakilerden hangisidir?

- A) Ahmet Kutsi Tecer
- B) Haldun Taner
- C) Şinasi
- D) Cemal Reşit Bey
- E) Muhsin Ertuğrul

SINAVDA UYGULANACAK KURALLAR

1. Sınav süresince görevlilerle konuşmak ve soru sormak yasaktır. Aynı şekilde görevlilerin de öğrencilerle yakından ve alçak sesle konuşmaları yasaktır. Yanınızda ve sıranızda dersle ilgili kitap not vb. bulundurmamak yasaktır. Sınav sırasında kopya yapan, yapmaya teşebbüs eden, kopya veren, kopya yapılmasına yardım edenlerin kimlikleri BİREYSEL SINAV İPTAL TUTANAĞINA yazılacak ve bu öğrencilerin sınavları geçersiz sayılacaktır. Görevliler kopya yapmaya veya vermeye kalkışanları uyarmak zorunda değildir, sorumluluk size aittir.
Sınavda yetki verilmiş görevliler, bu salondaki sınavın kurallara uygun biçimde yapılmadığını, toplu kopya girişiminde bulunulduğunu raporlarında bildirdikleri veya üniversite sınav merkezince yapılan incelemeler sonucu toplu kopya yapıldığı saptandığı takdirde, Anadolu Üniversitesinin yetkili organları bu salonda sınava giren öğrencilerin tümünün sınavını geçersiz sayar.
2. Öğrenciler sınav sırasında görevlilerin her türlü uyarılarına uymak zorundadır. Gerekğinde görevliler oturduğunuz yerleri değiştirebilir. Sınavınızın geçerli sayılması, her şeyden önce sınav kurallarına uymanıza bağlıdır. Kurallara aykırı davranışta bulunanların ve yapılacak uyarılara uymayanların kimlikleri BİREYSEL SINAV İPTAL TUTANAĞINA yazılacak ve sınavları geçersiz sayılacaktır.
3. Sınav sırasında herhangi bir nedenle dışarı çıkmak yasaktır. Sınavın başlamasını izleyen ilk 30 dakika ve sınav süresinin son 5 dakikası içinde, sınavlarını tamamlasalar bile hiçbir öğrencinin salondan çıkmasına izin verilmeyecektir. Sınavın başlamasını izleyen ilk 15 dakikadan sonra hiç bir öğrenci sınava alınamaz.
4. Biraz sonra soru kitapçıkları dağıtılacaktır. Cevaplamaya geçmeden önce size verilecek soru kitapçığının üzerinde ayrılan yere, adınızı, soyadınızı, öğrenci numaranızı ve bu salonun numarasını yazınız. Sınav sonunda soru kitapçıkları toplanacak ve sınav merkezinde tek tek incelenecektir. Soru Kitapçığının bir tek sayfası eksik çıksa bile sınavınız geçersiz sayılacaktır.
5. Size verilen Cevap Kâğıdının üzerinde yazan numara ve ismin size ait olduğunu kontrol ediniz. Cevap Kâğıdı size ait değilse, görevlileri uyarıp size ait Cevap Kâğıdını alınız. Daha sonra Cevap Kâğıdı üzerinde ayrılmış olan yerlere öğrenci numaranızı ve test grubunuzu kodlayınız, adınızı soyadınızı yazınız ve ilgili yeri imzalayınız.
6. Cevap Kâğıdına yazılacak her türlü yazı, rakam ve yapılacak işaretlemeler için siyah kurşun kalem kullanılacaktır. Tükenmez kalem veya dolmakalem kesinlikle kullanılmayacaktır. Cevapların tümü CEVAP KÂĞIDINA İŞARETLENECEKTİR. Soru Kitapçıkları üzerine yapılan işaretlemeler kesinlikle değerlendirilmez. Her dersin cevabı, o dersin isminin yazılı olduğu sütuna işaretlenmelidir. Yanlış sütuna yapacağınız işaretlemeler kesinlikle değerlendirilmez.
7. Soru Kitapçığının sayfalarındaki boş yerleri müsvedde yapmak için kullanabilirsiniz. Başka bir kâğıdı müsvedde olarak kullanmak yasaktır. Bu tür işlemleri yapanların sınavları geçersiz sayılır.
8. Öğrencilerin sorulara verdikleri yanıtları herhangi bir yere yazmaları ve bunu sınav salonundan dışarıya çıkarmaları yasaktır. Bu kurala uymayanların sınavları geçersiz sayılır.
9. Sınav sırasında öğrencilerin birbirinden kalem, silgi vb şeyleri istemesi kesinlikle yasaktır. Yasağa uymayanların sınavı geçersiz sayılır.
10. Sınav sırasında hesap makinesi kullanılabilir. Ancak, hesap makinesinin sınav sırasında ödünç alınması, verilmesi ve değiştirilmesi yasaktır. (Data Bank vb. gibi özel elektronik donanımlar kullanılamaz.) Bu tür davranışlarda bulunanların sınavları geçersiz sayılır.
11. Öğrenciler sınava gelirken telsiz, cep telefonu, çağrı cihazı vb. iletişim araçları ile görüntü kaydetmeye yarayan fotoğraf makinesi, kamera vb. araçları getirmemeleri konusunda sınava giriş belgelerinde uyarılmışlardır. Buna rağmen yanlarında bu tür cihazları getirenlerin, bunları sınav sonrasında almak üzere salon başkanına teslim etmeleri gerekir. Bu cihazları sınav salonunda yanlarında bulduran öğrencilerin, cihazları kapalı bile olsa, o oturdaki sınavı geçersiz sayılacaktır. Bu cihazların kaybolmasından Üniversitemiz sorumlu olmayacaktır.
12. Biraz sonra dağıtılacak olan soru kitapçığında test ile ilgili açıklamalar yazılıdır. Bu açıklamaları okumadan ve size "SINAV BAŞLAMIŞTIR" denmeden soruları cevaplamaya başlamayınız.

SINAVLARINIZDA BAŞARILAR DİLERİZ.