



BA – AÖL / 2012 – III.DÖNEM - Pazar 09.00

DÖRDÜNCÜ OTURUM

TEST GRUBUNUZ

A

CEVAP KÂĞIDINIZA İŞARETLEMİYİ UNUTMAYINIZ.

ÖĞRENCİNİN

SOYADI :

ADI :

ÖĞRENCİ NO :

SINAV SALON NO: SIRA NO:

Soyadınızı, adınızı, öğrenci numaranızı, salon ve sıra numaranızı yukarıya yazmayı unutmayınız.

GENEL AÇIKLAMA

1. Bu soru kitapçığındaki testler şunlardır:

Testin Adı	Soru Sayısı	Sayfa No
TARİH 6	20	2
COĞRAFYA 6	20	4
COĞRAFYA 7	20	6
GEOMETRİ 1	20	8
PSİKOLOJİ 2	20	11
SOSYOLOJİ 1	20	13
DİL VE ANLATIM 2	20	15
DİL VE ANLATIM 4	20	17
DİL VE ANLATIM 6	20	19
TÜRK EDEBİYATI 1	20	21
KİMYA 1	20	23

Testin Adı	Soru Sayısı	Sayfa No
KİMYA 4	20	26
BİYOLOJİ 2	20	29
SANAT TARİHİ 2	20	32
TRAFİK VE İLK YARDIM BİLGİSİ 1	20	35
İŞ GÜVENLİĞİ 1	20	37
İŞLETME 2	20	39
SEÇMELİ DİL VE ANLATIM 4	20	42
SEÇMELİ TÜRK EDEBİYATI 6	20	44
SEÇMELİ YABANCI DİL 3 (ALM.3,FRA.3,İNG.3)	20	46
SEÇMELİ TÜRK EDEBİYATI 8	20	44

2. Bu kitapçıkta yer alan her bir test için cevaplama süresi **30** dakika, toplam sınav süresi **150** dakikadır.
3. Cevaplamaya istediğiniz testin, istediğiniz sorusundan başlayabilirsiniz. Yalnız cevaplarınızı, cevap kâğıdında o test için ayrılmış olan bölümdeki aynı numaralı cevap yerine işaretlemeyi unutmayınız.
4. Cevaplarınızı koyu siyah ve yumuşak bir kurşunkalemle işaretleyiniz. İşaretinizi cevap yerinin dışına taşırmayınız. Tükenmez veya mürekkepli kalem kullanmayınız.
5. Değiştirmek istediğiniz bir cevabı yumuşak bir silgi ile, cevap kâğıdını örselemeden temizce siliniz ve doğru cevabınızı işaretlemeyi unutmayınız.
6. Cevap kâğıdınızı buruşturmayınız, katlamayınız ve üzerine gereksiz hiçbir işaret koymayınız.
7. Bu kitapçıkta her sorunun bir tek doğru cevabı vardır. Bir soru için birden çok cevap yeri işaretlenmişse o soru yanlış cevaplanmış sayılacaktır.
8. Cevaplarınız puanlanırken her doğru cevabınıza eşit puan verilecek, yanlış cevaplarınız dikkate alınmayacaktır. Bu nedenle kitapçıkta tüm sorular için size doğru gelen seçeneği işaretleyerek cevapsız soru bırakmanız yararınıza olacaktır.
9. Kitapçığın sayfalarındaki boş yerleri müsvedde için kullanabilirsiniz.

Anadolu Üniversitesi tarafından hazırlanmış olan bu testlerin her hakkı saklıdır. Hangi amaçla olursa olsun, testlerin tamamının veya bir kısmının Anadolu Üniversitesi'nin yazılı izni olmadan kopya edilmesi, fotoğraflarının çekilmesi, herhangi bir yolla çoğaltılması, yayımlanması ya da kullanılması yasaktır. Bu yasağa uymayanlar gerekli cezai sorumluluğu ve testlerin hazırlanmasındaki mali külfeti peşinen kabullenmiş sayılır.

TARİH 6

A

2012 3D 0104-A

1. Türkler'in İslamiyeti kabul etmelerinde etkili olan en önemli tarihi olay aşağıdakilerden hangisidir?

- A) Talas Meydan Savaşı
- B) Sasani Devletinin Yıkılışı
- C) Hz. Ali'nin şehit edilmesi
- D) Malazgirt Meydan Savaşı
- E) Mısır'ın Müslümanlar tarafından fethi

2. Aşağıdaki yazar-eser eşleştirmelerinden hangisi yanlıştır?

- A) Yusuf Has Hâcip - Şehname
- B) Edip Ahmet Yükneki - Atabetü'l-Hakayık
- C) Kaşgarlı Mahmut - Divan-ı Lûgati't Türk
- D) Nizamülmülk - Siyasetname
- E) Divan-ı Hikmet - Hoca Ahmet Yesevi

3. Selâhaddin Eyyübi döneminin en önemli siyasi olayı aşağıdakilerden hangisidir?

- A) Arap şiiirinin en parlak dönemini yaşaması
- B) Türk devlet teşkilatının uygulanması
- C) Başkent'in Kahire olarak belirlenmesi
- D) Kudüs'ün ele geçirilmesi
- E) Ülke topraklarının paylaşılması

4. Büyük Selçuklu Devleti döneminde şehirlerde ticari hayatı düzenleyen ve bugünkü belediye işlerini yürüten görevlilere ne ad verildi?

- A) Ulak
- B) Muhtesip
- C) Amid
- D) Şihne
- E) Amil

5. İslam hukukuna göre toprak ürünlerinden onda bir ölçüsünde alınan vergi çeşidine ne ad verilir?

- A) Cizye
- B) Öşür
- C) İktâ
- D) Mülk
- E) Haraç

6. Büyük Selçuklu Devleti döneminde ilk büyük medrese kimin tarafından, nerede açılmıştır?

- A) Çağrı Bey - Bağdat
- B) Alp Arslan - Belh
- C) Nizamülmülk - Merv
- D) Tuğrul Bey - Nişabur
- E) Melikşah - İsfahan

7. Aşağıdakilerden hangisi Osmanlı ve Timur Devleti arasında 1402'de yapılan Ankara Savaşı'nın sonuçlarından biri değildir?

- A) Bizans'ın fethinin gecikmesi
- B) Anadolu Türk birliğinin bozulması
- C) Yıldırım Beyazid'in oğulları arasında taht kavgalarının başlaması
- D) Anadolu'da güç kaybeden Osmanlı Devleti'nin Balkanlarda fethe yönelmesi
- E) Osmanlı Devleti'nin fetret dönemine girmesi

8. I. Tolunoğulları
II. İhşidoğulları
III. Karahanlılar
IV. Gazneliler

Yukarıdaki Türk-İslam devletlerinden hangileri Mısır'da kurulmuştur?

- A) Yalnız III
- B) I ve II
- C) II ve III
- D) I, III ve IV
- E) II, III ve IV

9. Kurucusu Alp Tekin, en tanınmış hükümdarı Sultan Mahmut olan, Asya'da iki yüz yıldan fazla hüküm süren, Hindistan'da İslamiyet'in yayılıp kökleşmesinde önemli bir rol oynayan Türk-İslam devleti aşağıdakilerden hangisidir?

- A) Tolunoğulları
- B) Harzemşahlar
- C) Gazneliler
- D) İhşidoğulları
- E) Karahanlılar

10. Büyük Selçuklu Devleti'nde hükümdarın ve devletin tüm yazışmalarına bakan divan aşağıdakilerden hangisidir?

- A) Arz Divanı
- B) Emir-i Dad
- C) Divan-ı İşraf
- D) Tuğra Divanı
- E) Müstevfi Divanı

A

2012 3D 0104-A

11. Eyyübiler Devleti'nde sultan ile görüşmek isteyen kişileri görüştüren ve sultanın korunmasını sağlayan görevliye ne ad verilir?

- A) Taştardar
- B) Hâcip
- C) Emir-i Âhûr
- D) Silahtar
- E) Üstaddâr

12. Aşağıdakilerden hangisi ilk İslami Türkçe eser olarak kabul edilir?

- A) Kutadgu Bilig
- B) Divan-ı Hikmet
- C) Atabetü'l Hakayik
- D) Şehname
- E) Siyasetname

13. Babür Devleti'nde vilayetlerin başında bulunan hem vali hem de komutan olan kişilere ne ad verilmekteydi?

- A) Ahta Beyi
- B) Mir Bahşi
- C) Münşi
- D) Noyan
- E) Şubedar

14. Aşağıdaki Türk devletlerinden hangisi ile Türkler, İslam dünyasının savunucusu olma görevini üstlenmişlerdir?

- A) Büyük Selçuklu
- B) Osmanlı
- C) Karahanlılar
- D) Gazneliler
- E) İhşidoğulları

15. Aşağıdakilerden hangisi Büyük Selçuklu Devleti'nde hükümdarın aldığı unvanlardan biri değildir?

- A) Sultan
- B) Sultanü'l-alem
- C) Sultanü'l-mağrip vel maşrik
- D) Sultan-ı azam
- E) Hil'at

16. Büyük Selçuklu Devleti'nde devletin mali ve idari işlerini teftiş eden başkanına Müşrif veya Müşrif-i Memalik denen divan aşağıdakilerden hangisidir?

- A) Divan-ı Berid
- B) Müstevfi Divanı
- C) Tuğra Divanı
- D) Arz Divanı
- E) Divan-ı İşraf

17. 1256 yılında Batniliğin beyni olarak kabul edilen Alamut Kalesi'ni ele geçirerek Batniliğe son veren aşağıdakilerden hangisidir?

- A) Büyük Selçuklu Sultanı Alp Arslan
- B) Moğol hükümdarı Cengiz Han
- C) Gazne hükümdarı Sultan Mahmut
- D) Fatımi Halifesi el-Aziz
- E) İlhanlı Hakanı Hülagü

18. Aşağıdakilerden hangisi Eyyubi Devleti'nde emirler arasından seçilen, şehirlerin kale veya garnizonların komutanlığını yapan, bazen şihnelik görevini de yürüten görevlilere verilen isimdir?

- A) Emir-i Ahur
- B) Hacıp
- C) Vali
- D) Mısır ve Şam Naipleri
- E) Üstaddar

19. Moğollarda yasunların (aile) birleşmesi aşağıdakilerden hangisini oluşturmaktaydı?

- A) İrgen
- B) Millet
- C) Aymag
- D) Noyan
- E) Aşiret

20. Aşağıdakilerden hangisi Selçuklu Devleti'nde illere gönderilen şehzadelerin yanında görev yapan atabeylerin, devletin zayıflaması ile yönetimi tamamen ellerine geçirip kurdukları devletlerden biri değildir?

- A) Salgurlar
- B) Zengiler
- C) Irak Selçukluları
- D) İldenizoğulları
- E) Beg-Teginoğulları

2012 3D 0104-A

1. Bir yada birden fazla güzelliği içerisinde bulunduran, bu nedenle koruma altına alınmış alanlara ne ad verilir?

- A) Şelaleler
- B) Mağaralar
- C) Kaplıcalar
- D) Kanyonlar
- E) Milli parklar

2. Türklerin ilk yazılı ürünü kabul edilen Göktürk yazıtları hangi ülke sınırları içindedir?

- A) Çin
- B) İran
- C) Hindistan
- D) Moğolistan
- E) Afganistan

3. Aşağıdakilerden hangisi kültürü oluşturan maddi unsurlardan biridir?

- A) Dil
- B) Din ve inançlar
- C) İklim özellikleri
- D) Komşu kültürler
- E) Hukuk kuralları

4. Petrol üretim alanında meydana gelen bir aksaklık aşağıdaki sektörlerden hangisini daha az etkiler?

- A) Turizm sektörünü
- B) Tarım sektörünü
- C) Enerji sektörünü
- D) Sanayi sektörünü
- E) Ulaşım sektörünü

5. Aşağıdakilerden hangisi dünyadaki önemli pazar alanlarından biri değildir?

- A) Çin
- B) Avrupa
- C) Japonya
- D) ABD
- E) Güneydoğu Asya

6. Aşağıdakilerden hangisi, günümüzde milli parkların en fazla olduğu ülkelerden biridir?

- A) Hindistan
- B) Yunanistan
- C) Çin
- D) Türkiye
- E) ABD

7. Aşağıdaki yanardağlardan hangisi Japonya'nın en aktif yanardağıdır?

- A) Kilimanjaro
- B) Akisade
- C) Fuji
- D) Etna
- E) Vezuv

8. Hindistan'ın büyük bölümünde aşağıdaki iklim tiplerinden hangisi görülür?

- A) Muson
- B) Savan
- C) Karasal
- D) Tundra
- E) Akdeniz

9. Aşağıdakilerden hangisi Japonya' da yer alan akarsulardan biridir?

- A) Tuna
- B) Don
- C) Nil
- D) Shinano
- E) Volga

10. Aşağıdakilerden hangisi Japonya' nın en büyük gölüdür?

- A) İşikari
- B) Biwa
- C) Toyama
- D) Kanto
- E) Tone

2012 3D 0104-A

11. Dünyada sanayileşme sürecini ilk yaşayan ülke aşağıdakilerden hangisidir?

- A) İngiltere
- B) Türkiye
- C) Fransa
- D) Amerika
- E) İtalya

12. Aşağıdakilerden hangisi Japonya'nın başkentidir?

- A) Ottawa
- B) Bükreş
- C) Seul
- D) Kobe
- E) Tokyo

13. Aşağıdakilerden hangisi "Aswan Barajı"nın yapıma amaçlarından biri değildir?

- A) Tarımsal üretimi artırmak
- B) Taşkınları kontrol etmek
- C) Mısır' ın elektrik ihtiyacını karşılamak
- D) Çin' in elektrik ihtiyacını karşılamak
- E) Yeni açılan tarlaları sulamak

14. Aşağıdakilerden hangisi yağmur ormanlarının tahribatı üzerinde etkili olan faktörlerden biri değildir?

- A) Altın, kalay, demir, alüminyum cevheri gibi kaynakların işletilmesi
- B) Nehirlerin genişletilmesi
- C) Hidroelektrik santral inşaatları
- D) Kara yolu inşaatları
- E) Et üretimi için büyük otlakların oluşturulması

15. Aşağıdakilerden hangisi yağmur ormanlarının tahrip olması sonucu ortaya çıkan problemlerden biri değildir?

- A) Tarımsal verimsizlik
- B) Küresel ısınma
- C) Erozyonun artması
- D) Biyotik türlerin yok olması
- E) Yağışların çoğalması

16. Kanola, ayçiçeği, soya, aspir gibi yağlı tohum bitkilerinden elde edilen yağların veya hayvansal yağların bir katalizör eşliğinde alkol ile reaksiyonu sonucunda açığa çıkan ve yakıt olarak kullanılan ürüne ne ad verilir?

- A) Hidrojen enerjisi
- B) Biyokütle
- C) Biyodizel
- D) Biyogaz enerjisi
- E) Güneş ocağı

17. Aşağıdakilerden hangisi atıkların çevresel etkilerinden biri değildir?

- A) Yer altı suyu kirliliği
- B) Artan hayvan türleri
- C) İstenmeyen kokular
- D) Hava kirliliği
- E) Küresel ısınma

18. Aşağıdaki şehirlerden hangisinin nüfusu diğerlerinden daha fazladır?

- A) Pekin
- B) Roma
- C) İstanbul
- D) Şam
- E) Bağdat

19. Aşağıdakilerden hangisi ormanların çevresel etkilerinden biri değildir?

- A) Toprağı koruma
- B) Erozyonu önleme
- C) Oksijen gazı üretme
- D) Hidrojen gazı üretme
- E) Havayı temizleme

20. Atmosferde bulunan gazlardan hangisi üst katmanlarda bir tabaka oluşturarak güneşten gelen öldürücü ışınları filtre eder?

- A) Azot
- B) Hidrojen
- C) Ozon
- D) Metan
- E) Oksijen

2012 3D 0104-A

1. Aşağıdakilerden hangisi küresel ısınmaya bağlı olarak yaşanabilecek olaylar arasında ver almaz?

- A) Deniz seviyesinin yükselmesi
- B) Buzulların erimesi
- C) Havada bulunan gazların oranlarının değişmesi
- D) Volkanik olayların artması
- E) Erozyonun şiddetlenmesi

2. Hint Okyanusu'nda Ocak ve Mart ayları arasındaki fırtınalara ne ad verilir?

- A) Karayel
- B) Tayfun
- C) Tufan
- D) Hortum
- E) Tropikal fırtına

3. Aşağıdaki ekonomik faaliyet türlerinin hangisinde, insanın doğaya müdahalesi en azdır?

- A) Ulaşım
- B) Madencilik
- C) Tarım
- D) Turizm
- E) Sanayi

4. İnka uygarlığı nerede kurulmuştur?

- A) Büyük Okyanus kıyısına paralel uzanan And Sıradağları üzerinde
- B) Akdeniz kıyılarında
- C) Dicle ve Fırat nehirleri arasında
- D) Suriye ve Arabistan çöllerinde
- E) Kuzey Afrika'da Nil Nehri etrafında

5. Aşağıdakilerden hangisi Akdeniz Uygarlıklarından biri değildir?

- A) Lidya
- B) Maya
- C) Roma
- D) Fenike
- E) İyonya

6. Demirin ilk kullanım alanı aşağıdakilerden hangisidir?

- A) Saban
- B) Zil
- C) Tabak
- D) Çivi
- E) Silah

7. Aşağıdakilerden hangisi dünyanın en fazla göç alan bölgelerinden biridir?

- A) Orta Asya
- B) Batı Avrupa
- C) Orta Amerika
- D) Orta Afrika
- E) Doğu Rusya

8. Aşağıdakilerden hangisi, Almanya'da önemli sanayi tesislerinin yer aldığı merkezlerden biri değildir?

- A) Nice
- B) Stuttgart
- C) Aşağı Saksonya
- D) Frankfurt
- E) Mannheim

9. Aşağıdakilerden hangisi köyden kente göçün, kentte meydana getirdiği sorunlardan biri değildir?

- A) İşsizliğin artması
- B) Alt yapı sorunlarının artması
- C) Ulaşım sorunlarının artması
- D) Arazi ve arsa değerlerinin düşmesi
- E) Sağlık imkanlarının azalması

10. Aşağıdakilerden hangisi teknolojinin insana sağladığı yararlarından biri değildir?

- A) Sosyal ve psikolojik sorunları artırmak
- B) Ulaşım ve yaşama kolaylığı sağlamak
- C) Hayat standardını yükseltmek
- D) Yeni iş sahaları oluşturmak
- E) Mal ve hizmet üretimini artırmak

2012 3D 0104-A

11. Aşağıdakilerden hangisi Türk Coğrafya Kurumu'nun amacı ve görevleri arasında yer almaz?

- A) Türkiye'de coğrafya ve diğer bilimlerin gelişmesini sağlamak
- B) Türkiye'nin coğrafi değerlerini korumak
- C) Türkiye'nin ilmi metotlarla coğrafyasını incelemek
- D) Coğrafya ile ilgili uluslararası bilimsel çalışma ve yayımları izlemek
- E) Türklerin geçmişiyle ilgili bilimsel araştırmalar yapmak

12. Aşağıdakilerden hangisi coğrafi bölgeleri oluşturan ekonomik faktörlerden biridir?

- A) Konum
- B) Nüfus
- C) Turizm
- D) Yerleşme
- E) İklim

13. Aşağıdakilerden hangisi İç Anadolu Bölgesi'nin özelliklerinden biri değildir?

- A) Etrafının yüksek dağlarla çevrili olması
- B) Küçükbaş hayvancılığın yaygın olması
- C) Karasal iklimin etkili olması
- D) Bozkır bitki örtüsünün hakim olması
- E) Horst ve graben sisteminin yaygın olması

14. Marmara Bölgesi'nin ekonomik faaliyetlerinden en önemlisi aşağıdakilerden hangisidir?

- A) Turizm
- B) Küçükbaş hayvancılık
- C) Sanayi ve ticaret
- D) Tarım ve balıkçılık
- E) Tahıl üretimi

15. Türkiye'de kara yolu ile yapılan taşımacılığın diğer ulaşım türlerinden daha fazla olmasında en önemli neden aşağıdakilerden hangisidir?

- A) Taşıtların bir kısmının Türkiye'de üretilmesi
- B) Karayolu taşımacılığının ucuz olması
- C) Yol boyunca konaklama tesislerinin bulunması
- D) Kara yolu ile Türkiye'nin her yerine ulaşılabilmesi
- E) Taşıt kapasitesinin artması

16. Ticaret, sanayi, tarım ve kültür alanlarında bölge ve ülke imkanlarının gücünü tanıtmak, üreticilerle tüketicileri karşılaştırmak üzere aşağıdakilerden hangisi kurulmaktadır?

- A) Fuar
- B) Panayır
- C) Hal
- D) Pazar
- E) Sergi

17. Aşağıdaki limanlardan hangisi daha çok turizm amaçlı kullanılır?

- A) Hopa
- B) Samsun
- C) Antalya
- D) Trabzon
- E) İskenderun

18. Ayasofya Müzesi ve Camii aşağıdaki yerleşim yerlerinden hangisinde yer almaktadır?

- A) İzmir
- B) Göreme
- C) Efes
- D) Kuşadası
- E) İstanbul

19. Sümela Manastırı aşağıdaki illerimizden hangisinde yer almaktadır?

- A) Giresun
- B) Amasya
- C) Erzurum
- D) Trabzon
- E) Samsun

20. Ağrı-Doğu Beyazıt'ta bulunan 1685 yılında yapımına başlanan Osmanlı mimarisinin en belirgin özelliklerini taşıyan saray aşağıdakilerden hangisidir?

- A) Dolmabahçe
- B) İshakpaşa
- C) Topkapı
- D) Ayasofya
- E) Kral

GEOMETRİ 1

A

2012 3D 0104-A

1. $\vec{u} = (1,4), \vec{v} = (-2,5)$ vektörleri veriliyor.

Buna göre, $2\vec{u} - 3\vec{v}$ vektörü aşağıdakilerden hangisidir?

- A) (-1, 9)
- B) (3, -1)
- C) (-7, 5)
- D) (8, -7)
- E) (8, -15)

2. A horizontal number line with three points marked: A at -3, B at 5, and C at x.

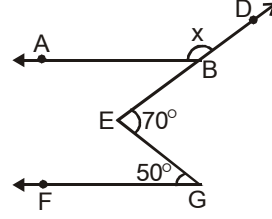
Yukarıdaki koordinat doğrusu üzerinde verilen A, B, C noktaları için $\frac{|AC|}{|BC|} = 3$ olacak biçimde alınan C noktasının koordinatı aşağıdakilerden hangisidir?

- A) 7
- B) 9
- C) 10
- D) 11
- E) 12

3. $4x - 6y + 5 = 0$ ile $2x - ay + 10 = 0$ doğrularının birbirine paralel olmaları için a kaç olmalıdır?

- A) -4
- B) -2
- C) 3
- D) 5
- E) 6

- 4.



Yukarıdaki şekilde $[BA \parallel [GF, m(\widehat{BEG}) = 70^\circ$ ve $m(\widehat{EGF}) = 50^\circ$ ise, x kaç derecedir?

- A) 105
- B) 116
- C) 120
- D) 140
- E) 160

5. A(-2, -5) noktasından geçen ve eğimi $\frac{1}{3}$ olan doğrunun denklemi aşağıdakilerden hangisidir?

- A) $y - 3x - 13 = 0$
- B) $3y + 2x + 13 = 0$
- C) $3y - x + 13 = 0$
- D) $5y - 3x + 7 = 0$
- E) $2y - 3x - 5 = 0$

6. Düzlemde bir doğrunun parametrik denklemi $x = -3k - 2$ ve $y = 5k + 3$ olarak veriliyor.

Buna göre, bu doğrunun kapalı formdaki denklemi aşağıdakilerden hangisidir?

- A) $5x + 3y + 1 = 0$
- B) $5x - 2y + 10 = 0$
- C) $3x + 5y + 1 = 0$
- D) $3x - 4y + 6 = 0$
- E) $5x + 3y + 10 = 0$

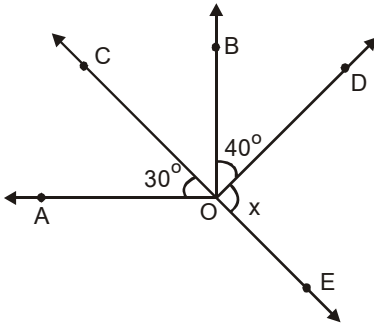
A

2012 3D 0104-A

7. Derece cinsinden ölçüsü 144° olan açının, raydan cinsinden ölçüsü aşağıdakilerden hangisidir?

- A) $\frac{2\pi}{5}$
 B) $\frac{3\pi}{4}$
 C) $\frac{4\pi}{5}$
 D) $\frac{5\pi}{8}$
 E) $\frac{5\pi}{6}$

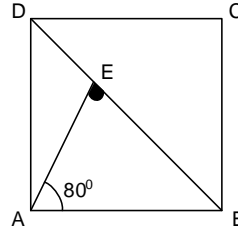
8.



Yukarıdaki şekilde C, O, E noktaları doğrusaldır. $[OA \perp [OB$, $m(\widehat{COA}) = 30^\circ$ ve $m(\widehat{DOB}) = 40^\circ$ olduğuna göre, $m(\widehat{EOD}) = x$ kaç derecedir?

- A) 50
 B) 65
 C) 70
 D) 80
 E) 85

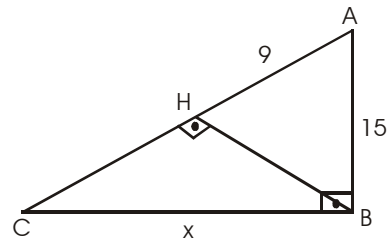
9.



Yukarıdaki ABCD karesinde $m(\widehat{BAE}) = 80^\circ$ ise, $m(\widehat{AEB})$ kaç derecedir?

- A) 50
 B) 55
 C) 60
 D) 65
 E) 70

10.

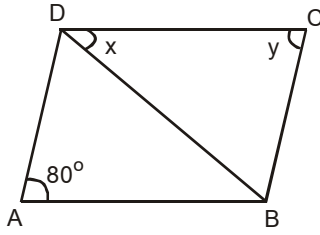


Yukarıdaki ABC dik üçgeninde, $m(\widehat{ABC}) = 90^\circ$, $m(\widehat{BHC}) = 90^\circ$, $|AB| = 15$ cm ve $|AH| = 9$ cm olduğuna göre, x kaç cm dir?

- A) 10
 B) 12
 C) 16
 D) 18
 E) 20

2012 3D 0104-A

11.

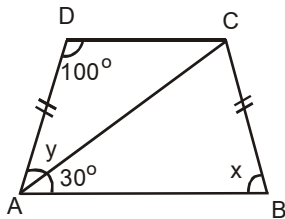


Yukarıdaki ABCD eşkenar dörtgeninde $m(\widehat{DAB}) = 80^\circ$, $m(\widehat{BDC}) = x$ ve $m(\widehat{DCB}) = y$ dir.

Buna göre, $x + y$ kaç derecedir?

- A) 148
- B) 140
- C) 135
- D) 130
- E) 120

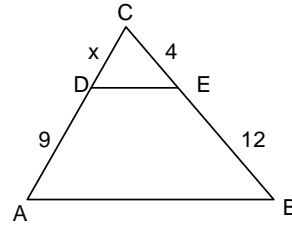
12.



Yukarıdaki ABCD ikizkenar yamuğunda, $[DC] \parallel [AB]$, $|AD| = |CB|$, $m(\widehat{CAB}) = 30^\circ$, $m(\widehat{ADC}) = 100^\circ$, $m(\widehat{DAC}) = y$ ve $m(\widehat{ABC}) = x$ dir. Buna göre, $x + y$ kaç derecedir?

- A) 110
- B) 125
- C) 130
- D) 135
- E) 140

13.



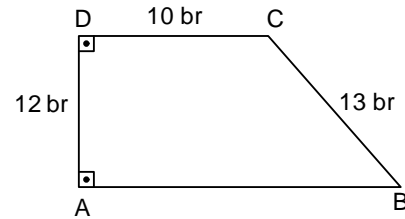
Yukarıdaki ABC üçgeninde $[AB] \parallel [DE]$, $|AD| = 9$ br, $|BE| = 12$ br ve $|CE| = 4$ br olduğuna göre, $|DC| = x$ kaç br dir?

- A) 7
- B) 6
- C) 5
- D) 4
- E) 3

14. Bir iç açısının ölçüsü 144° olan bir düzgün çokgen kaç kenarlıdır?

- A) 7
- B) 8
- C) 9
- D) 10
- E) 12

15.

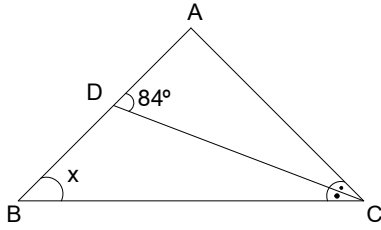


Yukarıdaki ABCD dik yamuğunda $|AD| = 12$ br, $|DC| = 10$ br ve $|CB| = 13$ br ise, ABCD dik yamuğunun alanı kaç br^2 dir?

- A) 150
- B) 175
- C) 180
- D) 200
- E) 300

2012 3D 0104-A

16.



Yukarıdaki şekilde $AB=AC$, $m(\widehat{ADC})=84^\circ$

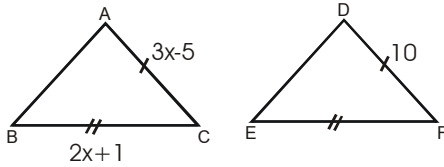
ve $m(\widehat{BCD})=m(\widehat{DCA})$ ise, $m(\widehat{ABC})=x$ kaç derecedir?

- A) 24
- B) 30
- C) 36
- D) 48
- E) 56

17. Taban ayrıntının uzunluğu 10 cm ve yüksekliği 24 cm olan kare dik piramidin hacmi kaç cm^3 tür?

- A) 600
- B) 800
- C) 950
- D) 1200
- E) 1310

18.



Yukarıdaki şekilde, $\triangle ABC \cong \triangle DEF$
 $AC = 3x - 5$ cm, $BC = 2x + 1$ cm
ve $DF = 10$ cm olduğuna göre,
 EF kaç cm dir?

- A) 11
- B) 10
- C) 9
- D) 7
- E) 5

19. Taban ayrıntlarının uzunlukları 4 cm ve 9 cm ve yüksekliği 15 cm olan dikdörtgen dik prizmanın alanı kaç cm^2 dir?

- A) 430
- B) 448
- C) 456
- D) 462
- E) 475

20. Taban ayrıntları 10 br ve 20 br, yüksekliği 30 br olan dikdörtgen dik piramidin hacmi kaç br^3 tür?

- A) 1.000
- B) 2.000
- C) 3.000
- D) 4.000
- E) 6.000

2012 3D 0104-A

1. Tatlıyı seven fakat dişlerinin çürümesinden korkan bir insanın yaşadığı çatışma aşağıdakilerden hangisidir?

- A) Yaklaşma-kaçınma
- B) Kaçınma-kaçınma
- C) Yön değiştirme
- D) Yansıtma
- E) Yaklaşma-yaklaşma

2. Stresin sonuçları göz önüne alındığında aşağıdakilerden hangisi söylenemez?

- A) Stres organizmada gerginlik yaratır.
- B) Stres organizmada psikolojik değişmelere neden olur.
- C) Stres organizmaya daima zarar verir.
- D) Stres organizmada fizyolojik değişmelere neden olur.
- E) Stres organizmanın uyumunu bozar.

3. İnsanın büyük zorlanma yaratan bir olaydan hemen sonra donakalması ve şaşkınlaşması, strese verilen psikolojik tepkilerin hangi aşamasında görülür?

- A) Zorlu düşünceler aşaması
- B) Duygusal yüklenme aşaması
- C) Çözülme aşaması
- D) Depresyon aşaması
- E) İnkâr aşaması

4. I. İd
II. Ego
III. Süper ego

Yukarıdakilerden hangileri Freud'a göre kişiliği oluşturan temel yapılarıdır?

- A) Yalnız I
- B) Yalnız II
- C) I ve II
- D) II ve III
- E) I, II ve III

5. Aşağıdakilerden hangisi nevroitik bozuklukların özelliklerinden biridir?

- A) Hasta anormal durumunun farkında değildir.
- B) Sanılar ve hezeyanlar görülür.
- C) Ağır ruh hastalıklarıdır.
- D) Hasta karar verip uygulamakta güçlük çeker.
- E) Gerçek hayatla ilgi kesilmiştir.

6. Aşağıdakilerden hangisi fobik bozukluğu tanımlamaktadır?

- A) Saçma olduğunu bildiği halde, hastanın aklından belli fikirleri çıkaramaması
- B) Belirli bir nesne veya duruma ilişkin mantıksız bir biçimde aşırı korku duyma
- C) Kol ve bacak gibi hareket organlarının birinde hareketsizlik hissi
- D) Kaygı duygusuna tepki olarak iki veya daha fazla sayıda kişilik sistemi geliştirmek
- E) Şok etkisi yaratan bir olayı unutmak

7. Bireyin, söz verdiği halde gitmek istemediği bir toplantının saatini unutması aşağıdaki savunma mekanizmalarından hangisine örnektir?

- A) Bastırma
- B) Yansıtma
- C) Ödünleme
- D) Karşıt tepki geliştirme
- E) Yön değiştirme

8. Kimi insanlar, kendilerinde var olduğu halde kabul etmek istemedikleri nitelikleri (tembellik, kopya çekme, sorumsuzluk gibi) başkalarında görürler ve eleştirirler.

Bu durum, hangi uyum mekanizmasının belirgin bir özelliğidir?

- A) Ödünleme
- B) Yön değiştirme
- C) Yüceltme
- D) Yansıtma
- E) Bastırma

9. Muzaffer Şerif'in otokinetik etkiden yararlanarak gerçekleştirdiği deneyde aşağıdakilerden hangisi araştırılmıştır?

- A) İnsanları ikna etme yolları
- B) Baskı sonucu ortaya çıkan uyma davranışı
- C) Grup normlarının oluşumu
- D) İnsanların itaat etme derecesi
- E) Grup içinde liderin rolü

10. Milgram'ın "şok deneyi"nin amacı aşağıdakilerden hangisini araştırmaktır?

- A) Bir emre ne dereceye kadar itaat edildiği araştırılmıştır.
- B) Grup baskısıyla uyma davranışının nasıl ortaya çıktığı araştırılmıştır.
- C) İnsanların sadist eğilimleri araştırılmıştır.
- D) Grup normunun nasıl oluştuğu araştırılmıştır.
- E) İnsanların nasıl ikna edilebileceği araştırılmıştır.

2012 3D 0104-A

11. Aşağıdakilerde hangisi ergenlik döneminin özelliklerinden biri değildir?

- A) Ergenlik dönemi değişme çağıdır.
- B) Ergenlik dönemi bireyin hayatını belirlediği bir dönemdir.
- C) Ergenlik dönemi kendine özgü bir kimliğin oluştuğu dönemdir.
- D) Ergenlik dönemi fizyolojik ve psikolojik değişikliklerin olduğu bir dönemdir.
- E) Ergenlik dönemi yetişkinlikten yaşlılığa geçişte bir ara dönemdir.

12. Stres karşısında psikolojik tepkiler, aşama aşama stresin etkisinin azalmasına bağlı olarak gelişir.

Aşağıdakilerden hangisi, bu aşamalardan değildir?

- A) Çözülme
- B) Zorlu düşünceler
- C) İnkâr
- D) Kuluçka
- E) Duygusal yüklenme

13. Aşağıdakilerden hangisi ruhsal bozuklukların tedavisinde bilinçaltındaki sorunların bilinçli hale getirilmesini hedeflemez?

- A) Dil sürçmelerini analiz etmek
- B) Elektrik şoku vermek
- C) Rüyaları analiz etmek
- D) Unutulan veya yanlış kullanılan sözcükleri analiz etmek
- E) Çağırışım yaptırmak

14. Aşağıdakilerden hangisi zekanın görünümünden biri olarak değerlendirilemez?

- A) Beste yapmaya yatkın olma
- B) Sözcüklerin tanımını yapabilme
- C) Soyut düşünebilme
- D) Öğrenilenleri anımsama
- E) Genellemelere varma

15. I. Aynı testin veya eşdeğerinin, aynı grup üzerinde yeniden uygulanması durumunda, yaklaşık aynı değeri vermesini ifade eder.
II. Testin, ölçülmek istenen özellik ne ise, onu ölçebilmesini ifade eder.

Yukarıda anlatılmak istenen kavramlar, aşağıdakilerin hangisinde birlikte verilmiştir?

- A) Geçerlilik-Standart Norm
- B) Standart Norm-Güvenilirlik
- C) Güvenilirlik-Geçerlilik
- D) Geçerlilik-Zekâ Bölümü
- E) Güvenilirlik-Zeka bölümü

16. Bireylerin çeşitli özelliklerini tanımaya ve karşılaştırmaya yarayan ölçme aracına ne ad verilir?

- A) Algı
- B) Forum
- C) Kollegyum
- D) Anektod
- E) Test

17. Aşağıdakilerden hangisi Piaget'e göre zihnin evrelerinden biri değildir?

- A) Duyusal devinsel dönem
- B) Soyut işlemler dönemi
- C) Somut işlemler dönemi
- D) Genital dönem
- E) İşlem öncesi dönem

18. İnsanı etkileyen nesne, güç ve uyarıların hepsine birden ne ad verilir?

- A) Eylem
- B) Çevre
- C) İletişim
- D) Bellek
- E) Güdülenme

19. Zekâ gerilik seviyesi 50-69 arasında olan kişilere ne ad verilir?

- A) İdiot
- B) Davn
- C) Moran
- D) Embesil
- E) Histeri

20. I. Dürüstlük
II. Hoşgörü
III. Sabırlılık

Yukarıdakilerden hangileri karakter ile ilgili özelliklerdendir?

- A) Yalnız I
- B) Yalnız II
- C) I ve II
- D) II ve III
- E) I, II ve III

2012 3D 0104-A

1. I. Zengin bir hatıra mirasına sahip bulunanlar
II. Beraber yaşama isteği ve arzusunda içten olan
III. Tarihsel mirasını sahiplenip, bunu sürdürmede ortak iradeye sahip olanlar

Yukarıdakilerden hangileri Atatürk'ün millet anlayışını oluşturur?

- A) Yalnız I
- B) Yalnız II
- C) I ve II
- D) II ve III
- E) I, II ve III

2. **Aşağıdakilerden hangisi sosyolojinin konuları arasında yer almaz?**

- A) Birey hayatının anlamı
- B) Toplumsal yapı ve bu yapı içinde meydana gelen değişimler
- C) Bireylerin grup nomlarına uymayan davranışları
- D) Bireyler tarafından kabul edilmiş ve kalıplaşmış kurallar
- E) Gruplar arası ilişkiler

3. **Durkheim tek tek gözlemlerden hareket ederek, intihar hakkında genel bir hükme varmıştır. Bu görüşe göre Durkheim intiharlarla ilgili olarak hangi metodu kullanmıştır?**

- A) Gözlem
- B) Tümdengelim
- C) Tümevarım
- D) Katılımlı gözlem
- E) Birleştirici metod

4. Bir insan evde baba, okulda öğretmen, spor kulübünde sporcu olduğu halde her yerde öğretmen gibi davranabilir.

Bu durum aşağıdakilerden hangisine örnektir?

- A) Toplumsal değişmeye
- B) Statü değiştirmeye
- C) Rol pekişmesine
- D) Rol çatışmasına
- E) Prestij kazanmaya

5. **Sosyal tabakalar arasında meydana gelen yer değiştirmelerine ne ad verilmektedir?**

- A) Yarı açık tabakalaşma
- B) Dikey hareketlilik
- C) Açık tabakalaşma
- D) Yatay hareketlilik
- E) Toplumsal hareketlilik

6. **Aşağıdakilerden hangisi sosyolojinin ele aldığı konulardan biri değildir?**

- A) Toplumun geleneksel değerlerinde ortaya çıkan değişimler
- B) Toplumsal değişimin olumlu yönde gerçekleşmesini sağlayacak tedbirler
- C) Ekonomik gelişmelerin toplumsal yaşama etkileri
- D) Teknolojik gelişmelerle birlikte toplumsal yaşamda meydana gelen değişimler
- E) Toplumlar arası etkileşimin toplum kültürüne olan etkileri

7. **İnsan türünün doğuşunu, oluşumunun özelliklerini ve kültürünü konu alan bilime ne ad verilir?**

- A) Hukuk
- B) Sosyoloji
- C) Antropoloji
- D) Felsefe
- E) Psikoloji

8. İstanbul'daki üniversitelerin birinci sınıfında öğrenim gören erkek öğrencilerin yurt sorunları üzerinde bir çalışma yapılacaktır. Problem ortaya konduktan sonra, hipotezlerin incelenmesinde yararlanılacak sorular hazırlanır, soru kağıdına geçilir.

Bu araştırmada kullanılan teknik aşağıdakilerden hangisidir?

- A) İstatistik
- B) Monografik inceleme
- C) Gözlem
- D) Anket
- E) Mülakat

2012 3D 0104-A

9. Kazanılmış rol ve statüler bireyler tarafından sonradan edinilir ve değişmesi mümkündür.

Buna göre, aşağıdakilerden hangisi "kazanılmış statüye" örnek değildir?

- A) Öğrencilik
- B) Doktorluk
- C) Hakimlik
- D) Annelik
- E) Akrabalık

10. Bireyi grup içinde ele alan, bireyin grup ile etkileşimini inceleyen bilim dalı aşağıdakilerden hangisidir?

- A) Psikoloji
- B) Sosyal psikoloji
- C) Sosyal antropoloji
- D) Sosyoloji
- E) Hukuk psikolojisi

11. Aşağıdakilerden hangisi geçici sosyal gruplara örnek olarak verilebilir?

- A) İnşaat işçileri
- B) Devlet
- C) Aile
- D) Millet
- E) Şehir halkı

12. Açık sınıf tabakalaşması aşağıdakilerden hangisinde görülür?

- A) Krallıkla yönetilen toplumlarda
- B) Meslek zümrelerinin benimsendiği toplumlarda
- C) Demokrasiyle yönetilen toplumlarda
- D) Lonca kuruluşlarının etkin olduğu toplumlarda
- E) Kast sisteminin benimsendiği toplumlarda

13. Toplu halde yaşayan insanları birtakım olaylar karşısında belirli tarzda davranmaya zorlayan kurallara ne ad verilir?

- A) Sosyal değer
- B) Sosyal norm
- C) Sosyal kontrol
- D) Sosyal prestij
- E) Sosyal ilişki

14. Aşağıdakilerden hangisi sosyolojik araştırmalarda kullanılan bir veri toplama tekniği değildir?

- A) Yöntem
- B) Olay incelemesi
- C) Görüşme
- D) Anket
- E) Monografi

15. Aşağıdakilerden hangisi sıradan kalabalıklara örnektir?

- A) Film izleyenler
- B) Resmi geçit yapanlar
- C) Mitingde yürüyenler
- D) Kırmızı ışıkta bekleyenler
- E) Futbol maçı izleyenler

16. Toplumlari ekonomik ölçüte göre sınıflayan düşünür aşağıdakilerden hangisidir?

- A) Auguste Comte
- B) Robert Redfield
- C) Karl Marx
- D) Karl Popper
- E) Max Weber

17. Aşağıdakilerden hangisi verilmiş statüyü belirleyen etkenler arasında yer almaz?

- A) Cinsiyet
- B) Eğitim
- C) Soy bağı
- D) Milliyet
- E) Din

18. Sanayi devrimi ilk aşağıdaki ülkelerden hangisinde başlamıştır?

- A) Almanya
- B) İtalya
- C) Fransa
- D) Hollanda
- E) İngiltere

19. Küçük gruplarda bireyler arasındaki yaklaşma ve uzaklaşma modellerini açıklamayı sağlayan araştırma tekniğine ne ad verilir?

- A) Sosyometri
- B) Mülakat
- C) Ranj
- D) Medyan
- E) İstatistik

20. Aşağıdakilerden hangisi sosyolojinin ilişkili olduğu bilim dallarından biri değildir?

- A) Psikoloji
- B) Siyaset Bilimi
- C) Antropoloji
- D) Biyoloji
- E) Ekonomi

2012 3D 0104-A

1. Aşağıdaki cümlelerin hangisinde "-" iyelik eki olarak kullanılmıştır?

- A) Uçurtmayı vurmasınlar.
- B) Güzelliği dillere destan oldu.
- C) Çiçeği dalında severim.
- D) Sevgiyi bitirmeyin yüreklerde.
- E) Hep yaşatın o gizemli umudu.

2. Aşağıdaki cümlelerin hangisinde "ki" nin kullanımı diğerlerinden farklıdır?

- A) Masadaki kitaplar dağılmış.
- B) Tabağındaki yemeği bitirmemişsin.
- C) Sendeki yürek kimsede yoktur.
- D) Ne zaman dinecek ruhundaki fırtına?
- E) Seninki boşuna heves.

3. Aşağıdakilerin hangisinde altı çizili sözcük, hem yapım hem çekim eki almıştır?

- A) Çamlıkta dolaştım uzun uzun.
- B) Keskin bir rüzgâr esiyordu.
- C) Dalgın dalgın yürüyordum.
- D) Yüreğimdeki sevgi asla eksilmeyecek.
- E) Ölüm bizi ayırana kadar.

4. Aşağıdaki cümlelerin hangisinde "-den" ekinin kullanımı diğerlerinden farklıdır?

- A) Dün sinemadan dönerken gördüm onu.
- B) Okuldan eve erken gel.
- C) Evden ayrılırken herkesle vedalaştı.
- D) Pencereden bakan annen miydi?
- E) Kimsenin ilgisini çekmiyor, iyice gözden düştü.

5. Aşağıdaki cümlelerin hangisinde altı çizili sözcük farklı bir kökten türetilmiştir?

- A) Bilim ağartsın saçlarınızı.
- B) Olumsuzlukları yazgı saymak doğru mu?
- C) Olgun davranışları hemen dikkatimi çekti.
- D) Gençlik uçup gider bir gün.
- E) Yapıcı olabilmek, herkese özgü değil.

6. Aşağıdaki cümlelerin hangisinde ikileme, zarf tümleci olarak kullanılmıştır?

- A) Deme çatma evde oturdu yıllarca.
- B) Yeşil yeşil bahçe hayal etti hep.
- C) Kapı hızlı hızlı vuruldu.
- D) Üstünde eski püskü bir elbise vardı.
- E) İrili ufaklı taşlar ayaklarına batıyordu.

7. Aşağıdaki cümlelerin hangisinde "ağaç" sözcüğü sözde özne olarak kullanılmıştır?

- A) Ağaçlar çiçek açmış.
- B) Ağaçlar dün budandı.
- C) Kuşlar ağacın dalına yuva yapmış.
- D) Erik toplarken ağaçtan düşmüş.
- E) Kedi, hızla ağaca tımandı.

8. Aşağıdaki cümlelerin hangisinde "Cem" özne görevindedir?

- A) O kitabı dün Cem'e verdim.
- B) Annem Cem'i yemeğe davet etti.
- C) Cem esprileriyle gönülleri fethetti.
- D) Arkadaşlarım Cem'le sohbet etti.
- E) Cem gibi çalışkan öğrenci görmedim.

9. "Dün seni okulda çok aradım." cümlesinde aşağıdaki öğelerden hangisi yoktur?

- A) Zarf tümleci
- B) Yüklem
- C) Dolaylı tümleç
- D) Belirtili nesne
- E) Edat tümleci

10. Aşağıdakilerden hangisi isim cümlesidir?

- A) Neden başınızı öne eğdiniz?
- B) Zülüfleri düşmüş hilal kaşına.
- C) Yemeni bağlamış telli başına.
- D) Sevinçli bir telaş içindeydiniz.
- E) Bir bahar akşamı rastladım size.

11. Aşağıdaki cümlelerden hangisinin eylemi gereklilik kipindedir?

- A) Erken yat ki erken kalkabilesin.
- B) Çocuklarımıza iyi model olalım.
- C) Birden çocukluğumu anımsadım.
- D) Gürültü etmese de ders çalışabilsem.
- E) Sınavda başarılı olmak için çok çalışmalıyım.

2012 3D 0104-A

12. Aşağıdaki cümlelerin hangisinde tümleç eksikliğinden kaynaklanan bir anlatım bozukluğu vardır?

- A) Başkan tutumunuzu olumlu karşıladı.
- B) Dünkü toplantıda çok güzel konuştunuz.
- C) Bizi ilgiyle dinliyor, konuşmalarımızı not alıyordu.
- D) Kardeşinizi çok iyi tanıyoruz ve güveniyoruz.
- E) Haklısınız, sözü gereksiz yere uzatmamak gerekir.

13. "Gemi yedinci günde tamam oldu. Gemiye kızaktan indirmek güç oldu çünkü geminin üçte ikisi suya girinceye dek onu kızak üzerinde aşağıdan ve yukarıdan itmek zorunluluğu vardı."

Yukarıdaki paragrafın türü aşağıdakilerden hangisidir?

- A) Çözümleme
- B) Mizahi
- C) Olay
- D) Fikir
- E) Tartışma

14. Aşağıdakilerden hangisi konunun tanıtıldığı, ne olduğunun ortaya konulduğu paragraf bölümüdür?

- A) Tartışma
- B) Sonuç
- C) Açıklama
- D) Giriş
- E) Gelişme

15. Aşağıdakilerden hangisi bir paragraf çeşidi değildir?

- A) Açıklama paragrafı
- B) Sonuç paragrafı
- C) Düşünce paragrafı
- D) Olay paragrafı
- E) Fantastik paragraf

16. Bir olayı ya da bir varlığı canlandırmak amacıyla yazılan paragraf türü aşağıdakilerden hangisidir?

- A) Olay paragrafı
- B) Çözümleme paragrafı
- C) Tasvir paragrafı
- D) Düşsel paragraf
- E) Düşünce paragrafı

17. Çağrışıma bağlı tamamen olağan ve olağan dışı hayal gücüne dayanılarak oluşturulan paragraf türü aşağıdakilerden hangisidir?

- A) Olay paragrafı
- B) Fantastik paragraf
- C) Çözümleme paragrafı
- D) Açıklama paragrafı
- E) Fikir paragrafı

18. "Toplum içinde düşünmeden konuşmak"

Yukarıda boş bırakılan yere, aşağıdakilerden hangisinin getirilmesi uygun değildir?

- A) konuşmamaktan iyidir.
- B) insanı gülünç duruma düşürür.
- C) insanı sözünün esiri yapar.
- D) akli kullanamamaktır.
- E) nişan almadan ateş etmeye benzer.

19. Sözcüğün iki yönü vardır: Ses ve anlam. Bu iki öge, birbirinden ayrılmaz ve bir bütün oluşturur. Sessiz okumanın bile sesi vardır ki bu ses imgesi zihinde canlanır ve hemen ardından kavram oluşur.

Yukarıdaki paragraf, aşağıdakilerden hangisine örnektir?

- A) Açıklama paragrafı
- B) Betimleme paragrafı
- C) Olay paragrafı
- D) Fantastik paragraf
- E) Çözümleme paragrafı

20. "Güllerin dikenleri var diye üzüleceğime dikenlerin güller açtığına sevinirim."

Yukarıdaki özlü söz nasıl bir karakteri niteler?

- A) İyimser
- B) Çalışkan
- C) Kötümser
- D) Fedakâr
- E) Azimli

2012 3D 0104-A

1. Aşağıdaki cümlelerin hangisinde "-cık" küçültme ekinin eklendiği sözcüğe kattığı anlam, diğerlerinden farklıdır?

- A) Bu gölü yüzlerce derecik besliyor.
- B) O, ufacık bir evde yaşıyor.
- C) Bebeciğimi çok özledim.
- D) Çoban sürüsünü şu tepeciğe götürdü.
- E) Gemi, adacıkların arasından geçip gitti.

2. Aşağıdaki cümlelerdeki bileşik sözcüklerin hangisi bir isimle bir eylemin birleşmesinden oluşmuştur?

- A) Ayçiçeği tarlası görülmeye değerdi.
- B) Bahçesine hanımeli dikti.
- C) Kuşbunu çayını severim.
- D) Gecekonuda oturdu yıllarca.
- E) Kırdan katırtımağı topladım.

3. Köyde ona Kör Mustafa derlerdi. Bir gözü sola doğru biraz kaymıştı. Sağ tarafının beyazı ile göz kapağı arasına ciğer kırmızısı bir et parçası oturmuştu. Böyle mi doğmuştur? Yoksa çocukken bir şey mi batmıştı? Bu arızalı göz, öteki gözden daha parlak, daha siyah, daha canlı, daha zekidir.

Yukarıdaki paragraf, aşağıdakilerin hangisine örnektir?

- A) Fizikî portre
- B) Ruhî portre
- C) Tanımlama
- D) Açıklama
- E) Örnekleme

4. Aşağıdaki cümlelerin hangisinde niteleme sıfatı kullanılmıştır?

- A) Aradan on beş yıl geçti.
- B) Birçok memleket gezdim.
- C) Yeşil yaprakların arasından güneş gülümsüyor.
- D) Şu tepenin ardında benim memleketim.
- E) Hangi dağda kurt öldü?

5. Aşağıdaki cümlelerin hangisinde altı çizili sözcük bileşik sıfat değildir?

- A) Tatlı dil yılanı deliğinden çıkarır.
- B) Mirasvedi genç şimdi çok pişman.
- C) Biraz sabır, biraz gayret gerek!
- D) Birtakım insanlar bunu anlayamaz.
- E) Pisboğaz çocuk, yine atıştırıyor.

6. Derinden derine ırmaklar ağlar
Uzaktan uzağa çoban çeşmesi
Ey suyun sesinden anlayan bağlar
Ne söyler şu dağa çoban çeşmesi

Yukarıdaki şiir, aşağıdakilerden hangisine örnektir?

- A) Lirik şiir
- B) Epik şiir
- C) Satirik şiir
- D) Didaktik şiir
- E) Dramatik şiir

7. "Bir" sözcüğü aşağıdaki cümlelerin hangisinde belgisiz zamir olarak kullanılmıştır?

- A) Orda bir gün bile kalamam artık.
- B) Bir yaprak düştü dalından.
- C) Belki bir sabah geleceksin.
- D) Onu bir akşam vakti kaybettik.
- E) Biri yukarı doğru koştu.

8. "Ayber çiçekleri suladı." cümlesindeki nesne-yüklem ilişkisi, aşağıdakilerin hangisinde vardır?

- A) Düşünce çok ağladı.
- B) Olanlara hâlâ gülüyor.
- C) Yarın bu kitabı Orhan'a ver.
- D) Kardeşim erkenden uyudu.
- E) Hep babasına kızıyor.

9. Aşağıdaki cümlelerin hangisinin eylemi gereklilik kipindedir?

- A) Ah bir zengin olsam...
- B) Seneye burada olmayacağız.
- C) Zamanla nasıl değişiyor insan.
- D) Haram yeme, yalan deme.
- E) Yarın dedemi ziyaret etmeliyim.

10. Aşağıdaki cümlelerin hangisinde altı çizili zaminin türü diğerlerinden farklıdır?

- A) Berikini al, öteki kalsın.
- B) Benim derdim bana yeter.
- C) Bunları size anlatmadılar mı?
- D) Gülmek sana yakışıyor.
- E) Bu onurlu duruş, ona asalet veriyor.

2012 3D 0104-A

11. Aşağıdaki atasözlerinin hangisinde ortaç kullanılmıştır?

- A) Damlaya damlaya göl olur.
- B) Mızrak çuvala girmez.
- C) Mum dibine ışık vermez.
- D) Çok koşan, çabuk yorulur.
- E) Lâfla peynir gemisi yürümez.

12. Aşağıdaki cümlelerin hangisinde "ile" edat olarak kullanılmıştır?

- A) Sevgiyle saygı açar tüm kapıları.
- B) Orhan'la Ayhan tiyatroya gidecekmiş.
- C) Kırılarda çiçekle böcek aradı.
- D) Yüreğimde kinle nefrete yer yok!
- E) İzmir'e uçakla gideceğim.

13. Çay çok güzel olmuş cam fincanla da gelince keyifle içtim.

Yukarıdaki cümlede boş bırakılan yere aşağıdaki sözcüklerden hangisinin getirilmesi uygundur?

- A) üstelik
- B) oysa
- C) ama
- D) lâkin
- E) fakat

14. Geçmişe yönelik olayların zaman sırasına göre ilgi uyandıracak şekilde anlatılmasına ne ad verilir?

- A) Betimleme
- B) Ömekleme
- C) Açıklama
- D) Tartışma
- E) Öyküleme

15. Aşağıdakilerden hangisi öykülemenin temel unsurlarından biri değildir?

- A) Yer
- B) Zaman
- C) Heyecan
- D) Kişiler
- E) Olay

16. Hikâyelerde olayın ortaya konduğu, yazının başlangıç bölümü olan bölüm aşağıdakilerden hangisidir?

- A) Düşüm
- B) Gelişme
- C) Sonuç
- D) Serim
- E) Çözüm

17. Aşağıdakilerden hangisi topluluk adı değildir?

- A) Sürü
- B) Sokak
- C) Takım
- D) Orman
- E) Ordu

18. Aşağıdaki altı çizili sözcüklerden hangisi küçültme adıdır?

- A) Küçücük kedi
- B) Minicik eller
- C) Kocaman ağaç
- D) Yeni kitapçık
- E) Sıcacık hava

19. Aşağıdakilerden hangisi türemiş isimdir?

- A) Elma
- B) Bilim
- C) Küçük
- D) İyi
- E) Çocuk

20. Bir insanın iç dünyasını, tutum ve davranışlarını betimlemeye ne ad verilir?

- A) Fiziki portre
- B) Ruhi portre
- C) Portre
- D) Tasvir
- E) Öyküleme

2012 3D 0104-A

1. Aşağıdakilerden hangisi röportajın özellikleri arasında yer almaz?

- A) Röportajcı gördükleri ve izlenimleriyle yetinmeyip araştırma ve inceleme de yapar.
- B) Röportaj, devam eden yazılar biçiminde olamaz, tek bir yazıda tüm bilgiler özetlenmelidir.
- C) Röportajı yapan kişi, röportajında elde ettiği bilgilerle kendi görüş ve düşüncelerine de yer verir.
- D) Röportajcının amacı konuyu çarpıtmadan belgesel olarak okuyucuya sunmak ve okuyucuyu konunun içinde yaşatmaktır.
- E) Röportaja ses kayıtları, belge ve fotoğraflar da eklenebilir.

2. Aşağıdaki cümlelerden hangisinde türemiş sözcük yoktur?

- A) Sınırsızca tüketiyoruz doğayı.
- B) Sonsuzlukta kaybolasım var.
- C) Saygıda kusur etmiyor.
- D) Elden ne gelir?
- E) Eğitim, bilinçlenmek için yeterli mi?

3. Aşağıdakilerden hangisi birleşik bir sözcük değildir?

- A) yapısalcılık
- B) yediveren
- C) pazartesi
- D) biçerdöven
- E) bilinçdişi

4. Ordunun moral gücünü yükseltmek ve güven duygusunu artırmak için askerlere yönelik verilen söylevlere ne ad verilir?

- A) Resmi Söylev
- B) Akademik Söylev
- C) Bilimsel Söylev
- D) Sosyal Söylev
- E) Askeri Söylev

5. Bir topluluk önünde belirli bir konuda yapılan etkili ve inandırıcı konuşmalara ne ad verilir?

- A) Mülakat
- B) Forum
- C) İletişim
- D) Panel
- E) Söylev

6. Cumhuriyet döneminin en büyük konuşmacısı aşağıdakilerden hangisidir?

- A) Ali Mümtaz Arolat
- B) Peyami Safa
- C) Bekir Sıtkı Kunt
- D) Halide Edip Adıvar
- E) Mustafa Kemal Atatürk

7. Birden çok sözcüğün birleşerek yeni bir kavram oluşturduğu sözcüklere ne ad verilir?

- A) Birleşik
- B) Türemiş
- C) Basit
- D) Girişik
- E) İşteş

8. "Onuncu Yıl Nutku" tür olarak aşağıdakilerden hangisine örnektir?

- A) Denemeye
- B) Mektuba
- C) Fıkraya
- D) Hitabete
- E) Mülakata

9. Aşağıdaki sözcüklerden hangisi yapı bakımından diğerlerinden farklıdır?

- A) soğutucu
- B) soluksuz
- C) konuşmacı
- D) oyuncu
- E) bilirkşi

10. Aşağıdakilerden hangisi konularına göre röportajlardan biridir?

- A) Canlılan konu alan röportaj
- B) Eşyayı konu alan röportaj
- C) Müziği konu alan röportaj
- D) Mesleği konu alan röportaj
- E) Sanatı konu alan röportaj

2012 3D 0104-A

11. Atatürk'ün "Söylev" adlı eserinde üzerinde durduğu en önemli dönem aşağıdakilerden hangisidir?

- A) Kurtuluş Savaşı yılları
- B) Osmanlının son dönemleri
- C) Cumhuriyetin ilanı
- D) Çanakkale Savaşları
- E) 1.Dünya Savaşı yılları

12. Aşağıdakilerin hangisinde basit yapılı sözcükler birlikte ve doğru olarak verilmiştir?

- A) sucu-doğruluk-yanlış
- B) hatır-silgi-borçlu
- C) koku-sıra-sayıcı
- D) iyi-kare-haber
- E) yazgı-soru-bilim

13. Aşağıdakilerin hangisi bir isim ve bir fiilden oluşmuş bir birleşik sözcüktür?

- A) çekyat
- B) karekök
- C) çıtçıt
- D) bilgisayar
- E) yapboz

14. Aşağıdakilerin hangisinde birden fazla yapım eki yoktur?

- A) Tatlıcı
- B) Solak
- C) Gözlüklü
- D) Sevinçli
- E) Saygınlık

15. "Sonbahar-çocuk-yapıcı" sözcüklerinin yapıları aşağıdakilerin hangisinde sırasıyla ve doğru olarak verilmiştir?

- A) Basit-türemiş-basit
- B) Birleşik-basit-türemiş
- C) Birleşik-basit-basit
- D) Basit-basit-türemiş
- E) Türemiş-basit-türemiş

16. Aşağıdaki sözcüklerin hangisinde hem yapım hem de çekim eki vardır?

- A) Kitabın
- B) Yapıcı
- C) Sözlüğü
- D) Masayı
- E) Yazıcı

17. Aşağıdakilerden hangisi sadece bir yapım eki almıştır?

- A) Suçlu
- B) Soyguncu
- C) Korkuluğu
- D) Sorgucu
- E) Bozgunculuk

18. Aşağıdakilerden hangisi fiilden türemiştir?

- A) Beslenme
- B) Sözcü
- C) Sarsıntı
- D) Solak
- E) Ağızlık

19. Aşağıdakilerden hangisi isimden türemiştir?

- A) Yazıcı
- B) Sorgucu
- C) Gözcü
- D) Örgü
- E) Saygı

20. Aşağıdaki sözcüklerden hangi farklı cinsten bir kökten türemiştir?

- A) Saygın
- B) Solgun
- C) Başkan
- D) Suskun
- E) Durgun

2012 3D 0104-A

1. Aşağıdakilerden hangisi, hem göze hem de kulağa hitap eden sanat dallarından biridir?

- A) Heykeltıraşlık
- B) Resim
- C) Fotoğraf
- D) Tiyatro
- E) Müzik

2. Peyami Safa'nın on beş yaşındaki bir gencin yedi yaşından beri bacağındaki kemik rahatsızlığı nedeniyle yaşadığı bunalımı anlatan romanı, aşağıdakilerden hangisidir?

- A) İnce Memed
- B) Yaprak Dökümü
- C) Dokuzuncu Hariciye Koğuşu
- D) Eski Hastalık
- E) Son Kuşlar

3. Aşağıdakilerden hangisi, edebi eserlerden biridir?

- A) Heykel
- B) Şiir
- C) Resim
- D) Musiki
- E) Mimari

4. Şakaklarım kar mı yağdı ne var?
Benim mi Allahım bu çizgili yüz?
Ya gözler altındaki mor halkalar?
Neden böyle düşman görünürsünüz,
Yıllar yılı dost bildiğim aynalar?

Şair, yukarıdaki dizelerde aşağıdakilerin hangisine değmemiştir?

- A) Bu değişimlere kayıtsız kaldığına
- B) Saçların ağarmaya başladığına
- C) Yüzde kırışıkların belirdiğine
- D) Aynaların artık hoşta gidecek şeyler göstermediğine
- E) Yüzdeki yorgunluk, yaşlılık izlerine

5. Sözlü anlatımında ifade edilenin daha iyi anlaşılması için aşağıdakilerin hangisine başvurulmaz?

- A) Mimik
- B) Jest
- C) İmlâ
- D) Vurgu
- E) Tonlama

6. Ana malzemesi "dil" olan güzel sanat, aşağıdakilerden hangisidir?

- A) Mimari
- B) Edebiyat
- C) Resim
- D) Müzik
- E) Heykeltıraşlık

7. "İlahi Komedya"yı kaleme alan İtalyan şair, aşağıdakilerden hangisidir?

- A) Boccaccio
- B) Petrarca
- C) Ariosto
- D) Dante
- E) Tasso

8. Ele alınan bir konunun çeşitli örnekler, karşılaştırmalar, kanıt ve görüşlerle açılan bölümü aşağıdakilerden hangisidir?

- A) Düğüm
- B) Serim
- C) Gelişme
- D) Giriş
- E) Çözüm

9. Bir sözün bir kullanışta hem gerçek hem de mecaz anlama getirilmesiyle yapılan sanata "Kinaye" denir.

Aşağıdakilerin hangisinde kinaye sanatı yapılmıştır?

- A) Sınavda çok terledik.
- B) Umut, çölde bir vahadır.
- C) Mutluluk, mum ışığı.
- D) En son umut ölür.
- E) Her yanığı, tecrübedir.

10. Ağır ağır çıkacaksın bu merdivenlerden
Eteklerinde güneş rengi bir yığın yaprak
Ve bir zaman bakacaksın semaya ağlayarak

Dizelerde Ahmet Haşim'in sözünü ettiği "Ağır ağır çıkılan merdiven" ne olabilir?

- A) Evin taş basamakları
- B) Hayat yolu
- C) Memleketin taşı toprağı
- D) Tanrı'ya giden yol
- E) Dünyanın zorlukları

2012 3D 0104-A

11. İlk islami ürünlerimizden ansiklopedik sözlük "Divân-ü Lûgati't-Türk" kim tarafından yazılmıştır?

- A) Yusuf Has Hacip
- B) Yunus Emre
- C) Kaşgarlı Mahmut
- D) Hoca Ahmet Yesevi
- E) Edip Ahmet

12. Dinle sana bir nasihat edeyim
Hatırdan gönülden geçici olma
Yiğidin başına bir iş gelende
Onu yâd ellere açıcı olma

Yukarıdaki dördlük, hangi şiir türüne örnek olabilir?

- A) Didaktik şiir
- B) Lirik şiir
- C) Epik şiir
- D) Pastoral şiir
- E) Dramatik şiir

13. Ben gidersem sazım sen kal dünyada
Gizli sırlarımı aşikâr etme
Lâl olsun dillerin söyleme yada
Garip bülbül gibi ah ü zâr etme

Yukarıdaki şiirle ilgili olarak aşağıdakilerden hangisi söylenemez?

- A) Dört dizeden oluştuğu
- B) 11'li hece ölçüsü kullanıldığı
- C) Redife yer verildiği
- D) Çapraz uyak düzeniyle yazıldığı
- E) Yarım uyak kullanıldığı

14. Aşağıdakilerden hangisi Divan şiir geleneğinin bir özelliği değildir?

- A) Aynı konuda, aynı temada, aynı yapıda kalıplaşmış ürünlerin yüzyıllara yayılması
- B) Nazım biriminin beyit olması
- C) Dilinin ağır, anlatımının sanatlı olması
- D) Hece ölçüsü kullanılması
- E) Arap ve Fars edebiyatlarının etkisinde kalınması

15. Şakaklarım kar mı yağdı ne var?
Benim mi Allah'ım bu çizgili yüz?
Ya gözler altındaki mor halkalar
Neden böyle düşman görürsünüz,
Yıllar yılı dost bildiğim aynalar?

Yukarıdaki dizelerde şairin "şakaklara yağın kar" sözünü kastettiği ne olabilir?

- A) Zaman içinde ağaran saçlar
- B) Kar gibi bembeyaz sakallar
- C) Yorgun, kocamış gönül
- D) Şakaklardan süzülen ter
- E) Savrulan kar taneleri

16. Lisanda sayılır öz
Herkesin bildiği söz
Manası anlaşılan
Lûgata atmadan göz

Dörtlüğün uyak türü, aşağıdakilerden hangisidir?

- A) Çapraz uyak
- B) Yarım uyak
- C) Zengin uyak
- D) Cinaslı uyak
- E) Tam uyak

17. Deli koyun
Deli kurt, deli koyun
Yârinden ayrılanın
Adını deli koyun

Yukarıdaki dizelerde sestış sözcüklerle yapılan sanat, aşağıdakilerden hangisidir?

- A) İntak
- B) İstiare
- C) Tevriye
- D) Cinas
- E) Tezat

18. Aşağıdakilerden hangisi, Tasavvuf Edebiyatının nazım türlerinden biri değildir?

- A) Şathiye
- B) Devriye
- C) Hikmet
- D) Nefes
- E) Kaside

19. Divan Edebiyatı nazım şekillerindedir. Dörtlükler halinde yazılır, uyak düzeni koşmaya benzer. Ölçüsü aruzdur, besteyle söylenir. En güzel örneklerini, Lâle Devri'nin ünlü şairi Nedim vermiştir.

Yukarıda tanıtılan nazım şekli, aşağıdakilerden hangisidir?

- A) Şarkı
- B) Türkü
- C) Mâni
- D) Semai
- E) Mesnevi

20. Sen akşamlar kadar büyülü sıcak
Rüyalarım kadar sade ve güzeldin
Baş başa uzandık günlerce ıslak
Çimenlerine yaz bahçelerinin

Yukarıdaki dördlük, hangi şiir türüne örnek olabilir?

- A) Epik şiir
- B) Lirik şiir
- C) Didaktik şiir
- D) Pastoral şiir
- E) Satirik şiir

KİMYA 1

A

2012 3D 0104-A

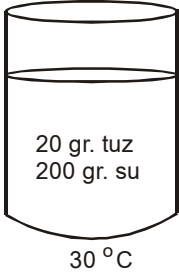
1. Aşağıdaki yöntemlerden hangisi ile kireç taşından sönmemiş kireç elde edilebilir?

- A) Damıtma
- B) Alkolde çözme
- C) Öğütme
- D) Elektroliz
- E) Isı enerjisi

2. Aşağıdakilerden hangisi karışımları ayırma yöntemlerinden biri değildir?

- A) Elektroliz ile ayırma
- B) Çözünürlük farkı ile ayırma
- C) Miknatis ile ayırma
- D) Süzme ile ayırma
- E) Özkütle farkı ile ayırma

3.



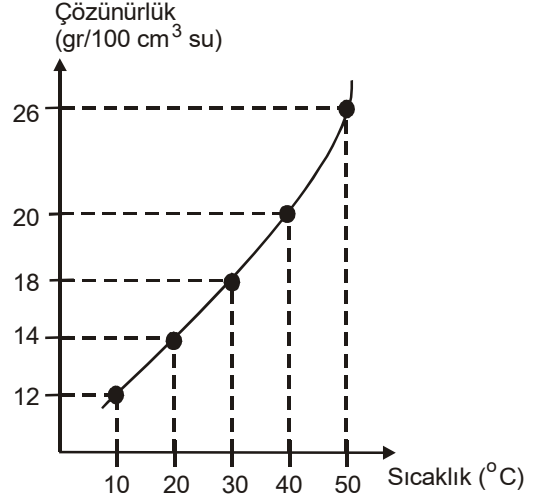
Yukarıda verilen çözeltiyi daha seyreltik hale getirmek için aşağıdaki işlemlerden hangisi yapılmalıdır?

- A) Çözeltiye bir miktar su katılmalı
- B) Çözeltiye bir miktar tuz katılmalı
- C) Çözeltiye eşit miktarlarda tuz ve su katılmalı
- D) Çözeltiyi daha düşük sıcaklıkta hazırlamalı
- E) Çözeltiden bir miktar su buharlaştırmalı

4. Aşağıda verilen madde çiftlerinin hangisinden çözelti elde edilebilir?

- A) Su-Naftalin
- B) Su-Yağ
- C) Su-Benzin
- D) Su-Kum
- E) Su-Sirke

5.



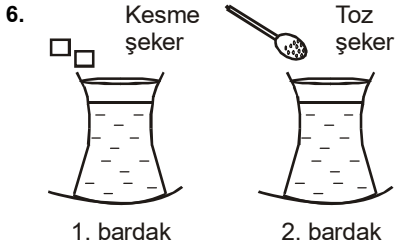
X tuzunun çözünürlük-sıcaklık grafiği verilmiştir. 20 cm³ suda 4 gr X tuzu çözüldüğünde çözelti doymuş hale geliyor.

Buna göre, çözeltinin sıcaklığı kaç °C dir?

- A) 10
- B) 20
- C) 30
- D) 40
- E) 50

A

2012 3D 0104-A



Özdeş bardaklarda aynı sıcaklıkta eşit hacimlerde çay vardır. Bardaklardan birincisine kesme şeker, ikincisine toz şeker atılıyor.

Çözünen şekerlerin,

- I. Kütleleri
- II. Çözünme süreleri
- III. Molekül sayıları

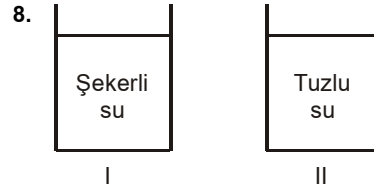
Niceliklerinden hangileri eşittir?

- A) Yalnız I
- B) Yalnız II
- C) I ve III
- D) II ve III
- E) I, II ve III

7. I. Petrolün ayrıştırılması
II. Kum-demir tozu karışımının ayrıştırılması
III. Zeytinyağı-su karışımının ayrıştırılması

Yukarıda verilen işlemler maddenin hangi ayırt edici özelliğinden yararlanılarak yapılabilir?

- | I | II | III |
|---------------|------------|------------|
| A) Yoğunluk | Erime | Kaynama |
| B) İletkenlik | Kaynama | Çözünürlük |
| C) Çözünürlük | İletkenlik | Kaynama |
| D) Kaynama | Mıknatıs | Yoğunluk |
| E) Yoğunluk | Mıknatıs | Çözünürlük |



Yukarıdaki maddeler için aşağıdakilerden hangisi doğrudur?

- A) Yapılarında en az iki çeşit atom vardır.
- B) I; homojen, II; heterojendir.
- C) Tatları aynıdır.
- D) İkisi de saftır.
- E) İkisi de elektrik akımını iletir.

9. Aşağıdakilerden hangisi heterojen karışıma örnektir?

- A) Çelik
- B) Ayran
- C) Kolonya
- D) Gazoz
- E) Hava

10. Bir miktar su elektroliz edildiğinde, katotta 20 cm³ gaz toplanıyor. Bu elektroliz olayında, anotta hangi gazdan kaç cm³ toplanır?

- A) 40 cm³ Hidrojen
- B) 40 cm³ Oksijen
- C) 20 cm³ Hidrojen
- D) 10 cm³ Oksijen
- E) 10 cm³ Hidrojen

11. Aşağıdakilerden hangisi karışımları ayırma yöntemlerinden değildir?

- A) Çözünürlük farkı ile ayırma
- B) Elektrik enerjisi ile ayırma (elektroliz)
- C) Süzme ile ayırma
- D) Özkütle farkı ile ayırma
- E) Mıknatıs ile ayırma

2012 3D 0104-A

12. 30°C ta 300 gr su içine 120 gr potasyum klorür konularak oluşturulan çözeltide, kaç gr potasyum klorür çözünmez? (30°C ta potasyum klorürün çözünürlüğü 37 gr/100 gr sudur)

- A) 9
- B) 12
- C) 18
- D) 24
- E) 30

13. $X + Y \rightarrow Z$

denklemine göre, aşağıdakilerden hangisi kesinlikle yanlıştır?

- A) X, elementtir.
- B) X, bileşiktir.
- C) Y, elementtir.
- D) Z, karışımdır.
- E) Z, bileşiktir.

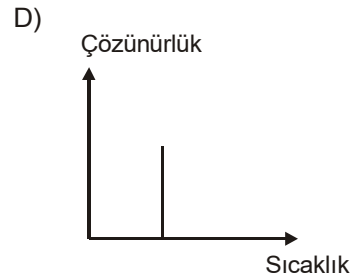
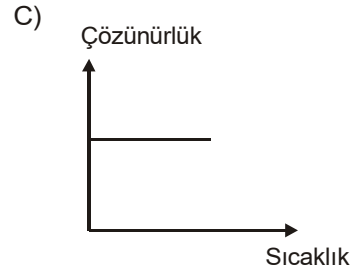
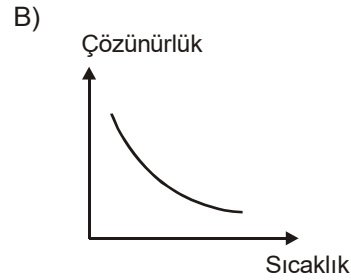
14. Aşağıdakilerden hangisi karışımların özelliklerinden biridir?

- A) Belirli formülleri vardır.
- B) Bileşenlerine fiziksel yöntemlerle ayrılırlar.
- C) Karışımı oluşturan maddeler arasında belirli bir oran vardır.
- D) Bileşenleri özelliklerini kaybeder.
- E) Belirli erime ve kaynama noktaları vardır.

15. Aşağıdakilerden hangisi özkütle farkından yararlanılarak bileşenlerine ayrılmaz?

- A) Demirtozu-kepek
- B) Zeytinyağı-su
- C) Su-alkol
- D) Buğday-saman
- E) Su-kum

16. Gazların sudaki çözünürlüğünün sıcaklıkla değişimini gösteren grafik aşağıdakilerden hangisidir?



2012 3D 0104-A

17. Aşağıdakilerden hangisi maddenin ayırt edici özelliklerinden değildir?

- A) Özkütle
- B) Çözünürlük
- C) Kütle
- D) Erime noktası
- E) Kaynama noktası

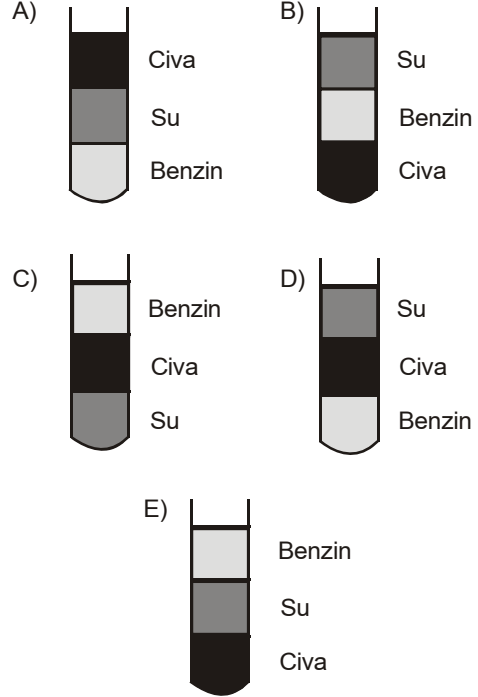
18. Aşağıdakilerden hangisi fiziksel değişmeye örnektir?

- A) Besinlerin vücutta yanması
- B) Sütün ekşimesi
- C) Şekerin suda çözünmesi
- D) Yaprakların çürümesi
- E) Demirin paslanması

Madde	Yoğunluğu (gr/cm ³)
Civa	13,6
Su	1
Benzin	0,70

Yukarıda yoğunlukları verilen civa, su ve benzinden eşit hacimlerde alınıp, bir tüpe dolduruluyor ve bekletiliyor.

Bir süre sonra tüpteki maddeler nasıl gözlenir?

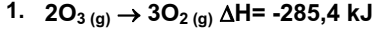


20. I. Çözücü miktarı
II. Sıcaklık
III. Karıştırma

X katısının suda çözünme hızı yukarıdaki etkenlerden hangilerine bağlıdır?

- A) Yalnız I
- B) Yalnız II
- C) I ve II
- D) II ve III
- E) I, II ve III

2012 3D 0104-A



tepkime denkleminde göre 4,8 gr O_3 'ün O_2 'e dönüşmesi sırasında açığa çıkan ısı kaç kJ'dür? (O:16)

- A) 18,75
B) 16,25
C) 14,27
D) 9,6
E) 2,4

2. Açık havada bırakılan demirin paslanmasıyla ilgili olarak;

- I. Demiri eğe tozu halinde kullanmak
II. Deney ortamının sıcaklığını artırmak
III. Deney ortamındaki oksijen oranını artırmak

işlemlerinden hangileri uygulanırsa, tepkime hızı artar?

- A) Yalnız I
B) Yalnız II
C) I ve II
D) II ve III
E) I, II ve III

3. Bir tepkimede kimyasal denge anında;

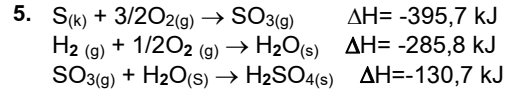
- I. En az enerjili durum ile en fazla düzensizlik eğilimlerine ulaşmıştır.
II. İleri yöndeki tepkime hızı, geri yöndeki tepkime hızına eşittir.
III. Ürünlerin derişimleri, girenlerin derişimlerine eşittir.

Yargılarından hangileri her zaman doğrudur?

- A) Yalnız I
B) I ve II
C) I ve III
D) II ve III
E) I, II ve III

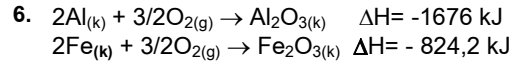
4. Kimyasal bir tepkimede dışarı ısı veriliyorsa, aşağıdaki ifadelerden hangisi doğrudur?

- A) Ürünlerin oluşma entalpisi toplamı, girenlerin oluşma entalpisi toplamından küçüktür.
B) Sistem ısı depolamaktadır.
C) Tepkime endotermiktir.
D) Geri yöndeki tepkime ekzotermiktir.
E) Tepkime sonunda ürünlerin entalpisi artmıştır.



olduğuna göre $\text{H}_2\text{SO}_4(\text{s})$ 'in molar oluşma entalpisi kaç J/moldür?

- A) +812,2
B) +681,5
C) +550,8
D) -550,8
E) -812,2



tepkimelerinin entalpileri bilindiğine göre;

$2\text{Al}(\text{k}) + \text{Fe}_2\text{O}_3(\text{k}) \rightarrow \text{Al}_2\text{O}_3(\text{k}) + 2\text{Fe}(\text{k})$ tepkimesinin entalpisi kaç kJ'dür?

- A) +2500,2
B) +851,8
C) -851,8
D) -684,8
E) -2500,2

2012 3D 0104-A

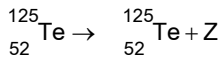
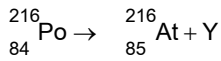
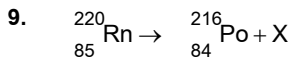
7. Radyoaktif bozunma türleriyle ilgili,
- Elektron yakalanması, atom numarasını 1 azaltırken, kütle numarası değişmez.
 - Nötron sayısı proton sayısından fazla olan izotoplar, beta (β^-) bozulması yapar.
 - Nötron sayısı proton sayısından küçük olan izotoplar, pozitron (β^+) bozunması yapar.

yargılarından hangileri doğrudur?

- Yalnız I
- I ve II
- I ve III
- II ve III
- I, II ve III

8. Radyoaktif bir maddenin yarı ömrü 10 gündür. Bu maddenin 100 gramından 20 gün sonra kaç gramı bozunmadan kalır?

- 50
- 40
- 25
- 10
- 5



Yukarıdaki çekirdek tepkimelerinde X, Y ve Z ile gösterilen ışın türlerinin sembolleri aşağıdakilerin hangisinde doğru olarak verilmiştir?

- | | X | Y | Z |
|----|-----------|-----------|-----------|
| A) | α | β^- | γ |
| B) | γ | β^- | α |
| C) | β^- | α | γ |
| D) | γ | α | β^- |
| E) | β^- | γ | α |

10. Isı veren (ekzotermik) tepkimelerde;

- Toplam entalpi azalır.
- Aktifleşmiş kompleksin potansiyel enerjisi, ileri ve geri tepkimelerde aynıdır.
- Açığa çıkan ısı, ürünlerin entalpileri ile giren maddelerin toplam entalpileri arasındaki fark kadardır.

Yargılarından hangileri doğrudur?

- Yalnız I
- Yalnız II
- I ve III
- II ve III
- I, II ve III

11. Aşağıdaki değişimlerin hangisinde ΔH nin (enerji değişimi) adı yanlış verilmiştir?

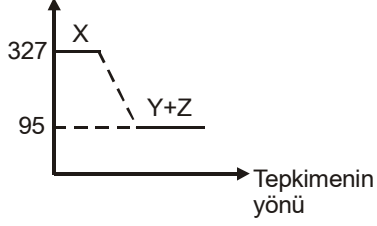
Değişim	ΔH adı
A) $X_{(s)} \rightarrow X_{(g)}$	Buharlaştırma enerjisi
B) $X_{(g)} + e^- \rightarrow X^-_{(g)}$	İyonlaşma enerjisi
C) $HX_{(suda)} \rightarrow H^+_{(suda)} + X^-_{(suda)}$	Asit iyonlaşma enerjisi
D) $X(s) + H_2O(s) \rightarrow X_{(suda)}$	Çözünme Enerjisi
E) $X_{(k)} \rightarrow X_{(g)}$	Süblimleşme Enerjisi

12. $CH_4(g) + 2O_2(g) \rightarrow CO_2(g) + 2H_2O(g) + 890 \text{ kJ}$ tepkimesine göre 8 gr CH_4 yandığında kaç kJ enerji elde edilir? (CH_4 : 16)

- 11,1
- 44,5
- 111
- 445
- 712

2012 3D 0104-A

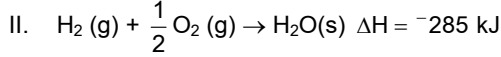
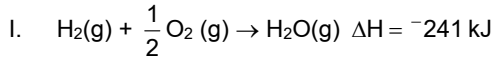
13. Enerji (kJ/mol)



Grafik $X \rightarrow Y+Z$ tepkimesinin tepkime yönü ve enerji değişimini göstermektedir. Buna göre tepkimenin entalpi değeri kaçtır?

- A) +422
- B) +327
- C) +232
- D) -232
- E) -422

14.



Buna göre, $H_2O(g) \rightarrow H_2O(s)$ tepkimesinin ΔH değeri aşağıdakilerden hangisidir?

- A) -526 kJ
- B) -44 kJ
- C) -22 kJ
- D) +22 kJ
- E) +44 kJ

15. ${}^{234}_{90}\text{Th}$ radyoaktif izotopu bir dizi ışıma sonucu ${}^{222}_{86}\text{Rn}$ elementine dönüştüğüne göre, hangi ışımaları yapmıştır?

- A) $1\alpha, 2\beta^-$
- B) $2\alpha, 1\beta^-$
- C) $2\alpha, 2\beta^-$
- D) $3\alpha, 2\beta^-$
- E) $3\alpha, 3\beta^-$

16. Radyoaktif bir çekirdeğin protonlarından biri nötrona dönüşürse, hangi tür ışıma yapmış olur?

- A) Alfa
- B) Beta
- C) Gama
- D) Pozitron
- E) Nötron

17. Radyoaktif bir izotopun başlangıçtaki miktarının $9/12$ sinin bozularak başka bir elemente dönüşmesi için 12 gün geçtiğine göre, bu izotopun yarılanma süresi kaç gündür?

- A) 9
- B) 7,5
- C) 6
- D) 4,5
- E) 3

18. Yarılanma süresi 4 gün olan radyoaktif bir elementin, başlangıçtaki miktarından bozunmadan $1/8$ 'inin kalması için geçecek süre kaç gün olur?

- A) 12
- B) 10
- C) 8
- D) 6
- E) 4

19. Radyoaktif bir çekirdeğin protonlarından biri nötrona dönüşürse, hangi tür ışıma yapmış olur?

- A) Pozitron
- B) Nötron
- C) Beta
- D) Gama
- E) Alfa

20. ${}^{115}_{49}\text{X}$ izotopu radyoaktif değildir. Radyoaktif olan ${}^{119}_{49}\text{X}$ izotopunun kararlı ${}^{115}_{49}\text{X}$ izotopuna dönüşmesi için, aşağıdaki ışımalardan hangilerini yapması gerekir?

- A) $1\alpha, 1\beta^-$
- B) $1\alpha, 2\beta^-$
- C) $2\alpha, 1\beta^-$
- D) 1α
- E) $1\beta^-$

2012 3D 0104-A

1. Aşağıdaki sınıflandırma gruplarının hangisine ait bireylerin tümünde kromozom sayısı aynıdır?

- A) Cins
- B) Alem
- C) Tür
- D) Sınıf
- E) Aile

2. Aşağıdakilerden hangisi türün özelliklerinden biri değildir?

- A) Ortak bir atadan gelirler.
- B) Aynı beslenme grubu içinde yer alırlar.
- C) Kromozom sayıları aynıdır.
- D) Çiftleşmeleri sonucu verimli döller oluştururlar.
- E) Tüm bireysel genleri aynıdır.

3. Aşağıdaki canlılardan hangisinin hücrelerinde klorofil molekülleri bulunmaz?

- A) Yüksek yapıli mantarlar
- B) Çiçeksiz bitkiler
- C) Çiçekli bitkiler
- D) Mavi-yeşil algler
- E) Fotosentetik bakteriler

4. Aşağıdakilerden hangisi dünya üzerinde sadece ülkemizde yaşayan endemik hayvan ve bitki türlerinden biri değildir?

- A) Kaya yediuyuru
- B) Keseli kanguru
- C) Toros kurbağası
- D) Anadolu kekik çiğdemi
- E) Karabaş otu

5. Aşağıdakilerden hangisi doğal dengenin bozulmasına neden olmaktadır?

- A) Yeşil alanları artırma
- B) Akaryakıt tüketimini azaltma
- C) Ev temizliğinde deterjan kullanmama
- D) Zararlı böcekleri etkili ilaçlarla öldürme
- E) Bozkırları sulayarak ekosistem haline getirme

6. Hava kirliliği yaratan başlıca etkenler insan aktiviteleri sonucu atmosfere verilen kirleticilerdir. Buna göre aşağıdakilerden hangisi hava kirleticisi olamaz?

- A) Oksijen
- B) Kükürt bileşikleri
- C) Radyoaktif maddeler
- D) Katran
- E) Azot oksitler

7. Aşağıdakilerden hangisi hava kirliliğine karşı alınabilecek önlemlerden biri değildir?

- A) Toplu taşıma araçları kullanmak
- B) Ağaçlandırma çalışmaları yapmak
- C) Araba egzozlarına filtre takmak
- D) Fabrika bacalarına filtre takmak
- E) Fosil yakıtları kullanmak

8. Aşağıdakilerden hangisi besin kirliliğine neden olan mikroorganizmaların çoğalmasını önlemek için alınacak önlemlerden biri değildir?

- A) Dondurulmuş besinlerin buzdolabının alt raflarında çözdürülmesi
- B) Kırık ve çatlak yumurtaların satın alınmaması
- C) Et ve süt ürünleri ile hazırlanmış yemeklerin oda sıcaklığında saklanması
- D) Dondurulmuş besinlerin çözüldükten sonra hemen tüketilmesi
- E) Çözdürülmüş donmuş besinlerin tekrar dondurulmaması

9. Aşağıdakilerden hangisi erozyona neden olan faktörlerden biridir?

- A) Mevcut bitki örtüsünü korumak
- B) Ağaçlandırma yapmak
- C) Zarar gören bitki örtüsünü onarmak
- D) Eğimli arazileri eğime paralel sürmek
- E) Yanlış ekim ve sulama uygulamalarını önlemek

10. Aşağıdakilerden hangisi ormanların doğada üstlendiği ekolojik işlevlerden biri değildir?

- A) Sadece odun hammaddesi olması
- B) Oksijen üretmesi
- C) Hayvanlar için barınak olması
- D) İklimi etkilemesi
- E) Erozyon ve selleri önlemesi

2012 3D 0104-A

11. Aşağıdakilerden hangisi hayvanların ortak özelliği değildir?

- A) Çoğalma (üreme)
- B) Akciğer solunumu yapma
- C) Aktif hareket edebilme
- D) Yaşamsal faaliyetlerinde enerji harcama
- E) Heterotrof beslenme

12. Çok hücreli olmaları, nemli yerlerde yaşamaları, iletim borularının olmaması gibi özelliklerin tümünü taşıyan bitki grubu, aşağıdakilerden hangisidir?

- A) Su yosunları
- B) Eğrelti otları
- C) Kara yosunları
- D) Mavi-yeşil algler
- E) Gerçek mantarlar

13. Aşağıdaki tür eşlemelerinden hangisi aynı cins içinde yer almaktadır?

- A) Martes martes - Felis tigris
- B) Crocus abantensis - Canis aurus
- C) Canis lupus - Felis leo
- D) Crocus sativus - Canis lupus
- E) Felis tigris - Felis leo

14. Aşağıdakilerden hangisi Pinus pisteria (fıstık çamı) türüne ait bireylerin ortak özelliklerinden biri değildir?

- A) Fotosentez yapmaları
- B) Eşit sayıda kromozom taşımaları
- C) Ortak bir atadan gelmeleri
- D) Kapalı tohumlu bitkiler grubunda olmaları
- E) Aralarında üreyerek tohum oluşturmaları

15. Aşağıdaki canlıları sınıflandırma birimlerinden hangisinde canlılar arası ortak özellikler en fazladır?

- A) Alem
- B) Tür
- C) Aile
- D) Cins
- E) Sınıf

16. Aşağıdaki organ çiftlerinden hangisi köken bakımından homolog yapılıdır?

- A) İnsan kolu - Yarasanın kanadı
- B) Örümcek bacağı - Böcek anteni
- C) Balığın yüzgeci - Yunusun yüzgeci
- D) Kuşun kanadı - Balinanın yüzgeci
- E) Kuşun kanadı - Kelebeğin kanadı

17. Dişilerinde süt bezleri gelişmemiş olan hayvan aşağıdakilerden hangisidir?

- A) Kanguru
- B) Yunus
- C) Penguen
- D) Yarasa
- E) İnek

18. Aşağıdakilerden hangisi çevre kirliliğinin oluşmasında ve doğal çevrenin bozulmasında en az etkilidir?

- A) Sanayi atıkları
- B) Nükleer atıklar
- C) Tıbbi atıklar
- D) Plastik atıklar
- E) Besin atıkları

19. Aşağıdakilerden hangisi çevre kirliliğine neden olan insani faktörlerden biri değildir?

- A) Plansız kentleşme
- B) Tarım arazileri üzerine ev ve sanayi tesisi kurulması
- C) Aşırı sulama ve gübreleme
- D) Bacalara ve egzozlara filtre takılması
- E) Ormanların tahribatı

20. Aşağıdakilerden hangisi ökaryot hücre yapısına sahip, en ilkel canlı grubu olan protista içinde yer almaz?

- A) Sporlular
- B) Virüsler
- C) Sililer
- D) Kök ayaklılar
- E) Kamçılılar

2012 3D 0104-A

1. Resimde; çok uzatılmış, küçük başlı ve hareketli vücutlarla kendini gösteren ve dönem olarak yüksek rönesans ile barok üslubu arasında kısa bir süre devam eden geçiş üslubuna verilen ad aşağıdakilerden hangisidir?

- A) Empresyonizm
- B) Manierizm
- C) Rokoko
- D) Klasisizm
- E) Romantizm

2. Roman Sanatı 10 ve 13. yüzyıllar arasında Almanya, İspanya, İngiltere ve Fransa olmak üzere Avrupa'nın değişik ülkelerinde mimaride görülen ortaçağ sanatıdır.

Bu dönem mimarisinin Fransa'daki en önemli örneği aşağıdaki yapılardan hangisidir?

- A) Worms
- B) Pisa
- C) Notre Dame La Grande
- D) Modena
- E) Spayer

3. Pisa Katedrali Roman mimarisinin başlangıcı olan XI. yy.'da yapılmaya başlanmıştır. Bu katedral vaftizhane ve eğri çan kulesi ile birlikte dünyanın en güzel mimari topluluklarından birini meydana getirir.

Bu katedral aşağıdaki Avrupa ülkelerinden hangisindedir?

- A) Fransa
- B) İngiltere
- C) İspanya
- D) İtalya
- E) Almanya

4. Fransa'da Barok üslubunu yansıtan en ünlü saray aşağıdakilerden hangisidir?

- A) Pitti Sarayı
- B) Rucellai Sarayı
- C) Knossos Sarayı
- D) Vatikan Sarayı
- E) Versay Sarayı

5. Cezanne'nin "Doğadaki her şey küreye, koniye ve silindire dayanır" sözleriyle çıkış noktasını tanımladığı ve kendisinin de en önemli sanatçılarından olduğu sanat akımı aşağıdakilerden hangisidir?

- A) Kübizm
- B) Soyut resim
- C) Realizm
- D) Fütürizm
- E) Sürrealizm

6. Öncülüğünü Fransa'nın yaptığı, 12. yüzyıl ortalarında ortaya çıkan ve Avrupa kıtasındaki İngiltere, Almanya, İspanya ve İtalya gibi ülkelerde de örnek eserleri görülen sanat akımı aşağıdakilerden hangisidir?

- A) Bizans Sanatı
- B) Gotik Sanatı
- C) Roman Sanatı
- D) Rönesans Sanatı
- E) Barok Sanatı

7. I. Resim sanatına getirdiği esaslarla 16.yy'a hakim olmuş Floransalı sanatçı, filozof ve bilim adamıdır.
II. Büyük bir ışık ustası olan sanatçı, daha çok resimlerinde yağlı boya kullanmıştır.
III. "Mona Lisa", "Son Akşam Yemeği" ve "Meryem'e Müjde", sanatçının en ünlü eserleridir.

Yukarıda anlatılan Rönesans döneminin ünlü ressamı aşağıdakilerden hangisidir?

- A) Giotto
- B) Tiziano
- C) Albrecht Dürer
- D) Leonardo da Vinci
- E) Pieter Bruegel

2012 3D 0104-A

8. I. 1950'lerin sonunda İngiltere'de ortaya çıkan, 1960'larda da Avrupa ve Amerika'ya yayılan bir sanat akımıdır.
 II. Bu sanat akımı az sayıda resim ve heykel ürünü vermiştir.
 III. Akımın temel yönelimi endüstri toplumunun günlük tüketim eşyalarını, kitlesel iletişim çağının teknikleriyle tasvir etmektir.
 IV. Tüketim toplumunun sanatı olan bu akımın en önemli temsilcileri Amerikalı Tom Wesselmann ile Alman Roy Linchtenstein'dir.

Yukarıda bazı özellikleri verilen sanat akımı aşağıdakilerden hangisidir?

- A) Pop Art
 B) Soyut resim
 C) Fovizm
 D) Sürrealizm
 E) Dadaizm

9. **Aşağıdakilerden hangisi Rönesans sanatçılarından biri değildir?**

- A) Pieter Bruegel
 B) Leonardo da Vinci
 C) Giotto
 D) Eugene Delacroix
 E) Tiziano

10. **İmgelem, düş ve bilinçaltı patlamalarına dayanan, savaşın getirdiği yalnızlık ve huzursuzluk ortamının etkilerini yansıtan gerçeküstücü bir tutum gösteren resim akımı aşağıdakilerden hangisidir?**

- A) Dadaizm
 B) Mezafizik resim
 C) Realizm
 D) Soyut resim
 E) Kübizm

11. **Aşağıdakilerden hangisi Rembrandt'ın eserlerinden biridir?**

- A) Şövalye ve Melankoli
 B) Urbino Venüsü
 C) St. Theresa
 D) Dr. Tulp'un Anatomi Dersi
 E) Apollon ve Daphne

12. **Roman katedrallerinde, koro bölümünün altında yer alan yer altı mezarlarına ne ad verilir?**

- A) Apsis
 B) Samıç
 C) Narteks
 D) Nef
 E) Kripta

13. **Renkli camların bir kompozisyon oluşturacak biçimde yan yana yerleştirilmesi ve aralarının kurşun şeritlerle bağlanmasıyla elde edilen resim yada bezeme sanatına ne ad verilir?**

- A) Vitray
 B) Fresko
 C) Rölyef
 D) Gravür
 E) Mozaik

14. **Venedik Okulunun kurucularındandır. Portre ressamlığı ile tanınmıştır. Bu alanda en ünlü eseri İmparator Şarlman Karl'ın portresi olan İtalyan ressam aşağıdakilerden hangisidir?**

- A) Pieter Bruegel
 B) Leonardo da Vinci
 C) Tiziano
 D) Albrecht Dürer
 E) Giotto

15. **"Başak Toplayan Kadınlar" adlı eserinde üç köylü kadını hasattan geri kalanları toplarken resimleyen sanatçı aşağıdakilerden hangisidir?**

- A) Jean Francois Millet
 B) Honore Dauimer
 C) Edgar Degas
 D) Paul Gauguin
 E) Edouard Manet

2012 3D 0104-A

16. "Ağustos Ayında Yamyamlık" aşağıdaki sanatçılardan hangisinin eseridir?

- A) Tom Wesselmann
- B) Roy Linchtenstein
- C) Juan Gris
- D) Pablo Picasso
- E) Salvador Dali

17. I. Henri Matisse
II. Albert Marquet
III. Otto Müller

Yukarıdakilerden hangileri fovizm sanat akımının temsilcileri arasındadır?

- A) Yalnız I
- B) I ve II
- C) I ve III
- D) II ve III
- E) I, II ve III

18. Aşağıdaki sanatçı ve eser eşleştirmelerinden hangisi yanlıştır?

- A) Paul Gauguin-Kumsalda Tahitili Kızlar
- B) Edouard Manet-Balkon
- C) Salvador Dali-Zambak Çiçekleri
- D) Pablo Picasso-Avignonlu Genç Kızlar
- E) Eduard Muhch-Ölü Ana

19. Louvre Sarayı aşağıdaki ülkelerden hangisinde yer alır?

- A) İtalya
- B) İspanya
- C) İngiltere
- D) Almanya
- E) Fransa

20. İtalya'da Tiziano'nun atölyesinde çalışan, Roma'da yaptığı portre çalışmalarıyla ilgi gören Giritli sanatçı maniyerist tarzdaki resimleriyle tanınmış ve daha çok dinsel konularda eserler vermiştir.

Yukarıda özellikleri verilen sanatçı aşağıdakilerden hangisidir?

- A) Gustave Courbet
- B) Edouard Manet
- C) El Greco
- D) Pablo Picasso
- E) Marcel Duchamp

TRAFİK VE İLK YARDIM BİLGİSİ 1

A

2012 3D 0104-A

1. Trafik için kamunun yararlanmasına açık olan arazi şeridi, köprüler ve alanlara ne ad verilir?

- A) Bağlantı yolu
- B) Trafik
- C) Taşıt yolu
- D) Kara yolu
- E) Yaya yolu

2. Trafik zorunlulukları dışında araçların; insan indirmek, bindirmek, eşya yüklemek, boşaltmak veya beklemek amacıyla kısa süre için durdurulmasına ne ad verilir?

- A) Duraklama
- B) Durma
- C) Park etme
- D) Trafik
- E) Manevra yapma

3. Aşağıdakilerden hangisi Karayolları Trafik Yönetmeliğinin uygulanması için yapılan esas ve usullerden biri değildir?

- A) Trafikte mal güvenliğini sağlamak
- B) Trafik güvenliğini sağlamak
- C) Trafikle ilgili halkın bilgilendirilmesini sağlamak
- D) Trafik düzenini sağlamak
- E) Trafikte can güvenliğini sağlamak

4. Aşağıdakilerden hangisi yayaların, karayolunda karşıdan karşıya geçişte dikkat etmesi gereken hususlardan biri değildir?

- A) Güvenli geçiş
- B) Yolun uzunluğu
- C) Araçların hızı
- D) Yolun genişliği
- E) Kendi hızları

5. Aşağıdakilerden hangisi Karayolları Trafik Kanunu'na göre sürücü olmanın şartlarından biri değildir?

- A) Sağlık yönünden, sürücülük yapmaya uygun olmak
- B) Sürücülük eğitimi sonunda yapılan sınavı kazanmış olmak
- C) Kullanılacak aracın özelliklerine göre belirli bir yaşın üzerinde olmak
- D) Hiç evlenmemiş olmak
- E) Sürücülükle ilgili belirli bir eğitim almak

6. Araçların karayolu yapılarından güvenle ve zarar vermeden geçebilmeleri için saptanan ağırlık aşağıdakilerden hangisidir?

- A) Dingil ağırlık
- B) Minimum araç ağırlık
- C) Azami toplam ağırlık
- D) Yüklü ağırlık
- E) Azami dingil ağırlık

7. Türkiye'deki sivil havacılık faaliyetleri aşağıdaki kurumlardan hangisi tarafından yürütülmektedir?

- A) Devlet Hava Meydanları İşletmesi
- B) Türk Hava Yolları
- C) Maliye Bakanlığı
- D) Hazine Müsteşarlığı
- E) Turizm Bakanlığı

8. Devlet Demiryolları Genel Müdürlüğü hangi bakanlığa bağlıdır?

- A) Hazineden Sorumlu Devlet Bakanlığına
- B) Ulaştırma Bakanlığına
- C) Turizm Bakanlığına
- D) Sanayi ve Ticaret Bakanlığına
- E) Maliye Bakanlığına

9. Büyük şehirlerde raylı sistem inşası ve işletilmesi yetkisi aşağıdaki kurumlardan hangisine aittir?

- A) Ulaştırma Bakanlığına
- B) Karayolları Genel Müdürlüğüne
- C) Belediyelere
- D) Valiliklere
- E) İçişleri Bakanlığına

10. I. Sosyal faydalar
II. Kültürel faydalar
III. Ekonomik faydalar
IV. Askeri faydalar

Yukarıdakilerden hangileri ulaşım araçlarının faydalarındandır?

- A) I ve II
- B) I ve III
- C) II ve III
- D) I, II ve IV
- E) I, II, III ve IV

A

2012 3D 0104-A

11. Aşağıdakilerden hangisi Devlet Hava Meydanları İşletmesi Genel Müdürlüğünün amaç ve faaliyet konularından biri değildir?

- A) Seyrüsefer sistem ve kolaylıklarının kurulması ve işletilmesi ile modern havacılık düzeyine çıkarılması
- B) Hava trafik kontrol hizmetlerinin sağlanması
- C) Hava taşımacılığı ve havaalanlarının işletilmesi
- D) Uçak modellerinin geliştirilmesi ve uygulanması
- E) Meydan yer hizmetlerinin yapılması

12. Aşağıdakilerden hangisi bölünmüş yol yapımına başlanmasındaki hedeflerden biri değildir?

- A) Kazaları azaltmak
- B) Trafikteki araç sayısını artırmak
- C) Trafik güvenliğini artırmak
- D) Mevcut kapasite yetersizliklerini gidermek
- E) Sürücülere konforlu seyir sağlamak

13. Milli Eğitim Bakanlığı'nca, okullarda "Trafik Güvenliği" ve "Trafik ve İlk Yardım" dersleri okutulmasının en önemli amacı nedir?

- A) Yol yapım masraflarını azaltmak
- B) Trafik ve yol güvenliğini sağlamak
- C) Trafikte doğru davranışların uygulanmasını sağlamak
- D) Trafik sorununa çözüm bulmak
- E) Ehliyet alım işlerini kolaylaştırmak

- 14. I. Milli Eğitim Bakanlığı
- II. Emniyet Genel Müdürlüğü
- III. Karayolları Genel Müdürlüğü

Yukarıdakilerden hangileri trafik eğitimi konusunda faaliyet gösteren kurumlardır?

- A) Yalnız I
- B) Yalnız II
- C) I ve II
- D) II ve III
- E) I, II ve III

15. Trafik kaza ve istatistiklerini, hazırladığı afiş, broşür ve kitapçıklarda yayınlamak bireyleri bilgilendirmeye çalışan kurum aşağıdakilerden hangisidir?

- A) Emniyet Genel Müdürlüğü Araştırma Daire Başkanlığı
- B) Milli Eğitim Bakanlığı
- C) İl Sağlık Müdürlüğü
- D) Çevre Müdürlüğü
- E) İl Özel İdareleri

16. "Motorlu Araç Tescil belgesi ve Motorlu Araç Trafik Belgesi"nden oluşan ve her araçta zorunlu olarak bulundurulacak belgeye ne ad verilir?

- A) Ehliyet
- B) Kasko poliçesi
- C) Tescil belgesi
- D) Ruhsat
- E) Trafik sigortası

17. "Hurdaya çıkartılmıştır" damgası vurularak verilen tescil belgeleri araçların satışlarında ne olarak kullanılır?

- A) Garanti belgesi
- B) Tescil belgesi
- C) Sahiplik belgesi
- D) Satış belgesi
- E) Çevre koruma belgesi

18. Aşağıdakilerden hangisi, trafiğe çıkacak araçların mevzuata uygunluğunu gösterir?

- A) Kayıt ve tescil
- B) Sigorta
- C) Kasko
- D) Ehliyet
- E) Plaka

19. Türk Silahlı Kuvvetlerine ait bütün araçların tescil işlemleri aşağıdaki kurumların hangisi tarafından yapılır?

- A) Karayolları Genel Müdürlüğü
- B) Emniyet Genel Müdürlüğü
- C) İçişleri Bakanlığı
- D) Belediyeler
- E) Türk Silahlı Kuvvetleri

20. Tescil işlemleri tamamlanmış araçların trafiğe çıkarılmasına müsaade eden ve muayene sürelerini belirleyen belgeye ne ad verilir?

- A) Motorlu araç kasko belgesi
- B) Motorlu araç trafik belgesi
- C) Motorlu araç sicil belgesi
- D) Motorlu araç tescil belgesi
- E) Motorlu araç sigorta belgesi

İŞ GÜVENLİĞİ 1

A

2012 3D 0104-A

1. Bireyi bir mesleğe hazırlamak, mesleki başarıyı arttırmak ve mesleğinde ilerlemesini sağlamak için gerekli olan bilgi, beceri, tavır ve iş alışkanlıklarını amaç edinen bir eğitim türüne denir?

- A) Fizyolojik eğitim
- B) Bedensel eğitim
- C) Zihinsel eğitim
- D) Teknik eğitim
- E) Mesleki eğitim

2. Aşağıdakilerden hangisi iş güvenliğinin başlıca amaçlarından biridir?

- A) Çalışanlara en sağlıklı ortamı sunmak
- B) Çalışanları, çalışma koşullarının olumlu etkilerinden korumak
- C) İş yerindeki riskleri arttırmak
- D) Oluşacak maddi zararları arttırmak
- E) Çalışma verimini azaltmak

3. Gece çalışmalarında işçilere en çok kaç saat çalışma yaptırılabilir?

- A) 5,5
- B) 6
- C) 6,5
- D) 7
- E) 7,5

4. Toplumsal bir oluşum içinde önceden planlanmayan, bilinmeyen ve kontrol dışında ortaya çıkan ve aynı zamanda çevresine zarar verecek nitelikteki olaya ne ad verilir?

- A) Kismet
- B) Kaza
- C) Kader
- D) Fil
- E) Kusur

5. Aşağıdakilerden hangisi biyolojik bir tehdit değildir?

- A) Küf
- B) Virüs
- C) Bakteri
- D) Klor
- E) Parazit

6. Aşağıdakilerden hangisi tahriş edici maddelerden biri değildir?

- A) Brom
- B) Benzin
- C) Fenol
- D) Kireç
- E) Flor

7. Aşağıdakilerden hangisi göz yorucu renklerden biridir?

- A) Mor
- B) Siyah
- C) Yeşil
- D) Beyaz
- E) Mavi

8. İstenmeyen, çoğunlukla yapay olarak oluşan, rahatsız edici seslere ne denir?

- A) Yankı
- B) Akustik
- C) Gürültü
- D) Desibel
- E) Patırtı

9. Aşağıdakilerden hangisi modern bir sıhhi tesisat sistemini oluşturmak için yapılması gerekenlerden biridir?

- A) Pis su drenaj sistemi tıkanmalı
- B) Sağlanan suyun miktarına uygun olmayan bir sistem kurulmalı
- C) Uygun olmayan boru seçilmeli
- D) Temiz ve pis su sistemleri ayrılmalı
- E) Konut sahiplerine güvenilir ve temiz bir su sağlanmalı

10. Aşağıdakilerden hangisi temiz soğuk su tesisatını oluşturan unsurlardan biri değildir?

- A) Su deposu
- B) Su sayacı
- C) Boru
- D) Izgara
- E) Fitting aparatı

A

2012 3D 0104-A

11. Aşağıdakilerden hangisinde bina pis su tesisatının tüm kısımları tam ve birlikte verilmiştir?

- A) Drenaj suyu tesisatı - iç pis su tesisatı - dış pis su tesisatı
- B) Yağış suyu tesisatı - Dış pis su tesisatı - drenaj suyu tesisatı
- C) Kanal suyu tesisatı - yağış suyu tesisatı - iç pis su tesisatı
- D) Dış pis su tesisatı - iç pis su tesisatı - yağış suyu tesisatı
- E) Drenaj suyu tesisatı - kanal suyu tesisatı - yağış suyu tesisatı

12. Elektrik ampulünün takıldığı yivli aksama ne ad verilir?

- A) Fiş
- B) Lamba duyu
- C) Elektrik düğmesi
- D) Priz
- E) Anahtar

13. Aşağıdakilerden hangisi basit kesici ve biçimlendirici aletlerden biri değildir?

- A) Yan keski
- B) Cımbız
- C) Demir testere
- D) Pense
- E) Maket bıçağı

14. Kendi etrafında dönerek parça üzerinden talaş kaldırmak suretiyle dairesel boşluklar oluşturan kesici takımlara ne denir?

- A) Tomavida
- B) Matkap
- C) Kıl testere
- D) Hidrolik testere
- E) Çekiç

15. Aşağıdakilerden hangisi üzerinde çalışma yapılacak parçayı sıkıca sabitlemeye yarayan alettir?

- A) Mengene
- B) Kumpas
- C) Boru anahtarı
- D) Kurbağacık
- E) Pense

16. Aşağıdakilerden hangisi iş yerinde solunum sisteminin korunması için kullanılan araçlardan biri değildir?

- A) Filtreli toz maskesi
- B) Basınçlı temiz hava maskesi
- C) Süzgeçli gaz maskesi
- D) Basınçlı oksijen solunum cihazı
- E) Karbondioksit üreten solunum cihazı

17. Aşağıdakilerden hangisi cıvanın kullanıldığı iş alanlarından biri değildir?

- A) Dericilik sanayisinde
- B) Ölçü aletlerinin yapımında
- C) Saf ipek üretiminde
- D) Dezenfektan üretiminde
- E) Altın filizlerinin işlenmesinde

18. İnsanlara, hayvanlara ve bitkilere zararı dokunabilen ve diğer bazı zararlı canlıların etkisini önleyen kimyasal maddelere ne ad verilir?

- A) Pestisitler
- B) Oksitler
- C) Peroksitler
- D) Solventler
- E) Hidroksitler

19. Aşağıdakilerden hangisi çalışanların bireysel kaza eğilimlerinin nedenlerinden biri değildir?

- A) İş önemseme
- B) Disiplinsizlik
- C) İhmal
- D) Dalgınlık
- E) Tedbirsizlik

20. Aşağıdakilerden hangisi kaza raporlarının başlıca yararlarından biri değildir?

- A) Kaza yenilenme oranının azaltılması
- B) Aynı türden oluşabilecek kazalara karşı çalışanların eğitilmesi
- C) İşçilerin sosyal haklarının korunması
- D) Rapor yazma tekniğinin öğrenilmesi
- E) Oluşan kazalarla ilgili gerekli önlemlerin alınması

İŞLETME 2

A

2012 3D 0104-A

1. İhtiyaçları karşılayan maddi varlığı olmayan şeylere ne ad verilir?

- A) Mal
- B) Finansman
- C) Fayda
- D) Hizmet
- E) Kaynak

2. Aşağıdakilerden hangisi ekonomik nedenlerle kurulan kamu işletmelerine örnektir?

- A) Kız meslek liseleri
- B) Devlet hastaneleri
- C) Sağlık ocakları
- D) Türkiye şeker fabrikaları
- E) Otelcilik ve turizm meslek liseleri

3. Bir işletmede insanların çabalarının birleştirilmesi, zaman bakımından ayarlanması ve ortaklaşa amaca varmak için faaliyetlerin birbiri ardı sıra düzenlenerek birbirlerini bütünlemelerinin sağlanması sürecine ne ad verilir?

- A) Koordinasyon
- B) Denetim
- C) Planlama
- D) Sevk
- E) İdare

4. Aşağıdakilerden hangisi işletmelerin teşkilatlanmalarında göz önüne alınan faktörlerden biri değildir?

- A) Zaman faktörü
- B) İklim
- C) Üretilen mal
- D) Fonksiyonlar
- E) Müşteri grupları

5. Aşağıdakilerden hangisi dayanıklı mallar arasında yer almaz?

- A) Otomobil
- B) Buzdolabı
- C) Makine
- D) Kağıt
- E) Mobilya

6. Aşağıdakilerden hangisi şahıs işletmelerinin olumlu özelliklerinden biri değildir?

- A) Kurulmasının kolay olması
- B) İşletmenin sahibinin ve yöneticisinin kararlarında özgür olması
- C) Kârın bölüşülmeyerek işletme sahibinin elinde toplanması
- D) İşletme esnekliğinin yüksek olması
- E) Borçlara karşı sorumlulukların sınırsız olması

7. Aşağıdakilerden hangisi işletmelerin özel amaçlarından biridir?

- A) İşletme çalışanlarına iyi ücret ödemek
- B) Verimli olmak
- C) Mal veya hizmet üretmek
- D) Üretimi devam ettirmek
- E) Kâr etmek

8. Aşağıdakilerden hangisi bir işletmede orta yönetim kademesinde çalışan görevlilerden biridir?

- A) Müsteşar
- B) Baş kalfa
- C) Bölüm müdürleri
- D) Usta başı
- E) Genel müdür

A

2012 3D 0104-A

9. İşletmecilerin ticari faaliyetleri ile ilgili kayıtların belirli bir sisteme göre tutulmasına ne ad verilir?

- A) Halkla ilişkiler
- B) Finans
- C) Üretim
- D) Muhasebe
- E) Pazarlama

10. Aşağıdakilerden hangisi yönetim fonksiyonlarından biri değildir?

- A) Denetim
- B) Pazarlama
- C) Koordinasyon
- D) Planlama
- E) Organizasyon

11. İşletme mülkiyetinin bakanlıklar ve belediyeler gibi devlet kuruluşlarına ait olduğu işletmelere ne ad verilir?

- A) Sermaye şirketleri
- B) Karma işletmeler
- C) Özel işletmeler
- D) Şahıs işletmeleri
- E) Kamu işletmeleri

12. Belirli bir amacın gerçekleştirilmesi için kişilerin, iş bölümü anlayışı içinde koordine edildiği yapıya ne ad verilir?

- A) Departman
- B) Fonksiyon
- C) Bölge
- D) Bölüm
- E) Teşkilat

13. Aşağıdakilerden hangisi bir işletmenin girişim olarak kabul edilebilmesi için taşıması gereken özelliklerden biri değildir?

- A) Yeni bir ürün geliştirmesi
- B) Mevcut pazara yeni bir yolla ulaşması
- C) Personel istihdam sayısının çok olması
- D) Yeni bir teknoloji kullanması
- E) Yeni bir pazara ulaşması

14. Bir işletmenin kurulması ve işletilmesi için gerekli para ve kredilerin bulunması ve ekonomik olarak kullanılması işlevine ne ad verilir?

- A) Finans
- B) Pazarlama
- C) Üretim
- D) Yönetim
- E) Muhasebe

15. Aşağıdakilerden hangisi, bürolara alınacak ve kullanılacak araç, gereç ve makine seçiminde dikkate alınması gereken ilkelere biri değildir?

- A) Alınacak araç gereçte gösterişe özenilmemeli, sadelik ve konfor seçim nedeni olmalıdır.
- B) Araç gereç alımında kiralama yöntemi asla düşünülmemeli, her zaman satın alma yoluna gidilmelidir.
- C) Araç ve gereçlerin hizmet ya da mal üretimine uygun, ucuz, sağlam ve kullanışlı olmasına dikkat edilmelidir.
- D) Standart, parçası bulunan, bakımı ve onarımı ülkede yapılan modeller seçilmelidir.
- E) Alınacak makineyi kullanabilecek, bakım ve onarım yapabilecek servis ve teknisyen bulunmalıdır.

2012 3D 0104-A

16. Bir teşkilat şemasında genel müdür ve genel müdür yardımcılarının görevleri altlarına yazıldığında meydana gelen şema aşağıdakilerden hangisidir?

- A) Kadroları gösteren teşkilat şeması
- B) Koordinasyon yönetim şeması
- C) Fonksiyonel teşkilat şeması
- D) Yapısal teşkilat şeması
- E) Yeniden örgütlenme şeması

17. Bir işletmede çalışanların bölüm yöneticilerine bağlantısı ve bunların da kendi aralarında sınıflandırılışına ne ad verilir?

- A) Hiyerarşi
- B) Yetki devri
- C) Yetki alanı
- D) Bölümlendirme
- E) Sorumluluk

18. Bir işletmede neyin, niçin, ne zaman, nerede ve kimler tarafından yapılacağı sorularına cevap aranan yönetim fonksiyonu aşağıdakilerden hangisidir?

- A) Planlama
- B) Sevk
- C) Organizasyon
- D) Koordinasyon
- E) Denetim

19. Çalışanın iş başarısı durumuna yönelik yapılan denetime ne ad verilir?

- A) Sınırlı denetim
- B) İdari teftiş
- C) İkincil denetim
- D) Hiyerarşik denetim
- E) İşlevsel denetim

20. Yöneticilerin yapılması gereken işler için, astlarına emir verme ve astların bu emirlere uymalarını bekleme hakkına ne ad verilir?

- A) Sorumluluk
- B) Yetenek
- C) Liderlik
- D) Tecrübe
- E) Yetki

SEÇMELİ DİL VE ANLATIM 4

A

2012 3D 0104-A

1. Ahmet İzmir'de öyle bir iş kurmuş ki paraya para demiyor.

Yukarıdaki cümlede anlatılmak istenen aşağıdakilerden hangisidir?

- A) Ahmet'in çok para kazandığı
- B) Ahmet'in işlerinin yoğun olduğu
- C) Ahmet'in çok az para kazandığı
- D) Ahmet'in işlerinin kolay olduğu
- E) Ahmet'in İzmir'de iş kurmaktan mutlu olduğu

2. **Aşağıdaki cümlelerin hangisinde bağlaç kullanılmamıştır?**

- A) Onlar da geziye katılacak.
- B) İnan ki geldiğini duymadım.
- C) Küçük fakat güzel bir evleri var.
- D) Ne şiş yansın ne kebab, derdi.
- E) Ankara'ya uçak ile gittik.

3. **"Açıklayıcı anlatım" la ilgili olarak aşağıdakilerden hangisi söylenemez?**

- A) Gerektiğinde istatistik, levha, resim, grafik gibi gereçlerden faydalanıldığı
- B) Duygusal bir değer taşıdığı
- C) Bilgilerin doğru ve düzenli olarak verildiği
- D) Açık, anlaşılır, sade bir dil kullanıldığı
- E) Örneklerden, karşılaştırmalardan yararlandığı

4. **Aşağıdakilerin hangisinde "mi" soru edatının cümleye kattığı anlam diğerlerinden farklıdır?**

- A) Yolculuğun iyi geçti mi?
- B) Dosyaları getirdin mi?
- C) Dünkü toplantıya katıldın mı?
- D) Otobüsle mi gideceksin?
- E) Sen de mi Brutus?

5. **Aşağıdaki ünlem cümlelerinin hangisinde "usanc" anlamı vardır?**

- A) Of, başım çatlıyor!
- B) Ay, gözüme bir şey kaçtı!
- C) Eyvah, araba devrilmiş!
- D) Öf, ne bitmez tükenmez yol!
- E) Ha gayret, ha!

6. Elinde bir iş olmalı, boş durmamalısın.

Yukarıdaki cümlede boş bırakılan yere aşağıdakilerin hangisi getirilemez?

- A) kesinlikle
- B) mutlaka
- C) muhakkak
- D) ne olursa olsun
- E) belki

7. **Aşağıdaki cümlelerin hangisinde altı çizili sözcükler ulaç değildir?**

- A) Çocuk ağlaya ağlaya eve gitti.
- B) Mektubu alır almaz yola çıktı.
- C) Küçük kızın lüle lüle saçları vardı.
- D) Yaşlı kadın gülerek yanıma geldi.
- E) İnsanlar okudukça yücelir.

8. **Aşağıdaki cümlelerin hangisinin eylemi istek kipindedir?**

- A) Bugün tiyatroya gidelim.
- B) Sizinle daha sonra görüşsek.
- C) Yarınki sınava iyi hazırlanmalısın.
- D) Verdiğim kitapları getirsin.
- E) Sabahları erken kalkacaksınız.

9. **Aşağıdaki cümlelerin hangisinde işteş eylem diğerlerinden farklıdır?**

- A) Orhan'la yıllarca mektuplaştı.
- B) Onunla dün yine buluştu.
- C) Kuşlar gökyüzüne doğru uçtu.
- D) Müdürüyle bir saat görüştü.
- E) Arkadaşıyla selamlaştı.

10. **Aşağıdaki destan-yazar eşleştirmelerinden hangisi yanlıştır?**

- A) Kurtarılmış Kudüs-Tasso
- B) İlahi Komediya-Dante
- C) Yitirilmiş Cennet-Milton
- D) Şehname-Homeros
- E) Üç Şehitler Destanı-Fazıl Hüsnü Dağlarca

A

2012 3D 0104-A

11. Aşağıdaki cümlelerin hangisinde soru anlamı bir zamirle sağlanmıştır?

- A) Filmi beğendin mi?
- B) Kaçınıcı katta oturuyorsunuz?
- C) Bugün size kim geldi?
- D) Okula nasıl geldin?
- E) Hangi tiyatroya gidelim?

12. "O" sözcüğü aşağıdaki cümlelerin hangisinde zamir olarak kullanılmamıştır?

- A) O, yarın benimle görüşecek.
- B) Böyle eserleri o da sever.
- C) Aldığın hediye o çok beğenecek.
- D) Bu konuyu en güzel o anlatır.
- E) O günden sonra hiç görünmemiş.

13. Duygu ve düşüncelerin düş gücüyle zenginleştirilip coşkulu bir dille anlatıldığı şiirlere ne ad verilir?

- A) Epik şiir
- B) Lirik şiir
- C) Didaktik şiir
- D) Dramatik şiir
- E) Pastoral şiir

14. Aşağıdaki cümlelerin hangisinde altı çizili sözcük bileşik sıfattır?

- A) Bu huyundan hiçbir zaman vazgeçmeyecek.
- B) Işıksız sokakta dolaştı uzun uzun.
- C) Atalarımız hatasız kul olmaz, demişler.
- D) Tatlı dil yılanı deliğinden çıkarırmış.
- E) Kırgın annesinin kalbini kazandı.

15. "Güzel" sözcüğü aşağıdaki cümlelerin hangisinde sıfat olarak kullanılmıştır?

- A) Güzel güzel yaz ki beğenilsin.
- B) Güzeller nazlı olur.
- C) Güzele bakmak sevaptır.
- D) Güzel insan özel insandır.
- E) Derslerini güzel çalış.

16. Kardeşimin elleri küçücük, tombul ve bembeyazdır. Saçları sapsarı ve kıvrır kıvrırdır. Masmavi gözleri ışıl ışıl parlar. Küçücük ağzında henüz dört minik dişi vardır.

Yukarıdaki paragraf aşağıdakilerden hangisine örnektir?

- A) Fiziki portre
- B) Ruhi portre
- C) Tanımlama
- D) Örnekleme
- E) Açıklama

17. Aşağıdaki cümlelerin hangisinde türemiş sözcük kullanılmamıştır?

- A) Huzurlu bir yaşam hepimizin hakkı.
- B) Sevgi güneşe benzer.
- C) Çağdaş insan uygar insandır.
- D) Bir çiçek sev, bir böcek sev!
- E) Herkese dostça yaklaşalım.

18. Aşağıdaki cümlelerin hangisinde soyut isim vardır?

- A) Evdeki işler bitmeyecek.
- B) Güneş eskisi gibi ısıtmıyor.
- C) Mutluluk gölgen olsun.
- D) Yapraklar savrulmuş etrafa.
- E) Bahçedeki çiçekleri suladım.

19. Öyküleyici anlatımda kişilerin karşılıklı konuşmalarına ne ad verilir?

- A) Monolog
- B) Diyalog
- C) Tartışma
- D) Sohbet
- E) Muhabbet

20. Aşağıdakilerden hangisi bir ünlem cümlesidir?

- A) Sana ne almamı istersin
- B) Ah, elim yandı
- C) Gelirken kalemi unutma
- D) Doğanın güzelliği hepimizi büyüledi
- E) Keşke doktora gitseydim

SEÇMELİ TÜRK EDEBİYATI 6

A

2012 3D 0104-A

1. Döneminin "Fikri hür, irfanı hür, vicdanı hür şair"i Tevfik Fikret'in çocuklar için sade bir dille ve hece ölçüsüyle yazdığı şiir kitabı, aşağıdakilerden hangisidir?

- A) Feride
- B) Şermin
- C) Nemide
- D) Ferda
- E) Handan

2. Türk edebiyatında ilk psikolojik roman sayılan "Eylül"ün yazarı kimdir?

- A) Mehmet Rauf
- B) Hamdullah Suphi
- C) Faik Âli
- D) Hasan Âsaf
- E) Hüseyin Cahit Yalçın

3. "Sanat için sanat" anlayışı aşağıdaki edebiyat dönemlerinin hangisinde benimsenmiştir?

- A) Cumhuriyet Dönemi Edebiyatı
- B) Millî Edebiyat
- C) Tanzimat Edebiyatı
- D) Servet-i Fünûn edebiyatı
- E) Fecri Âtî Topluluğu

4. "Elhan-ı Şita" adlı şiirinde heceleri müzik düzeyinde kullanan şair, aşağıdakilerden hangisidir?

- A) Ali Canip
- B) Hüseyin Suat
- C) Cenap Şehabettin
- D) Tahsin Nihat
- E) Tevfik Fikret

5. Aşağıdakilerden hangisi, Tevfik Fikret'in şiir sanatının özelliklerinden biri değildir?

- A) Sone, terzarima gibi nazım şekillerini kullanması
- B) Yalın bir dil kullanması
- C) Duygu ve düşüncelerini beyit yerine dize içerisinde tamamlaması
- D) Türkçeyi aruz ölçüsüne ustalıkla uygulaması
- E) Nazmı nesre yaklaştırması

6. Aşağıdaki yazar ve eseri eşleştirmelerinden hangisi yanlıştır?

- A) Halit Ziya Uşaklıgil-Ateşten Gömlek
- B) Ömer Seyfettin-Harem
- C) Yakup Kadri Karaosmanoğlu-Kıralık Konak
- D) Cenap Şahabettin-Avrupa Notları
- E) Halide Edip Adıvar-Sinekli Bakkal

7. Aşağıdakilerden hangisi, Servet-i Fünûn Döneminde düz yazı alanında eserler vermiştir?

- A) Hüseyin Suat
- B) Süleyman Nazif
- C) Ali Ekrem Bolayır
- D) Cenap Şehabettin
- E) Mehmet Rauf

8. Parnasizmin en önemli özelliği aşağıdakilerden hangisidir?

- A) Üç birlik kuralına uyulması
- B) Noktalama işaretlerinin atılması
- C) Duygudan çok tasvire, düşünceye, biçim ve söyleyiş güzelliğine önem verilmesi
- D) Sanat için sanat anlayışına karşı çıkılması
- E) Kişisel duyguların aktarımına karşı çıkılması

9. Aşağıdakilerden hangisi Servet-i Fünûn edebiyatının özelliklerinden biri değildir?

- A) Toplumsal temalara değinilmesi
- B) Kulağa göre kafiye anlayışının benimsenmesi
- C) Nazım birimi olarak mısra kullanılması
- D) Şiirde sembolizm ve parnasizmin kullanılması
- E) Aruz ölçüsü kullanılması

10. "Kösem Sultan, Hicranlar ve Firar" adlı tiyatro eserleri aşağıdaki yazarlardan hangisine aittir?

- A) Süleyman Nazif
- B) Halit Ziya Uşaklıgil
- C) Mehmet Rauf
- D) Namık Kemal
- E) Tahsin Nahit

A

2012 3D 0104-A

11. Türk edebiyatını dönemlere ayıran, bilimsel yöntemlerle inceleyen ilk araştırmacı, aşağıdakilerden hangisidir?

- A) Namık Kemal
- B) Ahmet Haşim
- C) Yahya Kemal
- D) Fuat Köprülü
- E) Ömer Seyfettin

12. Türk edebiyatında "Han Duvarları" ve "Çoban Çeşmesi" şiirleriyle tanınan; sade dil ve hece ölçüsünü ustalıklı kullanan; fıkra, manzum oyun, roman türünde de eser veren sanatçı kimdir?

- A) Yahya Kemal Beyatlı
- B) Ahmet Hikmet Müftüoğlu
- C) Ahmet Mithat Efendi
- D) Mehmet Emin Yurdakul
- E) Faruk Nafiz Çamlıbel

13. Klasik olay hikâyesi tarzında yazan, Ömer Seyfettin'in de örnek aldığı Fransız yazar, aşağıdakilerden hangisidir?

- A) Moliere
- B) Guy de Maupassant
- C) Montaigne
- D) Voltaire
- E) La Fontaine

14. Aşağıdaki sanatçılardan hangisi, hem Fecri Âti, hem de Milli Edebiyat Dönemi içinde yer almıştır?

- A) Yahya Kemal Beyatlı
- B) Mehmet Emin Yurdakul
- C) Ahmet Haşim
- D) Süleyman Nazif
- E) Celâl Sahir

15. Aşağıdakilerden hangisi, Türk edebiyatında "Beş Hececiler" adıyla anılan yazarlar arasında yer almaz?

- A) Yusuf Ziya Ortaç
- B) Faruk Nafiz Çamlıbel
- C) Enis Behiç Koryürek
- D) Orhan Seyfi Orhon
- E) Reşat Nuri Güntekin

16. Aşağıdakilerden hangisi, Ahmet Haşim'in şiir sanatının özelliklerinden biri değildir?

- A) Aruz ölçüsünü kullanması
- B) Fecri- Âti Topluluğunda şiir hayatına başlaması
- C) Şiirlerinde daha çok Türklük bilincini işlemesi
- D) Fransız sembolist şairlerden etkilenmesi
- E) Saf şiirin önemli temsilcileri içerisinde yer alması

17. Aşağıdaki yazar ve eseri eşleştirmelerinden hangisi doğrudur?

- A) Mehmet Emin Yurdakul-Türk Sazı
- B) Ömer Seyfettin-Kiralık Konak
- C) Reşat Nuri Güntekin-Kaşağı
- D) Yakup Kadri Karaosmanoğlu-Dağa Çıkan Kurt
- E) Halide Edip Adıvar-Tarla Yolunda

18. Aşağıdakilerden hangisi, Faruk Nafiz Çamlıbel'in eserlerinden biri değildir?

- A) Han Duvarları
- B) Dinle Neyden
- C) Yıldız Yağmuru
- D) Kızıl Elma
- E) Şarkın Sultanları

19. "Kiralık Konak, Nur Baba, Sodem ve Gomore, Hüküm Gecesi" adlı romanlar aşağıdaki yazarlardan hangisine aittir?

- A) Reşat Nuri Güntekin
- B) Halit Ziya Uşaklıgil
- C) Halide Edip Adıvar
- D) Yakup Kadri Karaosmanoğlu
- E) Ahmet Rauf

20. Türk edebiyatında özellikle edebiyat tarihi çalışmalarıyla tanınan araştırmacı-yazar, aşağıdakilerden hangisidir?

- A) Ahmet Hikmet Müftüoğlu
- B) Fuat Köprülü
- C) Yakup Kadri Karaosmanoğlu
- D) Reşat Nuri Güntekin
- E) Halide Edip Adıvar

SEÇMELİ ALMANCA 3

A

2012 3D 0104-A

Bu testin cevaplarını, cevap anahtarında SEÇMELİ YABANCI DİL 3 sütununa işaretleyiniz.

1. Ich habe die Bücher Regal gelegt.

Welches ergänzt die obige Lücke?

Cümlede boş bırakılan yeri aşağıdakilerden hangisi doğru şekilde tamamlar?

- A) aus dem
- B) an dem
- C) über die
- D) in das
- E) zu der

2. Familie Krüger Feier.

Welche Wörter passen in die obigen Lücken?

Cümlede boş bırakılan yerleri aşağıdakilerden hangileri doğru şekilde tamamlar?

- A) war in
- B) geht am
- C) ist im
- D) zu das
- E) geht zur

3. Was bedeutet das Wort "murren" auf türkisch?

"murren" sözcüğünün Türkçesi aşağıdakilerden hangisidir?

- A) söylenmek
- B) saklamak
- C) görüşmek
- D) kaçmak
- E) kullanmak

4. A: Sagen Sie mal, woher kenne ich Sie?
B:
A: Doch ich kenne Sie aber! Aus dem Sprachkurs!
B: Ja, kann sein.

Welches ergänzt die Lücke im obigen Dialog?

Verilen karşılıklı konuşmada boş bırakılan yeri aşağıdakilerden hangisi tamamlar?

- A) Ich kenne Sie auch!
- B) Freut mich für Sie!
- C) Dich? Dich habe ich nie gesehen.
- D) Nett Sie zu sehen.
- E) Mich? Das weiß ich nicht.

5. Das Kind die Bücher auf den Tisch.

Welches Wort paßt in die obige Lücke?

Cümlede boş bırakılan yeri aşağıdakilerden hangisi doğru şekilde tamamlar?

- A) fängt
- B) setzt
- C) stellt
- D) steckt
- E) hängt

6. Wohin gehen Sie?

Welche Antwort paßt zur obigen Frage?

Verilen sorunun cevabı aşağıdakilerden hangisidir?

- A) Ihr könnt euch ein Buch kaufen.
- B) Komm mit in die Küche.
- C) Ich gehe zu einer Besprechung mit Arbeitskollegen.
- D) Er geht mit seinen Freunden.
- E) Ich komme aus dem Wohnzimmer.

A

2012 3D 0104-A

7. Morgens / im / lange / er / bleiben / Bett / liegen

Wie kann man mit den obigen Wortgruppen einen vollständigen Satz bilden?

Verilen sözcük gruplarıyla kurulabilecek en anlamlı ve doğru cümle aşağıdakilerden hangisidir?

- A) Liegen bleibt morgens er lange im Bett.
- B) Lange morgens bleibt liegen er im Bett.
- C) Im Bett morgens er lange liegen bleibt.
- D) Morgens bleibt er lange im Bett liegen.
- E) Er im Bett morgens bleibt liegen lange.

8., leuchtet die grüne Lampe.

Welches ergänzt die Lücke im obigen Satz?

Verilen cümleyi aşağıdakilerden hangisi tamamlar?

- A) Als ich die große Lampe sah
- B) Aber man soll doch die Stecker nicht waschen
- C) Auch wenn ich nicht kommen will
- D) Wenn Sie den Stecker in die Steckdose stecken
- E) Wenn Sie eine neue Lampe wollen

9. Wie lautet das Adjektiv "langsam" in der Substantivform?

"langsam" sıfatının isim hali aşağıdakilerin hangisidir?

- A) Die Langsamkeit
- B) Die Langsame
- C) Die Langheit
- D) Die Langsam
- E) Die Langsamung

10. Frau Birn: Wie funktioniert dieses Gerät?
Verkäuferin: Sie müssen auf den zweit.....
rot..... Knopf drücken.
Frau Birn: Danke sehr!

Welches ergänzt die Lücke im obigen Dialog?

Verilen karşılıklı konuşmada boş bırakılan yeri aşağıdakilerden hangisi tamamlar?

- A) -em / -em
- B) -es / -e
- C) -en / -es
- D) -en / -en
- E) -es / -es

11. Geben Sie mir bitte eine Nagelschere.

Wie lautet der obige Satz auf türkisch?

Verilen cümlelerin Türkçesi aşağıdakilerden hangisidir?

- A) Lütfen bana bir tımak makası verin.
- B) Tımak makası keskin olur.
- C) Bu tımak makası bana ait değil.
- D) Benim tımak makasına ihtiyacım var.
- E) Lütfen bu tımak makasını bize verin.

12. männlich / weiblich / kindlich / menschlich / ausführlich

Welches Wort paßt nicht zu den anderen in der obigen Wortgruppe?

Verilen sözcük grubuna uymayan aşağıdakilerden hangisidir?

- A) menschlich
- B) ausführlich
- C) männlich
- D) kindlich
- E) weiblich

13. Käuferin: Ich möchte einen kleinen Spiegel für die Tasche.
Verkäuferin: Sie meinen Hier, bitte sehr.

Welches ergänzt die Lücke im obigen Dialog?

Verilen karşılıklı konuşmada boş bırakılan yeri aşağıdakilerden hangisi tamamlar?

- A) eine Nachttasche
- B) eine kleine Handtasche
- C) eine kleine Geldtasche
- D) eine Spiegeltasche
- E) einen kleinen Taschenspiegel

2012 3D 0104-A

14., man kann mit dieser Maschine alles perfekt lernen.

Welches ergänzt die Lücke im obigen Satz?

Verilen cümleyi aşağıdakilerden hangisi tamamlar?

- A) Das Katalog findest du an der Information
 B) Ich sehe hier keinen Katalog
 C) Die Anweisungen habe ich auch nicht verstanden
 D) Im Katalog heißt es
 E) Die Tasche gehört uns

15. Wir können heute nicht im Park spazieren gehen,

Welches ergänzt die Lücke im obigen Satz?

Verilen cümleyi aşağıdakilerden hangisi tamamlar?

- A) damit wir schwimmen können.
 B) weil es kalt sein wird.
 C) damit ich dich abholen kann.
 D) ich will auch ein Auto kaufen.
 E) weil er schon satt geworden ist.

16. Ich hole dich ab.

Wie lautet der obige Satz in der Futurform?

Verilen cümlelerin gelecek zaman şekli aşağıdakilerden hangisidir?

- A) Ich habe dich abgeholt.
 B) Ich möchte dich abholen.
 C) Ich kann dich abholen.
 D) Ich würde dich abholen.
 E) Ich werde dich abholen.

17. Was sie von Beruf?

Welches Wort paßt nicht in die obige Lücke?

Cümlede boş bırakılan yeri aşağıdakilerden hangisi doğru şekilde tamamlamaz?

- A) wird
 B) bin
 C) ist
 D) war
 E) sind

18. Wir warteten auf unsere Freunde.

Wie lautet der obige Satz im Plusquamperfekt?

Verilen cümlelerin 3. geçmiş zaman şekli aşağıdakilerden hangisidir?

- A) Wir haben auf unsere Freunde warten wollen.
 B) Wir hatten auf unsere Freunde gewartet.
 C) Wir hätten auf unsere Freunde warten können.
 D) Wir hätten auf unsere Freunde gewartet.
 E) Wir hätten auf unsere Freunde gewartet müssen.

19. Wir haben gegessen. Wir sind jetzt

Welches Wort paßt in die obige Lücke?

Cümlede boş bırakılan yeri aşağıdakilerden hangisi doğru şekilde tamamlar?

- A) hungrig
 B) hingefallen
 C) satt
 D) vergessen
 E) beantragt

20. Endlich habe ich meinen und kann mir ein Auto kaufen.

Welches Wort paßt in die obige Lücke?

Cümlede boş bırakılan yeri aşağıdakilerden hangisi doğru şekilde tamamlar?

- A) Führerschein
 B) Anruf
 C) Wohnung
 D) Überraschung
 E) Kontrolle

SEÇMELİ FRANSIZCA 3

A

2012 3D 0104-A

Bu testin cevaplarını, cevap anahtarında SEÇMELİ YABANCI DİL 3 sütununa işaretleyiniz.

1. Je conseille d'acheter cette cravate.

Choisissez le mot qui convient.

Cümledeki boşluğu aşağıdakilerden hangisi doğru şekilde tamamlar?

- A) le
- B) suis
- C) la
- D) vous
- E) peux

2. Louise: - Hier, j'ai rencontré l'une des camarades de classe.

René: -

Louise: - C'était Agnès.

Choisissez la réplique qui convient.

Yukarıdaki konuşmada boş bırakılan yeri aşağıdakilerden hangisi doğru şekilde tamamlar?

- A) Comment t'appelles-tu?
- B) Ça va?
- C) Qu'est-ce que c'est?
- D) C'est où?
- E) Qui c'était?

3. Nos clients aiment beaucoup.

Choisissez le mot qui convient.

Cümledeki boşluğu aşağıdakilerden hangisi doğru şekilde tamamlar?

- A) nous
- B) je
- C) il
- D) eux
- E) chez

4. Ces étudiants sont-ils paresseux?

Choisissez la traduction qui convient.

Yukarıdaki cümlenin Türkçe karşılığı aşağıdakilerden hangisidir?

- A) Bu öğrenciler hep tembellik yapanlar mı?
- B) Bu öğrenciler neden tembellik ediyorlar?
- C) Tembel öğrenciler hep başarısız mı olurlar?
- D) Tembel öğrenciler bunlar mı?
- E) Bu öğrenciler tembel mi?

5. Est-ce que quelqu'un vient avec moi?

Choisissez l'antonyme du mot souligné.

Yukarıdaki cümlede altı çizili sözcüğün zıt anlamlısı aşağıdakilerden hangisidir?

- A) rien
- B) quelque chose
- C) personne
- D) cependant
- E) parce que

6. Les gaz d'échappement sont dangereux la santé.

Choisissez le mot qui convient.

Cümledeki boşluğu aşağıdakilerden hangisi doğru şekilde tamamlar?

- A) que
- B) qui
- C) pour
- D) comme
- E) car

A

2012 3D 0104-A

7. Bütün turistlerin hayran olduğu bu şehir çok sakindir.

Choisissez la traduction qui convient.

Yukarıdaki cümlelerin Fransızca karşılığı aşağıdakilerden hangisidir?

- A) Cette ville est si tranquille que tous les touristes admirent.
 B) Comme la ville est très tranquille, tous les touristes admirent.
 C) Cette ville est très tranquille et les touristes habitent ici.
 D) Cette ville dont tous les touristes admirent est très tranquille.
 E) La ville où les touristes habitent est très tranquille.

8. utilisez-vous cette machine?

Choisissez le mot qui convient.

Cümledeki boşluğu aşağıdakilerden hangisi doğru şekilde tamamlar?

- A) Car
 B) Comme
 C) Depuis
 D) Depuis quand
 E) Puisque

9. - Tu attends longtemps?
 - Oh, ça fait 20 minutes.

Choisissez le mot qui convient.

Cümledeki boşluğu aşağıdakilerden hangisi doğru şekilde tamamlar?

- A) depuis
 B) quand
 C) combien
 D) combien de temps
 E) quand est-ce que

10. il pleut, je ne sors pas.

Choisissez le mot qui convient.

Cümledeki boşluğu aşağıdakilerden hangisi doğru şekilde tamamlar?

- A) Car
 B) Tout
 C) Depuis
 D) Comme
 E) Combien

11. Lorsque ma fille travaille,

Complétez la phrase avec la proposition qui convient.

Yukarıdaki cümleyi aşağıdaki ifadelerden hangisi doğru şekilde tamamlar?

- A) elle écoute de la musique classique.
 B) elle viendra la semaine prochaine.
 C) elle aime les gens.
 D) il mange trop.
 E) il apprend tout.

12. C'est lui a fermé la porte.

Choisissez le mot qui convient.

Cümledeki boşluğu aşağıdakilerden hangisi doğru şekilde tamamlar?

- A) que
 B) qui
 C) nous
 D) où
 E) toi

13. nous trouverons un appartement, nous déménagerons.

Choisissez le mot qui convient.

Cümledeki boşluğu aşağıdakilerden hangisi doğru şekilde tamamlar?

- A) Avant
 B) C'est qui
 C) Depuis que
 D) Parce que
 E) Dès que

2012 3D 0104-A

14. cette / chante / qui / chanson?
I II III IV

Mettez dans le bon ordre.

Yukarıdaki kelimelerin anlamlı bir bütün oluşturan sırası aşağıdakilerin hangisinde doğru olarak verilmiştir?

- A) I, IV, II, III
B) II, I, IV, III
C) II, IV, III, I
D) III, II, I, IV
E) III, IV, I, II

15. C'est une méthode est vraiment très efficace.

Choisissez le mot qui convient.

Cümledeki boşluğu aşağıdakilerden hangisi doğru şekilde tamamlar?

- A) lorsque
B) qui
C) depuis que
D) que
E) dès que

16. Regardez cette chemise. Comment trouvez-vous?

Choisissez le mot qui convient.

Cümledeki boşluğu aşağıdakilerden hangisi doğru şekilde tamamlar?

- A) les
B) le
C) en
D) y
E) la

17. Je n'aime le café le thé.

Choisissez les mots qui conviennent.

Cümledeki boşlukları aşağıdakilerden hangisi doğru şekilde tamamlar?

- A) ni / que
B) ni / ni
C) que / ni
D) pas / qui
E) ni / pas

18. Je te dis de faire tes devoirs.

Choisissez la traduction qui convient.

Yukarıdaki cümlenin Türkçe karşılığı aşağıdakilerden hangisidir?

- A) Ödevlerini yapsan iyi olacak.
B) Sana ödevlerini yapmanı söylüyorum.
C) Benden ödevlerimi yapmamı istiyor.
D) Ödevlerini yapman gerektiğini biliyorsun.
E) Ödevlerini yapman gerektiğini söylemiştim.

19. Je vais lui téléphoner.

Choisissez la traduction qui convient.

Yukarıdaki cümlenin Türkçe karşılığı aşağıdakilerden hangisidir?

- A) Beni arayacağını biliyorum.
B) Onun telefon etmesini bekliyorum.
C) Ona telefon edeceğim.
D) Bana telefon edecek.
E) Beni arayacağını ümit ediyorum.

20. Regardez ces roses. Comment trouvez-vous?

Choisissez le mot qui convient.

Cümledeki boşluğu aşağıdakilerden hangisi doğru şekilde tamamlar?

- A) les
B) le
C) y
D) la
E) en

SEÇMELİ İNGİLİZCE 3

A

2012 3D 0104-A

Bu testin cevaplarını, cevap anahtarında SEÇMELİ YABANCI DİL 3 sütununa işaretleyiniz.

1. Ali the homework before next Sunday.

Which of the following completes the sentence above?

Aşağıdakilerden hangisi yukarıdaki cümleyi doğru olarak tamamlar?

- A) finish
- B) finished
- C) is finishing
- D) will have finished
- E) has finished

2. I will be to Ankara on Sunday afternoon.

Which of the following completes the sentence above?

Aşağıdakilerden hangisi yukarıdaki cümleyi doğru olarak tamamlar?

- A) gone
- B) has gone
- C) was going
- D) go
- E) going

3. Youcleaning your room this evening.

Which of the following completes the sentence above?

Aşağıdakilerden hangisi yukarıdaki cümleyi doğru olarak tamamlar?

- A) will be
- B) is
- C) will
- D) can
- E) be

4. A : I like nature.
B : So I.

Which of the following completes the dialogue above?

Aşağıdakilerden hangisi yukarıdaki konuşmayı doğru olarak tamamlar?

- A) does
- B) have
- C) did
- D) was
- E) do

5. Ahmet doesn't like drinking milk.
Ateş.

Which of the following completes the sentence above?

Aşağıdakilerden hangisi yukarıdaki cümleyi doğru olarak tamamlar?

- A) So did
- B) Nor did
- C) Nor does
- D) Neither
- E) So does

6. Uğur likes watching television.
Nazlı.

Which of the following completes the sentence above?

Aşağıdakilerden hangisi yukarıdaki cümleyi doğru olarak tamamlar?

- A) So is
- B) Neither does
- C) So does
- D) So do
- E) Neither

7. Emre is a good soccer player. So
Arda.

Which of the following completes the sentence above?

Aşağıdakilerden hangisi yukarıdaki cümleyi doğru olarak tamamlar?

- A) does
- B) do
- C) did
- D) is
- E) can

A

2012 3D 0104-A

8. Özlema new book by then.

Which of the following completes the sentence above?

Aşağıdakilerden hangisi yukarıdaki cümleyi doğru olarak tamamlar?

- A) buys
- B) bought
- C) is buying
- D) will have bought
- E) has bought

9. Eren doesn't like snakes. Aslı doesn't like snakes, either. Neither Aslı nor Eren snakes.

Which of the following completes the sentence above?

Aşağıdakilerden hangisi yukarıdaki cümleyi doğru olarak tamamlar?

- A) like
- B) liked
- C) have liked
- D) had liked
- E) would like

10. Barış can't answer the question. I.

Which of the following completes the sentence above?

Aşağıdakilerden hangisi yukarıdaki cümleyi doğru olarak tamamlar?

- A) Nor do
- B) Nor did
- C) So do
- D) Nor can
- E) Neither

11. A : Where is Ali?
B : I don't know where he is. Heat the cinema.

Which of the following completes the dialogue above?

Aşağıdakilerden hangisi yukarıdaki konuşmayı doğru olarak tamamlar?

- A) might be
- B) ought to be
- C) could have been
- D) will have been
- E) should have been

12. A : It's my boyfriend's birthday tomorrow. What shall I buy him?
B : Well, you buy him a watch.

Which of the following completes the dialogue above?

Aşağıdakilerden hangisi yukarıdaki konuşmayı doğru olarak tamamlar?

- A) will
- B) could
- C) must have
- D) ought
- E) could have

13. A : Why are you late for school?
B : I went to a party last night and I couldn't wake up.
A : You there.

Which of the following completes the dialogue above?

Aşağıdakilerden hangisi yukarıdaki konuşmayı doğru olarak tamamlar?

- A) shouldn't go
- B) ought to go
- C) must go
- D) mustn't have gone
- E) shouldn't have gone

14. He last night, but I doubt it.

Which of the following completes the sentence above?

Aşağıdakilerden hangisi yukarıdaki cümleyi doğru olarak tamamlar?

- A) have studied
- B) may study
- C) ought to study
- D) could have studied
- E) should have studied

15. I can't find my hat. I lost it.

Which of the following completes the sentence above?

Aşağıdakilerden hangisi yukarıdaki cümleyi doğru olarak tamamlar?

- A) should have
- B) must have
- C) will have
- D) could
- E) should

2012 3D 0104-A

16. That greengrocery is always full. It very cheap.

Which of the following completes the sentence above?

Aşağıdakilerden hangisi yukarıdaki cümleyi doğru olarak tamamlar?

- A) will be
- B) ought
- C) should be
- D) must have been
- E) must be

17. I lived in Eskişehir for ten years. I know the city.

Which of the following completes the sentence above?

Aşağıdakilerden hangisi yukarıdaki cümleyi doğru olarak tamamlar?

- A) would
- B) ought to
- C) could
- D) might have
- E) must have

18. You less, you are too fat.

Which of the following completes the sentence above?

Aşağıdakilerden hangisi yukarıdaki cümleyi doğru olarak tamamlar?

- A) have ate
- B) should eat
- C) eating
- D) would eat
- E) are eating

19. He shouldn't have done that. He in the car park.

Which of the following completes the sentence above?

Aşağıdakilerden hangisi yukarıdaki cümleyi doğru olarak tamamlar?

- A) park
- B) will have parked
- C) ought to have parked
- D) would park
- E) have parked

20. A : Where was Mr. Yaslan yesterday? He wasn't in his office.
B : I don't know. He been at the meeting.

Which of the following completes the dialogue above?

Aşağıdakilerden hangisi yukarıdaki konuşmayı doğru olarak tamamlar?

- A) might have
- B) can
- C) will have
- D) would
- E) must

SEÇMELİ TÜRK EDEBİYATI 8

A

2012 3D 0104-A

1. "Mukaddime, Merdiven, Süvari" adlı şiirler aşağıdaki şairlerden hangisine aittir?

- A) Turgut Uyar
- B) Bedri Rahmi Eyüboğlu
- C) Ahmet Haşim
- D) İlhan Berk
- E) Ahmet Muhip Dıranas

2. Aşağıdaki şiirlerden hangisi Orhan Veli Kanık'a aittir?

- A) Birdenbire
- B) Olvido
- C) Pul pul
- D) Çocukluğumuz
- E) Acının tarihi

3. Aşağıdaki şair ve şiiri eşleştirmelerinden hangisi doğrudur?

- A) Aşık Veysel-Rüzgâr
- B) Bedri Rahmi Eyüboğlu-Karadut
- C) Nazım Hikmet-Sihirli Değnek
- D) Necip Fazıl Kısakürek-Vapur
- E) Ercüment Behzat Lav-Bir Başka Tepeden

4. Toplum hayatını anlatmak, mahalli bir edebiyat yapmak sanatının en önemli özelliği olan şair, aşağıdakilerden hangisidir?

- A) Ercüment Behzat Lav
- B) Mehmet Âkif Ersoy
- C) İlhan Berk
- D) Arif Nihat Asya
- E) Attila İlhan

5. "Orda bir köy var uzakta
O köy bizim köyümüzdür"

Yukarıdaki dizeler aşağıdaki şairlerden hangisine aittir?

- A) Ahmet Kutsi Tecer
- B) Necmettin Halil Onan
- C) Behçet Kemal Çağlar
- D) Kemalettin Kamu
- E) Ömer Bedrettin Uşaklı

6. "Fotoğraf" adlı şiir, aşağıdaki şairlerden hangisine aittir?

- A) Necati Cumalı
- B) Ahmet Oktay
- C) Fazıl Hüsnü Dağlarca
- D) Behçet Necatigil
- E) Cemal Süreya

7. Aşağıdakilerden hangisi "İkinci Yeni" de öne çıkan temalardan biri değildir?

- A) Bezginlik
- B) Yenilmişlik
- C) Doğa
- D) Boşluk duygusu
- E) Şüphe

8. Aşağıdakilerden hangisi halk şiirinin özelliklerinden biri değildir?

- A) Aşk, doğa, özlem, yığıtlık, din, günlük bireysel ve toplumsal yaşantıların en çok işlenen temalar olması
- B) Hece ölçüsüyle yazılması
- C) Genellikle yarım uyak kullanılması
- D) Anonim olması
- E) Nazım biriminin dördürlük olması

9. "Kitabe-i Seng-i Mezar" adlı şiir aşağıdaki şairlerden hangisine aittir?

- A) Orhan Veli Kanık
- B) Kemalettin Kamu
- C) Ahmet Kutsi Tecer
- D) Mehmet Akif Ersoy
- E) Ahmet Arif

10. "Uy Havar" adlı şiir, aşağıdaki şairlerden hangisine aittir?

- A) Melih Cevdet Anday
- B) Oktay Rifat
- C) Ahmet Arif
- D) A. Kadir
- E) Cemal Süreyya

A

2012 3D 0104-A

11. Aşağıdakilerden hangisi Yahya Kemal Beyatlı'nın sanat anlayışının özelliklerinden biri değildir?

- A) İç ahengi her şeyden üstün tutması
- B) Klasik divan şiirini Batı şiirindeki bütünlük anlayışıyla ele alması
- C) Şiirlerinin çoğunu hece ölçüsüyle yazması
- D) Şiir konularını aşk, tabiat, deniz, ölüm ve sonsuzluktan alması
- E) Osmanlı medeniyet ve kültürüne bağlı kalması

12. İlk şiirinden son şiirine kadar çocuksu duyarlılığını, dünyayı hayranlıkla, şaşkınlıkla bakışını ve şakacı çocuk yaklaşımını yitirmeyen şair, aşağıdakilerden hangisidir?

- A) Ülkü Tamer
- B) İlhan Berk
- C) Turgut Uyar
- D) Ece Ayhan
- E) Refik Durbaş

13. "Ben Ölüsem Akşamüstü Ölüüm" şiiri aşağıdaki şairlerden hangisine aittir?

- A) İsmet Özel
- B) Süreyya Berfe
- C) Özdemir İnce
- D) Ahmet Oktay
- E) Ataul Behramoğlu

14. Mekân olarak Edremit ve yöresinin ayrıntılarıyla anlatıldığı "Kuyucaklı Yusuf" adlı roman, aşağıdaki yazarlardan hangisine aittir?

- A) Ayfer Tunç
- B) Refik Halit Karay
- C) Sabahattin Âli
- D) Peride Celal
- E) Sait Faik Abasıyanık

15. Aşağıdakilerden hangisi "Beş Hececiler" diye anılan şairler arasında yer almaz?

- A) Orhan Seyfi Orhon
- B) Enis Behiç Koryürek
- C) Yusuf Ziya Ortaç
- D) Faruk Nafiz Çamlıbel
- E) Cevdet Kudret

16. Türk edebiyatında psikolojik romanın ilk örneğini aşağıdaki yazarlardan hangisi vermiştir?

- A) Nezihe Meriç
- B) Azra Erhat
- C) Füsün Akatlı
- D) Mehmet Rauf
- E) Peyami Safa

17. "Kocaoğlan" adlı tiyatro oyunu aşağıdaki yazarlardan hangisine aittir?

- A) Necati Cumalı
- B) Orhan Asena
- C) Nazım Hikmet
- D) Orhan Kemal
- E) Melih Cevdet Anday

18. Halk şiirinde kişiye, topluma, feleğe, tabiata âşık tarafından yöneltilen yergi, alay, eleştiri içeren şiirlere ne ad verilir?

- A) Koçaklama
- B) Ağıt
- C) Güzelleme
- D) Taşlama
- E) Öğüt

19. Fırtına Kuşu adlı eser aşağıdaki yazarlardan hangisine aittir?

- A) Peyami Safa
- B) Yaşar Kemal
- C) Latife Tekin
- D) Hamdullah Suphi Tanrıöver
- E) Reşat Nuri Güntekin

20. Aşağıdakilerden hangisi William Shakespeare'in tiyatro oyunlarından biridir?

- A) Nişanlılar
- B) Kral Lear
- C) Cimri
- D) Çılgın Orlando
- E) Köşebaşı

SINAVDA UYGULANACAK KURALLAR

1. Sınav süresince görevlilerle konuşmak ve soru sormak yasaktır. Aynı şekilde görevlilerin de öğrencilerle yakından ve alçak sesle konuşmaları yasaktır. Yanınızda ve sıranızda dersle ilgili kitap not vb. bulundurmamak yasaktır. Sınav sırasında kopya yapan, yapmaya teşebbüs eden, kopya veren, kopya yapılmasına yardım edenlerin kimlikleri BİREYSEL SINAV İPTAL TUTANAĞINA yazılacak ve bu öğrencilerin sınavları geçersiz sayılacaktır. Görevliler kopya yapmaya veya vermeye kalkışanları uyararak sorumlu size aittir.
Sınavda yetki verilmiş görevliler, bu salondaki sınavın kurallara uygun biçimde yapılmadığını, toplu kopya girişiminde bulunulduğunu raporlarında bildirdikleri veya üniversite sınav merkezince yapılan incelemeler sonucu toplu kopya yapıldığı saptandığı takdirde, Anadolu Üniversitesinin yetkili organları bu salonda sınava giren öğrencilerin tümünün sınavını geçersiz sayar.
2. Öğrenciler sınav sırasında görevlilerin her türlü uyarılarına uymak zorundadır. Gerekliğinde görevliler oturduğunuz yerleri değiştirebilir. Sınavınızın geçerli sayılması, her şeyden önce sınav kurallarına uymanıza bağlıdır. Kurallara aykırı davranışta bulunanların ve yapılacak uyarılara uymayanların kimlikleri BİREYSEL SINAV İPTAL TUTANAĞINA yazılacak ve sınavları geçersiz sayılacaktır.
3. Sınav sırasında herhangi bir nedenle dışarı çıkmak yasaktır. Sınavın başlamasını izleyen ilk 30 dakika ve sınav süresinin son 5 dakikası içinde, sınavlarını tamamlasalar bile hiçbir öğrencinin salondan çıkmasına izin verilmeyecektir. Sınavın başlamasını izleyen ilk 15 dakikadan sonra hiç bir öğrenci sınava alınmaz.
4. Biraz sonra soru kitapçıkları dağıtılacaktır. Cevaplamaya geçmeden önce size verilecek soru kitapçığının üzerinde ayrılan yere, adınızı, soyadınızı, öğrenci numaranızı ve bu salonun numarasını yazınız. Sınav sonunda soru kitapçıkları toplanacak ve sınav merkezinde tek tek incelenecektir. Soru Kitapçığının bir tek sayfası eksik çıksa bile sınavınız geçersiz sayılacaktır.
5. Size verilen Cevap Kâğıdının üzerinde yazan numara ve ismin size ait olduğunu kontrol ediniz. Cevap Kâğıdı size ait değilse, görevlileri uyarıp size ait Cevap Kâğıdını alınız. Daha sonra Cevap Kâğıdı üzerinde ayrılmış olan yerlere öğrenci numaranızı ve test grubunuzu kodlayınız, adınızı soyadınızı yazınız ve ilgili yeri imzalayınız.
6. Cevap Kâğıdına yazılacak her türlü yazı, rakam ve yapılacak işaretlemeler için siyah kurşun kalem kullanılacaktır. Tükenmez kalem veya dolmakalem kesinlikle kullanılmayacaktır. Cevapların tümü CEVAP KÂĞIDINA İŞARETLENECEKTİR. Soru Kitapçıkları üzerine yapılan işaretlemeler kesinlikle değerlendirilmez. Her dersin cevabı, o dersin isminin yazılı olduğu sütuna işaretlenmelidir. Yanlış sütuna yapacağınız işaretlemeler kesinlikle değerlendirilmez.
7. Soru Kitapçığının sayfalarındaki boş yerleri müsvedde yapmak için kullanabilirsiniz. Başka bir kâğıdı müsvedde olarak kullanmak yasaktır. Bu tür işlemleri yapanların sınavları geçersiz sayılır.
8. Öğrencilerin sorulara verdikleri yanıtları herhangi bir yere yazmaları ve bunu sınav salonundan dışarıya çıkarmaları yasaktır. Bu kurala uymayanların sınavları geçersiz sayılır.
9. Sınav sırasında öğrencilerin birbirinden kalem, silgi vb. şeyleri istemesi kesinlikle yasaktır. Yasağa uymayanların sınavı geçersiz sayılır.
10. Sınav sırasında hesap makinesi kullanılabilir. Ancak, hesap makinesinin sınav sırasında ödünç alınması, verilmesi ve değiştirilmesi yasaktır. (Data Bank vb. gibi özel elektronik donanımlar kullanılamaz.) Bu tür davranışlarda bulunanların sınavları geçersiz sayılır.
11. Öğrenciler sınava gelirken telsiz, cep telefonu, çağrı cihazı vb. iletişim araçları ile görüntü kaydetmeye yarayan fotoğraf makinesi, kamera vb. araçları getirmemeleri konusunda sınava giriş belgelerinde uyarılmışlardır. Buna rağmen yanlarında bu tür cihazları getirenlerin, bunları sınav sonrasında almak üzere salon başkanına teslim etmeleri gerekir. Bu cihazları sınav salonunda yanlarında bulunduran öğrencilerin, cihazları kapalı bile olsa, o oturumdaki sınavı geçersiz sayılacaktır. Bu cihazların kaybolmasından Üniversitemiz sorumlu olmayacaktır.
12. Biraz sonra dağıtılacak olan soru kitapçığında test ile ilgili açıklamalar yazılıdır. Bu açıklamaları okumadan ve size "SINAV BAŞLAMIŞTIR" denmeden soruları cevaplamaya başlamayınız.

SINAVLARINIZDA BAŞARILAR DİLERİZ.