



BA – AÖL / 2012 – III.DÖNEM - Pazar 16.00

ALTINCI OTURUM

TEST GRUBUNUZ

A

CEVAP KÂĞIDINIZA İŞARETLEMİYİ UNUTMAYINIZ.

ÖĞRENCİNİN

SOYADI :

ADI :

ÖĞRENCİ NO :

SINAV SALON NO: SIRA NO:

Soyadınızı, adınızı, öğrenci numaranızı, salon ve sıra numaranızı yukarıya yazmayı unutmayınız.

GENEL AÇIKLAMA

1. Bu soru kitapçığındaki testler şunlardır:

Testin Adı	Soru Sayısı	Sayfa No
DİN KÜLTÜRÜ VE AHLAK BİLGİSİ 6	20	2
DİN KÜLTÜRÜ VE AHLAK BİLGİSİ 8	20	4
TARİH 2	20	6
COĞRAFYA 4	20	8
MATEMATİK 2	20	10
YABANCI DİL 3 (ALM.3, FRA.3, İNG.3)	20	13
HUKUK 1	20	22
DİL VE ANLATIM 3	20	24
TÜRK EDEBİYATI 7	20	27
FİZİK 3	20	29
BİYOLOJİ 1	20	33

Testin Adı	Soru Sayısı	Sayfa No
BİYOLOJİ 5	20	36
BİYOLOJİ 8	20	38
MANTIK 1	20	40
TRAFİK VE İLK YARDIM BİLGİSİ 2	20	42
SEÇMELİ DİL VE ANLATIM 3	20	44
SEÇMELİ TÜRK EDEBİYATI 3	20	47
GİRİŞİMCİLİK 1	20	49
YABANCI DİL 7 (ALM.7, FRA.7, İNG.7)	20	51
FİZİK 4	20	60
SEÇMELİ YABANCI DİL 7 (ALM.7, FRA.7, İNG.7)	20	63
SEÇMELİ TÜRK EDEBİYATI 7	20	72

2. Bu kitapçıkta yer alan her bir test için cevaplama süresi **30** dakika, toplam sınav süresi **150** dakikadır.
3. Cevaplamaya istediğiniz testin, istediğiniz sorusundan başlayabilirsiniz. Yalnız cevaplarınızı, cevap kâğıdında o test için ayrılmış olan bölümdeki aynı numaralı cevap yerine işaretlemeyi unutmayınız.
4. Cevaplarınızı koyu siyah ve yumuşak bir kurşunkalemle işaretleyiniz. İşaretinizi cevap yerinin dışına taşırmayınız. Tükenmez veya mürekkepli kalem kullanmayınız.
5. Değiştirmek istediğiniz bir cevabı yumuşak bir silgi ile, cevap kâğıdını örselemeden temizce siliniz ve doğru cevabınızı işaretlemeyi unutmayınız.
6. Cevap kâğıdınızı buruşturmayınız, katlamayınız ve üzerine gereksiz hiçbir işaret koymayınız.
7. Bu kitapçıkta her sorunun bir tek doğru cevabı vardır. Bir soru için birden çok cevap yeri işaretlenmişse o soru yanlış cevaplanmış sayılacaktır.
8. Cevaplarınız puanlanırken her doğru cevabınıza eşit puan verilecek, yanlış cevaplarınız dikkate alınmayacaktır. Bu nedenle kitapçıkta tüm sorular için size doğru gelen seçeneği işaretleyerek cevapsız soru bırakmamanız yararınıza olacaktır.
9. Kitapçığın sayfalarındaki boş yerleri müsvedde için kullanabilirsiniz.

Anadolu Üniversitesi tarafından hazırlanmış olan bu testlerin her hakkı saklıdır. Hangi amaçla olursa olsun, testlerin tamamının veya bir kısmının Anadolu Üniversitesi'nin yazılı izni olmadan kopya edilmesi, fotoğraflarının çekilmesi, herhangi bir yolla çoğaltılması, yayımlanması ya da kullanılması yasaktır. Bu yasağa uymayanlar gerekli cezai sorumluluğu ve testlerin hazırlanmasındaki mali külfeti peşinen kabullenmiş sayılır.

DİN KÜLTÜRÜ VE AHLAK BİLGİSİ 6

A

2012 3D 0106-A

1. Hz. Muhammed'in imzaladığı, toplumda ortak hareket etme, birlikte barış içinde yaşama, toplumların hukuki ve sosyal statülerini kabul etme, inanç ve ibadet hürriyeti sağlama konularını içeren sözleşme aşağıdakilerden hangisidir?

- A) Hudeybiye Antlaşması
- B) Mekkenin Fethi Antlaşması
- C) Taif Sözleşmesi
- D) Medine Sözleşmesi
- E) Uhud Sözleşmesi

2. İnsanlığın babası olarak ta nitelenen ilk peygamber aşağıdakilerden hangisidir?

- A) Hz. Adem
- B) Hz. Muhammed
- C) Hz. İsa
- D) Hz. Ali
- E) Hz. Ömer

3. "Ey insanlar, Rabb'iniz birdir, babanız da birdir. Hepiniz, Adem'in çocuklarıdır" hadisiyle aşağıdakilerden hangisi ifade edilmiştir?

- A) İslam sözcüğünün, barış, güven ve huzur anlamına geldiği
- B) İslam dininin toplumda insanların barış ve huzur içinde yaşamasını amaçladığı
- C) Tüm insanların eşit haklara sahip olduğu
- D) Kimsenin takva dışında bir başkasına üstünlüğünün olmadığı
- E) Kur'an'ın herkesi barışa çağırdığı

4. İslam dininin "barış" kavramına bakışı ile ilgili aşağıdaki ifadelerden hangisi yanlıştır?

- A) İslam dini barış ve huzur dinidir.
- B) İslam dini toplumları din konusunda bilgilendirir.
- C) İslam dini, insanların birbirleriyle güzel ilişkiler kurmalarını öğütler.
- D) İslam dini toplumda insanların barış ve huzur içinde yaşamasını amaçlar.
- E) İslam dini, toplumda, kavga ve geçimsizlikleri yasaklar.

5. Barış ile ilgili aşağıdaki ifadelerden hangisi yanlıştır?

- A) Toplumsal barış, toplumda huzur, güven ve mutluluk sağlar.
- B) Dünyada birlikte yaşamın anahtarı barıştır.
- C) Barışın dini, dili, ırkı, rengi, cinsiyeti, kültür ve medeniyeti vardır.
- D) Barış herkes için gerekli bir durumdur.
- E) Bireyler arasındaki barış, toplumsal barışı doğurur.

6. "Yurtta barış, dünyada barış. Biz kimsenin düşmanı değiliz, ama insanlığın düşmanı olanların düşmanımız." sözleri kime aittir?

- A) Hz. Muhammed
- B) İsmet İnönü
- C) Mehmet Akif Ersoy
- D) Hz. Ali
- E) Mustafa Kemal Atatürk

7. Aşağıdakilerden hangisi barış durumunun yarattığı sonuçlardan biri değildir?

- A) Kültürel değerlerin korunması ve gelişmesi
- B) Toplumların gelişip, kalkınması
- C) İnsanların mutlu, huzurlu olması
- D) Bireylerin ruhsal hayatlarının çöküntüye uğraması
- E) Bireylerin birbirine güven duyması

8. Diyanet İşleri Başkanlığı ile ilgili aşağıdaki ifadelerden hangisi yanlıştır?

- A) Diyanet İşleri Başkanlığı özel idare içinde yer alır.
- B) Diyanet İşleri Başkanlığı, her türlü siyasi görüş ve düşünceden uzak durmaktadır.
- C) İslam dini ile ilgili hizmetleri yürütmekle görevli kamu kuruluşudur.
- D) Diyanet, yurt içinde ve dışında din hizmeti sunan özel ve resmi kuruluşların faaliyetlerini değerlendirir.
- E) Kur'an kursları ve camiler aracılığıyla dini konularda toplumu gerekli ve doğru bilgilerle aydınlatma görevini üstlenir.

9. 1920 yılında Ankara'da Meclis hükümetince din hizmetlerini yürütmek amacıyla kurulan Bakanlığın adı nedir?

- A) Bab-ı Defter
- B) Tevhid-i Tedrisat
- C) Hazine-i Amire
- D) Şer'iye ve Evkaf Vekaleti
- E) Sadaret Kethüdalığı

A

2012 3D 0106-A

10. Kur'an kurslarının ve eğitim merkezlerinin açılış, eğitim, öğretim, yönetim ve denetim işlerini yürüten birim aşağıdakilerden hangisidir?

- A) Mushafı İnceleme Kurulu
- B) Hac Dairesi
- C) Tasfiye İşleri Genel Müdürlüğü
- D) Din İşleri Yüksek Kurulu
- E) Din Hizmetleri Dairesi

11. Aşağıdakilerden hangisi Din İşleri Yüksek Kurulu'nun görevlerinden biri değildir?

- A) Din işleri ile ilgili konularda inceleme ve araştırmalarda bulunmak
- B) Hutbe ve vaazların içerik ve esaslarını tespit etmek
- C) İl ve ilçelerde görevlendirilecek imam-hatip ve müezzinleri atamak
- D) Din ile ilgili sorulara yanıtlar hazırlamak
- E) Dini eserlerin yazım ve çevirilerini yaptırarak halkın ilgisine sunmak

12. Camideki hizmetlerin yürütülmesinden sorumlu kişidir. Vakit, cenaze, bayram, cuma gibi namazların cemaatle kılınması, halkı dini yönden bilgilendirme gibi faaliyetleri yürütür. Dini gün ve gecelerde mevlit okunmasını sağlar.

Yukarıda anlatılan din görevlisi aşağıdakilerden hangisidir?

- A) Müezzin
- B) Müftü
- C) Vaiz
- D) Kur'an kursu öğreticisi
- E) İmam Hatip

13. Peygamberimizin hayatını ve mücadelesini anlatan kitaplara ne ad verilir?

- A) Siyer
- B) Tefsir
- C) Hadis kitapları
- D) İlmihal
- E) Fıkıh

14. Aşağıdakilerden hangisi Kur'an-ı Kerim'in bir adıdır?

- A) Melik
- B) Zahir
- C) Kalamullah
- D) Samed
- E) Cebbar

15. Aşağıdakilerden hangisi İslam mimarisinin önem verdiği unsurlardan biri değildir?

- A) Dayanıklılık
- B) Gelenekçilik
- C) Estetik
- D) İhtişam
- E) Kullanışlılık

16. Hoca Ahmet Yesevi, Yunus Emre, Mevlana, Hacı Bektaş-ı Veli gibi kişilerle başlayan ve günümüze kadar devam eden edebiyat türü aşağıdakilerden hangisidir?

- A) Naat
- B) Kaside
- C) Tezhip
- D) Tevhit
- E) Tasavvuf

17. Hz. Muhammed'in doğumunu ve örnek kişiliğini anlatan edebi eserlere ne ad verilir?

- A) Naat
- B) Mevlit
- C) Tevhit
- D) İlahi
- E) Kaside

18. Allah'a övgüyü dile getirmek ve ona dua etmek için söylenen edebi eserlere ne ad verilir?

- A) İlahi
- B) Mevlit
- C) Kaside
- D) Münacat
- E) Naat

19. Aşağıdakilerden hangisi ünlü Türk müzehhiplerinden biridir?

- A) Mustafa Rakım
- B) Baba Nakkaş
- C) Kara Memiş
- D) Şeyh Hamdullah
- E) Levni

20. Bireylerde güzellik hissi uyandıran, güzel duygu ve anlamlar içeren, sanatla ilgili değer yargısına ne ad verilir?

- A) Simetri
- B) Estetik
- C) Altın Oran
- D) Mizanpaj
- E) Denge

DİN KÜLTÜRÜ VE AHLAK BİLGİSİ 8

A

2012 3D 0106-A

1. **Bağışlama için aşağıdakilerden hangisi yanlıştır?**

- A) İnsanı yüceltir.
- B) Bireyi hatalardan döndürür.
- C) Bireyi ruhsal açıdan arındırır.
- D) Bireysel ve toplumsal hoşgörünün temelidir.
- E) Bireyi zayıf kişilikli hale getirir.

2. **Yahudilik Hz. Musa'ya hangi yüzyılda gelmiştir?**

- A) MÖ XV
- B) MÖ XIV
- C) MÖ XIII
- D) MÖ XII
- E) MÖ XI

3. **Aşağıdakilerden hangisi Tevhid-i Tedrisat kanunu ile oluşan durumlardan biri değildir?**

- A) Medreselerin kapatılması
- B) Tüm okulların Maarif Vekaletine bağlanması
- C) İmamlık ve hatiplik işleri için ayrı okulların kurulması
- D) Kur'an kurslarının yaygınlaştırılması
- E) İlahiyat Fakültelerinin kurulması

4. **Aşağıdakilerden hangisi Atatürk'ün din ile ilgili görüşlerinden biri değildir?**

- A) Dinsiz milletlerin devamına imkan yoktur.
- B) Din, Allah ile kul arasındaki bağılıktır.
- C) Din lüzumlu bir müessesedir.
- D) Din gerçek manada anlaşılması gereken bir durumdur.
- E) Din, devlet işlerinde etkili bir durumdur.

5. **Hristiyan inancına göre Hz. İsa'nın yeryüzündeki bedenini temsil ettiğine inanılan şey aşağıdakilerden hangisidir?**

- A) Luka
- B) Kilise
- C) Vaftiz
- D) İncil
- E) Çarmıh

6. **Hz. İsa'nın ölmeden önce havarileri ile yediği son akşam yemeğini anma ayinine ne ad verilir?**

- A) Evharistiya
- B) Şölen
- C) Vaftiz
- D) Teslis
- E) Yuhanna

7. **Günümüzde yaşayan dinlerin nüfus bakımından en büyük olanı aşağıdakilerden hangisidir?**

- A) Budizm
- B) Hinduizm
- C) İslamiyet
- D) Hristiyanlık
- E) Musevilik

8. **İslamiyet'in özünü oluşturan inanç aşağıdakilerden hangisidir?**

- A) Tevhit
- B) Namaz
- C) Oruç
- D) Doğruluk
- E) Kur'an-ı Kerim

9. **Aşağıdakilerden hangisi sözlükte geçen İslam'ın anlamlarından biri değildir?**

- A) İtaat etmek
- B) Teslim olmak
- C) Esenlikte ve barışta olmak
- D) Boyun eğmek
- E) Hüküm sürmek

10. **Aşağıdakilerden hangisi İslamiyet'in önemli özelliklerinden biri değildir?**

- A) İslam dininde herkes eşittir.
- B) Tüm insanlar doğuştan günahsızdırlar.
- C) İslam'da ruhbanlık değerlidir.
- D) Dinin kaynağı Kur'an ve Hadis-i Şeriftir.
- E) İslam'da Mesih anlayışı yoktur.

A

2012 3D 0106-A

11. Hintlilerin kutsal kabul ettikleri nehir aşağıdakilerden hangisidir?

- A) Nil
- B) Ganj
- C) Missisipi
- D) Dicle
- E) Fırat

12. Rahipler ve aydınlar sınıfı olarak bilinen Kast sistemi sınıfı aşağıdakilerden hangisidir?

- A) Kşatriyalar
- B) Konsüller
- C) Vaisyalar
- D) Brahmanlar
- E) Sudralar

13. Hükümdar sülalesi ve askerler sınıfı olarak bilinen Kast sistemi sınıfı aşağıdakilerden hangisidir?

- A) Brahmanlar
- B) Konsüller
- C) Sudralar
- D) Vaisyalar
- E) Kşatriyalar

14. Tüccar, esnaf ve çiftçi sınıfı olarak bilinen Kast sistemi sınıfı aşağıdakilerden hangisidir?

- A) Sudralar
- B) Kşatriyalar
- C) Vaisyalar
- D) Brahmanlar
- E) Konsüller

15. İşçi ve sanatkarlar sınıfı olarak bilinen Kast sistemi sınıfı aşağıdakilerden hangisidir?

- A) Brahmanlar
- B) Sudralar
- C) Vaisyalar
- D) Kşatriyalar
- E) Konsüller

16. Hinduizmde koruyucu olarak bilinen tanrı aşağıdakilerden hangisidir?

- A) Vişnu
- B) Brahma
- C) Şiva
- D) Sudra
- E) Rigveda

17. Aşağıdakilerden hangisi Hinduizmin amaçlarından biri değildir?

- A) Dürüstlük
- B) Kurtuluş
- C) Beliri ibadet şekli
- D) Mutluluk
- E) Helal kazanç

18. Hinduizmde sebep- sonuç kanunu olan, kişinin kaderini belirleyen iş ve amellere ne ad verilmektedir?

- A) Yoga
- B) Karma
- C) Tenasüh
- D) Reenkamasyon
- E) Şıva

19. Hinduizmde sebep- sonuç kanunu olan, kişinin kaderini belirleyen iş ve amellere ne ad verilmektedir?

- A) Şıva
- B) Tenasüh
- C) Karma
- D) Reenkamasyon
- E) Yoga

20. Hinduizm'de beden ile ruh, duygu ile sezgi arasında bir bütünlük ve uyum sağlamak, doğaüstü güçlerle temas kurmak amacıyla yapılan dini egzersizlere ne ad verilir?

- A) Samaveda
- B) Karma
- C) Tenasüh
- D) Yoga
- E) Reenkamasyon

TARİH 2

A

2012 3D 0106-A

1. İslâm Medeniyeti'nde "halifeliğin" babadan oğula geçen bir saltanat haline gelmesi ilk kez hangi dönemde başlamıştır?

- A) Abbasîler
- B) Emevîler
- C) Dört Halife
- D) Osmanlılar
- E) Selçuklular

2. İlk İslam parası hangi devlet tarafından basılmıştır?

- A) Sasaniler
- B) Endülüs Emevileri
- C) Emeviler
- D) Abbasiler
- E) Memlükler

3. Bizans İmparatorluğu'nun en parlak devri aşağıdakilerden hangisinin zamanındadır?

- A) Jüstinyen
- B) Heraklius
- C) Sezar
- D) Oktavianus
- E) Diocletionus

4. Hz. Muhammed'in (s.a.v.) davetini kabul edip ilk Müslüman olan kişi aşağıdakilerden hangisidir?

- A) Hz. Ebubekir
- B) Hz. Zeyd
- C) Hz. Ömer
- D) Hz. Hatice
- E) Hz. Ali

5. İslamiyetin doğuşu sırasında İran'da merkezi Medain şehri olan devlet aşağıdakilerden hangisidir?

- A) Main Devleti
- B) Göktürk Devleti
- C) Tedmür Devleti
- D) Endülüs Emevi Devleti
- E) Sasaniler Devleti

6. Türk - İslam devletlerinde, vergi gelirlerinin sultana bırakıldığı topraklara ne ad verilir?

- A) İkta
- B) Has
- C) Mülk
- D) Haraci
- E) Vakıf

7. Yağma, Karluk ve Çiğ boylarının konuştuğu lehçelerin kaynaşmasından ortaya çıkan Karahanlı Türkçesine ne ad verilir?

- A) Azerice
- B) Çağatayca
- C) Hakaniye
- D) Uygurca
- E) Yakutça

8. Aşağıdakilerden hangisi Oğuz Türkleri arasında İslamiyet'in hızla yayılmasının nedenlerinden biri değildir?

- A) Türklerin fütühat felsefesi ile İslamın cihat düşüncesi arasında farkların olması
- B) İslam dini ile eski Türk inanç sistemleri arasında ortak yanların bulunması
- C) Türklerin Gök Tanrı inancıyla, İslamiyetteki tek bir Allah inancının uyuşması
- D) Türklerin temizliğe önem vermesi, İslamın bunu emretmesi
- E) Türklerin güzel ahlaka önem vermesinin, İslamın emirleriyle uyuşması

9. Aşağıdakilerden hangisi Türk-İslam devletlerinde ülkenin bir bölgesini idare eden hanedan üyelerine verilen addır?

- A) Emir-i alem
- B) Amid
- C) Atabey
- D) Hacıp
- E) Melik

10. Kudüs kralını Hittin Savaşında yenerek Kudüs'ü ele geçiren aşağıdakilerden hangisidir?

- A) Alparslan
- B) Selâhaddin Eyyûbi
- C) Hüsrev Melik
- D) Sebük Tekin
- E) Aybek

11. Aşağıdakilerden hangisi Moğollarda sosyal ve iktisadi hayatın özelliklerinden biri değildir?

- A) Ticaret ve hayvancılığa büyük önem verilmesine rağmen tarımda geri kalınması
- B) Büyük ölçüde göçebeliliğe bağlı olması
- C) İktisadi hayatta hayvancılık ve avcılığın önemli bir yerinin olması
- D) İlk zamanlar anaerkil olan aile yapısının sonradan ataerkil sisteme dönmesi
- E) Kağıt para basmaları ve çek kullanmaları

A

2012 3D 0106-A

12. Aşağıdakilerden hangisi 1196 yılında Moğol kabilelerini birleştirerek, Moğol Devleti'ni kurmuştur?

- A) Mönke
- B) Timur
- C) Hülagü
- D) Cengiz Han
- E) Kubilay

13. Aşağıdakilerden hangisi Akkoyunlu hükümdarı Uzun Hasan'ın ölümünden sonra Şah İsmail tarafından İran'da kurulan devlettir?

- A) Muzafferoğulları Devleti
- B) Altın Orda Devleti
- C) Safevi Devleti
- D) Şeybani Devleti
- E) Timurlular Devleti

14. XIII-XIX. yüzyıl dönemine ait dünyanın en güzel eserlerinden biri olarak kabul edilen Babür Hükümdarı Şah Cihan'ın karısı için yaptırdığı mimari eser aşağıdakilerden hangisidir?

- A) Şah Camii
- B) Tac Mahal
- C) Heşt Behişt Sarayı
- D) Nakş-ı Cihan Meydanı
- E) Lütfullah Camii

15. 1514 yılında yapılan Çaldıran Savaşı kimler arasında yapılmıştır?

- A) Nadir Şah - Cengiz Han
- B) Cengiz Han - Timur
- C) Muhammed Şeybani - Şah İsmail
- D) Yıldırım Bayezit - Timur
- E) Yavuz Sultan Selim - Şah İsmail

16. Aşağıdakilerden hangisi sonucunda Türklerde Anadolu'yu yurt edinme düşüncesi hakim olmuştur?

- A) Malazgirt Zaferi
- B) Çaldıran Zaferi
- C) Otlukbeli Savaşı
- D) Eretna Devletinin kurulması
- E) Köseadağ yenilgisi

17. Aşağıdakilerden hangisi Türkiye Selçuklularının yıkılışından sonra Anadolu'da kurulan beyliklerden biri değildir?

- A) Menteşoğulları
- B) Karesioğulları
- C) Candaroğulları
- D) Çubukoğulları
- E) Gemiyanoğulları

18. Aşağıdakilerden hangisi, Selçuklu Devleti kurulmadan önce Gazneliler ve Karahanlıların baskısı sonucu yeni bir yurt için keşif amaçlı seferlerle Anadolu'ya gelmiştir?

- A) Artuk Bey
- B) İnal Bey
- C) Çağrı Bey
- D) Mehmed Bey
- E) Kurti Bey

19. Aşağıdakilerden hangisi, Selçuklularda yolların emniyetini sağlamak, ticaret hayatını canlandırmak ve insanların yolculuğunu kolaylaştırmak anlayışıyla yapılan yapılardır?

- A) Külliye
- B) Kümbet
- C) Darüşşifa
- D) Medrese
- E) Kervansaray

20. Aşağıdakilerden hangisi Haçlı seferlerinin nedenlerinden biri değildir?

- A) Bizans'ın Türklere karşı Avrupa'dan yardım istemesi
- B) Avrupa'daki şövalye ve soyluların etkinliklerini artırmak istemesi
- C) Doğu ülkelerindeki zenginliğin ele geçirilmek istenmesi
- D) Türkiye Selçuklu Devleti'nin Avrupa'yı tehdit edecek kadar güçlenmesi
- E) Hıristiyanların, Müslümanların elinde olan Kudüs'ü ele geçirmek istemesi

COĞRAFYA 4

A

2012 3D 0106-A

1. Aşağıdakilerden hangisi ülkemizde alüvyal toprakların görüldüğü alanlardan biri değildir?

- A) Bafra ovası
- B) Ağrı yöresi
- C) Adapazarı ovası
- D) Silifke ovası
- E) Çukurova

2. Akdeniz ikliminin karakteristik bitki topluluğu olup yaz ve kış yapraklarını dökmeyen, kısa boylu bodur çalılıklar aşağıdakilerden hangisidir?

- A) Bozkır
- B) Savan
- C) Maki
- D) Tundra
- E) Sedir

3. Türkiye' de toprak tipleri ve dağılışı üzerinde aşağıdakilerden hangisi etkili değildir?

- A) Heyelanlar
- B) Bitki örtüsü
- C) İklim
- D) Ana kaya
- E) Yer şekilleri

4. Yer şekillerinin engebeli, eğimin fazla olduğu yerlerde hidroelektrik enerji potansiyeli yüksek olur.

Bu bilgilere göre aşağıdaki akarsularımızdan hangisinin hidroelektrik enerji potansiyeli daha yüksektir?

- A) Susurluk
- B) Sakarya
- C) Aksu
- D) Fırat
- E) Gediz

5. Aşağıdakilerden hangisi azonal topraklardan biridir?

- A) Çernezyom
- B) Lateritler
- C) Terra-Rossa
- D) Vertizoller
- E) Regosoller

6. Aşağıdakilerden hangisi ormanlardan elde edilen asıl ürünlerden biridir?

- A) Kontraplak
- B) Reçine
- C) Çam kozalağı
- D) Keçi boynuzu
- E) İhlamur

7. Aşağıdakilerden hangisi garig bitkilerinden biridir?

- A) Keçi boynuzu
- B) Mersin
- C) Lavanta çiçeği
- D) Yabani zeytin
- E) Sandal

8. Yurdumuzda bir yerleşim alanının nüfusunun artmasında aşağıdakilerden hangisinin etkisi daha fazladır?

- A) Turizm-hayvancılık
- B) Ticaret-sanayi
- C) Tarım-turizm
- D) Maden-turizm
- E) Tarım-hayvancılık

9. Aşağıdaki bölgelerimizin hangisinde ormanlar daha geniş yer kaplamaktadır?

- A) İç Batı Anadolu
- B) Erzurum çevresi
- C) Marmara bölgesi
- D) Doğu Karadeniz
- E) Konya çevresi

10. Aşağıdakilerden hangisi komların oluşumunda en etkili faktördür?

- A) Tarım
- B) Aileler arasında toprak bölüşümü
- C) Hayvancılık
- D) Aileden ayrı yaşam isteği
- E) İklim

A

2012 3D 0106-A

11. Aşağıdakilerden hangisi Hakkari ilinin nüfusunu olumsuz etkileyen faktörlerden biri değildir?

- A) Tarım alanının dar olması
- B) Yükseltinin fazla olması
- C) İklim koşullarının olumsuz olması
- D) Ürün çeşidinin az olması
- E) Ulaşımın iç bölgelere geçitlerle bağlantılı olması

12. Özellikle Batı Karadeniz' de yaygın olan, birkaç mahallenin tek muhtarlık olarak birleştiği kır yerleşmelerine ne ad verilir?

- A) Divan
- B) Köy
- C) Kom
- D) Ağıl
- E) Mezra

13. Aşağıdakilerden hangisi Eskişehir ilinin özelliklerinden biri değildir?

- A) Tarım alanlarına sahip olması
- B) İki üniversiteye sahip olması
- C) Kış turizmine hizmet etmesi
- D) Büyükşehir olması
- E) Ulaşım yolları üzerinde olması

14. Cumhuriyet dönemindeki ilk kapsamlı nüfus sayımı hangi yıl yapılmıştır?

- A) 1923
- B) 1927
- C) 1937
- D) 1945
- E) 1950

15. Bir ülkenin kırsal alanlarında ve kentlerinde bulunan nüfus miktarları, o ülkenin aşağıdaki özelliklerinden hangisini gösterir?

- A) Siyasi durumunu
- B) Kültürel yapısını
- C) Geleneklerini
- D) Coğrafi yapısını
- E) Ekonomik ve sosyal yapısını

16. Aşağıdakilerden hangisi Türkiye' de 1927-2000 yılları arasında nüfustaki değişim özelliklerinden biri değildir?

- A) Kadın nüfusunun, erkek nüfusundan fazla olması
- B) Nüfus artışının hızlanması
- C) Nüfusun eğitim düzeyinin artması
- D) Ortalama yaşam süresinin uzaması
- E) Kentsel nüfusun giderek artması

17. Çin'den başlayan ve Uzak Doğu'nun ipek, kürk, baharat gibi ürünlerini batıya taşıyan tarihi yol aşağıdakilerden hangisidir?

- A) Basra körfezi
- B) Baharat yolu
- C) Kral yolu
- D) İpek yolu
- E) Süveyş kanalı

18. Daima batıya giderek aynı noktaya ulaşan ve böylece dünyanın yuvarlak olduğunu kanıtlayan denizci aşağıdakilerden hangisidir?

- A) Ameriko Vespuçi
- B) Macellan
- C) Vasko dö Gama
- D) Kolomb
- E) Bartelmi Diyaz

19. Aşağıdakilerden hangisinin bulunması ile kitap ve gazetelerin geniş kitlelere ulaşması ve toplumda kültür ve eğitimin yaygınlaşması sağlanmıştır?

- A) Teleks
- B) Telgraf
- C) Telefon
- D) Televizyon
- E) Matbaa

20. Hindistan'a deniz yolu ile ilk ulaşan denizci aşağıdakilerden hangisidir?

- A) Kolomb
- B) Bartelmi Diyaz
- C) Macellan
- D) Vasko dö Gama
- E) Ameriko Vespuçi

MATEMATİK 2

A

2012 3D 0106-A

1. Farkları 5, toplamları 17 olan iki doğal sayının çarpımı kaçtır?

- A) 45
- B) 56
- C) 60
- D) 66
- E) 85

2. Bir araba A şehrinden B şehrine sabit hızla giderek 5 saatte varmıştır. Bu araba hızını 14 km/h artırır ise aynı yolu 4 saatte alacaktır. Buna göre, arabanın ilk hızı kaç km / h tir?

- A) 85
- B) 74
- C) 68
- D) 56
- E) 40

3. Uzun kenarı 42 m, kısa kenarı 36 m olan dikdörtgen şeklindeki bir bahçenin etrafına, köşelere de dikilmek şartıyla mümkün olan en geniş ve eşit aralıkta ağaçlar dikilecektir.

Bu iş için gerekli olan ağaç sayısı kaçtır?

- A) 24
- B) 26
- C) 28
- D) 32
- E) 34

4. $24 - 12 : (1 + 3) - 10$ işleminin sonucu kaçtır?

- A) -7
- B) -2
- C) 6
- D) 11
- E) 22

5. $\frac{4}{a+3}$ işleminin sonucunun bir tam sayı olabilmesi için a tam sayısının alabileceği değerler toplamı kaçtır?

- A) -19
- B) -18
- C) -12
- D) 6
- E) 8

6. $a^2 \cdot b < 0$
 $b^3 \cdot c > 0$
 $a \cdot b \cdot c^2 < 0$

olduğuna göre, a, b, c nin işaretleri sırasıyla aşağıdakilerden hangisinde verilmiştir?

- A) -, +, -
- B) -, +, +
- C) +, -, -
- D) +, -, +
- E) +, +, -

7. $Z/5$ te $x^2 + 1 \equiv 0$ denkleminin çözüm kümesi aşağıdakilerden hangisidir?

- A) {1}
- B) {2}
- C) {0,1}
- D) {2, 3}
- E) {1, 2, 4}

8. Bir doktor 4 günde bir nöbete kalıyor. İlk nöbetini Salı günü tutan doktor, 23. nöbetini hangi gün tutar?

- A) Cumartesi
- B) Cuma
- C) Perşembe
- D) Çarşamba
- E) Salı

A

2012 3D 0106-A

9. $Z/7 = \{ \bar{0}, \bar{1}, \bar{2}, \bar{3}, \bar{4}, \bar{5}, \bar{6} \}$ kümesinde bir f fonksiyonu, $f(x) = (\bar{4} \odot x) \oplus \bar{6}$ biçiminde tanımlanıyor.

Buna göre, $f(\bar{5})$ in denklik sınıfı kaçtır?

- A) $\bar{5}$
B) $\bar{4}$
C) $\bar{3}$
D) $\bar{2}$
E) $\bar{1}$

10.

$$1 + \frac{1 + \frac{1}{2}}{\frac{1}{2}} \text{ işleminin sonucu kaçtır?}$$

- A) $\frac{1}{8}$
B) $\frac{1}{2}$
C) $\frac{2}{3}$
D) 4
E) 9

11. $\frac{4}{0,4} + \frac{2,4}{0,3} - \frac{1,75}{0,5}$ işleminin sonucu kaçtır?

- A) $\frac{45}{2}$
B) 21
C) $\frac{29}{2}$
D) 13
E) $\frac{9}{4}$

12. Parasının önce $\frac{1}{4}$ ünü daha sonra da kalan parasının $\frac{2}{5}$ ini harcayan Ayşe'nin cebinde 99 TL kaldığına göre, Ayşe'nin harcamadan önce kaç lirası vardı?
- A) 140
B) 180
C) 220
D) 250
E) 270

13. $5x - 2(3x-1) + 7(x-4) = 16$ denkleminin R'deki çözüm kümesi aşağıdakilerden hangisidir?
- A) 6
B) 7
C) 8
D) 9
E) 10

14. Halil bir işi x günde, Emrah ise aynı işi $\frac{x}{3}$ günde bitirebilmektedir.
- İkisi birlikte aynı işi 7 günde bitirebildiklerine göre, x kaçtır?
- A) 28
B) 26
C) 24
D) 22
E) 20

15. $a < b < 0 < c$ olduğuna göre, $|a-b| - |c-b| - |a|$ ifadesi aşağıdakilerden hangisine eşittir?
- A) $-2a-c$
B) $-c$
C) $2a$
D) $2b$
E) $2b-c$

2012 3D 0106-A

16. $|x-4y|$ ifadesinin **en küçük** değerini almasıiçin $\frac{3x-2y}{x+y}$ nin değeri kaç olmalıdır?

- A) $\frac{2}{5}$
 B) $\frac{1}{2}$
 C) 1
 D) 2
 E) 4

17. $\frac{3^2 + 3^3 + 3^5}{3^4 + 3^5 + 3^7}$ işleminin sonucu kaçtır?

- A) $\frac{1}{9}$
 B) $\frac{1}{3}$
 C) $\frac{1}{2}$
 D) 1
 E) 3

18. $x = -1, y = 2$ olmak üzere, $\frac{x^y - y^x}{x^y \cdot y^x}$ ifadesinin

değeri kaçtır?

- A) -2
 B) $-\frac{1}{2}$
 C) $\frac{1}{2}$
 D) 1
 E) 2

19. $\frac{15\sqrt{2} \cdot \sqrt{5} - 7\sqrt{10}}{\sqrt{20} + 2\sqrt{5}}$ işleminin sonucu kaçtır?

- A) $\sqrt{2}$
 B) $2\sqrt{2}$
 C) $5\sqrt{2}$
 D) $2\sqrt{5}$
 E) $3\sqrt{5}$

20. $\sqrt{15 - \sqrt{32 + \sqrt{20 - \sqrt{11 + \sqrt{25}}}}}$ işleminin sonucu aşağıdakilerden hangisidir?

- A) $\sqrt{5}$
 B) $\sqrt{2}$
 C) 2
 D) 3
 E) 4

ALMANCA 3

A

2012 3D 0106-A

Bu testin cevaplarını, cevap anahtarında YABANCI DİL 3 sütununa işaretleyiniz.

1. Wo kann man sitzen?

Welche Antwort paßt zur obigen Frage?

Verilen sorunun cevabı aşağıdakilerden hangisidir?

- A) In dem Schrank.
- B) Auf dem Fernseher.
- C) Auf dem Stuhl.
- D) Auf der Lampe.
- E) Im Kühlschrank.

2. Ich habe meine Brille Telefon gelegt, als ich mit Peter telefonierte.

Welche Wörter passen in die obigen Lücken?

Cümlede boş bırakılan yerleri aşağıdakilerden hangileri doğru şekilde tamamlar?

- A) neben das
- B) zu das
- C) in den
- D) am das
- E) unter den

3. Was bedeutet "değiştirmek" auf deutsch?

"değiştirmek" sözcüğünün Almancası aşağıdakilerden hangisidir?

- A) üben
- B) überlegen
- C) verstehen
- D) ändern
- E) läuten

4. Frau Müller geht

Welches ergänzt nicht die Lücke im obigen Satz?

Verilen cümleyi aşağıdakilerden hangisi tamamlamaz?

- A) nach Köln.
- B) ins Büro.
- C) in die Lampe.
- D) zum Deutschkurs.
- E) in das Schlafzimmer.

5. Brille kann ich nicht lesen.

Welches Wort paßt in die obige Lücke?

Cümlede boş bırakılan yeri aşağıdakilerden hangisi doğru şekilde tamamlar?

- A) Auf
- B) Aber
- C) Und
- D) Dann
- E) Ohne

6. Sie stand und stellte sich vor Fenster.

Welche Wörter passen in die obigen Lücken?

Cümlede boş bırakılan yerleri aşağıdakilerden hangileri doğru şekilde tamamlar?

- A) von / der
- B) an / dem
- C) aus / dem
- D) auf / das
- E) ab / das

7. Helga steht der Küche Herd und kocht.

Welche Wörter passen in die obigen Lücken?

Cümlede boş bırakılan yerleri aşağıdakilerden hangileri doğru şekilde tamamlar?

- A) in / am
- B) im / auf
- C) in / an der
- D) auf / an
- E) an / vor

A

2012 3D 0106-A

8. Wie lautet das Adjektiv vom Wort "das Kind"?

"das Kind" sözcüğünün sıfat hali aşağıdakilerden hangisidir?

- A) kindig
- B) kindlich
- C) kindlein
- D) kindheit
- E) kindung

9. A: Was haben Sie denn da?

B: Das ist doch Lerngerät.

Welches ergänzt den obigen Dialog?

Verilen karşılıklı konuşmayı aşağıdakilerden hangisi tamamlar?

- A) meiner neuen
- B) meine neues
- C) mein neues
- D) mein neuer
- E) meine neue

10. Geben Sie mir bitte ein Tuch zum Händetrocknen.

Welches Wort paßt in die obige Lücke?

Cümlede boş bırakılan yeri aşağıdakilerden hangisi doğru şekilde tamamlar?

- A) klein
- B) kleiner
- C) kleines
- D) kleine
- E) kleinen

11. Was ist ein Universalschlüssel?

Welche Antwort paßt zur obigen Frage?

Verilen sorunun cevabı aşağıdakilerden hangisidir?

- A) Ein Universalschlüssel beherrscht alle Sprachen.
- B) Damit kann man laut sprechen.
- C) Damit kannst du deine Zigarette anzünden.
- D) Mit einem Universalschlüssel kann man fantastisch spielen.
- E) Ein Universalschlüssel macht alle Türen auf.

12. Sie müssen zuerst Knopf drücken.

Welches paßt nicht in die obige Lücke?

Cümlede boş bırakılan yeri aşağıdakilerden hangisi doğru şekilde tamamlamaz?

- A) auf den großen
- B) auf den linken
- C) den roten
- D) den kleinen
- E) den verschiedenen

13. A: Was passiert, wenn ich auf diesen Knopf hier?

B: Dann die rote Lampe.

Welche Wörter passen in die obigen Lücke im obigen Dialog?

Verilen karşılıklı konuşmada boş bırakılan yerleri aşağıdakilerden hangisi doğru şekilde tamamlar?

- A) stecke / machten
- B) drücke / leuchtet
- C) wähle / leuchten
- D) leuchte / lemt
- E) mache / drückt

14. Die besten Wissenschaftler bekommen den

Welches Wort paßt in die obige Lücke?

Cümlede boş bırakılan yeri aşağıdakilerden hangisi doğru şekilde tamamlar?

- A) Kasten
- B) Geld
- C) Meister
- D) Buch
- E) Nobelpreis

15. kalt / heiß / rot / warm / kühl

Welches Wort paßt nicht zu den anderen in der obigen Wortgruppe?

Verilen sözcük grubuna uymayan aşağıdakilerden hangisidir?

- A) rot
- B) kalt
- C) heiß
- D) warm
- E) kühl

2012 3D 0106-A

16. Mayıs ayında ne yapacaksın?

Wie lautet der obige Satz auf deutsch?**Verilen cümlelerin Almancası aşağıdakilerden hangisidir?**

- A) Hast du für Mai irgendwelche Pläne?
- B) Was hast du im Mai gemacht?
- C) Hast du im Mai Zeit für Reisen?
- D) Was machst du im Mai?
- E) Was wolltest du im Mai machen?

17. In den Ferien bin ich mit meiner Familie in Amerika

Welches Wort paßt in die obige Lücke?**Cümlede boş bırakılan yeri aşağıdakilerden hangisi doğru şekilde tamamlar?**

- A) gebleibten
- B) geblieben
- C) blieben
- D) bleiben
- E) bleibten

18. Entschuldige, daß ich erst jetzt antworte, aber ich hatte seit zwei Wochen viel Arbeit.

Welches hat die gleiche Bedeutung mit dem obigen Satz?**Verilen cümle ile aynı anlamı taşıyan aşağıdakilerin hangisidir?**

- A) Entschuldige, daß ich nicht früher geantwortet habe, aber ich hatte viel zu tun.
- B) Entschuldigung, falls ich nicht antworten kann, aber ich bin krank.
- C) Weil ich mit der Erkrankung von meiner Mutter beschäftigt war, konnte ich nicht früher kommen. Entschuldigen Sie bitte.
- D) Ich war seit zwei Wochen krank, deshalb konnte ich nicht kommen, es tut mir sehr leid.
- E) Es tut mir wirklich leid aber ich bin seit Wochen krank und kann diese Arbeit nicht machen.

19. Ich bin heute bis um 21.00 Uhr im Büro.

Wie lautet der obige Satz im Futur ?**Verilen cümlelerin gelecek zaman şekli aşağıdakilerden hangisidir?**

- A) Ich hätte heute bis um 21. 00 Uhr im Büro bleiben können.
- B) Ich habe heute bis um 21. 00 Uhr im Büro gearbeitet.
- C) Ich hatte heute bis um 21. 00 Uhr im Büro zu tun.
- D) Ich werde heute bis um 21.00 Uhr im Büro sein.
- E) Ich würde heute bis um 21. 00 Uhr im Büro bleiben.

20. surfen / wandern / Ski laufen / lernen / schwimmen /

Welches Wort paßt nicht zu den anderen in der obigen Wortgruppe?**Verilen sözcük grubuna uymayan aşağıdakilerden hangisidir?**

- A) Schwimmen
- B) lernen
- C) Ski laufen
- D) wandern
- E) surfen

FRANSIZCA 3

A

2012 3D 0106-A

Bu testin cevaplarını, cevap anahtarında YABANCI DİL 3 sütununa işaretleyiniz.

1. Ces étudiants sont-ils paresseux?

Choisissez la traduction qui convient.

Yukarıdaki cümlelerin Türkçe karşılığı aşağıdakilerden hangisidir?

- A) Bu öğrenciler neden tembellik ediyorlar?
B) Tembel öğrenciler hep başarısız mı olurlar?
C) Bu öğrenciler tembel mi?
D) Bu öğrenciler hep tembellik yapanlar mı?
E) Tembel öğrenciler bunlar mı?

2. faites / voulez / ce que / vous
I II III IV

Mettez dans le bon ordre.

Yukarıdaki kelimelerin anlamlı ve kurallı bir cümle oluşturan sırası aşağıdakilerin hangisinde doğru olarak verilmiştir?

- A) I, III, IV, II
B) I, IV, III, II
C) II, IV, I, III
D) III, IV, I, II
E) IV, III, I, II

3. Les gaz d'échappement sont dangereux la santé.

Choisissez le mot qui convient.

Cümledeki boşluğu aşağıdakilerden hangisi doğru şekilde tamamlar?

- A) qui
B) que
C) comme
D) pour
E) car

4. utilisez-vous cette machine?

Choisissez le mot qui convient.

Cümledeki boşluğu aşağıdakilerden hangisi doğru şekilde tamamlar?

- A) Car
B) Puisque
C) Depuis quand
D) Comme
E) Depuis

5. Gelecek hafta Paris'te olacağım.

Choisissez la traduction qui convient.

Yukarıdaki cümlelerin Fransızca karşılığı aşağıdakilerden hangisidir?

- A) La semaine dernière, j'étais à Paris.
B) La semaine dernière, je suis allé à Paris.
C) La semaine prochaine, j'allais à Paris.
D) La semaine prochaine, j'étais à Paris.
E) La semaine prochaine, je serai à Paris.

6. Nos clients aiment beaucoup.

Choisissez le mot qui convient.

Cümledeki boşluğu aşağıdakilerden hangisi doğru şekilde tamamlar?

- A) chez
B) eux
C) je
D) nous
E) il

7. Le voyage a été par nos amis.

Choisissez le mot qui convient.

Cümledeki boşluğu aşağıdakilerden hangisi doğru şekilde tamamlar?

- A) organisé
B) transporté
C) écrit
D) cassé
E) grondé

A

2012 3D 0106-A

8. Ce roman a été écrit par une jeune fille.

Choisissez la traduction qui convient.

Yukarıdaki cümlelerin Türkçe karşılığı aşağıdakilerden hangisidir?

- A) Bu romanda bir genç kızın öyküsü anlatılmaktadır.
 B) Bu roman, bir genç kız tarafından yazıldı.
 C) Bu roman, bir genç kızın yaşamından esinlenerek yazılmıştır.
 D) Bu romanın en önemli kahramanı bir genç kızdır.
 E) Bütün genç kızlar bu romanı okumalı.

9. - Tu attends longtemps?
 - Oh, ça fait 20 minutes.

Choisissez le mot qui convient.

Cümledeki boşluğu aşağıdakilerden hangisi doğru şekilde tamamlar?

- A) quand
 B) quand est-ce que
 C) depuis
 D) combien de temps
 E) combien

10. C'est cette maison que je veux acheter.

Choisissez la traduction qui convient.

Yukarıdaki cümlelerin Türkçe karşılığı aşağıdakilerden hangisidir?

- A) Satın almak için bu evi seçtim.
 B) Bu evi satın almak istiyorum.
 C) Satın almak istediğim ev bu.
 D) Bu evi satın almayı düşünüyorum.
 E) Satın alacağım ev böyle olmalı.

11. Comment est-ce que vas à l'école?

Choisissez le mot qui convient.

Cümledeki boşluğu aşağıdakilerden hangisi doğru şekilde tamamlar?

- A) il
 B) je
 C) vous
 D) nous
 E) tu

12. A : - Quelqu'un soigne les malades?
 B : - Non, ne soigne les malades.

Choisissez le mot qui convient.

Yukarıdaki konuşmada boş bırakılan yeri aşağıdakilerden hangisi doğru şekilde tamamlar?

- A) devant
 B) toujours
 C) sans
 D) rien
 E) personne

13. - Faut-il aller chez le médecin?
 - Oui, il faut aller.

Choisissez le mot qui convient.

Yukarıdaki konuşmada boş bırakılan yeri aşağıdakilerden hangisi doğru şekilde tamamlar?

- A) en
 B) y
 C) lui
 D) ni
 E) à

14. lui / vais / téléphoner / je
 I II III IV

Mettez dans le bon ordre.

Yukarıdaki kelimelerin anlamlı ve kurallı bir cümle oluşturan sırası aşağıdakilerin hangisinde doğru olarak verilmiştir ?

- A) I, II, IV, III
 B) II, I, IV, III
 C) III, IV, II, I
 D) IV, I, III, II
 E) IV, II, I, III

2012 3D 0106-A

15. C'est une méthode est vraiment très efficace.

Choisissez le mot qui convient.

Cümledeki boşluğu aşağıdakilerden hangisi doğru şekilde tamamlar ?

- A) qui
- B) que
- C) dès que
- D) lorsque
- E) depuis que

16. Elle n'est ni grosse ni maigre.

Choisissez la traduction qui convient.

Yukarıdaki cümlenin Türkçe karşılığı aşağıdakilerden hangisidir ?

- A) O, şişman ama çirkin değildir.
- B) O, ne ince ne de şişmandır.
- C) O, hem şişman hem sempattir.
- D) O, ne şişman ne de zayıftır.
- E) O, hem uzun hem de incedir.

17. Il les droits des gens, il est avocat.

Choisissez le mot qui convient.

Cümledeki boşluğu aşağıdakilerden hangisi doğru şekilde tamamlar ?

- A) a
- B) défend
- C) fais
- D) peut
- E) entends

18. elle travaille, elle écoute de la musique classique.

Choisissez le mot qui convient.

Cümledeki boşluğu aşağıdakilerden hangisi doğru şekilde tamamlar ?

- A) Pendant qu'
- B) Mon
- C) Facile
- D) Heureux
- E) Comment

19. Ils me demandent je travaille la nuit.

Choisissez le mot qui convient.

Cümledeki boşluğu aşağıdakilerden hangisi doğru şekilde tamamlar ?

- A) qui
- B) ni
- C) pas
- D) si
- E) que

20. Chaque matin, elle dit bonjour.

Choisissez le mot qui convient.

Cümledeki boşluğu aşağıdakilerden hangisi doğru şekilde tamamlar ?

- A) sans
- B) me
- C) tes
- D) pas
- E) notre

İNGİLİZCE 3

A

2012 3D 0106-A

**Bu testin cevaplarını, cevap anahtarında
YABANCI DİL 3 sütununa işaretleyiniz.**

1. Begüm.....the homework by tomorrow.

Which of the following completes the sentence above?

Aşağıdakilerden hangisi yukarıdaki cümleyi doğru olarak tamamlar?

- A) finished
- B) finish
- C) will have finished
- D) is finishing
- E) has finished

2. I can't make a pizza. Nurcan can't make a pizza, either. Neither Nurcan nor Imake a pizza.

Which of the following completes the sentence above?

Aşağıdakilerden hangisi yukarıdaki cümleyi doğru olarak tamamlar?

- A) can
- B) must
- C) will
- D) have
- E) don't

3. I will be to İzmir this time tomorrow.

Which of the following completes the sentence above?

Aşağıdakilerden hangisi yukarıdaki cümleyi doğru olarak tamamlar?

- A) has gone
- B) go
- C) was going
- D) going
- E) gone

4. Ayhan needs a holiday. Barış.

Which of the following completes the sentence above?

Aşağıdakilerden hangisi yukarıdaki cümleyi doğru olarak tamamlar?

- A) Neither
- B) So do
- C) So does
- D) Neither do
- E) So did

5. Ahmet can't ride a motorcycle. I.

Which of the following completes the sentence above?

Aşağıdakilerden hangisi yukarıdaki cümleyi doğru olarak tamamlar?

- A) Nor do
- B) So do
- C) Nor did
- D) Neither
- E) Nor can

6. I don't like getting up early. my brother.

Which of the following completes the sentence above?

Aşağıdakilerden hangisi yukarıdaki cümleyi doğru olarak tamamlar?

- A) Neither
- B) So does
- C) Nor do
- D) Nor does
- E) So do

7. İbrahim had quiz yesterday. İsmet.

Which of the following completes the sentence above?

Aşağıdakilerden hangisi yukarıdaki cümleyi doğru olarak tamamlar?

- A) So did
- B) So does
- C) Nor does
- D) Neither
- E) Nor did

A

2012 3D 0106-A

8. Saim wasn't at home last night. Cenk wasn't at home either. Neither Saim nor Cenk at home last night.

Which of the following completes the sentence above?

Aşağıdakilerden hangisi yukarıdaki cümleyi doğru olarak tamamlar?

- A) are
B) were
C) wasn't
D) weren't
E) had been

9. Tolga doesn't like Physics. Gülse doesn't like Physics either. Neither Tolga nor Gülse Physics.

Which of the following completes the sentence above?

Aşağıdakilerden hangisi yukarıdaki cümleyi doğru olarak tamamlar?

- A) doesn't like
B) have liked
C) like
D) will like
E) can like

10. What in the next five years?

Which of the following completes the sentence above?

Aşağıdakilerden hangisi yukarıdaki cümleyi doğru olarak tamamlar?

- A) do you do
B) would you do
C) will you have done
D) did you do
E) would you have done

11. Ann : I want to buy that expensive dress.
Betty : Well, you save some money.

Which of the following completes the dialogue above?

Aşağıdakilerden hangisi yukarıdaki konuşmayı doğru olarak tamamlar?

- A) would have
B) ought
C) would
D) should have
E) should

12. Bob : What's wrong with you?
Bill . I failed my test.
Bob : Well, you hard last night.

Which of the following completes the dialogue above?

Aşağıdakilerden hangisi yukarıdaki konuşmayı doğru olarak tamamlar?

- A) must have studied
B) may study
C) should study
D) must study
E) should have studied

13. The baby is crying. She be hungry.

Which of the following completes the sentence above?

Aşağıdakilerden hangisi yukarıdaki cümleyi doğru olarak tamamlar?

- A) ought
B) must
C) could have
D) would
E) must have

14. Jill : Bob hasn't come yet.
John : He must have the bus.

Which of the following completes the dialogue above?

Aşağıdakilerden hangisi yukarıdaki konuşmayı doğru olarak tamamlar?

- A) miss
B) can miss
C) missing
D) was missing
E) missed

2012 3D 0106-A

15. Ann : What shall we do tomorrow?
Mary : We go shopping.

Which of the following completes the dialogue above?

Aşağıdakilerden hangisi yukarıdaki konuşmayı doğru olarak tamamlar?

- A) could
B) might have
C) must have
D) shall
E) have

16. I didn't see Tom yesterday. He could have to Bodrum.

Which of the following completes the sentence above?

Aşağıdakilerden hangisi yukarıdaki cümleyi doğru olarak tamamlar?

- A) go
B) goes
C) going
D) gone
E) went

17. A : Why are you late for the quiz?
B : I went to the cinema last night and I couldn't wake up.
A : You there.

Which of the following completes the dialogue above?

Aşağıdakilerden hangisi yukarıdaki konuşmayı doğru olarak tamamlar?

- A) mustn't have gone
B) shouldn't have gone
C) must go
D) shouldn't go
E) ought to go

18. Engin didn't telephone Zeynep. He..... lost the number.

Which of the following completes the sentence above?

Aşağıdakilerden hangisi yukarıdaki cümleyi doğru olarak tamamlar?

- A) might have
B) should have
C) ought to
D) might
E) may

19. If you get a stomachache, you see a doctor.

Which of the following completes the sentence above?

Aşağıdakilerden hangisi yukarıdaki cümleyi doğru olarak tamamlar?

- A) must have
B) might have
C) could
D) ought to
E) would

20. A : Have you seen my notebook? I can't find it anywhere.
B : Have you looked in the car? It there.

Which of the following completes the dialogue above?

Aşağıdakilerden hangisi yukarıdaki konuşmayı doğru olarak tamamlar?

- A) must
B) might be
C) wasn't be
D) wasn't
E) has been

HUKUK 1

2012 3D 0106-A

1. Bir düzenleyici kurala uygun davranmadığımız takdirde karşılaşacağımız tepkiye ne ad verilir?

- A) Yaptırım
- B) Görgü
- C) Örf
- D) Sosyal düzen kuralı
- E) Adet

2. Sosyal hayatı düzenleyen kurallardan hangisi iyiliğe ve vicdani ödevlere ilişkin kurallar bütünü olarak tanımlanır?

- A) Din kuralları
- B) İktisat kuralları
- C) Hukuk kuralları
- D) Ahlak kuralları
- E) Görgü kuralları

3. Çalışma hayatını, işçilerin ve işverenlerin hak ve yükümlülüklerini düzenleyen hukuk dalı aşağıdakilerden hangisidir?

- A) İş Hukuku
- B) Anayasa Hukuku
- C) Ticaret Hukuku
- D) Borçlar Hukuku
- E) Medeni Hukuk

4. Devletin şeklini, yapısını, organların görev ve yetkilerini, birbirleriyle olan ilişkilerini, kişilerin temel hak ve hürriyetlerini düzenleyen kurallar kamu hukukunun hangi bölümünü oluşturur?

- A) Ceza Hukuku
- B) Fikri Hukuk
- C) Yargılama Hukuku
- D) Anayasa Hukuku
- E) Devletler Genel Hukuku

5. Kanunların emrettiği durumları düzenlemek için çıkarılan hukuk kaynağı aşağıdakilerden hangisidir?

- A) Tebliğ
- B) Tüzük
- C) Kanun Hükmünde Kararname
- D) Kanun
- E) Yönetmelik

6. "Mahcur" ne demektir?

- A) Savruk
- B) Kısıtlı
- C) Vasi
- D) Veli
- E) Ehliyetli

7. Mal topluluğu grubunun en çok rastlanan örneği aşağıdakilerden hangisidir?

- A) Örgüt
- B) Sendika
- C) Dernek
- D) Şirket
- E) Vakıf

8. Hukukun tanıdığı hak ve yetkileri kullanabilen, yüklediği yükümlülükleri yüklenebilen varlığa ne ad verilir?

- A) Veli
- B) Vasi
- C) Kayyum
- D) Kişi
- E) Gaib

9. Taşınır veya taşınmaz bir malın işlevini yerine getirebilmesi için bir mala sürekli olarak bağlı kılınmış taşınır mala ne ad verilir?

- A) Doğal ürün
- B) Mütemmim cüz
- C) Kat mülkiyeti
- D) Malik
- E) Eklenti

10. Müşterek mülkiyete ilişkin aşağıdaki ifadelerden hangisi doğrudur?

- A) Malın tamamı üzerindeki önemli kararlarda paydaşların eşit oy hakkı vardır.
- B) Paydaş payını ipotek edemez.
- C) Satış veya biçim değiştirme konularında bir oy fazlalığı karar için yeterlidir.
- D) Paydaş payını satamaz.
- E) Her paydaş maldan kendi payı oranında yararlanabilir.

2012 3D 0106-A

11. Aşağıdakilerden hangisi bir taşınmaz mal üzerindeki mülkiyet hakkını sona erdiren hallerden biri değildir?

- A) Taşınmaz malın işlevini yitirmesi
- B) Mülkiyetin bir başkasına geçmesi
- C) Taşınmaz malın yok olması
- D) Kamulaştırma
- E) Taşınmazın mülkiyetinin tapudan silinmesi yoluyla terk edilmesi

12. "Mütemmim cüz" ne demektir ?

- A) Eklenti
- B) Mülkiyet
- C) Tamamlayıcı parça
- D) Doğal güç
- E) Tasarruf

13. Hukukta mala, eşyaya ait bir hakkı kullanma yetkisine ne ad verilir ?

- A) Nisbi hak
- B) İpotek
- C) Mülkiyet
- D) Şahsi hak
- E) Mülkiyeti muhafaza

14. Borcun ödenmesinde hukukun uygun bulmadığı bir gecikme durumuna ne denir ?

- A) Edim
- B) Takas
- C) Temerrüt
- D) İbra
- E) Ahde vefa

15. Aşağıdakilerden hangisi borç ilişkisinin unsurlarından biri değildir?

- A) Karz
- B) Edim
- C) İkrar
- D) Sözleşme
- E) Kabul

16. Bir sözleşmenin oluşabilmesi için gerekli olan irade açıklamasına ne denir ?

- A) Kabul
- B) İcap
- C) Edim
- D) Teklif
- E) Latife

17. Aşağıdakilerden hangisi Borçlar Kanunu'nda belirtilen takasın gerçekleşmesi için gerekli olan şartlardan biri değildir?

- A) Yanların birbirine karşı borçlu olması
- B) Edimlerinin aynı türden olması
- C) Her iki yanın borçlarının muaccel olması
- D) Yanlardan birinin, kendi alacağı ile borcunu takas ettiğini açıklaması
- E) Edimlerin miktarlarının aynı olmaması

18. Edim, bir miktar paranın ödemesi ise ifa yeri kimin ikâmetgahıdır ?

- A) Borçlunun
- B) Satıcının
- C) Alıcının
- D) Alacaklının
- E) Malın

19. Taraflar arasında sözleşmenin yapıldığına kanıt olmak üzere verilen bir miktar paraya ne ad verilir ?

- A) Pey akçesi
- B) Cezai şart
- C) Pişmanlık akçesi
- D) Hava parası
- E) Borç

20. Borçlunun, borcu şahsen ifasında alacaklının bir yararı bulunuyorsa aşağıdakilerden hangisi doğrudur ?

- A) Borcu, borçlunun yerine tayin ettiği bir başkası ödeyebilir.
- B) Sözleşme yenilenmiş sayılır.
- C) Şahsen ifa zorunludur.
- D) Temerrüt başlar.
- E) Borç ilişkisi sona erer.

DİL VE ANLATIM 3

A

2012 3D 0106-A

1. Aşağıdakilerden hangisi, sunum esnasında dikkat edilmesi gereken özelliklerden biri değildir?

- A) Jest ve mimiklere özen gösterilmesi
- B) Gereksiz ayrıntılara ve tartışmaya girilmemesi
- C) Hitap edilecek izleyici hakkında bilgi toplanması
- D) Sözcüklerin doğru ve yerinde kullanılması
- E) Seyirciyle vücut diliyle iletişim kurulması

2. Dinleyiciler önünde bir söyleşi havasında yapılan, toplumsal sorunların tartışılmasında en sık uygulanan toplantı biçimi aşağıdakilerden hangisidir?

- A) Sempozyum
- B) Münakaşa
- C) Münazara
- D) Forum
- E) Panel

3. Daha önceden belirlenmiş bir konuda farklı görüşlere sahip kişilerin bir araya gelerek konuyu çözümlmek, kendi görüşlerini açıklamak, kanıtlamak, karşı tarafın zayıf noktalarını aramak için yaptıkları söyleşmeye ne ad verilir?

- A) Sohbet
- B) Konferans
- C) Demeç
- D) Tartışma
- E) Atışma

4. Başkanın görevleriyle ilgili aşağıdakilerden hangisi söylenemez?

- A) Tartışmaya katılanların düşüncelerini rahatlıkla söyleyebilecekleri bir ortam yarattığı
- B) Ortaya çıkan düşünceleri oya sunduğu, rapor hazırladığı
- C) Konu dışına çıkılmasını, tartışmanın kişiselliğe dökülmesini önlediği
- D) Duruma ve ortama göre taraflı bir yol izlediği
- E) Yerine göre tartışmaya katıldığı, söylenenleri zaman zaman özetlediği

5. Aşağıdakilerden hangisi, panelin planında yer almaz?

- A) Bir yarışma havasının hakimiyeti
- B) Panelin sonuca bağlanması
- C) Panelin yapılış nedeni
- D) Konuşmacılara sorulacak sorular
- E) Konuşmaların özetlenmesi

6. İdeal bir panel için konuşmacı sayısı kaç kişiyi geçmemelidir?

- A) 3
- B) 4
- C) 5
- D) 6
- E) 7

7. "Önerge" ne demektir?

- A) Bir kimsenin resmî bir kuruluşa herhangi bir durumu bildirmek için verdiği çizelgedir.
- B) Herhangi bir konuda tutulacak yol için üst makamlardan alt makamlara ve kuruluşlara belli bir esasa dayanılarak verilen buyruktur.
- C) Bir duygu veya düşünceyi işaretleyerek veya sesler dizgesiyle bildiren anlamadır.
- D) Bir konuda özet olarak verilen bilgidir.
- E) Bir toplantıda üyelerden bir ya da birkaçı tarafından bir sorunun çözümü için başkanlığa bildirilen görüştür.

8. Aşağıdakilerden hangisi, daha çok eğitim amacıyla sınıflarda düzenlenen bir tartışma biçimidir?

- A) Panel
- B) Sempozyum
- C) Münazara
- D) Müzakere
- E) Forum

A

2012 3D 0106-A

9. Aşağıdakilerin hangisinde konuşulanları bir tutanakla belgelendirmek zorunludur?

- A) Panel
- B) Demek toplantısı
- C) Sempozyum
- D) Akademik söylev
- E) Açık oturum

10. Sen ki durmadan ağlarsın
Döversin dizini.
Gel söyle bakalım ne yaptın
Nettin gençliğini?

Yukarıdaki dizelerde aşağıdakilerin hangisine değinilmemiştir?

- A) Gününü gün ederek yaşamanın mutluluğuna
- B) Geriye dönüşün imkânsız olduğuna
- C) Gençliğin geri gelmeyeceğine
- D) Pişmanlığın fayda etmeyeceğine
- E) Kaybolup giden gençliğin acısına

11. Aşağıdaki cümlelerin hangisi, dolaylı anlatıma örnek olabilir?

- A) Gözlerinde mavi bir menekşenin hüznü vardı.
- B) Bir gemi yanaştı sessiz limana.
- C) O, yeni bir şey için söz vermekten ısrarla kaçınıyordu.
- D) Dalgaların sesi bozdu bu büyüü.
- E) Ta uzaklardan martıların çığlıkları duyuluyordu.

12. Aşağıdaki cümlelerden hangisi birinci kişi anlatımına örnektir?

- A) Akşamın olduğu yerde bekle diyorsun.
- B) Güz gülleri gibiyim, hiç bahar yaşamadım.
- C) Yüksek yüksek tepelere ev kurmasınlar.
- D) Telgrafın tellerine kuşlar mı konar?
- E) Sevinçli bir telaş içindeydiniz.

13. Güçlü bir karikatürün yazıya ihtiyacı yoktur. Anlatılmak istenen düşünce, yapılan espri çizgilerde verildiği oranda karikatür güçlenir, sanatsal boyuta ulaşır.

Yukarıdaki paragrafa göre, güçlü karikatürün belirgin özelliği nedir?

- A) Güldürürken düşündürmesi
- B) Güçlü düşünceleri yansıtması
- C) Esprilerin ölçülü olması
- D) Sözden arınmış olması
- E) Sanatsal değer taşıması

14. I. Hem özgün bir sanatçı olarak ustalığınızı sergileyebileceksiniz.
II. Hem de usta bir sanatçı olarak özgün çizginizi uzaklara taşıyacaksınız.
III. Şiirde olsun nesirde olsun ustalığa giden yollardan en çetini özgünlüktür.
IV. Unutulmamalıdır ki her özgünlük ustalık getirmez.
V. Her ustanın da kalemi yeniliklere açıktır, denemez.

Yukarıdaki cümlelerden bir paragraf oluşturulduğunda hangisi giriş cümlesi olur?

- A) I
- B) II
- C) III
- D) IV
- E) V

15. Yüzü biraz incelmış, saçları iyice beyazlamıştı. Onurlu yaşamının izleri daha da belirginleşmişti çehresinde. Yılların yükünü taşıyan omuzları biraz çökmüştü ama hâlâ dimdikti başı.

Yukarıdaki paragrafın anlatım biçimi aşağıdakilerden hangisidir?

- A) Tanımlayıcı
- B) Betimleyici
- C) Öyküleyici
- D) Tartışmacı
- E) Ömekleyici

2012 3D 0106-A

16. Aşağıdaki cümlelerin hangisinde gereksiz sözcük kullanımından kaynaklanan bir anlatım bozukluğu vardır?

- A) Sanat, insanları birbirine yaklaştıran bir etkinliktir.
- B) Özgüven, bilek hakkıyla kazanılan erdemdir.
- C) Her sanat eseri, bir düşünceyi savunur.
- D) Her tür baskı, sanatın özgürlüğünü yok eder.
- E) Yazılı basının usta kalemlerinden birini daha yitirdik.

17. Aşağıdaki cümlelerin hangisinde anlatım bozukluğu yoktur?

- A) Hayatının baharındaydı, ne yazık ki maalesef aramızdan ayrıldı.
- B) İhtiyar adam, iyi kötü geçinip gidiyordu.
- C) Durup dinlenmeden altı saat süreyle çalışmışlar.
- D) Kardeşinizi tanıyor ve güveniyoruz.
- E) Doğru oturup eğri konuşalım, diyordu.

18. Bir yazının özetini hazırlarken aşağıdaki sorulardan hangisine cevap aranmayabilir?

- A) Ne zaman?
- B) Hangi düşünceyi açıklamıştır?
- C) Kim?
- D) Hangi yazıda?
- E) Hangi konuda?

19. Roman, öykü, masal gibi olay yazılarının özetinde aşağıdakilerden hangisi bulunmaz?

- A) Yazarın hayatı
- B) Olayın geçtiği zaman
- C) Olayın geçtiği yer
- D) Olayın kahramanları
- E) Ana düşünce

20. Çevremizdeki varlıkların sadece var olduklarını anlamının değil, ayrıntılarıyla kavramanın "bakarkör" durumuna düşmemenin yolu nereden geçer?

- A) Okuma
- B) Gözlem
- C) Not alma
- D) Düşünme
- E) Eğitim

TÜRK EDEBİYATI 7

A

2012 3D 0106-A

1. "Çalılık" romanı ile yaygın bir ün kazanan, eserlerinde Anadolu kasaba ve şehirlerini fon olarak almış, insanları sorunlarıyla işleyen yazar, aşağıdakilerden hangisidir?

- A) Peyami Safa
- B) Necati Cumali
- C) Sabahattin Âli
- D) Reşat Nuri Güntekin
- E) Sait Faik Abasıyanık

2. "Alemdağ'da Var Bir Yılan" hikâye kitabında gerçek, rüya ve hayali iç içe ele alan yazar, aşağıdakilerden hangisidir?

- A) Sait Faik Abasıyanık
- B) Reşat Nuri Güntekin
- C) Sabahattin Âli
- D) Yaşar Kemal
- E) Halide Edip Adıvar

3. 2006'da Nobel Edebiyat Ödülü'nü kazanan yazar, aşağıdakilerden hangisidir?

- A) Yaşar Kemal
- B) Memi Uygur
- C) Buket Uzuner
- D) Adalet Ağaoğlu
- E) Orhan Pamuk

4. Aşağıdaki romanlardan hangisi, Oğuz Atay'a aittir?

- A) Eski Şarkı
- B) Devlet Ana
- C) Tutunamayanlar
- D) Yağmur Sıkıntısı
- E) Yaban

5. Aşağıdakilerden hangisi, Güngör Dilmen'in tiyatro eserlerinden biridir?

- A) Midas'ın Kulakları
- B) Ay Işığında Şamata
- C) İçerdekiler
- D) Halay
- E) Köşebaşı

6. İspinozlar, 72. Koğuş, Bekçi Murtaza, Kardeş Payı gibi kendi roman ve öykülerinden oyunlaştırdığı eserleriyle Türk tiyatrosunda toplumcu gerçekçi yaklaşımın başarılı örneklerini veren yazar, aşağıdakilerden hangisidir?

- A) Oktay Rifat
- B) Orhan Kemal
- C) Güngör Dilmen
- D) Ahmet Kutsi Tecer
- E) Yaşar Kemal

7. Beş Hececiler topluluğunun ortak özelliği aşağıdakilerden hangisidir?

- A) Halk şiiri geleneğinden yararlanmaları
- B) Şiirlerinde bireysel duygularını dile getirmeleri
- C) Süslü, kapalı bir söyleyişe yönelmeleri
- D) "Sanat sanat içindir." anlayışına bağlı kalmaları
- E) Somuta karşı soyutlamayı getirmeleri

8. Aşağıdaki şairlerden hangisi, "Yedi Meşaleciler" topluluğundan biri değildir?

- A) Yaşar Nabi Nayır
- B) Ziya Osman Saba
- C) Cevdet Kudret
- D) Sabri Esat Siyavuşgil
- E) Yahya Kemal Beyatlı

9. Sokrates'in Savunması, Genç Osman, Cem Sultan gibi daha çok konusunu tarihten alan oyunlarıyla tanınan yazar, aşağıdakilerden hangisidir?

- A) Orhan Asena
- B) Turan Ofazoğlu
- C) Haldun Taner
- D) Refik Erduran
- E) Güngör Dilmen

10. "Köşebaşı" adlı tiyatro eseri, aşağıdaki yazarlardan hangisine aittir?

- A) Ahmet Kutsi Tecer
- B) Murathan Mungan
- C) Latife Tekin
- D) Enis Batur
- E) Tomris Uyar

A

2012 3D 0106-A

11. Deneme türünün öncüsü kabul edilen Fransız yazar, aşağıdakilerden hangisidir?

- A) Albert Camus
- B) Simone de Beauver
- C) Andre Malraux
- D) Jean Paul Sartre
- E) Montaigne

12. Bilim, sanat, kültür ve başka konularda bilgi vermek, bir düşünceyi ortaya koymak ya da savunmak amacıyla yazılan, yazarın kişisel görüşlerini de yansıttığı gazete ve dergi yazılarına ne ad verilir?

- A) Anı
- B) Günce
- C) Makale
- D) Deneme
- E) Fıkra

13. Aşağıdakilerden hangisi, devlet tarafından çıkarılan ilk resmi gazetedir?

- A) İrade-i Mülkiye
- B) Akam
- C) Tercüman-ı Ahval
- D) Takvim-i Vekayi
- E) Ceride-i Havadis

14. Bir insanın gezip gördüğü yerlerden edindiği izlenimleri, bilgileri aktardığı yazılara ne ad verilir?

- A) Fıkra
- B) Gezi yazısı
- C) Söylev
- D) Deneme
- E) Anı

15. Aşağıdakilerden hangisi gezi yazılarının özelliklerinden biri değildir?

- A) Anlatımda hikâye planına uygunluk gözetilmesi
- B) Yalın bir dil kullanılması
- C) Gezip görülen yerlerin gerçekte olduğu gibi tasvir edilmesi
- D) Gezip görülen yerlerdeki bütün olayların ayrıntılı anlatılması
- E) Güçlü bir gözleme dayanması

16. İtalyan edebiyatında en tanınmış anı yazarı aşağıdakilerden hangisidir?

- A) Alberto Moraio
- B) Silvio Pellica
- C) Manzoni
- D) Fillippo Marinetti
- E) Carlo Goldoni

17. "Hatıralar" adlı anı kitabında Atatürk'ü anlatan yazar, aşağıdakilerden hangisidir?

- A) Ahmet Rasim
- B) Halit Ziya Uşaklıgil
- C) Ruşen Eşref Ünaydın
- D) Ahmet İhsan Tokgöz
- E) Salâh Bırsel

18. Aşağıdakilerden hangisi "deneme" türünün özelliklerinden biri değildir?

- A) Düşünceyi kabul ettime, kesin bir sonuca gitme gibi bir amacının olmaması
- B) Samimi bir dil kullanılması
- C) Her konuda yazılması
- D) Kısa olması
- E) Belirli bir planla yazılması

19. Aşağıdakilerden hangisi, fıkra türünün özelliklerinden biri değildir?

- A) Daha çok güncel konuların ele alınması
- B) Kısa yazılması
- C) Bilimsel olması
- D) Gazete ve dergilerde yayımlanması
- E) Amacının okuyucunun dikkatini çekmek onu düşünmeye yöneltmek olması

20. Günlük olayları, yurt sorunlarını veya herhangi bir konuyu belli bir görüş açısından ele alan kısa yazılara ne ad verilir?

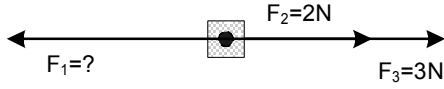
- A) Deneme
- B) Anı
- C) Söylev
- D) Fıkra
- E) Günce

FİZİK 3

A

2012 3D 0106-A

1.



Yukarıdaki şekildeki cisim \vec{F}_1 , \vec{F}_2 ve \vec{F}_3 kuvvetlerinin etkisinde dengede olduğuna göre \vec{F}_1 kaç N dur?

- A) 1
- B) 4
- C) 5
- D) 6
- E) 13

2. Kuvvetin döndürme etkisinin ölçüsüne ne ad verilir?

- A) Vektör
- B) Ağırlık
- C) Kütle
- D) İvme
- E) Moment

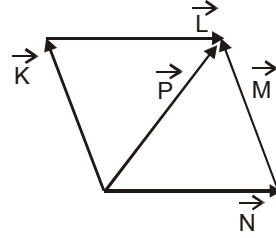
3. 90 km/h kaç m/s dir?

- A) 20
- B) 25
- C) 30
- D) 35
- E) 40

4. Yerin cisme uyguladığı çekim kuvvetine ne ad verilir?

- A) İvme
- B) Kütle
- C) Moment
- D) Hacim
- E) Ağırlık

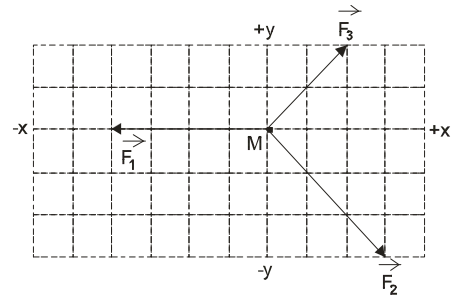
5.



Yukarıdaki şekildeki vektörlerin her birinin değeri x olduğuna göre, beş vektörün bileşkesinin değeri kaç x tir?

- A) x
- B) $2x$
- C) $3x$
- D) $4x$
- E) $5x$

6.



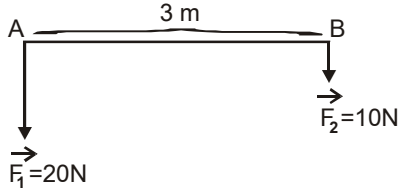
Noktasal M cisminin $+x$ yönünde hareket etmesi için hangi yönde, kaç birimlik bir kuvvet daha uygulanmalıdır? (Bölmeler 1 birimdir)

- A) $+y$ yönünde 1 birim
- B) $+y$ yönünde 2 birim
- C) $-y$ yönünde 2 birim
- D) $+x$ yönünde 1 birim
- E) $-x$ yönünde 1 birim

A

2012 3D 0106-A

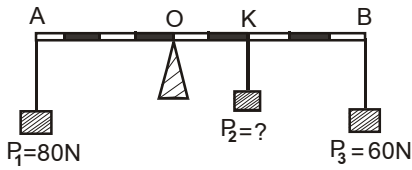
7.



Yukarıdaki şekilde ağırlığı önemsiz 3 m uzunluğundaki homojen çubuğun uçlarına $\vec{F}_1=20\text{N}$ ve $\vec{F}_2=10\text{N}$ luk iki kuvvet etki etmektedir. Buna göre, sisteme etki eden bileşke kuvvetin büyük kuvvete uzaklığı kaç metredir?

- A) 0,5
- B) 1
- C) 1,5
- D) 2
- E) 2,5

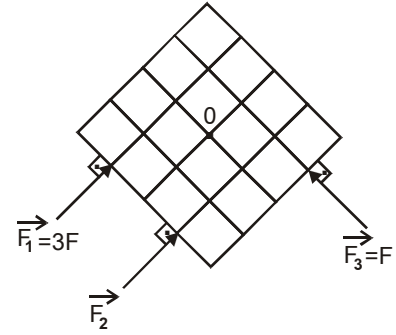
8.



Eşit bölmeli türdeş AB çubuğuna P_1, P_2 ve P_3 yükleri yukarıdaki şekildeki gibi asılmıştır. Buna göre, bu sistemin yatay konumda dengede kalabilmesi için K noktasına asılan P_2 yükünün değeri kaç Newton olmalıdır? (Çubuk ağırlığı önemsizdir.)

- A) 5
- B) 10
- C) 15
- D) 20
- E) 25

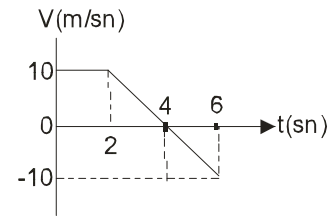
9.



Yukarıdaki şekilde O noktasından etrafında dönebilen bir levhaya \vec{F}_1, \vec{F}_2 ve \vec{F}_3 kuvvetleri uygulanmaktadır. Levha dengede olduğuna göre, \vec{F}_2 kuvvetinin büyüklüğü kaç F dir? (Bölmeler eşit aralıktır.)

- A) 1/2
- B) 1
- C) 3/2
- D) 2
- E) 4

10.



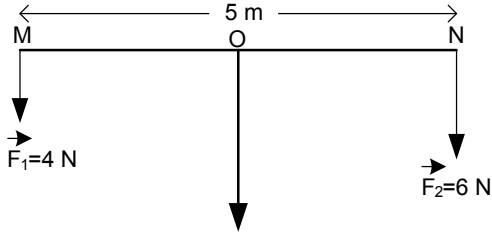
Hız-zaman grafiği yukarıdaki şekildeki gibi olan bir cisim (0-6) sn aralığında yer değiştirmesi kaç metredir?

- A) 20
- B) 30
- C) 40
- D) 50
- E) 60

2012 3D 0106-A

11. ve 12. sorular aşağıdaki bilgilere göre cevaplandırılacaktır.

Aşağıdaki şekilde, uzunluğu 5 m olan ağırlığı önemsiz homojen çubuğun uçlarına $F_1=4$ N ve $F_2=6$ N kuvvetleri etki etmektedir.



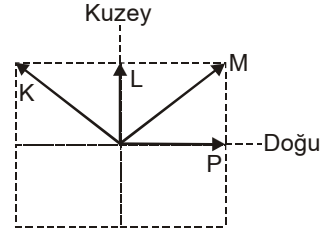
11. Bu bilgilere göre, sistemin dengede durabilmesi için uygulama noktası N noktasından kaç metre uzakta olmalıdır?

- A) 1
- B) 1,5
- C) 2
- D) 2,5
- E) 3

12. Bu bilgilere göre, F_1 ve F_2 kuvvetlerinin bileşkesi kaç N dur?

- A) 10
- B) 12
- C) 16
- D) 18
- E) 24

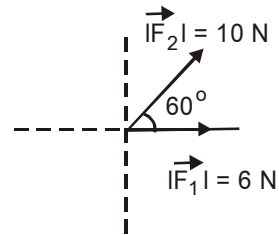
13.



Yukarıdaki şekildeki K, L M ve P araçlarının yere göre hızları verilmiştir. K, L ve P araçlarındaki gözlemcilerden hangileri M aracını doğuya doğru gidiyormuş gibi görür?

- A) Yalnız K
- B) Yalnız L
- C) K ve L
- D) K ve P
- E) L ve P

14.

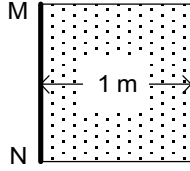


Yukarıda aynı düzlemde bulunan, büyüklükleri 6 N ve 10 N olan \vec{F}_1 ve \vec{F}_2 kuvvetlerinin bileşkesinin büyüklüğü kaç N dur? ($\cos 60^\circ = 0,5$)

- A) 8
- B) 12
- C) 13
- D) 14
- E) 15

2012 3D 0106-A

15.



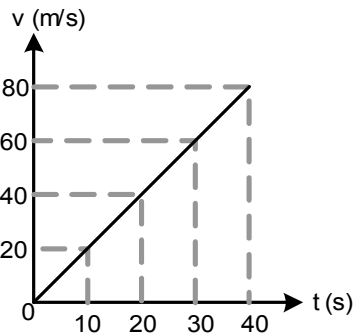
MN eksenini etrafında dönebilen, eni 1 m olan bir çerçeveye 10 N'luk bir kuvvet etki ederse, dönme eksenine göre momenti kaç N.m olur?

- A) 5
- B) 9
- C) 10
- D) 11
- E) 20

16. 90 km/h kaç m/s'dir?

- A) 25
- B) 30
- C) 35
- D) 40
- E) 45

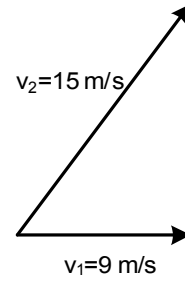
17.



Yukarıdaki hız-zaman grafiğinde verilen hareketlinin ivmesi kaç m/s^2 dir?

- A) 0,5
- B) 1
- C) 1,5
- D) 2
- E) 2,5

18.



Yukarıdaki şekilde yatay düzlemde $v_1=9$ m/s hızla doğuya giden bir aracın sürücüsü, kuzeydoğuya doğru $v_2=15$ m/s hızla giden bir aracı kaç m/s hızla gidiyor olarak görür?

- A) 6
- B) 8
- C) 10
- D) 12
- E) 24

19. ve 20. sorular aşağıdaki bilgilere göre cevaplandırılacaktır.

Durmakta olan bir araç sabit ivme ile hareket etmeye başlamış ve 2. saniye sonunda 10 m yol almıştır.

19. Bu bilgilere göre, bu aracın 2. saniye sonundaki ivmesi kaç m/s^2 dir?

- A) 0,5
- B) 1
- C) 2
- D) 3
- E) 4

20. Bu bilgilere göre, bu aracın 2. saniye sonundaki hızı kaç m/s 'dir?

- A) 2
- B) 4
- C) 6
- D) 8
- E) 10

BİYOLOJİ 1

A

2012 3D 0106-A

1. Aşağıdakilerden hangisi bir polisakkarit çeşidi değildir?

- A) Nişasta
- B) Glikojen
- C) Maltoz
- D) Selüloz
- E) Kitin

2. Aşağıdakilerden hangisi suyun yeryüzünü canlıların yaşaması için uygun bir ortam haline getirmesinde etkili değildir?

- A) Sıcaklığı kararlı tutabilmesi
- B) İyi bir çözücü olması
- C) Donduğu zaman genişmesi
- D) Kohezyon özelliği
- E) Yapısında hidrojen ve oksijen olması

3.

A	T	T	G	C	G	A	A	C	C	G									

Yukarıdaki DNA molekülüne ait 1. zincirin karşılığını oluşturacak 2. zincirdeki baz dizilişi aşağıdakilerden hangisidir?

- A)

T	A	A	C	G	C	T	T	G	G	C									
- B)

A	T	T	G	C	G	A	A	C	C	G									
- C)

T	A	A	C	G	A	U	G	G	C										
- D)

U	A	A	C	G	C	U	U	G	G	C									
- E)

A	U	U	G	C	A	A	C	C	G	A									

4. Aşağıdaki organellerden hangisinin işlevini yapması doğrudan ışığa bağlıdır?

- A) Hücre duvarı
- B) Kloroplast
- C) Lizozom
- D) Hücre zarı
- E) Mitokondri

5. Aşağıdakilerden hangisi gelişmiş bütün canlı hücrelerin ortak özelliğidir?

- A) Besin sentezleme
- B) Işığa doğru yönelme
- C) Aynı sayıda kromozom taşıma
- D) Seçici geçirgen bir zarla çevrilmiş olma
- E) Eşit sayıda ribozom taşıma

6. Hücre zarının bazı özellikleri aşağıdaki gibidir:

- I. Esnektir.
- II. Çok incedir.
- III. Akıcı-mozaik görünümündedir.
- IV. Bileşiminde protein-yağ molekülleri bulunur.
- V. Küçük molekülleri büyük moleküllerden daha kolay geçirir.

Yukarıdaki özelliklerden hangisi hücre zarının seçici geçirgen olduğunu belirtmektedir?

- A) I
- B) II
- C) III
- D) IV
- E) V

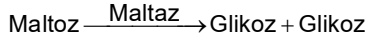
7. Aşağıdaki organik bileşiklerden hangisinin hidrolizi sırasında ester bağları kopar?

- A) Maltoz
- B) Lipit
- C) Glikojen
- D) Protein
- E) Nişasta

A

2012 3D 0106-A

8. Bir bitki hücresinde gerçekleşen biyokimyasal reaksiyonlardan biri aşağıdaki gibidir;



Bu reaksiyonun hızını aşağıdaki faktörlerden hangisi etkilemez?

- A) Hücrenin iç yüzeyi
B) Ortamın sıcaklığı
C) Ortamın pH durumu
D) Maltoz miktarı
E) Maltaz miktarı

9. Aşağıdakilerden hangisi tüm canlılar için ortak özelliklerden biri değildir?

- A) Hücreli yapıya sahip olma
B) Uyanlara tepki verme
C) Enerji kullanma
D) Kendi besinini sentezleyebilme
E) Büyüme ve gelişme

10. Aşağıdakilerden hangisi protein sentezinde görev yapan DNA anlamlı dizisinin baz sırası olamaz?

- A) GCCAATTCG
B) AGCTGCCAT
C) AUCCGTUAG
D) CGTACGTAC
E) TGCTTACGA

11. Çiçekli bir bitkinin hücrelerinde aşağıdaki organellerden hangisi bulunmaz?

- A) Sentrozom
B) Kloroplast
C) Mitokondri
D) Ribozom
E) Koful

12. Aşağıdaki hücrel organellerden hangisinin kendine özgü DNA'sı ve ribozomları vardır?

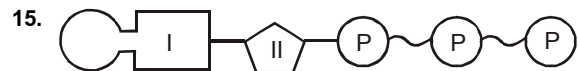
- A) Ribozom
B) Kloroplast
C) Sentrozom
D) Golgi aygıtı
E) Lizozom

13. Memelilerin kanında bulunan akyuvarların sitoplazmik uzantılar (yalancı ayak) oluşturarak mikropları sarması ve yemesi, aşağıdaki olaylardan hangisine örnek gösterilebilir?

- A) Kommensalizm
B) Osmoz
C) Pinositoz
D) Ekzositoz
E) Fagositoz

14. Aşağıdakilerden hangisi enzimlerin genel özelliklerinden biri değildir?

- A) Hücrelerde biyokimyasal tepkimelerin hızını düzenler.
B) Hücre içinde ve dışında aktif olabilirler.
C) Cansız ortamda meydana gelirler.
D) Protein yapılı organik katalizördürler.
E) Her enzim ancak özgül maddelerine etki eder.



Yukarıda verilen DNA molekülüne ait adenin nükleotinin I ve II ile gösterilen kısımlarına aşağıdakilerden hangisi yazılabilir?

- | I | II |
|-----------|-------------|
| A) Adenin | Deoksiriboz |
| B) Urasil | Deoksiriboz |
| C) Adenin | Riboz |
| D) Urasil | Riboz |
| E) Riboz | Deoksiriboz |

2012 3D 0106-A

16. Sağlıklı bir insanın kas hücresi ile kemik hücresi karşılaştırıldığında, aşağıdakilerden hangisinin her ikisinde de eşit miktarda bulunması beklenir?

- A) Karbonhidrat
- B) Protein
- C) Yağ
- D) Çekirden DNA'sı
- E) Enzim

17. Aşağıdaki hücrel organellerden hangisi yalnız bitkisel hücrelere özgüdür?

- A) Ribozom
- B) Kloroplast
- C) Mitokondri
- D) Sentrozom
- E) Koful

18. Aşağıdaki hücrel yapılardan hangisinin yok edilmesi, o bitkinin nişasta depolamasını engeller?

- A) Kloroplast
- B) Kromoplast
- C) Lökoplast
- D) Çekirdek
- E) Sitoplazma

19. Aşağıdakilerden hangisi hücre zarıyla doğrudan ilgili olaylardan biri değildir?

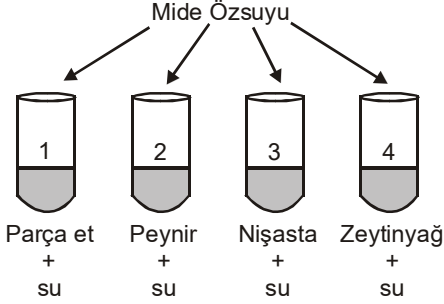
- A) Difüzyon
- B) Pinositoz
- C) Osmoz
- D) Fagositoz
- E) Organik madde sentezi

20. Bir hücre enerji ihtiyacını karşılamak için öncelikle aşağıdakilerden hangisini kullanır?

- A) Nişasta
- B) Protein
- C) Glikojen
- D) Glikoz
- E) Yağ

2012 3D 0106-A

1.



Yukarıdaki düzenekler hazırlanıp tüplere mide özsuyu ilave edildikten sonra, hangi tüplerde kimyasal sindirim meydana gelir?

- A) 1 ve 2
B) 2 ve 4
C) 1, 3 ve 4
D) 3 ve 4
E) 2, 3 ve 4

2. I. Temel doku
II. Koruyucu doku
III. Destek doku
IV. Salgı doku

Yukarıdakilerden hangileri bölünmez dokudur?

- A) Yalnız I
B) I ve II
C) II ve IV
D) III ve IV
E) I, II, III ve IV

3. **Alyuvarlar ile ilgili aşağıdaki ifadelerden hangisi yanlıştır?**

- A) Yaşam süreleri 2 gündür.
B) Yaşam süresini tamamlayan alyuvarlar karaciğer ve dalakta parçalanır.
C) Gaz alışverişini sağlarlar.
D) Hemoglobin içerdiğinden kırmızı renktedir.
E) Embriyo döneminde karaciğer ve dalakta yapılır.

4. **Aşağıdakilerden hangisi sitoplazması hafif pembe renkte granüllerle kaplı bir akyuvardır?**

- A) Monosit
B) Eozinofil
C) Lenfosit
D) Nötrofil
E) Bazofil

5. **Aşağıdakilerden hangisi kanama olduğunda pıhtılaşmayı sağlayarak kanın vücut dışına akmasını durdurur?**

- A) Trombositler
B) Lenfositler
C) Eritrositler
D) Lökositler
E) Monositler

6. I. A
II. B
III. AB
IV. O

Yukarıdakilerin hangisinde alyuvarlarda antijen yoktur?

- A) Yalnız I
B) Yalnız III
C) Yalnız IV
D) I ve II
E) I ve III

7. **Yağ dokusu ile ilgili aşağıdaki ifadelerden hangisi yanlıştır?**

- A) Hücrelerinde yağ depolamak üzere özelleşmiştir.
B) Vücudu çarpma ve vurmalarından korur.
C) Vücut sıcaklığının sabit kalmasını sağlar.
D) Deri altında ve organların etrafında bulunur.
E) Vücuda desteklik verir.

8. **Aşağıdakilerden hangisi fagositoz yapar?**

- A) Nötrofiller
B) Makrofajlar
C) Bazofiller
D) Lenfositler
E) Eozinofiller

9. **Soymuk boruları ile ilgili aşağıdaki ifadelerden hangisi yanlıştır?**

- A) Üst üste dizilen tek sıra halindeki canlı hücrelerden oluşur.
B) Hücreler arasında delikler vardır.
C) Kalburu borular da denir.
D) Organik maddeler taşınır.
E) Soymuk borularındaki iletim, odun borularına göre daha hızlıdır.

2012 3D 0106-A

10. Aşağıdakilerden hangisi sinir hücresidir?

- A) Kollajen
- B) Nöron
- C) Kondrin
- D) Osteoblast
- E) Kondrosit

11. Gözdeki ağ tabaka ile ilgili aşağıdaki ifadelerden hangisi yanlıştır?

- A) Çubuk hücreleri az ışıkta görmeyi sağlar.
- B) Işığa duyarlı almaçlar ve sinirler bulunur.
- C) Göz küresinin en dıştaki tabakasıdır.
- D) Işık almaçları çubuk ve koni hücreleridir.
- E) Koni hücreleri yeterli ışıkta renkli görmeyi sağlar.

12. I. Uzağı iyi görememe
II. Yakını iyi görememe
III. Renkleri ayıramama

Yukarıdakilerden hangileri miyop hastalığında görülür?

- A) Yalnız I
- B) I ve II
- C) I ve III
- D) II ve III
- E) I, II ve III

13. Aşağıdakilerden hangisi yassı kemiktir?

- A) Ön kol kemiği
- B) El parmak kemikleri
- C) Uyluk kemiği
- D) Kürek kemiği
- E) Kaval kemiği

14. Aşağıdakilerden hangisi bitkinin yer çekimine karşı gösterdiği yönelme hareketidir?

- A) Kemotropizma
- B) Gravitropizma
- C) Tigmotropizma
- D) Fotonasti
- E) Termonasti

15. I. Aktin
II. Miyozin
III. Sarkomer
IV. H bölgesi

Yukarıdakilerden hangileri iskelet kasının yapısında bulunur?

- A) Yalnız I
- B) Yalnız II
- C) I ve II
- D) III ve IV
- E) I, II, III ve IV

16. Kaburgaların altında, karın boşluğunun sol üst bölgesinde bulunan organ aşağıdakilerden hangisidir?

- A) Kalınbağırsak
- B) Safra kesesi
- C) Mide
- D) Karaciğer
- E) Kalp

17. Aşağıdakilerden hangisinde sindirim sistemi bulunmaz?

- A) Yuvarlak solucan
- B) Çekirge
- C) Kuş
- D) Sünger
- E) Halkalı solucan

18. Proteinlerin sindirimi nerede sonlanır?

- A) Midede
- B) İncebağırsakta
- C) Ağızda
- D) Kalınbağırsakta
- E) Yutakta

19. Aşağıdakilerden hangisi disakkaritlerin, monosakkaritlere parçalandığı yerdir?

- A) Yutak
- B) Mide
- C) İncebağırsak
- D) Ağız
- E) Kalınbağırsak

20. Aşağıdaki enzimlerden hangisi pankreastan salgılanmaz?

- A) Amilaz
- B) Tripsinojen
- C) Kimotripsinojen
- D) Pepsinojen
- E) Lipaz

2012 3D 0106-A

1. Heterozigot koyu renk gözlü bir baba ile açık renk gözlü anneden açık renk gözlü bir çocuğun olma olasılığı kaçtır? (Koyu renk, açık renge baskındır.)

- A) $\frac{1}{1}$
 B) $\frac{1}{2}$
 C) $\frac{1}{4}$
 D) $\frac{1}{8}$
 E) $\frac{1}{16}$

2. AaBb X Aa BB çaprazından aşağıda genotipi yazılı bireylerden hangisi normal koşullarda oluşmaz?

- A) AaBb
 B) aaBb
 C) aabb
 D) AABB
 E) AABb

3. Aşağıdakilerden hangisi insanda eşey kromozomlarının (gonozomlar) birbirinden ayrılmaması sonucunda dişilerde görülen Turner sendromunun kromozom formülüdür?

- A) 44+XO
 B) 45+XX
 C) 44+XXX
 D) 45+XY
 E) 44+XXY

4. İnsanda dil yuvarlama baskın özelliktir. Dil yuvarlama geni frekansının %80 olduğu bir toplumda 10000 kişiden kaçının dilini yuvarlaması beklenir?

- A) 200
 B) 400
 C) 3200
 D) 6400
 E) 9600

5. Aşağıdaki gametlerin hangilerinin birleşmesi sonucunda Down Sendromlu (Mongol) erkek oluşabilir?

- A) 22+X ile 23+X
 B) 22+X ile 23+Y
 C) 22+Y ile 22+XY
 D) 23+Y ile 22+XY
 E) 22+XY ile 22+0

6. Hardy-Weinberg prensibi aşağıda verilen durumların hangisinin bulunmasına yardımcıdır?

- A) Modifikasyonların fenotip üzerine etkisinin
 B) Modifikasyonların genotip üzerine etkisinin
 C) Bir popülasyondaki farklı genotiplerin frekansının
 D) Bir popülasyondaki genlerin ayrılmama oranlarının
 E) Mayoz bölünmede Crossing-Over frekansının

7. I. Elektroporasyon
 II. Biolistik
 III. Mikroenjeksiyon

Yukarıdaki yöntemlerden hangileri DNA'nın hayvan hücresine aktarımı sırasında kullanılır?

- A) Yalnız I
 B) Yalnız II
 C) I ve III
 D) II ve III
 E) I, II ve III

8. Aşağıdakilerden hangisi biyoteknolojik yöntemler yolu ile elde edilen ürünlerden biri değildir?

- A) Alkollü içecekler
 B) Canlıların doğal yoldan üremesi
 C) Leke çıkarıcı deterjanlar
 D) Süt ürünleri
 E) İnsülin hormonu

9. DNA molekül zinciri üzerinde yer alan ortalama 1500 nükleotit'den oluşan DNA bölümü aşağıdakilerden hangisidir?

- A) Hücre
 B) RNA
 C) Akyuvar
 D) Gen
 E) Alyuvar

10. AA genotipli bireyden A geni taşıyan gamet üretme olasılığı nedir?

- A) 1/1
 B) 1/2
 C) 1/4
 D) 1/5
 E) 1/6

2012 3D 0106-A

11. **Matematiği biyoloji bilimine ilk uygulayan bilim insanı aşağıdakilerden hangisidir?**

- A) Dewey
- B) Smith
- C) Mendel
- D) Stoor
- E) Weinberg

12. **A Rh(+) bir anne ile 0Rh(-) bir babadan 0Rh(-) bir çocuğun olma olasılığı kaçtır?**

- A) $\frac{1}{32}$
- B) $\frac{1}{6}$
- C) $\frac{1}{8}$
- D) $\frac{1}{4}$
- E) $\frac{1}{2}$

13. **Bir türde bir karakter üzerine A1, A2, A3 ve A4 olmak üzere dört alel gen etki etmektedir. Buna göre bu karakter yönünden kaç çeşit genotip oluşabilir?**

- A) 2
- B) 4
- C) 6
- D) 8
- E) 10

14. **Belirli bir alanda yaşayan, kendi aralarında çiftleşebilme yeteneğine sahip olan aynı türün bireylerinin oluşturduğu topluluğa ne ad verilir?**

- A) Populasyon
- B) Varyans
- C) Modifikasyon
- D) Mutasyon
- E) İzolasyon

15. **Mühendislik bilgisi ve teknolojinin tıp veya biyoloji bilimine uyarlanmasına ne ad verilir?**

- A) Nükleer tıp
- B) Genetik
- C) Moleküler biyoloji
- D) Biyoteknoloji
- E) Endokrin tıp

16. **Kuduz aşısını aşağıdaki bilim insanlarından hangisi geliştirmiştir?**

- A) Crick
- B) Pasteur
- C) Cassatt
- D) Pattinson
- E) Manet

17. **Aşağıdakilerden hangisi biyolojik yöntemlerle elde edilen ürünlerden biri değildir?**

- A) Süt ürünleri
- B) Aşı
- C) Maya ürünleri
- D) Penisilin
- E) Et ürünleri

18. **Aşağıdakilerden hangisi çekinik genlerin neden olduğu hastalık türlerinden biri değildir?**

- A) Huntington
- B) Hemofili
- C) Bazı sağırıklar
- D) Albinizm
- E) Kistik fibrozis

19. **Gen frekansı ilk defa kaç yılında hesaplanmıştır?**

- A) 1905
- B) 1906
- C) 1907
- D) 1908
- E) 1909

20. **Saç ve gözde renk maddesi eksikliğine bağlı olarak meydana gelen beyaz saçlı, kırmızı gözlü ve açık tene sahip bireylere ne ad verilir?**

- A) Danino
- B) Adriano
- C) Albino
- D) Kimono
- E) Petito

2012 3D 0106-A

1. Aşağıdaki ifadelerden hangisi geçerli akıl yürütmeyi tanımlar?

- A) Akıl yürütmenin sonucu ile verilen öncüllerin birbirleriyle tutarlı olmalarıdır.
- B) Akıl yürütmenin sonucu ile verilen öncüllerin değişimlerinin bir arada tutarlı olmalarıdır.
- C) Akıl yürütmenin sonucu ile verilen öncüllerin çelişmesidir.
- D) Hem öncüllerin hem de sonucun doğru önermeler olmalarıdır.
- E) Akıl yürütmenin sonucunun, verilen öncüllerden zorunlu olarak çıkmasıdır.

2. Özelden genele yapılan akıl yürütme biçimine ne ad verilir?

- A) Çelişmezlik
- B) Yeter sebep
- C) Benzeşim
- D) Tümevarım
- E) Tümdengelim

3. Aşağıdaki önermelerden hangisi üçüncü durumun olanaksızlığı ilkesinin sembolik dilde ifade edilmiş biçimidir?

- A) $A \Rightarrow A$
- B) $A \wedge \sim A$
- C) $A \Leftrightarrow A$
- D) $\sim(\sim A \wedge \sim A)$
- E) $A \vee \sim A$

4. İstanbul ve İzmir Büyükşehirlerdir. İzmir'de Devlet Tiyatroları vardır. O halde İstanbul'da da Devlet Tiyatroları vardır.

Yukarıdaki ne tür bir akıl yürütmedir?

- A) Benzeşim
- B) Tümevarım
- C) Çelişmezlik
- D) Tümdengelim
- E) Özdeşlik

5. Aşağıdaki kavram çiftlerinden hangisi birbirinin karşısı değildir?

- A) Aşağı-Yukarı
- B) Ak-Ak olmayan
- C) Sıcak-Soğuk
- D) Açık-Kapalı
- E) Basit-Zor

6. Aşağıdaki kavram çiftlerinden hangisi sırasıyla "tekil kavram" ve "genel kavram"a bir örnektir?

- A) Kırmızı, kırmızı olmayan
- B) Çalışkan, tembel
- C) Zürafa, hayvan
- D) Bütün insanlar, bazı insanlar
- E) Ebru, Mehmet

7. Aşağıdaki önerme ile ilgili ifadelerden hangisi yanlıştır?

- A) "Her insan adildir." önermesinin ters döndürmesi "Her adil olmayan insandır." önermesidir.
- B) "Bütün yaşlılar sevecendir." önermesinin düz döndürmesi "Bazı sevecenler yaşlıdır." önermesidir.
- C) Tikel olumlu bir önermenin ters döndürmesi yoktur.
- D) Tikel olumsuz bir önermenin düz döndürmesi (evirme) yoktur.
- E) "Bazı çiçekler kokusuzdur." önermesinin düz döndürmesi "Bazı kokusuzlar çiçektir." önermesidir.

8. "Düşünüyorum öyleyse varım." kıyası, aşağıdaki kıyas biçimlerinden hangisine bir örnektir?

- A) İkilem
- B) Sorit
- C) Basit kıyas
- D) Entimem
- E) Zincirleme kıyas

9. Aşağıdakilerden hangisi kısaltılmış kıyas'a (entimem) bir örnek değildir?

- A) Spor yapmak faydalıdır, çünkü sağlık getirir.
- B) Kitap okuyorum, demek ki entelektüelim.
- C) Evde köpek bakmak faydalıdır, çünkü insanın tüm stresini alır.
- D) İnsan ya ölümlü ya da ölümsüzdür, insan ölümsüz değildir, demek ki insan ölümlüdür.
- E) Eğer düşünüyorsam, aynı zamanda varımdır da.

10. Aşağıdakilerden hangisi bir önerme değildir?

- A) $2+3=5$
- B) H_2O
- C) Dünya yuvarlak değildir.
- D) İstersen yaparsın.
- E) Hava yağmurlu.

2012 3D 0106-A

11. Aşağıdaki kavram çiftlerinden hangisi sırasıyla "olumlu kavram" ve "olumsuz kavram"a bir örnektir?

- A) Sabırlı, sabırsız
- B) İnsan, insanlık
- C) Bitki, tüm bitkiler
- D) Okul, öğrenci
- E) Nihal, insan

12. Aşağıdaki önermelerden hangisi çelişmezlik ilkesine bir örnektir?

- A) Mutluluk mutluluktur.
- B) Duvar boyalıdır ya da boyalı değildir.
- C) Hem ölümlü hem de ölümsüz olamam.
- D) İnsanlar güzeli güzel bulurlar.
- E) Beş ile yedinin toplamı beş ile yedinin toplamına karşılık gelir.

13. Aşağıdakilerden hangisi mantıkla ilgili yanlış bir ifadedir?

- A) Mantık, doğru düşünmenin kurallarını araştırır.
- B) Mantıklı düşünmek, doğru akıl yürütmek anlamına gelir.
- C) Mantık, düşüncelerin gerçekte doğru olup olmadıklarını denetler.
- D) Mantık, tüm bilimlerin temelinde yer almak zorundadır.
- E) Mantık doğruları, gözlem ve deney sonucu ulaşılmaz.

14. Aşağıdaki kavram çiftlerinden hangisinde genel kavram ile tekil kavram birlikte verilmiştir?

- A) Kadın-Erkek
- B) İnsan-Hayvan
- C) Sanatçı-Bazı sanatçılar
- D) Tüm futbolcular-Hakan Şükür
- E) Erkek-Mehmet

15. Aşağıdaki önerme çiftlerinden hangisi kavramlar arasındaki ayrıklık ilişkisini ortaya koyar?

- A) Hiçbir doktor sanatçı değildir. Hiçbir sanatçı doktor değildir.
- B) Bazı çocuklar yaramazdır. Bazı yaramazlar çocuktur.
- C) Bütün atlar dört ayaklıdır. Bütün dört ayaklılar attır.
- D) Bazı eşyalar dört köşelidir. Bazı dört köşeliler eşyadır.
- E) Bütün çiçekler meyvelidir. Bazı meyveliler çiçektir.

16. Aşağıdaki kavram çiftlerinden hangisinde, sırasıyla kolektif kavram ile distribütif kavram verilmiştir?

- A) Milletvekili-Meclis
- B) Ali-Bazı insanlar
- C) İnsan-Hayvan
- D) Aile-Çocuk
- E) Orman-Yangın

17. Aşağıdakilerden hangisi, birbirinin karşıtı olan kavramlardır?

- A) Puslu-Puslu olmayan
- B) Tembel-Çalışkan
- C) Pis-Pis olmayan
- D) Görkemli-Görkemli olmayan
- E) Kırmızı-Kırmızı olmayan

18. Aşağıdaki kavram çiftlerinden hangisi çelişik kavramlara bir örnektir?

- A) Kalabalık-Tenha
- B) Açık-Kapalı
- C) Kiralık-Satılık
- D) Hıslı-Duygusuz
- E) Katı-Katı olmayan

19. Aşağıdaki kıyaslardan hangisi bir ikilem örneğidir?

- A) İnsanlar canlıdır; Senem bir insandır; o halde Senem canlıdır.
- B) Ya bu deveyi güdeceksin ya da bu diyardan gideceksin; bu deveyi gütmeyeceksin; o halde bu diyardan gideceksin.
- C) Eğer sen iyi bir öğretmensen, ne korkak ne de sertsindir; ama sen hem korkaksın hem de sert; o halde sen iyi bir öğretmen değilsin.
- D) Dans etmek faydalıdır, çünkü ter atarsın.
- E) Evren ya sonlu ya da sonsuzdur; evren sonlu değildir; o halde evren sonsuzdur.

20. Bütün çocuklar yaramazdır.
Bazı masumlar çocuktur.

O halde, bazı masumlar yaramazdır.

Yukarıdaki kıyasın doğru biçimi aşağıdakilerden hangisidir?

- A) PM, MS ∴ SP
- B) MP, SM ∴ SP
- C) PM, SM ∴ SP
- D) MP, MS ∴ SP
- E) PM, SM ∴ PS

TRAFİK VE İLK YARDIM BİLGİSİ 2

A

2012 3D 0106-A

1. Emniyet kemeri kullanımı, kazalar nedeniyle meydana gelen ölüm ve yaralanmaları yaklaşık yüzde kaç oranında azaltmaktadır?

- A) 5-10
- B) 15-20
- C) 25-30
- D) 40-50
- E) 75-80

2. C sınıfı sürücü belgesi alacak kişilerin kaç yaşını bitirmiş olmaları gerekmektedir?

- A) 20
- B) 21
- C) 22
- D) 23
- E) 24

3. Sürücü adayları ve sürücüler aşağıdakilerden hangisi için sağlık kontrolünden geçmez?

- A) Görme kaybı
- B) İşitme kaybı
- C) Ruh ve sinir hastalıkları
- D) İç hastalıkları
- E) Deri hastalıkları

4. Monoküler kişiler, aşağıdaki sürücü belgelerinden hangisini alabilir?

- A) B
- B) D
- C) E
- D) G
- E) H

5. Ruh ve sinir hastalıkları muayenesine ilişkin sağlık durumlarından hangisinde kişiye sürücü belgesi verilir?

- A) Alkol bağımlılığı olanlara
- B) Sinir sistemi hastalıklarında hafif derece bozukluğu olanlara
- C) Alkollü araç kullanmaktan vazgeçmeyenlere
- D) Psicotrop maddelere bağımlı olanlara
- E) Epilepsi hastası olanlara

6. İlgili uzman hekimin vermiş olduğu sağlık raporu doğrultusunda sürücülüğe engel hali tespit edilen veya hakkında karar verilemeyen aday, bu durumla ilgili itirazını aşağıdaki kurumlardan hangisine yapabilir?

- A) Sağlık ocağına
- B) Sağlık Bakanlığına
- C) Raporun verildiği ilin Sağlık Müdürlüğüne
- D) Devlet hastanesine
- E) Tıp fakültesine

7. Aşağıdakilerden hangisi sürücü kurslarında verilen derslerden biri değildir?

- A) Ceza Kanunu bilgisi
- B) Trafik bilgisi
- C) Çevre bilgisi
- D) Motor ve araç tekniği bilgisi
- E) İlk yardım bilgisi

8. I. Dikkatsiz davranmaları
II. Hızlı araba kullanmaları
III. Yorgun olmaları
IV. Aceleci olmaları

Yukarıdakilerden hangileri, sürücülerin kaza yapmalarına neden olan etkenlerdir?

- A) I ve II
- B) II ve III
- C) I, II ve III
- D) II, III, ve IV
- E) I, II, III ve IV

9. Aşağıdakilerden hangisi yolculara ait kaza sebeplerinden biri değildir?

- A) Taşıttan habersiz inmek
- B) Kırmızı ışıkta geçmek
- C) Taşıttan sarkmak
- D) Açık yük üzerinde seyir etmek
- E) Taşıttan dışarıda seyahat etmek

10. Trafik kazalarının en önemli nedeni aşağıdakilerden hangisidir?

- A) İnsanların trafik kurallarına uymaması
- B) Araçlara gerekli bakıminin yapılmaması
- C) Yolların kusurlu olması
- D) Araçların uygunsuz park edilmesi
- E) Trafikteki araç sayısının fazla olması

A

2012 3D 0106-A

11. Aşağıdaki sürücüye ait kusurlardan hangisinin kaza sayısı ve oranına etkisi diğerlerine göre daha azdır?

- A) Kırmızı ışıklı trafik işaretinde veya görevli memurun dur işaretinde geçmek
- B) Geçme yasağı olan yerlerden geçmek
- C) Manevraları düzenleyen şartlara uymamak
- D) Önde giden bir aracı güvenli ve yeterli mesafeden izlememek
- E) Park etmiş araçlara çarpmak

12. KGM 2005 verilerine göre, yayaların hangi kusurlu davranışı en çok kazaya sebep olmaktadır?

- A) Araçlara ilk geçiş hakkını vermemek
- B) Kırmızı ışıkta geçmek
- C) Yola birden çıkmak
- D) Yolda yürümek, oynamak
- E) Duran aracın önünden ve arkasından çıkmak

13. Aşağıdakilerden hangisi, trafiğe çıkacak sürücülerin araçlarıyla ilgili dikkat etmesi gereken hususlardan biri değildir?

- A) İmalat amaçlarına uygun kullanılması
- B) Dengesiz yük kullanılmaması
- C) Donanımlarının tam olması
- D) Periyodik bakımlarının yapılmış olması
- E) Aşırı yük kullanılması

14. Aşağıdakilerden hangisi yaralıları tek başına taşıma yöntemlerinden biri değildir?

- A) İtfaiyeci yöntemi
- B) Çekme yöntemi
- C) Beşik yöntemi
- D) Sandalye yöntemi
- E) Omuzlama yöntemi

15. İlk yardım girişimlerinin temel amacı aşağıdakilerden hangisidir?

- A) Yaralıyı olay yerinden derhal uzaklaştırmak
- B) Yaralıya temel yaşam desteği sağlamak
- C) Yaralıya hastaneye gidene kadar gereken moral desteği sağlamak
- D) Polis gelene kadar yaralıyı hayatta tutmak
- E) Yaralının başka bir kazaya karışmasını engellemek

16. Sırtüstü yatmış kazazedenin koltuk altlarından veya ceketinden kavranarak taşınmasına ne ad verilir?

- A) Kucaklama yöntemi
- B) İtfaiyeci yöntemi
- C) Beşik yöntemi
- D) Omuzlama yöntemi
- E) Çekme yöntemi

17. Uyukulu sürücüler için tavsiye edilen mola süresi yaklaşık kaç dakikadır?

- A) 5-10
- B) 10-15
- C) 15-45
- D) 45-60
- E) 60-85

18. Aşağıdakilerden hangisi ilk yardım çantasında bulundurulması gereken malzemelerden biridir?

- A) Alüminyum yanık örtüsü
- B) Toplu iğne
- C) Çakı
- D) Tomavida
- E) Pens

19. Karayolu üzerinde hareket halindeki en az bir aracın karıştığı kazalara ne ad verilir?

- A) Yol kazası
- B) Trafik kazası
- C) Yolcu kazası
- D) İş kazası
- E) Ev kazası

20. Aşağıdakilerden hangisi kalp durmasının genel belirtilerinden biri değildir?

- A) Yüz ve başta olmak üzere vücutta morarmanın görülmesi
- B) Bilincin kaybolması
- C) Solunumun durması
- D) Görme ve işitmenin zayıflaması
- E) Ciltte terlemenin görülmesi

SEÇMELİ DİL VE ANLATIM 3

A

2012 3D 0106-A

1. Üyelerden bir ya da birkaçı tarafından bir sorunun çözümü için başkanlığa bildirilen görüşe ne ad verilir?

- A) Tebliğ
- B) Öngörü
- C) Bildirge
- D) Yönerge
- E) Önerge

2. Aşağıdakilerden hangisi, basın ve halk önünde gerçekleştirilen tartışma türlerinden biri değildir?

- A) Münazara
- B) Panel
- C) Sempozyum
- D) Forum
- E) Açık oturum

3. "Panel" ile ilgili olarak aşağıdakilerden hangisi söylenemez?

- A) Toplumsal sorunların tartışılmasında sık uygulanan bir toplantı biçimi olduğu
- B) Yarışma havası yaratılmadığı
- C) Ortaya atılan düşüncelerin, verilen örneklerin doğru ve bilimsel değer taşıdığı
- D) Konuşmacı sayısının en az altı kişi olduğu
- E) Dinleyiciler önünde bir söyleşi havasında yapıldığı

4. Aşağıdakilerden hangisi tartışma kurallarından biri değildir?

- A) Konunun olumlu ve olumsuz yönlerinin, tartışma süresinin önceden belirlenmesi
- B) Tartışmanın kişiselliğe dökülmesi
- C) Tartışma konusu dışına çıkmadan gerçeği, uygun ve yararlı olanı bulmaya çaba harcanması
- D) Düşüncelerin açık, anlaşılır bir dille aktarılması
- E) Konuşanların ilgiyle dinlenmesi, ortaya çıkan sonucun hoşgörülle karşılanması

5. Aşağıdakilerden hangisiyle sunuma başlanmaz?

- A) Bir espri
- B) Konuyla bağlantılı bir fıkrâ
- C) Hazırlama amaçlı ön sorular
- D) Ayrılan süre içinde söz edilecekler
- E) Yararlanılan kaynaklar

6. Aşağıdakilerden hangisi sunum yaparken, daha çok 15-20 kişilik gruplar için kullanılan görsel-işitsel gereçlerden biridir?

- A) Çok yapraklı pano
- B) Yazı tahtası
- C) Projeksiyon aletleri
- D) Video
- E) Dia projeksiyon aletleri

7. Aşağıdakilerden hangisi sunumla ilgili yanlış bir ifadedir?

- A) Sunum öncesi izleyici hakkında bilgi toplanır.
- B) Modern iş ortamının iletişim prensibidir.
- C) Bilgileri yeniler, pekiştirir.
- D) Laboratuvar ve anket araştırmalarını ortaya koyar.
- E) Görsel-işitsel araçlara gerek yoktur.

A

2012 3D 0106-A

8. Aşağıdakilerden hangisi tartışmaya katılan konuşmacılarla ilgili bir özellik olamaz?

- A) Konuyla ilgili donanımlı olmak
- B) Doğal ve saygılı davranmak
- C) Sürekli konuşmak
- D) Konuşma yeteneği gelişmiş olmak
- E) Hoşgörüyü elden bırakmamak

9. Aşağıdakilerden hangisi tartışma başkanının görevlerinden biri değildir?

- A) Tartışma için uygun ortam yaratmak
- B) Konunun dinleyicilerce anlaşılmasını sağlamak
- C) Tartışmanın konu dışına çıkmasını önlemek
- D) Gergin durumların oluşmasını önlemek
- E) Belli kişilere çok söz hakkı vermek

10. Aşağıdakilerden hangisi bir tartışma konusu değildir?

- A) Televizyonun olumlu ve olumsuz yönleri nelerdir?
- B) Doğaya sahip çıkmak için neler yapmalıyız?
- C) Türkiye'nin Avrupa'da toprakları vardır.
- D) Orman yangınları nasıl önlenebilir?
- E) Yeterince kitap okuyor muyuz?

11. Aşağıdaki cümlelerin hangisi, dolaylı anlatıma örnek olabilir?

- A) O, yeni bir şey için söz vermektan ısrarla kaçınıyordu.
- B) Dalgaların sesi bozdu bu büyüü.
- C) Ta uzaklardan martıların çığlıkları duyuluyordu.
- D) Gözlerinde mavi bir menekşenin hüznü vardı.
- E) Bir gemi yanaştı sessiz limana.

12. Aşağıdaki cümlelerden hangisi birinci kişi anlatımına örnektir?

- A) Telgrafın tellerine kuşlar mı konar?
- B) Yüksek yüksek tepelere ev kurmasınlar.
- C) Güz gülleri gibiyim, hiç bahar yaşamadım.
- D) Akşamın olduğu yerde bekle diyorsun.
- E) Sevinçli bir telaş içindeydiniz.

13. Bakmak ve görmek farklı şeylerdir.

Aşağıdaki deyimlerin hangisi baktığını görmeyen insanı niteler?

- A) Kör parmağım gözüne
- B) Kör değneğini beller gibi
- C) Bakar ki ne baksın
- D) Kör topal
- E) Bakar kör

14. Aşağıdaki cümlelerin hangisinde gereksiz sözcük kullanımından kaynaklanan bir anlatım bozukluğu vardır?

- A) Her sanat eseri, bir düşünceyi savunur.
- B) Sanat, insanları birbirine yaklaştıran bir etkinliktir.
- C) Özgüven, bilek hakkıyla kazanılan erdemdir.
- D) Yazılı basının usta kalemlerinden birini daha yitirdik.
- E) Her tür baskı, sanatın özgürlüğünü yok eder.

15. Aşağıdaki cümlelerin hangisinde anlatım bozukluğu yoktur?

- A) Hayatının baharındaydı, ne yazık ki maalesef aramızdan ayrıldı.
- B) İhtiyar adam, iyi kötü geçinip gidiyordu.
- C) Durup dinlenmeden altı saat süreyle çalışmışlar.
- D) Kardeşinizi tanıyor ve güveniyoruz.
- E) Doğru oturup eğri konuşalım, diyordu.

2012 3D 0106-A

16. Roman, öykü, masal gibi olay yazılarının özetinde aşağıdakilerden hangisi bulunmaz?

- A) Olayın geçtiği yer
- B) Olayın kahramanları
- C) Ana düşünce
- D) Yazarın hayatı
- E) Olayın geçtiği zaman

17. Aşağıdaki dizelerden hangisi birinci kişi anlatımına örnektir?

- A) Anahtar Tanrı'da kaldı.
- B) Korkuyorum bu gecelerden.
- C) Gitti gelmez bahar yeli.
- D) Bütün bahçeler kilitli.
- E) Şarkılar yarıda kaldı.

18. İstanbul, özellikle sonbaharda çok güzel oluyor. Yakmayan bir güneş, Boğaz'dan insanın yüzüne tatlı tatlı esen ılık bir rüzgâr, martıların çığlıkları, beyaz boyalı gemilerin motor sesleri... Topkapı surlarını, Kız Kulesi'ni seyrediyor bir yandan da çayımı yudumluyorum.

Paragrafın anlatım biçimi aşağıdakilerden hangisidir?

- A) Tartışmacı
- B) Betimleyici
- C) Örnekleyici
- D) Eleştirmeci
- E) Tanımlayıcı

19. Aşağıdaki cümlelerin hangisinde anlatım bozukluğu vardır?

- A) Hiç kuşkusuz bu yasaları siz de bilirsiniz.
- B) Fikirlerinde ısrarlıydı ama inatçı değildi.
- C) Yaptıklarını yeterli bulmuyor, eleştiriyor.
- D) Buna ancak genel müdür karar verir ve uygular.
- E) İnsanları hep sevdi ve onlara hoşgörü ile bağlandı.

20. Aşağıdaki cümlelerin hangisinde altı çizili sözcük cümleden çıkarılırsa anlam değişmez?

- A) Her akşam mutlaka telefon edip bize orada neler olduğunu anlatmalısın.
- B) Çok üzgünüm, bugün yine aramadı.
- C) Toplantıya sen de katıl.
- D) Bu problemi sadece Ali çözer.
- E) Günlerce ne aradı ne sordu.

SEÇMELİ TÜRK EDEBİYATI 3

A

2012 3D 0106-A

1. Türkiye'de tarih ve edebiyat tarihi incelemelerinde bilimsel yöntemleri ilk defa ortaya koyan, Türk edebiyatı tarihçiliğinin ilk araştırmacısı ve kurucusu, aşağıdakilerden hangisidir?

- A) Ahmet Hamdi Tanpınar
- B) Mehmet Fuad Köprülü
- C) Agâh Sırrı Levent
- D) Nihat Sami Banarlı
- E) Seyit Kemal Karaalioğlu

2. "Edebiyat tarihi" ile ilgili olarak aşağıdakilerden hangisi söylenemez?

- A) Edebiyatın konusu içine giren eserleri ve sanatçıların alfabetik sırayla değerlendirdiği
- B) Uygarlık tarihinin en önemli parçası olduğu
- C) İnsanlık tarihinin başlangıçtan bugüne kadar geçirdiği duygu düşünce aşamalarını, sanat anlayışlarını bize aktardığı
- D) Edebi eserlerle onların yaratıcılarını sosyal çevresi ile birlikte incelediği
- E) Bir toplumun çağlar boyu geçirdiği sosyal, politik, ekonomik alandaki değişim ve gelişimini de gözler önüne serdiği

3. Yurt dışına elçi olarak gönderilen kimselerin gördükleri yerlerle ilgili gezi, gözlem ve izlenimlerini anlattıkları eserlere ne ad verilir?

- A) Seyahatname
- B) Şikayetname
- C) Sefaretname
- D) Selçukname
- E) Vakayıname

4. Halk şiirinin unutulmaz ustasıdır. 17. yüzyılda Toroslar'da Türkmen aşiretleri arasında yaşamıştır. Şiirlerini dörtlük nazım birimiyle, hece ölçüsüyle saz eşliğinde söyledi.

Yukarıda tanıtılan ünlü halk ozanı, aşağıdakilerden hangisidir?

- A) Pîr Sultan Abdal
- B) Karacaoğlan
- C) Aşık Veysel
- D) Dadaloğlu
- E) Köroğlu

5. İşgale uğrayan bir ülke ve savaş gibi önemli bir toplumsal olayı işleyen "Ateşten Gömlek" romanının yazarı, aşağıdakilerden hangisidir?

- A) Ahmet Hamdi Tanpınar
- B) Hüseyin Rahmi Gürpınar
- C) Halide Edip Adıvar
- D) Orhan Şaik Gökyay
- E) Halit Ziya Uşaklıgil

6. "Orhun Yazıtları"yla ilgili olarak aşağıdakilerden hangisi söylenemez?

- A) 19.yüzyıl sonunda Danimarkalı bilim adamı Andersen tarafından okunduğu
- B) Bilge Kağan ve Kül Tigin yazıtının Yollug Tigin tarafından kaleme alındığı
- C) Göktürk alfabesiyle yazıldığı
- D) 720-735 yılları arasında yazıldığı
- E) Türk dilinin en eski ve en değerli belgeleri olduğu

7. 1720 yıllarında yurtdışına elçi olarak gönderilen, gördüğü yerlerle ilgili gözlem ve izlenimlerini "Fransa Sefaretnamesi" adlı eseriyle tarihi bir belge niteliğinde sunan devlet adamı kimdir?

- A) Yirmisekiz Mehmet Çelebi
- B) Mercimek Ahmet
- C) Sinan Paşa
- D) Kâtip Çelebi
- E) Süleyman Çelebi

8. Aşağıdakilerden hangisi edebiyat tarihçilerimizden biri değildir?

- A) Mehmet Fuad Köprülü
- B) Yahya Kemal Beyatlı
- C) Ahmet Hamdi Tanpınar
- D) Nihat Sami Banarlı
- E) Vasfi Mahir Kocatürk

9. Aşağıdakilerden hangisi sözlü edebiyatın ürünlerinden biri değildir?

- A) Sav
- B) Gazel
- C) Sagu
- D) Destan
- E) Koşuk

A

2012 3D 0106-A

10. Türk'ün öz benliğini yansıtan, yüksek bir ahlâka dayanan, kahramanlık ruhumuzu coşkun bir deyişle dile getiren, sevgiden gücünü alan aile bağlarını eserin tamamında kök tem olarak sergileyen ulusal kültürümüzün baş eseri, aşağıdakilerden hangisidir?

- A) Halk Hikayeleri
- B) Battal Gazi Destanı
- C) Danişment Gazi Destanı
- D) Göktürk Yazıtları
- E) Dede Korkut Hikâyeleri

11. Balasagun yakınlarında bir şehir kuran hükümdar Şu'nun ilginç özelliklerinin, Büyük İskender'le yaptığı savaşların anlatıldığı "Şu Destanı" kime aittir?

- A) Göktürlere
- B) Araplara
- C) Kırgınlara
- D) Uygurlara
- E) Sakalara

12. İslâmlıktan önceki dönemde yuğ törenlerinde bir kağanın, bir kahramanın ölümüne duyulan üzüntüyü ifade eden, ölen kişinin niteliklerini dile getiren, kopuz eşliğinde söylenen şiirlere ne ad verilir?

- A) Koşuk
- B) Sav
- C) Sagu
- D) Destan
- E) Koşma

13. "Biş ernek tüz ermes." (Beş parmak düz olmaz).

Yukarıdaki sav örneğine en uygun atasözü aşağıdakilerden hangisidir?

- A) Beş parmağın hangisini kessen acımaz?
- B) Cefayı çekmeyen sefayı bilemez.
- C) Hayırsız dost gereksiz post.
- D) Ağaç yaşken eğilir.
- E) Bir ağaçta gül de biter diken de.

14. Uruk Kralı Gılgamış ile arkadaşı Enkidu'nun ölümsüz öyküsünün anlatıldığı "Gılgamış Destanı"ndan esinlenerek "Tanrılar ve İnsanlar" adlı oyunu kaleme alan yazar, aşağıdakilerden hangisidir?

- A) Cahit Atay
- B) Melih Cevdet Anday
- C) Orhan Asena
- D) Orhan Kemal
- E) Turan Oflazoğlu

15. Aşağıdakilerden hangisi en eski Türk destanıdır?

- A) Ergenekon Destanı
- B) Bozkurt Destanı
- C) Türeyiş Destanı
- D) Yaratılış Destanı
- E) Göç Destanı

16. İçinde destan, sav, sagu, koşuk örneklerinin de bulunduğu ansiklopedik sözlük Divân-ı Lûgatî't Türk'ün yazarı kimdir?

- A) Kaşgarlı Mahmut
- B) Ahmet Yesevî
- C) Edip Ahmet
- D) Nailî Kadim
- E) Yunus Emre

17. Halk edebiyatında ölen kişinin ardından onun yiğitliklerini, iyiliklerini ve erdemlerini anlatan şiirlere ne ad verilir?

- A) Sav
- B) Koçaklama
- C) Güzelleme
- D) Ağıt
- E) Koşuk

18. Ne keder ne yas olur
Çakıllar elmas olur
Bir kadeh bir tas olur
Yıldızların altında

Yukarıdaki şiirle ilgili olarak aşağıdakilerden hangisi söylenemez?

- A) Dört dizeden oluştuğu
- B) 7'li hece ölçüsüyle yazıldığı
- C) aaab şeklinde uyaklandığı
- D) "olur" sözcüğünün redif olduğu
- E) Kişileştirme yapıldığı

19. Yunan edebiyatının ünlü doğa destanları "İlyada ve Odysseia"yı kaleme alan millî destan şairi kimdir?

- A) Sophokles
- B) Milton
- C) Ariosto
- D) Homeros
- E) Eflâton

20. Aşağıdakilerden hangisi İslamiyetten sonraki Türk destanlarından biridir?

- A) Türeyiş Destanı
- B) Göç Destanı
- C) Atilla Destanı
- D) Timur Destanı
- E) Oğuz Kağan Destanı

GİRİŞİMCİLİK 1

A

2012 3D 0106-A

1. Neyin, nasıl, ne zaman, nerede üretileceğine karar veren, bunun için gerekli tüm çalışmaları yapan kişi ya da kişilere ne ad verilir?

- A) Patron
- B) Lider
- C) Sermayedar
- D) Girişimci
- E) İşveren

2. Nakit para, fabrika, makine ve teçhizat aşağıdaki üretim faktörlerinden hangisinin kapsamında yer alır?

- A) Doğal kaynaklar
- B) Tabiat
- C) Emek
- D) Müteşebbis
- E) Sermaye

3. Aşağıdakilerden hangisi müteşebbisin işlevlerinden biri değildir?

- A) Daha iyiyi daha ucuza üretmek
- B) Yeni girdi kaynakları bulmak
- C) Yeni pazarları keşfetmek
- D) Rekabeti azaltmak
- E) Bilinen ürünleri daha da geliştirmek

4. Aşağıdakilerden hangisi müteşebbisin kişisel özellikleri arasında yer almaz?

- A) Planlama yapmak
- B) Önder olmak
- C) Kendine güvenmek
- D) Uyumlu olmak
- E) Riskten kaçmak

5. Maslow'un ihtiyaçlar hiyerarşisinde insanın doğuşundan itibaren başlayan vazgeçilmez ihtiyaçlara ne ad verilir?

- A) Başarma ihtiyacı
- B) Saygı görme ihtiyacı
- C) Fizyolojik ihtiyaçlar
- D) Güvenlik ihtiyaçları
- E) Sevgi ve ait olma ihtiyacı

6. Mal ve hizmetlerin ihtiyaçları giderme özelliğine ne ad verilir?

- A) Talep
- B) Kaynak
- C) Tüketim
- D) Üretim
- E) Fayda

7. Torna tezgahı ve tekstil tezgahı gibi mallar aşağıdakilerden hangisinin kapsamında yer alır?

- A) İşletme gereçleri
- B) Yardımcı araçlar
- C) Üretim gereçleri
- D) Hammadde
- E) Yatırım donatım malları

8. Aşağıdakilerden hangisi işletmenin genel amaçları içinde yer alır?

- A) Tüketicide iyi izlenim yaratmak
- B) İş güvenliği
- C) Kâr elde etmek
- D) Düşük maliyet
- E) Hizmet kalitesini artırmak

9. Bir unvana sahip, ana sermayesi belli ve paylara bölünmüş olan, borçlarından dolayı yalnız varlıkları ile sorumlu bulunan şirketlere ne ad verilir?

- A) Komandit şirket
- B) Anonim şirket
- C) Kolektif şirket
- D) Kooperatif
- E) Limitet şirket

10. Giderleri özel gelirleri ile karşılanan ve genel bütçe dışında yürütülen kamu kuruluşlarına ne ad verilir?

- A) Katma bütçeli kuruluşlar
- B) Döner sermayeli işletmeler
- C) Özel bütçeli devlet işletmeleri
- D) Yerel yönetimlere bağlı işletmeler
- E) Sosyal güvenlik kurumlarına bağlı işletmeler

2012 3D 0106-A

11. Aynı konuda çalışan iki işletmenin ortak çıkar doğrultusunda alanlarında tekel oluşturmak için bir araya gelmesiyle oluşan antlaşmalara ne ad verilir?

- A) Holding
- B) Konsorsiyum
- C) Merger
- D) Kartel
- E) Tröst

12. Aşağıdakilerden hangisi iktisadi devlet teşekkülleri arasında yer almaz?

- A) Tarım Kredi Kooperatifi
- B) Devlet Malzeme Ofisi
- C) Türkiye Kömür İşletmeleri
- D) Toprak Mahsulleri Ofisi
- E) Boru Hatları ile Petrol Taşıma A.Ş

13. Kâr amacı ile üretilen mal ve hizmetlerin tüketicilere ulaştırılması için yapılan devamlı ve düzenli etkinliklere ne ad verilir?

- A) Dağıtım
- B) Reklam
- C) Pazarlama
- D) Ticaret
- E) Satış

14. Aşağıdakilerden hangisi pazarlama karması elemanlarından biri değildir?

- A) Tüketici
- B) Ürün
- C) Tutundurma
- D) Dağıtım
- E) Fiyat

15. Pazarlama etkinliklerinin ilk aşaması aşağıdakilerden hangisidir?

- A) Satış sonrası müşteri tatmininin araştırılması
- B) Dağıtımın gerçekleştirilmesi
- C) Gereksinimlerin belirlenmesi
- D) Mal ve hizmetlerin niteliklerinin belirlenmesi
- E) Fiyatın belirlenmesi

16. En eski ve en etkin satış yöntemi aşağıdakilerden hangisidir?

- A) Sergi
- B) Fuarlara katılma
- C) Katalog bastırma
- D) Kişisel satış
- E) Televizyon reklamları

17. Aşağıdakilerden hangisi işletmenin iç çevresi içinde yer alır?

- A) Meslek örgütleri
- B) Personel
- C) Rakipler
- D) Tüketiciler
- E) Sendikalar

18. Aşağıdakilerden hangisi yönetimin temel işlevleri arasında yer almaz?

- A) Planlama
- B) Organizasyon
- C) Koordinasyon
- D) Denetim
- E) Pazarlama

19. Limitet şirketlerde ortak sayısı en az kaç kişidir?

- A) 2
- B) 3
- C) 4
- D) 5
- E) 6

20. Aşağıdakilerden hangisi satış elemanının görevleri arasında yer almaz?

- A) Tanıtım yapmak
- B) İsteği talebe dönüştürmek
- C) Üretim teknolojisini belirlemek
- D) Sipariş almak
- E) Tüketici ile iletişim

ALMANCA 7

A

2012 3D 0106-A

Bu testin cevaplarını, cevap anahtarında YABANCI DİL 7 sütununa işaretleyiniz.

1. Fatma in der Türkei.

Welches Wort paßt in die obige Lücke?

Cümlede boş bırakılan yeri aşağıdakilerden hangisi doğru şekilde tamamlar?

- A) lebt
- B) liegt
- C) sieht
- D) kommt
- E) sitzt

2. Was bedeutet mit der Hand winken?

Welche Antwort paßt zur obigen Frage?

Verilen sorunun cevabı aşağıdakilerden hangisidir?

- A) Es bedeutet sie hat Kopfschmerzen.
- B) Hier darf man nicht sprechen.
- C) Dann müssen alle Kinder leise sein.
- D) Es bedeutet auf Wiedersehen sagen.
- E) Jeder muss vorsichtig sein.

3. Ein Bär ist

Welches ergänzt die Lücke im obigen Satz?

Verilen cümleyi aşağıdakilerden hangisi tamamlar?

- A) groß und kräftig.
- B) lang und leicht.
- C) schwer aber klein.
- D) schnell aber schwach.
- E) langsam aber laut.

4. Das Auto steht dem Haus.

Welches Wort paßt in die obige Lücke?

Cümlede boş bırakılan yeri aşağıdakilerden hangisi doğru şekilde tamamlar?

- A) aus
- B) über
- C) zwischen
- D) vor
- E) in

5. kann nicht laufen, sondern schleichen.

Welches Wort paßt in die obige Lücke?

Cümlede boş bırakılan yeri aşağıdakilerden hangisi doğru şekilde tamamlar?

- A) Eine Schlange
- B) Eine Schildkröte
- C) Ein Tiger
- D) Ein Pferd
- E) Eine Maus

6. Er spielt Saxophon.

Welche Frage paßt zur obigen Antwort?

Verilen cevabı gerektirecek soru aşağıdakilerden hangisidir?

- A) Womit machen Sie Musik?
- B) Woher hast du dieses Instrument?
- C) Welches Instrument spielt Thorsten?
- D) Können Sie ein Instrument spielen?
- E) Hast du ein Instrument?

A

2012 3D 0106-A

7. A: Wie dein Lieblingssänger?
B: Lieblingssänger heißt Tarkan.

Welches ergänzt die Lücken im obigen Dialog?

Verilen karşılıklı konuşmada boş bırakılan yerleri aşağıdakilerden hangisi tamamlar?

- A) kennst / Dein
B) schreibst / Meine
C) heißt / Mein
D) singt / Deine
E) hört / Mir

8. Wenn die Wortenden in zwei Zeilen am Ende eines Satzes gleich sind, wie z.B. Tag und Sag, dann ist es ein

Welches Wort paßt in die obige Lücke?

Cümlede boş bırakılan yeri aşağıdakilerden hangisi doğru şekilde tamamlar?

- A) Ton
B) Reim
C) Lied
D) Klang
E) Stück

9. Was bedeutet "sunmak" auf deutsch?

"sunmak" sözcüğünün Almancası aşağıdakilerden hangisidir?

- A) wiederholen
B) nachschlagen
C) präsentieren
D) aussprechen
E) entdecken

10. kannst du die Prüfung bestehen.

Welches ergänzt die Lücke im obigen Satz?

Verilen cümleyi aşağıdakilerden hangisi tamamlar?

- A) Ob wir diese Tiernamen gelernt haben
B) Wenn du viel übst
C) Wenn wir Musik hören
D) Als wir heute in die Schule gingen
E) Falls er seine Hausaufgaben macht

11. Die Studenten eine Klassenfahrt nach Antalya .

Welches Wort paßt in die obige Lücke?

Cümlede boş bırakılan yeri aşağıdakilerden hangisi doğru şekilde tamamlar?

- A) hören
B) planen
C) fahren
D) tragen
E) sagen

12. Worüber sprechen die Schüler?

Welches hat die gleiche Bedeutung mit dem obigen Satz?

Verilen cümle ile aynı anlamı taşıyan aşağıdakilerin hangisidir?

- A) Über welche Prüfung sprechen die Kinder?
B) Wie unterhalten sich die Schüler?
C) Was sagt der Schüler?
D) Über was diskutieren die Schüler?
E) Wann gehen die Schüler zur Schule?

13. Der Mann und die Frau sitzen heute im Haus.

Welches Wort paßt in die obige Lücke?

Cümlede boş bırakılan yeri aşağıdakilerden hangisi doğru şekilde tamamlar?

- A) draussen
B) ausserhalb
C) innerhalb
D) aussen
E) drinnen

14. Das Kind möchte eine Mütze kaufen.

Welches Wort paßt in die obige Lücke?

Cümlede boş bırakılan yeri aşağıdakilerden hangisi doğru şekilde tamamlar?

- A) sind
B) sich
C) fast
D) dich
E) mich

2012 3D 0106-A

15. Welche Familienfeste werden in der Türkei gefeiert?

Welche Antwort paßt zur obigen Frage?

Verilen sorunun cevabı aşağıdakilerden hangisidir?

- A) Es gibt auch religiöse Feste, die gefeiert werden müssen.
- B) Es gibt viele Ähnlichkeiten und Unterschiede zwischen den Festen.
- C) Ich habe ein Geschenk für meine Schwester gekauft.
- D) In der Türkei sind alle glücklich, wenn das Zuckerfest gefeiert wird.
- E) In der Türkei werden Familienfeste gefeiert, wenn jemand Geburtstag hat.

16. Wie lautet das Singular von "die Körper"?

"die Körper" sözcüğünün tekil hali aşağıdakilerden hangisidir?

- A) Eine Körper
- B) Das Körper
- C) Eines Körpers
- D) Die Körper
- E) Der Körper

17. Machst du Sport oder mit deinen Freunden?

Welches Wort paßt in die obige Lücke?

Cümlede boş bırakılan yeri aşağıdakilerden hangisi doğru şekilde tamamlar?

- A) jeden
- B) allein
- C) kein
- D) selten
- E) gleich

18. Ein Bund Petersilien.

Wie lautet der obige Satz auf türkisch?

Verilen cümlelerin Türkçesi aşağıdakilerden hangisidir?

- A) Bir çeşit mantar.
- B) Bir yaprak marul.
- C) Bir demet maydanoz.
- D) Bir bağ dereotu.
- E) Bir tutam karabiber.

19. Ich am Sonntag mit meinen Freunden im Wald.

Welches Wort paßt in die obige Lücke?

Cümlede boş bırakılan yeri aşağıdakilerden hangisi doğru şekilde tamamlar?

- A) springe
- B) schneide
- C) mische
- D) wandere
- E) schwimmen

20. Die Tomate / der Paprika / der Kopfsalat / das Omelett / der Pilz

Welches Wort paßt nicht zu den anderen in der obigen Wortgruppe?

Verilen sözcük grubuna uymayan aşağıdakilerden hangisidir?

- A) Der Pilz
- B) Der Paprika
- C) Der Kopfsalat
- D) Das Omelett
- E) Die Tomate

FRANSIZCA 7

A

2012 3D 0106-A

Bu testin cevaplarını, cevap anahtarında YABANCI DİL 7 sütununa işaretleyiniz.

1. du sport pour être en bonne santé.

Choisissez le mot qui convient.

Cümledeki boşluğu aşağıdakilerden hangisi doğru şekilde tamamlar?

- A) Faites
- B) Payez
- C) Signez
- D) Soyez
- E) Ouvrez

2. Je voudrais payer espèces.

Choisissez le mot qui convient.

Cümledeki boşluğu aşağıdakilerden hangisi doğru şekilde tamamlar?

- A) au
- B) par
- C) dans
- D) en
- E) pour

3. pas / d'alcool / beaucoup / prenez / ne
I II III IV V

Mettez dans le bon ordre.

Yukarıdaki kelimelerin anlamlı bir bütün oluşturan sırası aşağıdakilerin hangisinde doğru olarak verilmiştir?

- A) V, IV, I, III, II
- B) V, IV, III, II, I
- C) IV, V, I, II, III
- D) IV, III, II, V, I
- E) IV, I, V, II, III

4. Elle est contente tous ses professeurs.

Choisissez le mot qui convient.

Cümledeki boşluğu aşağıdakilerden hangisi doğru şekilde tamamlar?

- A) au
- B) chaque
- C) chez
- D) de
- E) personne

5. Je n'ai rien compris.

Choisissez la traduction qui convient.

Yukarıdaki cümlenin Türkçe karşılığı aşağıdakilerden hangisidir?

- A) Hiçbir şey anlamadım.
- B) Hiçbirini tanımıyorum.
- C) Hiç zamanım yok.
- D) Hiç kimseyi görmedim.
- E) Hiçbir şey söylemedim.

6. Elle est de sa maison à sept heures du matin.

Choisissez le mot qui convient.

Cümledeki boşluğu aşağıdakilerden hangisi doğru şekilde tamamlar?

- A) sort
- B) sortent
- C) sortie
- D) sortez
- E) sors

7. Nous allons à l'école métro.

Choisissez le mot qui convient.

Cümledeki boşluğu aşağıdakilerden hangisi doğru şekilde tamamlar?

- A) au
- B) par
- C) en
- D) comme
- E) dans

A

2012 3D 0106-A

8. - Vous avez changé de style vestimentaire?
- Non, pas de

Choisissez le mot qui convient.

Yukarıdaki konuşmada boş bırakılan yeri aşağıdakilerden hangisi doğru şekilde tamamlar?

- A) changeable
B) changement
C) changer
D) changé
E) changeur

9. C'est lui parle toute la soirée.

Choisissez le mot qui convient.

Cümledeki boşluğu aşağıdakilerden hangisi doğru şekilde tamamlar?

- A) où
B) que
C) qui
D) dans
E) donc

10. Les films d'action; je(j') trouve triste.

Choisissez le mot qui convient.

Cümledeki boşluğu aşağıdakilerden hangisi doğru şekilde tamamlar?

- A) en
B) les
C) y
D) lui
E) la

11. Je ne fume plus.

Choisissez la traduction qui convient.

Yukarıdaki cümlelerin Türkçe karşılığı aşağıdakilerden hangisidir?

- A) Sigarayı bıraktım.
B) Artık sigara içmiyorum.
C) Eskiden sigara içerdim.
D) Sigarayı bırakamıyorum.
E) Hiç sigara kullanmadım.

12. La réunion est 20 janvier.

Choisissez le mot qui convient.

Cümledeki boşluğu aşağıdakilerden hangisi doğru şekilde tamamlar?

- A) au
B) en
C) y
D) le
E) de la

13. Le chat de Mme Perrin est perdu. Elle est donc

Choisissez le mot qui convient.

Cümledeki boşluğu aşağıdakilerden hangisi doğru şekilde tamamlar?

- A) peur
B) content
C) colère
D) joyeuse
E) triste

14. - livre voulez-vous acheter?
- Celui-ci.

Choisissez le mot qui convient.

Yukarıdaki konuşmada boş bırakılan yeri aşağıdakilerden hangisi doğru şekilde tamamlar?

- A) Quelle
B) Lequel
C) De quoi
D) Laquelle
E) Lesquels

15. J'en ai marre ce vieux ordinateur!

Choisissez le mot qui convient.

Cümledeki boşluğu aşağıdakilerden hangisi doğru şekilde tamamlar?

- A) de la
B) car
C) qui
D) pour
E) de

2012 3D 0106-A

16. A - Excusez-moi, vous avez l'heure?
B -
A - Je vous demande si vous avez l'heure.
B - Ah oui, il est dix heures et demie.
A - Merci.

Choisissez l'expression qui convient.

Yukarıdaki konuşmada boş bırakılan yeri aşağıdakilerden hangisi doğru şekilde tamamlar?

- A) Quoi de neuf?
B) C'est de la part de qui?
C) C'est ça?
D) Tu vois?
E) Pardon?

17. A - Je veux acheter un sac.
B -
A - Elle dit qu'elle veut acheter un sac.

Choisissez l'expression qui convient.

Yukarıdaki konuşmada boş bırakılan yeri aşağıdakilerden hangisi doğru şekilde tamamlar?

- A) Comment va-t-elle?
B) Qu'est-ce qu'elle dit?
C) Quel est votre choix?
D) Est-ce qu'elle aime acheter?
E) Où est-ce qu'elle va?

18. Si tu es malade, tu te reposer.

Choisissez le mot qui convient.

Cümledeki boşluğu aşağıdakilerden hangisi doğru şekilde tamamlar?

- A) bien
B) vais
C) dois
D) as
E) malade

19. Voudriez-vous rappeler plus tard?

Choisissez la traduction qui convient.

Yukarıdaki cümlenin Türkçe karşılığı aşağıdakilerden hangisidir?

- A) Bir kaç dakika içinde telefon eder misiniz?
B) Daha önce aradınız mı?
C) Sizi aramamızı ister misiniz?
D) Daha sonra yine arar mısınız?
E) Daha sonra sizi arayacaklar mı?

20. Je voudrais parler M. Doisneau s'il vous plaît.

Choisissez le mot qui convient.

Cümledeki boşluğu aşağıdakilerden hangisi doğru şekilde tamamlar?

- A) est
B) lui
C) en
D) à
E) qui

İNGİLİZCE 7

A

2012 3D 0106-A

Bu testin cevaplarını, cevap anahtarında YABANCI DİL 7 sütununa işaretleyiniz.

1. I had never pizza until I to Italy.

Which of the following completes the sentence above?

Aşağıdakilerden hangisi yukarıdaki cümleyi doğru olarak tamamlar?

- A) eaten / went
B) ate / am going
C) eat / go
D) ate / gone
E) eat / went

2. My mother had prepared the lunch when we came from school.

Which of the following completes the sentence above?

Aşağıdakilerden hangisi yukarıdaki cümleyi doğru olarak tamamlar?

- A) yet
B) ever
C) since
D) already
E) for

3. Jane is going to have an exam tomorrow. So, she go to bed early.

Which of the following completes the sentence above?

Aşağıdakilerden hangisi yukarıdaki cümleyi doğru olarak tamamlar?

- A) should
B) have
C) should have
D) ought
E) would

4. Brenda had justher homework when the phone rang.

Which of the following completes the sentence above?

Aşağıdakilerden hangisi yukarıdaki cümleyi doğru olarak tamamlar?

- A) was finish
B) finishing
C) finish
D) finished
E) has finished

5. Ann : Where was Mr. Stone yesterday?
Sue : I don't know. He been at the meeting.

Which of the following completes the dialogue above?

Aşağıdakilerden hangisi yukarıdaki konuşmayı doğru olarak tamamlar?

- A) might have
B) must
C) will have
D) would
E) can

6. Sam : It's my brother's birthday tomorrow. What shall I buy him?
Paul : Well, you buy him a watch.

Which of the following completes the dialogue above?

Aşağıdakilerden hangisi yukarıdaki konuşmayı doğru olarak tamamlar?

- A) will
B) could have
C) could
D) must have
E) ought

7. If it, I will wear my raincoat.

Which of the following completes the sentence above?

Aşağıdakilerden hangisi yukarıdaki cümleyi doğru olarak tamamlar?

- A) was raining
B) rained
C) rains
D) would rain
E) rain

A

2012 3D 0106-A

8. Mary : How money is there in the wallet?
Jill : There is a little.

Which of the following completes the dialogue above?

Aşağıdakilerden hangisi yukarıdaki konuşmayı doğru olarak tamamlar?

- A) any
B) much
C) more
D) some
E) many

9. Sam : How apples are there in the basket?
Jim : There are a few.

Which of the following completes the dialogue above?

Aşağıdakilerden hangisi yukarıdaki konuşmayı doğru olarak tamamlar?

- A) more
B) much
C) many
D) any
E) some

10. The students have been studying
8 o'clock.

Which of the following completes the sentence above?

Aşağıdakilerden hangisi yukarıdaki cümleyi doğru olarak tamamlar?

- A) ago
B) since
C) after
D) for
E) last

11. She has been living in New York
two years.

Which of the following completes the sentence above?

Aşağıdakilerden hangisi yukarıdaki cümleyi doğru olarak tamamlar?

- A) from
B) for
C) before
D) since
E) ago

12. I was late for school. I took a taxi.

Which of the following completes the sentence above?

Aşağıdakilerden hangisi yukarıdaki cümleyi doğru olarak tamamlar?

- A) So
B) Such
C) So that
D) As
E) As soon as

13. Ken : Are you a teacher?

Sandy : Yes, I am.

Bob : What does Ken want to know?

Sandy : He wants to know if I a teacher.

Which of the following completes the dialogue above?

Aşağıdakilerden hangisi yukarıdaki konuşmayı doğru olarak tamamlar?

- A) had been
B) were
C) have been
D) will be
E) am

14. He said, "There has never been a library in the town".

He said that there a library in the town.

Which of the following completes the sentence above?

Aşağıdakilerden hangisi yukarıdaki cümleyi doğru olarak tamamlar?

- A) would never be
B) had never been
C) will never be
D) has never been
E) could never be

2012 3D 0106-A

15. Jack his house by the end of this week.

Which of the following completes the sentence above?

Aşağıdakilerden hangisi yukarıdaki cümleyi doğru olarak tamamlar?

- A) was moving
B) moving
C) moved
D) be moved
E) will have moved

16. Dean said, "I bought a new car yesterday." Dean said that he had bought a new car

Which of the following completes the sentence above?

Aşağıdakilerden hangisi yukarıdaki cümleyi doğru olarak tamamlar?

- A) that day
B) then
C) the next day
D) before
E) the day before

17. The policeman asked, "Are you a student?" He asked me if I a student.

Which of the following completes the sentence above?

Aşağıdakilerden hangisi yukarıdaki cümleyi doğru olarak tamamlar?

- A) have been
B) was
C) were
D) be
E) is

18. Tom : Here is Sandy. Ask her if you could use her pen.
Sue : I use your pen Sandy?
Sandy : Certainly.

Which of the following completes the dialogue above?

Aşağıdakilerden hangisi yukarıdaki konuşmayı doğru olarak tamamlar?

- A) Did
B) Does
C) Can
D) Was
E) Do

19. Tony : Excuse me, I borrow your dictionary?
Liz : Certainly.

Which of the following completes the dialogue above?

Aşağıdakilerden hangisi yukarıdaki konuşmayı doğru olarak tamamlar?

- A) could
B) should
C) have
D) may
E) must

20. Tom arrived at the airport, the plane had already left.

Which of the following completes the sentence above.

Aşağıdakilerden hangisi yukarıdaki cümleyi doğru olarak tamamlar?

- A) Which
B) That
C) Where
D) When
E) While

FİZİK 4

A

2012 3D 0106-A

1. ve 2. sorular aşağıdaki bilgilere göre cevaplandırılacaktır.

Yatay bir düzlemde durmakta olan 6 kg kütleli bir cisim 15 N luk yatay ve sabit bir kuvvetle çekilmektedir. ($g=10$ N/kg)

1. Bu bilgilere göre, cisim 5 saniyede 25 m yer değiştirdiğine göre, cismin ivmesi kaç m/s^2 dir?

- A) 2
- B) 3
- C) 4
- D) 5
- E) 6

2. Yukarıdaki bilgilere göre, cisimle yüzey arasındaki sürtünme katsayısı kaçtır?

- A) 0,01
- B) 0,02
- C) 0,03
- D) 0,04
- E) 0,05

3. I. Kinetik sürtünme kuvveti
II. Dinamik sürtünme kuvveti
III. Statik sürtünme kuvveti

Yukarıdakilerden hangileri sürtünme kuvvetleri arasında yer almaz?

- A) Yalnız II
- B) Yalnız III
- C) I ve II
- D) I ve III
- E) II ve III

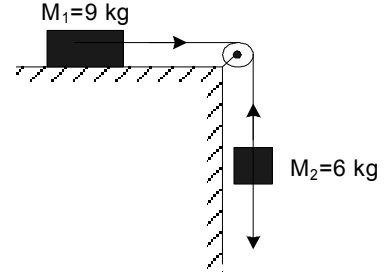
4. Cisimlerin hareketinden dolayı sahip oldukları enerjiye ne ad verilir?

- A) Kinetik enerji
- B) Statik enerji
- C) Dinamik enerji
- D) Kurtulma enerjisi
- E) Potansiyel enerji

5. Yatay bir düzlemde hareketsiz bir cisme, düzleme paralel 200 N luk sabit bir kuvvet etki ettirilerek cismin 5 m yer değiştirmesi sağlanmıştır. Buna göre yapılan iş kaç J dür? (Sürtünmeler önemsizdir.)

- A) 8
- B) 40
- C) 100
- D) 205
- E) 1.000

6. ve 7. sorular aşağıdaki şekle göre cevaplandırılacaktır.



6. Yukarıdaki şekilde verilen, sürtünmesiz sistemin ivmesi kaç m/s^2 dir? ($g=10$ m/s^2)

- A) 2
- B) 3
- C) 4
- D) 5
- E) 6

7. Yukarıdaki bilgilere göre, ipteki gerilme kuvveti kaç N dur?

- A) 18
- B) 24
- C) 28
- D) 32
- E) 36

A

2012 3D 0106-A

8. Yatay bir yolda 40 m/s sabit bir hızla gitmekte olan 1.200 kg kütleli bir otomobil fren yapmış ve düzgün yavaşlayarak 160 m yol alarak durmuştur. Buna göre, otomobilin fren kuvveti kaç N dur?

- A) 4.000
B) 4.800
C) 5.400
D) 6.000
E) 6.600

9. 20 metre yükseklikten yere düşen 2 kg kütleli bir cismin yere çarptığı andaki hızı kaç m/s dir? ($g=10 \text{ m/s}^2$)

- A) 5
B) 10
C) 20
D) 40
E) 80

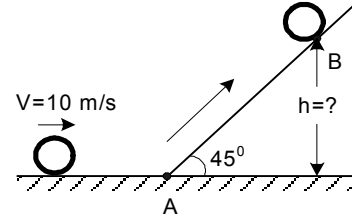
10. 2 kg kütleli bir cismin, zıt yönlü 12 N ve 6 N'luk iki kuvvetin etkisi altında kazanacağı ivme kaç N/kg dir?

- A) 2
B) 3
C) 6
D) 8
E) 9

11. İç yarıçapı $r_1=0,3 \text{ m}$, dış yarıçapı $r_2=0,5$, kütlesi 200 kg olan ve saniyede 2 devir yapan bir değirmen taşının eylemsizlik momenti kaç kg.m^2 dir? ($I=\frac{1}{2}.m.(r_1^2+r_2^2)$)

- A) 200
B) 340
C) 480
D) 620
E) 800

12 - 14. sorular aşağıdaki bilgilere göre cevaplandırılacaktır.



Yukarıdaki şekilde, 1 kg kütleli içi boş bir silindir sürtünmesiz yatay bir düzlemde 10 m/s sabit hızla yuvarlanarak A noktasına gelmiş daha sonrada B noktasına kadar çıkmıştır.

12. Bu bilgilere göre, cismin A noktasındaki kinetik enerjisi kaç J dür?

- A) 10
B) 50
C) 100
D) 200
E) 1.000

13. Yukarıdaki bilgilere göre, eğik düzlemde çıktığı son noktanın (B), yatay düzlemden yüksekliği (h) kaç metredir? ($g=10 \text{ N/kg}$)

- A) 5
B) 6
C) 8
D) 10
E) 12

14. Yukarıdaki bilgilere göre, silindirin eğik düzlemde aldığı yol (AB noktaları arası) kaç metredir? ($I=mr^2, \text{Sin}45^\circ=\frac{\sqrt{2}}{2}$)

- A) $\sqrt{2}$
B) $2\sqrt{2}$
C) $5\sqrt{2}$
D) $10\sqrt{2}$
E) $20\sqrt{2}$

2012 3D 0106-A

15. 5 m yükseklikten bırakılan bir cismin yere çarptığı andaki hızı kaç m/s dir? ($g=10 \text{ m/s}^2$)

- A) 2
- B) 5
- C) 10
- D) 50
- E) 100

16. Toplam kütlesi 400 kg, gücü 80.000 W olan bir asansörün 20 metre yukarıya çıkabilmesi için gereken süre kaç saniyedir? ($g=10 \text{ m/s}^2$)

- A) 1
- B) 2
- C) 3
- D) 4
- E) 5

17. ve 18. sorular aşağıdaki bilgilere göre cevaplandırılacaktır.

10 kg kütleli bir cisim yatay bir zemin üzerinde 20 N luk yatay bir kuvvetle 25 m çekilmiştir

17. Bu bilgilere göre, kuvvetin yaptığı iş kaç J dür?

- A) 100
- B) 200
- C) 300
- D) 400
- E) 500

18. Yukarıdaki bilgilere göre, cismin hızı kaç m/s dir?

- A) 5
- B) 10
- C) 15
- D) 20
- E) 25

19. Yay sabiti 2.000 N/m olan bir yayda 40 J'lük bir potansiyel enerjiyi depolayabilmek için, yay kaç metre sıkıştırılmalı ya da gerilmelidir?

- A) 0,1
- B) 0,2
- C) 0,3
- D) 0,4
- E) 0,5

20. 500 gram kütleli bir demir parçasının sıcaklığını $80 \text{ }^\circ\text{C}$ 'tan $30 \text{ }^\circ\text{C}$ 'a düşürmek için demir parçasından alınması gereken ısı miktarı kaç kaloridir? ($c_{\text{demir}}=0,11 \text{ cal/g }^\circ\text{C}$)

- A) 2.000
- B) 2.250
- C) 2.500
- D) 2.750
- E) 3.000

SEÇMELİ ALMANCA 7

A

2012 3D 0106-A

Bu testin cevaplarını, cevap anahtarında SEÇMELİ YABANCI DİL 7 sütununa işaretleyiniz.

1. ist groß und hat einen langen Hals.

Welches Wort paßt in die obige Lücke?

Cümlede boş bırakılan yeri aşağıdakilerden hangisi doğru şekilde tamamlar?

- A) Der Elefant
B) Die Giraffe
C) Das Känguru
D) Die Schildkröte
E) Das Krokodil

2. Französisch wird in Frankreich gesprochen.

Welche Frage paßt zur obigen Antwort?

Verilen cevabı gerektirecek soru aşağıdakilerden hangisidir?

- A) Wer möchte Französisch lernen?
B) Wo wird französisch gesprochen?
C) Können wir auch französisch lernen?
D) Wie hast du französisch gelemt?
E) Kannst du französisch sprechen?

3. Ich lege meine Bücher den Tisch.

Welches Wort paßt in die obige Lücke?

Cümlede boş bırakılan yeri aşağıdakilerden hangisi doğru şekilde tamamlar?

- A) rechts
B) zwischen
C) auf
D) in
E) links

4. Fatma in der Türkei.

Welches Wort paßt in die obige Lücke?

Cümlede boş bırakılan yeri aşağıdakilerden hangisi doğru şekilde tamamlar?

- A) lebt
B) liegt
C) sieht
D) kommt
E) sitzt

5. Ein Bär ist

Welches ergänzt die Lücke im obigen Satz?

Verilen cümleyi aşağıdakilerden hangisi tamamlar?

- A) schnell aber schwach.
B) groß und kräftig.
C) schwer aber klein.
D) langsam aber laut.
E) lang und leicht.

6. Womit machst du Musik?

Welche Antwort paßt zur obigen Frage?

Verilen sorunun cevabı aşağıdakilerden hangisidir?

- A) Ich mache mit Trompete Musik.
B) Ich habe auch einen Computer.
C) Ich höre sehr gern klassische Musik.
D) Wir machen immer Musik.
E) Wir haben früher nie Musik gehört.

7. Was bedeutet "keyif" auf deutsch?

"keyif" sözcüğünün Almancası aşağıdakilerden hangisidir?

- A) Die Ideen
B) Der Weg
C) Die Löffel
D) Die Laune
E) Der Spiegel

A

2012 3D 0106-A

8. A:
B: Ich kenne die Musik von Beethoven.
A: Ach ja, die kenne ich auch.

Welches ergänzt den obigen Dialog?

Verilen karşılıklı konuşmayı aşağıdakilerden hangisi tamamlar?

- A) Welche Gruppen hörst du gem?
B) Was ist deine Lieblingsmusik?
C) Hast du auch einen Liebessänger?
D) Welche klassische Musik kennst du?
E) Gehst du gem ins Konzert?

9. Ich spiele Klavier, ich alleine bin.

Welches Wort paßt in die obige Lücke?

Cümlede boş bırakılan yeri aşağıdakilerden hangisi doğru şekilde tamamlar?

- A) wenn
B) als
C) was
D) ob
E) welche

10. A: Wie dein Liebessänger?
B: Liebessänger heißt Tarkan.

Welches ergänzt die Lücken im obigen Dialog?

Verilen karşılıklı konuşmada boş bırakılan yerleri aşağıdakilerden hangisi tamamlar?

- A) kennst / Dein
B) heißt / Mein
C) schreibst / Meine
D) singt / Deine
E) hört / Mir

11. Die Menschen spazieren in der Natur.

Welches Wort paßt in die obige Lücke?

Cümlede boş bırakılan yeri aşağıdakilerden hangisi doğru şekilde tamamlar?

- A) oben
B) sich
C) sind
D) helfen
E) draussen

12. Die Kinder fassen sich an der Hand.

Wie lautet der obige Satz auf türkisch?

Verilen cümlelerin Türkçesi aşağıdakilerden hangisidir?

- A) Çocuklar ellerini yıkadılar.
B) Çocukların elleri temiz.
C) Çocuklar ellerini sallıyorlar.
D) Çocukların elleri boş kaldı.
E) Çocuklar el ele tutuşuyorlar.

13. Das Glück verdoppelt sich,

Welches ergänzt die Lücke im obigen Satz?

Verilen cümleyi aşağıdakilerden hangisi tamamlar?

- A) vielleicht können wir darüber sprechen.
B) wenn man es teilt.
C) warum wir alles verstehen.
D) weil wir sofort gehen müssen.
E) wenn wir Hunger haben.

14. Die Studenten eine Klassenfahrt nach Antalya .

Welches Wort paßt in die obige Lücke?

Cümlede boş bırakılan yeri aşağıdakilerden hangisi doğru şekilde tamamlar?

- A) tragen
B) hören
C) planen
D) sagen
E) fahren

2012 3D 0106-A

15. Welche Familienfeste werden in der Türkei gefeiert?

Welche Antwort paßt zur obigen Frage?

Verilen sorunun cevabı aşağıdakilerden hangisidir?

- A) Es gibt auch religiöse Feste, die gefeiert werden müssen.
 B) Es gibt viele Ähnlichkeiten und Unterschiede zwischen den Festen.
 C) In der Türkei werden Familienfeste gefeiert, wenn jemand Geburtstag hat.
 D) Ich habe ein Geschenk für meine Schwester gekauft.
 E) In der Türkei sind alle glücklich, wenn das Zuckerfest gefeiert wird.

16. Patientin / untersucht / die / Arzt / der

Wie kann man mit den obigen Wortgruppen einen vollständigen Satz bilden?

Verilen sözcük gruplarıyla kurulabilecek en anlamlı ve doğru cümle aşağıdakilerden hangisidir?

- A) Die Patientin untersucht der Arzt.
 B) Die Patientin der Arzt untersucht.
 C) Die Arzt der untersucht Patientin.
 D) Der Arzt untersucht die Patientin.
 E) Der Patientin die untersucht Arzt.

17. A:
 B: Nein, was hat sie denn?
 A: Sie hat eine Entzündung.

Welches ergänzt den obigen Dialog?

Verilen karşılıklı konuşmayı aşağıdakilerden hangisi tamamlar?

- A) Hast du heute deine Hausaufgaben gemacht?
 B) Kommt ihr heute mit?
 C) Warst du heute beim Arzt?
 D) Hast du gehört, daß unsere Lehrerin krank ist?
 E) Wann gehst du zum Arzt?

18. Was hält dich fit?

Welche Antwort paßt nicht zur obigen Frage?

Aşağıdakilerden hangisi verilen sorunun cevabı olamaz?

- A) Ich fahre oft Fahrrad.
 B) Ich spiele mit Freunden Tennis.
 C) Ich spiele jeden Tag Fußball.
 D) Ich gehe jeden Abend laufen.
 E) Ich esse und schlafe gern.

19. Wie lautet das Singular von "die Körper"?

"die Körper" sözcüğünün tekil hali aşağıdakilerden hangisidir?

- A) Das Körper
 B) Eine Körper
 C) Der Körper
 D) Eines Körpers
 E) Die Körper

20. Machst du Sport oder mit deinen Freunden?

Welches Wort paßt in die obige Lücke?

Cümlede boş bırakılan yeri aşağıdakilerden hangisi doğru şekilde tamamlar?

- A) selten
 B) jeden
 C) gleich
 D) kein
 E) allein

SEÇMELİ FRANSIZCA 7

A

2012 3D 0106-A

Bu testin cevaplarını, cevap anahtarında SEÇMELİ YABANCI DİL 7 sütununa işaretleyiniz.

1. Le magasin ouvre ?

Choisissez le mot qui convient.

Cümledeki boşluğu aşağıdakilerden hangisi doğru şekilde tamamlar?

- A) devant
- B) quand
- C) combien
- D) en espèces
- E) est-ce

2. On est ouvert du lundi vendredi.

Choisissez le mot qui convient.

Cümledeki boşluğu aşağıdakilerden hangisi doğru şekilde tamamlar?

- A) dans
- B) au
- C) la
- D) de
- E) en

3. Qu'est-ce que vous voulez boire?

Choisissez la traduction qui convient.

Yukarıdaki cümlenin Türkçe karşılığı aşağıdakilerden hangisidir?

- A) Bir şey alırmısınız?
- B) İçecek olarak ne alırsınız?
- C) Ne içmek istersiniz?
- D) İçecek ister misiniz?
- E) Size ne getireyim?

4. pas / d'alcool / beaucoup / prenez / ne
I II III IV V

Mettez dans le bon ordre.

Yukarıdaki kelimelerin anlamlı bir bütün oluşturan sırası aşağıdakilerin hangisinde doğru olarak verilmiştir?

- A) V, IV, I, III, II
- B) V, IV, III, II, I
- C) IV, V, I, II, III
- D) IV, III, II, V, I
- E) IV, I, V, II, III

5. du sport pour être en bonne santé.

Choisissez le mot qui convient.

Cümledeki boşluğu aşağıdakilerden hangisi doğru şekilde tamamlar?

- A) Soyez
- B) Faites
- C) Payez
- D) Signez
- E) Ouvrez

6. Je n'ai rien compris.

Choisissez la traduction qui convient.

Yukarıdaki cümlenin Türkçe karşılığı aşağıdakilerden hangisidir?

- A) Hiçbir şey anlamadım.
- B) Hiçbirini tanımıyorum.
- C) Hiç zamanım yok.
- D) Hiç kimseyi görmedim.
- E) Hiçbir şey söylemedim.

A

2012 3D 0106-A

7. Nous allons à l'école métro.

Choisissez le mot qui convient.**Cümledeki boşluğu aşağıdakilerden hangisi doğru şekilde tamamlar?**

- A) dans
- B) au
- C) par
- D) en
- E) comme

8. Il est un étudiant.

Choisissez le mot qui convient.**Cümledeki boşluğu aşağıdakilerden hangisi doğru şekilde tamamlar?**

- A) mieux
- B) meilleur
- C) bien
- D) bon
- E) sympa

9. Mon père 75 ans.

Choisissez le mot qui convient.**Cümledeki boşluğu aşağıdakilerden hangisi doğru şekilde tamamlar?**

- A) a
- B) est
- C) ont
- D) as
- E) sont

10. Hier soir, trop chaud.

Choisissez l'expression qui convient.**Cümledeki boşluğu aşağıdakilerden hangisi doğru şekilde tamamlar?**

- A) c'est
- B) il faisait
- C) il y avait
- D) je préfère
- E) combien

11. Je vous présente mon ami travaille chez Renault.

Choisissez le mot qui convient.**Cümledeki boşluğu aşağıdakilerden hangisi doğru şekilde tamamlar?**

- A) que
- B) en
- C) où
- D) quoi
- E) qui

12. Les films d'action; je(j') trouve triste.

Choisissez le mot qui convient.**Cümledeki boşluğu aşağıdakilerden hangisi doğru şekilde tamamlar?**

- A) lui
- B) y
- C) la
- D) en
- E) les

13. J'en ai assez cet ordinateur.

Choisissez le mot qui convient.**Cümledeki boşluğu aşağıdakilerden hangisi doğru şekilde tamamlar?**

- A) par
- B) de
- C) pour
- D) que
- E) sur

14. Elle dit qu'elle va venir demain.

Choisissez la traduction qui convient.**Yukarıdaki cümlelerin Türkçe karşılığı aşağıdakilerden hangisidir?**

- A) Yarın gelip gelemeyeceği belli değil.
- B) Yarın gelmek istiyor.
- C) Yarın geleceğini söylüyor.
- D) Yarın gelmek istediğini söyledi.
- E) O, yarın gelecekmiş.

2012 3D 0106-A

15. - Bonjour, je voudrais parler à M. Lenoir.
- Oui,

- De Mme Chantal.

Choisissez l'expression qui convient.

Yukarıdaki konuşmada boş bırakılan yeri aşağıdakilerden hangisi doğru şekilde tamamlar?

- A) c'est moi.
B) il est là?
C) c'est de la part de qui?
D) il est M. Lenoir.
E) c'est toi.

16. Je cherche un appartement louer.

Choisissez le mot qui convient.

Cümledeki boşluğu aşağıdakilerden hangisi doğru şekilde tamamlar?

- A) par
B) qui
C) de
D) à
E) en

17. - livre voulez-vous acheter?
- Celui-ci.

Choisissez le mot qui convient.

Yukarıdaki konuşmada boş bırakılan yeri aşağıdakilerden hangisi doğru şekilde tamamlar?

- A) Lesquels
B) Quelle
C) Laquelle
D) Lequel
E) De quoi

18. A - Excusez-moi, vous avez l'heure?
B -

A - Je vous demande si vous avez l'heure.

B - Ah oui, il est dix heures et demie.

A - Merci.

Choisissez l'expression qui convient.

Yukarıdaki konuşmada boş bırakılan yeri aşağıdakilerden hangisi doğru şekilde tamamlar?

- A) Quoi de neuf?
B) C'est de la part de qui?
C) C'est ça?
D) Tu vois?
E) Pardon?

19. Si tu es malade, tu te reposer.

Choisissez le mot qui convient.

Cümledeki boşluğu aşağıdakilerden hangisi doğru şekilde tamamlar?

- A) bien
B) vais
C) dois
D) as
E) malade

20. Voudriez-vous rappeler plus tard?

Choisissez la traduction qui convient.

Yukarıdaki cümlenin Türkçe karşılığı aşağıdakilerden hangisidir?

- A) Daha sonra sizi arayacaklar mı?
B) Daha önce aradınız mı?
C) Bir kaç dakika içinde telefon eder misiniz?
D) Sizi aramamızı ister misiniz?
E) Daha sonra yine arar mısınız?

SEÇMELİ İNGİLİZCE 7

A

2012 3D 0106-A

Bu testin cevaplarını, cevap anahtarında SEÇMELİ YABANCI DİL 7 sütununa işaretleyiniz.

1. I hadn't known Bob we met at Mary's party last month.

Which of the following completes the sentence above?

Aşağıdakilerden hangisi yukarıdaki cümleyi doğru olarak tamamlar?

- A) just
- B) until
- C) already
- D) yet
- E) after

2. I had never pizza until I to Italy.

Which of the following completes the sentence above?

Aşağıdakilerden hangisi yukarıdaki cümleyi doğru olarak tamamlar?

- A) ate / am going
- B) eaten / went
- C) eat / go
- D) ate / gone
- E) eat / went

3. Mary : Why didn't you have your breakfast?
Jill : Because I had had it.

Which of the following completes the dialogue above?

Aşağıdakilerden hangisi yukarıdaki konuşmayı doğru olarak tamamlar?

- A) by the time
- B) after
- C) already
- D) before
- E) until

4. If you have a cold, you see a doctor.

Which of the following completes the sentence above?

Aşağıdakilerden hangisi yukarıdaki cümleyi doğru olarak tamamlar?

- A) should
- B) should have
- C) ought
- D) ought to have
- E) would

5. I can't find my keys. I left them in the office.

Which of the following completes the sentence above?

Aşağıdakilerden hangisi yukarıdaki cümleyi doğru olarak tamamlar?

- A) could
- B) might have
- C) should have
- D) must
- E) will have

6. The film hadfinished when Sue arrived.

Which of the following completes the sentence above?

Aşağıdakilerden hangisi yukarıdaki cümleyi doğru olarak tamamlar?

- A) just
- B) before
- C) after
- D) until
- E) yet

7. Ann : What shall we do tomorrow?
Mary : We go shopping.

Which of the following completes the dialogue above?

Aşağıdakilerden hangisi yukarıdaki konuşmayı doğru olarak tamamlar?

- A) have
- B) might have
- C) must have
- D) could
- E) shall

A

2012 3D 0106-A

8. If he pass his exams, he won't get a good job.

Which of the following completes the sentence above?

Aşağıdakilerden hangisi yukarıdaki cümleyi doğru olarak tamamlar?

- A) hasn't
B) won't
C) didn't
D) doesn't
E) wouldn't

9. If it, I will wear my raincoat.

Which of the following completes the sentence above?

Aşağıdakilerden hangisi yukarıdaki cümleyi doğru olarak tamamlar?

- A) rains
B) would rain
C) rained
D) rain
E) was raining

10. Mary : How money is there in the wallet?
Jill : There is a little.

Which of the following completes the dialogue above?

Aşağıdakilerden hangisi yukarıdaki konuşmayı doğru olarak tamamlar?

- A) any
B) much
C) more
D) some
E) many

11. monkeys are there in that cage?

Which of the following completes the sentence above?

Aşağıdakilerden hangisi yukarıdaki cümleyi doğru olarak tamamlar?

- A) Where
B) As
C) What
D) How much
E) How many

12. Carol has been playing snowball 1995.

Which of the following completes the sentence above?

Aşağıdakilerden hangisi yukarıdaki cümleyi doğru olarak tamamlar?

- A) from
B) last
C) for
D) ago
E) since

13. I haven't seen him years.

Which of the following completes the sentence above?

Aşağıdakilerden hangisi yukarıdaki cümleyi doğru olarak tamamlar?

- A) now
B) for
C) ago
D) after
E) since

14. I was feeling tired, I went to bed early.

Which of the following completes the sentence above?

Aşağıdakilerden hangisi yukarıdaki cümleyi doğru olarak tamamlar?

- A) So that
B) Such as
C) As
D) Who
E) What

15. Liz : Are you a doctor?
Alice : What does Liz want to know?
John : She wants to know if a doctor.

Which of the following completes the dialogue above?

Aşağıdakilerden hangisi yukarıdaki konuşmayı doğru olarak tamamlar?

- A) I have been
B) I will be
C) I am
D) I had been
E) I was

2012 3D 0106-A

16. Ken told George, "I will go to Paris tomorrow".
Ken told George that he to Paris
the next day.

Which of the following completes the sentence above?

Aşağıdakilerden hangisi yukarıdaki cümleyi doğru olarak tamamlar?

- A) is going
- B) had gone
- C) has gone
- D) would go
- E) will go

17. He said, "There has never been a library in the town".
He said that there a library in the town.

Which of the following completes the sentence above?

Aşağıdakilerden hangisi yukarıdaki cümleyi doğru olarak tamamlar?

- A) could never be
- B) would never be
- C) will never be
- D) had never been
- E) has never been

18. Jack his house by the end of this week.

Which of the following completes the sentence above?

Aşağıdakilerden hangisi yukarıdaki cümleyi doğru olarak tamamlar?

- A) was moving
- B) moving
- C) moved
- D) be moved
- E) will have moved

19. Gülçin said, "I'm going shopping today." She said that she was going shopping

Which of the following completes the sentence above?

Aşağıdakilerden hangisi yukarıdaki cümleyi doğru olarak tamamlar?

- A) then
- B) today
- C) that day
- D) before
- E) after

20. Dean said, "I bought a new car yesterday."
Dean said that he had bought a new car

Which of the following completes the sentence above?

Aşağıdakilerden hangisi yukarıdaki cümleyi doğru olarak tamamlar?

- A) that day
- B) then
- C) the next day
- D) before
- E) the day before

SEÇMELİ TÜRK EDEBİYATI 7

A

2012 3D 0106-A

1. Hecenin Beş Şairi'nden biri olup, Anadolu edebiyatının en öne çıkan adıdır. İleri gazetesi adına 1922'de gittiği Ankara'da kalarak Kurtuluş hareketine katılmıştır. Milli ve yerli sanat anlayışına göre kaleme aldığı "Han Duvarları" adlı şiiri vardır.

Yukarıda sözü edilen şair aşağıdakilerden hangisidir?

- A) Süleyman Nazif
- B) Mehmet Âkif Ersoy
- C) Faruk Nafiz Çamlıbel
- D) Mehmet Emin Yurdakul
- E) Yahya Kemal Beyatlı

2. Harf devrimi kaç yılında yapılmıştır?

- A) 1920
- B) 1924
- C) 1928
- D) 1930
- E) 1935

3. Dilin sade yazılması gerektiği hareketi 1911'de hangi dergide başlamıştır?

- A) Genç Kalemler
- B) Varlık
- C) Kadro
- D) Orhun
- E) Ülkü

4. Aşağıdakilerden hangisi, II. Dünya Savaşı yıllarında Türkiye'de yapılan milli eğitim ve kültür alanındaki atımlardan biri değildir?

- A) Köy enstitülerinin açılması
- B) Gelenekçi edebiyatın getirdiği sınırlılıkların devam etmesi
- C) Tercüme bürosunun kurulması
- D) Türk ve İslam Ansiklopedilerinin yayımına başlanması
- E) Halkevlerinin kültür sanat ve spor alanındaki etkinliklerinin artırılması

5. "Akşam Musikîsi" adlı şiir aşağıdaki şairlerden hangisine aittir?

- A) Yahya Kemal Beyatlı
- B) Orhan Seyfi Orhan
- C) Yusuf Ziya Ortaç
- D) Enis Behiç Koryürek
- E) Halit Fahri Ozansoy

6. Şiirlerinde daha çok "ölüm, kader" gibi temaları işleyen şair aşağıdakilerden hangisidir?

- A) Ziya Osman Saba
- B) Muammer Lütfi
- C) Vasfi Mahir Kocatürk
- D) Kenan Hulusi Koray
- E) Faruk Nafiz Çamlıbel

7. "Bugün Pazar" adlı şiir, aşağıdaki şairlerden hangisine aittir?

- A) Enver Gökçe
- B) Arif Damar
- C) Orhan Veli Kanık
- D) Ömer Faruk Toprak
- E) Nazım Hikmet

8. "Varlık" dergisinde ölçüsüz, uyaksız, şairanelikten uzak yeni bir şiir akımı başlatan üç şair, aşağıdakilerin hangisinde birlikte ve doğru olarak verilmiştir?

- A) Attila İlhan-Orhan Veli Kanık-Melih Cevdet Anday
- B) Ömer Faruk Toprak-Arif Damar-Ahmet Arif
- C) Rıfat Ilgaz-Enver Gökçe- Oktay Rifat
- D) Orhan Veli Kanık-Melih Cevdet Anday-Oktay Rifat
- E) Enver Gökçe-Arif Damar-Oktay Rifat

9. Anlamda kapalılığı, değişik çağrılarla imgeci bir şiir anlayışını savunan edebiyat akımı, aşağıdakilerden hangisidir?

- A) Yedi Meşaleciler
- B) Birinci Yeni
- C) Fecr-i Âti
- D) İkinci Yeni
- E) Beş Hececiler

10. 2006'da Nobel Edebiyat Ödülü'nü kazanan yazar, aşağıdakilerden hangisidir?

- A) Yaşar Kemal
- B) Mermi Uygur
- C) Buket Uzuner
- D) Adalet Ağaoğlu
- E) Orhan Pamuk

A

2012 3D 0106-A

11. Yazarın herhangi bir konu üzerinde kesin hükümlere varmadan, kendi kişisel görüş ve düşüncelerini anlattığı yazı türüne ne ad verilir?

- A) Söylev
- B) Makale
- C) Fıkra
- D) Deneme
- E) Röportaj

12. Deneme türünün öncüsü kabul edilen Fransız yazar, aşağıdakilerden hangisidir?

- A) Montaigne
- B) Albert Camus
- C) Simone de Beauver
- D) Andre Malraux
- E) Jean Paul Sartre

13. Aşağıdakilerden hangisi makalenin özelliklerinden biri değildir?

- A) Söz oyunlarına başvurulmaması
- B) Öne sürülen düşüncenin inandırıcı biçimde geliştirilmiş olması ve kanıtlanması
- C) Anlatımın yalın ve yoğun olması
- D) Sonucun bir iki cümleyle mutlaka vurgulanması
- E) Konu bakımından sınırlı olması

14. Aşağıdaki gazetelerden hangisini İbrahim Şinasi ve Âgah Efendi çıkarmıştır?

- A) Vakit
- B) İrade-i Milliye
- C) Ceride-i Havadis
- D) Takvim-i Vekayi
- E) Tercüman-ı Ahval

15. "Seyir Defteri" adlı gezi kitabı aşağıdaki yazarlardan hangisine aittir?

- A) Falih Rıfkı Atay
- B) Yaşar Kemal
- C) Özcan Yurdakul
- D) Nedim Gürsel
- E) Nahit Sırrı Örik

16. İtalyan edebiyatında en tanınmış anı yazarı aşağıdakilerden hangisidir?

- A) Manzoni
- B) Alberto Moraio
- C) Silvio Pellica
- D) Fillippo Marinetti
- E) Carlo Goldoni

17. Günlük olayları, yurt sorunlarını veya herhangi bir konuyu belli bir görüş açısından ele alan kısa yazılara ne ad verilir?

- A) Anı
- B) Fıkra
- C) Söylev
- D) Günce
- E) Deneme

18. Aşağıdakilerden hangisi, fıkra türünün özelliklerinden biri değildir?

- A) Daha çok güncel konuların ele alınması
- B) Bilimsel olması
- C) Amacının okuyucunun dikkatini çekmek onu düşünmeye yöneltmek olması
- D) Kısa yazılması
- E) Gazete ve dergilerde yayımlanması

19. "Hatıralar" adlı anı kitabında Atatürk'ü anlatan yazar, aşağıdakilerden hangisidir?

- A) Halit Ziya Uşaklıgil
- B) Ruşen Eşref Üneydın
- C) Ahmet Rasim
- D) Ahmet İhsan Tokgöz
- E) Salâh Bırsel

20. Gezi edebiyatının ilk klasik örneğini veren seyyah aşağıdakilerden hangisidir?

- A) Stendhal
- B) Honore de Balzac
- C) Marco Polo
- D) Dostoyevski
- E) Victor Hugo

SINAVDA UYGULANACAK KURALLAR

1. Sınav süresince görevlilerle konuşmak ve soru sormak yasaktır. Aynı şekilde görevlilerin de öğrencilerle yakından ve alçak sesle konuşmaları yasaktır. Yanınızda ve sıranızda dersle ilgili kitap not vb. bulundurmamak yasaktır. Sınav sırasında kopya yapan, yapmaya teşebbüs eden, kopya veren, kopya yapılmasına yardım edenlerin kimlikleri BİREYSEL SINAV İPTAL TUTANAĞINA yazılacak ve bu öğrencilerin sınavları geçersiz sayılacaktır. Görevliler kopya yapmaya veya vermeye kalkışanları uyarmak zorunda değildir, sorumluluk size aittir.
Sınavda yetki verilmiş görevliler, bu salondaki sınavın kurallara uygun biçimde yapılmadığını, toplu kopya girişiminde bulunulduğunu raporlarında bildirdikleri veya üniversite sınav merkezince yapılan incelemeler sonucu toplu kopya yapıldığı saptandığı takdirde, Anadolu Üniversitesinin yetkili organları bu salonda sınava giren öğrencilerin tümünün sınavını geçersiz sayar.
2. Öğrenciler sınav sırasında görevlilerin her türlü uyarılarına uymak zorundadır. Gerekğinde görevliler oturduğunuz yerleri değiştirebilir. Sınavınızın geçerli sayılması, her şeyden önce sınav kurallarına uymanıza bağlıdır. Kurallara aykırı davranışta bulunanların ve yapılacak uyarılara uymayanların kimlikleri BİREYSEL SINAV İPTAL TUTANAĞINA yazılacak ve sınavları geçersiz sayılacaktır.
3. Sınav sırasında herhangi bir nedenle dışarı çıkmak yasaktır. Sınavın başlamasını izleyen ilk 30 dakika ve sınav süresinin son 5 dakikası içinde, sınavlarını tamamlasalar bile hiçbir öğrencinin salondan çıkmasına izin verilmeyecektir. Sınavın başlamasını izleyen ilk 15 dakikadan sonra hiç bir öğrenci sınava alınamaz.
4. Biraz sonra soru kitapçıkları dağıtılacaktır. Cevaplamaya geçmeden önce size verilecek soru kitapçığının üzerinde ayrılan yere, adınızı, soyadınızı, öğrenci numaranızı ve bu salonun numarasını yazınız. Sınav sonunda soru kitapçıkları toplanacak ve sınav merkezinde tek tek incelenecektir. Soru Kitapçığının bir tek sayfası eksik çıksa bile sınavınız geçersiz sayılacaktır.
5. Size verilen Cevap Kâğıdının üzerinde yazan numara ve ismin size ait olduğunu kontrol ediniz. Cevap Kâğıdı size ait değilse, görevlileri uyarıp size ait Cevap Kâğıdını alınız. Daha sonra Cevap Kâğıdı üzerinde ayrılmış olan yerlere öğrenci numaranızı ve test grubunuzu kodlayınız, adınızı soyadınızı yazınız ve ilgili yeri imzalayınız.
6. Cevap Kâğıdına yazılacak her türlü yazı, rakam ve yapılacak işaretlemeler için siyah kurşun kalem kullanılacaktır. Tükenmez kalem veya dolmakalem kesinlikle kullanılmayacaktır. Cevapların tümü CEVAP KÂĞIDINA İŞARETLENECEKTİR. Soru Kitapçıkları üzerine yapılan işaretlemeler kesinlikle değerlendirilmez. Her dersin cevabı, o dersin isminin yazılı olduğu sütuna işaretlenmelidir. Yanlış sütuna yapacağınız işaretlemeler kesinlikle değerlendirilmez.
7. Soru Kitapçığının sayfalarındaki boş yerleri müsvedde yapmak için kullanabilirsiniz. Başka bir kâğıdı müsvedde olarak kullanmak yasaktır. Bu tür işlemleri yapanların sınavları geçersiz sayılır.
8. Öğrencilerin sorulara verdikleri yanıtları herhangi bir yere yazmaları ve bunu sınav salonundan dışarıya çıkarmaları yasaktır. Bu kurala uymayanların sınavları geçersiz sayılır.
9. Sınav sırasında öğrencilerin birbirinden kalem, silgi vb. şeyleri istemesi kesinlikle yasaktır. Yasağa uymayanların sınavı geçersiz sayılır.
10. Sınav sırasında hesap makinesi kullanılabilir. Ancak, hesap makinesinin sınav sırasında ödünç alınması, verilmesi ve değiştirilmesi yasaktır. (Data Bank vb. gibi özel elektronik donanımlar kullanılamaz.) Bu tür davranışlarda bulunanların sınavları geçersiz sayılır.
11. Öğrenciler sınava gelirken telsiz, cep telefonu, çağrı cihazı vb. iletişim araçları ile görüntü kaydetmeye yarayan fotoğraf makinesi, kamera vb. araçları getirmemeleri konusunda sınava giriş belgelerinde uyarılmışlardır. Buna rağmen yanlarında bu tür cihazları getirenlerin, bunları sınav sonrasında almak üzere salon başkanına teslim etmeleri gerekir. Bu cihazları sınav salonunda yanlarında bulduran öğrencilerin, cihazları kapalı bile olsa, o oturumdaki sınavı geçersiz sayılacaktır. Bu cihazların kaybolmasından Üniversitemiz sorumlu olmayacaktır.
12. Biraz sonra dağıtılacak olan soru kitapçığında test ile ilgili açıklamalar yazılıdır. Bu açıklamaları okumadan ve size "SINAV BAŞLAMIŞTIR" denmeden soruları cevaplamaya başlamayınız.

SINAVLARINIZDA BAŞARILAR DİLERİZ.