



ANADOLU ÜNİVERSİTESİ
AÇIKÖĞRETİM FAKÜLTESİ
BA - AÇIKÖĞRETİM OKULLARI

T.C. MİLLİ EĞİTİM BAKANLIĞI
Hayat Boyu Öğrenme Genel Müdürlüğü
AÇIK ÖĞRETİM LİSESİ – BATI AVRUPA PROGRAMI
2013-2014 ÖĞRETİM YILI I.DÖNEM SINAVI
ÜÇÜNCÜ OTURUM - Cumartesi 13.00

TEST GRUBUNUZ

A 0103

CEVAP KÂĞIDINIZA İŞARETLEMİYİ UNUTMAYINIZ.

ÖĞRENCİNİN

SOYADI :

ADI :

ÖĞRENCİ NO :

SINAV SALON NO: SIRA NO:

Soyadınızı, adınızı, öğrenci numaranızı, salon ve sıra numaranızı yukarıya yazmayı unutmayınız.

GENEL AÇIKLAMA

1. Bu soru kitapçığındaki testler şunlardır:

Testin Adı	Soru Sayısı	Sayfa No	Testin Adı	Soru Sayısı	Sayfa No
DİN KÜLTÜRÜ VE AHLAK BİLGİSİ 2	20	2	EKONOMİ 2	20	31
DİN KÜLTÜRÜ VE AHLAK BİLGİSİ 8	20	4	TEMEL DİNİ BİLGİLER 2	20	33
FELSEFE 1	20	6	İŞLETME 1	20	35
TARİH 1	20	8	MANTIK 2	20	37
TARİH 5	20	10	GEOMETRİ 4	20	39
COĞRAFYA 1	20	12	SEÇMELİ TARİH 3	20	43
COĞRAFYA 3	20	14	SEÇMELİ TÜRK EDEBİYATI 5	20	45
MATEMATİK 3	20	16	ALMANCA 4	20	47
DİL VE ANLATIM 1	20	18	İNGİLİZCE 4	20	50
TÜRK EDEBİYATI 5	20	20	FRANSIZCA 4	20	53
FİZİK 2	20	22	ALMANCA 6	20	56
KİMYA 5	20	24	İNGİLİZCE 6	20	59
BİYOLOJİ 4	20	26	FRANSIZCA 6	20	62
ÇAĞDAS TÜRK VE DÜNYA TARİHİ 1	20	28			

2. Bu kitapçıkta yer alan her bir test için cevaplama süresi **30** dakika, toplam sınav süresi **150** dakikadır.
3. Cevaplamaya istediğiniz testin, istediğiniz sorusundan başlayabilirsiniz. Yalnız cevaplarınızı, cevap kâğıdında o test için ayrılmış olan bölümdeki aynı numaralı cevap yerine işaretlemeyi unutmayınız.
4. Cevaplarınızı koyu siyah ve yumuşak bir kurşunkalemle işaretleyiniz. İşaretinizi cevap yerinin dışına taşırmayınız. Tükenmez veya mürekkepli kalem kullanmayınız.
5. Değiştirmek istediğiniz bir cevabı yumuşak bir silgi ile, cevap kâğıdını örselemeden temizce siliniz ve doğru cevabınızı işaretlemeyi unutmayınız.
6. Cevap kâğıdınızı buruşturmayınız, katlamayınız ve üzerine gereksiz hiçbir işaret koymayınız.
7. Bu kitapçıkta her sorunun bir tek doğru cevabı vardır. Bir soru için birden çok cevap yeri işaretlenmişse o soru yanlış cevaplanmış sayılacaktır.
8. Cevaplarınız puanlanırken her doğru cevabınıza eşit puan verilecek, yanlış cevaplarınız dikkate alınmayacaktır. Bu nedenle kitapçıkta tüm sorular için size doğru gelen seçeneği işaretleyerek cevapsız soru bırakmanız yararınıza olacaktır.
9. Kitapçığın sayfalarındaki boş yerleri müsvedde için kullanabilirsiniz.

Anadolu Üniversitesi tarafından hazırlanmış olan bu testlerin her hakkı saklıdır. Hangi amaçla olursa olsun, testlerin tamamının veya bir kısmının Anadolu Üniversitesi'nin yazılı izni olmadan kopya edilmesi, fotoğraflarının çekilmesi, herhangi bir yolla çoğaltılması, yayımlanması ya da kullanılması yasaktır. Bu yasağa uymayanlar gerekli cezai sorumluluğu ve testlerin hazırlanmasındaki mali külfeti peşinen kabullenmiş sayılır.

1. Bir toplumda genel kabul gören veya benimsenen her türlü duygu, düşünce, davranış ve kurala ne ad verilir?

- A) Fikir
- B) Kanun
- C) Devlet
- D) Değer

2. Aşağıdakilerden hangisi, Hz. Musa'ya indirilen ve Yahudilerin dini öğretileri içerisinde yer alan "on emir" arasında sayılamaz?

- A) Zina etmeyeceksin
- B) Çalmayacaksın
- C) Anne ve babana hürmet edeceksin
- D) Öldüreceksin

3. Her insanın kendine has ve özgü olan, az veya çok her zaman gözlenebilen davranış ve alışkanlıklarına ne denir?

- A) Kişilik
- B) Alışkanlık
- C) Örf
- D) Asabiyet

4. Aşağıdakilerden hangisi Türk milletini bir arada tutan, toplumu birleştiren ortak değerlerden biri değildir?

- A) Vatan ve ülkü birliği
- B) Ferdiyetçilik
- C) Bayrak
- D) Milli seciye

5. Değerlerin en üst seviyesinde hangi kaynak yer almaktadır?

- A) Sevgi
- B) Ahlak
- C) Hoşgörü
- D) Vatanseverlik

6. Aşağıdakilerden hangisi İslam dininin korunmasını istediği beş temel ilke arasında yer almaz?

- A) Namusun korunması
- B) Malın korunması
- C) Komşunun korunması
- D) Aklın korunması

7. İlk evrensel insan hakları ilkeleri aşağıdakilerden hangisinde yer almaktadır?

- A) Veda Hutbesi
- B) İnsan Hakları Evrensel Beyannamesi
- C) Birleşmiş Milletler Sözleşmesi
- D) Magna Carta

8. Dini emirlerin ilk muhatabı olan yeryüzündeki ilk peygamber aşağıdakilerden hangisidir?

- A) Hz. Nuh
- B) Hz. İdris
- C) Hz. Adem
- D) Hz. Musa

9. İnsanın bu dünyada yaptıklarından dolayı hesaba çekileceği yer neresidir?

- A) Mahkeme
- B) Vicdan
- C) Ahiret
- D) Arafat

10. Avrupa'daki kilise otoritesi hangi olayla son bulmuştur?

- A) Yüzyıl Savaşları
- B) Islahat Fermanı
- C) Tanzimat Fermanı
- D) 1789 Fransa İhtilali

11. Laikliğin Batı ülkelerinde doğuş sebebi aşağıdakilerden hangisidir?

- A) Derebeylerin katlanılmaz hale gelen zulümleri
- B) Kilisenin baskıcı tutumuna tepki
- C) İslami yükselişin önüne geçme
- D) Dünya işlerinin herşeyden önemli hale gelmesi

12. Osmanlı Devletinde "din ve vicdan hürriyeti ilkesi" ilk kez hangi belgede yer almıştır?

- A) Gülhane Hattı Hümayunu
- B) Tanzimat Fermanı
- C) Islahat Fermanı
- D) Kanun-i Esasi

13. Aşağıdakilerden hangisi laikliğin temel amaçlarından biridir?

- A) Dinin istismar edilmesine müsaade etmek
- B) Dinde ruhbanlık anlayışının oluşmasını sağlamak
- C) Devletin din ve mezheplere karşı tarafsız davranmasını sağlamak
- D) Herkesin kanun önünde eşit olmasını sağlamak

14. Türklerin Müslüman Araplarla yakınlaşmasına sebep olan ve Müslümanlığa geçişlerini hızlandıran asıl olay nedir ve kimlerin zamanında gerçekleşmiştir?

- A) Talas Savaşı – Emeviler
- B) Kadisiye Savaşı – Abbasiler
- C) Talas Savaşı – Abbasiler
- D) Nihavent Savaşı – Emeviler

15. Aşağıdakilerden hangisi Türklerin İslamiyetten önce benimsediği dinlerden biri değildir?

- A) Budizm
- B) Musevilik
- C) Zerdüştlük
- D) Manihaizm

16. Ebu Hanife'nin asıl adı nedir?

- A) Cafer Bin Tayyar
- B) Amr Bin As
- C) İmam Maturidi
- D) Numan Bin Sabit

17. Mesnevi kimin eseridir?

- A) Yunus Emre
- B) Hacı Bektaş Veli
- C) Mevlana
- D) Ahmet Yesevi

18. Aşağıdakilerden hangisi Türklerin benimsediği Gök Tanrı inancının esasları arasında yer almaz?

- A) Dünya hayatından sonra sonlu bir hayat vardır.
- B) Tanrı yaratan, yaşatan ve koruyandır.
- C) Dünyada iyilik edenler öldükten sonra karşılık olarak iyi bir yere gideceklerdir.
- D) Bir ve tek olan Gök Tanrı vardır.

19. Aşağıdakilerden hangisi Türklerin İslamiyeti benimsemesinde etkili olan sebeplerden biri değildir?

- A) Gök Tanrı inancı ile İslam dininin benzeşmemesi
- B) İslamın hak ve gerçek din olması
- C) Müslüman tüccarların dürüstlüğü
- D) İslam dininin hoşgörü ve sevgi anlayışı

20. İlk Müslüman Türk Devleti aşağıdakilerden hangisidir?

- A) Karahanlılar
- B) İtil Volga Bulgar Devleti
- C) Gazneliler
- D) Selçuklular

1. Aşağıdakilerden hangisi iç (manevi) temizliği anlatmaktadır?

- A) Kişinin elbisesini temiz tutması
- B) Kişinin kalbini temiz tutması
- C) Kişinin evinin önünü temiz tutması
- D) Kişinin dış organlarını temiz tutması

2. Aşağıdaki gruplardan hangisine zekat verilmez?

- A) Yolda kalmışlara
- B) Borçlulara
- C) Fakirlere
- D) Ana-Babaya

3. Aşağıdakilerden hangisi peygamberimizin (s.a.v) davet metotlarından biri değildir?

- A) Tatlı dil-güleryüz
- B) Kolaylık ve müjdeleme
- C) Hoşgörü ve sevgi
- D) Sindirme ve baskı

4. Hristiyanların kutsal kitabı aşağıdakilerden hangisidir?

- A) Tevrat
- B) Vedalar
- C) Zebur
- D) İncil

5. Allah'ın önceden planlayıp takdir ettiği şeylerin yeri ve zamanı gelince meydana gelmesine ne ad verilir?

- A) Kaza
- B) Şer
- C) Kader
- D) Hayır

6. Aşağıdakilerden hangisi zengin ve fakiri birbirine sevgiyle bağlayan bir ibadettir?

- A) Zekat
- B) Namaz
- C) Oruç
- D) Hac

7. Yalan söyleme, hırsızlık vb. davranış ve tutumların bütün dinlerde yasak olması neyi ifade eder?

- A) Bütün dinlerin aynı olduğunu
- B) Ahlaki ilkelerin evrensel olduğunu
- C) Bütün dinlerin katı kuralları olduğunu
- D) Bütün dinlerin tanrı anlayışının olduğunu

8. Isıtılan metallerin genişmesi, suyun 100 derecede kaynaması, atılan bir cismin yere düşmesi.

Yukarıda geçen örneklerde hangi yasadın bahsedilmektedir?

- A) Kimyasal yasalar
- B) Toplumsal yasalar
- C) Biyolojik yasalar
- D) Fiziksel yasalar

9. İnsanın başarıya ulaşmak için, doğru yöntemleri uygulayarak çaba harcadıktan sonra, işin sonucunu Allah'a bırakıp O'na güvenmesine ne ad verilir?

- A) Rıza
- B) Sabır
- C) Tevekkül
- D) Şükür

10. Allah tarafından peygamberler aracılığı ile gönderilen dinlere ne ad verilir?

- A) Evrensel dinler
- B) Milli dinler
- C) İlahi dinler
- D) Geleneksel dinler

11. Aşağıdakilerden hangisi zekat ve sadakanın bireysel ve toplumsal faydalarından biri değildir?

- A) İnsanlarda bencillik ve cimrilik duyguları oluşur.
- B) Toplumda birlik ve beraberlik oluşur.
- C) Varlıklı insanlarca muhtaçlar gözetilir.
- D) Toplumda sevgi ve güven gibi duygular gelişir.

12. Aşağıdakilerden hangisi kul hakkına girmez?

- A) Başkasına iftira atmak
- B) Alışveriş yapmak
- C) Başkasına hakaret etmek
- D) Başkasının gıybetini yapmak

13. Aşağıdakilerden hangisi Kur'an'ın bize tavsiye ettiği davranışlardan biri değildir?

- A) Kur'an aklın kullanılmasını ister.
- B) Kur'an örnek almayı önerir.
- C) Kur'an taassubu tavsiye eder.
- D) Kur'an bilgiye önem verir.

14. Hac ibadeti sırasında Hacer'ül esvet'ten başlanarak, Kabe'nin çevresinde yedi kez dönmeye ne ad verilir?

- A) Sa'y
- B) Vakfe
- C) Telbiye
- D) Tavaf

15. Peygamberimiz (s.a.v) Mescidi Nebi'nin bir bölümünü eğitim öğretim faaliyetleri için ayırtmıştır. Bedir Savaşında esirleri, on çocuğa okuma yazma öğretmeleri karşılığında serbest bırakmıştır.

Bu örnekler onun hangi özelliğini ortaya koymaktadır?

- A) Danışarak iş yaptığını
- B) İlme, bilgiye önem verdiğini
- C) Merhametli olduğunu
- D) Güvenilir olduğunu

16. İnsan sahip olduğu hangi özellikten dolayı davranışlarından sorumlu tutulur?

- A) Akıl ve hayat
- B) Akıl ve rızık
- C) Akıl ve özgürlük
- D) Akıl ve kutsal kitaplar

17. İnsanları toplum içinde çeşitli sınıflara ayıran kast sistemi aşağıdaki dinlerin hangisinde vardır?

- A) Budizm
- B) Yahudilik
- C) Hristiyanlık
- D) Hinduizm

18. Aşağıdakilerden hangisi uyuşturucu kullanımının yaygınlaşma nedenlerinden biri değildir?

- A) Arkadaş etkisi
- B) Özenti ve merak
- C) Sağlıklı olma isteği
- D) Ailenin ilgisizliği

19. Peygamberimizin (s.a.v) bir Yahudi'nin cenazesi götürülürken ayağa kalkması onun öncelikle hangi özelliğini gösterir?

- A) İnsanlara değer vermesini
- B) Verdiği sözde durmasını
- C) Cömert olmasını
- D) Hakkı gözetmesini

20. Aşağıdakilerden hangisi canlıların ihtiyaç duyduğu ve yararlandığı, Allah tarafından sağlanan her türlü nimet anlamına gelir?

- A) Tevekkül
- B) Rızık
- C) Özgürlük
- D) Emek

1. Varlığın var olup olmadığı, ruh, tanrı, öteki dünya, ölümsüzlük gibi felsefenin ilk ve son sorunlarıyla uğraşan alanı aşağıdakilerden hangisidir?

- A) Astroloji
- B) Metafizik
- C) Ontoloji
- D) Astrofizik

2. Bilginin kaynağında tecrübenin, deneyin bulunduğunu savunan düşünür aşağıdakilerden hangisidir?

- A) Locke
- B) Hobbes
- C) Whitehead
- D) Descartes

3. Aşağıdakilerden hangisi felsefe bilgisinin özelliklerinden biri değildir?

- A) Rastlantıya dayanması
- B) Evrensel olması
- C) Kümülatif olması
- D) Birleştirici ve bütünleştirici olması

4. I. Teolojik evre
II. Metafizik evre
III. Pozitif evre

Comte'un üç hal yasasına göre insan düşüncesinin geçtiğini savunduğu yukarıdaki üç evre, aşağıdakilerden hangisinde doğru sıralanmıştır?

- A) I, II ve III
- B) I, III ve II
- C) II, III ve I
- D) III, II ve I

5. Aşağıdakilerden hangisi "bilimsel bilgi"nin özelliklerinden biri değildir?

- A) Olgusaldır.
- B) Mantıksaldır.
- C) Eleştiricidir.
- D) Sübjektiftir.

6. Aşağıdakilerden hangisi duyularla kavranamayan, zaman ve mekân dünyasında yer almayan varlıklar üzerinde çalışan bir bilim dalıdır?

- A) Matematik
- B) Kimya
- C) Fizik
- D) Biyoloji

7. Sınırları önceden belirlenmiş bir alanda, bilmek amacıyla genel geçer bilgiye ulaşmak için sistemli olarak belli bir yöntemle elde edilen bilgiye ne ad verilir?

- A) Sanat bilgisi
- B) Bilimsel bilgi
- C) Gündelik bilgi
- D) Teknik bilgi

8. İnsan zihninden bağımsız bir gerçekliğin var olduğunu savunan felsefi öğretiyeye ne ad verilir?

- A) Septisizm
- B) Ampirizm
- C) Realizm
- D) Kritisizm

9. "Dünyadaki değişme mekanik olarak değil, diyalektik yasalara göre ani sıçramalar yoluyla gerçekleşir" görüşünü ifade eden düşünür aşağıdakilerden hangisidir?

- A) Marx
- B) Husserl
- C) Comte
- D) Hegel

10. "Kanun" adlı eser aşağıdakilerden hangisine aittir?

- A) Gazali
- B) Birûnî
- C) Mevlana
- D) Yunus Emre

11. Hiçbir şeyin var olmadığını, hiçbir şeyin bilinemeyeceğini savunan felsefi öğretiyeye ne ad verilir?

- A) Mantıkçılık
- B) Kuramcılık
- C) Ontoloji
- D) Nihilizm

12. Felsefenin sözcük anlamı aşağıdakilerden hangisidir?

- A) Zekâ
- B) Akıl
- C) Bilgelik sevgisi
- D) Ahlak

13. Evrenin ana maddesinin su olduğunu, her şeyin sudan oluştuğunu ve yine suya dönüşeceğini savunan düşünür aşağıdakilerden hangisidir?

- A) Demokritos
- B) Thales
- C) Platon
- D) Herakleitos

14. Varlığı fenomen olarak gören ve bundan yola çıkarak, fenomenoloji akımını kuran düşünür aşağıdakilerden hangisidir?

- A) Hegel
- B) Marx
- C) Lamarck
- D) Husserl

15. Ontoloji terimini ilk kullanan düşünür aşağıdakilerden hangisidir?

- A) Fichte
- B) Hegel
- C) Wolff
- D) Schelling

16. Doğruluğu ve gerçekliği tek yanlı olarak yalnızca eylemlerin sonuçları ile değerlendiren ve onları yalnızca sağladığı "fayda" açısından değerlendiren akım aşağıdakilerden hangisidir?

- A) Emprizm
- B) Rasyonalizm
- C) Nihilizm
- D) Pragmatizm

17. Aşağıdakilerden hangisi materyalizmi savunan düşünürlerden biri değildir?

- A) Demokritos
- B) Hobbes
- C) Spencer
- D) Mettrie

18. Bilginin ne olduğunu, nasıl ve ne yollardan elde edildiğini araştıran felsefe dalı aşağıdakilerden hangisidir?

- A) Ontoloji
- B) Antropoloji
- C) Epistemoloji
- D) Rasyonalizm

19. Dış dünyadaki varlıkların madde ve form olmak üzere iki ögeden oluştuğunu savunan düşünür aşağıdakilerden hangisidir?

- A) Parmenides
- B) Aristoteles
- C) Protogoras
- D) Gorgias

20. Felsefesini hem emprizme hem de rasyonalizme dayandıran görüş aşağıdakilerden hangisidir?

- A) Pozitivizm
- B) Septisizm
- C) Entüsyonizm
- D) Kritisizm

1. Aşağıdakilerden hangisi tarih biliminin yöntemleri arasında yer almaz?

- A) Tarama
- B) Gözlem
- C) Tasnif
- D) Tahlil

2. Aşağıdakilerden hangisi tarih biliminin konularından biri değildir?

- A) İnsanların yaşayışı
- B) Savaşlar ve barışlar
- C) Dini inanışlar
- D) Bitki örtüsü

3. Aşağıdakilerden hangisi tarih biliminin faydalandığı bilim dallarından biri değildir?

- A) Nüvizmatik
- B) Epigrafi
- C) Fizik
- D) Diplomatik

4. Hikayeci tarih yazıcılığının öncüsü kimdir?

- A) Aristoteles
- B) Herodot
- C) Platon
- D) Heraklit

5. Aşağıdakilerden hangisi Türklerin kullandıkları takvimlerden biri değildir?

- A) Celali takvim
- B) Rumi takvim
- C) Hicri takvim
- D) Yıldız takvimi

6. Aşağıdakilerden hangisi tarih araştırmalarında uyulması gereken kurallardan biri değildir?

- A) Titiz ve tarafsız olunması
- B) Neden-sonuç ilişkisi kurulması
- C) Kanıtlanabilir ve nesnel bilgiler kullanılması
- D) Deney ve gözleme önem verilmesi

7. Aşağıdakilerden hangisi Anadolu uygarlıklarından biri değildir?

- A) Hattiler
- B) Fenikeliler
- C) İyonyalılar
- D) Lidyalılar

8. Tarih öncesi çağlar hakkında bilgi edinmek için tarih biliminin en çok yararlandığı bilim dalı aşağıdakilerden hangisidir?

- A) Antropoloji
- B) Nüvizmatik
- C) Coğrafya
- D) Arkeoloji

9. Mezopotamya'ya dışarıdan gelip yerleşen en eski kavim aşağıdakilerden hangisidir?

- A) Babiller
- B) Akadlar
- C) Sümerler
- D) Elamlar

10. Yirmi yedi yıl süren Peleponnes savaşları kimler arasında yapılmıştır?

- A) Atina ve Sparta Devletleri
- B) Atina ve Larissa Devletleri
- C) Larissa ve Korinrhos Devletleri
- D) Korinthos ve Thebai Devletleri

11. Mezolitik Devir de denilen, buzulların erimesiyle birlikte ateşin de bulunduğu çağ aşağıdakilerden hangisidir?

- A) Eski Taş Çağı
- B) Yeni Taş Çağı
- C) Orta Taş Çağı
- D) Bakır Çağı

12. Aşağıdakilerden hangisi Mısır Piramitlerinin sırları arasında yer almaz?

- A) Kirli suyu birkaç gün piramidin içinde bırakırsanız su temizlenir.
- B) Kesik, yanık ve sıyrık gibi küçük yaralar piramidin içinde daha çabuk iyileşir.
- C) Piramitlerin içi yaz kış her zaman soğuktur.
- D) Piramit kimin adına yapıldıysa bulunduğu odaya sadece doğduğu ve tahta çıktığı günler güneş girer.

13. Olimpiyat oyunları ilk kez hangi tarihte düzenlenmiştir?

- A) M.Ö 776
- B) M.Ö 786
- C) M.Ö 876
- D) M.Ö 900

14. Aşağıdakilerden hangisi Kavimler Göçü'nün sonuçlarından biri değildir?

- A) Avrupa'da feodalite rejimi ortaya çıkmıştır.
- B) Türk Kültürü Avrupa'da yayılmaya başlamıştır.
- C) Avrupa'da kilise önem kazanmıştır.
- D) Türkler Avrupa'da "Kök Türk" adıyla yeni bir devlet kurmuştur.

15. Aşağıdakilerden hangisi Türklerin Orta Asya'dan göç etmelerinin nedenleri arasında yer almaz?

- A) Kuraklık ve aşırı soğukların olması
- B) Hayvan hastalıklarının çoğalması
- C) Ordudaki asker sayısının azalması
- D) Dış baskıların artması

16. Aşağıdakilerden hangisi Avrupa Hun Devleti ve Doğu Roma heyeti arasında imzalanan Margos Antlaşması'nın maddeleri arasında yer almaz?

- A) Tuna'nın güneyindeki yerler askerden arındırılacak.
- B) Bizans, Hunlara bağlı kavimlerle anlaşma yapamayacak.
- C) Ticari faaliyetler belirli sınır kasabalarında devam edecek.
- D) Yapılan antlaşma devamlı olacak ve her iki taraf da antlaşmaya uyacak.

17. Aşağıdakilerden hangisi Ortaçağ Avrupa'sında yer alan sosyal sınıflardan biri değildir?

- A) Asiller
- B) Tüccarlar
- C) Rahipler
- D) Burjuvalar

18. Aşağıdakilerden hangisi Türklerin dini inanışıyla ilgili doğru bir ifade değildir?

- A) Tek bir tanrıya inanmışlardır.
- B) Asıl dinleri maniheizm olmuştur.
- C) Ahiret, cennet ve cehennem inancı vardır.
- D) Ölülerini gömmüşlerdir.

19. Avrupa Hun Devleti en parlak dönemini hangi imparator döneminde yaşamıştır?

- A) Attila
- B) Balamir
- C) Uldız
- D) Karaton

20. Tarihte bilinen ilk teşkilatlı Türk devleti aşağıdakilerden hangisidir?

- A) Asya Hun Devleti
- B) Avrupa Hun Devleti
- C) Kök Türk Devleti
- D) Uygur Devleti

1. Bir milletin tarihi boyunca meydana getirdiği maddî ve manevî değerlerinin bütününe ne ad verilir?
 - A) Kanun
 - B) Balbal
 - C) Sagu
 - D) Kültür
2. Aşağıdakilerden hangisi Orta Asya'daki önemli kültür merkezlerinden biri değildir?
 - A) Karasuk
 - B) Andronova
 - C) Tagar
 - D) Alacahöyük
3. İskitler, İranlılar tarafından aşağıdaki isimlerden hangisi ile adlandırılmıştır?
 - A) Saka
 - B) Oğuz
 - C) Türgiş
 - D) Ak Hun
4. Sagu nedir?
 - A) Tepe biçimindeki mezar
 - B) Türkçede bilinen ilk ziraat aleti
 - C) Asya Hun hükümdarlarının unvanı
 - D) İslamiyet'ten önceki Türk edebiyatında ağıt
5. Hunların bilinen ilk hükümdarı aşağıdakilerden hangisidir?
 - A) Mete
 - B) Teoman
 - C) Atilla
 - D) Bilge Kağan
6. Kaşgarlı Mahmut'a göre, Türk kelimesinin anlamı aşağıdakilerden hangisidir?
 - A) Yaratılmış mahlûk
 - B) Türeli
 - C) Törü
 - D) Olgunluk çağı
7. Türk adıyla kurulan ilk Türk Devleti aşağıdakilerden hangisidir?
 - A) Uygurlar
 - B) Göktürkler
 - C) Avarlar
 - D) Türgişler
8. Aşağıdakilerden hangisi Büyük Hun (Asya Hun) hükümdarlarının kullandığı unvanlardan biridir?
 - A) Sultan
 - B) Padişah
 - C) Şah
 - D) Tanhu
9. Museviliği kabul eden ilk ve tek Türk Devleti aşağıdakilerden hangisidir?
 - A) Hazarlar
 - B) Avarlar
 - C) Bulgarlar
 - D) Türgişler
10. Aşağıdaki destanlardan hangisi Kırgızlara aittir?
 - A) Manas
 - B) Türeyiş
 - C) Alp Er Tunga
 - D) Bozkurt
11. İstanbul'u 619 ve 626 yıllarında iki kez kuşatıp, Bizans İmparatoru Herakliyos'u zor durumda bırakan Türk kavmi aşağıdakilerden hangisidir?
 - A) Hazarlar
 - B) Kırgızlar
 - C) Avarlar
 - D) Türgişler
12. İslamiyet kabul eden ilk Türk topluluğu aşağıdakilerden hangisidir?
 - A) Karluklar
 - B) Basmiller
 - C) Uygurlar
 - D) Uzlar

13. Aşağıdakilerden hangisi ilk Türk Devletlerinde, devlet işlerinin görüşülüp karara bağlandığı meclise verilen adlardan biri değildir?

- A) Kurultay
- B) Kengeş
- C) Tudun
- D) Toy

14. İlk Türk Devletlerinde il kavramının karşılığı olarak aşağıdakilerden hangisi kullanılmıştır?

- A) Aile
- B) Devlet
- C) Sülale
- D) Meclis

15. Türk hukukunu ilk kez hangi devlet yazılı hâle getirmiştir?

- A) Göktürkler
- B) Karahanlılar
- C) Uygurlar
- D) Avarlar

16. Aşağıdakilerden hangisi Türklerin millî alfabelerinden biridir?

- A) Arap
- B) Uygur
- C) Kiril
- D) Latin

17. İlk düzenli Türk ordusunu hangi Türk hakani kurmuştur?

- A) Atilla
- B) Mete Han
- C) Mukan Kağan
- D) Bilge Kağan

18. Aşağıdakilerden hangisi dünyanın en uzun savunma hattıdır?

- A) Çin Seddi
- B) Micingerd Kalesi
- C) Alara Kalesi
- D) Estergon Kalesi

19. Cengiz Han'a itaat eden ilk Müslüman Türk hükümdarı aşağıdakilerden hangisidir?

- A) Mete Han
- B) Böğü Kağan
- C) II. Arslan Han
- D) Bilge Kağan

20. Orta Asya Türk tarihine ait bilgilere en çok aşağıdaki hangi devletin kaynaklarında rastlanır?

- A) Fransa
- B) Rusya
- C) Çin
- D) İngiltere

1. Dünya üzerinde bir yeri belirtebilmek için kullanılan yöntem ne ad verilir?
 - A) Kutup
 - B) Ekvator
 - C) Geoit
 - D) Koordinat sistemi
2. Ankara ve Kırıkkale arasındaki gerçek uzaklık 100 km'dir. Bu uzaklık 1/1.000.000 ölçekli bir harita üzerinde kaç cm ile gösterilir?
 - A) 10
 - B) 15
 - C) 20
 - D) 25
3. Yer kabuğu üzerinde ağır ağır gelişen ve geniş alanları kapsayan yükselme ve alçalma hareketlerine ne ad verilir?
 - A) Orojenez
 - B) Epirojenez
 - C) Volkanizma
 - D) Deprem
4. Kutup noktalarından eşit uzaklıktaki noktaları birleştiren, dünyayı eşit iki parçaya bölen ve çevresi yaklaşık 40.000 km olan hayali çizgiye ne ad verilir?
 - A) Paralel
 - B) Ekvator
 - C) Meridyen
 - D) Greenwich
5. Yağmur yağışlarını ölçen alete ne ad verilir?
 - A) Termometre
 - B) Barometre
 - C) Takometre
 - D) Pluviometre
6. Dünyanın kendi eksenini etrafındaki hareketini tamamlaması ile aşağıdakilerden hangisi meydana gelir?
 - A) Saat
 - B) Gün
 - C) Ay
 - D) Yıl
7. Paralellerle ilgili aşağıdaki ifadelerden hangisi yanlıştır?
 - A) Toplam 180 paralel vardır.
 - B) Kutuplarda birleşirler.
 - C) 90'ı kuzey yarım kürede, 90'ı güney yarım kürededir.
 - D) İki paralel arasındaki uzaklığa bir enlem derecesi denir.
8. İki ardışık meridyen arasındaki yerel saat farkı kaç dakikadır?
 - A) 4
 - B) 5
 - C) 6
 - D) 7
9. Dünyanın katı kabuğu olan taş küre aşağıdakilerden hangisidir?
 - A) Atmosfer
 - B) Hidrosfer
 - C) Litosfer
 - D) Biyosfer
10. İnsanın yaşam alanı içinde bulunduğu ortama ne ad verilir?
 - A) Dağ
 - B) Orman
 - C) Tarla
 - D) Doğal çevre

11. Atmosfer içerisindeki hava olaylarının oluşmasını sağlayan güç aşağıdakilerden hangisidir?

- A) Ay
- B) Mars
- C) Venüs
- D) Güneş

12. Bir yamacın güneş karşısındaki konumuna ne ad verilir?

- A) Bakı
- B) Eksen
- C) Yörünge
- D) Güneş etkisi

13. Haritası çizilen herhangi bir yerin, düzleme aktarılması sırasında kullanılan küçültme oranına ne ad verilir?

- A) Harita başlığı
- B) Harita yönü
- C) Harita ölçeği
- D) Harita lejanti

14. Ekinoks nedir?

- A) Dünyanın şeklidir.
- B) Akarsuların akış hızıdır.
- C) Dünyanın her yerinde gece ve gündüz sürelerinin birbirine eşit olmasıdır.
- D) En uzun gündür.

15. Bilinen ilk Türk haritasını kim çizmiştir?

- A) Piri Reis
- B) İbrahim Reis
- C) Umur Bey
- D) Kaşgarlı Mahmut

16. Nüfus yoğunluğu, nüfus dağılışı ve insanların kültürlerine ait bilgileri içeren harita türü aşağıdakilerden hangisidir?

- A) Fiziki harita
- B) Siyasi harita
- C) Beşeri harita
- D) Ekonomi haritası

17. Aşağıdakilerden hangisi harita çiziminde kullanılan projeksiyon tiplerinden biri değildir?

- A) Köşeli projeksiyon
- B) Konik projeksiyon
- C) Düzlem projeksiyon
- D) Silindir projeksiyon

18. Eş yükselti eğrilerine ne ad verilir?

- A) Geoit
- B) İzohips
- C) Küre
- D) Yamaç

19. İklim ve iklim elemanlarını inceleyen bilim dalı aşağıdakilerden hangisidir?

- A) Jeomorfoloji
- B) Hidrografya
- C) Klimatoloji
- D) Biyocoğrafya

20. Aşağıdakilerden hangisi sürekli rüzgârlardan biri değildir?

- A) Fırtınalar
- B) Alizeler
- C) Batı rüzgârları
- D) Kutup rüzgârları

1. Aşağıdakilerden hangisi organik tortul kayalardan biri değildir?
 - A) Granit
 - B) Kömür
 - C) Tebeşir
 - D) Mercan kaya
2. Aşağıdakilerden hangisi fiziksel tortul kayalardan biri değildir?
 - A) Çakıl taşı
 - B) Kum taşı
 - C) Kireç taşı
 - D) Kil taşı
3. Kalkerli arazi içinde suların eritme ve aşındırması sonucu meydana gelen yer altı boşluklarına ne ad verilir?
 - A) Tünel
 - B) Mağara
 - C) Oyuk
 - D) Kovuk
4. Magmanın, yer kabuğunun farklı derinliklerindeki taş ve tabakaların arasına sokularak yavaş yavaş soğumasıyla oluşan kayaç türü aşağıdakilerden hangisidir?
 - A) Dış püskürük kayalar
 - B) Başkalaşım kayalar
 - C) İç püskürük kayalar
 - D) Tortul kayalar
5. Aşağıdakilerden hangisi sıcak su kaynaklarının kullanıldığı alanlardan biri değildir?
 - A) Bahçe sulaması
 - B) Elektrik enerjisi üretimi
 - C) Kültür balıkçılığı
 - D) Konutların ısıtılması
6. Aşağıdakilerden hangisi sıcak su kaynaklarının yaygın olduğu bölgeler arasında yer almaz?
 - A) Cezayir
 - B) Malezya
 - C) Yeni Zelanda
 - D) Kanada
7. Aşağıdakilerden hangisi birbirine yaklaşan levhalardan biri değildir?
 - A) Kokos levhası – Pasifik levhası
 - B) Avrasya levhası – Pasifik levhası
 - C) Kuzey Amerika levhası – Pasifik levhası
 - D) Pasifik levhası – Hindistan levhası– Avusturalya levhası
8. Akdeniz iklim bölgesinde kalker üzerinde oluşan toprak türü aşağıdakilerden hangisidir?
 - A) Laterit toprak
 - B) Kırmızı toprak
 - C) Podzol toprak
 - D) Kahverengi orman toprağı
9. Tropikal iklim bölgelerinde görülen uzun boylu ot topluluklarına ne ad verilir?
 - A) Step (bozkır)
 - B) Çayır
 - C) Tundra
 - D) Savan
10. Sirk gölü olarak da adlandırılan göl türü aşağıdakilerden hangisidir?
 - A) Volkanik göller
 - B) Karstik göller
 - C) Buzul gölleri
 - D) Tektonik göller

11. Aşağıdakilerden hangisi göl sularının özelliklerini etkileyen faktörler arasında yer almaz?

- A) Gölün bulunduğu arazinin yapısı
- B) Gölün gideğenin (göl ayağı) olup olmaması
- C) Gölün döküldüğü yer
- D) Gölün beslenme kaynağı

12. Aşağıdakilerden hangisi gelişmiş ülkelerde nüfus artış hızının düşük olmasının nedenlerinden biri değildir?

- A) Bebek ölümlerinin daha fazla olması
- B) Şehirleşme oranının yüksek olması
- C) Kadınların çalışma hayatına girmesi
- D) Ekonomik kalkınmanın gerçekleşmesi

13. Aşağıdakilerden hangisi nüfus artışının olumsuz sonuçları arasında yer almaz?

- A) Tüketimin artması
- B) Üretimin artması
- C) Göçlerin artması
- D) Alt yapı hizmetlerinin yetersiz kalması

14. Aşağıdakilerden hangisi dünyada nüfusun yoğun olduğu yerler arasında yer almaz?

- A) Amazon ve Kongo Havzaları
- B) Güneydoğu Asya
- C) Nil Havzası
- D) ABD'nin doğu kıyıları

15. Aşağıdakilerden hangisi göçün nedenlerinden biri değildir?

- A) Doğal nedenler
- B) Psikolojik nedenler
- C) Ekonomik nedenler
- D) Siyasi nedenler

16. Aşağıdakilerden hangisi en çok beyin göçü alan ülkeler arasında yer almaz?

- A) Kanada
- B) İsviçre
- C) Fransa
- D) Almanya

17. Aşağıdakilerden hangisi üçüncül ekonomik faaliyetler arasında yer almaz?

- A) Bankacılık
- B) Pazarlama
- C) Reklam yayıncılığı
- D) Muhasebe

18. Köylerin büyüyerek kentlere dönüştüğü ve devletlerin ortaya çıktığı çağ aşağıdakilerden hangisidir?

- A) Paleolitik Çağ
- B) Mezolitik Çağ
- C) Neolitik Çağ
- D) Kalkolitik Çağ

19. Aşağıdakilerden hangisi Türkiye'nin matematik konumunun sonuçlarından biri değildir?

- A) Mevsimler belirgin olarak görülür.
- B) Kışın cephesel yağışlar fazladır.
- C) Dağların güney yamaçları daha sıcaktır.
- D) İklim çeşitliliği fazladır.

20. Aşağıdakilerden hangisi Türkiye'nin jeolojik zamanlarda geçirdiği oluşumlardan biri değildir?

- A) Mezozoik
- B) Tersiyer
- C) Kuaterner
- D) Andezit

1. $P(x) = -2x^3 + 5x - x^4 + 7$

polinomunun başkatsayısı kaçtır?

- A) -2
B) -1
C) 4
D) 7

2. $P(x,y) = 3x^3y^2 - 5xy^3 + 8x^2y + 11$ polinomunun x ve y ye göre derecesi kaçtır?

- A) 3
B) 4
C) 5
D) 11

3. $P(x) = (a-2b)x^4 + (c-3)x^2 + 7 + d$
 $Q(x) = -6x^4 + (1-b)x^3 - x^2 + 4$

polinomları eşit olduğuna göre, $a+b+c+d$ kaçtır?

- A) -4
B) -2
C) 6
D) 10

4. $\left(x + \frac{12-x^2}{x}\right) : \left(\frac{10x-15}{5x} - 2\right)$ ifadesinin sadeleşmiş biçimi aşağıdakilerden hangisidir?

- A) -12
B) -4
C) $\frac{1}{4}$
D) 4

5. $P(x) = 5ax^3 - (1-a)x$ polinomunun $(x-2)$ ile bölümünden kalan 124 olduğuna göre a kaçtır?

- A) 3
B) 4
C) 5
D) 6

6. $x - \frac{1}{x} = 7$ ise, $x^2 + \frac{1}{x^2}$ ifadesinin değeri kaçtır?

- A) 47
B) 49
C) 51
D) 53

7. $P(x) = -x^3 + 3x^2 - 5x - 15$ polinomu veriliyor.

Buna göre, $P(-2)$ nin değeri aşağıdakilerden hangisidir?

- A) -25
B) -1
C) 1
D) 15

8. $\frac{2x-5}{x^2-5x+6}$ rasyonel ifadesinin basit kesirlerin toplamı olarak yazılmış biçimi aşağıdakilerden hangisidir?

- A) $\frac{3}{x-6} - \frac{1}{x-1}$
B) $\frac{4}{x+2} - \frac{3}{x+3}$
C) $\frac{1}{x-2} + \frac{1}{x-3}$
D) $\frac{2}{x+6} + \frac{1}{x+1}$

9. $\frac{x}{3} + \frac{x-1}{5} = \frac{37}{15}$ denkleminin çözüm kümesi aşağıdakilerden hangisidir?

- A) {1}
B) {3}
C) {5}
D) {8}

10. Kökleri $x_1 = 1 + \sqrt{2}$ ve $x_2 = 1 - \sqrt{2}$ olan ikinci derece denklem aşağıdakilerden hangisidir?

- A) $x^2 - 2x - 1 = 0$
B) $x^2 + 2x - 1 = 0$
C) $x^2 + x - 2 = 0$
D) $x^2 + 2x + 5 = 0$

11. $|3x-5| = 4-2x$ denkleminin çözüm kümesi aşağıdakilerden hangisidir?

- A) $\left\{1, \frac{9}{2}\right\}$
B) $\left\{\frac{9}{7}, 2\right\}$
C) $\left\{-\frac{9}{2}, 2\right\}$
D) $\left\{1, \frac{9}{5}\right\}$

12. $x^2+mx+m-13=0$ denkleminin bir kökü $x_1=5$ ise diğer kökü kaçtır?

- A) -5
B) -3
C) -2
D) $\frac{1}{2}$

13. $5x-2y=5$
 $4x-3y=7$

denklemler sisteminin çözüm kümesi aşağıdakilerden hangisidir?

- A) $\left\{-\frac{3}{5}, \frac{2}{5}\right\}$
B) $\left\{\frac{1}{7}, -\frac{15}{7}\right\}$
C) $\left\{1, \frac{3}{8}\right\}$
D) $\left\{\frac{1}{2}, 6\right\}$

14. $\frac{(x^2-2x+1).(x+3)}{(x-2)} \leq 0$ eşitsizliğinin çözüm kümesi aşağıdakilerden hangisidir?

- A) $[-3, -2]$
B) $(2, +\infty)$
C) $(-\infty, -3] \cup (2, +\infty)$
D) $[-3, 2)$

15. $y=mx^2-2(m+1)x+m+1$ eğrisi OX eksenine teğet olduğuna göre, m kaç olmalıdır?

- A) -2
B) -1
C) 1
D) 2

16. A(0,1), B(1,0) ve C(3, -4) noktalarından geçen parabolün denklemleri aşağıdakilerden hangisidir?

- A) $y = -x^2 + 2x + 1$
B) $y = \frac{1}{2}x^2 - \frac{3}{2}x - 1$
C) $y = x^2 - 2x + \frac{1}{3}$
D) $y = -\frac{1}{3}x^2 - \frac{2}{3}x + 1$

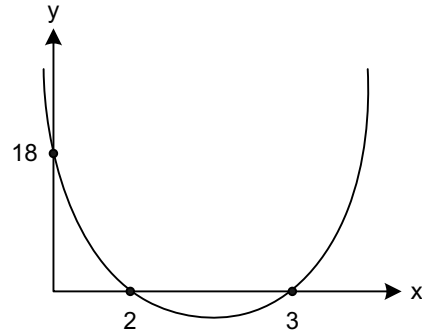
17. $(m+1)x^2-2mx+m+2=0$ denkleminin eşit iki kökünün olması için m kaç olmalıdır?

- A) -2
B) -1
C) $-\frac{2}{3}$
D) $-\frac{1}{3}$

18. $(743)^2-(257)^2$ işleminin sonucu kaç basamaklı bir sayıdır?

- A) 6
B) 7
C) 8
D) 9

19.



Yukarıdaki şekilde $f(x)=ax^2+bx+c$ eğrisinin grafiği verilmiştir.

Buna göre $f(1)$ kaçtır?

- A) -3
B) 0
C) 3
D) 6

20. $f(x)=2x^2+(7m+5)x-7$ fonksiyonunun simetri eksenini $x=-3$ doğrusu ise m kaçtır?

- A) 1
B) 3
C) 6
D) 7

1. Sözcükleri biçim yönünden inceleyerek kök ve eklerin yapısını belirleyen bilim dalı aşağıdakilerden hangisidir?

- A) Ses Bilgisi
- B) Köken Bilim
- C) Anlam Bilim
- D) Biçim Bilgisi

2. Günlük yaşamda, evde, sokakta, çarşı pazarda kullanılan dile ne ad verilir?

- A) Yazı dili
- B) Lehçe
- C) Ağız
- D) Konuşma dili

3. Aşağıdakilerden hangisi dil bilgisinin bölümlerinden biri değildir?

- A) Pedagoji
- B) Morfoloji
- C) Etimoloji
- D) Fonetik

4. Kültürel varlıkların kuşaktan kuşağa aktarılmasında en etkili araç aşağıdakilerden hangisidir?

- A) Kültür
- B) Dil
- C) Tarih
- D) Düşünce

5. Aşağıdakilerden hangisi iletişimi oluşturan öğelerden biri değildir?

- A) Alıcı
- B) Bağlam
- C) İleti
- D) Ortam

6. "Dil" ile ilgili aşağıdaki ifadelerden hangisi yanlıştır?

- A) Dil, canlılar arasında anlaşma sağlayan sosyal bir kurumdur.
- B) Dilin kendine göre birtakım yasaları vardır.
- C) Dil, canlı bir varlıktır.
- D) Dil sayesinde toplumdaki bireyler bir araya gelir.

7. Aşağıdakilerden hangisi Ural-Altay dillerinin özelliklerinden biri değildir?

- A) Bazı çekim ekleri, yapım eki olarak da kullanılır.
- B) Sözcüklerde dil bilgisi bakımından dişi ve erkek tür ayrımı yoktur.
- C) Baştan eklemeli bir yapısı vardır.
- D) Ses, yapı ve söz dizini bakımından benzerlikler bulunur.

8. Türkçenin dünya dilleri arasındaki yeri aşağıdakilerin hangisinde doğru olarak verilmiştir?

- A) Ural-Altay dilleri
- B) Hami-Sami dilleri
- C) Hint Avrupa dilleri
- D) Bantu dilleri

9. Diller arasındaki yakınlık ve benzerliğe ne ad verilir?

- A) Dil akrabalığı
- B) Dil kardeşliği
- C) Dil birliği
- D) Dil yakınlığı

10. İlk Türkçe belgelerin ortaya konulduğu çağ aşağıdakilerden hangisidir?

- A) İlk Türkçe Çağı
- B) En Eski Türkçe Çağı
- C) Eski Türkçe Çağı
- D) Altay Çağı

11. Aşağıdakilerden hangisi eklemeli (bitişken) dillerden biridir?

- A) Almanca
- B) Fransızca
- C) Hintçe
- D) Türkçe

12. Aşağıdakilerden hangisi yapı bakımından dünya dillerinden olan, tek heceli dillerin özelliklerinden biri değildir?

- A) Sözcükler ek almadan, büküme, değişime uğramazlar.
- B) Sözcüklerde vurgu hakimdir.
- C) Bir sözcük yerine göre 10-15 anlam kazanabilir.
- D) Sözcüklerde çekim eki vardır.

13. Aşağıdakilerden hangisi Türk dilinin gelişme aşamalarından biri değildir?

- A) En Eski Türkçe Çağı
- B) Kuzey Batı Türkçesi
- C) İlk Türkçe Çağı
- D) Eski Türkçe Çağı

14. Türkçenin gelişmesine katkı sağlayan eserlerden biri olan "Atabetül Hakayık" ile aşağıdaki ifadelerden hangisi yanlıştır?

- A) Eser, Anadolu Türkçesi ile yazılmıştır.
- B) Eserin tamamı dördlüklerden ve beyitlerden oluşmuştur.
- C) Eser, ahlaki, öğretici tarzda yazılmış manzum bir eserdir.
- D) Eser, Edip Ahmet tarafından yazılmıştır.

15. Aşağıdakilerin hangisinde bir yazım yanlışı vardır?

- A) THY'ye
- B) MEB'in
- C) TV'na
- D) TDK'nin

16. Aşağıdaki birleşik sözcüklerden hangisi farklı bir yolla oluşturulmuştur?

- A) Hanımeli
- B) Aslanağzı
- C) Biçerdöver
- D) Vezirparmağı

17. Aşağıdaki cümlelerin hangisinde ünlü düşmesine uğramış bir sözcük vardır?

- A) Ayağa kalkacak halim yok.
- B) Burnuma güzel kokular geliyor.
- C) Gelirken bana haber ver.
- D) Bu renk sana yakıştı.

18. Aşağıdakilerin hangisinde "mi"nin yazımı yanlıştır?

- A) Bana da verecek misin?
- B) Yok mu senden başkası?
- C) Oku muyorsan ver kitabımı.
- D) Daha doymadın mı?

19. Aşağıdaki cümlelerden hangisinin sonuna ünlem işareti gelmez?

- A) Hey, buraya bak
- B) Eyvah, kahve taşı
- C) Sevgili arkadaşlar
- D) Bu güzel kız da kim

20. Aşağıdaki sözcüklerden hangisi küçük ünlü uyumu kuralına uymaz?

- A) Bahçe
- B) Melodi
- C) İnce
- D) Okul

1. Sanatta sosyal gayeyi esas alan, edebiyatı toplum ile toplumun meselelerinin hizmetine veren, 1860–1896 yılları arasında etkili olan edebiyat akımı aşağıdakilerden hangisidir?
- A) Tanzimat Edebiyatı
B) Batı Edebiyatı
C) Çağdaş Türk Edebiyatı
D) Edebiyatı Cedide
2. Edebiyat ile ilgili aşağıdaki ifadelerden hangisi yanlıştır?
- A) Toplumların gelişimine katkıda bulunur.
B) Tarih biliminden yararlanır.
C) Sadece tanık olduğu çağı anlatır.
D) Toplumların siyasal ve sosyal yapısından etkilenir.
3. Yusuf Kamil Paşa'nın 1859 yılında Fransız yazar Fenelon'dan yaptığı ilk çeviri roman, aşağıdakilerden hangisidir?
- A) Sefiller
B) Martı
C) Monte Kristo
D) Telemak
4. Divan Edebiyatında, ölen bir kişinin arkasından, onun kahramanlıklarını, yiğitliklerini anlatan şiirlere ne ad verilir?
- A) Koşuk
B) Sav
C) Koşma
D) Mersiye
5. Aşağıdakilerden hangisi, birinci dönem Tanzimat Edebiyatının önemli temsilcilerinden biridir?
- A) Abdülhak Hamit
B) Ahmet Mithat Efendi
C) Recaiîzâde Mahmut Ekrem
D) Samipaşazâde Sezâî
6. 18. yüzyılın sonundan 19. yüzyılın ortalarına kadar etkisini sürdüren, akıl ve sağduyu yerine hayallere, duygulara ve coşkulara önem veren edebiyat akımı aşağıdakilerden hangisidir?
- A) Romantizm
B) Klasisizm
C) Realizm
D) Natüralizm
7. Tanzimat Fermanı'nın hazırlanış amacı aşağıdakilerden hangisidir?
- A) Osmanlı Devleti'ndeki değişimlere engel olmak
B) Savaşlarda yenilgiye son vermek
C) Ordudaki değişen disiplin anlayışına el atmak
D) Devrin gereksinimlerine uygun Batı esasları doğrultusunda yeniden yapılanmak
8. Aşağıdakilerden hangisi, Namık Kemal'in eserlerinden biridir?
- A) Zavallı Çocuk
B) Çalığışu
C) Safahat
D) Sergüzeşt
9. Tanzimat Döneminde çıkarılan ilk özel gazete aşağıdakilerden hangisidir?
- A) Tasvir-i Efkâr
B) Takvim-i Vekâyî
C) Tercüman-ı Ahvâl
D) Ceride-i Havadis
10. Osmanlı Devleti'nde toplumu temsil eden piramidin en üst noktasında aşağıdakilerden hangisi yer alır?
- A) Askerler
B) Padişah
C) İlim Adamları
D) Zanaatçılar
11. Türk edebiyatında modern anlamda ilk tiyatro eseri aşağıdakilerden hangisidir?
- A) İntibah
B) Araba Sevdası
C) Şair Evlenmesi
D) Vatan Yahut Silistre

12. Mademki bir sosyal toplulukta yaşayan halk bunca kanuni vazifelerle yükümlüdür, elbette ki sözle ve kalemlle kendi vatanının çıkarlarına ait fikirler belirtmeyi kazanılmış haklarından sayar.

Yukarıdaki paragraftan, aşağıdakilerden hangisi çıkarılamaz?

- A) Bu hakların önde geleni söz ve yazı hürriyetidir.
B) Gerçek bir kamuoyu oluşturulmalıdır.
C) Çağdaş insana bireyci tutum yakışmaz.
D) Düşünce özgürlüğü bireylerin temel hakkı olmalıdır.
13. Eserlerinde ilahi aşkı, mutlak varlığı, tasavvufi konuları işlemiştir. Amacı tasavvufu öğretmektir. Önemli eserlerinden biri olan Dilgüşa, kolayca okunup anlaşılabilir. **Yukarıda tanıtılan yazar aşağıdakilerden hangisidir?**
- A) Kaygusuz Abdal
B) Edip Ahmet
C) Mevlâna
D) Yunus Emre
14. Şairin kaside içinde medhiye bölümünden sonra uygun bir yerde aynı vezin ve kafiye ile söylediği bölüme ne ad verilir?
- A) Girizgâh
B) Fahriye
C) Dua
D) Tegazzül
15. Tarihçi, şair ve dilcidir. Başarılı sözlük tercümelemleri gerçekleştirmiştir. Burhan-ı Kaatı adlı sözlük çalışmasının bir bölümünü Sultan III. Selim'e sunmuştur. **Yukarıda tanıtılan tarihçi aşağıdakilerden hangisidir?**
- A) Ahmet Resmî Efendi
B) Mütercim Âsım
C) Kâtip Çelebi
D) Dadaloğlu

16. Aşağıdaki şair ve yazarlardan hangisi toplumsal konular yerine bireysel konularda yazmayı yeğleyen sanatçılardan biridir?

- A) Ahmet Mithat Efendi
B) Namık Kemal
C) Sami Paşazâde Sezaî
D) Ziya Paşa

17. Tanzimat'la başlayan yenileşme hareketinin öncülerinden olan, Türk Edebiyatının yenileşmesi ve öz kaynaklarına dönmesini savunan yazar aşağıdakilerden hangisidir?

- A) Namık Kemal
B) Yahya Kemal
C) Faruk Nafiz Çamlıbel
D) Ziya Paşa

18. İyi bir eğitim alarak yetişen Ali Bey'in düşmüş bir kadınla kurduğu ilişkiden doğan kötü sonuçların ele alındığı "İntibah" romanını kim yazmıştır?

- A) Hüseyin Rahmi Gürpınar
B) Namık Kemal
C) Muallim Naci
D) Abdülhak Hâmit Tarhan

19. Abdülhak Hâmit Tarhan'ın eşi Fatma Hanım'ın ölümü üzerine duyduğu acıyı dile getirdiği 295 bentlik eseri, aşağıdakilerden hangisidir?

- A) Makber
B) Sahra
C) Nesteren
D) Ölü

20. Türk edebiyatında Recaizâde Mahmut Ekrem tarafından yazılan ilk realist roman, aşağıdakilerden hangisidir?

- A) Cezmi
B) Araba Sevdası
C) Taaşuk-ı Talat ve Fitnat
D) Son Pişmanlık

1. I. Mikro dalga
II. Görünür ışık
III. Radyo dalgaları
IV. Röntgen dalgaları

Yukarıdakilerden hangisi boşlukta yayılabilir?

- A) I ve II
B) II ve III
C) I, II ve IV
D) I, II, III ve IV

2. 19,4 ohm direncine sahip 600 m uzunlukta 1 mm yarıçapında metal bir iletken telin öz direnci kaç ohm.m dir? ($\pi=3$)

- A) $9,7 \cdot 10^{-8}$
B) $9,7 \cdot 10^{-6}$
C) $4,5 \cdot 10^{-4}$
D) $4,5 \cdot 10^{-3}$

3. Bir dalga kaynağı her 30 saniyede 120 periyodik tam dalga üretiyor. Üretilen dalgalarda arka arkaya gelen dalga tepeleri arasındaki uzaklık 20cm olduğuna göre, dalgaların yayılma hızı kaç cm/s dir?

- A) 60
B) 70
C) 80
D) 90

4. Bir iletken kesitinden 2 amper akım geçmektedir. Buna göre, bu kesitten 2 dakikada geçen elektrik yükü kaç coulomb (C) dur?

- A) 180
B) 240
C) 280
D) 300

5. Güneşin kütlesi $1,98 \cdot 10^{30}$ kg ve dünya ile güneş arasındaki uzaklık $R= 1,49 \cdot 10^{11}$ m dir. Dünya ile güneş arasındaki kütle çekim kuvveti $3,56 \cdot 10^{22}$ newton ise, dünyanın kütlesi kaç kg'dır? (Evrensel çekim sabiti; $G= 6,67 \cdot 10^{-11}$ Nm²/kg²)

- A) $2,49 \cdot 10^{-20}$
B) $5,98 \cdot 10^{-20}$
C) $2,49 \cdot 10^{24}$
D) $5,98 \cdot 10^{24}$

6. Bir otomobil $x_A= 10$ m koordinatına sahip A noktasından, $x_B= 80$ m koordinatına sahip B noktasına hareket etmiştir.

Buna göre, bu yerdeğişimi kaç metredir?

- A) 50
B) 60
C) 70
D) 80

7. Bir devredeki lambaların daha parlak yanmasıyla ilgili aşağıdaki ifadelerden hangisi doğrudur?

- A) Paralel bağlı lambaların üzerindeki gerilim azaltılmalıdır.
B) Seri bağlı devredeki lamba sayısı azaltılmalıdır.
C) Seri bağlı lambalardan geçen akım düşürülmelidir.
D) Devreye akım veren pilin elektromotor kuvveti azaltılmalıdır.

8. Aralarında 100 metre uzaklık bulunan iki bisikletli 40 m/s ve 30 m/s sabit hızlarla, aynı yön ve doğrultuda harekete başlıyorlar. Bu bisikletliler kaç s sonra yan yana gelir?

- A) 10
B) 11
C) 12
D) 13

9. Bir otomobil 108 kilometrelik bir yolu 3 saatte, sabit hızla giderek hareket ediyorsa, hızı kaç m/s'dir?

- A) 4
B) 6
C) 8
D) 10

10. I. Manyetik maddenin içinde manyetik alan yoktur.
II. Üzerinden elektrik akımı geçtiğinde, etrafında manyetik alan oluşturan cisimlere elektromıknatis adı verilir.
III. Manyetik alanların başlangıç ve sonu vardır.

Yukarıdakilerden hangileri elektrik akımı ve manyetik alanla ilgilidir?

- A) Yalnız I
B) Yalnız II
C) I ve II
D) II ve III

11. Bir atlet önce kuzeye doğru 80 m sonra doğuya doğru 60 m koşarak durduğuna göre kaç metre yer değiştirmiştir?

- A) 60
- B) 80
- C) 100
- D) 120

12. Herbiri 5 ohm direncine sahip iletkenlerden kaç tanesi seri bağlanırsa eşdeğer direnç 45 ohm olur?

- A) 8
- B) 9
- C) 10
- D) 11

13. Işık 3 saniyede boşlukta kaç km yol alır? ($c=3 \cdot 10^8$ km/s)

- A) $4 \cdot 10^8$
- B) $6 \cdot 10^8$
- C) $8 \cdot 10^8$
- D) $9 \cdot 10^8$

14. I. Demir
II. Porselen
III. Nikel
IV. Kağıt parçaları
V. Yün kumaş
VI. Ebonit çubuk

Mıknatıs yukarıdaki malzemelerden kaç tanesini çekebilir?

- A) 2
- B) 3
- C) 4
- D) 5

15. Dalgaboyu 100 m ve periyodu 2 s olan bir dalga kaç m/s hızla yayılmaktadır?

- A) 40
- B) 50
- C) 60
- D) 80

16. Her biri 5 ohm dirence sahip 5 iletken paralel bağlanırsa, eşdeğer direnç kaç ohm olur?

- A) 1
- B) 2
- C) 3
- D) 4

17. Bir lambanın elektriksel direnci 5 ohm, lambadan geçen akım ise 5 amper'dir.

Buna göre, bu lambanın uçları arasındaki elektriksel potansiyel farkı kaç volt (V) tur?

- A) 15
- B) 20
- C) 25
- D) 30

18. Bir iletkenin direnciyle ilgili aşağıdaki ifadelerden hangisi yanlıştır?

- A) İletkenin boyu arttıkça direnci de artar.
- B) Bir iletkenin yalnızca kesit alanı yarıya indirilirse, direnci de yarıya iner.
- C) Maddenin öz direnci ayırt edici özelliğidir.
- D) İletkenin boyu üç katına çıkarsa, direnci üç katına çıkar.

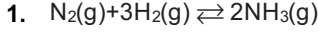
19. I. Güneş'ten gelen zararlı ışınların Dünya'ya ulaşmasını engeller.
II. Güneş ışınlarının Dünya'ya geliş açısını değiştirir.
III. Pusulanın kullanılmasını sağlar.

Yukarıdakilerden hangileri Dünya'nın manyetik alanı tarafından sağlanmaktadır?

- A) Yalnız I
- B) Yalnız II
- C) I ve II
- D) I ve III

20. Periyodu 0,05 s olan bir dalga 100 m/s hızla yayılırsa dalga boyu kaç metredir?

- A) 3
- B) 4
- C) 5
- D) 6



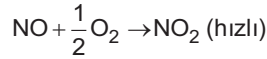
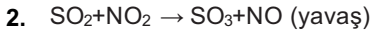
Yukarıda verilen tepkimenin denge bağıntısı aşağıdakilerden hangisidir?

A) $K = \frac{[N_2][H_2]^3}{[NH_3]^2}$

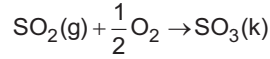
B) $K=[NH_3]^2$

C) $K = \frac{[NH_3]^2}{[N_2][H_2]^3}$

D) $K=[N_2][H_2]^3$



Mekanizması yukarıda verilen



tepkimesinde;

I. Katalizör, NO_2 dir.

II. Ara ürün, NO dur.

III. Hız denklemini $k[SO_2]$ dir.

Yargılarından hangileri doğrudur?

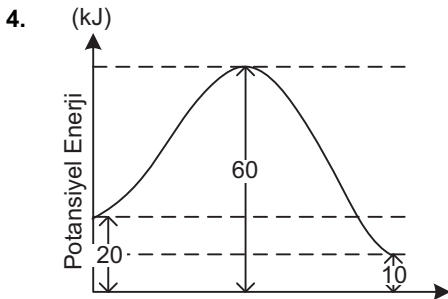
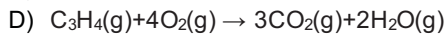
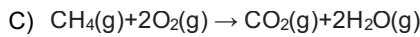
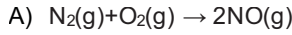
A) Yalnız II

B) I ve II

C) II ve III

D) I, II ve III

3. Aşağıdaki tepkimelerden hangisinde zamanla basınç artması ölçülerek tepkime hızı saptanabilir?



Yukarıda verilen potansiyel enerji (PE)-zaman grafiği için hangisi doğru değildir?

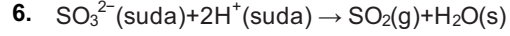
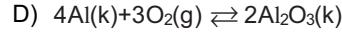
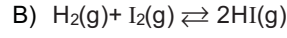
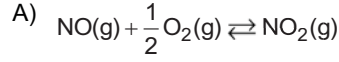
A) Tepkime ısı (ΔH); +30 kJ dür.

B) Girenlerin potansiyel enerjisi 20 kJ dür.

C) Ürünlerin potansiyel enerjisi 10 kJ dür.

D) Tepkime ekzotermiktir.

5. Aşağıdaki tepkimelerin hangisinde $K_p=K_d \cdot (RT)$ ilişkisi vardır?



Yukarıda verilen tepkimenin hız bağıntısı hangisinde doğru verilmiştir?

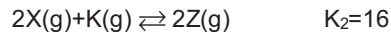
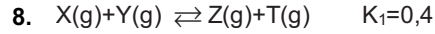

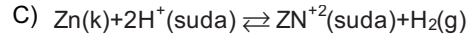
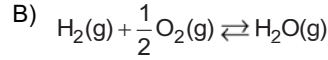
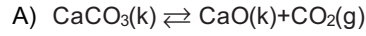
A) $Hız = k[SO_3^{2-}][H^+]^2$

B) $Hız = k[SO_3^{2-}]$

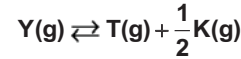
C) $Hız = k[H^+]^2$

D) $Hız = k[SO_2][H_2O]$

7. Aşağıdakilerden hangisi tersinir tepkimeler sonucu oluşan homojen tepkime örneğidir?



tepkimleri bilindiğine göre,



dengesinin aynı sıcaklıktaki denge sabiti kaçtır?

A) 4

B) 0,4

C) 0,2

D) 0,1

9. MgF_2 bileşiğinin çözünürlük çarpımı bağıntısı aşağıdakilerden hangisidir?

A) $K_{\text{ç}} = [Mg^{+2}][F^{-}]$

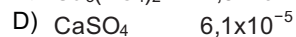
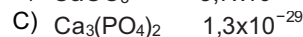
B) $K_{\text{ç}} = [Mg^{+1}]^2 [F^{-}]^2$

C) $K_{\text{ç}} = [Mg^{+2}]^2 [F^{-}]$

D) $K_{\text{ç}} = [Mg^{+2}][F^{-}]^2$

10. Aynı sıcaklıkta çözünürlük çarpımları verilen aşağıdaki bileşiklerden hangisinin çözünürlüğü mol/L olarak en büyüktür?

Bileşik $K_{\text{ç}}$ değeri (mol/L)



11. I. Sıcaklığı değiştirmek
II. Çözeltiyi karıştırmak
III. Çözücünün türünü değiştirmek
IV. Çözüneni toz haline getirmek

Yukarıdaki işlemlerden hangileri katıların sıvı içindeki çözünürlüğünü değiştirir?

- A) I ve II
B) I ve III
C) II ve IV
D) III ve IV

12. $2X(g)+3Y(g)+Z(g) \rightarrow$ ürün

tepkimesinin belli sıcaklıkta yapılan deney ve sonuçları aşağıdaki gibidir.

Deney	[X]mol/L	[Y]mol/L	[Z]mol/L	Hız mol/L
1	2×10^{-3}	4×10^{-3}	3×10^{-3}	4×10^{-2}
2	2×10^{-3}	4×10^{-3}	$1,6 \times 10^{-2}$	4×10^{-2}
3	4×10^{-3}	4×10^{-3}	$1,6 \times 10^{-2}$	$1,6 \times 10^{-1}$
4	2×10^{-3}	2×10^{-3}	6×10^{-3}	2×10^{-2}

Buna göre, tepkimenin hız denklemi aşağıdakilerden hangisidir?

- A) $Hız=k[X]^2[Y]$
B) $Hız=k[Y]^2[Z]$
C) $Hız=k[X][Z]$
D) $Hız=k[X]^3[Y]^2[Z]$

13. Le Chatelier Prensibine göre; dengedeki bir sisteme dışarıdan bir etki yapıldığında, sistem bu etkiyi azaltacak yönde davranış gösterir.

Buna göre, aşağıdakilerden hangisi bu dengeyi bozan dış etkilerden biri değildir?

- A) Sıcaklık
B) Katalizör
C) Temas yüzeyi
D) Basınç ve hacim

14. $Ag^+(suda)+Cl^-(suda) \rightarrow AgCl(k)$

- I. Gaz çıkışı
II. Basınç değişimi
III. İletkenlik değişimi

Yukarıdaki tepkimenin hızını ölçmek için, verilen özelliklerden hangileri kullanılabilir?

- A) I ve II
B) I ve III
C) II ve III
D) I, II ve III

15. I. $Mg^{2+}(suda)+2F^-(suda) \rightarrow MgF_2(k)$
II. $2Al^{3+}(suda)+3SO_4^{2-}(suda) \rightarrow Al_2(SO_4)_3(k)$
III. $Ca^{2+}(suda)+S^{2-}(suda) \rightarrow CaS(k)$

Yukarıda verilen tepkimelerin oda koşullarında gerçekleşme hızları arasındaki ilişki hangi seçenekte doğru verilmiştir?

- A) $III>I>II$
B) $I>II>III$
C) $III>II>I$
D) $II>III>I$

16. Bir tepkimenin hız denklemi; $Hız=k[BrO_3^-][Br^-][H^+]^2$ ise, tepkimenin toplam derecesi kaçtır?

- A) 1
B) 2
C) 3
D) 4

17. $H_2(g)+I_2(g) \rightleftharpoons 2HI(g)$

$\Delta H < 0$ tepkimesi dengededir.

Tepkime kabında sıcaklık arttırıldığında aşağıdaki değişimlerden hangisi doğru olur?

- | Denge sabiti | Değişim |
|--------------|-----------------------|
| A) Artar | I_2 derişimi artar. |
| B) Artar | HI derişimi azalır. |
| C) Azalır | H_2 derişimi artar. |
| D) Azalır | HI derişimi artar. |

18. I. Çözeltideki Ba^{+2} iyon derişimi
II. Dipteki $BaSO_4$ kat miktarı
III. $BaSO_4$ 'ün çözünürlük çarpımı (Kç)

Doymuş $BaSO_4$ çözeltisine sabit sıcaklıkta bir miktar $BaCl_2$ çözeltisi eklendiğinde; yukarıdaki niceliklerinden hangilerinde artma görülür?

- A) I ve II
B) I ve III
C) II ve III
D) I, II ve III

19. Aşağıdakilerden hangisi elektrolit çözelti örneği değildir?

- A) $CaCl_2(k) \rightarrow Ca^{+2}(suda)+2Cl^{-1}(suda)$
B) $C_6H_{12}O_6(k) \rightarrow C_6H_{12}O_6(suda)$
C) $HCl(g) \rightarrow H^+(suda)+Cl^-(suda)$
D) $NaOH(k) \rightarrow Na^+(suda)+OH^-(suda)$

20. CaI_2 'un saf suda belli bir sıcaklıkta çözünürlüğü 2×10^{-2} mol/L dir. Buna göre, CaI_2 'ün çözünürlük çarpımı kaçtır?

- A) 2×10^{-2}
B) 6×10^{-4}
C) 4×10^{-4}
D) 8×10^{-6}

1. Dişi üreme sisteminde, folikül kesesinde olgunlaşan yumurtanın folikülün çatlamasıyla yumurtalıktan atılarak fallop borusuna geçerek döllenmeye hazır hale geldiği evre aşağıdakilerden hangisidir?
 - A) Ovulasyon
 - B) Korpus luteum
 - C) Folikül
 - D) Menstruasyon
2. Arı, yaprak bitleri ve bazı keleklerin döllenme şekli aşağıdakilerden hangisidir?
 - A) Konjugasyon
 - B) Partenogenez
 - C) Heterogami
 - D) Hermafroditizm
3. Aşağıdakilerden hangisi dişi üreme sisteminde yer almaz?
 - A) Üretra
 - B) Fallop borusu
 - C) Korpus luteum
 - D) Folikül kesesi
4. Hem erkek hem dişi organ bulunan çiçeklere ne ad verilir?
 - A) Erselik
 - B) Eksik çiçek
 - C) İki evcikli
 - D) Stamen
5. Aynı bireyde hem dişi hem de erkek üreme hücresi üreterek, canlının kendi kendini dölleyebildiği üreme şekli aşağıdakilerden hangisidir?
 - A) Konjugasyon
 - B) Partenogenez
 - C) Heterogami
 - D) Hermafroditizm
6. Ovulasyondan sonra yumurtanın ömrü kaç saattir?
 - A) 6
 - B) 12
 - C) 24
 - D) 48
7. Dişilerde ergenlik dönemi ile menopoz dönemi arasında yumurtalık ve rahimde meydana gelen değişime ne ad verilir?
 - A) İzogami
 - B) Döl değişimi
 - C) Menstrual dönem
 - D) Partenogenez
8. Aşağıdakilerden hangisi eşeyli üremenin özelliklerinden biri değildir?
 - A) Ata hücreler ile yavru hücrelerin genetik yapısının tamamen aynı olması
 - B) Mayoz bölünmenin görülmesi
 - C) Yumurta ve spermin birleşmesi sonucu döllenme gerçekleşmesi
 - D) Gametler oluşurken crossing-over olarak adlandırılan parça değişimi gerçekleşmesi
9. Şekil ve büyüklükleri aynı olan gametlerin birleşmesi sonucu görülen üreme şekli aşağıdakilerden hangisidir?
 - A) Heterogami
 - B) İzogami
 - C) Konjugasyon
 - D) Partenogenez
10. İnsanda döllenme sonucu kaç kromozomlu zigot meydana gelir?
 - A) 16
 - B) 32
 - C) 46
 - D) 52

11. Gelişmenin erken evrelerinde zigotta görülen hızlı mitoz bölünmelere ne ad verilir?

- A) Gastrulasyon
- B) Mezoderm
- C) Ektoderm
- D) Segmentasyon

12. İnsanda döllenmeden sonra, 24. günde embriyonel gelişim ne durumdadır?

- A) Bütün organ sistemleri oluşur.
- B) Ana vücuduna bağlanır.
- C) Nörilasyon gerçekleşir.
- D) Sinir sistemi ve kan damarları gelişmeye başlar.

13. Amniyosentez gebeliğin kaçınıcı haftasında yapılır?

- A) 8
- B) 16
- C) 24
- D) 28

14. Aşağıdakilerden bitkilerden hangisi çift çeneklidir?

- A) Buğday
- B) Badem
- C) Mısır
- D) Orkide

15. Embriyoyu çevreleyen, içerisindeki sıvı sayesinde embriyoyu basınç, sıcaklık gibi olumsuz koşullara karşı koruyan yapı aşağıdakilerden hangisidir?

- A) Koryon
- B) Allantoyis
- C) Amniyon kesesi
- D) Vitellüs kesesi

16. Embriyonun azotlu boşaltım maddelerini depo eden ve solunumu sağlayan embriyonik örtü aşağıdakilerden hangisidir?

- A) Allantoyis
- B) Vitellüs kesesi
- C) Koryon
- D) Amniyon kesesi

17. Bitkinin enine büyümesini sağlayan bölünür doku aşağıdakilerden hangisidir?

- A) Meristem
- B) Dışkabuk
- C) Öz odun
- D) Kambiyum

18. Bitkilerde tomurcuk gelişimi, tohum çimlenmesi ve yaprakların geç yaşlanmasında etkili olan hormon aşağıdakilerden hangisidir?

- A) Oksin
- B) Giberellin
- C) Sitokinin
- D) Etilen

19. Sinir sisteminin geliştiği, beyin omurilik ve duyu organlarının olduğu evre aşağıdakilerden hangisidir?

- A) Organogenez
- B) Nörilasyon
- C) Segmentasyon
- D) Gastrulasyon

20. Aşağıdaki organlardan endodermden meydana gelir? hangisi

- A) Böbrek
- B) Omurilik
- C) Kalp
- D) Karaciğer

ÇAĞDAŞ TÜRK VE DÜNYA TARİHİ 1

A

2014 I.DÖNEM 0103-A

1. Aşağıdakilerden hangisi I. Dünya Savaşı sonunda İtilaf Devletlerinin yenilen devletlerle imzaladıkları antlaşmaların ortak özelliklerinden biri değildir?

- A) Yenilen devletlerin topraklarını küçültmek
- B) Askeri sınırlamalar getirmek
- C) Ağır savaş tazminatları ödetmek
- D) Kapitülasyonları kaldırmak

2. Lozan'da çözülemeyen Musul meselesi Türkiye ile İngiltere arasında 1926 yılında yapılan aşağıdaki hangi antlaşma ile çözülmüştür?

- A) Uşi Antlaşması
- B) Balta Limanı Antlaşması
- C) Ankara Antlaşması
- D) Kale-i Sultaniye Antlaşması

3. Paris Barış Konferansı'na "Milletler Cemiyetinin kurulmasını sağlayarak yalnızlık politikasına dönmek" beklentisiyle katılan devlet aşağıdakilerden hangisidir?

- A) Japonya
- B) İtalya
- C) Fransa
- D) ABD

4. Birinci Dünya Savaşı devam ederken yapılan gizli antlaşmaları açıklayan devlet aşağıdakilerden hangisidir?

- A) İngiltere
- B) Rusya
- C) Fransa
- D) İtalya

5. Atatürk'ün direktifleriyle "yerli malı kullanımı" nı yaygınlaştırmak amacıyla kurulan cemiyet aşağıdakilerden hangisidir?

- A) Millî İktisat ve Tasarruf Cemiyeti
- B) Cemiyet-i İlmiye-i Osmaniye
- C) Cemiyet-i Tibbiye-i Osmaniye
- D) Hilâl-i Ahmer Cemiyeti

6. I. Dünya Savaşı'ndan sonra "manda yönetimi" adı altında varlığını devam ettirmiş olan anlayış aşağıdakilerden hangisidir?

- A) Feodalizm
- B) Teokrazi
- C) Sömürgecilik
- D) Oligarşi

7. Aşağıdakilerden hangisi Balkan Antantı'na katılan devletlerden biri değildir?

- A) Türkiye
- B) Yunanistan
- C) Yugoslavya
- D) İtalya

8. Türk-Yunan ilişkilerinde ve Yakın Doğu'da barışın sağlanmasındaki büyük katkılarından dolayı Atatürk'ü 12 Ocak 1934'te Nobel Barış Ödülü'ne aday gösteren kişi aşağıdakilerden hangisidir?

- A) Mussolini
- B) Venizelos
- C) Monroe
- D) Lenin

9. "Berlin-Roma-Tokyo Mihveri"ni oluşturan devletler aşağıdaki seçeneklerden hangisinde birlikte ve doğru olarak verilmiştir?

- A) Almanya-İtalya-Japonya
- B) Rusya-Fransa-Çin
- C) İran-Avusturya-Hindistan
- D) İngiltere-ABD-Pakistan

10. 1934'te "Asya, Asyalıdır." diyerek Batıların Çin'le olan münasebetlerini kesmelerini isteyen devlet aşağıdakilerden hangisidir?

- A) Japonya
- B) İran
- C) Hindistan
- D) ABD

11. I. Dünya Savaşı sırasında Almanya'nın üzerinde bulunduğu toprakların Alman ırkına yeterli gelmeveceğine ilişkin mevcut olan fikrin, Hitler tarafından Almanya'nın Avrupa'da yayılma politikasının bir gerekçesi olarak kabul edilmesi sonucunda ortaya çıkan kavram aşağıdakilerden hangisidir?

- A) Enosis
- B) Hayat Sahası
- C) Baas Hareketi
- D) Schuman Bildirgesi

12. 7 Aralık 1941'de ABD'nin Pasifik üstünlüğünü simgeleyen Hawaii takımadalarından Honolulu'daki deniz ve hava üssü Pearl Harbour'a saldıran devlet aşağıdakilerden hangisidir?

- A) Çin
- B) Fransa
- C) Japonya
- D) İngiltere

13. Aşağıdaki devletlerden hangisi II. Dünya Savaşı'ndan en az etkilenmiştir?

- A) Japonya
- B) Almanya
- C) İtalya
- D) ABD

14. Aşağıdakilerden hangisi II. Dünya Savaşı'nın mağlup devletlerinden biridir?

- A) ABD
- B) Fransa
- C) Japonya
- D) İngiltere

15. Türkiye Cumhuriyeti'nin ilk kez yurt dışına asker gönderdiği savaş aşağıdakilerden hangisidir?

- A) Kore Savaşı
- B) Trablusgarp Savaşı
- C) I. Balkan Savaşı
- D) II. Balkan Savaşı

16. NATO'nun askeri etkinliklerini artırması üzerine Doğu Blokunda kolektif savunma ve işbirliği amacıyla 14 Mayıs 1955'te aşağıdakilerden hangisi kurulmuştur?

- A) Bağdat Paktı
- B) Sadabat Paktı
- C) Balkan Paktı
- D) Varşova Paktı

17. Hindistan Bağımsızlık Hareketi'nin siyasi ve ruhani lideri aşağıdakilerden hangisidir?

- A) Joseph Stalin
- B) Mahatma Gandhi
- C) Adolf Hitler
- D) Benito Mussolini

18. II. Dünya Savaşı'nda Almanları durduran ve ilk kez yenilgiye uğratan devlet aşağıdakilerden hangisidir?

- A) Japonya
- B) İtalya
- C) SSCB
- D) Sırbistan

19. SSCB'nin komünist partiler aracılığıyla Doğu Avrupa'da egemenlik kurması üzerine "Truman Doktrini" ve "Marshall Planı"nı uygulamaya koyan devlet aşağıdakilerden hangisidir?

- A) ABD
- B) Almanya
- C) İtalya
- D) Çin

20. 1950-1960 yılları arasında Türkiye'de iktidarda kalan fırka (parti) aşağıdakilerden hangisidir?

- A) Terakkiperver Cumhuriyet Fırkası
- B) Demokrat Parti
- C) Serbest Cumhuriyet Fırkası
- D) Demokratik Sol Parti

1. Türkiye'de gerçek bilimsel yöntemli ilk sayım hangi tarihte yapılmıştır?

- A) 1927
- B) 1935
- C) 1940
- D) 1955

2. Aşağıdakilerden hangisi emeğin verimini etkileyen sübjektif etkenlerden biridir?

- A) İşyerinin teknik bakımdan havalandırılması
- B) İşçinin ücret kesintisi korkusu yaşaması
- C) İşyerinin hava basıncının ayarlanması
- D) İşyerinde müzik yayını yapılması

3. Aşağıdakilerden hangisi hızlı nüfus artışının olumsuz yönlerinden biridir?

- A) Kişilerin mekân içinde ve meslekler arasında hareketliliğini sağlaması
- B) Yeni kurumların benimsenmesini ve ekonomik faaliyetlerin hızlanmasını sağlaması
- C) Doğal kaynakların işletilmesini kolaylaştırması
- D) Kamu yönetiminin yol, kanalizasyon, su, elektrik gibi altyapı hizmetlerini yürütmesinin zorlaştırması

4. İnsanların mal ve hizmet elde etmek için yaptıkları faaliyetlere ne ad verilir?

- A) Emek
- B) Üretim
- C) Rant
- D) Girişimcilik

5. Zihinsel olarak yapılan çalışmalar hangi emek sınıflaması içinde yer alır?

- A) Objektif emek
- B) Sübjektif emek
- C) Uygulayıcı emek
- D) Yönetici emek

6. Aşağıdakilerden hangisi öz sermaye içerisinde yer almaz?

- A) Faaliyetlerin devamı süresinde kuruluş sahipleri tarafından getirilen para
- B) Kuruluş aşamasında kuruluş sahipleri tarafından getirilen para
- C) Kuruluşun çalışanlarına olan borçları
- D) Kâr üzerinden alınan yedek akçe

7. Aşağıdaki eşitliklerden hangisi sermayeyi verir?

- A) (Mevcutlar+Dolaylı Vergiler)+Kâr
- B) (Mevcutlar-Ücretler)-Borçlar
- C) (Mevcutlar+Alacaklar)-Borçlar
- D) (Mevcutlar-Borçlar)+Kâr

8. Aşağıdakilerden hangisi, tasarrufa etki eden objektif faktörlerden biri değildir?

- A) Kişilerin gelir düzeyi
- B) Miras bırakmak isteği
- C) Kişilerin servetlerinin gelecekteki değeri
- D) Faiz alma isteği

9. Aşağıdakilerden hangisi dönen varlıklardandır?

- A) Binalar
- B) Hammaddeler
- C) Araziler
- D) Makineler

10. Aşağıdaki borç vadeleri ile ilgili eşleştirmelerden hangisi doğrudur?

- A) Uzun vadeli borçlar (2 yıl)
- B) Uzun vadeli borçlar (1 yıl)
- C) Kısa vadeli borçlar (1 yıl)
- D) Orta vadeli borçlar (1 - 2 yıl)

11. Girişimci (Müteşebbis) ile ilgili aşağıdaki ifadelerden hangisi yanlıştır?

- A) Girişim faaliyetlerinden doğan riskleri üstlenen kişidir.
- B) Kâr amacıyla girişimi başlatan kişidir.
- C) Üretim faktörlerinden yararlanarak mal ve hizmet üreten kişidir.
- D) Üretim faktörlerinden yararlanarak mal ve hizmet üreten ve satan ekonomik bir ünedir.

12. Sermayesinin %50 sinden fazlası iktisadi devlet teşekküllerine veya kamu iktisadi kuruluşuna ait olan işletme veya işletmeler topluluğundan oluşan anonim şirketlere ne ad verilir?

- A) İştirak
- B) Kamu tekeli
- C) Bağlı ortaklık
- D) Kollektif şirket

13. Aşağıdakilerden hangisi, Kamu İktisadi Kuruluşlarından biri değildir?

- A) ÇAY-KUR
- B) TCDDY
- C) Türkiye Zirai Donatım Kurumu
- D) Tekel İşletmeleri Genel Müdürlüğü

14. Sigortacılık dışında her türlü ticari işlerle uğraşmak üzere kurulan, ortakların sorumluluğunun koydukları sermaye ile sınırlı olduğu şirket türü aşağıdakilerden hangisidir?

- A) Limited şirket
- B) Kollektif şirket
- C) Adi komandit şirket
- D) Komandit şirket

15. Aşağıdakilerden hangisi, Atatürk'ün ekonomi politikasının temel amaçlarından biri değildir?

- A) Ekonomiye, dışarıdan yapılacak müdahalelere karşı önlem almamak
- B) Bütün toplumun refahını yükseltmek
- C) Ekonomik ve sosyal kalkınmaya bir bütün olarak yaklaşmak
- D) Devlet yatırım harcamalarının, devlet gelirleri toplamına denk olmasına dikkat etmek

16. Gayri Safi gelirden girişimcinin üretim giderleri çıktıktan sonra kalan miktara ne ad verilir?

- A) Gerçek kâr
- B) Öz sermaye
- C) Servet
- D) Safi gelir

17. Sermaye sahibinin üretime yatırdığı sermaye için milli gelirden aldığı paya ne ad verilir?

- A) Rant
- B) Ücret
- C) Kâr
- D) Faiz

18. Atatürk, milli ekonominin temelini hangi sektöre bağlamıştır?

- A) Tarım
- B) Sanayi
- C) Hizmet
- D) Ulaştırma

19. Ücretin, üretim miktarına göre belirlendiği ücret türü aşağıdakilerden hangisidir?

- A) Aynı ücret
- B) Nakdi ücret
- C) Parça bazında ücret
- D) Reel ücret

20. Türkiye Cumhuriyeti Merkez Bankası tarafından belirlenen faize ne ad verilir?

- A) Reel faiz
- B) Bağlı faiz
- C) Nominal faiz
- D) Serbest faiz

1. **Vahiy süreci ile ilgili aşağıdaki ifadelerden hangisi yanlıştır?**

- A) Vahyin ilk muhatabı Hz. Adem'dir.
- B) İlk suhuf Hz. İbrahim'e gönderilmiştir.
- C) En çok suhuf Hz. Şit'e gönderilmiştir.
- D) Vahiy zincirinin son halkası Hz. Muhammed'dir.

2. **"Kanun Kitabı", "Nebiler Kitabı" ve "Yazılar Kitabı" olmak üzere üç bölümden oluşan kutsal kitap aşağıdakilerden hangisidir?**

- A) Tevrat
- B) İncil
- C) Zebur
- D) Kur'an

3. **Kur'an-ı Kerim ayetlerinin anlamlarının açıklanması, hükümlerinin ve bu hükümlerin dayandığı gerekçelerin açığa çıkarılması ve ayetlerin belirli bir yöntem çerçevesinde yorumlanmasına ne ad verilir?**

- A) Mukabele
- B) Hatim
- C) Tefsir
- D) Suhuf

4. **Kur'an-ı Kerim'in iki kapak arasına toplanması teklifini ilk olarak aşağıdaki halifelerden hangisi dile getirmiştir?**

- A) Hz. Ali
- B) Hz. Ömer
- C) Hz. Osman
- D) Hz. Ebu Bekir

5. **"Oku! Yaratan Rabbinin adıyla oku. Oku! Rabbin en büyük kerem sahibidir. Kalemle yazmayı öğreten O'dur. O, insana bilmediklerini öğretti." (Alak suresi, 1-5)**

Aşağıdakilerden hangisi bu ayetlerin işaret ettiği hususlardan biri değildir?

- A) Allah bilginin kaynağıdır.
- B) Allah insana pek çok nimet vermiştir.
- C) Allah ilim öğrenmeyi teşvik etmiştir.
- D) Allah insanlara bir kısım ibadetleri farz kılmıştır.

6. **Kur'an-ı Kerim'i açıklarken sadece tarihi bilgilerle yetinmeyip dil, edebiyat, dinler tarihi ve sosyoloji gibi bilimlerden de yararlanılarak yazılan tefsir çeşidi aşağıdakilerden hangisidir?**

- A) Rivayet Tefsiri
- B) Dirayet Tefsiri
- C) Lügavî Tefsir
- D) İlmî Tefsir

7. **Mekke'de yaşayan Müslümanlara yapılan baskıların artması sonucu ilk hicret nereye yapılmıştır?**

- A) Habeşistan'a
- B) Medine'ye
- C) Suriye'ye
- D) Taife

8. **Resul ve nebi ile ilgili aşağıdaki ifadelerden hangisi yanlıştır?**

- A) Kendisine ilahî kitap verilen peygamberlere resul denir.
- B) Nebiler, kendinden önce gelmiş resulün kitabı ile amel etmekle görevlidirler.
- C) Nebinin getirdiği ibadet kurallarına, kendinden sonra gelen resuller uymakla görevlidir.
- D) Her resul aynı zamanda nebidir, ancak her nebi resul değildir.

9. **Hz. Muhammed'in, Allah'ın Resulü ve peygamberlerin sonuncusu olduğu, Kur'an'ın hangi suresinde buyurulmuştur?**

- A) Sebe suresi
- B) Azhâb suresi
- C) Nahl suresi
- D) Mâide suresi

10. **Hz. Muhammed'in Taif'te kendisini taşıyanlara karşı tutumu, Hudeybiye antlaşmasındaki tavrı ve Mekke'nin fethinde verdiği mesajlar O'nun hangi özelliğini öne çıkarmaktadır?**

- A) Barış ve hoşgörüsünü
- B) Doğruluk ve sabrını
- C) Tevhidi esas almasını
- D) Cömertlik ve cesaretini

11. Hendek savaşı hangi yıl yapılmıştır?

- A) 624
- B) 625
- C) 627
- D) 629

12. Sıdk ne anlama gelir?

- A) Empati kurmak
- B) Sosyal olmak
- C) Üstün zekâya sahip olmak
- D) Doğru olmak

13. "Ey Resul! Rabbinden sana indirileni insanlara ulaştır. Eğer bunu yapmazsan peygamberlik görevini yapmamış olursun ..." (Maide suresi, 67. ayet)

Bu ayette Hz. Muhammed'in hangi sıfatına işaret edilmiştir?

- A) Tebliğ
- B) Sıdk
- C) Emanet
- D) Fetanet

14. Kur'an'da, inançsızların en belirgin özelliği olarak geçen sıfat aşağıdakilerden hangisidir?

- A) Kıskançlık
- B) Yalancılık
- C) Dedikoduculuk
- D) Kibir

15. İslam ahlâkının kaynağı aşağıdakilerden hangisidir?

- A) Kur'an ve sünnet
- B) Örf ve adet
- C) Kültürel miras
- D) Akıl ve tecrübe

16. Matematikte sıfırı ilk keşfeden ve logaritma cetvelini oluşturan Müslüman bilim adamı aşağıdakilerden hangisidir?

- A) Ömer Hayyâm
- B) İbrahim bin Ezra
- C) Kerhî
- D) Harezmi

17. Aşağıdakilerden hangisi İslam Tarihi'nin konularından biri değildir?

- A) İslam dininin konularını incelemek
- B) İslam düşünce ekollerinin tarihini incelemek
- C) Müslüman milletlerin tarihini incelemek
- D) Hz. Peygamber'in hayatını incelemek

18. Aşağıdakilerden hangisi fikhın dört temel kaynağından biridir?

- A) Maslahat-ı Mürsele
- B) Sedd-i Zeraî
- C) Kıyas
- D) İstihsan

19. Ahiretin varlığı ile ilgili akli ve dini delillerin ortaya konması, hangi ilim dalının temel konuları arasında yer alır?

- A) Fıkıh
- B) Tefsir
- C) Hadis
- D) Kelam

20. Katip Çelebî, İbn Batuda ve Evliya Çelebi gibi isimler hangi alanda meşhur olan kişilerdir?

- A) Tarih
- B) Matematik
- C) Coğrafya
- D) Optik

1. İnsanların istek ve ihtiyaçlarını karşılamak amacıyla üretim faktörlerini bir araya getirerek mal ve hizmet üreten ekonomik ve teknik birimlere ne ad verilir?
 - A) Dernek
 - B) İşletme
 - C) Pazar
 - D) Girdi
2. İnsan ihtiyaçlarını tatmin eden kaynakların etkinliğinin ölçüsüne ne ad verilir?
 - A) Verimlilik
 - B) Kâr
 - C) Hizmet
 - D) Fayda
3. Tüketim işlemini gerçekleştiren kişi ya da kurumlara ne ad verilir?
 - A) Esnaf
 - B) Toptancı
 - C) Perakendeci
 - D) Tüketici
4. Maslow'un ihtiyaçlar hiyerarşisinde yeme, içme, uyku, giyinme, barınma gibi ihtiyaçlara ne ad verilir?
 - A) Güvenlik ihtiyacı
 - B) Ait olma ihtiyacı
 - C) Statü ve saygınlık ihtiyacı
 - D) Fizyolojik ihtiyaçlar
5. Mal ve hizmet üretmek ve pazarlamak amacıyla üretim faktörlerini sistemli bir şekilde bir araya getirerek kâr elde etmek için riski üstelene kişilere ne ad verilir?
 - A) Finansçı
 - B) Koordinatör
 - C) Müfettiş
 - D) Girişimci
6. Tatmin edildiğinde haz ve doyum, tatmin edilmediği zaman ise acı ve üzüntü veren duyguya ne ad verilir?
 - A) Dürtü
 - B) İhtiyaç
 - C) Güdü
 - D) Motivasyon
7. İnsan ihtiyaçlarını karşılamak üzere üretim faktörlerini uygun ortamda bir araya getirerek mal ve hizmet üretimine yönelen kişiye ne ad verilir?
 - A) Üretici
 - B) Pazarlamacı
 - C) Yönetici
 - D) Teknisyen
8. Aşağıdakilerden hangisi işletmenin genel amaçları arasında yer almaz?
 - A) Uzun vadeli büyümeyi hedef haline getirmek
 - B) Kâr elde etmek
 - C) Topluma hizmet etmek
 - D) İşletmenin varlığını devam ettirmek
9. İşletmelerin kuruluşu, finansmanı, üretim araçlarının sağlanması, üretilen mal ve hizmetlerin pazarlanması, örgütlenip, yönetilmeleri ve parasal olayların izlenmesi konularını ele alıp inceleyen bilim dalı aşağıdakilerden hangisidir?
 - A) Ekonomi bilimi
 - B) Davranış bilimi
 - C) İşletme bilimi
 - D) Hukuk bilimi
10. İşletmelerin belli bir dönem içinde elde ettiği gelirler ile aynı dönem içinde katlandığı giderler arasındaki olumlu farka ne ad verilir?
 - A) Faiz
 - B) Zarar
 - C) Kâr
 - D) Fon

11. Hammaddeleri işleyerek bunların özelliklerini ve şekillerini değiştirerek ya da ürettiği ürünleri monte ederek yeni bir ürün üreten işletmelere ne ad verilir?

- A) Hizmet işletmeleri
- B) Sanayi işletmeleri
- C) Tarım işletmeleri
- D) Eğitim işletmeleri

12. Aşağıdakilerden hangisi hizmet işletmelerinin özelliklerinden biri değildir?

- A) Üretim ile tüketimin eş zamanlı olması
- B) Ürünlerin soyut olması
- C) İşletmelerin genellikle pazara yakın olması
- D) Faaliyetlerin çoğunlukla fabrikalarda yoğunlaşması

13. Aşağıdakilerden hangisi sanayi işletmelerinin özelliklerinden biri değildir?

- A) Üretim yaparken gelişmiş teknolojilerin kullanılması
- B) Kalite standartlarını belirlemenin ve kontrol etmenin oldukça zor olması
- C) Üretimde genellikle seri imalatın söz konusu olması
- D) Hammadde ve malzemelerin fiziksel ya da kimyasal yönden değişikliğe uğraması

14. Aşağıdakilerden hangisi şahıs şirketleri arasında yer alır?

- A) Kollektif şirket
- B) Limitet şirket
- C) Anonim şirket
- D) Sermayesi paylara bölünmüş komandit şirket

15. Sermayelerinin tamamı ya da büyük bir kısmı özel, gerçek ya da tüzel kişilere ait olan işletmelere ne ad verilir?

- A) Kamu işletmeleri
- B) Kamu iktisadi teşebbüsü
- C) Özel işletmeler
- D) İktisadi devlet teşekkülü

16. Sigortalı çalıştıran gerçek veya tüzel kişiler ile tüzel kişiliği olmayan kurum ve kuruluşlara ne ad verilir?

- A) Sigortalı
- B) Pazar
- C) Finansör
- D) İşveren

17. Belirli sosyal risklerin yol açabileceği gelir kayıpları ve gider artışlarına karşı kişilerin güvenliklerinin sağlanmasına ne ad verilir?

- A) Siber güvenlik
- B) İş güvenliği
- C) Sosyal güvenlik
- D) Özel güvenlik

18. Hizmet işletmeleri için en önemli kuruluş yeri faktörü aşağıdakilerden hangisidir?

- A) Pazara yakınlık
- B) Taşıma
- C) İklim koşulları
- D) Atıkların atılması

19. İş kazası veya meslek hastalığı halinde sigortalıya veya sigortalının ölümü halinde hak sahiplerine yapılan sürekli ödemeye ne ad verilir?

- A) Gelir
- B) Faiz
- C) Rant
- D) Kâr

20. Bir termik santralin kömür yataklarına yakın yerlere kurulması durumunda kuruluş yeri seçimini etkileyen faktör aşağıdakilerden hangisidir?

- A) Taşıma
- B) Hammadde
- C) Pazara yakınlık
- D) İşgücü

1. Doğruluğu açıkça belli olan önermelere ne ad verilir?

- A) Eşitlik
- B) Tutarlılık
- C) Aksiyom
- D) Tanım

2. Aksiyomlardan türetilmiş olan önermelere ne ad verilir?

- A) Teori
- B) Tam tümevarım
- C) Eksik tümevarım
- D) Teorem

3. Aşağıdaki önermelerden hangisi sembolik mantıkta bileşik bir önermedir?

- A) Mehmet çok çalışkandır.
- B) Bütün insanlar akıllıdır.
- C) Mozart filozof değildir.
- D) Zeynep yaşlıdır.

4. Kiplik mantığına göre, “üç artı altının dokuz etmesi zorunludur ama ısınan havanın yükselmesi mümkündür.” önermesinin sembolleştirilmiş hali aşağıdakilerden hangisidir?

- A) $\Box p \rightarrow \Diamond p$
- B) $\Diamond p \wedge \Box q$
- C) $\Diamond p \leftrightarrow \Box q$
- D) $\Box q \wedge \Diamond p$

5. $p \vee q$ önermesinin eşdeğeri olan önerme aşağıdakilerden hangisidir?

- A) $\sim (\sim p \wedge \sim q)$
- B) $p \Rightarrow q$
- C) $p \Leftrightarrow q$
- D) $p \wedge q$

6. Aşağıdakilerden hangisi mantık felsefesinin amaçlarından biri değildir?

- A) Mantığı gözlem ve deneye dayandırmanın yollarını araştırmak
- B) Mantığın kavramlarını sorgulamak
- C) Mantığın ilkelerini sorgulamak
- D) Mantık değişmezleri ile ilgili sorunları araştırmak

7. Kiplik mantığına göre aşağıdaki önermelerden hangisi bütün mümkün dünyalarda yanlıştır?

- A) Anıtkabir Ankara'dadır veya Anıtkabir Ankara'da değildir.
- B) Menekşe mordur ve menekşe mor değildir.
- C) Altın sarı değildir.
- D) Dikdörtgen dört kenarlıdır.

8. “Ceren sevimli ve akıllıdır.” önermesi nicelleme mantığında nasıl sembolleştirilir?

- A) $Fa \wedge Ga$
- B) $\forall xFx$
- C) $Fa \Rightarrow Ga$
- D) $\exists x \wedge Ga$

9. Aşağıdaki önermelerden hangisi bir tolojidir?

- A) $p \vee p$
- B) $p \Rightarrow p$
- C) $p \wedge \sim p$
- D) $\sim p \Leftrightarrow p$

10. “Ya kilo alacaksın ya da az yemek yiyeceksin.” önermesi, önermeler mantığında nasıl sembolleştirilir?

- A) $p \wedge q$
- B) $p \Rightarrow q$
- C) $p \Leftrightarrow q$
- D) $p \vee q$

11. Aşağıdaki önerme çiftlerinden hangisi birbirleriyle tutarlıdır?

- A) $\forall xFx, \sim Fa$
- B) $\sim \exists xFx, Fa$
- C) $Ga, \sim Ga$
- D) $\exists xGx, \exists x \sim Gx$

12. “Uçan halı vardır.” önermesi varlık mantığında nasıl sembolleştirilir?

- A) $a \equiv a$
- B) $E ! a$
- C) $\Box p$
- D) $a \equiv b$

13. “Kar yağarsa okullar tatil olmaz.” önermesi, önermeler mantığında nasıl sembolleştirilir?

- A) $q \Rightarrow p$
- B) $\sim p \Rightarrow q$
- C) $p \Rightarrow \sim q$
- D) $p \Leftrightarrow \sim q$

14. Önerme ile ilgili aşağıdaki ifadelerden hangisi doğrudur?

- A) Bir önermenin tutarlı olabilmesi için doğruluk tablosundaki tüm yorumlamaların doğru olması gerekir.
- B) Her tutarlı önerme geçerlidir.
- C) Her tutarsız önerme geçerlidir.
- D) Bir önermenin doğruluk tablosundaki tüm yorumlamaları yanlışsa önerme tutarsızdır.

15. $\sim \exists xGx$ önermesinin eşdeğeri aşağıdakilerden hangisidir?

- A) $\sim \forall xGx$
- B) $\exists xGx$
- C) $\forall x \sim Gx$
- D) $\sim \exists x \sim Gx$

16. “İnsanlar paylaşmayı severlerse rahat diyalog kurarlar hem de dürüst ilişkiler yaşarlar.” önermesinde kaç tane önerme eklemi ve bileşen kullanılmıştır?

- A) Bir önerme eklemi, bir bileşen
- B) Üç önerme eklemi, bir bileşen
- C) İki önerme eklemi, üç bileşen
- D) Dört önerme eklemi, dört bileşen

17. Üç değerli mantığa göre aşağıdakilerden hangisi doğrudur?

- A) p “belirsiz” ve q “belirsiz” ise, $p \rightarrow q$ “belirsiz” olur.
- B) p “yanlış” ve q “yanlış” ise, $q \vee q$ “yanlış” olur.
- C) p “doğru” ve q “belirsiz” ise $p \rightarrow q$ “yanlış” olur.
- D) p “belirsiz” ve q “belirsiz” ise $p \wedge q$ “yanlış” olur.

18. Aşağıdaki önermelerden hangisi ikili yüklemli bir önermedir?

- A) Orhan ile Ahmet arkadaştır.
- B) Mustafa, Taner ile Semih'ten uzundur.
- C) Özlem başarılıdır.
- D) Fuat, piyano çalar.

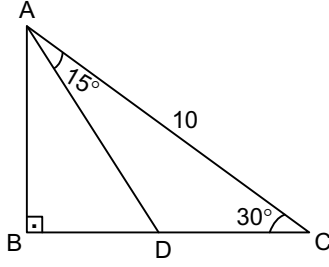
19. Aşağıdaki önermelerden hangisi p:Yanlış, q:Yanlış kabul edildiğinde “Doğru” değerini alır?

- A) $p \Leftrightarrow q$
- B) $\sim p \Rightarrow q$
- C) $p \vee q$
- D) $p \wedge q$

20. Aşağıdaki önermelerden hangisi geçerlidir?

- A) $\forall xFx \vee \sim \forall xFx$
- B) $\exists xGx \wedge \exists xHx$
- C) $\forall xFx \vee \forall xGx$
- D) $\sim (\exists xGx \rightarrow \forall xGx)$

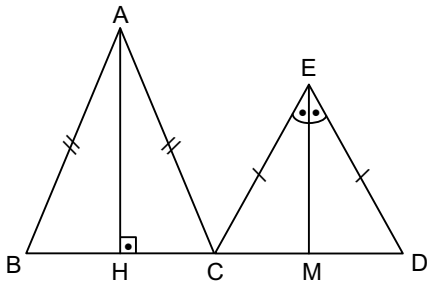
1.



Yukarıdaki ABC dik üçgen, $m(\widehat{DAC}) = 15^\circ$, $m(\widehat{ACB}) = 30^\circ$, $|AC| = 10$ cm olduğuna göre, $|AD|$ kaç cm'dir?

- A) $2\sqrt{5}$
- B) 5
- C) $5\sqrt{2}$
- D) 8

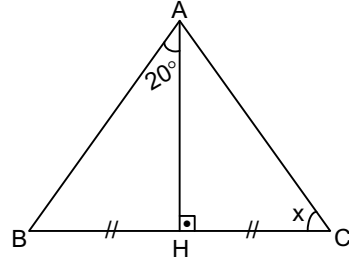
2.



Yukarıdaki ABC ve CED üçgenlerinde, $|AB| = |AC|$, $|EC| = |ED|$, $[AH] \perp [BD]$, $m(\widehat{CEM}) = m(\widehat{MED})$ ve $|BD| = 24$ br olduğuna göre, $|HM|$ kaç br'dir?

- A) 12
- B) 8
- C) 6
- D) 4

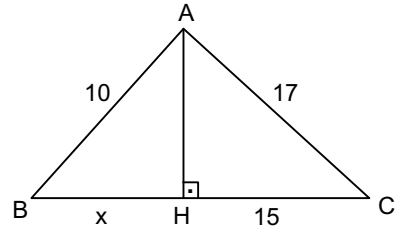
3.



Yukarıdaki ABC üçgeninde, $[AH] \perp [BC]$, $m(\widehat{BAH}) = 20^\circ$ ve $|BH| = |CH|$ olduğuna göre, $m(\widehat{ACB}) = x$ kaç derecedir?

- A) 80
- B) 70
- C) 60
- D) 50

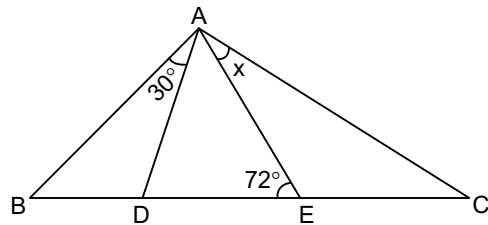
4.



Yukarıdaki ABC üçgeninde $[AH] \perp [BC]$, $|AC| = 17$ br, $|HC| = 15$ br, $|AB| = 10$ br olduğuna göre, $|BH| = x$ kaç br dir?

- A) 4
- B) 5
- C) 6
- D) 7

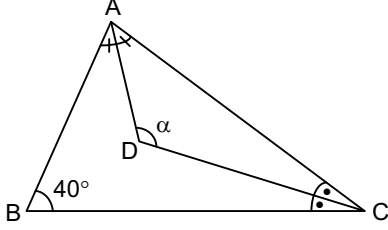
5.



Yukarıdaki ABC üçgeninde, $|AB| = |BE|$, $|AC| = |DC|$, $m(\widehat{BAD}) = 30^\circ$ ve $m(\widehat{BEA}) = 72^\circ$ olduğuna göre, $m(\widehat{EAC}) = x$ kaç derecedir?

- A) 20
- B) 24
- C) 28
- D) 32

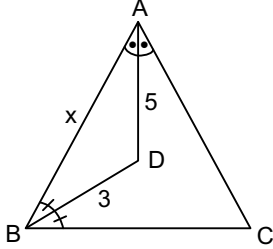
6.



Yukarıdaki ABC üçgeninde, $[AD]$ ve $[CD]$ açıortay $m(\widehat{ABC}) = 40^\circ$ ise, $m(\widehat{ADC}) = \alpha$ kaç derecedir?

- A) 90
- B) 100
- C) 110
- D) 120

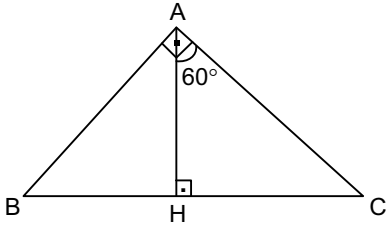
7.



Yukarıdaki ABC üçgeninde $[AD]$ ve $[BD]$ açıortay, $|AD|=5$ br ve $|BD|=3$ br olduğuna göre, $|AB|=x$ 'in alabileceği tam sayı değerlerinin toplamı kaç br'dir?

- A) 13
- B) 20
- C) 25
- D) 32

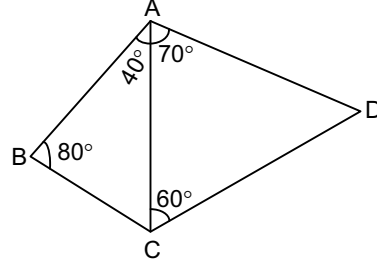
8.



Yukarıda ABC dik üçgen, $[AH] \perp [BC]$, $m(\widehat{HAC}) = 60^\circ$ olduğuna göre, $\frac{|CH|}{|BH|}$ oranı kaçtır?

- A) $\sqrt{2}$
- B) $\sqrt{3}$
- C) 2
- D) 3

9.

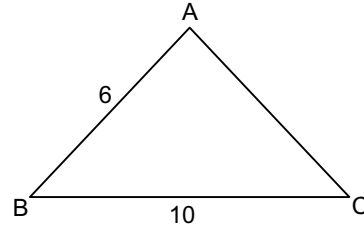


Yukarıdaki şekilde ABC ve ACD üçgenlerinin bazı iç açıları verilmiştir.

Buna göre, şekildeki en kısa kenar hangisidir?

- A) $[AB]$
- B) $[BC]$
- C) $[AC]$
- D) $[AD]$

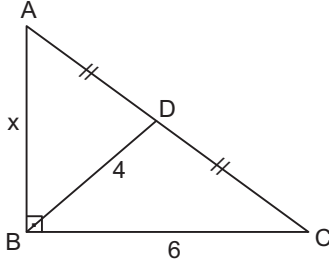
10.



Yukarıdaki ABC üçgeninde $m(B) < m(A)$, $|BC|=10$ cm ve $|AB|=6$ cm olduğuna göre, $\text{Çevre}(ABC)$ 'nin alabileceği en büyük tam sayı değeri kaç cm'dir?

- A) 22
- B) 23
- C) 24
- D) 25

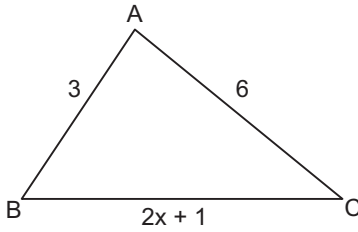
11.



Yukarıda ABC dik üçgen, $|AD|=|CD|$, $|BD|=4$ br, ve $|BC|=6$ br olduğuna göre, $|AB|=x$ kaç br'dir?

- A) 5
B) $2\sqrt{7}$
C) $3\sqrt{5}$
D) $6\sqrt{2}$

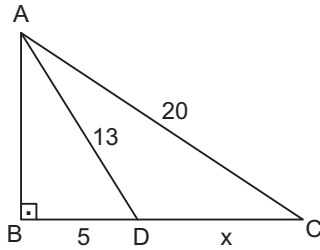
12.



Yukarıdaki ABC üçgeninde, $|AC|=6$ cm, $|AB|=3$ cm ve $|BC|=2x+1$ cm ise, x'in alabileceği kaç farklı tam sayı değeri vardır?

- A) 2
B) 3
C) 4
D) 5

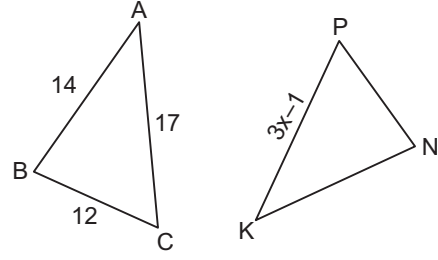
13.



Yukarıda ABC dik üçgen, $|AC|=20$ br, $|AD|=13$ br ve $|BD|=5$ br olduğuna göre, $|CD|=x$ kaç br'dir?

- A) 8
B) 9
C) 10
D) 11

14.



Yukarıdaki ABC ve KNP üçgenlerinde $|AB|=14$ cm, $|AC|=17$ cm, $|BC|=12$ cm,

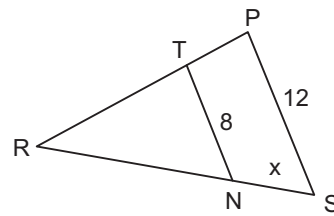
$|KP|=3x-1$ cm dir. $\triangle ABC \cong \triangle KNP$ olduğuna göre, x kaçtır?

- A) 9
B) 7
C) 6
D) 4

15. Tepe açısı 50° olan ikizkenar üçgenin taban açılarından biri kaç derecedir?

- A) 50
B) 55
C) 60
D) 65

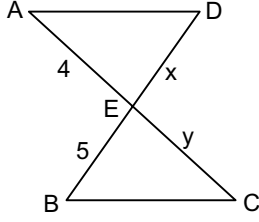
16.



Yukarıdaki PRS üçgeninde, $[TN] \parallel [PS]$, $|TN|=8$ cm, $|PS|=12$ cm, ve $|RS|=15$ cm olduğuna göre, $|NS|=x$ kaç cm dir?

- A) 5
B) 7
C) 9
D) 10

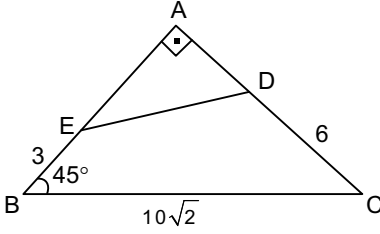
17.



Yukarıdaki şekilde $[AD] \parallel [BC]$, $|AD|=|BC|$, $|AE|=4$ cm, $|EB|=5$ cm, $|ED|=x$, $|EC|=y$ olduğuna göre $x+y$ toplamı kaçtır?

- A) 4
- B) 5
- C) 7
- D) 9

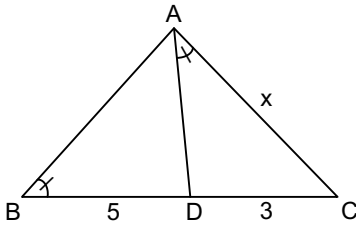
18.



Yukarıdaki BAC dik üçgen, $m(\widehat{ABC}) = 45^\circ$, $|DC|=6$ cm, $|EB|=3$ cm, ve $|BC|=10\sqrt{2}$ cm olduğuna göre, $|ED|$ kaç cm'dir?

- A) $5\sqrt{2}$
- B) 8
- C) $\sqrt{65}$
- D) $6\sqrt{2}$

19.



Yukarıdaki ABC üçgeninde, $m(\widehat{ABC}) = m(\widehat{CAD})$, $|CD|=3$ cm, $|BD|=5$ cm olduğuna göre, $|AC|=x$ kaç cm'dir?

- A) $2\sqrt{6}$
- B) 8
- C) $\sqrt{5}$
- D) 2

20. Aşağıdakilerden hangisi benzer iki üçgen arasındaki benzerlik oranına eşit değildir?

- A) Karşılıklı açıortayların oranı
- B) Alanların oranı
- C) Karşılıklı kenarortayları oranı
- D) Çevreleri oranı

SEÇMELİ TARİH 3

A

2014 I.DÖNEM 0103-A

1. Aşağıdakilerden hangisi Osman Bey'in Bizans tekfurlarının kendi başlarına hareket etmelerinden yararlanarak topraklarına kattığı şehirlerden biri değildir?

- A) Karacadağ
- B) İnegöl
- C) Karacahisar
- D) Yarhisar

2. 1256 yılında Hülagü Han tarafından İran ve çevresinde kurulan siyasal güç aşağıdakilerden hangisidir?

- A) Bizans İmparatorluğu
- B) İlhanlılar
- C) Moğol İmparatorluğu
- D) Trabzon İmparatorluğu

3. Yavuz Sultan Selim ilk seferini hangi devlet üzerine yapmıştır?

- A) İran
- B) Suriye
- C) Mısır
- D) Rusya

4. Kapitülasyonların kaldırılmasını sağlayan antlaşma aşağıdakilerden hangisidir?

- A) Edirne-Segedin Antlaşması
- B) Lozan Antlaşması
- C) İstanbul Antlaşması
- D) Amasya Antlaşması

5. 1416 yılında yapılan ilk deniz savaşı kimler arasında yapılmıştır?

- A) Osmanlılar-Yunanlar
- B) Osmanlılar-Ruslar
- C) Osmanlılar-Bulgarlar
- D) Osmanlılar-Venedikliler

6. Aşağıdakilerden hangisi I. Kosova Savaşı ile ilgili doğru bir ifade değildir?

- A) Balkan milletleri (Sırp, Bosna, Arnavutluk kuvvetleri) ittifak kurdu.
- B) I. Bayezit bir Sırp tarafından hançerlenerek şehit edildi.
- C) Haçlı ordusu ile Sultan Murat komutasındaki Türk ordusu Kosova Ovası'nda karşılaştı.
- D) Haçlılar yenildi.

7. Osmanlı Devleti'nde Rumeli Hisarı'nı yaptıran padişah aşağıdakilerden hangisidir?

- A) II.Mehmet
- B) Osman Bey
- C) II.Murat
- D) Orhan Bey

8. Aşağıdakilerden hangisi Maltepe (Palekanon) dolaylarında yapılan ve Bizans İmparatorunun yenildiği savaştan sonra meydana gelen gelişmelerden biri değildir?

- A) İznik'in alınması
- B) İzmit'in alınmasıyla Kocaeli yarımadasının büyük bölümünün Osmanlı egemenliğine girmesi
- C) Devletin başkentinin İznik'e taşınması
- D) Kayıların Söğüt ve Domaniç'i yurt edinmesi

9. Aşağıdakilerden hangisi İspanyolların keşifleri ile ilgili doğru bir ifade değildir?

- A) 1519 yılında Cortes Meksika'yı zapt etti.
- B) Peru ve çevresinde hakim olan İnka İmparatorluğu yıkıldı.
- C) Maya ve Aztek medeniyetlerine son verildi.
- D) Hudson Körfezi kıyılarını buldular.

10. Aşağıdakilerden hangisi feodal beyleri ortadan kaldırarak, Fransa'yı Avrupa'nın en kuvvetli merkez devletlerinden biri haline getirmiştir?

- A) II. Elizabeth
- B) XI. Louise
- C) VII. Henry
- D) II. Ferdinand

11. Merkezi idarenin zayıflaması sonucu çeşitli eyaletlerde yönetimi ellerinde bulundurup bağımsız hareket etmeye başlayanlar aşağıdakilerden hangisidir?

- A) Kalfalar
- B) Şövalyeler
- C) Köylüler
- D) Senyörler

12. Egemenlik yetkisinin bir kişinin elinde toplandığı devlet şekline verilen ad aşağıdakilerden hangisidir?

- A) Komünizm
- B) Hümanizm
- C) Milli monarşi
- D) Cumhuriyet

13. Orta Çağ sonunda feodalite rejiminin egemenliğini kaybetmediği ülke aşağıdakilerden hangisidir?

- A) Almanya
- B) Fransa
- C) Macaristan
- D) İspanya

14. Birinci Dünya Savaşı sonunda İtilaf Devletleri ve Almanya arasında imzalanan barış antlaşması aşağıdakilerden hangisidir?

- A) Saint Germain (Sen Jermen)
- B) Neuilly (Nöyyi)
- C) Versailles (Versay)
- D) Trianon (Triyanon)

15. Aşağıdakilerden hangisi 1848 İhtilalleri'nin önemli nedenlerinden biridir?

- A) 1815 Viyana Kongresi ile konfederasyon haline getirilen Almanya'nın buna karşı tepki göstermesi
- B) Varşova büyük Dükalığı ve Finlandiya'nın Rusya'ya verilmesi
- C) XIX. yüzyılda sanayideki gelişmeler ile işçi sayısındaki artış ve işçi sınıfı problemlerinin olması
- D) İsveç ve Norveç krallıklarının birleştirilmesi

16. Londra Konferansı'ndan sonra devletlerarası bir statü kazanan Boğazlar Meselesi aşağıdakilerden hangisi sonucunda ortaya çıkmıştır?

- A) Rusya'nın kendi içinde çıkan ihtilalden dolayı Birinci Dünya Savaşı'ndan çekilmesi
- B) Hünkar İskelesi Antlaşması
- C) 1815 Viyana Kongresi
- D) Karlofça Antlaşması

17. Avrupa'da 1815-1830 yılları arasında İngiltere, Rusya, Prusya ve Avusturya'nın kurdukları düzeni koruyabilmek için aralarında anlaşmalar yaptıkları döneme verilen ad aşağıdakilerden hangisidir?

- A) Çifte Standart Dönemi
- B) Refah Dönemi
- C) Restorasyon Dönemi
- D) Bloklaşma Dönemi

18. Aşağıdakilerden hangisi Fransız ihtilalinin çıkış sebeplerinden biri değildir?

- A) Fransa'nın içindeki ve dışındaki gelişmelerin bir sonucudur.
- B) Devlet masraflarını karşılamak için halktan zorla vergi topluyordu.
- C) Fransa mutlakiyetle yönetiliyordu ve ülkede eşitlik ve özgürlük yoktu.
- D) Fransa'da sosyal sınıf yoktu.

19. Aşağıdakilerden hangisi Fransa'da monarşik düzenin değişmesi gerektiğini savunarak ihtilale ortam hazırlayan düşünürlerden biri değildir?

- A) J.J.Rousseau
- B) Didero
- C) Volter
- D) Wilhelm

20. Aşağıdakilerden hangisi Vastfelya Barış Antlaşması'nın sonuçlarından biri değildir?

- A) Fransa'daki kuvvetli bürokrasinin sona ermesi
- B) İspanya'nın gücünün kırılması
- C) Fransa'nın mutlakiyet rejimini sağlamlaştırması
- D) Kutsal Roma-Germen İmparatorluğu'nun parçalanması

SEÇMELİ TÜRK EDEBİYATI 5

2014 I.DÖNEM 0103-A

A

1. **Sergüzeşt romanı ile ilgili aşağıdaki ifadelerden hangisi doğrudur?**

- A) Romantizm akımının etkisiyle yazılmıştır.
- B) Betimlemelere ve ruh çözümlemelerine çok sık yer verilmiştir.
- C) Tutsaklık ve insan ticareti teması işlenmiştir.
- D) Ele alınan konu gerçek hayattan alınmamıştır.

2. **Aşağıdakilerden hangisi, ikinci dönem Tanzimat Edebiyatının temsilcilerinden biridir?**

- A) Şinasi
- B) Ahmet Mithat Efendi
- C) Namık Kemal
- D) Abdülhak Hamit

3. **Namık Kemal'in Ziya Paşa ile birlikte Londra'da çıkardıkları gazete, aşağıdakilerden hangisidir?**

- A) Cumhuriyet
- B) Muhibir
- C) Hürriyet
- D) Vatan

4. **Abdülhak Hâmit Tarhan'ın eşi Fatma Hanım'ın ölümü üzerine duyduğu acıyı dile getirdiği 295 bentlik eseri, aşağıdakilerden hangisidir?**

- A) Sahra
- B) Nesteren
- C) Makber
- D) Ölü

5. **Edebiyat ile ilgili aşağıdaki ifadelerden hangisi yanlıştır?**

- A) Topluların gelişimine katkıda bulunur.
- B) Tarih biliminden yararlanır.
- C) Topluların siyasal ve sosyal yapısından etkilenir.
- D) Sadece tanık olduğu çağı anlatır.

6. **Aşağıdakilerden hangisi, dünya edebiyatında romantizm akımının öncülerinden biridir?**

- A) Moliere
- B) Victor Hugo
- C) Montaigne
- D) La Fontaine

7. **Tanzimat Döneminde çıkarılan ilk resmî gazete aşağıdakilerden hangisidir?**

- A) Takvim-i Vekayi
- B) Tercüman-ı Ahval
- C) Ceride-i Havadis
- D) Tercüman-ı Hakikât

8. **Türk edebiyatının ilk realist romanı aşağıdakilerden hangisidir?**

- A) İntibah
- B) Sergüzeşt
- C) Araba Sevdası
- D) Şair Evlenmesi

9. **Aşağıdakilerden hangisi, Tanzimat Döneminde tiyatro uyarlamalarıyla öne çıkan yazarlardan biridir?**

- A) Ahmet Vefik Paşa
- B) Şemsettin Sami
- C) Ahmet Cevdet Paşa
- D) Orhan Asena

10. **Tanzimat Döneminde, aşağıdaki Fransız şair ve yazarların hangisinden çeviri yapılmamıştır?**

- A) Balzac
- B) Victor Hugo
- C) Lamartine
- D) J.J. Rousseau

11. **Tanzimat Fermanı aşağıdaki padişahlardan hangisi döneminde ilan edilmiştir?**

- A) I. Mahmut
- B) Vahdettin
- C) I. Abdülmecit
- D) II. Mahmut

12. Vatan, millet, özgürlük, hak, eşitlik, adalet, uygarlık gibi kavramların edebiyata ilk olarak girdiği dönem aşağıdakilerden hangisidir?

- A) Yükselme
- B) Tanzimat
- C) I. Meşrutiyet
- D) Kuruluş

13. Âyinesi iştir kişinin lâfa bakılmaz
Şahsın görünür rütbe-yi aklı eserinde

Ziya Paşa'nın bu beyitiyle, aşağıdaki atasözlerinden hangisi anlamca örtüşmez?

- A) Bir iş bin lâftan iyidir.
- B) Adamın iyisi iş başında belli olur.
- C) İşten artmaz, dişten artar.
- D) Her er kişi işiyle ölçülür.

14. Aşağıdaki şair ve yazarlardan hangisi toplumsal konular yerine bireysel konularda yazmayı yeğlemiştir?

- A) Ziya Paşa
- B) Sami Paşazâde Sezaî
- C) Namık Kemal
- D) Şinasi

15. Ölen bir kişinin ardından onun kahramanlıklarını, yiğitliklerini anlatmak için yazılan eserlere ne ad verilir?

- A) Rubai
- B) Terkihibent
- C) Terciibent
- D) Mersiye

16. Aşağıdakilerden hangisi, 'toplum için sanat' anlayışını benimseyen aydınlardan biridir?

- A) Ziya Paşa
- B) Abdülhak Hamit
- C) Rezaizade Mahmut Ekrem
- D) Samipaşazâde Sezaî

17. Aşağıdakilerden hangisi Tanzimat Edebiyatı yazılı türlerinden biri değildir?

- A) Tiyatro
- B) Roman
- C) Hikâye
- D) Opera

18. Aşağıdakilerden hangisi edebi eserin özelliklerinden biri değildir?

- A) Aynı anda hem toplumsal hem de ekonomik alanı ilişkilendirmesi
- B) Toplumun tarihi koşullarından da esinlenmesi
- C) Kaynağını toplumun sosyal ve siyasi yapısından alması
- D) Dil, yapı ve içerik yönünden yazıldığı dönemi yansıtması

19. Aşağıdakilerden hangisi Tanzimat sanatçılarından biri değildir?

- A) Ahmet Mithat Efendi
- B) Yahya Kemal Beyatlı
- C) Namık Kemal
- D) Şinasi

20. Gerçeğin hayal dünyasında yeniden şekillendiği metinlere ne ad verilir?

- A) Yazılı metin
- B) Hayalî metin
- C) Edebî metin
- D) Kurmaca metin

1. warten zu Hause auf das Essen!

Welches ergänzt die Lücke im obigen Satz?

Verilen cümleyi aşağıdakilerden hangisi tamamlar?

- A) Das verhungerte Kind
B) Die hungrigen Kinder
C) Der verhungerte Junge
D) Die hungrige Katze

2. In einen zerbrochenen Krug
.....

Welches ergänzt die Lücke im obigen Satz?

Verilen cümleyi aşağıdakilerden hangisi tamamlar?

- A) darf man Wasser füllen.
B) kann man kein Wasser füllen.
C) hat man immer Wasser.
D) könnte man immer Wasser füllen.

3. Ich mit dem Rauchen aufhören!

Welches Wort passt nicht in die obige Lücke?

Cümlede boş bırakılan yeri aşağıdakilerden hangisi doğru şekilde tamamlamaz?

- A) muß
B) werde
C) habe
D) soll

4. Du sollst den türkischen Text ins Deutsche
.....!

Welches Wort passt in die obige Lücke?

Cümlede boş bırakılan yeri aşağıdakilerden hangisi doğru şekilde tamamlar?

- A) übersetzen
B) entscheiden
C) lehren
D) anstellen

5. dein Zimmer! (aufräumen, du)

Welche Wörter passen in die obigen Lücken?

Cümlede boş bırakılan yerleri aşağıdakilerden hangileri doğru şekilde tamamlar?

- A) Räumen / auf
B) Auf / räumt
C) Auf / räumen
D) Räume / auf

6. Füll den Lottoschein aus!

Wie lautet der obige Satz auf Türkisch?

Verilen cümlelerin Türkçesi aşağıdakilerden hangisidir?

- A) Bu loto kuponları aynı!
B) Bu loto kuponunu imzala!
C) Loto kuponunu doldur!
D) Loto kuponu kayboldu!

7. A: du zum Geburtstag ein Fahrrad oder einen Computer?
B: Ich gern ein Fahrrad!

Welches ergänzt die Lücken im obigen Dialog?

Verilen karşılıklı konuşmayı aşağıdakilerden hangisi tamamlar?

- A) Will / denke
B) Wollt / fahre
C) Wolltet / habe
D) Willst / möchte

8. Meine Mutter hat uns erklärt, wir in diesem Sommer keinen Urlaub machen
.....

Welche Wörter passen in die obigen Lücken?

Cümlede boş bırakılan yerleri aşağıdakilerden hangileri doğru şekilde tamamlar?

- A) denn / wollen
B) ob / müssen
C) damit / möchten
D) daß / können

9. Soll ich Ihnen helfen die Pakete zu tragen?

Welche Antwort passt zur obigen Frage?

Verilen sorunun cevabı aşağıdakilerden hangisidir?

- A) Nein, das ist für meine Tochter.
B) Nein danke, Sie brauchen mir nicht zu helfen.
C) Ja, ich habe auch Hunger.
D) Ja, ich komme auch mit euch.

10. Eylülde baştan başlamalıyım!

Wie lautet der obige Satz auf Deutsch?

Verilen cümlelerin Almancası aşağıdakilerden hangisidir?

- A) Im September hat er von vorne angefangen!
B) Im September darf ich von vorne anfangen!
C) Ich möchte im September anfangen!
D) Ich muß im September von vorne anfangen!

11. Baby weiß man nichts das "harte Leben".

Welche Wörter passen in die obigen Lücken?

Cümlede boş bırakılan yerleri aşağıdakilerden hangisi doğru şekilde tamamlar?

- A) Als / über
B) Wenn / um
C) Denn / ob
D) Weil / aus

12., war es 1919.

Welches ergänzt die Lücke im obigen Satz?

Verilen cümleyi aşağıdakilerden hangisi tamamlar?

- A) Wenn Atatürk lebte
B) Als der Befreiungskrieg begann
C) Weil Atatürk angefangen hatte
D) Als Atatürk in Istanbul starb

13. A: Schau, diese Schuhe sind schön und billig.
B: Ja, aber gibt es nicht?
B: Nein, ich glaube diese sind die billigsten und die schönsten!

Welches ergänzt den obigen Dialog?

Verilen karşılıklı konuşmayı aşağıdakilerden hangisi tamamlar?

- A) schönsten und billigstes
B) am schönsten und am billigsten
C) schönen und billigen
D) schönere und billigere

14. Melda ist 20 Jahre alt. Tolga ist 9 Jahre alt.

Welche Schlußfolgerung kann man nach den obigen Sätzen machen?

Verilen cümlelere göre, aşağıdaki yargılardan hangisi doğrudur?

- A) Tolga ist größer als Melda.
B) Melda ist älter als Tolga.
C) Melda ist nicht so groß wie Tolga.
D) Tolga ist am ältesten.

15. Warum dürfen Kinder nicht Auto fahren?

Welche Antwort passt zur obigen Frage?

Verilen sorunun cevabı aşağıdakilerden hangisidir?

- A) Kinder dürfen Auto fahren, wenn sie einen Führerschein haben.
B) Kinder dürfen nur Auto fahren, wenn ihre Eltern mitkommen.
C) Kinder dürfen nicht Auto fahren, weil es verboten ist.
D) Kinder sollen nicht Auto fahren, weil sie nicht vorsichtig sind.

16. In jeder Stadt befindet sich ein Info-Büro,
.....

Welches ergänzt die Lücke im obigen Satz?

Verilen cümleyi aşağıdakilerden hangisi tamamlar?

- A) weil jeder die Miete bezahlen muß.
- B) wenn sich alle in der Stadt wohl fühlen möchten.
- C) um verschiedene Fragen zu beantworten.
- D) damit sie alle Verbrecher auffinden können.

17. A: Oh Nein! Der Zug ist abgefahren!
B: Nach einer Stunde kommt der nächste Zug!
A: Gut, dann muß ich noch eine Stunde hier warten.

Welches ergänzt den obigen Dialog?

Verilen karşılıklı konuşmayı aşağıdakilerden hangisi tamamlar?

- A) Ich habe keine Eintrittskarte!
- B) Sie können mit mir einen Spaziergang machen!
- C) Sie brauchen nicht traurig zu sein!
- D) Das sieht gut aus!

18. Ich gehe häufig tanzen.

Welche Frage passt zur obigen Antwort?

Verilen cevabı gerektirecek soru aşağıdakilerden hangisidir?

- A) Wie oft gehen Sie tanzen?
- B) Warum kommst du nicht mit?
- C) Wie lange kannst du tanzen?
- D) Warum geht er tanzen?

19. Es ist, er so gut Deutsch sprechen kann!

Welches Wort passt in die obige Lücke?

Cümlede boş bırakılan yeri aşağıdakilerden hangisi doğru şekilde tamamlar?

- A) unglaublich / daß
- B) recht / denn
- C) pünktlich / damit
- D) stimmt / wenn

20. Was bedeutet "birşeyi etkilemek" auf Deutsch?

"birşeyi etkilemek" sözcüğünün Almancası aşağıdakilerden hangisidir?

- A) etwas beeinflussen
- B) etwas bemerken
- C) jemanden bemerken
- D) jemanden kennen

1. The telephone box is in of the school.

Which of the following completes the sentence above?

Aşağıdakilerden hangisi yukarıdaki cümleyi doğru olarak tamamlar?

- A) behind
B) opposite
C) next
D) front

2. Sarah and Mary chess an hour ago.

Which of the following completes the sentence above?

Aşağıdakilerden hangisi yukarıdaki cümleyi doğru olarak tamamlar?

- A) play
B) plays
C) are playing
D) played

3. We in Paris last summer.

Which of the following completes the sentence above?

Aşağıdakilerden hangisi yukarıdaki cümleyi doğru olarak tamamlar?

- A) was
B) have
C) are
D) were

4. He brought some food for the party.

Which of the following is the negative form of the sentence above?

Aşağıdakilerden hangisi yukarıdaki cümlenin olumsuz biçimidir?

- A) He didn't brought any food for the party.
B) He didn't bring any food for the party.
C) He won't bring any food for the party.
D) He wasn't bring any food for the party.

5. She will begin her new job September 6th.

Which of the following completes the sentence above?

Aşağıdakilerden hangisi yukarıdaki cümleyi doğru olarak tamamlar?

- A) in
B) at
C) on
D) from

6. I was born 1988 in İzmir.

Which of the following completes the sentence above?

Aşağıdakilerden hangisi yukarıdaki cümleyi doğru olarak tamamlar?

- A) on
B) in
C) at
D) from

7. I at the cinema yesterday. I was ill at home.

Which of the following completes the sentence above?

Aşağıdakilerden hangisi yukarıdaki cümleyi doğru olarak tamamlar?

- A) was
B) am not
C) wasn't
D) am

8. A: I have a bad toothache. What should I do?
B:

Which of the following completes the dialogue above?

Aşağıdakilerden hangisi yukarıdaki konuşmayı doğru olarak tamamlar?

- A) You should go to the hairdresser
- B) You should go to the supermarket
- C) You should drink cold drinks
- D) You should go to the dentist

9. I study hard, because I'm going to have an exam tomorrow morning.

Which of the following completes the sentence above?

Aşağıdakilerden hangisi yukarıdaki cümleyi doğru olarak tamamlar?

- A) are
- B) must
- C) mustn't
- D) am

10. He play the guitar well. He is a good guitarist.

Which of the following completes the sentence above?

Aşağıdakilerden hangisi yukarıdaki cümleyi doğru olarak tamamlar?

- A) can't
- B) may
- C) can
- D) shouldn't

11. John. I can't speak English well. What should I do?
Bella:

Which of the following completes the dialogue above?

Aşağıdakilerden hangisi yukarıdaki konuşmayı doğru olarak tamamlar?

- A) You should solve more problems
- B) You should practice English as much as possible
- C) You shouldn't watch films in English
- D) You should go to the supermarket

12. I am than my sister. I like chatting with my friends and always meet them at weekends.

Which of the following completes the sentence above?

Aşağıdakilerden hangisi yukarıdaki cümleyi doğru olarak tamamlar?

- A) more sociable
- B) more successful
- C) better
- D) funnier

13. I am than my grandmother.

Which of the following completes the sentence above?

Aşağıdakilerden hangisi yukarıdaki cümleyi doğru olarak tamamlar?

- A) young
- B) the youngest
- C) younger
- D) the young

14. The Queen is the person in England.

Which of the following completes the sentence above?

Aşağıdakilerden hangisi yukarıdaki cümleyi doğru olarak tamamlar?

- A) rich
- B) richest
- C) richer
- D) much rich

15. I can't find my glasses. I think I them.

Which of the following completes the sentence above?

Aşağıdakilerden hangisi yukarıdaki cümleyi doğru olarak tamamlar?

- A) have lost
- B) lost
- C) have lose
- D) am losing

16. A: How long have your parents been married?
B: 1970.

Which of the following completes the dialogue above?

Aşağıdakilerden hangisi yukarıdaki konuşmayı doğru olarak tamamlar?

- A) Since
- B) At
- C) For
- D) In

17. My father isn't a careful driver. He drives

Which of the following completes the sentence above?

Aşağıdakilerden hangisi yukarıdaki cümleyi doğru olarak tamamlar?

- A) dangerously
- B) carefully
- C) well
- D) slowly

18. Mum: Patricia, please tidy your wardrobe.
Patricia: Don't worry mum. I have tidied it, it's clean now.

Which of the following completes the dialogue above?

Aşağıdakilerden hangisi yukarıdaki konuşmayı doğru olarak tamamlar?

- A) ever
- B) never
- C) already
- D) yet

19. Our teacher never makes mistakes. He is very

Which of the following completes the sentence above?

Aşağıdakilerden hangisi yukarıdaki cümleyi doğru olarak tamamlar?

- A) careless
- B) old
- C) angry
- D) careful

20. Have you stayed in a hotel?

Which of the following completes the sentence above?

Aşağıdakilerden hangisi yukarıdaki cümleyi doğru olarak tamamlar?

- A) ever
- B) never
- C) just
- D) yet

1. Ce sont leurs calculatrices; ce sont

Choisissez le mot qui convient.

Cümledeki boşluğu aşağıdakilerden hangisi doğru şekilde tamamlar?

- A) la leur
B) les tiennes
C) les leurs
D) les siennes

2. Elle roule rapidement.

Choisissez l'antonyme du mot souligné.

Yukarıdaki cümlede altı çizili sözcüğün zıt anlamlısı aşağıdakilerden hangisidir?

- A) tranquillement
B) honnêtement
C) lentement
D) attentivement

3. Quelles belles roses; à combien?

Choisissez le mot qui convient.

Cümledeki boşluğu aşağıdakilerden hangisi doğru şekilde tamamlar?

- A) ils sont
B) il est
C) elle est
D) elles sont

4. Le train est rapide que l'avion.

Choisissez le mot qui convient.

Cümledeki boşluğu aşağıdakilerden hangisi doğru şekilde tamamlar?

- A) plus
B) moins
C) autant
D) mieux

5. Nous nous sommes promenés longtemps le froid.

Choisissez le mot qui convient.

Cümledeki boşluğu aşağıdakilerden hangisi doğru şekilde tamamlar?

- A) mais
B) malgré
C) en revanche
D) pour

6. Cécile lui a dit que sa sœur beaucoup.

Choisissez le mot qui convient.

Cümledeki boşluğu aşağıdakilerden hangisi doğru şekilde tamamlar?

- A) lisait
B) lit
C) lis
D) lisez

7. Mehmet: J'ai trouvé un dictionnaire de français.
Ayla: C'est sans doute de ma soeur.

Choisissez le mot qui convient.

Yukarıdaki konuşmada boş bırakılan yeri aşağıdakilerden hangisi doğru şekilde tamamlar?

- A) celle
B) ceux
C) celui
D) celles

8., les élèves iront à l'école.

Choisissez le mot qui convient.

Cümledeki boşluğu aşağıdakilerden hangisi doğru şekilde tamamlar?

- A) Demain
B) Hier
C) La semaine dernière
D) Avant-hier

9. Dans quelques minutes, nous terminer ce travail.

Choisissez le mot qui convient.

Cümledeki boşluğu aşağıdakilerden hangisi doğru şekilde tamamlar?

- A) avons
B) allons
C) sommes
D) pouvez

10. Quand il était petit, il dans le village avec sa famille.

Choisissez le mot qui convient.

Cümledeki boşluğu aşağıdakilerden hangisi doğru şekilde tamamlar?

- A) a vécu
B) vivait
C) vivra
D) avait vécu

11. Mireille:
Jacques: Oui, c'est la mienne.

Choisissez la question qui convient.

Yukarıdaki konuşmada cevabı gerektiren soru aşağıdakilerden hangisidir?

- A) Est-ce que ce manteau est à lui?
B) Est-ce que ces chats sont à ton fils?
C) Est-ce que ce poste de télévision est à vous?
D) Est-ce que cette clé est à toi?

12. Regardez ces livres; beaux livres.

Choisissez le mot qui convient.

Cümledeki boşluğu aşağıdakilerden hangisi doğru şekilde tamamlar?

- A) quel
B) quelles
C) quels
D) que

13. Hier, il faisait très froid,, aujourd'hui il fait beau.

Choisissez le mot qui convient.

Cümledeki boşluğu aşağıdakilerden hangisi doğru şekilde tamamlar?

- A) malgré
B) lorsque
C) contrairement à
D) en revanche

14. Quand je suis arrivé au cinéma,

Complétez la phrase avec la proposition qui convient.

Yukarıdaki cümlede boş bırakılan yeri aşağıdakilerden hangisi doğru şekilde tamamlar?

- A) le film était déjà commencé
B) le film vient de commencer
C) le film commencera
D) il n' y a plus de film

15. Ali a 25 livres, Hakan a 42 livres. Ali a de livres que Hakan.

Choisissez le mot qui convient.

Cümledeki boşluğu aşağıdakilerden hangisi doğru şekilde tamamlar?

- A) plus
B) autant
C) moins
D) aussi

16. Quand elle habitait à Paris, elle dans un magasin.

Choisissez le mot qui convient.

Cümledeki boşluğu aşağıdakilerden hangisi doğru şekilde tamamlar?

- A) travaillant
B) travaillera
C) travaillé
D) travaillait

17. Ma cravate est en lain, de mon ami est en cuir.

Choisissez le mot qui convient.

Cümledeki boşluğu aşağıdakilerden hangisi doğru şekilde tamamlar?

- A) celle
B) celui
C) ceux
D) c'est

18. I. Est-ce que ces disques sont à vous?
II. Oui, ces disques sont à nous.
III. Ce sont nos disques.
IV. C'est le sien.

Choisissez la phrase qui ne convient pas à l'ensemble.

Sırasıyla okunduğunda anlam bütünlüğünü bozan cümle aşağıdakilerden hangisidir?

- A) I
B) II
C) III
D) IV

19. Monique: - Lequel de ces deux livres préférez-vous?
Pierre: -

Choisissez la réponse qui convient.

Yukarıdaki konuşmada boş bırakılan yeri aşağıdakilerden hangisi doğru şekilde tamamlar?

- A) Je préfère celui-la.
B) Je lis toujours des livres intéressants.
C) Ce sont les livres de mon frère.
D) J'achète celle-ci.

20. Mon père aime aller au cinéma contrairement à mon oncle.

Choisissez la traduction qui convient.

Yukarıdaki cümlenin Türkçe karşılığı aşağıdakilerden hangisidir?

- A) Babam sinemaya gitmeyi seviyor, fakat amcam sevmiyor.
B) Amcamın tersine, babam sinemaya gitmeyi seviyor.
C) Amcama rağmen babam sinemaya gitmek istiyor.
D) Amcam gibi babam da sinemaya gitmeyi seviyor.

1. Was bedeutet "birşeyi iddia etmek" auf Deutsch?

"birşeyi iddia etmek" ifadesinin Almanca karşılığı aşağıdakilerden hangisidir?

- A) etwas sagen
B) etwas behaupten
C) jemandem glauben
D) jemanden kennen

2. Nach der Schule

Welches ergänzt nicht den obigen Satz?

Verilen cümleyi aşağıdakilerden hangisi doğru olarak tamamlamaz?

- A) gehe ich immer einkaufen.
B) machen wir unsere Hausaufgaben.
C) schlafen wir auf einer Insel.
D) bin ich manchmal sehr müde.

3. Ihr seid nicht im Kino?
Wir dachten, ihr im Kino.

Welches Wort passt in die obige Lücke?

Cümlede boş bırakılan yeri aşağıdakilerden hangisi doğru olarak tamamlar?

- A) wärt
B) wäre
C) warst
D) werdet

4. Was bedeutet "balık tutmak" auf Deutsch?

"balık tutmak" ifadesinin Almanca aşağıdakilerden hangisidir?

- A) segeln
B) schwimmen
C) angeln
D) laufen

5. Hakan gerne mit Gonca

Welche Wörter passen in die obigen Lücken?

Cümlede boş bırakılan yerler aşağıdakilerden hangileri doğru olarak tamamlar?

- A) würde / tanzen
B) wird / getanzt
C) wird / tanzen sein
D) wirst / tanzen wollen

6. Mutter: Wenn ich Zeit finde, möchte ich die Kinder am Wochenende ins Theater bringen.

Vater:

Mutter: Ja, das glaube ich auch!

Welcher Satz ergänzt den obigen Dialog?

Verilen karşılıklı konuşmada boş bırakılan yeri aşağıdakilerden hangisi doğru olarak tamamlar?

- A) Die Kinder müssen früh schlafen.
B) Die Kinder würden sich sehr darüber freuen.
C) Die Kinder haben ihre Hausaufgaben gemacht.
D) Die Kinder essen gern Schokolade.

7. Wenn ich jetzt auf einer einsamen Insel wäre,

Welches ergänzt nicht den obigen Satz?

Verilen cümleyi aşağıdakilerden hangisi doğru olarak tamamlamaz?

- A) würde ich surfen so oft ich will.
B) würde ich nur schlafen.
C) würde ich jeden Tag schwimmen gehen.
D) würde ich eine Pizza bestellen.

8. Wir haben morgen keine Schule.

Welches ist die Konjunktiv-Form vom obigen Satz?

Verilen cümlelerin konjunktif hali aşağıdakilerin hangisinde doğru olarak verilmiştir?

- A) Man hat gesagt, dass wir morgen keine Schule haben.
 B) Man sagt, wir sollen morgen nicht zur Schule.
 C) Man sagt, wir hätten morgen keine Schule.
 D) Man sagte, dass die Schule morgen geschlossen ist.

9. Ich habe aus der Zeitung gelesen, es heute keinen Verkehrsunfall gegeben.

Welches Wort passt in die obige Lücke?

Cümlede boş bırakılan yeri aşağıdakilerden hangisi doğru olarak tamamlar?

- A) habest
 B) hattest
 C) haben
 D) habe

10. sei / sie / krank / mir / gesagt / wurde

Wie kann man mit den obigen Wortgruppen einen sinnvollen und richtigen Satz bilden?

Verilen sözcük gruplarıyla kurulabilecek en anlamlı ve doğru cümle aşağıdakilerden hangisidir?

- A) Wurde mir gesagt, krank sie sei.
 B) Mir wurde gesagt, sie sei krank.
 C) Krank wurde gesagt, sie sei mir.
 D) Sei sie, mir wurde gesagt, krank.

11. Wie lautet das Wort "yaralı olmak" auf Deutsch?

"yaralı olmak" sözcüğünün Almanca karşılığı aşağıdakilerden hangisidir?

- A) verletzt sein
 B) glücklich sein
 C) erfolgreich sein
 D) ernst sein

12. sind wegen der Reparatur durchgehend geschlossen.

Welches Wort passt in die obige Lücke?

Cümlede boş bırakılan yeri aşağıdakilerden hangisi doğru şekilde tamamlar?

- A) Die Zeitung
 B) Die Nacht
 C) Die Geschäfte
 D) Das Haus

13. Was bedeutet "takım" auf Deutsch?

"takım" sözcüğünün Almancası aşağıdakilerden hangisidir?

- A) Die Mannschaft
 B) Die Klasse
 C) Die Gruppe
 D) Die Stufe

14. Man sagt, sie habe wieder ein neues Kleid.

Wie lautet der obige Satz in der Aussageform?

Verilen cümlelerin ifade cümle şekli aşağıdakilerden hangisidir?

- A) Sie möchte ein neues Kleid kaufen.
 B) Sie zieht jeden Tag ein neues Kleid an.
 C) Sie kann sich wieder ein Kleid kaufen.
 D) Sie hat wieder ein neues Kleid.

15. Die Frau, die sich ein Auto kaufen will, arbeitet in der Bank.

Welche Frage passt zur obigen Antwort?

Verilen cevabı gerektirecek soru aşağıdakilerden hangisidir?

- A) Wo wohnt die Frau?
 B) Wessen Mutter ist diese Frau?
 C) Wie heißt die Frau?
 D) Welche Frau arbeitet in der Bank?

16. Yan tarafta oturan bayan Almanca öğretmeni.

Wie lautet der obige Satz auf Deutsch?

Verilen cümlelerin Almancası aşağıdakilerden hangisidir?

- A) Die Deutschlehrerin wohnt unter uns.
 B) Die Frau, die uns gegenüber wohnt, ist Lehrerin.
 C) Die Dame, die nebenan wohnt, ist Deutschlehrerin.
 D) Die Deutschlehrerin, die eine Wohnung sucht, arbeitet in der Schule.

17. Die Schüler, wir geholfen haben, sind erfolgreich geworden.

Welches Wort passt in die obige Lücke?

Cümlede boş bırakılan yeri aşağıdakilerden hangisi doğru şekilde tamamlar?

- A) dessen
 B) denen
 C) der
 D) dem

18. Der junge Mann, der braune Haare hat,

Welches ergänzt nicht die Lücke im obigen Satz?

Verilen cümleyi aşağıdakilerden hangisi tamamlamaz?

- A) sieht gut aus.
 B) war sehr billig.
 C) ist Englischlehrer.
 D) gefällt mir sehr gut.

19. Der Mann,, ist Lehrer.

Welches ergänzt den obigen Satz?

Cümleyi aşağıdakilerden hangisi doğru olarak tamamlar?

- A) die ich kenne
 B) deren Auto rot ist
 C) das wir kennen
 D) der aus der Türkei kommt

20. Was bedeutet das Wort "Das Fieber" auf Türkisch?

"Das Fieber" sözcüğünün Türkçesi aşağıdakilerden hangisidir?

- A) Ateş
 B) Lezzet
 C) Tatil
 D) Kalem

1. Michael waiting for you all day.

Which of the following completes the sentence above?

Aşağıdakilerden hangisi yukarıdaki cümleyi doğru olarak tamamlar?

- A) was
B) has been
C) had
D) will

2. Carol has been playing basketball 2006.

Which of the following completes the sentence above?

Aşağıdakilerden hangisi yukarıdaki cümleyi doğru olarak tamamlar?

- A) for
B) from
C) since
D) ago

3. The students will be a test this time tomorrow.

Which of the following completes the sentence above?

Aşağıdakilerden hangisi yukarıdaki cümleyi doğru olarak tamamlar?

- A) take
B) took
C) has taken
D) taking

4. My aunt writing his second novel next week.

Which of the following completes the sentence above?

Aşağıdakilerden hangisi yukarıdaki cümleyi doğru olarak tamamlar?

- A) will be
B) will
C) be
D) is

5. A: ?
B: Of course, what's the problem?

Which of the following completes the dialogue above?

Aşağıdakilerden hangisi yukarıdaki konuşmayı doğru olarak tamamlar?

- A) Sorry, can you help me please
B) Would you like anything to drink
C) Do you want first or economy class
D) What would you like to have

6. My sister went to work two years ago.

Which of the following completes the sentence above?

Aşağıdakilerden hangisi yukarıdaki cümleyi doğru olarak tamamlar?

- A) where
B) go
C) abroad
D) in

7. Ladies drive

Which of the following completes the sentence above?

Aşağıdakilerden hangisi yukarıdaki cümleyi doğru olarak tamamlar?

- A) very
- B) so
- C) quick
- D) carefully

8. Princess Diana looks beautiful.

Which of the following completes the sentence above?

Aşağıdakilerden hangisi yukarıdaki cümleyi doğru olarak tamamlar?

- A) such a
- B) good
- C) at
- D) very

9. John in his room at nights.

Which of the following completes the sentence above?

Aşağıdakilerden hangisi yukarıdaki cümleyi doğru olarak tamamlar?

- A) sometimes works
- B) works sometimes
- C) work sometimes
- D) sometimes working

10. Sandy is in the kitchen.

Which of the following completes the sentence above?

Aşağıdakilerden hangisi yukarıdaki cümleyi doğru olarak tamamlar?

- A) where
- B) downstairs
- C) to
- D) out

11. If we heat ice, it

Which of the following completes the sentence above?

Aşağıdakilerden hangisi yukarıdaki cümleyi doğru olarak tamamlar?

- A) freezes
- B) melts
- C) goes
- D) pours

12. If I enough time, I my uncle.

Which of the following completes the sentence above?

Aşağıdakilerden hangisi yukarıdaki cümleyi doğru olarak tamamlar?

- A) have / will visit
- B) am having / would visit
- C) has / will
- D) will have / visit

13. If the final cancelled, what would've happened?

Which of the following completes the sentence above?

Aşağıdakilerden hangisi yukarıdaki cümleyi doğru olarak tamamlar?

- A) had been
- B) had
- C) is
- D) has

14. If I you, I that car.

Which of the following completes the sentence above?

Aşağıdakilerden hangisi yukarıdaki cümleyi doğru olarak tamamlar?

- A) was / will buy
- B) am / are buy
- C) are / buy
- D) were / wouldn't buy

15. Josh wants to work and he for a job.

Which of the following completes the sentence above?

Aşağıdakilerden hangisi yukarıdaki cümleyi doğru olarak tamamlar?

- A) prepares
- B) looks
- C) misses
- D) earns

16. A musician is someone plays music.

Which of the following completes the sentence above?

Aşağıdakilerden hangisi yukarıdaki cümleyi doğru olarak tamamlar?

- A) which
- B) who
- C) where
- D) whose

17. she got on the bus, she bought a ticket.

Which of the following completes the sentence above?

Aşağıdakilerden hangisi yukarıdaki cümleyi doğru olarak tamamlar?

- A) While
- B) If
- C) Before
- D) For

18. Katy eats her dinner, she won't feel hungry.

Which of the following completes the sentence above?

Aşağıdakilerden hangisi yukarıdaki cümleyi doğru olarak tamamlar?

- A) Before
- B) Because
- C) After
- D) To

19. Birgül heard the news, she began to cry.

Which of the following completes the sentence above?

Aşağıdakilerden hangisi yukarıdaki cümleyi doğru olarak tamamlar?

- A) While
- B) If
- C) As soon as
- D) In

20. These are Maria and Franco parents are in Antalya.

Which of the following completes the sentence above?

Aşağıdakilerden hangisi yukarıdaki cümleyi doğru olarak tamamlar?

- A) who
- B) that
- C) which
- D) whose

1. Kapı, Ahmet tarafından açıldı.

Choisissez la traduction qui convient.

Yukarıdaki cümlelerin Fransızca karşılığı aşağıdakilerden hangisidir?

- A) La porte a été ouverte par Ahmet.
B) La porte sera ouverte par Ahmet.
C) La porte n'ouvre jamais.
D) Ahmet a ouvert la porte.

2. Le gâteau est mangé par mon frère.

Choisissez la forme active de la phrase ci-dessus.

Yukarıda verilen cümlelerin aktif hali aşağıdakilerden hangisidir?

- A) Mon frère mange le gâteau.
B) Mon frère mangerai le gâteau.
C) Mon frère a mangé le gâteau.
D) Mon frère mangeait le gâteau.

3. bien s'il vous plaît!

Choisissez le mot qui convient.

Cümledeki boşluğu aşağıdakilerden hangisi doğru şekilde tamamlar?

- A) Dont
B) Peuvent
C) Visitant
D) Lisez

4. Elle a un enfant bien élevé.

Choisissez l'antonyme du mot souligné.

Yukarıdaki cümlede altı çizili sözcüğün zıt anlamlısı aşağıdakilerden hangisidir?

- A) bon
B) meilleur
C) mal
D) belle

5. Une famille turque au moyenne de quatre ou cinq personnes.

Choisissez le mot qui convient.

Cümledeki boşluğu aşağıdakilerden hangisi doğru şekilde tamamlar?

- A) se passe
B) se marie
C) dépend
D) se compose

6. C'est la sœur de ma mère; c'est

Choisissez le mot qui convient.

Cümledeki boşluğu aşağıdakilerden hangisi doğru şekilde tamamlar?

- A) mon oncle
B) mon cousin
C) ma tante
D) ma grand-mère

7. plus lentement.

Choisissez le mot qui convient.

Cümledeki boşluğu aşağıdakilerden hangisi doğru şekilde tamamlar?

- A) Parlez
B) Rencontrez
C) Taisez-vous
D) Regardez

8. Ma lettre lue par ma mère.

Choisissez le mot qui convient.

Cümledeki boşluğu aşağıdakilerden hangisi doğru şekilde tamamlar?

- A) font
B) a été
C) chez
D) famille

9. Ils ne s'entendent pas bien, ils vont

Choisissez le mot qui convient.

Cümledeki boşluğu aşağıdakilerden hangisi doğru şekilde tamamlar?

- A) épouser
B) divorcer
C) se fiancer
D) se marier

10. Les élèves font le devoir.

Choisissez la forme passive de la phrase ci-dessus.

Yukarıdaki cümlelerin edilgen hali aşağıdakilerden hangisidir?

- A) Le devoir sera fait par les élèves.
B) Le devoir a été fait par les élèves.
C) Le devoir est fait par les élèves.
D) Le devoir était fait par les élèves.

11. -
- Je suis instituteur.

Choisissez la question qui convient.

Yukarıdaki konuşmada cevabı gerektiren soru aşağıdakilerden hangisidir?

- A) Comment s'appelle cet examen?
B) Qu'est-ce que tu as fait l'été dernier?
C) Est-ce que vous étudiez en médecine?
D) Quel est votre métier?

12. tranquille, tout s'arrangera.

Choisissez le mot qui convient.

Cümledeki boşluğu aşağıdakilerden hangisi doğru şekilde tamamlar?

- A) Aie
B) Regardez
C) Supprimez
D) Soyez

13. Il est allé à l'étranger pour une conférence.

Choisissez le mot qui convient.

Cümledeki boşluğu aşağıdakilerden hangisi doğru şekilde tamamlar?

- A) abandonner
B) suivre
C) arrêter
D) gagner

14. Pensez votre père; il est assez âgé pour travailler.

Choisissez le mot qui convient.

Cümledeki boşluğu aşağıdakilerden hangisi doğru şekilde tamamlar?

- A) de
B) à
C) en
D) toi

15. A condition faire mes devoirs, je pourrai aller au théâtre.

Choisissez le mot qui convient.

Cümledeki boşluğu aşağıdakilerden hangisi doğru şekilde tamamlar?

- A) à
B) en
C) de
D) y

16. Aie fini tes devoirs jusqu'à demain.

Choisissez la traduction qui convient.

Yukarıdaki cümlelerin Türkçe karşılığı aşağıdakilerden hangisidir?

- A) Yarına kadar ödevleri bitireceğim.
B) Yarın ödevlerim bitmiş olacak.
C) Yarına ödevlerini bitirmen gerekiyor.
D) Yarına kadar ödevlerini bitirmiş ol.

17. Bu mektup Gamze'ye Erkin tarafından yazıldı.

Choisissez la traduction qui convient.

Yukarıdaki cümlelerin Fransızca karşılığı aşağıdakilerden hangisidir?

- A) Cette lettre a été écrite à Gamze par Erkin.
B) Cette lettre est écrite par Erkin à Gamze.
C) Erkin a écrit cette lettre à Gamze.
D) Erkin écrira une lettre à Gamze.

18. C'est le fils de mon oncle, c'est mon

Choisissez le mot qui convient.

Cümledeki boşluğu aşağıdakilerden hangisi doğru şekilde tamamlar?

- A) cousin
B) gendre
C) fiancé
D) nièce

19. En général, je me à 23 heures.

Choisissez le mot qui convient.

Cümledeki boşluğu aşağıdakilerden hangisi doğru şekilde tamamlar?

- A) promené
B) rencontré
C) couche
D) tombé

20. Il a un cadeau à sa sœur.

Choisissez le mot qui convient.

Cümledeki boşluğu aşağıdakilerden hangisi doğru şekilde tamamlar?

- A) ramassé
B) envoyé
C) imprimé
D) préféré

SINAVDA UYGULANACAK KURALLAR

1. Sınav süresince görevlilerle konuşmak ve soru sormak yasaktır. Aynı şekilde görevlilerin de öğrencilerle yakından ve alçak sesle konuşmaları yasaktır. Yanınızda ve sıranızda dersle ilgili kitap not vb. bulundurmamak yasaktır. Sınav sırasında kopya yapan, yapmaya teşebbüs eden, kopya veren, kopya yapılmasına yardım edenlerin kimlikleri BİREYSEL SINAV İPTAL TUTANAĞINA yazılacak ve bu öğrencilerin sınavları geçersiz sayılacaktır. Görevliler kopya yapmaya veya vermeye kalkışanları uyararak sorumlu size aittir.
Sınavda yetki verilmiş görevliler, bu salondaki sınavın kurallara uygun biçimde yapılmadığını, toplu kopya girişiminde bulunulduğunu raporlarında bildirdikleri veya üniversite sınav merkezince yapılan incelemeler sonucu toplu kopya yapıldığı saptandığı takdirde, Anadolu Üniversitesinin yetkili organları bu salonda sınava giren öğrencilerin tümünün sınavını geçersiz sayar.
2. Öğrenciler sınav sırasında görevlilerin her türlü uyarılarına uymak zorundadır. Gerekliğinde görevliler oturduğunuz yerleri değiştirebilir. Sınavınızın geçerli sayılması, her şeyden önce sınav kurallarına uymanıza bağlıdır. Kurallara aykırı davranışta bulunanların ve yapılacak uyarılara uymayanların kimlikleri BİREYSEL SINAV İPTAL TUTANAĞINA yazılacak ve sınavları geçersiz sayılacaktır.
3. Sınav sırasında herhangi bir nedenle dışarı çıkmak yasaktır. Sınavın başlamasını izleyen ilk 30 dakika ve sınav süresinin son 5 dakikası içinde, sınavlarını tamamlasalar bile hiçbir öğrencinin salondan çıkmasına izin verilmeyecektir. Sınavın başlamasını izleyen ilk 15 dakikadan sonra hiç bir öğrenci sınava alınmaz.
4. Biraz sonra soru kitapçıkları dağıtılacaktır. Cevaplamaya geçmeden önce size verilecek soru kitapçığının üzerinde ayrılan yere, adınızı, soyadınızı, öğrenci numaranızı ve bu salonun numarasını yazınız. Sınav sonunda soru kitapçıkları toplanacak ve sınav merkezinde tek tek incelenecektir. Soru Kitapçığının bir tek sayfası eksik çıksa bile sınavınız geçersiz sayılacaktır.
5. Size verilen Cevap Kâğıdının üzerinde yazan numara ve ismin size ait olduğunu kontrol ediniz. Cevap Kâğıdı size ait değilse, görevlileri uyarıp size ait Cevap Kâğıdını alınız. Daha sonra Cevap Kâğıdı üzerinde ayrılmış olan yerlere öğrenci numaranızı ve test grubunuzu kodlayınız, adınızı soyadınızı yazınız ve ilgili yeri imzalayınız.
6. Cevap Kâğıdına yazılacak her türlü yazı, rakam ve yapılacak işaretlemeler için siyah kurşun kalem kullanılacaktır. Tükenmez kalem veya dolmakalem kesinlikle kullanılmayacaktır. Cevapların tümü CEVAP KÂĞIDINA İŞARETLENECEKTİR. Soru Kitapçıkları üzerine yapılan işaretlemeler kesinlikle değerlendirilmez. Her dersin cevabı, o dersin isminin yazılı olduğu sütuna işaretlenmelidir. Yanlış sütuna yapacağınız işaretlemeler kesinlikle değerlendirilmez.
7. Soru Kitapçığının sayfalarındaki boş yerleri müsvedde yapmak için kullanabilirsiniz. Başka bir kâğıdı müsvedde olarak kullanmak yasaktır. Bu tür işlemleri yapanların sınavları geçersiz sayılır.
8. Öğrencilerin sorulara verdikleri yanıtları herhangi bir yere yazmaları ve bunu sınav salonundan dışarıya çıkarmaları yasaktır. Bu kurala uymayanların sınavları geçersiz sayılır.
9. Sınav sırasında öğrencilerin birbirinden kalem, silgi vb. şeyleri istemesi kesinlikle yasaktır. Yasağa uymayanların sınavı geçersiz sayılır.
10. Sınav sırasında hesap makinesi kullanılabilir. Ancak, hesap makinesinin sınav sırasında ödünç alınması, verilmesi ve değiştirilmesi yasaktır. (Data Bank vb. gibi özel elektronik donanımlar kullanılamaz.) Bu tür davranışlarda bulunanların sınavları geçersiz sayılır.
11. Öğrenciler sınava gelirken telsiz, cep telefonu, çağrı cihazı vb. iletişim araçları ile görüntü kaydetmeye yarayan fotoğraf makinesi, kamera vb. araçları getirmemeleri konusunda sınava giriş belgelerinde uyarılmışlardır. Buna rağmen yanlarında bu tür cihazları getirenlerin, bunları sınav sonrasında almak üzere salon başkanına teslim etmeleri gerekir. Bu cihazları sınav salonunda yanlarında bulunduran öğrencilerin, cihazları kapalı bile olsa, o oturdaki sınavı geçersiz sayılacaktır. Bu cihazların kaybolmasından Üniversitemiz sorumlu olmayacaktır.
12. Biraz sonra dağıtılacak olan soru kitapçığında test ile ilgili açıklamalar yazılıdır. Bu açıklamaları okumadan ve size "SINAV BAŞLAMIŞTIR" denmeden soruları cevaplamaya başlamayınız.

SINAVLARINIZDA BAŞARILAR DİLERİZ.