



ANADOLU ÜNİVERSİTESİ  
AÇIKÖĞRETİM FAKÜLTESİ  
BA - AÇIKÖĞRETİM OKULLARI

T.C. MİLLİ EĞİTİM BAKANLIĞI  
Hayat Boyu Öğrenme Genel Müdürlüğü  
AÇIK ÖĞRETİM LİSESİ – BATI AVRUPA PROGRAMI  
2013-2014 ÖĞRETİM YILI I.DÖNEM SINAVI  
DÖRDÜNCÜ OTURUM - Pazar 13.00

TEST GRUBUNUZ

**A 0104**

CEVAP KÂĞIDINIZA İŞARETLEMİYİ UNUTMAYINIZ.

**ÖĞRENCİNİN**

SOYADI : .....

ADI : .....

ÖĞRENCİ NO : .....

SINAV SALON NO: ..... SIRA NO: .....

Soyadınızı, adınızı, öğrenci numaranızı, salon ve sıra numaranızı yukarıya yazmayı unutmayınız.

**GENEL AÇIKLAMA**

1. Bu soru kitapçığındaki testler şunlardır:

Testin Adı	Soru Sayısı	Sayfa No	Testin Adı	Soru Sayısı	Sayfa No
DİN KÜLTÜRÜ VE AHLAK BİLGİSİ 5	20	2	EKONOMİ 1	20	33
TARİH 3	20	4	SAĞLIK BİLGİSİ 1	20	35
T.C. İNKILAP TARİHİ VE ATATÜRKÇÜLÜK 1	20	6	SEQMELİ COĞRAFYA 3	20	37
COĞRAFYA 5	20	9	SEQMELİ COĞRAFYA 4	20	39
SOSYOLOJİ 2	20	11	HZ. MUHAMMED'İN HAYATI 3	20	41
HUKUK 2	20	13	SEQMELİ DİL VE ANLATIM 5	20	43
DİL VE ANLATIM 8	20	15	SEQMELİ DİL VE ANLATIM 7	20	45
TÜRK EDEBİYATI 2	20	17	ALMANCA 8	20	47
TÜRK EDEBİYATI 4	20	19	İNGİLİZCE 8	20	50
TÜRK EDEBİYATI 6	20	21	FRANSIZCA 8	20	53
FİZİK 5	20	23	SEQMELİ ALMANCA 4	20	55
FİZİK 6	20	25	SEQMELİ İNGİLİZCE 4	20	58
BİYOLOJİ 6	20	27	SEQMELİ FRANSIZCA 4	20	60
ÇAĞDAŞ TÜRK VE DÜNYA TARİHİ 2	20	30	MATEMATİK 2	20	62

2. Bu kitapçıkta yer alan her bir test için cevaplama süresi **30 dakika**, toplam sınav süresi **150** dakikadır.
3. Cevaplamaya istediğiniz testin, istediğiniz sorusundan başlayabilirsiniz. Yalnız cevaplarınızı, cevap kâğıdında o test için ayrılmış olan bölümdeki aynı numaralı cevap yerine işaretlemeyi unutmayınız.
4. Cevaplarınızı koyu siyah ve yumuşak bir kurşunkalemle işaretleyiniz. İşaretinizi cevap yerinin dışına taşırmayınız. Tükenmez veya mürekkepli kalem kullanmayınız.
5. Değiştirmek istediğiniz bir cevabı yumuşak bir silgi ile, cevap kâğıdını örselemeden temizce siliniz ve doğru cevabınızı işaretlemeyi unutmayınız.
6. Cevap kâğıdınızı buruşturmayınız, katlamayınız ve üzerine gereksiz hiçbir işaret koymayınız.
7. Bu kitapçıkta her sorunun bir tek doğru cevabı vardır. Bir soru için birden çok cevap yeri işaretlenmişse o soru yanlış cevaplanmış sayılacaktır.
8. Cevaplarınız puanlanırken her doğru cevabınıza eşit puan verilecek, yanlış cevaplarınız dikkate alınmayacaktır. Bu nedenle kitapçıkta tüm sorular için size doğru gelen seçeneği işaretleyerek cevapsız soru bırakmamanız yararınıza olacaktır.
9. Kitapçığın sayfalarındaki boş yerleri müsvedde için kullanabilirsiniz.

Anadolu Üniversitesi tarafından hazırlanmış olan bu testlerin her hakkı saklıdır. Hangi amaçla olursa olsun, testlerin tamamının veya bir kısmının Anadolu Üniversitesi'nin yazılı izni olmadan kopya edilmesi, fotoğraflarının çekilmesi, herhangi bir yolla çoğaltılması, yayımlanması ya da kullanılması yasaktır. Bu yasağa uymayanlar gerekli cezai sorumluluğu ve testlerin hazırlanmasındaki mali külfeti peşinen kabullenmiş sayılır.

1. Kişinin kendisinin de ihtiyacı olan bir şeyi başkalarıyla paylaşabilmesi, gerektiğinde fedakârlıkta bulunarak başkalarına yardım edebilmesine ne ad verilir?
  - A) Diğerkâmlık
  - B) Sabır
  - C) Dürüstlük
  - D) Alçakgönüllülük
2. Dini bir terim olarak "Rızık" nedir?
  - A) Yaratıcının, tüm varlıkların yiyip içmesi, yararlanması ve faydalanması amacıyla verdiği nimetler
  - B) Evrendeki her bir nesnenin belirlenen sürenin sonunda yok oluşu
  - C) Kişinin kendi söz ve davranışlarının sonuçlarına katlanması durumu
  - D) Allah'ın başlangıçtan sonsuza kadar olmuş ve olacak olan tüm olayların yerini, zamanını bilip takdir etmesi
3. İbadetleri yerine getirirken istekli olmanın yanı sıra samimiyet, içtenlik, maddi çıkar gözetmeme ve yalnızca Allah'ın rızasını kazanma adına yapma duygusuna ne ad verilir?
  - A) İhlas
  - B) Kasıt
  - C) Niyet
  - D) Hayâ
4. Kişinin işlediği günah nedeniyle Allah'tan özür dilemesi ve bir daha suç işlememeye söz vermesine ne ad verilir?
  - A) Tövbe
  - B) Sabır
  - C) Diğerkâmlık
  - D) Sorumluluk
5. Allah'ın sonsuz güç ve irade sahibi olup, her şeye gücünün yetmesi aşağıdakilerden hangisini tanımlar?
  - A) Cüzi irade
  - B) Tevekkül
  - C) Külli irade
  - D) Kaza
6. Allah'ın zati ve sıfatları itibarıyla bir olmasına ne ad verilir?
  - A) Nübüvvet
  - B) Takva
  - C) Vahdet
  - D) Tevhit
7. Allah'ın başlangıçtan sonsuza kadar olmuş ve olacak olan tüm olayların yerini, zamanını bilip takdir etmesine ne ad verilir?
  - A) Kader
  - B) Kaza
  - C) İrade
  - D) Yaratılış
8. Bir öğrencinin planlı ve düzenli biçimde dersine çalıştıktan sonra Allah'a güvenip ondan yardım dilemesi aşağıdakilerden hangisini örnekler?
  - A) Kader
  - B) Kaza
  - C) Tevekkül
  - D) Tesadüf
9. Hz. Muhammed'in hasta olan insanları bizzat evlerinde ziyaret edip, geçmiş olsun deyip onun için dua etmesi hangi özelliği ile ilgilidir?
  - A) Dürüst olması
  - B) Merhametli olması
  - C) Otoriter olması
  - D) Adaletli olması
10. İslam dininin emir ve yasaklarından yalnızca kimler sorumlu tutulmuştur?
  - A) Zenginler
  - B) Kadere iman edenler
  - C) Namaz kılanlar
  - D) Akıllı olanlar

11. "Kararını verdiği zaman artık Allah'a dayanıp güven. Çünkü Allah kendisine dayanıp güvenenleri sever." ayetiyle aşağıdakilerden hangisinin önemi vurgulanmıştır?

- A) Kadere imanın
- B) Ahiret hayatına imanın
- C) Yardımsever olmanın
- D) Tevekkül etmenin

12. Bir kişinin sezaryen doğumla dünyaya gelmesi aşağıdakilerden hangisidir?

- A) Kader
- B) İrade
- C) Kaza
- D) Tevekkül

13. Hz. Ali ile Muaviye arasında yaşanan Siffin savaşı sonucunda ortaya çıkmıştır. Hüküm verme işinin hakemlere bırakılmasının yanlış olduğuna ve tek hakemin Allah olduğuna inanırlar.

Yukarıda anlatılan mezhep aşağıdakilerden hangisidir?

- A) Caferilik
- B) Şiilik
- C) Haricilik
- D) Eşarilik

14. Mekke'de Hacerul Esved taşının Kâbe'nin duvarına konulmasında Hz. Muhammed'e danışılması, O'nun hangi özelliğini ortaya koymaktadır?

- A) Cesur olması
- B) Sabırlı olması
- C) Merhametli olması
- D) Güvenilir olması

15. Aşağıdakilerden hangisi Kur'an-ı Kerim'de tarif edilen örnek insanın özelliklerinden biri değildir?

- A) Hoşgörülü ve bağışlayıcı
- B) Kibirli ve gururlu
- C) Güvenilir
- D) Anne babasına iyi davranan

16. Ömrün bittiği, hayatın sona erdiği zamana ne ad verilir?

- A) Şer
- B) Ecel
- C) Kader
- D) İrade

17. Hz. Hüseyin'in soyundan gelenlere ne ad verilir?

- A) Şerif
- B) Seyyid
- C) Semih
- D) Habibullah

18. Aşağıdakilerden hangisi Ehl-i Bey'ten biri değildir?

- A) Hz. Hatice
- B) Hz. Hasan
- C) Hz. Ömer
- D) Hz. Ali

19. Medineli Müslümanlara ne ad verilir?

- A) Muhacir
- B) Ensar
- C) Hanif
- D) Mürşid

20. Süleyman Çelebinin Peygamberimiz için yazdığı eseri aşağıdakilerden hangisidir?

- A) Kutadgu Bilig
- B) Mesnevi
- C) Safahat
- D) Vesiletü'n Necat

1. Aşağıdakilerden hangisinin alınması, Marmara sahillerinin ve Rumeli'nin Osmanlı Devleti'ne geçmesinde önemli rol oynamıştır?
  - A) Karamanoğulları Beyliği
  - B) Germiyoğulları Beyliği
  - C) Karesi Beyliği
  - D) Saruhan Beyliği
2. Osmanlılar ve Haçlılar arasındaki ilk savaş aşağıdakilerden hangisidir?
  - A) I.Kosova Savaşı
  - B) Sırp Sındığı Savaşı
  - C) Niğbolu Savaşı
  - D) Çirmen Savaşı
3. Aşağıdakilerden hangisi XIV. Yüzyıl başlarında Anadolu'da yer alan siyasi güçlerden biri değildir?
  - A) Altın Orda Devleti
  - B) Trabzon İmparatorluğu
  - C) Anadolu Türk Beylikleri
  - D) Venedik ve Ceneviz Kolonileri
4. Aşağıdakilerden hangisi Ankara Savaşı'nın sonuçlarından biri değildir?
  - A) Fetret Devri'nin yaşanması
  - B) İstanbul'un alınması
  - C) Türklerin Balkanlardaki ilerleyişinin bir süre için durması
  - D) Anadolu'nun siyasi birliğinin bozulması
5. Yeni çağ başlarında Avrupa'da sıkça görülen ve egemenlik yetkisinin bir kişinin elinde toplandığı devlet şekli aşağıdakilerden hangisidir?
  - A) Monarşi
  - B) Teokrazi
  - C) Oligarşi
  - D) Cumhuriyet
6. Okulların, kilisenin elinden alınarak halka verilmesiyle laik öğretim sisteminin kurulması, aşağıdakilerden hangisinin bir sonucudur?
  - A) Rönesans
  - B) Coğrafi keşifler
  - C) Reform
  - D) Matbaanın bulunması
7. Rönesans akımının ilk başladığı ülke aşağıdakilerden hangisidir?
  - A) İtalya
  - B) Fransa
  - C) İspanya
  - D) Macaristan
8. Yıldırım Bayezit zamanının en önemli olayı aşağıdakilerden hangisidir?
  - A) Kardeşler arası taht kavgaları
  - B) Balkanlarda sarsılan hakimiyetin pekiştirilmesi
  - C) Osmanlı-İran münasebetleri
  - D) Ankara Savaşı
9. Aşağıdakilerden hangisi coğrafi keşiflerin sonuçlarından biri değildir?
  - A) Avrupa'ya bol miktarda altın ve gümüş madenlerinin getirilmesi
  - B) Ticaret yollarının değişmesi
  - C) Akdeniz limanlarının önem kazanması
  - D) Avrupa ürünlerinin yeni pazarlar bulması
10. Aşağıdakilerden hangisi, Osmanlı Devleti'nin dağılmasını önlemek amacıyla ortaya çıkan düşünce akımlarından biri değildir?
  - A) İslamcılık
  - B) Turancılık
  - C) Şarkçılık
  - D) Türkçülük

11. Osmanlı Devleti'nin Küçük Kaynarca Antlaşması'nı yaptığı devlet aşağıdakilerden hangisidir?

- A) Rusya
- B) İspanya
- C) İtalya
- D) Macaristan

12. Osmanlı Devleti'nin ilk kez toprak kaybına uğradığı antlaşma aşağıdakilerden hangisidir?

- A) Karlofça Antlaşması
- B) Pasarofça Antlaşması
- C) Vasvar Antlaşması
- D) Kasr-ı Şirin Antlaşması

13. Sanayi Devrimi'nin ilk olarak başladığı ülke aşağıdakilerden hangisidir?

- A) Almanya
- B) Fransa
- C) İngiltere
- D) ABD

14. Fransız İhtilali'nin en önemli nedeni aşağıdakilerden hangisidir?

- A) Dini baskıların artması
- B) Ekonomik durumun bozulması
- C) Soylulardan alınan vergilerin artması
- D) Kralın yetkilerinin artması

15. XVI. yüzyılda tabii bilimlerdeki gelişmelerin öncüsü aşağıdakilerden hangisidir?

- A) Newton
- B) Galileo
- C) Adam Smith
- D) Kopernik

16. Aşağıdakilerden hangisi 1848 ihtilallerinin görüldüğü devletlerden biri değildir?

- A) Fransa
- B) Çin
- C) İtalya
- D) İngiltere

17. İngiltere'nin 13 koloninin bağımsızlık hakkını tanımak zorunda kaldığı antlaşma aşağıdakilerden hangisidir?

- A) Vasvor Antlaşması
- B) Sevr Antlaşması
- C) Saint Germain Antlaşması
- D) Versay Antlaşması

18. Aşağıdakilerden hangisi Amerika Birleşik Devletleri'nin kurulmasının sonuçlarından biri değildir?

- A) Avrupa'da işsizliğin azalması
- B) Siyasi ve dini kavgaların artması
- C) Avrupa'ya karşı bir denge unsuru olması
- D) İnsan Hakları Beyannamesi'nin ilan edilmesi

19. Türkiye'de uluslararası ilk serginin açıldığı şehir aşağıdakilerden hangisidir?

- A) Ankara
- B) İzmir
- C) Bursa
- D) İstanbul

20. Aşağıdakilerden hangisi, Fransız İhtilali'nin Osmanlı Devleti'ne etkilerinden biri değildir?

- A) Yeni Osmanlıların ortaya çıkması
- B) Milliyetçilik akımının yayılması
- C) Kanuni Esasi'nin hazırlanması
- D) Kapitülasyonların kaldırılması

# T.C. İNKILAP TARİHİ VE ATATÜRKÇÜLÜK 1

A

2014 I.DÖNEM 0104-A

1. Osmanlı Devleti'ni oluşturan bütün milletlerin dil, din ve ırk farkı gözetilmeden adalet, özgürlük ve eşitlik prensipleri içinde bir arada yaşamalarını amaçlayan fikir akımı aşağıdakilerden hangisidir?

- A) Batıcılık
- B) Turancılık
- C) Adem-i Merkeziyetçilik
- D) Osmanlıcılık

2. Trablusgarp Savaşı'nda Derne ve Tobruk'ta gösterdiği üstün başarıyla İtalyanların kıyılarından ülke içerisine ilerlemesine imkân vermeyen vatansever Türk subayı kimdir?

- A) Kazım Karabekir
- B) Mustafa Kemal Atatürk
- C) İsmet İnönü
- D) Rauf Orbay

3. Aşağıdakilerden hangisi Çanakkale Savaşları'nın sonuçlarından biri değildir?

- A) Bulgaristan'ın İttifak Devletleri'nin yanında savaşa girmesinde etkili olmuştur.
- B) Birinci Dünya Savaşı uzamıştır.
- C) Uşi Antlaşması imzalanmıştır.
- D) İstanbul ve Boğazlar istiladan kurtulmuştur.

4. Aşağıdakilerden hangisi Birinci Dünya Savaşı'nda Osmanlı Devleti'nin taarruz cephelerindedir?

- A) Irak Cephesi
- B) Çanakkale Cephesi
- C) Kafkas Cephesi
- D) Makedonya Cephesi

5. I. Balkan Savaşı'ndan en kârlı çıkan Balkan Devleti aşağıdakilerden hangisidir?

- A) Yunanistan
- B) Bulgaristan
- C) Arnavutluk
- D) Sırbistan

6. Paris Barış Konferansı'nda Yunanistan tarafından işgal edilmesine karar verilen Türk şehri aşağıdakilerden hangisidir?

- A) İzmir
- B) Adana
- C) Antalya
- D) Hatay

7. Mondros Ateşkes Antlaşması'nı, Osmanlı Devleti adına imzalayan kişi aşağıdakilerden hangisidir?

- A) Fevzi Çakmak
- B) Ali Fuat Cebesoy
- C) Rauf Orbay
- D) Kazım Karabekir

8. Aşağıdakilerden hangisi millî varlığa düşman cemiyetlerden biri değildir?

- A) Wilson Prensipleri Cemiyeti
- B) İngiliz Muhipler Cemiyeti
- C) Millî Kongre Cemiyeti
- D) Teali İslam Cemiyeti

9. İtilaf Devletleri'nin Mondros Ateşkes Antlaşması'nın 7. Maddesine dayanarak ilk işgal ettikleri Osmanlı toprağı aşağıdakilerden hangisidir?

- A) Erzurum
- B) Hatay
- C) İzmir
- D) Musul

10. Osmanlı Devleti Sevr (Sevres) Antlaşması'nı hangi savaş sonunda imzalamıştır?

- A) Trablusgarp Savaşı
- B) I. Balkan Savaşı
- C) II. Balkan Savaşı
- D) I. Dünya Savaşı

11. Türkiye Cumhuriyeti'nin ilk Cumhurbaşkanı kimdir?

- A) İsmet İnönü
- B) Celal Bayar
- C) Mustafa Kemal Atatürk
- D) Fahri Korutürk

12. Mustafa Kemal Atatürk ve arkadaşları tarafından Vatan ve Hürriyet Cemiyeti nerede kurulmuştur?

- A) Şam
- B) İzmir
- C) İstanbul
- D) Hatay

13. Mustafa Kemal Atatürk, "Hattı müdafaa yoktur, sathı müdafaa vardır. O satıh bütün vatandır. Vatanın her karış toprağı, vatandaşın kanıyla sulanmadıkça terk olunmaz." emrini hangi savaşta vermiştir?

- A) I. İnönü Savaşı
- B) II. İnönü Savaşı
- C) Eskişehir-Kütahya Savaşları
- D) Sakarya Savaşı

14. Türkiye Büyük Millet Meclisi Hükümeti'nin uluslararası alanda sağladığı ilk başarı aşağıdakilerden hangisidir?

- A) Moskova Antlaşması
- B) Gümrü Antlaşması
- C) Kars Antlaşması
- D) Lozan Barış Antlaşması

15. Ermeni sorunu ilk kez hangi anlaşma ile uluslararası bir sorun olarak ortaya çıkmıştır?

- A) Karlofça Antlaşması
- B) Küçük Kaynarca Antlaşması
- C) Hünkar İskelesi Antlaşması
- D) Berlin Antlaşması

16. Son Osmanlı Mebusan Meclisi için yapılan seçimlerde Mustafa Kemal Atatürk nereden milletvekili seçilmiştir?

- A) Erzurum
- B) Eskişehir
- C) Bursa
- D) Trabzon

17. Lozan Konferansına Türk Barış Heyeti'nin baştemsilcisi olarak katılan kişi aşağıdakilerden hangisidir?

- A) Rauf Orbay
- B) İsmet İnönü
- C) Refet Bele
- D) Fevzi Çakmak

18. Temsil Heyeti'nin sesini kamuoyuna daha iyi duyurabilmek için Sivas'ta çıkarmaya başladığı gazete aşağıdakilerden hangisidir?

- A) İstiklal
- B) İrade-i Milliye
- C) İkdam
- D) Tasvir-i Efkâr

19. Son Osmanlı Mebusan Meclisi'nin en önemli hizmeti aşağıdakilerden hangisidir?

- A) Misakımillî'nin ilan edilmesi
- B) Temsil Heyeti'nin oluşturulması
- C) Amasya Genelgesi'nin yayınlanması
- D) Ankara'nın başkent olması

20. Aşağıdakilerden hangisinde Kurtuluş Savaşı'nın amacı, gerekçesi ve yöntemi açıklanmıştır?

- A) Amasya Genelgesi
- B) Sivas Kongresi
- C) Alaşehir Kongresi
- D) Son Osmanlı Mebuslar Meclisi



1. Aşağıdakilerden hangisi ipek böcekçiliğinin yoğun olarak yapıldığı illerden biridir?
  - A) Manisa
  - B) Rize
  - C) Konya
  - D) Bursa
2. Türkiye'nin dünyada üretiminde ilk sırada olduğu maden aşağıdakilerden hangisidir?
  - A) Demir
  - B) Bakır
  - C) Bor
  - D) Boksit
3. Teknik ve coğrafyanın birbirine yaptığı etkiyi araştıran bilim dalı aşağıdakilerden hangisidir?
  - A) Teknocoğrafya
  - B) Biyocoğrafya
  - C) Fiziki coğrafya
  - D) Beşeri coğrafya
4. Aşağıdaki tarım ürünlerinden hangisinin üretimi Gıda Tarım ve Hayvancılık Bakanlığının özel iznine bağlıdır?
  - A) Elma
  - B) Zeytin
  - C) Haşhaş
  - D) Mercimek
5. Aşağıdakilerden hangisi karasal su ekosistemlerinden biri değildir?
  - A) Göl ekosistemleri
  - B) Nehir ekosistemleri
  - C) Bataklık ekosistemleri
  - D) Deniz ekosistemleri
6. Türkiye'de en yıkıcı depremlerin üzerinde meydana geldiği fay hattı aşağıdakilerden hangisidir?
  - A) Doğu Anadolu fay hattı
  - B) Kuzey Anadolu fay hattı
  - C) Batı Anadolu fay hattı
  - D) İç Anadolu fay hattı
7. Dünyanın finans merkezi olarak kabul edilen şehir aşağıdakilerden hangisidir?
  - A) New York
  - B) Roma
  - C) Paris
  - D) Hamburg
8. Şehirleşmede ve şehirlerdeki nüfusta artışın hızlanması sebebi aşağıdakilerden hangisidir?
  - A) Savaşların azalması
  - B) Zenginleşme
  - C) Tarımsal faaliyetlerin artması
  - D) Sanayileşme hareketleri
9. Aşağıdakilerden hangisi tükenen doğal kaynaklardan biridir?
  - A) Rüzgar
  - B) Dalga
  - C) Kömür
  - D) Güneş
10. Benzer bitki ve hayvan topluluklarını barındıran bölgelere ne ad verilir?
  - A) Ekosistem
  - B) Zooloji
  - C) Biyosfer
  - D) Biyom
11. Aşağıdakilerden hangisi Anadolu'da kurulmuş medeniyetlerden biri değildir?
  - A) İnkâ
  - B) Frigya
  - C) Lidya
  - D) Hitit

12. Aşağıdakilerden hangi ekosistemlerde yer alan canlı öğelerden biri değildir?

- A) Bitkiler
- B) Rüzgarlar
- C) Hayvanlar
- D) Mikroorganizmalar

13. Dünyada eğitim faaliyetleri konusunda ön plana çıkan ve bu özelliği ile bilinen şehir aşağıdakilerden hangisidir?

- A) Essen
- B) Marsilya
- C) Oxford
- D) İstanbul

14. Doğada kendiliğinden olmuş, insan akıl ve tekniğinin ürünü olmayan, meydana gelme aşamalarında insanın herhangi bir rolünün bulunmadığı bütün zenginlik kaynaklarına ne ad verilir?

- A) Nükleer enerji
- B) Doğal kaynak
- C) Yerli üretim
- D) Elektrik enerjisi

15. Cumhuriyet'in ilk yıllarında istihdam oranının en yüksek olduğu sektör aşağıdakilerden hangisidir?

- A) Sanayi
- B) Tarım
- C) Turizm
- D) Eğitim

16. Aşağıdakilerden hangisi canlıların yeryüzüne dağılışını etkileyen fiziki faktörlerden biri değildir?

- A) İnsan
- B) İklim
- C) Yer şekilleri
- D) Toprak

17. Bitki, alg ve bazı bakterilerin güneş ışınları aracılığıyla inorganik maddeleri organik besinlere dönüştürmelerine ne ad verilir?

- A) Sindirim
- B) Kemosentez
- C) Hidroliz
- D) Fotosentez

18. Büyük ve Küçük Menderes ovaları Türkiye'nin hangi bölgesindedir?

- A) Ege
- B) Akdeniz
- C) Marmara
- D) Karadeniz

19. Aşağıdaki ülkelerden en fazla nüfusa sahip olanı hangisidir?

- A) Hindistan
- B) Japonya
- C) Çin
- D) Endonezya

20. Aşağıdakilerden hangisi Türkiye ekonomisini etkileyen faktörlerden biri değildir?

- A) Coğrafi konum
- B) Tarihsel bağlar
- C) İklim özellikleri
- D) Nüfus

1. Aşağıdakilerden hangisi demokratik yönetimin ölçütlerinden biri değildir?

- A) Eğitim
- B) Eşitlik
- C) Özgürlük
- D) Adalet

2. Türkiye'de 1923-1929 yılları arasında benimsenen ekonomi politikası aşağıdakilerden hangisidir?

- A) Karma
- B) Serbest piyasa
- C) Kapitalist
- D) Sosyalist

3. Aşağıdakilerden hangisi kültürün özelliklerinden biri değildir?

- A) Toplumsal olması
- B) Tarihsel olması
- C) Görelî bir sürekliliğe sahip olması
- D) Sadece öğrenilebilir olması

4. Türk toplumunda evlenme ve boşanma ile ilgili hükümlerin belirlendiği kanun aşağıdakilerden hangisidir?

- A) Medeni Kanun
- B) Ceza Kanunu
- C) Borçlar Kanunu
- D) İç Hizmetler Kanunu

5. Ulusal para değerinin altın ve döviz karşısında devlet eliyle yükseltilmesine ne ad verilir?

- A) Enflasyon
- B) Deflasyon
- C) Devalüasyon
- D) Revalüasyon

6. Bireyin doğumdan ölüme kadar toplumun istek ve beklentilerine uyacak şekilde etkilenmesi ve değiştirilmesine ne ad verilir?

- A) Kültürlenme
- B) Kültürleme
- C) Kültürel yayılma
- D) Kültürel değişme

7. Aşağıdakilerden hangisi Kapitalist Ekonomik Sistemin temel özelliklerinden biridir?

- A) Üretim araçlarının mülkiyetinin devletin elinde olması
- B) Üretimde temel amacın halkın ihtiyacını karşılaması
- C) Hangi malların ne miktarda üretileceğinin kâra göre belirlenmesi
- D) Malların fiyatının ekonomik planlama ve maliyete göre belirlenmesi

8. Aşağıdakilerden hangisi ailenin bütün toplumlarda temel bir kurum olmasının nedenlerinden biri değildir?

- A) Evrensel bir özelliğe sahip olması
- B) Neslin devamını sürdürmek gibi bir işleve sahip olması
- C) Kültürel değişimin temel belirleyicisi olması
- D) Temel bağının sevgi olması

9. Bir kültürün dışardan devamlı ve yoğun olarak kültürel öğeleri alması ve bu öğeleri kendi içinde yoğurup biçimlendirememesi sonucu kültürel bütünlüğün bozulmasına ne ad verilir?

- A) Kültürel yozlaşma
- B) Kültürel değişim
- C) Kültürleşme
- D) Kültürel asimilasyon

10. İktidarın tek bir kişinin elinde olduğu yönetim biçimi aşağıdakilerden hangisidir?

- A) Monarşi
- B) Oligarşi
- C) Teokrasi
- D) Demokrasi

11. "Türkiye Cumhuriyetinin Dini İslam'dır" ifadesi Anayasadan hangi yılda çıkartılmıştır?

- A) 1925
- B) 1926
- C) 1928
- D) 1934

12. Bir erkeğin aynı anda birden fazla kadınla evlenmesine ne ad verilir?

- A) Poliandri
- B) Monogami
- C) Polijini
- D) Egzogami

13. I. Matrilokal  
II. Patrilokal  
III. Neolokal

Yukarıdakilerden hangileri oturulan yere göre evlilik türlerindedir?

- A) Yalnız II
- B) I ve II
- C) II ve III
- D) I, II ve III

14. Ruha tapma anlamına gelen din aşağıdakilerden hangisidir?

- A) Animizm
- B) Natürizm
- C) Fetişizm
- D) Monoteizm

15. Siyasal otoriteyi en üst düzeyde ve etkin biçimde elinde tutup kullanan güç aşağıdakilerden hangisidir?

- A) Meclis
- B) Siyasi partiler
- C) Devlet
- D) Sivil toplum kuruluşları

16. Aşağıdakilerden hangisi ailenin temel işlevlerinden biri değildir?

- A) Toplumsallaştırma
- B) Psikolojik
- C) Ekonomik
- D) Kalkınma

17. Aşağıdakilerden hangisi ekonominin temel unsurlarından biri değildir?

- A) Üretim
- B) Yönetim
- C) Tüketim
- D) Bölüşüm

18. Kültür konusunda "hars ve medeniyet" ayrımı yapan Türk sosyolog aşağıdakilerden hangisidir?

- A) Birsen Gökçe
- B) Ziya Gökalp
- C) Selman Erden
- D) Doğu Ergil

19. Aşağıdakilerden hangisi toplumsal kurumların temel özelliklerinden biri değildir?

- A) Kurumlar arasındaki değişimin zincirleme olarak gerçekleşmesi
- B) Toplumsal kurumların değerlerin, normların ömründen daha kısa devam etmesi
- C) Her toplumsal kurum, zorunlu olarak birtakım gereksinimleri gidermesi
- D) Toplumsal kurumlar, hem kendi içlerinde hem de diğer kurumlarla organik ve görelî bir bütünlüğe sahip olması

20. Manevi kültür öğeleriyle ilgili aşağıdaki ifadelerden hangisi yanlıştır?

- A) İnsanların birbirleriyle kurduğu ilişkiler sonucu yarattığı yazılı ve yazısız kurallardır.
- B) Toplumun yaşamını düzenleyen değer, yasa, gelenek, görenek ve inançlardır.
- C) Dil, sanat vb. değerler manevi kültür öğelerindedir.
- D) İnsan emeğinin toplumsal gelişme süreci içinde yarattığı araç ve gereçlerdir.

1. Kiracıya, kiralanan şeyin kullanma hakkını ve semelerini toplama hakkını veren kira türü aşağıdakilerden hangisidir?
  - A) Finansal kiralama
  - B) Hasılat kirası
  - C) Taşınır kirası
  - D) Adi kira
2. 6570 sayılı Kira Kanunu'nun boşlukları hangi kanuna göre doldurulur?
  - A) Medeni Kanun
  - B) Borçlar Kanunu
  - C) Ticaret Kanunu
  - D) İş Kanunu
3. Bir taşınır mal veya ekonomik değer taşıyan bir hak ile bir miktar paranın değiştirilmesi aşağıdakilerden hangisine konu olur?
  - A) Karz sözleşmesi
  - B) Hizmet sözleşmesi
  - C) Kira sözleşmesi
  - D) Taşınır mal satımı
4. Aşağıdakilerden hangisinde en çok karşılaşılan faiz türleri bir arada verilmiştir?
  - A) Basit-bileşik
  - B) Süreli-süresiz
  - C) Vadeli-vadesiz
  - D) Artan oranlı-azalan oranlı
5. Bilinen bir olay ve olgudan başka bir olay veya olgunun var olduğu sonucunun çıkarılması ve aksi kanıtlanmadıkça bu varsayımın doğru kabul edilmesi haline ne ad verilir?
  - A) Teselsül
  - B) Tekeffül
  - C) Gaib
  - D) Karine
6. Ticari işlere uygulanacak hukuk kurallarında izlenecek sıra içinde aşağıdakilerden hangisi bulunmamaktadır?
  - A) Diğer kanunlarda yer alan ticari işleme ilişkin hukuk kuralları
  - B) Hakimin bilgi ve tecrübesiyle edindiği ve uyguladığı kurallar
  - C) Ticari örf ve adet kuralları
  - D) Genel hukuk kuralları
7. Aşağıdakilerden hangisi servet üzerinden alınan vergilerden biri değildir?
  - A) Veraset ve intikal vergisi
  - B) Banka ve sigorta muameleleri vergisi
  - C) Motorlu taşıtlar vergisi
  - D) Taşıt alım vergisi
8. Bedeni ve zihni çalışma veya emeğin bir sermaye ile birleştirilmesiyle sağlanan değerlere ne denir?
  - A) Safi tutar
  - B) Temettü
  - C) Kazanç
  - D) İrat
9. Aşağıdaki üretim faktörüne dayanan hasıla eşleşmelerinden hangisi yanlıştır?
  - A) Emek payı-ücret
  - B) Sermaye payı-faiz
  - C) Müteşebbis payı-kâr
  - D) Memur payı-ikramiye
10. Aşağıdakilerden hangisi verginin özellikleri arasında yer almaz?
  - A) Belirli bir karşılık yoktur.
  - B) Devletin egemenlik gücüne dayanır.
  - C) Gerçek ve tüzel kişilerden alınır.
  - D) Hizmet kalitesine göre oranı belirlenir.
11. Vergi, sadece değer üzerinden yapılırsa bu hesaplama yöntemine ne ad verilir?
  - A) Spesifik
  - B) Advalorem
  - C) Katma değer
  - D) Dolaysız vergi

12. Aşağıdakilerden hangisi kamu hizmetinin niteliklerinden biri değildir?

- A) Ülkenin veya halkın tamamına veya bir bölümüne yönelik olabilir.
- B) Kamuya yönelik ve kamuya yararlı olmalıdır.
- C) Aynı hukuki durumda olanlar hizmetlerden aynı şekilde yararlanamaz.
- D) Eşitlik esasına göre yürütülür.

13. Aşağıdakilerden hangisi ücret şekillerinden biri değildir?

- A) Zamana göre ücret
- B) Akord ücret
- C) Mekana göre ücret
- D) Kârdan pay alma

14. Aşağıdakilerden hangisi, iş sözleşmesini fesih dışı nedenlerle sona erdiren sebeplerden biridir?

- A) Süreli fesih bildirim
- B) Tarafların anlaşamaması
- C) Tarafların anlaşma niyetinin olması
- D) Süresiz fesih bildirim

15. Aşağıdakilerden hangisi işçinin borçları arasında yer almaz?

- A) Sadakat borcu
- B) Rekabet etmeme borcu
- C) Ücret ödeme borcu
- D) Hizmet borcu

16. Aşağıdakilerden hangisi sigorta ettirenin borçları arasında yer almaz?

- A) Poliçe düzenleyerek verme borcu
- B) Malın muayenesine izin verme borcu
- C) Koruyucu önlemler alma borcu
- D) Prim ödeme borcu

17. Gerçekleşmesi halinde tazminatın ödeneceği, yangın, kaza, hastalık, olum, kuraklık gibi olaylar sigortacılık dilinde aşağıdakilerden hangisiyle adlandırılır?

- A) Menfaat
- B) Prim
- C) Riziko
- D) Sigorta bedeli

18. Haksız eylemi işleyen veya onu istihdam eden kişiler tazminat ödemek zorunda kaldıkları zaman uğrayacakları zararı karşılamak için yapılan sigorta hangisidir?

- A) Mali sorumluluk
- B) Mükerrer sigorta
- C) Mal sigortası
- D) Can sigortası

19. Aşağıdakilerden hangisi, bonolar için aranan şekil şartlarından biri değildir?

- A) Vade yazılmamışsa bono geçersizdir.
- B) Senedin düzenlendiği tarih yazılmazsa bono geçersizdir.
- C) Bonoyu düzenleyenin imzası bulunmazsa bono geçersizdir.
- D) Bonoda yer alan ödeme borcu kayıtsız ve koşulsuzdur.

20. Aşağıdakilerden hangisi kambiyo senedir?

- A) Poliçe
- B) Varant
- C) Emtia senedi
- D) Taşıma işleri senedi

1. Konferans ile ilgili aşağıdaki ifadelerden hangisi yanlıştır?

- A) Konferansta açıklayıcı, öğretici, kanıtlayıcı ve tartışmacı anlatım türleri kullanılır.
- B) Konferans verilmeden önce konuşmayı yapacak kişi mutlaka dinleyicilere tanıtılır.
- C) Konferanstaki amaç aynen nutukta olduğu gibi dinleyicileri coşkulandırmaktır.
- D) Genellikle bilim, sanat ve ekonomi konularında verilir.

2. Aşağıdakilerden hangisi sözlü anlatım türlerinden biri değildir?

- A) Münazara
- B) Forum
- C) Resim
- D) Sempozyum

3. Aşağıdakilerden hangisi bilimsel yazılar içerisinde yer almaz?

- A) Değerlendirme yazıları
- B) Film senaryoları
- C) Bilimsel makaleler
- D) Konferans raporları

4. Aşağıdakilerden hangisi öğretici metinlerden biri değildir?

- A) Makale
- B) Sohbet
- C) Mülakat
- D) Karikatür

5. Aşağıdakilerden hangisi açık oturum planında yer almaz?

- A) Açık oturumu sonuca bağlamak
- B) Açık oturumun konusu ile ilgili olayın ya da gelişmelerin anlatımı
- C) Konuşmacılara sorulacak sorular
- D) Deney

6. Bilimsel yazılardaki kaynakça bölümüne ne ad verilir?

- A) Bibliyografya
- B) Dipnot
- C) İndeks
- D) Sonuç

7. Aşağıdakilerden hangisi sempozyum bildirisinin bölümlerinden biri değildir?

- A) Giriş
- B) Taslak
- C) Bulgular
- D) Deney

8. Aşağıdakilerden hangisi makale ve bilimsel yazıların benzerliklerinden biri değildir?

- A) İki türde de amaç okuyucuyu bilgilendirmektir.
- B) İki türde de sanatsal yaklaşım ön plandadır.
- C) Her iki tür de kurallı cümlelerle kurulurlar.
- D) Her iki türde de anlatılanların kanıtlanması gerekir.

9. “Çocuk gelişiminde aile mi önemlidir, çevre mi?” sorusunu tartışan iki gurubun kendi görüşlerini açıklamak, kanıtlamak karşı tarafın zayıf noktalarını aramak için yaptıkları söyleşmeye ne ad verilir?

- A) Mülakat
- B) Münazara
- C) Forum
- D) Makale

10. Aşağıdakilerden hangisi makalede söylenenlerin bir yargıya bağlandığı bölümdür?

- A) Sonuç
- B) Dipnot
- C) Malzeme
- D) Yöntemler

11. Açık oturumda izleyicilerin sorularının alınması ve cevaplanması söz konusu olduğunda açık oturum aşağıdakilerden hangisine dönüşür?

- A) Forum
- B) Sempozyum
- C) Mülakat
- D) Röportaj

12. Bilimsel yazı hazırlanırken başkasının görüşlerini alıp, gönderme yapılarak nereden alıntıldığı belirtilmediği takdirde ortaya çıkan bilimsel hırsızlığa ne ad verilir?

- A) Göndergesel işlev
- B) İntihal
- C) Alıntı
- D) Dipnot

13. İlk gazetenin nerede çıkmaya başladığı ileri sürülmektedir?

- A) Fenike
- B) Mezopotamya
- C) Amerika
- D) Mısır

14. Açık oturumlarda konuşmacı sayısının kaç kişiyi geçmemesi tercih edilir?

- A) Altı
- B) Sekiz
- C) On
- D) On iki

15. "Sayın jüri üyeleri, değerli arkadaşlarım, Tezimin doğru olduğunu savunmaya sanat ile sanatkar kelimelerini açıklayarak başlayacağım"

Yukarıda bir parçası alıntılanan konuşmanın gerçekleştirildiği ortam aşağıdakilerden hangisidir?

- A) Münazara
- B) Sempozyum
- C) Forum
- D) Panel

16. Aşağıdakilerden hangisi bilimsel yazıların okuyucu kitlesine ulaşması bakımından önemli olan ögesidir?

- A) Dipnot
- B) Tartışma
- C) Sonuç
- D) Başlık

17. Türk edebiyatında makalenin gelişimine bakıldığında 1860'da ilk makale kim tarafından yazılmıştır?

- A) Nefi
- B) Hüseyin Cahit
- C) Şinasi
- D) Namık Kemal

18. Belli bir konuyu aydınlatmak amacıyla, bilim adamı ve araştırmacıların bir araya geldikleri ve konuşmacıların konunun belirli bölümlerini sundukları tartışmalı toplantılara ne ad verilir?

- A) Mülakat
- B) Forum
- C) Sempozyum
- D) Açık oturum

19. En belirgin özelliği sosyal bir sorunun geniş kitleler önünde bütün ayrıntılarıyla tartışılması ve dinleyicilerin de bu tartışmanın içinde aktif olarak yer alması olan toplantılara ne ad verilir?

- A) Sempozyum
- B) Münazara
- C) Forum
- D) Söyleşi

20. Yazar, düşünür ve sanatçıların veya kendi alanında uzman kişilerin bir konuyu açıklamak, tanıtmak, bilgi vermek, öğretmek amacıyla yaptıkları konuşmalara ne ad verilir?

- A) Söyleşi
- B) Röportaj
- C) Münazara
- D) Konferans



1. Aşağıdakilerden hangisi durum öyküsünün Türk edebiyatındaki temsilcilerinden biridir?

- A) Sait Faik Abasıyanık
- B) Ömer Seyfettin
- C) Ziya Gökalp
- D) Eflatun Cem Güney

2. Aşağıdakilerden hangisi ahlaki ve didaktik içerikli mesnevilerden biridir?

- A) Hüsn ü Aşk
- B) Şehrengiz-i Bursa
- C) Harname
- D) Yusuf u Züleyha

3. Aşağıdakilerden hangisi yapma destanıdır?

- A) Kurtarılmış Kudüs
- B) Ergenekon
- C) Şehname
- D) İlyada ve Odysseia

4. Tiyatro aşağıdaki dönemlerin hangisinde doğmuştur?

- A) Osmanlı
- B) Bizans
- C) Roma
- D) Eski Yunan

5. Aşağıdakilerden hangisi olmuş ya da olma olasılığı bulunan olayların bir büyük olayla örülerek ayrıntılı şekilde yer ve zaman gösterilerek anlatıldığı uzun yazılara verilen addır?

- A) Makale
- B) Roman
- C) Deneme
- D) Tiyatro

6. Aşağıdakilerden hangisi "kahraman anlatıcının bakış açısı" ile yazılmıştır?

- A) Balıkçı kahvesinin önündeki yarı kırmızı, yarı beyaz çiçek açmış akasyanın dalına asılmış bir dülger balığı gördüm.
- B) Cephe yarılınca o kargaşa içinde taburlarından ayrı düşmüş, ormanda kaybolmuş, ordunun gerisinde kalmışlardı.
- C) Yüzbaşı, silahlarının şerefni sonuna kadar korumaya kararlı sahici askerler olduğunu görünce içten içe sevindi.
- D) Davet günü, Keloğlan'ın başına gelen, pişmiş tavuğun başına gelmemiş.

7. Aşağıdakilerden hangisi Hun destanıdır?

- A) Göç
- B) Oğuz Kağan
- C) Türeyiş
- D) Alp Er Tunga

8. Konusunun, müzik eşliğinde hareketlerle anlatıldığı tiyatro türü aşağıdakilerden hangisidir?

- A) Opera
- B) Operet
- C) Bale
- D) Müzikal

9. Aşağıdakilerden hangisi Karagöz oyununun bölümlerinden biridir?

- A) Fasil
- B) Çözüm
- C) Gelişme
- D) Sunum

10. Tiyatro oyunundaki erkek oyuncuya ne ad verilir?

- A) Suför
- B) Figüran
- C) Aktör
- D) Rejisör

11. Abartılı olaylarla süslenmiş olan masalın anlatımındaki iç uyaklara ne ad verilir?

- A) Redif
- B) Seci
- C) Beyit
- D) Aruz

12. Aşağıdaki eser-yazar eşleştirmelerinden hangisi yanlıştır?

- A) Yaprak Dökümü - Reşat Nuri Güntekin
- B) Şu Çılgın Türkler - Turgut Özakman
- C) Dülger Balığının Ölümü - Sait Faik Abasıyanık
- D) Yüksek Ökçeler - Cahit Sıtkı Tarancı

13. Aşağıdakilerden hangisi öykünün öğelerinden biri değildir?

- A) Zaman
- B) Yorum
- C) Olay
- D) Yer

14. Aşağıdakilerden hangisi göstermeye bağlı edebî türlerden biridir?

- A) Roman
- B) Hikâye
- C) Tiyatro
- D) Masal

15. Tiyatroda oyuncuların metne bağlı kalmadan zekâ ve kavrayışlarına göre başarı sağladıkları konuşma ve davranışlara ne ad verilir?

- A) Rol
- B) Tuluat
- C) Mimik
- D) Adaptasyon

16. Timur'un türbesi gökçe yapıttır, ta uzaklarda insanın gözünü alıyor ve hayranlık uyandırıyor. Burada yalnız Timur değil, Uluğ Bey ve başka torunları da yatıyor Timur'un.

Yukarıdaki parça aşağıdaki edebî türlerden hangisine örnektir?

- A) Deneme
- B) Sohbet
- C) Fıkra
- D) Gezi yazısı

17. Aşağıdakilerden hangisi yazdığı denemeleriyle tanınan yazarlardan biri değildir?

- A) Nurullah Ataç
- B) Cevdet Kudret
- C) Sait Faik Abasıyanık
- D) Suut Kemal Yetkin

18. Aşağıdakilerden hangisi kişisel hayatı konu alan bir edebî türdür?

- A) Makale
- B) Eleştiri
- C) Masal
- D) Anı

19. Aşağıdakilerden hangisi bir yazarın herhangi bir konu üzerine görüş ve düşüncelerini kanıtlama gereği duymadan, kesin yargılara varmadan anlattığı yazı türüdür?

- A) Deneme
- B) Roman
- C) Makale
- D) Masal

20. Aşağıdakilerden hangisi gazete ve dergi çevresinde gelişen edebî metinlerden biri değildir?

- A) Deneme
- B) Eleştiri
- C) Fıkra
- D) Hikâye

1. Yunus Emre'nin didaktik mesnevisi aşağıdakilerden hangisidir?

- A) Atabetü'l-Hakâyık
- B) Risaletü'n-Nushiyye
- C) Hayriyye
- D) Behcetü'l-Hadâyık

2. İslamiyet'in kabulünden sonra, Türklerin sosyal, siyasî ve kültürel yaşamlarındaki değişimlerle ilgili aşağıdaki ifadelerden hangisi **yanlıştır**?

- A) Bilim dili olarak Arapça, edebiyat dili olarak Farsça kullanılmaya başlanmıştır.
- B) Ümmet olma yerine ulus olma bilincine erişilmiştir.
- C) Türk dili ayrı coğrafi bölgelerde Doğu Türkçesi ve Batı Türkçesi adıyla ikiye ayrılmıştır.
- D) Göçebe yaşamdan yerleşik düzene geçilmiştir.

3. Anonim halk şiiri örneği olup genellikle dört dizeden oluşan, 7'li hece ölçüsüyle söylenen, aaba şeklinde uyaklanan nazım şekline ne ad verilir?

- A) Türkü
- B) Koşma
- C) Semaî
- D) Mânî

4. Bütün beyitleri aynı güzellikte, aynı değerde olan gazellere ne ad verilir?

- A) Yek-âvaz gazel
- B) Yek-ahenk gazel
- C) Musammat gazel
- D) Düz gazel

5. Birçok eserinde çağının sosyal gelişmeleri üzerinde durmuş, gazel nazım şekliyle yazdığı şiirlerde aşk ve güzellik konusunu işlemiştir. İskendernâme, Cemşid-ü Hurşid mesnevileri ile Divân'ı bulunan XIV. yüzyıl klâsik edebiyat şairi kimdir?

- A) Nefî
- B) Nâbî
- C) Ahmedî
- D) Necati

6. Aşağıdakilerden hangisi Eski Türk Edebiyatında romanın yerini tutan uzun kahramanlık hikâyelerinden biri **değildir**?

- A) Saltuknâme
- B) Sefaretnâme
- C) Müslimnâme
- D) Battalnâme

7. Suya gider al yazması başında İsmi kadın kendi on beş yaşında Dünyayı terk etti pek genç yaşında Dayanmalı Hakk'ın emri böyledir.

Yukarıdaki dördlük aşağıdakilerden hangisine örnektir?

- A) Ağıt
- B) Güzelleme
- C) Taşlama
- D) Koçaklama

8. Allah'a yakarışı işleyen, bağışlanmayı dileyen şiirlere ne ad verilir?

- A) Naat
- B) Tevhit
- C) Münacaat
- D) Kaside

9. Kültürel tarihimizi aydınlatacak düşüncelerin, toplumun değer yargılarının ele alınıp işlendiği, Yusuf Has Hacıp tarafından yazılan "Siyasetnâme" türünün **ilk örneği** sayılan eser aşağıdakilerden hangisidir?

- A) Atabetü'l-Hakâyık
- B) Kutadgu Bilig
- C) Divân-ı Hikmet
- D) Mantıku't-Tayr

10. Kırgızların geleneklerini, aile hayatlarını, dünya ve hayat görüşlerini anlatan destan, aşağıdakilerden hangisidir?

- A) Türeyiş Destanı
- B) Bozkurt Destanı
- C) Yaradılış Destanı
- D) Manas Destanı

11. XIII. yüzyılda, Anadolu'nun fethedilerek İslamlaştırıldığı dönemde yapılan kahramanlıkların anlatıldığı destan aşağıdakilerden hangisidir?

- A) Seyyid Battal Gazi
- B) Ergenekon
- C) Alp Er Tunga
- D) Bozkurt

12. Aşağıdaki yazar-eser eşleştirmelerinden hangisi yanlıştır?

- A) Süleyman Çelebi – Mevlid
- B) Şeyh Galip – Hüsn ü Aşk
- C) Âşık Paşa – Harnâme
- D) Nâbî – Hayrabad

13. Şairin bir kimsenin ölümünden duyduğu üzüntüyü anlattığı kasideye ne ad verilir?

- A) Mersiye
- B) Tevhit
- C) Hicviye
- D) Münacaat

14. Bed-asla necabet mi verir hiç üniforma  
Zer-düz palan ursan eşek yine eşektir.

Ziya Paşa'nın bu beyitinde vurgulanmak istenen aşağıdakilerden hangisidir?

- A) Üniforma insana soyluluk verir.
- B) Eşeğin değeri üstüne vurulan eyer kadardır.
- C) Asalet insanın özündedir.
- D) Aslı kötü olanlar üniforma giyemez.

15. Aşağıdakilerden hangisi Eski Türk Edebiyatında romanın yerini tutan uzun kahramanlık hikâyelerinden biridir?

- A) Vakaynâme
- B) Seyahatnâme
- C) Şikayetnâme
- D) Battalnâme

16. Divan-ı Hikmet'in yazarı aşağıdakilerden hangisidir?

- A) Kaşgarlı Mahmut
- B) Yunus Emre
- C) Ahmet Yesevi
- D) Yusuf Has Hacib

17. Beş mesnevinin bir araya getirilmesi ile meydana gelen eserlere ne ad verilir?

- A) Tezkire
- B) Hamse
- C) Münşeât
- D) Musammat

18. Dört mısralık Divan Edebiyatı nazım şekli aşağıdakilerden hangisidir?

- A) Gazel
- B) Mesnevi
- C) Kaside
- D) Rubai

19. Âşık Paşa'nın didaktik mesnevisi aşağıdakilerden hangisidir?

- A) Hayriyye
- B) Lütfiyye
- C) Hüsn ü Aşk
- D) Garibnâme

20. İlk dizesi yedi heceden az olan mânilere ne ad verilir?

- A) Kesik mâni
- B) Düz mâni
- C) Eksik mâni
- D) Ayaklı mâni

1. **Abes-muktebes tartışmasında yeniyi savunan, kafiye için göz değil kulak için olduğunu söyleyen şair kimdir?**

- A) Namık Kemal
- B) Muallim Naci
- C) Rezaizade Mahmut Ekrem
- D) İbrahim Şinasi

2. **"Kırk Yıl" adlı hatıra kitabı kime aittir?**

- A) Hüseyin Suat
- B) Ali Ekrem Bolayır
- C) Mehmet Rauf
- D) Halit Ziya Uşaklıgil

3. **Musavver Malumat adlı dergide yayımlanan şiiri ile edebiyatımızda abes-muktebes tartışmasının çıkmasına neden olan şair kimdir?**

- A) Hasan Âsaf
- B) Tevfik Fikret
- C) Cenap Şahabettin
- D) Hüseyin Suat

4. **Aşağıdakilerden hangisi realist yazarlardan biri değildir?**

- A) Honore de Balzac
- B) Guy de Maupassant
- C) Victor Hugo
- D) Stendhal

5. 19. yüzyılın ikinci yarısından sonra parnasizme tepki olarak doğdu. Önce Fransa'da başlayan bu hareket, kısa sürede bütün Avrupa'ya yayıldı. Bu sanat anlayışında doğa değil, onun insan ruhunda bıraktığı izlenimler anlatılır. Sözler anlamları ile değil, yaratacakları ahenkle, müzikle önemlidir.

**Verilen bu bilgiler aşağıdaki akımlardan hangisine aittir?**

- A) Realizm
- B) Sembolizm
- C) Romantizm
- D) Naturalizm

6. **"Siyah İnciler" adlı mensur şiir kitabı, aşağıdaki yazarlardan hangisine aittir?**

- A) Halit Ziya Uşaklıgil
- B) Ahmet Samim
- C) Tahsin Nahit
- D) Mehmet Rauf

7. **"Muakkib" kelimesinin Türkçe karşılığı aşağıdakilerden hangisidir?**

- A) Seçkin
- B) Takip eden, izleyen
- C) Öge, unsur
- D) Dizi, sıra

8. **"Kösem Sultan", "Hicranlar" ve "Fırar" adlı tiyatro eserleri aşağıdaki yazarlardan hangisine aittir?**

- A) Mehmet Rauf
- B) Namık Kemal
- C) Halit Ziya Uşaklıgil
- D) Tahsin Nahit

9. **Aşağıdakilerden hangisi Fecr-i Âtî topluluğunun amaçlarından biri değildir?**

- A) Dilin, edebiyatın ve diğer bilimlerin ilerlemesine katkı sağlamak
- B) "Sanat toplum içindir." İlkesinden hareket etmek
- C) Genç sanatçıları bir araya getirmek, birlik ve dayanışma içerisinde toplumu aydınlatmak
- D) Batıdaki sanat kurumları ile ilişki kurmak

10. **"Türk Edebiyatında İlk Mutasavvıflar" adlı eser aşağıdaki yazarlardan hangisine aittir?**

- A) Tevfik Fikret
- B) Ziya Gökalp
- C) Reşat Nuri Güntekin
- D) Fuat Köprülü

11. **Servet-i Fünûn dergisinin kapatılmasına neden olan "Edebiyat ve Hukuk" adlı çeviri kime aittir?**

- A) Hüseyin Suat
- B) Ali Ekrem Bolayır
- C) Hüseyin Cahit Yalçın
- D) Süleyman Nazif

12. Aşağıdakilerden hangisi Servet-i Fünûn Edebiyatının genel özellikleri arasında yer almaz?

- A) Göze göre kafiye anlayışı benimsenmiştir.
- B) Kulağa göre kafiye anlayışı benimsenmiştir.
- C) Aydınlara seslenildiği için ağır bir dil kullanılmıştır.
- D) Aruz ölçüsü kullanılmıştır.

13. Aşağıdakilerden hangisi, Faruk Nafiz Çamlıbel'in eserlerinden biri değildir?

- A) Han Duvarları
- B) Dinle Neyden
- C) Kızıl Elma
- D) Yıldız Yağmuru

14. Aşağıdakilerden hangisi, Halide Edip Adıvar'ın eserlerinden biri değildir?

- A) Türkün Ateşle İmtihanı
- B) Yaban
- C) Ateşten Gömlek
- D) Kalp Ağrısı

15. 1911 yılında Selânik'te çıkardıkları ..... dergisi çevresinde toplanan Ömer Seyfettin, Ali Canip Yöntem ve Ziya Gökalp Milli Edebiyatın kurucuları sayıldılar.

**Yukarıda boş bırakılan yere, aşağıdakilerden hangisi getirilmelidir?**

- A) Türk Yurdu
- B) Malûmat
- C) Genç Kalemler
- D) Hizmet

16. Türk Edebiyatında nazmı nesre yaklaştırmada başarıya ulaşan yazarlar aşağıdakilerden hangisidir?

- A) Mehmet Âkif Ersoy – Tefik Fikret
- B) Ahmet Haşim – Yahya Kemal
- C) Halit Ziya – Mehmet Rauf
- D) Ömer Seyfettin – Ali Canip Yöntem

17. “Avrupa Mektupları” adlı gezi yazısı aşağıdaki yazarlardan hangisine aittir?

- A) Tefik Fikret
- B) Cenap Şehabettin
- C) Ahmet Haşim
- D) Ahmet Rasim

18. İlk şiiri 1885'te daha öğrencilik yıllarında Saadet gazetesinde yayımlandı. Önceleri Muallim Naci'nin etkisinde kaldı. Daha sonra Rezaizade Mahmut Ekrem ve Abdülhak Hamit Tarhan'dan etkilenerek Batı tarzı şiire yöneldi. Servet-i Fünun dergisinde şiirleri yayımlandı. Tefik Fikret ve Halit Ziya Uşaklıgil'le birlikte Servet-i Fünun edebiyatının üç önemli isminden biri oldu.

**Yukarıda hakkında bilgi verilen edebiyatçı aşağıdakilerden hangisidir?**

- A) Cenap Şehabettin
- B) Mehmet Rauf
- C) Süleyman Nazif
- D) Hüseyin Cahit Yalçın

19. Kırmızı Fesler, Ruh-ı Kemal, Ordunun Defteri, Baria adlı eserler aşağıdakilerden hangisine aittir?

- A) Hüseyin Cahit Yalçın
- B) Hüseyin Suat
- C) Cenap Şehabettin
- D) Ali Ekrem Bolayır

20. Mensur şiirin ilk ortaya çıktığı ülke aşağıdakilerden hangisidir?

- A) Fransa
- B) İngiltere
- C) Almanya
- D) Rusya

1.  $(\text{kg}/\text{ms}^2)$  birimine ne ad verilir?

- A) Newton
- B) Pascal
- C) Tesla
- D) Amper

2.  $2 \text{ m}^2$  lik yüzeye  $40 \text{ N}$ 'luk bir kuvvet dik olarak uygulanıyor. Buna göre, bu yüzeydeki basınç kaç pascal (Pa) dır?

- A) 20
- B) 30
- C) 40
- D) 50

3. Yay sabiti  $150 \text{ N/m}$  olan bir yay  $0,5 \text{ m}$  sıkıştırılıyor. Buna göre, bu yayda biriken potansiyel enerji kaç joule (J) dur?

- A) 12,50
- B) 16,25
- C) 18,75
- D) 20,25

4. I. İletim  
II. Konveksiyon(Taşınım)  
III. Işıma

Isı enerjisi yukarıdakilerden hangileriyle yayılır?

- A) Yalnız I
- B) Yalnız II
- C) I ve II
- D) I, II ve III

5. I. Momentumdaki değişme itmeye eşittir.  
II. Esnek çarpışmalarda momentum korunmaz.  
III. Momentum cismin kütlesi ile orantılıdır.

Momentumla ilgili yukarıdaki ifadelerden hangileri doğrudur?

- A) Yalnız I
- B) Yalnız II
- C) I ve III
- D) II ve III

6. Kütlesi  $2 \text{ kg}$  olan bir cismin hızı  $6 \text{ m/s}$  den  $8 \text{ m/s}$  ye çıkaran kuvvetin yaptığı iş kaç joule (J) dur?

- A) 28
- B) 36
- C) 48
- D) 52

7. Manyetik alanda bulunan metal bir çerçeve yüzeyine isabet eden akı  $0,9 \text{ s}$ 'de  $135 \text{ Wb}$  artıyor. Buna göre, bu çerçevede oluşan indüksiyon emk kaç volt(V) dur?

- A) 75
- B) 100
- C) 125
- D) 150

8. Bir cisim bir kap içinde bulunan su içinde  $1/3$ 'ü batmış olarak yüzmektedir. Buna göre, bu cismin yoğunluğu kaç  $\text{g}/\text{cm}^3$ 'dür? (Suyun yoğunluğu  $d_s = 1\text{g}/\text{cm}^3$ )

- A)  $1/4$
- B)  $1/3$
- C)  $2/3$
- D)  $3/4$

9. Kelvin termometresi ile  $313 \text{ K}$  olan bir sıcaklık kaç Fahrenheit'tır ( $^{\circ}\text{F}$ )?

- A) 104
- B) 108
- C) 112
- D) 116

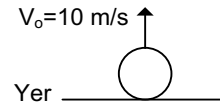
10. Alanı  $2\text{m}^2$  olan bir bakır levhanın sıcaklığı  $70^{\circ}\text{C}$  artırılırsa yüzeyce genişleme miktarı kaç  $\text{m}^2$  olur? ( $\alpha_{\text{bakır}} = 17 \cdot 10^{-6} \text{ } 1/^{\circ}\text{C}$ )

- A)  $2,66 \cdot 10^{-3}$
- B)  $3,26 \cdot 10^{-3}$
- C)  $4,76 \cdot 10^{-3}$
- D)  $5,76 \cdot 10^{-3}$

11. Kütlesi  $2.000 \text{ kg}$  ve hızı  $10 \text{ m/s}$  olan bir otomobilin momentumu kaç  $\text{kg}\cdot\text{m/s}$  dir?

- A)  $2 \cdot 10^3$
- B)  $2 \cdot 10^4$
- C)  $2 \cdot 10^5$
- D)  $2 \cdot 10^6$

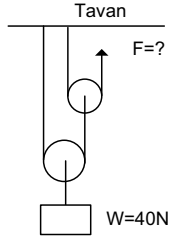
12.



Yukarıdaki şekilde kütlesi  $1 \text{ kg}$  olan bir cisim  $V_0 = 10 \text{ m/s}$  hızla yerden yukarı doğru düşey olarak fırlatılıyor. Hızın  $6 \text{ m/s}$  olduğu anda cisim yerden kaç metre (m) yüksekliktedir? ( $g = 10\text{m/s}^2$ )

- A) 1,6
- B) 2,0
- C) 2,5
- D) 3,2

13.



Yukarıdaki sistemde sürtünme ve makara ağırlıkları ihmal edilerek 40 N'luk yükü dengelemek için F kuvveti kaç newton (N) olmalıdır?

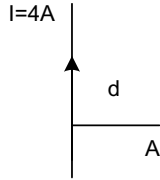
- A) 10  
B) 20  
C) 25  
D) 30

14. I. Manyetik akı değişikliğinden yararlanılarak oluşturulan akıma indüksiyon akımı denir.  
II. Manyetik alan yalnızca mıknatıslarla elde edilir.  
III. Faraday Yasası "Değişken manyetik alanlar elektrik alanına neden olur" şeklinde ifade edilir.

Manyetik alanla ilgili yukarıdaki ifadelerden hangileri doğrudur?

- A) Yalnız I  
B) Yalnız III  
C) I ve II  
D) I ve III

15.



Yukarıdaki şekilde iletken telden 4 A şiddetinde akım geçmektedir. Buna göre, iletken telden  $d=0,02$  m uzaklıktaki A noktasındaki manyetik alan şiddeti kaç Tesla (T) dir? ( $K=10^{-7}$  Tm/A)

- A)  $1 \cdot 10^{-5}$   
B)  $2 \cdot 10^{-5}$   
C)  $4 \cdot 10^{-5}$   
D)  $5 \cdot 10^{-5}$

16. Kütlesi 1 kg ve yarıçapı 0,2 m olan bir silindir sabit bir eksen etrafında 4 rad/s hızla dönmektedir.

Buna göre, bu silindirin dönme kinetik enerjisi kaç joule(J) dur? ( $I_{\text{silindir}} = \frac{1}{2} m r^2$ )

- A) 0,16  
B) 0,20  
C) 0,24  
D) 0,32

17. "Kapalı bir kap içinde bulunan sıvının herhangi bir noktasına uygulanan basınç sıvının değdiği her yüzeye dik olarak iletilir" ilkesine ne ad verilir?

- A) Archimedes  
B) Pascal  
C) Bernoulli  
D) Enerjinin Korunumu

18. Birim yüzeye etki eden kuvvete ne ad verilir?

- A) Momentum  
B) Yoğunluk  
C) Basınç  
D) Yerçekimi İvmesi

19. "Bir sıvı içerisinde kısmen veya tamamen batırılan bir cismin yer değiştirdiği sıvının ağırlığına eşit bir kuvvet ile aşağıdan yukarı doğru itilir" ilkesine ne ad verilir?

- A) Pascal  
B) Archimedes  
C) Momentumun Korunumu  
D) Bernoulli

20. Sürücüsü birlikte kütlesi 450 kg olan bir motosiklet 180 m/s büyüklüğündeki hızla yarıçapı 100 m olan bir viraja girmektedir. Buna göre, motosikletin açılal momentumunun büyüklüğü kaç  $\text{kg m}^2/\text{s}$  dir?

- A)  $32 \cdot 10^5$   
B)  $45 \cdot 10^5$   
C)  $54 \cdot 10^5$   
D)  $81 \cdot 10^5$



1. Kütlesi  $4 M_{\odot}$  olan bir yıldızın son evresi aşağıdakilerden hangisidir?
- A) Siyah cüce  
B) Beyaz cüce  
C) Kara delik  
D) Nötron yıldızları
2. Atom numarası 1 olan bir atomun 1. yörüngesindeki elektron yarıçapı kaç  $A^{\circ}$  dur?
- A) 0,11  
B) 0,26  
C) 0,36  
D) 0,53
3. "Bir atomda iki elektronun aynı anda aynı enerji seviyesinde bulunamazlar" şeklinde ifade edilen ilke hangi bilim adamı tarafından ileri sürülmüştür?
- A) Pauli  
B) Heisenberg  
C) Bohr  
D) Thomson
4. Işığı, dalga özelliğini de içine alacak şekilde elektromanyetik dalga parçacığı olarak tanımlayan ve buna foton adını veren bilim adamı aşağıdakilerden hangisidir?
- A) Bohr  
B) Pauli  
C) Einstein  
D) Compton
5. I. Çok ince demet haline getirilebilir.  
II. Atmosfer olaylarından etkilenmez.  
III. Çok küçük noktalara odaklanabilir.
- Yukarıdakilerden hangisi lazer ışığının özelliklerinden biri değildir?
- A) Yalnız I  
B) Yalnız II  
C) I ve III  
D) I, II ve III
6. Frekansı  $\nu = 6.10^{14} \text{ s}^{-1}$  olan fotonun enerjisi kaç joule (J) dur? ( $h = 6,62.10^{-34} \text{ J.s}$ )
- A)  $0,9.10^{-19}$   
B)  $1,9.10^{-19}$   
C)  $3,0.10^{-19}$   
D)  $3,9.10^{-19}$
7. Paralaksı 0,4 açı saniye olan bir yıldızın Güneşe olan uzaklığı kaç parsektir?
- A) 1,5  
B) 2  
C) 2,5  
D) 3
8. A, B, C ve D kürelerinin yarıçapları sırasıyla r, 4r, 6r ve 8r olup merkezlerine konulan ışık kaynaklarının şiddetleri 5I, 4I, 3I ve 2I'dir.
- Buna göre, bu kürelerden hangisinin iç yüzeyindeki ışık akısı en büyüktür?
- A) A  
B) B  
C) C  
D) D
9. Ses kaynağının ya da gözlemcinin hareket ediyor olması nedeniyle kaynaktan çıkan sesin frekansının farklı algılanmasına ne ad verilir?
- A) Girişim  
B) Doppler Olayı  
C) Kırınım  
D) Yansıma
10. Büyük kütleli yıldızların yapısında füzyon reaksiyonları sonucunda aşağıdaki maddelerden hangisinin oluşumuyla füzyon reaksiyonu son bulur?
- A) Demir  
B) Karbon  
C) Kurşun  
D) Uranyum
11. Ses şiddetini ölçmede kullanılan birim aşağıdakilerden hangisidir?
- A) Lümen (lm)  
B) Desibel (dB)  
C) Elektron volt (eV)  
D) Candela (cd)
12. I. Işık ışınları doğrusal olarak yayılır.  
II. Işık ışınları ortam değiştirdiğinde kırılır.  
III. Şimşek sesinin bazen duyulmamasının nedeni ışığın kırınım özelliğidir.
- Işıkla ilgili yukarıdaki ifadelerden hangileri doğrudur?
- A) Yalnız I  
B) I ve II  
C) I ve III  
D) I, II ve III

13. Durmakta olan elektrona çarpan foton çarpışmadan sonra yatayla bir açı yapacak şekilde saçılıyor.

Buna göre, bu saçılma olayında hangi nicelik kesinlikle değişmez?

- A) Kütle
- B) Peryot
- C) Hız
- D) Momentum

14. Baş kuantum sayısı  $n=3$  olan bir atomda orbital sayısı kaçtır?

- A) 4
- B) 5
- C) 9
- D) 14

15. Yüzey sıcaklığı 5.800 K olan bir yıldızın en yoğun ışınımını gerçekleştirdiği dalga boyu kaç nm dir? (Wien sabiti= $2,9.10^6$  nm.K)

- A) 410
- B) 500
- C) 580
- D) 615

16. Işık şiddeti birimi aşağıdakilerden hangisidir?

- A) Candela (cd)
- B) Lümen (lm)
- C) Desibel (dB)
- D) Hertz (Hz)

17. I. Uyarılan atomun elektronu çıktığı yörüngede herhangi bir dış etki olmazsa devamlı orada kalır.

II. Atomun yapısını incelemek için geliştirilen mekaniğe kuantum mekaniği denir.

III. Lazer ışığı aynı faz ve frekansta ışından oluşur.

Atomla ilgili yukarıdaki ifadelerden hangileri doğrudur?

- A) Yalnız I
- B) Yalnız II
- C) II ve III
- D) I, II ve III

18. I. Duyduğu sesin frekansı artmıştır.

II. Duyduğu sesin hızı artmıştır.

III. Duyduğu sesin dalga boyu artmıştır.

Duran ve sabit frekanslı korna çalan bir otomobile doğru koşan bir çocuğun duyduğu sesle ilgili yukarıdaki ifadelerden hangileri doğrudur?

- A) Yalnız I
- B) I ve II
- C) I ve III
- D) II ve III

19. I. Eliptik biçimdeki gökada

II. Sarmal biçimdeki gökada

III. Düzensiz gökada

Yukarıdakilerden hangileri (gökada) galaksi çeşitlerindedir?

- A) Yalnız I
- B) Yalnız II
- C) II ve III
- D) I, II ve III

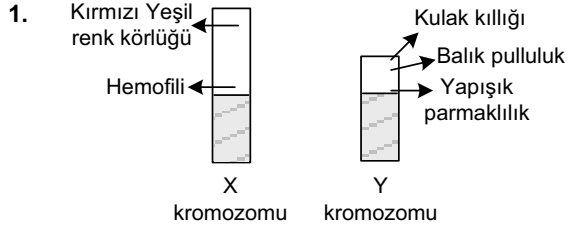
20. I. Hubble yasası ile bir gök adanın bize olan uzaklığı hesaplanabilir.

II. Doppler etkisini kullanarak yıldızların uzaklaşma hızı bulunabilir.

III. Gök adaların uzaklıkları Compton yasası göz önüne alınarak hesaplanır.

Gök adaların uzaklıklarının hesaplanmasıyla ilgili yukarıdaki ifadelerden hangileri doğrudur?

- A) Yalnız I
- B) Yalnız II
- C) I ve II
- D) I ve III



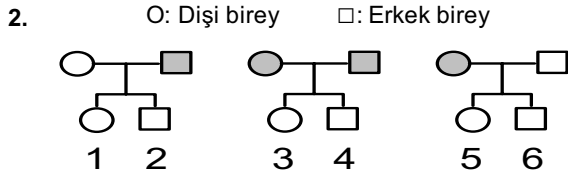
Yukarıdaki şekilde, X ve Y kromozomuyla taşınan bazı kalıtsal özellikler gösterilmiştir.

X ve Y kromozomlarında bulunan

- I. Yapışık parmaklılık
- II. Hemofili hastalığı
- III. Kulak kıllığı
- IV. Kırmızı-yeşil renk körlüğü

Yukarıda verilen özelliklerden hangileri sadece erkeklerde görülür?

- A) I ve II
- B) I ve III
- C) II ve IV
- D) III ve IV



Yukarıdaki soy ağaçlarında renk körü olan anne-babalar koyu renkle gösterilmiştir.

Yukarıdaki bilgilere göre, bu anne ve babalardan doğan çocukların hangileri kesinlikle renk köründür? (Renk körlüğü geni, X kromozomu üzerinde taşınan çekinik bir genidir.)

- A) 2 ve 5
- B) 3 ve 4
- C) 3, 4 ve 6
- D) 1, 3, 4 ve 6

3. Çevre şartlarının etkisiyle canlılarda meydana gelen kalıtsal olmayan değişimlere modifikasyon denir.

Aşağıdakilerden hangisi modifikasyona verilebilecek örneklerden biri değildir?

- A) Bukalemunun ortama göre renk değiştirmesi
- B) İnsan teninin güneşte bronzlaşması
- C) Sirke sineğinin yüksek sıcaklıkta kıvrık, düşük sıcaklıkta düz kanatlı olması
- D) Tek yumurta ikizlerinin farklı ortamlarda farklı fenotipe sahip olması

4. İki kardeşten biri 0Rh(-), diğeri ise AB Rh(+) kan grubuna sahiptir.

Yukarıdaki verilere göre, anne ve babanın kan grupları bakımından genotipleri aşağıdakilerden hangisidir?

- A) 00Rr × ABRr
- B) A0Rr × B0Rr
- C) AArr × BBrr
- D) A0RR × B0rr

5. I. SS × ss  
II. Ss × ss  
III. SS × SS  
IV. Ss × Ss

Yukarıdaki çaprazlamalardan hangileri geri çaprazlamaya örnektir?

- A) I ve II
- B) I ve III
- C) II ve III
- D) III ve IV

6. 45 otozom+XX kromozomlu, tıknaz vücutlu, geniş elli ve kısa parmaklı bir insanla ilgili aşağıdaki ifadelerden hangisi doğrudur?

- A) Mongoloid bir dişidir.
- B) Süper dişidir.
- C) Turner belirtisi gösterir.
- D) Klinefelter belirtisi gösterir.

7. Heterozigot kahverengi gözlü anne ve babanın mavi gözlü çocuklarının olma olasılığı kaçtır? (Kahverengi göz rengi, mavi göz rengine baskındır.)

- A)  $\frac{1}{2}$
- B)  $\frac{1}{4}$
- C)  $\frac{1}{8}$
- D)  $\frac{1}{16}$

8. Aşağıdaki çiftlerden hangisinin çocuklarının hemofili olma olasılığı sıfırdır?

- | Anne         | Baba    |
|--------------|---------|
| A) $X^H X^H$ | $X^H Y$ |
| B) $X^H X^H$ | $X^H Y$ |
| C) $X^H X^h$ | $X^H Y$ |
| D) $X^H X^h$ | $X^h Y$ |

9. Aşağıdakilerden hangisi Gregor Mendel'in kalıtımla ilgili yaptığı deneylerde bezelye bitkisini kullanma nedenlerinden biri değildir?

- A) Bezelyeler çok kolay yetiştirilen ve kısa sürede döl veren bitkilerdir.
- B) Kendi kendine tozlaşan ve eşeyli üreyen bitkilerdir.
- C) Bezelyeler, yılda sadece bir kez döl verirler.
- D) Bezelyelerde, kolaylıkla ayırt edebilen çok sayıda zıt karakter bulunur.

10. Aşağıdakilerden hangisi RNA'nın hücredeki görevlerinden biri değildir?

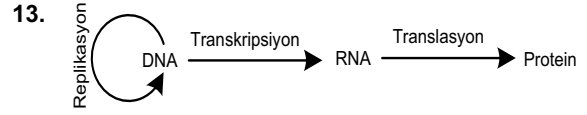
- A) DNA adına protein sentezini yürütmek
- B) Aminoasit moleküllerini ribozomlara götürmek
- C) Ribozomun oluşumuna katılmak
- D) Hücre bölünmesini yönetmek

11. AaBB genotipli bir bireyle AaBb genotipli bir bireyin çaprazlanmasıyla AABb genotipli bir bireyin oluşma olasılığı kaçtır? (A ve B dominant olup, genler bağımsızdır.)

- A)  $\frac{1}{8}$
- B)  $\frac{1}{6}$
- C)  $\frac{1}{4}$
- D)  $\frac{1}{2}$

12. Aşağıdaki birey genotiplerinden hangisi homozigottur?

- A) aaBbdd
- B) aaBbDd
- C) AABBDd
- D) aabbDd



Yukarıda özetlenen santral doğma (Protein sentezi) olayındaki safhalardan hangisi ribozomda gerçekleşir?

- A) Translasyon
- B) Replikasyon
- C) Transkripsiyon
- D) Transkripsiyon ve translasyon

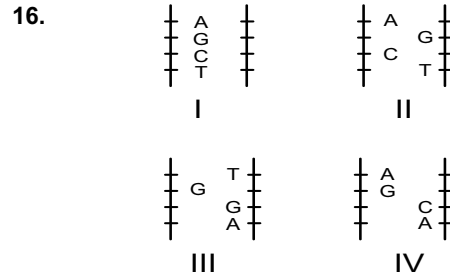
14. Çift karakter bakımından AaBb genotipinde olan bir canlı bu karakter bakımından kaç çeşit gamet oluşturabilir? (A ve B genleri bağımsızdır.)

- A) 1
- B) 2
- C) 3
- D) 4

15. Endülüs tavuklarında siyah ve beyaz renk genleri eksik baskınlık özelliği gösterir. B; beyaz tüylü, b; siyah tüylü olma genini temsil eder.

Yukarıdaki bilgilere göre, mavi renkte iki Endülüs tavuğu çaprazlanırsa, oluşacak dölde bireylerin fenotip oranları ne olur?

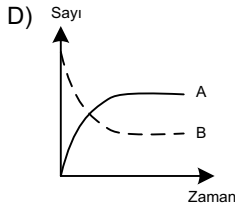
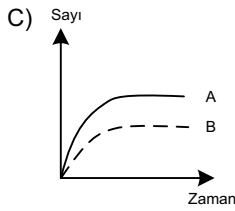
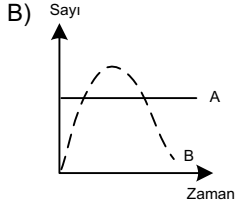
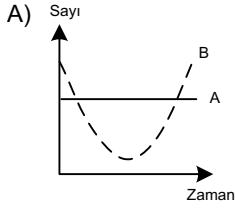
- A) 1:1
- B) 1:2
- C) 1:2:1
- D) 2:1:2



Yukarıdaki DNA parçalarından hangileri birbirinin aynıdır?

- A) I ve II
- B) I ve III
- C) I ve IV
- D) II ve III

17. Aşağıdaki grafiklerden hangisinde A ve B popülasyonlarının birbirleriyle besin ilişkisi vardır?



18. I. K canlısı, M canlısı üzerinde yaşamakta ve M canlısı zarar görmektedir.  
II. X canlısı, Y canlısı üzerinde yaşamakta ve Y canlısı bundan etkilenmemektedir.  
III. N canlısı, T canlısı ile yaşamakta ve her ikisinde bundan faydalanmaktadır.

I, II ve III numaralı maddelerdeki etkileşim aşağıdakilerden hangisinde doğru olarak verilmiştir?

I

II

III

- |                 |              |            |
|-----------------|--------------|------------|
| A) Mutualizm    | Kommensalizm | Parazitlik |
| B) Kommensalizm | Mutualizm    | Parazitlik |
| C) Parazitlik   | Kommensalizm | Mutualizm  |
| D) Kommensalizm | Parazitlik   | Mutualizm  |

19. Aşağıdakilerden hangisi bitki ve hayvanların yeryüzündeki dağılımında etkili olan abiyotik faktörlerden biri değildir?

- A) Su  
B) Sıcaklık  
C) Işık  
D) Mantar

20. Ölüm oranının artması ve dışa göçler sebebiyle azalmakta olan bir popülasyonun, artarak dengeye ulaşmasında etkili olacak faktörler aşağıdakilerden hangisinde doğru olarak verilmiştir?

- A) Hastalık oranında ve içe göçlerde artma  
B) Doğum oranında ve dışa göçte artma  
C) Hastalık oranında ve besinde azalma  
D) Doğum oranında ve içe göçte artma

1. Yakın tarihe “Mekik Diplomasisi” olarak geçen politika ile aşağıdakilerden hangisi amaçlanmıştır?

- A) İran-İrak Savaşı'nı sonlandırmak
- B) Arap-İsrail barışını sağlamak
- C) Kıbrıs Meselesi'ni çözüme ulaştırmak
- D) İtalyan yayılcılığının önüne geçmek

2. “Vietkonglar (Kuzey Vietnamlılar) bana hiçbir kötülük yapmadılar ki onlarla savaşıyım” tarihi sözünü söyleyen, bu savaş karşılı tutumu nedeniyle dünya şampiyonluğu elinden alınan ve boks lisansı iptal edilen kişi aşağıdakilerden hangisidir?

- A) Jack Dempsey
- B) Gene Tunney
- C) Muhammed Ali
- D) Primo Carnera

3. Aşağıdakilerden hangisi “OPEC”in petrol ihraç eden ülkeler teşkilatının kurucu üyelerinden biri değildir?

- A) Suudi Arabistan
- B) Japonya
- C) Irak
- D) Venezüela

4. İslam Konferansı Teşkilatı'nın ilk Türk genel sekreteri olan kişi aşağıdakilerden hangisidir?

- A) Mesut Yılmaz
- B) Ekmeleddin İhsanoğlu
- C) Ahmet Davutoğlu
- D) Hasan Saka

5. Yumuşama Dönemi ile ilgili aşağıdaki ifadelerden hangisi yanlıştır?

- A) Blokların, uluslararası ilişkilerde gerginliği azaltmak için karşılıklı görüşmeleri tercih ettiği bir dönemdir.
- B) Bu dönemde izlenen politikalarla, doğu-batı ilişkilerinde çatışma ve gerginlik nispeten azalmıştır.
- C) Yumuşama politikasının ortaya çıkmasında başlıca etken, nükleer silahlardan konvansiyonel silahlara geçilmesidir.
- D) Yumuşama politikası, barışa varacak yakınlaşma, anlaşma ve işbirliği aşamalarından oluşmaktadır.

6. 1961'de Vostok-1 uzay aracı ile ilk kez uzaya giden kişi aşağıdakilerden hangisidir?

- A) Niccola Machiavelli
- B) Thomas Hobbes
- C) Martin Luther
- D) Yuri Gagarin

7. Kıbrıs Barış Harekâtı hangi yıl başlamıştır?

- A) 1974
- B) 1989
- C) 1992
- D) 1996

8. Ping-Pong Diplomasisi aşağıdaki hangi iki devleti birbirine yakınlaştırmıştır?

- A) ABD ve Çin
- B) Rusya ve Japonya
- C) Almanya ve İtalya
- D) Fransa ve İngiltere

9. Pakistan ile Hindistan arasında 1948 yılından günümüze kadar çözümlenemeyen bir sorun olan bölge aşağıdakilerden hangisidir?

- A) Nepal
- B) Tibet
- C) Tayland
- D) Keşmir

10. Baas Hareketi'nin amacı aşağıdakilerden hangisidir?

- A) Versay Antlaşması'nı yürürlükten kaldırmak
- B) Balfour Deklarasyonu'nu desteklemek
- C) Sosyalist sistemle yönetilen birleşik, laik bir Arap toplumu kurmak
- D) Rusya'nın sıcak denizlere inmesini sağlamak

11. Endüstriyel gelişmeye ve kitle iletişim araçlarının yaygınlaşmasına paralel olarak siyasi, kültürel ve ekonomik düzeydeki çok yönlü toplumsal ilişkilerin dünya çapında yaygınlaşmasına ne ad verilir?

- A) Toplumsallaşma
- B) Glastnost
- C) Batılılaşma
- D) Küreselleşme

12. 1993'te Azerbaycan Cumhurbaşkanı olan ve Türk-Azeri ilişkilerinde "Biz bir millet, iki devletiz." sözünü söyleyen kişi aşağıdakilerden hangisidir?

- A) Mehmet Emin Resulzade
- B) Artur Rasizade
- C) Ebulfeyz Elçibey
- D) Haydar Aliyev

13. Türkiye'nin ilk kadın Başbakanı kimdir?

- A) Tansu Çiller
- B) Meliha Ulaş
- C) Seniha Hızal
- D) Fatma Memik

14. Türkmenistan'ın bağımsızlığını tanıyan ilk ülke aşağıdakilerden hangisidir?

- A) ABD
- B) Çin
- C) Türkiye
- D) Fransa

15. I. Kosova  
II. Somali  
III. Bosna-Hersek

**Yukarıdaki ülkelerden hangilerine Türkiye TBMM kararları çerçevesinde barış gücü göndermiştir?**

- A) Yalnız I  
B) Yalnız II  
C) I ve II  
D) I, II ve III

16. II. Dünya Savaşı'nın sonunda SSCB uydusu olarak kurulan Demokratik Almanya ile Batı Blokuna dâhil olan Federal Almanya'nın resmen birleşmesi hangi yıl gerçekleşmiştir?

- A) 1990  
B) 1994  
C) 1997  
D) 2001

17. Üç Maymun adlı filmiyle Cannes Film Festivali'nde en iyi yönetmen ödülünü alarak, Türkiye'yi sinema dalında uluslararası alanda başarıyla temsil eden yönetmen aşağıdakilerden hangisidir?

- A) Reha Erdem  
B) Nuri Bilge Ceylan  
C) Mustafa Altıoklar  
D) Ferzan Özpetek

18. Eylül 1991'de Semey Nükleer Deneme Alanı'nı kapatarak dünya tarihinde ilk defa gönüllü olarak kendi nükleer silah deposundan vazgeçen ülke aşağıdakilerden hangisidir?

- A) İran  
B) ABD  
C) Kazakistan  
D) Çin

19. "Cemile" adlı romanın yazarı ünlü Kırgız edebiyatçısı aşağıdakilerden hangisidir?

- A) Mehmet Emin Resulzade  
B) Cengiz Aytmatov  
C) Bahtiyar Vahapzade  
D) Ali Şir Nevai

20. Nobel Edebiyatı ödülünü kazanan edebiyatçımız aşağıdakilerden hangisidir?

- A) Orhan Pamuk  
B) Elif Şafak  
C) Ahmet Haşim  
D) Halit Ziya Uşaklıgil



1. Ekonomide çalışmak isteyen herkese iş alanı sağlanması, var olan kaynakların tam ve etkili şekilde kullanılması ekonomi politikasının aşağıdaki hedeflerinden hangisi içinde yer alır?
- A) Ekonomik kalkınmayı sağlamak  
B) Gelir dağılımını dengelemek  
C) Tekel piyasalarını arttırmak  
D) Tam istihdamı sağlamak
2. Aşağıdakilerden hangisi, 1927 yılında sanayi kuruluşlarını teşvik ve korumak amacıyla çıkarılan kanunlardan biridir?
- A) Umumi Hıfzıssıhha Kanunu  
B) Maden Nizamnamesi  
C) Teşvik-i Sanayi Kanunu  
D) Mecelle
3. Türkiye Cumhuriyeti'nin ilk bütçe uygulaması hangi yıl yapılmıştır?
- A) 1923  
B) 1924  
C) 1925  
D) 1926
4. Toprak sahibinin elde ettiği gelire ne ad verilir?
- A) Faiz  
B) Kâr  
C) Sermaye  
D) Rant
5. Malların doğrudan doğruya bir ihtiyacın karşılanması amacıyla kullanılmasına ne ad verilir?
- A) Dolaysız tüketim  
B) Dolaylı tüketim  
C) Marjinal tüketim  
D) Ortalama tüketim
6. Aşağıdakilerden hangisi Ekonomi biliminin temelini oluşturur?
- A) Büyüme  
B) Kıtlık  
C) Para  
D) Değer
7. Aşağıdakilerden hangisi, yönlendirici vasıtalarla bir örnek değildir?
- A) Nüfus planlaması  
B) Kamulaştırma  
C) İhracatı destekleme önlemleri  
D) Yatırımları destekleme önlemleri
8. İhtiyaçların dört yasasıyla ilgili aşağıdaki ifadelerden hangisi yanlıştır?
- A) Fizyolojik ihtiyaçların kapsamı sınırlıdır.  
B) İhtiyaçlar değişmektedir.  
C) İhtiyaçlar birbirine rakiptir.  
D) İhtiyaçlar objektiftir.
9. Bir malın tüketiminin sürekli artırılması sonucu ondan sağlanan faydanın azalması durumunu açıklayan ekonomik görüş aşağıdakilerden hangisidir?
- A) Talep Kanunu  
B) İkame Yasası  
C) Arz Kanunu  
D) Gossen Yasası
10. İnsanların ihtiyaçlarını doğrudan doğruya karşılamaya uygun olan, üretilebilen ve doğada belirli miktarda bulunan vasıtalara ne ad verilir?
- A) Mal  
B) İhtiyaç  
C) Değer  
D) Emek
11. Aşağıdakilerden hangisi ekonomik ihtiyaç değildir?
- A) Hava ihtiyacı  
B) Konut ihtiyacı  
C) Elbise satın almak  
D) Televizyon ihtiyacı
12. Aşağıdakilerden hangisi zorunlu ihtiyaçlara cevap veren mallardan biridir?
- A) Elbise  
B) Konut  
C) Ekmek  
D) Kitap

13. Bir vasıtanın mal olabilmesi için gerekli olan özellik aşağıdakilerden hangisidir?

- A) Herhangi bir ödeme yapılmadan sahip olunması
- B) İnsanların elde etmek için çaba göstermeleri gerekmemesi
- C) Zaman içinde doğada tükenmesi
- D) Üretiminin mümkün olması ve sağlanması için çaba harcanması

14. Karşılanması ekonomik bir faaliyetin yapılmasını gerektiren ihtiyaçlara ne ad verilir?

- A) Ekonomik ihtiyaçlar
- B) Ekonomik olmayan ihtiyaçlar
- C) Kültürel ihtiyaçlar
- D) Zorunlu ihtiyaçlar

15. GAP projesi kaç alt projeden oluşmaktadır?

- A) 8
- B) 11
- C) 12
- D) 13

16. Aşağıdaki GAP projesinin hangisi tamamen sulama amaçlıdır?

- A) Adıyaman-Kahta Projesi
- B) Suruç-Bazıklı Projesi
- C) Sınır Fırat Projesi
- D) Ilisu Projesi

17. Aşağıdakilerden hangisi üretim faktörlerinden biri değildir?

- A) Değer
- B) Girişimci
- C) Emek
- D) Kapital

18. Aşağıdakilerden hangisi doğanın üretim üzerinde gösterdiği etkilerden biri değildir?

- A) Toprak ve toprak altı zenginlikleri vasıtasıyla, tarım ve sanayi üretimini belirler.
- B) Yeryüzü şekilleri ve coğrafik yapı özellikleri aracılığıyla ekonomik faaliyetleri etkiler.
- C) Üretim sonucu olmayan değer artış olayları meydana getirir.
- D) İklim etkiyle insanların isteğini olumlu veya olumsuz şekilde etkiler.

19. Aşağıdakilerden hangisi kuruluş yeri seçiminde göz önünde bulundurulacak faktörlerden biri değildir?

- A) Hammadde kaynaklarına yakınlık
- B) Su kaynaklarına yakınlık
- C) Kullanılan üretim teknolojisi
- D) Enerji kaynaklarına yakınlık

20. Aşağıdakilerden hangisi, ikinci enerji kaynaklarından biri değildir?

- A) Biogaz
- B) Rüzgâr enerjisi
- C) Kok kömürü
- D) Şehir gazı

1. Aşağıdakilerden hangisi sağlığı etkileyen fiziksel etmenlerden biri değildir?

- A) Mikroorganizmalar
- B) Konutlar
- C) Hava
- D) Işık

2. Aşağıdaki sağlık kurumlarının hangisinde sadece ayakta tedavi hizmeti verilir?

- A) Göz hastanesi
- B) Diyaliz merkezi
- C) Sağlık ocağı
- D) Rehabilitasyon merkezi

3. Aşağıdakilerden hangisi sağlık sorunlarının çözümü için planlama yapılırken öncelik verilen durumlardan biri değildir?

- A) En çok ölüme neden olan durumlar
- B) En çok sakatlığa neden olan durumlar
- C) En çok iş görmezliğe neden olan durumlar
- D) En çok çevre kirliliğine neden olan durumlar

4. Aşağıdakilerden hangisi koruyucu sağlık hizmetlerinden biri değildir?

- A) Yüksek tansiyonu olan kişilerin düzenli olarak kontrollerinin yapılması
- B) Hastanın poliklinikte tedavi edilmesi
- C) Çevreyi kirleten atıkların zararsız hale getirilmesi
- D) Gebelerin izlenmesi

5. Aşağıdakilerden hangisi şark çıbanının etkenini insanlara taşır?

- A) Kene
- B) Sivrisinek
- C) Tatarcık
- D) Bit

6. Aşağıdakilerden hangisi kişisel temizlik kapsamında yer almaz?

- A) El ve tırnak temizliği
- B) Banyo yapma ve giyecek temizliği
- C) Tuvalet alışkanlığı ve temizliği
- D) Kişisel oda temizliği

7. Aşağıdakilerden hangisi diş çürükleri ve diş eti iltihaplanmalarının vücutta neden olduğu rahatsızlıklardan biri değildir?

- A) Eklem romatizması
- B) Kemik erimesi
- C) Beyin zarı iltihaplanması
- D) Kalp zarı iltihaplanması

8. Diş eti rahatsızlıklarının ilk basamağı olan diş eti iltihaplanmasına ne ad verilir?

- A) Guatr
- B) Gingivit
- C) Hepatit
- D) Beriberi

9. El tırnaklarının kesim şekli aşağıdakilerden hangisidir?

- A) Yarım ay
- B) Düz
- C) Üçgen
- D) Köşeli

10. Aşağıdakilerden hangisi ağız kokusunun nedenlerinden biri değildir?

- A) Diş çürüğü
- B) Sinüzit
- C) Kalp romatizması
- D) Bademcik iltihabı

11. Aşağıdaki yaşam dönemlerinden hangisinde meslek ve eş seçimi en belirgin özelliktir?

- A) Yetişkinlik dönemi
- B) Ergenlik dönemi
- C) Okul çağı dönemi
- D) Yaşlılık dönemi

12. Aşağıdakilerden hangisi ruh sağlığını etkileyen kişisel faktörlerden biri değildir?

- A) Aile
- B) Kişinin alışkanlıkları
- C) Cinsiyet
- D) Beden sağlığı

13. Erken ergenlik dönemi hangi yaşlar arası dönemdir?

- A) 3-6
- B) 6-11
- C) 12-15
- D) 15-18

14. Kişinin kendisi ve çevresiyle dengeli ve uyumlu bir ilişki sürdürebilmesine ne ad verilir?

- A) Etkileşim
- B) Ruh sağlığı
- C) Ruh bilimi
- D) Kültürel etkinlik

15. Çocuğun kendi yaşlarıyla oynamayı sevdiği, sürekli soru sorduğu gerçekte hayali ayırt edemediği dönem aşağıdakilerden hangisidir?

- A) Okul çağı dönemi
- B) Ergenlik dönemi
- C) Oyun dönemi
- D) Özerklik dönemi

16. Aşağıdakilerden hangisi "yoksunluk sendromu" sonucu ortaya çıkan rahatsızlıklardan biri değildir?

- A) Terleme
- B) Sakinlik
- C) Çarpıntı
- D) Huzursuzluk

17. I. Uyuşturucu maddenin yapısı  
II. Kişisel faktörler  
III. Çevresel faktörler

Yukarıdakilerden hangileri uyuşturucu madde bağımlılığı sebeplerindedir?

- A) I ve II
- B) I ve III
- C) II ve III
- D) I, II ve III

18. Sağlık açısından sigara, alkol ve uyuşturucu madde kullanımıyla ilişkili ilk kavram aşağıdakilerden hangisidir?

- A) Bağımlılık
- B) Keyif
- C) Zayıflık
- D) Yoksunluk

19. Aşağıdakilerden hangisi alkolün neden olduğu hastalıklardan biridir?

- A) Parkinson
- B) Romatizma
- C) Raşitizm
- D) Siroz

20. Aşağıdakilerden hangisi alkol kullanımının sebeplerinden biri değildir?

- A) Sorunlarla baş edebilme gücünü kendinde bulamama
- B) Saygı göreceğini düşünme
- C) Bir gruba dahil olma isteği
- D) Kişiliğin oturmuş olması

## SEÇMELİ COĞRAFYA 3

A

2014 I.DÖNEM 0104-A

1. Magmanın volkanik faaliyetler sonucu yeryüzüne çıkmasıyla oluşan kayaç türü aşağıdakilerden hangisidir?

- A) İç püskürük kayaçlar
- B) Fiziksel tortul kayaçlar
- C) Kimyasal tortul kayaçlar
- D) Dış püskürük kayaçlar

2. Kireç taşının erimesi sonucu meydana gelen geniş düzlüklere ne ad verilir?

- A) Tüf
- B) Vadi
- C) Polye
- D) Ova

3. Aşağıdakilerden hangisinde metamorfizmaya uğrayan kayaç türleri birlikte ve doğru verilmemiştir?

- A) Granit – Gnays
- B) Kalker – Mermer
- C) Andezit – Bazalt
- D) Kömür – Elmas

4. Aşağıdakilerden hangisi jeotermal bölgelerden biri değildir?

- A) İtalya
- B) Lübnan
- C) Yunanistan
- D) Türkiye

5. Aşağıdakilerden hangisi birbirinden uzaklaşan levhalardan biri değildir?

- A) Afrika Levhası – Hindistan Levhası – Avustralya Levhası
- B) Antartika Levhası – Avustralya Levhası
- C) Nazka Levhası – Kokos Levhası
- D) Avrasya Levhası – Hindistan Levhası – Avusturya Levhası

6. Aşağıdakilerden hangisi akarsuların sınıflandırılmasına yarayan özelliklerden biri değildir?

- A) Akarsuyun eğimi
- B) Akarsuyun rejimi
- C) Akarsuyun beslenme kaynağı
- D) Akarsuyun döküldüğü yer

7. Aşağıdakilerden hangisi toprağın oluşumunu etkileyen faktörlerden biri değildir?

- A) İklimin etkisi
- B) Fay hatlarının etkisi
- C) Zamanın etkisi
- D) Yer şekillerinin etkisi

8. Kıtalar arasındaki büyük su kütlelerine ne ad verilir?

- A) Deniz
- B) Okyanus
- C) Göl
- D) Nehir

9. Suların sıcaklığın etkisiyle buharlaşıp, atmosferde yoğunlaşarak tekrar yağış olarak yeryüzüne düşmesine ne ad verilir?

- A) Su döngüsü
- B) Buhar döngüsü
- C) Yoğunlaşma
- D) Yağış

10. Bir ülke veya bölgedeki toplam nüfusun, o ülke veya bölgenin yüzölçümüne bölünmesiyle elde edilen nüfus yoğunluğu aşağıdakilerden hangisidir?

- A) Tarımsal nüfus yoğunluğu
- B) Fizyolojik nüfus yoğunluğu
- C) Bölgesel nüfus yoğunluğu
- D) Aritmetik nüfus yoğunluğu

11. Aşağıdakilerden hangisi dünyada nüfusun yoğun olduğu yerlerden biridir?

- A) Himalaya Dağları
- B) Dönenceler çevresi
- C) Güneydoğu Asya
- D) Orta Asya

12. Aşağıdakilerden hangisi günümüzde yapılan modern nüfus sayımlarının amaçlarından biri değildir?

- A) Aile başına düşen toprağın belirlenmesi
- B) Nüfusun yaş gruplarının belirlenmesi
- C) Kent ve kır nüfusunun belirlenmesi
- D) Nüfusun cinsiyete göre dağılımının belirlenmesi

13. Osmanlı Devleti'nde ilk kapsamlı nüfus sayımı hangi tarihte yapılmıştır?

- A) 1831
- B) 1845
- C) 1887
- D) 1890

14. Aşağıdakilerden hangisi en çok beyin göçü veren ülkelerden biri değildir?

- A) Çin
- B) Cezayir
- C) Fransa
- D) Nijerya

15. Aşağıdakilerden hangisi 19. yüzyılın ilk yarısından itibaren Avrupa'dan yeni keşfedilen Amerika kıtasına yapılan göçlerin nedenlerinden biri değildir?

- A) Yeni devletler kurmak
- B) Siyasal baskılardan kurtulmak
- C) Maceraya atılmak
- D) Dinsel inançları özgürce yaşamak

16. İnsanların yerleşik hayata geçtiği, hayvanları evcilleştirip tarımla uğraştığı çağ aşağıdakilerden hangisidir?

- A) Paleolitik Çağ
- B) Mezolitik Çağ
- C) Kalkolitik Çağ
- D) Neolitik Çağ

17. Aşağıdakilerden hangisi birincil ekonomik faaliyetlerden biri değildir?

- A) Hayvancılık
- B) Balıkçılık
- C) Madencilik
- D) Bankacılık

18. Aşağıdakilerden hangisi Türkiye'de yer alan iç ovalardan biri değildir?

- A) Muş Ovası
- B) Çukurova
- C) Malazgirt Ovası
- D) Amik Ovası

19. Aşağıdakilerden hangisi Türkiye'nin özel konumunun sonuçlarından biri değildir?

- A) İklim çeşitliliği fazladır.
- B) Orta kuşakta yer alır.
- C) Ortalama yükselti fazladır.
- D) Yeraltı kaynakları açısından zengindir.

20. Aşağıdakilerden hangisinde Türkiye'nin matematik konumu doğru verilmiştir?

- A) 26° – 45° Kuzey Paralelleri – 36° – 42° Doğu Meridyenleri
- B) 32° – 45° Kuzey Paralelleri – 27° – 32° Doğu Meridyenleri
- C) 36° – 42° Kuzey Paralelleri – 26° – 45° Doğu Meridyenleri
- D) 35° – 40° Kuzey Paralelleri – 32° – 41° Doğu Meridyenleri

## SEÇMELİ COĞRAFYA 4

A

2014 I.DÖNEM 0104-A

1. Aşağıdakilerden hangisi yan orman ürünlerinden biri değildir?

- A) Sığla yağı
- B) Tomruk
- C) Keçi boynuzu
- D) Defne yaprağı

2. Aşağıdakilerden hangisi zonal toprak çeşitlerinden biri değildir?

- A) Kahverengi orman toprağı
- B) Kırmızı Akdeniz toprağı
- C) Alüvyal toprak
- D) Kehverengi bozkır toprağı

3. Kapalı havza veya eski göl tabanlarında oluşan toprak türü aşağıdakilerden hangisidir?

- A) Alüvyal toprak
- B) Kolüvyal toprak
- C) Tuzlu toprak
- D) Regosoller

4. Aşağıdakilerden hangisi iğne yapraklı ağaçlardan biri değildir?

- A) Göknar
- B) Ladin
- C) Sedir
- D) Kızılağaç

5. Kurak ve yarı kurak bölgelerde, ilkbahar yağışlarıyla yeşeren ve yaz kuraklığı nedeniyle sararan ot topluluklarına ne ad verilir?

- A) Çayır
- B) Maki
- C) Tundra
- D) Bozkır

6. Yaz dönemlerinde halkın hayvanlarını otlatmak için çıktıkları alanlara ne ad verilir?

- A) Yayla
- B) Mezra
- C) Çiftlik
- D) Oba

7. Aşağıdakilerden hangisi Türkiye'nin en eski yerleşim alanlarından olmasının nedenlerinden biri değildir?

- A) Gelen her topluluğun devlet kurabilmesi
- B) İkliminin elverişli olması
- C) Verimli tarım alanlarının olması
- D) Su kaynaklarının yeterli olması

8. Aşağıdakilerden hangisi Türkiye'de nüfusun ve yerleşmenin dağılışını etkileyen doğal faktörlerden biri değildir?

- A) Ulaşım
- B) Su kaynakları
- C) Bitki örtüsü
- D) Yer şekilleri

9. Üniversite ve yüksek okulların bulunduğu, bilim, sanat ve kongre etkinliklerinin düzenlendiği, festivallerin yapıldığı ve tarihi zenginliklerin bulunduğu şehir türü aşağıdakilerden hangisidir?

- A) İdari şehir
- B) Askeri şehir
- C) Kültürel şehir
- D) Küresel şehir

10. Aşağıdakilerden hangisi Türkiye'de köy idari alanlarındaki devamlı yerleşmelerden biridir?

- A) Kom
- B) Divan
- C) Dam
- D) Oba

11. Aşağıdakilerden hangisi 1985'ten sonra Türkiye nüfus artışındaki düzenli azalmanın nedenleri arasında yer almaz?

- A) Evlilik oranının düşmesi
- B) Eğitim seviyesinin yükselmesi
- C) Kadının iş hayatına daha fazla girmesi
- D) Ekonomi alanında gelişmelerin yaşanması

12. 1990 yılından sonra nüfus sayımlarının kaç yılda bir yapılmasına karar verilmiştir?

- A) 5
- B) 6
- C) 8
- D) 10

13. Osmanlı Devleti'nde ilk nüfus sayımı hangi padişah döneminde yapılmıştır?

- A) II. Abdülhamit
- B) III. Selim
- C) I. Mahmut
- D) II. Mahmut

14. Aşağıdakilerden hangisi Türkiye'de göç veren yerlerdeki itici faktörler arasında yer almaz?

- A) Kişi başına düşen toprağın fazla olması
- B) Doğal afetler
- C) Kan davası ve terör olayları
- D) Sağlık hizmetlerinin yetersizliği

15. Almanya'da bulunan, Baltık denizi ve Kuzey denizini birbirine bağlayan kanal aşağıdakilerden hangisidir?

- A) Korint Kanalı
- B) Kiel Kanalı
- C) Süveyş Kanalı
- D) Panama Kanalı

16. Aşağıdakilerden hangisi coğrafi keşiflerin sonuçları arasında yer almaz?

- A) Baharat ve İpek yollarının önemi azalmıştır.
- B) Avrupa ve Amerika kıtaları önem kazanmıştır.
- C) Atlas okyanusu limanları kullanılmamaya başlamıştır.
- D) Akdeniz limanlarının önemi azalmıştır.

17. Matbaa hangi tarihte icat edilmiştir?

- A) 1375
- B) 1389
- C) 1435
- D) 1473

18. Aşağıdakilerden hangisi afet öncesi alınması gereken önlemlerden biri değildir?

- A) Afet riski olan erlerin belirlenmesi
- B) Yitecek, su, barınak ve ilaç dağıtımı yapılması
- C) Eğitim ve tatbikatların yapılması
- D) Afet yönetimi ve planlamasının yapılması

19. Aşağıdakilerden hangisi kuraklığın başlıca sonuçlarından biri değildir?

- A) Kıtık ve açlık tehlikesi artar.
- B) İçme ve kullanma sularında sıkıntı yaşanmaz.
- C) Barajların su seviyesi azalır.
- D) Ülke ekonomisi zarar görür.

20. Aşağıdakilerden hangisi heyelan ve toprak kaymasını etkileyen faktörlerden biri değildir?

- A) Yağışın fazla olması
- B) Arazinin eğiminin fazla olması
- C) Tarım alanlarının nadasa bırakılmaması
- D) Tabakaların eğim doğrultusunda uzanması



1. Kuran-ı Kerim'de geçen müşrik aşağıdakilerden hangisidir?
  - A) Allah'a inanmayanlar
  - B) Mekke'de yaşayanlar
  - C) Puta tapanlar
  - D) Yahudi ve Hristiyanlar
  
2. Aşağıdakilerden hangisi İslam öncesi Cahiliye döneminin özelliklerinden biri değildir?
  - A) Barış içinde yaşanması
  - B) Putlara tapılması
  - C) Kadınlara hiç değer verilmemesi
  - D) Genelde güçlü olanların zayıf ve kimsesizleri ezmesi
  
3. Hz. Muhammed'i (s.a.v.) annesinin vefatıyla ilk himayesine alan akrabası aşağıdakilerden hangisidir?
  - A) Sütannesi
  - B) Dayısı
  - C) Dedesi
  - D) Amcası
  
4. Hz. Muhammed'in (s.a.v.) doğum tarihi aşağıdakilerden hangisidir?
  - A) 20 Nisan (12 Rebiyülevvel) 571
  - B) 20 Haziran (27 Ramazan) 571
  - C) 20 Nisan (27 Ramazan) 610
  - D) 20 Haziran (12 Rebiyülevvel) 610
  
5. Mekke'de haksızlıkları önlemek için kurulan sivil toplum örgütü aşağıdakilerden hangisidir?
  - A) Haklar Topluluğu
  - B) Erdemliler Topluluğu
  - C) Koruma Topluluğu
  - D) Faziletliiler Topluluğu
  
6. Aşağıdakilerden hangisi Hz. Muhammed'in (s.a.v.) teşvik ettiği spor dallarından biri değildir?
  - A) Yürüyüş
  - B) Koşu
  - C) Güreş
  - D) Jimnastik
  
7. Kâbe'yi eski temelleri üzerine inşa ettikten sonra ellerini açarak Allah'a "Rabbimiz! Soyumuzdan onlara senin mesajlarını iletecek, vahyi ve hikmet öğretecek, onları arındırıp temizleyecek bir elçi çıkar." diye dua eden kimdir?
  - A) Hz. İbrahim
  - B) Hz. İsa
  - C) Hz. Ali
  - D) Hz. Ebu Bekir
  
8. Aşağıdakilerden hangisi Hz. Muhammed'in (s.a.v.) yaşadığı toplumda bulunan güzel hasletlerden biri değildir?
  - A) Cömertlik
  - B) Kadına hürmet
  - C) Ahde vefa
  - D) Misafirperverlik
  
9. Hz. Muhammed'in (s.a.v.) doğduğu gün aşağıdakilerden hangisidir?
  - A) Pazartesi
  - B) Salı
  - C) Perşembe
  - D) Cuma
  
10. Hz. Muhammed (s.a.v.), sütannesinin yanından ayrılıp Mekke'ye, ailesinin yanına hangi yılda dönmüştür?
  - A) 572
  - B) 573
  - C) 574
  - D) 575

11. İnsanın yaradılış fitratına aykırı davranmasına ne ad verilir?

- A) Münafıklık
- B) İnançsızlık
- C) Duygusuzluk
- D) Dengesizlik

12. Hz. Muhammed'in (s.a.v.) annesinin adı nedir?

- A) Âmine
- B) Halime
- C) Şeyma
- D) Ümmü Eymen

13. Hz. Muhammed'in (s.a.v.) amcası Ebu Talip'in eşi aşağıdakilerden hangisidir?

- A) Hatice Hanım
- B) Ümmü Seleme Hanım
- C) Fatıma Hanım
- D) Ümmü Eymen Hanım

14. Hz. Muhammed'in (s.a.v.) mensubu olduğu kabile aşağıdakilerden hangisidir?

- A) Ümeyye oğulları
- B) Haşim oğulları
- C) Nedim oğulları
- D) Halim oğulları

15. Hz. Muhammed'in (s.a.v.) dedesinin adı nedir?

- A) Abdulrahman
- B) Abdülrahim
- C) Abdülmuttalip
- D) Abdullah

16. Zerdüştlerin devrinde en iyi kadın olarak görülen aşağıdakilerden hangisidir?

- A) Kocasına hizmet eden kadın
- B) Kocasını efendisi olarak gören kadın
- C) Merasim ve ayinlerden uzak duran kadın
- D) Kendini kocasının naaşı üzerinde yakan kadın

17. Hendek Savaşı hangi yıl yapılmıştır?

- A) 624
- B) 625
- C) 626
- D) 627

18. Aşağıdakilerden hangisi Hz. Muhammed'in (s.a.v.) sağlığa faydalı olduğu için tavsiye ettiği şeylerden biri değildir?

- A) Kan vermek
- B) Bal yemek
- C) Çörekotu yemek
- D) Su içmek

19. Hz. Muhammed'in (s.a.v.) doğduğu dönemde yeni doğan çocukların sütanneye verilmesi geleneğine uyularak verildiği sütannesinin adı nedir?

- A) Şüveybe
- B) Halime
- C) Ümmü Eymen
- D) Şeyme

20. Hep haktan ve doğruluktan yana olan Hz. Muhammed'e (s.a.v.) "Muhammed'ül Emin" adını verenler aşağıdakilerden hangisidir?

- A) Medineliler
- B) Şamlılar
- C) Mekkeliler
- D) Yemenliler

1. Tanınmış yazarların birbirlerine yazdıkları, fikir ve sanat olaylarını ve eserleri tartıştıkları mektuplar aşağıdakilerden hangisidir?
- A) Özel mektuplar  
B) Teşekkür mektupları  
C) Tebrik mektupları  
D) Edebi mektuplar
2. Aşağıdakilerden hangisi hikâyenin öğelerinden biri değildir?
- A) Merak  
B) Mekân  
C) Zaman  
D) Kişiler
3. Mesnevi hangi metin grubu içerisinde yer alır?
- A) Göstermeye bağlı edebi metinler  
B) Anlatmaya bağlı edebi metinler  
C) Tarihi metinler  
D) Felsefi metinler
4. Bilimsel bir konuyu veya bir kimsenin yaşamını, kişiliğini, eserlerini ayrıntılı olarak inceleyen eserlere ne ad verilir?
- A) Deneme  
B) Anı  
C) Otobiyografi  
D) Monografi
5. Aşağıdakilerden hangisi gölge oyununun (Karagöz-Hacivat) bölümlerinden biri değildir?
- A) Mesnevi  
B) Muhavere  
C) Mukaddime  
D) Fasıl
6. Dilekçeyle ilgili aşağıdaki ifadelerden hangisi yanlıştır?
- A) Anlatım yalın ve duru olmalıdır.  
B) Dilekçe yazımında kalemin rengi ve türü önemli değildir.  
C) Sol alt köşeye adres yazılır.  
D) Sağ alt köşeye ad ve soyadı yazılır ve imza atılır.
7. Herhangi bir konuda kişinin düşüncelerinin hiç değiştirilmeden verilmesine ne ad verilir?
- A) Dolaylı anlatım  
B) Nesnel anlatım  
C) Doğrudan anlatım  
D) Öznel anlatım
8. Aşağıdakilerden hangisi Geleneksel Türk Tiyatrosu içerisinde yer almaz?
- A) Orta Oyunu  
B) Mesnevi  
C) Karagöz  
D) Köy tiyatrosu
9. Köy tiyatrosu hangi metin grubu içinde yer alır?
- A) Göstermeye bağlı edebi metinler  
B) Öğretici metinler  
C) Anlatmaya bağlı edebi metinler  
D) Tarihi metinler
10. Aşağıdakilerden hangisi konularına ve yazılış amaçlarına göre deneme çeşitlerinden biri değildir?
- A) Kişisel deneme  
B) Klasik deneme  
C) Eleştirel deneme  
D) Felsefi deneme

11. **Sohbet (söyleşi) ile ilgili aşağıdaki ifadelerden hangisi yanlıştır?**

- A) Konuşup görüşme anlamına gelir.
- B) Atasözü ve deyimlerden yararlanır.
- C) Sohbet resmî bir dil ve üslup kullanılır.
- D) Sohbet türünde yazılan kitaplar da vardır.

12. **Eldeki en eski mektup örnekleri kimlere aittir?**

- A) Romalılara ve Galyalılara
- B) Friglere ve Traklara
- C) Mısır firavunları ve Hititlere
- D) Lidyalılara ve Fenikelilere

13. **Edebiyatımızın gezi türündeki ilk ve en büyük eseri olarak nitelendirilen Seyahatname eserinin yazarı aşağıdakilerden hangisidir?**

- A) Edip Ahmet Yükneki
- B) Pierre Loti
- C) Evliya Çelebi
- D) Halikarnas Balıkcısı

14. **Aşağıdakilerden hangisi olay çevresinde oluşan edebi metinlerin özelliklerinden biri değildir?**

- A) Bir olay örgüsü vardır.
- B) Her okunduğunda farklı yorumlanmaz.
- C) Kurmacanın özelliklerinden yararlanır.
- D) İnsana özgü soyut olaylar somutlaştırılır.

15. **Fıkra ile ilgili aşağıdaki ifadelerden hangisi yanlıştır?**

- A) Olaya dayalı bir anlatımı vardır.
- B) Dil göndergesel işlevinde kullanılır.
- C) Giriş, gelişme ve sonuç bölümlerinden oluşur.
- D) Anlatım sizli bizli ve resmidir.

16. **Aşağıdakilerden hangisi anlatmaya bağlı edebi metinlerden biri değildir?**

- A) Destan
- B) Şiir
- C) Roman
- D) Masal

17. **Aşağıdakilerden hangisi öğretici metinlerin özelliklerinden biri değildir?**

- A) Estetik ön plandadır.
- B) Amaç gerçeğin yeniden yorumlanması değil olduğu gibi anlatılmasıdır.
- C) Önemli olan okuyucuya bilgi vermek ya da paylaşmaktır.
- D) İfadeler açık ve nettir.

18. "1881 yılında Selanik'te, üç katlı pembe bir evde dünyaya gelmişim. Annem bana baharda mayısın herhangi bir günü doğduğumu söylerdir. Benim doğum günüm niye 19 Mayıs olmasın? .."

**Yukarıda bir parçası alıntılan eserin türü aşağıdakilerden hangisidir?**

- A) Deneme
- B) Anı
- C) Makale
- D) Otobiyografi

19. **Aşağıdakilerden hangisi kişisel hayatı konu alan metinler içerisinde yer almaz?**

- A) Biyografi
- B) Anı
- C) Günlük
- D) Sohbet

20. **Makale türü Türk edebiyatına hangi dönemde girmiştir?**

- A) Fetret
- B) Cumhuriyet
- C) Tanzimat
- D) İslahat

1. Aşağıdakilerden hangisi dramatik bir eserde yer alan konuşma çeşitlerinin özel adlarından biri değildir?

- A) Diyalog
- B) Monolog
- C) Figüran
- D) Tirad

2. "Güzel şeyler düşünelim diye Yemyeşil oluvermiş ağaçlar"

Yukarıdaki dizelerde şairin; ağaçların yeşil olmasını tabiata değil de güzel şeyler düşünebilme nedenine bağlamasında aşağıdaki sanatlardan hangisi söz konusudur?

- A) Tenasüp
- B) Tevriye
- C) Teşhis ve intak
- D) Hüsn-î Tâil

3. Türk masallarını derleme, yayımlama ve inceleme çalışmaları ne zaman yoğunlaşmıştır?

- A) Tanzimat
- B) Meşrutiyet
- C) Islahat
- D) Cumhuriyet

4. Aşağıdakilerden hangisi Türk Edebiyatı'nın gelişim sürecinde kurulan topluluklardan biri değildir?

- A) Tanzimat Edebiyatı
- B) Beş Hececiler
- C) Milli Edebiyat
- D) Üç Hececiler

5. Atilla İlhan'ın "Leitmotiv" tekniği ile yazdığı romanı aşağıdakilerden hangisidir?

- A) Canbaz
- B) Dersaadet'te Sabah Ezanları
- C) Ay Falcısı
- D) Beyaz Kale

6. Türk edebiyatında masalı gerçek anlamda ilk defa "Mukaddeme-i Celal" adlı eserinde kullanan yazarımız aşağıdakilerden hangisidir?

- A) Şinasi
- B) Atilla İlhan
- C) Namık Kemal
- D) Kemal Tahir

7. Aşağıdaki yazarlardan hangisi 1970'li yıllardan sonra Türk romanında toplum sorunlarına yönelişle, ideolojik boyutu ağır basan romanların arttığı dönemi temsil eden yazarlardan biri değildir?

- A) Yakup Kadri
- B) Emine İşinsu
- C) Oğuz Atay
- D) Pınar Kür

8. Aşağıdakilerden hangisi durum hikâyeciliğinin özelliklerinden biri değildir?

- A) Merak ögesi ikinci plandadır.
- B) Hikâye mutlaka serim, düğüm, çözüm planına uyularak belli bir sonuçla bitirilir.
- C) Gerçeklik abartılmadan anlatılır.
- D) Kahramanlar karşılıklı konuşmalar içinde bulunur.

9. Öğretici metinlerden biridir. Amaç bilgi vermek olduğundan gerçeği hiç değiştirmeden aktarır. Yaşamlarıyla okurların ilgisini çekebilecek kişiler hakkında yazılan bu eserler aynı zamanda tarihe, edebiyat tarihine ve eleştiriye de kaynaklık eder.

Yukarıda açıklanan metin türü aşağıdakilerden hangisidir?

- A) Rapor
- B) Deneme
- C) Makale
- D) Biyografi

10. Çalıkuşu'nun yazarı aşağıdakilerden hangisidir?

- A) Reşat Nuri
- B) Peyami Safa
- C) Sait Faik
- D) Kemal Tahir

11. Avrupa'daki anlamıyla öykü türü edebiyatımıza hangi dönemde girmiştir?

- A) Tanzimat
- B) Cumhuriyet
- C) Kurtuluş savaşı
- D) İslahat

12. Aşağıdakilerden hangisi 1950'lerden sonra gelişen köy edebiyatına örnek verilebilecek eserlerden biri değildir?

- A) Yılanların Öcü
- B) Sarı Traktör
- C) Yeni Hayat
- D) Yer Demir Gök Bakır

13. Aşağıdakilerden hangisi konularına göre masal gruplarından biri değildir?

- A) Asıl masallar
- B) Düşündürücü masallar
- C) Hayvan masalları
- D) Zincirlemeli masallar

14. Aşağıdakilerden hangisi tragedya'daki üç birlik kuralının öğelerinden biri değildir?

- A) Karakter birliği
- B) Zaman birliği
- C) Yer birliği
- D) Olay birliği

15. Battal Gazi, Köroğlu hikâyeleri hangi türün örnekleridir?

- A) Köy hikâyelerinin
- B) Aşk hikâyelerinin
- C) Kahramanlık hikâyelerinin
- D) Masalsı hikâyelerinin

16. Bir şiirin en güzel dizisine ne ad verilir?

- A) Beyit
- B) Bent
- C) Mısra-ı berceste
- D) Terci-i bend

17. "Çıkıp yücesine seyran eyledim  
Gördüm ak kuğulu göller perişan  
Bir furkat geldi de durdum ağladım  
Öpüp kokladığım güller perişan"

Yukarıdaki dizelerle ilgili aşağıdaki ifadelerden hangisi yanlıştır?

- A) Dil şiirsel işlevinde kullanılmıştır.
- B) Şiiri Orhan Veli yazmıştır.
- C) Şiirde coşkuyu ve heyecanı dile getiren anlatım tarzından yararlanılmıştır.
- D) Şiirin nazım birimi dörtlülüklerden oluşmaktadır.

18. Epik tiyatroyla ilgili aşağıdaki ifadelerden hangisi yanlıştır?

- A) Sahne dekor ve etki altına alıcı duygulu olaylardan uzak tutulur.
- B) Amaç seyirciyi farklı diyarlara götürmek ve orda olduğu sürece büyülemektir.
- C) Seyircinin tiyatro düşünden uyanması için olayın akışı sık aralıklarla kesilir.
- D) Duygu yerine akıl ön plana çıkarılır.

19. Shakespeare'in Venedik Taciri adlı eseri hangi türün örneğidir?

- A) Yergi komedyası
- B) Dram
- C) Tragedya
- D) Karakter komedyası

20. Aşağıdakilerden hangisi şiirin dış yapı özelliklerinden biri değildir?

- A) Şiirin öz derinliği
- B) Nazım şekli
- C) Ölçü
- D) Kafiye

1. Wir möchten Architekt .....

**Welches Wort passt in die obige Lücke?**

**Cümlede boş bırakılan yeri aşağıdakilerden hangisi tamamlar?**

- A) werden
- B) wurden
- C) wirst
- D) wurdest

2. Maria geht ..... Gymnasium.

**Welches Wort passt in die obige Lücke?**

**Cümlede boş bırakılan yeri aşağıdakilerden hangisi doğru şekilde tamamlar?**

- A) aufs
- B) in
- C) zu
- D) über

3. Jeolog bilimsel bir araştırma için taşları kırmaktadır.

**Wie lautet der obige Satz auf Deutsch?**

**Verilen cümlenin Almanca'sı aşağıdakilerden hangisidir?**

- A) Der Wissenschaftler sucht für seine Untersuchung neue Steine.
- B) Der Geologe schlägt die Steine für eine wissenschaftliche Untersuchung.
- C) Die Steine hat der Geologe untersucht und wissenschaftlich geforscht.
- D) Der Geologe braucht für seine wissenschaftliche Untersuchung neue Steine zum Schlagen.

4. Was ist dein Traumberuf?

**Welche Antwort passt zur obigen Frage?**

**Verilen sorunun cevabı aşağıdakilerden hangisidir?**

- A) Ich möchte Architekt werden.
- B) Er geht nur zwei Tage in die Berufsschule.
- C) Das ist eine neue Erfindung.
- D) Sie schreibt eine Reportage über neue Berufe.

5. ...., würde ich Wirtschaftsberaterin werden.

**Welches ergänzt den obigen Satz?**

**Verilen cümleyi aşağıdakilerden hangisi tamamlar?**

- A) Als ich Erfinderin war
- B) Dieses Schaubild zeigt
- C) Wenn ich ein eigenes Büro hätte
- D) Ein Traumberuf hat jeder

6. .... die Schüler einen Realschulabschluss haben, können Sie einen Beruf .....

**Welche Wörter passen in die obigen Lücken?**

**Cümlede boş bırakılan yerleri aşağıdakilerden hangileri tamamlar?**

- A) Wie / erfassen
- B) Wenn / erlernen
- C) Wo / erweitern
- D) Weil / arbeitest

7. Was bedeutet "coşkulu" auf Deutsch?

**"coşkulu" sözcüğünün Almanca'sı aşağıdakilerden hangisidir?**

- A) entwickelt
- B) gebastelt
- C) belastend
- D) begeistert

8. Der / ist / vielen / in / Computer / Haushalten / eingezogen

Wie kann man mit den obigen Wortgruppen einen sinnvollen und richtigen Satz bilden?

Verilen sözcük gruplarıyla kurulabilecek en anlamlı ve doğru cümle aşağıdakilerden hangisidir?

- A) Der Haushalten ist Computer in vielen eingezogen.  
B) Der Computer ist in vielen Haushalten eingezogen.  
C) In vielen der Computer ist eingezogen Haushalten.  
D) Ist der Computer Haushalten eingezogen in vielen.

9. Wie lautet das Singular von "Die Abfälle"?

"Die Abfälle" sözcüğünün tekil hali aşağıdakilerden hangisidir?

- A) Die Abfall  
B) Der Abfall  
C) Das Abfallen  
D) Die Abfäll

10. Ein Geologe ..... in Ölgesellschaften arbeiten.

Welches Wort passt in die obige Lücke?

Cümlede boş bırakılan yeri aşağıdakilerden hangisi tamamlar?

- A) kennt  
B) kannst  
C) kennen  
D) kann

11. Die grossen Städte haben alle Probleme: .....

Welches ergänzt die Lücke im obigen Satz?

Verilen cümleyi aşağıdakilerden hangisi tamamlar?

- A) Viel Lärm und Abgase.  
B) Innenstadt und Aussenstadt.  
C) Überschrift und Konferenz.  
D) Freude und Erfolg.

12. Meine Mutter bastelt gerne und ist .....

Welches ergänzt den obigen Satz?

Verilen cümleyi aşağıdakilerden hangisi tamamlar?

- A) braucht menschliche Energie.  
B) für viele Fragen zu benutzen.  
C) in der Zukunft sehr modern entwickelt.  
D) stolz auf das selbst gemachte.

13. Warum machen Menschen Ferien?

Welche Antwort passt zur obigen Frage?

Verilen sorunun cevabı aşağıdakilerden hangisidir?

- A) Ich habe mir ein Fahrrad gekauft.  
B) Du bekommst viele Geschenke zum Geburtstag.  
C) Um sich zu erholen.  
D) Ja, ich habe ein Realschulabschluss.

14. Was bedeutet das Gegenteil von "Misserfolg"?

"Misserfolg" sözcüğünün zıt anlamlısı aşağıdakilerden hangisidir?

- A) Nachfolge  
B) Unerfolg  
C) Abfolge  
D) Erfolg

15. Der Rhein ist ..... Fluss von Deutschland.

Welches Wort passt in die obige Lücke?

Cümlede boş bırakılan yeri aşağıdakilerden hangisi tamamlar?

- A) am langten  
B) der langem  
C) der längste  
D) länger



16. Die Stadt Koblenz liegt am Rhein.

**Welche Frage passt zur obigen Antwort?**

**Verilen cevabı gerektirecek soru aşağıdakilerden hangisidir?**

- A) Was willst du in Koblenz machen?
- B) Wer fährt nach Koblenz?
- C) Wo liegt die Stadt Koblenz?
- D) Warst du schon mal in Koblenz?

17. A: Wann ..... du den Bericht .....?  
B: Ich möchte ihn heute vortragen.  
A: Dann wünsche ich dir viel Erfolg!

**Welches ergänzt die Lücke im obigen Dialog?**

**Verilen karşılıklı konuşmada boş bırakılan yeri aşağıdakilerden hangisi tamamlar?**

- A) ein / trägt
- B) vor / tragen
- C) trägst / vor
- D) trägt / vor

18. Ein Plakat ist ein Hinweis für die Besucher.

**Welche Frage passt zur obigen Antwort?**

**Verilen cevabı gerektirecek soru aşağıdakilerden hangisidir?**

- A) Bastelst du ein Plakat?
- B) Was ist ein Plakat?
- C) Wem gehört das Plakat?
- D) Gibt es noch andere Plakate?

19. .... man eine schöne Aussicht.

**Welches ergänzt die Lücke im obigen Satz?**

**Verilen cümleyi aşağıdakilerden hangisi tamamlar?**

- A) In der Schule haben
- B) Diese Häuser sind
- C) Das ist unsere Garage
- D) Von unserem Balkon hat

20. Wo kann man Informationen finden?

**Welche Antwort passt zur obigen Frage?**

**Verilen sorunun cevabı aşağıdakilerden hangisidir?**

- A) Im Museum kann man viele Informationen finden.
- B) Ich gehe in die Schule.
- C) Er arbeitet im Museum.
- D) Das Museum liegt weit weg von hier.

1. Jane ..... the work by tomorrow.

**Which of the following completes the sentence above?**

**Aşağıdakilerden hangisi yukarıdaki cümleyi doğru olarak tamamlar?**

- A) is finishing  
B) finish  
C) has finished  
D) will have finished

2. I will be ..... to İstanbul this time tomorrow.

**Which of the following completes the sentence above?**

**Aşağıdakilerden hangisi yukarıdaki cümleyi doğru olarak tamamlar?**

- A) go  
B) going  
C) has gone  
D) was going

3. Can ..... his house by the end of this week.

**Which of the following completes the sentence above?**

**Aşağıdakilerden hangisi yukarıdaki cümleyi doğru olarak tamamlar?**

- A) will have moved  
B) moving  
C) was moving  
D) moved

4. Jessica will be finishing these letters .....

**Which of the following completes the sentence above?**

**Aşağıdakilerden hangisi yukarıdaki cümleyi doğru olarak tamamlar?**

- A) in the afternoon  
B) recently  
C) at the moment  
D) lately

5. You ..... cleaning your room this evening.

**Which of the following completes the sentence above?**

**Aşağıdakilerden hangisi yukarıdaki cümleyi doğru olarak tamamlar?**

- A) is  
B) will be  
C) be  
D) can

6. Özlem ..... a new book by then.

**Which of the following completes the sentence above?**

**Aşağıdakilerden hangisi yukarıdaki cümleyi doğru olarak tamamlar?**

- A) will have bought  
B) is buying  
C) has bought  
D) bought

7. If you ..... sick, see a doctor.

**Which of the following completes the sentence above?**

**Aşağıdakilerden hangisi yukarıdaki cümleyi doğru olarak tamamlar?**

- A) speak  
B) love  
C) think  
D) feel

8. If we ..... , we ..... the bus.

**Which of the following completes the sentence above?**

**Aşağıdakilerden hangisi yukarıdaki cümleyi doğru olarak tamamlar?**

- A) hurry / missed  
B) hurrying / miss  
C) don't hurry / will miss  
D) hurried / miss

9. If you kept a diary, you ..... forget your homework.

**Which of the following completes the sentence above?**

**Aşağıdakilerden hangisi yukarıdaki cümleyi doğru olarak tamamlar?**

- A) didn't  
B) mustn't  
C) wouldn't  
D) can't

10. If we heat ice, it .....

**Which of the following completes the sentence above?**

**Aşağıdakilerden hangisi yukarıdaki cümleyi doğru olarak tamamlar?**

- A) freezes  
B) melts  
C) pours  
D) goes

11. If he had been careful, .....

**Which of the following completes the sentence above?**

**Aşağıdakilerden hangisi yukarıdaki cümleyi doğru olarak tamamlar?**

- A) he couldn't have invited you to the party  
B) he wouldn't have had an accident  
C) he might not have prepared the dinner  
D) he couldn't have read the newspaper

12. If Mike had known how to repair the toaster, he surely ..... her.

**Which of the following completes the sentence above?**

**Aşağıdakilerden hangisi yukarıdaki cümleyi doğru olarak tamamlar?**

- A) tells  
B) is telling  
C) would have told  
D) will tell

13. Terry: Why didn't you buy pink dress?  
Carol: ..... I had already bought one.

**Which of the following completes the dialogue above?**

**Aşağıdakilerden hangisi yukarıdaki konuşmayı doğru olarak tamamlar?**

- A) After  
B) Because  
C) Until  
D) Wherever

14. I won't eat anything ..... Joe comes home.

**Which of the following completes the sentence above?**

**Aşağıdakilerden hangisi yukarıdaki cümleyi doğru olarak tamamlar?**

- A) until  
B) since  
C) in  
D) while

15. .... I see my mother, I feel happy.

Which of the following completes the sentence above?

Aşağıdakilerden hangisi yukarıdaki cümleyi doğru olarak tamamlar?

- A) While
- B) In order to
- C) Whenever
- D) Where

16. He will be successful ..... he studies regularly.

Which of the following completes the sentence above?

Aşağıdakilerden hangisi yukarıdaki cümleyi doğru olarak tamamlar?

- A) in order to
- B) where
- C) as long as
- D) until

17. French is ..... in France.

Which of the following completes the sentence above?

Aşağıdakilerden hangisi yukarıdaki cümleyi doğru olarak tamamlar?

- A) speaking
- B) speak
- C) has spoken
- D) spoken

18. 'Kürk Mantolu Madonna' ..... by Sabahattin Ali.

Which of the following completes the sentence above?

Aşağıdakilerden hangisi yukarıdaki cümleyi doğru olarak tamamlar?

- A) was written
- B) has written
- C) written
- D) had written

19. These carpets ..... by a machine.

Which of the following completes the sentence above?

Aşağıdakilerden hangisi yukarıdaki cümleyi doğru olarak tamamlar?

- A) have made
- B) been made
- C) has been made
- D) have been made

20. They will construct a new road.

Which of the following is the passive voice of the sentence above?

Aşağıdakilerden hangisi yukarıdaki cümlelerin edilgen yapıda kurulmuş biçimidir?

- A) A new road was constructed by them.
- B) A new road is constructed by them.
- C) A new road has been constructed by them.
- D) A new road will be constructed by them.

1. Il peut pleuvoir; n'oubliez pas ..... prendre votre parapluie.

**Choisissez le mot qui convient.**

**Cümledeki boşluğu aşağıdakilerden hangisi doğru şekilde tamamlar?**

- A) de  
B) en  
C) sans  
D) à

2. Si j'ai beaucoup d'argent, je(j') ..... faire un tour de monde.

**Choisissez le mot qui convient.**

**Cümledeki boşluğu aşağıdakilerden hangisi doğru şekilde tamamlar?**

- A) allais  
B) vais  
C) en  
D) y

3. .... de litres d'eau vous buvez par jour?

**Choisissez le mot qui convient.**

**Cümledeki boşluğu aşağıdakilerden hangisi doğru şekilde tamamlar?**

- A) Chacun  
B) Dans  
C) Est-ce que  
D) Combien

4. Elle n'aime pas la campagne. Elle est ..... la ville.

**Choisissez le mot qui convient.**

**Cümledeki boşluğu aşağıdakilerden hangisi doğru şekilde tamamlar?**

- A) pour  
B) contre  
C) sur  
D) par

5. te / tôt / devrais / tu / coucher  
I II III IV V

**Mettez dans le bon ordre.**

**Yukarıdaki kelimelerin kurallı ve anlamlı bir bütün oluşturan dizilişi aşağıdakilerin hangisinde doğru olarak verilmiştir?**

- A) IV, I, V, III, II  
B) IV, III, I, V, II  
C) V, IV, I, III, II  
D) V, II, IV, I, III

6. - Demain, nous allons partir en Espagne.  
- .....

**Choisissez l'expression qui convient.**

**Yukarıdaki konuşmada boş bırakılan yeri aşağıdakilerden hangisi doğru şekilde tamamlar?**

- A) Bon appétit!  
B) Bon voyage!  
C) Bonne anniversaire!  
D) Bonne nuit!

7. Le serveur : Vous avez fait ..... choix?  
Le client : Oui, je prends un café au lait.

**Choisissez le mot qui convient.**

**Yukarıdaki konuşmada boş bırakılan yeri aşağıdakilerden hangisi doğru şekilde tamamlar?**

- A) ton  
B) votre  
C) nos  
D) vous

8. Elle est en retard ..... un accident sur la route.

**Choisissez le mot qui convient.**

**Cümledeki boşluğu aşağıdakilerden hangisi doğru şekilde tamamlar?**

- A) à cause d'  
B) à l'absence d'  
C) pourquoi  
D) qui

9. - ..... ?  
- Vendredi prochain.

**Choisissez la question qui convient.**

**Yukarıdaki konuşmada cevabı gerektiren soru aşağıdakilerden hangisidir?**

- A) Nous sommes quel jour  
B) Quand vous partez  
C) Vous venez d'où  
D) Vous allez où

10. La cliente: .....  
Le serveur: Tout de suite, Madame.

**Choisissez la réplique qui convient.**

**Yukarıdaki konuşmada boş bırakılan yeri aşağıdakilerden hangisi doğru şekilde tamamlar?**

- A) Vous voulez commander quelque chose?  
B) Chacun paie sa part?  
C) C'est trop pour moi!  
D) Monsieur, l'addition s'il vous plait!

11. Elle a invitée ses amis pour ..... anniversaire.

**Choisissez le mot qui convient.**

**Cümledeki boşluğu aşağıdakilerden hangisi doğru şekilde tamamlar?**

- A) ses
- B) ta
- C) son
- D) les

12. Il va aller chercher le livre ..... son professeur demande.

**Choisissez le mot qui convient.**

**Cümledeki boşluğu aşağıdakilerden hangisi doğru şekilde tamamlar?**

- A) qui
- B) où
- C) sur
- D) que

13. .... pense à soi-même.

**Choisissez le mot qui convient.**

**Cümledeki boşluğu aşağıdakilerden hangisi doğru şekilde tamamlar?**

- A) Chacun
- B) Comme
- C) Qui
- D) Toi

14. La semaine prochaine, il ..... au Portugal.

**Choisissez le mot qui convient.**

**Cümledeki boşluğu aşağıdakilerden hangisi doğru şekilde tamamlar?**

- A) a
- B) était
- C) est allé
- D) sera

15. Je suis ..... le théâtre au cinéma.

**Choisissez le mot qui convient.**

**Cümledeki boşluğu aşağıdakilerden hangisi doğru şekilde tamamlar?**

- A) dans
- B) du
- C) pour
- D) qui

16. C'est une ville .....; je l'aime beaucoup.

**Choisissez le mot qui convient.**

**Cümledeki boşluğu aşağıdakilerden hangisi doğru şekilde tamamlar?**

- A) gentil
- B) déçu
- C) tranquille
- D) intelligent

17. Mon ami a de mauvaises notes en littéraires. Il ..... dire la vérité à ses parents.

**Choisissez le mot qui convient.**

**Cümledeki boşluğu aşağıdakilerden hangisi doğru şekilde tamamlar?**

- A) obligé
- B) pardonnez
- C) encouragement
- D) hésite

18. - Tu ne prends pas de dessert?  
- Non, je ne(n') ... veux pas.

**Choisissez le mot qui convient.**

**Yukarıdaki konuşmada boş bırakılan yeri aşağıdakilerden hangisi doğru şekilde tamamlar?**

- A) la
- B) y
- C) en
- D) rien

19. Si vous avez soif, ..... de l'eau.

**Choisissez le mot qui convient.**

**Cümledeki boşluğu aşağıdakilerden hangisi doğru şekilde tamamlar?**

- A) buvez
- B) mangez
- C) soyez
- D) oubliez

20. - Il vit en Angleterre?  
- Oui, il ..... travaille.

**Choisissez le mot qui convient.**

**Yukarıdaki konuşmada boş bırakılan yeri aşağıdakilerden hangisi doğru şekilde tamamlar?**

- A) en
- B) dans
- C) y
- D) le

## SEÇMELİ ALMANCA 4

A

2014 I.DÖNEM 0104-A

1. Die Ferien waren angenehm. ....  
Ferien haben uns gut gefallen.

**Welches Wort passt in die obige Lücke?**

**Cümlede boş bırakılan yeri aşağıdakilerden hangisi doğru şekilde tamamlar?**

- A) Das angegebene
- B) Die genehme
- C) Der angebende
- D) Die angenehmen

2. Das Wetter ist in der Türkei immer .....

**Welches Wort passt in die obige Lücke?**

**Cümlede boş bırakılan yeri aşağıdakilerden hangisi doğru şekilde tamamlar?**

- A) sonnen
- B) sonnig
- C) sonner
- D) sonniges

3. Ich mag die Arbeit als Dolmetscherin nicht sehr gern.

**Wie lautet der obige Satz auf Türkisch?**

**Verilen cümlelerin Türkçesi aşağıdakilerden hangisidir?**

- A) Çevirmen olmak istemiyordum.
- B) Çevirmen olarak çalışmayı pek sevmiyorum.
- C) Çevirmen olarak çalışanları hiç sevmem.
- D) Çevirmenlik yapmayı çok isterdim.

4. Du ..... hier nicht rauchen. Es ist verboten.

**Welches Wort passt in die obige Lücke?**

**Cümlede boş bırakılan yeri aşağıdakilerden hangisi tamamlar?**

- A) wollst
- B) dürft
- C) willst
- D) darfst

5. .... sofort dein Zimmer .....

**Welche Wörter passen in die obigen Lücken?**

**Cümlede boş bırakılan yerleri aşağıdakilerden hangileri tamamlar?**

- A) Räume / auf
- B) Schreibe / in
- C) Geh / zu
- D) Komm / auf

6. Wir ..... um Erlaubnis.

**Welches Wort passt in die obige Lücke?**

**Cümlede boş bırakılan yeri aşağıdakilerden hangisi tamamlar?**

- A) hören
- B) bitten
- C) nehmen
- D) kommen

7. Was hättest du gern?

**Welche Antwort passt zur obigen Frage?**

**Verilen sorunun cevabı aşağıdakilerden hangisidir?**

- A) Das ist mir zu viel.
- B) Ich hätte gern ein neues Auto.
- C) Wir können diesen Sommer keinen Urlaub machen.
- D) Er hätte das nicht machen wollen.

8. Dieter: Willst du im Süden Urlaub machen?  
Jens: Ja, .....

**Welches ergänzt den obigen Dialog?**

**Verilen karşılıklı konuşmayı aşağıdakilerden hangisi tamamlar?**

- A) es wäre schön eine Villa zu kaufen.
- B) du kannst dort Urlaub machen.
- C) ich will im Süden Urlaub machen.
- D) wir müssen in den Ferien viel arbeiten.

9. Als Schüler muß man immer fleißig sein.

**Welcher Satz drückt das gleiche wie der obige aus?**

**Verilen cümle ile aynı anlamı taşıyan cümle aşağıdakilerden hangisidir?**

- A) Die Schüler sind so fleißig wie früher.  
B) Schüler haben es sehr schwer.  
C) Die Schüler haben fleißig gearbeitet.  
D) Schüler haben immer fleißig zu sein.

10. Nein, sie kann nicht Deutsch sprechen.

**Welche Frage passt zur obigen Antwort?**

**Verilen cevabı gerektirecek soru aşağıdakilerden hangisidir?**

- A) Kann sie Deutsch sprechen?  
B) Wann lernst du Deutsch?  
C) Hat er Deutsch gelernt?  
D) Willst du Deutsch lernen?

11. ...., war es 1938.

**Welches ergänzt die Lücke im obigen Satz?**

**Verilen cümleyi aşağıdakilerden hangisi tamamlar?**

- A) Wenn du dein Examen machst  
B) Als Atatürk auf die Welt kam  
C) Als Atatürk starb  
D) Wenn die Prüfung gut geht

12. Als der Winter zu Ende war, kamen die Vögel zurück.

**Wie lautet der obige Satz auf Türkisch?**

**Verilen cümlelerin Türkçesi aşağıdakilerden hangisidir?**

- A) Kış bittiğinde kuşlar geri geldi.  
B) Kuşlar döndüğünde kış başlamıştı.  
C) Kışın bittiği yere kuşlar geri gelmez.  
D) Kuşlar geri geldiğinde bahar başlar.

13. Am Wochenende gehen wir ..... ins Kino.

**Welches Wort passt nicht in die obige Lücke?**

**Cümlede boş bırakılan yeri aşağıdakilerden hangisi doğru şekilde tamamlamaz?**

- A) am meisten  
B) gern  
C) meistens  
D) am liebsten

14. Meine Schwester ist ..... mein Bruder.

**Welche Wörter passen in die obigen Lücken?**

**Cümlede boş bırakılan yerleri aşağıdakilerden hangileri tamamlar?**

- A) teurer als  
B) neuer als  
C) älter als  
D) billiger als

15. Ayşe darf das Auto nicht fahren, .....

**Welches ergänzt den obigen Satz?**

**Cümleyi aşağıdakilerden hangisi doğru olarak tamamlar?**

- A) weil er lieber ins Kino geht.  
B) weil sie erst 15 Jahre alt ist.  
C) damit sie in die Stadt gehen kann.  
D) damit er einen Führerschein macht.

16. Warum kauft ihr euch ein Haus?

**Welche Antwort passt zur obigen Frage?**

**Verilen sorunun cevabı aşağıdakilerden hangisidir?**

- A) Ja, ich habe eine moderne Wohnung.  
B) Er möchte sich ein Haus kaufen.  
C) Wir kaufen uns ein Haus, damit wir keine Miete bezahlen müssen.  
D) Sie hat eine kleine Wohnung.



17. Martin: Seit wann lebst du in Berlin?  
 Tina: Ich lebe seit vier Jahren in Berlin.  
 Martin: .....  
 Tina: Ja, ich möchte auch nach meinem Studium hier in Berlin wohnen.

**Welches ergänzt die Lücke im obigen Dialog?**

**Verilen karşılıklı konuşmada boş bırakılan yeri aşağıdakilerden hangisi tamamlar?**

- A) Hast du vor, noch lange hier zu wohnen?  
 B) Warst du im Sommer auch in Berlin?  
 C) Wo hast du vorher gelebt?  
 D) Hast du einen Beruf ausgeübt?

18. Ich gehe ..... am Wochenende zum Tanzen.

**Welches Wort passt nicht in die obige Lücke?**

**Cümlede boş bırakılan yeri aşağıdakilerden hangisi tamamlamaz?**

- A) nur  
 B) immer  
 C) manchmal  
 D) tagelang

19. Wir müssen morgen um 07.00 Uhr zur Schule. Hattest du das gewußt?

**Wie kann man die obigen Sätze mit "daß" verbinden?**

**Verilen cümlelerin "daß" bağlacı ile birleştirilmiş hali aşağıdakilerden hangisidir?**

- A) Hast du gewußt, daß wir morgen keine Schule haben?  
 B) Die Schule ist morgen freiwillig, das weißt du?  
 C) Hattet ihr gewußt, daß die Schule morgen anfängt?  
 D) Hattest du gewußt, daß wir morgen um 07.00 Uhr zur Schule müssen?

20. Sibel freut sich, ..... sie viele Geschenke zum Geburtstag bekommen hat.

**Welches Wort paßt in die obige Lücke?**

**Cümlede boş bırakılan yeri aşağıdakilerden hangisi tamamlar?**

- A) die  
 B) was  
 C) daß  
 D) wie

## SEÇMELİ İNGİLİZCE 4

A

2014 I.DÖNEM 0104-A

1. The students are waiting for their teacher ..... the garden.

**Which of the following completes the sentence above?**

**Aşağıdakilerden hangisi yukarıdaki cümleyi doğru olarak tamamlar?**

- A) in  
B) on  
C) at  
D) between

2. The hospital is ..... to the bank.

**Which of the following completes the sentence above?**

**Aşağıdakilerden hangisi yukarıdaki cümleyi doğru olarak tamamlar?**

- A) at  
B) in  
C) next  
D) between

3. Meral will go to Mersin ..... the weekend.

**Which of the following completes the sentence above?**

**Aşağıdakilerden hangisi yukarıdaki cümleyi doğru olarak tamamlar?**

- A) in  
B) at  
C) on  
D) under

4. .... a few days, we have to finish our project.

**Which of the following completes the sentence above?**

**Aşağıdakilerden hangisi yukarıdaki cümleyi doğru olarak tamamlar?**

- A) At  
B) To  
C) On  
D) In

5. My birthday is ..... November 23<sup>rd</sup>.

**Which of the following completes the sentence above?**

**Aşağıdakilerden hangisi yukarıdaki cümleyi doğru olarak tamamlar?**

- A) in  
B) at  
C) on  
D) near

6. I ..... J.K. Rowling's last book yesterday.

**Which of the following completes the sentence above?**

**Aşağıdakilerden hangisi yukarıdaki cümleyi doğru olarak tamamlar?**

- A) am buying  
B) buy  
C) bought  
D) will buy

7. Last year my cousins ..... to the USA.

**Which of the following completes the sentence above?**

**Aşağıdakilerden hangisi yukarıdaki cümleyi doğru olarak tamamlar?**

- A) travel  
B) travelled  
C) are travelling  
D) travels

8. He usually helps his dad ..... Sundays.

**Which of the following completes the sentence above?**

**Aşağıdakilerden hangisi yukarıdaki cümleyi doğru olarak tamamlar?**

- A) at  
B) in  
C) under  
D) on

9. You ..... wait when the light is red.

**Which of the following completes the sentence above?**

**Aşağıdakilerden hangisi yukarıdaki cümleyi doğru olarak tamamlar?**

- A) mustn't  
B) should  
C) must  
D) can

10. My Maths marks are ..... than my Chemistry marks.

**Which of the following completes the sentence above?**

**Aşağıdakilerden hangisi yukarıdaki cümleyi doğru olarak tamamlar?**

- A) gooder  
B) good  
C) the best  
D) better

11. Planes are ..... than buses.

**Which of the following completes the sentence above?**

**Aşağıdakilerden hangisi yukarıdaki cümleyi doğru olarak tamamlar?**

- A) fast
- B) more fast
- C) the faster
- D) faster

12. A Porsche is ..... than a Fiat.

**Which of the following completes the sentence above?**

**Aşağıdakilerden hangisi yukarıdaki cümleyi doğru olarak tamamlar?**

- A) more expensive
- B) the most expensive
- C) expensive
- D) the more expensive

13. The Nile is ..... river in the world.

**Which of the following completes the sentence above?**

**Aşağıdakilerden hangisi yukarıdaki cümleyi doğru olarak tamamlar?**

- A) the longest
- B) the longer
- C) longest
- D) longer

14. She has never seen such a big snake .....

**Which of the following completes the sentence above?**

**Aşağıdakilerden hangisi yukarıdaki cümleyi doğru olarak tamamlar?**

- A) just
- B) before
- C) already
- D) ever

15. He always speaks ..... so everybody can understand him.

**Which of the following completes the sentence above?**

**Aşağıdakilerden hangisi yukarıdaki cümleyi doğru olarak tamamlar?**

- A) quick
- B) slow
- C) quickly
- D) slowly

16. They have ..... done the shopping. The fridge is full.

**Which of the following completes the sentence above?**

**Aşağıdakilerden hangisi yukarıdaki cümleyi doğru olarak tamamlar?**

- A) yet
- B) already
- C) ever
- D) before

17. My mum is a careful driver. She drives ..... and never has accidents.

**Which of the following completes the sentence above?**

**Aşağıdakilerden hangisi yukarıdaki cümleyi doğru olarak tamamlar?**

- A) more careful
- B) carefully
- C) the most careful
- D) careful

18. I am very excited because I ..... a famous pop star before.

**Which of the following completes the sentence above?**

**Aşağıdakilerden hangisi yukarıdaki cümleyi doğru olarak tamamlar?**

- A) haven't met
- B) have met
- C) has met
- D) have meet

19. We ..... this sofa for a long time.

**Which of the following completes the sentence above?**

**Aşağıdakilerden hangisi yukarıdaki cümleyi doğru olarak tamamlar?**

- A) are having
- B) have
- C) have had
- D) had

20. The film hasn't started .....

**Which of the following completes the sentence above?**

**Aşağıdakilerden hangisi yukarıdaki cümleyi doğru olarak tamamlar?**

- A) yet
- B) just
- C) ever
- D) already

## SEÇMELİ FRANSIZCA 4

2014 I.DÖNEM 0104-A

A

1. Metin, Serkan'dan daha gençtir.

**Choisissez la traduction qui convient.**

**Yukarıdaki cümlelerin Fransızca karşılığı aşağıdakilerden hangisidir?**

- A) Metin est moins jeune que Serkan.  
B) Serkan est jeune, Metin est agé.  
C) Metin est plus jeune que Serkan.  
D) Serkan est plus jeune que Metin.

2. Ce sont leurs calculatrices; ce sont .....

**Choisissez le mot qui convient.**

**Cümledeki boşluğu aşağıdakilerden hangisi doğru şekilde tamamlar?**

- A) la leur  
B) les tiennes  
C) les siennes  
D) les leurs

3. Pour moi, l'hiver est ..... des saisons.

**Choisissez le mot qui convient.**

**Cümledeki boşluğu aşağıdakilerden hangisi doğru şekilde tamamlar?**

- A) le plus  
B) le moindre  
C) la pire  
D) la moins

4. J'ai vu quelqu'un dans le salon.

**Choisissez l'antonyme du mot souligné.**

**Yukarıdaki cümlede altı çizili sözcüğün zıt anlamlısı aşağıdakilerden hangisidir?**

- A) justement  
B) rien  
C) quelque chose  
D) personne

5. Quand il était petit, il ..... dans le village avec sa famille.

**Choisissez le mot qui convient.**

**Cümledeki boşluğu aşağıdakilerden hangisi doğru şekilde tamamlar?**

- A) vivait  
B) a vécu  
C) vivra  
D) avait vécu

6. Quand vous sortirez, vous ..... la porte.

**Choisissez le mot qui convient.**

**Cümledeki boşluğu aşağıdakilerden hangisi doğru şekilde tamamlar?**

- A) aviez fermé  
B) fermeront  
C) avez fermé  
D) fermerez

7. ...., nous partirons pour Paris.

**Choisissez le mot qui convient.**

**Cümledeki boşluğu aşağıdakilerden hangisi doğru şekilde tamamlar?**

- A) Hier  
B) Demain  
C) Avant-hier  
D) La semaine dernière

8. .... belles roses; elles sont à combien?

**Choisissez le mot qui convient.**

**Cümledeki boşluğu aşağıdakilerden hangisi doğru şekilde tamamlar?**

- A) Quelles  
B) Quels  
C) Quel  
D) Quelle

9. Mon ami dira à son professeur qu'il a perdu son livre.

**Choisissez la traduction qui convient.**

**Yukarıdaki cümlelerin Türkçe karşılığı aşağıdakilerden hangisidir?**

- A) Arkadaşım, öğretmenine kitabını kaybettiğini söyledi.  
B) Arkadaşım, öğretmenine kitabını bulduğunu söyledi.  
C) Arkadaşım, öğretmenine kitabını bulduğunu söyleyecek.  
D) Arkadaşım, öğretmenine kitabını kaybettiğini söyleyecek.

10. est / ceci / important / très  
I II III IV

**Mettez dans le bon ordre.**

**Yukarıdaki kelimelerin anlamlı ve kurallı bir bütün oluşturan sırası aşağıdakilerin hangisinde doğru olarak verilmiştir?**

- A) II, I, III, IV  
B) II, I, IV, III  
C) III, II, I, IV  
D) III, IV, I, II

11. Monique: Lequel de ces deux livres préférez-vous?  
Pierre: .....

**Choisissez la réponse qui convient.**

**Yukarıdaki konuşmada boş bırakılan yeri aşağıdakilerden hangisi doğru şekilde tamamlar?**

- A) J'aime lire  
B) Je préfère celui-la  
C) Je lis toujours des livres intéressants  
D) Ce sont les livres de mon frère

12. Quand elle vient de l'école, elle ..... d'abord ses devoirs.

**Choisissez le mot qui convient.**

**Cümledeki boşluğu aşağıdakilerden hangisi doğru şekilde tamamlar?**

- A) a fait  
B) fera  
C) avait fait  
D) fait

13. Nicolas écoute ..... le professeur.

**Choisissez le mot qui convient.**

**Cümledeki boşluğu aşağıdakilerden hangisi doğru şekilde tamamlar?**

- A) violemment  
B) couramment  
C) attentivement  
D) rapidement

14. Le voleur ..... déjà pris la fuite lorsqu'ils sont rentrés chez eux.

**Choisissez le mot qui convient.**

**Cümledeki boşluğu aşağıdakilerden hangisi doğru şekilde tamamlar?**

- A) avaient  
B) aura  
C) avait  
D) a eu

15. Mireille: .....?  
Jacques: Oui, c'est la mienne.

**Choisissez la question qui convient.**

**Yukarıdaki konuşmada cevabı gerektiren soru aşağıdakilerden hangisidir?**

- A) Est-ce que ce manteau est à lui  
B) Est-ce que cette chemise est à Pierre  
C) Est-ce que cette clé est à toi  
D) Est-ce que ces chats sont à ton fils

16. Le patron ..... de sortir, il n'est pas dans son bureau maintenant.

**Choisissez le mot qui convient.**

**Cümledeki boşluğu aşağıdakilerden hangisi doğru şekilde tamamlar?**

- A) vient  
B) va  
C) a  
D) est

17. Dans quelques minutes, nous ..... terminer ce travail.

**Choisissez le mot qui convient.**

**Cümledeki boşluğu aşağıdakilerden hangisi doğru şekilde tamamlar?**

- A) avons  
B) allons  
C) sommes  
D) voudrez

18. Il n'a pas ..... travaillé ses leçons cette année scolaire.

**Choisissez le mot qui convient.**

**Cümledeki boşluğu aşağıdakilerden hangisi doğru şekilde tamamlar?**

- A) doucement  
B) suffisamment  
C) lentement  
D) bizarrement

19. Ali a 25 livres, Hakan a 42 livres. Ali a ..... de livres que Hakan.

**Choisissez le mot qui convient.**

**Cümledeki boşluğu aşağıdakilerden hangisi doğru şekilde tamamlar?**

- A) moins  
B) plus  
C) autant  
D) aussi

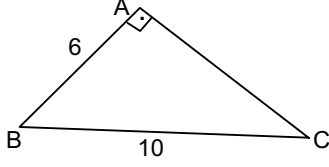
20. Hier, il faisait très froid, ....., aujourd'hui il fait beau.

**Choisissez le mot qui convient.**

**Cümledeki boşluğu aşağıdakilerden hangisi doğru şekilde tamamlar?**

- A) en revanche  
B) malgré  
C) lorsque  
D) comme

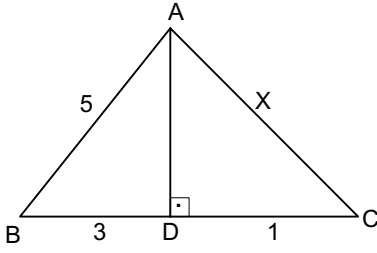
1.



ABC üçgeninde,  $[AB] \perp [AC]$ ,  $|AB| = 6$  cm,  $|BC| = 10$  cm ise,  $A(\triangle ABC)$  kaç  $\text{cm}^2$  dir?

- A) 24
- B) 30
- C) 48
- D) 60

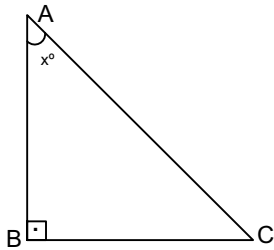
2.



ABC üçgeninde,  $|AB| = 5$  cm,  $|BD| = 3$  cm,  $|DC| = 1$  cm ve  $[AD] \perp [BC]$  ise,  $|AC| = x$  kaç santimetredir?

- A) 4
- B)  $\sqrt{17}$
- C)  $3\sqrt{2}$
- D)  $\sqrt{19}$

3.



ABC üçgeninde,  $[AB] \perp [BC]$  ve  $\frac{|AB|}{|AC|} = \frac{3}{5}$  ise,

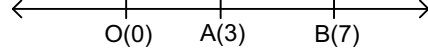
$\tan x$  kaçtır?

- A)  $\frac{3}{5}$
- B)  $\frac{3}{4}$
- C)  $\frac{4}{5}$
- D)  $\frac{4}{3}$

4. A(-3) ve B(4) noktaları veriliyor. Buna göre  $|\overline{AB}|$  aşağıdakilerden hangisidir?

- A) 1
- B) 3
- C) 4
- D) 7

5.



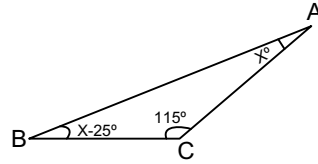
Sayı doğrusunda verilenlere göre,  $|\overline{OA}| + |\overline{OB}|$  uzunluğu kaç birimdir?

- A) 7
- B) 10
- C) 13
- D) 16

6. Sumru'nun Matematik sınavlarında aldığı puanlar 66, 70, 76, 68, 70 ise, bu verilerin standart sapması kaçtır?

- A)  $\sqrt{14}$
- B) 4
- C)  $3\sqrt{2}$
- D)  $2\sqrt{5}$

7.



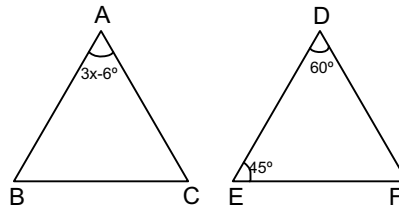
Yukarıdaki şekilde verilenlere göre  $m(\hat{B})$  kaç derecedir?

- A) 20
- B) 25
- C) 40
- D) 45

8. Hilesiz bir zar atıldığında, üst yüze gelen sayının asal sayı olma olasılığı kaçtır?

- A)  $\frac{1}{6}$
- B)  $\frac{1}{3}$
- C)  $\frac{1}{2}$
- D)  $\frac{2}{3}$

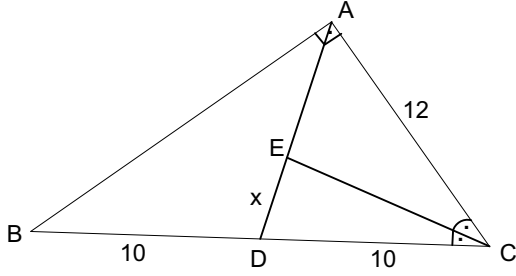
9.



$\triangle ABC \cong \triangle EDF$  olduğuna göre,  $x^\circ$  kaçtır?

- A) 14
- B) 17
- C) 22
- D) 26

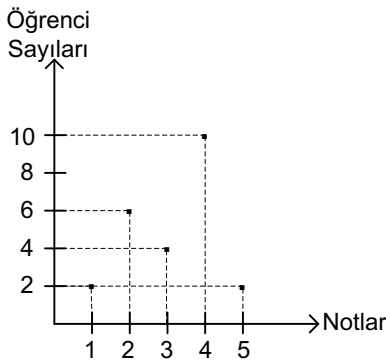
10.



ABC üçgeninde,  $[AB] \perp [AC]$  ve ADC üçgeninde  $[CE]$  açıortaydır.  $|BD| = |DC| = 10\text{cm}$  ve  $|AC| = 12\text{cm}$  ise,  $|DE| = x$  kaç santimetredir?

- A)  $\frac{50}{11}$   
 B)  $\frac{60}{11}$   
 C)  $\frac{70}{11}$   
 D)  $\frac{80}{11}$

11.



Yukarıdaki tabloda bir sınıftaki öğrencilerin, Matematik yazılısından aldıkları notlara göre sayıları verilmiştir.

Buna göre, sınıf mevcudu kaçtır?

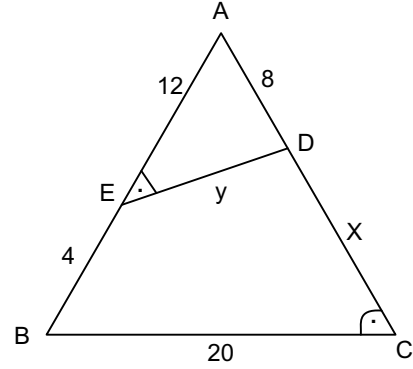
- A) 10  
 B) 16  
 C) 20  
 D) 24

12. "KELEBEK" kelimesinin her bir harfi aynı özellikteki kâğıt parçalarına yazılarak bir torbaya atılıyor.

Rastgele çekilen bir kağıdın üzerindeki harfin "K" olma olasılığı kaçtır?

- A)  $\frac{1}{7}$   
 B)  $\frac{2}{7}$   
 C)  $\frac{3}{7}$   
 D)  $\frac{1}{2}$

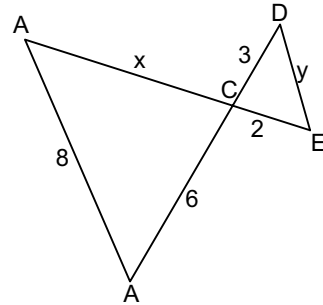
13.



Yukarıda verilenlere göre,  $m(\widehat{AED}) = m(\widehat{ACB})$  ise  $x+y$  kaçtır?

- A) 10  
 B) 24  
 C) 26  
 D) 34

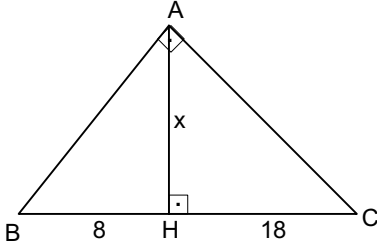
14.



Yukarıda verilenlere göre,  $[AB] \parallel [DE]$  ise  $x+y$  kaçtır?

- A) 5  
 B) 6  
 C) 7  
 D) 8

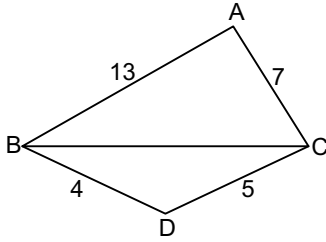
15.



ABC üçgeninde,  $[AB] \perp [AC]$ ,  $[AH] \perp [BC]$ ,  $|BH| = 8$  cm,  $|HC| = 18$  cm ise,  $|AH| = x$  kaç santimetredir?

- A) 8  
B) 10  
C) 12  
D) 14

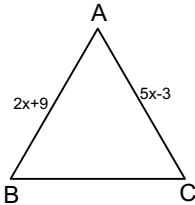
16.



Yukarıdaki şekilde verilenlere göre,  $[BC]$  nin alabileceği kaç farklı tamsayı değeri vardır?

- A) 2  
B) 3  
C) 4  
D) 5

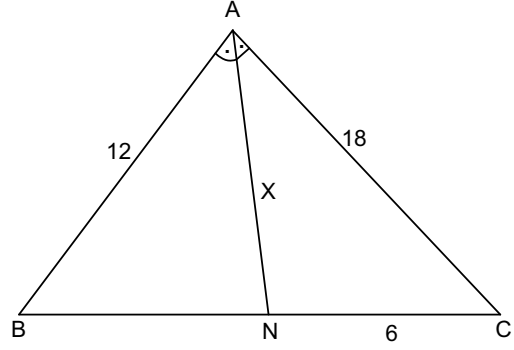
17.



Yukarıdaki şekilde,  $m(\hat{B}) > m(\hat{C})$  ise,  $x$ 'in alabileceği en küçük tamsayı değeri kaçtır?

- A) 3  
B) 4  
C) 5  
D) 6

18.



ABC üçgeninde,  $[AN]$  açıortaydır.  $|AB| = 12$  cm,  $|AC| = 18$  cm ve  $|NC| = 6$  cm ise,  $|AN| = X$  kaç santimetredir?

- A)  $2\sqrt{3}$   
B)  $4\sqrt{3}$   
C)  $6\sqrt{3}$   
D)  $8\sqrt{3}$

19. 33, 25, 24, 22, 36, 24, 29  
23, 25, 24, 29, 33, x

Yukarıda verilen ilk veri grubunun ortanca değeri ile ikinci veri grubunun tepe değeri eşittir.

Buna göre x kaçtır?

- A) 14  
B) 24  
C) 25  
D) 37

20. 22 kişilik bir sınıftaki öğrencilerin 10'u kız; kızların 4'ü erkeklerin 5'i gözlüklüdür.

Buna göre bu sınıftan rastgele seçilen bir öğrencinin gözlüksüz veya erkek olma olasılığı kaçtır?

- A)  $\frac{13}{22}$   
B)  $\frac{15}{22}$   
C)  $\frac{9}{11}$   
D)  $\frac{10}{11}$



BU SAYFA BOŞ BIRAKILMIŞTIR.

BU SAYFA BOŞ BIRAKILMIŞTIR.

BU SAYFA BOŞ BIRAKILMIŞTIR.

## SINAVDA UYGULANACAK KURALLAR

1. Sınav süresince görevlilerle konuşmak ve soru sormak yasaktır. Aynı şekilde görevlilerin de öğrencilerle yakından ve alçak sesle konuşmaları yasaktır. Yanınızda ve sıranızda dersle ilgili kitap not vb. bulundurmamak yasaktır. Sınav sırasında kopya yapan, yapmaya teşebbüs eden, kopya veren, kopya yapılmasına yardım edenlerin kimlikleri BİREYSEL SINAV İPTAL TUTANAĞINA yazılacak ve bu öğrencilerin sınavları geçersiz sayılacaktır. Görevliler kopya yapmaya veya vermeye kalkışanları uyarmak zorunda değildir, sorumluluk size aittir.  
Sınavda yetki verilmiş görevliler, bu salondaki sınavın kurallara uygun biçimde yapılmadığını, toplu kopya girişiminde bulunulduğunu raporlarında bildirdikleri veya üniversite sınav merkezince yapılan incelemeler sonucu toplu kopya yapıldığı saptandığı takdirde, Anadolu Üniversitesinin yetkili organları bu salonda sınava giren öğrencilerin tümünün sınavını geçersiz sayar.
2. Öğrenciler sınav sırasında görevlilerin her türlü uyarılarına uymak zorundadır. Gerekğinde görevliler oturduğunuz yerleri değiştirebilir. Sınavınızın geçerli sayılması, her şeyden önce sınav kurallarına uymanıza bağlıdır. Kurallara aykırı davranışta bulunanların ve yapılacak uyarılara uymayanların kimlikleri BİREYSEL SINAV İPTAL TUTANAĞINA yazılacak ve sınavları geçersiz sayılacaktır.
3. Sınav sırasında herhangi bir nedenle dışarı çıkmak yasaktır. Sınavın başlamasını izleyen ilk 30 dakika ve sınav süresinin son 5 dakikası içinde, sınavlarını tamamlasalar bile hiçbir öğrencinin salondan çıkmasına izin verilmeyecektir. Sınavın başlamasını izleyen ilk 15 dakikadan sonra hiç bir öğrenci sınava alınamaz.
4. Biraz sonra soru kitapçıkları dağıtılacaktır. Cevaplamaya geçmeden önce size verilecek soru kitapçığının üzerinde ayrılan yere, adınızı, soyadınızı, öğrenci numaranızı ve bu salonun numarasını yazınız. Sınav sonunda soru kitapçıkları toplanacak ve sınav merkezinde tek tek incelenecektir. Soru Kitapçığının bir tek sayfası eksik çıksa bile sınavınız geçersiz sayılacaktır.
5. Size verilen Cevap Kâğıdının üzerinde yazan numara ve ismin size ait olduğunu kontrol ediniz. Cevap Kâğıdı size ait değilse, görevlileri uyarıp size ait Cevap Kâğıdını alınız. Daha sonra Cevap Kâğıdı üzerinde ayrılmış olan yerlere öğrenci numaranızı ve test grubunuzu kodlayınız, adınızı soyadınızı yazınız ve ilgili yeri imzalayınız.
6. Cevap Kâğıdına yazılacak her türlü yazı, rakam ve yapılacak işaretlemeler için siyah kurşun kalem kullanılacaktır. Tükenmez kalem veya dolmakalem kesinlikle kullanılmayacaktır. Cevapların tümü CEVAP KÂĞIDINA İŞARETLENECEKTİR. Soru Kitapçıkları üzerine yapılan işaretlemeler kesinlikle değerlendirilmez. Her dersin cevabı, o dersin isminin yazılı olduğu sütuna işaretlenmelidir. Yanlış sütuna yapacağınız işaretlemeler kesinlikle değerlendirilmez.
7. Soru Kitapçığının sayfalarındaki boş yerleri müsvedde yapmak için kullanabilirsiniz. Başka bir kâğıdı müsvedde olarak kullanmak yasaktır. Bu tür işlemleri yapanların sınavları geçersiz sayılır.
8. Öğrencilerin sorulara verdikleri yanıtları herhangi bir yere yazmaları ve bunu sınav salonundan dışarıya çıkarmaları yasaktır. Bu kurala uymayanların sınavları geçersiz sayılır.
9. Sınav sırasında öğrencilerin birbirinden kalem, silgi vb. şeyleri istemesi kesinlikle yasaktır. Yasağa uymayanların sınavı geçersiz sayılır.
10. Sınav sırasında hesap makinesi kullanılabilir. Ancak, hesap makinesinin sınav sırasında ödünç alınması, verilmesi ve değiştirilmesi yasaktır. (Data Bank vb. gibi özel elektronik donanımlar kullanılamaz.) Bu tür davranışlarda bulunanların sınavları geçersiz sayılır.
11. Öğrenciler sınava gelirken telsiz, cep telefonu, çağrı cihazı vb. iletişim araçları ile görüntü kaydetmeye yarayan fotoğraf makinesi, kamera vb. araçları getirmemeleri konusunda sınava giriş belgelerinde uyarılmışlardır. Buna rağmen yanlarında bu tür cihazları getirenlerin, bunları sınav sonrasında almak üzere salon başkanına teslim etmeleri gerekir. Bu cihazları sınav salonunda yanlarında bulunduran öğrencilerin, cihazları kapalı bile olsa, o oturdaki sınavı geçersiz sayılacaktır. Bu cihazların kaybolmasından Üniversitemiz sorumlu olmayacaktır.
12. Biraz sonra dağıtılacak olan soru kitapçığında test ile ilgili açıklamalar yazılıdır. Bu açıklamaları okumadan ve size "SINAV BAŞLAMIŞTIR" denmeden soruları cevaplamaya başlamayınız.

**SINAVLARINIZDA BAŞARILAR DİLERİZ.**