



ANADOLU ÜNİVERSİTESİ
AÇIKÖĞRETİM FAKÜLTESİ
BA - AÇIKÖĞRETİM OKULLARI

T.C. MİLLÎ EĞİTİM BAKANLIĞI
Hayat Boyu Öğrenme Genel Müdürlüğü
AÇIK ÖĞRETİM LİSESİ – BATI AVRUPA PROGRAMI
2013-2014 ÖĞRETİM YILI I.DÖNEM SINAVI
BEŞİNCİ OTURUM - Cumartesi 16.00

TEST GRUBUNUZ

A 0105

CEVAP KÂĞIDINIZA İŞARETLEMİYİ UNUTMAYINIZ.

ÖĞRENCİNİN

SOYADI :

ADI :

ÖĞRENCİ NO :

SINAV SALON NO: SIRA NO:

Soyadınızı, adınızı, öğrenci numaranızı, salon ve sıra numaranızı yukarıya yazmayı unutmayınız.

GENEL AÇIKLAMA

1. Bu soru kitapçığındaki testler şunlardır:

Testin Adı	Soru Sayısı	Sayfa No	Testin Adı	Soru Sayısı	Sayfa No
DİN KÜLTÜRÜ VE AHLAK BİLGİSİ 4	20	2	HZ. MUHAMMED'İN HAYATI 1	20	35
FELSEFE 2	20	4	DEMOKRASİ VE İNSAN HAKLARI 2	20	37
SEÇMELİ FELSEFE 2	20	6	MATEMATİK 6	20	39
TARİH 4	20	8	SEÇMELİ DİL VE ANLATIM 6	20	41
MATEMATİK 5	20	10	SEÇMELİ DİL VE ANLATIM 8	20	43
PSİKOLOJİ 1	20	12	ALMANCA 2	20	45
DİL VE ANLATIM 7	20	14	İNGİLİZCE 2	20	48
TÜRK EDEBİYATI 3	20	16	FRANSIZCA 2	20	51
TÜRK EDEBİYATI 8	20	18	ALMANCA 5	20	53
FİZİK 1	20	20	İNGİLİZCE 5	20	56
FİZİK 7	20	22	FRANSIZCA 5	20	59
KİMYA 3	20	24	SEÇMELİ ALMANCA 8	20	61
KİMYA 7	20	27	SEÇMELİ İNGİLİZCE 8	20	64
GEOMETRİ 6	20	29	SEÇMELİ FRANSIZCA 8	20	67
SEÇMELİ TARİH 4	20	33			

2. Bu kitapçıkta yer alan her bir test için cevaplama süresi **30** dakika, toplam sınav süresi **150** dakikadır.
3. Cevaplamaya istediğiniz testin, istediğiniz sorusundan başlayabilirsiniz. Yalnız cevaplarınızı, cevap kâğıdında o test için ayrılmış olan bölümdeki aynı numaralı cevap yerine işaretlemeyi unutmayınız.
4. Cevaplarınızı koyu siyah ve yumuşak bir kurşunkalemle işaretleyiniz. İşaretinizi cevap yerinin dışına taşırmayınız. Tükenmez veya mürekkepli kalem kullanmayınız.
5. Değiştirmek istediğiniz bir cevabı yumuşak bir silgi ile, cevap kâğıdını örselemeden temizce siliniz ve doğru cevabınızı işaretlemeyi unutmayınız.
6. Cevap kâğıdınızı buruşturmayınız, katlamayınız ve üzerine gereksiz hiçbir işaret koymayınız.
7. Bu kitapçıkta her sorunun bir tek doğru cevabı vardır. Bir soru için birden çok cevap yeri işaretlenmişse o soru yanlış cevaplanmış sayılacaktır.
8. Cevaplarınız puanlanırken her doğru cevabınıza eşit puan verilecek, yanlış cevaplarınız dikkate alınmayacaktır. Bu nedenle kitapçıkta tüm sorular için size doğru gelen seçeneği işaretleyerek cevapsiz soru bırakmanız yararınıza olacaktır.
9. Kitapçığın sayfalarındaki boş yerleri müsvedde için kullanabilirsiniz.

Anadolu Üniversitesi tarafından hazırlanmış olan bu testlerin her hakkı saklıdır. Hangi amaçla olursa olsun, testlerin tamamının veya bir kısmının Anadolu Üniversitesi'nin yazılı izni olmadan kopya edilmesi, fotoğraflarının çekilmesi, herhangi bir yolla çoğaltılması, yayımlanması ya da kullanılması yasaktır. Bu yasağa uymayanlar gerekli cezai sorumluluğu ve testlerin hazırlanmasındaki mali külfeti peşinen kabullenmiş sayılır.

1. "Usturlâb" nedir?

- A) Gökyüzünün izlendiği gözlem aracı
- B) Su seviye ölçme aracı
- C) Yoğunluk ölçme aleti
- D) Basınç ölçme aracı

2. Önceleri okuma-yazma öğretiminin verildiği mektep görevini üstlenirken, sonraları çocuklara medrese öncesi eğitim veren ilk mektep olan eğitim kurumu aşağıdakilerden hangisidir?

- A) Suffa
- B) Küttap
- C) Beytül hikme
- D) Rasathane

3. Hak ve özgürlüklerin kullanımı ile ilgili aşağıdaki ifadelerden hangisi yanlıştır?

- A) Hak ve özgürlüklerde kimseye ayrıcalık tanınmaz.
- B) Özgürlük sınırlıdır ve sınırlandırılabilir.
- C) Hak ve özgürlükleri kısıtlanan kişi, hakkını kendi almalıdır, devlete bırakmamalıdır.
- D) Hak ve özgürlükler şahsa bağlıdır, başkasına devredilemez.

4. Toplum hayatında kişilerin birbirleriyle ve topluma olan ilişkilerini düzenleyen ve uyulması kanun gücüyle desteklenmiş olan toplumsal kuralların bütününe ne ad verilir?

- A) Örf
- B) Hukuk
- C) Adet
- D) Laiklik

5. Aşağıdakilerden hangisi Atatürk'ün din ile ilgili düşüncelerinden biri değildir?

- A) Din, her türlü siyasi ve şahsi menfaat için alet ve vasıta olarak kullanılmalıdır.
- B) Dinsiz milletlerin devamı olamaz.
- C) Din, bir milletin birlik ve beraberliğini sağlar.
- D) Din, gerekli bir kurumdur.

6. Atatürk'e göre hiçbir kuvvetin Türk Milleti'nin kalbinden çıkaramayacağı iki fazilet aşağıdakilerin hangisinde birlikte verilmiştir?

- A) Din ve vicdan
- B) Din ve dil
- C) Din ve özgürlük
- D) Dil ve tarih

7. Milli mücadelenin kazanılmasından sonra, Zağanos Paşa Camiinde Atatürk'ün Peygamber Efendimizden övgüyle ve hürmetle bahsettiği hutbeyi aşağıdaki illerden hangisinde vermiştir?

- A) Balıkesir
- B) Edirne
- C) Ankara
- D) Amasya

8. Hz. Muhammed'in hicretinden sonra Mescid-i Nebi'nin yanına açtığı ilk eğitim kurumu aşağıdakilerden hangisidir?

- A) Beytül-hikme
- B) Suffa
- C) Daru'l-Kurra
- D) Amr Camisi

9. Kişinin bir başkasına zarar vermeden düşündüğünü ve dilediğini yapabilmesine ne ad verilir?

- A) Laiklik
- B) Milliyetçilik
- C) Özgürlük
- D) Adalet

10. Selçuklu veziri Nizamülmülk, Nizamiye Medresesi'ni nerede kurmuştur?

- A) Yemen
- B) Kudüs
- C) Şam
- D) Bağdat

11. Din'i, istismar ve yozlaştırmak için en uygun ortamı hazırlayan unsur aşağıdakilerden hangisidir?

- A) Şirk
- B) Atıfet
- C) Cehalet
- D) İrşat

12. Allah'ın peygamberlerine dilediklerini özel bir şekilde bildirmesine ne ad verilir?

- A) Vahiy
- B) Rüya
- C) Dalâlet
- D) Haslet

13. Tüm hakların ve özgürlüklerin temelini oluşturan hak aşağıdakilerden hangisidir?

- A) Özel yaşamın gizliliği hakkı
- B) Yaşama ve sağlık hakkı
- C) Seçme ve seçilme hakkı
- D) Eğitim hakkı

14. I. Üreme
II. Düşünme
III. Akıl

Yukarıdakilerden hangileri insanı, diğer varlıklardan ayıran farklardır?

- A) Yalnız I
- B) Yalnız II
- C) I ve II
- D) II ve III

15. Hz. Muhammet aşağıdaki hangi savaştan sonra esirleri okuma-yazma öğretmesi karşılığında serbest bırakmıştır?

- A) Uhud Savaşı
- B) Hendek Savaşı
- C) Bedir Savaşı
- D) Talas Savaşı

16. Kişinin özgürlük alanlarının en önemlisi aşağıdakilerden hangisidir?

- A) Eğitim hakkı
- B) Sendika kurma
- C) Çalışma ve kazanma
- D) Özel yaşam

17. Divan teşkilatı aşağıdaki halifelerden hangisi zamanında kurulmuştur?

- A) Hz. Ali
- B) Hz. Osman
- C) Hz. Ömer
- D) Hz. Ebubekir

18. I. Ekonomik haklar
II. Düşünce ve ifade özgürlüğü
III. Yaşama ve sağlık hakkı

Yukarıdakilerden hangileri insanların temel haklarındandır?

- A) Yalnız II
- B) I ve II
- C) II ve III
- D) I, II ve III

19. Bir düşünceye veya bir inanışa körü körüne bağlanmaya, taraf olamaya ne ad verilir?

- A) Taassup
- B) Tenasüp
- C) İrşat
- D) Haslet

20. Aşağıdakilerden hangisi İslam medeniyetine astronomi alanında önemli katkılar sağlayan düşünürlerden biridir?

- A) Fuzulî
- B) Gürhanî
- C) Tirmizî
- D) Birunî

1. Bireyin iyi ve doğru eylemlerde bulunmaya mizaç, eğitim ve moral olgunluk açısından yatkın olma durumuna ne ad verilir?
- A) Erdem
B) Sorumluluk
C) Etik
D) Vicdan
2. "Erdemli Toplum" adlı eserinde erdemli bir toplumun erdemli, bilgili yöneticiler aracılığıyla oluşturulabileceğini savunan düşünür aşağıdakilerden hangisidir?
- A) Gazali
B) Farabi
C) Fuzuli
D) Mevlana
3. İnsanların eylemlerini ve birbirleriyle ilişkilerini düzenlemek amacıyla oluşturulmuş normlar ya da değerler sistemine ne ad verilir?
- A) Ahlak
B) Hukuk
C) Din
D) Felsefe
4. Aşağıdakilerden hangisi toplumlarda siyasi iktidarın olası kaynaklarından biri değildir?
- A) Olumsuz coğrafi koşullar
B) İçten gelebilecek tehlikelere karşı korunma düşüncesi
C) Birlikte yaşama isteği
D) Egemen din anlayışı
5. Aşağıdakilerden hangisi din felsefesinin konularından biri değildir?
- A) Tanrının varlığı
B) Evrenin yaratılışı
C) Güzel ahlak
D) Ruhun ölümsüzlüğü
6. Aşağıdakilerden hangisi siyaset felsefesinin temel kavramlarından biri değildir?
- A) Devlet
B) Toplum
C) Bürokrasi
D) Ahlak
7. Din ile felsefeyi birbirinden ayırarak inceleyen ilk düşünür aşağıdakilerden hangisidir?
- A) Huxley
B) Sartre
C) Kant
D) Orwel
8. "Siyaset hem bir çatışma ve iktidar kavgası hem de toplumun tüm üyelerinin yararına olabilecek bir düzen yaratma aracıdır." görüşünü dile getiren siyaset bilimci aşağıdakilerden hangisidir?
- A) Daver
B) Baumgarten
C) Duverger
D) Smith
9. İdeal bir toplum düzeni tasarlayan ilk filozof aşağıdakilerden hangisidir?
- A) Kant
B) Platon
C) Farabi
D) Spinoza
10. Yaşadığı dönemin İtalya'sındaki aksaklıklardan yola çıkarak "Güneş Ülkesi" adını verdiği ideal bir toplum düzenini tasarlayan düşünür aşağıdakilerden hangisidir?
- A) Bacon
B) Campanella
C) Bentham
D) Mill
11. "Her insan idealar dünyasına yönelmeli ve eylemlerini iyi ideasına uydurmalıdır." görüşünü dile getiren düşünür aşağıdakilerden hangisidir?
- A) Descartes
B) Aristoteles
C) Demokritos
D) Platon

12. “Yeni Dünya” adlı eser aşağıdakilerden hangisine aittir?

- A) Orwell
- B) Campanella
- C) Huxley
- D) More

13. “Mesnevi” adlı eser aşağıdakilerden hangisine aittir?

- A) Hacı Bektaş Veli
- B) Ahmet Yesevi
- C) İbn-i Haldun
- D) Mevlana

14. “Anarşizm” akımının kurucusu aşağıdakilerden hangisidir?

- A) Kropotkin
- B) Stimer
- C) Bakunin
- D) Proudhon

15. Güzelliği ve güzel sanatların doğasını inceleyen felsefe dalı aşağıdakilerden hangisidir?

- A) Etik
- B) Ahlak
- C) Estetik
- D) Mantık

16. Ahlak yasasını, Tanrı ve insan sevgisiyle temellendiren, bu çerçevede insanların eşitliğini ve kardeşliğini savunan, iyilik, sevgi, çalışkanlık ve dürüstlüğü ahlaki değer olarak benimseyen düşünür aşağıdakilerden hangisidir?

- A) Pir Sultan Abdal
- B) Hacı Bektaş Veli
- C) Yunus Emre
- D) Mevlana

17. “Varolan her şeyin bir yaratıcısı olduğuna, bu yaratıcının mutlak ve sınırsız bir bilgi ve güce sahip olduğuna sarsılmaz bir inanç beslemek” aşağıdakilerden hangisiyle ifade edilir?

- A) Teizm
- B) Ateizm
- C) Deizm
- D) Agnostisizm

18. Aşağıdakilerden hangisi din felsefesinin temel kavramlarından biri değildir?

- A) İman
- B) Bürokrasi
- C) İbadet
- D) Vahiy

19. “Evrensel ahlak yasasını belirleyen en önemli öge insanın, kendisinin de bir parçası olduğu doğa düzenini anlayarak ve bu bilgiye dayanarak ahlaki bir biçimde davranmasıdır.” görüşünü dile getiren düşünür aşağıdakilerden hangisidir?

- A) Spinoza
- B) Kant
- C) Demokritos
- D) Aristoteles

20. “İnsan ahlaki eylemlerinde yalnızca kendi hazzını, yararını ve mutluluğunu değil, aşka insanların yararını ve mutluluğunu da düşünmek durumundadır. Çünkü toplumun mutluluğu sağlandığında birey de mutluluğa ulaşır.” görüşünü savunan düşünür aşağıdakilerden hangisidir?

- A) Hobbes
- B) Bacon
- C) Weber
- D) Mill

SEÇMELİ FELSEFE 2

2014 I.DÖNEM 0105-A

A

1. Aşağıdakilerden hangisi ahlak yargılarının özelliklerinden biri değildir?

- A) Yaptırım gücüne sahiptir.
- B) Estetik beğeni ile ilgili yargılardır.
- C) Kişiden kişiye değişebilir.
- D) Kural koyucudur.

2. Liberalizmi savunan düşünörlere göre, ideal düzenin var olması aşağıdakilerden hangisine bağlıdır?

- A) Toplumun hukuk kurallarından daha çok örf ve geleneklere göre yönetilmesine
- B) İnsanlar arasında tam eşitliğin gerçekleşmesine
- C) Üretim araçlarının toplumun ortak mülkiyetinde olmasına
- D) Toplumda birey özgürlüklerinin tam olarak yerine getirilmesine

3. Sanatçının eserlerini nasıl oluşturduğu ile ilgili aşağıdaki ifadelerden hangisi yanlıştır?

- A) Madde ve biçime ilişkin her şeyle oynayarak oluşturur.
- B) Estetik duygulardan arınarak sanat eserini oluşturur.
- C) Kendi yeteneği ve hayal gücünü kullanarak oluşturur.
- D) Nesnelere taklit ederek oluşturur.

4. Aşağıdakilerden hangisi "İnsanın kendi çevresi ile kurduğu ilişkiyi estetik bir ifadeyle sunması" olarak ifade edilir?

- A) Bilim
- B) Ahlak
- C) Sanat
- D) Din

5. Aşağıdakilerden hangisi ideal bir düzenin olabileceğini reddeden "nihilizm"ın temsilcilerinden biridir?

- A) Marx
- B) Platon
- C) Nietzsche
- D) Comte

6. Farabi'nin, seçimle belirlenen erdemli kişiler tarafından yönetilen ütöpik devlet tasarısını anlattığı eseri aşağıdakilerden hangisidir?

- A) Erdemli Şehir
- B) Güneş Ülkesi
- C) Yeni Dünya
- D) Ütopya

7. Aşağıdakilerden hangisi estetik yargıya bir örnektir?

- A) Bırakılan taş yere düşer.
- B) Bütün canlılar ölümlüdür.
- C) Arkadaşa yardımcı olmak iyi bir davranıştır.
- D) Picasso'nun bütün resimleri güzeldir.

8. Kant'ın ahlaki eylem ile ilgili görüşü aşağıdakilerden hangisidir?

- A) Bir eylemin iyi ya da kötü olduğuna, iyi ideasına uygun olup olmadığına bakılarak karar verilir.
- B) Bir eylem, bir ödev duygusuyla yapılmış ise ahlaki eylemdir.
- C) Neyin iyi, neyin kötü olduğu sezgiyle kavranabilir.
- D) Ahlaki eylemin amacı mutluluktur.

9. Aşağıdakilerden hangisi ahlak felsefesinin kavramlarından biridir?

- A) Meşruiyet
- B) Kutsal
- C) Güzel
- D) Erdem

10. • İnsanların toplum içinde nasıl davranmaları gerektiğini bildiren kurallardır.
• Devletin iktidar gücünü hiçbir baskı olmadan kullanabilmesidir.
• İzin verilmiş olan, yasaklanmamış olan davranışlarda bulunma serbestisidir.

Yukarıdakiler arasında tanımlı verilmeyen kavram aşağıdakilerden hangisidir?

- A) Egemenlik
- B) Yasa
- C) Devlet
- D) Hak

11. Sartre hangi felsefi yaklaşımın temsilcisidir?

- A) Hazcılık
- B) Sezgicilik
- C) Varoluşçuluk
- D) Faydacılık

12. Aşağıdakilerden hangisi din felsefesinin temel kavramlarından biri değildir?

- A) İman
- B) Yönetim
- C) Kutsal
- D) Vahiy

13. Aşağıdakilerden hangisi ahlak felsefesinin temel sorularından biridir?

- A) İnsan ahlaki eylemde bulunurken özgür müdür?
- B) Meşruiyetin ölçütü nedir?
- C) Var oluşun kaynağı nedir?
- D) Sivil toplum ne anlama gelir?

14. Panteizme göre, Tanrı'nın evrenden ayrı bir varlığı yoktur. Tanrı evrenin kendisidir. Evrende var olan her şey, aslında bir bütün olarak Tanrı'yı oluşturur. Tanrı her şeydir ve her şey Tanrı'dır. Tanrı, nesnelerin dışında değil, içindedir.

Bu açıklamaya göre Panteizm ile ilgili aşağıdaki yargılardan hangisine ulaşılabilir?

- A) Tanrı'nın varlığını reddeder.
- B) Tanrı ve evrenin birbirinden bağımsız olduğunu kabul eder.
- C) Tanrı'nın varlığının bilinemeyeceğini savunur.
- D) Tanrı'nın varlığını evren ile özdeşleştirir.

15. I. Mevlana
II. Yunus Emre
III. Hacı Bektaş Veli

Yukarıdakilerden hangileri evrensel ahlak yasasını tasavvuf düşüncesiyle temellendirmiştir?

- A) Yalnız I
- B) I ve II
- C) II ve III
- D) I, II ve III

16. Zihinde tasarlanmış, gerçekleşmesi mümkün olmayan düşsel bir toplum biçimini ve siyasi yönetim tarzını ifade eden kavram aşağıdakilerden hangisidir?

- A) Ütopya
- B) Bürokrasi
- C) Anomi
- D) Devlet

17. "Gerçek estetik yargıların duyusal olmaktan çıkıp düşünsel düzeye çıktığını, kişisel olmaktan çıkış zorunlu ve genel geçer hale geldiğini" ifade eden Kant, bu görüşüyle aşağıdakilerden hangisini savunmuştur?

- A) Ortak estetik yargıların var olduğunu
- B) Sanatla oyun arasında benzerlik olduğunu
- C) Estetik yargıların, kişilere göre farklılık gösterdiğini
- D) Güzel olan ile iyi hoş olanın aynı şey olduğunu

18. Max Weber'in "liderin sahip olduğuna inanılan olağanüstü niteliklerinden doğar." şeklinde ifade ettiği otorite türü aşağıdakilerden hangisidir?

- A) Hukuksal
- B) Geleneksel
- C) Karizmatik
- D) Demokratik

19. Demokratik otoritenin kaynağı aşağıdakilerden hangisidir?

- A) Yerleşik inançlar
- B) Yazılı hukuk kuralları
- C) Karizmatik lider
- D) Gelenekler

20. Aşağıdakilerden hangisi din konusunda felsefi bir yaklaşımdır?

- A) Dinin temel iddiaları üzerinde akla dayanarak, genel ve tutarlı biçimde düşünmek
- B) Dini temellendirmek ve inançları kuvvetlendirmek
- C) Olayları, dini kurallar çerçevesinde yorumlamak
- D) İnanılan dinin kurallarını açıklamak

1. Aşağıdakilerden hangisi Osmanlı devlet yönetiminde hükümdarların kullandıkları unvanlardan biri değildir?

- A) Hüdavendigâr
- B) Ekber
- C) Hakan
- D) Gazi

2. Aşağıdakilerden hangisi tımar sisteminin Osmanlı Devleti'ne sağladığı faydalardan biri değildir?

- A) Dirlik sahiplerinin tüketime katkıda bulunarak örfi bir görevi yerine getirmesi
- B) Devleti, vergi toplayıp hazineye aktarma ve yeniden maaş olarak dağıtma külfetinden kurtarması
- C) Devletin, para harcamadan sürekli hazır bir orduya sahip olması
- D) Toprağın sürekli işlenmesiyle bol ürün elde edilmesi

3. Aşağıdakilerden hangisi, Osmanlı toplum yapısında esnaf sınıfının en alt grubunu oluşturur?

- A) Şeyh
- B) Usta
- C) Yiğitbaşı
- D) Kethüda

4. Aşağıdakilerden hangisi ilmiye sınıfı içerisinde yer almaz?

- A) Tımarlı sipahiler
- B) Yargıçlar
- C) Öğretim elemanları
- D) Kadılar

5. Aşağıdakilerden hangisi reâyânın özelliklerinden biri değildir?

- A) Aynı dine mensup olanlardan oluşması
- B) Yönetilenlerden oluşması
- C) Geçimini tarım, hayvancılık, sanayi ve ticaretle uğraşarak sağlaması
- D) Askeri sınıfın dışında kalanlardan oluşması

6. Aşağıdakilerden hangisi âyânların görevlerinden biri değildir?

- A) Halk ile yönetim arasında aracılık yapmak
- B) Asker toplanmasına yardım etmek
- C) Kadı tarafından kendilerine iletilen emirleri halka iletme
- D) Devlet harcamalarını kontrol etmek

7. Aşağıdakilerden hangisi, Osmanlı ekonomik düzeninin başarısında etkili olan toplum ve insan özelliklerinden biri değildir?

- A) Devletin ekonomik yönden gelişmesi için her türlü fedakarlığın yapılması
- B) İnsanların maceracı olması
- C) Kazanma hırsının sınırlı olması
- D) İnsanların yumuşak başlı olması

8. Osmanlılarda, mülkiyet hakkı devlete ait olan, yalnız işlemek şartıyla sahiplerinin üzerinde bırakılan topraklara verilen ad aşağıdakilerden hangisidir?

- A) Öşriye
- B) Arz-ı miri
- C) Haraciye
- D) Tımar

9. Osmanlılarda, özel sektörün elindeki en büyük sanayi dalı aşağıdakilerden hangisidir?

- A) Maden
- B) Makine sanayi
- C) Gıda
- D) Tekstil

10. Aşağıdakilerden hangisi tekke edebiyatının önemli temsilcilerinden biridir?

- A) Karacaoğlan
- B) Nefî
- C) Kaygusuz Abdal
- D) Bâki

11. Sivil mimarının en güzel örneklerinden biri olan Topkapı Sarayı kim tarafından yaptırılmıştır?

- A) Yıldım Bayezit
- B) III.Ahmet
- C) Çelebi Mehmet Efendi
- D) Fatih Sultan Mehmet

12. Devlet yönetiminde adem-i merkeziyeti savunan aşağıdakilerden hangisidir?

- A) Ali Suavi
- B) Münif Paşa
- C) Yusuf Akçura
- D) Prens Sabahattin

13. “Kitab-ı Bahriye” adlı eser kim tarafından yazılmıştır?

- A) Seydi Ali Reis
- B) Ali Kuşçu
- C) Piri Reis
- D) Katip Çelebi

14. Aşağıdakilerden hangisi Milli Edebiyat akımının özelliklerinden biri değildir?

- A) Türkçenin sadeleştirilmesi
- B) Şiirde hece ölçüsünün kullanılması
- C) Atasözlerine ve deyimlere daha çok yer verilmesi
- D) Milli konulara değinilmesi

15. Tanzimat Fermanı hangi yıl ilan edilmiştir?

- A) 1820
- B) 1825
- C) 1833
- D) 1839

16. Aşağıdakilerden hangisi Osmanlı düşünce hayatında etkili olan kurumlardan biri değildir?

- A) Kervansaraylar
- B) Camiler
- C) Kütüphaneler
- D) Tekkeler

17. Aşağıdakilerden hangisi Divan Edebiyatı temsilcilerinden biri değildir?

- A) Bâki
- B) Nigarî
- C) Fuzulî
- D) Hayalî

18. İkinci Viyana Kuşatması'ndan sonra, Osmanlı Devleti içinde bulunduğu çöküntüden kurtulmak için öncelikle aşağıdaki alanların hangisinde yenileşme hareketi başlatmıştır?

- A) Hukuki
- B) Ticari
- C) Askeri
- D) Dini

19. Osmanlı Devleti topraklarında açılan ilk yabancı okul aşağıdakilerden hangisidir?

- A) Musevi Asri Mektebi
- B) Heybeliada Papaz Mektebi
- C) Saint Benoît Okulu
- D) İngiliz Erkek Lisesi

20. Aşağıdakilerden hangisi Enderun mektebinde eğitimi verilen konulardan biri değildir?

- A) Ticaret eğitimi
- B) Sanat eğitimi
- C) İslami bilgiler eğitimi
- D) Beden eğitimi

1. $\frac{1+i}{1-i}$ işleminin sonucu aşağıdakilerden hangisidir?

- A) 2
 B) $\frac{1}{2} + \frac{1}{2}i$
 C) $\frac{1}{2} - \frac{1}{2}i$
 D) i

2. Aşağıdaki eşitliklerden hangisi yanlıştır?

- A) $\sqrt{36} = 6$
 B) $i^2 = -1$
 C) $\sqrt{-1} = i$
 D) $\sqrt{-9} = 9i$

3. $\left| \frac{3-5i}{-1-i} \right|$ ifadesinin değeri aşağıdakilerden hangisidir?

- A) $2\sqrt{2}$
 B) $\sqrt{17}$
 C) $\sqrt{34}$
 D) 8

4. $P(x) = -x^{133} + 7x^{174} - x^{835}$ polinomu veriliyor.

Buna göre, $P(i)$ kaçtır?

- A) -7
 B) 7i
 C) 7-2i
 D) 7+2i

5. $z = \cos \frac{\pi}{4} + i \sin \frac{\pi}{4}$ ise, z^2 nin $x+yi$ şeklinde yazılışı aşağıdakilerden hangisidir?

- A) -i
 B) 1
 C) 1+i
 D) i

6. $5-3i$ karmaşık sayısının eşleniği aşağıdakilerden hangisidir?

- A) $5+3i$
 B) $3-5i$
 C) $-5+3i$
 D) $5-3i$

7. $z=(1+i)^2-2i.(1-3i)$ karmaşık sayısının reel kısmı aşağıdakilerden hangisidir?

- A) -6
 B) -5
 C) -4
 D) 7

8. Karmaşık düzlemde $-5+12i$ sayısının orijine olan uzaklığı kaç birimdir?

- A) 7
 B) $\sqrt{119}$
 C) 13
 D) 17

9. $Z_1 = -3i+8$ ve $Z_2 = -7+i$ karmaşık sayıları veriliyor.

Buna göre $Z_1 - Z_2$ sayısı aşağıdakilerden hangisidir?

- A) $1-2i$
 B) $-10+9i$
 C) $15-4i$
 D) $4+7i$

10. $x, y \in \mathbb{R}$ olmak üzere, $z_1 = 12-3x-i$ ve $z_2 = 15+(13-2y)i$ karmaşık sayıları veriliyor.

$z_1 = z_2$ ise $y-x$ kaçtır?

- A) 6
 B) 8
 C) 11
 D) 17

11. $\log 2=a$, $\log 3=b$ ve $\log 5=c$ eşitlikleri veriliyor.

Buna göre $\log 360$ in değeri aşağıdakilerden hangisidir?

- A) $2a+3b+c$
- B) $4a+3b+c$
- C) $3a+2b+c$
- D) $-3a-4b-c$

12. $3^4=81$ eşitliğinin, logaritmik ifade olarak yazılışı aşağıdakilerden hangisidir?

- A) $\log_3 4=81$
- B) $\log_{81} 3=4$
- C) $3.\log 4=81$
- D) $\log_3 81=4$

13. $4^{\log_4 84 - \log_4 12}$ ifadesinin değeri aşağıdakilerden hangisidir?

- A) 7
- B) 14
- C) 18
- D) 28

14. $\log_2(\log_2(\log_3 81))$ ifadesi aşağıdakilerden hangisine eşittir?

- A) 0
- B) 1
- C) 2
- D) 3

15. $e^{12+x}=1$ denkleminin çözüm kümesi aşağıdakilerden hangisidir?

- A) $\{-13\}$
- B) $\{-12\}$
- C) $\{-11\}$
- D) $\{13\}$

16. $f(x)=13-\log_2(x+8)$ fonksiyonu veriliyor.

Buna göre $f^{-1}(8)$ kaçtır?

- A) 9
- B) 14
- C) 19
- D) 24

17. $\log \sqrt[15]{1000}$ ifadesinin sonucu aşağıdakilerden hangisidir?

- A) $\frac{1}{5}$
- B) 1
- C) 5
- D) 10

18. $\log_x 64=3$ eşitliğini sağlayan x değeri kaçtır?

- A) 2
- B) 4
- C) 8
- D) 16

19. $f(x) = \log_7(x^2 - 5x - 6)$ kuralıyla tanımlanan f fonksiyonunun tanımlı olduğu x gerçel sayılarının kümesi aşağıdakilerden hangisidir?

- A) $R - [-6, 1]$
- B) $[1, \infty]$
- C) $R - [-1, 6]$
- D) $[6, \infty]$

20. $\log_4 7 \cdot \log_{13} 64 \cdot \log_7 13$ çarpımının sonucu kaçtır?

- A) 2
- B) 3
- C) 4
- D) 6

1. Bilgi verecek kişinin doğrudan kendisine okuyarak cevaplandıracağı sorulardan oluşmuş kâğıtları kullanarak yazılı cevaplar aracılığıyla gözlemde bulunma işine ne ad verilir?
 - A) Gözlem
 - B) Anket
 - C) Görüşme
 - D) Vaka inceleme
2. Aşağıdakilerden hangisi uygulamalı psikolojinin kullanıldığı başlıca psikoloji alanlarından biri değildir?
 - A) Sosyal psikoloji
 - B) Eğitim psikolojisi
 - C) Klinik psikoloji
 - D) Endüstriyel psikoloji
3. Organizmanın doğrudan veya dolaylı olarak gözlenebilen tüm etkinliklerine ne ad verilir?
 - A) Eğitim
 - B) Öğrenme
 - C) Davranış
 - D) Araştırma
4. Psikolojinin amacı aşağıdakilerden hangisidir?
 - A) Organizmayı ve insan davranışlarını inceleyerek genel yasalara varmak
 - B) Toplumsal değişimlerin yönelimleri hakkında öngörülerde bulunmak
 - C) Toplumun nasıl değiştiğini ve tarihsel gelişim sürecindeki değişimlerini yaratan etkenleri anlayıp ortaya çıkarmak
 - D) Toplum ve toplumsal ilişkileri bilimsel ya da doğru olarak anlamak
5. Zihinsel bozuklukların, organik ve kalıtsal etkenlerin karmaşıktığı gerçekçi olmayan beklentiler ve yanlış alışkanlıkların sonucunda ortaya çıktığını ileri süren bilim insanı aşağıdakilerden hangisidir?
 - A) Popper
 - B) Redfield
 - C) Meyer
 - D) Kofka
6. “Bilincin ne olduğundan çok, ne için olduğunu bilmek önemlidir.” görüşünü savunan anlayış aşağıdakilerden hangisidir?
 - A) Behaviorizm
 - B) Naturalizm
 - C) Fonksiyonalizm
 - D) Klasisizm
7. Yapısalcılık yaklaşımıyla ilgili aşağıdaki ifadelerden hangisi yanlıştır?
 - A) Temsilcileri W. Wundt ve Titchner'dir.
 - B) Kullandıkları yöntem içgözlem ve deneydir.
 - C) Yapısalcılara göre geçmiş ya da gelecek değil içinde yaşanılan an önemlidir.
 - D) Yapısalcılara göre psikolojinin amacı, bilincin karmaşık yapısını çözmektir.
8. Organizmanın ihtiyacı gidermek için belli bir yönde etkinlik göstermesi eğilimine ne ad verilir?
 - A) İhtiyaç
 - B) Doyum
 - C) Algı
 - D) Gudu
9. Aşağıdakilerden hangisi fizyolojik güdülerden biri değildir?
 - A) Açlık
 - B) Güvenlik
 - C) Cinsellik
 - D) Uyuma
10. Bir olay ya da nesnenin varlığı üzerine duyular yoluyla edinilen yalın bilinç durumu, duyuları yorumlama, onları anlamlı hale getirme sürecine ne ad verilir?
 - A) Dürtü
 - B) Algı
 - C) İçgörü
 - D) Pekiştirme

11. Duyumların çeşitli biçimlerde örgütlenip anlam kazanmasına, yorumlanmasına ne ad verilir?

- A) Yorumlama
- B) Algılama
- C) Örgütlenme
- D) Doğaçılama

12. Algılanan uyarıcıların bir şekle, bir biçime sokulmasına ne ad verilir?

- A) Algıda değişmezlik
- B) Algıda seçicilik
- C) Algıda yakınlık
- D) Algıda organizasyon

13. Algının temel öğelerinden bir olan dikkatin bir varlık ya da olaya çevrilerek organizmanın yalnız onunla ilgili olan uyarıcıları algılaması, bunun dışındaki uyarıcılarla ilgilenmemesi durumuna ne ad verilir?

- A) Algıda seçicilik
- B) Algıda tamamlama
- C) Algıda gruplama
- D) Algıda devamlılık

14. I. Gûdü
II. Genel uyarılmışlık durumu
III. Türe özgü hazır bulunuşluk
IV. Olgunlaşma

Yukarıdakilerden hangileri öğrenmenin gerçekleşebilmesi için gereklidir?

- A) I ve II
- B) II ve III
- C) I, III ve IV
- D) I, II, III ve IV

15. Dıştan veya içten alınan bir uyarmaya karşı vücudun yaptığı uyum hareketine ne ad verilir?

- A) İçgüdü
- B) İçdürtü
- C) Refleks
- D) İllüzyon

16. Yeni öğrenilenlerin daha önce öğrenilenleri unutturması aşağıdakilerden hangisi ile ilgilidir?

- A) Geriye ket vurma
- B) Baskılamayla
- C) İleriye ket vurma
- D) Öğrenmenin yetersiz olmasıyla

17. Herhangi bir canlı türünün öğrenme gereksiz yaptığı uyuma ve sürekli olarak davranma eğilimine ne ad verilir?

- A) İçgüdü
- B) İçdürtü
- C) Refleks
- D) Motivasyon

18. Tekrar ya da yaşantı sonucunda davranışta meydana gelen devamlı değişmelere ne ad verilir?

- A) Öğretme
- B) Bilişim
- C) Deneyim
- D) Öğrenme

19. Birleştirerek, bağ kurarak öğrenmeye ne ad verilir?

- A) Model alarak öğrenme
- B) Bilişsel öğrenme
- C) Sunuş yoluyla öğrenme
- D) Klasik koşullanma yoluyla öğrenme

20. Aşağıdakilerden hangisi türe özgü bir davranıştır?

- A) Belli bir dili konuşmak
- B) Örümceğin ağ örmesi
- C) Yemek yeme davranışları kazanmak
- D) Matematik problemi çözmek

1. Epik tiyatroyla ilgili aşağıdaki ifadelerden hangisi yanlıştır?

- A) Amaç seyirciyi farklı diyarlara götürmek ve orda olduğu sürece büyülemektir.
- B) Sahne dekor ve etki altına alıcı duygulu olaylardan uzak tutulur.
- C) Seyircinin tiyatro düşünden uyanması için olayın akışı sık aralıklarla kesilir.
- D) Duygu yerine akıl ön plana çıkarılır.

2. Aşağıdakilerden hangisi şiirin iç yapısı ile ilgilidir?

- A) Kafiye
- B) Vezin
- C) Şiirin öz derinliği
- D) Nazım şekli

3. Aşağıdakilerden hangisi 1980 sonrası romancılarından biri değildir?

- A) Tarık Buğra
- B) Nazlı Eray
- C) Bilge Karasu
- D) Ayla Kutlu

4. “Çıkıp yücesine seyran eyledim
Gördüm ak kuğulu göller perişan
Bir furkat geldi de durdum ağladım
Öpüp kokladığım güller perişan”

Yukarıdaki dizelerle ilgili aşağıdaki ifadelerden hangisi yanlıştır?

- A) Dil şiirsel işlevinde kullanılmıştır.
- B) Şiiri Orhan Veli yazmıştır.
- C) Şiirde coşkuyu ve heyecanı dile getiren anlatım tarzından yararlanılmıştır.
- D) Şiirin nazım birimi dördlüklerden oluşmaktadır.

5. Atilla İlhan'ın “Leitmotiv” tekniği ile yazdığı romanı aşağıdakilerden hangisidir?

- A) Canbaz
- B) Ay Falcısı
- C) Dersaadet'te Sabah Ezanları
- D) Beyaz Kale

6. Türk masallarını derleme, yayımlama ve inceleme çalışmaları ne zaman yoğunlaşmıştır?

- A) Tanzimat
- B) Meşrutiyet
- C) İslahat
- D) Cumhuriyet

7. Bir şiirin en güzel dizesine ne ad verilir?

- A) Beyit
- B) Bent
- C) Mısra-ı berceste
- D) Terci-i bend

8. Avrupa'daki anlamıyla öykü türü edebiyatımıza hangi dönemde girmiştir?

- A) Cumhuriyet
- B) Kurtuluş savaşı
- C) İslahat
- D) Tanzimat

9. Aşağıdakilerden hangisi tragedyadaki üç birlik kuralının öğelerinden biri değildir?

- A) Karakter birliği
- B) Zaman birliği
- C) Yer birliği
- D) Olay birliği

10. Aşağıdakilerden hangisi Türk Edebiyatı'nın gelişim sürecinde kurulan topluluklardan biri değildir?

- A) Tanzimat edebiyatı
- B) Dram edebiyatı
- C) Beş Hececiler
- D) Milli edebiyat

11. Hamlet aşağıdakilerden hangisinin örneği sayılır?

- A) Tragedya
- B) Skeç
- C) Komedyası
- D) Dram

12. Aşağıdakilerden hangisi ben merkezli hikâyenin özelliklerinden biri değildir?

- A) Bireysel bunalım ve çıkmazlardan bahsedilir.
- B) Hikâyeler gözlemci bakış açısıyla anlatılır.
- C) Bilge Karasu'nun hikâyeleri bu türe örnek verilebilir.
- D) Çarpıcı ve beklenmedik bir sonla bitirilir.

13. Öğretici metinlerden biridir. Amaç bilgi vermek olduğundan gerçeği hiç değiştirmeden aktarır. Yaşamlarıyla okurların ilgisini çekebilecek kişiler hakkında yazılan bu eserler aynı zamanda tarihe, edebiyat tarihine ve eleştiriyeye de kaynaklık eder.

Yukarıda açıklanan metin türü aşağıdakilerden hangisidir?

- A) Rapor
- B) Biyografi
- C) Deneme
- D) Makale

14. Aşağıdakilerden hangisi dramatik bir eserde yer alan konuşma çeşitlerinin özel adlarından biri değildir?

- A) Diyalog
- B) Monolog
- C) Tirad
- D) Figüran

15. Battal Gazi, Köroğlu hikâyeleri hangi türün örnekleridir?

- A) Köy hikâyelerinin
- B) Kahramanlık hikâyelerinin
- C) Aşk hikâyelerinin
- D) Masalsı hikâyelerin

16. Dokuzuncu Hariciye Koşuşu aşağıdakilerden hangisinin eseridir?

- A) Yahya Kemal
- B) Reşat Nuri
- C) Peyami Safa
- D) Memduh Şevket

17. Tiyatroda rol gereği yapılan yüz ifadelerine ne ad verilir?

- A) Mimik
- B) Jest
- C) Tuluat
- D) Tirad

18. Aşağıdakilerden hangisi konularına göre masal gruplarından biri değildir?

- A) Düşündürücü masallar
- B) Asıl masallar
- C) Hayvan masalları
- D) Zincirlemeli masallar

19. Aşağıdakilerden hangisi 1940-1960 arası dönemin ünlü romancısı Tarık Buğra'nın eserlerinden biri değildir?

- A) Küçük Ağa
- B) Dönemeçte
- C) Yağmuru Beklerken
- D) İnce Memed

20. "Dost dost diye nicesine sarıldım
Benim sadık yârim kara topraktır
Beyhude dolandım boşa yoruldum
Benim sadık yârim kara topraktır"

Yukarıda dört dizesi alıntılanan şiir kimin eseridir?

- A) Karacaoğlan
- B) Nedim
- C) Aşık Veysel
- D) Şeyhi

1. Nasıl güzel geçti bütün yaz,
Geceler küçük bahçede...
Sen zambaklar kadar beyaz
Ve ürkek bir düşüncede

Yukarıdaki dizelerin yer aldığı "Bütün Yaz" adlı şiir aşağıdaki şairlerimizden hangisine aittir?

- A) Ahmet Telli
B) Ahmet Haşim
C) Ahmet Kutsi Tecer
D) Ahmet Hamdi Tanpınar
2. **Başlangıçtan günümüze kadar edebiyatın konusu içine giren eserleri ve sanatçıları, edebiyat ve sanat akımlarını, bunların toplumda uyandırdığı yankıları araştıran inceleyen; belgelere dayanarak objektif bir şekilde değerlendiren bilim dalına ne ad verilir?**
- A) Edebiyat Tarihi
B) Etnografya
C) Sanat Tarihi
D) Lisaniyat
3. **Aşağıdaki destanlardan hangisinde, Oğuz Kağan'ın doğumu, üstün nitelikleri, askeri başarıları ve ölümünden önce devletini oğulları arasında nasıl paylaştığı anlatılmaktadır?**
- A) Oğuz Kağan
B) Göç
C) Gılgamış
D) Türeyiş
4. **Aşağıdaki bilim insanlarından hangisi, Edebiyat tarihi çalışmalarında, tarihi yöntemlerden daha çok metin incelemelerine bağlı psikolojik bir yöntemi benimsemiştir?**
- A) Mehmet Kaplan
B) Haluk İpekten
C) Ahmet Kabaklı
D) Şükrü Elçin
5. **Ergenekon Destanı'nı 13. yüzyılda yazıya geçiren Moğol tarihçi aşağıdakilerden hangisidir?**
- A) Cüveynî
B) El Harezmi
C) Gardezî
D) Reşidüddîn

6. **Deriden kesilmiş insan, hayvan, bitki, eşya vb. gibi birtakım figürlerin arkadan ışık verilerek bir perde üzerine yansıtılması temeline dayanan sahne sanatı aşağıdakilerden hangisidir?**

- A) Gölge oyunu
B) Orta oyunu
C) Meddahlık
D) Mim sanatı

7. **Kahramanların başlarından geçen olağanüstü olayları törensel bir üslupla anlatan ve genellikle birkaç bölümden oluşan uzun manzum eserlere ne ad verilir?**

- A) Güzelleme
B) Destan
C) Ağıt
D) Koşuk

8. **Tuna boylarını aşarak Avrupa içlerine akınlar yapan eski Türk akıncılarından söz eden "Akıncılar" adlı şiir aşağıdaki şairlerden hangisine aittir?**

- A) Yahya Kemal Beyatlı
B) Nazım Hikmet
C) Özdemir Asaf
D) Ümit Yaşar Oğuzcan

9. **Yazının henüz bulunmadığı ya da yaygınlaşmadığı bir kültürde doğan, ancak kuşaktan kuşağa sözlü olarak aktarıldıktan sonra yazıya geçirilen destan türü aşağıdakilerden hangisidir?**

- A) Halk hikâyesi
B) Masal
C) Anonim destan
D) Edebi destan

10. **Türk'ün öz benliğini yansıtan, yüksek bir ahlâka dayanan, kahramanlık ruhunu coşkun bir deyişle dile getiren, sevgiden gücünü alan aile bağlarını eserin tamamında sergileyen Türk ulusal kültürünün temel eseri, aşağıdakilerden hangisidir?**

- A) Dede Korkut Hikâyeleri
B) Battal Gazi Destanı
C) Danişment Gazi Destanı
D) Göktürk Yazıtları

11. Kalyanamkara ve Papamkara masalı ile ilgili aşağıdaki ifadelerden hangisi yanlıştır?

- A) Türk Edebiyatının en önemli eserlerindedir.
- B) Eser adını iyi ve kötü düşünceli iki prenten almaktadır.
- C) Eserin aslı Türkçedir.
- D) Dinsel masal niteliği taşımaktadır.

12. Uruk Kralı Gılgamış ile arkadaşı Enkidu'nun ölümsüz öyküsünün anlatıldığı "Gılgamış Destanı"ndan esinlenerek "Tanrılar ve İnsanlar" adlı oyunu kaleme alan yazar, aşağıdakilerden hangisidir?

- A) Orhan Kemal
- B) Orhan Asena
- C) Turan Oflazoğlu
- D) Melih Cevdet Anday

13. Tabiat güzelliklerini, kır hayatını anlatan şiirlere ne ad verilir?

- A) Epik şiir
- B) Didaktik şiir
- C) Dramatik şiir
- D) Pastoral şiir

14. Alp Er Tunga öldi mü
İssız ajun kaldı mı
Ödleک öçin aldı mı
Emdi yürek yırtılır

Yukarıdaki dördlük aşağıdaki şiir türlerinden hangisine örnektir?

- A) Koşuk
- B) Sagu
- C) Sav
- D) Gazel

15. Aşağıdakilerden hangisi, destan dönemi Türk edebiyatında Türklerin kullandıkları alfabelerden biridir?

- A) Kiril
- B) Arap
- C) Latin
- D) Göktürk

16. Aşağıdakilerden hangisi sözlü edebiyatın özelliklerinden biri değildir?

- A) Dilinin sade olması
- B) Şiirlerin kopuz eşliğinde söylenmesi
- C) İslamiyet'in etkisinde kalması
- D) Hece ölçüsü kullanılması

17. M. Fuad Köprülü ile ilgili aşağıdaki ifadelerden hangisi doğrudur?

- A) İstanbul doğumlu önemli bir divan şairidir.
- B) Tanzimat dönemi şair ve yazarlarındandır.
- C) Türkiye'de ilk defa tarih ve edebiyat tarihi incelemelerinde bilimsel yöntemleri ortaya koymuş bir bilim adamıdır.
- D) Romantizm akımının öncüsüdür.

18. Yirmisekiz Çelebi Mehmet Efendi'nin Ekim 1720 tarihinde Fransa'ya yaptığı ve bir yıl süren seyahatini, Fransa'ya ilişkin gözlemlerini padişaha sunmak amacıyla kaleme aldığı eserin adı nedir?

- A) Fransa Günlükleri
- B) Fransa Sefaretnamesi
- C) Paris Kasidesi
- D) Paris Şehrinden İzlenimler

19. Çağdaş Türk Edebiyatı'nın önemli destan örneklerinden biri olan "Atatürk Kurtuluş Savaşı'nda" adlı eserin yazarı aşağıdakilerden hangisidir?

- A) Namık Kemal
- B) Gülten Akın
- C) Fazıl Hüsnü Dağlarca
- D) Cahit Külebi

20. İslâmlıktan önceki dönemde yüğ törenlerinde bir kağanın, bir kahramanın ölümüne duyulan üzüntüyü ifade eden, ölen kişinin niteliklerini dile getiren, kopuz eşliğinde söylenen şiirlere ne ad verilir?

- A) Koşuk
- B) Sagu
- C) Sav
- D) Destan

1. Aşağıdakilerden hangisi Garip akımına tepki olarak doğan İkinci Yeni Şiir hareketi içerisinde yer almaz?
 - A) Sezai Karakoç
 - B) Turgut Uyar
 - C) İlhan Berk
 - D) Atilla İlhan
2. Anadolu edebiyatının en tanınmış ismi aşağıdakilerden hangisidir?
 - A) Faruk Nafiz Çamlıbel
 - B) Necati Cumalı
 - C) Cahit Külebi
 - D) Yavuz Bülent Bakiler
3. Aşağıdakilerden hangisi toplumcu şairlerin şiirlerinde işlenen konular arasında yer almaz?
 - A) Hayatın zorluklarına direnme isteği
 - B) Ümit
 - C) Geleceğe inanç
 - D) Sıkıntı
4. Aşağıdaki şairlerden hangisi “Kırk Kuşağı” olarak bilinen “1940 Toplumcu Gerçekçi Kuşağı” arasında yer almaz?
 - A) İlhan Berk
 - B) Rifat Ilgaz
 - C) Atilla İlhan
 - D) Şükran Kurdakul
5. Aşağıdakilerden hangisi şiirde ahengi sağlayan öğeler arasında yer almaz?
 - A) Vurgu
 - B) Ölçü
 - C) Söz Sanatları
 - D) Uyak
6. Aşağıdakilerden hangisi “İkinci Yeni” şiirinin genel özellikleri arasında yer almaz?
 - A) Toplumcu bir şiir anlayışı hakimdir.
 - B) Daha çok betimleyici metinlerden oluşur.
 - C) Biliçaltına yönelmiştir.
 - D) İmgeci bir şiirdir.
7. Aşağıdakilerden hangisi Garip şiirinde en çok görülen temalar arasında yer almaz?
 - A) Yaşama sevinci
 - B) İnsan sevgisi
 - C) Aşk
 - D) Vatan sevgisi
8. Nazım Hikmet havasında şiirler yazan, zamanın Batı’da moda olan fütürist, kübik ve gerçeküstücü şiir akımlarını deneyen, 20. Yüzyılın sanat akımlarının etkisi altında yazılmış şiirlerinde yenileşme sürecine yol açan şair kimdir
 - A) Ercüment Behzat Lav
 - B) Bedri Rahmi Eyuboğlu
 - C) Cahit Külebi
 - D) Oktay Rifat
9. Aşağıdakilerden hangisi günümüz halk şairlerinden biri değildir?
 - A) Yaşar Reyhanî
 - B) Ali İzzet
 - C) Şeref Taşlıova
 - D) Halil Karabulut
10. Aşağıdakilerden hangisi 1940’larda gelişen yeni şiir anlayışına rağmen geleneksel çizgide ölçülü, uyaklı şiir anlayışını sürdüren şairlerden değildir?
 - A) Cahit Külebi
 - B) Yahya Kemal
 - C) Ahmet Hamdi Tanpınar
 - D) Ahmet Muhip Dıranas

11. Toplumcu Gerçekçi Türk edebiyatının ilk başarılı örneği aşağıdakilerden hangisidir?

- A) Devlet Ana
- B) Kuyucaklı Yusuf
- C) Küçük Ağa
- D) Gurbet Hikayeleri

12. Aşağıdaki eser – yazar eşleştirmelerinden hangisi yanlıştır?

- A) Anayurt Otelı - Yusuf Atılgan
- B) Dokuzuncu Hariciye Koşuğu - Peyami Safa
- C) Aylak Adam - Sabahattin Ali
- D) Kuyucaklı Yusuf - Sabahattin Ali

13. Türk edebiyatında Nâbizade Nâzım tarafından yazılan ve ilk köy romanı olarak bilinen eser aşağıdakilerden hangisidir?

- A) Küçük Paşa
- B) Karabibik
- C) Memleket Hikayeleri
- D) Zehra

14. Orhan Pamuk'un Doğu edebiyatına özgü motiflerin kullanıldığı; Şeyh Galip'in Hüsn ü Aşk'ından Binbir Gece Masallarına kadar birçok geleneksel metnin anlatım biçimlerinden yararlandığı romanı aşağıdakilerden hangisidir?

- A) Cevdet Bey ve Oğulları
- B) Yeni Hayat
- C) Benim Adım Kırmızı
- D) Kara Kitap

15. Aşağıdakilerden hangisi Meşrutiyet Dönemi Osmanlı toplumunun ve gerçeklerinin konu alındığı eserlerden biri değildir?

- A) Sinekli Bakkal
- B) Yeşil Gece
- C) Küçük Paşa
- D) Sodom ve Gomore

16. Türk edebiyatında postmodern romanın yolunu açan yazar aşağıdakilerden hangisidir?

- A) Sait Faik Abasıyanık
- B) Memduh Şevket Esendal
- C) Ömer Seyfettin
- D) Turgut Uyar

17. Aşağıdakilerden hangisi Cumhuriyet Dönemi deneme yazarları arasında yer almaz?

- A) Sabahattin Eyuboğlu
- B) Suat Kemal Yetkin
- C) Ahmet Rasim
- D) Cemil Meriç

18. "Anayurt Otelı" ve "Aylak Adam" adlı romanların yazarı aşağıdakilerden hangisidir?

- A) Sabahattin Ali
- B) Yusuf Atılgan
- C) Peyami Safa
- D) Ahmet Rasim

19. Orhan Pamuk tarafından yazılan ve alışılmış roman anlayışının biçim ve pratiklerinden ilk kopuşu ifade eden eser aşağıdakilerden hangisidir?

- A) Kara Kitap
- B) Benim Adım Kırmızı
- C) Yeni Hayat
- D) Cevdet Bey ve Oğulları

20. Peyami Safa'nın birey ruhuna ayna tuttuğu psikolojik romanı aşağıdakilerden hangisidir?

- A) Fatih-Harbiye
- B) Dokuzuncu Hariciye Koşuğu
- C) Matmazel Noralya'nın Koltuğu
- D) Sözde Kızlar

1. Aşağıdakilerden hangisi fiziksel bir olaydır?

- A) Mangaldaki kömürün yanması
- B) Suyun damıtılması
- C) Demirin paslanması
- D) Asit ve bazın karıştırılması

2. Işık boşlukta 300.000 km/saniye hızla hareket ettiğine göre, bir günde km cinsinden aldığı yol aşağıdakilerden hangisidir?

- A) $18 \cdot 10^{12}$
- B) $1,08 \cdot 10^{13}$
- C) $3 \cdot 10^{12}$
- D) $2,592 \cdot 10^{10}$

3. 752 Fahrenheit ($^{\circ}\text{F}$) sıcaklık kaç $^{\circ}\text{C}$ 'ye eşittir?

- A) 200
- B) 300
- C) 400
- D) 500

4. Yay sabiti $k = 200 \text{ N/m}$ olan bir ucu bir duvara takılmış sürtünmesiz yatay bir düzlemdeki bir yay, 16 joule'lük bir iş yapılarak sıkıştırılıyor.

Buna göre, yayın sıkışma miktarı kaç cm dir?

- A) 10
- B) 20
- C) 30
- D) 40

5. Aşağıdakilerden hangisi 1.000 miligramın doğru karşılığıdır?

- A) 1 santigram
- B) 1 desigram
- C) 1 gram
- D) 1 kilogram

6. I. Fiziksel yasalar, kesin doğrulardır, değişmez.

II. Fizikçi, olaylar karşısında ortaya atılan hipotez ve teorilerin kesin doğrular olmadığını bilir.

III. Bir teori, evrensel olarak geçerlilik kazanırsa yasa niteliğini kazanır.

Yukarıdaki ifadelerden hangileri doğrudur?

- A) Yalnız I
- B) Yalnız II
- C) I ve II
- D) II ve III

7. 1,2 km/dakika kaç m/s'ye eşittir?

- A) 12
- B) 20
- C) 30
- D) 120

8. Bir gün kaç saniyeye eşittir?

- A) 1.800
- B) 3.600
- C) 36.000
- D) 86.400

9. Sürtünmesiz yatay bir düzlemde duran bir cisim 120 joule enerji harcayarak, 24 N'luk yatay bir kuvvetin etkisinde kalarak kaç m yol alır?

- A) 5
- B) 10
- C) 15
- D) 20

10. Kenarları 10 cm, 20 cm ve 40 cm olan dikdörtgenler prizmasının aldığı su kaç litredir?

- A) 6
- B) 8
- C) 10
- D) 12

11. 10 cm^3 kesme şeker, 28 cm^3 suyun içine atılıyor ve karıştırılıyor. Bu karışım dereceli bir silindire boşaltılıyor. Karışımın hacmi 36 cm^3 olarak ölçülüyor.

Buna göre, bu karışım oluşturulmadan önce kesme şeker içerisindeki havanın hacmi kaç cm^3 'dür?

- A) 1
- B) 1,5
- C) 2
- D) 2,5

12. Bir bisikletli 60 Newton'luk kuvvet uygulayarak, 1.000 m uzunlukta yolda, 100 watt'lık güç harcayarak hareket etmiştir.

Buna göre, bu bisikletli yolu kaç dakikada almıştır?

- A) 8
- B) 10
- C) 12
- D) 15

13. Özgül kütlesi $2,5 \text{ g/cm}^3$ olan bir metalden yarıçapı 10 cm , yüksekliği 20 cm olan bir silindir yapılmıştır.

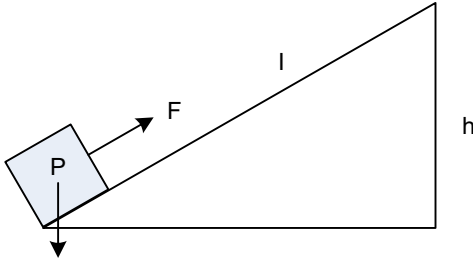
Buna göre, bu silindirin kilogram cinsinden kütlesi kaçtır? ($\pi=3$)

- A) 15
B) 12
C) 9
D) 6

14. Bir dereceli silindir kap 150 cm^3 hacme sahiptir. Bu dereceli silindir kabın içerisine 100 cm^3 su dökülüyor ve 80 cm^3 hacimli batan bir cisim atılıyor. Dereceli kaptan taşan su kaç cm^3 'dür?

- A) 25
B) 30
C) 35
D) 40

15.



Yukarıdaki şekilde $m=5 \text{ kg}$ kütleli bir cisim, $l=15 \text{ m}$ uzunlukta ve $h=5 \text{ m}$ yükseklikteki sürtünmesiz eğik bir düzlem üzerinde hareket etmektedir.

Buna göre, eğik düzleme paralel $F=10 \text{ N}$ luk kuvvetin etkisinde kalarak kaç joule'lük iş yapılmıştır? ($g=10 \text{ m/s}^2$)

- A) 100
B) 200
C) 400
D) 600

16. Aşağıdakilerden hangisi ivmenin temel büyüklükler cinsinden ifadesidir?

- A) yerdeğiştirme/(zaman)²
B) yerdeğiştirme/zaman
C) hız/yerdeğiştirme
D) kuvvet/hız

17. %75 verimle çalışan bir motor 1.200 joule'lük enerji harcayarak, kaç joule'lük iş yapabilir?

- A) 450
B) 600
C) 900
D) 1.200

18. İçinde tamamen su dolu olan dereceli kaba bir cisim atılıyor ve cisim dibe çöküyor. Cisim ve dereceli kap sisteminin 30 gram ağırlaştığı ve 20 gram suyun taşıdığı görülüyor.

Buna göre, cismin yoğunluğu kaç g/cm^3 dür?

- A) 0,6
B) 0,8
C) 1,2
D) 1,5

19. 40 kg kütleyle sahip bir kişi yerçekimi kuvvetine karşı 4.800 joule'lük iş yaparsa, zemin kattan itibaren her biri 3 m yükseklikteki katlardan kaçınıcı kata kadar çıkabilir? ($g=10 \text{ m/s}^2$)

- A) 1.
B) 2.
C) 3.
D) 4.

20. I. Fizik, doğayı anlama, doğal olayların neden ve sonuçlarını öğrenme ve matematiksel yöntemlerle ifade etme ile ilgilenen bir bilimdir.
II. Fizik, günlük olayları matematiksel bir dille ifade eden bir bilim dalıdır.
III. Doğa felsefesi, olayları sorgular ve deneyleri gözlemler.

Yukarıdaki ifadelerden hangileri doğrudur?

- A) Yalnız I
B) Yalnız II
C) Yalnız III
D) I, II ve III

1. Sıgacarla ilgili aşağıdaki ifadelerden hangisi yanlıştır?

- A) Elektrik potansiyeli ile elektrik yük grafiğinin eğimi sıgayı verir.
- B) Bir sıgacın değeri, dielektrik geçirgenliğine bağlı değildir.
- C) Sıgacın elektrik enerjisini depolamak amacıyla kullanılır.
- D) Sıgacın, devrelere seri ve paralel olmak üzere iki şekilde bağlanır.

2. I. İpin boyunu artırmak
II. Kütleli artırmak
III. Yerçekimi ivmesinin büyük olduğu bir yere gitmek

Basit Harmonik Hareket (BHH) yapan bir basit sarkacın periyodunu artırmak için yukarıdakilerden hangileri yapılmalıdır?

- A) Yalnız I
- B) Yalnız II
- C) II ve III
- D) I, II ve III

3. I. İki elin birbirine sürtülmesi sonucu ellerin ısınması olayı, mekanik enerjinin ısı enerjisine dönüşmesi olarak açıklanabilir.
II. Isı bir enerji sıcaklık ise bir ölçümdür.
III. Isı ve sıcaklıkla ilgili olayları inceleyen bilim dalına termodinamik denir.

Isı ve sıcaklıkla ilgili yukarıdaki ifadelerden hangileri doğrudur?

- A) Yalnız I
- B) I ve II
- C) I ve III
- D) I, II ve III

4. Yay sabitleri 20 N/m olan iki yay sırasıyla paralel ve seri olarak bağlandığında yay sabitleri oranı kaçtır?

- A) 1/4
- B) 2/3
- C) 3/4
- D) 4/5

5. Odak uzaklığı 30 cm olan bir ince kenarlı mercekte elde edilen görüntünün boyu cismin boyunun 3 katıdır. Görüntü gerçek olduğuna göre, cismin merceğe olan uzaklığı kaç cm'dir?

- A) 10
- B) 20
- C) 30
- D) 40

6. Bir dönme dolabın yarıçapı 12 m'dir. Dönme dolap 3 turu 6 dakikada yaptığına göre, dönme dolabın çizgisel hız kaç m/s dir?

- A) 0,5
- B) 0,6
- C) 0,7
- D) 0,8

7. Işığın ana renkleri aşağıdakilerden hangisinde birlikte ve doğru olarak verilmiştir?

- A) Kırmızı - Mavi - Yeşil
- B) Kırmızı - Yeşil - Sarı
- C) Sarı - Kırmızı - Mor
- D) Sarı - Yeşil - Mor

8. Evlerde kullanılan değişken akımın etkin değeri (şebeke değeri) 220 V olduğuna göre, şebekenin maksimum gerilim değeri kaç volt (V) dur?

- A) 250,20
- B) 311,17
- C) 352,30
- D) 401,12

9. 40 g suyun sıcaklığını 40 K artırmak için gerekli ısı miktarı kaç joule'dur? ($c_{su}=4,18J/gK$)

- A) 1.800
- B) 2.840
- C) 3.280
- D) 6.688

10. 0,5 m uzunluğundaki bir ipin ucuna 4 kg'lık bir cisim takılarak, 10 m/s hızla sallanmaktadır.

Buna göre, cisme etkiyen merkezci kuvvet kaç newton (N) dur?

- A) 600
- B) 700
- C) 800
- D) 900

11. Merceklerle ilgili aşağıdaki ifadelerden hangisi yanlıştır?

- A) Yakınsama birimi diyoptridir.
- B) Kalın kenarlı bir merceğin odağındaki cismin görüntüsü odak merceği arasında oluşan gerçek bir görüntüdür.
- C) İnce kenarlı mercekte asal eksene paralel gelen ışın, odaktan geçecek şekilde kırılır.
- D) Merceklerde kürelerin merkezlerinden geçen asal eksen ile merceğin eksenlerinin kesişme noktasına optik merkez denir.

12. I. Maddelerin moleküllerin hareket enerjisinin hareket enerjisi ile moleküller arasındaki bağlanma enerjilerinin toplamına ısı enerjisi adı verilir.
II. Bir maddenin ortalama hızdaki moleküllerin hareket enerjisi ile doğru orantılı büyüklüğe sıcaklık adı verilir.
III. Yeryüzündeki ışınların atmosferden dışarıya çıkamaması olayına sera etkisi adı verilir.

Enerjiyle ilgili yukarıdaki ifadelerden hangileri doğrudur?

- A) Yalnız I
B) I ve II
C) I ve III
D) I, II ve III

13. Basit Harmonik Hareket (BHH) ile ilgili aşağıdaki ifadelerden hangisi doğrudur?
A) Uzanımın en büyük olduğu yerde geri çağırıcı kuvvet sıfırdır.
B) Denge konumunda hız sıfırdır,
C) Uzanımın en büyük olduğu yerde hız sıfırdır.
D) Denge durumunda geri çağırıcı kuvvet en büyüktür.

14. 122 °F gösteren bir termometrenin °C karşılığı nedir?
A) 50
B) 60
C) 70
D) 80

15. I. Elektrik enerjisini kimyasal enerji olarak depolayan doğru akım kaynağına akümülatör adı verilir.
II. Değişken akım (Alternatif akım) AC sembolü ile gösterilir.
III. Türkiye'deki değişken akım gerilimi 220 V frekansı 50Hz'dir.

Akımla ilgili yukarıdaki ifadelerden hangileri doğrudur?

- A) I ve II
B) I ve III
C) II ve III
D) I, II ve III

16. Çıkış sarım sayısı 40 olan bir transformatörün girişine 120 V'luk bir değişken gerilim uygulanmakta ve çıkıştan 10 V' luk bir gerilim alınmaktadır.

Buna göre, giriş sarım sayısı kaçtır?

- A) 200
B) 320
C) 480
D) 540

17. Yükü $6,4 \cdot 10^{-8}$ coulomb (C) olan bir sığağın (kondansatör) elektrik potansiyeli $3,2 \cdot 10^{-2}$ volt (V) ise, bu sığaç kaç farad (F) dir?

- A) $2 \cdot 10^{-6}$
B) $3,2 \cdot 10^{-6}$
C) $3,6 \cdot 10^{-6}$
D) $4,2 \cdot 10^{-6}$

18. 0°C deki 5 gram buzun erimesi için gerekli olan ısı miktarı kaç joule (J) dur? (Buzun erime ısısı $L_{Buz} = 334,4$ J/g)

- A) 980
B) 1.022
C) 1.672
D) 1.834

19. Aynalarda görüntüyle ilgili aşağıdaki ifadelerden hangisi **yanlıştır**?

- A) Çukur aynanın merkezindeki cismin görüntüsü merkezde oluşur.
B) Düz aynada görüntü gerçektir.
C) Tümsek aynalardaki görüntü daima (sanal) zahiridir.
D) Çukur aynada cisim merkezde ise görüntü merkezde oluşur.

20. I. Bir doğru boyunca ışık hızıyla yayılırlar.
II. Elektrik ve Manyetik alanda saparlar.
III. Yayılması için bir ortam (hava gibi) gerekir.

Yukarıdakilerden hangileri elektromanyetik dalganın özelliklerinden biri değildir?

- A) Yalnız I
B) Yalnız II
C) II ve III
D) I, II ve III

2014 I.DÖNEM 0105-A

1. 2,4 gram C atomu içeren C_2H_6 bileşiği ile ilgili,

- I. 0,1 mol moleküldür
- II. 0,6 gram H atomu içerir
- III. 0,8 gram N atomu içerir.

Yargılarından hangileri doğrudur?

(H:1, C:12 mol/gr, N:Avagadro sayısı)

- A) Yalnız I
- B) Yalnız II
- C) I ve II
- D) I, II ve III

2. 1 mol $CaCO_3$ bileşiği kaç gramdır?

(Ca: 40, C :12, O:16 gr/mol)

- A) 120
- B) 100
- C) 60
- D) 52

3. Aşağıdaki element atomlarının hangisinin son katmanındaki elektron sayısı diğerlerinden **farklıdır**?

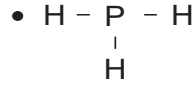
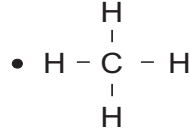
- A) $^{52}_{52}Te$
- B) $^{11}_{11}Na$
- C) $^{19}_{19}K$
- D) $^{29}_{29}Cu$

4. I grubu elementleri kararlı bileşiklerinde genellikle -2 yükseltgenme basamağına sahiptir. D blokunda yer alan B grubu elementlerine II elementleri denir. "Tuz oluşturan" anlamına gelen Halojenler periyodik tablonun III grubunda yer alırlar.

Yukarıda verilen ifadelerde I, II ve III yerine aşağıdakilerden hangisi gelmelidir?

I	II	III
A) 2A	Geçiş	1A
B) 2A	Asalgaz	7A
C) 6A	Geçiş	7A
D) 6A	Asalgaz	1A

5.



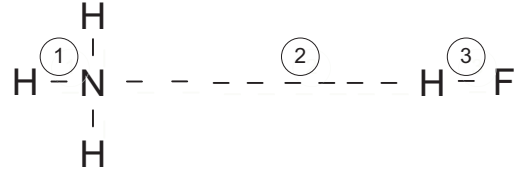
Açık formülleri verilen moleküllerle ilgili;

- I. Kovalent bağ içermeleri
- II. Moleküllerin apolar olması
- III. Moleküller arası London kuvvetleri içermeleri

Özelliklerinden hangileri her üçü için de ortaktır? (1H , 6C , 8O , ^{15}P)

- A) Yalnız I
- B) I ve III
- C) II ve III
- D) I, II ve III

6.

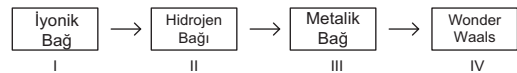


Yukarıda NH_3 ve HF molekülleri arasındaki bağ oluşumu verilmiştir.

Buna göre, aşağıdaki ifadelerden hangisi yanlıştır?

- A) 1 ve 3 numaralı bağlar, kimyasal bağdır
- B) 2 numaralı bağ, hidrojen bağdır
- C) 1 ve 3 numaralı bağlar, 2 numaralı bağdan daha sağlamdır.
- D) 1 ve 3 numaralı bağlar, apolar kovalent bağlardır.

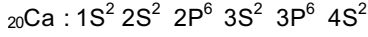
7.



Yukarıdaki bağ türlerinden hangi ikisi yer değiştirirse, bağlar güçlüden zayıfa doğru sıralanmış olur?

- A) I ve II
- B) I ve III
- C) II ve III
- D) II ve IV

8. Atom numarası 20 olan kalsiyum (Ca) atomun elektron dizilimi;

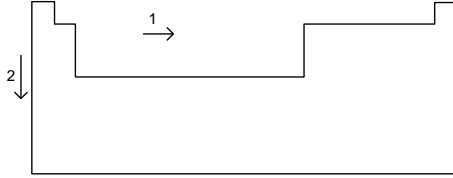


şeklindedir.

Buna göre, aşağıdaki yargılardan hangisi yanlıştır?

- A) Küresel simetri özelliği gösterir.
B) Baş kuantum sayısı 2 dir.
C) Atomun S orbitali tam doludur.
D) Elektron sayısı 20 dir.

9.



Periyodik cetvelde 1 ve 2 ile gösterilen oklar yönünde yapılan aşağıdaki genellemelerden hangisi yanlıştır ?

- A) 2 yönünde iyonlaşma enerjisi artar.
B) 2 yönünde atom numarası artar.
C) 1 yönünde atom yarıçapı azalır.
D) 1 yönünde metalik özellik azalır.

10. Aşağıdakilerden hangisi elektromanyetik dalga değildir?

- A) Mikro dalgalar
B) Radyo dalgaları
C) Alfa (α) ışınları
D) Gama (δ) ışınları

11. ${}_{19}\text{X}$ ve ${}_{8}\text{Y}$ atomlarının oluşturduğu X_2Y bileşiği ile ilgili aşağıdaki ifadelerden hangisi yanlıştır?

- A) Kristal örgülü, iyonik bileşiktir.
B) X ve Y arasındaki bağ elektrostatik çekim kuvvetidir.
C) Molekül yapıya sahiptir.
D) Erime sıcaklığı yüksektir.

12. SO_3 bileşiği için aşağıdaki yargılardan hangisi yanlıştır?
(S:32, O:16 gr/mol)

- A) 1 mol SO_3 bileşiği 80 gramdır
B) 3 mol S atomu içeren bileşik 160 gramdır
C) $3.01 \cdot 10^{23}$ tane SO_3 molekülü 0,5 moldür.
D) 12 tane atom içeren SO_3 bileşiği 3 moldür

13. Aşağıdaki kimyasal türlerin; atom, molekül, iyon ve radikal olarak sıralanması hangisinde doğru verilmiştir?

Atom	Molekül	İyon	Radikal
A) H_2O	Ar	Ca^{+2}	NO
B) Ar	H_2O	Ca^{+2}	NO
C) Ar	Ca^{+2}	NO	H_2O
D) H_2O	NO	Ca^{+2}	Ar

14. Aşağıdaki atomlardan hangileri birbirinin izotopudur?

Atom	Atom No	Elektron Sayısı	Nötron Sayısı
K	19	19	46
L^{+2}	12	10	24
M^{+2}	12	10	26
N^{-1}	35	36	26

- A) L^{+2} ve M^{+2}
B) K ve N
C) M^{+2} ve N^{-1}
D) K ve L^{+2}

15. Elektron dizilimi, $1\text{S}^2 2\text{S}^2 2\text{P}^6 3\text{S}^2 3\text{P}^6$ şeklinde olan elementin periyodik tablodaki yeri aşağıdakilerden hangisidir?

- A) 3.periyot, 6A grubu
B) 5.periyot, 6A grubu
C) 5.periyot, 8A grubu
D) 3. Periyot, 8A grubu

16. Aşağıdakilerden hangisi katot ışınları taneciklerinin özelliklerinden biri değildir?

- A) Negatif yüklü taneciklerdir.
- B) Doğrusal yayılırlar.
- C) Pozitif yüklü taneciklerdir.
- D) Elektriksel ve manyetik alanda izledikleri yoldan saparlar.

17. X, Y ve Z atomları ile ilgili şu bilgiler veriliyor.

X ve Y aynı gruptadır.
Z'nin atom numarası, Y'ninkinden fazladır
Y ile Z aynı periyottadır

Buna göre; X, Y ve Z atomlarının periyodik sistemdeki yerleri aşağıdakilerden hangisi gibi olabilir?

- A)

	Y
Z	X
- B)

Y	X
	Z
- C)

X	Z
Y	
- D)

X	
Y	Z

18. ${}_{19}\text{K}^{+1}$ iyonunun elektron dizilimi aşağıdakilerden hangisidir?

- A) $1\text{S}^2 2\text{S}^2 2\text{P}^6 3\text{S}^2 3\text{P}^6$
- B) $1\text{S}^2 2\text{S}^2 2\text{P}^6 3\text{S}^2 3\text{P}^6 4\text{S}^1$
- C) $1\text{S}^2 2\text{S}^2 2\text{P}^6 3\text{S}^2 3\text{P}^6 4\text{S}^2$
- D) $1\text{S}^2 2\text{S}^2 2\text{P}^6 3\text{S}^2 3\text{P}^6 4\text{S}^2 3\text{D}^1$

19. ${}_{15}\text{X}$, ${}_{16}\text{Y}$ ve ${}_{19}\text{Z}$ elementleri ile ilgili aşağıdaki ifadelerden hangisi doğrudur?

- A) Z'nin oksijenli bileşiği bazik özellik gösterir.
- B) Üçü de aynı periyottadır.
- C) Üçü de metalik özellik gösterir.
- D) Y'nin elektron verme özelliği diğerlerinden büyüktür.

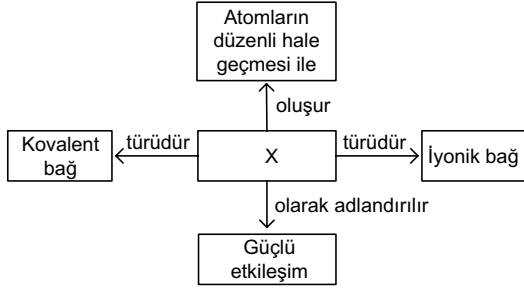
20. Bir atomda pozitif yükün tümü çekirdek denilen küçük bölgede toplanmıştır. Pozitif yüklerin toplam kütlesi, atomun kütlesinin yaklaşık yarısı kadardır.

Yaptığı deneyler sonucunda verilen bilgilere ulaşan bilim insanı aşağıdakilerden hangisidir?

- A) Dalton
- B) Thomson
- C) Faraday
- D) Rutherford

1. ^{19}K , ^{17}Cl , ^{16}S , ^{12}Mg elementleri ile ilgili aşağıdaki ifadelerden hangisi yanlıştır?
- A) K ve Cl arasında iyonik bağlı bileşik oluşur.
 B) K ve Mg arasında bir bileşik oluşmaz.
 C) Mg ve S arasında kovalent bağlı bileşik oluşur.
 D) Cl atomları arasında kovalent bağlı bileşik oluşur.

2.



Yukarıda verilen kavram haritasında X ile gösterilen ifade aşağıdakilerden hangisinde doğru verilmiştir?

- A) Metalik bağlar
 B) Hidrojen bağları
 C) Kimyasal bağlar
 D) London bağları
3. Aşağıdakilerden hangisi molekül formülü C_5H_{12} olan pentan bileşiğinin yapı izomeri değildir?
- A) n-pentan: $\text{CH}_3\text{—CH}_2\text{—CH}_2\text{—CH}_2\text{—CH}_3$
 B) n-pentan: $\text{CH}_3\text{—CH—CH}_2$
 | |
 CH_3 CH_3
 C) izo-pentan: $\text{CH}_3\text{—CH—CH}_2\text{—CH}_3$
 |
 CH_3
 D) neo-pentan: $\text{CH}_3\text{—C—CH}_3$
 |
 CH_3

4. $X = \begin{matrix} \uparrow\downarrow & \uparrow\downarrow & \uparrow\downarrow & \uparrow & \uparrow \\ 1s^2 & 2s^2 & 2p^4 \end{matrix}$

Elektron orbital şeması yukarıdaki gibi olan nötr X atomu ile ilgili;

- I. Kararlı bileşiklerinde iki bağ yapar.
 II. 2S orbitalindeki elektronlar bağ oluşumuna katılırlar.
 III. 2P orbitalindeki elektronlar orbital örtüşmesi ile bağ yapar.

Yukarıdaki yargılardan hangileri doğrudur?

- A) Yalnız I
 B) I ve II
 C) I ve III
 D) II ve III

5. Birbirinin yapı izomeri olan eter ve alkol için aşağıdakilerden hangisi yanlıştır?

- A) Aynı koşullarda alkol, suda daha çok çözünür.
 B) Aynı sıcaklıkta, eter daha uçucu bir maddedir.
 C) Aynı ortamda alkolün kaynama noktası daha yüksektir.
 D) Eter her türlü maddeyi çözer.

6. I. NaF
 II. NaCl
 III. NaBr

Yukarıda verilen iyonik bileşiklerin erime noktaları arasındaki ilişki aşağıdakilerden hangisinde doğru verilmiştir? (^{11}Na , ^9F , ^{17}Cl , ^{35}Br)

- A) I > II > III
 B) III > II > I
 C) II > I > III
 D) II > III > I

7. Aşağıdaki bileşiklerden hangilerinin Lewis yapısı yanlış yazılmıştır? (^1H , ^6C , ^7N , ^9F , ^8O)

- A) $\text{H}:\ddot{\text{F}}:$
 B) $\text{H}:\ddot{\text{N}}:\text{H}$
 |
 H
 C) $\text{H}:\ddot{\text{O}}:\text{H}$
 |
 H
 D) $:\text{N}:::\text{N}:$

8. Birincil alkollerin bir derece yükseltgenmesi ile aşağıdaki maddelerden hangisi oluşur?

- A) İkincil alkol
 B) Aldehit
 C) Keton
 D) Eter

9. Halkalı gösterimi " Δ " olan sikloalkanın molekül formülü aşağıdakilerden hangisidir?

- A) C_3H_6
 B) C_4H_8
 C) C_5H_{10}
 D) C_6H_{12}

10. Aşağıdaki bileşiklerden hangisinde atomlar arasında hem iyonik hem de kovalent bağ vardır? (^1H , ^6C , ^8O , ^7N , ^{11}Na , ^{17}Cl)

- A) NH_3
 B) NaCl
 C) NaNO_3
 D) CH_4

11. I. Genel formülleri C_nH_{2n+2} 'dir.
II. En basit üyeleri CH_4 (metan)'dir.
III. Doymuş hidrokarbonlar grubudur.

Yukarıdaki yargılardan hangileri alkanlar için doğrudur?

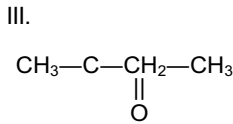
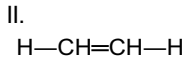
- A) Yalnız I
B) I ve III
C) II ve III
D) I, II ve III
12. $CH_3-CH-CH=CH_2$
|
Cl

bileşiğinin sistematik adı aşağıdakilerden hangisidir?

- A) İzoklor büten
B) 3 - klor 1 - büten
C) 2 - klor büten
D) 3 - klor 3 - büten
13. **Aşağıdakilerden hangisi 2-brom bütanın açık formülüdür?**

- A) $CH_3-CH-CH_2-CH_3$
|
Br
- B) $CH_3-CH-CH_2-Br$
- C) $CH_3-C-CH-CH_3$
| |
Br Br
- D) CH_3
|
 $CH_3-C-CH_2-CH_3$
|
Br

14. I.
 $H-C=O$
|
H



Yukarıda verilen bileşiklerden hangileri Tollens ayırıcındaki Ag^+ 'yi indirger?

- A) Yalnız I
B) Yalnız II
C) I ve II
D) I, II ve III
15. **Aşağıdakilerden hangisi iyonik katılar ile ilgili doğru bir açıklama değildir?**
- A) Oda sıcaklığında katı ya da sıvı halde bulunurlar.
B) Anyon ve katyonların birbirine bağlanması ile oluşan kristal örgüleri vardır.
C) Atomların elektron alış-verişinde bulunmaları sonucu oluşurlar.
D) Yapılarında en az bir tane metal bulundurulur.

16. **Alkinlerin ilk üyesi olan asetilen aşağıdaki maddelerin hangisinden bir dizi tepkime sonucu elde edilir?**

- A) $Ca(NO_3)_2$
B) K_2SO_4
C) $Mg(OH)_2$
D) $CaCO_3$

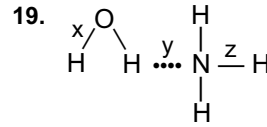
17. I. CO_2
II. H_2
III. HF
IV. Na_2O

Yukarıdaki taneciklerden hangilerinde polar kovalent bağ bulunmaz? (${}_1H$, ${}_6C$, ${}_8O$, ${}_7N$, ${}_{11}Na$)

- A) I ve II
B) I ve III
C) II ve III
D) II ve IV

18. **Aşağıdakilerden hangisi bütün aldehitler ve ketonlar için ortak tepkime çeşididir?**

- A) Yükseltgenme
B) Katılma
C) İndirgenme
D) Polimerleşme



Yukarıda atomları ve molekülleri birarada tutan x, y ve z bağları için;

- I. x, polar kovalent bağdır.
II. y, hidrojen bağıdır.
III. z, polar kovalent bağdır.

yargılarından hangileri doğrudur?

- A) I ve II
B) I ve III
C) II ve III
D) I, II ve III

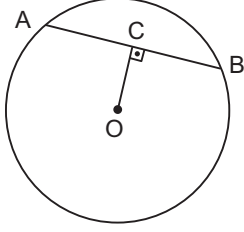
20. $R-CH_2-OH$ şeklinde bir alkol,

- I. Hidrojen bağı içerir.
II. Suda iyi çözünür.
III. Sulu çözeltisi elektrik akımını iletir.

Yukarıdaki yargılardan hangileri doğrudur?

- A) Yalnız I
B) Yalnız II
C) I ve II
D) II ve III

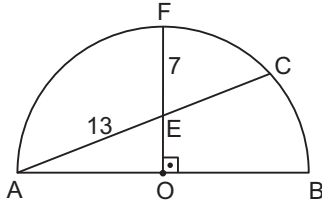
1.



Yukarıdaki yarıçapı 5 cm olan O merkezli çemberde, $[OC] \perp [AB]$, $|AB|=6$ cm ise, $|OC|$ kaç cm dir?

- A) $\sqrt{11}$
- B) $2\sqrt{3}$
- C) 4
- D) $3\sqrt{2}$

2.

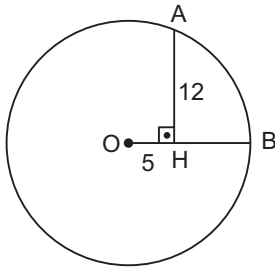


Yukarıdaki O merkezli dairede, $|AE|=13$ cm

ve $|EF|=7$ cm ise, $A(\triangle AOE)$ kaç cm^2 dir?

- A) 32
- B) 30
- C) 28
- D) 26

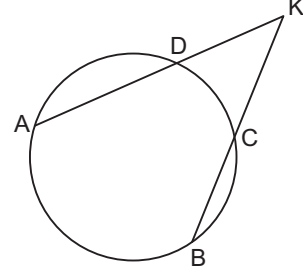
3.



Yukarıdaki O merkezli çemberde, $[AH] \perp [OB]$, $|OH|=5$ cm, $|AH|=12$ cm olduğuna göre, $|HB|$ kaç cm dir?

- A) 6
- B) 7
- C) 8
- D) 9

4.

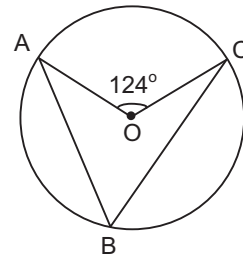


Yukarıdaki çemberde $m(\widehat{AD}) = 90^\circ$,

$m(\widehat{DC}) = 60^\circ$, $m(\widehat{CB}) = 40^\circ$ olduğuna göre, $m(\widehat{AKB})$ kaç derecedir?

- A) 55
- B) 50
- C) 45
- D) 40

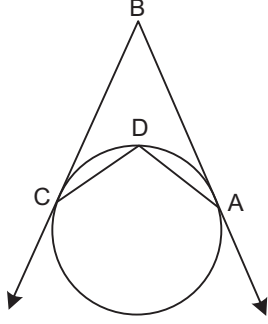
5.



Yukarıdaki O merkezli çemberde $m(\widehat{AOC}) = 124^\circ$ olduğuna göre, $m(\widehat{ABC})$ kaç derecedir?

- A) 50
- B) 52
- C) 62
- D) 68

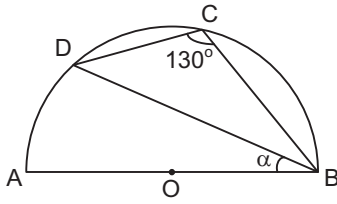
6.



Yukarıdaki şekilde A ve C teğet değme noktaları $m(\widehat{BCD}) = 20^\circ$ ve $m(\widehat{CDA}) = 130^\circ$ ise, $m(\widehat{BAD})$ kaç derecedir?

- A) 15
- B) 20
- C) 25
- D) 30

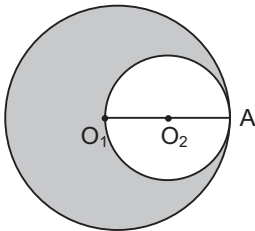
7.



Yukarıdaki $[AB]$ çaplı yarım çemberde $m(\widehat{DCB}) = 130^\circ$ ise, $m(\widehat{ABD}) = \alpha$ kaç derecedir?

- A) 40
- B) 45
- C) 50
- D) 65

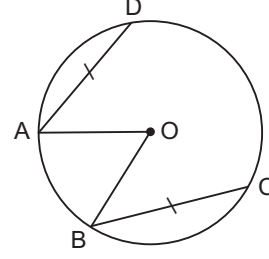
8.



Yukarıdaki şekilde O_1 ve O_2 merkezli daireler A noktasında içten teğettir. Taralı alan $12\pi \text{ cm}^2$ ise, $|O_2A|$ kaç cm dir?

- A) $24/7$
- B) $13/4$
- C) 3
- D) 2

9.

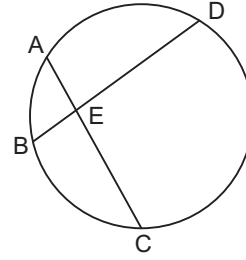


Yukarıdaki O merkezli çemberde

$m(\widehat{DA}) = 70^\circ$, $m(\widehat{DC}) = 170^\circ$, $|DA| = |BC|$ olduğuna göre, $m(\widehat{AOB})$ kaç derecedir?

- A) 50
- B) 45
- C) 40
- D) 35

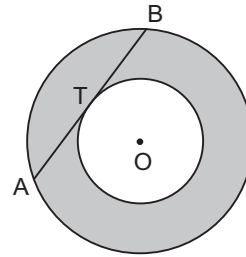
10.



Yukarıdaki çemberde $2|AE| = |EC|$, $|BE| = 4 \text{ cm}$, $|ED| = 18 \text{ cm}$ ise, $|AE|$ kaç cm dir?

- A) 5
- B) 6
- C) 7
- D) 8

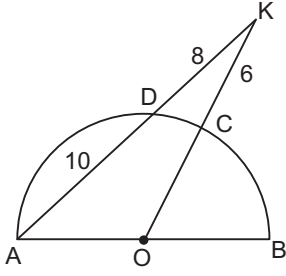
11.



Yukarıdaki şekilde merkezleri O olan iki dairede $[AB]$ kirişi T noktasında küçük daireye teğettir. $|AB| = 10 \text{ cm}$ ise, taralı alan kaç $\pi \text{ cm}^2$ dir?

- A) 50π
- B) 36π
- C) 30π
- D) 25π

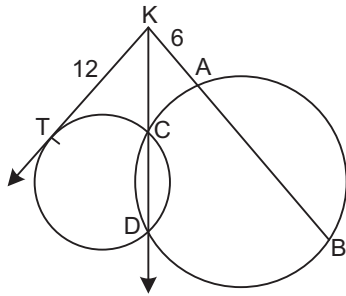
12.



Yukarıdaki O merkezli yarım çemberde, $|KD|=8$ cm, $|KC|=6$ cm, $|DA|=10$ cm olduğuna göre, çemberin yarıçapı kaç cm dir?

- A) 24
- B) 18
- C) 12
- D) 9

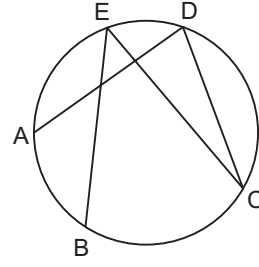
13.



Yukarıda C ve D noktalarında kesişen çemberlerde $[KT]$ teğet doğrusudur. $|KT|=12$ cm, $|KA|=6$ cm olduğuna göre, $|AB|$ kaç cm dir?

- A) 18
- B) 16
- C) 15
- D) 12

14.

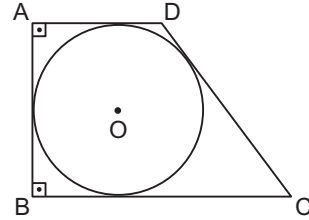


Yukarıdaki çemberde $m(\widehat{ADC})=80^\circ$,

$m(\widehat{AB})=70^\circ$ ise, $m(\widehat{BEC})$ kaç derecedir?

- A) 35
- B) 45
- C) 50
- D) 55

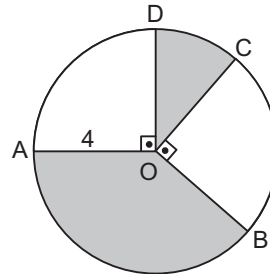
15.



Yukarıdaki şekilde ABCD dik yamuğu içine yarıçapı 4 cm olan O merkezli iç teğet çember çizilmiştir. $|DC|=9$ cm olduğuna göre, $A(ABCD)$ kaç cm^2 dir?

- A) 45
- B) 51
- C) 64
- D) 68

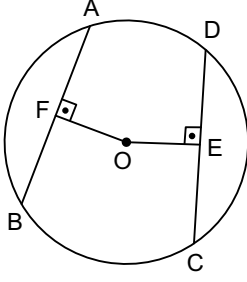
16.



Yukarıda yarıçapı 4 cm olan O merkezli dairede, $[DO] \perp [AO]$, $[CO] \perp [BO]$ olduğuna göre, taralı alanların toplamı kaç πcm^2 dir?

- A) 4
- B) 6
- C) 8
- D) 10

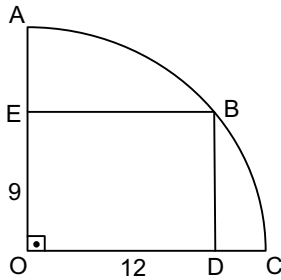
17.



Yukarıdaki O merkezli çemberde, $[OF] \perp [AB]$, $[OE] \perp [DC]$, $|OF|=|OE|$, $|AB|=(5x-7)$ cm, $|DC|=(2x+5)$ cm olduğuna göre, x kaç cm dir?

- A) 3
- B) 4
- C) 5
- D) 6

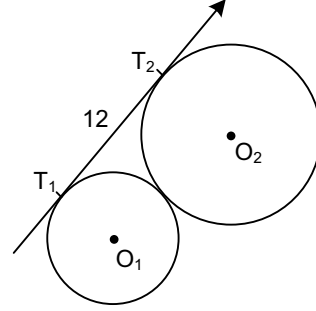
18.



Yukarıdaki O merkezli çeyrek çember içine EODB dikdörtgeni çizilmiştir. $|EO|=9$ cm, $|OD|=12$ cm olduğuna göre, $|DC|$ kaç cm dir?

- A) 2
- B) 2,4
- C) 3
- D) 3,2

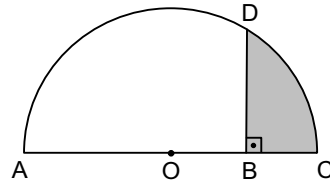
19.



Yukarıdaki şekilde T_1T_2 dıştan teğet olan çemberlerin ortak teğetidir. $|T_1T_2|=12$ cm ve çemberler arasındaki en uzun mesafe 26 cm olduğuna göre, iki çemberin yarıçaplarının farkı kaç cm dir?

- A) 4
- B) 5
- C) 6
- D) 7

20.



Yukarıdaki O merkezli yarım dairede, $|AC|=12$ cm ve $|OB|=3$ cm ise, taralı alan kaç cm^2 dir?

- A) $6\pi - \frac{9\sqrt{3}}{2}$
- B) $12\pi - \frac{\sqrt{3}}{2}$
- C) $8\pi + \frac{\sqrt{3}}{2}$
- D) $9\pi - \frac{2\sqrt{3}}{2}$

SEÇMELİ TARİH 4

A

2014 I.DÖNEM 0105-A

1. **İlk kez nüfus ve mülk sayımının yapılması hangi padişah zamanında gerçekleşmiştir?**

- A) Osman Bey
- B) I. Bayezit
- C) Çelebi Mehmet Efendi
- D) II. Mahmut

2. **Osmanlı ordusunda havan topu ve el bombası yapan yaya ocağı aşağıdakilerden hangisidir?**

- A) Lağımcı ocağı
- B) Topçu ocağı
- C) Humbaracı ocağı
- D) Cebeci ocağı

3. **Osmanlılarda tahta geçme şeklinin kesin bir kaideye bağlanması hangi padişah zamanında gerçekleşmiştir?**

- A) I. Ahmet
- B) II. Mahmut
- C) Fatih Sultan Mehmet
- D) III. Ahmet

4. **Aşağıdakilerden hangisi Osmanlıların İstanbul için kullandığı isimler arasında yer almaz?**

- A) Şahane Tahtı Saltanat
- B) Dersaadet
- C) Darülmülk
- D) İslambol

5. **Sarayda padişahın özel hayatını geçirdiği bölüme verilen ad aşağıdakilerden hangisidir?**

- A) Bâbüs-Saade
- B) Arz odası
- C) Bîrûn
- D) Enderun

6. **Fatih döneminden itibaren uygulanan iltizam usulünün kaldırılması aşağıdakilerden hangisi ile gerçekleşmiştir?**

- A) Tanzimat Fermanı
- B) Islahat Fermanı
- C) Sened-i İttifak
- D) Kanuniesasi

7. **Aşağıdakilerden hangisi XVII. yüzyılda halkın Anadolu'dan büyük şehirlere göç etmesinin nedenlerinden biri değildir?**

- A) Celali isyanları
- B) Ayânların zulümleri
- C) Tımar sisteminin bozulması
- D) Doğal afetler

8. **Dışarıda loncayı temsil edip hükümetle ilişkileri yürütmekte olan aşağıdakilerden hangisidir?**

- A) Kethüda
- B) Şeyh
- C) Nakip
- D) Çavuş

9. **Aşağıdakilerden hangisi Osmanlı toplumundaki aileyle ilgili yanlış bir ifadedir?**

- A) Aile reisi erkekti.
- B) Yalnızca erkek çocuklar okullara gönderilirdi.
- C) Erkek, genellikle tek kadınla evlenirdi.
- D) Ailede çocuk, disiplin içinde yetiştirilirdi.

10. **Köylünün elde ettiği ürün üzerinden sipahiye ödediği vergiye verilen ad aşağıdakilerden hangisidir?**

- A) Şerefiye
- B) Dirlik
- C) Çift resmi
- D) Çiftbozan resmi

11. Konargöçerlerin devlete ödediği vergi aşağıdakilerden hangisidir?

- A) Meslek vergisi
- B) Katılım vergisi
- C) Ağıl vergisi
- D) İşgal vergisi

12. Kaza ya da sancağın o zamanki erkek nüfusunu ve bunların ödemekle yükümlü olduğu vergi miktarını tespit etmek için yapılan aşağıdakilerden hangisidir?

- A) Zeamet
- B) Has
- C) Öşrî
- D) Tahrir

13. Osmanlı Devleti'nde dış borçlar konusu hangi antlaşma ile çözüme ulaşmıştır?

- A) Hünkar İskeleyi Antlaşması
- B) Lozan Antlaşması
- C) Mondros Ateşkes Antlaşması
- D) Serv Antlaşması

14. XIX. yüzyılda İstanbul, Diyarbakır ve Musul'da hangi ürüne ait fabrikalar bulunmaktaydı?

- A) Çini
- B) Halı
- C) Kağıt
- D) Deri

15. Osmanlılarda XVII. Yüzyılın ünlü hat ustası aşağıdakilerden hangisidir?

- A) Ahmet Karahisarî
- B) Hafız Osman
- C) Mustafa Rakım Efendi
- D) Amasyalı Şeyh Hamdullah

16. Aşağıdakilerden hangisi Mimar Sinan'ın kalfalık dönemi eseridir?

- A) Şehzade cami
- B) Sultan Ahmet cami
- C) Süleymaniye cami
- D) Selimiye cami

17. Aşağıdaki gazetelerden hangisi Osmanlı Devleti'nde çıkarılan özel gazetelerden biri değildir?

- A) Hürriyet Gazetesi
- B) İbret Gazetesi
- C) Takvim-i Vekayi
- D) Ceride-i Havadis

18. Osmanlı devrinde divan edebiyatının en güçlü olduğu dönem aşağıdakilerden hangisidir?

- A) XVI. yüzyıl
- B) XVII. yüzyıl
- C) XVIII. yüzyıl
- D) XIX. yüzyıl

19. Osmanlı Devleti'nin medreselerinde öğretmenlik yapanlara verilen unvan aşağıdakilerden hangisidir?

- A) Naip
- B) Müderris
- C) Kethuda
- D) Atabey

20. Osmanlılarda bayındırlık işlerinde çalışacak eleman yetiştirmek amacıyla 1883 yılında kurulan mesleki kurum aşağıdakilerden hangisidir?

- A) Mekteb-i Mahrec-i Aklâm okulu
- B) Mülkiye Mühendis Mektebi
- C) Mekteb-i Tıbbiye-i Mülkiye okulu
- D) Baytar Mektebi

1. Hz. Muhammed'in doğduğu yıl aşağıdakilerden hangisidir?
 - A) 571
 - B) 575
 - C) 577
 - D) 579

2. Aşağıdakilerden hangisi Hz. Muhammed'in kızı Fatıma'nın çocuklarından biri değildir?
 - A) Ümmügülüm
 - B) Hüseyin
 - C) Abdullah
 - D) Muhsin

3. Habeşistan'ın Yemen Valisi Ebrehe'nin Kâbe'ye saldırısına ne ad verilir?
 - A) Ficar Savaşı
 - B) Harem Olayı
 - C) Kureyş Savaşı
 - D) Fil Olayı

4. Hz. Muhammed'in yirmi yaşında katıldığı savaşın adı aşağıdakilerden hangisidir?
 - A) Arap Savaşı
 - B) Ficar Savaşı
 - C) Kureyş Savaşı
 - D) Harem Savaşı

5. Hz. Peygamber'in amcasının adı aşağıdakilerden hangisidir?
 - A) Zübeyr
 - B) Abdülmuttalip
 - C) Ali
 - D) Muhammed

6. Hz. Muhammed'in ilk erkek çocuğunun adı aşağıdakilerden hangisidir?
 - A) Abdülmuttalip
 - B) Ali
 - C) Abdullah
 - D) Kasım

7. Hz. Muhammed'e ilk vahiyin geldiği yer aşağıdakilerden hangisidir?
 - A) Safa Tepesi'nde
 - B) Hıra Mağarası'nda
 - C) Sevr Mağarası'nda
 - D) Mekke'deki evinde

8. Erdemliler sözleşmesinin yapılmasının nedeni aşağıdakilerden hangisidir?
 - A) Ficar savaşlarının halkı fakir düşürmesi
 - B) Mekke'de can ve mal güvenliğinin kalmaması
 - C) Çocukların kimsesiz ve aç kalması
 - D) Halkın güçsüz düşmesi

9. Hz. Muhammed'le ilgili aşağıdaki ifadelerden hangisi yanlıştır?
 - A) Sohbet ortamlarında konuşulan iyi şeylerin, başkalarına aktarılmasını yasaklamıştır.
 - B) Peygamberimiz boş ve anlamsız sözler söylemekten insanları sakındırmıştır.
 - C) Peygamberimiz müminlerin sert tavırlı olmaktan sakınmaya çağırmıştır.
 - D) Peygamberimiz insanlarla ilişkilerde güler yüzlü olmayı tavsiye etmiştir.

10. Aşağıdakilerden hangisi Hz. Peygamber'in komşularla ilgili kaçınılmasını emrettiği davranışlardan biridir?
 - A) Övgü dolu sözlerden
 - B) Rahatsız edecek söz ve davranışlardan
 - C) Fazla ikramda bulunulmasından
 - D) Komşu çocuklarına ilgi göstermekten

11. İnsanlar arasında iletişimi sağlayan birinci unsur aşağıdakilerden hangisidir?
 - A) Dil
 - B) Gözlem
 - C) Dokunma
 - D) Kulak

12. Hz. Peygamber'in "Müslüman, başka Müslümanlara eliyle ve diliyle zarar vermeyen kişidir" sözüyle tanımladığı kavram aşağıdakilerden hangisidir?

- A) Kelam
- B) Ashap
- C) Mümin
- D) İman

13. Aşağıdakilerden hangisi Hz. Peygamber'in özen gösterdiği konulardan biri değildir?

- A) Tertipli olunması
- B) Temiz olunması
- C) Dakik olunması
- D) Düzenli olunması

14. İslam güzellik anlayışının temeli aşağıdakilerden hangisidir?

- A) Güzellik görecelidir.
- B) Dış güzellik iç güzellikten güzeldir.
- C) Allah güzeldir, güzel olanı sever.
- D) İnsan güzelliğin merkezidir.

15. Aşağıdakilerden hangisi hayasızlığın neden olduğu durumlardan biri değildir?

- A) İnsanın sahip olduğu değerlerin zamanla yok olması
- B) Merhametlilik özelliğinin kaybedilmesi
- C) Güvenilirliğin yitirilmesi
- D) Toplumda sevilen kimse olma

16. Hayâ kelimesinin sözlük anlamı aşağıdakilerden hangisidir?

- A) Allah inancından kaynaklanan sorumluluk duygusu nedeniyle ahlak dışı şeylerden kaçınmak
- B) Temiz ve düzenli olmak
- C) Tutumlu olmak
- D) Utanma, sıkılma duygusu

17. Aşağıdakilerden hangisi Kur'an-ı Kerim'de, Allah'ın büyük bir mükâfat hazırladığı belirtilen kişilerden biri değildir?

- A) Kadınların itaat ettiği erkekler
- B) Mütevazi erkekler
- C) Sabreden kadınlar
- D) Sadaka veren kadınlar

18. "Siz bana altı şeyi garanti edin, ben de size cennete girmeyi garanti edeyim."

Aşağıdakilerden hangisi Hz. Muhammed'in yukarıdaki sözünde vurguladığı altı şeyden biri değildir?

- A) Konuştuğunuzda doğru söyleyin.
- B) Söz verdiğinizde sözünüzü tutun.
- C) Temiz ve düzenli olun.
- D) Emanete riayet edin.

19. Hz. Peygamber'in iman ile birbirine bağlı ayrılmaz bir bütün olduğunu buyurduğu kavram aşağıdakilerden hangisidir?

- A) Temizlik
- B) Hayâ
- C) İbadet
- D) Sadakat

20. Her an Allah'ın huzurunda olmanın bilinciyle yaşamaya ne ad verilir?

- A) Edep
- B) Hayâ
- C) İffet
- D) İhsan

1. Herhangi bir konuda mağdur olan kişilerin bunu yetkili makamlara yazılı olarak bildirerek; mağduriyetlerinin ortadan kaldırılmasını isteme hakkına ne ad verilir?

- A) Vatandaşlık hakkı
- B) Dilekçe hakkı
- C) Yaşama hakkı
- D) Sağlık hakkı

2. Aşağıdakilerden hangisi Türkiye Cumhuriyeti devlet sisteminin dayandığı temel esaslardan biri değildir?

- A) Kuvvetler birliği
- B) Egemenliğin kayıtsız şartsız millete ait olması
- C) Üniter devlet yapısı
- D) Atatürk ilke ve inkılaplarına bağlılık

3. Aşağıdakilerden hangisi III. Kuşak haklardan biridir?

- A) Din ve vicdan hürriyeti
- B) Haberleşme hürriyeti
- C) Yaşama hakkı
- D) Barış hakkı

4. Laiklik ile ilgili aşağıdaki ifadelerden hangisi yanlıştır?

- A) Laik devlette din ve devlet işleri birbirinden ayrılmıştır.
- B) Laik devlette hukuk sistemi dini esaslara dayandırılmıştır.
- C) Laik devlette kişilere inançlarından dolayı baskı yapılmaz.
- D) Laik devlet kişilerin birbirlerinin inançlarına karışmalarına engel olur.

5. Aşağıdakilerden hangisi I. Kuşak haklardan biri değildir?

- A) Çevre hakkı
- B) Yaşama hakkı
- C) Mülkiyet hakkı
- D) Düşünce hürriyeti

6. Aşağıdakilerden hangisi Atinalıların mecliste yönetime katılabilmesi için sahip olmaları gereken şartlardan biri değildir?

- A) Atina vatandaşı olmak
- B) Yirmi yaşını doldurmuş olmak
- C) Savaşlara katılmış olmak
- D) Erkek olmak

7. Demokrasiyi keşfeden ve ilk uygulamaları yapan uygarlık aşağıdakilerden hangisidir?

- A) İtalyan
- B) İngiltere
- C) Mısır
- D) Yunan

8. Aşağıdakilerden hangisi Anayasamıza göre seçim günü oy kullanamayacaklardan biri değildir?

- A) Er ve erbaşlar
- B) Askeri öğrenciler
- C) Ceza infaz kurumlarında hükümlü bulunanlar
- D) Öğretmenler

9. Aşağıdakilerden hangisi ulus devlet ve devlete dayalı hukuk fikrinin mimarıdır?

- A) Hobbes
- B) Montesquieu
- C) Locke
- D) Machiavelli

10. Kuvvetler ayrılığı düşüncesini ortaya atarak, devletin mutlak gücünü kişi hak ve özgürlükleri karşısında sınırlandırmayı hedefleyen düşünür aşağıdakilerden hangisidir?

- A) Copernic
- B) Montesquieu
- C) Machiavelli
- D) Bodin

11. Aşağıdakilerden hangisi uluslararası sivil toplum örgütlerinin faaliyet alanlarından biri değildir?

- A) Gelir adaletsizliğinin ortadan kaldırılması
- B) Seçim sonuçlarının değerlendirilmesi
- C) Salgın hastalıkların ortadan kaldırılması
- D) Soykırımla mücadele

12. Aşağıdakilerden hangisi uluslararası ölçekteki sivil toplum kuruluşlarından biri değildir?

- A) Uluslararası Kızılhaç Komitesi
- B) Uluslararası Af Örgütü
- C) Türk Demokrasi Vakfı
- D) Green Peace

13. Aşağıdakilerden hangisi insan haklarına yer veren ilk yazılı ulusal belgelerden biri değildir?

- A) İngiliz Haklar Bildirgesi
- B) Virginia Haklar Bildirgesi
- C) BM Örgütü İnsan Hakları Evrensel Bildirgesi
- D) Amerikan Anayasası

14. Aşağıdakilerden hangisi ulusal düzeyde faaliyet gösteren sivil toplum örgütlerinden biri değildir?

- A) Türkiye İnsan Hakları Vakfı
- B) Uluslararası PEN Kulübü
- C) Mazlumder
- D) Türk Demokrasi Vakfı

15. Aşağıdakilerden hangisi Avrupa Konseyi'nin organlarından biri değildir?

- A) Bakanlar Komitesi
- B) Parlamenterler Meclisi
- C) Genel Sekreterlik
- D) Çocuk Hakları Komitesi

16. Türk milletinin çok partili siyasal yaşama geçtiği tarih aşağıdakilerden hangisidir?

- A) 1945
- B) 1948
- C) 1950
- D) 1953

17. Atatürk ilkelerinden devletçilik ilkesinin en temel amaçlarından biri aşağıdakilerden hangisidir?

- A) Özel sektörü tamamen red etmek
- B) İhracatı yasaklamak
- C) Türk halkını layık olduğu yaşam standardına yükseltmek
- D) Dışa bağımlılığı artırmak

18. Aşağıdakilerden hangisi Atatürk inkılabının amaçlarından biri değildir?

- A) Yeni topraklar işgal etmek
- B) Vatanın bağımsızlığını gerçekleştirmek
- C) Milletin özgürlüğünü kayıtsız ve koşulsuz bir biçimde gerçekleştirmek
- D) Halkın egemenliğine dayalı bir devlet sistemi kurmak

19. Bir ülkede belli bir dönemde geçerli olan kuralların zorla ve köklü bir değişikliğe tabi tutularak yerine yenilerinin getirilmesine ne ad verilir?

- A) Çağdaşlaşma
- B) Gelişme
- C) İnkılap
- D) Reform

20. Türkiye Büyük Millet Meclisi'nin açıldığı tarih aşağıdakilerden hangisidir?

- A) 23 Nisan 1920
- B) 29 Ekim 1920
- C) 23 Nisan 1923
- D) 29 Ekim 1923

1. Bir sınıfta Matematik veya Kimya dersinden geçenlerin sayısı 26'dır. Bunlardan 16'sı Matematik, 14'ü ise Kimya dersinden geçmiştir.

Buna göre rastgele seçilen bir öğrencinin Matematik dersinden geçtiği bilindiğine göre, Kimya dersinden geçmiş olma olasılığı aşağıdakilerden hangisidir?

- A) $\frac{2}{13}$
B) $\frac{1}{4}$
C) $\frac{1}{2}$
D) $\frac{3}{4}$

2. $n \in \mathbb{N}$ olmak üzere; $\frac{(n+1)!}{(n-1)!} = 72$ olması için n kaç olmalıdır?

- A) 6
B) 7
C) 8
D) 9

3. "CACIK" kelimesindeki harflerin yerleri değiştirilerek, anlamlı yada anlamsız 5 harfli birbirinden farklı kaç grup oluşturulabilir?

- A) 30
B) 60
C) 90
D) 120

4. Bir kutuda 1'i kırmızı 4 bilye, ikinci bir kutuda 7'si kırmızı 14 bilye vardır

Kutulardan birer bilye alınıyor. Bu durumda her iki bilyenin de kırmızı olma olasılığı aşağıdakilerden hangisidir?

- A) $\frac{1}{12}$
B) $\frac{1}{8}$
C) $\frac{1}{4}$
D) $\frac{1}{2}$

5. 4 değişik anahtarı halka şeklindeki bir anahtarlığa kaç farklı şekilde takılabilir?

- A) 3
B) 6
C) 12
D) 24

6. $A = \{0,1,2,3,4,5,7\}$ kümesinin elemanları kullanılarak rakamları birbirinden farklı 3 basamaklı 400 den büyük kaç sayı yazılabilir?

- A) 60
B) 90
C) 105
D) 120

7. $\frac{6!+7!}{5!+4!}$ işleminin sonucu kaçtır?

- A) 2
B) 12
C) 40
D) 48

8. Birbirine paralel 6 doğru ile yine birbirine paralel 3 doğru kesiştiriliyor. Buna göre kaç paralelkenar oluşur?

- A) 18
B) 28
C) 30
D) 45

9. Bir torbada 5 kırmızı 4 sarı top vardır.

Buna göre torbadan seçilecek 2 topun da kırmızı olma olasılığı aşağıdakilerden hangisidir?

- A) $\frac{1}{6}$
B) $\frac{16}{81}$
C) $\frac{5}{18}$
D) $\frac{5}{9}$

10. Birbirinin aynısı 4 Matematik ve birbirinin aynısı 3 Fizik kitabı bir rafa yan yana kaç farklı şekilde dizilebilir?

- A) 24
B) 35
C) 84
D) 98

11. $\sum_{i=1}^{20} (k-5) = 380$ ise, k kaçtır?

- A) 14
B) 19
C) 20
D) 24

12. İlk terimi -3 olan aritmetik serinin ilk 11 teriminin toplamı 352 olduğuna göre, serinin ortak farkı kaçtır?

- A) 4
- B) 5
- C) 6
- D) 7

13. $\sum_{n=1}^{\infty} \left(\frac{1}{2}\right)^{n+3}$ serisinin toplamı kaçtır?

- A) $\frac{1}{32}$
- B) $\frac{1}{16}$
- C) $\frac{1}{8}$
- D) $\frac{1}{4}$

14. Bir aritmetik dizinin a. terimi b, b. terimi a ise, 6. terimi aşağıdakilerden hangisidir?

- A) a+b-6
- B) a-b+2
- C) a-2b+4
- D) a+b+6

15. $\prod_{n=7}^{42} \frac{n+2}{n+1}$ çarpımının sonucu kaçtır?

- A) $\frac{11}{2}$
- B) 6
- C) $\frac{21}{2}$
- D) 12

16. İlk üç terimi 3, k+1, 12 olan pozitif terimli bir geometrik dizinin 5. terimi kaçtır?

- A) 24
- B) 30
- C) 36
- D) 48

17. 6+8+10+...+74 toplamı kaçtır?

- A) 1190
- B) 1225
- C) 1360
- D) 1400

18. Bir sinema salonunda ilk sırada 7 oturma yeri ve en son sırada ise 51 oturma yeri vardır. Her sırada oturma yeri bir önceki sıranın 4 fazlasıdır.

Bu salonda toplam kaç sıra vardır?

- A) 10
- B) 11
- C) 12
- D) 13

19. İlk kaç tane pozitif çift sayının toplamı 90 olur?

- A) 9
- B) 10
- C) 11
- D) 12

20. İlk terimi -3 ve ortak farkı 4 olan aritmetik serinin ilk 11 teriminin toplamı kaçtır?

- A) 187
- B) 220
- C) 231
- D) 244

SEÇMELİ DİL VE ANLATIM 6

A

2014 I.DÖNEM 0105-A

1. Aşağıdaki röportaj yazarı ve eseri eşleştirmelerinden hangisi yanlıştır?

- A) İbrahim Çallı-Çukurova Yana Yana
- B) Fikret Otyam- Doğudan Gezi Notları
- C) Yaşar Kemal-Bu Diyar Baştan Başa
- D) Mustafa Baydar-Edebiyatçılarımız Ne Diyorlar

2. "Tanrı gibi Tanrı yaratmış Türk Bilge Kağanı, sözüm: Babam Türk Bilge Kağanı... Sir, Dokuz Oğuz, İki Ediz çadırlı beyleri, milleti.."

Yukarıda bir parçası alıntılanan eser aşağıdakilerden hangisidir?

- A) Fatih Sultan Mehmet'in Nutku
- B) Bugün de Diyorlar ki
- C) İstiklal Kulesi Yazıtları
- D) Göktürk Yazıtları

3. "Onuncu Yıl Nutku" tür olarak aşağıdakilerden hangisine örnektir?

- A) Hitabete
- B) Mülakata
- C) Mektuba
- D) Denemeye

4. Söylevle ilgili aşağıdaki ifadelerden hangisi yanlıştır?

- A) Ülkemizde II.Meşrutiyet'ten sonra söylev türü görülmeye başlamıştır.
- B) Söylev türünün ilk örnekleri Eski Yunan ve Roma dönemlerinde görülür.
- C) Söylevciye hatip adı da verilir.
- D) Görüşme, söylevin diğer adıdır.

5. "Gerçek Bir Yeryüzü Cenneti Sapanca" başlıklı röportajın türü aşağıdakilerden hangisidir?

- A) Eşyayı konu alan
- B) Bir yeri konu alan
- C) Gezi yazısı
- D) Belgesel

6. Aşağıdaki türlerden hangisi tiyatro ile birlikte gelişmiştir?

- A) Mülakat
- B) Söylev
- C) Görüşme
- D) Röportaj

7. Cumhuriyet döneminin en büyük konuşmacısı aşağıdakilerden hangisidir?

- A) Bekir Sıtkı
- B) Halide Edip
- C) Peyami Safa
- D) Mustafa Kemal Atatürk

8. "Yurttaşlarım! Az zamanda çok ve büyük işler yaptık; bu işlerin en büyüğü, temeli, Türk kahramanlığı ve yüksek Türk kültürü olan Türkiye Cumhuriyeti'dir.

Yukarıda bir parçası alıntılanan Atatürk'ün konuşmasının türü aşağıdakilerden hangisidir?

- A) Nutuk
- B) Tirad
- C) Nesir
- D) Hatırat

9. Aşağıdakilerden hangisi konularına göre röportaj çeşitlerinden biri değildir?

- A) Eşyayı konu alan
- B) İnsanı konu alan
- C) Durumu konu alan
- D) Bir yeri konu alan

10. Söylevin amacı nedir?

- A) Bilgi vermek
- B) Belli bir fikri, bir duyguyu aşlamak
- C) Bir sorunu değişik boyutları ile incelemek
- D) Ünlü birini tanıtmak

11. Aşağıdakilerden hangisi sözlü anlatım türlerinden biri değildir?

- A) Mülakat
- B) Söylev
- C) Deneme
- D) Röportaj

12. Röportajın özellikleri ile ilgili aşağıdaki ifadelerden hangisi yanlıştır?

- A) Röportajcı gördükleri ve izlenimleriyle yetinmeyip araştırma ve inceleme de yapar.
- B) Röportajı yapan kişi kendi görüşlerini röportaja katmaz.
- C) Röportajcının amacı konuyu çarpıtmadan belgesel olarak okuyucuya sunmak ve okuyucuyu konunun içinde yaşatmaktır.
- D) Röportajlar okuyucunun dikkatini çekecek ve onları bazı konularda düşündürecek biçimde düzenlenir.

13. Sorular herkesin anlayabileceği gibi açık ve net olmalı, alınan cevap aynen aktarılmalı ve ayrıntıya girilmemelidir.

Yukarıda sözü edilen tür aşağıdakilerden hangisi olabilir?

- A) Fıkra
- B) Deneme
- C) Söylev
- D) Mülakat

14. Ekonomistlerin yaptıkları konuşmalar hangi söylev çeşidi içerisinde yer alır?

- A) Akademik söylev
- B) Hukuksal söylev
- C) İktisadi söylev
- D) Siyasi söylev

15. Röportajın sağlam bir düşünce ve teze dayanması yönüyle benzerlik gösterdiği tür aşağıdakilerden hangisidir?

- A) Deneme
- B) Fıkra
- C) Makale
- D) Nutuk

16. Genellikle parlamentolarda, diplomatik toplantılarda ve mitinglerde söylenen söylev aşağıdakilerden hangisidir?

- A) Siyasi söylev
- B) Akademik söylev
- C) Sosyal söylev
- D) Edebi söylev

17. Aşağıdakilerden hangisi II.Meşrutiyet dönemindeki en tanınmış söylevcilerden biridir?

- A) Ahmet Haşim
- B) Yaşar Kemal
- C) Ömer Naci
- D) Mehmet Rauf

18. Karşılıklı buluşmak, görüşmek anlamlarına gelen, ünlü kişilerin çeşitli yönlerini tanıtmak veya toplumu ilgilendiren önemli bir konuyu aydınlatmak için ünlü kişilerle, uzmanlarla yapılan görüşmeleri sorulu cevaplı aktaran yazılara ne ad verilir?

- A) Söylev
- B) Mülakat
- C) Deneme
- D) Hitabet

19. Aşağıdakilerden hangisi mülakat ve mülakatçının özelliklerinden biri değildir?

- A) Mülakatların oldukça ayrıntılı olması beklenir.
- B) Mülakatçı sabırlı, nazik ve dikkatli olmalıdır.
- C) Genelde söyleşmeye bağlı anlatım türü kullanılır.
- D) Mülakat metni öğretici ve ufuk açııcıdır.

20. Yazarın herhangi bir konu, eşya ya da bir yerle ilgili yaptığı incelemeleri değişik boyutlarıyla ele alıp kendi görüşlerini de katarak hazırladığı gazete ve dergi yazılarına ne ad verilir?

- A) Deneme
- B) Gezi yazısı
- C) Hatırat
- D) Röportaj

1. Aşağıdakilerden hangisi makale ve bilimsel yazıların benzerliklerinden biri değildir?

- A) İki türde de amaç okuyucuyu bilgilendirmektir.
- B) Her iki tür de kurallı cümlelerle kurulurlar.
- C) İki türde de sanatsal yaklaşım ön plandadır.
- D) Her iki türde de anlatılanların kanıtlanması gerekir.

2. Açık oturumda izleyicilerin sorularının alınması ve cevaplanması söz konusu olduğunda açık oturum aşağıdakilerden hangisine dönüşür?

- A) Sempozyum
- B) Mülakat
- C) Röportaj
- D) Forum

3. Bilimsel yazılardaki kaynakça bölümüne ne ad verilir?

- A) Bibliyografya
- B) Dipnot
- C) İndeks
- D) Sonuç

4. Açık oturumlarda konuşmacı sayısının kaç kişiyi geçmemesi tercih edilir?

- A) Sekiz
- B) Altı
- C) On
- D) On iki

5. Aşağıdakilerden hangisi bilimsel yazılar içerisinde yer almaz?

- A) Toplantı özetleri
- B) Bir şairin anıları
- C) Konferans raporları
- D) Değerlendirme yazıları

6. İlk gazetenin nerede çıkmaya başladığı ileri sürülmektedir?

- A) Fenike
- B) Mezopotamya
- C) Amerika
- D) Mısır

7. Aşağıdakilerden hangisi sempozyum bildirisinin bölümlerinden biri değildir?

- A) Giriş
- B) Taslak
- C) Bulgular
- D) Deney

8. “Çocukların suç eğiliminde aile mi etkilidir, çevre mi?” sorusunu tartışan iki gurubun kendi görüşlerini açıklamak, kanıtlamak karşı tarafın zayıf noktalarını aramak için yaptıkları söyleşmeye ne ad verilir?

- A) Sempozyum
- B) Forum
- C) Münazara
- D) Mülakat

9. Makale ile ilgili aşağıdaki ifadelerden hangisi yanlıştır?

- A) Gazetelerin ilk sayfasında ve birinci sütunda yayınlanan yazılara başmakale denir.
- B) Makale için konu yönünden bir sınır çizmek mümkün değildir.
- C) Makalede temel öge duygudur.
- D) Makalede senli benli konuşmalara ve süslü anlatımlara yer verilmez.

10. En belirgin özelliği sosyal bir sorunun geniş kitleler önünde bütün ayrıntılarıyla tartışılması ve dinleyicilerin de bu tartışmanın içinde aktif olarak yer alması olan toplantılara ne ad verilir?

- A) Forum
- B) Sempozyum
- C) Münazara
- D) Söyleşi

11. Yazar, düşünür ve sanatçıların veya kendi alanında uzman kişilerin bir konuyu açıklamak, tanıtmak, bilgi vermek, öğretmek amacıyla yaptıkları konuşmalara ne ad verilir?

- A) Söyleşi
- B) Röportaj
- C) Konferans
- D) Münazara

12. Aşağıdakilerden hangisi bilimsel yazıların okuyucu kitlesine ulaşması bakımından önemli olan ögesidir?

- A) Dipnot
- B) Başlık
- C) Tartışma
- D) Sonuç

13. Aşağıdakilerden hangisi açık oturum planında yer almaz?

- A) Deney
- B) Açık oturumun yapılış nedeni
- C) Konuşmaları özetlemek
- D) Konuşmacılara sorulacak sorular

14. Türk edebiyatında makalenin gelişimine bakıldığında 1860'da ilk makale kim tarafından yazılmıştır?

- A) Şinasi
- B) Nefi
- C) Hüseyin Cahit
- D) Namık Kemal

15. Aşağıdakilerden hangisi makalede söylenenlerin bir yargıya bağlandığı bölümdür?

- A) Dipnot
- B) Malzeme
- C) Sonuç
- D) Yöntemler

16. Aşağıdakilerden hangisi bir sözlü anlatım türü değildir?

- A) Açık oturum
- B) Makale
- C) Sempozyum
- D) Münazara

17. Aşağıdakilerden hangisi öğretici metinlerden biri değildir?

- A) Sohbet
- B) Mükalat
- C) Röportaj
- D) Karikatür

18. "Sayın jüri üyeleri, değerli arkadaşlarım, Tezimin doğru olduğunu savunmaya sanat ile sanatkar kelimelerini açıklayarak başlayacağım"

Yukarıda bir parçası alıntılanan konuşmanın gerçekleştirildiği ortam aşağıdakilerden hangisidir?

- A) Münazara
- B) Sempozyum
- C) Forum
- D) Panel

19. Bilimsel yazı hazırlanırken başkasının görüşlerini alıp, gönderme yapılarak nereden alıntıldığı belirtilmediği takdirde ortaya çıkan bilimsel hırsızlığa ne ad verilir?

- A) Göndergesel işlev
- B) Alıntı
- C) Dipnot
- D) İntihal

20. Konferans ile ilgili aşağıdaki ifadelerden hangisi yanlıştır?

- A) Konferansta açıklayıcı, öğretici, kanıtlayıcı ve tartışmacı anlatım türleri kullanılır.
- B) Konferans verilmeden önce konuşmayı yapacak kişi mutlaka dinleyicilere tanıtılır.
- C) Genellikle bilim, sanat ve ekonomi konularında verilir.
- D) Konferanstaki amaç aynen nutukta olduğu gibi dinleyicileri coşkulandırmaktır.

1. Spät am Abend die Frauen einkaufen.

Welches Wort passt in die obige Lücke?

Cümlede boş bırakılan yeri aşağıdakilerden hangisi doğru şekilde tamamlar?

- A) sein
B) gingen
C) schrieben
D) dachten

2. Die Frau stellt die Blumen die Vase.

Welches Wort passt in die obige Lücke?

Cümlede boş bırakılan yeri aşağıdakilerden hangisi doğru şekilde tamamlar?

- A) in
B) auf
C) zu
D) über

3. Meine Schwester spielt Klavier als ich.

Welches Wort passt in die obige Lücke?

Cümlede boş bırakılan yeri aşağıdakilerden hangisi doğru şekilde tamamlar?

- A) gutes
B) besser
C) gut
D) bestens

4. Daniela gibt jeden Morgen Mutter einen Kuß.

Welches Wort passt in die obige Lücke?

Cümlede boş bırakılan yeri aşağıdakilerden hangisi doğru şekilde tamamlar?

- A) ihre
B) ihrem
C) ihrer
D) ihren

5. A: Möchtest du eine Tasche?
B: Nein, die Tasche gefällt mir besser.

Welches ergänzt die Lücken im obigen Dialog?

Verilen karşılıklı konuşmada boş bırakılan yerleri aşağıdakilerden hangisi tamamlar?

- A) schwarzem / rotem
B) schwarze / rote
C) schwarzes / rotes
D) schwarz / rot

6. Was bedeutet "beim Schreiben" auf Türkisch?

"beim Schreiben" ifadesinin Türkçesi aşağıdakilerden hangisidir?

- A) yazdım
B) yazmış
C) yazmışken
D) yazarken

7. A: Guten Tag, darf ich etwas fragen?
B: Ja, Sie müssen schnell machen!
A: Ist das richtig ist das falsch? Man sagt, die Deutschen essen nur Kartoffeln.
B: Das ist falsch.

Welches ergänzt die Lücken im obigen Dialog?

Verilen karşılıklı konuşmada boş bırakılan yerleri aşağıdakilerden hangisi tamamlar?

- A) und / denn
B) oder / und
C) denn / und
D) aber / oder

8. Es war schrecklich kalt,

Welches ergänzt die Lücke im obigen Satz?

Verilen cümleyi aşağıdakilerden hangisi tamamlar?

- A) und dann gingen wir schwimmen.
B) weil ich noch arbeiten sollte.
C) als ich gestern nach Hause kam.
D) wenn ich sehr müde bin.

9. wenn ich Hunger habe, esse ich Schokolade.

Welches Wort passt in die obige Lücke?

Cümlede boş bırakılan yeri aşağıdakilerden hangisi doğru şekilde tamamlar?

- A) Doch
B) Sondern
C) Immer
D) Als

10. Kulturarbeit ist keine Einbahnstraße.

Wie lautet der obige Satz auf Türkisch?

Verilen cümlelerin Türkçesi aşağıdakilerden hangisidir?

- A) Kültür işleri tek yönlü yol değildir.
B) Bu yol kültür işleri binasına gitmez.
C) Kültür işlerinin yolu buradan yapılmaz.
D) Tek yönlü sokak kültür işlerine çıkmaz.

11. Die Bahn ist das billigste Verkehrsmittel, es dauert lange und ist unbequem.

Welches Wort passt in die obige Lücke?

Cümlede boş bırakılan yeri aşağıdakilerden hangisi doğru şekilde tamamlar?

- A) wenn
B) damit
C) aber
D) sonst

12. Ankara ist die Stadt, den Anitkabir hat.

Welches Wort passt in die obige Lücke?

Cümlede boş bırakılan yeri aşağıdakilerden hangisi doğru şekilde tamamlar?

- A) dem
B) die
C) den
D) das

13. Alle türkischen Kinder Atatürk.

Welches Wort passt in die obige Lücke?

Cümlede boş bırakılan yeri aşağıdakilerden hangisi doğru şekilde tamamlar?

- A) können
B) kennst
C) kennen
D) kennt

14., die Sie in Ihrem Leben noch haben möchten?

Welches ergänzt die Lücke im obigen Satz?

Verilen cümleyi aşağıdakilerden hangisi tamamlar?

- A) Haben Sie Schwierigkeiten
B) Gibt es viele Dinge
C) Gibt es noch Vorbereitungen
D) Hat er die Dinge erledigt

15. A: Hallo, sind Sie der Mann, ich das Geld geben soll?

B: Ja, danke.

Welcher Satz ergänzt den obigen Dialog?

Verilen karşılıklı konuşmayı aşağıdakilerden hangisi tamamlar?

- A) dem
B) der
C) die
D) des

16. Ich habe mir Bücher, die ich abends lesen

Welche Wörter passen in die obigen Lücken?

Cümlede boş bırakılan yerleri aşağıdakilerden hangileri doğru şekilde tamamlar?

- A) ausgeliehen / werde
- B) ausgesucht / wolltest
- C) geschenkt / werden
- D) gekauft / würden

17. Wenn ich jetzt zu Hause wäre, würde ich mich ausruhen.

Welche Frage passt zur obigen Antwort?

Verilen cevabı gerektirecek soru aşağıdakilerden hangisidir?

- A) Was musst du zu Hause machen?
- B) Was machst du abends, wenn du nach Hause kommst?
- C) Was sollst du zu Hause machen, wenn du früh gehen könntest?
- D) Was würdest du machen, wenn du jetzt zu Hause wärst?

18. Wenn die Kinder gut lernen würden,

Welches ergänzt die Lücke im obigen Satz?

Verilen cümleyi aşağıdakilerden hangisi tamamlar?

- A) hätten sie bessere Noten.
- B) möchten sie immer Geschenke haben.
- C) dann darfst du ins Kino gehen.
- D) könnten Sie lange schlafen.

19. Was würde Frau Akyürek machen, wenn sie als Touristin länger in Berlin bleiben könnte?

Welche Antwort passt zur obigen Frage?

Verilen sorunun cevabı aşağıdakilerden hangisidir?

- A) Er könnte die berühmten Moscheen besuchen.
- B) Wir wären in der Stadt beim Bummeln.
- C) Du hättest ein neues Kleid kaufen können.
- D) Sie würde jeden Tag in die Oper gehen.

20. Meine Mutter fragt mich, ich heute Abend spät

Welche Wörter passen in die obigen Lücken?

Cümlede boş bırakılan yerleri aşağıdakilerden hangileri doğru şekilde tamamlar?

- A) denn / laufen sollen
- B) wenn / geben können
- C) als / gehen wird
- D) ob / kommen werde

1. She has tasted different food she started to travel.

Which of the following completes the sentence above?

Aşağıdakilerden hangisi yukarıdaki cümleyi doğru olarak tamamlar?

- A) since
B) for
C) ever
D) never

2. We'll go swimming if the weather is

Which of the following completes the sentence above?

Aşağıdakilerden hangisi yukarıdaki cümleyi doğru olarak tamamlar?

- A) good
B) cold
C) awful
D) snowy

3. I didn't have a good time while I this movie.

Which of the following completes the sentence above?

Aşağıdakilerden hangisi yukarıdaki cümleyi doğru olarak tamamlar?

- A) watch
B) was watching
C) am watching
D) watched

4. Jack is a reader. He reads his book

Which of the following completes the sentence above?

Aşağıdakilerden hangisi yukarıdaki cümleyi doğru olarak tamamlar?

- A) quickly / quick
B) quick / quick
C) quick / quickly
D) quickly / quickly

5. Mary isn't coming with us. I wish

Which of the following completes the sentence above?

Aşağıdakilerden hangisi yukarıdaki cümleyi doğru olarak tamamlar?

- A) she wasn't coming with us
B) she can't come with us
C) she could come with us
D) she doesn't come with us

6. The policeman asked, "Where is the driver?"

Which of the following is the reported speech form of the direct speech sentence above?

Aşağıdakilerden hangisi yukarıdaki dolaysız anlatım cümlesinin dolaylı anlatım biçimidir?

- A) The policeman asked where the driver is.
B) The policeman asked where the driver was.
C) The policeman wanted to know if I was the driver.
D) The policeman wanted to know if I am the driver.

7. Paul: Can I use your dictionary?

Liz: What does Paul want to know?

Ann: He wants to know if he use my dictionary.

Which of the following completes the dialogue above?

Aşağıdakilerden hangisi yukarıdaki konuşmayı doğru olarak tamamlar?

- A) could
B) would
C) can
D) did

8. My mother asked me what I was doing.

Which of the following is the direct speech form of the reported speech sentence above?

Aşağıdakilerden hangisi yukarıdaki dolaylı anlatım cümlesinin dolaysız anlatım biçimidir?

- A) My mother asks, "What were you doing?"
B) My mother asked, "What did you do?"
C) My mother asks, "What have you done?"
D) My mother asked, "What are you doing?"

9. She said, "I'm a teacher."

Which of the following is the reported speech form of the direct speech sentence above?

Aşağıdakilerden hangisi yukarıdaki dolaysız anlatım cümlesinin dolaylı anlatım biçimidir?

- A) She said that she has been a teacher.
B) She says that she is a teacher.
C) She said that she had been a teacher.
D) She said that she was a teacher.

10. If you lose your wallet,

Which of the following completes the sentence above?

Aşağıdakilerden hangisi yukarıdaki cümleyi doğru olarak tamamlar?

- A) write a letter
B) call the police
C) see the dentist
D) iron the clothes

11. Sandy: I like cheese, but I don't like butter.

Mike: What does Sandy say?

Bob: She says that she cheese but she butter.

Which of the following completes the dialogue above?

Aşağıdakilerden hangisi yukarıdaki konuşmayı doğru olarak tamamlar?

- A) likes / doesn't like
B) likes / likes
C) liked / didn't like
D) like / don't like

12. Tom asked me I knew Spanish.

Which of the following completes the sentence above?

Aşağıdakilerden hangisi yukarıdaki cümleyi doğru olarak tamamlar?

- A) when
B) where
C) if
D) what

13. If I were you, It's too expensive.

Which of the following completes the sentence above?

Aşağıdakilerden hangisi yukarıdaki cümleyi doğru olarak tamamlar?

- A) I couldn't listen to the radio
B) I could play the piano
C) I might take a taxi
D) I wouldn't buy that camera

14. A: Would you like some more bread?

B:

Which of the following completes the dialogue above?

Aşağıdakilerden hangisi yukarıdaki konuşmayı doğru olarak tamamlar?

- A) No, I am not
B) Yes, it is my bread
C) Yes, I do
D) No, thanks

15. I walking to school to driving to school.

Which of the following completes the sentence above?

Aşağıdakilerden hangisi yukarıdaki cümleyi doğru olarak tamamlar?

- A) hope
- B) prefer
- C) want
- D) have

16. 'Benim Adım Kırmızı' by Orhan Pamuk.

Which of the following completes the sentence above?

Aşağıdakilerden hangisi yukarıdaki cümleyi doğru olarak tamamlar?

- A) has written
- B) written
- C) was written
- D) had written

17. English is all over the world.

Which of the following completes the sentence above?

Aşağıdakilerden hangisi yukarıdaki cümleyi doğru olarak tamamlar?

- A) spoke
- B) spoken
- C) speak
- D) has spoken

18. Our homework by the teacher.

Which of the following completes the sentence above?

Aşağıdakilerden hangisi yukarıdaki cümleyi doğru olarak tamamlar?

- A) is checked
- B) checks
- C) has checked
- D) is checking

19. the meal by your mother last night?

Which of the following completes the sentence above?

Aşağıdakilerden hangisi yukarıdaki cümleyi doğru olarak tamamlar?

- A) Was / cooked
- B) Does / cooked
- C) Is / cook
- D) Is / cooking

20. Sütü çaya tercih ederim.

Which of the following is the English translation of the sentence above?

Aşağıdakilerden hangisi yukarıdaki cümlenin İngilizce karşılığıdır?

- A) I like milk but I don't like tea.
- B) I prefer drinking tea.
- C) I prefer milk and tea.
- D) I prefer milk to tea.

1. Le vent est violent. Il souffle

Choisissez le mot qui convient.

Cümledeki boşluğu aşağıdakilerden hangisi doğru şekilde tamamlar?

- A) lent
B) violemment
C) brillant
D) doucement

2. 29 Octobre est la fête de la République en Turquie.

Choisissez le mot qui convient.

Cümledeki boşluğu aşağıdakilerden hangisi doğru şekilde tamamlar?

- A) Le
B) En
C) Au
D) Quand

3. jour / sommes / quel / nous ?
I II III IV

Mettez dans le bon ordre.

Yukarıdaki kelimelerin anlamlı ve kurallı bir cümle oluşturan sırası aşağıdakilerin hangisinde doğru olarak verilmiştir?

- A) I, III, II, IV
B) III, I, II, IV
C) III, IV, II, I
D) IV, III, II, I

4. J'ai cherché mon parapluie partout je ne l'ai pas trouvé.

Choisissez le mot qui convient.

Cümledeki boşluğu aşağıdakilerden hangisi doğru şekilde tamamlar?

- A) or
B) car
C) mais
D) donc

5. Tous les garçons aiment jouer football.

Choisissez le mot qui convient.

Cümledeki boşluğu aşağıdakilerden hangisi doğru şekilde tamamlar?

- A) au
B) à
C) du
D) les

6. Quand je suis arrivé au cinéma, le film déjà commencé.

Choisissez le mot qui convient.

Cümledeki boşluğu aşağıdakilerden hangisi doğru şekilde tamamlar?

- A) est
B) avais
C) était
D) sera

7. - ?
- Non, nous n'y sommes pas encore allés.

Choisissez la question qui convient.

Yukarıdaki konuşmada cevabı gerektiren soru aşağıdakilerden hangisidir?

- A) Vous allez à l'école à pied
B) Vous êtes déjà allés au Musée du Louvre
C) Vous êtes rentrés tard hier soir
D) Vous allez au théâtre combien de fois par an

8. - ?
- Je viens de la Turquie.

Choisissez la question qui convient.

Yukarıdaki konuşmada cevabı gerektiren soru cümlesi aşağıdakilerden hangisidir?

- A) Quand êtes-vous parti
B) Comment vous appelez-vous
C) D'où venez-vous
D) Où allez-vous

9. L'homme tu vois est notre professeur.

Choisissez le mot qui convient.

Cümledeki boşluğu aşağıdakilerden hangisi doğru şekilde tamamlar?

- A) que
B) qui
C) où
D) en

10. Le match va commencer dix minutes.

Choisissez le mot qui convient.

Cümledeki boşluğu aşağıdakilerden hangisi doğru şekilde tamamlar?

- A) comme
B) dans
C) depuis
D) il y a

11. La poste est le cinéma et le théâtre.

Choisissez le mot qui convient.

Cümledeki boşluğu aşağıdakilerden hangisi doğru şekilde tamamlar?

- A) au milieu
- B) à côté
- C) entre
- D) en face

12. Ne söylediğinizi anlamıyorum.

Choisissez la traduction qui convient.

Yukarıdaki cümlelerin Fransızca karşılığı aşağıdakilerden hangisidir?

- A) Je ne sais pas ce qui se passe.
- B) Je ne prends rien.
- C) Je n'attends personne.
- D) Je ne comprends pas ce que vous dites.

13. Dites-moi vous aimez.

Choisissez le mot qui convient.

Cümledeki boşluğu aşağıdakilerden hangisi doğru şekilde tamamlar?

- A) ce qui
- B) où
- C) c'est
- D) ce que

14. Ils habitent Hambourg.

Choisissez le mot qui convient.

Cümledeki boşluğu aşağıdakilerden hangisi doğru şekilde tamamlar?

- A) de
- B) en
- C) au
- D) à

15. hiver, il fait froid.

Choisissez le mot qui convient.

Cümledeki boşluğu aşağıdakilerden hangisi doğru şekilde tamamlar?

- A) Au
- B) En
- C) De
- D) Le mois

16. - Qu'est-ce que tu préfères? Le thé le café?
- Le café, bien sûr.

Choisissez le mot qui convient.

Yukarıdaki konuşmada boş bırakılan yeri aşağıdakilerden hangisi doğru şekilde tamamlar?

- A) ou
- B) et
- C) car
- D) donc

17. Ils aiment voyager..... train.

Choisissez le mot qui convient.

Cümledeki boşluğu aşağıdakilerden hangisi doğru şekilde tamamlar?

- A) au
- B) à
- C) le
- D) en

18. Elle n'est pas allée au cinéma, elle était malade.

Choisissez le mot qui convient.

Cümledeki boşluğu aşağıdakilerden hangisi doğru şekilde tamamlar?

- A) ou
- B) mais
- C) parce qu'
- D) depuis

19. -?

- Oui, ils y vont.

Choisissez la question qui convient.

Yukarıdaki konuşmada cevabı gerektiren soru aşağıdakilerden hangisidir?

- A) Qu'est-ce qu'ils pensent
- B) Où est-ce qu'ils viennent
- C) Quand est-ce qu'ils vont partir
- D) Est-ce qu'ils vont au cinéma

20. Il va toujours à l'école pied.

Choisissez le mot qui convient.

Cümledeki boşluğu aşağıdakilerden hangisi doğru şekilde tamamlar?

- A) à
- B) le
- C) en
- D) avec

1. Im 21. Jahrhundert sich das Leben in allen Bereichen

Welche Wörter passen in die obigen Lücken?

Cümlede boş bırakılan yerleri aşağıdakilerden hangileri tamamlar?

- A) sind / größer
B) hat / verändert
C) werden / vergessen haben
D) hatte / angefangen

2. Wie lautet die Grundform von "am liebsten"?

"am liebsten" sözcüğünün mastar hali aşağıdakilerden hangisinde doğru olarak verilmiştir?

- A) gern
B) mehr
C) gut
D) viel

3. Monika ist 45 kg, Erika ist 55 kg und Dietmar ist 75 kg.

Welche Schlußfolgerung kann man nach den obigen Sätzen machen?

Verilen cümlelere göre, aşağıdaki yargılardan hangisi doğrudur?

- A) Monika ist größer als Dietmar.
B) Dietmar ist am schwersten.
C) Monika ist am schwersten.
D) Erika ist kleiner als Monika.

4. Ich kaufe neue Möbel,

Welches ergänzt die Lücke im obigen Satz?

Verilen cümleyi aşağıdakilerden hangisi tamamlar?

- A) weil ich mich ausruhen möchte.
B) damit ich besser lernen kann.
C) um meine Wohnung schöner zu gestalten.
D) weil es sehr lustig ist.

5., um soziale Ordnung zu schaffen.

Welches ergänzt die Lücke im obigen Satz?

Verilen cümleyi aşağıdakilerden hangisi tamamlar?

- A) Er geht zum Schalter
B) Frauen unterstützen die Familie
C) Die Verkehrspolizisten müssen
D) Man braucht Gesetze

6. Warum arbeiten Frauen?

Welche Antwort passt nicht zur obigen Frage?

Aşağıdakilerden hangisi verilen sorunun cevabı olamaz?

- A) Weil sie ihre Familie unterstützen wollen.
B) Weil sie den Verkehr ordnen müssen.
C) Weil sie sich selbst verwirklichen wollen.
D) Weil sie Geld verdienen möchten.

7. Die Banken jeden Tag um 8.00 Uhr.

Welches Wort passt in die obige Lücke?

Cümlede boş bırakılan yeri aşağıdakilerden hangisi doğru şekilde tamamlar?

- A) sind
B) enden
C) öffnen
D) kommen

8. Was bedeutet "her bakımdan" auf Deutsch?

"her bakımdan" sözcüğünün Almancası aşağıdakilerden hangisidir?

- A) In jeder Hinsicht
B) Für jede Zeit
C) Bei jeder Seite
D) Im Vorteil

9. Ich bin zur Zeit in Eskişehir.

Welches Wort passt in die obige Lücke?

Cümlede boş bırakılan yeri aşağıdakilerden hangisi doğru şekilde tamamlar?

- A) helfen
B) einigend
C) lebendig
D) wohnhaft

10. Was macht ihr im Sommerurlaub?

Welche Antwort passt zur obigen Frage?

Verilen sorunun cevabı aşağıdakilerden hangisidir?

- A) Der Feierabend erleichtert alle Angestellten.
B) Im Dezember wollen wir ins Ausland fahren.
C) Im Urlaub, also im Juli gehen wir ans Meer.
D) Um die Jahreswende rechnet man mit Überstunden.

11. A: Ist das ein Hotel?
B: Ja, das ist ein Hotel.
A:, es wäre eine Wohnung gewesen.

Welches ergänzt den obigen Dialog?

Verilen karşılıklı konuşmayı aşağıdakilerden hangisi tamamlar?

- A) Du kannst hier wohnen
B) Wir waren im Hotel
C) Ich möchte darüber denken
D) Ich habe immer gedacht

12. Jürgen war der Meinung, alles bei seiner Prüfung

Welche Wörter passen in die obigen Lücken?

Cümlede boş bırakılan yerleri aşağıdakilerden hangileri doğru şekilde tamamlar?

- A) würde / gegangen
B) wäre / gut gegangen
C) hatte / schlecht gewesen
D) hätte / schlecht gelaufen

13. der Versammlung gehen die Arbeiter in die Kantine.

Welches Wort passt in die obige Lücke?

Cümlede boş bırakılan yeri aşağıdakilerden hangisi doğru şekilde tamamlar?

- A) Nach
B) Auf
C) Bis
D) Seit

14. das Haus deinen Eltern?

Welches Wort passt in die obige Lücke?

Cümlede boş bırakılan yeri aşağıdakilerden hangisi doğru şekilde tamamlar?

- A) Gehört
B) Lebt
C) Glaubte
D) Geht

15. Er habe vorher in einer Fabrik gearbeitet.

Welches hat die gleiche Bedeutung mit dem obigen Satz?

Verilen cümle ile aynı anlamı taşıyan aşağıdakilerin hangisidir?

- A) Er wollte vorher immer bei einer Fabrik arbeiten.
- B) Man sagt, daß er vorher in einer Fabrik gearbeitet habe.
- C) Man ist der Meinung, daß er in der Fabrik viel verdient.
- D) Alle behaupten, daß man sich für die Fabrikarbeit entscheiden soll.

16. Die Fußballmannschaft in diesem Jahr Erfolg haben.

Welches Wort passt in die obige Lücke?

Cümlede boş bırakılan yeri aşağıdakilerden hangisi doğru şekilde tamamlar?

- A) wolltest
- B) würdest
- C) wird
- D) wurde

17. die / führt / eine / Schlucht / Brücke / über

Wie kann man mit den obigen Wortgruppen einen vollständigen Satz bilden?

Verilen sözcük gruplarıyla kurulabilecek en anlamlı ve doğru cümle aşağıdakilerden hangisidir?

- A) Die Schlucht über eine Brücke führt.
- B) Über eine Brücke führt die Schlucht.
- C) Eine Schlucht über eine Brücke führt.
- D) Die Brücke führt über eine Schlucht.

18. A: Kennst du aus anderen Ländern?

B: Ja, zum Beispiel kommen die Nudeln Italien!

Welches ergänzt den obigen Dialog?

Verilen karşılıklı konuşmayı aşağıdakilerden hangisi tamamlar?

- A) Getränke / an
- B) Spiele / von
- C) Spezialitäten / aus
- D) Nahrungsmittel / für

19. Der Füller, du mir geschenkt hast, gefällt mir sehr gut.

Welches Wort passt in die obige Lücke?

Cümlede boş bırakılan yeri aşağıdakilerden hangisi doğru şekilde tamamlar?

- A) das
- B) der
- C) die
- D) den

20. Ich esse Salat.

Welche Frage passt zur obigen Antwort?

Verilen cevabı gerektirecek soru aşağıdakilerden hangisidir?

- A) Was ißt du?
- B) Wo essen wir?
- C) Bist du müde?
- D) Was trinkst du?

1. At six o'clock yesterday afternoon we coffee with some friends.

Which of the following completes the sentence above?

Aşağıdakilerden hangisi yukarıdaki cümleyi doğru olarak tamamlar?

- A) were drinking
- B) are drinking
- C) have drunk
- D) did drunk

2. While Ayşen was having a shower, somebody her.

Which of the following completes the sentence above?

Aşağıdakilerden hangisi yukarıdaki cümleyi doğru olarak tamamlar?

- A) was phoned
- B) phoned
- C) is phoning
- D) phones

3. Ceylan to her mum at this time yesterday.

Which of the following completes the sentence above?

Aşağıdakilerden hangisi yukarıdaki cümleyi doğru olarak tamamlar?

- A) is talking
- B) talks
- C) was talking
- D) will talk

4. They were listening to the radio the earthquake happened.

Which of the following completes the sentence above?

Aşağıdakilerden hangisi yukarıdaki cümleyi doğru olarak tamamlar?

- A) while
- B) when
- C) already
- D) since

5. I with a toy guitar when I was a child.

Which of the following completes the sentence above?

Aşağıdakilerden hangisi yukarıdaki cümleyi doğru olarak tamamlar?

- A) used to playing
- B) used to play
- C) have played
- D) can play

6. I haven't seen her last month.

Which of the following completes the sentence above?

Aşağıdakilerden hangisi yukarıdaki cümleyi doğru olarak tamamlar?

- A) since
- B) for
- C) ago
- D) after

7. I haven't eaten anything since breakfast.

Which of the following is the Turkish translation of the sentence above?

Aşağıdakilerden hangisi yukarıdaki cümlelerin Türkçe karşılığıdır?

- A) Kahvaltıdan beri hiçbir şey yemedim.
- B) Kahvaltıda çok şey yedim.
- C) Kahvaltıda çok az yedim.
- D) Kahvaltıda her şeyi yedim.

8. Paul has been a teacher two years.

Which of the following completes the sentence above?

Aşağıdakilerden hangisi yukarıdaki cümleyi doğru olarak tamamlar?

- A) since
B) as
C) at
D) for

9. Have you ever bungee jumping?

Which of the following completes the sentence above?

Aşağıdakilerden hangisi yukarıdaki cümleyi doğru olarak tamamlar?

- A) did
B) do
C) done
D) does

10. I used to milk five years ago.

Which of the following completes the sentence above?

Aşağıdakilerden hangisi yukarıdaki cümleyi doğru olarak tamamlar?

- A) drinking
B) drink
C) drunk
D) was drinking

11. Aynur probably go to the park tomorrow.

Which of the following completes the sentence above?

Aşağıdakilerden hangisi yukarıdaki cümleyi doğru olarak tamamlar?

- A) is
B) have
C) will
D) had

12. Joe: You went to Germany last week,?
Luke: Yes, I did.

Which of the following completes the dialogue above?

Aşağıdakilerden hangisi yukarıdaki konuşmayı doğru olarak tamamlar?

- A) weren't you
B) do we
C) did you
D) didn't you

13. Let's play a game, ?

Which of the following completes the sentence above?

Aşağıdakilerden hangisi yukarıdaki cümleyi doğru olarak tamamlar?

- A) do we
B) does we
C) do they
D) shall we

14. Don't speak loudly, ?

Which of the following completes the sentence above?

Aşağıdakilerden hangisi yukarıdaki cümleyi doğru olarak tamamlar?

- A) does she
B) do you
C) will you
D) are we

15. You usually wake up early, ?

Which of the following completes the sentence above?

Aşağıdakilerden hangisi yukarıdaki cümleyi doğru olarak tamamlar?

- A) don't you
B) do you
C) does he
D) doesn't she

16. Jack: That's your car, it?
Bill: Yes, it is.

Which of the following completes the dialogue above?

Aşağıdakilerden hangisi yukarıdaki konuşmayı doğru olarak tamamlar?

- A) won't
- B) aren't
- C) isn't
- D) didn't

17. Zerrin: Who will the washing up?
Nurcan: Well, I won't.

Which of the following completes the dialogue above?

Aşağıdakilerden hangisi yukarıdaki konuşmayı doğru olarak tamamlar?

- A) done
- B) doing
- C) does
- D) do

18. Lucy is a careful driver. I think she drives than me.

Which of the following completes the sentence above?

Aşağıdakilerden hangisi yukarıdaki cümleyi doğru olarak tamamlar?

- A) more carefully
- B) carefully
- C) worse
- D) more earlier

19. Mount Everest is than Mount Elmadag.

Which of the following completes the sentence above?

Aşağıdakilerden hangisi yukarıdaki cümleyi doğru olarak tamamlar?

- A) longest
- B) higher
- C) longer
- D) highest

20. Catherine solved the problem than Tom.

Which of the following completes the sentence above?

Aşağıdakilerden hangisi yukarıdaki cümleyi doğru olarak tamamlar?

- A) easy
- B) easily
- C) easier
- D) more easily

1. On peut pique-niquer en forêt quand

Complétez la phrase avec la proposition qui convient.

Yukarıdaki cümleyi aşağıdaki ifadelerden hangisi doğru şekilde tamamlar?

- A) il pleut.
B) il neige.
C) il fait beau.
D) il y a du vent.

2. Elle joue volley-ball.

Choisissez le mot qui convient.

Cümledeki boşluğu aşağıdakilerden hangisi doğru şekilde tamamlar?

- A) au
B) du
C) de la
D) de

3. tranquille, tout s'arrangera.

Choisissez le mot qui convient.

Cümledeki boşluğu aşağıdakilerden hangisi doğru şekilde tamamlar?

- A) Soyez
B) Aie
C) Regardez
D) Tenez

4. Ils se sont rencontrés du cinéma.

Choisissez le mot qui convient.

Cümledeki boşluğu aşağıdakilerden hangisi doğru şekilde tamamlar?

- A) regardant
B) sortant
C) lisant
D) chantant

5. Elle part vacances chaque été.

Choisissez le mot qui convient.

Cümledeki boşluğu aşağıdakilerden hangisi doğru şekilde tamamlar?

- A) à
B) de
C) les
D) en

6. Le roman vous lisez a été écrit par une jeune fille.

Choisissez le mot qui convient.

Cümledeki boşluğu aşağıdakilerden hangisi doğru şekilde tamamlar?

- A) que
B) qui
C) celle
D) où

7. A: Elle travaille où?
B:

Choisissez la réponse qui convient.

Yukarıdaki konuşmada boş bırakılan yeri aşağıdakilerden hangisi doğru şekilde tamamlar?

- A) Elle part en vacances.
B) Elle habite à İstanbul.
C) Il travaille sans cesse.
D) Elle travaille dans une banque.

8. Les étudiants marcheront

Choisissez le mot qui convient.

Cümledeki boşluğu aşağıdakilerden hangisi doğru şekilde tamamlar?

- A) en chantant
B) chanté
C) chanteuse
D) chanteront

9. Elle a oublié son sac voyage.

Choisissez le mot qui convient.

Cümledeki boşluğu aşağıdakilerden hangisi doğru şekilde tamamlar?

- A) de
B) chez
C) en
D) des

10. La maison où ils habitaient était très vieille.

Choisissez la traduction qui convient.

Yukarıdaki cümlenin Türkçe karşılığı aşağıdakilerden hangisidir?

- A) Eski bir evde oturuyorlar.
B) Oturdıkları ev çok eskiydi.
C) Oturdıkları ev eski eşyalarla dolu.
D) Bu ev yaşlıların kaldığı evdi.

11. -
- Oui, je joue au basket chaque semaine.

Choisissez la question qui convient.

Yukarıdaki konuşmada cevabı gerektiren soru aşağıdakilerden hangisidir?

- A) Quel sport aimez-vous?
B) Vous jouez au tennis?
C) Vous pratiquez régulièrement un sport?
D) Pourquoi vous ne pratiquez pas un sport?

12. les / j'aime / brillantes / lumières
I II III IV

Mettez dans le bon ordre.

Yukarıdaki kelimelerin anlamlı ve kurallı bir bütün oluşturan sırası aşağıdakilerin hangisinde doğru olarak verilmiştir?

- A) II, I, III, IV
B) II, I, IV, III
C) III, IV, II, I
D) III, IV, I, II

13. C'est le jardin ma fille aime les roses.

Choisissez le mot qui convient.

Cümledeki boşluğu aşağıdakilerden hangisi doğru şekilde tamamlar?

- A) voilà
B) qui
C) dont
D) à

14. Tu partiras comment?, ou en groupe?

Choisissez le mot qui convient.

Cümledeki boşluğu aşağıdakilerden hangisi doğru şekilde tamamlar?

- A) À l'étranger
B) Quand
C) Seul
D) Organiser

15. Il peut jouer piano.

Choisissez le mot qui convient.

Cümledeki boşluğu aşağıdakilerden hangisi doğru şekilde tamamlar?

- A) au
B) de la
C) de
D) du

16. Je vois un homme marchant dans la rue.

Choisissez la traduction qui convient.

Yukarıdaki cümlelerin Türkçe karşılığı aşağıdakilerden hangisidir?

- A) Bu, dün sokakta gördüğüm adama benziyor.
B) Bu adamı yürüyüşünden tanıdım.
C) Sokakta yürüyen bir adam görüyorum.
D) Sokakta yürüyen bir adamı çiziyorum.

17. Elle a oublié son bagage main dans ma chambre.

Choisissez le mot qui convient.

Cümledeki boşluğu aşağıdakilerden hangisi doğru şekilde tamamlar?

- A) où
B) à
C) des
D) d'une

18. Chaque, ils vont au bord de la mer.

Choisissez le mot qui convient.

Cümledeki boşluğu aşağıdakilerden hangisi doğru şekilde tamamlar?

- A) hiver
B) seul
C) comme
D) été

19. Tu sais bien qu'il est impossible de contenter tout le monde.

Choisissez la traduction qui convient.

Yukarıdaki cümlelerin Türkçe karşılığı aşağıdakilerden hangisidir?

- A) Herkesin memnun olması için çalışıyorsun.
B) Herkesi memnun etmenin imkânsız olduğunu bilirsin.
C) Çalışmaların herkesi memnun ediyor.
D) İmkânsızlıklara rağmen bu işi başarmış herkesi memnun etti.

20. J'ai vu mon cousin à l'école.

Choisissez le mot qui convient.

Cümledeki boşluğu aşağıdakilerden hangisi doğru şekilde tamamlar?

- A) venant
B) souffrants
C) brillants
D) allant

1. Ich kann an einer Universität arbeiten.

Wie lautet der obige Satz auf Türkisch?

Verilen cümlelerin Türkçesi aşağıdakilerden hangisidir?

- A) Ben üniversite mezunuyum.
B) Bir üniversitede çalışabilirim.
C) Üniversitede çalışmak isterdim.
D) Üniversitenin çalışma alanı çok geniş.

2. Willst / kannst / wenn / studieren / du / Berlin / in

Wie kann man mit den obigen Wortgruppen einen sinnvollen und richtigen Satz bilden?

Verilen sözcük gruplarıyla kurulabilecek en anlamlı ve doğru cümle aşağıdakilerden hangisidir?

- A) Willst wenn, du in kannst Berlin studieren.
B) Berlin willst, wenn du in kannst studieren.
C) Kannst studieren willst, wenn Berlin du in.
D) Wenn du willst, kannst du in Berlin studieren.

3. Was willst du werden?

Welche Antwort passt zur obigen Frage?

Verilen sorunun cevabı aşağıdakilerden hangisidir?

- A) Ausland.
B) Büro.
C) Traum.
D) Pilot.

4. Nach der Grundschule können die Schüler von der fünften bis zur dreizehnten Klasse aufs gehen.

Welches Wort passt in die obige Lücke?

Cümlede boş bırakılan yeri aşağıdakilerden hangisi tamamlar?

- A) Gymnasium
B) Hauptschule
C) Realschule
D) Gesamtschule

5. Bei der Schulausbildung in Deutschland und in der Türkei gibt es

Welches ergänzt den obigen Satz?

Verilen cümleyi aşağıdakilerden hangisi tamamlar?

- A) Beispiele und Gruppen.
B) Sprachen und Mittel.
C) Klassen und Möglichkeit.
D) Ähnlichkeiten und Unterschiede.

6. Was sind unsere wichtigsten menschlichen Qualitäten?

Welche Antwort passt zur obigen Frage?

Verilen sorunun cevabı aşağıdakilerden hangisidir?

- A) Die Welt ist fasziniert.
B) Die Fähigkeit zu denken und zu erfinden.
C) Berlin und Köln.
D) Die Berufsschule und die Grundschule.

7. Ausbildung / Grundschule / Erfinder / Prüfung

Welches Wort passt nicht zu den anderen in der obigen Wortgruppe?

Verilen sözcük grubuna uymayan aşağıdakilerden hangisidir?

- A) Ausbildung
B) Erfinder
C) Grundschule
D) Prüfung

8. Wegen dem Computer haben die Schüler das Schreiben

Welches Wort passt in die obige Lücke?

Cümlede boş bırakılan yeri aşağıdakilerden hangisi doğru şekilde tamamlar?

- A) verfügen
B) verbreiten
C) verlegen
D) vergessen

9. Der Alptraum / Der Bildschirm / Der Drucker / Die Tastatur

Welches Wort passt nicht zu den anderen in der obigen Wortgruppe?

Verilen sözcük grubuna uymayan aşağıdakilerden hangisidir?

- A) Der Bildschirm
B) Der Drucker
C) Der Alptraum
D) Die Tastatur

10. Heutzutage sind die Fernseher die größten kulturellen Katastrophen.

Wie lautet der obige Satz in der Sigularform?

Verilen cümlelerin tekil hali aşağıdakilerden hangisidir?

- A) Heute sind die Fernseher eine grosse Katastrophe.
B) Der Fernseher wird zu einer Katastrophe.
C) Heutzutage ist der Fernseher die größte kulturelle Katastrophe.
D) Die Katastrophen entwickeln sich wegen dem Fernseher.

11. ist aus unserer Welt nicht mehr

Welche Wörter passen in die obigen Lücken?

Cümlede boş bırakılan yerleri aşağıdakilerden hangileri doğru şekilde tamamlar?

- A) Der Computer / wegzudenken
B) Die Energie / braucht
C) Der Erfolg / modern
D) Das Velotaxi / besucht

12. Ich kenne das Hochradrennen in Leipzig.

Welche Frage passt zur obigen Antwort?

Verilen cevabı gerektirecek soru aşağıdakilerden hangisidir?

- A) Hast du ein Fahrrad?
B) Welche Rennen kennst du?
C) Wo ist dein Laufrad?
D) Gehst du zum Rennen?

13. Was bedeutet das Gegenteil von "Ärger"?

"Ärger" sözcüğünün zıt anlamı aşağıdakilerden hangisidir?

- A) Spannung
B) Spaß
C) Aufregung
D) Erfolg

14. A:
B: Ja, das ist ein Fahrradtaxi!

Welcher Satz ergänzt den obigen Dialog?

Verilen karşılıklı konuşmayı aşağıdakilerden hangisi tamamlar?

- A) Weißt du eigentlich, was Velotaxi bedeutet?
B) Hast du ein Auto?
C) Wo ist die Haltestelle?
D) Hast du ein Taxi gerufen?

15. Plakate sind Hinweise die Besucher.

Welches Wort passt in die obige Lücke?

Cümlede boş bırakılan yeri aşağıdakilerden hangisi tamamlar?

- A) bei
B) an
C) für
D) mit

16. Was bedeutet "akarsu ağız" auf Deutsch?

"akarsu ağız" sözcüğünün Almancası aşağıdakilerden hangisidir?

- A) Die Mündung
- B) Die Burg
- C) Die Quelle
- D) Die Sage

17. Heinrich Heine ist ein deutscher Dichter.

Welches Wort passt in die obige Lücke?

Cümlede boş bırakılan yeri aşağıdakilerden hangisi tamamlar?

- A) klein
- B) direkt
- C) berühmter
- D) blitzen

18. In diesem Hotel viele Gäste aus aller Welt.

Welches Wort passt in die obige Lücke?

Cümlede boş bırakılan yeri aşağıdakilerden hangisi tamamlar?

- A) nehmen
- B) liegen
- C) übernachten
- D) verstehen

19. Loreley ist ein Felsen am Rhein und man erzählt,

Welches ergänzt den obigen Satz?

Verilen cümleyi aşağıdakilerden hangisi tamamlar?

- A) daß viele Schiffe dort untergegangen sind
- B) wenn du Zeit für mich hast.
- C) wieviel Dörfer direkt am Rhein liegen.
- D) daß die Landkarten nur einen kleinen Ausschnitt zeigen können.

20. Burada kalenin tarihi hakkında bilgi alınabilir.

Wie lautet der obige Satz auf Deutsch?

Verilen cümlelerin Almancası aşağıdakilerden hangisidir?

- A) Die Information über die Burg findest du dort drüben.
- B) Hier bekommt man jede Information.
- C) Dort kannst du auf die Burg klettern.
- D) Hier kann man Informationen über die Burg erfahren.

SEÇMELİ İNGİLİZCE 8

A

2014 I.DÖNEM 0105-A

1. Don't come early in the morning, I

Which of the following completes the sentence above?

Aşağıdakilerden hangisi yukarıdaki cümleyi doğru olarak tamamlar?

- A) sleep
- B) will be sleeping
- C) slept
- D) will slept

2. Jennifer will be to Italy this time next week.

Which of the following completes the sentence above?

Aşağıdakilerden hangisi yukarıdaki cümleyi doğru olarak tamamlar?

- A) going
- B) was going
- C) gone
- D) go

3. The boss: Will you the report by tomorrow?
Sonia: Yes, sir.

Which of the following completes the dialogue above?

Aşağıdakilerden hangisi yukarıdaki konuşmayı doğru olarak tamamlar?

- A) finishing
- B) have finished
- C) finishes
- D) finished

4. Tom will his parents at the end of the week.

Which of the following completes the sentence above?

Aşağıdakilerden hangisi yukarıdaki cümleyi doğru olarak tamamlar?

- A) visiting
- B) be visiting
- C) visited
- D) has visited

5. Brenda will have by this time next year.

Which of the following completes the sentence above?

Aşağıdakilerden hangisi yukarıdaki cümleyi doğru olarak tamamlar?

- A) retired
- B) retire
- C) retiring
- D) retires

6. What in the next five years?

Which of the following completes the sentence above?

Aşağıdakilerden hangisi yukarıdaki cümleyi doğru olarak tamamlar?

- A) did you do
- B) would you do
- C) will you have done
- D) would you have done

7. If I go to Kastamonu, I him.

Which of the following completes the sentence above?

Aşağıdakilerden hangisi yukarıdaki cümleyi doğru olarak tamamlar?

- A) would contact
- B) contacted
- C) would have contacted
- D) will contact

8. If John had had some money, he a new car.

Which of the following completes the sentence above?

Aşağıdakilerden hangisi yukarıdaki cümleyi doğru olarak tamamlar?

- A) would have bought
- B) must have bought
- C) could buy
- D) must buy

9. If it snows tomorrow,

Which of the following completes the sentence above?

Aşağıdakilerden hangisi yukarıdaki cümleyi doğru olarak tamamlar?

- A) we are going swimming
- B) we will make a snowman
- C) we had a picnic by the lake
- D) we have bought a new bike

10. If you're always late,

Which of the following completes the sentence above?

Aşağıdakilerden hangisi yukarıdaki cümleyi doğru olarak tamamlar?

- A) get up early
- B) sleep late
- C) wear a uniform
- D) do some exercises

11. If I, I would help poor people.

Which of the following completes the sentence above?

Aşağıdakilerden hangisi yukarıdaki cümleyi doğru olarak tamamlar?

- A) had an accident
- B) were a rich man
- C) painted the walls
- D) spoke Spanish well

12. My teacher gets angry with me if

Which of the following completes the sentence above?

Aşağıdakilerden hangisi yukarıdaki cümleyi doğru olarak tamamlar?

- A) I'm late for school
- B) I'm careful in class
- C) I do my homework
- D) I pass my exam

13. they got home, the boy had eaten all the cake.

Which of the following completes the sentence above?

Aşağıdakilerden hangisi yukarıdaki cümleyi doğru olarak tamamlar?

- A) Whenever
- B) Because
- C) Due to the fact that
- D) By the time

14. He cannot go he wants.

Which of the following completes the sentence above?

Aşağıdakilerden hangisi yukarıdaki cümleyi doğru olarak tamamlar?

- A) for
- B) since
- C) wherever
- D) by

15. that water has lots of benefits, Lucy drinks two litres a day.

Which of the following completes the sentence above?

Aşağıdakilerden hangisi yukarıdaki cümleyi doğru olarak tamamlar?

- A) Because
- B) For
- C) Due to the fact
- D) Since

16. Ali heard the news, he began to cry.

Which of the following completes the sentence above?

Aşağıdakilerden hangisi yukarıdaki cümleyi doğru olarak tamamlar?

- A) So that
- B) To
- C) while
- D) As soon as

17. They have changed the date of their wedding.

Which of the following is the passive voice of the sentence above?

Aşağıdakilerden hangisi yukarıdaki cümlenin edilgen yapıda kurulmuş biçimidir?

- A) The date of their wedding is being changed.
- B) The date of their wedding is changed.
- C) The date of their wedding will be changed.
- D) The date of their wedding has been changed.

18. The letters will next week.

Which of the following completes the sentence above?

Aşağıdakilerden hangisi yukarıdaki cümleyi doğru olarak tamamlar?

- A) posted
- B) post
- C) be posted
- D) posting

19. Maths by Mr. Brown today.

Which of the following completes the sentence above?

Aşağıdakilerden hangisi yukarıdaki cümleyi doğru olarak tamamlar?

- A) taught
- B) is teaching
- C) will teach
- D) is being taught

20. 'Of Mice and Men' by Steinbeck.

Which of the following completes the sentence above?

Aşağıdakilerden hangisi yukarıdaki cümleyi doğru olarak tamamlar?

- A) written
- B) is writing
- C) was written
- D) will write

SEÇMELİ FRANSIZCA 8

2014 I.DÖNEM 0105-A

A

1. Le mois prochain, nous en France.

Choisissez le mot qui convient.

Cümledeki boşluğu aşağıdakilerden hangisi doğru şekilde tamamlar?

- A) ira
B) allez
C) irons
D) avons

2. te / tôt / devrais / tu / coucher
I II III IV V

Mettez dans le bon ordre.

Yukarıdaki kelimelerin kurallı ve anlamlı bir bütün oluşturan dizilişi aşağıdakilerin hangisinde doğru olarak verilmiştir?

- A) IV, I, V, III, II
B) IV, III, I, V, II
C) V, IV, I, III, II
D) V, II, IV, I, III

3. Elle a invitée ses amis pour anniversaire.

Choisissez le mot qui convient.

Cümledeki boşluğu aşağıdakilerden hangisi doğru şekilde tamamlar?

- A) son
B) ses
C) ta
D) les

4. C'est une ville; je l'aime beaucoup.

Choisissez le mot qui convient.

Cümledeki boşluğu aşağıdakilerden hangisi doğru şekilde tamamlar?

- A) tranquille
B) gentil
C) intelligent
D) patient

5. pense à soi-même.

Choisissez le mot qui convient.

Cümledeki boşluğu aşağıdakilerden hangisi doğru şekilde tamamlar?

- A) Comme
B) Qui
C) Chacun
D) Toi

6. La cliente:

Le serveur: Tout de suite, Madame.

Choisissez la réplique qui convient.

Yukarıdaki konuşmada boş bırakılan yeri aşağıdakilerden hangisi doğru şekilde tamamlar?

- A) Monsieur, l'addition s'il vous plait!
B) Vous voulez commander quelque chose?
C) Chacun paie sa part?
D) C'est trop pour moi!

7. Peux-tu présenter s'il te plait?

Choisissez le mot qui convient.

Cümledeki boşluğu aşağıdakilerden hangisi doğru şekilde tamamlar?

- A) vous
B) te
C) nous
D) leur

8. La noir est une couleur je préfère.

Choisissez le mot qui convient.

Cümledeki boşluğu aşağıdakilerden hangisi doğru şekilde tamamlar?

- A) qui
B) où
C) par
D) que

9. j'ai le temps, je peux vous aider.

Choisissez le mot qui convient.

Cümledeki boşluğu aşağıdakilerden hangisi doğru şekilde tamamlar?

- A) Pour
B) Si
C) À cause de
D) Il faut

10. de litres d'eau vous buvez par jour?

Choisissez le mot qui convient.

Cümledeki boşluğu aşağıdakilerden hangisi doğru şekilde tamamlar?

- A) Chacun
B) Combien
C) Dans
D) Est-ce que

11. -
- Vendredi prochain.

Choisissez la question qui convient.

Yukarıdaki konuşmada cevabı gerektiren soru aşağıdakilerden hangisidir?

- A) Quand vous partez?
B) Nous sommes quel jour?
C) Vous venez d'où?
D) Vous allez où?

12. Si j'ai beaucoup d'argent, je(j') faire un tour de monde.

Choisissez le mot qui convient.

Cümledeki boşluğu aşağıdakilerden hangisi doğru şekilde tamamlar?

- A) suis allé
B) vais
C) allais
D) en

13. Le serveur: Vous avez fait choix?
Le client: Oui, je prends un café au lait.

Choisissez le mot qui convient.

Yukarıdaki konuşmada boş bırakılan yeri aşağıdakilerden hangisi doğru şekilde tamamlar?

- A) ton
B) nos
C) vous
D) votre

14. Je suis le théâtre au cinéma.

Choisissez le mot qui convient.

Cümledeki boşluğu aşağıdakilerden hangisi doğru şekilde tamamlar?

- A) dans
B) du
C) qui
D) pour

15. Elle est en retard un accident sur la route.

Choisissez le mot qui convient.

Cümledeki boşluğu aşağıdakilerden hangisi doğru şekilde tamamlar?

- A) à l'absence d'
B) pourquoi
C) si
D) à cause d'

16. Je voudrais deux places pour Avatar.

Choisissez le mot qui convient.

Cümledeki boşluğu aşağıdakilerden hangisi doğru şekilde tamamlar?

- A) souvenir
B) dîner
C) réserver
D) aller

17. - Il vit en Angleterre?
- Oui, il travaille.

Choisissez le mot qui convient.

Yukarıdaki konuşmada boş bırakılan yeri aşağıdakilerden hangisi doğru şekilde tamamlar?

- A) en
B) dans
C) y
D) est

18. - Tu ne prends pas de boisson?
- Non, merci, je ne(n') prends pas.

Choisissez le mot qui convient.

Yukarıdaki konuşmada boş bırakılan yeri aşağıdakilerden hangisi doğru şekilde tamamlar?

- A) y
B) les
C) jamais
D) en

19. Il peut pleuvoir; n'oubliez pas prendre votre parapluie.

Choisissez le mot qui convient.

Cümledeki boşluğu aşağıdakilerden hangisi doğru şekilde tamamlar?

- A) de
B) en
C) qui
D) à

20. Il est en section scientifique il donne plus d'importance aux Maths.

Choisissez le mot qui convient.

Cümledeki boşluğu aşağıdakilerden hangisi doğru şekilde tamamlar?

- A) trop
B) ou
C) donc
D) bon

BU SAYFA BOŞ BIRAKILMIŞTIR.

BU SAYFA BOŞ BIRAKILMIŞTIR.

BU SAYFA BOŞ BIRAKILMIŞTIR.

SINAVDA UYGULANACAK KURALLAR

1. Sınav süresince görevlilerle konuşmak ve soru sormak yasaktır. Aynı şekilde görevlilerin de öğrencilerle yakından ve alçak sesle konuşmaları yasaktır. Yanınızda ve sıranızda dersle ilgili kitap not vb. bulundurmamak yasaktır. Sınav sırasında kopya yapan, yapmaya teşebbüs eden, kopya veren, kopya yapılmasına yardım edenlerin kimlikleri BİREYSEL SINAV İPTAL TUTANAĞINA yazılacak ve bu öğrencilerin sınavları geçersiz sayılacaktır. Görevliler kopya yapmaya veya vermeye kalkışanları uyarmak zorunda değildir, sorumluluk size aittir.
Sınavda yetki verilmiş görevliler, bu salondaki sınavın kurallara uygun biçimde yapılmadığını, toplu kopya girişiminde bulunulduğunu raporlarında bildirdikleri veya üniversite sınav merkezince yapılan incelemeler sonucu toplu kopya yapıldığı saptandığı takdirde, Anadolu Üniversitesinin yetkili organları bu salonda sınava giren öğrencilerin tümünün sınavını geçersiz sayar.
2. Öğrenciler sınav sırasında görevlilerin her türlü uyarılarına uymak zorundadır. Gerekğinde görevliler oturduğunuz yerleri değiştirebilir. Sınavınızın geçerli sayılması, her şeyden önce sınav kurallarına uymanıza bağlıdır. Kurallara aykırı davranışta bulunanların ve yapılacak uyarılara uymayanların kimlikleri BİREYSEL SINAV İPTAL TUTANAĞINA yazılacak ve sınavları geçersiz sayılacaktır.
3. Sınav sırasında herhangi bir nedenle dışarı çıkmak yasaktır. Sınavın başlamasını izleyen ilk 30 dakika ve sınav süresinin son 5 dakikası içinde, sınavlarını tamamlasalar bile hiçbir öğrencinin salondan çıkmasına izin verilmeyecektir. Sınavın başlamasını izleyen ilk 15 dakikadan sonra hiç bir öğrenci sınava alınmaz.
4. Biraz sonra soru kitapçıkları dağıtılacaktır. Cevaplamaya geçmeden önce size verilecek soru kitapçığının üzerinde ayrılan yere, adınızı, soyadınızı, öğrenci numaranızı ve bu salonun numarasını yazınız. Sınav sonunda soru kitapçıkları toplanacak ve sınav merkezinde tek tek incelenecektir. Soru Kitapçığının bir tek sayfası eksik çıksa bile sınavınız geçersiz sayılacaktır.
5. Size verilen Cevap Kâğıdının üzerinde yazan numara ve ismin size ait olduğunu kontrol ediniz. Cevap Kâğıdı size ait değilse, görevlileri uyarıp size ait Cevap Kâğıdını alınız. Daha sonra Cevap Kâğıdı üzerinde ayrılmış olan yerlere öğrenci numaranızı ve test grubunuzu kodlayınız, adınızı soyadınızı yazınız ve ilgili yeri imzalayınız.
6. Cevap Kâğıdına yazılacak her türlü yazı, rakam ve yapılacak işaretlemeler için siyah kurşun kalem kullanılacaktır. Tükenmez kalem veya dolmakalem kesinlikle kullanılmayacaktır. Cevapların tümü CEVAP KÂĞIDINA İŞARETLENECEKTİR. Soru Kitapçıkları üzerine yapılan işaretlemeler kesinlikle değerlendirilmez. Her dersin cevabı, o dersin isminin yazılı olduğu sütuna işaretlenmelidir. Yanlış sütuna yapacağınız işaretlemeler kesinlikle değerlendirilmez.
7. Soru Kitapçığının sayfalarındaki boş yerleri müsvedde yapmak için kullanabilirsiniz. Başka bir kâğıdı müsvedde olarak kullanmak yasaktır. Bu tür işlemleri yapanların sınavları geçersiz sayılır.
8. Öğrencilerin sorulara verdikleri yanıtları herhangi bir yere yazmaları ve bunu sınav salonundan dışarıya çıkarmaları yasaktır. Bu kurala uymayanların sınavları geçersiz sayılır.
9. Sınav sırasında öğrencilerin birbirinden kalem, silgi vb. şeyleri istemesi kesinlikle yasaktır. Yasağa uymayanların sınavı geçersiz sayılır.
10. Sınav sırasında hesap makinesi kullanılabilir. Ancak, hesap makinesinin sınav sırasında ödünç alınması, verilmesi ve değiştirilmesi yasaktır. (Data Bank vb. gibi özel elektronik donanımlar kullanılamaz.) Bu tür davranışlarda bulunanların sınavları geçersiz sayılır.
11. Öğrenciler sınava gelirken telsiz, cep telefonu, çağrı cihazı vb. iletişim araçları ile görüntü kaydetmeye yarayan fotoğraf makinesi, kamera vb. araçları getirmemeleri konusunda sınava giriş belgelerinde uyarılmışlardır. Buna rağmen yanlarında bu tür cihazları getirenlerin, bunları sınav sonrasında almak üzere salon başkanına teslim etmeleri gerekir. Bu cihazları sınav salonunda yanlarında bulduran öğrencilerin, cihazları kapalı bile olsa, o oturdaki sınavı geçersiz sayılacaktır. Bu cihazların kaybolmasından Üniversitemiz sorumlu olmayacaktır.
12. Biraz sonra dağıtılacak olan soru kitapçığında test ile ilgili açıklamalar yazılıdır. Bu açıklamaları okumadan ve size "SINAV BAŞLAMIŞTIR" denmeden soruları cevaplamaya başlamayınız.

SINAVLARINIZDA BAŞARILAR DİLERİZ.