



ANADOLU ÜNİVERSİTESİ
AÇIKÖĞRETİM FAKÜLTESİ
BA - AÇIKÖĞRETİM OKULLARI

T.C. MİLLİ EĞİTİM BAKANLIĞI
Hayat Boyu Öğrenme Genel Müdürlüğü
AÇIK ÖĞRETİM LİSESİ - BATI AVRUPA PROGRAMI
2013-2014 ÖĞRETİM YILI II.DÖNEM SINAVI
ÜÇÜNCÜ OTURUM - Cumartesi 13.00

TEST GRUBUNUZ

A

0103

CEVAP KÂĞIDINIZA İŞARETLEMİYİ UNUTMAYINIZ.

ÖĞRENCİNİN

SOYADI

ADI :

ÖĞRENCİ NO :

SINAV SALON NO:.....SIRA NO:

Soyadınızı, adınızı, öğrenci numaranızı, salon ve sıra numaranızı yukarıya yazmayı unutmayınız.

GENEL AÇIKLAMA

1. Bu soru kitapçığındaki testler şunlardır:

Testin Adı	Soru Sayısı	Sayfa No	Testin Adı	Soru Sayısı	Sayfa No
DİN KÜLTÜRÜ VE AHLAK BİLGİSİ 2	20	2	EKONOMİ 2	20	30
DİN KÜLTÜRÜ VE AHLAK BİLGİSİ 8	20	4	TEMEL DİNİ BİLGİLER 2	20	32
TARİH 1	20	6	İŞLETME 1	20	34
TARİH 5	20	8	MANTIK 2	20	36
COĞRAFYA 1	20	10	GEOMETRİ 4	20	38
COĞRAFYA 3	20	12	SEÇMELİ TARİH 3	20	42
COĞRAFYA 8	20	14	SEÇMELİ TÜRK EDEBİYATI 5	20	44
MATEMATİK 3	20	16	ALMANCA 4	20	46
MATEMATİK 4	20	18	İNGİLİZCE 4	20	49
DİL VE ANLATIM 1	20	20	FRANSIZCA 4	20	51
TÜRK EDEBİYATI 5	20	22	ALMANCA 6	20	53
FİZİK 2	20	24	İNGİLİZCE 6	20	56
BİYOLOJİ 4	20	26	FRANSIZCA 6	20	58
ÇAĞDAŞ TÜRK VE DÜNYA TARİHİ 1	20	28			

- Bu kitapçıkta yer alan her bir test için cevaplama süresi **30** dakika, toplam sınav süresi **150** dakikadır.
- Cevaplamaya istediğiniz testin, istediğiniz sorusundan başlayabilirsiniz. Yalnız cevaplarınızı, cevap kâğıdında o test için ayrılmış olan bölümdeki aynı numaralı cevap yerine işaretlemeyi unutmayınız.
- Cevaplarınızı koyu siyah ve yumuşak bir kurşunkalemle işaretleyiniz. İşaretinizi cevap yerinin dışına taşırmayınız. Tükenmez veya mürekkepli kalem kullanmayınız.
- Değiştirmek istediğiniz bir cevabı yumuşak bir silgi ile, cevap kâğıdını örselemeden temizce siliniz ve doğru cevabınızı işaretlemeyi unutmayınız.
- Cevap kâğıdınızı buruşturmayınız, katlamayınız ve üzerine gereksiz hiçbir işaret koymayınız.
- Bu kitapçıkta her sorunun bir tek doğru cevabı vardır. Bir soru için birden çok cevap yeri işaretlenmişse o soru yanlış cevaplanmış sayılacaktır.
- Cevaplarınız puanlanırken her doğru cevabınıza eşit puan verilecek, yanlış cevaplarınız dikkate alınmayacaktır. Bu nedenle kitapçıkta tüm sorular için size doğru gelen seçeneği işaretleyerek cevapsız soru bırakmamanız yararınıza olacaktır.
- Kitapçığın sayfalarındaki boş yerleri müsvedde için kullanabilirsiniz.

Anadolu Üniversitesi tarafından hazırlanmış olan bu testlerin her hakkı saklıdır. Hangi amaçla olursa olsun, testlerin tamamının veya bir kısmının Anadolu Üniversitesi'nin yazılı izni olmadan kopya edilmesi, fotoğraflarının çekilmesi, herhangi bir yolla çoğaltılması, yayımlanması ya da kullanılması yasaktır. Bu yasağa uymayanlar gerekli cezai sorumluluğu ve testlerin hazırlanmasındaki mali külfeti peşinen kabullenmiş sayılır.

1. Aşağıdakilerden hangisi Türk milletini bir arada tutan, toplumu birleştiren ortak değerlerden biri değildir?

- A) Vatan ve vüknü birliđi
- B) Bayrak
- C) Ferdiyetçilik
- D) Milli seciye

2. Bir toplumda genel kabul gören veya benimsenen her türlü duygu, düşünce, davranış ve kurala ne ad verilir?

- A) Fikir
- B) Deđer
- C) Kanun
- D) Devlet

3. Aşağıdakilerden hangisi İslam dininin korunmasını istediđi beş temel ilke arasında yer almaz?

- A) Namusun korunması
- B) Malın korunması
- C) Komşunun korunması
- D) Aklın korunması

Aşağıdakilerden hangisi, Hz. Musa'ya indirilen ve Yahudilerin dini öğretileri içerisinde yer alan "on emir" arasında sayılamaz?

- A) Öldüreceksin
- B) Zina etmeyeceksin
- C) Çalmayacaksın
- D) Anne ve babana hürmet edeceksin

5. İlk evrensel insan hakları ilkeleri aşağıdakilerden hangisinde yer almaktadır?

- A) Veda Hutbesi
- B) İnsan Hakları Evrensel Beyannamesi
- C) Birleşmiş Milletler Sözleşmesi
- D) Magna Carta

6. Deđerlerin en üst seviyesinde hangi kaynak yer almaktadır?

- A) Sevgi
- B) Ahlak
- C) Hoşgörü
- D) Vatanseverlik

Her insanın kendine has ve özgü olan, az veya çok her zaman gözlenebilen davranış ve alışkanlıklarına ne denir?

- A) Alışkanlık
- B) Örf
- C) Kişilik
- D) Asabiyet

8. Avrupa'daki kilise otoritesi hangi olayla son bulmuştur?

- A) 1789 Fransa İhtilali
- B) Yüzyıl Savaşları
- C) İslahat Fermanı
- D) Tanzimat Fermanı

Dini emirlerin ik muhatabı olan yeryüzündeki Mk peygamber aşağıdakilerden hangisidir?

- A) Hz. Nuh
- B) Hz. İdris
- C) Hz. Musa
- D) Hz. Adem

10. Osmanlı Devletinde "din ve vicdan hürriyeti ilkesi" ilk kez hangi belgede yer almıştır?

- A) Tanzimat Fermanı
- B) İslahat Fermanı
- C) Gülhane Hattı Hümayunu
- D) Kanun-i Esasi

11. Laikliđin Batı ülkelerinde doğuş sebebi aşağıdakilerden hangisidir?

- A) Kilisenin baskıcı tutumuna tepki
- B) Derebeylerin katlanılmaz hale gelen zulümleri
- C) İslami yükselişin önüne geçme
- D) Dünya işlerinin herşeyden önemli hale gelmesi

12. Aşağıdakilerden hangisi laikliđin temel amaçlarından biridir?

- A) Dinin istismar edilmesine müsaade etmek
- B) Dinde ruhbanlık anlayışının oluşmasını sağlamak
- C) Herkesin kanun önünde eşit olmasını sağlamak
- D) Devletin din ve mezheplere karşı tarafı davranmasını sağlamak

13. İnsanın bu dünyada yaptıklarından dolayı hesaba çekileceği yer neresidir?

- A) Mahkeme
- B) Vicdan
- C) Arafat
- D) Ahiret

14. Aşağıdakilerden hangisi Türklerin İslamiyetten önce benimsediği dinlerden biri değildir?

- A) Budizm
- B) Zerdüştlük
- C) Manihaizm
- D) Musevilik

15. Ebu Hanife'nin asıl adı nedir?

- A) Cafer Bin Tayyar
- B) Amr Bin As
- C) İmam Maturidi
- D) Numan Bin Sabit

16. Aşağıdakilerden hangisi Türklerin İslamiyeti benimsemesinde etkili olan sebeplerden biri değildir?

- A) İslamın hak ve gerçek din olması
- B) Gök Tanrı inancı ile İslam dininin benzeşmemesi
- C) Müslüman tüccarların dürüstlüğü
- D) İslam dininin hoşgörü ve sevgi anlayışı

17. Türklerin Müslüman Araplarla yakınlaşmasına sebep olan ve Müslümanlığa geçişlerini hızlandıran asıl olay nedir ve kimlerin zamanında gerçekleşmiştir?

- A) Talas Savaşı - Emeviler
- B) Talas Savaşı - Abbasiler
- C) Kadisiye Savaşı - Abbasiler
- D) Nihavent Savaşı - Emeviler

18. Aşağıdakilerden hangisi Türklerin benimsediği Gök Tanrı inancının esasları arasında yer almaz?

- A) Tanrı yaratan, yaşatan ve koruyandır.
- B) Dünyada iyilik edenler öldükten sonra karşılık olarak iyi bir yere gideceklerdir.
- C) Bir ve tek olan Gök Tanrı vardır.
- D) Dünya hayatından sonra sonlu bir hayat vardır.

19. İlk Müslüman Türk Devleti aşağıdakilerden hangisidir?

- A) Karahanlılar
- B) İtil Volga Bulgar Devleti
- C) Gazneliler
- D) Selçuklular

20. Mesnevi kimin eseridir?

- A) Mevlana
- B) Yunus Emre
- C) Hacı Bektaş Veli
- D) Ahmet Yesevi

- Hz. Muhammed'in de gençliğinde aktif olarak görev aldığı, haksızlık ve adaletsizliğin önüne geçebilmek için oluşturulan barış teşkilatı aşağıdakilerden hangisidir?**
- A) Teşkilat-ı Mahsusa
B) Nazm-ı Celil
C) Hilful Fudul
D) Sıla-i Rahmi
- 2. Barışın olduğu bir ortamda aşağıdakilerden hangisi ortaya çıkar?**
- A) Kargaşa
B) Anarşi
C) Kalkınma
D) Adaletsizlik
- 3. "Gel, ne olursan ol yine gel." diyerek hiçbir ayırım yapmadan bütün insanları İslam'ın barış ve huzur dolu ortamına çağıran İslam âlimi aşağıdakilerden hangisidir?**
- A) Nasreddin Hoca
B) Yunus Emre
C) Mevlana
D) Âşık Paşa
- 4. Aşağıdakilerden hangisi İslam tarihinde Müslümanların barışa verdiği önemi gösteren olaylardan biri değildir?**
- A) Medine Sözleşmesi
B) Hakeem Olayı
C) Hudeybiye Antlaşması
D) Mekke'nin Fethi
- 5. İslam dinine göre insanlığın atası aşağıdakilerden hangisidir?**
- A) Hz. Adem
B) Hz. Muhammed
C) Hz. Yusuf
D) Hz. Yakup
- 6. "Sakin ol, kimsenin gönlünü yıkma." diyerek sevenlerine gönül kırmamalarını tavsiye eden İslam âlimi aşağıdakilerden hangisidir?**
- A) Ahi Evran
B) Mevlana
C) Hacı Bektaş Veli
D) Yunus Emre
- 7. Aşağıdakilerden hangisi Peygamber Efendimizin de belirttiği büyük günahlardan biri değildir?**
- A) Kibirli olmak
B) Allah'a ortak koşmak
C) Anne ve babaya eziyet etmek
D) Adam öldürmek
- 8. Din işlerinin daha sağlıklı ve ehil kimseler tarafından yürütülmesi için Atatürk tarafından kurulan birim aşağıdakilerden hangisidir?**
- A) Diyanet İşleri Başkanlığı
B) Maarif Vekâleti
C) Divan-ı Harp
D) İmam Hatip Liseleri
- 9. Aşağıdakilerden hangisi Tevhid-i Tedrisat kanunuyla gelen yeniliklerden biri değildir?**
- A) Medreselerin varlığına son verilmesi
B) Bütün okulların Maarif Vekâletine bağlanması
C) İlahiyat fakültelerinin açılması
D) Yüksek ilim konularının öğretiminde tekke ve zaviyelerin desteklenmesi
- Aşağıdakilerden hangisi Atatürk'ün din ile ilgili görüşlerinden biri değildir?**
- A) Din lüzumlu bir müessesedir.
B) Din, devlet işlerinde etkili bir durumdur.
C) Dinsiz milletlerin devamına imkân yoktur.
D) Din, Allah ile kul arasındaki bağılıktır.
- Atatürk'ün "Her fert din ve diyanetini, imanını öğrenmek için bir yere muhtaçtır. Orası" sözünde boş bırakılan yere aşağıdakilerden hangisi gelmelidir?**
- A) Evdir.
B) Camidir.
C) Tekkendir.
D) Okuldur.
- Hristiyanlıkta Teslis inancına göre mükemmel olan, her şeyin yaratıcısı, her şeyi işiten bilen ve gören, Hz. İsa'yı yeryüzüne gönderdiğine inanılan kavram aşağıdakilerden hangisidir?**
- A) Oğul
B) Baba
C) Kutsal Ruh
D) Havari

13. İsrailoğullarına Allah tarafından, Hz. İsa aracılığıyla gönderilen din aşağıdakilerden hangisidir?

- A) Yahudilik
- B) Musevilik
- C) Budizm
- D) Hristiyanlık

14. Aşağıdakilerden hangisi Hint dinlerinden biridir?

- A) Şintoizm
- B) Taoizm
- C) Caynizm
- D) Konfüçyanizm

15. Aşağıdakilerden hangisi Çin ve Japon dinlerinden biridir?

- A) Şintoizm
- B) Caynizm
- C) Sihizm
- D) Budizm

16- Hz. Muhammed nerede doğmuştur?

- A) Medine
- B) Mekke
- C) Mısır
- D) Lübnan

Musevilerin inancına göre, âlemlerin Rabbi ve her şeyin yaratıcısı olan aşağıdakilerden hangisidir?

- A) Tevrat
- B) Yakup
- C) Firavun
- D) Yehova

Aşağıdaki din ve hac merkezleri eşleştirmelerinden hangisi yanlıştır?

- A) İslamiyet-Mekke
- B) Yahudilik-Kudüs
- C) Hristiyanlık- Roma
- D) Hinduizm-Bodhi Gaya

19. Aşağıdakilerden hangisi Museviliğin on emrinden biri değildir?

- A) Cuma gününü hatırlayıp onu kutsal sayacaksın.
- B) Çalmayacaksın.
- C) Zina yapmayacaksın.
- D) Anne ve babana saygı göstereceksin.

20- Kutsal metinleri Agama ve Siddhanta olan din aşağıdakilerden hangisidir?

- A) Sihizm
- B) Caynizm
- C) Taoizm
- D) Budizm

1. Aşağıdakilerden hangisi sözlü kaynaklardan biridir?
- A) Menkıbe
B) Hatıralar
C) Biyografiler
D) Seyahatnameler
2. Aşağıdakilerden hangisi bir olayın tarihi olay olarak kabul edilebilmesi için gerekli şartlardan biri değildir?
- A) Olayın yeri ve zamanı bilinmelidir.
B) Olayın üzerinden belirli bir zaman geçmelidir.
C) Olayın geçtiği bölgenin özellikleri bilinmelidir.
D) Olay üzerinde deney ve gözlem yapılabilmelidir.
3. Tarih biliminde toplanan verilerin gerçekliği ve bilgi açısından güvenilirliğinin tespit edildiği aşama aşağıdakilerden hangisidir?
- A) Terkip
B) Tahlil
C) Tenkit
D) Tasnih
4. Güneş takvimini ilk kez kullanan medeniyet aşağıdakilerden hangisidir?
- A) Mısırlılar
B) Sümerler
C) Babiller
D) Asurlular
5. Genel olarak olay ve olguların geçtiği, geçmekte olduğu ve geçeceği süreye ne ad verilir?
- A) Tarih
B) Süreç
C) Zaman
D) Gün
6. Aşağıdakilerden hangisi Naima'ya göre; tarih yazarlarda bulunması gereken özelliklerden biri değildir?
- A) Doğru sözlü olmak
B) Şayialara kulak asmamak
C) Yalnızca vakaları anlatmak
D) Dedikodulara ehemmiyet vermemek
7. Tarihte bilinen ilk kütüphaneyi oluşturan uygarlık aşağıdakilerden hangisidir?
- A) Akadlar
B) Asurlular
C) Sümerler
D) Frigler
8. Anadolu'da bilimsel faaliyetlerin ve özgür düşüncenin en ileri olduğu uygarlık aşağıdakilerden hangisidir?
- A) Fenikeliler
B) İyonyalılar
C) Lidyalılar
D) Urartular
9. Hastalıkların mikroplardan ileri geldiğini öne sürerek modern tıbbın temellerini atan Yunanlı bilim adamı kimdir?
- A) Herodot
B) Tukidides
C) Sokrates
D) Hippokrat
10. Sümerler'e son veren uygarlık aşağıdakilerden hangisidir?
- A) Akadlar
B) Elamlar
C) Babiller
D) Asurlar

11. Aşağıdakilerden hangisi Mısır Uygarlığında yer alan sosyal sınıflardan biri değildir?

- A) Rahipler
- B) Tüccarlar
- C) Askerler
- D) Burjuvalar

12. Aşağıdakilerden hangisi tarih öncesi çağlardan biri değildir?

- A) Taş Çağı
- B) Maden Çağı
- C) İlk Çağ
- D) Tunç Çağı

13. İslamiyet ve Hristiyanlık gibi tek tanrılı dinlerin yayılmaya başladığı çağ aşağıdakilerden hangisidir?

- A) İlk Çağ
- B) Yeni Çağ
- C) Orta Çağ
- D) Yakın Çağ

14. Çok tanrılı dinler ve puta tapmacılık gibi inanç sistemlerinin en yaygın olduğu çağ aşağıdakilerden hangisidir?

- A) İlk Çağ
- B) Orta Çağ
- C) Yakın Çağ
- D) Taş Çağı

15. Aşağıdakilerden hangisi Türklerin Orta Asya'dan göç etmelerinin sonuçlarından biri değildir?

- A) Göç ettikleri bölgelerde yeni devletler kurmuşlardır.
- B) Türk boylarının hepsi gittikleri yerde üstünlük sağlayıp milli benliklerini korumuşlardır.
- C) Gittikleri yerlerde Türk kültürünü yaymışlardır.
- D) Önlerine çıkan kavimleri yerlerinden ederek büyük bir göç dalgası yaratmışlardır.

16. Aşağıdakilerden hangisi Türklerde ordu teşkilatıyla ilgili doğru bir ifade değildir?

- A) İlk düzenli ordu Asya Hun hükümdarı Mete tarafından kurulmuştur.
- B) Eli silah tutan herkes asker sayılmıştır.
- C) Turan taktiği denilen bir savaş yöntemi kullanmışlardır.
- D) Kadınlar askerlik hayatından uzak tutulmuştur.

17. Göç Destanı aşağıdaki devletlerden hangisine aittir?

- A) Kök Türk Devleti
- B) Uygur Devleti
- C) Asya Hun Devleti
- D) Avrupa Hun Devleti

18. Aşağıdakilerden hangisi Kavimler Göçünün sonuçlarından biri değildir?

- A) Avrupa'da kilise önemini kaybetmiştir.
- B) Avrupa uzun yıllar karışıklık içinde kalmıştır.
- C) Türkler Avrupa'da Hun adıyla bilinen yeni bir devlet kurmuşlardır.
- D) Roma İmparatorluğu Batı ve Doğu olarak ikiye ayrılmıştır.

19. Tarımla uğraşarak yerleşik hayata geçen ve yerleşik devlet kültürünü oluşturan M.Ö. Türk devleti aşağıdakilerden hangisidir?

- A) Hunlar
- B) Kök Türkler
- C) Avarlar
- D) Uygurlar

20. Yazılı olmayan hukuk kurallarına ne ad verilir?

- A) Töre
- B) Kanun
- C) Yasa
- D) Tüzük

1. İnsanlığa mal olmuş, bütün insanlık tarafından beğenilen ve benimsenen ortak değerlere ne ad verilir?

- A) Kanun
- B) Medeniyet
- C) Sagu
- D) Kurgan

2. İskitlerin bilinen en önemli hükümdarları aşağıdakilerden hangisidir?

- A) Alp Er Tunga
- B) Mete
- C) Teoman
- D) Atilla

3. Uzun süren İran-Turan savaşlarının anlatıldığı Şehname adlı eserin yazarı aşağıdakilerden hangisidir?

- A) Firdevsi
- B) Hafız-ı Şirazi
- C) Nedim
- D) Naima

Türklerin Orta Asya'daki en eski kültürü aşağıdakilerden hangisidir?

- A) Kelteminar kültürü
- B) Tagar kültürü
- C) Karasuk kültürü
- D) Afanasyevo kültürü

5. Orta Asya'dan Bizans'a Mk Türk elçilik heyeti hangi Türk devleti tarafından gönderilmiştir?

- A) Göktürk
- B) Akhun
- C) Asya Hunları
- D) İskitler

6. Uygur devletine aşağıdakilerden hangisi son vermiştir?

- A) Avarlar
- B) Kırgızlar
- C) Türgişler
- D) Karluklar

7. Türk adıyla kurulan Mk Türk Devleti aşağıdakilerden hangisidir?

- A) Uygurlar
- B) Göktürkler
- C) Avarlar
- D) Türgişler

Bizans ile Margos Antlaşmasını imzalayan Avrupa Hun hükümdarı kimdir?

- A) Uldız
- B) Rua
- C) Atilla
- D) İlek

Moğol hâkimiyetine giren Mk Türk kavmi aşağıdakilerden hangisidir?

- A) Türgişler
- B) Peçenekler
- C) Avarlar
- D) Kırgızlar

10. Museviliği kabul eden Mk ve tek Türk Devleti aşağıdakilerden hangisidir?

- A) Hazarlar
- B) Avarlar
- C) Bulgarlar
- D) Türgişler

11. Kendi adıyla para bastıran ilk Türgiş hükümdarı kimdir?

- A) Su-lu Kağan
- B) Bağa Tarkan
- C) Kül-Çor
- D) So-ko

12. Aşağıdakilerden hangisi Türk devletinin başında bulunan hükümdarda bulunması gereken özelliklerden biri değildir?

- A) Bilgelik
- B) Kin
- C) Alplik
- D) Erdemlilik

13. Aşağıdakilerden hangisi Nk Türk Devleti ordularında kullanılan silahlardan biri değildir?

- A) Kılıç
- B) Kalkan
- C) Top
- D) Süngü

14. Türklerde Mk devlet teşkilatı aşağıdaki hangi hükümdar zamanında yapılmıştır?

- A) Atilla
- B) Böğü Kağan
- C) Kapgan Kağan
- D) Mete Han

15. Türklerin en eski millî alfabeti aşağıdakilerden hangisidir?

- A) Kiril
- B) Latin
- C) Göktürk
- D) Arap

16. İlk Türk Devletlerinde ulus kavramının karşılığı aşağıdakilerden hangisidir?

- A) Meclis
- B) Mahkeme
- C) Tapınak
- D) Ülke

17. Türk-Arap ilişkileri Mk defa aşağıdaki hangi devletin aracılığıyla başlamıştır?

- A) Bizans
- B) Roma
- C) Sasanî
- D) Babür

18. 751 yılında gerçekleşen Talas Savaşı'nda Türkler, Çinlilere karşı aşağıdakilerden hangisinin yanında yer almıştır?

- A) Bizanslılar
- B) Romalılar
- C) Babürlüler
- D) Araplar

19. Aşağıdakilerden hangisi İslamiyet'i Mk olarak kabul eden Türk boylarından biri değildir?

- A) Karluk
- B) Yağma
- C) İskit
- D) Çiğil

Çin'in yardım isteği üzerine Lo-Yang Seferi'ne çıkan ve Tibetlileri yenilgiye uğratan Uygur hakanı aşağıdakilerden hangisidir?

- A) Böğü Kağan
- B) Bağa Tarkan
- C) Moyen-Çor Kağan
- D) Kutluk Bilge Kül Kağan

1. Aşağıdakilerden hangisi meridyenlerin özelliklerinden biri değildir?
- A) Ardışık iki meridyen arasındaki yerel saat farkının 4 dakika olması
 B) Doğudaki meridyenlerin saatlerinin batıdakilerden daha ileri olması
 C) Başlangıç meridyeninin ekvator olması
 D) Aynı meridyen üzerinde bulunan tüm noktaların yerel saatlerinin aynı olması

2. Aşağıdakilerden hangisi dünyanın güneş etrafında dönüşünün meydana getirdiği sonuçlardan biri değildir?
- A) Gece gündüz süreleri yıl boyunca değişme gösterir.
 B) Mevsimlik sıcaklık farkları oluşur.
 C) Sıcaklık farkları kara ve denizler arasında basınç farklarının oluşmasını sağlar.
 D) Gün ve gece arasında sıcaklık farkları oluşur.

3. Dünya, kendi eksenini çevresindeki hareketini kaç saatte tamamlar?
- A) 12 saat
 B) 24 saat
 C) 32 saat
 D) 48 saat

4. Yeryüzünün bütününün veya bir bölümünün, belli bir ölçüğe göre küçültülerek bir düzlem üzerinde gösterilmesine ne ad verilir?
- A) İzdüşüm
 B) Çizgi ölçeği
 C) Meridyen
 D) Harita

5. Aşağıdakilerden hangisi atmosfer, iklim ve iklim elemanlarını inceleyen coğrafyanın koludur?
- A) Jeomorfoloji
 B) Hidrografya
 C) Biyocoğrafya
 D) Klimatoloji

21 Mart 23 Eylül tarihlerinde dünyanın her yerinde gece ve gündüz sürelerinin birbirine eşit olmasına ne ad verilir?

- A) Ekinoks
 B) İzohips
 C) Ölçek
 D) Ekliptik

7. Dünya'nın kutuplardan basık, Ekvator'da şişkin şekline ne ad verilir?

- A) Küre
 B) Geoit
 C) Ekliptik
 D) Eksen

8. Aşağıdaki ölçeklerden hangisi harita üzerinde ayrıntıları daha fazla gösterir?

- A) 1:100 000
 B) 1:200 000
 C) 1:300 000
 D) 1:400 000

9. Buzul çağı ve buzul sonrası dönemlerin yaşandığı çağ aşağıdakilerden hangisidir?

- A) Paleozoik
 B) Neozoik
 C) Mezozoik
 D) Prekambrien

10. Aşağıdaki gazlardan hangisinin atmosferdeki oranı en yüksektir?

- A) Azot
 B) Hidrojen
 C) Oksijen
 D) Ozon

11. Dik kıyılara hızla çarpan dalgaların, kıyıların alt tarafını aşındırarak oluşturduğu şekillere ne ad verilir?

- A) Barkan
 B) Falez
 C) Aysberg
 D) Lagün

12. Başlangıç meridyeni olarak belirlenmiş olan 0° meridyeni aşağıdakilerden hangisinin yakınından geçer?

- A) Moskova
- B) Tahran
- C) Viyana
- D) Londra

13. Birbiri ardından gelen iki meridyen arasındaki uzaklık kaç dakikadır?

- A) 4
- B) 15
- C) 30
- D) 40

14. Yükselti basamakları hangi tür haritalar yardımı ile tespit edilir?

- A) Beşeri haritalar
- B) Fiziki haritalar
- C) Atlas haritalar
- D) Siyasi haritalar

15. Bir yamacın güneşin karşısındaki konumuna ne ad verilir?

- A) İklim
- B) Yörünge
- C) Ekvator
- D) Bakı

16. 40° doğu boylamında yer alan Diyarbakır' da yerel saat 17.00 iken, 30° doğu boylamında yer alan İzmit' te yerel saat kaçtır?

- A) 16.20
- B) 16.40
- C) 17.20
- D) 17.40

17. Çapı ve çevresi en uzun paralel dairesi aşağıdakilerden hangisidir?

- A) Ekvator
- B) Yengeç dönencesi
- C) Oğlak dönencesi
- D) 45° Kuzey enlemi

18. Yeryuvarlığının kendi eksenini etrafında dönmesi ile aşağıdakilerden hangisi meydana gelir?

- A) İlkbahar
- B) Kış
- C) Gece- gündüz
- D) Sonbahar

19. Haritalarda ölçek küçüldükçe aşağıdakilerden hangisi meydana gelir?

- A) Belirli bir yüzey üzerine sığdırılması mümkün olan ayrıntılar o derece artar.
- B) Belirli bir yüzey üzerine sığdırılması mümkün olan arazi küçülür.
- C) Mücessem küre adıyla anılan yuvarlak haritaların yapımı kolaylaşır.
- D) Belirli bir yüzey üzerine sığdırılması mümkün olan ayrıntılar o derece azalır.

20. Hava olaylarının oluştuğu ortamın harekete geçmesini sağlayan temel güç aşağıdakilerden hangisidir?

- A) Basınç
- B) Rüzgâr
- C) Sıcaklık
- D) Nemlilik

1. Aşağıdakilerden hangisi iç püskürük kayaç türlerinden biri değildir?
- A) Andezit
B) Diorit
C) Siyenit
D) Granit
2. Bitki ve hayvan kalıntılarının birikip taşlaşmasıyla oluşan kayaç türü aşağıdakilerden hangisidir?
- A) Kimyasal tortul kayaçlar
B) Organik tortul kayaçlar
C) Fiziksel tortul kayaçlar
D) Başkalaşım kayaçlar
3. Volkanlardan çıkan ince boyutlu malzemelerin oluşturduğu kayaçlara ne ad verilir?
- A) Tortul
B) Polye
C) Konglomera
D) Tüf
4. Aşağıdakilerden hangisi kimyasal tortul kayaçlardan biri değildir?
- A) Kireç taşı
B) Alçı taşı
C) Kaya tuzu
D) Kum taşı
5. Aşağıdakilerden hangisi sıcak su kaynaklarının yaygın olduğu bölgeler arasında yer almaz?
- A) Kanada
B) Cezayir
C) Malezya
D) Yeni Zelanda
6. Aşağıdakilerden hangisi birbirinden uzaklaşan levhalardan biri değildir?
- A) Avrasya levhası - Kuzey Amerika levhası
B) Avrasya levhası - Pasifik levhası
C) Afrika levhası - Kuzey Amerika levhası
D) Pasifik levhası - Nazka levhası
7. Okyanusların kara içlerine doğru sokulmuş kollarına ne ad verilir?
- A) Göl
B) Irmak
C) Deniz
D) Nehir
8. Aşağıdakilerden hangisi introzonal toprak çeşitlerinden biri değildir?
- A) Hidromorfik topraklar
B) Halomorfik topraklar
C) Kalsimorfik topraklar
D) Regoseller topraklar
9. Aşağıdakilerden hangisi toprak oluşumunu etkileyen faktörlerden biri değildir?
- A) İklimin etkisi
B) Ana karanın etkisi
C) Zamanın etkisi
D) İnsanların etkisi
10. Yanardağın zirvesindeki baca ağzında oluşan göllere ne ad verilir?
- A) Krater
B) Kaldera
C) Maar
D) Sirk
11. Aşağıdakilerden hangisi dünyada nüfus yoğunluğunun az olduğu yerlerden biri değildir?
- A) Orta Asya
B) Güneydoğu Asya
C) Kutup çevresi
D) Kongo Havzası

12. İlk modern nüfus sayımı nerede yapılmıştır?

- A) Batı Avrupa'da
- B) Güney Amerika'da
- C) İskandinav ülkelerinde
- D) Orta Doğu'da

13. Aşağıdakilerden hangisi günümüzde yapılan nüfus sayımlarının amaçlarından biri değildir?

- A) Kişi başına düşen tarım arazilerinin belirlenmesi
- B) Nüfusun eğitim düzeyinin belirlenmesi
- C) Nüfusun mesleklere göre dağılımının belirlenmesi
- D) Nüfus artış hızının tespit edilmesi

14. Aşağıdakilerden hangisi dünyada nüfusun kıtalara göre farklı dağılışı göstermesini etkileyen faktörlerden biri değildir?

- A) İklim koşulları
- B) Ekonomik özellikler
- C) Ulaşım ağları
- D) Doğum ve ölüm oranları

15. Türkiye'nin en çok işçi gönderdiği ülke aşağıdakilerden hangisidir?

- A) Almanya
- B) Fransa
- C) İngiltere
- D) Amerika

16. Aşağıdakilerden hangisi göçün doğal nedenlerinden biri değildir?

- A) Erozyon
- B) Ulaşım
- C) Kuraklık
- D) Heyelan

17. Köylerin kurulduğu, tarım ve hayvancılık yapanlarla zanaatkarlar arasında takas yoluyla ticaretin yapıldığı çağ aşağıdakilerden hangisidir?

- A) Mezolitik Çağ
- B) Kalkolitik Çağ
- C) Paleolitik Çağ
- D) Neolitik Çağ

18. Aşağıdakilerden hangisi gelişmiş ülkelerin özelliklerinden biri değildir?

- A) Nüfusun çoğunluğu kentlerde yaşar.
- B) Nüfus artış hızı düşüktür.
- C) Sanayi ürünleri ithal ederler.
- D) Milli gelir yüksektir.

19. Aşağıdakilerden hangisi Karadeniz bölgesinde yer alan ovalardan biri değildir?

- A) Taşköprü
- B) Aşkale
- C) Ladik
- D) Merzifon

20. Aşağıdakilerden hangisi Türkiye'nin matematik konumunun sonuçlarından biri değildir?

- A) Orta kuşakta eyer alır.
- B) Güneş ışınları dik açıyla gelmez.
- C) Yakın bir jeolojik zamanda oluşmuştur.
- D) Aynı anda tek ortak saat kullanılır.

1. Cumhuriyetin ilanıyla başlayan nüfus artışını teşvik eden politikalar hangi yıla kadar devam ettirilmiştir?
- A) 1945
B) 1963
C) 1982
D) 1997
2. 2050 yılında nüfus piramidi tabanının daralarak arı kovanı şekline benzeyeceği tahmin edilmektedir.
- Bu durum aşağıdakilerden hangisinin göstergesidir?**
- A) İşsiz kişi sayısının artacağı
B) Genç nüfus oranının artacağı
C) Nüfus artış hızının artacağı
D) Yaşlı nüfus oranının artacağı
3. Aşağıdakilerden hangisinin Doğu Karadeniz Projesinin başlamasında etkisi olmamıştır?
- A) Bölgenin göç vermesinin
B) Bölge kırsalındaki dağınık yerleşmenin
C) Bölgedeki işsizliğin
D) Bölge gelirinin düşük olmasının
4. Aşağıdakilerden hangisi Yeşilirmak Havzası Gelişim Projesi kapsamındaki illerden biri değildir?
- A) Samsun
B) Amasya
C) Çorum
D) Zonguldak
5. Aşağıdakilerden hangisi Türkiye'nin üyesi olduğu uluslararası ekonomik örgütlerden biri değildir?
- A) Uluslararası Para Fonu
B) Dünya Bankası
C) Birleşmiş Milletler
D) Ekonomik Kalkınma ve İşbirliği Örgütü
6. Aşağıdakilerden hangisi ülkemizde uygulanan bölgesel kalkınma projelerinin ortak hedeflerinden biri değildir?
- A) Tarım yerine sanayi sektörünü geliştirmek
B) Kişi başına düşen geliri yükseltmek
C) Bölgeler arasındaki kalkınmışlık farkını azaltmak
D) Bölge dışına yapılan göçleri yavaşlatmak
7. Aşağıdakilerden hangisi Türkiye'nin jeopolitik konumunda etkili olan değişmeyen unsurlardan biridir?
- A) Sosyal kültürel değerler
B) Coğrafi konum
C) Ekonomik değerler
D) Politik değerler
8. Aşağıdakilerden hangisi Türkiye'nin jeopolitik önemini artıran bir unsur değildir?
- A) Boğazların bulunması
B) Zengin petrol kaynakları bölgelerine komşu olması
C) Dağların uzanış yönü
D) Farklı kültür bölgelerine komşu olması
9. Aşağıdakilerden hangisi Çin'de görülen iklimlerden biridir?
- A) Ekvatorial
B) Karasal
C) Akdeniz
D) Tundra
10. Ülkelerin gelişmişlik düzeylerini belirtmek için en yaygın kullanılan ölçüt aşağıdakilerden hangisidir?
- A) Okur-yazar oranı
B) Doktor başına düşen hasta sayısı
C) Kişi başına düşen elektrik tüketimi
D) Kişi başına düşen milli gelir

11. İnsani Gelişme İndeksi hangi kuruluş tarafından rapor haline getirilerek yayınlanmaktadır?

- A) Birleşmiş Milletler
- B) Avrupa Konseyi
- C) Dünya Bankası
- D) Avrupa Birliği

12. Aşağıdaki akarsulardan hangisi Almanya topraklarından geçmez?

- A) Ren
- B) Elbe
- C) Weser
- D) Nijer

13. Aşağıdakilerden hangisi uluslararası sıcak çatışmalara neden olan doğal unsurlardan biri değildir?

- A) Ekonomik sorunlar
- B) Su kaynaklarının paylaşımı
- C) Toprak paylaşımı
- D) Yeraltı zenginliklerinin paylaşımı

14. Dünya genelinde su sıkıntısı yaşayan ülkelerin çoğunluğu hangi bölgede yer alır?

- A) Kuzey Amerika
- B) Batı Avrupa
- C) Orta Doğu
- D) Kuzey Avrupa

15. Şattülarap su yolu ve petrol paylaşımından dolayı hangi iki ülke arasında çatışma olmuştur?

- A) Irak-Kuveyt
- B) İran-İrak
- C) Suriye-İsrail
- D) Mısır-İsrail

16. Aşağıdakilerden hangisi doğal mirastır?

- A) Çin Setti
- B) Mısır Piramitleri
- C) İguaçu Çağlayanı
- D) Efes Antik Kenti

17. Aşağıdakilerden hangisi Türkiye'de kuruyup ortadan kalkan göllerden biridir?

- A) Kestel Gölü
- B) Tuz Gölü
- C) Manyas Gölü
- D) Van Gölü

18. 20. yüzyılın başlarında dünyada ilk defa yapay döllenme programı uygulayarak Kuzey Amerika bizonunun soyunun tükenmesini engelleyen çevre koruma kuruluşu aşağıdakilerden hangisidir?

- A) Greenpeace
- B) TEMA
- C) Doğal Hayatı Koruma Derneği
- D) Dünya Dostları

19. 1980-2008 yılları arasında meydana gelen doğal afetlerde can kaybının en fazla olduğu kıta aşağıdakilerden hangisidir?

- A) Asya
- B) Avrupa
- C) Afrika
- D) Okyanusya

20. Aşağıdakilerden hangisi meteorolojik kökenli afetler arasında yer almaz?

- A) Seller
- B) Kasırgalar
- C) Heyelanlar
- D) Volkanlar

1. $x + \frac{1}{x} = 4$ ise, $x + \frac{1}{x^2}$ ifadesinin değeri kaçtır?

A) 14
B) 16
C) 18
D) 20

2. $P(x) = 3x - 5x^3 + 2x^4 - 1$ polinomunun başkatsayısı kaçtır?

A) -5
B) 2
C) 3
D) 4

3. $\frac{1}{x+x-6}$ rasyonel ifadesinin basit kesirlerin toplamı olarak yazılmış biçimi aşağıdakilerden hangisidir?

A) $\frac{1}{x+2} - \frac{1}{x-3}$
B) $\frac{2}{x-6} + \frac{1}{x+1}$
C) $\frac{1}{x+2} + \frac{1}{x+3}$
D) $\frac{1}{x-2} - \frac{2}{x+3}$

4. $P(x) = (1-m)x^2 + mx$ polinomunun $(x-3)$ ile bölümünden kalan 39 olduğuna göre m kaçtır?

A) -5
B) -4
C) -2
D) -1

5. $x + \frac{15}{2x} - \frac{10x+6}{5}$ ifadesinin sadeleşmiş biçimi aşağıdakilerden hangisidir?

A) -5
B) $\frac{1}{5}$
C) 5
D) 15

$P(x) = 2x^5 + (2a - 6)x^3 + d$
 $Q(x) = (3a - b)x^5 + (5 - c)x - 9$
polinomları eşit olduğuna göre, $a+b+c+d$ kaçtır?

A) 6
B) 12
C) 17
D) 24

7. $P(x) = 2x^4y - 6xy^2 + x^5y^3 - 10$ polinomunun x ve y'ye göre derecesi kaçtır?

A) 2
B) 3
C) 5
D) 8

8. $P(x) = x^4 - 2x^3 + 3x^2 + 5x + 4$ polinomu veriliyor.

Buna göre $P(-1)$ 'in değeri aşağıdakilerden hangisidir?

A) -1
B) 1
C) 5
D) 11

9. $x^2 + (a-3)x + 2a - 5 = 0$ denkleminin bir kökü $x_1=3$ ise diğer kökü kaçtır?

A) -3
B) -1
C) 1
D) 1

10. Kökleri $x_1 = 2 + \sqrt{3}$ ve $x_2 = 2 - \sqrt{3}$ olan ikinci derece denklem aşağıdakilerden hangisidir?

A) $x^2 - 4x + 1 = 0$
B) $x^2 + 4x + 1 = 0$
C) $x^2 + x - 4 = 0$
D) $x^2 + 4x + 7 = 0$

11. $|x-3| = 2x-9$ denkleminin çözüm kümesi aşağıdakilerden hangisidir?

A) {4,6}
B) {2,4}
C) {2,5}
D) {6}

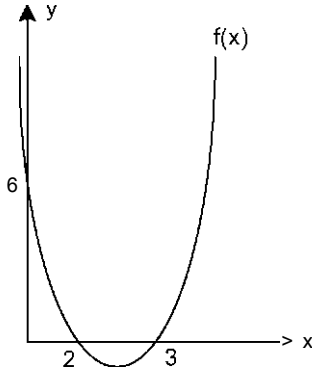
12. $y = ax^2 + 3(a-2)x + a - 2$ eğrisi OX eksenine teğet olduğuna göre, a kaç olmalıdır?

A) -2
B) -1
C) 1
D) 2

13. $(4m + 1)x^2 + 4mx + m + 2 = 0$ denkleminin eşit iki kökünün olması için m kaç olmalıdır?

- A) -2
B) 1
C) 2
D) 1

14.



Yukarıdaki şekilde $f(x) = ax^2 + bx + c$ eğrisinin grafiği verilmiştir.

Buna göre $f(4)$ kaçtır?

- A) 1
B) 2
C) 3
D) 4

15. $A(0,2)$, $B(-1,0)$ ve $C(2,12)$ noktalarından geçen parabolün denklemi aşağıdakilerden hangisidir?

- A) $y = x^2 + 3x + 2$
B) $y = -x^2 + 2x - 3$
C) $y = -x^2 + 4x + 2$
D) $y = 3x^2 - x - 2$

16. $3x + 4y = 1$

$$2x - 5y = 16$$

denklemler sisteminin çözüm kümesi aşağıdakilerden hangisidir?

- A) $1, -$
B) $\{13, 2\}$
C) $\{3, -2\}$
D) $\{-1, 1\}$

17. $(953)^2 - (47)^2$ işleminin sonucu kaç basamaklı bir sayıdır?

- A) 5
B) 6
C) 7
D) 8

18. $(x^2 - 9) \cdot (x + 1) < 0$ eşitsizliğinin çözüm kümesi aşağıdakilerden hangisidir?

- A) $[-3, +\infty)$
B) $(-x, -3)$ u $[-1, +\infty)$
C) $(-3, -1)$
D) $(-x, 3]$

$f(x) = 3x^2 + (m + 3)x - 4$ fonksiyonunun simetri eksenini $x = -2$ doğrusu ise m kaçtır?

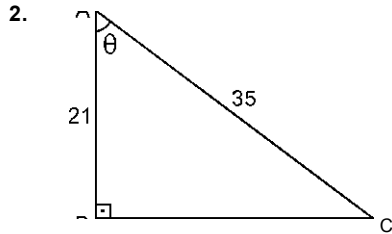
- A) 12
B) 9
C) -3
D) -15

20. $3x - 2 = \frac{x}{2} = \frac{17}{6}$ denkleminin çözüm kümesi aşağıdakilerden hangisidir?

- A) 1
B) 3
C) 5
D) 7

1. $\cot \sin$ ifadesinin değeri aşağıdakilerden hangisidir?

- A) 1
2
B) $\sqrt{3}$
C) $2\sqrt{3}$
D) $\sqrt{3}$



Yukarıdaki dik üçgende cosec θ kaçtır?

- A) 3
5
B) 4
5
C) 5
4
D) 5
3

3. Yarıçapı 18 cm olan çemberdeki 150°lik merkez açının gördüğü yayın uzunluğu kaç birimdir?

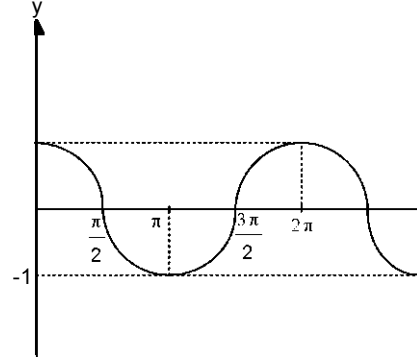
- A) 5π
2
B) 5%
C) 2
D) 15K

$f(x) = \sin^5 \left(\frac{x}{2} \right)$ fonksiyonunun periyodu kaçtır?

- A) $\frac{An}{T}$
B) $\frac{5n}{T}$
C) $\frac{8n}{T}$
D) $15 \frac{n}{2}$

5. $16 \cdot \sin 15^\circ \cdot \sin 75^\circ$ işleminin sonucu kaçtır?

- A) 4
B) 6
C) $4\sqrt{3}$
D) 8



Şekildeki grafik aşağıdaki fonksiyonlardan hangisinin $(0, 2\pi)$ aralığındaki grafiğidir?

- A) $f(x) = \cos x$
B) $g(x) = \sin x$
C) $h(x) = \cot x$
D) $k(x) = \operatorname{cosec} x$

7. Aşağıdaki trigonometrik özdeşliklerden hangisi doğrudur?

- A) $\sec \theta = \cot \theta$
 $\operatorname{cosec} \theta$
B) $\sec \theta \cdot \cot \theta = \operatorname{cosec} \theta$
C) $\operatorname{cosec} \theta \cdot \tan \theta = \cos \theta$
D) $\tan \theta = \frac{1}{\cot \theta}$

Ölçümlerinden biri 4263° olan açının esas ölçüsü aşağıdakilerden hangisidir?

- A) 57
B) 123
C) 237
D) 303

$9 \in \left(\frac{\pi}{2}, \pi \right)$ ve $\tan \theta = \frac{1}{12}$ ise, $\cos \theta$ aşağıdakilerden hangisidir?

- A) 12
13
B) 5
13
C) $\frac{5}{13}$
D) 12
13

10. $\sin 26 = 2 \cdot \sin 6 \cdot \cos 6$ olduğuna göre;
 $\frac{\sin 15 \cdot \cos 15}{4}$ ifadesinin değeri kaçtır?

- A) $\frac{1}{2}$
 B) $\frac{1}{4}$
 C) $\frac{1}{8}$
 D) $\frac{1}{16}$

11. $x = \frac{\pi}{6}$ ise $\frac{\cos 8x - \cos 6x}{\sin 8x + \sin 6x}$ ifadesinin değeri kaçtır?

$$\sin x + \sin y = 2 \cdot \sin \frac{x+y}{2} \cdot \cos \frac{x-y}{2}$$

$$\cos x - \cos y = -2 \cdot \sin \frac{x+y}{2} \cdot \sin \frac{x-y}{2}$$

- A) $-\sqrt{3}$
 B) $\frac{1}{2}$
 C) $\frac{\sqrt{3}}{2}$
 D) $\sqrt{3}$

12. Aşağıdaki eşitliklerden hangisi yanlıştır?

- A) $\cos(-\theta) = \cos \theta$
 B) $\cot(\pi - \theta) = -\cot \theta$
 C) $\sin(-\theta) = \sin \theta$
 D) $\tan(\pi + \theta) = \tan \theta$

13. $\frac{3\pi}{2}$ radyan kaç graddir?

- A) 150
 B) 200
 C) 250
 D) 300

14. 19088 saniyelik açı kaç derece, kaç dakika ve kaç saniyedir?

- A) $40^\circ 19' 8''$
 B) $5^\circ 18' 8''$
 C) $5^\circ 19' 8''$
 D) $5^\circ 29' 8''$

15. $m(A) = 27^\circ 43' 15''$
 $m(\hat{A}) = 13^\circ 46' 46''$
 olduğuna göre, $m(\hat{A}) + m(\hat{A})$ işleminin sonucu kaçtır?

- A) $41^\circ 30' 1''$
 B) $41^\circ 3' 31''$
 C) $40^\circ 29' 1''$
 D) $40^\circ 30' 31''$

16. 90 gradın derece cinsinden değeri aşağıdakilerden hangisidir?

- A) 38
 B) 54
 C) 72
 D) 81

17. Bir ABC üçgeninde $|BC| = 5$ cm, $|AC| = 4$ cm ve $m(C) = 30^\circ$ olduğuna göre ABC üçgeninin alanı kaç cm dir?

- A) 5
 B) 5^2
 C) $5\sqrt{3}$
 D) 10

18. $\sin 330^\circ$ 'un değeri aşağıdakilerden hangisidir?

- A) $\frac{\sqrt{3}}{2}$
 B) $-\frac{1}{2}$
 C) $\frac{1}{2}$
 D) $\frac{\sqrt{3}}{2}$

19. Ölçümlerinden biri π radyan olan açının esas ölçüsü aşağıdakilerden hangisidir?

- A) $\frac{\pi}{7}$
 B) $\frac{\pi}{7}$
 C) $\frac{\pi}{7}$
 D) 6π
 $\sim \pi$

20. $\sin 2a = 2 \cdot \sin a \cdot \cos a$ olduğuna göre;
 $\cos 2a = 2 \cdot \cos^2 a - 1$

$\frac{\sin a - \sin 2a}{\cos a - \cos 2a} - 1$ ifadesinin sadeleşmiş biçimi aşağıdakilerden hangisidir?

- A) $\cot a$
 B) $\sin^2 a$
 C) $\tan a$
 D) $\sin a - \cos a$

1. Günlük yaşamda, evde, sokakta, çarşı pazarda kullanılan dile ne ad verilir?

- A) Yazı dili
- B) Konuşma dili
- C) Lehçe
- D) Ağız

2. Aşağıdakilerden hangisi iletişimi oluşturan öğelerden biri değildir?

- A) Bağlam
- B) Alıcı
- C) İleti
- D) Ortam

3. Dilin doğuşunu, gelişimini, seslerini, sözcük yapılarını, sözcüklerin anlamını, sözcük köklerini ve cümle kuruluşunu inceleyen bilim dalı aşağıdakilerden hangisidir?

- A) Ses Bilgisi
- B) Dil Bilgisi
- C) Köken Bilim
- D) Anlam Bilim

"Dil" ile ilgili aşağıdaki ifadelerden hangisi yanlıştır?

- A) Dilin kendine göre birtakım yasaları vardır.
- B) Dil, canlılar arasında anlaşma sağlayan sosyal bir kurumdur.
- C) Dil, canlı bir varlıktır.
- D) Dil sayesinde toplumdaki bireyler bir araya gelir.

5. Aşağıdakilerden hangisi dil bilgisinin bölümlerinden biri değildir?

- A) Morfoloji
- B) Etimoloji
- C) Pedagoji
- D) Fonetik

6. Aşağıdakilerden hangisi iletişim kurmak için gerekli temel öğelerden biri değildir?

- A) Kaynak
- B) İleti
- C) Alıcı
- D) Yöntem

Aşağıdakilerden hangisi yapı bakımından dünya dillerinden olan, tek heceli dillerin özelliklerinden biri değildir?

- A) Sözcüklerde çekim eki vardır.
- B) Sözcükler ek almadan, büküme, değişime uğramazlar.
- C) Sözcüklerde vurgu hakimdir.
- D) Bir sözcük yerine göre 10-15 anlam kazanabilir.

8. İlk Türkçe belgelerin ortaya konulduğu çağ aşağıdakilerden hangisidir?

- A) İlk Türkçe Çağı
- B) En Eski Türkçe Çağı
- C) Altay Çağı
- D) Eski Türkçe Çağı

9. Diller arasındaki yakınlık ve benzerliğe ne ad verilir?

- A) Dil kardeşliği
- B) Dil birliği
- C) Dil yakınlığı
- D) Dil akrabalığı

10. Türkçenin dünya dilleri arasındaki yeri aşağıdakilerin hangisinde doğru olarak verilmiştir?

- A) Hami-Sami dilleri
- B) Hint Avrupa dilleri
- C) Ural-Altay dilleri
- D) Bantu dilleri

11. Akatça, Arapça ve İbranice dilleri, köken bakımından yeryüzündeki hangi dil ailesine girer?

- A) Bantu
- B) Hami-Sami
- C) Çin
- D) Ural-Altay

12. Aşağıdakilerden hangisi Ural-Altay dillerinin özelliklerinden biri değildir?

- A) Bazı çekim ekleri, yapım eki olarak da kullanılır.
- B) Sözcüklerde dil bilgisi bakımından dişi ve erkek tür ayrımı yoktur.
- C) Baştan eklemeli bir yapısı vardır.
- D) Ses, yapı ve söz dizini bakımından benzerlikler bulunur.

13. Aşağıdakilerden hangisi eklemeli(bitişken) dillerden biridir?

- A) Almanca
- B) Fransızca
- C) Hintçe
- D) Türkçe

14. Aşağıdaki sözcüklerden hangisinde yumuşama yoktur?

- A) Yağa
- B) Yatağı
- C) Kitabı
- D) Ağaca

15. Aşağıdakilerden hangisinde sayıların yazımıyla ilgili bir yazım yanlışı vardır?

- A) İki hafta sonrasına randevulaştık.
- B) 100 liralık alışveriş yaptım.
- C) Üçe beş kala orada olurum.
- D) Onsekizime girmeme az kaldı.

16. Aşağıdaki cümlelerin hangisinde ünlü düşmesine uğramış bir sözcük vardır?

- A) Ayağa kalkacak halim yok.
- B) Gelirken bana haber ver.
- C) Burnuma güzel kokular geliyor.
- D) Bu renk sana yakıştı.

17. Aşağıdaki sözcüklerin hangisine ek getirildiğinde kesme işareti (') kullanılmaz?

- A) Akarsu
- B) Ankara
- C) Atatürk
- D) Türkiye

18. Aşağıdakilerin hangisinde büyük harflerin yazımıyla ilgili bir yanlışı yapılmıştır?

- A) 31 Aralık Cuma günü yılbaşı.
- B) Annem kardeşime masal okuyor.
- C) Leyla hanım sizi sordu.
- D) Doktor Selim burada mı?

19. Aşağıdakilerden hangisi ünlülerin sınıflandırılması ile ilgili yanlış bir ifadedir?

- A) Ünlüler söyleniş sırasında dişlerin, yanakların ve damağın aldığı biçime göre sınıflandırılır.
- B) Ünlüler söyleniş sırasında dilin, çenenin ve dudakların aldığı biçime göre sınıflandırılır.
- C) Dilin durumuna göre ünlüler kalın ve ince olmak üzere ikiye ayrılır.
- D) Alt çenenin durumuna göre ünlüler geniş ve dar olmak üzere ikiye ayrılır.

20. Aşağıdakilerden hangisi en geniş anlamıyla söyleyişin tanımıdır?

- A) Hava içerisinde oluşan titreşimin kulakta duyulması
- B) Konuşmayı sağlayan hareketlerin tümü
- C) Nefes borusundan gelen havanın, ağız boşluğu içerisinde herhangi bir bölgede sese dönüşmesi
- D) Anlatıma duygu, düşünce, heyecan, yumuşaklık, sertlik katmak amacıyla sesin farklı kullanılması

1. Edebiyat kurallarını öğreten Talim-i Edebiyat adlı eserin yazarı aşağıdakilerden hangisidir?

- A) Ahmet Mithat Efendi
- B) Ahmet Vefik Paşa
- C) Şemsettin Sami
- D) Recaizâde Mahmut Ekrem

2. Aşağıdakilerden hangisi Tanzimat Döneminde yayınlanan Mk resmi gazetedir?

- A) Diyojen
- B) Tercüman-ı Hakikat
- C) Takvim-i Vekayi
- D) Ceride-i Havadis

3. Ziya Paşa'nın eski edebiyatımızda olmayan düşünceleri ele aldığı, toplumu bilinçlendirmeye çalıştığı, toplumun sorunlarına çare aradığı eseri aşağıdakilerden hangisidir?

- A) Harabat
- B) Terki-i Bend
- C) Zafername
- D) Emile

4. Recaizâde Mahmut Ekrem'in mirasyedilik anlayışını ve Batılılaşmayı yanlış algılayan zihniyeti eleştirdiği, konusunu gerçek hayattan alan eseri aşağıdakilerden hangisidir?

- A) Araba Sevdası
- B) Eşber
- C) Harabat
- D) Afife Anjelik

5. Türk edebiyatında Mk edebî roman aşağıdakilerden hangisidir?

- A) İntibah
- B) İçli Kız
- C) Küçük Şeyler
- D) Araba Sevdası

6. Edebiyat ile ilgili aşağıdaki ifadelerden hangisi yanlıştır?

- A) Kültür ile arasında sıkı bir bağ vardır.
- B) Toplumun siyasi ve sosyal yapısından etkilenir.
- C) Diğer bilim dalları ile ilgisi yoktur.
- D) İnsanın kendisini tanımasını sağlar.

7. Aşağıdakilerden hangisi Tanzimat Edebiyatının ikinci döneminin önemli temsilcilerinden biri değildir?

- A) Şinasi
- B) Abdülhak Hamit
- C) Recaizâde Mahmut Ekrem
- D) Samipaşazâde Sezaî

8. Tanzimat Dönemi Türk edebiyatında tutsaklık ve insan ticareti üzerine yazılmış eserlerin en ünlüsü aşağıdakilerden hangisidir?

- A) İbret
- B) Şıpsıvdi
- C) Zemzeme
- D) Sergüzeşt

Tanzimat Edebiyatının genel özellikleri ile ilgili aşağıdaki ifadelerden hangisi doğrudur?

- A) Gerçek üstü konular işlenmiştir.
- B) Hikaye, roman, tiyatro gibi yeni türler edebiyatımıza girmiştir.
- C) Uzun cümleler ve sanatlı anlatım biçimleri benimsenmiştir.
- D) Beyitlerin tek başına güzelliğine önem verilmiştir.

10. Namık Kemal şiirlerinde aşağıdakilerden hangisine ağırlık vermemiştir?

- A) Hürriyet
- B) Aşk
- C) Halk
- D) Millet

11. Tanzimat Fermanı'nı 3 Kasım 1839 tarihinde Gülhane Parkı'nda halka okuyan devlet adamı kimdir?

- A) Mustafa Reşit Paşa
- B) Ahmet Vefik Paşa
- C) I. Abdülmecit
- D) Damat İbrahim Paşa

12. Türk edebiyatında, makale türünde yazı kaleme alan Mk yazar kimdir?

- A) Ziya Paşa
- B) Namık Kemal
- C) Şinasi
- D) Ahmet Mithat

13. Tanzimat dönemi Türk edebiyatında yazılan ilk makale aşağıdakilerden hangisidir?

- A) Cezmi
- B) Taaşuk-ı Talat ve Fitnat
- C) Tercüman-ı Ahval Mukaddimesi
- D) Son Pişmanlık

14. Ölen bir kişinin ardından onun kahramanlıklarını, yiğitliklerini anlatmak için yazılan eserlere ne ad verilir?

- A) Rubai
- B) Murabba
- C) Terkibibent
- D) Mersiye

15. Tanzimat dönemi Türk edebiyatında kaleme alınan Mk yerli roman ve yazarı, aşağıdakilerden hangisinde birlikte ve doğru olarak verilmiştir?

- A) Celalettin Harzemşah - Namık Kemal
- B) Taaşuk-ı Talat ve Fitnat - Şemsettin Sami
- C) Sabr u Sebat - Abdülhak Hâmit Tarhan
- D) Afife Anjelik - Recaiâde Mahmut Ekrem

16. Gerçeğin hayal dünyasında yeniden şekillendiği metinlere ne ad verilir?

- A) Yazılı metin
- B) Hayalî metin
- C) Hikâye
- D) Kurmaca metin

17. Tanzimat Fermanı'nın ilanından sonra ülkemizde hangi ülkenin kültürü ve edebiyatı örnek alınmıştır?

- A) Fransa
- B) İngiltere
- C) İran
- D) Rusya

18. Edebi eserin özellikleri ile ilgili aşağıdaki ifadelerden hangisi yanlıştır?

- A) Toplumun tarihi koşullarından da esinlenir.
- B) Kaynağını toplumun sosyal ve siyasi yapısından alır.
- C) Aynı anda hem toplumsal hem de ekonomik alanı ilişkilendirir.
- D) Dil, yapı ve içerik yönünden yazıldığı dönemi yansıtır.

19. Aşağıdakilerden hangisi, Muallim Naci'nin eserleri arasında yer almaz?

- A) Füzûzan
- B) Taaşuk-ı Talat ve Fitnat
- C) Şerare
- D) Ateş-pare

20. Fenelon'un Telemaque (Telemak) isimli romanı 1859 yılında kim tarafından Türkçeye çevrilmiştir?

- A) Agâh Efendi
- B) Namık Kemal
- C) Şinasi
- D) Yusuf Kamil Paşa

1. 3 MHz frekansta yayın yapan bir radyo istasyonunun yayınladığı radyo dalgasının dalga boyu kaçtır? ($c=3.10^8$ km/s)
- A) 60
B) 80
C) 100
D) 120
2. Bir lambanın elektriksel direnci 5 ohm'dur. Lambanın uçları arasındaki elektriksel potansiyel farkı 25 V olduğuna göre, lambadan geçen akım kaç A'dir?
- A) 5
B) 8
C) 10
D) 12
3. Her biri 5 ohm dirence sahip iletkenlerden kaç tanesi paralel bağlanırsa eşdeğer direnç 1 ohm olur?
- A) 2
B) 3
C) 4
D) 5
4. I. Güneş'ten gelen zararlı ışınların Dünya'ya ulaşmasını engeller.
II. Güneş ışınlarının Dünya'ya geliş açısını değiştirir.
III. Pusulanın kullanılmasını sağlar.
- Yukarıdakilerden hangileri Dünya'nın manyetik alanı tarafından sağlanmaktadır?**
- A) Yalnız I
B) I ve II
C) I ve III
D) II ve III
5. Bir atlet önce kuzeye doğru 80 m, sonra doğuya doğru kaç metre koşarsa 100 m yer değiştirmiş olur?
- A) 60
B) 70
C) 80
D) 90
6. Elektrik devreleriyle ilgili aşağıdaki ifadelerden hangisi doğrudur?
- A) Paralel bağlı devre elemanları üzerindeki potansiyel farkı birbirinden farklıdır.
B) Seri bağlı lambalardan geçen akım birbirinden farklıdır.
C) Seri bağlı devredeki lamba sayısı arttıkça parlaklıkları azalır.
D) Devreye akım veren pilin elektromotor kuvveti devredeki direnç arttıkça artar.
7. Bir dalga kaynağı tarafından üretilen dalgalarda arka arkaya gelen dalga tepeleri arasındaki uzaklık 20 cm ve yayılma hızı 80 cm/s olduğuna göre, 30 s'de kaç tam dalga yayınlanır?
- A) 100
B) 120
C) 140
D) 160
8. Bir otomobil XA = 10 m koordinatına sahip A noktasından itibaren 70 m yerdeğişimi yaparak B noktasına ulaşıyor. Buna göre, B noktasının XB koordinatı kaç m'dir?
- A) 80
B) 90
C) 140
D) 180
- Güneşin kütlesi $1,98.10^{30}$ kg ve dünya ile güneş arasındaki uzaklık $R=1,49.10^{11}$ m'dir. Dünyanın kütlesi $5,98.10^{24}$ kg olduğuna göre, güneşin dünyaya uyguladığı kuvvet kaç N'dur? (Evrensel çekim sabiti $G=6,67.10^{-11}$ Nm²/kg²)
- A) $2,49.10^{-22}$
B) $5,98.10^{-22}$
C) $3,56.10^{22}$
D) $4,49.10^{22}$
10. Aralarında d uzaklığı bulunan iki bisikletli 40 m/s ve 30 m/s sabit hızlarla, aynı yön ve doğrultuda harekete başlıyorlar. İki bisikletlinin yan yana gelmesi için 10 s geçtiğine göre, başlangıçta aralarındaki d uzaklığı kaç m'dir?
- A) 40
B) 60
C) 80
D) 100

11. Hızı 50 m/s ve frekansı $0,5 \text{ s}^{-1}$ olan bir dalganın dalga boyu kaç m'dir?

- A) 100
- B) 150
- C) 200
- D) 250

12. Demir, porselen, nikel, kağıt parçaları, yün kumaş, ebonit çubuk malzemelerinden kaç tanesini mıknatıs çekmez?

- A) 3
- B) 4
- C) 5
- D) 6

13. I. Mikro dalga
II. Görünür ışık
III. Radyo dalgaları
IV. Röntgen dalgaları
V. Elektromanyetik dalga

Yukarıdakilerden hangileri boşlukta 3.10^8 km/s hızla yayılır?

- A) I, II ve III
- B) I, II ve V
- C) III, IV ve V
- D) I, II, III, IV ve V

14. Bir iletken kesitinden 2 dk'da 240 C elektrik yükü geçtiğine göre, geçen akım kaç A'dır?

- A) 1
- B) 2
- C) 3
- D) 6

15. I. Telin etrafında oluşan manyetik alan uzaklıkla ters orantılıdır.
II. Telin etrafında oluşan manyetik alan akımla ters orantılıdır.
III. Meydana gelen manyetik alan tele dik doğrultuda etki eder.

Akım taşıyan bir telle ilgili yukarıdaki ifadelerden hangileri doğrudur?

- A) Yalnız I
- B) Yalnız II
- C) I ve II
- D) II ve III

16. $9,7.10^{-8}$ ohm.m öz direncine sahip, 600 m uzunlukta, 1 mm yarıçapında metal bir iletken telin direnci kaç ohm'dur? ($r_c=3$)

- A) 3,6
- B) 4,7
- C) 9,7
- D) 19,4

17. Bir otomobil 108 km'lik bir yolu 10 m/s sabit hızla kaç saatte (h) alır?

- A) 2
- B) 3
- C) 4
- D) 5

18. Her biri 5 ohm direncine sahip iletkenlerden dokuz tanesi seri bağlanırsa eşdeğer direnç kaç ohm olur?

- A) 35
- B) 40
- C) 45
- D) 50

19. Aşağıdaki ifadelerden hangisi yanlıştır?

- A) Elektrik motoru elektrik enerjisini hareket enerjisine dönüştürür.
- B) Paralel bağlı özdeş lambalardaki potansiyel farkı arttıkça parlaklıklar artar.
- C) İletkenin boyu üç katına çıkarsa direnci üç katına çıkar.
- D) Manyetik alandaki akım taşıyan iletken tele etkiyen kuvvet geçen akımla ters orantılıdır.

20. Frekansı 20 s^{-1} olan bir dalga 100 m/s hızla yayılırsa dalga boyu kaç m olur?

- A) 5
- B) 15
- C) 20
- D) 25

1. İnsanda gametlerin döllenmesiyle oluşan zigot kaç kromozomludur?

- A) 4
- B) 16
- C) 23
- D) 46

Tek bir dişi organ ve çiçek tablasından meydana gelen meyveye ne ad verilir?

- A) Bileşik gerçek meyve
- B) Bileşik yalancı meyve
- C) Basit yalancı meyve
- D) Basit gerçek meyve

2. Aşağıdakilerden hangisi eşeysiz üreme şekillerinden biri değildir?

- A) Bölünme
- B) Sporlanma
- C) İzogami
- D) Tomurcuklanma

7. Erkek organa ait polenlerin su, rüzgâr, hava, hayvanlar vb. aracılığıyla dişi organın tepeciğine ulaşmasına ne ad verilir?

- A) Oogami
- B) Tozlaşma
- C) Konjugasyon
- D) Birleşme

3. Ana bitkinin gövde, dal, yaprak gibi organlarının döllenme olmaksızın gelişerek yeni bir bitkiyi oluşturmasına ne ad verilir?

- A) Anizogami
- B) Oogami
- C) Tomurcuklanma
- D) Vejetatif üreme

8. Döllenme sonucunda diploit yapıya sahip döllenmiş yumurta hücresine ne ad verilir?

- A) Embriyo
- B) Spor
- C) Polen
- D) Zigot

4. İnsanda sperm hücresi nerede oluşur?

- A) Ovaryumlarda
- B) Prostatta
- C) Testislerde
- D) Vajinada

9. Şekil, büyüklük ve yapı yönünden farklı olan gametlerin birleşmesi sonucu görülen üreme şekli aşağıdakilerden hangisidir?

- A) Hermafroditizm
- B) Heterogami
- C) Partenogenez
- D) Konjugasyon

5. Aşağıdakilerden hangisi iki evcikli bitkilerden biridir?

- A) Çam
- B) Ceviz
- C) Fındık
- D) Kavak

10. Bitkilerde tohum ve dişi organın gelişmesiyle meydana gelen yapıya ne ad verilir?

- A) Dal
- B) Çenek
- C) Anter
- D) Meyve

11. Aşağıdakilerden hangisinde dış dölleme görülür?

- A) Kaplan
- B) Somon balığı
- C) Tavus kuşu
- D) Fok

12. Yumurtadan çıkan bir canlının ergin oluncaya kadar geçirmiş olduğu değişim evrelerine ne ad verilir?

- A) Başkalaşım
- B) Büyüme
- C) Bölünme
- D) Yenilenme

13. İnsan embriyosu gelişimi sürerken, kalp atışları kaçınıcı ayda başlar?

- A) 2.
- B) 3.
- C) 4.
- D) 5.

14. Ortalama 40-45 yıl yaşayan hayvan aşağıdakilerden hangisidir?

- A) At
- B) Kaplumbağa
- C) Balina
- D) Köpek

15. Aşağıdaki bitkilerden hangisi tek çeneklidir?

- A) Fasulye
- B) Mısır
- C) Bezelye
- D) Badem

16. Bitkilerde gövde uzamasını, meyve büyümesini hızlandıran ve tohumun çimlenmesini uyaran hormon aşağıdakilerden hangisidir?

- A) Giberellin
- B) Etilen
- C) Absisik asit
- D) Oksin

17. Tohumun uygun koşullarda mitoz bölünme ile gelişerek genç bitkiyi oluşturmasına ne ad verilir?

- A) Büyüme
- B) Çimlenme
- C) Tomurcuklanma
- D) Filizlenme

18. Aşağıdakilerden hangisi tohumun çimlenmesi için gerekli olan koşullardan biri değildir?

- A) Yeterli gübre
- B) Uygun sıcaklık
- C) Yeterli oksijen
- D) Uygun nem

19. İnsanda gebelik süresi kaç gündür?

- A) 210
- B) 240
- C) 280
- D) 320

20. Embriyonun beslenmesi için gerekli olan besini depolayan embriyonik örtü aşağıdakilerden hangisidir?

- A) Vitellüs kesesi
- B) Koryon
- C) Allantoyis
- D) Amniyon kesesi

ÇAĞDAŞ TÜRK VE DÜNYA TARİHİ 1

A

2014 II.DÖNEM 0103-A

1. I. Dünya Savaşı sonunda dünyanın bir daha böyle büyük felaketlerle karşılaşmaması için aşağıdakilerden hangisi kurulmuştur?

- A) Birleşmiş Milletler
- B) Varşova Paktı
- C) Milletler Cemiyeti
- D) Kuzey Atlantik Paktı

2. Pancermenizm (Cermen birliği) politikası gereği Rusya'nın Balkanlara yerleşmesine karsi olan devlet aşağıdakilerden hangisidir?

- A) İngiltere
- B) Fransa
- C) İtalya
- D) Almanya

3. Aşağıdaki ülkelerden hangisi Sadabat Paktı'nda ver almamıştır?

- A) Türkiye
- B) Romanya
- C) İran
- D) Afganistan

4. Hatay'ın Türkiye'ye katıldığı yıl aşağıdakilerden hangisidir?

- A) 1939
- B) 1948
- C) 1953
- D) 1955

5. 15 Ağustos 1905 tarihinde "Rusya Müslümanları I. Kongresi"nin gayri resmi olarak toplanmasında aşağıdaki kişilerden hangisinin çalışmaları etkili olmuştur?

- A) İsmail Gaspıralı
- B) Hakan Mahmud b. Muhammed
- C) İshak İbrahim
- D) Kadır Han Cibril

Birinci Dünya Savaşı sonunda İtilaf devletleriyle Almanya arasında yapılan barış antlaşması aşağıdakilerden hangisidir?

- A) Saint Germain
- B) Neuilly
- C) Versailles
- D) Trianon

7. Aşağıdakilerden hangisi Rusya'nın Brest Litovsk Antlaşması ile Osmanlı Devleti'ne geri verdiği yerlerden biri değildir?

- A) Kars
- B) Ardahan
- C) Batum
- D) Antalya

8. Paris Barış Konferansı'na katılan aşağıdaki devletlerden hangisinin beklentisi Almanya'nın denizlerdeki gücünün azaltıp sömürgelerini ele geçirerek Almanya'yı etkisiz hâle getirmektir?

- A) İtalya
- B) ABD
- C) Sırbistan
- D) İngiltere

9. "Berlin-Roma Mihveri" hangi devletler arasında kurulmuştur?

- A) Almanya ve İtalya
- B) İngiltere ve Fransa
- C) Rusya ve ABD
- D) Japonya ve Çin

10. Aşağıdakilerden hangisi II. Dünya Savaşı'nın mağlup devletlerinden biridir?

- A) ABD
- B) İtalya
- C) Fransa
- D) İngiltere

11. II. Dünya Savaşı'na giden dönemde İngiltere Başbakanı Chamberlain'la özdeşleyen siyaset aşağıdakilerden hangisidir?

- A) Soğuk Savaş
- B) Mekik Diplomasisi
- C) Yatıştırma Politikası
- D) Denge Politikası

12. II. Dünya Savaşı hangi yıllar arasında gerçekleşmiştir?

- A) 1918-1924
- B) 1930-1936
- C) 1939-1945
- D) 1950-1956

13. ABD'nin II. Dünya Savaşı'na girmesinde etkili olan olay aşağıdakilerden hangisidir?

- A) Rusya'da Bolşevik İhtilali'nin çıkması
- B) Pearl Harbour Baskını
- C) İtalya'nın Trablusgrap'ı işgali
- D) Reval Görüşmeleri

14. II. Dünya Savaşı'nda Ardennes'te Fransızların "aşılmaz" Maginot Hattı'nı yarararak geçen devlet aşağıdakilerden hangisidir?

- A) Almanya
- B) ABD
- C) İngiltere
- D) Çin

15. II. Dünya Savaşı sırasında SSCB'ye karşı "Barbarossa" harekâtını başlatan devlet aşağıdakilerden hangisidir?

- A) Almanya
- B) ABD
- C) İngiltere
- D) Fransa

16. II. Dünya Savaşı'nda Almanları durduran ve ilk kez yenilgiye uğratan devlet aşağıdakilerden hangisidir?

- A) Japonya
- B) SSCB
- C) İtalya
- D) Sırbistan

17. Türkiye Cumhuriyeti'nin Mk kez yurt dışına asker gönderdiği savaş aşağıdakilerden hangisidir?

- A) Trablusgarp Savaşı
- B) I. Balkan Savaşı
- C) II. Balkan Savaşı
- D) Kore Savaşı

18. Aşağıdakilerden hangisi Balkan Pakti'nin oluşturan devletlerden biri değildir?

- A) Türkiye
- B) İtalya
- C) Yunanistan
- D) Yugoslavya

19. Hindistan'da resmî olarak 'Ulus'un Babası' ilan edilmiş kişi aşağıdakilerden hangisidir?

- A) Joseph Stalin
- B) Adolf Hitler
- C) Mahatma Gandhi
- D) Benito Mussolini

20. Aşağıdakilerden hangisi Demokrat Partiyi kuranlardan biri değildir?

- A) Celal Bayar
- B) Adnan Menderes
- C) Fuat Köprülü
- D) Yusuf Akçura

1. Aşağıdakilerden hangisi uygulayıcı emek içinde yer alır?

- A) Temizlikçi
- B) Usta başı
- C) Mühendis
- D) Fabrika şefi

2. Aşağıdakilerden hangisi emek olarak kabul edilebilir?

- A) Tarla sürmek
- B) Dağ sporu yapmak
- C) Zevk için kürek çekmek
- D) Makinelerin ve hayvanların faaliyetleri

3. Aşağıdakilerden hangisi verimliliğe etki eden objektif etkenlerden biridir?

- A) Ücret kesintisi korkusu
- B) İşyerinin sağlık ve teknik bakımından havalandırılması
- C) Çalışanların terfilerinde kayırmacılığın artması
- D) Ücretin kesintiye uğraması

4. Nüfus ile ilgili aşağıdaki ifadelerden hangisi yanlıştır?

- A) Nüfusun yapısını, cinsiyet, yaş, meslek grupları belirtir.
- B) Nüfusa dinamizm kazandıran, doğumlar, ölümler, iç ve dış göçlerdir.
- C) Bir ülkede nüfus miktarı o ülkenin ekonomik faaliyet hacmini, ekonomik gücünü belirleyen bir etkidir.
- D) Bir ülke nüfusunda 20-60 yaş arasındaki olgunlar diliminin büyük olması, ekonomik faaliyetleri azaltır.

5. Kişi başına düşen gelirin artış hızı (net gelişme hızı) nasıl hesaplanır?

- A) Yıllık Gelişme Hızı + Yıllık Nüfus Artış Hızı
- B) Yıllık Gelişme Hızı x Yıllık Nüfus Artış Hızı
- C) Yıllık Gelişme Hızı / Yıllık Nüfus Artış Hızı
- D) Yıllık Gelişme Hızı- Yıllık Nüfus Artış Hızı

6. Aşağıdakilerden hangisi sermayenin oluşmasındaki subjektif faktörlerden biridir?

- A) insanların sahip oldukları servetin gelecekteki değeri
- B) Vergi oranlarının artması
- C) Gelecekte olabilecek istenmeyen durumlara karşı bir yedek gelir oluşturma isteği
- D) Gelir düzeyi

7. Orta vadeli borçların süresiyle ilgili aşağıdakilerden hangisi doğrudur?

- A) 1 - 3 ay vadeli
- B) 3 - 6 ay vadeli
- C) 6 - 9 ay vadeli
- D) 1 - 2 yıl vadeli

Aşağıdakilerden hangisi duran varlıklardan biri değildir?

- A) Binalar
- B) Stoklar
- C) Makineler
- D) Aletler

Aşağıdakilerden hangisi öz sermaye içinde yer almaz?

- A) Kuruluşun sağladığı kârın sahiplerine dağıtılmayarak işletmede bırakılan kısmı
- B) Faaliyetlerin devamı süresince kuruluş sahipleri tarafından getirilen para
- C) Kâr üzerinden alınan yedek akçe
- D) Kuruluşun çalışanlarına olan borçları

10. Hukuksal anlamda sermayenin tanımı aşağıdakilerden hangisidir?

- A) Bir kuruluşun aktifindeki dönen varlıklardır.
- B) Bir kuruluşun aktifindeki duran varlıklardır.
- C) Sosyal veya hukuki bir organizasyonda sahibine çalışmaksızın gelir sağlayan para değerlerinin bütünüdür.
- D) Değişmeyen sermayeyi sağlamak için gerekli paranın bulunduğu kaynakları gösteren kavramdır.

11. Sermayenin tamamı devlete ait olan ve tekel niteliğindeki mallar ile temel mal ve hizmetleri üretmek ve pazarlamak amacıyla yasayla kurulan, kamu hizmeti niteliği ağır basan kuruluşlara ne ad verilir?
- A) İktisadi Devlet Teşekkülleri
B) Kamu İktisadi Kuruluşları
C) Bağlı ortaklık
D) İştirak
12. Aşağıdakilerden hangisi girişimcinin ekonomik işlevlerinden biridir?
- A) Üretim faktörlerini nasıl sağlayacağını belirlemek
B) Üretim faktörleri için gerekli olan sermayenin nereden sağlanacağını planlamak
C) Üretime katılan faktörlerin payını dağıtmak
D) Kuruluş yerini seçmek
13. Kooperatiflerle ilgili aşağıdaki ifadelerden hangisi yanlıştır?
- A) Serbest ve istemli kuruluşlardır.
B) Büyük bir kısmını devlet ve başka kuruluşlar tarafından kurulan kooperatifler oluşturur.
C) Sadece ortaklarına yardım etmek amacıyla kurulmuşlardır.
D) Üyelerine üretim, tüketim ve kredi konularında yardım eder.
14. Şirket borçlarından bütün varlığıyla ve sadece koyduğu sermaye kadar sorumluluk taşıyan iki değişik ortak tipine sahip özel girişim aşağıdakilerden hangisidir?
- A) Adi Komandit Şirket
B) Anonim Şirket
C) Holding
D) Kollektif Şirket
15. Aşağıdakilerden hangisi kolektif şirketin özelliklerinden biridir?
- A) Aksiyon doğrudan doğruya sermayenin göstergesidir.
B) Ortakların sorumluluğu, şirkete koydukları sermaye ile sınırlanmıştır.
C) Şirketin ve ortakların sorumluluğu sınırlanmamıştır.
D) Şirketin sermayesi eşit değer ve belirli sayıda hisselerle ayrılmıştır.
16. Bir hazine bonosunun veya tahvilinin üzerinde yazılı olan faize ne ad verilir?
- A) Reel faiz
B) Nominal faiz
C) Bağlı faiz
D) Serbest faiz
17. Emek bedelinin zaman birimine göre hesaplanarak verilen ücretlere ne ad verilir?
- A) Reel ücret
B) Nominal ücret
C) Zamana göre ücret
D) Parça başına ücret
18. Aşağıdaki kalemlerden hangisi milli gelir hesaplanışında negatif değer alır?
- A) Sübvansiyonlar
B) Vasıtalı (dolaylı) vergiler
C) Hizmetler
D) Sanayi
19. Girişimcinin, ekonomik ve teknik fonksiyonlarının karşılığı olarak milli gelirden aldığı paya ne ad verilir?
- A) Rant
B) Faiz
C) Servet
D) Kâr
20. Aşağıdakilerden hangisi gelir olarak kabul edilmez?
- A) Miras
B) Kâr
C) Ücret
D) Rant

TEMEL DİNİ BİLGİLER 2

A

2014 II.DÖNEM 0103-A

1. Aşağıdaki peygamberlerden hangisi kendisine "Suhuf" verilen resullerden biri değildir?

- A) Hz. Âdem
- B) Hz. İbrahim
- C) Hz. İdris
- D) Hz. Yusuf

Matta, Markos, Luka ve Yuhanna İncil'leri hangi konsülde kutsal kabul edilmiştir?

- A) İstanbul
- B) İznik
- C) Efes
- D) Kadıköy

2. Kur'an-ı Kerim'i toplamakla görevli komisyonun başkanı aşağıdakilerden hangisidir?

- A) Zeyd b. Sabit
- B) Hz. Ali
- C) Abdullah b.Ömer
- D) Sa'd b. Ebi Vakkas

Aşağıdakilerden hangisi vahiy kelimesinin anlamlarından biri değildir?

- A) Telkin
- B) Fısıldama
- C) Delil
- D) Haberleşme

3. Kur'an-ı Kerim'i açıklarken sadece tarihi bilgilerle yetinmeyip dil, edebiyat, dinler tarihi ve sosyoloji gibi bilimlerden de yararlanılarak yazılan tefsir çeşidi aşağıdakilerden hangisidir?

- A) Rivayet Tefsiri
- B) Dirayet Tefsiri
- C) Lügavî Tefsir
- D) İlmî Tefsir

8. Hz. Peygamber, I. Akabe Biatı'ndan sonra hangi sahabiye İslam'ı öğretmesi için Medine'ye göndermiştir?

- A) Sa'd b. Ebi Vakkas
- B) Abdullah b. Cahş
- C) Zeyd b. Harise
- D) Mus'ab b. Umeyr

4. Kur'an-ı Kerim'de genellikle on ayetten oluşan özel işaretlerle ayrılmış kısımlara ne ad verilir?

- A) Tertil
- B) Hizb
- C) Hıfz
- D) Aşir

9. Mekke'de yaşayan Müslümanlara yapılan baskıların artması sonucu ilk hicret nereye yapılmıştır?

- A) Habeşistan'a
- B) Medine'ye
- C) Suriye'ye
- D) Taife

5. Kur'an'da kaç adet cüz vardır?

- A) 10
- B) 20
- C) 30
- D) 40

10. Hz. Muhammed'in katıldığı üç büyük savaşın tarihsel sıralaması aşağıdakilerin hangisinde doğru olarak verilmiştir?

- A) Bedir - Hendek - Uhud
- B) Uhud - Bedir - Hendek
- C) Hendek- Uhud - Bedir
- D) Bedir - Uhud - Hendek

11. Kendinden önce gelen resulün şeriatını uygulamakla görevli peygamberlere ne ad verilir?

- A) Tebliğ
- B) Fetanet
- C) Nebi
- D) Sıdk

12. Aşağıdakilerden hangisi "hüzün yılı"nda vefat etmiştir?

- A) Hz. Hamza
- B) Abdülmuttalib
- C) Zeyd b. Harise
- D) Ebu Talib

13. Sağlıklı bir toplumu oluşturan bireylerde aşağıdaki özelliklerden hangisinin bulunması beklenemez?

- A) Kişilik özelliklerinin farkında olması
- B) Toplumun etkilendiği temel değerlerden uzak kalması
- C) Hayatı bilinçli yaşayan kişiler olması
- D) Bireylerin, insan sevgisini temel ahlâk kuralı olarak benimsemiş olması

14. "Ey iman edenler! Adaleti titizlikle ayakta tutun, kendiniz, ana-babanız ve yakınlarınız aleyhinde de olsa Allah için doğrulukla şahitlik eden kimselerden olun. İster zengin, ister yoksul olsunlar, Allah onlara sizden daha yakındır. Hislerinize uyup adaletten sapmayınız." (Nisâ suresi 135. Ayet)

Bu ayete göre aşağıdaki ifadelerden hangisi doğrudur?

- A) Kişi şahitlik ederken doğruluktan ayrılmamalıdır.
- B) Ana-baba aleyhinde şahitlik yapılmamalıdır.
- C) Verilen kararlar yoksulların lehine olmalıdır.
- D) Kararlar, kişilerin konumlarına göre verilmelidir.

15. İslam ahlâkının kaynağı aşağıdakilerden hangisidir?

- A) Örf ve adet
- B) Kur'an ve sünnet
- C) Kültürel miras
- D) Akıl ve tecrübe

16. Aşağıdakilerden hangisi astronomiyle uğraşan Müslüman bilim adamlarından biri değildir?

- A) Fahrettin Razi
- B) Nasreddin Tusî
- C) Uluğ Bey
- D) Ali Kuşçu

17. Aşağıdakilerden hangisi Tefsir ilminin amaçlarından biridir?

- A) Hz. Muhammed'in sünnetinin yerel ve evrensel boyutunu kavratmak
- B) Kalbi kötü huylardan temizlemek ve iyi huylarla donatmak
- C) Kur'an'ı indiği tarihî zemin içinde tanıtmak
- D) İnsanlara, özgür ve sorumlu bir varlık olduğunu öğretmek

18. Kur'an-ı Kerim'i doğru ve güzel okumayı konu edinen ilim dalı aşağıdakilerden hangisidir?

- A) Mukabele
- B) Kıraat
- C) Tilavet
- D) Hatim

19. Ahiretin varlığı ile ilgili akli ve dini delillerin ortaya konması, hangi ilim dalının temel konuları arasında yer alır?

- A) Kelam
- B) Fıkıh
- C) Tefsir
- D) Hadis

20. Matematikte sıfırı ilk keşfeden ve logaritma cetvelini oluşturan Müslüman bilim adamı aşağıdakilerden hangisidir?

- A) Ömer Hayyâm
- B) İbrahim bin Ezra
- C) Harezmi
- D) Kerhî

1. Türk Ticaret Kanunu'nun 12.maddesine göre bir işletmeyi kısmen dahi olsa kendi adına işleten kimseye ne ad verilir?

- A) Ekonomist
- B) Tacir
- C) Lider
- D) Yönetici

2. Maslow'un ihtiyaçlar hiyerarşisinde insanların kendi potansiyel güçlerinin farkına varmak, bir işi yalnız başına yapabilmek ve yaratıcı olabilmek için kendilerini sürekli geliştirmeleri ile ilgili gereksinimlere ne ad verilir?

- A) Statü ve saygınlık ihtiyacı
- B) Ait olma ihtiyacı
- C) Kendini geliştirme ihtiyacı
- D) Güvenlik ihtiyacı

3. Kaynakları en ucuz ve en az kullanmayı öngören verimlilik ilkesi aşağıdakilerden hangisidir?

- A) En uygun bileşim ilkesi
- B) İyilik ilkesi
- C) Ekonomiklik ilkesi
- D) Analitiklik ilkesi

4. Aşağıdakilerden hangisi ihtiyaçların sınıflandırılmasında birincil ihtiyaçlar arasında yer almaz?

- A) Araba kullanmak
- B) Yemek yemek
- C) Su içmek
- D) Uyumak

5. Başkalarının ihtiyaçlarını sürekli karşılamak üzere pazarı olan ve pazarda fiyatı oluşan iktisadi mal ve hizmetleri ortaya koymak ve sahibine kâr sağlamak amacı güden işletmelere ne ad verilir?

- A) Vakıf
- B) Kooperatif
- C) Dernek
- D) Girişim

6. Aşağıdakilerden hangisi işletmenin genel amaçlarından biridir?

- A) İşletmenin varlığını devam ettirmek
- B) Personeline yeterli ücret vermek
- C) Tüketicilere nitelikli mal ve hizmet sunmak
- D) Uzun vadeli büyümeyi hedef haline getirmek

7. İşletmelerin belli bir dönem içinde elde ettiği gelirler ile aynı dönem içinde katlandığı giderler arasındaki olumsuz farka ne ad verilir?

- A) Kâr
- B) Fon
- C) Zarar
- D) Faiz

Verilerin toplanması, organize edilmesi, analiz edilmesi, özetlenmesi, sunulması ve bu verilerin bir sonuca varılabilmesi için kullanılmasında yararlanılan bilim dalı aşağıdakilerden hangisidir?

- A) İstatistik
- B) Hukuk
- C) Psikoloji
- D) Antropoloji

9. Bir toplumda düzeni sağlamak amacıyla yürürlükte bulunan yasalar, tüzük ve yönetmeliklerle, yazılı olan ve olmayan diğer kurallar bütününe ne ad verilir?

- A) Hukuk
- B) Psikoloji
- C) Antropoloji
- D) İstatistik

10. İnsan ihtiyaçlarını karşılayan mal ve hizmetleri üreten işletmeleri inceleyen bilim dalı aşağıdakilerden hangisidir?

- A) Ekonomi bilimi
- B) Davranış bilimi
- C) Hukuk bilimi
- D) İşletme bilimi

11. Ticari bir işletmeyi bir ticaret unvanı altında işletmek amacıyla gerçek kişiler arasında kurulan ve ortaklarından hiç birinin sorumluluğu şirket alacaklarına karşı sınırlanmamış olan şirkete ne ad verilir?

- A) Komandit şirket
- B) Kollektifşirket
- C) Limitet şirket
- D) Anonim şirket

12. Aşağıdakilerden hangisi şahıs şirketleri arasında yer alır?

- A) Limited şirket
- B) Anonim şirket
- C) Sermayesi paylara bölünmüş komandit şirket
- D) Komandit şirket

13. Kazanç paylaşma dışında, kanunlarla yasaklanmamış belirli ve ortak bir amacı gerçekleştirmek üzere, en az yedi gerçek veya tüzel kişinin, bilgi ve çalışmalarını sürekli olarak birleştirmek suretiyle oluşturdukları tüzel kişiliğe sahip kişi topluluklarına ne ad verilir?

- A) Kooperatif
- B) Dernek
- C) Vakıf
- D) Kulüp

14. Sermayesi paylara bölünen ve ortaklarından bir veya birkaçı şirket alacaklılarına karşı bir kolektif şirket ortağı, diğerleri bir anonim şirket pay sahibi gibi sorumlu olan şirkete ne ad verilir?

- A) Limitet şirket
- B) Anonim şirket
- C) Kolektif şirket
- D) Sermayesi paylara bölünmüş komandit şirket

15. Müze ve hayvanat bahçeleri kâr amacı gütmeyen işletmelerden hangisine örnektir?

- A) Sosyal organizasyonlar
- B) Koruyucu organizasyonlar
- C) Politik organizasyonlar
- D) Kültürel organizasyonlar

16. Şeker fabrikasının şeker pancarı yetiştirilen alanlara yakın kurulması durumunda etkili olan kuruluş yeri seçimi faktörü aşağıdakilerden hangisidir?

- A) Pazara yakınlık
- B) Yerel yönetim imkânları
- C) Hammadde
- D) İklim koşulları

17. Sigortalı sayılanlara saatlik, günlük, haftalık, aylık veya yıllık olarak para ile ödenen ve süreklilik niteliği taşıyan brüt tutara ne ad verilir?

- A) Faiz
- B) Ücret
- C) Rant
- D) Sermaye

18. Kısa veya uzun vadeli sigorta kolları bakımından adına prim ödenmesi gereken veya kendi adına prim ödemesi gereken kişiye ne ad verilir?

- A) İşveren
- B) Sigortalı
- C) Alt işveren
- D) İşyeri

19. Aşağıdakilerden hangisi kuruluş yeri seçiminde işgücü faktörü değerlendirilirken ele alınan konulardan biri değildir?

- A) İşgücünün aile yapısı
- B) İşgücünün miktarı
- C) İşgücünün niteliği
- D) İşgücünün maliyeti

20. Soğuk yerlerde faaliyet gösteren işletmelerin ısıtılmasının ek maliyet yüklemesi durumunda işletmenin dikkate alması gereken kuruluş yeri faktörü aşağıdakilerden hangisidir?

- A) Atıkların atılması
- B) Enerji ve yakıt
- C) İklim koşulları
- D) Özendirme önlemleri

1. "Ya kilo alacaksın ya da az yemek yiyeceksin." önermesi, önermeler mantığında nasıl sembolleştirilir?

- A) $P \wedge q$
- B) $P \vee q$
- C) $P \wedge q$
- D) $P \gg q$

2. Aşağıdaki önermelerden hangisi bir totolojidir?

- A) $P \vee p$
- B) $p \wedge \sim p$
- C) $\sim p \Leftrightarrow p$
- D) $P \Rightarrow P$

3. $p \vee q$ önermesinin eşdeğeri olan önerme aşağıdakilerden hangisidir?

- A) $P \wedge q$
- B) $P \gg q$
- C) $\sim (\sim p \wedge \sim q)$
- D) $P \wedge q$

4. "İnsanlar paylaşmayı severlerse rahat diyalog kurarlar hem de dürüst ilişkiler yaşarlar." önermesinde kaç tane önerme eklemi ve bileşen kullanılmıştır?

- A) Bir önerme eklemi, bir bileşen
- B) Üç önerme eklemi, bir bileşen
- C) İki önerme eklemi, üç bileşen
- D) Dört önerme eklemi, dört bileşen

5. "Ceren sevimli ve akıllıdır." önermesi nicelene mantığında nasıl sembolleştirilir?

- A) $\forall xFx$
- B) $Fa \wedge Ga$
- C) $Fa \wedge Ga$
- D) $\exists x \wedge Ga$

6. Aşağıdakilerden hangisi mantık felsefesinin amaçlarından biri değildir?

- A) Mantığın kavramlarını sorgulamak
- B) Mantığı gözlem ve deneye dayandırmanın yollarını araştırmak
- C) Mantığın ilkelerini sorgulamak
- D) Mantık değişmezleri ile ilgili sorunları araştırmak

$\sim \exists xGx$ önermesinin eşdeğeri aşağıdakilerden hangisidir?

- A) $\forall x \sim Gx$
- B) $\sim \forall xGx$
- C) $\exists xGx$
- D) $\sim \exists x \sim Gx$

8. Üç değerli mantığa göre aşağıdakilerden hangisi doğrudur?

- A) p "belirsiz" ve q "belirsiz" ise, p "belirsiz" olur.
- B) p "doğru" ve q "belirsiz" ise p "yanlış" olur.
- C) p "belirsiz" ve q "belirsiz" İse p \wedge q "yanlış" olur.
- D) p "yanlış" ve q "yanlış" İse, q \vee q "yanlış" olur.

Doğruluğu açıkça belli olan önermelere ne ad verilir?

- A) Aksiyom
- B) Eşitlik
- C) Tutarlılık
- D) Tanım

10. Önerme ile ilgili aşağıdaki ifadelerden hangisi doğrudur?

- A) Bir önermenin tutarlı olabilmesi için doğruluk tablosundaki tüm yorumlamaların doğru olması gerekir.
- B) Her tutarlı önerme geçerlidir.
- C) Her tutarsız önerme geçerlidir.
- D) Bir önermenin doğruluk tablosundaki tüm yorumlamaları yanlışsa önerme tutarsızdır.

11. Aşağıdaki önermelerden hangisi ikili yüklemli bir önermedir?

- A) Mustafa, Taner ile Semih'ten uzundur.
- B) Özlem başarılıdır.
- C) Orhan ile Ahmet arkadaşdır.
- D) Fuat, piyano çalar.

12. "Kar yağarsa okullar tatil olmaz." önermesi, önermeler mantığında nasıl sembolleştirilir?

- A) $q \wedge p$
 B) $p \rightarrow q$
 C) $\sim p \Rightarrow q$
 D) $p \leftrightarrow q$

13. Aksiyomlardan türetilmiş olan önermelere ne ad verilir?

- A) Teori
 B) Tam tümevarım
 C) Teorem
 D) Eksik tümevarım

14. Aşağıdaki önerme çiftlerinden hangisi birbiriyle tutarlıdır?

- A) $\exists xGx, \exists x\sim Gx$
 B) $\forall xFx, \sim Fa$
 C) $\sim \exists xFx, Fa$
 D) $Ga, \sim Ga$

15. Aşağıdaki önermelerden hangisi p:Yanlış, q:Yanlış kabul edildiğinde "Doğru" değerini alır?

- A) $\sim p \Rightarrow q$
 B) $p \Leftrightarrow q$
 C) $p \vee q$
 D) $p \wedge q$

16. Kiplik mantığına göre, "üç artı altının dokuz etmesi zorunludur ama ısınan havanın yükselmesi mümkündür." önermesinin sembolleştirilmiş hali aşağıdakilerden hangisidir?

- A) $\bullet q \wedge p$
 B) $\bullet p \rightarrow 0 p$
 C) $0 p \wedge \bullet q$
 D) $0 p \leftrightarrow \bullet q$

17. Aşağıdaki önermelerden hangisi sembolik mantıkta bileşik bir önermedir?

- A) Mehmet çok çalışandır.
 B) Bütün insanlar akıllıdır.
 C) Mozart filozof değildir.
 D) Zeynep yaşlıdır.

18. Aşağıdaki önermelerden hangisi geçerlidir?

- A) $\exists xGx \wedge \exists xHx$
 B) $\forall xFx \vee \forall xGx$
 C) $\sim (\exists xGx \rightarrow \forall xGx)$
 D) $\forall xFx \vee \sim \forall xFx$

19. "Uçan halı vardır." önermesi varlık mantığında nasıl sembolleştirilir?

- A) $a = a$
 B) $\bullet p$
 C) $a = b$
 D) $E ! a$

20. Kiplik mantığına göre aşağıdaki önermelerden hangisi bütün mümkün dünyalarda yanlıştır?

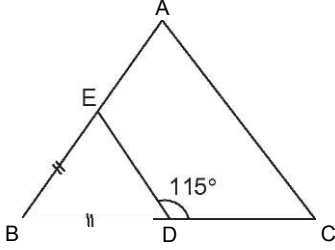
- A) Menekşe mordur ve menekşe mor değildir.
 B) Anıtkabir Ankara'dadır veya Anıtkabir Ankara'da değildir.
 C) Altın sarı değildir.
 D) Dikdörtgen dört kenarlıdır.

GEOMETRİ 4

A

2014 II.DÖNEM 0103-A

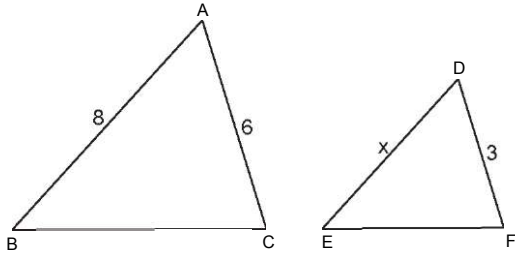
1.



Yukarıdaki ABC üçgeninde, $|AB|=|AC|$, $|BE|=|BD|$, $m(\angle EDC) = 115^\circ$ ise, $m(\angle BAC)$ kaç derecedir?

- A) 65
- B) 70
- C) 72
- D) 80

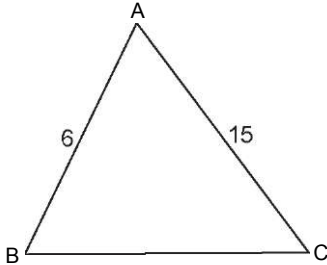
2.



Yukarıdaki şekilde, $|AB|=8$ cm, $|AC|=6$ cm, $|DF|=3$ cm ve $ABC \sim DEF$ ise, x kaç cm dir?

- A) 4
- B) 5
- C) 6
- D) 8

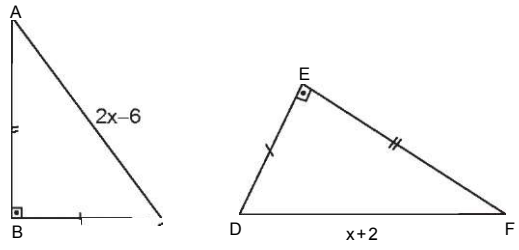
3.



Yukarıdaki ABC üçgeninde, $|AB|=6$ cm, $|AC|=15$ cm olduğuna göre, $|BC|$ nin alabileceği kaç tane tamsayı değeri vardır?

- A) 7
- B) 9
- C) 10
- D) 11

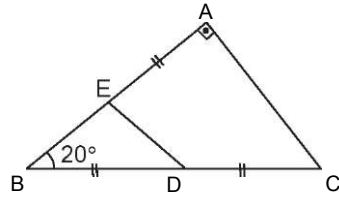
4.



Yukarıdaki şekilde, $|AB|=|EF|$, $|BC|=|DE|$ ve $ABC = FED$ olduğuna göre, x kaçtır?

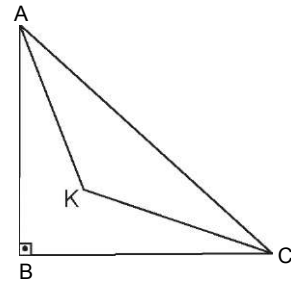
- A) 4
- B) 8
- C) 12
- D) 16

5.



Yukarıdaki şekilde ABC dik üçgen, $|AE|=|BD|=|DC|$, $m(\angle ABC) = 20^\circ$ ise, $m(\angle AED)$ kaç derecedir?

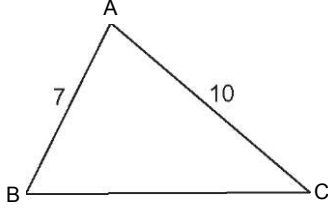
- A) 50
- B) 60
- C) 70
- D) 80



Yukarıdaki şekilde K noktası, ABC dik üçgeninde açıortayların kesim noktasıdır.

Buna göre, $m(\angle AKC)$ kaç derecedir?

- A) 150
- B) 145
- C) 135
- D) 120

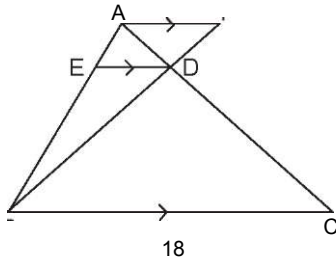


Yukarıdaki ABC üçgeninde, $m(\widehat{BAC}) > 90^\circ$, $|AB|=7$ cm, $|AC|=10$ cm olduğuna göre, $|BC|$ nin alabileceği tamsayı değerlerinin toplamı kaçtır?

- A) 58
B) 63
C) 70
D) 72

8- Alanları toplamı 195 cm^2 olan benzer iki üçgenin çevreleri oranı $\frac{1}{2}$ ise, küçük üçgenin alanı kaç cm^2 dir?

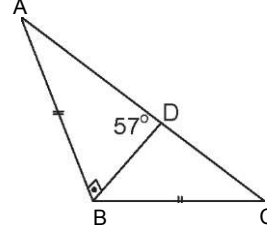
- A) 80
B) 64
C) 56
D) 48



Yukarıdaki şekilde, $[AF] \parallel [ED] \parallel [BC]$, $|EB| = 3|AE|$, $|BC| = 18$ cm olduğuna göre, $|AF|$ kaç cm dir?

- A) 4
B) 6
C) 8
D) 9

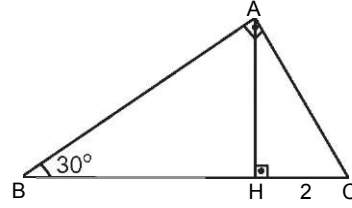
10.



Yukarıdaki ABC üçgeninde, $[AB] \perp [DB]$, $|AB|=|BC|$, $m(\widehat{A\hat{B}D}) = 57^\circ$ olduğuna göre, $m(\widehat{DBC})$ kaç derecedir?

- A) 24
B) 21
C) 17
D) 15

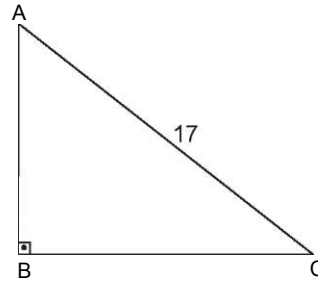
11.



Yukarıdaki şekilde, $[AB] \perp [AC]$, $[AH] \perp [BC]$, $m(\widehat{ABC}) = 30^\circ$, $|HC|=2$ cm olduğuna göre, $|BC|$ kaç cm dir?

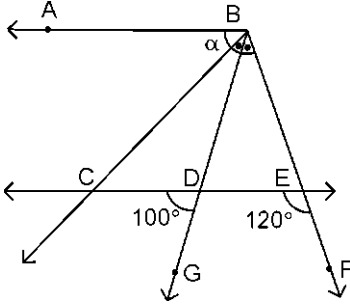
- A) 10
B) 8
C) 6
D) 4

12.



Yukarıdaki ABC üçgeninde $[AB] \perp [BC]$, $|BC|=|AB| + 7$ ve $|AC|=17$ cm ise, $\frac{A}{\text{Çevre}} (\widehat{ABC})$ kaç cm dir?

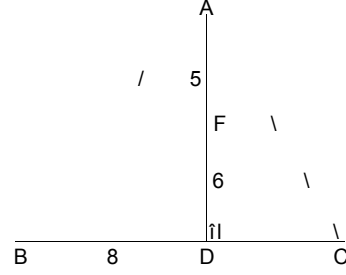
- A) 40
B) 45
C) 48
D) 52



Yukarıdaki _____ şekilde \wedge $[BA//CE]$,
 $m(\angle CBG) = m(\angle GBF)$, $m(\angle CDG) = 100^\circ$ ve
 $m(\angle CEF) = 120^\circ$ ise, $m(\angle ABC) = a$ kaç
 derecedir?

- A) 84
 B) 80
 C) 70
 D) 66

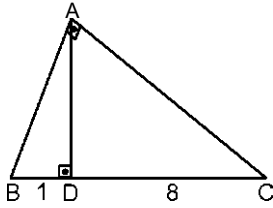
A 10.



Yukarıdaki ABC üçgeninde, $[AD] \perp [BC]$,
 $[BE] \perp [AC]$, $|AF| = 5$ cm, $|FD| = 6$ cm,
 $|BD| = 8$ cm olduğuna göre, AEF üçgeninin
 çevresi kaç cm dir?

- A) 15
 B) 13
 C) 12
 D) 10

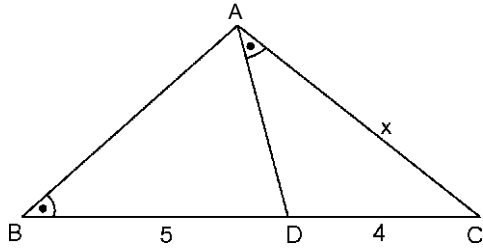
14.



Yukarıdaki ABC dik üçgeninde, $[AD] \perp [BC]$,
 $|BD| = 1$ cm, $|DC| = 8$ cm olduğuna göre, $|AB|$
 kaç cm dir?

- A) $\sqrt{2}$
 B) $2\sqrt{2}$
 C) 3
 D) $\sqrt{17}$

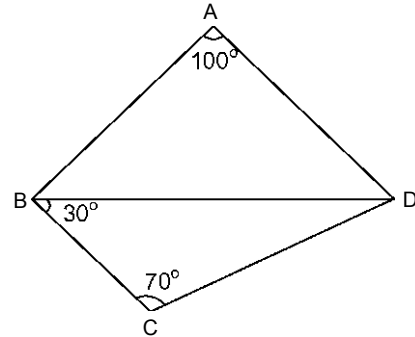
15.



Yukarıdaki ABC üçgeninde,
 $m(\angle ABC) = m(\angle BAC)$, $|BD| = 5$ cm, $|DC| = 4$ cm,
 olduğuna göre, $|AC| = x$ kaç cm dir?

- A) 4
 B) 6
 C) 8
 D) 10

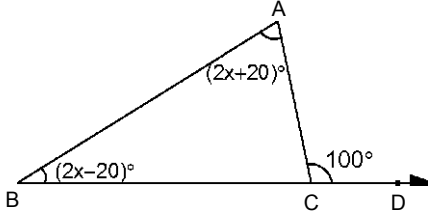
17.



Yukarıdaki şekilde, $m(\angle BAD) = 100^\circ$,
 $m(\angle B) = 30^\circ$, $m(\angle C) = 70^\circ$ olduğuna göre,
 şekildedeki en uzun kenar aşağıdakilerden
 hangisidir?

- A) $|BC|$
 B) $|AB|$
 C) $|AD|$
 D) $|BD|$

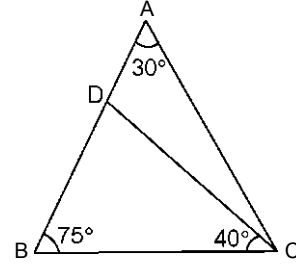
18.



Yukarıdaki şekilde ABC bir üçgen
 $m(\text{BAC}) = (2x+20)$ $m(\text{ABD}) = (2x-20)$
 $m(\text{ACD}) = 100^\circ$ olduğuna göre, x kaç
 derecedir?

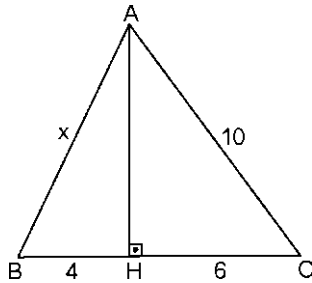
- A) 15
- B) 20
- C) 25
- D) 30

10.



Yukarıdaki ABC üçgeninde, $m(\text{BAC}) = 30^\circ$,
 $m(\text{ABC}) = 75^\circ$, $m(\text{DCB}) = 40^\circ$ olduğuna göre,
 aşağıdakilerden hangisi yanlıştır?

- A) $|AD| > |DC|$
- B) $|AB| = |AC|$
- C) $|BC| > |DC|$
- D) $|DC| > |DB|$



Yukarıdaki şekilde, $[AH] \perp [BC]$, $|AC| = 10$ cm,
 $|HC| = 6$ cm ve $|BH| = 4$ cm ise, $|AB| = x$ kaç cm
 dir?

- A) 5
- B) 3^3
- C) 3^5
- D) $4\sqrt{5}$

SEÇMELİ TARİH 3

2014II.DÖNEM0103-AA

1. Aşağıdakilerden hangisi I. Kosova Savaşı ile ilgili doğru bir ifade değildir?
 - A) Balkan milletleri (Sırp, Bosna, Arnavutluk kuvvetleri) ittifak kurdu.
 - B) Haçlı ordusu ile Sultan Murat komutasındaki Türk ordusu Kosova Ovası'nda karşılaştı.
 - C) Haçlılar yenildi.
 - D) I. Bayezit bir Sırp tarafından hançerlenerek şehit edildi.
2. Aşağıdakilerden hangisi Osman Bey'in Bizans tekfurlarının kendi başlarına hareket etmelerinden yararlanarak topraklarına kattığı şehirlerden biri değildir?
 - A) İnegöl
 - B) Karacahisar
 - C) Yarhisar
 - D) Karacadağ
3. Aşağıdakilerden hangisi Maltepe (Palekanon) dolaylarında yapılan ve Bizans İmparatorunun yenildiği savaştan sonra meydana gelen gelişmelerden biri değildir?
 - A) İznik' in alınması
 - B) İzmit'in alınmasıyla Kocaeli yarımadasının büyük bölümünün Osmanlı egemenliğine girmesi
 - C) Kayıların Söğüt ve Domaniç'i yurt edinmesi
 - D) Devletin başkentinin İznik'e taşınması
4. Dünyanın en ünlü ressamlarından Rembrant'ın (Rambrant) eserleri içinde en ünlüsü aşağıdakilerden hangisidir?
 - A) Bir Anatomi Dersi
 - B) La Jocond (La Jokand)
 - C) Danae
 - D) Pierre Et Paul
5. Aşağıdakilerden hangisi feodal beyleri ortadan kaldırarak, Fransa'yı Avrupa'nın en kuvvetli merkez devletlerinden biri haline getirmiştir?
 - A) II. Elizabeth
 - B) VII. Henry
 - C) XI. Louise
 - D) II. Ferdinand
6. Güzel sanatlar alanında Klasik resmin öncüsü aşağıdakilerden hangisidir?
 - A) Giotto
 - B) Donetello
 - C) Giberio
 - D) Jean Bulant
7. Orta Çağ sonunda feodalite rejiminin egemenliğini kaybetmediği ülke aşağıdakilerden hangisidir?
 - A) Almanya
 - B) Fransa
 - C) Macaristan
 - D) İspanya
8. Egemenlik yetkisinin bir kişinin elinde toplandığı devlet şekline ne ad verilir?
 - A) Komünizm
 - B) Hümanizm
 - C) Milli monarşi
 - D) Cumhuriyet
9. Merkezi idarenin zayıflaması sonucu çeşitli eyaletlerde yönetimi ellerinde bulundurup bağımsız hareket etmeye başlayanlar aşağıdakilerden hangisidir?
 - A) Kalfalar
 - B) Şövalyeler
 - C) Köylüler
 - D) Senyörler
10. Aşağıdakilerden hangisi İspanyolların keşifleri ile ilgili doğru bir ifade değildir?
 - A) 1519 yılında Cortes Meksika'yı zapt etti.
 - B) Peru ve çevresinde hakim olan İnka İmparatorluğu yıkıldı.
 - C) Maya ve Aztek medeniyetlerine son verildi.
 - D) Hudson Körfezi kıyılarını buldular.
11. Aşağıdaki antlaşmalardan hangisinde Osmanlı Devleti büyük miktarda toprak kaybetmiştir?
 - A) Kasr-ı Şirin
 - B) Serav
 - C) Karlofça
 - D) Bucaş
12. Aşağıdakilerden hangisi Tanzimat döneminde "Genç Osmanlılar" olarak adlandırılan aydınlardan biri değildir?
 - A) Ziya Paşa
 - B) İbrahim Paşa
 - C) Şinasi
 - D) Namık Kemal
13. Aşağıdakilerden hangisi Berlin Antlaşması sonucunda bağımsızlık kazananlardan biri değildir?
 - A) Yunanistan
 - B) Sırbistan
 - C) Romanya
 - D) Karadağ

14. Aşağıdakilerden hangisi Avrupa devletlerinin kendi çıkarları doğrultusunda Osmanlı Devleti ile ilgili meseleler için kullandıkları deyimdir?

- A) Şark Meselesi
- B) Rum Sorunu
- C) Ermeni Sorunu
- D) Boğazlar Meselesi

15. Aşağıdakilerden hangisi Vastfelya Barış Antlaşması'nın sonuçlarından biri değildir?

- A) İspanya'nın gücünün kırılması
- B) Fransa'nın mutlakiyet rejimini sağlamlaştırması
- C) Fransa'daki kuvvetli bürokrasinin sona ermesi
- D) Kutsal Roma-Germen İmparatorluğu'nun parçalanması

16. İngiltere'de monarşi'yi kuran aşağıdakilerden hangisidir?

- A) Kral VI.Henry
- B) Kral V.Henry
- C) Kral VII.Henry
- D) Kral IV.Henry

17. Aşağıdakilerden hangisi Fransa'da monarşik düzenin değişmesi gerektiğini savunarak ihtilale ortam hazırlayan düşünürlerden biri değildir?

- A) J.J.Rousseau
- B) Wilhelm
- C) Didero
- D) Volter

18. Aşağıdakilerden hangisi Fransız ihtilalinin çıkış sebeplerinden biri değildir?

- A) Fransa'nın içindeki ve dışındaki gelişmelerin bir sonucudur.
- B) Fransa'da sosyal sınıf yoktu.
- C) Devlet masraflarını karşılamak için halktan zorla vergi topluyordu.
- D) Fransa mutlakiyetle yönetiliyordu ve ülkede eşitlik ve özgürlük yoktu.

19. Avrupa'da 1815-1830 yılları arasında İngiltere, Rusya, Prusya ve Avusturya'nın kurdukları düzeni koruyabilmek için aralarında anlaşmalar yaptıkları döneme ne ad verilir?

- A) Çifte Standart Dönemi
- B) Restorasyon Dönemi
- C) Refah Dönemi
- D) Bloklama Dönemi

20. Sanayi Devrimi'nin Mk olarak ortaya çıktığı ülke aşağıdakilerden hangisidir?

- A) Rusya
- B) İngiltere
- C) Fransa
- D) İtalya

SEÇMELİ TÜRK EDEBİYATI 5

A

2014 II.DÖNEM 0103-A

1. Batıdan Mkv şiir çevirilerini Tercüme-i Manzuma adıyla yayınlayan yazar aşağıdakilerden hangisidir?

- A) Namık Kemal
- B) Şinasi
- C) Ziya Paşa
- D) Sami Paşazâde Sezâf

2. Türk edebiyatında sahnelenen ilk tiyatro eseri ve yazarı, aşağıdakilerden hangisinde birlikte ve doğru olarak verilmiştir?

- A) Vatan yahut Silistre - Namık Kemal
- B) Celalettin Harzemşah - Namık Kemal
- C) Sabr u Sebat - Abdülhak Hâmit Tarhan
- D) Afife Anjelik - Rezaizâde Mahmut Ekrem

3. Aşağıdakilerden hangisi, 'toplum için sanat' anlayışını benimseyen aydınlardan biridir?

- A) Abdülhak Hamit
- B) Rezaizade Mahmut Ekrem
- C) Ziya Paşa
- D) Samipaşazâde Sezâf

4. Tanzimat dönemi Türk Edebiyatında yayımlanan Mkv mizahi gazete aşağıdakilerden hangisidir?

- A) Takvim-i Vekayi
- B) Ceride-i Havadis
- C) Diyojen
- D) Tercüman-ı Ahval

5. Aşağıdaki romanlardan hangisi Tanzimat Edebiyatının ikinci döneminde romantizmden realizme geçişin göstergesidir?

- A) Şair Evlenmesi
- B) Telemak
- C) Vatan Yahut Silistre
- D) Sergüzeşt

6. Aşağıdakilerden hangisi Tanzimat Edebiyatının birinci döneminin önemli temsilcilerinden biridir?

- A) Abdülhak Hamit
- B) Ahmet Mithat Efendi
- C) Rezaizâde Mahmut Ekrem
- D) Samipaşazâde Sezâf

7. İnsana sadakat yakışır görse de ikrâh Yardımcısıdır doğruların Hazret-i Allah

Ziya Paşa'nın bu beyitiyle aşağıdaki atasözlerinden hangisi örtüşmez?

- A) Doğru gidenin başı duvara çarpmaz.
- B) Allah doğrunun yardımcısıdır.
- C) Eğri bacanın dumanı doğru çıkar.
- D) Doğruluk su kabağıdır, batmaz.

Toplumun sosyal, siyasi ve tarihi şartlarından yararlanarak meydana getirilen edebiyat eserine ne ad verilir?

- A) Edebi metin
- B) Hayali metin
- C) Yazılı metin
- D) Kurmaca metin

Aşağıdakilerden hangisi Tanzimat Edebiyatının ikinci dönemine ait (1878-1895) özelliklerden biridir?

- A) Sanat için sanat anlayışının benimsenmesi
- B) Dilde sadeleşme çalışmalarına başlanması
- C) Toplumsal temaların tercih edilmesi
- D) Sanatçıların toplumu bilinçlendirmeye çalışması

10. Noktalama işaretleri ilk kez aşağıdakilerden hangisinde kullanılmıştır?

- A) Eşber'de
- B) Cezmi'de
- C) Telemak'ta
- D) Mukaddime'de

11. Tanzimat Fermanı'nın hazırlanış amacı aşağıdakilerden hangisidir?

- A) Osmanlı Devleti'ndeki değişimlere engel olmak
- B) Devrin gereksinimlerine uygun Batı esasları doğrultusunda yeniden yapılmak
- C) Savaşlarda yenilgiye son vermek
- D) Ordudaki değişen disiplin anlayışına el atmak

12. Vatan, millet, özgürlük, hak, eşitlik, adalet, uygarlık gibi kavramların edebiyata ilk olarak girdiği dönem aşağıdakilerden hangisidir?

- A) Yükselme
- B) Tanzimat
- C) I. Meşrutiyet
- D) Kuruluş

13. Recaizâde Mahmut Ekrem ile ilgili aşağıdaki bilgilerden hangisi yanlıştır?

- A) Tanzimat edebiyatı şair ve yazarlarından.
- B) Tasvir-i Efkar gazetesinde yazılar yazmıştır.
- C) Galatasaray Lisesi'nde edebiyat öğretmenliği yapmıştır.
- D) Toplumsal konular hakkında eserler vermiştir.

14. Edebiyat ile ilgili aşağıdaki ifadelerden hangisi yanlıştır?

- A) Sadece tanık olduğu çağı anlatır.
- B) Toplumların gelişimine katkıda bulunur.
- C) Tarih biliminden yararlanır.
- D) Toplumların siyasal ve sosyal yapısından etkilenir.

15. Romantizm akımıyla ilgili aşağıdaki ifadelerden hangisi yanlıştır?

- A) Fransız yazar Victor Hugo öncüsü olarak kabul edilir.
- B) Hayallerin, duygu ve coşkuların önem kazandığı bir akımdır.
- C) Klâsizm akımına tepki olarak doğmuştur.
- D) Akıl ve sağduyuya dayanmaktadır.

16. Yusuf Kamil Paşa'nın 1859 yılında Fransız yazar Fenelon'dan yaptığı ilk çeviri roman, aşağıdakilerden hangisidir?

- A) Sefiller
- B) Marti
- C) Telemak
- D) Monte Kristo

17. Aşağıdakilerden hangisi Muallim Naci'nin eserlerinden biridir?

- A) İntibah
- B) Gülnihâl
- C) Zavallı Çocuk
- D) Ateş-pare

18. Tanzimat Fermanı aşağıdaki padişahlardan hangisi döneminde ilan edilmiştir?

- A) I. Mahmut
- B) I. Abdülmecit
- C) Vahdettin
- D) II. Mahmut

19. 1860 yılında Şinasi ve Ağâh Efendi tarafından çıkarılan ilk özel gazete, aşağıdakilerden hangisidir?

- A) İbret
- B) Tercüman-ı Hakikat
- C) Tercüman-ı Ahvâl
- D) Ceride-i Havadis

20. Namık Kemal'in Osmanlı Devleti'nin son dönemlerini anlattığı, vatanın içinde bulunduğu durum karşısında devleti yönetenlerin davranışlarını eleştirdiği şiiri aşağıdakilerden hangisidir?

- A) Vatan Mersiyesi
- B) Müntehabat-ı Eşar
- C) Makber
- D) Zafername

ALMANCA 4

A

2014 II.DONEM 0103-A

1. Ferien in Antalya bieten Ihnen Gastfreundlichkeit.

Welches Wort passt nicht in die obige Lücke?

Cümlede boş bırakılan yeri aşağıdakilerden hangisi tamamlamaz?

- A) schöne
- B) alte
- C) freundliche
- D) nette

2. Die Mutter ist krank Mutter liegt seit zwei Tagen im Bett.

Welches Wort passt in die obige Lücke?

Cümlede boş bırakılan yeri aşağıdakilerden hangisi tamamlar?

- A) Die gekrankte
- B) Das gekrankte
- C) Der bekrankte
- D) Die kranke

3. Ev ödevlerini yapmak zorundasın.

Wie lautet der obige Satz auf Deutsch?

Verilen cümlenin Almancası aşağıdakilerden hangisidir?

- A) Du kannst deine Hausaufgaben machen.
- B) Du hast deine Hausaufgaben gemacht.
- C) Du mußt deine Hausaufgaben machen.
- D) Du willst diese Hausaufgaben machen.

4. Sie.....im Sommer nach Wien fahren.

Welches Wort passt nicht in die obige Lücke?

Cümlede boş bırakılan yeri aşağıdakilerden hangisi tamamlamaz?

- A) kann
- B) muK
- C) will
- D) wirst

Wir.....um Erlaubnis!

Welches Wort passt in die obige Lücke?

Cümlede boş bırakılan yeri aşağıdakilerden hangisi tamamlar?

- A) nehmen
- B) bitten
- C) vertrauen
- D) hören

Ihr müsst schnell schreiben.

Wie lautet der obige Satz in der Imperativ-Form?

Verilen cümlenin emir cümle şekli aşağıdakilerden hangisidir?

- A) Schreibtschnell!
- B) Schreibst schnell!
- C) Schreibte schneller!
- D) Schreib schnell!

7. Ja, ich möchte gerne noch ein Pfund Tomaten.

Welche Frage passt zur obigen Antwort?

Verilen cevabı gerektirecek soru aşağıdakilerden hangisidir?

- A) Möchten Sie eine Tüte für die Tomaten?
- B) Wie schmecken die Tomaten?
- C) Haben Sie die Tomaten gegessen?
- D) Möchten Sie noch ein Pfund Tomaten?

- 8.....ein neues Auto!

Welches ergänzt nicht die Lücke im obigen Satz?

Verilen cümleyi aşağıdakilerden hangisi tamamlamaz?

- A) Wir hatten gern
- B) Du könntest immer
- C) Sie wollte auch
- D) Ich hatte gerne

9. Sollen wir früh aufstehen?

Welche Antwort passt zur obigen Frage?

Verilen sorunun cevabı aşağıdakilerden hangisidir?

- A) Nein, wir müssen früh fahren.
- B) Ja, ich bin früh aufgestanden.
- C) Ja, wir sollen früh aufstehen.
- D) Nein, sie darf nicht schlafen.

10. arbeiten / nicht / zu / brauchen / Wir

Wie kann man mit den obigen Wortgruppen einen sinnvollen und richtigen Satz bilden?

Verilen sözcük gruplarıyla kurulabilecek en anlamlı ve doğru cümle aşağıdakilerden hangisidir?

- A) Brauchen nicht zu arbeiten wir.
- B) Wir brauchen nicht zu arbeiten.
- C) Zu arbeiten wir brauchen nicht.
- D) Arbeiten wir nicht zu brauchen.

11. Serhat die Schule....., heiratete er Sibel.

Welche Wörter passen in die obigen Lücken?

Cümlede boş bırakılan yerleri aşağıdakilerden hangileri tamamlar?

- A) Als / beendete
- B) Für / war
- C) Wenn / stellte
- D) Weil / anfang

12. Yağmur yağarsa piknik yapamayız.

Wie lautet der obige Satz auf Deutsch?

Verilen cümlelerin Almancası aşağıdakilerden hangisidir?

- A) Als es regnete machten wir Picknick.
- B) Wir wollen Picknick machen, wenn es nicht regnet.
- C) Als wir Picknick machen wollten, hatte es geregnet.
- D) Wenn es regnet können wir kein Picknick machen.

13. A: Gefallen dir diese Schuhe?

B: Ja, aber

Welches ergänzt die Lücke im obigen Dialog?

Verilen karşılıklı konuşmada boş bırakılan yeri aşağıdakilerden hangisi tamamlar?

- A) die roten sehen besser aus!
- B) die war sehr laut!
- C) die ist billiger!
- D) diese sind zu wenig!

14. Die.....Monate sind der Juli und der August.

Welches Wort passt in die obige Lücke?

Cümlede boş bırakılan yeri aşağıdakilerden hangisi doğru şekilde tamamlar?

- A) heiResten
- B) kaltesten
- C) gröftten
- D) kleinsten

15.in der Welt lernen die Menschen Deutsch.

Welches Wort passt in die obige Lücke?

Cümlede boş bırakılan yeri aşağıdakilerden hangisi doğru şekilde tamamlar?

- A) Seit
- B) Überall
- C) Wenn
- D) Weil

16. Wir kaufen uns eine Wohnung,

Welches ergänzt die Lücke im obigen Satz?

Verilen cümleyi aşağıdakilerden hangisi tamamlar?

- A) weil es uns gut geht.
- B) wenn wir diese Fragen beantworten müssen.
- C) denn wir müssen immer arbeiten.
- D) damit wir keine Miete bezahlen müssen.

17. Ich bin völlig außer Atem.

Wie lautet der obige Satz auf Türkisch?

Verilen cümlelerin Türkçesi aşağıdakilerden hangisidir?

- A) Nefes nefese geldim.
- B) Nefesimi tuttum.
- C) Nefes nefese kaldım.
- D) Nefes alamıyorum.

18. Ali machtSport.

Welches Wort passt nicht in die obige Lücke?

Cümlede boş bırakılan yeri aşağıdakilerden hangisi tamamlamaz?

- A) ziemlich
- B) immer
- C) niemals
- D) selten

19. Es ist für einen türkischen Studenten in Deutschland von großem Vorteil,

Welches ergänzt die Lücke im obigen Satz?

Verilen cümleyi aşağıdakilerden hangisi tamamlar?

- A) weil er ein Rockstar ist.
- B) wenn sie europäischer Herkunft ist.
- C) wenn er gute Deutschkenntnisse hat.
- D) damit er gute Geschäfte machen kann.

Mutter freut sich, wenn sie am Muttertag Geschenke bekommt.

Welches Wort passt in die obige Lücke?

Cümlede boş bırakılan yeri aşağıdakilerden hangisi tamamlar?

- A) Alle
- B) Nur
- C) Jede
- D) Mit

1. She will go abroad May.

Which of the following completes the sentence above?

Aşağıdakilerden hangisi yukarıdaki cümleyi doğru olarak tamamlar?

- A) on
B) at
C) in
D) from

2. His birthday isFebruary 20th.

Which of the following completes the sentence above?

Aşağıdakilerden hangisi yukarıdaki cümleyi doğru olarak tamamlar?

- A) on
B) in
C) at
D) to

3. My mum and Iin Venezuela last Monday.

Which of the following completes the sentence above?

Aşağıdakilerden hangisi yukarıdaki cümleyi doğru olarak tamamlar?

- A) was
B) were
C) have
D) are

4. The hotel isthe school.

Which of the following completes the sentence above?

Aşağıdakilerden hangisi yukarıdaki cümleyi doğru olarak tamamlar?

- A) between
B) front
C) next
D) opposite

5.my parents travelled to Switzerland.

Which of the following completes the sentence above?

Aşağıdakilerden hangisi yukarıdaki cümleyi doğru olarak tamamlar?

- A) Last month
B) Tomorrow
C) In a few days
D) At the moment

6. I wasn't.....the cinema yesterday. I was ill home.

Which of the following completes the sentence above?

Aşağıdakilerden hangisi yukarıdaki cümleyi doğru olarak tamamlar?

- A) at/in
B) in/at
C) in / in
D) at / at

7. The theater isto the hospital.

Which of the following completes the sentence above?

Aşağıdakilerden hangisi yukarıdaki cümleyi doğru olarak tamamlar?

- A) at
B) next
C) in
D) between

8. He brought some food for the party.

Which of the following is the negative form of the sentence above?

Aşağıdakilerden hangisi yukarıdaki cümlelerin olumsuz biçimidir?

- A) He didn't brought any food for the party.
B) He didn't bring any food for the party.
C) He won't bring any food for the party.
D) He wasn't bring any food for the party.

9. Mary.....Virginia Woolf's book yesterday.

Which of the following completes the sentence above?

Aşağıdakilerden hangisi yukarıdaki cümleyi doğru olarak tamamlar?

- A) am buying
B) buy
C) bought
D) will buy

10. Merlin will go to Antalyathe weekend.

Which of the following completes the sentence above?

Aşağıdakilerden hangisi yukarıdaki cümleyi doğru olarak tamamlar?

- A) in
B) on
C) to
D) at

11. My Chemistry marks are than my History marks.

Which of the following completes the sentence above?

Aşağıdakilerden hangisi yukarıdaki cümleyi doğru olarak tamamlar?

- A) badder
B) worse
C) bad
D) the worst

12. A: I have a bad toothache. What should I do?
B:

Which of the following completes the dialogue above?

Aşağıdakilerden hangisi yukarıdaki konuşmayı doğru olarak tamamlar?

- A) You should go to the hairdresser
B) You should go to the supermarket
C) You should go to the dentist
D) You should drink cold drinks

13. He play the guitar well. He is a good guitarist.

Which of the following completes the sentence above?

Aşağıdakilerden hangisi yukarıdaki cümleyi doğru olarak tamamlar?

- A) can
B) can't
C) may
D) shouldn't

14. My grandmother is than me.

Which of the following completes the sentence above?

Aşağıdakilerden hangisi yukarıdaki cümleyi doğru olarak tamamlar?

- A) old
B) the oldest
C) older
D) the old

15. My dad is not a careful driver. He drives and has lots of accidents.

Which of the following completes the sentence above?

Aşağıdakilerden hangisi yukarıdaki cümleyi doğru olarak tamamlar?

- A) faster
B) fast
C) the most careful
D) carefully

16. I this refrigerator since 1997.

Which of the following completes the sentence above?

Aşağıdakilerden hangisi yukarıdaki cümleyi doğru olarak tamamlar?

- A) are having
B) have
C) had
D) have had

17. The opera hasn't started

Which of the following completes the sentence above?

Aşağıdakilerden hangisi yukarıdaki cümleyi doğru olarak tamamlar?

- A) just
B) ever
C) already
D) yet

18. Cathy always speaks so nobody can understand her.

Which of the following completes the sentence above?

Aşağıdakilerden hangisi yukarıdaki cümleyi doğru olarak tamamlar?

- A) quickly
B) quick
C) slow
D) slowly

19. They have done the shopping. The fridge is full.

Which of the following completes the sentence above?

Aşağıdakilerden hangisi yukarıdaki cümleyi doğru olarak tamamlar?

- A) yet
B) ever
C) already
D) before

20. I have never seen such a big turtle

Which of the following completes the sentence above?

Aşağıdakilerden hangisi yukarıdaki cümleyi doğru olarak tamamlar?

- A) before
B) yet
C) already
D) ever

1.....beau bebe!

Choisissez le mot qui convient.

Cümledeki boşluğu aşağıdakilerden hangisi doğru şekilde tamamlar?

- A) Quelle
- B) Quels
- C) Quelles
- D) Quel

2. Il est intelligentil ne travaille pas.

Choisissez l'expression qui convient.

Yukarıdaki cümlede boş bırakılan yeri aşağıdakilerden hangisi doğru şekilde tamamlar?

- A) malgre
- B) mais
- C) contrairement a
- D) pour

3. Marie gagne 100€, Jeanne gagne 100€. Marie est.....riche que Jeanne.

Choisissez l'expression qui convient.

Yukarıdaki cümlede boş bırakılan yeri aşağıdakilerden hangisi doğru şekilde tamamlar?

- A) grand
- B) plus
- C) autant de
- D) aussi

4. Il parle

Choisissez le mot qui convient.

Cümledeki boşluğu aşağıdakilerden hangisi doğru şekilde tamamlar?

- A) bizarre
- B) bizarrement
- C) attentif
- D) attentive

5. Ce bebe est

Choisissez le mot qui convient.

Cümledeki boşluğu aşağıdakilerden hangisi doğru şekilde tamamlar?

- A) heureuse
- B) heureux
- C) heureusement
- D) doucement

Mon telephone est petit.....de ma sreur est petit aussi.

Choisissez le mot qui convient.

Cümledeki boşluğu aşağıdakilerden hangisi doğru şekilde tamamlar?

- A) Celle
- B) Ceux
- C) Celui
- D) Celles

7. Elle.....dans quelques heures.

Choisissez l'expression qui convient.

Yukarıdaki cümlede boş bırakılan yeri aşağıdakilerden hangisi doğru şekilde tamamlar?

- A) vient de partir
- B) va partir
- C) vas partir
- D) viens de partir

«Tu devrais acheter une robe.»

Choisissez la traduction qui convient.

Yukarıdaki cümlenin Türkçe karşılığı aşağıdakilerden hangisidir?

- A) Elbise al.
- B) Elbise alacaksın.
- C) Elbise almalısın.
- D) Elbise alıyor.

9.....belles histoires!

Choisissez le mot qui convient.

Cümledeki boşluğu aşağıdakilerden hangisi doğru şekilde tamamlar?

- A) Quelle
- B) Quels
- C) Quel
- D) Quelles

10. Lorsqu'il a mange, il

Choisissez l'expression qui convient.

Yukarıdaki cümlede boş bırakılan yeri aşağıdakilerden hangisi doğru şekilde tamamlar?

- A) partait
- B) pars
- C) est parti
- D) partit

11. «Nous viendrons demain.»

Choisissez la traduction qui convient.

Yukarıdaki cümlelerin Türkçe karşılığı aşağıdakilerden hangisidir?

- A) Dün geldik.
- B) Bugün geldik.
- C) Yarın geleceğiz.
- D) Şimdi geliriz.

12. - Ce sont vos chaussures?
- Oui, c'est

Choisissez le mot qui convient.

Yukarıdaki konuşmada boş bırakılan yeri aşağıdakilerden hangisi doğru şekilde tamamlar?

- A) les nôtres
- B) les vôtres
- C) les leurs
- D) les tiennes

13. Quand il fera chaud, nous.....des vacances.

Choisissez le mot qui convient.

Cümledeki boşluğu aşağıdakilerden hangisi doğru şekilde tamamlar?

- A) faisons
- B) faire
- C) faisons
- D) ferons

14. La note de Marie est 100/100. Elle est de la classe.

Choisissez le mot qui convient.

Cümledeki boşluğu aşağıdakilerden hangisi doğru şekilde tamamlar?

- A) le meilleur
- B) la meilleure
- C) les meilleures
- D) les meilleurs

15. Pierre mesure 170cm, Paul mesure 180cm. Paul est.....que Pierre.

Choisissez l'expression qui convient.

Yukarıdaki cümlede boş bırakılan yeri aşağıdakilerden hangisi doğru şekilde tamamlar?

- A) plus grand
- B) plus petit
- C) aussi grand
- D) moins petit

16. Il n'y avait personne, la porte etait ouverte.

Choisissez l'expression qui convient.

Yukarıdaki cümlede boş bırakılan yeri aşağıdakilerden hangisi doğru şekilde tamamlar?

- A) en revanche
- B) malgre
- C) contrairement a
- D) par

17. Quand je suis malade, je ne.....pas au travail.

Choisissez le mot qui convient.

Cümledeki boşluğu aşağıdakilerden hangisi doğru şekilde tamamlar?

- A) vais
- B) allais
- C) i rai
- D) alle

18. - Ce sont les livres de ton professeur?
- Non, ce sont.....de Paul.

Choisissez le mot qui convient.

Yukarıdaki konuşmada boş bırakılan yeri aşağıdakilerden hangisi doğru şekilde tamamlar?

- A) celle
- B) celles
- C) celui
- D) ceux

19. Elle vient d'

Choisissez le mot qui convient.

Cümledeki boşluğu aşağıdakilerden hangisi doğru şekilde tamamlar?

- A) arrivait
- B) arrive
- C) arriver
- D) arrive

20. C'est ton sac?
Oui, c'est

Choisissez le mot qui convient.

Yukarıdaki konuşmada boş bırakılan yeri aşağıdakilerden hangisi doğru şekilde tamamlar?

- A) le mien
- B) le tien
- C) le sien
- D) le nôtre

1. Die Versammlung.....heute im Saal statt.

Welches Wort paRt in die obige Lücke?

Cümlede boş bırakılan yeri aşağıdakilerden hangisi tamamlar?

- A) hat
B) fand
C) egal
D) ladet

2. Das Bild . angeblich hier an der Wand.

Welches Wort passt in die obige Lücke?

Cümlede boş bırakılan yeri aşağıdakilerden hangisi tamamlar?

- A) konnte
B) hangst
C) hing
D) wird

3. Man sagte, er.....einen Roman!

Welches Wort passt in die obige Lücke?

Cümlede boş bırakılan yeri aşağıdakilerden hangisi tamamlar?

- A) schriebest
B) schreibten
C) schriebe
D) schreiben

4. Was bedeutet "birşeyi iddia etmek" auf Deutsch?

"birşeyi iddia etmek" sözcüğünün Almancaşı aşağıdakilerden hangisidir?

- A) etwas bezweifeln
B) etwas angeben
C) etwas geben
D) etwas behaupten

5. Stell dir vor dein Vater.....aus Honolulu!

Welches Wort passt in die obige Lücke?

Cümlede boş bırakılan yeri aşağıdakilerden hangisi tamamlar?

- A) kame
B) kommet
C) kamst
D) kommte

6. A Hat Ayşe diesen Film gesehen?
B Nein, sie hat diesen Film nicht gesehen!
A
B Ja, der Film war wirklich toll!

Welches ergänzt den obigen Dialog?

Verilen karşılıklı konuşmayı aşağıdakilerden hangisi tamamlar?

- A) Das war auch im Film zu sehen.
B) Naja, das macht nichts.
C) Das ist wirklich ausgezeichnet!
D) Hatte sie doch diesen Film gesehen!

7. Ich dachte, ihr wart im Kino!

Wie lautet der obige Satz auf Türkisch?

Verilen cümlenin Türkçesi aşağıdakilerden hangisidir?

- A) Sinemada olmanız gerekiyordu!
B) Niyetiniz sinemaya gitmek değildi aslında!
C) Zaten hep sinemaya gidersiniz!
D) Sinemada olduğunuzu düşündüm!

8. Mein Vater sagte mir,

Welches ergänzt nicht die Lücke im obigen Satz?

Verilen cümleyi aşağıdakilerden hangisi tamamlamaz?

- A) weil die FuRballmannschaft kein Erfolg haben wird.
B) der Roman sei von Adalet Ağaoğlu geschrieben worden.
C) der Film sei sehr gut gedreht worden.
D) gestern habe es einen Unfall gegeben.

9. Der Mann.....vorher in einer Fabrik .

Welche Wörter passen in die obigen Lücken?

Cümlede boş bırakılan yerleri aşağıdakilerden hangileri tamamlar?

- A) ist / versorgen
B) ware / gefällt
C) habe / gearbeitet
D) hat / gemacht

10. Die Strasse.....schmal.

Welches Wort passt in die obige Lücke?

Cümlede boş bırakılan yeri aşağıdakilerden hangisi tamamlar?

- A) ist
B) hatte
C) hat
D) waren

11. Was bedeutet "yaralı olmak" auf Deutsch?

"yaralı olmak" sözcüğünün Almancası aşağıdakilerden hangisidir?

- A) verstehen
B) glücklicherweise
C) glücklich sein
D) verletzt sein

12. Habt ihr das gehört? Sie Hausfrau und zwei Kinder.

Welche Wörter passen in die obigen Lücken?

Cümlede boş bırakılan yerleri aşağıdakilerden hangileri tamamlar?

- A) war / habt
B) sei / habe
C) sind / habe
D) ware / würde

13. Monika hat wieder eine neue Frisur.

Wie lautet der obige Satz in der Konjunktivform?

Verilen cümlenin konjunktiv şekli aşağıdakilerden hangisidir?

- A) Man sagt, sie habe wieder eine neue Frisur.
B) Man sagt, weil ihre Frisur neu ist, kommt sie.
C) Man sagt, daG sie vom Friseur zu uns kommen wird.
D) Man sagt, sie würde zum Friseur gehen.

14. Der junge Fussballspieler.....nicht mehr laufen, denn er.....einen groften Unfall gehabt.

Welche Wörter passen in die obigen Lücken?

Cümlede boş bırakılan yerleri aşağıdakilerden hangileri tamamlar?

- A) ist / hatte
B) könnte / würde
C) war/habe
D) könne/habe

15. Ich mag keine Hauser, Fenster zu hoch sind.

Welches Wort passt in die obige Lücke?

Cümlede boş bırakılan yeri aşağıdakilerden hangisi tamamlar?

- A) denen
- B) deren
- C) diesem
- D) dieses

16. Was bedeutet "Der Geschmack" auf Türkisch?

"Der Geschmack" sözcüğünün Türkçesi aşağıdakilerden hangisidir?

- A) kalem
- B) lezzet
- C) araba
- D) çanta

17. A: Kennst du.....aus anderen Landern?
B: Ja, zum Beispiel kommen Nudeln .. Italien!

Welches ergänzt den obigen Dialog?

Verilen karşılıklı konuşmayı aşağıdakilerden hangisi tamamlar?

- A) Spezialitäten / aus
- B) Geschmack / für
- C) Getränke / im
- D) Gerüchte / zu

18. Der Döner, schmeckt besonders gut.

Welches ergänzt die Lücke im obigen Satz?

Verilen cümleyi aşağıdakilerden hangisi tamamlar?

- A) der zu uns mitkommt
- B) der auch Salat i&t
- C) der aus der Türkei kommt
- D) der zu essen ist

19. Die Tasche.....du mir geschenkt hast, gefällt mir sehr gut.

Welches Wort passt in die obige Lücke?

Cümlede boş bırakılan yeri aşağıdakilerden hangisi tamamlar?

- A) der
- B) die
- C) das
- D) dem

20. Die Kinder, die dort spielen, sind Geschwister.

Welche Frage paßt zur obigen Antwort?

Verilen cevabı gerektirecek soru aşağıdakilerden hangisidir?

- A) Wo sind die Kinder?
- B) Welche Kinder gehen in die Schule?
- C) Welche Kinder sind Geschwister?
- D) Wie gehen die Kinder zu ihren Geschwistern?

1. İki aydır Diyarbakır'a yağmur yağmıyor.

Which of the following is the English translation of the sentence above?

Aşağıdakilerden hangisi yukarıdaki cümlelerin İngilizce karşılığıdır?

- A) It didn't rain in Diyarbakır last two months.
B) It hasn't been raining in Diyarbakır for two months.
C) It wasn't raining in Diyarbakır two weeks ago.
D) It hasn't rained in Diyarbakır for two weeks.

2. Carl has been running.....he woke up.

Which of the following completes the sentence above?

Aşağıdakilerden hangisi yukarıdaki cümleyi doğru olarak tamamlar?

- A) for
B) lately
C) recently
D) since

3. Alex:.....?
Matt: It's ten o'clock.

Which of the following completes the dialogue above?

Aşağıdakilerden hangisi yukarıdaki konuşmayı doğru olarak tamamlar?

- A) Could you tell me the time
B) Can I borrow your dictionary
C) Could you lend me 100 liras
D) Could you have the bill

4. A:.....?
B: Of course, what's the problem?

Which of the following completes the dialogue above?

Aşağıdakilerden hangisi yukarıdaki konuşmayı doğru olarak tamamlar?

- A) Can you give me your dictionary
B) Sorry, can you help me please
C) Do you want first or economy class
D) What would you like to have

5. I rarely wake up early. I.....wake up late.

Which of the following completes the sentence above?

Aşağıdakilerden hangisi yukarıdaki cümleyi doğru olarak tamamlar?

- A) usually
B) now
C) always
D) rarely

Lucy made.....a wonderful cake that I ate it yesterday.

Which of the following completes the sentence above?

Aşağıdakilerden hangisi yukarıdaki cümleyi doğru olarak tamamlar?

- A) very
B) every
C) so
D) such

The teacher explained the subject All the students understood it well.

Which of the following completes the sentence above?

Aşağıdakilerden hangisi yukarıdaki cümleyi doğru olarak tamamlar?

- A) very
B) quick
C) quite
D) simply

8. He is.....hungry that he ate two sandwiches.

Which of the following completes the sentence above?

Aşağıdakilerden hangisi yukarıdaki cümleyi doğru olarak tamamlar?

- A) every
B) much
C) so
D) in

9. Marlin is a careful driver. She drives too

Which of the following completes the sentence above?

Aşağıdakilerden hangisi yukarıdaki cümleyi doğru olarak tamamlar?

- A) fast
B) carefully
C) good
D) quickly

10. Ely: How often do you go to the opera?
Gusto: I go to the opera

Which of the following completes the dialogue above?

Aşağıdakilerden hangisi yukarıdaki konuşmayı doğru olarak tamamlar?

- A) once a month
B) at the moment
C) yesterday
D) last year

11. If you heat metal, it larger.

Which of the following completes the sentence above?

Aşağıdakilerden hangisi yukarıdaki cümleyi doğru olarak tamamlar?

- A) gets
B) freezes
C) goes
D) reaches

12. If he.... his medicines regularly, he.... soon.

Which of the following completes the sentence above?

Aşağıdakilerden hangisi yukarıdaki cümleyi doğru olarak tamamlar?

- A) takes / will recover
B) am taking / would recover
C) takes / recover
D) will take / recovers

13. If I weren't a teacher, I..... in a bank.

Which of the following completes the sentence above?

Aşağıdakilerden hangisi yukarıdaki cümleyi doğru olarak tamamlar?

- A) will work
B) work
C) would work
D) worked

14. If it doesn't rain, we.....a picnic.

Which of the following completes the sentence above?

Aşağıdakilerden hangisi yukarıdaki cümleyi doğru olarak tamamlar?

- A) doesn't go
B) aren't going
C) go
D) will go

15. Josh wants to.... his life and he looks for a job.

Which of the following completes the sentence above?

Aşağıdakilerden hangisi yukarıdaki cümleyi doğru olarak tamamlar?

- A) prepare
B) happen
C) earn
D) get

16. A musician is someone.....plays music.

Which of the following completes the sentence above?

Aşağıdakilerden hangisi yukarıdaki cümleyi doğru olarak tamamlar?

- A) which
B) where
C) whose
D) who

17. Helen eat home made food..... it is healthier and cheaper.

Which of the following completes the sentence above?

Aşağıdakilerden hangisi yukarıdaki cümleyi doğru olarak tamamlar?

- A) although
B) because
C) which
D) before

18. The hotel.....Emily stayed was quite comfortable.

Which of the following completes the sentence above?

Aşağıdakilerden hangisi yukarıdaki cümleyi doğru olarak tamamlar?

- A) which
B) that
C) where
D) whose

19. they got to the cinema, the film started.

Which of the following completes the sentence above?

Aşağıdakilerden hangisi yukarıdaki cümleyi doğru olarak tamamlar?

- A) Such
B) Where
C) As soon as
D) So that

20. Katy eats her dinner, she won't feel hungry.

Which of the following completes the sentence above?

Aşağıdakilerden hangisi yukarıdaki cümleyi doğru olarak tamamlar?

- A) Before
B) After
C) Because
D) To

1. «La voiture a ete reparee par le mecanicien.»

Choisissez la forme active de la phrase ci-dessus.

Yukarıdaki cümlelerin aktif hali aşağıdakilerden hangisidir?

- A) Le mecanicien a repare la voiture.
B) Le mecanicien repare la voiture.
C) Le mecanicien reparera la voiture.
D) Le mecanicien va reparer la voiture.

- 2-toi.

Choisissez le mot qui convient.

Cümledeki boşluğu aşağıdakilerden hangisi doğru şekilde tamamlar?

- A) Leve
B) Leves
C) Levons
D) Levez

3. Ne te pas.

Choisissez le mot qui convient.

Cümledeki boşluğu aşağıdakilerden hangisi doğru şekilde tamamlar?

- A) couches
B) couchons
C) couchez
D) couche

4. Pour devenir docteur, il faut aller a la Faculte

Choisissez l'expression qui convient.

Yukarıdaki cümlede boş bırakılan yeri aşağıdakilerden hangisi doğru şekilde tamamlar?

- A) des Sciences
B) de Medecine
C) des Lettres
D) de Droit

5. La mere de mon mari est .

Choisissez l'expression qui convient.

Yukarıdaki cümlede boş bırakılan yeri aşağıdakilerden hangisi doğru şekilde tamamlar?

- A) ma mere
B) mon pere
C) ma belle-mere
D) ma belle sreur

6. Pour devenir avocat, il faut aller a la Faculte

Choisissez l'expression qui convient.

Yukarıdaki cümlede boş bırakılan yeri aşağıdakilerden hangisi doğru şekilde tamamlar?

- A) de Droit
B) des Lettres
C) des Sciences
D) de Medecine

7. Le frere de ma mere est .

Choisissez l'expression qui convient.

Yukarıdaki cümlede boş bırakılan yeri aşağıdakilerden hangisi doğru şekilde tamamlar?

- A) mon cousin
B) ma tante
C) mon oncie
D) mon gendre

8. Elle va au college. Elle est

Choisissez le mot qui convient.

Cümledeki boşluğu aşağıdakilerden hangisi doğru şekilde tamamlar?

- A) lyceenne
B) collegienne
C) bacheliere
D) medecin

9. «Le chat attrape la souris.»

Choisissez la forme passive de la phrase ci-dessus.

Yukarıdaki cümlelerin edilgen hali aşağıdakilerden hangisidir?

- A) Le chat est attrape par la souris.
B) La souris sera attrapee par le chat.
C) Le chat sera attrape par la souris.
D) La souris est attrapee par le chat.

10.terimine tes devoirs avant une heure.

Choisissez le mot qui convient.

Cümledeki boşluğu aşağıdakilerden hangisi doğru şekilde tamamlar?

- A) Soyez
B) Sois
C) Ayez
D) Aie

11. Ma sreur ne travaille pas. Elle prefere elever

Choisissez l'expression qui convient.

Yukarıdaki cümlede boş bırakılan yeri aşağıdakilerden hangisi doğru şekilde tamamlar?

- A) son mari
- B) ses enfants
- C) ses parents
- D) sa mere

12. Le fils de mon frere est

Choisissez l'expression qui convient.

Yukarıdaki cümlede boş bırakılan yeri aşağıdakilerden hangisi doğru şekilde tamamlar?

- A) ma fille
- B) mon neveu
- C) mon fils
- D) ma niece

13. «Nous avons envoye un colis.»

Choisissez la forme passive de la phrase ci-dessus.

Yukarıdaki cümlenin edilgen hali aşağıdakilerden hangisidir?

- A) Un colis a ete envoye par vous.
- B) Un colis sera envoye par nous.
- C) Un colis sera envoye par vous.
- D) Un colis a ete envoye par nous.

14. gentils.

Choisissez le mot qui convient.

Cümledeki boşluğu aşağıdakilerden hangisi doğru şekilde tamamlar?

- A) Soyez
- B) Sois
- C) Ayons
- D) Aie

15. J'ai 16 ans. Je vais

Choisissez l'expression qui convient.

Yukarıdaki cümlede boş bırakılan yeri aşağıdakilerden hangisi doğru şekilde tamamlar?

- A) au college
- B) a l'ecole maternelle
- C) au lycee
- D) a l'universite

16. Le BAC est

Choisissez le mot qui convient.

Cümledeki boşluğu aşağıdakilerden hangisi doğru şekilde tamamlar?

- A) une universite
- B) une ecole
- C) un metier
- D) un examen

17. Ma sreur s'est Son fiance s'appelle Jean.

Choisissez l'expression qui convient.

Yukarıdaki cümlede boş bırakılan yeri aşağıdakilerden hangisi doğru şekilde tamamlar?

- A) mariee
- B) demandee en mariage
- C) fiancee
- D) a fait un mariage

18. J'ai 4 ans. Je vais a

Choisissez l'expression qui convient.

Yukarıdaki cümlede boş bırakılan yeri aşağıdakilerden hangisi doğru şekilde tamamlar?

- A) a l'ecole maternelle
- B) au college
- C) au lycee
- D) a l'universite

19. Pour devenir physicienne, elle a des etudes de sciences.

Choisissez le mot qui convient.

Cümledeki boşluğu aşağıdakilerden hangisi doğru şekilde tamamlar?

- A) abandonne
- B) arrete
- C) fait
- D) ecoute

20. Cet enfant est calme. C'est un enfant

Choisissez l'expression qui convient.

Yukarıdaki cümlede boş bırakılan yeri aşağıdakilerden hangisi doğru şekilde tamamlar?

- A) mal eleve
- B) bien eleve
- C) petit
- D) petite

SINAVDA UYGULANACAK KURALLAR

1. Sınav süresince görevlilerle konuşmak ve soru sormak yasaktır. Aynı şekilde görevlilerin de öğrencilerle yakından ve alçak sesle konuşmaları yasaktır. Yanınızda ve sıranızda dersle ilgili kitap not vb. bulundurmamak yasaktır. Sınav sırasında kopya yapan, yapmaya teşebbüs eden, kopya veren, kopya yapılmasına yardım edenlerin kimlikleri BİREYSEL SINAV İPTAL TUTANAĞINA yazılacak ve bu öğrencilerin sınavları geçersiz sayılacaktır. Görevliler kopya yapmaya veya vermeye kalkışanları uyararak sorumlu size aittir.
Sınavda yetki verilmiş görevliler, bu salondaki sınavın kurallara uygun biçimde yapılmadığını, toplu kopya girişiminde bulunulduğunu raporlarında bildirdikleri veya üniversite sınav merkezince yapılan incelemeler sonucu toplu kopya yapıldığı saptandığı takdirde, Anadolu Üniversitesinin yetkili organları bu salonda sınava giren öğrencilerin tümünün sınavını geçersiz sayar.
2. Öğrenciler sınav sırasında görevlilerin her türlü uyarılarına uymak zorundadır. Gerekliğinde görevliler oturduğunuz yerleri değiştirebilir. Sınavınızın geçerli sayılması, her şeyden önce sınav kurallarına uymanıza bağlıdır. Kurallara aykırı davranışta bulunanların ve yapılacak uyarılara uymayanların kimlikleri BİREYSEL SINAV İPTAL TUTANAĞINA yazılacak ve sınavları geçersiz sayılacaktır.
3. Sınav sırasında herhangi bir nedenle dışarı çıkmak yasaktır. Sınavın başlamasını izleyen ilk 30 dakika ve sınav süresinin son 5 dakikası içinde, sınavlarını tamamlasalar bile hiçbir öğrencinin salondan çıkmasına izin verilmeyecektir. Sınavın başlamasını izleyen ilk 15 dakikadan sonra hiç bir öğrenci sınava alınmaz.
4. Biraz sonra soru kitapçıkları dağıtılacaktır. Cevaplamaya geçmeden önce size verilecek soru kitapçığının üzerinde ayrılan yere, adınızı, soyadınızı, öğrenci numaranızı ve bu salonun numarasını yazınız. Sınav sonunda soru kitapçıkları toplanacak ve sınav merkezinde tek tek incelenecektir. Soru Kitapçığının bir tek sayfası eksik çıksa bile sınavınız geçersiz sayılacaktır.
5. Size verilen Cevap Kâğıdının üzerinde yazan numara ve ismin size ait olduğunu kontrol ediniz. Cevap Kâğıdı size ait değilse, görevlileri uyarıp size ait Cevap Kâğıdını alınız. Daha sonra Cevap Kâğıdı üzerinde ayrılmış olan yerlere öğrenci numaranızı ve test grubunuzu kodlayınız, adınızı soyadınızı yazınız ve ilgili yeri imzalayınız.
6. Cevap Kâğıdına yazılacak her türlü yazı, rakam ve yapılacak işaretlemeler için siyah kurşun kalem kullanılacaktır. Tükenmez kalem veya dolmakalem kesinlikle kullanılmayacaktır. Cevapların tümü CEVAP KÂĞIDINA İŞARETLENECEKTİR. Soru Kitapçıkları üzerine yapılan işaretlemeler kesinlikle değerlendirilmez. Her dersin cevabı, o dersin isminin yazılı olduğu sütuna işaretlenmelidir. Yanlış sütuna yapacağınız işaretlemeler kesinlikle değerlendirilmez.
7. Soru Kitapçığının sayfalarındaki boş yerleri müsvedde yapmak için kullanabilirsiniz. Başka bir kâğıdı müsvedde olarak kullanmak yasaktır. Bu tür işlemleri yapanların sınavları geçersiz sayılır.
8. Öğrencilerin sorulara verdikleri yanıtları herhangi bir yere yazmaları ve bunu sınav salonundan dışarıya çıkarmaları yasaktır. Bu kurala uymayanların sınavları geçersiz sayılır.
9. Sınav sırasında öğrencilerin birbirinden kalem, silgi vb. şeyleri istemesi kesinlikle yasaktır. Yasağa uymayanların sınavı geçersiz sayılır.
10. Sınav sırasında hesap makinesi kullanılabilir. Ancak, hesap makinesinin sınav sırasında ödünç alınması, verilmesi ve değiştirilmesi yasaktır. (Data Bank vb. gibi özel elektronik donanımlar kullanılamaz.) Bu tür davranışlarda bulunanların sınavları geçersiz sayılır.
11. Öğrenciler sınava gelirken telsiz, cep telefonu, çağrı cihazı vb. iletişim araçları ile görüntü kaydetmeye yarayan fotoğraf makinesi, kamera vb. araçları getirmemeleri konusunda sınava giriş belgelerinde uyarılmışlardır. Buna rağmen yanlarında bu tür cihazları getirenlerin, bunları sınav sonrasında almak üzere salon başkanına teslim etmeleri gerekir. Bu cihazları sınav salonunda yanlarında bulduran öğrencilerin, cihazları kapalı bile olsa, o oturumdaki sınavı geçersiz sayılacaktır. Bu cihazların kaybolmasından Üniversitemiz sorumlu olmayacaktır.
12. Biraz sonra dağıtılacak olan soru kitapçığında test ile ilgili açıklamalar yazılıdır. Bu açıklamaları okumadan ve size "SINAV BAŞLAMIŞTIR" denmeden soruları cevaplamaya başlamayınız.

SINAVLARINIZDA BAŞARILAR DİLERİZ.