



ANADOLU ÜNİVERSİTESİ
AÇIKÖĞRETİM FAKÜLTESİ
BA - AÇIKÖĞRETİM OKULLARI

T.C. MİLLİ EĞİTİM BAKANLIĞI
Hayat Boyu Öğrenme Genel Müdürlüğü
AÇIK ÖĞRETİM LİSESİ - BATI AVRUPA PROGRAMI
2013-2014 ÖĞRETİM YILI II.DÖNEM SINAVI
BEŞİNCİ OTURUM - Cumartesi 16.00

TEST GRUBUNUZ

A

0105

CEVAP KÂĞIDINIZA İŞARETLEMİYİ UNUTMAYINIZ.

ÖĞRENCİNİN

SOYADI :

ADI :

ÖĞRENCİ NO :

SINAV SALON NO:.....SIRA NO:

Soyadınızı, adınızı, öğrenci numaranızı, salon ve sıra numaranızı yukarıya yazmayı unutmayınız.

GENEL AÇIKLAMA

1. Bu soru kitapçığındaki testler şunlardır:

Testin Adı	Soru Sayısı	Sayfa No	Testin Adı	Soru Sayısı	Sayfa No
DİN KÜLTÜRÜ VE AHLAK BİLGİSİ 4	20	2	HZ. MUHAMMED'İN HAYATI 1	20	36
FELSEFE 2	20	4	DEMOKRASİ VE İNSAN HAKLARI 2	20	38
SEÇMELİ FELSEFE 2	20	6	SEÇMELİ DİL VE ANLATIM 6	20	40
TARİH 4	20	8	SEÇMELİ DİL VE ANLATIM 8	20	42
MATEMATİK 5	20	10	ALMANCA 2	20	44
PSİKOLOJİ 1	20	12	İNGİLİZCE 2	20	47
DİL VE ANLATIM 7	20	14	FRANSIZCA 2	20	50
TÜRK EDEBİYATI 1	20	16	ALMANCA 5	20	52
TÜRK EDEBİYATI 3	20	18	İNGİLİZCE 5	20	55
TÜRK EDEBİYATI 8	20	20	FRANSIZCA 5	20	57
FİZİK 1	20	22	SEÇMELİ ALMACA 8	20	59
KİMYA 3	20	24	SEÇMELİ İNGİLİZCE 8	20	62
GEOMETRİ 6	20	26	SEÇMELİ FRANSIZCA 8	20	64
GEOMETRİ 8	20	30			
SEÇMELİ TARİH 4	20	34			

2. Bu kitapçıkta yer alan her bir test için cevaplama süresi **30** dakika, toplam sınav süresi **150** dakikadır.
3. Cevaplamaya istediğiniz testin, istediğiniz sorusundan başlayabilirsiniz. Yalnız cevaplarınızı, cevap kâğıdında o test için ayrılmış olan bölümdeki aynı numaralı cevap yerine işaretlemeyi unutmayınız.
4. Cevaplarınızı koyu siyah ve yumuşak bir kurşunkalemle işaretleyiniz. İşaretinizi cevap yerinin dışına taşırmayınız. Tükenmez veya mürekkepli kalem kullanmayınız.
5. Değiştirmek istediğiniz bir cevabı yumuşak bir silgi ile, cevap kâğıdını örselemeden temizce siliniz ve doğru cevabınızı işaretlemeyi unutmayınız.
6. Cevap kâğıdınızı buruşturmayınız, katlamayınız ve üzerine gereksiz hiçbir işaret koymayınız.
7. Bu kitapçıkta her sorunun bir tek doğru cevabı vardır. Bir soru için birden çok cevap yeri işaretlenmişse o soru yanlış cevaplanmış sayılacaktır.
8. Cevaplarınız puanlanırken her doğru cevabınıza eşit puan verilecek, yanlış cevaplarınız dikkate alınmayacaktır. Bu nedenle kitapçıkta tüm sorular için size doğru gelen seçeneği işaretleyerek cevapsız soru bırakmamanız yararınıza olacaktır.
9. Kitapçığın sayfalarındaki boş yerleri müsvedde için kullanabilirsiniz.

Anadolu Üniversitesi tarafından hazırlanmış olan bu testlerin her hakkı saklıdır. Hangi amaçla olursa olsun, testlerin tamamının veya bir kısmının Anadolu Üniversitesi'nin yazılı izni olmadan kopya edilmesi, fotoğraflarının çekilmesi, herhangi bir yolla çoğaltılması, yayımlanması ya da kullanılması yasaktır. Bu yasağa uymayanlar gerekli cezai sorumluluğu ve testlerin hazırlanmasındaki mali külfeti peşinen kabullenmiş sayılır.

DİN KÜLTÜRÜ VE AHLAK BİLGİSİ 4

A

2014 II.DÖNEM 0105-A

1. Aşağıdakilerden hangisi vatandaşlık görevlerinden biri değildir?

- A) Vergi vermek
- B) Askere gitmek
- C) Seçimlere katılmak
- D) Eğitim görmek

2. "Hiç bilenlerle bilmeyenler bir olur mu" ayetiyle hangi temel hakka değinilmiştir?

- A) Yaşam hakkı
- B) İbadet hakkı
- C) Eğitim hakkı
- D) Özel yaşamın gizliliği hakkı

3. Aşağıdakilerden hangisi Atatürk'ün İslamiyet ile ilgili sözlerinden biri değildir?

- A) Dinimize inananlar, dünyada çoğunluktadır.
- B) Din gerekli bir kurumdur.
- C) Dinimiz son dindir.
- D) Dinimiz akla ve mantığa tamamen uygundur.

"Birbirinizin gizli ve ayıp hallerini araştırmayınız" Ayetiyle hangi temel hakka değinilmiştir?

- A) Yaşama
- B) Eğitim
- C) Özel yaşamın gizliliği
- D) Ekonomik

5. Kur'anı Kerim'in ilk emri nedir?

- A) Namaz kıl
- B) Oku
- C) Kul hakkı gözet
- D) Çalış

6. Fizikte izafiyet (rölativite) teorisini ilk kez ortaya koyan bilim insanı aşağıdakilerden hangisidir?

- A) İbn Firnas
- B) İbn Havkal
- C) El-Kindi
- D) El-Fergani

7. Hz. Muhammed'in hicretinden sonra Mescid-i Nebi'nin yanına açtığı ilk eğitim kurumu aşağıdakilerden hangisidir?

- A) Beytül-hikme
- B) Suffa
- C) Darul-Kurra
- D) Amr Camisi

8. Kişinin bir başkasına zarar vermeden düşündüğünü ve dilediğini yapabilmesine ne ad verilir?

- A) Laiklik
- B) Milliyetçilik
- C) Özgürlük
- D) Adalet

9. Tarihte, en çok adaletli yönetimiyle ünlenen halife kimdir?

- A) Hz. Ali
- B) Hz. Ömer
- C) Hz. Osman
- D) Hz. Ebu Bekir

10. Trigonometri'nin kurucularının en büyüğü kimdir?

- A) El-Battani
- B) Ömer Hayyam
- C) Farabi
- D) Gazali

11. El-Kanun fit-Tıp adlı eser aşağıdaki bilim insanlarından hangisine aittir?

- A) Ali Kuşçu
- B) Ömer Hayyam
- C) Ebu Davut
- D) İbn-i Sina

12. Atatürk'e göre hiçbir kuvvetin Türk Milleti'nin kalbinden çıkaramayacağı iki fazilet aşağıdakilerin hangisinde birlikte verilmiştir?

- A) Din ve dil
- B) Din ve vicdan
- C) Din ve özgürlük
- D) Dil ve tarih

13. Din ve vicdan özgürlüğünün temel boyutu aşağıdakilerden hangisidir?

- A) Ekonomik özgürlük
- B) Mülkiyet hakkı
- C) İnanç özgürlüğü
- D) Eğitim hakkı

14. I. Akıl
Vahiy
Duyular

Yukarıdakilerden hangileri İslâm'a göre doğru bilgiye ulaşma yollarındandır?

- A) Yalnız I
- B) I ve II
- C) II ve III
- D) I, II ve III

15. Allah'ın peygamberlerine dilediklerini özel bir şekilde bildirmesine ne ad verilir?

- A) Vahiy
- B) Rüya
- C) Dalâlet
- D) Haslet

16. Aşağıdaki camilerden hangisi başlıca ilim merkezlerinden biri değildir?

- A) Amr Camii
- B) Emeviye Camii
- C) Mansur Camii
- D) Kasr Camii

17. "Dinsiz milletlerin dünyadan ve tarihten silineceğini" ifade ederek Atatürk aşağıdakilerden hangisini vurgulamak istemiştir?

- A) Bağımsızlığın sadece din aracılığıyla sağlanacağını
- B) Bir toplum için gerekli olduğunu
- C) Demokrasinin din sayesinde gelişeceğini
- D) Uygarlık ve kalkınmanın olmayacağını

18. İlk dünya haritasını günümüzdeki ölçülere yakın biçimde çizen ünlü Müslüman denizci ve coğrafyacı kimdir?

- A) Piri Reis
- B) Barbaros Hayrettin Paşa
- C) Uluğ Bey
- D) Kılıç Ali Reis

19. I. Kindi
Battânî
Harezmi

Yukarıdakilerden hangileri İslam medeniyetine ve insanlığa büyük katkısı olan düşünürlerdendir?

- A) Yalnız I
- B) Yalnız II
- C) I ve III
- D) I, II ve III

20. Aşağıdakilerden hangisi müspet ilimlerden biridir?

- A) Tefsir
- B) Tıp
- C) Fıkıh
- D) Kelam

1. "Yeni Dünya" adlı eser aşağıdakilerden hangisine aittir?
- A) Orwell
B) Campanella
C) Huxley
D) More
2. "Her insan idealar dünyasına yönelmeli ve eylemlerini iyi ideasına uydurmalıdır." görüşünü dile getiren düşünür aşağıdakilerden hangisidir?
- A) Descartes
B) Aristoteles
C) Demokritos
D) Platon
3. "İnsan ahlaki eylemlerinde yalnızca kendi hazzını, yararını ve mutluluğunu değil, aşka insanların yararını ve mutluluğunu da düşünmek durumundadır. Çünkü toplumun mutluluğu sağlandığında birey de mutluluğa ulaşır." görüşünü savunan düşünür aşağıdakilerden hangisidir?
- A) Hobbes
B) Bacon
C) Weber
D) Mill
4. İnsanların eylemlerini ve birbirleriyle ilişkilerini düzenlemek amacıyla oluşturulmuş normlar ya da değerler sistemine ne ad verilir?
- A) Ahlak
B) Hukuk
C) Din
D) Felsefe
5. Ahlak yasasını, Tanrı ve insan sevgisiyle temellendiren, bu çerçevede insanların eşitliğini ve kardeşliğini savunan, iyilik, sevgi, çalışkanlık ve dürüstlüğü ahlaki değer olarak benimseyen düşünür aşağıdakilerden hangisidir?
- A) Pir Sultan Abdal
B) Yunus Emre
C) Mevlana
D) Hacı Bektaş Veli
- Aşağıdakilerden hangisi din felsefesinin konularından biri değildir?
- A) Tanrının varlığı
B) Güzel ahlak
C) Evrenin yaratılışı
D) Ruhun ölümsüzlüğü
7. "Erdemli Toplum" adlı eserinde erdemli bir toplumun erdemli, bilgili yöneticiler aracılığıyla oluşturulabileceğini savunan düşünür aşağıdakilerden hangisidir?
- A) Gazali
B) Farabi
C) Fuzuli
D) Mevlana
8. "Siyaset hem bir çatışma ve iktidar kavgası hem de toplumun tüm üyelerinin yararına olabilecek bir düzen yaratma aracıdır." görüşünü dile getiren siyaset bilimci aşağıdakilerden hangisidir?
- A) Daver
B) Baumgarten
C) Smith
D) Duverger
9. Din ile felsefeyi birbirinden ayırarak inceleyen ik düşünür aşağıdakilerden hangisidir?
- A) Huxley
B) Sartre
C) Kant
D) Orwel
10. İdeal bir toplum düzeni tasarlayan Mk filozof aşağıdakilerden hangisidir?
- A) Platon
B) Kant
C) Farabi
D) Spinoza
11. Aşağıdakilerden hangisi siyaset felsefesinin temel kavramlarından biri değildir?
- A) Ahlak
B) Devlet
C) Toplum
D) Bürokrasi

12. Bireyin iyi ve doğru eylemlerde bulunmaya mizaç, eğitim ve moral olgunluk açısından yatkın olma durumuna ne ad verilir?

- A) Erdem
- B) Sorumluluk
- C) Etik
- D) Vicdan

13. "Varolan her şeyin bir yaratıcısı olduğuna, bu yaratıcının mutlak ve sınırsız bir bilgi ve güce sahip olduğuna sarsılmaz bir inanç beslemek" aşağıdakilerden hangisiyle ifade edilir?

- A) Ateizm
- B) Teizm
- C) Deizm
- D) Agnostisizm

14. Aşağıdakilerden hangisi din felsefesinin temel kavramlarından biri değildir?

- A) Bürokrasi
- B) İman
- C) İbadet
- D) Vahiy

15. "Anarşizm" akımının kurucusu aşağıdakilerden hangisidir?

- A) Kropotkin
- B) Stimer
- C) Proudhon
- D) Bakunin

16. "Mesnevi" adlı eser aşağıdakilerden hangisine aittir?

- A) Hacı Bektaş Veli
- B) Mevlana
- C) Ahmet Yesevi
- D) İbn-i Haldun

17. Güzelliği ve güzel sanatların doğasını inceleyen felsefe dalı aşağıdakilerden hangisidir?

- A) Etik
- B) Ahlak
- C) Estetik
- D) Mantık

18. Yaşadığı dönemin İtalya'sındaki aksaklıklardan yola çıkarak "Güneş Ülkesi" adını verdiği ideal bir toplum düzenini tasarlayan düşünür aşağıdakilerden hangisidir?

- A) Bacon
- B) Bentham
- C) Campanella
- D) Mill

19. Aşağıdakilerden hangisi toplumlarda siyasi iktidarın olası kaynaklarından biri değildir?

- A) İçten gelebilecek tehlikelere karşı korunma düşüncesi
- B) Olumsuz coğrafi koşullar
- C) Birlikte yaşama isteği
- D) Egemen din anlayışı

20. "Evrensel ahlak yasasını belirleyen en önemli öge insanın, kendisinin de bir parçası olduğu doğa düzenini anlayarak ve bu bilgiye dayanarak ahlaki bir biçimde davranmasıdır." görüşünü dile getiren düşünür aşağıdakilerden hangisidir?

- A) Kant
- B) Demokritos
- C) Aristoteles
- D) Spinoza

SEÇMELİ FELSEFE 2

A

2014 II.DÖNEM 0105-A

1. **Demokratik otoritenin kaynağı aşağıdakilerden hangisidir?**
 - A) Yerleşik inançlar
 - B) Karizmatik lider
 - C) Yazılı hukuk kuralları
 - D) Gelenekler
2. **Liberalizmi savunan düşünürlere göre, ideal düzenin var olması aşağıdakilerden hangisine bağlıdır?**
 - A) Toplumun hukuk kurallarından daha çok örf ve geleneklere göre yönetilmesine
 - B) İnsanlar arasında tam eşitliğin gerçekleşmesine
 - C) Toplumda birey özgürlüklerinin tam olarak yerine getirilmesine
 - D) Üretim araçlarının toplumun ortak mülkiyetinde olmasına
3. **Max Weber'in "Liderin sahip olduğuna inanılan olağanüstü niteliklerinden doğar." şeklinde ifade ettiği otorite türü aşağıdakilerden hangisidir?**
 - A) Hukuksal
 - B) Geleneksel
 - C) Demokratik
 - D) Karizmatik
4. **Aşağıdakilerden hangisi din konusunda felsefi bir yaklaşımdır?**
 - A) Dini temellendirmek ve inançları kuvvetlendirmek
 - B) Olayları, dini kurallar çerçevesinde yorumlamak
 - C) Dinin temel iddiaları üzerinde akla dayanarak, genel ve tutarlı biçimde düşünmek
 - D) İnanılan dinin kurallarını açıklamak
5. **Panteizme göre, Tanrı'nın evrenden ayrı bir varlığı yoktur. Tanrı evrenin kendisidir. Evrende var olan her şey, aslında bir bütün olarak Tanrı'yı oluşturur. Tanrı her şeydir ve her şey Tanrı'dır. Tanrı, nesnelere dışında değil, içindedir.**

Bu açıklamaya göre Panteizm ile ilgili aşağıdaki yargılardan hangisine ulaşılabilir?

 - A) Tanrı'nın varlığını evren ile özdeşleştirir.
 - B) Tanrı'nın varlığını reddeder.
 - C) Tanrı ve evrenin birbirinden bağımsız olduğunu kabul eder.
 - D) Tanrı'nın varlığının bilinemeyeceğini savunur.
6. **Aşağıdakilerden hangisi din felsefesinin temel kavramlarından biri değildir?**
 - A) İman
 - B) Yönetim
 - C) Kutsal
 - D) Vahiy
7. **Aşağıdakilerden hangisi ahlak yargılarının özelliklerinden biri değildir?**
 - A) Estetik beğeni ile ilgili yargılardır.
 - B) Yaptırım gücüne sahiptir.
 - C) Kişiden kişiye değişebilir.
 - D) Kural koyucudur.
8. **Sartre hangi felsefi yaklaşımın temsilcisidir?**
 - A) Hazcılık
 - B) Sezgicilik
 - C) Faydacılık
 - D) Varoluşçuluk
9. **Zihinde tasarlanmış, gerçekleşmesi mümkün olmayan düşsel bir toplum biçimini ve siyasi yönetim tarzını ifade eden kavram aşağıdakilerden hangisidir?**
 - A) Bürokrasi
 - B) Ütopya
 - C) Anomi
 - D) Devlet
10. **Kant'ın ahlaki eylem ile ilgili görüşü aşağıdakilerden hangisidir?**
 - A) Bir eylem, bir ödev duygusuyla yapılmış ise ahlaki eylemdir.
 - B) Bir eylemin iyi ya da kötü olduğuna, iyi ideasına uygun olup olmadığına bakılarak karar verilir.
 - C) Neyin iyi, neyin kötü olduğu sezgiyle kavranabilir.
 - D) Ahlaki eylemin amacı mutluluktur.
11. **Aşağıdakilerden hangisi ideal bir düzenin olabileceğini reddeden "nihilizmdin temsilcilerinden biridir?**
 - A) Marx
 - B) Platon
 - C) Nietzsche
 - D) Comte

12. Aşağıdakilerden hangisi "İnsanın kendi çevresi ile kurduğu ilişkiyi estetik bir ifadeyle sunması" olarak ifade edilir?

- A) Bilim
- B) Ahlak
- C) Din
- D) Sanat

13. "Gerçek estetik yargıların duyusal olmaktan çıkıp düşünsel düzeye çıktığını, kişisel olmaktan çıkış zorunlu ve genel geçer hale geldiğini" ifade eden Kant, bu görüşüyle aşağıdakilerden hangisini savunmuştur?

- A) Ortak estetik yargıların var olduğunu
- B) Sanatla oyun arasında benzerlik olduğunu
- C) Estetik yargıların, kişilere göre farklılık gösterdiğini
- D) Güzel olan ile iyi hoş olanın aynı şey olduğunu

14. • İnsanların toplum içinde nasıl davranmaları gerektiğini bildiren kurallardır.
• Devletin iktidar gücünü hiçbir baskı olmadan kullanabilmesidir.
• İzin verilmiş olan, yasaklanmamış olan davranışlarda bulunma serbestisidir.

Yukarıdakiler arasında tanımı verilmeyen kavram aşağıdakilerden hangisidir?

- A) Devlet
- B) Egemenlik
- C) Yasa
- D) Hak

15. I. Mevlana
II. Yunus Emre
III. Hacı Bektaş Veli

Yukarıdakilerden hangileri evrensel ahlak yasasını tasavvuf düşüncesiyle temellendirmiştir?

- A) Yalnız I
- B) I ve II
- C) II ve III
- D) I, II ve III

16. Farabi'nin, seçimle belirlenen erdemli kişiler tarafından yönetilen ütöpik devlet tasarısını anlattığı eseri aşağıdakilerden hangisidir?

- A) Güneş Ülkesi
- B) Erdemli Şehir
- C) Yeni Dünya
- D) Ütopya

17. Sanatçının eserlerini nasıl oluşturduğu ile ilgili aşağıdaki ifadelerden hangisi yanlıştır?

- A) Madde ve biçime ilişkin her şeyle oynayarak oluşturur.
- B) Kendi yeteneği ve hayal gücünü kullanarak oluşturur.
- C) Estetik duygulardan arınarak sanat eserini oluşturur.
- D) Nesnelere taklit ederek oluşturur.

18. Aşağıdakilerden hangisi ahlak felsefesinin temel sorularından biridir?

- A) Meşruiyetin ölçütü nedir?
- B) Var oluşun kaynağı nedir?
- C) Sivil toplum ne anlama gelir?
- D) İnsan ahlaki eylemde bulunurken özgür müdür?

19. Aşağıdakilerden hangisi estetik yargıya bir örnektir?

- A) Bırakılan taş yere düşer.
- B) Picasso'nun bütün resimleri güzeldir.
- C) Bütün canlılar ölümlüdür.
- D) Arkadaşa yardımcı olmak iyi bir davranıştır.

20. Aşağıdakilerden hangisi ahlak felsefesinin kavramlarından biridir?

- A) Meşruiyet
- B) Erdem
- C) Kutsal
- D) Güzel

1. Osmanlılarda yeniçeri ocağının silahlarını yapan, onaran veya temin eden ocak aşağıdakilerden hangisidir?
 - A) Acemi ocağı
 - B) Lağımçı ocağı
 - C) Cebeci ocağı
 - D) Humbaracı ocağı
2. Aşağıdakilerden hangisi Osmanlı devlet yönetiminde hükümdarların kullandıkları unvanlardan biri değildir?
 - A) Hüdavendigâr
 - B) Hakan
 - C) Ekber
 - D) Gazi
3. Aşağıdakilerden hangisi reisülküttabın görevlerinden biri değildir?
 - A) Arazi kayıtları ile tahrir defterlerindeki düzeltmeleri yapmak
 - B) Divanda alınan kararları düzelttikten sonra tamamlamak
 - C) Fermana uygun emirler yazmak
 - D) Padişaha ve veziri azama gelen mektupları tercüme ettirerek bunlara cevap hazırlamak
- Osmanlılarda tahta geçme şeklinin kesin bir kaideye bağlanması hangi padişah zamanında gerçekleşmiştir?
 - A) I.Ahmet
 - B) II.Mahmut
 - C) Fatih Sultan Mehmet
 - D) III.Ahmet
5. Aşağıdakilerden hangisi tımar sisteminin Osmanlı Devleti'ne sağladığı faydalardan biri değildir?
 - A) Devleti, vergi toplayıp hazineye aktarma ve yeniden maaş olarak dağıtma külfetinden kurtarması
 - B) Devletin, para harcamadan sürekli hazır bir orduya sahip olması
 - C) Toprağın sürekli işlenmesiyle bol ürün elde edilmesi
 - D) Dirlik sahiplerinin tüketime katkıda bulunarak örfi bir görevi yerine getirmesi
6. Müzisyen, berber gibi hizmetlilerin bulunduğu yer aşağıdakilerden hangisidir?
 - A) Seferli Odası
 - B) Kiler Odası
 - C) Hazine Odası
 - D) Has Oda
7. Osmanlı devlet yönetiminde sarayın dış bölümüne verilen ad aşağıdakilerden hangisidir?
 - A) Babûs-Saade
 - B) Arz bölümü
 - C) Bîrûn
 - D) Enderun
8. Yeniçeri Ocağı'nı kuran kişi aşağıdakilerden hangisidir?
 - A) Osman Bey
 - B) I.Murat
 - C) Orhan Bey
 - D) I.Bayezit
9. Türk ve Müslümanlardan başka Osmanlı Devleti'nde en fazla nüfusa sahip olanlar aşağıdakilerden hangisidir?
 - A) Museviler
 - B) Hristiyanlar
 - C) Ermeniler
 - D) Slavlar
10. Zamanımızda da kullanılmakta olan İstanbul'daki kapalı çarşı kim tarafından yaptırılmıştır?
 - A) Kanuni Sultan Süleyman
 - B) Fatih Sultan Mehmet
 - C) II.Mahmut
 - D) III.Ahmet
11. XVI.yy'da 700 bin kişilik nüfusuyla bütün Avrupa'nın en büyük şehri aşağıdakilerden hangisidir?
 - A) Edirne
 - B) İstanbul
 - C) Trabzon
 - D) İzmir
12. Aşağıdakilerden hangisi âyanların görevlerinden biri değildir?
 - A) Halk ile yönetim arasında aracılık yapmak
 - B) Asker toplanmasına yardım etmek
 - C) Devlet harcamalarını kontrol etmek
 - D) Kadı tarafından kendilerine iletilen emirleri halka iletmek

13. Aşağıdakilerden hangisi, Osmanlı ekonomik düzeninin başarısında etkili olan toplum ve insan özelliklerinden biri değildir?

- A) Devletin ekonomik yönden gelişmesi için her türlü fedakarlığın yapılması
- B) Kazanma hırsının sınırlı olması
- C) İnsanların yumuşak başlı olması
- D) İnsanların maceracı olması

14. Dış borçlar konusu, aşağıdaki antlaşmaların hangisiyle kesin çözüme ulaşmıştır?

- A) Lozan Antlaşması
- B) Kasr-ı Şirin Antlaşması
- C) Karlofça Antlaşması
- D) Uşi Antlaşması

15. Osmanlılarda, mülkiyet hakkı devlete ait olan, yalnız işlemek şartıyla sahiplerinin üzerinde bırakılan topraklara verilen ad aşağıdakilerden hangisidir?

- A) Öşriye
- B) Haraciye
- C) Tımar
- D) Arz-ı miri

16. Osmanlılarda, özel sektörün elindeki en büyük sanayi dalı aşağıdakilerden hangisidir?

- A) Maden
- B) Makine sanayi
- C) Gıda
- D) Tekstil

17. Aşağıdakilerden hangisi Enderun mektebinde eğitimi verilen konulardan biri değildir?

- A) Sanat eğitimi
- B) İslami bilgiler eğitimi
- C) Ticaret eğitimi
- D) Beden eğitimi

18. Osmanlılarda medresede ders veren kişiye verilen ad aşağıdakilerden hangisidir?

- A) Suhte
- B) Danişmend
- C) Talebe
- D) Müderris

19. İkinci Viyana Kuşatması'ndan sonra, Osmanlı Devleti içinde bulunduğu çöküntüden kurtulmak için öncelikle aşağıdaki alanların hangisinde yenileşme hareketi başlatmıştır?

- A) Hukuki
- B) Askeri
- C) Ticari
- D) Dini

Osmanlı Devleti'nde eğitim anlayışının temel amacı aşağıdakilerden hangisidir?

- A) İdeal insan tipini ortaya çıkarmak
- B) Toplumun ilgisini sanatsal konulara çekmek
- C) Toplumun kültürel faaliyetlerini artırmak
- D) Okuma-yazma oranını artırmak

1. $f(x)=7-\log_a(x-5)$ fonksiyonu veriliyor. Buna göre $f^{-1}(4)$ kaçtır?

A) 8
B) 16
C) 27
D) 32

2. $\frac{7 - 24i}{3 + 4i}$ ifadesinin değeri aşağıdakilerden hangisidir?

A) 5
B) $7^{\wedge}3$
C) 17
D) 25

3. $z = (1 - i)^2 - 2i(4i - 1)$ karmaşık sayısının reel kısmı aşağıdakilerden hangisidir?

A) -8
B) -2
C) 2
D) 8

4. $f(x)=\log_3(x^2+7x+6)$ kuralıyla tanımlanan f fonksiyonunun tanımlı olduğu x gerçel sayılarının kümesi aşağıdakilerden hangisidir?

A) [-6, -1]
B) [1, 6]
C) [6, +∞)
D) $\mathbb{R}-[-6, -1]$

5. $z = 3 \left[\sin \frac{\pi}{3} + i \cos \frac{\pi}{3} \right]$ ise, z^2 'nin $x+yi$ şeklinde yazılışı aşağıdakilerden hangisidir?

A) $\frac{1}{2} + i \frac{\sqrt{3}}{2}$
B) $3+3i$
C) $3 + \sqrt{3}i$
D) $\frac{9}{2} + i \frac{\sqrt{3}}{2}$

- karmaşık sayısının eşleniği aşağıdakilerden hangisidir?

A) $5 + \sqrt{3}i$
B) $5 - \sqrt{3}i$
C) $-5 + \sqrt{3}i$
D) $-5 - \sqrt{3}i$

7. $\log_5(\log_3(\log_2(\log_{2256})))$ ifadesi aşağıdakilerden hangisine eşittir?

A) 0
B) 1
C) 3
D) 5

8. $z_1=5-7i$ ve $z_2=+3i-7$ karmaşık sayıları veriliyor.

- Buna göre, z_1-z_2 sayısı aşağıdakilerden hangisidir?

A) $-2-4i$
B) $2-10i$
C) $12-10i$
D) 2

9. $\log_3=a$ ve $\log_5=b$ eşitlikleri veriliyor.

- Buna göre \log_6 'nın değeri aşağıdakilerden hangisidir?

A) $a+b+1$
B) $a-b+1$
C) $b-a$
D) $3a-5b+2$

10. Karmaşık düzlemde $15-8i$ sayısının orijine olan uzaklığı kaç birimdir?

A) 7
B) 13
C) 17
D) 23

11. Aşağıdaki eşitliklerden hangisi yanlıştır?

- A) $.7144 = 12$
 B) $i^4=1$
 C) $i^3=-i$
 D) $= 4i$

12. $P(x)= -x^{132}+5x^{173}-x^{74}$ polinomu veriliyor. Buna göre $P(i)$ kaçtır?

- A) $-2+5i$
 B) $5i$
 C) $2+5i$
 D) 2

13. $\log^* 81 \cdot \log_7 21 \cdot \log_3 7$ çarpımının sonucu kaçtır?

- A) 3
 B) 4
 C) 9
 D) 27

14. $\log_x 64=6$ eşitliğini sağlayan x değeri kaçtır?

- A) 2
 B) 4
 C) 8
 D) 16

15. $2^3=8$ eşitliğinin, logaritmik ifade olarak yazılışı aşağıdakilerden hangisidir?

- A) $\log_2 8=3$
 B) $\log_2 3=8$
 C) $\log_2 2=3$
 D) $2 \cdot \log_3=8$

16. $\log^{\check{1}\check{2}\check{3}\check{4}}$ ifadesinin değeri aşağıdakilerden hangisidir?

- A) 3
 4
 B) 1
 C) 4
 3
 D) 10

17. $\frac{1-i}{1+i}$ işleminin sonucu aşağıdakilerden hangisidir?

- A) i
 B) $-i$
 C) $\frac{1}{2} + \frac{1}{2}i$
 D) $\frac{1}{2} - \frac{1}{2}i$

18. $e^x=1$ denkleminin çözüm kümesi aşağıdakilerden hangisidir?

- A) 4
 B) 23
 4
 C) 6
 D) 25
 4

19. $3^{1+\log_3 2}$ ifadesinin değeri aşağıdakilerden hangisidir?

- A) 2
 B) 6
 C) 7
 D) 18

20. $x, y \in \mathbb{R}$ olmak üzere, $z_1=11-4x-i$ ve $z_2=19-(5-y)i$ karmaşık sayıları veriliyor.

$z_1=z_2$ ise $y-x$ kaçtır?

- A) 2
 B) 4
 C) 6
 D) 8

1. Davranışların ortaya çıkmasından itibaren gelişmesini, gelişme dönemlerini araştıran psikoloji dalı aşağıdakilerden hangisidir?

- A) Genetik psikoloji
- B) Deneysel psikoloji
- C) Sosyal psikoloji
- D) Yetişkinlik psikolojisi

2. "Bir tablo; tuval, boya ve renklerin toplamından çok daha farklı bir şeydir." anlayışını benimseyen yaklaşım aşağıdakilerden hangisidir?

- A) Gestaltçı
- B) Hümanistik
- C) Psikoanalitik
- D) Yapısalcı

3. ABD'li psikiyatr Adolf Mayer'in öncülüğünü yaptığı Psikiyatri Okulu'nun benimsediği yaklaşım aşağıdakilerden hangisidir?

- A) Deneysel yaklaşım
- B) Genetik yaklaşım
- C) Fizyolojik yaklaşım
- D) Biyolojik yaklaşım

4. İlk psikoloji laboratuvarını aşağıdaki bilim adamlarından hangisi kurmuştur?

- A) S. Bruner
- B) W. Wundt
- C) J. Piaget
- D) S. Freud

5. İnsanın anatomik yapısının, sinir sisteminin ve salgı bezlerinin davranışlarla ilişkisini araştıran psikoloji dalı aşağıdakilerden hangisidir?

- A) Eğitim psikolojisi
- B) Deneysel psikoloji
- C) Karşılaştırmalı psikoloji
- D) Fizyolojik psikoloji

İnsan zihnini çeşitli programlara göre bilgi edinmek, bilgiyi işlemek, depolamak ve kullanmak üzere tasarlanmış gelişkin bir bilgisayar sistemi olarak ele alan yaklaşım aşağıdakilerden hangisidir?

- A) Bilişsel
- B) Biyolojik
- C) İşlevselcilik
- D) Bütünlük

7. Tıp eğitimi görmüş ve psikiyatri konusunda uzmanlık yapmış kişiye ne ad verilir?

- A) Psikolog
- B) Sosyolog
- C) Biyolog
- D) Psikiyatrist

Işık dalgasının gözü etkileyerek renkli görmeyi sağlamasına ne ad verilir?

- A) Denge
- B) Duyum
- C) Uyarım
- D) Dürtü

9. Doğuştan gelen ve mutlaka tatmin edilmesi gereken güdü aşağıdakilerden hangisidir?

- A) Sosyolojik
- B) Psikolojik
- C) Fizyolojik
- D) Algısal

10. "Daltonizm" olarak bilinen rahatsızlık aşağıdakilerden hangisidir?

- A) İşitme kaybı
- B) Renk körlüğü
- C) Halüsinasyon
- D) Doku kaybı

11. Organizmanın aşırı uyarımı ya da yetersiz uyarımı sonucunda bozulan uyumun yeniden sağlanmaya çalışmasına ne ad verilir?

- A) İntibak
- B) Motivasyon
- C) Dengeleme
- D) GÜDÜ

12. Aşağıdakilerden hangisi görsel derinlik algılamasına neden olan çevresel etmenlerden biri değildir?

- A) Binişim
- B) Işık ve gölge
- C) Halüsinasyon
- D) Çizgisel perspektif

13. Doyurulmamış temel ihtiyaçların yarattığı iç huzursuzluklarını gidermek üzere insanın kendini aldatması pahasına başvurduğu davranış örüntülerine ne ad verilir?

- A) Savunma mekanizmaları
- B) Katarsis
- C) Sosyal öğrenme
- D) Kalıpyargı

14. Kısa süreli bellekle ilgili aşağıdaki ifadelerden hangisi yanlıştır?

- A) Kapasitesi çok sınırlıdır.
- B) Aksatılmaya çok duyarlıdır.
- C) Zaman sınırı geniştir.
- D) Belleğin işlevi aşağı yukarı yedi birimle sınırlıdır.

15. İnsanın içinde yaşadığı çevresi, yaşadıkları ve kendi varlığı üzerinde bilgi sahibi olma yeteneğine ne ad verilir?

- A) Duyum
- B) Bilinç
- C) Algı
- D) Sezgi

16. Önceden öğrenilenlerin yeni öğrenilenleri unutturması aşağıdakilerden hangisi ile ilgilidir?

- A) Baskılamayla
- B) Geriye ket vurma
- C) İleriye ket vurma
- D) Öğrenmenin yetersiz olmasıyla

17. I. Benzerlik
II. Zıtlık
III. Eşzamanlılık

Yukarıdakilerden hangileri bellekte hatırlamaya ipucu sağlayacak gruplamalardandır?

- A) Yalnız I
- B) I ve II
- C) II ve III
- D) I, II ve III

18. Organizmanın uyanık ve tetikte olmasına ne ad verilir?

- A) Genel uyarılmış hal
- B) Bellek
- C) Öğrenme
- D) Bilinç değişikliği

19. Elimizi gözümüze yaklaştırdığımızda gözümüzü kapamamız, genzimize bir şey kaçtığına öksürmemiz aşağıdakilerden hangisine örnektir?

- A) Algı
- B) Duyum
- C) İçgüdü
- D) Refleks

20. Aşağıdakilerden hangisi yaratıcı düşünmeyi engelleyen faktörlerden biri değildir?

- A) Duygusal engeller
- B) Dilsel engeller
- C) Kültürel engeller
- D) Algısal engeller

1. Avrupa'daki anlamıyla öykü türü edebiyatımıza hangi dönemde girmiştir?

- A) Cumhuriyet
- B) Tanzimat
- C) Kurtuluş savaşı
- D) İslahat

2. Namık Kemal tarafından yazılan ve edebiyatımızda Mk tarihsel roman olarak kabul edilen roman aşağıdakilerden hangisidir?

- A) Cezmi
- B) Çalıkuşu
- C) Mai ve Siyah
- D) Kiskanma

3. Yazarın sanat metinlerinde iletmek istediği mesaja ne ad verilir?

- A) Anlam
- B) Gönderge
- C) Yorum
- D) Yoğun anlam

4. Aşağıdakilerden hangisi dramatik bir eserde yer alan konuşma çeşitlerinin özel adlarından biri değildir?

- A) Diyalog
- B) Monolog
- C) Figüran
- D) Tirad

5. Aşağıdakilerden hangisi Türk Edebiyatı'nın gelişim sürecinde kurulan topluluklardan biri değildir?

- A) Tanzimat edebiyatı
- B) Beş Hececiler
- C) Milli edebiyat
- D) Dram edebiyatı

"Dost dost diye nicesine sarıldım
Benim sadık yârim kara topraktır
Beyhude dolandım boşa yoruldum
Benim sadık yârim kara topraktır"

Yukarıda dört dizesi alıntılanan şiir kimin eseridir?

- A) Karacaoğlan
- B) Nedim
- C) Şeyhi
- D) Aşık Veysel

"Sinağrit Baba" hikayesinin de yazarı olan, hikayelerinde denizi, balıkçıları ve balıkları sıkça konu edinen ve denizi çok seven yazar aşağıdakilerden hangisidir?

- A) Halikarnas Balıkcısı
- B) Sait Faik
- C) Ömer Seyfettin
- D) Memduh Şevket

8. Aşağıdakilerden hangisi müzikli oyun türlerinden biri değildir?

- A) Operet
- B) Absürd tiyatro
- C) Revü
- D) Skeç

9. Türk tiyatrosunda çağdaş tiyatro tekniğine uygun olarak yazılan ilk önemli eser aşağıdakilerden hangisidir?

- A) Cimri
- B) Müfettiş
- C) Şair Evlenmesi
- D) Figaro'nun Düğünü

10. Aşağıdaki yazarlardan hangisi 1970'li yıllardan sonra Türk romanında toplum sorunlarına yönelişle, ideolojik boyutu ağır basan romanların arttığı dönemi temsil eden yazarlardan biri değildir?

- A) Yakup Kadri
- B) Emine İşinsu
- C) Oğuz Atay
- D) Pınar Kür

11. Aşağıdakilerden hangisi fablın öğelerinden biri değildir?

- A) Kişiler
- B) Olay
- C) Dize
- D) Yer

12. Şiirlerinde gündelik hayatı, anlık sevinç ve tasaları, aşkı ve ölümü ele alan ve özellikle karamsarlıklarını, korkularını "Otuz Beş Yaş" şiirinde dile getiren şair aşağıdakilerden hangisidir?

- A) Ahmet Muhip Dranas
- B) Orhan Veli
- C) Attila İlhan
- D) Cahit Sıtkı Tarancı

13. Dokuzuncu Hariciye Koşuşu aşağıdakilerden hangisinin eseridir?

- A) Peyami Safa
- B) Yahya Kemal
- C) Reşat Nuri
- D) Memduh Şevket

14. Aşağıdakilerden hangisi Türk kültürüne ait başlıca halk tiyatrosu türlerinden biri değildir?

- A) Karagöz
- B) Meddah
- C) Orta oyunu
- D) Mani

15. Aşağıdakilerden hangisi şiirin dış yapı özelliklerinden biri değildir?

- A) Nazım şekli
- B) Şiirin öz derinliği
- C) Ölçü
- D) Kafiye

16. Aşağıdakilerden hangisi başlıca komedy türlerinden biri değildir?

- A) Diyalog komedyası
- B) Töre komedyası
- C) Yergi komedyası
- D) Entrika komedyası

17. Aşağıdaki yazarlardan hangisi çağdaş tiyatro yazarları arasında sayılamaz?

- A) Garcia Lorca
- B) J.P.Sartre
- C) Berthold Brecht
- D) Lope de Vega

18. Battal Gazi, Köroğlu hikâyeleri hangi türün örnekleridir?

- A) Köy hikâyelerinin
- B) Aşk hikâyelerinin
- C) Kahramanlık hikâyelerinin
- D) Masalsı hikayelerin

19. Türk tiyatrosunda başarılı bir epik deneme olarak kabul edilen Keşanlı Ali Destanı, kimin eseridir?

- A) Haldun Taner
- B) Namık Kemal
- C) Halit Ziya
- D) Muhsin Ertuğrul

20. Epik tiyatroyla ilgili aşağıdaki ifadelerden hangisi yanlıştır?

- A) Sahne dekor ve etki altına alıcı duygulu olaylardan uzak tutulur.
- B) Seyircinin tiyatro düşünden uyanması için olayın akışı sık aralıklarla kesilir.
- C) Amaç seyirciyi farklı diyarlara götürmek ve orda olduğu sürece büyülemektir.
- D) Duygu yerine akıl ön plana çıkarılır.

1. Edebi eserle ilgili aşağıdaki ifadelerden hangisi yanlıştır?

- A) Edebiyat ile ilgili kuramları öğretir.
- B) İnsanda estetik duygular uyandırır.
- C) Yazıldıkları çağın dil, kültür ve sanat anlayışlarını yansıtır.
- D) İnsanların duygu, düşünce ve hayal dünyalarını geliştirir.

2. "Boş Beşik" adlı eser aşağıdaki yazarlardan hangisine aittir?

- A) Sait Faik
- B) Cevat Şakir Kabaağaçlı
- C) Tarık Buğra
- D) Necati Cumalı

3. "İlahi Komedya" adlı eser aşağıdaki şairlerden hangisine aittir?

- A) James Joyes
- B) Dante Alighieri
- C) Heinrich Böll
- D) Tomas Manu

4. "Papatya" şiiri aşağıdaki şairlerden hangisine aittir?

- A) Orhan Veli
- B) Yahya Kemal Beyatlı
- C) Ahmet Haşim
- D) Tefik Fikret

5. Aşağıdakilerin hangisinde sözlü edebiyat ürünleri, birlikte ve doğru olarak verilmiştir?

- A) Destan-Gazel
- B) Gazel-Kaside
- C) Koşuk-Sav
- D) Kaside-Koşuk

6. Aşağıdakilerin hangisinde göze hitap eden (plastik) sanat dalları birlikte ve doğru olarak verilmiştir?

- A) Mimari-Müzik
- B) Müzik-Heykel
- C) Şiir-Resim
- D) Heykel-Resim

Atabetü'l-Hakayık adlı eseri aşağıdakilerden hangisi yazmıştır?

- A) Ahmet Fakih
- B) Edip Ahmet
- C) Yusuf Has Hacıp
- D) Yunus Emre

Aşağıdakilerden hangisi güzel bir cümlenin özelliklerinden biri değildir?

- A) Akıcılık
- B) Yalınlık
- C) Kapalılık
- D) Duruluk

9. Aşağıdakilerden hangisi edebi eser değildir?

- A) Tarih
- B) Roman
- C) Hikâye
- D) Tiyatro

10. Aşağıdakilerin hangisinde hem kulağa hem de göze hitap eden sanat dalları birlikte ve doğru olarak verilmiştir?

- A) Sinema-Şiir
- B) Opera-Fotoğraf
- C) Tiyatro-Şiir
- D) Opera-Bale

11. Bir sözü aynı anda hem gerçek hem de mecaz anlamıyla birlikte kullanma sanatına ne ad verilir?

- A) Kinaye
- B) Kapalı istiare
- C) Açık istiare
- D) Tevriye

12. Aşağıdakilerden hangisi halk edebiyatının özelliklerinden biri değildir?

- A) Nazım biriminin dörtlük olması
- B) Hece ölçüsü kullanılması
- C) Genel olarak zengin uyak kullanılması
- D) Genelde aşk, doğa güzellikleri, ayrılık, yiğitlik, özlem gibi konuların işlenmesi

13. Birinci ile üçüncü dize, ikinci ile dördüncü dizinin kendi aralarında (abab) uyaklanmasına ne ad verilir?

- A) Sarma uyak
- B) Çapraz uyak
- C) Düz uyak
- D) Cinaslı uyak

14. Aşağıdakilerden hangisi hece ölçüsünün özelliklerinden biri değildir?

- A) Türk şiirinin ulusal ölçüsü olması
- B) Sözcüklerdeki uzun ya da kısa hece sayısına dikkat edilmesi
- C) İslamiyet Öncesi Dönem ile halk ve tasavvuf şiirlerinde kullanılması
- D) Dizelerdeki hecelerin sayıca eşitliğine dayanması

15. "Ak akçe kara gün içindir." atasözünde ak ve kara sözcüklerinin arasında aşağıdaki edebî sanatlardan hangisi vardır?

- A) Tezat
- B) Tekrir
- C) Tariz
- D) Telmih

16. Gel ey mahbube Çin'den
O şirin köşk içinden

Yukarıdaki dizelerin uyak türü aşağıdakilerden hangisine örnektir?

- A) Cinaslı uyak
- B) Tam uyak
- C) Tunç uyak
- D) Zengin uyak

17. Orhan zamanından kalma bir duvar
Onunla bir yaşta ihtiyar çınar

Yukarıdaki dizelerin uyak türü aşağıdakilerden hangisine örnektir?

- A) Zengin uyak
- B) Tunç uyak
- C) Cinaslı uyak
- D) Tam uyak

18. Fani Karac'oğlan fani
Veren alır tatlı canı
Yakışmazsa öldür beni
Yeşil bağla ala karşı

Yukarıdaki dörtlükte yer alan "veren alır canı" sözüyle aşağıdaki edebî sanatlardan hangisi yapılmıştır?

- A) Telmih
- B) İrsalı mesel
- C) Tekrir
- D) Tariz

19. Aşağıdakilerden hangisi Tasavvuf edebiyatı şairlerinden biri değildir?

- A) Aşık Veysel
- B) Yunus Emre
- C) Pir Sultan Abdal
- D) KaygusuzAbdal

20. Dost dost diye nicesine sarıldım
Benim sadık yârim kara topraktır
Beyhude dolandım boşa yoruldum
Benim sadık yârim kara topraktır.

Yukarıdaki beyitte aşağıdakilerden hangisi yoktur?

- A) Hece ölçüsüyle yazılmıştır.
- B) Kara toprak, sadık bir yer olarak nitelendirilmiştir.
- C) Hecenin 14'lü kalıbı kullanılmıştır.
- D) Uyak düzeni abab şeklindedir.

1. Edebiyat ile ilgili aşağıdaki bilgilerden hangisi yanlıştır?

- A) Edebiyatın anlatım aracı dildir.
- B) Edebiyat toplumsal olaylarla ilgili değildir.
- C) Edebiyat bir söz sanatıdır.
- D) Edebiyat; tarih, felsefe, psikoloji, sosyoloji vb. bilim dallarından yararlanır.

2. Dünyanın en eski destanlarından İlyada ve Odyssea kim tarafından derlenip manzum olarak yazıya geçirilmiştir?

- A) Homeros
- B) Evliya Çelebi
- C) Thomsen
- D) Tolstoy

3. Aşağıda verilen Çağdaş Türk edebiyatı destanları ve yazarları ile ilgili eşleştirmelerden hangisi yanlıştır?

- A) Kurtuluş Savaşı Destanı- Nazım Hikmet
- B) Berlin Üçlemesi- Fazıl Hüsnü Dağlarca
- C) Atatürk Kurtuluş Savaşı'nda- Cahit Külebi
- D) Sakarya Meydan Savaşı- Ceyhan Atuf Kansu

4. Yurt dışına elçi olarak gönderilen kimselerin gördükleri yerlerle ilgili gezi, gözlem ve izlenimlerini anlattıkları eserlere ne ad verilir?

- A) Seyahatname
- B) Şikâyetname
- C) Sefaretname
- D) Selçukname

5. Aşağıdakilerden hangisi Türklerin tarih boyunca kullandıkları alfabelerden biri değildir?

- A) Uygur alfabesi
- B) Lâtin alfabesi
- C) Arap alfabesi
- D) Kiril alfabesi

Halk şiirinin unutulmaz ustasıdır. 17. yüzyılda Toroslar'da Türkmen aşiretleri arasında yaşamıştır. Şiirlerini dörtlük nazım birimiyle, hece ölçüsüyle saz eşliğinde söyledi.

Yukarıda tanıtılan ünlü halk ozanı, aşağıdakilerden hangisidir?

- A) Karacaoğlan
- B) Koroğlu
- C) Pır Sultan Abdal
- D) Âşık Veysel

7. Edebiyat tarihi ile ilgili aşağıdaki ifadelerden hangisi yanlıştır?

- A) Edebi eserlerle onların yaratıcılarını sosyal çevreleri ile birlikte inceler.
- B) Edebiyatın konusu içine giren eserleri ve sanatçıları alfabetik sırayla değerlendirir.
- C) İnsanlık tarihinin başlangıçtan bugüne kadar geçirdiği duygu düşünce aşamalarını, sanat anlayışlarını bize aktarır.
- D) Uygarlık tarihinin en önemli parçasıdır.

8. MÖ 3000'lerde Mezopotamya'da doğmuştur. Bilinen en eski destandır. Günümüze ulaşmış en kapsamlı metni Akad dilinde yazılmıştır.

Yukarıda tanıtılan destan aşağıdakilerden hangisidir?

- A) Oğuz Kağan Destanı
- B) Gılgamış Destanı
- C) İlyada Destanı
- D) Şu Destanı

Dede Korkut Hikâyeleri ile ilgili aşağıdaki bilgilerden hangisi yanlıştır?

- A) Başka edebiyatlardan alınan bölümleri vardır.
- B) Türk'ün öz benliğini yansıtan eserlerdir.
- C) Gerçekçi bir anlatımı vardır.
- D) Ayrıntılı tahliller ve özenilmiş tasvirler yoktur.

10. Türkiye'de tarih ve edebiyat tarihi incelemelerinde bilimsel yöntemleri ilk defa ortaya koyan, Türk edebiyatı tarihçiliğinin ilk araştırmacısı ve kurucusu, aşağıdakilerden hangisidir?

- A) Mehmet Fuad Köprülü
- B) Ahmet Hamdi Tanpınar
- C) Agâh Sırrı Levent
- D) Nihat Sami Banarlı

11. Türk dilinin 720-735 yıllarında yazılan en eski ve en değerli belgeleri aşağıdakilerin hangisidir?

- A) Manas Destanı
- B) Uygur Yazıtları
- C) Orhun Abideleri
- D) Dede Korkut Hikâyeleri

12. Dikili taşlar üzerine yazılmış, Doğu Göktürklerin tarihini anlatan ve 19. yüzyıl sonunda Danimarkalı bilim insanı V. Thomson tarafından okunan yazıtlara ne ad verilir?

- A) Yenisey Yazıtları
- B) Talas Yazıtları
- C) Bumin Kağan Anıtları
- D) Orhun Yazıtları

13. Aşağıdakilerden hangisi, eski Türk şairlerine Türk boyları arasında verilen isimlerden biri değildir?

- A) Şair
- B) Baksı
- C) Şaman
- D) Oyun

14. Halk edebiyatında ölen kişinin ardından onun yiğitliklerini, iyiliklerini ve erdemlerini anlatan şiirlere ne ad verilir?

- A) Koşuk
- B) Sav
- C) Güzelleme
- D) Ağıt

15. İşgale uğrayan bir ülke ve savaş gibi önemli bir toplumsal olayı işleyen Ateşten Gömlek romanının yazarı, aşağıdakilerden hangisidir?

- A) Orhan Şaik Gökyay
- B) Ahmet Hamdi Tanpınar
- C) Halide Edip Adivar
- D) Halit Ziya Uşaklıgil

16. Aşağıdakilerden hangisi, sözlü edebiyat ürünleri arasında ver almaz?

- A) Koşuk
- B) Destan
- C) Ağıt
- D) Gazel

17. Türkiye'de Batılı anlamda edebiyat tarihi çalışmalarının başladığı dönem, aşağıdakilerden hangisidir?

- A) Servet-i Fünûn dönemi
- B) Tanzimat dönemi
- C) Fecr-i Âti dönemi
- D) Cumhuriyet dönemi

18. Türk Edebiyatının en önemli eserlerindedir. Eser adını iyi ve kötü düşünceli iki presten almaktadır. Eserin aslı Sanskritçedir. Dinsel masal niteliği taşımaktadır.

Yukarıda tanıtılan eser aşağıdakilerden hangisidir?

- A) Kutadgu Bilig
- B) Atabetü'l Hakâyık
- C) İlyada ve Odysseia
- D) Kalyanamkara ve Papamkara

19. Aşağıdaki edebî dönemlerden hangisi Batı Etkisinde Gelişen Türk Edebiyatı içinde yer almaz?

- A) Tanzimat Dönemi Türk Edebiyatı
- B) Fecr-i Âti Edebiyatı
- C) Klâsik Türk Edebiyatı
- D) Millî Edebiyat

20. Türk Edebiyat tarihinde, 10. yüzyılın ikinci yarısından 19. yüzyılın başlarına kadar devam eden döneme ne ad verilir?

- A) İslamiyet Öncesi Türk Edebiyatı
- B) Tanzimat Dönemi Türk Edebiyatı
- C) İslami Dönem Türk Edebiyatı
- D) Millî Edebiyat

1. Bir şiirde bazı sözcüklerin diğerlerine göre daha baskın okunması aşağıdakilerden hangisidir?
 - A) Tonlama
 - B) Ölçü
 - C) Dize
 - D) Vurgu
2. Aşağıdakilerden hangisi İkinci Yeni Sonrası Toplumcu şiirin özelliklerinden biri değildir?
 - A) Toplumcu şairler sanatlarını toplumdaki önemli tuttular.
 - B) Şiir dili ve söyleyişinde aşırılikten kaçınılmıştır.
 - C) Geleneksel söyleyişten yararlanılmaya çalışıldı.
 - D) Şiirde uzak çağrışımlara yer verildi.
3. Tiyatroda kişilerin kimliklerinin belirlediği olayla ilgili yanlarının ortaya çıktığı, eserin başında bulunan bölüm aşağıdakilerden hangisidir?
 - A) Çözüm
 - B) Sonuç
 - C) Gelişme
 - D) Serim
4. Aşağıdakilerden hangisi hikâyeyi oluşturan temel unsurlardan biri değildir?
 - A) Olay
 - B) Yer
 - C) Heyecan
 - D) Zaman
5. Aşağıdaki sanatçılardan hangisi Yedi Meşaleciler içinde yer almamaktadır?
 - A) Rıfat Ilgaz
 - B) Ziya Osman Saba
 - C) Yaşar Nabi Nayır
 - D) Cevdet Kudret
6. Yaşanmış ya da yaşanması mümkün olayların anlatıldığı kısa eserler aşağıdakilerden hangisidir?
 - A) Masal
 - B) Şiir
 - C) Hikâye
 - D) Deneme
7. Aşağıdaki halk şiiri-konu eşleştirmelerinden hangisi yanlıştır?
 - A) Koçaklama-insan veya başka varlıkları eleştiri
 - B) Güzelleme-doğa ve insan güzellikleri
 - C) Ağıt-ölen kişi veya kişiler
 - D) Öğüt-nasihahat
8. Özü; biçiminden, bağlarından kurtararak serbest şiir olarak nitelenen ve şiirden ölçü, uyak gibi bağları atan bir akımın başlatıcısı olan sanatçı aşağıdakilerden hangisidir?
 - A) Enver Gökçe
 - B) Ahmet Arif
 - C) Nazım Hikmet
 - D) Cahit Irgat
9. Babası, anası eşkiya baskınında öldürülen Yusuf'un çevresinde kasaba ortamının gözler önüne serildiği, Edremit ve yöresinin ayrıntılarıyla betimlendiği Sabahattin Âli romanı aşağıdakilerden hangisidir?
 - A) Ömer Seyfettin
 - B) Kuyucaklı Yusuf
 - C) Sait Faik Abasıyanık
 - D) Haldun Taner
10. Aşağıdakilerden hangisi duygusal bir gerçekçilikle Anadolu'ya, Anadolu insanının dünyasına eğilir?
 - A) Halide Edip Adıvar
 - B) Peyami Safa
 - C) Reşat Nuri Güntekin
 - D) Memduh Şevket Esendal
11. Özellikle büyük metropollerde yaşayan kişilerin şehre ve insana yabancılaşması, gelenek ve teknoloji arasında sıkışıp kalmaları, geçmişte var olan ama kendilerini ifade etmeyen alt kültür gruplarının bir kimlikle ortaya çıkmalarını en belirgin tema olarak hangi dönem şiirinde görebiliriz?
 - A) 1980 sonrası şiir
 - B) İkinci Yeniler
 - C) Garip Akımı
 - D) Toplumcu Şiir
12. Aşağıdakilerden hangisi halk edebiyatına ait manzume türlerinden biri değildir?
 - A) Mani
 - B) Gazel
 - C) Türkü
 - D) Koşma

13. Anlatılmadan kalan şeyleri bulup çıkarmaya çalıştı şiirinde. Divan şiirinden etkiler taşıyan şiirini resim sanatıyla özdeşleştirerek zenginleştirdi. İnsanın sıkıntılarını, bunalımlarını en çok da yalnızlığını anlattı şiirlerinde. Şiirlerinde mitolojiye de yer verdi.

Yukarıda bahsedilen sanatçı aşağıdakilerden hangisidir?

- A) Cemal Süreya
- B) Edip Cansever
- C) Can Yücel
- D) Turgut Uyar

14. Daha çok aşk, tasavvuf, hasret, tabiat ve hikmet temalarında şiirler söylemiştir. En yakın arkadaşı, sırdaşı sazıdır. Şiirlerinde çok sevdiği sazından bir dost gibi bahseder: "Ben gidersem sazım sen kal dünyada."

Yukarıda bahsedilen halk şairi aşağıdakilerden hangisidir?

- A) Karacaoğlan
- B) Ali İzzet
- C) Şeref Taşlıova
- D) Aşık Veysel

15. Aşağıdakilerden hangisi Birinci Yeni Akımı'nın yaygınlaşmasını sağlayan şairlerden biri değildir?

- A) Ziya Gökalp
- B) Bedri Rahmi Eyüboğlu
- C) Oktay Rifat
- D) Melih Cevdet Anday

16. Aşağıdakilerden hangisi Beş Hececiler'den biri değildir?

- A) Faruk Nafiz Çamlıbel
- B) Yusuf Ziya Ortaç
- C) Nazım Hikmet
- D) Orhan Seyfi Orhon

17. Aşağıdakilerden hangisi halk şiiri nazım birimidir?

- A) Beyit
- B) Bent
- C) Dize
- D) Dörtlük

18. Aşağıdakilerden hangisi "Garip" şiirinin özelliklerinden biri değildir?

- A) Küçük tasa ve sevinçleri şiirin başlıca temaları haline getirir.
- B) Başını alıp gitmek, yalnızlık, averelik çoğu şiirlerin konusudur.
- C) Alaycıdır.
- D) Şakaya ve nükteye yer vermez.

19. Aşağıdaki sanatçı-eser eşleştirmelerinden hangisi yanlıştır?

- A) Dokuzuncu Hariciye Koğuşu-Peyami Safa
- B) Kara Kitap-Orhan Asena
- C) Tutunamayanlar-Oğuz Atay
- D) Anayurt Oteli-Yusuf Atılğan

20. Aşağıdakilerden hangisi bireyin iç dünyasını esas alan eserlerdendir?

- A) Kuyucaklı Yusuf
- B) Dokuzuncu Hariciye Koğuşu
- C) Tutunamayanlar
- D) Kocaoğlan

1. I. Mekanik, cisimlerin nasıl hareket ettiklerini inceleyen fizik dalıdır.
II. Katı fizik ile katı maddelerin özellikleri incelenir.
III. Kuantum fiziği ile parçacıkların parçalanışları ve oluşumları incelenir.

Fiziğin uğraşı alanlarıyla ilgili yukarıdaki ifadelerden hangileri doğrudur?

- A) Yalnız II
B) Yalnız III
C) I ve II
D) I, II ve III

2. Aşağıdaki sıcaklıklardan hangisinin Celsius ve Fahrenheit ölçeklerindeki karşılığı eşittir?

- A) -50
B) -40
C) -30
D) -20

3. 1.000.000 miligram aşağıdakilerden hangisine eşittir?

- A) 1 kilogram
B) 1 gram
C) 1 desigram
D) 1 santigram

Dikdörtgenler prizmasının şeklindeki bir kabın tabanının kısa kenarı 10 cm, uzun kenarı ise 20 cm'dir.

Bu kap 8 lt su aldığına göre, yüksekliği kaç cm'dir?

- A) 12
B) 20
C) 32
D) 40

5. 200 m/s kaç km/dk'ya eşittir?

- A) 12
B) 20
C) 30
D) 120

6. I. Sobadaki kömürün yanması
II. Asitle bazın birleşerek nötrleşme olayını gerçekleştirmesi
III. Suyun 100°C'de kaynaması

Yukarıdakilerden hangileri kimyasal olaydır?

- A) Yalnız I
B) Yalnız II
C) I ve II
D) II ve III

Yarıçapı 10 cm bir metal silindirin yüksekliği 20 cm'dir. Bu silindirin kütlesi 15 kg olduğuna göre, özgül kütlesi kaç g/cm³'dür? (n=3 alınız.)

- A) 1,2
B) 2,5
C) 3,4
D) 3,8

Bir bisikletli 60 N'luk kuvvet uygulayarak 1.000 m uzunluğundaki yolu 10 dk'da almıştır.

Buna göre, bu bisikletlinin bu yolda harcadığı güç kaç W'tır?

- A) 70
B) 80
C) 90
D) 100

9. Aşağıdakilerden hangisi kuvvetin temel büyüklükler cinsinden ifadesidir?

- A) Kütle . Yerdeğiştirme / (Zaman)²
B) Yerdeğiştirme / Zaman
C) İvme / Yerdeğiştirme
D) Güç / Hız

10. 10 cm³ kesme şeker, 50 cm³ suyun içine atılıyor ve karıştırılıyor. Su+şeker karışımı dereceli bir silindire boşaltılıyor. Karışımın hacmi 55 cm³ olarak ölçülüyor.

Buna göre, suya karıştırılmadan önce kesme şeker içerisindeki havanın hacmi kaç cm³'dür?

- A) 3
B) 4
C) 5
D) 6

11. I. Hipotez, gözlemler sonucunda karşılaşılan bilgileri ifade eder.
II. Fizikte, bilimsel bilgilere, laboratuvaradaki deneyler ve doğadaki gözlemleri inceleyerek ulaşılır.
III. Fizikçiler, yaptıkları deneylerde elde ettikleri verileri yorumlayarak bilgilere ulaşırlar.

Yukarıdaki ifadelerden hangileri doğrudur?

- A) Yalnız I
B) Yalnız II
C) I ve II
D) II ve III

12. Aşağıdakilerden hangisi fiziksel bir olay **değildir**?

- A) Suyun donması
- B) Etil alkolün damıtılması
- C) Mangaldaki kömürün yanması
- D) Bir elektrik kablosundan elektrik akımının geçmesi

13. Bir kişi 50 kg'lık bir cisim üzerine 1.200 Joule'lük enerji harcayarak yüksekliğini değiştiriyor.

Bu cismin yüksekliği kaç metre değişmiştir? ($g=10 \text{ m/s}^2$ alınız.)

- A) 1,2
- B) 2,4
- C) 4,8
- D) 6

14. Hacmi 150 cm^3 olan bir dereceli silindirin içine 100 cm^3 su dökülerek ve içine bir cisim atılıyor. Dereceli silindirden taşan su 30 cm^3 ise, suya atılan cismin hacmi kaç cm^3 tür?

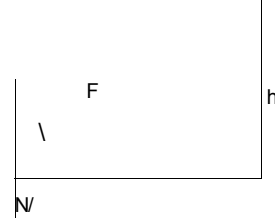
- A) 20
- B) 40
- C) 60
- D) 80

15. Yay sabiti $k=200 \text{ N/m}$ olan, bir ucu bir duvara takılmış, sürtünmesiz yatay bir düzlemdeki bir yay, 40 cm sıkıştırılmaktadır.

Buna göre, yay üzerine yapılan iş kaç J'dur?

- A) 4
- B) 10
- C) 16
- D) 20

16.



Yukarıdaki şekilde $m=5 \text{ kg}$ kütleli bir cisim, $l=20 \text{ m}$ uzunlukta ve $h=5 \text{ m}$ yükseklikteki bir sürtünmesiz eğik düzlem üzerinde sabit hızla hareket etmektedir.

Buna göre, eğik düzleme paralel kuvvet kaç N'dur? ($g=10 \text{ m/s}^2$ alınız.)

- A) 12,5
- B) 15
- C) 17,5
- D) 20

17. 3 saat kaç saniyeye eşittir?

- A) 1.800
- B) 3.600
- C) 10.800
- D) 36.000

18. Sürtünmesiz yatay bir düzlemde duran bir cismin, 120 J enerji harcayarak, yatay bir kuvvetin etkisinde 50 m yol aldığına göre, bu kuvvet kaç newton'a (N) eşittir?

- A) 2,4
- B) 3,6
- C) 4,8
- D) 6,4

19. Bir motor 2.000 J'lük enerji harcayarak, 1.000 J'lük iş yapabilmektedir.

Buna göre, bu motorun verimi yüzde kaçtır?

- A) 20
- B) 30
- C) 40
- D) 50

20. 0,01 km/saniye hızla hareket eden bir cisim bir günde kaç km yol alır?

- A) 624
- B) 864
- C) 1.800
- D) 2.400

1. Aşağıdakilerden hangisi elektromanyetik ışın türlerinden değildir?

- A) Kızılötesi ışınlar
B) Beta ışınları
C) Morötesi ışınlar (UV)
D) X ışınları

2. Elektron dizilimi; $1S^2 2S^2 2P^6 3S^1$ şeklinde olan element, periyodik tabloda hangi grupta yer alır?

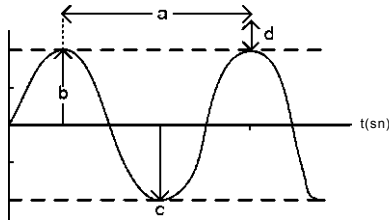
- A) Toprak alkali metallere
B) Halojenler
C) Asal gazlar
D) Alkali metallere

3. Aşağıdaki element adı ve sembolü eşleştirmesinden hangisi yanlıştır?

Element adı Element sembolü

- A) Potasyum P
B) Sodyum Na
C) Kalsiyum Ca
D) Azot N

4.



Elektromanyetik ışınların dalga özelliklerinden biri olan "dalga boyu" yukarıdaki şekilde hangi harfle gösterilmiştir?

- A) a
B) b
C) c
D) d

5. $13Al: 1S^2 2S^2 2P^6 3S^2 3P^1$

Yukarıdaki Alüminyum elementinin elektron dağılımına göre, aşağıdaki ifadelerden hangisi yanlıştır?

- A) Orbital türü P'dir.
B) Değerlik elektron sayısı 3'tür.
C) Elektron sayısı 13'tür.
D) En yüksek temel enerji düzeyi 6'dır.

6. Aşağıdakilerden hangisi izotop atomların özelliklerinden değildir?

- A) Atom numaraları aynıdır.
B) Proton sayıları aynıdır.
C) Nötron sayısı aynıdır.
D) Kütle numarası farklıdır.

sX: 2, 6
12Y: 2, 8, 2
16Z: 2, 8, 6
20T: 2, 8, 8, 2

Yukarıdaki element atomlarından hangilerinin elektron katman sayıları aynıdır?

- A) Y ve Z
B) X ve Y
C) Y ve T
D) X ve Z

8. "Katot ışınları" adı verilen atom altı taneciklere ne ad verilir?

- A) Proton
B) Nötron
C) Elektron
D) İzoton

9. Elektronların atomlardaki orbitallere dağılımında bazı kurallar geçerlidir. Atom numarası 8 olan oksijen elementinin elektronlarının orbitallere dağılımı hangisinde doğru verilmiştir?

- A) $1S^2 2S^2 2P^4$
aü: $\textcircled{C} \textcircled{C} \textcircled{C} \textcircled{D} \textcircled{C}$
B) $1S^2 2S^2 2P^4$
aü: $\textcircled{C} \textcircled{C} \textcircled{d} \textcircled{K} \textcircled{D} \textcircled{C}$
C) $1S^2 2S^2 2P^4$
aü: $\textcircled{C} \textcircled{C} \textcircled{C} \textcircled{D} \textcircled{C}$
D) $1S^2 2S^2 2P^4$
aü: $\textcircled{C} \textcircled{C} \textcircled{C} \textcircled{C} \textcircled{C}$

10. $3,01 \cdot 10^{23}$ tane Fe atomu kaç gramdır? (Fe:56 gr/mol)

- A) 28
B) 56
C) 112
D) 168

11. Atom numarası 17 olan Cl (klor) atomunun elektron dizilimi; $17Cl: 1S^2 2S^2 2P^6 3S^2 3P^5$ şeklindedir. Buna göre, aşağıdakilerden hangisi doğrudur?

- A) Baş kuantum sayısı 5'dir.
B) Elektron sayısı 17'dir.
C) Atomun tüm orbitalleri tam doludur.
D) Küresel simetri özelliği gösterir.

12. I. 2 mol H₂SO₄ gramdır.
 II. gr Al 4 moldür.
 III. 4,4 gr CO₂ moldür.
 IV. 18,06.10²² tane oksijen atomu içeren NaNO₃ moldür.

Yukarıdaki boşluklar, aşağıdaki uygun seçeneklerle eşleştirildiğinde hangisi açıkta kalır? (H:1, C:12, O:16, Al:27, S:32, Na:23, N:14 gr/mol)

- A) 196
 B) 108
 C) 0,1
 D) 0,05

13. Aşağıdaki moleküller arası etkileşim türlerinden hangisi en zayıftır?

- A) Hidrojen Bağı
 B) London Kuvvetleri
 C) İyonik Bağ
 D) Vander Waals Bağları

14. Aşağıdakilerden hangisi kimyasal bir tür olan "radikal" örneğidir?

- A) He
 B) -OH
 C) H₂
 D) Na⁺

15. Aşağıdaki kovalent yapıli moleküllerin hangisinde kalıcı dipol oluşmaz?

- A) A - H₂O
 B) ^ - HF
 C) - r
 D) ^ - HCl

16. Aşağıdakilerden hangisi periyodik tablonun genel özelliklerinden değildir?

- A) Periyodik tabloda, 7 periyot vardır.
 B) Periyodik tablo, elementlerin kütle numaralarına göre yapılmıştır.
 C) Periyodik tabloda, 18 grup vardır.
 D) Periyodik tablonun büyük kısmında metal elementleri bulunur.

17. 1 mol C₂H₅OH bileşiği kaç gramdır? (C:21, O:16, H:1gr/mol)

- A) 29
 B) 34
 C) 46
 D) 54

18. 4P orbitalinde 6 elektron bulunan elementin atom numarası kaçtır?

- A) 24
 B) 26
 C) 34
 D) 36

19. I. İyonlaşma enerjisi
 II. Elektronegatiflik
 III. Metalik özellik
 IV. Atom yarıçapı

Periyodik tabloda periyot boyunca soldan sağa doğru gidildikçe; yukarıdaki niceliklerden hangileri artar?

- A) I ve II
 B) I ve III
 C) II ve IV
 D) III ve IV

20. Atom yarıçapının artmasına bağlı olarak, metaller arası çekim kuvveti ve metalik bağ kuvveti azalır.

Buna göre, aşağıda atom numaraları verilen elementlerin hangisinde, en kuvvetli metal bağı vardır?

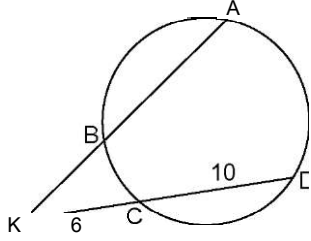
- A) 11Na
 B) 19K
 C) 20Ca
 D) sLi

GEOMETRİ 6

A

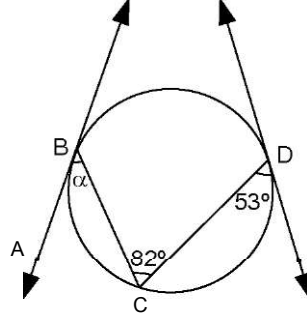
2014 II.DÖNEM 0105-A

1.



Yukarıdaki çemberde $|AB| = 3|BK|$, $|KC| = 6$ cm ve $|CD| = 10$ cm olduğuna göre, $|BK|$ kaç cm dir?

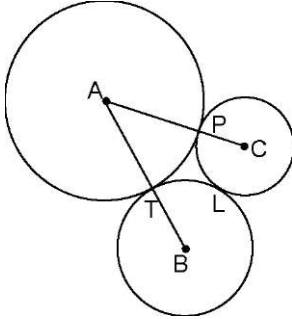
- A) 4
- B) 2^6
- C) 3^6
- D) 8



Yukarıdaki şekilde, B ve D teğet değme noktaları, $m(\widehat{CDE}) = 53^\circ$ ve $m(\widehat{BCD}) = 82^\circ$ ise, $m(\widehat{ABC}) = a$ kaç derecedir?

- A) 30
- B) 35
- C) 40
- D) 45

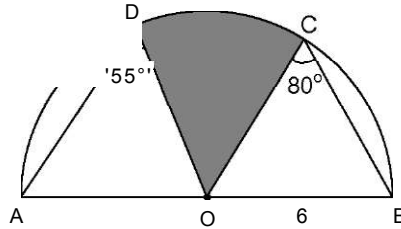
2.



Yukarıdaki şekilde A, B ve C merkezli çemberler birbirlerine T, P ve L noktalarında dıştan teğettir. $m(\widehat{TP}) + m(\widehat{TL}) = 90^\circ$, $|AC| = 12$ cm ve $|AB| = 13$ cm olduğuna göre, B merkezli Çemberin yarıçapı kaç cm dir?

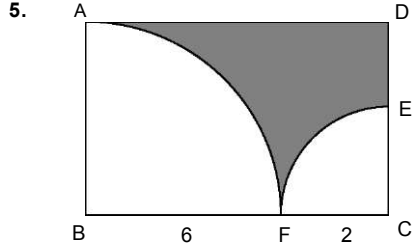
- A) 5
- B) 4
- C) 3
- D) 2

4.



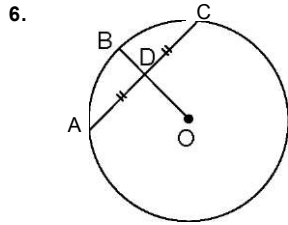
Yukarıdaki şekilde, yarıçapı 6 cm olan O merkezli dairede $m(\widehat{A\hat{D}O}) = 55^\circ$ ve $m(\widehat{OCB}) = 80^\circ$ olduğuna göre, taralı bölgenin alanı kaç cm^2 dir?

- A) $6k$
- B) $6^k + 6$
- C) $9k$
- D) $9^k + 9$



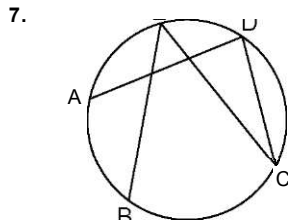
Yukarıdaki şekilde, ABCD dikdörtgeni içine B ve C merkezli çeyrek daireler çizilmiştir. $|BF| = 6$ cm ve $|FC| = 2$ cm ise, taralı alan kaç cm^2 dir?

- A) $24-5\pi$
 B) $24-K$
 C) $30-5K$
 D) $48-10K$



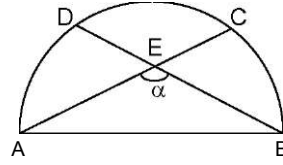
Yukarıdaki O merkezli çemberde $|AD|=|DC|$ $|BD| = 2$ cm ve $|DO| = 3$ cm olduğuna göre, $|AC|$ kaç cm dir?

- A) 8
 B) 9
 C) 9,6
 D) 12,6



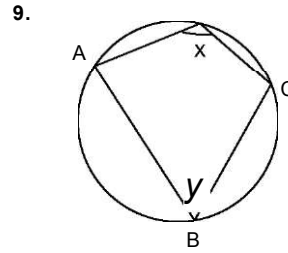
Yukarıdaki çemberde $m(\angle ADC)=80^\circ$ ve $m(\angle AB)=70^\circ$ olduğuna göre, $m(\angle BEC)$ kaç derecedir?

- A) 35
 B) 45
 C) 50
 D) 55



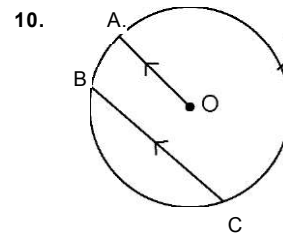
Yukarıdaki $[AB]$ çaplı yarım çemberde $m(\angle DC)=42^\circ$ ise, $m(\angle A!B)=a$ kaç derecedir?

- A) 111
 B) 109
 C) 107
 D) 103



Yukarıdaki çemberde $x-y=28^\circ$ olduğuna göre, x kaç derecedir?

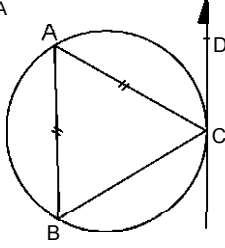
- A) 108
 B) 104
 C) 102
 D) 98



Yukarıdaki O merkezli çemberde $[AO] \parallel [BC]$ $m(\angle AB)=30^\circ$ ise, $m(\angle AKC)$ kaç derecedir?

- A) 230
 B) 215
 C) 210
 D) 200

5. A



Yukarıdaki şekilde [CD teğet doğrusu, $m(\hat{A}CD)=65^\circ$ ve $|AB|=|AC|$ ise, $m(\hat{B}AC)$ kaç derecedir?

- A) 50
B) 60
C) 65
D) 75

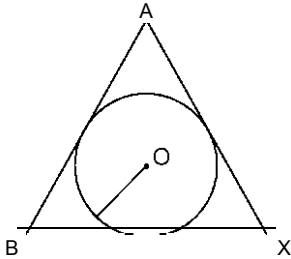
12.



Yukarıdaki [AB] çaplı yarım çemberde [KT] teğet doğrusu, $m(\hat{TGA})=25^\circ$ olduğuna göre, $m(\hat{TKB})$ kaç derecedir?

- A) 50
B) 45
C) 40
D) 35

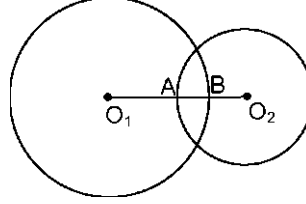
13.



Yukarıdaki O merkezli çember ABC eşkenar üçgeninin iç teğet çemberidir. Çemberin yarıçapı $2\sqrt{3}$ cm ise, ABC üçgeninin çevresinin uzunluğu kaç cm dir?

- A) 12
B) 18
C) 24
D) 36

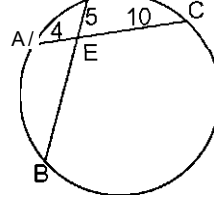
14.



Yukarıdaki şekilde dik kesişen O_1 ve O_2 merkezli çemberlerde $r_1=8$ cm ve $r_2=6$ cm olduğuna göre, $|AB|$ kaç cm dir?

- A) 4
B) 3,2
C) 3
D) 2,5

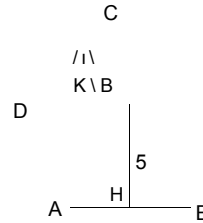
15.



Yukarıdaki çemberde $|DE|=5$ cm, $|AE|=4$ cm ve $|EC|=10$ cm ise, $|EB|$ kaç cm dir?

- A) 12
B) 10,5
C) 9,6
D) 8

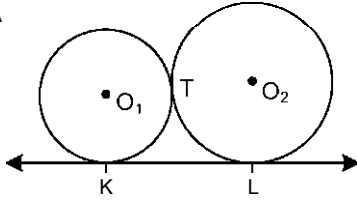
16.



Yukarıdaki O merkezli çemberde $[OK] \perp [DC]$, $[OH] \perp [AB]$, $|OK|=|OH|=5$ cm $|AB|=5x-1$ cm ve $|DC|=7x-11$ cm ise, çemberin yarıçapı kaç cm dir?

- A) 15
B) 13
C) 5S
D) 10

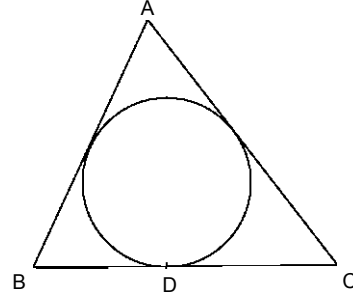
5. A



Yukarıdaki şekilde, T noktasında dıştan teğet olan O_1 ve O_2 merkezli çemberlerde KL ortak teğet doğrusudur. $r_1=3$ cm ve $r_2=4$ cm olduğuna göre, $|KL|$ kaç cm dir?

- A) $2\sqrt{13}$
- B) 3^5
- C) $4\sqrt{3}$
- D) 5^2

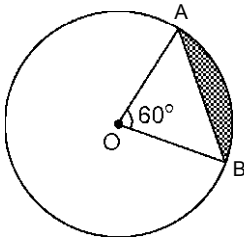
20.



Yukarıdaki şekilde, ABC üçgeninin iç teğet çemberi çizilmiştir. $|AB|=13$ cm, $|BC|=16$ cm ve $|AC|=17$ cm olduğuna göre, $|BD|$ kaç cm dir?

- A) 9
- B) 7
- C) 6
- D) 5

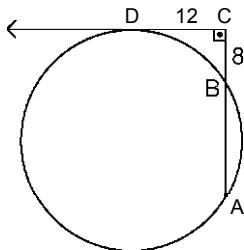
18.



Yukarıdaki yarıçapı 2 cm olan O merkezli dairede $m(\hat{AOB})=60^\circ$ ise, taralı alan kaç cm^2 dir?

- A) $\frac{1}{3}$
- B) $\frac{1}{3}$
- C) $\frac{4n}{y} \cdot \frac{nr}{3}$
- D) %

19.



Yukarıdaki çemberde, [CD, çembere D noktasında teğettir. $|DC| = 12$ cm ve $|BC| = 8$ cm ise, çemberin yarıçapı kaç cm dir?

- A) 10
- B) 13
- C) 15
- D) 17

1. Uzayda verilen 7 farklı düzlem uzayı en az kaç bölgeye ayırır?

- A) 7
- B) 8
- C) 9
- D) 12

İki düzlem çakışık ise, doğrusal olmayan en az kaç ortak noktaları vardır?

- A) 2
- B) 3
- C) 4
- D) 5

2. I. Paralel iki doğrudan birini kesen bir doğru diğerini de keser.
 II. Aynı düzlemdeki kesişmeyen iki doğru birbirine paraleldir.
 III. Farklı iki noktadan bir tek doğru geçer.
 IV. İki doğrunun en az iki ortak noktası varsa bu iki doğru çakışık.

Doğrularla ilgili yukarıdaki ifadelerden en fazla kaç tanesi doğrudur?

- A) 1
- B) 2
- C) 3
- D) 4

6. Aşağıdaki önermelerden hangisi yanlıştır?

- A) Kesişen iki doğru bir düzlem belirtir.
- B) Paralel iki doğru bir düzlem belirtir.
- C) Bir doğru ile dışındaki bir nokta bir düzlem belirtir.
- D) Aykırı iki doğru bir düzlem belirtir.

3. Bir noktadan geçen ve kesişen iki düzleme paralel olan kaç tane doğru vardır?

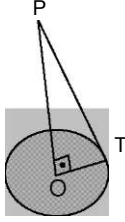
- A) 1
- B) 2
- C) 3
- D) Sonsuz çoklukta

4. Uzayda verilen 5 farklı düzlem uzayı en çok kaç bölgeye ayırır?

- A) 12
- B) 14
- C) 16
- D) 20

7. Aşağıdaki önermelerden hangisi yanlıştır?

- A) Aynı doğruya dik olan iki düzlem, birbirine diktir.
- B) Paralel iki doğrudan birine dik olan bir düzlem diğerine diktir.
- C) Paralel iki düzlemden birine dik olan bir doğru diğerine de diktir.
- D) Paralel iki düzlemin diğer bir düzlemlerle ara kesit doğruları paraleldir.



Yukarıdaki şekilde P noktası R düzleminin dışında, T noktası R düzleminde bulunan O merkezli çember üzerinde ve $|PO| = 1R$ dir.

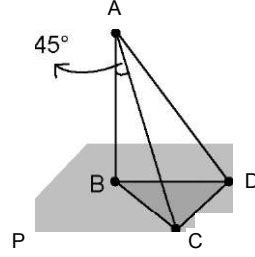
$|PO| = 24$ cm ve $|PT| = 25$ cm ise, O merkezli çemberin yarıçapının uzunluğu kaç cm dir?

- A) 6
- B) 7
- C) 18
- D) 20

9. Herhangi dördü düzlemsel olmayan altı noktadan kaç düzlem geçer?

- A) 6
- B) 9
- C) 15
- D) 20

10.

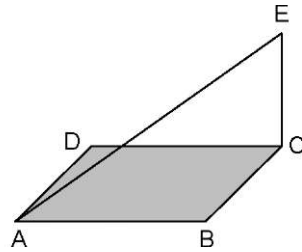


Yukarıdaki şekilde P düzlemi dışındaki bir A noktasından P düzlemine $[AB]$ dikmesi çizilmiştir. P düzlemindeki BCD üçgeninde $[BC] \perp [CD]$, $|CD| = 10$ cm dir.

Buna göre, $\angle BAC = 45^\circ$ ve $|AC| = 6\sqrt{2}$ cm ise, $A(BCD)$ kaç cm^2 dir?

- A) 26
- B) 30
- C) 32
- D) 34

11.

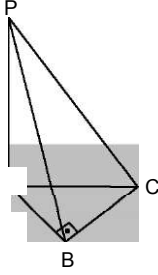


Bir kenarının uzunluğu $8\sqrt{2}$ cm olan ABCD karesinin C köşesinden 12 cm uzunluğunda kare düzlemine dik bir $[CE]$ dikmesi çizilmiştir.

Buna göre, $|AE|$ kaç cm dir?

- A) 12
- B) 15
- C) 18
- D) 20

12.



Yukarıdaki şekilde A, B, C noktaları R düzlemi içinde $[PA] \perp R$ ve $[AB] \perp [BC]$ dir. $|AB| = 8$ cm, $|BC| = 4a/3$ cm ve $|PC| = 16$ cm olduğuna göre, $|PA|$ kaç cm dir?

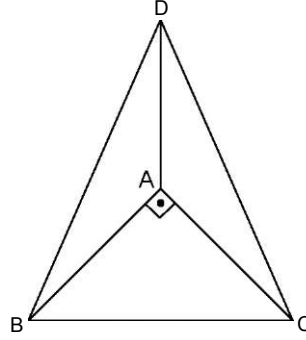
- A) 15
- B) 14
- C) 12
- D) 10

13. I. Bir doğru bir düzleme dik ise, bu doğrudan geçen her düzlem o düzleme diktir.
 II. Aynı düzleme dik olan iki doğru birbirine diktir.
 III. Paralel iki düzlemden birine dik olan düzlem diğerine de diktir.
 IV. Bir doğru iki düzlemden birine paralel, diğerine dik ise, bu iki düzlem birbirine diktir.

Düzlem ve doğrularla ilgili yukarıdaki ifadelerden hangileri doğrudur?

- A) I ve II
- B) II ve III
- C) I, II ve IV
- D) I, III ve IV

14.



Yukarıdaki şekilde $|BC| = 8\sqrt{2}$ cm olan ABC ikizkenar dik üçgen düzlemine, A dik köşesinden AD dikmesi çiziliyor. DBC eşkenar üçgen olduğuna göre, $|AD|$ kaç cm dir?

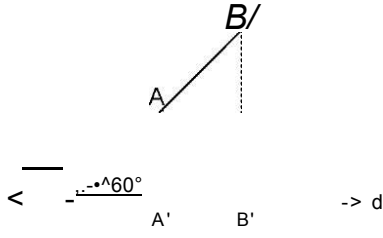
- A) 8
- B) 7
- C) 6
- D) 6

15. I. $[AB]$ 'nin orta dikme doğrusu üzerindeki her nokta A ve B noktalarına eşit uzaklıktadır.
 II. Bir düzleme dışındaki bir noktadan çizilen eğiklerin uzunluğu aynı noktadan çizilen dikmenin uzunluğundan küçüktür.
 III. Doğru ile düzlem birbirine dik ise ara kesiti bir tek noktadır.

Yukarıdaki ifadelerden hangileri doğrudur?

- A) I ve II
- B) I ve III
- C) II ve III
- D) I, II ve I

5. A

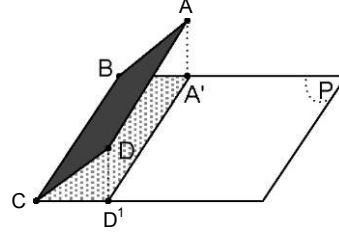


Yukarıdaki şekilde $[AB]$ doğru parçasının d doğrusu üzerindeki dik iz düşümü $[A'B']$ doğru parçasıdır.

Buna göre, $|A'B'| = 8$ cm ise, $|AB|$ kaç cm dir?

- A) 16
- B) 15
- C) 14
- D) 12

18.



Bir kenarının uzunluğu 14 cm olan ABCD karesinin BC kenarı P düzleminindedir. Kare düzlemi ile P düzlemi 60° lik açı yapmaktadır. ABCD karesinin P düzlemindeki dik iz düşümü $BCD'A'$ dörtgeni olduğuna göre, $BCD'A'$ dörtgeninin alanı kaç cm^2 dir?

- A) 98
- B) 100
- C) 110
- D) 120

19. P ve E düzlemlerinin ölçek açısının ölçüsü 60° dir. P düzlemindeki bir kenar uzunluğu 8 cm olan karenin E düzlemi üzerindeki dik izdüşümünün alanı kaç cm^2 dir?

- A) 24
- B) 28
- C) 32
- D) 40

17. P düzlemindeki kenar uzunluğu 6 cm olan bir eşkenar üçgenin E düzlemi üzerindeki

dik izdüşümünün alanı $\frac{9\sqrt{3}}{2}$ cm^2 olduğuna

göre, P ve E düzlemlerinin ölçek açısı kaç derecedir?

- A) 30
- B) 45
- C) 60
- D) 90

20. P ve E düzlemlerinin ölçek açısının ölçüsü 60° dir. P düzlemi üzerindeki r cm yarıçaplı dairenin E düzlemi üzerindeki dik izdüşümünün alanı 54 cm^2 olduğuna göre, r kaç cm dir?($n = 3$ alınız.)

- A) 8
- B) 6
- C) 5
- D) 4

SEÇMELİ TARİH 4

2014 II.DÖNEM 0105-A

1. Rütbece en yüksek hizmetlilerin bulunduğu yere verilen ad aşağıdakilerden hangisidir?
 - A) Hazine odası
 - B) Has oda
 - C) Kiler odası
 - D) Seferli odası
2. Eyalet Askerleri arasında en yüksek rütbeli komutan aşağıdakilerden hangisidir?
 - A) Subaşı
 - B) Alaybeyi
 - C) Beylerbeyi
 - D) Sancakbeyi
3. Yaptığı dünya haritası ile Türk denizciliğindeki gelişmeyi bilimsel açıdan ispatlayan denizci aşağıdakilerden hangisidir?
 - A) Turgut Reis
 - B) Seydi Ali Reis
 - C) Piri Reis
 - D) Kılıç Ali Reis
4. Aşağıdakilerden hangisi ilmiye sınıfının divan dışındaki temsilcilerinden biridir?
 - A) Nişancı
 - B) Hacegân
 - C) Reisülküttap
 - D) Kadı
5. Selçuklularda "ikta sistemi" olarak bilinen ve bir kısım asker ve devlet görevlisine belirli bölgelerden devlet tarafından vergi tahsis edilmesi ve buna karşılık onlardan devlet için hizmet beklenmesi usulünün Osmanlı Devleti'ndeki adı aşağıdakilerden hangisidir?
 - A) Mültezim
 - B) Vakıf Sistemi
 - C) Tımar Sistemi
 - D) İltizam Sistemi
6. Aşağıdakilerden hangisi Fatih Sultan Mehmet'in şehri fethetmesinden sonra Osmanlı Devleti'nin başkenti olmuştur?
 - A) Bilecik
 - B) Edirne
 - C) Söğüt
 - D) İstanbul
7. Aşağıdakilerden hangisi Osmanlıların İstanbul için kullandığı isimler arasında ver almaz?
 - A) Şahane Tahtı Saltanat
 - B) Dersaadet
 - C) Darülmülk
 - D) İslambol
8. Sarayda padişahın özel hayatını geçirdiği bölüme verilen ad aşağıdakilerden hangisidir?
 - A) Bâbüs-Saade
 - B) Arz odası
 - C) Bîrûn
 - D) Enderun
9. Dışarıda loncaı temsil edip hükümetle ilişkileri yürütmekte olan aşağıdakilerden hangisidir?
 - A) Şeyh
 - B) Nakip
 - C) Kethüda
 - D) Çavuş
10. Konargöçerlerin devlete ödediği vergi aşağıdakilerden hangisidir?
 - A) Ağıl vergisi
 - B) Meslek vergisi
 - C) Katılım vergisi
 - D) İşgal vergisi
11. Sarayda günlük hayata ilişkin aşağıdaki ifadelerden hangisi yanlıştır?
 - A) Cariyeler iyi bir şekilde yetiştirilirdi.
 - B) Sarayda günlük hayat İslami kurallar ve saray gelenekleri çerçevesinde yaşanırdı.
 - C) Padişah çocukları tanzimattan sonra Arapça öğrenmeye başlamışlardır.
 - D) Padişah her Cuma günü bir camiye namaza giderdi.
12. Sadrazam Alemdar Mustafa Paşa ile ayanlar arasında imzalanan ve ayanların varlığının padişah tarafından resmi olarak Mk defa tanındığı belge aşağıdakilerden hangisidir?
 - A) Sened-i İttifak
 - B) Kanunuesasi
 - C) Islahat Fermanı
 - D) Tanzimat Fermanı

13. Köylünün elde ettiği ürün üzerinden sipahiye ödediği vergiye verilen ad aşağıdakilerden hangisidir?

- A) Şerefiye
- B) Çift resmi
- C) Dirlik
- D) Çiftbozan resmi

14. Aşağıdakilerden hangisi Raiyyet statüsünden, askerlik statüsüne geçmenin ya da bulunduğu mevkiden daha üst kademelere yükselmenin belli şartlarından biri değildir?

- A) Müslüman olmak
- B) İslamiyeti gerçek anlamda yaşamak
- C) Türk töresine sahip çıkmak
- D) Arapça bilmek

15. Kaza ya da sancağın o zamanki erkek nüfusunu ve bunların ödemekle yükümlü olduğu vergi miktarını tespit etmek için yapılan aşağıdakilerden hangisidir?

- A) Zeamet
- B) Tahrir
- C) Has
- D) Öşrî

16. Aşağıdakilerden hangisi Mimar Sinan'ın kalfalık dönemi eseridir?

- A) Şehzade cami
- B) Sultan Ahmet cami
- C) Selimiye cami
- D) Süleymaniye cami

17. İstanbul'da Mk matbaayı kuran aşağıdakilerden hangisidir?

- A) Münif Paşa
- B) İbrahim Müteferrika
- C) Şinasi
- D) Ali Suavi

18. Aşağıdakilerden hangisi Osmanlı Devleti'nde akli ve nakli bilim öğreten kurumlara verilen genel addır?

- A) Medrese
- B) Dergah
- C) Külliye
- D) Zaviye

19. Osmanlı Devleti'nin medreselerinde öğretmenlik yapanlara verilen unvan aşağıdakilerden hangisidir?

- A) Naip
- B) Müderris
- C) Kethüda
- D) Atabey

20. Osmanlılarda bayındırlık işlerinde çalışacak eleman yetiştirmek amacıyla 1883 yılında kurulan mesleki kurum aşağıdakilerden hangisidir?

- A) Mülkiye Mühendis Mektebi
- B) Mekteb-i Mahrec-i Aklâm okulu
- C) Mekteb-i Tıbbiye-i Mülkiye okulu
- D) Baytar Mektebi

HZ. MUHAMMED'İN HAYATI 1

A

2014 II.DÖNEM 0105-A

1. İfk olayı aşağıdakilerden hangisidir?
 - A) Hz. Hatice'nin iftiraya uğraması
 - B) Hz. Hafsa'nın iftiraya uğraması
 - C) Hz. Cüveyriye'nin iftiraya uğraması
 - D) Hz. Ayşe'nin iftiraya uğraması
2. Aşağıdakilerden hangisi Hudeybiye Antlaşması'nın şartlarından biri değildir?
 - A) Anlaşmanın on beş yıl geçerli olması
 - B) Müslümanların Mekke'de bulunduğu günlerde, Kureyşlilerin Mekke dışına çıkması
 - C) Müslümanların Kâbe'yi bir yıl sonra ziyaret etmesi
 - D) Müslümanların Mekke'yi ziyarete geldiklerinde üç günden fazla kalmaması
3. Hz. Peygamber'in sütanesi Halime'nin yanında kalmaya başladığı yıl aşağıdakilerden hangisidir?
 - A) 571
 - B) 575
 - C) 577
 - D) 579
4. Aşağıdakilerden hangisi Raci olayında esir alınıp satılan Müslümanlardan biridir?
 - A) Âsım b. Sâbit
 - B) Haris bi Âmir
 - C) Zeyd b. Desine
 - D) Safuan b. Ümeyye
5. 624 yılındaki gazveye Sevik Savaşı denilmesinin nedeni aşağıdakilerden hangisidir?
 - A) Savaşın yapıldığı düzlüğün adının Sevik olması
 - B) Savaşta Sevik isimli bir çiftçinin şehit olması
 - C) Mekkelilerin erzak olarak getirdikleri unu kaçarken ağırlık olmasın diye bırakmaları
 - D) Savaşta kullanılan silahların adının Sevik olması
6. Hz. Peygamber'in bizzat katıldığı son sefer aşağıdakilerden hangisidir?
 - A) Kureyş Seferi
 - B) Mekke Seferi
 - C) Necid Seferi
 - D) Tebük Seferi
7. 616 yılında Hz. Peygamber'i öldürmek üzere gönüllü olan kişinin adı aşağıdakilerden hangisidir?
 - A) Nuaym b. Abdullah Muhammed
 - B) Ömer b. Hattap
 - C) Said b. Zeyd
 - D) Ebu Cehil
8. Aşağıdakilerden hangisi Arapların haram olarak kabul ettikleri aylardan biri değildir?
 - A) Zilkade
 - B) Ficar
 - C) Zilhicce
 - D) Recep
9. Hz. Muhammed'in en büyük kızının adı aşağıdakilerden hangisidir?
 - A) Rukiye
 - B) Ümmügülüm
 - C) Zeynep
 - D) Fatıma
10. Hz. Peygamber'in soyu aşağıdaki kızlarından hangisinin çocukları sayesinde devam etmiştir?
 - A) Ümmügülüm
 - B) Zeynep
 - C) Rukiye
 - D) Fatıma
11. Hz. Muhammed'in torunlarından hangisi küçük yaşta vefat etmiştir?
 - A) Hüseyin
 - B) Abdullah
 - C) Zeynep
 - D) Hasan

12. Hz. Muhammed'le ilgili aşağıdaki ifadelerden hangisi yanlıştır?

- A) Peygamberimiz boş ve anlamsız sözler söylemekten insanları sakındırmıştır.
- B) Sohbet ortamlarında konuşulan iyi şeylerin, başkalarına aktarılmasını yasaklamıştır.
- C) Peygamberimiz müminlerin sert tavırlı olmaktan sakınmaya çağırmıştır.
- D) Peygamberimiz insanlarla ilişkilerde güler yüzlü olmayı tavsiye etmiştir.

13. Aşağıdakilerden hangisi Hz. Peygamber'in alışveriş yaparken davranılmasını öğütlediği davranışlardan biri değildir?

- A) Güler yüzlü olmak
- B) Hoşgörülü olmak
- C) Zorlaştırıcı değil kolaylaştırıcı olmak
- D) Sert olmak

14. Hz. Muhammed'le ilgili aşağıdaki ifadelerden hangisi yanlıştır?

- A) Müminlerin rol modelidir.
- B) Tertip ve düzen içinde yaşamaya özen göstermiştir.
- C) Güzel ahlâkı tamamlamak için gönderilmiş bir elçidir.
- D) Yanlış davranışları cezalarla öğretmeye çalışmıştır.

15. Aşağıdakilerden hangisi Hz. Muhammed'in giyeceklerle ilgili tutumlarından biri değildir?

- A) Tertiplilik
- B) Temizlik
- C) Estetiği gözetmemek
- D) Sadelik

16. Hz. Muhammed "Söylenen sözde sihir vardır" buyurarak aşağıdakilerden hangisini ifade etmiştir?

- A) Güzel sözlerin günah olduğunu
- B) Güzel sözlerin insanlar üzerinde güçlü bir etki bıraktığını
- C) Güzel söz söylemekten kaçınılması gerektiğini
- D) Güzel sözlerin mekruh olduğunu

17. Hz. Peygamber'in iman ile birbirine bağlı ayrılmaz bir bütün olduğunu buyurduğu kavram aşağıdakilerden hangisidir?

- A) Temizlik
- B) İbadet
- C) Hayâ
- D) Sadakat

18. Kişi Allah'a karşı hissettiği sorumluluk duygusu sebebiyle aşağıdaki söz ve davranışların hangisinden uzaklaşır?

- A) Kur'an'ın çirkin olarak nitelendirdiği söz ve davranışlardan
- B) Kişinin kötü olarak nitelendirdiği söz ve davranışlardan
- C) Toplumun beğenmediği söz ve davranışlardan
- D) Toplumun anlamadığı söz ve davranışlardan

19. "Siz bana altı şeyi garanti edin, ben de size cennete girmeyi garanti edeyim."

Aşağıdakilerden hangisi Hz. Muhammed'in yukarıdaki sözünde vurguladığı altı şeyden biri değildir?

- A) Temiz ve düzenli olun.
- B) Konuştuğunuzda doğru söyleyin.
- C) Söz verdiğinizde sözünüzü tutun.
- D) Emanete riayet edin.

20. Hayâ ile ilgili aşağıdaki ifadelerden hangisi yanlıştır?

- A) Utanma, sadece başkalarının yanında iken geçerlidir.
- B) Kibirden uzak durmak edep ve hayânın gereğidir.
- C) Toplumun huzuru için gerekli olan kuralların ortaya çıkmasında hayâ duygusunun büyük etkisi vardır.
- D) Hayânın olmadığı yerde ahlak olmaz.

DEMOKRASİ VE İNSAN HAKLARI 2

A

2014 II.DÖNEM 0105-A

1. Aşağıdakilerden hangisi hukuk kurallarının en üst basamağında yer alır?
 - A) Tüzük
 - B) Yönetmelik
 - C) Anayasa
 - D) Kanun
2. Bakanlar Kurulu tüzük hazırlarken aşağıdakilerden hangisinin görüşünü almak zorundadır?
 - A) Yargıtay
 - B) Cumhurbaşkanı
 - C) Danıştay
 - D) Uyuşmazlık Mahkemesi
3. Aşağıdakilerden hangisi adaletle ilgili temel değerlerden biri değildir?
 - A) Herkesin yasalar karşısında eşit sayılması
 - B) Benzer suçlara benzer cezalar verilmesi
 - C) Vatandaşların nimette ve külfette eşit olması
 - D) Ahlakça olumsuz kabul edilen fiillerin suç olmaktan çıkarılması
4. Aşağıdakilerden hangisi Anayasa ile güvence altına alınmış koruyucu haklardan biridir?
 - A) Vatandaşlık hakkı
 - B) Eğitim ve öğrenim hakkı
 - C) Zorla çalıştırma yasağı
 - D) Çalışma hakkı
5. Aşağıdaki haklardan hangisi yaşama hakkını tamamlayıcı nitelikteki haklardan biridir?
 - A) Dilekçe hakkı
 - B) Kişi dokunulmazlığı
 - C) Seçme ve seçilme hakkı
 - D) Grev hakkı
6. Çoğulcu demokrasiyle ilgili aşağıdaki ifadelerden hangisi yanlıştır?
 - A) Hoşgörü ve farklılıklara saygıyı gerektirir.
 - B) Kültürel tekelciliği dışlar.
 - C) Hiçbir inancı, felsefi görüşü ortadan kaldırmaya çalışmaz.
 - D) Tek tip toplum yaratma çabasıdır.
7. Temsili demokrasilerde yurttaşların ülke yönetimine katılımları aşağıdakilerden hangisi ile sağlanır?
 - A) Seçimler
 - B) Dernekler
 - C) Sivil toplum örgütleri
 - D) Reformlar
8. Aşağıdakilerden hangisi demokratik siyasal sistemin temel ilkelerinden biri değildir?
 - A) Demokraside kuvvetler ayrımı esastır.
 - B) Demokrasi belli bir zümrenin egemenliğine dayanır.
 - C) Demokrasi temsil esasına dayanır.
 - D) Demokrasi çoğunluğun yönetimine dayanır.
9. Aşağıdakilerden hangisi hukukun üstünlüğü kuralının özelliklerinden biri değildir?
 - A) Temel hak ve özgürlüklerin anayasal güvenceye kavuşturulması
 - B) Yasaların anayasa ve insan haklarına uygun olması
 - C) Yargının hür ve bağımsız olması
 - D) Devlet erklerinin tek elden yürütülmesi
10. Aşağıdakilerden hangisi görevlerinden çekilmedikçe milletvekili adayı olamayan kişilerden biri değildir?
 - A) Hâkimler
 - B) Tacirler
 - C) Silahlı Kuvvetler mensupları
 - D) Savcılar
11. Aşağıdakilerden hangisi Birleşmiş Milletler Örgütü bünyesinde denetim amaçlı kurulan komitelerden biri değildir?
 - A) Ekonomik, Sosyal ve Kültürel Haklar Komitesi
 - B) Kadınlara Karşı Ayrımcılığın Kaldırılması Komitesi
 - C) Çocuk Hakları Komitesi
 - D) Kıdemli Memurlar Komitesi

12. Aşağıdakilerden hangisi insan haklarının korunması konusunda demokrasilerde karşılaşılan sorunlardan biri değildir?

- A) Hızlı toplumsal değişme
- B) Bilim ve teknoloji alanında sağlanan gelişmelerin kontrolsüz kullanımı
- C) Çağdaşlaşma
- D) Bölgeler arası kalkınmışlık farkları

13. İnsan Hakları Evrensel Bildirgesi ile ilgili aşağıdaki ifadelerden hangisi yanlıştır?

- A) İnsan haklarının uluslararası alanda korunması açısından önemli bir belgedir.
- B) Yalnız kişisel ve siyasal hakları içerir.
- C) Bildirgede belirtilen hak ve özgürlükler bir ideali ifade etmekle sınırlı kalmıştır.
- D) Kabul eden devletleri herhangi bir yükümlülük altına sokmamıştır.

14. Uluslararası sivil toplum örgütleriyle ilgili aşağıdaki ifadelerden hangisi yanlıştır?

- A) Demokrasiye ve insan haklarına ilişkin sorunlara evrensel düzeyde yaklaşırlar.
- B) Çeşitli ülkelerdeki insan hakları ihlallerini ve anti demokratik uygulamaları ortadan kaldırmaya çalışırlar.
- C) Sürekli olarak güçlü bir devletin etki ve güdümünde kalırlar.
- D) Devletler için büyük baskı aracıdırlar.

15. Uluslararası bildirgelerle ilgili aşağıdaki ifadelerden hangisi yanlıştır?

- A) Bildirge ile sağlanan hakların korunması için herhangi bir yaptırım organı öngörülmemiştir.
- B) Bildirgeye taraf olan devletler için bağlayıcı hükümler içerirler.
- C) Yol gösterici ve tavsiye niteliğindedirler.
- D) İnsan haklarının korunmasına yönelik uluslararası belge niteliğindedirler.

16. Türkiye Cumhuriyeti Devleti'nin kurulduğu dönemde özel teşebbüsün ülke için gerekli olan atılımları başaramamış olması nedeniyle Atatürk, aşağıdaki ilkelerden hangisini uygulamaya koymuştur?

- A) Devletçilik
- B) Halkçılık
- C) Milliyetçilik
- D) Cumhuriyetçilik

17. Saltanatın kaldırıldığı tarih aşağıdakilerden hangisidir?

- A) 1 Kasım 1922
- B) 29 Ekim 1923
- C) 3 Mart 1924
- D) 5 Şubat 1937

18. Çağdaş uygarlık seviyesini yakalamak ve bunun da ötesine geçmek için yapılan çalışmalara ne ad verilir?

- A) Devrim
- B) Reform
- C) Gelişme
- D) Çağdaşlaşma

19. Aşağıdakilerden hangisi Atatürk inkılaplarının başlangıcını ve temelini oluşturan gelişmelerden biri değildir?

- A) Birleşmiş Milletler Örgütü'ne üye olunması
- B) Hilafetin kaldırılması
- C) TBMM'nin kurulması
- D) Cumhuriyet yönetiminin benimsenmesi

20. Çoğunlukla aynı topraklar üzerinde yaşayan, aralarında dil, tarih, duygu, ülkü, gelenek ve görenek birliği olan insan topluluğuna ne ad verilir?

- A) Millet
- B) Örgüt
- C) Devlet
- D) Vatan

SEÇMELİ DİL VE ANLATIM 6

A

2014 II.DÖNEM 0105-A

1. Aşağıdakilerden hangisi röportajın özelliklerinden biri değildir?

- A) Röportajı yapan kişi, yazıyı sadece elde ettiği bilgilerle kurgular, kendi görüş ve düşüncelerine asla yer vermez.
- B) Röportajcı gördükleri ve izlenimleriyle yetinmeyip araştırma ve inceleme de yapar.
- C) Röportajcının amacı konuyu çarpıtmadan belgesel olarak okuyucuya sunmak ve okuyucuyu konunun içinde yaşatmaktır.
- D) Röportaj tek bir yazı da, aynı konuda dizi yazı da olabilir.

2. Atatürk'ün hazırladığı "Söylev" ile ilgili aşağıdaki ifadelerden hangisi yanlıştır?

- A) Mecliste okunması 36 saat sürmüştür.
- B) 1927'de iki cilt halinde basılmıştır.
- C) Atatürk, Söylev'i "Gençliğe Sesleniş" ile bitirir.
- D) İsmet İnönü ile birlikte yazmışlardır.

3. Röportajın sağlam bir düşünce ve teze dayanması yönüyle benzerlik gösterdiği tür aşağıdakilerden hangisidir?

- A) Deneme
- B) Makale
- C) Fıkra
- D) Nutuk

4. "Sevgili Arkadaşlarım! Yüksek öğrenim gençlerini, istediğimiz ve ihtiyaç duyduğumuz gibi millî bilinç sahibi, modern kültürlü olarak yetiştirmek için İstanbul Üniversitesi'nin gelişmesi, Ankara Üniversitesi'nin tamamlanması ve Doğu Üniversitesi'nin yapılan çalışmalarla belirlenmiş olan kurallar içinde Van Gölü civarında kurulması çalışmaları hızla ve önemle sürdürülmektedir..."

Yukarıda bir parçası alıntılanan yazının türü aşağıdakilerden hangisidir?

- A) Mülakat
- B) Makale
- C) Söylev
- D) Nesir

5. Cumhuriyet döneminin en büyük konuşmacısı aşağıdakilerden hangisidir?

- A) Mustafa Kemal Atatürk
- B) Bekir Sıtkı
- C) Halide Edip
- D) Peyami Safa

Aşağıdakilerden hangisi II.Meşrutiyet dönemindeki en tanınmış söylevcilerden biridir?

- A) Ömer Naci
- B) Ahmet Haşim
- C) Yaşar Kemal
- D) Mehmet Rauf

7. "Gerçek Bir Yeryüzü Cenneti Sapanca" başlıklı röportajın türü aşağıdakilerden hangisidir?

- A) Eşyayı konu alan
- B) Gezi yazısı
- C) Bir yeri konu alan
- D) Belgesel

8. Okuyucularınızı inandırmak için bir konu, eşya ya da bir yerle ilgili olarak yaptığınız incelemeleri değişik boyutlarıyla ele alıyor, çeşitli ses kayıtları, fotoğraf ve belgeler kullanıyor ve öznel bir bakış açısı kullanıyorsanız hangi yazı türünde bir eser ortaya koymuşsunuzdur?

- A) Makale
- B) Röportaj
- C) Günce
- D) Destan

9. Aşağıdakilerden hangisi edebiyatımızdaki tanınmış mülakat yazarlarından biri değildir?

- A) Ruşen Eşref Ünaydın
- B) Mustafa Baysal
- C) Fakir Baykurt
- D) Sermat Sami Uysal

10. Sorular herkesin anlayabileceği gibi açık ve net olmalı, alınan cevap aynen aktarılmalı ve ayrıntıya girilmemelidir.

Yukarıda sözü edilen tür aşağıdakilerden hangisi olabilir?

- A) Fıkra
- B) Mülakat
- C) Deneme
- D) Söylev

11. Edebiyatımızda Mk mülakat örneklerinden sayılan "Anafartalar Kumandanı Mustafa Kemal Atatürk" başlıklı eserin yazarı aşağıdakilerden hangisidir?

- A) Yahya Kemal
- B) Fakir Baykurt
- C) Ruşen Eşref Ünaydın
- D) Fikret Otyam

12. Söylev türüyle ilgili aşağıdaki ifadelerden hangisi yanlıştır?

- A) Söylev; etkili, heyecanlı ve açık cümlelerle bitirilmelidir.
- B) Söylevcilerin en önemli yeteneği toplulukları inandırmadaki güçleridir.
- C) Söylev türünün ilk örnekleri Maya dönemlerinde görülür.
- D) Söylev heyecanlandırarak bir fikri aşılmasıdır.

13. "Tanrı gibi Tanrı yaratmış Türk Bilge Kağanı, sözüm: Babam Türk Bilge Kağanı... Sir, Dokuz Oğuz, İki Ediz çadırlı beyleri, milleti.."

Yukarıda bir parçası alıntılanan eser aşağıdakilerden hangisidir?

- A) Fatih Sultan Mehmet'in Nutku
- B) Göktürk Yazıtları
- C) Bugün de Diyorlar ki
- D) İstiklal Kulesi Yazıtları

14. Söylev konuşması yapan kişiye ne ad verilir?

- A) Eleştirmen
- B) Zannatkar
- C) Şair
- D) Hatip

15. Aşağıdakilerden hangisi konularına göre röportaj çeşitlerinden biri değildir?

- A) Durumu konu alan
- B) Eşyayı konu alan
- C) İnsanı konu alan
- D) Bir yeri konu alan

16. Aşağıdakilerden hangisi mülakatın özelliklerinden biri değildir?

- A) Mülakat metnine sonradan ek yapılamaz.
- B) Genelde söyleşmeye bağlı bir anlatım türü kullanılır.
- C) Mülakat metni öğretici ve ufuk açıdır.
- D) Mülakat yapan kişi yayımlanmadan önce gerekirse metne yorumlarını da katabilir.

17. Söylevin amacı nedir?

- A) Dinleyenleri kendi düşüncesinden yana çekmek
- B) Bilgi vermek
- C) Bir sorunu değişik boyutları ile incelenmek
- D) Ünlü birini tanıtmak

18. Genellikle parlamentolarda, diplomatik toplantılarda ve mitinglerde söylenen söylev aşağıdakilerden hangisidir?

- A) Akademik söylev
- B) Siyasi söylev
- C) Sosyal söylev
- D) Edebi söylev

19. Kelime anlamı buluşmak, görüşmek olan, toplumu ilgilendiren önemli bir konuyu aydınlatmak için ünlü kişilerle, uzmanlarla yapılan görüşmeleri sorulu-cevaplı olarak aktaran yazılara ne ad verilir?

- A) Nesir
- B) Makale
- C) Alıntı
- D) Mülakat

20. Aşağıdakilerden hangisi sözlü anlatım türlerinden biri değildir?

- A) Mülakat
- B) Söylev
- C) Röportaj
- D) Deneme

SEÇMELİ DİL VE ANLATIM 6

A

2014 II.DÖNEM 0105-A

1. Bilim insanlarının bir konunun çeşitli yönlerini inceleyip görüş bildirdikleri toplantılara ne ad verilir?

- A) Söylev
- B) Sempozyum
- C) Açık oturum
- D) Münazara

2. Aşağıdakilerden hangisi konferansçının konferans sırasında dikkat etmesi gereken özelliklerden biri değildir?

- A) Argo ve bayağı sözlerden kaçınmalıdır.
- B) Konferans oldukça ayrıntılı olup mümkün olduğunca uzun sürmelidir.
- C) Konferansçı, dinleyicilerin kültür ve zevk düzeylerini dikkate almalıdır.
- D) Konferansçı heyecanıyla değil akli ve sağduyusuyla hareket etmelidir.

3. Makalelerinde sürekli biçimde vatan, milliyet ve hürriyet temalarını işleyen yazar aşağıdakilerden hangisidir?

- A) Ali Naci
- B) Rezaizade Mahmut Ekrem
- C) Namık Kemal
- D) Cahit Sıtkı

Münazaranın topluluk karşısında yapılan türüne ne ad verilir?

- A) Paneller
- B) Gösteriler
- C) Forumlar
- D) Toplu tartışmalar

5. Makaleyle ilgili aşağıdaki ifadelerden hangisi yanlıştır?

- A) Üslup yönünden üçüncü tekil anlatım tercih edilir.
- B) Makalede temel öge duygudur.
- C) Gazetede ilk sayfa ve birinci sütunda yer alan ve günlük olaylar, ülke sorunları hakkında görüşleri yansıtan yazılara başmakale adı verilir.
- D) Bilimsel bir anlatım ağır basar.

6. "Sayın jüri üyeleri, değerli arkadaşlarım, Tezimin doğru olduğunu savunmaya eğitim yoluyla savaşların önlenebileceğini ortaya koyan örnekler vererek başlayacağım. "

Yukarıda bir parçası alıntılanan konuşmanın gerçekleştirildiği ortam aşağıdakilerden hangisidir?

- A) Sempozyum
- B) Forum
- C) Panel
- D) Münazara

7. Aşağıdakilerden hangisi ülkemizde Mk özel gazeteyi kuranlardan biridir?

- A) Falih Rıfkı
- B) Cenap Şehabettin
- C) Agah Efendi
- D) Fethi Naci

8. Aşağıdakilerden hangisi makale ve bilimsel yazıların benzerliklerinden biri değildir?

- A) İki türde de amaç okuyucuyu bilgilendirmektir.
- B) İki türde de sanatsal yaklaşım ön plandadır.
- C) Her iki tür de kurallı cümlelerle kurulurlar.
- D) Her iki türde de anlatılanların kanıtlanması gerekir.

9. Aşağıdakilerden hangisi makalede söylenenlerin bir yargıya bağlandığı bölümdür?

- A) Sonuç
- B) Dipnot
- C) Malzeme
- D) Yöntemler

10. Aşağıdakilerden hangisi bilimsel yazılar içerisinde yer almaz?

- A) Değerlendirme yazıları
- B) Bilimsel makaleler
- C) Film senaryoları
- D) Konferans raporları

11. Aşağıdakilerden hangisi açık oturum planında yer almaz?

- A) Açık oturumun yapılış nedeni
- B) Konuşmaları özetlemek
- C) Deney
- D) Konuşmacılara sorulacak sorular

12. Türk edebiyatında makalenin gelişimine bakıldığında 1860'da Mk makale kim tarafından yazılmıştır?

- A) Şinasi
- B) Nefi
- C) Hüseyin Cahit
- D) Namık Kemal

13. Konferansta konuyla ilgili genel yargılar hangi bölümde yer alır?

- A) Hitap cümlesi
- B) Anafikir
- C) Soru-cevap
- D) Sonuç

14. Konferans ile ilgili aşağıdaki ifadelerden hangisi yanlıştır?

- A) Konferansta açıklayıcı, öğretici, kanıtlayıcı ve tartışmacı anlatım türleri kullanılır.
- B) Konferanstaki amaç aynen nutukta olduğu gibi dinleyicileri coşkulandırmaktır.
- C) Konferans verilmeden önce konuşmayı yapacak kişi mutlaka dinleyicilere tanıtılır.
- D) Genellikle bilim, sanat ve ekonomi konularında verilir.

15. Yazar, düşünür ve sanatçıların veya kendi alanında uzman kişilerin bir konuyu açıklamak, tanıtmak, bilgi vermek, öğretmek amacıyla yaptıkları konuşmalara ne ad verilir?

- A) Konferans
- B) Söyleşi
- C) Röportaj
- D) Münazara

16. Aşağıdakilerden hangisi bir sözlü anlatım türü değildir?

- A) Açık oturum
- B) Sempozyum
- C) Münazara
- D) Makale

17. Çeşitli konularda uzmanların, dinleyiciler karşısında görüşlerini açıkladıkları toplantılara ne ad verilir?

- A) Röportaj
- B) Konferans
- C) Açık oturum
- D) Söylev

18. Bir sorun üzerinde bütün ilgililerin görüşlerini öğrenmek için yapılan toplantı türü aşağıdakilerden hangisidir?

- A) Forum
- B) Münazara
- C) Söyleşi
- D) Sempozyum

19. Aşağıdakilerden hangisi bilimsel yazıların okuyucu kitlesine ulaşması bakımından önemli olan ögesidir?

- A) Dipnot
- B) Tartışma
- C) Sonuç
- D) Başlık

20. Bilimsel yazılardaki kaynakça bölümüne ne ad verilir?

- A) Bibliyografya
- B) Dipnot
- C) İndeks
- D) Sonuç

1. A: Kaufst du den rot....Mantel?
B: Nein, der blau.....gefällt mir besser.

Welche Endungen passen in die Lücken im obigen Dialog?

Verilen karşılıklı konuşmada boş bırakılan yerleri aşağıdaki soneklerden hangileri tamamlar?

- A) -es / -en
B) -en / -e
C) -er / -es
D) -em/ -er

2. Der Lehrer sieht den Schüler.

Wie lautet der obige Satz in der Pluralform?

Verilen cümlelerin çoğul hali aşağıdakilerden hangisidir?

- A) Der Lehrer sieht das Schüler.
B) Das Lehrer will den Schüler sehen.
C) Die Lehrer sollen die Schüler sehen.
D) Die Lehrer sehen die Schüler.

3. Die Pizza.....dem Jungen gut.

Welches Wort passt in die obige Lücke?

Cümlede boş bırakılan yeri aşağıdakilerden hangisi tamamlar?

- A) kauft
B) liest
C) bringt
D) schmeckt

4. Was bedeutet "Manzara" auf Deutsch?

"Manzara" sözcüğünün Almanca'sı aşağıdakilerden hangisidir?

- A) Der Berg
B) Das Dach
C) Die Landschaft
D) Die Freundschaft

Vor / Fenster / Radio / das / steht / dem

Wie kann man mit den obigen Wortgruppen einen sinnvollen und richtigen Satz bilden?

Verilen sözcük gruplarıyla kurulabilecek en anlamlı ve doğru cümle aşağıdakilerden hangisidir?

- A) Das Fenster Radio steht vor dem.
B) Steht vor das Radio dem Fenster.
C) Vor dem Fenster das Radio steht.
D) Das Radio steht vor dem Fenster.

Viele.....lernen Deutsch, weil sie es für das Studium oder für den Beruf brauchen.

Welches Wort passt in die obige Lücke?

Cümlede boş bırakılan yeri aşağıdakilerden hangisi tamamlar?

- A) Kulturen
B) Erwachsene
C) Angebote
D) Propaganda

7. Ahmet macht jeden.....Sport.

Welches Wort passt nicht in die obige Lücke?

Cümlede boş bırakılan yeri aşağıdakilerden hangisi doğru tamamlamaz?

- A) Jahr
B) Tag
C) Abend
D) Morgen

Ich weiss nicht, aber ich komme zurecht.

Welcher Satz ergänzt die obige Lücke?

Verilen cümleyi aşağıdakilerden hangisi tamamlar?

- A) als ich nach Deutschland kam
B) ob mein Deutsch fehlerfrei ist
C) weil ich eine Fremdsprache lernen muss
D) denn ich lebe im Ausland

9. Wie viele Wörter benutzt der Mensch im Alltag?

Welche Antwort passt zur obigen Frage?

Verilen sorunun cevabı aşağıdakilerden hangisidir?

- A) Sie dürfen hier nicht so laut sprechen.
B) Im Alltag benutzen wir nur 1000 Wörter.
C) Man kann im Duden nachschlagen.
D) Das ist ein altes Wörterbuch.

12. Mit welchem Geld willst du das Haus bezahlen?

Welche Antwort passt zur obigen Frage?

Verilen sorunun cevabı aşağıdakilerden hangisidir?

- A) Es ist halb abbezahlt!
B) Ich möchte auch ein Ferienhaus am Meer haben!
C) Mit einem Kredit, den die Bank uns gibt!
D) Was für ein hübsches Haus ist das!

10. Ich stehe an der Ampel und

Welcher Satz ergänzt die obige Lücke?

Verilen cümleyi aşağıdakilerden hangisi tamamlar?

- A) will bei Grün auf die andere Straffenseite gehen.
B) als ich in der Stadt war.
C) bin ich mit grosser Eile hierher gelaufen.
D) soll ich morgens immer früh aufstehen und mit der Bahn fahren.

13. Das ist eine Geschichte. Die Geschichte ist interessant.

Wie kann man die obigen Sätze verbinden?

Verilen cümlelerin birleştirilmiş hali aşağıdakilerden hangisidir?

- A) Das ist die Geschichte, den ich dir erzählen wollte.
B) Das ist unsere interessante Geschichte.
C) Das ist eine Geschichte, die interessant ist.
D) Das ist die Geschichte, von der ich viele neue Erlebnisse gelernt habe.

11. Wo sind die Frauen, denen diese Blumen gehören?

Welche Frage passt zur obigen Antwort?

Verilen cevabı gerektirecek soru aşağıdakilerden hangisidir?

- A) Ich habe auch Blumen gekauft.
B) Die Blumen sind für dich!
C) Sie sind aber telefonisch nicht zu erreichen.
D) Sie sind in der Küche.

14. Ich habe etwas Geld....., so ungefähr 15.000 Euro, die reichen aber auch nicht aus.

Welches Wort passt in die obige Lücke?

Cümlede boş bırakılan yeri aşağıdakilerden hangisi tamamlar?

- A) gespart
B) vertraut
C) braucht
D) kauft

15.sind Leute, die oft nachts arbeiten müssen.

Welches Wort passt in die obige Lücke?

Cümlede boş bırakılan yeri aşağıdakilerden hangisi doğru şekilde tamamlar?

- A) Taxifahrer
- B) Kinder
- C) Lehrer
- D) Kollegen

16. Wenn ich Zeit hatte,

Welches ergänzt nicht die Lücke im obigen Satz?

Verilen cümleyi aşağıdakilerden hangisi tamamlamaz?

- A) würde ich Fussball spielen.
- B) würden wir eine Seereise machen.
- C) war ich in der Bibliothek.
- D) würden sich meine Kinder freuen.

17. _____hoffentlich regnet es nicht!

Welcher Satz ergänzt die obigen Lücke?

Verilen cümleyi aşağıdakilerden hangisi tamamlar?

- A) Wir wollen einen Ausflug machen
- B) Ich habe keine Zeit
- C) Das ist eine hübsche Überraschung
- D) Wir müssen leider für die Prüfung arbeiten

18. _____ob ich sie im Sommer besuchen werde.

Welcher Satz ergänzt nicht die obige Lücke?

Verilen cümleyi aşağıdakilerden hangisi tamamlamaz?

- A) Du fragst mich
- B) Sie möchte wissen
- C) Er freut sich
- D) Ich weiss nicht

19. Nihayet kendime zaman ayıracağım.

Wie lautet der obige Satz auf Deutsch?

Verilen cümlelerin Almancası aşağıdakilerden hangisidir?

- A) Dazu habe ich keine Zeit.
- B) Sie hat immer Zeit für sich.
- C) Ich werde meine Zeit für dich regeln.
- D) Ich werde endlich Zeit für mich haben.

Wenn die Frau die Möglichkeit....., sie eine Waschmaschine kaufen.

Welche Wörter passen in die obigen Lücken?

Cümlede boş bırakılan yerleri aşağıdakilerden hangileri tamamlar?

- A) hatten / wirst
- B) hatte / würde
- C) hatte / wird
- D) hat / ware

1. Jack is a reader. He reads his book ,

Which of the following completes the sentence above?

Aşağıdakilerden hangisi yukarıdaki cümleyi doğru olarak tamamlar?

- A) quickly / quick
B) quick / quick
C) quick / quickly
D) quickly / quickly

2. She has tasted different foodshe started to travel.

Which of the following completes the sentence above?

Aşağıdakilerden hangisi yukarıdaki cümleyi doğru olarak tamamlar?

- A) for
B) ever
C) never
D) since

3. I didn't have a good time while Ithis movie.

Which of the following completes the sentence above?

Aşağıdakilerden hangisi yukarıdaki cümleyi doğru olarak tamamlar?

- A) was watching
B) watch
C) am watching
D) watched

4. Nihat asked Seda how old she was.

Which of the following is the direct speech form of the reported speech sentence above?

Aşağıdakilerden hangisi yukarıdaki dolaylı anlatım cümlesinin dolaysız anlatım biçimidir?

- A) Nihat "How old were you?"
B) Nihat "How old have you been?"
C) Nihat "How old are you?"
D) Nihat "How old is she?"

A:How long have you been living İn Dubai?

B:For ten years.

C:What does he want to know?

B:He wants to know how long.....in Dubai.

Which of the following completes the dialogue above?

Aşağıdakilerden hangisi yukarıdaki konuşmayı doğru olarak tamamlar?

- A) I'm living
B) I have been living
C) I live
D) I'm going to live

6. Nurcan asked "Can you play the piano?"
Nurcan asked me if I.....play the piano.

Which of the following completes the sentence above?

Aşağıdakilerden hangisi yukarıdaki cümleyi doğru olarak tamamlar?

- A) would
B) could
C) can
D) did

Mary isn't coming with us. I wish

Which of the following completes the sentence above?

Aşağıdakilerden hangisi yukarıdaki cümleyi doğru olarak tamamlar?

- A) she could come with us
B) she wasn't coming with us
C) she can't come with us
D) she doesn't come with us

8. If you lose your wallet, .

Which of the following completes the sentence above?

Aşağıdakilerden hangisi yukarıdaki cümleyi doğru olarak tamamlar?

- A) write a letter
B) see the dentist
C) call the police
D) iron the clothes

9. A: I like coffee, but I don't like tea.
B: What does she say?
C: She says that she.....coffee but she .
tea.

Which of the following completes the dialogue above?

Aşağıdakilerden hangisi yukarıdaki konuşmayı doğru olarak tamamlar?

- A) likes / doesn't like
B) like / don't like
C) likes / likes
D) has liked / doesn't like

10. A: Are you a teacher?
B: Yes, I am.
C: What does he want to know?
B: He wants to know if.....a teacher.

Which of the following completes the dialogue above?

Aşağıdakilerden hangisi yukarıdaki konuşmayı doğru olarak tamamlar?

- A) I had been
B) I am
C) I were
D) I was

11. Ayhan said, "I've lost my pencils".
Ayhan said that he.....his pencils.

Which of the following completes the sentence above?

Aşağıdakilerden hangisi yukarıdaki cümleyi doğru olarak tamamlar?

- A) lost
B) have lost
C) is losing
D) had lost

12. Aylin asked me.....I knew English.

Which of the following completes the sentence above?

Aşağıdakilerden hangisi yukarıdaki cümleyi doğru olarak tamamlar?

- A) if
B) where
C) when
D) what

13. Sütü çaya tercih ederim.

Which of the following is the English translation of the sentence above?

Aşağıdakilerden hangisi yukarıdaki cümlenin İngilizce karşılığıdır?

- A) I like milk but I don't like tea.
B) I prefer drinking tea.
C) I prefer milk to tea.
D) I prefer milk and tea.

14. A: Would you like some more bread?
B:

Which of the following completes the dialogue above?

Aşağıdakilerden hangisi yukarıdaki konuşmayı doğru olarak tamamlar?

- A) No, thanks
B) No, I am not
C) Yes, it is my bread
D) Yes, I do

15. English by Mr. White next year.

Which of the following completes the sentence above?

Aşağıdakilerden hangisi yukarıdaki cümleyi doğru olarak tamamlar?

- A) taught
- B) will be taught
- C) was taught
- D) is teaching

16. History.....by Mr. Özkoç today.

Which of the following completes the sentence above?

Aşağıdakilerden hangisi yukarıdaki cümleyi doğru olarak tamamlar?

- A) have been taught
- B) is teaching
- C) taught
- D) is being taught

17. If I were you,.....It's too expensive.

Which of the following completes the sentence above?

Aşağıdakilerden hangisi yukarıdaki cümleyi doğru olarak tamamlar?

- A) I couldn't listen to the radio
- B) I could play the piano
- C) I might take a taxi
- D) I wouldn't buy that camera

18. This theater was built by Mr. Öztürk.

Which of the following is the active voice of the sentence above?

Aşağıdakilerden hangisi yukarıdaki cümlenin etken yapıda kurulmuş biçimidir?

- A) Mr. Öztürk had built this theater.
- B) Mr. Öztürk built this theater.
- C) Mr. Öztürk has built this theater.
- D) Mr. Öztürk is building this theater.

19.....Aylin.....by Mr. Gül?

Which of the following completes the sentence above?

Aşağıdakilerden hangisi yukarıdaki cümleyi doğru olarak tamamlar?

- A) Does / helping
- B) Is / helping
- C) Is / help
- D) Has / been helped

I.....walking to school to driving to school.

Which of the following completes the sentence above?

Aşağıdakilerden hangisi yukarıdaki cümleyi doğru olarak tamamlar?

- A) hope
- B) want
- C) prefer
- D) have

1. La fille.....je parle.

Choisissez le mot qui convient.

Cümledeki boşluğu aşağıdakilerden hangisi doğru şekilde tamamlar?

- A) dont
- B) qui
- C) où
- D) que

2. Tu preferes le cafe..... le the?

Choisissez le mot qui convient.

Cümledeki boşluğu aşağıdakilerden hangisi doğru şekilde tamamlar?

- A) ou
- B) mais
- C) donc
- D) car

3. Je fais toujours.....tu veux.

Choisissez l'expression qui convient.

Cümledeki boşluğu aşağıdakilerden hangisi doğru şekilde tamamlar?

- A) ce qui
- B) ce que
- C) c'est
- D) ce

4. Elle va.....Paris chaque

Choisissez les mots qui conviennent.

Cümledeki boşlukları aşağıdakilerden hangisi doğru şekilde tamamlar?

- A) en / lundi
- B) a / lundi
- C) en / mardi
- D) au / lundi

5. C'est.....qui est tombee.

Choisissez le mot qui convient.

Cümledeki boşluğu aşağıdakilerden hangisi doğru şekilde tamamlar?

- A) lui
- B) elle
- C) moi
- D) toi

- Il va chez le medecin?

- Oui, il.....va.

Choisissez le mot qui convient.

Yukarıdaki konuşmada boş bırakılan yeri aşağıdakilerden hangisi doğru şekilde tamamlar?

- A) y
- B) en
- C) lui
- D) me

7. Nous sommes a Paris.....hier.

Choisissez l'expression qui convient.

Cümledeki boşluğu aşağıdakilerden hangisi doğru şekilde tamamlar?

- A) il y a
- B) depuis
- C) ça fait
- D) pendant

-tu ne vas pas a l'ecole?

- Parce que je suis malade.

Choisissez le mot qui convient.

Yukarıdaki konuşmada boş bırakılan yeri aşağıdakilerden hangisi doğru şekilde tamamlar?

- A) Comment
- B) Combien
- C) Pourquoi
- D) D'ou

- Vous avez une voiture?

- Oui,.....une.

Choisissez l'expression qui convient.

Yukarıdaki konuşmada boş bırakılan yeri aşağıdakilerden hangisi doğru şekilde tamamlar?

- A) nousyavons
- B) vous en avez
- C) nous en avons
- D) vousyavez

10. Hier, il.....beau.

Choisissez le mot qui convient.

Cümledeki boşluğu aşağıdakilerden hangisi doğru şekilde tamamlar?

- A) faire
- B) fait
- C) ferra
- D) faisait

11. - Tu penses a ta mere?
- Oui, je pense a

Choisissez le mot qui convient.

Yukarıdaki konuşmada boş bırakılan yeri aşağıdakilerden hangisi doğru şekilde tamamlar?

- A) lui
B) y
C) elle
D) en

12. Les voitures. j'ai

Choisissez les mots qui conviennent.

Cümledeki boşlukları aşağıdakilerden hangisi doğru şekilde tamamlar?

- A) que/vus
B) qui /vues
C) qui /vue
D) que/vues

13. Octobre est le mois.elle est

Choisissez les mots qui conviennent.

Cümledeki boşlukları aşağıdakilerden hangisi doğru şekilde tamamlar?

- A) où/ne
B) dont / nee
C) dont / ne
D) où/nee

14. - Depuis combien de temps travailles-tu ici?
.....5 ans.

Choisissez l'expression qui convient.

Yukarıdaki konuşmada boş bırakılan yeri aşağıdakilerden hangisi doğru şekilde tamamlar?

- A) Dans
B) Pour
C) Ça fait
D) En un instant

15. La fille.je regarde.

Choisissez le mot qui convient.

Cümledeki boşluğu aşağıdakilerden hangisi doğru şekilde tamamlar?

- A) que
B) qui
C) où
D) dont

16. Je vais a la maison.10 minutes.

Choisissez le mot qui convient.

Cümledeki boşluğu aşağıdakilerden hangisi doğru şekilde tamamlar?

- A) a
B) depuis
C) ou
D) en

17. Je suis malade.je ne vais pas a l'ecole.

Choisissez le mot qui convient.

Cümledeki boşluğu aşağıdakilerden hangisi doğru şekilde tamamlar?

- A) donc
B) mais
C) ou
D) ou bien

18. Lundi., il a plu.

Choisissez le mot qui convient.

Cümledeki boşluğu aşağıdakilerden hangisi doğru şekilde tamamlar?

- A) prochain
B) dernier
C) demain
D) apres

19. Je peux parler français car je travaille

Choisissez le mot qui convient.

Cümledeki boşluğu aşağıdakilerden hangisi doğru şekilde tamamlar?

- A) peu
B) jamais
C) beaucoup
D) pas

20. La fille.mange une pomme.

Choisissez le mot qui convient.

Cümledeki boşluğu aşağıdakilerden hangisi doğru şekilde tamamlar?

- A) que
B) où
C) dont
D) qui

1.....Fahrrad ist billiger als meiner.

Welches Wort passt in die obige Lücke?

Cümlede boş bırakılan yeri aşağıdakilerden hangisi doğru şekilde tamamlar?

- A) Meiner
- B) Deins
- C) Dein
- D) Meins

2. Antalya ist.....als Eskişehir.

Welches Wort passt in die obige Lücke?

Cümlede boş bırakılan yeri aşağıdakilerden hangisi tamamlar?

- A) heifter
- B) schwerer
- C) kalter
- D) schwieriger

3. Ali ist 65 kg. Ahmet ist 70 kg und Mehmet ist 85 kg.

Welche Schlufffolgerung kann man nach den obigen Sätzen machen?

Verilen cümlelere göre, aşağıdaki yargılardan hangisi doğrudur?

- A) Ali ist der alteste.
- B) Ahmet ist am leichtesten.
- C) Mehmet ist der kleinste.
- D) Mehmet ist am schwersten.

4. Warum werden Verkehrspolizisten eingesetzt?

Welche Antwort passt zur obigen Frage?

Verilen sorunun cevabı aşağıdakilerden hangisidir?

- A) Sie können eingesetzt werden, wenn die Kinder es brauchen.
- B) Sie werden eingesetzt, um den Verkehr zu ordnen.
- C) Sie unterstützen die Familie.
- D) Sie sorgen für die soziale Ordnung.

5. Um die Neuigkeiten verfolgen zu können.

Welche Frage passt zur obigen Antwort?

Verilen cevabı gerektirecek soru aşağıdakilerden hangisidir?

- A) Hat Sie auch Zeitungen gekauft?
- B) Warum kaufen Sie jeden Tag Zeitung?
- C) Wann kaufen Sie Zeitungen?
- D) Haben Sie die Zeitung schon gelesen?

6. Er macht jedes Jahr in Marmaris Ferien. Es gefällt ihm dort sehr.

Wie kann man die obigen Sätze verbinden?

Verilen cümlelerin birleştirilmiş hali aşağıdakilerden hangisidir?

- A) Er könnte jedes Jahr in Marmaris Ferien machen, denn es gefällt ihm sehr.
- B) Er will dieses Jahr nach Marmaris fahren, denn es gefällt ihm sehr.
- C) Wenn er Ferien macht, fahren wir jedesmal nach Marmaris.
- D) Er macht jedes Jahr in Marmaris Ferien, weil es ihm dort sehr gefällt.

7. Was bedeutet "bir şeyi hesaba katmak" auf Deutsch?

"bir şeyi hesaba katmak" ifadesinin Almanca'sı aşağıdakilerden hangisidir?

- A) mit etwas rechnen
- B) alles ausrechnen können
- C) miteinander gerecht sein
- D) etwas ausrechnen

8. Im September fangt die Schule an.

Welche Frage passt zur obigen Antwort?

Verilen cevabı gerektirecek soru aşağıdakilerden hangisidir?

- A) Wann fangt die Schule an?
 B) Wie lange dauert die Schule?
 C) Wie oft haben Sie Sommerferien?
 D) Wozu geht ihr in die Schule?

9. Man sollte.....rauchen und.....Alkohol trinken.

Welche Wörter passen in die obigen Lücken?

Cümlede boş bırakılan yerleri aşağıdakilerden hangileri tamamlar?

- A) selten / häufig
 B) nie / selten
 C) immer / nachts
 D) manchmal / nur

10. Man sagt, er.....aus Wien gekommen.

Welches Wort passt in die obige Lücke?

Cümlede boş bırakılan yeri aşağıdakilerden hangisi doğru şekilde tamamlar?

- A) wart
 B) warest
 C) wâre
 D) warst

11. Die Kinder müssen abends.....ins Bett gehen und schlafen.

Welches Wort passt in die obige Lücke?

Cümlede boş bırakılan yeri aşağıdakilerden hangisi doğru şekilde tamamlar?

- A) seitdem
 B) angeblich
 C) behaupten
 D) rechtzeitig

12. A: Hatte Hülya in der Pizzeria gearbeitet?
 B: Ich dachte, sie

Welches ergänzt die Lücke im obigen Dialog?

Verilen karşılıklı konuşmada boş bırakılan yeri aşağıdakilerden hangisi tamamlar?

- A) waren ins Kino gegangen.
 B) könntest im Schwimmbad sein.
 C) hatte im Restaurant gearbeitet.
 D) war zu Hause geblieben.

13. Peter sagte mir, der Film sei von einem weltberühmten Regisseur gedreht worden.

Welche Frage passt zur obigen Antwort?

Verilen cevabı gerektirecek soru aşağıdakilerden hangisidir?

- A) Warum will Peter diesen Film nicht sehen?
 B) Wann fangt der Film an?
 C) Was hat dir Peter über den Film erzählt?
 D) Warum möchte Peter immer lesen?

14. Das Mädchen sagt ihrer Mutter,

Welches ergänzt die Lücke im obigen Satz?

Verilen cümleyi aşağıdakilerden hangisi tamamlar?

- A) daR die Prüfungen nächste Woche beendet sein werden.
 B) damit sie die Prüfungen bestehen kann.
 C) wenn er heute Abend kommen.
 D) weil die Prüfung bestanden worden ist.

15. Wir kommen am Sonntag nach Eskişehir.

Welches ist die Konjunktivform vom obigen Satz?

Verilen cümlelerin Konjunktiv hali aşağıdakilerden hangisidir?

- A) Man sagt, ihr kamet am Sonntag nach Eskişehir.
 B) Man wiN, daG ich am Sonntag nach Eskişehir komme.
 C) Man spricht davon, daR wir am Sonntag ins Kino gehen.
 D) Man hörte, daR ihr am Sonntag ins Theater gehen wollt.

16. Ich habe gehört, du hast wieder geheiratet.

Wie lautet der obige Satz auf Türkisch?

Verilen cümlelerin Türkçesi aşağıdakilerden hangisidir?

- A) Neden evlenmek istediğini anlamadım.
 B) Anladığım kadarıyla tekrar evlenmek istiyorsun.
 C) Tekrar evlendiğini duydum.
 D) Tekrar evlenmek istemediğini düşünmüştüm.

17. Die Pizza, die aus Italien kommt,

Welches ergänzt nicht die Lücke im obigen Satz?

Verilen cümleyi aşağıdakilerden hangisi tamamlamaz?

- A) ist eine Spezialität.
 B) ist sehr berühmt.
 C) sieht lecker aus.
 D) haben wir gelesen.

18. Der Mann, der nebenan wohnt, ist Mathematiklehrer.

Wie lautet der obige Satz auf Türkisch?

Verilen cümlelerin Türkçesi aşağıdakilerden hangisidir?

- A) Yanındaki adam galiba Matematik öğretmeni.
 B) Yan tarafta oturan bey Matematik öğretmeni.
 C) Yanında oturan beyin Matematik öğretmeni olduğunu söylüyorlar.
 D) Yukarıda gördüğün adam Matematik öğretmeni olabilir.

19. Hallo, was ifft du denn?
 Hallo! Ich esse einen Döner!
 Ich habe auch Hunger!

Das ist eine gute Idee!

Welches ergänzt den obigen Dialog?

Verilen karşılıklı konuşmayı aşağıdakilerden hangisi tamamlar?

- A) Dann kannst du etwas trinken!
 B) Dann komim und İR mit mir!
 C) Ich habe auch Durst!
 D) Wir können zusammen etwas planen!

20. Ich habe gehört,....., der aus Frankreich kommt, besonders gut schmecken soll.

Welches ergänzt die Lücke im obigen Satz?

Verilen cümleyi aşağıdakilerden hangisi tamamlar?

- A) der Sauerkraut könnte
 B) weil dieser Landbrot
 C) solche Fische
 D) daG der Wein

1. My brothers.born in Erzurum in 2008.

Which of the following completes the sentence above?

Aşağıdakilerden hangisi yukarıdaki cümleyi doğru olarak tamamlar?

- A) was
B) are
C) is
D) were

2. A Have you ever been to Egypt?

B Yes, I have.

A

B Three years ago.

Which of the following completes the dialogue above?

Aşağıdakilerden hangisi yukarıdaki konuşmayı doğru olarak tamamlar?

- A) What did you do there
B) How did it happen
C) When did you go there
D) Was it exciting

3. I television when the bell rang.

Which of the following completes the sentence above?

Aşağıdakilerden hangisi yukarıdaki cümleyi doğru olarak tamamlar?

- A) watching
B) was watching
C) have watched
D) having watched

4. While Tommy was reading a book, somebody him.

Which of the following completes the sentence above?

Aşağıdakilerden hangisi yukarıdaki cümleyi doğru olarak tamamlar?

- A) called
B) was called
C) is calling
D) calls

5. They were sitting at the breakfast table the guests came.

Which of the following completes the sentence above?

Aşağıdakilerden hangisi yukarıdaki cümleyi doğru olarak tamamlar?

- A) when
B) while
C) already
D) since

At five o'clock yesterday afternoon the electrician.....the radio.

Which of the following completes the sentence above?

Aşağıdakilerden hangisi yukarıdaki cümleyi doğru olarak tamamlar?

- A) is repairing
B) has repaired
C) did repaired
D) was repairing

7. She got wet.....it rained.

Which of the following completes the sentence above?

Aşağıdakilerden hangisi yukarıdaki cümleyi doğru olarak tamamlar?

- A) while
B) since
C) when
D) for

8. There.....a big park in the city but now there isn't.

Which of the following completes the sentence above?

Aşağıdakilerden hangisi yukarıdaki cümleyi doğru olarak tamamlar?

- A) uses to be
B) used to be
C) used to being
D) used to been

9. Have you ever.....to Nigeria?

Which of the following completes the sentence above?

Aşağıdakilerden hangisi yukarıdaki cümleyi doğru olarak tamamlar?

- A) went
B) travel
C) been
D) go

10. I haven't eaten anything since breakfast.

Which of the following is the Turkish translation of the sentence above?

Aşağıdakilerden hangisi yukarıdaki cümlenin Türkçe karşılığıdır?

- A) Kahvaltıda çok şey yedim.
B) Kahvaltıda beri hiçbir şey yemedim.
C) Kahvaltıda çok az yedim.
D) Kahvaltıda her şeyi yedim.

11. I haven't been there.....years.

Which of the following completes the sentence above?

Aşağıdakilerden hangisi yukarıdaki cümleyi doğru olarak tamamlar?

- A) since
- B) for
- C) ago
- D) after

12. Fahri: How long has he had that car?
Osman:.....three months.

Which of the following completes the dialogue above?

Aşağıdakilerden hangisi yukarıdaki konuşmayı doğru olarak tamamlar?

- A) For
- B) Since
- C) In
- D) At

13. She didn't come to your party,.....?

Which of the following completes the sentence above?

Aşağıdakilerden hangisi yukarıdaki cümleyi doğru olarak tamamlar?

- A) didn't she
- B) are you
- C) does she
- D) did she

14. Whatyou.....for your sister's birthday?

Which of the following completes the sentence above?

Aşağıdakilerden hangisi yukarıdaki cümleyi doğru olarak tamamlar?

- A) will / buy
- B) is / buy
- C) are / buy
- D) does / buy

15. Joe: You ? went to Germany last week,

Luke: Yes, I did.

Which of the following completes the dialogue above?

Aşağıdakilerden hangisi yukarıdaki konuşmayı doğru olarak tamamlar?

- A) didn't you
- B) weren't you
- C) do we
- D) did you

16. Don't speak loudly,.....?

Which of the following completes the sentence above?

Aşağıdakilerden hangisi yukarıdaki cümleyi doğru olarak tamamlar?

- A) does she
- B) do you
- C) are we
- D) will you

17. Jack: That's your car,..... it?
Bill: Yes, it is.

Which of the following completes the dialogue above?

Aşağıdakilerden hangisi yukarıdaki konuşmayı doğru olarak tamamlar?

- A) won't
- B) aren't
- C) didn't
- D) isn't

18. Mary: Let's watch a movie,.....?
Ernest: That's a good idea.

Which of the following completes the dialogue above?

Aşağıdakilerden hangisi yukarıdaki konuşmayı doğru olarak tamamlar?

- A) shall they
- B) will we
- C) shall we
- D) do they

19. You usually wake up early,.....?

Which of the following completes the sentence above?

Aşağıdakilerden hangisi yukarıdaki cümleyi doğru olarak tamamlar?

- A) do you
- B) don't you
- C) does he
- D) doesn't she

20. John is 15 years old. Mike is 18 years old.
John is.....than Mike.

Which of the following completes the sentence above?

Aşağıdakilerden hangisi yukarıdaki cümleyi doğru olarak tamamlar?

- A) older
- B) longer
- C) younger
- D) faster

1. Je prepare ma.....pour partir

Choisissez les mots qui conviennent.

Cümledeki boşlukları aşağıdakilerden hangisi doğru şekilde tamamlar?

- A) sac / en hiver
- B) valise / en vacances
- C) bagage / a Paris
- D) ville / a Paris

2. «Je suis partie en pleurant.»

Choisissez la traduction qui convient.

Yukarıdaki cümlelerin Türkçe karşılığı aşağıdakilerden hangisidir?

- A) Ağlayarak gittim.
- B) Ağlayarak gidiyorum.
- C) Ağlayarak geldim.
- D) Ağlayarak geliyorum.

3. «Un homme marchant rapidement»

Choisissez la traduction qui convient.

Yukarıdaki cümlelerin Türkçe karşılığı aşağıdakilerden hangisidir?

- A) Yavaş yüreyen adam
- B) Yüreyerek giden adam
- C) Hızlanan adam
- D) Hızlı yürüyen adam

4. Quand on est fatigüe, on

Choisissez l'expression qui convient.

Yukarıdaki cümlede boş bırakılan yeri aşağıdakilerden hangisi doğru şekilde tamamlar?

- A) danse
- B) fait du velo
- C) fait du violon
- D) se repose

5. La ville.....elle te parle est celebre.

Choisissez le mot qui convient.

Cümledeki boşluğu aşağıdakilerden hangisi doğru şekilde tamamlar?

- A) dont
- B) que
- C) qui
- D) où

Nous.....un livre.

Choisissez le mot qui convient.

Cümledeki boşluğu aşağıdakilerden hangisi doğru şekilde tamamlar?

- A) lisons
- B) jouons
- C) allons
- D) allons a

La ville.....est celebre, c'est Paris.

Choisissez le mot qui convient.

Cümledeki boşluğu aşağıdakilerden hangisi doğru şekilde tamamlar?

- A) que
- B) qui
- C) dont
- D) où

La ville.....elle part est celebre.

Choisissez le mot qui convient.

Cümledeki boşluğu aşağıdakilerden hangisi doğru şekilde tamamlar?

- A) que
- B) où
- C) qui
- D) dont

Generalement, on fait du ski en

Choisissez le mot qui convient.

Cümledeki boşluğu aşağıdakilerden hangisi doğru şekilde tamamlar?

- A) ete
- B) printemps
- C) automne
- D) hiver

10. Il faut un passeport quand on veut partir

Choisissez l'expression qui convient.

Yukarıdaki cümlede boş bırakılan yeri aşağıdakilerden hangisi doğru şekilde tamamlar?

- A) a la maison
- B) chez le medecin
- C) a l'etranger
- D) au magasin

11. C'est l'hôpital.....est nee ma fille.

Choisissez le mot qui convient.

Cümledeki boşluğu aşağıdakilerden hangisi doğru şekilde tamamlar?

- A) que
- B) qui
- C) dont
- D) où

12. La ville.....je veux visiter est celebre.

Choisissez le mot qui convient.

Cümledeki boşluğu aşağıdakilerden hangisi doğru şekilde tamamlar?

- A) dont
- B) que
- C) qui
- D) où

13. Je joue.....tennis.

Choisissez le mot qui convient.

Cümledeki boşluğu aşağıdakilerden hangisi doğru şekilde tamamlar?

- A) du
- B) de la
- C) au
- D) de

14. Ce roman raconte l'histoire d'une femme qui se marie: c'est un roman

Choisissez le mot qui convient.

Cümledeki boşluğu aşağıdakilerden hangisi doğru şekilde tamamlar?

- A) d'amour
- B) policier
- C) d'histoire
- D) de biologie

15. Je joue.....piano.

Choisissez le mot qui convient.

Cümledeki boşluğu aşağıdakilerden hangisi doğru şekilde tamamlar?

- A) de la
- B) du
- C) au
- D) de

16. Le sport est un

Choisissez le mot qui convient.

Cümledeki boşluğu aşağıdakilerden hangisi doğru şekilde tamamlar?

- A) promenade
- B) distraction
- C) passe-temps
- D) emission

17.....est un sport.

Choisissez le mot qui convient.

Cümledeki boşluğu aşağıdakilerden hangisi doğru şekilde tamamlar?

- A) L'ennui
- B) Le pique-nique
- C) Le jeu
- D) Le basket

18. Juillet est un mois de

Choisissez le mot qui convient.

Cümledeki boşluğu aşağıdakilerden hangisi doğru şekilde tamamlar?

- A) l'hiver
- B) de l'automne
- C) l'ete
- D) du printemps

19. Vous marchez en

Choisissez le mot qui convient.

Cümledeki boşluğu aşağıdakilerden hangisi doğru şekilde tamamlar?

- A) parlant
- B) parler
- C) parlait
- D) parle

20. La voiture.....j'ai achetee est rouge.

Choisissez le mot qui convient.

Cümledeki boşluğu aşağıdakilerden hangisi doğru şekilde tamamlar?

- A) qui
- B) dont
- C) que
- D) où

SEÇMELİ ALMANCA 8

2014 II.DÖNEM 0105-A

A

1. Die / geht / weiter / technische / Entwicklung

Wie kann man mit den obigen Wortgruppen einen sinnvollen und richtigen Satz bilden?

Verilen sözcük gruplarıyla kurulabilecek en anlamlı ve doğru cümle aşağıdakilerden hangisidir?

- A) Die weiter Entwicklung technische geht.
B) Entwicklung die technische geht weiter.
C) Geht die weiter technische Entwicklung.
D) Die technische Entwicklung geht weiter.

2. Was ist für dich ein Traumberuf?

Welche Antwort passt zur obigen Frage?

Verilen sorunun cevabı aşağıdakilerden hangisidir?

- A) Wenn ich im Ausland als Ingenieur arbeiten könnte.
B) Wenn du dein Abitur machst, kannst du studieren.
C) Wenn du zu mir kommst, können wir arbeiten.
D) Wenn ich an die Tafel schreiben kann.

3. Was bedeutet "göreceli" auf Deutsch?

"göreceli" sözcüğünün **Almanca**sı aşağıdakilerden hangisidir?

- A) genial
B) relativ
C) richtig
D) leer

Es gibt immer wieder neue Entdeckungen und Erfindungen.

Wie lautet der obige Satz auf Türkisch?

Verilen cümlelerin Türkçesi aşağıdakilerden hangisidir?

- A) Yeni buluş ve keşifleri her zaman takip ederim.
B) Siz zaten hep yeni şeyler bulursunuz!
C) Her zaman yeni keşif ve buluşlar vardır.
D) Yenilikleri ve buluşları her zaman çok beğenirim!

Wenn ich eine.....ware,.....würde ich ein Auto erfinden, daR ohne Benzin lauft.

Welche Wörter passen in die obigen Lücken?

Cümlede boş bırakılan yerleri aşağıdakilerden hangileri doğru olarak tamamlar?

- A) Lehrerin / stellen
B) Erfinderin / dann
C) Wissenschaftler / hat
D) Pysikerin / meinte

6. A: Was machen die Schüler, die eine Realschule besucht haben?

B:

- A: Können sie auch aufs Gymnasium gehen?
B: Ja, wenn sie wollen, können sie auch aufs Gymnasium gehen!

Welches ergänzt den obigen Dialog?

Verilen karşılıklı konuşmayı aşağıdakilerden hangisi tamamlar?

- A) Das war auch im Film zu sehen!
B) Ja, sie gehen auf die Gesamtschule!
C) Sie können einen Beruf erlernen!
D) Naja, dann müssen sie an zwei Tagen zur Berufsschule!

7. Die Schüler gehen von der ersten bis zur vierten Klasse in die

Welches Wort passt in die obige Lücke?

Cümlede boş bırakılan yeri aşağıdakilerden hangisi doğru şekilde tamamlar?

- A) Hauptschule
B) Realschule
C) Gesamtschule
D) Grundschule

5. A Das Computerzeitalter / Das Internet / Die Suchmaschine / Das Theater

Welches Wort passt nicht zu den anderen in der obigen Wortgruppe?

Verilen sözcük grubuna uymayan aşağıdakilerden hangisidir?

- A) Das Computerzeitalter
B) Das Internet
C) Das Theater
D) Die Suchmaschine

9.braucht kein Benzin, es braucht nur menschliche Energie.

Welches Wort passt in die obige Lücke?

Cümlede boş bırakılan yeri aşağıdakilerden hangisi doğru şekilde tamamlar?

- A) Ein Flugzeug
B) Ein Lastwagen
C) Ein Velotaxi
D) Ein Zug

10. Was bedeutet das Gegenteil von 'die Spannung'?

"die Spannung " sözcüğünün zıt anlamlısı aşağıdakilerden hangisidir?

- A) Die Entspannung
B) Die Aufregung
C) Der Ärger
D) Die Zufriedenheit

11. Warum fahren manche Leute immer noch mit einem Hochrad?

Welche Antwort passt nicht zur obigen Frage?

Aşağıdakilerden hangisi verilen sorunun cevabı olamaz?

- A) Weil es ihnen Spaß macht.
B) Um sich zu entspannen.
C) Weil es aufregend ist.
D) Um die Hausaufgaben zu machen.

12. DasHochrad findet in einigen europäischen Ländern immer.....Freude.

Welche Wörter passen in die obigen Lücken?

Cümlede boş bırakılan yerleri aşağıdakilerden hangileri doğru şekilde tamamlar?

- A) alte / noch
B) kleine / sonst
C) andere / denkt
D) folgende / bietet

13. In der Stadt gibt es viel Lärm und Abgas.

Wie lautet der obige Satz in der Pluralform?

Verilen cümlelerin çoğul hali aşağıdakilerden hangisidir?

- A) In den Stadts gab es viele Lärme und Abgasen.
B) In den Städten gibt es viel Lärm und Abgase.
C) In der Städten hat es viele Lärme und Abgases gegeben.
D) In dieser Stadt gibt es vieler Lärmer und Abgasens.

14. Warum ist ein Velotaxi im Sommer wunderbar für die Besucher?

Welche Antwort passt zur obigen Frage?

Verilen sorunun cevabı aşağıdakilerden hangisidir?

- A) Weil das Rennen vielen Besuchern Spaß macht.
B) Damit die Urlauber sich immer aufregen können.
C) Damit sie sich kennenlernen können.
D) Weil sich die Besucher alle Sehenswürdigkeiten in Ruhe anschauen können.

15. Die Landkarte.....nur einen kleinen Ausschnitt.

Welches Wort passt in die obige Lücke?

Cümlede boş bırakılan yeri aşağıdakilerden hangisi doğru şekilde tamamlar?

- A) schreibt
B) flie&t
C) liegt
D) zeigt

16. Was bedeutet "die Quelle" auf Türkisch?

"die Quelle" sözcüğünün Türkçesi aşağıdakilerden hangisidir?

- A) Kaynak
B) Kale
C) Köy
D) Kule

- 17.....die Sage von der schönen Loreley.

Welches ergänzt die Lücke im obigen Satz?

Verilen cümleyi aşağıdakilerden hangisi tamamlar?

- A) Auf dem Wegweiser
B) Für die Geschichte
C) Das Lied erzählt
D) Von der Burg

18. Ren, Almanya'nın en uzun nehridir.

Wie lautet der obige Satz auf Deutsch?

Verilen cümlelerin Almancası aşağıdakilerden hangisidir?

- A) Der Rhein ist der langste Fluss Deutschlands.
B) Der Rhein ist in Deutschland sehr berühmt.
C) Die Mündung vom Rhein ist am langsten.
D) Die meisten Dörfer Deutschlands liegen direkt am Rhein.

19. Die Stadt Bursa liegt westlich von Eskişehir.

Welche Frage passt zur obigen Antwort?

Verilen cevabı gerektirecek soru aşağıdakilerden hangisidir?

- A) Hast du Freunde aus Bursa?
B) Wo liegt die Stadt Bursa?
C) Wie gehst du nach Bursa?
D) Gibt es in Bursa viele Moscheen?

20. Heinrich Heine

Welcher Satz ergänzt die obige Lücke?

Verilen cümleyi aşağıdakilerden hangisi tamamlar?

- A) ist der bekannteste Sanger in Deutschland.
B) ist ein berühmter deutscher Dichter.
C) heiRt das kleine Dorf an der Mündung.
D) heiRt der langste FluR. in Deutschland.

SEÇMELİ İNGİLİZCE 8

A

2014 II.DÖNEM 0105-A

1. I will be ... to Tunceli this time tomorrow.

Which of the following completes the sentence above?

Aşağıdakilerden hangisi yukarıdaki cümleyi doğru olarak tamamlar?

- A) go
B) has gone
C) was going
D) going

2. You.....studying your lesson this evening.

Which of the following completes the sentence above?

Aşağıdakilerden hangisi yukarıdaki cümleyi doğru olarak tamamlar?

- A) is
B) be
C) will be
D) can

3. Jasmine will have.....by this time next year.

Which of the following completes the sentence above?

Aşağıdakilerden hangisi yukarıdaki cümleyi doğru olarak tamamlar?

- A) retire
B) retiring
C) retired
D) retires

4. Mike will be finishing these reports ,

Which of the following completes the sentence above?

Aşağıdakilerden hangisi yukarıdaki cümleyi doğru olarak tamamlar?

- A) at the moment
B) recently
C) lately
D) in the afternoon

5. If I go to Çanakkale, I . him.

Which of the following completes the sentence above?

Aşağıdakilerden hangisi yukarıdaki cümleyi doğru olarak tamamlar?

- A) would contact
B) will contact
C) contacted
D) would have contacted

What would you do if you to become a film star?

Which of the following completes the sentence above?

Aşağıdakilerden hangisi yukarıdaki cümleyi doğru olarak tamamlar?

- A) wanted
B) want
C) will want
D) have wanted

7. Liz: What would you do if you weren't a teacher?

Leo:

Which of the following completes the dialogue above?

Aşağıdakilerden hangisi yukarıdaki konuşmayı doğru olarak tamamlar?

- A) I would call the police
B) I could read a book
C) I might be a teacher
D) I would work in a bank

8. If the bus hadn't been late,

Which of the following completes the sentence above?

Aşağıdakilerden hangisi yukarıdaki cümleyi doğru olarak tamamlar?

- A) we may go for a walk in the country
B) she gave her a computer as a gift
C) I would have arrived in Ankara on time
D) I will do some gardening

9. If she.....pass her exams, she won't get a good job.

Which of the following completes the sentence above?

Aşağıdakilerden hangisi yukarıdaki cümleyi doğru olarak tamamlar?

- A) doesn't
B) won't
C) didn't
D) hasn't

10. If you.....ill, see a doctor.

Which of the following completes the sentence above?

Aşağıdakilerden hangisi yukarıdaki cümleyi doğru olarak tamamlar?

- A) feel
B) speak
C) love
D) think

11. We will go swimming if the weather is

Which of the following completes the sentence above?

Aşağıdakilerden hangisi yukarıdaki cümleyi doğru olarak tamamlar?

- A) snowy
B) good
C) awful
D) cold

12. Jim: Why didn't you buy the blue skirt?
Catty:.....I had already bought one.

Which of the following completes the dialogue above?

Aşağıdakilerden hangisi yukarıdaki konuşmayı doğru olarak tamamlar?

- A) After
B) Until
C) Because
D) Wherever

13. She tries to visit.....she can.

Which of the following completes the sentence above?

Aşağıdakilerden hangisi yukarıdaki cümleyi doğru olarak tamamlar?

- A) for
B) wherever
C) since
D) by

14. that water has lots of benefits, Kathy drinks two litres a day.

Which of the following completes the sentence above?

Aşağıdakilerden hangisi yukarıdaki cümleyi doğru olarak tamamlar?

- A) Because
B) Due to the fact
C) For
D) Since

15. I listened to the radio.....the speaker told very important news.

Which of the following completes the sentence above?

Aşağıdakilerden hangisi yukarıdaki cümleyi doğru olarak tamamlar?

- A) as soon as
B) wherever
C) so that
D) because

16. The baby will do the same thing.....you smile at her.

Which of the following completes the sentence above?

Aşağıdakilerden hangisi yukarıdaki cümleyi doğru olarak tamamlar?

- A) where
B) in order to
C) as long as
D) until

17. the meal.....by your father?

Which of the following completes the sentence above?

Aşağıdakilerden hangisi yukarıdaki cümleyi doğru olarak tamamlar?

- A) Does/cooked
B) Has / been cooked
C) Is / cook
D) Is / cooking

18. We will construct a new apartment.

Which of the following is the passive voice of the sentence above?

Aşağıdakilerden hangisi yukarıdaki cümlelerin edilgen yapıda kurulmuş biçimidir?

- A) A new apartment will be constructed by us.
B) A new apartment is constructed by us.
C) A new apartment was constructed by us.
D) A new apartment has been constructed by us.

19. English is.....all over the world.

Which of the following completes the sentence above?

Aşağıdakilerden hangisi yukarıdaki cümleyi doğru olarak tamamlar?

- A) spoke
B) speak
C) hasspoken
D) spoken

20. Mehmet Rauf wrote 'Eylül'.

Which of the following is the passive voice of the sentence above?

Aşağıdakilerden hangisi yukarıdaki cümlelerin edilgen yapıda kurulmuş biçimidir?

- A) 'Eylül' was written by Mehmet Rauf.
B) 'Eylül' is written by Mehmet Rauf.
C) 'Eylül' has written by Mehmet Rauf.
D) 'Eylül' has been written by Mehmet Rauf.

SEÇMELİ FRANSIZCA 8

A

2014 II.DÖNEM 0105-A

1. Mon ami a de mauvaises notes en litteraires. Il
, dire la verite a ses parents.

Choisissez le mot qui convient.

Cümledeki boşluğu aşağıdakilerden hangisi doğru şekilde tamamlar?

- A) oblige
B) hesite
C) pardonnez
D) encouragement

2. Tu ne penses pas y aller?

Choisissez la traduction qui convient.

Yukarıdaki cümlelerin Türkçe karşılığı aşağıdakilerden hangisidir?

- A) Oraya gitmeyi düşünüyor musun?
B) Orada ne kadar kalacaksın?
C) Oraya gitmeyi düşünmez misin?
D) Oraya nasıl gideceksin?

3. Je suis.....le théâtre au cinema.

Choisissez le mot qui convient.

Cümledeki boşluğu aşağıdakilerden hangisi doğru şekilde tamamlar?

- A) dans
B) du
C) qui
D) pour

4. Elle a glisse.....neige.

Choisissez l'expression qui convient.

Yukarıdaki cümlede boş bırakılan yeri aşağıdakilerden hangisi doğru şekilde tamamlar?

- A) a cause du
B) a cause de
C) a cause de la
D) a cause des

5. Romain veut.....a conduire.

Choisissez le mot qui convient.

Cümlede boş bırakılan yeri aşağıdakilerden hangisi doğru şekilde tamamlar?

- A) arreter
B) faire
C) prendre
D) apprendre

6. Marie pleure beaucoup. C'est une femme

Choisissez le mot qui convient.

Cümlede boş bırakılan yeri aşağıdakilerden hangisi doğru şekilde tamamlar?

- A) tranquille
B) sensible
C) intelligente
D) heureuse

7. - Il vit en Angleterre?
- Oui, il.....travaille.

Choisissez le mot qui convient.

Yukarıdaki konuşmada boş bırakılan yeri aşağıdakilerden hangisi doğru şekilde tamamlar?

- A) en
B) dans
C) est
D) y

8. Si tu es malade, prendre tes
medicaments?

Choisissez l'expression qui convient.

Yukarıdaki cümlede boş bırakılan yeri aşağıdakilerden hangisi doğru şekilde tamamlar?

- A) n'oublie pas de
B) oublie de
C) n'oublie pas
D) oublie

9. Ça vous derange.....je me leve?

Choisissez le mot qui convient.

Cümlede boş bırakılan yeri aşağıdakilerden hangisi doğru şekilde tamamlar?

- A) pour
B) par
C) de
D) si

10. La semaine demiere, les enfants.....au cirque.

Choisissez le mot qui convient.

Cümlede boş bırakılan yeri aşağıdakilerden hangisi doğru şekilde tamamlar?

- A) sont alles
B) vont
C) iront
D) aller

11. Connaissez-vous ce musicien.....est Allemand?

Choisissez le mot qui convient.

Cümledeki boşluğu aşağıdakilerden hangisi doğru şekilde tamamlar?

- A) donc
B) où
C) qui
D) quel

12. Elle lit 2 livres.....mois.

Choisissez le mot qui convient.

Cümledeki boşluğu aşağıdakilerden hangisi doğru şekilde tamamlar?

- A) dans
B) par
C) chacune
D) en

13. L'eau est importante pour la sante, il faut boire 2 litres par jour.

Choisissez l'expression qui convient.

Yukarıdaki cümlede boş bırakılan yeri aşağıdakilerden hangisi doğru şekilde tamamlar?

- A) y
B) en
C) le
D) l'

- Vendredi prochain.

Choisissez la question qui convient.

Yukarıdaki konuşmada cevabı gerektiren soru aşağıdakilerden hangisidir?

- A) Quand vous partez?
B) Nous sommes quel jour?
C) Vous venez d'où?
D) Vous allez où?

15. fait / choix / avez / votre / vous?
I II III IV V

Mettez dans le bon ordre.

Yukarıdaki kelimelerin anlamlı ve kurallı bir cümle oluşturan sırası aşağıdakilerden hangisinde doğru olarak verilmiştir?

- A) V, III, I, IV, II
B) V, IV, II, III, I
C) III, IV, V, I, II
D) III, I, V, IV, II

16. - Tu ne prends pas de boisson?
- Non, merci, je ne(n').....prends pas.

Choisissez le mot qui convient.

Yukarıdaki konuşmada boş bırakılan yeri aşağıdakilerden hangisi doğru şekilde tamamlar?

- A) y
B) en
C) les
D) jamais

17. Elise veutde fumer.

Choisissez le mot qui convient.

Cümlede boş bırakılan yeri aşağıdakilerden hangisi doğru şekilde tamamlar?

- A) arreter
B) apprendre
C) faire
D) prendre

18. Maude et Pierre se marient. Je leur dis «Je vous souhaite.....» .

Choisissez l'expression qui convient.

Yukarıdaki cümlede boş bırakılan yeri aşağıdakilerden hangisi doğru şekilde tamamlar?

- A) une bonne annee
B) une joyeuse fete
C) beaucoup de bonheur
D) beaucoup de fetes

19. La cliente:
Le serveur: Tout de suite, Madame.

Choisissez la replique qui convient.

Yukarıdaki konuşmada boş bırakılan yeri aşağıdakilerden hangisi doğru şekilde tamamlar?

- A) Vous voulez commander quelque chose?
B) Chacun paie sa part?
C) Monsieur, l'addition s'il vous plait!
D) C'est trop pour moi!

20. Aujourd'hui, Maude a 16 ans. Je lui dis «.....» .

Choisissez l'expression qui convient.

Yukarıdaki cümlede boş bırakılan yeri aşağıdakilerden hangisi doğru şekilde tamamlar?

- A) Bonne journee
B) Bonne nuit
C) Joyeux Noel
D) Joyeux anniversaire

BU SAYFA BOŞ BIRAKILMIŞTIR.

BU SAYFA BOŞ BIRAKILMIŞTIR.

SINAVDA UYGULANACAK KURALLAR

1. Sınav süresince görevlilerle konuşmak ve soru sormak yasaktır. Aynı şekilde görevlilerin de öğrencilerle yakından ve alçak sesle konuşmaları yasaktır. Yanınızda ve sıranızda dersle ilgili kitap not vb. bulundurmamak yasaktır. Sınav sırasında kopya yapan, yapmaya teşebbüs eden, kopya veren, kopya yapılmasına yardım edenlerin kimlikleri BİREYSEL SINAV İPTAL TUTANAĞINA yazılacak ve bu öğrencilerin sınavları geçersiz sayılacaktır. Görevliler kopya yapmaya veya vermeye kalkışanları uyarmak zorunda değildir, sorumluluk size aittir.

Sınavda yetki verilmiş görevliler, bu salondaki sınavın kurallara uygun biçimde yapılmadığını, toplu kopya girişiminde bulunulduğunu raporlarında bildirdikleri veya üniversite sınav merkezince yapılan incelemeler sonucu toplu kopya yapıldığı saptandığı takdirde, Anadolu Üniversitesinin yetkili organları bu salonda sınava giren öğrencilerin tümünün sınavını geçersiz sayar.
2. Öğrenciler sınav sırasında görevlilerin her türlü uyarılarına uymak zorundadır. Gerekğinde görevliler oturduğunuz yerleri değiştirebilir. Sınavınızın geçerli sayılması, her şeyden önce sınav kurallarına uymanıza bağlıdır. Kurallara aykırı davranışta bulunanların ve yapılacak uyarılara uymayanların kimlikleri BİREYSEL SINAV İPTAL TUTANAĞINA yazılacak ve sınavları geçersiz sayılacaktır.
3. Sınav sırasında herhangi bir nedenle dışarı çıkmak yasaktır. Sınavın başlamasını izleyen ilk 30 dakika ve sınav süresinin son 5 dakikası içinde, sınavlarını tamamlasalar bile hiçbir öğrencinin salondan çıkmasına izin verilmeyecektir. Sınavın başlamasını izleyen ilk 15 dakikadan sonra hiç bir öğrenci sınava alınamaz.
4. Biraz sonra soru kitapçıkları dağıtılacaktır. Cevaplamaya geçmeden önce size verilecek soru kitapçığının üzerinde ayrılan yere, adınızı, soyadınızı, öğrenci numaranızı ve bu salonun numarasını yazınız. Sınav sonunda soru kitapçıkları toplanacak ve sınav merkezinde tek tek incelenecektir. Soru Kitapçığının bir tek sayfası eksik çıksa bile sınavınız geçersiz sayılacaktır.
5. Size verilen Cevap Kâğıdının üzerinde yazan numara ve ismin size ait olduğunu kontrol ediniz. Cevap Kâğıdı size ait değilse, görevlileri uyarıp size ait Cevap Kâğıdını alınız. Daha sonra Cevap Kâğıdı üzerinde ayrılmış olan yerlere öğrenci numaranızı ve test grubunuzu kodlayınız, adınızı soyadınızı yazınız ve ilgili yeri imzalayınız.
6. Cevap Kâğıdına yazılacak her türlü yazı, rakam ve yapılacak işaretlemeler için siyah kurşun kalem kullanılacaktır. Tükenmez kalem veya dolmakalem kesinlikle kullanılmayacaktır. Cevapların tümü CEVAP KÂĞIDINA İŞARETLENECEKTİR. Soru Kitapçıkları üzerine yapılan işaretlemeler kesinlikle değerlendirilmez. Her dersin cevabı, o dersin isminin yazılı olduğu sütuna işaretlenmelidir. Yanlış sütuna yapacağınız işaretlemeler kesinlikle değerlendirilmez.
7. Soru Kitapçığının sayfalarındaki boş yerleri müsvedde yapmak için kullanabilirsiniz. Başka bir kâğıdı müsvedde olarak kullanmak yasaktır. Bu tür işlemleri yapanların sınavları geçersiz sayılır.
8. Öğrencilerin sorulara verdikleri yanıtları herhangi bir yere yazmaları ve bunu sınav salonundan dışarıya çıkarmaları yasaktır. Bu kurala uymayanların sınavları geçersiz sayılır.
9. Sınav sırasında öğrencilerin birbirinden kalem, silgi vb. şeyleri istemesi kesinlikle yasaktır. Yasağa uymayanların sınavı geçersiz sayılır.
10. Sınav sırasında hesap makinesi kullanılabilir. Ancak, hesap makinesinin sınav sırasında ödünç alınması, verilmesi ve değiştirilmesi yasaktır. (Data Bank vb. gibi özel elektronik donanımlar kullanılamaz.) Bu tür davranışlarda bulunanların sınavları geçersiz sayılır.
11. Öğrenciler sınava gelirken telsiz, cep telefonu, çağrı cihazı vb. iletişim araçları ile görüntü kaydetmeye yarayan fotoğraf makinesi, kamera vb. araçları getirmemeleri konusunda sınava giriş belgelerinde uyarılmışlardır. Buna rağmen yanlarında bu tür cihazları getirenlerin, bunları sınav sonrasında almak üzere salon başkanına teslim etmeleri gerekir. Bu cihazları sınav salonunda yanlarında bulduran öğrencilerin, cihazları kapalı bile olsa, o oturumdaki sınavı geçersiz sayılacaktır. Bu cihazların kaybolmasından Üniversitemiz sorumlu olmayacaktır.
12. Biraz sonra dağıtılacak olan soru kitapçığında test ile ilgili açıklamalar yazılıdır. Bu açıklamaları okumadan ve size "SINAV BAŞLAMIŞTIR" denmeden soruları cevaplamaya başlamayınız.

SINAVLARINIZDA BAŞARILAR DİLERİZ.