



ANADOLU ÜNİVERSİTESİ  
AÇIKÖĞRETİM FAKÜLTESİ  
BA - AÇIKÖĞRETİM OKULLARI

T.C. MİLLÎ EĞİTİM BAKANLIĞI  
Hayat Boyu Öğrenme Genel Müdürlüğü  
AÇIK ÖĞRETİM LİSESİ – BATI AVRUPA PROGRAMI  
2013-2014 ÖĞRETİM YILI III.DÖNEM SINAVI  
ÜÇÜNCÜ OTURUM - Cumartesi 13.00

TEST GRUBUNUZ

**A**

**0103**

CEVAP KÂĞIDINIZA İŞARETLEMİYİ UNUTMAYINIZ.

**ÖĞRENCİNİN**

SOYADI : .....

ADI : .....

ÖĞRENCİ NO : .....

SINAV SALON NO: ..... SIRA NO: .....

*Soyadınızı, adınızı, öğrenci numaranızı, salon ve sıra numaranızı yukarıya yazmayı unutmayınız.*

**GENEL AÇIKLAMA**

1. Bu soru kitapçığındaki testler şunlardır:

Testin Adı	Soru Sayısı	Sayfa No	Testin Adı	Soru Sayısı	Sayfa No
DİN KÜLTÜRÜ VE AHLAK BİLGİSİ 2	20	2	TEMEL DİNİ BİLGİLER 1	20	31
DİN KÜLTÜRÜ VE AHLAK BİLGİSİ 7	20	4	TEMEL DİNİ BİLGİLER 2	20	33
TARİH 1	20	6	İŞLETME 1	20	35
TARİH 5	20	8	MANTIK 2	20	37
COĞRAFYA 1	20	10	GEOMETRİ 4	20	39
COĞRAFYA 3	20	12	SEÇMELİ TARİH 3	20	43
COĞRAFYA 8	20	14	SEÇMELİ TÜRK EDEBİYATI 5	20	45
MATEMATİK 3	20	16	ALMANCA 4	20	47
MATEMATİK 4	20	18	İNGİLİZCE 4	20	50
DİL VE ANLATIM 1	20	21	FRANSIZCA 4	20	52
TÜRK EDEBİYATI 5	20	23	ALMANCA 6	20	54
FİZİK 2	20	25	İNGİLİZCE 6	20	57
BİYOLOJİ 4	20	27	FRANSIZCA 6	20	59
ÇAĞDAŞ TÜRK VE DÜNYA TARİHİ 1	20	29			

2. Bu kitapçıkta yer alan her bir test için cevaplama süresi **30** dakika, toplam sınav süresi **150** dakikadır.
3. Cevaplamaya istediğiniz testin, istediğiniz sorusundan başlayabilirsiniz. Yalnız cevaplarınızı, cevap kâğıdında o test için ayrılmış olan bölümdeki aynı numaralı cevap yerine işaretlemeyi unutmayınız.
4. Cevaplarınızı koyu siyah ve yumuşak bir kuruşmakağaçla işaretleyiniz. İşaretinizi cevap yerinin dışına taşırmayınız. Tükenmez veya mürekkepli kalem kullanmayınız.
5. Değiştirmek istediğiniz bir cevabı yumuşak bir silgi ile, cevap kâğıdını örselemeden temizce siliniz ve doğru cevabınızı işaretlemeyi unutmayınız.
6. Cevap kâğıdınızı buruşturmayınız, katlamayınız ve üzerine gereksiz hiçbir işaret koymayınız.
7. Bu kitapçıkta her sorunun bir tek doğru cevabı vardır. Bir soru için birden çok cevap yeri işaretlenmişse o soru yanlış cevaplanmış sayılacaktır.
8. Cevaplarınız puanlanırken her doğru cevabınıza eşit puan verilecek, yanlış cevaplarınız dikkate alınmayacaktır. Bu nedenle kitapçıkta tüm sorular için size doğru gelen seçeneği işaretleyerek cevapsız soru bırakmanız yararınıza olacaktır.
9. Kitapçığın sayfa arasındaki boş yerleri müsvedde için kullanabilirsiniz.

*Anadolu Üniversitesi tarafından hazırlanmış olan bu testlerin her hakkı saklıdır. Hangi amaçla olursa olsun, testlerin tamamının veya bir kısmının Anadolu Üniversitesi'nin yazılı izni olmadan kopya edilmesi, fotoğraflarının çekilmesi, herhangi bir yolla çoğaltılması, yayımlanması ya da kullanılması yasaktır. Bu yasağa uymayanlar gerekli cezai sorumluluğu ve testlerin hazırlanmasındaki mali külfeti peşinen kabullenmiş sayılır.*

1. Değerlerin en üst seviyesinde hangi kaynak yer almaktadır?
  - A) Ahlak
  - B) Sevgi
  - C) Hoşgörü
  - D) Vatanseverlik
2. Aşağıdakilerden hangisi, Hz. Musa'ya indirilen ve Yahudilerin dini öğretileri içerisinde yer alan "on emir" arasında sayılamaz?
  - A) Zina etmeyeceksin
  - B) Öldüreceksin
  - C) Çalmayacaksın
  - D) Anne ve babana hürmet edeceksin
3. Aşağıdakilerden hangisi Türk milletini bir arada tutan, toplumu birleştiren ortak değerlerden biri değildir?
  - A) Vatan ve ülkü birliği
  - B) Bayrak
  - C) Ferdiyetçilik
  - D) Milli seciye
4. İlk evrensel insan hakları ilkeleri aşağıdakilerden hangisinde yer almaktadır?
  - A) İnsan Hakları Evrensel Beyannamesi
  - B) Veda Hutbesi
  - C) Birleşmiş Milletler Sözleşmesi
  - D) Magna Carta
5. Aşağıdakilerden hangisi İslam dininin korunmasını istediği beş temel ilke arasında yer almaz?
  - A) Namusun korunması
  - B) Malın korunması
  - C) Komşunun korunması
  - D) Aklın korunması
6. Her insanın kendine has ve özgü olan, az veya çok her zaman gözlenebilen davranış ve alışkanlıklarına ne denir?
  - A) Alışkanlık
  - B) Örf
  - C) Asabiyet
  - D) Kişilik
7. Bir toplumda genel kabul gören veya benimsenen her türlü duygu, düşünce, davranış ve kurala ne ad verilir?
  - A) Fikir
  - B) Kanun
  - C) Devlet
  - D) Değer
8. Aşağıdakilerden hangisi laikliğin temel amaçlarından biridir?
  - A) Dinin istismar edilmesine müsaade etmek
  - B) Herkesin kanun önünde eşit olmasını sağlamak
  - C) Dinde ruhbanlık anlayışının oluşmasını sağlamak
  - D) Devletin din ve mezheplere karşı taraflı davranmasını sağlamak
9. Osmanlı Devletinde "din ve vicdan hürriyeti ilkesi" ilk kez hangi belgede yer almıştır?
  - A) Sened-i İttifak
  - B) Gülhane Hattı Hümayunu
  - C) Islahat Fermanı
  - D) Kanun-i Esası
10. Dini emirlerin ilk muhatabı olan yeryüzündeki ilk peygamber aşağıdakilerden hangisidir?
  - A) Hz. Nuh
  - B) Hz. Adem
  - C) Hz. İdris
  - D) Hz. Musa
11. İnsanın bu dünyada yaptıklarından dolayı hesaba çekileceği yer neresidir?
  - A) Mahkeme
  - B) Vicdan
  - C) Arafat
  - D) Ahiret
12. Avrupa'daki kilise otoritesi hangi olayla son bulmuştur?
  - A) Yüzyıl Savaşları
  - B) Islahat Fermanı
  - C) 1789 Fransa İhtilali
  - D) Tanzimat Fermanı

13. Laikliğin Batı ülkelerinde doğuş sebebi aşağıdakilerden hangisidir?

- A) Kilisenin baskıcı tutumuna tepki
- B) Derebeylerin katlanılmaz hale gelen zulümleri
- C) İslami yükselişin önüne geçme
- D) Dünya işlerinin herşeyden önemli hale gelmesi

14. Ebu Hanife'nin asıl adı nedir?

- A) Cafer Bin Tayyar
- B) Amr Bin As
- C) İmam Maturidi
- D) Numan Bin Sabit

15. İlk Müslüman Türk Devleti aşağıdakilerden hangisidir?

- A) İtil Volga Bulgar Devleti
- B) Karahanlılar
- C) Gazneliler
- D) Selçuklular

16. Aşağıdakilerden hangisi Türklerin benimsediği Gök Tanrı inancının esasları arasında yer almaz?

- A) Dünya hayatından sonra sonlu bir hayat vardır.
- B) Tanrı yaratan, yaşatan ve koruyandır.
- C) Dünyada iyilik edenler öldükten sonra karşılık olarak iyi bir yere gideceklerdir.
- D) Bir ve tek olan Gök Tanrı vardır.

17. Aşağıdakilerden hangisi Türklerin İslamiyetten önce benimsediği dinlerden biri değildir?

- A) Musevilik
- B) Budizm
- C) Zerdüştlük
- D) Manihaizm

18. Türklerin Müslüman Araplarla yakınlaşmasına sebep olan ve Müslümanlığa geçişlerini hızlandıran asıl olay nedir ve kimlerin zamanında gerçekleşmiştir?

- A) Talas Savaşı – Emeviler
- B) Kadisiye Savaşı – Abbasiler
- C) Nihavent Savaşı – Emeviler
- D) Talas Savaşı – Abbasiler

19. Mesnevi kimin eseridir?

- A) Yunus Emre
- B) Hacı Bektaş Veli
- C) Mevlana
- D) Ahmet Yesevi

20. Aşağıdakilerden hangisi Türklerin İslamiyeti benimsemesinde etkili olan sebeplerden biri değildir?

- A) İslamın hak ve gerçek din olması
- B) Müslüman tüccarların dürüstlüğü
- C) Gök Tanrı inancı ile İslam dininin benzeşmemesi
- D) İslam dininin hoşgörü ve sevgi anlayışı

1. İnsan ömrünün sonlandığı ana ne ad verilir?

- A) Ecel
- B) Kader
- C) Ahiret
- D) Kıyamet

2. Ahirete iman ile ilgili aşağıdaki ifadelerden hangisi yanlıştır?

- A) İnsana, dünya hayatını anlamlandırılmalarına katkı sağlar.
- B) İnsana yaptıklarının sorumluluğunu taşıma şuurunu verir.
- C) İnsanın dünya hayatının güzelliklerinden mahrum kalmasını gerektirir.
- D) İnsana ilahi adalete güvenme duygusu verir.

3. "Aşık'ın maşukuna kavuştuğu gece, vuslat gecesi" anlamına gelen kavram aşağıdakilerden hangisidir?

- A) Takvim-i ömür
- B) Kıyam
- C) Nazm-ı Celil
- D) Şeb-i arus

4. Kıyametin kopuşu aşağıdaki meleklerden hangisinin sur borusuna üflemesiyle başlayacaktır?

- A) İsrail
- B) Mikail
- C) Azrail
- D) Cebrail

5. Aşağıdakilerden hangisi ölen bir insana olan sorumluluklarımızdan biri değildir?

- A) Elbiselerini dağıtmak
- B) Ölüyü yıkamak
- C) Cenaze namazını kılmak
- D) Dua etmek

6. Sevap ve günahların tartıldığı özel adalet terazisine ne ad verilir?

- A) Haşir
- B) Maşer
- C) Mizan
- D) Hesap

7. Aşağıdakilerden hangisi tövbenin şartlarından biri değildir?

- A) Günahı terk etmek
- B) Sadakasını ödemek
- C) Yaptığından pişman olmak
- D) Bir daha yapmamaya karar vermek

8. Bağışlama ile ilgili aşağıdaki ifadelerden hangisi yanlıştır?

- A) Sevgi temellidir.
- B) İnsanı yüceltir.
- C) Toplumsal hoşgörünün temelidir.
- D) Bireysel çözümlenin temelidir.

9. Aşağıdakilerden hangisi Sünen türünde eserler vermemiştir?

- A) Ebu Davud
- B) Tirmizi
- C) Nesai
- D) Buhari

10. Aşağıdakilerden hangisi sünnet türlerinden biri değildir?

- A) Sözlü sünnet
- B) Fıllî sünnet
- C) Takriri sünnet
- D) Ebedî sünnet

11. Kütüb-i Sitte'nin altıncı kitabını aşağıdakilerden hangisi yazmıştır?

- A) Ebu Davud
- B) İbn Mace
- C) Nesai
- D) Tirmizi

12. Aşağıdakilerden hangisi hadis kaynakları içinde oldukça önemli bir yere sahip olan Sünen türünün ilki kabul edilmektedir?

- A) Sahih-i Buhari
- B) Sünen-i Ebu Davud
- C) Sahih-i Müslim
- D) Sünen-i Tirmizi

13. Hz. Muhammed'in şahit olduğu olaya veya kendisine arz edilen bir meseleye karşı çıkmaması, onu tasdik etmesi sünnet türlerinden hangisidir?

- A) Fiili sünnet
- B) Sözlü sünnet
- C) Takriri sünnet
- D) Te'kidi sünnet

14. Hz. Peygamber'e hangi hayvanların etinin yenilip yenilemeyeceği sorulduğunda; "Azı dişi olan her yırtıcı hayvanın ve pençesiyle avlanan her kuşun yenilmesi yasaktır." şeklinde buyurması, Hz. Peygamber'in Kur'an'ı açıklama konusundaki hangi görevini örnekler?

- A) Destekleyicilik
- B) Yorumlayıcılık
- C) Hüküm koyuculuk
- D) Tefsir

15. Aşağıdakilerden hangisi tasavvufi düşüncenin oluşumunu hızlandıran etkenlerden biridir?

- A) Anadolu'nun Türkleşmesi
- B) Dinin özünden çok dış görünüşüne önem verilmesi
- C) Mevlana'nın pir tanınması
- D) Sade yaşama özlem duygusunun artması

16. Tasavvufun asıl kaynağı aşağıdakilerden hangisidir?

- A) Sufilik
- B) Mutasavvıf
- C) Namaz
- D) Kur'an ve Sünnet

17. Ahmet Yesevi'nin Anadolu'ya gönderdiği talebelerine ne ad verilir?

- A) Alp Erenler
- B) Nakşiler
- C) Muhacirler
- D) Aleviler

18. Aşağıdakilerden hangisi Divan-ı Hikmette geçen konulardan biri değildir?

- A) Dervişlerin faziletleri
- B) Sema ve çilenin değeri
- C) Cennet ve cehennem hikâyeleri
- D) Dünyanın durumundan şikâyet

19. İslam'daki tevhit inancı, tasavvufi düşüncede aşağıdaki hangi anlayışı doğurmuştur?

- A) Allah-Varlık
- B) Kur'an-Aşk
- C) Varlık- Sünnet
- D) Hadis- Kelam

20. Şeyh Nasirüddin'e nisbet edilen tasavvuf ekolu aşağıdakilerden hangisidir?

- A) Bektaşîyye
- B) Bayramîyye
- C) Ahilik
- D) Nusriyye

1. "Türk Tarihi Tetkik Cemiyeti" hangi tarihte kurulmuştur?
  - A) 1927
  - B) 1929
  - C) 1931
  - D) 1933
  
2. **İlk** resmi Osmanlı vakanüvisi kimdir?
  - A) Oruç Bey
  - B) Behiştî
  - C) Haça Saadettin Efendi
  - D) Naima Efendi
  
3. Ay yılını esas alan takvimi **ilk kez** kullanan medeniyet aşağıdakilerden hangisidir?
  - A) Sümerler
  - B) Hititler
  - C) Mısırlılar
  - D) Frigler
  
4. Aşağıdakilerden hangisi Halil İnalcık'a göre; tarihi araştırmalar yapılırken önem verilmesi gereken unsurlardan biri **değildir**?
  - A) Sadece kendi topraklarımız üzerindeki geçmiş araştırılmalıdır.
  - B) Bilimsel araştırmacılığa önem verilmelidir.
  - C) Geçmişte yayınlanan eserler incelenmelidir.
  - D) Araştırma yapılacak dönemin diline hakim olunmalıdır.
  
5. Tarih biliminde toplanan verilerin birleştirilerek sonuca ulaşma aşamasına ne ad verilir?
  - A) Tenkit
  - B) Terkip
  - C) Tahlil
  - D) Tasnih
  
6. Aşağıdakilerden hangisi tarihi olayların tasnif aşamalarından biri **değildir**?
  - A) Şahsa göre sınıflandırma
  - B) Zamana göre sınıflandırma
  - C) Mekâna göre sınıflandırma
  - D) Konuya göre sınıflandırma
  
7. Aşağıdakilerden hangisi yazılı kaynaklar arasında **yer almaz**?
  - A) Kitabeler
  - B) Şecereler
  - C) Destanlar
  - D) Takvimler
  
8. Yazının icadından Kavimler Göçüne kadar olan dönemi kapsayan çağ aşağıdakilerden hangisidir?
  - A) Maden Çağı
  - B) İlk Çağ
  - C) Orta Çağ
  - D) Taş Çağı
  
9. Avrupa'da feodalite rejiminin yıkılarak yerini mutlak krallıkların aldığı çağ aşağıdakilerden hangisidir?
  - A) Orta Çağ
  - B) Yeni Çağ
  - C) İlk Çağ
  - D) Maden Çağı
  
10. Aşağıdakilerden hangisi Roma Uygarlığı'nın dönemlerinden biri **değildir**?
  - A) Krallık Dönemi
  - B) Cumhuriyet Dönemi
  - C) Rahipler Dönemi
  - D) İmparatorluk Dönemi

11. İlk şehir devletlerinin ortaya çıktığı çağ aşağıdakilerden hangisidir?

- A) Demir Çağı
- B) Bakır Çağı
- C) Teni Taş Çağı
- D) Tunç Çağı

12. İnsanlık tarihinin ilk şehir yerleşmesi aşağıdakilerden hangisidir?

- A) Çayönü
- B) Sakçagözün
- C) Macunçay
- D) Çatal Höyük

13. Yeni Çağla ilgili aşağıdaki ifadelerden hangisi yanlıştır?

- A) Sömürgecilik hız kazanmıştır.
- B) Rönesans ve reform hareketleri yaşanmıştır.
- C) Coğrafi keşifler yapılmıştır.
- D) Birinci Dünya Savaşı yaşanmıştır.

14. Matematikte ilk defa dört işlemi kullanan uygarlık aşağıdakilerden hangisidir?

- A) Hititler
- B) Mısırlılar
- C) Sümerler
- D) Babiller

15. Türk devletlerinde kadının toplumdaki yeriyle ilgili aşağıdaki ifadelerden hangisi yanlıştır?

- A) Kadınlar savaşabilme özelliğine sahiptir.
- B) Erkekler gibi ata binip silah kullanmışlardır.
- C) Ailede kadınlara mal ve mülk verilmemiştir.
- D) Hakan'ın eşi hükümdar olmadığı zamanlarda onu temsil etmiştir.

16. Aşağıdakilerden hangisinin adına bir kitabe dikilmemiştir?

- A) Bilge Kağan
- B) Tonyukuk
- C) Kül Tegin
- D) Kapgan Kağan

17. Asya Hun Devleti'nin bilinen ilk hükümdarı kimdir?

- A) Teoman
- B) Mete
- C) Yuçukien
- D) Huçing

18. Uygur Devleti'nin kurucusu kimdir?

- A) Böğü Kağan
- B) Baga Tarkan Kağan
- C) Kutluk Bilge Kül Kağan
- D) Moyen-Çur Kağan

19. Türklerde ekonomik hayatla ilgili aşağıdaki ifadelerden hangisi yanlıştır?

- A) Ekonominin temelini hayvancılık oluşturmuştur.
- B) Komşularıyla ticaretle en çok değerli madenler ihraç etmişlerdir.
- C) Genellikle at, koyun, sığır ve deve gibi hayvanlar yetiştirmişlerdir.
- D) Ticareti geliştirmek için komşularıyla anlaşmalar yapmışlardır.

20. Tarihte Türk adını resmi olarak kullanan ilk devlet aşağıdakilerden hangisidir?

- A) Kök Türkler
- B) Hunlar
- C) Uygurlar
- D) Hazarlar

1. Aşağıdakilerden hangisi Orta Asya Türk göçlerinin nedenlerinden biri değildir?
  - A) Yeni ülkeler fethetme ve yeni yurtlar kurma düşüncesi
  - B) Salgın hayvan hastalıkları
  - C) Boylar arasındaki siyasi anlaşmazlıklar
  - D) Katvan Savaşı'nın kaybedilmesi
2. İskitler ile ilgili aşağıdaki ifadelerden hangisi yanlıştır?
  - A) Orta Asya kökenli atlı-göçebe bir topluluktur.
  - B) En yoğun olarak yaşadıkları yer Kırım Yarımadası ve çevresidir.
  - C) Bilinen en önemli hükümdarları Alp Er Tunga'dır.
  - D) İranlılar tarafından Türkmen olarak adlandırılmışlardır.
3. Bir milletin tarihi boyunca meydana getirdiği maddî ve manevî değerlerinin bütününe ne ad verilir?
  - A) Kanun
  - B) Balbal
  - C) Kültür
  - D) Sagu
4. Kurgan nedir?
  - A) Türkçede bilinen ilk ziraat aleti
  - B) İslamiyet'ten önceki Türk edebiyatında ağıt
  - C) Tepe biçimdeki mezar
  - D) Asya Hun hükümdarlarının unvanı
5. Uygur Devleti'nin ilk hükümdarı kimdir?
  - A) Böğü Kağan
  - B) Moyen Çor Kağan
  - C) Bağa Tarkan
  - D) Kutluk Bilge Kül
6. Akhunlar aşağıdaki devletlerden hangilerinin ortak saldırıları sonucunda yıkılmıştır?
  - A) Bizans ve Uygurlar
  - B) Göktürkler ve Sasaniler
  - C) Karluklar ve Avarlar
  - D) Hazarlar ve Türgişler
7. Aşağıdakilerden hangisi Kavimler Göçünün sonuçlarından biri değildir?
  - A) Roma İmparatorluğunun ikiye bölünmesi
  - B) Feodalite (Derebeylik) rejiminin son bulması
  - C) Barbar kavimlerin arasında Hristiyanlığın hızla yayılması
  - D) Yeni milletlerin ortaya çıkması
8. Hun Türklerinin Avrupa'ya ilerleyişleri aşağıdakilerden hangisine neden olmuştur?
  - A) Kavimler Göçü'ne
  - B) Reform Hareketlerine
  - C) Çinlilerin, Çin Seddi'ni inşa etmelerine
  - D) Coğrafi Keşif hareketlerine
9. İki kez İstanbul'u kuşatan Avarların hâkimiyetine aşağıdakilerden hangisi son vermiştir?
  - A) Türgişler
  - B) Hazarlar
  - C) Uygurlar
  - D) Frank Krallığı
10. Moğol hâkimiyetine giren ilk Türk kavmi aşağıdakilerden hangisidir?
  - A) Kırgızlar
  - B) Türgişler
  - C) Peçenekler
  - D) Avarlar



11. VII. yüzyılda Museviliğin hükümdar ailesi ve yöneticileri arasında yayıldığı Türk kavmi aşağıdakilerden hangisidir?

- A) Hazarlar
- B) Avarlar
- C) Bulgarlar
- D) Türgişler

12. 751 yılında Talas Savaşı'nda Arapların yanında yer alarak Çinlilere karşı mücadele eden Türk boyu aşağıdakilerden hangisidir?

- A) Hazarlar
- B) Karluklar
- C) Avarlar
- D) Peçenekler

13. İlk madeni para aşağıdaki hangi Türk devleti döneminde kullanılmaya başlanmıştır?

- A) Türgişler
- B) Uygurlar
- C) Hazarlar
- D) Avarlar

14. Türeyiş ve Göç destanları aşağıdaki hangi Türk devletine aittir?

- A) Kırgızlar
- B) Göktürkler
- C) Uygurlar
- D) Avarlar

15. Türk edebiyatının ilk yazılı eseri aşağıdakilerden hangisidir?

- A) Karabalsagun Yazıtı
- B) Göktürk Kitabeleri
- C) Divan-ı Lügati't Türk
- D) Kutadgu Bilig

16. Aşağıdakilerden hangisi Türk hükümdarlarının Göktürk Kitabeleri'nde belirtilen görevlerinden biri değildir?

- A) Kin ve nefret duygularını güçlendirmek
- B) Tebaa (halk) aç ise doyurmak
- C) Mali istikrarı sağlamak
- D) Adaleti temin etmek

17. Aşağıdakilerden hangisi Türklerin milli alfabelerinden biridir?

- A) Arap
- B) Göktürk
- C) Kiril
- D) Latin

18. Orta Asya Türk tarihine ait bilgilere en çok aşağıdaki hangi devletin kaynaklarında rastlanır?

- A) Fransa
- B) Rusya
- C) Çin
- D) İngiltere

19. Çinliler, Çin Seddi'ni hangi amaç için yapmışlardır?

- A) Sanat
- B) Eğitim
- C) Ticaret
- D) Savunma

20. Orta Asya'da Türk-Moğol ilişkileri aşağıdaki hangi hükümdar zamanında başlamıştır?

- A) Atilla
- B) Moyen-Çor
- C) Mete Han
- D) Mukan Kağan

1. Dünya'nın kutuplardan basık, Ekvator'da şişkin şekline ne ad verilir?
  - A) Küre
  - B) Geoit
  - C) Ekliptik
  - D) Eksen
  
2. 21 Mart 23 Eylül tarihlerinde dünyanın her yerinde gece ve gündüz sürelerin birbirine eşit olmasına ne ad verilir?
  - A) İzohips
  - B) Ölçek
  - C) Ekinoks
  - D) Ekliptik
  
3. Başlangıç meridyeni olarak belirlenmiş olan 0° meridyeni aşağıdakilerden hangisinin yakınından geçer?
  - A) Moskova
  - B) Tahran
  - C) Viyana
  - D) Londra
  
4. Aşağıdaki ölçeklerden hangisi harita üzerinde ayrıntıları daha fazla gösterir?
  - A) 1:100 000
  - B) 1:200 000
  - C) 1:300 000
  - D) 1:400 000
  
5. Birbiri ardından gelen iki meridyen arasındaki uzaklık kaç dakikadır?
  - A) 4
  - B) 15
  - C) 30
  - D) 40
  
6. Aşağıdaki gazlardan hangisinin atmosferdeki oranı en yüksektir?
  - A) Oksijen
  - B) Azot
  - C) Hidrojen
  - D) Ozon
  
7. Buzul çağı ve buzul sonrası dönemlerin yaşandığı çağ aşağıdakilerden hangisidir?
  - A) Paleozoik
  - B) Mezozoik
  - C) Neozoik
  - D) Prekambrien
  
8. Hava olaylarının oluştuğu ortamın harekete geçmesini sağlayan temel güç aşağıdakilerden hangisidir?
  - A) Basınç
  - B) Rüzgâr
  - C) Nemlilik
  - D) Sıcaklık
  
9. 40° doğu boylamında yer alan Diyarbakır' da yerel saat 17.00 iken, 30° doğu boylamında yer alan İzmit' te yerel saat kaçtır?
  - A) 16.20
  - B) 16.40
  - C) 17.20
  - D) 17.40
  
10. Dünya, kendi ekseni çevresindeki hareketini kaç saatte tamamlar?
  - A) 12 saat
  - B) 24 saat
  - C) 32 saat
  - D) 48 saat
  
11. Çapı ve çevresi en uzun paralel dairesi aşağıdakilerden hangisidir?
  - A) Yengeç dönencesi
  - B) Oğlak dönencesi
  - C) 45° Kuzey enlemi
  - D) Ekvator
  
12. Aşağıdakilerden hangisi atmosfer, iklim ve iklim elemanlarını inceleyen coğrafyanın koludur?
  - A) Jeomorfoloji
  - B) Klimatoloji
  - C) Hidroğrafya
  - D) Biyocoğrafya

13. Yeryüzünün bütününün veya bir bölümünün, belli bir ölçeğe göre küçültülerek bir düzlem üzerinde gösterilmesine ne ad verilir?

- A) İzdüşüm
- B) Çizgi ölçeği
- C) Harita
- D) Meridyen

14. Aşağıdakilerden hangisi dünyanın güneş etrafında dönüşünün meydana getirdiği sonuçlardan biri değildir?

- A) Gece gündüz süreleri yıl boyunca değişme gösterir.
- B) Mevsimlik sıcaklık farkları oluşur.
- C) Sıcaklık farkları kara ve denizler arasında basınç farklarının oluşmasını sağlar.
- D) Gün ve gece arasında sıcaklık farkları oluşur.

15. Haritalarda ölçek küçüldükçe aşağıdakilerden hangisi meydana gelir?

- A) Belirli bir yüzey üzerine sığdırılması mümkün olan ayrıntılar o derece artar.
- B) Belirli bir yüzey üzerine sığdırılması mümkün olan arazi küçülür.
- C) Mücessem küre adıyla anılan yuvarlak haritaların yapımı kolaylaşır.
- D) Belirli bir yüzey üzerine sığdırılması mümkün olan ayrıntılar o derece azalır.

16. Aşağıdakilerden hangisi meridyenlerin özelliklerinden biri değildir?

- A) Başlangıç meridyeninin ekvator olması
- B) Ardışık iki meridyen arasındaki yerel saat farkının 4 dakika olması
- C) Doğudaki meridyenlerin saatlerinin batıdakilerden daha ileri olması
- D) Aynı meridyen üzerinde bulunan tüm noktaların yerel saatlerinin aynı olması

17. Bir yamacın güneşin karşısındaki konumuna ne ad verilir?

- A) İklim
- B) Yörüngen
- C) Ekvator
- D) Bakı

18. Yükselti basamakları hangi tür haritalar yardımı ile tespit edilir?

- A) Beşeri haritalar
- B) Fiziki haritalar
- C) Atlas haritalar
- D) Siyasi haritalar

19. Yeryuvarlığının kendi eksenini etrafında dönmesi ile aşağıdakilerden hangisi meydana gelir?

- A) İlbahar
- B) Kış
- C) Gece- gündüz
- D) Sonbahar

20. Dik kıyılara hızla çarpan dalgaların, kıyıların alt tarafını aşındırarak oluşturduğu şekillere ne ad verilir?

- A) Barkan
- B) Falez
- C) Aysberg
- D) Lagün

1. Akarsu, rüzgâr, buzul, dalga ve akıntılar gibi dış kuvvetler tarafından aşındırılan malzemelerin taşınarak çukur yerlerde birikmesiyle oluşan kayaç türü aşağıdakilerden hangisidir?
  - A) Tor topografyası
  - B) Kimyasal tortul kayaçlar
  - C) Organik tortul kayaçlar
  - D) Fiziksel tortul kayaçlar
2. Kum taşının başkalaşmasıyla oluşan kayaç türü aşağıdakilerden hangisidir?
  - A) Kuvarsit
  - B) Granit
  - C) Mermer
  - D) Kalker
3. Aşağıdakilerden hangisi birbirine yaklaşan levhalardan biri değildir?
  - A) Kokos levhası – Pasifik levhası
  - B) Avrasya levhası – Pasifik levhası
  - C) Kuzey Amerika levhası – Pasifik levhası
  - D) Pasifik levhası – Hindistan levhası– Avusturalya levhası
4. Rüzgârların taşıyarak biriktirdiği malzemelerden oluşan toprak türü aşağıdakilerden hangisidir?
  - A) Morenler
  - B) Litoseller
  - C) Regoseller
  - D) Lösler
5. Aşağıdaki ülkelerden hangisinde buzul göllerine rastlanmaz?
  - A) Danimarka
  - B) Kanada
  - C) Endonezya
  - D) Norveç
6. Dünya üzerinde yüzölçümü en büyük olan okyanus aşağıdakilerden hangisidir?
  - A) Atlas Okyanusu
  - B) Hint Okyanusu
  - C) Arktik Okyanusu
  - D) Büyük Okyanus
7. Soğuğa dayanıklı otsu bitki topluluklarından oluşan bitki örtüsüne ne ad verilir?
  - A) Savan
  - B) Step
  - C) Tundra
  - D) Tayga
8. Aşağıdakilerden hangisi zonal toprak çeşitlerinden biri değildir?
  - A) Laterit topraklar
  - B) Çernezyom topraklar
  - C) Podzol topraklar
  - D) Hidromorfik topraklar
9. Aşağıdakilerden hangisi tarımsal nüfus yoğunluğunu etkileyen faktörlerden biri değildir?
  - A) Arazinin engebe durumu
  - B) Sanayide çalışan işçi sayısı
  - C) Tarım alanlarının genişliği
  - D) Ülkenin gelişmişlik düzeyi
10. Aşağıdakilerden hangisi nüfus artışının olumsuz sonuçlarından biri değildir?
  - A) Savunma gücünün artması
  - B) Tüketimin artması
  - C) Kişi başına düşen milli gelirin azalması
  - D) Alt yapı hizmetlerinin aksaması
11. Aşağıdakilerden hangisi nüfusun dağılışını etkileyen doğal faktörlerden biri değildir?
  - A) İklim
  - B) Toprak
  - C) Ulaşım
  - D) Yer şekilleri

12. Aşağıdakilerden hangisi bir ülkenin nüfus piramitlerinden yararlanarak o ülkeyle ilgili elde edilebilecek bilgilerden biri değildir?

- A) Nüfusun yaş gruplarına göre dağılımı
- B) Okur – yazar nüfus oranı
- C) Nüfusun cinsiyete göre dağılımı
- D) Doğum ve ölüm oranları

13. Aşağıdakilerden hangisi dünyada nüfusun yoğun olduğu yerlerden biri değildir?

- A) Orta Asya
- B) Batı Avrupa
- C) Japonya
- D) Nil havzası

14. Aşağıdakilerden hangisi göçün ekonomik nedenleri arasında yer almaz?

- A) İş imkânları
- B) Ticaret
- C) Turizm
- D) Güvenlik

15. Aşağıdakilerden hangisi ikincil ekonomik faaliyetlerden biri değildir?

- A) Makine sanayi
- B) Bankacılık
- C) Kimya sanayi
- D) Orman ürünleri sanayi

16. Karstik arazilerin mağara tavanlarının çökmesiyle oluşan çukurlara ne ad verilir?

- A) Polye
- B) Dolin
- C) Obruk
- D) Labya

17. Aşağıdakilerden hangisi Türkiye’de akarsuların aşındırmasıyla oluşan yeryüzü şekillerinden biri değildir?

- A) Menderes
- B) Irmak adası
- C) Kırgıbayır
- D) Kanyon vadi

18. Aşağıdakilerden hangisi Güney Marmara’da yer alan ovalardan biri değildir?

- A) Bursa ovası
- B) Balıkesir ovası
- C) Amasya ovası
- D) M. Kemal Paşa ovası

19. Aşağıdakilerden hangisi Türkiye’nin özel konumunun sonuçlarından biri değildir?

- A) Güneyden kuzeye gidildikçe gece – gündüz süreleri arasındaki fark artar.
- B) Asya ve Avrupa kıtaları arasında köprü konumundadır.
- C) Yüzey şekilleri kısa mesafede farklılık gösterir.
- D) Üç kıtanın birbirine yaklaştığı yerdedir.

20. Aşağıdakilerden hangisi Türkiye’de az yağış alan yerlerden biri değildir?

- A) Tuz gölü çevresi
- B) Hakkâri çevresi
- C) Konya ovası
- D) Çoruh – Kelkit vadisi

1. Aşağıdakilerden hangisi Cumhuriyet'in ilk yıllarında uygulanan nüfus politikalarından biri değildir?
- A) Göçmenlere gümrük muafiyeti getirilmesi  
B) Gebeliği önleyici ilaç ve araçların kullanımının yaygınlaştırılması  
C) Çok çocuklu ailelerin para ya da madalya ile ödüllendirilmesi  
D) Çok çocuklu ailelerin yol vergisinden muaf tutulması
2. Aşağıdaki barajlardan hangisi GAP projesi kapsamında yer almaktadır?
- A) Atatürk  
B) Kemer  
C) Hirfanlı  
D) Demirköprü
3. Cumhuriyetin ilanıyla başlayan nüfus artışını teşvik eden politikalar hangi yıla kadar devam ettirilmiştir?
- A) 1945  
B) 1963  
C) 1982  
D) 1997
4. Aşağıdakilerden hangisi GAP projesinin temel hedefidir?
- A) Bölge dışına yapılacak göçleri teşvik etmek  
B) Bölgedeki tarihi ve doğal dokuyu korumak  
C) Bölgede istihdamı ve geliri artırmak  
D) Bölgenin enerji üretimindeki payını artırmak
5. Aşağıdakilerden hangisi Doğu Karadeniz Bölgesel Gelişim Projesi (DOKAP) kapsamındaki illerden biri değildir?
- A) Rize  
B) Samsun  
C) Gümüşhane  
D) Giresun
6. Aşağıdakilerden hangisi Türkiye'nin üyesi olduğu uluslararası siyasi örgütlerden biridir?
- A) Birleşmiş Milletler (BM)  
B) Uluslararası Para Fonu (IMF)  
C) NATO  
D) Dünya Bankası
7. I. Sosyal-kültürel değerler  
II. Coğrafi konum  
III. Politik değerler  
IV. Ekonomik değerler
- Yukarıdakilerden hangileri Türkiye'nin jeopolitik konumunda etkili olan değişen unsurlardandır?
- A) I ve II  
B) II ve III  
C) I, III ve IV  
D) II, III ve IV
8. İnsani Gelişim İndeksi hangi kuruluş tarafından rapor haline getirilerek yayınlanmaktadır?
- A) Birleşmiş Milletler  
B) Avrupa Konseyi  
C) Dünya Bankası  
D) Avrupa Birliği
9. Aşağıdakilerden hangisi Hazar Bölgesinde yer alan ülkelerden biri değildir?
- A) Azerbaycan  
B) Kazakistan  
C) Türkmenistan  
D) Suriye
10. Aşağıdakilerden hangisi uluslararası düzeyde sıcak çatışmalara neden olan doğal unsurlara dayanan sorunlardandır?
- A) Sınır sorunları  
B) Bağımsızlık isteği  
C) Su kaynaklarının paylaşımı  
D) Ekonomik sorunlar

11. I. Weser  
II. Ren  
III. Nil

**Yukarıdaki akarsulardan hangileri Almanya topraklarından geçer?**

- A) I ve II  
B) I ve III  
C) II ve III  
D) I, II ve III

12. Nijerya ile ilgili aşağıdaki ifadelerden hangisi doğrudur?

- A) Okur-yazar oranı %90 nı geçmiştir.  
B) Ülkenin en önemli yer altı zenginliği petrol ve doğalgaz yataklarıdır.  
C) Ortalama insan ömrü 80 yaşın üzerindedir.  
D) Kentsel nüfus oranı kırsal nüfustan fazladır.

13. Aşağıdaki yerlerden hangisi günümüzdeki sıcak çatışma bölgelerinden biri değildir?

- A) Orta Doğu  
B) Orta Afrika  
C) Kafkasya  
D) Sibirya

14. Şattularap su yolu ve petrol paylaşımından dolayı hangi iki ülke arasında çatışma olmuştur?

- A) Irak-Kuveyt  
B) Suriye-İsrail  
C) İran-İrak  
D) Mısır-İsrail

15. 1980-2008 yılları arasında meydana gelen doğal afetlerde can kaybının en fazla olduğu kıta aşağıdakilerden hangisidir?

- A) Avrupa  
B) Afrika  
C) Okyanusya  
D) Asya

16. Aşağıdakilerden hangisi Türkiye'nin kaybolan sulak alanlarından biri değildir?

- A) Kestel Gölü  
B) Beyşehir Gölü  
C) Akşehir Gölü  
D) Gavur Gölü

17. 20. yüzyılın başlarında dünyada ilk defa yapay dölleme programı uygulayarak Kuzey Amerika bizonunun soyunun tükenmesini engelleyen çevre koruma kuruluşu aşağıdakilerden hangisidir?

- A) Greenpeace  
B) TEMA  
C) Dünya Dostları  
D) Doğal Hayatı Koruma Derneği

18. Kyoto Protokolü'nün ortaya çıkmasında etkili olan örgüt aşağıdakilerden hangisidir?

- A) Devletlerarası İklim Değişikliği Heyeti  
B) Dünya Meteoroloji Örgütü  
C) Avrupa Çevre Ajansı  
D) Greenpeace

19. I. Deprem  
II. Kasırga  
III. Heyelan  
IV. Volkan

**Yukarıdakilerden hangileri meteorolojik kökenli afetlerdendir?**

- A) I ve II  
B) I ve III  
C) II ve III  
D) III ve IV

20. 20. yüzyılda ekolojik dengenin bozulmasında aşağıdakilerden hangisinin etkisi yoktur?

- A) Dünya nüfusunun artmasının  
B) Çevre bilincinin gelişmemiş olmasının  
C) Doğal kaynakların bilinçsizce tüketilmesinin  
D) Eğitim seviyesinin artmasının

1.  $P(x) = 5ax^3 - (1-a)x$  polinomunun  $(x-2)$  ile bölümünden kalan 124 olduğuna göre  $a$  kaçtır?

A) 3  
B) 4  
C) 5  
D) 6

2.  $P(x) = -x^3 + 3x^2 - 5x - 15$  polinomu veriliyor.

Buna göre,  $P(-2)$  nin değeri aşağıdakilerden hangisidir?

A) -25  
B) -1  
C) 1  
D) 15

3.  $P(x) = 2x^4y - 6xy^2 + x^5y^3 - 10$  polinomunun  $x$  ve  $y$ 'ye göre derecesi kaçtır?

A) 2  
B) 3  
C) 5  
D) 8

4.  $P(x) = (a-2b)x^4 + (c-3)x^2 + 7 + d$   
 $Q(x) = -6x^4 + (1-b)x^3 - x^2 + 4$

polinomları eşit olduğuna göre,  $a+b+c+d$  kaçtır?

A) -4  
B) -2  
C) 6  
D) 10

5.  $P(x) = -2x^3 + 5x - x^4 + 7$

polinomunun başkatsayısı kaçtır?

A) -2  
B) -1  
C) 4  
D) 7

6.  $\left(x + \frac{15-x^2}{x}\right) : \left(\frac{10x+6}{2x} - 5\right)$

ifadesinin sadeleşmiş biçimi aşağıdakilerden hangisidir?

A) -5  
B)  $\frac{1}{5}$   
C) 5  
D) 15

7.  $\frac{7-x}{x^2+x-6}$  rasyonel ifadesinin basit kesirlerin toplamı olarak yazılmış biçimi aşağıdakilerden hangisidir?

A)  $\frac{1}{x-2} - \frac{2}{x+3}$   
B)  $\frac{1}{x+2} - \frac{1}{x-3}$   
C)  $\frac{2}{x-6} + \frac{1}{x+1}$   
D)  $\frac{1}{x+2} + \frac{1}{x+3}$

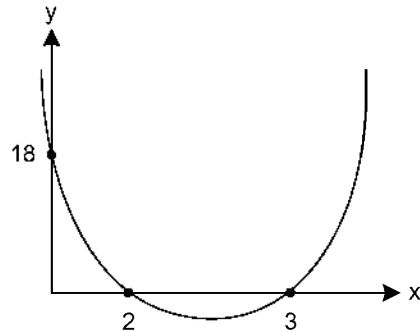
8.  $x + \frac{1}{x} = 4$  ise,  $x^2 + \frac{1}{x^2}$  ifadesinin değeri kaçtır?

A) 14  
B) 16  
C) 18  
D) 20

9.  $(m+1)x^2 - 2mx + m + 2 = 0$  denkleminin eşit iki kökünün olması için  $m$  kaç olmalıdır?

A) -2  
B) -1  
C)  $-\frac{2}{3}$   
D)  $-\frac{1}{3}$

- 10.



Yukarıdaki şekilde  $f(x) = ax^2 + bx + c$  eğrisinin grafiği verilmiştir.

Buna göre  $f(1)$  kaçtır?

A) -3  
B) 0  
C) 3  
D) 6



11. Kökleri  $x_1 = 2 + \sqrt{3}$  ve  $x_2 = 2 - \sqrt{3}$  olan ikinci derece denklem aşağıdakilerden hangisidir?

- A)  $x^2 + 4x + 1 = 0$   
 B)  $x^2 + x - 4 = 0$   
 C)  $x^2 + 4x + 7 = 0$   
 D)  $x^2 - 4x + 1 = 0$

12.  $5x - 2y = 5$   
 $4x - 3y = 7$

denklemler sisteminin çözüm kümesi aşağıdakilerden hangisidir?

- A)  $\left\{ \frac{1}{7}, -\frac{15}{7} \right\}$   
 B)  $\left\{ -\frac{3}{5}, \frac{2}{5} \right\}$   
 C)  $\left\{ 1, \frac{3}{8} \right\}$   
 D)  $\left\{ \frac{1}{2}, 6 \right\}$

13.  $y = mx^2 - 2(m+1)x + m + 1$  eğrisi OX eksenine teğet olduğuna göre, m kaç olmalıdır?

- A) -2  
 B) -1  
 C) 1  
 D) 2

14.  $\frac{x}{3} + \frac{x-1}{5} = \frac{37}{15}$  denkleminin çözüm kümesi aşağıdakilerden hangisidir?

- A) {1}  
 B) {3}  
 C) {5}  
 D) {8}

15.  $x^2 + (a-3)x + 2a - 5 = 0$  denkleminin bir kökü  $x_1 = 3$  ise diğer kökü kaçtır?

- A) -3  
 B) -1  
 C)  $\frac{1}{2}$   
 D) 1

16.  $|3x-5| = 4-2x$  denkleminin çözüm kümesi aşağıdakilerden hangisidir?

- A)  $\left\{ 1, \frac{9}{2} \right\}$   
 B)  $\left\{ \frac{9}{7}, 2 \right\}$   
 C)  $\left\{ 1, \frac{9}{5} \right\}$   
 D)  $\left\{ -\frac{9}{2}, 2 \right\}$

17.  $\frac{(x^2 - 9) \cdot (x+1)}{(x-3)} < 0$  eşitsizliğinin çözüm kümesi aşağıdakilerden hangisidir?

- A)  $[-3, +\infty)$   
 B)  $(-\infty, -3) \cup [-1, +\infty)$   
 C)  $(-3, -1)$   
 D)  $(-\infty, 3]$

18.  $(953)^2 - (47)^2$  işleminin sonucu kaç basamaklı bir sayıdır?

- A) 5  
 B) 6  
 C) 7  
 D) 8

19. A(0,2), B(-1,0) ve C(2,12) noktalarından geçen parabolün denklemi aşağıdakilerden hangisidir?

- A)  $y = -x^2 + 2x - 3$   
 B)  $y = -x^2 + 4x + 2$   
 C)  $y = 3x^2 - x - 2$   
 D)  $y = x^2 + 3x + 2$

20.  $f(x) = 3x^2 + (m+3)x - 4$  fonksiyonunun simetri eksenini  $x = -2$  doğrusu ise m kaçtır?

- A) 12  
 B) 9  
 C) -3  
 D) -15

1.  $f(x) = \cos^3\left(\frac{5x}{2} + 4\right)$  fonksiyonunun periyodu kaçtır?  
 A)  $\frac{\pi}{5}$   
 B)  $\frac{2\pi}{5}$   
 C)  $\frac{3\pi}{5}$   
 D)  $\frac{4\pi}{5}$
2. Çapı 12 cm olan çemberdeki  $150^\circ$ 'lik merkez açının gördüğü yayın uzunluğu kaç birimdir?  
 A)  $5\pi$   
 B)  $8\pi$   
 C)  $10\pi$   
 D)  $16\pi$
3.  $90$  gradın derece cinsinden değeri aşağıdakilerden hangisidir?  
 A) 38  
 B) 54  
 C) 72  
 D) 81
4. Aşağıdaki trigonometrik özdeşliklerden hangisi doğrudur?  
 A)  $\sec\theta \cdot \cot\theta = \operatorname{cosec}\theta$   
 B)  $\frac{\sec\theta}{\operatorname{cosec}\theta} = \cot\theta$   
 C)  $\operatorname{cosec}\theta \cdot \tan\theta = \cos\theta$   
 D)  $\frac{\tan\theta}{\cot\theta} = 1$
5. Yarıçapı 18 cm olan çemberdeki  $150^\circ$ 'lik merkez açının gördüğü yayın uzunluğu kaç birimdir?  
 A)  $\frac{5\pi}{2}$   
 B)  $5\pi$   
 C)  $\frac{15\pi}{2}$   
 D)  $15\pi$
6. 43026 saniyelik açı kaç derece, kaç dakika ve kaç saniyedir?  
 A)  $10^\circ 58' 6''$   
 B)  $11^\circ 57' 6''$   
 C)  $12^\circ 56' 16''$   
 D)  $12^\circ 55' 26''$
7.  $m(\hat{A}) = 27^\circ 13' 7''$   
 $m(\hat{B}) = 13^\circ 46' 35''$   
 olduğuna göre,  $m(\hat{A}) - m(\hat{B})$  işleminin sonucu kaçtır?  
 A)  $13^\circ 26' 32''$   
 B)  $14^\circ 25' 32''$   
 C)  $14^\circ 33' 28''$   
 D)  $14^\circ 33' 42''$
8.  $\operatorname{cosec}\left(\sin^{-1}\frac{\sqrt{3}}{2}\right)$  ifadesinin değeri aşağıdakilerden hangisine eşittir?  
 A)  $\frac{2}{3}$   
 B)  $\frac{\sqrt{3}}{2}$   
 C)  $\frac{2\sqrt{3}}{3}$   
 D) 2

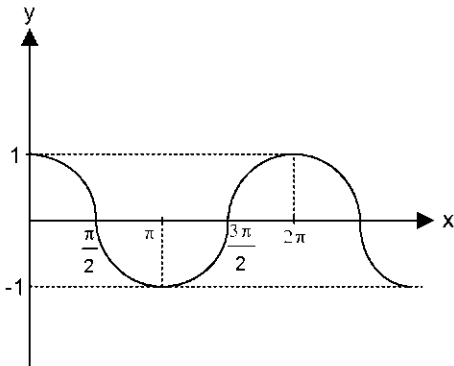
9.  $\frac{3\pi}{2}$  radyan kaç graddir?

- A) 150
- B) 200
- C) 250
- D) 300

10.  $f(x) = \sin^5\left(\frac{3x}{4} + 2\right)$  fonksiyonunun periyodu kaçtır?

- A)  $\frac{4\pi}{3}$
- B)  $\frac{5\pi}{3}$
- C)  $\frac{8\pi}{3}$
- D)  $\frac{15\pi}{2}$

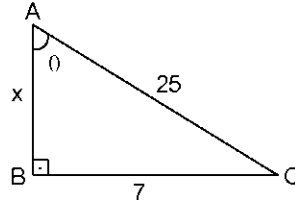
11.



Şekildeki grafik aşağıdaki fonksiyonlardan hangisinin  $(0, 2\pi)$  aralığındaki grafiğidir?

- A)  $g(x) = \sin x$
- B)  $f(x) = \cos x$
- C)  $h(x) = \cot x$
- D)  $k(x) = \operatorname{cosec} x$

12.



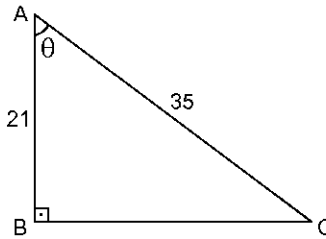
Yukarıdaki dik üçgende  $\sec \theta$  kaçtır?

- A)  $\frac{7}{25}$
- B)  $\frac{24}{25}$
- C)  $\frac{25}{24}$
- D)  $\frac{25}{7}$

13.  $16 \cdot \sin 15^\circ \cdot \sin 75^\circ$  işleminin sonucu kaçtır?

- A) 4
- B) 6
- C)  $4\sqrt{3}$
- D) 8

14.



Yukarıdaki dik üçgende  $\operatorname{cosec} \theta$  kaçtır?

- A)  $\frac{3}{5}$
- B)  $\frac{4}{5}$
- C)  $\frac{5}{4}$
- D)  $\frac{5}{3}$

15.  $x = \frac{\pi}{6}$  ise  $\frac{\cos 8x - \cos 6x}{\sin 8x + \sin 6x}$  ifadesinin değeri kaçtır?

$$\begin{cases} \sin x + \sin y = 2 \cdot \sin \frac{x+y}{2} \cdot \cos \frac{x-y}{2} \\ \cos x - \cos y = -2 \cdot \sin \frac{x+y}{2} \cdot \sin \frac{x-y}{2} \end{cases}$$

- A)  $-\sqrt{3}$   
 B)  $-\frac{1}{\sqrt{3}}$   
 C)  $\frac{1}{\sqrt{3}}$   
 D)  $\sqrt{3}$

16. 60 gradın derece cinsinden değeri aşağıdakilerden hangisidir?

- A) 10  
 B) 24  
 C) 38  
 D) 54

17.  $\cos 150^\circ$ 'nin değeri aşağıdakilerden hangisidir?

- A)  $-\frac{\sqrt{3}}{2}$   
 B)  $-\frac{1}{2}$   
 C)  $\frac{1}{2}$   
 D)  $\frac{\sqrt{3}}{2}$

18. Ölçülerinden biri  $2014^\circ$  olan açının esas ölçüsü aşağıdakilerden hangisidir?

- A) 34  
 B) 146  
 C) 214  
 D) 326

19. 19088 saniyelik açı kaç derece, kaç dakika ve kaç saniyedir?

- A)  $40^\circ 19' 8''$   
 B)  $5^\circ 18' 8''$   
 C)  $5^\circ 19' 8''$   
 D)  $5^\circ 29' 8''$

20.  $\theta \in \left(\pi, \frac{3\pi}{2}\right)$  ve  $\cos \theta = -\frac{8}{17}$  ise,  $\tan \theta$  aşağıdakilerden hangisidir?

- A)  $-\frac{15}{8}$   
 B)  $-\frac{8}{15}$   
 C)  $\frac{8}{15}$   
 D)  $\frac{15}{8}$

1. Aşağıdakilerden hangisi dil ile ilgili doğru bir ifadedir?
  - A) Dilin sadece bir tane geniş anlamı vardır.
  - B) İnsanlar dil aracılığıyla duygu, düşünce ve isteklerini karşılıklarındakine aktarırlar.
  - C) Dil, bütün canlılara özgü bir iletişim aracıdır.
  - D) Dilin görme, koklama, tat alma organlarıyla bir ilişkisi yoktur.
2. Sözcüklerin birbiriyle olan ilişkilerini, cümledeki görevlerini ve durumunu inceleyen bilim dalı aşağıdakilerden hangisidir?
  - A) Etimoloji
  - B) Fonetik
  - C) Semantik
  - D) Sentaks
3. Kültürel varlıkların kuşaktan kuşağa aktarılmasında en etkili araç aşağıdakilerden hangisidir?
  - A) Dil
  - B) Kültür
  - C) Tarih
  - D) Düşünce
4. Aşağıdaki kişilerden hangisi dili kültürün temel unsuru sayar?
  - A) Ömer Seyfettin
  - B) Halide Edip Adıvar
  - C) Ziya Gökalp
  - D) Reşat Nuri Güntekin
5. Dilin doğuşunu, gelişimini, seslerini, sözcük yapılarını, sözcüklerin anlamını, sözcük köklerini ve cümle kuruluşunu inceleyen bilim dalı aşağıdakilerden hangisidir?
  - A) Ses Bilgisi
  - B) Dil Bilgisi
  - C) Köken Bilim
  - D) Anlam Bilim
6. Aşağıdakilerden hangisi iletişim kurmak için gerekli temel öğelerden biri değildir?
  - A) Kaynak
  - B) İleti
  - C) Yöntem
  - D) Alıcı
7. Sözcükleri biçim yönünden inceleyerek kök ve eklerin yapısını belirleyen bilim dalı aşağıdakilerden hangisidir?
  - A) Ses Bilgisi
  - B) Köken Bilim
  - C) Biçim Bilgisi
  - D) Anlam Bilim
8. Günlük yaşamda, evde, sokakta, çarşı pazarda kullanılan dile ne ad verilir?
  - A) Yazı dili
  - B) Lehçe
  - C) Ağız
  - D) Konuşma dili
9. Aşağıdakilerden hangisi iletişimi oluşturan öğelerden biri değildir?
  - A) Bağlam
  - B) Alıcı
  - C) İleti
  - D) Ortam
10. Bir toplumun maddi ve manevi alanda ortaya koyduğu tüm eserlere verilen ad aşağıdakilerden hangisidir?
  - A) Dil
  - B) Din
  - C) İnanç
  - D) Kültür
11. Aşağıdakilerden hangisi eklemeli(bitişken) dillerden biridir?
  - A) Almanca
  - B) Fransızca
  - C) Türkçe
  - D) Hintçe
12. Aşağıdakilerden hangisi Türk dilinin 16.-20. yüzyıllar arası dönemini kapsayan ve Osmanlıca, Azeri Türkçesi, Çağatayca, Özbekçe gibi dillerden oluşan gelişme aşamasıdır?
  - A) Modern Türkçe
  - B) Orta Türkçe Çağı
  - C) Yeni Türkçe
  - D) Eski Türkçe Çağı

13. Aşağıdakilerden hangisi Ural-Altay dillerinin özelliklerinden biri değildir?

- A) Bazı çekim ekleri, yapım eki olarak da kullanılır.
- B) Baştan eklemeli bir yapısı vardır.
- C) Sözcüklerde dil bilgisi bakımından diş ve erkek tür ayrımı yoktur.
- D) Ses, yapı ve söz dizini bakımından benzerlikler bulunur.

14. İlk Türkçe belgelerin ortaya konulduğu çağ aşağıdakilerden hangisidir?

- A) İlk Türkçe Çağı
- B) En Eski Türkçe Çağı
- C) Altay Çağı
- D) Eski Türkçe Çağı

15. Diller arasındaki yakınlık ve benzerliğe ne ad verilir?

- A) Dil kardeşliği
- B) Dil akrabalığı
- C) Dil birliği
- D) Dil yakınlığı

16. Aşağıdakilerden hangisi yapı bakımından dünya dillerinden olan, tek heceli dillerin özelliklerinden biri değildir?

- A) Sözcüklerde çekim eki vardır.
- B) Sözcükler ek almadan, büküme, değişime uğramazlar.
- C) Sözcüklerde vurgu hakimdir.
- D) Bir sözcük yerine göre 10-15 anlam kazanabilir.

17. Türkçenin dünya dilleri arasındaki yeri aşağıdakilerin hangisinde doğru olarak verilmiştir?

- A) Hami-Sami dilleri
- B) Ural-Altay dilleri
- C) Hint Avrupa dilleri
- D) Bantu dilleri

18. Akatça, Arapça ve İbranice dilleri, köken bakımından yeryüzündeki hangi dil ailesine girer?

- A) Hami-Sami
- B) Bantu
- C) Çin
- D) Ural-Altay

19. Aşağıdaki cümlelerin hangisinde büyük harflerin kullanımıyla ilgili bir yazım yanlışı yapılmıştır?

- A) Ahmet bey henüz gelmediler.
- B) 18 Mart, Çanakkale Savaşı'nın yapıldığı tarihtir.
- C) İlk TBMM 23 Nisan 1920'de Ankara'da açıldı.
- D) Yarın Prof.Dr. Gazi Özdemir'e gideceğiz.

20. Aşağıdakilerden hangisi ünsüzlerin sınıflandırılması ile ilgili yanlış bir ifadedir?

- A) Ağız boşluğundaki boğumlandıkları yere göre sınıflandırılır.
- B) Sürekli söylenip söylenemediğine göre sınıflandırılır.
- C) Yumuşak oluşlarına göre sınıflandırılır.
- D) Dar-geniş oluşlarına göre sınıflama yapılır.

1. 1860 yılında Şinasi ve Ağâh Efendi tarafından çıkarılan ilk özel gazete, aşağıdakilerden hangisidir?

- A) Tercüman-ı Ahvâl
- B) İbret
- C) Tercüman-ı Hakikat
- D) Ceride-i Havadis

2. Türk edebiyatında Rezaizâde Mahmut Ekrem tarafından yazılan ilk realist roman, aşağıdakilerden hangisidir?

- A) Cezmi
- B) Araba Sevdası
- C) Taaşuk-ı Talat ve Fitnat
- D) Son Pişmanlık

3. İnsana sadakat yakışır görse de ikrâh Yardımcısıdır doğruların Hazret-i Allah

Ziya Paşa'nın bu beyitiyle aşağıdaki atasözlerinden hangisi örtüşmez?

- A) Doğru gidenin başı duvara çarpmaz.
- B) Allah doğrunun yardımcısıdır.
- C) Eğri bacanın dumanı doğru çıkar.
- D) Doğruluk su kabağıdır, batmaz.

4. Mademki bir sosyal toplulukta yaşayan halk bunca kanuni vazifelerle yükümlüdür, elbette ki sözle ve kalemlle kendi vatanının çıkarlarına ait fikirler belirtmeyi kazanılmış haklarından sayar.

Yukarıdaki paragraftan, aşağıdakilerden hangisi çıkarılamaz?

- A) Bu hakların önde geleni söz ve yazı hürriyetidir.
- B) Çağdaş insana bireyci tutum yakışmaz.
- C) Gerçek bir kamuoyu oluşturulmalıdır.
- D) Düşünce özgürlüğü bireylerin temel hakkı olmalıdır.

5. İyi bir eğitim alarak yetişen Ali Bey'in düşmüş bir kadınla kurduğu ilişkiden doğan kötü sonuçların ele alındığı "İntibah" romanını kim yazmıştır?

- A) Hüseyin Rahmi Gürpınar
- B) Muallim Naci
- C) Namık Kemal
- D) Abdülhak Hâmit Tarhan

6. Noktalama işaretleri ilk kez hangi dönemde kullanılmıştır?

- A) II. Meşrutiyet
- B) İslami Dönem
- C) I. Meşrutiyet
- D) I. Tanzimat

7. Âyinesi iştir kişinin lâfa bakılmaz  
Şahsın görünür rütbe-yi akli eserinde

Ziya Paşa'nın bu beyitiyle, aşağıdaki atasözlerinden hangisi anlamca örtüşmez?

- A) Bir iş bin lâftan iyidir.
- B) İşten artmaz, dışten artar.
- C) Adamın iyisi iş başında belli olur.
- D) Her er kişi işiyle ölçülür.

8. Abdülhak Hâmit Tarhan'ın eşi Fatma Hanım'ın ölümü üzerine duyduğu acıyı dile getirdiği 295 bentlik eseri, aşağıdakilerden hangisidir?

- A) Sahra
- B) Nesteren
- C) Makber
- D) Ölü

9. Edebiyat ile ilgili aşağıdaki ifadelerden hangisi yanlıştır?

- A) Toplumların gelişimine katkıda bulunur.
- B) Tarih biliminden yararlanır.
- C) Sadece tanık olduğu çağı anlatır.
- D) Toplumların siyasal ve sosyal yapısından etkilenir.

10. Tanzimat Fermanı'nın hazırlanış amacı aşağıdakilerden hangisidir?

- A) Osmanlı Devleti'ndeki değişimlere engel olmak
- B) Savaşlarda yenilgiye son vermek
- C) Ordudaki değişen disiplin anlayışına el atmak
- D) Devrin gereksinimlerine uygun Batı esasları doğrultusunda yeniden yapılanmak

11. Türk edebiyatında sahnelenen ilk tiyatro eseri ve yazarı, aşağıdakilerden hangisinde birlikte ve doğru olarak verilmiştir?

- A) Celalettin Harzemşah – Namık Kemal
- B) Sabr u Sebat – Abdülhak Hâmit Tarhan
- C) Afife Anjelik – Recaiîzâde Mahmut Ekrem
- D) Vatan yahut Silistre – Namık Kemal

12. Türk edebiyatında Şinasi tarafından yazılan ilk tiyatro eseri, aşağıdakilerden hangisidir?

- A) Şair Evlenmesi
- B) Karabelâ
- C) Zavallı Çocuk
- D) Macera-yı Aşk

13. Romantizm akımının öncüsü Fransız yazar, aşağıdakilerden hangisidir?

- A) Gustave Flaubert
- B) J.J. Rousseau
- C) Voltaire
- D) Victor Hugo

14. Romantizm akımıyla ilgili aşağıdaki ifadelerden hangisi yanlıştır?

- A) Akıl ve sağduyuya dayanmaktadır.
- B) Öncülüğünü Fransız yazar Victor Hugo yapmıştır.
- C) Hayaller, duygu ve coşkular önem kazanmıştır.
- D) Klâsizm akımına tepki olarak doğmuştur.

15. Gerçeğin hayal dünyasında yeniden şekillendiği metinlere ne ad verilir?

- A) Yazılı metin
- B) Hayalî metin
- C) Kurmaca metin
- D) Hikâye

16. Namık Kemal'in Ziya Paşa ile birlikte Londra'da çıkardıkları gazete, aşağıdakilerden hangisidir?

- A) Cumhuriyet
- B) Hürriyet
- C) Vatan
- D) Muhbir

17. Aşağıdaki şair ve yazarlardan hangisi toplumsal konular yerine bireysel konularda yazmayı yeğleyen sanatçılardan biridir?

- A) Ahmet Mithat Efendi
- B) Sami Paşazâde Sezaî
- C) Namık Kemal
- D) Ziya Paşa

18. Romantizmden realizme geçişin bir göstergesi sayılan "Sergüzeşt" romanının yazarı kimdir?

- A) Muallim Naci
- B) Şemsettin Sami
- C) Ahmet Mithat Efendi
- D) Sami Paşazâde Sezaî

19. Yusuf Kamil Paşa'nın 1859 yılında Fransız yazar Fenelon'dan yaptığı ilk çeviri roman, aşağıdakilerden hangisidir?

- A) Telemak
- B) Sefiller
- C) Martı
- D) Monte Kristo

20. Türk edebiyatında ilk çeviri roman Fransız yazar Fenelon'un eseri "Telemak"tır. Çeviriyi yapan yazar, aşağıdakilerden hangisidir?

- A) Yusuf Kâmil Paşa
- B) Ahmet Vefik Paşa
- C) Ahmet Cevdet Paşa
- D) Namık Kemal



1. Bir otomobil  $x_A = 10$  m koordinatına sahip A noktasından 80 m uzaklıktaki B noktasına hareket ediyor. B noktasına ait  $x_B$  koordinatının büyüklüğü kaç metredir?
  - A) 70
  - B) 90
  - C) 140
  - D) 180
2. Bir otomobilin 10 m/s hızla 3 saatte aldığı yol kaç kilometredir?
  - A) 48
  - B) 72
  - C) 96
  - D) 108
3. Aralarında 100 metre uzaklık bulunan iki bisikletli 30 m/s ve 20 m/s sabit hızlarla, aynı yön ve doğrultuda harekete başlıyorlar. İki bisikletlinin yanyana gelmesi için kaç saniye geçmelidir?
  - A) 6
  - B) 8
  - C) 10
  - D) 12
4. Dünyanın üzerinde bulunan bir cisim, 100 newton'luk çekim kuvvetinin etkisi altındadır. Dünyanın kütlesi aynı kalmak koşuluyla, yarıçapı yarıya indirilseydi bu cisme uygulanan çekim kuvveti kaç newton olurdu?
  - A) 100
  - B) 200
  - C) 300
  - D) 400
5. Kuzeydoğu doğrultusunda 100 m'lik bileşke yer değişimi yapan bir atlet, önce kuzeye doğru 80 m, sonra doğuya doğru koşarak durduğuna, doğuya doğru kaç metre yer değiştirmiştir?
  - A) 20
  - B) 40
  - C) 60
  - D) 80
6. Bir iletken kesitinden 2 amperlik akım geçmektedir. Buna göre, bu kesitten 2 dakikada geçen elektrik yükü kaç coulomb'dur?
  - A) 180
  - B) 240
  - C) 320
  - D) 480
7. Bir lambanın elektriksel direnci 5 ohm'dur. Lambanın uçları arasındaki potansiyel farkı 50 volt ise geçen akım kaç amperdir?
  - A) 10
  - B) 15
  - C) 20
  - D) 25
8. 20 ohm direncine sahip, 600 m uzunlukta 2 mm<sup>2</sup> kesitli metal bir iletken telin öz direnci kaç ohm.m dir?
  - A)  $6,6 \cdot 10^{-8}$
  - B)  $6,6 \cdot 10^{-6}$
  - C)  $4,5 \cdot 10^{-4}$
  - D)  $4,5 \cdot 10^{-3}$
9. Herbiri 5 ohm direncine sahip iletkenlerden kaç tanesi paralel bağlanırsa eşdeğer direnç 0,5 ohm olur?
  - A) 7
  - B) 8
  - C) 9
  - D) 10
10. Herbiri 5 ohm dirence sahip 5 iletken seri bağlandığında eşdeğer direnç kaç ohm olur?
  - A) 15
  - B) 20
  - C) 25
  - D) 30

11. Elektrik akımı taşıyan bir tel manyetik alana konulduğunda, manyetik alan tele bir kuvvet uygular.

**Buna göre, aşağıdakilerden hangisi bu kuvveti etkilemez?**

- A) Telin kesiti  
B) Akımın büyüklüğü  
C) Manyetik alanın büyüklüğü  
D) Telin uzunluğu

12. I. İçinden elektrik akımı geçen bir telin etrafında teli merkez kabul eden manyetik alan çizgileri oluşur.  
II. Bir telden geçen akım arttıkça, manyetik alan artar.  
III. İçinden elektrik akımı geçen bir telden uzaklaştıkça manyetik alan artar.

**Manyetik alanla ilgili yukarıdaki ifadelerden hangileri doğrudur?**

- A) I ve II  
B) I ve III  
C) II ve III  
D) I, II ve III

13. I. Bir mıknatısın iki kutbu vardır.  
II. Manyetik alan bir vektör yardımıyla gösterilmez  
III. Dünya'ya gelen zararlı ışınlar, dünyanın etrafındaki manyetik alan tarafından geçirilmez.

**Manyetik alanla ilgili yukarıdaki ifadelerden hangileri doğrudur?**

- A) Yalnız I  
B) Yalnız II  
C) Yalnız III  
D) I ve III

14. **Dirençle ilgili aşağıdaki ifadelerden hangisi yanlıştır?**

- A) Bir iletkenin yalnızca boyu iki katına çıkarsa direnci de iki katına çıkar.  
B) Bir iletkenin yalnızca kesiti üç katına çıkarsa direnci de üç katına çıkar.  
C) Maddenin öz direnci ayırtedici özelliğidir.  
D) Bir iletkenin yalnızca kesit alanı yarıya indirilirse direnci de iki katına çıkar.

15. **Devrelerle ilgili aşağıdaki ifadelerden hangisi yanlıştır?**

- A) Seri bağlanmış lambaların olduğu devrede lamba sayısı artırılırsa, parlaklık azalır.  
B) Seri bağlı lambalardan biri patlarsa, devreden akım geçmeye devam edecektir.  
C) Seri bağlı lambalardan geçen akımı düşürmek için lamba sayısı artmalıdır.  
D) Devreye akım veren pilin elektromotor kuvveti azaltılırsa lambalar daha sönük yanacaktır.

16. **Periyodu 0,05 saniye, dalgaboyu 5 metre olan bir dalganın yayılma hızı kaç m/s'dir?**

- A) 50  
B) 80  
C) 100  
D) 120

17. **Aşağıdakilerden hangisi boşlukta yayılmaz?**

- A) Mikro dalga  
B) Görünür ışık  
C) Radyo dalgaları  
D) Ses dalgaları

18. **Işık  $9 \cdot 10^9$  metrelik bir uzunluğu kaç saniyede alır? ( $c=3 \cdot 10^8$  km/s)**

- A) 20  
B) 30  
C) 40  
D) 50

19. **Bir dalga kaynağı her 30 saniyede 120 periyodik tam dalga üretiyor. Dalgaların yayılma hızı 80 m/s ise oluşan dalgalarda arka arkaya iki dalga tepesi arasındaki uzaklık kaç metredir?**

- A) 10  
B) 15  
C) 20  
D) 25

20. **Dalgaboyu 100 m ve yayılma hızı 50 m/s olan bir dalganın frekansı kaç  $s^{-1}$  dir?**

- A) 0,25  
B) 0,5  
C) 1  
D) 1,5

1. Aşağıdakilerden hangisi birden fazla dişi organ ve çiçek tablasından gelişen meyvelerden biridir?

- A) Armut
- B) Kiraz
- C) Erik
- D) Çilek

2. İnsanda yumurta hücresi nerede meydana gelir?

- A) Uterusta
- B) Ovaryumlarda
- C) Fallop borusunda
- D) Vajinada

3. İnsan beyninde dişi ve erkek üreme sisteminin kontrolünü sağlayan bölüm aşağıdakilerden hangisidir?

- A) Beyincik
- B) Omurilik soğanı
- C) Hipofiz bezi
- D) Sağ lob

4. Çiçekli bitkilerde dişi üreme organı aşağıdakilerden hangisidir?

- A) Stamen
- B) Pistil
- C) Anter
- D) Filament

5. Aşağıdakilerden bitkilerden hangisi iki evcikliidir?

- A) Fındık
- B) Çam
- C) Söğüt
- D) Ceviz

6. Aşağıdakilerden hangisi insanda erkek üreme sistemini oluşturan organlardan biri değildir?

- A) Üretra
- B) Skrotum
- C) Uterus
- D) Epididimis

7. Aşağıdakilerden hangisi tohumu oluşturan yapılardan biri değildir?

- A) Tepecik
- B) Tohum kabuğu
- C) Endosperm
- D) Embriyo

8. Çiçekli bitkilerde erkek üreme organı aşağıdakilerden hangisidir?

- A) Pistil
- B) Filament
- C) Stamen
- D) Anter

9. Kadınlarda menstrual döngü yaklaşık kaç gündür?

- A) 24
- B) 28
- C) 36
- D) 40

10. Aşağıdakilerden hangisi insanda dişi üreme sistemini oluşturan organlardan biri değildir?

- A) Ovaryum
- B) Uterus
- C) Üretra
- D) Fallop borusu

11. Embriyonik tabakalar olan ektoderm, endoderm ve mezodermden organ sistemlerinin geliştiği evre aşağıdakilerden hangisidir?

- A) Segmentasyon
- B) Blastula
- C) Gastrula
- D) Organogenez

12. Aşağıdakilerden hangisi bitki büyüme ve gelişmesine etki eden çevresel faktörlerden biri değildir?

- A) Oksinler
- B) Işık
- C) Sıcaklık
- D) Su ve nem

13. Bitkide büyüme ve gelişme için uygun sıcaklık, genellikle kaç °C 'lik aralıkta yer alır?

- A) 0 - 30
- B) 0 - 40
- C) 5 - 45
- D) 10 - 50

14. Yumurtadan çıkan bir canlının ergin oluncaya kadar geçirmiş olduğu değişim evrelerine ne ad verilir?

- A) Büyüme
- B) Bölünme
- C) Yenilenme
- D) Başkalaşım

15. Sinir sisteminin geliştiği, beyin omurilik ve duyu organlarının oluştuğu evre aşağıdakilerden hangisidir?

- A) Organogenez
- B) Nörolasyon
- C) Segmentasyon
- D) Gastrulasyon

16. Organ taslakları oluşmuş embriyoya ne ad verilir?

- A) Fetüs
- B) Zigot
- C) Gamet
- D) Plasenta

17. İnsanda döllenmeden sonra, 90. günde embriyonel gelişim ne durumdadır?

- A) Ana vücuduna bağlanır.
- B) Nörolasyon gerçekleşir.
- C) Sinir sistemi ve kan damarları gelişmeye başlar.
- D) Bütün organ sistemleri oluşur.

18. Canlı organizma tarafından çeşitli nedenlerle kopan veya yaralanan vücut parçalarının ve organlarının yenilenmesine ne ad verilir?

- A) Rejenerasyon
- B) Metamorfoz
- C) Nörolasyon
- D) Blastula

19. Memelilerde embriyonun korunmasını, beslenmesini, solunumunu ve boşaltımını sağlayan özel yapıya ne ad verilir?

- A) Yumurtalık
- B) Rahim
- C) Vajına
- D) Plasenta

20. Aşağıdaki organlardan hangisi ektodermden meydana gelir?

- A) Omurilik
- B) Pankreas
- C) Kalp
- D) Akciğer

1. Aşağıdakilerden hangisi Sevr Antlaşması'nın maddelerinden biri değildir?  
A) Osmanlı ordusunda ağır silahlar bulunmasının yasaklanması  
B) Azınlıklara geniş haklar verilmesinin kabul edilmesi  
C) Kapitülasyonların kaldırılmasının kabul edilmesi  
D) Osmanlı maliyesinin denetimi, galip devletlerce oluşturulacak komisyona verilmesi
2. Aşağıdakilerden hangisi Balkan Antantı'na katılan devletlerden biri değildir?  
A) Türkiye  
B) Yunanistan  
C) İran  
D) Yugoslavya
3. Türkiye'nin Atatürk Döneminde üye olduğu uluslararası kuruluş aşağıdakilerden hangisidir?  
A) Milletler Cemiyeti  
B) Birleşmiş Milletler  
C) Avrupa Konseyi  
D) Bağdat Paketi
4. Birinci Dünya Savaşı sonunda İtilaf devletleriyle Bulgaristan arasında yapılan barış antlaşması aşağıdakilerden hangisidir?  
A) Saint Germain (Sen-Jermen)  
B) Versailles (Versay)  
C) Neuilly (Nöyyi)  
D) Trianon (Triyanon)
5. Aşağıdakilerden hangisi Paris Konferansı etkileyen ve yönlendiren devletlerden biri değildir?  
A) İngiltere  
B) Almanya  
C) Fransa  
D) İtalya
6. Türkistan Milli Birliğinin kurucusu ve ilk başkanı aşağıdakilerden hangisidir?  
A) Fuat Köprülü  
B) A. Zeki Velidi Togan  
C) Rıza Nur  
D) Hamdullah Suphi
7. Japonya'nın Pearl Harbour saldırısı sonucunda II. Dünya Savaşı'na giren devlet aşağıdakilerden hangisidir?  
A) ABD  
B) Almanya  
C) İtalya  
D) Fransa
8. Aşağıdakilerden hangisi İtalya'yı Habeşistan'ın işgali konusunda harekete geçiren nedenlerden biri değildir?  
A) 1931'de Japonya'nın Mançurya'ya saldırması  
B) Almanya'nın Versay şartlarından kurtulma girişimlerine İngiltere ve Fransa'nın tepkisiz kalması  
C) Habeşistan'ın doğal zenginliklere sahip olması  
D) Almanya'nın Locarno Antlaşması'nı feshetmesi
9. Dünyanın en güçlü savunma hattı olması amacıyla 1930'larda Maginot Hattı'nı oluşturan devlet aşağıdakilerden hangisidir?  
A) Almanya  
B) İtalya  
C) Japonya  
D) Fransa
10. Asya'daki faaliyetlerinde serbest kalmak amacıyla 1933'te Milletler Cemiyeti'nden, 1934'te Washington Antlaşmasından çekilen devlet aşağıdakilerden hangisidir?  
A) İtalya  
B) Japonya  
C) İngiltere  
D) Fransa

11. II. Dünya Savaşı'nın sonlarına doğru gelecekteki barışın esaslarını saptamak amacıyla Roosevelt, Churchill ve Stalin arasında 4-11 Şubat 1945'te düzenlenen konferans aşağıdakilerden hangisidir?

- A) Paris Barış Konferansı
- B) San Remo Konferansı
- C) Moskova Konferansı
- D) Yalta Konferansı

12. II. Dünya Savaşı'nda Müttefik Devletler tarafında yer alan devlet aşağıdakilerden hangisidir?

- A) Fransa
- B) İtalya
- C) Almanya
- D) Japonya

13. II. Dünya Savaşı sırasında Benito Mussolini aşağıdaki hangi devletin lideridir?

- A) İtalya
- B) Almanya
- C) Fransa
- D) ABD

14. Aşağıdakilerden hangisi Varşova Paktı'nın kurulmasında imza atan ülkelerden biri değildir?

- A) SSCB
- B) Polonya
- C) ABD
- D) Romanya

15. Faşizm ve Nazizm gibi ırkçı akımların etkisini ortadan kaldıran savaş aşağıdakilerden hangisidir?

- A) Otuz Yıl Savaşı
- B) Trablusgarp Savaşı
- C) I. Balkan Savaşı
- D) II. Dünya Savaşı

16. Türkiye NATO'ya hangi yılda üye olmuştur?

- A) 1927
- B) 1935
- C) 1945
- D) 1952

17. Hindistan Bağımsızlık Hareketi'nin siyasi ve ruhani lideri aşağıdakilerden hangisidir?

- A) Neville Chamberlain
- B) Mahatma Gandhi
- C) Winston Churchill
- D) Franklin Roosevelt

18. I. Dünya Savaşı sırasında Almanya'nın üzerinde bulunduğu toprakların Alman ırkına yeterli gelmeyeceğine ilişkin mevcut fikrin, Hitler tarafından Almanya'nın Avrupa'da yayılma politikasının bir gerekçesi olarak kabul edilmesi sonucunda ortaya çıkan kavram aşağıdakilerden hangisidir?

- A) Hayat Sahası
- B) Yatıştırma Politikası
- C) Mekik Diplomasisi
- D) Soğuk Savaş

19. 24 Mart 1959'da Irak'ın Bağdat Paktından çekilmesi üzerine paktın merkezi aşağıdaki yerlerden hangisi olmuştur?

- A) Tebriz
- B) Londra
- C) Ankara
- D) Tahran

20. 1948 yılında Demokrat Partinin iktidara karşı muhalefeti yetersiz bularak bu partiden istifa eden milletvekillerinin kurduğu siyasi parti aşağıdakilerden hangisidir?

- A) Adalet Partisi
- B) Millet Partisi
- C) Cumhuriyet Halk Partisi
- D) Serbest Cumhuriyet Partisi

1. Aşağıdakilerden hangisi Hristiyanlık ve İslamiyet'in ittifak ettiği hususlardan biri değildir?

- A) Hz. İsa'nın annesi Meryem'dir.
- B) Hz. İsa çarmıha gerilerek öldürülmüştür.
- C) Ahiret hayatında ceza ve mükâfat vardır.
- D) Hristiyanlık havariler yoluyla yayılmıştır.

2. Aşağıdakilerden hangisi dinin insana sağladığı faydalardan biri değildir?

- A) Sınırsız bir özgürlük sağlaması
- B) Ölümle yok olma endişesini gidermesi
- C) Anlam anlayışına cevap vermesi
- D) İnsanın kendine olan güvenini artırması

3. "Yoga" aşağıdaki dinlerin hangisinde önemli bir kavramdır?

- A) Taoizm
- B) Hinduizm
- C) Zerdüştlük
- D) Şintoizm

4. I. Tanrı inancının olması  
II. Ölüm ötesiyle ilgili görüşünün olması  
III. İnananlarının belli sorumluluklarının olması

**Yukarıdakilerden hangileri bir inancın din sayılabilmesi için gerekli unsurlardır?**

- A) Yalnız I
- B) Yalnız III
- C) II ve III
- D) I, II ve III

5. I. Hz. Muhammed'in yakınlarını tevhide çağırması  
II. Hz. Muhammed'e Alak suresinin ilk beş ayetinin inmesi  
III. Müslümanların bir kısmının Habeşistan'a göç etmesi  
IV. Hz. Muhammed'in Taife gitmesi

**Yukarıdaki olayların kronolojik sıralaması aşağıdakilerin hangisinde doğru olarak verilmiştir?**

- A) I - II - III - IV
- B) II - I - III - IV
- C) II - IV - I - III
- D) III - IV - I - II

6. İkel kabile dinleri ile ilgili aşağıdaki ifadelerden hangisi yanlıştır?

- A) Yüce bir tanrı inancına rastlanmaz.
- B) Genellikle yazılı kaynakları yoktur.
- C) Peygamber ve kutsal kitap inancı yoktur.
- D) Bir bölgeye veya bir kabileye aittir.

7. Aşağıdakilerden hangisi Hristiyan mezheplerinden biri değildir?

- A) Protestanlık
- B) Nuhilik
- C) Ortodoksluk
- D) Monofizit Anglikan

8. Kelime olarak karara bağlama, emretme, yerine getirme, yargılama gibi anlamlara gelen kavram aşağıdakilerden hangisidir?

- A) Kader
- B) Ecel
- C) Ba's
- D) Kaza

9. "Eğer yerde ve gökte Allah'tan başka tanrılar olsaydı, her ikisi de bozulup gitmişti." (Enbiyâ suresi 22. ayet)

**Yukarıdaki ayet hangi prensibin zorunluluğunu ifade eder?**

- A) İmanın
- B) İbadetin
- C) Tevhidin
- D) Ahlâkın

10. "Peygamber, Rabbi tarafından kendisine indirilene iman etti, müminler de (iman ettiler)..." (Bakara suresi 285. Ayet)

**Yukarıdaki ayet imanın şartlarından hangisine işaret etmektedir?**

- A) Allah'a imana
- B) Meleklerle imana
- C) Peygamberlere imana
- D) Kitaplara imana

11. Aşağıdaki sıfatlardan hangisi sadece Allah'a mahsustur?

- A) İlim
- B) Kudret
- C) Kıdem
- D) Tekvin

12. "Yaratılmışı hoş gör, yaratandan ötürü" (Yunus Emre)

**Bu sözü kendisine ilke edinen bir kişiden aşağıdaki davranışlardan hangisini yapması beklenir?**

- A) Kötülere merhamet etmesi
- B) Canlılara eziyet etmesi
- C) Başkalarını çekiştirmesi
- D) İnsanları küçümsemesi

13. Yüce Allah'ın dilediğini yapması anlamına gelen sıfatı aşağıdakilerden hangisidir?

- A) Kıdem
- B) İrade
- C) Basar
- D) Beka

14. Tabiat olaylarının oluşumu ve rızıkların dağıtımı ile görevli olan melek aşağıdakilerden hangisidir?

- A) Cebrail
- B) İsrail
- C) Mikail
- D) Azrail

15. Gerekteğinde teyemmüm abdesti almanın hükmü aşağıdakilerden hangisidir?

- A) Vacip
- B) Sünnet
- C) Müstehap
- D) Farz

16. Aşağıdakilerden hangisi ibadetin ilkelerinden biri değildir?

- A) İbadet, başkalarının zoruyla da olsa mutlaka yapılmalıdır.
- B) İbadet, içtenlikle yapılmalıdır.
- C) İbadet, hür iradeyle isteyerek yapılmalıdır.
- D) İnsan ibadetlerini Allah rızası için yapmalı, karşılığını O'ndan beklemelidir.

17. Allah'a gönülden isteyerek yönelmeye, boyun eğmeye ve kulluk etmeye ne ad verilir?

- A) Ahlak
- B) Din
- C) İbadet
- D) Ayin

18. Yolculuk veya hastalık gibi nedenlerden dolayı ramazan orucunu tutamayanların daha sonra, tutamadıkları gün sayısınca oruç tutmalarına ne ad verilir?

- A) Nafile oruç
- B) Kefaret orucu
- C) Adak orucu
- D) Kaza orucu

19. Farsça bir kelime olan "Abdest" Kur'an'da hangi kavramla ifade edilmiştir?

- A) Vudû
- B) Savm
- C) Salat
- D) Gusül

20. Hacda ihrama giren erkeklerin üzerlerine örttükleri iki parça kumaşın isimleri aşağıdaki seçeneklerin hangisinde birlikte verilmiştir?

- A) Sâbık - Mesbuk
- B) Kudüm - Şavt
- C) İzar - Rıda
- D) Ebrar - Kamıs



1. "Allah bir insanla ancak vahiy yoluyla yahut perde arkasından konuşur. Yahut bir elçi gönderip, izniyle ona dilediğini vahyeder. Şüphesiz O yücedir, hüküm ve hikmet sahibidir." (Şûra suresi, 51. ayet)

**Bu ayette Allah'ın insanlarla iletişim kurma şekillerinden hangisi yer almamıştır?**

- A) Vahiy yoluyla  
B) Rüya yoluyla  
C) Melek aracılığıyla  
D) Perde arkasından

2. **Zebur ile ilgili aşağıdaki ifadelerden hangisi yanlıştır?**

- A) Hz. Davud'a indirilmiştir.  
B) İlk indirilen kitaptr.  
C) Manzum bir metindir.  
D) İbranicedir.

3. **Aşağıdakilerden hangisi Kur'an-ı Kerim'in bozulmadan günümüze kadar ulaşmasının nedenlerinden biri değildir?**

- A) Yazılması  
B) Ezberlenmesi  
C) Hz. Peygamberin Kur'an'ı bir kitap hâline getirmesi  
D) Allah'ın Kur'an'ı koruyacağını vadedmesi

4. **Kur'an'da yer alan en uzun sure aşağıdakilerden hangisidir?**

- A) Bakara  
B) Nas  
C) Fatiha  
D) Kevser

5. **Matta, Markos, Luka ve Yuhanna İncil'leri hangi konsülde kutsal kabul edilmiştir?**

- A) İstanbul  
B) Efes  
C) İznik  
D) Kadıköy

6. **Tefsir ilmi ile uğraşan ilim adamına ne ad verilir?**

- A) Müçtehit  
B) Mütellim  
C) Müceddit  
D) Müfessir

7. **Aşağıdakilerden hangisi "hüzün yılı"nda vefat etmiştir?**

- A) Ebu Talib  
B) Hz. Hamza  
C) Abdülmuttalib  
D) Zeyd b. Harise

8. **Hz. Muhammed'in katıldığı üç büyük savaş tarihsel olarak aşağıdakilerin hangisinde doğru sıralanmıştır?**

- A) Bedir - Hendek - Uhud  
B) Bedir - Uhud - Hendek  
C) Uhud - Bedir - Hendek  
D) Hendek- Uhud - Bedir

9. **Aşağıdakilerden hangisi Hz.Muhammed'in hicretten önce İslam'ı duyurmak için gittiği şehirlerden biridir?**

- A) Medine  
B) Hayber  
C) Şam  
D) Taif

10. **Aşağıdakilerden hangisi Kur'an'da adı geçen peygamberler arasında yer almaz?**

- A) Hz. Yahya  
B) Hz. Şit  
C) Hz. Şuayp  
D) Hz. İlyas

11. **Aşağıdakilerden hangisi Medine'ye hicret etmiş olan Hz. Muhammed ve arkadaşlarının Hicretin 6. Yılında Umre yapmak üzere Mekke yakınlarına geldiklerinde gerçekleşmiş bir olaydır?**

- A) Akabe Görüşmesi  
B) İsrâ-Miraç Hadisesi  
C) Hudeybiye Antlaşması  
D) Orucun farz kılınması

12. Aşağıdakilerden hangisi ahlâki görevlerimiz arasında yer almaz?

- A) Ana babaya iyi davranmak
- B) Komşulara yardım etmek
- C) Hacca gitmek
- D) İnsanlarla iyi geçinmek

13. İslam ahlâkının kaynağı aşağıdakilerden hangisidir?

- A) Örf ve adet
- B) Kur'an ve sünnet
- C) Kültürel miras
- D) Akıl ve tecrübe

14. Kur'an'da, inançsızların en belirgin özelliği olarak geçen sıfat aşağıdakilerden hangisidir?

- A) Kıskançlık
- B) Yalancılık
- C) Dedikoduculuk
- D) Kibir

15. "Ey iman edenler! Adaleti titizlikle ayakta tutun, kendiniz, ana-babanız ve yakınlarınız aleyhinde de olsa Allah için doğrulukla şahitlik eden kimselerden olun. İster zengin, ister yoksul olsunlar, Allah onlara sizden daha yakındır. Hislerinize uyup adaletten sapmayınız." (Nisâ suresi 135. Ayet)

**Bu ayete göre aşağıdaki ifadelerden hangisi doğrudur?**

- A) Ana-baba aleyhinde şahitlik yapılmamalıdır.
- B) Verilen kararlar yoksulların lehine olmalıdır.
- C) Kişi şahitlik ederken doğruluktan ayrılmamalıdır.
- D) Kararlar, kişilerin konumlarına göre verilmelidir.

16. Kişinin hak, yetki ve sorumluluklarının bilincinde olmasına ne ad verilir?

- A) Fıkıh
- B) Tefsir
- C) Hadis
- D) Farz

17. Katip Çelebi, İbn Batuda ve Evliya Çelebi gibi isimler hangi alanda meşhur olan kişilerdir?

- A) Tarih
- B) Matematik
- C) Optik
- D) Coğrafya

18. Aşağıdakilerden hangisi tarih alanında eserleri olan Müslüman bilim adamlarından biri değildir?

- A) Kindî
- B) İbn Haşim
- C) İbn İshak
- D) Vahidî

19. Aşağıdakilerden hangisi İslam Tarihi'nin konularından biri değildir?

- A) İslam düşünce ekollerinin tarihini incelemek
- B) İslam dininin konularını incelemek
- C) Müslüman milletlerin tarihini incelemek
- D) Hz. Peygamber'in hayatını incelemek

20. Tıp ilmine katkılarında dolayı Paris Üniversitesi Tıp Fakültesi'nde büstü bulunan Müslüman alim kimdir?

- A) Cabir b. Hayyam
- B) İbn-i Rüşd
- C) Farabi
- D) İbn-i Sina

1. **Kâr ve riski başkalarının olmak üzere, insanların ihtiyaçlarını karşılamak amacıyla mal ve hizmet üretimi için üretim faktörlerini bir araya getirip birleştiren ve işletmeyi çalıştırma sorumluluğu olan kişiye ne ad verilir?**
  - A) Muhasebeci
  - B) Yönetici
  - C) Girişimci
  - D) Mühendis
2. **Aşağıdakilerden hangisi Maslow'un ihtiyaçlar hiyerarşisinde statü ve saygınlık ihtiyacı kapsamında yer almaz?**
  - A) Başarı ile övünmek
  - B) Bir gruba ait olmak
  - C) Başarının başkaları tarafından takdir edilmesi
  - D) Rekabet edebilmek
3. **Aşağıdakilerden hangisi ihtiyaçların sınıflandırılmasında birincil ihtiyaçlar arasında yer almaz?**
  - A) Yemek yemek
  - B) Su içmek
  - C) Uyumak
  - D) Tiyatroya gitmek
4. **İşletmenin amacına ve üretim faaliyetine uygun olarak toplanmış maddi ve gayri maddi varlıkların tümüne ne ad verilir?**
  - A) Mal
  - B) Sermaye
  - C) Hammadde
  - D) Stok
5. **Araştırmacı ve elde ettiği bilgileri iyi bir süzgeçten geçirebilen, sonuçları iyi değerlendirip neden sonuç ilişkilerini rahatlıkla kurabilen, analitik, çözümünü anında geliştiren, yaratıcı, iletişime açık ve bilgilerini paylaşmayı bilen; karar mekanizmalarında öncü olabilen kişiye ne ad verilir?**
  - A) Yönetici
  - B) Yetkili
  - C) Lider
  - D) Kurmay
6. **Aşağıdakilerden hangisi işletmenin genel amaçları içinde yer almaz?**
  - A) Kâr elde etmek
  - B) Personeline yeterli ücret vermek
  - C) Topluma hizmet etmek
  - D) İşletmenin varlığını devam ettirmek
7. **İşletmelerin belli bir dönem içinde elde ettiği gelirler ile aynı dönem içinde katlandığı giderler arasındaki olumlu farka ne ad verilir?**
  - A) Faiz
  - B) Zarar
  - C) Kâr
  - D) Fon
8. **İnsanlar arasındaki benzerlik ve farklılıkları göz önüne alarak insanları karşılaştırmalı olarak inceleyen bilim dalı aşağıdakilerden hangisidir?**
  - A) Antropoloji
  - B) Psikoloji
  - C) Hukuk
  - D) İstatistik
9. **Aşağıdakilerden hangisi yabancı sermayeli işletmeler arasında yer almaz?**
  - A) 4875 sayılı Doğrudan Yabancı Yatırımlar Kanununa göre kurulan işletmeler
  - B) 6326 sayılı Petrol Kanununa göre kurulan işletmeler
  - C) 1567 sayılı Türk Parasının Kıymetini Koruma Hakkında Kanuna göre kurulan işletmeler
  - D) 233 sayılı Kanun Hükmünde Karamame ile kurulan Kamu İktisadi Teşebbüsleri
10. **Tüzel kişiliği haiz olmak üzere ortaklarının belirli ekonomik menfaatlerini ve özellikle meslek veya geçimlerine ait ihtiyaçlarını işgücü ve parasal katkılarıyla karşılıklı yardım, dayanışma ve kefalet suretiyle sağlayıp korumak amacıyla gerçek ve tüzel kişiler tarafından kurulan değişir ortaklı ve değişir sermayeli ortaklıklara ne ad verilir?**
  - A) Kooperatif
  - B) Vakıf
  - C) Dernek
  - D) Kulüp

11. Aşağıdakilerden hangisi sermaye şirketlerinin üstünlüklerinden biridir?

- A) Kurulmasının zor ve masraflı olması
- B) Sermayesinin tamamının devlete ait olması
- C) Ortaklık paylarının kolaylıkla devredilebilmesi
- D) Şirket yönetiminin zaman içerisinde belli bir grubun eline geçebilmesi

12. Gerçek veya tüzel kişilerin yeterli mal ve hakları belirli ve sürekli bir amaca özgülemeleriyle oluşan tüzel kişiliğe sahip mal topluluklarına ne ad verilir?

- A) Dernek
- B) Vakıf
- C) Kooperatif
- D) Kulüp

13. Aşağıdakilerden hangisi şahıs şirketlerinin özelliklerinden biridir?

- A) Her ortağın farklı oy hakkının olması
- B) Ortaklığın devrinin kolay olması
- C) En az 7 ortak tarafından imzalanan ana sözleşmeyle kurulması
- D) Şirket sözleşmesinin oy birliği ile değişmesi

14. Sermayesi belirli ve paylara bölünmüş olan, borçlarından dolayı yalnız mal varlığıyla sorumlu bulunan şirkete ne ad verilir?

- A) Limitet şirket
- B) Komandit şirket
- C) Anonim şirket
- D) Kollektif şirket

15. Aşağıdakilerden hangisi sermaye şirketleri arasında yer almaz?

- A) Sermayesi paylara bölünmüş komandit şirket
- B) Limitet şirket
- C) Anonim şirket
- D) Kollektif şirket

16. Malullük, yaşlılık ve ölüm sigortaları ile vazife malullüğü halinde yapılan sürekli ödemeye ne ad verilir?

- A) Aylık
- B) Faiz
- C) Kâr
- D) Rant

17. Belirli sosyal risklerin yol açabileceği gelir kayıpları ve gider artışlarına karşı kişilerin güvenliklerinin sağlanmasına ne ad verilir?

- A) Siber güvenlik
- B) İş güvenliği
- C) Özel güvenlik
- D) Sosyal güvenlik

18. Çok sıcak yerlerde faaliyet gösteren işletmelerin soğutulmasının ek harcamalar gerektirmesi durumunda işletmenin dikkate alması gereken kuruluş yeri faktörü aşağıdakilerden hangisidir?

- A) İklim koşulları
- B) Atıkların atılması
- C) Enerji ve yakıt
- D) Taşıma

19. Çabuk bozulan mallar üreten işletmeler için önemli olan kuruluş yeri faktörü aşağıdakilerden hangisidir?

- A) Pazara yakınlık
- B) İşgücü
- C) Yerel yönetim imkânları
- D) Atıkların atılması

20. Bir termik santralin kömür yataklarına yakın yerlere kurulması durumunda kuruluş yeri seçimini etkileyen faktör aşağıdakilerden hangisidir?

- A) Taşıma
- B) Pazara yakınlık
- C) Hammadde
- D) İşgücü

1. “Uçan halı vardır.” önermesi varlık mantığında nasıl sembolleştirilir?  
 A)  $a = a$   
 B)  $E! a$   
 C)  $\Box p$   
 D)  $a \equiv b$
2. Aşağıdakilerden hangisi mantık felsefesinin amaçlarından biri değildir?  
 A) Mantığı gözlem ve deneye dayandırmanın yollarını araştırmak  
 B) Mantığın kavramlarını sorgulamak  
 C) Mantığın ilkelerini sorgulamak  
 D) Mantık değişmezleri ile ilgili sorunları araştırmak
3. “İnsanlar paylaşmayı severlerse rahat diyalog kurarlar hem de dürüst ilişkiler yaşarlar.” önermesinde kaç tane önerme eklemi ve bileşen kullanılmıştır?  
 A) Bir önerme eklemi, bir bileşen  
 B) Üç önerme eklemi, bir bileşen  
 C) İki önerme eklemi, üç bileşen  
 D) Dört önerme eklemi, dört bileşen
4. Doğruluğu açıkça belli olan önermelere ne ad verilir?  
 A) Eşitlik  
 B) Aksiyom  
 C) Tutarlılık  
 D) Tanım
5. Kiplik mantığına göre, “üç artı altının dokuz etmesi zorunludur ama ısınan havanın yükselmesi mümkündür.” önermesinin sembolleştirilmiş hali aşağıdakilerden hangisidir?  
 A)  $\Box p \rightarrow \Diamond p$   
 B)  $\Diamond p \wedge \Box q$   
 C)  $\Diamond p \leftrightarrow \Box q$   
 D)  $\Box q \wedge \Diamond p$
6. Aşağıdaki önermelerden hangisi geçerlidir?  
 A)  $\exists xGx \wedge \exists xHx$   
 B)  $\forall xFx \vee \sim \forall xFx$   
 C)  $\forall xFx \vee \forall xGx$   
 D)  $\sim (\exists xGx \rightarrow \forall xGx)$
7. “Ceren sevimli ve akıllıdır.” önermesi nicleme mantığında nasıl sembolleştirilir?  
 A)  $\forall xFx$   
 B)  $Fa \Rightarrow Ga$   
 C)  $\exists x \wedge Ga$   
 D)  $Fa \wedge Ga$
8. Aşağıdaki önermelerden hangisi p:Yanlış, q:Yanlış kabul edildiğinde “Doğru” değerini alır?  
 A)  $\sim p \Rightarrow q$   
 B)  $p \vee q$   
 C)  $p \wedge q$   
 D)  $p \Leftrightarrow q$
9. “Kar yağarsa okullar tatil olmaz.” önermesi, önermeler mantığında nasıl sembolleştirilir?  
 A)  $p \Rightarrow \sim q$   
 B)  $q \Rightarrow p$   
 C)  $\sim p \Rightarrow q$   
 D)  $p \Leftrightarrow \sim q$
10. Aşağıdaki önermelerden hangisi ikili yüklemli bir önermedir?  
 A) Orhan ile Ahmet arkadaştır.  
 B) Mustafa, Taner ile Semih'ten uzundur.  
 C) Özlem başarılıdır.  
 D) Fuat, piyano çalar.
11. “Ya kilo alacaksın ya da az yemek yiyeceksin.” önermesi, önermeler mantığında nasıl sembolleştirilir?  
 A)  $p \wedge q$   
 B)  $p \Rightarrow q$   
 C)  $p \Leftrightarrow q$   
 D)  $p \vee q$

12. Üç değerli mantığa göre aşağıdakilerden hangisi doğrudur?

- A) p "belirsiz" ve q "belirsiz" ise,  $p \rightarrow q$  "belirsiz" olur.
- B) p "doğru" ve q "belirsiz" ise  $p \rightarrow q$  "yanlış" olur.
- C) p "belirsiz" ve q "belirsiz" ise  $p \wedge q$  "yanlış" olur.
- D) p "yanlış" ve q "yanlış" ise,  $q \vee q$  "yanlış" olur.

13. Aşağıdaki önermelerden hangisi sembolik mantıkta bileşik bir önermedir?

- A) Mehmet çok çalışkandır.
- B) Bütün insanlar akıllıdır.
- C) Mozart filozof değildir.
- D) Zeynep yaşlıdır.

14.  $p \vee q$  önermesinin eşdeğeri olan önerme aşağıdakilerden hangisidir?

- A)  $p \Rightarrow q$
- B)  $\sim (\sim p \wedge \sim q)$
- C)  $p \Leftrightarrow q$
- D)  $p \wedge q$

15. Kiplik mantığına göre aşağıdaki önermelerden hangisi bütün mümkün dünyalarda yanlıştır?

- A) Anıtkabir Ankara'dadır veya Anıtkabir Ankara'da değildir.
- B) Altın sarı değildir.
- C) Menekşe mordur ve menekşe mor değildir.
- D) Dikdörtgen dört kenarlıdır.

16. Aşağıdaki önerme çiftlerinden hangisi birbirleriyle tutarlıdır?

- A)  $\forall xFx, \sim Fa$
- B)  $\sim \exists xFx, Fa$
- C)  $\exists xGx, \exists x \sim Gx$
- D)  $Ga, \sim Ga$

17. Aşağıdaki önermelerden hangisi bir tautolojidir?

- A)  $p \Rightarrow p$
- B)  $p \vee p$
- C)  $p \wedge \sim p$
- D)  $\sim p \Leftrightarrow p$

18. Aksiyomlardan türetilmiş olan önermelere ne ad verilir?

- A) Teorem
- B) Teori
- C) Tam tümevarım
- D) Eksik tümevarım

19.  $\sim \exists xGx$  önermesinin eşdeğeri aşağıdakilerden hangisidir?

- A)  $\sim \forall xGx$
- B)  $\exists xGx$
- C)  $\forall x \sim Gx$
- D)  $\sim \exists x \sim Gx$

20. Önerme ile ilgili aşağıdaki ifadelerden hangisi doğrudur?

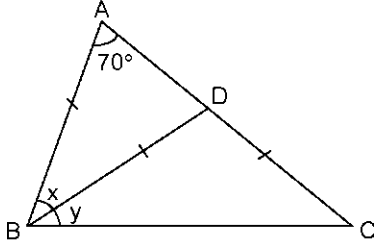
- A) Bir önermenin tutarlı olabilmesi için doğruluk tablosundaki tüm yorumlamaların doğru olması gerekir.
- B) Bir önermenin doğruluk tablosundaki tüm yorumlamaları yanlışsa önerme tutarsızdır.
- C) Her tutarlı önerme geçerlidir.
- D) Her tutarsız önerme geçerlidir.

## GEOMETRİ 4

A

2014 III.DÖNEM 0103-A

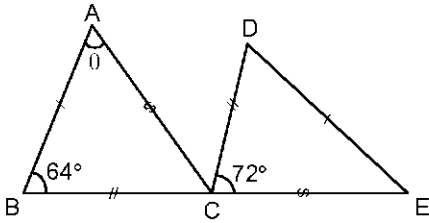
1.



Yukarıdaki  $ABC$  üçgeninde,  $|AB|=|BD|=|DC|$ ,  $m(\widehat{BAC}) = 70^\circ$ ,  $m(\widehat{ABD}) = x$  ve  $m(\widehat{DBC}) = y$  olduğuna göre,  $x-y$  farkı kaç derecedir?

- A) 5
- B) 10
- C) 12
- D) 15

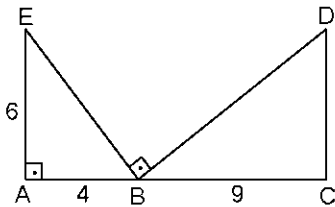
2.



Yukarıdaki şekilde  $|BC|=|CD|$ ,  $|AB|=|DE|$ ,  $|AC|=|CE|$ ,  $m(\widehat{ABE}) = 64^\circ$  ve  $m(\widehat{DCE}) = 72^\circ$  ise  $m(\widehat{BAC}) = \theta$  kaç derecedir?

- A) 36
- B) 40
- C) 44
- D) 46

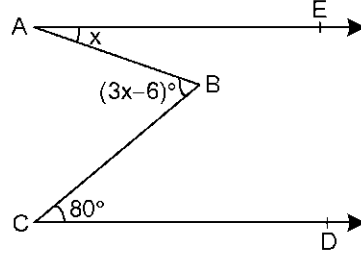
3.



Yukarıdaki şekilde,  $[AE] \parallel [DC]$ ,  $m(\widehat{EAC}) = m(\widehat{EBD}) = 90^\circ$ ,  $|AE| = 6$  cm,  $|AB| = 4$  cm,  $|BC| = 9$  cm olduğuna göre,  $|DC|$  kaç cm dir?

- A) 4
- B) 6
- C) 8
- D) 12

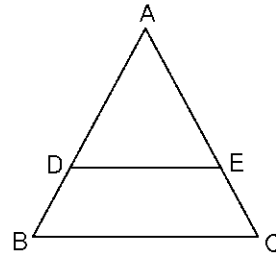
4.



Yukarıdaki şekilde,  $[AE] \parallel [CD]$ ,  $m(\widehat{ABC}) = (3x-6)^\circ$ ,  $m(\widehat{EAB}) = x$  ve  $m(\widehat{BCD}) = 80^\circ$  olduğuna göre,  $x$  açısı kaç derecedir?

- A) 43
- B) 40
- C) 35
- D) 32

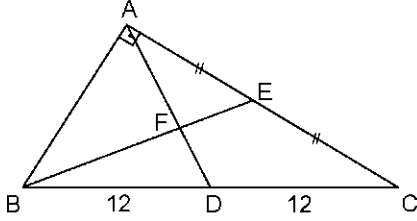
5.



Yukarıdaki şekilde  $[DE] \parallel [BC]$ ,  $|AD| = x+1$  cm,  $|DB| = x-1$  cm,  $|AE| = 6$  cm ve  $|EC| = 4$  cm ise  $|AB|$  kaç cm dir?

- A) 12
- B) 11
- C) 10
- D) 9

6.



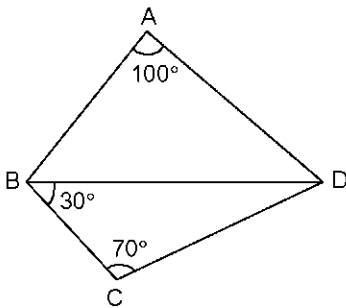
Yukarıdaki şekilde ABC dik üçgen,  $[AD] \cap [BE] = \{F\}$ ,  $[AB] \perp [AC]$ ,  $|BD| = |DC| = 12$  cm olduğuna göre,  $|AF|$  kaç cm dir?

- A) 4
- B) 6
- C) 7
- D) 8

7.  $\frac{a+b}{b} = \frac{2}{3}$  olduğuna göre, a'nın b cinsinden değeri aşağıdakilerden hangisidir?

- A)  $-b/3$
- B)  $-2b$
- C)  $b/2$
- D)  $3b$

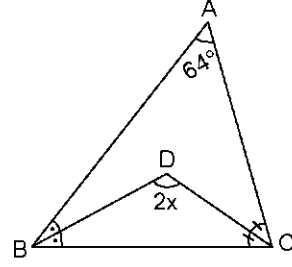
8.



Yukarıdaki şekilde  $m(\widehat{BAD}) = 100^\circ$ ,  $m(\widehat{DBC}) = 30^\circ$  ve  $m(\widehat{BCD}) = 70^\circ$  olduğuna göre, şekildeki en uzun kenar aşağıdakilerden hangisidir?

- A)  $|AB|$
- B)  $|AD|$
- C)  $|BD|$
- D)  $|BC|$

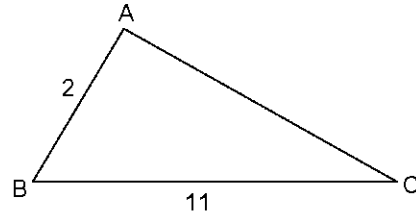
9.



Yukarıdaki ABC üçgeninde,  $[BD]$  ve  $[CD]$  açıortay,  $m(\widehat{BAC}) = 64^\circ$ ,  $m(\widehat{BDC}) = 2x$  olduğuna göre, x açısı kaç derecedir?

- A) 74
- B) 72
- C) 61
- D) 54

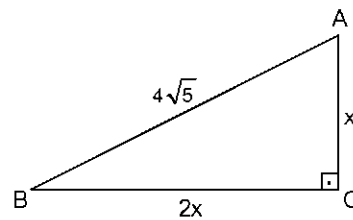
10.



Yukarıdaki ABC üçgeninde,  $|AB| = 2$  cm,  $|BC| = 11$  cm ise,  $|AC|$ 'nin alabileceği tamsayı değerlerinin toplamı kaç cm dir?

- A) 44
- B) 33
- C) 27
- D) 18

11.

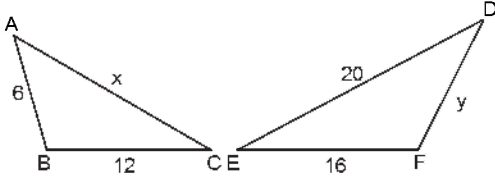


Yukarıdaki ABC dik üçgeninde,  $|AC| = x$  cm,  $|BC| = 2x$  cm ve  $|AB| = 4\sqrt{5}$  cm ise, x kaç cm dir?

- A)  $5/2$
- B) 3
- C)  $7/2$
- D) 4



12.

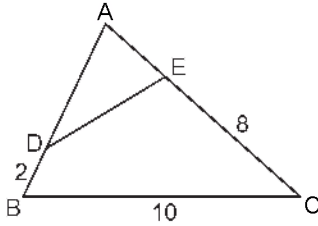


Yukarıdaki şekilde,  $|AB|=6$  cm,  $|BC|=12$  cm,  $|DE|=20$  cm,  $|EF|=16$  cm,  $|AC|=x$ ,  $|DF|=y$ ,

$\triangle ABC \sim \triangle DFE$  olduğuna göre  $x+y$  toplamı kaç cm dir?

- A) 23
- B) 20
- C) 18
- D) 14

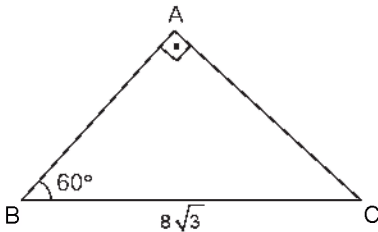
13.



Yukarıdaki ABC üçgeninde,  $|DB|=2$  cm,  $|BC|=10$  cm,  $|EC|=|AB|=2|AE|=8$  cm olduğuna göre,  $|DE|$  kaç cm dir?

- A) 3
- B) 4
- C) 5
- D) 6

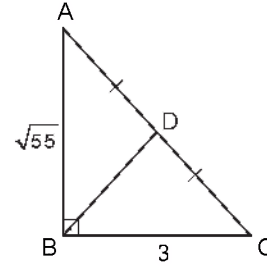
14.



Yukarıdaki ABC dik üçgeninde,  $m(\widehat{ABC})=60^\circ$ ,  $|BC|=8\sqrt{3}$  cm ise,  $|AC|$  kaç cm dir?

- A) 16
- B) 12
- C)  $8\sqrt{3}$
- D) 8

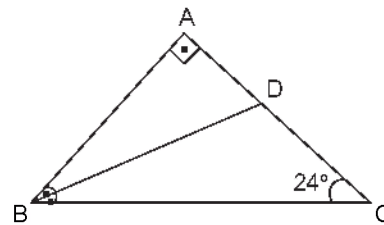
15.



Yukarıdaki ABC dik üçgeninde,  $|AD|=|DC|$ ,  $|AB|=\sqrt{55}$  cm,  $|BC|=3$  cm olduğuna göre,  $|BD|$  kaç cm dir?

- A) 4
- B)  $3\sqrt{2}$
- C)  $2\sqrt{5}$
- D) 5

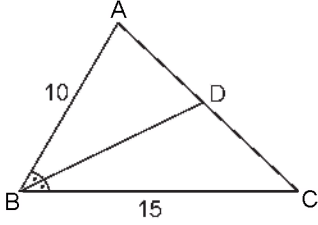
16.



Yukarıdaki şekilde BAC dik üçgen, [BD] açıortay ve  $m(\widehat{ACB})=24^\circ$  olduğuna göre,  $m(\widehat{BDC})$  kaç derecedir?

- A) 136
- B) 130
- C) 124
- D) 123

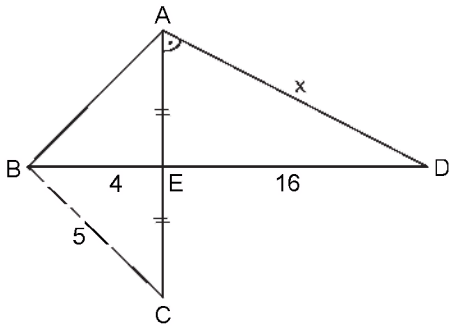
17.



Yukarıdaki ABC üçgeninde, [BD] açıortay,  $|AB|=10$  cm,  $|AC|=20$  cm ve  $|BC|=15$  cm ise,  $|DC|$  kaç cm dir?

- A) 12,5
- B) 12
- C) 10
- D) 9,6

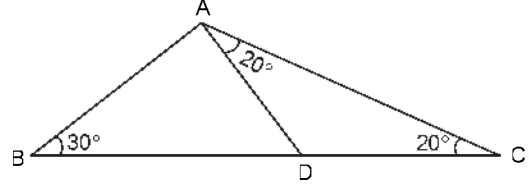
18.



Yukarıdaki şekilde,  $m(\widehat{CAD}) = m(\widehat{CBD})$ ,  $|AE|=|EC|$ ,  $|BE|=4$  cm,  $|BC|=5$  cm ve  $|ED|=16$  cm ise,  $|AD|=x$  kaç cm dir?

- A) 12
- B) 11
- C) 10
- D) 8

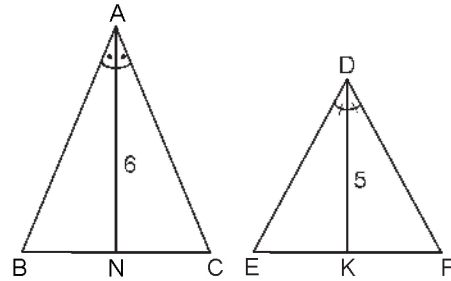
19.



Yukarıdaki ABC üçgeninde,  $m(\widehat{DAC}) = m(\widehat{DCA}) = 20^\circ$  ve  $m(\widehat{ABC}) = 30^\circ$  ise,  $m(\widehat{BAD})$  kaç derecedir?

- A) 110
- B) 100
- C) 90
- D) 80

20.



Yukarıdaki şekilde,  $\triangle ABC \sim \triangle DEF$ , [AN] ve [DK] açıortaylar,  $|AN|=6$  cm,  $|DK|=5$  cm ve  $\text{Alan}(\triangle ABC) = 72$  cm<sup>2</sup> ise,  $\text{Alan}(\triangle DEF)$  kaç cm<sup>2</sup> dir?

- A) 36
- B) 40
- C) 48
- D) 50

## SEÇMELİ TARİH 3

A

2014 III.DÖNEM 0103-A

1. Aşağıdakilerden hangisi I. Kosova Savaşı ile ilgili doğru bir ifade değildir?
  - A) Balkan milletleri (Sırp, Bosna, Arnavutluk kuvvetleri) ittifak kurdu.
  - B) Haçlı ordusu ile Sultan Murat komutasındaki Türk ordusu Kosova Ovası'nda karşılaştı.
  - C) I. Bayezit bir Sırp tarafından hançerlenerek şehit edildi.
  - D) Haçlılar yenildi.
2. İstanbul'u kuşatan ilk Osmanlı padişahı aşağıdakilerden hangisidir?
  - A) Orhan Bey
  - B) I.Murat
  - C) II.Mehmet
  - D) Yıldırım Bayezit
3. 1256 yılında Hülagü Han tarafından İran ve çevresinde kurulan siyasal güç aşağıdakilerden hangisidir?
  - A) İlhanlılar
  - B) Bizans İmparatorluğu
  - C) Moğol İmparatorluğu
  - D) Trabzon İmparatorluğu
4. Osmanlı Devleti'nde Rumeli Hisarı'nı yaptıran padişah aşağıdakilerden hangisidir?
  - A) Osman Bey
  - B) II.Mehmet
  - C) II.Murat
  - D) Orhan Bey
5. Merkezi idarenin zayıflaması sonucu çeşitli eyaletlerde yönetimi ellerinde bulundurup bağımsız hareket etmeye başlayanlar aşağıdakilerden hangisidir?
  - A) Kalfalar
  - B) Şövalyeler
  - C) Köylüler
  - D) Senyörler
6. Aşağıdakilerden hangisi İspanyolların keşifleri ile ilgili doğru bir ifade değildir?
  - A) Hudson Körfezi kıyılarını buldular.
  - B) 1519 yılında Cortes Meksika'yı zapt etti.
  - C) Peru ve çevresinde hakim olan İnka İmparatorluğu yıkıldı.
  - D) Maya ve Aztek medeniyetlerine son verildi.
7. Dünyanın en ünlü ressamlarından Rembrant'ın (Rambrant) eserleri içinde en ünlüsü aşağıdakilerden hangisidir?
  - A) Bir Anatomi Dersi
  - B) La Jocond ( La Jokand)
  - C) Danae
  - D) Pierre Et Paul
8. Orta Çağ sonunda feodalite rejiminin egemenliğini kaybetmediği ülke aşağıdakilerden hangisidir?
  - A) Fransa
  - B) Macaristan
  - C) Almanya
  - D) İspanya
9. Rönesans'ın Eski Yunan ve Roma kültürünün etkisinde gelişerek başladığı yer aşağıdakilerden hangisidir?
  - A) Almanya
  - B) İtalya
  - C) Fransa
  - D) İngiltere
10. Aşağıdakilerden hangisi Avrupa devletlerinin kendi çıkarları doğrultusunda Osmanlı Devleti ile ilgili meseleler için kullandıkları deyimdir?
  - A) Rum Sorunu
  - B) Şark Meselesi
  - C) Ermeni Sorunu
  - D) Boğazlar Meselesi
11. Aşağıdakilerden hangisi Tanzimat döneminde "Genç Osmanlılar" olarak adlandırılan aydınlardan biri değildir?
  - A) Ziya Paşa
  - B) Şinasi
  - C) İbrahim Paşa
  - D) Namık Kemal
12. İlk anayasal faaliyet olan Kanuniesasiye'ye temel teşkil eden akım aşağıdakilerden hangisidir?
  - A) Milliyetçilik
  - B) Türkçülük
  - C) Batıcılık
  - D) Osmanlıcılık

13. Aşağıdakilerden hangisi İngiltere'nin aracılığıyla düzenlenen İstanbul Konferansına katılan devletlerden biri değildir?

- A) Fransa
- B) Rusya
- C) Avusturya
- D) Almanya

14. Londra Konferansı'ndan sonra devletlerarası bir statü kazanan Boğazlar Meselesi aşağıdakilerden hangisi sonucunda ortaya çıkmıştır?

- A) Rusya'nın kendi içinde çıkan ihtilalden dolayı Birinci Dünya Savaşı'ndan çekilmesi
- B) Hünkar İskelesi Antlaşması
- C) 1815 Viyana Kongresi
- D) Karlofça Antlaşması

15. Aşağıdakilerden hangisi 1848 İhtilalleri'nin önemli nedenlerinden biridir?

- A) 1815 Viyana Kongresi ile konfederasyon haline getirilen Almanya'nın buna karşı tepki göstermesi
- B) Varşova büyük Düküğü ve Finlandiya'nın Rusya'ya verilmesi
- C) XIX. yüzyılda sanayideki gelişmeler ile işçi sayısındaki artış ve işçi sınıfı problemlerinin olması
- D) İsveç ve Norveç krallıklarının birleştirilmesi

16. Aşağıdaki antlaşmalardan hangisinde Osmanlı Devleti büyük miktarda toprak kaybetmiştir?

- A) Kasr-ı Şirin
- B) Serav
- C) Karlofça
- D) Bucaş

17. İngiltere'de monarşi'yi kuran aşağıdakilerden hangisidir?

- A) Kral VI.Henry
- B) Kral V.Henry
- C) Kral IV.Henry
- D) Kral VII.Henry

18. Aşağıdakilerden hangisi Fransız ihtilalinin çıkış sebeplerinden biri değildir?

- A) Fransa'nın içindeki ve dışındaki gelişmelerin bir sonucudur.
- B) Devlet masraflarını karşılamak için halktan zorla vergi topluyordu.
- C) Fransa mutlakiyetle yönetiliyordu ve ülkede eşitlik ve özgürlük yoktu.
- D) Fransa'da sosyal sınıf yoktu.

19. Aşağıdakilerden hangisi Vastfelya Barış Antlaşması'nın sonuçlarından biri değildir?

- A) İspanya'nın gücünün kırılması
- B) Fransa'daki kuvvetli bürokrasinin sona ermesi
- C) Fransa'nın mutlakiyet rejimini sağlamlaştırması
- D) Kutsal Roma-Germen İmparatorluğu'nun parçalanması

20. Avrupa'da 1815-1830 yılları arasında İngiltere, Rusya, Prusya ve Avusturya'nın kurdukları düzeni koruyabilmek için aralarında anlaşmalar yaptıkları döneme ne ad verilir?

- A) Restorasyon Dönemi
- B) Çifte Standart Dönemi
- C) Refah Dönemi
- D) Bloklaşma Dönemi

1. 19. yüzyılda Osmanlı Devleti'nin sosyal ve siyasi yapısıyla ilgili aşağıdakilerden hangisi yanlıştır?
- A) Orduda yapılan düzenlemeler ile savaşlarda büyük başarılar kazanılmıştır.  
B) Devlet kurumları Batı esaslarına göre yapılandırılmıştır.  
C) Yapılması gereken yenilikler Tanzimat Fermanı ile halka duyurulmuştur.  
D) Batıda gerçekleşen bilimsel gelişmeler örnek alınmıştır.
2. Gerçeğin hayal dünyasında yeniden şekillendiği metinlere ne ad verilir?
- A) Kurmaca metin  
B) Yazılı metin  
C) Hayalî metin  
D) Edebî metin
3. Edebiyat ile ilgili aşağıdaki ifadelerden hangisi yanlıştır?
- A) Toplumların gelişimine katkıda bulunur.  
B) Düşünceleri geliştirir, duyguları zenginleştirir.  
C) Sadece tanık olduğu çağı anlatır.  
D) Toplumların siyasal ve sosyal yapısından etkilenir.
4. Namık Kemal'in Osmanlı Devleti'nin son dönemlerini anlattığı, vatanın içinde bulunduğu durum karşısında devleti yönetenlerin davranışlarını eleştirdiği şiiri aşağıdakilerden hangisidir?
- A) Müntehat-ı Eşar  
B) Vatan Mersiyesi  
C) Makber  
D) Zafername
5. Tanzimat Fermanı aşağıdaki padişahlardan hangisi döneminde ilan edilmiştir?
- A) I. Mahmut  
B) I. Abdülmecit  
C) Vahdettin  
D) II. Mahmut
6. Noktalama işaretleri ilk kez aşağıdakilerden hangisinde kullanılmıştır?
- A) Mukaddime'de  
B) Eşber'de  
C) Cezmi'de  
D) Telemak'ta
7. Vatan, millet, özgürlük, hak, eşitlik, adalet, uygarlık gibi kavramların edebiyata ilk olarak girdiği dönem aşağıdakilerden hangisidir?
- A) Yükselme  
B) I. Meşrutiyet  
C) Kuruluş  
D) Tanzimat
8. Aşağıdakilerden hangisi, 'toplum için sanat' anlayışını benimseyen aydınlardan biridir?
- A) Abdülhak Hamit  
B) Ziya Paşa  
C) Recaizade Mahmut Ekrem  
D) Samipaşazâde Sezaî
9. Şiirlerinde lirik ve epik duyguları işleyen, Sahra, Makber, Bunlar Odur gibi şiirlerin yazarı aşağıdakilerden hangisidir?
- A) Recaizâde Mahmut Ekrem  
B) Ahmet Mithat Efendi  
C) Sami Paşazâde Sezaî  
D) Abdülhak Hamit Tarhan
10. Aşağıdakilerden hangisi, ikinci dönem Tanzimat Edebiyatının önemli temsilcilerinden biridir?
- A) Şinasi  
B) Ahmet Mithat Efendi  
C) Abdülhak Hamit  
D) Namık Kemal
11. Toplumun sosyal, siyasi ve tarihi şartlarından yararlanarak meydana getirilen edebiyat eserine ne ad verilir?
- A) Hayali metin  
B) Edebi metin  
C) Yazılı metin  
D) Kurmaca metin

12. Türk edebiyatının ilk realist romanı aşağıdakilerden hangisidir?

- A) İntibah
- B) Sergüzeşt
- C) Şair Evlenmesi
- D) Araba Sevdası

13. Namık Kemal'in Ziya Paşa ile birlikte Londra'da çıkardıkları gazete, aşağıdakilerden hangisidir?

- A) Muhibir
- B) Cumhuriyet
- C) Hürriyet
- D) Vatan

14. Tanzimat Döneminde, aşağıdaki Fransız şair ve yazarların hangisinden çeviri yapılmamıştır?

- A) Victor Hugo
- B) Lamartine
- C) Balzac
- D) J.J. Rousseau

15. Aşağıdakilerden hangisi Tanzimat sanatçılarından biri değildir?

- A) Ahmet Mithat Efendi
- B) Namık Kemal
- C) Şinasi
- D) Yahya Kemal Beyatlı

16. Kişilerin kendi çevreleri içinde ele alındığı, gerçeklerin tüm yönleriyle verildiği, öncüsünün Fransız yazar Victor Hugo olduğu akım aşağıdakilerden hangisidir?

- A) Sembolizm
- B) Romantizm
- C) Klasisizm
- D) Realizm

17. Türk edebiyatında Şinasi tarafından yazılan ilk tiyatro eseri, aşağıdakilerden hangisidir?

- A) Karabelâ
- B) Zavallı Çocuk
- C) Macera-yı Aşk
- D) Şair Evlenmesi

18. Abdülhak Hâmit Tarhan'ın eşi Fatma Hanım'ın ölümü üzerine duyduğu acıyı dile getirdiği 295 bentlik eseri, aşağıdakilerden hangisidir?

- A) Sahra
- B) Nesteren
- C) Makber
- D) Ölü

19. İnsana sadakat yakışır görse de ikrâh Yardımcısıdır doğruların Hazret-i Allah

Ziya Paşa'nın bu beyitiyle aşağıdaki atasözlerinden hangisi örtüşmez?

- A) Eğri bacanın dumanı doğru çıkar.
- B) Doğru gidenin başı duvara çarpmaz.
- C) Allah doğrunun yardımcısıdır.
- D) Doğruluk su kabağıdır, batmaz.

20. 1860 yılında Şinasi ve Ağâh Efendi tarafından çıkarılan ilk özel gazete, aşağıdakilerden hangisidir?

- A) İbret
- B) Tercüman-ı Hakikat
- C) Tercüman-ı Ahvâl
- D) Ceride-i Havadis

1. Klaus möchte die ..... Schuhe kaufen.

Welches Wort passt in die obige Lücke?

Cümlede boş bırakılan yeri aşağıdakilerden hangisi tamamlar?

- A) teuer  
B) am teuren  
C) teurer  
D) teuersten

2. Sandra hätte gern ein neues Auto.

Welches hat die gleiche Bedeutung mit dem obigen Satz?

Verilen cümle ile aynı anlamı taşıyan aşağıdakilerin hangisidir?

- A) Sandra muß ein Auto kaufen.  
B) Sandra kann gern ein Auto fahren.  
C) Sandra würde gern ein neues Auto kaufen.  
D) Sandra hatte ein Auto kaufen können.

3. Er ..... mit dem Rauchen aufhören!

Welches Wort passt nicht in die obige Lücke?

Cümlede boş bırakılan yeri aşağıdakilerden hangisi tamamlamaz?

- A) kann  
B) habe  
C) muß  
D) will

4. Kannst du den Fernseher reparieren?

Wie lautet der obige Satz auf Türkisch?

Verilen cümlelerin Türkçesi aşağıdakilerden hangisidir?

- A) Televizyonu tamir edebilir misin?  
B) Televizyonu tamire göndermeli miyim?  
C) Televizyon tamir oldu mu?  
D) Televizyonunuz yeni mi?

5. Gehe nicht ohne ..... ins Ausland!

Welches Wort passt nicht in die obige Lücke?

Cümlede boş bırakılan yeri aşağıdakilerden hangisi tamamlamaz?

- A) Erlaubnis  
B) Paß  
C) Fenster  
D) Ausweis

6. dem Kaufmann / vertrauen / du / nicht

Wie kann man mit den obigen Wortgruppen einen vollständigen Imperativatz bilden?

Verilen sözcük gruplarıyla kurulabilecek en anlamlı ve doğru emir cümlesi aşağıdakilerden hangisidir?

- A) Vertrauen nicht Sie dem Kaufmann!  
B) Vertrauten dem Kaufmann nicht!  
C) Vertraut dem Kaufmann nie!  
D) Vertrau dem Kaufmann nicht!

7. Ich möchte sehr gerne eine Weltreise machen!

Welche Frage passt zur obigen Antwort?

Verilen cevabı gerektirecek soru aşağıdakilerden hangisidir?

- A) Wer hat Geburtstag?  
B) Was möchtest du zum Geburtstag?  
C) Wann hast du Geburtstag?  
D) Warum feierst du Geburtstag?

8. Was würdest du dir gerne kaufen, wenn du sehr reich wärst?

**Welche Antwort passt zur obigen Frage?**

**Verilen sorunun cevabı aşağıdakilerden hangisidir?**

- A) Ich muss leider noch meine Hausaufgaben machen.  
B) Ich würde mir ein neues Auto kaufen!  
C) Sie haben mich auch eingeladen.  
D) Er will unbedingt tanzen gehen.

9. Wir brauchen ein ....., wenn wir das ..... anzünden wollen.

**Welche Wörter passen in die obigen Lücken?**

**Cümlede boş bırakılan yerleri aşağıdakilerden hangileri tamamlar?**

- A) Spielzeug / Tasche  
B) Computer / Fernseher  
C) Bild / Foto  
D) Feuerzeug / Feuer

10. Du kannst im August von vorne anfangen!

**Wie lautet der obige Satz auf Türkisch?**

**Verilen cümlelerin Türkçesi aşağıdakilerden hangisidir?**

- A) Ağustosta baştan başlayabilirsiniz!  
B) Eylülde yeniden başladık!  
C) Ağustosta baştan sona yenilendim!  
D) Eylülde tekrar deneyebiliriz!

11. Als Atatürk ..... war es 1938.

**Welches Wort passt in die obige Lücke?**

**Cümlede boş bırakılan yeri aşağıdakilerden hangisi tamamlar?**

- A) geht  
B) hatte  
C) starb  
D) kam

12. Als wir Pikknik machen wollten, hat es geregnet.

**Wie lautet der obige Satz auf Türkisch?**

**Verilen cümlelerin Türkçesi aşağıdakilerden hangisidir?**

- A) Pikknik yaparken yağmur yağmıştı.  
B) Eğer yağmur yağmazsa pikknik yapmak istiyoruz.  
C) Eğer yağmur yağarsa pikknik yapamayız.  
D) Pikknik yapmak istediğimizde yağmur yağdı.

13. Sonntags gehe ich ..... ins Kino.

**Welches Wort passt nicht in die obige Lücke?**

**Cümlede boş bırakılan yeri aşağıdakilerden hangisi tamamlamaz?**

- A) immer  
B) meistens  
C) am meisten  
D) geme

14. Cemre ist das ..... Mädchen in unserer Familie.

**Welches Wort passt in die obige Lücke?**

**Cümlede boş bırakılan yeri aşağıdakilerden hangisi tamamlar?**

- A) kleinste  
B) klein  
C) kleinem  
D) kleinen



15. Die Mutter geht schnell nach Hause, weil sie noch bügeln muss.

**Welche Frage passt nicht zur obigen Antwort?**

**Aşağıdaki sorulardan hangisi yukarıdaki cevabı gerektirmez?**

- A) Warum geht die Mutter schnell nach Hause?
- B) Was möchtest du heute kochen?
- C) Wieso geht die Mutter immer schnell nach Hause?
- D) Wozu geht die Mutter schnell nach Hause?

16. Unter 18 Jahren .....

**Welches ergänzt den obigen Satz?**

**Cümleyi aşağıdakilerden hangisi doğru olarak tamamlar?**

- A) soll man selten Auto fahren.
- B) darf man kein Auto fahren.
- C) kannst du manchmal Auto fahren
- D) muss er immer Auto fahren

17. Alle Menschen frühstücken morgens .....

**Welches Wort passt in die obige Lücke?**

**Cümlede boş bırakılan yeri aşağıdakilerden hangisi tamamlar?**

- A) gelegentlich
- B) wegen
- C) jedes
- D) nichts

18. Meine Tochter macht jeden Tag ihre Hausaufgaben, das bedeutet sie macht ..... ihre Hausaufgaben.

**Welches Wort passt in die obige Lücke?**

**Cümlede boş bırakılan yeri aşağıdakilerden hangisi tamamlar?**

- A) niemals
- B) selten
- C) manchmal
- D) immer

19. Die Kinder sind süß. Das denkt jeder.

**Wie kann man die obigen Sätze mit "daß" verbinden?**

**Verilen cümlelerin "daß" ile birleştirilmiş hali aşağıdakilerden hangisidir?**

- A) Daß die Kinder süß sind, denkt jeder.
- B) Die Kinder wollen süß sein, jeder denkt daß.
- C) Die Kinder sollen immer brav sein, daß wollen die Eltern.
- D) Daß die Kinder süß sind, will jede Mutter.

20. .... dritte Kind meiner Freundin ist vor sieben Monaten geboren.

**Welches Wort passt in die obige Lücke?**

**Cümlede boş bırakılan yeri aşağıdakilerden hangisi tamamlar?**

- A) Den
- B) Der
- C) Das
- D) Die

1. I wasn't ..... the cinema yesterday. I was ill ..... home.

Which of the following completes the sentence above?

Aşağıdakilerden hangisi yukarıdaki cümleyi doğru olarak tamamlar?

- A) at / in  
B) in / at  
C) in / in  
D) at / at

2. İzmir is located ..... the south of Turkey.

Which of the following completes the sentence above?

Aşağıdakilerden hangisi yukarıdaki cümleyi doğru olarak tamamlar?

- A) on  
B) at  
C) in  
D) next

3. .... a few days, we have to finish our project.

Which of the following completes the sentence above?

Aşağıdakilerden hangisi yukarıdaki cümleyi doğru olarak tamamlar?

- A) At  
B) With  
C) In  
D) On

4. Liz went to the opera yesterday.

Which of the following is the negative form of the sentence above?

Aşağıdakilerden hangisi yukarıdaki cümlelerin olumsuz biçimidir?

- A) Liz wasn't going to the opera yesterday.  
B) Liz didn't come to the opera yesterday.  
C) Liz didn't go to the opera yesterday.  
D) Liz wasn't coming to the opera yesterday.

5. He usually helps his dad ..... Sundays.

Which of the following completes the sentence above?

Aşağıdakilerden hangisi yukarıdaki cümleyi doğru olarak tamamlar?

- A) on  
B) at  
C) in  
D) under

6. Elise is ..... than her grandmother.

Which of the following completes the sentence above?

Aşağıdakilerden hangisi yukarıdaki cümleyi doğru olarak tamamlar?

- A) young  
B) younger  
C) youngest  
D) the young

7. Planes are ..... than buses.

Which of the following completes the sentence above?

Aşağıdakilerden hangisi yukarıdaki cümleyi doğru olarak tamamlar?

- A) fast  
B) faster  
C) more fast  
D) the faster

8. A Porsche is ..... than a Fiat.

Which of the following completes the sentence above?

Aşağıdakilerden hangisi yukarıdaki cümleyi doğru olarak tamamlar?

- A) the most expensive  
B) expensive  
C) the more expensive  
D) more expensive

9. The Nile is ..... river in the world.

Which of the following completes the sentence above?

Aşağıdakilerden hangisi yukarıdaki cümleyi doğru olarak tamamlar?

- A) the longer  
B) longest  
C) the longest  
D) longer

10. Greg: I have a bad headache. What should I do?

Mike: .....

Which of the following completes the dialogue above?

Aşağıdakilerden hangisi yukarıdaki konuşmayı doğru olarak tamamlar?

- A) You should drink cold drinks  
B) You should go to the supermarket  
C) You should go to the hairdresser  
D) You should take a painkiller

11. You ..... wait when the light is red.

Which of the following completes the sentence above?

Aşağıdakilerden hangisi yukarıdaki cümleyi doğru olarak tamamlar?

- A) must
- B) mustn't
- C) should
- D) can

12. I am ..... than my brother. I don't like chatting with my friends and rarely meet them at the weekends.

Which of the following completes the sentence above?

Aşağıdakilerden hangisi yukarıdaki cümleyi doğru olarak tamamlar?

- A) less sociable
- B) less successful
- C) more successful
- D) more sociable

13. Cathy always speaks ..... so nobody can understand her.

Which of the following completes the sentence above?

Aşağıdakilerden hangisi yukarıdaki cümleyi doğru olarak tamamlar?

- A) quick
- B) slow
- C) slowly
- D) quickly

14. Generally, people ..... on new clothes for the feast.

Which of the following completes the sentence above?

Aşağıdakilerden hangisi yukarıdaki cümleyi doğru olarak tamamlar?

- A) put
- B) collect
- C) congratulate
- D) prepare

15. The opera hasn't started .....

Which of the following completes the sentence above?

Aşağıdakilerden hangisi yukarıdaki cümleyi doğru olarak tamamlar?

- A) just
- B) ever
- C) yet
- D) already

16. .... of basketball we are playing tennis today.

Which of the following completes the sentence above?

Aşağıdakilerden hangisi yukarıdaki cümleyi doğru olarak tamamlar?

- A) Before
- B) Already
- C) Forward
- D) Instead

17. Lara can't find her trousers. She thinks she ..... them.

Which of the following completes the sentence above?

Aşağıdakilerden hangisi yukarıdaki cümleyi doğru olarak tamamlar?

- A) lost
- B) has lost
- C) am losing
- D) was losing

18. Have you ..... stayed in a hotel?

Which of the following completes the sentence above?

Aşağıdakilerden hangisi yukarıdaki cümleyi doğru olarak tamamlar?

- A) never
- B) ever
- C) just
- D) yet

19. I am very excited because I ..... a famous pop star before.

Which of the following completes the sentence above?

Aşağıdakilerden hangisi yukarıdaki cümleyi doğru olarak tamamlar?

- A) haven't met
- B) have met
- C) has met
- D) have meet

20. Carl hasn't ridden a horse .....

Which of the following completes the sentence above?

Aşağıdakilerden hangisi yukarıdaki cümleyi doğru olarak tamamlar?

- A) just
- B) before
- C) already
- D) ever

1. Nous nous sommes promenés longtemps ..... le froid.

**Choisissez le mot qui convient.**

**Cümledeki boşluğu aşağıdakilerden hangisi doğru şekilde tamamlar?**

- A) mais  
B) malgré  
C) en revanche  
D) pour

2. Mehmet travaille mieux que nous.

**Choisissez la traduction qui convient.**

**Yukarıdaki cümlelerin Türkçe karşılığı aşağıdakilerden hangisidir?**

- A) Mehmet bizimle çalışıyor.  
B) Biz, Mehmet'ten daha iyi çalışıyoruz.  
C) Mehmet bizden daha iyi çalışıyor.  
D) Mehmet de biz de iyi çalışıyoruz.

3. Ma cravate est en laine, ..... de mon ami est en cuir.

**Choisissez le mot qui convient.**

**Cümledeki boşluğu aşağıdakilerden hangisi doğru şekilde tamamlar?**

- A) celui  
B) celle  
C) ceux  
D) c'est

4. Mon ami m'a dit qu'il ne ..... pas venir avec nous.

**Choisissez le mot qui convient.**

**Cümledeki boşluğu aşağıdakilerden hangisi doğru şekilde tamamlar?**

- A) pouvait  
B) puisse  
C) pouvoir  
D) pouvaient

5. Monique: Lequel de ces deux livres préférez-vous?  
Pierre: .....

**Choisissez la réponse qui convient.**

**Yukarıdaki konuşmada boş bırakılan yeri aşağıdakilerden hangisi doğru şekilde tamamlar?**

- A) Je lis toujours des livres intéressants  
B) Je préfère celui-là  
C) Ce sont les livres de mon frère  
D) J'achète celle-ci

6. Quand il fera chaud, nous ..... des vacances.

**Choisissez le mot qui convient.**

**Cümledeki boşluğu aşağıdakilerden hangisi doğru şekilde tamamlar?**

- A) faisons  
B) faire  
C) faisons  
D) ferons

7. Il est intelligent ..... il ne travaille pas.

**Choisissez l'expression qui convient.**

**Yukarıdaki cümlede boş bırakılan yeri aşağıdakilerden hangisi doğru şekilde tamamlar?**

- A) mais  
B) malgré  
C) contrairement à  
D) pour

8. Quand elle vient de l'école, elle ..... d'abord ses devoirs.

**Choisissez le mot qui convient.**

**Cümledeki boşluğu aşağıdakilerden hangisi doğru şekilde tamamlar?**

- A) fait  
B) a fait  
C) fera  
D) avait fait

9. Quand tu ....., je suis parti faire les courses.

**Choisissez le mot qui convient.**

**Cümledeki boşluğu aşağıdakilerden hangisi doğru şekilde tamamlar?**

- A) a dormi  
B) dors  
C) dormais  
D) dormiras

10. Lorsqu'il a mangé, il .....

**Choisissez l'expression qui convient.**

**Yukarıdaki cümlede boş bırakılan yeri aşağıdakilerden hangisi doğru şekilde tamamlar?**

- A) est parti  
B) partait  
C) pars  
D) partir

11. Hier, il faisait très froid, ....., aujourd'hui il fait beau.

**Choisissez le mot qui convient.**

**Cümledeki boşluğu aşağıdakilerden hangisi doğru şekilde tamamlar?**

- A) malgré  
B) lorsque  
C) contrairement à  
D) en revanche

12. Pour moi, l'hiver est ..... des saisons.

**Choisissez le mot qui convient.**

**Cümledeki boşluğu aşağıdakilerden hangisi doğru şekilde tamamlar?**

- A) le plus  
B) le moindre  
C) la pire  
D) la moins

13. Pierre ..... des lunettes.

**Choisissez le mot qui convient.**

**Cümledeki boşluğu aşağıdakilerden hangisi doğru şekilde tamamlar?**

- A) habille  
B) porte  
C) s'habille  
D) se voit

14. «Mon avocat a parlé honnêtement.»

**Choisissez la traduction qui convient.**

**Yukarıdaki cümlelerin Türkçe karşılığı aşağıdakilerden hangisidir?**

- A) Avukatım hızlı hızlı konuşur.  
B) Avukatım dürüstçe konuştu.  
C) Avukatım sessizce konuşur.  
D) Avukatım şiddetle konuştu.

15. Elle ..... dans quelques heures.

**Choisissez l'expression qui convient.**

**Yukarıdaki cümlede boş bırakılan yeri aşağıdakilerden hangisi doğru şekilde tamamlar?**

- A) vient de partir  
B) vas partir  
C) viens de partir  
D) va partir

16. Nicolas écoute ..... le professeur.

**Choisissez le mot qui convient.**

**Cümledeki boşluğu aşağıdakilerden hangisi doğru şekilde tamamlar?**

- A) violemment  
B) couramment  
C) rapidement  
D) attentivement

17. Cette télévision est à nous. C'est .....

**Choisissez l'expression qui convient.**

**Cümledeki boşluğu aşağıdakilerden hangisi doğru şekilde tamamlar?**

- A) le nôtre  
B) la tienne  
C) la nôtre  
D) le tien

18. «Bu kolye değersiz.»

**Choisissez la traduction qui convient.**

**Yukarıdaki cümlelerin Fransızca karşılığı aşağıdakilerden hangisidir?**

- A) Ce collier est sans valeur.  
B) Ce collier est affreux.  
C) Ce collier est en désordre.  
D) Ce collier est nouveau.

19. Il vient de .....

**Choisissez le mot qui convient.**

**Cümledeki boşluğu aşağıdakilerden hangisi doğru şekilde tamamlar?**

- A) neigeait  
B) neigé  
C) neige  
D) neiger

20. C'est la plus belle femme ..... monde.

**Choisissez l'expression qui convient.**

**Cümledeki boşluğu aşağıdakilerden hangisi doğru şekilde tamamlar?**

- A) de  
B) par  
C) du  
D) pour

1. Ich dachte, du wärst im Theater!

**Wie lautet der obige Satz auf Türkisch?**

**Verilen cümlelerin Türkçesi aşağıdakilerden hangisidir?**

- A) Senin tiyatrodaki olduğun sandım!  
 B) Senin tiyatrodaki olman gerekiyordu!  
 C) Sen zaten hep tiyatroya gidersin!  
 D) Senin niyetin tiyatroya gitmek değildi aslında!

2. Ich möchte mir so gern eine ..... Hose kaufen.

**Welches Wort passt in die obige Lücke?**

**Cümlede boş bırakılan yeri aşağıdakilerden hangisi tamamlar?**

- A) rotes  
 B) roten  
 C) rote  
 D) rotem

3. Was bedeutet "etwas behaupten" auf Türkisch?

**"etwas behaupten" sözcüğünün Türkçesi aşağıdakilerden hangisidir?**

- A) birşeyi ilan etmek  
 B) birşeyi iddia etmek  
 C) birşey göstermek  
 D) birine bir şey vermek

4. Fritz ..... gerne mit Monika .....

**Welche Wörter passen nicht in die obigen Lücken?**

**Cümlede boş bırakılan yerleri aşağıdakilerden hangileri tamamlamaz?**

- A) würde / tanzen  
 B) würde / hätten  
 C) würde / heiraten  
 D) würde / spielen

5. Stellt euch vor eure Eltern ..... aus Honolulu!

**Welches Wort passt in die obige Lücke?**

**Cümlede boş bırakılan yeri aşağıdakilerden hangisi tamamlar?**

- A) kommet  
 B) kämst  
 C) kam  
 D) kämen

6. Unsere Freunde haben uns zum ..... eingeladen.

**Welches Wort passt in die obige Lücke?**

**Cümlede boş bırakılan yeri aşağıdakilerden hangisi tamamlar?**

- A) Geburtstag  
 B) Schule  
 C) Baum  
 D) Kinder

7. A: .....  
 B: Nein, er hat dieses Buch nicht gelesen!  
 A: Hätte er doch dieses Buch gelesen!  
 B: Ja, das Buch war wirklich toll!

**Welches ergänzt den obigen Dialog?**

**Verilen karşılıklı konuşmayı aşağıdakilerden hangisi tamamlar?**

- A) Wer möchte sich ein Buch kaufen?  
 B) Hast du Lust ein Buch zu lesen?  
 C) Hat Tolga dieses Buch gelesen?  
 D) Wann kaufst du dir ein Buch?

8. Das Haus ist zu .....

**Welches Wort passt nicht in die obige Lücke?**

**Cümlede boş bırakılan yeri aşağıdakilerden hangisi tamamlamaz?**

- A) sondern  
 B) klein  
 C) teuer  
 D) groß

9. Wir haben für morgen keine Hausaufgaben.

**Welches ist die Konjunktiv-Form vom obigen Satz?**

**Verilen cümlelerin Konjunktiv hali aşağıdakilerden hangisidir?**

- A) Man hat gesagt, daß wir morgen keine Hausaufgaben haben.  
 B) Man will, daß wir morgen nicht zur Schule gehen.  
 C) Man meint, daß die Schule morgen geschlossen ist.  
 D) Man sagt, wir hätten für morgen keine Hausaufgaben.

10. Die junge Frau ..... nicht singen, denn sie ..... Halsschmerzen gehabt.

**Welche Wörter passen in die obigen Lücken?**

**Cümlede boş bırakılan yerleri aşağıdakilerden hangileri tamamlar?**

- A) ist / hätte  
 B) war / hast  
 C) könne / habe  
 D) kann / hattest

11. Was bedeutet "glücklicherweise" auf Türkisch?

**"glücklicherweise" sözcüğünün Türkçesi aşağıdakilerden hangisidir?**

- A) şanseseri  
 B) şanslı  
 C) şansımıza  
 D) şansızlık

12. Ayşe ..... vorher in einer Schule .....

**Welche Wörter passen in die obigen Lücken?**

**Cümlede boş bırakılan yerleri aşağıdakilerden hangileri tamamlar?**

- A) hat / gemacht  
 B) ist / versorgen  
 C) wäre / gefällt  
 D) habe / gearbeitet

13. Ebru sagte mir, .....

**Welches ergänzt nicht die Lücke im obigen Satz?**

**Verilen cümleyi aşağıdakilerden hangisi tamamlamaz?**

- A) das Geschäft sei durchgehend geschlossen.  
 B) der Roman sei von Adalet Ağaoğlu geschrieben worden.  
 C) weil die Fußballmannschaft kein Erfolg haben wird.  
 D) der Film sei sehr gut gedreht worden.

14. Yanımızda oturan bayan yeni öğretmenimiz.

**Wie lautet der obige Satz auf Deutsch?**

**Verilen cümlelerin Almancası aşağıdakilerden hangisidir?**

- A) Die Frau, die hier wohnt, ist meine Tochter.  
 B) Die Dame, die unsere neue Lehrerin ist, wohnt über uns.  
 C) Die Frau, die wir kennen, ist unsere Lehrerin.  
 D) Die Dame, die nebenan wohnt, ist unsere neue Lehrerin.

15. Die Kinder, ..... Haare zu lang sind, mag ich nicht.

**Welches Wort passt in die obige Lücke?**

**Cümlede boş bırakılan yeri aşağıdakilerden hangisi tamamlar?**

- A) denen
- B) deren
- C) der
- D) die

16. Das grosse Haus, ....., war ziemlich teuer.

**Welches ergänzt die Lücke im obigen Satz?**

**Verilen cümleyi aşağıdakilerden hangisi tamamlar?**

- A) sollst du gekauft haben
- B) die wurde verkauft
- C) das ich neu gekauft habe
- D) können wir auch kaufen

17. Die Kinder sind im Park.

**Welche Frage passt zur obigen Antwort?**

**Verilen cevabı gerektirecek soru aşağıdakilerden hangisidir?**

- A) Wie spielen die Kinder?
- B) Waren die Kinder Geschwister?
- C) Welche Kinder gehen in die Schule?
- D) Wo sind die Kinder?

18. Der Lehrer, ....., kommt aus Italien.

**Welches ergänzt den obigen Satz?**

**Cümleyi aşağıdakilerden hangisi doğru olarak tamamlar?**

- A) deren Tochter verheiratet ist
- B) der neu in unserer Schule ist
- C) der immer zu uns kommen
- D) die sehr reich sind

19. ....., den du mir geschenkt hast, gefällt mir sehr gut.

**Welches Wort passt in die obige Lücke?**

**Cümlede boş bırakılan yeri aşağıdakilerden hangisi tamamlar?**

- A) Das Heft
- B) Der Füller
- C) Die Spielzeuge
- D) Das Fenster

20. Was bedeutet "das Auto" auf Türkisch?

**"das Auto" sözcüğünün Türkçesi aşağıdakilerden hangisidir?**

- A) araba
- B) kalem
- C) bisiklet
- D) motor



1. Üç senedir Muğla'ya kar yağmıyor.

**Which of the following is the English translation of the sentence above?**

**Aşağıdakilerden hangisi yukarıdaki cümlenin İngilizce karşılığıdır?**

- A) It hasn't been snowing in Muğla for three years.  
B) It didn't snow in Muğla last three years.  
C) It wasn't snowing in Muğla three years ago.  
D) It hasn't snowed in Muğla since three years.

2. Cem will be ..... his grandparents at the end of the week.

**Which of the following completes the sentence above?**

**Aşağıdakilerden hangisi yukarıdaki cümleyi doğru olarak tamamlar?**

- A) visiting  
B) visited  
C) was visiting  
D) has visited

3. Alex: .....?  
Matt: It's ten o'clock.

**Which of the following completes the dialogue above?**

**Aşağıdakilerden hangisi yukarıdaki konuşmayı doğru olarak tamamlar?**

- A) Can I borrow your dictionary  
B) Could you lend me 100 liras  
C) Could you have the bill  
D) Could you tell me the time

4. I will be finishing these letters .....

**Which of the following completes the sentence above?**

**Aşağıdakilerden hangisi yukarıdaki cümleyi doğru olarak tamamlar?**

- A) recently  
B) all afternoon  
C) at the moment  
D) lately

5. A: Are you watching TV now?  
B: No, I'm not. But I sometimes .....the quiz shows.

**Which of the following completes the dialogue above?**

**Aşağıdakilerden hangisi yukarıdaki konuşmayı doğru olarak tamamlar?**

- A) am watching  
B) will watch  
C) watch  
D) watches

6. A: What ..... Lale ..... at weekends?  
B: She usually goes to the cinema with her friends.

**Which of the following completes the dialogue above?**

**Aşağıdakilerden hangisi yukarıdaki konuşmayı doğru olarak tamamlar?**

- A) is / doing  
B) does / do  
C) do / do  
D) was / doing

7. Lucy made ..... a wonderful cake that I ate it yesterday.

**Which of the following completes the sentence above?**

**Aşağıdakilerden hangisi yukarıdaki cümleyi doğru olarak tamamlar?**

- A) very  
B) such  
C) every  
D) so

8. John ..... in his room at nights.

**Which of the following completes the sentence above?**

**Aşağıdakilerden hangisi yukarıdaki cümleyi doğru olarak tamamlar?**

- A) works sometimes  
B) work sometimes  
C) sometimes works  
D) sometimes working

9. Kiersten: How often do you go to the library?  
Peter: I go to the library .....

**Which of the following completes the dialogue above?**

**Aşağıdakilerden hangisi yukarıdaki konuşmayı doğru olarak tamamlar?**

- A) at the moment  
B) last year  
C) yesterday  
D) three times a week

10. He was ..... successful that he won two awards in the last competition.

**Which of the following completes the sentence above?**

**Aşağıdakilerden hangisi yukarıdaki cümleyi doğru olarak tamamlar?**

- A) very  
B) every  
C) so  
D) such

11. If David ..... a seat-belt, he would have been injured in the crash.

**Which of the following completes the sentence above?**

**Aşağıdakilerden hangisi yukarıdaki cümleyi doğru olarak tamamlar?**

- A) wore  
B) didn't wear  
C) was wearing  
D) hadn't been wearing

12. If he ..... his medicines regularly, he ..... soon.

**Which of the following completes the sentence above?**

**Aşağıdakilerden hangisi yukarıdaki cümleyi doğru olarak tamamlar?**

- A) takes / will recover  
B) am taking / would recover  
C) takes / recover  
D) will take / recovers

13. If she ..... her room regularly, her room ..... cleaner.

**Which of the following completes the sentence above?**

**Aşağıdakilerden hangisi yukarıdaki cümleyi doğru olarak tamamlar?**

- A) cleaned / looks  
B) cleans / looks  
C) cleaned / looked  
D) cleans / looked

14. If I ..... you, I ..... that jacket.

**Which of the following completes the sentence above?**

**Aşağıdakilerden hangisi yukarıdaki cümleyi doğru olarak tamamlar?**

- A) was / hasn't bought  
B) am / wouldn't buy  
C) were / wouldn't buy  
D) were / will bought

15. If the final ..... cancelled, what would've happened?

**Which of the following completes the sentence above?**

**Aşağıdakilerden hangisi yukarıdaki cümleyi doğru olarak tamamlar?**

- A) had  
B) is  
C) had been  
D) has

16. Jessica gets up at 8 o'clock. First, she gets dressed. .... that, she has breakfast.

**Which of the following completes the sentence above?**

**Aşağıdakilerden hangisi yukarıdaki cümleyi doğru olarak tamamlar?**

- A) Because  
B) After  
C) As soon as  
D) Although

17. .... she got on the bus, she bought a ticket.

**Which of the following completes the sentence above?**

**Aşağıdakilerden hangisi yukarıdaki cümleyi doğru olarak tamamlar?**

- A) While  
B) If  
C) For  
D) Before

18. A mechanic is someone ..... repairs cars.

**Which of the following completes the sentence above?**

**Aşağıdakilerden hangisi yukarıdaki cümleyi doğru olarak tamamlar?**

- A) which  
B) whose  
C) where  
D) who

19. The restaurant ..... we ate was quite nice.

**Which of the following completes the sentence above?**

**Aşağıdakilerden hangisi yukarıdaki cümleyi doğru olarak tamamlar?**

- A) where  
B) whose  
C) that  
D) when

20. .... they got to the cinema, the film started.

**Which of the following completes the sentence above?**

**Aşağıdakilerden hangisi yukarıdaki cümleyi doğru olarak tamamlar?**

- A) As soon as  
B) Such  
C) Where  
D) So that

1. «Koltuğun üzerine yatma.»

**Choisissez la traduction qui convient.**

**Yukarıdaki cümlelerin Fransızca karşılığı aşağıdakilerden hangisidir?**

- A) Ne te couche pas sur le canapé.  
B) Ne le couche pas sur le canapé.  
C) Il ne se couche pas sur le canapé.  
D) Tu ne te couches pas sur le canapé.

2. .... terminé tes devoirs avant une heure.

**Choisissez le mot qui convient.**

**Cümledeki boşluğu aşağıdakilerden hangisi doğru şekilde tamamlar?**

- A) Aie  
B) Soyez  
C) Sois  
D) Avez

3. Elle a un enfant bien élevé.

**Choisissez l'antonyme du mot souligné.**

**Yukarıdaki cümlede altı çizili sözcüğün zıt anlamısı aşağıdakilerden hangisidir?**

- A) bon  
B) meilleur  
C) belle  
D) mal

4. Ne .... levez pas tard les matins.

**Choisissez le mot qui convient.**

**Cümledeki boşluğu aşağıdakilerden hangisi doğru şekilde tamamlar?**

- A) le  
B) nous  
C) te  
D) vous

5. Une famille turque ..... en moyenne de quatre ou cinq personnes.

**Choisissez le mot qui convient.**

**Cümledeki boşluğu aşağıdakilerden hangisi doğru şekilde tamamlar?**

- A) se passe  
B) se marie  
C) se compose  
D) dépend

6. «Travaillons ensemble.»

**Choisissez la traduction qui convient.**

**Yukarıdaki cümlelerin Türkçe karşılığı aşağıdakilerden hangisidir?**

- A) Birlikte çalışalım.  
B) Birlikte çalışın.  
C) Birlik için çalışalım.  
D) Birlik için çalışın.

7. La lettre sera ..... par le facteur.

**Choisissez le mot qui convient.**

**Cümledeki boşluğu aşağıdakilerden hangisi doğru şekilde tamamlar?**

- A) apporté  
B) apporter  
C) apportée  
D) apporte

8. - .....?

- Je suis instituteur.

**Choisissez la question qui convient.**

**Yukarıdaki konuşmada cevabı gerektiren soru aşağıdakilerden hangisidir?**

- A) Comment s'appelle cet examen  
B) Qu'est-ce que tu as fait l'été dernier  
C) Est-ce que vous étudiez en médecine  
D) Quel est votre métier

9. Attendez cinq minutes.

**Choisissez la traduction qui convient.**

**Yukarıdaki cümlelerin Türkçe karşılığı aşağıdakilerden hangisidir?**

- A) Hemen geçiniz.  
B) Beş dakika bekleyiniz.  
C) Beş dakika zamanınız var.  
D) Zamanı iyi kullanmalısınız.

10. .... plus lentement.

**Choisissez le mot qui convient.**

**Cümledeki boşluğu aşağıdakilerden hangisi doğru şekilde tamamlar?**

- A) Rencontrez  
B) Taisez-vous  
C) Parlez  
D) Regardez

11. Ma cousine se marie ..... son meilleur ami.

**Choisissez le mot/l'expression qui convient.**

**Cümledeki boşluğu aşağıdakilerden hangisi doğru şekilde tamamlar?**

- A) par
- B) de
- C) en
- D) avec

12. «La voiture a été réparée par le mécanicien.»

**Choisissez la forme active de la phrase ci-dessus.**

**Yukarıdaki cümlelerin aktif hali aşağıdakilerden hangisidir?**

- A) Le mécanicien répare la voiture.
- B) Le mécanicien a réparé la voiture.
- C) Le mécanicien réparera la voiture.
- D) Le mécanicien va réparer la voiture.

13. .... tes pommes.

**Choisissez le mot qui convient.**

**Cümledeki boşluğu aşağıdakilerden hangisi doğru şekilde tamamlar?**

- A) Manges
- B) Manger
- C) Mangent
- D) Mange

14. Une lettre sera écrite ..... Paul ..... Mehmet.

**Choisissez les mots qui conviennent.**

**Cümledeki boşlukları aşağıdakilerden hangisi doğru şekilde tamamlar?**

- A) une / à
- B) de / par
- C) à / par
- D) de / à

15. Pour devenir avocat, il faut aller à la Faculté .....

**Choisissez l'expression qui convient.**

**Yukarıdaki cümlede boş bırakılan yeri aşağıdakilerden hangisi doğru şekilde tamamlar?**

- A) des Lettres
- B) de Droit
- C) des Sciences
- D) de Médecine

16. Ils ne s'entendent pas bien, ils vont .....

**Choisissez le mot qui convient.**

**Cümledeki boşluğu aşağıdakilerden hangisi doğru şekilde tamamlar?**

- A) épouser
- B) divorcer
- C) se fiancer
- D) se marier

17. ....-y seul.

**Choisissez le mot qui convient.**

**Cümledeki boşluğu aşağıdakilerden hangisi doğru şekilde tamamlar?**

- A) Vas
- B) Va
- C) Allons
- D) Allez

18. C'est la sœur de ma mère; c'est .....

**Choisissez le mot qui convient.**

**Cümledeki boşluğu aşağıdakilerden hangisi doğru şekilde tamamlar?**

- A) mon oncle
- B) mon cousin
- C) ma tante
- D) ma grand-mère

19. Ne ..... promène pas dans le jardin.

**Choisissez le mot qui convient.**

**Cümledeki boşluğu aşağıdakilerden hangisi doğru şekilde tamamlar?**

- A) toi
- B) te
- C) vous
- D) se

20. J'ai 8 ans. Je vais .....

**Choisissez l'expression qui convient.**

**Cümledeki boşluğu aşağıdakilerden hangisi doğru şekilde tamamlar?**

- A) l'école primaire
- B) à l'école maternelle
- C) au lycée
- D) à l'université

BU SAYFA BOŞ BIRAKILMIŞTIR.

BU SAYFA BOŞ BIRAKILMIŞTIR.

BU SAYFA BOŞ BIRAKILMIŞTIR.

## SINAVDA UYGULANACAK KURALLAR

1. Sınav süresince görevlilerle konuşmak ve soru sormak yasaktır. Aynı şekilde görevlilerin de öğrencilerle yakından ve alçak sesle konuşmaları yasaktır. Yanınızda ve sıranızda dersle ilgili kitap not vb. bulundurmamak yasaktır. Sınav sırasında kopya yapan, yapmaya teşebbüs eden, kopya veren, kopya yapılmasına yardım edenlerin kimlikleri BİREYSEL SINAV İPTAL TUTANAĞINA yazılacak ve bu öğrencilerin sınavları geçersiz sayılacaktır. Görevliler kopya yapmaya veya vermeye kalkışanları uyararak zorunda değildir, sorumluluk size aittir.  
Sınavda yetki verilmiş görevliler, bu salondaki sınavın kurallara uygun biçimde yapılmadığını, toplu kopya girişiminde bulunulduğunu raporlarında bildirdikleri veya üniversite sınav merkezince yapılan incelemeler sonucu toplu kopya yapıldığı saptandığı takdirde, Anadolu Üniversitesinin yetkili organları bu salonda sınava giren öğrencilerin tümünün sınavını geçersiz sayar.
2. Öğrenciler sınav sırasında görevlilerin her türlü uyarılarına uymak zorundadır. Gerekliğinde görevliler oturduğunuz yerleri değiştirebilir. Sınavınızın geçerli sayılması, her şeyden önce sınav kurallarına uymanıza bağlıdır. Kurallara aykırı davranışta bulunanların ve yapılacak uyarılara uymayanların kimlikleri BİREYSEL SINAV İPTAL TUTANAĞINA yazılacak ve sınavları geçersiz sayılacaktır.
3. Sınav sırasında herhangi bir nedenle dışarı çıkmak yasaktır. Sınavın başlamasını izleyen ilk 30 dakika ve sınav süresinin son 5 dakikası içinde, sınavlarını tamamlasalar bile hiçbir öğrencinin salondan çıkmasına izin verilmeyecektir. Sınavın başlamasını izleyen ilk 15 dakikadan sonra hiç bir öğrenci sınava alınmaz.
4. Biraz sonra soru kitapçıkları dağıtılacaktır. Cevaplamaya geçmeden önce size verilecek soru kitapçığının üzerinde ayrılan yere, adınızı, soyadınızı, öğrenci numaranızı ve bu salonun numarasını yazınız. Sınav sonunda soru kitapçıkları toplanacak ve sınav merkezinde tek tek incelenecektir. Soru Kitapçığının bir tek sayfası eksik çıksa bile sınavınız geçersiz sayılacaktır.
5. Size verilen Cevap Kâğıdının üzerinde yazan numara ve ismin size ait olduğunu kontrol ediniz. Cevap Kâğıdı size ait değilse, görevlileri uyarıp size ait Cevap Kâğıdını alınız. Daha sonra Cevap Kâğıdı üzerinde ayrılmış olan yerlere öğrenci numaranızı ve test grubunuzu kodlayınız, adınızı soyadınızı yazınız ve ilgili yeri imzalayınız.
6. Cevap Kâğıdına yazılacak her türlü yazı, rakam ve yapılacak işaretlemeler için siyah kurşun kalem kullanılacaktır. Tükenmez kalem veya dolmakalem kesinlikle kullanılmayacaktır. Cevapların tümü CEVAP KÂĞIDINA İŞARETLENECEKTİR. Soru Kitapçıkları üzerine yapılan işaretlemeler kesinlikle değerlendirilmez. Her dersin cevabı, o dersin isminin yazılı olduğu sütuna işaretlenmelidir. Yanlış sütuna yapacağınız işaretlemeler kesinlikle değerlendirilmez.
7. Soru Kitapçığının sayfalarındaki boş yerleri müsvedde yapmak için kullanabilirsiniz. Başka bir kâğıdı müsvedde olarak kullanmak yasaktır. Bu tür işlemleri yapanların sınavları geçersiz sayılır.
8. Öğrencilerin sorulara verdikleri yanıtları herhangi bir yere yazmaları ve bunu sınav salonundan dışarıya çıkarmaları yasaktır. Bu kurala uymayanların sınavları geçersiz sayılır.
9. Sınav sırasında öğrencilerin birbirinden kalem, silgi vb. şeyleri istemesi kesinlikle yasaktır. Yasağa uymayanların sınavı geçersiz sayılır.
10. Sınav sırasında hesap makinesi kullanılabilir. Ancak, hesap makinesinin sınav sırasında ödünç alınması, verilmesi ve değiştirilmesi yasaktır. (Data Bank vb. gibi özel elektronik donanımlar kullanılamaz.) Bu tür davranışlarda bulunanların sınavları geçersiz sayılır.
11. Öğrenciler sınava gelirken telsiz, cep telefonu, çağrı cihazı vb. iletişim araçları ile görüntü kaydetmeye yarayan fotoğraf makinesi, kamera vb. araçları getirmemeleri konusunda sınava giriş belgelerinde uyarılmışlardır. Buna rağmen yanlarında bu tür cihazları getirenlerin, bunları sınav sonrasında almak üzere salon başkanına teslim etmeleri gerekir. Bu cihazları sınav salonunda yanlarında bulduran öğrencilerin, cihazları kapalı bile olsa, o oturumdaki sınavı geçersiz sayılacaktır. Bu cihazların kaybolmasından Üniversitemiz sorumlu olmayacaktır.
12. Biraz sonra dağıtılacak olan soru kitapçığında test ile ilgili açıklamalar yazılıdır. Bu açıklamaları okumadan ve size "SINAV BAŞLAMIŞTIR" denmeden soruları cevaplamaya başlamayınız.

**SINAVLARINIZDA BAŞARILAR DİLERİZ.**