



ANADOLU ÜNİVERSİTESİ
AÇIKÖĞRETİM FAKÜLTESİ
BA - AÇIKÖĞRETİM OKULLARI

T.C. MİLLİ EĞİTİM BAKANLIĞI
Hayat Boyu Öğrenme Genel Müdürlüğü
AÇIK ÖĞRETİM LİSESİ – BATI AVRUPA PROGRAMI
2013-2014 ÖĞRETİM YILI III.DÖNEM SINAVI
BEŞİNCİ OTURUM - Cumartesi 16.00

TEST GRUBUNUZ

A

0105

CEVAP KAGIDINIZA İŞARETLEMİYİ UNUTMAYINIZ.

ÖĞRENCİNİN

SOYADI :

ADI :

ÖĞRENCİ NO :

SINAV SALON NO: SIRA NO:

Soyadınızı, adınızı, öğrenci numaranızı, salon ve sıra numaranızı yukarıya yazmayı unutmayınız.

GENEL AÇIKLAMA

1. Bu soru kitapçığındaki testler şunlardır:

Testin Adı	Soru Sayısı	Sayfa No	Testin Adı	Soru Sayısı	Sayfa No
DİN KÜLTÜRÜ VE AHLAK BİLGİSİ 1	20	2	HZ. MUHAMMED'İN HAYATI 1	20	34
FELSEFE 2	20	4	DEMOKRASİ VE İNSAN HAKLARI 2	20	36
SEÇMELİ FELSEFE 2	20	6	SEÇMELİ DİL VE ANLATIM 6	20	38
T.C. İNKILAP TARİHİ VE ATATÜRKÇÜLÜK 2	20	8	SEÇMELİ DİL VE ANLATIM 8	20	40
MATEMATİK 5	20	10	ALMANCA 2	20	42
PSİKOLOJİ 1	20	12	İNGİLİZCE 2	20	45
DİL VE ANLATIM 5	20	14	FRANSIZCA 2	20	47
TÜRK EDEBİYATI 3	20	16	ALMANCA 5	20	49
TÜRK EDEBİYATI 8	20	18	İNGİLİZCE 5	20	52
FİZİK 1	20	20	FRANSIZCA 5	20	54
KİMYA 3	20	22	SEÇMELİ ALMANCA 8	20	56
KİMYA 6	20	25	SEÇMELİ İNGİLİZCE 8	20	59
EKONOMİ 2	20	28	SEÇMELİ FRANSIZCA 8	20	61
GEOMETRİ 6	20	30			

2. Bu kitapçıkta yer alan her bir test için cevaplama süresi **30** dakika, toplam sınav süresi **150** dakikadır.
3. Cevaplamaya istediğiniz testin, istediğiniz sorusundan başlayabilirsiniz. Yalnız cevaplarınızı, cevap kâğıdında o test için ayrılmış olan bölümdeki aynı numaralı cevap yerine işaretlemeyi unutmayınız.
4. Cevaplarınızı koyu siyah ve yumuşak bir kurşunkalemle işaretleyiniz. İşaretinizi cevap yerinin dışına taşırmayınız. Tükenmez veya mürekkepli kalem kullanmayınız.
5. Değiştirmek istediğiniz bir cevabı yumuşak bir silgi ile, cevap kâğıdını örselemeden temizce siliniz ve doğru cevabınızı işaretlemeyi unutmayınız.
6. Cevap kâğıdınızı buruşturmayınız, katlamayınız ve üzerine gereksiz hiçbir işaret koymayınız.
7. Bu kitapçıkta her sorunun bir tek doğru cevabı vardır. Bir soru için birden çok cevap yeri işaretlenmişse o soru yanlış cevaplanmış sayılacaktır.
8. Cevaplarınız puanlanırken her doğru cevabınıza eşit puan verilecek, yanlış cevaplarınız dikkate alınmayacaktır. Bu nedenle kitapçıkta tüm sorular için size doğru gelen seçeneği işaretleyerek cevapsiz soru bırakmamanız yararınıza olacaktır.
9. Kitapçığın sayfalarındaki boş yerleri müsvedde için kullanabilirsiniz.

Anadolu Üniversitesi tarafından hazırlanmış olan bu testlerin her hakkı saklıdır. Hangi amaçla olursa olsun, testlerin tamamının veya bir kısmının Anadolu Üniversitesi'nin yazılı izni olmadan kopya edilmesi, fotoğraflarının çekilmesi, herhangi bir yolla çoğaltılması, yayımlanması ya da kullanılması yasaktır. Bu yasağa uymayanlar gerekli cezai sorumluluğu ve testlerin hazırlanmasındaki mali külfeti peşinen kabullenmiş sayılır.

1. Dünyada ilk inanma kimle başlamıştır?

- A) Hz. Nuh
- B) Hz. İbrahim
- C) Hz. Adem
- D) Hz. Musa

2. Ateizmin savunucularına temel oluşturan düşünce aşağıdakilerden hangisidir?

- A) "Yok"un ispatlanmasının mümkün olmadığı
- B) "Var" diyebilmek için görmenin gerekmediği
- C) Bilemediğimiz şeyin var olabileceği
- D) "Yok" diyebilmek için tüm kainatın bilinmesi gerekliliği

3. Aşağıdakilerden hangisi insana ait özelliklerden biri değildir?

- A) İnsanın yapısında yeryüzünde bulunan cansız varlıklara ait fiziki özelliklerde bulunur.
- B) İnsanın yapısında hayvanların sahip olduğu biyolojik özelliklerde mevcuttur.
- C) İnsanın ahlaki değerleri genetik yolla diğer nesillere aktarılır.
- D) İnsan, ne bitki ne de hayvan kategorisinde değerlendirilemez.

4. Hinduizm inancındaki üç tanrı aşağıdakilerden hangisinde tam ve birlikte verilmiştir?

- A) Şiva-Vişnu-Brahma
- B) Brahma-Ay Tanrısı-Ateş Tanrısı
- C) Vişnu-Fırtına Tanrısı-Deniz Tanrısı
- D) Güneş Tanrısı-Brahma-Vişnu

5. Aşağıdakilerden hangisi yalnızca insanda bulunan niteliklerden biri değildir?

- A) Üreme
- B) Düşünme
- C) İradesini kullanabilme
- D) Konuşma

6. Hac ve Ümre'de ihrama girerken boy abdesti almanın hükmü nedir?

- A) Farz
- B) Sünnet
- C) Mekruh
- D) Mübah

7. Teyemmüm yapabilmek için gerekli şart nedir?

- A) Temiz su bulunamaması veya kullanımına engel bir sebep olması
- B) Yerleşim yerlerinden çok uzak bir yerde bulunulması
- C) Vücuttan sürekli bir şekilde kan ve cerahat akması
- D) Namaz vaktinin çıkmasına çok az bir zaman kalması

8. İnsanın yaratılış gayesi nedir?

- A) Gününü gün etmek
- B) Nefsini her isteği ile doyurmak
- C) Boş işlerle uğraşmak
- D) Allah'ı tanıyıp Ona ibadet etmek

9. Ağıza ve buruna su çekilerek temizlenmek ve vücudun tamamını hiç kuru yer kalmayacak şekilde yıkamaya ne ad verilir?

- A) Teyemmüm
- B) Namaz abdesti
- C) Gusül
- D) Mesh etmek

10. Aşağıdakilerden hangisi abdestin farzlarından biri değildir?

- A) Elleri dirseklere kadar yıkamak
- B) Ağızı bol su ile yıkamak
- C) Yüzü yıkamak
- D) Başını mesh etmek

11. Aşağıdakilerden hangisi Peygamberimizin Hz. Hatice'den olan evlatlarından biri değildir?

- A) Ümmü Gülsüm
- B) Rukiye
- C) Ayşe
- D) Abdullah

12. Hilfü'l-Fudül ne demektir?

- A) Erdemliler Birliği
- B) Hilafet Makamı
- C) Dört Halife
- D) Birleşmiş Aşiretler

13. Peygamberimize ilk inananların sıralaması aşağıdakilerden hangisinde doğru olarak verilmiştir?

- A) Hz. Ayşe – Hz. Osman – Hz. Ebu Bekir – Hz. Ali
- B) Hz. Ebu Bekir – Hz. Ali – Hz. Hatice – Kölesi Zeyd
- C) Hz. Hatice – Hz. Ebu Bekir – Hz. Ali – Kölesi Zeyd
- D) Kölesi Zeyd – Hz. Hatice – Hz. Ebu Bekir – Hz. Ali

14. Peygamberimiz Hz. Muhammed (S.A.V.)'in anne ve babasının isimleri aşağıdakilerden hangisinde birlikte ve doğru olarak verilmiştir?

- A) Hatice-Abdumuttalip
- B) Amine-Abdullah
- C) Fatma-Ebu Talip
- D) Ayşe-Amr b.As

15. Peygamberimize Abdumuttalip'in verdiği "Muhammed" ismi ne anlama gelmektedir?

- A) Saygı duyulan
- B) Çok temiz
- C) Güzel ahlaklı
- D) Çok övülen

16. 1926 yılında Diyanet İşleri tarafından Kuranı Kerim'in tefsiri görevi kime verilmiştir?

- A) Hasan Basri Çantay
- B) Elmalılı Hamdi Yazır
- C) Mehmet Akif Ersoy
- D) Aşık Paşa Veli

17. Kuran-ı Kerim'in indirilme süreci kaç yılda tamamlanmıştır?

- A) 20
- B) 21
- C) 22
- D) 23

18. Aşağıdakilerden hangisi Kuran-ı Kerim'de yer alan inanç esaslarından biri değildir?

- A) Allah'ın gönderdiği kitaplara inanma
- B) Allah'ın gönderdiği peygamberlere inanma
- C) Hayır ve şerrin Allah'tan olduğuna inanma
- D) Her dileyenin şefaata edebileceğine inanma

19. "Divan-ı Hikmet" kimin eseridir?

- A) Mevlana Celalettin-i Rumi
- B) Hacı Bektaş-ı Veli
- C) Yunus Emre
- D) Hoca Ahmet Yesevi

20. Günümüze kadar değişmeden, aslına uygun olarak ulaşan tek ilahi kitap aşağıdakilerden hangisidir?

- A) İncil
- B) Kuran-ı Kerim
- C) Tevrat
- D) Zebur

1. **Güzelliği ve güzel sanatların doğasını inceleyen felsefe dalı aşağıdakilerden hangisidir?**
 - A) Etik
 - B) Ahlak
 - C) Estetik
 - D) Mantık
2. **İdeal bir toplum düzeni tasarlayan ilk filozof aşağıdakilerden hangisidir?**
 - A) Kant
 - B) Farabi
 - C) Platon
 - D) Spinoza
3. **İnsanların eylemlerini ve birbirleriyle ilişkilerini düzenlemek amacıyla oluşturulmuş normlar ya da değerler sistemine ne ad verilir?**
 - A) Hukuk
 - B) Din
 - C) Felsefe
 - D) Ahlak
4. **Aşağıdakilerden hangisi din felsefesinin temel kavramlarından biri değildir?**
 - A) İman
 - B) İbadet
 - C) Bürokrasi
 - D) Vahiy
5. **Bireyin iyi ve doğru eylemlerde bulunmaya mizaç, eğitim ve moral olgunluk açısından yatkın olma durumuna ne ad verilir?**
 - A) Sorumluluk
 - B) Etik
 - C) Vicdan
 - D) Erdem
6. **Aşağıdakilerden hangisi toplumlarda siyasi iktidarın olası kaynaklarından biri değildir?**
 - A) Olumsuz coğrafi koşullar
 - B) İçten gelebilecek tehlikelere karşı korunma düşüncesi
 - C) Birlikte yaşama isteği
 - D) Egemen din anlayışı
7. **“Mesnevi” adlı eser aşağıdakilerden hangisine aittir?**
 - A) Mevlana
 - B) Hacı Bektaş Veli
 - C) Ahmet Yesevi
 - D) İbn-i Haldun
8. **Din ile felsefeyi birbirinden ayırarak inceleyen ilk düşünür aşağıdakilerden hangisidir?**
 - A) Kant
 - B) Huxley
 - C) Sartre
 - D) Orwel
9. **“Siyaset hem bir çatışma ve iktidar kavgası hem de toplumun tüm üyelerinin yararına olabilecek bir düzen yaratma aracıdır.” görüşünü dile getiren siyaset bilimci aşağıdakilerden hangisidir?**
 - A) Daver
 - B) Baumgarten
 - C) Duverger
 - D) Smith
10. **“Anarşizm” akımının kurucusu aşağıdakilerden hangisidir?**
 - A) Kropotkin
 - B) Stimer
 - C) Bakunin
 - D) Proudhon
11. **Ahlak yasasını, Tanrı ve insan sevgisiyle temellendiren, bu çerçevede insanların eşitliğini ve kardeşliğini savunan, iyilik, sevgi, çalışkanlık ve dürüstlüğü ahlaki değer olarak benimseyen düşünür aşağıdakilerden hangisidir?**
 - A) Pir Sultan Abdal
 - B) Hacı Bektaş Veli
 - C) Yunus Emre
 - D) Mevlana

12. "Evrensel ahlak yasasını belirleyen en önemli öge insanın, kendisinin de bir parçası olduğu doğa düzenini anlayarak ve bu bilgiye dayanarak ahlaki bir biçimde davranmasıdır." görüşünü dile getiren düşünür aşağıdakilerden hangisidir?

- A) Kant
- B) Spinoza
- C) Demokritos
- D) Aristoteles

13. "Yeni Dünya" adlı eser aşağıdakilerden hangisine aittir?

- A) Orwell
- B) Huxley
- C) Campanella
- D) More

14. "Erdemli Toplum" adlı eserinde erdemli bir toplumun erdemli, bilgili yöneticiler aracılığıyla oluşturulabileceğini savunan düşünür aşağıdakilerden hangisidir?

- A) Gazali
- B) Farabi
- C) Fuzuli
- D) Mevlana

15. Aşağıdakilerden hangisi siyaset felsefesinin temel kavramlarından biri değildir?

- A) Devlet
- B) Toplum
- C) Bürokrasi
- D) Ahlak

16. "Varolan her şeyin bir yaratıcısı olduğuna, bu yaratıcının mutlak ve sınırsız bir bilgi ve güce sahip olduğuna sarsılmaz bir inanç beslemek" aşağıdakilerden hangisiyle ifade edilir?

- A) Ateizm
- B) Deizm
- C) Agnostisizm
- D) Teizm

17. Aşağıdakilerden hangisi din felsefesinin konularından biri değildir?

- A) Tanrının varlığı
- B) Güzel ahlak
- C) Evrenin yaratılışı
- D) Ruhun ölümsüzlüğü

18. Yaşadığı dönemin İtalya'sındaki aksaklıklardan yola çıkarak "Güneş Ülkesi" adını verdiği ideal bir toplum düzenini tasarlayan düşünür aşağıdakilerden hangisidir?

- A) Bacon
- B) Bentham
- C) Campanella
- D) Mill

19. "Her insan idealar dünyasına yönelmeli ve eylemlerini iyi ideasına uydurmalıdır." görüşünü dile getiren düşünür aşağıdakilerden hangisidir?

- A) Platon
- B) Descartes
- C) Aristoteles
- D) Demokritos

20. "İnsan ahlaki eylemlerinde yalnızca kendi hazzını, yararını ve mutluluğunu değil, aşka insanların yararını ve mutluluğunu da düşünmek durumundadır. Çünkü toplumun mutluluğu sağlandığında birey de mutluluğa ulaşır." görüşünü savunan düşünür aşağıdakilerden hangisidir?

- A) Mill
- B) Hobbes
- C) Bacon
- D) Weber

SEÇMELİ FELSEFE 2

A

2014 III.DÖNEM 0105-A

1. Aşağıdakilerden hangisi din felsefesinin temel kavramlarından biri değildir?

- A) İman
- B) Kutsal
- C) Yönetim
- D) Vahiy

2. Farabi'nin, seçimle belirlenen erdemli kişiler tarafından yönetilen ütopyik devlet tasarısını anlattığı eseri aşağıdakilerden hangisidir?

- A) Güneş Ülkesi
- B) Yeni Dünya
- C) Ütopya
- D) Erdemli Şehir

3. Aşağıdakilerden hangisi ahlak yargılarının özelliklerinden biri değildir?

- A) Estetik beğeni ile ilgili yargılardır.
- B) Yaptırım gücüne sahiptir.
- C) Kişiden kişiye değişebilir.
- D) Kural koyucudur.

4. Demokratik otoritenin kaynağı aşağıdakilerden hangisidir?

- A) Yazılı hukuk kuralları
- B) Yerleşik inançlar
- C) Karizmatik lider
- D) Gelenekler

5. Aşağıdakilerden hangisi ahlak felsefesinin temel sorularından biridir?

- A) Meşruiyetin ölçütü nedir?
- B) Var oluşun kaynağı nedir?
- C) Sivil toplum ne anlama gelir?
- D) İnsan ahlaki eylemde bulunurken özgür müdür?

6. Panteizme göre, Tanrı'nın evrenden ayrı bir varlığı yoktur. Tanrı evrenin kendisidir. Evrende var olan her şey, aslında bir bütün olarak Tanrı'yı oluşturur. Tanrı her şeydir ve her şey Tanrı'dır. Tanrı, nesnelerin dışında değil, içindedir.

Bu açıklamaya göre Panteizm ile ilgili aşağıdaki yargılardan hangisine ulaşılabilir?

- A) Tanrı'nın varlığını reddeder.
- B) Tanrı ve evrenin birbirinden bağımsız olduğunu kabul eder.
- C) Tanrı'nın varlığını evren ile özdeşleştirir.
- D) Tanrı'nın varlığının bilinemeyeceğini savunur.

7. Aşağıdakilerden hangisi "İnsanın kendi çevresi ile kurduğu ilişkiyi estetik bir ifadeyle sunması" olarak ifade edilir?

- A) Bilim
- B) Ahlak
- C) Din
- D) Sanat

8. Aşağıdakilerden hangisi estetik yargıya bir örnektir?

- A) Bırakılan taş yere düşer.
- B) Picasso'nun bütün resimleri güzeldir.
- C) Bütün canlılar ölümlüdür.
- D) Arkadaşa yardımcı olmak iyi bir davranıştır.

9. Sartre hangi felsefi yaklaşımın temsilcisidir?

- A) Hazcılık
- B) Sezgicilik
- C) Faydacılık
- D) Varoluşçuluk

10. Kant'ın ahlaki eylem ile ilgili görüşü aşağıdakilerden hangisidir?

- A) Bir eylemin iyi ya da kötü olduğuna, iyi ideasına uygun olup olmadığına bakılarak karar verilir.
- B) Bir eylem, bir ödev duygusuyla yapılmış ise ahlaki eylemdir.
- C) Neyin iyi, neyin kötü olduğu sezgiyle kavranabilir.
- D) Ahlaki eylemin amacı mutluluktur.

11. Aşağıdakilerden hangisi din konusunda felsefi bir yaklaşımdır?

- A) Dini temellendirmek ve inançları kuvvetlendirmek
- B) Dinin temel iddiaları üzerinde akla dayanarak, genel ve tutarlı biçimde düşünmek
- C) Olayları, dini kurallar çerçevesinde yorumlamak
- D) İnanılan dinin kurallarını açıklamak

12. I. Mevlana
II. Yunus Emre
III. Hacı Bektaş Veli

Yukarıdakilerden hangileri evrensel ahlak yasasını tasavvuf düşüncesiyle temellendirmiştir?

- A) Yalnız I
- B) I ve II
- C) II ve III
- D) I, II ve III

13. Zihinde tasarlanmış, gerçekleşmesi mümkün olmayan düşsel bir toplum biçimini ve siyasi yönetim tarzını ifade eden kavram aşağıdakilerden hangisidir?

- A) Bürokrasi
- B) Anomi
- C) Ütopya
- D) Devlet

14. Aşağıdakilerden hangisi ideal bir düzenin olabileceğini reddeden "nihilizm" in temsilcilerinden biridir?

- A) Marx
- B) Platon
- C) Nietzsche
- D) Comte

15. Liberalizmi savunan düşünörlere göre, ideal düzenin var olması aşağıdakilerden hangisine bağlıdır?

- A) Toplumun hukuk kurallarından daha çok örf ve geleneklere göre yönetilmesine
- B) Toplumda birey özgürlüklerinin tam olarak yerine getirilmesine
- C) İnsanlar arasında tam eşitliğin gerçekleşmesine
- D) Üretim araçlarının toplumun ortak mülkiyetinde olmasına

16. "Gerçek estetik yargıların duyusal olmaktan çıkıp düşünsel düzeye çıktığını, kişisel olmaktan çıkış zorunlu ve genel geçer hale geldiğini" ifade eden Kant, bu görüşüyle aşağıdakilerden hangisini savunmuştur?

- A) Ortak estetik yargıların var olduğunu
- B) Sanatla oyun arasında benzerlik olduğunu
- C) Estetik yargıların, kişilere göre farklılık gösterdiğini
- D) Güzel olan ile iyi hoş olanın aynı şey olduğunu

17. Max Weber'in "Liderin sahip olduğuna inanılan olağanüstü niteliklerinden doğar." şeklinde ifade ettiği otorite türü aşağıdakilerden hangisidir?

- A) Hukuksal
- B) Geleneksel
- C) Karizmatik
- D) Demokratik

18. • İnsanların toplum içinde nasıl davranmaları gerektiğini bildiren kurallardır.
• Devletin iktidar gücünü hiçbir baskı olmadan kullanabilmesidir.
• İzin verilmiş olan, yasaklanmamış olan davranışlarda bulunma serbestisidir.

Yukarıdakiler arasında tanımı verilmeyen kavram aşağıdakilerden hangisidir?

- A) Egemenlik
- B) Devlet
- C) Yasa
- D) Hak

19. Aşağıdakilerden hangisi ahlak felsefesinin kavramlarından biridir?

- A) Erdem
- B) Meşruiyet
- C) Kutsal
- D) Güzel

20. Sanatçının eserlerini nasıl oluşturduğu ile ilgili aşağıdaki ifadelerden hangisi yanlıştır?

- A) Estetik duygulardan annarak sanat eserini oluşturur.
- B) Madde ve biçime ilişkin her şeyle oynayarak oluşturur.
- C) Kendi yeteneği ve hayal gücünü kullanarak oluşturur.
- D) Nesnelere taklit ederek oluşturur.

1. Aşağıdakilerden hangisi Cumhuriyetin ilanının nedenleri arasında yer almaz ?
 - A) Devlet başkanlığı ve rejim sorununu çözümlemek
 - B) TBMM'nin Londra Konferansı'na katılımını sağlamak
 - C) Millî egemenliğin tam olarak gerçekleştirilmesini sağlamak
 - D) Meclis hükümeti sisteminin ortaya çıkardığı sorunları çözümlemek
2. Türk kadını, hangi tarihte milletvekili seçme ve seçilme hakkını elde etmiştir?
 - A) 1 Nisan 1922
 - B) 16 Mayıs 1927
 - C) 28 Haziran 1930
 - D) 5 Aralık 1934
3. Türkiye Cumhuriyeti rejimine karşı çıkan ilk isyan aşağıdakilerden hangisidir?
 - A) Şahkulu İsyanı
 - B) Şeyh Sait İsyanı
 - C) Canberdi Gazali İsyanı
 - D) Patrona Halil İsyanı
4. Türkiye Cumhuriyeti'nin ilk özel bankası aşağıdakilerden hangisidir?
 - A) İş Bankası
 - B) Ziraat Bankası
 - C) Halk Bankası
 - D) Emlak ve Eytam Bankası
5. Mustafa Kemal Atatürk'ün kurucusu olduğu parti (firka) aşağıdakilerden hangisidir?
 - A) Terakkiperver Cumhuriyet Fırkası
 - B) Serbest Cumhuriyet Fırkası
 - C) Cumhuriyet Halk Fırkası
 - D) Hürriyet ve İtilaf Fırkası
6. Aşağıdakilerden hangisi Türklerin kullandığı millî alfabelerden biridir?
 - A) Göktürk Alfabeti
 - B) Arap Alfabeti
 - C) Kiril Alfabeti
 - D) Latin Alfabeti
7. Türk Medeni Kanunu hazırlanırken aşağıdaki devletlerden hangisinin medeni kanunlarından yararlanılmıştır?
 - A) Bulgaristan
 - B) Fransa
 - C) İsviçre
 - D) Hollanda
8. Mustafa Kemal Atatürk, "Benim naçiz vücudum bir gün elbet toprak olacaktır. Fakat Türkiye Cumhuriyeti sonsuza kadar yaşayacaktır." sözünü aşağıdaki hangi olay üzerine söylemiştir?
 - A) İzmir Suikast Girişimi
 - B) Şeyh Sait İsyanı
 - C) Menemen Olayı
 - D) 31 Mart Vakası
9. Aşağıdakilerden hangisi Osmanlı Dönemi'nde yetişmiş olan Türk denizcilerinden biri değildir?
 - A) Barbaros Hayrettin Paşa
 - B) Piri Reis
 - C) Abdülmelik b. Şihâb
 - D) Turgut Reis
10. Büyük Hun Devleti hükümdarı Mete'nin tahta çıkış tarihi olan MÖ 209 yılını kuruluş tarihi olarak kabul eden kurum aşağıdakilerden hangisidir?
 - A) Meclis-i Maarif-i Umumiye
 - B) Osmanlı Demokrat Fırkası
 - C) Dar'ül Fünun
 - D) Türk Kara Kuvvetleri

11. “Yabancı Okullar Sorunu”ndaki yaklaşımı nedeniyle aşağıdaki hangi devletle Türkiye Cumhuriyeti’nin iyi ilişkiler kurması gecikmiştir?

- A) Fransa
- B) Portekiz
- C) İspanya
- D) Mısır

12. Aşağıdaki ülkelerden hangisi Balkan Antantı’na üye değildir?

- A) Türkiye
- B) Irak
- C) Yunanistan
- D) Romanya

13. Lozan Antlaşması’nın Boğazlar üzerinde Türk egemenliği zedeleyen hükümleri aşağıdakilerden hangisiyle kaldırılmıştır?

- A) Balkan Antantı
- B) Montrö Sözleşmesi
- C) Sadabat Paktı
- D) Moskova Antlaşması

14. Din ve devlet işlerini birbirinden ayıran, devletin kurumlarını akıl, bilim ve en ileri teknolojiye göre kurmasını ve yönetmesini öngören Atatürk ilkesi aşağıdakilerden hangisidir?

- A) Milliyetçilik
- B) Devletçilik
- C) Laiklik
- D) Halkçılık

15. Milletin egemenliği kendi elinde tuttuğu ve bunu belirli süreler için seçtiği temsilciler yani milletvekilleri aracılığıyla kullandığı devlet şekli aşağıdakilerden hangisidir?

- A) Teokrasi
- B) Cumhuriyet
- C) Monarşi
- D) Oligarşi

16. Aşağıdakilerden hangisi Atatürk’ün devletçilik ilkesinin olgunlaşmasında önemli etkenlerden biri değildir?

- A) Teknik bilgiye sahip eleman yetersizliği
- B) Yabancı sermayenin olumsuz tutumu
- C) Girişimcinin elinde yeterli sermayenin olmayışı
- D) Yetişkin ve girişimci iş adamlarının fazlalığı

17. Aşağıdakilerden hangisi Atatürkçü Düşünce Sistemi’nin temel ilkelerinden biri değildir?

- A) Cumhuriyetçilik
- B) Halkçılık
- C) Laiklik
- D) Durağanlık

18. Türkiye Cumhuriyeti’nin ikinci Cumhurbaşkanı kimdir?

- A) İsmet İnönü
- B) Celal Bayar
- C) Cemal Gürsel
- D) Fahri Korutürk

19. Aşağıdakilerden hangisi Mihver Devletler’den biri değildir?

- A) Almanya
- B) Japonya
- C) İngiltere
- D) İtalya

20. Aşağıdakilerden hangisi II. Dünya Savaşı’nın sonuçlarından biri değildir?

- A) Almanya, Doğu ve Batı Almanya olmak üzere ikiye ayrılmıştır.
- B) İrkçı akımlar etkisini kaybetmiştir.
- C) Birleşmiş Milletler Teşkilatı kurulmuştur.
- D) Milletler Cemiyeti kurulmuştur.

1. Karmaşık düzlemde $15-8i$ sayısının orijine olan uzaklığı kaç birimdir?

- A) 7
B) 13
C) 17
D) 23

2. $x, y \in \mathbb{R}$ olmak üzere, $z_1=11-4x-i$ ve $z_2=19-(5-y)i$ karmaşık sayıları veriliyor.

$z_1=z_2$ ise $y-x$ kaçtır?

- A) 2
B) 4
C) 6
D) 8

3. $\log_{21} 81 \cdot \log_7 21 \cdot \log_3 7$ çarpımının sonucu kaçtır?

- A) 3
B) 4
C) 9
D) 27

4. $(5-\sqrt{3}.i)$ karmaşık sayısının eşleniği aşağıdakilerden hangisidir?

- A) $5-\sqrt{3}.i$
B) $-5+\sqrt{3}.i$
C) $-5-\sqrt{3}.i$
D) $5+\sqrt{3}.i$

5. $z=(1+i)^2-2i.(1-3i)$ karmaşık sayısının reel kısmı aşağıdakilerden hangisidir?

- A) -6
B) -5
C) -4
D) 7

6. $\log_5(\log_3(\log_2(\log_2 256)))$ ifadesi aşağıdakilerden hangisine eşittir?

- A) 0
B) 1
C) 3
D) 5

7. $\log_x 64=6$ eşitliğini sağlayan x değeri kaçtır?

- A) 2
B) 4
C) 8
D) 16

8. $z = \cos \frac{\pi}{4} + i \sin \frac{\pi}{4}$ ise, z^2 nin $x+yi$ şeklinde yazılışı aşağıdakilerden hangisidir?

- A) $-i$
B) 1
C) i
D) $1+i$

9. $\frac{1+i}{1-i}$ işleminin sonucu aşağıdakilerden hangisidir?

- A) 2
B) $\frac{1}{2} + \frac{1}{2}i$
C) $\frac{1}{2} - \frac{1}{2}i$
D) i

10. $\left| \frac{3-5i}{-1-i} \right|$ ifadesinin değeri aşağıdakilerden hangisidir?

- A) $2\sqrt{2}$
B) $\sqrt{17}$
C) $\sqrt{34}$
D) 8

11. $P(x) = -x^{132} + 5x^{173} - x^{74}$ polinomu veriliyor. Buna göre $P(i)$ kaçtır?

- A) $-2+5i$
B) $5i$
C) $2+5i$
D) 2

12. $f(x)=7-\log_3(x-5)$ fonksiyonu veriliyor. Buna göre $f^{-1}(4)$ kaçtır?

- A) 8
- B) 16
- C) 27
- D) 32

13. $2^3=8$ eşitliğinin, logaritmik ifade olarak yazılışı aşağıdakilerden hangisidir?

- A) $\log_2 3=8$
- B) $\log_2 8=3$
- C) $\log_8 2=3$
- D) $2 \cdot \log 3=8$

14. Aşağıdaki eşitliklerden hangisi yanlıştır?

- A) $\sqrt{144} = 12$
- B) $i^4=1$
- C) $\sqrt{-4} = 4i$
- D) $i^3=-i$

15. $Z_1=-3i+8$ ve $z_2=-7+i$ karmaşık sayıları veriliyor.

Buna göre z_1-z_2 sayısı aşağıdakilerden hangisidir?

- A) $1-2i$
- B) $-10+9i$
- C) $4+7i$
- D) $15-4i$

16. $f(x) = \log_7(x^2-5x-6)$ kuralıyla tanımlanan f fonksiyonunun tanımlı olduğu x gerçel sayılarının kümesi aşağıdakilerden hangisidir?

- A) $R-[-6, 1]$
- B) $[1, \infty]$
- C) $[6, \infty]$
- D) $R-[-1, 6]$

17. $\log \sqrt[15]{1000}$ ifadesinin sonucu aşağıdakilerden hangisidir?

- A) $\frac{1}{5}$
- B) 1
- C) 5
- D) 10

18. $e^{12+x}=1$ denkleminin çözüm kümesi aşağıdakilerden hangisidir?

- A) $\{-13\}$
- B) $\{-12\}$
- C) $\{-11\}$
- D) $\{13\}$

19. $\log 2=a$, $\log 3=b$ ve $\log 5=c$ eşitlikleri veriliyor.

Buna göre $\log 360$ in değeri aşağıdakilerden hangisidir?

- A) $2a+3b+c$
- B) $4a+3b+c$
- C) $3a+2b+c$
- D) $-3a-4b-c$

20. $4^{\log_4 84 - \log_4 12}$ ifadesinin değeri aşağıdakilerden hangisidir?

- A) 7
- B) 14
- C) 18
- D) 28

1. **İlk psikoloji laboratuvarı aşağıdaki bilim insanlarından hangisi tarafından kurulmuştur?**
 - A) W. James
 - B) J. Dewey
 - C) W. Wundt
 - D) K. Lewin
2. **İnsanın anatomik yapısının, sinir sisteminin ve salgı bezlerinin davranışlarla ilişkisini araştıran psikoloji dalı aşağıdakilerden hangisidir?**
 - A) Eğitim psikolojisi
 - B) Fizyolojik psikoloji
 - C) Deneysel psikoloji
 - D) Karşılaştırmalı psikoloji
3. **Aşağıdakilerden hangisi pozitif bilimlerden biri değildir?**
 - A) Sosyoloji
 - B) Psikoloji
 - C) Tarih
 - D) Kimya
4. **Organizmanın doğrudan veya dolaylı olarak gözlenebilen tüm etkinliklerine ne ad verilir?**
 - A) Eğitim
 - B) Davranış
 - C) Öğrenme
 - D) Araştırma
5. **İnsanın kendini incelemesi yöntemine ne ad verilir?**
 - A) İç gözlem
 - B) Yaklaşım
 - C) Deney
 - D) Algı
6. **Duyumları yorumlama, anlamlı hale getirme sürecine ne ad verilir?**
 - A) Algı
 - B) Güdü
 - C) Dürtü
 - D) Davranış
7. **Davranışçılık ekolünü benimseyenlerin araştırmalarında kullandıkları yöntem aşağıdakilerden hangisidir?**
 - A) İçebakış-deney
 - B) Deney-gözlem
 - C) Gözlem-telkin
 - D) Hipnoz-gözlem
8. **“Sütten ağız yanan yoğurdu üfleyerek yer” deyimini aşağıdakilerden hangisine örnek olarak verilebilir?**
 - A) Koşullanmanın canlanması
 - B) Koşullanmanın genellemesi
 - C) Koşullanmanın pekiştirilmesi
 - D) Koşullanmanın sönmesi
9. **Çay bardağına batırılmış bir kaşığın kırılmış gibi algılanması aşağıdakilerden hangisi ile ilgilidir?**
 - A) Fiziksel illüzyon
 - B) Psikolojik illüzyon
 - C) Halüsinasyon
 - D) Hipnoz
10. **Organizmanın ihtiyacı gidermek için belli bir yönde etkinlik göstermesi eğilimine ne ad verilir?**
 - A) İhtiyaç
 - B) Doyum
 - C) Güdü
 - D) Algı
11. **Aşağıdakilerden hangisi görsel derinlik algılamasına neden olan çevresel etmenlerden biri değildir?**
 - A) Binişim
 - B) Işık ve gölge
 - C) Çizgisel perspektif
 - D) Halüsinasyon

12. "Öğretmenin görevi çocuğa yalnızca bilgi aktarmak değil, ona dünyayı keşfetmesinde rehberlik etmektir" ifadesi aşağıdaki yaklaşımlardan hangisi ile açıklanabilir?

- A) Biyolojik
- B) Bütünlükçü
- C) İşlevsel
- D) Bilişsel

13. Aşağıdakilerden hangisi uyku bozukluğu durumlarından biri değildir?

- A) Uykuya dalma güçlüğü
- B) Sürekli uyuma
- C) Kesintili uyku
- D) Aşırı uyku

14. Doyurulmamış temel ihtiyaçların yarattığı iç huzursuzluklarını gidermek üzere insanın kendini aldatması pahasına başvurduğu davranış örüntülerine ne ad verilir?

- A) Katarsis
- B) Sosyal öğrenme
- C) Kalıpyargı
- D) Savunma mekanizmaları

15. Kısa süreli bellekle ilgili aşağıdaki ifadelerden hangisi yanlıştır?

- A) Zaman sınırı geniştir.
- B) Kapasitesi çok sınırlıdır.
- C) Aksatılmaya çok duyarlıdır.
- D) Belleğin işlevi aşağı yukarı yedi birimle sınırlıdır.

16. Birleştirerek, bağ kurarak öğrenmeye ne ad verilir?

- A) Model alarak öğrenme
- B) Bilişsel öğrenme
- C) Klasik koşullanma yoluyla öğrenme
- D) Sunuş yoluyla öğrenme

17. Aşağıdakilerden hangisi öğrenmenin gerçekleşebilmesi için gerekli olan temel şartlardan biri değildir?

- A) Genel uyarılmışlık durumu
- B) Türe özgü hazır olma
- C) Olgunlaşma
- D) Demografik etkenler

18. Önceden öğrenilenlerin yeni öğrenilenleri unutturması aşağıdakilerden hangisi ile ilgilidir?

- A) Baskılamayla
- B) Geriye ket vurmayla
- C) Öğrenmenin yetersiz olmasıyla
- D) İleriye ket vurmayla

19. Rüyaların büyük bir bölümü uykunun hangi döneminde görülür?

- A) EEG
- B) AAA
- C) REM
- D) KEM

20. İnsan kendine göre bir değerdir, belli bir toplum düzeninin ya da iş örgütünün aracı haline getirilmemelidir. İnsan kendisinden, davranışlarından, oluşturacağı kimliğinden kendisi sorumludur. Geçmiş ya da gelecek değil içinde yaşanılan an önemlidir.

Yukarıdaki açıklama hangi yaklaşıma aittir?

- A) Hümanistik yaklaşım
- B) Bilişsel yaklaşım
- C) Psikodinamik yaklaşım
- D) Biyolojik yaklaşım

1. Bir yazarın gazetelerde güncel, önemli özelliği olan herhangi bir konu üzerinde kişisel görüş ve düşüncelerini akıcı bir dille belgelendirme gereği duymadan dile getirdiği ciddi ve nükteli fikir yazılarına ne ad verilir?
- A) Fıkra
B) Makale
C) Eleştiri
D) Sohbet
2. Olay çevresinde oluşan edebi metinler, metinlerin sınıflandırılmasına göre hangi metinler içerisinde yer alır?
- A) Öğretici metinler
B) Gazete çevresinde gelişen metinler
C) Sanat metinleri
D) Tarihi metinler
3. Gezi yazılarının eski adı aşağıdakilerden hangisidir?
- A) Hatıra
B) Name
C) Seyahatname
D) Vakaname
4. Çevresi izleyicilerle çevrili bir alan içinde oynanan, yazılı metne dayanmayan, içinde müzik, raks ve şarkı da bulunan doğaçlama bir oyun olarak tarif edilen tür aşağıdakilerden hangisidir?
- A) Müzikal
B) Orta oyunu
C) Komedi
D) Karagöz
5. "1881 yılında Selanik'te, üç katlı pembe bir evde dünyaya gelmişim. Annem bana baharda mayısın herhangi bir günü doğduğumu söylerdir. Benim doğum günüm niye 19 Mayıs olmasın? ..."
- Yukarıda bir parçası alıntılan eserin türü aşağıdakilerden hangisidir?
- A) Otobiyografi
B) Deneme
C) Anı
D) Makale
6. Eleştiri türüyle ilgili aşağıdakilerden hangisi yanlıştır?
- A) Eleştiri yapan kişi geniş bilgi ve kültür birikimiyle donanımlı olmalı.
B) Edebiyatımızdaki ilk eleştiri Namık Kemal'in Tahrib-i Harabat eseridir.
C) Eleştiride eserin bütün özelliklerini ortaya koymak gereksizdir.
D) Kişinin kendi eleştirisini yansıtan yazılara otokritik adı verilir.
7. Uzun zamandır görüşemediğiniz uzaktaki bir arkadaşınıza yaz tatili ile ilgili duygu ve isteklerinizi yazdığınız yazının türü aşağıdakilerden hangisidir?
- A) Mektup
B) Dilekçe
C) Manzum hikâye
D) Hitap
8. Sanat metinleriyle ilgili aşağıdaki ifadelerden hangisi yanlıştır?
- A) Her okunduğunda farklı yorumlanmaz.
B) Estetik ön plandadır.
C) Edebiyat biliminin içerisinde yer alır.
D) Sanat metinlerine edebi metinler de denir.
9. Aşağıdakilerden hangisi modern Türk tiyatrosu içerisinde yer almaz?
- A) Dram
B) Komedi
C) Trajedi
D) Orta oyunu
10. Aşağıdakilerden hangisi öğretici metinlerden biridir?
- A) Dram
B) Manzum hikâye
C) Tarihi metinler
D) Şiir
11. Aşağıdakilerden hangisi olay çevresinde oluşan edebi metinlerden biri değildir?
- A) Mesnevi
B) Masal
C) Destan
D) Komedi

12. Mesnevi hangi metin grubu içerisinde yer alır?

- A) Göstermeye bağlı edebi metinler
- B) Anlatmaya bağlı edebi metinler
- C) Tarihi metinler
- D) Felsefi metinler

13. Makale türü Türk edebiyatına hangi dönemde girmiştir?

- A) Fetret
- B) Cumhuriyet
- C) Islahat
- D) Tanzimat

14. Atatürk'ün manevi kızı Afet İnan'a yazdığı yazının türü aşağıdakilerden hangisidir?

- A) Özel mektup
- B) Edebi mektup
- C) Günce
- D) Anı

15. Kavuklu ve Pişekâr'ın kahramanları olduğu oyun türü aşağıdakilerden hangisidir?

- A) Köy seyirlik oyunu
- B) Trajedi
- C) Orta Oyunu
- D) Destan

16. Günlük ve anı ile ilgili olarak aşağıdakilerden hangisi söylenemez?

- A) Günlüklerde anlatılanların içtenlikle ifade edildiği
- B) Anılarda anlatılanların belgelere dayandığı
- C) Anıların geçmişe yönelik olduğu
- D) Günlüklerin günü gününe yazıldığı

17. Aşağıdakilerden hangisi eleştiri yazarına verilen isimlerden biri değildir?

- A) Münekkit
- B) Hatip
- C) Tenkit yazarı
- D) Eleştirmen

18. Herhangi bir konu üzerinde yazarın düşüncelerini kesin yargıya varmadan, kurallara bağlamadan görüş ve düşüncelerini serbestçe ortaya koyduğu fikir yazılarına ne ad verilir?

- A) Makale
- B) Eleştiri
- C) Fıkra
- D) Deneme

19. Bir kişinin söylediğinin aynı şekilde değil de bazı değişiklikler yapılarak anlatılmasına ne ad verilir?

- A) Nesnel anlatım
- B) Öznel anlatım
- C) Doğrudan anlatım
- D) Dolaylı anlatım

20. "Derinden derine ırmaklar ağlar,
Uzaktan uzağa çoban çeşmesi,"

Yukarıda iki dizesi alıntılanan "Çoban Çeşmesi" şiirinin şairi aşağıdakilerden hangisidir?

- A) Yahya Kemal Beyatlı
- B) Faruk Nafiz Çamlıbel
- C) Atıf Behramoğlu
- D) Ahmet Hamdi Tanpınar

1. Türk Edebiyatında, Kurtuluş Savaşı üzerine yazılan ilk roman aşağıdakilerden hangisidir?

- A) Ateşten Gömlek
- B) Türk'ün Ateşle İmtihanı
- C) Mor Salkımlı Ev
- D) Yorgun Savaşçı

2. Dede Korkut Hikâyeleri ile ilgili aşağıdaki bilgilerden hangisi yanlıştır?

- A) Türk'ün öz benliğini yansıtan eserlerdir.
- B) Başka edebiyatlardan alınan bölümleri vardır.
- C) Gerçekçi bir anlatımı vardır.
- D) Ayrıntılı tahliller ve özenilmiş tasvirler yoktur.

3. Aşağıdakilerden hangisi, sözlü edebiyat ürünleri arasında yer almaz?

- A) Koşuk
- B) Destan
- C) Ağıt
- D) Gazel

4. Göktürk yazıtlarını ilk kez 1893 yılında okuyan Danimarkalı bilim, aşağıdakilerden hangisidir?

- A) Stendhal
- B) Thomsen
- C) Çehov
- D) Balzac

5. Halk şiirinin unutulmaz ustasıdır. 17. yüzyılda Toroslar'da Türkmen aşiretleri arasında yaşamıştır. Şiirlerini dördlük nazım birimiyle, hece ölçüsüyle saz eşliğinde söyledi.

Yukarıda tanıtılan ünlü halk ozanı, aşağıdakilerden hangisidir?

- A) Koroğlu
- B) Pir Sultan Abdal
- C) Âşık Veysel
- D) Karacaoğlu

6. İşgale uğrayan bir ülke ve savaş gibi önemli bir toplumsal olayı işleyen Ateşten Gömlek romanının yazarı, aşağıdakilerden hangisidir?

- A) Orhan Şaik Gökyay
- B) Ahmet Hamdi Tanpınar
- C) Halit Ziya Uşaklıgil
- D) Halide Edip Adivar

7. Ala gözlerini sevdiğim dilber
Şu gelip geçtiğin yollar öğünsün
Kadir Mevlâm seni öğmüş yaratmış
Kısameti olduğun kullar öğünsün

Yukarıdaki dizelerin sahibi ünlü halk şairi aşağıdakilerden hangisidir?

- A) Pir Sultan Abdal
- B) Âşık Veysel
- C) Karacaoğlu
- D) Dadaloğlu

8. Yurt dışına elçi olarak gönderilen kimselerin gördükleri yerlerle ilgili gezi, gözlem ve izlenimlerini anlattıkları eserlere ne ad verilir?

- A) Seyahatname
- B) Şikâyetname
- C) Selçukname
- D) Sefaretname

9. Aşağıdaki edebî dönemlerden hangisi Batı Etkisinde Gelişen Türk Edebiyatı içinde yer almaz?

- A) Klâsik Türk Edebiyatı
- B) Tanzimat Dönemi Türk Edebiyatı
- C) Fecr-i Âti Edebiyatı
- D) Millî Edebiyat

10. Dünyanın en eski destanlarından İlyada ve Odysseia kim tarafından derlenip manzum olarak yazıya geçirilmiştir?

- A) Homeros
- B) Evliya Çelebi
- C) Thomsen
- D) Tolstoy

11. Türkiye'de tarih ve edebiyat tarihi incelemelerinde bilimsel yöntemleri ilk defa ortaya koyan, Türk edebiyatı tarihçiliğinin ilk araştırmacısı ve kurucusu, aşağıdakilerden hangisidir?

- A) Ahmet Hamdi Tanpınar
- B) Ağâh Sırrı Levent
- C) Nihat Sami Banarlı
- D) Mehmet Fuad Köprülü

12. İslamiyet'ten önce Türklerde sevilen kişilerin ölümüne duyulan üzüntüyü ifade eden ve kopuz eşliğinde söylenen şiiirlere ne ad verilir?

- A) Sagu
- B) Koçaklama
- C) Güzelleme
- D) Ağıt

13. Türkiye'de Batılı anlamda edebiyat tarihi çalışmalarının başladığı dönem, aşağıdakilerden hangisidir?

- A) Servet-i Fünûn dönemi
- B) Fecr-i Âti dönemi
- C) Tanzimat dönemi
- D) Cumhuriyet dönemi

14. Aşağıdakilerden hangisi Türklerin tarih boyunca kullandıkları alfabelerden biri değildir?

- A) Uygur alfabesi
- B) Kiril alfabesi
- C) Lâtin alfabesi
- D) Arap alfabesi

15. Aşağıdaki bilim insanlarından hangisi, Edebiyat tarihi çalışmalarında, tarihi yöntemlerden daha çok metin incelemelerine bağlı psikolojik bir yöntemi benimsemiştir?

- A) Ahmet Kabaklı
- B) Mehmet Kaplan
- C) Haluk İpekten
- D) Şükrü Elçin

16. Türk dilinin 720-735 yıllarında yazılan en eski ve en değerli belgeleri aşağıdakilerin hangisidir?

- A) Manas Destanı
- B) Orhun Abideleri
- C) Uygur Yazıtları
- D) Dede Korkut Hikâyeleri

17. Türk Edebiyat tarihinde, 10. yüzyılın ikinci yarısından 19. yüzyılın başlarına kadar devam eden döneme ne ad verilir?

- A) İslamiyet Öncesi Türk Edebiyatı
- B) Tanzimat Dönemi Türk Edebiyatı
- C) İslami Dönem Türk Edebiyatı
- D) Milli Edebiyat

18. Deriden kesilmiş insan, hayvan, bitki, eşya vb. gibi birtakım figürlerin arkadan ışık verilerek bir perde üzerine yansıtılması temeline dayanan sahne sanatı aşağıdakilerden hangisidir?

- A) Orta oyunu
- B) Gölge oyunu
- C) Meddahlık
- D) Mim sanatı

19. Türkiye'de tarih ve edebiyat tarihi incelemelerinde bilimsel yöntemleri ilk defa aşağıdaki bilim insanlarından hangisi ortaya koymuştur?

- A) Ziya Gökalp
- B) M. Nihat Özön
- C) M. Fuat Köprülü
- D) Ahmet Hamdi Tanpınar

20. Aşağıda verilen Çağdaş Türk edebiyatı destanları ve yazarları ile ilgili eşleştirmelerden hangisi yanlıştır?

- A) Kurtuluş Savaşı Destanı- Nazım Hikmet
- B) Atatürk Kurtuluş Savaşı'nda- Cahit Külebi
- C) Berlin Üçlemesi- Fazıl Hüsnü Dağlarca
- D) Sakarya Meydan Savaşı- Ceyhun Atuf Kansu

1. "Seyfi Baba" adlı şiir kime aittir?
 - A) Oktay Rifat
 - B) Orhan Veli
 - C) Melih Cevdet
 - D) Mehmet Akif Ersoy
2. "Ben Ölürsem Akşamüstü Ölürüm" adlı şiir kime aittir?
 - A) İsmet Özel
 - B) Refik Durbaş
 - C) Ülkü Tamer
 - D) Ataol Behramoğlu
3. Konusu savaş, kahramanlık ve yiğitliği övme olan şiir türü aşağıdakilerden hangisidir?
 - A) Koçaklama
 - B) Taşlama
 - C) Güzelleme
 - D) Öğüt
4. Modernizmi esas alan romanlardan biri aşağıdakilerden hangisidir?
 - A) Kuyucaklı Yusuf
 - B) Yüzakı
 - C) Tutunamayanlar
 - D) Handan
5. Halk söyleyişinden, masallardaki tekerlemelerden yararlanarak "Karadut" adlı şiiri yazan şair kimdir?
 - A) Turgut Uyar
 - B) Bedri Rahmi Eyüboğlu
 - C) İlhan Berk
 - D) Cahit Külebi
6. "Ben gidersem sazım sen kal dünyada" diyen şair aşağıdakilerden hangisidir?
 - A) Karacaoğlan
 - B) Köroğlu
 - C) Aşık Veysel
 - D) Dadaloğlu
7. Aşağıdakilerden hangisi İkinci Yeni şiirinin genel özelliklerinden biri değildir?
 - A) İmgeci bir şiirdir.
 - B) Günlük konuşma dili kullanılmıştır.
 - C) Biliçaltına yönelmiştir.
 - D) Daha çok betimleyici metinlerden oluşur.
8. Tanzimat'tan Cumhuriyet'e kadar Türk toplumunun geçirdiği tarihsel aşamaları konu edinen roman yazarı kimdir?
 - A) Halide Edip
 - B) Peyami Safa
 - C) Reşat Nuri
 - D) Yakup Kadri
9. Aşağıdakilerden hangisi Cumhuriyetin ilk yıllarında yetişen halk şairlerinden biri değildir?
 - A) Murat Çobanoğlu
 - B) Ali İzzet
 - C) Konyalı Aşık Mehmet Hüznî
 - D) Aşık Talibî Coşkun
10. İkinci yeni şiirinde dilin aşırı uçlarında dolaşan, kendine özgü yeni bir dil kurmaya çalışan, şiiri okuyucuyu şaşırtma ve sarsma anlayışı üzerine kuran bir şairdir. Asım Bezirci, onu İkinci Yeni'nin en özgün şairi olarak görür. Sürrealist teknikleri şiire en ciddi biçimde uygular.

Yukarıda tanıtılan şair aşağıdakilerden hangisidir?

 - A) Sezai Karakoç
 - B) Edip Cansever
 - C) Ece Ayhan
 - D) Cemal Süreyya
11. "Kocaoğlan" adlı tiyatro kime aittir?
 - A) Haldun Taner
 - B) Orhan Asena
 - C) Turan Ofazoğlu
 - D) Ferhan Şensoy

12. Aşağıdakilerden hangisinin "1980 Sonrası Şiiri" üzerinde yönlendirici etkisi yoktur?

- A) Enis Batur
- B) Hilmi Yavuz
- C) Ahmet Haşım
- D) Turgut Uyar

13. "Bir Başka Tepeden" adlı şiir kime aittir?

- A) Yahya Kemal
- B) Yakup Kadri
- C) Sezai Karakoç
- D) Enis Batur

14. Mekân olarak Edremit ve yöresinin ayrıntılarıyla anlatıldığı "Kuyucaklı Yusuf" adlı roman, aşağıdaki yazarlardan hangisine aittir?

- A) Refik Halit Karay
- B) Sait Faik Abasıyanık
- C) Sabahattin Âli
- D) Peride Celal

15. Aşağıdaki eser – yazar eşleştirmelerinden hangisi yanlıştır?

- A) Aylak Adam - Sabahattin Ali
- B) Anayurt Oteli - Yusuf Atılgan
- C) Dokuzuncu Hariciye Koğuşu - Peyami Safa
- D) Kuyucaklı Yusuf - Sabahattin Ali

16. Aşağıdakilerden hangisi William Shakespeare'in tiyatro oyunlarından biridir?

- A) Cimri
- B) Kral Lear
- C) Köşebaşı
- D) Nişanlılar

17. Aşağıdakilerden hangisi Orhan Asena'nın tiyatro oyunlarından biridir?

- A) Kerem ile Aslı
- B) Yunus Emre
- C) Kocaoğlan
- D) Karanlıkta Bir Işık

18. Fırtına Kuşu adlı eser aşağıdaki yazarlardan hangisine aittir?

- A) Reşat Nuri Güntekin
- B) Hamdullah Suphi Tanrıöver
- C) Yaşar Kemal
- D) Latife Tekin

19. Aşağıdaki yazar ve eseri eşleştirmelerinden hangisi yanlıştır?

- A) Yusuf Atılgan-Yeni Hayat
- B) Oğuz Atay-Tutunamayanlar
- C) Nâbizade Nâzım-Karabibik
- D) Peyami Safa-Dokuzuncu Hariciye Koğuşu

20. "Bir İkbahar Hikâyesi" adlı eser aşağıdaki yazarlardan hangisine aittir?

- A) Kemal Özer
- B) Tevfik Fikret
- C) İlhan Berk
- D) Sait Faik Abasıyanık

1. I. Fiziğin amacı, insanların birbirlerine karşı daha güçlü olabilmeleri için yeni buluşlar yapmaktır.
II. Fizik, evrendeki değişik olayları tek bir başlık altında inceleyen temel bir bilimdir.
III. Fizik yasa ve teorileri diğer temel bilimler tarafından da kullanılır.

Yukarıdaki Fiziğin amacını tanımlayan ifadelerden hangileri doğrudur?

- A) Yalnız I
B) Yalnız II
C) Yalnız III
D) I ve II

2. I. Bilimsel yöntem, problemin saptanmasıyla başlar.
II. Teori, evrensel bir geçerlilik kazandıysa hipotez olarak isimlendirilir.
III. İhtiği suya ılık diyen bir kişi, nitel bir gözlem yapmış demektir.

Yukarıdaki ifadelerden hangileri doğrudur?

- A) Yalnız I
B) Yalnız II
C) I ve II
D) I ve III

3. **Kuvvetin temel büyüklükler cinsinden ifadesi aşağıdakilerden hangisidir?**

- A) yerdeğiştirme / zaman
B) kütle . yerdeğiştirme / (zaman)²
C) kütle . hız / yerdeğiştirme
D) kütle / hız

4. **Aşağıdakilerden hangisi 100 desigramın doğru karşılığıdır?**

- A) 10 gram
B) 100 santigram
C) 1 gram
D) 1 kilogram

5. **Işık boşlukta 300.000 km/saniye hızla hareket ettiğine göre, ışığın bir yılda aldığı yol (ışık yılı) kaç kilometredir? (1 yıl = 365 gün)**

- A) $9,46 \cdot 10^{12}$
B) $10,8 \cdot 10^{12}$
C) $13,2 \cdot 10^{12}$
D) $18,6 \cdot 10^{12}$

6. **Bir saat kaç salisedir?**

- A) 180.000
B) 240.000
C) 320.000
D) 360.000

7. **1,2 m/s kaç kilometre/dakika'dır?**

- A) 0,072
B) 1,2
C) 3
D) 12

8. **Sürtünmesiz bir yatay bir düzlemde duran bir cisme kaç newton'luk yatay bir kuvvet uygulanırsa, 5 metrelik yatay bir yolda 120 joule'lük iş yapılmış olur?**

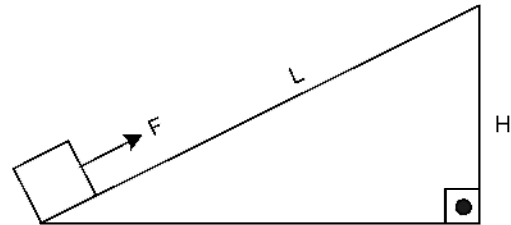
- A) 8
B) 12
C) 15
D) 24

9. **Bir kişi yerçekimi kuvvetine karşı 4.800 joule'lük iş yaparsa, zemin kattan itibaren her biri 3 m yükseklikteki katlardan beşinci kata kadar çıkabilmektedir.**

Buna göre, bu kişinin kütlesi kaç kilogramdır? ($g= 10 \text{ m/s}^2$)

- A) 8
B) 16
C) 24
D) 32

- 10.



Yukarıdaki şekilde $m=3 \text{ kg}$ kütleli bir cisim, $L=15 \text{ m}$ uzunlukta ve $H=5 \text{ m}$ yükseklikteki sürtünmesiz eğik düzlem üzerinde hareket ettirilerek 5 m yüksekliğe çıkarılıyor. Bu cisim üzerine eğik düzleme paralel kaç N'luk bir kuvvet uygulanarak 1.050 joule'lük iş yapılmıştır? ($g=10 \text{ m/s}^2$)

- A) 40
B) 50
C) 60
D) 80

11. Bir ucu bir duvara takılmış sürtünmesiz yatay bir düzlemdeki bir yay, 16 joule'lük bir iş yapılarak 40 cm sıkıştırılıyor.

Buna göre, bu yayın yay sabiti kaç N/m dir?

- A) 150
B) 200
C) 250
D) 300

12. Bir bisikletli 60 newton'luk kuvvet uygulayarak, 1.000 m uzunluğundaki yolda 10 dakikada kaç watt'lık güç harcar?

- A) 100
B) 120
C) 140
D) 160

13. 1.200 joule'lük enerji harcayarak 900 joule'lük iş yapan bir motor yüzde kaç verimle çalışmaktadır?

- A) 30
B) 50
C) 60
D) 75

14. 752 Fahrenheit kaç Kelvin'dir?

- A) 362
B) 544
C) 673
D) 752

15. 30 cm³ kesme şeker, 56 cm³ suyun içine atılıyor ve karıştırılıyor. Su ve şeker karışımı dereceli bir silindire boşaltılıyor. Karışımın hacmi 76 cm³ olarak ölçülüyor.

Buna göre, suya karıştırılmadan önce kesme şeker içerisindeki havanın hacmi kaç cm³ dür?

- A) 8
B) 10
C) 12
D) 14

16. Özgül kütlesi 2,5 g/cm³ olan bir metalden yarıçapı 10 cm, yüksekliği 20 cm olan bir silindir yapılmıştır. Buna göre, bu silindirin kütlesi kaç kilogramdır? ($\pi=3$)

- A) 14
B) 15
C) 16
D) 18

17. 150 cm³ hacme sahip bir dereceli silindirin içerisine 100 cm³ su dökülüyor ve içine 60 cm³ hacimli batan bir cisim atılıyor. Dereceli kaptan taşan su kaç cm³ dür?

- A) 10
B) 15
C) 20
D) 25

18. Aşağıdakilerden hangisi kimyasal bir olay değildir?

- A) Mangaldaki kömürün yanması
B) Demirin paslanması
C) Suyun damıtılması
D) Asit ve bazın karıştırılması

19. Kenarları 10 cm, 2 dm, 4 dm olan dikdörtgenler prizmasının aldığı su kaç litredir?

- A) 6
B) 8
C) 10
D) 12

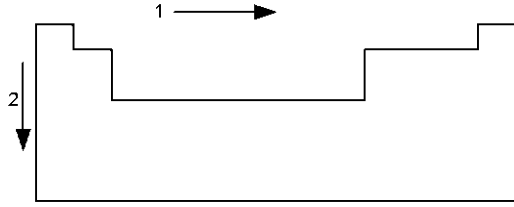
20. İçinde tamamen su dolu olan dereceli kaba bir cisim atılıyor ve cisim dibe çöküyor. Cisim ve dereceli kap sisteminin 0,030 kilogram ağırlaştığı ve 20 gram suyun taşıdığı görülüyor.

Buna göre, bu cismin yoğunluğu kaç g/cm³ dir?

- A) 1
B) 1,2
C) 1,5
D) 1,8

2014 III.DÖNEM 0105-A

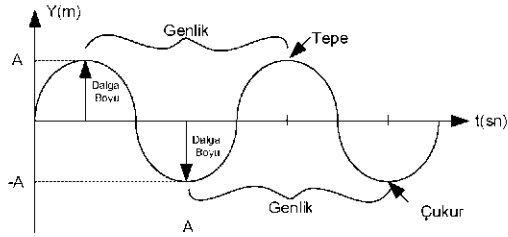
1.



Yukarıdaki periyodik tabloda hem 1 hem de 2 yönünde **artış** gösteren özellik aşağıdakilerden hangisidir?

- A) Metalik özellik
- B) İyonlaşma enerjisi
- C) Atom numarası
- D) Elektron ilgisi

2.



Yukarıda elektromanyetik ışınların dalga özelliği verilen şekilde, hangi iki özelliğin yeri değiştirilirse doğru bir çizim yapılmış olur?

- A) Çukur-Tepe
- B) Çukur-Genlik
- C) Tepe-Dalga Boyu
- D) Genlik-Dalga Boyu


3.

Element Adı	Elektron dizilimi
Flor	[He] 2s ² 2p ⁵
Klor	[Ne] 3s ² 3p ⁵
Brom	[Ar] 4s ² 3d ¹⁰ 4p ⁵
İyot	[Kr] 5s ² 4d ¹⁰ 5p ⁵
Astalin	[Xe] 6s ² 4f ¹⁴ 5d ¹⁰ 6p ⁵

Yukarıda element adı ve elektron dizilimi verilen elementlerin periyodik tablodaki özel adı nedir?

- A) Soygazlar (asalgazlar)
- B) Halojenler
- C) Alkali metaller
- D) Geçiş metalleri

4.



Yukarıda elektronlarının orbitallere dağılımı verilen elementin atom numarası kaçtır?

- A) 8
- B) 10
- C) 12
- D) 14

5. Günümüzde periyodik tablo, elementlerin hangi özelliğine göre oluşturulmuştur?

- A) Kütle numarası
- B) Atom numarası
- C) Atom ağırlığı
- D) Nötron sayısı

6. 64 gram CH₄ bileşiği kaç moldür? (C=12 gr/mol, H=1 gr/mol)

- A) 1
- B) 2
- C) 3
- D) 4

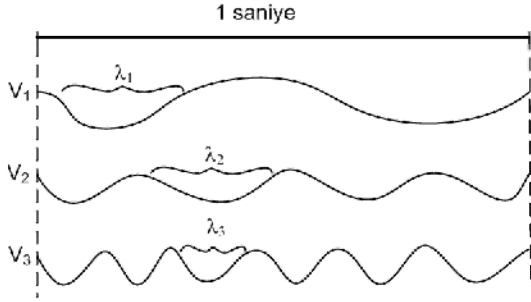
7.

- I. Tek atomlu gaz halindedir.
- II. Kararlı yapıya sahiptir.
- III. Balonların doldurulması, reklam panolarının ışıklandırılması ve dalgıç tüplerinin doldurulmasında kullanılır.

Yukarıdaki özelliklerden hangileri asalgazlara (soygaz) aittir?

- A) Yalnız I
- B) I ve II
- C) II ve III
- D) I, II ve III

8.



Yukarıda elektromanyetik spektrum içinde farklı ışınların 1 saniyede geçen dalga sayıları ile frekans ilişkisi verilmiştir. (λ : dalga boyu)

Buna göre, aşağıdaki ifadelerden hangisi doğrudur?

- A) Işınların dalga boyu azaldıkça, frekansları artar.
- B) Işınların dalga boyu arttıkça, frekansları artar.
- C) Işınların dalga boyu azaldıkça, frekansları azalır.
- D) Işınların dalga boyu ile frekansları arasında belirli bir ilişki yoktur.

9. Aşağıdaki element adları, element sembolleri ile eşleştirildiğinde hangi element açıkta kalır?

Element Adı	Element Sembolü
Karbon	Ca
Kalsiyum	P
Potasyum	C
Fosfor	

- A) Potasyum
- B) Karbon
- C) Kalsiyum
- D) Fosfor

10. ${}_{20}\text{Ca}^{+2}$ iyonunun elektron dizilimi aşağıdakilerden hangisidir?

- A) $1s^2 2s^2 2p^6 3s^2 3p^2$
- B) $1s^2 2s^2 2p^6 3s^2 3p^6$
- C) $1s^2 2s^2 2p^6 3s^2 3p^6 4s^2$
- D) $1s^2 2s^2 2p^6 3s^2 3p^6 4s^2 3d^2$

11. Atom altı parçacığı olan elektronun yükünü "yağ damlalarıyla" yaptığı deneyler ve bazı hesaplamalar sonucunda bulan bilim insanı aşağıdakilerden hangisidir?

- A) R.Millikan
- B) J.J. Thomson
- C) G.Stoney
- D) M.Faraday

12. Elektron dizilimi; $1s^2 2s^2 2p^6 3s^2 3p^6 4s^2$ şeklinde olan atom için aşağıdakilerden hangisi doğrudur?

- A) 2 katmanlıdır.
- B) 4A grubu elementidir.
- C) Değerlik elektronları 20'dir
- D) 4. periyot elementidir.

13. Aşağıdaki bileşiklerin hangisinin 1 mol kütlesi en büyüktür? (H=1, C=12, O=16, Mg=24, Al=27, S=32)

- A) Al_2O_3
- B) MgO
- C) SO_2
- D) $\text{C}_2\text{H}_5\text{OH}$

14. Aşağıdakilerden hangisi kimyasal bir tür olan "iyon" örneğidir?

- A) $\cdot\overset{\cdot}{\underset{\cdot}{\text{C}}}\cdot$
- B) $\text{H} \cdot \overset{\cdot}{\underset{\cdot}{\text{O}}} \cdot \text{H}$
- C) $\cdot\text{CH}_3$
- D) $\text{Na}^+ [\cdot\overset{\cdot}{\underset{\cdot}{\text{Cl}}}\cdot]^-$

15. Aşağıdakilerden hangisi iyonik bağlı bileşiklerin fiziksel özelliklerinden değildir?

- A) Serttir ve şekil verilemez.
- B) Elektrostatik çekim kuvveti ile oluşur.
- C) Katı hali elektriği iyi iletir.
- D) Erime sıcaklığı yüksektir.

16. Elektron dizilimi; $1s^2 2s^2 2p^6 3s^2 3p^6$ olan Argon(Ar) elementi için aşağıdaki ifadelerden hangisi yanlıştır?

- A) Elektron sayısı 18'dir.
- B) Atomun tüm orbitalleri tam doludur.
- C) Küresel simetri özelliği göstermez.
- D) Baş kuantum sayısı 3'tür.

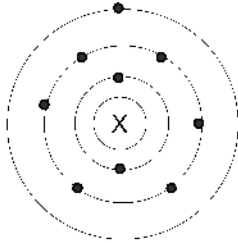
17. Aşağıdaki bileşiklerden hangisi asidik oksit özelliği gösterir?

- A) CO_2
- B) MgO
- C) CaO
- D) BeO

18. Aşağıdaki renk çiftlerinden hangisi elektromanyetik spektrumunun çok dar bir aralığını oluşturan "görünür bölge ışını"nı (700 nm-400 nm renk aralığını içine alan kısım) belirler?

- A) Mavi-Yeşil
- B) Kırmızı-Mor
- C) Sarı-Turuncu
- D) Mor-Sarı

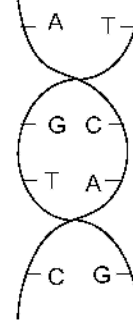
19.



Aşağıdaki elementlerden hangisinin elektron katman sayısı, X elementinkiyle aynıdır?

- A) 3Li
- B) ${}^{13}Mg$
- C) 8O
- D) ${}^{10}Ne$

20.



DNA Molekülü

DNA molekülü; çift zincirden oluşan sarmal yapıya sahip, canlı sistemlerdeki katılım maddesidir.

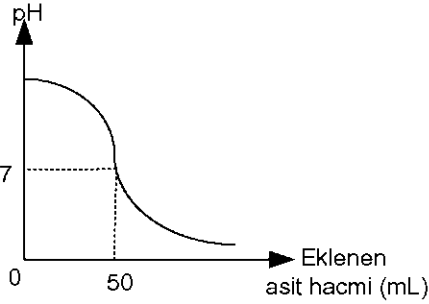
DNA molekülünde sarmal zincirleri birbirine bağlayan kimyasal bağ aşağıdakilerden hangisidir?

- A) İyonik bağ
- B) Kovalent bağ
- C) Hidrojen bağı
- D) Van der Waals bağı

1. Aşağıdakilerden hangisinin sulu çözeltisi baz özellik gösterir?

- A) HCl
- B) H₂SO₄
- C) HNO₃
- D) NH₃

2.



Derişimi bilinmeyen 100 ml NaOH çözeltisi, 0,1 ml HNO₃ çözelti ile titre edildiğinde yukarıdaki grafik elde ediliyor.

Buna göre, NaOH çözeltisinin başlangıçtaki derişimi kaç mol/L dir?

- A) 0,01
- B) 0,05
- C) 0,1
- D) 0,5

3. Aşağıdakilerde hangisi organik asit değildir?

- A) HCOOH
- B) CH₃COOH
- C) HClO₃
- D) C₂H₅COOH

4. Aşağıdaki bazlardan hangisi en kuvvetlidir?

- A) Mg(OH)₂
- B) NaOH
- C) Ca(OH)₂
- D) Al(OH)₃

5. 25°C'ta 0,8 mol/L H₂CO₃ çözeltisindeki H⁺ iyonu molar derişimi 4x10⁻³ mol/L olduğuna göre, H₂CO₃ 'ın K_a değeri kaçtır? (iyonlaşma sabiti)

- A) 8x10⁻⁵
- B) 4x10⁻⁵
- C) 2x10⁻⁵
- D) 0,5x10⁻⁵

6. Aşağıda pH değerleri verilen asitlerden hangisi en kuvvetlidir?

- A) pH=2
- B) pH=4
- C) pH=6
- D) pH=8

7. I. Demirin paslanması
II. Gümüşün kararması
III. Bakır kapların renk değıştirmesi

Yukarıdaki olayların hangileri metal oksit bileşiklerinin oluşumu ile gerçekleşir?

- A) Yalnız I
- B) I ve II
- C) II ve III
- D) I, II ve III

8. Bir asit çözeltisinin pH değerini düşürmek için;

I. Baz çözeltisi eklemek
II. Çözücüden eklemek
III. Çözüneninden eklemek

işlemlerinden hangileri ayrı ayrı uygulanmalıdır?

- A) Yalnız I
- B) Yalnız III
- C) I ve II
- D) I ve III

9. H_2SO_4 bileşğinde "S" atomunun yükseltgenme basamağı kaçtır?

- A) -2
- B) +2
- C) +4
- D) +6

10. I. H_2CO_3
II. HNO_3
III. H_3PO_4

Yukarıda formülleri verilen asitlerin değerlikleri nasıl sıralanır?

- A) I>II>III
- B) III>I>II
- C) III>II>I
- D) II>I>III

11. $CH_3OH + NH_2^- \rightleftharpoons CH_3O^- + NH_3$ tepkimesinde hangi maddeler asit gibi etki eder?

- A) $CH_3OH - NH_3$
- B) $CH_3OH - NH_2$
- C) $NH_2 - CH_3O^-$
- D) $CH_3O^- - NH_3$

12. $25^\circ C$ ta $pH=6$ olan bir çözelti için H^+ ve OH^- iyonları molar derişimi kaç mol/L dir?

- | $[H^+]$ | $[OH^-]$ |
|--------------|-----------|
| A) 10^{-6} | 10^{-8} |
| B) 10^{-8} | 10^{-6} |
| C) 6 | 8 |
| D) 8 | 10 |

13. Aşağıdakilerden hangisi asitlere ait bir özelliktir?

- A) Tatları acıdır.
- B) Mavi turnusol kağıdını kırmızıya çevirirler.
- C) Ele kayganlık hissi verirler.
- D) Renksiz fenolftalein çözeltisini pembeye çevirirler.

14. Bir miktar NaOH suda çözülerek 400 mL çözelti hazırlanıyor. Çözeltinin pH'ı 12 olduğuna göre NaOH kaç gramdır?

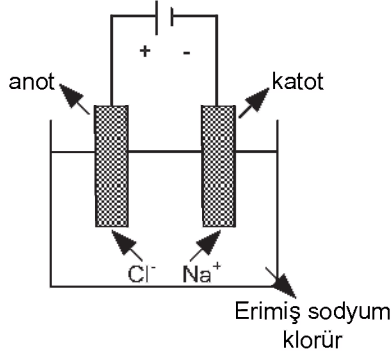
(NaOH suda tamamen iyonlaşır, NaOH=40 gr/mol)

- A) 1,6
- B) 0,8
- C) 0,16
- D) 0,08

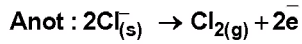
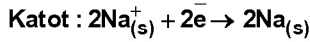
15. $HNO_3 + H_2S \rightarrow NO + S + H_2O$ redoks tepkimesi denkleştirildiğinde suyun kat sayısı kaç olur?

- A) 4
- B) 3
- C) 2
- D) 1

16.



Yukarıda hazırlanan erimiş tuzların elektrolizi deneyinin, katot ve anot yarı tepkime denklemleri aşağıda verilmiştir.



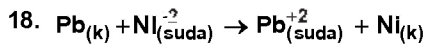
Buna göre, toplam tepkime denklemini aşağıdakilerden hangisidir?

- A) $\text{Na}^+_{(s)} + \text{Cl}_{(s)} \rightarrow \text{Na}_{(s)} + \text{Cl}_{2(g)}$
 B) $2\text{Cl}^-_{(s)} + \text{Cl}_{2(g)} \rightarrow 2\text{Na}^+_{(s)} + 2\text{Na}_{(s)}$
 C) $2\text{Na}^+_{(s)} + 2\text{Cl}^-_{(s)} \rightarrow 2\text{Na}_{(s)} + \text{Cl}_{2(g)}$
 D) $2\text{Na}^+_{(s)} + 2\text{Na}_{(s)} \rightarrow 2\text{Cl}^-_{(s)} + \text{Cl}_{2(g)}$



olduğuna göre $\text{Mg} / \text{Mg}^{+2} // \text{Ni}^{+2} / \text{Ni}$ pilinin gerilimi kaç voltur?

- A) -2,62
 B) -2,12
 C) +2,12
 D) +2,62



Yukarıda denklemi verilen tepkime ile ilgili olarak aşağıdakilerden hangisi yanlıştır?

- A) Pb, 2 elektron vermiştir.
 B) Bir redoks tepkimesidir.
 C) Ni^{+2} , indirgenmiştir.
 D) Tepkime kendiliğinden gerçekleşmez.

19. Metallerin yükseltgenme eğilimlerinin bağlı büyüklüğüne göre sıralanışına "aktiflik sırası" denir. Aktiflik sırası yardımıyla sulu çözeltide bazı tepkimelerin kendiliğinden gerçekleşmeyeceği öngörülebilir.

Buna göre, aşağıdaki tepkimelerden hangisi kendiliğinden gerçekleşmez?

- A) $\text{H}^+_{(suda)} + \text{Au}_{(k)} \rightarrow$
 B) $\text{Ni}_{(suda)} + \text{Mg}_{(k)} \rightarrow$
 C) $3\text{H}_{(suda)} + \text{Al}_{(k)} \rightarrow$
 D) $2\text{H}^+_{(suda)} + \text{Fe}_{(k)} \rightarrow$

20. Aşağıdaki element atomlarının hangisinin yükseltgenme basamağı yanlış belirtilmiştir?

- A) $\text{Fe}^{+3} \Rightarrow \text{YB}_{\text{Fe}} = +3$
 B) $\text{NH}_4^{+1} \Rightarrow \text{YB}_{\text{N}} - 4\text{YB}_{\text{H}} = +1$
 C) $\text{NaH} \Rightarrow \text{YB}_{\text{H}} = -1$
 D) $\text{NaCl} \Rightarrow \text{YB}_{\text{Cl}} = +1$

1. Nüfus ile ilgili aşağıdaki ifadelerden hangisi yanlıştır?

- A) Bir ülke nüfusunda 20-60 yaş arasındaki olgunlar diliminin büyük olması, ekonomik faaliyetleri azaltır.
- B) Nüfusun yapısını, cinsiyet, yaş, meslek grupları belirtir.
- C) Nüfusa dinamizm kazandıran, doğumlar, ölümler, iç ve dış göçlerdir.
- D) Bir ülkede nüfus miktarı o ülkenin ekonomik faaliyet hacmini, ekonomik gücünü belirleyen bir etkidir.

2. Aşağıdakilerden hangisi, verimliliğe etki eden objektif etkenlerden biridir?

- A) İşçilerin, işyerine rahat bir şekilde götürülüp getirilmesi
- B) İşletmenin kullanılan hammadde kaynaklarına yakın olması
- C) İşletmede kullanılan tekniğin yenilenmesi
- D) İşletme organizasyonunun yapılması

3. Aşağıdakilerden hangisi, hızlı nüfus artışının olumsuz yönlerinden biri değildir?

- A) Ücretlerin artmasına neden olması
- B) Bireylerin eğitim ve konut sorunlarının olması
- C) Çevre kirliliğine neden olması
- D) İç ve dış göçlerin artması

4. Maden kömürü ocağında çalışan bir işçinin, bir çalışma günü sonunda ürettiği 3 ton kömür aşağıdaki verimlilik türlerinden hangisine bir örnektir?

- A) Ekonomik verimlilik
- B) Objektif verimlilik
- C) Fiziksel verimlilik
- D) Pozitif verimlilik

5. Aşağıdakilerden hangisi sübjektif emeğe bir örnektir?

- A) Kitap okumak
- B) Taş kırıcısının çalışması
- C) Dokuma işçisinin çalışması
- D) Tarladan ürün toplanması

6. Aşağıdakilerden hangisi zirai sermayeye bir örnektir?

- A) Hammadde
- B) Kömür
- C) Makine
- D) Tohum

7. Aşağıdakilerden hangisi sermayenin başlıca kaynaklarından biri değildir?

- A) Tasarruf
- B) Öz finansman
- C) Zorunlu tasarruf
- D) Yatırım

8. Uzun vadeli borçların süresiyle ilgili aşağıdakilerden hangisi doğrudur?

- A) 3-6 ay
- B) 6 ay-1 yıl
- C) 1-3 yıl
- D) 3 yıl ve daha fazlası

9. İhtiyaçların karşılanması için gerekli olan malların üretiminde kullanılmak amacıyla elde edilmiş olan aracı mallara ekonomik anlamda ne ad verilir?

- A) Rant
- B) Servet
- C) Dönen varlık
- D) Sermaye

10. Ekonomik açıdan sermayenin tanımı aşağıdakilerden hangisidir?

- A) Önceden üretilmiş olan, üretimde kullanılan üretim faktörlerinin bileşimidir.
- B) Bir kuruluşun aktifindeki dönen varlıklarla duran varlıkların toplamıdır.
- C) Kuruluşun, mevcut alacakları toplamı ile borçları arasındaki farktır.
- D) Kuruluşun, faiz karşılığında bankalardan aldığı kredi ile yine faiz karşılığında tahvil satarak sağladığı borç kapitalidir.

11. Aşağıdakilerden hangisi girişimcinin başlıca özelliklerinden biri değildir?

- A) Girişimci, üretim faktörlerinden yararlanarak mal ve hizmet üreten kişidir.
- B) Girişimci, toplum sağlığını her şeyin önünde tutan kişidir.
- C) Girişimci, girişim faaliyetlerinden doğan riskleri üstlenen kişidir.
- D) Girişimci, üretim faktörlerini akılcı bir şekilde sağlayan kişidir.

12. Sigortacılıktan başka her türlü ticari iş ile uğraşmak üzere kurulan, sorumlulukları gerek şirket, gerek ortaklar için konan sermaye ile sınırlanmış olan şirketlere ne ad verilir?

- A) Adi komandit şirket
- B) Limited şirket
- C) Kolektif şirket
- D) Anonim şirket

13. Aşağıdakilerden hangisi, girişimcinin teknik işlevlerinden biri değildir?

- A) Kuruluş yerini seçmek
- B) Üretime katılan faktörlerin payını belirlemek
- C) Üretim faktörlerinin nasıl sağlanacağını belirlemek
- D) Tüketicilerin satın alma güçlerine uygun mal ve hizmetleri üretmek

14. Aşağıdakilerden hangisi, İktisadi Devlet kuruluşlarından biri değildir?

- A) Türkiye Denizcilik Kurumu
- B) Telekom
- C) Makine ve Kimya Endüstrisi Kurumu
- D) Türkiye Kömür İşletmeleri Kurumu

15. Aşağıdakilerden hangisi girişimin (teşebbüs) özelliklerinden biri değildir?

- A) Üretim faktörlerini kullanan bir ünite olması
- B) Üretim faktörlerini sağlayan bir ünite olması
- C) Bir uygulama merkezi olması
- D) Üretim faktörlerinden yararlanarak mal ve hizmet üreten bir ünite olması

16. Bir işçinin çalışmasına karşılık aldığı para miktarına ne ad verilir?

- A) Reel ücret
- B) Gerçek ücret
- C) Nominal ücret
- D) Sosyal ücret

17. Aşağıdakilerden hangisi milli geliri oluşturan üretim faktörleri arasında yer almaz?

- A) Rant
- B) Tarım
- C) Faiz
- D) Kâr

18. Servet ile ilgili aşağıdaki ifadelerden hangisi yanlıştır?

- A) Statiktir.
- B) Dinamiktir.
- C) Belirli bir anda kişinin hukuken tasarruf edebildiği değerlerin bütünüdür.
- D) Kişinin aktif ile pasifi arasındaki farkı gösterir.

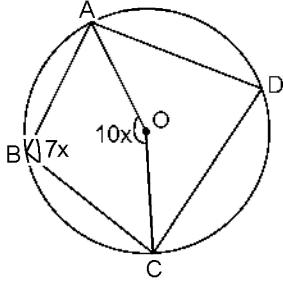
19. Safi Milli Hasıla aşağıdakilerden hangisine eşittir?

- A) GSMH - Kâr
- B) GSMH + Sübvansiyonlar
- C) GSMH - Amortismanlar
- D) GSMH + Dolaylı Vergiler

20. Üretim sonunda milli gelirden girişimciye düşen paya ne ad verilir?

- A) Faiz
- B) Ücret
- C) Kâr
- D) Rant

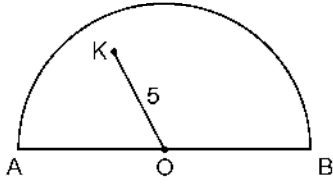
1.



Yukarıdaki O merkezli çemberde $m(\widehat{ABC}) = 7x$, $m(\widehat{AOC}) = 10x$ olduğuna göre, $m(\widehat{ADC})$ kaç derecedir?

- A) 60
- B) 65
- C) 70
- D) 75

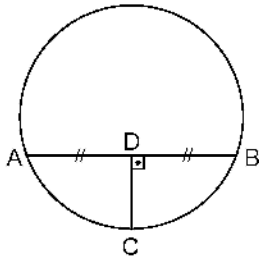
2.



Yukarıdaki yarıçapı 6 cm olan O merkezli yarım çemberde $|OK| = 5$ cm ise, K noktasından geçen en kısa kirişin uzunluğu kaç cm dir?

- A) $\sqrt{11}$
- B) 4
- C) $2\sqrt{11}$
- D) $4\sqrt{3}$

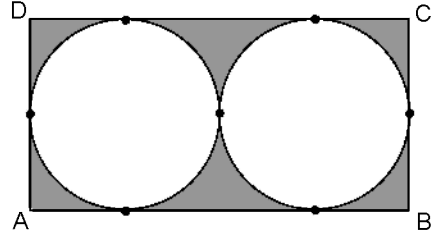
3.



Yukarıdaki çemberin yarıçapı 4 cm dir. $|AD| = |DB|$ ve $|DC| = 3$ cm ise, $|AB|$ kaç cm dir?

- A) $2\sqrt{15}$
- B) 8
- C) $\sqrt{70}$
- D) $4\sqrt{5}$

4.

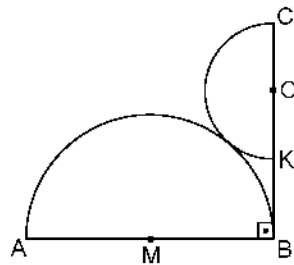


Yukarıdaki şekilde ABCD dikdörtgeninin kenarlarına içten ve birbirine dıştan teğet olan 3 cm yarıçaplı eş daireler çizilmiştir.

Buna göre, taralı alan kaç cm^2 dir?

- A) $16(7 - \pi)$
- B) $9(4\sqrt{2} - \pi)$
- C) $18(4 - \pi)$
- D) $9(3\sqrt{2} - \pi)$

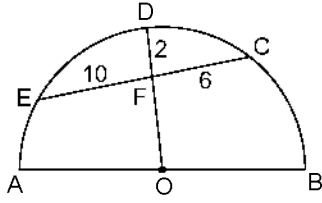
5.



Yukarıdaki şekilde O ve M merkezli yarım çemberler dıştan teğettir. $[AB] \perp [BC]$ ve $|AB| = |BC| = 6$ cm ise, $|BK|$ kaç cm dir?

- A) 2
- B) 3
- C) $2\sqrt{2}$
- D) $2\sqrt{3}$

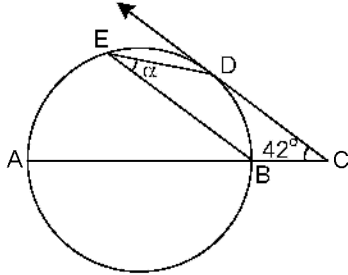
6.



Yukarıdaki O merkezli çemberde $|EF|=10$ cm, $|FC|=6$ cm ve $|DF|=2$ cm ise çemberin yarıçapı kaç cm dir?

- A) 18
- B) 16
- C) 15
- D) 14

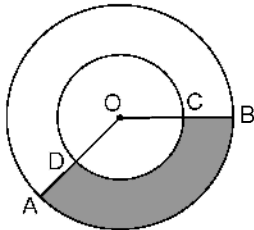
7.



Yukarıdaki $[AB]$ çaplı çemberde, D teğet değme noktasıdır. $m(\widehat{ACD})=42^\circ$ ise, $m(\widehat{DEB})=\alpha$ kaç derecedir?

- A) 24
- B) 28
- C) 32
- D) 36

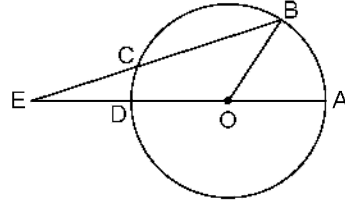
8.



Yukarıdaki O merkezli dairelerde $m(\widehat{AOB})=120^\circ$, $|OC|=3$ cm, $|CB|=6$ cm ise, taralı alan kaç cm^2 dir?

- A) 20π
- B) 21π
- C) 24π
- D) 27π

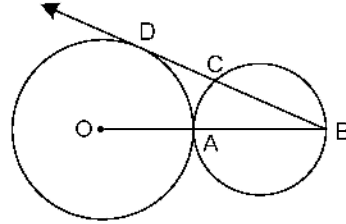
9.



Yukarıdaki O merkezli çemberde, $|EC|=|OB|$ ve $m(\widehat{BEA})=24^\circ$ ise, $m(\widehat{BOA})$ kaç derecedir?

- A) 72
- B) 52
- C) 48
- D) 36

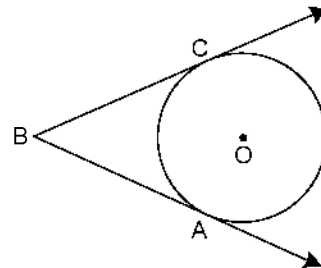
10.



Yukarıdaki şekilde A noktasında dıştan teğet çemberler verilmiştir. $[BD]$, O merkezli çembere D noktasında teğet O, A, B noktaları doğrusal, $|BD|=12$ cm ve küçük çemberin yarıçapı 4 cm ise, büyük çemberin yarıçapı kaç cm dir?

- A) 6
- B) $11/2$
- C) 5
- D) $9/2$

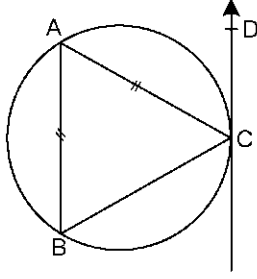
11.



Yukarıdaki şekilde O merkezli çemberde A ve C teğet değme noktalarıdır. $m(\widehat{ABC})=120^\circ$ ve $|AB|=4\sqrt{3}$ cm ise, çemberin yarıçapı kaç cm dir?

- A) 9
- B) 10
- C) 11
- D) 12

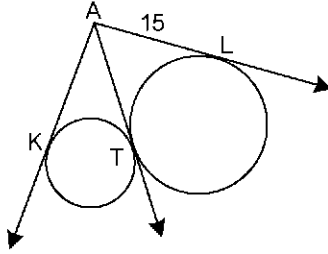
12.



Yukarıdaki şekilde [CD teğet doğrusu, $m(\widehat{ACD}) = 65^\circ$ ve $|AB|=|AC|$ ise, $m(\widehat{BAC})$ kaç derecedir?

- A) 65
B) 60
C) 50
D) 45

13.



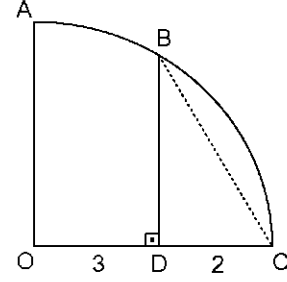
Yukarıdaki çemberlerde [AK, [AT ve [AL teğet doğrularıdır. $|AK|=(4x-1)$ cm, $|AL|=15$ cm ise, x kaç cm dir?

- A) 4
B) 5
C) 6
D) 8

14. Kesişmeyen iki çemberin merkezleri arasındaki uzaklık 15 cm dir. Bu çemberler arasındaki en yakın mesafe 4 cm ise, en uzak mesafe kaç cm dir?

- A) 24
B) 26
C) 29
D) 30

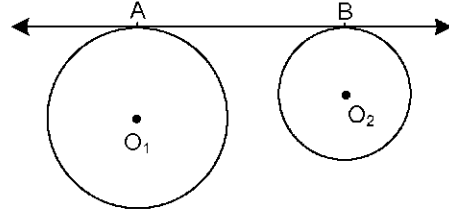
15.



Yukarıdaki O merkezli çeyrek çemberde $[BD] \perp [OC]$, $|OD|=3$ cm, $|DC|=2$ cm ise, $|BC|$ kaç cm dir?

- A) 4
B) $3\sqrt{2}$
C) $2\sqrt{5}$
D) $2\sqrt{6}$

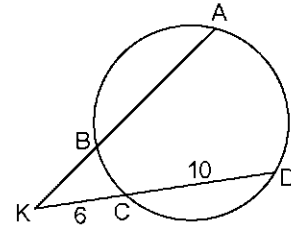
16.



Yukarıdaki O_1 ve O_2 merkezli çemberlerin yarıçapları sırası ile 8 cm ve 6 cm dir. A ve B teğet değme noktaları ve $|O_1O_2|=5\sqrt{5}$ cm ise, $|AB|$ kaç cm dir?

- A) 8
B) 9
C) 10
D) 11

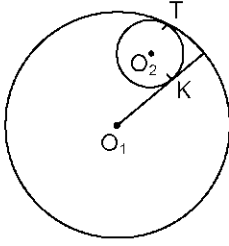
17.



Yukarıdaki şekilde, $|AB|=3|BK|$, $|KC|=6$ cm ve $|CD|=10$ cm ise, $|BK|$ kaç cm dir?

- A) 4
B) $2\sqrt{6}$
C) 5
D) 6

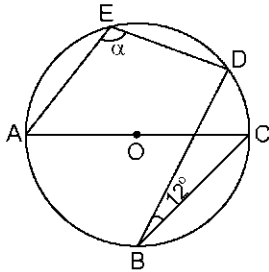
18.



Yukarıdaki şekilde T noktasında içten teğet olan O_1 ve O_2 merkezli çemberler veriliyor. $[O_1K]$ teğet doğrusu, $r_1=5$ cm ve $r_2=2$ cm ise, $|O_1K|$ kaç cm dir?

- A) $2\sqrt{2}$
- B) $\sqrt{7}$
- C) $\sqrt{6}$
- D) $\sqrt{5}$

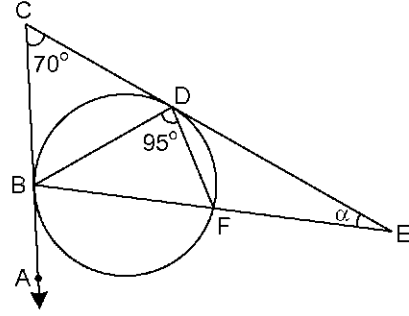
19.



Yukarıdaki O merkezli çemberde, $m(\widehat{DBC}) = 12^\circ$ ise, $m(\widehat{AED}) = \alpha$ kaç derecedir?

- A) 92
- B) 96
- C) 102
- D) 108

20.



Yukarıdaki şekilde, B ve D teğet değme noktaları, $m(\widehat{ACE}) = 70^\circ$ ve $m(\widehat{BDF}) = 95^\circ$ ise, $m(\widehat{BEC}) = \alpha$ kaç derecedir?

- A) 20
- B) 25
- C) 30
- D) 35

1. Ficar Savaşı aşağıdaki kabilelerden hangileri arasında yapılmıştır?
 - A) Kureyş-Kinane
 - B) Kureyş-Hevazin
 - C) Hevazin-Harem
 - D) Harem-Kinane
2. Hz. Peygamber'in taşa tutulduğu yıl aşağıdakilerden hangisidir?
 - A) 617
 - B) 619
 - C) 620
 - D) 622
3. Hz. Peygamber'in sütannesinin adı aşağıdakilerden hangisidir?
 - A) Halime
 - B) Fatıma
 - C) Ayşe
 - D) Hatice
4. Peygamberliğin onuncu yılına denk gelen yıla ne ad verilir?
 - A) Boykot Yılı
 - B) Hüzün Yılı
 - C) Dışlanma Yılı
 - D) Müslümanlık Yılı
5. Hz. Muhammed'in doğum ve ölüm yılları aşağıdakilerden hangisinde doğru verilmiştir?
 - A) 571-632
 - B) 571-630
 - C) 572-632
 - D) 572-630
6. Hz. Muhammed'in ilk eşinin adı aşağıdakilerden hangisidir?
 - A) Fatıma
 - B) Hatice
 - C) Halime
 - D) Amine
7. Hz. Muhammed, Hz. Hatice ile evlendiğinde kaç yaşındaydı?
 - A) 25
 - B) 30
 - C) 35
 - D) 40
8. Aşağıdakilerden hangisi Hz. Muhammed'in çocuklarından biri değildir?
 - A) Kasım
 - B) İbrahim
 - C) Ümmü Rukiye
 - D) Fatıma
9. Doğu Roma İmparatorluğuna gözdağı verilen sefer aşağıdakilerden hangisidir?
 - A) Medine Seferi
 - B) Taif Seferi
 - C) Tebük Seferi
 - D) Şam
10. Hz. Muhammed'in Ficar Savaşı'na katıldığı yıl aşağıdakilerden hangisidir?
 - A) 577
 - B) 579
 - C) 591
 - D) 596
11. İslam güzellik anlayışının temeli aşağıdakilerden hangisidir?
 - A) Allah güzeldir, güzel olanı sever.
 - B) Güzellik görecelidir.
 - C) Dış güzellik iç güzellikten güzeldir.
 - D) İnsan güzelliğinin merkezidir.
12. Söz ve davranışlarla ilgili aşağıdaki ifadelerden hangisi yanlıştır?
 - A) Başkalarıyla sağlıklı iletişim kurabilmenin yolu, güzel söz söylemekten geçer.
 - B) Bir mümin için en değerli özellik, güzel söz söylemek ve güzel davranışta bulunmaktır.
 - C) Güzel sözler insanlar için hayırdır.
 - D) Güzel söz ve davranışlar insanları mahcup bırakır.
13. Aşağıdakilerden hangisi Hz. Peygamber'in önem verdiği konulardan biri değildir?
 - A) Süslü giysiler giymek
 - B) Düzenli ve tertipli olmak
 - C) Başkalarının özel hayatına saygılı olmak
 - D) Güler yüzlü ve hoşgörülü olmak

14. Aşağıdakilerden hangisi Hz. Muhammed'in hediyeleşmekle ilgili söylediklerinden biri değildir?

- A) Kalpleri birbirine yakınlaştırır.
- B) İnsanlar arasında sevgi ve muhabbet duygularının gelişmesini sağlar.
- C) İnsanların vefa duygularıyla birbirlerini hatırlamalarına yardımcı olur.
- D) Gücü yetmeyenlerin güvenmesine neden olur.

15. Aşağıdakilerden hangisi Hz. Muhammed'in yemek yemeyle ilgili emirlerinden biri değildir?

- A) Yemeğe besmeleyle başlanması
- B) Yemeği sağ elle yenilmesi
- C) Yemek yenirken kişilerin önünden yemesi
- D) Yemekte tatlının en son yenilmeye başlanması

16. Hayâ ile ilgili aşağıdaki ifadelerden hangisi yanlıştır?

- A) Kibirden uzak durmak edep ve hayânın gereğidir.
- B) Toplumun huzuru için gerekli olan kuralların ortaya çıkmasında hayâ duygusunun büyük etkisi vardır.
- C) Utanma, sadece başkalarının yanında iken geçerlidir.
- D) Hayânın olmadığı yerde ahlak olmaz.

17. Aşağıdakilerden hangisi "iffet" kelimesinin anlamlarından biri değildir?

- A) Fakirliğini ve zarurecini, çok muhtaç olmadıkça gizlemek
- B) Ahlâken temiz olmak
- C) Arlı olmak
- D) Nefsi yasaklardan alı koymamak

18. Kişi Allah'a karşı hissettiği sorumluluk duygusu sebebiyle aşağıdaki söz ve davranışların hangisinden uzaklaşır?

- A) Kişinin kötü olarak nitelendirdiği söz ve davranışlardan
- B) Kur'an'ın çirkin olarak nitelendirdiği söz ve davranışlardan
- C) Toplumun beğenmediği söz ve davranışlardan
- D) Toplumun anlamadığı söz ve davranışlardan

19. Hayâ kelimesinin sözlük anlamı aşağıdakilerden hangisidir?

- A) Allah inancından kaynaklanan sorumluluk duygusu nedeniyle ahlak dışı şeylerden kaçınmak
- B) Utanma, sıkılma duygusu
- C) Temiz ve düzenli olmak
- D) Tutumlu olmak

20. İhsanla ilgili aşağıdaki ifadelerden hangisi yanlıştır?

- A) İhsan, yapılan işi sorumluluk bilinciyle yapmaktır.
- B) İhsan, Müslümanın bütün söz ve işlerinde duyarlı davranmasıdır.
- C) İhsan, iyilik için yaşamaktır.
- D) Müslümanlar için ihsanın olması şart değildir.

1. Aşağıdakilerden hangisi hukuk devleti olmanın gereklerinden biri değildir?
- A) Kuvvetler birliği
B) İdarenin hukuka bağlılığı
C) Kanunların anayasaya uygunluğunun denetimi
D) Demokratik rejim
2. Aşağıdakilerden hangisi sosyal devlet anlayışının gereklerinden biri değildir?
- A) Gelir adaleti ve eşitlik
B) Fırsat eşitliği
C) Sermayenin devlet tekelinde olması
D) Sosyal güvenlik
3. Aşağıdakilerden hangisi Cumhuriyet dönemi anayasalarından biri değildir?
- A) 1876 Anayasası
B) 1924 Anayasası
C) 1961 Anayasası
D) 1982 Anayasası
4. Aşağıdakilerden hangisi Başbakanlık İnsan Hakları Başkanlığına oluşturulan kurul ve komisyonlardan biri değildir?
- A) İnsan Hakları Üst Kurulu
B) İnsan Hakları Danışma Kurulu
C) İnsan Hakları İhlali İddialarını İnceleme Heyeti
D) Türkiye İnsan Hakları Vakfı
5. Aşağıdakilerden hangisi katılım haklarından biri değildir?
- A) Vatandaşlık hakkı
B) Mülkiyet edinme hakkı
C) Kamu hizmetlerine girme hakkı
D) Vatan hizmeti hakkı
6. Aşağıdakilerden hangisi demokratikleşmeyi henüz tamamlamamış toplumlarda insan haklarının gerçekleştirilmesi konusunda yaşanan sorunların nedenlerinden biri değildir?
- A) Gelenek ve törelerin unutulması
B) Eđitimsizlik
C) Kamu düzeni ve temel haklar arasındaki dengenin kurulamaması
D) Yöneticilerin kendi güçlerini arttırmak istemeleri
7. 1961 Anayasası ile ilgili aşağıdaki ifadelerden hangisi yanlıştır?
- A) Temel hak ve özgürlüklerin kısıtlanması güçleştirilmiştir.
B) Yasaların anayasaya uygunluğu için yargısal denetim getirilmiştir.
C) Sosyal devlet ve hukukun üstünlüğü Cumhuriyetin nitelikleri arasında sayılmıştır.
D) Kuvvetler birliği ilkesi kabul edilmiştir.
8. Aşağıdakilerden hangisi 1924 Anayasası'nda yapılan değişikliklerden biri değildir?
- A) "Devletin dini İslam'dır" ibaresi çıkarılmıştır.
B) Kadınlara seçme ve seçilme hakkı verilmiştir.
C) Kuvvetler ayrılığı ilkesi benimsenmiştir.
D) Laiklik devletin nitelikleri arasında sayılmıştır.
9. Siyasi partilerle ilgili aşağıdaki ifadelerden hangisi yanlıştır?
- A) Siyasi rejimlerin en temel unsurlarıdır.
B) Tüzel kişiliği bulunmayan kuruluşlardır.
C) Siyasi partilerde süreklilik ve ülke çapında tam bir örgütlenme çabası vardır.
D) Siyasi partilerin diğer siyasi oluşumlardan ayıran fark iktidarı elde etme çabasıdır.
10. Türkiye Cumhuriyeti'nde çok partili siyasal hayata geçişle birlikte ilk seçimler hangi yıl yapılmıştır?
- A) 1946
B) 1948
C) 1949
D) 1951
11. Aşağıdakilerden hangisi uluslararası sivil toplum örgütlerinin faaliyet alanlarından biri değildir?
- A) Savaşların ortadan kaldırılması
B) Cehaletin önlenmesi
C) Savaş suçlularının yargılanması
D) Hızlı nüfus artışının önlenmesi

12. Uluslararası koruma mekanizmalarının işletilmesinde hem uluslararası organizasyona dâhil olan hem de bu organizasyon tarafından hazırlanan antlaşmaya taraf olan devlet için uygulanan denetim aşağıdakilerden hangisidir?

- A) Sözleşme içi denetim
- B) Sözleşme dışı denetim
- C) Adli kontrol
- D) Müeyyide

13. Aşağıdakilerden hangisi uluslararası koruma organlarının insan hakları ihlallerinin önlenmesinde sağladığı katkılardan biri değildir?

- A) Kişiler, uluslararası hukukun öznesi durumuna gelmişlerdir.
- B) İnsan hakları eğitiminin önemi ön plana çıkmıştır.
- C) İnsan hakları ihlallerinin kamuoyundan gizlenmesi kolaylaşmıştır.
- D) Taraf devletler, insan hakları ihlallerinin önlenmesi konusunda dikkatli davranmaya başlamışlardır.

14. Aşağıdakilerden hangisi Avrupa İnsan Hakları Sözleşmesi ile bireylere tanınan hakların gerçekleşmesini sağlamak üzere oluşturulmuş denetim organlarından biri değildir?

- A) Bakanlar Konseyi
- B) Avrupa İnsan Hakları Mahkemesi
- C) Delegeler Komitesi
- D) Irk Ayrımcılığının Kaldırılması Komitesi

15. Uluslararası antlaşmalarla ilgili aşağıdaki ifadelerden hangisi yanlıştır?

- A) Taraf devletler sözleşme hükümlerini iç hukuklarına aktararak antlaşmanın gereğini yapmak zorundadırlar.
- B) Antlaşmanın gereğini yapmayan devletler için çeşitli yaptırımlar öngörülmüştür.
- C) Avrupa Çocuk Hakları Sözleşmesi bu tür korumaya örnektir.
- D) Onaylanmadan önce de taraf devletler için bağlayıcıdırlar.

16. Türk halkını refah ve huzura kavuşturmayı, çağdaş uygarlık seviyesinin üstüne çıkarmayı amaçlayan ve bunları başarabilmek için akli, bilimi ve özgür düşüncüyü kendine rehber edinen düşünce sistemine ne ad verilir?

- A) İnkılap
- B) Atatürkçülük
- C) Reform
- D) Çağdaşlaşma

17. Hilafetin kaldırıldığı tarih aşağıdakilerden hangisidir?

- A) 19 Mayıs 1919
- B) 23 Nisan 1920
- C) 29 Ekim 1923
- D) 3 Mart 1924

18. Aşağıdakilerden hangisi laik olamayan bir devlette vatandaşların karşılaştığı sorunlardan biri değildir?

- A) Toplumda huzursuzluk ve insan hakları ihlalleri yaşanır.
- B) İnsanlar inanç ve vicdan özgürlüğünden mahrum yaşarlar.
- C) Çağdaş demokrasi bütün kurum ve kuralları ile gerçekleşir.
- D) Farklı din ve mezhepler arasında gerginlik ve çatışma doğar.

19. Atatürk ilkelerinin Türkiye Cumhuriyeti Devleti'nin nitelikleri olarak Anayasa'da yer aldığı tarih aşağıdakilerden hangisidir?

- A) 1921
- B) 1937
- C) 1961
- D) 1982

20. Çağdaşlaşmayı devam ettirmek için bütün Atatürk ilkelerinin yaşama geçirilmesi aşağıdaki ilkelerden hangisi ile gerçekleşir?

- A) Cumhuriyetçilik
- B) İnkılapçılık
- C) Milliyetçilik
- D) Laiklik

1. Aşağıdaki röportaj yazarı ve eseri eşleştirmelerinden hangisi yanlıştır?
- A) Fikret Ötyam- Doğudan Gezi Notları
B) Yaşar Kemal-Bu Diyar Baştan Başa
C) Mustafa Baydar-Edebiyatçılarımız Ne Diyorlar
D) İbrahim Çallı-Çukurova Yana Yana
2. Ekonomistlerin yaptıkları konuşmalar hangi söylev çeşidi içerisinde yer alır?
- A) Akademik söylev
B) İktisadi söylev
C) Hukuksal söylev
D) Siyasi söylev
3. Aşağıdakilerden hangisi mülakatın özelliklerinden biri değildir?
- A) Mülakat metnine sonradan ek yapılamaz.
B) Genelde söyleşmeye bağlı bir anlatım türü kullanılır.
C) Mülakat metni öğretici ve ufuk açıdır.
D) Mülakat yapan kişi yayımlanmadan önce gerekirse metne yorumlarını da katabilir.
4. Aşağıdakilerden hangisi sözlü anlatım türlerinden biri değildir?
- A) Mülakat
B) Söylev
C) Deneme
D) Röportaj
5. Aşağıdakilerden hangisi edebiyatımızdaki tanınmış mülakat yazarlarından biri değildir?
- A) Ruşen Eşref Üneydin
B) Mustafa Baysal
C) Fakir Baykurt
D) Sermat Sami Uysal
6. Okuyucularınızı inandırmak için bir konu, eşya ya da bir yerle ilgili olarak yaptığınız incelemeleri değişik boyutlarıyla ele alıyor, çeşitli ses kayıtları, fotoğraf ve belgeler kullanıyor ve öznel bir bakış açısı kullanıyorsanız hangi yazı türünde bir eser ortaya koymuşsunuzdur?
- A) Makale
B) Röportaj
C) Günce
D) Destan
7. Söylev konuşması yapan kişiye ne ad verilir?
- A) Eleştirmen
B) Zannatkar
C) Hatip
D) Şair
8. Röportajın sağlam bir düşünce ve teze dayanması yönüyle benzerlik gösterdiği tür aşağıdakilerden hangisidir?
- A) Deneme
B) Fıkra
C) Nutuk
D) Makale
9. Cumhuriyet döneminin en büyük konuşmacısı aşağıdakilerden hangisidir?
- A) Bekir Sıtkı
B) Mustafa Kemal Atatürk
C) Halide Edip
D) Peyami Safa
10. Aşağıdaki türlerden hangisi tiyatro ile birlikte gelişmiştir?
- A) Mülakat
B) Görüşme
C) Söylev
D) Röportaj
11. Kelime anlamı buluşmak, görüşmek olan, toplumu ilgilendiren önemli bir konuyu aydınlatmak için ünlü kişilerle, uzmanlarla yapılan görüşmeleri sorulu-cevaplı olarak aktaran yazılara ne ad verilir?
- A) Nesir
B) Makale
C) Alıntı
D) Mülakat
12. "Sevgili Arkadaşlarım! Yüksek öğrenim gençlerini, istediğimiz ve ihtiyaç duyduğumuz gibi milli bilinç sahibi, modern kültürlü olarak yetiştirmek için İstanbul Üniversitesi'nin gelişmesi, Ankara Üniversitesi'nin tamamlanması ve Doğu Üniversitesi'nin yapılan çalışmalarla belirlenmiş olan kuralları içinde Van Gölü civarında kurulması çalışmalarını hızla ve önemle sürdürülmektedir..."
- Yukarıda bir parçası alıntılanan yazının türü aşağıdakilerden hangisidir?
- A) Söylev
B) Mülakat
C) Makale
D) Nesir

13. Yazarın herhangi bir konu, eşya ya da bir yerle ilgili yaptığı incelemeleri değişik boyutlarıyla ele alıp kendi görüşlerini de katarak hazırladığı gazete ve dergi yazılarına ne ad verilir?

- A) Röportaj
- B) Deneme
- C) Gezi yazısı
- D) Hatırat

14. "Tanrı gibi Tanrı yaratmış Türk Bilge Kağanı, sözüm: Babam Türk Bilge Kağanı... Sir, Dokuz Oğuz, İki Ediz çadırılı beyleri, milleti.."

Yukarıda bir parçası alıntılanan eser aşağıdakilerden hangisidir?

- A) Fatih Sultan Mehmet'in Nutku
- B) Göktürk Yazıtları
- C) Bugün de Diyorlar ki
- D) İstiklal Kulesi Yazıtları

15. "Gerçek Bir Yeryüzü Cenneti Sapanca" başlıklı röportajın türü aşağıdakilerden hangisidir?

- A) Bir yeri konu alan
- B) Eşyayı konu alan
- C) Gezi yazısı
- D) Belgesel

16. Atatürk'ün hazırladığı "Söylev" ile ilgili aşağıdaki ifadelerden hangisi yanlıştır?

- A) Mecliste okunması 36 saat sürmüştür.
- B) 1927'de iki cilt halinde basılmıştır.
- C) Atatürk, Söylev'i " Gençliğe Sesleniş" ile bitirir.
- D) İsmet İnönü ile birlikte yazmışlardır.

17. Edebiyatımızda ilk mülakat örneklerinden sayılan "Anafartalar Kumandanı Mustafa Kemal Atatürk" başlıklı eserin yazarı aşağıdakilerden hangisidir?

- A) Ruşen Eşref Ünaydın
- B) Yahya Kemal
- C) Fakir Baykurt
- D) Fikret Otyam

18. Röportajın özellikleri ile ilgili aşağıdaki ifadelerden hangisi yanlıştır?

- A) Röportajcı gördükleri ve izlenimleriyle yetinmeyip araştırma ve inceleme de yapar.
- B) Röportajcının amacı konuyu çarpıtmadan belgesel olarak okuyucuya sunmak ve okuyucuyu konunun içinde yaşatmaktır.
- C) Röportajı yapan kişi kendi görüşlerini röportaja katmaz.
- D) Röportajlar okuyucunun dikkatini çekecek ve onları bazı konularda düşündürecek biçimde düzenlenir.

19. Genellikle parlamentolarda, diplomatik toplantılarda ve mitinglerde söylenen söylev aşağıdakilerden hangisidir?

- A) Akademik söylev
- B) Siyasi söylev
- C) Sosyal söylev
- D) Edebi söylev

20. Sorular herkesin anlayabileceği gibi açık ve net olmalı, alınan cevap aynen aktarılmalı ve ayrıntıya girilmemelidir.

Yukarıda sözü edilen tür aşağıdakilerden hangisi olabilir?

- A) Mülakat
- B) Fıkra
- C) Deneme
- D) Söylev

1. Aşağıdakilerden hangisi sempozyum bildirisinin bölümlerinden biri değildir?
 - A) Giriş
 - B) Bulgular
 - C) Deney
 - D) Taslak
2. Makaleyle ilgili aşağıdaki ifadelerden hangisi yanlıştır?
 - A) Makalede temel öge duygudur.
 - B) Üslup yönünden üçüncü tekil anlatım tercih edilir.
 - C) Gazetede ilk sayfa ve birinci sütunda yer alan ve günlük olaylar, ülke sorunları hakkında görüşleri yansıtan yazılara başmakale adı verilir.
 - D) Bilimsel bir anlatım ağır basar.
3. Bilimsel yazı hazırlanırken başkasının görüşlerini alıp, gönderme yapılarak nereden alıntılandığı belirtilmediği takdirde ortaya çıkan bilimsel hırsızlığa ne ad verilir?
 - A) Göndergesel işlev
 - B) İntihal
 - C) Alıntı
 - D) Dipnot
4. Yazar, düşünür ve sanatçıların veya kendi alanında uzman kişilerin bir konuyu açıklamak, tanıtmak, bilgi vermek, öğretmek amacıyla yaptıkları konuşmalara ne ad verilir?
 - A) Söyleşi
 - B) Konferans
 - C) Röportaj
 - D) Münazara
5. Aşağıdakilerden hangisi öğretici metinlerden biri değildir?
 - A) Sohbet
 - B) Mülakat
 - C) Karikatür
 - D) Röportaj
6. “Çocukların suç eğiliminde aile mi etkilidir, çevre mi?” sorusunu tartışan iki gurubun kendi görüşlerini açıklamak, kanıtlamak karşı tarafın zayıf noktalarını aramak için yaptıkları söyleşmeye ne ad verilir?
 - A) Münazara
 - B) Sempozyum
 - C) Forum
 - D) Mülakat
7. Aşağıdakilerden hangisi makale ve bilimsel yazıların benzerliklerinden biri değildir?
 - A) İki türde de sanatsal yaklaşım ön plandadır.
 - B) İki türde de amaç okuyucuyu bilgilendirmektir.
 - C) Her iki tür de kurallı cümlelerle kurulurlar.
 - D) Her iki türde de anlatılanların kanıtlanması gerekir.
8. Aşağıdakilerden hangisi bilimsel yazılar içerisinde yer almaz?
 - A) Bir şairin anıları
 - B) Toplantı özetleri
 - C) Konferans raporları
 - D) Değerlendirme yazıları
9. Makalelerinde sürekli biçimde vatan, milliyet ve hürriyet temalarını işleyen yazar aşağıdakilerden hangisidir?
 - A) Ali Naci
 - B) Recaiade Mahmut Ekrem
 - C) Cahit Sıtkı
 - D) Namık Kemal
10. Konferansta konuyla ilgili genel yargılar hangi bölümde yer alır?
 - A) Hitap cümlesi
 - B) Anafikir
 - C) Soru-cevap
 - D) Sonuç

11. Açık oturumda izleyicilerin sorularının alınması ve cevaplanması söz konusu olduğunda açık oturum aşağıdakilerden hangisine dönüşür?

- A) Sempozyum
- B) Forum
- C) Mülakat
- D) Röportaj

12. Bilim insanlarının bir konunun çeşitli yönlerini inceleyip görüş bildirdikleri toplantılara ne ad verilir?

- A) Söylev
- B) Sempozyum
- C) Açık oturum
- D) Münazara

13. Aşağıdakilerden hangisi bir sözlü anlatım türü değildir?

- A) Açık oturum
- B) Sempozyum
- C) Makale
- D) Münazara

14. Çeşitli konularda uzmanların, dinleyiciler karşısında görüşlerini açıkladıkları toplantılara ne ad verilir?

- A) Röportaj
- B) Konferans
- C) Açık oturum
- D) Söylev

15. Türk edebiyatında makalenin gelişimine bakıldığında 1860'da ilk makale kim tarafından yazılmıştır?

- A) Nefi
- B) Hüseyin Cahit
- C) Şinasi
- D) Namık Kemal

16. Münazaranın topluluk karşısında yapılan türüne ne ad verilir?

- A) Paneller
- B) Gösteriler
- C) Forumlar
- D) Toplu tartışmalar

17. Bir sorun üzerinde bütün ilgililerin görüşlerini öğrenmek için yapılan toplantı türü aşağıdakilerden hangisidir?

- A) Münazara
- B) Forum
- C) Söyleşi
- D) Sempozyum

18. Aşağıdakilerden hangisi bilimsel yazılar içerisinde yer almaz?

- A) Tiyatro metinleri
- B) Değerlendirme yazıları
- C) Bilimsel makaleler
- D) Konferans raporları

19. Aşağıdakilerden hangisi açık oturum planında yer almaz?

- A) Açık oturumun yapılış nedeni
- B) Konuşmaları özetlemek
- C) Konuşmacılara sorulacak sorular
- D) Deney

20. Aşağıdakilerden hangisi bilimsel yazıların okuyucu kitlesine ulaşması bakımından önemli olan ögesidir?

- A) Dipnot
- B) Tartışma
- C) Başlık
- D) Sonuç

1. Wenn mein Vater zu Hause, er mit mir spielen.

Welche Wörter passen in die obigen Lücken?

Cümlede boş bırakılan yerleri aşağıdakilerden hangileri tamamlar?

- A) wäre / würde
B) wärest / wäre
C) hätte / hätte
D) hätte / würde

2. Er wohnt in einem Haus mit Garten.

Wie lautet der obige Satz im Perfekt?

Verilen cümlelerin di li geçmiş zaman şekli aşağıdakilerden hangisidir?

- A) Er hat in einem Haus mit Garten gewohnt.
B) Er hatten in einem Haus mit Garten wohnen wollen.
C) Er hätten in einem Haus mit Garten wohnen können.
D) Er seien in einem Haus mit Garten gewohnt.

3. Die Jacke gehört ein..... alt..... Mann.

Welche Endung passt in die obige Lücke?

Cümlede boş bırakılan yeri aşağıdaki son eklerden hangisi tamamlar?

- A) -em / -en
B) -en / -em
C) -es / -er
D) -e / -e

4. Die Hefte / Die Berge / Die Hände / Die Landschaften

Wie lauten die obigen Wörter in der Singularform?

Verilen sözcüklerin tekil hali aşağıdakilerden hangisidir?

- A) Die Heft / Die Berg / Die Hände / Die Landschaften
B) Das Heft / Der Berg / Die Hand / Die Landschaft
C) Der Heft / Das Berg / Der Hand / Der Landschaft
D) Das Heft / Die Berge / Die Hände / Das Landschaft

5. Was bedeutet "klagen" auf Türkisch?

"klagen" sözcüğünün Türkçesi aşağıdakilerden hangisidir?

- A) tamir etmek
B) şikayet etmek
C) emir vermek
D) satış yapmak

6. Mein Chef fragt,

Welches ergänzt die Lücke im obigen Satz?

Verilen cümleyi aşağıdakilerden hangisi tamamlar?

- A) weil ich immer arbeiten möchte.
B) damit ich noch mit ihnen spielen könnte.
C) ob ich heute Abend arbeiten kann.
D) daß ich mitspielen kann.

7. Hannelore hat keine Zeit, sie muß ihre Hausaufgaben machen.

Welches Wort passt in die obige Lücke?

Cümlede boş bırakılan yeri aşağıdakilerden hangisi tamamlar?

- A) oder
B) seit
C) denn
D) wie

8. Nasreddin Hoca ist der Mann, alle türkischen Kinder kennen.

Welches Wort passt in die obige Lücke?

Cümlede boş bırakılan yeri aşağıdakilerden hangisi tamamlar?

- A) dem
B) den
C) des
D) die

9. Amerika / Italien / Deutschland / Eskişehir / Japan

Welches Wort passt nicht zu den anderen in der obigen Wortgruppe?

Verilen sözcük grubuna uymayan aşağıdakilerden hangisidir?

- A) Eskişehir
B) Amerika
C) Italien
D) Deutschland

10. Was ist ein Wörterbuch?

Welche Antwort passt zur obigen Frage?

Verilen sorunun cevabı aşağıdakilerden hangisidir?

- A) Die benutzen wir beim Spielen.
B) Dort kann man nachschlagen und neue Wörter lernen.
C) Das ist ein Schulbuch für Mathematik.
D) Dort kann man neue Geschichten finden.

11. Bu tek yönlü bir yol.

Wie lautet der obige Satz auf Deutsch?

Verilen cümlelerin Almancası aşağıdakilerden hangisidir?

- A) Das ist eine Einbahnstrasse.
B) Die Einbahnstrasse ist gesperrt.
C) Hier dürfen nur Autos parken.
D) Hier ist es verboten einzufahren.

12. Was bedeutet "deniz" auf Deutsch?

"deniz" sözcüğünün Almancası aşağıdakilerden hangisidir?

- A) der Baum
B) die Wiese
C) das Meer
D) das Land

13. Trabzon und Giresun sind zwei Städte, am Schwarzen Meer liegen.

Welches Wort passt in die obige Lücke?

Cümlede boş bırakılan yeri aşağıdakilerden hangisi tamamlar?

- A) der
B) das
C) den
D) die

14. Ich wünsche mir einen Ehemann,

Welches ergänzt die Lücke im obigen Satz?

Verilen cümleyi aşağıdakilerden hangisi tamamlar?

- A) die hat eine Freundin.
B) das sehr viel verdienen kann.
C) der ist gross und schlank.
D) dem ich immer vertrauen kann.

15. Fox ist ein Fernsehsender. Ich mag den Sender.

Wie kann man die obigen Sätze verbinden?

Verilen cümlelerin birleştirilmiş hali aşağıdakilerden hangisidir?

- A) Die Sender, die im Fox sind, sind alle neu.
B) Fox ist ein Fernsehsender, den ich mag.
C) Wenn Fox ein Fernsehsender ist, mag ich es nicht.
D) Ich sehe alle Fernsehprogramme im Fox.

16. Wann du deine Hausaufgaben?

Welche Wörter passen in die obigen Lücken?

Cümlede boş bırakılan yerleri aşağıdakilerden hangileri tamamlar?

- A) wird / seien
- B) werden / machen
- C) wirst / machen
- D) wird / macht

17. Nihayet kendime vakit ayıracağım.

Wie lautet der obige Satz auf Deutsch?

Verilen cümlelerin Almancası aşağıdakilerden hangisidir?

- A) Er hat immer Zeit für mich.
- B) Ich habe nie Zeit für meine Kinder.
- C) Ich werde endlich Zeit für mich haben.
- D) Er wird sich Zeit dafür geben.

18. Ich denke, daß wir uns spätestens zum Neujahr wieder sehen werden.

Welche Frage passt zur obigen Antwort?

Verilen cevabı gerektirecek soru aşağıdakilerden hangisidir?

- A) Warum kommst du so spät?
- B) Hattest du eine bequeme Heimreise?
- C) Hat dir diese Jacke besser gepaßt?
- D) Wann sehen wir uns wieder?

19. Wenn die Menschen nicht rauchen, sie gesünder.

Welche Wörter passen in die obigen Lücken?

Cümlede boş bırakılan yerleri aşağıdakilerden hangileri tamamlar?

- A) würdest / hättest
- B) hätte / wäre
- C) wäre / würde
- D) würden / wären

20. Was bedeutet das Gegenteil von "vergessen"?

"vergessen" sözcüğünün zıt anlamlısı aşağıdakilerden hangisidir?

- A) antworten
- B) einladen
- C) verspäten
- D) sich erinnern

1. Peter is 130 cm tall. Mike is 150 cm tall. Peter is than Mike.

Which of the following completes the sentence above?

Aşağıdakilerden hangisi yukarıdaki cümleyi doğru olarak tamamlar?

- A) taller
B) older
C) shorter
D) cleverer

2. Liz: What do you usually wear your feet?
Jonny: Jeans.

Which of the following completes the dialogue above?

Aşağıdakilerden hangisi yukarıdaki konuşmayı doğru olarak tamamlar?

- A) in
B) with
C) on
D) at

3. This is the expensive hotel I have ever stayed in.

Which of the following completes the sentence above?

Aşağıdakilerden hangisi yukarıdaki cümleyi doğru olarak tamamlar?

- A) more
B) most
C) worst
D) much

4. The baby hasn't his milk yet.

Which of the following completes the sentence above?

Aşağıdakilerden hangisi yukarıdaki cümleyi doğru olarak tamamlar?

- A) drunk
B) drank
C) drink
D) drinking

5. Diana French while her husband broke the glass.

Which of the following completes the sentence above?

Aşağıdakilerden hangisi yukarıdaki cümleyi doğru olarak tamamlar?

- A) is studying
B) have studied
C) will study
D) was studying

6. My sister never tells me the truth. I wish

Which of the following completes the sentence above?

Aşağıdakilerden hangisi yukarıdaki cümleyi doğru olarak tamamlar?

- A) she tells me the truth
B) she will tell me the truth
C) she doesn't tell me the truth
D) she would tell me the truth

7. 'Serenad' by Zülfü Livaneli in 2011.

Which of the following completes the sentence above?

Aşağıdakilerden hangisi yukarıdaki cümleyi doğru olarak tamamlar?

- A) had written
B) written
C) has written
D) was written

8. Amy said "I went to the library." Amy said that she to the library.

Which of the following completes the sentence above?

Aşağıdakilerden hangisi yukarıdaki cümleyi doğru olarak tamamlar?

- A) goes
B) was going
C) had gone
D) has gone

9. If it doesn't rain at the weekend,

Which of the following completes the sentence above?

Aşağıdakilerden hangisi yukarıdaki cümleyi doğru olarak tamamlar?

- A) we will go to the seaside
B) we won't go to the seaside
C) we went to the seaside
D) we have gone to the seaside

10. Have you ever by a dog?

Which of the following completes the sentence above?

Aşağıdakilerden hangisi yukarıdaki cümleyi doğru olarak tamamlar?

- A) bite
B) bit
C) been bitten
D) have bitten

11. If you lose your wallet,

Which of the following completes the sentence above?

Aşağıdakilerden hangisi yukarıdaki cümleyi doğru olarak tamamlar?

- A) call the police
B) write a letter
C) see the dentist
D) iron the clothes

12. Virginia asked Kelly she was a guitarist.

Which of the following completes the sentence above?

Aşağıdakilerden hangisi yukarıdaki cümleyi doğru olarak tamamlar?

- A) who
B) what
C) if
D) when

13. Denise said "I will give Greg the money." She said that she Greg the money.

Which of the following completes the sentence above?

Aşağıdakilerden hangisi yukarıdaki cümleyi doğru olarak tamamlar?

- A) should give
B) would give
C) gives
D) gave

14. Tomorrow is Saturday. We go to school. We can go to the cinema.

Which of the following completes the sentence above?

Aşağıdakilerden hangisi yukarıdaki cümleyi doğru olarak tamamlar?

- A) must
B) should
C) have to
D) don't have to

15. The dinner is for us at the moment.

Which of the following completes the sentence above?

Aşağıdakilerden hangisi yukarıdaki cümleyi doğru olarak tamamlar?

- A) prepared
B) being prepared
C) preparing
D) has prepared

16. Mike: I borrow your suitcase Brian?
Brian: Yes, of course.

Which of the following completes the dialogue above?

Aşağıdakilerden hangisi yukarıdaki konuşmayı doğru olarak tamamlar?

- A) Do
B) Can
C) Did
D) Will

17. Would you like for brunch?

Which of the following completes the sentence above?

Aşağıdakilerden hangisi yukarıdaki cümleyi doğru olarak tamamlar?

- A) to come
B) came
C) coming
D) come

18. If I went to France, I The Louvre Museum.

Which of the following completes the sentence above?

Aşağıdakilerden hangisi yukarıdaki cümleyi doğru olarak tamamlar?

- A) will visit
B) visit
C) can visit
D) would visit

19. Julia would rather Franz Kafka than watch soap opera on television.

Which of the following completes the sentence above?

Aşağıdakilerden hangisi yukarıdaki cümleyi doğru olarak tamamlar?

- A) reading
B) read
C) to read
D) be reading

20. Television makes us time that we could use in more beneficial situations.

Which of the following completes the sentence above?

Aşağıdakilerden hangisi yukarıdaki cümleyi doğru olarak tamamlar?

- A) waste
B) reach
C) hear
D) watch

1. «Interdiction de dépasser.»

Choisissez la traduction qui convient.

Yukarıdaki cümlelerin Türkçe karşılığı aşağıdakilerden hangisidir?

- A) Gitmek yasaktır.
B) Yürümek yasaktır.
C) Sollamak yasaktır
D) Gelmek yasaktır.

2. L'homme tu vois est notre professeur.

Choisissez le mot qui convient.

Cümledeki boşluğu aşağıdakilerden hangisi doğru şekilde tamamlar?

- A) qui
B) où
C) que
D) en

3. Pour nager, nous allons à la

Choisissez le mot qui convient.

Cümledeki boşluğu aşağıdakilerden hangisi doğru şekilde tamamlar?

- A) gare
B) bibliothèque
C) piscine
D) mairie

4. Octobre est le mois elle est

Choisissez les mots qui conviennent.

Cümledeki boşlukları aşağıdakilerden hangisi doğru şekilde tamamlar?

- A) où / née
B) où / né
C) dont / née
D) dont / né

5. Hier, il beau.

Choisissez le mot qui convient.

Cümledeki boşluğu aşağıdakilerden hangisi doğru şekilde tamamlar?

- A) faire
B) fait
C) ferra
D) faisait

6. Quand je lui ai téléphoné, il déjà sorti.

Choisissez le mot qui convient.

Cümledeki boşluğu aşağıdakilerden hangisi doğru şekilde tamamlar?

- A) était
B) est
C) a
D) avait

7. Nous au bord de la mer la semaine prochaine.

Choisissez le mot qui convient.

Cümledeki boşluğu aşağıdakilerden hangisi doğru şekilde tamamlar?

- A) sommes allés
B) irons
C) allons
D) vont

8. La fille je parle.

Choisissez le mot qui convient.

Cümledeki boşluğu aşağıdakilerden hangisi doğru şekilde tamamlar?

- A) qui
B) dont
C) où
D) que

9. Je peux parler français car je travaille

Choisissez le mot qui convient.

Cümledeki boşluğu aşağıdakilerden hangisi doğru şekilde tamamlar?

- A) beaucoup
B) peu
C) jamais
D) pas

10. tu es fatigué, tu

Choisissez les mots qui conviennent.

Cümledeki boşlukları aşağıdakilerden hangisi doğru şekilde tamamlar?

- A) Mais / dors
B) Donc / a dormi
C) Car / dors
D) Puisque / dormiras

11. Je parle de la ville Leyla est

Choisissez les mots qui conviennent.

Cümledeki boşlukları aşağıdakilerden hangisi doğru şekilde tamamlar?

- A) que / née
B) qui / né
C) que / né
D) où / née

12. Atatürk est mort10 mars.

Choisissez l'expression qui convient.

Cümledeki boşluğu aşağıdakilerden hangisi doğru şekilde tamamlar?

- A) la
- B) en
- C) le
- D) au

13. jour / sommes / quel / nous ?
I II III IV

Mettez dans le bon ordre.

Yukarıdaki kelimelerin anlamlı ve kurallı bir cümle oluşturan sırası aşağıdakilerin hangisinde doğru olarak verilmiştir?

- A) I, III, II, IV
- B) III, I, II, IV
- C) III, IV, II, I
- D) IV, III, II, I

14. Le cinquième mois de l'année c'est

Choisissez le mot qui convient.

Cümledeki boşluğu aşağıdakilerden hangisi doğru şekilde tamamlar?

- A) juin
- B) août
- C) septembre
- D) mai

15. Je vais à la maison 10 minutes.

Choisissez le mot qui convient.

Cümledeki boşluğu aşağıdakilerden hangisi doğru şekilde tamamlar?

- A) en
- B) à
- C) depuis
- D) ou

16. Le match va commencer dix minutes.

Choisissez le mot qui convient.

Cümledeki boşluğu aşağıdakilerden hangisi doğru şekilde tamamlar?

- A) comme
- B) depuis
- C) il y a
- D) dans

17. Ils aiment voyager train.

Choisissez le mot qui convient.

Cümledeki boşluğu aşağıdakilerden hangisi doğru şekilde tamamlar?

- A) au
- B) en
- C) à
- D) le

18. En quelle année sommes-nous?

Choisissez la traduction qui convient.

Yukarıdaki cümlenin Türkçe karşılığı aşağıdakilerden hangisidir?

- A) Hangi mevsimdeyiz?
- B) Hangi yıldayız?
- C) Hangi aydayız?
- D) Bugün günlerden ne?

19. Ne s'occupe-t-elle de ces fleurs ?

Choisissez la traduction qui convient.

Yukarıdaki cümlenin Fransızca karşılığı aşağıdakilerden hangisidir?

- A) Je ne sais pas ce qui se passe.
- B) Je ne prends rien.
- C) Je ne comprends pas ce que vous dites.
- D) Je n'attends personne.

20. En 2000, j' six ans.

Choisissez le mot qui convient.

Cümledeki boşluğu aşağıdakilerden hangisi doğru şekilde tamamlar?

- A) avais
- B) suis
- C) avait
- D) étais

1. A: Was hat sie gesagt?
B: Sie hat gesagt, sie müde.

Welches ergänzt nicht die Lücke im obigen Dialog?

Verilen karşılıklı konuşmada boş bırakılan yeri aşağıdakilerden hangisi tamamlamaz?

- A) sei
B) ist
C) war
D) hätte

2. Tolga ist 13 Jahre alt. Melda ist 21 Jahre alt. Selim ist 14 Jahre alt. Melda ist die

Welches Wort passt in die obige Lücke?

Cümlede boş bırakılan yeri aşağıdakilerden hangisi tamamlar?

- A) kleinere
B) älteste
C) längere
D) jüngste

3. Wir essen Fleisch als Geflügel. Aber essen wir Fleisch.

Welche Wörter passen in die obigen Lücken?

Cümlede boş bırakılan yerleri aşağıdakilerden hangileri tamamlar?

- A) mehr / am meisten
B) viel / lieber
C) besser / am teuersten
D) schöner / mehr

4. Was bedeutet "Das Gesetz" auf Türkisch?

"Das Gesetz" sözcüğünün Türkçesi aşağıdakilerden hangisidir?

- A) Vergi
B) Kanun
C) Fatura
D) Yardım

5. Warum kommt ihr heute?

Welche Antwort passt nicht zur obigen Frage?

Verilen sorunun cevabı aşağıdakilerden hangisi olamaz?

- A) Wir kommen heute, weil wir zum Arzt gehen müssen.
B) Wenn wir reich werden, spare ich Geld.
C) Weil das Konzert heute Abend ist.
D) Damit wir unsere Arbeit rechtzeitig erledigen können.

6. Gamze möchte Deutsch lernen.

Welche Frage passt zur obigen Antwort?

Verilen cevabı gerektirecek soru aşağıdakilerden hangisidir?

- A) Wann geht Gamze zu einem Sprachkurs?
B) Zu welchem Kurs geht Gamze?
C) Kann Gamze gut deutsch sprechen?
D) Was möchte Gamze machen?

7. 1980 1984 habe ich die Grundschule besucht.

Welche Wörter passen in die obigen Lücken?

Cümlede boş bırakılan yerleri aşağıdakilerden hangileri tamamlar?

- A) Seit / ab
B) Von / bis
C) Am / bis
D) Bis / um

8. Die Banken öffnen Tag um 08.00 Uhr.

Welches Wort passt in die obige Lücke?

Cümlede boş bırakılan yeri aşağıdakilerden hangisi doğru şekilde tamamlar?

- A) jedes
B) jeder
C) jeden
D) jedem

9. Er ist zur Zeit in Ankara.

Welches Wort passt in die obige Lücke?

Cümlede boş bırakılan yeri aşağıdakilerden hangisi tamamlar?

- A) besetzt
B) verboten
C) wohnhaft
D) verspätet

10. September, Oktober und November sind

Welches ergänzt die Lücke im obigen Satz?

Verilen cümleyi aşağıdakilerden hangisi tamamlar?

- A) der Sommeranfang.
B) die Herbstmonate.
C) die Frühlingsmonate.
D) die Sommermonate.

11. Was bedeutet "segeln" auf Türkisch?

"segeln" sözcüğünün Türkçesi aşağıdakilerden hangisidir?

- A) balık tutmak
B) alışveriş yapmak
C) yelkenle gitmek
D) iddiaya girmek

12. sagte, du schriebest einen Roman!

Welches Wort passt in die obige Lücke?

Cümlede boş bırakılan yeri aşağıdakilerden hangisi tamamlar?

- A) Kann
B) Jeder
C) Man
D) Immer

13. Ayşe gerne mit Ali

Welche Wörter passen nicht in die obigen Lücken?

Cümlede boş bırakılan yerleri aşağıdakilerden hangileri tamamlamaz?

- A) wäre / haben
B) würde / tanzen
C) würde / heiraten
D) wäre / befreundet

14. Du warst im Kino? Ich dachte, du in der Schule!

Welches Wort passt in die obige Lücke?

Cümlede boş bırakılan yeri aşağıdakilerden hangisi tamamlar?

- A) war
B) wäre
C) wären
D) wärst

15. Ich habe in den Nachrichten, es habe heute in Eskişehir keinen Unfall gegeben.

Welches Wort passt in die obige Lücke?

Cümlede boş bırakılan yeri aşağıdakilerden hangisi tamamlar?

- A) gelernt
- B) gemacht
- C) geschrieben
- D) gehört

16. Die Bank ist am Montag der Reparatur durchgehend geschlossen.

Welches Wort passt in die obige Lücke?

Cümlede boş bırakılan yeri aşağıdakilerden hangisi tamamlar?

- A) wegen
- B) nur
- C) sonst
- D) irgendwann

17. Was hat dir Ahmet gesagt?

Welche Antwort passt zur obigen Frage?

Verilen sorunun cevabı aşağıdakilerden hangisidir?

- A) Wir sind krank und liegen im Bett!
- B) Ich möchte auch in die Türkei!
- C) Du kannst heute kommen!
- D) Er sagte mir, die Hose habe er neu gekauft!

18. Mit Käse.

Welche Frage passt zur obigen Antwort?

Verilen cevabı gerektirecek soru aşağıdakilerden hangisidir?

- A) Haben Sie frisches Gemüse?
- B) Wo finde ich etwas gutes zum Essen?
- C) Mit wem gehst du nach Holland?
- D) Mit welcher Spezialität ist Holland berühmt?

19., deren Kinder heute ein Konzert geben, sind sehr aufgeregt.

Welches Wort passt in die obige Lücke?

Cümlede boş bırakılan yeri aşağıdakilerden hangisi tamamlar?

- A) Die Mütter
- B) Die Frau
- C) Das Kind
- D) Der Vater

20. A: Kennst du Spezialitäten aus Ländern?

B: Ja, zum Beispiel kommen aus Italien!

Welches ergänzt den obigen Dialog?

Verilen karşılıklı konuşmayı aşağıdakilerden hangisi tamamlar?

- A) jemanden / Wein
- B) alle / Fisch
- C) anderen / Nudeln
- D) wenige / Pizza

1. At five o'clock yesterday afternoon the electrician the radio.

Which of the following completes the sentence above?

Aşağıdakilerden hangisi yukarıdaki cümleyi doğru olarak tamamlar?

- A) is repairing
B) has repaired
C) did repaired
D) was repairing

2. What did he do last night?

Which of the following can be the answer of the question above?

Aşağıdakilerden hangisi yukarıdaki sorunun yanıtı olabilir?

- A) He studied English.
B) He studies English.
C) He has studied English.
D) He is studying English.

3. Ceylan to her mum at this time yesterday.

Which of the following completes the sentence above?

Aşağıdakilerden hangisi yukarıdaki cümleyi doğru olarak tamamlar?

- A) is talking
B) talks
C) will talk
D) was talking

4. I was going to theatre, I saw an accident.

Which of the following completes the sentence above?

Aşağıdakilerden hangisi yukarıdaki cümleyi doğru olarak tamamlar?

- A) Who
B) While
C) Which
D) Where

5. What.....you.....for breakfast last Sunday?

Which of the following completes the sentence above?

Aşağıdakilerden hangisi yukarıdaki cümleyi doğru olarak tamamlar?

- A) do / have
B) did / have
C) does / have
D) did / had

6. Mary used to basketball when she was fifteen.

Which of the following completes the sentence above?

Aşağıdakilerden hangisi yukarıdaki cümleyi doğru olarak tamamlar?

- A) play
B) has played
C) played
D) is playing

7. Jane: What's your job?
Bob: I a teacher three years ago. I don't work anymore.

Which of the following completes the dialogue above?

Aşağıdakilerden hangisi yukarıdaki konuşmayı doğru olarak tamamlar?

- A) been
B) was
C) were
D) am

8. I haven't visited my parents a year.

Which of the following completes the sentence above?

Aşağıdakilerden hangisi yukarıdaki cümleyi doğru olarak tamamlar?

- A) last
B) from
C) for
D) ago

9. They will postpone the meeting.

Which of the following is the Turkish translation of the sentence above?

Aşağıdakilerden hangisi yukarıdaki cümlenin Türkçe karşılığıdır?

- A) Toplantı ertelendi.
B) Toplantıyı ertelediler.
C) Toplantı ertelenecek.
D) Toplantıyı erteleyecekler.

10. Have you ever to Nigeria?

Which of the following completes the sentence above?

Aşağıdakilerden hangisi yukarıdaki cümleyi doğru olarak tamamlar?

- A) been
B) went
C) travel
D) go

11. Have you ever bungee jumping?

Which of the following completes the sentence above?

Aşağıdakilerden hangisi yukarıdaki cümleyi doğru olarak tamamlar?

- A) did
- B) do
- C) done
- D) does

12. We our cousins since they moved to Australia.

Which of the following completes the sentence above?

Aşağıdakilerden hangisi yukarıdaki cümleyi doğru olarak tamamlar?

- A) can't see
- B) don't see
- C) haven't seen
- D) didn't see

13. He a doctor in the future.

Which of the following completes the sentence above?

Aşağıdakilerden hangisi yukarıdaki cümleyi doğru olarak tamamlar?

- A) will being
- B) is be
- C) been
- D) will be

14. My job is funny, ?

Which of the following completes the sentence above?

Aşağıdakilerden hangisi yukarıdaki cümleyi doğru olarak tamamlar?

- A) wasn't it
- B) hasn't it
- C) doesn't it
- D) isn't it

15. Mary: Let's watch a movie,?
Ernest: That's a good idea.

Which of the following completes the dialogue above?

Aşağıdakilerden hangisi yukarıdaki konuşmayı doğru olarak tamamlar?

- A) shall they
- B) shall we
- C) will we
- D) do they

16. Valerie hasn't played football, ?

Which of the following completes the sentence above?

Aşağıdakilerden hangisi yukarıdaki cümleyi doğru olarak tamamlar?

- A) have she
- B) is she
- C) has she
- D) does she

17. Lucy is a careful driver. I think she drives than me.

Which of the following completes the sentence above?

Aşağıdakilerden hangisi yukarıdaki cümleyi doğru olarak tamamlar?

- A) more carefully
- B) carefully
- C) worse
- D) more earlier

18. I went to bed than usual.

Which of the following completes the sentence above?

Aşağıdakilerden hangisi yukarıdaki cümleyi doğru olarak tamamlar?

- A) more late
- B) later
- C) late
- D) latest

19. In the 21st century, technology is developing than the past.

Which of the following completes the sentence above?

Aşağıdakilerden hangisi yukarıdaki cümleyi doğru olarak tamamlar?

- A) rapidly
- B) more rapid
- C) more rapidly
- D) most rapidly

20. John is 15 years old. Mike is 18 years old.
John is than Mike.

Which of the following completes the sentence above?

Aşağıdakilerden hangisi yukarıdaki cümleyi doğru olarak tamamlar?

- A) younger
- B) older
- C) longer
- D) faster

1. «La maison que j'ai vendue est rouge.»

Choisissez la traduction qui convient.

Yukarıdaki cümlelerin Türkçe karşılığı aşağıdakilerden hangisidir?

- A) Sattığım ev kırmızı.
B) Gördüğüm ev kırmızı boyalı.
C) Evimi kırmızı renge boyadım.
D) Boyadığım ev kırmızı.

2. Ce roman raconte l'histoire d'une femme qui se marie: c'est un roman

Choisissez le mot qui convient.

Cümledeki boşluğu aşağıdakilerden hangisi doğru şekilde tamamlar?

- A) policier
B) d'amour
C) d'histoire
D) de biologie

3. L'hôtel les prix sont bas s'appelle «Joly».

Choisissez l'expression/le mot qui convient.

Cümledeki boşluğu aşağıdakilerden hangisi doğru şekilde tamamlar?

- A) que
B) dont
C) qui
D) où

4. Il faut un passeport quand on veut partir

Choisissez l'expression qui convient.

Yukarıdaki cümlede boş bırakılan yeri aşağıdakilerden hangisi doğru şekilde tamamlar?

- A) à la maison
B) chez le médecin
C) au magasin
D) à l'étranger

5. Elle a oublié son sac voyage.

Choisissez le mot qui convient.

Cümledeki boşluğu aşağıdakilerden hangisi doğru şekilde tamamlar?

- A) de
B) chez
C) en
D) des

6. «Hızlı yürüyen adam.»

Choisissez la traduction qui convient.

Yukarıdaki cümlelerin Fransızca karşılığı aşağıdakilerden hangisidir?

- A) Un homme marchant lentement.
B) Un homme allant à pied.
C) Un homme allant tout doucement.
D) Un homme marchant rapidement.

7. On peut pique-niquer en forêt quand

Complétez la phrase avec la proposition qui convient.

Yukarıdaki cümleyi aşağıdaki ifadelerden hangisi doğru şekilde tamamlar?

- A) il pleut
B) il neige
C) il fait beau
D) il y a du vent

8. Je prépare ma pour partir

Choisissez les mots qui conviennent.

Cümledeki boşlukları aşağıdakilerden hangisi doğru şekilde tamamlar?

- A) sac / en hiver
B) bagage / à Paris
C) ville / à Paris
D) valise / en vacances

9. Généralement, on fait du ski en

Choisissez le mot qui convient.

Cümledeki boşluğu aşağıdakilerden hangisi doğru şekilde tamamlar?

- A) été
B) hiver
C) printemps
D) automne

10. Elle joue volley-ball.

Choisissez le mot qui convient.

Cümledeki boşluğu aşağıdakilerden hangisi doğru şekilde tamamlar?

- A) du
B) au
C) de la
D) de

11. Des enfants obéissants venus.

Choisissez le mot qui convient.

Cümledeki boşluğu aşağıdakilerden hangisi doğru şekilde tamamlar?

- A) est
B) étant
C) sont
D) ayant

12. L'automne est une

Choisissez le mot qui convient.

Cümledeki boşluğu aşağıdakilerden hangisi doğru şekilde tamamlar?

- A) saison
- B) jour
- C) semaine
- D) année

13. les / j'aime / brillantes / lumières

I II III IV

Mettez dans le bon ordre.

Yukarıdaki kelimelerin anlamlı ve kurallı bir bütün oluşturan sırası aşağıdakilerin hangisinde doğru olarak verilmiştir?

- A) II, I, III, IV
- B) II, I, IV, III
- C) III, IV, I, II
- D) III, IV, II, I

14. Nous partons vacances famille.

Choisissez les expressions qui conviennent.

Cümledeki boşlukları aşağıdakilerden hangisi doğru şekilde tamamlar?

- A) en / la
- B) des / la
- C) en / en
- D) à / en

15. C'est toi qui beaucoup.

Choisissez le mot qui convient.

Cümledeki boşluğu aşağıdakilerden hangisi doğru şekilde tamamlar?

- A) mangeait
- B) mangé
- C) mangeais
- D) manger

16. Tu sais bien qu'il est impossible de contenter tout le monde.

Choisissez la traduction qui convient.

Yukarıdaki cümlelerin Türkçe karşılığı aşağıdakilerden hangisidir?

- A) Herkesin memnun olması için çalışıyorsun.
- B) Çalışmaların herkesi memnun ediyor.
- C) İmkânsızlıklara rağmen bu işi başarmın herkesi memnun etti.
- D) Herkesi memnun etmenin imkânsız olduğunu bilirsin.

17. Ils se sont rencontrés en du cinéma.

Choisissez le mot qui convient.

Cümledeki boşluğu aşağıdakilerden hangisi doğru şekilde tamamlar?

- A) sortant
- B) regardant
- C) lisant
- D) chantant

18. Choisissez le synonyme du verbe "se distraire".

"Se distraire" fiilinin eşanlamlısı aşağıdakilerden hangisidir?

- A) se reposer
- B) s'ennuyer
- C) s'intéresser
- D) s'amuser

19. tranquille, tout s'arrangera.

Choisissez le mot qui convient.

Cümledeki boşluğu aşağıdakilerden hangisi doğru şekilde tamamlar?

- A) Aie
- B) Regardez
- C) Soyez
- D) Tenez

20. Vous regardez télévision.

Choisissez l'expression qui convient.

Cümledeki boşluğu aşağıdakilerden hangisi doğru şekilde tamamlar?

- A) la
- B) à la
- C) au
- D) de

1. Die technischen gehen weiter.

Welches Wort passt in die obige Lücke?

Cümlede boş bırakılan yeri aşağıdakilerden hangisi tamamlar?

- A) Entwicklungen
B) Tatsache
C) Beruf
D) Formulare

2. A: Was machen die Schüler, die eine Gesamtschule besucht haben?
B: Sie können einen Beruf erlernen!
A:
B: Ja, wenn sie wollen, können sie auch aufs Gymnasium gehen!

Welches ergänzt den obigen Dialog?

Verilen karşılıklı konuşmayı aşağıdakilerden hangisi tamamlar?

- A) Das war auch im Film zu sehen!
B) Gehen sie auf die Gesamtschule?
C) Naja, dann müssen sie an zwei Tagen zur Berufsschule!
D) Können sie auch aufs Gymnasium gehen?

3. Ich würde gern ein Auto erfinden,

Welcher Satz ergänzt die obige Lücke?

Verilen cümleyi aşağıdakilerden hangisi tamamlar?

- A) wenn ich mitkommen kann.
B) daß ohne Benzin läuft.
C) damit wir zusammen fahren können.
D) ob ich ein neues kaufen kann.

4. gehen von der ersten bis zur vierten Klasse in die Grundschule.

Welches Wort passt in die obige Lücke?

Cümlede boş bırakılan yeri aşağıdakilerden hangisi tamamlar?

- A) Das Kind
B) Der Junge
C) Den Mann
D) Die Schüler

5. Was bedeutet "boş" auf Deutsch?

"boş" sözcüğünün Almancası aşağıdakilerden hangisidir?

- A) leer
B) genial
C) richtig
D) relativ

6. Her zaman yeni keşif ve buluşlar vardır.

Wie lautet der obige Satz auf Deutsch?

Verilen cümlenin Almancası aşağıdakilerden hangisidir?

- A) Wir können etwas neues erfinden.
B) Ich habe eine neue Entdeckung gemacht.
C) Er möchte eine neue Maschine entwickeln.
D) Es gibt immer neue Entdeckungen und Erfindungen.

7. Ich würde gern ein Kinderarzt werden.

Welche Frage passt zur obigen Antwort?

Verilen cevabı gerektirecek soru aşağıdakilerden hangisidir?

- A) Was möchtest du essen?
B) Wann wart ihr im Kino?
C) Was ist für dich ein Traumberuf?
D) Wo gibt es eine Post?

8. Fahren die Kinder gern Fahrrad?

Welche Antwort passt nicht zur obigen Frage?

Aşağıdakilerden hangisi verilen sorunun cevabı olamaz?

- A) Ja, um die Hausaufgaben zu machen.
B) Ja, es macht ihnen Spaß.
C) Ja, weil es lustig ist.
D) Ja, weil es aufregend ist.

9. Der Computer / Die Tastatur / Der Rechner / Das Auto /

Welches Wort passt nicht zu den anderen in der obigen Wortgruppe?

Verilen sözcük grubuna uymayan aşağıdakilerden hangisidir?

- A) Das Auto
B) Der Rechner
C) Die Tastatur
D) Der Computer

10. ist ein riesiger Müllhaufen, das Perlen

Welche Wörter passen in die obigen Lücken?

Cümlede boş bırakılan yerleri aşağıdakilerden hangileri tamamlar?

- A) Das Haus / gebaut
B) Der Garten / gemäht
C) Die Garage / erhält
D) Das Internet / enthält

11. Ich will im Sommer nach Paris fliegen.

Welche Frage passt zur obigen Antwort?

Verilen cevabı gerektirecek soru aşağıdakilerden hangisidir?

- A) Wo warst du im Sommer?
B) Welche Probleme hast du im Sommer?
C) Wohin willst du im Sommer fliegen?
D) Warum ist es im Sommer wunderbar für die Besucher?

12. Das Fernsehen ist die größte kulturelle Katastrophe, die Erde erlebt hat.

Welches Wort passt in die obige Lücke?

Cümlede boş bırakılan yeri aşağıdakilerden hangisi tamamlar?

- A) die
B) der
C) dem
D) des

13. Die Männer wollen die Sehenswürdigkeiten sehen.

Wie lautet der obige Satz in der Singularform?

Verilen cümlelerin tekil hali aşağıdakilerden hangisidir?

- A) Die Mann will die Sehenswürdigkeiten sehen.
B) Der Mann will die Sehenswürdigkeit sehen.
C) Das Mann hat die Sehenswürdigkeiten sehen wollen.
D) Die Mann besuchen die Sehenswürdigkeit.

14. Was bedeutet das Gegenteil von "unzufrieden"?

"unzufrieden" sözcüğünün zıt anlamlısı aşağıdakilerden hangisidir?

- A) spannend
- B) beruhigend
- C) sammeln
- D) zufrieden

15. die Sage von der schönen Loreley.

Welcher Satz ergänzt die obige Lücke?

Verilen cümleyi aşağıdakilerden hangisi tamamlar?

- A) Ein Bericht über Katastrophen schildert
- B) Das Lied Loreley erzählt
- C) Dieser Fall hat viele Antworten gebracht
- D) Das ist ein kleines Schifflied

16. Viele Städte, Burgen und Dörfer direkt am Rhein.

Welches Wort passt in die obige Lücke?

Cümlede boş bırakılan yeri aşağıdakilerden hangisi tamamlar?

- A) sitzen
- B) können
- C) liegen
- D) schreiben

17. Was bedeutet " anlatı " auf Deutsch?

"anlatı" sözcüğünün Almanca'sı aşağıdakilerden hangisidir?

- A) Der Roman
- B) Das Buch
- C) Die Erzählung
- D) Die Zeitung

18. von der Straße auf den Loreleyfelsen ist wunderbar.

Welches Wort passt in die obige Lücke?

Cümlede boş bırakılan yeri aşağıdakilerden hangisi tamamlar?

- A) Ein Plakat
- B) Ein Blick
- C) Die Kinder
- D) Aus Stein

19. Heinrich Heine, der viele Gedichte, Balladen und Lieder geschrieben hat,

Welches ergänzt die Lücke im obigen Satz?

Verilen cümleyi aşağıdakilerden hangisi tamamlar?

- A) hat alles vom Internet gelernt.
- B) möchte sich endlich ein Auto kaufen.
- C) ist ein berühmter deutscher Dichter.
- D) schreibt auch türkische Gedichte.

20. fließt durch Deutschland.

Welches Wort passt in die obige Lücke?

Cümlede boş bırakılan yeri aşağıdakilerden hangisi tamamlar?

- A) Der Kızılırmak
- B) Der Rhein
- C) Die Porsuk
- D) Der Seyhan

SEÇMELİ İNGİLİZCE 8

A

2014 III.DÖNEM 0105-A

1. Can his house by the end of this week.

Which of the following completes the sentence above?

Aşağıdakilerden hangisi yukarıdaki cümleyi doğru olarak tamamlar?

- A) moving
- B) will have moved
- C) was moving
- D) moved

2. Özlem a new book by then.

Which of the following completes the sentence above?

Aşağıdakilerden hangisi yukarıdaki cümleyi doğru olarak tamamlar?

- A) is buying
- B) has bought
- C) bought
- D) will have bought

3. Jane the work by tomorrow.

Which of the following completes the sentence above?

Aşağıdakilerden hangisi yukarıdaki cümleyi doğru olarak tamamlar?

- A) is finishing
- B) finish
- C) will have finished
- D) has finished

4. Jessica will be finishing these letters

Which of the following completes the sentence above?

Aşağıdakilerden hangisi yukarıdaki cümleyi doğru olarak tamamlar?

- A) in the afternoon
- B) recently
- C) at the moment
- D) lately

5. By the time I arrive there, he

Which of the following completes the sentence above?

Aşağıdakilerden hangisi yukarıdaki cümleyi doğru olarak tamamlar?

- A) will have left
- B) will leave
- C) leaves
- D) is leaving

6. You smoke so much., I wouldn't smoke.

Which of the following completes the sentence above?

Aşağıdakilerden hangisi yukarıdaki cümleyi doğru olarak tamamlar?

- A) If it was easy
- B) If I were you
- C) If he were young
- D) If she were late

7. If you have a headache,

Which of the following completes the sentence above?

Aşağıdakilerden hangisi yukarıdaki cümleyi doğru olarak tamamlar?

- A) take an aspirin
- B) write a letter
- C) call the police
- D) iron the clothes

8. Don't get angry or sad if someone at you.

Which of the following completes the sentence above?

Aşağıdakilerden hangisi yukarıdaki cümleyi doğru olarak tamamlar?

- A) is shouting
- B) will shout
- C) shouts
- D) shouted

9. If we, we the bus.

Which of the following completes the sentence above?

Aşağıdakilerden hangisi yukarıdaki cümleyi doğru olarak tamamlar?

- A) hurry / missed
- B) don't hurry / will miss
- C) hurrying / miss
- D) hurried / miss

10. I would have Venice if I had been to Italy.

Which of the following completes the sentence above?

Aşağıdakilerden hangisi yukarıdaki cümleyi doğru olarak tamamlar?

- A) visited
- B) visit
- C) visiting
- D) visits

11. He will be successful he studies regularly.

Which of the following completes the sentence above?

Aşağıdakilerden hangisi yukarıdaki cümleyi doğru olarak tamamlar?

- A) in order to
B) where
C) as long as
D) until

12. I see my mother, I feel happy.

Which of the following completes the sentence above?

Aşağıdakilerden hangisi yukarıdaki cümleyi doğru olarak tamamlar?

- A) whenever
B) while
C) in order to
D) where

13. Sarah ate a big sandwich she was hungry.

Which of the following completes the sentence above?

Aşağıdakilerden hangisi yukarıdaki cümleyi doğru olarak tamamlar?

- A) to
B) in
C) why
D) as

14. She left school at 16 work and make money.

Which of the following completes the sentence above?

Aşağıdakilerden hangisi yukarıdaki cümleyi doğru olarak tamamlar?

- A) because
B) whenever
C) so
D) in order to

15. I won't eat anything Joe comes home.

Which of the following completes the sentence above?

Aşağıdakilerden hangisi yukarıdaki cümleyi doğru olarak tamamlar?

- A) since
B) until
C) in
D) while

16. A hotel will next to the theater.

Which of the following completes the sentence above?

Aşağıdakilerden hangisi yukarıdaki cümleyi doğru olarak tamamlar?

- A) built
B) build
C) be built
D) was built

17. The walls by the painters now.

Which of the following completes the sentence above?

Aşağıdakilerden hangisi yukarıdaki cümleyi doğru olarak tamamlar?

- A) are painted
B) will be painted
C) are being painted
D) were painted

18. The windows by Semih yesterday.

Which of the following completes the sentence above?

Aşağıdakilerden hangisi yukarıdaki cümleyi doğru olarak tamamlar?

- A) will be broken
B) are broken
C) broke
D) were broken

19. 'Tutunamayanlar' by Oğuz Atay.

Which of the following completes the sentence above?

Aşağıdakilerden hangisi yukarıdaki cümleyi doğru olarak tamamlar?

- A) is written
B) was
C) will write
D) was written

20. the meal by your mother last night?

Which of the following completes the sentence above?

Aşağıdakilerden hangisi yukarıdaki cümleyi doğru olarak tamamlar?

- A) Does / cooked
B) Was / cooked
C) Is / cook
D) Is / cooking

SEÇMELİ FRANSIZCA 8

A

2014 III.DÖNEM 0105-A

1. Mon ami a de mauvaises notes en littérature. Il, à dire la vérité à ses parents.

Choisissez le mot qui convient.

Cümledeki boşluğu aşağıdakilerden hangisi doğru şekilde tamamlar?

- A) obligé
B) pardonnez
C) hésite
D) encouragement

2. Marie pleure beaucoup. C'est une femme

Choisissez le mot qui convient.

Cümlede boş bırakılan yeri aşağıdakilerden hangisi doğru şekilde tamamlar?

- A) tranquille
B) sensible
C) intelligente
D) heureuse

3. - Tu ne prends pas de boisson?
- Non, merci, je ne(n') prends pas.

Choisissez le mot qui convient.

Yukarıdaki konuşmada boş bırakılan yeri aşağıdakilerden hangisi doğru şekilde tamamlar?

- A) en
B) la
C) les
D) jamais

4. Nous donnons des conseils la fille.

Choisissez le mot/l'expression qui convient.

Cümledeki boşluğu aşağıdakilerden hangisi doğru şekilde tamamlar?

- A) de
B) en
C) à
D) lui

5. Marie et Selda aiment les langues étrangères: parle une langue différente.

Choisissez le mot qui convient.

Cümledeki boşluğu aşağıdakilerden hangisi doğru şekilde tamamlar?

- A) chacun
B) elles
C) je
D) chacune

6. La semaine prochaine, il au Portugal.

Choisissez le mot qui convient.

Cümledeki boşluğu aşağıdakilerden hangisi doğru şekilde tamamlar?

- A) sera
B) a
C) était
D) es

7. Le film je regarde est un film d'action.

Choisissez le mot qui convient.

Cümlede boş bırakılan yeri aşağıdakilerden hangisi doğru şekilde tamamlar?

- A) qui
B) lequel
C) laquelle
D) que

8. Je suis le théâtre et contre le cinéma.

Choisissez le mot qui convient.

Cümledeki boşluğu aşağıdakilerden hangisi doğru şekilde tamamlar?

- A) dans
B) du
C) pour
D) qui

9. Le serveur: Vous avez fait choix?
Le client: Oui, je prends un café au lait.

Choisissez le mot qui convient.

Yukarıdaki konuşmada boş bırakılan yeri aşağıdakilerden hangisi doğru şekilde tamamlar?

- A) ton
B) votre
C) nos
D) vous

10. pense à soi-même.

Choisissez le mot qui convient.

Cümledeki boşluğu aşağıdakilerden hangisi doğru şekilde tamamlar?

- A) Comme
B) Toi
C) Comment
D) Chacun

11. Si vous avez soif, de l'eau.

Choisissez le mot qui convient.

Cümledeki boşluğu aşağıdakilerden hangisi doğru şekilde tamamlar?

- A) buvez
- B) mangez
- C) pris
- D) soyez

12. «Je me suis rappelé de cet homme.»

Choisissez la traduction qui convient.

Yukarıdaki cümlelerin Türkçe karşılığı aşağıdakilerden hangisidir?

- A) Bu adamı hatırladım.
- B) Bu adamı hatırlıyorum.
- C) Bu adamı çağırıyorum.
- D) Bu adamı çağırdım

13. «Tu as tort.»

Choisissez la traduction qui convient.

Yukarıdaki cümlelerin Türkçe karşılığı aşağıdakilerden hangisidir?

- A) Haklısın.
- B) Haksızsın.
- C) Doğru diyorsun.
- D) Yanlış yapıyorsun.

14. Ils déménagent à la campagne: ils vont y

Choisissez le mot qui convient.

Cümledeki boşluğu aşağıdakilerden hangisi doğru şekilde tamamlar?

- A) décrire
- B) écrire
- C) vivre
- D) acheter

15. Il peut pleuvoir; n'oubliez pas prendre votre parapluie.

Choisissez le mot qui convient.

Cümledeki boşluğu aşağıdakilerden hangisi doğru şekilde tamamlar?

- A) en
- B) sans
- C) qui
- D) de

16. Maude et Pierre se marient. Je leur dis «Je vous souhaite» .

Choisissez l'expression qui convient.

Yukarıdaki cümlede boş bırakılan yeri aşağıdakilerden hangisi doğru şekilde tamamlar?

- A) une bonne année
- B) beaucoup de bonheur
- C) une joyeuse fête
- D) beaucoup de fêtes

17. Elle est triste changement.

Choisissez le mot/l'expression qui convient.

Cümledeki boşluğu aşağıdakilerden hangisi doğru şekilde tamamlar?

- A) car le
- B) que
- C) par
- D) à cause du

18. Si j'ai beaucoup d'argent, je(j') faire un tour de monde.

Choisissez le mot qui convient.

Cümledeki boşluğu aşağıdakilerden hangisi doğru şekilde tamamlar?

- A) suis allé
- B) vais
- C) allais
- D) en

19. Rire c'est mieux pleurer.

Choisissez le mot/l'expression qui convient.

Cümledeki boşluğu aşağıdakilerden hangisi doğru şekilde tamamlar?

- A) qui
- B) avec
- C) que de
- D) pour le

20. La semaine dernière, les enfants au cirque.

Choisissez le mot qui convient.

Cümlede boş bırakılan yeri aşağıdakilerden hangisi doğru şekilde tamamlar?

- A) sont allés
- B) vont
- C) iront
- D) aller

BU SAYFA BOŐ BIRAKILMIŐTIR.

SINAVDA UYGULANACAK KURALLAR

1. Sınav süresince görevlilerle konuşmak ve soru sormak yasaktır. Aynı şekilde görevlilerin de öğrencilerle yakından ve alçak sesle konuşmaları yasaktır. Yanınızda ve sıranızda dersle ilgili kitap not vb. bulundurmamak yasaktır. Sınav sırasında kopya yapan, yapmaya teşebbüs eden, kopya veren, kopya yapılmasına yardım edenlerin kimlikleri BİREYSEL SINAV İPTAL TUTANAĞINA yazılacak ve bu öğrencilerin sınavları geçersiz sayılacaktır. Görevliler kopya yapmaya veya vermeye kalkışanları uyararak sorumlu size aittir.
Sınavda yetki verilmiş görevliler, bu salondaki sınavın kurallara uygun biçimde yapılmadığını, toplu kopya girişiminde bulunulduğunu raporlarında bildirdikleri veya üniversite sınav merkezince yapılan incelemeler sonucu toplu kopya yapıldığı saptandığı takdirde, Anadolu Üniversitesinin yetkili organları bu salonda sınava giren öğrencilerin tümünün sınavını geçersiz sayar.
2. Öğrenciler sınav sırasında görevlilerin her türlü uyarılarına uymak zorundadır. Gerekliğinde görevliler oturduğunuz yerleri değiştirebilir. Sınavınızın geçerli sayılması, her şeyden önce sınav kurallarına uymanıza bağlıdır. Kurallara aykırı davranışta bulunanların ve yapılacak uyarılara uymayanların kimlikleri BİREYSEL SINAV İPTAL TUTANAĞINA yazılacak ve sınavları geçersiz sayılacaktır.
3. Sınav sırasında herhangi bir nedenle dışarı çıkmak yasaktır. Sınavın başlamasını izleyen ilk 30 dakika ve sınav süresinin son 5 dakikası içinde, sınavlarını tamamlasalar bile hiçbir öğrencinin salondan çıkmasına izin verilmeyecektir. Sınavın başlamasını izleyen ilk 15 dakikadan sonra hiç bir öğrenci sınava alınmaz.
4. Biraz sonra soru kitapçıkları dağıtılacaktır. Cevaplamaya geçmeden önce size verilecek soru kitapçığının üzerinde ayrılan yere, adınızı, soyadınızı, öğrenci numaranızı ve bu salonun numarasını yazınız. Sınav sonunda soru kitapçıkları toplanacak ve sınav merkezinde tek tek incelenecektir. Soru Kitapçığının bir tek sayfası eksik çıksa bile sınavınız geçersiz sayılacaktır.
5. Size verilen Cevap Kâğıdının üzerinde yazan numara ve ismin size ait olduğunu kontrol ediniz. Cevap Kâğıdı size ait değilse, görevlileri uyarıp size ait Cevap Kâğıdını alınız. Daha sonra Cevap Kâğıdı üzerinde ayrılmış olan yerlere öğrenci numaranızı ve test grubunuzu kodlayınız, adınızı soyadınızı yazınız ve ilgili yeri imzalayınız.
6. Cevap Kâğıdına yazılacak her türlü yazı, rakam ve yapılacak işaretlemeler için siyah kurşun kalem kullanılacaktır. Tükenmez kalem veya dolmakalem kesinlikle kullanılmayacaktır. Cevapların tümü CEVAP KÂĞIDINA İŞARETLENECEKTİR. Soru Kitapçıkları üzerine yapılan işaretlemeler kesinlikle değerlendirilmez. Her dersin cevabı, o dersin isminin yazılı olduğu sütuna işaretlenmelidir. Yanlış sütuna yapacağınız işaretlemeler kesinlikle değerlendirilmez.
7. Soru Kitapçığının sayfalarındaki boş yerleri müsvedde yapmak için kullanabilirsiniz. Başka bir kâğıdı müsvedde olarak kullanmak yasaktır. Bu tür işlemleri yapanların sınavları geçersiz sayılır.
8. Öğrencilerin sorulara verdikleri yanıtları herhangi bir yere yazmaları ve bunu sınav salonundan dışarıya çıkarmaları yasaktır. Bu kurala uymayanların sınavları geçersiz sayılır.
9. Sınav sırasında öğrencilerin birbirinden kalem, silgi vb. şeyleri istemesi kesinlikle yasaktır. Yasağa uymayanların sınavı geçersiz sayılır.
10. Sınav sırasında hesap makinesi kullanılabilir. Ancak, hesap makinesinin sınav sırasında ödünç alınması, verilmesi ve değiştirilmesi yasaktır. (Data Bank vb. gibi özel elektronik donanımlar kullanılamaz.) Bu tür davranışlarda bulunanların sınavları geçersiz sayılır.
11. Öğrenciler sınava gelirken telsiz, cep telefonu, çağrı cihazı vb. iletişim araçları ile görüntü kaydetmeye yarayan fotoğraf makinesi, kamera vb. araçları getirmemeleri konusunda sınava giriş belgelerinde uyarılmışlardır. Buna rağmen yanlarında bu tür cihazları getirenlerin, bunları sınav sonrasında almak üzere salon başkanına teslim etmeleri gerekir. Bu cihazları sınav salonunda yanlarında bulduran öğrencilerin, cihazları kapalı bile olsa, o oturumdaki sınavı geçersiz sayılacaktır. Bu cihazların kaybolmasından Üniversitemiz sorumlu olmayacaktır.
12. Biraz sonra dağıtılacak olan soru kitapçığında test ile ilgili açıklamalar yazılıdır. Bu açıklamaları okumadan ve size "SINAV BAŞLAMIŞTIR" denmeden soruları cevaplamaya başlamayınız.

SINAVLARINIZDA BAŞARILAR DİLERİZ.