



ANADOLU ÜNİVERSİTESİ  
AÇIKÖĞRETİM FAKÜLTESİ  
BA - AÇIKÖĞRETİM OKULLARI

T.C. MİLLİ EĞİTİM BAKANLIĞI  
Hayat Boyu Öğrenme Genel Müdürlüğü  
AÇIK ÖĞRETİM LİSESİ – BATI AVRUPA PROGRAMI  
2014-2015 ÖĞRETİM YILI I.DÖNEM SINAVI  
BEŞİNCİ OTURUM - Cumartesi 16.00  
TEST GRUBUNUZ

**A 0105**

CEVAP KÂĞIDINIZA İŞARETLEMİYİ UNUTMAYINIZ.

**ÖĞRENCİNİN**

SOYADI : .....

ADI : .....

ÖĞRENCİ NO : .....

SINAV SALON NO: ..... SIRA NO: .....

İMZA:.....

Sınavla ilgili tüm kuralları okudum, anladım, kabul ediyorum.

**SINAV İÇERİĞİ**

Testin Adı	Soru Sayısı	Sayfa No	Testin Adı	Soru Sayısı	Sayfa No
DİN KÜLTÜRÜ VE AHLAK BİLGİSİ 1	20	2	MATEMATİK 7	20	33
DİN KÜLTÜRÜ VE AHLAK BİLGİSİ 6	20	4	MANTIK 2	20	36
TARİH 2	20	6	SANAT TARİHİ 1	20	38
TARİH 4	20	8	SEÇMELİ TARİH 4	20	40
COĞRAFYA 2	20	10	HZ. MUHAMMED'İN HAYATI 3	20	42
COĞRAFYA 5	20	12	ALMANCA 5	20	44
SOSYOLOJİ 1	20	14	İNGİLİZCE 5	20	47
DİL VE ANLATIM 4	20	16	FRANZUZCA 5	20	49
DİL VE ANLATIM 8	20	19	ALMANCA 8	20	51
KİMYA 3	20	21	İNGİLİZCE 8	20	54
KİMYA 4	20	24	FRANZUZCA 8	20	56
BİYOLOJİ 1	20	27	SEÇMELİ ALMANCA 7	20	58
BİYOLOJİ 2	20	29	SEÇMELİ İNGİLİZCE 7	20	61
TEMEL DİN BİLGİLER 2	20	31	SEÇMELİ FRANZUZCA 7	20	63

**SINAVDA UYGULANACAK ÖZEL KURALLAR**

1. Bu kitapçıkta yer alan her bir test için cevaplama süresi 30 dakika, toplam süre 150 dakikadır.
2. Adaylar, sınavın ilk 20 dakikası ve son 5 dakikası içerisinde, sınavlarını tamamlasalar bile salonu terk edemezler. Sınavın başlamasını izleyen ilk 15 dakikadan sonra hiç bir aday sınava alınmaz.
3. Yanlış cevaplarınız dikkate alınmayacaktır. Bu nedenle kitapçıkta yer alan tüm sorular için size doğru gelen seçeneği işaretleyerek cevapsiz soru bırakmamanız yararınıza olacaktır.

"Sınavda Uygulanacak Genel Kurallar" soru kitapçığının arka sayfasında yer almaktadır. Bu kuralları da mutlaka dikkatlice okuyunuz.

Anadolu Üniversitesi tarafından hazırlanmış olan bu testlerin her hakkı saklıdır. Hangi amaçla olursa olsun, testlerin tamamının veya bir kısmının Anadolu Üniversitesi'nin yazılı izni olmadan kopya edilmesi, fotoğraflarının çekilmesi, herhangi bir yolla çoğaltılması, yayımlanması ya da kullanılması yasaktır. Bu yasağa uymayanlar gerekli cezai sorumluluğu ve testlerin hazırlanmasındaki mali külfeti peşinen kabullenmiş sayılır.

1. Aşağıdakilerden hangisi yalnızca insanda bulunan özelliklerden biri değildir?
  - A) Düşünme
  - B) İradesini kullanabilme
  - C) Konuşma
  - D) Üreme
2. Aşağıdakilerden hangisi "Tek Tanrıcılık" anlamına gelir?
  - A) Politeizm
  - B) Ateizm
  - C) Taoizm
  - D) Monoteizm
3. Aşağıdakilerden hangisi Bakara suresinde "Allah'ın yeryüzündeki halifesi" unvanını hak etmiştir?
  - A) Melekler
  - B) İnsan
  - C) Cinler
  - D) Yeryüzündeki tüm canlılar
4. İnsanları tevhit inancına davet eden ilk peygamber aşağıdakilerden hangisidir?
  - A) Hz. Muhammed
  - B) Hz. İbrahim
  - C) Hz. Musa
  - D) Hz. Adem
5. Aşağıdakilerden hangisi guslün temel şartlarından (farz) biri değildir?
  - A) Ağıza su alıp boğaza kadar çalkalamak
  - B) Buruna su çekip yıkamak
  - C) Bütün bedeni kuru yer kalmayacak şekilde yıkamak
  - D) Misvak kullanmak
6. Abdest ya da gusül yapmak için temiz su bulunamadığı veya suyun kullanılmasına engel bir sebep bulunduğu anda temiz toprakla yüz ve kollar mesh edilerek alınan abdeste ne ad verilir?
  - A) Dua
  - B) Namaz
  - C) Teyemmüm
  - D) Manevi temizlik
7. Zariyat Suresi'ne göre insanın yaratılış qayesi aşağıdakilerden hangisidir?
  - A) Gününü gün etmek
  - B) Allah'ı tanıyıp O'na ibadet etmek
  - C) Nefsine her isteğini vermek
  - D) Dünya malı biriktirmek
8. İbadet ile ilgili aşağıdaki ifadelerden hangisi yanlıştır?
  - A) Bir ibadet başka bir ibadeti yenne geçemez.
  - B) Allah'ı memnun etmek için taydalı ve güzel işler yapmak bir ibadettir.
  - C) İbadet sadece namaz kılmak, oruç tutmak, zekât vermek ve hacca gitmek demektir.
  - D) Allah'ın yasakladığı kötü ve çirkin davranışlardan uzak durmak bir ibadettir.
9. Kur'an-ı Kerim kaç cüzden oluşur?
  - A) 20
  - B) 30
  - C) 40
  - D) 50
10. Peygamberimize dedesi Abdulmuttalip'in verdiği "Muhammed" ismi ne anlama gelmektedir?
  - A) Saygı duyulan
  - B) Çok temiz
  - C) Çok övülen
  - D) Güzel ahlaklı
11. Hz. Muhammed (s.a.v.) aşağıdaki şehirlerden hangisinde dünyaya gelmiştir?
  - A) Medine
  - B) Taif
  - C) Mekke
  - D) Cidde
12. Hz. Muhammed'in (s.a.v.) Medine'de ilk iş olarak yaptırdığı mescit aşağıdakilerden hangisidir?
  - A) Mescid-i Aksa
  - B) Mescid-i Haram
  - C) Mescid-i Kibleteyn
  - D) Mescid-i Nebi

13. Aşağıdakilerden hangisi Medine Sözleşmesi'nin maddelerinden biri değildir?
- A) Yahudiler kendi dininde serbest olacaklar.  
 B) Tüm Yahudiler Müslüman olacaklar.  
 C) Şehir dışından bir saldırı olursa Medine birlikte savunulacak.  
 D) İki taraftan biri, üçüncü bir tarafla savaşırsa diğer taraf yardımcı olacak.

14. Peygamberimiz Hz. Muhammed (s.a.v.)'in anne ve babasının isimleri aşağıdakilerden hangisinde birlikte ve doğru olarak verilmiştir?
- A) Âmine - Abdullah  
 B) Hatice - Ömer  
 C) Fatma - Ebu Talip  
 D) Ayşe - Ebu Bekir

15. Dîvan-ı Hikmet adlı kitabından alınan;

"Benim hikmetlerim ferman-ı subhan,  
Okuyup anlasan manayı Kur'an."

beyti aşağıdaki Türk-İslam büyüklerinden hangisine aittir?

- A) Hacı Bektaş Veli  
 B) Hoca Ahmet Yesevî  
 C) Mevlana  
 D) Yunus Emre
16. Kur'an-ı Kerim'i baştan sona bir defa okuyarak bitirmeye ne denir?
- A) Hatim  
 B) Hafızlık  
 C) Tecvit  
 D) Mushaf

17. Tefsir ilmi ile uğraşan kişilere ne ad verilir?

- A) Mutessir  
 B) Hafız  
 C) Meal  
 D) Hatim

18. Kur'an-ı Kerim'in kitap hâline getirilmiş şekline ne ad verilir?

- A) Sure  
 B) Mukabele  
 C) Mushaf  
 D) Ayet

19. Hz. Muhammed (s.a.v.)'i vasiyetinin gereği kim yıkamış ve kefenlemiştir?

- A) Hz. Ali  
 B) Hz. Ebu Bekir  
 C) Hz. İsmail  
 D) Hz. İbrahim

20. Günümüze kadar değişmeden, aslına uygun olarak ulaşan tek ilahî kitap aşağıdakilerden hangisidir?

- A) Kur'an-ı Kerim  
 B) İncil  
 C) Tevrat  
 D) Zebur

1. Gerek kurum içi gerekse kişi ve kuruluşlarca bastırılacak Kur'anların incelenmesi ve hatasız basılmalarını sağlayan birim aşağıdakilerden hangisidir?
  - A) Din İşleri Yüksek Kurulu
  - B) Hac Dairesi
  - C) Tasfiye İşleri Genel Müdürlüğü
  - D) Mushafın İnceleme Kurulu
2. Yüce Allah'a yakarışı ve kulun acızlığını ifade eden edebi eserlere ne ad verilir?
  - A) Tevhit
  - B) Münacat
  - C) Naat
  - D) Methiye
3. Türkiye'de Diyanet İşleri Başkanlığı aşağıdakilerden hangisine bağlı olarak çalışır?
  - A) Cumhurbaşkanlığı
  - B) Başbakanlık
  - C) İçişleri Bakanlığı
  - D) Milli Eğitim Bakanlığı
4. Ayetlerin, hadislerin veya dini yazıların güzel ve estetik yazılması sanatına ne ad verilir?
  - A) Hat
  - B) Hüsnühat
  - C) Tazhip
  - D) Ebru
5. Allah'ın varlığını ve birliğini ifade eden edebi eserlere ne ad verilir?
  - A) Münacat
  - B) Naat
  - C) Tevhit
  - D) Methiye
6. Osmanlı İmparatorluğu zamanında din işleri aşağıdakilerden hangisi tarafından yürütülürdü?
  - A) Nişancı
  - B) Veziriazam
  - C) Yeniçeri Ağası
  - D) Şeyhülislam

7. "Laiklik ilkesi doğrultusunda, bütün siyasi görüş ve düşüncelerin dışında kalarak ve milletçe dayanışmayı ve bütünleşmeyi amaç edinerek özel kanunda gösterilen görevleri yerine getirmekle yükümlüdür. İslam dininin inançları, ibadet ve ahlak esasları ile ilgili işleri yürütmek, din konusunda toplumu aydınlatmak ve ibadet yerlerini yönetmek görevlerinde bulunur."

Yukarıdaki görev tanımı aşağıdakilerden hangisi için yapılmıştır?

- A) Devlet
- B) İmam Hatip Liseleri Müdürlükleri
- C) Diyanet İşleri Başkanlığı
- D) Din İşleri Yüksek Kurulu

8. Görevli oldukları il ve ilçelerdeki dini hizmetlerin sağlıklı yürütülmesinden ve diğer din görevlilerinin verimli çalışmasından aşağıdakilerden hangisi sorumludur?
  - A) Vaiz
  - B) Din İşleri Yüksek Kurulu Başkanı
  - C) İmam-Hatip
  - D) Müftü

9. "Allah katında en sevimsiz helal,....."

Peygamberimizin yukarıdaki hadisinde boş bırakılan yere aşağıdakilerden hangisi gelmelidir?

- A) Boşanmadır.
- B) Nikâhtır.
- C) Çalışmaktır.
- D) Evlenmektir.

10. Diyanet İşleri Başkanlığı ile ilgili aşağıdaki ifadelerden hangisi yanlıştır?
  - A) Diyanet İşleri Başkanlığı, her türlü siyasi görüş ve düşünceden uzak durmaktadır.
  - B) İslam dini ile ilgili hizmetleri yürütmekte görevli kamu kuruluşudur.
  - C) Diyanet İşleri Başkanlığı özel idare içinde yer alır.
  - D) Diyanet, yurt içinde ve dışında din hizmet sunan özel ve resmi kuruluşların faaliyetlerini değerlendirir.

11. Peygamberimizin hayatını ve mücadelesini anlatan kitaplara ne ad verilir?

- A) Tefsir
- B) Hadis kitapları
- C) Siyer
- D) İlmihal

12. Tezhip sanatı ile ilgilenen sanatçılara ne ad verilir?

- A) Hattat
- B) Neyzen
- C) Müzehhip
- D) Nakkaş

13. Evlilik ile ilgili aşağıdaki ifadelerden hangisi yanlıştır?

- A) Doğal bir ihtiyaçtır.
- B) Hz. Muhammed'le başlayan evlilik günümüze kadar varlığını devam ettirmiştir.
- C) Çoğalma ve neslin devam etmesinin bir şartıdır.
- D) Her toplum evlenmeyi kendi inanç ve kültürüne göre belirir.

14. İslam tarihindeki ilk cami aşağıdakilerden hangisidir?

- A) Mescidi Nebi
- B) Kubbetus Sahra
- C) Kabe
- D) Kuba mescidi

15. Aşağıdakilerden hangisi ünlü Türk mimarlarından biridir?

- A) Hayreddin
- B) İtri
- C) Sadullah Ağa
- D) Necmettin Okyay

16. Aşağıdakilerden hangisi divan edebiyatının meşhur temsilcilerinden biri değildir?

- A) Nabi
- B) Sami
- C) Nedim
- D) Baki

17. Aşağıdakilerden hangisi Diyanet İşleri Başkanlığı'na bağlı kurum ve kuruluşlardan biri değildir?

- A) Mushafın İnceleme Kurulu
- B) Din İşleri Yüksek Kurulu
- C) Din Hizmetleri Dairesi
- D) Tasfiye İşleri Genel Müdürlüğü

18. Estetik nedir?

- A) Kişilerde güzellik hissi uyandıran, güzel duygu ve anlamları içeren sanatla ilgili değer yargısıdır.
- B) Duygu, düşünce ve hayalleri yazıyla ya da sözle güzel ve etkili bir biçimde anlatma sanatıdır.
- C) Duygu, düşünce ve olayları anlatmak amacıyla ölçülü ve ahenkli seslerin bir araya getirilmesi sanatıdır.
- D) Kâğıt ve parşömen üzerine yapılan küçük boyutlu ve renkli resimlerdir.

19. Aşağıdakilerden hangisi Ahmet Yesevi'ye aittir?

- A) Divan-ı Hikmet
- B) Sefahat
- C) Mesnevi
- D) Vesilatün Necat

20. Aşağıdakilerden hangisi bir din görevlisi değildir?

- A) Öğretmen
- B) Vaiz
- C) Müftü
- D) İmam-Hatip

1. Aşağıdakilerden hangisi hicret sonrası gelişmelerden biri değildir?
  - A) Mekke İslam dininin merkezi haline gelmiştir.
  - B) Mekke – Şam ticaret yolu Müslümanların eline geçmiştir.
  - C) Muhacirlerle ensar kardeş ilan edilmiştir.
  - D) Hz. Muhammed devlet başkanı olmuştur.
2. Hz. Muhammed'in doğum yılı aşağıdakilerden hangisidir?
  - A) 561
  - B) 571
  - C) 582
  - D) 622
3. Hz. Muhammed'in amcası Hz. Hamza'nın şehit olduğu savaş aşağıdakilerden hangisidir?
  - A) Bedir
  - B) Hendek
  - C) Uhud
  - D) Hayber
4. Kur'an-ı Kerim hangi halife döneminde çoğaltılarak dağıtılmıştır?
  - A) Hz. Ömer
  - B) Hz. Ali
  - C) Hz. Ebubekir
  - D) Hz. Osman
5. Aşağıdakilerden hangisi Hz. Ömer döneminde devlet teşkilatında yapılan yeniliklerden biri değildir?
  - A) Din ve devlet işleri birbirinden ayrıldı.
  - B) İlk düzenli ordu kuruldu.
  - C) Ülke yönetim birimlerine ayrıldı.
  - D) Asken posta teşkilatı kuruldu.
6. İslamiyet öncesi Arap Yarımadası'nın genel durumuyla ilgili aşağıdaki ifadelerden hangisi yanlıştır?
  - A) Halkın büyük çoğunluğu putlara tapıyordu.
  - B) Ailede erkek egemenliği vardı.
  - C) Kölecilik çok yaygındı.
  - D) Tek tanrı inançları yoktu.
7. Aşağıdakilerden hangisi Hayber'in fethinin sonuçlarından biri değildir?
  - A) Şam ticaret yolunun güvenliği sağlanmıştır.
  - B) Yahudilere ürün vergisi uygulaması başlamıştır.
  - C) Savaştan elde edilen ganimetlerin beşte biri devlete bırakılmıştır.
  - D) Müslüman olmayan erkeklerden cizye vergisi alınmaya başlanmıştır.
8. Malazgirt Savaşı hangi yıl yapılmıştır?
  - A) 1051
  - B) 1056
  - C) 1069
  - D) 1071
9. Aşağıdakilerden hangisi Büyük Selçuklu Devleti'nin dağılmasıyla ortaya çıkan devletlerden biri değildir?
  - A) Hatay Selçukluları
  - B) Kirman Selçukluları
  - C) Suriye Selçukluları
  - D) Türkiye Selçukluları
10. Mısır'da kurulan ilk Türk Devleti aşağıdakilerden hangisidir?
  - A) İolunoğulları
  - B) Memlükler
  - C) Abbasiler
  - D) Emeviler

11. Aşağıdakilerden hangisi Selçuklu sultanlarının kullandığı bağımsızlık sembollerinden biri değildir?

- A) Hutbe
- B) Ok
- C) Sancak
- D) İuğra

12. Türkler ve Müslümanlar arasındaki ilk ilişki kim zamanında başlamıştır?

- A) Hz. Ömer
- B) Hz. Muhammed
- C) Hz. Ali
- D) Hz. Osman

13. İdeal devlet yönetiminin anlattığı ilk seyahatname özelliğini taşıyan Kutadgu Bilig'in yazarı kimdir?

- A) Ahmet Yesevi
- B) Yusuf Has Hacip
- C) Yükneki Edip Ahmet
- D) Kaşgarlı Mahmut

14. Aşağıdakilerden hangisi Tolunoğulları'nın Mısır ekonomisine katkılarında biri değildir?

- A) Tarımı geliştirmek için sulama kanalları yapılmıştır.
- B) Çiftçilerden alınan vergi artırılmıştır.
- C) Pamuklu ve ipekli dokumacılık gelişmiştir.
- D) Ticareti geliştirmek için ticaret yollarının güvenliği sağlanmıştır.

15. Tarihte bilinen ilk Türk denizcisi kimdir?

- A) İlgazi Bey
- B) Alaeddin Keykubat
- C) Sökmen Bey
- D) Çaka Bey

16. Aşağıdakilerden hangisi Türkiye Selçuklu Devleti ordusunun bölümlerinden biri değildir?

- A) Ücretli askerler
- B) Türkmenler
- C) Gulâmlar
- D) Atlı suvanlar

17. Aşağıdakilerden hangisi Haçlı Seferleri'nin nedenlerinden biri değildir?

- A) Hristiyanların Kudüs'ü Müslümanlardan almak istemesi
- B) Avrupa'nın doğunun zenginliklerine ulaşmak istemesi
- C) Bizans'ın Anadolu'yu geçerek Moğolları yok etmek istemesi
- D) Bizans'ın Türklere karşı Avrupa'dan yardım istemesi

18. Türkiye Selçuklu Devleti'nde ilk madeni para kim tarafından bastırılmıştır?

- A) I. Kılıçarslan
- B) II. Kılıçarslan
- C) I. Mesut
- D) I. Gıyaseddin

19. Aşağıdakilerden hangisi Kösedağ Savaşı'nın sonuçlarından biri değildir?

- A) Anadolu'da Türk siyasi birliği bozulmuştur.
- B) III. Haçlı Seferlerinin yapılmasına neden olmuştur.
- C) Moğollar Anadolu'yu istila ederek hâkimiyetleri altına almıştır.
- D) Türk beyleri, Türkiye Selçuklu Devleti'nden ayrılarak bağımsız devletler kurmuşlardır.

20. Aşağıdakilerden hangisi ahlîlik ahlâkının prensiplerinden biri değildir?

- A) Güçlü ve üstün durumda iken affetmek
- B) Kızgın iken yumuşak davranmak
- C) Düşmanlarına iyilik yapmamak
- D) Kendisi muhtaç iken bile başkasına vermek

1. Aşağıdakilerden hangisi Sanayi İnkılabı'nın Osmanlı Devleti'ne etkilerinden biri değildir?
- A) Osmanlı Devleti'nin siyasi çöküşü hızlandı.  
B) Osmanlı mamul madde alan bir ülke haline geldi.  
C) Küçük el tezgâhlarının kapanması işsizliği artırdı.  
D) Osmanlı üretimi Avrupa mallarıyla rekabet edemedi.
2. Fransız İhtilali hangi yıl yaşanmıştır?
- A) 1630  
B) 1698  
C) 1730  
D) 1789
3. İngiltere, Amerika Birleşik Devletleri'nin bağımsızlığını hangi antlaşmayla kabul etmiştir?
- A) Sykes-Picot  
B) Petrograd  
C) Versay  
D) Saint Jean de Maurienne
4. Yakın Çağ'ın başlangıcı olarak kabul edilen olay aşağıdakilerden hangisidir?
- A) Fransız İhtilali  
B) İstanbul'un Fethi  
C) Sanayi İnkılabı  
D) Bolşevik İhtilali
5. Lale Devri ile ilgili aşağıdaki ifadelerden hangisi yanlıştır?
- A) Yüzlerce çeşit lale yetiştirilmiştir.  
B) İlk Türk matbaası açılmıştır.  
C) İlk defa Avrupa'ya geçici elçiler gönderilmiştir.  
D) Dönemin sadrazamı Mustata Neşit Paşa'dır.
6. Aşağıdakilerden hangisi Prut Antlaşması'nın maddelerinden biri değildir?
- A) Azak Kalesi Osmanlılara gen verilecek  
B) Mora Yanımadası Osmanlılarda kalacak  
C) Rusya Lehistan'ın iç işlerine karışmayacak  
D) Rusya İstanbul'da elçi bulundurmuyacak
7. Aşağıdakilerden hangisi Fransız İhtilali'nin sonuçlarından biri değildir?
- A) Eşitlik, özgürlük ve adalet ilkeleri yaygınlaştı.  
B) İngiltere ve ABD'de görülen demokratik gelişmeler Avrupa'da etkili olmaya başladı.  
C) Milliyetçilik akımı çok uluslu imparatorlukların parçalanmasına neden oldu.  
D) Avrupa'da mutlak yönetimler güç kazandı.
8. Amerika ve İzmir arasında ilk kez düzenli bir biçimde ticari seferler hangi yıl yapılmaya başlamıştır?
- A) 1740  
B) 1790  
C) 1810  
D) 1850
9. III. Selim döneminde kurulan ordu aşağıdakilerden hangisidir?
- A) İrad-ı Cedit  
B) Sekban-ı Cedit  
C) Asakir-i Mansure-i Muhammediye  
D) Nizam-ı Cedit
10. Osmanlı Devleti'nin ilk resmi gazetesi aşağıdakilerden hangisidir?
- A) İrade-i Milliye  
B) İstiklal  
C) Takvim-i Vekayi  
D) Tanin



11. Osmanlı Devleti'nden ayrılmak için ayaklanan ilk topluluk aşağıdakilerden hangisidir?

- A) Ermeniler
- B) Çerkezler
- C) Sırlar
- D) Rumlar

12. Tanzimat Fermanı hangi yıl ilan edilmiştir?

- A) 1730
- B) 1789
- C) 1839
- D) 1856

13. Osmanlı Devleti'nde çıkarılan ilk kadın dergisi aşağıdakilerden hangisidir?

- A) Terakki-i Muhadderat
- B) Vekayi Tıbbiye
- C) Şukutezar
- D) Mecmua-i Fünun

14. Matbuat Nizamnamesi hangi yıl çıkarılmıştır?

- A) 1856
- B) 1864
- C) 1876
- D) 1890

15. Askeri amaçlı ilk nüfus sayımı hangi padişah döneminde yapılmıştır?

- A) I. Mahmut
- B) II. Mahmut
- C) II. Osman
- D) III. Selim

16. Aşağıdakilerden hangisi Türkçülük akımının öncülerinden biri değildir?

- A) Süleyman Nazif
- B) Ziya Gökalp
- C) Ömer Seyfettin
- D) Mehmet Emin Yurdakul

17. Padişahın mutlak otoritesini sınırlandıran ilk belge aşağıdakilerden hangisidir?

- A) Sened-i İttifak
- B) Tanzimat Fermanı
- C) Islahat Fermanı
- D) Kanun-ı Esasi

18. Türkler tarafından çıkarılan ilk özel gazete aşağıdakilerden hangisidir?

- A) Ceride-i Havadis
- B) Tercüman-ı Ahval
- C) Tercüman-ı Hakikat
- D) Tasvir-i Efkâr

19. Osmanlı devleti olimpiyat oyunlarına ilk defa hangi yıl katılmıştır?

- A) 1750
- B) 1810
- C) 1892
- D) 1912

20. Osmanlı Devleti'nin boğazlar üzerindeki mutlak egemenliğini sona erdiren ve boğazlara uluslararası bir statü kazandıran belge aşağıdakilerden hangisidir?

- A) Londra Boğazlar Sözleşmesi
- B) Hünkâr İskeleyi Antlaşması
- C) Balta Limanı Antlaşması
- D) Berlin Antlaşması

1. Aşağıdaki illerden hangisi yıllık ortalama sıcaklık değerleri bakımından diğerlerinden **daha sıcaktır?**
  - A) Ankara
  - B) Antalya
  - C) Erzurum
  - D) Samsun
2. Aşağıdakilerden hangisi oluşumuna göre ovalardan biri **değildir?**
  - A) Tektonik ovalar
  - B) Delta ovaları
  - C) Karstik ovalar
  - D) Kıyı ovaları
3. Aşağıdakilerden hangisi küresel ısınmaya **en fazla** sebep olan etkenlerden biridir?
  - A) İarimsal üretimin artması
  - B) Sanayi üretimi sırasında ortaya çıkan atıklar
  - C) Balıkçılık faaliyetleri
  - D) Aşırı yağışlar
4. Aşağıdakilerden hangisi sürekli kuraklık yaşanan bölgelerden biri **değildir?**
  - A) Kuzey Afrika
  - B) Kuzey Avrupa
  - C) Arap Yarımadası
  - D) Batı Avustralya
5. Bir ülkenin gümrük hattı dışında sayılan, ülkede geçerli ticari, mali ve ekonomik alanlara ilişkin hukuki ve idari düzenlemelerin uygulanmadığı veya kısmen uygulandığı, sanayi ve ticari faaliyetler için daha geniş teşviklerin tanındığı yerlere ne ad verilir?
  - A) Kısıtlı bölge
  - B) Yanı yapılandırılmış bölge
  - C) Serbest bölge
  - D) Değiş-tokuş bölgesi
6. Peribacaları hangi şehirde bulunmaktadır?
  - A) Kayseri
  - B) Yozgat
  - C) Nevşehir
  - D) Çorum
7. Aşağıdakilerden hangisi, İklimi etkileyen özel konumla ilgili faktörlerden biri **değildir?**
  - A) Ülkenin sınırları
  - B) Etrafındaki denizler
  - C) Etrafındaki kara kütleleri
  - D) Basınç merkezleri
8. Akarsular tarafından derince yarılmış olan engebelli düzlüklere ne ad verilir?
  - A) Ova
  - B) Yamaç
  - C) Plato
  - D) Kanyon
9. Akdeniz, Ege ve Marmara kıyılarında etkili olan, güneybatıdan esen sıcak ve kuru rüzgâr aşağıdakilerden hangisidir?
  - A) Lodos
  - B) Yıldız
  - C) Karayel
  - D) Kible
10. Aşağıdaki enerji kaynaklarından hangisinin çevreye zararı **yoktur?**
  - A) Güneş enerjisi
  - B) Petrol
  - C) Doğalgaz
  - D) Taş kömürü
11. Aşağıdakilerden hangisi ilman şehri **değildir?**
  - A) Van
  - B) İzmir
  - C) İstanbul
  - D) Sinop

12. Aşağıdakilerden hangisi Türkiye’de görülen iklim çeşitlerinden biri değildir?

- A) Akdeniz iklimi
- B) Tropikal iklim
- C) Karadeniz iklimi
- D) Karasal iklim

13. Obrukların oluşum şekli aşağıdakilerden hangisidir?

- A) Akarsuların debilerinin yüksek olması ve kuvvetli aşındırma yapmasıyla oluşur.
- B) Karstik arazilerin mağara tavanlarının çökmesiyle oluşur.
- C) Sert rüzgârların aşındırmasıyla oluşur.
- D) Şiddetli yağışlar sonucu oluşur.

14. Aşağıdakilerden hangisi koy altı yerleşme tiplerinden biri değildir?

- A) Mezra
- B) Kom
- C) Divan
- D) Kasaba

15. Tarla ve bahçe ziraatı olarak topraktan yararlanma, hayvancılık, ormancılık, balıkçılık, madencilik faaliyetlerini konu alan coğrafya dalı aşağıdakilerden hangisidir?

- A) Ticaret coğrafyası
- B) Nüfus coğrafyası
- C) Yerleşme coğrafyası
- D) Tarım coğrafyası

16. Ekvatora uzaklıklarının yaklaşık olarak aynı olmasına rağmen Erzurum ve Balıkesir’in ortalama sıcaklıklarının farklı olmasının sebebi aşağıdakilerden hangisidir?

- A) Bitki örtüsü
- B) Demografik yapısı
- C) Yükselti
- D) Yuzölçümünden

17. Kıyı yakınındaki adaları kıyıya bağlayan kıyı kordonlarına ne ad verilir?

- A) Obruk
- B) Lagün
- C) Dolin
- D) Tombolo

18. Aşağıdaki ülkelerden hangisi Avrupa Birliğine üye değildir?

- A) Hırvatistan
- B) Romanya
- C) Slovenya
- D) Arnavutluk

19. Akarsuların, eğimin azaldığı yerlerde sağa sola kıvrılarak akmasına ne ad verilir?

- A) Menderes
- B) Kıvrımlı
- C) Vadi
- D) Penbacası

20. Aşağıdaki şehirlerden hangisi İdari kent özelliğinde değildir?

- A) Ankara
- B) Berlin
- C) Selanik
- D) Madrid

1. Türkiye'de en yıkıcı depremlerin üzerinde meydana geldiği fay hattı aşağıdakilerden hangisidir?
  - A) Doğu Anadolu fay hattı
  - B) Batı Anadolu fay hattı
  - C) İç Anadolu fay hattı
  - D) Kuzey Anadolu fay hattı
  
2. Aşağıdakilerden hangisi tükenebilen doğal kaynaklardan biridir?
  - A) Kuzgar
  - B) Dalga
  - C) Güneş
  - D) Kömür
  
3. Aşağıdakilerden hangisi canlıların yeryüzüne dağılışını etkileyen fiziki faktörlerden biri değildir?
  - A) İklim
  - B) İnsan
  - C) Yer şekilleri
  - D) Toprak
  
4. Aşağıdakilerden hangisi Türkiye ekonomisini etkileyen faktörlerden biri değildir?
  - A) İnhisel bağlar
  - B) Coğrafi konum
  - C) İklim özellikleri
  - D) Nüfus
  
5. Cumhuriyet'in ilk yıllarında istihdam oranının en yüksek olduğu sektör aşağıdakilerden hangisidir?
  - A) Sanayi
  - B) Turizm
  - C) Tarım
  - D) Eğitim
  
6. Dünyada eğitim faaliyetleri konusunda ön plana çıkan ve bu özelliği ile bilinen şehir aşağıdakilerden hangisidir?
  - A) Essen
  - B) Oxford
  - C) Marsilya
  - D) İstanbul
  
7. Aşağıdaki tarım ürünlerinden hangisinin üretimi Gıda Tarım ve Hayvancılık Bakanlığının özel iznine bağlıdır?
  - A) Haşhaş
  - B) Elma
  - C) Zeytin
  - D) Mercimek
  
8. Türkiye'nin dünyada üretiminde ilk sırada olduğu maden aşağıdakilerden hangisidir?
  - A) Demir
  - B) Bakır
  - C) Boksit
  - D) Bor
  
9. Teknik ve coğrafyanın birbirine yaptığı etkili araştırma bilim dalı aşağıdakilerden hangisidir?
  - A) Teknocoğrafya
  - B) Biyocoğrafya
  - C) Fiziki coğrafya
  - D) Beşeri coğrafya
  
10. Aşağıdakilerden hangisi Anadolu'da kurulmuş medeniyetlerden biri değildir?
  - A) Frigya
  - B) İnkâ
  - C) Lidya
  - D) Hitit

11. Aşağıdaki ülkelerden en fazla nüfusa sahip olanı hangisidir?

- A) Hindistan
- B) Japonya
- C) Çin
- D) Endonezya

12. Bitki, alg ve bazı bakterilerin güneş ışınları aracılığıyla inorganik maddeleri organik besinlere dönüştürmelerine ne ad verilir?

- A) Sindirim
- B) Kemosentez
- C) Hidroliz
- D) Fotosentez

13. Aşağıdakilerden hangisi ekosistemlerde yer alan canlı öğelerden biri değildir?

- A) Bitkiler
- B) Hayvanlar
- C) Mikroorganizmalar
- D) Rüzgarlar

14. Aşağıdakilerden hangisi ipek böcekçiliğinin yoğun olarak yapıldığı illerden biridir?

- A) Bursa
- B) Manisa
- C) Rize
- D) Konya

15. Doğada kendiliğinden oluşmuş, insan akıl ve teknolojinin ürünü olmayan, meydana gelme aşamalarında insanın herhangi bir rolünün bulunmadığı bütün zenginlik kaynaklarına ne ad verilir?

- A) Nükleer enerji
- B) Yerli üretim
- C) Doğal kaynak
- D) Elektrik enerjisi

16. Aşağıdakilerden hangisi karasal su ekosistemlerinden biri değildir?

- A) Göl ekosistemleri
- B) Nehir ekosistemleri
- C) Deniz ekosistemleri
- D) Bataklık ekosistemleri

17. Şehirleşmede ve şehirlerdeki nüfusta artışın hızlanmasının sebebi aşağıdakilerden hangisidir?

- A) Savaşların azalması
- B) Sanayileşme hareketleri
- C) Zenginleşme
- D) Tarımsal faaliyetlerin artması

18. Büyük ve Küçük Menderes ovaları Türkiye'nin hangi bölgesindedir?

- A) Akdeniz
- B) Ege
- C) Marmara
- D) Karadeniz

19. Benzer bitki ve hayvan topluluklarını barındıran bölgelere ne ad verilir?

- A) Ekosistem
- B) Zooloji
- C) Biyom
- D) Biyosfer

20. Dünyanın finans merkezi olarak kabul edilen şehir aşağıdakilerden hangisidir?

- A) New York
- B) Roma
- C) Paris
- D) Hamburg

1. Belli bir coğrafyada ihtiyaçlarını karşılamak için ilişkiler kuran, birbirini etkileyen, ortak bir kültürü paylaşan insan birliğine ne ad verilir?

A) Grup  
B) Toplum  
C) Aile  
D) Millet

2. Aşağıdakilerden hangisi boytarın özelliklerinden biri değildir?

A) Yerleşik bir yaşama sahip olması  
B) Yöneten ve yönetilen ayrımının olmaması  
C) Totemizm olarak adlandırılan bir inanca sahip olması  
D) Akraba içi evliliğin yasak olması

3. I. Tüme varım  
II. Tümden gelim  
III. Genelleme

Yukarıdakilerden hangileri bilimsel yöntem kullanılırken yararlanılan temel akıl yürütme ilkelerindedir?

A) Yalnız I  
B) Yalnız II  
C) I ve II  
D) II ve III

4. Aşağıdakilerden hangisi bilimsel yöntemin temel aşamalarından biri değildir?

A) Genelleme  
B) Varsayım  
C) Gözlem  
D) Güncelleme

5. I. Savaş  
II. İç çatışma  
III. Ekonomik bunalım

Yukarıdakilerden hangileri toplumsal sapsmaların arttığı dönemlerdendir?

A) Yalnız I  
B) I ve II  
C) II ve III  
D) I, II ve III

6. Aşağıdakilerden hangisi toplumsal olgunun özelliklerinden biri değildir?

A) Genel olması  
B) Tek tek gerçekleşmesi  
C) Soyut olması  
D) Sayılarla ifade edilemez olması

7. Bilgi edinme sürecinde ortaya atılan, geçerliliği ve güvenilirliği bilimsel yöntemle saptanmış bilgi ve açıklama düzenine ne ad verilir?

A) Bulgu  
B) Değer  
C) Kuram  
D) Veri

8. Aşağıdakilerden hangisi toplumsal kontrolün temel işlevlerinden biri değildir?

A) Toplumun refahını sağlamak  
B) Toplumun varlığını sağlamak  
C) Toplumun bütünlüğünü sağlamak  
D) Toplumun sürekliliğini sağlamak

9. Aşağıdakilerden hangisi geleneklere ornektir?

A) Türkiye'de yağlı güreş yapılması  
B) Kan davası güdülmesi  
C) Bayram kartı gönderilmesi  
D) Tespih çekilmesi

10. Gelişmiş ve kalabalık toplumlarda görülen resmi, akılcı ve çıkara dayalı ilişkilerin geçerli olduğu toplumsal grup aşağıdakilerden hangisidir?

A) Cemiyet  
B) Topluluk  
C) Grup  
D) Klan

11. İnsanların göçebelikten yerleşik toplumsal düzene geçmesinin temel nedeni aşağıdakilerden hangisidir?

A) Nüfusun artması  
B) Ticaretin gelişmesi  
C) Toprağın işlenmesi  
D) Savaşların azalması

12. Aşağıdakilerden hangisi veri toplama tekniklerinden biri değildir?

- A) Anket
- B) Görüşme
- C) Benzetim
- D) Monografi

13. Aşağıdakilerden hangisi kazanılmış statülerden biridir?

- A) Soy
- B) Cinsiyet
- C) Annelik
- D) Yaş

14. Aşağıdakilerden hangisi kentleşmenin doğurduğu sonuçlardan biri değildir?

- A) Çevre kirliliği
- B) Kültürel birleşme
- C) Gecekondulaşma
- D) Bölgelerarası dengesizlik

15. Bireyl grup içinde ele alan, grup ile etkileşimini inceleyen bilim dalı aşağıdakilerden hangisidir?

- A) Psikoloji
- B) Antropoloji
- C) Sosyoloji
- D) Sosyal psikoloji

16. İmparatorlukların zayıflamasıyla ortaya çıkan toplumsal düzen biçimi aşağıdakilerden hangisidir?

- A) Ataerkil
- B) Feodal
- C) Kent
- D) Aşiret

17. Topluları düşünsel açıdan gelişimini dikkate alarak "teolojik, metafizik ve pozitif" olarak ayıran düşünür aşağıdakilerden hangisidir?

- A) K. Marx
- B) K. Popper
- C) R. Redfield
- D) A. Comte

18. Pazar için üretiminin yapıldığı ve geçim kaynağı ücret olan işçilere ihtiyaç duyan örgütlenme biçimi aşağıdakilerden hangisidir?

- A) Manüfaktür
- B) Sendika
- C) Konfederasyon
- D) Lonca

19. Aşağıdakilerden hangisi dikey hareketliliğe ornektir?

- A) Bir fabrikatörün yeni bir fabrika açması
- B) Bir köylünün şehre göç ederek işçi olarak çalışması
- C) Bir memurun başka kuruma memur olarak atanması
- D) Bir esnafın iflas ederek işçi olması

20. Maç kuyruğunda bekleyenler ya da parkta dinlenenlerin yer aldığı grup aşağıdakilerden hangisidir?

- A) Kalabalık
- B) Toplumsal yığın
- C) Toplumsal kategori
- D) Toplumsal olay

1. Aşağıdaki eylemlerden hangisi işteş çatılıdır?  
 A) kapandı  
 B) gelmiş  
 C) görüştük  
 D) kırıldı
2. Aşağıdaki cümlelerin hangisinde küçültme eki cümleye "acıma" anlamı katmıştır?  
 A) Kardeşçigimi dünyalara değişmem.  
 B) Küçücük elleriyle masayı hazırlıyor.  
 C) Anneciğim, seni çok seviyorum.  
 D) Çocukcağız hıçkır hıçkır ağlayınca çok üzuldüm.
3. Aşağıdaki cümlelerin hangisinde bağlaç kullanılmıştır?  
 A) Onun gibi çalışkanını daha önce görmedim.  
 B) Konuyu çalıştım ama pek anlamadım.  
 C) Bu kadar soruyu sen mi çözdün?  
 D) Akşama doğru dershaneye giderim.
4. Aşağıdaki cümlelerin hangisinde yalın durum İsteyen bir edat kullanılmıştır?  
 A) Bu kitabı akşama kadar bitirmeye çalışıyorum.  
 B) Köpek için kemik aldım.  
 C) Senden başka arkadaşım yok.  
 D) Bunun gibi adamlar artık çok az yetişiyor.
5. "ile" sözcüğü aşağıdakilerin hangisinde diğerlerinden farklı bir türde kullanılmıştır?  
 A) Ödevlerimizi arkadaşım ile hazırladık.  
 B) Elindeki çantayla içeri giremezsin.  
 C) İstanbul ile Eskişehir arası iki saat sürüyor.  
 D) Bu kadar ekmekle ne yapacaksın?
6. Aşağıdakilerden hangisi söyleşmeye bağlı anlatımın kullandığı metin türlerinden biri değildir?  
 A) Röportaj  
 B) Deneme  
 C) Tiyatro  
 D) Mülakat
7. Genel olarak, insanın herhangi beklenmedik bir olay, görülmedik bir durum karşısında konuşamaz duruma geldiği anda ağızından çıkan ses ya da seslere ne ad verilir?  
 A) Filimsi  
 B) Ünlem  
 C) Ön ad  
 D) Lirikizm
8. Aşağıdaki cümlelerin hangisinde farklı türde bir zamir kullanılmıştır?  
 A) Beni görünce hatırlı sordu.  
 B) Size gelirken pasta alırs.  
 C) Onu da toplantıya çağırmanı unutma.  
 D) Buraya kadar bisikletle gelmiş.



9. Lirik anlatım ile ilgili aşağıdaki ifadelerden hangisi **yanlıştır**?

- A) Dil heyecana bağlı işlevi ile kullanılır.
- B) Lirik anlatımda fikirler ön plandadır.
- C) Daha çok şiir, roman, hikâye ve tiyatro türlerinde kullanılır.
- D) "Ben" ve "biz" zamirleri çok kullanılır.

10. Aşağıdaki cümlelerin hangisinde "kırmızı" sözcüğü sıfat olarak kullanılmıştır?

- A) Kırmızı renk bir kazak alacağım.
- B) Şu kalemlerden kırmızıyı verir mısın?
- C) Etrafta ne varsa kırmızıydı.
- D) Kırmızılan bu tarafa ayıralım.

11. Aşağıdaki eylemlerden hangisi dilek kiplerinden biriyle çekimlenmiştir?

- A) söyleyebilsem
- B) görmüş
- C) okur
- D) soruyor

12. Aşağıdakilerden hangisi bir anlatım biçimi olan hikâye etmeyi oluşturan **temel** unsurlardan biri **değildir**?

- A) Kişi
- B) Olay
- C) Yer
- D) Başlık

13. Aşağıdaki eylemlerden hangisi geçişli bir eylemdir?

- A) unutmak
- B) süslenmek
- C) uyumak
- D) gülmek

14. Bir isim ve bir fiilin birleşmesinden oluşan birleşik ad aşağıdakilerden hangisidir?

- A) hanımeli
- B) kahvaltı
- C) geçekundu
- D) yerelması

15. Kim bu cennet vatanın uğruna olmaz ki feda?  
Şühedâ fişkıracak toprağı sıksan, şühedâ

Yukarıdaki dizelerde kullanılan anlatım türü aşağıdakilerden hangisidir?

- A) Tartışmacı
- B) Emredici
- C) Açıklayıcı
- D) Epik

16. Mizahi anlatım ile ilgili aşağıdaki ifadelerden hangisi **yanlıştır**?

- A) Amaç okuyucuyu sadece düşündürmektir.
- B) Ses, taklit, hareket ve konuşma önemlidir.
- C) Dil sanatsal, edebi işlerinde kullanılır.
- D) Mizahi unsurlarda "gerçekten sapma" vardır.

17. Aşağıdaki cümlelerdeki altı çizili sözcüklerin hangisinde özel bir isim kullanılmıştır?

- A) Yazar, yeni kitabını çıkaracakmış.
- B) Öğleden sonra amcama gideceğim.
- C) Kuşumuz Boncuk'u geçen yıl almıştk.
- D) Bu konuyu daha önce de görmüştük.

18. Ciddi bir tavırla söylendiği halde alay olduğu belli olan ince ve hoş nükteye ne ad verilir?

- A) Humor
- B) Parodi
- C) Komedi
- D) İroni

19. Serginho güzel bir bisiklete binmiş, çiçek öbekleri arasında dolaşıyordu. Onun muhteşem bisikleti için burnumu parmaklığa dayadım. Bisiklet kırmızıydı. Sarı ve mavi çizgileriyle gökkuşağına benziyordu. Bisikletin demiri etrafa pırıl pırıl ışık saçıyordu.

Yukarıdaki parçada kullanılan anlatım biçimli aşağıdakilerden hangisidir?

- A) Fiziki portre
- B) Açıklayıcı betimleme
- C) İzlenimsel betimleme
- D) Ruhi portre

20. Aşağıdaki altı çizili sözcüklerden hangisinde zarf kullanılmıştır?

- A) Küçük çocuk arkadaşına seslendi.
- B) O firmanın her ürünü çok lezzetli.
- C) Aldıklarım arasında bu kitap sürükleyici.
- D) Benimle çok güzel konuşuyor.

1. Yazar, düşünür ve sanatçıların veya kendi alanında uzman kişilerin bir konuyu açıklamak, tanıtmak, bilgi vermek, öğretmek amacıyla yaptıkları konuşmalara ne ad verilir?
  - A) Söyleşi
  - B) Raporaj
  - C) Konferans
  - D) Münazara
  
2. **En** belirgin özelliği sosyal bir sorunun geniş kitleler önünde bütün ayrıntılarıyla tartışılması ve dinleyicilerin de bu tartışmanın içinde aktif olarak yer alması olan toplantılara ne ad verilir?
  - A) Sempozyum
  - B) Forum
  - C) Münazara
  - D) Söyleşi
  
3. Çeşitli konularda uzmanların, dinleyiciler karşısında görüşlerini açıkladıkları toplantılara ne ad verilir?
  - A) Röportaj
  - B) Açık oturum
  - C) Konferans
  - D) Söylev
  
4. Aşağıdakilerden hangisi sempozyum bildirisinin bölümlerinden biri değildir?
  - A) Giriş
  - B) Bulgular
  - C) Taslak
  - D) Deney
  
5. Aşağıdakilerden hangisi ülkemizde **ilk** özel gazeteyi kuranlardan biridir?
  - A) Agah Efendi
  - B) Hüseyin Cahit
  - C) Cenap Şehabettin
  - D) Ahmet Emin
  
6. Aşağıdakilerden hangisi konferansçının konferans sırasında dikkat etmesi gereken özelliklerden biri değildir?
  - A) Argo ve bayağı sözlerden kaçınmalıdır.
  - B) Konferansçı, dinleyicilerin kültür ve zevk düzeylerini dikkate almalıdır.
  - C) Konferansçı heyecanıyla değil aklı ve sağduyusuyla hareket etmelidir.
  - D) Konferans oldukça ayrıntılı olup mümkün olduğunca uzun sürmelidir.
  
7. Açık oturumlarda konuşmacı sayısının kaç kişiyi geçmemesi tercih edilir?
  - A) Altı
  - B) Sekiz
  - C) On
  - D) On iki
  
8. Bilim, teknik, sanat, doğa vb. konulardan biri hakkında bilgi vermek, denemeleri, gözlemleri açıklamak için yapılan konuşma türü aşağıdakilerden hangisidir?
  - A) Forum
  - B) Konferans
  - C) Mülakat
  - D) Münazara
  
9. **İlk** gazetenin nerede çıkmaya başladığı ileri sürülmektedir?
  - A) Mısır
  - B) Fenike
  - C) Mezopotamya
  - D) Amerika
  
10. Münazaranın topluluk karşısında yapılan türüne ne ad verilir?
  - A) Paneller
  - B) Gösteriler
  - C) Forumlar
  - D) Toplu tartışmalar

11. Konferansta konuyla ilgili genel yargılar hangi bölümde yer alır?

- A) Hitap cümlesi
- B) Ana fikir
- C) Sonuç
- D) Soru-cevap

12. Aşağıdakilerden hangisi makalenin okuyucu kitlesine ulaşması bakımından önemli olan öğesidir?

- A) Başlık
- B) Dipnot
- C) Tartışma
- D) Sonuç

13. Bilim insanlarının bir konunun çeşitli yönlerini inceleyip görüş bildirdikleri toplantılara ne ad verilir?

- A) Söylev
- B) Açık oturum
- C) Sempozyum
- D) Münazara

14. Makaleyle ilgili aşağıdaki ifadelerden hangisi yanlıştır?

- A) Üslup yönünden üçüncü tekil anlatım tercih edilir.
- B) Gazetede ilk sayfa ve birinci sütunda yer alan ve günlük olaylar, ülke sorunları hakkında görüşleri yansıtan yazılara başmakale adı verilir.
- C) Makalede temel öge duygudur.
- D) Bilimsel bir anlatım ağır basar.

15. Aşağıdakilerden hangisi makale ve bilimsel yazıların benzerliklerinden biri değildir?

- A) İki türde de amaç okuyucuyu bilgilendirmektir.
- B) İki türde de sanatsal yaklaşım ön plandadır.
- C) Her iki türde de kurallı cümlelerde kurulur.
- D) Her iki türde de anlatılanların kanıtlanması gerekir.

16. Aşağıdakilerden hangisi makalede söylenenlerin bir yargıya bağlandığı bölümdür?

- A) Dipnot
- B) Malzeme
- C) Yöntemler
- D) Sonuç

17. "Sayın jüri üyeleri, değerli arkadaşlarım, tezimin doğru olduğunu savunmaya sanat ile sanatkar kelimelerini açıklayarak başlayacağım"

Yukarıda bir parçası alıntılanan konuşmanın gerçekleştirildiği ortam aşağıdakilerden hangisidir?

- A) Münazara
- B) Sempozyum
- C) Forum
- D) Panel

18. Türk edebiyatında makalenin gelişimine bakıldığında 1860'da ilk makale kim tarafından yazılmıştır?

- A) Nefi
- B) Hüseyin Cahit
- C) Namık Kemal
- D) Şinasi

19. Aşağıdakilerden hangisi açık bir anlatımın özelliklerinden biri değildir?

- A) Gereksiz ifadelere yer verilmemesi
- B) Karşık, ağır bir dil kullanılması
- C) İfadenin hiçbir engele uğramadan akıp gitmesi
- D) Ses akışını bozan cümle kullanılmaması

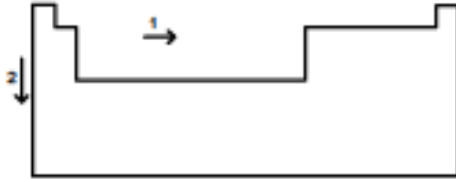
20. Aşağıdakilerden hangisi bilimsel yazılar içerisinde yer almaz?

- A) Değerlendirme yazıları
- B) Bilimsel makaleler
- C) Konferans raporları
- D) Tiyatro metinleri

1. Elektronların atomlardaki orbitallere dağılımında bazı kurallar geçerlidir. Atom numarası 8 olan oksijen elementinin elektronlarının orbitallere dağılımı hangisinde doğru verilmiştir?

- A)  $1s^2 2s^2 2p^4$   
 $1s: \uparrow\downarrow \quad 2s: \uparrow\downarrow \quad 2p: \uparrow\downarrow \uparrow$
- B)  $1s^2 2s^2 2p^4$   
 $1s: \uparrow\downarrow \quad 2s: \uparrow\downarrow \quad 2p: \uparrow\downarrow \uparrow\downarrow$
- C)  $1s^2 2s^2 2p^4$   
 $1s: \uparrow\downarrow \quad 2s: \uparrow\downarrow \quad 2p: \uparrow\downarrow \uparrow\downarrow$
- D)  $1s^2 2s^2 2p^4$   
 $1s: \uparrow\downarrow \quad 2s: \uparrow\downarrow \quad 2p: \uparrow\downarrow \uparrow\downarrow$

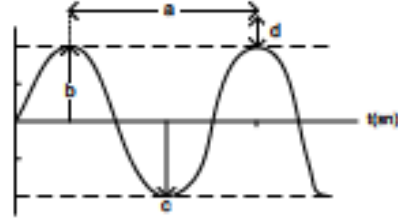
2.



Periyodik cetvelde 1 ve 2 ile gösterilen oklar yönünde yapılan aşağıdaki genellemelerden hangisi yanlıştır?

- A) 2 yönünde iyonlaşma enerjisi artar.  
 B) 2 yönünde atom numarası artar.  
 C) 1 yönünde atom yarıçapı azalır.  
 D) 1 yönünde metalik özellik azalır.
3.  ${}_{19}X$  ve  ${}_{16}Y$  atomlarının oluşturduğu  $X_2Y$  bileşiği ile ilgili aşağıdaki ifadelerden hangisi yanlıştır?
- A) İyonik bileşiktir.  
 B) Yumuşaktır ve kolay şekil verilebilir.  
 C) X ve Y arasındaki bağ elektrostatik çekim kuvvetidir.  
 D) Erime sıcaklığı yüksektir.

4.



Elektromanyetik ışınların dalga özelliklerinden biri olan "dalga boyu" yukarıdaki şekilde hangi harfle gösterilmiştir?

- A) a  
 B) b  
 C) c  
 D) d

5. I. X ve Y aynı gruptadır.  
 II. Z'nin atom numarası, Y'ninkinden fazladır.  
 III. Y ile Z aynı periyottadır.

Buna göre; X, Y ve Z atomlarının periyodik sistemdeki yerleri aşağıdakilerden hangisi gibi olabilir?

- A) 

	Y
Z	X
- B) 

Y	X
	Z
- C) 

X	Z
Y	
- D) 

X	
Y	Z

6. Atom yarıçapının artmasına bağlı olarak, metaller arası çekim kuvveti ve metalik bağ kuvveti azalır.

Buna göre, aşağıda atom numaraları verilen elementlerin hangisinin metalik bağ kuvveti daha fazladır?

- A)  ${}_{3}Li$   
 B)  ${}_{11}Na$   
 C)  ${}_{20}Ca$   
 D)  ${}_{19}K$



14. Aşağıdaki renk çiftlerinden hangisi elektromanyetik spektrumunun çok dar bir aralığını oluşturan "görünür bölge ışını"nı (700 nm-400 nm renk aralığını içine alan kısım) belirler?
- A) Mavi-Yeşil  
B) Kırmızı-Mor  
C) Sarı-Turuncu  
D) Mor-Sarı

15.  $15K^{+1}$  iyonunun elektron dizilimi aşağıdakilerden hangisidir?
- A)  $1s^2 2s^2 2p^6 3s^2 3p^6$   
B)  $1s^2 2s^2 2p^6 3s^2 3p^6 4s^1$   
C)  $1s^2 2s^2 2p^6 3s^2 3p^5 4s^2$   
D)  $1s^2 2s^2 2p^6 3s^2 3p^6 4s^2 3d^1$





16. Aşağıdaki moleküller arası etkileşim türlerinden hangisi an zayıftır?
- A) London Kuvvetleri  
B) Hidrojen Bağı  
C) İyonik Bağ  
D) Van der Waals Bağları

Element Adı	Elektron dizilimi
Flor	$[He] 2s^2 2p^5$
Klor	$[Ne] 3s^2 3p^5$
Brom	$[Ar] 4s^2 3d^{10} 4p^5$
İyot	$[Kr] 5s^2 4d^{10} 5p^5$

Yukarıda element adı ve elektron dizilimi verilen elementlerin periyodik tablodaki özel adı nedir?

- A) Soygazlar (asal gazlar)  
B) Alkali metaller  
C) Geçiş metalleri  
D) Halojenler
18. Atom altı parçacığı olan elektronun yükünü "yağ damlalarıyla" yaptığı deneyler ve bazı hesaplamalar sonucunda bulan bilim insanı aşağıdakilerden hangisidir?
- A) J.J. Thomson  
B) G.Stoney  
C) R.Millikan  
D) M.Faraday

19. Aşağıdaki kovalent yapıli moleküllerin hangisinde kalıcı dipol olusmaz?

- A)  —  $H_2O$   
B)  —  $H_2$   
C)  —  $HF$   
D)  —  $HCl$

20. Aşağıdakilerden hangisi periyodik tablonun genel özelliklerinden biri değildir?

- A) Periyodik tabloda, 7 periyot vardır.  
B) Periyodik tablo, elementlerin kütle numaralarına göre yapılmıştır.  
C) Periyodik tabloda, 18 grup vardır.  
D) Periyodik tablonun büyük kısmında metal elementleri bulunur.

1.  $40^{\circ}\text{C}$ 'da 312 g  $\text{NaNO}_3$  ile hazırlanan doymuş çözeltide kaç gram su vardır? ( $40^{\circ}\text{C}$ 'da  $\text{NaNO}_3$ 'ün çözünürlüğü=104 g/100 g su)

- A) 100  
B) 300  
C) 500  
D) 600

2. Aşağıdaki çözelti örneklerinin hangisinde çözücü ve çözünenin fiziksel halleri doğru verilmiştir?

<u>Çözelti</u>	<u>Çözücü</u>	<u>Çözünen</u>
A) Fırınç (katı)	Katı	Katı
B) Tuzlu su (sıvı)	Sıvı	Sıvı
C) Gazoz (sıvı)	Gaz	Gaz
D) Alkollü su (sıvı)	Sıvı	Katı

3. I. Mürekkepli sıvının cam boruda yükselmesi  
II. Kağıt peçetenin sıvı maddeyi çekmesi  
III. Ağaç köklerinden yapraklarına kadar suyun taşınması

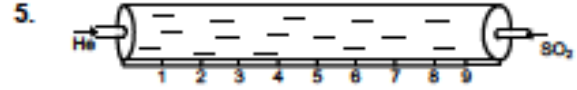
Yukarıdaki olaylardan hangileri adhezyon kuvvetlerinin kohezyon kuvvetlerinden büyük olması sonucu oluşan sıvılarda kılcalık etkisine örneklerdir?

- A) I ve II  
B) I ve III  
C) II ve III  
D) I, II ve III

4. I. Buzlanan yollara tuz atılması  
II. Otomobil radyatörlerindeki suya antifriz katılması  
III. Kaynayan suya soğuk su ilave edilmesi

Yukarıdaki işlemlerden hangisi uygulandığında elde edilen çözeltinin donma sıcaklığı düşer?

- A) I ve II  
B) I ve III  
C) II ve III  
D) I, II ve III



Yukarıda şekil verilen sistemde aynı sıcaklıktaki He ve  $\text{SO}_2$  gazları, aynı anda kap içersine gönderildiklerinde ilk hangi noktada karşılaşırır?  
(He=4 g/mol,  $\text{SO}_2$ =64 g/mol)

- A) 2  
B) 4  
C) 6  
D) 8

6. Aşağıdakilerden hangisi iyonik kristallerin genel özelliklerinden biri değildir?

- A) Erime sıcaklıkları yüksektir.  
B) Serttir ve kırılmandır.  
C) Katı kristalleri elektriği iletr.  
D) Pozitif ve negatif yüklü iyonların elektrostatik olarak birbirini çekmesi sonucu oluşur.

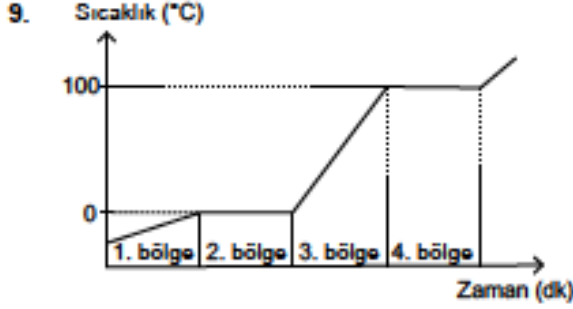
7. Sabit hacim ve sıcaklıkta kapalı bir kaptaki 4 mol  $\text{O}_2$  gazının basıncı 2 atm'dir. Aynı koşullarda kaba 8 mol  $\text{O}_2$  gazı eklendiğinde basınç kaç atmosfer (atm) olur?

- A) 1  
B) 4  
C) 6  
D) 16

8. 200 g suda 50 g şeker çözünmesiyle hazırlanan çözelti kütlice yüzde kaçtır?

- A) 80  
B) 60  
C) 40  
D) 20





Yukarıda saf bir katı maddenin ısıtılmasına ait zaman-sıcaklık grafiği verilmiştir. Grafiğe göre, aşağıdakilerden hangisi doğrudur?

- A) 100°C, maddenin kaynama ve yoğuşma sıcaklığıdır.  
 B) Bütün bölgelerde sıcaklık artışı vardır.  
 C) 2. bölgede, madde tamamen katı haldedir.  
 D) 3. bölgede, madde hal değiştirmektedir.

Araç	Ölçüm
Dinamometre	Açık hava basıncı
Manometre	Sıcaklık
Termometre	Gaz basıncı
Barometre	

Yukarıdaki araçlar ve yaptıkları ölçümler eşleştirildiğinde, hangi araç açıkta kalır?

- A) Barometre  
 B) Dinamometre  
 C) Manometre  
 D) Termometre

11. Aşağıdakilerden hangisi doğalgazın bileşenlerinden hacimce yüzdesi (%) en fazla olan gazdır?

- A)  $C_2H_6$  (etan)  
 B)  $C_3H_8$  (propan)  
 C)  $CH_4$  (metan)  
 D)  $C_4H_{10}$  (butan)

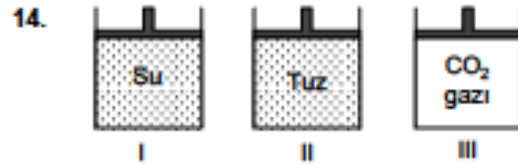
12. I. Çözünme iyon veya molekül düzeyinde olur.  
 II. Bir iyonik bileşimin anyon ve katyonlarının su molekülleri tarafından sarılması hidratasyon denir.  
 III. Bir maddenin molekül veya iyonlarının çözücü molekülleri tarafından sarılması solvasyon denir.

Yukarıda verilen kavramlardan hangileri doğrudur?

- A) Yalnız I  
 B) I ve II  
 C) I ve III  
 D) I, II ve III

13. Aşağıdakilerden hangisi genel gaz kanunları arasında yer almaz?

- A) Boyle Kanunu  
 B) Toricelli Kanunu  
 C) Charles Kanunu  
 D) Avogadro Kanunu



Yukarıdaki hareketli pistonlu kaplarda hangi maddeler sıkıştırılabilir?

- A) Yalnız I  
 B) Yalnız III  
 C) I ve II  
 D) II ve III

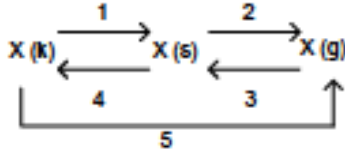
15.

Tuz	Elmas	Kağıt
Plastik	Cam	Bakır

Yukarıdaki katı örneklerinden hangileri amorf katılar grubunda yer alır?

- A) Kağıt, Plastik, Cam  
 B) Tuz, Kağıt, Cam  
 C) Plastik, Elmas, Bakır  
 D) Tuz, Elmas, Bakır

16.



1 atm ve 0°C sıcaklıkta katı olan X maddesindeki değişimler yukarıda veriliyor.

Buna göre;

- I. 1 ve 2 nolu değişimlerde, X'in düzensizliği artar.
- II. 3 ve 4 nolu değişimlerde, X'in tanecikleri arasındaki çekim kuvveti artar.
- III. 1:Erime, 3:Yoğuşma, 5:süblimleşmedir.

Yukarıda verilen yargılarından hangileri doğrudur?

- A) I ve II
- B) I ve III
- C) II ve IV
- D) I, II ve III

17. LPG gaz karışımında 0,2 mol  $C_3H_8$  ve 0,8 mol  $C_4H_{10}$  gazı bulunmaktadır. Karışımındaki gazların toplam basıncı 6 atm olduğuna göre,  $C_4H_{10}$  gazının kısmi basıncı kaç atmosfer (atm) olur?

- A) 1,2
- B) 1,6
- C) 4,8
- D) 5,2

18. Kristal katlar tanecikler arası çekim kuvvetlerinin türüne göre farklılık gösterir.

Aşağıdaki kristal katlar ve örneklemeleri eşleştirmelerinden hangisi **yanlıştır**?

- A) İyonik kristaller – Tuz ( $NaCl$ )
- B) Moleküler kristaller – Kuru buz ( $CO_2$ )
- C) Kovalent kristaller – Şeker ( $C_6H_{12}O_6$ )
- D) Metalik kristaller – Çinko ( $Zn$ )

19. Gazlar düzensiz hareketlerinden dolayı girdikleri kabın içine yayılır ve kabı doldurur.

Gazların içine girdikleri kabın tamamına yayılması olayına ne ad verilir?

- A) Difüzyon
- B) Osmoz
- C) Aktif taşıma
- D) Dağılıma

20. Aşağıdaki hal değişim olaylarından hangileri **ısı alarak** gerçekleşir?

- A) Buharlaşma-Yoğuşma
- B) Buharlaşma-Erime
- C) Erime-Donma
- D) Donma-Yoğuşma

1. Aşağıdakilerden hangisi bir canlının yaşaması için gerekli değildir?
- A) Beslenme  
B) Solunum  
C) Üreme  
D) Boşaltım
2. Bir hayvan için "karnivor" denirse, bunun anlamı aşağıdakilerden hangisidir?
- A) Bitkisel besleniyordur.  
B) Etçidir.  
C) Hem et hem de otla besleniyordur.  
D) Fotosentez yapıyordur.
3. Aminoasit + (n) Aminoasit = Protein + .....
- Yukandaki eşitlikte, boş bırakılan yere aşağıdakilerden hangisi gelmelidir?
- A) Su  
B) Fosforik asit  
C) Karbondioksit  
D) Etil alkol
4. Sayısal sonuçların elde edildiği gözlemlere ne ad verilir?
- A) Hipotez  
B) Nitel gözlem  
C) Nicel gözlem  
D) Teori
5. Aşağıdakilerden hangisi canlı yapısında yer alan inorganik maddelerin içinde yer alır?
- A) Proteinler  
B) Karbonhidratlar  
C) ATP  
D) Mineraller
6. Canlılar ATP'yi aşağıdaki olayların hangisiyle elde ederler?
- A) Üre ve yağ sentezi  
B) Fotosentez ve solunum  
C) Protein sentezi  
D) Sindirim
7. Aşağıdakilerden hangisi vitaminlerin özelliklerinden biri değildir?
- A) Düzenleyici olarak rol oynamaları  
B) Organik maddelerden oluşmaları  
C) Hayvanlarda öncül maddelerden üretilmeleri  
D) Hücre zarından difüzyonla geçebilmeleri
8. Aşağıdaki maddelerden hangisi bir karbonhidrattır?
- A) Riboz  
B) Gliserol  
C) Aminoasit  
D) Fosforik asit
9. Aşağıdakilerden hangisi enzim yapısı ile ilgili değildir?
- A) Koenzim  
B) Protein  
C) Steroit  
D) Kotaktör
10. RNA ile ilgili aşağıdaki ifadelerden hangisi yanlıştır?
- A) Tek çeşittir.  
B) Yapısında urasil bulunur.  
C) Çekirdekte ve sitoplazmada bulunur.  
D) Yapısında riboz vardır.
11. Aşağıdakilerden hangisi hayvansal bir polisakkarittir?
- A) Selüloz  
B) Nişasta  
C) Deoksiriboz  
D) Glikojen
12. Bir canlıda kimyasal reaksiyonların gerçekleşmesi için aşağıdakilerden hangisi zorunludur?
- A) Su  
B) Karbonhidratlar  
C) RNA  
D) Enzimler

13. Aşağıdakilerden hangisi DNA ile RNA'nın ortak özelliğidir?

- A) Pürin bazlarının aynı olması
- B) Purin bazlarının aynı olması
- C) Kendilerini eşleyebilmeleri
- D) Şekerlerinin aynı olması

14. Azotlu organik baz + 5 karbonlu şeker + fosfat =

Yukarıdaki eşitlik bize aşağıdakilerden hangisini verir?

- A) Nükleotit
- B) ATP
- C) Nükleik asit
- D) Pentoz

15. Bir hücrede protein sentezi fazla ise, bu hücrede aşağıdaki yapılardan hangisinin fazla olması beklenir?

- A) Granüllü endoplazmik retikulum
- B) Golgi aygıtı
- C) Lizozom
- D) Koful

16. Adenozin monofosfat ile ilgili aşağıdaki ifadelerden hangisi doğrudur?

- A) Canlıda enerji gereksinimi için doğrudan kullanılabilir.
- B) Sadece enerji elde etmede kullanılır.
- C) Bir adenin nükleotittir.
- D) ATP'nin bir fosfat kaybetmesi ile ortaya çıkar.

17. Sitozol + organeller =

Yukarıdaki eşitlik bize aşağıdakilerden hangisini verir?

- A) Koful
- B) Lizozom
- C) Endoplazmik retikulum
- D) Sitolizma

18. Aşağıdakilerden hangisi bitki ve hayvan hücresi arasındaki yapısal farklardan biri değildir?

- A) Bitki hücrelerinde çeper bulunması
- B) Mitokondrinin hayvan hücrelerinde bulunması
- C) Hayvan hücrelerinde sentrozom bulunması
- D) Bitki hücrelerinde kloroplast bulunması

19. Ototiz olayının gerçekleşmesinde aşağıdaki organellerden hangisi rol oynar?

- A) Ribozom
- B) Sentrozom
- C) Lizozom
- D) Mitokondri

20. Elektron taşıma sistemine (ETS) sahip iki organel aşağıdakilerden hangisinde doğru olarak verilmiştir?

- A) Koful-Lizozom
- B) Endoplazmik retikulum-Golgi aygıtı
- C) Endoplazmik retikulum-Kloroplast
- D) Mitokondri-Kloroplast

1. Normalde oksijenli ortamda yaşamaya uyum sağlamış fakat geçici olarak oksijensiz ortamda yaşayabilen bakterilere ne ad verilir?
  - A) Ototrof bakteri
  - B) Fotosentetik bakteri
  - C) Zorunlu aerob bakteri
  - D) Geçici anaerob bakteri
  
2. Aşağıdakilerden hangisi mantarların bitkilere benzeyen özelliklerinden biridir?
  - A) Plastidlerinin bulunmaması
  - B) Çeper taşımaları
  - C) Glikojen depolamaları
  - D) Heterotrof olmaları
  
3. Günümüzde kullanılan sınıflandırmada en üst ve en alt basamak aşağıdakilerden hangisinde doğru olarak verilmiştir?
  - A) Alem-Tür
  - B) Şube-Cins
  - C) Alle-Tür
  - D) Şube-Aile
  
4. Aşağıdakilerden hangisi damarlı tohumlu bitki grubudur?
  - A) Çiğir otları
  - B) Boynuzlu Çiğir otları
  - C) Karayosunları
  - D) Eğreltiler
  
5. Bazı bakterilerin olumsuz koşullarda su kaybederek ve kalın bir örtü oluşturarak meydana getirdikleri yapıya ne ad verilir?
  - A) Plazmit
  - B) Pilus
  - C) Hücre duvarı
  - D) Endospor
  
6. Aşağıdakilerden hangisi kapalı tohumlu bitkilerden biridir?
  - A) Kiraz
  - B) Köknar
  - C) Ladin
  - D) Ardiç
  
7. Gelişmişlik yönünden en basit olan hayvan grubu aşağıdakilerden hangisidir?
  - A) Yumuşakçalar
  - B) Solentereleler
  - C) Süngerler
  - D) Derisidikenliler
  
8. Doğal sınıflandırmada aşağıdaki özelliklerden hangisi kullanılmaz?
  - A) Embryonik gelişim
  - B) Analog organlar
  - C) Biyokimyasal özellikler
  - D) Kokendeş organlar
  
9. Çevre sorunlarının çözümü için en doğru yaklaşım aşağıdakilerden hangisidir?
  - A) Toplumun bu konuda bilinçli duruma gelmesi
  - B) Ekonomik gelişmişliğin sağlanması
  - C) Çevre güvenlik birimlerinin oluşturulması
  - D) Sanayinin kontrol altına alınması
  
10. Yoğurt bakterileri aşağıdaki bakteri çeşitlerinden hangisinin içinde yer alır?
  - A) Parazit bakteriler
  - B) Saprofit bakteriler
  - C) Fotosentetik bakteriler
  - D) Ototrof bakteriler
  
11. Bir canlı grubunun aynı türe ait olduğunu söyleyebilmek için aşağıdaki özelliklerden hangisine sahip olması gerekir?
  - A) Benzer yapıya sahip olmaları gerekir.
  - B) Homolog organlara sahip olmaları gerekir.
  - C) Aynı kokenden gelmeleri gerekir.
  - D) Kendi aralarında üreyerek kısır olmayan yavrular vermeleri gerekir.

12. Çubuk şeklindeki bakterilere ne ad verilir?

- A) Kokus
- B) Spirillum
- C) Basillus
- D) Vibrio

13. Biyolojik çeşitlilik içinde aşağıdakilerden hangisi yer almaz?

- A) Ekosistem çeşitliliği
- B) Tür çeşitliliği
- C) Habitat çeşitliliği
- D) Genetik çeşitlilik

14. Prokaryot bir canlı, aşırı tuzcul ortamda yaşıyorsa bu canlı aşağıdaki gruplardan hangisinin içinde yer alır?

- A) Halofil
- B) Termofil
- C) Psikrofilik
- D) Metanojenler

15. Atmosferde karbondioksit birikmesi aşağıdakilerden hangisine yol açar?

- A) Morötesi ışınların yeryüzüne ulaşmasına
- B) Küresel ısınmaya
- C) Kutuplarda buzul miktarının artmasına
- D) Deniz seviyesinin düşmesine

16. Gıdalarda protein azlığını gidermek için kullanılan katkı maddesi aşağıdakilerden hangisidir?

- A) Benzoik asit ve bileşikleri
- B) Sodyum nitrit
- C) Olestra
- D) Melamin

17. Aşağıdaki hayvan gruplarından hangisi omurgalılardan biri değildir?

- A) Çenesiz balıklar
- B) Kıkırdaklı balıklar
- C) Tunicatlar
- D) Kurbağalar

18. Aşağıdakilerden hangisi protistlerden biri değildir?

- A) Volvox
- B) Kūf mantar
- C) Terliksi hayvan
- D) Euglena

19. Aşağıdaki taksonlardan hangisi "domain" basamağında yer almaz?

- A) Mantarlar
- B) Arkeler
- C) Ökaryotlar
- D) Bakteriler

20. Gürültü kirliliğini ölçmede aşağıdaki birimlerden hangisi kullanılmaktadır?

- A) Bar
- B) Mikron
- C) Desibel
- D) Megamol/dakika

1. Zebur ile ilgili aşağıdaki ifadelerden hangisi **yanlıştır**?

- A) Hz. Davud'a indirilmiştir.
- B) İlk indirilen kitaptır.
- C) Manzum bir metindir.
- D) İbranicedir.

2. Kur'an'da yer alan **en uzun** sure aşağıdakilerden hangisidir?

- A) Nas
- B) Fatıha
- C) Bakara
- D) Kevser

3. Aşağıdakilerden hangisi Kur'an'ın indiriliş süreciyle ilgili olaylardan biri **değildir**?

- A) Kur'an'ın kitap haline getirilmesi
- B) Ayetlerin yazıya geçirilmesi
- C) Vahyin bir süre kesilmesi
- D) Ayetlerin ve surelerin ezberlenmesi

4. "Oku! Yaratan Rabbinin adıyla oku. Oku! Rabbin en büyük kerem sahibidir. Kalemle yazmayı öğreten O'dur. O, insana bilmediklerini öğretti." (Alak suresi, 1-5)

Aşağıdakilerden hangisi bu ayetlerin işaret ettiği hususlardan biri **değildir**?

- A) Allah bilginin kaynağıdır.
- B) Allah insanlara bir kısım ibadetleri farz kılmıştır.
- C) Allah insana pek çok nimet vermiştir.
- D) Allah ilim öğrenmeyi teşvik etmiştir.

5. Kelime olarak; gizli konuşma, ima, telkin, fısıldama, ilham etme, işaret etme ve yazıyla bildirme gibi anlamlara gelen dini terim aşağıdakilerden hangisidir?

- A) Sure
- B) Mushaf
- C) Aşır
- D) Vahiy

6. Tefsir ilmi ile uğraşan ilim adamına ne ad verilir?

- A) Mufessir
- B) Müçtehit
- C) Mütakellim
- D) Müceddit

7. Aşağıdakilerden hangisi "hüzün yılı"nda vefat etmiştir?

- A) Hz. Hamza
- B) Abdülmuttalib
- C) Zeyd b. Harise
- D) Ebu Talib

8. Resul ve nebi ile ilgili aşağıdaki ifadelerden hangisi **yanlıştır**?

- A) Kendisine ilahî kitap verilen peygamberlere resul denir.
- B) Nebinin getirdiği ibadet kurallarına, kendinden sonra gelen resuller uymakla görevlidir.
- C) Nebiler, kendinden önce gelmiş resulün kitabı ile amel etmekle görevlidirler.
- D) Her resul aynı zamanda nebidir, ancak her nebi resul değildir.

9. Hz. Peygamber, I Akabe Biatı'ndan sonra hangi sahabyı İslam'ı öğretmesi için Medine'ye göndermiştir?

- A) Mus'ab b. Umeyr
- B) Sa'd b. Ebi Vakkas
- C) Abdullah b. Cahş
- D) Zeyd b. Harise

10. Hz. Muhammed'in söz, davranış ve takrirlerine ne ad verilir?

- A) Ayet
- B) Hadis
- C) Farz
- D) Sunnet

11. Sıdk ne anlama gelir?

- A) Empati kurmak
- B) Doğru olmak
- C) Sosyal olmak
- D) Üstün zekâyâ sahip olmak

12. Hz. Muhammed'in, Allah'ın Resulü ve peygamberlerin sonuncusu olduğu, Kur'an'ın hangi suresinde buyurulmuştur?

- A) Sebe suresi
- B) Nahl suresi
- C) Mâide suresi
- D) Azhâb suresi

13. Aşağıdakilerden hangisi ahlâki görevlerimiz arasında yer almaz?

- A) Ana babaya iyi davranmak
- B) Komşulara yardım etmek
- C) Hacca gitmek
- D) İnsanlarla iyi geçinmek

14. İslam ahlâkının kaynağı aşağıdakilerden hangisidir?

- A) Orf ve adet
- B) Kültürel miras
- C) Akıl ve tecrübe
- D) Kur'an ve sunnet

15. Kur'an'da, inançsızların en belirgin özelliği olarak geçen sıfat aşağıdakilerden hangisidir?

- A) Kıskançlık
- B) Yalancılık
- C) Kibir
- D) Dedikoduculuk

16. Matematikte sıfırı ilk keşfeden ve logaritma cetvelini oluşturan Müslüman bilim adamı aşağıdakilerden hangisidir?

- A) Harezmi
- B) Ömer Hayyâm
- C) İbrahim bin Ezra
- U) Kertî

17. Katip Çelebi, İbn Batuda ve Evliya Çelebi gibi isimler hangi alanda meşhur olan kişilerdir?

- A) Tarih
- B) Matematik
- C) Coğrafya
- D) Optik

18. Aşağıdakilerden hangisi İslam Tarih'i'nin konularından biri değildir?

- A) İslam dininin konularını incelemek
- B) İslam düşünce ekollerinin tarihini incelemek
- C) Müslüman milletlerin tarihini incelemek
- D) Hz. Peygamber'in hayatını incelemek

19. Aşağıdakilerden hangisi fıkıhın dört temel kaynağından biridir?

- A) Kıyas
- B) Maslahat-ı Mürsele
- C) Sedd-i Zeraf
- D) İstihsan

20. Aşağıdakilerden hangisi Tefsir ilminin amaçlarından biridir?

- A) Hz. Muhammed'in sünnetinin yerel ve evrensel boyutunu kavratmak
- B) Kalbi kotu huylardan temizlemek ve iyi huylarla donatmak
- C) Kur'an'ı indiği tarihî zemin içinde tanıtmak
- D) İnsanlara, özgür ve sorumlu bir varlık olduğunu öğretmek



1.  $f(x) = \frac{6x^2 - 4x + 2}{7x^3 + 5}$  fonksiyonu veriliyor.

Buna göre,  $\lim_{x \rightarrow \infty} f(x)$ 'in değeri aşağıdakilerden hangisidir?

- A)  $-\infty$   
B) -1  
C) 0  
D)  $\frac{6}{7}$

2.  $f: \mathbb{R} \rightarrow \mathbb{R}$ ,  $f(x) = \sqrt{\frac{x^2 + x - 12}{(x-2)^2}}$  fonksiyonunun en geniş tam kümesi aşağıdakilerden hangisidir?

- A)  $(-\infty, -4] \cup [3, \infty)$   
B)  $[-4, 3]$   
C)  $[-3, 4]$   
D)  $(-\infty, -3] \cup [4, \infty)$

3.  $f(x) = (4-a)x^2 + (8+4b)x + 5$  fonksiyonu sabit bir fonksiyondur. Buna göre a-b kaçtır?

- A) -6  
B) -2  
C) 2  
D) 6

4.  $f(2x+3) = \frac{x^2-1}{2x-4}$  fonksiyonu veriliyor. Buna göre,  $f(5)$ 'in değeri kaçtır?

- A) 0  
B) 1  
C) 3  
D) 4

5.  $f(x) = |4x+10| - |2-2x| + 3$  fonksiyonu veriliyor.

Buna göre,  $\lim_{x \rightarrow -3} f(x)$  değeri aşağıdakilerden hangisidir?

- A) -13  
B) -3  
C) 3  
D) 13

6.  $f(x) = \begin{cases} \sqrt{3x} & x < 2 \\ 5x+1 & x = 2 \\ 4x-7 & x > 2 \end{cases}$  fonksiyonu

veriliyor. Buna göre  $\lim_{x \rightarrow 3} f(x)$ 'in değeri aşağıdakilerden hangisidir?

- A) 3  
B) 5  
C) 7  
D) 16

7.  $f(x) = 4x-1$  ve  $g(x) = 3x-2$  fonksiyonları veriliyor.

Buna göre,  $(f \circ g)(x)$  aşağıdakilerden hangisidir?

- A)  $12x-5$   
B)  $7x-3$   
C)  $12x-9$   
D)  $12x^2+2$

8.  $f: (2, \infty) \rightarrow \mathbb{R}$ ,  $f(x) = \log_3(x-2)$  fonksiyonu veriliyor. Buna göre,  $f^{-1}(x)$  aşağıdakilerden hangisidir?

- A)  $3^x+2$   
B)  $\log_3(x+2)$   
C)  $\log_2(x-3)$   
D)  $3^x-2$

9.  $\text{Sgn}\left(\frac{x^2-3x-10}{x^2-2x+1}\right) = -1$  denklemini sağlayan kaç tane tamsayı vardır?

A) 4  
B) 5  
C) 6  
D) 7

10.  $f(x) = \frac{5x-7}{x^2-2x-1}$  fonksiyonu veriliyor. Buna göre,  $\lim_{x \rightarrow 3} f(x)$  değeri aşağıdakilerden hangisidir?

A) 2  
B) 4  
C) 5  
D) 8

11.  $f(x) = \begin{cases} 5x^2-2x-4, & x < -1 \\ a, & x = -1 \\ 2-bx, & x > -1 \end{cases}$  fonksiyonu

veriliyor. Buna göre,  $f(x)$  fonksiyonunun  $\mathbb{R}$  de sürekli olması için  $a+b$  aşağıdakilerden hangisi olmalıdır?

A) -1  
B) 0  
C) 2  
D) 4

12.  $f(x) = \begin{cases} \frac{x^2-1}{x-1}, & x > 1 \\ 2x, & x = 1 \\ \frac{x-5}{x-3}, & x < 1 \end{cases}$  fonksiyonu

veriliyor. Buna göre,  $f(x)$  fonksiyonunun sürekli olduğu küme aşağıdakilerden hangisidir?

A)  $\mathbb{R}$   
B)  $\mathbb{R}-\{1\}$   
C)  $\mathbb{R}-\{3\}$   
D)  $(1,3)$

13.  $f: \mathbb{R} \rightarrow \mathbb{R}$ ,  $f(x) = \begin{cases} x^2-2 & x < 3 \\ 4 & x = 3 \\ 2x^2+1 & x > 3 \end{cases}$  fonksiyonu

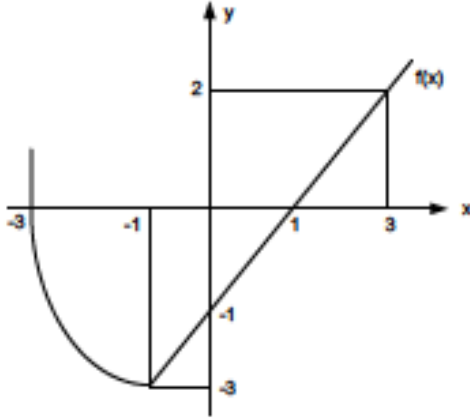
veriliyor. Buna göre,  $f(2)+f(3)+f(4)$  toplamı aşağıdakilerden hangisidir?

A) 23  
B) 27  
C) 35  
D) 39

14.  $[2x-5] = 7$  denklemini sağlayan  $x$  değerleri aşağıdakilerden hangisidir?

A)  $x \leq 6$   
B)  $x > 12$   
C)  $6 \leq x < \frac{13}{2}$   
D)  $10 \leq x < 14$

15.



Yukandaki şekilde  $f(x)$  fonksiyonunun grafiği verilmiştir.

Buna göre,  $f(-3)+f(0)+f(3)$  toplamı kaçtır?

- A) -1
- B) 0
- C) 1
- D) 2

16.  $f(x-1)=x^2-2x$  fonksiyonu veriliyor. Buna göre,  $f(x)$  aşağıdakilerden hangisidir?

- A)  $x^2-1$
- B)  $x^2+4x+3$
- C)  $x^2+3$
- D)  $x^2-4x+3$

17.  $f(x) = \frac{\cot x - \cos 4x}{\cos x}$  fonksiyonu veriliyor.

Buna göre,  $\lim_{x \rightarrow \frac{\pi}{4}} f(x)$ 'in değeri

aşağıdakilerden hangisidir?

- A) 0
- B)  $\frac{1}{\sqrt{2}}$
- C)  $\sqrt{2}$
- D)  $2\sqrt{2}$

18.  $f(x) = \frac{3x-2}{x-k}$  fonksiyonu veriliyor.

Buna göre,  $f(x)=f^{-1}(x)$  olması için  $k$  aşağıdakilerden hangisi olmalıdır?

- A) -2
- B) -1
- C) 2
- D) 3

19.  $f(x) = -x^2+4x^2-7$  fonksiyonu veriliyor.

Buna göre,  $\lim_{x \rightarrow -1} f(x)$  değeri aşağıdakilerden hangisidir?

- A) -4
- B) -2
- C) 4
- D) 12

20.  $f(x) = \frac{x^2-1}{7+x}$  ve  $g(x) = \frac{x+3}{x-3}$  fonksiyonları veriliyor.

Buna göre  $f \circ g(2)$  kaçtır?

- A) 2
- B) 6
- C) 12
- D) 24

1.  $p \vee q$  önermesinin eşdeğeri olan önerme aşağıdakilerden hangisidir?

A)  $\neg (\neg p \wedge \neg q)$   
 B)  $p \Rightarrow q$   
 C)  $p \Leftrightarrow q$   
 D)  $p \wedge q$

2. "İnsanlar paylaşmayı severlerse rahat diyalog kurarlar hem de dürüst ilişkiler yaşarlar." önermesinde kaç tane önerme eklemi ve bileşen kullanılmıştır?

A) İki önerme eklemi, üç bileşen  
 B) Bir önerme eklemi, bir bileşen  
 C) Üç önerme eklemi, bir bileşen  
 D) Dört önerme eklemi, dört bileşen

3. "Ya kilo alacaksın ya da az yemek yiyeceksin." önermesi, önermeler mantığında nasıl sembolleştirilir?

A)  $p \wedge q$   
 B)  $p \Rightarrow q$   
 C)  $p \Leftrightarrow q$   
 D)  $p \vee q$

4. Aşağıdaki önermelerden hangisi sembolik mantıkta bileşik bir önermedir?

A) Mehmet çok çalışkandır.  
 B) Mozart filozof değildir.  
 C) Bütün insanlar akıllıdır.  
 D) Zeynep yaşlıdır.

5. Aşağıdaki önermelerden hangisi p:Yanlış, q:Yanlış kabul edildiğinde "Doğru" değerini alır?

A)  $\neg p \Rightarrow q$   
 B)  $p \vee q$   
 C)  $p \Leftrightarrow q$   
 D)  $p \wedge q$

6. Aşağıdaki önermelerden hangisi bir tautolojidir?

A)  $p \Rightarrow p$   
 B)  $p \vee p$   
 C)  $p \wedge \neg p$   
 D)  $\neg p \Leftrightarrow p$

7. Üç değerli mantığa göre aşağıdakilerden hangisi doğrudur?

A) p "belirsiz" ve q "belirsiz" ise,  $p \rightarrow q$  "belirsiz" olur.  
 B) p "yanlış" ve q "yanlış" ise,  $q \vee q$  "yanlış" olur.  
 C) p "doğru" ve q "belirsiz" ise  $p \rightarrow q$  "yanlış" olur.  
 D) p "belirsiz" ve q "belirsiz" ise  $p \wedge q$  "yanlış" olur.

8. "Ceren sevimli ve akıllıdır." önermesi niceleme mantığında nasıl sembolleştirilir?

A)  $\forall xFx$   
 B)  $Fa \Rightarrow Ga$   
 C)  $Fa \wedge Ga$   
 D)  $\exists x \wedge Ga$

9. Önerme ile ilgili aşağıdaki ifadelerden hangisi doğrudur?

A) Bir önermenin tutarlı olabilmesi için doğruluk tablosundaki tüm yorumlamaların doğru olması gerekir.  
 B) Her tutarlı önerme geçerlidir.  
 C) Her tutarsız önerme geçerlidir.  
 D) Bir önermenin doğruluk tablosundaki tüm yorumlamaları yanlışsa önerme tutarsızdır.

10. Kiplik mantığına göre aşağıdaki önermelerden hangisi bütün mümkün dünyalarda yanlıştır?

A) Anıtkabir Ankara'dadır veya Anıtkabir Ankara'da değildir.  
 B) Altın sarı değildir.  
 C) Dikdörtgen dört kenarlıdır.  
 D) Menekşe mordur ve menekşe mor değildir.

11. Aşağıdaki önerme çiftlerinden hangisi birbirleriyle tutarlıdır?

A)  $\forall xFx, \neg Fa$   
 B)  $\neg \exists xFx, Fa$   
 C)  $Ga, \neg Ga$   
 D)  $\exists xGx, \exists x \neg Gx$

12.  $\sim \exists xGx$  önermesinin eşdeğeri aşağıdakilerden hangisidir?

- A)  $\sim \forall xGx$
- B)  $\forall x \sim Gx$
- C)  $\exists xGx$
- D)  $\sim \exists x \sim Gx$

13. "Kar yağarsa okullar tatil olmaz." önermesi, önermeler mantığında nasıl sembolleştirilir?

- A)  $q \Rightarrow p$
- B)  $\sim p \Rightarrow q$
- C)  $p \Rightarrow \sim q$
- D)  $p \Leftrightarrow \sim q$

14. Aşağıdaki önermelerden hangisi ikili yüklemli bir önermedir?

- A) Orhan ile Ahmet arkadaştır.
- B) Mustafa, İnaner ile Semih'ten uzundur.
- C) Özlem başarılıdır.
- D) Fuat, piyano çalar.

15. "Uçan halı vardır." önermesi varlık mantığında nasıl sembolleştirilir?

- A)  $a \equiv a$
- B)  $\square p$
- C)  $E ! a$
- D)  $a \equiv b$

16. Kiplik mantığına göre, "Uç artı altının dokuz etmesi zorunludur ama ısınan havanın yükselmesi mümkündür." önermesinin sembolleştirilmiş hali aşağıdakilerden hangisidir?

- A)  $\square p \rightarrow \diamond p$
- B)  $\square q \wedge \diamond p$
- C)  $\diamond p \wedge \square q$
- D)  $\diamond p \leftrightarrow \square q$

17. Aşağıdaki önermelerden hangisi geçerlidir?

- A)  $\exists xGx \wedge \exists xHx$
- B)  $\forall xFx \vee \forall xGx$
- C)  $\forall xFx \vee \sim \forall xFx$
- D)  $\sim (\exists xGx \rightarrow \forall xGx)$

18. Aksiyomlardan türetilmiş olan önermelere ne ad verilir?

- A) Teorem
- B) Teori
- C) Tam tümevarım
- D) Eksik tümevarım

19. Doğruluğu açıkça belli olan önermelere ne ad verilir?

- A) Eşitlik
- B) Tutarlılık
- C) Tanım
- D) Aksiyom

20. Aşağıdakilerden hangisi mantık felsefesinin amaçlarından biri değildir?

- A) Mantığın kavramlarını sorgulamak
- B) Mantığı gözlem ve deneye dayandırmanın yollarını araştırmak
- C) Mantığın ilkelennı sorgulamak
- D) Mantık değişmezleri ile ilgili sorunları araştırmak

1. Anıt, sikkeler, heykel gibi eserler üzerindeki yazıların okunmasıyla ilgilenen bilim dalı aşağıdakilerden hangisidir?
  - A) Arkeometri
  - B) Antropoloji
  - C) Epigrafi
  - D) Arkeoloji
2. Yunan kentlerinde Pazar yeri ve halkın toplandığı açık meydanlar olan "agoranın, işlev ve kurgu olarak Roma kentlerindeki benzer niteliklere sahip mimari uygulaması aşağıdakilerden hangisidir?
  - A) Sütunlu Cadde
  - B) Forum
  - C) Zafer Takı
  - D) Amfi Tiyatro
3. Aşağıdaki yapılardan hangisi İstanbul'da yer almaz?
  - A) Sergios Bacchos Kilisesi
  - B) Tekfur Sarayı
  - C) Karanlık Kilise
  - D) Hagia Sophia
4. Aynı yerde uzun süre oturulması sonunda evlerin yıkılması ve bu enkaz üzerinde yeni yerleşim yerleri kurulması yüzünden seviye yükselmesiyle oluşan suni tepelere ne ad verilir?
  - A) Menhir
  - B) Tümülüs
  - C) Dolmen
  - D) Höyük
5. Sumer heykel ve resim sanatının en tanınmış eseri aşağıdakilerden hangisidir?
  - A) Sinopolis Heykeli
  - B) Kefren Heykeli
  - C) Disk Atan Atlet Heykeli
  - D) Akbabalar Steli
6. Boğazköy'de bulunmuştur. Başında üst üste oturulmuş yastıklar şeklinde bir taç taşımaktadır. Sol elinde bereket sembolü bir nar tutmakta sağında ve solunda flüt ve rübab çalan iki erkek çocuk figürü bulunmaktadır. Yukarıda özellikleri verilmiş olan Frig heykel sanatına ait ünlü bereket tanrıçası aşağıdakilerden hangisidir?
  - A) Kybele
  - B) Şeyhülbeled
  - C) Lugaldalu
  - D) Nofretete
7. Aşağıdakilerden hangisi Sumer'ler tarafından kurulan şehir devletlerinden biri değildir?
  - A) Teb
  - B) Ur
  - C) Umma
  - D) Lagaş
8. İnsan başlı, aslan vücutlu heykellere ne ad verilir?
  - A) Megoron
  - B) Orthostat
  - C) İdol
  - D) Sfenks
9. Aşağıdaki sanat türlerinden hangisi güzel sanatlardan biri değildir?
  - A) Müzik
  - B) Kuyumculuk
  - C) Mimari
  - D) Tiyatro
10. Anadolu'nun Efes kentinde bulunan ve dünyanın yedi harikasından biri sayılan İyon düzeninde inşa edilmiş tapınak, aşağıdakilerden hangisidir?
  - A) Athena Nike
  - B) Artemis
  - C) Erehteion
  - D) Apollon

11. Frig Devleti'nin kurucusu ve unlu kralı Midas'ın Gordion'da bulunan mezarı, yığma toprak tepeden oluşan ve içinde mezar odası bulunan bir mezar yapısıdır. Aşağıdakilerden hangisi bu mezar yapısını tanımlar?

- A) Dolmen
- B) Tümülüs
- C) Menhir
- D) Mastaba

12. Anadolu'da parayı ilk defa kullanan uygarlık aşağıdakilerden hangisidir?

- A) Urartu
- B) Truva
- C) Frigya
- D) Lidya

13. - Antik Yunan portre heykelticiliğinin en önde gelen temsilcisidir  
- Heykele 1/8 oranını getirmiştir  
- İstanbul Arkeoloji Müzesi'ndeki İskender büstü onun eseri olarak bilinmektedir

Yukarıda verilen özellikler hangi Klasik Dönem heykeltıraşına aittir?

- A) Miron
- B) Lysippos
- C) Praksiteles
- D) Phidias

14. Aşağıdakilerden hangisi Rönesans'ı hazırlayan nedenlerden değildir?

- A) İlk müzelerin açılıp halkı sanatseverliğe teşvik etmesi
- B) Unutulan Yunan ve Latin kültürlerinin yeniden önem kazanması
- C) Fikir ve sanat adamlarını koruyup destekleyen ailelerin ortaya çıkması
- D) Bireysel özgürlüğün ortaya çıkması

15. Willendorf Venüsü adı verilen kadın heykelticiliği aşağıdaki çağlardan hangisine aittir?

- A) Paleolitik
- B) Neolitik
- C) Mezolitik
- D) Kalkolitik

16. Anadolu sanatının bilinen ilk ürünleri nerede bulunmuştur?

- A) Beldibi Mağarası
- B) Öküzini Mağarası
- C) Dülük Saklı Mağarası
- D) Karain Mağarası

17. Roman Sanatı aşağıdaki ülkelerden hangisinde ortaya çıkmıştır?

- A) İtalya
- B) Almanya
- C) Fransa
- D) İspanya

18. İstanbul'daki Tektur Sarayı hangi uygarlığa aittir?

- A) Roma
- B) Yunan
- C) Bizans
- D) Osmanlı

19. Aşağıdakilerden hangisi Roman mimarisinin özelliklerinden biri değildir?

- A) Kubbe ve tonozların ağırlığını taşıyabilmesi için duvarlar küçük pencere ve kalındır
- B) İçte ve dışta yuvarlak kemerler kullanılmıştır
- C) Haç planlı kiliseler inşa edilmiştir
- D) Kiliselerin çaplıları heykel ve resimlerle bezenmeye başlamıştır

20. "Bir duygu, tasarım, güzellik ve benzerinin anlatımında kullanılan yöntemlerin bütünü veya bu anlatım sonucunda ortaya çıkan üstün yaratıcılık" aşağıdakilerden hangisinin tanımıdır?

- A) Sanat eseri
- B) Sanat Tarihi
- C) Sanatçı
- D) Sanatsever

## SEÇMELİ TARİH 4

A

2015 I.DÖNEM 0105-A

1. Rutbece en yüksek hizmetlilerin bulunduğu yere verilen ad aşağıdakilerden hangisidir?  
A) Hazine odası  
B) Has oda  
C) Kiler odası  
D) Seferli odası
2. Aşağıdakilerden hangisi Osmanlıların İstanbul için kullandığı isimler arasında yer almaz?  
A) Dersaadet  
B) Şahane Tahtı Saltanat  
C) Darülmülk  
D) İslambol
3. Sarayda padişahın özel hayatını geçirdiği bölüme verilen ad aşağıdakilerden hangisidir?  
A) Bâbüs-Saade  
B) Arz odası  
C) Bîrûn  
D) Enderun
4. Osmanlılarda eyaletin en yüksek rütbeli komutanı aşağıdakilerden hangisidir?  
A) Sancakbeyi  
B) Tımarlı sipahi  
C) Beylerbeyi  
D) Alaybeyi
5. Sarayda günlük hayata ilişkin aşağıdaki ifadelerden hangisi yanlıştır?  
A) Cariyeler iyi bir şekilde yetiştirildi.  
B) Sarayda günlük hayat İslami kurallar ve saray gelenekleri çerçevesinde yaşanırdı.  
C) Padişah her Cuma günü bir camiye namaza giderdi.  
D) Padişah çocukları tanzimattan sonra Arapça öğrenmeye başlamışlardır.
6. Dışarıda loncaı temsil edip hükumete ilişkileri yürütmekte olan aşağıdakilerden hangisidir?  
A) Şeyh  
B) Nakip  
C) Çavuş  
D) Kethüda
7. Köylünün elde ettiği ürün üzerinden sipahiye ödediği vergiye verilen ad aşağıdakilerden hangisidir?  
A) Çift resmi  
B) Şerefiye  
C) Dirlik  
D) Çiftbozan resmi
8. Konargöçerlerin devlete ödediği vergi aşağıdakilerden hangisidir?  
A) Meslek vergisi  
B) Katılım vergisi  
C) Ağıl vergisi  
D) İşgal vergisi
9. XIX. yüzyılda kapitülasyonlarla ilgili imzalanan antlaşma aşağıdakilerden hangisidir?  
A) Kütahya Antlaşması  
B) Amasya Antlaşması  
C) Balta Limanı Antlaşması  
D) Karlofça Antlaşması
10. XIX. yüzyılda İstanbul, Diyarbakır ve Musul'da hangi ürüne alt fabrikalar bulunmaktaydı?  
A) Çini  
B) Halı  
C) Kağıt  
D) Deri
11. Aşağıdakilerden hangisi Osmanlılarda büyük ticaret merkezi haline gelen şehirlerden biri değildir?  
A) İstanbul  
B) Bursa  
C) Çanakkale  
D) Edirne
12. Kaza ya da sancağın o zamanki erkek nüfusunu ve bunların odemekle yükümlü olduğu vergi miktarını tespit etmek için aşağıdakilerden hangisi yapıldı?  
A) Tahrir  
B) Zeamet  
C) Has  
D) Oşrf



13. Osmanlı Devleti'nde açılan ilk banka aşağıdakilerden hangisidir?

- A) Bank-ı Osmani
- B) Bank-ı Dersaadet
- C) Ziraat Bankası
- D) İtibar-ı Milli Bankası

14. Osmanlılarda XVII. Yüzyılın ünlü hat ustası aşağıdakilerden hangisidir?

- A) Ahmet Karahisarî
- B) Mustafa Rakım Efendi
- C) Amasyalı Şeyh Hamdullah
- D) Hafız Osman

15. İstanbul'da ilk matbaayı kuran aşağıdakilerden hangisidir?

- A) Münif Paşa
- B) İbrahim Müteferrika
- C) Şinasi
- D) Ali Suavi

16. Aşağıdakilerden hangisi XIX. yüzyıl halk şairlerinden biri değildir?

- A) Dadaloğlu
- B) Öksüz Dede
- C) Seyrani
- D) Bayburtlu Zihni

17. Osmanlı devrinde divan edebiyatının en güçlü olduğu dönem aşağıdakilerden hangisidir?

- A) XVI. yüzyıl
- B) XVII. yüzyıl
- C) XVIII. yüzyıl
- D) XIX. yüzyıl

18. Aşağıdakilerden hangisi ordunun kurmay subay ihtiyacını karşılamak için 1845 yılında Harp Okulu bünyesinde açılmıştır?

- A) Mekteb-i Bahriye
- B) Mühendishane-i Bahr-i Hümayûn
- C) Erkân-ı Harbiye Sınıfı
- D) Mühendishane-i Berf-i Hümayûn

19. XVII. yüzyılın en önemli eseri aşağıdakilerden hangisidir?

- A) Sultan Ahmet Camii
- B) Nuru Osmaniye Camii
- C) Süleymaniye Camii
- D) Selimiye Camii

20. Osmanlı Devleti'nin medreselerinde öğretmenlik yapanlara verilen unvan aşağıdakilerden hangisidir?

- A) Müderris
- B) Naip
- C) Kethuda
- D) Atabey

1. Hz. Muhammed (s.a.v.), sütannesinin yanından ayrılmış Mekke'ye, altesinin yanına hangi yılda dönmüştür?
  - A) 572
  - B) 573
  - C) 574
  - D) 575
2. Hz. Muhammed'in (s.a.v.) mensubu olduğu kabile aşağıdakilerden hangisidir?
  - A) Haşim oğulları
  - B) Ümeyye oğulları
  - C) Nedim oğulları
  - D) Halim oğulları
3. Kâbe'yi eski temelleri üzerine inşa ettikten sonra ellerini açarak Allah'a "Rabbimiz! Soyumuzdan onlara senin mesajlarını ileticek, vahyi ve hikmet öğretecek, onları arındırıp temizleyecek bir elçi çıkar." diye dua eden kimdir?
  - A) Hz. İsa
  - B) Hz. İbrahim
  - C) Hz. Ali
  - D) Hz. Ebu Bekir
4. Hz. Muhammed'in (s.a.v.) doğduğu dönemde yeni doğan çocukların sütanneye verilmesi geleneğine uyularak verildiği sütannesinin adı nedir?
  - A) Halime
  - B) Şüveybe
  - C) Ümmü Eymen
  - D) Şeyme
5. Mekke'de haksızlıkları önlemek için kurulan sivil toplum örgütü aşağıdakilerden hangisidir?
  - A) Haklar Topluluğu
  - B) Erdemliler Topluluğu
  - C) Koruma Topluluğu
  - D) Faziletliiler Topluluğu
6. Aşağıdakilerden hangisi Hz. Muhammed'in (s.a.v.) sağlığa faydalı olduğu için tavsiye ettiği davranışlardan biri değildir?
  - A) Kan vermek
  - B) Spor yapmamak
  - C) Bal yemek
  - D) Çörekotu yemek
7. Hz. Muhammed'in (s.a.v.) doğduğu gün aşağıdakilerden hangisidir?
  - A) Pazartesi
  - B) Salı
  - C) Perşembe
  - D) Cuma
8. Aşağıdakilerden hangisi Hz. Muhammed'in (s.a.v.) yaşadığı toplumda bulunan güzel hasletlerden biri değildir?
  - A) Comertlik
  - B) Ahde vefa
  - C) Kadına hürmet
  - D) Misafirperverlik
9. İnsanın yaratılış fıtratına aykırı davranışına ne ad verilir?
  - A) Münafıklık
  - B) İnançsızlık
  - C) Duygusuzluk
  - D) Dengesizlik
10. Hz. Muhammed'i (s.a.v.) annesinin vefatıyla ilk himayesine alan akrabası aşağıdakilerden hangisidir?
  - A) Sütanesi
  - B) Dedesi
  - C) Dayısı
  - D) Amcası

11. Kuran-ı Kerim'de geçen müşrik aşağıdakilerden hangisidir?

- A) Allah'a inanmayanlar
- B) Mekke'de yaşayanlar
- C) Yahudi ve Hristiyanlar
- D) Puta tapanlar

12. Hendek Savaşı hangi yıl yapılmıştır?

- A) 624
- B) 625
- C) 626
- D) 627

13. Hz. Muhammed'in (s.a.v.) dedesinin adı nedir?

- A) Abdulrahman
- B) Abdülrahim
- C) Abdülmuttalip
- D) Abdullah

14. Hz. Muhammed'in (s.a.v.) amcası Ebu Talip'in eşi aşağıdakilerden hangisidir?

- A) Hatice Hanım
- B) Ummü Seleme Hanım
- C) Fatma Hanım
- D) Ümmü Eymen Hanım

15. Hz. Muhammed'in (s.a.v.) doğum tarihi aşağıdakilerden hangisidir?

- A) 20 Nisan (12 Kebbryulevvel) 571
- B) 20 Haziran (27 Ramazan) 571
- C) 20 Nisan (27 Ramazan) 610
- D) 20 Haziran (12 Kebbryulevvel) 610

16. Hep haktan ve doğruluktan yana olan Hz. Muhammed'e (s.a.v.) "Muhammed'ul Emin" adını verenler aşağıdakilerden hangisidir?

- A) Medineliler
- B) Şamîliler
- C) Mekkeliler
- D) Yemenliler

17. Aşağıdakilerden hangisi İslam öncesi Cahiliye döneminin özelliklerinden biri değildir?

- A) Putlara tapılması
- B) Kadınlara hiç değer verilmemesi
- C) Genelde güçlü olanların zayıf ve kimsesizleri ezmesi
- D) Barış içinde yaşanması

18. Aşağıdakilerden hangisi Hz. Muhammed'in (s.a.v.) teşvik ettiği spor dallarından biri değildir?

- A) Yürüyüş
- B) Koşu
- C) Jimnastik
- D) Güreş

19. Zerdüştlere devrinde en iyi kadın olarak görülen aşağıdakilerden hangisidir?

- A) Kendini kocasının naaşı üzerinde yakan kadın
- B) Kocasına hizmet eden kadın
- C) Kocasını efendisi olarak gören kadın
- D) Merasim ve ayinlerden uzak duran kadın

20. Hz. Muhammed'in (s.a.v.) annesinin adı nedir?

- A) Halime
- B) Şeyma
- C) Ümmü Eymen
- D) Âmine

1. Ich esse Obst ..... Gemüse. Aber ..... esse ich Schokolade.

Welche Wörter passen in die obigen Lücken?

Cümiede boş bırakılan yerleri aşağıdakilerden hangileri doğru şekilde tamamlar?

- A) viel als / lieber  
B) mehr als / am meisten  
C) besser als / am teuersten  
D) schöner als / mehr

2. Ayfer: Was hat er gesagt?  
Melda: Er hat gesagt, er ..... müde.

Welches ergänzt die Lücke im obigen Dialog?

Verilen karşılıklı konuşmada boş bırakılan yerleri aşağıdakilerden hangisi tamamlar?

- A) ist  
B) war  
C) hätte  
D) sei

3. Monika ist 1.75 cm und Petra ist 1.60 cm groß.  
Monika ist ..... als Petra.

Welches Wort passt in die obige Lücke?

Cümiede boş bırakılan yerleri aşağıdakilerden hangisi doğru olarak tamamlar?

- A) kleiner  
B) größten  
C) kleinster  
D) länger

4. Warum gehst du zur Bank?

Welche Antwort passt zur obigen Frage?

Verilen sorunun cevabı aşağıdakilerden hangisidir?

- A) Ich muss Geld sparen, weil ich ein Auto kaufen will.  
B) Ich konnte kommen aber ich hatte keine Zeit.  
C) Ich gehe zur Bank, weil ich Geld brauche.  
D) Ich durfte nicht kommen, weil ich Hausaufgaben machen muss.

5. Sie geht in die Sprachschule, weil sie Deutsch lernen will.

Welche Frage passt zur obigen Antwort?

Verilen cevabı gerektirecek soru aşağıdakilerden hangisidir?

- A) Wer geht in die Sprachschule?  
B) Wann geht sie in die Schule?  
C) Warum geht sie in die Sprachschule?  
D) Wie geht sie in die Schule?

6. Die Frauen arbeiten. Die Frauen wollen ihre Familie unterstützen.

Wie kann man die obigen Sätze verbinden?

Verilen cümlelerin birleştirilmiş hali aşağıdakilerden hangisidir?

- A) Die Frauen hätten ihre Familie unterstützen können, wenn sie arbeiten könnten.  
B) Die Frauen haben gearbeitet, um andere Familien zu unterstützen.  
C) Die Frauen arbeiten, weil sie ihre Familie unterstützen wollen.  
D) Die Frauen wollen ihre Familie unterstützen, um arbeiten zu können.

7. Ich gehe jeden Tag schwimmen!

Welche Frage passt zur obigen Antwort?

Verilen cevabı gerektirecek soru aşağıdakilerden hangisidir?

- A) Wo schwimmst du?  
B) Wie oft gehst du schwimmen?  
C) Wie lange schwimmst du?  
D) Warum schwimmst du?

8. Man sollte ..... essen und ..... Sport treiben und somit Gesund bleiben!

Welche Wörter passen in die obigen Lücken?

Cümiede boş bırakılan yerleri aşağıdakilerden hangileri doğru şekilde tamamlar?

- A) nie / genau  
B) etwa / selten  
C) sicher / tagelang  
D) selten / häufig

9. Was bedeutet "her bakımdan" auf Deutsch?

"her bakımdan" sözcüğünün Almancası aşağıdakilerden hangisidir?

- A) Auf dessen hinsichtlich
- B) Für sicherheitshalber
- C) Alles unsichtig
- D) In jeder Hinsicht

10. Man sagt, er ..... aus Erzurum.

Welches Wort passt in die obige Lücke?

Cümlede boş bırakılan yeri aşağıdakilerden hangisi doğru şekilde tamamlar?

- A) wäre
- B) wären
- C) wart
- D) waren

11. Tekrar evlendiğini duydum.

Wie lautet der obige Satz auf Deutsch?

Verilen cümlenin Almancası aşağıdakilerden hangisidir?

- A) Ich dachte, dass du niemals wieder heiraten würdest.
- B) Ich habe gehört, du hast wieder geheiratet.
- C) Ich träumte davon, dass du heiratest.
- D) Ich habe von Freunden gehört, dass du heiraten willst.

12. A: War das ein Hotel?

B: Ja, das war ein Hotel.

A: Ich habe immer gedacht, .....

Welcher Satz ergänzt die Lücke im obigen Dialog?

Verilen karşılıklı konuşmada boş bırakılan yeri aşağıdakilerden hangisi tamamlar?

- A) es wäre eine Wohnung gewesen.
- B) es hatte eine kleine Tochter.
- C) es gibt diese Bücher in der Bibliothek.
- D) es gefällt uns sehr gut.

13. ...., bei dem glücklicherweise keiner verletzt wurde.

Welches ergänzt die Lücke im obigen Satz?

Verilen cümleyi aşağıdakilerden hangisi tamamlar?

- A) Gestern waren die Geschäfte geschlossen
- B) Heute hatten wir eine Prüfung
- C) Heute gehe ich in die Stadt
- D) Gestern hat es einen Verkehrsunfall gegeben

14. Der Arbeiter sagt seinem Chef, daß die Arbeit nächste Woche beendet sein werde.

Welche Frage passt zur obigen Antwort?

Verilen cevabı gerektirecek soru aşağıdakilerden hangisidir?

- A) Was möchte der Chef?
- B) Wer sollte die Hausaufgabe machen?
- C) Was sagt der Arbeiter seinem Chef?
- D) Wann geht der Chef nach Hause?

15. Was bedeutet das Wort "der Ernst" auf Türkisch?

"der Ernst" sözcüğünün Türkçesi aşağıdakilerden hangisidir?

- A) Ciddiyet
- B) Uçurum
- C) Başarı
- D) Ekip

16. Sie kommen am Montag nach Ankara.

Welches ist die Konjunktivform vom obigen Satz?

Verilen cümlenin Konjunktif hali aşağıdakilerden hangisidir?

- A) Man sagt, sie kämen am Montag nach Ankara.
- B) Man will, daß wir am Montag nach Ankara kommen.
- C) Man spricht davon, daß du am Montag nach Ankara kämest.
- D) Man sage, ihr wolltet am Montag nach Ankara kommen.

17. Yan tarafta oturan bayan Almanca öğretmeni.

Wie lautet der obige Satz auf Deutsch?

Verilen cümlenin Almancası aşağıdakilerden hangisidir?

- A) Die Dame ist wahrscheinlich eine Deutschlehrerin.  
 B) Man sagt, daß die Dame nebenan eine Deutschlehrerin ist.  
 C) Die Dame, die nebenan wohnt, ist Deutschlehrerin.  
 D) Man will, daß eine Deutschlehrerin unser Nachbar wird.

18. Der Mann, ..... ist unser Nachbar.

Welches ergänzt die Lücke im obigen Satz?

Verilen cümleyi aşağıdakilerden hangisi tamamlar?

- A) das Fieber hat  
 B) der in der Bäckerei arbeitet  
 C) den du einen Pullover geschenkt hast  
 D) deren Wohnung du kennst

19. Die Frau, ..... ist blond.

Welcher Satz ergänzt nicht die obige Lücke?

Verilen cümleyi aşağıdakilerden hangisi tamamlamaz?

- A) das sehr alt ist  
 B) dem du hilfst  
 C) die nach Ankara fährt  
 D) deren Eltern in Urlaub sind

20. Der Junge freute sich sehr.  
 Ich habe ihm Schokolade gekauft.

Wie kann man die obigen Sätze verbinden?

Verilen cümlelerin birleştirilmiş hali aşağıdakilerden hangisidir?

- A) Der Junge kauft sich Schokolade und freute sich.  
 B) Der Junge, dem ich Schokolade gekauft habe, freute sich sehr.  
 C) Der Junge kauft sich Schokolade und freut sich.  
 D) Der Junge wollte sich Schokolade kaufen und sich freuen.

1. What were you doing when I ..... you last night?

Which of the following completes the sentence above?

Aşağıdakilerden hangisi yukarıdaki cümleyi doğru olarak tamamlar?

- A) calling  
B) has called  
C) call  
D) called

2. Mrs Lavender ..... at home yesterday. She was cleaning all day long.

Which of the following completes the sentence above?

Aşağıdakilerden hangisi yukarıdaki cümleyi doğru olarak tamamlar?

- A) were  
B) was  
C) is  
D) are

3. While they ..... a movie, the electricity went off.

Which of the following completes the sentence above?

Aşağıdakilerden hangisi yukarıdaki cümleyi doğru olarak tamamlar?

- A) were watching  
B) watched  
C) have watched  
D) are watching

4. Ceylan ..... to her mum at this time yesterday.

Which of the following completes the sentence above?

Aşağıdakilerden hangisi yukarıdaki cümleyi doğru olarak tamamlar?

- A) is talking  
B) talks  
C) will talk  
D) was talking

5. What did she do last night?

Which of the following can be the answer to the question above?

Aşağıdakilerden hangisi yukarıdaki sorunun yanıtı olabilir?

- A) She studies English.  
B) She is studying English.  
C) She has studied English.  
D) She studied English.

6. I have had my glasses ..... ten years.

Which of the following completes the sentence above?

Aşağıdakilerden hangisi yukarıdaki cümleyi doğru olarak tamamlar?

- A) for  
B) then  
C) since  
D) ago

7. My little sister ..... any vegetables two years ago.

Which of the following completes the sentence above?

Aşağıdakilerden hangisi yukarıdaki cümleyi doğru olarak tamamlar?

- A) didn't used to eat  
B) ate  
C) didn't use to eat  
D) use to eat

8. I haven't eaten anything since breakfast.

Which of the following is the Turkish translation of the sentence above?

Aşağıdakilerden hangisi yukarıdaki cümlenin Türkçe karşılığıdır?

- A) Kahvaltıda çok şey yedim.  
B) Kahvaltıda beri hiçbir şey yemedim.  
C) Kahvaltıda çok az yedim.  
D) Kahvaltıda her şeyi yedim.

9. Mr.Öztürk ..... basketball when he was at university.

Which of the following completes the sentence above?

Aşağıdakilerden hangisi yukarıdaki cümleyi doğru olarak tamamlar?

- A) use to play  
B) used to play  
C) uses to play  
D) plays

10. Ege hasn't done any homework ..... the beginning of the term.

Which of the following completes the sentence above?

Aşağıdakilerden hangisi yukarıdaki cümleyi doğru olarak tamamlar?

- A) for  
B) since  
C) at  
D) to

11. They never helped us, .....?

Which of the following completes the sentence above?

Aşağıdakilerden hangisi yukarıdaki cümleyi doğru olarak tamamlar?

- A) do they
- B) didn't they
- C) will they
- D) did they

12. Tomorrow ..... a hard day for us.

Which of the following completes the sentence above?

Aşağıdakilerden hangisi yukarıdaki cümleyi doğru olarak tamamlar?

- A) will be
- B) being
- C) was
- D) were

13. Jack: That's your car, ..... it?

Bill: Yes, it is.

Which of the following completes the dialogue above?

Aşağıdakilerden hangisi yukarıdaki konuşmayı doğru olarak tamamlar?

- A) won't
- B) isn't
- C) aren't
- D) didn't

14. Finish your homework, .....?

Which of the following completes the sentence above?

Aşağıdakilerden hangisi yukarıdaki cümleyi doğru olarak tamamlar?

- A) did you
- B) do you
- C) will you
- D) shall we

15. Aynur ..... probably go to the park tomorrow.

Which of the following completes the sentence above?

Aşağıdakilerden hangisi yukarıdaki cümleyi doğru olarak tamamlar?

- A) is
- B) have
- C) had
- D) will

16. He works at the factory, .....?

Which of the following completes the sentence above?

Aşağıdakilerden hangisi yukarıdaki cümleyi doğru olarak tamamlar?

- A) doesn't he
- B) does he
- C) did he
- D) is he

17. These books are ..... than the ones in the other bookstore.

Which of the following completes the sentence above?

Aşağıdakilerden hangisi yukarıdaki cümleyi doğru olarak tamamlar?

- A) old
- B) the oldest
- C) older
- D) more older

18. Ali solved all the problems ..... than his friends.

Which of the following completes the sentence above?

Aşağıdakilerden hangisi yukarıdaki cümleyi doğru olarak tamamlar?

- A) most easily
- B) easily
- C) more easily
- D) easy

19. Lucy is a careful driver. I think she drives ..... than me.

Which of the following completes the sentence above?

Aşağıdakilerden hangisi yukarıdaki cümleyi doğru olarak tamamlar?

- A) more carefully
- B) carefully
- C) worse
- D) more earlier

20. I went to bed ..... than usual.

Which of the following completes the sentence above?

Aşağıdakilerden hangisi yukarıdaki cümleyi doğru olarak tamamlar?

- A) more late
- B) late
- C) later
- D) latest



1. La robe ..... ma mère a choisi coûte 50 euros.

Choisissez le mot qui convient.

Cümledeki boşluğu aşağıdakilerden hangisi doğru şekilde tamamlar?

- A) dernière  
B) où  
C) que  
D) qui

2. Quand on est fatigué, on .....

Choisissez l'expression qui convient.

Yukarıdaki cümlede boş bırakılan yeri aşağıdakilerden hangisi doğru şekilde tamamlar?

- A) danse  
B) fait du vélo  
C) se repose  
D) fait du violon

3. .... malade, elle n'est pas allée à l'école.

Choisissez le mot qui convient.

Cümledeki boşluğu aşağıdakilerden hangisi doğru şekilde tamamlar?

- A) Ayant  
B) Etant  
C) Marchant  
D) Faisant

4. Nous ..... du ski la semaine prochaine.

Choisissez le mot qui convient.

Cümledeki boşluğu aşağıdakilerden hangisi doğru şekilde tamamlar?

- A) apprendrons  
B) ferons  
C) faisons  
D) avons fait

5. «Aglayarak gittim.»

Choisissez la traduction qui convient.

Yukarıdaki cümlelerin Fransızca karşılığı aşağıdakilerden hangisidir?

- A) Je pars en pleurant.  
B) Je viens en pleurant.  
C) Je vais en pleurant.  
D) Je suis partie en pleurant.

6. Choisissez le synonyme du verbe "se distraire".

"Se distraire" fiilinin eş anlamısı aşağıdakilerden hangisidir?

- A) s'amuser  
B) se reposer  
C) s'ennuyer  
D) s'intéresser

7. Il peut jouer ..... piano.

Choisissez le mot qui convient.

Cümledeki boşluğu aşağıdakilerden hangisi doğru şekilde tamamlar?

- A) du  
B) au  
C) de la  
D) de

8. Le pantalon ..... j'ai acheté était trop cher.

Choisissez le mot qui convient.

Cümledeki boşluğu aşağıdakilerden hangisi doğru şekilde tamamlar?

- A) que  
B) celle  
C) celui  
D) qui

9. Tu sais bien qu'il est impossible de contenter tout le monde.

Choisissez la traduction qui convient.

Yukarıdaki cümlelerin Türkçe karşılığı aşağıdakilerden hangisidir?

- A) Herkesin memnun olması için çalışıyorsun.  
B) Çalışmaların herkesi memnun ediyor.  
C) İmkânsızlıklara rağmen bu işi başarmın herkesi memnun etti.  
D) Herkesi memnun etmenin imkânsız olduğunu bilirsin.

10. Le sport est un .....

Choisissez le mot qui convient.

Cümledeki boşluğu aşağıdakilerden hangisi doğru şekilde tamamlar?

- A) promenade  
B) distraction  
C) passe-temps  
D) émission

11. L'appartement ..... elle habite est très grand.

Choisissez le mot qui convient.

Cümledeki boşluğu aşağıdakilerden hangisi doğru şekilde tamamlar?

- A) mes  
B) d'  
C) où  
D) pourquoi

12. Tu partiras en vacances comment? ..... ou en famille?

Choisissez le mot qui convient.

Cümledeki boşluğu aşağıdakilerden hangisi doğru şekilde tamamlar?

- A) Autre  
B) Seul  
C) Moi  
D) L'étranger

13. Avec mon passeport, je peux partir à .....

Choisissez le mot qui convient.

Cümledeki boşluğu aşağıdakilerden hangisi doğru şekilde tamamlar?

- A) France  
B) avion  
C) l'université  
D) l'étranger

14. C'est un ..... policier.

Choisissez le mot qui convient.

Cümledeki boşluğu aşağıdakilerden hangisi doğru şekilde tamamlar?

- A) émission  
B) roman  
C) photo  
D) peinture

15. On peut pique-niquer en forêt quand .....

Complétez la phrase avec la proposition qui convient.

Yukarıdaki cümleyi aşağıdaki ifadelerden hangisi doğru şekilde tamamlar?

- A) il fait beau  
B) il pleut  
C) il neige  
D) il y a du vent

16. "....."  
- Oui, je joue au basket chaque semaine.

Choisissez la question qui convient.

Yukarıdaki konuşmada cevabı gerektiren soru aşağıdakilerden hangisidir?

- A) Quel sport aimez-vous?  
B) Vous jouez au tennis?  
C) Pourquoi vous ne pratiquez pas un sport?  
D) Vous pratiquez régulièrement un sport?

17. Pierre va faire du ski cet .....

Choisissez le mot qui convient.

Cümledeki boşluğu aşağıdakilerden hangisi doğru şekilde tamamlar?

- A) automne  
B) printemps  
C) hiver  
D) été

18. La femme ..... vient est ma tante.

Choisissez le mot qui convient.

Cümledeki boşluğu aşağıdakilerden hangisi doğru şekilde tamamlar?

- A) qui  
B) que  
C) où  
D) pas

19. Des enfants obéissants ..... venus.

Choisissez le mot qui convient.

Cümledeki boşluğu aşağıdakilerden hangisi doğru şekilde tamamlar?

- A) est  
B) étant  
C) ayant  
D) sont

20. les / j'aime / brillantes / lumières

I II III IV

Mettez dans le bon ordre.

Yukarıdaki kelimelerin anlamı ve kurallı bir bütün oluşturan sırası aşağıdakilerin hangisinde doğru olarak verilmiştir?

- A) II, I, III, IV  
B) II, I, IV, III  
C) III, IV, I, II  
D) III, IV, II, I

1. Yakında daha iyi olmayı umuyorum!

Wie lautet der obige Satz auf Deutsch?

Verilen cümlenin Almancası aşağıdakilerden hangisidir?

- A) Ich habe gehört, daß es dir gut geht!  
 B) Ich glaube, es geht ihm gut!  
 C) Ich finde, daß es ihm heute besser geht!  
 D) Ich hoffe, daß es mir bald besser geht!

2. Albert Einstein war ein .....  
 Wissenschaftler.

Welches Wort passt in die obige Lücke?

Cümlede boş bırakılan yeri aşağıdakilerden hangisi doğru şekilde tamamlar?

- A) relativ  
 B) leer  
 C) berühmter  
 D) vieler

3. Wir ..... eine Woche Urlaub machen.

Welches Wort passt in die obige Lücke?

Cümlede boş bırakılan yeri aşağıdakilerden hangisi doğru şekilde tamamlar?

- A) machen  
 B) möchten  
 C) möchtest  
 D) machst

4. Wenn ich eine Erfinderin .....  
 ich eine neue Lemmaschine erfinden.

Welche Wörter passen in die obigen Lücken?

Cümlede boş bırakılan yerleri aşağıdakilerden hangileri doğru şekilde tamamlar?

- A) weil / wenn  
 B) wurde / wirst  
 C) werde / wird  
 D) wäre / würde

5. Er kann bei einer Ögesellschaft arbeiten.

Welche Frage passt zur obigen Antwort?

Verilen cevabı gerektirecek soru aşağıdakilerden hangisidir?

- A) Arbeitest du an der Universität?  
 B) Wann gehst du an die Universität?  
 C) Schreibst du eine Reportage über diesen Beruf?  
 D) Wo kann ein Geologe arbeiten?

6. Wenn ich ein ..... Büro hätte, würde ich  
 mit einem guten Team arbeiten.

Welches Wort passt in die obige Lücke?

Cümlede boş bırakılan yeri aşağıdakilerden hangisi doğru şekilde tamamlar?

- A) gutem  
 B) eures  
 C) eigenes  
 D) geme

7. Was bedeutet das Gegenteil von "Ärger"?

"Ärger" sözcüğünün zıt anlamı aşağıdakilerden hangisidir?

- A) Spannung  
 B) Folge  
 C) Spaß  
 D) Erinnerung

8. Ein Velotaxi braucht kein Benzin, ausserdem  
 .....

Welches ergänzt nicht die Lücke im obigen Satz?

Verilen cümleyi aşağıdakilerden hangisi tamamlamaz?

- A) kann er ein Taxi bestellen.  
 B) wird es meistens in der Innenstadt benutzt.  
 C) ist es leise und es hat keine Abgase.  
 D) sieht es sehr modern aus.

9. Sie / stolz / das / Hochrad / auf / ist / selbstgebaute

Wie kann man mit den obigen Wortgruppen einen vollständigen Satz bilden?

Verilen sözcük gruplarıyla kurulabilecek anlamli ve dođru cümle aşağıdakilerden hangisidir?

- A) Stolz sie ist auf Hochrad das selbstgebaute.  
B) Hochrad sie ist auf das selbstgebaute Stolz.  
C) Auf das selbstgebaute sie ist Stolz Hochrad.  
D) Sie ist Stolz auf das selbstgebaute Hochrad.

10. Ja, ich stimme zu, dass das Internet ein Müllhaufen ist.

Welche Frage passt zur obigen Antwort?

Verilen cevabı gerektirecek soru aşağıdakilerden hangisidir?

- A) Meinst du, dass wir heute ins Theater gehen können?  
B) Stimmt du zu, dass das Internet ein Müllhaufen ist?  
C) Glaubst du, dass ich das im Internet finden kann?  
D) Wie findest du meinen Computer?

11. Ich wollte meine Mutter zu meinen Großeltern bringen, aber ich kann nicht, .....

Welches ergänzt die Lücke im obigen Satz?

Verilen cümleyi aşağıdakilerden hangisi tamamlar?

- A) weil sie kein Benzin und Wasser brauchen.  
B) wenn wir in Zukunft modern aussehen wollen.  
C) weil ich zum Arzt gehen muss.  
D) wenn ihr Hausaufgaben macht.

12. Was bedeutet das Wort "belastend" auf Türkisch?

"belastend" sözcüğünün Türkçesi aşağıdakilerden hangisidir?

- A) heyecanlı  
B) sıkıcı  
C) yorucu  
D) sakinleştirici

13. Wie lautet das Singular von "Die Fahrräder"?

"Die Fahrräder" sözcüğünün tekil hali aşağıdakilerden hangisidir?

- A) Der Fahrrad  
B) Das Fahrrad  
C) Die Fahrrad  
D) Den Fahrrad

14. A: Hallo, Ayşel Hast du eine Landkarte?  
B: Ja, wofür brauchst du die Landkarte?  
A: .....  
B: Gut, das können wir zusammen machen!

Welcher Satz ergänzt den obigen Dialog?

Verilen karşılıklı konuşmayı aşağıdakilerden hangisi tamamlar?

- A) Ich möchte sehen, durch welche Länder der Rhein fließt.  
B) Ich möchte mir das Lied anhören.  
C) Wir können dieses Gedicht in der Klasse vortragen.  
D) Ihr könnt auch Wettfinden spielen.

15. Er ist ein berühmter deutscher Dichter.

Welche Frage passt zur obigen Antwort?

Verilen cevabı gerektirecek soru aşağıdakilerden hangisidir?

- A) Welche deutschen Mythen kennst du?  
B) Wer ist Heinrich Heine?  
C) Was ist die Loreley?  
D) Woher kennt ihr Zehra Erdem?

16. Ein Gedicht vortragen bedeutet, .....

**Welches ergänzt die Lücke im obigen Satz?**

**Vertilen cümleyi aşağıdakilerden hangisi tamamlar?**

- A) daß man das Gedicht ohne Buch präsentiert.
- B) daß man ein Plakat kaufen kann.
- C) daß man das Gedicht singt.
- D) daß das Märchen aus alter Zeit kommt.

17. Birçok şehir, kale ve köy doğrudan Ren'in kıyısında bulunmaktadır.

**Wie lautet der obige Satz auf Deutsch?**

**Vertilen cümlenin Almancası aşağıdakilerden hangisidir?**

- A) Viele Städte, Burgen und Dörfer liegen direkt am Rhein.
- B) Die Quelle vom Rhein liegt in der Schweiz.
- C) Die meisten Dörfer und Burgen führen zum Rhein.
- D) Viele Städte, Mündungen und Türme befinden sich am Rhein.

18. Von der Burg gibt es einen sehr ..... Blick auf das Rheintal.

**Welches Wort passt in die obige Lücke?**

**Cümlede boş bırakılan yerı aşağıdakilerden hangisi doğru şekilde tamamlar?**

- A) schöner
- B) schönen
- C) schönsten
- D) schönem

19. Weißt du etwas über die Loreley?

**Welche Antwort passt zur obigen Frage?**

**Vertilen sorunun cevabı aşağıdakilerden hangisidir?**

- A) Nein, die Luft ist heute kühl.
- B) Ja, vom Eingang sieht man in die Burgruine.
- C) Nein, das Plakat ist ein Hinweis für die Besucher.
- D) Ja, ich habe ein Loreley Lied in der Klasse gelernt.

20. .... dem Wegweiser stehen einige Städte ..... Orte.

**Welche Wörter passen in die obigen Lücken?**

**Cümlede boş bırakılan yerleri aşağıdakilerden hangileri doğru şekilde tamamlar?**

- A) Auf / und
- B) Für / sondern
- C) Unter / in
- D) Mit / auch

1. Tomorrow night at 9 he ..... his favourite show on TV.

Which of the following completes the sentence above?

Aşağıdakilerden hangisi yukarıdaki cümleyi doğru olarak tamamlar?

- A) will be watching  
B) will watch  
C) watches  
D) is watching

2. You ..... cleaning your room this evening.

Which of the following completes the sentence above?

Aşağıdakilerden hangisi yukarıdaki cümleyi doğru olarak tamamlar?

- A) is  
B) be  
C) will be  
D) can

3. Brenda will have ..... by this time next year.

Which of the following completes the sentence above?

Aşağıdakilerden hangisi yukarıdaki cümleyi doğru olarak tamamlar?

- A) retire  
B) retired  
C) retiring  
D) retires

4. What ..... in the next five years?

Which of the following completes the sentence above?

Aşağıdakilerden hangisi yukarıdaki cümleyi doğru olarak tamamlar?

- A) did you do  
B) would you do  
C) will you have done  
D) would you have done

5. If we heat ice, it .....

Which of the following completes the sentence above?

Aşağıdakilerden hangisi yukarıdaki cümleyi doğru olarak tamamlar?

- A) freezes  
B) pours  
C) goes  
D) melts

6. If Jamie ..... his motorbike, he ..... a new car.

Which of the following completes the sentence above?

Aşağıdakilerden hangisi yukarıdaki cümleyi doğru olarak tamamlar?

- A) sell / will buy  
B) sells / would buy  
C) sells / will buy  
D) will sell / buys

7. If you're always late, .....

Which of the following completes the sentence above?

Aşağıdakilerden hangisi yukarıdaki cümleyi doğru olarak tamamlar?

- A) sleep late  
B) wear a uniform  
C) get up early  
D) do some exercises

8. If I ....., I would help poor people.

Which of the following completes the sentence above?

Aşağıdakilerden hangisi yukarıdaki cümleyi doğru olarak tamamlar?

- A) had an accident  
B) painted the walls  
C) spoke Spanish well  
D) were a rich man

9. If you kept a diary, you ..... forget your homework.

Which of the following completes the sentence above?

Aşağıdakilerden hangisi yukarıdaki cümleyi doğru olarak tamamlar?

- A) wouldn't  
B) didn't  
C) mustn't  
D) can't

10. If we ..... a taxi, we would have arrived earlier.

Which of the following completes the sentence above?

Aşağıdakilerden hangisi yukarıdaki cümleyi doğru olarak tamamlar?

- A) have taken  
B) had taken  
C) take  
D) will take

11. .... that water has lots of benefits, Lucy drinks two litres a day.

Which of the following completes the sentence above?

Aşağıdakilerden hangisi yukarıdaki cümleyi doğru olarak tamamlar?

- A) Because  
B) For  
C) Due to the fact  
D) Since

12. She left school at 16 ..... work and make money.

Which of the following completes the sentence above?

Aşağıdakilerden hangisi yukarıdaki cümleyi doğru olarak tamamlar?

- A) in order to  
B) because  
C) whenever  
D) so

13. The film was very boring ..... some people fell asleep.

Which of the following completes the sentence above?

Aşağıdakilerden hangisi yukarıdaki cümleyi doğru olarak tamamlar?

- A) to  
B) so  
C) because  
D) at

14. .... they got home, the boy had eaten all the cake.

Which of the following completes the sentence above?

Aşağıdakilerden hangisi yukarıdaki cümleyi doğru olarak tamamlar?

- A) Whenever  
B) Because  
C) Due to the fact that  
D) By the time

15. He will be successful ..... he studies regularly.

Which of the following completes the sentence above?

Aşağıdakilerden hangisi yukarıdaki cümleyi doğru olarak tamamlar?

- A) in order to  
B) where  
C) until  
D) as long as

16. Mehmet Rauf wrote 'Eylül'.

Which of the following is the passive voice of the sentence above?

Aşağıdakilerden hangisi yukarıdaki cümle'nin edilgen yapıda kurulmuş biçimidir?

- A) 'Eylül' is written by Mehmet Rauf.  
B) 'Eylül' was written by Mehmet Rauf.  
C) 'Eylül' has written by Mehmet Rauf.  
D) 'Eylül' has been written by Mehmet Rauf.

17. .... the meal ..... by your mother last night?

Which of the following completes the sentence above?

Aşağıdakilerden hangisi yukarıdaki cümleyi doğru olarak tamamlar?

- A) Was / cooked  
B) Does / cooked  
C) Is / cook  
D) Is / cooking

18. Maths ..... by Mr. Brown today.

Which of the following completes the sentence above?

Aşağıdakilerden hangisi yukarıdaki cümleyi doğru olarak tamamlar?

- A) taught  
B) is being taught  
C) is teaching  
D) will teach

19. The letters ..... by the secretary tomorrow.

Which of the following completes the sentence above?

Aşağıdakilerden hangisi yukarıdaki cümleyi doğru olarak tamamlar?

- A) will be posted  
B) posted  
C) are posted  
D) were posted

20. .... Sue ..... by Mr. Brown?

Which of the following completes the sentence above?

Aşağıdakilerden hangisi yukarıdaki cümleyi doğru olarak tamamlar?

- A) Does / helping  
B) Does / helped  
C) Is / helping  
D) Has / been helped

1. ..... pense à soi-même.

Choisissez le mot qui convient.

Cümiedeki boşluğu aşağıdakilerden hangisi doğru şekilde tamamlar?

- A) Comme  
B) Chacun  
C) Qui  
D) Toi

2. «N'oublie pas d'éteindre la lumière.»

Choisissez la traduction qui convient.

Yukarıdaki cümlenin Türkçe karşılığı aşağıdakilerden hangisidir?

- A) Işığı söndürmeyi unutma.  
B) Gitmeden önce ışığı söndür.  
C) Işığı söndür ve git.  
D) Işığı söndürmeden gitme.

3. J'aime la salade. J'/Je ..... mange tous les jours.

Choisissez l'expression qui convient.

Yukarıdaki cümlede boş bırakılan yeri aşağıdakilerden hangisi doğru şekilde tamamlar?

- A) y  
B) en  
C) le  
D) lui

4. - Demain, nous allons partir en Espagne.  
\* .....

Choisissez l'expression qui convient.

Yukarıdaki konuşmada boş bırakılan yeri aşağıdakilerden hangisi doğru şekilde tamamlar?

- A) Bon appétit!  
B) Bon voyage!  
C) Bonne anniversaire!  
D) Bonne nuit!

5. Tu ne penses pas y aller?

Choisissez la traduction qui convient.

Yukarıdaki cümlenin Türkçe karşılığı aşağıdakilerden hangisidir?

- A) Oraya gitmeyi düşünüyor musun?  
B) Orada ne kadar kalacaksın?  
C) Oraya gitmeyi düşünmez misin?  
D) Oraya nasıl gideceksin?

6. Quand on va au restaurant, on ne doit pas .....

Choisissez l'expression qui convient.

Yukarıdaki cümlede boş bırakılan yeri aşağıdakilerden hangisi doğru şekilde tamamlar?

- A) manger beaucoup  
B) parler trop fort  
C) commander un repas  
D) payer l'addition

7. .... j'ai le temps, je peux vous aider.

Choisissez le mot qui convient.

Cümiedeki boşluğu aşağıdakilerden hangisi doğru şekilde tamamlar?

- A) Pour  
B) Contre  
C) Si  
D) À cause de

8. Léa et Alice sont les enfants de Pierre. Elles sont .....

Choisissez le mot qui convient.

Cümiedeki boşluğu aşağıdakilerden hangisi doğru şekilde tamamlar?

- A) frères  
B) cousines  
C) cousins  
D) sœurs

9. Peux-tu ..... présenter s'il te plaît?

Choisissez le mot qui convient.

Cümiedeki boşluğu aşağıdakilerden hangisi doğru şekilde tamamlar?

- A) vous  
B) leur  
C) te  
D) ton

10. Elle est en retard ..... un accident sur la route.

Choisissez le mot qui convient.

Cümiedeki boşluğu aşağıdakilerden hangisi doğru şekilde tamamlar?

- A) à l'absence d'  
B) pourquoi  
C) si  
D) à cause d'



11. Il va allumer la cheminée: il va .....

Choisissez l'expression qui convient.

Cümledeki boşluğu aşağıdakilerden hangisi doğru şekilde tamamlar?

- A) faire du feu
- B) faire la vendange
- C) ramasser des fruits
- D) allumer le barbecue

12. Connaissez-vous ce musicien ..... est allemand?

Choisissez le mot qui convient.

Cümledeki boşluğu aşağıdakilerden hangisi doğru şekilde tamamlar?

- A) qui
- B) donc
- C) où
- D) quel

13. Elle a acheté la voiture ..... tu veux.

Choisissez le mot qui convient.

Cümlede boş bırakılan yerl aşağıdakilerden hangisi doğru şekilde tamamlar?

- A) qui
- B) que
- C) où
- D) pour

14. Nous ..... des vacances le mois prochain.

Choisissez le mot/l'expression qui convient.

Cümledeki boşluğu aşağıdakilerden hangisi doğru şekilde tamamlar?

- A) avons fait
- B) faisons
- C) ferons
- D) faisions

15. C'est une ville .....; je l'aime beaucoup.

Choisissez le mot qui convient.

Cümledeki boşluğu aşağıdakilerden hangisi doğru şekilde tamamlar?

- A) gentil
- B) intelligent
- C) patient
- D) tranquille

16. Il peut pleuvoir; n'oubliez pas ..... prendre votre parapluie.

Choisissez le mot qui convient.

Cümledeki boşluğu aşağıdakilerden hangisi doğru şekilde tamamlar?

- A) en
- B) qui
- C) de
- D) à

17. Je voudrais ..... deux places pour Avatar.

Choisissez le mot qui convient.

Cümledeki boşluğu aşağıdakilerden hangisi doğru şekilde tamamlar?

- A) réserver
- B) souvenir
- C) dîner
- D) aller

18. trop / je / fatigué / suis  
I II III IV

Mettez dans le bon ordre.

Yukarıdaki kelimelerin kurallı ve anlamlı bir bütün oluşturan dizilişi aşağıdakilerin hangisinde doğru olarak verilmiştir?

- A) I, III, II, V
- B) I, III, IV, II
- C) II, I, III, IV
- D) II, IV, I, III

19. ...., elles sont allées au musée du Louvre.

Choisissez le mot qui convient.

Cümledeki boşluğu aşağıdakilerden hangisi doğru şekilde tamamlar?

- A) Hier
- B) Chacun
- C) Demain
- D) Quand

20. Selda continue ..... danser.

Choisissez l'expression qui convient.

Cümledeki boşluğu aşağıdakilerden hangisi doğru şekilde tamamlar?

- A) en
- B) le
- C) la
- D) à

1. Die Giraffe ist groß und hat einen ..... Hals.

Welches Wort passt in die obige Lücke?

Cümlede boş bırakılan yeri aşağıdakilerden hangisi doğru şekilde tamamlar?

- A) groß  
B) laut  
C) lang  
D) leise

2. Die Geste den Finger auf dem Mund zu bringen benutze ich oft.

Welche Frage passt zur obigen Antwort?

Verilen cevabı gerektirecek soru aşağıdakilerden hangisidir?

- A) Wann winken Sie?  
B) Sprichst du mit deinem Partner?  
C) Lernst du eine zweite Sprache?  
D) Welche Geste benutzt du oft?

3. Ich habe ..... zwei Jahren eine Schildkröte. Ich habe sie sehr gern.

Welches Wort passt in die obige Lücke?

Cümlede boş bırakılan yeri aşağıdakilerden hangisi doğru şekilde tamamlar?

- A) seit  
B) für  
C) bis  
D) zu

4. .... deine Freundin ..... Haustier?

Welche Wörter passen in die obigen Lücken?

Cümlede boş bırakılan yerleri aşağıdakilerden hangileri doğru şekilde tamamlar?

- A) Hat / ein  
B) Hast / eine  
C) Hatte / einen  
D) Hatten / eines

5. A: .....  
B: Italienisch wird in Italien gesprochen.  
A: Ach, das ist interessant!

Welches ergänzt die Lücke im obigen Dialog?

Verilen karşılıklı konuşmada boş bırakılan yeri aşağıdakilerden hangisi tamamlar?

- A) Wart ihr in den Ferien in Italien?  
B) Weißt du, wo Italienisch gesprochen wird?  
C) Wer kommt aus Italien?  
D) Wann möchtest du Italienisch sprechen lernen?

6. Alles Gute für deine ..... und viel Spaß bei deiner Musikbegeisterung!

Welches Wort passt in die obige Lücke?

Cümlede boş bırakılan yeri aşağıdakilerden hangisi doğru şekilde tamamlar?

- A) Zukunft  
B) Frage  
C) Jahre  
D) Thema

7. Der Film ist ..... einem guten Regisseur gedreht .....

Welche Wörter passen in die obigen Lücken?

Cümlede boş bırakılan yerleri aşağıdakilerden hangileri doğru şekilde tamamlar?

- A) von / worden  
B) bei / würden  
C) an / wird  
D) zu / werden

8. Als ich zehn Jahre alt war, .....

Welches ergänzt nicht die Lücke im obigen Satz?

Verilen cümleyi aşağıdakilerden hangisi tamamlamaz?

- A) habe ich mit der Querflöte angefangen.
- B) habe ich immer klassische Musik gehört.
- C) wollte ich eine Band gründen.
- D) will die Prüfung bestehen.

9. Meine Freundin ..... Klavier und ich ..... ihr zu.

Welche Wörter passen in die obigen Lücken?

Cümlede boş bırakılan yerleri aşağıdakilerden hangileri doğru şekilde tamamlar?

- A) spielt / höre
- B) hat / frage
- C) möchte / schon
- D) kann / übe

10. Ich ..... mich ..... Geige.

Welche Wörter passen in die obigen Lücken?

Cümlede boş bırakılan yerleri aşağıdakilerden hangileri doğru şekilde tamamlar?

- A) beenden / mit
- B) kaufe / aus
- C) interessiere / für
- D) spiele / zu

11. ...., wenn sie ihre Kinder gut erziehen wollen.

Welches ergänzt die Lücke im obigen Satz?

Verilen cümleyi aşağıdakilerden hangisi tamamlar?

- A) In unserer Familie sind alle Mädchen gehorsam
- B) Die Eltern müssen ein Vorbild sein
- C) Jede Eigenschaft kommt von der Mutter
- D) Das sieht man auf dem Foto

12. Ja, das wird in der Türkei gefeiert!

Welche Frage passt zur obigen Antwort?

Verilen cevabı gerektirecek soru aşağıdakilerden hangisidir?

- A) Wo feiert ihr eure Familienfeste?
- B) Habt ihr schon die Geburt von deiner Schwester gefeiert?
- C) Welche Familienfeste gibt es in der Türkei?
- D) Feiert ihr in der Türkei, wenn jemand ein Jubiläum macht?

13. Wenn man Philosophen befragt, was Glück ist, erhält man ..... Antworten.

Welches Wort passt in die obige Lücke?

Cümlede boş bırakılan yerleri aşağıdakilerden hangisi doğru şekilde tamamlar?

- A) lächeln
- B) verschiedene
- C) zusammen
- D) verdoppelt

14. A: Sind Familienfeste wichtig für dich?  
B: Ja, Familienfeste sind für mich wichtig.  
.....  
A: Finde ich auch. Also dann gehen wir zu unseren Eltern!

Welcher Satz ergänzt nicht den obigen Dialog?

Verlieren karşılıklı konuşmayı aşağıdakilerden hangisi tamamlamaz?

- A) weil wir in Kontakt bleiben.  
B) weil die Familie für mich wichtig ist.  
C) weil es toll ist, alle zu treffen.  
D) weil er am Wochenende kommen will.

15. Die Großmutter wird achtzig Jahre alt. Die Kinder und Enkelkinder sind gekommen, .....

Welches ergänzt die Lücke im obigen Satz?

Verlieren cümleyi aşağıdakilerden hangisi tamamlar?

- A) damit sie die Fragen beantworten können.  
B) weil sie ein Geschenk bekommt hat.  
C) denn sie sind immer müde.  
D) um die Großmutter zu gratulieren.

16. Ich bleibe ....., weil ich jeden Tag eine halbe Stunde laufe!

Welches Wort passt in die obige Lücke?

Cümlede boş bırakılan yeri aşağıdakilerden hangisi doğru şekilde tamamlar?

- A) gem  
B) erst  
C) fit  
D) sehr

17. Er hat Kopfschmerzen.

Welche Frage passt zur obigen Antwort?

Verlieren cevabı gerektirecek soru aşağıdakilerden hangisidir?

- A) Bist du krank?  
B) Habt ihr Schmerzen?  
C) Was hat er denn?  
D) Wie kann ich helfen?

18. Vitamine und Mineralien braucht der Körper, .....

Welches ergänzt die Lücke im obigen Satz?

Verlieren cümleyi aşağıdakilerden hangisi tamamlar?

- A) hatte viel Arbeit.  
B) um gesund zu bleiben.  
C) wird 10 Jahre alt.  
D) gehört die Tasche.

19. .... ist etwas erhöht!

Welches Wort passt in die obige Lücke?

Cümlede boş bırakılan yeri aşağıdakilerden hangisi doğru şekilde tamamlar?

- A) Die Nase  
B) Der Hals  
C) Der Pulsschlag  
D) Das Rezept

20. Sosu salataların üzerine dökürüm.

Wie lautet der obige Satz auf Deutsch?

Verlieren cümleinin Almancası aşağıdakilerden hangisidir?

- A) Die Sose muss kalt gestellt werden.  
B) Ich gebe die Sose über den Salat.  
C) Als letztes kannst du Zitrone mischen.  
D) Ich gebe dir etwas Pfeffer die Sose.

1. Your jeans are similar ..... mine but my jeans are tighter.

Which of the following completes the sentence above?

Aşağıdakilerden hangisi yukarıdaki cümleyi doğru olarak tamamlar?

- A) in  
B) to  
C) for  
D) at

2. Sonia is not ..... with Turkish traditions.

Which of the following completes the sentence above?

Aşağıdakilerden hangisi yukarıdaki cümleyi doğru olarak tamamlar?

- A) proud  
B) full  
C) familiar  
D) interested

3. Jessica is quite fond ..... her daughters.

Which of the following completes the sentence above?

Aşağıdakilerden hangisi yukarıdaki cümleyi doğru olarak tamamlar?

- A) on  
B) of  
C) to  
D) about

4. Diana: I phoned her many times last night, but I couldn't reach.  
Sam: You must be worried ..... her.

Which of the following completes the dialogue above?

Aşağıdakilerden hangisi yukarıdaki konuşmayı doğru olarak tamamlar?

- A) on  
B) for  
C) about  
D) from

5. My teacher: "Do you want to see the pictures?"  
My teacher asked me .....

Which of the following completes the sentence above?

Aşağıdakilerden hangisi yukarıdaki cümleyi doğru olarak tamamlar?

- A) if I want to see the pictures  
B) do you want to see the pictures  
C) to see the pictures  
D) if I wanted to see the pictures

6. My friend is very keen ..... horses.

Which of the following completes the sentence above?

Aşağıdakilerden hangisi yukarıdaki cümleyi doğru olarak tamamlar?

- A) in  
B) at  
C) on  
D) of

7. Mary: "Wait for me!"  
Mary told me .....

Which of the following completes the sentence above?

Aşağıdakilerden hangisi yukarıdaki cümleyi doğru olarak tamamlar?

- A) waiting for her  
B) to wait for her  
C) to waiting for her  
D) to wait for me

8. Amy: I don't like tea, but I like coffee.  
Dina: What does Amy say?  
Lucy: She says that she ..... tea but she ..... coffee.

Which of the following completes the dialogue above?

Aşağıdakilerden hangisi yukarıdaki konuşmayı doğru olarak tamamlar?

- A) likes / likes  
B) didn't like / likes  
C) hasn't liked / has liked  
D) doesn't like / likes

9. George said, "I will visit you tomorrow."  
George said that he would visit me .....

Which of the following completes the sentence above?

Aşağıdakilerden hangisi yukarıdaki cümleyi doğru olarak tamamlar?

- A) the next day  
B) the previous day  
C) tomorrow  
D) now

10. Mary said, "I went to the cinema yesterday."  
Mary said that she ..... to the cinema .....

Which of the following completes the sentence above?

Aşağıdakilerden hangisi yukarıdaki cümleyi doğru olarak tamamlar?

- A) had gone / the next day  
B) went / the previous night  
C) has gone / that day  
D) had gone / the day before

11. Aysin hasn't bought any CD for a year.

Which of the following is the Turkish translation of the sentence above?

Aşağıdakilerden hangisi yukarıdaki cümlenin Türkçe karşılığıdır?

- A) Aysin bir yıl boyunca hiç CD almamalı.  
B) Aysin bir yıl hiç CD almayacak.  
C) Aysin bir yıldır hiç CD almadı.  
D) Aysin bir yıldır hep CD alıyor.

12. Where ..... you .....? I couldn't see you anywhere.

Which of the following completes the sentence above?

Aşağıdakilerden hangisi yukarıdaki cümleyi doğru olarak tamamlar?

- A) have / been  
B) was / be  
C) do / be  
D) has / been

13. Fred hasn't studied for the exam ..... far.

Which of the following completes the sentence above?

Aşağıdakilerden hangisi yukarıdaki cümleyi doğru olarak tamamlar?

- A) so  
B) already  
C) yet  
D) ever

14. My mum hasn't cooked our dinner .....

Which of the following completes the sentence above?

Aşağıdakilerden hangisi yukarıdaki cümleyi doğru olarak tamamlar?

- A) for  
B) since  
C) just  
D) yet

15. Elise has been a doctor ..... 2003.

Which of the following completes the sentence above?

Aşağıdakilerden hangisi yukarıdaki cümleyi doğru olarak tamamlar?

- A) for  
B) since  
C) ever  
D) at

16. When they arrived at the party hall, everybody ..... It was empty.

Which of the following completes the sentence above?

Aşağıdakilerden hangisi yukarıdaki cümleyi doğru olarak tamamlar?

- A) left  
B) had already left  
C) leaves  
D) has already left

17. I ..... already ..... the lunch when the children came from school.

Which of the following completes the sentence above?

Aşağıdakilerden hangisi yukarıdaki cümleyi doğru olarak tamamlar?

- A) have / prepare  
B) had / prepare  
C) had / prepared  
D) have / prepared

18. English is the ..... language of more than three hundred million people.

Which of the following completes the sentence above?

Aşağıdakilerden hangisi yukarıdaki cümleyi doğru olarak tamamlar?

- A) native  
B) ordinary  
C) brief  
D) allusive

19. I was very tired because I ..... for days.

Which of the following completes the sentence above?

Aşağıdakilerden hangisi yukarıdaki cümleyi doğru olarak tamamlar?

- A) haven't slept  
B) never sleep  
C) am sleeping  
D) hadn't slept

20. We need to learn how to use internet in order to ..... in touch with the new information that we may use.

Which of the following completes the sentence above?

Aşağıdakilerden hangisi yukarıdaki cümleyi doğru olarak tamamlar?

- A) get  
B) speak  
C) find  
D) connect

1. - Ça s'écrit .....? Avec un «S» ou sans «S»?

Choisissez le mot qui convient.

Cümledeki boşluğu aşağıdakilerden hangisi doğru şekilde tamamlar?

- A) quand  
B) est-ce que  
C) comment  
D) combien

2. Vous devez ..... lentement.

Choisissez le mot qui convient.

Cümledeki boşluğu aşağıdakilerden hangisi doğru şekilde tamamlar?

- A) conduire  
B) conduis  
C) conduirons  
D) conduit

3. «J'ai fait les courses avec mon professeur.»

Choisissez la traduction qui convient.

Yukarıdaki cümlelerin Türkçe karşılığı aşağıdakilerden hangisidir?

- A) Öğretmenimle ders yaptım.  
B) Öğretmenimle alış-veriş yapıyorum.  
C) Öğretmenimle ders yapıyorum.  
D) Öğretmenimle alış-veriş yaptım.

4. Cet ordinateur est vieux, il est temps de(d') ..... acheter un neuf.

Choisissez le mot qui convient.

Cümledeki boşluğu aşağıdakilerden hangisi doğru şekilde tamamlar?

- A) lui  
B) la  
C) en  
D) les

5. - ..... voulez-vous acheter?  
- Celui-ci.

Choisissez le mot qui convient.

Yukarıdaki konuşmada boş bırakılan yeri aşağıdakilerden hangisi doğru şekilde tamamlar?

- A) Laquelle  
B) Lequel  
C) Quelle  
D) De quoi

6. A: Je veux acheter un sac.  
B: .....?

A: Elle dit qu'elle veut acheter un sac.

Choisissez l'expression qui convient.

Yukarıdaki konuşmada boş bırakılan yeri aşağıdakilerden hangisi doğru şekilde tamamlar?

- A) Où est-ce qu'elle va  
B) Comment va-t-elle  
C) Qu'est-ce qu'elle dit  
D) Quel est votre choix

7. La semaine prochaine, Lise et Marie ..... au cirque.

Choisissez le mot qui convient.

Cümledeki boşluğu aşağıdakilerden hangisi doğru şekilde tamamlar?

- A) sont allés  
B) iront  
C) sont allées  
D) allaient

8. J'ai grossi: j'ai ..... des kilos.

Choisissez le mot qui convient.

Cümledeki boşluğu aşağıdakilerden hangisi doğru şekilde tamamlar?

- A) fait  
B) pris  
C) mangé  
D) donné

9. Je dis «Super!» quand je .....

Choisissez l'expression qui convient.

Yukarıdaki cümlede boş bırakılan yeri aşağıdakilerden hangisi doğru şekilde tamamlar?

- A) suis triste  
B) suis content  
C) pleure  
D) malheureux

10. pas / d'alcool / beaucoup / prenez / ne  
I II III IV V

Mettez dans le bon ordre.

Yukarıdaki kelimelerin anlamlı bir bütün oluşturan sırası aşağıdakilerin hangisinde doğru olarak verilmiştir?

- A) V, IV, I, III, II  
B) V, III, IV, II, I  
C) IV, V, I, II, III  
D) IV, III, II, V, I

11. Je voudrais parler ..... M. Doisneau s'il vous plaît.

Choisissez le mot qui convient.

Cümledeki boşluğu aşağıdakilerden hangisi doğru şekilde tamamlar?

- A) à  
B) en  
C) lui  
D) qui

12. S'il fait beau, nous ..... au pique-nique.

Choisissez le mot qui convient.

Cümledeki boşluğu aşağıdakilerden hangisi doğru şekilde tamamlar?

- A) voulons  
B) sommes  
C) allons  
D) avons

13. Le magasin est ouvert toute la semaine ..... dimanche.

Choisissez le mot qui convient.

Cümledeki boşluğu aşağıdakilerden hangisi doğru şekilde tamamlar?

- A) sauf  
B) pour  
C) par  
D) en

14. Je vous présente mon ami ..... travaille chez Renault.

Choisissez le mot qui convient.

Cümledeki boşluğu aşağıdakilerden hangisi doğru şekilde tamamlar?

- A) que  
B) où  
C) qui  
D) quoi

15. Il est un ..... étudiant.

Choisissez le mot qui convient.

Cümledeki boşluğu aşağıdakilerden hangisi doğru şekilde tamamlar?

- A) bien  
B) mieux  
C) meilleure  
D) bon

16. .... du sport pour être en bonne santé.

Choisissez le mot qui convient.

Cümledeki boşluğu aşağıdakilerden hangisi doğru şekilde tamamlar?

- A) Signez  
B) Soyez  
C) Ouvrez  
D) Faites

17. Il n'a pas regardé la télévision ..... il avait des devoirs.

Choisissez le mot qui convient.

Cümledeki boşluğu aşağıdakilerden hangisi doğru şekilde tamamlar?

- A) car  
B) qui  
C) comme  
D) comment

18. Hier soir, ..... trop chaud.

Choisissez l'expression qui convient.

Cümledeki boşluğu aşağıdakilerden hangisi doğru şekilde tamamlar?

- A) il y avait  
B) combien  
C) je préfère  
D) il faisait

19. Le chat de Mme Perrin est perdu. Elle est donc .....

Choisissez le mot qui convient.

Cümledeki boşluğu aşağıdakilerden hangisi doğru şekilde tamamlar?

- A) joyeuse  
B) triste  
C) colère  
D) peur

20. - Vous connaissez cette histoire?  
- Oui, nous ..... connaissons.

Choisissez l'expression qui convient.

Yukarıdaki konuşmada boş bırakılan yeri aşağıdakilerden hangisi doğru şekilde tamamlar?

- A) le  
B) lui  
C) leur  
D) la



BU SAYFA BOŞ BIRAKILMIŞTIR.

BU SAYFA BOŞ BIRAKILMIŞTIR.

BU SAYFA BOŞ BIRAKILMIŞTIR.

## SINAVDA UYGULANACAK GENEL KURALLAR

1. Sınav görevlilerinin her türlü uyarılarına uymalısınız. Gerekli durumlarda görevliler yerinizi değiştirebilir.
2. Sınava girebilmeniz için gerekli belgeler dışında, yanınızda kâğıt, kitap, defter, not vb. hiç bir doküman; cep telefonu, bilgisayar, tablet, telsiz, kamera vb. hiç bir iletişim, depolama, kayıt ve veri aktarma cihazı; ruhsatlı veya resmi amaçlı olsa bile silah ve silah yerine geçebilecek hiç bir nesne bulunduramazsınız.
3. Sınav esnasında görevlilere soru soramaz, sınav huzurunu bozacak söylemlerde ve davranışlarda bulunamazsınız.
4. Sınav esnasında kalem, silgi vb. hiç bir araç ve gereç paylaşımında bulunamazsınız.
5. Kopya çekme, kopya verme, kopya çekilmesine yardımcı olma vb. eylemlerde bulunamazsınız.
6. Cevaplarınızı, cevap kâğıdı dışında bir yere yazarak sınav salonundan dışarı çıkaramazsınız.
7. Resmi kıyafetle (kıtalarından izinli er ve erbaşlar haricinde) sınava giremezsiniz.
8. Size verilen cevap kâğıdının üzerindeki TCKN, ad, soyadı bilgilerini kontrol ediniz. Bu bilgiler size ait değilse, görevlileri uyararak size ait cevap kâğıdını isteyiniz.
9. Cevap kâğıdınızda belirtilen kitapçık kodu ile soru kitapçığının kodunu karşılaştırınız. Aynı değilse, sınav görevlilerine bildirin.
10. Cevap kâğıdınıza yazacağınız her türlü yazı ve yapacağınız işaretlemeler için koyu yazan siyah kurşun kalem kullanmalısınız. Farklı bir kalem (tükenmez, mürekkepli vb.) kullanmanız durumunda, cevap kâğıdınız değerlendirmeye alınmayacaktır.
11. Cevap kâğıdı üzerindeki ilgili alanlara TCKN ve test grubunuzu kodlayınız, adınızı soyadınızı yazarak imza atınız.
12. Soru kitapçığının sayfalarında hatalı ya da eksik baskı olup olmadığını hızlıca kontrol ediniz. Hata olması durumunda kitapçığının değiştirilmesi için Salon Başkanına başvurunuz. Sınav görevlileri sınavın başladığını belirtmeden kitapçığınızı tekrar açmayınız.
13. Soru kitapçığındaki ilgili alanlara ad-soyadı, TCKN, sınav salon no, sıra no bilgilerinizi yazarak imza atınız.
14. Soru kitapçığının sayfalarındaki boş yerleri müsvedde amacıyla kullanabilirsiniz.
15. Cevaplarınızı, cevap kâğıdında ilgili test için ayrılmış olan bölüme, cevap yerinin dışına taşımadan işaretleyiniz. Soru kitapçıkları üzerinde yapılan işaretlemeler değerlendirmeye alınmayacaktır.
16. Cevap kâğıdı üzerinde değişiklik yapmak istediğinizde, iz bırakmayan bir silgi kullanınız. Cevap kâğıdınızı buruşturmayınız, katlamayınız ve üzerine gereksiz hiç bir işaret koymayınız.
17. Her sorunun tek bir doğru cevabı vardır. Bir soru için birden çok cevabı işaretlerseniz, o soruyu yanlış cevaplamış sayılacaksınız.
18. Sınav bitiminde, cevap kâğıdınızı ve soru kitapçığınızı eksiksiz biçimde salon görevlilerine teslim ediniz.
19. Sınav kurallarına uymadığınız takdirde sınav görevlileri tarafından hakkınızda tutanak tutulup, sınavınız geçersiz sayılabilir.

**Sınav kurallarına uyduğunuz için teşekkür eder, sınavınızda başarılar dileriz.**