



ANADOLU ÜNİVERSİTESİ
AÇIKÖĞRETİM FAKÜLTESİ
BA - AÇIKÖĞRETİM OKULLARI

T.C. MİLLİ EĞİTİM BAKANLIĞI
Hayat Boyu Öğrenme Genel Müdürlüğü
AÇIK ÖĞRETİM LİSESİ – BATI AVRUPA PROGRAMI
2014-2015 ÖĞRETİM YILI I.DÖNEM SINAVI
ALTINCI OTURUM - Pazar 16.00

TEST GRUBUNUZ

A

0106

ÖĞRENCİNİN

SOYADI :

ADI :

ÖĞRENCİ NO :

SINAV SALON NO: SIRA NO:

İMZA:.....

Sınavla ilgili tüm kuralları okudum, anladım, kabul ediyorum.

SINAV İÇERİĞİ

Testin Adı	Soru Sayısı	Sayfa No	Testin Adı	Soru Sayısı	Sayfa No
DİN KÜLTÜRÜ VE AHLAK BİLGİSİ 3	20	2	DEMOKRASI VE İNSAN HAKLARI 2	20	34
DİN KÜLTÜRÜ VE AHLAK BİLGİSİ 5	20	4	MATEMATİK 6	20	36
FELSEFE 2	20	6	SEÇMELİ DİL VE ANLATIM 5	20	39
SEÇMELİ FELSEFE 1	20	8	SEÇMELİ TÜRK EDEBİYATI 3	20	41
TARİH 6	20	10	SEÇMELİ TÜRK EDEBİYATI 7	20	43
COĞRAFYA 7	20	12	ALMANCA 1	20	45
DİL VE ANLATIM 7	20	14	İNGİLİZCE 1	20	48
TÜRK EDEBİYATI 6	20	16	FRANUZCA 1	20	50
FİZİK 5	20	18	ALMANCA 2	20	52
KİMYA 2	20	21	İNGİLİZCE 2	20	55
İŞLETME 1	20	24	FRANUZCA 2	20	57
MANTIK 1	20	26	SEÇMELİ ALMANCA 5	20	59
GEOMETRİ 5	20	28	SEÇMELİ İNGİLİZCE 5	20	62
HZ. MUHAMMEDİN HAYATI 1	20	32	SEÇMELİ FRANUZCA 5	20	64

SINAVDA UYGULANACAK ÖZEL KURALLAR

1. Bu kitapçıktaki yer alan her bir test için cevaplama süresi 30 dakika, toplam süre 150 dakikadır.
2. Adaylar, sınavın ilk 20 dakikası ve son 5 dakikası içerisinde, sınavlarını tamamlasalar bile salonu terk edemezler. Sınavın başlamasını izleyen ilk 15 dakikadan sonra hiç bir aday sınava alınmaz.
3. Yanlış cevaplarınız dikkate alınmayacaktır. Bu nedenle kitapçıktaki tüm sorular için size doğru gelen seçeneği işaretleyerek cevapsız soru bırakmamanız yararınıza olacaktır.

"Sınavda Uygulanacak Genel Kurallar" soru kitapçığının arka sayfasında yer almaktadır. Bu kuralları da mutlaka dikkatlice okuyunuz.

Anadolu Üniversitesi tarafından hazırlanmış olan bu testlerin her hakkı saklıdır. Hangi amaçla olursa olsun, testlerin tamamının veya bir kısmının Anadolu Üniversitesi'nin yazılı izni olmadan kopya edilmesi, fotoğraflarının çekilmesi, herhangi bir yolla çoğaltılması, yayımlanması ya da kullanılması yasaktır. Bu yasağa uymayanlar gerekli cezai sorumluluğu ve testlerin hazırlanmasındaki mali külfeti peşinen kabullenmiş sayılır.

1. İsrail meleğinin görevi nedir?
 - A) Tabiat olayları ile ilgilenmek
 - B) Allah ile peygamberler arasında elçilik yapmak
 - C) İnsanların sevap ve günahlarını yazmak
 - D) Kıyamet koptuğunda sūr'a üflemek
2. Sabah namazı kaç rekâttir?
 - A) 2
 - B) 4
 - C) 8
 - D) 10
3. Haccın kaç şartı vardır?
 - A) 1
 - B) 2
 - C) 3
 - D) 4
4. Hz. Muhammed nerede doğmuştur?
 - A) Medine
 - B) Mekke
 - C) Umman
 - D) Kudüs
5. Hz. Muhammed kaç yılında vefat etmiştir?
 - A) 596
 - B) 615
 - C) 632
 - D) 710
6. Allah'a saygı ile boyun eğmek ve emirlerine itaat etmeye ne ad verilir?
 - A) İman
 - B) Fıtrat
 - C) Ahlak
 - D) İbadet
7. Aşağıdakilerden hangisi vacip namazlardan biridir?
 - A) Bayram namazı
 - B) Cuma namazı
 - C) Yatsı namazı
 - D) Cenaze namazı
8. Sevap ve günahların tartıldığı özel tartıya ne ad verilir?
 - A) Hesap
 - B) Amel defteri
 - C) Sırat
 - D) Mizan
9. Mahşer'in anlamı aşağıdaki ifadelerin hangisinde doğru olarak verilmiştir?
 - A) Yeniden dinliş ile birlikte insanların Allah'a hesap vermek üzere toplanacakları yerdir.
 - B) Kışın dünyada yaptığı amellerden sorgulanmasıdır.
 - C) Sevap ve günahların tartıldığı özel bir tartıdır.
 - D) Yeniden dinliş ile başlayan ve sonsuza kadar sürecek olan zamandır.
10. İovbe nedir?
 - A) Allah'a saygı ile boyun eğmek ve emirlerine itaat etmek
 - B) Allah'a, Allah'ın peygamberlerimize bildirdiği tüm bilgilere şüphe etmeden inanmak
 - C) İşlenmiş bir günaha pişman olup, bir daha işlemeyeceğine dair Allah'a söz vermek ve af dilemek
 - D) Dinin yasak ettiği şeylerden sakınıp, buyurduklarını yerine getirmek
11. Kabe nerededir?
 - A) Medine
 - B) Mekke
 - C) Kudus
 - D) Yemen

12. Kur'an da kaç sure vardır?

- A) 100
- B) 110
- C) 114
- D) 120

13. Kâbe'nin etrafında yedi kez dönmeye ne ad verilir?

- A) İhram
- B) Tavaf
- C) Vakfe
- D) Sa'y

14. Hz. Muhammed'e "Muhammedül Emin" ismi hangi özelliğinden dolayı verilmiştir?

- A) Güvenilir olması
- B) Sabırlı olması
- C) Yardımsever olması
- D) Alçakgönüllü olması

15. Kur'an-ı Kerim hangi melek aracılığıyla gönderilmiştir?

- A) Azrail
- B) Cebrail
- C) Mikail
- D) İsrail

16. Aşağıdakilerden hangisi insanların Allah ile iletişim kurma yollarından biri değildir?

- A) Dua etmek
- B) İbadet etmek
- C) Tövbe etmek
- D) Amel etmek

17. Aşağıdakilerden hangisi kurban edilecek hayvanlardan biri değildir?

- A) Altı ayını doldurmuş koyun
- B) Bir yaşını doldurmuş keçi
- C) İki yaşını doldurmuş manda
- D) Beş yaşını doldurmuş deve

18. Aşağıdakilerden hangisi ahiret hayatının aşamalarından biri değildir?

- A) Mahşer
- B) Hesap
- C) Mizan
- D) Akait

19. Aşağıdakilerden hangisi Kur'an-ı Kerim'in indiriliş amaçlarından biri değildir?

- A) Bütün insanları aydınlatmak
- B) İnsanlara doğru bilgi vermek
- C) Bütün insanların İslam'ın şartlarına uymasını sağlamak
- D) İnsanlara doğru inanç ve doğru davranış kazandırmak

20. Rükû ve secdenin olmadığı namaz aşağıdakilerden hangisidir?

- A) Cenaze
- B) Cuma
- C) Bayram
- D) Teravih

1. Aşağıdakilerden hangisi Kur'an-ı Kerim'de tarif edilen örnek insanın özelliklerinden biri değildir?
A) Hoşgörü ve bağışlayıcı
B) Güvenilir
C) Kibirli ve gururlu
D) Anne babasına iyi davranan
2. İbadetleri yerine getirirken istekli olmanın yanı sıra samimiyet, içtenlik, maddi çıkar gözetmeme ve yalnızca Allah'ın rızasını kazanma adına yapma duygusuna ne ad verilir?
A) Kasıt
B) İhlas
C) Niyet
D) Hayâ
3. Medineli Müslümanlara ne ad verilir?
A) Muhacir
B) Hanif
C) Mürşid
D) Ensar
4. Hz. Muhammed'in hasta olan insanları bizzat evlerinde ziyaret edip, geçmiş olsun deyip onun için dua etmesi hangi özelliği ile ilgilidir?
A) Dürüst olması
B) Utanık olması
C) Adaletli olması
D) Merhametli olması
5. Kişinin işlediği günah nedeniyle Allah'tan özür dilemesi ve bir daha suç işlememeye söz vermesine ne ad verilir?
A) Sabır
B) Diğerkamlık
C) Sorumluluk
D) Tövbe
6. Mekke'de Hacerul Esved taşının Kâbe'nin duvarına konulmasında Hz. Muhammed'e danışılması, O'nun hangi özelliğini ortaya koymaktadır?
A) Güvenilir olması
B) Cesur olması
C) Sabırlı olması
D) Merhametli olması
7. Hanefilik mezhebi ile ilgili aşağıdaki ifadelerden hangisi yanlıştır?
A) Malik b. Enes'in görüşlerinin etrafında oluşan bir mezheptir.
B) Osmanlı Devleti'nin resmi mezhebidir.
C) Dini konuların çözümünde başvurulacak ana kaynak Kur'an-ı Kerim ve sünnettir.
D) Müslüman bilgilerini ortaya attığı tıkr ve düşünceler icmadır.
8. Hz. Hüseyin'in soyundan gelenlere ne ad verilir?
A) Seyyid
B) Şerif
C) Semih
D) Habibullah
9. Bir kişinin sezaryen doğumla dünyaya gelmesi aşağıdakilerden hangisidir?
A) Kader
B) Kaza
C) İrade
D) Tevekkül
10. Allah'ın başlangıçtan sonsuza kadar olmuş ve olacak olan tüm olayların yerini, zamanını bilip takdir etmesine ne ad verilir?
A) Kaza
B) Kader
C) İrade
D) Yaradılış
11. Allah'ın sonsuz güç ve irade sahibi olup, her şeye gücünün yetmesi aşağıdakilerden hangisini tanımlar?
A) Külli irade
B) Cüzi irade
C) Tevekkül
D) Kaza

12. *Muhammed gönülmüzün aynası
Salavat verenin nur olsun sesi
On sekiz bin âlemin Mustafa'sı
Ya Muhammed sana imdada geldim*

Yukarıdaki mısraların yazarı aşağıdakilerden hangisidir?

- A) Süleyman Çelebi
B) Hatayi (Şah İsmail)
C) Kaygusuz Abdal
D) Pir Sultan Abdal
13. Hz. Ali ile Muaviye arasında yaşanan Siffin savaşı sonucunda ortaya çıkmıştır. Hüküm verme işinin hakemlere bırakılmasının yanlış olduğuna ve tek hakemin Allah olduğuna inanırlar.
- Yukarıda anlatılan mezhep aşağıdakilerden hangisidir?
- A) Haricilik
B) Catenlik
C) Şiiilik
D) Eşarilik
14. Kişinin kendisinin de ihtiyacı olan bir şeyi başkalarıyla paylaşabilmesi, gerektiğinde fedakârlıkta bulunarak başkalarına yardım edebilmesine ne ad verilir?
- A) Sabır
B) Durustluk
C) Diğerkâmlık
D) Alçakgönüllülük
15. Dini bir terim olarak "Rızık" nedir?
- A) Evrendeki her bir nesnenin belirlenen sürenin sonunda yok oluşu
B) Kişinin kendi söz ve davranışlarının sonuçlarına katlanması durumu
C) Allah'ın başlangıçtan sonsuza kadar olmuş ve olacak olan tüm olayların yerini, zamanını bilip takdir etmesi
D) Yaratıcının, tüm varıkların yiyip içmesi, yararlanması ve faydalanması amacıyla verdiği nimetler

16. "Karanı verdiği zaman artık Allah'a dayanıp güven. Çünkü Allah kendisine dayanıp güvenenleri sever." ayetiyle aşağıdakilerden hangisinin önemi vurgulanmıştır?

- A) Kadere imanın
B) Tevekkül etmenin
C) Ahiret hayatına imanın
D) Yardımsever olmanın

17. Bir öğrencinin planlı ve düzenli biçimde dersine çalıştıktan sonra Allah'a güvenip ondan yardım dilemesi aşağıdakilerden hangisini örnekler?

- A) Kader
B) Kaza
C) Tevekkül
D) İesadut

18. Aşağıdakilerden hangisi Siyasi-İtikadi mezheplerden biridir?

- A) Şafilik
B) Malikilik
C) Matundilik
D) Caferilik

19. Ömrün bittiği, hayatın sona erdiği zamana ne ad verilir?

- A) Şer
B) Kader
C) Ecel
D) İrade

20. İslam dininin emir ve yasaklarından yalnızca kimler sorumlu tutulmuştur?

- A) Zenginler
B) Akıl ve irade sahibi olanlar
C) Kadere iman edenler
D) Namazkılanlar

1. Din ile felsefeyi birbirinden ayırarak inceleyen ilk düşünür aşağıdakilerden hangisidir?
 - A) Huxley
 - B) Kant
 - C) Sartre
 - D) Orwel
2. Bireyin iyi ve doğru eylemlerde bulunmaya mizaç, eğitim ve moral olgunluk açısından yatkın olma durumuna ne ad verilir?
 - A) Sorumluluk
 - B) Etik
 - C) Vicdan
 - D) Erdem
3. İdeal bir toplum düzeni tasarlayan ilk filozof aşağıdakilerden hangisidir?
 - A) Kant
 - B) Farabi
 - C) Platon
 - D) Spinoza
4. "Mesnevi" adlı eser aşağıdakilerden hangisine aittir?
 - A) Mevlana
 - B) Hacı Bektaş Veli
 - C) Ahmet Yesevi
 - D) İbn-i Haldun
5. Yaşadığı dönemin İtalya'sındaki aksaklıklardan yola çıkarak "Güneş Ülkesi" adını verdiği ideal bir toplum düzenini tasarlayan düşünür aşağıdakilerden hangisidir?
 - A) Bacon
 - B) Bentham
 - C) Mill
 - D) Campanella
6. "Yeni Dünya" adlı eser aşağıdakilerden hangisine aittir?
 - A) Huxley
 - B) Orwel
 - C) Campanella
 - D) More
7. Aşağıdakilerden hangisi din felsefesinin temel kavramlarından biri değildir?
 - A) İman
 - B) İbadet
 - C) Vahiy
 - D) Bürokrasi
8. Ahlak yasasını, Tanrı ve İnsan sevgisiyle temellendiren, bu çerçevede insanların eşitliğini ve kardeşliğini savunan, iyilik, sevgi, çalışkanlık ve dürüstlüğü ahlaki değer olarak benimseyen düşünür aşağıdakilerden hangisidir?
 - A) Pir Sultan Abdal
 - B) Yunus Emre
 - C) Hacı Bektaş Veli
 - D) Mevlana
9. "Her İnsan İdealar dünyasına yönelmeli ve eylemlerini iyi ideasına uydurmalıdır." görüşünü dile getiren düşünür aşağıdakilerden hangisidir?
 - A) Descartes
 - B) Aristoteles
 - C) Platon
 - D) Demokritos
10. "Anarşizm" akımının kurucusu aşağıdakilerden hangisidir?
 - A) Kropotkin
 - B) Stimer
 - C) Bakunin
 - D) Proudhon
11. Güzelliği ve güzel sanatların doğasını inceleyen felsefe dalı aşağıdakilerden hangisidir?
 - A) Etik
 - B) Ahlak
 - C) Estetik
 - D) Mantık

12. "Evrensel ahlak yasasını belirleyen en önemli öge insanın, kendisinin de bir parçası olduğu doğa düzenini anlayarak ve bu bilgiye dayanarak ahlaki bir biçimde davranmasıdır." görüşünü dile getiren düşünür aşağıdakilerden hangisidir?

- A) Kant
- B) Demokritos
- C) Aristoteles
- D) Spinoza

13. Aşağıdakilerden hangisi toplumlarda siyasi iktidarın olası kaynaklarından biri değildir?

- A) Olumsuz coğrafi koşullar
- B) İçten gelebilecek tehlikelere karşı korunma düşüncesi
- C) Birlikte yaşama isteği
- D) Egemen din anlayışı

14. İnsanların eylemlerini ve birbirleriyle ilişkilerini düzenlemek amacıyla oluşturulmuş normlar ya da değerler sistemine ne ad verilir?

- A) Hukuk
- B) Ahlak
- C) Din
- D) Felsefe

15. Aşağıdakilerden hangisi siyaset felsefesinin temel kavramlarından biri değildir?

- A) Ahlak
- B) Devlet
- C) Toplum
- D) Bürokrasi

16. "Varolan her şeyin bir yaratıcısı olduğuna, bu yaratıcının mutlak ve sınırsız bir bilgi ve güce sahip olduğuna sarsılmaz bir inanç beslemek" aşağıdakilerden hangisiyle ifade edilir?

- A) Ateizm
- B) Teizm
- C) Deizm
- D) Agnostisizm

17. "Siyaset hem bir çatışma ve iktidar kavgası hem de toplumun tüm üyelerinin yararına olabilecek bir düzen yaratma aracıdır." görüşünü dile getiren siyaset bilimci aşağıdakilerden hangisidir?

- A) Daver
- B) Duverger
- C) Baumgarten
- D) Smith

18. "İnsan ahlaki eylemlerinde yalnızca kendi hazzını, yararını ve mutluluğunu değil, aşka insanların yararını ve mutluluğunu da düşünmek durumundadır. Çünkü toplumun mutluluğu sağlandığında birey de mutluluğa ulaşır." görüşünü savunan düşünür aşağıdakilerden hangisidir?

- A) Hobbes
- B) Mill
- C) Bacon
- D) Weber

19. Aşağıdakilerden hangisi din felsefesinin konularından biri değildir?

- A) Güzel ahlak
- B) Tanrının varlığı
- C) Evrenin yaratılışı
- D) Ruhun ölümsüzlüğü

20. "Erdemli Toplum" adlı eserinde erdemli bir toplumun erdemli, bilgili yöneticiler aracılığıyla oluşturulabileceğini savunan düşünür aşağıdakilerden hangisidir?

- A) Gazali
- B) Fuzuli
- C) Farabi
- D) Mevlana

SEÇMELİ FELSEFE 1

A

2015 I.DÖNEM 0105-A

1. Reichenbach'a göre bir önerme eğer doğrulanabilir ya da yanlışlanabilir ise o önerme aşağıdakilerden hangisi ile nitelenebilir?
A) Tutarsızdır.
B) Anlamlıdır.
C) Çelişiktir.
D) Karmaşıktır.
2. I. Bilim öncesi dönem
II. Olağan bilim dönemi
III. Devrim
IV. Bunalımlar
Yukarıdaki Thomas Kuhn'un savunduğu bilimin gelişim aşamaları, aşağıdakilerden hangisinde doğru sıralanmıştır?
A) I - II - III - IV
B) I - II - IV - III
C) II - III - IV - I
D) III - IV - II - I
3. Varlığı bir bütün olarak inceleyip açıklamaya çalışan disiplinler aşağıdakilerden hangisinde birlikte ve doğru olarak verilmiştir?
A) Metafizik-Ontoloji
B) Matematik-Fizik
C) Ontoloji-Matematik
D) Metafizik-Matematik
4. Pozitivist düşünür Auguste Comte'a göre insan düşüncesi teolojik, metafizik ve pozitif evreler olmak üzere üç evreden geçerek ilerler.
Bu bilgiye göre Comte, insanların pozitif evrede olayları aşağıdakilerden hangisine dayanarak açıkladıklarını savunur?
A) Gizli güçlere
B) İlahi kaynaklara
C) Kutsal sayılan varlıklara
D) Bilimsel yasalara
5. Bilim felsefesinin konusu aşağıdakilerden hangisidir?
A) Ahlak
B) Varlık
C) Sanat
D) Bilim
6. Aşağıdaki düşüncülerden hangisi insanın bilgilerinin kaynağında yalnızca deneyim olduğunu savunan empirizm akımının savunucularından biridir?
A) Henri Bergson
B) Rene Descartes
C) Ludwig Wittgenstein
D) John Locke
7. "Bu evrende (nesnel dünyasında) duyularla algılanan varlıklar gerçekte var değildir. Onlar yalnızca görünüşten ibarettir." görüşünü savunan Platon'a göre gerçek varlıklar aşağıdakilerden hangisidir?
A) Canlılar
B) İdealar
C) Cisimler
D) Maddeler
8. Aşağıdakilerden hangisi bilimsel bir "etkinlik" olarak inceleyen yaklaşımın görüşlerinden biridir?
A) Bilimselliğin ölçütü doğrulanabilirliktir.
B) Bilimi anlamak için bilim adamlarının etkinliklerini incelemek gerekir.
C) Bilimsel metinleri çözümlemek için mantık dilini kullanmak gerekir.
D) Bilimi anlamak için bilim adına ortaya konmuş ürünlere bakılmalıdır.
9. Varlığı oluşturan "ruh" ve "madde" olmak üzere iki tür olduğunu savunan Rene Descartes'a göre "ruh"un fonksiyonu aşağıdakilerden hangisidir?
A) Yayılım
B) Sınırlama
C) Düşünme
D) Yer kaplama
10. İnsanı konu edinen bilimler aşağıdakilerden hangisinde birlikte ve doğru olarak verilmiştir?
A) Mantık-Sosyoloji
B) Astronomi-Biyoloji
C) Tarih-Arkeoloji
D) Antropoloji-Psikoloji

11. Bilimin verilerinin insanın ve toplumun yaşamını tumuyle deęiştirip geliřtirmesi, insan yaşamını her geen gn biraz daha kolaylařtırması öncelikle ařaęıdakilerden hangisinin sayesinde gerekleřmektedir?

- A) Teknoloji
- B) Sanat
- C) Felsefe
- D) Mantık

12. "Realizm" kavramının sözcük anlamı ařaęıdakilerden hangisidir?

- A) Gerekilik
- B) Faydacılık
- C) Kuřkuculuk
- D) Deneycilik

13. "Bilimin ürünü olan bilgi, onu ortaya koyan insanın inanlarından, kiřisel kanaatlerinden, dünya görüřünden bağımsız bir bilgidir. Bilimsel bilgi kiřiden kiřiye ya da toplumdaki topluma deęiřmez."

Yukarıdaki görüřler, bilimsel bilginin hangi özellięi ile ilgilidir?

- A) Olgusal olma
- B) Eleřtirel olma
- C) Objektif olma
- D) Mantıksal olma

14. I. Varlık
II. Ahlak
III. Siyaset

Yukarıdakilerden hangileri felsefenin inceledięi konulardandır?

- A) Yalnız I
- B) Yalnız II
- C) I ve III
- D) I, II ve III

15. Ařaęıdakilerden hangisi Bilgi Kuramının temel kavramlarından biri değildir?

- A) Bilgi
- B) Güzel
- C) Obje
- D) Doğruluk

16. • Bilginin kaynaęı nedir?
• Doğru bilginin ölçütü nedir?
• Doğru bilgiye ulařmak mümkün müdür?

Yukarıdaki sorular felsefe dallarından hangisinin konusunu oluřturur?

- A) Din felsefesi
- B) Bilim felsefesi
- C) Bilgi felsefesi
- D) Sanat felsefesi

17. Doğru bilginin kaynaęının "akıl" olduęunu savunan görüř ařaęıdakilerden hangisidir?

- A) Rasyonalizm
- B) Empirizm
- C) Septisizm
- D) Pragmatizm

18. • Kiřiden kiřiye, toplumdaki topluma deęismeyen genel geer bilgilerdir.
• Deney yöntemi kullanılarak elde edilir.
• Düzenli ve sistemli bilgidir.
• Objektiftir.

Yukarıdaki özellikler hangi bilgi çeřidini ifade etmektedir?

- A) Bilimsel bilgi
- B) Felsefi bilgi
- C) Sanat bilgisi
- D) Gündelik bilgi

19. Felsefenin sözcük anlamı ařaęıdakilerden hangisidir?

- A) Nesnel bilgi
- B) Duygu tasarımı
- C) Bilgelik sevgisi
- D) Doğru varlık

20. Uygulama Saptanması → Gözlem → Hipotez → Deney → Kuram → Yasa

Yukarıda verilen ařama, ařaęıdakilerden hangisine aittir?

- A) Sanat felsefesinin
- B) Gündelik bilginin
- C) Bilimsel yöntemin
- D) Metatziğin

1. Hz. Omer dönemiyle ilgili aşağıdaki ifadelerden hangisi yanlıştır?
 - A) İlk İslam donanması oluşturulmuştur.
 - B) Mısır, Suriye, Irak ve Azerbaycan fethedilmiştir.
 - C) "Beytül Mal" kurulmuştur.
 - D) Hicri takvim kullanılmaya başlanmıştır.
2. Talas Savaşı'nın dünya kültür tarihi bakımından en önemli sonucu aşağıdakilerden hangisidir?
 - A) Orta Asya'nın Çinlilerin kontrolüne girmekten kurtarılması
 - B) Türkler ile Müslüman Araplar arasındaki ilişkilerin yumuşaması
 - C) Müslüman Arapların, Çinlilerden kâğıt imal etmesini öğrenmesi
 - D) Abbasi Devlet yönetiminde Türklerin görev almaya başlaması
3. Kuran-ı Kerim ilk defa kitap haline aşağıdaki halifeleden hangisinin döneminde getirilmiştir?
 - A) Hz. Ali
 - B) Hz. Omer
 - C) Hz. Osman
 - D) Hz. Ebubekir
4. Türkler arasında İslamiyet'i devlet dini olarak kabul eden ilk devlet aşağıdakilerden hangisidir?
 - A) Babür Devleti
 - B) İdil Bulgar Devleti
 - C) Büyük Selçuklu Devleti
 - D) Altın Orda Devleti
5. Aşağıdakilerden hangisi Dandanakan Meydan Muharebesi'nin sonuçlarından biri değildir?
 - A) Horasan toprakları kesin olarak Gaznelilere geçti.
 - B) Büyük Selçuklu Devleti resmen kuruldu.
 - C) Türklerin batya doğru ilerlemelerinin önü açıldı.
 - D) Iugrul Bey sultan ilan edildi.
6. Türk tarihinde ilk defa sultan unvanını kullanan hükümdar kimdir?
 - A) Yıldırım Bayezid
 - B) Timur
 - C) Osman Gazi
 - D) Gazneli Mahmut
7. Mısır'da kurulan ikinci Türk-İslam Devleti aşağıdakilerden hangisidir?
 - A) İhşidoğulları
 - B) Karahanlılar
 - C) Gazneliler
 - D) Hazarlar
8. Karahanlıların bilinen ilk hükümdarı aşağıdakilerden hangisidir?
 - A) Arslan Bazır
 - B) Musa Tonga İlig
 - C) Baytaş Arslan Han
 - D) Bilge Kül Kadir Han
9. Aşağıdakilerden hangisi Büyük Selçukluların yıkılma nedenlerinden biri değildir?
 - A) Devlet idaresinin Farsların eline geçmesiyle Türkmenlerin küstürülmesi
 - B) Bâtınîlerin zararlı çalışmaları
 - C) Canberdi Gazali İsyanı
 - D) Ülkenin hanedan üyelerinin ortak malı sayılması
10. Müslümanlardan yetiştirdikleri tarım ürünlerinden onda bir oranında alınan vergi aşağıdakilerden hangisidir?
 - A) Haraç
 - B) Cizye
 - C) İspenç
 - D) Oşur

11. Karahanlılarda resmi dil aşağıdakilerden hangisidir?

- A) Arapça
- B) Türkçe
- C) Farsça
- D) Latince

12. Avrupa'da "Avicenna" diye tanınan Türk İslam bilgini aşağıdakilerden hangisidir?

- A) Gazali
- B) Omer Hayyam
- C) Harezmi
- D) İbn-i Sina

13. Karahanlılarda hükümdar adına devleti yöneten vezirin taşıdığı unvan aşağıdakilerden hangisidir?

- A) Hâce-i buzurg
- B) Yuğruş
- C) Baksı
- D) Tamu

14. Aristo'nun eserlerini inceleyip yeni yorumlar getirdiği için ikinci öğretmen anlamına gelen Muallim-i Sâni unvanıyla anılan aşağıdakilerden hangisidir?

- A) Farabî
- B) Harezmi
- C) El-Biruni
- D) İbni Türk

15. Türkçenin ilk sözlük ve dil bilgisi kitabı aşağıdakilerden hangisidir?

- A) Kısalet'ul Nushiye
- B) Divanü Lügat - it- Türk
- C) Divan-ı Kebir
- D) İskendemame

16. Aşağıdakilerden hangisi Ankara Savaşı'nın (28 Temmuz 1402) sonuçlarından biri değildir?

- A) Anadolu Türk birliği bozulmuştur.
- B) Yıldırım Bayezid'in oğulları arasında taht kavgaları başlamıştır.
- C) Osmanlıların Balkanlarda yaptığı fetihler hız kazanmıştır.
- D) Osmanlı Devleti fetret devrine girmiştir.

17. Moğollarda devlet yönetimi ile ilgili aşağıdaki ifadelerden hangisi yanlıştır?

- A) Moğol hükümdarlarına "kağan" veya "Han" denilirdi.
- B) Moğollarda devlet hanedanın ortak malı idi.
- C) Moğollarda baş hatunun çocuklarının tahta geçme hakkı yoktu.
- D) Moğollarda devlet yönetimi Orta Asya Türk devletlerinin yönetimine benzerdi.

18. Timurlularda savaşlarda kahramanlık gösterenlere verilen iktalara ne ad verilirdi?

- A) Suyugal
- B) Payza
- C) Kubçın
- D) Yam

19. Hindistan'da 1526-1858 yılları arasında hüküm süren Türk Devleti aşağıdakilerden hangisidir?

- A) Gazne Devleti
- B) Uygur Devleti
- C) Babür Devleti
- D) Büyük Selçuklu Devlet

20. Moğollarda alileye ne ad verilirdi?

- A) Ortak
- B) Yasun
- C) Köbegün
- D) Noker

1. Topraklarının büyük kısmı deniz seviyesinin altında olduğu için taşkınlarla karşı doğal ve yapay setlerden oluşan bir savunma sistemi ile korunmakta olan ülke aşağıdakilerden hangisidir?
- A) Çin
B) Hollanda
C) Almanya
D) Fransa

2. • Batı ve kuzeybatısında Jura dağları yer alır.
• Pek çok köyünde el işçiliğiyle saat üretimi yapılır.
• Kış turizmi büyük döviz kazandırır.

Yukarıda verilen özelliklerin tamamı hangi Avrupa ülkesine aittir?

- A) Belçika
B) Avusturya
C) İsviçre
D) Arnavutluk
3. Aşağıdakilerden hangisi kuraklığın etkilerinden biri değildir?
- A) Su seviyesinde azalma
B) Otlaklarda ve ormanlık alanlarda artma
C) Hayvanların ölüm oranlarında artma
D) Yangınlarda artma
4. Aşağıdaki ülkelerden hangileri arasında Manş Tüneli ile bağlantı kurulmuştur?
- A) Türkiye-Yunanistan
B) İsveç-Hollanda
C) Norveç-Finlandiya
D) Fransa-İngiltere
5. I. Aşırı yağışlar
II. Tsunami
III. Kuraklık
IV. Deprem

Yukarıdakilerden hangileri hidrolojik kaynaklı ekstrem olaylardır?

- A) I ve II
B) I ve III
C) II ve III
D) II ve IV

6. Hint Okyanusu'nda Ocak ve Mart ayları arasındaki fırtınalara ne ad verilir?
- A) Tropikal fırtına
B) Tufan
C) Hortum
D) Tayfun

7. Yazıyı ilk kullanan uygarlık aşağıdakilerden hangisidir?
- A) Hititler
B) Asurlar
C) Sümerler
D) Lidyalılar

8. Aşağıdakilerden hangisi Akdeniz uygarlıklarından biri değildir?
- A) Aztek
B) Lidya
C) Yunan
D) Fenike

9. • Büyük Okyanus kıyısına paralel uzanan And Sıradağları üzerinde yaşamışlardır.
• Güneş saatini yapmışlardır.
• 12-16. yüzyıllar arasında yaşamış ve büyük imparatorluk kurmuşlardır.

Yukarıdaki bilgiler hangi uygarlığa aittir?

- A) Fenike
B) Aztek
C) Lidya
D) İnka

10. Mısır medeniyeti ile ilgili aşağıdaki ifadelerden hangisi yanlıştır?
- A) Diğer medeniyetlerle çok fazla ilişki içinde olmuşlardır.
B) Kuzey Afrika'da Nil Nehri ve etrafında kurulmuştur.
C) Mısır'ın uygun iklim şartlarına sahip olması uygarlığa geçişini kolaylaştırmıştır.
D) Nil nehrinin düzenli akışı nehir taşımacılığının gelişmesini sağlamıştır.

11. Aşağıdakilerden hangisi teknolojinin insana verdiği zararlardan biridir?

- A) Sosyal ve psikolojik sorunlar
- B) Yeni iş sahalarının oluşması
- C) Mal ve hizmet üretiminin artması
- D) Daha yüksek bir hayat standardının sağlanması

12. Ruhr sanayi bölgesi hangi kıtada yer alır?

- A) Asya
- B) Kuzey Amerika
- C) Afrika
- D) Avrupa

13. Aşağıdakilerden hangisi göç olgusunun doğurduğu sonuçlardan biri değildir?

- A) İşsizlik sorununun artması
- B) Arsa ve arazi değerlerinin azalması
- C) Eğitim sorununun artması
- D) Ulaşım sorununun artması

14. Akashi Kalkyo Köprüsü hangi ülkededir?

- A) Çin
- B) Malezya
- C) Japonya
- D) Güney Kore

15. Aşağıdakilerden hangisi Türkiye'deki bölgelerin beşeri coğrafya özelliklerine göre yapılan sınıflandırmaları arasında yer almaz?

- A) Bitki örtüsüne göre bölgeler
- B) Nüfus yoğunluğuna göre bölgeler
- C) Yerleşim özelliklerine göre bölgeler
- D) Ekonomik özelliklerine göre bölgeler

16. I. Coğrafi konum
II. Teknolojik gelişmeler
III. İklim

Yukarıdakilerden hangileri ulaşım üzerinde etkili olan doğal faktörler arasındadır?

- A) Yalnız I
- B) Yalnız II
- C) I ve III
- D) II ve III

17. Marmaray hangi şehrin ulaşım sorununu gidermek için yapılan projedir?

- A) Ankara
- B) İzmir
- C) İstanbul
- D) Çanakkale

18. Aşağıdakilerden hangisi büyük ticaret şehirlerinden biridir?

- A) Sivas
- B) İzmir
- C) Erzurum
- D) Ordu

19. Aşağıdakilerden hangisi Türkiye'nin 2023 turizm stratejileri arasında yer almaz?

- A) Zengin kültürel ve doğal değerlere sahip kentlerimizin markalaştırılarak turistler için çekim noktası haline getirilmesi
- B) Sürdürülebilir turizm yaklaşımı benimsenerek, istihdamın artırılmasında ve bölgesel gelişmede turizmin öncü bir sektör konumuna ulaştırılması
- C) Ulusal, bölgesel ve yerel ölçekte markalaşmanın hedeflenmesi, ulusal tanıtım ve pazarlamaya ek olarak varış noktası bazında tanıtım ve pazarlama faaliyetlerine başlanması
- D) Sadece deniz turizminin geliştirilmesine yönelik yapılan faaliyetlere destek verilmesi

20. Yeraltı şehirleri, peribacaları ve kayaların içlerine oyulmuş kiliselerin yer aldığı turizm bölgesi aşağıdakilerden hangisidir?

- A) Kapadokya
- B) Sardes
- C) Troya
- D) Milet

1. Aşağıdaki yazarlardan hangisi 1970'li yıllardan sonra Türk romanında toplum sorunlarına yönelişle, ideolojik boyutu ağır basan romanların arttığı dönemi temsil eden yazarlardan biri değildir?
A) Emine İşinsu
B) Uğuz Atay
C) Yakup Kadri
D) Pınar Kür
2. Aşağıdakilerden hangisi Türk Edebiyatı'nın gelişim sürecinde kurulan topluluklardan biri değildir?
A) Tanzimat edebiyatı
B) Dram edebiyatı
C) Beş Hececiler
D) Milli edebiyat
3. Epik tiyatroyla ilgili aşağıdaki ifadelerden hangisi yanlıştır?
A) Sahne dekor ve etki adına alıcı duygulu olaylardan uzak tutulur.
B) Seyircinin tiyatro düşünden uyanması için olayın akışı sık aralıklarla kesilir.
C) Amaç seyirciyi farklı diyarlara götürmek ve orda olduğu sürece büyülemektir.
D) Duygu yerine akıl ön plana çıkarılır.
4. Aşağıdakilerden hangisi şiirin dış yapı özelliklerinden biri değildir?
A) Şiirin öz derinliği
B) Nazım şekli
C) Ölçü
D) Kafiye
5. Avrupa'daki anlamıyla öykü türü edebiyatımıza hangi dönemde girmiştir?
A) Cumhuriyet
B) Kurtuluş savaşı
C) Tanzimat
D) İslahat
6. Dokuzuncu Hariciye Koğuşu aşağıdakilerden hangisinin eseridir?
A) Yahya Kemal
B) Peyami Safa
C) Reşat Nuri
D) Memduh Şevket
7. Şiirlerinde gündelik hayatı, anlık sevinç ve tasaları, aşkı ve ölümü ele alan ve özellikle karamsarlıklarını, korkularını "Otuz Beş Yaş" şiirinde dile getiren şair aşağıdakilerden hangisidir?
A) Cahit Sıtkı Tarancı
B) Ahmet Muhip Dranas
C) Orhan Veli
D) Atilla İlhan
8. Battal Gazî, Koroğlu hikâyeleri hangi türün örnekleridir?
A) Köy hikâyelerinin
B) Aşk hikâyelerinin
C) Kahramanlık hikâyelerinin
D) Masalsı hikâyelerin
9. Aşağıdakilerden hangisi müzikli oyun türlerinden biri değildir?
A) Operet
B) Absürd tiyatro
C) Revü
D) Skeç
10. Aşağıdakilerden hangisi fablın öğelerinden biri değildir?
A) Dize
B) Kişiler
C) Olay
D) Yer

11. Aşağıdakilerden hangisi başlıca komedyalı türlerinden biri değildir?

- A) İore
- B) Yergi
- C) Entrika
- D) Diyalog

12. Aşağıdaki yazarlardan hangisi çağdaş tiyatro yazarları arasında sayılamaz?

- A) Lope de Vega
- B) Garcia Lorca
- C) J.P.Sartre
- D) Berthold Brecht

13. Namık Kemal tarafından yazılan ve edebiyatımızda ilk tarihsel roman olarak kabul edilen roman aşağıdakilerden hangisidir?

- A) Çalığışu
- B) Cezmi
- C) Mai ve Siyah
- D) Kıskanma

14. "Dost dost diye nicesine sarıldım
Benim sadık yârim kara topraktr
Beyhude dolandım boşa yoruldum
Benim sadık yârim kara topraktr"

Yukarıda dört dizesi alıntılanan şiir kimin eseridir?

- A) Karacaoğlan
- B) Nedim
- C) Şeyhi
- D) Aşık Veysel

15. Aşağıdakilerden hangisi dramatik bir eserde yer alan konuşma çeşitlerinin özel adlarından biri değildir?

- A) Figüran
- B) Diyalog
- C) Monolog
- D) Tirad

16. Türk tiyatrosunda başarılı bir epik deneme olarak kabul edilen Keşanlı Ali Destanı, kimin eseridir?

- A) Namık Kemal
- B) Halit Ziya
- C) Muhsin Ertuğrul
- D) Haldun Taner

17. Türk tiyatrosunda çağdaş tiyatro tekniğine uygun olarak yazılan ilk önemli eser aşağıdakilerden hangisidir?

- A) Cimri
- B) Müfettiş
- C) Şair Evlenmesi
- D) Figaro'nun Duğunu

18. Aşağıdakilerden hangisi Türk kültürüne ait başlıca halk tiyatrosu türlerinden biri değildir?

- A) Karagoz
- B) Meddah
- C) Orta oyunu
- D) Mani

19. "Sinağrit Baba" hikayesinin de yazarı olan, hikayelerinde denizli, balıkçıları ve balıkları sıkça konu edilen ve denizli çok seven yazar aşağıdakilerden hangisidir?

- A) Halikarnas Balıkcısı
- B) Salt Falk
- C) Ömer Seyfettin
- D) Memduh Şevket

20. Yazarın sanat metinlerinde iletmek istediği mesaja ne ad verilir?

- A) Anlam
- B) Yorum
- C) Yoğun anlam
- D) Gonderge

1. "Uyak göz için değil, kulak içindir." tezini savunan, genç yeteneklerin Servet-i Funûn dergisinde toplanmalarına öncülük eden sanatçı, aşağıdakilerden hangisidir?
 - A) Ahmet Haşım
 - B) Kecaizâde Mahmut Ekrem
 - C) Ali Ekrem Bolayır
 - D) Muallim Naci
2. Aşağıdakilerden hangisi Servet-i Funûn şairlerinden biri değildir?
 - A) Tevfik Fikret
 - B) Hüseyin Suat
 - C) Süleyman Nazif
 - D) Namık Kemal
3. Parnasizmin en önemli özelliği aşağıdakilerden hangisidir?
 - A) Duygudan çok tasvire, düşünceye, biçim ve söyleyiş güzelliğine önem verilmesi
 - B) Noktalama işaretlerinin atılması
 - C) Uç birlik kuralına uyulması
 - D) Sanat için sanat anlayışına karşı çıkılması
4. Sembolistlerden etkilenip resim ve müziği şiirinde birleştirmeye çalışan Servet-i Funûn şairi, aşağıdakilerden hangisidir?
 - A) Cenap Şehabettin
 - B) Hüseyin Suat
 - C) Ali Ekrem Bolayır
 - D) Süleyman Nazif
5. "Rubâb-ı Şikeste, Hâluk'un Defteri, Şermin, Tarih-i Kadim" adlı şiir kitabının yazarı aşağıdakilerden hangisidir?
 - A) Ali Ekrem Bolayır
 - B) Cenap Şehabettin
 - C) Süleyman Nazif
 - D) Tevfik Fikret
6. Osmanlı Devleti içerisinde yaşayan halk arasında dil, din, ırk ayrımı yapılmaksızın herkesin eşit haklara sahip olmasını savunan görüş aşağıdakilerden hangisidir?
 - A) Osmanlıcılık
 - B) İslamcılık
 - C) Batıcılık
 - D) İrkçülük
7. Servet-i Funûn dergisi etrafında toplanan şair ve yazarların 1896-1901 yılları arasında oluşturduğu edebiyat, aşağıdakilerden hangisidir?
 - A) Fecr-i Âtî
 - B) Türk Ocağı
 - C) Edebiyat-ı Cedide
 - D) Tanzimat Edebiyatı
8. En başarılı mensur şiirler kitabı olarak bilinen "Siyah İnciler" kime aittir?
 - A) Halit Ziya
 - B) Cenap Şehabettin
 - C) Tevfik Fikret
 - D) Mehmet Rauf
9. Aşağıdakilerden hangisi Ahmet Haşım'ın eserlerinden biri değildir?
 - A) Göl Saatleri
 - B) Frankfurt Seyahatnamesi
 - C) Piyale
 - D) Altın Işık
10. Aşağıdakilerden hangisi, Milli Edebiyat akımının temsilcilerinden biri değildir?
 - A) Ali Canip Yöntem
 - B) Ömer Seyfettin
 - C) Mehmet Emin Yurdakul
 - D) Halit Fahri Ozansoy
11. Aşağıdakilerden hangisi, Milli Edebiyat Döneminin özelliklerinden biri değildir?
 - A) Ulusal kaynaklardan yararlanılması
 - B) Yakın tarihin, özellikle Osmanlı tarihinin anlatılması
 - C) Halkın sorunlarının dile getirilmesi
 - D) Hece ölçüsü kullanılması
12. Aşağıdakilerden hangisi "saf şiir" anlayışının özelliklerinden biri değildir?
 - A) Soze önem verilmesi
 - B) Nazmın nesre yaklaşması
 - C) Sosyal temalardan çok bireysel duyarlılığın tercih edilmesi
 - D) Ritm ve ahenge önem verilmesi

13. "Çamdeviren", "Dell Ozan" gibi takma isimlerle mizah şiirleri yazan şair aşağıdakilerden hangisidir?

- A) Yahya Kemal
- B) Ahmet Haşim
- C) Faruk Nafiz Çamlıbel
- D) Mehmet Emin Yurdakul

14. Türk edebiyatında Maupassant tarzı hikâye yazımının başarılı temsilcisi, aşağıdakilerden hangisidir?

- A) Halide Edip Adıvar
- B) Ömer Seyfettin
- C) Yakup Kadri Karaosmanoğlu
- D) Reşat Nuri Güntekin

15. Türk edebiyatında özellikle edebiyat tarihi çalışmalarıyla tanınan araştırmacı-yazar, aşağıdakilerden hangisidir?

- A) Halide Edip Adıvar
- B) Fuat Köprülü
- C) Yakup Kadri Karaosmanoğlu
- D) Ahmet Hikmet Müftüoğlu

16. "Çalıkuşu" adlı romanın yazarı aşağıdakilerden hangisidir?

- A) Reşat Nuri Güntekin
- B) Mehmet Rauf
- C) Yakup Kadri Karaosmanoğlu
- D) Halit Ziya Uşaklıgil

17. "Türk Edebiyatında İlk Mutasavvıflar" adlı eser, aşağıdaki yazarlardan hangisine aittir?

- A) Ömer Seyfettin
- B) Halit Fahri Ozansoy
- C) Fuat Köprülü
- D) Yahya Kemal Beyatlı

18. Aşağıdakilerden hangisi, Türk edebiyatında "Beş Hececiler" adıyla anılan yazarlar arasında yer almaz?

- A) Enis Behiç Koryurek
- B) Yusuf Ziya Ortaç
- C) Reşat Nuri Güntekin
- D) Faruk Nafiz Çamlıbel

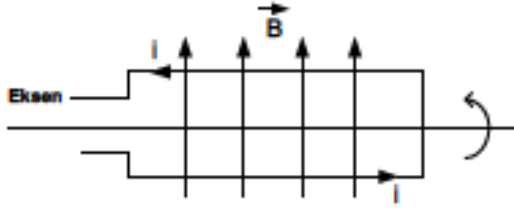
19. Oz Şiir (saf şiir) anlayışının Türk edebiyatındaki önemli temsilcileri aşağıdakilerden hangisinde birlikte ve doğru olarak verilmiştir?

- A) Ömer Seyfettin – Ali Canip Yöntem
- B) Ahmet Samim – Celal Sahir
- C) Ahmet Haşim – Yahya Kemal Beyatlı
- D) Fuat Köprülü – Ziya Gökalp

20. Türk edebiyatını dönemlere ayıran ve bilimsel yöntemlerle inceleyen ilk araştırmacı kimdir?

- A) Fuat Köprülü
- B) Ziya Gökalp
- C) Ömer Seyfettin
- D) Ali Canip

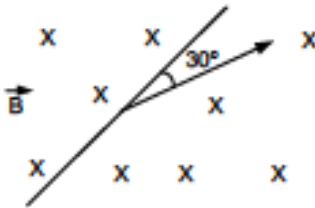
1.



Uzerinden $I=0,5$ A'lık akım geçen 30 cm ye 10 cm boyunda ve eninde olan dikdörtgen tel sabit bir eksen üzerinde dönebilmektedir. Bu tel çerçeve sayfa düzlemine paralel ve yukarı doğru $B=0,6$ T olan manyetik alan içine yerleştiriliyor. Bu tel çerçeveye etki eden manyetik tork (moment) kaç N.m dir?

- A) 0,009
B) 0,09
C) 0,9
D) 9

2.



Yukandaki şekilde 40 cm uzunluğunda iletken bir çubuk sayfa düzleminden içeri doğru $B=0,2 \cdot 10^{-2}$ W/m² lik bir manyetik alan içinde $v=3$ m/s lik hızla hareket etmektedir. Buna göre, çubuğun uçları arasında oluşan indüksiyon emk kaç volt'dur? ($\sin 30^\circ=0,5$)

- A) $10 \cdot 10^{-3}$
B) $12 \cdot 10^{-3}$
C) $14 \cdot 10^{-2}$
D) $16 \cdot 10^{-2}$

3. I. Basınç skaler bir büyüklüktür.
II. Basınç birim yüzeye dik olarak etki eden kuvvettir.
III. Basınç yüzey alanı ile ters orantılıdır.

Basınçla ilgili yukarıdaki ifadelerden hangileri doğrudur?

- A) Yalnız I
B) Yalnız II
C) I ve II
D) I, II ve III

4. I. Sıkıştırılmış bir yayın sahip olduğu enerjiye potansiyel enerji denir.
II. Bir cisme kuvvet uygulayarak enerji aktarılır ve bu kuvvetin iş yaptığı söylenir.
III. Bir cismin sahip olduğu kinetik ve potansiyel enerjilerinin toplamına mekanik enerji denir.

Enerjiyle ilgili yukarıdaki ifadelerden hangisi doğrudur?

- A) I ve II
B) I ve III
C) II ve III
D) I, II ve III

5. Aşağıdaki maddelerden hangisi manyetik özelliğe göre sınıflandırma içinde yer almaz?

- A) Piezoelektrik
B) Paramanyetik
C) Diyamanyetik
D) Ferromanyetik

6. Aşağıdakilerden hangisi basınç etkisine göre tasarlanmıştır?

- A) Makara
B) Çivi
C) Terazı
D) Çaydanlık

7. Suyun öz kütlesi kaç °C'de en büyük değerini alır?

- A) - 4
- B) 0
- C) + 4
- D) + 10

8. Kütleleri $M_1=6$ kg ve $M_2=2$ kg olan iki cisim birbirlerine doğru $V_1=2$ m/s ve $V_2=4$ m/s hızlarıyla gelerek merkezi esnek olmayan çarpışma yaparak kenetleniyorlar.

Buna göre, bu cisimlerin çarpışmadan sonraki ortak hızı kaç m/s dir?

- A) 0,5
- B) 1
- C) 1,5
- D) 2

9. I. Sıkıştırılmış bir yayın sahip olduğu enerjiye yayın potansiyel enerjisi adı verilir.
II. Bir cismin sahip olduğu kinetik ve potansiyel enerjinin toplamına mekanik enerji adı verilir.
III. Bir cisme kuvvet uygulayarak enerji aktarıyorsa bu kuvvetin iş yaptığı söylenir.

Enerjiyle ilgili yukarıdaki ifadelerden hangileri doğrudur?

- A) Yalnız I
- B) I ve II
- C) II ve III
- D) I, II ve III

10. Gümüşten yapılmış bir silindirin hacmi 84 m³ dir. Bu silindirin sıcaklığı 50 °C artırırsa hacmindeki genişleme kaç m³ olur? ($\alpha_{Ag}=19.10^{-6}$ 1/°C)

- A) 0,0034
- B) 0,2394
- C) 0,3445
- D) 0,4324

11. I. Yapılan iş toplam alana eşittir.
II. Alan pozitif veya negatif olabilir.
III. Alan pozitif olursa cisim enerji kazanır, negatif olursa enerji kaybeder.

Kuvvet-Yer değiştirme grafiğiyle ilgili yukarıdaki ifadelerden hangileri doğrudur?

- A) Yalnız I
- B) Yalnız II
- C) II ve III
- D) I, II ve III

12. Cisimler üzerine dışarıdan basınç uygulayarak elektriksel potansiyel farkı elde edilmesi olayına Piezo elektrik denir.

Buna göre, aşağıdaki araçlardan hangisi Piezo elektrik esasına göre çalışmaktadır?

- A) Elektronik Terazı
- B) Pense
- C) Ampul
- D) Televizyon

13. Eylemsizlik momentumunun birimi nedir?

- A) kg
- B) J
- C) kg.m²
- D) N.m

14. 2 m/s hızla ilerlemekte olan 30 kg kütleli bir arabanın üzerinde kütlesi 40 kg olan bir çocuk durmaktadır. Çocuk yere göre arabanın iki katı bir hızla ve ters yönde atırsa arabanın hızı kaç m/s olur?

- A) 2
- B) 4
- C) 8
- D) 10

15. Sürtünmesiz yatay düzlemde 2 m/s hızla hareket eden 2 kg kütleli bir cisme 7 N'luk bir kuvvet 3m'lik yol boyunca etki ediyor.

Buna göre, cismin son hızı kaç m/s dir?

- A) 4
B) 5
C) 6
D) 7

16. Manyetik alanla ilgili aşağıdaki ifadelerden hangisi yanlıştır?

- A) Miknatsın oluşturduğu alan iki boyutludur.
B) Miknats demir, nikel ve kobalt gibi maddeleri çeker.
C) Akım taşıyan tel etrafında manyetik alan oluşturur.
D) Elektrik ve manyetik alanın modellenmesi birbirine benzese de birbirlerinden farklı büyüklüklere sahiptir.

17. Kütleli 5 kg olan bir cisim 2 m yukarıdadır. Bu cisim yerden 5 m yukarı kaldırılıyor. Cismin yere göre kazandığı potansiyel enerji kaç joule'dür? ($g=10\text{m/s}^2$)

- A) 100
B) 125
C) 150
D) 175

18. I. Üzerinden akım geçirilen selenoid yapay miknats olur.
II. Manyetik alan sadece miknatslarla elde edilir.
III. Kapalı bir devrede manyetik akı değişirse, devrede elektrik akımı oluşur.

Manyetizmayla ilgili yukarıdaki ifadelerden hangisi doğrudur?

- A) I ve II
B) I ve III
C) II ve III
D) I, II ve III

19. I. Manyetik alan tarafından bir yüke kuvvet etki ediyorsa o yük mutlaka hareketlidir.
II. Akım taşıyan bir telin etrafında oluşan manyetik alanın yönü sağ el kuralı ile bulunur.
III. Manyetik alandaki yükü bir parçacığa etki eden manyetik kuvvetin yönü sağ el kuralı ile bulunur.

Manyetik alanla ilgili yukarıdaki ifadelerden hangisi doğrudur?

- A) I ve II
B) I ve III
C) II ve III
D) I, II ve III

20. Uzunluğu 15 m olan bir kalas kullanılarak 600 N'luk bir yükü 4 m yükseğe çıkarmak için uygulanması gereken kuvvet kaç newton'dur?

- A) 120
B) 140
C) 160
D) 180

1. Fosil yakıtların (kömür, petrol gibi) yanması sonucu oluşan ve son yıllarda küresel ısınmaya neden olan, ısıyı tutma özelliğine sahip gaz aşağıdakilerden hangisidir?

A) Karbondioksit
B) Oksijen
C) Azot
D) Hidrojen

2. Aşağıdakilerden hangisi karışımları çözünürlük farkı ile ayırma yöntemlerinden biri değildir?

A) Aynmsal kristalleştirme
B) Çöktürme
C) Ozütme (ekstraksiyon)
D) Damıtma

3. I. Yapılarında çok sayıda C ve H atomları olan uzun zincirli moleküllerdir.
II. Moleküllerinde hidrofob ve hidrofil kısımlar bulunur.
III. Diğer temizleyici maddelerde olduğu gibi yüzey aktif maddeler grubunda da yer alırlar.

Yukarıdaki özelliklerden hangileri sabunlar ve deterjanlar için ortaktır?

A) I ve II
B) I ve III
C) II ve III
D) I, II ve III

4. Aşağıdaki temizlik maddelerinin isim-formül eşleştirmelerinden hangisi yanlıştır?

A) Sabun- $C_{17}H_{35}COO^-Na^+$
B) Arap sabunu- $C_{17}H_{35}COO^-K^+$
C) Çamaşır suyu-NaCl
D) Çamaşır sodası- Na_2CO_3

5. Aşağıda verilen karışım ve ayırma yöntemleri eşleştirmelerinden hangisi yanlıştır?

Karışım	Ayırma Yöntemi
A) Alkol-su	Aynmsal damıtma
B) Tuzlu su	Damıtma
C) Naftalin-su	Süzme
D) Zeytinyağı-su	Yoğunluk farkı

6. I. Ağartıcı olarak kullanılır.
II. Yükseltgen madde içerir.
III. Dayanaksız kimyasal maddedir.

Çamaşır suyu ile ilgili yukarıdaki ifadelerden hangileri doğrudur?

A) Yalnız I
B) I ve II
C) II ve III
D) I, II ve III

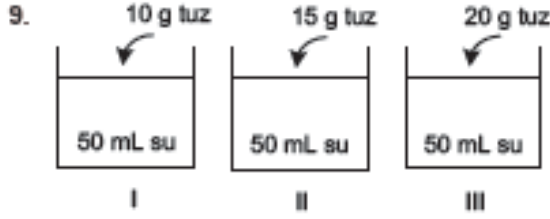
7. Endüstrileşme ve teknolojik gelişmeler hava kirliliğine artan bir etkiyle bulunmaktadır. Özellikle fosil yakıtların kullanımı sonucu oluşan ve asit yağmurlarına neden olan gazlar, aşağıdakilerden hangisi değildir?

A) CO_2
B) H_2O
C) SO_2
D) NO_2

8. Gazoz gibi gazlı içeceklerin üzerinde "Soğuk içiniz" yazar.

Bu olayı aşağıdaki bilgilerden hangisi açıklar?

A) Gazların çözünürlüğü sıcaklık arttıkça azalır.
B) İçeceklerin tümü soğuk içilir.
C) Basıncın azalması, çözünen gaz miktarını azaltır.
D) Çözümlerde sıcaklık arttıkça, çözünen madde miktarı artar.



Aynı sıcaklıkta hazırlanan tuzlu su çözeltilerinin kaynama noktalarının sıralanışı aşağıdakilerden hangisidir?

- A) I > II > III
B) III > II > I
C) II > III > I
D) I > III > II

10. Endüstrileşme ve teknolojik gelişmeler hava kirliliğinin artmasına neden olmuştur.

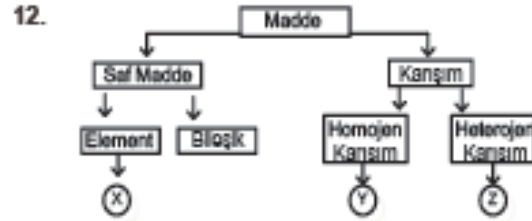
Aşağıdakilerden hangisi hava kirliliğini olumsuz yönde etkileyen etmenlerden biri **değildir**?

- A) Otomobil üretiminin artması
B) Ağaç dikiminin artması
C) Petrol tüketiminin artması
D) Fabrika sayısının artması



Yukarıdaki tepkimede "Beyaz sabunun" elde edilmesinde kullanılan "NaOH" yerine hangi madde kullanılırsa **arap sabunu** elde edilir?

- A) Ca(OH)₂
B) KOH
C) Ba(OH)₂
D) LiOH



Maddenin sınıflandırılması ile ilgili verilen şemada X, Y ve Z yerine aşağıdakilerden hangisi gelebilir?

- | X | Y | Z |
|---------------|----------|----------|
| A) Altın | Toprak | Gazoz |
| B) Su | Tuzlu su | Kolonya |
| C) Yemek tuzu | Tuzlu su | Süt |
| D) Demir | Hava | Kumlu su |

13. Karışımları bileşenlerine ayırma işlemlerinde kullanılan ayırma hunisinde karışımı oluşturan bileşenlerin hangi özelliğinden yararlanır?

- A) Yoğunluk farkı
B) Tanecik boyutu
C) Erime noktası
D) Kaynama noktası

14. I. Bileşenleri arasında belirli bir oran vardır.
II. Fiziksel yollarla ayrılabilirler.
III. Erime ve kaynama noktaları sabittir.
IV. Bileşenleri kimyasal özelliklerini kaybetmez.

Yukarıdakilerden hangileri karışımlara ait özelliklerdendir?

- A) I ve II
B) II ve III
C) II ve IV
D) III ve IV

15. I. Piller
II. Deterjanlar
III. Kimyasal gübreler
IV. Yemek artıkları

Yukarıdaki maddelerden hangileri kalıcı toprak ve su kirliliğine yol açar?

- A) I ve II
B) I ve III
C) II ve IV
D) I, II ve III

16. Parçalanmış ve sulandırılmış besinlerin enzimler sayesinde kimyasal değişime uğrayıp, yapıtaşlarına parçalanmasına "kimyasal sindirim" denir.

Aşağıdakilerden hangisi büyük organik bileşiklerin kimyasal sindirimi sonucu oluşan yapıtaşı değildir?

- A) Glikoz
B) Aminoasit
C) Vitamin
D) Yağ asit

17. Aşağıdakilerden hangisi katı maddenin çözünürlüğünü artırmaz?

- A) Çözelti sıcaklığını artırmak
B) Çözelti sıcaklığını azaltmak
C) Çözüneni toz haline getirmek
D) Farklı çözücüler kullanmak

18. Aşağıdakilerden hangisi elektrolit çözelti örneğidir?

- A) Tuzlu su
B) Asetonlu su
C) Şekerli su
D) Alkollü su

19. Doğada oksijen ve karbondioksit dengesini sağlayan iki önemli kimyasal olay aşağıdaki seçeneklerden hangisinde birlikte ve doğru olarak verilmiştir?

- A) Fotosentez – Buharlaştırma
B) Solunum – Yoğuşma
C) Fotosentez – Solunum
D) Solunum – Buharlaştırma

20. Kireç taşı (CaCO_3), Kum (SiO_2) ve soda (Na_2CO_3) bileşenlerinden oluşan, ışığa karşı saydam olan madde aşağıdakilerden hangisidir?

- A) Cam
B) Beton
C) Seramik
D) Porselen

1. Türk Ticaret Kanunu'nun 12.maddesine göre ticari bir işletmeyi kısmen dahil olsa kendi adına işleten kimseye ne ad verilir?
 - A) Lonca
 - B) Lider
 - C) Tacir
 - D) Yönetici
2. Üretilen mal ve hizmetlerin yanı çıktının, bu mal ya da hizmetin elde edilmesinde kullanılan girdiye oranlanmasıyla elde edilen değere ne ad verilir?
 - A) Kâr
 - B) Verimlilik
 - C) Fayda
 - D) Finansman
3. Aşağıdakilerden hangisi ihtiyaçların sınıflandırılmasında birincil ihtiyaçlar arasında yer almaz?
 - A) Giyinmek
 - B) Barınmak
 - C) Tiyatroya gitmek
 - D) Uyumak
4. Üretimi için hiçbir çaba ya da örgütlenme gerektirmeyen ve doğada hazır bulunan mallara ne ad verilir?
 - A) Serbest mal
 - B) Dayanıkl mal
 - C) Hizmet
 - D) Ekonomik mal
5. Girdi seçimini doğru yapmak aşağıdaki verimlilik ilkelerinden hangisini ifade eder?
 - A) Farkında olmak ilkesi
 - B) Uygunluk ilkesi
 - C) En uygun bileşim ilkesi
 - D) Analitiklik ilkesi
6. Verimlilik sorunlarının belirlenmesine ve çözümlenmesine yönelik teknikleri geliştirerek verimlilikle ilgili alanlarda doğrudan ya da dolaylı faaliyet içindeki kurul, kurum ve kuruluşlara teknik bilgi desteği sağlayan, politika oluşturma süreçlerinde yönlendirici rol üstlenen özerk kuruluş aşağıdakilerden hangisidir?
 - A) Millî Produktivite Merkezi
 - B) Türk Standartları Enstitüsü
 - C) Sermaye Piyasası Kurulu
 - D) Bankacılık Düzenleme Denetleme Kurulu
7. Kâr aşağıdaki değerlendirilmelerden hangisinde ölçüt olarak kullanılmaz?
 - A) Üst yönetimin başarı değerlendirmesinde
 - B) Tüketicilerin tercihlerinde
 - C) İşletmenin büyümesinde
 - D) Çalışanlar için özendirici olmasında
8. Aşağıdakilerden hangisi işletmenin özel amaçları içinde ver almaz?
 - A) Personeline yeterli ücret vermek
 - B) Tüketicilere nitelikli mal ve hizmet sunmak
 - C) Yerel yönetimlerle işbirliği
 - D) Uzun vadeli büyümeyi hedef haline getirmek
9. İşletmelerin belli bir dönem içinde elde ettiği gelirler ile aynı dönem içinde katlandığı giderler arasındaki olumsuz farka ne ad verilir?
 - A) Zarar
 - B) Kâr
 - C) Mevduat
 - D) Falz
10. Verilerin toplanması organize edilmesi analiz edilmesi özetlenmesi, sunulması ve bu verilerden bir sonuca varabilmesi için kullanılan bilim dalı aşağıdakilerden hangisidir?
 - A) İşletme bilimi
 - B) İstatistik bilimi
 - C) Davranış bilimi
 - D) Hukuk bilimi

11. Aşağıdakilerden hangisi sermaye şirketleri arasında var almaz?
- A) Sermayesi paylara bölünmüş komandit şirket
B) Limitet şirket
C) Anonim şirket
D) Kollektif şirket
12. Aşağıdakilerden hangisi şahıs şirketlerinin özelliklerinden biridir?
- A) En az 7 ortak tarafından kurulması
B) Şirketten ayrılan ortağın şirket işlerinden dolayı üçüncü kişilere olan sorumluluğu hiçbir şekilde devam etmez.
C) Sermayesinin yüzde ellisinin devlete ait olması
D) Ortaklığın devrinin güç olması
13. Kazanç paylaşma dışında, kanunlarla yasaklanmamış belirli ve ortak bir amacı gerçekleştirmek üzere, en az yedi gerçek veya tüzel kişinin, bilgi ve çalışmalarını sürekli olarak birleştirmek suretiyle oluşturdukları tüzel kişiliğe sahip kişi topluluklarına ne ad verilir?
- A) Demek
B) Kooperatif
C) Vakıf
D) Kulüp
14. Ticari bir işletmeyi bir ticaret unvanı altında işletmek amacıyla kurulan, şirket alacaklılarına karşı ortaklardan bir veya birkaçının sorumluluğu sınırlandırılmamış ve diğer ortak veya ortakların sorumluluğu belirli bir sermaye ile sınırlandırılmış olan şirkete ne ad verilir?
- A) Kollektif şirket
B) Komandit şirket
C) Limitet şirket
D) Anonim şirket
15. Bankaların, aracı kurumların faaliyetleri hizmet işletmeleri türlerinden hangisine ornektir?
- A) Finans Hizmetleri
B) Sağlık Hizmetleri
C) Emlak Hizmetleri
D) Eğitim Hizmetleri
16. Belirli sosyal risklerin yol açabileceği gelir kayıpları ve gider artışlarına karşı kişilerin güvenliklerinin sağlanmasına ne ad verilir?
- A) Siber güvenlik
B) İş güvenliği
C) Özel güvenlik
D) Sosyal güvenlik
17. Sigortalı çalıştıran gerçek veya tüzel kişiler ile tüzel kişiliği olmayan kurum ve kuruluşlara ne ad verilir?
- A) Sigortalı
B) Pazar
C) Finansör
D) İşveren
18. Çabuk bozulan mallar üreten işletmeler için önemli olan kuruluş yeri faktörü aşağıdakilerden hangisidir?
- A) İşgücü
B) Pazara yakınlık
C) Yerel yönetim imkânları
D) Atıkların atılması
19. Malullük, yaşlılık ve ölüm sigortaları ile vazife malullüğü halinde yapılan sürekli ödemeye ne ad verilir?
- A) Faiz
B) Kâr
C) Rant
D) Aylık
20. Aşağıdakilerden hangisi kuruluş yeri seçiminde işgücü faktörü değerlendirilirken ele alınan konulardan biri değildir?
- A) İşgücünün miktarı
B) İşgücünün niteliği
C) İşgücünün aile yapısı
D) İşgücünün maliyeti

1. "Aynı niteliğin, aynı zamanda, aynı özneye, aynı bakımdan hem ait olması, hem de olmaması imkânsızdır."

Aristoteles'in yukarıdaki sözü mantık ilkelerinden hangisini ifade eder?

- A) Özdeşlik
B) Üçüncü halin olanaksızlığı
C) Belirsizlik
D) Çelişmezlik
2. Özelden genele yapılan akıl yürütme biçimine ne ad verilir?
- A) Tümdengelim
B) İmevarım
C) Benzeşim
D) Analoji
3. Aşağıdakilerden hangisi geçerli akıl yürütmeyi ifade eder?
- A) Akıl yürütmenin sonucu ile verilen öncüllerin çelişmesidir.
B) Akıl yürütmenin sonucunun, verilen öncüllerden zorunlu olarak çıkmasıdır.
C) Akıl yürütmenin sonucu ile verilen öncüllerin değillermelerinin bir arada tutarlı olmasıdır.
D) Hem öncüllerin hem de sonucun doğru önergeler olmasıdır.
4. Aşağıdakilerden hangisi "olumlu-olumsuz" kavram çiftine bir örnektir?
- A) Zengin-Çalışkan
B) Koyu-Açık
C) Kredili-Kredisiz
D) Kaprisli-İnatçı
5. Aşağıdakilerden hangisi mantık ilkelerinden biri değildir?
- A) Yeter neden
B) Benzeşim
C) Özdeşlik
D) Çelişmezlik

6. Aşağıdakilerden hangisi mantık ile ilgili yanlış bir ifadedir?

- A) Mantık, düşüncelerin gerçekte olup olmadıklarını denetler.
B) Mantık, tüm bilimlerin temelinde yer almak zorundadır.
C) Mantıklı düşünmek, doğru akıl yürütmek anlamına gelir.
D) Mantık, doğru düşünmenin kurallarıdır.

7. Aşağıdaki akıl yürütmelerden hangisi tümdengellime bir örnektir?

- A) Demir ısıtılınca genişler. Bakır ısıtılınca genişler. O halde madenler ısıtılınca genişler.
B) Maymunların ve yunusların gülme yetileri vardır. Maymunların aynı zamanda konuşma yetileri vardır. O halde yunusların da konuşma yetileri vardır.
C) Türkiye'de iklimler değişiyor. Japonya'da iklimler değişiyor. İngiltere'de iklimler değişiyor. Amerika'da iklimler değişiyor. O halde dünyada iklimler değişiyor.
D) Bütün kitapların sayfaları vardır. "Sessiz Ev" bir kitaptır. O halde "Sessiz Ev"nin sayfaları vardır.

8. "Hiçbir insan sağlıklı değildir." önermesinin altık önermesi aşağıdakilerden hangisidir?

- A) Tüm insanlar sağlıklıdır.
B) Bazı sağlıklı olmayanlar insandır.
C) Bazı insanlar sağlıklı değildir.
D) Hiçbir insan olmayan sağlıklı değildir.

9. Aşağıdakilerden hangisi zorunlu (apodiktik) bir önermedir?

- A) Üçgenin iç açılar toplamı 180 derecedir.
B) Balıklar memeli hayvanlardır.
C) Bazı insanlar güzel yüzlüdür.
D) "pi" sayısının (3, 14...) virgülden sonraki 665. rakamı "3"tür.

10. Aşağıdaki kavram çiftlerinden hangisi çelişik kavramlara bir örnektir?

- A) Hisli - Duygusuz
B) Kalabalık - Tenha
C) Açık - Kapalı
D) Katı - Kati olmayan

11. Karşıolom Karesine göre "Bazı bitkiler kırmızıdır." önermesinin çelişki olan önerme aşağıdakilerden hangisidir?

- A) Bazı bitki olmayanlar kırmızıdır.
- B) Hiçbir bitki kırmızı değildir.
- C) Bütün bitkiler kırmızıdır.
- D) Bazı bitkiler kırmızı değildir.

12. Aşağıdakilerden hangisi bir önerme değildir?

- A) İnsanlar mutsuzdur.
- B) Karpuzun rengi sandır.
- C) Gidelim artık buralardan.
- D) Politikacı olmak için etkili konuşmayı bilmek gerekir.

13. Aşağıdaki kıyaslardan hangisi bir iklem örneğidir?

- A) Ya bu deveyi gudeceksin ya da bu diyardan gideceksin; bu deveyi gütmeyeceksin; o halde bu diyardan gideceksin.
- B) Dans etmek taydalıdır, çünkü ter atarsın.
- C) Evren ya sonludur ya da sonsuzdur; evren sonlu değildir; o halde evren sonsuzdur.
- D) Eğer sen bir öğretmensen, ne korkak ne de sertsindir; ama sen hem korkaksın hem de sert; o halde sen iyi bir öğretmen değilsin.

14. Aşağıdaki önermelerden hangisi özdeşlik ilkesine bir örnek değildir?

- A) Bitkiler ya canlıdır ya da canlı değildir.
- B) İnsan insandır.
- C) Her şey güzel ise her şey güzeldir.
- D) Eğer beş kere beş yirmibeş ediyorsa beş kere beş yirmibeş ediyordur.

15. Aşağıdaki önermelerden hangisi "Her insan yazardır." önermesi ile eşdeğerdir?

- A) Her yazar olmayan insan olmayandır.
- B) Her yazar insandır.
- C) Hiçbir insan olmayan yazar değildir.
- D) Her insan yazar olmayandır.

16. Önerme ile ilgili aşağıdaki ifadelerden hangisi yanlıştır?

- A) İkel olumlu bir önermenin ters döndürmesi yoktur.
- B) Tekel olumsuz bir önermenin düz döndürmesi yoktur.
- C) "Her hakem adildir." önermesinin ters döndürmesi "Her adil olmayan hakemdir." önermesidir.
- D) "Bazı bitkiler kokusuzdur." önermesinin düz döndürmesi "Bazı kokusuzlar bitkidir." önermesidir.

17. "Hiçbir cimri dost değildir." önermesinin düz döndürmesi aşağıdakilerden hangisidir?

- A) Bazı cimri dosttur.
- B) Tüm dostlar cimridir.
- C) Hiçbir dost cimri değildir.
- D) Hiçbir cimri olmayan dost olmayandır.

18. Aşağıdaki kavram çiftlerinden hangisinde, sırasıyla kolektif kavram ile distribütif kavram verilmiştir?

- A) Alle-Çocuk
- B) İnsan-Hayvan
- C) Ali-Bazı insanlar
- D) Milletvekili-Meclis

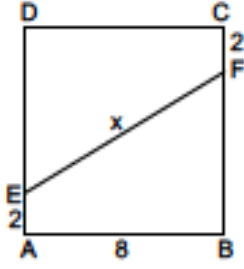
19. "Düşünüyorum oyleyse varım." kıyası aşağıdakilerden hangisine bir örnektir?

- A) Zincirleme kıyas
- B) Entimem
- C) Basit kıyas
- D) İklem

20. Aşağıdakilerden hangisinde, sırasıyla "beyaz" ve "beyazlık" kavramlarının çeşitleri verilmiştir?

- A) Genel kavram - Tekil kavram
- B) Tekil kavram - Soyut kavram
- C) Açık kavram - Genel kavram
- D) Somut kavram - Soyut kavram

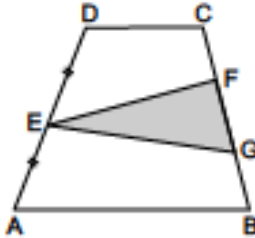
1.



Yukarıdaki ABCD karesinde $|AE|=|CF|=2$ cm ve $|AB| = 8$ cm olduğuna göre, $|EF| = x$ kaç cm dir?

- A) $4\sqrt{5}$
- B) $4\sqrt{6}$
- C) 10
- D) $6\sqrt{3}$

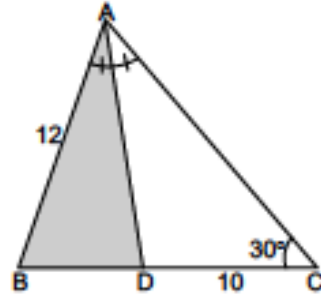
2.



Yukarıdaki ABCD yamuğunda, $|DE| = |AE|$, $|BC| = 2|FG|$ ve $A(\widehat{EFG})=16$ cm^2 olduğuna göre, $A(ABCD)$ kaç cm^2 dir?

- A) 48
- B) 64
- C) 72
- D) 80

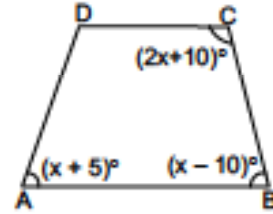
3.



Yukarıdaki ABC üçgeninde, $[AD]$ açıortay, $m(\widehat{ACB}) = 30^\circ$, $|DC| = 10$ cm ve $|AB| = 12$ cm ise, $A(\widehat{ABD})$ kaç cm^2 dir?

- A) 24
- B) 26
- C) 28
- D) 30

4.



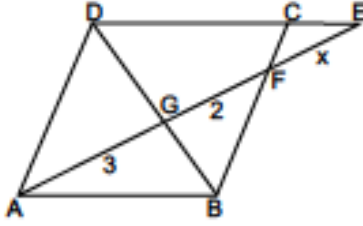
Yukarıdaki ABCD yamuğunda $m(\widehat{ABC}) = (x-10)^\circ$, $m(\widehat{BCD}) = (2x+10)^\circ$ ve $m(\widehat{BAD}) = (x+5)^\circ$ ise, $m(\widehat{ADC})$ kaç derecedir?

- A) 110
- B) 115
- C) 120
- D) 125

5. İç açılarının ölçüleri toplamı 1620° olan bir dışbükey çokgenin kenar sayısı kaçtır?

- A) 9
- B) 10
- C) 11
- D) 12

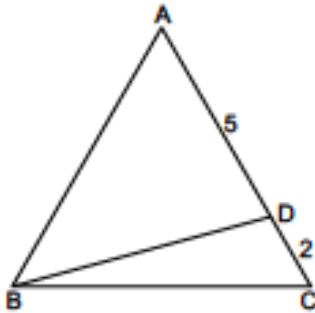
6.



Yukarıdaki şekilde ABCD paralelkenar D, C, E doğrusal $[BD] \cap [AE] = \{G\}$, $|AG| = 3$ cm ve $|GF| = 2$ cm ise, $|EF| = x$ kaç cm dir?

- A) 2,5
B) 3
C) 3,5
D) 4

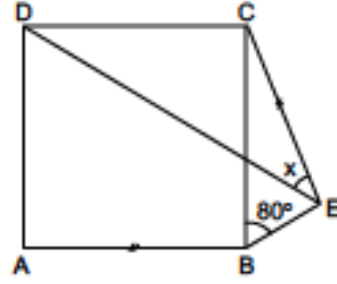
7.



Yukarıdaki ABC üçgeninde $|AD| = 5$ cm, $|DC| = 2$ cm ve $A(\widehat{ABC}) = 49$ cm² ise, $A(\widehat{ABD}) - A(\widehat{DBC})$ kaç cm² dir?

- A) 19
B) 21
C) 23
D) 25

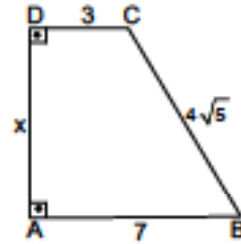
8.



Yukarıdaki şekilde ABCD bir kare, $m(\widehat{BEC}) = 80^\circ$, ve $|EC| = |AB|$ olduğuna göre, $m(\widehat{CED}) = x$ kaç derecedir?

- A) 20
B) 25
C) 30
D) 35

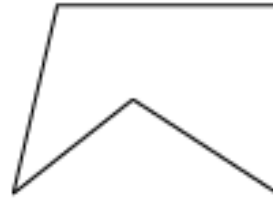
9.



Yukarıdaki ABCD dik yamukunda $[AD] \perp [AB]$, $|BC| = 4\sqrt{5}$ cm, $|AB| = 7$ cm ve $|CD| = 3$ cm ise, $|AD| = x$ kaç cm dir?

- A) 6
B) 7
C) 8
D) 9

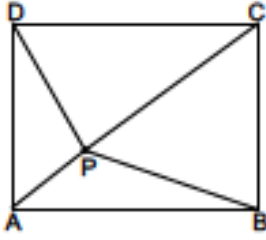
10.



Yukarıda verilen çokgen ile ilgili aşağıdaki ifadelerden hangisi yanlıştır?

- A) Konveks çokgendir.
B) 5 kenan vardır.
C) 5 köşesi vardır.
D) 5 tane iç açısı vardır.

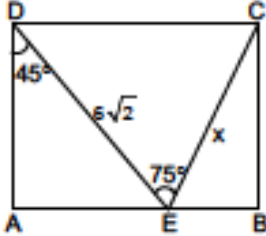
11.



Yukarıdaki şekilde ABCD bir dikdörtgen, $|CP|=3|AP|$ ve $|BP|^2 + |DP|^2 = 40$ cm^2 ise, $|AP|$ kaç cm dir?

- A) $\sqrt{2}$
B) $\sqrt{3}$
C) 2
D) $\sqrt{5}$

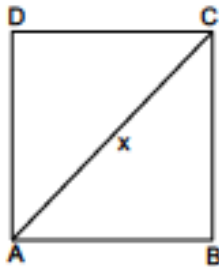
12.



Yukarıdaki ABCD dikdörtgeninde $m(\widehat{CED}) = 75^\circ$, $m(\widehat{ADE}) = 45^\circ$ ve $|ED| = 6\sqrt{2}$ cm ise, $|EC| = x$ kaç cm dir?

- A) 6
B) $4\sqrt{3}$
C) $3\sqrt{6}$
D) 8

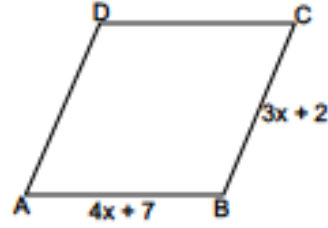
13.



Yukarıdaki şekilde ABCD bir kare ve $A(ABCD) = 50 \text{ cm}^2$ olduğuna göre, $|AC| = x$ kaç cm dir?

- A) $5\sqrt{2}$
B) $5\sqrt{3}$
C) 10
D) $5\sqrt{5}$

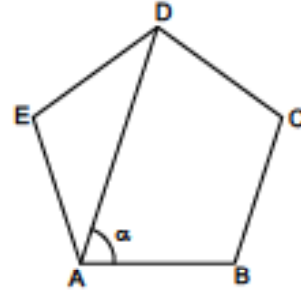
14.



Yukarıdaki ABCD paralelkenarında $|AB| = (4x+7)$ cm, $|BC| = (3x+2)$ cm ve $\text{Ç}(ABCD) = 60$ cm olduğuna göre, $|AD|$ kaç cm dir?

- A) 11
B) 12
C) 13
D) 14

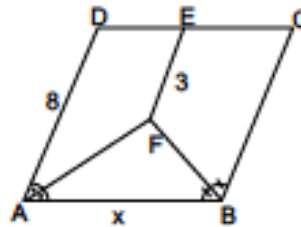
15.



Yukarıdaki şekilde ABCDE düzgün beşgen olduğuna göre, $m(\widehat{DAB}) = \alpha$ kaç derecedir?

- A) 36
B) 54
C) 72
D) 96

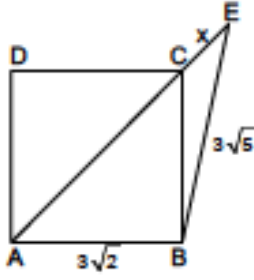
16.



Yukarıdaki ABCD paralelkenarında $[EF] \parallel [AD]$, $[AF]$ ve $[BF]$ açıortay, $|AD| = 8$ cm ve $|EF| = 3$ cm ise, $|AB| = x$ kaç cm dir?

- A) 9
B) 10
C) 11
D) 12

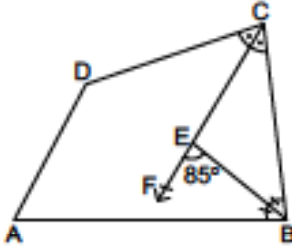
17.



Yukarıdaki şekilde ABCD bir kare A, C, E doğrusal, $|AB|=3\sqrt{2}$ cm ve $|BE|=3\sqrt{5}$ cm ise, $|EC|=x$ kaç cm dir?

- A) $\sqrt{2}$
- B) $\sqrt{3}$
- C) 2
- D) 3

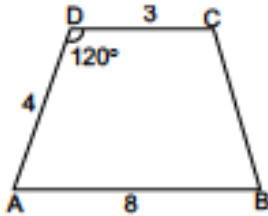
18.



Yukarıdaki şekilde ABCD bir dörtgen. $[CF]$ ve $[BE]$ açıortay, $m(\widehat{FEB}) = 85^\circ$ ise, $m(\widehat{A}) + m(\widehat{D})$ kaç derecedir?

- A) 175
- B) 180
- C) 185
- D) 190

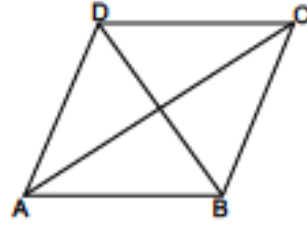
19.



Yukarıdaki ABCD yamuğunda $m(\widehat{ADC}) = 120^\circ$, $|AB| = 8$ cm, $|CD| = 3$ cm ve $|AD| = 4$ cm ise, $A(ABCD)$ kaç cm^2 dir?

- A) $8\sqrt{3}$
- B) $10\sqrt{3}$
- C) $11\sqrt{3}$
- D) $14\sqrt{3}$

20.



Yukarıdaki şekilde ABCD eşkenar dörtgen. $[AC]$ ve $[BD]$ köşegen, $|AC|=8$ cm ve $A(ABCD)=24$ cm ise, $\text{Çevre}(ABCD)$ kaç cm dir?

- A) 20
- B) 24
- C) 32
- D) 36

1. Hz. Peygamber'in taşa tutulduğu yıl aşağıdakilerden hangisidir?
 - A) 617
 - B) 619
 - C) 620
 - D) 622
2. Peygamberliğin onuncu yılına denk gelen yıla ne ad verilir?
 - A) Boykot Yılı
 - B) Hüzün Yılı
 - C) Dışlanma Yılı
 - D) Müslümanlık Yılı
3. Ficar Savaşı aşağıdaki kabilelerden hangileri arasında yapılmıştır?
 - A) Kureyş-Kinane
 - B) Hevazın-Harem
 - C) Kureyş-Hevazın
 - D) Harem-Kinane
4. Ficar Savaşları kaç tanedir?
 - A) 4
 - B) 3
 - C) 2
 - D) 1
5. Aşağıdakilerden hangisi Raci olayında esir alınıp satılan Müslümanlardan biridir?
 - A) Âsım b. Sâbit
 - B) Zeyd b. Desine
 - C) Haris bi Âmir
 - D) Safuan b. Ümeyye
6. Hz. Peygamber'in sütanesi Halime'nin yanında kalmaya başladığı yıl aşağıdakilerden hangisidir?
 - A) 571
 - B) 575
 - C) 577
 - D) 579
7. 624 yılındaki gazveye Sevik Savaşı denilmesinin nedeni aşağıdakilerden hangisidir?
 - A) Savaşın yapıldığı düzluğun adının Sevik olması
 - B) Savaşta Sevik isimli bir çığının şehit olması
 - C) Savaşta kullanılan silahların adının Sevik olması
 - D) Mekkellilerin erzak olarak getirdikleri unu kaçarken ağırlık olmasın diye bırakmaları
8. İlk olayı aşağıdakilerden hangisidir?
 - A) Hz. Hatice'nin iftiraya uğraması
 - B) Hz. Hafsa'nın iftiraya uğraması
 - C) Hz. Cüveyriye'nin iftiraya uğraması
 - D) Hz. Ayşe'nin iftiraya uğraması
9. Aşağıdakilerden hangisi Hudeybiye Antlaşması'nın şartlarından biri değildir?
 - A) Müslümanların Mekke'de bulunduğu günlerde, Kureyşlilerin Mekke dışına çıkması
 - B) Müslümanların Kâbe'yi bir yıl sonra ziyaret etmesi
 - C) Antlaşmanın on beş yıl geçerli olması
 - D) Müslümanların Mekke'yi ziyarete geldiklerinde üç günden fazla kalmaması
10. Hz. Muhammed'in doğum ve ölüm yılları aşağıdakilerden hangisinde doğru verilmiştir?
 - A) 571-632
 - B) 571-630
 - C) 572-632
 - D) 572-630
11. İslam'da güzellik anlayışının temeli aşağıdakilerden hangisidir?
 - A) Güzellik görecelidir.
 - B) Dış güzellik iç güzellikten güzeldir.
 - C) İnsan güzelliğinin merkezidir.
 - D) Allah güzeldir, güzel olanı sever.

12. Hz. Muhammed'le ilgili aşağıdaki ifadelerden hangisi **yanlıştır**?
- A) Müslümanların rol modelidir.
 B) Yanlış davranışları cezalarla öğretmeye çalışmıştır.
 C) Tertip ve düzen içinde yaşamaya özen göstermiştir.
 D) Güzel ahlâkı tamamlamak için gönderilmiş bir elçidir.

13. Aşağıdakilerden hangisi Hz. Peygamber'in önem verdiği konulardan biri **değildir**?
- A) Düzenli ve tertipli olmak
 B) Başkalarının özel hayatına saygılı olmak
 C) Güler yüzlü ve hoşgörülü olmak
 D) Süslü giysiler giymek

14. Hz. Muhammed'le ilgili aşağıdaki ifadelerden hangisi **yanlıştır**?
- A) Peygamberimiz boş ve anlamsız sözler söylemekten insanları sakındırmıştır.
 B) Peygamberimiz müminlerin sert tavırlı olmaktan sakınmaya çağırıştır.
 C) Peygamberimiz insanlarla ilişkilerde güler yüzlü olmayı tavsiye etmiştir.
 D) Sohbet ortamlarında konuşulan iyi şeylerin, başkalarına aktarılmasını yasaklamıştır.

15. Söz ve davranışlarla ilgili aşağıdaki ifadelerden hangisi **yanlıştır**?
- A) Güzel söz ve davranışlar insanları mahcup bırakır.
 B) Başkalarıyla sağlıklı iletişim kurabilmenin yolu, güzel söz söylemekten geçer.
 C) Bir mümin için en değerli özellik, güzel söz söylemek ve güzel davranışta bulunmaktır.
 D) Güzel sözler insanlar için hayırdır.

16. Aşağıdakilerden hangisi Hz. Peygamber'in alışveriş yaparken davranışlarını öğütlediği davranışlardan biri **değildir**?
- A) Güler yüzlü olmak
 B) Sert olmak
 C) Hoşgörülü olmak
 D) Zorlaştırıcı değil kolaylaştırıcı olmak

17. Hayâ kelimesinin sözlük anlamı aşağıdakilerden hangisidir?
- A) Allah inancından kaynaklanan sorumluluk duygusu nedeniyle ahlak dışı şeylerden kaçınmak
 B) Utanma, sıklıma duygusu
 C) Temiz ve düzenli olmak
 D) Tutumlu olmak

18. İnsanla ilgili aşağıdaki ifadelerden hangisi **yanlıştır**?
- A) İhsan, yapılan işi sorumluluk bilinciyle yapmaktır.
 B) İhsan, Müslümanın bütün söz ve işlerinde duyarlı davranmasıdır.
 C) Müslümanlar için ihsanın olması şart değildir.
 D) İhsan, iyilik için yaşamaktır.

19. Hz. Peygamber'in iman ile birbirtne bağlı ayrılmaz bir bütün olduğunu buyurduğu kavram aşağıdakilerden hangisidir?
- A) Temizlik
 B) İbadet
 C) Hayâ
 D) Sadakat

20. Kişi, Allah'a karşı hissettiği sorumluluk duygusu sebebiyle aşağıdaki söz ve davranışların hangisinden uzaklaşır?
- A) Kur'an'ın çirkin olarak nitelendirdiği söz ve davranışlardan
 B) Kişinin kötü olarak nitelendirdiği söz ve davranışlardan
 C) Toplumun beğenmediği söz ve davranışlardan
 D) Toplumun anlamadığı söz ve davranışlardan

1. Aşağıdakilerden hangisi Başbakanlık İnsan Hakları Başkanlığınca oluşturulan kurul ve komisyonlardan biri değildir?
 - A) İnsan Hakları İl ve İlçe Kurulları
 - B) İnsan Hakları İçin Uluslararası Birlik
 - C) İnsan Hakları Danışma Kurulu
 - D) İnsan Hakları İhlali İddialarını İnceleme Heyeti
2. Bakanlar Kurulu tüzük hazırlarken aşağıdakilerden hangisinin görüşünü almak zorundadır?
 - A) Danıştay
 - B) Anayasa Mahkemesi
 - C) Cumhurbaşkanı
 - D) Sayıştay
3. Laiklik ile ilgili aşağıdaki ifadelerden hangisi yanlıştır?
 - A) Laik devlette din ve devlet işleri birbirinden ayrılır.
 - B) Laik devlette kişilere inançlarından dolayı baskı yapılmaz.
 - C) Laik devlette hukuk sistemi teokratik esaslara dayandırılır.
 - D) Laik devlette kurumlar pozitif hukuk kurallarına dayandırılır.
4. Aşağıdakilerden hangisi I. Kuşak haklardan biri değildir?
 - A) Gelişme hakkı
 - B) Haberleşme hürriyeti
 - C) Din ve vicdan hürriyeti
 - D) Düşünce hürriyeti
5. Aşağıdakilerden hangisi sosyal devlet anlayışının gereklerinden biri değildir?
 - A) İstihdam ve işsizlikle mücadele
 - B) Fırsat eşitliği
 - C) Sermayenin devlet tekelinde olması
 - D) Sosyal denge
6. Çoğulcu demokrasiyle ilgili aşağıdaki ifadelerden hangisi yanlıştır?
 - A) Hoşgörü ve farklılıklara saygıyı gerektirir.
 - B) Tek tip toplum yaratma dayatmasına karşıdır.
 - C) Kültürel tekelciliği öngörür.
 - D) Hiçbir inancı, telseti görüşü ortadan kaldırmaya çalışmaz.
7. 1961 Anayasası ile ilgili aşağıdaki ifadelerden hangisi yanlıştır?
 - A) İnsan haklarına dayalı devlet anlayışı benimsenmiştir.
 - B) Temel hak ve özgürlükler kısıtlanmıştır.
 - C) Yasaların anayasaya uygunluğu için yargısal denetim getirilmiştir.
 - D) Kuvvetler ayrılığı getirilmiştir.
8. Temsili demokrasilerde yurttaşların ülke yönetimine katılımları aşağıdakilerden hangisi ile sağlanır?
 - A) Anketler
 - B) Sivil toplum örgütleri
 - C) Seçimler
 - D) Reformlar
9. Siyasi partilerle ilgili aşağıdaki ifadelerden hangisi yanlıştır?
 - A) Demokratik siyasi hayatın vazgeçilmez unsurlarıdır.
 - B) Siyasi parti üyesi olabilmek için 30 yaşını doldurmuş olmak gerekir.
 - C) Siyasi partilerde süreklilik ve ülke çapında tam bir örgütlenme çabası vardır.
 - D) Siyasi partilerin diğer siyasi oluşumlardan ayıran fark iktidarı elde etme çabasıdır.
10. Aşağıdakilerden hangisi demokratik siyasal sistemin temel ilkelerinden biri değildir?
 - A) Demokrasi halkın egemenliğine dayanır.
 - B) Demokraside kuvvetler birliği esastır.
 - C) Demokrasi insan aklına inancı esas alır.
 - D) Demokrasi çoğunluğun yönetimine dayanır.

11. Aşağıdakilerden hangisi Avrupa İnsan Hakları Sözleşmesi ile bireylere tanınan hakların gerçekleşmesini sağlamak üzere oluşturulmuş denetim organlarından biri değildir?
- A) Uluslararası Hukuk Komisyonu
B) Bakanlar Konseyi
C) Avrupa İnsan Hakları Mahkemesi
D) Delegeler Komitesi
12. Uluslararası bildirgelerle ilgili aşağıdaki ifadelerden hangisi yanlıştır?
- A) Bildirgeye taraf olan devletler için bağlayıcı hükümler içermezler.
B) Bildirge ile sağlanan hakların korunması için bir yaptırım organı öngörülmüştür.
C) Yol gösterici ve tavsiye niteliğindedirler.
D) İnsan haklarının korunmasına yönelik uluslararası belge niteliğindedirler.
13. Aşağıdakilerden hangisi uluslararası sivil toplum örgütlerinin faaliyet alanlarından biri değildir?
- A) Terör suçlarının yargılanması
B) İnsan hakları ihlallerinin önlenmesi
C) Soykırımın mücadelesi
D) Azgelişmişlikle mücadele
14. Aşağıdakilerden hangisi Avrupa Konseyi'nin organlarından biri değildir?
- A) Bakanlar Komitesi
B) Parlamenterler Meclisi
C) Uluslararası Kızılhaç Komitesi
D) Genel Sekreterlik
15. Aşağıdakilerden hangisi Birleşmiş Milletler Örgütü bünyesinde denetim amaçlı kurulan komitelerden biri değildir?
- A) İşkenceye karşı Komite
B) Kadınlara Karşı Ayrımcılığın Kaldırılması Komitesi
C) İnsan Hakları Komitesi
D) Delegeler Komitesi
16. Hilafetin kaldırıldığı tarih aşağıdakilerden hangisidir?
- A) 19 Mayıs 1919
B) 23 Nisan 1920
C) 29 Ekim 1923
D) 3 Mart 1924
17. Bir ülkede belli bir dönemde geçerli olan kuralların zorla ve köklü bir değişikliğe tabi tutularak yerine yenilerinin getirilmesine ne ad verilir?
- A) Devrim
B) Çağdaşlaşma
C) Gelişme
D) Reform
18. Aşağıdakilerden hangisi Atatürk İnkılaplarının başlangıcını ve temelini oluşturan gelişmelerden biri değildir?
- A) Hilafetin kaldırılması
B) TBMM'nin kurulması
C) Cumhuriyet yönetiminin benimsenmesi
D) NATO'ya üye olunması
19. Atatürk ilkelerinden devletçilik ilkesinin en temel amaçlarından biri aşağıdakilerden hangisidir?
- A) Özel sektörü tamamen red etmek
B) İhracatı yasaklamak
C) Dışa bağımlılığı artırmak
D) Türk halkını layık olduğu yaşam standardına yükseltmek
20. Çağdaşlaşmayı devam ettirmek için bütün Atatürk ilkelerinin yaşama geçirilmesi aşağıdaki ilkelere hangisi ile gerçekleşir?
- A) Halkçılık
B) Devletçilik
C) Laiklik
D) İnkılapçılık

1. Bir torbada 5 kırmızı 4 sarı top vardır.

Buna göre torbadan seçilecek 2 topun da kırmızı olma olasılığı aşağıdakilerden hangisidir?

- A) $\frac{1}{6}$
B) $\frac{16}{81}$
C) $\frac{5}{18}$
D) $\frac{5}{9}$

2. Birinci terimi 4, üçüncü terimi 16 olan pozitif terimli bir geometrik dizinin 6. terimi kaçtır?

- A) 34
B) 64
C) 128
D) 256

3. İlk terimi -5 olan bir aritmetik serinin ilk 10 teriminin toplamı 130 olduğuna göre, serinin ortak farkı kaçtır?

- A) 3
B) 4
C) 5
D) 6

4. $\frac{9!-8!}{7!+6!}$ işleminin sonucu kaçtır?

- A) 16
B) 24
C) 42
D) 56

5. $A=\{0,1,2,3,4,5,6\}$ kümesinin elemanları kullanılarak rakamları birbirinden farklı 3 basamaklı 500 den büyük kaç sayı yazılabilir?

- A) 30
B) 36
C) 60
D) 72

6. Birbirine paralel 6 doğru ile yine birbirine paralel 3 doğru kesiştiriliyor. Buna göre kaç paralelkenar oluşur?

- A) 18
B) 28
C) 30
D) 45

7. $6+8+10+\dots+54$ toplamı kaçtır?

- A) 650
B) 690
C) 710
D) 750

8. Birbirinin aynısı 4 Matematik ve birbirinin aynısı 2 Fizik kitabı bir rafa yan yana kaç farklı şekilde dizilebilir?

- A) 6
B) 15
C) 30
D) 60

9. Bir sınıfta Matematik veya Kimya dersinden geçenlerin sayısı 26'dır. Bunlardan 16'sı Matematik, 14'ü ise Kimya dersinden geçmiştir.

Buna göre rastgele seçilen bir öğrencinin Matematik dersinden geçtiği bilindiğine göre, Kimya dersinden geçmiş olma olasılığı aşağıdakilerden hangisidir?

- A) $\frac{2}{13}$
 B) $\frac{1}{4}$
 C) $\frac{1}{2}$
 D) $\frac{3}{4}$

10. 4 değişik anahtar halka şeklindeki bir anahtarlığa kaç farklı şekilde takılabilir?

- A) 3
 B) 6
 C) 12
 D) 24

11. $n \in \mathbb{N}$ olmak üzere; $\frac{(n+1)!}{(n-1)!} = 72$ olması için n kaç olmalıdır?

- A) 6
 B) 7
 C) 8
 D) 9

12. Bir kutuda 11 kırmızı 4 bilye, ikinci bir kutuda 11 kırmızı 8 bilye vardır. Kutulardan birer bilye alınıyor. Bu durumda her iki bilyenin de kırmızı olmama olasılığı aşağıdakilerden hangisidir?

- A) $\frac{1}{32}$
 B) $\frac{3}{32}$
 C) $\frac{5}{16}$
 D) $\frac{21}{32}$

13. $\sum_{k=1}^{15} (k+3) = 135$ ise, k kaçtır?

- A) 3
 B) 6
 C) 9
 D) 12

14. "TABAKA" kelimesindeki harflerin yerleri değiştirilerek, anlamlı ya da anlamsız 6 harfli birbirinden farklı kaç grup oluşturulabilir?

- A) 24
 B) 60
 C) 72
 D) 120

15. $\sum_{k=1}^n 2k = 132$ ise, n kaçtır?

- A) 9
B) 10
C) 11
D) 12

16. Bir sinema salonunda ilk sırada 7 oturma yeri ve en son sırada ise 51 oturma yeri vardır. Her sırada oturma yeri bir önceki sıranın 4 fazlasıdır.

Bu salonda toplam kaç sıra vardır?

- A) 10
B) 11
C) 12
D) 13

17. $\prod_{n=7}^{42} \frac{n+2}{n+1}$ çarpımının sonucu kaçtır?

- A) $\frac{11}{2}$
B) 6
C) $\frac{21}{2}$
D) 12

18. Bir aritmetik dizinin a. terimi b, b. terimi a ise, 6. terimi aşağıdakilerden hangisidir?

- A) a-b+2
B) a+b-6
C) a-2b+4
D) a+b+6

19. İlk terimi -3 ve ortak farkı 4 olan aritmetik serinin ilk 11 teriminin toplamı kaçtır?

- A) 187
B) 220
C) 231
D) 244

20. $\sum_{n=1}^{\infty} \left(\frac{1}{2}\right)^{n+3}$ serisinin toplamı kaçtır?

- A) $\frac{1}{32}$
B) $\frac{1}{16}$
C) $\frac{1}{8}$
D) $\frac{1}{4}$

1. Atatürk'ün manevi kızı Afet İnan'a yazdığı yazının türü aşağıdakilerden hangisidir?
 - A) Edebi mektup
 - B) Günce
 - C) Anı
 - D) Özel mektup
2. Günlük ve anı ile ilgili aşağıdaki ifadelerden hangisi yanlıştır?
 - A) Günlüklerde öznellik ağır basar.
 - B) Anılar geçmişe yöneliktir.
 - C) Günlüklerin günü gününe yazılır.
 - D) Anılarda anlatılanların belgelere dayanır.
3. Gölge oyunu ile ilgili aşağıdaki ifadelerden hangisi yanlıştır?
 - A) Fasil, oyunun kendisidir.
 - B) Genellikle deriden kesilmiş bir takım insan, hayvan ve eşya tasvirlerinin arkadan ışık verilerek gölgelerini gerili beyaz bir perde üzerine düşürülmesiyle oynatılan oyundur.
 - C) Oyunun başlangıç bölümüne mukaddime adı verilir.
 - D) Oyun pişekar ve kavuklu arasında geçer.
4. Koy tiyatrosu hangi metin grubu içinde yer alır?
 - A) Öğretici metinler
 - B) Göstermeye bağlı edebî metinler
 - C) Anlatmaya bağlı edebî metinler
 - D) Tarihi metinler
5. Aşağıdakilerden hangisi konularına ve yazılış amaçlarına göre deneme çeşitlerinden biri değildir?
 - A) Klasik
 - B) Eleştirel
 - C) Kişisel
 - D) Felsefi
6. Aşağıdakilerden hangisi biyografinin taşıması gereken özelliklerden biri değildir?
 - A) Biyografı yazan kişi gerekirse, duygu ve düşüncelerini de yazıya katabilir.
 - B) Açık ve sade bir dille yazılmalıdır.
 - C) Hayat hikâyesi anlatılacak kişinin anılarından, mektuplarından yararlanılabilir.
 - D) Ayrıntılı bir ön çalışma gereklidir.
7. Aşağıdakilerden hangisi anlatmaya bağlı edebî metinlerden biri değildir?
 - A) Destan
 - B) Roman
 - C) Şiir
 - D) Masal
8. Aşağıdakilerden hangisi göstermeye bağlı edebî metinlerden biri değildir?
 - A) Karagöz
 - B) Koy tiyatrosu
 - C) Orta oyunu
 - D) Manzum hikâye
9. Gazete ve televizyonlarda haberleri toplayan, ileten kişilere ne ad verilir?
 - A) Hatip
 - B) Yazar
 - C) Muhabir
 - D) Eleştirmen
10. Kavuklu ve Pişekar'ın kahramanları olduğu oyun türü aşağıdakilerden hangisidir?
 - A) Koy seyirlik oyunu
 - B) Orta Oyunu
 - C) Trajedi
 - D) Destan

11. "Sakıp Sabancı, 7 Nisan 1933 tarihinde Kayseri'de dünyaya geldi. Çok genç yaşlarda çalışma hayatına atıldı."

Yukarıda bir parçası verilen metnin türü aşağıdakilerden hangisidir?

- A) Makale
B) Mülakat
C) Biyografi
D) Anı

12. Gezi yazılarının eski adı aşağıdakilerden hangisidir?

- A) Seyahatname
B) Hatıra
C) Name
D) Vakaname

13. Aşağıdakilerden hangisi olay çevresinde oluşan edebî metinlerin özelliklerinden biri değildir?

- A) Bir olay örgüsü vardır.
B) Her okunduğunda farklı yorumlanmaz.
C) Kurmacanın imkânlarından yararlanır.
D) İnsana özgü durumlar somutlaştırılır.

14. Aşağıdakilerden hangisi öğretici metinlerden biridir?

- A) Trajedi
B) Felsefi metinler
C) Manzum hikaye
D) Şiir

15. Türk Edebiyatında deneme türünün ilk örnekleri ne zaman verilmiştir?

- A) I.anzımat'tan sonra
B) Cumhuriyetin ilanından sonra
C) II.Meşrutiyet'ten sonra
D) İslahat Fermanı'ndan sonra

16. Aşağıdakilerden hangisi öğretici metinlerin özelliklerinden biri değildir?

- A) Amaç gerçeğin yeniden yorumlanması değil olduğu gibi anlatılmasıdır.
B) Önemli olan okuyucuya bilgi vermek ya da paylaşmaktır.
C) İfadeler açık ve nettir.
D) Estetik ön plandadır.

17. "Şair Evlenmesi" oyununun yazarı aşağıdakilerden hangisidir?

- A) Şinasi
B) Namık Kemal
C) Baki
D) Melih Cevdet

18. "Yaşadıklarından öğrendiğim bir şey var: Yaşadın mı, yoğunluğuna yaşayacaksın bir şeyi..."

Yukarıda iki dizesi alıntılanan "Yaşadıklarından Öğrendiğim Birşey Var" şiirinin şairi aşağıdakilerden hangisidir?

- A) Salt Falk
B) Atıf Behramoğlu
C) Necip Fazıl
D) Yahya Kemal

19. Aşağıdakilerden hangisi kişisel hayatı konu alan metinler içerisinde yer almaz?

- A) Sohbet
B) Biyografi
C) Anı
D) Günlük

20. Aşağıdakilerden hangisi eleştiri yazarına verilen isimlerden biri değildir?

- A) Hatip
B) Münekkit
C) Tenkit yazarı
D) Eleştirmen

1. Yunan edebiyatının ünlü doğal destanları "İlyada ve Odyssea"yı kaleme alan millî destan şairi aşağıdakilerden hangisidir?

A) Sophokles
B) Milton
C) Homeros
D) Ariosto

2. Aşağıdakilerden hangisi, destan dönemi Türk edebiyatında Türklerin kullandıkları alfabelerden biridir?

A) Kiril
B) Arap
C) Latin
D) Göktürk

3. Türk edebiyatında Kurtuluş Savaşı üzerine yazılan ilk roman olan Ateşten Gömlek'in yazarı kimdir?

A) Reşat Nuri Güntekin
B) Peyami Safa
C) Halit Ziya Uşaklıgil
D) Halide Edip Adivar

4. Halk edebiyatında olen kişinin ardından onun yığıtlıklarını, iyiliklerini ve erdemlerini anlatan şiirlere ne ad verilir?

A) Sav
B) Ağıt
C) Koçaklama
D) Güzelleme

5. Uygur ülkesine bereket veren Kutlu Dağ'ın Çinliler tarafından sökülüp taşınmasıyla ülkede başlayan kıtlık ve bunun üzerine başlayan göç anlatılmaktadır. Destan'da vatandan bir parça taş vermeye kalkmanın zamanla bütün yurdu yok edebilecek bir başlangıç olabileceği vurgulanmaktadır.

Yukarıdaki parça hangi destanı anlatır?

A) Ergenekon Destanı
B) Oğuz Kağan Destanı
C) Göç Destanı
D) Şu Destanı

6. Aşağıdaki sanat eserlerinden hangisi Gilgamiş Destanı'ndan esinlenerek hazırlanmamıştır?

A) Tannlar ve İnsanlar
B) Gilgamiş Operası
C) Ölümsüzlük Ardında Gilgamiş
D) Bir Gerçek Hikâye

7. Türk destan üslubundan izler taşır. Türklerin su sevgisinden, kuşları uğurlu sayan Şaman inanışından yansımalar vardır.

Yukarıda tanıtılan destan aşağıdakilerden hangisidir?

A) Oğuz Kağan Destanı
B) İlyada Destanı
C) Şu Destanı
D) Gilgamiş Destanı

8. İçinde destan, sav, sagu, koşuk örneklerinin de bulunduğu ansiklopedik sözlük Divân-ı Lügati't Türk'un yazarı kimdir?

A) Kaşgarlı Mahmut
B) Ahmet Yesevi
C) Edip Ahmet
D) Nâîf Kadim

9. Aşağıdakilerden hangisi, Batı etkisinde gelişen Türk Edebiyatının bölümlerinden biri değildir?

A) Millî Edebiyat
B) Millî Mücadele Dönemi Edebiyatı
C) Cumhuriyet Dönemi Türk Edebiyatı
D) Âşık Tarzı Halk Edebiyatı

10. Halk şiirinin unutulmaz ustasıdır. 17. yüzyılda Toroslar' da Türkmen aşiretleri arasında yaşamıştır. Şiirlerini dördlük nazım birimiyle, hece ölçüsüyle saz eşliğinde söylemiştir.

Yukarıda tanıtılan ünlü halk ozanı, aşağıdakilerden hangisidir?

A) Karacaoğlan
B) Pir Sultan Abdal
C) Âşık Veysel
D) Dadaloğlu

11. Aşağıdakilerden hangisi, sözlü edebiyatın ürünlerinden biri değildir?

- A) Sagu
- B) Destan
- C) Gazel
- D) Koşuk

12. "Beş ernek tüz ermes." (Beş parmak düz olmaz).

Yukarıdaki sav örneğine en uygun atasözü aşağıdakilerden hangisidir?

- A) Bir ağaçta gül de biter diken de.
- B) Cefayı çekmeyen sefayı bilemez.
- C) Hayırsız dost gereksiz post.
- D) Ağaç yaşken eğilir.

13. Yirmisekiz Çelebi Mehmet Efendi'nin Ekim 1720 tarihinde Fransa'ya yaptığı ve bir yıl süren seyahatini, Fransa'ya ilişkin gözlemlerini padişaha sunmak amacıyla kaleme aldığı eserin adı nedir?

- A) Fransa Günlükleri
- B) Fransa Sefaretnamesi
- C) Paris Kasidesi
- D) Paris Şehrinden İzlenimler

14. Türkiye'de tarih ve edebiyat tarihi incelemelerinde bilimsel yöntemleri ilk defa kullanan, Türk edebiyatı tarihçiliğinin ilk araştırmacısı ve kurucusu, aşağıdakilerden hangisidir?

- A) Ahmet Hamdi Tanpınar
- B) Ağâh Sırrı Levant
- C) Nihat Sami Banarlı
- D) Mehmet Fuad Köprülü

15. Bin atlı akınlarda çocuklar gibi şendik;
Bin atlı o gün dev gibi bir orduyu yendik!

Yukarıdaki dizilerin yer aldığı "Akıncı" adlı şiir kime aittir?

- A) Ahmet Hamdi Tanpınar
- B) Yahya Kemal Beyatlı
- C) Karacaoğlan
- D) Alı Şir Nevâi

16. Yurt dışına elçi olarak gönderilen kişilerin gördükleri yerlerle ilgili gezil, gözlem ve izlenimlerini anlattıkları eserlere ne ad verilir?

- A) Sefaretname
- B) Seyahatname
- C) Şikâyetname
- D) Selçukname

17. Aşağıdakilerden hangisi en eski Türk destanıdır?

- A) Ergenekon Destanı
- B) Yaratılış Destanı
- C) Bozkurt Destanı
- D) Türeyiş Destanı

18. Sagu ile ilgili aşağıdaki ifadelerden hangisi yanlıştır?

- A) Kopuz çalınarak söylenir.
- B) Tabiat güzelliklerini anlatan şiirlerdir.
- C) İslamiyet öncesi döneme aittir.
- D) Her dördüğün ilk 2-3 dizesi kendi arasında uyaklıdır.

19. Türk Edebiyatının en önemli eserlerindedir. Eser adını iyi ve kötü düşünceli iki presten almaktadır. Eserin aslı Sanskritçedir. Dinsel masal niteliği taşımaktadır.

Yukarıda tanıttılan eser aşağıdakilerden hangisidir?

- A) Kutadgu Bilig
- B) Atabetü'l Hakâyık
- C) Kalyanankara ve Papamkara
- D) İlyada ve Odyssea

20. Tarihte Türk sözcüğünün geçtiği ilk metin aşağıdakilerden hangisidir?

- A) Orhun Yazıtları
- B) Battal Gazi Destanı
- C) Danişment Gazi Destanı
- D) Yenisey Yazıtları

1. "Koşe başı" adlı tiyatro eseri, aşağıdaki yazarlardan hangisine aittir?
 - A) Murathan Mungan
 - B) Tomris Uyar
 - C) Enis Batur
 - D) Ahmet Kutsi Tecer
2. "Çalikuşu" romanı ile yaygın bir ün kazanan, eserlerinde Anadolu kasaba ve şehirlerini fon olarak almış, insanları sorunlarıyla işleyen yazar, aşağıdakilerden hangisidir?
 - A) Reşat Nun Guntekin
 - B) Peyami Sefa
 - C) Sait Faik Abasıyanık
 - D) Sabahattin Âli
3. 2006'da Nobel Edebiyat Ödülü'nü kazanan yazar, aşağıdakilerden hangisidir?
 - A) Mermi Uygur
 - B) Buket Uzuner
 - C) Yaşar Kemal
 - D) Orhan Pamuk
4. Sokrates'in Savunması, Genç Osman, Cem Sultan gibi daha çok konusunu tarihten alan oyunları ile tanınan yazar, aşağıdakilerden hangisidir?
 - A) Orhan Asena
 - B) Turan Ofazoğlu
 - C) Gungör Dülmen
 - D) Haldun Taner
5. Koy notlarını, "Bizim Koy" adlı eserinde toplayan yazar, aşağıdakilerden hangisidir?
 - A) Abdülhak Şinasi Hisar
 - B) Uğuz Atay
 - C) Mahmut Makal
 - D) Yusuf Atılgan
6. "Kuyucaklı Yusuf" adlı roman aşağıdaki yazarlardan hangisine aittir?
 - A) Reşat Nun Guntekin
 - B) Sabahattin Âli
 - C) Nedim Gürsel
 - D) Leyla Erbil
7. "Alemdağ'da Var Bir Yılan" hikâye kitabında gerçek, rüya ve hayallî iç içe ele alan yazar, aşağıdakilerden hangisidir?
 - A) Sait Faik Abasıyanık
 - B) Sabahattin Âli
 - C) Reşat Nuri Güntekin
 - D) Halide Edip Adıvar
8. Tiyatro, roman ve hikâyelerinde toplumun aksayan yönlerini, olayları, tipleri gülmeye gösteren bir mizah üslubuyla anlatan yazar, aşağıdakilerden hangisidir?
 - A) Yakup Kadri Karaosmanoğlu
 - B) Tark Buğra
 - C) Aziz Nesin
 - D) Yaşar Kemal
9. Aşağıdaki romanlardan hangisi, Uğuz Atay'a aittir?
 - A) Tutunamayanlar
 - B) Devlet Ana
 - C) Yaban
 - D) Eski Şarkı
10. Hikâyelerini, "Abdullah Efendi'nin Rüyaları" adı altında toplamış olan ve eserlerinde rüya ve bilinç altına büyük önem veren yazar, aşağıdakilerden hangisidir?
 - A) Ahmet Hamdi Tanpınar
 - B) Cevat Şakir Kabaağaçlı
 - C) Peyami Sefa
 - D) Sabahattin Âli
11. Aşağıdakilerden hangisi "deneme" türünün özelliklerinden biri değildir?
 - A) Kısa olması
 - B) Belirli bir planla yazılması
 - C) Samimi bir dil kullanılması
 - D) Düşünceyi kabul ettirme, kesin bir sonuca gitme gibi bir amacının olmaması
12. "Düzenli" denemenin ilk örneklerine aşağıdaki yazarlardan hangisinde rastlanır?
 - A) Montaigne
 - B) A. Camus
 - C) Bacon
 - D) T. S. Eliot

13. Eski Türk edebiyatında anı türünün ilk örneği aşağıdakilerden hangisidir?

- A) Baburname
- B) Şecere-i Türk
- C) Şecere-i Terâkim
- D) Saray ve Ötesi

14. Türk edebiyatında düzyazıya dayalı türlerin görüldüğü dönem aşağıdakilerden hangisidir?

- A) Servet-i Fünûn
- B) Millî Edebiyat
- C) Tanzimat
- D) Cumhuriyet

15. "Seyir Defteri" adlı gezi kitabı aşağıdaki yazarlardan hangisine aittir?

- A) Yaşar Kemal
- B) Nedim Gürsel
- C) Falih Rıfkı Atay
- D) Özcan Yurdakul

16. Aşağıdakilerden hangisi makalenin özelliklerinden biri değildir?

- A) Öne sürülen düşüncenin inandırıcı biçimde geliştirilmiş olması ve kanıtlanması
- B) Konu bakımından sınırlı olması
- C) Söz oyunlarına başvurulmaması
- D) Anlatımın yalın ve yoğun olması

17. İtalyan edebiyatında en tanınmış anı yazarı aşağıdakilerden hangisidir?

- A) Alberto Moravia
- B) Manzoni
- C) Silvio Pellico
- D) Fillippo Marinetti

18. İlk gazetenin çıkarıldığı ülke aşağıdakilerden hangisidir?

- A) Fransa
- B) Almanya
- C) Cezayir
- D) Mısır

19. Bilim, sanat, kültür ve başka konularda bilgi vermek, bir düşünceyi ortaya koymak ya da savunmak amacıyla yazılan, yazarın kişisel görüşlerini de yansıttığı gazete ve dergi yazılarına ne ad verilir?

- A) Fıkra
- B) Günce
- C) Deneme
- D) Makale

20. Bir kimsenin kendi başından geçenleri veya tanık olduğu olayları anlattığı esere ne ad verilir?

- A) Gezi yazısı
- B) Deneme
- C) Günlük
- D) Anı

1. Ayşe: Du, Ahmet! Mein Glas ist nicht da!
..... du ein Glas?
Ahmet: Ja, ich zwei Gläser.

Welches ergänzt die Lücken im obigen Dialog?

Vertilen karşılıklı konuşmada boş bırakılan yerleri aşağıdakilerden hangisi tamamlar?

- A) Hat / hast
B) Hatte / haben
C) Habe / hat
D) Hast / habe

2. Wir gehen zum Flohmarkt.

Wie lautet der obige Satz im Perfekt?

Vertilen cümlelerin di' II geçmiş zaman şekil aşağıdakilerden hangisidir?

- A) Wir gingen zum Flohmarkt.
B) Wir werden zum Flohmarkt gehen.
C) Wir sind zum Flohmarkt gegangen.
D) Wir hätten zum Flohmarkt gegangen.

3. Was macht drei mal sechs?

Welche Antwort passt zur obigen Frage?

Vertilen sorunun cevabı aşağıdakilerden hangisidir?

- A) Siebzehn
B) Zwanzig
C) Einundzwanzig
D) Achtzehn

4. Der Beamte meldet die Ankunft

Welches Wort passt in die obige Lücke?

Cümlede boş bırakılan yeri aşağıdakilerden hangisi doğru şekilde tamamlar?

- A) den Zug
B) den Zugs
C) der Zug
D) des Zuges

5. Der Vater möchte Zeitung lesen. Wir

Welches ergänzt die Lücke im obigen Satz?

Vertilen cümleyi aşağıdakilerden hangisi tamamlar?

- A) soll heute ein Buch lesen.
B) sollen ihm Zeitung kaufen.
C) sollst neue Zeitung lesen.
D) solltet immer Zeitung kaufen.

6. Das ist mein Bruder und das ist Frau.

Welche Wörter passen in die obigen Lücken?

Cümlede boş bırakılan yerleri aşağıdakilerden hangileri doğru şekilde tamamlar?

- A) dann / ihre
B) diese / meine
C) dort / unsere
D) hier / seine

7. Der Monat ist Juli.

Welches Wort passt in die obige Lücke?

Cümlede boş bırakılan yeri aşağıdakilerden hangisi doğru şekilde tamamlar?

- A) vierte
B) fünfte
C) sechste
D) siebte

8. Man darf in öffentlichen Verkehrsmitteln

Welches ergänzt die Lücke im obigen Satz?

Vertilen cümleyi aşağıdakilerden hangisi tamamlar?

- A) nur rennen.
B) nicht rauchen.
C) immer singen.
D) nicht sitzen.

9. Meine Mutter ist krank

Welches ergänzt die Lücke im obigen Satz?

Verilen cümleyi aşağıdakilerden hangisi tamamlar?

- A) wir gehen zum Picknick.
- B) sie muß zum Arzt.
- C) er geht in die Bibliothek.
- D) ich gehe schnell in die Schule.

10. Ein ist sehr interessant und billig.

Welches Wort passt in die obige Lücke?

Cümlede boş bırakılan yeri aşağıdakilerden hangisi doğru şekilde tamamlar?

- A) Flohmarkt
- B) Haus
- C) Zimmer
- D) Ferien

11. Ausstellung der Gemälde von Picasso.

Wie lautet der obige Satz in der Passivform?

Verilen cümleln edilgen hall aşağıdakilerden hangisidir?

- A) Der Gemälde wird von Picasso ausgestellt.
- B) Die Gemälde von Picasso sind ausgestellt worden.
- C) Picasso und seine Gemälde wurden ausgestellt.
- D) Ausgestellt werden die Gemälde von Picasso.

12. Wissen Sie.....

Welches ergänzt nicht die Lücke im obigen Satz?

Verilen cümleyi aşağıdakilerden hangisi tamamlamaz?

- A) hangst es an der Wand?
- B) ob wir ein Taxi finden können?
- C) wann der Bus kommt?
- D) wo meine Tochter ist?

13. Mutter: Tina, kannst du mir beim Saubermachen helfen?

Tina: Leider, Mutti!

Was bedeutet das Gegenteil vom Wort "Leider" im Dialog?

Verilen karşılıklı konuşmadaki "Leider" sözcüğünün zıt anlamısı aşağıdakilerden hangisidir?

- A) Manchmal
- B) Vielleicht
- C) Gern
- D) Lieber

14. Gähnen muss man die Hand vor den Mund halten.

Welches Wort passt in die obige Lücke?

Cümlede boş bırakılan yeri aşağıdakilerden hangisi doğru şekilde tamamlar?

- A) Beim
- B) Nach
- C) An
- D) Auf

15. Wie komme ich zum Kaufhaus "C&A"?

Welche Antwort passt nicht zur obigen Frage?

Aşğıdakilerden hangisi verilen sorunun cevabı olamaz?

- A) Deine neue Jeans finde ich echt toll!
- B) Sie gehen zuerst links und dann rechts!
- C) Der Weg hier geradeaus bringt Sie zum Kaufhaus!
- D) Sie müssen bis zur Ampel laufen und dort links sehen Sie das Kaufhaus!

16. Die / sind / morgen / heute / geschrieben / Briefe / worden

Wie kann man mit den obigen Wortgruppen einen sinnvollen und richtigen Satz bilden?

Verilen sözcük gruplarıyla kurulabilecek an anlamli ve dođru cümle aşağıdakilerden hangisidir?

- A) Worden geschrieben morgen die Briefe sind heute.
 B) Heute sind morgen die Briefe geschrieben worden.
 C) Die Briefe sind heute morgen geschrieben worden.
 D) Geschrieben worden die Briefe sind heute morgen.

17. Man baut hier eine Brücke.

Welches hat die gleiche Bedeutung mit dem obigen Satz?

Verilen cümle ile ayni anlamı taşıyan aşağıdakilerin hangisidir?

- A) Hier wird eine Brücke gebaut.
 B) Heute wurde hier eine Brücke gebaut.
 C) Die Brücke ist neu gebaut worden.
 D) Er muss hier eine Brücke bauen.

18. Mein Auto ist schnell..... als dein Auto aber das Auto meines Vaters ist am schnell.....

Welche Endungen passen in die obigen Lücken?

Cümlede boş bıraktıran yerlere aşağıdaki soneklerden hangisi gelmelidir?

- A) -es / -em
 B) -en / -te
 C) -er / -sten
 D) -e / -en

19. Die Kartoffeln sind von meiner Mutter geschält worden.

Wie lautet der obige Satz auf Türkisch?

Verilen cümlenin Türkçesi aşağıdakilerden hangisidir?

- A) Patatesleri annem soydu ve dođradı.
 B) Patatesler annem tarafından soyuldu.
 C) Benim annem patatesleri soymak zorunda kaldı.
 D) Benim annem patates soymamalı.

20. Was ist mit den Dachziegeln? (erneuern)

Welche Antwort passt zur obigen Frage?

Verilen sorunun cevabı aşağıdakilerden hangisidir?

- A) Ich habe ein Dachzimmer.
 B) Sie sollen das Auto unbedingt reparieren.
 C) Die Dachziegeln sind erneuert worden.
 D) Die Wände müssen neu gestrichen werden.

1. Please, give me pencil.

Which of the following completes the sentence above?

Aşağıdakilerden hangisi yukarıdaki cümleyi doğru olarak tamamlar?

- A) those
B) that
C) these
D) some

2. She probably go to the park tomorrow.

Which of the following completes the sentence above?

Aşağıdakilerden hangisi yukarıdaki cümleyi doğru olarak tamamlar?

- A) are
B) is
C) will
D) have

3. Liz is going to her grandmother tomorrow.

Which of the following completes the sentence above?

Aşağıdakilerden hangisi yukarıdaki cümleyi doğru olarak tamamlar?

- A) visiting
B) visit
C) visited
D) has visited

4. five apples in the fridge.

Which of the following completes the sentence above?

Aşağıdakilerden hangisi yukarıdaki cümleyi doğru olarak tamamlar?

- A) There are
B) Is there
C) There is
D) There isn't

5. 10 years ago, there a few cars in my city, now there so many cars.

Which of the following completes the sentence above?

Aşağıdakilerden hangisi yukarıdaki cümleyi doğru olarak tamamlar?

- A) used to be / were
B) used to be / are
C) are / used to be
D) were / were

6. Mark: Have you got a pet?

Mine: Yes, I have got a

Which of the following completes the dialogue above?

Aşağıdakilerden hangisi yukarıdaki konuşmayı doğru olarak tamamlar?

- A) friend
B) book
C) dog
D) pear

7. Elif 12 years old now.

Which of the following completes the sentence above?

Aşağıdakilerden hangisi yukarıdaki cümleyi doğru olarak tamamlar?

- A) were
B) is
C) are
D) was

8. A: What time do you go to bed?

B:

Which of the following completes the dialogue above?

Aşağıdakilerden hangisi yukarıdaki konuşmayı doğru olarak tamamlar?

- A) He goes to bed at 9 o'clock
B) I get up at 9 o'clock
C) We get up at 9 o'clock
D) I go to bed at 9 o'clock

9. Elif and Zeki went for a walk the park.

Which of the following completes the sentence above?

Aşağıdakilerden hangisi yukarıdaki cümleyi doğru olarak tamamlar?

- A) under
B) between
C) among
D) in

10. Jack: Whose are those shoes?

Bob: They're Bill's.

Jack: And whose are those trousers?

Bob: They are too.

Which of the following completes the dialogue above?

Aşağıdakilerden hangisi yukarıdaki konuşmayı doğru olarak tamamlar?

- A) his
B) him
C) he
D) this

11. They are going to meet in the new café

Which of the following completes the sentence above?

Aşağıdakilerden hangisi yukarıdaki cümleyi doğru olarak tamamlar?

- A) two hours ago
B) yesterday
C) next Saturday
D) now

12. I will meet you three o'clock tomorrow.

Which of the following completes the sentence above?

Aşağıdakilerden hangisi yukarıdaki cümleyi doğru olarak tamamlar?

- A) in
B) on
C) at
D) between

13. You sing a song in the library.

Which of the following completes the sentence above?

Aşağıdakilerden hangisi yukarıdaki cümleyi doğru olarak tamamlar?

- A) must
B) need
C) needn't
D) mustn't

14. A: What is she doing in the kitchen?
B:

Which of the following completes the dialogue above?

Aşağıdakilerden hangisi yukarıdaki konuşmayı doğru olarak tamamlar?

- A) She cooking pizza
B) She cooks pizza
C) She is cooking pizza
D) She is cook pizza

15. I always tea for breakfast, but now I coffee.

Which of the following completes the sentence above?

Aşağıdakilerden hangisi yukarıdaki cümleyi doğru olarak tamamlar?

- A) drinking / drink
B) am drinking / drink
C) drinks / am drinking
D) drink / am drinking

16. I ride a bike when I was 4 years old.

Which of the following completes the sentence above?

Aşağıdakilerden hangisi yukarıdaki cümleyi doğru olarak tamamlar?

- A) could
B) don't
C) can
D) won't

17. Özkan: I close the window?
Teacher: Yes, of course.

Which of the following completes the dialogue above?

Aşağıdakilerden hangisi yukarıdaki konuşmayı doğru olarak tamamlar?

- A) May
B) Does
C) Did
D) Have

18. My son some apples and bananas an hour ago.

Which of the following completes the sentence above?

Aşağıdakilerden hangisi yukarıdaki cümleyi doğru olarak tamamlar?

- A) ate
B) is eating
C) eating
D) eats

19. A: What did you do when you saw the robbery?
B:

Which of the following completes the dialogue above?

Aşağıdakilerden hangisi yukarıdaki konuşmayı doğru olarak tamamlar?

- A) I cleaned the house
B) I washed the car
C) I helped my dad
D) I called the police

20. I have long hair but now I have short hair.

Which of the following completes the sentence above?

Aşağıdakilerden hangisi yukarıdaki cümleyi doğru olarak tamamlar?

- A) don't
B) used to
C) can't
D) am not

1. Si j'étais grand, je partir seul.

Choisissez le mot qui convient.

Cümiedeki boşluğu aşağıdakilerden hangisi doğru şekilde tamamlar?

- A) pourrai
B) pourrais
C) pourra
D) pourras

2. -?

- Non, j'ai acheté de la farine.

Choisissez la question qui convient.

Yukarıdaki konuşmada cevabı gerektiren soru aşağıdakilerden hangisidir?

- A) As-tu acheté du beurre
B) Avez-vous aimé cette boisson
C) Qu'est-ce qu'elle a acheté
D) Combien as-tu payé

3. Il a à son père.

Choisissez le mot qui convient.

Cümiede boş bırakılan yeri aşağıdakilerden hangisi doğru şekilde tamamlar?

- A) téléphone
B) téléphoné
C) téléphoner
D) téléphones

4. - Ils sont vieux?

- Non, ils sont

Choisissez le mot qui convient.

Yukarıdaki konuşmada boş bırakılan yeri aşağıdakilerden hangisi doğru şekilde tamamlar?

- A) maigres
B) timides
C) gentils
D) jeunes

5. - Il me regarde?

- Non, il ne regarde pas.

Choisissez le mot qui convient.

Yukarıdaki konuşmada boş bırakılan yeri aşağıdakilerden hangisi doğru şekilde tamamlar?

- A) te
B) le
C) me
D) se

6. a dansé.

Choisissez le mot qui convient.

Cümiedeki boşluğu aşağıdakilerden hangisi doğru şekilde tamamlar?

- A) Tu
B) J'
C) Il
D) Elles

7. - ?

- C'est une calculatrice.

Choisissez la question qui convient.

Yukarıdaki konuşmada cevabı gerektiren soru aşağıdakilerden hangisidir?

- A) Qu'est-ce que c'est
B) À quoi sert le drapeau
C) Qui est-ce
D) Comment est la chaise

8. Le participe passé de «offrir» est

Choisissez le mot qui convient.

Cümiedeki boşluğu aşağıdakilerden hangisi doğru şekilde tamamlar?

- A) offrait
B) offert
C) offre
D) offrent

9. -?

- Je pèse 62 kilos.

Choisissez la question qui convient.

Yukarıdaki karşılıklı konuşmada cevabı gerektiren soru aşağıdakilerden hangisidir?

- A) Combien pesez-vous
B) Combien mesurez-vous
C) Portez-vous des lunettes
D) Êtes-vous de bonne humeur

10. Tu vu le dernier film de Ron Howard?

Choisissez le mot qui convient.

Cümiedeki boşluğu aşağıdakilerden hangisi doğru şekilde tamamlar?

- A) est
B) es
C) as
D) vas

11. Le pull est en

Choisissez le mot qui convient.

Cümledeki boşluğu aşağıdakilerden hangisi doğru şekilde tamamlar?

- A) bois
- B) aluminium
- C) laine
- D) carton

12. - tu aimes le cinéma?

- Oui, beaucoup.

Choisissez le mot qui convient.

Cümlede boş bırakılan yeri aşağıdakilerden hangisi doğru şekilde tamamlar?

- A) Quelqu'un
- B) Qui
- C) Quelle
- D) Est-ce que

13. - Tu veux du thé?

- Non, je n'aime pas thé.

Choisissez le mot qui convient.

Yukarıdaki konuşmada boş bırakılan yeri aşağıdakilerden hangisi doğru şekilde tamamlar?

- A) de
- B) du
- C) la
- D) le

14. - Vous avez quelque chose à dire?

- Non, je n'ai à dire.

Choisissez le mot qui convient.

Yukarıdaki konuşmada boş bırakılan yeri aşağıdakilerden hangisi doğru şekilde tamamlar?

- A) toujours
- B) jamais
- C) rien
- D) déjà

15. J'ai vu même film.

Choisissez l'expression qui convient.

Cümledeki boşluğu aşağıdakilerden hangisi doğru şekilde tamamlar?

- A) le
- B) la
- C) les
- D) l'

16. Il a les frisés et une

Choisissez les mots qui conviennent.

Cümledeki boşlukları aşağıdakilerden hangisi doğru şekilde tamamlar?

- A) yeux / collier
- B) lèvres / bracelet
- C) cheveux / barbe
- D) visages / chapeau

17. Je suis sorti de la maison.

Choisissez la traduction qui convient.

Yukarıda verilen cümlelerin Türkçe karşılığı aşağıdakilerden hangisidir?

- A) Eve döndüm.
- B) Eve geldim.
- C) Evde bekledim.
- D) Evden çıktım.

18. «J'ai quelques soucis.»

Choisissez la traduction qui convient.

Yukarıdaki cümlelerin Türkçe karşılığı aşağıdakilerden hangisidir?

- A) Hiçbir endişem yok.
- B) Herkes endişeli.
- C) Endişelerim de var.
- D) Bazı endişelerim var.

19. nous / fini / devours / avons / nos

I II III IV V

Mettez dans le bon ordre.

Yukarıdaki kelimelerin anlamlı ve kurallı bir cümle oluşturan sırası aşağıdakilerin hangisinde verilmiştir?

- A) I, II, IV, V, III
- B) I, IV, II, V, III
- C) V, I, IV, II, III
- D) V, III, IV, I, II

20. dans le bus.

Choisissez l'expression qui convient.

Yukarıdaki cümlede boş bırakılan yeri aşağıdakilerden hangisi doğru şekilde tamamlar?

- A) Elle a monté
- B) Elle est montée
- C) Il a monté
- D) J'ai monté

1. A: Kaufst du die rot..... Jacke?
B: Nein, die blau..... gefällt mir besser!

Welche Endungen passen in die Lücken im obigen Dialog?

Verilen karşılıklı konuşmada boş bırakılan yerleri aşağıdaki seçeneklerden hangileri tamamlar?

- A) -er / -es
B) -e / -en
C) -e / -e
D) -es / -e

2. Was bedeutet "şikayet etmek" auf Deutsch?

"şikayet etmek" sözcüğünün Almancası aşağıdakilerden hangisidir?

- A) fließen
B) springen
C) aufwachen
D) klagen

3. Die Schildkröte läuft die Katze.

Welches passt in die obige Lücke?

Cümlede boş bırakılan yeri aşağıdakilerden hangisi doğru şekilde tamamlar?

- A) alt wie
B) so klein wie
C) langsamer als
D) fleißiger als

4. Klaus / Berlin / kommen / aus

Wie kann man mit den obigen Wortgruppen einen sinnvollen und richtigen Satz bilden?

Verilen sözcük gruplarıyla kurulabilecek an anlamli ve dogru cümle aşağıdakilerden hangisidir?

- A) Klaus kommt aus Berlin.
B) Berlin Klaus aus kommt.
C) Aus Klaus kommt Berlin.
D) Kommt Klaus Berlin aus.

5. Das Kind bestellt Hamburger.

Wie lautet der obige Satz in der Pluralform?

Verilen cümlenin çoğul hali aşağıdakilerden hangisidir?

- A) Die Kinder bestellten Hamburger.
B) Die Kinder bestellen Hamburger.
C) Das Kind bestellte Hamburgers.
D) Das Kind will Hamburgers bestellen.

6. Was ist ein Duden?

Welche Antwort passt zur obigen Frage?

Verilen sorunun cevabı aşağıdakilerden hangisidir?

- A) Dort kann man nachschlagen und neue Wörter lernen.
B) Die benutzen wir im Alltag beim Sprechen.
C) Das ist ein Schulbuch für Mathematik.
D) Dort kann man neue Geschichten finden.

7. Das ist eine Einbahnstrasse.

Wie lautet der obige Satz auf Türkisch?

Verilen cümlenin Türkçesi aşağıdakilerden hangisidir?

- A) Burada tek yönlü yol az.
B) Bu tek araçlık yol.
C) Bu tek yönlü bir yol.
D) Buraya tek yönlü araçlar girebilir.

8. Österreich / Spanien / Deutschland / Ankara / Japan

Welches Wort passt nicht zu den anderen in der obigen Wortgruppe?

Verilen sözcük grubuna uymayan aşağıdakilerden hangisidir?

- A) Österreich
B) Spanien
C) Deutschland
D) Ankara

9. Monika hat keine Zeit zum Spielen, sie muß ihre Hausaufgaben machen.

Welches Wort passt in die obige Lücke?

Cümlede boş bırakılan yerl aşağıdakilerden hangisi doğru şekilde tamamlar?

- A) oder
B) denn
C) seit
D) aber

10. Meine Kinder fragen,

Welches ergänzt die Lücke im obigen Satz?

Verilen cümleyi aşağıdakilerden hangisi tamamlar?

- A) weil ich immer spielen möchte.
B) ob ich mit ihnen spielen kann.
C) damit ich noch mit ihnen spielen könnte.
D) daß ich mitspielen kann.

11. ATV ist ein Fernsehsender. Ich mag den Sender nicht.

Wie kann man die obigen Satze verbinden?

Verilen cümlelerin birleştirilmiş hali aşağıdakilerden hangisidir?

- A) Die Sender, die im ATV sind, sind alle neu.
B) Wenn ATV ein Fernsehsender ist, mag ich es nicht.
C) ATV ist ein Fernsehsender, den ich nicht mag.
U) Ich sehe alle Fernsehprogramme im ATV.

12. Keloglan ist der Mann, alle türkischen Kinder kennen.

Welches Wort passt in die obige Lücke?

Cümlede boş bırakılan yerl aşağıdakilerden hangisi doğru şekilde tamamlar?

- A) dem
B) den
C) des
D) die

13. Was bedeutet "irmak" auf Deutsch?

"irmak" sözcüğünün Almancası aşağıdakilerden hangisidir?

- A) der Fluß
B) das Meer
C) die Wiese
D) das Land

14., dem ich immer vertrauen kann.

Welches ergänzt die Lücke im obigen Satz?

Vertilen cümleyi aşağıdakilerden hangisi tamamlar?

- A) Mario hat eine Freundin
- B) Wir kennen viele Freunde
- C) Der einzige Mensch ist meine Frau
- D) Ich wünsche mir einen Freund

15. Samsun und Ordu sind zwei Städte, am Schwarzen Meer liegen.

Welches Wort passt in die obige Lücke?

Cümlede boş bırakılan yerl aşağıdakilerden hangisi doğru şekilde tamamlar?

- A) der
- B) das
- C) den
- D) die

16., ob ihr mich morgen besuchen werdet.

Welches ergänzt die Lücke im obigen Satz?

Vertilen cümleyi aşağıdakilerden hangisi tamamlar?

- A) Wir sehen abends fern
- B) Er soll kommen
- C) Sie möchte sofort kommen
- D) Ich möchte wissen

17. Das werde ich wohl nie vergessen!

Wie lautet der obige Satz auf Türkisch?

Vertilen cümlelin Türkçesi aşağıdakilerden hangisidir?

- A) Bunu mutlaka unuturum!
- B) Bu olayı hiç hatırlamak istemem!
- C) Herhalde bunu hiç unutmayacağım!
- D) Herhalde bunu hemen unuttu!

18. Wenn er die Möglichkeit, er nach Berlin fahren.

Welche Wörter passen in die obigen Lücken?

Cümlede boş bırakılan yerleri aşağıdakilerden hangileri doğru şekilde tamamlar?

- A) hätte / würde
- B) hätten / wirst
- C) hatte / wird
- D) hat / wäre

19., würde ich mehr lesen.

Welches ergänzt nicht die Lücke im obigen Satz?

Vertilen cümleyi aşağıdakilerden hangisi tamamlamaz?

- A) Wenn ich nicht viel arbeiten müsste
- B) Wenn ich unbedingt essen möchte
- C) Wenn es keinen Fernseher gäbe
- D) Wenn ich mehr Zeit hätte

20. Wenn die Menschen nicht rauchen würden,

Welches ergänzt die Lücke im obigen Satz?

Vertilen cümleyi aşağıdakilerden hangisi tamamlar?

- A) wären sie gesünder.
- B) sind sie immer krank.
- C) wollte er nicht rauchen.
- D) wären wir heute bei euch.

1. A: What when you saw the fire in the shopping mall?

Which of the following completes the sentence above?

Aşağıdakilerden hangisi yukarıdaki cümleyi doğru olarak tamamlar?

- A) will you do
B) are you doing
C) did you do
D) have you done

2. Amy: How long has she lived in İstanbul?
Betty: She has lived there about 10 years.

Which of the following completes the dialogue above?

Aşağıdakilerden hangisi yukarıdaki konuşmayı doğru olarak tamamlar?

- A) since
B) for
C) ago
D) yet

3. Meriç has colour pencils than her friends.

Which of the following completes the sentence above?

Aşağıdakilerden hangisi yukarıdaki cümleyi doğru olarak tamamlar?

- A) many
B) more
C) a lot
D) much

4. A: Let's eat out tonight,?
B: OK. Where do you want to go?

Which of the following completes the dialogue above?

Aşağıdakilerden hangisi yukarıdaki konuşmayı doğru olarak tamamlar?

- A) shall we
B) does she
C) do we
D) will we

5. When I saw the kids in the garden,

Which of the following completes the sentence above?

Aşağıdakilerden hangisi yukarıdaki cümleyi doğru olarak tamamlar?

- A) they fight
B) they can fight
C) they were fighting
D) they will fight

6. Mum: Clean your room!
Son : I have cleaned it. It's clean now.

Which of the following completes the dialogue above?

Aşağıdakilerden hangisi yukarıdaki konuşmayı doğru olarak tamamlar?

- A) yet
B) already
C) lately
D) ever

7. Rita:?
Richard: No, I haven't flown in a plane.

Which of the following completes the dialogue above?

Aşağıdakilerden hangisi yukarıdaki konuşmayı doğru olarak tamamlar?

- A) Have you ever flown in a plane
B) Will you ever fly in a plane
C) Are you flying in a plane
D) Did you ever fly in a plane

8. Kane: Have you ever been to Italy?
Yves: Yes, I have. I there in 2000.

Which of the following completes the dialogue above?

Aşağıdakilerden hangisi yukarıdaki konuşmayı doğru olarak tamamlar?

- A) will go
B) have gone
C) go
D) went

9. The carpets are very dirty. I clean them.

Which of the following completes the sentence above?

Aşağıdakilerden hangisi yukarıdaki cümleyi doğru olarak tamamlar?

- A) mustn't
B) shouldn't
C) must
D) don't have to

10. They aren't coming to the party. I wish

Which of the following completes the sentence above?

Aşağıdakilerden hangisi yukarıdaki cümleyi doğru olarak tamamlar?

- A) they could come to the party
B) they don't come to the party
C) they can come to the party
D) they didn't come to the party

11. Tomorrow is Saturday. We go to school.
We can go to the cinema.

Which of the following completes the sentence above?

Aşağıdakilerden hangisi yukarıdaki cümleyi doğru olarak tamamlar?

- A) must
B) should
C) don't have to
D) have to

12. They aren't studying enough for their lessons. I wish

Which of the following completes the sentence above?

Aşağıdakilerden hangisi yukarıdaki cümleyi doğru olarak tamamlar?

- A) they don't study enough
B) they studied enough
C) they are studying enough
D) they didn't study enough

13. If you lose your wallet,

Which of the following completes the sentence above?

Aşağıdakilerden hangisi yukarıdaki cümleyi doğru olarak tamamlar?

- A) write a letter
B) see the dentist
C) iron the clothes
D) call the police

14. Mike: I borrow your suitcase Brian?
Brian: Yes, of course.

Which of the following completes the dialogue above?

Aşağıdakilerden hangisi yukarıdaki konuşmayı doğru olarak tamamlar?

- A) Do
B) Did
C) Will
D) Can

15. If he money, he a new car.

Which of the following completes the sentence above?

Aşağıdakilerden hangisi yukarıdaki cümleyi doğru olarak tamamlar?

- A) is saving / will buy
B) saves / bought
C) saves / will buy
D) will save / will buy

16. My mother asked me what I was doing.

Which of the following is the direct speech form of the reported speech sentence above?

Aşağıdakilerden hangisi yukarıdaki dolaylı anlatım cümlesinin dolaysız anlatım biçimidir?

- A) My mother asks, "What were you doing?"
B) My mother asked, "What are you doing?"
C) My mother asked, "What did you do?"
D) My mother asks, "What have you done?"

17. Amy said "I went to the library." Amy said that she to the library.

Which of the following completes the sentence above?

Aşağıdakilerden hangisi yukarıdaki cümleyi doğru olarak tamamlar?

- A) goes
B) was going
C) has gone
D) had gone

18., I wouldn't say those rude words.

Which of the following completes the sentence above?

Aşağıdakilerden hangisi yukarıdaki cümleyi doğru olarak tamamlar?

- A) If I were you
B) If I am you
C) If I have been you
D) If I can be you

19. I walking to school to driving to school.

Which of the following completes the sentence above?

Aşağıdakilerden hangisi yukarıdaki cümleyi doğru olarak tamamlar?

- A) prefer
B) hope
C) want
D) have

20. English by Mr. White next year.

Which of the following completes the sentence above?

Aşağıdakilerden hangisi yukarıdaki cümleyi doğru olarak tamamlar?

- A) taught
B) was taught
C) is teaching
D) will be taught

1. Octobre est le mois elle est

Choisissez les mots qui conviennent.

Cümiedeki boşlukları aşağıdakilerden hangisi doğru şekilde tamamlar?

- A) où / née
B) où / né
C) dont / née
D) dont / né

2. «Interdit de tourner à gauche.»

Choisissez la traduction qui convient.

Yukarıdaki cümlelerin Türkçe karşılığı aşağıdakilerden hangisidir?

- A) Sağa dönmek yasaktır.
B) Solda yürümek yasaktır.
C) Sağda yürümek yasaktır.
D) Sola dönmek yasaktır.

3. J'ai beaucoup d'amis sont français.

Choisissez le mot qui convient.

Cümiedeki boşluğu aşağıdakilerden hangisi doğru şekilde tamamlar?

- A) que
B) où
C) qui
D) dont

4. Nous sommes à Paris hier.

Choisissez l'expression qui convient.

Cümiedeki boşluğu aşağıdakilerden hangisi doğru şekilde tamamlar?

- A) depuis
B) il y a
C) ça fait
D) pendant

5. «Senden daha fazla elma yiyorum.»

Choisissez la traduction qui convient.

Yukarıdaki cümlelerin Türkçe karşılığı aşağıdakilerden hangisidir?

- A) Je mange plus de pommes que toi.
B) Je mange autant de pommes que toi.
C) Je mange moins de pommes que toi.
D) Je mange des pommes comme toi.

6. Il va toujours à l'école pied.

Choisissez le mot qui convient.

Cümiedeki boşluğu aşağıdakilerden hangisi doğru şekilde tamamlar?

- A) le
B) à
C) en
D) avec

7. -?

- Oui, ils y vont.

Choisissez la question qui convient.

Yukarıdaki konuşmada cevabı gerektiren soru aşağıdakilerden hangisidir?

- A) Qu'est-ce qu'ils pensent
B) Est-ce qu'ils vont au cinéma
C) Où est-ce qu'ils viennent
D) Quand est-ce qu'ils vont partir

8. La fille je parle.

Choisissez le mot qui convient.

Cümiedeki boşluğu aşağıdakilerden hangisi doğru şekilde tamamlar?

- A) qui
B) dont
C) où
D) que

9. En 2000, j' six ans.

Choisissez le mot qui convient.

Cümiedeki boşluğu aşağıdakilerden hangisi doğru şekilde tamamlar?

- A) suis
B) avais
C) étais
D) avais

10. La poste est le cinéma et le supermarché.

Choisissez l'expression qui convient.

Cümiedeki boşluğu aşağıdakilerden hangisi doğru şekilde tamamlar?

- A) à côté
B) loin
C) en face
D) entre

11. - Tu penses à ta mère?

- Oui, je pense à

Choisissez le mot qui convient.

Yukarıdaki konuşmada boş bırakılan yeri aşağıdakilerden hangisi doğru şekilde tamamlar?

- A) lui
B) elle
C) y
D) en

12. Atatürk est mort 10 Novembre.

Choisissez l'expression qui convient.

Cümledeki boşluğu aşağıdakilerden hangisi doğru şekilde tamamlar?

- A) la
- B) en
- C) le
- D) au

13. Il aime jouer tennis.

Choisissez le mot qui convient.

Cümledeki boşluğu aşağıdakilerden hangisi doğru şekilde tamamlar?

- A) à
- B) des
- C) au
- D) du

14. La voiture j'ai est

Choisissez les mots qui conviennent.

Cümledeki boşlukları aşağıdakilerden hangisi doğru şekilde tamamlar?

- A) que / vue / bleue
- B) que / vu / bleu
- C) qui / vu / bleu
- D) qui / vue / bleue

15. J'aime bien la ville où vous habitez.

Choisissez la traduction qui convient.

Yukarıdaki cümlelerin Türkçe karşılığı aşağıdakilerden hangisidir?

- A) Hangi şehirde oturduğunuzu biliyorum.
- B) Oturduğunuz şehri iyi tanıyorum.
- C) Oturduğunuz şehri seviyorum.
- D) Bu şehirde oturduğunuzu biliyorum.

16. jour / sommes / quel / nous ?
I II III IV

Mettez dans le bon ordre.

Yukarıdaki kelimelerin anlamlı ve kurallı bir cümle oluşturan sırası aşağıdakilerin hangisinde doğru olarak verilmiştir?

- A) I, III, II, IV
- B) III, I, II, IV
- C) III, IV, II, I
- D) IV, III, II, I

17. Il faut se dépêcher pour ne pas l'avion.

Choisissez le mot qui convient.

Cümledeki boşluğu aşağıdakilerden hangisi doğru şekilde tamamlar?

- A) partir
- B) voyager
- C) sortir
- D) manquer

18. Hier, mon père a voyagé train.

Choisissez l'expression qui convient.

Cümledeki boşluğu aşağıdakilerden hangisi doğru şekilde tamamlar?

- A) en
- B) à
- C) au
- D) de

19. J'ai cherché mon parapluie partout Je ne l'ai pas trouvé.

Choisissez le mot qui convient.

Cümledeki boşluğu aşağıdakilerden hangisi doğru şekilde tamamlar?

- A) or
- B) car
- C) donc
- D) mais

20. - Tu as téléphoné à ton amie?
- Oui, je ai téléphoné.

Choisissez le mot qui convient.

Yukarıdaki konuşmada boş bırakılan yeri aşağıdakilerden hangisi doğru şekilde tamamlar?

- A) les
- B) m'
- C) lui
- D) leur

1. ist der Berg der Welt.

Welche Wörter passen in die obigen Lücken?

Cümlede boş bırakılan yerleri aşağıdakilerden hangileri doğru şekilde tamamlar?

- A) Carl Lewis / kleinst
B) Afrika / größte
C) Erclyes / höchster
D) Mount Everest / höchste

2. Fatma ist 1.85 cm, Ayfer ist 1.70 cm und Ayşe ist 1.60 cm groß. Fatma ist

Welches Wort passt in die obige Lücke?

Cümlede boş bırakılan yerleri aşağıdakilerden hangisi doğru olarak tamamlar?

- A) länger als
B) am längsten
C) wie lang
D) die kleine

3. Wie lautet die Grundform von "am meisten"?

"am meisten" sözcüğünün master hali aşağıdakilerin hangisinde doğru olarak verilmiştir?

- A) viel
B) lieb
C) mehr
D) gut

4. A:
B: Ich bin gekommen, weil ich meine Schlüssel vergessen habe.
A: Ach ja! Hier hast du deine Schlüssel!
B: Danke!

Welches ergänzt den obigen Dialog?

Verilen karşılıklı konuşmayı aşağıdakilerden hangisi tamamlar?

- A) Wohin gehst du?
B) Warum bist du gekommen?
C) Wo ist deine Tasche?
D) Wann machst du deine Hausaufgaben?

5. Wie lautet das Wort "Selbstverwirklichung" auf Türkisch?

"Selbstverwirklichung" sözcüğünün Türkçe karşılığı aşağıdakilerden hangisidir?

- A) Bireysel bağımsızlık
B) Kişisel çıkarlar
C) Toplumsal harcamalar
D) Kendini gerçekleştirme

6. A: geht Manuela zum Arzt?
B: Manuela geht zum Arzt, sie krank

Welches ergänzt die Lücken im obigen Dialog?

Verilen karşılıklı konuşmada boş bırakılan yerleri aşağıdakilerden hangisi tamamlar?

- A) Wozu / um / seien
B) Warum / um / werden
C) Warum / wie / haben
D) Wozu / weil / ist

7. 1980 1984 habe ich die Realschule besucht.

Welche Wörter passen in die obigen Lücken?

Cümlede boş bırakılan yerleri aşağıdakilerden hangileri doğru şekilde tamamlar?

- A) Aus / ab
B) Zu / für
C) In / auf
D) Von / bis

8. Das ganze Personal muss morgens um 8 Uhr in der Bank sein.

Welches Wort passt in die obige Lücke?

Cümlede boş bırakılan yerleri aşağıdakilerden hangisi doğru şekilde tamamlar?

- A) nur
B) sondern
C) spätestens
D) seltsam

9. A:
B: Selten, weil ich keine Zeit habe.
A: Das ist aber Schade!

Welches ergänzt den obigen Dialog?

Verilen karşılıklı konuşmayı aşağıdakilerden hangisi tamamlar?

- A) Wie oft gehen Sie ins Theater?
B) Gehst du auch ins Kino?
C) Um wieviel Uhr geht ihr ins Kino?
D) Wann fängt der Film an?

10. Anton: Ist deine Mutter zu Hause?
Bettina: Nein, sie ist nicht zu Hause.
Anton: Ich, sie wäre zu Hause.

Welches ergänzt die Lücke im obigen Dialog?

Verilen karşılıklı konuşmada boş bırakılan yeri aşağıdakilerden hangisi tamamlar?

- A) dachte
B) dachten
C) dachst
D) dachtet

11. Du kannst dir ein Auto kaufen, das neu auf dem Markt ist.

Welches Wort passt in die obige Lücke?

Cümlede boş bırakılan yeri aşağıdakilerden hangisi doğru şekilde tamamlar?

- A) absolviert
B) gekauft
C) erschienen
D) behaupten

12. Gehört das Buch nicht deiner Mutter?

Welche Antwort passt zur obigen Frage?

Verilen sorunun cevabı aşağıdakilerden hangisidir?

- A) Ja, meine Mutter will sich ein Buch kaufen.
B) Nein, meine Mutter ist zu Hause.
C) Ja, mein Buch habe ich in der Schule vergessen.
D) Nein, das Buch gehört nicht meiner Mutter.

13. Versammlung / stattfinden / Saal / im / die

Wie kann man mit den obigen Wortgruppen einen sinnvollen und richtigen Satz bilden?

Verilen sözcük gruplarıyla kurulabilecek an anlamli ve dogru cümle aşağıdakilerden hangisidir?

- A) Die Saal Versammlung stattfindet im.
B) Die Versammlung findet im Saal statt.
C) Findet die Versammlung im statt Saal.
D) Im Saal die Versammlung findet statt.

14. Man sagt, der junge Mann noch ein Praktikant und eine Familie zu versorgen.

Welche Wörter passen in die obigen Lücken?

Cümlede boş bırakılan yerleri aşağıdakilerden hangileri doğru şekilde tamamlar?

- A) sei / habe
B) war / habest
C) ist / hatten
D) soll / hatte

15. Der Roman ist sehr interessant. Er ist von einem berühmten Schriftsteller

Welches Wort passt in die obige Lücke?

Cümlede boş bırakılan yeri aşağıdakilerden hangisi doğru şekilde tamamlar?

- A) gestartet sein
B) geschrieben worden
C) bestehen können
D) bekommen können

16. Mağazalar dün kapalıydı.

Wie lautet der obige Satz auf Deutsch?

Verilen cümlenin Almancası aşağıdakilerden hangisidir?

- A) Das Geschäft ist am Wochenende geöffnet.
B) Nachmittags sind diese Geschäfte geschlossen.
C) Die Geschäfte waren gestern geschlossen.
D) Heute Abend sind die Geschäfte geöffnet.

17. Das Mädchen, das du gestern kennengelernt hast,

Welches ergänzt den obigen Satz?

Verilen cümleyi aşağıdakilerden hangisi doğru olarak tamamlar?

- A) neu verheiratet ist.
B) kommen immer zu uns.
C) wohnt nebenan.
D) sind sehr reich.

18. Ich habe Fieber.

Wie lautet der obige Satz auf Türkisch?

Verilen cümlenin Türkçesi aşağıdakilerden hangisidir?

- A) Ateşleneceksin.
B) Ateşim var.
C) Ateşi düştü.
D) Ateş düşürücü iç.

19. Die Kinder, wir Schokolade geschenkt haben, sich gefreut.

Welche Wörter passen in die obigen Lücken?

Cümlede boş bırakılan yerleri aşağıdakilerden hangileri doğru olarak tamamlar?

- A) denen / haben
B) den / seien
C) dessen / hätten
D) der / hatten

20. A: Hallo! Wie geht es dir?
B: Hallo! Gut, ich habe Hunger und gehe essen.

A: Was willst du essen?

B: Die Nudeln,....., schmecken mir besonders gut.

A: Das hört sich wirklich lecker an! Ich komm auch mit!

B: Also dann, lass uns Nudeln essen!

Welches ergänzt die Lücke im obigen Dialog?

Verilen karşılıklı konuşmada boş bırakılan yerl aşağıdakilerden hangisi tamamlar?

- A) den ich aus Italien kenne
B) das wir von Holland kaufen
C) die aus Italien kommen
D) der eine Spezialität aus der Türkei ist

1. Mrs. Cottony was writing an essay somebody knocked the door.

Which of the following completes the sentence above?

Aşağıdakilerden hangisi yukarıdaki cümleyi doğru olarak tamamlar?

- A) while
B) who
C) which
D) when

2. We a taxi to school yesterday because we were late.

Which of the following completes the sentence above?

Aşağıdakilerden hangisi yukarıdaki cümleyi doğru olarak tamamlar?

- A) take
B) took
C) will take
D) taken

3. While they a movie, the electricity went off.

Which of the following completes the sentence above?

Aşağıdakilerden hangisi yukarıdaki cümleyi doğru olarak tamamlar?

- A) were watching
B) watched
C) have watched
D) are watching

4. Jane: What's your job?
Bob: I a teacher three years ago. I don't work anymore.

Which of the following completes the dialogue above?

Aşağıdakilerden hangisi yukarıdaki konuşmayı doğru olarak tamamlar?

- A) been
B) were
C) was
D) am

5. A: Have you ever been to Nantes?
B: Yes, I have.
A: ?
B: Last year.

Which of the following completes the dialogue above?

Aşağıdakilerden hangisi yukarıdaki konuşmayı doğru olarak tamamlar?

- A) What did you do there
B) How did it happen
C) How do you go there
D) When did you go there

6. I haven't eaten anything since breakfast.

Which of the following is the Turkish translation of the sentence above?

Aşağıdakilerden hangisi yukarıdaki cümlenin Türkçe karşılığıdır?

- A) Kahvaltıda çok şey yedim.
B) Kahvaltıda çok az yedim.
C) Kahvaltıda beri hiçbir şey yemedim.
D) Kahvaltıda her şeyi yedim.

7. Ege hasn't done any homework the beginning of the term.

Which of the following completes the sentence above?

Aşağıdakilerden hangisi yukarıdaki cümleyi doğru olarak tamamlar?

- A) since
B) for
C) at
D) to

8. My little sister any vegetables two years ago.

Which of the following completes the sentence above?

Aşağıdakilerden hangisi yukarıdaki cümleyi doğru olarak tamamlar?

- A) didn't used to eat
B) ate
C) didn't use to eat
D) use to eat

9. My sister very thin when she was a baby.

Which of the following completes the sentence above?

Aşağıdakilerden hangisi yukarıdaki cümleyi doğru olarak tamamlar?

- A) use to be
B) uses to be
C) used to was
D) used to be

10. I have had my glasses ten years.

Which of the following completes the sentence above?

Aşağıdakilerden hangisi yukarıdaki cümleyi doğru olarak tamamlar?

- A) then
B) for
C) since
D) ago

11. Have you ever to France?

Which of the following completes the sentence above?

Aşağıdakilerden hangisi yukarıdaki cümleyi doğru olarak tamamlar?

- A) went
- B) travel
- C) been
- D) go

12. What you for your sister's birthday?

Which of the following completes the sentence above?

Aşağıdakilerden hangisi yukarıdaki cümleyi doğru olarak tamamlar?

- A) is / buy
- B) are / buy
- C) does / buy
- D) will / buy

13. They never helped us,?

Which of the following completes the sentence above?

Aşağıdakilerden hangisi yukarıdaki cümleyi doğru olarak tamamlar?

- A) do they
- B) did they
- C) didn't they
- D) will they

14. You usually wake up early, ?

Which of the following completes the sentence above?

Aşağıdakilerden hangisi yukarıdaki cümleyi doğru olarak tamamlar?

- A) don't you
- B) do you
- C) does he
- D) doesn't she

15. They haven't been to Egypt before,?

Which of the following completes the sentence above?

Aşağıdakilerden hangisi yukarıdaki cümleyi doğru olarak tamamlar?

- A) have they
- B) did they
- C) haven't they
- D) will they

16. We will to Bodrum in summer.

Which of the following completes the sentence above?

Aşağıdakilerden hangisi yukarıdaki cümleyi doğru olarak tamamlar?

- A) cook
- B) go
- C) watch
- D) do

17. Tomorrow a hard day for us.

Which of the following completes the sentence above?

Aşağıdakilerden hangisi yukarıdaki cümleyi doğru olarak tamamlar?

- A) being
- B) was
- C) will be
- D) were

18. Mount Everest is than Mount Elmadag.

Which of the following completes the sentence above?

Aşağıdakilerden hangisi yukarıdaki cümleyi doğru olarak tamamlar?

- A) higher
- B) longest
- C) longer
- D) highest

19. My little sisters play in the playground than us.

Which of the following completes the sentence above?

Aşağıdakilerden hangisi yukarıdaki cümleyi doğru olarak tamamlar?

- A) happier
- B) more happy
- C) happy
- D) more happily

20. Ana speaks than Nat.

Which of the following completes the sentence above?

Aşağıdakilerden hangisi yukarıdaki cümleyi doğru olarak tamamlar?

- A) fluently
- B) more fluently
- C) fluent
- D) more fluent

1. Choisissez le synonyme du verbe "se distraire".

"Se distraire" fiilinin es anlamısı aşağıdakilerden hangisidir?

- A) se reposer
B) s'ennuyer
C) s'intéresser
D) s'amuser

2. Ce roman raconte l'histoire d'une femme qui se marie: c'est un roman

Choisissez le mot qui convient.

Cümledeki boşluğu aşağıdakilerden hangisi doğru şekilde tamamlar?

- A) d'amour
B) policier
C) d'histoire
D) de biologie

3. Monique un championnat de ping-pong chaque samedi.

Choisissez le mot qui convient.

Cümledeki boşluğu aşağıdakilerden hangisi doğru şekilde tamamlar?

- A) danse
B) organise
C) part
D) va

4. On peut pique-niquer en forêt quand

Complétez la phrase avec la proposition qui convient.

Yukarıdaki cümleyi aşağıdaki ifadelerden hangisi doğru şekilde tamamlar?

- A) il pleut
B) il neige
C) il fait beau
D) il y a du vent

5. A: Qu'est-ce que tu as fait hier soir?
B:

Choisissez la réponse qui convient.

Yukarıdaki konuşmada boş bırakılan yeri aşağıdakilerden hangisi doğru şekilde tamamlar?

- A) Je suis allée au concert
B) Je vais partir pour Paris
C) J'aime la musique classique
D) Je suis technicien

6. Elle joue volley-ball.

Choisissez le mot qui convient.

Cümledeki boşluğu aşağıdakilerden hangisi doğru şekilde tamamlar?

- A) au
B) du
C) de la
D) les

7. Il est sorti dehors au revoir à ses amis.

Choisissez le mot qui convient.

Cümledeki boşluğu aşağıdakilerden hangisi doğru şekilde tamamlar?

- A) en venant
B) marchant
C) courant
D) en disant

8. La femme vient est ma tante.

Choisissez le mot qui convient.

Cümledeki boşluğu aşağıdakilerden hangisi doğru şekilde tamamlar?

- A) que
B) où
C) qui
D) dont

9. la valise est lourde, Pierre a appelé un taxi.

Choisissez le mot qui convient.

Cümledeki boşluğu aşağıdakilerden hangisi doğru şekilde tamamlar?

- A) Quand
B) Lorsque
C) Malgré
D) Comme

10. Je vois un homme marchant dans la rue.

Choisissez la traduction qui convient.

Yukarıdaki cümlelerin Türkçe karşılığı aşağıdakilerden hangisidir?

- A) Bu adamı yürüyüşünden tanıdım.
B) Sokakta yürüyen bir adamı çiziyorum.
C) Sokakta yürüyen bir adam görüyorum.
D) Bir adamın sokak ortasında durduğunu gördüm.

11. «Ağlayarak gittim.»

Choisissez la traduction qui convient.

Yukarıdaki cümlenin Fransızca karşılığı aşağıdakilerden hangisidir?

- A) Je pars en pleurant.
- B) Je suis partie en pleurant.
- C) Je viens en pleurant.
- D) Je vais en pleurant.

12. Elle a oublié son bagage main dans ma chambre.

Choisissez le mot qui convient.

Cümledeki boşluğu aşağıdakilerden hangisi doğru şekilde tamamlar?

- A) où
- B) en
- C) des
- D) à

13. Nous un livre.

Choisissez le mot qui convient.

Cümledeki boşluğu aşağıdakilerden hangisi doğru şekilde tamamlar?

- A) jouons
- B) allons
- C) allons à
- D) lisons

14. il s'est blessé.

Choisissez le mot qui convient.

Cümledeki boşluğu aşağıdakilerden hangisi doğru şekilde tamamlar?

- A) Heureusement
- B) Obéissantes
- C) Malheureusement
- D) Brillante

15. La ville elle part est célèbre.

Choisissez le mot qui convient.

Cümledeki boşluğu aşağıdakilerden hangisi doğru şekilde tamamlar?

- A) que
- B) où
- C) qui
- D) dont

16. Elle part vacances chaque été.

Choisissez le mot qui convient.

Cümledeki boşluğu aşağıdakilerden hangisi doğru şekilde tamamlar?

- A) en
- B) à
- C) de
- D) les

17. les / j'aime / brillantes / lumières

I II III IV

Mettez dans le bon ordre.

Yukarıdaki kelimelerin anlamı ve kurallı bir bütün oluşturan sırası aşağıdakilerin hangisinde doğru olarak verilmiştir?

- A) II, I, III, IV
- B) II, I, IV, III
- C) III, IV, I, II
- D) III, IV, II, I

18. L'hôtel les prix sont bas s'appelle «Joly».

Choisissez l'expression/le mot qui convient.

Cümledeki boşluğu aşağıdakilerden hangisi doğru şekilde tamamlar?

- A) que
- B) qui
- C) dont
- D) où

19. Généralement, on fait du ski en

Choisissez le mot qui convient.

Cümledeki boşluğu aşağıdakilerden hangisi doğru şekilde tamamlar?

- A) hiver
- B) été
- C) printemps
- D) automne

20. Vous regardez télévision.

Choisissez l'expression qui convient.

Cümledeki boşluğu aşağıdakilerden hangisi doğru şekilde tamamlar?

- A) à la
- B) la
- C) au
- D) de

BU SAYFA BOŞ BIRAKILMIŞTIR.

BU SAYFA BOŞ BIRAKILMIŐTIR.

SINAVDA UYGULANACAK GENEL KURALLAR

1. Sınav görevlilerinin her türlü uyarılarına uymalısınız. Gerekli durumlarda görevliler yerinizi değiştirebilir.
2. Sınava girebilmeniz için gerekli belgeler dışında, yanınızda kâğıt, kitap, defter, not vb. hiç bir doküman; cep telefonu, bilgisayar, tablet, telsiz, kamera vb. hiç bir iletişim, depolama, kayıt ve veri aktarma cihazı; ruhsatlı veya resmi amaçlı olsa bile silah ve silah yerine geçebilecek hiç bir nesne bulunduramazsınız.
3. Sınav esnasında görevlilere soru soramaz, sınav huzurunu bozacak söylemlerde ve davranışlarda bulunamazsınız.
4. Sınav esnasında kalem, silgi vb. hiç bir araç ve gereç paylaşımında bulunamazsınız.
5. Kopya çekme, kopya verme, kopya çekilmesine yardımcı olma vb. eylemlerde bulunamazsınız.
6. Cevaplarınızı, cevap kâğıdı dışında bir yere yazarak sınav salonundan dışarı çıkaramazsınız.
7. Resmi kıyafetle (kıtalarından izinli er ve erbaşlar haricinde) sınava giremezsiniz.
8. Size verilen cevap kâğıdının üzerindeki TCKN, ad, soyadı bilgilerini kontrol ediniz. Bu bilgiler size ait değilse, görevlileri uyararak size ait cevap kâğıdını isteyiniz.
9. Cevap kâğıdınızda belirtilen kitapçık kodu ile soru kitapçığınızın kodunu karşılaştırınız. Aynı değilse, sınav görevlilerine bildirin.
10. Cevap kâğıdınıza yazacağınız her türlü yazı ve yapacağınız işaretlemeler için koyu yazan siyah kurşun kalem kullanmalısınız. Farklı bir kalem (tükenmez, mürekkepli vb.) kullanmanız durumunda, cevap kâğıdınız değerlendirmeye alınmayacaktır.
11. Cevap kâğıdı üzerindeki ilgili alanlara TCKN ve test grubunuzu kodlayınız, adınızı soyadınızı yazarak imza atınız.
12. Soru kitapçığınızın sayfalarında hatalı ya da eksik baskı olup olmadığını hızlıca kontrol ediniz. Hata olması durumunda kitapçığınızın değiştirilmesi için Salon Başkanına başvurunuz. Sınav görevlileri sınavın başladığını belirtmeden kitapçığınızı tekrar açmayınız.
13. Soru kitapçığındaki ilgili alanlara ad-soyadı, TCKN, sınav salon no, sıra no bilgilerinizi yazarak imza atınız.
14. Soru kitapçığınızın sayfalarındaki boş yerleri müsvedde amacıyla kullanabilirsiniz.
15. Cevaplarınızı, cevap kâğıdında ilgili test için ayrılmış olan bölüme, cevap yerinin dışına taşımadan işaretleyiniz. Soru kitapçıkları üzerinde yapılan işaretlemeler değerlendirmeye alınmayacaktır.
16. Cevap kâğıdı üzerinde değişiklik yapmak istediğinizde, iz bırakmayan bir silgi kullanınız. Cevap kâğıdınızı buruşturmayınız, katlamayınız ve üzerine gereksiz hiç bir işaret koymayınız.
17. Her sorunun tek bir doğru cevabı vardır. Bir soru için birden çok cevabı işaretlerseniz, o soruyu yanlış cevaplamış sayılacaksınız.
18. Sınav bitiminde, cevap kâğıdınızı ve soru kitapçığınızı eksiksiz biçimde salon görevlilerine teslim ediniz.
19. Sınav kurallarına uymadığınız takdirde sınav görevlileri tarafından hakkınızda tutanak tutulup, sınavınız geçersiz sayılabilir.

Sınav kurallarına uyduğunuz için teşekkür eder, sınavınızda başarılar dileriz.