



ANADOLU ÜNİVERSİTESİ  
AÇIKÖĞRETİM FAKÜLTESİ  
BA - AÇIKÖĞRETİM OKULLARI

T.C. MİLLİ EĞİTİM BAKANLIĞI  
Hayat Boyu Öğrenme Genel Müdürlüğü  
AÇIK ÖĞRETİM LİSESİ – BATI AVRUPA PROGRAMI  
2014-2015 ÖĞRETİM YILI II. DÖNEM SINAVI  
ÜÇÜNCÜ OTURUM – Cumartesi 13:00

TEST GRUBUNUZ

**A**

**0103**

**ÖĞRENCİNİN**

SOYADI : .....

ADI : .....

TC KİMLİK NO / ÖĞRENCİ NO : .....

SINAV SALON NO: ..... SIRA NO: .....

İMZA:.....

Sınavla ilgili tüm kuralları okudum, anladım, kabul ediyorum.

**SINAV İÇERİĞİ**

Testin Adı	Soru Sayısı	Sayfa No	Testin Adı	Soru Sayısı	Sayfa No
DİN KÜLTÜRÜ VE AHLAK BİLGİSİ 2	20	2	HZ. MUHAMMED'İN HAYATI 3	20	35
FELSEFE 2	20	4	DEMOKRASI VE İNSAN HAKLARI 2	20	37
TARİH 6	20	6	SEÇMELİ DİL VE ANLATIM 6	20	39
T.C. İNKILAP TARİHİ VE ATATURKÇULUK 1	20	8	SEÇMELİ TÜRK EDEBİYATI 3	20	41
COĞRAFYA 4	20	11	ALMANCA 1	20	43
DİL VE ANLATIM 1	20	13	İNGİLİZCE 1	20	46
DİL VE ANLATIM 2	20	15	FRANSIZCA 1	20	49
TÜRK EDEBİYATI 4	20	17	ALMANCA 8	20	51
FİZİK 4	20	19	İNGİLİZCE 8	20	54
EKONOMİ 2	20	22	FRANSIZCA 8	20	56
MATEMATİK 7	20	24	SEÇMELİ ALMANCA 3	20	58
MANTIK 1	20	27	SEÇMELİ İNGİLİZCE 3	20	61
GEOMETRİ 5	20	29	SEÇMELİ FRANSIZCA 3	20	63
SEÇMELİ COĞRAFYA 3	20	33	MATEMATİK 1	20	65

**SINAVDA UYGULANACAK ÖZEL KURALLAR**

1. Bu kitapçıkta yer alan her bir test için cevaplama süresi **30 dakika**, toplam süre **150 dakikadır**.
2. Adaylar, sınavın ilk 30 dakikası ve son 5 dakikası içinde, sınavlarını tamamlasalar bile salonu terk edemezler. Sınavın başlamasını izleyen ilk 15 dakikadan sonra hiçbir aday sınava alınmaz.
3. Yanlış cevaplarınız dikkate alınmayacaktır. Bu nedenle kitapçıkta tüm sorular için size doğru gelen seçeneği işaretleyerek cevapsız soru bırakmamanız yararınıza olacaktır.
4. Sınavda hesap makinesi kullanabilirsiniz. Ancak, kullanacağınız makinede alfabetik tuş takımı (A, B, C, ...) ve program yapılmasına, saklanmasına, çalıştırılmasına imkân veren EXE, STORE, RUN vb. tuşlar bulunamaz.

“Sınavda Uygulanacak Genel Kurallar” soru kitapçığının arka sayfasında yer almaktadır. Bu kuralları da mutlaka dikkatlice okuyunuz.

Anadolu Üniversitesi tarafından hazırlanmış olan bu testlerin her hakkı saklıdır. Hangi amaçla olursa olsun, testlerin tamamının veya bir kısmının Anadolu Üniversitesi'nin yazılı izni olmadan kopya edilmesi, fotoğraflarının çekilmesi, herhangi bir yolla çoğaltılması, yayımlanması ya da kullanılması yasaktır. Bu yasağa uymayanlar gerekli cezai sorumluluğu ve testlerin hazırlanmasındaki mali külfeti peşinen kabullenmiş sayılır.

1. İnsanın iyi veya kötü olarak nitelendirilmesine sebep olan huylarına, söz ve davranışlarına ne ad verilir?

- A) Güven
- B) Kültür
- C) Örf
- D) Ahlak

2. Aşağıdakilerden hangisi Türk milletini bir arada tutan, toplumu birleştiren ortak değerlerden biri değildir?

- A) Maddiyat
- B) Vatan ve ülkü birliği
- C) Hz. Muhammed ve Kur'an sevgisi
- D) Millî seciye

3. Ay yıldızlı bayrağımız kırmızı rengini nereden almıştır?

- A) Şehitlerimizin kanından
- B) Tabiatın renklerinden
- C) Güneşin kızılığından
- D) Kırmızı gül renginden

4. Kişilik ile ilgili aşağıdaki ifadelerden hangisi yanlıştır?

- A) İnsanın kendine özgü olan, az veya çok her zaman gözlenebilen davranış ve alışkanlıklarına kişilik denir.
- B) Bir insanın kişiliğinin oluşmasında toplumun değer yargılarının etkisi yoktur.
- C) Bebeklik ve çocukluk dönemleri kişilik gelişiminde iki önemli aşamadır.
- D) Çocuğun kişiliğinin şekillenmesinde önce ailesinin sonra içinde yaşadığı çevrenin ve aldığı eğitimin önemi büyüktür.

5. Aşağıdakilerden hangisi "değerler" in özelliklerinden biri değildir?

- A) Toplum ya da fertler tarafından benimsenen birleştirici unsurlar olmaları
- B) Toplumun manevî ve sosyal ihtiyaçlarını karşıladığına ve fertlerin iyiliği için olduğuna inanılan ölçütler olmaları
- C) Bireyin bilincinde yer alan ve davranışı yönlendiren unsurlar olmaları
- D) Değerlerin ilk oluştuğu ve şekillendiği yerin iş yerleri olması

6. Aşağıdakilerden hangisi İslam dininin korunmasını istediği temel ilkelerden biri değildir?

- A) Hak yiyenin korunması
- B) Aklın korunması
- C) Namusun korunması
- D) Malın korunması

7. Milletimizin varlığı, hürriyeti ve istiklali demek olan İstiklâl Marşı'nın yazarı kimdir?

- A) Necip Fazıl Kısakürek
- B) Yusuf Ziya Ortaç
- C) Mehmet Âkif Ersoy
- D) Yahya Kemâl Beyatlı

8. Laiklik ile ilgili aşağıdaki ifadelerden hangisi doğrudur?

- A) Laiklik; dinsizlik demektir.
- B) Laiklik; dine karşı olmak demektir.
- C) Laiklik ilk olarak Budizm'in yaygın olduğu Hindistan'da ortaya çıkmıştır.
- D) Laiklik; devletin din ve vicdan hürriyeti konusunda tarafsız olması, tüm inançlara eşit mesafede durması anlamına gelmektedir.

9. Aşağıdakilerden hangisi laikliğin temel amaçlarından biri değildir?

- A) Herkesin kanun önünde eşit olmasını sağlamak
- B) Herkesin din ve inanç hürriyetini güvence altına almak
- C) Devletin din ve mezheplere karşı tarafsız davranmasını sağlamak
- D) Dinin ruhbanlık anlayışının oluşmasını sağlamak

10. "Laik devlet" ile ilgili aşağıdaki ifadelerden hangisi yanlıştır?

- A) Laik devlet; inancının gereğini yerine getirmeyenlere ve bir inanca sahip olmayanlara dayatma yapılması gerektiğini savunur.
- B) Laiklik ilkesini benimsemiş devlet yönetimine laik devlet denir.
- C) Laik devlet; din hürriyetini ana ilke olarak kabul eder.
- D) Laik devlet; herkese dinini seçme ve onun gereklerini yerine getirme serbestliği tanır.

11. İslam dini emir ve yasaklarında aşağıdakilerden hangisini esas almaktadır?

- A) Kurumları
- B) Devleti
- C) Bireyi
- D) Aileyi

12. Avrupa'daki kilise otoritesi aşağıdaki hangi olayla son bulmuştur?

- A) Yüzyıl Savaşları
- B) İslahat Fermanı
- C) 1789 Fransız İhtilali
- D) Tanzimat Fermanı

13. İslamiyet'in Anadolu'da özellikle de Ankara civarında yayılmasına önemli katkılar sağlamış İslam âlimi olan ve tasavvufu ilgili görüşleri kendinden sonra gelenlerce belli bir sistem olarak benimseyen Bayramilik Tarikatı olarak ortaya çıkan kişi aşağıdakilerden hangisidir?

- A) Hacı Bayram Veli
- B) Hacı Bektaş Veli
- C) Yunus Emre
- D) Ahmet Yesevî

14. Aşağıdakilerden hangisi "insan hakları"ndan biri değildir?

- A) İnanıldığı dini özgürce yaşamak
- B) Diğer insanların haklarını gasp etmek
- C) İsteddiği yere seyahat etmek ve yerleşmek
- D) Diğer insanlardan insanca muamele görmek

15. Aşağıdakilerden hangisinde Yunus Emre'nin eserleri birlikte ve doğru olarak verilmiştir?

- A) Fıkh-ı Ekber, el Âlim ve'l - Müteallim
- B) Divan, Risalet'ün-Nushiyye
- C) er-Risale, el-Umm
- D) Makalâtül-İslamiyyîn, el-Lüm'a

16. 13. yüzyıl tasavvuf âlimlerinden biri olan, Anadolu'da esnaflar arasında Ahilik Teşkilatı'nın kurucusu olan ve asıl adı Şeyh Nasıruddîn Mahmut olan din âlimi aşağıdakilerden hangisidir?

- A) Ahmet Yesevî
- B) Hacı Bektaş Veli
- C) Ahî Evran
- D) Mevlana

17. Bir çizgi sanatı olarak doğan ve Arap harfleriyle yazı yazma sanatı olarak gelişen, kufi, sülüs, nesih gibi çeşitleri olan sanata ne ad verilir?

- A) Minyatür
- B) Ebru
- C) Hüsnühat
- D) Tezhip

18. I. İslam dininin hak ve gerçek din olması  
II. Müslüman tüccarların dürüstlüğü  
III. İslam dininin hoşgörü ve sevgi anlayışı  
IV. Gök Tanrı inancı ile İslam dininin benzerlikleri

Yukarıdakilerden hangileri Türklerin İslam dinini benimsemesinde etkili olan sebeplendir?

- A) I ve II
- B) III ve IV
- C) I, II ve III
- D) I, II, III ve IV

19. Aşağıdakilerden hangisi Ahilik teşkilatında önemli olan prensiplerden biri değildir?

- A) Allah'ın emirlerine uyacaksın.
- B) İftira ve gıybeti yeri geldiğinde yapabilirsin.
- C) Ahdinde, sözünde vefalı olacaksın.
- D) İyi huylu ve güzel ahlaklı olacaksın.

20. İlk Dünya haritasını günümüzdeki ölçülere yakın biçimde çizen ünlü Müslüman Türk denizcisi ve coğrafyacısı aşağıdakilerden hangisidir?

- A) Birunî
- B) Piri Reis
- C) İbn-i Sina
- D) Ebû Hanife

1. “İnsan ahlaki eylemlerinde yalnızca kendi hazzını, yararını ve mutluluğunu değil, aşka insanların yararını ve mutluluğunu da düşünmek durumundadır. Çünkü toplumun mutluluğu sağlandığında birey de mutluluğa ulaşır.” görüşünü savunan düşünür aşağıdakilerden hangisidir?
- A) Mili  
B) Hobbes  
C) Bacon  
D) Weber
2. Aşağıdakilerden hangisi toplumlarda siyasi iktidarın olası kaynaklarından biri değildir?
- A) Olumsuz coğrafi koşullar  
B) İçten gelebilecek tehlikelere karşı korunma düşüncesi  
C) Birlikte yaşama isteği  
D) Egemen din anlayışı
3. “Siyaset hem bir çatışma ve iktidar kavgası hem de toplumun tüm üyelerinin yararına olabilecek bir düzen yaratma aracıdır.” görüşünü dile getiren siyaset bilimci aşağıdakilerden hangisidir?
- A) Daver  
B) Baumgarten  
C) Duverger  
D) Smith
4. “Erdemli Toplum” adlı eserinde erdemli bir toplumun erdemli, bilgili yöneticiler aracılığıyla oluşturulabileceğini savunan düşünür aşağıdakilerden hangisidir?
- A) Gazali  
B) Fuzuli  
C) Farabi  
D) Mevlana
5. “Her insan idealar dünyasına yönelmeli ve eylemlerini iyi ideasına uydurmalıdır.” görüşünü dile getiren düşünür aşağıdakilerden hangisidir?
- A) Descartes  
B) Aristoteles  
C) Demokritos  
D) Platon
6. “Anarşizm” akımının kurucusu aşağıdakilerden hangisidir?
- A) Kropotkin  
B) Stimer  
C) Bakunin  
D) Proudhon
7. Aşağıdakilerden hangisi din felsefesinin temel kavramlarından biri değildir?
- A) İman  
B) İbadet  
C) Bürokrasi  
D) Vahiy
8. Aşağıdakilerden hangisi siyaset felsefesinin temel kavramlarından biri değildir?
- A) Ahlak  
B) Devlet  
C) Toplum  
D) Bürokrasi
9. “Evrensel ahlak yasasını belirleyen en önemli öge insanın, kendisinin de bir parçası olduğu doğa düzenini anlayarak ve bu bilgiye dayanarak ahlaki bir biçimde davranmasıdır.” görüşünü dile getiren düşünür aşağıdakilerden hangisidir?
- A) Kant  
B) Demokritos  
C) Aristoteles  
D) Spinoza
10. Bireyin iyi ve doğru eylemlerde bulunmaya mizaç, eğitim ve moral olgunluk açısından yatkın olma durumuna ne ad verilir?
- A) Sorumluluk  
B) Etik  
C) Vicdan  
D) Erdem

11. Ahlak yasasını, Tanrı ve insan sevgisiyle temellendiren, bu çerçevede insanların eşitliğini ve kardeşliğini savunan, iyilik, sevgi, çalışkanlık ve dürüstlüğü ahlaki değer olarak benimseyen düşünür aşağıdakilerden hangisidir?

- A) Pir Sultan Abdal
- B) Yunus Emre
- C) Hacı Bektaş Veli
- D) Mevlana

12. İnsanların eylemlerini ve birbirleriyle ilişkilerini düzenlemek amacıyla oluşturulmuş normlar ya da değerler sistemine ne ad verilir?

- A) Hukuk
- B) Din
- C) Ahlak
- D) Felsefe

13. Güzelliği ve güzel sanatların doğasını inceleyen felsefe dalı aşağıdakilerden hangisidir?

- A) Etik
- B) Estetik
- C) Ahlak
- D) Mantık

14. "Yeni Dünya" adlı eser aşağıdakilerden hangisine aittir?

- A) Orwell
- B) Huxley
- C) Campanella
- D) More

15. Aşağıdakilerden hangisi din felsefesinin konularından biri değildir?

- A) Tanrının varlığı
- B) Güzel ahlak
- C) Evrenin yaratılışı
- D) Ruhun ölümsüzlüğü

16. "Varolan her şeyin bir yaratıcısı olduğuna, bu yaratıcının mutlak ve sınırsız bir bilgi ve güce sahip olduğuna sarsılmaz bir inanç beslemek" aşağıdakilerden hangisiyle ifade edilir?

- A) Ateizm
- B) Deizm
- C) Agnostisizm
- D) Teizm

17. "Mesnevi" adlı eser aşağıdakilerden hangisine aittir?

- A) Mevlana
- B) Hacı Bektaş Veli
- C) Ahmet Yesevi
- D) İbn-i Haldun

18. İdeal bir toplum düzeni tasarlayan ilk filozof aşağıdakilerden hangisidir?

- A) Platon
- B) Kant
- C) Farabi
- D) Spinoza

19. Din ile felsefeyi birbirinden ayırarak inceleyen ilk düşünür aşağıdakilerden hangisidir?

- A) Huxley
- B) Kant
- C) Sartre
- D) Orwel

20. Yaşadığı dönemin İtalya'sındaki aksaklıklardan yola çıkarak "Güneş Ülkesi" adını verdiği ideal bir toplum düzenini tasarlayan düşünür aşağıdakilerden hangisidir?

- A) Bacon
- B) Campanella
- C) Bentham
- D) Mili

1. Hz. Ömer dönemiyle ilgili aşağıdaki ifadelerden hangisi yanlıştır?
  - A) Mısır, Suriye, Irak ve Azerbaycan fethedilmiştir.
  - B) Cemel ve Siffin Savaşları yapılmıştır.
  - C) "Beytül Mal" kurulmuştur.
  - D) Hicri takvim kullanılmaya başlanmıştır.
2. Aşağıdakilerden hangisi İslamiyet'i ilk kabul edenler (İlk Müslümanlar) biri değildir?
  - A) Hz. Hatice
  - B) Hz. Ali
  - C) Hz. Ebubekir
  - D) Hz. Hamza
3. Kuran-ı Kerim'in çoğaltılması ve ilk İslam donanmasının oluşturulması hangi halife döneminde gerçekleşmiştir?
  - A) Hz. Ebubekir
  - B) Hz. Osman
  - C) Hz. Ömer
  - D) Hz. Ali
4. Aşağıdakilerden hangisi Talas Savaşı'nın sonuçlarından biri değildir?
  - A) Çinliler, Müslüman Araplardan kağıt imal etmesini öğrenmişlerdir.
  - B) Abbasi Devleti yönetiminde Türkler görev almaya başlamışlardır.
  - C) Orta Asya, Çinlilerin kontrolüne girmekten kurtarılmıştır.
  - D) Türkler ile Müslüman Araplar arasında ilişkiler yumuşamıştır.
5. Kaşgarlı Mahmut'un Türkçenin Arapça kadar zengin olduğunu göstermek için yazdığı eser aşağıdakilerden hangisidir?
  - A) Kitab-ı Bahriye
  - B) Keşfü Zünnun
  - C) Divanu Lügati't-Türk
  - D) Asafnâme
6. İranlıların Al-i Afrasiyab (Afrasiyab Oğulları) ismini verdikleri Türk-İslam devleti aşağıdakilerden hangisidir?
  - A) Tolunoğulları
  - B) Karahanlılar
  - C) İhşidoğulları
  - D) Harezmsahlr
7. Malazgirt Meydan Savaşı'nda esir düşün Bizans İmparatoru aşağıdakilerden hangisidir?
  - A) III. Leon
  - B) I. Justinianus
  - C) IV. Romanos Diogenes
  - D) Heracleius
8. Yusuf Has Hacib'in Türk devlet anlayışının nasıl olması gerektiğini anlattığı eseri aşağıdakilerden hangisidir?
  - A) Cihannüma
  - B) Miratü'l Memalik
  - C) Düsturname-i Enveri
  - D) Kutadgu Bilig
9. Aşağıdakilerden hangisi Dandanakan Meydan Muharebesi'nin sonuçlarından biri değildir?
  - A) Horasan toprakları kesin olarak Selçuklulara geçti.
  - B) Büyük Selçuklu Devleti resmen kuruldu.
  - C) Bizans'ın Anadolu'yu Türklerden alma ümitleri sona erdi.
  - D) Türklerin batıya doğru ilerlemelerinin önü açıldı.
10. Mısır'da kurulan ilk Türk-İslam devletleri aşağıdakilerden hangisinde birlikte ve doğru olarak verilmiştir?
  - A) Karahanlılar ve Eyyubiler
  - B) Tolunoğulları ve İhşidoğulları
  - C) Gazneliler ve Memlûler
  - D) Harezmsahlr ve Babürler
11. Tahta hükümdar bulunmadığı, hükümdarın başkentte olmadığı veya hükümdarın çocuk yaşta oluşu nedeniyle devlet yönetimini üstlenen kişiye ne ad verilir?
  - A) Naip
  - B) Aygucu
  - C) Apa
  - D) Buyruk

12. Abbasi halifelerinin hükümdarlara gönderdikleri elbiselere ne ad verilir?

- A) Nevbet
- B) Çetr
- C) Tıraz
- D) Otağ

13. Aşağıdakilerden hangisi Selçuklularda hükümdarlık sembolleri arasında yer almaz?

- A) Yug
- B) Hutbe okutmak
- C) Para basmak
- D) Taht

14. Aristo'nun eserlerini inceleyip yeni yorumlar getirdiği için ikinci öğretmen anlamına gelen Muallim-i Sâni unvanıyla anılan aşağıdakilerden hangisidir?

- A) Gazali
- B) İbn-i Sina
- C) Ömer Hayyam
- D) Farabî

15. Fâtımî Devleti'nde en önemli gelir kaynağı aşağıdakilerden hangisidir?

- A) Cizye vergisi
- B) Ağnam vergisi
- C) Mücerred vergisi
- D) Bennak vergisi

16. Moğollarda askerî iktalardaki düzeni kontrol eden görevli aşağıdakilerden hangisidir?

- A) Nöker
- B) Noyan
- C) İnçü
- D) Bitikçi

17. Babür hükümdarı Şah Cihan devrinde yapılan en önemli eser aşağıdakilerden hangisidir?

- A) Tac Mahal
- B) Humayun Türbesi
- C) Şemseddin Eteke Han Türbesi
- D) Agra Kalesi

18. Kudüs'teki Haçlı hâkimiyetine 1187'deki Hittin Savaşı ile son veren hükümdar kimdir?

- A) Nüreddin Zengi
- B) Aybek
- C) Baybars
- D) Selahaddin Eyyubi

19. Aşağıdakilerden hangisi Timur'un, Suriye Seferi sırasında Yıldırım Bayezid'e gönderdiği mektuplardaki istekleri arasında yer almaz?

- A) Yıldırım Bayezid'in kendi hâkimiyetini tanıması
- B) Karakoyunlu hükümdarı Kara Yusufun kendisine teslim edilmesi
- C) Cenevizlilerle yapılan antlaşmaların sonlandırılması
- D) Anadolu beylerinden alınan toprakların eski sahiplerine geri verilmesi

20. Moğollarda toplum yapısının en küçük birimi olan aileye ne ad verilir?

- A) Nöker
- B) Yasun
- C) Köbegün
- D) Suyurgal

# T.C. İNKILAP TARİHİ VE ATATÜRKÇÜLÜK 1

A

2015 II.DÖNEM 0103-A

1. Aşağıdakilerden hangisi I. Balkan Savaşı'nın sonuçlarından biri değildir?

- A) Osmanlı Devleti Balkanlar'dan tamamen çekilmiştir.
- B) Ege Denizi'ndeki Osmanlı hâkimiyeti artmıştır.
- C) Arnavutluk savaş yapmadan bağımsız olmuştur.
- D) Osmanlı Devleti'nin batı sınırındaki tek komşusu Bulgaristan olmuştur.

2. Hükümdarla yönetilen bir ülkede hükümdarın başkanlığı altında parlamento yönetimine dayanan hükümet biçimine ne ad verilir?

- A) Meşrutiyet
- B) Teokrasi
- C) Demokrasi
- D) Tetrarşi

3. Uşi Antlaşması'na göre, On İki Ada Balkan Savaşları sonuçlanana kadar geçici olarak aşağıdaki devletlerden hangisine bırakılmıştır?

- A) Almanya
- B) İtalya
- C) Rusya
- D) Fransa

4. Osmanlı Devleti'nde ortaya çıkan Osmanlılık, İslamcılık, Turancılık, Türkçülük ve Batıcılık gibi düşünce akımlarının ortak amacı aşağıdakilerden hangisidir?

- A) Avrupa Devletleri'nin Osmanlı Devleti'nin iç işlerine karışmasını önlemek ve devleti dağılmaktan kurtarmak
- B) Dünyadaki bütün Türkleri tek vatan ve tek bayrak altında birleştirmek
- C) Halkın yönetime katılımını sağlamak
- D) Uygulamalarda sadece Avrupa'nın örnek alınmasını sağlamak

5. Aşağıdakilerden hangisi Osmanlı Devleti'nin Brest-Litovsk Antlaşması ile Ruslardan geri aldığı yerlerden biri değildir?

- A) Kars
- B) Batum
- C) Amasya
- D) Ardahan

6. I. Dünya Savaşı sonunda barışı korumak için aşağıdakilerden hangisi kurulmuştur?

- A) Birleşmiş Milletler
- B) Milletler Cemiyeti
- C) Kuzey Atlantik Paktı
- D) Varşova Paktı

7. Aşağıdakilerden hangisi Çanakkale Savaşları'nın sonuçlarından biri değildir?

- A) Bulgaristan'ın İttifak Devletleri'nin yanında savaşa girmesinde etkili olmuştur.
- B) Birinci Dünya Savaşı uzamıştır.
- C) Babilîli Baskını gerçekleşmiştir.
- D) İstanbul ve Boğazlar istiladan kurtulmuştur.



8. Yunanistan'ın İzmir'i işgal etmesi kararı aşağıdakilerden hangisinde alınmıştır?

- A) Yalta Konferansı
- B) Postdam Konferansı
- C) San Francisco Konferansı
- D) Paris Barış Konferansı

9. Aşağıdakilerden hangisi Wilson İlkeleri'nin maddelerinden biri değildir?

- A) Bütün barış antlaşmaları açık olacaktır.
- B) Savaş sonunda yeniler, yenilenlerden toprak almayacaklardır.
- C) Yenilenler savaş tazminatı ve cezai tazminat ödeyeceklerdir.
- D) Devletler arasındaki anlaşmazlıklar barış yolu ile çözümlenecektir.

10. Aşağıdakilerden hangisi Millî Cemiyetlerden biridir?

- A) Wilson Prensipleri Cemiyeti
- B) İngiliz Muhipler Cemiyeti
- C) Alyans İsrailit ve Makabi Cemiyeti
- D) Kilikyalılar Cemiyeti

11. Mustafa Kemal (Atatürk) Şam'da bulunan V. Orduya bağlı 30. Süvari Alayı'nda staj yaptığı sırada kurduğu cemiyet aşağıdakilerden hangisidir?

- A) Vatan ve Hürriyet Cemiyeti
- B) İttihat ve Terakki Cemiyeti
- C) Osmanlı Hürriyet Cemiyeti
- D) Reddi İlhak Cemiyeti

12. Çanakkale Savaşı sırasında Arıburnu'nda, Anafartalar'da ve Conkbayırı'nda yaptığı savaşlarla askeri yeteneğini kanıtlayarak rütbesi albaylığa yükseltilen kişi aşağıdakilerden hangisidir?

- A) Rauf Orbay
- B) Refet Bele
- C) Kazım Karabekir
- D) Mustafa Kemal Atatürk

13. İngiltere Kralı Edward İstanbul'a geldiği zaman yatında bir motora binerek, Dolmabahçe Sarayı'na gelmişti. Kral rıhtıma çıkarken eli yere değdi ve tozlandı. O sırada Atatürk de kralı rıhtımda almak üzere kıyıdaydı. Kral elini silmek istediği zaman, Atatürk "Vatanımın toprağı temizdir; elimi ve elinizi kirletmez!" diyerek elinden tutup kralı rıhtıma çıkardı.

Yukarıdaki olay Atatürk'ün aşağıdaki özelliklerinden hangisini çok açık bir şekilde gösterir?

- A) Vatan ve Millet Sevgisi
- B) Mantıklı ve Gerçekçi Oluşu
- C) İleri Görüşlülüğü
- D) İdealist Oluşu

14. Aşağıdakilerden hangisi I. İnönü Muharebesi'nin sonuçlarından biri değildir?

- A) Düzenli ordular ilk sınavından başarıyla çıkmıştır.
- B) Çerkez Ethem ve kardeşlerinin ayaklanması bastırılmıştır.
- C) Batı Cephesi komutanı İsmet Bey'in (İnönü) rütbesi generalliğe yükseltilmiştir.
- D) Gümrü Antlaşması imzalanmıştır.

15. İtilaf Devletleri'nin Lozan Konferansı'na Türkiye Büyük Millet Meclisi Hükümeti'yle birlikte Osmanlı Hükümetini de davet etmelerinin nedeni aşağıdakilerden hangisidir?

- A) İki hükümet arasında çıkabilecek anlaşmazlıklardan yararlanarak isteklerini kolayca kabul ettirmek
- B) Osmanlı İmparatorluğu ile Çarlık Rusya'sı döneminde yapılmış olan antlaşmaların hepsini geçersiz saymak
- C) Boğazları başkanı Türk olan uluslararası bir komisyona bırakmak
- D) Batı Trakya'daki Türkler ve İstanbul'daki Rumlar haricinde Türkler ve Rumların yer değişmesini sağlamak

16. Aşağıdakilerden hangisi Türk Hükümeti tarafından Lozan'a gidecek heyetten kesinlikle taviz verilmemesi istenen konulardan biridir?

- A) Osmanlı Borçları
- B) Boğazlar
- C) Kapitülasyonlar
- D) Patrikhane

17. Millî Mücadele Dönemi'nde ilk defa millî irade ve millî hâkimiyetten aşağıdakilerden hangisinde söz edilmiştir?

- A) Erzurum Kongresi
- B) Amasya Genelgesi
- C) Sivas Kongresi
- D) Son Osmanlı Mebusan Meclisi

18. Ermeni sorunu ilk kez hangi anlaşma ile uluslararası bir sorun olarak ortaya çıkmıştır?

- A) Karlofça Antlaşması
- B) Küçük Kaynarca Antlaşması
- C) Berlin Antlaşması
- D) Hünkar İskelesi Antlaşması

19. "Siz orada yalnız düşmanı değil, milletin kötü alın yazısını da yendiniz."

Yukarıdaki kutlama telgrafını Mustafa Kemal Atatürk hangi olaydan sonra İsmet İnönü'ye göndermiştir?

- A) I. İnönü Savaşı
- B) II. İnönü Savaşı
- C) Sakarya Savaşı
- D) Eskişehir-Kütahya Savaşları

20. Londra Konferansı'nda Türkiye Büyük Millet Meclisi Hükümeti'ni aşağıdakilerden hangisi temsil etmiştir?

- A) Tefik Paşa
- B) Rauf Orbay
- C) Refet Bele
- D) Bekir Sami Bey

1. Aşağıdakilerden hangisi makiyi oluşturan bitki türlerinden biri değildir?
  - A) Dişbudak
  - B) Koca yemiş
  - C) Menengiç
  - D) Yabani zeytin
2. Aşağıdakilerden hangisi tuğla ve kiremit üreten tesislerin yoğunlaştığı şehirlerden biri değildir?
  - A) Manisa
  - B) İzmir
  - C) Uşak
  - D) Batman
3. Aşağıdakilerden hangisi zonal toprak çeşitlerinden biridir?
  - A) Tuzlu topraklar
  - B) Çernezyom topraklar
  - C) Alüvyal topraklar
  - D) Kolüvyal topraklar
4. Aşağıdakilerden hangisi turizm şehirlerinden biri değildir?
  - A) Siirt
  - B) Nevşehir
  - C) Bursa
  - D) İstanbul
5. Aşağıdakilerden hangisi Türkiye'de nüfusun ve yerleşmenin dağılışı etkileyen doğal faktörlerden biri değildir?
  - A) Jeolojik yapı
  - B) Toprak çeşitliliği
  - C) Kara ve denizlerin dağılışı
  - D) İç ve dış göçler
6. Birkaç mahallenin tek muhtarlık olarak birleştiği kır yerleşmelerine ne ad verilir?
  - A) Oba
  - B) Divan
  - C) Mezra
  - D) Yayla
7. Aşağıdakilerden hangisi Türkiye'de nüfusun yerleşimini ve dağılışı etkileyen beşeri faktörlerden biri değildir?
  - A) Ulaşım
  - B) Ekonomi
  - C) Su kaynakları
  - D) Bilim ve teknoloji
8. Aşağıdakilerden hangisi Türkiye'deki nüfus artışının sonuçlarından biri değildir?
  - A) Kentlerde konut sıkıntısı artmıştır.
  - B) Kentlerde gecekondulaşma başlamıştır.
  - C) Kırsal kesimdeki yatırımların verimi artmıştır.
  - D) Kırsal kesimde kişi başına düşen toprak miktarı azalmıştır.
9. Aşağıdakilerden hangisi Türkiye'de en çok göç alan iller arasında yer alamaz?
  - A) Muş
  - B) Adana
  - C) Bursa
  - D) Kocaeli
10. Aşağıdakilerden hangisi göçün nedenlerinden biri değildir?
  - A) İş imkânlarının kısıtlı olması
  - B) Tarımsal üretimdeki verimin düşüklüğü
  - C) Hızlı nüfus artışı
  - D) Nüfusun dağılımındaki dengesizlik
11. Tarihte yazıyı kullanan ilk uygarlık aşağıdakilerden hangisidir?
  - A) Çinliler
  - B) Göktürkler
  - C) İskitler
  - D) Sümerler
12. Hindistan'a ulaşan ilk denizci kimdir?
  - A) Macellan
  - B) Vasco de Gama
  - C) Christoph Colomb
  - D) Barthelemy Diaz

13. Fransız – ABD işbirliğiyle yapılıp, 1914'te hizmete açılan deniz yolu aşağıdakilerden hangisidir?

- A) Kiel Kanalı
- B) Panama Kanalı
- C) Korint Kanalı
- D) Süveyş Kanalı

14. Dünyanın en eski ulaşım sistemi aşağıdakilerden hangisidir?

- A) Demir yolu
- B) Kara yolu
- C) Deniz yolu
- D) Hava yolu

15. Basra körfezini Umman denizine bağlayan boğaz aşağıdakilerden hangisidir?

- A) Hürmüz Boğazı
- B) Malaka Boğazı
- C) Bering Boğazı
- D) Cebelitarık Boğazı

16. Aşağıdakilerden hangisi Türkiye'de en fazla görülen meteorolojik tehlikelerden biri değildir?

- A) Şiddetli yağışlar
- B) Don olayları
- C) Sel ve taşkınlar
- D) Depremler

17. Aşağıdakilerden hangisi doğal bitki örtüsünün tahrip edilmesiyle meydana gelen afetlerden biri değildir?

- A) Erozyon
- B) Çığ
- C) Volkanik patlama
- D) Kütle hareketleri

18. Aşağıdakilerden hangisi erozyonu engellemek için alınması gereken önlemlerden biri değildir?

- A) Eğimli yamaçlar teraslandırılmalıdır.
- B) Tarım arazileri eğime dik yönde sürülmelidir.
- C) Topraklar nadasa bırakılmalıdır.
- D) Meralarda erken ve aşırı otlatma yapılmamalıdır.

19. Aşağıdakilerden hangisi kütle hareketlerini önlemek ya da azaltmak için alınması gereken önlemlerden biri değildir?

- A) Çok eğimli alanlar yerleşime açılmalıdır.
- B) Yamacın doğal dengesi bozulmamalıdır.
- C) Bitki örtüsü tahrip edilmemelidir.
- D) Boş alanlara ağaç dikilmelidir.

20. Aşağıdakilerden hangisi fırtına, hortum ve kasırga gibi olağanüstü hava olaylarının zararlarını azaltmak için alınması gereken önlemlerden biri değildir?

- A) Erken uyarı sistemleri kurulmalıdır.
- B) İnsanlara gerekli eğitim verilerek bilinçlendirilmelidir.
- C) Atmosferdeki hava hareketliliği yılda 1 kez kontrol edilmelidir.
- D) Binalar olağanüstü hava olaylarına karşı dayanıklı inşa edilmelidir.

1. Aşağıdakilerden hangisinde kesme işaretinin kullanımıyla ilgili bir yanlışlık yapılmıştır?

- A) İstanbul'da
- B) Türk Dil Kurumu'nun
- C) 1982'de
- D) 2'nci

2. 5 yy.-10. yy. arası dönemi kapsayan, Türkçenin bilinen en eski örneklerinin (8. yy.) görüldüğü dönem aşağıdakilerden hangisidir?

- A) Eski Türkçe Çağı
- B) Altay Çağı
- C) Yeni Türkçe
- D) Orta Türkçe Çağı

3. Aşağıdakilerden hangisinde birleşik sözcük yanlış yazılmıştır?

- A) Olacakları önceden hissetmişim.
- B) Yardım ettiğin için teşekkür ederim.
- C) Çok soğuklarda hasta oldum.
- D) Derhal burayı terkedeceksin, dedi.

4. Dil kusurlu olursa sözcükler düşünceyi iyi anlatamaz. Düşünce iyi anlatılmazsa yapılması gereken şeyler doğru yapılamaz. Ödevler gereği gibi yapılmazsa töre ve kültür bozulur. Töre ve kültür bozulursa adalet yanlış yola sapar. Adalet yoldan çıkarsa şaşkınlık içine düşen halk ne yapacağını, işin nereye varacağını bilemez.

Yukarıdaki paragrafta Konfüçyüs aşağıdakilerden hangisinin önemi üzerinde durur?

- A) Adalet
- B) Töre
- C) Dil
- D) Düşünce

5. Edip Ahmet tarafından yazılmış, ahlakî ve öğretici tarzdaki manzum eser aşağıdakilerden hangisidir?

- A) Kutatgu Bilg
- B) Divanü Lügati't Türk
- C) Atabetül Hakayık
- D) Divanı Hikmet

6. Aşağıdakilerden hangisinde "de"nin yazımı ile ilgili yanlışlık yapılmıştır?

- A) Annem de bize yardım etti.
- B) Oyun da iki kişi ebe oluyor.
- C) Babamın da bilgisayarı var.
- D) Dolapta birçok yiyecek var.

7. İçinde çekim olmayan, sözcükleri çekime uğramayan, sözcükte vurgunun önemli olduğu, sözcüklerin buldukları yere ve başka sözcüklerle yan yana gelme durumuna göre anlam kazanacağı ve Çincenin de buna örnek verilebileceği diller aşağıdakilerden hangisidir?

- A) Eklemeli diller
- B) Tek heceli diller
- C) Bükümlü diller
- D) Çekimli diller

8. Aşağıdakilerden hangisi yazı dili için söylenemez?

- A) Resmi yazışmalarda, gazete ve dergilerde kullanılır.
- B) Görme duyusuna hitap eden bir dildir.
- C) Konuşma diline göre uzun cümleler kullanılır.
- D) Noktalama işaretlerine dikkat edilmez.

9. Aşağıdakilerden hangisi geniş anlamı ile dilin dış yönlerinden biri değildir?

- A) görülen
- B) koklanan
- C) tadılan
- D) işitilen

10. Aşağıdakilerden hangisi Türkçenin ses özelliklerine uygun bir sözcük değildir?

- A) Jilet
- B) Sözcük
- C) Okul
- D) Tatil

11. Aşağıdaki sözcüklerden hangisi sadece düz ünlülerden oluşmuştur?

- A) Çiçekçi
- B) Kolye
- C) Otobüs
- D) Kamyonet

12. Aşağıdaki cümlelerden hangisinin sonuna (?) gelemez?

- A) Acaba bu yol nereye çıkıyor
- B) Gerçekten evi bulamadın mı
- C) Kaç tane elma alırsam yeter
- D) Yeni gelenin adı neymiş bilmiyorum

13. Dilin sesleri inceleyen bölümü aşağıdakilerden hangisidir?

- A) Semantik
- B) Fonetik
- C) Etimoloji
- D) Morfoloji

14. Ural-Altay dilleriyle ilgili aşağıdaki ifadelerden hangisi yanlıştır?

- A) Türkçede çoğul eklerinden sonra ek kullanılmaz.
- B) Ünlü uyumu vardır.
- C) Sondan eklemelidir.
- D) Dilbilgisi bakımından erkek, dişi tür ayrımı yoktur.

15. Aşağıdaki sözcüklerden hangisinde orta hece ünlüsü değişmiştir?

- A) Bekliyor.
- B) Bitiriyor.
- C) Yediriyor.
- D) Değişiyor.

16. Nefes borusundan gelen havanın ağız boşluğu içerisinde herhangi bir bölgede sese dönüşmesine ne ad verilir?

- A) Telaffuz
- B) Tonlama
- C) Boğumlanma
- D) Vurgu

17. Aşağıdaki cümlelerin hangisinde sayıların yazımı ile ilgili yanlışlık yapılmıştır?

- A) Otuz beş yaşına girmiş.
- B) 12.45'te buluşacaklar.
- C) İkiyüz kişi sırada bekliyor.
- D) İkişer ikişer sıra olduk.

18. Aşağıdaki sözcüklerden hangisi büyük ünlü uyumuna aykırı bir ek almıştır?

- A) ortada
- B) temizlik
- C) ikinci
- D) sabahleyin

19. Aşağıdaki sözcüklerden hangisinde sert ünsüz yoktur?

- A) sepet
- B) oyuncu
- C) kiracı
- D) kibrit

20. Aşağıdaki sözcüklerden hangisi küçük ünlü uyumu kuralına uymaz?

- A) Bahçe
- B) İnce
- C) Okul
- D) Melodi

1. Aşağıdakilerin hangisinde tüm sözcükler soyut anlamlıdır?

- A) hayal-ses-kulak
- B) özlem-sevgi-bulut
- C) rüzgar-ışık-yıldız
- D) rüya-ruh-düşünce

2. Aşağıdaki cümlelerin hangisinde terim anlamlı bir sözcük kullanılmamıştır?

- A) Kalem sözcüğü kök halindedir.
- B) Bütün notaları çok güzel seslendiriyorsun.
- C) Bazı günler evde çok sıkılıyorum.
- D) Açık sorunlarını rahatlıkla çözebiliyorum.

3. Aşağıdaki cümlelerin hangisinde mecaz anlamda kullanılmış bir sözcük vardır?

- A) Kardeşim doğduğunda onu herkesten kıskanmışım.
- B) Annem her zaman sığındığım en güvenli liman olmuştur.
- C) Sağlıklı kalabilmek için her gün düzenli spor yapıyorum.
- D) Her zaman odamı düzenli tutmaya çalışıyorum.

4. Aşağıdaki sözcüklerden hangisi hem isim hem fiil köküdür?

- A) Gel
- B) Saz
- C) Bil
- D) Büyü

5. Aşağıdaki cümlelerin hangisinde örtülü özne kullanılmıştır?

- A) Oyuncu, oyun süresince beş kostüm değiştirdi.
- B) Annem ödül aldığımı duyunca çok sevinecek.
- C) Araçların kapının oradan çekilmesi anons edildi.
- D) Kardeşimi mutlu edince ben de mutlu oluyorum.

6. “Bit-“ sözcüğü aşağıdaki eklerden hangisini alırsa fiilden fiil türetilmiş olur?

- A) -li
- B) -gin
- C) -gi
- D) -ir

7. Aşağıdakilerden hangisi diğerlerinden farklı türde bir tamlamadır?

- A) dilin işlevleri
- B) zamanın getirdikleri
- C) oyunun kuralları
- D) sulu kar

8. Aşağıdaki cümlelerin hangisi sırasıyla “kim, ne zaman, nerede” sorularını yanıtlamaktadır?

- A) Annem, dışarı çıkarken aceleliydi.
- B) Ayten, geçen gün asansörde kaldı.
- C) Bazı günler çok hüzünlü oluyorum.
- D) Evde kalınca işlerimi hallettim.

9. Sabahları açık çay tercih ederim.

Güzel bir çay kenarında mola verdik.

Yukarıdaki cümlelerde geçen altı çizili sözcükler arasındaki anlam ilişkisi aşağıdakilerden hangisidir?

- A) Zıt anlamlılık
- B) Eş anlamlılık
- C) Yakın anlamlılık
- D) Eş seslilik

10. Aşağıdaki sözcüklerden hangisi yapısı bakımından basittir?

- A) Saatim
- B) Çöpçü
- C) Pamukkale
- D) Sulu

11. Aşağıdaki sözcüklerden hangisi hem yapım hem çekim eki almıştır?

- A) Sözcük
- B) Yazıcılar
- C) Kilimcilik
- D) Pencereden

12. Aşağıdaki cümlelerden hangisi yapısına göre sıralı cümledir?

- A) Kahvaltımı yaptım, çıkmaya hazırım.
- B) Gürültüyü duyunca herkes pencerelere koştu.
- C) Dün tüm akrabalarımızı gördüm.
- D) Kitabı okudum ve arkadaşşıma verdim.

13. Aşağıdaki cümlelerin hangisi anlamı bakımından olumsuz bir cümledir?

- A) Sonunda onu mutfakta buldum.
- B) Fazla bağırmaktan sesim kısıldı.
- C) Bir türlü o ağacı göremedim.
- D) Ayağım kayınca yere düştüm.

14. Aşağıdaki cümlelerin hangisinde eylem dilek kiplerinden biriyle çekimlenmiştir?

- A) Haydi, onu aramıza alalım.
- B) Okulumu çok seviyorum.
- C) Her gün dondurma yiyebilirim.
- D) Teyzem seni aramış.

15. Aşağıdaki cümlelerden hangisi bir isim cümlesidir?

- A) Bu hafta çok yorulduk.
- B) Etrafımızda hiçbir şey yok.
- C) Bırak da kendi yesin.
- D) Oyuncaklarını toplar mısın?

16. Aşağıdaki cümlelerin hangisinde edatla kurulmuş bir sözcük öbeği vardır?

- A) Senin gibisini hiç görmedim.
- B) Ali ve Ahmet geldi.
- C) Geç olunca eve döndük.
- D) Salona gidip oturdular.

17. Yeryüzündeki dillerde ses, yapı ve söz dizimi bakımlarından bazı benzerlik ve yakınlıklar görülür. Bunlara dil akrabalığı denir.

Yukarıdaki cümleler aşağıdaki paragraf çeşitlerinin hangisinden alınmış olabilir?

- A) Açıklama paragrafı
- B) Düşsel paragraf
- C) Çözümleme paragrafı
- D) Olay paragrafı

18. Bir paragrafta konunun ne olduğunun ortaya konulduğu bölüm aşağıdakilerden hangisidir?

- A) Gelişme
- B) Sonuç
- C) Giriş
- D) Örnekleme

19. Aşağıdaki cümlelerin hangisinde tümleş eksikliğinden kaynaklanan bir anlatım bozukluğu vardır?

- A) Oyun gittikçe daha da zorlanıyor.
- B) Sabahları simit yemeyi çok seviyoruz.
- C) Mine'yi tanıyorum ve çok güveniyorum.
- D) Televizyonda kaliteli programlar çok az.

20. Aşağıdaki cümlelerin hangisinde ikileme zıt anlamlı kelimelerden oluşmuştur?

- A) Bu bence olsa olsa yirmi liradır.
- B) Aşağı yukarı iki saattir seni bekliyorum.
- C) Eş dost hep birlikte pikniğe gittik.
- D) Eğri büğrü yollardan geçerek hedefe ulaştık.



1. Aşağıdakilerden hangisi, çağdaş Türk şiirinde rubai biçimini kullanan şairlerden biri değildir?  
A) Nazım Hikmet  
B) Yahya Kemal Beyatlı  
C) Edip Cansever  
D) Ümit Yaşar Oğuzcan
2. Bütün beyitleri aynı güzellikte, aynı değer de olan gazellere ne ad verilir?  
A) Yek-âvaz gazel  
B) Yek-ahenk gazel  
C) Musammat gazel  
D) Düz gazel
3. İslamiyet'in esaslarını ve tasavvufun inceliklerini göstermek için Hoca Ahmet Yesevî tarafından yazılan didaktik şiirlere ne ad verilir?  
A) Hikmet  
B) İlâhi  
C) Âyin  
D) Nefes
4. Dörder mısralık bentlerden oluşan ve sitem temasını işleyen divan edebiyatı nazım şekli aşağıdakilerden hangisidir?  
A) Musammat  
B) Münşeât  
C) Müstezât  
D) Murabba
5. Aşağıdakilerden hangisi tasavvuf düşüncesini şiirlerine yansıtan şair ve düşünürlerden biri değildir?  
A) Hallacı Mansur  
B) Hoca Dehhani  
C) Yunus Emre  
D) Mevlâna
6. Aşağıdakilerden hangisi kahramanlık temalı halk hikâyelerinden biridir?  
A) Âşık Garip  
B) Koroğlu  
C) Tahir ile Zühre  
D) Kerem ile Aslı
7. Kırgızların geleneklerini, aile hayatlarını, dünya ve hayat görüşlerini anlatan destan, aşağıdakilerden hangisidir?  
A) Manas Destanı  
B) Türeyiş Destanı  
C) Bozkurt Destanı  
D) Yaradılış Destanı
8. Türk şiirinde gazelden sonra en çok kullanılan nazım şekli aşağıdakilerden hangisidir?  
A) Rubai  
B) Mersiye  
C) Türkü  
D) Kaside
9. Yunus Emre'nin didaktik mesnevisi aşağıdakilerden hangisidir?  
A) Atabetü'l-Hakâyık  
B) Hayriyye  
C) Behcetü'l-Hadâyik  
D) Risaletü'n-Nushiyye
10. Leyla ve Mecnun adlı eserin nazım şekli aşağıdakilerden hangisidir?  
A) Gazel  
B) Mesnevi  
C) Kaside  
D) Murabba
11. XIII. yüzyılda, Anadolu'nun fethedilerek İslamlaştırıldığı dönemde yapılan kahramanlıkların anlatıldığı destan aşağıdakilerden hangisidir?  
A) Ergenekon  
B) Alp Er Tunga  
C) Seyyid Battal Gazi  
D) Bozkurt
12. Attila İlhan'ın gazel biçiminin bazı özelliklerinden yararlanarak yazdığı şiiri aşağıdakilerden hangisidir?  
A) Güzel Bir Kıza Gazel  
B) Ayrılık Sevdaya Dâhil  
C) Ben Sana Mecburum  
D) Hasköy Bahriye Kahvesine Gazel

13. Aşağıdakilerden hangisi Eski Türk Edebiyatında romanın yerini tutan uzun kahramanlık hikâyelerinden biridir?

- A) Vakayınâme
- B) Seyahatnâme
- C) Battalnâme
- D) Şikayetnâme

14. Aşağıdakilerden hangisi seyahatname türünde önemli eserler veren seyyahlar arasında yer almaz?

- A) Evliya Çelebi
- B) Aşkî Efendi
- C) Marco Polo
- D) İbn Battuta

15. Âşık Paşa'nın didaktik mesnevisi aşağıdakilerden hangisidir?

- A) Hayriyye
- B) Lütfiyye
- C) Garibnâme
- D) Hüsn ü Aşk

16. Bed-asla necabet mi verir hiç üniforma  
Zer-düz palan ursan eşek yine eşektir.

Ziya Paşa'nın bu beyitinde vurgulanmak istenen aşağıdakilerden hangisidir?

- A) Asalet insanın özündedir.
- B) Üniforma insana soyluluk verir.
- C) Eşeğin değeri üstüne vurulan eyer kadardır.
- D) Aslı kötü olanlar üniforma giyemez.

17. Dört mısralık Divan Edebiyatı nazım şekli aşağıdakilerden hangisidir?

- A) Gazel
- B) Rubai
- C) Mesnevi
- D) Kaside

18. Aşağıdaki yazar-eser eşleştirmelerinden hangisi yanlıştır?

- A) Âşık Paşa – Harnâme
- B) Süleyman Çelebi – Mevlid
- C) Şeyh Galip – Hüsn ü Aşk
- D) Nâbî – Hayrabad

19. Beş mesnevinin bir araya getirilmesi ile meydana gelen eserlere ne ad verilir?

- A) Tezkire
- B) Münşeat
- C) Musammat
- D) Hamse

20. Divan-ı Hikmet'in yazarı aşağıdakilerden hangisidir?

- A) Kaşgarlı Mahmut
- B) Yunus Emre
- C) Ahmet Yesevi
- D) Yusuf Has Hacib

1. I. Proton yüksüzdür.  
II. Nötron pozitif yüklüdür.  
III. Elektron negatif yüklüdür.

**Atomun yapısında bulunan parçacıklarla ilgili yukarıdaki ifadelerden hangisi doğrudur?**

- A) Yalnız III  
B) I ve II  
C) I ve III  
D) II ve III

2. Periyodu 0,05 s olan bir dalganın frekansı kaç  $s^{-1}$  dir?

- A) 15  
B) 20  
C) 25  
D) 30

3. Elektromanyetik ışımaya ilgili aşağıdaki ifadelerden hangisi doğrudur?

- A) Elektromanyetik ışımaya elektrik ve manyetik alan doğrultusu, ışımaya hareket doğrultusuna paraleldir.  
B) Elektromanyetik ışımaya sadece tanecik özelliği gösterir.  
C) Elektromanyetik ışımaya sadece dalga özelliği gösterir.  
D) Elektromanyetik ışımaya birbirine dik hem elektrik hem de manyetik alanı vardır.

4. Sesin hızının 342 m/s olduğu bir ortamdaki frekansı  $3.000 s^{-1}$  dir. Buna göre, bu sesin dalga boyu kaç metredir?

- A) 0,044  
B) 0,085  
C) 0,114  
D) 0,342

5. Dairesel dalgalar çukur bir engelin merkezinde oluşturulduğunda aşağıdakilerden hangisi gerçekleşir?

- A) Çukur engelden yansıyan dalgalar doğrusal olur.  
B) Çukur engelden yansıyan dalgalar, yine merkezde toplanacakmış gibi yansır.  
C) Çukur engelden yansıyan dalgalar odak noktasında toplanacak şekilde yansır.  
D) Çukur engelden bir yansıma gözlenmez.

6. Frekansı  $500 s^{-1}$  olan bir dalganın periyodu kaç saniyedir?

- A) 0,002  
B) 0,02  
C) 0,2  
D) 2

7. 1 metre kaç Angström (Å) dur?

- A)  $1.10^{-10}$   
B)  $1.10^{-8}$   
C)  $1.10^8$   
D)  $1.10^{10}$

8. Bir ışının frekansı  $\nu = 6.10^{14} \text{ s}^{-1}$  ise enerjisi kaç jouledür? (Planck sabiti  $h = 6,6.10^{-34} \text{ jul.s}$ )

- A)  $3,96.10^{-20}$
- B)  $3,96.10^{-19}$
- C)  $1,10.10^{-18}$
- D)  $1,66.10^{-17}$

9. I. Elektromanyetik ışımaya hem dalga özelliği hem de tanecik özelliği gösterir.  
II. Elektromanyetik ışımaya uzay boşluğunda gitmez.  
III. Elektromanyetik ışımaya hava ortamında gider.

**Elektromanyetik ışımaya yukarıdaki özelliklerden hangilerine sahiptir?**

- A) I ve II
- B) I ve III
- C) II ve III
- D) I, II ve III

10. I. Yer çekimi  
II. Atomun yapısı  
III. Maddenin yapısı

**Yukarıdakilerden hangileri modern fiziğin incelemediği alanlardandır?**

- A) Yalnız II
- B) I ve II
- C) I ve III
- D) II ve III

11. Frekansı  $250 \text{ s}^{-1}$  ve dalga boyu 2 m olan bir dalganın hızı kaç m/s dir?

- A) 62,5
- B) 125
- C) 250
- D) 500

12. Frekansı  $100 \text{ s}^{-1}$  olan bir dalganın periyodu kaç s'dir?

- A) 0,01
- B) 0,1
- C) 1
- D) 10

13. İki ucu sabit bir telde oluşturulan kararlı dalgada harmonik sayısı 4'tür. Dalga boyu 60 cm ise, telin uzunluğu kaç cm'dir?

- A) 80
- B) 100
- C) 120
- D) 180

14. Bir dalga düz bir engele geldiğinde gelme açısı ve yansıma açısıyla ilgili aşağıdaki ifadelerden hangisi doğrudur?

- A) Gelme açısı yansıma açısının 1,5 katıdır.
- B) Gelme açısı yansıma açısının yarısı kadardır.
- C) Gelme açısı yansıma açısının 2 katıdır.
- D) Gelme açısı yansıma açısına eşittir.

15. Dalgaların dalga boylarını ve periyotlarını ölçmek için kullanılan cihaza ne ad verilir?

- A) Osilaskop
- B) Stenometre
- C) Stroboskop
- D) Osilatör

16. İki ucu sabit L uzunluğundaki bir telde oluşturulan dalganın harmonik sayısı 2'dir.

Buna göre, bu dalganın dalga boyu ( $\lambda$ ), L'nin katları cinsinden aşağıdakilerden hangisidir?

- A)  $\lambda=L/2$
- B)  $\lambda=L$
- C)  $\lambda=2L$
- D)  $\lambda=4L$

17. İki ucu sabit bir telin uzunluğu 1 m'dir. Telde oluşturulan kararlı dalgada harmonik sayısı 8 ise dalga boyu kaç m'dir?

- A) 0,25
- B) 0,50
- C) 0,75
- D) 1

18. Dairesel dalgalar çukur bir engelin odağında oluşturulduğunda aşağıdakilerden hangisi gerçekleşir?

- A) Çukur engelden yansıyan dalgalar odak noktasında toplanacak şekilde yansır.
- B) Çukur engelden yansıyan dalgalar engelin merkezinde toplanacak şekilde yansır.
- C) Çukur engelden bir yansıma gözlenmez.
- D) Çukur engelden yansıyan dalgalar doğrusal olur.

19. Bir radyonun FM bandında 100 MHz frekansta ( $\nu=1,00.10^8 \text{ s}^{-1}$ ) yayın yapılmaktadır. Buna göre, bu frekanstaki ışının enerjisi kaç jouledür? (Planck sabiti  $h=6,6.10^{-34} \text{ jul.s}$ )

- A)  $6,15.10^{26}$
- B)  $6,30.10^{26}$
- C)  $6,60.10^{-26}$
- D)  $5,85.10^{-26}$

20. İki engel arasından geçen dalganın kırınım ağırlaması için gerekli koşul aşağıdakilerden hangisidir? ( $\lambda$ : Dalga boyu, w: Engeller arasındaki uzaklık)

- A)  $\lambda \geq w$
- B)  $\lambda < w$
- C)  $\lambda \ll w$
- D)  $\lambda + w = 0$

1. Kişi başına düşen gelirin artış hızı (net gelişme hızı) nasıl hesaplanır?

- A) Yıllık Gelişme Hızı + Yıllık Nüfus Artış Hızı
- B) Yıllık Gelişme Hızı x Yıllık Nüfus Artış Hızı
- C) Yıllık Gelişme Hızı- Yıllık Nüfus Artış Hızı
- D) Yıllık Gelişme Hızı / Yıllık Nüfus Artış Hızı

2. Aşağıdakilerden hangisi emeğin verimini etkileyen subjektif etkenlerden biridir?

- A) İşyerinin teknik bakımdan havalandırılması
- B) İşçinin ücret kesintisi korkusu yaşamaması
- C) İşyerinin hava basıncının ayarlanması
- D) İşyerinde müzik yayını yapılması

3. Aşağıdakilerden hangisi hızlı nüfus artışının olumsuz yönlerinden biridir?

- A) Kişilerin mekân içinde ve meslekler arasında hareketliliğini sağlaması
- B) Yeni kurumların benimsenmesini ve ekonomik faaliyetlerin hızlanmasını sağlaması
- C) Doğal kaynakların işletilmesini kolaylaştırması
- D) Kamu yönetiminin yol, kanalizasyon, su, elektrik gibi altyapı hizmetlerini yürütmesinin zorlaştırması

4. İnsanların mal ve hizmet elde etmek için yaptıkları faaliyetlere ne ad verilir?

- A) Üretim
- B) Rant
- C) Emek
- D) Girişimcilik

5. Aşağıdakilerden hangisi subjektif emeğe bir örnektir?

- A) Taş kırıcısının çalışması
- B) Dokuma işçisinin çalışması
- C) Kitap okumak
- D) Tarladan ürün toplanması

6. Aşağıdaki borç vadeleri ile ilgili eşleştirmelerden hangisi doğrudur?

- A) Uzun vadeli borçlar ( 2 yıl )
- B) Uzun vadeli borçlar ( 1 yıl )
- C) Kısa vadeli borçlar ( 1 yıl )
- D) Orta vadeli borçlar ( 1 - 2 yıl )

7. Hukuksal anlamda sermayenin tanımı aşağıdakilerden hangisidir?

- A) Sosyal veya hukuki bir organizasyonda sahibine çalışmaksızın gelir sağlayan para değerlerinin bütünüdür.
- B) Bir kuruluşun aktifindeki dönen varlıklardır.
- C) Bir kuruluşun aktifindeki duran varlıklardır.
- D) Değişmeyen sermayeyi sağlamak için gerekli paranın bulunduğu kaynakları gösteren kavramdır.

8. Aşağıdakilerden hangisi dönen varlıklardandır?

- A) Binalar
- B) Hammaddeler
- C) Araçlar
- D) Makineler

9. Aşağıdakilerden hangisi öz sermaye içerisinde yer almaz?

- A) Kuruluşun çalışanlarına olan borçları
- B) Faaliyetlerin devamı süresinde kuruluş sahipleri tarafından getirilen para
- C) Kuruluş aşamasında kuruluş sahipleri tarafından getirilen para
- D) Kâr üzerinden alınan yedek akçe

10. Aşağıdakilerden hangisi, tasarrufa etki eden objektif faktörlerden biri değildir?

- A) Kişilerin gelir düzeyi
- B) Miras bırakmak isteği
- C) Kişilerin servetlerinin gelecekteki değeri
- D) Faiz alma isteği

11. Girişimci (Müteşebbis) ile ilgili aşağıdaki ifadelerden hangisi yanlıştır?

- A) Üretim faktörlerinden yararlanarak mal ve hizmet üreten ve satan ekonomik bir ünitidir.
- B) Girişim faaliyetlerinden doğan riskleri üstlenen kişidir.
- C) Kâr amacıyla girişimi başlatan kişidir.
- D) Üretim faktörlerinden yararlanarak mal ve hizmet üreten kişidir.

12. Aşağıdakilerden hangisi kolektif şirketin özelliklerinden biridir?

- A) Aksiyon doğrudan doğruya sermayenin göstergesidir.
- B) Ortakların sorumluluğu, şirkete koydukları sermaye ile sınırlanmıştır.
- C) Şirketin sermayesi eşit değerde ve belirli sayıda hisselerle ayrılmıştır.
- D) Şirketin ve ortakların sorumluluğu sınırlanmamıştır.

13. Sigortacılıktan başka her türlü ticari iş ile uğraşmak üzere kurulan, sorumlulukları gerek şirket, gerek ortaklar için konan sermaye ile sınırlandırılmış olan şirketlere ne ad verilir?

- A) Adı komandit şirket
- B) Kolektif şirket
- C) Anonim şirket
- D) Limited şirket

14. Sermayesinin tamamı devlete ait olan ve tekel niteliğindeki mallar ile temel mal ve hizmet üretmek ve pazarlamak üzere yasayla kurulan, kamu hizmeti niteliği ağır basan kuruluşlara ne ad verilir?

- A) Kamu İktisadi Kuruluşları
- B) İktisadi Devlet Teşekkülleri
- C) Bağlı Ortaklıklar
- D) Kartel

15. Aşağıdakilerden hangisi, girişimcinin teknik işlevlerinden biri değildir?

- A) Kuruluş yerini seçmek
- B) Üretime katılan faktörlerin payını belirlemek
- C) Üretim faktörlerinin nasıl sağlanacağını belirlemek
- D) Tüketicilerin satın alma güçlerine uygun mal ve hizmetleri üretmek

16. Safi Milli Hasıla aşağıdakilerden hangisine eşittir?

- A) GSMH - Kâr
- B) GSMH - Amortismanlar
- C) GSMH + Sübvansiyonlar
- D) GSMH + Dolaylı Vergiler

17. Aşağıdakilerden hangisi gelir olarak kabul edilmez?

- A) Miras
- B) Kâr
- C) Ücret
- D) Rant

18. İnsanın emeği sonucunda elde ettiği gelire ne ad verilir?

- A) Gerçek gelir
- B) Milli gelir
- C) Temelsiz gelir
- D) Marjinal gelir

19. Üretim sonunda milli gelirden girişimciye düşen paya ne ad verilir?

- A) Faiz
- B) Kâr
- C) Ücret
- D) Rant

20. Bir işçinin çalışmasına karşılık aldığı para miktarına ne ad verilir?

- A) Reel ücret
- B) Gerçek ücret
- C) Nominal ücret
- D) Sosyal ücret

1.  $f(x) = \frac{\tan x + \cos 4x}{\sin x}$  fonksiyonu veriliyor.

Buna göre,  $\lim_{x \rightarrow \frac{\pi}{4}} f(x)$ 'in değeri aşağıdakilerden hangisidir?

- A) 0  
B)  $\sqrt{2}$   
C)  $2\sqrt{2}$   
D) 4

2.  $f(x) = \begin{cases} 3x^2 - x - 10, & x < -2 \text{ ise} \\ k, & x = -2 \text{ ise} \\ -mx + 2, & x > -2 \text{ ise} \end{cases}$  fonksiyonu veriliyor.

Buna göre  $f(x)$  fonksiyonunun  $\mathbb{R}$  de sürekli olması için  $k+m$  aşağıdakilerden hangisi olmalıdır?

- A) -4  
B) 5  
C) 8  
D) 12

3.  $f(x) = \begin{cases} \sqrt{5x-1}, & x < 1 \text{ ise} \\ 4x-5, & x = 1 \text{ ise} \\ -x^2+7, & x > 1 \text{ ise} \end{cases}$  fonksiyonu veriliyor.

Buna göre,  $\lim_{x \rightarrow 2} f(x)$ 'in değeri aşağıdakilerden hangisidir?

- A) -3  
B) -1  
C) 1  
D) 3

4.  $f(x) = \begin{cases} 3x-5, & x > 3 \text{ ise} \\ x-1, & x = 3 \text{ ise} \\ 2x-4, & x < 3 \text{ ise} \end{cases}$  fonksiyonu veriliyor.

Buna göre,  $f(x)$  fonksiyonunun sürekli olduğu küme aşağıdakilerden hangisidir?

- A)  $[1,3]$   
B)  $\mathbb{R} - \{1\}$   
C)  $\mathbb{R}$   
D)  $\mathbb{R} - \{3\}$

5.  $f: (4, +\infty) \rightarrow \mathbb{R}$ ,  $f(x) = \log_5(x-4)$  fonksiyonu veriliyor.

Buna göre,  $f^{-1}(x)$  aşağıdakilerden hangisidir?

- A)  $4^x - 3$   
B)  $\log_4(x-5)$   
C)  $\log_5(x+4)$   
D)  $5^x + 4$

6.  $\text{Sgn}(x^2 - 3x - 4) = -1$  denklemini sağlayan kaç tane tamsayı vardır?

- A) 2  
B) 3  
C) 4  
D) 5

7.  $f(x-1) = x^2 - 2x + 5$  fonksiyonu veriliyor.

Buna göre,  $f(x)$  aşağıdakilerden hangisidir?

- A)  $x^2 - 2x + 4$   
B)  $x^2 + 4x + 4$   
C)  $x^2 + 4$   
D)  $x^2 - 4x + 2$



8.  $f(x) = \frac{3x^2 - 5x + 4}{6x^3 - 2}$  fonksiyonu veriliyor. Buna göre,  $\lim_{x \rightarrow \infty} f(x)$ 'in değeri aşağıdakilerden hangisidir?

- A) 0  
B)  $\frac{1}{2}$   
C) 1  
D)  $\infty$

9.  $f(x) = (6-2a)x^2 + (2+2b)x - 12$  fonksiyonu sabit bir fonksiyondur. Buna göre, a-b kaçtır?

- A) 2  
B) 3  
C) 4  
D) 5

10.  $f(x) = -2x^3 - 3x^2 + 5$  fonksiyonu veriliyor. Buna göre  $\lim_{x \rightarrow -1} f(x)$  değeri aşağıdakilerden hangisidir?

- A) 0  
B) 4  
C) 6  
D) 10

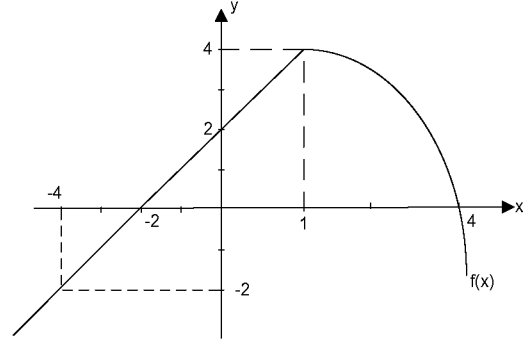
11.  $f(x) = \frac{2x+1}{x-2}$  ve  $g(x) = \frac{2x}{5-x}$  fonksiyonları veriliyor. Buna göre  $g(f(3))$  kaçtır?

- A) -7  
B) -3  
C) 3  
D) 7

12.  $f: \mathbb{R} \rightarrow \mathbb{R}$ ,  $f(x) = \sqrt{\frac{x^2 + 3x - 18}{(x-1)^2}}$  fonksiyonunun en geniş tanım kümesi aşağıdakilerden hangisidir?

- A)  $[-6, 3]$   
B)  $[-3, 6]$   
C)  $(-\infty, -3] \cup [6, +\infty)$   
D)  $(-\infty, -6] \cup [3, +\infty)$

- 13.



- Yukarıdaki şekilde  $f(x)$  fonksiyonunun grafiği verilmiştir. Buna göre,  $f(-4) + f(0) + f(4)$  toplamı kaçtır?

- A) -2  
B) 0  
C) 1  
D) 4

14.  $f(3x+5) = \frac{10-x^2}{2-x}$  fonksiyonu veriliyor.

- Buna göre,  $f(2)$ 'nin değeri kaçtır?

- A) 3  
B) 4  
C) 5  
D) 6

15.  $f(x)=2x-3$  ve  $g(x)=3x+1$  fonksiyonları veriliyor. Buna göre  $gof(x)$  aşağıdakilerden hangisidir?

- A)  $6x-1$   
 B)  $5x-2$   
 C)  $6x^2-3$   
 D)  $6x-8$

16.  $f(x) = \frac{3x-5}{x+k}$  fonksiyonu veriliyor. Buna göre,  $f(x)=f^{-1}(x)$  olması için  $k$  aşağıdakilerden hangisi olmalıdır?

- A) -3  
 B) -2  
 C) 2  
 D) 3

17.  $\lfloor 2x + 3 \rfloor = 6$  denklemini sağlayan  $x$  değerleri aşağıdakilerden hangisidir?

- A)  $x \leq \frac{3}{2}$   
 B)  $\frac{3}{2} \leq x < 2$   
 C)  $x > \frac{3}{2}$   
 D)  $6 \leq x < 12$

18.  $f: \mathbb{R} \rightarrow \mathbb{R}$ ,  $f(x) = \begin{cases} x^2 - 3, & x < 2 \text{ ise} \\ 5, & x = 2 \text{ ise} \\ 3x^2 - 2, & x > 2 \text{ ise} \end{cases}$  fonksiyonu veriliyor.

Buna göre,  $f(1)+f(2)+f(3)$  aşağıdakilerden hangisidir?

- A) 12  
 B) 22  
 C) 28  
 D) 32

19.  $f(x) = |3x+5| - |5-3x| + 6$  fonksiyonu veriliyor. Buna göre,  $\lim_{x \rightarrow -1} f(x)$  değeri aşağıdakilerden hangisidir?

- A) 0  
 B) 6  
 C) 11  
 D) 12

20.  $f(x) = \frac{6x-14}{x^2-3x+1}$  fonksiyonu veriliyor.

Buna göre,  $\lim_{x \rightarrow 2} f(x)$  değeri aşağıdakilerden hangisidir?

- A) -2  
 B) -1  
 C) 1  
 D) 2

1. **Özelden genele yapılan akıl yürütme biçimine ne ad verilir?**

- A) Tümdengelim
- B) Benzeşim
- C) Analoji
- D) Tümevarım

2. **Aşağıdakilerden hangisi mantık ilkelerinden biri değildir?**

- A) Yeter neden
- B) Özdeşlik
- C) Çelişmezlik
- D) Benzeşim

3. **Aşağıdakilerden hangisi mantık ile ilgili yanlış bir ifadedir?**

- A) Mantık, tüm bilimlerin temelinde yer almak zorundadır.
- B) Mantık, düşüncelerin gerçekte olup olmadıklarını denetler.
- C) Mantıklı düşünmek, doğru akıl yürütmek anlamına gelir.
- D) Mantık, doğru düşünmenin kurallarını araştırır.

4. **Aşağıdakilerden hangisi geçerli akıl yürütmeyi ifade eder?**

- A) Akıl yürütmenin sonucunun, verilen öncüllerden zorunlu olarak çıkmasıdır.
- B) Akıl yürütmenin sonucu ile verilen öncüllerin gelişmesidir.
- C) Akıl yürütmenin sonucu ile verilen öncüllerin değişimlerinin bir arada tutarlı olmalarıdır.
- D) Hem öncüllerin hem de sonucun doğru önermeler olmalarıdır.

5. **Aşağıdaki akıl yürütmelerden hangisi tümdengelim bir örnektir?**

- A) Demir ısıtılınca genişir. Bakır ısıtılınca genişir. O halde madenler ısıtılınca genişir.
- B) Maymunların ve yunusların gülme yetileri vardır. Maymunların aynı zamanda konuşma yetileri vardır. O halde yunusların da konuşma yetileri vardır.
- C) Türkiye’de iklimler değişiyor. Japonya’da iklimler değişiyor. İngiltere’de iklimler değişiyor. Amerika’da iklimler değişiyor. O halde dünyada iklimler değişiyor.
- D) Bütün kitapların sayfaları vardır. “Sessiz Ev” bir kitaptır. O halde “Sessiz Ev”in sayfaları vardır.

6. **“Aynı niteliğin, aynı zamanda, aynı özneye, aynı bakımdan hem ait olması, hem de olmaması imkânsızdır.”**

**Aristoteles’in yukarıdaki sözü mantık ilkelerinden hangisini ifade eder?**

- A) Çelişmezlik
- B) Özdeşlik
- C) Üçüncü halin olanaksızlığı
- D) Belirsizlik

7. **Aşağıdakilerden hangisi “olumlu-olumsuz” kavram çiftine bir örnektir?**

- A) Zengin-Çalışkan
- B) Koyu-Açık
- C) Kredili-Kredisiz
- D) Kaprisli-Inatçı

8. **“Hiçbir insan sağlıklı değildir.” önermesinin altık önermesi aşağıdakilerden hangisidir?**

- A) Tüm insanlar sağlıklıdır.
- B) Bazı sağlıklı olmayanlar insandır.
- C) Bazı insanlar sağlıklı değildir.
- D) Hiçbir insan olmayan sağlıklı değildir.

9. **Aşağıdaki önermelerden hangisi özdeşlik ilkesine bir örnek değildir?**

- A) İnsan insandır.
- B) Her şey güzel ise her şey güzeldir.
- C) Bitkiler ya canlıdır ya da canlı değildir.
- D) Eğer beş kere beş yirmibeş ediyorsa beş kere beş yirmibeş ediyordur.

10. Aşağıdaki kıyaslardan hangisi bir ikilem örneğidir?

- A) Eğer sen bir öğretmensen, ne korkak ne de sertsindir; ama sen hem korkaksın hem de sert; o halde sen iyi bir öğretmen değilsin.
- B) Ya bu deveyi güdeceksin ya da bu diyardan gideceksin; bu deveyi gütmeyeceksin; o halde bu diyardan gideceksin.
- C) Dans etmek faydalıdır, çünkü ter atarsın.
- D) Evren ya sonludur ya da sonsuzdur; evren sonlu değildir; o halde evren sonsuzdur.

11. Karşılıklı Karesine göre "Bazı bitkiler kırmızıdır." önermesinin çelişği olan önerme aşağıdakilerden hangisidir?

- A) Bazı bitki olmayanlar kırmızıdır.
- B) Bütün bitkiler kırmızıdır.
- C) Bazı bitkiler kırmızı değildir.
- D) Hiçbir bitki kırmızı değildir.

12. "Hiçbir cimri dost değildir." önermesinin düz döndürmesi aşağıdakilerden hangisidir?

- A) Bazı cimriler dosttur.
- B) Tüm dostlar cimridir.
- C) Hiçbir cimri olmayan dost olmayandır.
- D) Hiçbir dost cimri değildir.

13. Önerme ile ilgili aşağıdaki ifadelerden hangisi yanlıştır?

- A) "Her hakem adildir." önermesinin ters döndürmesi "Her adil olmayan hakemdir." önermesidir.
- B) Tikel olumlu bir önermenin ters döndürmesi yoktur.
- C) Tikel olumsuz bir önermenin düz döndürmesi yoktur.
- D) "Bazı bitkiler kokusuzdur." önermesinin düz döndürmesi "Bazı kokusuzlar bitkidir." önermesidir.

14. Aşağıdaki kavram çiftlerinden hangisi çelişik kavramlara bir örnektir?

- A) Hisli - Duygusuz
- B) Kalabalık - Tenha
- C) Katı - Katı olmayan
- D) Açık - Kapalı

15. Aşağıdakilerden hangisi zorunlu (apodiktik) bir önermedir?

- A) Balıklar memeli hayvanlardır.
- B) Üçgenin iç açıları toplamı 180 derecedir.
- C) Bazı insanlar güzel yüzlüdür.
- D) "pi" sayısının (3, 14...) virgülden sonraki 665. rakamı "3"tür.

16. Aşağıdakilerden hangisinde, sırasıyla "beyaz" ve "beyazlık" kavramlarının çeşitleri verilmiştir?

- A) Genel kavram - Tekil kavram
- B) Somut kavram - Soyut kavram
- C) Tekil kavram - Soyut kavram
- D) Açık kavram - Genel kavram

17. Aşağıdaki önermelerden hangisi "Her insan yazardır." önermesi ile eşdeğerdir?

- A) Her yazar insandır.
- B) Her yazar olmayan insan olmayandır.
- C) Hiçbir insan olmayan yazar değildir.
- D) Her insan yazar olmayandır.

18. "Düşünüyorum öyleyse varım." kıyası aşağıdakilerden hangisine bir örnektir?

- A) Zincirleme kıyas
- B) Basit kıyas
- C) Entimem
- D) İkilem

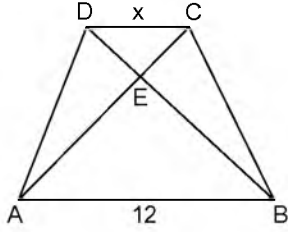
19. Aşağıdaki kavram çiftlerinden hangisinde, sırasıyla kolektif kavram ile distribütif kavram verilmiştir?

- A) Aile-Çocuk
- B) İnsan-Hayvan
- C) Ali-Bazı insanlar
- D) Milletvekili-Meclis

20. Aşağıdakilerden hangisi bir önerme değildir?

- A) İnsanlar mutsuzdur.
- B) Gidelim artık buralardan.
- C) Karpuzun rengi sarıdır.
- D) Politikacı olmak için etkili konuşmayı bilmek gerekir.

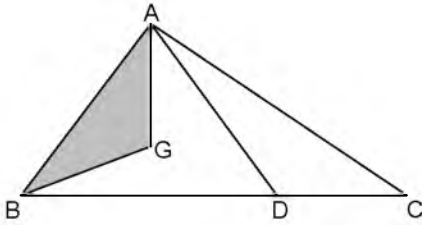
1.



Yukarıdaki ABCD yamuğunda,  $[AC] \cap [BD] = \{E\}$ ,  $|EB|=3|DE|$  ve  $|AB|=12$  cm ise,  $|CD|=x$  kaç cm dir?

- A) 2
- B) 3
- C) 4
- D) 5

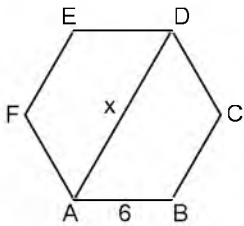
2.



Yukarıdaki ABC üçgeninde G, ABD üçgeninin ağırlık merkezi,  $|BD|=2|DC|$  ve  $A(ABG)=6$  cm<sup>2</sup> ise,  $A(ABC)$  kaç cm<sup>2</sup> dir?

- A) 21
- B) 24
- C) 25
- D) 27

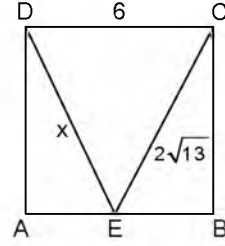
3.



Yukarıdaki düzgün altıgende  $|AB|=6$  cm olduğuna göre,  $|AD|=x$  kaç cm dir?

- A) 8
- B) 10
- C) 12
- D) 14

4.



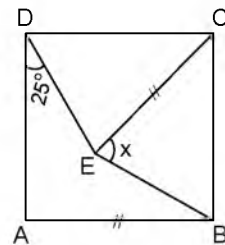
Yukarıdaki ABCD karesinde,  $|CD|=6$  cm,  $|EC|=2\sqrt{13}$  cm olduğuna göre,  $|DE|=x$  kaç cm dir?

- A)  $\sqrt{38}$
- B)  $2\sqrt{10}$
- C)  $3\sqrt{5}$
- D)  $4\sqrt{3}$

5. Köşegen sayısı 35 olan konveks çokgenin iç açılarının ölçüleri toplamı kaç derecedir?

- A) 1080
- B) 1260
- C) 1440
- D) 1620

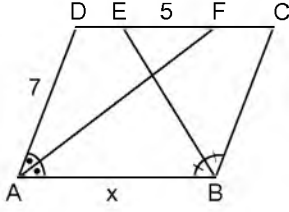
6.



Yukarıdaki ABCD karesinde,  $m(\widehat{ADE})=25^\circ$ ,  $|EC|=|AB|$  olduğuna göre,  $m(\widehat{BEC})=x$  kaç derecedir?

- A) 60
- B) 65
- C) 70
- D) 75

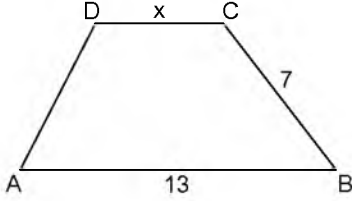
7.



Yukarıdaki ABCD paralelkenarında, [AF] ve [BE] açıortay,  $|AD|=7$  cm ve  $|EF|=5$  cm ise,  $|AB|=x$  kaç cm dir?

- A) 9
- B) 10
- C) 11
- D) 12

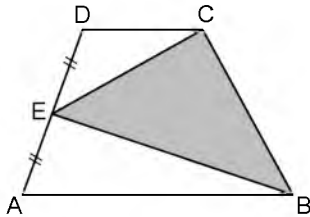
8.



Yukarıdaki şekilde ABCD bir yamuk,  $m(\widehat{BCD})=2m(\widehat{DAB})$ ,  $|AB|=13$  cm ve  $|BC|=7$  cm olduğuna göre,  $|CD|=x$  kaç cm dir?

- A) 3
- B) 4
- C) 5
- D) 6

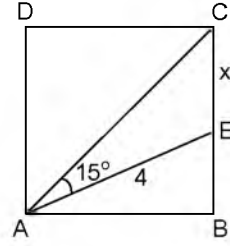
9.



Yukarıdaki ABCD yamuğunda,  $|DE|=|AE|$  ve  $A(ABCD)=72$  cm<sup>2</sup> ise,  $A(BEC)$  kaç cm<sup>2</sup> dir?

- A) 36
- B) 32
- C) 24
- D) 18

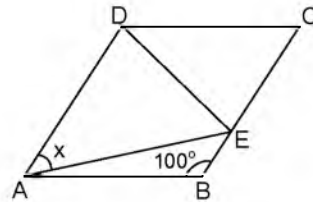
10.



Yukarıdaki ABCD karesinde,  $m(\widehat{CAE})=15^\circ$  ve  $|AE|=4$  cm ise,  $|EC|=x$  kaç cm dir?

- A)  $2\sqrt{3}$
- B)  $2\sqrt{3}-2$
- C)  $2-\sqrt{3}$
- D)  $4-2\sqrt{3}$

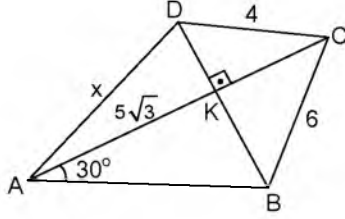
11.



Yukarıdaki ABCD eşkenar dörtgeninde,  $m(\widehat{ABC})=100^\circ$  ve  $|DE|=|BC|$  ise,  $m(\widehat{DAE})=x$  kaç derecedir?

- A) 40
- B) 45
- C) 50
- D) 55

12.



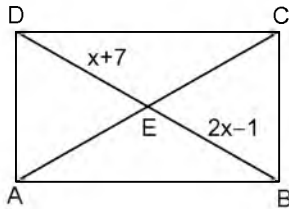
Yukarıdaki ABCD dörtgeninde,  $[AC] \perp [BD]$ ,  $m(\widehat{CAB}) = 30^\circ$ ,  $|DC| = 4$  cm,  $|BC| = 6$  cm, ve  $|AK| = 5\sqrt{3}$  cm olduğuna göre,  $|AD| = x$  kaç cm dir?

- A)  $3\sqrt{3}$   
 B) 6  
 C)  $4\sqrt{3}$   
 D)  $4\sqrt{5}$

13. Bir konveks beşgenin iç açılarının ölçüleri toplamı kaç derecedir?

- A) 360  
 B) 540  
 C) 720  
 D) 900

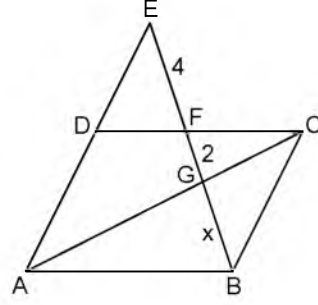
14.



Yukarıdaki ABCD dikdörtgeninde,  $[AC]$  ve  $[BD]$  köşegen,  $|EB| = 2x - 1$  cm,  $|DE| = x + 7$  cm ise,  $|AC|$  kaç cm dir?

- A) 30  
 B) 28  
 C) 24  
 D) 20

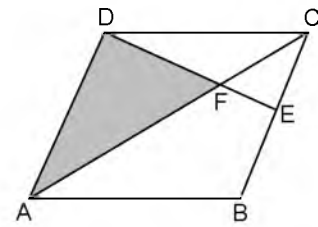
15.



Yukarıdaki şekilde ABCD bir paralelkenar, A,D,E noktaları doğrusal,  $[AC] \cap [BE] = \{G\}$ ,  $|EF| = 4$  cm,  $|FG| = 2$  cm olduğuna göre,  $|BG| = x$  kaç cm dir?

- A) 3  
 B)  $2\sqrt{3}$   
 C) 4  
 D)  $3\sqrt{2}$

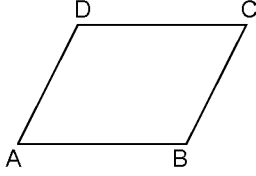
16.



Yukarıdaki ABCD paralelkenarında,  $[AC] \cap [DE] = \{F\}$ ,  $|EB| = 2|EC|$  ve  $A(ADF) = 12$  cm<sup>2</sup>  $A(ABCD)$  kaç cm<sup>2</sup> dir?

- A) 32  
 B) 36  
 C) 40  
 D) 44

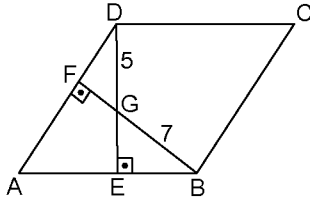
17.



Yukarıdaki ABCD paralelkenarında,  $m(\widehat{ADC}) = 2m(\widehat{BCD}) - 15^\circ$  ise,  $m(\widehat{BAD})$  kaç derecedir?

- A) 50
- B) 55
- C) 60
- D) 65

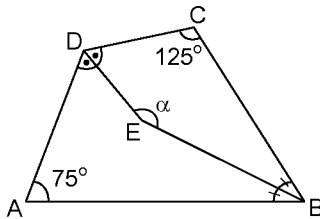
18.



Yukarıdaki ABCD eşkenar dörtgeninde,  $[DE] \perp [AB]$ ,  $[BF] \perp [AD]$ ,  $|DG| = 5$  cm ve  $|GB| = 7$  cm olduğuna göre,  $|EG| - |FG|$  kaç cm dir?

- A) 1
- B) 2
- C) 3
- D) 4

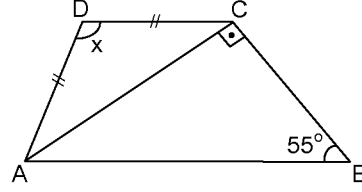
19.



Yukarıdaki şekilde ABCD bir dörtgen,  $[DE]$  ve  $[BE]$  açıortay,  $m(\widehat{DCB}) = 125^\circ$  ve  $m(\widehat{DAB}) = 75^\circ$  ise,  $m(\widehat{DEB}) = \alpha$  kaç derecedir?

- A) 155
- B) 145
- C) 135
- D) 125

20.



Yukarıdaki ABCD yamuğunda,  $[AC] \perp [BC]$ ,  $m(\widehat{ABC}) = 55^\circ$ , ve  $|AD| = |CD|$  ise,  $m(\widehat{ADC}) = x$  kaç derecedir?

- A) 140
- B) 130
- C) 120
- D) 110



## SEÇMELİ COĞRAFYA 3

A

2015 II.DÖNEM 0103-A

1. Granit taşının başkalaşmasıyla oluşan kayaç türü aşağıdakilerden hangisidir?
  - A) Andezit
  - B) Diroit
  - C) Siyenit
  - D) Gnays
2. Gölova da denilen, kireç taşının erimesiyle oluşan tarıma elverişli geniş düzlüklere ne ad verilir?
  - A) Ova
  - B) Polye
  - C) Vadi
  - D) Delta
3. Oluştukları dönemlere ait bitki ve hayvan kalıntıları olan fosillere sahip olan kayaç türü aşağıdakilerden hangisidir?
  - A) Dış püskürük kayaçlar
  - B) İç püskürük kayaçlar
  - C) Metamorfik kayaçlar
  - D) Tortul kayaçlar
4. Aşağıdakilerden hangisi jeotermal bölgelerden biri değildir?
  - A) İtalya
  - B) Lübnan
  - C) Yunanistan
  - D) Türkiye
5. Sibiryaya, Kanada ve Doğu Avrupa'da geniş yer kaplayan, yıllık yağış miktarının 500mm civarında olduğu yerlerde görülen orman türü aşağıdakilerden hangisidir?
  - A) Muson ormanları
  - B) Tayga ormanları
  - C) Orta kuşak ormanları
  - D) Ekvatorial ormanlar
6. Kireç taşı, alçı taşı ve kaya tuzu gibi kolay eriyebilen arazilerdeki çukur alanlarda suların birikmesiyle oluşan göl türü aşağıdakilerden hangisidir?
  - A) Buzul gölü
  - B) Volkanik göl
  - C) Tektonik göl
  - D) Karstik göl
7. Kıtalar arasındaki büyük su kütlelerine ne ad verilir?
  - A) Okyanus
  - B) Deniz
  - C) Göl
  - D) Nehir
8. Makilerin tahrip edildiği yerlerde çıkan daha seyrek ve kısa boylu çalı gruplarına ne ad verilir?
  - A) Savan
  - B) Tayga
  - C) Garig
  - D) Step
9. Buzulların taşıyarak biriktirdiği malzemelerden oluşan toprak türü aşağıdakilerden hangisidir?
  - A) Morenler
  - B) Lösler
  - C) Litoseller
  - D) Regoseller
10. Aşağıdakilerden hangisi bir ülkedeki nüfus sayısının değişmesinin nedenlerinden biri değildir?
  - A) Yeryüzü şekilleri
  - B) Salgın hastalıklar
  - C) Doğal afetler
  - D) Ülke sınırlarının değişmesi

11. Aşağıdaki kıtaların hangisinde yerleşik hayat yoktur?

- A) Afrika
- B) Avrupa
- C) Okyanusya
- D) Antartika

12. Aşağıdakilerden hangisi gelişmiş ülkelerde nüfus artış hızının düşük olmasının nedenlerinden biri değildir?

- A) Yaşam düzeyinin yüksek olması
- B) Nüfus planlamasının yapılması
- C) Şehirleşme oranının düşük olması
- D) Kadınların çalışma hayatına girmesi

13. Aşağıdakilerden hangisi nüfusun dağılımını etkileyen beşeri faktörlerden biri değildir?

- A) Ticaret
- B) Turizm
- C) İklim
- D) Ulaşım

14. Aşağıdakilerden hangisi göçün doğal nedenleri arasında yer almaz?

- A) Çiğ
- B) Sel
- C) Doğal kaynakların varlığı
- D) Deprem

15. Türkiye beyin göçü veren ülkeler arasında kaçınıcı sıradadır?

- A) 14
- B) 18
- C) 21
- D) 24

16. Devletlerarası örgütlü ticari ilişkilerin başladığı çağ aşağıdakilerden hangisidir?

- A) Kalkolitik Çağ
- B) Neolitik Çağ
- C) Mezolitik Çağ
- D) Paleolitik Çağ

17. Aşağıdakilerden hangisi gelişmiş ülkelerin özelliklerinden biri değildir?

- A) Nüfusun çoğunluğu tarım sektöründedir.
- B) Okuma yazma oranı yüksektir.
- C) Ürünlerinin değeri yüksektir.
- D) Ortalama yaşam süresi uzundur

18. Akarsular tarafından derin yarılmamış, çevrelerine göre çukurda kalan ve alüvyonlarla örtülmüş geniş düzlüklere ne ad verilir?

- A) Havza
- B) Ova
- C) Vadi
- D) Polye

19. Aşağıdakilerden hangisi Türkiye'de fazla yağış alan yerlerden biri değildir?

- A) Hakkâri çevresi
- B) Amanos dağları
- C) Iğdır ovası
- D) Doğu Karadeniz kıyıları

20. Aşağıdakilerden hangisi Türkiye'de yer alan iç ovalardan biri değildir?

- A) Muş Ovası
- B) Çukurova
- C) Malazgirt Ovası
- D) Amik Ovası

1. Hz. Muhammed'in (s.a.v.) dedesi ölümünden önce torununun himayesi görevini kime bırakmıştır?
  - A) Sütannesine
  - B) Dayısına
  - C) Yardımcısına
  - D) Amcasına
  
2. “(Ey Resulüm) Sen önce en yakın akraba ve hısımlarını uyar.” suresi aşağıdakilerden hangisidir?
  - A) Hicr
  - B) Şuara
  - C) Fatiha
  - D) Felak
  
3. Hz. Muhammed'in (s.a.v.) amcası Ebu Talip ve eşi Hatice'nin vefat ettiği seneye ne ad verilir?
  - A) Ayrılık senesi
  - B) Hasret senesi
  - C) Üzüntü senesi
  - D) Hüzün senesi
  
4. Hz. Muhammed'in (s.a.v.) annesi Âmine hangi yılda vefat etmiştir?
  - A) 575
  - B) 576
  - C) 577
  - D) 578
  
5. “...Kendinizi kendi ellerinizle tehlikeye atmayın...” aşağıdaki surelerin hangisinin ayetidir?
  - A) Bakara
  - B) Nas
  - C) Felak
  - D) Fatiha
  
6. Hz. Muhammed'in (s.a.v.) İslam'ı tebliğ etmek için ilk kez Mekke dışında gittiği yer aşağıdakilerden hangisidir?
  - A) Taif
  - B) Medine
  - C) Habeşistan
  - D) Mute
  
7. Uhut Savaşı hangi yıl yapılmıştır?
  - A) 623
  - B) 624
  - C) 625
  - D) 626
  
8. Aşağıdakilerden hangisi müşriklerin Hz. Muhammed'e (s.a.v.) inanmadıkları için bulunduğu ithamlardan biri değildir?
  - A) Yalancı
  - B) Kâhin
  - C) Sihirbaz
  - D) Şair
  
9. İkinci hicret kaç kişilik bir grupla yapılmıştır?
  - A) 70
  - B) 80
  - C) 90
  - D) 100
  
10. Hz. Muhammed'e (s.a.v.) ilk kez Ramazan ayının Kadir gecesi gelen melek aşağıdakilerden hangisidir?
  - A) Cebrail
  - B) Azrail
  - C) Mikail
  - D) İsrail
  
11. Müşriklerin eziyetine dayanamayan Müslümanlar ilk nereye hicret etmişlerdir?
  - A) Medine
  - B) Habeşistan
  - C) Mute
  - D) Taif

12. Hendek Savaş'ı hangi ay yapılmıştır?

- A) Mart / Ramazan
- B) Mart / Şevval
- C) Nisan / Zilkade
- D) Haziran / Rebiyülevvel

13. Savaşılması yasak aylarda da devam eden savaşlara ne ad verilir?

- A) Uhud savaşları
- B) Ölüm savaşları
- C) Kabile savaşları
- D) Ficar savaşları

14. Aşağıdakilerden hangisi hastalık durumunda yapılmaması gerekenlerden biridir?

- A) Sabırlı olmak
- B) İlaç kullanmamak
- C) Dua okumak
- D) Doktora gitmek

15. Medine sözleşmesi hangi yıl imzalanmıştır?

- A) 621
- B) 622
- C) 623
- D) 624

16. Aşağıdakilerden hangisi Hz. Muhammed'in (s.a.v.) çocuklarından biri değildir?

- A) Zeynep
- B) Selami
- C) Kasım
- D) Fatıma

17. Hz. Muhammed'in (s.a.v.) evliliğiyle ilgili aşağıdaki ifadelerden hangisi doğrudur?

- A) 25 yaşında Hatice
- B) 39 yaşında Halime
- C) 30 yaşında Ayşe
- D) 40 yaşında Rukiye

18. "Böylece sizi orta yolu benimseyen bir ümmet kıldık." ayetinin suresi aşağıdakilerden hangisidir?

- A) Rahmân
- B) Rûm
- C) Lokman
- D) Bakara

19. İslam tarihinde inançlarından dolayı şehit edilen ilk Müslüman aşağıdakilerden hangisidir?

- A) Habbap
- B) Bilal
- C) Ammar
- D) Sümeyye

20. Hz. Muhammed'e (s.a.v.) ilk vahiy nerede gelmiştir?

- A) Taif
- B) Hira
- C) Sevr
- D) Hicr

1. Aşağıdakilerden hangisi koruyucu haklardan biridir?

- A) Toplu iş sözleşmesi hakkı
- B) Vatandaşlık hakkı
- C) Kişi dokunulmazlığı
- D) Eğitim ve öğrenim hakkı

2. Türk kadınlarına seçme ve seçilme hakkı kaç yılında verilmiştir?

- A) 1934
- B) 1923
- C) 1920
- D) 1919

3. Aşağıdakilerden hangisi III. Kuşak haklardan biri değildir?

- A) Çevre
- B) Mülkiyet
- C) Barış
- D) Gelişme

4. Yerleşik bir topluluğun hukuksal ve siyasal açıdan örgütlenmesi sonucu oluşan, tüzel kişiliğe sahip soyut varlığa ne ad verilir?

- A) Devlet
- B) Ülke
- C) Halk
- D) Topluluk

5. Aşağıdakilerden hangisi hukuk kurallarının en üst basamağında yer alır?

- A) Tüzük
- B) Kanun
- C) Anayasa
- D) Yönetmelik

6. Gülhane Hattı Hümayunu ile ilgili aşağıdaki ifadelerden hangisi yanlıştır?

- A) Osmanlı topraklarında yaşayan Müslüman ve gayrimüslimlere eşit haklar tanınmıştır.
- B) Herkese can, mal, ırz ve namus güvenliği sağlanması öngörülmüştür.
- C) Vergi, askerlik ve yargı alanlarında yeni düzenlemeler getirilmesine karar verilmiştir.
- D) Yasama yetkisi, Ayan Meclisi ve Mebusan Meclisi'ne bırakılmıştır.

7. Hukukun üstünlüğü kavramı ile ilgili aşağıdaki ifadelerden hangisi doğrudur?

- A) Devlet erkleri birbirlerinin alanına müdahale eder.
- B) Bazı yasalar anayasadan üstündür.
- C) Temel hak ve özgürlükler anayasal güvenceye kavuşturulmuştur.
- D) Halkın belirli kesimi hukuk önünde eşittir.

8. 1982 Anayasası'na göre aşağıdakilerden hangisi milletvekili seçilebilme şartlarından biri değildir?

- A) En az ilkokul mezunu olmak
- B) Askerlik hizmetini yapmış olmak
- C) 40 yaşını doldurmuş olmak
- D) Türk vatandaşı olmak

9. Bir siyasi parti en az kaç milletvekili ile TBMM'de grup kurabilir?

- A) 20
- B) 30
- C) 35
- D) 40

10. Halkın seçmen olabilmesi için ırk, servet, cinsiyet, yetenek gibi şartların aranmadığı oy türüne ne ad verilir?

- A) Kısıtlı
- B) Genel
- C) İhtiyari
- D) Serbest

11. Sözleşme içi denetim ile ilgili aşağıdaki ifadelerden hangisi yanlıştır?

- A) Denetlenmesi gereken devlet taraf devlet statüsündedir.
- B) En güçlü ve rahat uygulanabilen koruma mekanizmasıdır.
- C) Sözleşmeyle oluşturulmuş denetim organının yetkisinin de kabul edilmiş olması gerekir.
- D) Denetlenecek devletin, sözleşmeyi hazırlayan uluslararası organizasyona üye olması yeterlidir.

12. Çevre kirliliğinin önlenmesi için dünya çapında faaliyet gösteren uluslararası sivil toplum kuruluşu aşağıdakilerden hangisidir?

- A) Uluslararası PEN Kulübü
- B) Uluslararası Af Örgütü
- C) Uluslararası Kızılhaç Komitesi
- D) Green Peace

13. ILO ( International Labour Organization) aşağıdaki barış antlaşmalarından hangisiyle kurulmuştur?

- A) Versailles
- B) Saint Germain
- C) Trianon
- D) Münih

14. Aşağıdakilerden hangisi Türkiye'nin onayladığı uluslararası sözleşmelerden biridir?

- A) Kişisel ve Siyasal Haklar Uluslararası Sözleşmesi
- B) Apartheid Suçunun Cezalandırılması ve Kaldırılması Uluslararası Sözleşmesi
- C) Ekonomik Sosyal ve Kültürel Haklar Sözleşmesi
- D) Kadınlara Karşı Her Türlü Ayrımcılığın Önlenmesi Sözleşmesi

15. Aşağıdakilerden hangisi insan haklarının korunması konusunda demokrasilerde karşılaşılan sorunlardan biri değildir?

- A) Uluslararası terör
- B) Laik yönetim
- C) Bölgeler arası kalkınmışlık farkları
- D) Savaşlar

16. Aşağıdakilerden hangisi Atatürk inkılabının amaçlarından biri değildir?

- A) Vatanın bağımsızlığını gerçekleştirmek
- B) Milleti özgürlüğünü kayıtsız ve koşulsuz bir biçimde gerçekleştirmek
- C) Halkın egemenliğine dayalı bir devlet sistemi kurmak
- D) Teokratik devlet yapısını uygulamak

17. Aşağıdakilerden hangisi Atatürk'e göre çağdaş medeniyetler seviyesini yakalamak ve bunun da üzerine çıkmak için yapılması gerekenlerden biri değildir?

- A) Akla, bilime ve fenne dayanan sürekli ilerlemeye elverişli dinamik bir toplum yapısı oluşturmak
- B) Din ve devlet işlerini iç içe yürütmek
- C) Toplumda eskiden kurum ve kuralları hızla ve sürekli olarak değiştirmek
- D) Yeni çağın cevaplarına ihtiyaç verebilen yeni yapılar oluşturmak

18. Toplumda farklı ekonomik ve sosyal sınıfların bulunmaması, bir ülkede yaşayan halkın eşit olması, hiçbir kişi ya da gruba ayrıcalık tanınmaması olarak ifade edilen ilke aşağıdakilerden hangisidir?

- A) Halkçılık
- B) Devletçilik
- C) Milliyetçilik
- D) Cumhuriyetçilik

19. Aşağıdakilerden hangisi laik olmayan bir devlette karşılaşılan sorunlardan biri değildir?

- A) İnsan hakları ihlalleriyle karşılaşılması
- B) Devletin bütün din ve inançlara eşit mesafede olamaması
- C) Devlet düzeninin din kurallarına dayandırılmaması
- D) Devletin bir inancı baskı altına alması

20. Millet kavramı ile ilgili aşağıdaki ifadelerden hangisi yanlıştır?

- A) Bir insan topluluğunun millet sayılabilmesi için ortak bir geçmişe sahip olmaları gerekir.
- B) Geçmişten gelen mirasın korunması ve sürdürülmesi için amaç birliği edinilmesine gerek yoktur.
- C) Millet olma bir insan toplumunun ulaşabileceği en üst aşamadır.
- D) İrk ve kavim birliğine dayanan toplumlardan daha üst bir aşamadır.

1. Aşağıdakilerden hangisi mülakat ve mülakatçının özelliklerinden biri değildir?
- A) Mülakatçı sabırlı, nazik ve dikkatli olmalıdır.  
B) Genelde söyleşmeye bağlı anlatım türü kullanılır.  
C) Mülakat metni öğretici ve ufuk açıcudur.  
D) Mülakatı yapan kişi konu akışı bozulsa, konu başka yerlere gitse dahi müdahale etmemelidir.
2. Altı çizili sözcüklerden hangisi yapı bakımından diğerlerinden farklıdır?
- A) Bence komşuluk bitmiş artık.  
B) Baktın mı yeni gelen kulaklıklara?  
C) Çamur üstüne bulaşmış.  
D) Almanya'dan yeni mi geldiler?
3. Aşağıdakilerden hangisinde tüm sözcükler türemiştir?
- A) Ağaç-koku-kalem  
B) Anlam-çiçek-gözlük  
C) Farklı-saygı-sorular  
D) Yağmur-toprak-yaseminler
4. Aşağıdakilerden hangisinde yapım eki almış sözcük yoktur?
- A) Nihayet tatil geldi.  
B) Kusursuz bilgilerle donatılmış.  
C) Yemeklerde sınırsız çeşit varmış.  
D) Buzdolabı bozulmuş.
5. "Onuncu Yıl Nutku" tür olarak aşağıdakilerden hangisine örnektir?
- A) Mülakata  
B) Hitabete  
C) Mektuba  
D) Denemeye
6. Aşağıdakilerden hangisi sadece bir yapım eki almıştır?
- A) Korkuluğu  
B) Bozgunculuk  
C) Suçlular  
D) Sorgucu
7. Aşağıdakilerden hangisinde hem yapım hem de çekim eki vardır?
- A) Bencil  
B) Evden  
C) Sabahlığı  
D) Sence
8. Aşağıdaki sözcük ve sözcüğün yapısı eşleştirmelerinden hangisi yanlıştır?
- A) Kalemler-basit sözcük  
B) Sayılar-türemiş sözcük  
C) Bozukluk-bileşik sözcük  
D) Yapı-türemiş sözcük
9. Aşağıdaki sözcüklerden hangisi hem yapım hem de çekim eki almıştır?
- A) Gelir  
B) Saygıdan  
C) Bilinç  
D) Suçluluk
10. Aşağıdaki sözcüklerden hangisi aldığı ekte yapı bakımından diğerlerinden farklı hâle gelmiştir?
- A) Raflar  
B) Kitaplık  
C) Sende  
D) Masanın
11. Aşağıdaki sözcüklerden hangisi yapı bakımından diğerlerinden farklıdır?
- A) Belgeselin  
B) Çekyattaki  
C) Bilgisayardan  
D) Kuşburnunun
12. Aşağıdaki cümlelerin hangisinde birleşik sözcük bulunmamaktadır?
- A) Bu yapılanları kimse örtbas edemez.  
B) Tarifi anneannemden aldım.  
C) Teyzeme menekşe ve aslanağzı gönderdim.  
D) Umursamazlık iyice arttı.

13. Aşağıdaki cümlelerden hangisinde altı çizili sözcük yapı bakımından diğerlerinden farklıdır?

- A) Nedendir bilinmez.
- B) Elbisesine çıtçıt diktirmiş.
- C) Kaygısızın biriydi.
- D) Öyle yorğunum ki.

14. "Türk Milleti! Kurtuluş Savaşı'na başladığımızın on beşinci yılındayız. Bugün cumhuriyetimizin onuncu yılını doldurduğu en büyük bayramdır. Kutlu olsun!"

Yukarıda bir parçası alıntılanan Atatürk'ün konuşmasının türü aşağıdakilerden hangisidir?

- A) Nutuk
- B) Tirad
- C) Nesir
- D) Hatırat

15. Aşağıdakilerden hangisi konularına göre röportaj çeşitlerinden biri değildir?

- A) Eşyayı konu alan
- B) Durumu konu alan
- C) İnsanı konu alan
- D) Bir yeri konu alan

16. Söylevle ilgili aşağıdaki ifadelerden hangisi yanlıştır?

- A) Cumhuriyet döneminin en büyük konuşmacısı Mustafa Kemal Atatürk'tür.
- B) Söylev türünün ilk örnekleri Eski Yunan ve Roma dönemlerinde görülür.
- C) Söylevciye eskiden hatip adı verilirdi.
- D) Görüşme, söylevin diğer adıdır.

17. Aşağıdakilerin hangisinde bileşik sözcük vardır?

- A) Mutlaka kuşburnu reçeli istedi.
- B) Bilgisizlik sarmış etrafı.
- C) Arabayı yola bıraktım.
- D) İkinizle ayrı ayrı görüşeceğim.

18. Genellikle parlamentolarda, diplomatik toplantılarda ve mitinglerde söylenen söylev aşağıdakilerden hangisidir?

- A) Akademik söylev
- B) Sosyal söylev
- C) Edebi söylev
- D) Siyasi söylev

19. Herhangi bir konu ya da sorunun değişik boyutlarıyla ele alınıp işlendiği gazete ve dergi yazılarına ne ad verilir?

- A) Deneme
- B) Makale
- C) Röportaj
- D) Fıkra

20. Aşağıdakilerden hangisi bileşik sözcük değildir?

- A) Sonsuzluk
- B) Mirasyedi
- C) Gecekondu
- D) Uyurgezer



1. 13. yüzyıl Moğol tarihçisi Reşiduddin tarafından yazıya geçirilen destan aşağıdakilerden hangisidir?

- A) Göç Destanı
- B) Ergenekon Destanı
- C) Manas Destanı
- D) Şu Destanı

2. Çağdaş Türk Edebiyatı'nın önemli destan örneklerinden biri olan "Kurtuluş Savaşı Destanı" adlı eserin yazarı aşağıdakilerden hangisidir?

- A) Namık Kemal
- B) Cahit Külebi
- C) Nazım Hikmet
- D) Aras Ören

3. Eski Türklerde, ölen kişinin ardından yapılan, ozanlar ve sığıtçı adı verilen ağıtçıların ölen kişinin niteliklerini dile getiren ağıtlar yaktıkları büyük yas törenlerine ne ad verilir?

- A) Yuğ
- B) Biş
- C) Sav
- D) Uruk

4. Aşağıdakilerden hangisi, İslamiyet'ten sonraki Türk destanlarından biridir?

- A) Türeyiş Destanı
- B) Göç Destanı
- C) Cengiz Han Destanı
- D) Atilla Destanı

5. Çağdaş Türk Edebiyatı'nın önde gelen isimlerindedir. "Kolları Bağlı Odysseus" adlı kitabı yazarken çeşitli ozanlardan ve kitaplardan yararlanmıştı.

Yukarıda sözü edilen yazar kimdir?

- A) Ahmet Hamdi Tanpınar
- B) Nabizade Nâzım
- C) Rezaizade Mahmut Ekrem
- D) Melih Cevdet Anday

6. 1720 yıllarında yurtdışına elçi olarak gönderilen, gördüğü yerlerle ilgili gözlem ve izlenimlerini "Fransa Sefaretnamesi" adlı eseriyle tarihi bir belge niteliğinde sunan devlet adamı kimdir?

- A) Yirmisekiz Mehmet Çelebi
- B) Mercimek Ahmet
- C) Sinan Paşa
- D) Kâtip Çelebi

7. Eski Türklerde, gözlem ve uzun deneyimlerden süzülen duygu ve düşüncelerin özlü bir anlatımı olarak kabul edilen, dilden dile aktarılan atasözlerine ne ad verilir?

- A) Sav
- B) Sagu
- C) Koşuk
- D) Destan

8. Türk'ün öz benliğini yansıtan, yüksek bir ahlâka dayanan, kahramanlık ruhunu coşkunun bir deyişle dile getiren, sevgiden gücünü alan aile bağlarını eserin tamamında sergileyen Türk ulusal kültürünün temel eseri, aşağıdakilerden hangisidir?

- A) Battal Gazi Destanı
- B) Danişment Gazi Destanı
- C) Göktürk Yazıtları
- D) Dede Korkut Hikâyeleri

9. Uygur ülkesine bereket ve mutluluk veren Kutlu Dağ'ın Çinliler tarafından parça parça taşınmasıyla bozulan Uğur sonucu ülkede görülmemiş bir kıtlık başlar. Yaşam çekilmez hale dönüşür ve Uygur Türkleri güneybatıya göç ederler.

Yukarıdaki parça hangi destanı anlatır?

- A) Ergenekon Destanı
- B) Oğuz Kağan Destanı
- C) Göç Destanı
- D) Şu Destanı

10. İşgale uğrayan bir ülke ve savaş gibi önemli bir toplumsal olayı işleyen "Ateşten Gömlek" romanının yazarı, aşağıdakilerden hangisidir?

- A) Ahmet Hamdi Tanpınar
- B) Hüseyin Rahmi Gürpınar
- C) Halide Edip Adıvar
- D) Orhan Şaik Gökyay

11. Destan dönemi Türk edebiyatında Türkler aşağıdakilerden hangisini kullanmıştır?

- A) Harezmi Türkçesi
- B) Göktürk ve Uygur yazıları
- C) Kıpçak Türkçesi
- D) Eski Oğuzca

12. Edebiyat tarihi ile ilgili aşağıdaki bilgilerden hangisi yanlıştır?

- A) Edebiyat tarihi bir bilimdir.
- B) Edebiyat metinleri üzerinde çalışır.
- C) Öğretici bir nitelik taşıdığı için bir sanat eseridir.
- D) Çok geniş bir alanı kapsar.

13. İslamiyet'ten önceki Türk destanlarının tarihsel sınıflandırması içinde ilk sırada yer alır. V. Radlov tarafından yazıya geçirilmiştir. Altay Türkleri arasında günümüzde de söylenmektedir.

Yukarıda tanıtilen destan aşağıdakilerden hangisidir?

- A) Yaratılış Destanı
- B) Manas Destanı
- C) Timur Destanı
- D) Göktürk Destanı

14. 19. yüzyıl sonunda Doğu Göktürklerin tarihini anlatan Orhun Yazıtlarını okuyan Danimarkalı bilim insanı kimdir?

- A) J. Tomasson
- B) K. Andersson
- C) H. Larsson
- D) V. Thomson

15. Koşuk ile ilgili aşağıdaki bilgilerden hangisi yanlıştır?

- A) Günümüz halk edebiyatındaki koşmanın ilk biçimidir.
- B) Divan-ı Lügat'it Türk'te örneklerine rastlanmaktadır.
- C) Tabiat güzellikleri vb. konuları işleyen şiirlerdir.
- D) Yazılı edebiyat döneminin ürünüdür.

16. Türkiye'de Batılı anlamda yapılan ilk kapsamlı çalışma olan ve 1928 yılında Fuad Köprülü tarafından yayımlanan eser aşağıdakilerden hangisidir?

- A) Edebiyat Araştırmaları
- B) Edebiyat Tarihi
- C) Türkiye Tarihi
- D) Edebiyat Araştırmaları Külliyyatı

17. 17. yüzyılda Toroslarda Türkmen aşiretleri arasında yaşamış ünlü halk şairimiz aşağıdakilerden hangisidir?

- A) Karacaoğlan
- B) Nailî Kadim
- C) Pir Sultan Abdal
- D) Âşık Veysel

18. İslamiyet'ten önceki dönemde bir kağanın, bir kahramanın ölümüne duyulan üzüntüyü ifade eden, ölen kişinin niteliklerini dile getiren, kopuz eşliğinde söylenen şiirlere ne ad verilir?

- A) Koşuk
- B) Sav
- C) Destan
- D) Sagu

19. Alp Er Tunga öldi mü  
İssız ajun kaldı mu  
Ödek öçin aldı mı  
Emdi yürek yırtılır

Yukarıdaki dördlük aşağıdaki şiir türlerinden hangisine örnektir?

- A) Koşuk
- B) Sagu
- C) Sav
- D) Gazel

20. Uruk Kralı Gılgamış ile arkadaşı Enkidu'nun ölümsüz öyküsünün anlatıldığı "Gılgamış Destanı"ndan esinlenerek "Tanrılar ve İnsanlar" adlı oyunu kaleme alan yazar, aşağıdakilerden hangisidir?

- A) Cahit Atay
- B) Orhan Asena
- C) Melih Cevdet Anday
- D) Orhan Kemal

1. Der Hase ist ..... und .....  
ist langsam.

**Welche Wörter passen in die obigen Lücken?**

**Cümlede boş bırakılan yerleri aşağıdakilerden hangileri doğru şekilde tamamlar?**

- A) schnell / die Ameise  
B) faul / der Hund  
C) schwach / die Affe  
D) lang / das Pferd

2. Dort verkauft man viele gebrauchte Möbel und Kleider.

**Welche Frage paßt zur obigen Antwort?**

**Verilen cevabı gerektirecek soru aşağıdakilerden hangisidir?**

- A) Was ist ein Flohmarkt?  
B) Wie ist deine Wohnung?  
C) Welche Möbel willst du kaufen?  
D) Wie viele Kleider hast du?

3. Heute / meine / Tochter / keine / Hausaufgaben / machen

**Wie kann man mit den obigen Wortgruppen einen sinnvollen und richtigen Satz bilden?**

**Verilen sözcük gruplarıyla kurulabilecek en anlamlı ve doğru cümle aşağıdakilerden hangisidir?**

- A) Keine Hausaufgaben will meine Tochter heute machen.  
B) Heute hat meine Tochter viele Hausaufgaben gemacht.  
C) Meine Tochter macht heute keine Hausaufgaben.  
D) Machen wollte meine Tochter heute ihre Hausaufgaben.

4. A: Hallo Murat! Ich habe Durst. Trinken wir etwas?  
B: .....  
A: Gut dann essen wir auch etwas.

**Welches ergänzt den obigen Dialog?**

**Verilen karşılıklı konuşmayı aşağıdakilerden hangisi tamamlar?**

- A) Nein danke, ich muss nach Hause.  
B) Ich habe keinen Durst, ich bin müde.  
C) Ja, eine gute Idee, ich habe auch Hunger.  
D) Ich habe gerade etwas gegessen.

5. A: Kochen Sie gern Frau Müller?  
B: Ach nein! Ich esse .....!

**Welches ergänzt die Lücke im obigen Dialog?**

**Verilen karşılıklı konuşmada boş bırakılan yeri aşağıdakilerden hangisi tamamlar?**

- A) bei  
B) für  
C) zu  
D) nur

6. Wir sollen das Fenster zumachen.

**Wie lautet der obige Satz in der Imperativ-Form?**

**Verilen cümlelerin emir cümle şekli aşağıdakilerden hangisidir?**

- A) Zumacht das Fenster!  
B) Macht das Fenster zu!  
C) Mach sofort die Fenster auf!  
D) Lass die Fenster bitte auf!

7. Wir ..... nicht bei Rot über die Straße gehen.

**Welches Wort paßt in die obige Lücke?**

**Cümlede boş bırakılan yeri aşağıdakilerden hangisi doğru şekilde tamamlar?**

- A) machen  
B) haben  
C) dürfen  
D) kann

8. Ohne Führerschein .....

**Welches ergänzt die Lücke im obigen Satz?**

**Verilen cümleyi aşağıdakilerden hangisi tamamlar?**

- A) kann nur selten Fische fangen.  
B) darf man nicht Auto fahren.  
C) soll man zu den Polizisten gehen.  
D) muss man miteinander spielen.

9. Die Blumen blühen auf. Das Kinderfest wird gefeiert.

**Wie lautet die Frage für die obige Antwort?**

**Verilen cümleye yönelik soru cümlesi aşağıdakilerden hangisidir?**

- A) Was passiert im April?  
B) Wann laufen wir Ski?  
C) Wer geht in die Ferien?  
D) Warum ziehst du um?

10. .... hat es nicht geregnet.

**Welches ergänzt nicht die Lücke im obigen Satz?**

**Verilen cümleyi aşağıdakilerden hangisi tamamlamaz?**

- A) Nach Dienstag  
B) Gegen Abend  
C) Am Wochenende  
D) Wegen dem Müll

11. Die Sonne steht ..... Himmel.

**Welches Wort paßt in die obige Lücke?**

**Cümlede boş bırakılan yeri aşağıdakilerden hangisi doğru şekilde tamamlar?**

- A) am  
B) auf  
C) aus  
D) im

12. Ayşe ist krank und muss im Bett bleiben.

**Wie lautet der obige Satz im Präteritum?**

**Verilen cümlelerin geçmiş zaman şekli aşağıdakilerden hangisidir?**

- A) Ayşe wurde krank und wird im Bett bleiben.  
B) Ayşe ist gekrankt und bleibt im Bett.  
C) Ayşe musste im Bett bleiben, weil sie krank wurde.  
D) Ayşe war krank und musste im Bett bleiben.

13. Wie komme ich zum Kaufhaus?

**Welche Antwort paßt zur obigen Frage?**

**Verilen sorunun cevabı aşağıdakilerden hangisidir?**

- A) Das sieht nicht schlecht aus.  
B) Sie müssen geradeaus und danach rechts weiter.  
C) Sie müssen sich ein Auto kaufen.  
D) Der Bus kommt gegen 6 Uhr.

14. .... seiner Ausbildung sucht er eine Arbeit.

**Welches Wort paßt in die obige Lücke?**

**Cümlede boş bırakılan yeri aşağıdakilerden hangisi doğru şekilde tamamlar?**

- A) Gegend  
B) Entfüllung  
C) Entsprechend  
D) Ausserdem

15. Der Autofahrer hat das Auto ..... den Baum gefahren.

**Welches Wort paßt in die obige Lücke?**

**Cümlede boş bırakılan yeri aşağıdakilerden hangisi doğru şekilde tamamlar?**

- A) auf  
B) durch  
C) ohne  
D) gegen

16. A: Warum kommst du nicht zur Party?  
B: Ich bin nicht .....

**Welches ergänzt die Lücke im obigen Dialog?**

**Verilen karşılıklı konuşmada boş bırakılan yeri aşağıdakilerden hangisi tamamlar?**

- A) einzuladen  
B) eingeladen worden  
C) einladen wollen  
D) hat eingeladen

17. Was ist mit den Wänden? (tapezieren)

**Welche Antwort paßt zur obigen Frage?**

**Verilen sorunun cevabı aşağıdakilerden hangisidir?**

- A) Die Wände sollen repariert werden.  
B) Die Wände können erneut werden.  
C) Die Wände sind tapeziert worden.  
D) Die Wände müssen geputzt werden.

18. Das Essen ist heute ..... so gut wie gestern.

**Welches Wort paßt in die obige Lücke?**

**Cümlede boş bırakılan yeri aşağıdakilerden hangisi doğru şekilde tamamlar?**

- A) nicht  
B) und  
C) aber  
D) sonst

19. Die Mutter spült das Geschirr.

**Wie lautet der obige Satz in der Passivform?**

**Verilen cümlenin edilgen hali aşağıdakilerden hangisidir?**

- A) Die Mutter will das Geschirr spülen.  
B) Das Geschirr soll gespült werden.  
C) Die Mutter hat abgespült.  
D) Das Geschirr wird gespült.

20. Über wen lacht ihr?

**Welche Antwort paßt zur obigen Frage?**

**Verilen sorunun cevabı aşağıdakilerden hangisidir?**

- A) Wir sprechen über die Jugend.  
B) Über die Nachbarn.  
C) Über die Umwelt beschweren wir uns.  
D) Er will sich beschweren.

1. Mike: What ..... you ..... at the weekends?  
Nick: Well, I usually play tennis.

Which of the following completes the dialogue above?

Aşağıdakilerden hangisi yukarıdaki konuşmayı doğru olarak tamamlar?

- A) do / does  
B) is / doing  
C) do / do  
D) has / done

2. Ali : Are you a student?  
Tom: No, .....

Which of the following completes the dialogue above?

Aşağıdakilerden hangisi yukarıdaki konuşmayı doğru olarak tamamlar?

- A) I am  
B) It isn't  
C) It is  
D) I am not

3. A: What nationality is she?  
B: She's .....

Which of the following completes the dialogue above?

Aşağıdakilerden hangisi yukarıdaki konuşmayı doğru olarak tamamlar?

- A) French  
B) France  
C) Italy  
D) England

4. Susan: I feel very tired.  
Alice: .....

Which of the following completes the dialogue above?

Aşağıdakilerden hangisi yukarıdaki konuşmayı doğru olarak tamamlar?

- A) You must get up early  
B) You shouldn't work very hard  
C) You should work very hard  
D) You must go to the picnic

5. A: What's the day today?  
B: It's .....

Which of the following completes the dialogue above?

Aşağıdakilerden hangisi yukarıdaki konuşmayı doğru olarak tamamlar?

- A) Wednesday  
B) April  
C) a big school  
D) a spoon

6. A: .....?  
B: Yes, she does.

Which of the following completes the dialogue above?

Aşağıdakilerden hangisi yukarıdaki konuşmayı doğru olarak tamamlar?

- A) Where does she live  
B) Does she like tennis  
C) What does she like doing  
D) Do you like shopping

7. Brenda ..... milk every morning.

Which of the following completes the sentence above?

Aşağıdakilerden hangisi yukarıdaki cümleyi doğru olarak tamamlar?

- A) drinks  
B) drink  
C) drank  
D) have drunk

8. John ..... the piano at the moment.

Which of the following completes the sentence above?

Aşağıdakilerden hangisi yukarıdaki cümleyi doğru olarak tamamlar?

- A) is playing  
B) play  
C) played  
D) have played

9. I never drink coffee in ..... evenings.

**Which of the following completes the sentence above?**

**Aşağıdakilerden hangisi yukarıdaki cümleyi doğru olarak tamamlar?**

- A) a  
B) an  
C) (...)  
D) the

10. What ..... you ..... for breakfast last Sunday?

**Which of the following completes the sentence above?**

**Aşağıdakilerden hangisi yukarıdaki cümleyi doğru olarak tamamlar?**

- A) did / had  
B) do / have  
C) does / have  
D) did / have

11. Carol: What time are you going to have your Maths exam tomorrow?

Jane: I'm going to ..... the exam at 9:30.

**Which of the following completes the dialogue above?**

**Aşağıdakilerden hangisi yukarıdaki konuşmayı doğru olarak tamamlar?**

- A) had  
B) have  
C) having  
D) have had

12. A: .....?

B: I am eating a sandwich.

**Which of the following completes the dialogue above?**

**Aşağıdakilerden hangisi yukarıdaki konuşmayı doğru olarak tamamlar?**

- A) Are you eating a sandwich  
B) Where are you going  
C) Why are you eating a sandwich  
D) What are you eating

13. Sam: How ..... apples are there in the basket?  
Jim: There are a few.

**Which of the following completes the dialogue above?**

**Aşağıdakilerden hangisi yukarıdaki konuşmayı doğru olarak tamamlar?**

- A) much  
B) any  
C) some  
D) many

14. I ..... send you my reports, don't worry.

**Which of the following completes the sentence above?**

**Aşağıdakilerden hangisi yukarıdaki cümleyi doğru olarak tamamlar?**

- A) should  
B) used to  
C) will  
D) must

15. I ..... at the cinema at 5 o'clock yesterday.

**Which of the following completes the sentence above?**

**Aşağıdakilerden hangisi yukarıdaki cümleyi doğru olarak tamamlar?**

- A) were  
B) am  
C) was  
D) will

16. I. Ok then. I will come back later again.

II. She went to the market.

III. Sorry, she is not at home.

IV. Can I see your mother?

V. Where is she?

**Put the sentences into the order to make a dialogue.**

**Yukarıdaki cümleleri bir diyalog oluşturacak şekilde sıraya koyunuz.**

- A) III, V, IV, II, I  
B) IV, III, V, II, I  
C) IV, V, I, II, III  
D) V, III, I, II, IV

17. She ..... a horror film last night.

**Which of the following completes the sentence above?**

**Aşağıdakilerden hangisi yukarıdaki cümleyi doğru olarak tamamlar?**

- A) watches
- B) watch
- C) watched
- D) is watching

18. Our school team won the football match .....

**Which of the following completes the sentence above?**

**Aşağıdakilerden hangisi yukarıdaki cümleyi doğru olarak tamamlar?**

- A) next week
- B) tomorrow
- C) yesterday
- D) every day

19. I ..... ride a bike when I was 4 years old.

**Which of the following completes the sentence above?**

**Aşağıdakilerden hangisi yukarıdaki cümleyi doğru olarak tamamlar?**

- A) don't
- B) could
- C) can
- D) won't

20. 10 years ago there ..... lots of trees in this park, but now there are many skyscrapers.

**Which of the following completes the dialogue above?**

**Aşağıdakilerden hangisi yukarıdaki konuşmayı doğru olarak tamamlar?**

- A) used to be
- B) are
- C) were
- D) didn't use to be



1. Si j'avais beaucoup d'argent, je(j') ..... le tour du monde.

**Choisissez le mot qui convient.**

**Cümlede boş bırakılan yeri aşağıdakilerden hangisi doğru şekilde tamamlar?**

- A) ferais  
B) fais  
C) ai fait  
D) fera

2. I. D'abord, j'allume l'ordinateur.  
II. Ensuite, je clique sur la souris.  
III. J'envoie un mail.  
IV. C'est une calculatrice.

**Trouvez la phrase qui ne convient pas.**

**Cümleler sırasıyla okunduğunda, anlam bütünlüğünü bozan cümleyi bulunuz.**

- A) I  
B) II  
C) III  
D) IV

3. Il ..... un frère et une sœur.

**Choisissez le mot qui convient.**

**Cümledeki boşluğu aşağıdakilerden hangisi doğru şekilde tamamlar?**

- A) a  
B) est  
C) ont  
D) son

4. nous / fini / devoirs / avons / nos  
I II III IV V

**Mettez dans le bon ordre.**

**Yukarıdaki kelimelerin anlamlı ve kurallı bir cümle oluşturan sırası aşağıdakilerin hangisinde verilmiştir?**

- A) I, II, IV, V, III  
B) I, IV, II, V, III  
C) V, I, IV, II, III  
D) V, III, IV, I, II

5. - ..... sont vos pantalons?  
- Ils sont en laine.

**Choisissez l'expression qui convient.**

**Yukarıdaki konuşmada boş bırakılan yeri aşağıdakilerden hangisi doğru şekilde tamamlar?**

- A) Est-ce que  
B) De quelle  
C) À quoi  
D) En quoi

6. Le participe passé de «offrir» est .....

**Choisissez le mot qui convient.**

**Cümledeki boşluğu aşağıdakilerden hangisi doğru şekilde tamamlar?**

- A) offrait  
B) offre  
C) offrent  
D) offert

7. - .....

- Non, j'ai acheté de la farine.

**Choisissez la question qui convient.**

**Yukarıdaki konuşmada cevabı gerektiren soru aşağıdakilerden hangisidir?**

- A) Avez-vous aimé cette boisson  
B) Qu'est-ce qu'elle a acheté  
C) As-tu acheté du beurre  
D) Combien as-tu payé

8. Je ne suis pas marié; je suis .....

**Choisissez le mot qui convient.**

**Cümlede boş bırakılan yeri aşağıdakilerden hangisi doğru şekilde tamamlar?**

- A) marié  
B) célibataire  
C) optimiste  
D) gaie

9. .... les enfants aiment jouer aux jeux en ligne.

**Choisissez le mot qui convient.**

**Cümledeki boşluğu aşağıdakilerden hangisi doğru şekilde tamamlar?**

- A) Tous  
B) Tout  
C) Toutes  
D) On

10. Le ..... est doux et chaud.

**Choisissez le mot qui convient.**

**Cümledeki boşluğu aşağıdakilerden hangisi doğru şekilde tamamlar?**

- A) velours  
B) nylon  
C) fer  
D) beton

11. - ..... le sac?  
- Il est vert.

**Choisissez l'expression qui convient.**

**Yukarıdaki konuşmada boş bırakılan yeri aşağıdakilerden hangisi doğru şekilde tamamlar?**

- A) Comment s'appelle  
B) De quelle couleur est  
C) Qui est  
D) Que fait

12. J'ai vu ..... même film.

**Choisissez l'expression qui convient.**

**Cümledeki boşluğu aşağıdakilerden hangisi doğru şekilde tamamlar?**

- A) la  
B) les  
C) l'  
D) le

13. .... enfants ne vont pas à l'école.

**Choisissez le mot qui convient.**

**Cümledeki boşluğu aşağıdakilerden hangisi doğru şekilde tamamlar?**

- A) Certaines  
B) Certains  
C) Certain  
D) Certaine

14. - Avez-vous vu ma sœur?  
- Oui, je l'.....

**Choisissez l'expression qui convient.**

**Yukarıdaki konuşmada boş bırakılan yeri aşağıdakilerden hangisi doğru şekilde tamamlar?**

- A) ai vu  
B) ai vue  
C) a vue  
D) a vu

15. .... avons parlé.

**Choisissez le mot qui convient.**

**Cümledeki boşluğu aşağıdakilerden hangisi doğru şekilde tamamlar?**

- A) Vous  
B) Tu  
C) Nous  
D) J'

16. - Vous ..... du thé?  
- Non, je ne veux pas ..... thé.

**Choisissez les mots qui conviennent.**

**Yukarıdaki konuşmada boş bırakılan yerleri aşağıdakilerden hangisi doğru şekilde tamamlar?**

- A) voulez / du  
B) pouvez / de  
C) pouvez / du  
D) voulez / de

17. «Gözleri mavi.»

**Choisissez la traduction qui convient.**

**Yukarıdaki cümlelerin Fransızca karşılığı aşağıdakilerden hangisidir?**

- A) Il a les yeux verts.  
B) Il a les cheveux bleus.  
C) Il a les yeux bleus.  
D) Il a les cheveux roux.

18. Paul mesure 1m50. Pierre mesure 1m90. Paul est .....

**Choisissez le mot qui convient.**

**Cümledeki boşluğu aşağıdakilerden hangisi doğru şekilde tamamlar?**

- A) maigre  
B) gros  
C) court  
D) long

19. «Yarın, müzeyi ziyaret edeceğim.»

**Choisissez la traduction qui convient.**

**Yukarıdaki cümlelerin Fransızca karşılığı aşağıdakilerden hangisidir?**

- A) Demain, je visiterai le musée.  
B) Demain, je le visite.  
C) Hier, j'ai visité le musée.  
D) Hier, je verrai le musée.

20. Elle s'est .....

**Choisissez le mot qui convient.**

**Cümledeki boşluğu aşağıdakilerden hangisi doğru şekilde tamamlar?**

- A) promené  
B) promener  
C) promenée  
D) promène

1. Was ist dein Traumberuf?

**Welche Antwort passt zur obigen Frage?**

**Verilen sorunun cevabı aşağıdakilerden hangisidir?**

- A) Ich möchte Architekt werden.  
 B) Er geht nur zwei Tage in die Berufsschule.  
 C) Das ist eine neue Erfindung.  
 D) Sie schreibt eine Reportage über neue Berufe.

2. ...., würde ich  
 Wirtschaftsberaterin werden.

**Welches ergänzt den obigen Satz?**

**Verilen cümleyi aşağıdakilerden hangisi tamamlar?**

- A) Als ich Erfinderin war  
 B) Wenn ich ein eigenes Büro hätte  
 C) Dieses Schaubild zeigt  
 D) Ein Traumberuf hat jeder

3. .... die Schüler einen  
 Realschulabschluss haben, können Sie einen  
 Beruf .....

**Welche Wörter passen in die obigen  
 Lücken?**

**Cümlede boş bırakılan yerleri  
 aşağıdakilerden hangileri tamamlar?**

- A) Wenn / erlernen  
 B) Wie / erfassen  
 C) Wo / erweitern  
 D) Weil / arbeitest

4. Maria geht ..... Gymnasium.

**Welches Wort passt in die obige Lücke?**

**Cümlede boş bırakılan yeri aşağıdakilerden  
 hangisi doğru şekilde tamamlar?**

- A) in  
 B) aufs  
 C) zu  
 D) über

5. Jeolog bilimsel bir araştırma için taşları  
 kırmaktadır.

**Wie lautet der obige Satz auf Deutsch?**

**Verilen cümlenin Almancası  
 aşağıdakilerden hangisidir?**

- A) Der Geologe schlägt die Steine für eine  
 wissenschaftliche Untersuchung.  
 B) Der Wissenschaftler sucht für seine  
 Untersuchung neue Steine.  
 C) Die Steine hat der Geologe untersucht und  
 wissenschaftlich geforscht.  
 D) Der Geologe braucht für seine  
 wissenschaftliche Untersuchung neue  
 Steine zum Schlagen.

6. Wir möchten Architekt .....

**Welches Wort passt in die obige Lücke?**

**Cümlede boş bırakılan yeri aşağıdakilerden  
 hangisi tamamlar?**

- A) wurden  
 B) wirst  
 C) wurdest  
 D) werden

7. Ich glaube, ..... an vielen  
 Computern.

**Welches ergänzt die Lücke im obigen Satz?**

**Verilen cümleyi aşağıdakilerden hangisi  
 tamamlar?**

- A) alles kann man machen  
 B) sagte der Experte  
 C) es gibt einen weltweiten Bedarf  
 D) die technische Entwicklung

8. In der Zukunft könnte es Computer geben,  
.....

**Welches ergänzt die Lücke im obigen Satz?**

**Verilen cümleyi aşağıdakilerden hangisi tamamlar?**

- A) dass der Hochradfahrer beim Fahren empfindet.  
B) die weniger als 1 Kilo wiegen.  
C) das ist etwas besser als das Fernsehen.  
D) der Menschheit zur Verfügung gestellt hat.

9. Was bedeutet das Wort "Die Entwicklung" auf Türkisch?

**"Die Entwicklung" sözcüğünün Türkçesi aşağıdakilerden hangisidir?**

- A) Gelişme  
B) Eğlence  
C) Sunuş  
D) Anons

10. Was bedeutet das Gegenteil von "Zufriedenheit"?

**"Zufriedenheit" sözcüğünün zıt anlamlısı aşağıdakilerden hangisidir?**

- A) Unerfolg  
B) Missfrieden  
C) Abfolge  
D) Unzufriedenheit

11. Viel / Lärm / Abgase / In / grossen / gibt / es / Städten / und

**Wie kann man mit den obigen Wortgruppen einen vollständigen Satz bilden?**

**Verilen sözcük gruplarıyla kurulabilecek en anlamlı ve doğru cümle aşağıdakilerden hangisidir?**

- A) Gibt es Lärm in grossen Städten und Abgase viel.  
B) In grossen Städten gibt es viel Lärm und Abgase.  
C) Viel Lärm und Abgase in grossen Städten gibt es.  
D) Abgase in grossen Städten gibt es viel Lärm und.

12. Wie lautet das Singular von "Die Katastrophen"?

**"Die Katastrophen" sözcüğünün tekil hali aşağıdakilerden hangisidir?**

- A) Der Katastrophe  
B) Das Katastrophen  
C) Die Katastrophen  
D) Die Katastrophe

13. Das Velotaxi fährt ..... Hamburg ..... in der Innenstadt.

**Welche Wörter passen in die obigen Lücken?**

**Cümlede boş bırakılan yerleri aşağıdakilerden hangileri doğru şekilde tamamlar?**

- A) zu / somit  
B) auf / auch  
C) in / meistens  
D) mit / unter

14. Nein, ich war noch nie in Ankara.

**Welche Frage passt zur obigen Antwort?**

**Verilen cevabı gerektirecek soru aşağıdakilerden hangisidir?**

- A) Wo liegt die Stadt Ankara?  
B) Wie komme ich nach Ankara?  
C) Wer fährt nach Ankara?  
D) Warst du schon mal in Ankara?

15. Heinrich Heine ist ein berühmter deutscher Dichter.

**Welche Frage passt zur obigen Antwort?**

**Verilen cevabı gerektirecek soru aşağıdakilerden hangisidir?**

- A) Was weißt du über Heinrich Heine?  
B) Wo ist die neue Lehrerin?  
C) Wie heisst du?  
D) Wer kann ein Instrument spielen?

16. Auf dem Wegweiser stehen einige Städte und Orte.

**Wie lautet der obige Satz auf Türkisch?**

**Verilen cümlelerin Türkçesi aşağıdakilerden hangisidir?**

- A) Burada birçok şehir ve birkaç önemli yer görebilirsiniz.  
 B) Yol levhası çok işimize yaradı.  
 C) Yol levhasında birkaç şehir ve birkaç yer adı var.  
 D) Buradaki yerlerin haritasını levhada görebilirsiniz.

17. Der Kızılırmak ist ..... in der Türkei.

**Welches Wort passt in die obige Lücke?**

**Cümlede boş bırakılan yeri aşağıdakilerden hangisi tamamlar?**

- A) ein Land  
 B) eine Welt  
 C) ein Fluss  
 D) ein Meer

18. .... Museum kann man ..... Informationen erhalten.

**Welche Wörter passen in die obigen Lücken?**

**Cümlede boş bırakılan yerleri aşağıdakilerden hangileri tamamlar?**

- A) Aus / finden  
 B) Am / kommen  
 C) Im / viele  
 D) Zum / nehmen

19. Von der Hotelterrasse hat man .....

**Welches ergänzt die Lücke im obigen Satz?**

**Verilen cümleyi aşağıdakilerden hangisi tamamlar?**

- A) eine schöne Geschichte hören.  
 B) den schönsten Blick auf das Rheintal.  
 C) die besten Wünsche zu machen.  
 D) einen Felsen gebaut.

20. Ich kenne das deutsche Volkslied!

**Welche Frage passt zur obigen Antwort?**

**Verilen cevabı gerektirecek soru aşağıdakilerden hangisidir?**

- A) Welche Lieder magst du?  
 B) Wer singt diese Lieder?  
 C) Warum singt ihr das Lied "die Loreley"?  
 D) Wer kennt das Loreley-Lied?

1. By the time I arrive there, he .....  
Which of the following completes the sentence above?

Aşağıdakilerden hangisi yukarıdaki cümleyi doğru olarak tamamlar?

- A) will leave  
B) leaves  
C) is leaving  
D) will have left

2. This time tomorrow she ..... to İstanbul.  
Which of the following completes the sentence above?

Aşağıdakilerden hangisi yukarıdaki cümleyi doğru olarak tamamlar?

- A) will be driving  
B) is driving  
C) drives  
D) drove

3. The boss: Will you ..... the report by tomorrow?  
Sonia: Yes, sir.

Which of the following completes the dialogue above?

Aşağıdakilerden hangisi yukarıdaki konuşmayı doğru olarak tamamlar?

- A) have finished  
B) finishing  
C) finishes  
D) finished

4. Don't come early in the morning, I .....  
Which of the following completes the sentence above?

Aşağıdakilerden hangisi yukarıdaki cümleyi doğru olarak tamamlar?

- A) sleep  
B) slept  
C) will be sleeping  
D) will slept

5. Can ..... his house by the end of this week.

Which of the following completes the sentence above?

Aşağıdakilerden hangisi yukarıdaki cümleyi doğru olarak tamamlar?

- A) moving  
B) was moving  
C) will have moved  
D) moved

6. If it snows tomorrow, .....  
Which of the following completes the sentence above?

Aşağıdakilerden hangisi yukarıdaki cümleyi doğru olarak tamamlar?

- A) we are going swimming  
B) we had a picnic by the lake  
C) we will make a snowman  
D) we have bought a new bike

7. If you ..... ill, go to the doctor.  
Which of the following completes the sentence above?

Aşağıdakilerden hangisi yukarıdaki cümleyi doğru olarak tamamlar?

- A) are  
B) be  
C) were  
D) was

8. You smoke so much. ...., I wouldn't smoke.

Which of the following completes the sentence above?

Aşağıdakilerden hangisi yukarıdaki cümleyi doğru olarak tamamlar?

- A) If I were you  
B) If it was easy  
C) If he were young  
D) If she were late

9. If it didn't rain, Jane ..... go for a walk.  
Which of the following completes the sentence above?

Aşağıdakilerden hangisi yukarıdaki cümleyi doğru olarak tamamlar?

- A) will  
B) would  
C) must  
D) might have

10. If they hadn't been on holiday, they ..... to our birthday party.

Which of the following completes the sentence above?

Aşağıdakilerden hangisi yukarıdaki cümleyi doğru olarak tamamlar?

- A) would come  
B) would have come  
C) will come  
D) come

11. .... I see my mother, I feel happy.

**Which of the following completes the sentence above?**

**Aşağıdakilerden hangisi yukarıdaki cümleyi doğru olarak tamamlar?**

- A) While
- B) Whenever
- C) In order to
- D) Where

12. Terry: Why didn't you buy the pink dress?  
Carol: ..... I had already bought one.

**Which of the following completes the dialogue above?**

**Aşağıdakilerden hangisi yukarıdaki konuşmayı doğru olarak tamamlar?**

- A) After
- B) Until
- C) Wherever
- D) Because

13. I won't eat anything ..... Joe comes home.

**Which of the following completes the sentence above?**

**Aşağıdakilerden hangisi yukarıdaki cümleyi doğru olarak tamamlar?**

- A) since
- B) until
- C) in
- D) while

14. Sarah ate a big sandwich ..... she was hungry.

**Which of the following completes the sentence above?**

**Aşağıdakilerden hangisi yukarıdaki cümleyi doğru olarak tamamlar?**

- A) to
- B) in
- C) why
- D) as

15. .... Ali heard the news, he began to cry.

**Which of the following completes the sentence above?**

**Aşağıdakilerden hangisi yukarıdaki cümleyi doğru olarak tamamlar?**

- A) So that
- B) To
- C) As soon as
- D) While

16. English is ..... all over the world.

**Which of the following completes the sentence above?**

**Aşağıdakilerden hangisi yukarıdaki cümleyi doğru olarak tamamlar?**

- A) spoke
- B) speak
- C) has spoken
- D) spoken

17. 'Of Mice and Men' ..... by Steinbeck.

**Which of the following completes the sentence above?**

**Aşağıdakilerden hangisi yukarıdaki cümleyi doğru olarak tamamlar?**

- A) written
- B) is writing
- C) was written
- D) will write

18. Our homework ..... by the teacher.

**Which of the following completes the sentence above?**

**Aşağıdakilerden hangisi yukarıdaki cümleyi doğru olarak tamamlar?**

- A) is checked
- B) checks
- C) has checked
- D) is checking

19. The letters will ..... next week.

**Which of the following completes the sentence above?**

**Aşağıdakilerden hangisi yukarıdaki cümleyi doğru olarak tamamlar?**

- A) posted
- B) post
- C) posting
- D) be posted

20. They will construct a new road.

**Which of the following is the passive voice of the sentence above?**

**Aşağıdakilerden hangisi yukarıdaki cümlelerin edilgen yapıda kurulmuş biçimidir?**

- A) A new road was constructed by them.
- B) A new road will be constructed by them.
- C) A new road is constructed by them.
- D) A new road has been constructed by them.

1. Il est en section scientifique ..... il donne plus d'importance aux Maths.

**Choisissez le mot qui convient.**

**Cümledeki boşluğu aşağıdakilerden hangisi doğru şekilde tamamlar?**

- A) trop  
B) ou  
C) donc  
D) bon

2. C'est l'anniversaire de Julie. Je lui dis: «.....».

**Choisissez l'expression qui convient.**

**Cümledeki boşluğu aşağıdakilerden hangisi doğru şekilde tamamlar?**

- A) Bon anniversaire  
B) Bonne fête  
C) Bon voyage  
D) Bonne nuit

3. Elle n'aime pas la campagne. Elle est ..... la ville.

**Choisissez le mot qui convient.**

**Cümledeki boşluğu aşağıdakilerden hangisi doğru şekilde tamamlar?**

- A) contre  
B) par  
C) pour  
D) avec

4. Isabelle veut ..... à conduire.

**Choisissez le mot qui convient.**

**Cümlede boş bırakılan yeri aşağıdakilerden hangisi doğru şekilde tamamlar?**

- A) arrêter  
B) faire  
C) prendre  
D) apprendre

5. Il peut pleuvoir; n'oubliez pas ..... prendre votre parapluie.

**Choisissez le mot qui convient.**

**Cümledeki boşluğu aşağıdakilerden hangisi doğru şekilde tamamlar?**

- A) en  
B) sans  
C) à  
D) de

6. Il n'y a pas de bruit à la campagne: c'est .....

**Choisissez le mot qui convient.**

**Cümledeki boşluğu aşağıdakilerden hangisi doğru şekilde tamamlar?**

- A) sensible  
B) bruyant  
C) calme  
D) patient

7. Mon ami a de mauvaises notes en littéraires. Il ..... à dire la vérité à ses parents.

**Choisissez le mot qui convient.**

**Cümledeki boşluğu aşağıdakilerden hangisi doğru şekilde tamamlar?**

- A) hésite  
B) obligé  
C) pardonnez  
D) encouragement

8. Connaissez-vous ce musicien ..... est allemand?

**Choisissez le mot qui convient.**

**Cümledeki boşluğu aşağıdakilerden hangisi doğru şekilde tamamlar?**

- A) qui  
B) donc  
C) où  
D) quel

9. fait / choix / avez / votre / vous?  
I II III IV V

**Mettez dans le bon ordre.**

**Yukarıdaki kelimelerin anlamlı ve kurallı bir cümle oluşturan sırası aşağıdakilerin hangisinde doğru olarak verilmiştir?**

- A) V, III, I, IV, II  
B) V, II, IV, III, I  
C) III, IV, V, I, II  
D) III, I, V, IV, II

10. Pierre et Marie sont mariés. Marie est la ..... de Pierre.

**Choisissez le mot qui convient.**

**Cümledeki boşluğu aşağıdakilerden hangisi doğru şekilde tamamlar?**

- A) fille  
B) mari  
C) femme  
D) cousin



11. - Tu vas à Paris?  
- Oui, je/j' ..... vais.

**Choisissez l'expression qui convient.**

**Yukarıdaki konuşmada boş bırakılan yeri aşağıdakilerden hangisi doğru şekilde tamamlar?**

- A) le  
B) en  
C) y  
D) la

12. Pierre dort. Je lui dis : «.....».

**Choisissez l'expression qui convient.**

**Cümledeki boşluğu aşağıdakilerden hangisi doğru şekilde tamamlar?**

- A) Bonne fête  
B) Bonne nuit  
C) Bon voyage  
D) Bon anniversaire

13. Rire c'est mieux ..... pleurer.

**Choisissez le mot/l'expression qui convient.**

**Cümledeki boşluğu aşağıdakilerden hangisi doğru şekilde tamamlar?**

- A) qui  
B) que de  
C) avec  
D) pour le

14. - Tu veux de l'eau?  
- Non, je ne/n' ..... veux pas.

**Choisissez l'expression qui convient.**

**Yukarıdaki konuşmada boş bırakılan yeri aşağıdakilerden hangisi doğru şekilde tamamlar?**

- A) le  
B) y  
C) la  
D) en

15. Si tu vas chez Paul, ..... tes clés.

**Choisissez le mot qui convient.**

**Cümlede boş bırakılan yeri aşağıdakilerden hangisi doğru şekilde tamamlar?**

- A) prenez  
B) pris  
C) prendre  
D) prends

16. .... pense à soi-même.

**Choisissez le mot qui convient.**

**Cümledeki boşluğu aşağıdakilerden hangisi doğru şekilde tamamlar?**

- A) Comme  
B) Chacun  
C) Qui  
D) Toi

17. «Je me suis rappelé de cet homme.»

**Choisissez la traduction qui convient.**

**Yukarıdaki cümlenin Türkçe karşılığı aşağıdakilerden hangisidir?**

- A) Bu adamı hatırlıyorum.  
B) Bu adamı çağırıyorum.  
C) Bu adamı çağırdım  
D) Bu adamı hatırladım.

18. ...., nous sommes allés au concert.

**Choisissez le mot qui convient.**

**Cümledeki boşluğu aşağıdakilerden hangisi doğru şekilde tamamlar?**

- A) Demain  
B) Hier  
C) Le mois prochain  
D) Chacun

19. Le mois prochain, nous ..... en France.

**Choisissez le mot qui convient.**

**Cümledeki boşluğu aşağıdakilerden hangisi doğru şekilde tamamlar?**

- A) ira  
B) irons  
C) allez  
D) avons

20. Elle est en retard ..... un accident sur la route.

**Choisissez le mot qui convient.**

**Cümledeki boşluğu aşağıdakilerden hangisi doğru şekilde tamamlar?**

- A) à cause d'  
B) à l'absence d'  
C) pourquoi  
D) qui

1. Die Post ..... ein Brief für mich.

**Welches Wort passt in die obige Lücke?**

**Cümlede boş bırakılan yeri aşağıdakilerden hangisi doğru şekilde tamamlar?**

- A) steht  
B) findet  
C) bringt  
D) legt

2. Mich? Das weiß ich nicht.

**Welche Frage passt zur obigen Antwort?**

**Verilen cevabı gerektirecek soru aşağıdakilerden hangisidir?**

- A) Haben Sie mich gehört?  
B) Sagen Sie mal, woher kenne ich Sie?  
C) Kommen Sie mit?  
D) Hast du das schon gehört?

3. A: ..... hast du die Bücher gelegt?  
B: Hier ..... den Tisch!

**Welche Wörter ergänzen die Lücken im obigen Dialog?**

**Verilen karşılıklı konuşmada boş bırakılan yerleri aşağıdakilerden hangileri tamamlar?**

- A) Wohin / auf den  
B) Was / in den  
C) Wann / aus dem  
D) Wenn / zu den

4. Ahmet ..... gestern schon um acht im Bett. Er war sehr müde.

**Welches Wort passt in die obige Lücke?**

**Cümlede boş bırakılan yeri aşağıdakilerden hangisi doğru şekilde tamamlar?**

- A) lag  
B) stand  
C) legte  
D) sitzt

5. Samstags ..... er bis zehn Uhr im Bett.

**Welches Wort passt in die obige Lücke?**

**Cümlede boş bırakılan yeri aşağıdakilerden hangisi doğru şekilde tamamlar?**

- A) liegt  
B) stellt  
C) legt  
D) steht

6. Die Frau nimmt ihr Kleid ..... dem Schrank.

**Welches Wort passt in die obige Lücke?**

**Cümlede boş bırakılan yeri aşağıdakilerden hangisi doğru şekilde tamamlar?**

- A) in  
B) zu  
C) an  
D) aus

7. Sivrihisar liegt bei Eskişehir.

**Welche Frage passt zur obigen Antwort?**

**Verilen cevabı gerektirecek soru aşağıdakilerden hangisidir?**

- A) Kommen Sie aus Eskişehir?  
B) Kennen Sie die Leute aus Sivrihisar?  
C) Bei welcher Stadt liegt Sivrihisar?  
D) Wer geht nach Eskişehir?

8. Monika sitzt .....

**Welches ergänzt die Lücke im obigen Satz?**

**Verilen cümleyi aşağıdakilerden hangisi tamamlar?**

- A) ein Stück Kuchen auf ihrem Teller.  
B) im Bett und schlafen.  
C) auf dem Auto und sprechen über Mathematik.  
D) im Wohnzimmer auf der Couch und lernt Englisch.

9. Was ist ein Sprachlehrer?

**Welche Antwort passt zur obigen Frage?**

**Verilen sorunun cevabı aşağıdakilerden hangisidir?**

- A) Jemand, der Sprachen lehrt.
- B) Jemand, der Geschichten erzählt.
- C) Jemand, der gut kocht.
- D) Jemand, der alle Zeitungen liest.

10. Japonca öğrenmek çok zordur.

**Wie lautet der obige Satz auf Deutsch?**

**Verilen cümlenin Almancası aşağıdakilerden hangisidir?**

- A) Die Japaner sind schwere Menschen.
- B) Japan ist sehr weit von hier.
- C) Japanisch lernen ist sehr schwer.
- D) Die Japaner sprechen Japanisch.

11. A: Guten Tag, ich hätte gern ein Buch mit allen deutschen Wörtern!

B: Aha, Sie wollen ein .....

A: Ja, genau! Vielen Dank!

**Welches ergänzt den obigen Dialog?**

**Verilen karşılıklı konuşmayı aşağıdakilerden hangisi tamamlar?**

- A) deutsche Zeitungen!
- B) Beispeisatz!
- C) Taschenspiegel!
- D) deutsches Wörterbuch!

12. Hans wählt mit dem groß..... Schalter sein Programm.

**Welche Endung passt in die obige Lücke?**

**Cümlede boş bırakılan yeri aşağıdaki son eklerden hangisi tamamlar?**

- A) -er
- B) -en
- C) -es
- D) -em

13. Ich hätte gern eine harte Bürste .....

**Welches Wort passt in die obige Lücke?**

**Cümlede boş bırakılan yeri aşağıdakilerden hangisi tamamlar?**

- A) für Händetrocknen.
- B) mit Programm.
- C) im Topf!
- D) zum Zähneputzen!

14. Wie lautet das Adjektiv vom Wort "die Fantastik"?

**"die Fantastik" sözcüğünün sıfat hali aşağıdakilerden hangisidir?**

- A) fantastlich
- B) fantastling
- C) fantastisch
- D) fantastheit

15. volle / gibt / die / Garantie / Firma

**Wie kann man mit den obigen Wortgruppen einen sinnvollen und richtigen Satz bilden?**

**Verilen sözcük gruplarıyla kurulabilecek en anlamlı ve doğru cümle aşağıdakilerden hangisidir?**

- A) Die Garantie gibt volle Firma.
- B) Die Firma gibt volle Garantie.
- C) Garantie die gibt volle Firma.
- D) Volle gibt die Firma Garantie.

16. Wir warteten auf unsere Freunde.

**Wie lautet der obige Satz im Plusquamperfekt?**

**Verilen cümlelerin 3. geçmiş zaman şekli aşağıdakilerden hangisidir?**

- A) Wir hätten auf unsere Freunde warten können.
- B) Wir haben auf unsere Freunde warten wollen.
- C) Wir hatten auf unsere Freunde gewartet.
- D) Wir haben auf unsere Freunde warten müssen.

17. Wir haben gegessen. Wir sind jetzt .....

**Welches Wort passt in die obige Lücke?**

**Cümlede boş bırakılan yeri aşağıdakilerden hangisi doğru şekilde tamamlar?**

- A) hingefallen
- B) vergessen
- C) hungrig
- D) satt

18. Endlich habe ich meinen ..... und kann mir ein Auto kaufen.

**Welches Wort passt in die obige Lücke?**

**Cümlede boş bırakılan yeri aşağıdakilerden hangisi doğru şekilde tamamlar?**

- A) Anruf
- B) Führerschein
- C) Wohnung
- D) Überraschung

19. Ich würde mich sehr ..... Peters Besuch freuen.

**Welches Wort passt in die obige Lücke?**

**Cümlede boş bırakılan yeri aşağıdakilerden hangisi doğru şekilde tamamlar?**

- A) über
- B) zu
- C) an
- D) zum

20. Meine Reise ..... ein paar Wochen dauern.

**Welches Wort passt in die obige Lücke?**

**Cümlede boş bırakılan yeri aşağıdakilerden hangisi doğru olarak tamamlar?**

- A) werde
- B) wird
- C) wirst
- D) werd

## SEÇMELİ İNGİLİZCE 3

A

2015 II.DÖNEM 0103-A

1. A: How is your new computer?  
B: It ..... some problems with the hard drive.

**Which of the following completes the dialogue above?**

**Aşağıdakilerden hangisi yukarıdaki konuşmayı doğru olarak tamamlar?**

- A) has  
B) having  
C) is  
D) have

2. My cat never ..... milk.

**Which of the following completes the sentence above?**

**Aşağıdakilerden hangisi yukarıdaki cümleyi doğru olarak tamamlar?**

- A) drink  
B) will drink  
C) drinks  
D) drinking

3. .... handbag is this here?

**Which of the following completes the sentence above?**

**Aşağıdakilerden hangisi yukarıdaki cümleyi doğru olarak tamamlar?**

- A) Who  
B) Where  
C) Whose  
D) What

4. Jeanne: ..... do you read books?  
Helen: Always.

**Which of the following completes the dialogue above?**

**Aşağıdakilerden hangisi yukarıdaki konuşmayı doğru olarak tamamlar?**

- A) What kind  
B) How often  
C) Who  
D) Where

5. A: ..... glasses of water do you drink a day?  
B: Usually 6 to 10 glasses.

**Which of the following completes the dialogue above?**

**Aşağıdakilerden hangisi yukarıdaki konuşmayı doğru olarak tamamlar?**

- A) What  
B) Who  
C) How many  
D) Which

6. A: ..... cooks at home?  
B: My dad cooks at home. He is good at it.

**Which of the following completes the dialogue above?**

**Aşağıdakilerden hangisi yukarıdaki konuşmayı doğru olarak tamamlar?**

- A) What  
B) Who  
C) Why  
D) When

7. .... İstanbul is one of the most crowded cities in the world?

**Which of the following completes the sentence above?**

**Aşağıdakilerden hangisi yukarıdaki cümleyi doğru olarak tamamlar?**

- A) A  
B) (...)  
C) An  
D) The

8. A: Has your teacher got a busy schedule?  
B: No, .....

**Which of the following completes the dialogue above?**

**Aşağıdakilerden hangisi yukarıdaki konuşmayı doğru olarak tamamlar?**

- A) I haven't  
B) he has  
C) I have  
D) he hasn't

9. A: Is there ..... tomatoes in the fridge?  
B: No there isn't.

**Which of the following completes the dialogue above?**

**Aşağıdakilerden hangisi yukarıdaki konuşmayı doğru olarak tamamlar?**

- A) any  
B) some  
C) a  
D) a little

10. This book is mine, that is ..... over there.

**Which of the following completes the sentence above?**

**Aşağıdakilerden hangisi yukarıdaki cümleyi doğru olarak tamamlar?**

- A) yours  
B) your  
C) you  
D) my

11. Listen! The kids ..... a song about the animals.

**Which of the following completes the sentence above?**

**Aşağıdakilerden hangisi yukarıdaki cümleyi doğru olarak tamamlar?**

- A) sing  
B) sang  
C) singing  
D) are singing

12. That modern house on the corner belongs to ..... but the old one is my aunt's.

**Which of the following completes the sentence above?**

**Aşağıdakilerden hangisi yukarıdaki cümleyi doğru olarak tamamlar?**

- A) my  
B) me  
C) mine  
D) his

13. She doesn't eat ..... chocolate.

**Which of the following completes the sentence above?**

**Aşağıdakilerden hangisi yukarıdaki cümleyi doğru olarak tamamlar?**

- A) few  
B) a little  
C) much  
D) many

14. Terry often ..... lunch out but now she ..... lunch in the office.

**Which of the following completes the sentence above?**

**Aşağıdakilerden hangisi yukarıdaki cümleyi doğru olarak tamamlar?**

- A) eats / is eating  
B) eating / eat  
C) eats / eats  
D) eat / eating

15. They ..... a new house in a few months.

**Which of the following completes the sentence above?**

**Aşağıdakilerden hangisi yukarıdaki cümleyi doğru olarak tamamlar?**

- A) bought  
B) are buy  
C) are go to buy  
D) are going to buy

16. He couldn't pass the test ..... he didn't study enough.

**Which of the following completes the sentence above?**

**Aşağıdakilerden hangisi yukarıdaki cümleyi doğru olarak tamamlar?**

- A) and  
B) or  
C) so  
D) because

17. We couldn't win the competition ..... we didn't get a prize.

**Which of the following completes the sentence above?**

**Aşağıdakilerden hangisi yukarıdaki cümleyi doğru olarak tamamlar?**

- A) because  
B) or  
C) so  
D) and

18. I met a ..... in the shopping center.

**Which of the following completes the sentence above?**

**Aşağıdakilerden hangisi yukarıdaki cümleyi doğru olarak tamamlar?**

- A) lady nice young  
B) young nice lady  
C) lady nice young  
D) nice young lady

19. There is a ..... in our back garden.

**Which of the following completes the sentence above?**

**Aşağıdakilerden hangisi yukarıdaki cümleyi doğru olarak tamamlar?**

- A) big round wooden table  
B) round big wooden table  
C) big wooden round table  
D) big table wooden round

20. Do you want to go to a park ..... a shopping mall?

**Which of the following completes the sentence above?**

**Aşağıdakilerden hangisi yukarıdaki cümleyi doğru olarak tamamlar?**

- A) and  
B) or  
C) so  
D) for

## SEÇMELİ FRANSIZCA 3

A

2015 II.DÖNEM 0103-A

1. Le sport ..... je pratique est le tennis.

**Choisissez le mot qui convient.**

**Cümledeki boşluğu aşağıdakilerden hangisi doğru şekilde tamamlar?**

- A) qui  
B) où  
C) puisque  
D) que

2. Quand il pleut je prends mon .....

**Choisissez le mot qui convient.**

**Cümledeki boşluğu aşağıdakilerden hangisi doğru şekilde tamamlar?**

- A) parapluie  
B) voiture  
C) tableau  
D) bottes

3. «Sa valise est lourde.»

**Choisissez la traduction qui convient.**

**Yukarıdaki cümlelerin Türkçe karşılığı aşağıdakilerden hangisidir?**

- A) Bavulu hafif.  
B) Bavulu büyük.  
C) Bavulu ağır.  
D) Bavulu küçük.

4. Éric : .....

M. Loulou : Non, j'y vais une fois par mois.

**Choisissez la question qui convient.**

**Yukarıdaki konuşmada cevabı gerektiren soru aşağıdakilerden hangisidir?**

- A) Combien de fois allez-vous au cinéma par mois?  
B) On peut aller au cinéma ce soir?  
C) Vous allez souvent au cinéma?  
D) Etes-vous allé au cinéma la semaine dernière?

5. - Tu attends ..... longtemps?  
- Oh, ça fait 20 minutes.

**Choisissez le mot qui convient.**

**Cümledeki boşluğu aşağıdakilerden hangisi doğru şekilde tamamlar?**

- A) quand  
B) depuis  
C) combien  
D) combien de temps

6. I. Pierre est étudiant à la Sorbonne.  
II. Il va devenir avocat.  
III. C'est une université célèbre.  
IV. Il lit donc beaucoup de livres.

**Trouvez la phrase qui ne convient pas.**

**Cümleler sırasıyla okunduğunda, anlam bütünlüğünü bozan cümleyi bulunuz.**

- A) I  
B) II  
C) III  
D) IV

7. Je ..... conseille d'acheter cette cravate.

**Choisissez le mot qui convient.**

**Cümledeki boşluğu aşağıdakilerden hangisi doğru şekilde tamamlar?**

- A) suis  
B) le  
C) la  
D) vous

8. - Je n'aime ..... les bonbons, ..... le chocolat.

**Choisissez les mots qui conviennent.**

**Cümledeki boşlukları aşağıdakilerden hangisi doğru şekilde tamamlar?**

- A) ni / ne  
B) ni / ni  
C) ne / ni  
D) ne / pas

9. - Est-ce que tu as téléphoné à Jean?  
- Non, je ne ..... ai pas téléphoné.

**Choisissez le mot qui convient.**

**Yukarıdaki konuşmada boş bırakılan yeri aşağıdakilerden hangisi doğru şekilde tamamlar?**

- A) leur  
B) le  
C) lui  
D) la

10. Est-ce que tu peux .....

**Choisissez le mot qui convient.**

**Yukarıdaki cümlede boş bırakılan yeri aşağıdakilerden hangisi doğru şekilde tamamlar?**

- A) jouer  
B) joué  
C) jouait  
D) joue

11. Regardez ces roses. Comment ..... trouvez-vous?

**Choisissez le mot qui convient.**

**Cümledeki boşluğu aşağıdakilerden hangisi doğru şekilde tamamlar?**

- A) le  
B) y  
C) la  
D) les

12. Marc : .....  
Madeline : Oui, je vais en acheter.

**Choisissez la question qui convient.**

**Yukarıdaki konuşmada cevabı gerektiren soru aşağıdakilerden hangisidir?**

- A) Tu vas acheter de la viande?  
B) Tu prends du thé?  
C) Tu as acheté cette voiture?  
D) Est-ce que tu as acheté cette maison?

13. C'est moi qui ..... cassé le vase.

**Choisissez le mot qui convient.**

**Yukarıdaki cümlede boş bırakılan yeri aşağıdakilerden hangisi doğru şekilde tamamlar?**

- A) as  
B) a  
C) est  
D) ai

14. C'est une poupée ..... marche.

**Choisissez le mot qui convient.**

**Cümledeki boşluğu aşağıdakilerden hangisi doğru şekilde tamamlar?**

- A) qui  
B) que  
C) et  
D) ce qui

15. «Ne tür müzikten hoşlanırsınız?»

**Choisissez la traduction qui convient.**

**Yukarıdaki cümlelerin Fransızca karşılığı aşağıdakilerden hangisidir?**

- A) Quel genre de musique aimez-vous?  
B) Quelle musique préférez-vous?  
C) Quelle musique écoutez-vous?  
D) Quel genre de musique faites-vous?

16. Pierre : Tu connais Marie?  
Paul : Non, .....  
Pierre : Ah bon!  
Paul : .....?  
Pierre : C'est ma cousine.

**Choisissez les expressions qui conviennent.**

**Yukarıdaki konuşmada boş bırakılan yerleri aşağıdakilerden hangisi doğru şekilde tamamlar?**

- A) je ne la connais pas / C'est quoi  
B) je ne la connais pas / C'est qui  
C) je ne le connais pas / C'est quand  
D) je la connais / C'est pourquoi

17. .... elle triste, Noémie pleure.

**Choisissez le mot qui convient.**

**Cümledeki boşluğu aşağıdakilerden hangisi doğru şekilde tamamlar?**

- A) Car  
B) Mais  
C) Comme  
D) Comment

18. La voiture a été volée ..... un voleur.

**Choisissez le mot/l'expression qui convient.**

**Cümledeki boşluğu aşağıdakilerden hangisi doğru şekilde tamamlar?**

- A) de  
B) si  
C) en  
D) par

19. - Qui veut sa voiture?  
- C'est moi qui .....

**Choisissez l'expression qui convient.**

**Yukarıdaki konuşmada boş bırakılan yeri aşağıdakilerden hangisi doğru şekilde tamamlar?**

- A) le veux  
B) la veux  
C) la veut  
D) le veut

20. .... nous finissons nos devoirs, nous allons dehors.

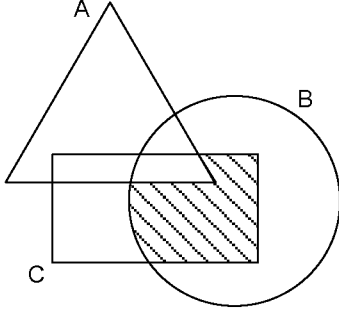
**Choisissez le mot qui convient.**

**Cümledeki boşluğu aşağıdakilerden hangisi doğru şekilde tamamlar?**

- A) Depuis que  
B) Dès que  
C) C'est qui  
D) Parce que



1.

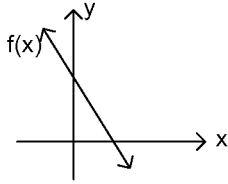


Şekildeki taralı küme aşağıdakilerden hangisidir?

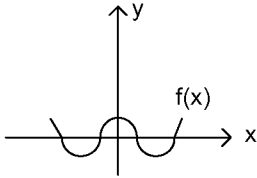
- A)  $A \cup (B \setminus C)$
- B)  $B \cap (C \setminus A)$
- C)  $(A \cup B) \cap (B \cup C)$
- D)  $B \cap (A \setminus C)$

2. Aşağıda grafiği verilen ifadelerden hangisi fonksiyon olamaz?

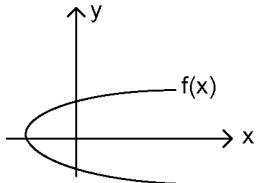
A)



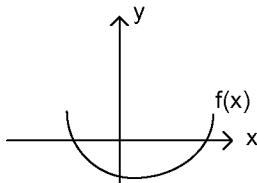
B)



C)



D)



3.  $(-\frac{1}{2})^{-3}$  ifadesinin değeri kaçtır?

- A) -8
- B)  $-\frac{1}{8}$
- C)  $\frac{1}{8}$
- D) 8

4.  $(-1)^4(-2^0)(-3)^1$  işleminin sonucu kaçtır?

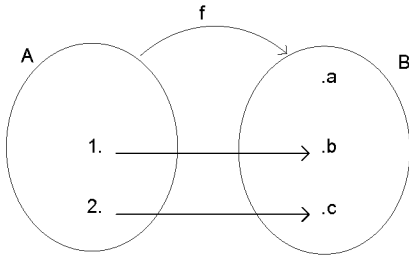
- A) -3
- B) 0
- C) 1
- D) 3

5. A ve B iki küme,  $n(A \cup B) = 27$ ,  $n(A \cap B) = 1$  ve  $n(B) = 23$  ise,  $n(A)$  kaçtır?

- A) 3
- B) 4
- C) 5
- D) 6

6.  $f: \mathbb{R} \rightarrow \mathbb{R}$ ,  $f(2x-1) = 3x+4$  olduğuna göre,  $f(5)$  kaçtır?

- A) 13
- B) 15
- C) 17
- D) 19

7.  $f:A \rightarrow B$ ,

Yukarıda verilenlere göre,  $f$  fonksiyonunun görüntü kümesi aşağıdakilerden hangisidir?

- A)  $\{1,2\}$
- B)  $\{a,b,c\}$
- C)  $\{b,c\}$
- D)  $\{1,2,b,c\}$

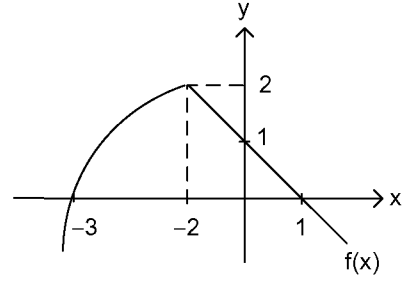
8. Aynı kapasitedeki 9 işçi bir halyı 4 günde dokursa, bu işçilerin 6 sı aynı halyı kaç günde dokuyabilir?

- A) 6
- B) 7
- C) 8
- D) 9

9. Aşağıdaki sayılardan hangisinin çarpma işlemine göre tersi yoktur?

- A) -1
- B) 0
- C) 1
- D) 2

10.



Yukarıdaki şekilde  $f(x)$  fonksiyonunun grafiği verilmiştir.

Buna göre,  $\frac{f(-3) - f(1) + f(0)}{f(-2)}$  işleminin sonucu kaçtır?

- A)  $\frac{1}{2}$
- B) 1
- C)  $\frac{3}{2}$
- D) 2

11.  $8x+45 \geq 12x+15$  eşitsizliğini sağlayan  $x$  reel sayılarının tanım aralığı aşağıdakilerden hangisidir?

- A)  $(-\infty, 15)$
- B)  $(-\infty, \frac{15}{2}]$
- C)  $(-\infty, 3]$
- D)  $(-15, 3]$

12.  $(x-2)^2=9$  denkleminin çözüm kümesi aşağıdakilerden hangisidir?

- A)  $\{5\}$
- B)  $\{11\}$
- C)  $\{5,7\}$
- D)  $\{-1,5\}$

13.  $|x+2|=7$  denkleminin çözüm kümesi aşağıdakilerden hangisidir?

- A)  $\{-5,5\}$
- B)  $\{-9,5\}$
- C)  $\{5\}$
- D) R

14.  $A=\{0,1,2\}$  olmak üzere,  $f:B \rightarrow A$  tanımlı bire-bir ve örten bir fonksiyondur.

$f(x)=x-3$  kuralı ile verildiğine göre, B kümesi aşağıdakilerden hangisidir?

- A)  $\{-3,-2,-1\}$
- B)  $\{1,2,3\}$
- C)  $\{-3,3\}$
- D)  $\{3,4,5\}$

15.  $K= \{x \mid |x+4| < 3 \text{ ve } x \in \mathbb{N}\}$  kümesinin liste yöntemi ile gösterimi aşağıdakilerden hangisidir?

- A)  $\{-6, -5, -4, -3, -2\}$
- B)  $\{3, 4\}$
- C)  $\{3, 4, 7\}$
- D)  $\emptyset$

16.  $K= \{a, b, 4, 5\}$  kümesinin kaç tane alt kümesi vardır?

- A) 16
- B) 20
- C) 28
- D) 32

17.  $2x-y=5$   
 $x-2y=7$

Denklemler sisteminin çözüm kümesi aşağıdakilerden hangisidir?

- A) (3,1)
- B) (9,1)
- C) (2,-1)
- D) (1,-3)

18.  $(3x+2, y-x)=(-4,5)$  olduğuna göre  $(x,y)$  ikilisi aşağıdakilerden hangisidir?

- A) (-2,7)
- B) (-2,3)
- C) (2,7)
- D) (-2,2)

19.  $f:\mathbb{R} \rightarrow \mathbb{R}$ ,  $f(x)= 2x-3$  ise,  $f(x-1)$  değeri aşağıdakilerden hangisidir?

- A)  $3x-2$
- B)  $2x-4$
- C)  $2x-5$
- D)  $3x-4$

20.  $\sqrt{1,21} + \sqrt{0,04} - \sqrt{0,81}$  işleminin sonucu aşağıdakilerden hangisidir?

- A) 0,4
- B) 0,5
- C) 0,6
- D) 0,7

## SINAVDA UYGULANACAK KURALLAR

1. Sınavın **ilk 30 dakikası** ve **son 5 dakikası** içinde, sınavınızı tamamlasanız bile salondan çıkamazsınız. Herhangi bir nedenle salondan çıktığınız takdirde, sınava devam etmenize izin verilmez.
2. Sınavda hesap makinesi kullanabilirsiniz. Ancak, kullanacağınız makinede alfabetik tuş takımı (A, B, C, ...) ve program yapılmasına, saklanmasına, çalıştırılmasına imkân veren EXE, STORE, RUN vb. tuşlar bulunamaz.
3. Kâğıt, kitap, defter, not vb. dokümanlar; pergel, açılöçer, cetvel vb. araçlar; cep telefonu, bilgisayar, tablet, telsiz, kamera vb. iletişim, depolama, kayıt ve veri aktarma cihazları; ruhsatlı veya resmi amaçlı olsa bile silah ve silah yerine geçebilecek nesnelere ile sınava girmek kesinlikle yasaktır.
4. Sınav süresince görevlilerle konuşmak, görevlilere soru sormak yasaktır. Aynı şekilde görevlilerin de öğrencilerle yakından ve alçak sesle konuşmaları yasaktır. Gerekli durumlarda görevliler yerinizi değiştirebilir.
5. Size verilen cevap kâğıdının üzerindeki TCKN, ad, soyadı, bilgilerini kontrol ediniz, üzerindeki ilgili alanları doldurarak imzalayınız. Bu bilgiler size ait değilse, görevlileri uyararak size ait cevap kâğıdını isteyiniz. Başka öğrenciye ait cevap kâğıdı kullanan öğrencilerin o oturumdaki sınavları geçersiz sayılır.
6. Cevap kâğıdı üzerine test grubunu (kitapçık türünü) (A, B, C, D) kodlamayan veya birden fazla kodlama yapan öğrencilerin sınavları geçersiz sayılır.
7. Cevap kâğıdınıza yazacağınız her türlü yazı ve yapacağınız işaretlemeler için koyu yazan siyah kurşun kalem kullanmalısınız. Siyah kurşun kalem dışında farklı bir kalem (tükenmez, mürekkepli ya da renkli vb.) kullanan öğrencilerin sınavları geçersiz sayılır.
8. **Aşağıdaki durumlarda sınav görevlileri tarafından Bireysel Sınav İptal Tutanağı düzenlenir ve ilgili öğrencilerin o oturumdaki sınavları geçersiz sayılır:**
  - a) Sınav kurallarına ve sınav görevlilerinin uyarılarına uymamak, sınav düzenini bozmak,
  - b) Kâğıt, kitap, defter, not vb. dokümanları; pergel, açılöçer, cetvel vb. araçları; cep telefonu, bilgisayar, tablet, telsiz, kamera vb. iletişim, depolama, kayıt ve veri aktarma cihazlarını; ruhsatlı veya resmi amaçlı olsa bile silah ve silah yerine geçebilecek nesnelere yanında bulundurmamak,
  - c) Alfabetik tuş takımı (A, B, C, ...) ve program yapılmasına, saklanmasına, çalıştırılmasına imkân veren EXE, STORE, RUN vb. tuşlar bulunan hesap makineleri kullanmak,
  - d) Sınav sırasında kalem, silgi vb. araç-gereç paylaşımında bulunmak,
  - e) Cevapları, cevap kâğıdı dışında bir yere yazmak ve sınav salonundan dışarı çıkarmak,
  - f) Resmi kıyafetle (kıtalarından izinli er ve erbaşlar haricinde) sınava girmek,
  - g) Sınava girebilmek için gerekli belgeleri eksik olduğu halde sınava katılıp, cevap kâğıdında işaretleme yapmak,
  - h) Sınav görevlileri tarafından öğrencinin kimliğinden şüphe duyulması,
  - i) Cevap kâğıdını ve/veya soru kitapçığını sınav görevlilerine eksiksiz ve sağlam bir şekilde teslim etmemek, sınav salonu dışına çıkarmak.
9. Kopya çekmek, vermek ya da çekilmesine yardımcı olmak vb. eylemlerde bulunan öğrenciler hakkında **Bireysel Sınav İptal Tutanağı** düzenlenir, o oturumdaki sınavları geçersiz sayılır ve kopya olayının gerçekleştiği sınav döneminde izleyen ilk sınav döneminde hiçbir dersin sınavına **giremezler**.
10. Cevap kâğıdını ve/veya soru kitapçığını yırtmak, başka bir öğrencinin yerine sınava girmek ya da kendisi yerine başka birini sınava sokmak eylemlerinden herhangi birini gerçekleştiren öğrenciler hakkında **Bireysel Sınav İptal Tutanağı** tutulur, o oturumdaki sınavları geçersiz sayılır ve haklarında ilgili Fakülte tarafından disiplin **soruşturması** açılır.
11. Sınav başlamadan önce Sınav Giriş Belgenizi, Öğrenci Kimlik Kartınızı (veya Öğrenci Tanıtım Kartı veya Sınavda Geçerli Öğrenci Kimlik Belgesi), Fotoğraflı ve Onaylı Kimlik Belgenizi sıranızın üzerine bırakınız.
12. Soru kitapçığındaki her bir derse ait testi cevaplamanız için verilen süre 30 dakikadır.
13. Soru kitapçığınızı aldığınızda sayfalarına hızlıca bakarak hatalı ya da eksik baskı olup olmadığını kontrol ediniz. Hata/eksik olması durumunda kitapçığının değiştirilmesi için derhâl Salon Başkanına başvurunuz. Sınav görevlileri sınavın başladığını belirtmeden kitapçığınızı tekrar açmayınız.
14. Soru kitapçığındaki ilgili alanlara ad, soyadı, TCKN, sınav salon no, sıra no bilgilerinizi eksiksiz doldurarak imzanızı atınız. Soru kitapçığının sayfalarındaki boş yerleri müsvedde amacıyla kullanabilirsiniz.
15. Cevap kâğıdınızda belirtilen kitapçık kodu ile soru kitapçığının kodunu karşılaştırınız. Aynı değilse, sınav görevlilerine durumu bildirerek doğru kitapçığın verilmesini talep ediniz.
16. Cevaplarınızı, cevap kâğıdında ilgili ders için ayrılmış olan alana, cevap yerinin dışına taşırmadan işaretleyiniz. Soru kitapçığı üzerinde yapılan işaretlemeler değerlendirmeye alınmayacaktır.
17. Cevap kâğıdı üzerinde değişiklik yapmak istediğinizde, iz bırakmayan bir silgi kullanınız. Cevap kâğıdınızı buruşturmayınız, katlamayınız ve üzerine gereksiz hiçbir işaret koymayınız.
18. Yanlış cevaplarınız dikkate alınmayacaktır. Bu nedenle cevapsız soru bırakmamanız yararınıza olacaktır.
19. Her sorunun tek bir doğru cevabı vardır. Bir soru için birden çok cevabı işaretlerseniz, o soruyu yanlış cevaplamış sayılacaksınız.
20. Soruların ait olduğu derslerin içeriklerinde, basımdan sonra değişiklik yapılmış olabilir. Bir sorunun cevabı sonraki düzenlemelerle değişmiş olsa bile, o soruyu ders kitabınızda verilen bilgileri dikkate alarak cevaplayınız.
21. Sınav bitiminde, cevap kâğıdınızı ve soru kitapçığınızı salon görevlilerine eksiksiz biçimde teslim ediniz. Sınav bittikten sonra gönderilen cevap kâğıtları dikkate alınmayacaktır.

**SINAV KURALLARINA UYDUĞUNUZ İÇİN TEŞEKKÜR EDER, SINAVINIZDA BAŞARILAR DİLERİZ.**