



ANADOLU ÜNİVERSİTESİ
AÇIKÖĞRETİM FAKÜLTESİ
BA - AÇIKÖĞRETİM OKULLARI

T.C. MİLLİ EĞİTİM BAKANLIĞI
Hayat Boyu Öğrenme Genel Müdürlüğü
AÇIK ÖĞRETİM LİSESİ – BATI AVRUPA PROGRAMI
2014-2015 ÖĞRETİM YILI II. DÖNEM SINAVI
DÖRDÜNCÜ OTURUM – Pazar 13:00
TEST GRUBUNUZ

A 0104

CEVAP KÂĞIDINIZA İŞARETLEMİYİ UNUTMAYINIZ.

ÖĞRENCİNİN

SOYADI :

ADI :

TC KİMLİK NO / ÖĞRENCİ NO :

SINAV SALON NO: SIRA NO:

İMZA:.....

Sınavla ilgili tüm kuralları okudum, anladım, kabul ediyorum.

SINAV İÇERİĞİ

Testin Adı	Soru Sayısı	Sayfa No	Testin Adı	Soru Sayısı	Sayfa No
DİN KÜLTÜRÜ VE AHLAK BİLGİSİ 3	20	2	SAGLIK BİLGİSİ 1	20	34
DİN KÜLTÜRÜ VE AHLAK BİLGİSİ 6	20	4	TRAFİK VE İLK YARDIM BİLGİSİ 1	20	36
TARİH 5	20	6	TRAFİK VE İLK YARDIM BİLGİSİ 2	20	38
COĞRAFYA 3	20	8	GEOMETRİ 8	20	40
COĞRAFYA 5	20	10	SEÇMELİ TARİH 3	20	43
COĞRAFYA 8	20	12	HZ. MUHAMMED'İN HAYATI 1	20	45
MATEMATİK 5	20	15	MATEMATİK 6	20	47
SOSYOLOJİ 1	20	18	SEÇMELİ DİL VE ANLATIM 8	20	50
DİL VE ANLATIM 4	20	20	SEÇMELİ ALMANCA 4	20	52
TÜRK EDEBİYATI 7	20	23	SEÇMELİ İNGİLİZCE 4	20	55
KİMYA 4	20	25	SEÇMELİ FRANSIZCA 4	20	57
BIYOLOJİ 8	20	28	SEÇMELİ ALMANCA 7	20	59
MANTIK 2	20	30	SEÇMELİ İNGİLİZCE 7	20	62
SANAT TARİHİ 2	20	32	SEÇMELİ FRANSIZCA 7	20	65

SINAVDA UYGULANACAK ÖZEL KURALLAR

1. Bu kitapçıktaki yer alan her bir test için cevaplama süresi **30** dakika, toplam süre **150** dakikadır.
2. Adaylar, sınavın ilk 30 dakikası ve son 5 dakikası içinde, sınavlarını tamamlasalar bile salonu terk edemezler. Sınavın başlamasını izleyen ilk 15 dakikadan sonra hiçbir aday sınava alınmaz.
3. Yanlış cevaplarınız dikkate alınmayacaktır. Bu nedenle kitapçıktaki tüm sorular için size doğru gelen seçeneği işaretleyerek cevapsız soru bırakmamanız yararınıza olacaktır.
4. Sınavda hesap makinesi kullanabilirsiniz. Ancak, kullanacağınız makinede alfabetik tuş takımı (A, B, C, ...) ve program yapılmasına, saklanmasına, çalıştırılmasına imkân veren EXE, STORE, RUN vb. tuşlar bulunamaz.

“Sınavda Uygulanacak Genel Kurallar” soru kitapçığının arka sayfasında yer almaktadır. Bu kuralları da mutlaka dikkatlice okuyunuz.

Anadolu Üniversitesi tarafından hazırlanmış olan bu testlerin her hakkı saklıdır. Hangi amaçla olursa olsun, testlerin tamamının veya bir kısmının Anadolu Üniversitesi'nin yazılı izni olmadan kopya edilmesi, fotoğraflarının çekilmesi, herhangi bir yolla çoğaltılması, yayımlanması ya da kullanılması yasaktır. Bu yasağa uymayanlar gerekli cezai sorumluluğu ve testlerin hazırlanmasındaki mali külfeti peşinen kabullenmiş sayılır.

1. Okunan Kur'anı Kerim'i dinlemek aşağıdakilerden hangisine bir örnektir?

- A) Farz
- B) Vacip
- C) Sünnet
- D) Mubah

2. Temel iman esasları kaç tanedir?

- A) 1
- B) 2
- C) 4
- D) 6

3. İmandan sonra yapılması gereken ilk ve en önemli farz aşağıdakilerden hangisidir?

- A) Oruç tutmak
- B) Hacca gitmek
- C) Namaz kılmak
- D) Zekat vermek

4. Kur'an okumak aşağıdakilerden hangisine bir örnektir?

- A) Sünnet
- B) Farz
- C) Vacip
- D) Mubah

5. Kur'an-ı Kerim'de kaç peygamberin adı geçmektedir?

- A) 13
- B) 25
- C) 37
- D) 48

6. Aşağıdakilerden hangisi dört büyük melekten biri değildir?

- A) Mikâil
- B) Azrail
- C) Münker ve Nekir
- D) İsrail

7. Kur'an-ı Kerim'de kaç ayet vardır?

- A) 2222
- B) 3300
- C) 4444
- D) 6666

8. Kendisine kitap gönderilen peygamberlere ne ad verilir?

- A) Nebi
- B) Veli
- C) Resul
- D) Sahabe

9. Aşağıdakilerden hangisi Hz. Muhammed'in sıfatlarından biri olan "günah işlemekten korunmuş olmak" anlamına gelen kavramdır?

- A) Sıdk
- B) Tebliğ
- C) Emanet
- D) İsmet

10. "Sırat-ı Müstakim" in kelime anlamı nedir?

- A) Doğru yol
- B) Güzel ahlâk
- C) Müjdeli haber
- D) Allah'ın birliği

11. Peygamberlerin en önemli görevi aşağıdakilerden hangisidir?

- A) İnsanlara bilgi ve öğüt vermek
- B) Allah'ın sıfatlarını insanlara anlatmak
- C) İnsanları ibadete çağırarak
- D) Allah'tan aldığı vahyi olduğu gibi insanlara tebliğ etmek

12. Aşağıdakilerden hangisi namaza hazırlık şartlarından biri değildir?

- A) Abdest almak
- B) Ayakta durmak
- C) Örtünmek
- D) Kibleye dönmek

13. Allah'ın Hz. Davut'a göndermiş olduğu kutsal kitap aşağıdakilerden hangisidir?

- A) İncil
- B) Tevrat
- C) Kur'an
- D) Zebur

14. Aşağıdakilerden hangisi Allah'ın Subuti sıfatlarından biri değildir?

- A) Semi
- B) Basar
- C) Beka
- D) Tekvin

15. Aşağıdakilerden hangisi Kur'an okunurken dikkat edilmesi gerekenlerden biri değildir?

- A) Harfleri düzgün çıkarmak
- B) Ezberden okunmak
- C) Kelimeleri doğru okumak
- D) Tecvit kurallarına uymak

16. Aşağıdakilerden hangisi Kur'an-ı Kerimin indiriliş amaçlarından biri değildir?

- A) Bütün insanların İslam'ın şartlarına uymasını sağlamak
- B) Bütün insanları aydınlatmak
- C) İnsanlara doğru bilgi vermek
- D) İnsanlara doğru inanç ve doğru davranış kazandırmak

17. Aşağıdakilerden hangisi Allah'ın zati sıfatlarından biridir?

- A) Hayat
- B) Beka
- C) İlim
- D) İrade

18. Allah'ın var ve bir olduğuna inanmaya ne ad verilir?

- A) Tekvin inancı
- B) Nübüvvet inancı
- C) Tevhit inancı
- D) Mahşer inancı

19. Büyükbaş hayvanlarda zekât oranı kaçtır?

- A) Otuzda bir
- B) Yirmi beşte bir
- C) Yirmide bir
- D) Onda bir

20. Aşağıdakilerden hangisi peygamberlerin ortak özelliklerinden biri değildir?

- A) Güvenilir olması
- B) Aceleci olması
- C) Çok akıllı ve anlayışlı olması
- D) Doğru olması

1. Diyanet İşleri Başkanlığı ile ilgili aşağıdaki ifadelerden hangisi yanlıştır?

- A) Diyanet İşleri Başkanlığı, her türlü siyasi görüş ve düşünceden uzak durmaktadır.
- B) Diyanet İşleri Başkanlığı özel idare içinde yer alır.
- C) İslam dini ile ilgili hizmetleri yürütmekle görevli kamu kuruluşudur.
- D) Diyanet, yurt içinde ve dışında din hizmeti sunan özel ve resmi kuruluşların faaliyetlerini değerlendirir.

2. Aşağıdakilerden hangisi bir din görevlisi değildir?

- A) Vaiz
- B) Müftü
- C) Öğretmen
- D) İmam-Hatip

3. Aşağıdakilerden hangisi Diyanet İşleri Başkanlığı'nın dini yayınlarının temel amaçlarından biri değildir?

- A) Toplumun din konusunda bilgilendirmek
- B) Toplumdaki bireylere okuma alışkanlığı kazandırmak
- C) Dini, esas kaynaklarından doğru bir şekilde öğretmek
- D) Hurafe ve yanlış inançlardan halkı korumak

4. Diyanet İşleri Başkanlığının en yüksek karar ve danışma organı olup, dini soruları yanıtladığı, dini konularda inceleme ve araştırma faaliyetlerinde bulunan birim aşağıdakilerden hangisidir?

- A) Hac Dairesi
- B) Din İşleri Yüksek Kurulu
- C) Din Hizmetleri Dairesi
- D) Mushaf İnceleme Kurulu

5. Aşağıdakilerden hangisi dinin de etkisiyle ortaya çıkan mimari eserlerden biri değildir?

- A) Medrese
- B) Külliye
- C) Cami
- D) Naat

6. Görevli oldukları il ve ilçelerdeki dini hizmetlerin sağlıklı yürütülmesinden ve diğer din görevlilerinin verimli çalışmasından aşağıdakilerden hangisi sorumludur?

- A) Vaiz
- B) Din İşleri Yüksek Kurulu Başkanı
- C) İmam-Hatip
- D) Müftü

7. Türkiye'de Diyanet İşleri Başkanlığı aşağıdakilerden hangisine bağlı olarak çalışır?

- A) Cumhurbaşkanlığı
- B) Başbakanlık
- C) İçişleri Bakanlığı
- D) Milli Eğitim Bakanlığı

8. Hz. Peygamberi sekiz yaşından itibaren evinde büyüten, himaye eden kişi aşağıdakilerden hangisidir?

- A) Ebu Talip
- B) Hz. Ebubekir
- C) Ahmet bin Hanbel
- D) Ebu Davud

9. Namaz vakitleri geldiğinde ezan okuyan, kamet getiren, caminin temizliği ve bakımı gibi görevlerde bulunan din görevlisi aşağıdakilerden hangisidir?

- A) Müezzin
- B) Cemaat
- C) Vaiz
- D) İmam

10. Aşağıdakilerden hangisi Süleyman Çelebinin Mevlididir?

- A) Mesnevi
- B) Divan-ı Hikmet
- C) Vesilatün Necat
- D) Divan-ı Lugat-i Türk

11. Aşağıdakilerden hangisi tasavvuf edebiyatının önde gelen isimlerinden biri değildir?

- A) Hacı Bayram Veli
- B) Yunus Emre
- C) İbn-i Sina
- D) Hoca Ahmet Yesevi

12. Allah'ın varlığını ve birliğini ifade eden edebi eserlere ne ad verilir?

- A) Münacat
- B) Tevhit
- C) Naat
- D) Methiye

13. Aşağıdakilerden hangisi divan edebiyatının meşhur temsilcilerinden biri değildir?

- A) Nabi
- B) Nedim
- C) Baki
- D) Sami

14. Aşağıdakilerden hangisi Osmanlı coğrafyasında hayır yapma anlayışıyla yayılan eserlerden biri değildir?

- A) Mescit
- B) Külliye
- C) Sebiller
- D) Kaside

15. Aşağıdakilerden hangisi Din İşleri Yüksek Kurulu'nun görevlerinden biri değildir?

- A) Dini konularda araştırmalar yapmak
- B) Din şurası düzenlenmesi ile ilgili çalışmalar yürütmek
- C) Yurt içinde ve dışında İslam dini ile ilgili ilmi faaliyetleri değerlendirmek
- D) Yaygın din eğitimi programlamak

16. Aşağıdakilerden hangisi ünlü Türk müzehhiplerinden biridir?

- A) Yusuf Mısri
- B) Farabi
- C) Şeyh Hamdullah Çelebi
- D) Levni

17. Soyca veya evlilik sonucu aralarında bağ bulunanlardan her birine ne ad verilir?

- A) Hisım
- B) Hasım
- C) Dost
- D) Yaren

18. Hoca Ahmet Yesevi, Yunus Emre, Mevlana, Hacı Bektaş-ı Veli gibi kişilerle başlayan ve günümüze kadar devam eden edebiyat türü aşağıdakilerden hangisidir?

- A) Kaside
- B) Tezhip
- C) Tasavvuf
- D) Naat

19. İlk Diyanet İşleri Reisi aşağıdakilerden hangisidir?

- A) Mehmet Rıfat Börekçi
- B) Mehmet Akif Ersoy
- C) Mehmet Görmez
- D) M. Esad Coşan

20. Evlilik ile ilgili aşağıdaki ifadelerden hangisi yanlıştır?

- A) Doğal bir ihtiyaçtır.
- B) Çoğalma ve neslin devam etmesinin bir şartıdır.
- C) Hz. Muhammed'le başlayan evlilik günümüze kadar varlığını devam ettirmiştir.
- D) Her toplum evlenmeyi kendi inanç ve kültürüne göre belirler.

1. İnsanlığa mal olmuş, bütün insanlık tarafından beğenilen ve benimsenen ortak değerlere ne ad verilir?
 - A) Kanun
 - B) Sagu
 - C) Medeniyet
 - D) Kurgan
2. Aşağıdakilerden hangisi Orta Asya Türk göçlerinin sonuçlarından biri değildir?
 - A) Kavimler Göçü gibi dünya tarihine yön veren önemli olaylara zemin hazırlamıştır.
 - B) Türk tarihinin belli bir bölgede bir bütün halinde incelenmesini kolaylaştırmıştır.
 - C) Türk göçleri, Asya ile Avrupa'nın siyasi ve kültürel yapısında önemli değişikliklere neden olmuştur.
 - D) Türk toplulukların göç ettikleri bölgelerde devletler kurmaları Türk kültürünün yayılmasına neden olmuştur.
3. İskitler ile ilgili aşağıdaki ifadelerden hangisi yanlıştır?
 - A) İskitler ata binmekte çok başarılıydılar.
 - B) Üzengi ilk defa İskitler tarafından kullanılmıştır.
 - C) İskitlerde tek tanrılı bir din anlayışı vardı.
 - D) İskitler maden işlemekte ustaydılar.
4. Büyük Hun Devleti'nin bilinen ilk hükümdarı kimdir?
 - A) Mete
 - B) Ki-Ok
 - C) Kün-Çin
 - D) Teoman
5. Kök Türkler en güçlü zamanlarını hangi hükümdar zamanında yaşamışlardır?
 - A) Bumin Kağan
 - B) Ko-lo Kağan
 - C) Tapo Kağan
 - D) Mukan Kağan
6. Orta Asya'da Büyük Hun Devleti'nden sonra kurulan ikinci büyük Türk devleti aşağıdakilerden hangisidir?
 - A) Uygurlar
 - B) Kök Türkler
 - C) Hazarlar
 - D) Türgişler
7. Kaşgarlı Mahmut, "Divân-ı Lûgat-it Türk" adlı eserinde, Türk adının hangi anlama geldiğini belirtmiştir?
 - A) Türemek
 - B) Çoğalmak
 - C) Kanun nizam sahibi
 - D) Olgunluk çağı
8. Mete'nin M.Ö. 201 yılında çıktığı Çin Seferinde büyük başarılar elde etmesine rağmen Çin topraklarına yerleşmeyip Çin İmparatorluğunu vergiye bağlayan bir antlaşma yapmayı uygun görmesinin nedeni aşağıdakilerden hangisidir?
 - A) Akhunların ani saldırılarından dolayı geri dönmek istemesi
 - B) Tunguzların İpek Yolu ticaretini engelleme çalışmalarını önlemek istemesi
 - C) Çin gibi son derece geniş topraklara sahip bir devletin dışarıdan yönetilemeyeceğini ve istilâ edilemeyeceğini bilmesi
 - D) Tölesler ve Kırgızları egemenliği altına almayı öncelik haline getirmesi
9. Bumin Kağan Eski Türk geleneklerine uygun olarak devletin batı kanadını aşağıdaki hangi unvanla kardeşi İstemi'ye vermiştir?
 - A) Şanyü
 - B) Aygucu
 - C) Yabgu
 - D) Apa
10. Avrupa Hun hükümdarı Attila, Margos Barışı (434) ve Anatolyos Barışı (447) antlaşmalarını aşağıdaki devletlerden hangisi ile yapmıştır?
 - A) Bizans
 - B) Sasani
 - C) Uygur
 - D) Hazarlar

11. Oğuzların din adamlarına ne ad verilir?

- A) Balbal
- B) Kurgan
- C) Yuğ
- D) Kam

12. Türk tarihinde kendi adına para bastıran ilk hükümdar aşağıdakilerden hangisidir?

- A) Baga Tarkan
- B) Mete
- C) Attila
- D) Teoman

13. Türk tarihinde Museviliği kabul eden ilk ve tek Türk Devleti aşağıdakilerden hangisidir?

- A) Uygurlar
- B) Avarlar
- C) Kırgızlar
- D) Hazarlar

14. Dede Korkut Hikayeleri'nin ortaya çıkmasında hangi Türk kavimleri arasındaki mücadele etkili olmuştur?

- A) Kıpçak – Oğuz
- B) Peçenek – Bizans
- C) Türgişler – Bulgarlar
- D) Hazarlar – Avarlar

15. İlk Türk Devletleri'nde yöneticiler ile halk arasında karşılıklı görev ve sorumlulukları belirten yazılı olmayan anlaşmaya ne ad verilir?

- A) Ülüş
- B) Tüz
- C) Emçi
- D) Tutuk

16. İlk Türk Devletleri'nde toplumsal yapının küçükten büyüğe doğru sıralaması aşağıdakilerden hangisinde doğru verilmiştir?

- A) Oğuş – Urug – Boy – Bodun
- B) Urug – Oğuş – Bodun – Boy
- C) Boy – Bodun – Oğuş – Urug
- D) Bodun – Boy – Urug – Oğuş

17. Eski Türklerin millî sanatları aşağıdakilerden hangisinde birlikte ve doğru olarak verilmiştir?

- A) Demircilik ve maden işçiliği
- B) Heykel ve dokumacılık
- C) Resim ve minyatür
- D) Fresk ve heykel

18. Türk hukukunu ilk kez yazılı hale getiren Türk Devleti aşağıdakilerden hangisidir?

- A) Hazarlar
- B) Avarlar
- C) Uygurlar
- D) Akhunlar

19. Türklerle Abbasiler arasında yakınlaşma aşağıdaki savaşların hangisinden sonra başlamıştır?

- A) Puvatya Savaşı
- B) Talas Savaşı
- C) Mercidabık Savaşı
- D) Ridaniye Savaşı

20. Çinliler at yetiştirmeyi, tekerlekli araba kullanmayı aşağıdaki milletlerden hangisinden öğrenmişlerdir?

- A) Araplar
- B) Türkler
- C) İngilizler
- D) Fransızlar

1. Magmanın, yer kabuğunun farklı derinliklerindeki taş ve tabakaların arasına sokularak yavaş yavaş soğumasıyla oluşan kayaç türü aşağıdakilerden hangisidir?
- A) Dış püskürük kayaçlar
B) Başkalaşım kayaçlar
C) Tortul kayaçlar
D) İç püskürük kayaçlar
2. Aşağıdakilerden hangisi iç püskürük kayaç türlerinden biri değildir?
- A) Diorit
B) Siyenit
C) Granit
D) Andezit
3. Bitki ve hayvan kalıntılarının birikip taşlaşmasıyla oluşan kayaç türü aşağıdakilerden hangisidir?
- A) Kimyasal tortul kayaçlar
B) Organik tortul kayaçlar
C) Fiziksel tortul kayaçlar
D) Başkalaşım kayaçlar
4. Kömür taşının başkalaşmasıyla oluşan kayaç türü aşağıdakilerden hangisidir?
- A) Gnays
B) Kalker
C) Granit
D) Elmas
5. Aşağıdakilerden hangisi sıcak su kaynaklarının kullandığı alanlardan biri değildir?
- A) Elektrik enerjisi üretimi
B) Bahçe sulaması
C) Kültür balıkçılığı
D) Konutların ısıtılması
6. Aşağıdakilerden hangisi birbirine yaklaşan levhalardan biri değildir?
- A) Avrasya levhası – Pasifik levhası
B) Kokos levhası – Pasifik levhası
C) Kuzey Amerika levhası – Pasifik levhası
D) Pasifik levhası – Hindistan levhası– Avusturalya levhası
7. Aşağıdaki ülkelerden hangisinde volkanik göllere rastlanmaz?
- A) Türkiye
B) Şili
C) Kanada
D) Yeni Zelanda
8. Bodur ağaç ve çalılardan oluşan bitki örtüsü aşağıdakilerden hangisidir?
- A) Savan
B) Tundra
C) Maki
D) Bozkır
9. Akdeniz iklim bölgesinde kalker üzerinde oluşan toprak türü aşağıdakilerden hangisidir?
- A) Laterit toprak
B) Podzol toprak
C) Kırmızı toprak
D) Kahverengi orman toprağı
10. Okyanusların kara içlerine doğru sokulmuş kollarına ne ad verilir?
- A) Göl
B) Deniz
C) Irmak
D) Nehir
11. Bol miktarda kireç içeren kaynak aşağıdakilerden hangisidir?
- A) Karstik
B) Gayzer
C) Artezyen
D) Fay

12. Aşağıdakilerden hangisi bir ülkenin nüfus piramitlerinden yararlanarak o ülkeyle ilgili elde edilebilecek bilgilerden biri değildir?

- A) Nüfusun yaş gruplarına göre dağılımı
- B) Nüfusun cinsiyete göre dağılımı
- C) Doğum ve ölüm oranları
- D) Okur – yazar nüfus oranı

13. Aşağıdakilerden hangisi dünyada nüfus yoğunluğunun az olduğu yerlerden biridir?

- A) Orta Asya
- B) Güneydoğu Asya
- C) Batı Avrupa
- D) Japonya

14. Aşağıdakilerden hangisi gelişmiş ülkelerde nüfus artış hızının düşük olmasının nedenlerinden biri değildir?

- A) Şehirleşme oranının yüksek olması
- B) Kadınların çalışma hayatına girmesi
- C) Bebek ölümlerinin daha fazla olması
- D) Ekonomik kalkınmanın gerçekleşmesi

15. Aşağıdakilerden hangisi nüfus artışının olumsuz sonuçları arasında yer almaz?

- A) Üretimin artması
- B) Tüketimin artması
- C) Göçlerin artması
- D) Alt yapı hizmetlerinin yetersiz kalması

16. Aşağıdakilerden hangisi en çok beyin göçü alan ülkeler arasında yer almaz?

- A) Kanada
- B) Fransa
- C) Almanya
- D) İsviçre

17. Köylerin kurulduğu, tarım ve hayvancılık yapanlarla zanaatkarlar arasında takas yoluyla ticaretin yapıldığı çağ aşağıdakilerden hangisidir?

- A) Mezolitik Çağ
- B) Kalkolitik Çağ
- C) Neolitik Çağ
- D) Paleolitik Çağ

18. Aşağıdakilerden hangisi ikincil ekonomik faaliyetlerden biri değildir?

- A) Bankacılık
- B) Makine sanayi
- C) Kimya sanayi
- D) Orman ürünleri sanayi

19. Aşağıdakilerden hangisi Türkiye’de etkili olan basınç merkezlerinden biri değildir?

- A) Azor dinamik yüksek basıncı
- B) Basra dinamik yüksek basıncı
- C) Basra termik alçak basıncı
- D) Sibiry termik yüksek basıncı

20. Türkiye’nin son şeklini aldığı jeolojik zaman aşağıdakilerden hangisidir?

- A) Kuaterner
- B) Tersiyer
- C) Mezozoik
- D) Palezoik

1. Aşağıdakilerden hangisi tükenmeyen doğal kaynaklardan biri değildir?
 - A) Rüzgar
 - B) Dalga
 - C) Doğal gaz
 - D) Güneş
2. Aşağıdaki ülkelerden hangisinde nüfus artış oranı en düşüktür?
 - A) Endonezya
 - B) Hindistan
 - C) Çin
 - D) Fransa
3. Aşağıdaki şehirlerden hangisinde petrol çıkarılmaktadır?
 - A) Çorum
 - B) Bolu
 - C) Adıyaman
 - D) Antalya
4. Aşağıdakilerden hangisi bakır çıkarılan illerden biri değildir?
 - A) Artvin
 - B) Kastamonu
 - C) Manisa
 - D) Elazığ
5. Aşağıdaki şehirlerden hangisinin küresel etkisi en azdır?
 - A) Paris
 - B) Berlin
 - C) Londra
 - D) Erivan
6. Sümela Manastırı aşağıdaki şehirlerden hangisinde yer almaktadır?
 - A) Rize
 - B) Trabzon
 - C) Artvin
 - D) Erzurum
7. Efes antik kentine ait kalıntılar hangi şehrin sınırları içerisinde yer almaktadır?
 - A) İzmir
 - B) Aydın
 - C) Denizli
 - D) Muğla
8. Canlıların aldıkları besinleri enerjiye dönüştürebilmeleri için aşağıdakilerden hangisi gereklidir?
 - A) Karbondioksit
 - B) Oksijen
 - C) Su
 - D) Ateş
9. Yaşamını güneşten gelen enerjiyi kullanarak devam ettiren canlı türü aşağıdakilerden hangisidir?
 - A) Hayvanlar
 - B) İnsanlar
 - C) Okyanus canlıları
 - D) Bitkiler
10. Çekirdeksiz üzüm üretiminin en fazla olduğu il aşağıdakilerden hangisidir?
 - A) Uşak
 - B) Manisa
 - C) Kütahya
 - D) Çanakkale
11. Türkiye'de çay yetiştiriciliğinin yapıldığı il aşağıdakilerden hangisidir?
 - A) Samsun
 - B) Bayburt
 - C) Rize
 - D) Amasya

12. Rüzgar enerjisinden elektrik üretme işlemi Türkiye'de ilk kez hangi şehirde yapılmaya başlanmıştır?

- A) Kuşadası
- B) Fethiye
- C) Kaş
- D) Çeşme

13. Aşağıdakilerden hangisi dünya ekosisteminin en karmaşık ve en zengin beslenme damarlarından biridir?

- A) Mercanlar
- B) Dağlar
- C) Ovalar
- D) Çöller

14. Aşağıdakilerden hangisi Türkiye'de sanayinin yoğunlaştığı illerden biri değildir?

- A) Iğdır
- B) Bursa
- C) Kocaeli
- D) Denizli

15. Aşağıdakilerden hangisi üretim, dağıtım ve tüketimi etkileyen doğal faktörlerden biri değildir?

- A) Şehirler
- B) Yer şekilleri
- C) İklim
- D) Su Kaynakları

16. Aşağıdakilerden hangisi termik santral bulunan şehirlerden biri değildir?

- A) Soma
- B) Yatağan
- C) Salihli
- D) Elbistan

17. Aşağıdakilerden hangisi Türkiye'de kış sporlarının yapıldığı yerlerden biri değildir?

- A) Uludağ
- B) Küre
- C) Kartalkaya
- D) Palandöken

18. Aşağıdakilerden hangisi liman şehridir?

- A) Essen
- B) Viyana
- C) Üsküp
- D) Marsilya

19. Aşağıdaki biyomlardan hangisinde bitki örtüsü yoktur?

- A) Kutuplar
- B) Çöl
- C) Savan
- D) Tundra

20. Türkiye'de pirinç yetiştiriciliğinin en fazla olduğu bölge aşağıdakilerden hangisidir?

- A) İç Ege
- B) Batı Trakya
- C) Doğu Karadeniz
- D) Doğu Akdeniz

1. Aşağıdakilerden hangisi 1923-1963 yılları arasındaki nüfus politikalarının dayanak noktalarından biri değildir?

- A) Fazla nüfusun bir ülke için siyasi ve askeri güç olarak görülmesi
- B) Orduda insan gücünden çok silah gücünün ön plana çıkması
- C) Tarımda makineleşmenin yetersiz olması
- D) Birinci Dünya Savaşı ve Kurtuluş savaşı nedeniyle erkek insan gücüne çok fazla ihtiyaç olması

2. I. Evlenme yaşının erkekler ve kızlar için 20 yaşa yükseltilmesi
 II. Çok çocuklu ailelere vergi muafiyetinin getirilmesi
 III. Nüfus artırma politikası ile doğum evi kurulması, fakir kişilere ücretsiz ilaç dağıtılması
 IV. Gebeliği önleyici ilaç ve araçların satılmasının yaygınlaştırılması

Yukarıdakilerden hangileri Türkiye'de 1960 yılına kadar izlenen nüfus politikaları arasında yer alır?

- A) I ve II
- B) I ve III
- C) II ve III
- D) III ve IV

3. Aşağıdakilerden hangisi Türkiye'de uygulanan bölgesel kalkınma projelerinin ortak hedeflerinden biri değildir?

- A) Kişi başına düşen geliri yükseltmek
- B) Tarım yerine sanayi sektörünü geliştirmek
- C) Bölgeler arasındaki kalkınmışlık farkını azaltmak
- D) Bölge dışına yapılan göçleri yavaşlatmak

4. Aşağıdakilerden hangisi Yeşilirmak Havzası Gelişim Projesi kapsamındaki illerden biridir?

- A) Zonguldak
- B) Bartın
- C) Karabük
- D) Çorum

5. I. Irak
 II. Macaristan
 III. Gürcistan
 IV. Suriye

Yukarıdakilerden hangileri Türkiye'nin sınır komşuları arasındadır?

- A) I ve II
- B) II ve III
- C) I, III ve IV
- D) II, III ve IV

6. Aşağıdakilerden hangisi jeopolitikte etkili olan "Değişen Unsurlar" arasında yer almaz?

- A) Sosyal kültürel değerler
- B) Bilimsel ve teknolojik değerler
- C) Ekonomik değerler
- D) Stratejik kaynaklar

7. I. Dünya Bankası
 II. Avrupa Konseyi
 III. Ekonomik Kalkınma ve İşbirliği Örgütü
 IV. Birleşmiş Milletler

Yukarıdakilerden hangileri Türkiye'nin üye olduğu ekonomik örgütler arasında yer alır?

- A) I ve II
- B) I ve III
- C) II ve III
- D) III ve IV

8. 2010 Birleşmiş Milletler raporuna göre, aşağıdaki ülkelerden hangisinin İnsani Gelişim İndeksi en yüksektir?

- A) Japonya
- B) Arjantin
- C) Çin
- D) Meksika

9. Aşağıdaki akarsulardan hangisi Almanya topraklarından geçmez?

- A) Ren
- B) Elbe
- C) Weser
- D) Nijer

10. Nijerya ile ilgili aşağıdaki ifadelerden hangisi doğrudur?

- A) Ülkenin en önemli yer altı zenginliği petrol ve doğalgaz yataklarıdır.
- B) Okur-yazar oranı %90 nı geçmiştir.
- C) Ortalama insan ömrü 80 yaşın üzerindedir.
- D) Kentsel nüfus oranı kırsal nüfustan fazladır.

11. Çin Halk Cumhuriyeti'nin başkenti aşağıdakilerden hangisidir?

- A) Şanghay
- B) Hong Kong
- C) Shenzhen
- D) Pekin

12. Orta Doğu petrollerinin çıkış kapısı konumunda olan ve İran Körfezi'ni Umman Denizi'ne bağlayan boğaz aşağıdakilerden hangisidir?

- A) Malakka Boğazı
- B) Hürmüz Boğazı
- C) Bering Boğazı
- D) Macellan Boğazı

13. Aşağıdakilerden hangisi Orta Doğu'nun dünya açısından önemli bir bölge olmasının nedenlerinden biri değildir?

- A) Dünya petrol rezervlerinin büyük bölümüne sahip olması
- B) Kutsal mekanları barındırması
- C) Su rezervlerinin çok olması
- D) Önemli ticaret yollarının kavşak noktasında bulunması

14. Şattülarap su yolu ve petrol paylaşımından dolayı hangi iki ülke arasında çatışma olmuştur?

- A) İran-İrak
- B) Irak-Kuveyt
- C) Suriye-İsrail
- D) Mısır-İsrail

15. I. Ekonomik sorunlar
II. Su kaynaklarının paylaşımı
III. Yeraltı zenginliklerinin paylaşımı
IV. Sınır sorunları

Yukarıdakilerden hangileri uluslararası sıcak çatışmalara neden olan doğal unsurlar arasındadır?

- A) I ve II
- B) I ve III
- C) II ve III
- D) III ve IV

16. Aşağıdakilerden hangisi doğal mirastır?

- A) İguaçu Çağlayanı
- B) Çin Setti
- C) Mısır Piramitleri
- D) Efes Antik Kenti

17. 1903 yılında avlanma ve yaşam alanlarını tahribat yüzünden azalan Afrika memelilerini korumak amacıyla kurulan, Kruger ve Serengeti Milli parklarının yapımında etkin rol oynayan ve merkezi Cabridge'te bulunan çevre örgütü aşağıdakilerden hangisidir?

- A) Dünya Vahşi Yaşam Fonu
- B) Greenpeace
- C) Uluslararası Fauna ve Flora
- D) Avrupa Çevre Ajansı

18. I. Depremler
II. Seller
III. Volkanlar
IV. Kasırgalar

Yukarıdakilerden hangileri jeolojik kökenli afetlerdir?

- A) I ve II
- B) I ve III
- C) II ve III
- D) III ve IV

19. 1980-2008 yılları arasında meydana gelen doğal afetlerde can kaybının en fazla olduğu kıta aşağıdakilerden hangisidir?

- A) Asya
- B) Avrupa
- C) Afrika
- D) Okyanusya

20. Aşağıdakilerden hangisi Türkiye'de kuruyup ortadan kalkan göllerden biridir?

- A) Tuz Gölü
- B) Manyas Gölü
- C) Van Gölü
- D) Kestel Gölü

1. $3^{1+\log_3 2}$ ifadesinin değeri aşağıdakilerden hangisidir?

- A) 2
- B) 6
- C) 7
- D) 18

2. $\log_x 64 = 6$ eşitliğini sağlayan x değeri kaçtır?

- A) 2
- B) 4
- C) 8
- D) 16

3. $\frac{|3-5i|}{|-1-i|}$ ifadesinin değeri aşağıdakilerden hangisidir?

- A) $2\sqrt{2}$
- B) $\sqrt{17}$
- C) $\sqrt{34}$
- D) 8

4. $z = \cos \frac{\pi}{4} + i \sin \frac{\pi}{4}$ ise, z^2 nin $x+yi$ şeklinde yazılışı aşağıdakilerden hangisidir?

- A) $-i$
- B) 1
- C) i
- D) $1+i$

5. $\frac{1+i}{1-i}$ işleminin sonucu aşağıdakilerden hangisidir?

- A) 2
- B) $\frac{1}{2} + \frac{1}{2}i$
- C) i
- D) $\frac{1}{2} - \frac{1}{2}i$

6. $x, y \in \mathbb{R}$ olmak üzere, $z_1 = 12 - 3x - i$ ve $z_2 = 15 + (13 - 2y)i$ karmaşık sayıları veriliyor.

$z_1 = z_2$ ise $y - x$ kaçtır?

- A) 6
- B) 8
- C) 11
- D) 17

7. $z_1 = 5 - 7i$ ve $z_2 = +3i - 7$ karmaşık sayıları veriliyor.

Buna göre, $z_1 - z_2$ sayısı aşağıdakilerden hangisidir?

- A) $-2 - 4i$
- B) $2 - 10i$
- C) 2
- D) $12 - 10i$

8. $f(x)=\log_5(x^2+7x+6)$ kuralıyla tanımlanan f fonksiyonunun tanımlı olduğu x gerçel sayılarının kümesi aşağıdakilerden hangisidir?

- A) $[-6, -1]$
 B) $[1, 6]$
 C) $[6, +\infty)$
 D) $\mathbb{R}-[-6, -1]$

9. $\log_{21} 81 \cdot \log_7 21 \cdot \log_3 7$ çarpımının sonucu kaçtır?

- A) 3
 B) 4
 C) 9
 D) 27

10. $\log_5(\log_3(\log_2(\log_2 256)))$ ifadesi aşağıdakilerden hangisine eşittir?

- A) 0
 B) 1
 C) 3
 D) 5

11. $P(x)= -x^{132}+5x^{173}-x^{74}$ polinomu veriliyor. Buna göre $P(i)$ kaçtır?

- A) $-2+5i$
 B) $2+5i$
 C) 2
 D) 5i

12. $z=(1+i)^2-2i.(1-3i)$ karmaşık sayısının reel kısmı aşağıdakilerden hangisidir?

- A) -6
 B) -5
 C) -4
 D) 7

13. $\log \sqrt[3]{10000}$ ifadesinin değeri aşağıdakilerden hangisidir?

- A) $\frac{3}{4}$
 B) 1
 C) $\frac{4}{3}$
 D) 10

14. Aşağıdaki eşitliklerden hangisi yanlıştır?

- A) $\sqrt{144} = 12$
 B) $i^4=1$
 C) $i^3=-i$
 D) $\sqrt{-4} = 4i$

15. $(5-\sqrt{3}.i)$ karmaşık sayısının eşleniği aşağıdakilerden hangisidir?

- A) $5+\sqrt{3}.i$
 B) $5-\sqrt{3}.i$
 C) $-5+\sqrt{3}.i$
 D) $-5-\sqrt{3}.i$

16. Karmaşık düzlemde $-5+12i$ sayısının orijine olan uzaklığı kaç birimdir?

- A) 7
- B) $\sqrt{119}$
- C) 13
- D) 17

17. $3^4=81$ eşitliğinin, logaritmik ifade olarak yazılışı aşağıdakilerden hangisidir?

- A) $\log_3 4=81$
- B) $\log_{81} 3=4$
- C) $\log_3 81=4$
- D) $3.\log 4=81$

18. $\log 2=a$, $\log 3=b$ ve $\log 5=c$ eşitlikleri veriliyor.

Buna göre $\log 360$ in değeri aşağıdakilerden hangisidir?

- A) $3a+2b+c$
- B) $2a+3b+c$
- C) $4a+3b+c$
- D) $-3a-4b-c$

19. $f(x)=13-\log_2(x+8)$ fonksiyonu veriliyor.

Buna göre $f^{-1}(8)$ kaçtır?

- A) 9
- B) 14
- C) 19
- D) 24

20. $e^{12+x}=1$ denkleminin çözüm kümesi aşağıdakilerden hangisidir?

- A) $\{-13\}$
- B) $\{-12\}$
- C) $\{-11\}$
- D) $\{13\}$

1. Yağmacılar, fanatik spor taraftarları, linç girişiminde bulunan topluluklar aşağıdaki kalabalık türlerinden hangisine örnektir?
- A) Sıradan
B) İzleyici ve dinleyici
C) Gösteri
D) Etkin
2. Nüfusu çeşitli özellikleriyle inceleyen bilim dalı aşağıdakilerden hangisidir?
- A) Antropoloji
B) Sigolografi
C) Filoloji
D) Demografi
3. Bir toplumda olumlu olarak değerlendirilen davranış biçimlerinin, o toplumun üyelerince benimsenmesini sağlamayı amaçlayan yolların ya da önlemlerin tümüne ne ad verilir?
- A) Toplumsal normlar
B) Toplumsal değerler
C) Toplumsal roller
D) Toplumsal kontrol
4. Ulus devletlerin ortaya çıkmasında etkili olan gelişme aşağıdakilerden hangisidir?
- A) Yüzyıl savaşları
B) Sanayi devrimi
C) Coğrafi keşifler
D) Rönesans hareketleri
5. Okulda kendi çocuğunun öğretmeni olan bir kadının evde anne gibi davranması gerekirken öğretmen gibi davranması aşağıdakilerden hangisine örnektir?
- A) Rol çatışması
B) Rol pekiştirilmesi
C) Rol yansıtması
D) Rol yüceltmesi
6. Aşağıdakilerden hangisi köy öncesi dönemde toprağa yerleşme nedenlerinden biri değildir?
- A) Bitkilerin yetiştirilmesi
B) Toplayıcılık ve avcılık alanlarının artması
C) Hayvanların evcilleştirilmesi
D) Üretim araç ve gereçlerinin geliştirilmesi
7. “Enflasyon artarsa toplumsal sorunlar artar” varsayımı aşağıdakilerden hangisi ile ilgilidir?
- A) Tüme varım
B) Tümden gelim
C) Genelleme
D) Gözlem
8. Köy, iş yeri, okul gibi küçük grupların yaşam biçimlerini, toplumsal ilişkilerini, tutumlarını incelemeye yarayan veri toplama tekniği aşağıdakilerden hangisidir?
- A) Yordama
B) Deneyleme
C) Basit gözlem
D) Sistemik gözlem
9. I. Sanayi öncesi kentler
II. Sanayi kentleri
III. Metropol kentler
- Yukarıdakilerden hangileri tarihsel gelişimi açısından ele alınan kentlerdendir?
- A) Yalnız I
B) I ve II
C) II ve III
D) I, II ve III
10. Aşağıdakilerden hangisi kentleri çekici kılan nedenlerinden biri değildir?
- A) Meslek edinme olanaklarının fazlalığı
B) Tüketim ürünlerinin bolluğu
C) Cinsiyete dayalı doğal iş bölümünün olması
D) Daha iyi hayat standardına ulaşma olanağı
11. Küçük gruplarda bireyler arasındaki yaklaşma ve uzaklaşma modellerini açıklamayı sağlayan araştırma tekniği aşağıdakilerden hangisidir?
- A) Olay inceleme
B) Sosyometri
C) Anket
D) Mülakat

12. Aşağıdakilerden hangisi bir insan birlikteliğinin toplum olabilmesi için gerçekleşmesi gereken koşullardan biri değildir?

- A) Bireylerin birlikte yaşama isteği
- B) Farklı kültürel değerleri paylaşmış olması
- C) İhtiyaçları karşılayan işlevlerin yerine getirilmesi
- D) Değişmeye rağmen süreklilik göstermesi

13. I. Birey-birey ilişkisi
II. Birey-grup ilişkisi
III. Grup-grup ilişkisi

Yukarıdakilerden hangileri toplumsal ilişki türlerindedir?

- A) Yalnız I
- B) I ve II
- C) II ve III
- D) I, II ve III

14. Aşağıdakilerden hangisi toplumsal değerlerin yerine getirdiği işlevlerden biri değildir?

- A) Bireyler üzerindeki baskıları kaldırarak rahat davranmasını sağlar.
- B) Bireyler ya da gruplar tarafından ortak olarak benimsenip paylaşıldığı için dayanışmayı güçlendirir.
- C) Bireylerin toplumsal rollerini seçmelerinde ve gerçekleştirmelerinde rehberlik eder.
- D) Statülerin belirlenmesinde önemli işlevlere sahiptir.

15. Aşağıdakilerden hangisi bilimin temel ilkelerinden biri değildir?

- A) Sübjektif olması
- B) Mantıksal olması
- C) Evrensel olması
- D) Olgulara dayanması

16. Aşağıdakilerden hangisi birincil gruplara örnektir?

- A) Arkadaş grupları
- B) Dernekler
- C) Devlet
- D) Siyasal partiler

17. Aşağıdakilerden hangisi milleti oluşturan unsurlardan biri değildir?

- A) Ekonomi birliği
- B) Toprak birliği
- C) Siyaset birliği
- D) Soy birliği

18. Aşağıdakilerden hangisi bilimsel çalışmalara başlamadan önce uyulması gereken ilkelerden biri değildir?

- A) Soyutluk
- B) Nedensellik
- C) Bilmediğini varsayma
- D) Konunun sınırlandırılması

19. Aşağıdakilerden hangisi toplumsal grupların özelliklerinden biri değildir?

- A) Üyelerinin arasında iş bölümünün olması
- B) Göreli bir sürekliliğe sahip olması
- C) Farklı değerler etrafında birleşmiş olması
- D) Gruba özgü kimlik geliştirmesi

20. Fiziki yapı, nüfus, toplumsal ilişkiler, kültür ve tabakalaşmanın karşılıklı ilişkiler içinde oluşturduğu bütüne ne ad verilir?

- A) Toplumsal tabakalaşma
- B) Toplumsal statü
- C) Toplumsal sistem
- D) Toplumsal hareketlilik

1. Kişilerin, canlı cansız varlıkların ve isimlerin yerine kullanılan sözcüklere ne ad verilir?

- A) Sıfat
- B) Edat
- C) Fiil
- D) Zamir

2. Esin dolu, coşkulu, içli bir dil ile yazılan şiir türü aşağıdakilerden hangisidir?

- A) Epik
- B) Pastoral
- C) Lirik
- D) Satirik

3. Aşağıdakilerden hangisi somut bir sözcüktür?

- A) Sevgi
- B) Akıl
- C) Duygu
- D) Kuş

4. Aşağıdaki cümlelerin hangisinde üleştirme sayı sıfatı vardır?

- A) Sekizinci katta oturuyoruz.
- B) Üçüncü listeye bakabilir miyim?
- C) Provalar ikişer gün arayla yapılacak.
- D) Bir gün benim de bir evim olacak.

5. Aşağıdakilerden hangisi türemiş bir isimdir?

- A) Sevinç
- B) Adamotu
- C) Başhekim
- D) Kedi

6. Aşağıdakilerden hangisi bileşik isimdir?

- A) Demirci
- B) Yağmurluk
- C) Pazartesi
- D) İstanbullu

7. Aşağıdakilerden hangisi yeterlik eylemidir?

- A) yapabilmek
- B) gelivermek
- C) uyuyakalmak
- D) gidedurmak

8. Kesinlik ve vazgeçilmezlik bildiren anlatım türü aşağıdakilerden hangisidir?

- A) Kanıtlayıcı anlatım
- B) Açıklayıcı anlatım
- C) Emredici anlatım
- D) Tartışmacı anlatım

9. Aşağıdaki cümlelerin hangisinde basit sıfat kullanılmıştır?

- A) Kiralık dükkan aradık bugün.
- B) Küçük çocuk ağlıyordu.
- C) Işıksız sokaktan geçtik.
- D) Yorgun çiftçi, evinin yolunu tuttu.

10. Aşağıdakilerden hangisinde türemiş sıfat vardır?

- A) Üç kaktüs
- B) Yorgun çiftçi
- C) Hiçbir zaman
- D) Yiğit çocuk

11. Aşağıdaki cümlelerin hangisinde sayı sıfatı kullanılmıştır?

- A) Birçok memleket gezdim.
- B) Her duyduğuna inanma.
- C) Bu eve kim gelecek?
- D) Üç kilo kiraz istiyorum.

12. Mizahın hicivden ayrılan yönü aşağıdakilerden hangisidir?

- A) Küçük düşürmenin söz konusu olmaması
- B) Nükte anlamına gelmesi
- C) Güldürme amacı taşıması
- D) Şaka ve eğlenceyi ifade etmesi

13. Aşağıdaki cümlelerin hangisinde yalın durum isteyen bir edat kullanılmıştır?

- A) Bu kitabı akşama kadar bitirmeye çalışıyorum.
- B) Köpek için kemik aldım.
- C) Senden başka arkadaşım yok.
- D) Bunun gibi adamlar artık çok az yetişiyor.

14. Fazıl Hüsnü Dağlarca'nın yazdığı Çakırın Destanı adlı eser aşağıdaki destan türlerinden hangisine örnektir?

- A) Doğal destan
- B) Yapma destan
- C) Çağdaş destan
- D) Modern destan

15. Aşağıdaki cümlelerin hangisinde belgisiz zamir vardır?

- A) Kaçınız çantasını evde unuttu?
- B) Biri yukarı doğru koştu.
- C) Nereye gitmeli?
- D) Kaçımız her gün ödevlerimizi yaparız?

16. Aşağıdaki cümlelerin hangisinde altı çizili sözcük küçültme eki almamıştır?

- A) Sana o beğendiğin saati aldım.
- B) Bu küçük evde yaşıyoruz.
- C) Bu adamcağız yıllar önce böyle değildi.
- D) Bebeciğimi çok özledim diyordu.

17. Divan edebiyatında lirik şiir tarzında eserler veren şair kimdir?

- A) Yunus Emre
- B) Fuzuli
- C) Karacaoğlan
- D) Yahya Kemal

18. Epik sözcüğü, Türk dilinde aşağıdaki hangi adı almıştır?

- A) Destan
- B) Hikaye
- C) Masal
- D) Öykü

19. Aşağıdaki cümlelerin hangisinde tahmin edilemeyen durumları anlatan bir bağlaç kullanılmıştır?

- A) Yolculukta göz ve gönül mütemadiyen çile doldurur.
- B) Vatan işlerinde ölmek olabilir, fakat korkmak asla!
- C) Veli ile öbür bahçe sahipleri büsbütün susuz kaldılar.
- D) Onu çalışkan, uslu bir genç sanırdım; meğerse tembelin, yaramazın biri imiş.

20. Hintlilerin Mahpahrata adlı eseri, aşağıdaki destan türlerinden hangisine örnektir?

- A) Yapma destan
- B) Çağdaş destan
- C) Modern destan
- D) Doğal destan

1. Aşağıdaki şairlerden hangisi, "Yedi Meşaleciler" topluluğunda yer almaz?
A) Yaşar Nabi Nayır
B) Yahya Kemal Beyatlı
C) Ziya Osman Saba
D) Cevdet Kudret
2. "Bugün Pazar" adlı şiir, aşağıdaki şairlerden hangisine aittir?
A) Ömer Faruk Toprak
B) Arif Damar
C) Nazım Hikmet
D) Enver Gökçe
3. Şiirlerinde daha çok büyük şehrin içinde kaybolmuş insanın kırık, karanlık, karmaşık duygularını anlatan şair, aşağıdakilerden hangisidir?
A) Behçet Necatigil
B) Cahit Külebi
C) Fazıl Hüsnü Dağlarca
D) Asaf Halef Çelebi
4. "Varlık" dergisinde ölçüsüz, uyaksız, şairanelikten uzak yeni bir şiir akımı başlatan üç şair, aşağıdakilerin hangisinde birlikte ve doğru olarak verilmiştir?
A) Orhan Veli Kanık-Melih Cevdet Anday-Oktay Rifat
B) Attila İlhan-Orhan Veli Kanık-Melih Cevdet Anday
C) Ömer Faruk Toprak-Arif Damar-Ahmet Arif
D) Rifat Ilgaz-Enver Gökçe- Oktay Rifat
5. Aşağıdakilerden hangisi, Güngör Dilmen'in tiyatro eserlerinden biridir?
A) İçerdekiler
B) Köşe başı
C) Midas'ın Kulakları
D) Ay Işığında Şamata
6. "Kuyucaklı Yusuf" adlı roman aşağıdaki yazarlardan hangisine aittir?
A) Reşat Nuri Güntekin
B) Nedim Gürsel
C) Sabahattin Âli
D) Leyla Erbil
7. "Otuz Beş Yaş" adlı şiir aşağıdaki şairlerden hangisine aittir?
A) Ahmet Hamdi Tanpınar
B) Ömer Bedrettin Uşaklı
C) Cahit Sıtkı Tarancı
D) Ahmet Muhip Dıranas
8. Şiirlerinde daha çok "ölüm, kader" gibi temaları işleyen şair aşağıdakilerden hangisidir?
A) Muammer Lütfi
B) Vasfi Mahir Kocatürk
C) Kenan Hulusi Koray
D) Ziya Osman Saba
9. Aşağıdakilerden hangisi, Haldun Taner'in tiyatro eserlerinden biridir?
A) Keşanlı Ali Destanı
B) Mahmud ile Yezida
C) Yangın Yerinde Orkideler
D) Kadınlar Arasında
10. Sokrates'in Savunması, Genç Osman, Cem Sultan gibi daha çok konusunu tarihten alan oyunları ile tanınan yazar, aşağıdakilerden hangisidir?
A) Orhan Asena
B) Turan Ofıazoğlu
C) Güngör Dilmen
D) Haldun Taner
11. Tercüman-ı Ahval adlı gazetede yayımlanan ilk makale aşağıdaki yazarlardan hangisine aittir?
A) Agah Efendi
B) İbrahim Şinasi
C) Namık Kemal
D) Ziya Paşa
12. Mustafa Kemal ile karşılaşan Ahmet Haşim'in izlenimlerini anlattığı fıkra yazısı aşağıdakilerden hangisidir?
A) Gazi
B) Ulu Önder
C) Portreler
D) Paris Kütüphaneleri

13. Bilim, sanat, kültür ve başka konularda bilgi vermek, bir düşünceyi ortaya koymak ya da savunmak amacıyla yazılan, yazarın kişisel görüşlerini de yansıttığı gazete ve dergi yazılarına ne ad verilir?

- A) Fıkra
- B) Günce
- C) Deneme
- D) Makale

14. Devlet tarafından çıkarılan ilk resmi gazete aşağıdakilerden hangisidir?

- A) Ceride-i Havadis
- B) Takvim-i Vekayi
- C) İrade-i Mülkiye
- D) Tercüman-ı Ahval

15. Kendi yazdığı, yönettiği, oynadığı yirmiye yakın oyununda kalıplaşmış düşünceleri sarsan, seyirciyi şaşırtarak hep diken üstünde tutan tiyatrocu aşağıdakilerden hangisidir?

- A) Aziz Nesin
- B) Tarık Bugra
- C) Memet Baydur
- D) Ferhan Şensoy

16. Türk edebiyatında anı türünün ilk örneğini veren yazar kimdir?

- A) Ebûlgazi Bahadırhan
- B) Aşık Çelebi
- C) Babur Şah
- D) Hoca Dehhani

17. Aşağıdakilerden hangisi, fıkra türünün özelliklerinden biri değildir?

- A) Bilimsel olması
- B) Daha çok güncel konuların ele alınması
- C) Amacının okuyucunun dikkatini çekmek onu düşünmeye yöneltmek olması
- D) Kısa yazılması

18. Cumhuriyet'in ilk kuşağını oluşturan edebî topluluk aşağıdakilerden hangisidir?

- A) Tanzimat Dönemi edebiyatı
- B) Fecr-i Ati edebiyatı
- C) Servet-i Fünun edebiyatı
- D) Millî edebiyat

19. Aşağıdakilerden hangisi Cumhuriyet Dönemi fıkra yazarlarında biri değildir?

- A) Halide Edip Adıvar
- B) Refik Halit Karay
- C) Burhan Felek
- D) Yusuf Ziya Ortaç

20. Ahmet Haşim'in denemeleri aşağıdakilerin hangisinde birlikte ve doğru olarak verilmiştir?

- A) Evrak-ı Eyyam – Tiryaki Sözleri
- B) Sonbahar Türküsü – Doğa
- C) Erguvan İstanbul – Dağ Şarkısı
- D) Gurubahâne-i Laklakan – Bize Göre

1. Aşağıdakilerden hangisi sıvıları gazlardan ayıran özelliklerden biri değildir?

- A) Belirli hacmi vardır.
- B) Sıkıştırılmaz.
- C) Tanecikli yapıya sahiptir.
- D) Akışkandır.

2. Kütlece %25'lik 160 gram tuzlu su çözeltisine kaç gram su eklenirse, çözelti kütlece %20'lik olur?

- A) 20
- B) 30
- C) 40
- D) 50

3. Sabit sıcaklıkta belli bir miktar N₂ gazının 20 L hacmindeki pistonlu kaptaki basıncı 0,5 atm'dir. Aynı sıcaklıkta piston aşağı itilerek hacim 5L'ye düşürülürse, basınç kaç atm olur?

- A) 0,8
- B) 1,5
- C) 2
- D) 2,5

4. Aşağıda denklemleri verilen tepkimelerden hangisinin en yavaş olması beklenir?

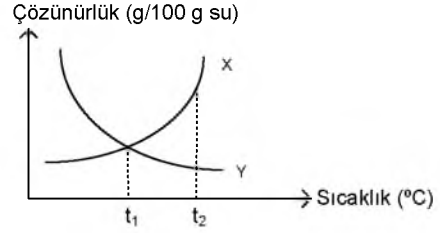
- A) $C_4H_{10}(g) + 13/2 O_2(g) \rightarrow 4CO_2(g) + 5H_2O(g)$
- B) $H_2(g) + 1/2O_2(g) \rightarrow H_2O(s)$
- C) $Fe^{2+}(suda) + Hg^{2+}(suda) \rightarrow Fe^{3+}(suda) + Hg^+(suda)$
- D) $H^+(suda) + OH^-(suda) \rightarrow H_2O(s)$

5. Saf maddelerin içine atılan, tuz gibi yabancı maddeler donma ve kaynama sıcaklığını nasıl etkiler?

Donma Sıcaklığı Kaynama Sıcaklığı

- | | |
|------------|---------|
| A) Artırır | Artırır |
| B) Azaltır | Artırır |
| C) Azaltır | Azaltır |
| D) Artırır | Azaltır |

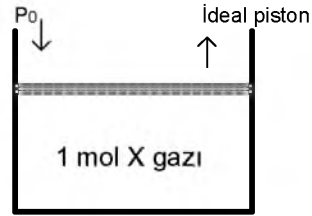
6. X ve Y maddelerinin sıcaklık - sudaki çözünürlük değişimi grafikteki gibidir.



Buna göre, aşağıdaki ifadelerden hangisi yanlıştır?

- A) X'in çözünürlüğü sıcaklıkla artar.
- B) Y maddesi gaz olabilir.
- C) t₁ °C de doymuş çözeltilerinin çözünürlükleri eşittir.
- D) Doymuş Y çözeltisinin sıcaklığı t₁ °C'dan t₂ °C'a getirilirse, doymamış hale gelir.

7.



Şekilde verilen kaptaki bulunan 1 mol X gazı ideal piston ile dengededir. Gazın sıcaklığı 27°C'dır. Sıcaklık 327°C'a çıkarılıyor.

Buna göre aşağıdaki ifadelerden hangisi yanlıştır?

- A) Moleküllerin ortalama kinetik enerjisi iki katına çıkar.
- B) Moleküllerin ortalama hızı artar.
- C) Birim hacimdeki molekül sayısı düşer.
- D) Birim zamandaki çarpışma sayısı azalır.

8. Kuru havanın bileşenleri içinde hacimce yüzdesi en fazla olan gaz aşağıdakilerden hangisidir?

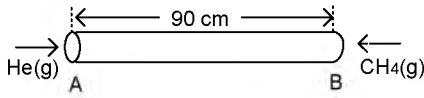
- A) Oksijen
- B) Azot
- C) Argon
- D) Karbondioksit

9. I $H_2O(k) \rightleftharpoons H_2O(s)$
 II $H_2O(k) \rightleftharpoons H_2O(g)$
 III $H_2O(g) \rightleftharpoons H_2O(s)$
 IV $C_2H_4(g) + 3O_2(g) \rightarrow 2CO_2(g) + 2H_2O(s)$

Yukarıda verilen değişimlerin hangileri endotermiktir?

- A) I ve II
 B) II ve III
 C) III ve IV
 D) I, II ve III

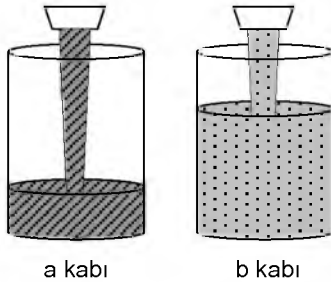
10.



Aynı sıcaklıktaki He ve CH_4 gazları tüpün iki ucundan aynı anda gönderildiğinde ilk olarak karşılaştıkları yer A ucundan kaç cm uzakta olur? (He=4, CH_4 =16)

- A) 30
 B) 60
 C) 70
 D) 80

11.



Yukarıda farklı motor yağlarının a ve b kaplarına akması görülmektedir. Aynı ortamda bulunan motor yağları aynı anda kaplara akmaya başlıyor.

Buna göre, aşağıdaki ifadelerden hangisi a ve b kaplarında farklı miktarda motor yağı birikmesini en iyi açıklar?

- A) a kabındaki motor yağının derişimi b kabındakine göre daha düşüktür.
 B) a ve b kaplarındaki motor yağlarının viskoziteleri eşittir.
 C) a kabındaki motor yağının akış hızı b kabındakine göre daha yüksektir.
 D) a kabındaki motor yağının viskozitesi b kabındakine göre daha yüksektir.

12. Atmosfer basıncını ölçen araç aşağıdakilerden hangisidir?

- A) Manometre
 B) Termometre
 C) Barometre
 D) Dinamometre

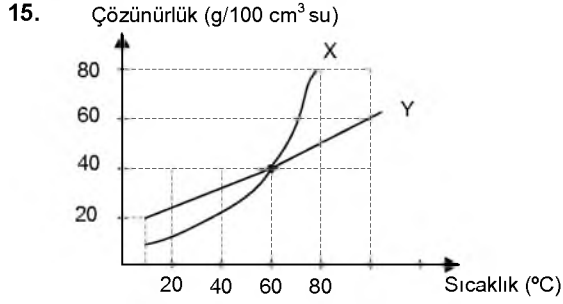
13. Aşağıdaki seçeneklerden hangisinde verilen gerçek gazın koşulları, ideal gazına daha uvcun olur?

Basınç	Sıcaklık
A) 0,1 atm	273°K
B) 0,5 atm	0°C
C) 0,5 atm	27°C
D) 1 atm	30°K

14. I. Hava
 II. Tuzlu su
 III. Gazoz

Yukarıdaki çözeltilerden hangisinin çözüneni, çözeltili ile aynı fiziksel haldedir?

- A) Yalnız I
 B) Yalnız III
 C) I ve II
 D) II ve III



Yukarıdaki grafikte X ve Y katı maddelerinin sudaki çözünürlüklerinin sıcaklıkla değişimi verilmiştir.

Buna göre, aşağıdaki ifadelerden hangisi yanlıştır?

- A) X ve Y katılarının 60°C'daki çözünürlükleri aynıdır.
- B) Y katısı, 80°C'da X katısından daha az çözünür.
- C) X katısı, 40°C'da Y katısından daha çok çözünür.
- D) X ve Y katısının çözünürlüğü sıcaklık artışı ile artmıştır.

16. Kütlece %40'lık 300 g NaCl (tuz) çözeltisi hazırlamak için kaç gram NaCl gerekir?

- A) 120
- B) 115
- C) 105
- D) 100

17. Aşağıdakilerden hangisi maddenin katı ve sıvı halinde gözlenmediği halde, gaz halinde gözlenen bir özelliktir?

- A) Belirli bir şekli ve hacmi vardır.
- B) Maddenin en düzenli halidir.
- C) Tanecikleri arasındaki büyük boşluk nedeni ile sıkıştırılabilir.
- D) Akma özelliği vardır.

18. 15 litrelik sabit hacimli bir kapta bulunan 127°C'daki NO₂ gazının basıncı 2 atm'dir.

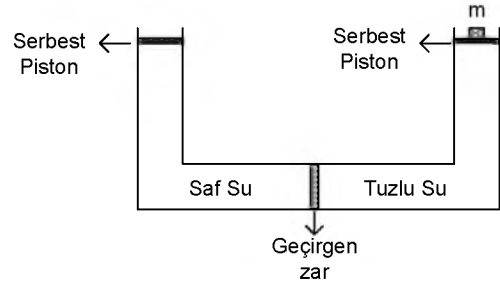
Gaz basıncını 2,5 atm yapmak için, gazın sıcaklığı kaç °C artırılmalıdır?

- A) 100
- B) 105
- C) 110
- D) 120

19. "Sabit sıcaklıktaki belirli bir miktar gazın basıncı ile hacmi ters orantılıdır." Açıklamasını ortaya koyan genel gaz kanunu aşağıdakilerden hangisidir?

- A) Charles kanunu
- B) Boyle kanunu
- C) Avagadro kanunu
- D) Toriçelli kanunu

20.



Şekildeki sistemde tuzlu suyun bulunduğu kısımdaki piston üzerine "m" kütleli bir cisim konuluyor. Bunun sonucunda saf su kısmında su kütesinin arttığı gözlemleniyor. Buna göre;

- I. m kütleli cismin uyguladığı basınç, ozmotik basınçtan büyüktür.
- II. Ters ozmos gerçekleşmiştir.
- III. Tuzlu su çözeltisinin molaritesi azalmıştır.

İfadelerinden hangileri doğrudur?

- A) I ve II
- B) I ve III
- C) II ve III
- D) I, II ve III

1. Alyuvarlarının yüzeyinde antijen bulunmayan kan grubu aşağıdakilerden hangisidir?
 - A) A
 - B) B
 - C) AB
 - D) O
2. A Rh(+) kan grubu ile ilgili aşağıdaki ifadelerden hangisi doğrudur?
 - A) Alyuvarlarının yüzeyinde A ve Rh antijeni bulunur.
 - B) Plazmasında A antikorunu bulunur.
 - C) Plazmasında Rh antikorunu bulunur.
 - D) Alyuvarlarının yüzeyinde B antijeni bulunur.
3. G. Mendel'in genetik çalışmalarında kullandığı bitki aşağıdakilerden hangisidir?
 - A) Nohut
 - B) Bezelye
 - C) Fasulye
 - D) Mercimek
4. Vücut hücrelerini kontrol eden kromozomlara ne ad verilir?
 - A) Gonozom
 - B) Riboz
 - C) Otozom
 - D) Oogenez
5. Vücut hücrelerinde $2n=42$ kromozom olan bir dişi köpeğin yumurtasındaki kromozom dağılımı aşağıdakilerden hangisidir?
 - A) 8
 - B) 16
 - C) 18
 - D) 21
6. İnsanlarda kan uyumsuzluğunun görüldüğü durum aşağıdakilerden hangisidir?
 - A) Anne Rh(-) , bebek Rh(+)
 - B) Anne Rh(-) , bebek Rh(-)
 - C) Anne Rh(+), bebek Rh(+)
 - D) Anne Rh(+), bebek Rh(-)
7. Aşağıdakilerden hangisi modifikasyona yol açabilen çevresel faktörlerden biri değildir?
 - A) Dominant gen
 - B) Besin
 - C) Sıcaklık
 - D) Nemlilik
8. Aşağıdakilerden hangisi DNA'nın hayvan hücresine aktarılmasında kullanılan yöntemlerden biri değildir?
 - A) Elektroporasyon yöntemi
 - B) Biyolastik yöntemi
 - C) Enjeksiyon yöntemi
 - D) Mikroenjeksiyon yöntemi
9. Aşağıdakilerden hangisi aaBbCc genotipli bir dişi bireyin oluşturabileceği yumurta hücrelerinden biri değildir?
 - A) aBC
 - B) abC
 - C) ABC
 - D) abc
10. Homozigot B kan grubundan bir kadınla, heterozigot A kan grubundan bir erkeğin doğacak çocuklarının alyuvarlarının yüzeyinde A antijeni bulunma olasılığı nedir?
 - A) 0
 - B) 1/4
 - C) 1/2
 - D) 1
11. Aşağıdakilerden hangisi baskın genlerle geçen kalıtsal hastalıklardan biridir?
 - A) Albinizm
 - B) Huntington
 - C) Hemofili
 - D) Kistik fibrozis

12. Bir özellik için iki farklı alel içeren bireyin fenotibinde etkisi görülmeyen karaktere ne ad verilir?

- A) Çekinik karakter
- B) Aktif karakter
- C) Baskın karakter
- D) Gerçek karakter

13. DNA molekülü zinciri üzerinde yer alan ortalama 1500 nükleotitten oluşan DNA bölümüne ne ad verilir?

- A) Gen
- B) Hücre
- C) RNA
- D) Alyuvar

14. Aşağıdakilerden hangisi bir popülasyonda genlerin frekansının değişmesine etki ederek popülasyonun dengesini bozan etmenlerden biri değildir?

- A) Mutasyon
- B) Avlanma
- C) Genetik sürüklenme
- D) Eş seçimi

15. Kromozom dağılımı 44+XXY olan bir insan hücresi için aşağıdaki ifadelerden hangisi doğrudur?

- A) Dişi gamet hücresidir.
- B) Mayoz geçirmiş bir hücredir.
- C) Erkek gamet hücresidir.
- D) Ayrılmama sonucu oluşmuş bir hücredir.

16. 30.000 kişilik bir popülasyonda 7.500 kişi çekinik karakteri fenotipte gösteriyorsa bu popülasyonda çekinik genin frekansı nedir?

- A) 0,2
- B) 0,5
- C) 0,7
- D) 0,9

17. Hardy-Weinberg kuralına göre bir popülasyondaki çekinik gen frekansını gösteren sembol aşağıdakilerden hangisidir?

- A) p
- B) q
- C) p^2
- D) q^2

18. I. Tıp
II. Arkeoloji
III. Ekoloji

Yukarıdakilerden hangileri biyoteknolojinin ortak çalıştığı bilim dalları arasında yer alır?

- A) Yalnız I
- B) I ve II
- C) II ve III
- D) I, II ve III

19. Renk körlüğünde aşağıdaki renklerden hangileri birbirine karıştırılır?

- A) Siyah-beyaz
- B) Sarı-kırmızı
- C) Kırmızı-yeşil
- D) Yeşil-siyah

20. I. Endülüs tavukları
II. Akşamsefası bitkisi
III. Arslan ağız bitkisi

Yukarıdakilerden hangilerinde "eksik baskınlık" görülür?

- A) Yalnız I
- B) I ve II
- C) II ve III
- D) I, II ve III

1. Aşağıdaki önermelerden hangisi geçerlidir?

- A) $\exists xGx \wedge \exists xHx$
 B) $\forall xFx \vee \forall xGx$
 C) $\sim (\exists xGx \rightarrow \forall xGx)$
 D) $\forall xFx \vee \sim \forall xFx$

2. Üç değerli mantığa göre aşağıdakilerden hangisi doğrudur?

- A) p "belirsiz" ve q "belirsiz" ise, $p \rightarrow q$ "belirsiz" olur.
 B) p "yanlış" ve q "yanlış" ise, $q \vee q$ "yanlış" olur.
 C) p "doğru" ve q "belirsiz" ise $p \rightarrow q$ "yanlış" olur.
 D) p "belirsiz" ve q "belirsiz" ise $p \wedge q$ "yanlış" olur.

3. Aşağıdaki önermelerden hangisi sembolik mantıkta bileşik bir önermedir?

- A) Mozart filozof değildir.
 B) Mehmet çok çalışkandır.
 C) Bütün insanlar akıllıdır.
 D) Zeynep yaşlıdır.

4. Aşağıdaki önermelerden hangisi ikili yüklemli bir önermedir?

- A) Mustafa, Taner ile Semih'ten uzundur.
 B) Özlem başarılıdır.
 C) Fuat, piyano çalar.
 D) Orhan ile Ahmet arkadaştır.

5. $\sim \exists xGx$ önermesinin aşağıdakilerden hangisidir eşdeğeri

- A) $\forall x \sim Gx$
 B) $\sim \forall xGx$
 C) $\exists xGx$
 D) $\sim \exists x \sim Gx$

6. "Ceren sevimli ve akıllıdır." önermesi niceleme mantığında nasıl sembolleştirilir?

- A) $\forall xFx$
 B) $Fa \Rightarrow Ga$
 C) $Fa \wedge Ga$
 D) $\exists x \wedge Ga$

7. "Uçan halı vardır." önermesi varlık mantığında nasıl sembolleştirilir?

- A) $a \equiv a$
 B) $E! a$
 C) $\square p$
 D) $a \equiv b$

8. Aşağıdaki önermelerden hangisi p:Yanlış, q:Yanlış kabul edildiğinde "Doğru" değerini alır?

- A) $\sim p \Rightarrow q$
 B) $p \vee q$
 C) $p \wedge q$
 D) $p \Leftrightarrow q$

9. Aşağıdaki önermelerden hangisi bir totolojidir?

- A) $p \vee p$
 B) $p \wedge \sim p$
 C) $p \Rightarrow p$
 D) $\sim p \Leftrightarrow p$

10. "Ya kilo alacaksın ya da az yemek yiyeceksin." önermesi, önermeler mantığında nasıl sembolleştirilir?

- A) $p \wedge q$
 B) $p \Rightarrow q$
 C) $p \vee q$
 D) $p \Leftrightarrow q$

11. "Kar yağarsa okullar tatil olmaz." önermesi, önermeler mantığında nasıl sembolleştirilir?

- A) $q \Rightarrow p$
 B) $\sim p \Rightarrow q$
 C) $p \Rightarrow \sim q$
 D) $p \Leftrightarrow \sim q$

12. Kiplik mantığına göre aşağıdaki önermelerden hangisi bütün mümkün dünyalarda yanlıştır?

- A) Menekşe mordur ve menekşe mor değildir.
 B) Anıtkabir Ankara'dadır veya Anıtkabir Ankara'da değildir.
 C) Altın sarı değildir.
 D) Dikdörtgen dört kenarlıdır.

13. $p \vee q$ önermesinin eşdeğeri olan önerme aşağıdakilerden hangisidir?

- A) $\sim (\sim p \wedge \sim q)$
- B) $p \Rightarrow q$
- C) $p \Leftrightarrow q$
- D) $p \wedge q$

14. “İnsanlar paylaşmayı severlerse rahat diyalog kurarlar hem de dürüst ilişkiler yaşarlar.” önermesinde kaç tane önerme eklemi ve bileşen kullanılmıştır?

- A) Bir önerme eklemi, bir bileşen
- B) Üç önerme eklemi, bir bileşen
- C) Dört önerme eklemi, dört bileşen
- D) İki önerme eklemi, üç bileşen

15. Aşağıdaki önerme çiftlerinden hangisi birbirleriyle tutarlıdır?

- A) $\forall xFx, \sim Fa$
- B) $\sim \exists xFx, Fa$
- C) $\exists xGx, \exists x \sim Gx$
- D) $Ga, \sim Ga$

16. Önerme ile ilgili aşağıdaki ifadelerden hangisi doğrudur?

- A) Bir önermenin tutarlı olabilmesi için doğruluk tablosundaki tüm yorumlamaların doğru olması gerekir.
- B) Bir önermenin doğruluk tablosundaki tüm yorumlamaları yanlışsa önerme tutarsızdır.
- C) Her tutarlı önerme geçerlidir.
- D) Her tutarsız önerme geçerlidir.

17. Kiplik mantığına göre, “üç artı altının dokuz etmesi zorunludur ama ısınan havanın yükselmesi mümkündür.” önermesinin sembolleştirilmiş hali aşağıdakilerden hangisidir?

- A) $\square p \rightarrow \diamond p$
- B) $\diamond p \wedge \square q$
- C) $\diamond p \leftrightarrow \square q$
- D) $\square q \wedge \diamond p$

18. Aksiyomlardan türetilmiş olan önermelere ne ad verilir?

- A) Teori
- B) Teorem
- C) Tam tümevarım
- D) Eksik tümevarım

19. Doğruluğu açıkça belli olan önermelere ne ad verilir?

- A) Aksiyom
- B) Eşitlik
- C) Tutarlılık
- D) Tanım

20. Aşağıdakilerden hangisi mantık felsefesinin amaçlarından biri değildir?

- A) Mantığın kavramlarını sorgulamak
- B) Mantığı gözlem ve deneye dayandırmanın yollarını araştırmak
- C) Mantığın ilkelerini sorgulamak
- D) Mantık değişmezleri ile ilgili sorunları araştırmak

1. Erken Osmanlı mimarlığının en büyük mezar yapısı olarak kabul edilen türbe aşağıdakilerden hangisidir?

- A) İstanbul III. Selim Türbesi
- B) İstanbul Kanuni Sultan Süleyman Türbesi
- C) Bursa Şehzade Mustafa Türbesi
- D) Bursa Yeşil Türbe

2. Ribat nedir?

- A) Dini ve bilimsel eğitim veren okul
- B) Ana güzergahlar üzerinde güvenliği sağlayan kale
- C) Yolculara dinlenme ve güvenlik hizmeti veren kamu yapısı
- D) Devlet yöneticileri için yapılmış saray

3. Bağdat şehri hangi uygarlık döneminde kurulmuştur?

- A) Memlükler
- B) Abbasiler
- C) Emeviler
- D) Fatimiler

4. Aşağıdakilerden hangisi bir Hun sanatı eseridir?

- A) Kül Tigin Anıtı
- B) Pazırık halısı
- C) Arap Ata Türbesi
- D) Bezeklik Kaya Tapınağı

5. Dolmabahçe Sarayı hangi padişah tarafından yaptırılmıştır?

- A) Kanuni Sultan Süleyman
- B) II. Mahmut
- C) Sultan Abdülmecit
- D) V. Mehmet

6. Aşağıdaki Türk mimari eserlerinden hangisi UNESCO tarafından dünya kültür mirası olarak seçilmiştir?

- A) Divriği Ulu Camisi ve Şifahanesi
- B) Konya Alaeddin Camisi
- C) Bursa Ulu Camisi
- D) Sivas Gök Medrese

7. Aşağıdakilerden hangisi Türk halılarında gördüğümüz bir motif çeşididir?

- A) Taç yaprak
- B) Rumi
- C) Eli belinde
- D) Lotus çiçeği

8. 1933 yılında kurulan, kendilerinin Türkiye'deki resim gruplarının dördüncüsü olarak gören, kurucuları arasında Nurullah Berk ve Abidin Dino'nun bulunduğu Türk resim grubu aşağıdakilerden hangisidir?

- A) Müstakil Ressam ve Heykeltıraşlar Birliği
- B) Yeniler Grubu
- C) Onlar Grubu
- D) D Grubu

9. Ressamlığının yanı sıra arkeolog ve müzeci olan, İskender Lahdi'ni bulmasıyla tanınan sanatçı aşağıdakilerden hangisidir?

- A) Osman Hamdi Bey
- B) İbrahim Çallı
- C) Şeker Ahmet Paşa
- D) Hüseyin Avni Lâfij

10. Konya Alaeddin Camii hangi Türk devletine aittir?

- A) Büyük Selçuklu
- B) Karamanoğlu
- C) Osmanlı
- D) Anadolu Selçukluları

11. Aşağıdakilerden hangisi Orhun anıtlarından biri değildir?

- A) Tonyukuk Anıtı
- B) İstemi Han Anıtı
- C) Kül Tigin Anıtı
- D) Bilge Kağan Anıtı

12. Aşağıdakilerden hangisinde Emevi sanatının oluşumundaki iki temel kaynak doğru verilmiştir?

- A) Hıristiyan ve Sasani etkisi
- B) Sasani ve Pers etkisi
- C) Hıristiyan ve Türk etkisi
- D) Türk ve Sasani etkisi

13. Yeniler Grubu içerisinde yer alan ve toplumsal gerçekçilik anlayışı doğrultusunda ele aldığı iri gözlü köylü kadın portreleriyle tanınan Türk ressam aşağıdakilerden hangisidir?

- A) Nuri İyem
- B) Bedri Rahmi Eyüboğlu
- C) Abidin Dino
- D) Nurullah Berk

14. Aşağıdakilerden hangisi Türk hat sanatı ustalarından biri değildir?

- A) Amasyalı Yakut
- B) Sedefkar Mehmet Ağa
- C) Hafız Osman
- D) Ahmet Karahisari

15. Aşağıdakilerden hangisi kûfi yazının çeşitlerinden biri değildir?

- A) Köşeli
- B) Örgülü
- C) Yatık
- D) Çiçekli

16. Aşağıdakilerden hangisi Anadolu Selçuklu dönemine ait bir minyatürlü el yazmasıdır?

- A) Varka ile Gülşah
- B) İskendername
- C) Cerrahiye-i İlhaniye
- D) Şehinşahname

17. Anıtkabir'in mimarları aşağıdakilerden hangisinde doğru verilmiştir?

- A) Vedat Tek – Mimar Kemalettin
- B) Mimar Kemalettin – Orhan Arda
- C) Emin Onat – Orhan Arda
- D) Emin Onat – Vedat Tek

18. Anıtkabir hangi mimari akım içerisinde yer almaktadır?

- A) Birinci Ulusal Mimarlık Akımı
- B) Neoklasik Akım
- C) Seçmecî (eklektik) Akım
- D) İkinci Ulusal Mimarlık Akımı

19. Ahmedi tarafından resmedilen ve Osmanlı padişahlarının resimli ilk tarihi olan eser aşağıdakilerden hangisidir?

- A) Cerrahiye-i İlhaniye
- B) Süleymanname
- C) Şehinşahname
- D) İskendername

20. 14. yüzyıl sonu 15. yüzyıl başlarında İznik'te üretilen, kirlî beyaz astar üzerine mavi geometrik desenler, stilize bitki, bulut motifleri ve hayvan figürleriyle bezenen Osmanlı seramikleri hangi isimle anılır?

- A) Haliç işi seramikler
- B) Milet işi seramikler
- C) Şam işi seramikler
- D) Kütahya seramikleri

1. Aşağıdakilerden hangisi vücudumuzdaki sürekli denge durumunu ifade eder?
 - A) İmmün
 - B) Arthropoda
 - C) Homeostaz
 - D) Zoonotik
2. Aşağıdakilerden hangisi sağlığa etki eden bünyesel hormonal bozukluklardan biridir?
 - A) Ayak yapısının değişmesi
 - B) Nörofibromatozis
 - C) İktiyozis
 - D) Altı parmaklılık
3. Bir yılda canlı doğan ve doğumdan sonraki 364 gün içerisinde ölen bebeklerin sayısının, bir yıldaki canlı doğum sayısına bölünmesi ve çıkan sonucun da binle çarpılmasıyla aşağıdaki sağlık ölçütlerinden hangisi bulunur?
 - A) Kaba doğum hızı
 - B) Bebek ölüm hızı
 - C) Kaba ölüm hızı
 - D) Nüfus artış hızı
4. Gelişmiş ülkelerdeki nüfus artış hızı ve sağlık hizmetleri harcamalarının geri kalmış ülkelere göre durumu aşağıdakilerden hangisinde birlikte ve doğru olarak verilmiştir?
 - A) Nüfus artış hızı az - Sağlık harcamaları fazla
 - B) Nüfus artış hızı fazla - Sağlık harcamaları az
 - C) Nüfus artış hızı az - Sağlık harcamaları az
 - D) Nüfus artış hızı fazla - Sağlık harcamaları fazla
5. Çevre ile ilgili aşağıdaki ifadelerden hangisi yanlıştır?
 - A) Çevre, doğal ve yapay çevre olarak ikiye ayrılabilir.
 - B) Çevresel etkenler giderek halk sağlığında önem kaybetmektedir.
 - C) İnsan dışındaki herşey çevrenin ögesidir.
 - D) Çevre aynı zamanda bir yaşamı sürdürme ve sağlama sistemidir.
6. İnsan sağlığına katkıda bulunacak şekilde vücudumuzda tüm bölümlerini, günlük yaşantımız gereği oluşan kirlerden, artıklardan arındırma işlemine ne ad verilir?
 - A) Sterilizasyon
 - B) Vücut temizliği
 - C) Dezenfeksiyon
 - D) Mikrobiyal dental
7. Günlük yaşamda en fazla kirlenen organların başında aşağıdakilerden hangisi gelir?
 - A) Yüz
 - B) Eller
 - C) Saçlar
 - D) Ayaklar
8. Burun temizliği ile ilgili aşağıdaki ifadelerden hangisi yanlıştır?
 - A) Burun temizliği akan su veya kağıt mendil ile yapılmalıdır.
 - B) Burun kılları steril bir makas ile kesilmelidir.
 - C) Burun kıllarının koparılması gingivitise yol açabilir.
 - D) Burun temizliği, yüz temizliğinde önemli yer kaplar.
9. Deri ile ilgili aşağıdaki ifadelerden hangisi yanlıştır?
 - A) Vücudumuzu saran deri ultraviyole ışınları etkisiyle E vitamini oluşmasını sağlar.
 - B) Deri, vücut sıcaklığının ayarlanmasında etkilidir.
 - C) Deri, bazı atıkların ve bir miktar suyun ter yoluyla vücuttan atılmasını sağlar.
 - D) Derinin görevlerini yapabilmesi için temizliğinin yapılması gerekmektedir.
10. Dişte oyuklar yaparak, dişin yapısını bozan ve kendi kendine iyileşemeyen hastalık aşağıdakilerden hangisidir?
 - A) Diş çürüğü
 - B) Diş ağrısı
 - C) Diş apsesi
 - D) Dişeti çekilmesi

11. Aşağıdakilerden hangisi et grubunda yer alan besinlerden biri değildir?

- A) Kuru baklagiller
- B) Yumurta
- C) Bulgur
- D) Balık

12. Çocukların okulda geçirdikleri zamanlardaki beslenmeleri ile ilgili aşağıdaki ifadelerden hangisi yanlıştır?

- A) Okul kantinlerinden satın alınan ambalajlı süt ve ayran gibi besinlerin etiket bilgisinde Tarım ve Köyişleri Bakanlığı'ndan üretim izninin bulunmasına dikkat edilmelidir.
- B) Okul kantinlerinden satın alınan ambalajlı besinlerin son kullanma tarihinin geçmemiş olmasına dikkat edilmelidir.
- C) Tuvalet ve genel kullanıma açık çeşmelerden su içilmemelidir.
- D) Beslenme çantası ve su mataralarının günaşırı temizlenmesine özen gösterilmelidir.

13. Çocuklarda büyüme hormonu ne zaman daha fazla salgılanır?

- A) Koşarken
- B) Yemeklerden sonra
- C) Öğle vaktinde
- D) Uykuda

14. Aşağıdakilerden hangisi "çocukluk döneminin" özelliklerinden biri değildir?

- A) Çoğunlukla kendi başlarına oynarlar.
- B) Büyükleri taklit etmekten hoşlanırlar.
- C) Kendi fiziksel özellikleri ile en az ilgilendikleri dönemdir.
- D) Hayal ettikleri şeyler, gerçek olay ve kişiler gibi davranırlar.

15. Erkeklerde "ön ergenlik yaşı" aşağıdakilerden hangisidir?

- A) 10 - 12
- B) 11 - 13
- C) 13 - 15
- D) 14 - 17

16. Aşağıdakilerden hangisinde alkol yoktur?

- A) Çamaşır suyu
- B) Parfüm
- C) Antifriz
- D) Boya

17. Aşağıdakilerden hangisi zararlı maddelere bağımlılık oluşmuş kişilerde, madde alınmadığında görülen hallerden biri değildir?

- A) Günlük işleri yapmada isteksizlik
- B) Çevresindekilere vurma, kırma
- C) Öz denetimi yitirme
- D) Keyiflilik

18. Alkollü içeceklerde bulunan alkol türü aşağıdakilerden hangisidir?

- A) Hidroksietan
- B) Etil hidrat
- C) Metil alkol
- D) Etanol

19. Fiziksel etki olarak uyuşturucunun vücutta neden olduğu ilk zehirlenmeye ne ad verilir?

- A) Müzmin zehirlenme
- B) KOAH
- C) HAD
- D) Kronik zehirlenme

20. Sigara bağımlılığı tedavisi ile ilgili aşağıdaki ifadelerden hangisi yanlıştır?

- A) Sigara içme sebepleri tespit edilmelidir.
- B) Sigarayı bırakma isteğinin nedenleri tespit edilmelidir.
- C) Sigarayı hatırlatan şeyler ortadan kaldırılmalıdır.
- D) Fiziksel aktivite azaltılarak sigara içme ihtiyacı azaltılmalıdır.

1. I. Sol dönüş lambası ile işaret vermeye,
II. Geçilecek araca takip mesafesi kadar önceden sol şeride yerleşmeye,
III. Geçilen araç, arkayı görme aynasından görülünceye kadar geçiş şeridinde ilerlemeye,

Sollama yapan aracın sürücüsü yukarıdakilerden hangilerini yapmaya mecburdur?

- A) Yalnız I
B) Yalnız II
C) I ve III
D) I, II ve III

2. **Kara yollarında, taşıtların yan yana gitme sayısı aşağıdakilerden hangisi ile belirlenir?**

- A) Yol çizgileri
B) Işıklı işaret cihazları
C) Trafik polisinin sayısı
D) Kara yolundaki taşıt sayısı

3. **Sürücülerin koruma başlığı ve koruma gözlüğü, yolcuların ise koruma başlığı takmasının zorunlu olduğu taşıt aşağıdakilerden hangisidir?**

- A) Motosiklet
B) Otobüs
C) Minibüs
D) Otomobil

4. **Kara yolunun hangi kısmı zorunlu durumlarda araçlar tarafından kullanılır?**

- A) Ada
B) Bisiklet yolu
C) Banket
D) Yaya kaldırımı

5. **Trafiğe ilk kez çıkacak otomobil için yapılması zorunlu olan işlem aşağıdakilerden hangisidir?**

- A) Renk değişikliği
B) Kayıt ve tescil
C) Kasko sigortası
D) Servis bakımı

6. I. Sol şeritte
II. Sağ şeritte
III. Yaya ve okul geçitlerinde

Yukarıdakilerin hangilerinde duraklama yapılması yasaktır?

- A) I ve II
B) I ve III
C) II ve III
D) I, II ve III

7. I. Su, çamur ve benzerlerini sıçratmak, atmak, dökmek
II. Korkutmak veya şaşırtmak
III. Sigara külü ve izmaritini veya başka şeyleri yola atmak, dökmek

Araç sürücülerinin kara yollarında, kamunun rahat ve huzurunu bozacak veya kişilere zarar verecek şekilde yapmaları yasak davranışlar yukarıdakilerden hangileridir?

- A) Yalnız I
B) Yalnız III
C) II ve III
D) I, II ve III

8. I. Yaya yolları
II. Otobüs durakları
III. Geçiş yollarının önü

Yukarıdakilerden hangileri park etmenin yasak olduğu yerlerdir?

- A) Yalnız I
B) I ve II
C) II ve III
D) I, II ve III

9. **Saatte 80 km hızla giden bir otomobilin, önündeki araçla arasında en az kaç metre takip mesafesi olmalıdır?**

- A) 35
B) 40
C) 45
D) 50

10. Aşağıdakilerden hangisi trafik düzen ve güvenliğini sağlamak amacıyla düzenlenmiş işaret ve levhalardan biri değildir?

- A) Bilgi işaretleri
- B) Duraklama ve park etme işaretleri
- C) Reklam levhaları
- D) Otoyol işaretleri

11. Otoyol kuralları ile ilgili aşağıdakilerden hangisi yanlıştır?

- A) Sadece izin verilen motorlu araçlar otoyoldan yararlanır.
- B) Otoyolda durmak, duraklamak ve geriye gitmek yasaktır.
- C) Yayalar otoyolu kullanabilirler.
- D) Otoyolda belirlenen asgari hız sınırının altında gidilmesi yasaktır.

12. Karayolları Trafik Kanunu ve diğer mevzuata göre, sürücü kursları ve sürücü belgeleri verme ile ilgili yönetmelikler aşağıdakilerden hangisinin sorumluluk alanında yer alır?

- A) Milli Eğitim Bakanlığı
- B) Ulaştırma Bakanlığı
- C) İçişleri Bakanlığı
- D) İl Özel İdareleri

13. Yayaların, hayvanların ve araçların karayolları üzerindeki hal ve hareketlerine ne ad verilir?

- A) Duraklamak
- B) Trafik
- C) Trafikten men
- D) Taşıt

14. İş makinesi türünden motorlu araçları kullanabilmek için aşağıdaki sürücü belgelerinden hangisine sahip olmak gerekir?

- A) G Sınıfı
- B) B Sınıfı
- C) A1 Sınıfı
- D) A2 Sınıfı

15. Yayaların ve araç kullananların diğer yaya ve araç kullananlara göre, yolu kullanma sırasına ne ad verilir?

- A) Geçiş üstünlüğü
- B) Trafikten men
- C) Geçiş yolu
- D) Geçiş hakkı

16. Aşağıdakilerden hangisi karayolunda karşıya güvenli geçiş için yayaların dikkat etmesi gereken unsurlardan biri değildir?

- A) Yolu genişliği
- B) Kendi hızları
- C) Araçların hızı
- D) Diğer yayaların hızları

17. Motorlu araç sahiplerinin devlete karşı yükümlülüklerinin takibini aşağıdakilerden hangisi sağlar?

- A) Kayıt ve Tescil
- B) Sürücü Belgesi
- C) Araç Muayene Belgesi
- D) Araç sahibinin vergi numarası

18. Motorlu araç tescil belgesi aşağıdakilerden hangisiyle geçersiz sayılmaz?

- A) Aracın başkasına satılması
- B) Aracın trafik sigortasının yapılması
- C) Aracın hurdaya çıkarılması
- D) Aracın bir başka vilayete nakli

19. Taşıtlarda aşağıdakilerden hangisinin bulundurulması zorunlu değildir?

- A) Tescil belgesi
- B) Trafik belgesi
- C) Satış belgesi
- D) Tescil plakası

20. Aşağıdakilerden hangisi tescil işlemi yapmaya yetkili kuruluşlardan biri değildir?

- A) Türk Silahlı Kuvvetleri
- B) Belediyeler
- C) İl Özel İdaresi
- D) Trafik tescil kuruluşu

1. Bir travma sonucu deri ya da deri altı dokusunun bütünlüğünün bozulmasına ne ad verilir?

- A) Kırık
- B) Sıyrık
- C) Sokma
- D) Yara

2. İlk yardımda vücut ısısı nereden ölçülmelidir?

- A) Alın
- B) Koltuk altı
- C) Boyun
- D) Bilek

3. Kalp atımlarının atardamar duvarına yaptığı basıncın, damar duvarında parmak uçlarıyla hissedilmesine ne ad verilir?

- A) Nabız
- B) Ateş
- C) Tansiyon
- D) Kan basıncı

4. Aşağıdakilerden hangisi elektrik yanıklarında yapılması gereken ilk yardım uygulamalarından biri değildir?

- A) Kazazedeye su ile müdahale edilmelidir.
- B) Kazazede hareket ettirilmemelidir.
- C) Soğukkanlı ve sakin olunmalıdır.
- D) Hasar gören bölgenin üzeri temiz bir bezle örtülmelidir.

5. Aşağıdakilerden hangisi sedye üzerine yerleştirme tekniklerinden biri değildir?

- A) Kaşık tekniği
- B) Köprü tekniği
- C) Karşılıklı durarak kaldırma tekniği
- D) Tulumba tekniği

6. Aşağıdakilerden hangisi solunum durması nedenlerinden biri değildir?

- A) Hava yolu tıkanmaları
- B) Zehirlenmeler
- C) Kırık veya çıkık olması
- D) Elektrik veya yıldırım çarpması

7. I. Yaşam bulguları değerlendirilir.
II. Zehir bulaşmış giysiler çıkartılır.
III. 15-20 dakika boyunca deri bol suyla yıkanır.
IV. Derinin zehirli madde ile teması kesilmez.

Yukarıdakilerden hangileri cilt yoluyla zehirlenmelerde yapılması gereken ilk yardım uygulamalarındandır?

- A) Yalnız IV
- B) I ve IV
- C) I, II ve III
- D) I, II ve IV

8. Aşağıdakilerden hangisi kazazedenin burun kanaması olması durumunda yapılması gerekenlerden biri değildir?

- A) Yürütülür.
- B) Baş hafifçe öne eğilir.
- C) Uzman bir doktora gitmesi sağlanır.
- D) Burun kanatları 5 dk. süre ile sıkılır.

9. Kalp ve beyin gibi hayati organların oksijensizliğe tahammülü yaklaşık kaç dakika arasındadır?

- A) 4-6
- B) 8-10
- C) 10-12
- D) 12-15

10. Aşağıdakilerden hangisi doku ve organ nakli yapılması için uygun durumlardan biri değildir?

- A) Ölümcül olan hastanın hayatının kurtarılmasının organ ya da doku nakline bağlı olması
- B) Hekimlerin performanslarının artırmak istemesi
- C) Bağış yapacak kişinin sağlığında izninin alınması veya akrabalarından izin alınması
- D) Organ ya da dokusu alınacak kişinin hayatını kaybetmiş olması

11. Aşağıdakilerden hangisi kalp durmasının belirtilerinden biri değildir?

- A) Kazazedenin bilincini yitirmesi
- B) Solunum durması
- C) Vücutta kızarıklıkların oluşması
- D) Deride nem ve morarma görülmesi

12. İç kanamalarda ilk yardım ile ilgili aşağıdaki ifadelerden hangisi yanlıştır?

- A) Hasta bir an önce hastaneye ulaştırılmalıdır.
- B) Hastaya bol su içirilmelidir.
- C) Üstü örtülerek vücudun ısı kaybetmesi önlenmelidir.
- D) Hasta hareket ettirilmez.

13. Aşağıdakilerden hangisi zehirlenme belirtilerinden biri değildir?

- A) Baş ağrısı
- B) Terleme
- C) Mide bulantısı, ishal ve kusma
- D) Solunum sisteminin işlevlerinin hızlanması

14. İlk yardım esnasında kan kaybını durdurmak için aşağıdakilerden hangisi yapılmalıdır?

- A) Yaraya batmış yabancı cisimler varsa bunlar çıkarılmalıdır.
- B) Yaralanan bölge temizlenerek sargı bezi ile sarılmalıdır.
- C) Kanayan bölgeye kan taşıyan ana damarlara kesinlikle baskı uygulanmamalıdır.
- D) Yaralı bölge mümkünse kalp seviyesinin altında tutulmalıdır.

15. Yürüyemeyen ya da bilinci kapalı olan yaralının tek kişi tarafından alınıp omuzda taşındığı taşıma yöntemine ne ad verilir?

- A) Beşik yöntemi
- B) Çekme yöntemi
- C) Omuzlama
- D) İtfaiyeci yöntemi

16. Yaralıya sağlık görevlilerinin müdahalesine kadar, hayatının kurtarılması ya da durumunun kötüleşmesini önlemek için, ilaç kullanılmadan yapılan uygulamalara ne ad verilir?

- A) Tedavi
- B) İlk yardım
- C) Rehabilitasyon
- D) Teşhis

17. Deri üzerinde kızarıklıkların görüldüğü yüzeysel yanıklara ne ad verilir?

- A) 1. Derece yanıklar
- B) 2. Derece yanıklar
- C) 3. Derece yanıklar
- D) 4. Derece yanıklar

18. Aşağıdakilerden hangisi sindirim yoluyla zehirlenme belirtilerinden biri değildir?

- A) Kusma
- B) Bulantı
- C) Hayaller görme
- D) Ateş

19. Aşağıdakilerden hangisi araçlarda bulundurulması zorunlu ilk yardım malzemeleri arasında yer almaz?

- A) El feneri
- B) Büyük sargı bezi
- C) Çengelli iğne
- D) Pamuk

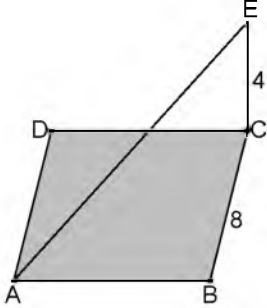
20. Yanıklara uygulanacak ilk yardım ile ilgili aşağıdaki ifadelerden hangisi doğrudur?

- A) Yanıkların üzerinde bulunan kabuklar alınmalıdır.
- B) Yanıklara krem, losyon, yağ, vb. maddeler sürülmelidir.
- C) Deride oluşan şişlikler patlatılmamalıdır.
- D) Birinci derece yanıklar buz konulmuş torbalar kullanılarak serinletilmelidir.

1. Herhangi üçü doğrusal olmayan dört nokta ile en fazla kaç farklı düzlem çizilebilir?

- A) 2
- B) 3
- C) 4
- D) 5

2.



Bir kenarının uzunluğu 8 cm olan ABCD karesinin C köşesinden şekildeki gibi 4 cm uzunluğunda bir [CE] dikmesi çiziliyor.

Buna göre, |AE| kaç cm dir?

- A) 9
- B) 10
- C) 11
- D) 12

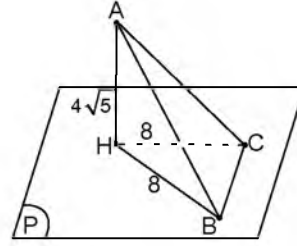
3. Bir karenin bir düzlem üzerindeki iz düşümü aşağıdakilerden hangisi olamaz?

- A) Kare
- B) Nokta
- C) Dikdörtgen
- D) Doğru parçası

4. Bir kenarının uzunluğu 6 cm olan ABCD karesinin BC kenarı P düzleminde. Kare düzlemi ile P düzlemi 60° lik açı yapmaktadır. ABCD karesinin P düzlemi üzerindeki dik iz düşümü olan dikdörtgenin çevresi kaç cm dir?

- A) 12
- B) 14
- C) 16
- D) 18

5.



Yukarıdaki şekilde [AH] doğru parçası P düzlemine H noktasında diktir. |HB|=|HC|=8 cm ve |AH|= $4\sqrt{5}$ cm olduğuna göre, aşağıdaki ifadelerden hangisi yanlıştır?

- A) ABC üçgeni ikizkenar üçgendir.
- B) AHB üçgeni dik üçgendir.
- C) |AB|=13 cm dir.
- D) |AC|=12 cm dir.

6. İki doğrunun çakışık olması için en az kaç noktada kesişmelidir?

- A) 1
- B) 2
- C) 3
- D) Sonsuz

7. Uzayda |AB|= $8\sqrt{3}$ cm olan bir doğru parçası ve bu doğru parçası ile 60° lik açı yaparak [AB] doğru parçasını orta noktasında kesen bir P düzlemi veriliyor.

Buna göre, A noktasının bu düzleme olan uzaklığı kaç cm dir?

- A) 4
- B) 5
- C) 6
- D) 7

8. Uzayda paralel iki doğru ve bu doğruların oluşturduğu düzlemin dışında bir nokta veriliyor. Verilen noktadan geçen ve her iki doğru ile aykırı konumda bulunan kaç farklı doğru vardır?

- A) Yoktur
- B) 1
- C) 2
- D) Sonsuz

9. Doğru ve düzlemlerle ilgili aşağıdaki ifadelerden hangisi doğrudur?

- A) Aynı doğruya dik olan iki düzlem birbirine paraleldir.
- B) Birbirine dik iki düzlemden birine paralel olan doğru diğerine de paraleldir.
- C) Bir doğru parçasının bir düzlem üzerine dik iz düşümü daima bir doğru parçasıdır.
- D) İki paralel doğrudan birine dik olan düzlem diğerine paraleldir.

10. Bir ABC dik üçgeninde, $|AB|=13$ cm, $|BC|=5$ cm ve $m(\hat{C})=90^\circ$ derecedir. Bu üçgenin A köşesinden üçgen düzlemine dik bir P noktası alınıyor. $|PA|=9$ cm, olduğuna göre, $|PC|$ kaç cm dir?

- A) 8
- B) 10
- C) 15
- D) 18

11. A noktasının d doğrusuna olan uzaklığı 5 cm dir. A noktasının doğruya göre simetriği olan noktayı merkez kabul eden ve d doğrusuna teğet olan dairenin alanı kaç cm^2 dir?

- A) 25π
- B) 16π
- C) 9π
- D) 8π

12. İki düzlem 30° lik açı ile kesişmektedir. Düzlemlerden biri üzerine 8 cm kenarlı bir kare çizilirse, bu karenin diğer düzlem üzerindeki dik iz düşümünün alanı kaç cm^2 dir?

- A) 36
- B) $32\sqrt{3}$
- C) 64
- D) $48\sqrt{3}$

13. Kesişen P ve Q düzlemlerinin ölçük açısı 60° dir. A noktası P düzlemine ait bir nokta olmak üzere, A'nın Q düzlemine uzaklığı 9 cm olarak veriliyor. Buna göre, A noktasının düzlemlerin arakesitine olan uzaklığı kaç cm dir?

- A) 6
- B) 8
- C) $6\sqrt{3}$
- D) 12

14. Alanı $49 cm^2$ olan bir ABCD karesinin [AC] köşegeni d doğrusuna paraleldir. Bu karenin [AC] köşegeninin d doğrusu üzerindeki dik iz düşüm uzunluğu kaç cm'dir?

- A) 7
- B) $7\sqrt{2}$
- C) $7\sqrt{3}$
- D) 14

15. Bir kenarının uzunluğu 4 cm olan düzgün altıgenin içinde bulunduğu Q düzleminin, P dik iz düşüm düzlemi ile arasındaki ölçük açısının ölçüsü α dir. Düzgün altıgenin dik iz düşümünün alanı $36 cm^2$ olduğuna göre, α kaç derecedir?

- A) 30
- B) 45
- C) 60
- D) 90

16. $[AB]$ doğru parçası d doğrusu ile 45° lik açı yapmaktadır. $|AB|=10$ cm olduğuna göre, $[AB]$ doğru parçasının d doğrusu üzerine dik iz düşüm uzunluğu kaç cm dir?

- A) 25
- B) 15
- C) $5\sqrt{3}$
- D) $5\sqrt{2}$

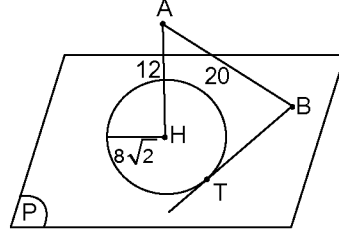
17. Verilen bir noktadan geçen ve kesişen iki düzleme dik olan kaç farklı düzlem çizilebilir?

- A) Sonsuz
- B) 1
- C) 2
- D) 3

18. Aşağıdakilerden hangisi bir düzlem belirtir?

- A) Bir doğru ile dışındaki bir nokta
- B) Aynı doğru üzerinde bulunan üç farklı nokta
- C) Birbirinden farklı iki nokta
- D) Çakışık iki doğru

19.



Yukarıdaki şekilde A noktasının P düzlemine olan uzaklığı $|AH|=12$ cm olarak veriliyor. $|AB|=20$ cm ve düzlemin içinde bulunan H merkezli çemberin yarıçapı $8\sqrt{2}$ cm olduğuna göre, B noktasından çembere çizilen $[BT]$ teğetinin uzunluğu kaç cm dir?

- A) 5
- B) $4\sqrt{2}$
- C) 8
- D) $8\sqrt{2}$

20. Aynı düzlemde bulunan iki doğru ile ilgili aşağıdaki ifadelerden hangisi doğrudur?

- A) Üç noktada kesişiyorlarsa çakışıkırlar.
- B) Sadece dik olarak kesişirler.
- C) Aykırı durumda olabilirler.
- D) En az bir noktada kesişmek zorundadırlar.

SEÇMELİ TARİH 3

A

2015 II.DÖNEM 0104-A

1. Divan-ı Hümayun hangi padişah zamanında kurulmuştur?
 - A) Osman Bey
 - B) Yıldırım Bayezid
 - C) Mehmet Çelebi
 - D) Orhan Bey
2. Aşağıdakilerden hangisi 14. yüzyıl başlarında Yakın Doğu'da yer alan devletlerden biri değildir?
 - A) Memluk
 - B) Saksonya
 - C) Altın Orda
 - D) Bizans
3. Aşağıdakilerden hangisi Osmanlı Devleti ile Macarlar arasında 1444 yılında imzalanan Edirne-Segedin Antlaşması'nın maddeleri arasında yer almaz?
 - A) Tuna nehri iki taraf arasında sınır kabul edilecek
 - B) Sırbistan bağımsız olacak fakat Osmanlı Devleti'ne vergi verecek
 - C) Antlaşma on yıl geçerli olacak
 - D) Eflak tamamen Osmanlı egemenliğinde kalacak
4. Moğol İmparatorluğu'nun parçalanmasından üzerine İran ve çevresinde Hülâgu Han tarafından kurulan devlet aşağıdakilerden hangisidir?
 - A) Memluk
 - B) İlhanlı
 - C) Türkiye Selçuklu
 - D) Altın Orda
5. Aşağıdakilerden hangisi Karesioğulları'nın Osmanlı Devleti'ne katılmasıyla Osmanlıya sağladığı faydalardan biri değildir?
 - A) Rumeli'ye geçiş için önemli bir adım atılmış oldu.
 - B) Karesioğulları'nın deniz gücü ve donanmasından yararlanıldı.
 - C) Önemli devlet adamları ve yöneticileri Osmanlı hizmetine alındı.
 - D) Macarların Balkanlar'daki etkisi azaldı.
6. Aşağıdakilerden hangisi Niğbolu Savaşı'nın sonuçlarından biri değildir?
 - A) Macarlar etkisiz hale getirildi.
 - B) Osmanlı birliklerine Makedonya yolu açıldı.
 - C) Osmanlı Devleti'nin Avrupa üzerindeki baskısı attı.
 - D) Halife, Yıldırım Bayezid'e "Anadolu'nun Sultanı" unvanını verdi.
7. Osmanlı Devleti'nin ilk defa top kullandığı savaş aşağıdakilerden hangisidir?
 - A) I. Kosova
 - B) II. Kosova
 - C) Çirmen
 - D) Sırpsındığı
8. Devşirme Sistemiyle ilgili aşağıdaki ifadelerden hangisi yanlıştır?
 - A) Osmanlı ülkesinde yaşayan Hristiyan ailelerin sağlıklı ve kuvvetli olan erkek çocuklarından biri alınırdı.
 - B) Ailelerden alınan çocukların din, gelenek, adet ve görenekleri değiştirilmezdi.
 - C) Bir aileden birden fazla çocuk alınmazdı.
 - D) Üç beş yılda bir yapılır, sekiz ve on yaş arası çocuklar devşirilirdi.
9. Aşağıdakilerden hangisi Osmanlı bürokrasisini oluşturan kollardan biri değildir?
 - A) Enderun
 - B) Seyfiye
 - C) İlmiye
 - D) Kalemîye
10. Aşağıdakilerden hangisi İstanbul'un fethi için yapılan hazırlıklardan biri değildir?
 - A) Karamanoğulları'yla anlaşarak Anadolu'nun güvenliği sağlandı.
 - B) Anadolu Hisarı'nın karşısına Rumeli Hisarı yaptırıldı.
 - C) Haçlı ordusuyla anlaşma yapılarak Bizans'a yardım etmesi engellendi.
 - D) Edirne'de İstanbul surlarını yıkacak toplar döktürüldü.

11. Aşağıdakilerden hangisi Divan-ı Hümâyunun üyelerinden biri değildir?

- A) Şeyhü'l İslam
- B) Nişancı
- C) Kaptan emini
- D) Vezirler

12. Karadeniz'in Türk gölü olmasını sağlayan olay aşağıdakilerden hangisidir?

- A) Kırım'ın fethi
- B) Mora'nın fethi
- C) Eflak seferi
- D) Bosna-Hersek seferi

13. Topkapı Sarayı'nın bir bölümü olan Enderun'la ilgili aşağıdaki ifadelerden hangisi yanlıştır?

- A) Saray kadınlarının eğitim ve öğretimi burada yapılırdı.
- B) Sarayın iç bölümünde yer alırdı.
- C) Devletin ihtiyaç duyduğu devlet adamları burada yetiştirilirdi.
- D) Büyük oda, küçük oda, seferli odası, Doğançılar odası, hazine odası, kiler odası ve has oda olmak üzere yedi bölümden oluşurdu.

14. Aşağıdakilerden hangisi İstanbul'un fethinin Türk tarihi açısından sonuçlarından biri değildir?

- A) Osmanlıların İslam dünyası üzerindeki saygınlığı arttı.
- B) İstanbul, Osmanlı Devleti'nin başkenti oldu.
- C) Orta Çağ sona erdi, Yeni Çağ başladı.
- D) Osmanlı Devleti yükselme dönemine girdi.

15. Osmanlı Devleti ve İran arasında imzalanan ilk antlaşma aşağıdakilerden hangisidir?

- A) Amasya
- B) Ferhat Paşa
- C) Nasuh Paşa
- D) Karlofça

16. Evliya Çelebi'nin Osmanlı ülkesini baştanbaşa gezerek otuz yıl süren seyahatlerini anlattığı eseri aşağıdakilerden hangisidir?

- A) Cihannüma
- B) Keşf-i Zünun
- C) Hitay Sefaretnamesi
- D) Seyahatname

17. İçki, tütün ve geceleri sokağa çıkma yasağı getiren padişah aşağıdakilerden hangisidir?

- A) II. Mehmet
- B) II. Osman
- C) III. Murat
- D) IV. Murat

18. Aşağıdakilerden hangisi Tarhuncu Ahmet Paşa'nın devlet hazinesini düzeltmek için yaptığı çalışmalardan biri değildir?

- A) Gereksiz bütün harcamalar önlendi.
- B) Yeni vergiler getirildi.
- C) Devletin alacakları tahsil edilmeye başlandı.
- D) Devletin gelir ve giderlerini karşılaştıran bir rapor hazırlandı.

19. Aşağıdakilerden hangisi Celali İsyanlarının nedenlerinden biri değildir?

- A) Toprağını işleyemeyen köylünün eşkıyalığa başlaması
- B) Eyalet yöneticilerinin haksız ve adaletsiz uygulamalarının olması
- C) Kapıkulu Ocağı'na askerlikle ilgili olmayanların alınması
- D) Köylünün üzerindeki vergi yükünün artması

20. Vasvar Antlaşması kimler arasında imzalanmıştır?

- A) Osmanlı Devleti – İngiltere
- B) Avusturya – Fransa
- C) Osmanlı Devleti – Avusturya
- D) Almanya – Rusya

1. Hz. Peygamber'in sütannesinin adı aşağıdakilerden hangisidir?
 - A) Fatıma
 - B) Ayşe
 - C) Halime
 - D) Hatice

2. Aşağıdakilerden hangisi Hz. Muhammed'in çocuklarından biri değildir?
 - A) Kasım
 - B) İbrahim
 - C) Ümmü Rukiye
 - D) Fatıma

3. Hz. Muhammed, Hz. Hatice ile evlendiğinde kaç yaşındaydı?
 - A) 25
 - B) 30
 - C) 35
 - D) 40

4. 615 yılında müşriklerin ağır baskısı üzerine Hz. Osman liderliğinde nereye hicret edilmiştir?
 - A) Medine
 - B) Taif
 - C) Mısır
 - D) Habeşistan

5. Peygamberimize ilk vahiy kaç yılında ve nerede gelmiştir?
 - A) 610 – Hira Mağarası
 - B) 610 - Sevr Mağarası
 - C) 615 – Hira Mağarası
 - D) 615 – Sevr Mağarası

6. Doğu Roma İmparatorluğuna gözdağı verilen sefer aşağıdakilerden hangisidir?
 - A) Medine Seferi
 - B) Tebük Seferi
 - C) Taif Seferi
 - D) Şam

7. Peygamberimizin mensup olduğu kabile aşağıdakilerden hangisidir?
 - A) Ümeyye oğulları
 - B) Haşimoğulları
 - C) Kinane
 - D) Hevazin

8. Hz. Muhammed'in yirmi yaşında katıldığı savaşın adı aşağıdakilerden hangisidir?
 - A) Arap Savaşı
 - B) Kureyş Savaşı
 - C) Harem Savaşı
 - D) Ficar Savaşı

9. Hz. Muhammed'in doğduğu yıl aşağıdakilerden hangisidir?
 - A) 571
 - B) 575
 - C) 577
 - D) 579

10. Aşağıdakilerden hangisi Hz. Peygamber'in komşularla ilgili kaçınılması emrettiği davranışlardan biridir?
 - A) Rahatsız edecek söz ve davranışlar
 - B) Övgü dolu sözler
 - C) Fazla ikramda bulunulması
 - D) Komşu çocuklarına iyi davranılması

11. İnsanlar arasında iletişimi sağlayan birinci unsur aşağıdakilerden hangisidir?
 - A) Gözlem
 - B) Dil
 - C) Dokunma
 - D) Kulak

12. Aşağıdakilerden hangisi Hz. Muhammed'in yemek yemeye ilgili emirlerinden biri değildir?
 - A) Yemeğe besmeleyle başlanması
 - B) Yemeği sağ elle yenilmesi
 - C) Yemekte tatlının en son yenilmeye başlanması
 - D) Yemek yenirken kişilerin önünden yemesi

13. Hz. Muhammed'le ilgili aşağıdaki ifadelerden hangisi yanlıştır?
 - A) Peygamberimiz boş ve anlamsız sözler söylemekten insanları sakındırmıştır.
 - B) Peygamberimiz müminlerin sert tavırlı olmaktan sakınmaya çağırmıştır.
 - C) Peygamberimiz insanlarla ilişkilerde güler yüzlü olmayı tavsiye etmiştir.
 - D) Sohbet ortamlarında konuşulan iyi şeylerin, başkalarına aktarılmasını yasaklamıştır.

14. Aşağıdakilerden hangisi Hz. Muhammed'in hediyeleşmeyle ilgili söylediklerinden biri değildir?

- A) Kalpleri birbirine yakınlaştırır.
- B) Gücü yetmeyenlerin gücenmesine neden olur.
- C) İnsanlar arasında sevgi ve muhabbet duygularının gelişmesini sağlar.
- D) İnsanların vefa duygularıyla birbirlerini hatırlamalarına yardımcı olur.

15. Aşağıdakilerden hangisi hayasızlığın neden olduğu durumlardan biri değildir?

- A) Toplumda sevilen kimse olma
- B) İnsanın sahip olduğu değerlerin zamanla yok olması
- C) Merhametlilik özelliğinin kaybedilmesi
- D) Güvenilirliğin yitirilmesi

16. Kişi, Allah'a karşı hissettiği sorumluluk duygusu sebebiyle aşağıdaki söz ve davranışların hangisinden uzaklaşır?

- A) Kişinin kötü olarak nitelendirdiği söz ve davranışlardan
- B) Toplumun beğenmediği söz ve davranışlardan
- C) Toplumun anlamadığı söz ve davranışlardan
- D) Kur'an'ın çirkin olarak nitelendirdiği söz ve davranışlardan

17. Hayâ ile ilgili aşağıdaki ifadelerden hangisi yanlıştır?

- A) Kibirten uzak durmak edep ve hayânın gereğidir.
- B) Utanma, sadece başkalarının yanında iken geçerlidir.
- C) Toplumun huzuru için gerekli olan kuralların ortaya çıkmasında hayâ duygusunun büyük etkisi vardır.
- D) Hayânın olmadığı yerde ahlak olmaz.

18. Aşağıdakilerden hangisi Kur'an-ı Kerim'de, Allah'ın büyük bir mükâfat hazırladığı belirtilen kişilerden biri değildir?

- A) Mütevazî erkekler
- B) Sabreden kadınlar
- C) Sadaka veren kadınlar
- D) Kadınların itaat ettiği erkekler

19. Aşağıdakilerden hangisi "iffet" kelimesinin anlamlarından biri değildir?

- A) Fakirliğini ve zarureti, çok muhtaç olmadıkça gizlemek
- B) Ahlâken temiz olmak
- C) Nefsi yasaklardan alı koymamak
- D) Arlı olmak

20. "Siz bana altı şeyi garanti edin, ben de size cennete girmeyi garanti edeyim."

Aşağıdakilerden hangisi Hz. Muhammed'in yukarıdaki sözünde vurguladığı altı şeyden biri değildir?

- A) Konuştuğunuzda doğru söyleyin.
- B) Söz verdiğinizde sözünüzü tutun.
- C) Temiz ve düzenli olun.
- D) Emanete riayet edin.

1. Bir kutuda 1'i kırmızı 4 bilye, ikinci bir kutuda 7'si kırmızı 14 bilye vardır

Kutulardan birer bilye alınıyor. Bu durumda her iki bilyenin de kırmızı olma olasılığı aşağıdakilerden hangisidir?

- A) $\frac{1}{12}$
 B) $\frac{1}{8}$
 C) $\frac{1}{4}$
 D) $\frac{1}{2}$

2. $\sum_{n=1}^{\infty} \left(\frac{1}{3}\right)^{n+2}$ serisinin toplamı kaçtır?

- A) $\frac{1}{18}$
 B) $\frac{1}{9}$
 C) $\frac{1}{4}$
 D) $\frac{1}{2}$

3. "CACIK" kelimesindeki harflerin yerleri değiştirilerek, anlamlı yada anlamsız 5 harfli birbirinden farklı kaç grup oluşturulabilir?

- A) 30
 B) 60
 C) 90
 D) 120

4. Birbirine paralel 5 doğru ile yine birbirine paralel 4 doğru kesiştiriliyor. Buna göre, kaç paralelkenar oluşur?

- A) 10
 B) 20
 C) 40
 D) 60

5. Birbirinin aynısı 4 Matematik ve birbirinin aynısı 3 Fizik kitabı bir rafa yan yana kaç farklı şekilde dizilebilir?

- A) 24
 B) 35
 C) 84
 D) 98

6. Bir sinema salonunda ilk sırada 11 oturma yeri ve en son sırada ise 76 oturma yeri vardır. Her sıradaki oturma yeri sayısı bir önceki sıradakinin 5 fazlasıdır. Bu salonda toplam kaç sıra vardır?

- A) 11
 B) 12
 C) 13
 D) 14

7. İlk terimi -4 ve ortak farkı 3 olan aritmetik serinin ilk 10 teriminin toplamı kaçtır?

- A) 95
 B) 105
 C) 135
 D) 175

8. $A=\{0,1,2,3,4,5,7\}$ kümesinin elemanları kullanılarak rakamları birbirinden farklı 3 basamaklı 400 den büyük kaç sayı yazılabilir?

- A) 60
B) 90
C) 105
D) 120

9. Bir aritmetik dizinin a. terimi b, b. terimi a ise, 6. terimi aşağıdakilerden hangisidir?

- A) $a+b-6$
B) $a-b+2$
C) $a-2b+4$
D) $a+b+6$

10. $n \in \mathbb{N}$ olmak üzere; $\frac{n!}{(n-3)!} = 24$ olması için n kaç olmalıdır?

- A) 3
B) 4
C) 5
D) 6

11. $\prod_{n=2}^{23} \frac{n+1}{n}$ çarpımının sonucu kaçtır?

- A) $\frac{23}{2}$
B) 12
C) $\frac{47}{2}$
D) 24

12. Bir sınıfta Matematik veya Türkçe derslerinden geçenlerin sayısı 35 tir. Bunlardan 20'si Matematik, 18'i ise Türkçe derslerinden geçmiştir.

Buna göre rastgele seçilen bir öğrencinin Türkçe dersinden geçtiği bilindiğine göre, Matematik dersinden geçmiş olma olasılığı aşağıdakilerden hangisidir?

- A) $\frac{3}{35}$
B) $\frac{1}{10}$
C) $\frac{1}{6}$
D) $\frac{4}{7}$

13. 4 kişi yuvarlak bir masa etrafında kaç farklı şekilde sıralanabilir?

- A) 3
B) 6
C) 12
D) 24

14. $\frac{6!+7!}{5!+4!}$ işleminin sonucu kaçtır?

- A) 2
B) 12
C) 40
D) 48

15. İlk terimi -3 olan aritmetik serinin ilk 11 teriminin toplamı 352 olduğuna göre, serinin ortak farkı kaçtır?

- A) 4
- B) 5
- C) 6
- D) 7

16. Bir torbada 3 sarı, 4 kırmızı top vardır. Buna göre torbadan seçilecek 2 topun da sarı olma olasılığı kaçtır?

- A) $\frac{1}{7}$
- B) $\frac{3}{5}$
- C) $\frac{4}{7}$
- D) $\frac{6}{7}$

17. $\sum_{i=1}^{20} (k-5) = 380$ ise, k kaçtır?

- A) 14
- B) 19
- C) 20
- D) 24

18. İlk üç terimi 3, k+1, 12 olan pozitif terimli bir geometrik dizinin 5. terimi kaçtır?

- A) 24
- B) 30
- C) 36
- D) 48

19. $\sum_{i=1}^n 2i = 90$ ise, n kaçtır?

- A) 9
- B) 10
- C) 11
- D) 12

20. $6+8+10+\dots+74$ toplamı kaçtır?

- A) 1190
- B) 1225
- C) 1360
- D) 1400

1. Bilimsel yazı hazırlanırken başkasının görüşlerini alıp, gönderme yapılarak nereden alıntıldığı belirtilmediği takdirde ortaya çıkan bilimsel hırsızlığa ne ad verilir?

- A) Göndergesel işlev
- B) Alıntı
- C) Dipnot
- D) İntihal

2. Aşağıdakilerden hangisi makalede söylenenlerin bir yargıya bağlandığı bölümdür?

- A) Dipnot
- B) Malzeme
- C) Yöntemler
- D) Sonuç

3. Türk edebiyatında makalenin gelişimine bakıldığında 1860'da ilk makale kim tarafından yazılmıştır?

- A) Nefi
- B) Şinasi
- C) Hüseyin Cahit
- D) Namık Kemal

4. Söylenen sözün ya da kavramın gerçek ve mecazlı anlamı dışında büsbütün tersini söyleme sanatı aşağıdakilerden hangisidir?

- A) Temsili istiare
- B) Mecaz-ı mürsel
- C) Tariz
- D) Cinaz

5. Aşağıdakilerden hangisi başlıca şiir türlerinden biri değildir?

- A) Komik
- B) Epik
- C) Lirik
- D) Didaktik

6. Şiirde tema, yapı, dil, ses ve söyleyiş bir araya getirilerek aşağıdakilerden hangisi oluşturulur?

- A) Cinaz
- B) Ahenk
- C) Kafiye
- D) Ritm

7. Tuyyuğ, Türk şiirinde kullanılan hangi nazım biçiminin örneğidir?

- A) Divan edebiyatı
- B) Halk şiiri nazım biçimleri
- C) Klasik Türk Şiiri Nazım biçimleri
- D) Batı etkisinde gelişen Türk edebiyatı

8. "Ey bu topraklar için toprağa düşmüş asker!
Gökten ecdâd inerek öpse o pâk alını değer.
Ne büyüsun ki kanın kurtarıyor tevhitî..
Bedr'in aslanları ancak bu kadar şanlı idi."

Yukarıda bir parçası verilen "Çanakkale Şehitleri İçin" başlıklı şiirin teması aşağıdakilerden hangisidir?

- A) Aşk
- B) Gençlik
- C) Kahramanlık
- D) Öfke

9. "Bir nasihatım var zamana uygun
Tut sözümü yattıkça yat uyanma
Meşhur bir kelimadır sen kazan sen ye
El için yok yere ateşe yanma"

Yukarıda bir parçası verilen "Ters Öğüt Destanı" hangi sanata uygun bir örnektir?

- A) Mecaz
- B) Alegori
- C) Tariz
- D) İstiare

10. Divan şiiriyle ilgili aşağıdaki ifadelerden hangisi yanlıştır?

- A) Hece ölçüsüyle yazılır.
- B) Dili halk şiirine göre daha ağırdır.
- C) Arap ve Fars edebiyatlarının etkisi görülür.
- D) Nazım birimi beyittir.

11. "Artık demir almak günü gelmişse zamandan
Meçhule giden bir gemi kalkar bu limandan
Hiç yolcusu yokmuş gibi sessizce alır yol;
Sallanmaz o kalkışta ne bir mendil ne bir kol."

Yahya Kemal'in Sessiz Gemi isimli yukarıda bir parçası verilen şiiri hangi sanata dayalı alegorik bir şiirdir?

- A) Kinaye
- B) Temsili istiare
- C) Cinaz
- D) Tariz

12. Aşağıdakilerden hangisi Türk edebiyatının gelişim sürecinde Tanzimat sonrası oluşan topluluklardan biri değildir?

- A) Tek Hececiler
- B) Tanzimat Edebiyatı
- C) Serveti Fünun Edebiyatı
- D) Fecr-i Âti Edebiyatı

13. Halk şiiriyle ilgili aşağıdaki bilgilerden hangisi yanlıştır?

- A) Türklerin İslamiyeti kabulü öncesinden başlayarak günümüze kadar sürmüştür.
- B) Nazım birimi dördlüktür.
- C) Konu olarak tabiat güzellikleri, aşk, ayrılık ve gurbet gibi temaları işlemiştir.
- D) Arap ve Fars edebiyatlarının etkisi görülür.

14. Aşağıdakilerden hangisi şiirin dış yapı yönünden incelenmesine değil iç yapı yönünden incelenmesine dâhildir?

- A) Vezin
- B) Uyak
- C) Dil
- D) Tema

15. Aşağıdakilerden hangisi bilimsel yazılar içerisinde yer almaz?

- A) Değerlendirme yazıları
- B) Film senaryoları
- C) Bilimsel makaleler
- D) Konferans raporları

16. Yazar, düşünür ve sanatçıların veya kendi alanında uzman kişilerin bir konuyu açıklamak, tanıtmak, bilgi vermek, öğretmek amacıyla yaptıkları konuşmalara ne ad verilir?

- A) Söyleşi
- B) Röportaj
- C) Konferans
- D) Münazara

17. Sözün gerçek anlamı doğru gibi görünse de asıl amacın sözün ters anlamının anlaşılması olduğu, bir kişiyi ya da durumu alaya almak için yapılan sanat aşağıdakilerden hangisidir?

- A) Tariz
- B) Mürsel mecaz
- C) İstiare
- D) Teşbih

18. Terzarima, Türk şiirinde kullanılan hangi nazım biçiminin örneğidir?

- A) Klasik Türk şiiri
- B) Batı etkisinde gelişen
- C) Halk şiiri
- D) Divan edebiyatı

19. Şiiri oluşturan dörder, beşer ya da daha fazla dizelik kümelere ne ad verilir?

- A) Beyit
- B) Mısra
- C) Gazel
- D) Bend

20. Aşağıdakilerden hangisi kafiye çeşitlerinden biri değildir?

- A) Mecazlı
- B) Cinaslı
- C) Tam
- D) Zengin

SEÇMELİ ALMANCA 4

2015 II.DÖNEM 0104-A

A

1. Was für ein brav..... Junge!

Welche Endung passt in die obige Lücke?

Cümlede boş bırakılan yeri aşağıdaki son eklerden hangisi doğru şekilde tamamlar?

- A) -e
B) -er
C) -em
D) -en

2. Der Tee ist heiß. Tee schmeckt gut.

Welches Wort passt in die obige Lücke?

Cümlede boş bırakılan yeri aşağıdakilerden hangisi doğru şekilde tamamlar?

- A) Das heißes
B) Der heiße
C) Der heißte
D) Das heißen

3. Ich mag die Arbeit als Dolmetscherin nicht sehr gern.

Wie lautet der obige Satz auf Türkisch?

Verilen cümlelerin Türkçesi aşağıdakilerden hangisidir?

- A) Çevirmen olmak istemiyordum.
B) Çevirmen olarak çalışanları hiç sevmem.
C) Çevirmen olarak çalışmayı pek sevmiyorum.
D) Çevirmenlik yapmayı çok isterdim.

4. Kinder früh schlafen.

Welches Wort passt nicht in die obige Lücke?

Cümlede boş bırakılan yeri aşağıdakilerden hangisi doğru şekilde tamamlamaz?

- A) haben
B) müssen
C) sollen
D) sollten

5. nicht zu lange! (fernsehen, ihr)

Welche Wörter passen in die obigen Lücken?

Cümlede boş bırakılan yerleri aşağıdakilerden hangileri doğru şekilde tamamlar?

- A) Sehen / ferner
B) Siehst / fern
C) Sah / ferner
D) Seht / fern

6. dem Mann / vertrauen / nicht (du)

Wie kann man mit den obigen Wortgruppen einen sinnvollen und richtigen Satz bilden?

Verilen sözcük gruplarıyla kurulabilecek en anlamlı ve doğru cümle aşağıdakilerden hangisidir?

- A) Vertrauen wir nicht dem Mann!
B) Vertrauten dem Mann nicht!
C) Vertrau dem Mann nicht!
D) Vertrau dem Mann nie!

7. Was möchtest du dir kaufen?

Welche Antwort passt zur obigen Frage?

Verilen sorunun cevabı aşağıdakilerden hangisidir?

- A) Das ist mir zu viel!
B) Wir können diesen Sommer keinen Urlaub machen!
C) Er hätte das nicht machen wollen!
D) Ich möchte mir ein Auto kaufen!

8. Ich habe andere Pläne!

Wie lautet die Frage für die obige Antwort?

Verilen cümleye yönelik soru cümlesi aşağıdakilerden hangisidir?

- A) Was kochst du da?
B) Was hast du gekauft?
C) Was hättest du gern?
D) Warum kommst du nicht mit?

9. Nein, sie kann nicht Deutsch sprechen.

Welche Frage passt zur obigen Antwort?

Verilen cevabı gerektirecek soru aşağıdakilerden hangisidir?

- A) Wann lernst du Deutsch?
B) Hat er Deutsch gelernt?
C) Willst du Deutsch lernen?
D) Kann sie Deutsch sprechen?

10. Als Schüler muß man immer fleißig sein.

Welcher Satz drückt das gleiche wie der obige aus?

Verilen cümle ile aynı anlamı taşıyan cümle aşağıdakilerden hangisidir?

- A) Die Schüler sind so fleißig wie früher.
B) Schüler haben es sehr schwer.
C) Schüler haben immer fleißig zu sein.
D) Die Schüler haben fleißig gearbeitet.

11. du Ingenieur werden willst, müßt du studieren.

Welches Wort passt in die obige Lücke?

Cümlede boş bırakılan yeri aşağıdakilerden hangisi doğru şekilde tamamlar?

- A) Warum
B) Damit
C) Wenn
D) Denn

12. mein Freund mich anrief, machte ich meine Hausaufgaben.

Welches Wort passt in die obige Lücke?

Cümlede boş bırakılan yeri aşağıdakilerden hangisi doğru şekilde tamamlar?

- A) Als
B) Weil
C) Damit
D) Falls

13. Die Touristen machen Urlaub am Meer. (viel)

Welches Wort passt in die obige Lücke?

Cümlede boş bırakılan yeri aşağıdakilerden hangisi doğru şekilde tamamlar?

- A) vielsten
B) vielen
C) mehrsten
D) meisten

14. Meine Tante ist meine Mutter.

Welche Wörter passen in die obigen Lücken?

Cümlede boş bırakılan yerleri aşağıdakilerden hangileri doğru olarak tamamlar?

- A) älter als
B) billiger als
C) teurer als
D) mehr als

15. Wir kaufen uns ein Auto, damit wir schöne Ausflüge machen können.

Welche Frage passt zur obigen Antwort?

Verilen cevabı gerektirecek soru aşağıdakilerden hangisidir?

- A) Wann habt ihr dieses Auto gesehen?
B) Warum kauft ihr euch ein Auto?
C) Was für ein Auto ist das?
D) Wohin wollt ihr umziehen?

16. Wir lernen Deutsch,

Welches ergänzt nicht den obigen Satz?

Cümleyi aşağıdakilerden hangisi doğru olarak tamamlamaz?

- A) damit ich zum Kurs gehen wollte.
- B) weil wir in Deutschland Urlaub machen wollen.
- C) um die deutschen Fachbücher im Originalen lesen zu können.
- D) weil wir Karriere im Geschäft machen wollen.

17. Martin: Seit wann lebst du in Berlin?

Tina: Ich lebe seit vier Jahren in Berlin.

Martin:

Tina: Ja, ich möchte auch nach meinem Studium hier in Berlin wohnen.

Welches ergänzt die Lücke im obigen Dialog?

Verilen karşılıklı konuşmada boş bırakılan yeri aşağıdakilerden hangisi tamamlar?

- A) Warst du im Sommer auch in Berlin?
- B) Wo hast du vorher gelebt?
- C) Hast du vor, noch lange hier zu wohnen?
- D) Hast du einen Beruf ausgeübt?

18. Ich gehe am Wochenende zum Tanzen.

Welches Wort passt nicht in die obige Lücke?

Cümlede boş bırakılan yeri aşağıdakilerden hangisi tamamlamaz?

- A) nur
- B) tagelang
- C) immer
- D) manchmal

19., daß es keine Arbeit gibt.

Welches ergänzt den obigen Satz?

Verilen cümleyi aşağıdakilerden hangisi doğru olarak tamamlar?

- A) Selbstständigkeit ist somit
- B) Arbeitslosigkeit bedeutet
- C) Verständnislosigkeit meint
- D) Kurzarbeit ist

20. Ich freue mich, daß ich eine Reise nach Peru mache.

Welches Wort passt in die obige Lücke?

Cümlede boş bırakılan yeri aşağıdakilerden hangisi tamamlar?

- A) darauf
- B) damit
- C) dazu
- D) dagegen

SEÇMELİ İNGİLİZCE 4

A

2015 II.DÖNEM 0104-A

1. The nearest bus stop is the bank.

Which of the following completes the sentence above?

Aşağıdakilerden hangisi yukarıdaki cümleyi doğru olarak tamamlar?

- A) in
B) next
C) in front of
D) between

2. He brought some food for the party.

Which of the following is the negative form of the sentence above?

Aşağıdakilerden hangisi yukarıdaki cümlenin olumsuz biçimidir?

- A) He didn't bring any food for the party.
B) He didn't brought any food for the party.
C) He won't bring any food for the party.
D) He wasn't bring any food for the party.

3. winter, I like playing snowball.

Which of the following completes the sentence above?

Aşağıdakilerden hangisi yukarıdaki cümleyi doğru olarak tamamlar?

- A) At
B) On
C) In
D) (...)

4. He usually helps his dad Sundays.

Which of the following completes the sentence above?

Aşağıdakilerden hangisi yukarıdaki cümleyi doğru olarak tamamlar?

- A) on
B) at
C) in
D) under

5. Yesterday afternoon we a picnic in the countryside.

Which of the following completes the sentence above?

Aşağıdakilerden hangisi yukarıdaki cümleyi doğru olarak tamamlar?

- A) have
B) had
C) are
D) will have

6. Last year my cousins to the USA.

Which of the following completes the sentence above?

Aşağıdakilerden hangisi yukarıdaki cümleyi doğru olarak tamamlar?

- A) travel
B) are travelling
C) travels
D) travelled

7. I wasn't the cinema yesterday. I was ill home.

Which of the following completes the sentence above?

Aşağıdakilerden hangisi yukarıdaki cümleyi doğru olarak tamamlar?

- A) at / at
B) at / in
C) in / in
D) in / at

8. Your aunt stop smoking. It's bad for her health.

Which of the following completes the sentence above?

Aşağıdakilerden hangisi yukarıdaki cümleyi doğru olarak tamamlar?

- A) mustn't
B) should
C) shouldn't
D) can

9. Elise is than her grandmother.

Which of the following completes the sentence above?

Aşağıdakilerden hangisi yukarıdaki cümleyi doğru olarak tamamlar?

- A) young
B) youngest
C) younger
D) the young

10. I study hard, because I'm going to have an exam tomorrow morning.

Which of the following completes the sentence above?

Aşağıdakilerden hangisi yukarıdaki cümleyi doğru olarak tamamlar?

- A) are
B) must
C) mustn't
D) am

11. Bungee jumping is than table tennis.

Which of the following completes the sentence above?

Aşağıdakilerden hangisi yukarıdaki cümleyi doğru olarak tamamlar?

- A) the most dangerous
B) dangerous
C) the more dangerous
D) more dangerous

12. Robert: you speak French?
Sandra: Yes, of course. I stayed in Paris for two years.

Which of the following completes the dialogue above?

Aşağıdakilerden hangisi yukarıdaki konuşmayı doğru olarak tamamlar?

- A) Should
B) Shouldn't
C) Can
D) Can't

13. I am than my brother. I don't like chatting with my friends and rarely meet them at the weekends.

Which of the following completes the sentence above?

Aşağıdakilerden hangisi yukarıdaki cümleyi doğru olarak tamamlar?

- A) less successful
B) more successful
C) more sociable
D) less sociable

14. A: I have a bad headache. What should I do?
B:

Which of the following completes the dialogue above?

Aşağıdakilerden hangisi yukarıdaki konuşmayı doğru olarak tamamlar?

- A) You should go to the doctor
B) You should go to the hairdresser
C) You should go to the dentist
D) You should drink cold drinks

15. Generally, people on new clothes for the feast.

Which of the following completes the sentence above?

Aşağıdakilerden hangisi yukarıdaki cümleyi doğru olarak tamamlar?

- A) collect
B) put
C) congratulate
D) prepare

16. I can't understand what you speak. Please don't talk so

Which of the following completes the sentence above?

Aşağıdakilerden hangisi yukarıdaki cümleyi doğru olarak tamamlar?

- A) fastly
B) fast
C) fastest
D) faster

17. Kaan his bike since he was 9.

Which of the following completes the sentence above?

Aşağıdakilerden hangisi yukarıdaki cümleyi doğru olarak tamamlar?

- A) is having
B) have had
C) has had
D) had

18. My mum is a careful driver. She drives and never has accidents.

Which of the following completes the sentence above?

Aşağıdakilerden hangisi yukarıdaki cümleyi doğru olarak tamamlar?

- A) more careful
B) the most careful
C) careful
D) carefully

19. We have never swum in such a big swimming pool

Which of the following completes the sentence above?

Aşağıdakilerden hangisi yukarıdaki cümleyi doğru olarak tamamlar?

- A) just
B) already
C) ever
D) before

20. They have done the shopping. The fridge is full.

Which of the following completes the sentence above?

Aşağıdakilerden hangisi yukarıdaki cümleyi doğru olarak tamamlar?

- A) already
B) yet
C) ever
D) before

SEÇMELİ FRANSIZCA 4

A

2015 II.DÖNEM 0104-A

1. Mon ami m'a dit qu'il ne pas venir avec nous.

Choisissez le mot qui convient.

Cümledeki boşluğu aşağıdakilerden hangisi doğru şekilde tamamlar?

- A) peut
B) pouvait
C) pouvoir
D) pouvaient

2. - C'est ton sac?
- Oui, c'est

Choisissez le mot qui convient.

Yukarıdaki konuşmada boş bırakılan yeri aşağıdakilerden hangisi doğru şekilde tamamlar?

- A) le mien
B) le tien
C) le sien
D) le nôtre

3. «La police a refusé de donner une rançon.»

Choisissez la traduction qui convient.

Yukarıdaki cümlelerin Türkçe karşılığı aşağıdakilerden hangisidir?

- A) Polis hırsızları yakaladı.
B) Polis para kasasını verdi.
C) Polis fidye vermeyi reddetti.
D) Polis çalınanları verdi.

4. Quand elle partira, je

Choisissez le mot qui convient.

Cümledeki boşluğu aşağıdakilerden hangisi doğru şekilde tamamlar?

- A) venais
B) suis venu
C) suis venue
D) viendrai

5. Le a volé de l'argent.

Choisissez le mot qui convient.

Cümledeki boşluğu aşağıdakilerden hangisi doğru şekilde tamamlar?

- A) voleur
B) femme
C) avocat
D) servante

6. Mehmet : J'ai trouvé un dictionnaire de français.
Ayla : C'est sans doute de ma sœur.

Choisissez le mot qui convient.

Yukarıdaki konuşmada boş bırakılan yeri aşağıdakilerden hangisi doğru şekilde tamamlar?

- A) celui
B) celle
C) ceux
D) celles

7. Quand tu seras arrivé, je/j'

Choisissez le mot qui convient.

Cümledeki boşluğu aşağıdakilerden hangisi doğru şekilde tamamlar?

- A) sors
B) sortie
C) serais sorti
D) aurai sorti

8. - Tu vois le chien?
- Non, je ne vois pas chien.

Choisissez le mot qui convient.

Yukarıdaki konuşmada boş bırakılan yeri aşağıdakilerden hangisi doğru şekilde tamamlar?

- A) le pire
B) la meilleure
C) la pire
D) le moindre

9. Elle est habillée.

Choisissez le mot qui convient.

Cümledeki boşluğu aşağıdakilerden hangisi doğru şekilde tamamlar?

- A) prudente
B) étrangement
C) violente
D) attentive

10. Le train est rapide que l'avion.

Choisissez le mot qui convient.

Cümledeki boşluğu aşağıdakilerden hangisi doğru şekilde tamamlar?

- A) plus
B) autant
C) moins
D) aussi

11. Dans quelques minutes, nous terminer ce travail.

Choisissez le mot qui convient.

Cümledeki boşluğu aşağıdakilerden hangisi doğru şekilde tamamlar?

- A) avons
B) sommes
C) allons
D) voudrez

12. la page.

Choisissez le mot qui convient.

Cümledeki boşluğu aşağıdakilerden hangisi doğru şekilde tamamlar?

- A) Tourne
B) Trouble
C) Reste
D) Réfléchis

13. «Bana dokunmayın!»

Choisissez la traduction qui convient.

Yukarıdaki cümlelerin Fransızca karşılığı aşağıdakilerden hangisidir?

- A) Ne me le dites pas!
B) Ne partez pas!
C) Ne le lui dis pas!
D) Ne me touchez pas!

14. Le patron de sortir, il n'est pas dans son bureau maintenant.

Choisissez le mot qui convient.

Cümledeki boşluğu aşağıdakilerden hangisi doğru şekilde tamamlar?

- A) va
B) vient
C) a
D) est

15. Le détective un meurtre.

Choisissez le mot qui convient.

Cümledeki boşluğu aşağıdakilerden hangisi doğru şekilde tamamlar?

- A) soigne
B) enquête
C) plaisante
D) rassure

16. est / ceci / important / très
I II III IV

Mettez dans le bon ordre.

Yukarıdaki kelimelerin anlamlı ve kurallı bir bütün oluşturan sırası aşağıdakilerin hangisinde doğru olarak verilmiştir?

- A) II, I, III, IV
B) II, I, IV, III
C) III, II, I, IV
D) III, IV, I, II

17. C'est la plus belle femme monde.

Choisissez l'expression qui convient.

Cümledeki boşluğu aşağıdakilerden hangisi doğru şekilde tamamlar?

- A) de
B) par
C) pour
D) du

18., les élèves iront à l'école.

Choisissez le mot qui convient.

Cümledeki boşluğu aşağıdakilerden hangisi doğru şekilde tamamlar?

- A) Demain
B) Hier
C) La semaine dernière
D) La veille

19. Elle roule rapidement.

Choisissez l'antonyme du mot souligné.

Yukarıdaki cümlede altı çizili sözcüğün zıt anlamlısı aşağıdakilerden hangisidir?

- A) tranquillement
B) honnêtement
C) lentement
D) attentivement

20. La est le plus long des animaux.

Choisissez le mot qui convient.

Cümledeki boşluğu aşağıdakilerden hangisi doğru şekilde tamamlar?

- A) singe
B) chien
C) lionne
D) girafe

1. A:
B: Französisch wird in Frankreich gesprochen.

Welches ergänzt die Lücke im obigen Dialog?

Verilen karşılıklı konuşmada boş bırakılan yeri aşağıdakilerden hangisi tamamlar?

- A) Warst du schon in Frankreich?
B) Wer geht nach Frankreich?
C) Weißt du, daß ich meine Ferien in Frankreich verbringe?
D) Weißt du wo Französisch gesprochen wird?

2. Kennst du Menschen mit außergewöhnlichen Haustieren?

Welche Antwort passt zur obigen Frage?

Verilen sorunun cevabı aşağıdakilerden hangisidir?

- A) Ja, meine Tante hat ein Terrarium mit zwei Nattern.
B) Nein, ich möchte kein Haustier.
C) Ja, ich habe eine Katze.
D) Nein, meine Mutter mag leider keine Tiere im Haus.

3. Der Löwe ist stark, aber ist schwach.

Welches Wort passt in die obige Lücke?

Cümlede boş bırakılan yeri aşağıdakilerden hangisi doğru şekilde tamamlar?

- A) die Giraffe
B) der Tiger
C) die Schildkröte
D) der Bär

4. meinem zwanzigsten Geburtstag habe ich ein Auto bekommen.

Welches Wort passt in die obige Lücke?

Cümlede boş bırakılan yeri aşağıdakilerden hangisi doğru şekilde tamamlar?

- A) Auf
B) Zu
C) In
D) Aus

5. A: Woher kommt sie?
B:
A: Ach so, ich dachte, sie wäre aus England!

Welches ergänzt den obigen Dialog?

Verilen karşılıklı konuşmayı aşağıdakilerden hangisi tamamlar?

- A) Man sagt, sie wäre aus Deutschland!
B) Ich komme aus England!
C) Ich habe gesehen, daß sie nach England fährt.
D) Man erzählt, daß wir nach Deutschland umziehen werden.

6. Die Schüler vom Atatürk Gymnasium sitzen einer Bank dem Schulhof.

Welche Wörter passen in die obigen Lücken?

Cümlede boş bırakılan yerleri aşağıdakilerden hangileri doğru şekilde tamamlar?

- A) zum / zur
B) mit / von
C) in / aus
D) auf / auf

7. Ahmet Klavier und ich ihm zu.

Welche Wörter passen in die obigen Lücken?

Cümlede boş bırakılan yerleri aşağıdakilerden hangileri doğru şekilde tamamlar?

- A) hat / frage
- B) spielt / höre
- C) möchte / schon
- D) kann / übe

8. Gamze sich klassische Musik.

Welche Wörter passen in die obigen Lücken?

Cümlede boş bırakılan yerleri aşağıdakilerden hangileri doğru şekilde tamamlar?

- A) beendet / mit
- B) interessiert / für
- C) kauft / aus
- D) spielt / zu

9., wollte sie eine Band gründen.

Welches ergänzt die Lücke im obigen Satz?

Verilen cümleyi aşağıdakilerden hangisi tamamlar?

- A) Wenn ich groß werde
- B) Für meine kleine Katze
- C) Als meine Tochter 16 war
- D) Damit ich studieren kann

10. für deine Zukunft und viel Glück wünsche ich dir!

Welches Wort passt in die obige Lücke?

Cümlede boş bırakılan yeri aşağıdakilerden hangisi doğru şekilde tamamlar?

- A) Jede Musik
- B) Grüßen Sie
- C) Immer zusammen
- D) Alles Gute

11. Die wichtigste Methode,, besteht darin, die negativen Verhalten zu schwächen und die positiven Verhalten zu stärken.

Welcher Satz ergänzt die obige Lücke?

Verilen cümleyi aşağıdakilerden hangisi tamamlar?

- A) ein glückliches Leben zu erreichen
- B) zieht man es herauf
- C) wie leicht bricht das
- D) kann man gute Ergebnisse finden

12. A: Welche Familienfeste werden in der Türkei gefeiert?

B:

A: Ja, das wird auch in Deutschland gefeiert!

Welches ergänzt nicht den obigen Dialog?

Verilen karşılıklı konuşmayı aşağıdakilerden hangisi tamamlamaz?

- A) Wenn zum Beispiel ein Kind geboren wird.
- B) Wenn wir unsere Nachbarn besuchen.
- C) Wenn eine Hochzeit gefeiert wird.
- D) Wenn jemand Geburtstag hat.

13. über ein neues Projekt.

Welches ergänzt nicht die Lücke im obigen Satz?

Verilen cümleyi aşağıdakilerden hangisi tamamlamaz?

- A) Die Schüler sprechen
- B) Diese Umfrage ist
- C) Der Lehrer diskutiert
- D) Er trägt einen Rucksack

14. Wie sollen die Kinder werden?

Welche Antwort passt nicht zur obigen Frage?

Aşağıdakilerden hangisi verilen sorunun cevabı olamaz?

- A) Sie sollen glückliche, zufriedene und hilfsbereite Menschen werden.
- B) Für uns ist es wichtig, dass die Kinder gehorsam und fleißig werden.
- C) Die Kinder sollen ein gutes Benehmen haben und selbstständig werden.
- D) Unser Lehrer plant eine Klassenfahrt.

15., wenn ihre Kinder zufrieden und freundlich werden.

Welches ergänzt die Lücke im obigen Satz?

Verilen cümleyi aşağıdakilerden hangisi tamamlar?

- A) Die Eltern sind ein Vorbild
- B) Meine Eltern haben es mir verboten
- C) Die Eltern sind glücklich
- D) Mein Bruder fasst mich immer an der Hand

16. Ja, ich kann ein Omelett zubereiten.

Welche Frage passt zur obigen Antwort?

Verilen cevabı gerektirecek soru aşağıdakilerden hangisidir?

- A) Habt ihr auch Hunger?
- B) Kannst du etwas zum Essen zubereiten?
- C) Wer hat schon mal einen Salat zubereitet?
- D) Kannst du mir das Rezept vom Salat geben?

17. Laufen ist eine gute Übung,

Welches ergänzt die Lücke im obigen Satz?

Verilen cümleyi aşağıdakilerden hangisi tamamlar?

- A) er soll es auf das Blatt zeichnen.
- B) wir sammeln neue Ideen.
- C) sie macht den Körper warm.
- D) du kannst diese vor der Klasse präsentieren.

18. ist für vier Personen.

Welches Wort passt nicht in die obige Lücke?

Cümlede boş bırakılan yeri aşağıdakilerden hangisi doğru şekilde tamamlamaz?

- A) Der Körper
- B) Das Rezept
- C) Das Essen
- D) Der Salat

19. Womit hältst du dich fit?

Welche Antwort passt zur obigen Frage?

Verilen sorunun cevabı aşağıdakilerden hangisidir?

- A) Ich spiele dreimal in der Woche Tennis.
- B) Sie will sich fit halten.
- C) Ich muß meine Hausaufgaben ordentlich machen.
- D) Er hat viele neue Ideen für die Schulkinder.

20. Doktor kan alıyor.

Wie lautet der obige Satz auf Deutsch?

Verilen cümlenin Almancası aşağıdakilerden hangisidir?

- A) Der Arzt untersucht seine Patientin.
- B) Der Arzt hat eine Spritze gemacht.
- C) Die Ärztin nimmt Blut ab.
- D) Die Ärztin hat mir gute Besserung gewünscht.

1. Are you pleased your new car?

Which of the following completes the sentence above?

Aşağıdakilerden hangisi yukarıdaki cümleyi doğru olarak tamamlar?

- A) from
B) at
C) with
D) on

2. What is Eskişehir famous?

Which of the following completes the sentence above?

Aşağıdakilerden hangisi yukarıdaki cümleyi doğru olarak tamamlar?

- A) at
B) in
C) for
D) on

3. Diana: There are lots of glass pieces on the floor. Who is for this?
Sam: I think Carl is, but I am not sure.

Which of the following completes the dialogue above?

Aşağıdakilerden hangisi yukarıdaki konuşmayı doğru olarak tamamlar?

- A) ashamed
B) responsible
C) late
D) worried

4. David is with his presentation.

Which of the following completes the sentence above?

Aşağıdakilerden hangisi yukarıdaki cümleyi doğru olarak tamamlar?

- A) busy
B) keen
C) crazy
D) similar

5. My sister is afraid spiders.

Which of the following completes the sentence above?

Aşağıdakilerden hangisi yukarıdaki cümleyi doğru olarak tamamlar?

- A) in
B) of
C) with
D) at

6. My friend: "Is it rainy outside?"

Which of the following is the reported speech form of the direct speech sentence above?

Aşağıdakilerden hangisi yukarıdaki dolaysız anlatım cümlesinin dolaylı anlatım biçimidir?

- A) My friend wanted to know was it rainy outside.
B) My friend wanted to know if it was rainy outside.
C) My friend wanted to know if it is rainy outside.
D) My friend wanted to know if it did rainy outside.

7. Berna: "When will you see her?"
Berna asked me

Which of the following completes the sentence above?

Aşağıdakilerden hangisi yukarıdaki cümleyi doğru olarak tamamlar?

- A) when would you see her
B) if I would see her
C) when I will see her
D) when I would see her

8. The teacher: "Whose pencil is that on the table?"
The teacher asked whose pencil that on the table

Which of the following completes the sentence above?

Aşağıdakilerden hangisi yukarıdaki cümleyi doğru olarak tamamlar?

- A) is
B) did
C) has been
D) was

9. Mary: I like chocolate, but I don't like candies.
Mike: What does Mary say?
Jane: She says that she chocolate but she candies.

Which of the following completes the dialogue above?

Aşağıdakilerden hangisi yukarıdaki konuşmayı doğru olarak tamamlar?

- A) hasn't liked / has liked
B) didn't like / likes
C) likes / likes
D) likes / doesn't like

10. Paul: "I can play football well."
Paul said that he football well.

Which of the following completes the sentence above?

Aşağıdakilerden hangisi yukarıdaki cümleyi doğru olarak tamamlar?

- A) could play
B) played
C) may play
D) is playing

11. She hasn't tasted a proper Turkish meal

Which of the following completes the sentence above?

Aşağıdakilerden hangisi yukarıdaki cümleyi doğru olarak tamamlar?

- A) just
B) already
C) yet
D) while

12. The baby has been ill morning.

Which of the following completes the sentence above?

Aşağıdakilerden hangisi yukarıdaki cümleyi doğru olarak tamamlar?

- A) since
B) for
C) ever
D) yet

13. Have you been to a circus?

Which of the following completes the sentence above?

Aşağıdakilerden hangisi yukarıdaki cümleyi doğru olarak tamamlar?

- A) ever
B) recently
C) just
D) yet

14. It all day long.

Which of the following completes the sentence above?

Aşağıdakilerden hangisi yukarıdaki cümleyi doğru olarak tamamlar?

- A) snowed
B) is snowing
C) has been snowing
D) snows

15. Tom sabahtan beri odasını temizlemekte.

Which of the following is the English translation of the sentence above?

Aşağıdakilerden hangisi yukarıdaki cümlelerin İngilizce karşılığıdır?

- A) Tom cleaned his room this morning.
B) Tom has been cleaning his room since morning.
C) Tom has been cleaning his room all day.
D) Tom cleaned his room yesterday morning.

16. We need to learn English in order to in touch with the world.

Which of the following completes the sentence above?

Aşağıdakilerden hangisi yukarıdaki cümleyi doğru olarak tamamlar?

- A) speak
B) find
C) connect
D) get

17. After Michelle breakfast, she went to the beach.

Which of the following completes the sentence above?

Aşağıdakilerden hangisi yukarıdaki cümleyi doğru olarak tamamlar?

- A) has had
B) has been
C) had had
D) had

18. I couldn't do my homework because I my books at school.

Which of the following completes the sentence above?

Aşağıdakilerden hangisi yukarıdaki cümleyi doğru olarak tamamlar?

- A) forgot
B) had forgotten
C) am forgetting
D) have forgotten

19. That young lady to an opera before.

Which of the following completes the sentence above?

Aşağıdakilerden hangisi yukarıdaki cümleyi doğru olarak tamamlar?

- A) have been
B) been
C) was
D) had never been

20. I already the dinner when my husband came from work.

Which of the following completes the sentence above?

Aşağıdakilerden hangisi yukarıdaki cümleyi doğru olarak tamamlar?

- A) had / prepared
B) have / prepare
C) have / prepared
D) had / prepare

SEÇMELİ FRANSIZCA 7

A

2015 II.DÖNEM 0104-A

1. Le chat de Mme Perrin est perdu. Elle est donc

Choisissez le mot qui convient.

Cümledeki boşluğu aşağıdakilerden hangisi doğru şekilde tamamlar?

- A) joyeuse
B) colère
C) triste
D) peur

2. - Bonjour, je voudrais parler à M. Lenoir.
- Oui,

Choisissez l'expression qui convient.

Yukarıdaki konuşmada boş bırakılan yeri aşağıdakilerden hangisi doğru şekilde tamamlar?

- A) c'est de la part de qui?
B) c'est moi.
C) il est là?
D) c'est à cause de toi.

3. On est ouvert du lundi vendredi.

Choisissez le mot qui convient.

Cümledeki boşluğu aşağıdakilerden hangisi doğru şekilde tamamlar?

- A) la
B) en
C) de
D) au

4. Il faut prendre des précautions le soleil.

Choisissez l'expression/le mot qui convient.

Cümledeki boşluğu aşağıdakilerden hangisi doğru şekilde tamamlar?

- A) par
B) à
C) en
D) contre

5. - Tu appelles tes parents?
- Oui, je appelle.

Choisissez l'expression qui convient.

Yukarıdaki konuşmada boş bırakılan yeri aşağıdakilerden hangisi doğru şekilde tamamlar?

- A) leur
B) les
C) le
D) l'

6. - Qu'est que vous avez dit?
- Pierre et Marie vont au cinéma.

Choisissez l'expression qui convient.

Yukarıdaki konuşmada boş bırakılan yeri aşağıdakilerden hangisi doğru şekilde tamamlar?

- A) Nous avons dit qui
B) Vous avez dit que
C) Vous avez dit qui
D) Nous avons dit que

7. - Vous avez changé de style vestimentaire?
- Non, pas de

Choisissez le mot qui convient.

Yukarıdaki konuşmada boş bırakılan yeri aşağıdakilerden hangisi doğru şekilde tamamlar?

- A) changer
B) changement
C) changeable
D) changeur

8. Je ne fume plus.

Choisissez la traduction qui convient.

Yukarıdaki cümlenin Türkçe karşılığı aşağıdakilerden hangisidir?

- A) Artık sigara içmiyorum.
B) Sigarayı bırakamıyorum.
C) Eskiden sigara içerdim.
D) Hiç sigara kullanmadım.

9. coûte ce livre?

Choisissez le mot qui convient.

Cümledeki boşluğu aşağıdakilerden hangisi doğru şekilde tamamlar?

- A) Comment
B) Combien
C) Quand
D) Est-ce que

10. Cet homme pèse 180 kilos : c'est

Choisissez le mot qui convient.

Cümledeki boşluğu aşağıdakilerden hangisi doğru şekilde tamamlar?

- A) étonnant
B) bon
C) encourageant
D) joyeux

11. «Je n'en crois pas mes yeux.»

Choisissez la traduction qui convient.

Yukarıdaki cümlelerin Türkçe karşılığı aşağıdakilerden hangisidir?

- A) Gözlerimle gördüm.
- B) Gözlerin inanılmaz.
- C) Gözlerime inanamıyorum.
- D) Gözlerime bak, bana inan.

12. - Il y a beaucoup de livres? voulez-vous.

Choisissez le mot qui convient.

Cümledeki boşluğu aşağıdakilerden hangisi doğru şekilde tamamlar?

- A) Lesquelles
- B) Lequel
- C) Quel
- D) Quelles

13. J'ai mal à la tête, je prends une

Choisissez le mot qui convient.

Cümledeki boşluğu aşağıdakilerden hangisi doğru şekilde tamamlar?

- A) antibiotique
- B) grippe
- C) consultation
- D) aspirine

14. Nous ne pouvions pas avancer car du monde.

Choisissez l'expression qui convient.

Cümledeki boşluğu aşağıdakilerden hangisi doğru şekilde tamamlar?

- A) il y avait
- B) il était
- C) c'était
- D) il faisait

15. Quand on est malade, il faut chez le médecin.

Choisissez le mot qui convient.

Cümledeki boşluğu aşağıdakilerden hangisi doğru şekilde tamamlar?

- A) allé
- B) aller
- C) va
- D) irons

16. A: Je veux acheter un sac.

B:?

A: Elle dit qu'elle veut acheter un sac.

Choisissez l'expression qui convient.

Yukarıdaki konuşmada boş bırakılan yeri aşağıdakilerden hangisi doğru şekilde tamamlar?

- A) Où est-ce qu'elle va
- B) Comment va-t-elle
- C) Qu'est-ce qu'elle dit
- D) Quel est votre choix

17. J'écris une lettre

Choisissez l'expression qui convient.

Yukarıdaki cümlede boş bırakılan yeri aşağıdakilerden hangisi doğru şekilde tamamlar?

- A) mes amis
- B) Jean
- C) à mes amis
- D) le médecin

18. C'est lui qui bien.

Choisissez le mot qui convient.

Cümledeki boşluğu aşağıdakilerden hangisi doğru şekilde tamamlar?

- A) dances
- B) danser
- C) danse
- D) dansent

19. Je vous présente mon ami travaille chez Renault.

Choisissez le mot qui convient.

Cümledeki boşluğu aşağıdakilerden hangisi doğru şekilde tamamlar?

- A) que
- B) où
- C) quoi
- D) qui

20. La réunion est 14 novembre.

Choisissez le mot qui convient.

Cümledeki boşluğu aşağıdakilerden hangisi doğru şekilde tamamlar?

- A) le
- B) en
- C) au
- D) de la

BU SAYFA BOŞ BIRAKILMIŞTIR.

SINAVDA UYGULANACAK KURALLAR

1. Sınavın **ilk 30 dakikası** ve **son 5 dakikası** içinde, sınavınızı tamamlasanız bile salondan çıkamazsınız. Herhangi bir nedenle salondan çıktığınız takdirde, sınava devam etmenize izin verilmez.
2. Sınavda hesap makinesi kullanabilirsiniz. Ancak, kullanacağınız makinede alfabetik tuş takımı (A, B, C, ...) ve program yapılmasına, saklanmasına, çalıştırılmasına imkân veren EXE, STORE, RUN vb. tuşlar bulunamaz.
3. Kâğıt, kitap, defter, not vb. dokümanlar; pergel, açılöçer, cetvel vb. araçlar; cep telefonu, bilgisayar, tablet, telsiz, kamera vb. iletişim, depolama, kayıt ve veri aktarma cihazları; ruhsatlı veya resmi amaçlı olsa bile silah ve silah yerine geçebilecek nesnelere ile sınava girmek kesinlikle yasaktır.
4. Sınav süresince görevlilerle konuşmak, görevlilere soru sormak yasaktır. Aynı şekilde görevlilerin de öğrencilerle yakından ve alçak sesle konuşmaları yasaktır. Gerekli durumlarda görevliler yerinizi değiştirebilir.
5. Size verilen cevap kâğıdının üzerindeki TCKN, ad, soyadı, bilgilerini kontrol ediniz, üzerindeki ilgili alanları doldurarak imzalayınız. Bu bilgiler size ait değilse, görevlileri uyararak size ait cevap kâğıdını isteyiniz. Başka öğrenciye ait cevap kâğıdı kullanan öğrencilerin o oturumdaki sınavları geçersiz sayılır.
6. Cevap kâğıdı üzerine test grubunu (kitapçık türünü) (A, B, C, D) kodlamayan veya birden fazla kodlama yapan öğrencilerin sınavları geçersiz sayılır.
7. Cevap kâğıdınıza yazacağınız her türlü yazı ve yapacağınız işaretlemeler için koyu yazan siyah kurşun kalem kullanmalısınız. Siyah kurşun kalem dışında farklı bir kalem (tükenmez, mürekkepli ya da renkli vb.) kullanan öğrencilerin sınavları geçersiz sayılır.
8. **Aşağıdaki durumlarda sınav görevlileri tarafından Bireysel Sınav İptal Tutanağı düzenlenir ve ilgili öğrencilerin o oturumdaki sınavları geçersiz sayılır:**
 - a) Sınav kurallarına ve sınav görevlilerinin uyarılarına uymamak, sınav düzenini bozmak,
 - b) Kâğıt, kitap, defter, not vb. dokümanları; pergel, açılöçer, cetvel vb. araçları; cep telefonu, bilgisayar, tablet, telsiz, kamera vb. iletişim, depolama, kayıt ve veri aktarma cihazlarını; ruhsatlı veya resmi amaçlı olsa bile silah ve silah yerine geçebilecek nesnelere yanında bulundurmamak,
 - c) Alfabetik tuş takımı (A, B, C, ...) ve program yapılmasına, saklanmasına, çalıştırılmasına imkân veren EXE, STORE, RUN vb. tuşlar bulunan hesap makineleri kullanmak,
 - d) Sınav sırasında kalem, silgi vb. araç-gereç paylaşımında bulunmak,
 - e) Cevapları, cevap kâğıdı dışında bir yere yazmak ve sınav salonundan dışarı çıkarmak,
 - f) Resmi kıyafetle (kıtalarından izinli er ve erbaşlar haricinde) sınava girmek,
 - g) Sınava girebilmek için gerekli belgeleri eksik olduğu halde sınava katılıp, cevap kâğıdında işaretleme yapmak,
 - h) Sınav görevlileri tarafından öğrencinin kimliğinden şüphe duyulması,
 - i) Cevap kâğıdını ve/veya soru kitapçığını sınav görevlilerine eksiksiz ve sağlam bir şekilde teslim etmemek, sınav salonu dışına çıkarmak.
9. Kopya çekmek, vermek ya da çekilmesine yardımcı olmak vb. eylemlerde bulunan öğrenciler hakkında **Bireysel Sınav İptal Tutanağı** düzenlenir, o oturumdaki sınavları geçersiz sayılır ve kopya olayının gerçekleştiği sınav döneminde izleyen ilk sınav döneminde hiçbir dersin sınavına **giremezler**.
10. Cevap kâğıdını ve/veya soru kitapçığını yırtmak, başka bir öğrencinin yerine sınava girmek ya da kendisi yerine başka birini sınava sokmak eylemlerinden herhangi birini gerçekleştiren öğrenciler hakkında **Bireysel Sınav İptal Tutanağı** tutulur, o oturumdaki sınavları geçersiz sayılır ve haklarında ilgili Fakülte tarafından disiplin **soruşturması** açılır.
11. Sınav başlamadan önce Sınav Giriş Belgenizi, Öğrenci Kimlik Kartınızı (veya Öğrenci Tanıtım Kartı veya Sınavda Geçerli Öğrenci Kimlik Belgesi), Fotoğraflı ve Onaylı Kimlik Belgenizi sıranızın üzerine bırakınız.
12. Soru kitapçığındaki her bir derse ait testi cevaplamanız için verilen süre 30 dakikadır.
13. Soru kitapçığınızı aldığınızda sayfalarına hızlıca bakarak hatalı ya da eksik baskı olup olmadığını kontrol ediniz. Hata/eksik olması durumunda kitapçığının değiştirilmesi için derhâl Salon Başkanına başvurunuz. Sınav görevlileri sınavın başladığını belirtmeden kitapçığınızı tekrar açmayınız.
14. Soru kitapçığındaki ilgili alanlara ad, soyadı, TCKN, sınav salon no, sıra no bilgilerinizi eksiksiz doldurarak imzanızı atınız. Soru kitapçığının sayfalarındaki boş yerleri müsvedde amacıyla kullanabilirsiniz.
15. Cevap kâğıdınızda belirtilen kitapçık kodu ile soru kitapçığının kodunu karşılaştırınız. Aynı değilse, sınav görevlilerine durumu bildirerek doğru kitapçığın verilmesini talep ediniz.
16. Cevaplarınızı, cevap kâğıdında ilgili ders için ayrılmış olan alana, cevap yerinin dışına taşırmadan işaretleyiniz. Soru kitapçığı üzerinde yapılan işaretlemeler değerlendirmeye alınmayacaktır.
17. Cevap kâğıdı üzerinde değişiklik yapmak istediğinizde, iz bırakmayan bir silgi kullanınız. Cevap kâğıdınızı buruşturmayınız, katlamayınız ve üzerine gereksiz hiçbir işaret koymayınız.
18. Yanlış cevaplarınız dikkate alınmayacaktır. Bu nedenle cevapsız soru bırakmamanız yararınıza olacaktır.
19. Her sorunun tek bir doğru cevabı vardır. Bir soru için birden çok cevabı işaretlerseniz, o soruyu yanlış cevaplamış sayılacaksınız.
20. Soruların ait olduğu derslerin içeriklerinde, basımdan sonra değişiklik yapılmış olabilir. Bir sorunun cevabı sonraki düzenlemelerle değişmiş olsa bile, o soruyu ders kitabınızda verilen bilgileri dikkate alarak cevaplayınız.
21. Sınav bitiminde, cevap kâğıdınızı ve soru kitapçığınızı salon görevlilerine eksiksiz biçimde teslim ediniz. Sınav bittikten sonra gönderilen cevap kâğıtları dikkate alınmayacaktır.

SINAV KURALLARINA UYDUĞUNUZ İÇİN TEŞEKKÜR EDER, SINAVINIZDA BAŞARILAR DİLERİZ.