



ANADOLU ÜNİVERSİTESİ  
AÇIKÖĞRETİM FAKÜLTESİ  
BA - AÇIKÖĞRETİM OKULLARI

**T.C. MİLLİ EĞİTİM BAKANLIĞI**  
**Hayat Boyu Öğrenme Genel Müdürlüğü**  
**AÇIK ÖĞRETİM LİSESİ – BATI AVRUPA PROGRAMI**  
**2014-2015 ÖĞRETİM YILI III. DÖNEM SINAVI**

BİRİNCİ OTURUM – Cumartesi 09:00

TEST GRUBUNUZ

**A**

**0101**

**ÖĞRENCİNİN**

SOYADI : .....

ADI : .....

TC KİMLİK NO / ÖĞRENCİ NO : .....

SINAV SALON NO : ..... SIRA NO: .....

İMZA: .....

Sınavla ilgili tüm kuralları okudum, anladım, kabul ediyorum.

**SINAV İÇERİĞİ**

Testin Adı	Soru Sayısı	Sayfa No
DİN KÜLTÜRÜ VE AHLAK BİLGİSİ 7	20	2
TARİH 1	20	4
COĞRAFYA 2	20	6
COĞRAFYA 4	20	8
COĞRAFYA 6	20	10
COĞRAFYA 8	20	12
PSİKOLOJİ 1	20	14
DİL VE ANLATIM 6	20	16
TÜRK EDEBİYATI 2	20	19
TÜRK EDEBİYATI 7	20	21
FİZİK 4	20	23
KİMYA 6	20	26
ÇAĞDAŞ TÜRK VE DÜNYA TARİHİ 1	20	28
MANTIK 2	20	30

Testin Adı	Soru Sayısı	Sayfa No
SANAT TARİHİ 2	20	32
GEOMETRİ 5	20	34
GEOMETRİ 8	20	38
SEÇMELİ COĞRAFYA 3	20	42
HZ. MUHAMMED İN HAYATI 2	20	44
SEÇMELİ DİL VE ANLATIM 8	20	46
SEÇMELİ TÜRK EDEBİYATI 5	20	49
ALMANCA 3	20	51
İNGİLİZCE 3	20	54
FRANSIZCA 3	20	56
SEÇMELİ ALMANCA 8	20	58
SEÇMELİ İNGİLİZCE 8	20	61
SEÇMELİ FRANSIZCA 8	20	64
MATEMATİK 1	20	66

**SINAVDA UYGULANACAK ÖZEL KURALLAR**

1. Bu kitapçıkta yer alan her bir test için cevaplama süresi **30** dakika, toplam süre **150** dakikadır.
2. Öğrenciler sınavın ilk 30 dakikası ve son 5 dakikası içinde sınavlarını tamamlasalar bile salonu terk edemezler. Sınavın başlamasını izleyen ilk 15 dakikadan sonra hiçbir öğrenci sınava alınmaz.
3. Yanlış cevaplarınız dikkate alınmayacaktır. Bu nedenle kitapçıkta bulunan tüm sorular için size doğru gelen seçeneği işaretleyerek cevapsız soru bırakmamanız yararınıza olacaktır.
4. Sınav sırasında hesap makinesi kullanabilirsiniz. Ancak, kullanacağınız makinede alfabetik tuş takımının (A, B, C, ..., Y, Z), program yapılmasına, saklanmasına ve çalıştırılmasına imkân veren EXE, STORE, RUN vb. tuşlar bulunamaz.

"Sınavda Uygulanacak Genel Kurallar" soru kitapçığının arka sayfasında yer almaktadır. Bu kuralları da mutlaka dikkatlice okuyunuz.

Anadolu Üniversitesi tarafından hazırlanmış olan bu testlerin her hakkı saklıdır. Hangi amaçla olursa olsun, testlerin tamamının veya bir kısmının Anadolu Üniversitesi'nin yazılı izni olmadan kopya edilmesi, fotoğraflarının çekilmesi, herhangi bir yolla çoğaltılması, yayımlanması ya da kullanılması yasaktır. Bu yasağa uymayanlar gerekli cezai sorumluluğu ve testlerin hazırlanmasındaki mali külfeti peşinen kabullenmiş sayılır.

1. Mevlitle ilgili aşağıdaki ifadelerden hangisi yanlıştır?

- A) Süleyman Çelebi tarafından yazılmıştır.
- B) Hz. Peygamberin güzel ahlakı anlatılmaktadır.
- C) Mevlithanlar tarafından okunmaktadır.
- D) Ölen kişinin ardından okunması sünnettir.

2. Kişinin işlediği bir günah veya hatadan pişmanlık duyarak bir daha yapmamaya karar vermesine ne ad verilir?

- A) Helalleşme
- B) Tövbe
- C) İman etme
- D) Mağfiret

3. Aşağıdakilerden hangisi Kütübü Sitte arasında yer almaz?

- A) Sünen-i Ebu Hureyre
- B) Sahih-i Müslim
- C) Sahih-i Buhari
- D) Sünen-i Ebu Davut

4. Aşağıdakilerden hangisi tövbenin şartlarından biri değildir?

- A) Sadakasını ödemek
- B) Günahı terk etmek
- C) Yaptığından pişman olmak
- D) Bir daha yapmamaya karar vermek

5. Kur'an'dan sonra en sağlam kitap olarak İslam alimlerinin beğenisine mazhar olan hadis kitabı aşağıdakilerden hangisidir?

- A) Sahih-i Müslim
- B) Sünen-i Tirmizi
- C) Sahih-i Buhari
- D) Sünen-i Ebu Davud

6. Allah'ın günahları örtmesi ve bağışlamasına ne ad verilir?

- A) İstiğfar
- B) Tövbe
- C) Yakarma
- D) Mağfiret

7. Ahirette, sevap ve günahların tartılacağı özel adalet terazisi aşağıdakilerden hangisidir?

- A) Haşir
- B) Mizan
- C) Mahşer
- D) Hesap

8. Tasavvufi düşüncenin kurumsallaşması kaçınıcı yüzyılın sonlarına doğru gerçekleşmiştir?

- A) IX.
- B) X.
- C) XI.
- D) XII.

9. Aşağıdakilerden hangisi Mevleviliğin temel ilkelerinden biri değildir?

- A) İnsanlığa hizmet etmek
- B) Mevlana'yı pir tanımak
- C) Akı iyi kullanmak, hikmet sahibi olmak
- D) Sadece manevi bakımdan temiz olmak

10. Tasavvuf yoluna koyularak bu yolu benimseyen kişiye ne ad verilir?

- A) Hacı
- B) Aşık
- C) Sufi
- D) Nebi

11. Sünen-i Tirmizi aşağıdakilerden hangisine göre tertip edilmiştir?

- A) Kelam
- B) Tefsir
- C) Sahih
- D) Fıkıh

12. Ahmet Yesevi'nin Anadolu'ya gönderdiği talebelerine ne ad verilir?

- A) Alp Erenler
- B) Nakşiler
- C) Muhacirler
- D) Aleviler

13. Dünyada yapılan her davranışın karşılığının görüleceği ve ölüp tekrar dirildikten sonra bunlardan hesap sorulacağına inanmak aşağıdakilerden hangisidir?

- A) Peygamberlere iman
- B) Ahirete iman
- C) Meleklerle iman
- D) Kitaplara iman

14. Tasavvufi anlayışta hem dinin hem de aklın reddettiği bütün kötü huyların ve çirkin davranışların kaynağı aşağıdakilerden hangisidir?

- A) Vakit
- B) Öfke
- C) Sabır
- D) Nefis

15. Aşağıdakilerden hangisi Hz. Peygamberin Kur'an'ı açıklama konusundaki temel görevlerinden biridir?

- A) Beyan
- B) Risalet
- C) Te'kid
- D) İmamet

16. Aşağıdakilerden hangisi Nakşibendilikte önem verilen ilkelerden biridir?

- A) Mesnevi okumak ve mutasavvıf olmak
- B) Her an bilinçli olmak
- C) Mevlana'yı pir tanımak
- D) Yardımlaşmayı artırmak

17. "Namazı benden gördüğünüz gibi kılın." hadisi aşağıdaki sünnet türlerinden hangisine örnektir?

- A) Sözlü sünnet
- B) Takriri sünnet
- C) Fiili sünnet
- D) Beyanı sünnet

18. Kıyametin kopuşu aşağıdaki meleklerden hangisinin sur borusuna üflemesiyle başlayacaktır?

- A) Mikail
- B) Azrail
- C) İsrail
- D) Cebrail

19. Aşağıdakilerden hangisi ölen birine karşı yapılması gereken sorumluluklardan biri değildir?

- A) Elbiselerini dağıtmak
- B) Ölüyü yıkamak
- C) Cenaze namazını kılmak
- D) Dua etmek

20. Hz. Muhammed'in şahit olduğu olaya veya kendisine arz edilen bir meseleye karşı çıkmaması, onu tasdik etmesi sünnet türlerinden hangisidir?

- A) Fiili sünnet
- B) Sözlü sünnet
- C) Takriri sünnet
- D) Te'kidi sünnet

1. Tarih biliminde elde edilen verilerin kaynak ve bilgi yönünden yeterli olup olmadığının kontrol edildiği aşama aşağıdakilerden hangisidir?
  - A) Terkip
  - B) Tahlil
  - C) Sentez
  - D) Tarama
2. Aşağıdakilerden hangisi bir olayın tarihi olay olarak kabul edilebilmesi için gerekli şartlardan biri değildir?
  - A) Olay üzerinde deney ve gözlemin yapılabilmesi
  - B) Olayın yeri ve zamanının bilinmesi
  - C) Olayın üzerinden belirli bir zaman geçmesi
  - D) Olayın geçtiği bölgenin özelliklerinin bilinmesi
3. Aşağıdakilerden hangisi sözlü kaynaklardan biridir?
  - A) Menkıbe
  - B) Hatıralar
  - C) Biyografiler
  - D) Seyahatnameler
4. Ay yılını esas alan takvimi ilk kez kullanan medeniyet aşağıdakilerden hangisidir?
  - A) Hititler
  - B) Mısırlılar
  - C) Sümerler
  - D) Frigler
5. Türklerin kullandığı ilk takvim aşağıdakilerden hangisidir?
  - A) Hicri takvim
  - B) On iki hayvanlı takvim
  - C) Miladi takvim
  - D) Rumi takvim
6. Genel olarak olay ve olguların geçtiği, geçmekte olduğu ve geçeceği süreye ne ad verilir?
  - A) Zaman
  - B) Tarih
  - C) Süreç
  - D) Gün
7. Matematikte ondalık sayı sistemini bulan uygarlık aşağıdakilerden hangisidir?
  - A) Hititler
  - B) Mısırlılar
  - C) Sümerler
  - D) Akadlar
8. Hastalıkların mikroplardan ileri geldiğini öne sürerek modern tıbbın temellerini atan Yunanlı bilim adamı kimdir?
  - A) Herodot
  - B) Tukidides
  - C) Sokrates
  - D) Hippokrat
9. Aşağıdakilerden hangisi Roma Uygarlığı'nın dönemlerinden biri değildir?
  - A) Krallık Dönemi
  - B) Cumhuriyet Dönemi
  - C) İmparatorluk Dönemi
  - D) Rahipler Dönemi
10. Avrupa'da Batı Roma İmparatorluğu'nun yıkılmasıyla feodalite rejiminin ortaya çıktığı çağ aşağıdakilerden hangisidir?
  - A) Yeni Çağ
  - B) İlk Çağ
  - C) Orta Çağ
  - D) Maden Çağı
11. Perslerle ilgili aşağıdaki ifadelerden hangisi yanlıştır?
  - A) En önemli sanat eserleri krallar için yapılan saraylardır.
  - B) Piyade ve süvarilerden oluşan daimi düzenli bir orduları vardır.
  - C) Ülkelerini teokrasi ile yönetmişlerdir.
  - D) Zerdüş'tü dinini benimsemişlerdir.
12. İlk şehir devletlerinin ortaya çıktığı çağ aşağıdakilerden hangisidir?
  - A) Demir Çağı
  - B) Tunç Çağı
  - C) Bakır Çağı
  - D) Yeni Taş Çağı

13. Bakır ve kalayın karıştırılmasıyla elde edilen maden aşağıdakilerden hangisidir?

- A) Krom
- B) Asbest
- C) Boksit
- D) Tunç

14. Yazılı olmayan hukuk kurallarına ne ad verilir?

- A) Kanun
- B) Töre
- C) Yasa
- D) Tüzük

15. Aşağıdakilerden hangisi Avrupa Hun Devleti ve Doğu Roma İmparatorluğu arasında imzalanan Anatolyus Antlaşması'nın maddeleri arasında yer almaz?

- A) Ticari faaliyetler belirli sınır kasabalarında yapılacaktır.
- B) Bizans'ın ödemekte olduğu vergi üç katına çıkarılacaktır.
- C) Bizans savaş tazminatı ödeyecektir.
- D) Tuna'nın güneyindeki yerler askerden arındırılacaktır.

16. Türklerde ordu teşkilatıyla ilgili aşağıdaki ifadelerden hangisi yanlıştır?

- A) İlk düzenli ordu Asya Hun hükümdarı Mete tarafından kurulmuştur.
- B) Eli silah tutan herkes asker sayılmıştır.
- C) Kadınlar askerlik hayatından uzak tutulmuştur.
- D) Turan taktiği denilen bir savaş yöntemi kullanmışlardır.

17. Türklerde din ve inanışla ilgili aşağıdaki ifadelerden hangisi yanlıştır?

- A) Ölülerini kurgan denilen mezarlara gömmüşlerdir.
- B) Ahiret, cennet ve cehennem inanmışlardır.
- C) Ölen kişinin arkasından "yuğ" denilen tören düzenlemişlerdir.
- D) Putlarını korumak için tapınaklar yapmışlardır.

18. Türk devletlerindeki töreyle ilgili aşağıdaki ifadelerden hangisi yanlıştır?

- A) Yazılı olmayan hukuk kurallarıdır.
- B) Töreye uymamak en büyük suçtur.
- C) Hükümdarın buyrukları, halkın gelenekleri ve kurultayda alınan kararlardan oluşmuştur.
- D) Hükümdar hariç herkes töreye uymak zorundadır.

19. Aşağıdakilerden hangisi Türklerin Orta Asya'dan göç etmelerinin sonuçlarından biri değildir?

- A) Göç ettikleri bölgelerde yeni devletler kurmuşlardır.
- B) Gittikleri yerlerde Türk kültürünü yaymışlardır.
- C) Türk boylarının hepsi gittikleri yerde üstünlük sağlayıp milli benliklerini korumuşlardır.
- D) Önerilerine çıkan kavimleri yerlerinden ederek büyük bir göç dalgası yaratmışlardır.

20. Aşağıdakilerden hangisi Kavimler Göçünün sonuçlarından biri değildir?

- A) Avrupa'da kilise önemini kaybetmiştir.
- B) Avrupa uzun yıllar karışıklık içinde kalmıştır.
- C) Türkler Avrupa'da Hun adıyla bilinen yeni bir devlet kurmuşlardır.
- D) Roma İmparatorluğu Batı ve Doğu olarak ikiye ayrılmıştır.

1. Aşağıdaki iklim çeşitlerinden hangisinin doğal bitki örtüsü makidir?

- A) Akdeniz iklimi
- B) Tundra iklimi
- C) Ekvatorial iklim
- D) Karadeniz iklimi

2. Aşağıdakilerden hangisi ülkemizdeki volkanik sönmüş yanardağlardan biri değildir?

- A) Koroğlu Dağı
- B) Erciyes Dağı
- C) Nemrut Dağı
- D) Süphan Dağı

3. Aşağıdaki şehirlerden hangisinde dağınık yerleşmelerin daha çok olduğu söylenebilir?

- A) Konya
- B) Rize
- C) Balıkesir
- D) Eskişehir

4. Ekvatora uzaklıkları hemen hemen aynı olan Erzurum ve Çanakkale'nin ortalama sıcaklıklarının farklı olması aşağıdakilerden hangisi ile ilgilidir?

- A) Bitki örtüsü
- B) Yükselti
- C) Boylam derecesi
- D) Enlem derecesi

5. Aşağıdakilerden hangisi insanların yerleşik hayata geçtiği ilk sahalardan biri değildir?

- A) Mezopotamya
- B) Doğu Afrika
- C) Kuzey Çin
- D) And Dağları

6. Aşağıdakilerden hangisi Avrupa Birliği'ne üye olan ülkelerden biri değildir?

- A) İngiltere
- B) Fransa
- C) Tunus
- D) Lüksemburg

7. Aşağıdaki şehirlerimizden hangisinde karasal iklim özellikleri belirgin olarak yaşanır?

- A) Samsun
- B) Muğla
- C) Çanakkale
- D) Sivas

8. Aşağıdakilerden hangisi köy altı yerleşmelerinin oluşmasındaki başlıca etmenlerden biri değildir?

- A) Tarım arazilerinin yeterli olması ve birbirine yakın olması
- B) Hayvanlar için otlak ve barınak temin edilmesi
- C) Aileler arasında anlaşmazlıklar çıkması
- D) Devlete ait arazilerin topraksız aileler tarafından kullanılması

9. Aşağıdaki illerden hangisinde yıllık ortalama sıcaklık değerleri daha fazladır?

- A) Antalya
- B) İzmir
- C) İstanbul
- D) Zonguldak

10. Aşağıdakilerden hangisi yerleşmelerin oluşum ve dağılışını sınırlandırmaz?

- A) Çöl
- B) Sık orman
- C) Buzullar
- D) Ova

11. Aşağıdakilerden hangisi köy altı yerleşmelerinden biri değildir?

- A) Mezra
- B) Kırsal
- C) Dam
- D) Barla

12. Aşağıdakilerden hangisi akarsulardan yararlanarak elde edilir?

- A) Jeotermal enerji
- B) Termik enerji
- C) Hidroelektrik
- D) Buhar gücü enerjisi

13. İklim bölgeleri haritası incelendiğinde aşağıdaki ülkelerden hangisinin diğerlerinden farklı bir iklim özelliğine sahip olduğu söylenebilir?

- A) İngiltere
- B) İskoçya
- C) Kuveyt
- D) Belçika

14. Tarım ve sanayi faaliyetleri sonucu üretilen malların alım ve satımı sonucu doğan ilişkileri inceleyen coğrafya aşağıdakilerden hangisidir?

- A) Sanayi coğrafyası
- B) Ulaşım coğrafyası
- C) Siyasi coğrafya
- D) Ticaret coğrafyası

15. Aşağıdaki illerden hangisi Kuzey Anadolu deprem kuşağında yer almaktadır?

- A) Nevşehir
- B) Bolu
- C) Konya
- D) Adana

16. Türkiye'de yeryüzü şekilleri sade ve engebesiz olsaydı ülkede daha çok hangi iklim türünün yayılma alanının genişlemesi beklenirdi?

- A) Karasal
- B) Çöl
- C) Muson
- D) Akdeniz

17. Dünya siyasi haritasını esas alacak olursak aşağıdaki ülkelerden hangisi Afrika' da yer almaktadır?

- A) Libya
- B) Bangladeş
- C) Arjantin
- D) Kanada

18. Orta Doğu Bölgesi'nde aşağıdaki özelliklerden hangisi daha fazla ön plana çıkar?

- A) İklim özellikleri
- B) Yer şekilleri
- C) Bitki örtüsü
- D) Zengin petrol rezervleri

19. Aşağıdaki volkanik dağlardan hangisi İç Anadolu Bölgesi'nde, Kayseri şehri yakınlarındadır?

- A) Süphan
- B) Nemrut
- C) Erciyes
- D) Tendürek

20. Aşağıdakilerden hangisi ekonomik özelliklere göre bölgeler sınıflamasına girmez?

- A) Tarım bölgeleri
- B) Sanayi bölgeleri
- C) Yer şekillerine göre bölgeler
- D) Maden bölgeleri

1. Aşağıdakilerden hangisi Türkiye'deki alüvyal set göllerinden biri değildir?

- A) Köyceğiz gölü
- B) Uzun göl
- C) Çıldır gölü
- D) Mogan gölü

2. Aşağıdakilerden hangisi Türkiye'de Jeotermal kökenli elektrik enerjisinin üretildiği yerlerden biridir?

- A) Kızılcahamam (Ankara)
- B) Simav (Kütahya)
- C) Sarayköy (Denizli)
- D) Gönen (Balıkesir)

3. Seramik, porselen, çömlek, tuğla ve kiremit üretiminde kullanılan ana madde aşağıdakilerden hangisidir?

- A) Çorak
- B) Kırmızı toprak
- C) Kil
- D) Kahverengi toprak

4. Aşağıdakilerden hangisi Türkiye'deki volkanik set göllerinden biri değildir?

- A) Eymir gölü
- B) Haçlı gölü
- C) Balık gölü
- D) Erçek gölü

5. Aşağıdakilerden hangisi Türkiye'de görülen geniş yapraklı ağaçlardan biri değildir?

- A) Servi
- B) Kızılağaç
- C) Kayın
- D) Gürgen

6. Aşağıdakilerden hangisi bozkırlarda yaygın olarak görülen ot türlerinden biri değildir?

- A) Menengiç
- B) Üzerlik
- C) Peygamber çiçeği
- D) Koyun yumağı

7. Aşağıdakilerden hangisi Türkiye'de toplu köy yerleşmelerinin yaygın olduğu yerlerden biri değildir?

- A) Vadi tabanları
- B) Engebeli araziler
- C) Dağ yamaçları
- D) Dağ etekleri

8. Nüfusu 10 – 25 bin arasında olan kentlere ne ad verilir?

- A) Orta büyüklükte kentler
- B) Büyük kentler
- C) Küçük kentler
- D) Metropol kentler

9. Aşağıdakilerden hangisi dağınık yerleşmelerin yaygın olduğu yerlerden biridir?

- A) Çukurova
- B) Karadeniz
- C) Kıyı Ege
- D) Konya Ovası

10. Aşağıdakilerden hangisi Türkiye'de nüfus ve yerleşmenin dağılımını etkileyen doğal faktörlerden biridir?

- A) Ekonomi
- B) İklim
- C) Ulaşım
- D) Göç

11. Aşağıdakilerden hangisi devamlı kır yerleşmelerinden biridir?

- A) Çiftlik
- B) Yayla
- C) Ağıl
- D) Oba



12. Aşağıdakilerden hangisi Türkiye'de en çok göç veren şehirlerden biri değildir?

- A) Bingöl
- B) Bitlis
- C) Ağrı
- D) Mersin

13. Aşağıdakilerden hangisi Türkiye'deki göçü engellemek için alınabilecek önlemlerden biri değildir?

- A) Modern tarım yöntemlerini yaygınlaştırmak
- B) Besi ve ahır hayvancılığını geliştirmek
- C) Kırsal alanda sosyal hizmetleri arttırmak
- D) Tarıma dayalı sanayi kollarını şehirlere taşınmak

14. Aşağıdakilerden hangisi Türkiye'deki göçün nedenlerinden biri değildir?

- A) Miras yoluyla toprağın parçalanması
- B) Tarımda makineleşmenin yarattığı işsizlik
- C) Eğitim, sağlık ve sosyal hizmetlerden daha fazla yararlanma isteği
- D) Nüfus dağılımındaki dengesizlik

15. Aşağıdakilerden hangisi Türkiye'de nüfus artışının yol açtığı sorunlardan biri değildir?

- A) Milli gelir azalır.
- B) Göçler artar.
- C) Refah seviyesi artar.
- D) Çevresel sorunlar artar.

16. Sumatra Adası ile Malaya Yarımadası arasında yer alan boğaz aşağıdakilerden hangisidir?

- A) Cebelitarık Boğazı
- B) Malakka Boğazı
- C) Bering Boğazı
- D) Hürmüz Boğazı

17. Tarihi İpek Yolu'nun başladığı ülke aşağıdakilerden hangisidir?

- A) Hindistan
- B) İran
- C) Moğolistan
- D) Çin

18. Aşağıdakilerden hangisi fırtına, hortum ve kasırga gibi olağanüstü hava olaylarının zararlarını azaltmak için alınması gereken önlemlerden biri değildir?

- A) Erken uyarı sistemleri kurulmalıdır.
- B) İnsanlara gerekli eğitim verilerek bilinçlendirilmelidir.
- C) Binalar olağanüstü hava olaylarına karşı dayanıklı inşa edilmelidir.
- D) Atmosferdeki hava hareketliliği yılda 1 kez kontrol edilmelidir.

19. Volkanik püskürmelerin en fazla görüldüğü yer aşağıdakilerden hangisidir?

- A) Büyük Okyanus çevresi
- B) Hint Okyanusu çevresi
- C) Akdeniz çevresi
- D) Atlas Okyanusu çevresi

20. Aşağıdakilerden hangisi yer kökenli doğal afetlerden biri değildir?

- A) Deprem
- B) Çığ
- C) Tsunami
- D) Volkanik püskürtme

1. Katı atıklar sorununun giderilmesinde doğa ile en barışık yöntem aşağıdakilerden hangisidir?
  - A) Yakarak yok etmek
  - B) Toprağa gömmek
  - C) Geri dönüşüm
  - D) Dağlık alanlara depolamak
2. Turistlerin gittikleri yerleri toplumsal açıdan etkilemeleri ve aynı zamanda bu yerlerden etkilenmeleri, turizmin etkilerinden hangisi ile ilgilidir?
  - A) Sosyal kültürel etkiler
  - B) Politik etkiler
  - C) Çevresel ve ekolojik etkileri
  - D) Ekonomik etkiler
3. Rusya'da 1986 yılında meydana gelen nükleer kaza aşağıdaki isimlerden hangisi ile anılır?
  - A) Çernobil
  - B) Fukuşima
  - C) Thre Mile Island
  - D) Moskova
4. Çöplerden elektrik enerjisi üretme yöntemi aşağıdaki enerji türlerinden hangisinin kapsamına girer?
  - A) Dalga enerjisi
  - B) Hidrojen enerjisi
  - C) Jeotermal enerji
  - D) Biyokütle enerjisi
5. Türkiye'nin 1952 yılında üye olduğu ve yapılan anlaşma çerçevesinde Kore'ye asker gönderdiği örgüt aşağıdakilerden hangisidir?
  - A) OECD
  - B) AET
  - C) BM
  - D) NATO
6. Aşağıdakilerden hangisi ABD'de sel ve taşkınların meydana geldiği nehirlerden biri değildir?
  - A) Nil
  - B) Amazon
  - C) Obi
  - D) Mississippi
7. Aşağıdakilerden hangisi çevre kirliliği sorununa neden olan faaliyetlerden biri değildir?
  - A) Aşırı ağaç dikimi
  - B) Nüfus artışı
  - C) Sanayileşme
  - D) Kentleşme
8. Kültür ile ilgili aşağıdaki ifadelerden hangisi yanlıştır?
  - A) Kültür dinamiktir.
  - B) Bir kültürün doğduğu yere kültür ocağı denir.
  - C) Kültür sabittir ve değişmez.
  - D) Her nesil miras olarak aldığı kültürü değiştirir ve geliştirir.
9. Japonya ile ilgili aşağıdaki ifadelerden hangisi yanlıştır?
  - A) Arazi yapısı geniş düzlüklerden oluşmaktadır.
  - B) Çok sayıda volkan bulunur.
  - C) Çok sayıda depremlerin yaşandığı bir ülkedir.
  - D) Toplam arazisinin %70'i dağlarla kaplıdır.
10. Karadeniz Ekonomik İşbirliği Teşkilatının çalışmalarına öncülük eden ve ilk toplantısını düzenleyen ülke aşağıdakilerden hangisidir?
  - A) Almanya
  - B) Fransa
  - C) Türkiye
  - D) Rusya

11. Aşağıdakilerden hangisi hidroelektrik santrallerinin sebep olduğu çevresel sorunlardan biri değildir?

- A) Doğal, tarihi ve kültürel alanları sular altında bırakması
- B) Atmosfere aşırı karbondioksit salınımı yapması
- C) Ekolojik sistemi bozması
- D) Tarım arazilerinde tuzlanma ve çoraklaşmaya neden olması

12. Aşağıdakilerden hangisi Avrupa Birliğinin temeli olan Avrupa Kömür ve Çelik Topluluğunun kurucu ülkelerinden biri değildir?

- A) Almanya
- B) Fransa
- C) Lüksemburg
- D) İngiltere

13. Selimiye Camisi aşağıdaki şehirlerden hangisinde bulunmaktadır?

- A) Tekirdağ
- B) Edirne
- C) İstanbul
- D) Bursa

14. Aşağıdakilerden hangisi doğal kaynakların kullanımında etkili olan faktörlerden biri değildir?

- A) Doğal kaynağın potansiyeli
- B) Yeryüzü şekilleri
- C) Kullanılan yöntem ve teknolojiler
- D) İnsan ihtiyaçları

15. Nükleer enerjiden elektrik üretme işlemi ilk olarak aşağıdaki ülkelerden hangisinde gerçekleştirilmiştir?

- A) İngiltere
- B) Almanya
- C) ABD
- D) Fransa

16. Aşağıdakilerden hangisi Dünyanın Yedi Harikasından biri değildir?

- A) İskenderiye Feneri
- B) Artemis Tapınağı
- C) Efes Antik Tiyatrosu
- D) Babil'in Asma Bahçeleri

17. Türk kültürü tarih boyunca aşağıdaki kültürlerin hangisinden etkilenmemiştir?

- A) İngiliz kültürü
- B) Çin kültürü
- C) Hint kültürü
- D) Yunan kültürü

18. Aşağıdakilerden hangisi OPEC'in kurucu üyelerinden biri değildir?

- A) Suudi Arabistan
- B) ABD
- C) Venezuela
- D) Kuveyt

19. Aşağıdakilerden hangisi arazi planlamalarında doğru sonuca ulaşmak için göz önünde bulundurulması gereken unsurlardan biri değildir?

- A) Hedef tespit edilmelidir.
- B) Arazi yetenek sınıflandırması ile ilgili etütler yapılmalıdır.
- C) Bölge halkının gereksinimleri düşünülmelidir.
- D) İklim yapısı göz ardı edilmelidir.

20. Yellowstone Ulusal Parkı hangi ülkede bulunmaktadır?

- A) İngiltere
- B) ABD
- C) Almanya
- D) Avustralya

1. Cumhuriyetin ilanıyla başlayan nüfus artışını teşvik eden politikalar hangi yıla kadar devam ettirilmiştir?

- A) 1945
- B) 1963
- C) 1982
- D) 1997

2. Bir ülkede nüfus piramidinin tabanı yıllar itibarıyla daralıyorsa bunun nedeni aşağıdakilerden hangisidir?

- A) Nüfus artış hızının düşmesi
- B) İç göçlerin yaşanması
- C) İşsizlik oranının artması
- D) Bağlı nüfusun artması

3. Aşağıdakilerden hangisi DOKAP projesi kapsamındaki illerden biridir?

- A) Erzurum
- B) Zonguldak
- C) Amasya
- D) Trabzon

4. Aşağıdakilerden hangisi Doğu Karadeniz Projesinin amaçlarından biri değildir?

- A) Turizm faaliyetlerini geliştirmek
- B) Ulaşım ve iletişim hizmetlerini güçlendirmek
- C) Kardemir'i modernize etmek
- D) İç kesimlerde ürün çeşitliliğini artırmak

5. Ülkelerin coğrafi özelliklerini dikkate alarak onların siyasi açıdan dünya üzerinde buldukları yeri ve etkilerini aşağıdakilerden hangisi araştırır?

- A) Fiziki coğrafya
- B) Biyocoğrafya
- C) Ekonomik coğrafya
- D) Siyasi coğrafya

- 6. I. Birleşmiş Milletler
- II. Dünya Bankası
- III. Avrupa Konseyi
- IV. NATO

Yukarıdakilerden hangileri Türkiye'nin üye olduğu siyasi örgütler arasındadır?

- A) I ve II
- B) I ve III
- C) II ve III
- D) III ve IV

7. Aşağıdakilerden hangisi jeopolitiğin değişen unsurlarından biridir?

- A) Jeolojik özellikler
- B) Coğrafi konum
- C) Politik değerler
- D) Stratejik kaynaklar

- 8. I. Boğazların bulunması
- II. Dağların uzanış yönü
- III. Zengin petrol kaynakları bölgelerine komşu olması

Yukarıdakilerden hangileri Türkiye'nin jeopolitik önemini artıran unsurlar arasında yer alır?

- A) I ve II
- B) I ve III
- C) II ve III
- D) I, II ve III

9. Aşağıdakilerden hangisi Türkiye'nin üyesi olduğu uluslararası ekonomik örgütlerden biridir?

- A) Ekonomik Kalkınma ve İşbirliği Örgütü
- B) Batı Avrupa Birliği
- C) İslam Konferansı Örgütü
- D) Avrupa Konseyi İnsan Hakları Mahkemesi

10. Almanya Federal Cumhuriyeti'nin başkenti aşağıdakilerden hangisidir?

- A) Paris
- B) Oslo
- C) Berlin
- D) Hamburg

11. Aşağıdakilerden hangisi Hazar Bölgesinde yer alan ülkelerden biri değildir?

- A) Suriye
- B) Azerbaycan
- C) Kazakistan
- D) Türkmenistan

12. Ülkelerin gelişmişlik düzeylerini belirtmek için en yaygın kullanılan ölçüt aşağıdakilerden hangisidir?

- A) Okur-yazar oranı
- B) Doktor başına düşen hasta sayısı
- C) Kişi başına düşen elektrik tüketimi
- D) Kişi başına düşen milli gelir

13. Aşağıdakilerden hangisi Çin'de görülen iklimlerden biridir?

- A) Ekvatorial
- B) Akdeniz
- C) Karasal
- D) Tundra

14. Dünya genelinde su sıkıntısı yaşayan ülkelerin çoğunluğu hangi bölgede yer alır?

- A) Orta Doğu
- B) Kuzey Amerika
- C) Batı Avrupa
- D) Kuzey Avrupa

15. Aşağıdakilerden hangisi uluslararası sıcak çatışmalara neden olan doğal unsurlardan biri değildir?

- A) Su kaynaklarının paylaşımı
- B) Toprak paylaşımı
- C) Yeraltı zenginliklerinin paylaşımı
- D) Ekonomik sorunlar

16. Aşağıdakilerden hangisi Greenpeace çevre örgütünün başlıca çalışma alanları arasında yer almaz?

- A) Genleri ile oynanmış organizmaların doğaya bırakılmalarının yaygınlaştırılması
- B) Küresel ısınmanın durdurulması
- C) Temiz ve geri dönüştürülebilir enerjinin kullanılması
- D) Zehirli kimyasalların ortadan kaldırılması

17. Kyoto Protokolü'nün ortaya çıkmasında etkili olan örgüt aşağıdakilerden hangisidir?

- A) Dünya Meteoroloji Örgütü
- B) Devletlerarası İklim Değişikliği Heyeti
- C) Avrupa Çevre Ajansı
- D) Greenpeace

18. 20. yüzyılda ekolojik dengenin bozulmasında aşağıdakilerden hangisinin etkisi yoktur?

- A) Dünya nüfusunun artmasının
- B) Çevre bilincinin gelişmemiş olmasının
- C) Doğal kaynakların bilinçsizce tüketilmesinin
- D) Eğitim seviyesinin artmasının

19. Dünya'nın akciğerleri olarak adlandırılan Amazon yağmur ormanları hangi kıtada yer almaktadır?

- A) Afrika
- B) Güney Amerika
- C) Avustralya
- D) Kuzey Amerika

20. I. Uluabat Gölü  
II. Samsam Gölü  
III. Gavur Gölü  
IV. Van Gölü

Yukarıdakilerden hangileri Türkiye'nin kaybolan sulak alanları arasındadır?

- A) I ve II
- B) I ve III
- C) II ve III
- D) III ve IV

1. Yapısalcılık yaklaşımıyla ilgili aşağıdaki ifadelerden hangisi yanlıştır?
  - A) Temsilcileri W. Wundt ve Titchner'dir.
  - B) Kullandıkları yöntem içgözlem ve deneydir.
  - C) Yapısalcılara göre geçmiş ya da gelecek değil içinde yaşanılan an önemlidir.
  - D) Yapısalcılara göre psikolojinin amacı, bilincin karmaşık yapısını çözmektir.
2. "Bir tablo; tuval, boya ve renklerin toplamından çok daha farklı bir şeydir." anlayışını benimseyen yaklaşım aşağıdakilerden hangisidir?
  - A) Hümanistik
  - B) Gestaltçı
  - C) Psikoanalitik
  - D) Yapısalcı
3. Davranışların ortaya çıkmasından itibaren gelişmesini, gelişme dönemlerini araştıran psikoloji dalı aşağıdakilerden hangisidir?
  - A) Deneysel psikoloji
  - B) Sosyal psikoloji
  - C) Genetik psikoloji
  - D) Yetişkinlik psikolojisi
4. Zihinsel bozuklukların, organik ve kalıtsal etkenlerin karmaşıklaştırdığı gerçekçi olmayan beklentiler ve yanlış alışkanlıkların sonucunda ortaya çıktığını ileri süren bilim insanı aşağıdakilerden hangisidir?
  - A) Popper
  - B) Redfield
  - C) Kofka
  - D) Meyer
5. İlk psikoloji laboratuvarını aşağıdaki bilim adamlarından hangisi kurmuştur?
  - A) W. Wundt
  - B) S. Bruner
  - C) J. Piaget
  - D) S. Freud
6. Tıp eğitimi görmüş ve psikiyatri konusunda uzmanlık yapmış kişiye ne ad verilir?
  - A) Psikiyatrist
  - B) Psikolog
  - C) Sosyolog
  - D) Biyolog
7. "Bilincin ne olduğundan çok, ne için olduğunu bilmek önemlidir." görüşünü savunan anlayış aşağıdakilerden hangisidir?
  - A) Behaviorizm
  - B) Fonksiyonalizm
  - C) Naturalizm
  - D) Klasisizm
8. Organizmanın doğrudan veya dolaylı olarak gözlenebilen tüm etkinliklerine ne ad verilir?
  - A) Eğitim
  - B) Davranış
  - C) Öğrenme
  - D) Araştırma
9. Aşağıdakilerden hangisi uygulamalı psikolojinin kullanıldığı başlıca psikoloji alanlarından biri değildir?
  - A) Eğitim psikolojisi
  - B) Sosyal psikoloji
  - C) Klinik psikoloji
  - D) Endüstriyel psikoloji
10. Davranışçılık ekolünü benimseyenlerin araştırmalarında kullandıkları yöntem aşağıdakilerden hangisidir?
  - A) İçebakış-deney
  - B) Gözlem-telkin
  - C) Hipnoz-gözlem
  - D) Deney-gözlem

11. İnsanın kendini incelemesi yöntemine ne ad verilir?

- A) Yaklaşım
- B) Deney
- C) İç gözlem
- D) Algı

12. Işık dalgasının gözü etkileyerek renkli görmeyi sağlamasına ne ad verilir?

- A) Denge
- B) Uyarım
- C) Duyum
- D) Dürtü

13. Aşağıdakilerden hangisi fizyolojik güdülerden biri değildir?

- A) Açlık
- B) Cinsellik
- C) Güvenlik
- D) Uyuma

14. Duyumların çeşitli biçimlerde örgütlenip anlam kazanmasına, yorumlanmasına ne ad verilir?

- A) Algılama
- B) Yorumlama
- C) Örgütleme
- D) Doğaçlama

15. Doyurulmamış temel ihtiyaçların yarattığı iç huzursuzluklarını gidermek üzere insanın kendini aldatması pahasına başvurduğu davranış örüntülerine ne ad verilir?

- A) Katarsis
- B) Sosyal öğrenme
- C) Kalıpyargı
- D) Savunma mekanizmaları

16. "Daltonizm" olarak bilinen rahatsızlık aşağıdakilerden hangisidir?

- A) Renk körlüğü
- B) İşitme kaybı
- C) Halüsinasyon
- D) Doku kaybı

17. Bir olay ya da nesnenin varlığı üzerine duyular yoluyla edinilen yalın bilinç durumu, duyuları yorumlama, onları anlamlı hale getirme sürecine ne ad verilir?

- A) Dürtü
- B) Algı
- C) İçgörü
- D) Pekıştirenç

18. Rüyaların büyük bir bölümü uykunun hangi döneminde görülür?

- A) EEG
- B) AAA
- C) KEM
- D) REM

19. Aşağıdakilerden hangisi yaratıcı düşünmeyi engelleyen faktörlerden biri değildir?

- A) Dilsel engeller
- B) Duygusal engeller
- C) Kültürel engeller
- D) Algısal engeller

20. I. Benzerlik  
II. Zıtlık  
III. Eş zamanlılık

Yukarıdakilerden hangileri bellekte hatırlamaya ipucu sağlayacak gruplamalardandır?

- A) Yalnız I
- B) I ve II
- C) II ve III
- D) I, II ve III

1. Ekonomistlerin yaptıkları konuşmalar hangi söylev çeşidi içerisinde yer alır?

- A) Akademik söylev
- B) Hukuksal söylev
- C) İktisadi söylev
- D) Siyasi söylev

2. Cumhuriyet döneminin en büyük konuşmacısı aşağıdakilerden hangisidir?

- A) Bekir Sıtkı
- B) Halide Edip
- C) Peyami Safa
- D) Mustafa Kemal Atatürk

3. Aşağıdaki röportaj yazarı ve eseri eşleştirmelerinden hangisi yanlıştır?

- A) Fikret Ötyam- Doğudan Gezi Notları
- B) Namık Kemal-Çukurova Yana Yana
- C) Yaşar Kemal-Bu Diyar Baştan Başa
- D) Mustafa Baydar-Edebiyatçılarımız Ne Diyorlar

4. Röportajın özellikleri ile ilgili aşağıdaki ifadelerden hangisi yanlıştır?

- A) Röportajı yapan kişi kendi görüşlerini röportaja katmaz.
- B) Röportajcı gördükleri ve izlenimleriyle yetinmeyip araştırma ve inceleme de yapar.
- C) Röportajcının amacı konuyu çarpıtmadan belgesel olarak okuyucuya sunmak ve okuyucuyu konunun içinde yaşatmaktır.
- D) Röportajlar okuyucunun dikkatini çekecek ve onları bazı konularda düşündürecek biçimde düzenlenir.

5. Aşağıdakilerden hangisi sözlü anlatım türlerinden biri değildir?

- A) Deneme
- B) Mülakat
- C) Söylev
- D) Röportaj

6. Söylevin amacı nedir?

- A) Bilgi vermek
- B) Bir sorunu değişik boyutları ile incelemek
- C) Ünlü birini tanıtmak
- D) Belli bir fikri, bir duyguyu aşlamak

7. Aşağıdakilerden hangisi mülakat ve mülakatçının özelliklerinden biri değildir?

- A) Mülakatçı sabırlı, nazik ve dikkatli olmalıdır.
- B) Genelde söyleşmeye bağlı anlatım türü kullanılır.
- C) Mülakatı yapan kişi konu akışı bozulsa, konu başka yerlere gitse dahi müdahale etmemelidir.
- D) Mülakat metni öğretici ve ufuk açıcıdır.

8. Aşağıdakilerden hangisi hatip anlamındadır?

- A) Söylevci
- B) Şair
- C) Suför
- D) Mülakatçı



9. "Tanrı gibi Tanrı yaratmış Türk Bilge Kağanı, sözüm: Babam Türk Bilge Kağanı... Sir, Dokuz Oğuz, İki Ediz çadırlı beyleri, milleti.."

**Yukarıda bir parçası alıntılanan eser aşağıdakilerden hangisidir?**

- A) Göktürk Yazıtları  
B) Fatih Sultan Mehmet'in Nutku  
C) Bugün de Diyorlar ki  
D) İstiklal Kulesi Yazıtları

10. Aşağıdaki türlerden hangisi tiyatro ile birlikte gelişmiştir?

- A) Mülakat  
B) Görüşme  
C) Röportaj  
D) Söylev

11. Karşılıklı buluşmak, görüşmek anlamlarına gelen, ünlü kişilerin çeşitli yönlerini tanıtmak veya toplumu ilgilendiren önemli bir konuyu aydınlatmak için ünlü kişilerle, uzmanlarla yapılan görüşmeleri sorulu cevaplı aktaran yazılara ne ad verilir?

- A) Söylev  
B) Mülakat  
C) Deneme  
D) Hitabet

12. "Onuncu Yıl Nutku" tür olarak aşağıdakilerden hangisine örnektir?

- A) Mülakata  
B) Mektuba  
C) Hitabete  
D) Denemeye

13. Röportajın sağlam bir düşünce ve teze dayanması yönüyle benzerlik gösterdiği tür aşağıdakilerden hangisidir?

- A) Deneme  
B) Fıkra  
C) Makale  
D) Nutuk

14. Edebiyatımızda ilk mülakat örneklerinden sayılan "Anafartalar Kumandanı Mustafa Kemal Atatürk" başlıklı eserin yazarı aşağıdakilerden hangisidir?

- A) Yahya Kemal  
B) Fakir Baykurt  
C) Fikret Otyam  
D) Ruşen Eşref Ünaydın

15. "Gerçek Bir Yeryüzü Cenneti Sapanca" başlıklı röportajın türü aşağıdakilerden hangisidir?

- A) Eşyayı konu alan  
B) Bir yeri konu alan  
C) Gezi yazısı  
D) Belgesel

16. Aşağıdakilerden hangisi konularına göre röportaj çeşitlerinden biri değildir?

- A) Eşyayı konu alan  
B) Olayı konu alan  
C) İnsanı konu alan  
D) Bir yeri konu alan

## 17. " Sevgili Arkadaşlarım!

Yüksek öğrenim gençlerini, istediğimiz ve ihtiyaç duyduğumuz gibi milli bilinç sahibi, modern kültürlü olarak yetiştirmek için İstanbul Üniversitesi'nin gelişmesi, Ankara Üniversitesi'nin tamamlanması ve Doğu Üniversitesi'nin yapılan çalışmalarla belirlenmiş olan kurallar içinde Van Gölü civarında kurulması çalışmaları hızla ve önemle sürdürülmektedir..."

**Yukarıda bir parçası alıntılanan yazının türü aşağıdakilerden hangisidir?**

- A) Mülakat
- B) Makale
- C) Şiir
- D) Söylev

18. **Aşağıdakilerden hangisi bir söylev çeşidi değildir?**

- A) Akademik söylev
- B) Dinsel söylev
- C) Mekansal söylev
- D) Ekonomik söylev

19. **Söylev türünün ilk örnekleri nerede görülmüştür?**

- A) Eski Yunan ve Roma'da
- B) Mısır ve İskenderiye'de
- C) Floransa ve Sicilya'da
- D) Keltler ve Vikingler'de

20. **Aşağıdakilerden hangisi edebiyatımızdaki tanınmış mülakat yazarlarından biri değildir?**

- A) Hikmet Feridun Es
- B) İbrahim Çallı
- C) Mustafa Baysal
- D) Sermat Sami Uysal

1. Aşağıdakilerden hangisi Türk Edebiyatında mesnevi tarzında eser veren şairlerden biri değildir?

- A) Süleyman Çelebi
- B) Yunus Emre
- C) Şeyh Galip
- D) Nabi

2. Tiyatroda trajedi türü hangi ülkede doğmuştur?

- A) Bizans
- B) Roma
- C) Sümerler
- D) Eski Yunan

3. Opera 17. yy başlarında hangi ülkede doğmuştur?

- A) Fransa
- B) Rusya
- C) Avusturya
- D) İtalya

4. Aşağıdakilerden hangisi durum öyküsünün Türk edebiyatındaki temsilcilerinden biridir?

- A) Sait Faik Abasıyanık
- B) Ömer Seyfettin
- C) Ziya Gökalp
- D) Eflatun Cem Güney

5. Aşağıdaki müzikli tiyatrolardan hangisi lirik dram olarak da bilinir?

- A) Opera
- B) Operet
- C) Bale
- D) Komedi Müzikal

6. I. Şu Destanı  
II. Türeyiş Destanı  
III. Göç Destanı

Yukarıdaki destanlardan hangileri Uygur Destanları arasında yer alır?

- A) Yalnız I
- B) Yalnız III
- C) I ve II
- D) II ve III

7. Olmuş ya da olma olasılığı bulunan olayların bir büyük olayla örülerek ayrıntılı bir şekilde yer ve zaman gösterilerek anlatıldığı uzun yazılara ne ad verilir?

- A) Masal
- B) Hikâye
- C) Destan
- D) Roman

8. Tiyatro oyunundaki erkek oyuncuya ne ad verilir?

- A) Süflör
- B) Figüran
- C) Aktör
- D) Rejisör

9. Edebi metinler anlatıcının bakış açısından ortaya konmaktadır. Buna göre gözlemci anlatıcının bakış açısıyla ilgili aşağıdaki ifadelerden hangisi yanlıştır?

- A) Olaylar öznel bir tarzda aktarılır.
- B) Kişilerin duygu ve düşünceleri eylemlerinden çıkartılır.
- C) Kişiler ve iç dünyaları, kendi söyledikleri ve davranışları dikkatle izlenerek fikir sahibi olunabilir.
- D) Olaylar bize anlatılmıyor da kişinin gözünün önünde oluyormuş izlenimi verilir.

10. “Vesiletü'n-Necat” adlı eser aşağıdaki mesnevi türlerinden hangisine örnektir?

- A) Cenk destanları mesnevisine
- B) Ahlaki ve didaktik mesneviye
- C) Dini ve tasavvufi mesneviye
- D) Aşk hikâyeleri mesnevisine

11. Orta oyununda, asıl konuya ait olayın anlatıldığı bölüm aşağıdakilerden hangisidir?

- A) Giriş
- B) Fasil
- C) Muhavere
- D) Bitiş

12. Aşağıdakilerden hangisi “göstermeye bağlı sanat eserlerinden” biri değildir?

- A) Meddah
- B) Orta oyunu
- C) Masal
- D) Karagöz

13. "Ergenekon" adlı destan aşağıdakilerden hangisine aittir?

- A) İran edebiyatına
- B) Türk edebiyatına
- C) Yunan edebiyatına
- D) Alman edebiyatına

14. Aşağıdakilerden hangisi Türk edebiyatındaki deneme yazarlarından biri değildir?

- A) Nurullah Ataç
- B) Oktay Akbal
- C) Ömer Seyfettin
- D) Suut Kemal Yetkin

15. "Kaybolmuş Cennet" adlı destanın yazarı aşağıdakilerden hangisidir?

- A) Milton
- B) Dante
- C) Ariosto
- D) Tasso

16. Aşağıdakilerden hangisi yapma destanlardan biridir?

- A) Şehname
- B) İlyada ve Odisea
- C) Kalevâla
- D) Çılgın Orlando

17. Aşağıdaki eserlerden hangisi gezi yazısı türünde yazılmıştır?

- A) Son Kuşlar
- B) Medeniyet Savaşı
- C) Semerkant
- D) Nalınlar

18. Bir yazarın herhangi bir konu üzerine görüş ve düşüncelerini kanıtlama gereği duymadan, kesin yargılara varmadan anlattığı yazı türüne ne ad verilir?

- A) Eleştiri
- B) Deneme
- C) Anı
- D) Fıkra

19. Aşağıdakilerden hangisi eleştiri türünün özelliklerinden biri değildir?

- A) Kesin yargılara varılması
- B) İncelenen konunun güçlü ve zayıf yönlerinin birlikte ele alınması
- C) Eleştirmenin geniş bir bilgi birikimine sahip olması
- D) Bir sanat eserinin, bir sanatçının gerçek değerini ortaya koymak amacıyla yazılması

20. "Ziya'ya Mektuplar" adlı eser aşağıdaki yazarlardan hangisine aittir?

- A) Ahmet Muhip Dıranas
- B) Cahit Sıtkı Tarancı
- C) Ahmet Hamdi Tanpınar
- D) Necip Fazıl Kısakürek

1. **Yaprak Dökümü, Eski Şarkı, Balıkesir Muhasebecisi** adlı eserler kime aittir?

- A) Reşat Nuri
- B) Halide Edip
- C) Oktay Rifat
- D) Melih Cevdet

2. **Yedi Meşaleciler topluluğunun en güçlü şairi olan ve şiirlerinde kader, ölüm ve küçük mutlulukları işleyen şair kimdir?**

- A) Yaşar Nabi Nayır
- B) Muammer Lütfi
- C) Cevdet Kudret
- D) Ziya Osman Saba

3. **"Benim Adım Kırmızı" romanı kime aittir?**

- A) Orhan Kemal
- B) Kemal Tahir
- C) Orhan Pamuk
- D) Peyami Safa

4. İçeride dönük bir kişiliğe sahip olan şair, şiirlerinde büyük şehrin içinde kaybolmuş insanın kırık, karanlık, karmaşık duygularını yansıttı.

**Yukarıda tanıtılan şair aşağıdakilerden hangisidir?**

- A) Behçet Necatigil
- B) Oktay Rifat
- C) Melih Cevdet
- D) Atilla İlhan

5. **Şiirlerinde Doğu mistisizmi ile tasavvufu birleştiren şair kimdir?**

- A) Atilla İlhan
- B) Cahit Külebi
- C) Asaf Halet Çelebi
- D) Oktay Rifat

6. **Boş Beşik, Susuz Yaz, Nalınlar** adlı sahnelenmiş oyunlar kime aittir?

- A) Orhan Kemal
- B) Necati Cumalı
- C) Aziz Nesin
- D) Adalet Ağaoğlu

7. **"Sokrates'in Savunması" adlı oyunun yazarı aşağıdakilerden hangisidir?**

- A) Haldun Taner
- B) Turan Ofazoğlu
- C) Orhan Asena
- D) Aziz Nesin

8. **Gerçeküstücü üslupla Türk-İslam mistisizmini ifade eden orijinal şiirler yazan şair kimdir?**

- A) İlhan Berk
- B) Ece Ayhan
- C) Sezai Karakoç
- D) Turgut Uyar

9. **Aşağıdaki yazarlardan hangisi öykülerinde, yaşamları denize bağlı insanların dünyasını sergilemiştir?**

- A) Kemal Bilbaşar
- B) Halikarnas Balıkcısı
- C) Enver Gökçe
- D) Cemal Süreya

10. **"Seyir Defteri" adlı gezi kitabı aşağıdaki yazarlardan hangisine aittir?**

- A) Yaşar Kemal
- B) Falih Rıfkı Atay
- C) Nedim Gürsel
- D) Özcan Yurdakul

11. **"Bu Diyar Baştan Başa" adlı gezi kitabı aşağıdaki yazarlardan hangisine aittir?**

- A) Nadir Paksoy
- B) Fikret Otyam
- C) Nedim Gürsel
- D) Yaşar Kemal

12. Ahmet Haşim'in denemeleri aşağıdakilerin hangisinde birlikte ve doğru olarak verilmiştir?

- A) Evrak-ı Eyyam – Tiryaki Sözleri
- B) Gurubahâne-i Laklakan – Bize Göre
- C) Sonbahar Türküsü – Doğa
- D) Erguvan İstanbul – Dağ Şarkısı

13. Tercüman-ı Ahval adlı gazetede yayımlanan ilk makale aşağıdaki yazarlardan hangisine aittir?

- A) Agah Efendi
- B) Namık Kemal
- C) Ziya Paşa
- D) İbrahim Şinasi

14. Ruşen Eşref Ünaydın'ın Atatürk'ü anlattığı kitabı aşağıdakilerden hangisidir?

- A) Hatıralar
- B) Çocukluğum
- C) İlme Doğru
- D) Karalama Defteri

15. Deneme türü ile ilgili aşağıdaki ifadelerden hangisi yanlıştır?

- A) Yazar, düşüncelerini ispatlamak için uğraşır.
- B) Deneme, bir çarpıda okunabilecek uzunlukta olur.
- C) Yazarın kültür konularındaki birikimi okuyucunun olaylara farklı pencerelerden bakmasını sağlar.
- D) Yazar duygularını kendi kendisiyle konuşur gibi yazar.

16. Günlük olayları, yurt sorunlarını veya herhangi bir konuyu belli bir görüş açısından ele alan kısa yazılara ne ad verilir?

- A) Fıkra
- B) Söylev
- C) Anı
- D) Deneme

17. Türk edebiyatında deneme türünün en önemli yazarı kimdir?

- A) Ahmet Rasim
- B) Haldun Taner
- C) Nurullah Ataç
- D) Uğur Kökten

18. Aşağıdakilerden hangisi makale türlerinden biri değildir?

- A) Askeri makale
- B) Siyasal makale
- C) Edebi makale
- D) Başmakale

19. Bir insanın gezip gördüğü yerlerden edindiği izlenimleri, bilgileri aktardığı yazılara ne ad verilir?

- A) Deneme
- B) Gezi yazısı
- C) Söylev
- D) Fıkra

20. Aşağıdakilerden hangisi, fıkra türünün özelliklerinden biri değildir?

- A) Daha çok güncel konuların ele alınması
- B) Amacının okuyucunun dikkatini çekmek onu düşünmeye yöneltmek olması
- C) Kısa yazılması
- D) Bilimsel olması

1. Sesin, hızının 340 m/s olduğu bir ortamdaki, frekansı  $680 \text{ s}^{-1}$  dir. Buna göre, bu sesin dalga boyu kaç metredir?

- A) 0,5
- B) 1
- C) 2
- D) 3

2. İki ucu sabit L uzunluğundaki bir telde oluşturulan dalganın harmonik sayısı 1'dir. Buna göre, bu dalganın dalga boyu  $\lambda$ , L'nin katları cinsinden aşağıdakilerden hangisidir?

- A)  $\lambda = L/2$
- B)  $\lambda = L$
- C)  $\lambda = 2L$
- D)  $\lambda = 4L$

3. Atomla ilgili aşağıdaki ifadelerden hangisi doğrudur?

- A) Çekirdekte nötron ve elektronlar ile çevresindeki protonlardan oluşur.
- B) Çekirdekte proton ve nötron ile çekirdek çevresindeki elektronlardan oluşur.
- C) Çekirdekte nötron ile çevresindeki proton ve elektronlardan oluşur.
- D) Çekirdekteki proton ve elektronlarla çevresindeki nötronlardan oluşur.

4. Periyodu 5 s olan bir dalganın frekansı kaç  $\text{s}^{-1}$  dir?

- A) 0,2
- B) 1
- C) 2,5
- D) 5

5. İki ucu sabit L uzunluğundaki bir telde oluşan kararlı dalgada 4 tane karın noktası vardır. Buna göre, bu dalganın dalga boyu L'nin katları cinsinden aşağıdakilerden hangisidir?

- A)  $\lambda=L/6$
- B)  $\lambda=L/4$
- C)  $\lambda=L/3$
- D)  $\lambda=L/2$

6. Atom için en uygun modeli ortaya koyan bilim insanı aşağıdakilerden hangisidir?

- A) John Dalton
- B) Democritus
- C) Ernest Rutherford
- D) Joseph John Thomson

7. Su dalgasıyla ilgili aşağıdaki ifadelerden hangisi kesinlikle doğrudur?

- A) Suyun derinliği azaldıkça su dalgasının hızı artar.
- B) Suyun derinliği arttıkça su dalgasının hızı artar.
- C) Suyun derinliği azaldıkça su dalgasının hızı azalır.
- D) Su dalgasının hızı suyun derinliğine bağlı değildir.

8. Hastanelerde bulunan Röntgen cihazındaki ışının frekansı,  $\nu = 6.10^{16} \text{ s}^{-1}$  dir.

**Buna göre, bu ışının enerjisi joule (J) cinsinden aşağıdakilerden hangisidir?**  
(Planck sabiti  $h = 6,6.10^{-34} \text{ j.s}$ )

- A)  $3,96.10^{-16}$   
B)  $3,96.10^{-17}$   
C)  $1,1.10^{-18}$   
D)  $1,66.10^{18}$

9. Özdeş iki kaynaktan oluşturulan dalgaların tepelerinin buluştuğu noktada aşağıdakilerden hangisi gerçekleşir?

- A) Tepe yüksekliği iki kat artar.  
B) Tepe yüksekliği değişmez.  
C) Tepe yüksekliği azalır.  
D) Tepeler birbirlerini yok eder ve o bölge düz olur.

10. Aşağıdakilerden hangisi görelilik teorisi ile uyuşmaz?

- A) Uzunluğun kısalması görecelidir.  
B) Mutlak uzunluk ve mutlak zaman yoktur.  
C) Hareket eden cismin uzunluğu, durgun uzunluğundan daha uzundur.  
D) Hareketli saat, durgun saate göre daha yavaş çalışır.

11. Aşağıdakilerden hangisi ışık hızına en yakın değerdir?

- A)  $3.10^7 \text{ m/s}$   
B)  $3.10^8 \text{ m/s}$   
C)  $3.10^9 \text{ m/s}$   
D)  $3.10^{10} \text{ m/s}$

12. I. Işığın yapısı  
II. Atomun yapısı  
III. Elektromanyetik ışımının kesikli oluşu

**Yukarıdakilerden hangileri modern fiziğin incelediği konulardandır?**

- A) Yalnız II  
B) I ve II  
C) II ve III  
D) I, II ve III

13. 150 cm'lik bir telde oluşturulan dalgaların dalga boyu 10 cm olduğuna göre, bu teldeki harmonik sayısı kaçtır?

- A) 20  
B) 25  
C) 30  
D) 35

14. İki ucu sabit bir telin uzunluğu 1 m'dir. Telde oluşturulan kararlı dalgada harmonik sayısı 10 ise, dalga boyu kaç m'dir?

- A) 0,10  
B) 0,20  
C) 0,40  
D) 0,50



15. I. Denizdeki dalgalardan gemiler etkilenir.  
 II. Denizdeki dalgalardan deniz altında yüzen denizaltı etkilenmez.  
 III. Denizdeki dalgalardan denizin altında yüzen balıklar etkilenmez.

**Yukarıdaki ifadelerden hangileri doğrudur?**

- A) Yalnız I  
 B) Yalnız II  
 C) II ve III  
 D) I, II ve III

16. Elektromanyetik dalgayla ilgili aşağıdaki ifadelerden hangisi doğrudur?

- A) Bir elektromanyetik dalganın hem birbirlerine ve hem de yayılma doğrultusuna dik elektrik ve manyetik alanı vardır.  
 B) Elektromanyetik dalganın sadece elektrik alanı vardır.  
 C) Elektromanyetik dalganın sadece manyetik alanı vardır.  
 D) Elektromanyetik dalganın yayılma doğrultusuna paralel elektrik ve manyetik alanı vardır.

17. 1 m kaç Angstromdur (Å)?

- A)  $1 \cdot 10^{-10}$   
 B)  $1 \cdot 10^{-8}$   
 C)  $1 \cdot 10^8$   
 D)  $1 \cdot 10^{10}$

18. Bir radyonun FM bandında 100 MHz frekansta ( $\nu = 1 \cdot 10^8 \text{ s}^{-1}$ ) yayın yapılmaktadır. Buna göre, bu frekanstaki ışının enerjisini joule cinsinden aşağıdakilerden hangisidir? (Planck sabiti  $h = 6,6 \cdot 10^{-34} \text{ J.s}$ )

- A)  $1,4 \cdot 10^{-26}$   
 B)  $6,6 \cdot 10^{-26}$   
 C)  $6,6 \cdot 10^{26}$   
 D)  $1,4 \cdot 10^{28}$

19. Frekansı  $150 \text{ s}^{-1}$  ve dalga boyu 2 m olan bir dalganın hızı kaç m/s dir?

- A) 75  
 B) 150  
 C) 250  
 D) 300

20. İki ucu sabit bir telde oluşturulan kararlı dalgada harmonik sayısı 5'tir. Dalga boyu 60 cm ise, telin uzunluğu kaç cm'dir?

- A) 100  
 B) 120  
 C) 150  
 D) 200

1.  $\text{CO}_2(\text{g}) + \text{H}_2\text{O}(\text{s}) \rightleftharpoons \text{H}^+(\text{suda}) + \text{HCO}_3^-(\text{suda})$   
 $\text{SO}_2(\text{g}) + \text{H}_2\text{O}(\text{s}) \rightleftharpoons \text{H}^+(\text{suda}) + \text{HSO}_3^-(\text{suda})$   
 $\text{NH}_3(\text{g}) + \text{H}_2\text{O}(\text{s}) \rightleftharpoons \text{NH}_4^+(\text{suda}) + \text{OH}^-(\text{suda})$

**Yukarıdaki tepkimelere göre;**

- I.  $\text{CO}_2$  ve  $\text{SO}_2$  asidik oksittir.  
 II.  $\text{NH}_3$ 'ün sulu çözeltisi turnusol kağıdını maviye çevirir.  
 III.  $\text{SO}_2$  ve  $\text{NH}_3$  gazlarının sulu çözeltileri birbiri ile tepkime verir.

**İfadelerinden hangileri doğrudur?**

- A) Yalnız I  
 B) I ve II  
 C) II ve III  
 D) I, II ve III

2. Aşağıdakilerden hangisinin sulu çözeltisi **baz** özelliği gösterir?

- A) HCl  
 B)  $\text{H}_2\text{SO}_4$   
 C)  $\text{NH}_3$   
 D)  $\text{HNO}_3$

3.  $25^\circ\text{C}$ 'da  $0,2 \text{ mol/L}$   $\text{CH}_3\text{COOH}$  çözeltisinin  $\text{H}^+$  iyonu molar derişimi  $1.10^{-6} \text{ mol/L}$  olduğuna göre,  $\text{CH}_3\text{COOH}$ 'in iyonlaşma sabiti ( $K_a$ ) kaçtır?

- A)  $2.10^{-7}$   
 B)  $4.10^{-8}$   
 C)  $3.10^{-10}$   
 D)  $5.10^{-12}$

4.  $\text{CH}_3\text{OH} + \text{NH}_2^- \rightleftharpoons \text{CH}_3\text{O}^- + \text{NH}_3$  tepkimesinde hangi maddeler **asit** gibi etki eder?

- A)  $\text{CH}_3\text{OH} - \text{NH}_2$   
 B)  $\text{NH}_2^- - \text{CH}_3\text{O}^-$   
 C)  $\text{CH}_3\text{OH} - \text{NH}_3$   
 D)  $\text{CH}_3\text{O}^- - \text{NH}_3$

5. Aşağıdakilerden hangisinde verilen çözeltiler **esit hacimde** karıştırılırsa, oluşan çözeltinin pH değeri 7 olur?

I. Çözelti II. Çözelti

- A) pH = 4 pH = 10  
 B) pH = 3 pOH = 11  
 C) pH = 2  $[\text{H}^+] = 1 \times 10^{-2} \text{ M}$   
 D) pOH = 1  $[\text{H}^+] = 1 \times 10^{-3} \text{ M}$

6. Aşağıdaki durumların hangisinde çözelti, **asidik** özellik gösterir?

- A)  $[\text{OH}^-] > [\text{H}^+]$   
 B)  $[\text{H}^+] = 1.10^{-4} \text{ M}$   
 C)  $[\text{OH}^-] = [\text{H}^+]$   
 D)  $\text{pH} > \text{pOH}$

7. Aşağıdaki asitlerden hangisi "3" değerliklidir?

- A)  $\text{H}_3\text{PO}_4$   
 B)  $\text{H}_2\text{SO}_4$   
 C) HCl  
 D)  $\text{HNO}_3$

8. Metallerin yükseltgenme eğilimlerinin bağlı büyüklüğüne göre sıralanışına "aktiflik sırası" denir. Aktiflik sırası yardımıyla bazı tepkimelerin sulu çözeltide kendiliğinden gerçekleşmeyeceği öngörülebilir.

**Buna göre, aşağıdaki tepkimelerden hangisi kendiliğinden gerçekleşmez?**

- A)  $\text{H}^+(\text{suda}) + \text{Au}(\text{k}) \rightarrow$   
 B)  $\text{Ni}^+(\text{suda}) + \text{Mg}(\text{k}) \rightarrow$   
 C)  $3\text{H}^+(\text{suda}) + \text{Al}(\text{k}) \rightarrow$   
 D)  $2\text{H}^+(\text{suda}) + \text{Fe}(\text{k}) \rightarrow$

9. I. HCl  
 II.  $\text{H}_2\text{SO}_4$   
 III. NaOH  
 IV.  $\text{NH}_3$

**bileşiklerinden hangileri bazdır?**

- A) I ve II  
 B) I ve IV  
 C) II ve III  
 D) III ve IV

10. I. Baz çözeltisi eklemek  
 II. Çözücünden eklemek  
 III. Çözünenden eklemek

**Bir asit çözeltisinin pH değerini düşürmek için yukarıdakilerden hangileri ayrı ayrı uygulanmalıdır?**

- A) Yalnız I  
 B) Yalnız III  
 C) I ve II  
 D) I ve III

11. Asitler karşısında baz, bazlar karşısında asit gibi davranabilen maddelere "amfoter" madde denir.

Buna göre, aşağıdakilerden hangisi amfoter oksitlere örnek olamaz?

- A)  $A_2O_3$   
B)  $ZnO$   
C)  $BeO$   
D)  $FeO$

12. X: Kuvvetli asit-kuvvetli baz

Y: Kuvvetli asit-zayıf baz

Z: Zayıf asit-kuvvetli baz

ile oluşturulmuş tuzlardır.

Buna göre, X, Y ve Z tuzlarının sulu çözeltilerindeki pH değerleri aşağıdakilerden hangisidir?

- |    | <u>X</u> | <u>Y</u> | <u>Z</u> |
|----|----------|----------|----------|
| A) | pH = 7   | pH > 7   | pH < 7   |
| B) | pH = 7   | pH = 7   | pH = 7   |
| C) | pH = 7   | pH < 7   | pH > 7   |
| D) | pH > 7   | pH < 7   | pH = 7   |

13. Aşağıdakilerden hangisi 2 değerlikli bir asittir?

- A)  $H_2CO_3$   
B)  $HNO_3$   
C)  $H_3PO_4$   
D)  $NaOH$

14.  $H_2SO_4$  bileşiminde "S" atomunun yükseltgenme basamağı kaçtır?

- A) -2  
B) +2  
C) +4  
D) +6

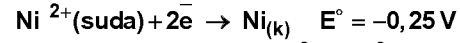
15.  $5.10^{-4}$  mol HBr ile hazırlanan 500 mL'lik çözeltinin pH değeri kaçtır?

- A) 1  
B) 3  
C) 7  
D) 11

16. 0,98 gram  $H_2SO_4$  ile 100 mL çözelti hazırlanıyor. Bu çözeltinin  $H^+$  iyonlarının molar derişimi aşağıdakilerden hangisidir? ( $H_2SO_4$ : 98) ( $H_2SO_4$ 'in suda %100 iyonlaştığını kabul ediniz.)

- A) 0,05  
B) 0,2  
C) 0,3  
D) 1

17.  $Mg^{2+}(suda) + 2e^- \rightarrow Mg_{(k)}$   $E^\circ = -2,37 V$



olduğuna göre  $Mg / Mg^{+2} // Ni^{+2} / Ni$  pilinin gerilimi kaç voltur?

- A) -2,62  
B) -2,12  
C) +2,12  
D) +2,62

18.  $25^\circ C$ 'da pH değeri 6 olan bir çözelti için  $H^+$  ve  $OH^-$  iyonları molar derişimi kaç mol/L'dir?

- |    | <u><math>[H^+]</math></u> | <u><math>[OH^-]</math></u> |
|----|---------------------------|----------------------------|
| A) | $10^{-8}$                 | $10^{-6}$                  |
| B) | $10^{-6}$                 | $10^{-8}$                  |
| C) | 6                         | 8                          |
| D) | 8                         | 10                         |

19. Aşağıdakilerden hangisi asit ve bazların ortak özelliğidir?

- A) Tatları ekşidir.  
B) Ele kayganlık hissi verir.  
C) Çözeltileri elektriği iletir.  
D) Kırmızı turnusol kağıdını maviye çevirir.

20. Ortamın asidik ya da bazik olmasına göre renk değiştirebilen maddelere asit-baz indikatörü (belirteci) denir.

Aşağıdakilerden hangisi asit-baz indikatörü değildir?

- A) İyot çözeltisi  
B) Turnusol kağıdı  
C) Fenolftalein çözeltisi  
D) Metil oranj

1. I. Dünya Savaşı sonrasında uluslararası barışın korunması ve işbirliğinin sağlanması için galip devletler tarafından 1920 yılında aşağıdakilerden hangisi kurulmuştur?
  - A) Birleşmiş Milletler
  - B) Varşova Paktı
  - C) Milletler Cemiyeti
  - D) Briand- Kellog Paktı
2. Aşağıdakilerden hangisi Sadabat Paktı'nı (8 Temmuz 1937) imzalayan devletlerden biri değildir?
  - A) Türkiye
  - B) Yunanistan
  - C) Irak
  - D) İran
3. 1924-1929 yılları arasında gerçekleştirdiği ihracat fazlası ile dünyanın kredi veren ülkesi konumuna gelen devlet aşağıdakilerden hangisidir?
  - A) Almanya
  - B) Fransa
  - C) ABD
  - D) İtalya
4. 15 Ağustos 1905'te "Rusya Müslümanları I. Kongresi"nin toplanmasında önemli çalışmaları olan kişiler aşağıdakilerden hangisinde birlikte ve doğru olarak verilmiştir?
  - A) Yusuf Akçura ve İsmail Gaspiralı
  - B) Ebunnaş Kursavî ve Hüseyinzade Ali
  - C) Âlimcan Barudî ve Ali Suavi
  - D) Münevver Karî ve İbray Altınarın
5. I. Dünya Savaşı sonunda Avusturya ile itilaf devletleri arasında imzalanan antlaşma aşağıdakilerden hangisidir?
  - A) Versailles (Versay)
  - B) Sevres (Sevr)
  - C) St. Germain (Sen Jermen)
  - D) Neuilly (Nöyyi)
6. Aşağıdakilerden hangisi İmparator Meji Dönemi'nde Japonya'da yapılan yenilikler arasında yer almaz?
  - A) Japon subayların Batılı okullarda eğitim alması
  - B) Şogunların yönetimdeki etkinliklerinin artırılması
  - C) Mecburi askerlik sisteminin getirilmesi
  - D) İlköğretimin kadın-erkek her Japon için zorunlu hale getirilmesi
7. Basmacı Hareketi'nin bir halk hareketine dönüşmesi aşağıdakilerden hangisi üzerine olmuştur?
  - A) 1929 Dünya Ekonomik Krizi'nin yaşanması
  - B) 1918 yılı başında Millî Hokand Hükümeti'nin Ruslar tarafından dağıtılması
  - C) Sovyet Sosyalist Cumhuriyetleri Birliği'nin dağılması
  - D) Brest-Litovsk Antlaşması'nın imzalanması
8. II. Dünya Savaşı sırasında Türkiye'de uygulanan olağanüstü vergiler aşağıdakilerden hangisidir?
  - A) Aşar Vergisi ve Ağnam Vergisi
  - B) Cizye Vergisi ve Bac Vergisi
  - C) Avarız Vergisi ve Ağnam Vergisi
  - D) Varlık Vergisi ve Toprak Mahsulleri Vergisi
9. Aşağıdakilerden hangisi II. Dünya Savaşı'nın Türkiye'ye etkilerinden biri değildir?
  - A) Savaş ihtimaline karşılık ülke gelirinin önemli bir kısmının savunma alanına ayrılması
  - B) Savaşın etkilerini azaltmak ve ekonomik yönden gerekli koruyucu önlemleri almak amacıyla Millî Korunma Kanunu'nun çıkarılması
  - C) 13 Ocak 1942'de büyük kentlerde ekmeğin karnesi ile dağıtılmasının kararlaştırılması
  - D) 1940 ve 1945 yılları arasında Türkiye'de nüfus artışının gerçekleşmesi
10. Aşağıdakilerden hangisi 4-11 Şubat 1945'te düzenlenen Yalta Konferansı sonucunda kabul edilen kararlardan birdir?
  - A) Birleşmiş Milletlerde Güvenlik Konseyi'nin devamlı üyeleri için veto ilkesinin kabul edilmesi
  - B) Türkiye'nin Milletler Cemiyeti'ne üye olması
  - C) Montrö Boğazlar Sözleşmesi'nin imzalanması
  - D) Türkiye, Romanya, Yugoslavya ve Yunanistan arasında Balkan Antantı'nın imzalanması

11. Aşağıdakilerden hangisi II. Dünya Savaşı sırasında yaşanan gelişmelerden biri değildir?

- A) Pearl Harbour Baskını
- B) Normandiya Çıkartması
- C) Barbarossa Harekâtı
- D) Sarıkamış Harekâtı

12. Amerikalı General Mac Arthur'un, Japonları Filipinler'de ağır bir yenilgiye uğrattığı (Ekim 1944) savaş aşağıdakilerden hangisidir?

- A) Poltova Savaşı
- B) Sedan Savaşı
- C) Leyte Savaşı
- D) İntikal Savaşı

13. 1934 yılında "Asya, Asyalılardır." diyerek Batıların Çin'le olan münasebetlerini kesmelerini isteyen devlet aşağıdakilerden hangisidir?

- A) Rusya
- B) ABD
- C) Portekiz
- D) Japonya

14. I. Dünya Savaşı sırasında Almanya'nın üzerinde bulunduğu toprakların Alman ırkına yeterli gelmeyeceğine ilişkin mevcut fikrin, Hitler tarafından yayılma politikasının gerekçesi olarak kabul edilmesi sonucunda ortaya çıkan kavram aşağıdakilerden hangisidir?

- A) Hayat sahası
- B) Maginot hattı
- C) Demirperde
- D) Panslavizm

15. Türkiye Cumhuriyeti tarihinde yurt dışına ilk kez asker yollanan savaş aşağıdakilerden hangisidir?

- A) Sedan Savaşı
- B) Vietnam Savaşı
- C) Kore Savaşı
- D) Tolosa Savaşı

16. Sputnik Uydusu'nu 1957 yılında uzaya gönderen devlet aşağıdakilerden hangisidir?

- A) Çin
- B) Japonya
- C) Fransa
- D) SSCB

17. Türkiye, NATO'ya hangi yıl üye olmuştur?

- A) 1952
- B) 1956
- C) 1960
- D) 1964

18. Aşağıdakilerden hangisi 25 Ocak 1949'da komünist ülkeler arasında ekonomik iş birliği ve dayanışmayı hızlandırmak ve aralarında eşgüdümü sağlamak amacıyla kurulan COMECON teşkilatının kurucu üye ülkelerinden biri değildir?

- A) SSCB
- B) İngiltere
- C) Bulgaristan
- D) Romanya

19. Aşağıdaki kişilerden hangisi Demokrat Parti'nin (7 Ocak 1946) kurucuları arasında yer almaz?

- A) İsmet İnönü
- B) Adnan Menderes
- C) Celal Bayar
- D) Fuat Köprülü

20. Pakistan Devleti'nin kurucusu aşağıdakilerden hangisidir?

- A) Aliya İzzetbegoviç
- B) Muhammed Ali Cinnah
- C) Fidel Castro
- D) Yaser Arafat

1.  $\sim \exists xGx$  önermesinin eşdeğeri aşağıdakilerden hangisidir?
- A)  $\sim \forall xGx$   
 B)  $\exists xGx$   
 C)  $\forall x \sim Gx$   
 D)  $\sim \exists x \sim Gx$
2. “İnsanlar paylaşmayı severlerse rahat diyalog kurarlar hem de dürüst ilişkiler yaşarlar.” önermesinde kaç tane önerme eklemi ve bileşen kullanılmıştır?
- A) Bir önerme eklemi, bir bileşen  
 B) İki önerme eklemi, üç bileşen  
 C) Üç önerme eklemi, bir bileşen  
 D) Dört önerme eklemi, dört bileşen
3. “Ceren sevimli ve akıllıdır.” önermesi nicelene mantığında nasıl sembolleştirilir?
- A)  $\forall xFx$   
 B)  $Fa \wedge Ga$   
 C)  $Fa \Rightarrow Ga$   
 D)  $\exists x \wedge Ga$
4. Aşağıdaki önermelerden hangisi sembolik mantıkta bileşik bir önermedir?
- A) Mehmet çok çalışkandır.  
 B) Bütün insanlar akıllıdır.  
 C) Zeynep yaşlıdır.  
 D) Mozart filozof değildir.
5. Kiplik mantığına göre aşağıdaki önermelerden hangisi bütün mümkün dünyalarda yanlıştır?
- A) Anıtkabir Ankara'dadır veya Anıtkabir Ankara'da değildir.  
 B) Altın sarı değildir.  
 C) Dikdörtgen dört kenarlıdır.  
 D) Menekşe mordur ve menekşe mor değildir.
6. Aşağıdaki önermelerden hangisi ikili yüklemlili bir önermedir?
- A) Orhan ile Ahmet arkadaşdır.  
 B) Mustafa, Taner ile Semih'ten uzundur.  
 C) Özlem başarılıdır.  
 D) Fuat, piyano çalar.
7. “Ya kilo alacaksın ya da az yemek yiyeceksin.” önermesi, önermeler mantığında nasıl sembolleştirilir?
- A)  $p \wedge q$   
 B)  $p \Rightarrow q$   
 C)  $p \Leftrightarrow q$   
 D)  $p \vee q$
8. Aşağıdaki önermelerden hangisi geçerlidir?
- A)  $\exists xGx \wedge \exists xHx$   
 B)  $\forall xFx \vee \sim \forall xFx$   
 C)  $\forall xFx \vee \forall xGx$   
 D)  $\sim (\exists xGx \rightarrow \forall xGx)$
9. Önerme ile ilgili aşağıdaki ifadelerden hangisi doğrudur?
- A) Bir önermenin tutarlı olabilmesi için doğruluk tablosundaki tüm yorumlamaların doğru olması gerekir.  
 B) Her tutarlı önerme geçerlidir.  
 C) Bir önermenin doğruluk tablosundaki tüm yorumlamaları yanlışsa önerme tutarsızdır.  
 D) Her tutarsız önerme geçerlidir.
10. “Kar yağarsa okullar tatil olmaz.” önermesi, önermeler mantığında nasıl sembolleştirilir?
- A)  $p \Rightarrow \sim q$   
 B)  $q \Rightarrow p$   
 C)  $\sim p \Rightarrow q$   
 D)  $p \Leftrightarrow \sim q$
11. Aşağıdaki önerme çiftlerinden hangisi birbirleriyle tutarlıdır?
- A)  $\exists xGx, \exists x \sim Gx$   
 B)  $\forall xFx, \sim Fa$   
 C)  $\sim \exists xFx, Fa$   
 D)  $Ga, \sim Ga$

12. Aşağıdaki önermelerden hangisi bir tautolojidir?

- A)  $p \vee p$
- B)  $p \wedge \sim p$
- C)  $p \Rightarrow p$
- D)  $\sim p \Leftrightarrow p$

13.  $p \vee q$  önermesinin eşdeğeri olan önerme aşağıdakilerden hangisidir?

- A)  $p \Rightarrow q$
- B)  $p \Leftrightarrow q$
- C)  $\sim (\sim p \wedge \sim q)$
- D)  $p \wedge q$

14. Üç değerli mantığa göre aşağıdakilerden hangisi doğrudur?

- A)  $p$  "yanlış" ve  $q$  "yanlış" ise,  $q \vee q$  "yanlış" olur.
- B)  $p$  "belirsiz" ve  $q$  "belirsiz" ise,  $p \rightarrow q$  "belirsiz" olur.
- C)  $p$  "doğru" ve  $q$  "belirsiz" ise  $p \rightarrow q$  "yanlış" olur.
- D)  $p$  "belirsiz" ve  $q$  "belirsiz" ise  $p \wedge q$  "yanlış" olur.

15. Aşağıdaki önermelerden hangisi  $p$ :Yanlış,  $q$ :Yanlış kabul edildiğinde "Doğru" değerini alır?

- A)  $p \Leftrightarrow q$
- B)  $\sim p \Rightarrow q$
- C)  $p \vee q$
- D)  $p \wedge q$

16. Kiplik mantığına göre, "üç artı altının dokuz etmesi zorunludur ama ısınan havanın yükselmesi mümkündür." önermesinin sembolleştirilmiş hali aşağıdakilerden hangisidir?

- A)  $\Box p \rightarrow \Diamond p$
- B)  $\Diamond p \wedge \Box q$
- C)  $\Box q \wedge \Diamond p$
- D)  $\Diamond p \leftrightarrow \Box q$

17. "Uçan halı vardır." önermesi varlık mantığında nasıl sembolleştirilir?

- A)  $a \equiv a$
- B)  $E ! a$
- C)  $\Box p$
- D)  $a \equiv b$

18. Doğruluğu açıkça belli olan önermelere ne ad verilir?

- A) Eşitlik
- B) Tutarlılık
- C) Tanım
- D) Aksiyom

19. Aksiyomlardan türetilmiş olan önermelere ne ad verilir?

- A) Teori
- B) Tam tümevarım
- C) Eksik tümevarım
- D) Teorem

20. Aşağıdakilerden hangisi mantık felsefesinin amaçlarından biri değildir?

- A) Mantığın kavramlarını sorgulamak
- B) Mantığı gözlem ve deneye dayandırmanın yollarını araştırmak
- C) Mantığın ilkelerini sorgulamak
- D) Mantık değişmezleri ile ilgili sorunları araştırmak

1. Aşağıdakilerden hangisi Göktürkler'e ait bir mimari eser bulunmamasının temel nedenidir?

- A) Göktürklerin göçebe yaşam tarzını benimsemiş olmaları
- B) Yapıları dayanıksız malzemelerden inşa etmeleri
- C) Yapıların başka uygarlıklar tarafından yıkılmış olmaları
- D) Göktürklerin yapı tekniklerini bilmiyor olmaları

2. Bursa Ulu Camii aşağıdaki plan tiplerinden hangisine girmektedir?

- A) Ters T planlı
- B) Çok kubbeli
- C) Merkezi kubbeli
- D) Tek kubbeli

3. Kordoba Camii aşağıdaki uygarlıklardan hangisine aittir?

- A) Abbasiler
- B) Endülüs Emevileri
- C) Fatimiler
- D) Memlükler

4. Aşağıdakilerden hangisi çinileriyle meşhur Anadolu Selçuklu sarayıdır?

- A) Leşker-i Bazar Sarayı
- B) Sultan III. Mesud Sarayı
- C) Topkapı Sarayı
- D) Beyşehir Kubadabad Sarayı

5. Aşağıdakilerden hangisi Emevi saray mimarisine ait bir tip değildir?

- A) Dört eyvanlı saraylar
- B) Hamamlı saraylar
- C) İkiz saraylar
- D) Çok üniteli saraylar

6. Göktürk sanatında karşılaştığımız "Balbal" nedir?

- A) Üzeri tepe şeklinde toprakla örtülen mezar odasından oluşan mezar anıtı
- B) Göçebe Türk kavimlerinin kullandığı dairesel planlı çadır
- C) Atların başına takılan bir çeşit maske
- D) Soylu ve hükümdarların mezarlarına veya anıtlarına dikilen insan figürlü taştan heykel

7. İstanbul Sultan Ahmet Camii'nin mimarı aşağıdakilerden hangisidir?

- A) Mimar Sedefkar Mehmet Ağa
- B) Mimar Sinan
- C) Mimar Davut Ağa
- D) Mimar Hacı Hasan Ağa

8. Türk-İslam mimarisinde anıtsal taç kapı ve minare geleneği hangi dönemde başlamıştır?

- A) Büyük Selçuklu Dönemi
- B) Anadolu Selçuklu Dönemi
- C) Beylikler Dönemi
- D) Karahanlı Dönemi

9. İkinci Ulusal Mimarlık Akımı'nın en önemli eseri aşağıdakilerden hangisidir?

- A) Eski TBMM Binası
- B) İzmir Saat Kulesi
- C) Edirne Garı
- D) Anıtkabir

10. Erken Osmanlı mimarlığının en büyük mezar yapısı olarak kabul edilen türbe aşağıdakilerden hangisidir?

- A) İstanbul III. Selim Türbesi
- B) İstanbul Kanuni Sultan Süleyman Türbesi
- C) Bursa Şehzade Mustafa Türbesi
- D) Bursa Yeşil Türbe



11. Hangisi yol üstlerinde gelip geçen yolcuların ve kervanların dinlenmeleri, güvenliklerinin sağlanması amaçlarıyla inşa edilen Karahanlı yapılarına verilen isimdir?

- A) Medrese
- B) Ribat
- C) Han
- D) Bedesten

12. Bağdat şehri hangi uygarlık döneminde kurulmuştur?

- A) Memlûkler
- B) Abbasiler
- C) Emeviler
- D) Fatimiler

13. Aşağıdakilerden hangisi Anadolu Selçuklu cami tiplerinden biri değildir?

- A) Eyvanlı
- B) Transept planlı
- C) Zaviyeli
- D) Bazilikal planlı

14. Elhamra Sarayı aşağıdaki ülkelerden hangisinde yer almaktadır?

- A) İspanya
- B) İtalya
- C) İran
- D) Suriye

15. Aşağıdakilerden hangisi bir Uygur yerleşimi değildir?

- A) Karabalgasun
- B) Turfan
- C) Pazırık
- D) Hoça

16. Çeşitli hayvan resimleriyle tanınmakla birlikte özellikle at başları üzerine yoğunlaşan Türk ressam aşağıdakilerden hangisidir?

- A) Nuri İyem
- B) Osman Hamdi Bey
- C) Orhan Peker
- D) Bedri Rahmi Eyüboğlu

17. Samarra Ulu Camii aşağıdaki uygarlıklardan hangisine aittir?

- A) Emeviler
- B) Abbasiler
- C) Memlûkler
- D) Büyük Selçuklular

18. Aşağıdakilerden hangisi Hunlara ait bir eser değildir?

- A) Esik Kurganı
- B) Pazırık halısı
- C) Tonyukuk Anıtı
- D) Altın elbiseli adam

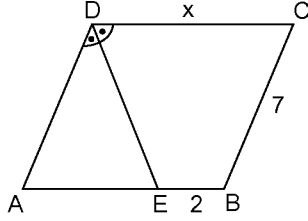
19. Divriği Ulu Camisi ve Şifahanesi hangi beyliğe aittir?

- A) Danişmendliler
- B) Artuklular
- C) Mengücekliler
- D) Saltuklular

20. Aşağıdakilerden hangisi İslam sanatının ilk cami tipidir?

- A) Küfe planlı
- B) Merkezi planlı
- C) Transept planlı
- D) Kare planlı

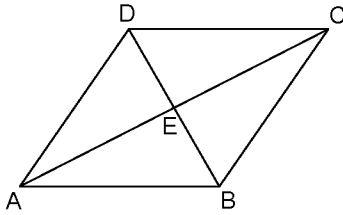
1.



Yukarıdaki ABCD paralelkenarında, [DE] açıortay,  $|BC|=7$  cm ve  $|EB|=2$  cm ise,  $|DC|=x$  kaç cm dir?

- A) 7
- B) 8
- C) 9
- D) 10

2.



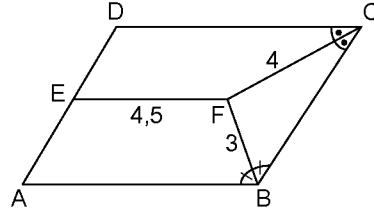
Yukarıdaki ABCD eşkenar dörtgeninde, [AC] ve [BD] köşegen,  $|BD|=18$  cm ve  $|AC|=24$  cm ise,  $\text{Çevre}(ABCD)$  kaç cm dir?

- A) 60
- B) 56
- C) 48
- D) 40

3. Aşağıdakilerden hangisi bir çokgen değildir?

- A)
- B)
- C)
- D)

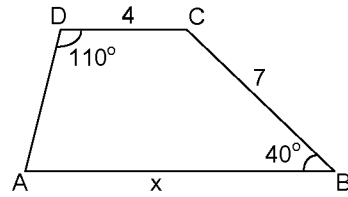
4.



Yukarıdaki ABCD paralelkenarında, [CF] ve [BF] açıortay,  $[EF] \parallel [AB]$ ,  $|CF|=4$  cm,  $|BF|=3$  cm ve  $|EF|=4,5$  cm ise,  $\text{Çevre}(ABCD)$  kaç cm dir?

- A) 24
- B) 28
- C) 32
- D) 36

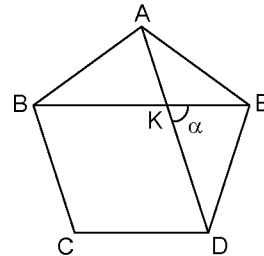
5.



Yukarıdaki ABCD yamuğunda,  $m(\widehat{ABC})=40^\circ$ ,  $m(\widehat{ADC})=110^\circ$ ,  $|BC|=7$  cm ve  $|CD|=4$  cm ise,  $|AB|=x$  kaç cm dir?

- A) 9
- B) 10
- C) 11
- D) 12

6.



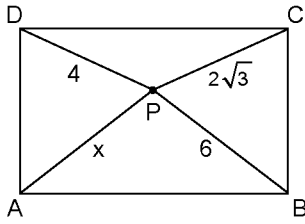
Yukarıdaki şekilde ABCDE düzgün beşgen,  $[AD] \cap [BE] = \{K\}$ , olduğuna göre,  $m(\widehat{EKD}) = \alpha$  kaç derecedir?

- A) 18
- B) 36
- C) 54
- D) 72

7. Dışbükey bir onbirgenin tüm köşegenlerinin sayısı kaçtır?

- A) 22  
B) 35  
C) 44  
D) 52

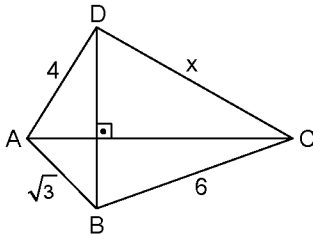
8.



Yukarıdaki ABCD dikdörtgeninde,  $|BP|=6$  cm,  $|DP|=4$  cm ve  $|CP|=2\sqrt{3}$  cm ise,  $|AP|=x$  kaç cm dir?

- A)  $2\sqrt{10}$   
B)  $2\sqrt{11}$   
C)  $3\sqrt{5}$   
D)  $4\sqrt{3}$

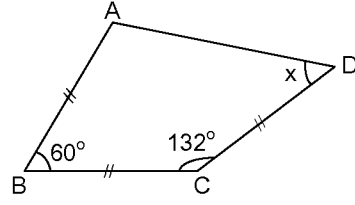
9.



Yukarıdaki ABCD dörtgeninde,  $|AD|=4$  cm,  $|BC|=6$  cm ve  $|AB|=\sqrt{3}$  cm ise,  $|DC|=x$  kaç cm dir?

- A) 5  
B) 6  
C) 7  
D) 8

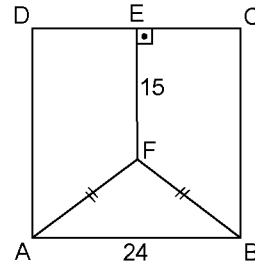
10.



Yukarıdaki ABCD dörtgeninde,  $m(\widehat{ABC}) = 60^\circ$ ,  $m(\widehat{BCD}) = 132^\circ$  ve  $|AB|=|BC|=|CD|$  ise,  $m(\widehat{ADC}) = x$  kaç derecedir?

- A) 48  
B) 54  
C) 60  
D) 66

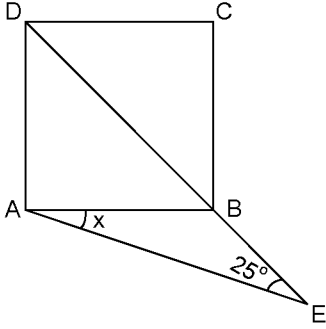
11.



Yukarıdaki ABCD karesinde,  $[EF] \perp [CD]$ ,  $|AF|=|BF|$ ,  $|AB|=24$  cm ve  $|EF|=15$  cm olduğuna göre,  $|AF|$  kaç cm dir?

- A) 13  
B) 14  
C) 15  
D) 16

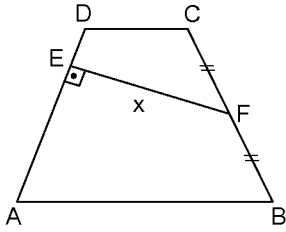
12.



Yukarıdaki şekilde ABCD bir kare ve  $m(\widehat{AED}) = 25^\circ$  ise,  $m(\widehat{BAE}) = x$  kaç derecedir?

- A) 15
- B) 20
- C) 25
- D) 30

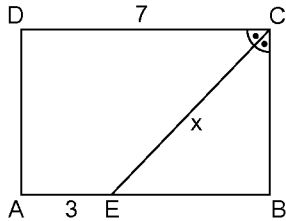
13.



Yukarıdaki ABCD yamuğunda,  $[EF] \perp [AD]$ ,  $|CF| = |BF|$ ,  $|AD| = 8$  cm ve  $A(ABCD) = 96$  cm<sup>2</sup> ise,  $|EF| = x$  kaç cm dir?

- A) 12
- B) 10
- C) 9
- D) 8

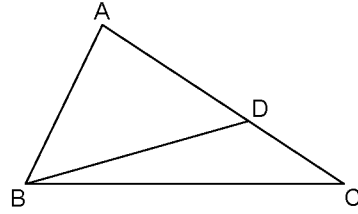
14.



Yukarıdaki ABCD dikdörtgeninde,  $[EC]$  açıortay,  $|CD| = 7$  cm ve  $|AE| = 3$  cm ise,  $|EC| = x$  kaç cm dir?

- A)  $2\sqrt{6}$
- B)  $4\sqrt{2}$
- C) 6
- D)  $4\sqrt{3}$

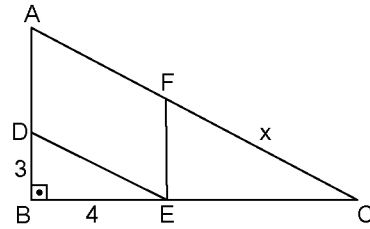
15.



Yukarıdaki şekilde ABC bir üçgen,  $|AD| = 2|DC|$  ve  $A(ABD) = 8$  cm<sup>2</sup> ise,  $A(ABC)$  kaç cm<sup>2</sup> dir?

- A) 12
- B) 14
- C) 16
- D) 18

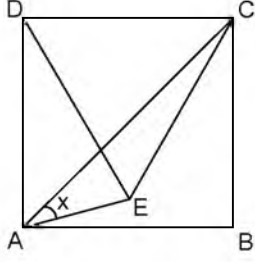
16.



Yukarıdaki şekilde ABC dik üçgen, ADEF eşkenar dörtgen,  $|BD| = 3$  cm ve  $|BE| = 4$  cm ise,  $|CF| = x$  kaç cm dir?

- A)  $\frac{24}{5}$
- B)  $\frac{21}{4}$
- C)  $\frac{20}{3}$
- D)  $\frac{25}{3}$

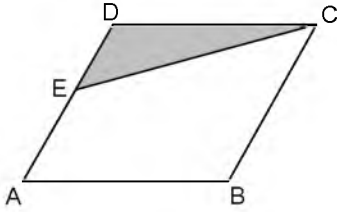
17.



Yukarıdaki şekilde ABCD bir kare, DEC eşkenar üçgen olduğuna göre,  $m(\widehat{EAC}) = x$  kaç derecedir?

- A) 15
- B) 20
- C) 25
- D) 30

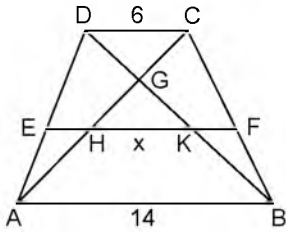
18.



Yukarıdaki ABCD paralelkenarında,  $3|DE|=2|AE|$  ve  $A(DEC)=8 \text{ cm}^2$  ise,  $A(ABCD)$  kaç  $\text{cm}^2$  dir?

- A) 32
- B) 36
- C) 40
- D) 48

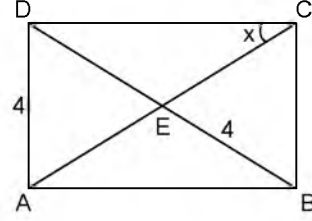
19.



Yukarıdaki ABCD yamuğunda, [EF] orta taban,  $[AC] \cap [BD] = \{G\}$ ,  $|AB|=14 \text{ cm}$  ve  $|CD|=6 \text{ cm}$  ise,  $|HK|=x$  kaç cm dir?

- A) 1
- B) 2
- C) 3
- D) 4

20.



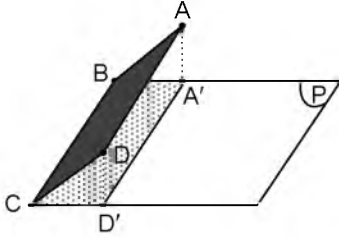
Yukarıdaki ABCD dikdörtgeninde, [AC] ve [BD] köşegen ve  $|AD|=|EB|=4 \text{ cm}$  ise,  $m(\widehat{ACD}) = x$  kaç derecedir?

- A) 15
- B) 22,5
- C) 30
- D) 45

1. İz düşüm ile ilgili aşağıdaki ifadelerden hangisi yanlıştır?

- A) Verilen bir doğru parçası verilen bir doğruya paralel ise, bu doğru parçasının verilen doğru üzerindeki dik iz düşümünün uzunluğu kendi uzunluğundan kısadır.
- B) Verilen bir şeklin bir doğru üzerindeki iz düşümü bir doğru parçasıdır.
- C) Verilen bir doğru parçası verilen bir doğruya dik ise, bu doğru parçasının verilen doğru üzerindeki dik iz düşümü bir noktadır.
- D) Verilen bir doğru parçası verilen bir doğruya paralel ise, bu doğrunun verilen doğru üzerindeki iz düşümü yine bir doğru parçasıdır.

2.



Yukarıdaki şekilde bir kenarının uzunluğu 16 cm olan ABCD karesinin BC kenarı P düzleminde. Kare düzlemi ile P düzleminin ölçük açısı  $60^\circ$  dir. ABCD karesinin P düzlemindeki dik iz düşümü BCD'A' dörtgeni olduğuna göre, BCD'A' dörtgeninin çevresi kaç cm dir?

- A) 36
- B) 40
- C) 46
- D) 48

3. Uzayda  $|AB|=8\sqrt{3}$  cm olan bir doğru parçası ve bu doğru parçası ile  $60^\circ$  lik açı yaparak [AB] doğru parçasını orta noktasında kesen bir P düzlemi veriliyor.

Buna göre, A noktasının bu düzleme olan uzaklığı kaç cm dir?

- A) 4
- B) 5
- C) 6
- D) 7

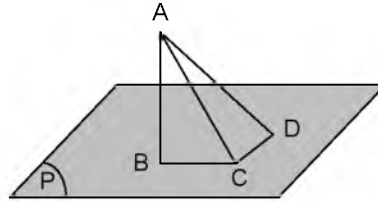
4. Uzayda verilen 3 farklı düzlem, uzayı en az kaç bölgeye ayırır?

- A) 4
- B) 5
- C) 6
- D) 7

5. Uzayda herhangi üçü doğrusal olmayan altı noktadan kaç düzlem geçer?

- A) 6
- B) 9
- C) 15
- D) 20

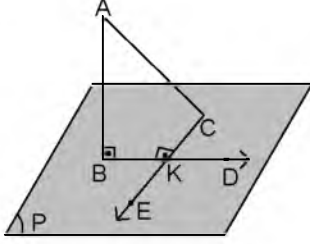
6.



Yukarıdaki şekilde  $[AB] \perp P$  ve  $[BC] \perp [CD]$  dir. [BC] ve [CD] doğru parçaları P düzleminde.  $|AD|=10$  cm,  $|CD|=6$  cm ve  $|BC|=6$  cm ise,  $|AB|$  kaç cm dir?

- A)  $\sqrt{7}$
- B)  $2\sqrt{7}$
- C)  $3\sqrt{7}$
- D)  $4\sqrt{7}$

7.



Yukarıdaki şekilde  $[AB] \perp P$  ve bu düzlemde  $[BD] \perp [CE]$  dir.  $|AB| = 6$  cm,  $|AC| = 14$  cm ve  $|CK| = 8$  cm ise,  $|BK|$  kaç cm dir?

- A)  $\sqrt{6}$   
 B)  $2\sqrt{6}$   
 C)  $4\sqrt{6}$   
 D)  $5\sqrt{6}$

8. Bir kenarının uzunluğu 4 cm olan düzgün altıgenin içinde bulunduğu Q düzleminin, P dik iz düşüm düzlemi ile arasındaki ölçek açısının ölçüsü  $\alpha$  dir. Düzgün altıgenin dik iz düşümünün alanı  $36$  cm<sup>2</sup> olduğuna göre,  $\alpha$  kaç derecedir?

- A) 30  
 B) 45  
 C) 60  
 D) 90

9. I. Paralel iki doğrudan birini kesen bir doğru diğerini de keser.  
 II. Aynı düzlemdeki kesişmeyen iki doğru birbirine paraleldir.  
 III. Farklı iki noktadan bir tek doğru geçer.  
 IV. İki doğrunun en az iki ortak noktası varsa bu iki doğru çakışıktır.

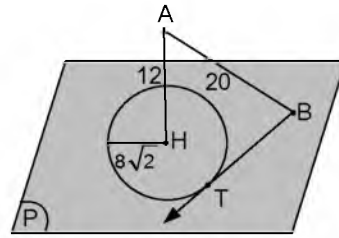
Doğrularla ilgili yukarıdaki ifadelerden **en fazla** kaç tanesi doğrudur?

- A) 1  
 B) 2  
 C) 3  
 D) 4

10. Uzayda verilen 5 farklı düzlem uzayı **en çok** kaç bölgeye ayırır?

- A) 16  
 B) 15  
 C) 14  
 D) 13

11.



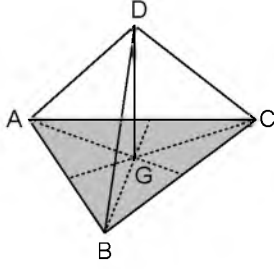
Yukarıdaki şekilde A noktasının P düzlemine olan uzaklığı  $|AH|=12$  cm,  $|AB|=20$  cm, düzlemin içinde bulunan H merkezli çemberin yarıçapı  $8\sqrt{2}$  cm ve  $[BT]$  çembere teğet olduğuna göre,  $|BT|$  kaç cm dir?

- A) 5  
 B)  $4\sqrt{2}$   
 C) 8  
 D)  $8\sqrt{2}$

12. P ve R düzlemlerinin ölçek açısının ölçüsü  $30^\circ$  dir. P düzleminde yarıçapının uzunluğu  $6\sqrt{3}$  cm olan bir dairenin, R düzlemi üzerindeki dik iz düşümünün alanı kaç cm<sup>2</sup> dir? ( $\pi=3$  alın.)

- A)  $162\sqrt{3}$   
 B)  $162\sqrt{2}$   
 C) 162  
 D)  $81\sqrt{3}$

13.

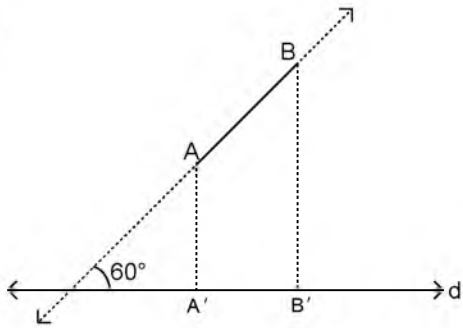


Yukarıdaki ABC eşkenar üçgeninde G ağırlık merkezinden üçgen düzlemine çökülen dikmenin uzunluğu 4 cm dir.

$|DC| = 8$  cm ise,  $|AB|$  kaç cm dir?

- A) 16
- B) 14
- C) 12
- D) 10

14.



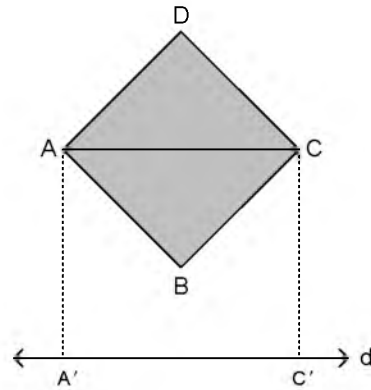
Yukarıdaki  $[AB]$  doğru parçasının  $d$  doğrusu üzerindeki dik iz düşümü  $[A'B']$  doğru parçasıdır.  $|AB| = 20$  cm ise,  $|A'B'|$  kaç cm dir?

- A) 20
- B) 18
- C) 12
- D) 10

15. Uzayda bir düzlemin belirtilmesiyle ilgili aşağıdaki ifadelerden hangisi yanlıştır?

- A) Uzayda, bir doğru ile dışındaki bir nokta bir düzlem belirtir.
- B) Uzayda kesişen iki doğru bir düzlem belirtir.
- C) Uzayda, aynı doğru üzerinde olmayan farklı iki nokta bir tek düzlem belirtir.
- D) Uzayda paralel iki doğru bir düzlem belirtir.

16.

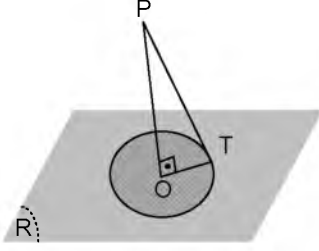


Yukarıda çevresi 32 cm olan ABCD karesinin  $[AC]$  köşegeni  $d$  doğrusuna paraleldir.  $[AC]$  köşegeninin  $d$  doğrusu üzerindeki dik iz düşümünün uzunluğu  $|A'C'|$  kaç cm dir?

- A)  $4\sqrt{2}$
- B) 6
- C) 8
- D)  $8\sqrt{2}$



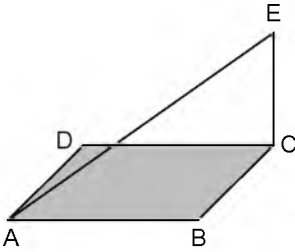
17.



Yukarıdaki şekilde P noktası R düzleminin dışında, T noktası R düzleminde bulunan O merkezli çember üzerinde ve  $[PO] \perp R$  dir.  $|PO| = 24$  cm ve  $|PT| = 25$  cm ise, O merkezli çemberin yarıçapının uzunluğu kaç cm dir?

- A) 6
- B) 7
- C) 18
- D) 20

18.



Bir kenarının uzunluğu  $8\sqrt{2}$  cm olan ABCD karesinin C köşesinden 12 cm uzunluğunda kare düzlemine dik bir  $[CE]$  dikmesi çizilmiştir.

Buna göre,  $|AE|$  kaç cm dir?

- A) 12
- B) 15
- C) 18
- D) 20

19. I.  $[AB]$ 'nin orta dikme doğrusu üzerindeki her nokta A ve B noktalarına eşit uzaklıktadır.  
 II. Bir düzleme dışındaki bir noktadan çizilen eğiklerin uzunluğu aynı noktadan çizilen dikmenin uzunluğundan küçüktür.  
 III. Doğru ile düzlem birbirine dik ise ara kesiti bir tek noktadır.

Yukarıdaki ifadelerden hangileri doğrudur?

- A) I ve II
- B) I ve III
- C) II ve III
- D) I, II ve III

20. P düzlemindeki kenar uzunluğu 6 cm olan bir eşkenar üçgenin E düzlemi üzerindeki dik izdüşümünün alanı  $\frac{9\sqrt{3}}{2}$  cm<sup>2</sup> olduğuna göre, P ve E düzlemlerinin ölççek açısı kaç derecedir?

- A) 30
- B) 45
- C) 60
- D) 90

## SEÇMELİ COĞRAFYA 3

A

2015 III.DÖNEM 0101-A

1. Aşağıdakilerden hangisi kimyasal tortul kayaç türlerinden biri değildir?

- A) Kalker
- B) Kil taşı
- C) Jips
- D) Kaya tuzu

2. Aşağıdakilerden hangisinde metamorfizmaya uğrayan kayaç türleri birlikte ve doğru verilmemiştir?

- A) Granit – Gnays
- B) Kalker – Mermer
- C) Kömür – Elmas
- D) Andezit – Bazalt

3. Tortul ve püskürük kayaçların yüksek sıcaklık ve basınç altında kalarak başka kayaçlara dönüşmesiyle oluşan kayaç türü aşağıdakilerden hangisidir?

- A) Organik tortul kayaç
- B) Metamorfik kayaç
- C) Kimyasal tortul kayaç
- D) Fiziksel tortul kayaç

4. Aşağıdakilerden hangisi dış püskürük kayaç türlerinden biri değildir?

- A) Bazalt
- B) Volkan camı
- C) Gabro
- D) Volkan tüfü

5. Aşağıdakilerden hangisi jeotermal bölgelerin bulunduğu ülkelerden biri değildir?

- A) Endonezya
- B) İzlanda
- C) Hawaii
- D) İsviçre

6. Orta kuşağın yarı kurak iklim bölgelerinde görülen seyrek ve cılız ot topluluklarına ne ad verilir?

- A) Bozkır
- B) Savan
- C) Tundra
- D) Çayır

7. Aşağıdakilerden hangisi makiyi oluşturan bitki türlerinden biri değildir?

- A) Keçiboynuzu
- B) Yabani zeytin
- C) İhlamur
- D) Kermez meşesi

8. Aşağıdakilerden hangisi akarsuların sınıflandırılmasına yarayan özelliklerden biri değildir?

- A) Akarsuyun rejimi
- B) Akarsuyun beslenme kaynağı
- C) Akarsuyun döküldüğü yer
- D) Akarsuyun eğimi

9. Aşağıdakilerden hangisi azonal toprak çeşitlerinden biri değildir?

- A) Kolüvyal topraklar
- B) Alüvyal topraklar
- C) Regoseller topraklar
- D) Çernezyom topraklar

10. Bir ülke veya bölgedeki toplam nüfusun, o ülke veya bölgenin yüzölçümüne bölünmesiyle elde edilen nüfus yoğunluğu aşağıdakilerden hangisidir?

- A) Tarımsal nüfus yoğunluğu
- B) Aritmetik nüfus yoğunluğu
- C) Fizyolojik nüfus yoğunluğu
- D) Bölgesel nüfus yoğunluğu

11. Aşağıdakilerden hangisi günümüzde yapılan modern nüfus sayımlarının amaçlarından biri değildir?

- A) Aile başına düşen toprağın belirlenmesi
- B) Nüfusun yaş gruplarının belirlenmesi
- C) Kent ve kır nüfusunun belirlenmesi
- D) Nüfusun cinsiyete göre dağılımının belirlenmesi

12. Osmanlı Devleti'nde ilk kapsamlı nüfus sayımı hangi tarihte yapılmıştır?

- A) 1831
- B) 1845
- C) 1887
- D) 1890

13. Aşağıdakilerden hangisi dünyada nüfus yoğunluğunun az olduğu yerlerden biridir?

- A) Güneydoğu Asya
- B) Dönenceler çevresi
- C) Nil havzası
- D) ABD'nin doğu kıyıları

14. Aşağıdakilerden hangisi en çok beyin göçü veren ülkelerden biri değildir?

- A) Çin
- B) Cezayir
- C) Fransa
- D) Nijerya

15. Aşağıdakilerden hangisi beyin göçünün sonuçlarından biri değildir?

- A) Ülkeler arasındaki gelişmişlik farkı artar.
- B) Beyin göçü veren ülkede kalkınma yavaşlar.
- C) Beyin göçü alan ülkede kalkınma hızlanır.
- D) Beyin göçü veren ülkede bilimsel faaliyetler artar.

16. Aşağıdakilerden hangisi gelişmemiş ülkelerin özelliklerinden biri değildir?

- A) Okuma yazma oranının yüksek olması
- B) Ürünlerinin değerinin düşük olması
- C) Ortalama yaşam süresinin kısa olması
- D) Nüfusun çoğunluğunun kırsal alada yaşaması.

17. Aşağıdakilerden hangisi birincil ekonomik faaliyetlerden biri değildir?

- A) Hayvancılık
- B) Balıkçılık
- C) Bankacılık
- D) Madencilik

18. Aşağıdakilerden hangisi Karadeniz bölgesinde yer alan ovalardan biri değildir?

- A) Horasan
- B) Turhal
- C) Erbaa
- D) Niksar

19. Aşağıdakilerden hangisi karstik biriktirme şekillerinden biri değildir?

- A) Sarkıt
- B) Labya
- C) Dikit
- D) Traverten

20. Aşağıdakilerden hangisi Türkiye'nin özel konumunun sonuçlarından biri değildir?

- A) Üç tarafı denizlerle çevrilidir.
- B) Yakın bir jeolojik zamanda oluşmuştur.
- C) Aynı anda tek ortak saat kullanılır.
- D) Doğu ile batı meridyenleri arasında bulunur.

1. Aşağıdakilerden hangisi Hz. Peygamber'in, insanların hizmetlerini gören kimselere yakınlık göstermeleri gerektiğini belirterek söylediği sözlerden biri değildir?  
 A) Kendi giydiğinizden giydirin.  
 B) Allah onları sizin elleriniz altına vermiştir.  
 C) Onlar sizin öz kardeşlerinizdir.  
 D) Onlara kendi yediğinizden yedirin.
2. İnsanlara ayrıcalık kazandıran durum aşağıdakilerden hangisidir?  
 A) Soylu bir aileye mensup olmak  
 B) Mevki sahibi olmak  
 C) Zengin olmak  
 D) Allah'a karşı gelmekten sakınmak
3. Hz. Peygamber zor zamanlarda ashabından bazı kimselerin erzaklarını bir araya getirerek eşit biçimde paylaşmasını överek aşağıdakilerden hangisinin önemini hatırlatmıştır?  
 A) Birlikte hareket edilmesini  
 B) Yardım istemenin güzelliğini  
 C) Kardeşçe yardımlaşma ve dayanışma  
 D) Erzanların azlığını
4. Hz. Peygamber'e, sözüne güvenildiği, emaneti koruduğu bilindiği için ne ad verilir?  
 A) Muhammedü'l – Emin  
 B) Sözüne güvenilen  
 C) Muhammedü'l – Adil  
 D) Emanetü'l - Emin
5. Aşağıdakilerden hangisi şeytanın tuzaklarından biri değildir?  
 A) Övünüp büyüklük iddia etmek  
 B) Alçak gönüllülük etmek  
 C) Allah'ın kullarına ululuk ve üstünlük taslamak  
 D) Nefsin arzusuna uymak
6. Hz. Muhammed yetimlerle ilgilenmeye ve onların haklarıyla ilgili düzenlemelerde bulunmaya ne zaman başlamıştır?  
 A) Annesinin vefatından sonra  
 B) Evlendikten sonra  
 C) Peygamberliğinin ilk yıllarında  
 D) İlk hicretten sonra
7. Aşağıdakilerden hangisi mağduriyet durumlarından biri değildir?  
 A) Yaşlı olmak  
 B) Yetim olmak  
 C) Dul olmak  
 D) Çocuk olmak
8. Aşağıdakilerden hangisi Müte Savaşında şehit düşmüştür?  
 A) Ebu Davud  
 B) Cafer b. Ebu Talip  
 C) Abbas Kusem  
 D) İbn Ömer
9. Kendilerini ilim yoluna vakfetmiş, kimi kimsesi olmayanlara ne ad verilir?  
 A) Mescid-i Nebevi  
 B) İbn Hanbel  
 C) Ashab-ı Suffa  
 D) Edebü'l Müfred
10. Hz. Muhammed'in üye olduğu, haksızlığa uğrayan insanların haklarını koruyan teşkilata ne ad verilir?  
 A) Mescid-i Nebevi  
 B) Ashab-ı Suffa  
 C) Hılfu'l-Fudul  
 D) Edebü'l Müfred
11. Asebe suresinin ilk on ayetinin nazil olduğu sahabi aşağıdakilerden hangisidir?  
 A) Abdullah b. Ümmi Mektum  
 B) Ebu Cehil  
 C) Utbe b. Rebia  
 D) Ümeyye b. Halef
12. Sofrasında bir yetim bulundurmadan yemek yemeyen kişi kimdir?  
 A) Hz. Ömer'in oğlu  
 B) Hz. Ali  
 C) Hz. Ebu Bekir  
 D) Hz. Ömer

13. Müşriklerden okuma yazma bilenlerin her birinin on kişiye okuma yazma öğretirse serbest bırakılacağına karar verilen savaş aşağıdakilerden hangisidir?

- A) Bedir savaşı
- B) Hendek savaşı
- C) Uhud savaşı
- D) Hayber savaşı

14. Hz. Muhammed'e Peygamber olduğunu müjdeleyen sözleri ilk söyleyen kimdir?

- A) Hz. Ömer
- B) Varaka b. Nevfel
- C) Hz. Hatice
- D) Hz. Ebu Bekir

15. "...Onların işleri, kendi aralarında istişare iledir..."

Yukarıdaki ayetin geçtiği sure aşağıdakilerden hangisidir?

- A) Âli İmrân suresi
- B) Haşr suresi
- C) Felak suresi
- D) Şûrâ suresi

16. Bir iş yapmaya niyet eden kimseler istişare ederek aşağıdakilerden hangisini elde edemez?

- A) Düşüncelerini yok sayma fırsatını
- B) Kendi görüşlerini yoklama fırsatını
- C) Zekâlarını deneme fırsatını
- D) Anlayışlarını test etme fırsatını

17. Hz. Muhammed'in yüzyıllar öncesinde ortaya koyduğu istişare anlayışının günümüz kurumsal sisteminde yaygınlaştırılmaya çalışılan haline ne ad verilir?

- A) Kalite kontrol
- B) Kontrollü yönetim
- C) Yönetimde kalite kontrol
- D) Toplam kalite yönetimi

18. Hendek savaşında, şehrin zayıf ve açık yerlerini korumak için Medine'nin etrafına hendek kazılması fikri kimindir?

- A) Hz. Muhammed
- B) Hz. Ebu Bekir
- C) Hz. Ömer
- D) Selman-ı Farisi

19. "...Yapacağın işlerde onlarla, müminlerle istişare et. Bir işe azmettiğin zaman da artık Allah'a tevekkül et. Muhakkak ki Allah, kendine tevekkül edenleri sever."

Yukarıdaki ayetin geçtiği sure aşağıdakilerden hangisidir?

- A) Haşr suresi
- B) Âli İmrân suresi
- C) Felak suresi
- D) Şûrâ suresi

20. Aşağıdakilerden hangisi Müslümanın Müslüman üzerindeki haklarından biri değildir?

- A) Nasihat istenirse nasihat vermek
- B) Başkaları hakkında dedikodu yapmak
- C) Çağrısına icabet etmek
- D) Hastalanırsa ziyaret etmek

1. Aşağıdakilerden hangisi makalede söylenenlerin bir yargıya bağlandığı bölümdür?

- A) Sonuç
- B) Dipnot
- C) Malzeme
- D) Yöntemler

2. Aşağıdakilerden hangisi makale ve bilimsel yazıların benzerliklerinden biri değildir?

- A) İki türde de amaç okuyucuyu bilgilendirmektir.
- B) Her iki tür de kurallı cümlelerle kurulurlar.
- C) İki türde de sanatsal yaklaşım ön plandadır.
- D) Her iki türde de anlatılanların kanıtlanması gerekir.

3. Aşağıdakilerden hangisi bilimsel yazılar içerisinde yer almaz?

- A) Toplantı özetleri
- B) Konferans raporları
- C) Bir şairin anıları
- D) Değerlendirme yazıları

4. Aşağıdakilerden hangisi öğretici metinlerden biri değildir?

- A) Sohbet
- B) Mükalat
- C) Röportaj
- D) Karikatür

5. İlk gazetenin nerede çıkmaya başladığı ileri sürülmektedir?

- A) Fenike
- B) Mısır
- C) Mezopotamya
- D) Amerika

6. Bilimsel yazı hazırlanırken başkasının görüşlerini alıp, gönderme yapılarak nereden alıntılındığı belirtilmediği takdirde ortaya çıkan bilimsel hırsızlığa ne ad verilir?

- A) Göndergesel işlev
- B) Alıntı
- C) Dipnot
- D) İntihal

7. Aşağıdakilerden hangisi bir sözlü anlatım türü değildir?

- A) Açık oturum
- B) Makale
- C) Sempozyum
- D) Münazara

8. Aşağıdakilerden hangisi ülkemizde ilk özel gazeteyi kuranlardan biridir?

- A) Falih Rıfkı
- B) Agah Efendi
- C) Cenap Şehabettin
- D) Fethi Naci

9. Açık oturumda izleyicilerin sorularının alınması ve cevaplanması söz konusu olduğunda açık oturum aşağıdakilerden hangisine dönüşür?

- A) Sempozyum
- B) Forum
- C) Mülakat
- D) Röportaj

10. Aşağıdakilerden hangisi sempozyum bildirisinin bölümlerinden biri değildir?

- A) Giriş
- B) Bulgular
- C) Taslak
- D) Deney

11. En belirgin özelliği sosyal bir sorunun geniş kitleler önünde bütün ayrıntılarıyla tartışılması ve dinleyicilerin de bu tartışmanın içinde aktif olarak yer alması olan toplantılara ne ad verilir?

- A) Sempozyum
- B) Münazara
- C) Söyleşi
- D) Forum

12. "Sayın jüri üyeleri, değerli arkadaşlarım, Tezimin doğru olduğunu savunmaya sanat ile sanatkar kelimelerini açıklayarak başlayacağım"

Yukarıda bir parçası alıntılanan konuşmanın gerçekleştirildiği ortam aşağıdakilerden hangisidir?

- A) Münazara
- B) Sempozyum
- C) Forum
- D) Panel

13. Konferans ile ilgili aşağıdaki ifadelerden hangisi yanlıştır?

- A) Konferansta açıklayıcı, öğretici, kanıtlayıcı ve tartışmacı anlatım türleri kullanılır.
- B) Konferans verilmeden önce konuşmayı yapacak kişi mutlaka dinleyicilere tanıtılır.
- C) Genellikle bilim, sanat ve ekonomi konularında verilir.
- D) Konferanstaki amaç aynen nutukta olduğu gibi dinleyicileri coşkulandırmaktır.

14. Makale ile ilgili aşağıdaki ifadelerden hangisi yanlıştır?

- A) Makalede temel öge duygudur.
- B) Gazetelerin ilk sayfasında ve birinci sütunda yayınlanan yazılara başmakale denir.
- C) Makale için konu yönünden bir sınır çizmek mümkün değildir.
- D) Makalede senli benli konuşmalara ve süslü anlatımlara yer verilmez.

15. Açık oturumlarda konuşmacı sayısının kaç kişiyi geçmemesi tercih edilir?

- A) Altı
- B) Sekiz
- C) On
- D) On iki

16. Yazar, düşünür ve sanatçıların veya kendi alanında uzman kişilerin bir konuyu açıklamak, tanıtmak, bilgi vermek, öğretmek amacıyla yaptıkları konuşmalara ne ad verilir?

- A) Söyleşi
- B) Röportaj
- C) Konferans
- D) Münazara

17. Bilimsel yazılardaki kaynakça bölümüne ne ad verilir?

- A) Bibliyografya
- B) Dipnot
- C) İndeks
- D) Sonuç

18. Türk edebiyatında makalenin gelişimine bakıldığında 1860'da ilk makale kim tarafından yazılmıştır?

- A) Nefi
- B) Şinasi
- C) Hüseyin Cahit
- D) Namık Kemal

19. "Çocukların suç eğiliminde aile mi etkilidir, çevre mi?" sorusunu tartışan iki gurubun kendi görüşlerini açıklamak, kanıtlamak karşı tarafın zayıf noktalarını aramak için yaptıkları söyleşmeye ne ad verilir?

- A) Sempozyum
- B) Forum
- C) Mülakat
- D) Münazara

20. Aşağıdakilerden hangisi açık oturum planında yer almaz?

- A) Açık oturumun yapılış nedeni
- B) Konuşmaları özetlemek
- C) Deney
- D) Konuşmacılara sorulacak sorular



# SEÇMELİ TÜRK EDEBİYATI 5

A

2015 III.DÖNEM 0101-A

1. Noktalama işaretleri ilk kez aşağıdakilerden hangisinde kullanılmıştır?

- A) Eşber'de
- B) Cezmi'de
- C) Telemak'ta
- D) Tercüman-ı Ahval Mukaddimesi'nde

2. Namık Kemal'in Osmanlı Devleti'nin son dönemlerini anlattığı, vatanın içinde bulunduğu durum karşısında devleti yönetenlerin davranışlarını eleştirdiği şiiri aşağıdakilerden hangisidir?

- A) Müntehabat-ı Eşar
- B) Vatan Mersiyesi
- C) Makber
- D) Zafername

3. Aşağıdakilerden hangisi, dünya edebiyatında romantizm akımının öncülerinden biridir?

- A) Victor Hugo
- B) Moliere
- C) Montaigne
- D) La Fontaine

4. Türk edebiyatının ilk realist romanı aşağıdakilerden hangisidir?

- A) İntibah
- B) Sergüzeşt
- C) Şair Evlenmesi
- D) Araba Sevdası

5. Aşağıdaki romanlardan hangisi Tanzimat Edebiyatının ikinci döneminde romantizmden realizme geçişin göstergesidir?

- A) Sergüzeşt
- B) Şair Evlenmesi
- C) Telemak
- D) Vatan Yahut Silistre

6. Ziya Paşa, aşağıdaki türlerden hangisinde eser vermemiştir?

- A) Şiir
- B) Makale
- C) Tiyatro
- D) Edebiyat tarihi

7. Aşağıdakilerden hangisi, ikinci dönem Tanzimat Edebiyatının önemli temsilcilerinden biridir?

- A) Şinasi
- B) Abdülhak Hamit
- C) Ahmet Mithat Efendi
- D) Namık Kemal

8. Aşağıdakilerden hangisi, 'toplum için sanat' anlayışını benimseyen aydınlardan biridir?

- A) Abdülhak Hamit
- B) Recaizade Mahmut Ekrem
- C) Samipaşazâde Sezaî
- D) Ziya Paşa

9. Namık Kemal'in 1876 yılında Magosa'da sürgünde bulunduğu sırada yazdığı, romantizm akımının etkilerini taşıyan eseri aşağıdakilerden hangisidir?

- A) Harabat
- B) Sergüzeşt
- C) Son Pişmanlık
- D) İntibah

10. Sergüzeşt romanı ile ilgili aşağıdaki ifadelerden hangisi doğrudur?

- A) Romantizm akımının etkisiyle yazılmıştır.
- B) Tutsaklık ve insan ticareti teması işlenmiştir.
- C) Betimlemelere ve ruh çözümlemelerine çok sık yer verilmiştir.
- D) Ele alınan konu gerçek hayattan alınmamıştır.

11. Edebiyat ile ilgili aşağıdaki ifadelerden hangisi yanlıştır?

- A) Toplumların gelişimine katkıda bulunur.
- B) Düşünceleri geliştirir, duyguları zenginleştirir.
- C) Sadece tanık olduğu çağı anlatır.
- D) Toplumların siyasal ve sosyal yapısından etkilenir.

12. Gerçeğin hayal dünyasında yeniden şekillendiği metinlere ne ad verilir?

- A) Yazılı metin
- B) Kurmaca metin
- C) Hayalî metin
- D) Edebî metin

13. Tanzimat dönemi Türk Edebiyatında yayımlanan ilk mizahi gazete aşağıdakilerden hangisidir?

- A) Takvim-i Vekayi
- B) Diyojen
- C) Ceride-i Havadis
- D) Tercüman-ı Ahval

14. Vatan, millet, özgürlük, hak, eşitlik, adalet, uygarlık gibi kavramların edebiyata ilk olarak girdiği dönem aşağıdakilerden hangisidir?

- A) Tanzimat
- B) Yükselme
- C) I. Meşrutiyet
- D) Kuruluş

15. Aşağıdakilerden hangisi Muallim Naci'nin eserlerinden biridir?

- A) Ateş-pare
- B) İntibah
- C) Gülnihâl
- D) Zavallı Çocuk

16. Aşağıdakilerden hangisi Tanzimat Döneminde Batıdan dilimize tercüme edilen eserlerden biridir?

- A) İntibah
- B) Savaş ve Barış
- C) Anna Karenina
- D) Sefiller

17. Tanzimat Fermanı aşağıdaki padişahlardan hangisi döneminde ilan edilmiştir?

- A) I. Mahmut
- B) Vahdettin
- C) I. Abdülmecit
- D) II. Mahmut

18. Ölen bir kişinin ardından onun kahramanlıklarını, yiğitliklerini anlatmak için yazılan eserlere ne ad verilir?

- A) Rubai
- B) Terkibibent
- C) Mersiye
- D) Terciibent

19. Abdülhak Hâmit Tarhan'ın eşi Fatma Hanım'ın ölümü üzerine duyduğu acıyı dile getirdiği 295 bentlik eseri, aşağıdakilerden hangisidir?

- A) Makber
- B) Sahra
- C) Nesteren
- D) Ölü

20. Namık Kemal'in Ziya Paşa ile birlikte Londra'da çıkardıkları gazete, aşağıdakilerden hangisidir?

- A) Cumhuriyet
- B) Vatan
- C) Hürriyet
- D) Muhbir

1. Auf den Tisch.

**Welche Frage passt zur obigen Antwort?**

**Verilen cevabı gerektirecek soru aşağıdakilerden hangisidir?**

- A) Was machst du dort?  
B) Wohin hast du die Zeitung gelegt?  
C) Wer möchte eine Zeitung lesen?  
D) Wie teuer ist diese Zeitung?

2. Wohin geht Betül?

**Welche Antwort passt zur obigen Frage?**

**Verilen sorunun cevabı aşağıdakilerden hangisidir?**

- A) Betül wohnt in Istanbul.  
B) Sie sollte ihre Hausaufgaben machen.  
C) Betül geht zu einer Besprechung.  
D) Sie kommt aus Bulgarien.

3. Melda ..... morgens gern ..... im Bett liegen.

**Welche Wörter passen in die obigen Lücken?**

**Cümlede boş bırakılan yerleri aşağıdakilerden hangileri doğru şekilde tamamlar?**

- A) bleibt / lange  
B) blieb / schon  
C) ist / noch  
D) sind / früh

4. Ich komme gerade aus Italien und .....

**Welches ergänzt die Lücke im obigen Satz?**

**Verilen cümleyi aşağıdakilerden hangisi tamamlar?**

- A) spreche ich immer auf Deutsch.  
B) hast für die Prüfung zu arbeiten.  
C) wollte unbedingt morgen zu mir kommen.  
D) drei Monate später fahre ich nach Spanien.

5. Schnell! ..... die Teller auf den Tisch!

**Welches Wort passt in die obige Lücke?**

**Cümlede boş bırakılan yeri aşağıdakilerden hangisi doğru şekilde tamamlar?**

- A) Stellst  
B) Stellte  
C) Stellen  
D) Stell

6. Der Junge hängt seine Jacke ..... den Schrank.

**Welches Wort passt in die obige Lücke?**

**Cümlede boş bırakılan yeri aşağıdakilerden hangisi doğru şekilde tamamlar?**

- A) in  
B) zu  
C) an  
D) auf

7. A: Sagen Sie mal, ..... kenne ich Sie?  
B: Mich? Das weiß ich nicht.  
A: Ach ja, ich kenne Sie ..... dem Buch Deutsch für Ausländer.

**Welche Wörter ergänzen die Lücken im obigen Dialog?**

**Verilen karşılıklı konuşmada boş bırakılan yerleri aşağıdakilerden hangisi tamamlar?**

- A) wohin / in  
B) was / auf  
C) woher / aus  
D) wann / zu

8. Was bedeutet "zirve" auf Deutsch?

**"zirve" sözcüğünün Almancası aşağıdakilerden hangisidir?**

- A) die Schere  
B) der Spiegel  
C) das Sitzen  
D) die Spitze

9. A: Guten Tag! .....  
 B: Ich verstehe, Sie wollen eine Nagelschere!  
 A: Ja, genau!  
 B: Hier bitte sehr! Die Kasse ist dort drüben.  
 A: Vielen Dank!

**Welches ergänzt den obigen Dialog?**

**Verilen karşılıklı konuşmayı aşağıdakilerden hangisi tamamlar?**

- A) Ich brauche eine scharfe Schere für die Fingernägel.  
 B) Ich suche ein kleines Tuch zum Händetrocknen?  
 C) Ich möchte einen Schwamm zum Baden.  
 D) Wo finde ich einen kleinen Spiegel?

10. A: Was passiert, wenn ich auf diesen Knopf drücke?  
 B: .....  
 A: Dann können wir es ausprobieren!

**Welches ergänzt den obigen Dialog?**

**Verilen karşılıklı konuşmayı aşağıdakilerden hangisi tamamlar?**

- A) Das weiß ich auch noch nicht!  
 B) Der Knopf ist kaputt, er funktioniert nicht!  
 C) Mach das Licht an!  
 D) Wir haben keine Zeit!

11. Was ist ein Schachgenie?

**Welche Antwort passt zur obigen Frage?**

**Verilen sorunun cevabı aşağıdakilerden hangisidir?**

- A) Jemand, der sehr viel Geld verdient.  
 B) Ein Schachgenie kann fantastisch Schach spielen.  
 C) Ein Schachgenie beherrscht alle Wissenschaften.  
 D) Jemand, der sehr gut kochen kann.

12. Martin stellt die Maschine auf den Tisch und zieht ein elektrisch..... Kabel heraus.

**Welche Endung passt in die obige Lücke?**

**Cümlede boş bırakılan yeri aşağıdaki son eklerden hangisi doğru şekilde tamamlar?**

- A) -er  
 B) -en  
 C) -e  
 D) -es

13. lerne / wie / kochen / ich / der / Chefkoch / beste

**Wie kann man mit den obigen Wortgruppen einen sinnvollen und richtigen Satz bilden?**

**Verilen sözcük gruplarıyla kurulabilecek en anlamlı ve doğru cümle aşağıdakilerden hangisidir?**

- A) Wie ich kochen lernen wie der beste Chefkoch.  
 B) Lerne ich kochen beste wie der Chefkoch.  
 C) Ich lerne kochen wie der beste Chefkoch.  
 D) Der Chefkoch lernt kochen bestens wie ich.

14. Wie lautet das Substantiv "der Tag" in der Adjektivform?

**"der Tag" isminin sıfat hali aşağıdakilerden hangisidir?**

- A) tagkeit  
 B) täglich  
 C) tagheit  
 D) tagten

15. Was ..... ihr in den Ferien machen?

**Welches Wort passt in die obige Lücke?**

**Cümlede boş bırakılan yeri aşağıdakilerden hangisi tamamlar?**

- A) wollt  
 B) will  
 C) wirst  
 D) wollen

16. Am Sonntag habe ich meine Mutter besucht.

**Wie lautet der obige Satz im Präteritum?**

**Verilen cümlelerin yakın geçmiş zaman şekli aşağıdakilerden hangisidir?**

- A) Am Sonntag werde ich meine Mutter besuchen.
- B) Am Sonntag besuchte ich meine Mutter.
- C) Meine Mutter wollte ich am Sonntag besuchen.
- D) Am Sonntag hatte ich meine Mutter besuchen sollen.

17. Er frühstückt um acht Uhr.

**Wie lautet der obige Satz im Futur?**

**Verilen cümlelerin gelecek zaman şekli aşağıdakilerden hangisidir?**

- A) Er muss um acht Uhr gefrühstückt haben.
- B) Er kann um acht Uhr frühstücken.
- C) Er wird um acht Uhr frühstücken.
- D) Er hatte um acht gefrühstückt.

18. Weil er den Wasserhahn nicht zugedreht hat.

**Welche Frage passt zur obigen Antwort?**

**Verilen cevabı gerektirecek soru aşağıdakilerden hangisidir?**

- A) Wo ist das Badezimmer?
- B) Warum stand das Badezimmer unter Wasser?
- C) Was machst du im Badezimmer?
- D) Warum gehst du ins Badezimmer?

19. schlafen / einsteigen / aussteigen / losfahren

**Welches Wort passt nicht zu den anderen in der obigen Wortgruppe?**

**Verilen sözcük grubuna uymayan aşağıdakilerden hangisidir?**

- A) einsteigen
- B) aussteigen
- C) schlafen
- D) losfahren

20. Kayak yapmak ister misin?

**Wie lautet der obige Satz auf Deutsch?**

**Verilen cümlelerin Almancası aşağıdakilerden hangisidir?**

- A) Bist du Ski gelaufen?
- B) Hatten Sie Zeit zum Ski laufen?
- C) Möchtet ihr Ski laufen?
- D) Möchtest du Ski laufen?

1. .... is the strongest person in your family?

Which of the following completes the sentence above?

Aşağıdakilerden hangisi yukarıdaki cümleyi doğru olarak tamamlar?

- A) What  
B) Who  
C) Why  
D) Whose

2. Mark doesn't have ..... friends.

Which of the following completes the sentence above?

Aşağıdakilerden hangisi yukarıdaki cümleyi doğru olarak tamamlar?

- A) much  
B) a  
C) many  
D) a little

3. A: ..... times a week do you go to the gym?  
B: Usually three times a week.

Which of the following completes the dialogue above?

Aşağıdakilerden hangisi yukarıdaki konuşmayı doğru olarak tamamlar?

- A) What  
B) Who  
C) Which  
D) How many

4. Amy usually ..... up early on Mondays.

Which of the following completes the sentence above?

Aşağıdakilerden hangisi yukarıdaki cümleyi doğru olarak tamamlar?

- A) is waking  
B) will wake  
C) wakes  
D) woke

5. .... boys are really naughty.

Which of the following completes the sentence above?

Aşağıdakilerden hangisi yukarıdaki cümleyi doğru olarak tamamlar?

- A) These  
B) This  
C) That  
D) Is

6. A: How is your best friend nowadays?  
B: She ..... some problems with her neck.

Which of the following completes the dialogue above?

Aşağıdakilerden hangisi yukarıdaki konuşmayı doğru olarak tamamlar?

- A) has  
B) have  
C) having  
D) is

7. There was a ..... in front of my neighbour's house.

Which of the following completes the sentence above?

Aşağıdakilerden hangisi yukarıdaki cümleyi doğru olarak tamamlar?

- A) antique nice English car  
B) nice antique English car  
C) English nice antique car  
D) nice English antique car

8. .... does Greg work?

Which of the following completes the sentence above?

Aşağıdakilerden hangisi yukarıdaki cümleyi doğru olarak tamamlar?

- A) When  
B) Which  
C) Who  
D) Where

9. A: Hi, I am Sally.  
B: Hi, my name ..... Kylie.

Which of the following completes the dialogue above?

Aşağıdakilerden hangisi yukarıdaki konuşmayı doğru olarak tamamlar?

- A) has  
B) is  
C) having  
D) are

10. Does your brother have ..... rap CDs?

Which of the following completes the sentence above?

Aşağıdakilerden hangisi yukarıdaki cümleyi doğru olarak tamamlar?

- A) a little  
B) a lot of  
C) much  
D) a

11. Is your mother ..... engineer or ..... doctor?

Which of the following completes the sentence above?

Aşağıdakilerden hangisi yukarıdaki cümleyi doğru olarak tamamlar?

- A) a / a  
B) the / a  
C) an / the  
D) an / a

12. Mexicans ..... a nap every day.

Which of the following completes the sentence above?

Aşağıdakilerden hangisi yukarıdaki cümleyi doğru olarak tamamlar?

- A) likes  
B) like  
C) will like  
D) liking

13. How old ..... your sisters?

Which of the following completes the sentence above?

Aşağıdakilerden hangisi yukarıdaki cümleyi doğru olarak tamamlar?

- A) are  
B) is  
C) be  
D) am

14. I like listening to opera ..... my friend doesn't.

Which of the following completes the sentence above?

Aşağıdakilerden hangisi yukarıdaki cümleyi doğru olarak tamamlar?

- A) and  
B) because  
C) or  
D) but

15. .... Paris is the capital city of France.

Which of the following completes the sentence above?

Aşağıdakilerden hangisi yukarıdaki cümleyi doğru olarak tamamlar?

- A) A  
B) An  
C) (--)  
D) The

16. That umbrella is ..... not .....

Which of the following completes the sentence above?

Aşağıdakilerden hangisi yukarıdaki cümleyi doğru olarak tamamlar?

- A) my / mine  
B) I / my  
C) mine / yours  
D) your / mine

17. A: Are there ..... cucumbers in the fridge?  
B: Yes, there are.

Which of the following completes the dialogue above?

Aşağıdakilerden hangisi yukarıdaki konuşmayı doğru olarak tamamlar?

- A) some  
B) a little  
C) a  
D) any

18. Zuhal often ..... lunch out but now she ..... lunch in the office.

Which of the following completes the sentence above?

Aşağıdakilerden hangisi yukarıdaki cümleyi doğru olarak tamamlar?

- A) eating / eat  
B) eats / eats  
C) eats / is eating  
D) eat / eating

19. Mesut, Semih and I ..... the new horror film.

Which of the following completes the sentence above?

Aşağıdakilerden hangisi yukarıdaki cümleyi doğru olarak tamamlar?

- A) are going to see  
B) am going to see  
C) are going to clean  
D) is going to see

20. I was very tired ..... I went to bed and slept early.

Which of the following completes the sentence above?

Aşağıdakilerden hangisi yukarıdaki cümleyi doğru olarak tamamlar?

- A) so  
B) and  
C) because  
D) or

1. Je suis fatigué et triste. .... ne va bien au travail.

**Choisissez le mot qui convient.**

**Cümledeki boşluğu aşağıdakilerden hangisi doğru şekilde tamamlar?**

- A) Quelque chose  
B) Rien  
C) Aucun  
D) Quelqu'un

2. - Qui veut sa voiture?  
- C'est moi qui .....

**Choisissez l'expression qui convient.**

**Yukarıdaki konuşmada boş bırakılan yeri aşağıdakilerden hangisi doğru şekilde tamamlar?**

- A) le veux  
B) la veux  
C) la veut  
D) le veut

3. Je te dis d'..... la fenêtre.

**Choisissez le mot qui convient.**

**Cümledeki boşluğu aşağıdakilerden hangisi doğru şekilde tamamlar?**

- A) ouvre  
B) ouvrir  
C) ouvert  
D) ouverte

4. Notre directeur est très gentil. Chaque matin, .....

**Complétez la phrase avec la proposition qui convient.**

**Yukarıdaki cümleyi aşağıdaki ifadelerden hangisi doğru şekilde tamamlar?**

- A) il prend son petit déjeuner  
B) il arrive tard  
C) il nous dit bonjour  
D) il est malheureux

5. «Senin için endişelendim.»

**Choisissez la traduction qui convient.**

**Yukarıdaki cümlelerin Fransızca karşılığı aşağıdakilerden hangisidir?**

- A) Je suis une personne inquiète.  
B) Tu m'inquiètes.  
C) Tu es une personne inquiétante.  
D) Je me suis inquiétée pour toi.

6. «Paris est une capitale qui attire beaucoup de touristes.»

**Choisissez la traduction qui convient.**

**Yukarıdaki cümlelerin Türkçe karşılığı aşağıdakilerden hangisidir?**

- A) Paris çok turistik bir başkenttir.  
B) Paris turistlerle dolu bir şehirdir.  
C) Paris bir başkent ve turistik şehirdir.  
D) Paris çok sayıda turist çeken bir başkenttir.

7. Cette histoire se passe ..... 1920.

**Choisissez l'expression qui convient.**

**Cümledeki boşluğu aşağıdakilerden hangisi doğru şekilde tamamlar?**

- A) en  
B) le  
C) au  
D) de

8. - Tu téléphones à ton père?  
- Oui, je ..... téléphone.

**Choisissez le mot qui convient.**

**Yukarıdaki konuşmada boş bırakılan yeri aşağıdakilerden hangisi doğru şekilde tamamlar?**

- A) lui  
B) elle  
C) le  
D) la

9. - Depuis ..... jouez-vous de la musique?  
- Depuis 5 ans.

**Choisissez l'expression qui convient.**

**Yukarıdaki konuşmada boş bırakılan yeri aşağıdakilerden hangisi doğru şekilde tamamlar?**

- A) combien  
B) quand  
C) combien de temps  
D) comment

10. .... les gens sont inconscients, ils détruisent les forêts pour construire des maisons.

**Choisissez le mot qui convient.**

**Cümledeki boşluğu aşağıdakilerden hangisi doğru şekilde tamamlar?**

- A) Comme  
B) Pour  
C) Quand  
D) Comment



11. Paul: Je voudrais réserver une place.  
L'employé: .....  
Paul: Pour Marseille.

**Choisissez la réplique qui convient.**

**Yukarıdaki konuşmada boş bırakılan yeri aşağıdakilerden hangisi doğru şekilde tamamlar?**

- A) Pour une personne?  
B) Oui, Monsieur, quel jour?  
C) On part quand?  
D) Pour où Monsieur?

12. Ne ..... pas ta veste !

**Choisissez le mot qui convient.**

**Cümledeki boşluğu aşağıdakilerden hangisi doğru şekilde tamamlar?**

- A) prend  
B) prendre  
C) prends  
D) pris

13. I. Le chien est adorable.  
II. Madame Pouce est blonde.  
III. C'est une femme qui porte des lunettes.  
IV. Elle aime les chiens.

**Trouvez la phrase qui ne convient pas.**

**Cümleler sırasıyla okunduğunda, anlam bütünlüğünü bozan cümleyi bulunuz.**

- A) I  
B) II  
C) III  
D) IV

14. .... parfum aimez-vous?

**Choisissez le mot qui convient.**

**Cümledeki boşluğu aşağıdakilerden hangisi doğru şekilde tamamlar?**

- A) Quelle  
B) Quel  
C) Quels  
D) Quelles

15. Achetez ..... vous voulez.

**Choisissez le mot qui convient.**

**Cümledeki boşluğu aşağıdakilerden hangisi doğru şekilde tamamlar?**

- A) puisque  
B) que  
C) qui  
D) ce que

16. Je ..... conseille d'acheter cette cravate.

**Choisissez le mot qui convient.**

**Cümledeki boşluğu aşağıdakilerden hangisi doğru şekilde tamamlar?**

- A) suis  
B) le  
C) vous  
D) peux

17. Quand part le train?

**Choisissez la traduction qui convient.**

**Yukarıdaki cümlelerin Türkçe karşılığı aşağıdakilerden hangisidir?**

- A) Tren ne kadar zamanda gidiyor?  
B) Tren ne zaman gelecek?  
C) Tren ne kadar gecikecek?  
D) Tren ne zaman hareket ediyor?

18. C'est moi qui ..... cassé le vase.

**Choisissez le mot qui convient.**

**Yukarıdaki cümlede boş bırakılan yeri aşağıdakilerden hangisi doğru şekilde tamamlar?**

- A) ai  
B) as  
C) a  
D) est

19. - Vous allez à l'école en voiture?  
- Non, nous ..... allons à pied.

**Choisissez le mot qui convient.**

**Yukarıdaki konuşmada boş bırakılan yeri aşağıdakilerden hangisi doğru şekilde tamamlar?**

- A) en  
B) y  
C) au  
D) de

20. .... tu n'as pas d'argent, tu ne peux pas aller au cinéma.

**Choisissez le mot qui convient.**

**Cümledeki boşluğu aşağıdakilerden hangisi doğru şekilde tamamlar?**

- A) Car  
B) Personne  
C) Puisque  
D) Pourquoi

1. Nach der Grundschule können die Schüler von der fünften bis zur dreizehnten Klasse auf ..... gehen.

**Welches Wort passt in die obige Lücke?**

**Cümlede boş bırakılan yeri aşağıdakilerden hangisi tamamlar?**

- A) Hauptschule  
B) Realschule  
C) Gesamtschule  
D) Gymnasium

2. Was willst du werden?

**Welche Antwort passt zur obigen Frage?**

**Verilen sorunun cevabı aşağıdakilerden hangisidir?**

- A) Pilot.  
B) Ausland.  
C) Büro.  
D) Traum.

3. Ich kann an einer Universität arbeiten.

**Wie lautet der obige Satz auf Türkisch?**

**Verilen cümlelerin Türkçesi aşağıdakilerden hangisidir?**

- A) Ben üniversite mezunuyum.  
B) Üniversitede çalışmak isterdim.  
C) Bir üniversitede çalışabilirim.  
D) Üniversitenin çalışma alanı çok geniş.

4. Ausbildung / Grundschule / Erfinder / Prüfung

**Welches Wort passt nicht zu den anderen in der obigen Wortgruppe?**

**Verilen sözcük grubuna uymayan aşağıdakilerden hangisidir?**

- A) Erfinder  
B) Ausbildung  
C) Grundschule  
D) Prüfung

5. Was sind unsere wichtigsten menschlichen Qualitäten?

**Welche Antwort passt zur obigen Frage?**

**Verilen sorunun cevabı aşağıdakilerden hangisidir?**

- A) Die Welt ist fasziniert.  
B) Berlin und Köln.  
C) Die Berufsschule und die Grundschule.  
D) Die Fähigkeit zu denken und zu erfinden.

6. Bei der Schulausbildung in Deutschland und in der Türkei gibt es .....

**Welches ergänzt den obigen Satz?**

**Verilen cümleyi aşağıdakilerden hangisi tamamlar?**

- A) Ähnlichkeiten und Unterschiede.  
B) Beispiele und Gruppen.  
C) Sprachen und Mittel.  
D) Klassen und Möglichkeit.

7. Willst / kannst / wenn / studieren / du / Berlin / in

**Wie kann man mit den obigen Wortgruppen einen sinnvollen und richtigen Satz bilden?**

**Verilen sözcük gruplarıyla kurulabilecek en anlamlı ve doğru cümle aşağıdakilerden hangisidir?**

- A) Willst wenn, du in kannst Berlin studieren.  
B) Berlin willst, wenn du in kannst studieren.  
C) Kannst studieren willst, wenn Berlin du in.  
D) Wenn du willst, kannst du in Berlin studieren.

8. Was vermutest du, warum Ayşe und Ali gern Fahrrad fahren?

**Welche Antwort passt zur obigen Frage?**

**Verilen sorunun cevabı aşağıdakilerden hangisidir?**

- A) Ich glaube, sie interessiert sich dafür.  
B) Ich nehme an, du kommst mit.  
C) Ich vermute, daß es Ayşe und Ali Spaß macht.  
D) Ich hatte gedacht, daß sie stolz auf dich sind.

9. Die Besucher sehen sich die Sehenswürdigkeiten in Ruhe an.

**Wie lautet der obige Satz in der Singularform?**

**Verilen cümlelerin tekil hali aşağıdakilerden hangisidir?**

- A) Die Besucher gehen zu den Sehenswürdigkeiten in voller Ruhe.  
 B) Dem Besucher wird jede Sehenswürdigkeit in Ruhe gezeigt.  
 C) Der Besucher sieht sich die Sehenswürdigkeit in Ruhe an.  
 D) Die Besucher möchten sich die Sehenswürdigkeiten in Ruhe anschauen.

10. Wir haben die Suchmaschine Google, wir haben die Illusion, uns steht das gesamte Wissen der Menschheit zur .....

**Welches Wort passt in die obige Lücke?**

**Cümlede boş bırakılan yeri aşağıdakilerden hangisi doğru şekilde tamamlar?**

- A) Verfügung  
 B) Artikel  
 C) Zeit  
 D) Allgemeinen

11. Das Laufrad / Das Hochrad / Das Zweirad / Das Rennen

**Welches Wort passt nicht zu den anderen in der obigen Wortgruppe?**

**Verilen sözcük grubuna uymayan aşağıdakilerden hangisidir?**

- A) Das Laufrad  
 B) Das Hochrad  
 C) Die Zweirad  
 D) Das Rennen

12. A: Weißt du eigentlich, was Velotaxi bedeutet?  
 B: .....  
 A: Das ist interessant! Dann braucht es überhaupt kein Benzin?  
 B: Genau, es braucht nur menschliche Energie!  
 A: Das ist ja toll!

**Welcher Satz ergänzt den obigen Dialog?**

**Verilen karşılıklı konuşmayı aşağıdakilerden hangisi tamamlar?**

- A) Nein, ich benutze mein Auto!  
 B) Ja, das ist ein Fahrradtaxi!  
 C) Ja, du kannst mein Fahrrad nehmen!  
 D) Nein, das weiß ich auch nicht!

13. Was bedeutet das Gegenteil von "beruhigend"?

**"beruhigend" sözcüğünün zıt anlamlısı aşağıdakilerden hangisidir?**

- A) vermutlich  
 B) fröhlich  
 C) aufregend  
 D) zufrieden

14. Aus dem Hochrad ..... sich das Zweirad .....

**Welche Wörter passen in die obigen Lücken?**

**Cümlede boş bırakılan yerleri aşağıdakilerden hangileri doğru şekilde tamamlar?**

- A) sei / gekommen  
 B) hat / entwickelt  
 C) wird / fahren  
 D) soll / sehen

15. .... fließt durch Deutschland.

**Welches Wort passt in die obige Lücke?**

**Cümlede boş bırakılan yeri aşağıdakilerden hangisi tamamlar?**

- A) Der Rhein  
 B) Der Kızılırmak  
 C) Die Porsuk  
 D) Der Seyhan

## 16. Was bedeutet " anlatı " auf Deutsch?

"anlatı" sözcüğünün Alıncası  
aşağıdakilerden hangisidir?

- A) Der Roman
- B) Das Buch
- C) Die Erzählung
- D) Die Zeitung

## 17. .... die Sage von der schönen Loreley.

Welcher Satz ergänzt die obige Lücke?

Verilen cümleyi aşağıdakilerden hangisi tamamlar?

- A) Ein Bericht über Katastrophen schildert
- B) Das Lied Loreley erzählt
- C) Dieser Fall hat viele Antworten gebracht
- D) Das ist ein kleines Schifflied

## 18. .... von der Straße auf den Loreleyfelsen ist wunderbar.

Welches Wort passt in die obige Lücke?

Cümlede boş bırakılan yeri aşağıdakilerden hangisi tamamlar?

- A) Ein Plakat
- B) Ein Blick
- C) Die Kinder
- D) Aus Stein

## 19. Heinrich Heine, der viele Gedichte, Balladen und Lieder geschrieben hat, .....

Welches ergänzt die Lücke im obigen Satz?

Verilen cümleyi aşağıdakilerden hangisi tamamlar?

- A) hat alles vom Internet gelernt.
- B) möchte sich endlich ein Auto kaufen.
- C) schreibt auch türkische Gedichte.
- D) ist ein berühmter deutscher Dichter.

## 20. Viele Städte, Burgen und Dörfer ..... direkt am Rhein.

Welches Wort passt in die obige Lücke?

Cümlede boş bırakılan yeri aşağıdakilerden hangisi tamamlar?

- A) sitzen
- B) liegen
- C) können
- D) schreiben

## SEÇMELİ İNGİLİZCE 8

A

2015 III.DÖNEM 0101-A

1. İstanbul ..... by Fatih Sultan Mehmet in 1453.

**Which of the following completes the sentence above?**

**Aşağıdakilerden hangisi yukarıdaki cümleyi doğru olarak tamamlar?**

- A) is conquered
- B) will be conquered
- C) was conquered
- D) conquers

2. My best friend ..... married by next June.

**Which of the following completes the sentence above?**

**Aşağıdakilerden hangisi yukarıdaki cümleyi doğru olarak tamamlar?**

- A) will get
- B) will have got
- C) gets
- D) is

3. The New Year Show ..... in an hour.

**Which of the following completes the sentence above?**

**Aşağıdakilerden hangisi yukarıdaki cümleyi doğru olarak tamamlar?**

- A) performed
- B) will be performed
- C) is performed
- D) was performed

4. If you ..... the plants, they will die soon.

**Which of the following completes the sentence above?**

**Aşağıdakilerden hangisi yukarıdaki cümleyi doğru olarak tamamlar?**

- A) didn't water
- B) won't water
- C) don't water
- D) aren't water

5. A hotel will ..... next to the theater.

**Which of the following completes the sentence above?**

**Aşağıdakilerden hangisi yukarıdaki cümleyi doğru olarak tamamlar?**

- A) be built
- B) built
- C) build
- D) was built

6. The windows ..... by Semih yesterday.

**Which of the following completes the sentence above?**

**Aşağıdakilerden hangisi yukarıdaki cümleyi doğru olarak tamamlar?**

- A) will be broken
- B) are broken
- C) broke
- D) were broken

7. Nazlı went to the bookstore ..... she wanted to buy J.K Rowling's latest book.

**Which of the following completes the sentence above?**

**Aşağıdakilerden hangisi yukarıdaki cümleyi doğru olarak tamamlar?**

- A) to
- B) because
- C) why
- D) so

8. French ..... in Belgium.

**Which of the following completes the sentence above?**

**Aşağıdakilerden hangisi yukarıdaki cümleyi doğru olarak tamamlar?**

- A) was spoken
- B) will be speak
- C) speaks
- D) is spoken

9. If it snows tomorrow, .....

**Which of the following completes the sentence above?**

**Aşağıdakilerden hangisi yukarıdaki cümleyi doğru olarak tamamlar?**

- A) we are going swimming
- B) we had a picnic by the lake
- C) we will make a snowman
- D) we have bought a new bike

10. If you have a headache, .....

**Which of the following completes the sentence above?**

**Aşağıdakilerden hangisi yukarıdaki cümleyi doğru olarak tamamlar?**

- A) write a letter
- B) call the police
- C) take an aspirin
- D) iron the clothes

11. We will construct a new apartment.

**Which of the following is the passive voice of the sentence above?**

**Aşağıdakilerden hangisi yukarıdaki cümlenin edilgen yapıda kurulmuş biçimidir?**

- A) A new apartment will be constructed by us.
- B) A new apartment is constructed by us.
- C) A new apartment was constructed by us.
- D) A new apartment has been constructed by us.

12. If Aynur finds a cheap flight to Germany, she ..... her son.

**Which of the following completes the sentence above?**

**Aşağıdakilerden hangisi yukarıdaki cümleyi doğru olarak tamamlar?**

- A) will visit
- B) visits
- C) would visit
- D) visiting

13. Don't come early in the morning, I .....

**Which of the following completes the sentence above?**

**Aşağıdakilerden hangisi yukarıdaki cümleyi doğru olarak tamamlar?**

- A) sleep
- B) slept
- C) will be sleeping
- D) will slept

14. If Kerem had told me the way correctly, I ..... so late.

**Which of the following completes the sentence above?**

**Aşağıdakilerden hangisi yukarıdaki cümleyi doğru olarak tamamlar?**

- A) wouldn't have arrived
- B) wouldn't arrive
- C) would have arrived
- D) didn't arrive

15. If you're always late, .....

**Which of the following completes the sentence above?**

**Aşağıdakilerden hangisi yukarıdaki cümleyi doğru olarak tamamlar?**

- A) sleep late
- B) wear a uniform
- C) do some exercises
- D) get up early

16. 'Tutunamayanlar' ..... by Oğuz Atay.

**Which of the following completes the sentence above?**

**Aşağıdakilerden hangisi yukarıdaki cümleyi doğru olarak tamamlar?**

- A) is written
- B) was written
- C) was
- D) will write

17. They ..... swimming if the sun shines.

**Which of the following completes the sentence above?**

**Aşağıdakilerden hangisi yukarıdaki cümleyi doğru olarak tamamlar?**

- A) are going
- B) go
- C) goes
- D) will go

18. If I were an animal, I ..... a tiger.

**Which of the following completes the sentence above?**

**Aşağıdakilerden hangisi yukarıdaki cümleyi doğru olarak tamamlar?**

- A) would be
- B) will be
- C) am
- D) was

19. This time next Saturday I ..... to İstanbul for the weekend.

**Which of the following completes the sentence above?**

**Aşağıdakilerden hangisi yukarıdaki cümleyi doğru olarak tamamlar?**

- A) go
- B) will go
- C) will have gone
- D) will be going

20. .... the meal ..... by your father?

**Which of the following completes the sentence above?**

**Aşağıdakilerden hangisi yukarıdaki cümleyi doğru olarak tamamlar?**

- A) Does / cooked
- B) Has / been cooked
- C) Is / cook
- D) Is / cooking

## SEÇMELİ FRANSIZCA 8

A

2015 III.DÖNEM 0101-A

1. I. Le Bac est un examen.  
II. Nous faisons des plans pour les vacances.  
III. Nous irons à la mer et à la montagne.  
IV. Et peut-être à l'étranger.

**Choisissez la phrase qui ne convient pas à l'ensemble.**

**Sırasıyla okunduğunda, anlam bütünlüğünü bozan cümleyi bulunuz.**

- A) I  
B) II  
C) III  
D) IV

2. ...., elles sont allées au musée du Louvre.

**Choisissez le mot qui convient.**

**Cümledeki boşluğu aşağıdakilerden hangisi doğru şekilde tamamlar?**

- A) Chacun  
B) Demain  
C) Quand  
D) Hier

3. «Marie est tombée amoureuse.»

**Choisissez la traduction qui convient.**

**Yukarıdaki cümlenin Türkçe karşılığı aşağıdakilerden hangisidir?**

- A) Marie âşık oldu.  
B) Marie düştü.  
C) Marie'nin sevgilisi düştü.  
D) Marie aşkı buldu.

4. Mon ami a de mauvaises notes en littérature. Il ....., à dire la vérité à ses parents.

**Choisissez le mot qui convient.**

**Cümledeki boşluğu aşağıdakilerden hangisi doğru şekilde tamamlar?**

- A) obligé  
B) hésite  
C) pardonnez  
D) encouragement

5. Le mois prochain, nous ..... en France.

**Choisissez le mot qui convient.**

**Cümledeki boşluğu aşağıdakilerden hangisi doğru şekilde tamamlar?**

- A) irons  
B) ira  
C) allez  
D) avons

6. Je n'ai rien oublié. Je m'en rappelle .....

**Choisissez l'expression qui convient.**

**Cümledeki boşluğu aşağıdakilerden hangisi doğru şekilde tamamlar?**

- A) avec un seul mot  
B) comme si c'était hier  
C) tant mieux  
D) en deux mots

7. Elle n'aime pas la campagne. Elle est ..... la ville.

**Choisissez le mot qui convient.**

**Cümledeki boşluğu aşağıdakilerden hangisi doğru şekilde tamamlar?**

- A) pour  
B) contre  
C) par  
D) avec

8. Il est en section scientifique ..... il donne plus d'importance aux Maths.

**Choisissez le mot qui convient.**

**Cümledeki boşluğu aşağıdakilerden hangisi doğru şekilde tamamlar?**

- A) trop  
B) donc  
C) ou  
D) bon

9. Il va aller chercher le livre ..... son professeur demande.

**Choisissez le mot qui convient.**

**Cümledeki boşluğu aşağıdakilerden hangisi doğru şekilde tamamlar?**

- A) qui  
B) où  
C) que  
D) sur

10. - Alors, vous avez fait .....?  
- Oui, nous prenons un café.

**Choisissez le mot qui convient.**

**Yukarıdaki konuşmada boş bırakılan yeri aşağıdakilerden hangisi doğru şekilde tamamlar?**

- A) la cuisine  
B) le paiement  
C) votre choix  
D) votre menu



11. Il peut pleuvoir; n'oubliez pas ..... prendre votre parapluie.

**Choisissez le mot qui convient.**

**Cümledeki boşluğu aşağıdakilerden hangisi doğru şekilde tamamlar?**

- A) en  
B) qui  
C) à  
D) de

12. .... pense à soi-même.

**Choisissez le mot qui convient.**

**Cümledeki boşluğu aşağıdakilerden hangisi doğru şekilde tamamlar?**

- A) Comme  
B) Qui  
C) Toi  
D) Chacun

13. Avant de manger, n'oublie pas de/d' .....

**Choisissez l'expression qui convient.**

**Cümledeki boşluğu aşağıdakilerden hangisi doğru şekilde tamamlar?**

- A) te coucher  
B) te laver mains  
C) sauter  
D) oublier

14. La cliente : .....  
Le serveur : Tout de suite, Madame.

**Choisissez la réplique qui convient.**

**Yukarıdaki konuşmada boş bırakılan yeri aşağıdakilerden hangisi doğru şekilde tamamlar?**

- A) Vous voulez commander quelque chose?  
B) Vous prenez un thé?  
C) Monsieur, l'addition s'il vous plait!  
D) Chacun paie sa part?

15. - Qu'est-ce que vous préférez? Le cinéma ..... le théâtre?  
- Le théâtre, bien sûr.

**Choisissez le mot qui convient.**

**Yukarıdaki konuşmada boş bırakılan yeri aşağıdakilerden hangisi doğru şekilde tamamlar?**

- A) avec  
B) et  
C) ni  
D) ou

16. La Turquie est un .....

**Choisissez le mot qui convient.**

**Cümledeki boşluğu aşağıdakilerden hangisi doğru şekilde tamamlar?**

- A) ville  
B) pays  
C) village  
D) campagne

17. - .....  
- Vendredi prochain.

**Choisissez la question qui convient.**

**Yukarıdaki konuşmada cevabı gerektiren soru aşağıdakilerden hangisidir?**

- A) Nous sommes quel jour?  
B) Vous venez d'où?  
C) Vous allez où?  
D) Quand vous partez?

18. Isabelle : Tu as un examen demain?  
Alain : Oui, un examen de français.  
Isabelle : Tu travailles?  
Alain : .....

**Choisissez l'expression qui convient.**

**Yukarıdaki konuşmada boş bırakılan yeri aşağıdakilerden hangisi doğru şekilde tamamlar?**

- A) Oui, je révise mes notes.  
B) Bonne chance alors!  
C) Réussis ton examen.  
D) Je te souhaite du courage.

19. - Tu ne prends pas de dessert?  
- Non, je ne(n') .... veux pas.

**Choisissez le mot qui convient.**

**Yukarıdaki konuşmada boş bırakılan yeri aşağıdakilerden hangisi doğru şekilde tamamlar?**

- A) la  
B) y  
C) en  
D) rien

20. Léa ..... est mariée avec Pierre ..... très bien.

**Choisissez les mots qui conviennent.**

**Cümledeki boşlukları aşağıdakilerden hangisi doğru şekilde tamamlar?**

- A) qui /dansent  
B) que /danse  
C) qui /danse  
D) que /dansent

1.  $70-5x \leq 7x+10$  eşitsizliğini sağlayan  $x$  reel sayılarının tanım aralığı aşağıdakilerden hangisidir?

- A)  $[5, +\infty)$   
 B)  $[30, +\infty)$   
 C)  $[10, 30)$   
 D)  $(-\infty, 10)$

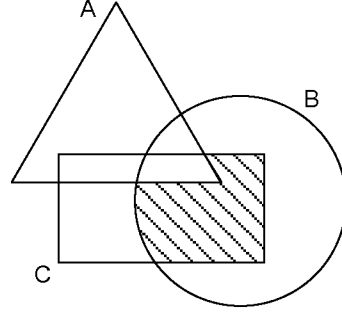
2.  $(2x+3)^2 = 25$  denkleminin çözüm kümesi aşağıdakilerden hangisidir?

- A)  $\{1\}$   
 B)  $\{11\}$   
 C)  $\{-1, 11\}$   
 D)  $\{-4, 1\}$

3.  $2x-y=5$   
 $x-2y=7$   
 Denklemler sisteminin çözüm kümesi aşağıdakilerden hangisidir?

- A)  $(3,1)$   
 B)  $(9,1)$   
 C)  $(1,-3)$   
 D)  $(2,-1)$

4.



Şekildeki taralı küme aşağıdakilerden hangisidir?

- A)  $A \cup (B \cap C)$   
 B)  $B \cap (C \setminus A)$   
 C)  $(A \cup B) \cap (B \cup C)$   
 D)  $B \cap (A \setminus C)$

5.  $f: \mathbb{R} \rightarrow \mathbb{R}$ ,  $f(x) = 3x+2$  ise,  $f(x-1)$  değeri aşağıdakilerden hangisidir?

- A)  $3x+1$   
 B)  $x+1$   
 C)  $3x-1$   
 D)  $x-1$

6.  $(-4)^2 \cdot (-2)^3 \cdot (-8)^2$  işleminin sonucu kaçtır?

- A)  $-2^{13}$   
 B)  $-2^{12}$   
 C)  $2^{12}$   
 D)  $2^{13}$

7.  $n(K)=14$ ,  $n(L)=13$  ve  $n(K \cap L)=2$  ise,  $n(K \cup L)$  kaçtır?

- A) 23  
 B) 25  
 C) 27  
 D) 29

8.  $A = \{x \mid |x+2| < 4 \text{ ve } x \in \mathbb{N}\}$  kümesinin liste yöntemi ile gösterimi aşağıdakilerden hangisidir?

- A)  $\{-5,-4,-3,-2,-1,0,1\}$   
 B)  $\{1,2\}$   
 C)  $\{0,1\}$   
 D)  $\{-4,2\}$

9.  $f: \mathbb{R} \rightarrow \mathbb{R}$ ,  $f(x+3) = 2x-5$  olduğuna göre,  $f(4)$  kaçtır?

- A) -3  
 B) -1  
 C) 1  
 D) 3

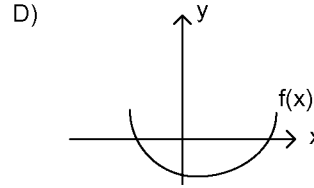
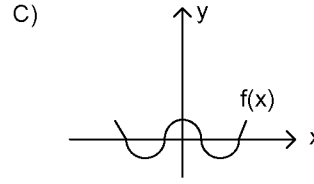
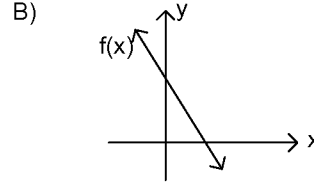
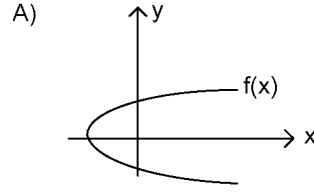
10.  $\sqrt{1,21} + \sqrt{0,04} - \sqrt{0,81}$  işleminin sonucu aşağıdakilerden hangisidir?

- A) 0,4  
 B) 0,5  
 C) 0,6  
 D) 0,7

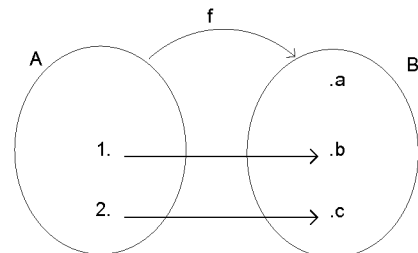
11.  $\left(\frac{1}{2}\right)^{-3}$  ifadesinin değeri kaçtır?

- A) -8  
 B)  $-\frac{1}{8}$   
 C)  $\frac{1}{8}$   
 D) 8

12. Aşağıda grafiği verilen ifadelerden hangisi fonksiyon olamaz?



13.  $f: A \rightarrow B$ ,



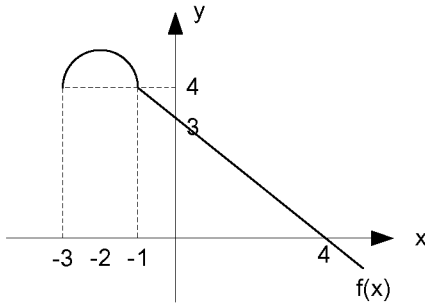
Yukarıda verilenlere göre,  $f$  fonksiyonunun görüntü kümesi aşağıdakilerden hangisidir?

- A)  $\{1,2\}$   
 B)  $\{b,c\}$   
 C)  $\{a,b,c\}$   
 D)  $\{1,2,b,c\}$

14.  $|x+2|=7$  denkleminin çözüm kümesi aşağıdakilerden hangisidir?

- A)  $\{-5,5\}$   
 B)  $\{5\}$   
 C)  $\{-9,5\}$   
 D) R

15.



Yukarıdaki şekilde  $f(x)$  fonksiyonunun grafiği verilmiştir.

Buna göre,  $f(-1)+f(0)+f(4)$  toplamı kaçtır?

- A) 3  
 B) 4  
 C) 6  
 D) 7

16. Aynı kapasitedeki 12 işçi bir duvarı 35 saatte boyarsa, bu işçilerin 30'u aynı duvarı kaç saatte boyar?

- A) 11  
 B) 14  
 C) 17  
 D) 20

17. Aşağıdaki sayılardan hangisinin çarpma işlemine göre tersi yoktur?

- A) -1  
 B) 0  
 C) 1  
 D) 2

18.  $A=\{0,1,2\}$  olmak üzere,  $f:B \rightarrow A$  tanımlı bire-bir ve örten bir fonksiyondur.

$f(x)=x-3$  kuralı ile verildiğine göre, B kümesi aşağıdakilerden hangisidir?

- A)  $\{-3,-2,-1\}$   
 B)  $\{1,2,3\}$   
 C)  $\{3,4,5\}$   
 D)  $\{-3,3\}$

19.  $(3x+2, y-x)=(-4,5)$  olduğuna göre  $(x,y)$  ikilisi aşağıdakilerden hangisidir?

- A)  $(-2,7)$   
 B)  $(2,7)$   
 C)  $(-2,2)$   
 D)  $(-2,3)$

20.  $K=\{a, b, 4, 5\}$  kümesinin kaç tane alt kümesi vardır?

- A) 16  
 B) 20  
 C) 28  
 D) 32

BU SAYFA BOŞ BIRAKILMIŞTIR.

BU SAYFA BOŞ BIRAKILMIŞTIR.

BU SAYFA BOŞ BIRAKILMIŞTIR.

## SINAVDA UYGULANACAK GENEL KURALLAR

1. Sınava girmek için gerekli belgelerinizin tümünü sınav başlamadan önce sıranızın üzerine bırakınız.
2. Sınav süresince görevlilerle konuşmak, görevlilere soru sormak yasaktır. Aynı şekilde görevlilerin de öğrencilerle/adaylarla yakından ve alçak sesle konuşmaları yasaktır. Gerekli durumlarda görevliler yerinizi değiştirebilir.
3. Size verilen cevap kâğıdının üzerindeki TCKN/Öğrenci no, ad, soyadı, bilgilerini kontrol ediniz, ilgili alanları eksiksiz doldurarak imzalayınız. Bu bilgiler size ait değilse, kâğıt üzerinde hiçbir işlem yapmadan görevlileri uyararak size ait cevap kâğıdını isteyiniz. Başkasına ait cevap kâğıdı kullanan öğrencilerin sınavları geçersiz sayılır.
4. Cevap kâğıdı üzerine test grubunu (kitapçık türünü) kodlamayan veya birden fazla grubu kodlayanların sınavları geçersiz sayılır.
5. Cevap kâğıdınıza yazacağınız her türlü yazı ve yapacağınız işaretlemeler için koyu yazan siyah kurşun kalem kullanılmalıdır. Farklı bir kalem (tükenmez, mürekkepli, renkli vb.) kullananların sınavları geçersiz sayılır.
6. Cevap kâğıdı üzerinde değişiklik yapmak istediğinizde, iz bırakmayan bir silgi kullanınız. Cevap kâğıdınızı buruşturmayınız, katlamayınız ve üzerine gereksiz hiçbir işaret koymayınız.
7. Cevaplarınızı, cevap kâğıdında ilgili test için ayrılmış olan alana, cevap yerinin dışına taşırmadan işaretleyiniz. Soru kitapçığı üzerinde yapılan işaretlemeler değerlendirmeye alınmayacaktır.
8. Her sorunun tek bir doğru cevabı vardır. Bir soru için birden çok cevabı işaretlerseniz, o soruyu yanlış cevaplamış sayılacaksınız.
9. Soru kitapçığınızı aldığınızda sayfalarına hızlıca bakarak hatalı ya da eksik baskı olup olmadığını kontrol ediniz. Hata/eksik olması durumunda kitapçığının değiştirilmesi için derhâl sınav görevlilerine başvurunuz. Sınav görevlileri sınavın başladığını belirtmeden kitapçığınızı tekrar açmayınız.
10. Cevap kâğıdınızda belirtilen kitapçık kodu ile soru kitapçığının kodunu karşılaştırınız. Aynı değilse, sınav görevlilerine durumu bildirerek doğru kitapçığın verilmesini talep ediniz.
11. Soru kitapçığındaki ilgili alanlara ad, soyadı, TCKN/Öğrenci no, sınav salon no, sıra no bilgilerinizi eksiksiz doldurarak imzanızı atınız. Soru kitapçığının sayfalarındaki boş yerleri müsvedde amacıyla kullanabilirsiniz.
12. Aşağıdaki durumlarda sınav görevlileri tarafından Bireysel Sınav İptal Tutanağı düzenlenerek ilgili öğrencilerin/adayların sınavları geçersiz sayılır:
  - a) Sınav kurallarına ve sınav görevlilerinin uyarılarına uymamak, sınav düzenini bozmak,
  - b) Kâğıt, kitap, defter, not vb. dokümanları; pergel, açıölçer, cetvel vb. araçları; cep telefonu, bilgisayar, tablet, telsiz, kamera vb. iletişim, depolama, kayıt ve veri aktarma cihazlarını; ruhsatlı veya resmi amaçlı olsa bile silah ve silah yerine geçebilecek nesnelere yanında bulundurmamak,
  - c) Sınav sırasında kalem, silgi vb. araç-gereç paylaşımında bulunmak,
  - d) Cevapları, cevap kâğıdı dışında bir yere yazmak ve sınav salonundan dışarı çıkarmak,
  - e) Sınava girebilmek için gerekli belgeleri eksik olduğu halde sınava katılıp, cevap kâğıdında işaretleme yapmak,
  - f) Sınav görevlileri tarafından öğrencinin/adayın kimliğinden şüphe duyulması,
  - g) Cevap kâğıdını ve/veya soru kitapçığını sınav görevlilerine eksiksiz ve sağlam şekilde teslim etmemek, sınav salonu dışına çıkarmak,
  - h) Kopya çekmek, vermek, çekilmesine yardımcı olmak vb. eylemlerde bulunmak,
  - i) Kendisi yerine başkasını sınava sokmak.
13. Sınav bitiminde, cevap kâğıdınızı ve soru kitapçığınızı salon görevlilerine eksiksiz biçimde teslim ediniz. Sınav bittikten sonra gönderilen cevap kâğıtları dikkate alınmayacaktır.

**SINAV KURALLARINA UYDUĞUNUZ İÇİN TEŞEKKÜR EDER, SINAVINIZDA BAŞARILAR DİLERİZ.**