



ANADOLU ÜNİVERSİTESİ
AÇIKÖĞRETİM FAKÜLTESİ
BA - AÇIKÖĞRETİM OKULLARI

T.C. MİLLÎ EĞİTİM BAKANLIĞI
Hayat Boyu Öğrenme Genel Müdürlüğü
AÇIKÖĞRETİM LİSESİ – BATI AVRUPA PROGRAMI
2015-2016 ÖĞRETİM YILI II. DÖNEM SINAVI

4. OTURUM Pazar 13:00

TEST GRUBUNUZ

A 0104

ÖĞRENCİNİN

SOYADI :

ADI :

TC KİMLİK NO / ÖĞRENCİ NO :

SINAV SALON NO : SIRA NO:

İMZA:

Sınavla ilgili tüm kuralları okudum, anladım, kabul ediyorum.

SINAV İÇERİĞİ

Testin Adı	Soru Sayısı	Sayfa No	Testin Adı	Soru Sayısı	Sayfa No
DİN KÜLTÜRÜ VE AHLAK BİLGİSİ 3	20	02	TRAFİK VE İLK YARDIM BİLGİSİ 1	20	33
DİN KÜLTÜRÜ VE AHLAK BİLGİSİ 6	20	04	BIYOLOJİ 3	20	35
GİRİŞİMCİLİK 2	20	06	SEÇMELİ TARİH 3	20	37
COĞRAFYA 2	20	08	COĞRAFYA 3	20	39
COĞRAFYA 6	20	10	MATEMATİK 6	20	41
COĞRAFYA 8	20	12	SEÇMELİ DİL VE ANLATIM 8	20	44
MATEMATİK 5	20	14	SEÇMELİ ALMANCA 4	20	46
SOSYOLOJİ 1	20	16	SEÇMELİ İNGİLİZCE 4	20	49
DİL VE ANLATIM 4	20	18	SEÇMELİ FRANSIZCA 4	20	52
TÜRK EDEBİYATI 7	20	21	SEÇMELİ ALMANCA 7	20	54
KİMYA 4	20	23	SEÇMELİ İNGİLİZCE 7	20	57
BIYOLOJİ 8	20	25	SEÇMELİ FRANSIZCA 7	20	60
MANTIK 2	20	27	DİL VE ANLATIM 5	20	62
SANAT TARİHİ 2	20	29	TÜRK EDEBİYATI 3	20	64
SAĞLIK BİLGİSİ 1	20	31			

SINAVDA UYULMASI GEREKEN ÖZEL KURALLAR

1. Bu kitapçıkta yer alan her bir test için cevaplama süresi **30** dakika, toplam süre **150** dakikadır.
2. Öğrenciler sınavın ilk 30 dakikası ve son 5 dakikası içinde sınavlarını tamamlasalar bile salonu terk edemezler. Sınavın başlamasını izleyen ilk 15 dakikadan sonra hiçbir öğrenci sınava alınmaz.
3. Yanlış cevaplarınız dikkate alınmayacaktır. Bu nedenle kitapçıkta bulunan tüm sorular için size doğru gelen seçeneği işaretleyerek cevapsız soru bırakmamanız yararınıza olacaktır.
4. Sınav sırasında hesap makinesi kullanabilirsiniz. Ancak, kullanacağınız makinede alfabetik tuş takımının (A, B, C, ..., Y, Z), program yapılmasına, saklanmasına ve çalıştırılmasına imkân veren EXE, STORE, RUN vb. tuşlar bulunamaz.

"Sınavda Uyulması Gereken Genel Kurallar" soru kitapçığının arka sayfasında yer almaktadır. Bu kuralları da mutlaka dikkatlice okuyunuz.

Anadolu Üniversitesi tarafından hazırlanmış olan bu testlerin her hakkı saklıdır. Hangi amaçla olursa olsun, testlerin tamamının veya bir kısmının Anadolu Üniversitesi'nin yazılı izni olmadan kopya edilmesi, fotoğraflarının çekilmesi, herhangi bir yolla çoğaltılması, yayımlanması ya da kullanılması yasaktır. Bu yasağa uymayanlar gerekli cezai sorumluluğu ve testlerin hazırlanmasındaki mali külfeti peşinen kabullenmiş sayılır.

1. Hz.Muhammed kaç yılında vefat etmiştir?

- A) 596
- B) 615
- C) 632
- D) 710

2. Kur'anı Kerim hangi dilde gönderilmiştir?

- A) Arapça
- B) Samayetçe
- C) Farsça
- D) Latince

3. İbadetler kaç çeşittir?

- A) 2
- B) 3
- C) 4
- D) 5

4. Tevrat hangi peygambere gönderilmiştir?

- A) Hz. Davut
- B) Hz. Yusuf
- C) Hz. Eyüp
- D) Hz. Musa

5. Kıyametten sonra yeniden diriliş ile başlayan ve sonsuza kadar sürecek olan zamana ne ad verilir?

- A) Mizan
- B) Kaza
- C) Ahiret
- D) Haşır

6. Bayram namazı kaç rekâttır?

- A) 2
- B) 4
- C) 5
- D) 6

7. Kâbe'nin etrafında yedi kez dönmeye ne ad verilir?

- A) İhram
- B) Vakfe
- C) Tavaf
- D) Sa'y

8. Aşağıdakilerden hangisi vacip namazlardan biridir?

- A) Cenaze namazı
- B) Bayram namazı
- C) Yatsı namazı
- D) Cuma namazı

9. Tabiat olayları ile ilgilenen melek aşağıdakilerden hangisidir?

- A) Mikâil
- B) Münker
- C) Azrail
- D) İsrail

10. Kur'an da kaç sure vardır?

- A) 100
- B) 110
- C) 114
- D) 120

11. "Sırat-ı Müstakim" in kelime anlamı nedir?

- A) Müjdeli haber
- B) Güzel ahlâk
- C) Allah'ın birliği
- D) Doğru yol

12. Aşağıdakilerden hangisi Hz. Muhammed'in özelliklerinden biri değildir?

- A) Verdiği sözde durması
- B) Lüksü ve israfı sevmesi
- C) Zamanı iyi değerlendirmesi
- D) Hoşgörülü olması

13. Aşağıdakilerden hangisi farz namazlarından biri değildir?

- A) Cenaze namazı
- B) Sabah namazı
- C) Vitr namazı
- D) İkinci namazı

14. Kendisine kutsal kitap verilmeyip kendisinden önceki kitaplara uymak zorunda olan peygamberlere ne ad verilir?

- A) Nebi
- B) Veli
- C) Resul
- D) Sahabe

15. İslam dini kaç temel inanç esası üzerine kurulmuştur?

- A) 2
- B) 3
- C) 4
- D) 6

16. Sabah namazı kaç rekâttır?

- A) 2
- B) 4
- C) 8
- D) 10

17. Aşağıdakilerden hangisi dört büyük melekten biri değildir?

- A) Azrail
- B) İsrail
- C) Münker ve Nekir
- D) Mikâil

20. Kur'an okumak aşağıdakilerden hangisine bir örnektir?

- A) Sünnet
- B) Mubah
- C) Farz
- D) Vacip

18. Kur'an-ı Kerim'de kaç peygamberin adı geçmektedir?

- A) 13
- B) 25
- C) 37
- D) 48

19. Kâbe nerededir?

- A) Medine
- B) Kudüs
- C) Yemen
- D) Mekke

1. Özel birtakım boyalarla su üzerinde yapılan şekillerin kâğıda çıkarılmasıyla oluşan süsleme sanatı aşağıdakilerden hangisidir?
 - A) Hat
 - B) Tezhip
 - C) Minyatür
 - D) Ebru
2. Yüce Allah'a yakarışı ve kulun acizliğini ifade eden edebi eserlere ne ad verilir?
 - A) Tevhit
 - B) Münacat
 - C) Naat
 - D) Methiye
3. Görevli oldukları il ya da ilçelerde din hizmetlerinden birinci derece sorumlu olan ve din hizmetlerini, dinî müesseseleri yöneten ve din görevlilerinin hizmetlerini düzenleyip denetletleyen görevlilere ne ad verilir?
 - A) Müftü
 - B) Vaiz
 - C) Din İşleri Yüksek Kurulu Başkanı
 - D) İmam-Hatip
4. Hz. Muhammed'i öven edebi eserlere ne ad verilir?
 - A) Ebru
 - B) Mevlit
 - C) Naat
 - D) Tevhit
5. İslam tarihindeki ilk cami aşağıdakilerden hangisidir?
 - A) Kuba mescidi
 - B) Mescidi Nebi
 - C) Kubbetus Sahra
 - D) Kabe
6. Diyanet İşleri Başkanlığının kuruluş tarihi aşağıdakilerden hangisidir?
 - A) 3 Mart 1924
 - B) 29 Ekim 1923
 - C) 23 Nisan 1920
 - D) 19 Mayıs 1919
7. Türkiye'deki tüm camilerde hutbelerin Türkçe okunmaya başlandığı tarih aşağıdakilerden hangisidir?
 - A) 1932
 - B) 1938
 - C) 1944
 - D) 1948
8. Aşağıdakilerden hangisi dinin de etkisiyle ortaya çıkan mimari eserlerden biri değildir?
 - A) Cami
 - B) Medrese
 - C) Külliye
 - D) Naat
9. Aşağıdaki camilerden hangisi Edirne'de bulunur?
 - A) Ayasofya
 - B) Selimiye
 - C) Sultan Ahmet
 - D) Hasan Paşa İmareti
10. Aşağıdakilerden hangisi bir din görevlisi değildir?
 - A) Vaiz
 - B) Müftü
 - C) Öğretmen
 - D) İmam-Hatip
11. Aşağıdakilerden hangisi Diyanet İşleri Başkanlığı'nın dini yayınlarının temel amaçlarından biri değildir?
 - A) Hurafe ve yanlış inançlardan halkı korumak
 - B) Toplumun din konusunda bilgilendirmek
 - C) Toplumdaki bireylere okuma alışkanlığı kazandırmak
 - D) Dini, esas kaynaklarından doğru bir şekilde öğretmek
12. Aşağıdakilerden hangisi Süleyman Çelebinin Mevlididir?
 - A) Divan-ı Hikmet
 - B) Divan-ı Lugat-i Türk
 - C) Mesnevi
 - D) Vesilatün Necat
13. Ayetlerin, hadislerin veya dinî yazıların güzel ve estetik yazılması sanatına ne ad verilir?
 - A) Hüsnühat
 - B) Hat
 - C) Tezhip
 - D) Ebru
14. Kur'an-ı Kerim metninin hatasız ve eksiksiz basım ve yayımını sağlamak üzere kontrol edip onaylayan birim aşağıdakilerden hangisidir?
 - A) Hac Dairesi
 - B) Din İşleri Yüksek Kurulu
 - C) Tasfiye İşleri Genel Müdürlüğü
 - D) Mushafları İnceleme ve Kıraat Kurulu

15. İslam'daki evlilik anlayışıyla ilgili aşağıdaki ifadelerden hangisi yanlıştır?

- A) Evlilik insan şeref ve haysiyetini korumuştur.
- B) Neslin devamı ve korunması için evlilik esastır.
- C) Evlilik insani ve medeni bir muameledir.
- D) Boşanma zina sayılır ve yasaktır.

16. İlk Diyanet İşleri Reisi aşağıdakilerden hangisidir?

- A) M. Esad Coşan
- B) Mehmet Rifat Börekçi
- C) Mehmet Akif Ersoy
- D) Mehmet Görmez

17. Namaz vakitleri geldiğinde ezan okuyan, kamet getiren, caminin temizliği ve bakımı gibi görevlerde bulunan din görevlisi aşağıdakilerden hangisidir?

- A) Cemaat
- B) İmam
- C) Müezzin
- D) Vaiz

18. Evlilik ile ilgili aşağıdaki ifadelerden hangisi yanlıştır?

- A) Her toplum evlenmeyi kendi inanç ve kültürüne göre belirler.
- B) Hz. Muhammed'le başlayan evlilik günümüze kadar varlığını devam ettirmiştir.
- C) Çoğalma ve neslin devam etmesinin bir şartıdır.
- D) Doğal bir ihtiyaçtır.

19. Soyca veya evlilik sonucu aralarında bağ bulunanlara ne ad verilir?

- A) Hasım
- B) Yaren
- C) Hısım
- D) Dost

20. Aşağıdakilerden hangisi Diyanet İşleri Başkanlığı'na bağlı kurum ve kuruluşlardan biri değildir?

- A) Din Hizmetleri Dairesi
- B) Tasfiye İşleri Genel Müdürlüğü
- C) Mushafları İnceleme Kurulu
- D) Din İşleri Yüksek Kurulu

1. Aşağıdakilerin hangisinde iş planı yönetim aracı olarak kullanılmaz?

- A) İşletmenin evrelerine bağlı olarak takip edilecek yolların belirlenmesinde
- B) Gelişmenin değerlendirilmesinde
- C) Sonuçların izlenmesinde
- D) Yapılacak yatırımı cazip hale getirmede

2. Girişimcilerin hedefledikleri amaçlarına ulaşabilmek için uygulamaya karar verdikleri fikir yada fikirler bütününe ne ad verilir?

- A) Araştırma
- B) İş fikri
- C) Proje
- D) Analiz

3. Uzmanlık, bilgi ve deneyimi gerektiren proje faaliyetine ne ad verilir?

- A) Koordinasyon
- B) Çözümleme
- C) Fizibilite(Yapılabilirlik) çalışması
- D) Güdüleme

4. Aşağıdakilerden hangisi bir yatırım projesinin doğuşuna yol açacak ihtiyacı belirlemek için dikkat edilmesi gereken hususlardan biri değildir?

- A) Mevcut sanayilerin durumu
- B) İklim etkileri
- C) Toplumsal değişme eğilimleri
- D) Demografik veriler

5. Aşağıdakilerden hangisi yapılabirlik etüdünün ekonomik incelemede yapılan araştırmalarından biri değildir?

- A) Finansman giderlerinin belirlenmesi
- B) Ham madde analizi
- C) Ürün araştırması
- D) Kuruluş yeri seçimi

6. Aşağıdakilerden hangisi bir faaliyetin proje sayılması için gerekli olan şartlardan biri değildir?

- A) Belirli kaynakları tüketmeli ve sonucunda belirli çıktılar sağlamalıdır.
- B) Unsurları anlamında özgün ve tek olmalıdır.
- C) Proje mekânı belli olmamalıdır.
- D) Belirli bir zaman diliminde gerçekleşmelidir.

7. Aşağıdakilerden hangisi Anonim şirketin özelliklerinden biridir?

- A) İdarenin sorumluluğu kişiseldir.
- B) Ortakların ölümü veya ortaklıktan çekilmeleri şirketi etkiler.
- C) Ortaklık kolaylıkla devredilemez.
- D) Büyük sermaye toplama yeteneğine sahip olduğundan büyük işletmeler anonim şirket niteliğinde kurulur.

8. Aşağıdakilerden hangisi işletmenin temel özelliklerinden biri değildir?

- A) Üretim faktörlerini bir araya getirmesi
- B) Kâr sağlama
- C) Mal ve hizmet üretmesi
- D) Hammadde temin etmesi

9. Otomobil fabrikaları aşağıdaki işletmelerden hangisine örnektir?

- A) Ticaret işletmeleri
- B) Sanayi işletmeleri
- C) Finans işletmeleri
- D) Kiralama işletmeleri

10. Kâr amacıyla mal ve hizmet üretmek veya pazarlamak için üretim faktörlerini planlı, tutarlı ve akılcı bir sistemle bir araya getiren teknik ve ekonomik birime ne ad verilir?

- A) İşletme
- B) Sendika
- C) Piyasa
- D) Vakıf

11. Aşağıdakilerden hangisi işletmenin temel fonksiyonlarından biri değildir?

- A) Destekleyici fonksiyon
- B) Özendirici fonksiyon
- C) Kolaylaştırıcı fonksiyon
- D) Genel fonksiyon

12. Aşağıdakilerden hangisi sermaye kaynaklarının sağlanmasını ifade eder?

- A) Fizibilite
- B) Franchisor
- C) Finansman
- D) Finansal yönetim

13. Aşağıdakilerden hangisi adi şirketin özelliklerinden biri değildir?

- A) Şirket kârları bütün ortaklar arasında ve belirtilen oranlarda veya eşit olarak dağıtılır.
- B) Her ortağın şirket yönetiminde yetkisi vardır.
- C) Ortakların sorumlulukları taahhüt ettikleri sermaye ile sınırlıdır.
- D) Yönetim yetkisi ortaklardan birine birkaçına ya da dışardan birine bırakılabilir.

14. Kamu işletmelerinin yer aldığı işletme türü ayrımı aşağıdakilerden hangisidir?

- A) Ekonomik şekilleri bakımından işletmeler
- B) Hukuki şekilleri bakımından işletmeler
- C) İşleyişleri bakımından işletmeler
- D) Süreleri bakımından işletmeler

15. Türkiye'nin ekonomik ve sosyal ihtiyaçlarının karşılanmasında küçük ve orta ölçekli işletmelerin payını ve etkinliğini artırmak, rekabet güçlerini ve düzeylerini yükseltmek sanayide uyumunu ekonomik gelişmelere uygun biçimde gerçekleştirmek amacıyla kurulan kurum aşağıdakilerden hangisidir?

- A) KOSGEB
- B) BDDK
- C) TSKB
- D) SPK

16. Piyasada tanınmış yerleşmiş bir ismin ya da markanın işletme hakkını veren tarafa ne ad verilir?

- A) Franchisor
- B) Müteşebbis
- C) Franchisee
- D) Distribütörlük

17. Aşağıdakilerden hangisi internet üzerinden satışın başarıya ulaşması için dikkat edilmesi gereken konulardan biri değildir?

- A) Doğru işletme kuralları
- B) Doğru ihtiyaç tespiti
- C) Doğru mağaza yeri seçimi
- D) Doğru hedef kitle

18. I. Ticari defterini tasdik ettirme sorumluluğu
II. Ticari defteri saklama sorumluluğu
III. Sosyal güvenlik kurumuna karşı sorumluluğu

Yukarıdakilerden hangileri girişimcinin yasal sorumluluklarındandır?

- A) Yalnız I
- B) Yalnız II
- C) I ve II
- D) I,II ve III

19. Aşağıdakilerden hangisi Bayi ya da Distribütör'ü Franchising'ten ayıran özelliklerden biridir?

- A) Bayi ana şirkete para ödemez aksine satışları karşılığında para alır.
- B) Bayiler ulusal reklam ve tanıtım kampanyalarına katılmak zorundadır.
- C) Bayiler ana şirketin adıyla satış yapmak zorundadır.
- D) Bayiler ürünlerini sattıkları işletme ile aynı görüntüde olmak zorundadır.

20. Bir girişimcinin iş kurarken ekonomik istikrarsızlık engelini aşmasında aşağıdakilerden hangisi etkilidir?

- A) Grup çalışmasına önem vermek
- B) Çalışanların özgüvenini artırmak
- C) Motivasyonu güçlendirmek
- D) Sabitlenebilir değerleri tercih etmek

1. Aşağıdaki enerji kaynaklarından hangisinin çevreye zararı yoktur?
- A) Doğalgaz
B) Petrol
C) Taş kömürü
D) Güneş enerjisi
2. Akdeniz, Ege ve Marmara kıyılarında etkili olan, güneybatıdan esen sıcak ve kuru rüzgâr aşağıdakilerden hangisidir?
- A) Karayel
B) Lodos
C) Yıldız
D) Kible
3. Orta Doğu Bölgesi'nde aşağıdaki özelliklerden hangisi daha fazla ön plana çıkar?
- A) Zengin petrol rezervleri
B) Yer şekilleri
C) İklim özellikleri
D) Bitki örtüsü
4. Aşağıdaki akarsu havzalarından hangisi dışa akışı olmayan kapalı havza özelliğindedir?
- A) Sakarya Havzası
B) Menderes Havzası
C) Kızılırmak Havzası
D) Tuz Gölü Havzası
5. Aşağıdaki şehirlerden hangisi idari kent özelliğinde değildir?
- A) Madrid
B) İstanbul
C) Viyana
D) Berlin
6. Aşağıdaki şehirlerden hangisinde dağınık yerleşmelerin daha çok olduğu söylenebilir?
- A) Rize
B) Konya
C) Balıkesir
D) Eskişehir
7. Ekvatora uzaklıklarının yaklaşık olarak aynı olmasına rağmen Erzurum ve Balıkesir'in ortalama sıcaklıklarının farklı olmasının sebebi aşağıdakilerden hangisidir?
- A) Demografik yapısı
B) Yüzölçümleri
C) Bitki örtüsü
D) Yükselti
8. Aşağıdakilerden hangisi liman şehri değildir?
- A) İzmir
B) Denizli
C) İstanbul
D) Sinop
9. Aşağıdaki volkanik dağlardan hangisi İç Anadolu Bölgesi'nde, Kayseri şehri yakınlarındadır?
- A) Süphan
B) Nemrut
C) Erciyes
D) Tendürek
10. Aşağıdakilerden hangisi köy altı yerleşme tiplerinden biri değildir?
- A) Kasaba
B) Kom
C) Divan
D) Mezra
11. Türkiye'de yeryüzü şekilleri sade ve engebesiz olsaydı ülkede daha çok hangi iklim türünün yayılma alanının genişlemesi beklenirdi?
- A) Karasal
B) Muson
C) Akdeniz
D) Çöl
12. Akarsular tarafından derince yarılmış olan engebeli düzlüklere ne ad verilir?
- A) Ova
B) Yamaç
C) Plato
D) Kanyon
13. Aşağıdakilerden hangisi köy altı yerleşmelerinin oluşmasındaki başlıca etmenlerden biri değildir?
- A) Devlete ait arazilerin topraksız aileler tarafından kullanılması
B) Tarım arazilerinin yeterli olması ve birbirine yakın olması
C) Hayvanlar için otlak ve barınak temin edilmesi
D) Aileler arasında anlaşmazlıklar çıkması

14. İşlenmemiş (hammadde) ya da yarı işlenmiş maddelerin, fabrikalarda işlenerek kullanılabilir duruma getirilme işine ne ad verilir?

- A) Ulaşım sektörü
- B) Mesleki eğitim
- C) Ekonomik faaliyet
- D) Sanayi

15. İklim bölgeleri haritası incelendiğinde aşağıdaki ülkelerden hangisinin diğerlerinden farklı bir iklim özelliğine sahip olduğu söylenebilir?

- A) İngiltere
- B) Belçika
- C) Mısır
- D) İskoçya

16. Aşağıdakilerden hangisi, iklimi etkileyen özel konumla ilgili faktörlerden biri değildir?

- A) Ülkenin sınırları
- B) Etrafındaki kara kütleleri
- C) Basınç merkezleri
- D) Etrafındaki denizler

17. Aşağıdakilerden hangisi Türkiye'de görülen iklim çeşitlerinden biri değildir?

- A) Karasal iklim
- B) Akdeniz iklimi
- C) Karadeniz iklimi
- D) Tropikal iklim

18. Aşağıdakilerden hangisi zirvesinde takke buzulu olan Türkiye'nin en yüksek dağıdır?

- A) Ağrı
- B) Süphan
- C) Bozdağ
- D) Tendürek

19. Türkiye'de kayaların erimesiyle oluşan karstik şekiller hangi kayaçların bulunduğu yörelerde daha fazla oluşurlar?

- A) Bazalt
- B) Kireçtaşı
- C) Kumtaşı
- D) Andezit

20. Kıyı yakınındaki adaları kıyıya bağlayan kıyı kordonlarına ne ad verilir?

- A) Lagün
- B) Dolin
- C) Tombolo
- D) Obruk

1. **Yellowstone Ulusal Parkı** hangi ülkede bulunmaktadır?
- A) ABD
B) Avustralya
C) İngiltere
D) Almanya
2. **Aşağıdakilerden hangisi hidroelektrik santrallerinin sebep olduğu çevresel sorunlardan biri değildir?**
- A) Ekolojik sistemi bozması
B) Doğal, tarihi ve kültürel alanları sular altında bırakması
C) Atmosfere aşırı karbondioksit salınımı yapması
D) Tarım arazilerinde tuzlanma ve çoraklaşmaya neden olması
3. **Selimiye Camisi** aşağıdaki şehirlerden hangisinde bulunmaktadır?
- A) İstanbul
B) Edirne
C) Bursa
D) Tekirdağ
4. **Nükleer enerjiden elektrik üretme işlemi ilk olarak aşağıdaki ülkelerden hangisinde gerçekleştirilmiştir?**
- A) ABD
B) Almanya
C) Fransa
D) İngiltere
5. **Japonya ile ilgili aşağıdaki ifadelerden hangisi yanlıştır?**
- A) Çok sayıda depremlerin yaşandığı bir ülkedir.
B) Çok sayıda volkan bulunur.
C) Toplam arazisinin %70'i dağlarla kaplıdır.
D) Arazi yapısı geniş düzlüklerden oluşmaktadır.
6. **Aşağıdakilerden hangisi ABD'de sel ve taşkınların meydana geldiği nehirlerden biri değildir?**
- A) Mississippi
B) Amazon
C) Nil
D) Obi
7. **Rusya'da 1986 yılında meydana gelen nükleer kaza aşağıdaki isimlerden hangisi ile anılır?**
- A) Moskova
B) Thre Mile Island
C) Çernobil
D) Fukuşima
8. **Türk kültürü tarih boyunca aşağıdaki kültürlerin hangisinden etkilenmemiştir?**
- A) Yunan kültürü
B) Çin kültürü
C) Hint kültürü
D) İngiliz kültürü
9. **Türkiye'nin 1952 yılında üye olduğu ve yapılan anlaşma çerçevesinde Kore'ye asker gönderdiği örgüt aşağıdakilerden hangisidir?**
- A) BM
B) NATO
C) AET
D) OECD
10. **Katı atıklar sorununun giderilmesinde doğa ile en barışık yöntem aşağıdakilerden hangisidir?**
- A) Yakarak yok etmek
B) Toprağa gömmek
C) Geri dönüşüm
D) Dağlık alanlara depolamak
11. **Aşağıdakilerden hangisi arazi planlamalarında doğru sonuca ulaşmak için göz önünde bulundurulması gereken unsurlardan biri değildir?**
- A) Arazi yetenek sınıflandırması ile ilgili etütler yapılmalıdır.
B) İklim yapısı göz ardı edilmelidir.
C) Hedef tespit edilmelidir.
D) Bölge halkının gereksinimleri düşünülmelidir.
12. **Aşağıdakilerden hangisi Avrupa Birliği'nin temeli olan Avrupa Kömür ve Çelik Topluluğunun kurucu ülkelerinden biri değildir?**
- A) Fransa
B) Almanya
C) İngiltere
D) Lüksemburg

13. Karadeniz Ekonomik İşbirliği Teşkilatının çalışmalarına öncülük eden ve ilk toplantısını düzenleyen ülke aşağıdakilerden hangisidir?

- A) Rusya
- B) Türkiye
- C) Almanya
- D) Fransa

14. Kültür ile ilgili aşağıdaki ifadelerden hangisi vanlıştır?

- A) Kültür dinamikdir.
- B) Kültür sabittir ve değişmez.
- C) Bir kültürün doğduğu yere kültür ocağı denir.
- D) Her nesil miras olarak aldığı kültürü değiştirir ve geliştirir.

15. Aşağıdakilerden hangisi doğal kaynakların kullanımında etkili olan faktörlerden biri değildir?

- A) Kullanılan yöntem ve teknolojiler
- B) Doğal kaynağın potansiyeli
- C) İnsan ihtiyaçları
- D) Yeryüzü şekilleri

16. Aşağıdakilerden hangisi Dünyanın Yedi Harikasından biri değildir?

- A) Efes Antik Tiyatrosu
- B) Artemis Tapınağı
- C) İskenderiye Feneri
- D) Babil'in Asma Bahçeleri

17. Aşağıdakilerden hangisi OPEC'in kurucu üyelerinden biri değildir?

- A) ABD
- B) Suudi Arabistan
- C) Kuveyt
- D) Venezuela

18. Aşağıdakilerden hangisi çevre kirliliği sorununa neden olan faaliyetlerden biri değildir?

- A) Nüfus artışı
- B) Kentleşme
- C) Sanayileşme
- D) Aşırı ağaç dikimi

19. Turistlerin gittikleri yerleri toplumsal açıdan etkilemeleri ve aynı zamanda bu yerlerden etkilenmeleri, turizmin etkilerinden hangisi ile ilgilidir?

- A) Politik etkiler
- B) Çevresel ve ekolojik etkileri
- C) Ekonomik etkiler
- D) Sosyal kültürel etkiler

20. Çöplerden elektrik enerjisi üretme yöntemi aşağıdaki enerji türlerinden hangisinin kapsamına girer?

- A) Dalga enerjisi
- B) Hidrojen enerjisi
- C) Biyokütle enerjisi
- D) Jeotermal enerji

1. Aşağıdakilerden hangisi Güneydoğu Anadolu Projesi ile hedeflenen temel gelişmelerden biri değildir?

- A) Bölgeyi sanayi ve hizmet merkezi haline getirmek
- B) Bölge dışına yapılacak göçleri teşvik etmek
- C) Bölgede tarım ve hayvancılığın gelişimini sağlamak
- D) Bölgede istihdamı ve geliri artırmak

2. Aşağıdakilerden hangisi doğal mirastır?

- A) Efes Antik Kenti
- B) Çin Seddi
- C) Mısır Piramitleri
- D) İguaçu Çağlayanı

3. Dünya genelinde su sıkıntısı yaşayan ülkelerin çoğunluğu aşağıdaki bölgelerin hangisinde yer alır?

- A) Orta Doğu
- B) Kuzey Amerika
- C) Batı Avrupa
- D) Kuzey Avrupa

4. Aşağıdaki ülkelerden hangisi G-20 'ye üye değildir?

- A) Japonya
- B) Türkiye
- C) İran
- D) Brezilya

5. Aşağıdakilerden hangisi Türkiye'nin üyesi olduğu uluslararası ekonomik örgütlerden biri değildir?

- A) Uluslararası Para Fonu
- B) Birleşmiş Milletler
- C) Ekonomik Kalkınma ve İşbirliği Örgütü
- D) Dünya Bankası

6. Aşağıdakilerden hangisi Çin Halk Cumhuriyeti'nde görülen iklimlerden biridir?

- A) Akdeniz
- B) Ekvatorial
- C) Tundra
- D) Karasal

7. Enerji taşımacılığında ucuzluğu, güvenliği ve çevreyi düşünen ülkeler aşağıdaki taşımacılık türlerinden hangisini tercih etmektedirler?

- A) Boru hatları taşımacılığını
- B) Deniz yolu taşımacılığını
- C) Demir yolu taşımacılığını
- D) Kara yolu taşımacılığını

8. Aşağıdakilerden hangisi Türkiye'de kuruyup ortadan kalkan göllerden biridir?

- A) Van Gölü
- B) Manyas Gölü
- C) Kestel Gölü
- D) Tuz Gölü

9. Orta Doğu'da su rezervleri bakımından en avantajlı ülke aşağıdakilerden hangisidir?

- A) İran
- B) Türkiye
- C) Suriye
- D) Irak

10. Aşağıdakilerden hangisi Türkiye'de 1923-1963 yılları arasında uygulanan nüfus politikalarının dayanak noktalarından biri değildir?

- A) Tarımda makineleşmenin yetersiz olması
- B) Birinci Dünya Savaşı ve Kurtuluş savaşı nedeniyle erkek insan gücüne çok fazla ihtiyaç olması
- C) Fazla nüfusun bir ülke için siyasi ve askeri güç olarak görülmesi
- D) Orduda insan gücünden çok silah gücünün ön plana çıkması

11. Almanya'nın başkenti aşağıdakilerden hangisidir?

- A) Berlin
- B) Oslo
- C) Paris
- D) Viyana

12. Türkiye'nin 2020 yılında gerçekleşmesi beklenen nüfus miktarı aşağıdakilerden hangisidir?

- A) 100 milyon
- B) 95 milyon
- C) 90 milyon
- D) 85 milyon

13. 20. yüzyılın başlarında dünyada ilk kez yapay dölllenme programı uygulayarak Kuzey Amerika bizonunun soyunun tükenmesini engelleyen çevre koruma kuruluşu aşağıdakilerden hangisidir?

- A) Greenpeace
- B) Doğal Hayatı Koruma Derneği
- C) Uluslararası Doğa Koruma Birliği
- D) Dünya Dostları

14. I. Irak
II. Macaristan
III. Gürcistan
IV. Suriye

Yukarıdakilerden hangileri Türkiye'nin sınır komşuları arasında yer alır?

- A) I ve II
- B) II ve III
- C) I, III ve IV
- D) II, III ve IV

15. Türkiye'de aşağıdaki tarihlerden hangisine kadar nüfus artış hızını vükseltici politikalar uygulanmıştır?

- A) 1963
- B) 1955
- C) 1945
- D) 1933

16. Aşağıdakilerden hangisi jeolojik kökenli afetlerdendir?

- A) Sel
- B) Kuraklık
- C) Kasırga
- D) Deprem

17. Aşağıdakilerden hangisi uluslararası sıcak çatışmalara neden olan doğal unsurlardan biridir?

- A) Sınır sorunları
- B) Enerji kaynaklarının paylaşımı
- C) Bağımsızlık istekleri
- D) Ekonomik sorunlar

18. Aşağıdakilerden hangisi Hazar Bölgesi'nde yer alan ülkelerden biri değildir?

- A) Kazakistan
- B) Azerbaycan
- C) Suriye
- D) Türkmenistan

19. Aşağıdakilerden hangisi Türkiye' de fizibilite çalışmaları tamamlanan projelerden biri değildir?

- A) GAP
- B) DOKAP
- C) DAP
- D) ZBK

20. Aşağıdakilerden hangisi Doğu Karadeniz Bölgesel Gelişim Projesi (DOKAP) kapsamındaki illerden biri değildir?

- A) Rize
- B) Gümüşhane
- C) Giresun
- D) Samsun

1. $a_n = \frac{n+1}{2n-3}$ dizisinin kaçınıcı terimi 1'e eşittir?

- A) 3
- B) 4
- C) 5
- D) 6

2. $a_n = \frac{1-2^n}{3^n+8}$ dizisinin 3. terimi kaçtır?

- A) $-\frac{2}{3}$
- B) $-\frac{1}{3}$
- C) $-\frac{1}{5}$
- D) $-\frac{1}{8}$

3. Birinci terimi -3 ve ortak farkı 4 olan aritmetik dizinin 5. terimi kaçtır?

- A) 13
- B) 9
- C) 5
- D) 1

4. Birinci terimi 3 ve ortak farkı 5 olan 3, 8, 13,, 38 sonlu aritmetik dizinin terimler toplamı kaçtır?

- A) 164
- B) 144
- C) 124
- D) 114

5. İlk terimi 2 ve ilk üç teriminin toplamı 26 olan pozitif terimli geometrik dizinin 6. terimi kaçtır?

- A) $3 \cdot 2^5$
- B) $3 \cdot 2^6$
- C) $2 \cdot 3^5$
- D) $2 \cdot 3^6$

6. Bir geometrik dizide birinci terim 9 ve ortak çarpan $\frac{1}{3}$ ise dizinin 5. terimi kaçtır?

- A) 3
- B) 1
- C) $\frac{1}{3}$
- D) $\frac{1}{9}$

7. Genel terimi $a_n = \frac{2n+3}{7}$ olan aritmetik dizinin ortak farkı kaçtır?

- A) $\frac{2}{7}$
- B) $\frac{3}{7}$
- C) $\frac{4}{7}$
- D) $\frac{5}{7}$

8. Birinci terimi $-\frac{1}{2}$ ve ortak farkı 5 olan aritmetik dizinin genel terimi aşağıdakilerden hangisidir?

- A) $\frac{n-11}{2}$
- B) $\frac{5n+3}{2}$
- C) $\frac{n-1}{2}$
- D) $\frac{10n-11}{2}$

9. Bir kültürdeki bakteri sayısı her saat 3 katına çıkmaktadır. Başlangıçta 100 bakterinin bulunduğu bu kültürde 3 saatin sonunda bakteri sayısı kaçtır?

- A) 270
- B) 300
- C) 900
- D) 2.700

10. Yıllık 5.000 TL'ye kiraya verilen bir evin kirası her yıl % 10 artmıştır. Buna göre, 3 yılın sonunda elde edilen toplam kira bedeli kaç TL'dir?
- A) 16.550
B) 16.000
C) 15.450
D) 15.250
11. 5 basamaklı $3x5x6$ sayısı 12 ile tam bölünebildiğine göre x kaçtır?
- A) 1
B) 2
C) 5
D) 8
12. 60 litre su ve 36 litre yağ hiç artmayacak ve birbirine karışmayacak şekilde eşit hacimli kavanozlara doldurulacaktır. Buna göre en az kaç kavanoz gerekir?
- A) 12
B) 8
C) 5
D) 3
13. Boyutları 6 cm, 8 cm ve 20 cm olan tuğlalardan en az kaç tanesi ile bir küp oluşturulabilir?
- A) 1.800
B) 1.200
C) 600
D) 300
14. Elif kalemlerini üçer üçer saydığında 2 kalem, dörder dörder saydığında 3 kalem ve beşer beşer saydığında 4 kalem artıyor. Bu durumda Elif'in en az kaç kalemi vardır?
- A) 119
B) 59
C) 23
D) 19
15. Bir hemşire 8 günde bir nöbet tutuyor. Bu hemşire ilk nöbetini Salı günü tuttuğuna göre 10. nöbetini hangi gün tutar?
- A) Çarşamba
B) Salı
C) Pazartesi
D) Perşembe
16. Bir miktar para yıllık %20 basit faizle kaç ay sonra kendisinin $\frac{1}{5}$ i kadar faiz getirir?
- A) 24
B) 18
C) 12
D) 6
17. Yaşları 9 ve 12 olan iki çocuk 14 tane bilyeyi yaşları ile ters orantılı olarak paylaşacaktır.
- Buna göre 9 yaşındaki çocuk kaç bilye alır?**
- A) 12
B) 9
C) 8
D) 6
18. 100 metre uzunluğunda bir tel 3, 4, 6, 7 sayıları ile doğru orantılı olacak biçimde dört parçaya ayrılırsa en küçük parça kaç metre olur?
- A) 10
B) 15
C) 20
D) 25
19. Tuz oranı %15 olan 40 kg tuzlu su karışımına 2 kg tuz ve 8 kg su ilave edilirse yeni karışımın tuz oranı yüzde kaç olur?
- A) 15
B) 16
C) 20
D) 25
20. Üç kişi 100.000 TL'yi; birinci kişi paranın $\frac{1}{4}$ ünü, ikinci kişi kalan paranın $\frac{2}{3}$ ünü alacak şekilde paylaşacağına göre üçüncü kişi kaç TL alır?
- A) 25.000
B) 35.000
C) 50.000
D) 75.000

1. I. Sanayi öncesi kentler
II. Sanayi kentleri
III. Metropol kentler

Yukarıdakilerden hangileri tarihsel gelişimi açısından ele alınan kentlerdendir?

- A) Yalnız I
- B) I ve II
- C) II ve III
- D) I, II ve III

2. **Aşağıdakilerden hangisi köy öncesi dönemde toprağa yerleşme nedenlerinden biri değildir?**

- A) Bitkilerin yetiştirilmesi
- B) Üretim araç ve gereçlerinin geliştirilmesi
- C) Toplayıcılık ve avcılık alanlarının artması
- D) Hayvanların evcilleştirilmesi

3. **Küçük gruplarda bireyler arasındaki yaklaşma ve uzaklaşma modellerini açıklamayı sağlayan araştırma tekniği aşağıdakilerden hangisidir?**

- A) Sosyometri
- B) Olay inceleme
- C) Anket
- D) Mülakat

4. **"Enflasyon artarsa toplumsal sorunlar artar" varsayımı aşağıdakilerden hangisi ile ilgilidir?**

- A) Gözlem
- B) Genelleme
- C) Tümdengelim
- D) Tümevarım

5. **Aşağıdakilerden hangisi bilimin temel ilkelerinden biri değildir?**

- A) Olgulara dayanması
- B) Sübjektif olması
- C) Mantıksal olması
- D) Evrensel olması

6. **Ulus devletlerin ortaya çıkmasında etkili olan gelişme aşağıdakilerden hangisidir?**

- A) Coğrafi keşifler
- B) Yüzyıl savaşları
- C) Sanayi devrimi
- D) Rönesans hareketleri

7. **Aşağıdakilerden hangisi birincil gruplara örnektir?**

- A) Dernekler
- B) Arkadaş grupları
- C) Siyasal partiler
- D) Devlet

8. **Nüfusu çeşitli özellikleriyle inceleyen bilim dalı aşağıdakilerden hangisidir?**

- A) Sigolografi
- B) Antropoloji
- C) Demografi
- D) Filoloji

9. **Aşağıdakilerden hangisi toplumsal değerlerin yerine getirdiği işlevlerden biri değildir?**

- A) Statülerin belirlenmesinde önemli işlevlere sahiptir.
- B) Bireyler üzerindeki baskıları kaldırarak rahat davranmasını sağlar.
- C) Bireylerin toplumsal rollerini seçmelerinde ve gerçekleştirmelerinde rehberlik eder.
- D) Bireyler ya da gruplar tarafından ortak olarak benimsenip paylaşıldığı için dayanışmayı güçlendirir.

10. **Yağmacılar, fanatik spor taraftarları, linç girişiminde bulunan topluluklar aşağıdaki kalabalık türlerinden hangisine örnektir?**

- A) Gösteri
- B) Sıradan
- C) İzleyici ve dinleyici
- D) Etkin

11. Aşağıdakilerden hangisi toplumsal grupların özelliklerinden biri değildir?

- A) Farklı değerler etrafında birleşmiş olması
- B) Üyelerinin arasında iş bölümünün olması
- C) Gruba özgü kimlik geliştirmesi
- D) Göreli bir sürekliliğe sahip olması

12. Aşağıdakilerden hangisi bilimsel çalışmalara başlamadan önce uyulması gereken ilkelerden biri değildir?

- A) Konunun sınırlandırılması
- B) Soyutluk
- C) Nedensellik
- D) Bilmediğini varsayma

13. Bir toplumda olumlu olarak değerlendirilen davranış biçimlerinin, o toplumun üyelerince benimsenmesini sağlamayı amaçlayan yolların ya da önlemlerin tümüne ne ad verilir?

- A) Toplumsal normlar
- B) Toplumsal değerler
- C) Toplumsal kontrol
- D) Toplumsal roller

14. Okulda kendi çocuğunun öğretmeni olan bir kadının evde anne gibi davranması gerekirken öğretmen gibi davranması aşağıdakilerden hangisine örnektir?

- A) Rol pekiştirmesi
- B) Rol çatışması
- C) Rol yüceltmesi
- D) Rol yansıtması

15. Fiziki yapı, nüfus, toplumsal ilişkiler, kültür ve tabakalaşmanın karşılıklı ilişkiler içinde oluşturduğu bütüne ne ad verilir?

- A) Toplumsal statü
- B) Toplumsal tabakalaşma
- C) Toplumsal sistem
- D) Toplumsal hareketlilik

16. Aşağıdakilerden hangisi milleti oluşturan unsurlardan biri değildir?

- A) Siyaset birliği
- B) Toprak birliği
- C) Soy birliği
- D) Ekonomi birliği

17. I. Birey-birey ilişkisi
II. Birey-grup ilişkisi
III. Grup-grup ilişkisi

Yukarıdakilerden hangileri toplumsal ilişki türlerindedir?

- A) Yalnız I
- B) I ve II
- C) II ve III
- D) I, II ve III

18. Köy, iş yeri, okul gibi küçük grupların yaşam biçimlerini, toplumsal ilişkilerini, tutumlarını incelemeye yarayan veri toplama tekniği aşağıdakilerden hangisidir?

- A) Basit gözlem
- B) Yordama
- C) Sistemik gözlem
- D) Deneyleme

19. Aşağıdakilerden hangisi kentleri çekici kılan nedenlerinden biri değildir?

- A) Tüketim ürünlerinin bolluğu
- B) Cinsiyete dayalı doğal iş bölümünün olması
- C) Meslek edinme olanaklarının fazlalığı
- D) Daha iyi hayat standardına ulaşma olanağı

20. Aşağıdakilerden hangisi bir insan birlikteliğinin toplum olabilmesi için gerçekleşmesi gereken koşullardan biri değildir?

- A) İhtiyaçları karşılayan işlevlerin yerine getirilmesi
- B) Bireylerin birlikte yaşama isteğinin olması
- C) Değişmeye rağmen süreklilik göstermesi
- D) Farklı kültürel değerleri paylaşmış olması

1. Hikâyedeki olay ve olayların düğümlerinin çözüldüğü, merak edilen konuların ortadan kalktığı, bütün soruların cevaplandırıldığı bölüm aşağıdakilerden hangisidir?

- A) Sonuç
- B) Giriş
- C) Gelişme
- D) Düğüm

2. Epik sözcüğü, Türk dilinde aşağıdaki hangi adı almıştır?

- A) Masal
- B) Hikaye
- C) Destan
- D) Öykü

3. Aşağıdaki cümlelerin hangisinde topluluk ismi vardır?

- A) Zavallı kedicik çok acıkmıştı.
- B) Kızcağz bana karanfil göndermiş.
- C) Halk bu yaşananları heyecanla izledi.
- D) İstanbul Türkiye'nin en büyük şehridir.

4. Fazıl Hüsnü Dağlarca'nın yazdığı Çakırın Destanı adlı eser aşağıdaki destan türlerinden hangisine örnektir?

- A) Çağdaş destan
- B) Doğal destan
- C) Yapma destan
- D) Modern destan

5. Aşağıdaki cümlelerin hangisinde altı çizili sözcük küçültme eki almamıştır?

- A) Sevgili Aysecik, seni çok özledim.
- B) Bu güzel oyuncak bebeği satın aldım.
- C) Ayakkabıları o minicik ayaklarına çok yakışmış!
- D) Bu ufacık odada çok sıkıldım.

6. Aşağıdakilerden hangisi geçişli bir eylemdir?

- A) uyumak
- B) süslenmek
- C) unutmak
- D) gülmek

7. Aşağıdaki cümlelerin hangisinde üleştirme sayı sıfatı vardır?

- A) Provalar ikişer gün arayla yapılacak.
- B) Sekizinci katta oturuyoruz.
- C) Üçüncü listeye bakabilir miyim?
- D) Bir gün benim de bir evim olacak.

8. Aşağıdakilerden hangisi soyut bir sözcüktür?

- A) okul
- B) kıskançlık
- C) ev
- D) sandalye

9. Aşağıdaki cümlelerin hangisinde zaman ulacı kullanılmıştır?

- A) Çok yemek yediğinden fazla kilo alıyorsun.
- B) Parayı aldığımda size borcumu ödeyeceğim.
- C) Bu işleri kendimce yola koydum.
- D) Benimle görüşmeden hiçbir yere gitme.

10. Aşağıdaki cümlelerin hangisinde işaret zamiri kullanılmıştır?

- A) Ben ders çalışmak istiyorum.
- B) Hangisini okudum demiştin?
- C) Biri bize doğru yaklaşıyordu.
- D) O benim elmam.

11. Ciddi sayılan bir eserin bir bölümü veya bütünü alaya alarak, biçimini bozmadan ona bambaşka bir özellik vererek biçimle öz arasındaki bu ayrılıktan gülünç bir etki yaratan oyun türüne ne ad verilir?

- A) Kara Mizah
- B) Mizah
- C) Parodi
- D) İroni

12. Aşağıdaki cümlelerin hangisinde edat kullanılmıştır?

- A) Dün müzeye gittim.
- B) Çocuğun ağlaya ağlaya gözleri şişmişti.
- C) Yarın markete gidelim.
- D) Bütün mücadelem senin için değil mi?

13. Aşağıdaki cümlelerin hangisinde farklı türde bir zamir kullanılmıştır?

- A) Buraya kadar bisikletle gelmiş.
- B) Beni görünce hatırımı sordu.
- C) Size gelirken pasta alırsız.
- D) Onu da toplantıya çağırmaı unutma.

14. Aşağıdaki cümlelerdeki altı çizili sözcüklerin hangisinde özel bir isim kullanılmıştır?

- A) Kuşumuz Boncuk'u geçen yıl almıştık.
- B) Yazar, yeni kitabını çıkaracakmış.
- C) Öğleden sonra amcama gideceğim.
- D) Bu konuyu daha önce de görmüştük.

15. Esin dolu, coşkulu, içli bir dil ile yazılan şiir türü aşağıdakilerden hangisidir?

- A) Epik
- B) Lirik
- C) Pastoral
- D) Satirik

16. Aşağıdaki cümlelerin hangisinde küçültme eki cümleye "acıma" anlamı katmıştır?

- A) Kardeşçiyimi dünyalara değişmem.
- B) Küçücük elleriyle masayı hazırlıyor.
- C) Anneciğim, seni çok seviyorum.
- D) Çocukcağz hiçkırta hiçkırta ağlayınca çok üzüldüm.

17. Emir, telkin ve öneri anlamı taşıyan ifadelere yer verilen anlatım türü aşağıdakilerden hangisidir?

- A) Kanıtlayıcı anlatım
- B) Tartışmacı anlatım
- C) Açıklayıcı anlatım
- D) Emredici anlatım

18. Aşağıdaki eylemlerden hangisi işteş çatılıdır?

- A) gelmiş
- B) görüştük
- C) kırıldı
- D) kapandı

19. Betimleme ile ilgili aşağıdaki ifadelerden hangisi yanlıştır?

- A) Edebi bir tür değildir.
- B) Anlatıcının amacına göre üç gruba ayrılır.
- C) Bir şeyi söz ya da yazıyla göz önünde canlanacak şekilde anlatmadır.
- D) Anlatılanın, kendine özgü niteliklerinin tipik yanları ortaya konulmalıdır.

20. Aşağıdaki eylemlerden hangisi dilek kiplerinden biriyle çekimlenmiştir?

- A) görmüş
- B) okur
- C) söyleyebilsem
- D) soruyor

1. Aşağıdaki eser-yazar eşleştirmelerinden hangisi yanlıştır?

- A) İlme Doğru – Ziya Gökalp
- B) Sonbahar Türküsü – Ahmet Hamdi Tanpınar
- C) Dağ Çağırısı – Falih Rıfkı Atay
- D) Paris Kütüphaneleri – Adile Ayda

2. Aşağıdakilerden hangisi Cumhuriyet Dönemi fıkra yazarlarından biri değildir?

- A) Refik Halit Karay
- B) Halide Edip Adıvar
- C) Yusuf Ziya Ortaç
- D) Burhan Felek

3. Eserlerinde, Türkiye'nin Tanzimat'tan itibaren geçirdiği değişimleri anlatan hem Millî edebiyat hem Cumhuriyet dönemi romancılarından olan yazar aşağıdakilerden hangisidir?

- A) Yakup Kadri
- B) Sait Faik
- C) Sabahattin Ali
- D) Orhan Kemal

4. "Sokrates'in Savunması" adlı oyunun yazarı aşağıdakilerden hangisidir?

- A) Orhan Asena
- B) Turan Ofazoğlu
- C) Haldun Taner
- D) Aziz Nesin

5. Mustafa Kemal ile karşılaşan Ahmet Haşim'in izlenimlerini anlattığı fıkra yazısı aşağıdakilerden hangisidir?

- A) Paris Kütüphaneleri
- B) Ulu Önder
- C) Portreler
- D) Gazi

6. Bir insanın gezip gördüğü yerlerden edindiği izlenimleri, bilgileri aktardığı yazılara ne ad verilir?

- A) Gezi yazısı
- B) Deneme
- C) Fıkra
- D) Söylev

7. Aşağıdakilerden hangisi Türk edebiyatındaki ilk deneme yazarları arasında ver almaz?

- A) Cenap Şahabettin
- B) Ahmet Rasim
- C) Falih Rıfkı Atay
- D) Nurullah Ataç

8. İçeride dönük bir kişiliğe sahip olan şair, şiirlerinde büyük şehrin içinde kaybolmuş insanın kırıktı, karanlık, karmaşık duygularını yansıttı.

Yukarıda söz edilen şair aşağıdakilerden hangisidir?

- A) Melih Cevdet
- B) Behçet Necatigil
- C) Oktay Rifat
- D) Atilla İlhan

9. "Kırk Yıl" adlı anı kitabı aşağıdaki yazarlardan hangisine aittir?

- A) Ahmet Rasim
- B) Halit Ziya Uşaklıgil
- C) Hüseyin Cahit Yalçın
- D) Yahya Kemal Beyatlı

10. Deneme türü ile ilgili aşağıdaki ifadelerden hangisi yanlıştır?

- A) Yazar, düşüncelerini ispatlamak için uğraşır.
- B) Yazar duygularını kendi kendisiyle konuşur gibi yazar.
- C) Deneme, bir çırpıda okunabilecek uzunlukta olur.
- D) Yazarın kültür konularındaki birikimi okuyucunun olaylara farklı pencerelerden bakmasını sağlar.

11. Ruşen Eşref Üneydin'in Atatürk'ü anlattığı kitabı aşağıdakilerden hangisidir?

- A) Karalama Defteri
- B) İlme Doğru
- C) Hatıralar
- D) Çocukluğum

12. Aşağıdakilerden hangisi II. Dünya Savaşı yıllarında millî eğitim ve kültür alanında yapılan atılımlar arasında ver almaz?

- A) Dünya klasiklerinin çevrilmesi
- B) Tercüme Bürosunun kurulması
- C) Dinî ağırlıklı kitapların basımının artması
- D) Köy Enstitülerinin kurulması

13. Aşağıdakilerden hangisi iyi bir makalenin özellikleri arasında ver almaz?

- A) Makale yazarının söz oyunlarına başvurmaması
- B) Okuyucu ile sohbet havasında yazılması
- C) Öne sürülen düşüncenin inandırıcı bir biçimde geliştirilmiş olması ve kanıtlanabilmesi
- D) Anlatımın yalın ve yoğun olması

14. Gerçeküstücü üslupla Türk-İslam mistisizmini ifade eden orijinal şiirler yazan şair aşağıdakilerden hangisidir?

- A) Turgut Uyar
- B) Ece Ayhan
- C) Sezai Karakoç
- D) İlhan Berk

15. "Otuz Beş Yaş Şiiri" aşağıdaki şairlerden hangisine aittir?

- A) Ziya Osman Saba
- B) Yahya Kemal Beyatlı
- C) Ahmet Hamdi Tanpınar
- D) Cahit Sıtkı Tarancı

16. Aşağıdakilerden hangisi gezi yazılarının özelliklerinden biri değildir?

- A) Güçlü bir gözleme dayanması
- B) Anlatımda hikâye planına uygunluk gözetilmesi
- C) Gezi yazılarında anlatılanların hayal ürünü olması
- D) Yalın bir dil kullanılması

17. Tiyatro, roman ve hikâyelerinde toplumun aksayan yönlerini, olayları, tipleri gülünç gösteren bir mizah üslubuyla anlatan yazar aşağıdakilerden hangisidir?

- A) Tarık Buğra
- B) Yaşar Kemal
- C) Yakup Kadri Karaosmanoğlu
- D) Aziz Nesin

18. Beş Hececiler topluluğunun ortak özelliği aşağıdakilerden hangisidir?

- A) Halk şiiri geleneğinden yararlanmaları
- B) Süslü, kapalı bir söyleyişe yönelmeleri
- C) "Sanat sanat içindir." anlayışına bağlı kalmaları
- D) Şiirlerinde bireysel duygularını dile getirmeleri

19. İspinozlar, 72. Koğuş, Bekçi Murtaza, Kardeş Payı gibi kendi roman ve öykülerinden oyunlaştırdığı eserleriyle Türk tiyatrosunda toplumcu gerçekçi yaklaşımın başarılı örneklerini veren yazar aşağıdakilerden hangisidir?

- A) Yaşar Kemal
- B) Ahmet Kutsi Tecer
- C) Oktay Rifat
- D) Orhan Kemal

20. "Han Duvarları" adlı şiir aşağıdaki şairlerden hangisine aittir?

- A) Mehmet Emin Yurdakul
- B) Faruk Nafiz Çamlıbel
- C) Halit Fahri Ozansoy
- D) Enis Behiç Koryürek

1. Aşağıdakilerden hangisi hava kirliliğine neden olan gazlardan biri değildir?

- A) NO₂
- B) O₂
- C) SO₂
- D) CO₂

2. Aşağıdakilerden hangisi kömürleşme olayında oluşan kömürlerden biri değildir?

- A) Turba kömürü
- B) Linyit kömürü
- C) Toluen kömürü
- D) Taş kömürü

3. Mikroplardan arındırma amacıyla vücudun, mekanların, giysilerin ve döşemelerin temizlemesine ne ad verilir?

- A) Hidrofob
- B) Hijyen
- C) Koruyucu ve pH düzenleyici
- D) Antibiyotik

4. Kimya dilinde yağ asidi tuzlarına genel olarak ne denir?

- A) Sabun
- B) Tuz
- C) Yağ
- D) Asit

5. Aşağıdakilerden hangisi toprakta birincil besin elementlerinden (makro elementlerden) biri değildir?

- A) K (potasyum)
- B) P (fosfor)
- C) Hg (civa)
- D) N (azot)

6. Aşağıdakilerden hangisi kağıdın hammaddesidir?

- A) Selüloz
- B) Pigment
- C) Nişasta (dekstrin)
- D) Kalsiyum karbonat

7. "Temizleyici" anlamına gelen kelime aşağıdakilerden hangisidir?

- A) Kir
- B) Su
- C) Misel
- D) Deterjan

8. Aşağıdaki bileşiklerden hangisi süt şekeridir?

- A) Maltoz
- B) Laktoz
- C) Selüloz
- D) Sakkaroz

9. Aşağıdakilerden hangisi içme suyunda istenmeyen özellikler arasında yer almaz?

- A) Bulanıklık
- B) Renk
- C) Koku
- D) Kaynaktan çıkış anındaki sıcaklığı

10. Aşağıdaki ifadelerden hangisi kömürün yakıt olarak kullanılmasının sakıncalarından biridir?

- A) Kömür, yanarken kül ve diğer kirlenici maddeler (is, katran, vb) oluşarak çevreye ciddi zarar verir.
- B) Kömür, petrol ve doğal gazla oranla miktarı çok daha fazla olan enerji kaynaklarından biridir.
- C) Kömür, diğer fosil yakıtlara göre daha ucuzdur.
- D) Kömür, güvenli bir şekilde saklanabilir ve gerektiğinde enerji üretmek için kullanılır.

11. Aşağıdakilerden hangisi sulardaki ozonlamaya ait bir reaksiyondur?

- A) $Fe^{3+} + 3H_2O \rightleftharpoons Fe(OH)_3 \downarrow + 3H^+$
- B) $Al^{3+} + 3H_2O \rightleftharpoons Al(OH)_3 \downarrow + 3H^+$
- C) $Cl_2(g) + H_2O \rightleftharpoons HClO + HCl$
- D) $2O_3(suda) \rightleftharpoons 3O_2(suda)$

12. Aşağıdakilerden hangisi yakıt olarak kullanılan petrol ürünlerinden biri değildir?

- A) Fuel-Oil
- B) Gaz yağı
- C) Naftalin
- D) Dizel

13. Aşağıdakilerden hangisi bitkisel kaynaklardan elde edilen enerjidir?

- A) Hidrojen enerjisi
- B) Biyoenerji
- C) Hidroelektrik enerjisi
- D) Güneş enerjisi

14. Bikarbonatlardan ileri gelen sertliğe ne ad verilir?

- A) Geçici sertlik
- B) Yumuşak sertlik
- C) Kalıcı sertlik
- D) Karbonat sertliği

15. Barajlarda birikmiş suların potansiyel enerjisinden veya akarsuların kinetik enerjisinden yararlanarak elde edilen temiz enerji kaynağı aşağıdakilerden hangisidir?

- A) Rüzgâr-dalga enerjisi
- B) Jeotermal enerji
- C) Güneş enerjisi
- D) Hidroelektrik enerji

16. Tortul kayalar Al^{3+} , Fe^{2+} , Fe^{3+} , Ti^{3+} gibi yer kabuğunda bol bulunan katyonların çözülebilir bileşiklerini de içerdiği için, Ca^{2+} ve Mg^{2+} bakımından zengin sularda bu katyonlar da bulunur.

Yukarıdaki bilgiye göre bu tür sulara ne ad verilir?

- A) Sert su
- B) Soğuk su
- C) Sıcak su
- D) Yumuşak su

17. Aşağıdakilerden hangisi canlıların hayatlarını devam ettirmesi için enerji gerektiren süreçlerden biri değildir?

- A) Vücut içinde çeşitli maddelerin taşınması
- B) Düşünme, algılama gibi beyin faaliyetleri
- C) Vücut içinde, doğal maddelerin fotosentez ile daha basit moleküllere dönüştürülmesi
- D) Kasların kasılıp gevşemesi anlamına gelen mekanik hareketler

18. Aşağıdakilerden hangisi gıdalardaki besin maddelerinden biri değildir?

- A) Proteinler
- B) Hidrokarbonlar
- C) Yağlar
- D) Karbonhidratlar

19. Aşağıdakilerden hangisi toprak kirliliğinin nedenlerinden bir değildir?

- A) Çöpler
- B) Asit yağmurları
- C) Atmosferdeki oksijen oranının artması
- D) Kimyasal maddelerin döküldüğü kazalar

20. "Vücut dışındaki her hangi bir kısmın (dişler dâhil) temizlenmesi, güzelleştirilmesi, görünümünün değiştirilmesi veya hoş koku katmak amacıyla üretilmiş hazır ürünler ya da bunların hazırlanması için kullanılan ara maddeleri içine alan genel terim" aşağıdakilerden hangisidir?

- A) Termoplastik
- B) Polimer
- C) Monomer
- D) Kozmetik ürün

1. Kan plazmasında antikör bulunmayan kan grubu aşağıdakilerden hangisidir?

- A) B
B) AB
C) O
D) A

2. Bir türde bir karakter üzerine A1 A2 A3 A4 A5 olmak üzere beş alel gen etki etmektedir.

Buna göre bu karakter yönünden kaç çeşit genotip oluşabilir?

- A) 6
B) 9
C) 12
D) 15

3. Genlerin etkisiyle bireylerde ortaya çıkan dış görünüşe ne ad verilir?

- A) Alel gen
B) Genotip
C) Fenotip
D) Baskın karakter

4. Aşağıdakilerden hangisi eşey kromozomlarında ayrılmama sonucu oluşan hastalıklardan biri değildir?

- A) Daltonizm
B) Klinefelter
C) Turner
D) Süper dişi

5. Aşağıdakilerden hangisi Mendel'in çalışmalarında bezelye kullanmasının nedenlerinden biridir?

- A) Klorofil yoğunluğunun olması
B) Bezelyenin çok kısa zamanda döl vermesi
C) Bezelyenin kolay bulunabilmesi
D) Çok taneli olması

6. I. O geni çekinik özelliktir.
II. A ve B genleri eş baskındır.
III. Rh+ fenotipli bireyde genotip homozigot veya heterozigot olabilir.

Kan gruplarını belirleyen genlerle ilgili yukarıdaki ifadelerden hangileri doğrudur?

- A) I ve II
B) I ve III
C) II ve III
D) I, II ve III

7. Homozigot B kan grubundan bir kadınla, heterozigot A kan grubundan bir erkeğin doğacak çocuklarının alyuvarlarının yüzeyinde A antijeni bulunma olasılığı nedir?

- A) 0
B) 1/4
C) 1/2
D) 1

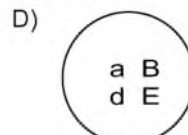
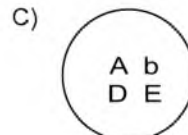
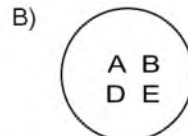
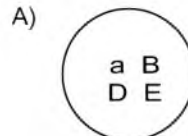
8. İnsanlarda kan uyumsuzluğunun görülebildiği durum aşağıdakilerden hangisidir?

- A) Anne Rh(-): Baba Rh(+) ise
B) Anne Rh(-): Baba Rh(-) ise
C) Anne Rh(+): Baba Rh(-) ise
D) Anne Rh(+): Baba Rh(+) ise

9. Aşağıdakilerden hangisi modifikasyona yol açabilen çevresel faktörlerden biri değildir?

- A) Besin
B) Nemlilik
C) Sıcaklık
D) Dominant gen

10. AaBBDdEE genotipli bir dişi bireyde aşağıdaki yumurta hücrelerinden hangisi olusmaz?



11. Bir popülasyonun diğer popülasyonlarla genetik alışverişinin kesilmesine ne ad verilir?

- A) İzolasyon
- B) Doğal seçim
- C) Modifikasyon
- D) Mutasyon

12. Aşağıdakilerden hangisi popülasyondaki genlerin frekansının değişmesine yol açan faktörlerden biri değildir?

- A) Mutasyon
- B) İzolasyon
- C) Göç
- D) Transkripsiyon

13. Hardy-Weinberg kuralına göre bir karakteri belirleyen baskın ve çekinik genin frekans toplamının 1'e eşit olduğunu gösteren denklem aşağıdakilerden hangisidir?

- A) $p+q=1$
- B) $p^2+2pq+q^2=1$
- C) $p^2+2pq=1$
- D) $q^2+2pq=1$

14. Mutasyonlarla gen havuzundaki alel genlerin frekansının değişmesi aşağıdaki olaylardan hangisine sebep olur?

- A) Popülasyon hızı yavaşlar.
- B) Popülasyon kararsız hale geçer.
- C) Popülasyonda azalma görülür.
- D) Popülasyonda artış görülür.

15. 800 kişilik bir popülasyonda 72 kişi çekinik karakteri fenotipte taşıyor ise, bu popülasyonda çekinik gen frekansı kaçtır?

- A) 0,3
- B) 0,4
- C) 0,5
- D) 0,7

16. Aşağıdakilerden hangisi gen klonlamasında kullanılan enzimlerden biridir?

- A) Fosfataz
- B) Ligaz
- C) İnsülin
- D) Plazmit

17. Aşağıdakilerden hangisi biyolojik yöntemlerle elde edilen ürünlerden biri değildir?

- A) Süt ürünleri
- B) Kumaş ve dokuma ürünleri
- C) Kirli suların arıtımı
- D) Leke çıkarıcı enzim içeren deterjanlar

18. Aşağıdakilerden hangisi DNA izolasyonunda kullanılan DNA enzimlerinden biri değildir?

- A) Polimeraz
- B) Restriksiyon endonokleaz
- C) Monokleaz
- D) Fosfataz

19. Belirli bir DNA bölümünün kesilerek bir vektör içerisine konulması ve daha sonra bakteri içerisinde çoğaltılması işlemlerine ne ad verilir?

- A) Genetik bozulma
- B) Gen transferi
- C) Genetik yapılandırma
- D) Gen klonlaması

20. Kesilmiş bir DNA parçacığının yabancı DNA parçacığı ile birleştirilmesi sonucu ortaya çıkan DNA'ya ne ad verilir?

- A) Transgenik DNA
- B) Rekombinant DNA
- C) Mikroorganizmal DNA
- D) Biyokül DNA

1. Üç değerli mantığa göre aşağıdakilerden hangisi doğrudur?

- A) p "belirsiz" ve q "belirsiz" ise, $p \rightarrow q$ "belirsiz" olur.
 B) p "doğru" ve q "belirsiz" ise $p \rightarrow q$ "yanlış" olur.
 C) p "yanlış" ve q "yanlış" ise, $q \vee q$ "yanlış" olur.
 D) p "belirsiz" ve q "belirsiz" ise $p \wedge q$ "yanlış" olur.

2. Varlık mantığı ile ilgili aşağıdaki ifadelerden hangisi yanlıştır?

- A) Özdeşlik mantığının mantık değişmezlerine "var" sözcüğünün eklenmesiyle elde edilmiştir.
 B) Vardır şeklinde ifade edilen mantık değişmezi "E" sembolüyle gösterilir.
 C) Hem gerçek hem de gerçek olmayan dünyalardaki varlıklar üzerine önermeler oluşturur.
 D) Gerçek dünyada var olmayan varlıkları da ad olarak ele alır.

3. Aşağıdaki önermelerden hangisi bir totolojidir?

- A) $\sim p \Leftrightarrow p$
 B) $p \vee p$
 C) $p \wedge \sim p$
 D) $p \Rightarrow p$

4. Eleştirel düşünme ile ilgili aşağıdaki ifadelerden hangisi yanlıştır?

- A) Eleştirel düşünmede kanıtlar, duygulara ve ön yargılara bağlıdır.
 B) Bir olay ya da düşüncenin doğru olup olmadığını anlamak için yapılan sistemli düşünme biçimidir.
 C) Tümdengelim, tümevarım ve analogiye dayanılarak yapılır.
 D) Akıl ilkelerine ve bilimsel yöntemle ispatlanmış bilgilere dayanır.

5. "Ceren sevimli ve akıllıdır." önermesi niceleme mantığında nasıl sembolleştirilir?

- A) $\forall xFx$
 B) $Fa \Rightarrow Ga$
 C) $Fa \wedge Ga$
 D) $\exists x \wedge Ga$

6. Aşağıdaki önerme çiftlerinden hangisi birbirleriyle tutarlıdır?

- A) $\forall xFx, \sim Fa$
 B) $\sim \exists xFx, Fa$
 C) $Ga, \sim Ga$
 D) $\exists xGx, \exists x \sim Gx$

7. $p \vee q$ önermesinin eşdeğeri olan önerme aşağıdakilerden hangisidir?

- A) $\sim(\sim p \wedge \sim q)$
 B) $p \Rightarrow q$
 C) $p \Leftrightarrow q$
 D) $p \wedge q$

8. Önerme ile ilgili aşağıdaki ifadelerden hangisi yanlıştır?

- A) Her tutarlı önerme geçerlidir.
 B) Basit bir önerme bir ad, bir yüklem ve bir bağdan oluşur.
 C) Bir önermenin doğruluk tablosundaki tüm yorumlamaları yanlışsa önerme tutarsızdır.
 D) Bir bileşik önermede birden fazla önerme eklemi bulunabilir.

9. Aşağıdakilerden hangisi mantık felsefesinin incelediği sorunlardan biri değildir?

- A) Bilginin kaynağı ile ilgili sorunlar
 B) Mantık kavramıyla ilgili sorunlar
 C) Mantık değişmezleriyle ilgili sorunlar
 D) Doğruluk ve varlıkla ilgili sorunlar

10. Doğadaki bir varlık sistemi ile ilgili ortaya konan önermelere ne ad verilir?

- A) Tümevarım
 B) Topikler
 C) Kanıt
 D) Bilimsel Teori

11. "Uçan halı vardır." önermesi varlık mantığında nasıl sembolleştirilir?

- A) $\square p$
 B) $E! a$
 C) $a \equiv b$
 D) $a \equiv a$

12. $\sim \exists xGx$ önermesinin eşdeğeri aşağıdakilerden hangisidir?

- A) $\exists xGx$
 B) $\sim \forall xGx$
 C) $\sim \exists x \sim Gx$
 D) $\forall x \sim Gx$

13. Kiplik mantığına göre, “üç artı altının dokuz etmesi zorunludur ama ısınan havanın yükselmesi mümkündür.” önermesinin sembolleştirilmiş hali aşağıdakilerden hangisidir?

- A) $\square q \wedge \diamond p$
 B) $\diamond p \wedge \square q$
 C) $\square p \rightarrow \diamond p$
 D) $\diamond p \leftrightarrow \square q$

14. “İnsanlar paylaşmayı severlerse rahat diyalog kurarlar hem de dürüst ilişkiler yaşarlar.” önermesinde kaç tane önerme eklemi ve bileşen kullanılmıştır?

- A) Bir önerme eklemi, bir bileşen
 B) İki önerme eklemi, üç bileşen
 C) Üç önerme eklemi, bir bileşen
 D) Dört önerme eklemi, dört bileşen

15. “Kar yağarsa okullar tatil olmaz.” önermesi, önermeler mantığında nasıl sembolleştirilir?

- A) $q \Rightarrow p$
 B) $p \Leftrightarrow \sim q$
 C) $\sim p \Rightarrow q$
 D) $p \Rightarrow \sim q$

16. Önermelerin ikiden fazla değere sahip olabileceklerini kabul eden mantık sistemine ne ad verilir?

- A) Tikel Özelleme
 B) Varlık Mantığı
 C) Çok Değerli Mantık
 D) Tümel Özelleme

17. Aşağıdaki önermelerden hangisi p:Yanlış, q:Yanlış kabul edildiğinde “Doğru” değerini alır?

- A) $p \Leftrightarrow q$
 B) $\sim p \Rightarrow q$
 C) $p \vee q$
 D) $p \wedge q$

18. Aşağıdaki önermelerden hangisi ikili yüklemli bir önermedir?

- A) Ezgi, Ezel ve Zeynep'ten şişmandır.
 B) Ayşe çalışkandır.
 C) Gözde ve Yusuf evlidir.
 D) Hüseyin keman çalar.

19. “Ya kilo alacaksın ya da az yemek yiyeceksin.” önermesi, önermeler mantığında nasıl sembolleştirilir?

- A) $p \Leftrightarrow q$
 B) $p \vee q$
 C) $p \wedge q$
 D) $p \Rightarrow q$

20. Aşağıdaki önermelerden hangisi geçerlidir?

- A) $\forall xFx \vee \forall xGx$
 B) $\forall xFx \vee \sim \forall xFx$
 C) $\sim (\exists xGx \rightarrow \forall xGx)$
 D) $\exists xGx \wedge \exists xHx$

1. Daha çok el yazması kitaplarda boya ve yıldız kullanılarak ışık, gölge, boyut ve perspektif verilmeden yapılan resimlere ne ad verilir?
 - A) Minyatür
 - B) İllüstrasyon
 - C) Ebru
 - D) Karikatür
2. Eski Türk resim sanatının en eski örnekleri hangi uygarlığa aittir?
 - A) Uygur
 - B) Hun
 - C) Göktürk
 - D) Karahanlı
3. Aşağıdakilerden hangisi Birinci Ulusal Mimarlık Akımı mimarlarından?
 - A) Emin Onat
 - B) Vedat Dolakay
 - C) Mimar Kemalettin
 - D) Orhan Arda
4. 14. yüzyıl sonu 15. yüzyıl başlarında İznik'te üretilen, kirli beyaz astar üzerine mavi geometrik desenler, stilize bitki, bulut motifleri ve hayvan figürleriyle bezenen Osmanlı seramikleri hangi isimle anılır?
 - A) Kütahya seramikleri
 - B) Haliç işi seramikler
 - C) Şam işi seramikler
 - D) Milet işi seramikler
5. Aşağıdakilerden hangisi Orhun anıtlarından biri değildir?
 - A) Tonyukuk Anıtı
 - B) İstemi Han Anıtı
 - C) Kül Tigin Anıtı
 - D) Bilge Kağan Anıtı
6. Aşağıdaki sanatçılardan hangisi D Grubu içerisinde ver almaz?
 - A) Abidin Dino
 - B) Cemal Tollu
 - C) Nuri İyem
 - D) Nurullah Berk
7. Divriği Ulu Camisi ve Şifahanesi hangi beyliğe aittir?
 - A) Danişmendliler
 - B) Mengücekliler
 - C) Artuklular
 - D) Saltuklular
8. Elhamra Sarayı aşağıdaki ülkelerden hangisinde yer almaktadır?
 - A) İtalya
 - B) İspanya
 - C) İran
 - D) Suriye
9. Türk cami mimarisinde son cemaat yeri hangi dönemde ortaya çıkmıştır?
 - A) Osmanlı Dönemi
 - B) Anadolu Selçuklu Dönemi
 - C) Büyük Selçuklu Dönemi
 - D) Beylikler Dönemi
10. İstanbul Taksim Cumhuriyet Anıtı aşağıdaki sanatçılardan hangisine aittir?
 - A) Kenan Yontuğ
 - B) Pietro Canonica
 - C) Ali Hadi Bara
 - D) Heinrich Krippel
11. Revaklı avlu Osmanlı camilerinde ilk kez hangi yapıda kullanılmıştır?
 - A) İstanbul Fatih Camisi
 - B) Bursa Ulu Camisi
 - C) İstanbul Süleymaniye Camisi
 - D) Edirne Üç Şerefeli Camisi
12. Aşağıdakilerden hangisi İslam dünyasının bilinen ilk türbe yapısıdır?
 - A) Kubbet'üs Süleybiye Türbesi
 - B) Arap Ata Türbesi
 - C) Sultan Sencer Türbesi
 - D) Aslan Cazip Türbesi
13. Aşağıdakilerden hangisi bir Uşak halısı tipi değildir?
 - A) Madalyonlu
 - B) Kuşlu
 - C) Yıldızlı
 - D) Çiçekli
14. Anadolu Selçuklu Dönemi mimarisinde kubbenin ayaklar üzerinde taşındığı, cephelerin dört yöne kemerlerle açıldığı çokgen ya da kare gövdeli türbeler hangi tip içerisinde değerlendirilir?
 - A) Eyvan tipi türbeler
 - B) İki katlı türbeler
 - C) Baldaken tipi türbeler
 - D) Kare gövdeli türbeler

15. Aşağıdakilerden hangisi Memlük mimarisinin Kahire'deki en ünlü eseridir?

- A) Baybars Camisi
- B) El Ezher Camisi
- C) Kordoba Camisi
- D) Ümeyye Camisi

16. "Kubbet'üs Sahra" aşağıdaki uygarlıklardan hangisine aittir?

- A) Abbasi
- B) Memlük
- C) Fatımi
- D) Emevi

17. Hangisi yol üstlerinde gelip geçen yolcuların ve kervanların dinlenmeleri, güvenliklerinin sağlanması amaçlarıyla inşa edilen Karahanlı yapılarına verilen isimdir?

- A) Bedesten
- B) Medrese
- C) Han
- D) Ribat

18. Çinilerle bezendiği için Avrupalılarca "Mavi Cami" olarak adlandırılan Osmanlı camisi aşağıdakilerden hangisidir?

- A) İstanbul Süleymaniye Camisi
- B) İstanbul Sultan Ahmet Camisi
- C) Bursa Ulu Camisi
- D) Edirne Selimiye Camisi

19. İlk kez Abbasiler tarafından uygulanmış, desenin oksitli bir karışımla işlendiği ve sarı ve kahverengi tonlarda olduğu çini tekniği aşağıdakilerden hangisidir?

- A) Lüster
- B) Çini mozaik tekniği
- C) Minai
- D) Sır altı tekniği

20. Şamanizm, Budizm ve Manihaizm etkisinde göçebe bozkır halkının gündelik yaşantısını doğaüstü tasvirlerle yansıttığı gri ve grinin tonlarının hakim olduğu eserleri ile ünlü, 15. yüzyılda yaşamış ressam aşağıdakilerden hangisidir?

- A) Nigari
- B) Matrakçı Nasuh
- C) Mehmet Siyah Kalem
- D) Şerafeddin Sabuncuoğlu

1. Daniel Levinson'a göre yaşlılık döneminin başlangıcı kaç yaşır?

- A) 60
- B) 65
- C) 70
- D) 85

2. Aşağıdakilerden hangisi gelişmeyi etkileyen unsurlardan biri değildir?

- A) Öğrenme
- B) Büyüme
- C) Olgunlaşma
- D) Değişim

3. Hukuk kurallarının kişilere tanıdığı yetkiye ne ad verilir?

- A) Hak
- B) Sorumluluk
- C) Mevzuat
- D) Görev

4. Aşağıdakilerden hangisi gelişmenin büyümeden farklı özelliklerinden biridir?

- A) Ağırlığın artması
- B) Baş çevresinin büyümesi
- C) Vücut kitlesinin artması
- D) Kişinin kendini ifade etmesi

5. Kişinin hasta veya engelli olmaması durumuna ne ad verilir?

- A) Ruhsal iyilik hali
- B) Bedensel iyilik hali
- C) Sosyal iyilik hali
- D) Başarı iyilik hali

6. Aşağıdakilerden hangisi hormonal bozukluklara bir örnektir?

- A) Altıparmaklılık
- B) Gut hastalığı
- C) Hipotiroidizm
- D) Böbrek taşı

7. Aşağıdakilerden hangisi yaşlılık döneminde daha çok erkeklerde görülen hastalıklardan biridir?

- A) Görme bozuklukları
- B) İşitme kaybı
- C) Romatizma
- D) Yüksek tansiyon

8. Aşağıdakilerden hangisi koruyucu sağlık hizmetlerinden biri değildir?

- A) Sağlıklı beslenme alışkanlıklarının kazandırılması hizmetleri
- B) Aile planlaması hizmetleri
- C) Sağlık eğitimi hizmetleri
- D) Günü birlik tedavi hizmetleri

9. Tütünde bağımlılık yapan esas madde aşağıdakilerden hangisidir?

- A) Amonyak
- B) Nikotin
- C) Metanol
- D) Kadmiyum

10. Sevgi göstermeme, aşağılama, devamlı eleştirme aşağıdaki aile içi şiddet davranışlarından hangisine bir örnektir?

- A) Duygusal istismar
- B) Ekonomik istismar
- C) İhmal
- D) Fiziksel şiddet

11. Besin öğelerine göre sınıflamada aşağıdakilerden yiyeceklerden hangisi diğerlerinden farklı grupta yer alır?

- A) Sos
- B) Baharat
- C) Salça
- D) Makarna

12. Aşağıdakilerden hangisi sağlığa zarar veren zayıflama yöntemlerinden biri değildir?

- A) Şok diyetler
- B) Diyetisyenlerin önerdikleri kişiye özel diyetler
- C) Tek tip besine dayalı diyetler
- D) Diüretik ilaç kullanımları

13. Sigara bırakma danışma hattı aşağıdakilerden hangisidir?

- A) ALO 171
- B) ALO 156
- C) ALO 155
- D) ALO 110

14. Aşağıdakilerden hangisi iletişim engellerinden biri değildir?

- A) Yönlendirmek
- B) Konuyu saptırmak
- C) Ben dili kullanmak
- D) Çözüm önerisi getirmek

15. "Sınavım kötü geçti ama diğer sınavlara daha iyi hazırlanabilirim" tarzındaki düşünce yapısı aşağıdaki stresle başa çıkmada etkili yöntemlerden hangisine bir örnektir?

- A) Sosyal etkinlikleri geliştirme
- B) Zaman yönetimi
- C) Zihinde canlandırma
- D) Aşırı genellemelerden kaçınma

16. Alkol ile ilgili aşağıdaki ifadelerden hangisi **vanlıştır**?

- A) Alkolün vücutta oluşturduğu ısı cilt ve solunum yoluyla kaybedilir.
- B) Alkol içildiğinde kalın bağırsakta parçalanır.
- C) İçilen alkol idrar ve ter yoluyla vücuttan atılır.
- D) Alkol içildiğinde midede ve ince bağırsakta hızla emilerek kana karışır.

17. **Beden kitle indeksi kaç olan bireyler zayıf kabul edilir?**

- A) 18,5'in altı
- B) 18,5 - 24,9 arası
- C) 25 - 30 arası
- D) 30'un üzeri

18. **İletiyi oluşturan bir yol veya araç ile hedef kitleye ulaştıran iletişim birimine ne ad verilir?**

- A) Alıcı
- B) Kanal
- C) Kaynak
- D) Mesaj

19. **Küçük dozlarda madde kullanımına bağlı olarak kişinin bedeninde ortaya çıkan etkiyi yakalayabilmek için maddenin dozunu zaman içerisinde artırma gereksinimine ne ad verilir?**

- A) Pasif içicilik
- B) Yoksunluk sendromu
- C) Tiryakilik
- D) Tolerans gelişimi

20. **Bireylerin hasta olmalarını engellemek için yapılan hizmetler bütününe ne ad verilir?**

- A) Sağlık reformu
- B) Sağlığın geliştirilmesi
- C) Sağlığın korunması
- D) Sağlık eğitimi

1. Taşıt yolunu bölünmüş yol durumuna getiren ayırıcı anlamına gelen yol çizgisi aşağıdakilerden hangisidir?

- A) Kesik yol çizgisi
- B) Devamlı yol çizgisi
- C) Yan yana iki devamlı yol çizgisi
- D) Kesikli ve devamlı yol çizgisi

2. Trafik kazalarında olay yerine ışıklı işaret veya yansıtıcı cihazlar konulmasının amacı aşağıdakilerden hangisidir?

- A) Diğer sürücülerin dikkatini çekerek uyararak
- B) Çok sayıda yaralının olduğunu bildirmek
- C) Trafik yoğunluğunu düzenlemek
- D) Kaza yerindeki trafik akışını durdurmak.

3. Bakımı yapılmamış bir aracın egzozundan daha fazla kirletici gaz çıkar ve havaya karışır.

Yukarıdaki durumun öncelikle sebep olduğu kirlilik türü aşağıdakilerden hangisidir?

- A) Su
- B) Hava
- C) Toprak
- D) Gürültü

4.



Yukarıdaki trafik görevlisinin verdiği işaretin anlamı nedir?

- A) Yolun trafiğe açık olması hali
- B) Trafiğin bütün istikametlere kapanma hali
- C) Yön tayini işareti
- D) Trafiği hızlandırma işareti

5. Aşağıdakilerden hangisi yolculara ait kaza sebeplerinden biri değildir?

- A) Habersiz inilmesi binilmesi
- B) Aşırı hız yapılması
- C) Taşıttan sarkılması
- D) Taşıttan atlanması

6. Aşağıdakilerden hangisi trafikte zorunlu "durma" nedenlerinden biri değildir?

- A) Görevli kişilerce verilen sesli, işaretli dur emrine uyulması
- B) Işıklı trafik işaret cihazında kırmızı ışığın yanması
- C) Trafik işaret levhalarının anlamına uyulması
- D) Yol tarifi alınması

7. Aşağıdakilerden hangisi kara yolu çeşitlerinden biri değildir?

- A) Tek yönlü kara yolu
- B) Bölünmüş kara yolu
- C) İki yönlü kara yolu
- D) Taşıt kara yolu

8. Kara yolları Trafik Yönetmeliği'nin öngörmüş olduğu azami hız sınırlarını % kaç oranında aştığı tespit edilen sürücülere cezai işlem yapılmaz?

- A) 10
- B) 15
- C) 17
- D) 20

9. Yapılan denetimlerde, aracın tescili yapılmadan trafiğe çıktığı tespit edildiğinde uygulanacak ceza aşağıdakilerden hangisidir?

- A) Para cezası
- B) Aracı trafikten men cezası
- C) Hafif hapis ve para cezası
- D) Ağır hapis cezası

10. Araçlarda emniyet kemerinin zorunlu olmasının nedeni aşağıdakilerden hangisidir?

- A) Kaza anında ölüm ve yaralanmaların en aza indirilmesi
- B) Denetimlerde herhangi bir sorun yaşanmaması
- C) Kazaların önlenmesi
- D) Sürücülerin dikkatinin artırılması

11.



Yukarıdaki trafik tanzim işaretinin anlamı aşağıdakilerden hangisidir?

- A) Mecburi ortalama hız
- B) Azami hız sınırlaması
- C) Mecburi asgari hız
- D) Hız sınırlaması sonu

12. Aksine bir durum yoksa, yol çizgileri ile belirlenmiş yaya geçitlerinin bulunduğu yerlerde geçiş önceliği aşağıdakilerden hangisine aittir?

- A) Sürücülere
- B) Yolculara
- C) Yayalara
- D) Bisikletlilere

13. I. Kriko
II. Buz kazıyıcı
III. Bijon anahtarı
IV. Çekme halatı

Yukarıdakilerden hangileri araçlarda bulundurulması gerekli olan yedek malzeme ve takımlardandır?

- A) Yalnız I
- B) I ve II
- C) I, III ve IV
- D) I, II, III ve IV

14. Araçların durma ve duraklama halleri dışında, genelde uzun süreli bekletilmek üzere bırakılmasına ne ad verilir?

- A) Dinlenme
- B) Duraklama
- C) Bekleme
- D) Park etme

15. Gece banketli bir yolu kullanmak zorunda kalan yayanın aşağıdakilerden hangisini yapması yanlıştır?

- A) El feneri taşınması
- B) Açık renkte elbise giymesi
- C) Gidiş yönüne göre sağ bankette yürümesi
- D) Üzerinde yansıtıcı bulundurulması

16. Sürücülerin önlerinde giden araçla aralarında tutmak zorunda oldukları güvenli ve yeterli mesafeye ne ad verilir?

- A) Geçiş mesafesi
- B) Takip mesafesi
- C) Görüş mesafesi
- D) İntikal mesafesi

17. Kara yollarından yararlanan sürücü ve yayalar, aşağıdakilerden hangisinin ikaz ve uyarılarına öncelikle uymak zorundadır?

- A) Yol çizgisi
- B) Trafik görevlisi
- C) Işıklı trafik işaret cihazı
- D) Trafik işaret levhası

18. I. Aynı istikamete giden kişilerle araç müşterek kullanılmalı
II. Kısa mesafelerde araç kullanılmamalı
III. Mümkün olduğunca, toplu taşıma araçları (metro, tramvay, otobüs, dolmuş, vb.) tercih edilmeli
IV. Trafiğin yoğun olduğu saatler tercih edilmeli

Yukarıdakilerden hangileri özel araçların gereksiz kullanımının yol açtığı zararları azaltmak için yapılması gerekenlerdendir?

- A) Yalnız I
- B) I ve II
- C) I, II ve III
- D) I, II, III ve IV

19. Aşağıdakilerden hangisi öndeki aracı geçmek için uygun yerlerden biridir?

- A) Tepe üstü
- B) Hemzemin geçit
- C) Kavşak
- D) Kesik çizgili yol kesimi

20. Tescil işlemleri tamamlanmış araçların trafiğe çıkarılmasına müsaade eden ve muayene sürelerini belirleyen belgeye ne ad verilir?

- A) Mali sorumluluk sigorta belgesi
- B) Sürücü belgesi
- C) Motorlu araç muayene belgesi
- D) Motorlu araç trafik belgesi

1. Aşağıdakilerden hangisi eşeysiz ürer?

- A) Balık
- B) Kuş
- C) Terliksi hayvan
- D) Kurbağa

2. Dıştan tek sıralı hücre tabakasıyla çevrili, içi sıvı dolu bir küreye benzeyen embriyo evresi aşağıdakilerden hangisidir?

- A) Organogenez
- B) Morula
- C) Gastrula
- D) Blastula

3. Aşağıdakilerden hangisi spermin yapısında ver almaz?

- A) Folikül
- B) Akrozom
- C) Kamçı
- D) Çekirdek

4. Mitoz bölünme gerçekleşirken kromozomların mikroskopta en belirgin görüldüğü evre aşağıdakilerden hangisidir?

- A) Anafaz
- B) Profaz
- C) Metafaz
- D) Telofaz

5. Rejenerasyon ile ilgili aşağıdaki ifadelerden hangisi yanlıştır?

- A) Omurgalılarda rejenerasyon bir yaranın iyileşmesi, doku veya hücre onarımı şeklinde gerçekleşir.
- B) İnsanda rejenerasyon deri, karaciğer, dil, mide ve kırılan kemiklerin onarılmasında gözlenir.
- C) Denizanası, toprak solucanı, denizyıldızı ve planaryada rejenerasyonla üreme gözlenir.
- D) Hayvanların gelişmişlik düzeyi arttıkça rejenerasyon yeteneği artar.

6. Aşağıdakilerden hangisi folik asit eksikliğinde karşılaşılan sorunlardan biri değildir?

- A) Annede anemi
- B) Annede aşırı kilo alımı
- C) Nöral tüp defektleri
- D) Düşük doğum ağırlıklı bebekler

7. Ceninin tıbbi adı aşağıdakilerden hangisidir?

- A) Koriyon
- B) Morula
- C) Fetüs
- D) Blastomer

8. Eşey ana hücrelerinin diploit yapısı aşağıdakilerden hangisiyle sembolize edilir?

- A) 2n
- B) 4n
- C) 6n
- D) 8n

9. Dişi üreme sisteminde vajinayı döl yatağına bağlayan bölge aşağıdakilerden hangisidir?

- A) Over
- B) Endometrium
- C) Fallopi tüpü
- D) Serviks

10. Kanser tedavisiyle ilgili bilim dalı aşağıdakilerden hangisidir?

- A) Onkoloji
- B) Patoloji
- C) Endokrinoloji
- D) Hematoloji

11. Canlıların zarar gören kısımlarını onarmasına ne ad verilir?

- A) Polip
- B) Rejenerasyon
- C) Medüz
- D) Metagenez

12. Sürünücü gövde ile üreyen bitki türü aşağıdakilerden hangisidir?

- A) Zencefil
- B) Patates
- C) Çilek
- D) Soğan

13. İki bitki parçasının kaynaştırılıp tek bir bitkiymiş gibi büyüyecek şekilde birleştirilmesine ne ad verilir?

- A) Döl değişimi
- B) Tomurcuklanma
- C) Rejenerasyon
- D) Aşılama

14. Medüz aşağıdakilerden hangisinin diğer adıdır?

- A) Denizanası
- B) Terliksi hayvan
- C) Toprak solucanı
- D) Planarya

15. İnsanda menstrual döngü vaklasık kaç gündür?

- A) 16
- B) 24
- C) 28
- D) 36

16. Hidra ve mercan gibi omurgasızlarda görülen eşeysiz üreme türü aşağıdakilerden hangisidir?

- A) Tomurcuklanma
- B) Sporla üreme
- C) Bitkilerde vejetatif üreme
- D) Bölünerek üreme

17. Aşağıdakilerden hangisi cinsel yolla bulaşan hastalıklardan biridir?

- A) Tüberküloz
- B) Difteri
- C) Grip
- D) HPV

18. Dişi ve erkek gametin birleşmesi sonucu zigot oluşmasına ne ad verilir?

- A) Plazmit
- B) Döllenme
- C) Cross-over
- D) Konjugasyon

19. Biri anadan diğeri babadan gelen şekil ve büyüklükleri aynı olan kromozomlara ne ad verilir?

- A) Homolog kromozom
- B) Cross-over
- C) Metafaz
- D) İnterfaz

20. Her bir homolog kromozom çiftinin bir araya gelerek oluşturduğu dört kromatitli yapıya ne ad verilir?

- A) Mayoz
- B) Tetrat
- C) Plazmit
- D) Anafaz

1. Topkapı Sarayı'nın bir bölümü olan Enderun ile ilgili aşağıdaki ifadelerden hangisi vanlıştır?

- A) Sarayın iç bölümünde yer alırdı.
- B) Saray kadınlarının eğitim ve öğretimi burada yapılırdı.
- C) Devletin ihtiyaç duyduğu devlet adamları burada yetiştirilirdi.
- D) Büyük oda, küçük oda, seferli odası, Doğancılar odası, hazine odası, kiler odası ve has oda olmak üzere yedi bölümden oluşurdu.

2. Divan-ı Hümayun hangi padişah zamanında kurulmuştur?

- A) Orhan Bey
- B) Osman Bey
- C) I. Murat
- D) II. Mehmet

3. Aşağıdakilerden hangisi dirlik sisteminin uygulanmasının sağladığı faydalardan biri değildir?

- A) Araziden daha iyi faydalanılmış ve üretimin artması sağlanmıştır.
- B) Hazineden para harcanmadan her an savaşa hazır bir ordu beslenmiştir.
- C) Devlet, üretimi denetim altına almış ve sürekliliğini sağlamıştır.
- D) Dirlik sisteminin uygulanması merkezi otoriteyi zayıflatmıştır.

4. 1256 yılında Hülagü Han tarafından İran ve çevresinde kurulan siyasal güç aşağıdakilerden hangisidir?

- A) Moğol İmparatorluğu
- B) Bizans İmparatorluğu
- C) İlhanlılar
- D) Trabzon İmparatorluğu

5. Aşağıdakilerden hangisi coğrafi keşiflerin sonuçlarından biri değildir?

- A) Avrupa'da bilgin ve sanatçıları himaye eden mesen sınıfının oluşması
- B) Sömürge imparatorluklarının kurulması
- C) Ticaretle uğraşan burjuva sınıfının güçlenmesi
- D) Atlas Okyanusu kıyısındaki limanların önemini kaybetmesi

6. I. Murat zamanında kurulan ve kapıkulu askerlerinin en itibarlı sınıfını oluşturan askeri birlik aşağıdakilerden hangisidir ?

- A) Topçu Ocağı
- B) Yeniçeri Ocağı
- C) Cebeci Ocağı
- D) Acemi Ocağı

7. İlk Osmanlı medresesi nerede açılmıştır?

- A) Bursa
- B) Edirne
- C) Kütahya
- D) İznik

8. Aşağıdakilerden hangisi İstanbul'un fethinin Türk tarihi açısından sonuçlarından biri değildir?

- A) Orta Çağ'ın sona erip, Yeni Çağ'ın başlaması
- B) Osmanlıların İslam dünyası üzerindeki saygınlığının artması
- C) İstanbul'un, Osmanlı Devleti'nin başkenti olması
- D) Osmanlı Devleti'nin yükselme dönemine girmesi

9. Bir devlet başkanının kayıtsız şartsız egemenliğine dayanan yönetim şekli aşağıdakilerden hangisidir?

- A) Merkantilizm
- B) Teokrasi
- C) Mutlakiyet
- D) Oligarşi

10. Osmanlı Devleti ve İran arasında imzalanan ilk antlaşma aşağıdakilerden hangisidir?

- A) Küçük Kaynarca
- B) Ferhat Paşa
- C) Zıstovi
- D) Amasya

11. Aşağıdakilerden hangisi Niğbolu Savaşı'nın sonuçlarından biri değildir?

- A) Macarların etkisiz hale getirilmesi
- B) Halife'nin, Yıldırım Bayezid'e "Anadolu'nun Sultanı" unvanını vermesi
- C) Osmanlı Devleti'nin Avrupa üzerindeki baskısının artması
- D) Osmanlı birliklerine Makedonya yolunun açılması

12. Türklerin Orta Asya'dan beri oluşturarak Anadolu'ya getirdikleri ve babadan oğula sürdürdükleri sözlü edebiyat türüne ne ad verilir?

- A) Garip edebiyatı
- B) Halk edebiyatı
- C) Tasavvuf edebiyatı
- D) Divan edebiyatı

13. Akdeniz'de üstünlüğün tamamen Osmanlılara geçtiği savaş aşağıdakilerden hangisidir?

- A) Preveze Deniz Savaşı
- B) Cerbe Deniz Savaşı
- C) Sapienza Deniz Savaşı
- D) İnebahtı Deniz Savaşı

14. İstanbul'u kuşatan ilk Osmanlı padişahı aşağıdakilerden hangisidir?

- A) I. Murat
- B) Orhan Bey
- C) Yıldırım Bayezit
- D) II. Mehmet

15. Vasvar Antlaşması kimler arasında imzalanmıştır?

- A) Osmanlı Devleti – İngiltere
- B) Osmanlı Devleti – Avusturya
- C) Avusturya – Fransa
- D) Almanya – Rusya

16. Otlukbeli Savaşı kimler arasında yapılmıştır?

- A) Osmanlı – Akkoyunlular
- B) Karamanoğulları – Memlukler
- C) Akkoyunlular – Karamanoğulları
- D) Osmanlı – Karahanlılar

17. Avrupada'ki mezhep çatışmalarının devletler arası bir sorun olmaktan çıkmasını sağlayan antlaşma aşağıdakilerden hangisidir?

- A) Münster
- B) Suza
- C) Vestfalya
- D) Saint Germain

18. IV. Mehmet zamanında yeniçerilerin ayaklanması sonucu otuz kadar devlet adamının idamıyla sonuçlanan olay aşağıdakilerden hangisidir?

- A) Vaka-i hayriye
- B) Vaka-i vakvakiye
- C) 31 Mart olayı
- D) Celali ayaklanması

19. İstanbul kuşatması sırasında Bizans'a gelecek yardımı engellemek için Anadolu Hisarı'nı yaptıran padişah aşağıdakilerden hangisidir?

- A) Yıldırım Bayezid
- B) I. Mehmet
- C) II. Mehmet
- D) I. Murat

20. Aşağıdakilerden hangisi 14. yüzyıl başlarında Yakın Doğu'da yer alan devletlerden biri değildir?

- A) Altın Orda
- B) Memluk
- C) Saksonya
- D) Bizans

1. Aşağıdakilerden hangisi sıcak su kaynaklarının yaygın olduğu bölgeler arasında yer almaz?
A) Cezayir
B) Kanada
C) Malezya
D) Yeni Zelanda
2. Kalkerli arazi içinde suların eritme ve aşındırması sonucu meydana gelen yer altı boşluklarına ne ad verilir?
A) Tünel
B) Oyuk
C) Mağara
D) Kovuk
3. Aşağıdakilerden hangisi kimyasal tortul kayalardan biri değildir?
A) Alçı taşı
B) Kaya tuzu
C) Kum taşı
D) Kireç taşı
4. Aşağıdakilerden hangisi sıcak su kaynaklarının kullanıldığı alanlardan biri değildir?
A) Konutların ısıtılması
B) Elektrik enerjisi üretimi
C) Kültür balıkçılığı
D) Bahçe sulaması
5. Aşağıdakilerden hangisi iç püskürük kayaç türlerinden biri değildir?
A) Diorit
B) Andezit
C) Siyenit
D) Granit
6. Aşağıdakilerden hangisi dünyada nüfus yoğunluğunun fazla olduğu yerlerden biridir?
A) ABD'nin doğu kıyıları
B) Kutup çevresi
C) Dönenceler çevresi
D) Himalaya dağları
7. Volkanik alanlarda, yerin derinliklerindeki sıcak gazların uyguladığı basıncın etkisiyle sıcak su ve buhar şeklinde püskürerek yeryüzüne çıkan sulara ne ad verilir?
A) Artezyen
B) Moren
C) Laterit
D) Gayzer
8. Aşağıdaki ülkelerin hangisinde buzul göllerine rastlanmaz?
A) Endonezya
B) Danimarka
C) Kanada
D) Norveç
9. Rüzgârların taşıyarak biriktirdiği malzemelerden oluşan toprak türü aşağıdakilerden hangisidir?
A) Lösler
B) Litoseller
C) Regoseller
D) Morenler
10. Aşağıdakilerden hangisi nüfusun dağılışını etkileyen doğal faktörlerden biri değildir?
A) Yer şekilleri
B) Ulaşım
C) İklim
D) Toprak
11. Aşağıdakilerden hangisi makiyi oluşturan bitki türlerinden biri değildir?
A) Zakkum
B) Sedir
C) Kocayemiş
D) Defne
12. Aşağıdakilerden hangisi en çok beyin göçü alan ülkeler arasında yer almaz?
A) İsviçre
B) Kanada
C) Fransa
D) Almanya

13. Türkiye'nin en çok işçi gönderdiği ülke aşağıdakilerden hangisidir?

- A) Amerika
- B) Fransa
- C) İngiltere
- D) Almanya

14. İlk insanların barınaklarının mağara, kaya sığınaklarının olduğu, geçimlerini avcılık yaparak sağladıkları, küçük gruplar halinde ve göçebe olarak yaşadıkları dönem aşağıdakilerden hangisidir?

- A) Kalkolitik Çağ
- B) Mezolitik Çağ
- C) Paleolitik Çağ
- D) Neolitik Çağ

15. Karstik arazilerin mağara tavanlarının çökmesiyle oluşan çukurlara ne ad verilir?

- A) Polye
- B) Dolin
- C) Labya
- D) Obruk

16. Aşağıdakilerden hangisi Türkiye'nin iç kesimlerinde yer alan platolardan biri değildir?

- A) Cihanbeyli
- B) Çatalca
- C) Haymana
- D) Obruk

17. Aşağıdakilerden hangisi üçüncül ekonomik faaliyetler arasında ver almaz?

- A) Muhasebe
- B) Pazarlama
- C) Bankacılık
- D) Reklam yayıncılığı

18. Aşağıdakilerden hangisi Türkiye'de fazla yağış alan yerlerden biri değildir?

- A) Ergene havzası
- B) Yıldız dağları
- C) Batı Karadeniz
- D) Menteşe yöresi

19. Aşağıdakilerden hangisi Türkiye'nin matematik konumunun sonuçlarından biri değildir?

- A) Güneş ışınlarının dik açıyla gelmemesi
- B) Aynı anda tek bir ortak saatin kullanılması
- C) Yakın bir jeolojik zamanda oluşması
- D) Orta kuşakta eyer alması

20. Aşağıdakilerden hangisi gelişmiş ülkelerin özelliklerinden biri değildir?

- A) Nüfusun çoğunluğunun kentlerde yaşaması
- B) Nüfus artış hızının düşük olması
- C) Sanayi ürünlerinin ithal edilmesi
- D) Milli gelirin yüksek olması

1. Hacmi 36π m³ olan bir kürenin yarıçapı kaç m'dir?

- A) 9
B) 6
C) 4
D) 3

2. Gerçek yüksekliği 300 m olan bir kulenin bir fotoğraftaki yüksekliği 2 cm'dir. Buna göre fotoğraf gerçek uzunluğu hangi oranda küçültmüştür?

- A) $\frac{1}{15}$
B) $\frac{1}{150}$
C) $\frac{1}{1.500}$
D) $\frac{1}{15.000}$

3. Yarıçapı yüksekliğinin $\frac{1}{4}$ ü kadar olan bir dik dairesel silindirin hacmi 32π cm³ olduğuna göre yarıçapı kaç m'dir?

- A) 6
B) 4
C) 3
D) 2

4. Silindir biçiminde bir kaptaki su vardır. Bu kaptaki suyun içine küp şeklinde bir cisim atılınca kaptaki su seviyesi 27 birim yükseliyor. Sonra kaba küp şeklinde bir cisim daha atılıyor. Bu sefer su 1 birim yükseliyor. Her iki cisimde tamamen su içinde kaldığına göre küplerin ayrıtlarının oranı kaçtır?

- A) 2
B) 3
C) 6
D) 9

5. Yarıçapı 4 cm olan küre şeklinde cam bir aksesuar, küp şeklinde bir kutunun içine konarak paketlenilecektir. Kürenin taşınırken kırılmasını önlemek amacıyla tüm yüzlerine konulacak köpükler için, kutu ile küre arasında minimum 1 cm boşluk kalması isteniyor.

Buna göre küpün hacmi en az kaç cm³ tür?

- A) 32
B) 64
C) 512
D) 1.000

6. Dikdörtgenler prizması şeklindeki bir deponun içine seramik kolileri yerleştirilecektir. Deponun ayrıtları 3 m, 5 m ve 6 m'dir. Seramik kolileri ise ayrıtları 30 cm, 30 cm ve 20 cm olan kare prizma şeklindedir. Buna göre depoya en çok kaç koli yerleştirilebilir?

- A) 500
B) 5.000
C) 50.000
D) 500.000

7. Alanı 81π m² olan daire şeklindeki bir havuzun çevresi kaç m'dir?

- A) 6π
B) 9π
C) 18π
D) 36π

8. Ölçeği 1/150.000 olan bir haritada 5 cm'lik bir uzunluk gerçekte kaç km'dir?

- A) 7,5
B) 15
C) 75
D) 750

9. 1/1.000 ölçekli bir krokide alanı 5 cm² olan bir binanın gerçek alanı kaç m² dir?

- A) 5.000.000
B) 5.000
C) 500
D) 50

10. Üç madeni para birlikte atıldığında 2 yazı ve bir tura gelme olasılığı kaçtır?

- A) $\frac{1}{5}$
B) $\frac{1}{4}$
C) $\frac{1}{2}$
D) $\frac{3}{8}$

11. 3 kırmızı, 5 mavi ve 7 yeşil kalemde rastgele 3 tanesi seçiliyor. Kalemlerden üçünün de farklı renk olma olasılığı kaçtır?

- A) $\frac{1}{15}$
 B) $\frac{3}{13}$
 C) $\frac{7}{15}$
 D) $\frac{3}{5}$

12.

Günler	Süre
Pazartesi	1 saat
Salı	2 saat
Çarşamba	2 saat
Perşembe	3 saat
Cuma	3 saat
Cumartesi	1 saat
Pazar	2 saat

Yukarıdaki tabloda bir sporcunun haftanın günlerine göre çalıştığı süreler verilmiştir.

Tabloya göre çalışma sürelerinin aritmetik ortalaması kaç saattir?

- A) 1
 B) 2
 C) 3
 D) 7

13. Bir torbada aynı büyüklükte 3 kırmızı ve 4 beyaz top vardır. Bu torbadan, çekilen top torbaya tekrar bırakılmamak koşulu ile, rastgele iki top çekildiğinde iki topun da kırmızı olma olasılığı kaçtır?

- A) $\frac{1}{7}$
 B) $\frac{3}{7}$
 C) $\frac{4}{7}$
 D) $\frac{2}{3}$

14. 5 kız ve 7 erkek öğrenciden 4 kişi seçilecektir. Seçilen 4 kişiden 3'ünün kız olma olasılığı kaçtır?

- A) $\frac{14}{99}$
 B) $\frac{2}{9}$
 C) $\frac{2}{7}$
 D) $\frac{7}{11}$

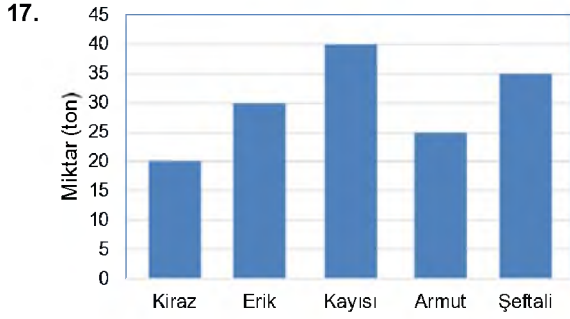
15. Bir torbada 4 kırmızı, 6 beyaz bilye vardır. Çekilen ilk bilye tekrar torbaya bırakılmak koşulu ile; bu torbadan art arda çekilen iki bilyenin ikisinin de kırmızı olma olasılığı kaçtır?

- A) $\frac{2}{25}$
 B) $\frac{4}{25}$
 C) $\frac{2}{5}$
 D) $\frac{4}{5}$

16. Bir serada yıllık 10 ton domates, 5 ton biber, 5 ton kabak ve 10 ton patlıcan yetiştirilmiştir.

Buna göre bu veriler dairesel grafikte gösterildiğinde; biberi belirten daire diliminin merkez açısı kaç derece olur?

- A) 30°
 B) 60°
 C) 120°
 D) 135°



Yukarıdaki grafikte bir üreticinin bir yılda ürettiği meyve miktarları verilmiştir.

Bu grafiğe göre; 1 yılda üretilen erik miktarı üretilen toplam meyve miktarının yüzde kaçdır?

- A) 15
B) 20
C) 25
D) 30

18. ve 19. soruları aşağıdaki tabloya göre cevaplayınız.

Ürün İsmi	2012 Yılı Ürün Sayısı	2013 Yılı Ürün Sayısı
Gömlek	360	400
Pantolon	450	600
Elbise	350	650
Etek	300	550
Ceket	390	600
Kazak	550	750

Yukarıdaki tabloda 2012 ve 2013 yıllarında bir mağazada çeşidine göre satılan ürün miktarları verilmiştir.

18. Buna göre satış miktarı 2013 yılında 2012 yılına göre en çok artan ürün aşağıdakilerden hangisidir?

- A) Gömlek
B) Pantolon
C) Elbise
D) Etek

19. Buna göre 2012 yılında satılan ürünler dairesel grafikte gösterildiğinde; gömlekleri gösteren daire diliminin merkez açısı kaç derece olur?

- A) 30°
B) 45°
C) 54°
D) 75°

20. Bir madeni para ve bir zar birlikte atılıyor. Paranın yazı ve zarın 3 gelme olasılığı kaçtır?

- A) $\frac{1}{12}$
B) $\frac{1}{6}$
C) $\frac{1}{3}$
D) $\frac{1}{2}$

1. Aşağıdakilerden hangisi sempozyumun özelliklerinden biri değildir?
- A) Sempozyumlarda alınan kararların bilimsel değer taşıması
B) Aynı konunun farklı bakış açılarıyla ele alınması
C) Sempozyum bildirilerinin genellikle yayımlanan bir yazı türü olması
D) Bir başkana ihtiyaç duymaması
2. Bir kitabın veya derginin kişi, konu, yer adı gibi içindikileri yer numarasıyla belirten ve eserin sonunda yer alan alfabetik listeye ne ad verilir?
- A) Dokümantasyon
B) Kaynakça
C) İndeks
D) Dipnot
3. Aşağıdakilerden hangisi konferansın özelliklerinden biridir?
- A) Emredici anlatım türünü kullanması
B) Ön hazırlık gerektirmemesi
C) Sadece sanat konularında verilmesi
D) Amacının dinleyicileri bilgilendirmek olması
4. Bilimsel makalelerde araştırma sonucu elde edilen bulguların açık ve anlaşılır bir şekilde ortaya konduğu, tartışılıp genelleştirildiği, başka çalışmalarla ilişkilendirildiği ve çalışmanın günlük hayattaki yeri ve önemi üzerinde durulduğu bölüme ne ad verilir?
- A) Asıl metin
B) Sonuç ve tartışma
C) Özet
D) Başlık
5. Aşağıdakilerden hangisi açık oturum planında ver almaz?
- A) Deney
B) Açık oturumun yapılış nedeni
C) Konuşma özetleri
D) Konuşmacılara sorulacak sorular
6. Aşağıdakilerden hangisi makale ile bilimsel yazıların ortak özelliklerinden biridir?
- A) Her iki türün de belli bir kesime hitap etmesi
B) İki türde de sanatsal yaklaşımın ön planda olması
C) İki türün de okuyucuyu bilgilendirmesi
D) Her iki türde de anlatılanların kanıtlanma zorunluluğunun olmaması
7. Türk Mavisi adlı şiir kitabının yazarı aşağıdakilerden hangisidir?
- A) Cahit Külebi
B) Ahmet Haşim
C) Cahit Sıtkı Tarancı
D) Cemal Süreyya
8. "Ormanların korunmasında yasalar mı çevre bilinci mi daha etkili olur?" sorusunu tartışan iki grubun kendi görüşlerini açıklamak, kanıtlamak karşı tarafın zayıf noktalarını aramak için yaptıkları söyleşmeye ne ad verilir?
- A) Mülakat
B) Sempozyum
C) Forum
D) Münazara
9. Aşağıdakilerden hangisi sözlü anlatım türlerinden biridir?
- A) Tiyatro
B) Deneme
C) Forum
D) Eleştiri
10. Bilimsel yazı hazırlanırken başkasının görüşlerini alıp, gönderme yapılarak nereden alıntılındığı belirtilmediği takdirde ortaya çıkan bilimsel hırsızlığa ne ad verilir?
- A) İntihal
B) Kaynak
C) Alıntı
D) Dipnot
11. Aşağıdakilerden hangisi bilimsel yazıların bölümlerinden biri değildir?
- A) Asıl metin
B) Soru-cevap
C) Özet
D) Başlık
12. Bilimsel yazılarda kullanılan dil işlevi aşağıdakilerden hangisidir?
- A) Göndergesel işlev
B) Dil ötesi işlevi
C) Şiirsel işlev
D) Heyecana bağlı işlev
13. Aşağıdakilerden hangisi açık bir anlatımın sahip olması gereken unsurlardan biri değildir?
- A) Yalınlık
B) Duruluk
C) Akıcılık
D) Sanatlı söyleyiş

14. Malzeme ve yöntem tanıtımının yapıldığı sempozyum bölümü aşağıdakilerden hangisidir?

- A) Sonuç
- B) Giriş
- C) Bulgular
- D) Deney

15. Makalelerinde sürekli vatan, millet ve hürriyet temalarını işleyen yazar aşağıdakilerden hangisidir?

- A) Namık Kemal
- B) Ali Naci
- C) Rezaizade Mahmut Ekrem
- D) Cahit Sıtkı

16. Aşağıdakilerden hangisi bilimsel yazı türlerinden biridir?

- A) Sone
- B) Toplantı özetleri
- C) Tiyatro metinleri
- D) Film senaryoları

17. Forum türünün amacı aşağıdakilerden hangisidir?

- A) Bir konu hakkında karşıt görüşleri savunmak
- B) Bilim, teknik, sanat gibi konular hakkında bilgi vermek
- C) Bir konu üzerinde bütün ilgililerin görüşlerini öğrenmek
- D) Bir konu hakkında belli kararlara varmak

18. Aşağıdakilerden hangisi bilimsel yazıların giriş bölümlerinin taşıması gereken özelliklerden biri değildir?

- A) Her türlü terim ve kısaltmanın anlamlarının açıklanması
- B) Çalışmanın gerekliliğinin ortaya konulması
- C) Ana bulguların dile getirilmesi
- D) Kullanılan yöntemin ve bu yöntemin seçiliş sebebinin gizli tutulması

19. Yazar, düşünür ve sanatçıların veya kendi alanında uzman kişilerin genellikle bilim, sanat ve ekonomi konularında açıklama, tanıtma, bilgi verme, öğretme amacıyla yaptıkları konuşmalara ne ad verilir?

- A) Mülakat
- B) Konferans
- C) Forum
- D) Münazara

20. Aşağıdakilerden hangisi münazara başkanının görevlerinden biri değildir?

- A) Tartışma konusunun dışına çıkılmasını engellemek
- B) Tartışılan konunun nitelik ve sınırlarının dinleyiciler tarafından anlaşılmasını sağlamak
- C) Tartışmacılardan herhangi birinin katılmaması durumunda onun yerine geçmek
- D) Tartışanların düşüncelerini rahatlıkla dile getirebilecekleri bir ortam yaratmak

1. Was für ein brav..... Junge!

Welche Endung passt in die obige Lücke?

Cümlede boş bırakılan yeri aşağıdaki son eklerden hangisi doğru şekilde tamamlar?

- A) -er
B) -e
C) -em
D) -en

2. Die Ferien waren angenehm. Ferien haben uns gut gefallen.

Welches Wort passt in die obige Lücke?

Cümlede boş bırakılan yeri aşağıdakilerden hangisi doğru şekilde tamamlar?

- A) Das angegebene
B) Die genehme
C) Die angenehmen
D) Der angegebende

3. Burada sigara içemezsiniz!

Wie lautet der obige Satz auf Deutsch?

Verilen cümlelerin Almanca'sı aşağıdakilerden hangisidir?

- A) Sie dürfen hier nicht rauchen!
B) Sie können hier immer rauchen!
C) Sie müssen hier nicht rauchen!
D) Sie möchten hier nicht rauchen!

4. Er im Sommer in die Schweiz fahren.

Welches Wort passt in die obige Lücke?

Cümlede boş bırakılan yeri aşağıdakilerden hangisi doğru şekilde tamamlar?

- A) willst
B) sollt
C) sollst
D) will

5. Wir um Erlaubnis.

Welches Wort passt in die obige Lücke?

Cümlede boş bırakılan yeri aşağıdakilerden hangisi tamamlar?

- A) hören
B) bitten
C) nehmen
D) kommen

6. Dem Verkäufer nicht vertrauen.

Wie lautet der obige Satz in der Imperativ-Form?

Verilen cümlelerin emir cümle şekli aşağıdakilerden hangisidir?

- A) Vertraust dem Verkäufer immer nicht!
B) Vertrauen nur dem Verkäufer!
C) Vertraue nur dem Verkäufer!
D) Vertraue dem Verkäufer nicht!

7. Ich muss meiner Mutter, ich eine neue Tasche brauche.

Welche Wörter passen in die obigen Lücken?

Cümlede boş bırakılan yerleri aşağıdakilerden hangileri doğru şekilde tamamlar?

- A) erklären / daß
B) erklärt / sonst
C) sagen / hätte
D) sagte / hatten

8. Ich habe andere Pläne!

Wie lautet die Frage für die obige Antwort?

Verilen cümleye yönelik soru cümlesi aşağıdakilerden hangisidir?

- A) Was hast du gekauft?
B) Warum kommst du nicht mit?
C) Was kochst du da?
D) Was hättest du gern?

9. Als Schüler muss man immer fleißig sein.

Welches hat die gleiche Bedeutung mit dem obigen Satz?

Verilen cümle ile aynı anlamı taşıyan aşağıdakilerin hangisidir?

- A) Schüler haben immer fleißig zu sein!
- B) Müssen die Schüler fleißig sein?
- C) Schüler müssen nicht immer fleißig zu sein!
- D) Fleißig sind die Schüler immer!

10. A: Kommst du mit ins Kino?
B: Nein,
A: Schade, dann sehen wir uns später.

Welches ergänzt die Lücke im obigen Dialog?

Verilen karşılıklı konuşmada boş bırakılan yeri aşağıdakilerden hangisi tamamlar?

- A) wir waren in den Winterferien dort.
- B) ich habe noch viel zu arbeiten.
- C) du übertreibst aber immer.
- D) es hat mir gut gefallen heute Abend.

11. Als er mich anrief, ich meine Hausaufgaben.

Welches Wort passt in die obige Lücke?

Cümlede boş bırakılan yeri aşağıdakilerden hangisi tamamlar?

- A) machte
- B) machen
- C) macht
- D) machtest

12. Wenn du Kinderarzt willst, mußt du studieren.

Welches Wort passt in die obige Lücke?

Cümlede boş bırakılan yeri aşağıdakilerden hangisi tamamlar?

- A) wirst
- B) würden
- C) würde
- D) werden

13. Am Wochenende gehen wir ins Kino.

Welches Wort passt nicht in die obige Lücke?

Cümlede boş bırakılan yeri aşağıdakilerden hangisi doğru şekilde tamamlamaz?

- A) gern
- B) am liebsten
- C) am meisten
- D) meistens

14. In Ankara gibt es schöne Mädchen aber die Mädchen leben in Eskişehir!

Welches Wort passt in die obige Lücke?

Cümlede boş bırakılan yeri aşağıdakilerden hangisi doğru şekilde tamamlar?

- A) schöner
- B) schöne
- C) schönste
- D) schönsten

15. Ayşe darf das Auto nicht fahren,

Welches ergänzt den obigen Satz?

Cümleyi aşağıdakilerden hangisi doğru olarak tamamlar?

- A) weil er lieber ins Kino geht.
- B) damit sie in die Stadt gehen kann.
- C) weil sie erst 15 Jahre alt ist.
- D) damit er einen Führerschein macht.

16. Wir haben das Haus voriges Jahr gekauft!

Welche Frage passt zur obigen Antwort?

Verilen cevabı gerektirecek soru aşağıdakilerden hangisidir?

- A) Wohin wollt ihr umziehen?
- B) Wann habt ihr dieses Haus gekauft?
- C) Was für ein Haus ist das?
- D) Warum kauft ihr euch ein Haus?

17. Martin: Seit wann lebst du in Berlin?
 Tina: Ich lebe seit vier Jahren in Berlin.
 Martin:
 Tina: Ja, ich möchte auch nach meinem Studium hier in Berlin wohnen.

Welches ergänzt die Lücke im obigen Dialog?

Verilen karşılıklı konuşmada boş bırakılan yeri aşağıdakilerden hangisi tamamlar?

- A) Hast du einen Beruf ausgeübt?
- B) Warst du im Sommer auch in Berlin?
- C) Wo hast du vorher gelebt?
- D) Hast du vor, noch lange hier zu wohnen?

18. Seit heute morgen ist das Wetter ziemlich kalt.

Wie lautet der obige Satz auf Türkisch?

Verilen cümlelerin Türkçesi aşağıdakilerden hangisidir?

- A) Sabahtan beri soğuk rüzgâr esiyor.
- B) Sabahları hava çok soğuk oluyor.
- C) Bugün hava sabahtan beri oldukça soğuk.
- D) Hava bugün biraz ısınacakmış.

19. Wir müssen morgen um 07.00 Uhr zur Schule.
 Hattest du das gewußt?

Wie kann man die obigen Sätze mit "daß" verbinden?

Verilen cümlelerin "daß" bağlacı ile birleştirilmiş hali aşağıdakilerden hangisidir?

- A) Hast du gewußt, daß wir morgen keine Schule haben?
- B) Die Schule ist morgen freiwillig, das weißt du?
- C) Hattet ihr gewußt, daß die Schule morgen anfängt?
- D) Hattest du gewußt, daß wir morgen um 07.00 Uhr zur Schule müssen?

20., daß es keine Arbeit gibt.

Welches ergänzt den obigen Satz?

Verilen cümleyi aşağıdakilerden hangisi doğru olarak tamamlar?

- A) Verständnislosigkeit meint
- B) Arbeitslosigkeit bedeutet
- C) Kurzarbeit ist
- D) Selbstständigkeit ist somit

1. I can't understand what you speak. Please don't talk so

Which of the following completes the sentence above?

Aşağıdakilerden hangisi yukarıdaki cümleyi doğru olarak tamamlar?

- A) fastest
- B) fastly
- C) fast
- D) faster

2. Have you been to a live rock concert before?

Which of the following completes the sentence above?

Aşağıdakilerden hangisi yukarıdaki cümleyi doğru olarak tamamlar?

- A) ever
- B) yet
- C) just
- D) before

3. winter, I like playing snowball.

Which of the following completes the sentence above?

Aşağıdakilerden hangisi yukarıdaki cümleyi doğru olarak tamamlar?

- A) On
- B) At
- C) In
- D) (...)

4. Yesterday afternoon we a picnic in the countryside.

Which of the following completes the sentence above?

Aşağıdakilerden hangisi yukarıdaki cümleyi doğru olarak tamamlar?

- A) will have
- B) have
- C) are
- D) had

5. Robert: you speak French?
Sandra: Yes, of course. I stayed in Paris for two years.

Which of the following completes the dialogue above?

Aşağıdakilerden hangisi yukarıdaki konuşmayı doğru olarak tamamlar?

- A) Should
- B) Can
- C) Shouldn't
- D) Can't

6. The little boy is very excited because he a dolphin before.

Which of the following completes the sentence above?

Aşağıdakilerden hangisi yukarıdaki cümleyi doğru olarak tamamlar?

- A) hasn't seen
- B) has seen
- C) have seen
- D) haven't seen

7. Buses are than planes.

Which of the following completes the sentence above?

Aşağıdakilerden hangisi yukarıdaki cümleyi doğru olarak tamamlar?

- A) more slow
- B) slow
- C) slower
- D) the slower

8. The nearest bus stop is the bank.

Which of the following completes the sentence above?

Aşağıdakilerden hangisi yukarıdaki cümleyi doğru olarak tamamlar?

- A) in front of
- B) in
- C) under
- D) between

9. I the glass of Coke on the table five minutes ago.

Which of the following completes the sentence above?

Aşağıdakilerden hangisi yukarıdaki cümleyi doğru olarak tamamlar?

- A) drunk
- B) drank
- C) drinking
- D) drink

10. Sara will be in Italy the 1st of September .

Which of the following completes the sentence above?

Aşağıdakilerden hangisi yukarıdaki cümleyi doğru olarak tamamlar?

- A) in
- B) on
- C) from
- D) (--)

11. I studied for the exam so I didn't fail.

Which of the following completes the sentence above?

Aşağıdakilerden hangisi yukarıdaki cümleyi doğru olarak tamamlar?

- A) hardly
- B) hard
- C) harder
- D) hardest

12. Last weekend we shopping at the new mall.

Which of the following completes the sentence above?

Aşağıdakilerden hangisi yukarıdaki cümleyi doğru olarak tamamlar?

- A) do
- B) will do
- C) are doing
- D) did

13. Kaan his bike since he was 9.

Which of the following completes the sentence above?

Aşağıdakilerden hangisi yukarıdaki cümleyi doğru olarak tamamlar?

- A) has had
- B) had
- C) have had
- D) is having

14. He play the guitar well. He is a good guitarist.

Which of the following completes the sentence above?

Aşağıdakilerden hangisi yukarıdaki cümleyi doğru olarak tamamlar?

- A) shouldn't
- B) may
- C) can't
- D) can

15. Have you stayed in a hotel?

Which of the following completes the sentence above?

Aşağıdakilerden hangisi yukarıdaki cümleyi doğru olarak tamamlar?

- A) yet
- B) never
- C) ever
- D) just

16. Our new office is thirteenth floor of the building.

Which of the following completes the sentence above?

Aşağıdakilerden hangisi yukarıdaki cümleyi doğru olarak tamamlar?

- A) in
- B) next
- C) on
- D) between

17. Jack and Jim football two hours ago.

Which of the following completes the sentence above?

Aşağıdakilerden hangisi yukarıdaki cümleyi doğru olarak tamamlar?

- A) are playing
- B) play
- C) plays
- D) played

18. Your aunt stop smoking. It's bad for her health.

Which of the following completes the sentence above?

Aşağıdakilerden hangisi yukarıdaki cümleyi doğru olarak tamamlar?

- A) can
- B) mustn't
- C) shouldn't
- D) should

19. Eating fresh fruit is than eating fast food.

Which of the following completes the sentence above?

Aşağıdakilerden hangisi yukarıdaki cümleyi doğru olarak tamamlar?

- A) the best
- B) better
- C) good
- D) the better

20. Rice is food in China.

Which of the following completes the sentence above?

Aşağıdakilerden hangisi yukarıdaki cümleyi doğru olarak tamamlar?

- A) the most popular
- B) most popular
- C) more popular
- D) popular

1. «Konuşmadan önce, düşünmek gerekir.»

Choisissez la traduction qui convient.

Yukarıdaki cümlelerin Fransızca karşılığı aşağıdakilerden hangisidir?

- A) Il faut réfléchir avant de parler.
B) Il doit réfléchir et penser.
C) Il doit réfléchir pour parler.
D) Il faut réfléchir pour parler.

2. Quand elle habitait à Paris, elle dans un magasin.

Choisissez le mot qui convient.

Cümledeki boşluğu aşağıdakilerden hangisi doğru şekilde tamamlar?

- A) travaillera
B) travaillant
C) travaillait
D) travaillé

3. Il a autant stylo moi.

Choisissez les mots qui conviennent.

Cümledeki boşlukları aşağıdakilerden hangisi doğru şekilde tamamlar?

- A) de / que
B) de / qui
C) que / de
D) que / que

4. Marie gagne 100€, Jeanne gagne 100€. Marie est riche que Jeanne.

Choisissez l'expression qui convient.

Yukarıdaki cümlede boş bırakılan yeri aşağıdakilerden hangisi doğru şekilde tamamlar?

- A) grand
B) aussi
C) plus
D) autant de

5. Le bébé dort, il parler

Choisissez les mots qui conviennent.

Cümledeki boşlukları aşağıdakilerden hangisi doğru şekilde tamamlar?

- A) faut / doucement
B) doit / violemment
C) faut / honnêtement
D) doit / couramment

6. Ali a 25 livres, Hakan a 42 livres. Ali a de livres que Hakan.

Choisissez le mot qui convient.

Cümledeki boşluğu aşağıdakilerden hangisi doğru şekilde tamamlar?

- A) plus
B) moins
C) autant
D) aussi

7. Cette voiture est à vous:

Choisissez le mot qui convient.

Cümledeki boşluğu aşağıdakilerden hangisi doğru şekilde tamamlar?

- A) le sien
B) la nôtre
C) la sienne
D) la vôtre

8. Le patron de sortir, il n'est pas dans son bureau maintenant.

Choisissez le mot qui convient.

Cümledeki boşluğu aşağıdakilerden hangisi doğru şekilde tamamlar?

- A) est
B) va
C) a
D) vient

9. La est le plus long des animaux.

Choisissez le mot qui convient.

Cümledeki boşluğu aşağıdakilerden hangisi doğru şekilde tamamlar?

- A) singe
B) girafe
C) chien
D) lionne

10. Nous sommes au printemps, mais bientôt sera l'été.

Choisissez le mot qui convient.

Cümledeki boşluğu aşağıdakilerden hangisi doğru şekilde tamamlar?

- A) ce
B) celui
C) ceux
D) celle

11. «Je voudrais bien une tasse de thé.»

Choisissez la traduction qui convient.

Yukarıdaki cümlenin Türkçe karşılığı aşağıdakilerden hangisidir?

- A) Çayı iyi isterim.
- B) İyi bir çay isterim.
- C) Bir fincan çay verin.
- D) Bir fincan çay isterim.

12. rançon!

Choisissez le mot qui convient.

Cümledeki boşluğu aşağıdakilerden hangisi doğru şekilde tamamlar?

- A) Quels
- B) Quel
- C) Quelles
- D) Quelle

13. Quand il fera chaud, nous des vacances.

Choisissez le mot qui convient.

Cümledeki boşluğu aşağıdakilerden hangisi doğru şekilde tamamlar?

- A) ferons
- B) faisons
- C) faire
- D) faisons

14. la page.

Choisissez le mot qui convient.

Cümledeki boşluğu aşağıdakilerden hangisi doğru şekilde tamamlar?

- A) Réfléchis
- B) Tourne
- C) Reste
- D) Trouble

15.-vous du feu?

Choisissez le mot qui convient.

Cümledeki boşluğu aşağıdakilerden hangisi doğru şekilde tamamlar?

- A) Etes
- B) Avons
- C) Auriez
- D) Etiez

16. Cécile lui a dit que sa sœur beaucoup.

Choisissez le mot qui convient.

Cümledeki boşluğu aşağıdakilerden hangisi doğru şekilde tamamlar?

- A) lis
- B) lit
- C) lisait
- D) lisez

17. Quand je, il partait.

Choisissez le mot qui convient.

Cümledeki boşluğu aşağıdakilerden hangisi doğru şekilde tamamlar?

- A) me réveillerais
- B) réveille
- C) m'étais réveillé
- D) me réveille

18. Elle est habillée.

Choisissez le mot qui convient.

Cümledeki boşluğu aşağıdakilerden hangisi doğru şekilde tamamlar?

- A) violente
- B) étrangement
- C) attentive
- D) prudente

19. Pierre : Marie est allée au restaurant.

Paul : Qu'est-ce que tu dis?

Pierre : Je dis que

Choisissez l'expression qui convient.

Yukarıdaki konuşmada boş bırakılan yeri aşağıdakilerden hangisi doğru şekilde tamamlar?

- A) Marie va au restaurant
- B) Marie sera allée au restaurant
- C) Marie est allée au restaurant
- D) Marie ira au restaurant

20. Fais un! Tu veux le rouge ou le noir.

Choisissez le mot qui convient.

Cümledeki boşluğu aşağıdakilerden hangisi doğru şekilde tamamlar?

- A) fortune
- B) volonté
- C) choix
- D) demande

1. Der Löwe ist stark, aber ist schwach.

Welches Wort passt in die obige Lücke?

Cümlede boş bırakılan yeri aşağıdakilerden hangisi doğru şekilde tamamlar?

- A) die Giraffe
B) die Schildkröte
C) der Tiger
D) der Bär

2. A: Woher kommt sie?

B:

A: Ach so, ich dachte, sie wäre aus England!

Welches ergänzt den obigen Dialog?

Verilen karşılıklı konuşmayı aşağıdakilerden hangisi tamamlar?

- A) Man erzählt, daß wir nach Deutschland umziehen werden.
B) Ich komme aus England!
C) Ich habe gesehen, daß sie nach England fährt.
D) Man sagt, sie wäre aus Deutschland!

3. Ich habe zwei Jahren eine Katze.
Ich habe sie sehr gern.

Welches Wort passt in die obige Lücke?

Cümlede boş bırakılan yeri aşağıdakilerden hangisi doğru şekilde tamamlar?

- A) bis
B) für
C) seit
D) zu

4. A:

B: Ja, ich habe eine Katze.

Welcher Satz ergänzt den obigen Dialog?

Verilen karşılıklı konuşmayı aşağıdakilerden hangisi tamamlar?

- A) Hast du ein Haustier?
B) Hast du ein Fahrrad?
C) Habt ihr Ferien?
D) Hast du Lust zum Schwimmen?

5. Ich habe einen, ich muss die Länder und die Hauptstädte üben.

Welches Wort passt in die obige Lücke?

Cümlede boş bırakılan yeri aşağıdakilerden hangisi tamamlar?

- A) Sporttest
B) Erdkundetest
C) Deutschtest
D) Mathematiktest

6. Wir wünschen dir alles Gute und viel in der Zukunft.

Welches Wort passt in die obige Lücke?

Cümlede boş bırakılan yeri aşağıdakilerden hangisi tamamlar?

- A) Glück
B) Frage
C) Jahre
D) Wetter

7. **Wie lautet das Wort "Die Konzerte" in der Singularform?**

"Die Konzerte" isminin tekil hali aşağıdakilerden hangisidir?

- A) Den Konzert
B) Der Konzert
C) Die Konzert
D) Das Konzert

8. Die Musiklehrerin Klavier und die Schüler ihr zu.

Welche Wörter passen in die obigen Lücken?

Cümlede boş bırakılan yerleri aşağıdakilerden hangileri tamamlar?

- A) möchte / schon
B) hat / frage
C) spielt / hören
D) kann / übe

9. Gamze sich klassische Musik.

Welche Wörter passen in die obigen Lücken?

Cümlede boş bırakılan yerleri aşağıdakilerden hangileri doğru şekilde tamamlar?

- A) spielt / zu
- B) beendet / mit
- C) kauft / aus
- D) interessiert / für

10. Als mein Bruder vierzehn Jahre alt war,

Welches ergänzt nicht die Lücke im obigen Satz?

Verilen cümleyi aşağıdakilerden hangisi tamamlamaz?

- A) hat er mit der Querflöte angefangen.
- B) will die Prüfung bestehen.
- C) wollte er eine Band gründen.
- D) hat er immer klassische Musik gehört.

11. Ich glaube, sie planen eine Klassenfahrt.

Welche Frage passt zur obigen Antwort?

Verilen cevabı gerektirecek soru aşağıdakilerden hangisidir?

- A) Wo sitzen die Schüler?
- B) Was planen die Schüler?
- C) Wann kommen die Schüler?
- D) Welche Schüler sind das?

12. Auf der Strasse die Mutter und das Kind an der Hand.

Welches Wort passt in die obige Lücke?

Cümlede boş bırakılan yeri aşağıdakilerden hangisi tamamlar?

- A) nehmen euch
- B) helfen mit
- C) fassen sich
- D) haben dich

13. wichtig / hilfsbereit / nett / freundlich

Welches Wort passt nicht zu den anderen in der obigen Wortgruppe?

Verilen sözcük grubuna uvmayan aşağıdakilerden hangisidir?

- A) nett
- B) wichtig
- C) hilfsbereit
- D) freundlich

14. Bist du krank geworden?

Welche Antwort passt zur obigen Frage?

Verilen sorunun cevabı aşağıdakilerden hangisidir?

- A) Ja, ich finde Familienfeste wichtig, weil wir in Kontakt bleiben.
- B) Nein, ich wollte auch an der Versammlung teilnehmen.
- C) Ja, ich bin krank geworden und meine Mutter hat mich zum Arzt gebracht.
- D) Nein er hat gesagt, dass er am Wochenende kommen will.

15. Ich möchte den Film, der von einem Regisseur gedreht worden ist, unbedingt sehen.

Welches Wort passt in die obige Lücke?

Cümlede boş bırakılan yeri aşağıdakilerden hangisi tamamlar?

- A) kleiner
- B) berühmten
- C) erfinderisch
- D) lustiges

16. ist etwas erhöht!

Welches Wort passt in die obige Lücke?

Cümlede boş bırakılan yeri aşağıdakilerden hangisi doğru şekilde tamamlar?

- A) Der Pulsschlag
- B) Die Nase
- C) Der Hals
- D) Das Rezept

17. Salata için limona ihtiyacım var.

Wie lautet der obige Satz auf Deutsch?

Verilen cümlelerin Almancası aşağıdakilerden hangisidir?

- A) Die Sose habe ich für dich vorbereitet.
- B) Ich brauche Zitrone für den Salat.
- C) Ich esse gerne Salat mit Zitrone.
- D) Wir müssen Zitrone kaufen.

18. ist für die ganze Familie wichtig.

Welches ergänzt die Lücke im obigen Satz?

Verilen cümleyi aşağıdakilerden hangisi tamamlar?

- A) Viel frisches Gemüse und Obst
- B) Wir haben keine Tomaten mehr zu Hause
- C) Unsere Wohnung liegt zentral
- D) Das ist ein Rezept für dich

19. Ich bleibe, weil ich jeden Tag eine halbe Stunde laufe!

Welches Wort passt in die obige Lücke?

Cümlede boş bırakılan yeri aşağıdakilerden hangisi doğru şekilde tamamlar?

- A) erst
- B) gern
- C) sehr
- D) fit

20. Was bedeutet das Wort "der Patient" auf Türkisch?

"der Patient" sözcüğünün Türkçesi aşağıdakilerden hangisidir?

- A) Doktor
- B) Hasta
- C) Eczacı
- D) Müşteri

1. Are you really afraid dogs?

Which of the following completes the sentence above?

Aşağıdakilerden hangisi yukarıdaki cümleyi doğru olarak tamamlar?

- A) on
B) of
C) at
D) in

2. Your jeans are similar mine but my jeans are tighter.

Which of the following completes the sentence above?

Aşağıdakilerden hangisi yukarıdaki cümleyi doğru olarak tamamlar?

- A) for
B) in
C) to
D) at

3. Giresun is famous its nuts.

Which of the following completes the sentence above?

Aşağıdakilerden hangisi yukarıdaki cümleyi doğru olarak tamamlar?

- A) on
B) at
C) in
D) for

4. Mustafa is extremely at teaching English.

Which of the following completes the sentence above?

Aşağıdakilerden hangisi yukarıdaki cümleyi doğru olarak tamamlar?

- A) good
B) proud
C) famous
D) interested

5. Are you pleased your new car?

Which of the following completes the sentence above?

Aşağıdakilerden hangisi yukarıdaki cümleyi doğru olarak tamamlar?

- A) at
B) on
C) from
D) with

6. My friend: "Is it rainy outside?"

Which of the following is the reported speech form of the direct speech sentence above?

Aşağıdakilerden hangisi yukarıdaki dolaysız anlatım cümlesinin dolaylı anlatım biçimidir?

- A) My friend wanted to know if it is rainy outside.
B) My friend wanted to know was it rainy outside.
C) My friend wanted to know if it was rainy outside.
D) My friend wanted to know if it did rainy outside.

7. Greg: "I can play the guitar well."
Greg said that he the guitar well.

Which of the following completes the sentence above?

Aşağıdakilerden hangisi yukarıdaki cümleyi doğru olarak tamamlar?

- A) could play
B) played
C) may play
D) is playing

8. Mary: "Wait for me!"
Mary told me

Which of the following completes the sentence above?

Aşağıdakilerden hangisi yukarıdaki cümleyi doğru olarak tamamlar?

- A) waiting for her
B) to wait for her
C) to waiting for her
D) to wait for me

9. The teacher: "Whose pencil is that on the table?"
The teacher asked whose pencil that on the table

Which of the following completes the sentence above?

Aşağıdakilerden hangisi yukarıdaki cümleyi doğru olarak tamamlar?

- A) is
- B) was
- C) did
- D) has been

10. George said, "I will visit you tomorrow."
George said that he would visit me

Which of the following completes the sentence above?

Aşağıdakilerden hangisi yukarıdaki cümleyi doğru olarak tamamlar?

- A) tomorrow
- B) the previous day
- C) now
- D) the next day

11. She hasn't tasted a proper Turkish meal

Which of the following completes the sentence above?

Aşağıdakilerden hangisi yukarıdaki cümleyi doğru olarak tamamlar?

- A) yet
- B) just
- C) already
- D) while

12. Craig has never to Athens.

Which of the following completes the sentence above?

Aşağıdakilerden hangisi yukarıdaki cümleyi doğru olarak tamamlar?

- A) travel
- B) visit
- C) been
- D) go

13. Tom sabahtan beri odasını temizlemekte.

Which of the following is the English translation of the sentence above?

Aşağıdakilerden hangisi yukarıdaki cümlemin İngilizce karşılığıdır?

- A) Tom has been cleaning his room since morning.
- B) Tom cleaned his room this morning.
- C) Tom has been cleaning his room all day.
- D) Tom cleaned his room yesterday morning.

14. It all day long.

Which of the following completes the sentence above?

Aşağıdakilerden hangisi yukarıdaki cümleyi doğru olarak tamamlar?

- A) is snowing
- B) has been snowing
- C) snows
- D) snowed

15. Where you? I couldn't see you anywhere.

Which of the following completes the sentence above?

Aşağıdakilerden hangisi yukarıdaki cümleyi doğru olarak tamamlar?

- A) was / be
- B) has / been
- C) have / been
- D) do / be

16. I couldn't do my homework because I my books at school.

Which of the following completes the sentence above?

Aşağıdakilerden hangisi yukarıdaki cümleyi doğru olarak tamamlar?

- A) had forgotten
- B) forgot
- C) am forgetting
- D) have forgotten

17. Susan hadn't played basketball before.

Which of the following is the Turkish translation of the sentence above?

Aşağıdakilerden hangisi yukarıdaki cümlelin Türkçe karşılığıdır?

- A) Susan önceleri basketbol oynamadı.
- B) Susan daha önce basketbol oynamadı.
- C) Susan önceleri basketbol oynayamıyordu.
- D) Susan daha önce basketbol oynamamıştı.

18. We need to learn how to use internet in order to in touch with the new information that we may use.

Which of the following completes the sentence above?

Aşağıdakilerden hangisi yukarıdaki cümleyi doğru olarak tamamlar?

- A) speak
- B) get
- C) find
- D) connect

19. I already the dinner when my husband came from work.

Which of the following completes the sentence above?

Aşağıdakilerden hangisi yukarıdaki cümleyi doğru olarak tamamlar?

- A) have / prepared
- B) had / prepare
- C) have / prepare
- D) had / prepared

20. After I breakfast, I went to work.

Which of the following completes the sentence above?

Aşağıdakilerden hangisi yukarıdaki cümleyi doğru olarak tamamlar?

- A) have had
- B) having
- C) had had
- D) had

1. C'est qui m'appelles?

Choisissez le mot qui convient.

Cümledeki boşluğu aşağıdakilerden hangisi doğru şekilde tamamlar?

- A) te
- B) tu
- C) ta
- D) toi

2. J'en ai marre ce vieux ordinateur!

Choisissez le mot qui convient.

Cümledeki boşluğu aşağıdakilerden hangisi doğru şekilde tamamlar?

- A) de
- B) de la
- C) pour
- D) car

3. La semaine prochaine, Lise et Marie au cirque.

Choisissez le mot qui convient.

Cümledeki boşluğu aşağıdakilerden hangisi doğru şekilde tamamlar?

- A) sont allées
- B) sont allés
- C) iront
- D) allaient

4. - Vous connaissez cette histoire?
- Oui, nous connaissons.

Choisissez l'expression qui convient.

Yukarıdaki konuşmada boş bırakılan yeri aşağıdakilerden hangisi doğru şekilde tamamlar?

- A) la
- B) le
- C) lui
- D) leur

5. Je dis «Super!» quand je

Choisissez l'expression qui convient.

Cümledeki boşluğu aşağıdakilerden hangisi doğru şekilde tamamlar?

- A) malheureux
- B) suis triste
- C) pleure
- D) suis content

6. vous avez faim, vous devez manger.

Choisissez le mot qui convient.

Cümledeki boşluğu aşağıdakilerden hangisi doğru şekilde tamamlar?

- A) En
- B) Par
- C) Quand
- D) Que

7. Il n'a pas regardé la télévision il avait des devoirs.

Choisissez le mot qui convient.

Cümledeki boşluğu aşağıdakilerden hangisi doğru şekilde tamamlar?

- A) car
- B) qui
- C) comme
- D) comment

8. L'année dernière, il trop chaud. Cette année, il mieux.

Choisissez les mots qui conviennent.

Cümledeki boşlukları aşağıdakilerden hangisi doğru şekilde tamamlar?

- A) fait / faisait
- B) fait / fera
- C) fera / faisait
- D) faisait / fait

9. I. Monsieur Rioux est directeur.
II. Il a 55 ans.
III. La réunion commence.
IV. Il est marié.

Choisissez la phrase qui ne convient pas.

Cümleler sırasıyla okunduğunda, anlam bütünlüğünü bozan cümleyi bulunuz.

- A) I
- B) II
- C) III
- D) IV

10. J'ai mal à la tête, je prends une

Choisissez le mot qui convient.

Cümledeki boşluğu aşağıdakilerden hangisi doğru şekilde tamamlar?

- A) aspirine
- B) antibiotique
- C) grippe
- D) consultation

11. «La vie est chère.»

Choisissez la traduction qui convient.

Yukarıdaki cümlelerin Türkçe karşılığı aşağıdakilerden hangisidir?

- A) Hayat değerli.
- B) Hayat pahalı.
- C) Hayat güzel.
- D) Sevgili hayat.

12. J'écris une lettre

Choisissez l'expression qui convient.

Cümledeki boşluğu aşağıdakilerden hangisi doğru şekilde tamamlar?

- A) mes amis
- B) à mes amis
- C) Jean
- D) le médecin

13. Marie: Qu'en penses-tu? Est-ce une bonne idée?

Alain :, oui.

Marie : Alors je suis contente.

Choisissez l'expression qui convient.

Yukarıdaki konuşmada boş bırakılan yeri aşağıdakilerden hangisi doğru şekilde tamamlar?

- A) A son avis
- B) A mon avis
- C) D'après toi
- D) Je le trouve

14. On doit être rapide. On doit faire nos devoirs.

Choisissez le mot qui convient.

Cümledeki boşluğu aşağıdakilerden hangisi doğru şekilde tamamlar?

- A) lent
- B) lentement
- C) rapidement
- D) rapide

15. Mon chien est couleur

Choisissez les mots qui conviennent.

Cümledeki boşlukları aşağıdakilerden hangisi doğru şekilde tamamlar?

- A) du / blanche
- B) du / marron
- C) de / blanc
- D) de / noire

16. «Sinemaya gitmek istediğini söylüyor.»

Choisissez la traduction qui convient.

Yukarıdaki cümlelerin Fransızca karşılığı aşağıdakilerden hangisidir?

- A) Elle veut aller au cinéma.
- B) Elle dit qu'elle veut aller au cinéma.
- C) Dis-lui d'aller au cinéma.
- D) Elle voudrait aller au cinéma.

17. Cet homme pèse 180 kilos: c'est

Choisissez le mot qui convient.

Cümledeki boşluğu aşağıdakilerden hangisi doğru şekilde tamamlar?

- A) bon
- B) étonnant
- C) encourageant
- D) joyeux

18. - Tu veux manger

- Non je ne veux rien manger.

Choisissez le mot qui convient.

Yukarıdaki konuşmada boş bırakılan yeri aşağıdakilerden hangisi doğru şekilde tamamlar?

- A) quelque chose
- B) jamais
- C) rien
- D) quelqu'un

19. «Je lui ai proposé un coup de main.»

Choisissez la traduction qui convient.

Yukarıdaki cümlelerin Türkçe karşılığı aşağıdakilerden hangisidir?

- A) Onun ellerine baktım.
- B) Ona yardım teklif ettim.
- C) Onun elini tuttum.
- D) Onun elleriyle oynadım.

20. J'achète des baskets à Luc. Je achète.

Choisissez l'expression qui convient.

Cümledeki boşluğu aşağıdakilerden hangisi doğru şekilde tamamlar?

- A) les lui
- B) lui les
- C) le lui
- D) les le

1. Aşağıdakilerden hangisi modern Türk tiyatrosunun türlerinden biridir?
 - A) Mesnevi
 - B) Dram
 - C) Karagöz
 - D) Orta oyunu
2. Bir ilgi veya benzetme sonucu gerçek anlamından başka anlamda kullanılan söze ne ad verilir?
 - A) Mecaz
 - B) Coşku
 - C) Şiirsel
 - D) Mısra
3. Türk Edebiyatında deneme türünün ilk örnekleri ne zaman verilmiştir?
 - A) Cumhuriyetin ilanından sonra
 - B) Tanzimat'tan sonra
 - C) Islahat Fermanı'ndan sonra
 - D) II.Meşrutiyet'ten sonra
4. Aşağıdakilerden hangisi mektup türlerinden biridir?
 - A) Gazete mektupları
 - B) Dinsel mektuplar
 - C) Akademik mektuplar
 - D) İş mektupları
5. Aşağıdakilerden hangisi kişisel hayatı konu alan metinler içerisinde ver almaz?
 - A) Günlük
 - B) Biyografi
 - C) Sohbet
 - D) Anı
6. Aşağıdakilerden hangisi eleştiri yazarına verilen isimlerden biri değildir?
 - A) Eleştirmen
 - B) Münekkit
 - C) Tenkit yazarı
 - D) Hatip
7. Aşağıdakilerden hangisi göstermeye bağlı edebi metinlerden biridir?
 - A) Destan
 - B) Dram
 - C) Masal
 - D) Mesnevi
8. Aşağıdakilerden hangisi konularına ve yazılış amaçlarına göre deneme çeşitlerinden biridir?
 - A) Klasik deneme
 - B) Kişisel deneme
 - C) Akademik deneme
 - D) Hukuksal deneme
9. Aşağıdakilerden hangisi haber yazılarının özelliklerinden biri değildir?
 - A) Kolay anlaşılır olması
 - B) Anlatılanların ilgi çekici olması
 - C) Konunun günlük ve önemli olması
 - D) Haber yazarının yorumlarına yer verilmesi
10. Aşağıdakilerden hangisi öğretici metinlerden biridir?
 - A) Trajedi
 - B) Manzum Hikâye
 - C) Gazete Çevresinde Gelişen Metinler
 - D) Mesnevi
11. Aşağıdakilerden hangisi hikâyenin bölümlerinden biri değildir?
 - A) Çözüm
 - B) Serim
 - C) Düğüm
 - D) Fasıll
12. Sanat metinleriyle ilgili aşağıdaki ifadelerden hangisi doğrudur?
 - A) Edebiyat biliminin içerisinde yer alır.
 - B) Amaç, bilgi vermektir.
 - C) Kelimeler somut anlamlıdır.
 - D) Gerçeklik ön plandadır.
13. Uzun zamandır görüşemediğiniz uzaktaki bir arkadaşınıza yaz tatili ile ilgili duygu ve isteklerinizi ilettiğiniz yazı türü aşağıdakilerden hangisidir?
 - A) Dilekçe
 - B) Manzum hikâye
 - C) Hitap
 - D) Mektup
14. "Şair Evlenmesi" oyununun yazarı kimdir?
 - A) Baki
 - B) Namık Kemal
 - C) Şinasi
 - D) Melih Cevdet

15. "Sakıp Sabancı, 7 Nisan 1933 tarihinde Kayseri'de dünyaya geldi. Çok genç yaşlarda çalışma hayatına atıldı..."

Yukarıda bir bölümü verilen metnin türü aşağıdakilerden hangisidir?

- A) Biyografi
- B) Makale
- C) Mülakat
- D) Anı

16. Aşağıdakilerden hangisi dilekçenin özelliklerinden biri değildir?

- A) Sol alt köşeye adresin yazılması
- B) Başlık ve metin olmak üzere iki bölümden oluşması
- C) Sağ alt köşeye ad ve soyadın yazılıp imza atılması
- D) Anlatımın yalın ve duru olması

17. Bir yazarın gazetelerde; güncel, önemli özelliği olan herhangi bir konu üzerinde kişisel görüş ve düşüncelerini akıcı bir dille belgelendirme gereği duymadan yazdığı ciddi ve nükteli fikir yazılarına ne ad verilir?

- A) Sohbet
- B) Makale
- C) Fıkra
- D) Eleştiri

18. Mektupla ilgili aşağıdaki ifadelerden hangisi yanlıştır?

- A) Mektubun sol üst köşesi mutlaka imzalanmalıdır.
- B) Bir haberi, dileği veya duyguyu başkasına iletme için yazılır.
- C) Eldeki en eski mektup örnekleri Mısır firavunları ve Hititlerin mektuplarıdır.
- D) Mektup kâğıdı temiz ve çizgisiz olmalıdır.

19. Aşağıdakilerden hangisi öğretici metinlerin özelliklerinden biridir?

- A) Hayal gücünün ön planda olması
- B) Estetiğin ön planda olması
- C) Dilin heyecana bağlı işlevde kullanılması
- D) İfadelerin açık ve net olması

20. Edebiyatımızın gezi türündeki ilk ve en büyük eseri olarak nitelendirilen Seyahatname'nin yazarı kimdir?

- A) Edip Ahmet Yükneki
- B) Halikarnas Balıkcısı
- C) Evliya Çelebi
- D) Pierre Loti

1. "Biş ernek tüz ermes." (Beş parmak düz olmaz.)

Yukarıdaki sav örneğine en uygun atasözü aşağıdakilerden hangisidir?

- A) Hayırsız dost gereksiz post.
B) Cefayı çekmeyen sefayı bilemez.
C) Bir ağaçta gül de biter diken de.
D) Ağaç yaşken eğilir.

2. Aşağıdakilerden hangisi, İslamiyet'ten sonraki Türk destanlarından biridir?

- A) Göktürk Destanları
B) Yaratılış Destanı
C) Saka Destanları
D) Manas Destanı

3. Kalyanamkara ve Papamkara masalı ile ilgili aşağıdaki ifadelerden hangisi **yanlıştır**?

- A) Dinsel masal niteliği taşımaktadır.
B) Türk Edebiyatının en önemli eserlerindedir.
C) Eser adını iyi ve kötü düşünceli iki prensten almaktadır.
D) Eserin aslı Türkçedir.

4. Aşağıdaki Çağdaş Türk Edebiyatı destanları ve yazarları ile ilgili eşleştirmelerden hangisi **yanlıştır**?

- A) Kurtuluş Savaşı Destanı- Nazım Hikmet
B) Berlin Üçlemesi- Fazıl Hüsni Dağlarca
C) Atatürk Kurtuluş Savaşı'nda- Cahit Külebi
D) Sakarya Meydan Savaşı- Ceyhun Atuf Kansu

5. Bir ulusun yüzyıllarca meydana getirdiği edebi eserleri inceleyerek geçirdiği dönemleri kronolojik bir sıra içinde inceleyen bilim dalı aşağıdakilerden hangisidir?

- A) Edebiyat tarihi
B) Edebi metinler
C) Halk bilimi
D) Anlam bilimi

6. Türk Edebiyat tarihinde, 10. yüzyılın ikinci yarısından 19. yüzyılın başlarına kadar devam eden döneme ne ad verilir?

- A) Tanzimat Dönemi Türk Edebiyatı
B) İslamiyet Öncesi Türk Edebiyatı
C) İslami Dönem Türk Edebiyatı
D) Milli Edebiyat

7. Divan-ı Lügat'it Türk'teki açıklamaya göre; söz, haber, salık, mektup, risale, atalar sözü, darb-ı mesel, kıssa, hikâye anlamına gelen özlü sözlere ne ad verilir?

- A) Sagu
B) Koşuk
C) Sav
D) Destan

8. Aşağıdakilerden hangisi Türk Edebiyatı tarihçilerinden biri **değildir**?

- A) Nihat Sami Banarlı
B) Ahmet Hamdi Tanpınar
C) Mehmet Fuad Köprülü
D) Yahya Kemal Beyatlı

9. 13. yüzyıl Moğol tarihçisi Reşiduddin tarafından yazıya geçirilen destan aşağıdakilerden hangisidir?

- A) Şu Destanı
B) Ergenekon Destanı
C) Manas Destanı
D) Göç Destanı

10. M.Ö. 3000'lerde Mezopotamya'da doğmuştur. Bilinen en eski destandır. Günümüze ulaşmış en kapsamlı metni Akad dilinde yazılmıştır.

Yukarıda sözü edilen destan aşağıdakilerden hangisidir?

- A) Gılgamış Destanı
B) Oğuz Kağan Destanı
C) İlyada Destanı
D) Şu Destanı

11. 1928 yılında yayımlanan ve Türkiye'de edebiyat tarihi alanında, Batılı anlamda yapılan ilk kapsamlı eser aşağıdakilerden hangisidir?

- A) Sanat Tarihi
- B) Milli Edebiyatımız
- C) Edebiyat Tarihi
- D) Türk Edebiyatına Giriş

12. Mehmet Fuad Köprülü ile ilgili aşağıdaki ifadelerden hangisi doğrudur?

- A) İstanbul doğumlu önemli bir divan şairidir.
- B) Tanzimat dönemi şair ve yazarlarındandır.
- C) Romantizm akımının öncüsüdür.
- D) Türkiye'de ilk defa tarih ve edebiyat tarihi incelemelerinde bilimsel yöntemleri ortaya koymuş bir bilim adamıdır.

13. Aşağıdakilerden hangisi, eski Türk şairlerine Türk boyları arasında verilen isimlerden biri değildir?

- A) Oyun
- B) Şaman
- C) Şair
- D) Baksı

14. Aşağıdakilerden hangisi, destan dönemi Türk edebiyatında Türklerin kullandıkları alfabelerden biridir?

- A) Kiril
- B) Göktürk
- C) Arap
- D) Latin

15. Türk ruhundan çıkmış, Türk'ün öz benliğini yansıtan eserlerdir. Bunlar, kendilerine yurt edindikleri topraklar üzerinde boy atmışlardır. Aile içinde kök salmış bir ahlak, sağlam bir karakter, doğruluk, sözünün eri olma, kısacası insan olma bu hikâyelerin her yerinde onun en belli çizgisidir. Doğu edebiyatının taklitlerini veren öteki halk hikâyeleri yanında bunlar türlü bakımdan eşsizdirler.

Yukarıda sözü edilen eser aşağıdakilerden hangisidir?

- A) Kül Tigin Yazıtı
- B) Battal Gazi Destanı
- C) Danişment Gazi Destanı
- D) Dede Korkut Hikâyeleri

16. Edebiyat ile ilgili aşağıdaki ifadelerden hangisi yanlıştır?

- A) Toplumsal olaylarla ilgili değildir.
- B) Bir söz sanatıdır.
- C) Tarih, felsefe, psikoloji, sosyoloji vb. bilim dallarından yararlanır.
- D) Anlatım aracı dildir.

17. İslâmiyetten önceki dönemde yağ törenlerinde bir kağanın, bir kahramanın ölümüne duyulan üzüntüyü ifade eden, ölen kişinin niteliklerini dile getiren, kopuz eşliğinde söylenen şiirlere ne ad verilir?

- A) Sagu
- B) Destan
- C) Koşuk
- D) Sav

18. Dünyanın en eski destanlarından İlyada ve Odyssea kim tarafından derlenip manzum olarak yazıya geçirilmiştir?

- A) Tolstoy
- B) Homeros
- C) Thomsen
- D) Evliya Çelebi

19. En eski Türk destanlarının tarihsel sınıflandırması içinde ilk sırada yer alan destan aşağıdakilerden hangisidir?

- A) Bozkurt Destanı
- B) Türeyiş Destanı
- C) Yaratılış Destanı
- D) Göç Destanı

20. Balasagun yakınlarında bir şehir kuran hükümdar Şu'nun ilginç özelliklerinin, Büyük İskender'le yaptığı savaşların anlatıldığı Şu Destanı aşağıdakilerden hangisine aittir?

- A) Sakalara
- B) Göktürlere
- C) Kırgızlara
- D) Uygurlara

BU SAYFA BOŞ BIRAKILMIŞTIR.

BU SAYFA BOŞ BIRAKILMIŞTIR.

SINAVDA UYULMASI GEREKEN GENEL KURALLAR

1. Sınava girmek için gerekli belgelerinizin tümünü sınav başlamadan önce sıranızın üzerine bırakınız.
2. Sınav süresince görevlilerle konuşmak, görevlilere soru sormak yasaktır. Aynı şekilde görevlilerin de öğrencilerle/adaylarla yakından ve alçak sesle konuşmaları yasaktır. Gerekli durumlarda görevliler yerinizi değiştirebilir.
3. Size verilen cevap kâğıdının üzerindeki TCKN/Öğrenci no, ad, soyadı, bilgilerini kontrol ediniz, ilgili alanları eksiksiz doldurarak imzalayınız. Bu bilgiler size ait değilse, kâğıt üzerinde hiçbir işlem yapmadan görevlileri uyararak size ait cevap kâğıdını isteyiniz. Başkasına ait cevap kâğıdı kullanan öğrencilerin sınavları geçersiz sayılır.
4. Cevap kâğıdı üzerine test grubunu (kitapçık türünü) kodlamayan veya birden fazla grubu kodlayanların sınavları geçersiz sayılır.
5. Cevap kâğıdınıza yazacağınız her türlü yazı ve yapacağınız işaretlemeler için koyu siyah kurşun kalem kullanmalısınız. Farklı bir kalem (tükenmez, mürekkepli, renkli vb.) kullananların sınavları geçersiz sayılır.
6. Cevap kâğıdı üzerinde değişiklik yapmak istediğinizde, iz bırakmayan bir silgi kullanınız. Cevap kâğıdınızı buruşturmayınız, katlamayınız ve üzerine gereksiz hiçbir işaret koymayınız.
7. Cevaplarınızı, cevap kâğıdında ilgili test için ayrılmış olan alana, cevap yerinin dışına taşırmadan işaretleyiniz. Soru kitapçığı üzerinde yapılan işaretlemeler değerlendirmeye alınmayacaktır.
8. Her sorunun tek bir doğru cevabı vardır. Bir soru için birden çok cevabı işaretlerseniz, o soruyu yanlış cevaplamış sayılacaksınız.
9. Soru kitapçığınızı aldığınızda sayfalarına hızlıca bakarak hatalı ya da eksik baskı olup olmadığını kontrol ediniz. Hata/eksik olması durumunda kitapçığının değiştirilmesi için derhâl sınav görevlilerine başvurunuz. Sınav görevlileri sınavın başladığını belirtmeden kitapçığınızı tekrar açmayınız.
10. Cevap kâğıdınızda belirtilen kitapçık kodu ile soru kitapçığının kodunu karşılaştırınız. Aynı değilse, sınav görevlilerine durumu bildirerek doğru kitapçığın verilmesini talep ediniz.
11. Soru kitapçığındaki ilgili alanlara ad, soyadı, TCKN/Öğrenci no, sınav salon no, sıra no bilgilerinizi eksiksiz doldurarak imzanızı atınız. Soru kitapçığının sayfalarındaki boş yerleri müsvedde amacıyla kullanabilirsiniz.
12. Aşağıdaki durumlarda sınav görevlileri tarafından Bireysel Sınav İptal Tutanağı düzenlenerek ilgili öğrencilerin/adayların sınavları geçersiz sayılır:
 - a) Sınav kurallarına ve sınav görevlilerinin uyarılarına uymamak, sınav düzenini bozmak,
 - b) Kâğıt, kitap, defter, not vb. dokümanları; pergel, açıölçer, cetvel vb. araçları; cep telefonu, bilgisayar, tablet, telsiz, kamera vb. iletişim, depolama, kayıt ve veri aktarma cihazlarını; ruhsatlı veya resmi amaçlı olsa bile silah ve silah yerine geçebilecek nesneleri yanında bulundurmamak,
 - c) Sınav sırasında kalem, silgi vb. araç-gereç paylaşımında bulunmak,
 - d) Cevapları, cevap kâğıdı dışında bir yere yazmak ve sınav salonundan dışarı çıkarmak,
 - e) Sınava girebilmek için gerekli belgeleri eksik olduğu halde sınava katılıp, cevap kâğıdında işaretleme yapmak,
 - f) Sınav görevlileri tarafından öğrencinin/adayın kimliğinden şüphe duyulması,
 - g) Cevap kâğıdını ve/veya soru kitapçığını sınav görevlilerine eksiksiz ve sağlam şekilde teslim etmemek, sınav salonu dışına çıkarmak,
 - h) Kopya çekmek, vermek, çekilmesine yardımcı olmak vb. eylemlerde bulunmak,
 - i) Kendisi yerine başkasını sınava sokmak.
13. Sınav bitiminde, cevap kâğıdınızı ve soru kitapçığınızı salon görevlilerine eksiksiz biçimde teslim ediniz. Sınav bittikten sonra gönderilen cevap kâğıtları dikkate alınmayacaktır.

SINAV KURALLARINA UYDUĞUNUZ İÇİN TEŞEKKÜR EDER, SINAVINIZDA BAŞARILAR DİLERİZ.