

TÜRKÇE

1. Aşağıdaki sözcük çiftlerinden hangisi anlam ilişkisine göre diğerlerinden **farklıdır?**

A) fayda - yarar

B) sonbahar - güz

C) ödül - ceza

Aşağıdaki cümlelerin hangisinde **hayal ürünü** bir olayı anlatmaktadır?

2.

A) Bu sabah okula erken gittim.

B) Karınca bana çektiği sıkıntıları anlattı.

C) Akşam yemeğini hep birlikte yedik.

3.

Kedinin kuyruğu arabanın tekerleğinin altına sıkışmıştı. Kedi acı acı "Miyav!" diyordu. Onu gören köpek "Kuyruğun sıkışmış gibi niye bağıyorsun kedi kardeş?" dedi.

Yukarıda verilen metinle ilgili verilen bilgilerden hangisi **yanlıştır?**

- A) Metin 3 cümleden oluşmaktadır.
B) Metnin birinci cümlesi hayal ürünüdür.
C) Metnin üçüncü cümlesi hayal ürünüdür.

4.

1. şiirler

4. güzel

2. inanıyorum

5. ileride

3. daha

6. yazacağına

Yukarıdaki kelimelerden **anlamli ve kurallı** bir cümle oluşturmak istersek sıralama nasıl olur?

A) 2 - 5 - 3 - 4 - 1 - 6

B) 5 - 3 - 4 - 1 - 6 - 2

C) 3 - 4 - 1 - 6 - 2 - 5



Fırından pide ...

5.

Yukarıdaki cümle aşağıdakilerden hangisiyle tamamlanırsa cümlenin sonuna **soru işareti** konur?

A) alıp geleceğim

B) alacak mısın

C) kokusu geliyor

6.

Bir yılbaşı gecesiydi. Dondurucu bir soğuk vardı. Kibritçi kız, incecik titrek sesiyle "Kibrit var, kibrit!" diye bağırsa da kimse onu fark etmiyordu.

Yukarıdaki metinde hangi **hikaye unsuruna** **yer verilmemiştir?**

A) Zaman

B) Kişi

C) Yer

7.

"Emel ıslak çorabını dışarı astı." cümlesinde hangi sözcüğün **eş ve zıt** anlamlısı vardır?

A) ıslak

B) Dışarı

C) Astı

8. Aşağıdaki cümlelerin hangisinde **yazım yanlışı** yapılmıştır?

- A) Okulumuz Papatya Caddesindedir.
B) Barboros Mahallesi'nde oturuyorum.
C) 23 Nisan Çocuk Bayramı'nı kutladık.




1. Henüz gelmedi.
2. Evet.
3. Barış nerede?
4. Sendemi onu bekliyorsun?

9.

Yasin ile Emir'in konuşmaları karışmış. Konuşmanın anlamlı olabilmesi için **doğru sıralama** hangisidir?

- A) 3 - 4 - 2 - 1
B) 3 - 1 - 4 - 2
C) 4 - 3 - 1 - 2



10. Emre, Gökhan ve Göksel isimli oyuncular oyuna isimlerinin **sözlükteki sırasına** göre gireceklerdir.

Yukarıdaki bilgilere göre oyuna **en son** kim girer?

- A) Emre B) Gökhan C) Göksel



Babam ,kardeşime yeni bir oyuncak almış.

11.

Beyzanur'un konuşmasında hangi sorunun yanıtını **bulamayız?**

- A) Ne ?
B) Nereden ?
C) Kim ?



Dedem emekli ikramiye- siyle evimize eşya aldı.

12.

Nüpel'in söylediği cümlede kaç tane **hece** vardır?

- A) 19 B) 20 C) 21

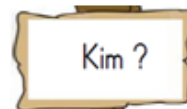
Aşağıdakilerin hangisinde satır sonu hece ayırımında **yanlışlık** yapılmıştır?

13.

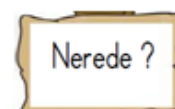
- A)öğren-
ci
- B)ilko-
kul
- C)tre-
nde

Mehmet, her akşam düzenli olarak kitap okur.

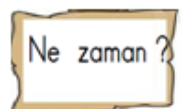
14. Yukarıdaki cümlede hangi sorunun cevabı **yoktur?**



A)



B)



C)

MATEMATİK

1. **Leyla:** Baba sen kaç yaşındasın?
Babası: Benim yaşım 3 düzine kadardır.
Leyla: Anne sen kaç yaşındasın?
Annesi: Benim yaşım 30'a yuvarlabilen en büyük sayı kadardır.

Yukarıdaki konuşmaya göre Leyla'nın annesi ile babasının **yaşları toplamı** kaçtır?

- A) 61 B) 70 C) 65



Yandaki sürahinin **yarısı** 4 bardak su almaktadır.

2. Yukarıda verilen bilgilere göre **2 sürahi** kaç bardak su alır?

- A) 8 B) 16 C) 12

$$60 - 15 = 18 + \square$$

3. Yukarıdaki eşitlikte **boş olan** yere hangi sayı gelmelidir?

- A) 26 B) 27 C) 28



4. Bir damacana 10 sürahi ile, 1 sürahi 8 bardak su almaktadır. Buna göre 1 damacana **kaç bardak** su alır?

- A) 80 B) 48 C) 18



5.

- Horoz 2 kilogramdır.
- Kedi ,horozdan 5 kilogram fazladır.
- Köpek de kediden 10 kilogram fazladır.

Buna göre eşeğin **taşıdığı yük** kaç kilogramdır?

- A) 17 B) 19 C) 26

$$\begin{array}{r} 40 + 30 = 70 \\ 2 + 5 = 7 \\ 70 + 7 = 77 \end{array}$$

$$34 + 54$$

$$\begin{array}{r} 30 + 50 = 80 \\ 4 + 4 = 8 \\ 80 + 8 = 88 \end{array}$$

$$42 + 35$$

$$\begin{array}{r} 10 + 20 = 30 \\ 3 + 6 = 9 \\ 30 + 9 = 39 \end{array}$$

$$13 + 26$$

$$34 + 13$$

6. Yukarıdaki **zihinden toplama** işlemleri çözümleri ile eşleştirildiğinde hangi çözüm **eşleştirilemez?**

$$34 + 13$$

A)

$$34 + 54$$

B)

$$13 + 26$$

C)



Sonucu **40'a en yakın** işlemin bulunduğu armudu yemek istiyorum. Benim yiyeceğim armut hangisidir?

7.

$$\begin{array}{r} 52 \\ -23 \\ \hline \end{array}$$

A)

$$\begin{array}{r} 65 \\ -26 \\ \hline \end{array}$$

B)

$$\begin{array}{r} 84 \\ -32 \\ \hline \end{array}$$

C)

8.



Yukarıda verilen sayıdan başlayarak dörder ileriye doğru sayma yapmak istiyorum.

5. saymada hangi sayıyı söylerim?

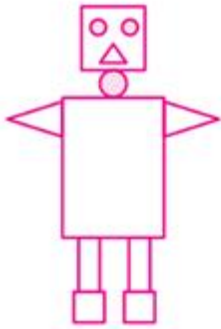
- A) 42 B) 44 C) 40



9.

Yukarıdaki geometrik cisimlerden hangileriyle dikdörtgen çizilebilir?

- A) 1 B) 1 ve 3 C) 2 ve 3



Öğretmen, Ali'den proje ödevi olarak bir oyuncak yapmasını istemiştir. Ali de üçgen, kare, daire ve dikdörtgen şekillerini kullanarak

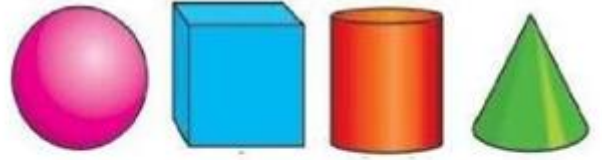
ödevini tamamlamıştır.

10.

Ali, proje ödevinde kaçar tane üçgen, kare, daire ve dikdörtgen kullanmıştır?

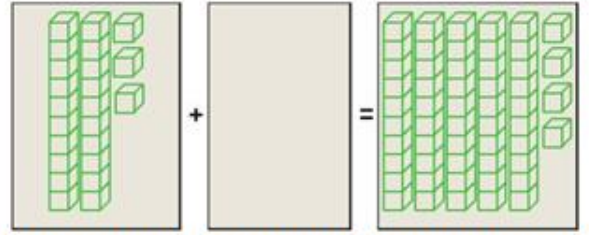
	Üçgen	Kare	Dikdörtgen	Daire
A)	3	4	3	2
B)	4	2	3	3
C)	3	3	3	3

11.



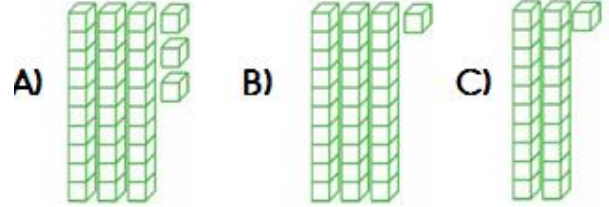
Yukarıdaki geometrik şekillerin isimlerinin sıralanışı aşağıdakilerden hangisidir?

- A) Küp - silindir - koni - küre
B) Küre - küp - silindir - koni
C) Küre - silindir - küp - koni



12.

Modellenen toplama işleminde verilmeyen toplanan aşağıdakilerden hangisidir?



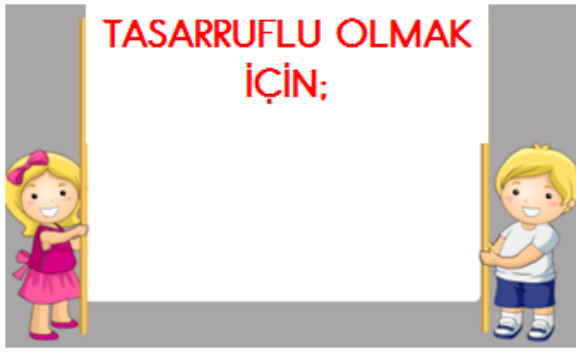
Birgül çiçeklerini her gün 2 kova su ile suluyor.

13.

Birgül iki haftada kaç kova su kullanır?

- A) 28 B) 14 C) 7

1.



Fatma ile İbrahim "TASARRUFLU OLMAK" için neler yapmalıyız konulu pankart hazırlamak istiyorlar. Pankarta aşağıdakilerden hangisini **yazmamalıdır**lar?

- A) Dişlerimizi fırçalarken musluğu kapatalım.
B) Klima açıkken camları kapatalım.
C) Hava aydınlıkken ışıkları yakalım.

2.

Toplu taşıma araçlarında çocuklara yer vermeliyiz.

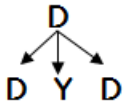
Görme engeli olan insanlara yardım etmeliyiz.

İşitme cihazı olan arkadaşlarımızı oyuna almamalıyız.

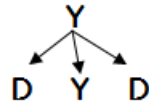
Evde karar alırken herkes düşüncelerini söylemelidir.

Şemadaki bilgiler "**Doğru- Yanlış**" olma durumuna göre belirtilirse hangisi oluşur?

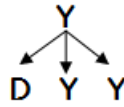
A)



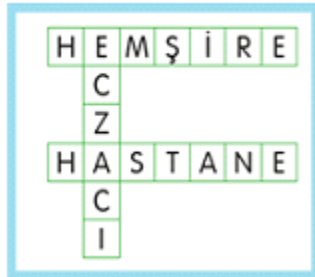
B)



C)



3.



Yukarıdaki bulmacada hangisinin tanımı **verilmemiştir**?

- A) Hasta olduğumuzda gittiğimiz yer.
B) İlaç satılan yer.
C) İlaç satan kişi.

4.

Gamze tekerlekli sandalye . Lale gözlük . Mustafa işitme cihazı kullanıyor.

Verilen bilgilere göre aşağıdakilerden hangisi **yanlıştır**?

- A) Gamze, Lale ve Mustafa arkadaş olamazlar.
B) İnsanların gözlük kullanması şarttır.
C) Her insan farklı özelliklere sahiptir.

5.

Yumurta , süt ve bal.....besinlerdir.

Yukarıdaki cümlede boş olan yere aşağıdakilerden hangisi **yazılamaz** ?

- A) Sağlıklı B) Hayvansal C) Bitkisel

● Anneanne

● Teyze

● Dayı

● Babaanne

● Hala

● Amca

6.

Yuakrıdakilerden kaç tanesi **baba tarafından** akrabalarımızdır?

- A) 5 B) 4 C) 3

7.

Hangi cümleyi söyleyen öğrencinin tutumlu olduğu **söylenemez**?

- A) Harçlıklarımın bir bölümünü biriktirim.
B) Paramı gereksiz yere harcamam.
C) Reklamlarda gördüğüm ucuz olan her ürünü alırım.

8.



Sağlıklı büyümek için kişisel bakımımıza dikkat etmeliyiz.

Aşağıdakilerden hangisi kişisel bakımımızla ilgili **değildir**?

- A) Banyo yapmak
- B) Tırnaklarımızı kesmek
- C) Düzenli beslenmek

1. Doktorun reçeteye yazdığı ilaçları aldım.
2. Sonra eczaneye gittim.
3. Hastaneye gittim.
4. Muayene oldum.

9.

Yukarıdaki cümleler **oluş sırasına** göre sıralanırsa sıralama nasıl olur?

- A) 1 - 2 - 3 - 4
- B) 3 - 4 - 1 - 2
- C) 2 - 3 - 4 - 1

10.

Aşağıdaki öğrencilerden hangisinin oyun oynarken kurallara uygun davrandığı söylenebilir?

- A) Yusuf, oyun oynarken arkadaşlarına eşit davranır.
- B) Hasan, oyunu kaybedince hemen ağlar.
- C) Enes, oyuna katılırken arkadaşlarından

11.

Aşağıda verilen davranışlardan hangisi **yanlıştır**?

- A) Ders araç gereçlerini ders programına göre hazırlamak.
- B) Çantamızda gereksiz eşya taşımamak.
- C) Çantamıza ders programında olmayan derslerin araç gereçlerini koymak.

12.



Aslı

Tuvaletlerde temizliğe dikkat etmezsek bulaşıcı hastalıklara yakalanabiliriz.



Nehir

Tuvaletten çıktıktan sonra ellerimizi su ve sabunla yıkamalıyız.



Ayşe

Kirli tuvaletlere girmek sağlığımız için bir tehlike oluşturmaz.

Hangi öğrencinin ifadesi **yanlıştır**?

- A) Aslı
- B) Nehir
- C) Ayşe

Çevre temizliği için neler yapmalıyız?



13.

Öğretmenin sorduğu soruya hangi öğrenci **yanlış** cevap vermiştir?

- A) **Nüpel**: Çöpleri çöp kutusuna atmamız.
- B) **Birgül**: Tuvaletin sifonunu çekmek.
- C) **Menasa**: Kıyafetlerimizi temiz tutmak.



Evimizdeki kaynakları tasarruflu kullanmak için aşağıdaki davranışların hangisinden kaçınmalıyız?

14.

A) Dişlerimizi fırçalarken musluğu kapatmalıyız.

B) Kullanmasak da bilgisayarı açık bırakmalıyız.

C) İşimiz bittiğinde odanın lambasını kapatmalıyız.