

T.C.  
MİLLÎ EĞİTİM BAKANLIĞI  
ÖLÇME, DEĞERLENDİRME VE  
SINAV HİZMETLERİ GENEL MÜDÜRLÜĞÜ



AÇIK ÖĞRETİM LİSESİ / MESLEKİ AÇIK ÖĞRETİM LİSESİ /  
AÇIK ÖĞRETİM İMAM HATİP LİSESİ  
2017 - 2018 ÖĞRETİM YILI  
EK SINAV

1.  
OTURUM

06 EKİM 2018 Saat: 09.30

DERS KODU VE ADI	SAYFA	DERS KODU VE ADI	SAYFA	DERS KODU VE ADI	SAYFA
(111) DİN KÜL. AHL. BİL. - 1	3	(242) ALMANCA - 3	25	(478) SEÇ. MANTIK - 1	49
(112) DİN KÜL. AHL. BİL. - 2	4	(242) FRANSIZCA - 3	26	(484) SAĞLIK BİLGİSİ - 2	50
(114) DİN KÜL. AHL. BİL. - 4	5	(244) İNGİLİZCE - 5	26	(491) TRAF. VE İLK YARD. - 1	51
(115) DİN KÜL. AHL. BİL. - 5	6	(244) ALMANCA - 5	27	(500) İNGİLİZCE - 6	52
(121) FELSEFE - 1	7	(244) FRANSIZCA - 5	28	(500) ALMANCA - 6	53
(123) SEÇMELİ FELSEFE - 1	8	(401) DİL VE ANLATIM - 1	28	(500) FRANSIZCA - 6	54
(132) TARİH - 2	9	(402) DİL VE ANLATIM - 2	30	(502) İNGİLİZCE - 8	55
(133) TARİH - 3	10	(405) DİL VE ANLATIM - 5	31	(502) ALMANCA - 8	55
(136) SEÇ. TARİH - 2	11	(407) DİL VE ANLATIM - 7	32	(502) FRANSIZCA - 8	56
(142) T.C. İNK. TAR. ATA. - 2	11	(408) DİL VE ANLATIM - 8	34	(511) FİKİH - 1	57
(151) COĞRAFYA - 1	12	(413) TÜRK EDEBİYATI - 3	35	(532) SEÇMELİ	
(153) COĞRAFYA - 3	14	(414) TÜRK EDEBİYATI - 4	36	PEYGAMBERİMİZİN HAY. - 2	58
(155) SEÇ. COĞRAFYA - 1	15	(417) TÜRK EDEBİYATI - 7	37	(533) SEÇMELİ	
(157) SEÇ. COĞRAFYA - 3	16	(418) TÜRK EDEBİYATI - 8	39	PEYGAMBERİMİZİN HAY. - 3	59
(163) MATEMATİK - 3	17	(421) FİZİK - 1	40	(611) KARŞ. DİN. TAR. - 1	60
(181) İNGİLİZCE - 1	18	(432) KİMYA - 2	41	(616) SEÇ. DİL VE ANLA. - 6	61
(181) ALMANCA - 1	20	(434) KİMYA - 4	42	(713) İSLAM KÜLTÜR	
(181) FRANSIZCA - 1	20	(441) BİYOLOJİ - 1	43	VE MEDENİYETİ - 1	62
(206) SEÇ. PSİKOLOJİ - 1	21	(443) BİYOLOJİ - 3	44	(817) AKAIĐ - 1	64
(222) SAĞ. BİL. VE		(461) SEÇ. EKONOMİ - 1	45	(819) KELAM - 1	65
TRAFİK KÜLTÜRÜ - 2	23	(465) TEMEL DİNİ BİL. - 1	46	(931) SİYER - 1	66
(242) İNGİLİZCE - 3	24	(477) SEÇ. İŞLETME - 2	48	(974) SEÇ. GİRİŞİMCİLİK - 1	67
				(999) MATEMATİK - 2	68

### ADAYLARIN DİKKATİNE!

- Her ders için 20 soru bulunmaktadır. Bu oturumda **180** dakikalık cevaplama süreniz vardır. Sınav başladıktan sonra ilk **30** dakika tamamlanmadan dışarı çıkmayınız.
- Sınav sırasında çanta, cep telefonu, saat, kablosuz iletişim sağlayan cihazlar ve kulaklık, kolye, küpe, bilezik, yüzük, broş ve benzeri eşyalar ile her türlü elektronik ve/veya mekanik cihazları yanınızda bulundurmuyunuz. Bu araçları yanınızda bulundurmanız ve kopya çekmeye teşebbüs etmeniz hâlinde sınavınız geçersiz sayılacaktır.
- Başvuru şartlarını taşımadığınız hâlde sınava girmeniz, kopya çekmeniz, başka adayın sınav evrakını kullanmanız, geçerli kimlik belgenizi ve sınav giriş belgenizi ibraz edemediğiniz durumlarda sınavınız geçersiz sayılacaktır.
- Sınavın değerlendirilmesi aşamasında, bilgisayar ortamında yapılan kopya analizinde sistemin ikili ve/veya toplu kopya tespiti hâlinde sınavınız geçersiz sayılacaktır.
- Adaylar, sınav kurallarına ve salon görevlilerinin tüm uyarılarına uymak zorundadır. Kurallara ve uyarılara uymayan adayların sınavları geçersiz sayılacaktır.**
- Sınav başladıktan sonra adayların salon görevlileri ve birbirleri ile konuşmaları; kalem, silgi vb. şeyleri istemeleri yasaktır.
- Adaylar sınav süresince, sınav giriş belgesi ile geçerli kimlik belgelerinden birinin aslını (fotoğraflı nüfus cüzdanı, pasaport veya sürücü belgesi) masalarının üzerinde bulundurmamak zorundadır.
- Sınav evraklarını teslim etmeyen, soru kitapçıklarının sayfalarından bir kısmını eksik teslim edenlerin sınavları geçersiz sayılacaktır.**
- Sınav başlamadan önce kitapçığın arkasındaki açıklamaları okuyunuz.

**BAŞLAYINIZ DENMEDEN SORU KİTAPÇIKLARINI AÇMAYINIZ.**



# 1. OTURUM

## (111) DİN KÜL. AHL. BİL. – 1

1. I. İslam'ın ana kaynağıdır.  
II. Bütün sahabeler tarafından ezberlenmiştir.  
III. Hz. Peygamber zamanında yazıya geçirilmiştir.  
IV. Hz. Peygamber zamanında iki kapak arasında toplanmıştır.  
**Kur'an-ı Kerim'le ilgili bilgilerden doğru olanlar hangisinde birlikte verilmiştir?**  
A) I ve III. B) I ve IV.  
C) II ve III. D) II ve IV.
2. "Hak Dini Kur'an Dili" adlı tefsir kitabı aşağıdakilerden hangisine aittir?  
A) Mehmet Akif Ersoy  
B) Ahmet Hamdi Akseki  
C) Hasan Basri Çantay  
D) Muhammed Hamdi Yazır
3. Aşağıdakilerden hangisi Kur'an-ı Kerim'in iç düzeniyle ilgili kavramlar arasında yer almaz?  
A) Ayet B) Sure  
C) Tefsir D) Cüz
4. Müslümanların ibadetlerini açıktan yapmaya başlamalarında aşağıdakilerden hangisi etkili olmuştur?  
A) Habeşistan'a hicret edilmesi  
B) Hz. Hamza ve Hz. Ömer'in Müslüman olması  
C) Müşriklerin baskı ve işkencelerini azaltması  
D) Boykot yıllarının sona ermesi
5. Hz. Muhammed 632 yılında hac ibadetini yapmak üzere Mekke'ye gitti. Hac esnasında 8 Mart 632 Cuma günü Arafat'ta bir araya gelen yüz binden fazla Müslümana hitaben bir konuşma yaptı.  
**Bu konuşma İslam tarihinde aşağıdakilerden hangisiyle adlandırılır?**  
A) Veda haccı B) Mekke vaazı  
C) Veda hutbesi D) Son hitap
6. Aşağıdakilerden hangisi Medine Sözleşmesi'nin maddeleri arasında yer almaz?  
A) Yahudiler kendi dinlerinde serbest olacak.  
B) Şehir dışından bir saldırı olursa Medine birlikte savunulacak.  
C) İki taraftan biri üçüncü bir tarafla savaşarsa diğer taraf yardımcı olacak.  
D) Müslümanlarla Yahudiler arasında bir anlaşmazlıkta iki taraftan birer hakem tayin edilecek.

7. Hz. Peygamber Mekke döneminde bütün engellemelere rağmen, Mekkelilere ve Mekke dışından gelenlere İslam'ı anlatmaya devam etti. Bu çerçevede 620 yılında Medine'den gelen bir grupla görüştü ve onları İslam'a davet etti. Onlar da bu daveti kabul edip Müslüman oldular. Daha sonraki yıl daha kalabalık bir grup Medine'den gelip aynı yerde yine Hz. Peygamber'e biat edip İslam'ı kabul etti.  
**Metinde geçen olay aşağıdaki yerlerden hangisinde gerçekleşmiştir?**  
A) Kâbe  
B) Akabe  
C) Daru'l-Erkam  
D) Beni Saide gölgesi
8. Sözlükte "bir işi güzel yapma, güzelleştirme, iyi ve güzel söz söyleme" gibi anlamlara gelir. Terim olarak, "Kur'an-ı Kerim'in harflerinin çıkış yerlerine uygun olarak hatasız biçimde okunmasını öğreten ilimdir."  
**Tanımlanan kavram aşağıdakilerden hangisidir?**  
A) Tecvit B) Mukabele  
C) Hatim D) Tertil
9. "Yaratan Rabb'inin adıyla oku!  
O, insanı aşılansmış bir yumurtadan yarattı.  
Oku, Rabb'in sonsuz iyilik sahibidir.  
Kalemle (yazmayı) öğreten O'dur.  
İnsana bilmediğini öğreten O'dur."  
(Alak suresi, 1-5. ayetler)  
**Bu ayetlerle ilgili olarak aşağıdakilerden hangisi doğrudur?**  
A) Hz. Peygamber'e son inen ayetlerdir.  
B) Hz. Peygamber'e ilk inen ayetlerdir.  
C) Hicretten sonra inen ilk ayetlerdir.  
D) Tevhit inancıyla ilgili ayetlerdir.
10. Temiz su bulunmadığında veya suyun kullanılmasına engel bir sebep bulunduğu zaman temiz toprakla alınır.  
**Tanımlanan kavram aşağıdakilerden hangisidir?**  
A) Taharet B) Gusül  
C) Teyemmüm D) Tezkiye
11. "Hz. Muhammed (sav.) kimdir?" sorusunun cevabı aşağıdakilerden hangisi olamaz?  
A) Amine Hatun'un oğludur.  
B) Abdumuttalib'in torunudur.  
C) Zeyd bin Haris'in kardeşidir.  
D) Peygamberlerin sonuncusudur.
12. Aşağıdaki dinlerden hangisi kaynağı bakımından diğerlerinden farklıdır?  
A) Yahudilik B) Hinduizm  
C) İslamiyet D) Hristiyanlık

13. İnsanların ibadet etmelerinin asıl sebebi aşağıdakilerden hangisidir?  
A) Allah'ın emretmiş olması  
B) İnsanın ruhunu rahatlatması  
C) Hayatı daha düzenli hale getirmesi  
D) İnsanı bencil duygulardan uzak tutması
14. Kur'an-ı Kerim kaç cüzden oluşmaktadır?  
A) 5 B) 10 C) 20 D) 30
15. Kur'an-ı Kerim'in çoğaltılması ile ilgili aşağıdaki bilgilerden hangisi yanlıştır?  
A) Yedi adet çoğaltılmıştır.  
B) Zeyd b. Sabit görevlendirilmiştir.  
C) Hz. Ömer döneminde çoğaltılmıştır.  
D) İlk nüshalardan biri Topkapı Müzesi'ndedir.
16. Sen bu ümmetin peygamberi olacaksın. Sana gelen, Musa'ya gelen melektir. Kavmin sana eziyet edecek ve seni yurdundan çıkaracaklar. Şayet o günlere yetişsem, Allah için sana yardım ederim.  
**Hz. Muhammed'e (sav.) ilk vahiy geldiğinde bu sözleri söyleyen kişi aşağıdakilerden hangisidir?**  
A) Hz. Hatice  
B) Rahip Bahira  
C) Zeyd bin Harise  
D) Varaka bin Nevfel
17. Müslümanların Mekke'den Medine'ye gruplar halinde göç etmesi aşağıdaki olayların hangisinden sonra başlamıştır?  
A) Mescid-i Nebi'nin yapılması  
B) Akabe Biatları'nın yapılması  
C) Medine Sözleşmesi'nin kabul edilmesi  
D) Hudeybiye Antlaşması'nın imzalanması
18. İslam tarihinde cuma namazı kılınan ilk yer aşağıdakilerden hangisidir?  
A) Ranuna Vadisi B) Kâbe  
C) Mescid-i Aksa D) Mescid-i Nebi
19. Hz. Muhammed (sav.), vefatından önce rahatsızlığının artması sebebiyle bir sahabeyi namaz kıldırmak üzere kendisinin yerine görevlendirmiştir.  
**Bu sahabe aşağıdakilerden hangisidir?**  
A) Hz. Ali B) Hz. Ömer  
C) Hz. Osman D) Hz. Ebu Bekir

# 1. OTURUM

20. "Kur'an'ı biz indirdik, biz koruyacağız."  
(Hicr suresi, 9. ayet)

**Bu ayette Kur'an-ı Kerim'in hangi özelliği vurgulanmaktadır?**

- A) Evrensel olması  
B) Ahlak kitabı olması  
C) Değiştirilemez olması  
D) İslam'ın temel kaynağı olması

## (112) DİN KÜL. AHL. BİL. – 2

1. **Aşağıdakilerden hangisi Türklerin İslam dinini benimsemesinde etkili olan sebepler arasında yer almaz?**

- A) Gök Tanrı inancı ile Tevhit inancı arasındaki benzerlik  
B) İslam devletin sağladığı ekonomik avantajlar  
C) Sûfi geleneğe bağlı dervişlerin yaşayışları  
D) İslam dininin hoşgörü ve sevgi anlayışı

2. Türklerde İslam anlayışının oluşmasında etkisi olan âlimlerdendir. Kûfe'de doğmuştur. Asıl adı Nûman b. Sâbit'tir. Birçok talebe yetiştirmiştir. En önemli eseri Fıkh-ı Ekber'dir.

**Hakkında bilgi verilen İslam âlimi aşağıdakilerden hangisidir?**

- A) Ebû Hanife B) İmam Mâturîdi  
C) İmam Şafii D) Ebû Yusuf

3. "er-Risale" ve "el-Ümm" adlı eserler aşağıdakilerden hangisine aittir?

- A) Maturidi B) Eş'ari  
C) Ebu Hanife D) Şafii

4. **Türkistan'da "Hazreti Türkistan" olarak tanınan âlim aşağıdakilerden hangisidir?**

- A) Ahmet Yesevi  
B) Ahmet Yükneci  
C) Yusuf Has Hacib  
D) Hacı Bektaş-ı Veli

5. 13. yüzyılda Anadolu'da kurulmuştur. Prensipleri, temelde Kur'an ve Sünnet'e dayanır. Dini, ahlaki kurallarla iktisâdi kuralları birleştiren ve sosyal yapıya kavuşturan bir teşkilattir.

**Hakkında bilgi verilen teşkilat aşağıdakilerden hangisidir?**

- A) Hisbe  
B) Debbağlık  
C) Bâciyan-ı Türk  
D) Ahilik

6. Anadolu'da tasavvuf anlayışının yerleşmesinde etkili olan âlimlerdendir. Asıl adı Seyyid Muhammed bin İbrahim Ata'dır. Dini eğitimini Hoca Ahmet Yesevi'nin talebelerinden almıştır.

**Hakkında bilgi verilen âlim aşağıdakilerden hangisidir?**

- A) Yunus Emre  
B) Hacı Bektaş-ı Veli  
C) Hacı Bayram-ı Veli  
D) Mevlâna Celaleddin-i Rumi

7. İlim ilim bilmektir  
İlim kendin bilmektir  
Sen kendini bilmezsin  
Ya nice okumaktır.

**Bu dörtlük Türklerin İslam anlayışının oluşmasında etkili olan hangi âlime aittir?**

- A) Ahi Evran  
B) Ahmet Yesevi  
C) Yunus Emre  
D) Hacı Bektaş-ı Veli

8. **Aşağıdakilerden hangisi tıp alanında önemli hizmetleri olan âlimlerdendir?**

- A) Uluğ Bey B) Ali Kuşçu  
C) Birünî D) İbn-i Sina

9. Mevlana Farsça yazmış olduğu eserinde vezir şairlerle, kısa ibretlik hikâyelerle insanların gönüllerine hitap etmiş ve İslam dinini sevdirmeye çalışmıştır.

**Bu metinde bahsedilen eser aşağıdakilerden hangisidir?**

- A) Mesnevi  
B) Makâlât  
C) Atabet'ül Hakayik  
D) Risaletü'n-Nushiyye

10. **Aşağıdakilerden hangisi ahiliğin temel prensiplerinden değildir?**

- A) Sözünde vefalı olacaksınız!  
B) Akrabalarını kayıracaksın!  
C) İyi kalpli ve cömert olacaksınız!  
D) İftira ve gıybetten sakınacaksınız!

11. Vurulup tertemiz alından uzanmış yatıyor.  
Bir hilal uğruna ya Rab, ne güneşler batıyor!

**Bu şiirde aşağıdakilerden hangisinin önemi vurgulanmaktadır?**

- A) Kültür B) Bayrak  
C) Ahlak D) İrk

12. Ahmet sınav için Ankara'ya gitti. Öğle namazını kılmak için girdiği caminin panosunda şu hadisin yazılı olduğunu gördü. "Kim, rızkının Allah tarafından genişletilmesini isterse akrabalarını ziyaret etsin." Bunun üzerine orada yaşayan teyzesini ziyaret etmeye karar verdi. Giderken de büyüklerinden gördüğü şekilde bir hediye aldı.

**Buna göre Ahmet'in davranışı aşağıdaki değer gruplarından hangisine örnek verilebilir?**

- A) Dinî ve Ahlaki  
B) Ahlaki ve Millî  
C) Dinî ve Örfî  
D) Ahlaki ve Örfî

13. Dalgalan sen de şafaklar gibi ey şanlı hilâl!

Olsun artık dökülen kanlarımın hepsi helal.

Ebediyen sana yok, ırkıma yok izmihlâl:

Hakkıdır hür yaşamış bayrağımın hürriyet

Hakkıdır Hakk'a tapan milletimin istiklâl!

Mehmet Akif Ersoy

**Bu şiirden Türk milleti ile ilgili aşağıdakilerden hangisine ulaşılamaz?**

- A) Ebedi var olma isteğine  
B) İnançlı bir toplum olduğuna  
C) Topraklarını genişletme çabasına  
D) Hür ve bağımsız yaşama arzusuna

14. Türkiye Cumhuriyeti Anayasa'sında insan hakları üç ana başlık altında ele alınır.

**Aşağıdakilerden hangisi bunlardan biri değildir?**

- A) Ekonomik ve sosyal haklar  
B) Eğitim ve öğretim hakkı  
C) Siyasi haklar  
D) Kişi hakları

15. **Aşağıdakilerden hangisi kişinin din ve vicdan hürriyeti kapsamında değerlendirilemez?**

- A) İsteddiği inancı benimsemesi  
B) İbadetlerini serbestçe yapabilmesi  
C) İnanç ve kanaatlerini açıklayabilmesi  
D) İnanç ve kanaatlerini başkalarına dayatması

16. **Ahilik teşkilatının uyulması gereken kurallarının yazılı olduğu belge aşağıdakilerden hangisidir?**

- A) Fütüvvetnâme  
B) Siyasetnâme  
C) Divan  
D) Kutadgu Bilig

# 1. OTURUM

17. • 751 yılında Abbasilerle Çinliler arasında yapılmıştır.  
• Bu savaşta Türkler Abbasilerin yanında yer almıştır.  
• Türkler İslamiyeti daha iyi tanımış ve Müslüman olmaları hızlanmıştır.

**Bu bilgiler aşağıdaki savaşlardan hangisi ile ilgilidir?**

- A) Sıffin B) Talas  
C) Yermük D) Kadisiye

18. I. İmam Şafî  
II. İmam Maturidî  
III. İmam Ebu Hanife  
IV. İmam Eş'arî

**Bunlardan hangileri inanç ve itikadî mezhep imamı olarak bilinir?**

- A) I ve III. B) I ve IV.  
C) II ve III. D) II ve IV.

19. Mimar Sinan aşağıdaki yapı türlerinin hangisinde daha fazla eser vermiştir?

- A) Cami B) Saray  
C) Aşevi D) Medrese

20. Kufî, sülüs ve nesih gibi çeşitleri olan sanat dalı aşağıdakilerden hangisidir?

- A) Tezhip B) Minyatür  
C) Hüsnühat D) Ebru

## (114) DİN KÜL. AHL. BİL. – 4

1. I. Vazgeçilmez ve devredilemez haklardır.  
II. Sosyal statüye göre belirlenir.  
III. İnsan haklarının özüdür.  
IV. Sonradan elde edilir.

**Özgürlükler ile ilgili numaralanmış bilgilerden hangileri yanlıştır?**

- A) I ve III. B) I ve IV.  
C) II ve III. D) II ve IV.

2. "Kim bir mümini bile bile öldürürse, onun cezası, içinde temelli kalacağı cehennemdir. Allah ona öfkelenmiş, onu lanetlemiş ve ona büyük bir azap hazırlamıştır."  
(Nisa suresi, 93. ayet)

**Bu ayet, aşağıdaki temel hak ve özgürlüklerden hangisi ile ilişkilidir?**

- A) Eğitim  
B) Yaşam  
C) Din ve vicdan  
D) Özel yaşamın gizliliği

3. Aşağıdakilerden hangisi temel haklardan biri değildir?

- A) Haberleşme B) Sağlık  
C) Yaşam D) Eğitim

4. "Dinde zorlama yoktur..."  
(Bakara suresi, 256. ayet)  
"De ki: O Kur'an Rabbinizden gelen bir haktır. Artık dileyen iman etsin, dileyen inkâr etsin..."  
(Kehf suresi, 29. ayet)

**Bu ayetler aşağıdaki hak ve özgürlüklerden hangisine temel oluşturur?**

- A) İbadet hakkı  
B) Eğitim hakkı  
C) İnanma hakkı  
D) Yaşam hakkı

5. Aşağıdakilerden hangisi matematik alanında ün yapmış İslam âlimlerinden biridir?

- A) Harezmi B) Uluğ Bey  
C) Piri Reis D) Ali Kuşçu

6. Sözlükte; gizli ve hızlı söz, işaret, ilham anlamına gelir. Dini terim olarak ise, Allah'ın peygamberlerine dilediklerini, özel bir şekilde bildirmesidir.

**Tanımı verilen kavram aşağıdakilerden hangisidir?**

- A) Ayet B) Vahiy  
C) Sünnet D) Hadis

7. "Kitabü's-Şifa" ve "El-Kanun fit-Tıp" adlı eserler aşağıdaki bilginlerden hangisine aittir?

- A) İbn-i Rüşd B) Ali Kuşçu  
C) Harezmi D) İbn-i Sina

8. I. Taklitçilikten uzaklaştırır.  
II. Bilgisizlikten kaynaklanır.  
III. İlimle ortadan kaldırılabılır.  
IV. Toplumsal barışa katkı sağlar.

**Taassup hakkında numaralanmış bilgilerden hangileri doğrudur?**

- A) I ve III. B) I ve IV.  
C) II ve III. D) II ve IV.

9. "Gökleri yedi kat üzerine yaratan O'dur. Rahman'ın bu yaratmasında bir düzensizlik bulamazsın. Gözünü çevir de bir bak, bir çatlak görebilir misin?"  
(Mülk süresi, 3. ayet)

**Bu ayetin altı çizili bölümünde Kur'an'daki bilgi kaynaklarından hangisine dikkat çekilmektedir?**

- A) Akıl B) Duyular  
C) Vahiy D) İlham

10. İslam toplumundaki ilk eğitim kurumu aşağıdakilerden hangisidir?

- A) Suffe B) Cami  
C) Küttaplar D) Beytül-Hikme

11. Aşağıdakilerden hangisi dinin yozlaştırılmasına karşı alınacak önlemlerden biri değildir?

- A) İnanç ve ibadet özgürlüğünü sınırlandırmak  
B) Bağınazlık ve hurafelerle mücadele etmek  
C) Dinin esas kaynağından öğrenilmesini sağlamak  
D) Gerçek din âlimlerinin yetişmesine önem vermek

12. Allah tarafından gönderilen, peygamberi ve kutsal kitabı olan, hayata yön veren, inanç, ibadet ve ahlak kurallarının bütünüdür.

**Tanımı verilen kavram aşağıdakilerden hangisidir?**

- A) Medeniyet B) Bilim  
C) Din D) Sanat

13. Aşağıdakilerden hangisi akıllı kullanmayı ve öğrenmeyi teşvik eden ayetlerden biri değildir?

- A) "Yaratan Rabb'inin adıyla oku."  
(Alfak suresi, 1. ayet)  
B) "... De ki: Hiç bilenlerle bilmeyenler bir olur mu? Ancak akıllı sahipleri öğüt alırlar."  
(Zümer suresi, 9. ayet)  
C) "... Allah'a karşı ancak; kulları içinden âlim olanlar derin saygı duyarlar..."  
(Fâtır suresi, 28. ayet)  
D) "Allah, kullarına lütfkârdır, dileğini rızıklandırır. O kuvvetlidir, güçlüdür."  
(Şûrâ suresi, 19. ayet)

14. Dinsiz milletlerin devamına imkân yoktur.

**Atatürk'ün bu sözünden din hakkında aşağıdaki yargılardan hangisine ulaşılamaz?**

- A) İnsan ve toplum için önemlidir.  
B) Cehalet ve taassubun düşmanıdır.  
C) Birleştirici ve bütünleştirici bir etkiye sahiptir.  
D) Milletlerin devamlılığını sağlayan bir unsurdur.

15. Selçuklu veziri Nizamülmülk'ün 1067 yılında kurduğu medrese aşağıdakilerden hangisidir?

- A) Burûciye Medresesi  
B) İnce Minareli Medrese  
C) Nizamiye Medresesi  
D) Gök Medrese

16. Aşağıdakilerden hangisi Hz. Muhammed'e (sav.) gelen vahiy şekillerinden biri değildir?

- A) Yazılı olarak gelmesi  
B) Perde arkasından duyma  
C) Cebrail'in bizzat getirmesi  
D) Doğrudan kalbe yerleştirilmesi

# 1. OTURUM

17. Akıl ile ilgili aşağıda verilen bilgilerin hangisi yanlıştır?

- A) İyiyi kötüden ayırır.
- B) Dinî sorumluluğun ön şartıdır.
- C) İrade ve davranışlara yön verir.
- D) Tüm canlılara verilmiş bir nimettir.

18. Aşağıdaki âlimlerden hangisi tefsir alanında çalışmaları ile tanınmıştır?

- A) İbni Sina
- B) Taberî
- C) Buhari
- D) Birunî

19. Aşağıdakilerden hangisi İslam'a göre bilgi kaynaklarından biri değildir?

- A) Vahiy
- B) Duyular
- C) Akıl
- D) Rüya

20. "Aranızda birbirinizin mallarını haksız yere yemeyin..."  
(Bakara suresi, 188. ayet)

**Bu ayet ile aşağıdaki davranışlardan hangisinin yasaklandığı söylenebilir?**

- A) İçki içmek
- B) Gıybet etmek
- C) Rüşvet alıp vermek
- D) Birinin evini gözetlemek

## (115) DİN KÜL. AHL. BİL. – 5

1. Aşağıdakilerden hangisi İslam düşüncesindeki yorumları birleştiren unsurlardan biri değildir?

- A) Tevhit
- B) Nübüvvet
- C) Hilafet
- D) Ahiret

2. I. Güzel ahlakın gelişmesini sağlar.  
II. Ekonomik kalkınma sağlar.  
III. Kötülüklerden alıkoyar.  
IV. İlimin gelişmesine katkıda bulunur.

**Bunlardan hangileri namaz ibadetinin faydalarındandır?**

- A) I ve III.
- B) I ve IV.
- C) II ve III.
- D) II ve IV.

3. Sözlükte görüş, akım, gidilen ve takip edilen yol anlamına gelir. Dini terim olarak kendi içinde tutarlı bir metot ve düşünce sistemine sahip olan, belli fikirler ve şahıslar etrafında oluşan itikadî veya fikhî oluşumlardır.

**Hakkında bilgi verilen kavram aşağıdakilerden hangisidir?**

- A) Din
- B) Mezhep
- C) İnanç
- D) Kültür

- 4. • Siffin Savaşı sonucunda ortaya çıkan siyasi - itikadî mezheptir.
- Bu mezhebe göre ameller, imanın bir parçasıdır.
- İbadetleri terk eden veya büyük günah işleyen kimse Müslümanlıktan çıkar.

**Hakkında bilgi verilen mezhep aşağıdakilerden hangisidir?**

- A) Eş'arilik
- B) Mutezile
- C) Şia
- D) Haricilik

5. Aşağıdakilerden hangisi İslam düşüncesindeki ameli- fikhî mezheplerdendir?

- A) Haricilik
- B) Malikilik
- C) Mutezile
- D) Eş'arilik

6. Kur'an'da bazı müteşabih ayetlerde; "Allah'ın eli", "Allah'ın yüzü" gibi ifadeler geçmektedir. Bazı İslam âlimleri bu ifadelerden hareket ederek Allah'ın insan gibi elinin, yüzünün ve diğer azalarının bulunduğu görüşünü ileri sürmüştür. Bazıları da bu ifadeleri "Allah'ın kudreti", "Allah'ın Zatı" şeklinde yorumlamışlardır. Bu durum farklı mezheplerin ortaya çıkmasına sebep olmuştur.

**Bu metin İslam düşüncesindeki yorum farklılıklarının sebeplerinden hangisine örnek oluşturur?**

- A) İnsanın yapısı
- B) Ortam ve kültür
- C) Dini metinler
- D) Sosyal ve siyasi sebepler

7. Kültürümüzde "gül" aşağıdakilerden hangisine duyulan sevgiyi sembolize eder?

- A) Allah'a
- B) Kur'an'ı Kerim'e
- C) Sahabe
- D) Hz. Muhammed'e

8. Necranlı Hristiyanlardan bir heyet Hz. Peygamber'le görüşmek için Medine'ye gelmişti. O sırada Hz. Peygamber Mescid-i Nebi'de bulunuyordu. Hz. Peygamber onları karşıladı. Bir süre sonra Necranlı Hristiyanlar ibadet vakitlerinin geldiğini söylediler ve ayağa kalktılar. Hep birlikte doğuya yönelerek mescitte ibadet etmek istediler. Hz. Peygamber onların mescitte ibadet etmelerine izin verdi.

**Hz. Peygamber'in bu tutumu O'nun aşağıdaki özelliklerinden hangisine örnek oluşturur?**

- A) Hoşgörü
- B) Adalet
- C) Kararlılık
- D) Sabır

9. İbadet eden kimse, görevini yerine getirmenin bilinciyle mutlu ve huzurlu olur. İç huzurunu sağlayan kişi, gelecekle ilgili yersiz korku ve endişelerden uzak olur.

**Bu parçada ibadetlerin faydalarının hangi yönü vurgulanmaktadır?**

- A) Kültürel
- B) Fiziksel
- C) Bireysel
- D) Toplumsal

10. Sahabelerden bazıları, dini daha iyi yaşamak için geceleri namaz kılip, gündüzleri oruç tutmaya, evlenmeye, dünya nimetlerinden uzak durmaya karar vermişlerdi. Bunu duyan Hz. Peygamber onları uyarmış ve şöyle buyurmuştur: "Bilin ki, ben Allah'a hepinizden daha saygılıyım. Bununla birlikte bazı günler oruç tutarım, bazı günler tutmam. Namaz da kılarım, uyku da uyurum, evlenirim de..."

**Bu olayda Hz. Peygamber aşağıdakilerden hangisini vurgulamıştır?**

- A) Merhametli olmayı
- B) Adaletli davranmayı
- C) Zorluklara sabretmeyi
- D) Aşırılıktan kaçınmayı

11. Arayı arayı bulsam izini,  
İzinin tozuna sürsem yüzümü,  
Hak nasib eylese görsem yüzünü  
Ya Muhammed canım arzular seni.

**Bu dördükte aşağıdakilerden hangisine duyulan sevgi ve özlem vurgulanmaktadır?**

- A) Allah
- B) Peygamber
- C) Vatan
- D) Millet

12. • Hastalık veya yaşlılıktan dolayı ayakta namaz kılamayanların oturarak namaz kılabilmesi  
• Hasta veya yolcu olanların Ramazan oruçlarını erteleyebilmeleri  
• Suyun bulunmadığı ortamlarda teyemmümle abdest alınabilmesi

**Bu örnekler, ibadetlerle ilgili temel ilkelerden hangisi ile ilişkilidir?**

- A) Kolaylık
- B) İsteklilik
- C) Samimiyet
- D) Gösterişten uzak olmak

13. Kültürümüzde ehl-i beyt sevgisinin yansımaları arasında aşağıdakilerden hangisi yer almaz?

- A) Edebi eserlerde sıkça ehl-i beyt sevgisinin işlenmesi
- B) Çocuklara Ali, Hasan, Hüseyin ve Fatima isimlerinin verilmesi
- C) Hüsnü hat yazılarında ehl-i beyten isimlere yer verilmesi
- D) Hicri takvimin ilk ayının Muharrem olması

# 1. OTURUM

## (121) FELSEFE – 1

14. Aşağıdakilerden hangisi İslam düşüncesindeki siyasi-itikâdi mezheplerden biri değildir?

- A) Şafîlik B) Maturidilik  
C) Eş'arilik D) Haricilik

15. Aşağıdakilerden hangisi kaza ve kader ile ilgili kavramlar arasında yer almaz?

- A) Rızık B) Tesadüf  
C) Özgürlük D) Tevekkül

16. "And olsun size kendinizden öyle bir peygamber gelmiştir ki, sizin sıkıntıya uğramanız ona çok ağır gelir. O, size çok düşkün, müminlere karşı çok şefkatlidir..."  
(Tevbe suresi, 128. ayet)

**Bu ayette Hz. Muhammed'in (sav.) hangi özelliği vurgulanmaktadır?**

- A) Adaleti B) Güvenirliliği  
C) Merhameti D) Hoşgörüsü

17. Aşağıdakilerden hangisi Mutezile'nin temel görüşleri arasında yer almaz?

- A) Tevhit B) Nübüvvet  
C) Adalet D) El va'd vel va'id

18. • Mezhebi, Hz. Ali ve onun soyundan gelen on iki imam olduğu düşüncesi oluşturur.  
• İmamların hatadan korunup masum olduklarına ve sözlerinin sünnet olduğuna inanılır.  
• Günümüzde Şia'nın en önemli fıkhi mezhebidir.

**Hakkında bilgi verilen mezhep aşağıdakilerden hangisidir?**

- A) Caferilik B) Hanbelilik  
C) Mâlikilik D) Şafîlik

19. Aşağıdakilerden hangisi ibadetlerde aranan temel ilkelerden biridir?

- A) Gizlilik B) Gösteriş  
C) İsteklilik D) Zorlaştırmak

20. • Osmanlı Devleti'nin resmî mezhebidir.  
• Dinî konuların çözümünde başvurulacak kaynaklar; Kur'an, sünnet, sahabe sözleri, icma ve kıyastır.  
• Örf ve adetler fıkının ikinci kaynaklarındandır.

**Bazı özellikleri verilen fıkhi mezhep aşağıdakilerden hangisidir?**

- A) Hanbelilik B) Malikilik  
C) Şafîlik D) Hanefilik

1. Felsefe, insanın kendisi ve yaşamın anlamı üzerine soru sorma etkinliğidir.

**Buna göre aşağıdakilerden hangisi bir felsefe sorusudur?**

- A) Bugün hava nasıl olacak?  
B) İnsan yaşamının anlamı nedir?  
C) Sporun faydaları nelerdir?  
D) Bir yıl kaç gündür?

2. "Papatya öksürüğe iyi gelir." örneği aşağıdaki bilgi türlerinden hangisine aittir?

- A) Sanatsal B) Dini  
C) Gündelik D) Teknik

3. • Sanat nedir?  
• Varlık var mıdır?  
• Bilginin kaynağı nedir?

**Verilen sorularla felsefenin alanları eşleştirildiğinde aşağıdakilerden hangisi açıkta kalır?**

- A) Sanat felsefesi  
B) Bilgi felsefesi  
C) Varlık felsefesi  
D) Siyaset felsefesi

4. Aşağıdakilerden hangisi felsefi bilginin özelliklerinden değildir?

- A) Deney ve gözleme dayalı araştırmalar yapar.  
B) Merak eden, sorgulayan ve araştırma yapan eleştirel bir tavrın ürünüdür.  
C) Varlığı, yaşamı birleştirici ve bütünleştirici bir tavırla ele alır.  
D) Düzenli ve sistemli bir bilgi türüdür.

5. I. Sanat  
II. Bilim  
III. Din

**Yukarıdakilerden hangileri felsefenin konusu olabilir?**

- A) I ve II. B) I ve III.  
C) II ve III. D) I, II ve III.

6. Aşağıdakilerden hangisi bilginin ne olduğunu, hangi yollardan elde edildiğini ve doğruluğunu araştıran bilgi felsefesinin konuları arasında yer almaz?

- A) Bilginin ölçütü  
B) Bilginin imkanı  
C) Evrenin oluşumu  
D) Bilginin kaynağı

7. Felsefenin görevinin olgular ve olgular arasındaki ilişkileri incelemek olduğunu söyleyen akım aşağıdakilerden hangisidir?

- A) Yarırcılık B) Akılcılık  
C) Sezgicilik D) Olguculuk

8. Sofistlere göre bilginin kaynağı duyumlardır. Duyum ve algıya kişiden kişiye değişir. Bu nedenle herkesin kabul edebileceği ortak doğrular yoktur.

**Buna göre aşağıdaki yargılardan hangisine ulaşılabilir?**

- A) Genel geçer doğru bilgi yoktur.  
B) Doğru bilgi doğuştan getirilir.  
C) İdeaların bilgisi doğru bilgidir.  
D) Kesin bilgi vardır.

9. Asıl gerçek olan ideaların dünyasıdır. Asıl gerçeklik, idealar olduğundan doğru bilgi ideaların bilgisidir. İdealar dünyası ancak akılla kavranabilir.

**Verilen ifade aşağıdaki filozoflardan hangisine aittir?**

- A) Hegel  
B) Platon  
C) Descartes  
D) Aristoteles

10. Hume'a göre zihinde bulunan her şeyin temelinde dış dünyanın duyu verileriyle deneyimlenmesi vardır.

**Buna göre Hume için bilginin kaynağı aşağıdakilerden hangisidir?**

- A) Akıl B) İnanç  
C) Duyum D) Sezgi

11. Bilimin yapısını, doğasını, bilimsel kuramla gerçeklik arasındaki ilişkiyi ve bilimde yöntem problemini inceleyen felsefe disiplini aşağıdakilerden hangisidir?

- A) Bilim B) Siyaset  
C) Ahlak D) Sanat

12. Bilimde önermeler birbiriyle çelişmez. Bütün bilimsel yargılar mantıksal tutarlılığa ve geçerliliğe sahiptir.

**Bu parçada bilimsel bilginin hangi özelliği vurgulanmıştır?**

- A) Olgusalılık B) Mantıksallık  
C) Eleştirelilik D) Genelleyicilik

13. Aşağıdakilerden hangisi bilimsel yöntemin aşamalarından biri değildir?

- A) Kuram B) Deney  
C) Gözlem D) Estetik

14. Bilimsel bilgi, bilim insanının inançlarından ve dünya görüşünden bağımsız bir bilgidir. Bilim insanı araştırmalarını tarafsız bir biçimde yapar.

**Buna göre aşağıdaki yargılardan hangisine ulaşılabilir?**

- A) Bilim insanı objektif bilgiler üretir.  
B) Bilimin uzun bir tarihsel geçmişi vardır.  
C) Bilim, bilim insanlarının bir etkinliğidir.  
D) Felsefe, sorularıyla bilime yol gösterir.

## 1. OTURUM

15. MÖ 624-546 yılları arasında Milet kentinde yaşamış olan Thales tüm evrenin sudan meydana geldiğini ve yine suya dönüşeceğini ileri sürmüştür.

**Bu bilgiye göre Thales aşağıdaki sorulardan hangisine cevap aramaktadır?**

- A) Bilgimizin sınırı var mıdır?  
B) Ahlaki yargılar evrensel midir?  
C) Evrenin ana maddesi nedir?  
D) Ortak estetik yargılar var mıdır?

16. Felsefenin varlığı parçalamadan, bütün olarak ele alması aşağıdaki özelliklerinden hangisine dayandırılabilir?

- A) Öznelliğine  
B) Bütüncüllüğüne  
C) Eleştireliliğine  
D) Akılsallığına

17. Descartes'e göre varlık ruh ve madde tözlerinden oluşmuştur. Ruh tözü düşünme, madde tözüyse yer kaplama özelliğine sahiptir.

**Bu parçadan hareketle aşağıdaki yargılardan hangisine ulaşılabılır?**

- A) Varlık iki farklı tözden meydana gelmiştir.  
B) Madde yaratıcı tözdür.  
C) Varlık bilinemez.  
D) Varlık hiçliktir.

18. Kelime anlamı "maddecilik" olan materyalizme göre varlık aşağıdakilerin hangisinden meydana gelmiştir?

- A) Geist  
B) Madde  
C) Fenomen  
D) Düşünce

19. Husserl'e göre varlığın özüne ulaşabilmek o varlığın var oluşu ile ilgili her tür bilgi, düşünce ve yargılar paranteze alınarak sağlanır.

**Buna göre Husserl'in varlığın temelini yerleştirdiği kavram aşağıdakilerden hangisidir?**

- A) Tao  
B) Oluş  
C) İdea  
D) Öz

20. Aşağıdakilerden hangisi varlık felsefesinin kavramlarından değildir?

- A) Ana madde  
B) İde  
C) Sanat  
D) Varlık

2. Felsefe kelime anlamı olarak bilgelik sevgisi ya da hikmet arayışı demektir.

**Bu arayış içerisinde bilgeliği seven, bilgiyi arayan ve ona ulaşmak isteyen kişilere aşağıdaki adlardan hangisi verilir?**

- A) Sanatçı  
B) Filozof  
C) Sporcu  
D) Bilim adamı

3. Sözcük anlamı "fizik ötesi" olan metafizik, duyu organlarıyla algılanan gerçeklikle değil, duyularla algılanamayan alana dair sorunlarla ilgilenir.

**Buna göre aşağıdakilerden hangisi metafiziğin konusu değildir?**

- A) Tanrı'nın varlığı  
B) Öteki dünya  
C) Ruhun ölümsüzlüğü  
D) Duyularla algılanan nesnelere

4. I. Deney ve gözlem  
II. Hayal gücü  
III. İnanç

**Yukarıdakilerden hangileri sanat bilgisinde özne ile nesne arasında bağ kurulmasını sağlar?**

- A) Yalnız I.  
B) Yalnız II.  
C) Yalnız III.  
D) II ve III.

5. Aşağıdaki soru ve felsefi alan eşleştirmelerinden hangisi doğrudur?

- A) Din nedir? - Din felsefesi  
B) Güzel nedir? - Bilgi felsefesi  
C) Bilim nedir? - Siyaset felsefesi  
D) İktidarın kaynağı nedir? - Varlık felsefesi

6. "İnsan neyi bilebilir?, Bilgi nedir?, İnsan bilgisinin sınırı var mıdır?" sorularıyla ilgilenen felsefe dalı aşağıdakilerden hangisidir?

- A) Varlık  
B) Sanat  
C) Bilgi  
D) Din

7. Aşağıdakilerden hangisi bilgi felsefesinin temel kavramları arasında yer almaz?

- A) Uygunluk  
B) Siyaset  
C) Doğruluk  
D) Temellendirme

8. Bilgilerimiz doğuştan aklımızda olsaydı, cahil ya da budala olarak gördüğümüz kişilerin de akıl ilkeleri, matematik kavramları hakkında bilgisi olması gerekirdi.

**Bu düşüncesiyle John Locke aşağıdaki felsefi akımlardan hangisini eleştirmektedir?**

- A) Sezgicilik  
B) Şüphencilik  
C) Yararcılık  
D) Akılcılık

9. Aristoteles'e göre edilgen ve etkin olmak üzere iki tür akıl vardır. Edilgen akıl bilginin malzemesini verir. Etkin akıl ise bu malzemesi biçimlendirerek doğru bilgiye ulaşır.

**Filozofun bu görüşleri aşağıdaki yargılardan hangisiyle uyumludur?**

- A) Tüm bilgi deneyden gelir.  
B) Doğru bilgi akılla elde edilir.  
C) Sezgi doğru bilgi edinmemizi sağlar.  
D) Duyu verileri güvenilirdir.

10. "Bir bilgi karşılaştığımız bir problemi başarıyla çözmeye yarar sağlıyorsa doğrudur." diyen bir kişi için bilginin doğruluk ölçütü aşağıdakilerden hangisidir?

- A) İnanç  
B) Deney  
C) Fayda  
D) Sezgi

11. Bilim felsefesiyle ilgili aşağıdaki ifadelerden hangisi doğru değildir?

- A) Bilimi ve bilimsel bilgiyi konu alan felsefe dalıdır.  
B) Bilimin yapısını ve doğasını inceler.  
C) Bilime yöntem önerir.  
D) Erdemin ne olduğunu sorar.

12. I. Din  
II. Kuram  
III. Paradigma

**Yukarıdakilerden hangileri bilim felsefesinin temel kavramları arasında yer alır?**

- A) I ve II.  
B) I ve III.  
C) II ve III.  
D) I, II ve III.

13. Antik Yunan'da büyük filozofların aynı zamanda büyük bilim adamı olduğu görülür. İlk filozof Thales aynı zamanda astronom ve matematikçidir. Aristoteles ise hem büyük bir filozof hem de iyi bir biyologdur.

**Bu parçadan hareketle Antik Yunan dönemiyle ilgili aşağıdakilerden hangisi doğrudur?**

- A) Bilgi sadece yarar için kullanılmıştır.  
B) Bilimsel çalışmalar geri plana atılmıştır.  
C) Felsefe ve bilim iç içedir.  
D) Teknoloji ileri düzeydedir.

14. Aşağıdakilerden hangisi bilim felsefesinin cevaplamaya çalıştığı sorulardan biri değildir?

- A) Güzelin kaynağı nedir?  
B) Bilimsel yöntemin aşamaları nelerdir?  
C) Bilimin değeri nedir?  
D) Bilim nedir?

### (123) SEÇMELİ FELSEFE – 1

1. Aşağıdakilerden hangisi teknik bilginin tarihsel süreç içerisinde geçirdiği üç farklı aşama arasında yer almaz?

- A) Sanat  
B) Alet  
C) Otomasyon  
D) Makine



# 1. OTURUM

(132) TARİH – 2

15. İslam dünyasında 8. yüzyılda "Beytül Hikme" adlı çeviri merkezlerinde Eski Yunan düşünürlerine ait eserler Arapçaya çevrilmiştir. Harezmi ise ilk cebir kitabını yazmış, yer ve gök yüzü haritaları çizmiştir.

**Buna göre İslam dünyasıyla ilgili aşağıdakilerden hangisi söylenebilir?**

- A) Sanat alanında tartışmalar yapılmıştır.  
B) Deneysel çalışmalara ağırlık verilmiştir.  
C) Mitoloji, din ve büyü iç içedir.  
D) Bilim ve felsefeye önem verilmiştir.
16. "Var olan her şey maddedir." ifadesi aşağıdaki sorulardan hangisine cevap olarak verilmiş olabilir?  
A) Varlık nedir?  
B) Varlık niçin vardır?  
C) Varlık var mıdır?  
D) Varlığın bir amacı var mıdır?
17. Aşağıdakilerden hangisi diyalektik yöntemin aşamalarından değildir?  
A) Tez  
B) Sintez  
C) Evren  
D) Antitez
18. "Evrende değişmeyen hiçbir şey yoktur. Her şey sürekliliğiyle değişim içindedir." diyen bir filozofa göre varlık aşağıdakilerden hangisidir?  
A) İdea  
B) Fenomen  
C) Madde  
D) Oluş
19. Dünyadaki değişme mekanik değil, diyalektik yasalara göre gerçekleşir. Bu değişim sürecinde madde biçim değiştirir.  
**Marx bu anlayışıyla aşağıdaki varlık yaklaşımlarından hangisini benimsemektedir?**  
A) Varlığı madde olarak kabul eden  
B) Varlığı idea olarak kabul eden  
C) Varlığı oluş olarak kabul eden  
D) Varlığı fenomen olarak kabul eden
20. Evrende her şeyin sonsuz sayıda atomdan meydana geldiğini, tek tek varlıkların bu atomların birleşmesi veya ayrılmasıyla oluştuğunu söyleyen filozof ve görüşü aşağıdakilerden hangisidir?  
A) Husserl'in fenomenolojisi  
B) Demokritos'un atomculuğu  
C) Platon'un idealizmi  
D) Descartes'ın ikiciliği

1. XII. yüzyıldan itibaren Türkiye olarak tanınmaya başlayan yer aşağıdakilerden hangisidir?

- A) Uzak Doğu  
B) Yakın Doğu  
C) Orta Asya  
D) Anadolu

2. Orta Asya'da Türklere ait en eski kültür merkezi aşağıdakilerden hangisidir?

- A) Afanesyevo  
B) Anav  
C) Andronova  
D) Karasuk

3. Eski Türk toplumunun sosyal yapısını oluşturan aşağıdaki unsurlardan hangisi aile anlamına gelir?

- A) Budun  
B) Oguş  
C) Boy  
D) Urug

4. İlk Türk Devleti aşağıdakilerden hangisidir?

- A) Uygur  
B) Asya Hun  
C) Kök Türk  
D) Türgiş

5. Aşağıdakilerden hangisi ilk Türk devletlerinde hükümdarların kullandıkları unvanlardan değildir?

- A) Kağan  
B) Han  
C) Sultan  
D) Yabgu

6. Kavimler Göçü sonrasında kurulan Türk devleti aşağıdakilerden hangisidir?

- A) Asya Hun  
B) Uygur  
C) Kök Türk  
D) Avrupa Hun

7. Aşağıdakilerden hangisi İslamiyetten önce Arabistan'da yaşamış devletlerden biri değildir?

- A) Tedmür  
B) Gassani  
C) Habeş Krallığı  
D) Main

8. Aşağıdakilerden hangisi İslamiyet öncesi Arabistan'daki sosyal sınıflardan biri değildir?

- A) Hadariler  
B) Mevaliler  
C) Hürler  
D) Köleler

9. Aşağıdakilerden hangisi İslam medeniyetinde dini ilimlerden biri değildir?

- A) Fizik  
B) Fıkıh  
C) Tefsir  
D) Kelam

10. Aşağıdakilerden hangisi Müslümanlarla Bizans arasında yapılan ilk savaştır?

- A) Bedir Savaşı  
B) Mute Savaşı  
C) Hendek Savaşı  
D) Uhud Savaşı

11. Aşağıdakilerden hangisi Hz. Muhammed Dönemi'nde meydana gelen olaylardan değildir?

- A) Ecnâdeyn Savaşı  
B) Huneyn Seferi  
C) Taif Seferi  
D) Tebük Seferi

12. İspanya'da kurularak bu bölgede İslamiyet'in yayılmasını sağlayan devlet aşağıdakilerden hangisidir?

- A) Karahanlılar  
B) Gazneliler  
C) Abbasiler  
D) Endülüs Emevileri

13. Tıp alanındaki "El-Kanun fi't-Tıp" adlı eseriyle ünlü, İslam aleminde "Şeyh el-Reis" adıyla anılan bilim insanı aşağıdakilerden hangisidir?

- A) İbn-i Sina  
B) Farabi  
C) İmam Gazali  
D) İbn-i Rüşd

14. Türkler Müslüman Araplarla ilk kez hangi savaştan sonra karşı karşıya gelmiştir?

- A) Malazgirt  
B) Nihavent  
C) Katvan  
D) Dandanakan

15. Türklerin İslamiyet'i kabul etmesiyle devlet yapısında birçok değişiklik yaşanmıştır.

**Aşağıdakilerden hangisi bu değişimlerden biri değildir?**

- A) Askerî teşkilata önem vermeye başlamaları  
B) Hükümdarların sultan unvanını kullanması  
C) Şer'i hukukun uygulanması  
D) Hükümdarlığın halife tarafından onaylanması

16. Türk tarihinin ilk sözlüğü kabul edilen eser aşağıdakilerden hangisidir?

- A) Divan-ı Hikmet  
B) Kutadgu Bilig  
C) Divânü Lûgati't-Türk  
D) İhya'ü'ulümi'd-din

17. Malazgirt Zaferi'nden sonra Abbasi halifesinin "İslam Ülkelerinin Sultanı" unvanı verdiği hükümdar aşağıdakilerden hangisidir?

- A) Tuğrul Bey  
B) Attila  
C) Mete Han  
D) Alp Arslan

# 1. OTURUM

18. Büyük Selçuklu Devleti'nde devletin iç ve dış yazışmalarına bakan divan aşağıdakilerden hangisidir?

- A) Divan-ı İstifa B) Divan-ı Arz  
C) Divan-ı İnşa D) Divan-ı Berid

19. Selçuklularda eyaletlere gönderilen şehzadeleri yetiştirmek ve işlerini idare etmek amacıyla gönderilen görevliye verilen isim aşağıdakilerden hangisidir?

- A) Çetr B) Kadı  
C) Tıraz D) Atabey

20. Aşağıdakilerden hangisi Malazgirt Zaferi'nden sonra Anadolu'da kurulan beyliklerden biri değildir?

- A) Danişmentliler  
B) Karahanlılar  
C) Saltuklular  
D) Mengüçkiler

## (133) TARİH – 3

1. Aşağıdakilerden hangisi 14.yüzyıl başlarında Yakın Doğu'da bulunan devletlerden biri değildir?

- A) İhanlılar  
B) Altın Orda Hanlığı  
C) Memlûklular  
D) Büyük Selçuklu Devleti

2. Aşağıdaki devletlerden hangisi Kayılar tarafından kurulmuştur?

- A) Osmanlı Devleti  
B) Akkoyunlu Devleti  
C) Karakoyunlu Devleti  
D) Memluk Devleti

3. Osmanlı Devleti Fetret Devri'ni aşağıdaki savaşların hangisinden sonra yaşamıştır?

- A) Sırpsındığı Savaşı  
B) Çirmen Savaşı  
C) Ankara Savaşı  
D) Varna Savaşı

4. İlk Osmanlı medresesi aşağıdaki padişahlardan hangisi döneminde açılmıştır?

- A) Osman Bey B) Orhan Bey  
C) I. Murat D) Yıldırım Bayezit

5. Osmanlı Devleti'nde geliri padişah anneleri, eşleri ve kızlarına ayrılan topraklara ne denirdi?

- A) Paşmaklık B) Malikâne  
C) Yurtluk D) Ocaklık

6. İstanbulu aşağıdaki Osmanlı padişahlarından hangisi fethetmiştir?

- A) Yavuz Sultan Selim  
B) Yıldırım Bayezit  
C) II. Murat  
D) II. Mehmet

7. Aşağıdakilerden hangisi Osmanlı taşra teşkilatı içerisinde yer alan yönetim birimlerinden biri değildir?

- A) Kaza B) Kadı  
C) Sancak D) Eyalet

8. • Mohaç Meydan Muharebesi  
• Rodosun fethi  
• Cerbe Deniz Savaşı

Yukarıdaki gelişmeler hangi Osmanlı padişahı döneminde gerçekleşmiştir?

- A) I. Selim B) I. Murat  
C) I. Süleyman D) III. Mehmet

9. Osmanlı Devleti Zitvatoruk Antlaşması'nı aşağıdaki devletlerden hangisiyle imzalamıştır?

- A) Avusturya B) İran  
C) Fransa D) Lehistan

10. İlk bilinçli Türk gezgini olarak kabul edilen ve "Seyahatname" adlı ünlü eseri yazan kişi aşağıdakilerden hangisidir?

- A) Katip Çelebi  
B) Sedefkâr Mehmet Ağa  
C) Hezarfen Ahmet Çelebi  
D) Evliya Çelebi

11. Günümüzde 28 Eylül Türk Denizcilik Günü olarak kutlanmaktadır. Bunun nedeni 28 Eylül 1538'de Haçlı donanmasını Akdeniz'de yenen Barbaros Hayrettin Paşanın kazandığı büyük zaferdir.

Bu bilgide bahsedilen savaş aşağıdakilerden hangisidir?

- A) İnebahtı Deniz Savaşı  
B) Preveze Deniz Savaşı  
C) Cerbe Deniz Savaşı  
D) Turnadağ Savaşı

12. Aşağıdakilerden hangisi Osmanlı Devleti'nin 16. yüzyılda Fransa'ya kapitülasyonlar vererek ulaşmak istediği amaçlar arasında sayılamaz?

- A) Baharat yolu ticaretini yeniden canlandırmak.  
B) Toplumun temel tüketim mallarına olan ihtiyacını karşılamak.  
C) Fransa'yı Avrupa'da kurulacak olan Haçlı ittifaklarından koparmak.  
D) Avrupa'daki bilim ve teknikteki gelişmeleri yakından takip etmek.

13. Osmanlı Devleti'nde minyatür sanatçılarının verilen isim aşağıdakilerden hangisidir?

- A) Nakkaş B) Matrakçı  
C) Hattat D) Ebruzen

14. Fatih Dönemi'nde Ayasofya Müderrisliği yapan, Ay'ın haritasını çıkaran ilk bilim adamı olarak tarihe geçen ve bu nedenle NASA (Amerikan Ulusal Havacılık ve Uzay Araştırmaları Merkezi) tarafından Ay'daki bir bölgeye ismi verilen bilim adamı aşağıdakilerden hangisidir?

- A) Ali Kuşçu B) Fuzuli  
C) İdris-i Bitlisi D) Piri Reis

15. Aşağıdakilerden hangisi 17. yüzyılda Osmanlı Devleti'nde çıkan işyanların ekonomik sonuçlarından biridir?

- A) Devlet otoritesinin zayıflaması  
B) Yeniçeri Ocağı'nın bozulması  
C) Devlet gelirlerinin azalması  
D) Şehirlerde barınma sorununun ortaya çıkması

16. Merkantilizm adı verilen ekonomik modeli benimseyen devletlerin temel amacı aşağıdakilerden hangisidir?

- A) Devlet otoritesini güçlendirmek  
B) Dış ticaret fazlası oluşturmak  
C) Değerli madenlerin ülkeye girişini yasaklamak  
D) İç ticarete vergileri artırmak

17. Osmanlıda Cuma günleri Müslümanların, Cumartesi Musevilerin, Pazar ise Hristiyanların tatil günleri idi.

Bu durum toplumun hangi alandaki özgürlüğü ile ilgilidir?

- A) Siyasi B) Ekonomik  
C) Askerî D) Dini

18. IV. Mehmet Dönemi'nde; devlet işlerinde alacağı kararlara, atayacağı kişilere karışılmaması ve kendisi dinlenmeden hakkındaki şikâyetlere itibar edilmemesi şartıyla sadrazamlık görevini kabul eden kişi aşağıdakilerden hangisidir?

- A) Sokullu Mehmet Paşa  
B) Lala Mustafa Paşa  
C) Merzifonlu Kara Mustafa Paşa  
D) Köprülü Mehmet Paşa

19. Genç Osman 1621 yılında çıktığı Lehistan Seferi sırasında ordudaki yeniçerilerin isteksizliği üzerine hangi alanda ıslahat yapmaya karar vermiştir?

- A) Askerî B) Kültürel  
C) Dini D) Ekonomik

## 1. OTURUM

20. XVII. yüzyılda İstanbul'da Mimar Sedefkâr Mehmet Ağa tarafından yapılan ve Avrupalıların Mavi Cami olarak adlandırdıkları cami aşağıdakilerden hangisidir?

- A) Selimiye Camii
- B) Şehzade Camii
- C) Sultan Ahmet Camii
- D) Fatih Camii

### (136) SEÇ. TARİH – 2

1. Aşağıdakilerden hangisi Cahiliye Dönemi'nde toplum yapısının özelliklerinden biri değildir?

- A) Yılın dört ayında savaş yapılmazdı.
- B) Putlara tapılırdı.
- C) Panayırlar kurulurdu.
- D) Kadın ve erkekler eşit haklara sahipti.

2. Müslümanların Arabistan dışına yaptıkları ilk sefer aşağıdakilerden hangisidir?

- A) Tebük
- B) Uhut
- C) Hittin
- D) Hendek

3. Aşağıdakilerden hangisi Hz. Osman Dönemi'nde yaşanmamıştır?

- A) Horasan ve Harzem fethedildi.
- B) İlik İslam donanması oluşturuldu.
- C) Kuran-ı Kerim çoğaltıldı.
- D) Cemal ve Siffin savaşları yapıldı.

4. "Oğuz" adına ilk kez aşağıdaki eserlerden hangisinde rastlanmıştır?

- A) Divan-u Lügat-it-Türk
- B) Orhun Yazıtları
- C) Divan-ı Hikmet
- D) Kutadgu Bilig

- 5. • Türkler ile Müslüman Araplar arasındaki ilişkiler yumuşadı.
- Orta Asya Çinlilerin kontrolüne girmekten kurtarıldı.
- Abbasi Devleti yönetiminde Türkler görev almaya başladı.

Yukarıda verilen bilgiler aşağıdaki savaşlardan hangisinin sonucudur?

- A) Talas
- B) Dandanakan
- C) Bedir
- D) Nihavend

- 6. • Bilinen ilk hükümdarı Bilge Kül Kadir Han'dır.
- Orta Asya'da kurulan ilk Müslüman Türk devletidir.
- İkili yönetim anlayışı vardır.

Yukarıda sözü edilen devlet aşağıdakilerden hangisidir?

- A) Gazneliler
- B) Harzemşahlar
- C) Karahanlılar
- D) Emeviler

7. Aşağıdakilerden hangisi Türk-İslam devletlerinde yaşayış şekilleri yönünden halkı oluşturan gruplardan biri değildir?

- A) Burjuvalar
- B) Göçebeler
- C) Köylüler
- D) Şehirli

8. Aşağıdakilerden hangisi Büyük Selçuklu Devleti yıkıldıktan sonra ortaya çıkan devletlerden biri değildir?

- A) Suriye Selçukluları
- B) Kirman Selçukluları
- C) Katvan Selçukluları
- D) Irak Selçukluları

9. Pasinler Savaşı aşağıdaki devletlerden hangileri arasında yapılmıştır?

- A) Anadolu Selçuklu - Moğol
- B) Büyük Selçuklu - Bizans
- C) Karahanlı - Gazneli
- D) Tolunoğlu - Harzemşah

10. Aşağıdakilerden hangisi Dandanakan Savaşı'nın sonuçlarından biri değildir?

- A) Horasan toprakları kesin olarak Selçuklulara geçti.
- B) Arap yarımadası Türklerin eline geçti.
- C) Tuğrul Bey sultan ilan edildi.
- D) Gazneliler yıkılış sürecine girdiler.

11. Aşağıdakilerden hangisi Türkler tarafından kabul edilen dinlerden değildir?

- A) Mecusilik
- B) Musevilik
- C) Hristiyanlık
- D) İslamiyet

12. Büyük Selçuklu Devleti'ndeki atabeylik kurumu Osmanlı'da hangi isimle devam etmiştir?

- A) Yabgu
- B) Naib
- C) Hacıp
- D) Lala

13. Büyük Selçuklu Devleti'nde, devletin askeri işleri ile ilgilenen divan aşağıdakilerden hangisidir?

- A) İstifa Divanı
- B) Tuğra Divanı
- C) İşraf Divanı
- D) Arz Divanı

14. Büyük Selçuklu Devleti'nde eyaletlerin ve vilayetlerin başında bulunan askerî görevlilerden hükümdar soyundan olanlara ne denirdi?

- A) Şihne
- B) Amid
- C) Melik
- D) Amil

15. Karahanlılar Dönemi Türk edebiyatı eserlerindedir. Uygun harfleriyle yazılmıştır. Eserin adı hakikatlerin eşîği anlamına gelmektedir. Konusu dinî ve ahlakidir. Yazarı Edip Ahmet Yükneki'dir.

Hakkında bilgi verilen eser aşağıdakilerden hangisidir?

- A) Atabetü'l – Hakayık
- B) Divanü Lügat-it Türk
- C) Kutadgu Bilig
- D) Divan-ı Hikmet

16. Hittin Zaferi ile Kudüs'ü Haçlılardan alan hükümdar aşağıdakilerden hangisidir?

- A) Melikşah
- B) Alp Arslan
- C) Gazneli Mahmut
- D) Selahaddin Eyyubi

17. Osmanlı-Memluk ilişkileri ilk defa hangi Osmanlı padişahı zamanında bozulmuştur?

- A) Kanuni Sultan Süleyman
- B) Yavuz Sultan Selim
- C) Fatih Sultan Mehmet
- D) II. Bayezit

18. Moğol İmparatorluğu parçalandıktan sonra İran'da hangi devlet kurulmuştur?

- A) İlhanlılar
- B) Kubilay Hanlığı
- C) Çağatay Hanlığı
- D) Altın Orda Devleti

19. Moğollarda tüccarlardan ve pazara getirilen mallardan alınan vergiye ne denirdi?

- A) Suyurgal
- B) Kopçur
- C) Tamga
- D) Kalan

20. Muhakemet'ül Lûgateyn adlı eserin yazarı aşağıdakilerden hangisidir?

- A) Kadızâde-i Rumî
- B) Ali Şîr Nevaî
- C) Hüseyin Baykara
- D) Ebul Gazi Bahadır Han

### (142) T.C. İNK. TAR. ATA. – 2

1. Meclis hükümeti sisteminden kabine sistemine aşağıdakilerden hangisiyle geçilmiştir?

- A) Cumhuriyetin ilan edilmesiyle
- B) Saltanatın kaldırılmasıyla
- C) TBMM'nin açılmasıyla
- D) 1921 Anayasası'nın kabul edilmesiyle

# 1. OTURUM

2. Aşağıdakilerden hangisi Atatürkçü düşüncede millî güç unsurlarından biri değildir?
- A) Ekonomik güç  
B) Sosyo-kültürel güç  
C) Dış güç  
D) Askerî güç
3. Cumhuriyet tarihimizin ilk muhalefet partisi aşağıdakilerden hangisidir?
- A) Cumhuriyet Halk Partisi  
B) Terakkîperver Cumhuriyet Partisi  
C) Serbest Cumhuriyet Partisi  
D) Demokrat Parti
4. Ekonomi andı anlamına gelen Misak-ı İktisadi'nin kabul edildiği kongre aşağıdakilerden hangisidir?
- A) Sivas Kongresi  
B) Erzurum Kongresi  
C) Balıkesir Kongresi  
D) İzmir İktisat Kongresi
5. Cumhuriyetin ilk yıllarında tarımın daha bilinçli yapılması amacıyla Yüksek Ziraat Enstitüsü'nün açıldığı şehir aşağıdakilerden hangisidir?
- A) Adana  
B) Ankara  
C) Bursa  
D) İzmir
6. Aşağıdakilerden hangisi kadınlara verilen siyasi haklardan biridir?
- A) Mirasta eşitlik hakkı  
B) Meslek seçme hakkı  
C) Seçme ve seçilme hakkı  
D) Boşanma hakkı
7. Özel girişimin başardığı en önemli sanayi kuruluşu ve ilk şeker fabrikası aşağıdakilerden hangisidir?
- A) Uşak  
B) Turhal  
C) Eskişehir  
D) Alpullu
8. Aşağıdakilerden hangisi eğitim ve kültür alanında yapılan inkılaplardan biri değildir?
- A) Tevhid-i Tedrisat Kanunu'nun çıkarılması  
B) Türk Tarih Kurumunun kurulması  
C) Misak-ı İktisadi ilkelerinin kabul edilmesi  
D) Türk Dil Kurumunun kurulması
9. Aşağıdakilerden hangisi toplumsal alanda yapılan yeniliklerden biridir?
- A) Tevhid-i Tedrisat Kanunu'nun çıkarılması  
B) Soyadı Kanunu'nun çıkarılması  
C) Teşvik-i Sanayi Kanunu'nun çıkarılması  
D) Türk Tarih Kurumunun kurulması
10. Aşağıdakilerden hangisi Genelkurmay Başkanlığı'nın görev alanı içindedir?
- A) Vatandaşların askerlik görevlerinin düzenlenmesi  
B) Ordunun beslenme ve barınma ihtiyaçlarının karşılanması  
C) Ordunun araç ve silah ihtiyaçlarının karşılanması  
D) Ordunun savaşa hazırlanması
11. 1933'te iktidarı ele geçirek II. Dünya Savaşı'nın başlamasında önemli rolü olan Alman Nazi Partisi Lideri aşağıdakilerden hangisidir?
- A) Benito Mussolini  
B) Franklin Roosevelt  
C) Adolf Hitler  
D) Winston Churchill
12. Misakımillî sınırları içerisinde yer almasına karşın Musul'un Irak'a bırakılmasına neden olan devlet aşağıdakilerden hangisidir?
- A) Fransa  
B) İngiltere  
C) İtalya  
D) ABD
13. Lozan Barış Antlaşması ile kurulan Boğazlar Komisyonu'nun Montrö Boğazlar Sözleşmesi ile kaldırılmasından sonra bu komisyonun görev ve yetkileri aşağıdakilerden hangisine devredilmiştir?
- A) Milletler Cemiyeti  
B) NATO'ya  
C) AET'ye  
D) Türkiye Cumhuriyeti Devleti'ne
14. I. Dünya Savaşı'ndan sonra dünya barışını sağlamak ve korumak amacıyla kurulan teşkilat aşağıdakilerden hangisidir?
- A) Milletler Cemiyeti  
B) Kuzey Atlantik Paktı  
C) Varşova Paktı  
D) OPEC
15. Aşağıdakilerden hangisi Türk Devleti'nin üç temel organından biri değildir?
- A) Yasama  
B) Yürütme  
C) Ordu  
D) Yargı
16. Yasama gücü millet adına aşağıdakilerden hangisi tarafından kullanılmaktadır?
- A) Bağımsız mahkemeler  
B) Milli Güvenlik Kurulu  
C) Bakanlar Kurulu  
D) Türkiye Büyük Millet Meclisi
17. Her Türk vatandaşının yasalar karşısında eşit olması ve devletin imkânlarından eşit olarak yararlanması Atatürk'ün hangi ilkesinin bir gereğidir?
- A) Halkçılık  
B) Milliyetçilik  
C) Cumhuriyetçilik  
D) Devletçilik
18. Türk Tarih Kurumu ve Türk Dil Kurumunun kurularak millî kültürümüzün gelişmesinin sağlanması Atatürk'ün hangi ilkesinin bir sonucudur?
- A) Cumhuriyetçilik  
B) Halkçılık  
C) Devletçilik  
D) Milliyetçilik
19. Aşağıdakilerden hangisi Cumhuriyet Dönemi'nde sağlık alanında yapılan çalışmalardan biri değildir?
- A) Ankara Yüksek Ziraat Enstitüsü'nün açılması  
B) Hıfzısıhha Enstitüsü'nün kurulması  
C) Kızılay Hemşire Okulu'nun açılması  
D) İstanbul ve Sivas'ta sağlık memurlarının açılması
20. Birleşmiş Milletler Teşkilatı Güvenlik Konseyi'nin beş daimi üyesinden birisinin olumsuz oy kullanarak bir kararın alınmasına engel olma hakkı, aşağıdakilerden hangisidir?
- A) Barış  
B) Veto  
C) Dava  
D) Müracaat

(151) COĞRAFYA – 1

1. Doğal çevredeki kaynaklar ile ekonomik faaliyetler arasında bağlantı bulunmaktadır.
- Buna göre aşağıdakilerden hangisinde böyle bir ilişki vardır?
- A) Ormanca zengin yerlerde mobilya fabrikalarının bulunması  
B) Nüfus artışına bağlı olarak inşa edilen konutların artması  
C) Teknoloji geliştikçe afetlere karşı etkili önlemler alınması  
D) Dağlık ve engebeli yerlere köprü ve tünel yapılması
2. Aşağıdakilerden hangisi fiziki coğrafyanın alt bilim alanlarından biridir?
- A) Turizm coğrafyası  
B) Toprak coğrafyası  
C) Siyasi coğrafya  
D) Ulaşım coğrafyası

# 1. OTURUM

3. Aşağıdakilerden hangisi **İlk Çağ'da coğrafya biliminin kurulmasına ve gelişmesine katkı yapan bilim insanlarından biri değildir?**

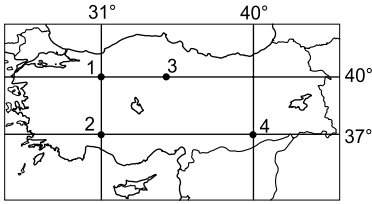
- A) Hekataiyus B) Platon  
C) Tales D) C. Ritter

4. Amazon ormanlarında kaybolan bir araştırma grubu telsizden yardım istemiştir.

**Grubun yerini hızlı ve tam olarak tespit edilebilmek için yardım ekibi aşağıdaki bilgilerden hangisine sahip olmalıdır?**

- A) Grubun hangi yönde hareket ettiğine  
B) Grubun bulunduğu yerin ortalama yükselti değerine  
C) Grubun bulunduğu yerin matematik konumuna  
D) Grubun bulunduğu yerin çevresindeki belirgin yer şekline

5.



**Türkiye haritasında numaralandırılarak verilen noktali yerlerin hangileri arasında yerel saat farkı yoktur?**

- A) 1 ve 2 B) 2 ve 4  
C) 1 ve 4 D) 1 ve 3

6. Haritalarda ölçek paydası büyüdükçe aşağıdakilerden hangisi **değişmez?**

- A) Ayrıntıyı gösterme gücü  
B) Bir dağın yükseklik değeri  
C) Kağıt üzerinde kapladığı alan  
D) Gösterdiği alanın büyüklüğü

7. Yeryüzü şekillerinin izohipslerle gösterildiği haritalarda aşağıdakilerden hangisinin izohips çizgilerini kestiği görülür?

- A) Zirveler B) Göller  
C) Akarsular D) Vadiler

8. Aşağıdakilerden hangisi **Dünya'nın yıllık hareketinin sonuçlarından biridir?**

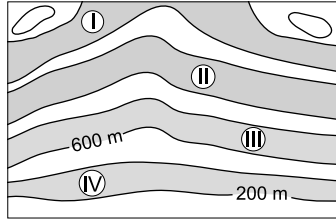
- A) Mevsimlerin oluşması  
B) Yerel saat farklarının oluşması  
C) Meltem rüzgârlarının oluşması  
D) Okyanus akıntılarında sapmaların oluşması

9. Yeryüzünde bulunan doğal unsurlar ve beşeri yapılar haritalara aktarılrken noktasal, çizgisel ve alansal olmak üzere üç çeşit yöntemle gösterilir.

**Buna göre aşağıdaki doğal unsurlardan hangisi haritalarda çizgisel yöntemle gösterilir?**

- A) Göller B) Platolar  
C) Ormanlar D) Akarsular

10. Renklendirme yöntemiyle çizilen fiziki haritalarda 0 – 500 metre arasındaki yüksekliğe kadar olan yerler yeşil renk ile gösterilir.



**Buna göre yukarıdaki izohips haritası renklendirme yöntemiyle çizilirse numaralandırılarak gösterilen taranmış alanların hangisi yeşil renkle gösterilir?**

- A) I B) II C) III D) IV

11. Ekvatordan kutuplara doğru gidildikçe aşağıdakilerden hangisi **artar?**

- A) Sıcaklık değerleri  
B) Gölge boyları  
C) Kalıcı kar alt sınırı  
D) Denizlerdeki tuzluluk oranı

12. Aşağıda iki farklı Türkiye haritasında Ankara ve Mersin arasındaki uzaklık gösterilmiştir.

	Ankara – Mersin arası uzaklık
I. harita	32,2 cm
II. harita	24,1 cm

**Ankara ile Mersin arasındaki gerçek uzaklık değişmediği halde haritalarda bu mesafenin farklı olmasının nedeni aşağıdakilerden hangisidir?**

- A) Harita çizim yöntemlerinin farklılığı  
B) Haritaların kullanım amaçlarının değişmesi  
C) Haritaların küçültme oranlarının değişmesi  
D) Haritaları çizen kişi ve kurumların farklılığı

13. Aşağıdakilerden hangisi **atmosferde her zaman bulunan ancak oranı yere ve zamana göre değişen gazlardan biridir?**

- A) Azot  
B) Oksijen  
C) Su buharı  
D) Asal gazlar

14. Türkiye'de aşağıdaki tarihlerin hangisinde **gündüz süresi daha uzundur?**

- A) 21 Haziran B) 21 Aralık  
C) 23 Eylül D) 21 Mart

15. Yeryüzü ile temas eden ve içerisinde hava olayları gerçekleşen atmosfer katmanı aşağıdakilerden hangisidir?

- A) Ekzosfer B) Mezosfer  
C) Troposfer D) Termosfer

16. Belirli bir yerde kısa süreli meydana gelen hava olaylarına hava durumu denir.

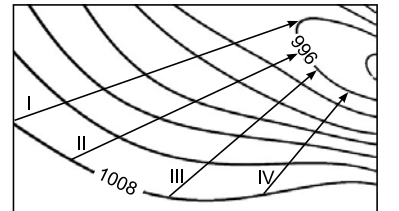
**Buna göre aşağıdaki ifadelerin hangisinde hava durumundan söz edilmektedir?**

- A) Ankara'da Ocak ayı soğuk geçer.  
B) Antalya'da yaz mevsimi kurak geçer.  
C) Ağrı'da kış mevsimi genellikle kar yağışlıdır.  
D) Giresun'da bugün öğleden sonra hava güneşli olacak.

17. Aşağıdaki iklim tiplerinden hangisi **Türkiye'de görülmez?**

- A) Akdeniz B) Karadeniz  
C) Karasal D) Tropikal

18. Aşağıda bir bölgenin izobar (eş basınç) haritası verilmiştir.



Yüksek basınç merkezi ile alçak basınç merkezi arasındaki uzaklık arttıkça rüzgârın hızı azalır.

**Buna göre izobar haritası üzerinde numaralandırılmış oklar yönünde esen rüzgârlardan hangisinin hızının daha az olması beklenir?**

- A) I B) II C) III D) IV

# 1. OTURUM

19. Yıllık bulutluluk oranı fazla olan yerde güneşlenme süresi azdır.  
**Buna göre aşağıda verilen illerden hangisinin güneşlenme süresi diğerlerine göre daha azdır?**
- A) Konya B) Rize  
C) Mardin D) Mersin

20. Türkiye'nin kıyı kesimlerinde günlük sıcaklık farkı iç kesimlerine göre daha azdır.  
**Bu durumun temel nedeni aşağıdakilerden hangisidir?**
- A) Enlem  
B) Nemlilik  
C) Toprak özellikleri  
D) Kayaç özellikleri

## (153) COĞRAFYA – 3

1. Avanos - Ürgüp - Göreme yöresinde peribacalarının oluşmasında etkili olan kayaç aşağıdakilerden hangisidir?

- A) Konglomera B) Volkanik tüf  
C) Jips D) Kalker

2. Kalkerli arazilerde suların eritme ve aşındırması sonucu meydana gelen yer altı boşluklarına ne ad verilir?

- A) Traverten B) Polye  
C) Mağara D) Lapy

3. Aşağıdaki kayaç gruplarından hangisinin önemli bir özelliği de bünyelerinde oluştukları döneme ait fosiller bulundurmalarıdır?

- A) İç püskürük  
B) Metamorfik  
C) Dış püskürük  
D) Organik tortul

4. Dünya su kaynakları içinde tatlı su miktarının oranı aşağıdakilerden hangisi kadardır?

- A) % 3 B) % 30  
C) % 68 D) % 97

5. Yeryüzündeki sıcak su kaynaklarının dağılışı ile aşağıda verilenlerden hangisinin dağılışı daha çok benzerlik gösterir?

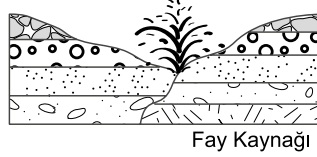
- A) Fay hatları  
B) Tortul kayaçlar  
C) Sıcak iklimler  
D) Delta ovaları

6. Enlemin etkisine bağlı olarak Ekvator'dan kutuplara doğru gidildikçe denizlerin tuzluluk oranı azalır.

**Buna göre aşağıdaki denizlerden hangisinin tuzluluk oranı daha fazladır?**

- A) Baltık Denizi B) Karadeniz  
C) Akdeniz D) Kuzey Denizi

7.



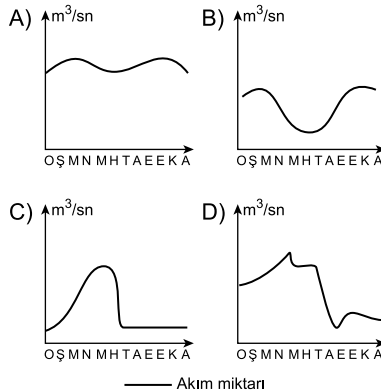
Yukarıda kırıklı yapıların bulunduğu yerlerde fay hattı boyunca yüzeye çıkan suların oluşturduğu kaynak çeşidi gösterilmiştir.

**Bu kaynak çeşidi ile ilgili aşağıdakilerden hangisi söylenemez?**

- A) Suları sıcaktır.  
B) Suları içerisinde bol miktarda kireç bulunur.  
C) Jeotermal enerji üretiminde kullanılır.  
D) Mineral madde bakımından zengindir.

8. Akımı yıl içinde fazla değişiklik göstermeyen akarsular düzenli rejime sahiptir.

**Buna göre aşağıda akım grafikleri verilen akarsulardan hangisinin rejimi diğerlerine göre daha düzenlidir?**



9. Rüzgârların taşıyıp biriktirdiği malzemelerden oluşan topraklar aşağıdakilerden hangisidir?

- A) Moren B) Lös  
C) Alüvyal D) Kolüvyal

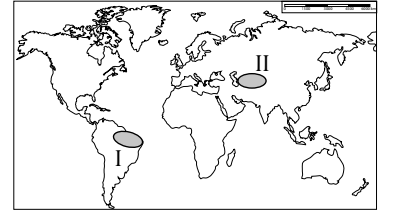
10. Aşağıda bazı göllerin oluşum şekli açıklanmıştır:

- Yer kabuğu hareketleri sonucunda çöken alanlarda oluşan göllerdir.
- Kolay eriyebilen kayaçların bulunduğu arazilerdeki çukur alanlarda suların birikmesiyle oluşan göllerdir.
- İnsanların çeşitli amaçlar için akarsuların önünü bir setle kapatmaları sonucu oluşan göllerdir.

**Buna göre aşağıdaki göl çeşitlerinden hangisinin oluşum biçimiyle ilgili bilgi verilmemiştir?**

- A) Tektonik göller  
B) Karstik göller  
C) Baraj gölleri  
D) Volkanik göller

11.



**Harita üzerinde numaralandırılarak gösterilen alanlarda yaygın olan bitki örtüsü aşağıdakilerden hangisinde doğru verilmiştir?**

- |           |        |
|-----------|--------|
| I         | II     |
| A) Bozkır | Tundra |
| B) Savan  | Çayır  |
| C) Tundra | Orman  |
| D) Orman  | Bozkır |

12. Osmanlı Devleti'nde ilk kapsamlı nüfus sayımı 1831 yılında padişah II. Mahmut döneminde yapılmıştır.

**Bu dönemde yapılan nüfus sayımının temel amacı aşağıdakilerden hangisidir?**

- A) Asker sayısını ve vergi yükümlülerini belirlemek  
B) Nüfusun yaş gruplarına dağılımını belirlemek  
C) Nüfusun cinsiyete göre dağılımını belirlemek  
D) Nüfusun eğitim durumunu belirlemek

13. Aşağıdakilerden hangisi gelişmiş ülkelerde nüfus artış hızının düşük olmasının nedenlerinden biri değildir?

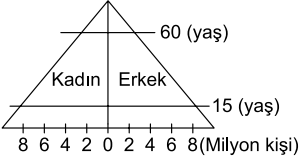
- A) Nüfus planlamasının yapılması  
B) Eğitim seviyelerinin yüksek olması  
C) İş gücüne duyulan ihtiyacın az olması  
D) Kadınların çalışma hayatına girmesi

# 1. OTURUM

14. • Japonya  
• Batı Avrupa  
• ABD'nin doğu kıyıları  
Yukarıda verilen yerlerde nüfusun yoğun olmasının ortak nedeni aşağıdakilerden hangisidir?

- A) Sanayi faaliyetleri  
B) Turizm faaliyetleri  
C) Tarımsal faaliyetler  
D) Yer altı kaynakları

15.



Nüfus piramidi yukarıdaki gibi olan bir ülke ile ilgili aşağıdakilerden hangisi söylenebilir?

- A) Gelişmiş bir ülkedir.  
B) Doğum oranı yüksektir.  
C) Yaşlı nüfus oranı fazladır.  
D) İşçi göçü almaktadır.
16. Aşağıdakilerden hangisi nüfusun Dünya üzerindeki dağılımını etkileyen doğal bir etmendir?
- A) Ulaşım B) Turizm  
C) İklim D) Sanayi
17. Aşağıdaki ülkelerden hangisinin daha fazla beyin göçü aldığı söylenebilir?
- A) Cezayir B) Nijerya  
C) Kanada D) Romanya
18. Aşağıdakilerden hangisi birincil ekonomik faaliyetlerdendir?
- A) Bankacılık B) Turizm  
C) Ticaret D) Ormanlık
19. Aşağıdaki göçlerden hangisinin nedeni doğal afettir?
- A) Amerika kıtasının keşfedilmesiyle Avrupa'dan bu kıtaya yapılan göçler.  
B) 2017 yılında Siri Lanka'da meydana gelen sel ve heyelan nedeniyle yapılan göçler.  
C) II. Dünya Savaşı'ndan sonra Türkiye'den Almanya'ya yapılan göçler.  
D) Lozan antlaşmasıyla Türkiye ile Yunanistan arasında yapılan göçler.

20. Aşağıdaki ülkelerden hangisinde üçüncül ekonomik faaliyet konusunda çalışan nüfus oranı daha fazladır?

- A) Nijerya B) Mısır  
C) Somali D) Japonya

## (155) SEÇ. COĞRAFYA – 1

1. Bitki ve hayvan türlerinin yaşamlarını devam ettirebilmek için buldukları iklim koşullarına uyum sağlamalarına ne denir?

- A) Adaptasyon  
B) Ekosistem  
C) Habitat  
D) Biyom

2. Aşağıda verilen biyomlardan hangisi biyolojik çeşitlilik bakımından daha zengindir?

- A) Çöl  
B) Çayır  
C) Çalılık  
D) Yağmur ormanları

3. Aşağıdakilerden hangisi ekosistemi oluşturan fiziksel etmenler arasında yer alır?

- A) Protein B) Oksijen  
C) Yağış D) Bitkiler

4. Canlılar tüm yaşamsal faaliyetlerini sürdürebilmek için enerjiye ihtiyaç duyar. Ekosistemdeki enerji akışı güneşten gelerek üreticiler, otçul tüketiciler, etçil tüketiciler ve ayrıştırıcılara doğru tek yönlü olarak aktarılır.

Buna göre, ekosistemdeki enerji akışı ile ilgili aşağıdakilerden hangisi söylenemez?

- A) Güneş ekosistemlerin tek enerji kaynağıdır.  
B) Üreticiler ve etçil tüketiciler arasında enerji akışı döngü şeklinde gerçekleşir.  
C) Otçul tüketiciler ihtiyaç duydukları enerjiyi üreticilerden sağlarlar.  
D) Üreticiler, güneşten gelen enerjiyi ilk kullananlardır.

5. Gelişmişlik seviyesi yüksek ancak doğum oranı düşük olan ülkeler nüfus artış hızını yükseltici politikalar uyguluyor.

Buna göre aşağıdakilerden hangisi bu ülkelere örnek gösterilebilir?

- A) Fransa  
B) Hindistan  
C) Bangladeş  
D) Endonezya

6. Bir ülkenin nüfus artış hızı ekonomik kalkınma hızından yüksek ise ülkede bazı problemler ortaya çıkabilmektedir. Aşağıdakilerden hangisi bu problemlerden biri değildir?

- A) İş gücünün artması  
B) İşsiz kişi sayısının artması  
C) Plansız şehirleşmenin artması  
D) Kamu hizmetlerinin yetersiz kalması

7. Dünyadaki ilk şehir yerleşmeleri verimli tarım arazileri çevresinde ve akarsu vadilerinde kurulmuştur.

Buna göre aşağıdakilerden hangisi ilk şehir yerleşmelerinin ortaya çıktığı alanlardan biri değildir?

- A) Nil Vadisi  
B) Mezopotamya  
C) Asya'nın güneydoğusu  
D) Güney Amerika'nın doğusu

8. Aşağıdaki şehirlerden hangisinin küresel etki alanı daha geniştir?

- A) Tiflis B) Bükreş  
C) Beyrut D) Londra

9. Çöl ortasında kurulan küçük bir yerleşme iken, İslamiyet'le birlikte önemi artan ve Suudi Arabistan topraklarında yer alan şehir hangisidir?

- A) Kahire B) Şam  
C) Mekke D) Bağdat

10. Bazı sanayi tesislerinde ham maddelerin işlenmesi sırasında büyük oranda suya ihtiyaç vardır. Bu tür ham maddeleri işleyen sanayi tesislerinin yer seçiminde suyun kolay temini dikkate alınmaktadır.

Buna göre aşağıdaki sanayi tesislerinden hangisinin yer seçiminde su kaynaklarının etkisi diğerlerine göre azdır?

- A) Demir – çelik sanayisi  
B) Beyaz eşya sanayisi  
C) Termik santraller  
D) Nükleer santraller

11. İnsanlar tarafından yapılan etkinliklerin tümüne beşeri faaliyetler denir. Buna göre aşağıdakilerden hangisi üretim, dağıtım ve tüketim faaliyetlerini etkileyen beşeri faktörlerden biridir?

- A) Su kaynakları  
B) Ulaşım yolları  
C) İklim koşulları  
D) Yer şekilleri

# 1. OTURUM

12. Aşağıdaki ülkelerden hangisi doğal kaynak bakımından zengin olmasına rağmen yeterince gelişmemiştir?

- A) Nijerya B) Almanya  
C) Japonya D) Güney Kore

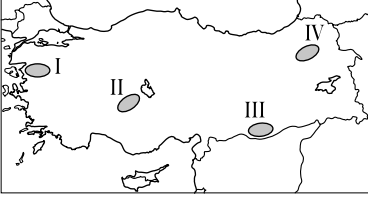
13. Aşağıdakilerden hangisi Türkiye topraklarının ev sahipliği yaptığı medeniyetlerden biri değildir?

- A) Hitit B) Urartu  
C) Maya D) Frigya

14. Aşağıda verilen tarım ürünlerinden hangisinin üretimi devlet kontrolü altındadır?

- A) Arpa B) Haşhaş  
C) Pamuk D) Mısır

15. Türkiye'de büyükbaş hayvancılık, yaz aylarının serin ve yağışlı geçtiği, gür çayır ve otlakların bulunduğu yerlerde yaygın olarak yapılmaktadır.



Buna göre harita üzerinde numaralandırılmış yerlerin hangisinde büyükbaş hayvancılık daha yaygındır?

- A) I B) II C) III D) IV

16. • Elektrik-elektronik sanayisinde kullanılır.  
• Elektrik iletme özelliği bulunan yumuşak bir metaldir.  
• Mutfak eşyası ve süs eşyası yapımında da kullanılmaktadır.  
• Murgul (Artvin) çıkartıldığı ve işlendiği yerlerdendir.

Yukarıdaki bazı özellikler verilen maden hangisidir?

- A) Bakır B) Demir  
C) Krom D) Fosfat

17. Sıcak su kaynaklarından elde edilen enerjiye jeotermal enerji denir.

Türkiye'nin jeotermal enerji potansiyelinin yüksek olmasının nedeni aşağıdakilerden hangisidir?

- A) İklim koşulları  
B) Jeolojik yapısı  
C) Ortalama yükselti  
D) Bitki örtüsü

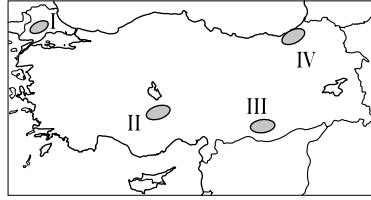
18. Türkiye'de aşağıdaki sanayi kollarından hangisi daha yaygındır?

- A) Çay B) Nükleer  
C) Unlu gıda D) Demir çelik

19. Hamitabad (Kırklareli) termik santrali aşağıdaki enerji kaynaklarından hangisini kullanarak elektrik üretmektedir?

- A) Linyit B) Petrol  
C) Doğalgaz D) Taş kömürü

20. Heyelan, yer şekillerinin engebeli ve yağış miktarının fazla olduğu yerlerde daha kolay meydana gelir.



Buna göre harita üzerinde numaralandırılarak verilen yerlerin hangisinde heyelan oluşma ihtimali daha fazladır?

- A) I B) II C) III D) IV

## (157) SEÇ. COĞRAFYA – 3

1. İnsanların doğaya müdahale edip şekillendirmesinde aşağıdakilerden hangisinin etkisi daha fazla olmuştur?

- A) Tarımı keşfetmesinin  
B) Madenleri işlemesinin  
C) Hayvanları evcilleştirmesinin  
D) Sanayi devrimini gerçekleştirmesinin

2. Ekstrem doğa olaylarından biri olan tsunami için aşağıdakilerden hangisi söylenebilir?

- A) Kıyı şehirlerinde yıkımlara sebep olur.  
B) Klimatolojik karakterli doğa olayıdır.  
C) Volkanik faaliyetleri harekete geçirir.  
D) Şiddetli kuraklıkların ardından gerçekleşir.

3. Türkiye yeryüzü şekillerinin en önemli özelliklerinden biri olan oldukça dağlık arazi yapısı, özellikle yol yapım maliyetlerini artırıp zorlaştırmakta ayrıca kötü hava koşulları da ulaşımında aksamalara yol açmaktadır.

Buna göre aşağıdakilerden hangisi bu sorunları aşmada kullanılan yöntemler arasında sayılamaz?

- A) Tünel yapmak  
B) Baraj yapmak  
C) Viyadük yapmak  
D) İstinat duvarları yapmak

4. Aşağıdakilerden hangisi küresel ısınmaya bağlı olarak buzulların erimesinin sonuçlarından biri değildir?

- A) Kıyı çizgisinin değişmesi  
B) Deniz seviyesinin yükselmesi  
C) Maden rezervlerinin artması  
D) Sahil şehirlerinin sular altında kalması

5. Coğrafi konum olarak yakın olan medeniyetlerin ekonomik, kültürel ve sosyal olarak birbirlerini etkilediği göz önüne alınırsa aşağıdaki medeniyetlerden hangileri arasında böyle bir bağın olması beklenir?

- A) Mısır - İnkla  
B) Çin - Hint  
C) İnkla - Mezopotamya  
D) Maya - Akdeniz

6. Barut, kâğıt ve pusulanın icadı, ipekli dokuma, Filozof Konfüçyüs ve çini sanatı hangi medeniyete ait izlerdir?

- A) Çin B) Yunan  
C) Hint D) Mısır

7. Ekonomisi önceleri ziraat ve hayvancılığa dayanan Antalya ili günümüzde ülkemizde nüfusu hızlı artan ve ekonomisi büyüyen merkezlerimizin başında gelmektedir.

Bu durumun en önemli sebebi aşağıdakilerden hangisidir?

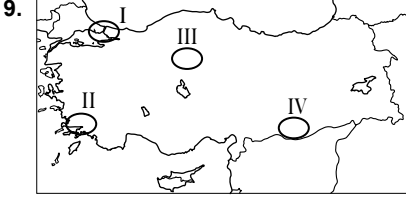
- A) Sanayisinin gelişmesi  
B) Turizm sektörünün gelişmesi  
C) Ulaşım imkânlarının gelişmesi  
D) Sera yapılan alanların genişlemesi



# 1. OTURUM

8. Kentlerdeki çekici faktörler ile kırsal alanlardaki itici faktörlerin bir araya gelmesi aşağıdakilerden hangisine sebep olmuştur?

- A) Sanayileşmeye  
B) Tarımsal ürün artışına  
C) Erozyonun hızlanmasına  
D) Kırsal alanlardan kentlere göçlere



Türkiye haritasında verilen yerlerin hangisi, sanayileşme ve aşırı kentleşmeye bağlı sorunları daha fazla yaşamaktadır?

- A) I B) II C) III D) IV

10. Sanayi başta olmak üzere günümüzde ekonomik faaliyetlerin çoğu yenilenemeyen doğal kaynaklar üzerinden sürmektedir.

**Bu bilgiye dayanarak aşağıdaki sektörlerden hangisinde bu bağımlılık daha azdır?**

- A) İnşaat B) Petrol  
C) Giyim D) Otomotiv

11. Türkiye, geçmişten günümüze kadar önemli yolların kesiştiği bölgede yer almıştır. Bu nedenle kıtalar arasında kara yolu, demir yolu, deniz yolu, hava yolu ve enerji taşımacılığında merkez konumundadır.

**Ülkemizin hangi özelliği bu duruma etki eden en önemli faktördür?**

- A) Yer şekilleri  
B) İklim özellikleri  
C) Coğrafi konumu  
D) Nüfus yoğunluğu

12. Yeryüzü şekillerinin engebeli ve dağlık olduğu yerlerde kara ve demiryolu yapımı zorlaşmakta, yol yapım maliyetleri artmaktadır.

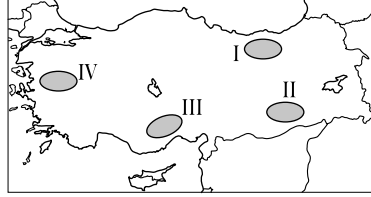
**Buna göre aşağıda verilen yerlerin hangisinde yeryüzü şekilleri yol yapımı için diğerlerine göre daha uygun özelliklere sahiptir?**

- A) Doğu Anadolu  
B) İç Anadolu  
C) Karadeniz  
D) Akdeniz

13. Aşağıdaki illerimizin hangisinde havalimanı yoktur?

- A) İzmir B) Mardin  
C) Erzurum D) Artvin

14. Kalkanlı, Doğu Anadolu'yu Trabzon'a bağlayan geçittir.



**Buna göre Kalkanlı Geçidi haritada kaç numaralı yerdedir?**

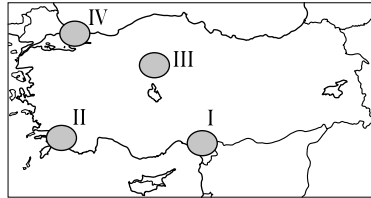
- A) I B) II C) III D) IV

15. Türkiye'deki demiryollarıyla ilgili aşağıda verilen genel bilgilerden hangisi yanlıştır?

- A) Demiryolu hatlarının genel uzanışı doğu - batı yönlüdür.  
B) Dağlık arazi demiryolu yapım maliyetini yükseltmektedir.  
C) 1950'lerde demiryolu yapımı hız kazanmıştır.  
D) Bazı madenlerin ve tarım ürünlerinin taşınmasında yararlanılır.

16. • Coğrafi konumu  
• Nüfusunun yoğun olması  
• Ekonomik etkinliklerin gelişmiş olması

**Yukarıda belirtilen özellikler haritada numaralandırılarak verilen yerlerin hangisinde ulaşım sistemlerinin daha çok gelişmesini sağlamıştır?**



- A) I B) II C) III D) IV

17. Aşağıdakilerden hangisi bir malın veya hizmetin ticari başarısını etkileyen en önemli vasfıdır?

- A) Kaliteli ve ucuz olması  
B) Bol miktarda üretilmesi  
C) Geri dönüşüme uygun olması  
D) Üretiminin el emeğine dayanması

18. Dünya genelinde turizm sektörünün gelişmesinde aşağıdakilerden hangisi daha az etkili olmuştur?

- A) Ulaşım hizmetlerinin artması  
B) Reklam sektörünün gelişmesi  
C) İnsanların gelir düzeyinin artması  
D) Konaklama tesislerinin çoğalması

19. Turistik gezi için Güneydoğu Anadolu'yu planlayan birinin aşağıdaki yerlerden hangisini gezmesi beklenemez?

- A) Balıklı gölü  
B) Harran evlerini  
C) Aspendos Tiyatrosunu  
D) Nemrut Dağı heykellerini

20. Aşağıdakilerden hangisi 1980'lerden sonra ülkemizde turizm sektörünün geliştiğinin doğrudan kanıtı değildir?

- A) Otel sayısının artması  
B) Turist sayısının artması  
C) Turizm gelirlerinin artması  
D) Çevreye verilen önemin artması

## (163) MATEMATİK – 3

1.  $\frac{7!}{5!}$  işleminin sonucu kaçtır?

- A) 42 B) 36 C) 14 D) 7

2. 4 kişi bir sıraya yan yana kaç farklı şekilde sıralanabilir?

- A) 4 B) 8 C) 12 D) 24

3. Bir sınıfta 12 kız, 16 erkek öğrenci vardır.

**Bu sınıftan rastgele seçilen bir öğrencinin kız öğrenci olma olasılığı kaçtır?**

- A)  $\frac{1}{3}$  B)  $\frac{3}{7}$  C)  $\frac{4}{5}$  D)  $\frac{6}{7}$

4. Bir hastanede bulunan 4 doktor, 6 hemşire arasından seçilecek 3 kişilik bir sağlık ekibinde 1 doktor, 2 hemşire bulunma olasılığı kaçtır?

- A)  $\frac{2}{3}$  B)  $\frac{1}{2}$  C)  $\frac{1}{3}$  D)  $\frac{1}{4}$

# 1. OTURUM

5. Aşağıdakilerden hangisi çift fonksiyondur?

- A)  $f(x) = 3x^3 + 4x - 1$   
 B)  $g(x) = 2x^2 - 4x$   
 C)  $h(x) = 2x^4 + 3x^2 - 1$   
 D)  $k(x) = x^3 + 5$

6.  $f(x) = 4x - 3$  fonksiyonuna göre  $f(2)$  kaçtır?

- A) 5 B) 4 C) 3 D) 2

7.  $f(x) = x^2 - 1$  ve  $g(x) = x^2 + x - 4$  fonksiyonlarına göre  $(f + g)(3)$  kaçtır?

- A) 9 B) 12 C) 16 D) 18

8.  $f(x) = 2x - 3$  olduğuna göre  $f$  fonksiyonunun tersinin kuralı aşağıdakilerden hangisidir?

- A)  $\frac{x+3}{2}$  B)  $\frac{x+2}{3}$   
 C)  $\frac{x-2}{3}$  D)  $\frac{x-3}{2}$

9.  $f(x) = 2x + 4$  ve  $g(x) = 3x - 1$  fonksiyonlarına göre  $(fog)(2)$  kaçtır?

- A) 8 B) 10 C) 12 D) 14

10.  $A(3, -1)$  noktasından geçen ve eğimi  $\frac{1}{2}$  olan doğrunun denklemi aşağıdakilerden hangisidir?

- A)  $x - 2y - 5 = 0$   
 B)  $x + 2y - 3 = 0$   
 C)  $2x - y - 1 = 0$   
 D)  $2x + y - 4 = 0$

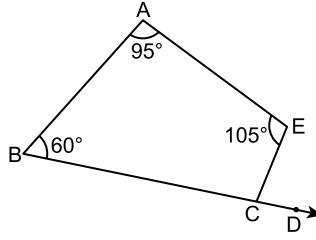
11.  $A(1, 2)$  noktasının  $4x + 3y + 5 = 0$  doğrusuna uzaklığı kaç birimdir?

- A) 3 B) 4 C) 5 D) 6

12.  $3x + 12y + 16 = 0$  ve  $x + by - 8 = 0$  doğruları paralel olduğuna göre  $b$  kaçtır?

- A) 3 B) 4 C) 9 D) 12

13.

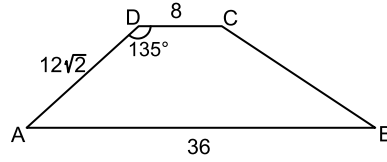


Şekilde B, C, D noktaları doğrusal ve  $m(\widehat{CBA}) = 60^\circ$ ,  $m(\widehat{BAE}) = 95^\circ$ ,  $m(\widehat{AEC}) = 105^\circ$  dir.

Buna göre  $m(\widehat{ECD})$  kaç derecedir?

- A) 70 B) 75 C) 80 D) 85

14.

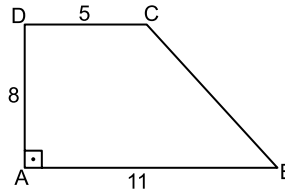


Şekildeki ABCD yamuşunda  $[DC] \parallel [AB]$ ,  $m(\widehat{ADC}) = 135^\circ$  ve  $|AB| = 36$  cm,  $|CD| = 8$  cm,  $|DA| = 12\sqrt{2}$  cm'dir.

Buna göre  $|BC|$  kaç santimetredir?

- A) 15 B) 18 C) 20 D) 25

15.

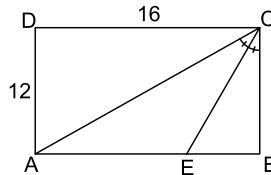


Şekildeki ABCD dik yamuşunda  $[DC] \parallel [AB]$ ,  $[DA] \perp [AB]$  ve  $|CD| = 5$  cm,  $|DA| = 8$  cm,  $|AB| = 11$  cm'dir.

Buna göre  $|BC|$  kaç santimetredir?

- A) 4 B) 6 C) 9 D) 10

16.

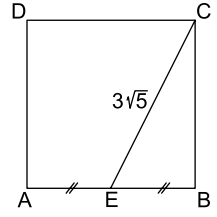


Şekildeki ABCD dikdörtgeninde  $|AD| = 12$  cm,  $|DC| = 16$  cm ve  $m(\widehat{ACE}) = m(\widehat{ECB})$  'tir.

Buna göre  $|EB|$  kaç santimetredir?

- A) 4 B) 6 C) 8 D) 10

17.

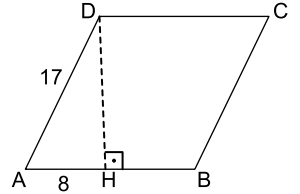


Şekildeki ABCD karesinde  $|AE| = |EB|$  ve  $|EC| = 3\sqrt{5}$  cm'dir.

Buna göre ABCD karesinin çevresi kaç santimetredir?

- A) 16 B) 20 C) 24 D) 30

18.



Şekildeki ABCD eşkenar dörtgeninde  $[DH] \perp [AB]$  ve  $|AH| = 8$  cm,  $|DA| = 17$  cm'dir.

Buna göre  $A(ABCD)$  kaç santimetrekaredir?

- A) 120 B) 136 C) 225 D) 255

19. Alanı  $60 \text{ cm}^2$  olan deltoidin köşegenlerinden birinin uzunluğu 10 cm ise diğer köşegeninin uzunluğu kaç santimetredir?

- A) 6 B) 8 C) 10 D) 12

20. Bir dış açısının ölçüsü  $36^\circ$  olan düzgün çokgen kaç kenarlıdır?

- A) 10 B) 12 C) 15 D) 18

(181) İNGİLİZCE - 1

1-19. sorularda boş bırakılan yere uygun gelen kelime ya da ifadeyi işaretleyiniz.

1. There ---- a cat in the garden.

- A) is B) do  
 C) are D) does

2. ---- Eric got any brothers?

- A) Have B) Does  
 C) Has D) Do

# 1. OTURUM

3. Jackson : ----?

Jonathon : I am the only child.

- A) How are you
- B) How old are you
- C) How much time have you got
- D) How many brothers have you got

4. Antony : ----?

Maria : Yes, go ahead and turn right, it's on your right.

- A) Is there a school near here
- B) What is your occupation
- C) What do you do here
- D) Are you a student

5. Amanda : Hello! I am Amanda. ----?

Melinda : It is Melinda.

- A) Where are you from
- B) What is your name
- C) Why are you here
- D) How are you

6. Sinan is ---- boy in our classroom.

- A) taller than
- B) the tallest
- C) taller
- D) tall


7. Today, I feel ---- yesterday.

- A) happy
- B) happier
- C) the happiest
- D) happier than

8. These trains are ---- than buses.

- A) slow
- B) slower
- C) slowest
- D) the slowest


9.



The girl is ---- the boxes.

- A) behind
- B) next to
- C) between
- D) under

10.



The cat is sleeping ---- the armchair.

- A) on
- B) in
- C) under
- D) next to

11.



The cat is ---- the box.

- A) in
- B) next
- C) under
- D) in front of

12.



The girl is ---- the tree.

- A) on
- B) under
- C) behind
- D) between

13. Tina : ----?

Anna : My favourite movie is Star Wars series.

- A) What's your favourite movie
- B) How do you go to the cinema
- C) How many movies do you have
- D) What are your leisure time activities

14. ---- about getting a cup of coffee?

- A) Why
- B) How
- C) Where
- D) Which

15. Thomas : ----?

Nicole : I prefer comedy movies. I think they are fun.

- A) How can we go to the cinema
- B) Do you invite your friends to your party
- C) What can we learn from a documentary
- D) Do you prefer to watch comedy or action movies

16. Darren : Why don't we play football after school?

Melinda : Of course, ----.

- A) I'm too busy today
- B) I have another plan
- C) I would love to do that
- D) I'm sorry but I can't

17. Catherina enjoys ---- in the sea.

- A) swim
- B) swam
- C) swims
- D) swimming

18.



It is ----.

- A) half past ten
- B) ten past eleven
- C) quarter to eleven
- D) ten past five

19. Susan : ---- ?

Sally : At seven o'clock.

- A) What time do you get up
- B) What kind of films does Amy like
- C) Where do you have your breakfast
- D) How often do you brush your teeth

20.

Countries	Nationalities
France	French
(I)	Italian
Germany	(II)

Tabloda (I) ve (II) ile gösterilen boşluklara gelebilecek olan ifadeleri işaretleyiniz.


- |            | I     |         | II    |
|------------|-------|---------|-------|
| A) Egypt   | _____ | Dutch   | _____ |
| B) Italy   | _____ | German  | _____ |
| C) Spain   | _____ | Russian | _____ |
| D) Albania | _____ | Finnish | _____ |

# 1. OTURUM

## (181) ALMANCA – 1

1 - 18. sorularda boş bırakılan yere uygun gelen ek, kelime ya da ifadeyi işaretleyiniz.

1. **A :** Wie spät ist es?  
**B :** Es ist - - - - .



- A) Viertel vor drei  
B) Viertel nach drei  
C) halb drei  
D) drei
2. - - - - , **Dezember, Januar.**  
A) September B) Oktober  
C) November D) Februar
3. **Ich lerne Englisch schneller - - - - du.**  
A) nach B) ob  
C) gleich D) als
4. **A : - - - - ?**  
**B :** Sie ist 15 Jahre alt.  
A) Wie alt ist er?  
B) Wie alt bist du?  
C) Wie alt sind sie?  
D) Wie alt ist sie?
5. **A :** Hasan, - - - - du mit mir zur Schule?  
**B :** Nein, ich - - - - mit meiner Mutter.  
A) komme / gehst  
B) kommst / gehe  
C) kommt / geht  
D) kommen / gehen
6. **Der Lehrer fragt, - - - - ich lese.**  
A) ob B) denn  
C) um D) aus
7. - - - - **Sonntag - - - - 12 Uhr fliege ich nach İzmir.**  
A) Um / am  
B) Am / um  
C) Bei / im  
D) Zu / ins

8. **A :** Wo ist das Heft?  
**B :** Es ist - - - - der Tasche.




- A) auf B) über  
C) in D) unter
9. **A : - - - - kommt Hasan nach Hause?**  
**B :** Um 13 Uhr.  
A) Wann B) Wo  
C) Wie D) Wer
10. **A : - - - - heißt sein Vater?**  
**B :** Turgut.  
A) Wer B) Was  
C) Wo D) Wie
11. **A : - - - - ist dein Fahrrad?**  
**B :** Es ist zu Hause.  
A) Wie B) Wo  
C) Was D) Wer
12. **A :** Hast du - - - - angerufen?  
**B :** Ja, ich habe - - - - angerufen.  
A) mir / dir B) mich / dich  
C) mein / dein D) ich / dich
13. **A : - - - - die Schüler heute krank?**  
**B :** Ja.  
A) Sind B) Ist  
C) Hat D) Haben

14.



- A :** Wo ist das Kind?  
**B :** Das Kind ist - - - - Auto.  
A) neben B) im  
C) unter D) in

15.



Das ist eine - - - - .

- A) Heft B) Brief  
C) Buch D) Zeitung
16. **A : - - - - Sie einen Hund oder eine Katze?**  
**B :** Ich - - - - eine Katze.  
A) Habe / habe  
B) Habe / haben  
C) Haben / habe  
D) Hast / hat
17. **A : - - - - lebt in Italien?**  
**B :** Marco.  
A) Wo B) Wann  
C) Wer D) Wie
18. **A : - - - - machst du?**  
**B :** Ich trinke Milch.  
A) Was B) Wie  
C) Wo D) Wer
19. **Aşağıdakilerden hangisi anlamca diğerlerinden farklıdır?**  
A) lesen B) schreiben  
C) rechnen D) grün
20. **Aşağıdaki sıfatların hangisinin karşıtı doğru verilmiştir?**  
A) lang X teuer  
B) dick X kurz  
C) reich X arm  
D) billig X schnell

## (181) FRANSIZCA – 1

1 - 16. sorularda boş bırakılan yere uygun gelen sözcük ya da ifadeyi işaretleyiniz.

1. - - - - aime le thé.  
A) Elle B) Ils  
C) Nous D) Vous
2. - - - - as fini tes devoirs ?  
A) Elles B) Elle  
C) Tu D) Vous

# 1. OTURUM

3. **Leyla** - - - - la nuit devant la télévision.

- A) est passé B) est passée  
C) a passé D) as passé

4. **Samedi dernier, nous** - - - - dîné très tard.

- A) avons B) sommes  
C) êtes D) avez

5. **Arthur** : Tu vois le petit chat ?  
**Nicole** : Oui, je - - - - vois.

- A) la B) les  
C) le D) te

6. **Paul** : Tu attends quelqu'un ?  
**Jean** : Non, je n'attends - - - -.

- A) rien B) personne  
C) aucun D) jamais

7. **Il a neigé** - - - - la semaine à Ağrı.

- A) toute B) personne  
C) tout D) chaque

8. **Elles ont** - - - - professeurs que l'an dernier.

- A) l'autre B) le même  
C) les mêmes D) certaine

9. **Anne** : M. Dupont est divorcé ?  
**Janine** : Oui, il est - - - -.

- A) jeune B) mariée  
C) fiancée D) divorcé

10. **S'il venait me voir, je (j')** - - - - content.

- A) suis B) serais  
C) ai été D) étais

11. **S'il** - - - - chaud, ils iront à la plage.

- A) fais B) faisons  
C) faites D) fait

12. **Jérôme** : Tunç travaille en France ?  
**Serdar** : Oui, il y - - - - depuis deux ans.

- A) travaille  
B) ne travaille pas  
C) travaille  
D) ne travaille pas

13. **Sabine** : Tu as déjà lu ce livre ?  
**Fabrice** : Oui, je - - - - ai lu le mois dernier.

- A) le (l') B) leur  
C) les D) la (l')

14. **Rose** : Ta fille aime les films d'aventures ?

**Odile** : Oui, elle - - - - aime beaucoup.

- A) la B) du  
C) les D) de la

15. **Maman** : Tu prends du lait ?

**Enfant** : Non, je ne prends pas - - - - lait.

- A) des B) de  
C) du D) de la

16. **Un piano sert à** - - - -.

- A) faire de la musculation  
B) faire de la peinture  
C) faire de la randonnée  
D) faire de la musique

17. **Cümleler sırasıyla okunduğunda anlam bütünlüğünü bozan cümleyi bulunuz.**

(I) Il a de la barbe. (II) Il fait très froid.  
(III) Il a un nez épaté. (IV) Il a les yeux verts.

- A) I B) II C) III D) IV

**18 - 20. sorularda verilen resme göre doğru ifadenin bulunduğu seçeneği işaretleyiniz.**

18.



- A) Il a les cheveux longs et il porte des lunettes.  
B) Il a de la barbe et il porte un chapeau et une cravate.  
C) Il a les cheveux frisés et il porte un foulard.  
D) Il a les lèvres minces et il porte une casquette noire.

19.



**Il est** - - - - et il a - - - -.

- A) chauve / de grandes lunettes  
B) musclé / un foulard  
C) blond / de petites dents  
D) jeune / les cheveux courts

20.



**Elle porte** - - - -.

- A) un bracelet B) une veste  
C) un foulard D) un collier

## (206) SEÇ. PSİKOLOJİ – 1

1. Pek çok bilimin konusu olan insanı psikoloji de ele alarak insanın neden, niçin ve nasıl davrandığını araştırır.

**Buna göre psikoloji biliminin inceleme konusu aşağıdakilerden hangisidir?**

- A) Doğa olayları  
B) Toplum yapısı  
C) İnsan davranışları  
D) Geçmişte yaşanmış olaylar

2. **Aşağıdakilerden hangisi psikolojinin temel amaçlarından?**

- A) Organizmanın davranışlarını açıklayarak genel yasalara ulaşmak  
B) İnsan topluluklarını yönetmek  
C) Toplumsal olayları araştırmak  
D) Farklı kültürleri incelemek

3. Koşma davranışı doğrudan gözlenebilirken, hayal kurma davranışı dolaylı olarak gözlenebilmektedir.

**Buna göre aşağıdakilerden hangisi dolaylı olarak gözlenen bir davranıştır?**

- A) Aylin'in okula gitmek için yürümesi  
B) Oynarken düşen Emel'in ağlaması  
C) Erkan'ın arkadaşıyla konuşması  
D) Alp'in ödevini nasıl yapacağını düşünmesi

# 1. OTURUM

4. **Psikodinamik yaklaşımın temsilcisi aşağıdakilerden hangisidir?**

- A) Wundt B) Wertheimer  
C) Freud D) Pavlov

5. **İnsanların zekâ, kişilik, ruh hastalıkları gibi çeşitli konulardaki problemlerinin teşhis edilmeleriyle ilgili geliştirilen teknikler üzerinde çalışan uygulamalı psikoloji dalı aşağıdakilerden hangisidir?**

- A) Klinik B) Eğitim  
C) Hukuk D) Endüstri

6. Ailesi kızları Ece'yi psikoloğa götürmüştür. Psikolog, çeşitli oyuncularla oynayan Ece'nin davranışlarını ona hissettirmeden doğal durumda izlemiştir.

**Örneğe göre psikolog, aşağıdaki araştırma yöntemlerinden hangisini kullanmıştır?**

- A) Görüşme  
B) Doğal gözlem  
C) Deneysel yöntem  
D) Tarama yöntemi

7. Bir uyarıcının duyu organımıza gelerek onu etkilemesi sonucu oluşan deneyime duyum denir.

**Buna göre aşağıdakilerden hangisi duyumun oluşması için gerekli koşullardan biridir?**

- A) Organizmanın heyecanlı olması  
B) Uyarıcıların duyu organlarını etkilemesi  
C) Ödüle bağlı olarak oluşması  
D) Ortamın karanlık olması

8. Benliğin savunulması ve başka kişilerle ilişki kurulmasıyla ilgili güdüler toplumsal güdü olarak adlandırılır.

**Buna göre aşağıdakilerden hangisi toplumsal güdü örneği değildir?**

- A) Toplumda kabul görmek  
B) Statü kazanmak  
C) Başarılı olmak  
D) Uyumak

9. Birbirine paralel çizgiler bizden uzaklaşınca kesişiyor gibi görünür.

**Verilen ifade aşağıdaki kavramlardan hangisiyle ilgilidir?**

- A) Çizgisel perspektif  
B) Orantılı büyüklük  
C) Işık ve gölge  
D) Binişim

10. **Aşağıdakilerden hangisi algıda seçiciliği etkileyen dış faktörlerdendir?**

- A) İhtiyaçlar  
B) İlgiler  
C) Aşırı zıtlıklar  
D) Merak ve duygular

11. **Çay bardağına batırılmış kaşık kırık gibi görülmesi aşağıdakilerden hangisine örnek olabilir?**

- A) Halüsinasyon  
B) Fiziksel illüzyon  
C) Psikolojik illüzyon  
D) Algıda değişmezlik

12. Susuzluktan ağzı kuruyan Mehmet, yatağından kalkıp mutfağa gitmiş, bir bardak su içerek susuzluğunu gidermiş ve rahatlamıştır.

**Bu ifade aşağıdakilerden hangisine örnektir?**

- A) İllüzyon B) Duyum  
C) Güdülenme D) Alışma

13. **Salyangoz yemeğinin bir Fransız için iştah açıcı, bir Türk için mide bulandırıcı olması algıyı etkileyen aşağıdaki etmenlerden hangisine örnektir?**

- A) İhtiyaçlar B) Dikkat  
C) Beklentiler D) Kültür

14. Belirli bir uyarıcıya gösterilen, istem dışı gerçekleşen, hızlı ve öğrenilmemiş davranışlara refleks denir.

**Buna göre aşağıdakilerden hangisi refleks örneği değildir?**

- A) Elimizi gözümüze yaklaştırdığımızda gözümüzü kırpmamız  
B) Burnumuza toz kaçtığına hapşirmamız  
C) Genzimize bir şey kaçtığına öksürmemiz  
D) Belli bir dili konuşmamız

15. Yazı yazmayı öğrenmek, bir müzik aleti çalmayı öğrenmek gibi bir şeyin nasıl daha iyi yapılacağını öğrenmek motor öğrenme olarak tanımlanır.

**Buna göre aşağıdakilerden hangisi motor öğrenmeye örnektir?**

- A) Yemek kokusunun açlık hissini uyarması  
B) Çatal kaşıkla yemek yemenin öğrenilmesi  
C) Boğulma tehlikesi atlatan birinin yüzmemekten korkması  
D) Otomobil kazası geçiren birinin araba kullanmaktan korkması

16. • Annemiz gibi yemek pişirir, öğretmenimiz gibi ders anlatırız.  
• İnsan davranışlarının şekillenmesinde çevreyi gözleme etkili olur.  
• Çocuklar büyükleri taklit ederek öğrenirler.

**Verilen bilgiler aşağıdaki öğrenme türlerinden hangisiyle ilgilidir?**

- A) Edimsel koşullanma yoluyla öğrenme  
B) Klasik koşullanma yoluyla öğrenme  
C) Model alarak öğrenme  
D) Bilişsel öğrenme

17. Bilinç, varlığımızın nerede ve ne durumda olduğumuzun, duygularımızın ve düşüncelerimizin farkında olmaktır. Bilinçlilik durumunda kişi ne yaptığını, ne yapmak istediğini ve ne düşündüğünü bilir.

**Buna göre aşağıdaki durumlardan hangisinde bilinçlilik durumunun en düşük düzeyde olduğu söylenebilir?**

- A) Uyurken  
B) Ders dinlerken  
C) Araba kullanırken  
D) Sinema filmi izlerken

18. "12 anlamlı hece, 12 anlamsız heceye göre daha iyi öğrenilir." cümlesi öğrenmeyi etkileyen aşağıdaki unsurlardan hangisiyle ilgilidir?

- A) Öğrenmede güdülenmenin etkisi  
B) Öğrenilecek malzemenin özellikleri  
C) Öğrenmede biyolojik faktörler  
D) Öğrenmede ilginin etkisi

19. **Aşağıdakilerden hangisi unutmamanın nedenleri arasında yer almaz?**





- A) Öğrenilenlerin sık sık tekrar edilmesi  
B) Beyinde hücre kaybının olması  
C) Bilgilerin bilinçaltına atılması  
D) Öğrenilenlerin kullanılmaması

20. **Düşünmenin türeten, yeni durumları araştıran, yeni çözüm yolları bulan bir özellik göstermesi aşağıdaki kavramlardan hangisiyle ifade edilir?**

- A) Soyutlama  
B) Akıl yürütme  
C) Problem çözme  
D) Yaratıcı düşünme

# 1. OTURUM

## (222) SAĞ. BİL. VE TRAFİK KÜLTÜRÜ – 2

1. Toplumda bulunan insanların trafik ortamında birbirlerine karşı olan tutum ve davranışlarına - - - - denir.  
**Verilen cümlede boş bırakılan yere aşağıdakilerden hangisi yazılmıştır?**
- A) trafik adabı  
B) trafik kazası  
C) trafik cezası  
D) trafik kuralları
2. **Bireyin aşağıdaki değerlerden hangisine sahip olması trafik ortamındaki iletişimi olumlu etkiler?**
- A) Öfke  
B) Empati  
C) Sabırsızlık  
D) Yıkıcı konuşma üslubu
3. **Toplu taşıma araçlarında yolculuğun emniyetli ve huzurlu geçmesi için aşağıdakilerden hangisi yapılmalıdır?**
- A) Yüksek sesle sohbet edilmeli  
B) Kapılara ani ve hızlı hareket edilmeli  
C) Çevredekilerin kişisel alanlarına saygı gösterilmeli  
D) Durakta inmeyecek olan yolcular kapı önünü işgal etmeli
4. **Aşağıdaki trafik işaretlerinden hangisi bir yasaklama veya sınırlama belirtir?**
- A)  B)   
C)  D) 
5. **Aşağıdakilerden hangisi trafik işaret ve levhalarının özelliklerinden biri değildir?**
- A) Yol ve çevre hakkında bilgi vermesi  
B) Trafiğin düzenli akmasını sağlaması  
C) Sürücü, yaya ve yolcuların ortak dili olması  
D) Yolculuk süresini uzatması ve yolculuğu can sıkıcı hâle getirmesi

6. **Aşağıdakilerden hangisi kara yolunda uyulması gereken şerit takip kurallarındandır?**

- A) Gidişe ayrılan yol bölümünün en sol şeridini sürekli işgal etmek  
B) Bölünmüş yollarda karşı yöndeki trafik için ayrılan yol bölümüne girmek  
C) Trafiği aksatmayacak veya tehlikeye düşürmeyecek şekilde şerit değiştirmek  
D) Geçme, dönme, durma ve park etme gibi mecburi hâller dışında şerit değiştirmek

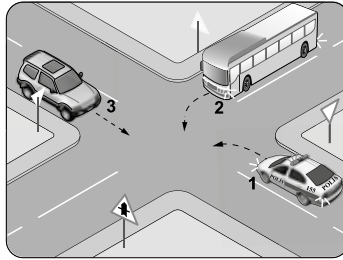
7. **Aşağıdakilerden hangisi trafiğin düzenlenmesinde diğerlerine göre önceliğe sahiptir?**

- A) Yol çizgileri  
B) Trafik görevlisinin işaretleri  
C) Işıklı trafik işaretleri  
D) Trafik işaret levhaları

8. **Aksine bir işaret yoksa erişme kontrollü kara yollarında otobüs için azami hız sınırı saatte kaç kilometredir?**

- A) 50 B) 70 C) 90 D) 100

9.



**Şekildeki kavşakta geçiş hakkı sıralaması nasıl olmalıdır?**

- A) 1 - 2 - 3 B) 1 - 3 - 2  
C) 2 - 1 - 3 D) 3 - 2 - 1

10. **Daha güvenli bir trafik ortamının oluşturulabilmesi aşağıdakilerden hangisi ile mümkün olur?**

- A) Trafik cezalarının artırılması  
B) Trafik ortamında hata yapanların öfkeyle uyarılması  
C) İnsanların trafik kurallarını bir yaşam biçimi olarak benimsemesi  
D) Bireylerin daha konforlu araçlarla seyahat etmelerinin sağlanması

11. **İlk defa sürücü belgesi alanlar, belgenin alındığı tarihten itibaren kaç yıl süreyle "aday sürücü" olarak kabul edilir?**

- A) 1 B) 2 C) 3 D) 4

12. **Yaya ve okul geçitlerine yaklaşan sürücülerin aşağıdakilerden hangisini yapmaları uygun değildir?**

- A) Araçlarını yavaşlatmaları  
B) Varsa trafik ve okul geçidi görevlisinin verecekleri işaret ve talimatlara uymaları  
C) Bu geçitlerden geçen veya geçmek üzere olan yayalara ilk geçiş hakkını vermeleri  
D) Yavaş geçen hasta veya yaşlı yayaları, hızlı geçmeleri için korna çalarak uyarmaları

13. • Zorunlu trafik sigortası olmayan araçlar, tespit edildikleri anda trafikten çekilir.  
• Zorunlu trafik sigortası, araç sahibinin kendi zararlarının tamamını karşılar.

**Zorunlu trafik sigortasıyla ilgili verilen cümleler doğru (D) - yanlış (Y) olarak değerlendirildiğinde sıralama aşağıdakilerden hangisi olur?**

- A) D - Y B) Y - D  
C) D - D D) Y - Y

14. **Geçiş üstünlüğü bulunan aracın ışıklı ve sesli uyarı işaretini alan sürücü nasıl davranmalıdır?**

- A) Dörtlülük ikaz ışıklarını yakarak yola devam etmeli  
B) Yavaşlamalı ve yolun sağına yanaşmalı  
C) Geçiş üstünlüğüne sahip aracın arkasına takılıp sürat yapmalı  
D) Sol şeride geçiş yolu boşaltmaları için diğer araçları uyarmalı

15. "İnsan etmeninin kazalara etkisi ülkemizde %99 iken Avrupa ülkelerinde bu oran %50'dir."

**Verilen bu istatistiksel bilgiye göre ülkemizde bu sorunun çözülmesi aşağıdakilerden hangisiyle mümkün olur?**

- A) Trafik kültüründen uzak kalarak  
B) Sorumluluk sahibi olmayarak  
C) İyi bir trafik eğitimi alarak  
D) İnsan haklarını ihlal ederek




# 1. OTURUM

(242) İNGİLİZCE – 3

1 - 20. sorularda boş bırakılan yere uygun gelen kelime ya da ifadeyi işaretleyiniz.

1.



My mother is a ---- at a public school.

- A) driver B) doctor  
C) lawyer D) teacher

2. ---- man in front of the house is my father.

- A) A B) - C) The D) An

3. I can't understand this question. It is really ----.

- A) fun B) difficult  
C) punctual D) dangerous

4. Robert : ---- one do you like?  
Football or basketball?  
Merlin : Basketball.

- A) Who B) When  
C) Which D) Whose

5. Joe : ---- does the game start?  
Tim : At 9 p.m.

- A) When B) What  
C) Who D) Why

6. Rose : ---- do you do on Saturdays?

Nina : I meet my friends and watch movies.

- A) Whose B) Which  
C) What D) Why

7. Mark : ---- your father work at weekends?

Rick : No, he ----.

- A) Don't / do B) Do / don't  
C) Does / does D) Does / doesn't

8. The shopping mall ---- at 9 p.m. on weekdays.

- A) close B) closes  
C) to close D) closing

9. This is ---- new car. My father bought it last week.

- A) ours B) our  
C) we D) us

10. Anna : ---- is your mother?  
Tina : She is forty years old.

- A) Where B) Whose  
C) How old D) What time

11. Günhan usually ---- to work very early in the morning.

- A) go B) goes  
C) to go D) going

12. Clark is going to ---- his holiday in Paris.

- A) spend B) watch  
C) study D) play

13. Samuel ---- a doctor next year.

- A) has been  
B) had been  
C) used to be  
D) is going to be

14. Everybody can answer this test. It is ----.

- A) silent B) quiet  
C) round D) easy

15. ---- are your plans for the future?

- A) Who B) Why  
C) What D) Which

16. ---- films do you watch a month?

- A) How many B) How much  
C) Where D) When

17. Alice : ---- are you so upset?  
Ethan : Because I have lost my dog.

- A) Who B) Why  
C) When D) Which

16. Aşağıdakilerden hangisi İçişleri Bakanlığının trafik eğitimi ile ilgili görev ve yetkilerindedir?

- A) Sürücü kurslarının açılmasına izin vermek ve denetlemek  
B) Sürücü adaylarının teorik ve uygulamalı sınavlarını yapmak  
C) Çocuk trafik eğitim parklarının eğitim, denetim ve çalışma esaslarını belirlemek  
D) Halkın trafik konusunda bilgilene-mesi amacıyla radyo ve televizyonlar için programlar hazırlamak

17. "D, DE" sınıfı sürücü belgesi alacakların kaç yaşını bitirmiş olmaları zorunludur?

- A) 18 B) 20 C) 22 D) 24

18. I. Karşıdan karşıya geçişlerde alt ve üst geçitlerin kullanılması  
II. Coğrafi koşullara ve iklim koşullarına göre araç bakımlarının yapılması  
III. Çocukları ile yolda yürüyen anne ve babaların, çocuklarını taşıt trafiği olan tarafta yürütmesi

Yukarıdakilerden hangileri güvenli yolculuk için alınması gereken önlemlerdedir?

- A) Yalnız I. B) I ve II.  
C) II ve III. D) I, II ve III.

19. Aşağıdakilerden hangisi trafik kazalarında araçtan kaynaklanan nedenlerdedir?

- A) Fren sisteminin arızalanması  
B) Yol yüzeyinin bozuk olması  
C) Açık kasa içinde kuralsız yolcu taşınması  
D) Kavşaklarda geçiş önceliği kuralına uyulmaması

20. Aşağıdakilerden hangisi trafiğin çevreye verdiği zararları azaltmaya yöneliktir?

- A) Özel araçların kullanımının artırılması  
B) Petrol kaynaklı yakıt tüketiminin yaygınlaştırılması  
C) Araç bakımlarının yetkili servislerde ve tam olarak yapılması  
D) Uzun süreli duraklamalarda araç motorunun çalışır durumda bırakılması



# 1. OTURUM

18. Look! The blind man - - - - going to fall into the hole.

- A) does                    B) are  
C) is                        D) am

19. Ali : How often do you go to cinema?  
Ruby : - - - - .

- A) Twice a month  
B) Next year  
C) Last year  
D) Now

20. Max : - - - - kind of films do you like?  
Matt : I like comedy films.

- A) Who                    B) What  
C) Which                D) Where


## (242) ALMANCA – 3

1 - 16. sorularda boş bırakılan yere uygun gelen ek, kelime ya da ifadeyi işaretleyiniz.

1. Die Mutter will nicht, - - - - ihre Tochter zu viel Kuchen isst.

- A) oder                    B) denn  
C) weil                    D) dass

2. Der Ball ist - - - - dem Bett, - - - - der Katze.



- A) auf / unter  
B) unter / neben  
C) zwischen / über  
D) über / auf

3. A : - - - - ist mein T-shirt Mama?  
B : Im Kleiderschrank.

- A) Was                    B) Wie  
C) Wo                    D) Wer

4. Tobias sitzt - - - - Café und - - - - ein Buch.

- A) im / liest            B) liest / im  
C) lesen / auf        D) auf / lesen

5. Meine Mutter hat - - - - Kind eine Schokolade gegeben. (Dativ)

- A) der                    B) dem  
C) das                    D) den

6. Aşağıdakilerden hangisi Schreib- - - - - kelimesini tamamlamaktadır?

- A) -tür                    B) -fenster  
C) -tisch                D) -teppich

7. Familie Aktaş geht - - - - ein- - - - - Feier. (die)

- A) auf / -e                B) vom / -er  
C) ab / -e                D) zur / -er

8. Petek und Yiğit gehen - - - - Kino. (das)

- A) bei                    B) auf  
C) ins                    D) unter

9. Ali : Wohin hast du das Buch gelegt?  
Kemal : Auf - - - - Tisch.  
Ömer : Nein, auf - - - - Tisch liegt es nicht.

- A) den / dem            B) das / der  
C) der / die             D) dem / das

10. - - - - wollen Sie Deutsch lernen?

- A) Wer                    B) Warum  
C) Weil                    D) Wohin

11. Ahmet und Hüseyin leb- - - - - in Stuttgart. Ahmet arbeite- - - - - bei der Firma Bosch und Hüseyin studier- - - - - Medizin.

- A) -t / -en / -t        B) -en / -en / -t  
C) -en / -t / -t        D) -t / -n / -en

12. Özge - - - - morgens gern lange im Bett - - - - .

- A) Uhr / bleiben  
B) seit / setzt  
C) geht / bleibt  
D) bleibt / liegen

13. Ayla fährt - - - - dem Bus - - - - Bahnhof.

- A) auf / aus            B) mit / zum  
C) von / zu             D) bei / über

14. - - - - lebt deine Schwester?

- A) Wenn                B) Wohin  
C) Wo                    D) Weil

15. Zuerst will sie ein- - - - Zeitung kaufen.

- A) -                    B) -en                C) -er                D) -e

16. Ich gehe nächsten Samstag - - - - meiner Oma.

- A) zu                    B) ins                C) von                D) auf

17. Hangisinde sıfatların zıt anlamlısı yanlıs verilmiştir?

- A) schnell X langsam  
B) sauber X dünn  
C) laut X leise  
D) warm X kalt

18. Verilen sözcüklerden bir grup oluşturulduğunda hangisi farklıdır?


- A) Meer                    B) Fluß  
C) See                    D) Berg

19. Was ist sein Beruf?



- A) Ingenieur            B) Busfahrer  
C) Lehrer                D) Metzger

20. Was ist das?



- A) der Spiegel        B) die Brille  
C) der Tisch            D) die Tür

# 1. OTURUM

(242) FRANSIZCA – 3

1 - 18. sorularda boş bırakılan yere uygun gelen sözcük ya da ifadeyi bulunuz.

1. ---- ont deux chats et un chien.  
A) Nous B) Vous  
C) Ils D) Elle
2. ---- sont montées sur la tour Eiffel.  
A) Ils B) Elle  
C) Il D) Elles
3. Le tableau ---- est sur le mur est Fikret Muallâ.  
A) que B) qui  
C) où D) dont
4. La ville ---- elle est née est une petite ville.  
A) dont B) qui  
C) où D) donc
5. Le jeune homme ---- je regarde porte une cravate en soie.  
A) dont B) qui  
C) où D) que
6. ---- il pleut, il porte toujours des bottes.  
A) Quand B) Comment  
C) Pourquoi D) Combien
7. Je me suis promené dans les rues de Mardin ---- deux mois.  
A) sous B) il y a  
C) au D) dans
8. Mon frère aime faire du ---- à Iğaz.  
A) musique B) natation  
C) ski D) marche
9. ---- Paul ira à la montagne pour observer les oiseaux.  
A) Demain  
B) Pendant  
C) Le mois dernier  
D) Hier
10. La ville ---- tu parles est au sud de la France.  
A) que B) qui C) où D) dont

11. Les jeunes boivent du thé ---- le match de basket à la télé.

- A) en regardant  
B) regarder  
C) regardant  
D) regardé

12. J'ai rencontré ton fils ---- du théâtre.

- A) revenue B) revient  
C) revenir D) revenant

13. Le week-end, je lis mon journal en ---- du café.

- A) lisant B) buvant  
C) sachant D) dansant

14. Ils ne vont pas ---- la poste ---- métro.

- A) au / en B) en /aux  
C) à / à D) à / en

15. Pour acheter des médicaments, je vais à ----.

- A) la pharmacie  
B) le boucher  
C) la librairie  
D) le restaurant

16. Zeynep ---- au troisième étage.

- A) es montée B) est montée  
C) est monté D) a monté

17. Pour déclarer un vol, je vais ----.

- A) chez les pompiers  
B) au commissariat de police  
C) à la mairie  
D) au théâtre

18. Dans une piscine, on ----.

- A) s'habille B) se rase  
C) se réveille D) se baigne

19. "Son grand-père a 82 ans." cümlesinde altı çizili sayının doğru yazılışı hangisidir?

- A) quatre-vingt-deux  
B) quatre cents  
C) quatre-vingt-onze  
D) quarante-deux

20. "Mon fils et son ami sont partis pour la France." cümlesinde altı çizili sözcüklerin yerine aşağıdaki şahıs zamirlerinden hangisi konulabilir?

- A) Vous B) Nous  
C) Ils D) Elles

(244) İNGİLİZCE – 5

1 - 20. sorularda boş bırakılan yere uygun gelen sözcük ya da ifadeyi işaretleyiniz.

1. I didn't sleep ----.

- A) next week B) tomorrow  
C) last night D) soon

2. Maria ---- a shower in the afternoon.

- A) had B) drove  
C) went D) studied

3. ---- I came to school, the students were having an exam.

- A) After B) When  
C) Yet D) For

4. I have lived in Ankara ---- 10 years.

- A) already B) since  
C) yet D) for

5. My sister ---- live in England in the future.

- A) have B) will  
C) was D) has

6. My parents were ---- TV when I came in.

- A) drinking B) writing  
C) eating D) watching

7. My car has been out of order ---- last Monday.

- A) since B) just  
C) ago D) for

8. Max ---- drink milk when he was a child.

- A) may B) must  
C) used to D) should

9. The coach hopes his team will ---- the champion.

- A) smell B) win  
C) cook D) be

10. Did you use to ---- to work by car?

- A) go B) do  
C) like D) write

# 1. OTURUM

(244) ALMANCA – 5

1 - 19. sorularda boş bırakılan yere uygun gelen ek, kelime ya da ifadeyi işaretleyiniz.

11. **While he was running, he fell down and - - - - his leg.**  
 A) breaking      B) broken  
 C) broke          D) break
12. **I - - - - my mind since I met her.**  
 A) to change  
 B) will change  
 C) is changing  
 D) have changed
13. **In the past, I - - - - eat more meat, but now I eat more vegetables.**  
 A) used to          B) should  
 C) must             D) can
14. **Brush your teeth, - - - -?**  
 A) do we            B) do you  
 C) will we          D) will you
15. **My father never wears hat, - - - -?**  
 A) doesn't she    B) does he  
 C) has she          D) hasn't he
16. **Let's drink something cold, - - - -?**  
 A) are we           B) shall we  
 C) can we           D) will we
17. **They were having breakfast - - - - the doorbell rang.**  
 A) which            B) what  
 C) when             D) who
18. **Andy talks very - - - -. It is often difficult to hear him.**  
 A) early             B) loudly  
 C) heavily          D) quietly
19. **I go to school - - - - than Jane.**  
 A) earlier            B) happy  
 C) lately            D) healthier
20. **Ankara is - - - - than Erzurum. There are more people in Ankara.**  
 A) crowded  
 B) so crowded  
 C) more crowded  
 D) the most crowded

1. **Das schön- - - - - Land der Welt ist die Türkei.**

A) -ste    B) -er    C) -    D) en

2. **A : - - - - kann ich zur Bibliothek gehen?**

**B : Sie ist hinter der Schule.**

A) Was                    B) Wann  
 C) Wer                   D) Wie

3. **Meine Mutter ist - - - - alt wie mein Vater.**

A) so wie                B) genauso  
 C) klein                 D) groß

4. **- - - - neues Auto ist teurer als - - - - altes.**

A) Ein / ein            B) Einen / einer  
 C) Eine / ein          D) Eins / eine

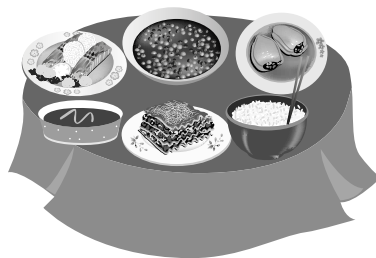
5. **Das neue Haus kostet - - - - 300.000 Lira.**

A) ziemlich            B) obwohl  
 C) damit                D) ungefähr

6. **Wir müssen - - - - 19 Uhr zu Hause sein.**

A) im    B) am    C) um    D) in

7. **Das essen ist - - - - dem Tisch.**



A) in                    B) auf  
 C) neben             D) über

8. **Helga kann heute nicht mit uns ins Kino gehen, - - - - sie keine Zeit hat.**

A) denn                B) ob  
 C) weil                 D) dass

9. **Mustafa hat - - - - Zahnschmerzen. Er geht - - - - zum Zahnarzt.**

A) eine / kein  
 B) aber / deshalb  
 C) besser / lieber  
 D) immer / nie

10. 

<u>Ankara</u> 0° C	<u>Antalya</u> 5° C	<u>Istanbul</u> 2° C
-----------------------	------------------------	-------------------------

**In Antalya ist es kalt.  
 In Istanbul ist es - - - - .  
 In Ankara ist es - - - - .**

A) warm / am wärmsten  
 B) kälter / am kältesten  
 C) am wärmsten / kälter  
 D) am kältesten / kälter

11. **A: Wozu sparen Sie Geld?  
 B: Ich spare Geld, - - - - mir eine Wohnung - - - - kaufen.**

A) um / zu            B) damit / um  
 C) zu / damit        D) zu / um

12. **Ich lebe in Antalya, - - - - es dort schön warm ist.**

A) dass                B) damit  
 C) weil                 D) denn

13. **Der Monat April ist im - - - - .**

A) Herbst            B) Winter  
 C) Sommer        D) Frühling

14. **Hasan hat jeden Dienstag - - - - 14 Uhr - - - - 16 Uhr Deutschunterricht.**

A) um / von            B) von / bis  
 C) zu / bei             D) bis / um

15. **Wir haben - - - - August Ramadanfest.**

A) im    B) bei    C) zu    D) um

16. **Man soll im Verkehr - - - - vorsichtig sein.**

A) ein                    B) immer  
 C) kein                  D) bis wann

17. **Ich weiß nicht, - - - - ich so müde bin.**

A) wer                    B) womit  
 C) denn                  D) warum

18. **Die - - - - Stadt der Türkei ist Istanbul.**

A) billig                B) schnellste  
 C) größte              D) meiste

# 1. OTURUM

19. Ich bin - - - - Jahre 2000 geboren.

- A) im B) um C) bei D) in

20. September, Oktober, November hangi mevsimlerin aylarıdır?

- A) Frühling B) Sommer  
C) Herbst D) Winter

## (244) FRANSIZCA – 5

1 - 20. sorularda boş bırakılan yere uygun gelen sözcük ya da ifadeyi işaretleyiniz.

1. Mon mari est dentiste, et ma fille aussi. - - - - travaillent dans le même cabinet.

- A) Ils B) Elles  
C) Nous D) Je

2. L'Afrique est un continent chaud - - - - il y a beaucoup d'animaux sauvages.

- A) qui B) qu'  
C) où D) dont

3. Marie va chez son amie Zeynep pour parler avec - - - -.

- A) elle B) il  
C) tu D) ils

4. Istanbul est une grande ville - - - - offre beaucoup de belles choses.

- A) dont B) qu'  
C) où D) qui

5. Ma voiture ne marche pas. Je ne sais pas - - - - aller au travail.

- A) parce que B) combien  
C) où D) comment

6. La cravate - - - - tu portes est très longue.

- A) dont B) que  
C) qui D) où

7. Le grand architecte Sinan - - - - venu au monde en 1490, à Kayseri.

- A) est B) a  
C) sont D) es

8. En hiver les gens vont - - - - pour faire du ski.

- A) au café  
B) à la bibliothèque  
C) à la montagne  
D) à l'opéra

9. Selon les prévisions météorologiques, - - - - il va faire beau et très chaud sur tout le pays.

- A) hier  
B) demain  
C) la semaine dernière  
D) lundi passé

10. Je préfère écouter les chansons - - - - les paroles portent un message.

- A) dont B) que  
C) qui D) ce que

11. Il faut faire attention au feu de signalisation - - - - la rue.

- A) traversant  
B) traversent  
C) traverser  
D) en traversant

12. A: Un restaurant - - - - du kébab ?  
B: Il y en a beaucoup dans ce quartier.

- A) faire B) fais  
C) faisant D) en faisant

13. Pendant les grandes - - - -, j'ai lu tous les romans de cet auteur.

- A) bibliothèques  
B) mois  
C) livres  
D) vacances

14. Si Paul a assez d'argent, il ira - - - - au bord de la mer.

- A) empêcher B) tomber  
C) vivre D) saluer

15. Si tu es fatigué, va te coucher dans ton - - - - !

- A) chaise B) lit  
C) piscine D) chambre

16. Funda va à l'école à pied - - - - sa maison n'est pas loin.

- A) parce que B) pourquoi  
C) quand D) pour

17. Ma femme et ma fille - - - - fait le tour du marché pour acheter un blouson.

- A) avons B) ont  
C) sont D) êtes

18. - - - - Hollande, les jeunes vont à l'école - - - - vélo.

- A) Au / en B) En /aux  
C) En / à D) À / en

19. Cemil : - - - - tu rentres chez toi ?  
Jacques : À pied.

- A) Comment B) Quand  
C) Pourquoi D) Combien

20. Les bébés d'aujourd'hui mangent en - - - - la télévision.

- A) regarde B) regarder  
C) regardons D) regardant

## (401) DİL VE ANLATIM – 1

1. Hiçbir şey yazmadan, okumadan ya da herhangi bir şey yapmadan bir süre bekleyiniz. Bu hâle ne kadar katlanabilirsiniz? Kuşkusuz sosyal bir çevre içerisinde yaşayan insan, çevresindeki varlıklarla iletişim kurmak zorundadır. İnsan çevresindeki insanlarla konuşmak, onlardan bilgi almak, bilgi vermek ihtiyacı duyar ve bunun için de iletişim kurar.

**Bu paragrafta üzerinde durulan konu aşağıdakilerden hangisidir?**

- A) İletişimin öğeleri  
B) İletişim zorlukları  
C) İletişimin önemi  
D) İletişim kuralları

2. Şirket başkanı, tüm çalışanlarını toplantı salonuna toplayıp onlara şirketin genel durumu hakkında bilgi verdi.

**Bu cümlede aşağıdaki iletişim öğelerinden hangisi yoktur?**

- A) Dönüt B) Kaynak  
C) Alıcı D) İleti

3. Üniversitede edebiyat öğrenimi gören Ayçin, bitirme tezi için Türkçede mevsim ve tabiat olaylarını anlatan sözcüklerin anlamsal özelliklerini, geçirdiği anlamsal değişimleri inceleyecektir.

**Buna göre Ayçin, dil bilgisinin hangi alanında çalışma yapacaktır?**

- A) Biçim bilgisi (morfoloji)  
B) Anlam bilim (semantik)  
C) Köken bilim (etimoloji)  
D) Ses bilgisi (fonetik)

# 1. OTURUM

4. Günlük hayatımızda kullandığımız nesne, kişi, yer vb. pek çok ad günümüze nasıl ulaştı, hiç düşündünüz mü? Pek tabii bu sözcükler yüzyıllardır süren bir birikimin ürünü. Atalarımızdan kalan bu zenginliği günümüze ulaştıran en önemli olgu dildir. Dil sayesinde kültür, ölümsüzlüğe kavuşur.
- Bu parçada dilin hangi yönü üzerinde durulmuştur?**
- A) Kültürün taşıyıcısı olduğu  
B) İnsanların anlaşmasını sağladığı  
C) Bir milletin ortak malı kabul edildiği  
D) Ulusları birbirine yaklaştırdığı
5. I. Tek heceli dillerdeki sözcüklerde çekim eki yoktur.  
II. Türkçe, İngilizce ile akraba dillerdendir.  
III. Türkçe, yapı olarak çekimli bir dildir.  
IV. Çekimli dillerde sözcüğün kökü değişikliğe uğrar.
- Numaralanmış cümlelerin hangilerinde bilgi yanlışı vardır?**
- A) I ve III. B) I ve IV.  
C) II ve III. D) II ve IV.
6. - Kaşgarlı Mahmut tarafından 1072-1074 yılları arasında yazılmıştır.  
- Yaklaşık 7500 Türkçe sözcüğün Arapça karşılıklarını veren bir sözlüktür.  
- Eserde İslamiyet Öncesi Dönem'e ait çok sayıda koşuk, sagu, sav örneği bulunmaktadır.
- Özellikleri verilen eser aşağıdakilerden hangisidir?**
- A) Atabetü'l Hakayık  
B) Divanü Lûgatî't Türk  
C) Muhakemetü'l Lûgateyn  
D) Kutadgu Bilig
7. **Aşağıdaki sözcüklerin hangisi büyük-ünlü uyumu kuralına uymaz?**
- A) Seslendi B) Yorgunluk  
C) Televizyon D) Özlemek
8. **Aşağıdaki cümlelerin hangisinde büyük harflerin yazımıyla ilgili yanlışlık yapılmıştır?**
- A) 23 ağustosta memleketi gideceğim.  
B) Bizimle Doktor Kenan da gelecek.  
C) Sıra arkadaşım da Trabzonluymuş.  
D) Onur Bey, az önce şirketten ayrıldı.
9. **Aşağıdaki cümlelerin hangisinde "de, da"nın yazımıyla ilgili bir yanlışlık yapılmıştır?**
- A) Dediklerimi yapsa da onu artık affetmem.  
B) Senin yüzünden bildiklerimi de unuttum.  
C) Bu parayla da dükkân açılmaz.  
D) Oraya trenlede gitme ihtimalimiz var.
10. Ahmet, Musa, Ebru söze ( ) Faruk, Necla, Burhan sayısalı tercih etmişti.
- Bu cümlede yay ayrıçla belirtilen yere aşağıdaki noktalama işaretlerinden hangisi getirilmelidir?**
- A) Ünlem (!)  
B) İki nokta (:)  
C) Üç nokta (...)  
D) Noktalı virgül (;)
11. En güçlü iletişim - - - - ile yapılan iletişimidir.
- Bu cümlede boş bırakılan yere aşağıdakilerden hangisi getirilmelidir?**
- A) jest ve mimik B) işaret  
C) resim D) dil
12. **Dilimizin ilk yazılı kaynağı olan Göktürk Kitabeleri Türkçenin hangi dönemine aittir?**
- A) Yeni Türkçe B) Orta Türkçe  
C) Eski Türkçe D) Modern Türkçe
13. **Aşağıdaki dördlüklerden hangisi vurgu ve tonlamaya göre diğerlerinden farklı okunur?**
- A) Aşkın ateşidir sinemi yakan  
Lütfuna irer mi cevriyi çeken  
Kolların boynuma dolanmış iken  
Seni öpmelere kıyamadım ben
- B) Ala gözlerini sevdiğim dilber  
Kokuya benzettim güller içinde  
İnceciktir belin, hilâldir kaşın  
Selviye benzettim dallar içinde
- C) Hayal hayal oldu karşımda dağlar  
Eşinden ayrılan ah çeker ağlar  
Dökülmüş yapraklar bozulmuş bağlar  
Bülbülün konduğu güller perişan
- D) Bugün meydan gün doğuş oluc  
Kötüler de geri geri durucu  
Koç yiğit elinde tartar kılıcı  
Kılıcı kalkanınan vuruşur bugün
14. Anlatıma duygu, düşünce, heyecan, yumuşaklık, sertlik katmak amacıyla seste yapılan değişikliktir.
- Bu cümlede tanımı yapılan kavram aşağıdakilerden hangisidir?**
- A) Jest B) Mimik  
C) Tonlama D) Yazı dili
15. **Aşağıdaki cümlelerin hangisinde noktanın ( . ) kullanımı yanlıştır?**
- A) Bugün sınıfça Ulus'taki ilk T.B.M.M.'yi ziyaret ettik.  
B) Ünlü yazar 20.12.1930'da doğmuş.  
C) Prof. Dr. Halil İnalıcık arkasında birçok değerli eser bırakmıştır.  
D) III. Selim pek çok değişime öncülük etmiştir.
16. **Aşağıdaki cümlelerin hangisinde ünlü düşmesine uğramış bir sözcük vardır?**
- A) Her gün birçok kez geçtiğim bu yol bugün bana daha bir uzun geldi.  
B) Bugün, öğle yemeğinden sonra karnıma bir ağrı girdi.  
C) Mahallenin sessizliğini keskin bir siren sesi bozdu.  
D) Zaman, avuçlarımızın içinden kayıp gidiyor, onun kıymetini iyi bilmeliyiz.
17. Türkçe kökenli sözcüklerde ilk heceden sonra o, ö ünlüsü bulunmaz.
- Aşağıdaki cümlelerin hangisinde bu kurala uymayan bir sözcük kullanılmıştır?**
- A) Rıhtıma vardığında son motor kalkmak üzereydi.  
B) Kullanılacak tüm malzemeleri denetlemek için gelmiş.  
C) Belki ömrümün sonuna kadar böyle kalacağım.  
D) O zaman, bu güzelim İstanbul'da ailece yaşadık.
18. **Aşağıdaki birleşik sözcüklerin hangisi ses aşınması (düşmesi) yoluyla oluşmuştur?**
- A) Hanımeli B) Eskişehir  
C) Zeytinyağı D) Kahvaltı
19. **Aşağıdaki cümlelerde yay ayrıçla gösterilen yerlerden hangisine iki nokta ( : ) getirilmelidir?**
- A) Sonbahar geldi ( ) rüzgârlar artık daha sert esmeye başladı.  
B) Arkadaş ( ) Yurduma alçakları uğratma sakın.  
C) Programımızda konferans vereceğimiz üç şehir var ( ) Balıkesir, Elazığ, Artvin.  
D) Öğretmen tane tane konuşmaya başladı ( ) belli ki önemli bir şey söyleyecekti.
20. Karadeniz'de balıkçılar teknelerine evlatlarıymış gibi bakar ( ) Hatta onlara verdikleri isimlerle ruhlarını ( ) sevgilerini ve özlemlerini ortaya koyarlar: Koroğlu, Godik, Darıcalı, Yorgun Gözler ( )
- Bu parçada yay ayrıçla gösterilen yerlere aşağıdaki noktalama işaretlerinden hangileri sırasıyla getirilmelidir?**
- A) ( . ) ( ; ) ( . )  
B) ( ... ) ( , ) ( . )  
C) ( ! ) ( : ) ( ... )  
D) ( . ) ( , ) ( ... )

# 1. OTURUM

## (402) DİL VE ANLATIM – 2

1. Hani ey gözlerim, bu son vedada,  
I  
Yolunu kaybeden yolcunun dağda,  
II  
Birini çağırarak için imdada,  
Yaktığı ateşi yakmayacaktın.  
III IV  
**Bu dördütlükteki altı çizili sözcüklerden hangisinin kökü fiildir?**  
A) I. B) II. C) III. D) IV.
2. Ellerim takılırken rüzgârların saçına,  
I  
Asıldı arabamız bir dağın yamacına.  
II  
Her tarafta yükseklik, her tarafta ıssızlık,  
III  
Yalnız arabacının dudağında bir ısıklık.  
IV  
**Bu dördütlükte numaralanmış sözcüklerden hangisi mecaz anlamda kullanılmıştır?**  
A) I. B) II. C) III. D) IV.
3. I. Sil  
II. Gül  
III. Ses  
IV. Çay  
Yazılışları ve okunuşları aynı, anlamları farklı sözcüklere eş sesli (sesteş) sözcükler denir.  
**Buna göre numaralanmış sözcüklerden hangileri eş seslilik özelliğine sahiptir?**  
A) I ve II. B) I ve III.  
C) II ve IV. D) III ve IV.
4. “Yıldız” sözcüğünün gerçek anlamının dışında “herkeşçe sevilen, mesleğinde parlayan sanatçı” anlamında da kullanılması - - - - örnektir.  
**Bu cümlede boş bırakılan yere aşağıdakilerden hangisi getirilmelidir?**  
A) anlam genişlemesine  
B) anlam daralmasına  
C) anlam iyileşmesine  
D) anlam kötüleşmesine
5. I. Beyaz şapkalı çocuk, sürekli konuşup dikkatleri dağıtıyordu.  
II. Sağa sola savrulan araba en sonunda bir kaldırımın üstüne çıktı.  
III. Karar alırken çevremdekilere danışmaya dikkat ederim.  
IV. Lapa lapa yağın karın altında neşe içinde yürüyüş yapıyorlar.  
**Numaralanmış cümlelerin hangilerinde gizli özne kullanılmıştır?**  
A) I ve III. B) I ve IV.  
C) II ve III. D) III ve IV.

6. (I) Benim aklım kendimi bildim bileli denizdeydi. (II) On yıldan fazla dünyanın tüm denizlerini dolaştım. (III) Açık denizlerde aylarca kıyıya çıkmadım. (IV) Yani ben denizi hep çok sevdim.  
**Bu parçada numaralanmış cümlelerden hangisinin yüklemi isim (ad) kökenlidir?**  
A) I. B) II. C) III. D) IV.
7. I. Ne güzel bir manzara bu böyle  
II. Kendime bugün güzel bir ziyafet çekeceğim  
III. Sessiz olun artık  
IV. Bu ilacı her gün kullanmalısın  
**Numaralanmış cümlelerden hangilerinin sonuna ünlem işareti getirilmelidir?**  
A) I ve III. B) I ve IV.  
C) II ve III. D) II ve IV.
8. **Aşağıdaki cümlelerden hangisinin yüklemi şekil bakımından olumsuz olsa da anlamca olumludur?**  
A) Kimseyi oraya göndermeye niyetim yok.  
B) Çocukluğundan beri sütü sevmez.  
C) Bu, benim aradığım kitap değil.  
D) Toplantıya katılmayacak değilim.
9. Kitapların, işaret ettikleri dönemi aydınlatan; toplumsal olayları, onların yankılarını ve bireyler üzerindeki etkilerini kayda geçiren, geleceğe taşıyan bir değeri vardır. Geçmişte veya bugünde yazarların karakterler yoluyla neredeyse bir laboratuvar ortamı yaratarak ve kuşkusuz kendi dürbünlerinden bakarak yazdıkları her bir kitap, bu açıdan tarihî bir belge niteliği taşır.  
**Bu paragrafın türü aşağıdakilerden hangisidir?**  
A) Olay B) Fikir (düşünce)  
C) Düşsel D) Mizahi
10. 21. yüzyılda yaygınlaşan teknoloji sayesinde bir veri bolluğu içinde yaşadığımızı düşünüyoruz. Ama bu bilgi çağında yaşamsal öneme sahip asıl bilgilerden yoksunuz. Bunlardan biri de şu ki insan, tabiatı ancak koklamakla, işitmekle, tatmakla, görmekle tanıyabilir ve koruyabilir.  
**Bu parçada asıl vurgulanmak istenen aşağıdakilerden hangisidir?**  
A) Teknolojinin yaşamda insana pek çok fayda sağladığı  
B) Hayatın ve doğanın, içine girilerek keşfedilebileceği  
C) Doğanın insanlar tarafından yaşanmaz hâle getirildiği  
D) Günümüzde bilgiye ulaşmanın her şeyden önemli olduğu

11. **Aşağıdaki cümlelerde bulunan altı çizili sözcüklerden hangisi yapım eki almıştır?**  
A) Hakan Bey'in eşi, o gün oldukça yapıcı konuşmuştu.  
B) Babam, bu çarşıda yıllarca çanta-cı olarak çalışmış.  
C) Eve şöyle alıcı gözle bakıp almaya karar verdik.  
D) Kalıcı eserler vermek istiyorsan insani meseleleri ele almalısın.
12. Ne yârdan geçilir ne serden;  
Korkuyorum bu gecelerden.  
I. II.  
Bel bağladığım tepelerden  
III.  
Gün doğmayabilir bir daha.  
IV.  
**Bu dördütlükte numaralanmış sözcüklerden hangisi birleşik yapıdır?**  
A) I. B) II. C) III. D) IV.
13. “Hava” **sözcüğü aşağıdaki cümlelerin hangisinde soyut anlamda kullanılmıştır?**  
A) Hava, denize girmek için oldukça uygun bugün.  
B) Haziran ayına girmemize karşın havalar hâlâ ısınmadı.  
C) Girdiğimiz her işten havamızı aldık bugüne kadar.  
D) Karadeniz'in havası nemli olduğundan bana yaramıyor.
14. **Aşağıdaki sözcük gruplarından hangisi zıt sözcüklerden oluşmuştur?**  
A) Kalmak – kalmamak  
B) Aşağı – yukarı  
C) İyi – kötü  
D) Tembel – çalışkan
15. I. Şu çocuğa göz degecek diye ödüm kopuyor.  
II. İki göz bir ev kiraladık İstanbul'da.  
III. Gözlüğün dolabın diğer gözünde duruyor.  
IV. Alper Bey, çok iyi bir göz doktorudur.  
**Numaralanmış cümlelerin hangilerinde “göz” sözcüğü yan anlamıyla kullanılmıştır?**  
A) I ve III. B) I ve IV.  
C) II ve III. D) II ve IV.

# 1. OTURUM

## (405) DİL VE ANLATIM – 5

16. Birden çok yargıyı, düşünce ve isteği bildiren cümlelere birleşik cümle denir.  
**Buna göre aşağıdaki cümlelerden hangisi birleşik cümledir?**
- A) Tüm kuruluşlar tek bir çatı altında toplandı.  
B) Kendimi bir bıraksam hemen uyuyacaktım.  
C) Her akşam eve yorgun dönüyorum.  
D) Annemin içine bir hüznün çökmüştü.
17. Çocuklar yağmurdan sonra güle oynaya bahçeye çıktılar.  
**Bu cümlelerin dolaylı tümleci aşağıdakilerden hangisidir?**
- A) çıktılar  
B) yağmurdan sonra  
C) çocuklar  
D) bahçeye
18. Aşağıdaki cümlelerin hangisinde yüklem gereklilik kipiyle çekimlenmiştir?
- A) Yolculuk boyunca film seyrettim.  
B) Bu sınavda başarılı olacağımı zannetmiyorum.  
C) Bu işin böyle sonuçlanacağını bilmeliydim.  
D) Her gün erken kalkıp yürüyüş yaparım.
19. Hiçbir edebiyat yapıtını salt dili için sevmeyiz. Dil bir ön kabuldür. O dilin ardındaki duyguyu, düşünceyi ve son noktada onların ifade edilme yöntemini severiz. Eserlerde duygu ve düşünceler, olabilecek en iyi biçimde sunulmalıdır ki iyi bir yapıt olabilsinler. Yoksa tencere boş, kapak üzerine kapanmış, yuvarlanıp giderler.  
**Bu metinden aşağıdakilerin hangisi çıkarılabilir?**
- A) Evrensel temaları işleyen eserler kalıcı olur.  
B) Duygu ve düşüncelerin güzel anlatılması eserleri değerli kılar.  
C) Eserlerin sevilmesinin tek nedeni dilleridir.  
D) İyi bir yazar, eserlerinde zekâsını gösterir.
20. (I) Tartışmalardan uzak durmak ve kendi bildiği yolda gitmek inatçılık gibi görünse de aslında kalender bir tavırdır. (II) Ancak bazı durumlarda fikir beyan etmenin de bir sakıncası yoktur. (III) Nasıl olsa dünya bildiği gibi dönecek, herkes bildiği gibi yazacak. (IV) Söylesek ne değişecek?  
**Numaralanmış cümlelerden hangisi düşüncenin akışını bozmaktadır?**
- A) I. B) II. C) III. D) IV.

1. Ülkemizde Sivas kentinde bulunan Gök Medrese, Anadolu Selçukluları Dönemi'nde, 13. yüzyılda inşa edilmiş. Geçmişte Gök Medrese'de gök bilimiyle ilgili eğitim verildiği biliniyor. Gök Medrese'nin giriş kapısındaki figürler arasında bulunan on iki farklı hayvan başı figürünün on iki hayvanlı Türk takvimiyle ilgili olabileceği düşünülüyor.

**Bu parça aşağıdakilerin hangisinden alınmıştır?**

- A) Coşku ve heyecanı dile getiren metinden  
B) Anlatmaya dayalı metinden  
C) Göstermeye dayalı metinden  
D) Öğretici metinden

2. Aşağıdakilerden hangisi gazete çevresinde gelişen metinlerden değildir?

- A) Gezi yazısı B) Makale  
C) Deneme D) Fıkra

3. Akdeniz bölgesinin çatısı Toros Dağları tarafından meydana getirilmektedir. Dağlar bazı yerlerde denize sokulur, kayalık ve az girintili çıkıntılı bir kıyı üzerine dikine inerler. Bazı yerlerde ise kıyı çizgisi ile dağ sınırları arasında Adana Ovası gibi geniş düzlükler girer. Bu bölge, özelliğini kendine komşu olan ılık denizden alır. Fakat denizin etkisi yüzey şekillerine ve yükseltiye göre değişir.

**Bu parçada kullanılan anlatım türü aşağıdakilerden hangisidir?**

- A) Öyküleyici B) Açıklayıcı  
C) Düşsel D) Tartışmacı

4. Edebî mektupla ilgili aşağıdakilerden hangisi yanlıştır?

- A) Edebiyatçıların birbirlerine veya dostlarına yazdıkları mektuplardır.  
B) Edebî eserler ve sanat olayları tartışılır.  
C) Dil ve anlatım açısından sanat değeri yoktur.  
D) Yazıldıkları dönem hakkında bilgi verdikleri için belge niteliği taşır.

5. Aşağıdakilerden hangisi günlük türünün özelliklerinden değildir?

- A) Yazılanların kanıtlanması gerekir.  
B) Yazıldığı günün tarihi atılır.  
C) Anlatılanlar içtenlikle ifade edilir.  
D) Kişisel ve özeldir.

6. Aşağıdaki yazarlardan hangisinin anı türünde eseri yoktur?

- A) Halit Ziya Uşaklıgil  
B) Yakup Kadri Karaosmanoğlu  
C) Yusuf Ziya Ortaç  
D) Mehmet Fuat Köprülü

7. 14 Nisan 1936 tarihinde, İstanbul Alman Hastanesi'nde sabaha karşı dünyaya gelen Hilmi Yavuz çevresini, babasının kaymakam olarak görev yaptığı Orhangazi'de ilk defa idrak eder. Babasının sık sık tayini çıktığı için Kurtalan'a kadar bütün istasyonların adlarını bir çırpıda sayabilen küçük Hilmi "bir şehrin yerlisi" olmaya fırsat bulamayan memur çocuklarından. Orhangazi'de başladığı ilkokulu Terme'de, ortaokulu Siirt'te bitirir.

**Bu parça aşağıdaki metin türlerinin hangisinden alınmıştır?**

- A) Anıdan B) Biyografiden  
C) Fıkradan D) Denemeden

8. Bey Dağları'nın kolları Alakır Vadisi'nin hem doğusunda hem de batısında Çin Seddi gibi Finike Körfezi'ne doğru uzanıp gider. Bu sarp vadinin yukarı kesimlerindeki pek çok alan, yazın Akdeniz'in ağır sıcağında kaçanlar tarafından yayla olarak kullanılmaktadır.

**Bu parçanın anlatım özellikleri aşağıdakilerin hangisinde verilmiştir?**

- A) Öznel – dolaylı – somut  
B) Öznel – doğrudan – somut  
C) Nesnel – doğrudan – soyut  
D) Nesnel – dolaylı – soyut

9. Dadım Ayşe, ben doğduğumda aileye alınmış bir Boşnak kıızıydı. Elinde büyümüştüm. Âdeta ailemizden biri olmuştu. Beş yaşındaydım. Bir gün evde çalgılar, davetiler, bir kalabalık çıkıverdi. Meğer Ayşe'nin nikâhı kıyılıyormuş. Dadımdan kopup ayrılamayacağımı bildikleri için benden haberi saklamışlar. Ansızın yapılan eğlenceden bir şey anlamadım. O gün Ayşe'yi Mehmet Ağa'ya nikâhlaşmışlardı.

**Bu parça aşağıdaki metin türlerinin hangisinden alınmıştır?**

- A) Günlükten B) Biyografiden  
C) Anıdan D) Sohbetten

10. Aşağıdakilerden hangisi gezi yazarı için söylenemez?

- A) Oldukça sanâtî bir dil kullanır.  
B) Tanımlama, açıklama ve betimlemeden yararlanabilir.  
C) İyi bir gözlemci olması gerekir.  
D) Gözlemlerine yorumunu katabilir.

# 1. OTURUM

11. aęlar boyunca temel besin maddesi olarak tüketlenen ekme­, özellikle son yıllarda daha beyaz ekme­ elde etmek için uygulanan yöntemlerle besleyici özelliğini önemli ölçüde yitirmiştir. Buğday beyaz una dönüş­ürülürken besin değerinin büyük bölümünü kaybetmektedir. Bu unun kullanılmasıyla üretilen ekme­ler, özellikle bizim gibi ekmeğın çok tükettiği ülkelerde “yetersiz beslenme” sorununa yol açmıştır.

**Bu metin aşağıdaki türlerin hangisinden alınmıştır?**

- A) Deneme B) Makale  
C) Sohbet D) Anı

12. İstanbul’un zengin tarihine tanık olmak üzere Ayasofya ve çevresinde dolaştım. Amerika ve Avrupa’dan gemilerle gelen turist orduları da aynı amaçla orada bulunuyordu. Etrafımda dolanan rehberleri başımdan savıp Süleymaniye’nin çevresini ve o mücevher gibi mimarının içini saatlerce inceledim. Özellikle Topkapı Sarayı Müzesinde sergilenen koleksiyondan çok etkilendim.

**Bu metin aşağıdaki türlerin hangisinden alınmıştır?**

- A) Fıkra B) Eleştiri  
C) Gezi yazısı D) Makale

13. Bir yazarın gazetelerde, güncel olan herhangi bir konu üzerinde kişisel görüş ve düşüncelerini akıcı bir dille, belgelendirme gereği duymadan yazdığı ciddi veya nükteli yazılara - - - - denir.

**Bu cümlede boş bırakılan yere aşağıdakilerden hangisi getirilmelidir?**

- A) makale B) fıkra  
C) anı D) deneme

14. Henüz ellisine varmadığı hâlde insanlarla hemhâl olmanın ağırttığı saçlarıyla, insana âdeta okşar gibi bakan mavi boncuk gözleriyle bu İngiliz yazarı bana evvela Merih’ten geliyormuş hissini verdi. Galiba, arada bir insana insanca hitap etmenin lezzetini, ona hem kendi hem de dış dünyanın sırlarını keşfettirmenin güzelliğini unutmuş olacağım ki A.Wilson’u bir adadan değil bir masal diyarından kalkıp gelmiş sandım.

**Bu metin aşağıdaki türlerin hangisinden alınmıştır?**

- A) Eleştiri B) Günlük  
C) Makale D) Deneme

15. Aşağıdaki yazarlardan hangisi Türk edebiyatında deneme türünün ilk örneklerini verenlerden değildir?

- A) Cenap Şehabettin  
B) Ahmet Rasim  
C) Necip Fazıl Kısakürek  
D) Ahmet Haşım

16. Yazdıklarına dalmanın anlamı var mıydı ( ) Masasına oturuyordu. Sokağın ritmini dinliyor ( ) pencereye sığın manzarayı seyrediyordu ( )

**Bu parçada yay araçlarla gösterilen yerlere sırasıyla aşağıdaki noktalama işaretlerinden hangileri getirilmelidir?**

- A) ( ? ) ( , ) ( . ) B) ( ? ) ( ; ) ( . )  
C) ( ? ) ( , ) ( ? ) D) ( . ) ( ; ) ( . )

17. Aşağıdaki cümlelerin hangisinde bağlaç olan “ki”nin yazımıyla ilgili yanlışlık yapılmıştır?

- A) Söylediklerime itiraz eden olmadı ki.  
B) Öyle sanıyorumki, bu şiiri en iyisen yorumlarsın.  
C) Araştırmacılar dikkatli olmalıdır ki keşifler yapılabilsin.  
D) Kabul etmeliyim ki bu düşüncemiz çok güzel.

18. Bir yarın göçtüğünü, çöktüğünü bir dağın Görmemek istiyorsan ardına bakmadan git!

**Bu dizelerdeki altı çizili sözcükte görülen ses olayı aşağıdakilerden hangisidir?**

- A) Ses daralması  
B) Ses türemesi  
C) Ses benzeşmesi  
D) Ses yumuşaması

19. Aşağıdaki dizelerin hangisinde zıt anlamlı kelimeler bir arada kullanılmıştır?

- A) Çiçekler dağılmış renkler solmadan,  
Kuşlar sükût etmiş hazan olmadan  
B) Sular gene o sular, kıyı gene o kıyı,  
Gene çamlar dinliyor uzaktan bir şarkıyı  
C) Birlikte mısralar düşürüyoruz ama iyi ama kötü  
Bir mısra daha söylesek sanki her şey düzelecek  
D) Akşam bir duman gibi geçince aynalardan  
Bir gönül yanığıdır günlerimi karrartan

20. Aşağıdakilerden hangisi eleştiri yazarının özelliklerinden değildir?

- A) Geniş bilgi ve kültür birikimine sahip olmalıdır.  
B) Eleştirdiği eseri bir bütün olarak ele almalıdır.  
C) Eleştirilerinde yıkıcı değil yapıcı olmalıdır.  
D) Eserin sadece değersiz yönlerini göstermelidir.

## (407) DİL VE ANLATIM – 7

1. Aysel Öğretmen: Çocuklar, tahtaya yazdıklarımı herkes defterine geçirdi mi?

**Bu cümlede dil hangi işlevde kullanılmıştır?**

- A) Kanalı kontrol  
B) Dil ötesi  
C) Heyecana bağlı  
D) Göndergesel

2. Aşağıdakilerden hangisi fablın sonunda yer almaz?

- A) Kötüler yapacaklarını yapmaya karar verdiler mi, onları bu yoldan çevirmek zordur, dedi bilge tavşan. “Siz istediğiniz kadar doğruyu, gerçeği gösterin; bana mısın demezler.” diye noktalandı sözünü.  
B) Kendini yönetmesini bilmezken Maymun atılmış krallıktan. Ve hayvanlar anlamış ki böylece Her kafa baş olamaz taca.  
C) Alıklar olmasa iş kalmaz açık gözlerle. Böyle bir ders de değer sanırım bir peynire. Karga şaşkın, mahcup biraz da geç ama Yemin etti gayrı faka basmaya çağına.  
D) Ben de düşünlerime vardım. Bana üç fesleğen yapıp verdiler; biri benim, biri bunu okuyanın, biri de bunu dinleyenin yüreğine mutluluk versin.

3. Bir gece en küçük kız rüyasında bahçedeki fesleğen ağacının dibinde dokuz küp altın olduğunu görmüş. İlk önce buna pek aldırmamış ama üç gece üst üste aynı rüyayı görünce kardeşlerine anlatmış. Hemen gidip fesleğen ağacının dibini kazmışlar ve gerçekten de dokuz küp altın olduğunu görmüşler. Mutluluktan birbirlerine sarılıp ağlaşan bu üç kardeş hemen kendilerine sarayın karşısında güzel bir ev yaptırmışlar ve fesleğeni de oradaki bahçelerine dikip her gün sırayla sulamaya başlamışlar.

**Bir masaldan alınan bu parçada aşağıdaki anlatım türlerinden hangisi kullanılmıştır?**

- A) Öğretici B) Öyküleyici  
C) Açıklayıcı D) Tartışmacı



# 1. OTURUM

4. Aşağıdakilerden hangisi masal derleme ve araştırmaları alanında eser vermiş yazarlardan değildir?

- A) Pertev Naili Boratav
- B) Eflatun Cem Güney
- C) Orhan Pamuk
- D) Ziya Gökalp

5. Aşağıdakilerden hangisi Türk kaynaklı halk hikâyelerinden biridir?

- A) Leyla ile Mecnun
- B) Yusuf ile Züleyha
- C) Kerem ile Aslı
- D) Ferhat ile Şirin

6. Aşağıdakilerden hangisi Tanzimat Dönemi'nde romanda ağırlıklı olarak işlenen konulardan değildir?

- A) Batılılaşmanın yanlış anlaşılması
- B) Kadın-erkek arasındaki eşitsizlik
- C) Anadolu köylüsü ve sorunları
- D) Kölelik ve tarihsel olaylar

7. Aşağıdaki parçalardan hangisi farklı bir bakış açısıyla yazılmıştır?

- A) Şehrin kıyısında, ufacak bir derenin kenarında, dalları suya sarkan ihtiyar bir söğüt ağacı vardı. İlbaharın başlangıcında bu söğütün dallarına bir dişi kırlangıç gelip kondu, derenin bir başından bir başına yıldırım gibi uçan şeffaf kanatlı küçük böcekleri yakalayan diğer kırlangıçlara bakmaya başladı.
- B) Gül ağaçlarının çiğ olarak ayırdığı bahçenin ön bölümüne menekşe, zambak ekmiş; orada bir çiçek kümbeti oluşturmuştu. Minik bir setin kıyısından giden kanaldan da kille yapılan havuza su doluyordu.
- C) Üç yüz otomatik dokuma tezgâhının kulakları sağır eden bir şakırtıyla çalıştığı dokumahane toz içindeydi. Basık çatıdaki pencerelerden birer sütun gibi betona vuran sabah güneşinde pamuk tozları uçuşuyor, dokumahane kola koyuyordu.
- D) Sadece yazma ve okumayla geçmiş günlerimi, gecelerimi üst üste koymuş ve onların yaşadıklarının bir bölümünü, nice ayrıntıyı ve bilgiyi atlayarak geçtiğimi düşünmüştüm. Buna rağmen hayıflanmadım.

8. 1- Rol gereği yapılan yüz ifadeleridir. 2- Rol gereği yapılan el, kol ve vücut hareketleridir.

**Numaralanmış tiyatro terimlerinin doğru sıralanışı aşağıdakilerden hangisidir?**

- A) 1.Mimik – 2.Jest
- B) 1.Suflör – 2.Rol
- C) 1.Rol – 2.Jest
- D) 1.Mimik – 2.Suflör

9. Aşağıdaki Türk halk tiyatrosu türlerinden hangisi tek oyuncu ile oynanır?

- A) Karagöz
- B) Orta oyunu
- C) Meddah
- D) Köy seyirlik oyunları

10. Her nere gidersen eyle talanı Öyle yap ki ağılatasın güleni Bir saatte söyle yüz bin yalanı El bir doğru söylerse inanma

**Bu dizelerde görülen söz sanatı aşağıdakilerden hangisidir?**

- A) İstiare (eğretileme)
- B) Tariz (iğneleme)
- C) İntak (konuşurma)
- D) Teşbih (benzetme)

11. Öğretici metinler için aşağıdakilerden hangisi söylenemez?

- A) Hayaller ve mecazlarla zenginleştirilir.
- B) Dil, göndergesel işlevde kullanılır.
- C) Okuyucuya bilgi vermek amacıyla yazılır.
- D) Gerçekler olduğu gibi anlatılır.

12. Aşağıdakilerden hangisi "masal"ın özelliklerinden değildir?

- A) Yer ve zaman kavramları belirsizdir.
- B) Manzum şekilde yazılır.
- C) İlk söyleyeni bilinmez, halkın ortak malıdır.
- D) Tekerleme (döşeme), olay ve dilek bölümlerinden oluşur.

13. Aşağıdakilerden hangisi fabl türünde ortaya konan eserlerden değildir?

- A) Gülistan
- B) Harnâme
- C) La Fontaine Masalları
- D) Köroğlu

14. Sözlü gelenekten derlendiği düşünülen ilk Türkçe masal kitabının ---- olduğu bilinmektedir.

**Bu cümlede boş bırakılan yere aşağıdakilerden hangisi getirilmelidir?**

- A) Kelile ve Dimne
- B) Bahtiyarnâme
- C) Billur Köşk Masalları
- D) Sindbadnâme

15. Dünyada öykü türünün ilk örneği aşağıdakilerden hangisidir?

- A) Küçük Şeyler
- B) Decameron
- C) Küssadan Hisse
- D) Binbir Gece Masalları

16. Mümtaz, hiç istemeden girdiği bu karışık bahisten çıkmak ister gibi etrafına bakındı. Akşam, geniş musiki faslına başlamıştı. Aydınlığın bütün sazları güneşin veda şarkısını söylemeye hazırlanıyordu. Ve her şey aydınlığın saziydi. Hatta Nuran'ın yüzü, kahve kaşığı ile oynayan eli bile...

**Bu parçada aşağıdaki hikâyeye öğelerinden hangisi yoktur?**

- A) Yer
- B) Zaman
- C) Olay
- D) Kişi

17. Aşağıdakilerden hangisi durum (kesit) hikâyesi için söylenemez?

- A) Serim, düğüm, çözüm planına uyulmaz.
- B) Fransız yazar Guy de Maupassant tarafından yaygınlaştırıldığı için "Maupassant tarzı hikâye" de denir.
- C) Merak ögesi ikinci plandadır.
- D) Okuyucunun kendine göre yorumlar yapmasına uygundur.

18. Aşağıdakilerden hangisi Millî Edebiyat Dönemi romancılarından biridir?

- A) İpek Ongun
- B) Buket Uzuner
- C) Orhan Pamuk
- D) Halide Edip Adıvar

19. Şair Evlenmesi Türk edebiyatında;

- Batı tarzında yazılan ilk tiyatro oyunudur.

- noktalama işaretlerinin ilk kez kullanıldığı eserdir.
- Namık Kemal tarafından yazılmıştır.

**Bu cümleler doğru-yanlış olarak değerlendirildiğinde sıralama aşağıdakilerden hangisi olur?**

- A) Y – D – Y
- B) D – Y – D
- C) Y – Y – D
- D) D – D – Y

20. Sineden derd ile bir ah edeyim kim dönsün Aksine devr-i felek, mihr-i dirahşanı bile

**Bu beyitle ilgili aşağıdakilerden hangisi söylenemez?**

- A) Ağır bir dille yazılmıştır.
- B) Divan şiiri geleneğine aittir.
- C) Söz sanatlarına yer verilmiştir.
- D) Hece ölçüsü kullanılmıştır.

# 1. OTURUM

(408) DİL VE ANLATIM – 8

1. Konferanslarda aşağıdaki anlatım türlerinden hangisi daha az kullanılır?

- A) Betimleyici B) Kanıtlayıcı  
C) Açıklayıcı D) Öğretici

2. Bizdeki sadeleşme hareketleri, Anadolu'da sağlam bir başlangıçla kurulup gelişmekte olan yazı dilinin XV. yüzyıldan sonra bağlı bulunduğu yeni şartlar dolayısıyla başlamıştır. Bu hareketler kelime hazinesi, gramer yapısı, sentaks ve üslup özellikleri bakımından yalnızca aydın zümreye hitap eden dilin ağır yapısına bir tepki olarak ortaya çıkmıştır.

**Bir konferanstan alınan bu parçada aşağıdakilerden hangisine değinilmemiştir?**

- A) Sadeleşme hareketleri dilin ağırlaşan yapısına tepki olarak doğmuştur.  
B) Türkçe XV. yüzyıldan sonra yapısal değişime uğramaya başlamıştır.  
C) Değişen dil halkın tamamına hitap etmektedir.  
D) Anadolu'nun ilk yıllarında yazı dilinin temeli sağlam atılmıştır.

3. - Konu dinleyiciler önünde sohbet havasında tartışılır.  
- Dinleyicilerle konuşmacıların birlikte düşünme isteği çerçevesinde düzenlenir.  
- Başkan konuşmacılara sırayla sorular yönelir.

**Bu özellikler aşağıdaki sözlü anlatım türlerinden hangisine aittir?**

- A) Açık oturum B) Sempozyum  
C) Konferans D) Münazara

4. Sempozyumlarda sunulan bildirilerde aranan en önemli özellik aşağıdakilerden hangisidir?

- A) Dinleyicilerin kültür seviyesine uygun olmalıdır.  
B) Güncel konular üzerinde hazırlanmalıdır.  
C) Bilimsel bir yenilik getirmelidir.  
D) Cümleler kısa ve anlaşılır olmalıdır.

5. Hemen herkesin bir gün anlatmak üzere beklediği güzel bir hikâyesi vardır. Bu hikâyeler sabırla yıldızının parlayacağı anı bekler durur. Bazısı söylenmeden kalır, bazıları dilden dile aktarılıp anonimleşir. Çocukluktan kalma hüznü hikâyeler, lisedeki hasarlıklar, gündelik hayatın sıradanlığını delip geçen olağanüstü anlar, rastlaşmalar, tesadüfler, ilk aşklar, nesilden nesile miras bırakılan eşyalar, kayboluşlar ve buluşlar... Hepsi, insanlığın büyük nisanından kaçmak için anlatılmayı bekler.

**Bu parçada aşağıdaki anlatım türlerinin hangisinden yararlanılmıştır?**

- A) Kanıtlayıcı B) Öyküleyici  
C) Betimleyici D) Açıklayıcı

6. Aşağıdakilerden hangisi bilimsel yazılarla makale türünün benzerliklerinden değildir?

- A) Günlük dilde kullanılan söyleyişlere yer verilir.  
B) Kurallı cümleler kullanılır.  
C) Nesnel bir anlatım söz konusudur.  
D) Anlatılanların kanıtlanması gerekir.

7. Bilimsel yazıların bu bölümünde araştırma sonucu elde edilen bulgular açık ve anlaşılır bir şekilde ortaya konur. Bu bulgular, tartışılıp genelleştirilerek başka çalışmalarla ilişkilendirilir.

**Bu parçada bilimsel yazıların hangi bölümünden söz edilmektedir?**

- A) Giriş  
B) Özet  
C) Başlık  
D) Sonuç ve tartışma

8. Yazıda geçen herhangi bir söz veya sözcükle ilgili olarak sayfa altına konan aydınlatıcı veya kaynak belirten açıklamaya - - - - denir.

**Bu parçada boş bırakılan yere aşağıdakilerden hangisi getirilmelidir?**

- A) özet B) başlık  
C) giriş D) dipnot

9. Aşağıdaki cümlelerden hangisi görümlerin dile getirilmesi açısından ötekilerden farklıdır?

- A) Yeşil buğday başakları sevinçle güneşe doğru yükseliyordu.  
B) Osmanlı Türkçesi ile eser vermiş binlerce şair ve yazar vardır.  
C) Dünya, Güneş çevresindeki dönüşünü 365 günde tamamlamaktadır.  
D) Türk şairlerinden biri olan Yahya Kemal, Üsküp'te doğdu.

10. Makale yazarı aşağıdakilerden hangisini daha az kullanır?

- A) Açıklama B) Betimleme  
C) Kanıtlama D) Karşılaştırma

11. Aşağıdakilerden hangisi sözlü anlatım türlerinden değildir?

- A) Sempozyum B) Münazara  
C) Deneme D) Forum

12. Aşağıdakilerden hangisi münazarada hakem kurulunun konuşmaları değerlendirme esaslarından değildir?

- A) Sözcüklerin ve cümlelerin doğru bir şekilde ifade edilmesi  
B) Konuşmacıların katıldıkları münazara sayısı  
C) Beden dilinin doğru kullanılıp kullanılmadığı  
D) Savunmada inandırıcı olunması

13. Konferans planı şöyle düzenlenebilir:

- a. Konunun sunuluşu  
b. Sonuç  
c. Sorular ve cevaplar  
d. Konferansın amacı  
e. Hitap cümlesi

Konferans planının aşamaları karışık verilmiştir.

**Buna göre doğru sıralama aşağıdakilerden hangisidir?**

- A) a – b – e – d – c  
B) c – e – a – d – b  
C) d – e – a – b – c  
D) b – a – d – c – e

14. • Sempozyumda her oturumun bir başkanı vardır.

• Sempozyumun sonunda bir bildiri yayımlanır.

• Sempozyumda konuşmacıların süre sınırlaması yoktur.

**Bu cümleler doğru-yanlış olarak değerlendirildiğinde sıralama aşağıdakilerden hangisi olur?**

- A) D – Y – Y B) D – D – Y  
C) Y – Y – D D) Y – D – Y

15. Aşağıdakilerden hangisi sempozyum başkanının görevlerinden değildir?

- A) Oturumun başarı ve etkinliğinden sorumludur.  
B) Sempozyum başlarken konuyla ilgili kısa bir giriş konuşması yapmalıdır.  
C) Bildiri sonlarında konuşmacıları eleştirmelidir.  
D) Konuşmaların sonunda sorular varsa konuşmacılar tarafından yanıtlanmasını sağlamalıdır.

## 1. OTURUM

16. Hem soru sormak hem de açıklamalarda bulunmak üzere dinleyicilere söz hakkı verilen tartışma türü aşağıdakilerden hangisidir?

- A) Münazara B) Forum  
C) Sempozyum D) Konferans

17. Aşağıdakilerden hangisi forum başkanında bulunması gereken özelliklerden değildir?

- A) Arabulucudur.  
B) Ön hazırlık yapar.  
C) Eleştirel bir tavır takınır.  
D) Kültürlü ve anlayışlıdır.

18. Aşağıdakilerden hangisi Namık Kemal'in makalelerinde sıkça kullanıldığı temalardan değildir?

- A) Vatan B) Millet  
C) Hürriyet D) Aşk

19. - - - - ; konuşan veya yazan kişinin, dinleyicilerin veya okuyucuların duygularını okşamayı gaye edinir. Eğer konuşmacılar tarafından kullanılırsa münazaraların öğreticilik yönü zayıflar ve münazara amacına hizmet etmez.

**Bu parçada boş bırakılan yere aşağıdakilerden hangisi getirilmelidir?**

- A) İntihal B) Demagoji  
C) Beden dili D) Çeşitli belgeler

20. Açık oturumda ağırlıklı olarak dilin hangi işlevi kullanılır?

- A) Sanatsal  
B) Heyecana bağlı  
C) Alıcıyı harekete geçirme  
D) Göndergesel

### (413) TÜRK EDEBİYATI – 3

1. Ben Tanrı gibi gökte doğmuş Türk Bilge Kağan, şimdi tahtıma oturdum. Sözlerimi sonuna kadar işit; bütün küçük kardeşlerim, yeğenlerim, oğullarım, bütün soyum, milletim, sağdaki Şadpıt beyler, soldaki Tarkanlar, buyruk beyleri, Otuz-Tatar, Dokuz Oğuz beyleri, bu sözleri iyice işit, dikkatli dinle!

**Bu parça aşağıdaki eserlerin hangisinden alınmıştır?**

- A) Göktürk Kitabeleri'nden  
B) Dede Korkut Hikâyeleri'nden  
C) Kutadgu Bilig'den  
D) Divanü Lûgati't Türk'ten

2. Sadece edebiyat çerçevesi içinde kalan bir edebiyat tarihçisinin çalışmaları kısır kalır; tarih, filoloji, felsefe, bibliyografya, güzel sanatların bütün dalları onun ilgi alanına girmelidir.

**Bu durumun asıl nedeni aşağıdakilerden hangisidir?**

- A) Edebiyat tarihinin araştırmaya dayalı olması  
B) Edebiyatın bilim ve sanat dallarıyla ilişkili olması  
C) Edebiyat tarihinin yenilik getirmesi gerektiği  
D) Edebiyat tarihçisinin geniş kültürlü olması gerektiği

3. Aşağıdakilerden hangisi edebiyat tarihi alanında çalışmamıştır?

- A) Nihat Sami Banarlı  
B) Mehmet Fuat Köprülü  
C) Ahmet Kabaklı  
D) Abdülhak Hamit Tarhan

4. En eski sav örneklerimiz aşağıdaki eserlerin hangisinde yer almaktadır?

- A) Divanü Lûgati't Türk  
B) Divan-ı Hikmet  
C) Şecere-i Türk  
D) Cemşid ü Hurşit

5. İslamiyet'ten önce şairler çeşitli törenlerde - - - - adı verilen bir çalgı eşliğinde şiirler söylemiş.

**Bu cümlede boş bırakılan yere aşağıdakilerden hangisi getirilmelidir?**

- A) lir B) baksı  
C) kopuz D) kam

6. Aşağıdakilerden hangisi edebî eserler için söylenemez?

- A) Okuyanların duygu, düşünce ve hayal dünyasını zenginleştirir.  
B) Farklı yorumlanmaya açık eserlerdir.  
C) Sözcükler gerçek ve mecaz anlamda kullanılabilir.  
D) Bilgi vermek amacıyla oluşturulmuş metinlerdir.

7. Aşağıdakilerden hangisi Batı etkisinde gelişen Türk edebiyatı içerisinde değerlendirilemez?

- A) Servetifünun edebiyatı  
B) Tanzimat edebiyatı  
C) Halk edebiyatı  
D) Fecriati edebiyatı

8. Destan, Balasagun yakınlarında bir şehir kuran Türk hükümdarın çevresinde gelişmiştir. Destanda hükümdarın ilginç özellikleri, Büyük İskender ile savaşları, Balasagun'da büyük bir kale ve şehir yaptırması ele alınır.

**Bu parçada sözü edilen Türk destanı aşağıdakilerden hangisidir?**

- A) Şehname B) Şu  
C) Ergenekon D) İlyada

9. İlyada ve Odyssea destanlarının yazarı Homeros'un dili sade ve açıktır. Ritmik vezinle söylenen mısralarda sözcüklerle yapılmış bir musiki ve resim sanatı vardır.

**Bu parçada, sözü edilen destanların hangi yönü üzerinde durulmuştur?**

- A) İçeriği B) Etkileyiciliği  
C) Üslubu D) Kalıcılığı

10. Gılgamış Destanı'nın günümüze ulaşmış en kapsamlı metni - - - - dilinde yazılmış ve Asur kralı Asurbanipal'in kütüphanesinde bulunmuştur.

**Bu cümlede boş bırakılan yere aşağıdakilerden hangisi getirilmelidir?**

- A) Türk B) Akad C) Hint D) Japon

11. Ağâh Sırrı Levent edebiyat tarihçisinin görevini şöyle anlatır: "Bugün gitikçe zenginleşen kültür dünyasında edebiyatın ufku genişlemiş, edebiyat tarihi de ağır görevler yüklenmiştir. Çağdaş edebiyat tarihçisi, şairleri unutulmaktan kurtarmak veya eski zevkleri hikâyeye etmek için eserini yazmıyor. Sadece bilgi vermeyi de yeterli bulmuyor. İncelemek, araştırmak, derinlere inmek, insanlığın gidişini, tarihini yazdığı ulusun dünya anlayışını dönemleriyle birlikte yansıtmak istiyor."

**Bu metne göre edebiyat tarihçisinin asıl amacı nedir?**

- A) Yazar ve şairleri unutulmaktan kurtarmak  
B) Eski zevkleri anlatmak  
C) Bugüne kadar yazılmış eserler hakkında bilgi vermek  
D) Bir milletin duygu ve düşüncede geçirdiği evreleri incelemek

# 1. OTURUM

12. Ülkemizde Batılı anlamda edebiyat tarihi çalışmaları Tanzimat Dönemi'nde başlar. Bu alandaki ilk kapsamlı çalışma - - - - tarafından yayımlanan Türk Edebiyatı Tarihi adlı eserdir.

**Bu metinde boş bırakılan yere aşağıdakilerden hangisi getirilmelidir?**

- A) Halide Edip Adıvar  
B) Yahya Kemal Beyatlı  
C) Mehmet Fuad Köprülü  
D) Abdülhak Şinasi Hisar

13. Aşağıdakilerden hangisi Kalyanamkara ve Papamkara adlı eserin özelliklerinden değildir?

- A) Budizm'i anlatmak için yazılmıştır.  
B) Divan Edebiyatı Dönemi'nde kaleme alınmıştır.  
C) Türk edebiyatının önemli eserlerinden biridir.  
D) İyi düşünceli prensle kötü düşünceli prensin hikâyesini anlatmaktadır.

14. Aşağıdakilerden hangisi Türklerin tarih boyunca kullandığı alfabelerden değildir?

- A) Göktürk B) Uygur  
C) Arap D) Çin

15. Kızıl sarıg arkaşıp (Kızıl sarı renkli çiçekler ardı ardına yerden bitiyor) Yıpgin yaşıl yüzkeşip (Mor ile yeşil yüz yüze geliyor) Bir bir kerü yörkeşip (Ve birbirlerine sarılıyorlar) Yalnguk anı tanglaşur (İnsan bu renk cümbüşünü görünce hayretler içinde kalıyor)

**Bu dörtlüğün nazım şekli aşağıdakilerden hangisidir?**

- A) Sav B) Sagu  
C) Koşuk D) İlahi

16. Aşağıdakilerden hangisi halk edebiyatının kollarından değildir?

- A) Fecriati  
B) Anonim  
C) Dinî-tasavvufi  
D) Âşık tarzı

17. Koşuk türünün halk edebiyatındaki karşılığı aşağıdakilerden hangisidir?

- A) Koşma B) Semai  
C) Gazel D) Varsağı

18. MÖ 3000'lerde Mezopotamya'da doğmuştur. Bilinen en eski destandır. Bu destanda uzun arayışlardan sonra ölümsüzlük otunu bulup da bir yıla kaptıran zalim Uruk kralı ile arkadaşı Enkidu'nun öyküsü anlatılmaktadır.

**Bu metinde sözü edilen destan aşağıdakilerden hangisidir?**

- A) Manas B) Alp Er Tunga  
C) Gılgamış D) Oğuz Kağan

19. Aşağıdakilerden hangisi Türklerde İslamiyet öncesinde şairlere verilen isimlerden değildir?

- A) Şaman B) Baksı  
C) Kam D) Âşık

20. Aşağıdakilerden hangisi Batı etkisinde gelişen Türk edebiyatının kollarından biridir?

- A) Tanzimat Edebiyatı  
B) Klasik Türk Edebiyatı  
C) Yazılı Edebiyat  
D) Sözlü Edebiyat

## (414) TÜRK EDEBİYATI – 4

1. Kutadgu Bilig adlı eserde her kahraman bir kavramı simgelemektedir.

**Buna göre aşağıdaki eşleştirmelerden hangisi yanlıştır?**

- A) Kün Togdı – Doğruluk  
B) Ay Toldı – Saadet  
C) Ögdilmiş – Akıl  
D) Odgurmuş – Yalnızlık

2. Araplara Türkçeyi öğretmek amacıyla yazılmış eserde dil bilimi, şiveler, tarih, coğrafya, din ve inanç konularına yer verilmiştir. Ayrıca eserde Türk boylarını gösteren bir harita da vardır.

**Bu parçada sözü edilen eser aşağıdakilerden hangisidir?**

- A) Şecere-i Türk  
B) Divanü Lûgati't Türk  
C) Kutadgu Bilig  
D) Atabetü'l Hakayık

3. Aşağıdakilerden hangisi çeşitli tarikatlarda "İlahi" türüne verilen adlardan değildir?

- A) Nefes B) Tapuğ  
C) Ayin D) Semai

4. Eski edebiyatımızda bugünkü romanın yerini tutan - - - - , - - - - , - - - - gibi uzun kahramanlık hikâyeleri vardır. Bu hikâyeler evlerde, konaklarda, hanlarda, kervansaraylarda anlatılır; uzun kış gecelerini keyifli hâle getirmiştir.

**Bu parçada boş bırakılan yerlere aşağıdakilerden hangisi getirilemez?**

- A) Battalname  
B) Saltukname  
C) Şikâyetname  
D) Danişmendname

5. Aşağıdaki eser – sanatçı eşleştirmelerinden hangisi yanlıştır?

- A) Mantiku't Tayr Tercümesi – Gülşehri  
B) Leyla ile Mecnun – Fuzuli  
C) Garibname – Âşık Paşa  
D) Harname – Süleyman Çelebi

6. Aşağıdakilerden hangisi divan edebiyatındaki düzyazı türlerinden değildir?

- A) Mesnevi B) Tezkire  
C) Seyahatname D) Münşeât

7. Aşağıdakilerden hangisi divan edebiyatı nazım şekillerindedir?

- A) Rubai B) Semai  
C) Destan D) Mânî

8. • Gazelin ilk beytine verilen addır.  
• Gazelin en güzel beytidir.  
• Gazelin son beytine verilen addır.

**Bu cümlelerde aşağıdaki terimlerden hangisinin tanımı verilmiştir?**

- A) Makta  
B) Matla  
C) Musammat gazel  
D) Beytül gazel

9. Kasidelerde şairin kendisini övdüğü bölüme - - - - adı verilir.

**Bu cümlede boş bırakılan yere aşağıdakilerden hangisi getirilmelidir?**

- A) nesip B) girizgâh  
C) fahriye D) methiye

10. Aşağıdakilerden hangisi âşık edebiyatı ürünlerinin toplandığı defterlere verilen isimdir?

- A) Kopuz B) Cönk  
C) Koşma D) Divan

# 1. OTURUM

11. • Hayalî denen bir kişi tarafından oynatılır.  
• Gölge oyunu olarak da bilinir.  
• Tuzsuz Deli Bekir, Bebe Ruhi, Çelebi gibi tipler bulunur.

**Yukarıda özellikleri verilen geleneksel Türk halk tiyatrosu türü aşağıdakilerden hangisidir?**

- A) Karagöz  
B) Meddah  
C) Orta oyunu  
D) Köy seyirlik oyunu

12. Aliş'imın kaşları kare  
Sen açtın sineme yâre  
Bulamadım derdime çare  
Görmedin mi ah civan Aliş'imi Tuna boyunda

Evleri var hâre hâre  
Benleri var dâne dâne  
Saramadım kana kana

Görmedin mi ah civan Aliş'imi Tuna boyunda

**Bu dizeler aşağıdakilerden hangisine örnektir?**

- A) Gazel B) Semai  
C) Koşma D) Türkü

13. Gidene bak gidene  
Güller sarmış dikene  
Mevlâ sabırlar versin  
Gizli sevda çekene

**Bu mâni ile ilgili aşağıdakilerden hangisi söylenemez?**

- A) Hecenin 11'li kalıbıyla söylenir.  
B) Tek dörtlükten oluşur.  
C) Uyak düzeni "aaba" şeklindedir.  
D) Anonim halk şiiri nazım şekillerindedir.

14. **Aşağıdakilerden hangisi anonim halk şiirinin özelliklerinden değildir?**

- A) Nazım birimi dörtlüktür.  
B) Hece ölçüsü ile yazılır.  
C) Süslü ve sanatlı bir anlatım vardır.  
D) Daha çok yarım uyak kullanılır.

15. **Aşağıdakilerden hangisi dinî-tasavvufî Türk şiirinin temsilcilerinden biridir?**

- A) Ziya Paşa  
B) Âşık Veysel  
C) Karacaoğlan  
D) Yunus Emre

16. **Aşağıdakilerden hangisi Dede Korkut Hikâyeleri'nin özelliklerinden değildir?**

- A) Destan-hikâye özelliği taşır.  
B) 12 hikâyeden oluşur.  
C) Divan edebiyatının özelliklerini gösterir.  
D) Müslüman Oğuzların iç ve dış mücadelelerini anlatır.

17. I. Ağır ve sanatlı bir dile sahiptir.  
II. Aruz ölçüsü ile kaleme alınmıştır.  
III. Anonim, dinî-tasavvufî ve âşık tarzı olmak üzere üç kola ayrılır.  
IV. Arap ve Fars edebiyatlarının izlerini taşıyan yazılı bir edebiyattır.

**Divan edebiyatı ile ilgili yukarıda verilen bilgilerden hangisi yanlıştır?**

- A) I. B) II. C) III. D) IV.

18. Koroğlu'yum medhim merde yeğine  
Koçyiğit değişmez cengi düğüne  
Sere serpe gider düşman önüne  
Ölümü karşılar meydan içinde

**Bu dörtlük aşağıdaki koşma türlerinden hangisine örnektir?**

- A) Güzelleme B) Koçaklama  
C) Taşlama D) Ağıt

19. Seyahatname türünün Türk edebiyatındaki en büyük temsilcisidir. XVII. yüzyılda Osmanlı topraklarının büyük bir bölümünü gezmiş, padişahlarla seferlere katılmıştır. Gördüğü yerlerin sanatını, tarihini, coğrafyasını, folklorunu, geleneklerini "Seyahatname" adlı eserinde ayrıntılı bir biçimde anlatmıştır.

**Bu metinde sözü edilen yazar aşağıdakilerden hangisidir?**

- A) Kaygusuz Abdal  
B) Evliya Çelebi  
C) Mütercim Asım  
D) Tıflı Çelebi

20. - - - - klasik edebiyatta üç veya daha çok mısradan oluşan bentlerle kurulan nazım şekillerinin genel adıdır.

**Bu cümlede boş bırakılan yere aşağıdakilerden hangisi getirilmelidir?**

- A) Gazel B) Kaside  
C) Musammat D) Mesnevi

## (417) TÜRK EDEBİYATI – 7

1. **Aşağıdakilerden hangisi Yedi Meşaleciler'den değildir?**

- A) Ziya Osman Saba  
B) Kenan Hulusi Koray  
C) Sabri Esat Siyavuşgil  
D) Faruk Nafiz Çamlıbel

2. "Tercüman-ı Ahval" gazetesi için aşağıdakilerden hangisi söylenebilir?

- A) İlk özel gazete olarak kabul edilmektedir.  
B) Ziya Paşa ve Namık Kemal tarafından çıkarılmıştır.  
C) Kurtuluş Savaşı sürecinde yayımlanan gazetelerdendir.  
D) Ceride-i Havadis gazetesinden önce yayımlanmaya başlanmıştır.

3. **Aşağıdakilerden hangisi gezi yazılarının taşınması gereken özelliklerinden değildir?**

- A) Gezilip görülen yerler gerçekte olduğu gibi tasvir edilmelidir.  
B) Gezilen yerler okuyucuya yüzeyel olarak aktarılmalıdır.  
C) Yalın bir dil ve açık bir anlatım kullanılmalıdır.  
D) Gezilen yerlerin özellikleri, ilgi çekici bir biçimde anlatılmalıdır.

4. • Beş Hececiler, yayımladıkları bir kitapla memleketçi edebiyata tepki göstermiştir.

• Yaygınlaşan günlük türünün öncüleri Nurullah Ataç ve Salâh Birsel'dir.

• Köy romanının en tanınmış örneklerinden biri de Yılanların Öcü'dür.

**Bu cümleler doğru-yanlış olarak değerlendirildiğinde sıralama aşağıdakilerden hangisi olur?**

- A) Y – D – D B) Y – Y – D  
C) D – D – Y D) D – Y – D

5. **Aşağıdaki eser – yazar eşleştirmelerinden hangisi yanlıştır?**

- A) Hatıralar – Ruşen Eşref Ünaydın  
B) Anamın Kitabı – Yakup Kadri Karaosmanoğlu  
C) Mavi Sürgün – Halikarnas Balıkcısı  
D) Portreler – Reşat Nuri Güntekin

6. Şiirlerinde; ölüm, sonsuzluk, zaman, an, rüya, hülya ve geçmiş zamana duyulan özlemi konu olarak işler. Ayrıca yazdığı makaleleri "Edebiyat Üzerine Makaleler" adlı eserde toplamıştır.

**Bu parçada tanıtılan sanatçı aşağıdakilerden hangisidir?**

- A) Ece Ayhan  
B) Sezai Karakoç  
C) Cahit Külebi  
D) Ahmet Hamdi Tanpınar

## 1. OTURUM

7. Doğayı sevmek öyle kolay olmamıştır insanoğlu için. Doğanın uysallaştırılması, evcilleştirilmesi ve bu yoldan sevilmeğe başlanması için aradan uzun dönemler geçmiştir. Doğayı seven edebiyat ve doğayı severek bezeyen mimarlık ise insanoğlunun çok sonraları gerçekleşen büyük bir başarısıdır. Siz doğayı bir de insan-sız düşünün. Kaçacak yer ararsınız. Bütün konular arasında doğayla insan arasındaki ilişkiden hoşlanıyorum ve her zaman ona dönüyorum.

**Bu parça aşağıdaki metin türlerinden hangisine örnek olabilir?**

- A) Anı (hatıra) B) Günlük  
C) Deneme D) Gezi yazısı

8. Birden İstiklal Marşı'nın ilk notaları duyuluyor. Türk dilinin yeni çığırı açılıyor. Bütün bu kalabalık ayağa kalkıyor. El şakırtıları, mızık sesini yer yer bastırıyor ve kubbeden taşacak bir hız alıyor. Kapıdan yana bakıyorum. Gazi Mustafa Kemal'in başı, bu alkış çağlayanının üstünde bir güneş gibi... "Hiç kimseye bakmıyor sanılan, fakat herkesi ve her şeyi gören, herkesi kendine doğru sevgi ile çeken gözlerinin engin mavisi şimdi kimin ve neyin üstünde dinleniyor; hareketli başının içinde şimdi ne düşünceler kaynaşiyor?" diye düşündüğümü anımsıyorum.

**Bu parça aşağıdaki metin türlerinden hangisine örnektir?**

- A) Deneme B) Makale  
C) Gezi yazısı D) Anı (hatıra)

9. Yazarın herhangi bir konu üzerinde kesin hükümlere varmadan, kendi görüş ve düşüncelerini anlattığı yazı türüne - - - - denir. Eskiden bu tür yazılara "kalem tecrübesi" denirdi. Bu türün ele aldığı konuların sınırı yoktur. Kişiyi ve toplumu ilgilendiren her şey konu olarak ele alınabilir.

**Bu parçada boş bırakılan yere aşağıdakilerden hangisi getirilmelidir?**

- A) anı (hatıra) B) makale  
C) deneme D) gezi yazısı

10. • Fıkra; güldürücü ve gazetelerde yayımlanan fıkralar olmak üzere iki başlık altında incelenir.  
• Sefaretnameler de birer gezi eseri olarak kabul edilir.  
• Gazetelerin ilk sayfasında ve sütununda yayımlanan makalelere "giriş makalesi" denir.

**Bu cümleler doğru-yanlış olarak değerlendirildiğinde sıralama aşağıdakilerden hangisi olur?**

- A) D – Y – D  
B) D – D – Y  
C) Y – D – Y  
D) Y – Y – D

11. Sanatçının en önemli özelliği romanlarında sosyal konuları tarihî arka plan içinde ele almasıdır. Romanlarının konusu Orta Anadolu coğrafyasının köy ve kasabalarında geçer. Onun romanları, gücünü tasvir ve üslubundan alır. "Yol Ayrımı" ve "Devlet Ana" ünlü romanlarıdır.

**Bu metinde sözü edilen yazar aşağıdakilerden hangisidir?**

- A) Tarık Buğra  
B) Yakup Kadri Karaosmanoğlu  
C) Aziz Nesin  
D) Kemal Tahir

12. Ne atom bombası  
Ne Londra Konferansı;  
Bir elinde cımbız,  
Bir elinde ayna;  
Umurunda mı dünya!

**Bu dizeler aşağıdaki şiir geleneklerinden hangisine ait olabilir?**

- A) Garip  
B) Millî edebiyat  
C) Servetifünun  
D) Divan edebiyatı

13. Aşağıdakilerden hangisi Reşat Nuri Güntekin'in tiyatro eserlerinden değildir?

- A) Yaprak Dökümü  
B) Eski Şarkı  
C) Midas'ın Kulakları  
D) Balıkesir Muhasebecisi

14. Aşağıdakilerden hangisi Beş Hececiler'in ortak özelliklerindedir?

- A) Şiirde ölçü ve uyağa karşı çıkmışlardır.  
B) Halk şiiri geleneğinden yararlanarak yurt güzelliklerini dile getirmişlerdir.  
C) Daha önce kullanılmamış imgelelere yönelmişlerdir.  
D) Toplumcu gerçekçi şiirin başarılı örneklerini vermişlerdir.

15. Aşağıdakilerden hangisi günümüz deneme yazarlarından değildir?

- A) Doğan Hızlan B) Enis Batur  
C) Bilge Karasu D) Ahmet Rasim

16. Toplum ve kişi sağlığından bahsedildiği zaman akla ilk olarak "bedenen sıhhatli ve arızalardan arı olmak" gelmektedir. Ancak en az bunun kadar önem arz eden, ruh sağlığı konusunda problemi olan insanlardır. Toplumsal önyargılardan çekinmeleri dolayısı ile ruhsal yönden hasta olmalarına rağmen kendilerini hasta olarak kabul etmemekte, tedaviye de yanaşmamaktadırlar. Bu durum ruhsal rahatsızlığı bulunan kişilerin kendisine ve çevresine zorluklar yaşatmaktadır.

**Bu parça aşağıdaki metin türlerinin hangisinden alınmış olabilir?**

- A) Makale B) Deneme  
C) Gezi yazısı D) Sohbet

17. Afganistan'ın kuzeyinde, geçmiş zamanların kavşak noktası Belh kentindeyiz. Merkezin hemen dibinde Hacı Golak köyünde. Kubbeleri çökmüş, duvarları göçmüş, kerpiç bir medrese harabesi... Diyorlar ki Mevlana'nın babası burada ders verdi ve Mevlana bu köyde doğdu. Harabenin biraz berisinde yeni patlamış dut ağaçlarının altındayız. Yağmur yağıyor. Her damla toprak kalıntıdan bir parçayı kapıp götürüyor.

**Bu parça aşağıdaki metin türlerinin hangisinden alınmış olabilir?**

- A) Sohbet B) Deneme  
C) Gezi yazısı D) Fıkra

18. 1980'li yıllarda tiyatro edebiyatımızın en büyük kazanımlarından biri sanatçının tiyatromuza yeniden canlılık getiren oyunları olmuştur. "Mahmud ile Yezida, Taziye, Geyikler Lanetler" isimli oyunlarından oluşan üçleme seyircinin düş gücünü zorlamış, seyirciyi Güneydoğu Anadolu söylencelerinin gizemli yolculuğuna götürmüştür.

**Bu metinde sözü edilen yazar aşağıdakilerden hangisidir?**

- A) Murathan Mungan  
B) Turan Oflazoğlu  
C) Ahmet Kutsi Tecer  
D) Adalet Ağaoğlu

19. Aşağıdaki sanatçılardan hangisi köyü konu edinen roman yazmamıştır?

- A) Fakir Baykurt  
B) Kemal Tahir  
C) Ahmed Arif  
D) Yaşar Kemal

# 1. OTURUM

20. Aşağıdakilerden hangisi Tanzimat Dönemi makale yazarlarından değildir?
- A) Namık Kemal  
B) Tevfik Fikret  
C) Ziya Paşa  
D) İbrahim Şinasi

## (418) TÜRK EDEBİYATI – 8

1. Aşağıdaki eser – yazar eşleştirmelerinden hangisi yanlıştır?

- A) Anayurt Oteli – Yusuf Atılgan  
B) Kara Kitap – Orhan Pamuk  
C) Tutunamayanlar – Oğuz Atay  
D) Vazgeçemediğim – Orhan Asena

2. Peyami Safa'nın birey ruhuna ayna tuttuğu başarılı psikolojik romanıdır. Olaylar, gönül ilişkileri, hastalık, muayeneler, tartışmalar, ümitler, acılar, sevinçler, kararsızlıklar, duraksamalar ve bunalımlar okura anlatıcı tarafından ayrıntılarıyla aktarılır. Egemen tema kahramanın hastalığıdır. Kahraman, roman boyunca hastane, hastalık ve hastalardan oluşan bir dünyanın içinde yer alır.

**Bu parçada bahsedilen eser aşağıdakilerden hangisidir?**

- A) Kara Kitap  
B) Dokuzuncu Hariciye Koşusu  
C) Bir İlbahar Hikâyesi  
D) Anayurt Oteli

3. DALGACI MAHMUT  
İşim gücüm budur benim,  
Gökyüzünü boyarım her sabah,  
Hepiniz uykudayken.  
Uyanır bakarsınız ki mavi.  
Deniz yırtılır kimi zaman,  
Bilmezsiniz kim diker;  
Ben dikerim.  
Dalga geçerim kimi zaman da,  
O da benim vazifem;  
Bir baş düşünürüm başımda,  
Bir mide düşünürüm midemde,  
Bir ayak düşünürüm ayağımda,  
Ne halt edeceğim bilemem.

**Orhan Veli Kanık'a ait bu dizeler için aşağıdakilerden hangisi söylenemez?**

- A) Hece ölçüsü kullanılmıştır.  
B) Yalın bir anlatıma sahiptir.  
C) Düşsel öğelerden yararlanılmıştır.  
D) Belli bir kafiye düzeni yoktur.

4. Aşağıdakilerden hangisi eserlerinde "yurdu sevmek, tanıtmak ve kalkındırmaya yönelik memleketçi bir çaba"yı konu edinmez?

- A) Zeki Ömer Defne  
B) Ömer Bedrettin Uşaklı  
C) Cemal Süreya  
D) Halide Nusret Zorlutuna

5. Aşağıdakilerden hangisi şairler için söylenemez?

- A) Duygu, düşünce ve hayallerini sözcükler aracılığıyla ifade ederler.  
B) Dikkatle seçtikleri sözcüklere yeni anlamlar yükleyerek şiirlerinde kullanırlar.  
C) Somutlaştırma ve soyutlaştırmadan yararlanarak duygu ve düşüncelerini daha iyi aktarırlar.  
D) Şiirlerini yazarken mümkün olduğunca hayallerini gerçeğe uydurmaya çalışırlar.

6. Aşağıdakilerden hangisi ikinci Yeni anlayışıyla yazan şairlerden değildir?

- A) Ece Ayhan  
B) Yahya Kemal Beyatlı  
C) Edip Cansever  
D) Sezai Karakoç

7. Yedi yaşında çiçek salgınında gözlemlerini yitiren sanatçı kimi zaman yerel sözcüklerle süslediği sade bir Türkçe ile şiirler söyledi. Şiirlerinde tema olarak aşk, tasavvuf, hasret, tabiat ve hikmeti tercih etti. Ağırıklı olarak güzellik, vatan ve insan sevgisi üzerinde durdu. "Dostlar Beni Hatırlasın" en bilinen eseridir.

**Bu parçada sözü edilen sanatçı aşağıdakilerden hangisidir?**

- A) Âşık Veysel  
B) Yaşar Reyhanî  
C) Murat Çobanoğlu  
D) Âşık Mehmet Hüznî

8. Millî Edebiyat Dönemi'nde - - - hikâye türünün gelişip yaygınlaşmasını sağladı. Cumhuriyet Dönemi'nde ise başta - - - olmak üzere bu alanda büyük yazarlar yetişti.

**Bu parçada boş bırakılan yerlere aşağıdakilerden hangileri sırasıyla getirilmelidir?**

- A) Orhan Pamuk – Ömer Seyfettin  
B) Sabahattin Ali – Orhan Pamuk  
C) Sabahattin Ali – Sait Faik Abasıyanık  
D) Ömer Seyfettin – Sait Faik Abasıyanık

9. Aşağıdakilerden hangisi tiyatro eserini oluşturan öğelerden değildir?

- A) Oyun metninin canlandırılmadan önce yayımlanarak ön hazırlığın sağlanması  
B) Yazılı bir oyunun, bir yönetmenin yorumuyla sahneye konması  
C) Oyuncuların, farklı kişileri canlandırması  
D) Oyunun dekor, giysi ve ışık gibi yardımcı öğelerle seyircilere sunulması

10. Aşağıdakilerden hangisi köy gerçeğini eserlerine konu edinen yazarlardan biridir?

- A) Peyami Safa B) Fakir Baykurt  
C) Bilge Karasu D) Latife Tekin

11. Yeşil pencereden bir gül at bana  
Işıklarla dolsun kalbimin içi.  
Geldim işte mevsim gibi kapına,  
Gözlerimde bulut, saçlarımda çiğ.

**Bu dizeler için aşağıdakilerden hangisi söylenemez?**

- A) Hece ölçüsü kullanılmıştır.  
B) Halk edebiyatı geleneğinin izlerini taşır.  
C) Bireysel bir tema işlenmiştir.  
D) Garip akımının etkisiyle yazılmıştır.

12. Aşağıdakilerden hangisi Nazım Hikmet'in eserlerinden değildir?

- A) Kuvâyi Milliye Destanı  
B) Memleketimden İnsan Manzaraları  
C) Kaldırımlar  
D) Son Şiirler

13. Çocuklar ormanda  
Çocuklar dağda bayırda,  
Çocuklar uykularında ahırda  
Çocuklar Süreyya Paşa fabrikasında  
Çocuklar pamuk topluyorlar,  
Sarı ellerine bakarak,  
Çukurova mıntıkasında

**Bu dizeler aşağıdaki anlayışların hangisine ait olabilir?**

- A) Tanzimat şiiri  
B) Millî edebiyat şiiri  
C) Toplumcu şiir  
D) Servetifünun şiiri

14. Aşağıdakilerden hangisi günümüz hikâye ve romancılarından değildir?

- A) Orhan Pamuk  
B) Murathan Mungan  
C) Elif Şafak  
D) Kemal Tahir

15. Aşağıdaki eserlerden hangisinin türü diğerlerinden farklıdır?

- A) Tutunamayanlar  
B) Çoban Çeşmesi  
C) Bingöl Çobanları  
D) Kaldırımlar

16. Aşağıdaki sanatçılardan hangisinin sanat anlayışı diğerlerinden farklıdır?

- A) Orhan Veli Kanık  
B) Melih Cevdet Anday  
C) Yaşar Nabi Nayır  
D) Oktay Rifat Horozcu

# 1. OTURUM

17. Dadaloğlu yarın kavga kurulu  
Öter tüfek davlumbazlar vurulu  
Nice koş yığitler yere serilir  
Ölen ölü kalan sağlar bizimdir
- Bu dördlük aşağıdaki nazım türlerinden hangisine ait olabilir?**

- A) Koçaklama B) Taşlama  
C) Ağıt D) Güzelleme

18. İkinci Yeni'ye has dil ve söylem özelliklerini kullanarak İslam dinini esas alan konulara yöneldi. Onun şiiri İslam'ın geleneksel metinlerinde görülen merkez çevre ilişkisi üzerine kurulmuştur. O şiir dilindeki semboller aracılığıyla geleneği geleceğe taşımıştır.

**Bu metinde sözü edilen II. Yeni şairi aşağıdakilerden hangisidir?**

- A) Faruk Nafiz Çamlıbel  
B) Nazım Hikmet  
C) Tevfik Fikret  
D) Sezai Karakoç

19. Aşağıdakilerden hangisi Necip Fazıl Kısakürek'in edebî özelliklerinden değildir?

- A) İçe dönük, maneviyatçı, bireysel şiirin başarılı örneklerini vermiştir.  
B) Halk şiirinin incelikleriyle Fransız şiirinin yetkinliğini birleştirmiştir.  
C) Şiirlerini oturmuş bir dil ve sağlam bir teknikle yazmıştır.  
D) Toplumcu şiir anlayışını benimsemiştir.

20. Aşağıdakilerden hangisi halk şiirinde ağır olarak işlenen temalardan değildir?

- A) Yiğitlik  
B) Ölüm  
C) Yabancılaşma  
D) Aşk

## (421) FİZİK – 1

1. Otomobilde kullanılan far, klima ve akü gibi araçlar fiziğin hangi alt alanı ile ilgilidir?

- A) Elektrik B) Biyoloji  
C) Nükleer D) Kimya

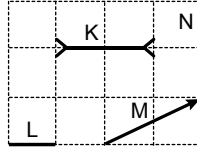
2. Fizik biliminde kullanılan bazı büyüklükler aşağıda verilmiştir.

- I. Uzunluk  
II. Zaman  
III. Sıcaklık  
IV. Kütle

**Buna göre bu büyüklüklerden hangileri metre ile ölçülür?**

- A) Yalnız I B) Yalnız II  
C) II ve III. D) III ve IV.

3. Birim kareler üzerinde gösterilen K, L, M ve N çizimleri şekildedir.



**Buna göre hangisi vektördür?**

- A) K B) L C) M D) N

4. Aşağıdakilerden hangisi Türkiye'deki bilim araştırma merkezi değildir?

- A) Türkiye Bilimsel ve Teknolojik Araştırma Kurumu (TÜBİTAK)  
B) Türkiye Atom Enerjisi Kurumu (TAEK)  
C) Askeri Elektronik Sanayi (ASELSAN)  
D) Avrupa Nükleer Araştırma Merkezi (CERN)

5. Aşağıdakilerden hangisi atom fiziğinin incelediği konulardandır?

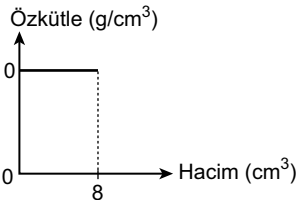
- A) Işığın madde ile olan ilişkisini araştırmak  
B) Manyetizmayı ve manyetizmayı araştırmak  
C) Sıcaklık, özkütle ve basınç arasındaki ilişkiyi araştırmak  
D) Atom ve atom çekirdeğinin yapısını araştırmak

6. Bir futbol topunun kütlesi 400 g olduğuna göre bu topun kilogram cinsinden değeri kaçtır?

(1 kg = 1000 g)

- A) 0,04 B) 0,4  
C) 4 D) 40

7. Bir cisme ait özkütle – hacim grafiği şekildedir.



**Buna göre cismin hacmi 2 cm³ olduğunda özkütlesi kaç g/cm³ olur?**

- A) 2 B) 4 C) 8 D) 10

8. Hülya yeşil marul yapraklarını mavi renkli suyun içine koyup bir süre belettikten sonra yaprakların renginin değiştiğini görüyor.

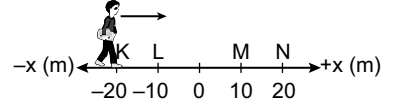
**Bu olay fizik bilimi içerisinde aşağıdakilerden hangisi ile açıklanır?**

- A) Yüzey gerilimi  
B) Yapışma (Adezyon)  
C) Kılcallık  
D) Ağırılık

9. Aşağıdaki hareketlerden hangisi hem dönme hem de öteleme hareketine örnek verilebilir?

- A) Salıncakta sallanma  
B) Gitar telinin hareketi  
C) Bisiklete binen çocuk yolda ilerlerken bisikletin tekerleklerinin hareketi  
D) Arının uçarken kanatlarının hareketi

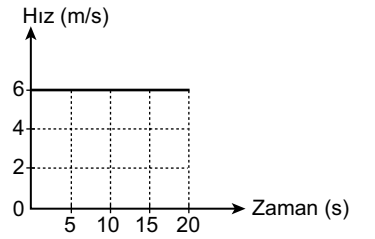
- 10.



**Şekildeki doğrusal yolda +x yönünde hareket eden öğrenci K noktasından N noktasına geldiğinde kaç metre yer değiştirmiş olur?**

- A) 20 B) 40 C) 60 D) 80

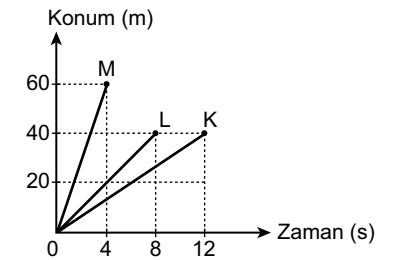
11. Düzgün doğrusal hareket yapan bir arabanın hız – zaman grafiği şekildedir.



**Buna göre araba (0-10) saniyede kaç metre yol almıştır?**

- A) 20 B) 60 C) 100 D) 120

- 12.



**Konum – zaman grafikleri şekildedir gibi olan K, L ve M arabalarının hızlarının büyüklükleri ( $V_K, V_L, V_M$ ) arasındaki ilişki nedir?**

- A)  $V_K = V_L > V_M$   
B)  $V_L > V_M > V_K$   
C)  $V_K > V_L > V_M$   
D)  $V_M > V_L > V_K$

13. Oya evden çıkıp 4 km uzaklıktaki okuluna gidip ders bitiminde tekrar yürüyerek evine geliyor.

**Buna göre Oya'nın toplam yer değiştirmesi kaç km'dir?**

- A) 0 B) 2 C) 4 D) 8



# 1. OTURUM

14. Çevremizdeki kuvvetler etkileşim sonucu oluşur.  
**Buna göre aşağıdakilerden hangisi temas gerektirmeyen kuvvettir?**

A) Sürtünme kuvveti  
B) Havanın direnç kuvveti  
C) Kütle-çekim kuvveti  
D) Kaldırma kuvveti

15. Trafikte Yeşil Dalga koordinasyon sistemi uygulaması sonucu;

I. Araçların kırmızı ışığa yakalanmadan kavşaklardan geçebilmesi sağlanır.  
II. Seçilen yollarda araçlar belli bir ortalama hızla geçerler.  
III. Bu uygulamaya yolun başından bakıldığında art arda ve belli zaman aralıklarıyla yanan yeşil ışık görülür.

**ifadelerinden hangileri doğrudur?**

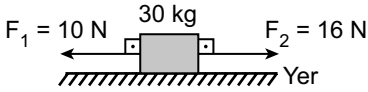
A) I ve II. B) II ve III.  
C) I ve III. D) I, II ve III.

16. Okul sırasını iki kişi 15 N'luk kuvvetlerle zıt yönde çekmektedir.

**Buna göre sıraya etki eden net kuvvet kaç Newton'dur?**

A) 0 B) 15 C) 30 D) 45

17. Bir cisme etki eden net kuvvetin kütle miktarına bölümü ivmeyi verir.



Sürtünmenin önemsiz olduğu bir düzlemde duran 30 kg'lık cisme yere paralel olarak şekildeki kuvvetler etki etmektedir.

**Buna göre cismin ivmesi kaç m/s<sup>2</sup> dir?**

A) 0,2 B) 0,5 C) 0,7 D) 1

18. Bir cismin kütlesi ile yerçekimi ivmesinin çarpımı cisme ait olan ağırlık değerini verir.

**Buna göre Oya'nın kütlesi 45 kg olduğuna göre ağırlığı kaç Newton'dur? (g = 10 m/s<sup>2</sup>)**

A) 0,45 B) 4,5  
C) 450 D) 4500

19. Aşağıdakilerden hangisi sürtünme kuvvetinin dezavantajlarından biridir?

A) Yürüyebilmek  
B) Araba motorlarında pistonların aşınması  
C) Cisimlerin olduğu yerde durması  
D) Yazı yazmak

20. • Hız --▲-- bir büyüklüktür.  
• Düzgün doğrusal harekette --●-- sabittir.  
• Pusulanın iğnesinin dönmesi --■-- gerektirmeyen bir kuvvettir.

**Yukarıdaki ▲, ● ve ■ boşlukları aşağıdakilerden hangileri ile eşleştirilirse doğru olur?**

	▲	●	■
A)	Temas	Hız	Vektörel
B)	Vektörel	Hız	Temas
C)	Hız	Temas	Vektörel
D)	Temas	Vektörel	Hız

## (432) KİMYA – 2

1. Aşağıda verilen kimyasal türlerden hangisi "atom" sınıfında yer alır?

A) H<sub>2</sub>O B) OH<sup>-</sup> C) N<sub>2</sub> D) Mg

2. Aşağıda verilenlerden hangisi atomun yapısında bulunan temel taneciklerden biri değildir?

A) Katyon B) Elektron  
C) Proton D) Nötron

3. Aşağıda verilenlerden hangisi bileşik molekülüne örnek verilebilir?

A) CO<sub>2</sub> B) O<sub>3</sub> C) H<sub>2</sub> D) P<sub>4</sub>

4. Negatif (-) elektrik yüklü kimyasal türe ne ad verilir?

A) Molekül B) Bileşik  
C) Atom D) Anyon

5. Aşağıda verilenlerden hangisi kimyasal türler arası zayıf etkileşimlerden biridir?

A) İyonik bağ B) Hidrojen bağı  
C) Metalik bağ D) Kovalent bağ

6. Mg<sup>2+</sup> ve Cl<sup>-</sup> iyonlarından oluşan bileşiğin formülü aşağıdakilerden hangisidir?

A) Mg<sub>2</sub>Cl B) MgCl<sub>2</sub>  
C) MgCl<sub>3</sub> D) Mg<sub>2</sub>Cl<sub>2</sub>

7. <sup>2</sup>He elementinin Lewis yapısı aşağıdakilerden hangisidir?

A) :He: B) :He• C) •He• D) •He

8. "NaCl" bileşiğinin adı aşağıdakilerin hangisinde doğru verilmiştir?

A) Sodyum klorür  
B) Potasyum florür  
C) Kükürt dioksit  
D) Alüminyum nitür

9. Metallerin erime ve kaynama noktalarının yüksek olmasına neden olan bağ aşağıdakilerden hangisidir?

A) İyonik bağ B) Kovalent bağ  
C) Metalik bağ D) Hidrojen bağı


10. Aşağıdakilerden hangisi fiziksel değişmeye örnektir?

A) Limonun küflenmesi  
B) Sütten yoğurt yapılması  
C) Odunun yanması  
D) Camın kırılması

11. "SO<sub>3</sub>" bileşiğinin adı aşağıdakilerin hangisinde doğru yazılmıştır?

A) Monokükürt oksit  
B) Kükürt monoksit  
C) Kükürt trioksit  
D) Monokükürt dioksit

- 12.



**Şekilde görüldüğü gibi, katı hâldeki bir maddenin ısı alarak doğrudan gaz hâline geçmesi olayına ne ad verilir?**

A) İyonizasyon B) Yoğuşma  
C) Süblimleşme D) Buharlaşıma

13. Aşağıda verilenlerden hangisi maddenin "gaz" hâlinin özelliklerinden biri değildir?

A) Tanecikleri arasındaki boşluk çok azdır.  
B) Maddenin en düzensiz hâlidir.  
C) Belirli bir şekli ve hacmi yoktur.  
D) Tanecikleri titreşim, öteleme ve dönme hareketi yapar.

14. Atmosferdeki su buharına - - - - denir.

**Tanımda verilen boşluğa aşağıdakilerden hangisi yazılmalıdır?**

A) çözelti B) yağmur  
C) plazma D) nem

15. • Katı

• Sıvı  
• Gaz  
• Plazma

**Yukarıda verilenlerden kaç tanesi maddenin fiziksel hâllerindedir?**

A) 1 B) 2 C) 3 D) 4

16. "Sıvılaştırılmış petrol gazı" diye adlandırılan madde aşağıdakilerden hangisidir?

A) Benzin B) Mazot  
C) LPG D) Fuel oil

# 1. OTURUM

17. I. Su  
II. Bal  
III. Zeytinyağı  
Yukarıda verilen maddelerin eşit miktarlarının oda sıcaklığındaki akıcılıkları arasındaki ilişki hangisinde doğru verilmiştir?

A) I > II > III      B) I > III > II  
C) II > III > I      D) III > I > II

18. Yeryüzündeki su kaynaklarının en büyük miktarını aşağıdakilerden hangisi oluşturur?

A) Yer altı suları  
B) Denizler ve okyanuslar  
C) Göller  
D) Buz dağları ve buzullar

19. • Piller  
• Plastikler  
• Deterjanlar  
• Ağır metaller

Yukarıda verilenlerden kaç tanesi su ve toprak kirliliğine neden olur?

A) 4      B) 3      C) 2      D) 1

20. Çevre bilinci gelişmiş bir kişinin aşağıdakilerden hangisini yapması beklenmez?

A) Cam, plastik, kâğıt gibi atıkların geri dönüşümünü sağlama  
B) Günlük hayatta daima plastik bardak, tabak kullanması  
C) Ulaşımında toplu taşıma aracı kullanmayı tercih etmesi  
D) Biten pilleri atık pil kutusuna atması

## (434) KİMYA – 4

1. Kömürün yapısında kütlece en fazla bulunan element aşağıdakilerden hangisidir?

A) Karbon      B) Hidrojen  
C) Azot      D) Kükürt

2. Aşağıda verilenlerden hangisi temiz enerji kaynağıdır?

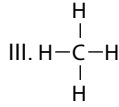
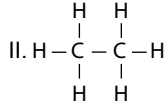
A) Doğal gaz      B) Kömür  
C) Benzin      D) Rüzgâr enerjisi

3. I. Linyit  
II. Antrasit  
III. Fuel-oil

Yukarıda verilenlerden hangileri kömür çeşididir?


A) Yalnız I.      B) I ve II.  
C) II ve III.      D) I, II ve III.

4. I.  $H-C \equiv C-H$



Yukarıda verilen hidrokarbonlardan hangileri "alkan" sınıfı bileşiklerdendir?

A) Yalnız I.      B) I ve II.  
C) II ve III.      D) I, II ve III.

5.  Yanda verilen formül aşağıdaki bileşiklerden hangisine aittir?

A) Toluen      B) Anilin  
C) Piridin      D) Benzen

6. I. Koruyucular  
II. Tatlandırıcılar  
III. Renklendiriciler(Boyalar)

Yukarıda verilenlerden hangileri gıda katkı maddelerindedir?

A) Yalnız II.      B) I ve II.  
C) II ve III.      D) I, II ve III.

7. İnsan sağlığını tehdit eden glikoz şurubu hangi bitkiden elde edilir?

A) Buğday      B) Mısır  
C) Arpa      D) Nohut

8. Aşağıdaki besin maddelerinden hangisini vücudumuz enerji kaynağı olarak kullanamaz?

A) Proteinler      B) Vitaminler  
C) Yağlar      D) Karbonhidratlar

9. "Amino asitler" hangi besin grubunun yapı taşlarıdır?

A) Proteinler  
B) Yağlar  
C) Karbonhidratlar  
D) Vitaminler

10. Doğal bir biçimde yeryüzüne çıkan yer altı suyu, aşağıdakilerden hangisidir?

A) Deniz suyu      B) Baraj suyu  
C) Kaynak suyu      D) Yağmur suyu

11. Aşağıda verilen gıdalardan hangisi "hazır gıdalar" arasında yer almaz?

A) Sosis      B) Çikolata  
C) Yumurta      D) Bisküvi

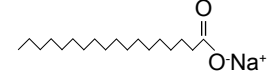
12. Aşağıda verilenlerden hangisi içme sularında olması istenen özelliklerden biridir?

A) İletkenlik      B) Renk  
C) Koku      D) Hoş tat

13. Su arıtımında zararlı mikroorganizmaların klorlama yolu ile yok edilmesi işlemine ne ad verilir?

A) Dinlendirme  
B) Sertlik(kireç) giderme  
C) Dezenfeksiyon  
D) Havalandırma

- 14.



Açık formülü verilen madde aşağıdakilerden hangisidir?

A) Sabun  
B) Diş macunu  
C) Çamaşır suyu  
D) Şampuan

15. - - - - , doğal bir polimerdir. Verilen tanımdaki boşluğa aşağıdakilerden hangisi yazılamaz?

A) Protein      B) İpek  
C) Akrilik      D) Kauçuk

16. Cildin nem dengesini korumak ve çevresel faktörlerin cilde vereceği zararları önlemek için kullanılan cilt bakım ürünü aşağıdakilerden hangisidir?

A) Parfümler  
B) Pudralar  
C) Nemlendiriciler  
D) Boyalar

17. Aşağıda verilenlerden hangisi toprak kirliliğine neden olur?

A) Doğal gübreler  
B) Çöpler  
C) Ağaçlar  
D) Sular

18. I. Şurup  
II. Damla  
III. Merhem

Yukarıda verilenlerden hangileri ilaç formlarındandır?

A) Yalnız I.      B) I ve II.  
C) II ve III.      D) I, II ve III.

19. "Selüloz" maddesi aşağıda verilenlerden hangisinin ham maddesidir?

A) Tebeşir      B) Kağıt  
C) Silgi      D) Mürekkep

# 1. OTURUM

20. Aşağıdakilerden hangisi su ve toprak kirliliğine neden olmaz?

- A) Yeşil alanların çoğaltılması
- B) Pillerin toprağa gömülmesi
- C) Yapay gübrelemenin artırılması
- D) Temizlikte bol deterjan kullanılması

## (441) BİYOLOJİ – 1

1. Bir deneyde etkisi araştırılan özelliğe bağımsız değişken denir.

“Yoğurdun bozulmasını araştıran bir bilim insanı, aynı marka ve miktardaki yoğurdu özdeş iki kaba yerleştirerek kaplardan birincisini 50 °C, ikincisini ise 100 °C de bekletiyor.”

**Yukarıda açıklanan deney düzeni-  
ğinde bağımsız değişken aşağıda-  
kilerden hangisidir?**

- A) Yoğurdun bozulması
- B) Kap hacmi
- C) Yoğurt miktarı
- D) Sıcaklık

2. Aşağıdakilerden hangisi iyi bir bilim insanında bulunması gereken özelliklerden değildir?

- A) Sabırlı olmalı
- B) İyi bir gözlemci olmalı
- C) Şüpheli olmamalı
- D) Alanı ile ilgili gelişmeleri takip etmeli

3. Aşağıdakilerden hangisi canlıların ortak özelliklerinden biri değildir?

- A) Fotosentez yapma
- B) Çevreye uyum
- C) Hücresel enerji üretme
- D) Atık maddeleri vücuttan uzaklaştırma

4. Aşağıda bazı minerallerin özellikleri verilmiştir.

- Sinir ve kas sisteminin çalışmasını sağlar.
- Hemoglobinin ve bazı pigmentlerin yapısına katılır.
- Kemik, diş, ATP ve nükleik asitlerin yapısına katılır.

**Buna göre herhangi bir özelliği verilmeyen mineral aşağıdakilerden hangisidir?**

- A) Çinko
- B) Demir
- C) Fosfor
- D) Sodyum

5. Aşağıda verilen olaylardan hangisinin doğadaki tüm canlılar ve bir organizmayı oluşturan tüm canlı hücreler tarafından gerçekleştirildiği kesindir?

- A) Oksijenli solunum
- B) ATP sentezi
- C) Eşeysiz üreme
- D) Aktif hareket

6. Aşağıda verilen maddeler kimyasal özelliklerine göre gruplandırıldığında hangisi diğerlerinden farklı bir grupta yer alır?

- A) Su
- B) Tuz
- C) Protein
- D) Mineral

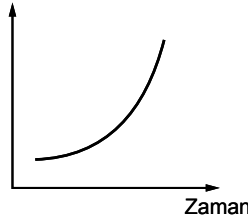
7. Metabolizma sonucu oluşan atıkların seyreltilmesi ve vücuttan atılmasında suyun aşağıdaki özelliklerden hangisinin etkisi vardır?

- A) Öz ısısının yüksek olması
- B) Su molekülleri arası çekim kuvveti
- C) Belirli bir sıcaklıkta buharlaşması
- D) Çözücülüğünün yüksek olması

8. Aşağıda verilen monosakkarit çeşitlerinden hangisi beş karbonlu (5C) olup RNA'nın (Ribonükleik asit) yapısına katılır?

- A) Glikoz
- B) Fruktoz
- C) Galaktoz
- D) Riboz

9. Hidroliz büyük molekülü (polimer) maddelerin su ile parçalanmasıdır.



**Buna göre yağın hidrolizi ile ilgili çizilen grafikte dikey eksene aşağıdakilerden hangisi yazılabilir?**

- A) Kullanılan ATP miktarı
- B) Kullanılan su miktarı
- C) Yeni oluşan bağ sayısı
- D) Yağ miktarı

10. Hücre teorisine göre aşağıdakilerden hangisi yanlıştır?

- A) Bütün canlılar bir ya da birden çok hücreden oluşur.
- B) Hücreler cansız maddelerden zaman içerisinde kendiliğinden oluşur.
- C) Canlıların temel yapısal birimidir.
- D) Metabolik tepkimelerin gerçekleştiği yerdir.

11. Canlılarda bulunan polisakkaritlerden;

- I. nişasta,
- II. glikojen,
- III. kitin,
- IV. selüloz

**bitkisel ve hayvansal olanlar hangi seçenekte doğru eşleştirilmiştir?**

	Bitkisel	Hayvansal
A)	I ve II.	III ve IV.
B)	I ve III.	II ve IV.
C)	I ve IV.	II ve III.
D)	II ve III.	I ve IV.

12. DNA ile ilgili aşağıdaki ifadelerden hangisi yanlıştır?

- A) Tüm canlı hücrelerde çekirdekte bulunur.
- B) Protein sentezini kontrol ederek hücredeki metabolik olayları yönetir.
- C) Hücre bölünmesi sırasında kendini eşleyerek canlıya ait kalıtsal özelliklerin yeni hücrelere ve canlılara aktarımını (kalıtımı) sağlar.
- D) Nükleotit adı verilen yapı birimlerinden oluşur.

13. Bir hayvan hücresinde glikojen sentezi sırasında aşağıdaki moleküllerden hangisinin miktarı artar?

- A) Enzim
- B) Su
- C) Glikoz
- D) Vitamin

14. Aktif taşıma ile ilgili aşağıdakilerden hangisi yanlıştır?

- A) Canlı ve ölü tüm hücrelerde görülebilir.
- B) Bu olay sırasında ATP harcanır.
- C) Az yoğun ortamdan çok yoğun ortama doğru monomer madde taşınımıdır.
- D) Taşıyıcı proteinler ve enzimler görev alır.

15. Aşağıdaki moleküllerden hangisi hücreler arası sıvıdan hücre sitoplazmasına aktif taşıma ile alınamaz?

- A) Glikoz
- B) Fruktoz
- C) Galaktoz
- D) Glikojen

16. Hücre zarı ile çekirdek arasında uzanan tek zarlı kanalcıklar sistemidir. Üzerinde ribozom bulundurup bulundurmamasına göre ikiye ayrılır.

**Yukarıda tanımlanan hücre organeli aşağıdakilerden hangisidir?**


- A) Golgi aygıtı
- B) Mitokondri
- C) Endoplazmik retikulum
- D) Sentrozom

# 1. OTURUM

17. Yarı geçirgen zar ile ikiye ayrılmış bir kabın A bölümüne saf su, B bölümüne %20'lik nişasta çözeltisi konulmuştur.



Buna göre bir süre sonra A ve B bölmelerindeki sıvı seviyeleri ile ilgili çizilmiş aşağıdaki şekillerden hangisi doğrudur?



18. Hücresel yapılardan,

- I. hücre zarı,  
II. ribozom,  
III. mitokondri

hangileri hem ökaryot hem de prokaryot hücrelerde ortak olarak bulunur?

- A) Yalnız I. B) Yalnız II.  
C) I ve II. D) I, II ve III.

19. Plastid çeşitlerinden,

- I. kloroplast,  
II. kromoplast,  
III. lökoplak

hangileri bitki hücrelerinde bulunabilir?

- A) Yalnız I. B) Yalnız III.  
C) I ve II. D) I, II ve III.

20. Enerji ihtiyacının çok olduğu kas, sinir ve karaciğer hücrelerinde sayısı fazla olan hücre organeli aşağıdakilerden hangisidir?

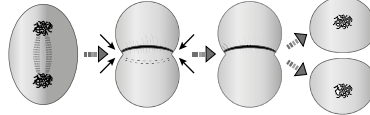
- A) Kloroplast B) Mitokondri  
C) Golgi aygıtı D) Lizozom

## (443) BİYOLOJİ – 3

1. Aşağıdakilerden hangisi mitoz bölünme ile gerçekleşen olaylardan biri değildir?

- A) Bir hücreli canlıların çoğalması  
B) Çok hücreli canlıların büyümesi  
C) Genetik çeşitlilik sağlanması  
D) Yaraların iyileşmesi

2. Aşağıda bir hücrenin sitoplazma bölünmesi şematize edilmiştir.



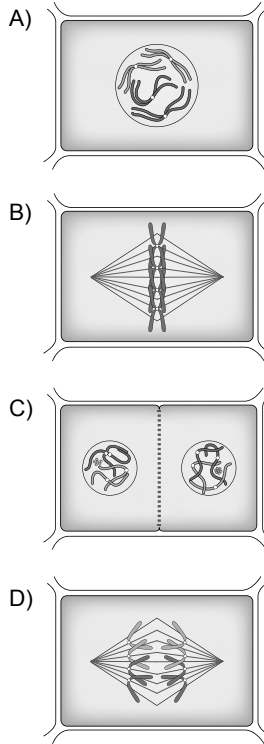
Buna göre verilen şemadaki hücre,

- I. bitki,  
II. hayvan,  
III. mantar

canlılarından hangilerine ait olabilir?

- A) Yalnız II. B) Yalnız III.  
C) I ve II. D) I, II ve III.

3.  $2n = 4$  kromozomlu bir bitki hücresinin mitoz bölünmesine ait aşağıdaki şekillerden hangisi metafaz evresine aittir?



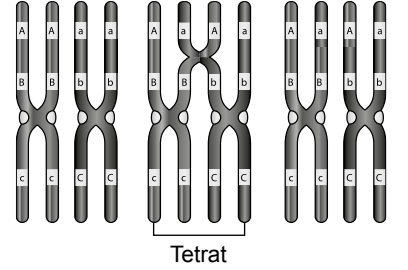
4. Hücre döngüsünün kontrolünün bozulması sonucunda hücrelerin kontrolsüz bir şekilde çoğalması durumu aşağıdakilerin hangisidir?

- A) Otoliz B) Hemoliz  
C) Kanser D) Diyaliz

5. Mayoz bölünme ile ilgili aşağıdaki yargılardan hangisi yanlıştır?

- A) Mayoz I sonucu haploid kromozomlu iki hücre oluşur.  
B) Kromozom sayısı bölünme sonunda yarıya iner.  
C) 2 kere DNA eşlemesi olur.  
D) Oluşan hücrelerin kalıtsal özellikleri birbirinden farklı olabilir.

6. Aşağıda cross-over olayı şematize edilmiştir.



Buna göre bu olay sırasında,

- I. kromozom sayısı,  
II. gen çeşidi sayısı,  
III. genlerin kromozom üzerindeki dizilişi

verilenlerden hangilerinde değişiklik olması beklenir?

- A) Yalnız II. B) Yalnız III.  
C) I ve II. D) I, II ve III.

7. Aynı türün bireyleri birbirine benzese de farklılıklar bulunur.

Eşeyli üreme ile tür içi çeşitliliğin ortaya çıkmasında aşağıdakilerin hangisi rol oynamaz?

- A) Cross-over olayı  
B) Homolog kromozomların rastgele ayrılması  
C) Rastgele döllenme  
D) DNA'nın bir kez eşlenmesi

8. Aşağıda verilen üreme şekillerinin hangisi sonucunda kalıtsal çeşitlilik gözlenir?

- A) Konjugasyon  
B) Rejenerasyon  
C) Tomurcuklanma  
D) Vejetatif

9. Aşağıda verilen yapılardan hangisi dişi üreme sistemine ait bir bölüm değildir?

- A) Prostat bezi B) Döl yatağı  
C) Yumurtalık D) Rahim duvarı

10. Aşağıda verilen hastalıklardan hangisi cinsel yolla bulaşmaz?

- A) AIDS B) Frengi  
C) Hepatit D) Hemofili

# 1. OTURUM

11. Gebelik sırasında hızlı bir büyüme ve gelişme gerçekleştiğinden olumsuz faktörler gelişim anormalliklerine sebep olabilir.

**Buna göre,**

- I. X ışınlarına maruz kalmak,  
II. yoğun strese girmek,  
III. ilaç veya kimyasal maddeler kullanmak

**verilen faktörlerden hangileri gelişim anormalliklerine sebep olabilir?**

- A) I ve II. B) I ve III.  
C) II ve III. D) I, II ve III.

12. Dişi üreme hücresi yumurta ile erkek üreme hücresi spermin çekirdeklerinin kaynaşması olayına ne isim verilir?

- A) Gelişme B) Döllenme  
C) Farklılaşma D) Spermatogenez

13. Aa BB Ee Rr HH genotipli bir bireyden aBERh genotipli gamet oluşma olasılığı kaçtır?

- A) 1/8 B) 1/16  
C) 3/8 D) 9/16

14. Sarı tohum rengi aleli, yeşil tohum rengi aleline; yuvarlak tohum şekli aleli, buruşuk tohum şekli aleline baskındır.

Buna göre her iki karakter bakımından heterozigot iki bezelyenin çaprazlanmasından elde edilen sonuçlar aşağıda verilmiştir.

- 284 tane sarı tohum rengi ve yuvarlak tohum şekline sahip bezelye
- 101 tane sarı tohum rengi ve buruşuk tohum şekline sahip bezelye
- 108 tane yeşil tohum rengi ve yuvarlak tohum şekline sahip bezelye
- 32 tane yeşil tohum rengi ve buruşuk tohum şekline sahip bezelye

**Buna göre yapılan çaprazlamadan elde edilen bireylerin fenotip ayrışım oranı aşağıdakilerden hangisidir?**

(Fenotip ayrışım oranı birey sayısının en sade hali ile ifade edilir.)

- A) 3:1 B) 1:2:1  
C) 9:3:3:1 D) 1:3:3:1

15. Popülasyonlarda bir karakterin oluşumundan ikiden fazla sayıda alel etkili ise bu duruma çok allellilik denir. Tavşanlarda tipik gri tavşan rengi (C), çinçilla (cch), himalaya (ch) ve albino (c) fenotiplerinin ortaya çıkmasından sorumlu aleller vardır. Bunlar arasındaki baskınlık hiyerarşisi C > cch > ch > c şeklindedir.

**Buna göre tavşanlarda tüy rengi ile ilgili oluşabilecek genotip çeşidi sayısı kaçtır?**

(Çok alel kalıtımda genotip sayısı  $\frac{n \cdot (n + 1)}{2}$  formülü ile bulunur.

n, alel sayısını ifade eder.)

- A) 4 B) 6 C) 8 D) 10

16. Aşağıda tohum rengi ve tohum şekli bakımından heterozigot iki birey arasında yapılan dihibrit çaprazlamanın Punnet karelemesi verilmiştir.

Gamet	YR	Yr	yR	yr
YR	YYRR Sarı – Düz			
Yr				Yyrr Sarı- Buruşuk
yR		I	yyRR Yeşil - Düz	
yr				II

**Buna göre verilen tabloda I ve II ile gösterilen çaprazlama sonucunda oluşan bireylerin fenotipi seçeneklerden hangisinde verilmiştir?**

- |    | I                  | II                |
|----|--------------------|-------------------|
| A) | Sarı-Düz           | Yeşil-<br>Buruşuk |
| B) | Sarı-<br>Buruşuk   | Yeşil-Düz         |
| C) | Yeşil -<br>Buruşuk | Sarı-Düz          |
| D) | Yeşil -<br>Buruşuk | Sarı-<br>Buruşuk  |

17. A Rh – bir anne ile A Rh + bir babanın ilk çocukları 0 Rh – kan grubuna sahiptir.

**Bu çiftin ikinci çocukları ile anne arasında kan uyuşmazlığı olma ihtimali kaçtır?**

- A) % 25 B) % 50  
C) % 75 D) % 100

18. Kromozom sayı mutasyonlarında "Eğer fazla kromozoma sahip olan gamet, normal bir gamet ile döllenecek olursa, oluşan zigotun kromozom sayısı normalden fazla; eğer eksik kromozoma sahip olan gamet, normal bir gamet ile döllenecek olursa oluşan zigot, normalden daha az sayıda kromozoma sahip olur. Böyle bir zigot gelişecek olursa, meydana gelen birey eksik sayıda ya da daha fazla sayıda kromozoma sahip olur." durumu gözlenir.

**Buna göre aşağıda kromozom formülü verilen bireylerden hangisinde kromozom sayı mutasyonu bulunmamaktadır?**

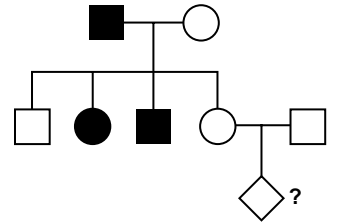
- A) 44 + XXY  
B) 44 + X  
C) 44 + XY  
D) 44 + XXX

19. Kırmızı yeşil renk körlüğü X kromozomunun Y kromozomu ile homolog olmayan bölgesinde çekinik taşınan bir hastalıktır. (X<sup>t</sup>)

**Buna göre kırmızı yeşil renk körlüğü bakımından taşıyıcı bir anne ile kırmızı yeşil renk körü bir babanın normal görüşlü erkek çocuklarının olma olasılığı kaçtır?**

- A) 1/2 B) 1/4 C) 3/4 D) 3/8

20. Aşağıdaki soy ağacında X kromozomu üzerinde çekinik bir genle aktarılan özelliği fenotipinde gösteren bireyler taralı olarak verilmiştir.



**Buna göre "?" ile gösterilen bireyde bu özelliğin fenotipinde görünme olasılığı kaçtır?**

- A) % 100 B) % 75  
C) % 50 D) % 25

## (461) SEÇ. EKONOMİ – 1

1. İnsanda yokluk duygusuyla birlikte ortaya çıkan, karşılandığında mutluluk, karşılanmadığında ise üzüntü veren biyolojik ve ekonomik isteklere ne denir?

- A) Fayda B) Kıymet  
C) Tüketim D) İhtiyaç

# 1. OTURUM

2. Aşağıdakilerden hangisi dolaylı tüketimdir?

- A) Tatile gidilerek otelde konaklama yapılması  
B) Kumaş üretiminde yünün kullanılması  
C) Otobüste seyahat edilmesi  
D) Elbisenin giyilerek eskitilmesi

3. Aşağıdakilerden hangisi ülkemizin hidroelektrik santrallerinden biridir?

- A) Keban B) Tunçbilek  
C) Seyitömer D) Yatağan

4. Amacı mal veya hizmet üretmek olmayan faaliyetler ekonomide emek kabul edilmezler.

**Buna göre aşağıdaki örnek faaliyetlerden hangisi gerçek anlamda bir emek değildir?**

- A) Sporculuğu meslek olarak yapmak  
B) Konaklama işletmesinde çalışmak  
C) Zevk için dağ sporu yapmak  
D) Taksi şoförlüğü yapmak

5. Aşağıdakilerden hangisi üretim faaliyeti sonucunda değişikliğe uğrar?

- A) Binalar  
B) Makineler  
C) Ulaşım araçları  
D) Ham maddeler

6. Özel sektörün yetersiz kalması sonucu, ekonomik alanda belirli bir dönem ülkemizde uygulanan Atatürk ilkesi aşağıdakilerden hangisidir?

- A) Halkçılık B) Devletçilik  
C) Milliyetçilik D) Cumhuriyetçilik

7. Kâr amacıyla mal ve hizmet üretim faaliyetinde bulunmak için üretim faktörlerinin organize edildiği ekonomik ünitelere ne ad verilir?

- A) Büro B) Girişim  
C) Mağaza D) Fabrika

8. Pirinç fiyatlarının aşırı yükselmesiyle tüketicilerin bulgura daha fazla yönelmeleri aşağıdakilerden hangisine örnek olur?

- A) Fizyolojik ihtiyaçların kapsam bakımından sınırlı olmasına  
B) İhtiyaçların kişiden kişiye değişken olmasına  
C) İhtiyaçların birbirinin yerine geçmesine  
D) İhtiyaçların sınırsız olmasına

9. Kanunla oluşturulan tekele ne ad verilir?

- A) Özel tekel B) İdari tekel  
C) Yasal tekel D) Fıllı tekel

10. Aşağıda verilenlere yönelik alınacak önlemlerden hangisi ekonomi politikasının nicelik belirleyen vasıtalarından **olamaz**?

- A) Özelleştirme  
B) Vergi oranları  
C) Asgari ücret  
D) Çalışma süreleri

11. Aşağıda verilenlerden hangisi dolaylı tüketim için bir örnektir?

- A) Bir elbisenin kullanılması  
B) Meyve ve sebzenin yenmesi  
C) Bir otobüste seyahat edilmesi  
D) Ekmek üretimi için unun kullanılması

12. Maden rantını ortaya çıkaran asıl etken aşağıdakilerden hangisidir?

- A) Büyüklük B) Kalite  
C) Fiyat D) Maliyet

13. Faiz oranlarının yüksek olması durumunda aşağıdakilerden hangisinin görülme olasılığı artar?

- A) Ekonomik gelişmenin hızlanması  
B) İş alanlarının artması  
C) Yatırımların kısılanması  
D) İşsizliğin azalması

14. Türkiye'de millî gelir hesaplamaları 1927 yılında hangi yöntemle başlamıştır?

- A) Harcama B) Tahmini  
C) Üretim D) Gelir

15. Kişilerin millî gelirin oluşumuna katılmasının karşılığı olarak aldığı ve ekonomik gücünü artırdığı para veya para ile ifade edilebilen değerlere ne denir?

- A) Gelir B) Ücret  
C) Rant D) Kâr

16. I. Ücret  
II. Rant  
III. Faiz  
IV. Kâr

**Yukarıdakilerden hangileri millî geliri oluşturan gelirlerdendir?**

- A) I ve IV. B) II ve III.  
C) I, II ve IV. D) I, II, III ve IV.

17. Aşağıdaki tanımlardan hangisi mübadeleyi ifade etmektedir?

- A) Malların insanlar arasında el değiştirmesidir.  
B) Mal ve hizmetlerin elde edilmesi faaliyetidir.  
C) İhtiyaçların karşılanması için malların tüketilmesidir.  
D) Üretim faaliyeti sonucu elde edilen gelirin dağıtımıdır.

18. Hazine bonosu ya da tahvilinin üzerinde yazan faiz oranına ne denir?

- A) Serbest faiz B) Nominal faiz  
C) Yasal faiz D) Reel faiz

19. Aşağıdakilerden hangisi ödemeler dengesinde yer alan değerlerden biri **değildir**?

- A) Kamu giderleri  
B) İhracat gelirleri  
C) Turizm gelirleri  
D) İthalat giderleri

20. Aşağıdakilerden hangisi enflasyonun nedenlerinden biridir?

- A) Faiz oranlarının düşmesi  
B) Ürün maliyetlerinin azalması  
C) Dolaşımdaki para miktarının artması  
D) Mal ve hizmet üretiminin artması

## (465) TEMEL DİNİ BİL. – 1

1. • Ailenin huzuru için eşler arasında olması gereken duygu ve tutumlardan biridir.  
• İhanet etmeme, aldatmama, güven duyma, sözünde durma, doğruyu söyleme anlamlarına gelir.

**Hakkında bilgi verilen kavram aşağıdakilerden hangisidir?**

- A) Muhabbet B) Sadakat  
C) Hüsnüzan D) Şefkat

2. **Aşağıdakilerden hangisi toplumda emniyet ve güven ortamının oluşmasını engelleyen etkenlerden biridir?**

- A) Sevgi ve saygı  
B) Yardımlaşma  
C) Adalet  
D) Fitne

## 1. OTURUM

3. Aşağıdakilerden hangisi evliliğin psikolojik ve sosyal amaçları arasında yer almaz?

- A) Sevme ve sevilme ihtiyacını karşılama  
B) Dayanışma duygusunu hissetme  
C) Toplumsal hayattan soyutlanma  
D) Dünyaya yeni nesiller getirme

4. Müslüman bir erkeğin, evleneceği kadının ekonomik haklarının güvencesi olarak nikâhta vermesi gereken maddi değere ne ad verilir?

- A) Mehir B) Hibe  
C) Sadaka D) Nafaka

5. "Eğer müminlerden iki grup birbiriyle savaşırsa hemen aralarını düzeltin..." (Hucurât suresi, 9. ayet)

**Bu ayette sosyal hayatı düzenleyen kurallardan hangisine işaret edilmiştir?**

- A) Doğruluk B) Paylaşma  
C) Eşitlik D) Sulh

6. Hz. Peygamber'in amcası Zübeyr tarafından Mekke'de kurulan Hilf-ü Fudûl derneğinin kuruluş amacı aşağıdakilerden hangisidir?

- A) Kan davalarına son vermek  
B) Hac hizmetlerini yürütmek  
C) Hak ve adaleti sağlamak  
D) Köleliği kaldırmak

7. Aşağıdakilerden hangisi Müslümanların birbirlerine karşı görevleri arasında yer almaz?

- A) Cenazesine katılmak  
B) Yanlışlarını desteklemek  
C) Karşılaştığında selam vermek  
D) Hastalandığında ziyaret etmek

8. "Hiçbir kişisel çıkar ve kazanç gözetmeksizin sırf Allah rızası için ihtiyaç sahibine borç vermek" anlamına gelen kavram aşağıdakilerden hangisidir?

- A) Karz-ı hasen B) Teberru  
C) Zekât D) Lütuf

9. Aşağıdakilerden hangisi İslam dininin helal saydığı kazanç yollarından biridir?

- A) Karaborsa B) Rüşvet  
C) Miras D) Faiz

10. "... Birbirinizin mahremiyetlerini ve kusurlarını araştırmayın..." (Hucurât suresi, 12. ayet)

**Bu ayette aşağıdakilerden hangisi yasaklanmıştır?**

- A) Tecessüs B) Yalan  
C) İhtikâr D) Hile

11. "Sizin kadınlarınız üzerindeki haklarınız, sevmediğiniz kimseleri evinize sokmamaları ve hoşlanmadığınız kimselerle konuşmamalarıdır..."

**Bu hadiste aile ile ilgili korunması istenen değer aşağıdakilerden hangisidir?**

- A) Adalet B) Mahremiyet  
C) Muhabbet D) Samimiyet

12. İslam, yardımlaşma ve dayanışma, hak ve adaleti gözetme, kardeşlik gibi sosyal hayatla ilgili bazı temel ölçüler koymuştur.

**Aşağıdakilerden hangisi bu ölçülerin amaçlarından biri değildir?**

- A) Toplumsal huzuru temin etmek  
B) Toplumların devamlılığını sağlamak  
C) İnsanların birbirine zarar vermesini önlemek  
D) Bireysel yaşamı toplumsal yapının önüne geçirmek

13. Aşağıdakilerden hangisi faizin sonuçlarından biri değildir?

- A) Paranın, üretimi destekleyici işlevinin artması  
B) Toplumda sosyal dengenin bozulmasına yol açması  
C) Varlıklı insanların ihtiyaç sahiplerini sömürmesine sebep olması  
D) Sermayenin belli kişilerde birikip gelir dağılımının dengesizleşmesi

14. Müslüman toplumlarda infak ve yardımlaşma kültürünü en iyi temsil eden kurum aşağıdakilerden hangisidir?

- A) Enderun  
B) Vakıf  
C) Divan-ı Hümayun  
D) Kütüphane

15. Aşağıdakilerden hangisi sosyal hayatı olumsuz etkileyen faktörlerden biri değildir?

- A) Yalan ve hile  
B) Ahlaki yozlaşma  
C) Refahın artması  
D) Mahremiyetin ihlali

16. Aşağıdaki kavramlardan hangisi anlam bakımından diğerlerinden farklıdır?

- A) Karaborsacılık  
B) Vurgunculuk  
C) İhtikâr  
D) İsar

17. • İnsanların haklarına riayet etmek  
• İnsanlar arasındaki ilişkilerde taraf tutmamak  
• Sosyal hayatta haksızlığın ortaya çıkmasına engel olmak

**Verilen bu tutum ve davranışlar sosyal hayatı düzenleyen aşağıdaki temel ölçülerden hangisinin kapsamına girer?**

- A) Barışın  
B) Kardeşliğin  
C) Hak ve adaleti gözetmenin  
D) Yardımlaşma ve dayanışmanın

18. • Gönüllü olarak yapılan her türlü sadakayı ve hayrı kapsar.  
• Allah'ın hoşnutluğunu kazanmak için kişinin kendi malından harcaması, ihtiyaç sahiplerine maddi yardım etmesi demektir.

**Hakkında bilgi verilen kavram aşağıdakilerden hangisidir?**

- A) İnfak B) Hibe  
C) İhtikâr D) Karz-ı hasen

19. Helal kazanç, İslam dininin belirlediği sınırlar içinde elde edilen rızaktır.

**Buna göre İslam'da;**

- I. hibe  
II. ticaret  
III. nafaka

**yoluyla elde edilenlerden hangileri helal kabul edilir?**

- A) Yalnız II. B) I ve III.  
C) II ve III. D) I, II ve III.

20. Aşağıdakilerden hangisi işverenin hak ve sorumluluklarından biri değildir?

- A) İş ehline vermek  
B) İşçinin kazancını iktisatlı kullanmasını sağlamak  
C) İşçinin sağlığını tehlikeye atmamak  
D) İşçinin ücretini zamanında ve tam ödemek

# 1. OTURUM

## (477) SEÇ. İŞLETME – 2

- 1. İşletme amaçlarının gerçekleştirilebilmesi için, işletmenin tüm birimlerinin ve çalışanların uyum içinde hareket etmesinin sağlanması, yönetim fonksiyonlarından hangisi ile ilgilidir?**  
A) Denetim  
B) Yürütme  
C) Koordinasyon  
D) Organizasyon
- 2. Neo-Klasik Yönetim Teorisi, aşağıda verilen kavramlardan hangisi üzerinde durmaz?**  
A) Tatmin  
B) Motivasyon  
C) Hiyerarşik yapı  
D) Kararlara katılma
- 3. Aşağıdakilerden hangisi yönetimin özelliklerine uygun bir açıklamadır?**  
A) Yönetim tek kişi faaliyetidir.  
B) Yönetim bir yetki faaliyetidir  
C) Yönetim tek yönlü bir faaliyettir.  
D) Yönetilenlerin karar verdiği bir süreçtir.
- 4. Planlamanın işletmeye sağlayacağı faydalar düşünüldüğünde, aşağıdakilerden hangisi uygun bir açıklama değildir?**  
A) İşletmenin etkin bir denetimden korunmasını sağlar.  
B) İşletme kaynaklarının verimli kullanılmasını sağlar.  
C) Yöneticilere geleceği tahmin etme yeteneği kazandırır.  
D) İşletmenin bölümleri arasındaki koordinasyonu sağlar.
- 5. Para, fon yada sermaye, aşağıdaki kavramlardan hangisi ile ifade edilir?**  
A) Finans  
B) Finansman  
C) Finansal yönetim  
D) Finansman fonksiyonu
- 6. Bir işletmenin öz kaynaklarına yönelik yapılan açıklamalardan hangisi doğru değildir?**  
A) Devamlı bir kaynak niteliği taşır.  
B) Ortaklarca konan fonlar öz kaynaklardır.  
C) Bu kaynaklar, vadeli kaynaklardır.  
D) Maddi olmayan kaynaklar şeklinde olabilir.

- 7. Bir tüketicinin çay demlemek üzere çayı marketten satın alması, pazarlamanın faydalarından hangisi ile açıklanabilir?**  
A) Yer faydası  
B) Şekil faydası  
C) Zaman faydası  
D) Mülkiyet faydası
- 8. Reklamın özelliklerine yönelik yapılan açıklamalardan hangisi yanlıştır?**  
A) Reklam yapan kişi bellidir.  
B) Reklam kişisel bir sunuştur.  
C) Reklam için bir bedel ödenir.  
D) Reklam bir kitle iletişimdir.
- 9. Bazı işletmelerin, toptancı yerine acente veya komisyoncu vasıtasıyla perakendecilere, özellikle büyük perakendecilere ulaşmayı tercih etmeleri, hangi dağıtım kanalını kullanacaklarını göstermektedir?**  
A) Üretici – Acente – Perakendeci – Tüketici  
B) Üretici – Toptancı – Perakendeci – Tüketici  
C) Üretici – Acente – Toptancı – Tüketici  
D) Üretici – Toptancı – Acente – Tüketici
- 10. Bir işletme ürünlerini tüketicilere doğrudan dağıtım yoluyla ulaştırırsa aşağıdakilerden hangisi oluşmuş olan uygun şartlardan birisidir?**  
A) Üretim hızının tüketim hızından fazla olması  
B) Tüketici ya da müşteri sayısının fazla olması  
C) Birim fiyatının yüksek olması  
D) Üretim - tüketim noktaları arası mesafenin uzak olması
- 11. Aşağıdakilerden hangisi hizmet işletmelerine örnek olmaz?**  
A) Hastane  
B) Makarna fabrikası  
C) Ulaşım işletmesi  
D) Otel
- 12. Aşağıdaki işletme çeşitlerinden hangisi üretim araçlarının mülkiyetine göre işletmeler sınıflandırması içinde yer almaz?**  
A) Hizmet işletmeleri  
B) Kamu işletmeleri  
C) Özel işletmeler  
D) Karma işletmeler

- 13. Aşağıdakilerden hangisi sermaye şirketlerinin şahıs işletmelerine göre olumlu yönlerinden biridir?**  
A) Karar almanın kolay olması  
B) Yetkilerin bir kişide toplanması  
C) Kuruluş işlemlerinin uzun zaman alması  
D) Büyüme yeteneğinin sonsuz olması
- 14. İşletmelerde üretim işlevi ile aşağıdakilerden hangisi yerine getirilir?**  
A) Gerekli kredilerin sağlanması  
B) Mal ve hizmetlerin elde edilmesi  
C) Mal ve hizmet tanıtımının yapılması  
D) İşletmede düzenli çalışmanın sağlanması
- 15. İşletmenin hangi işlevinde müşterilerin mal ve hizmet alımlarını sürdürmelerini sağlamak ve yeni müşteriler kazanmak amacı güdülür?**  
A) Finansman B) Yönetim  
C) Pazarlama D) Üretim
- 16. Aşağıdaki işletme yöneticilerinden hangisi diğerlerinin en üstünde yer alır?**  
A) Genel müdür  
B) Servis şefi  
C) Şube müdürü  
D) Ustabaşı
- 17. İşletme yönetiminin organizasyon işlevinde son olarak aşağıdakilerden hangisi yapılır?**  
A) Yapılacak işlerin belirlenmesi  
B) Yetki ve sorumlulukların belirlenmesi  
C) İşleri yapacak kişilerin göreve atanması  
D) Çalışma yerleri, kullanılacak araç ve yöntemlerin seçilmesi
- 18. I. Sevk ve idare  
II. Organizasyon  
III. Planlama  
IV. Denetim  
İşletme yöneticisi, yukarıda verilen yönetim işlevlerini hangi sırayla yerine getirir?**  
A) III - IV - II - I  
B) I - II - III - IV  
C) III - II - I - IV  
D) IV - II - III - I



# 1. OTURUM

19. Aşağıdakilerden hangisi işletmelerin çalışanlarına karşı olan sorumluluklarından biridir?

- A) Kaliteli mal ve hizmet üretme
- B) İş güvenliğini sağlama
- C) Çevreyi kirliletmemeye
- D) Vergi ödeme

20. İşletmelerin yeni yatırımlar yapması aşağıdaki ekonomik sorunlardan hangisine olumlu etki yapar?

- A) Sermaye yetersizliğine
- B) Çevre kirliliğine
- C) Enflasyona
- D) İşsizliğe

## (478) SEÇ. MANTIK – 1

1. Her çiçek güzeldir.  
Lale bir çiçektir.

Verilen akıl yürütme örneğinde noktalarla gösterilen yere aşağıdaki sonuçlardan hangisi gelirse doğru bir akıl yürütme elde etmiş oluruz?

- A) Öyleyse lale çiçek değildir.
- B) O hâlde lale de güzeldir.
- C) Öyleyse her çiçek laledir.
- D) O hâlde çiçek güzel değildir.

2. Tek başına anlamı olmayan sözcükler terim sayılmazlar.

Buna göre aşağıdakilerden hangisi terimdir?

- A) Kedi
- B) Şu
- C) Ve
- D) Ki

3. Bir yargının doğruluğundan söz edilmesi, onu doğru kılan sebeplerin yeterliliğiyle mümkün olmaktadır.

Verilen bilgide aşağıdaki akıl yürütme ilkelerinin hangisinden söz edilmektedir?

- A) Üçüncü durumun olanaksızlığı
- B) Çelişmezlik
- C) Özdeşlik
- D) Yeter-Neden

4. Genel ilkelerden hareket ederek tek tek olaylar hakkında bir yargıya ulaşmak aşağıdakilerden hangisiyle ifade edilir?

- A) Tümdengelim
- B) Benzeşim
- C) Tümevarım
- D) Özdeşlik

5. I. Frege  
II. İbn-i Sina  
III. Aristoteles

Yukarıdakilerden hangileri İslam mantıkçıları arasında yer almaktadır?

- A) Yalnız I.
- B) Yalnız II.
- C) I ve II.
- D) I ve III.

6. "İnsanlara yapılacak en büyük iyilik; onlara akıllarını kullanmayı öğretmektir."

Verilen ifadeden hareketle aşağıdakilerden hangisine ulaşılabılır?

- A) İnsanların faydasına yönelik eylemler gerçekleşmelidir.
- B) Aklı kullanmak öğrenme gerektiren bir süreçtir.
- C) İyi olmak iyi davranmakla mümkündür.
- D) İnsanlara iyilik yapmak önemlidir.

7. Eğer bir kavram, bireyler grubunu ifade edip bireyde gerçekleşiyorsa distribütif kavram adını alır. Örneğin "futbol takımı"nın distribütif kavramı "futbolcu"dur.

Buna göre aşağıdakilerden hangisi distribütif kavram örneğidir?

- A) Sendika
- B) Ordu
- C) Meclis
- D) Asker

8. "İnsan" genel kavramının tekil hali aşağıdakilerden hangisi olabilir?

- A) Ahmet
- B) Kırmızı
- C) Minnoş
- D) Karanfil

9. Tümel bir kavramın zihnin dışındaki bireylerinin ele alınmasına gerçeklik denir.

Buna göre aşağıdaki kavramlardan hangisinin gerçekliği yoktur?

- A) İnsan
- B) Kedi
- C) Kaf Dağı
- D) Kayısı

10.  $\leftarrow$  Kaplam Artar  
Varlık  $\rightarrow$  Canlı  $\rightarrow$  Bitki  $\rightarrow$  Ağaç  $\rightarrow$  Meşe  $\rightarrow$   
İçlem Artar  $\rightarrow$

Verilen sıralamada kaplamı ve içlemi en fazla olan kavram ikilisi aşağıdakilerden hangisidir?

- A) Meşe - Ağaç
- B) Varlık - Meşe
- C) Varlık - Canlı
- D) Canlı - Bitki

11. Birçok türde ortaklaşa bulunan özellikler ilinti olarak tanımlanır.

Buna göre aşağıdakilerden hangisi insanın ilintisi değildir?

- A) Üremek
- B) Büyümek
- C) Kültür
- D) Uyumak

12. Bir kıyasta sonuca kaynaklık eden önermeler aşağıdakilerden hangisiyle ifade edilir?

- A) Kavram
- B) Koşul
- C) Tanım
- D) Öncül

13. Aşağıdakilerden hangisi önerme cümlesidir?

- A) Vay canına!
- B) İnsan nasıl insan oldu?
- C) Kedi beslenen bir varlıktır.
- D) Üniversiteye gireceksen kitap oku.

14. Bazı öğretmenler erkektir.  
Bazı erkekler öğretmendir.

Verilen örnekte aşağıdaki kavramlar arası ilişkilerden hangisi vardır?

- A) Tam girişimlilik
- B) Eksik girişimlilik
- C) Ayrıklık
- D) Eşitlik

15. Bütün S'ler P'dir. Hiçbir S, P değildir.  
(Tümel olumlu) (Tümel olumsuz)

Bazı S'ler P'dir. Bazı S'ler P değildir.  
(Tekel olumlu) (Tekel olumsuz)

Verilen karşı olum karesine göre aşağıdakilerden hangisi tümel olumlu bir önermedir?

- A) Bütün çocuklar güzeldir.
- B) Hiçbir çocuk güzel değildir.
- C) Bazı çocuklar güzeldir.
- D) Bazı çocuklar güzel değildir.

16. Birden fazla yargı ile yapılan önermelere bileşik önerme denir.

Buna göre aşağıdakilerden hangisi bileşik önermedir?

- A) Ece akıllıdır.
- B) Arda çalışkandır.
- C) Esra öğretmendir.
- D) Bilim öğretici ve mantıksaldır.

17. Aşağıdakilerden hangisi zorunlu önermeye örnek olabilir?

- A) Karanfil bitkidir.
- B) Ayça çalışırsa başarılı olur.
- C) Pamuğun yumuşak olması zorunludur.
- D) Hasan'ın öğretmen olması mümkündür.

18. Aşağıdakilerden hangisi bileşik kıyas çeşitlerinden biri değildir?

- A) Zincirleme kıyas
- B) Karma kıyas
- C) Basit kıyas
- D) Sorit

## 1. OTURUM

19. Düz döndürme, bir önermenin nitelik ve doğruluk değerini değiştirmeden özne ve yüklem yerlerinin değiştirilmesidir.

**Buna göre** "Hiçbir papatya güzel değildir." önermesinin **düz döndürmesi aşağıdakilerden hangisidir?**

- A) Bütün güzeller papatyadır.  
B) Bütün papatyalar güzeldir.  
C) Bazı güzeller papatyadır.  
D) Hiçbir güzel papatya değildir.

20. Her iki öncülde de tekrarlanan terim orta terim olarak ifade edilir.

**Buna göre;**

"Bütün insanlar iki ayaklıdır.

Bazı insanlar sarışındır.

O hâlde bazı iki ayaklılar sarışındır."

**örneğinde orta terim aşağıdakilerden hangisidir?**

- A) insanlar                      B) sarışındır  
C) iki ayaklıdır                D) bütün

### (484) SAĞLIK BİLGİSİ – 2

1. **Aşağıdakilerden hangisi genel anlamda çekirdek ailenin özelliklerindedir?**

- A) Anne, baba, dede, nine, hala vb. akrabalar ile çocuklardan oluşur.  
B) Bu aile tipi, endüstrileşme ile gelen sosyal ve ekonomik değişimin bir sonucudur.  
C) Ailedeki bireylerin aile yapısına gösterdiği bağlılık ve sadakat onların kişisel özgürlüklerini sınırlar.  
D) Aile bireylerinin aralarında top- rağa bağlı üretimi amaçlayan ve ekonomik birlikteliğe dayalı bir düzen vardır.

2. **Aşağıdakilerden hangisi çocuklarının bakımı konusunda iş birliği içerisinde olan ebeveynlerin özelliklerindedir?**

- A) Birbirlerine karşı öfke ve gücemişlik duygularını, çocuklarının bakımıyla ilgili görev ve sorumluluklarına yansıtırlar.  
B) Çocuklarına sergileyecekleri ebeveynlik yaklaşımı konusunda farklı fikirlerle sahiptirler.  
C) Çocuklarıyla ilgili neyin iyi olduğuna tek bir ebeveyn karar verir.  
D) Birbirlerinin annelik ve babalık haklarına saygı duyarlar.

3. **Aşağıda verilen gebeliği önleyici yöntemlerden hangisi anne sütünün miktarını azalttığı ve yapısını değiştirdiği için emzirirken kullanılmaz?**

- A) Hap                              B) Diyafram  
C) Spermisit                      D) Rahim içi araç

4. Ülkemizde çiftlerin büyük bir kısmı geleneksel, güvenilirliği düşük ve sağlık açısından sakıncalı doğum kontrol yöntemlerini uygulamaya çalışmaktadır.

**Buna göre aşağıdakilerden hangisi bu duruma neden olan faktörlerdendir?**

- A) Tıbbi destekten yeterince yararlanılması  
B) Yetersiz ve yanlış bilgiye sahip olunması  
C) Gerekli eğitimin sağlanması  
D) Anne sağlığını koruması

5. **Doğuma kadar embriyonun anne ile bağlantısını, beslenmesini ve korunmasını sağlayan yapıya ne ad verilir?**

- A) Zigot                              B) Lohusa  
C) Döllenme                        D) Plasenta

6. **Aşağıdakilerden hangisi gebelik döneminde alınması gereken demirden zengin besinlerdendir?**

- A) Meyve                              B) Sebze  
C) Kırmızı et                        D) Unlu gıdalar

7. **Aşağıdakilerden hangisi gebelikte görülen mide-bağırsak rahatsızlıklarındandır?**

- A) Diyabet                              B) Kabızlık  
C) Kansızlık                        D) Osteomalasia

8. **Doğum sonrası hijyen ile ilgili olarak verilenlerden hangisi doğrudur?**

- A) Dikişli doğumlarda temizliğe dikkat edilirse yara 1-2 hafta içinde iyileşir.  
B) Temizlik, arkadan öne doğru tuvalet kâğıdı ile yapılmalıdır.  
C) Kullanılan pedler sert, renkli ve kokulu olmalıdır.  
D) Sentetik iç çamaşırını tercih edilmelidir.

9. I. İnek sütü anne sütünden daha fazla laktöz bulundurduğundan daha tatlıdır.

II. Elzem yağ asitleri bakımından anne sütü inek sütünden 5 kat daha zengindir.

III. İnek sütü ile anne sütünün besleyici değeri karşılaştırıldığında, yağ oranı itibarıyla fazla bir fark olmadığı görülür.

**Anne sütü ve inek sütünün karşılaştırılmasıyla ilgili olarak verilenlerden hangileri doğrudur?**

- A) I ve II.                              B) I ve III.  
C) II ve III.                            D) I, II ve III.

10. Türkiye'de çocuklara zorunlu olarak uygulanan aşı takvimine göre

- BCG aşısı 2. ayın sonunda,
- Hep B aşısı; doğumda, 1. ve 6. ayın sonunda yaptırılmalıdır.

**Aşilar ile ilgili verilen cümleler doğru (D) - yanlış (Y) olarak değerlendirildiğinde sıralama aşağıdakilerden hangisi olur?**

- A) D - Y                              B) Y - D  
C) D - D                              D) Y - Y

11. **Kanserde kişisel risk faktörleri hangisine bağlı olarak değişiklik göstermez?**

- A) Yaş  
B) Cinsiyet  
C) Aile öyküleri  
D) Çevresel nedenler

12. **Aşağıdakilerden hangisi kalp ve damar hastalıklarının oluşumunda rol oynayan başlıca nedenlerdendir?**

- A) Aşırı tuz tüketiminden kaçınılması  
B) Hareketli yaşam biçimine sahip olunması  
C) Beslenmede doymuş yağların fazla tüketilmesi  
D) Antioksidan öğelerin tüketiminin yeterli olması

13. "Çeşitli organlarda ve eklemlerde tekrarlayan iltihabı ataklara neden olan genetik bir hastalıktır. Ataklar genellikle 24-48 saat sürer. Hastalarda ataklar dışında hiçbir belirti yoktur."

**Yukarıdaki açıklama hangi kan hastalığına aittir?**

- A) Hemofili  
B) Akdeniz ateşi  
C) Akdeniz anemisi  
D) Kırım Kongo Kanamalı Ateşi

14. • Hırıltı  
• Öksürük  
• Nefes darlığı  
• Göğüste sıkışma hissi

**Yukarıdaki belirtiler kronik akciğer hastalıklarından hangisine aittir?**

- A) Astım                              B) Veba  
C) Kolera                              D) Dizanteri

15. **Aşağıdakilerden hangisi bulaşıcı hastalıklardan korunmak için sağ- lam kişiye yönelik olarak alınan önlemlerdedir?**

- A) Kesin tanı konulması  
B) İhbarı zorunlu hastalıkların bildirilmesi  
C) Portörlerin saptanması ve tedavi edilmesi  
D) Temiz içme ve kullanma suyunun temin edilmesi

# 1. OTURUM

16. Akut solunum yolu enfeksiyonu olan bireyde öksürüğe hızlı solunum eşlik ediyorsa nasıl bir vaka olarak adlandırılır?

- A) Hafif B) Orta  
C) Ağır D) Çok ağır

17. Aşağıdakilerden hangisi vektörlerle bulaşan hastalıklardandır?

- A) Sıtma B) Verem  
C) Frengi D) Kabakulak

18. Hepatit B ile ilgili olarak verilenlerden hangisi doğrudur?

- A) Kuluçka süresi 2-30 gündür.  
B) Özel bir ilaç tedavisi yoktur.  
C) Hastalığın etkeni bakterilerdir.  
D) Siroz ve karaciğer kanserini önler.

19. Vücut sıcaklığının kaç °C'nin üstüne çıkması hayati tehlikeyi işaret eder?

- A) 25 B) 30 C) 35 D) 40

20. • Hoşa gitmeyen kokulardan arındırılmalıdır.  
• Fiziksel tehlike ve yaralanma riskinden uzak olmalıdır.

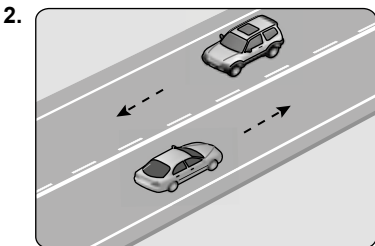
Hasta odasının sahip olması gereken özelliklerle ilgili verilen cümleler doğru (D) - yanlış (Y) olarak değerlendirildiğinde sıralama aşağıdakilerden hangisi olur?

- A) D - Y B) Y - D  
C) D - D D) Y - Y

## (491) TRAF. VE İLK YARD. – 1

1. Aşağıdakilerden hangisi trafik kazalarında insan faktörünün birinci sırada yer almasına neden olan etkenlerdendir?

- A) Araç sayısının artması  
B) Yolların yetersiz olması  
C) Yasaklama ve sınırlamaların belirlenmemesi  
D) Bireylerde trafik kültürü ve bilincinin oluşmaması



Şekildeki kara yoluna ne ad verilir?

- A) Bölünmüş kara yolu  
B) Tek yönlü kara yolu  
C) İki yönlü kara yolu  
D) Bağlantı yolu

3. Trafik ortamını paylaşanlarda, aşağıdaki tutum ve davranışlardan hangisinin bulunması trafik düzeni ve güvenliğini olumlu yönde etkiler?

- A) Yapılan hata karşısında hoşgörülü olunması  
B) Keyfî ve kasıtlı davranışlarda bulunulması  
C) Sorumluluktan uzak durulması  
D) Olaylara aşırı tepki verilmesi

4. Aşağıdakilerden hangisi trafikte çevreyi korumaya yönelik davranışlardan biri değildir?

- A) Yiyecek ve içecek atıklarını araç dışına atılmaktan kaçınılması  
B) Araç bakımlarının zamanında ve tam olarak yaptırılması  
C) Tehlikeli maddelerin gerekli önlemler alınarak taşınması  
D) Ekonomik ömrünü tamamlamış araçların atıl şekilde bırakılması

5. • Yola birden çıkmak  
• Duran aracın önünden veya arkasından çıkmak  
• Taşıt yolunda yürümek


Yukarıda verilenlerin yapılması trafik kazalarında rol oynayan kusurlardan hangisinin içinde değerlendirilir?

- A) Araç kusurları  
B) Yaya kusurları  
C) Yolcu kusurları  
D) Sürücü kusurları

6. Aşağıdakilerden hangisi trafik kazalarının birey ve toplum üzerindeki olumsuz etkilerinden biri değildir?

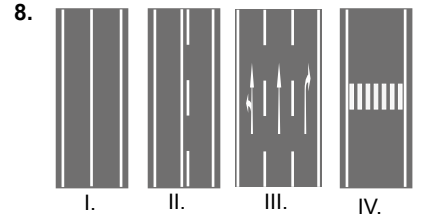
- A) Yük ve insan taşımacılığını hızlı hâle getirmesi  
B) Toplumdaki engelli insan sayısını artırması  
C) Parçalanmış aile sayısını artırması  
D) Sağlıksız bir toplum oluşturması

7.



Şekildeki trafik işareti neyi bildirir?

- A) Kavşağa 70 metre kaldığını  
B) Azami hız saatte 70 km olduğunu  
C) Takip mesafesinin en az 70 metre olduğunu  
D) Araçların 70 metre içinde park edemeyeceğini



Kara yolu üzerine çizilen yukarıdaki yatay işaretlemelerden hangisi yaya geçidini belirtir?

- A) I. B) II. C) III. D) IV.

9. I. Üzerlerine yazı yazılması  
II. Görülmelerinin engellenmesi  
III. Eskiyen trafik levhalarının değiştirilmesi

Trafik işaret ve levhalarıyla ilgili olarak verilenlerden hangilerinin yapılması trafiği tehlikeye düşürür?

- A) Yalnız I. B) I ve II.  
C) II ve III. D) I, II ve III.

10. • Çocukların taksilerde seyahatleri sırasında, çocuk bağlama sistemleri kullanmaları zorunludur.

• Çocuklar, hava yastığı devre dışı bırakılmadan, ön hava yastığı ile korunan bir yolcu koltuğunda yüzü geriye dönük çocuk bağlama sistemi kullanılarak taşınabilirler.

Araçta kullanılan çocuk bağlama sistemiyle ilgili verilen cümleler doğru (D) - yanlış (Y) olarak değerlendirildiğinde sıralama aşağıdakilerden hangisi olur?

- A) D - Y B) Y - D  
C) D - D D) Y - Y

11. Güvenle seyahat etmek yüksek seviyede konsantrasyon gerektirir.

Buna göre aşağıdaki davranışlardan hangisi sürücünün konsantrasyonunu olumsuz yönde etkiler?

- A) Kullanacağı güzergâhlar hakkında yeterince bilgi sahibi olmak  
B) Araç içinde yüksek sesle ani tepkiler vermek  
C) Seyahat öncesinde yeterli uyumak  
D) Belirli sürelerde mola vermek

12. Kavşaklara yaklaşırken; yerleşim yerlerinde - - - - , yerleşim yerleri dışında - - - - metre mesafe içinde ve kavşaklarda şerit değiştirmek yasaktır.

Verilen cümlede boş bırakılan yerlere aşağıdakilerden hangileri sırayla yazılmalıdır?

- A) 10 - 50 B) 20 - 100  
C) 30 - 150 D) 40 - 200

# 1. OTURUM

13. Aşağıdakilerden hangisi hızını dikkate almadan, öndeki araçla arasında en az 50 metre takip mesafesi bırakmak zorundadır?

- A) Şehir içi yolcu taşıyan otobüsler
- B) Tehlikeli madde taşıyan araçlar
- C) Sivil savunma araçları
- D) İtfaiye araçları

14. Kamu hizmeti yapan yolcu taşıtlarının duraklarını belirten levhaların her iki yönden kaç metre mesafe içinde park etmek yasaktır?

- A) 15 B) 30 C) 50 D) 100

15.

ARAÇ CİNSİ	Yerleşim Yeri Dışında	
	Şehirler Arası Çift Yönlü Kara Yollarında	Bölünmüş Yollarda
Otomobil	90	110
Otobüs	90	100
Panelvan	85	100
Kamyon	80	85

Yukarıdaki tabloda hangi aracın azami hız sınırlamaları yanlış verilmiştir?

- A) Otobüs B) Kamyon
- C) Otomobil D) Panelvan

16. Trafik zabıtası, trafik işaret levhası veya ışıklı işaret cihazları bulunmayan kavşaklarda aşağıdakilerden hangisinin yapılması yanlıştır?

- A) Bütün araçların geçiş üstünlüğüne sahip olan araçlara yol vermesi
- B) Tali yoldan çıkan araçların ana yoldan gelen araçlara yol vermesi
- C) Dönüş yapan sürücülerin, karşıya geçen yayaların geçişini beklemesi
- D) Dönel kavşak içindeki sürücülerin dönel kavşağa gelen araçları beklemesi

17. Sis lambası, aşağıdaki durumlardan hangisinde kullanılmalıdır?

- A) Yeterince aydınlatılmamış tünelle re girildiğinde
- B) Kara yolları yeterince aydınlatılmadığında
- C) Duman ve toz görüşü kısıltığında
- D) Öndeki aracı geçerken uyarı amacıyla

18. Aşağıdakilerden hangisi yayaların yapmaları gereken davranışlardan dandır?

- A) Otoyolda yolun sol tarafından yürümek
- B) İlerisi görülmeyen tepe üstü ve dönemeçli yol kesimlerinden karşıya geçmek
- C) Duran veya park hâlindeki araçların önünden veya arasından karşıya geçmek
- D) Karşıya geçerken yaklaşan araçların hızını ve uzaklığını göz önünde bulundurmamak

19. Aşağıdakilerden hangisinde hız sınırlayıcı cihazın bulundurulması ve her zaman kullanılır durumda olması mecburidir?

- A) Otomobil B) Çekici
- C) Panelvan D) Minibüs

20. Aşağıdakilerden hangisi kazaya karışan veya olay yerinden geçen kişilerin yükümlülüklerinden biri değildir?

- A) Olayı en yakın zabıta veya sağlık kuruluşuna bildirmek
- B) Kaza yerinde usulüne uygun ilk yardım tedbirlerini almak
- C) Yaralanmalı ve ölümlü kazalarda kaza tespit tutanağı düzenlemek
- D) Yetkililerin istemesi hâlinde yaralıları en yakın sağlık kuruluşuna götürmek

## (500) İNGİLİZCE – 6

1 - 20. sorularda boş bırakılan yere uygun gelen kelime ya da ifadeyi işaretleyiniz.

1. I used to - - - - too much coffee when I was a student.

- A) read B) write
- C) drink D) smell

2. Anthony : - - - - ?

Martin : I am sorry, you can't.

- A) Can I use your dictionary for a minute
- B) Can you help me with the computer
- C) Did you finish your homework
- D) Did I have to get up this early

3. Melinda : Could you open the window, please?

Amanda : - - - - .

- A) You can't use your phone
- B) I am sorry, but it's very cold
- C) You can help me if you want
- D) I can't go out before I finish my work

4. Ted : - - - - ?

Josh : Go straight ahead and turn right, it's next to the bank.

- A) How can you solve the problem
- B) Would you like visit the museum
- C) What time does the school start
- D) Do you know where the post office is

5. Thomas : Could you help me with the dishes, please?

Mary : - - - - .

- A) Sure, I can speak English
- B) Of course, I can help you
- C) You can go if you finish
- D) You can join the school team

6. Martha is a very successful student, she - - - - studies before the class.

- A) never B) rarely
- C) always D) seldom

7. My mother hates tea, she - - - - drinks it.

- A) never B) always
- C) usually D) generally

8. I have never - - - - in England before.

- A) started B) played
- C) done D) been

9. Joshua goes to the cinema - - - - .

- A) last year B) yesterday
- C) in the future D) on Saturdays

10. My brother will be a doctor - - - - .

- A) so far B) next year
- C) last month D) five hours ago

11. My parents - - - - prefer tea to other drinks.

- A) early B) carefully
- C) difficultly D) generally

12. There - - - - a big theatre here but now it's gone.

- A) used to B) should
- C) could D) might

13. Melissa - - - - have long hair in the past, but now her hair is very long.

- A) could B) used to
- C) might not D) didn't use to

# 1. OTURUM

14. It is very hot here. - - - - you turn the air conditioner on?

- A) Do                      B) Are  
C) Would                D) Should

15. If I were you, I would - - - - that black jacket.

- A) go                      B) buy  
C) play                    D) smell

16. You - - - - go out if you finish your homework.

- A) can                    B) had  
C) has to                D) does

17. I think you can lose weight if you - - - - exercises regularly.

- A) does                    B) done  
C) did                     D) do

18. If I - - - - hard, I would have got high marks in the exam.

- A) had studied        B) studying  
C) to study             D) study

19. This time tomorrow, we - - - - an English exam at school.

- A) have been having  
B) will be having  
C) had had  
D) has had

20. If it doesn't rain, we - - - - on a picnic this weekend.

- A) goes                    B) went  
C) will go                D) has gone

(500) ALMANCA – 6

1 - 18. sorularda boş bırakılan yere uygun gelen ek, kelime ya da ifadeyi işaretleyiniz.

1. Das Flugzeug fliegt - - - - den Wolken.



- A) über                    B) unter  
C) auf                     D) im

2. Der Lehrer denkt, ich - - - - nicht in der Schule.

- A) waren                B) sein  
C) bin                    D) seine

3. A : An welchem - - - - hast du keinen Unterricht?

B : Am Dienstag.

- A) Tag                    B) Stunde  
C) Zeit                    D) Monat

4. Alle denken, ihr - - - - kein Auto. (Konjunktiv 2)

- A) wärest                B) hast  
C) haben                D) hättest

5. Tina und Mustafa - - - - jeden Tag pünktlich zur Schule.

- A) kommt                B) kommst  
C) kommen             D) kam

6. Serpil und Claudia essen - - - - Fleisch. Sie essen nur Gemüse und Obst.

- A) kein                    B) keine  
C) keinen                D) keiner

7. Mai, - - - -, Juli

- A) April                    B) Juni  
C) August                D) März

8. Die Katze - - - - Schwester ist grau.

- A) meinem                B) deine  
C) meiner                D) deinen

9. Şenay lies- - - - ein Buch, aber wir hör- - - - Musik.

- A) -e / -en                B) -t / -t  
C) -t / -en                D) -st / -

10. Mert geht - - - - Arzt, - - - - er Zahnschmerzen hat.

- A) in / denn                B) bis / zum  
C) ins / dass              D) zum / weil

11. Das Kind, - - - - Fieber hat, muss zum Arzt gehen.

- A) der                    B) das  
C) die                    D) deren

12. Die Frau, - - - - in der Post arbeitet, ist jung.

- A) die                    B) der  
C) das                    D) dessen

13. - - - - wollen Sie Deutsch lernen?

- A) Wer                    B) Wen  
C) Weil                    D) Warum

14. Nevin: Ist das ein Bleistift?

Neval: Nein, das ist - - - - Bleistift.

- A) doch                    B) kein  
C) auch                    D) ein

15. Aysun : - - - - kommst du?

Cennet: Um 7 Uhr.

- A) Weil                    B) Wer  
C) Wann                    D) Wie

16. Deniz und Muzaffer leb- - - - in Prag.

- A) -en    B) -er    C) -e    D) -t

17. - - - -, Oktober, November, Dezember

- A) Januar                B) April  
C) Juni                    D) September

18. Aşağıdaki sözcüklerin zıt anlamlılarını hangi seçenekte doğru verilmiştir?

kalt X - - - -

lang X - - - -

- A) schön / klein  
B) groß / dünn  
C) warm / kurz  
D) alt / neu

19. Was ist das?



- A) Eine Flöte  
B) Ein Taschenmesser  
C) Eine Straßenlampe  
D) Eine Taschenlampe

20. Was ist das?



- A) Kugelschreiber  
B) Schlüssel  
C) Schraubenzieher  
D) Messer

# 1. OTURUM

(500) FRANSIZCA – 6

1 - 13. sorularda boş bırakılan yere uygun gelen sözcük ya da ifadeyi işaretleyiniz.

1. **La mère de mon ami est** - - - - .  
A) chinois B) anglaises  
C) américaine D) turcs
2. **Jean** : - - - - est votre profession ?  
**Paul** : Je ne travaille pas. Je suis étudiant.  
A) Pourquoi B) Quelle  
C) Quand D) Combien
3. **Maman** : Qu'est-ce que tu as ?  
- - - - tu pleures ?  
**Enfant** : Parce que j'ai perdu mon ballon.  
A) Comment B) Combien  
C) Que D) Pourquoi
4. **Zeynep** : Tu te maries, c'est vrai ?  
**Sophie** : Eh bien, oui. Tu connais déjà - - - - .  
A) mon fiancé B) ma mère  
C) ma tante D) mon père
5. - - - - est-ce que je peux aller au musée d'Orsay ?  
A) Où B) Pourquoi  
C) Combien D) Comment
6. **Dans la salle de sport, on fait** - - - - .  
A) de la musique  
B) du dessin  
C) du pain  
D) de la gymnastique
7. **Kuzey** : Tu fais de la natation ?  
**Caroline** : Mais non, je - - - - nager.  
A) ne sais pas B) savoir  
C) sait bien D) ne savez pas
8. **Henri** : - - - - travailles-tu jusqu'à minuit ?  
**Hervé** : Pour gagner plus d'argent.  
A) Où B) Pourquoi  
C) Combien D) Comment
9. **Alice** : As-tu un problème avec ta sœur ?  
**Odile** : Non, je n'ai pas - - - - problème avec elle.  
A) des B) une  
C) de D) le

10. **Jacques habite** - - - - Madrid, - - - - Espagne.

- A) à / en B) en / à  
C) à / au D) en / en

11. **Albert** : Qu'est-ce que c'est ?  
**Veysel** : C'est - - - - .

- A) une touriste anglaise  
B) un agent de police  
C) une jeune fille  
D) un téléphone portable

12. **Alain va** - - - - pour prendre le train.

- A) à la station-service  
B) à la gare  
C) à l'aéroport  
D) au café

13. **Carole** : Voulez-vous un peu de - - - - ?  
**Lucas** : Non, merci, je viens de manger à la cantine.

- A) pizza  
B) vitamine C  
C) petit-déjeuner  
D) restaurant italien

14. **Aşağıdakilerden hangisi "44" sayısının doğru yazılışdır?**

- A) Quatre-vingts  
B) Quatorze  
C) Quarante-quatre  
D) Quatre-vingt-quatorze

15 - 16. soruları planı dikkate alarak cevaplandırınız.

GARE	CINÉMA	PARKING	HÔTEL	POSTE
RUE DE LA FONTAINE				
PHARMACIE	BOUCHERIE	PÂTISSERIE	ÉPICERIE	CAFÉ

15. **La boucherie est** - - - - .


- A) en face du café  
B) entre la pharmacie et la pâtisserie  
C) à droite de la poste  
D) à gauche de la gare

16. **La poste est** - - - - .

- A) au coin de la rue  
B) entre l'hôtel et le parking  
C) à droite du café  
D) en face de la pâtisserie

17 - 20. soruları görseli dikkate alarak cevaplayınız.

17.



- A) Il est midi et demie.  
B) Il est midi moins le quart.  
C) Il est midi vingt.  
D) Il est midi et quart.

18.



Elle est - - - - .

- A) fleuriste B) infirmière  
C) chanteuse D) cuisinière

19.




Il est - - - - .

- A) pâtissier B) ouvrier  
C) chauffeur D) serveur



# 1. OTURUM

20.



- A) Il est sept heures vingt-cinq.  
B) Il est sept heures et quart.  
C) Il est sept heures moins vingt-cinq.  
D) Il est sept heures et demie.

(502) İNGİLİZCE – 8

1 - 20. sorularda boş bırakılan yere uygun gelen sözcük ya da ifadeyi işaretleyiniz.

1. Akın - - - - to Bursa this time tomorrow.  
A) drive B) drove  
C) had driven D) will be driving
2. Don't go out - - - - you feel bad.  
A) so B) by  
C) if D) and
3. If you - - - - ice, it melts.  
A) heat B) read  
C) like D) use
4. My father will buy a computer for me if I - - - - the class.  
A) pass B) passes  
C) passed D) passing
5. If I were you, I - - - - hard to finish the project.  
A) have worked B) would work  
C) will work D) work
6. Melinda could go abroad if she - - - - a passport.  
A) will have B) has had  
C) have D) had
7. - - - - the fact that he was poor, he could not buy a car.  
A) If B) Due to  
C) Just D) Until
8. We will be in Erzurum this time - - - - .  
A) two weeks ago  
B) next weekend  
C) last Sunday  
D) yesterday

9. Put the car in a place - - - - you can find it easily.

- A) when B) what  
C) where D) which

10. Robert goes to bed early - - - - he is very old.

- A) because B) while  
C) after D) just

11. My parents - - - - married for 20 years by June 20<sup>th</sup>.

- A) will have been  
B) have been  
C) were  
D) are

12. Our car was - - - - by a thief.

- A) eaten B) stolen  
C) fallen D) spoken

13. Asaf will be - - - - as a doctor soon.

- A) work B) works  
C) working D) to work

14. The baby - - - - at that time, so don't call.

- A) will be sleeping  
B) have slept  
C) sleep  
D) slept

15. Becky - - - - the cake by the time we arrive.

- A) make  
B) made  
C) will have made  
D) have been making

16. Credit cards have become a / an - - - - part of today's life.

- A) soft B) cheap  
C) difficult D) important

17. If you are sleepy in the afternoon, you - - - - .

- A) eats a lot of fast food  
B) can drink a cup of coffee  
C) had visited your grandparents  
D) has finished your homework on time

18. If you - - - - , you can eat more cake.

- A) had a mobile phone  
B) has a headache  
C) likes sleeping  
D) want

19. If the weather hadn't been bad, - - - - .

- A) we would have walked in the park  
B) he would pass his exams  
C) he will get a new job  
D) it has rained all day

20. - - - - , I would have fallen asleep.

- A) If you call me  
B) If I have to write a book  
C) If I had lain down on the sofa  
D) If he solves the problem easily

(502) ALMANCA – 8

1 - 18. sorularda boş bırakılan yere uygun gelen ek, kelime ya da ifadeyi işaretleyiniz.

1. A : Was macht ein - - - - ?  
B : Er unterrichtet Schüler.  
A) Koch B) Soldat  
C) Lehrer D) Arzt
2. - - - - die Kinder ihr Zimmer aufgeräumt?  
A) Hat B) Hast  
C) Habe D) Haben
3. A : Wozu studierst du Bauingenieur?  
B : - - - - Häuser - - - - bauen.  
A) Als / um B) Um / zu  
C) Von / bis D) Mit / für
4. Sibel fährt - - - - die Stadt, um einzukaufen.  
A) bei B) ans  
C) in D) im
5. - - - - ich ein Fußballspieler - - - - , dann würde ich in Fenerbahçe spielen.  
A) Wäre / wenn  
B) Würde / hätte  
C) Hätte / würde  
D) Wenn / wäre
6. Kenan Imirzaloğlu ist ein berühmter - - - - .  
A) Sängerin  
B) Schauspieler  
C) Fußballspieler  
D) Dichter
7. - - - - hast du morgen Abend zum Essen eingeladen?  
A) Wem B) Was  
C) Wen D) Wie

# 1. OTURUM

8. A : ----?

B : Ich würde gerne Fisch essen.

- A) Was hätten Sie gerne
- B) Wo wohnen Sie
- C) Was möchten Sie trinken
- D) Wann kochen Sie

9. Ich gehe zum Arzt, ---- ich bin krank.

- A) um
- B) nach
- C) denn
- D) seit

10. Ich werde mir ein Kleid kaufen, ---- mein Vater mir Geld gibt.

- A) zum
- B) wenn
- C) dass
- D) als

11. Das ist mein Auto. Das Auto gehört ----.

- A) mir
- B) dir
- C) ich
- D) mich

12. Maria hilft ---- alten Mann.

- A) die
- B) der
- C) den
- D) dem

13. Ceren ---- in Ankara. "studieren" fiilinin "Präteritum" hâli aşağıdakilerden hangisidir?

- A) studiert
- B) studierte
- C) studiere
- D) studieren

14. Ayla ---- Jura studieren. "wollen" fiilinin "Präteritum" hâli aşağıdakilerden hangisidir?

- A) wolltest
- B) wollten
- C) wolltet
- D) wollte

15. Mehmet ist so fleißig ---- Murat.

- A) genauso
- B) wie
- C) als
- D) gleich


16. Kemal springt ---- als Furkan.

- A) höher
- B) höchste
- C) hoch
- D) am höchsten

17. der intelligent ---- Frau. (Dativ)

- A) -en
- B) -e
- C) -
- D) -et

18.




Die Frau ist ----.

Das Kind ist ----.

Das Baby ist ----.

- A) jung / jung / jünger
- B) jünger / junge / am jüngsten
- C) jung / jünger / am jüngsten
- D) am jüngsten / jünger / jung

19. Was ist das?



- A) Elefant
- B) Vogel
- C) Hund
- D) Pferd

20. Aşağıdakilerden hangisi ayrılabilen fiildir? (Trennbare Verben)

- A) erzählen
- B) verkaufen
- C) besuchen
- D) einkaufen

(502) FRANSIZCA – 8

1 - 18. sorularda boş bırakılan yere uygun gelen sözcük ya da ifadeyi işaretleyiniz.

1. Hier soir, ---- suis rentré à cinq heures du matin.

- A) il
- B) je (j')
- C) elle
- D) tu

2. Avant de sortir, ---- votre manteau.

- A) habitez
- B) parlez
- C) mettez
- D) buvez

3. Ce soir, on va au cinéma. N'oublie pas de (d') ---- trois tickets.

- A) regarder
- B) venir
- C) aimer
- D) acheter

4. Le café ---- à 23 heures.

- A) mange
- B) ferme
- C) cherche
- D) bois

5. Ma fille a vu le film Titanic ---- elle trouve super.

- A) où
- B) dont
- C) que (qu')
- D) qui

6. Carole : Qu'est-ce que tu prends comme boisson ?

Hélène : Je prends ----.

- A) du jus d'orange
- B) des pommes de terre
- C) du fromage
- D) un gâteau au chocolat

7. Albert : Zeynep téléphone souvent à ---- ?

Canan : Oui, elle leur téléphone souvent.

- A) son père
- B) sa mère
- C) son fils
- D) ses parents

8. Léa : Et toi, tu ne prends pas d'omelette ?

Luc : Si, mais je peux ---- manger deux fois par semaine.

- A) lui
- B) en
- C) leur
- D) les

9. Les Turcs boivent 25 litres de lait ---- personne ---- an.

- A) en / en
- B) dans / en
- C) en / dans
- D) par / par

10. Je ne suis jamais allé en Allemagne mais mon cousin ---- travaille.

- A) le
- B) en
- C) y
- D) par

11. Nicole a rendez-vous à 7 ---- du matin.

- A) à midi
- B) jours
- C) heures
- D) à l'heure

12. J'ai cassé les verres ---- ma maladresse.

- A) à cause de
- B) pourquoi
- C) parce que
- D) grâce à

13. Pour maigrir, il faut ----.

- A) manger beaucoup
- B) faire un régime
- C) acheter un ordinateur
- D) avoir un portable



# 1. OTURUM

14. ---- on ira en vacances en Afrique.

- A) Le mois prochain
- B) Hier
- C) Avant-hier
- D) Jeudi dernier

15. Henri : Tu viens à mon anniversaire ?  
Alain : ----.

- A) Si j'ai soif, je veux boire du jus d'orange
- B) S'il a faim, il mange de la salade
- C) Si je vais mieux, je veux venir
- D) S'il y a un bon film, il veut aller

16. Mustafa n'a pas fait ses devoirs, car ---- un film d'action à la télé.

- A) c'était
- B) il faisait froid
- C) il y avait du soleil
- D) il y avait

17. Mme Dupont : Sylvie, je n'ai plus de viande, tu peux aller ---- ?

Sylvie : D'accord, il faut autre chose ?


Mme Dupont : Oui, du poulet pour demain.

- A) à la gare
- B) à l'aéroport
- C) à la librairie
- D) à la boucherie

18. Tu peux conduire mais il faut être ----.

- A) attentif
- B) timide
- C) malhonnête
- D) généreux

19 - 20. sorularda verilen resme göre cümlede boş bırakılan kısmı tamamlayan sözcük ya da ifadenin bulunduğu seçeneği işaretleyiniz .



Quand il fait beau, ----.

- A) ils lavent leur moto
- B) ils réparent mon vélo
- C) ils font du vélo
- D) ils voyagent en auto

20.



M. Dubois qui est ---- a deux chats et deux chiens.

- A) une fausse amie
- B) un vieux monsieur
- C) un jeune homme
- D) une vieille femme

## (511) FIKIH – 1

1. Bir zamanda mevcut olan durumun, değiştiğine dair bir delil bulunmadıkça, hâlen varlığını koruduğuna hükmetmektir.

Tanımı verilen kavram aşağıdakilerden hangisidir?

- A) İstihsan
- B) İstishap
- C) Sedd-i Zerâi
- D) Mesalih-i Mürsele

2. • Yapılması dinen zorunludur.  
• Terk edilmesi Allah katında cezayı gerektirir.  
• İnkârî kişinin dinden çıkmasına sebep olur.

Bu bilgiler aşağıdaki hükümlerin hangisi ile ilgilidir?

- A) Farz
- B) Sünnet
- C) Mubah
- D) Müstehap

3. Aşağıdakilerden hangisi kıyas yoluyla ortaya konulmuş uygulamalara örnektir?

- A) Domuz etinin haram kılınması
- B) Kur'an'ın mushaf haline getirilmesi
- C) Teravih namazının cemaatle kılınması
- D) Uyuşturucu madde kullanımının haram sayılması

4. "Allah, bir kimseyi ancak gücü ölçüsünde sorumlu kılar..."  
(Bakara suresi, 286. ayet)

Bu ayette aşağıdakilerden hangisi vurgulanmaktadır?

- A) İctihat
- B) Helallerde genişlik
- C) Tekliflerde kolaylık
- D) Hükümlerde tedricilik

5. Aşağıdaki durumların hangisiyle kişinin "edâ (yapma) ehliyeti"ne sahip olduğu kabul edilir?

- A) Anne karnında can bulmasıyla
- B) Âkil ve baliğ olmasıyla
- C) Sağ olarak doğmasıyla
- D) Evlenmesiyle

6. Hz. Muhammed'in (sav.) fiillerini,

insan olması sebebiyle yaptığı davranışlar ve peygamber olması sebebiyle yaptığı davranışlar olarak ikiye ayırmak mümkündür.

Buna göre aşağıdakilerden hangisi Hz. Muhammed'in (sav.) insan olması sebebiyle yaptığı davranışlarına örnektir?

- A) "Namazı benim kıldığım şekilde kılın." buyurması
- B) Hac uygulamalarına dair hükümler koyması
- C) Vahyi insanlara ulaştırması
- D) Savaşlara karşı tedbir alması

7. İslam, insanın sorumlu tutulduğu emirleri yerine getirmesinde zorlanması durumunda bazı kolaylaştırıcı hükümler getirmiştir.

Aşağıdakilerden hangisi bu konuya örnek oluşturmaz?

- A) Orucunu mazeretsiz bozan birinin kefareti orucu tutması
- B) Ayakta namaz kılamayanın oturarak namaz kılması
- C) Ramazan orucunun yolcular için zorunlu olmaması
- D) Su bulamayan birinin teyemmüm etmesi

8. Aşağıdakilerden hangisi günümüzde müntesibi olmayan mezhep imamıdır?

- A) Malik b. Enes
- B) Ca'fer es-Sadık
- C) Davut b. Ali
- D) Ahmet b. Hanbel

9. • Hüküm çıkarırken kitap, sünnet ve sahabe icmaı sıralamasına uyar.  
• Kıyas, istihsan ve örf gibi delillerle icthad eder.  
• Tabiî fetvasının kendini bağlamayacağını ifade eder.

Hüküm çıkarma metodu hakkında bilgi verilen mezhep imamı aşağıdakilerden hangisidir?

- A) İmam Şafii
- B) Ebu Hanife
- C) İmam Malik
- D) Ahmet b. Hanbel

# 1. OTURUM

10. Fıkıh ilmi, bir meselenin şer'i hükümünü tespit ederken aşağıdaki ilimlerin hangisinden doğrudan yararlanır?

- A) Tefsir B) İktisat  
C) Mantık D) Coğrafya

11. • Fıkıh usulünü bilmelidir.  
• Arapçaya hakim olmalıdır.  
• İslamiyet'in genel hedeflerini bilmelidir.  
• İçinde yaşadığı toplumun şartlarını, örf ve âdetlerini, ihtiyaçlarını bilmelidir.

**Bu özellikler aşağıdakilerden hangisinde aranır?**

- A) Müçtehit B) Muhaddis  
C) Müfessir D) Müerrih

12. Aşağıdakilerden hangisi fıkıh ilminin konularından biri değildir?

- A) Muamelât B) İbadât  
C) Münakehât D) Riyaziyat

13. Kur'an-ı Kerim'deki herhangi bir hükmü tavsiye edip destekleyen sünnete ne ad verilir?

- A) Teyit edici  
B) Açıklayıcı  
C) Hüküm koyucu  
D) Takriri

14. Fıkıhta, miras ve vasiyet ile ilgili hükümler hangi başlık altında incelenir?

- A) Ukubât B) Feraiz  
C) Muamelât D) İbadât

15. Fıkıhtaki "Eşyada aslanan ibahadır." ilkesinin açıklaması aşağıdakilerden hangisidir?

- A) Yasak olmayan her şey helaldir.  
B) İbadetlerde asıl olan devamlılıktır.  
C) Zaruretler haram olanı mübah kılar.  
D) Zararın önlenmesi yarardan önceliklidir.

16. Aşağıdakilerden hangisi "Temel İslam İlimleri" arasında yer almaz?

- A) Siyer B) Kelam  
C) Felsefe D) Tefsir

17. Aşağıdakilerden hangisi İslam dininin kabul ettiği temel maslahatlardan biri değildir?

- A) Canı koruma B) Malı koruma  
C) Dini koruma D) Örfü koruma

18. "Ey iman edenler! Kendiniz, ana babanız ve en yakınlarınızın aleyhine de olsa, Allah için şahitlik yaparak adaleti titizlikle ayakta tutan kimseler olun. (Şahitlik ettikleriniz) zengin veya fakir de olsalar (adaletten ayrılmayın). Çünkü Allah ikisine de daha yakındır. (Onları sizden çok kayırır.) Öyle ise adaleti yerine getirmede nefsinize uymayın..."

(Nisâ suresi, 135. ayet)

**Bu ayetten adaletin gerçekleşmesine yönelik aşağıdakilerden hangisi çıkarılmaz?**

- A) Hukuk karşısında herkes eşittir.  
B) Şahitlik için iki kişi gereklidir.  
C) Şahitlerin adaletli olması gerekir.  
D) Nefsi davranmak adaleti yanlıtır.

19. Aşağıdakilerden hangisi "Medine Dönemi"nin özelliklerindendir?

- A) 610-622 yıllarını kapsayan bir dönemdir.  
B) Fıkhi mezhepler ortaya çıkmıştır.  
C) Surelerin çoğunluğu bu dönemde indirilmiştir.  
D) Fıkhi hükümler daha çok bu döneme aittir.

20. Aşağıdaki müellif ve eser eşleştirmelerden hangisi yanlıştır?

- A) Ahmed b.Hanbel / el-Umm  
B) İmam Şafii / er-Risale  
C) İmam Malik / el-Muvatta  
D) İmam Ebu Hanife / el-Fıkhu'l-Ekber

## (532) SEÇMELİ PEYGAMBERİMİZİN HAY. – 2

1. • Raci olayı  
• Bi'r-i Ma'üne olayı

**Bu olayların ortak yönü nedir?**

- A) Hicretten önce gerçekleşmesi  
B) Birçok Müslümanın şehit edilmesi  
C) İslam'ın yayılmasının hız kazanması  
D) Hz. Peygamberin de bizzat katılmış olması

2. • 628 yılında yapılmıştır.  
• İslam'ın yayılmasına katkı sağlamıştır.  
• Barış ortamı kurulmasına sebep olmuştur.  
• Müşrikler Müslümanları resmen tanımışlardır.

**Bu bilgiler aşağıdakilerden hangisi ile ilgilidir?**

- A) Hudeybiye Antlaşması  
B) Medine Sözleşmesi  
C) Kardeşleştirme  
D) I. Akabe Biati

3. "Yaratan Rabbinin adıyla oku!  
O insanı aşılansmış bir yumurtadan yarattı.  
Oku! Rabb'in en büyük kerem sahibi bidir.  
O, kalemle yazmayı ve insana bilmediğini öğretti."

**Bu ayetlerle ilgili aşağıdakilerden hangisi doğrudur?**

- A) Fatiha suresinde yer alır.  
B) 615 yılında indirilmiştir.  
C) Allah'ın birliğinden bahseder.  
D) Hz. Muhammed'e (sav.) gelen ilk ayetlerdir.

4. Veda hutbesinde Hz.

**Peygamber'in "Ey müminler! Size iki emanet bırakıyorum, onlara sarılıp uyduğca yolunuzu hiç şaşır-mazsınız." diye ifade ettiği şeyler aşağıdakilerin hangisinde birlikte verilmiştir?**

- A) Sahabe - Kâbe  
B) Kâbe - Kur'an  
C) Kur'an - Sünnet  
D) Sünnet - Sahabe

5. "... Hani üzerinize düşman orduları gelmiş, biz de onların üzerine rüzgâr ve göremediğiniz ordular göndermiş-tik..."

(Ahzâb suresi, 9. ayet)

**Bu ayet aşağıdaki savaşlardan hangisi ile ilgilidir?**

- A) Bedir B) Mute  
C) Uhud D) Hendek

6. Hz. Muhammed'in (sav.) Medine'ye hicreti sırasındaki yol arkadaşı aşağıdakilerden hangisidir?

- A) Hz. Ömer B) Hz. Hamza  
C) Hz. Ebu Bekir D) Hz. Osman

7. Hudeybiye Antlaşması'nın bozulmasına neden olan olay aşağıdakilerden hangisidir?

- A) Kaynukaoğulları'nın Medine'den sürülmesi  
B) Müslümanların Kâbe'yi ziyaret etmek istemeleri  
C) Mekke müşriklerinin Müslümanlara savaş ilan etmesi  
D) Bekir kabilesinden bir grubun Huzaalılara saldırıp 23 kişiyi öldürmesi

8. Aşağıdakilerden hangisi münafıkların özellikleri arasında yer almaz?

- A) Çıkarlarını korumak için yalan söylerler.  
B) Dostlarını yarı yolda bırakmazlar.  
C) Sözlerinde durmazlar.  
D) İkiyüzlü insanlardır.

## 1. OTURUM

9. Mekke'deki müşriklerin baskıları artınca Müslümanların bir kısmı ilk olarak nereye hicret etmişlerdir?
- A) Habeşistan B) Medine  
C) Şam D) Taif
10. Aşağıdakilerden hangisi hicretten önce gerçekleşmiştir?
- A) Ramazan orucunun farz kılınması  
B) Kible yönünün değişmesi  
C) Mescid-i Nebi'nin inşası  
D) İsrâ ve Miraç olayı
11. Hz. Muhammed (sav.) hicretten önce Medinelilere İslam'ı öğretmesi için gönderdiği kişi aşağıdakilerden hangisidir?
- A) Hz. Talha B) Hz. Mus'ab  
C) Hz. Bilal D) Hz. Ali
12. "Bir işe başlamadan önce güvenilir, bilgi ve tecrübe sahibi kimselere danışmak, onlarla görüş alışverişinde bulunmak" anlamına gelen kavram aşağıdakilerden hangisidir?
- A) İstişare B) Münazara  
C) Muhakeme D) İnziva
13. Aşağıdakilerden hangisi Mekke'nin fethinin sonuçlarından biri değildir?
- A) Kâbe putlardan temizlenmiştir.  
B) Müslümanların sayısı artmıştır.  
C) Hz. Peygamber, o günden sonra Mekke'de yaşamıştır.  
D) Mekkeliler Müslümanların otoritesini kabul etmişlerdir.
14. Hz. Peygamber ilk vahyi aldığı anda başından geçenleri endişe ile eşi Hz. Hatice'ye anlatmıştır. Hz. Hatice, Hz. Muhammed'de (sav.) bulunan bir takım özellikleri gerekçe göstererek Allah'ın kendisini utandırmayacağını söylemiş ve onu sakinleştirmiştir. Aşağıdakilerden hangisi Hz. Hatice'nin gerekçe gösterdiği bu özelliklerden biri değildir?
- A) Akrafa hakkına riayet etmesi  
B) Misafire ikramda bulunması  
C) Ticaretle uğraşması  
D) Doğru konuşması
15. Müslümanların ilk defa Kâbe'de saf tutup namaz kılmaları aşağıdakilerden hangisi ile gerçekleşmiştir?
- A) Hz. Ömer'in Müslüman olması  
B) Boykot kararlarının kalkması  
C) Habeşistan'a hicret  
D) İlk vahyin gelmesi
16. İslam'ın ilk dönemlerinde Kureyş kâfirleri bazı Müslümanların fakirliği ile "İçimizde Allah'ın lütfuna nail olanlar bunlar mı?" diyerek alay ediyorlardı. Hz. Peygamber ise insanlara Allah katındaki yüceliğinin maddi zenginlikle değil, Allah'a olan samimiyetle olacağını anlatmaktaydı. Aşağıdaki hadislerden hangisi Hz. Peygamber'in bu tutumuna örnek oluşturmaktadır?
- A) Kolaylaştırınız, güçleştirmeyiniz. Müjdeleyiniz, nefret ettirmeyiniz.  
B) Allah sizin dış görünüşünüze ve mallarınıza bakmaz ancak o sizin kalplerinize ve işlerinize bakar.  
C) Allah, sizden birinizin yaptığı işi, ameli ve görevi sağlam ve iyi yapmasından hoşnut olur.  
D) Başkasının kusurlarını anlatmak istediğinde hemen kendi kusurlarını hatırla.
17. Hz. Peygamber İslam'ı anlatmak için Taif'e gittiğinde büyük sıkıntılarla karşılaşmış, halk tarafından eziyete uğramış ve üzüntüyle Taif'ten ayrılmıştır. Fakat şehrin dışında sığındığı bağda kendisine üzümlük getiren bir köle ile konuşup İslam'ı anlattığında o köle Müslüman olmuştur. Bu metinden Hz. Peygamber ile ilgili aşağıdaki sonuçlardan hangisi çıkarılamaz?
- A) Her durumda İslam'ı anlatmak için çalışmıştır.  
B) Zorluklar karşısında sabırlı ve kararlı davranmıştır.  
C) Karar verirken diğer insanların da fikrini önemsemmiştir.  
D) İnsanlar arasında ayırım yapmadan tebliğde bulunmuştur.
18. Gördüğü rüya üzerine namaza çağrının ezan ile yapılmasını teklif eden sahabe aşağıdakilerden hangisidir?
- A) Bilal-i Habeşi  
B) Abdullah bin Zeyd  
C) Selman-i Farisi  
D) Haris bin Ümeyye
19. Medine'deki ekonomik hayatı Yahudilerin tekelinden kurtarmak için Hz. Peygamber aşağıdakilerden hangisini uygulamıştır?
- A) Hristiyanlarla ticari ilişkileri geliştirmiştir.  
B) Yahudilerle alışverişi yasaklamıştır.  
C) Medine'de bir pazar kurmuştur.  
D) Yahudilerden vergi almıştır.
20. Hz. Peygamber, Medine'ye hicretinden kısa bir zaman sonra sosyal, siyasal ve askerî açıdan toplumun temelini oluşturacak bir takım düzenlemelerde bulunmuştur. Aşağıdakilerden hangisi bunlardan biri değildir?
- A) Medine Sözleşmesi'nin imzalanması  
B) Müslümanların kardeş ilan edilmesi  
C) Nüfus sayımı yapılması  
D) Hılful-fudul'a üye olması

### (533) SEÇMELİ PEYGAMBERİMİZİN HAY. – 3

1. 628 yılında Kâbe'yi ziyaret etmek için Müslümanlarla yola çıkan Hz. Peygamber, amaçlarının sadece Kâbe'yi tavaf olduğunu, savaşmak için gelmediklerini anlatması için Mekkelilere bir elçi göndermiştir. Gönderilen bu elçi aşağıdakilerden hangisidir?
- A) Hz. Abbas B) Hz. Osman  
C) Hz. Ammar D) Hz. Mus'ab
2. İktisat eden fakirlik çekmez. Bu hadiste, aşağıdakilerden hangisi tavsiye edilmiştir?
- A) Tutumluluk B) Zenginlik  
C) Yardımlaşma D) Üretim
3. "Hiç ölmeyecekmiş gibi dünya için, yarın ölecekmiş gibi ahiret için çalış." Bu hadiste vurgulanan kavram aşağıdakilerden hangisidir?
- A) Ahlak B) Tedbir  
C) Hoşgörü D) Denge
4. İslami kaynakların "Tıbb-ı Nebevi" bölümü aşağıdaki konulardan hangisi ile ilgilidir?
- A) Nübüvvet B) Sağlık  
C) Ahlak D) Temizlik
5. Aşağıdakilerden hangisi İslam öncesi, Yahudilerin yoğun olarak yaşadığı yerlerden biri değildir?
- A) Mekke B) Medine  
C) Hayber D) Yemen
6. Hz. Peygamber aşağıdakilerden hangisinin gıyabi cenaze namazını kılmıştır?
- A) Yasir B) Necaşi  
C) Sümeyye D) Hamza

# 1. OTURUM

(611) KARŞ. DİN. TAR. – 1

7. Aşağıdakilerden hangisi inanç yönünden sapma ve dengesizliği ifade eden kavramlardan biri değildir?

- A) Nifak                      B) Şirk  
C) Hanif                      D) İnkâr

8. "Temizlik imanın yarısıdır." hadisi, aşağıdaki davranışlardan hangisi için dayanak oluşturmaz?

- A) Çevreyi temiz tutmak  
B) Dişleri günlük temizlemek  
C) İbadetlerden önce niyet etmek  
D) Yemeklerden önce elleri yıkamak

9. "Kendisine ayetlerimizden bir kısmını gösterelim diye kulunu (Muhammed'i) bir gece Mescid-i Haram'dan çevresini bereketlendirdiğimiz Mescid-i Aksa'ya götürün Allah'ın şanı yücedir. Hiç şüphesiz O, hakkıyla işitendir, hakkıyla görendir."

**Bu ayette Hz. Muhammed'in (sav.) hayatıyla ilgili aşağıdaki olaylardan hangisi anlatılmaktadır?**

- A) Akabe Biati  
B) İsrâ hadisesi  
C) Taif yolculuğu  
D) Medine'ye hicret

10. Hz. Peygamber'in vefatına yakın rahatsızlığı arttığında mescitte namaz kıldırması için yerine görevlendirdiği kişi aşağıdakilerden hangisidir?

- A) Hz. Ali                      B) Hz. Osman  
C) Hz. Ömer                      D) Hz. Ebu Bekir

11. Mekke müşriklerin baskıları artınca Müslümanlar ilk olarak nereye hicret etmişlerdir?

- A) Taif                      B) Habeşistan  
C) Medine                      D) Yemen

12. Hz. Muhammed (sav.) öfkelendiği zaman öfkesine kapılmayıp haksızlık yapmaz, sevdiklerini ölçülü sever, onları zaman zaman uyarır ve kayırmazdı.

**Bu durum aşağıdakilerden hangisi için örnek oluşturur?**

- A) İnançta denge  
B) İbadetlerde denge  
C) Duygularda denge  
D) Harcamalarda denge

13. Aşağıdakilerden hangisi dengenin bozulmasıyla ortaya çıkan duygulardan biridir?

- A) Cesaret                      B) Sevgi  
C) Haset                      D) Cömertlik

14. İnanç konusundaki aşırılıklardan biri insanları fazlasıyla yüceltmedir. Tarih boyunca bazı insanlar peygamberleri ölçüsüzce yücelterek onların Allah'ın oğlu olduğunu iddia etme gibi aşırılıklara gitmişlerdir.

**Aşağıdakilerden hangisi bu konuda Kur'an-ı Kerim'in verdiği örneklerden biridir?**

- A) Hz. Âdem                      B) Hz. İsa  
C) Hz. Musa                      D) Hz. Yusuf

15. Hz. Peygamber'in "O ölünceye kadar Kureyş bana pek dokunmazdı." diyerek hatırladığı kişi kimdir?

- A) Ebu Talip                      B) Hz. Ömer  
C) Hz. Hatice                      D) Abdulmuttalip

16. Aşağıdakilerden hangisi hicretten önce Akabe'de Hz. Muhammed (sav.) ile görüşen kabilelerden biridir?

- A) Kinane                      B) Ümeyye  
C) Hazrec                      D) Kurayza

17. Putperest Araplar, Yüce Yaratıcı olarak Allah'a inanır, aynı zamanda putlara da tapar, bunların Allah ile aralarında aracı olduklarını söylerlerdi.

**Kur'an-ı Kerim bu şekilde bir inanmayı aşağıdakilerden hangisiyle isimlendirmiştir?**

- A) İman                      B) Küfür  
C) Nifak                      D) Şirk

18. İnançta dengeli olmanın en önemli şartı aşağıdakilerden hangisidir?

- A) Allah'ı bir kabul etmek  
B) Mal sevgisinden uzak olmak  
C) Fayda vermeyen işleri terk etmek  
D) İbadetleri vaktinde yerine getirmek

19. Aşağıdakilerden hangisi Hz. Peygamber'in koruyucu hekimlik anlayışıyla uyuşmaz?

- A) Haramlardan sakınmak  
B) Temizliğe riâyet etmek  
C) Yemeği fazla yemek  
D) Spor yapmak

20. Hz. Muhammed'in (sav.) doğduğu dönemdeki Mekke şehri ile ilgili verilen bilgilerden hangisi yanlıştır?

- A) Tarım yapmaya uygun topraklara sahipti.  
B) Toplumun çoğunluğu putlara tapmaktaydı.  
C) Başlıca geçim kaynağı kervancılık ve ticaretti.  
D) Arap Yarımadası'nın inanç, kültür ve ticaret merkeziydi.

1. • Sürgün sırasında kaybolan Tevrat'ı yeniden kaleme almıştır.  
• Yahudi olmak için Yahudi bir anneden doğmayı şart koşmuştur.  
• Cumartesi (Şabat) uygulamasını yeniden tesis etmiştir.

**Hakkında bilgi verilen kişi aşağıdakilerden hangisidir?**

- A) Saul                      B) Samuel  
C) Yeşu                      D) Ezra

2. Emeviler dönemi hangi tarihleri kapsamaktadır?

- A) 632 - 661                      B) 661 - 750  
C) 711 - 1492                      D) 750 - 1258

3. Kuran-ı Kerim'de ibadetlerle ilgili aşağıdakilerden hangisine daha çok yer verilmiştir?

- A) Özû ve amacı  
B) Edâ şekli  
C) Niceliği  
D) Zamanı

4. Aşağıdakilerden hangisi âlimlerin İslam dinini tanımlarken yer verdiği ifadelerden biri olamaz?

- A) Kaynağının Allah olduğu  
B) İnsanları hayra yönelttiği  
C) Millî bir karaktere sahip olduğu  
D) Dünya ve ahiret mutluluğunu amaçladığı

5. Aşağıdakilerden hangisi Hristiyanlığın sembollerinden biri değildir?

- A) Şamdan                      B) Haç  
C) Güvercin                      D) Kuzu

6. Hristiyanlara göre Hz. İsa'nın çarmıha gerildiği, gömüldüğü ve dirileceğine inanılan yere yapılmış olan Kudüs'teki kiliseye ne ad verilir?

- A) Meryem Ana                      B) Aziz Petrus  
C) Kıyamet                      D) Aziz Pavlus

7. İslam tarihinde diğer dinlerle ilgili bilgi verme geleneği aşağıdakilerden hangisi ile başlamıştır?

- A) Kur'an-ı Kerim  
B) Hadis kitapları  
C) Tarih kitapları  
D) Coğrafya kitapları

# 1. OTURUM

8. "Ey iman edenler! Bir topluluk bir diğerini alaya almasın. Belki onlar kendilerinden daha iyidirler. Kadınlar da diğer kadınları alaya almasın. Belki onlar kendilerinden daha iyidir. Birbirinizi karalamayın, birbirinizi (kötü) lakaplarla çağırmayın. İmandan sonra fasıklık ne kötü bir namdır! Kim de tövbe etmezse, işte onlar zâlimlerin ta kendileridir." (Hucurat suresi, 11. ayet)
- Aşağıdakilerden hangisi bu ayette yasaklanan kötü davranışlardan biri değildir?**
- A) Hakaret etmek  
B) Dedikodu yapmak  
C) İnsanları küçümsemek  
D) Emanete ihanet etmek
9. **Aşağıdaki olaylardan hangisi Mekke döneminde gerçekleşmiştir?**
- A) Hudeybiye Antlaşması  
B) Hz. Peygamber'in vefatı  
C) Hükümdarlara İslam'a davet mektupları gönderilmesi  
D) Müslümanlara boykot uygulanması
10. **Dinler tarihinin metodu ile ilgili verilen bilgilerden hangisi doğrudur?**
- A) Öznel bir bakış açısı ile çalışır.  
B) İslam dininin savunmasını yapar.  
C) Dinleri ön yargılardan uzak bir şekilde inceler.  
D) Dinlerin birbirinden üstünlüğünü ispatlamayı hedefler.
11. **Afrika'nın İslamlaştırılmasında aşağıdakilerden hangisinin etkili olduğu söylenemez?**
- A) Tarikatlar  
B) Müslüman tüccarlar  
C) Din âlimlerinin tebliğleri  
D) Müslüman liderlerin yaptığı evlilikler
12. **Kur'an-ı Kerim, Yahudi ve Hristiyanları aşağıdaki kavramlardan hangisi ile adlandırır?**
- A) Ehli Beyt  
B) Ehli Kitap  
C) Nuhiler  
D) Hanifler
13. **Yahudilikle ilgili verilen bilgilerden hangisi yanlıştır?**
- A) Hz. Musa döneminde kutsal topraklara yerleşmişlerdir.  
B) Kudüs'teki Mabet Kral Süleyman tarafından yapılmıştır.  
C) Yahudi terimi Babil sürgününden sonra ortaya çıkmıştır.  
D) Yahudiler Hz. Yakup'un lakabıyla da anılırlar.
14. **Aşağıdaki kavramlardan hangisi Yahudilik'te tanrıya verilen isimdir?**
- A) Tora  
B) Talmud  
C) Yahve  
D) İsrail
15. **Kur'an-ı Kerim'e göre mutlak din aşağıdakilerden hangisidir?**
- A) Mecusilik  
B) Sabitlik  
C) İslam  
D) Hinduizm
16. **Gentile-Hristiyanlığı ile ilgili verilen bilgilerden hangisi yanlıştır?**
- A) Pavlus'un başını çektiği bir akımdır.  
B) Hz. Musa şeriatına uymanın şart olmadığına inanılır.  
C) Hz. İsa'nın insanlığın günahlarına kurban olduğuna inanmak iman için yeterli görülür.  
D) Domuz eti yememe, Cumartesi yasağını ihlal etmeme kurtuluş için yegâne şart kabul edilir.
17. **Aşağıdakilerden hangisi Yahudilerce peygamber kabul edilmez?**
- A) Hz. İbrahim  
B) Hz. Davud  
C) Hz. Musa  
D) Hz. Yakup
18. • Evrensel anlamına gelir.  
• Havarî Petrus tarafından kurulduğu kabul edilir.  
• Papa'nın yanılmaz olduğuna inanılır.
- Hakkında bilgi verilen kilise aşağıdakilerden hangisidir?**
- A) Ortodoks  
B) Katolik  
C) Protestanlık  
D) Evanjelik
19. **Birûnî'nin yazmış olduğu "Tahkîku Mâ li'l-Hind" isimli eser aşağıdaki dinlerden hangisini konu edinir?**
- A) Hinduizm  
B) Yahudilik  
C) Zerdüştlük  
D) Konfüçyanizm
20. I. Beytullahim  
II. Kıyamet Kilisesi  
III. Aziz Pavlus Kuyusu  
IV. Meryem Ana Kilisesi
- Hristiyanlarca kutsal kabul edilen bu mekânlardan hangileri Türkiye'de bulunmaktadır?**
- A) I ve II.  
B) I ve III.  
C) II ve IV.  
D) III ve IV.
2. **Aşağıdakilerden hangisi röportaj yapacak kişinin özelliklerinden olamaz?**
- A) Çekingen  
B) Meraklı  
C) Araştırmacı  
D) Bilgili
3. **Aşağıdaki cümlelerde bulunan altı çizili kelimelerden hangisinin eş anlamı yoktur?**
- A) Babamın aldığı armağan beni çok mutlu etmişti.  
B) Çocuklar büyük bir sahada top oynuyor.  
C) Bu sene çay fiyatları oldukça düşecekmiş.  
D) Öğretmenimiz, okulun ilk gününü tanışmaya ayırdı.
4. Üniversite öğrencisi Burçin, bitirme tezi için Millî Parklar Genel Müdürü'yle bir görüşme yapmayı planlamaktadır.
- Burçin'in yapacağı bu görüşmenin türü aşağıdakilerin hangisi olur?**
- A) Mülakat  
B) Fıkra  
C) Makale  
D) Söylev
5. **Cuma hutbesi, aşağıdaki söylev türlerinden hangisine örnektir?**
- A) Askerî  
B) İktisadi  
C) Hukuki  
D) Dinî
6. **Aşağıdaki parçalardan hangisi bir söylevden alınmıştır?**
- A) Hıdır Ağa içeri girince köylülerin tümü sustu. Belli ki bu konuyu Hıdır Ağa'dan saklayacaklardı. Ancak Ağa, şüpheli gözlerle köylüleri süzüyordu.  
B) Sri Lanka'da her yer çay... Tarlalar âdeta yeşil bir denizi andırıyor. Buradaki insanların hayatında çay olmasaymış ne olurmuş acaba, çok merak ediyorum.  
C) Sevgili Gençler! Siz bu toprakların ümit kaynağısınız. Sizler çalışıp çabaladıkça ülkemiz imar olacak, gelişip daha da büyüyecek. Her biriniz Atatürk'ün "Tüm ümidim gençliktedir." sözünü sakın unutmayın.  
D) Kendimi bildim bileli çizgi filmlere bayılıyorum. Daha konuşmayı öğrenmeden televizyonun karşısına geçip oturmuşum. Televizyon izlerken hiç yaramazlık yapmaz, yemeğimi bile çizgi film izleyerek yemişim. Annem bunları sürekli anlatır durur.

(616) SEÇ. DİL VE ANLA. – 6

## 1. Aşağıdakilerden hangisi sözlü anlatım türlerinden biridir?

- A) Roman  
B) Hikâye  
C) Röportaj  
D) Manzum Hikâye

## 1. OTURUM

7. Aşağıdaki cümlelerin hangisinde ayrı yazılması gereken "da, de" bağlacı bitişik yazılmıştır?

- A) İhtiyarların bazıları ayakta bekliyordu.  
B) Mağaza okul çantasıda satıyormuş.  
C) Evimiz aslında buraya çok yakındır.  
D) Sınava evde tek başına hazırlanıyor.

8. Yazılışları ve okunuşları aynı anlamları farklı olan sözcüklere eş sesli sözcükler denir.

**Buna göre aşağıdaki sözcüklerin hangisi eş sesli değildir?**

- A) Dolu B) Zar  
C) Yüz D) Araç

9. - Olumlu tutum geliştirmek için hangi duygularımızı öne çıkartmalıyız?  
- Dikkat nereye giderse yaşam o yönde ilerler. Güvensizlik, korku, öfke, bencillik gibi duygularla hayatımızı yönetmek istemeyiz değil mi? Bizi güçlendirecek duygulara ihtiyacımız var.

**Bu parça aşağıdakilerin hangisine örnektir?**

- A) Mülakata B) Söyleve  
C) Fıkra D) Denemeye

10. 12. sınıf öğrencisi Seçkin, gerçekleştirdiği mülakatta şunlara dikkat etmiştir:

- I. Mülakat yapacağı kişiden randevu almıştır.  
II. Alınan cevaplara kendi yorumunu da katmıştır.  
III. Konuşulan konuyla alakasız sorulara da yer vermiştir.  
IV. Açık ve net sorular sormuştur.

**Bu mülakatta Seçkin, numaralanmış uygulamaların hangilerinde yanlışlık yapmıştır?**

- A) I ve III. B) II ve III.  
C) I ve IV. D) II ve IV.

11. • Söylev türünün ilk örnekleri, Eski Yunan ve Roma dönemlerinde ortaya konmuştur.  
• Toplanma ve söz özgürlüğünün getirilmesi söylev türünün gelişimini etkilemiştir.  
• Orhan Pamuk tanınmış bir söylevcimizdir.

**Bu cümleler doğru-yanlış olarak değerlendirildiğinde sıralama aşağıdakilerden hangisi olur?**

- A) Y – Y – D B) D – D – Y  
C) Y – D – D D) D – Y – Y

12. Bilimsel toplantılarda ilim ve fen insanların yaptıkları konuşmalara - - - - söylev denir.

**Bu cümlede boş bırakılan yere aşağıdakilerden hangisi getirilmelidir?**

- A) siyasi B) akademik  
C) hukuksal D) iktisadi

13. Aşağıdaki cümlelerin hangisinde anlatım bozukluğu vardır?

- A) Ankara'dan Antalya'ya arabayla üç saatte gitmiş.  
B) Birden çocukluğunun geçtiği Bursa'daki babaevini hatırladı.  
C) Yaz günlerinde, köpeğiyle kırlarda oynamaya bayılır.  
D) Sağlıklı, sıhhatli bir bebek dünyaya getirmiş.

14. Aşağıdakilerden hangisi tanınmış söylevciler arasında gösterilemez?

- A) Halit Ziya Uşaklıgil  
B) Mustafa Kemal Atatürk  
C) Rıza Tevfik Bölükbaşı  
D) Süleyman Nazif

15. I. İslami toplumlarda dinsel söylevlere hatip denir.  
II. Hutbe, orduların moral gücünü yükseltmeye yönelik söylevlere verilen addır.  
III. İktisadi söylev ekonomik konularda yapılan konuşmalardır.

**Söylev ile ilgili verilen numaralanmış cümlelerden hangileri yanlıştır?**

- A) Yalnız I. B) Yalnız III.  
C) I ve II. D) II ve III.

16. Büyük Türk Milleti!

On beş yıldan beri giriştiğimiz işlerde muvaffakiyet vadeden çok sözlerimi işittin. Bahtıyarım ki bu sözlerimin hiçbirinde, milletimin hakkımdaki itimadını sarsacak bir isabetsizliğe uğramadım. Bugün aynı iman ve katiyetle söylüyorum ki millî ülküye, tam bir bütünlükle yürümekte olan Türk milletinin büyük millet olduğunu, bütün medeni âlem az zamanda bir kere daha tanıyacaktır.

Mustafa Kemal Atatürk

**Bu parçanın türü aşağıdakilerden hangisidir?**

- A) Nutuk B) Mülakat  
C) Görüşme D) Röportaj

17. Aşağıdaki cümlelerin hangisinde noktanın ( . ) kullanımıyla ilgili hata yapılmıştır?

- A) Toplantının 13.30'a ertelenmesine karar verildi.  
B) Yeniçeri Ocağı, II. Mahmut tarafından kaldırılır.  
C) Hediye niçin şimdi açmıyorsun.  
D) Bu sene 25'ine basmış olacak.

18. Aşağıdaki altı çizili sözcüklerin hangisinde ses benzeşmesi yoktur?

- A) Simitçi, erkenden fırının yolunu tutmuş.  
B) Düzenli olarak buraya koşmaya gelir.  
C) Erik toplamak için çıktığı ağaçtan düştü.  
D) Arkadaşım da böcekten çok korkuyor.

19. Aşağıdakilerin hangisinde "ki" ile ilgili bir yazım yanlışlığı vardır?

- A) Benimki aldıktan iki gün sonra bozuldu.  
B) Konuyu bilmiyor ki soruları yanıtlasın.  
C) Ben, kardeşim, evdeki herkes bu gidişle sarsılacak.  
D) Duydumki unutmuşsun gözlerimin rengini.

20. Yakında tüm bölgeye barakalar konduracaklar ( ) herkes prefabrik ev diyor ( ) ne saçma değil mi ( ) Zaten her şey çok saçma burada.

**Bu parçada yay ayraçlarla gösterilen yerlere sırasıyla aşağıdaki noktalama işaretlerinden hangisi getirilmelidir?**

- A) ( ) ( ; ) ( . )  
B) ( ; ) ( . ) ( . )  
C) ( ; ) ( , ) ( ? )  
D) ( ; ) ( , ) ( . )

### (713) İSLAM KÜLTÜR VE MEDENİYETİ – 1

1. "İstanbul'da Kırkçeşme sularını Sarıyer ormanlarından uzun bir isale hattı ile İstanbul'a getiren Mimar Sinan, boru hattının her iki tarafından yirmişer arşınlık bir mesafe içinde bina, mandıra ve ahır yapımını ve gübre yığılmasını bir ferman ile yasaklattırıştır."

**Bu yasak ile aşağıdakilerden hangisi hedeflenmiştir?**

- A) Hayvancılığın geliştirilmesi  
B) Orman ve yeşilin korunması  
C) Temizlik ve sağlığın korunması  
D) Üretim ve ekonominin geliştirilmesi

## 1. OTURUM

2. İnsanın mensup olduğu dine, etnik kökene, toplumsal konuma ve cinsiyetine bakılmaksızın can, mal, namus, inanç ve aklının korunması ilkesidir.

**Tanımı verilen kavram aşağıdakilerden hangisidir?**

- A) Âdemiyet B) Sulh  
C) Merhamet D) İsar

3. Kültür ile ilgili aşağıdakilerden hangisi yanlıştır?

- A) İnsan ürünüdür.  
B) Tarihî süreçte oluşur.  
C) İnsanın ihtiyaçlarına göre şekillenir.  
D) Değişkenlik göstermez, sürekli ve sabittir.

4. Kütüb-ü Sitte adı ile bilenen eserler hangi alanda yazılmıştır?

- A) Fıkıh B) Hadis  
C) Kelam D) Tefsir

5. Bir müminin, Allah'ı görüyormuş gibi işlerini en güzel şekilde yapması anlamına gelen kavram aşağıdakilerden hangisidir?

- A) İman B) Tevekkül  
C) Tevhit D) İhsan

6. Şehir halkının şer'i emir ve yasaklara uymasını sağlamakla görevli olan, ölçü, tartı, mal ve ücretleri kontrol eden, şehirdeki ticari ve bazı amme davalarına bakan belediye teşkilatına hisbe denir.

**Buna göre İslam toplumunda hisbe faaliyetinin yerleşmesinde aşağıdaki ayetlerden hangisinin etkili olduğu söylenebilir?**

- A) "Sizden hayra çağıran, iyiliği emreden ve kötülükten sakındıran bir topluluk bulunsun..."  
(Âl-i İmrân, 104. ayet)  
B) "Kim tövbe edip iyi davranış gösterirse şüphesiz o, tövbesi kabul edilmiş olarak Allah'a döner."  
(Furkân suresi, 71. ayet)  
C) "... İş konusunda onlarla müşavere et. Bir kere de karar verip azmettin mi, artık Allah'a tevekkül et..."  
(Âl-i İmrân suresi, 59. ayet)  
D) "İnsana bir nimet verdiğimiz zaman bizden yüz çevirir ve yan çizer. Fakat ona bir şer dokunduğu zaman da yalvarıp durur."  
(Fussilet suresi, 51. ayet)

7. "İş, ehli olmayan kişilere verilince kıyameti bekle, kıyametin kopması pek yakındır."

**Bu hadiste aşağıdaki kavramlardan hangisinin önemi vurgulanmaktadır?**

- A) Sadakat B) İstişare  
C) Liyakat D) Vefa

8. Aşağıdakilerden hangisi tevhit anlayışına uygun değildir?

- A) Şirkin reddedilmesi  
B) Türbelerden medet beklenmesi  
C) Helal işlere besmele ile başlanması  
D) Her durumda Allah rızasının gözetilmesi

9. "Medeniyet, tanımı itibarıyla bütün insanlığa hitap eden tarih olgusudur. Tek kişi ya da insanlığa dönük cephesiyle medeniyet, insanın sadece fiziki ya da fizyolojik ihtiyaçlarına cevap veren bir sistem olmakla kalmaz aynı zamanda manevi-ahlaki, metafizik ve kültürel isteklerini de karşılamak amacını taşır. İnsanı bütün cepheleriyle ele alır."

**Bu tanımda medeniyetin aşağıdaki özelliklerinden hangisine ulaşılabilir?**

- A) Evrensel olduğuna  
B) Kültür ile aynı anlamda kullanıldığına  
C) Modernleşme kavramından farklı olduğuna  
D) Toplu hâlde yaşamının gereği olduğuna

10. "... Artık dileyen inansın, dileyen inkâr etsin..."  
(Kehf suresi, 29. ayet)

**Bu ayette aşağıdakilerden hangisi vurgulanmaktadır?**

- A) İnsan iradesinin sınırlı olduğu  
B) Hayatın bir gayesinin bulunduğu  
C) İnsanın özgür iradeye sahip olduğu  
D) İnsanın inanmaya yatkın bir varlık olduğu

11. Aşağıdakilerden hangisi İslamiyet'in öngördüğü sosyal düzenin amaçlarından değildir?

- A) İnsanın kabiliyetini geliştireceği ortamın hazırlanması  
B) İnsanın maddi ve manevi varlığının korunması  
C) Toplumun huzur ve barış içinde yaşaması  
D) Aynı tarzda bireylerin yetiştirilmesi

12. Aşağıdakilerden hangisi İslam toplumundaki güven ortamını vurgulayan örneklerden biri değildir?

- A) Yavuz Sultan Selim'in kutsal emanetleri İstanbul'a getirmesi  
B) 16. yüzyılın batılılar tarafından Osmanlı Barış Çağı olarak adlandırılması  
C) 19. yüzyılda Rusya'nın baskısından kaçan binlerce Macar'ın Osmanlı Devleti'ne sığınması  
D) İspanya'dan çıkarılan Yahudilerin II. Beyazıt tarafından Osmanlı topraklarına yerleştirilmesi

13. Aşağıdakilerden hangisi İslam'ın yerelliğe verdiği öneme örnek oluşturmaz?

- A) Örf ve adetlere İslam hukukunun kaynakları arasında yer vermesi  
B) Kur'an-ı Kerim'de "Ey insanlar!" hitabının sıkça yer alması  
C) Kültürel farklılıkları zenginlik olarak değerlendirmesi  
D) Kültürel asimilasyona karşı çıkması

14. I. "... Biz insana şah damarından daha yakınız."  
(Kâf suresi, 16. ayet)  
II. "Zenginlik mal çokluğu değil, göz tokluğudur."  
(Hadis-i Şerif)  
III. "Kötülüğü, en güzel olan şekilde uzaklaştır..."  
(Mü'minün suresi, 96. ayet)  
IV. "Allah bir kulumu sevdiğinde, onun işiten kulağı gören gözü, tutan eli ve yürüyen ayağı olur."  
(Hadis-i Şerif)

**Bu ayet ve hadislerin hangilerinde Allah-insan ilişkisine değinilmiştir?**

- A) I ve II. B) I ve IV.  
C) II ve III. D) III ve IV.

15. İslam toplumunda sosyal hayatı düzenleyen kavramlardan olan "isar" aşağıdakilerden hangisini ifade etmektedir?

- A) Farklı fikir ve kültürlere saygı duyma  
B) Yönetilenlere karşı adaletli davranma  
C) İhtiyaç içinde dahi kardeşini kendine tercih etme  
D) Toplumun güvenliği için gereken tedbirleri alma

# 1. OTURUM

## (817) AKAİD – 1

16. Kur'an-ı Kerim'de mülkü Allah yolunda harcamak, iyilikte yardımlaşmak, hayırda yarışmak gibi tavsiyelerle birlikte Hz. Peygamber'in de sadaka ve sadaka-i cariyeye ile ilgili hadisleri bulunmaktadır.

**Bu durum aşağıdakilerden hangisinin yaygınlaşmasında öncelikli etkili olmuştur?**

- A) Vakıf B) Tekke  
C) Mescit D) Ahilik

17. **Aşağıdakilerden hangisi İslam'ın ekonomik hayatla ilgili tutumları arasında yer almaz?**

- A) İnsana kaynakları kullanma, mülkiyet ve teşebbüs hakkı verir.  
B) Servetin Müslümanların tekelinde olmasını tavsiye eder.  
C) Çalışma hakkını ve emeği kutsal kabul eder.  
D) İnfakı tavsiye edip israf ve faizi yasaklar.

18. • Halife Me'mun tarafından 832'de Bağdat'ta kurulmuştur.  
• İnceleme araştırma kütüphanesi ve tercüme merkezi olarak faaliyet göstermiştir.  
• Tıp, matematik, kimya, tarih, coğrafya gibi pek çok alanda çalışmalarda bulunulmuştur.

**Hakkında bilgi verilen ilim merkezi aşağıdakilerden hangisidir?**

- A) Nizamiye Medreseleri  
B) Uluğbey Medresesi  
C) Beytül-Hikme  
D) Daru'l Erkam

19. **Günümüzde yaşayan en büyük el yazması kitap arşivi aşağıdakilerden hangisinde bulunmaktadır?**

- A) Bağdat Kütüphanesi  
B) İskenderiye Kütüphanesi  
C) İstanbul Beyazıt Kütüphanesi  
D) İstanbul Süleymaniye Kütüphanesi

20. Karşılıklı görüşlere saygı, bilginin kaynağının belirtilmesi, iç ve dış tenkidin yapılması ve varılan sonucun paylaşılması, ilmî güvenilirliği sağlayan ölçütler olarak dünya ilim mirasına kazandırılmıştır.

**Bu parçada İslam medeniyetindeki ilmî faaliyetlerin diğer medeniyetlere etkilerinin hangisinden bahsedilmektedir?**

- A) Ahlaki tavır  
B) Evrensellik  
C) Metodik çalışma  
D) Akli ve bütüncül tavır

1. "Şunu iyi bilin ki üzerinizde bekçiler, değerli yazıcılar vardır; onlar yapmakta olduklarınızı bilir."  
(İnfitâr suresi, 10-12. ayetler)

**Bu ayetlerde işaret edilen meleklere aşağıdakilerden hangisidir?**

- A) Mikâil  
B) İsrâfil  
C) Münker ve Nekir  
D) Kirâmen Kâtibin

2. **Küfür ve şirk ile ilgili aşağıdaki ifadelerden hangisi yanlıştır?**

- A) Her küfür şirk olarak kabul edilir.  
B) Kâfir ve müşrik cehennemi hak etmiştir.  
C) Küfür, şirke göre daha genel bir kavramdır.  
D) Küfür sayılan inançlardan biri de Allah'a ortak koşmaktır.

3. **Akıl-itikat ilişkisi ile ilgili aşağıdakilerden hangisi söylenemez?**

- A) Akıl imanın ön şartıdır.  
B) Akıl inanca götüren bir araçtır.  
C) Akıl itikadı belirler, nass ise yorumlar.  
D) Akıl inancın başkalarına aktarılmasında etkilidir.

4. "... O'nun benzeri hiçbir şey yoktur. O, iştir, görendir."  
(Şûrâ suresi, 11. ayet)

**Bu ayette Allah'ın aşağıdaki sıfatlarından hangisine değilmiştir?**

- A) Muhalefetün li'l-havâdis  
B) Kıyam bi-nefsihi  
C) Semî  
D) Basar

5. **Aşağıdakilerden hangisi "insanın gizli hâl ve günahını örten" anlamına gelen, Allah'ın isimlerinden biridir?**

- A) Afüvv B) Rahim  
C) Şâfi D) Settar

6. "Ey Peygamber! Kalpten inanmadıkları hâlde, ağızlarıyla "inandık" diyenler ile Yahudilerden küfürde yarışanlar seni üzmesin..."  
(Maide suresi, 41. ayet)

**Bu ayette iman ile ilgili aşağıdakilerden hangisinin önemi vurgulanmaktadır?**

- A) Dil ile ıkrarın  
B) Kalp ile tasdik  
C) Başkalarının şahitliğinin  
D) Amellerle ortaya koymanın

7. **Aşağıdakilerden hangisi ehl-i sünnetin iman-amel ilişkisi ile ilgili görüşleri arasında yer almaz?**

- A) Amel imanın ayrılmaz bir parçasıdır.  
B) İman ile amel arasında sıkı bir bağ vardır.  
C) Kişi işlediği günahı helal saymadıkça mümindir.  
D) İman olmadan yapılan davranış ibadet sayılmaz.

8. "Kişinin kalben Allah'ı bilip bazen diliyle ıkrar ettiği halde haset, şöhret, makam düşkünlüğü ve kavmiyetçilik gibi sebeplerle İslam'ı bir din olarak kabullenmemesini" ifade eden kavram aşağıdakilerden hangisidir?

- A) Küfr-i inkârî  
B) Küfr-i cühûd  
C) Küfr-i inâdî  
D) Küfr-i nifâk

9. En modern toplumlardan en ilkel kabilelere varıncaya kadar her seviyeden insanın bir yüce varlığa inandığı görülmektedir.

**Bu cümlede aşağıdakilerden hangisi vurgulanmaktadır?**

- A) Yüce varlığa inanmanın evrensel bir gerçeklik olduğu  
B) Kültürler arası etkileşimin kaçınılmazlığı  
C) Modern toplumlarda dinin etkisinin azaldığı  
D) Dinî yaşamın tüm toplumlarda aynı olmadığı

10. **Aşağıdakilerden hangisi İslam akaidinin temel özelliklerinden biri değildir?**

- A) Kesin delillere dayanır.  
B) İnsan yapısına uygundur.  
C) Sabit ve değişmez bir akidedir.  
D) Çok tanrılı bir anlayışı benimser.

11. **Aşağıdakilerden hangisi kişiyi küfre sokan davranışlardan biridir?**

- A) İbadetleri yerine getirmede tembel davranmak  
B) Allah'a layık olmayan sıfatlar yakıştırmak  
C) İnsanlara saygısızca davranmak  
D) İnsanlar arasında laf taşımak

12. **İhlas suresinde Allah ile ilgili aşağıdaki konuların hangisine değilmiştir?**

- A) Varlığına B) Yaratılmadığına  
C) Eşsizliğine D) Ebediliğine



# 1. OTURUM

13. "Göklerde ve yerde ne varsa O'nundur, din de yalnız O'nundur. O halde Allah'tan başkasından mı korkuyorsunuz?"  
(Nahl suresi, 52. ayet)

**Bu ayet ile aşağıdakilerden hangisi vurgulanmaktadır?**

- A) Dinin kişiye hak ile batılı gösterdiği  
B) Dinin sahibinin ve kaynağının Allah olduğu  
C) İnsanda din duygusunun doğuştan var olduğu  
D) Dinin muhatabının akıl sahibi kim-seler olduğu

14. **Aşağıdakilerden hangisi Allah'ın varlığı ve birliği konusundaki delillerin amaçlarından biri değildir?**

- A) İnsanın mutluluğuna katkı sağlamak  
B) Doğabilecek şüpheleri gidermek  
C) İncarcıları inanmaya zorlamak  
D) Müminin imanını sağlamlaştırmak

15.

1. Öncül	Âlem yaratılmıştır.
2. Öncül	Her yaratılanın bir yaratıcısı vardır.
Sonuç	O halde âlemin de bir yaratıcısı vardır ki O da Allah'tır.

**Tabloda verilen bilgiler aşağıdaki delillerden hangisine örnektir?**

- A) İmkân B) Hudûs  
C) Temânu' D) Gaye ve nizam
16. "... Şüphesiz Allah, her şeye hakkıyla gücü yetendir."  
(Nahl suresi, 77. ayet)

**Bu ayette Allah'ın sıfatlarından hangisi vurgulanmaktadır?**

- A) Kudret B) Semi  
C) Basar D) Kalam
17. **Aşağıdaki ayetlerin hangisinde münafıklardan bahsedilmektedir?**

- A) "İnsanlardan, inanmadıkları hâlde, 'Allah'a ve ahiret gününe inandık' diyenler de vardır."  
(Bakara suresi, 8. ayet)  
B) "İnkâr edip o hâlde ölenler var ya işte Allah'ın, meleklerin ve insanların hepsinin laneti onlarıdır."  
(Bakara suresi, 161. ayet)  
C) "Ey kitap ehli! Gerçeğe şahit olduğunuz hâlde niçin Allah'ın ayetlerini inkâr ediyorsunuz?"  
(Âl-i İmrân suresi, 70. ayet)  
D) "Şüphesiz, iman edip, salih amel-ler işleyenler var ya; işte onlar yaratıkların en hayırlısıdır."  
(Beyyine suresi, 7. ayet)

18. **Melekler ile ilgili verilen bilgilerden hangisi yanlıştır?**

- A) Birbirinden farklı görevleri vardır.  
B) Varlığı ayetlerle sabittir.  
C) İrade sahibi varlıklardır.  
D) Gaybı bilemezler.

19. **"Esmâ'ül-hüsna" kavramı aşağıdaki-lerden hangisini ifade etmektedir?**

- A) İslam dininin temel kaynaklarını  
B) Allah'ın varlığı ve birliğini  
C) İslam'ın inanç esaslarını  
D) Allah'ın güzel isimlerini

20. **İblis ile ilgili aşağıdaki bilgilerden hangisi yanlıştır?**

- A) Melek taifesindedir.  
B) Şeytanın özel ismidir.  
C) Ateşten yaratılmıştır.  
D) Allah'a ilk isyan eden varlıktır.

## (819) KELAM – 1

1. **Kelam ilminde "Vacib li-zatihi" ile aşağıdakilerden hangisi kastedilmektedir?**

- A) Allah B) Evren  
C) Akıl D) İnsan

2. **Aşağıdakilerden hangisi "Ashabu'l-hadis" akımının öncüsü kabul edilir?**

- A) İbn Küllâb  
B) İmam Maturidi  
C) Haris el-Muhâsibî  
D) Ahmed b. Hanbel

3. **Ulaşılan veriler üzerine düşünerek, birtakım vasıtalarla başvurarak ve delil getirerek oluşan bilgiye "nazari bilgi" denir.**

**Aşağıdakilerden hangisi nazari bilgi anlamında kullanılamaz?**

- A) İstidlali bilgi B) Kesbi bilgi  
C) Bedihi bilgi D) İktisabi bilgi

4. **Aşağıdakilerden hangisi kelam ilmini felsefeden ayıran özelliklerden biridir?**

- A) Akıl verilerini kullanması  
B) Vahyi belirleyici kaynak olarak görmesi  
C) Beş duyu organını bilgi kaynağı kabul etmesi  
D) Varlıkların başlangıç ve sonlarından bahsetmesi

5. **Aklen varlığı ve gerçekleşmesi mümkün olmayan şeylere "mümteni" denir.**

**Buna göre aşağıdakilerden hangisi mümteniye örnektir?**

- A) Bir şey hem hareketli hem hareketsiz olamaz.  
B) Ezeli olanın ebedi olması zorunludur.  
C) Yaratılanlar bir yaratıcıya muhtaçtır.  
D) Her yaratılmış olan mümkün varlıktır.

6. **Aşağıdakilerden hangisi kelam ilminin amaçlarından biridir?**

- A) Hz. Peygamber'in hayatı hakkında detaylı bilgi vermek  
B) Kişinin imanını taklitten tahkik derecesine yükseltmek  
C) İbadetlerin nasıl yapılması gerektiğini anlatmak  
D) Fikhî kurallar ortaya koymak

7. **Aşağıdakilerden hangisi itikadi hükümlerin özelliklerinden biri değildir?**

- A) Kesinlik B) Açıklık  
C) Bölünmezlik D) Değişkenlik

8. **Kelam ilminde dönüm noktası kabul edilen İmam Gazali'den önceki kelimciler - - - - kelimcileri, sonrakilere ise - - - - kelimcileri denir.**

**Bu boşluklara aşağıdakilerden hangileri getirilirse anlamca doğru olur?**

- A) halef - selef  
B) mühaddisun - mütefekkirün  
C) mütekaddimin - müteahhirin  
D) yeni ilm-i kelam dönemi - eski ilm-i kelam dönemi

9. **"Kulları içerisinde ancak bilenler Allah'a karşı gereğince saygı ve korku hisseder."  
(Fâtır suresi, 28. ayet)**

**Bu ayette aşağıdakilerden hangisinin önemi vurgulanmaktadır?**

- A) Duyu organlarının  
B) Doğru bilginin  
C) Güzel ahlakın  
D) Tebliğin

10. **Aşağıdakilerden hangisi kelam ilminin temel konularından biri değildir?**

- A) Tevhid B) Ahiret  
C) Nübüvvet D) Muamalat

# 1. OTURUM

11. Kalam âlimleri iman esaslarını "usûl-i selâse" denilen üç ana başlık altında birleştirmişlerdir.

**Aşağıdakilerden hangisi bunlardan biri değildir?**

- A) Kıssa B) Tevhid  
C) Ahiret D) Nübüvvet

12. Varlık ve madde konusu ile ilgili aşağıdaki görüşlerden hangisi kelamcılara aittir?

- A) Varlık bölünemez en küçük yapı taşlarından oluşur.  
B) Madde sonlu ve sınırlı olup varlığını bir yaratıcıya borçludur.  
C) Madde dışında varlık ide, ruh ve gaye olarak da isimlendirilir.  
D) Varlığı oluşturan ana madde su, hava, ateş ve topraktan oluşur.

13. Kalam ilmi ile ilgili aşağıdaki eserlerden hangisi İmam-ı A'zam Ebû Hanîfe'ye aittir?

- A) El-Fıkhu'l- Ekber  
B) Kitabu't Tevhîd  
C) Yeni İlm-i Kelam  
D) Muvazzah İlm-i Kelam

14. Allah'ın "hayat ve can veren" sıfatı Kur'an'ı Kerim'de aşağıdakilerden hangisi ile ifade edilir?

- A) Muhdi B) Muktedir  
C) Muhyi D) Mümin

15. "Bütün insanlar ölümlüdür. Ali de bir insandır. O hâlde Ali de ölümlüdür." Bu önerme aşağıdaki metotlardan hangisine örnek oluşturur?

- A) Parçadan bütüne veya sonuçtan sebebe gidiş  
B) Bütünden parçaya veya sebepten sonuca gidiş  
C) Parçadan parçaya gidiş  
D) Naslardan sonuca gidiş

16. Kesin olan "aklı delil" aşağıdakilerden hangisiyle isimlendirilir?

- A) Temsil B) İstikra  
C) Huccet D) Dedüksiyon

17. Aşağıdakilerden hangisi kadim varlık için kullanılan sıfatlardan biridir?

- A) Ebedi B) Hâdis  
C) Mahluk D) Fâni

18. Kalam ilminin, "İlm-i tevhid" olarak da isimlendirilmesinin öncelikli nedeni aşağıdakilerden hangisidir?

- A) Temel inanç ilkelerini konu edinmesi  
B) Fıkıhın inançla ilgili yönlerini ele alması  
C) Yöntem olarak daha çok düşünme ve akıl yürütmeyi seçmesi  
D) Konularının çoğunluğunu Allah'ın birliği ve sıfatlarının oluşturması

19. Aşağıdakilerin hangisi ilk dönem kalam konularından biri değildir?

- A) Büyük günah işleyenin durumu  
B) Kur'an'ın yaratılıp yaratılmadığı  
C) Mucize-bilim ilişkisi  
D) İmamet meselesi

20. Hz. Peygamber'in Allah'tan aldığı vahiyleri insanlara bildirmesine ne ad verilir?

- A) Tevhid B) Tevekkül  
C) Tenzil D) Tebliğ

## (931) SİYER – 1

1. Hz. Muhammed'in (sav.) aşağıdaki yakınlarından hangisi Hüzün Yılı'nda vefat etmiştir?

- A) Dedesi B) Babası  
C) Hanımı D) Annesi

2. Siyer alanında yazılan ilk eser aşağıdakilerden hangisidir?

- A) Siret-u İbni İshak  
B) Tarihu't-Taberî  
C) el-Bidâye ve'n-Nihâye  
D) Tabakâtü'l-Kübrâ

3. Hz. Peygamber'in; boyu, yüzü, gözleri, kaşları, yürüyüşü gibi cismî sıfatlarını anlatan eserler aşağıdakilerden hangisi ile isimlendirilmiştir?

- A) Miraçnâme  
B) Hilye  
C) Delâil-i Nübüvve  
D) Megazi

4. Aşağıdakilerden hangisi Arap Yarımadası'nda yer alan şehirlerden biri değildir?

- A) Mekke B) Medine  
C) Taif D) Kahire

5. Aşağıdakilerden hangisi siyer kitaplarının sınıfları arasında yer almaz?

- A) Miraçnâmeler  
B) Hicretnâmeler  
C) Seyahatnâmeler  
D) Şemâil-i Şerifeler

6. Sabîlik'te aşağıdakilerden hangisine tapılmaktadır?

- A) Ateş  
B) Bir olan Allah'a  
C) Allah'a ve putlara  
D) Yıldızlara ve Güneş'e

7. "De ki: "Ben de ancak sizin gibi bir insanım. Fakat bana ilâhınızın yalnızca bir tek ilâh olduğu vahyediliyor. Artık O'na yönelin ve O'ndan bağışlanma dileyin. Allah'a ortak koşanların vay hâline!"

(Fussilet suresi, 6. ayet)

**Bu ayette aşağıdaki inanç gruplarından hangisine öncelikle bir uyarı vardır?**

- A) Hanifler B) Müşrikler  
C) Museviler D) Hristiyanlar

8. Mekke'de putperestlik ilk defa aşağıdakilerden hangisi ile başlamıştır?

- A) Huzaa Kabilesi  
B) Cürhümlüler  
C) Kurayza Oğulları  
D) Kelp Kabilesi

9. Hz. Peygamber'in askerî faaliyetlerini konu edinen siyer kitapları aşağıdakilerden hangisidir?

- A) Magaziler  
B) Hilyeler  
C) Delâil-i Nübüvve  
D) Hasâisler

10. Haniflerin özellikleri ile ilgili aşağıda verilen bilgilerden hangisi yanlıştır?

- A) Allah'ın birliğine inanırlardı.  
B) Putlara ibadeti reddederlerdi.  
C) Cahiliye âdetlerinin çoğunu kabul ederlerdi.  
D) Kız çocuklarının öldürülmesine karşı çıkırlardı.

11. "İşlerinde doğru olarak kendini Allah'a veren ve İbrahim'in, Allah'ı bir tanıyan dinine tabi olan kimseden dince daha güzel kim vardır? Allah İbrahim'i dost edinmiştir."

(Nisâ suresi, 125. ayet.)

**Bu ayette aşağıdaki inanç gruplarından hangisine vurgu yapılmaktadır?**

- A) Hristiyanlık B) Haniflik  
C) Yahudilik D) Sabîlik

## 1. OTURUM

12. I. Bir kültür ve zihniyeti temsil eder.  
II. İslam öncesi Arap toplumunun inanç ve tutumlarını niteler.  
III. İslam'dan sonra Arap toplumunda okuma yazmanın azlığını ifade eder.

“Cahiliye Dönemi” ile ilgili bu bilgilerden hangileri doğrudur?

- A) Yalnız I. B) I ve II.  
C) Yalnız III. D) II ve III.

13. Aşağıdaki peygamberlerden hangisi Hz. Muhammed'in (sav.) atalarından biridir?

- A) Hz. Şuayb B) Hz. Yahya  
C) Hz. İsmail D) Hz. Zekeriya

14. Kâbe'nin varlığı sebebiyle Mekke şehri ve çevresi saygın ve kutsal kabul edilmiştir. Bu durumu ifade için bu bölgeye - - - - denilmiştir.

Cümlede boş bırakılan yere aşağıdaki kavramlardan hangisi getirilmelidir?

- A) beyt B) harem  
C) makdis D) ma'mur

15. Ebva Köyü'nün Hz. Peygamber' in hayatındaki önemi aşağıdakilerden hangisidir?

- A) Annesinin vefat ettiği yer olması  
B) Sütannesinin yaşadığı yer olması  
C) Babasının kabrinin orada bulunması  
D) Amcası ile ticaret için ilk defa oraya gitmesi

16. Aşağıdakilerden hangisi İslam öncesi Arap toplumundaki sosyal sınıflardan birini ifade etmek için kullanılan kavramlardan değildir?

- A) Hürler B) Mevali  
C) Köleler D) Paryalar

17. İslam öncesi Kusay bin Kilap tarafından kurulan şehir yönetim meclisi aşağıdakilerden hangisidir?

- A) Darü'n- Nedve  
B) Darü'l-Midras  
C) Hilfu'l Fudul  
D) Sıffe

18. İslam öncesi Mekke'de düzenlenen Ukaz Panayırında jüri tarafından seçilen yedi şiir Kâbe'nin duvarına asılırdı.

Bu şiirlere verilen ad aşağıdakilerden hangisidir?

- A) Huruf-u mukattaa  
B) Zü'l-mecaz  
C) Muallakayı Seb'a  
D) Hüsn-ü ta'îl

19. Hz. Muhammed (sav.) aşağıdakilerden hangisi için hakemlik yapmıştır?

- A) Hacılara su dağıtma işi  
B) Kâbe örtüsünün asılması  
C) Kâbe anahtarının korunması  
D) Hacer'ül Esved'in yerine konulması

20. Hz. Muhammed'in (sav.) annesi aşağıdakilerden hangisidir?

- A) Hz. Hatice B) Hz. Amine  
C) Hz. Halime D) Hz. Zeynep

### (974) SEÇ. GİRİŞİMCİLİK – 1

1. Tüm işletmelerde birimlerin çalışırken birbirleri ile uyumlu olması şartı, yönetimin temel işlevlerinden hangisi ile ilgilidir?

- A) Planlama  
B) Organizasyon  
C) Koordinasyon  
D) Sevk ve idare

2. Daha önceden üretilip, üretimde kullanılan tüm değerlerin karşılığı aşağıdakilerden hangisidir?

- A) Emek  
B) Üretim  
C) Sermaye  
D) Doğal kaynaklar

3. Fırsat müteşebbisliği türünde, aşağıdakilerden hangisi yapılmaz?

- A) Pazar fırsatlarını değerlendirmek.  
B) Piyasaya herkesten önce girmek.  
C) Yeni bir buluş üzerinde çalışmak.  
D) İhtiyaç duyulan malları önceden fark etmek.

4. Aşağıdakilerden hangisi, müteşebbisin ekonomik bir kaynak olduğunu göstermez?

- A) Risk alması  
B) Kâr amacı gütmemesi  
C) Mal ve hizmet üretmeyi hedeflemesi  
D) Üretim faktörlerini bir araya getirmesi

5. Aşağıdakilerden hangisi, dünyada müteşebbisliğin önemli bir konuma sahip olmasının nedenlerinden biri değildir?

- A) İthalatın artmasını sağlar.  
B) İşsizlikle mücadele eder.  
C) Bilimin gelişmesini sağlar.  
D) Kamu hizmetlerinin kalitesini artırır.

6. Bilim adamı Abraham H. Maslow'un ihtiyaç hiyerarşisine göre, diğer bütün gereksinimlerini karşılayan insanlarda görülebilecek ihtiyaç hangisidir?

- A) Fizyolojik B) Başarma  
C) Saygı D) Ait olma

7. Başka fiziksel malların yapımı için kullanılan, temel özellikleri kısmen yada tamamen değişen mal türü aşağıdakilerden hangisidir?

- A) Hammaddeler  
B) İşletme gereçleri  
C) Yatırım donatım malları  
D) Üretim gereçleri ve parçaları

8. Aşağıdakilerden hangisi arz kapsamında değerlendirilecek özelliklerden biridir?

- A) Kâr sağlama  
B) Topluma hizmet etme  
C) İşletmenin yaşamını sürdürme  
D) Belli bir fiyat karşılığının olması

9. Bir işletmenin iş güvenliği ile ilgili yapacakları, aşağıda verilenlerden hangisi kapsamında planlanmalıdır?

- A) İşletmenin işlevleri  
B) İşletmenin özellikleri  
C) İşletmenin özel amaçları  
D) İşletmenin genel amaçları

10. Aşağıdakilerden hangisi, işletme yönetiminde başarılı bir yöneticinin "Destekleyicilik" niteliğini göstermektedir?

- A) Tutarlı davranışlar gösterme  
B) Kişisel heyecanını kanıtlama  
C) Başarıyı arama, bulma ve kullanma  
D) Etkileme ve duygularını anlayabilme

11. Üretim yönetimi dönüşüm sürecinde aşağıdakilerden hangisi çıktı olarak kabul edilir?

- A) Emek B) Sermaye  
C) Girişimci D) Hizmetler

# 1. OTURUM

12. Aşağıdakilerden hangisi müteşebbislerin teminat altına alınmış haklarından biri değildir?

- A) İsteddiği kârı elde etme hakkı
- B) Sözleşme yapma hakkı
- C) Meslek seçme hakkı
- D) Mülkiyet hakkı

13. Aşağıdakilerden hangisi planlamada uyulacak kural olarak görülmez?

- A) Uygun bir süreyi kapsmalıdır.
- B) Kesin uygulanabilir olmalıdır.
- C) Basit ve anlaşılır olmalıdır.
- D) Dengeli olmalıdır.

14. Aşağıdakilerden hangisi etkili denetimin ilkelerine aykırı bir açıklamadır?

- A) Denetleme esnek olmalıdır.
- B) Denetleme gizli olmalıdır.
- C) Denetleme şekli işletmeye uygun olmalıdır.
- D) Denetlenme standartları önceden belirlenmelidir.

15. Aşağıdakilerden hangisi bir işletmenin şirket olma şartlarına uygun değildir?

- A) Ortak bir amaç olmalıdır.
- B) Ortaklar arası bir anlaşma olmalıdır.
- C) Şirket kuranların sayısı en az bir olmalıdır.
- D) Ortak üretim elemanlarına sahip olmalıdır.

16. Aşağıdakilerden hangisi İktisadi Devlet Teşekkülü değildir?

- A) Boru Hatları ile Petrol Taşıma AŞ
- B) Türkiye Kömür İşletmeleri
- C) Devlet Malzeme Ofisi
- D) Türkiye Cumhuriyeti Devlet Demiryolları

17. Limitet şirketler en az kaç ortak tarafından kurulabilir?

- A) 2 B) 4 C) 6 D) 10

18. Satış sürecinin aşamalarıyla ilgili olarak aşağıda verilenlerden hangisi yanlıştır?

- A) Satışın gerçekleştirilmesi
- B) İlginin isteğe dönüşmesi
- C) İsteğin arza dönüşmesi
- D) Dikkat çekme

19. Seçici talebi yaratmaya yönelik bir reklam, aşağıda verilen reklam çeşitlerinden hangisi açısından değerlendirilmelidir?

- A) Reklam içeriği açısından
- B) Hedef kitle açısından
- C) Yapanlar açısından
- D) Amaçlar açısından

20. Sosyal sorumluluk ile ilgili kalite belgesi aşağıdakilerden hangisidir?

- A) ISO 8000 B) ISO 9000
- C) ISO 14000 D) ISO 22000

## (999) MATEMATİK – 2

1. Aşağıdaki sayılardan hangisi hem 3 hem de 5 ile tam bölünür?

- A) 9350 B) 8016
- C) 7125 D) 6340

2. Altı basamaklı 368 734 sayısının 9 ile bölümünden kalan kaçtır?

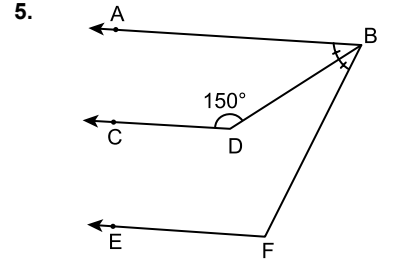
- A) 3 B) 4 C) 5 D) 7

3. Boyutları 4 cm, 8 cm ve 10 cm olan dikdörtgenler prizmasından en az kaç tanesi yan yana, arka arkaya ve üst üste getirilirse bir küp oluşturulabilir?

- A) 120 B) 160 C) 200 D) 320

4. Bugün salı olduğuna göre 15 gün sonra hangi gündür?

- A) Pazar B) Pazartesi
- C) Salı D) Çarşamba

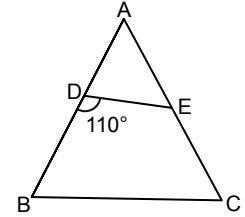


Şekilde  $[BA \parallel DC \parallel FE]$ ,  
 $m(\widehat{ABD}) = m(\widehat{DBF})$  ve  
 $m(\widehat{CDB}) = 150^\circ$  dir.

Buna göre  $m(\widehat{EFB})$  kaç derecedir?

- A) 120 B) 125 C) 130 D) 140

6.

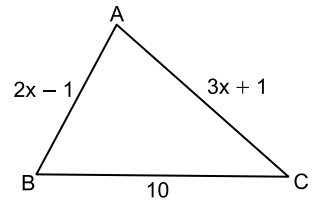


Şekilde ABC eşkenar üçgen ve  
 $m(\widehat{BDE}) = 110^\circ$  dir.

Buna göre  $m(\widehat{DEC})$  kaç derecedir?

- A) 120 B) 130 C) 140 D) 150

7.



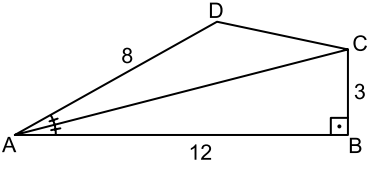
Şekildeki ABC üçgeninde  
 $|AB| = (2x - 1)$  cm,  $|AC| = (3x + 1)$  cm  
ve  $|BC| = 10$  cm'dir.

Buna göre x'in bulunduğu en geniş aralık aşağıdakilerden hangisidir?

- A) (5, 11) B) (4, 10)
- C) (3, 9) D) (2, 8)

# 1. OTURUM

8.

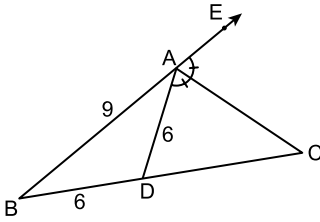


Şekildeki ABCD dörtgeninde  $m(\widehat{ABC}) = 90^\circ$ ,  $m(\widehat{DAC}) = m(\widehat{BAC})$  ve  $|AD| = 8$  cm,  $|AB| = 12$  cm,  $|BC| = 3$  cm'dir.

**Buna göre  $|DC|$  kaç santimetredir?**

- A) 4 B) 5 C) 6 D) 7

9.

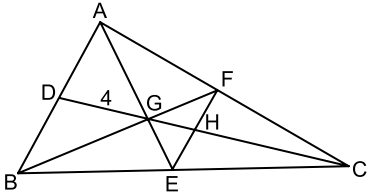


Şekilde ABC bir üçgen, B, A, E noktaları doğrusal,  $m(\widehat{DAC}) = m(\widehat{EAC})$  ve  $|AB| = 9$  cm,  $|BD| = |DA| = 6$  cm'dir.

**Buna göre  $|DC|$  kaç santimetredir?**

- A) 8 B) 10 C) 12 D) 14

10.

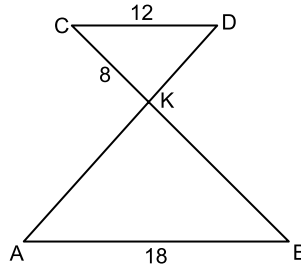


Şekilde G noktası ABC üçgeninin kenarortaylarının kesim noktası ve  $|DG| = 4$  cm'dir.

**Buna göre  $|HC|$  kaç santimetredir?**

- A) 5 B) 6 C) 8 D) 9

11.

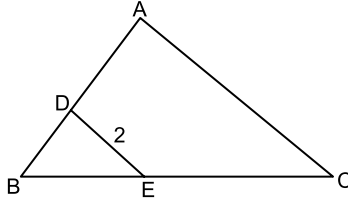


Şekildeki KAB ve KCD üçgenlerinde  $[AD] \cap [BC] = \{K\}$ ,  $[AB] \parallel [CD]$  ve  $|AB| = 18$  cm,  $|CD| = 12$  cm,  $|CK| = 8$  cm'dir.

**Buna göre  $|KB|$  kaç santimetredir?**

- A) 12 B) 13 C) 14 D) 15

12.

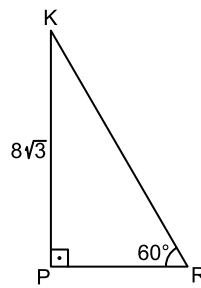


Şekildeki BAC üçgeninde  $[DE] \parallel [AC]$ ,  $|EC| = 4|BE|$  ve  $|DE| = 2$  cm'dir.

**Buna göre  $|AC|$  kaç santimetredir?**

- A) 4 B) 6 C) 8 D) 10

13.

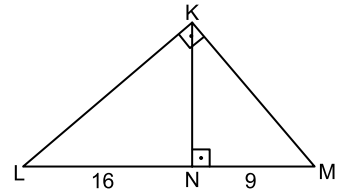


Şekildeki KPR üçgeninde  $[KP] \perp [PR]$ ,  $m(\widehat{KRP}) = 60^\circ$  ve  $|KP| = 8\sqrt{3}$  cm'dir.

**Buna göre  $|KR|$  kaç santimetredir?**

- A) 8 B)  $12\sqrt{3}$   
C) 16 D)  $16\sqrt{3}$

14.

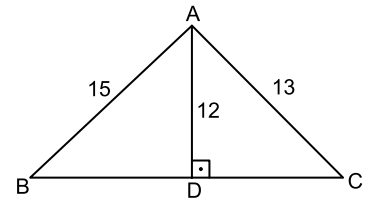


Şekildeki KLM üçgeninde  $[KL] \perp [KM]$ ,  $[KN] \perp [LM]$  ve  $|LN| = 16$  cm,  $|NM| = 9$  cm'dir.

**Buna göre  $|KN|$  kaç santimetredir?**

- A) 14 B) 12 C) 10 D) 8

15.



Şekildeki ABC üçgeninde  $[AD] \perp [BC]$  ve  $|AB| = 15$  cm,  $|AD| = 12$  cm,  $|AC| = 13$  cm'dir.

**Buna göre  $|BC|$  kaç santimetredir?**

- A) 10 B) 12 C) 14 D) 16

16. Bir kenarının uzunluğu 4 cm olan eşkenar üçgenin alanı kaç santimetrekaredir?

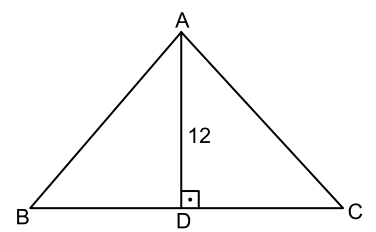
- A) 2 B)  $2\sqrt{3}$   
C) 4 D)  $4\sqrt{3}$

17. Üç kişinin ağırlıkları 63 kg, 70 kg ve 72 kg'dır.

**Bu üç kişiye bir kişi daha katıldığında ağırlıkları ortalaması 70 kg olduğuna göre katılan kişinin ağırlığı kaç kilogramdır?**

- A) 65 B) 70 C) 72 D) 75

18.



Şekildeki ABC üçgeninde  $[AD] \perp [BC]$  ve  $|AD| = 12$  cm'dir.

**$A(\widehat{ABC}) = 60$  cm<sup>2</sup> olduğuna göre  $|BC|$  kaç santimetredir?**

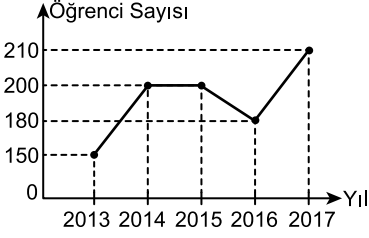
- A) 10 B) 9 C) 8 D) 7

## 1. OTURUM

19. 3, 2, 6, 1, 5, 1, 2, 6, 4, 5, 2, 6 sayılarından oluşan veri grubunun tepe değeri kaçtır?

- A) 2 ve 6                      B) 2  
C) 6                              D) 3 ve 4

20.



Şekildeki grafikte bir okula 2013 – 2017 yılları arasında kayıt yaptıran öğrencilerin sayısının yıllara göre değişimi verilmiştir.

**Grafiğe göre bu okula kayıt yaptıran öğrencilerin sayıları ile ilgili olarak aşağıdakilerden hangisi doğrudur?**

- A) 2013 yılında en çoktur.  
B) 2017 yılında en azdır.  
C) 2014 ve 2015 yıllarında eşittir.  
D) 2013 – 2017 yılları arasında sürekli artmıştır.

**TEST BİTTİ.  
CEVAPLARINIZI KONTROL EDİNİZ.**



## CEVAP KÂĞIDI VE SORU KİTAPÇIĞI İLE İLGİLİ AÇIKLAMALAR

1. Cevap kâğıdınızdaki bilgilerin doğruluğunu kontrol ediniz ve cevap kâğıdınızı mürekkepli kalemle imzalayınız.
2. Cevap kâğıdı üzerinde kodlamalarınızı siyah kurşun kalemle yapınız.
3. Değiştirmek istediğiniz bir cevabı, yumuşak silgiyle cevap kâğıdını örselemeden temizce siliniz ve yeni cevabınızı kodlayınız.
4. Soru kitapçığının sayfalarını görevlilerin uyarıları doğrultusunda kontrol ediniz, baskı hatası var ise değiştirilmesini sağlayınız.
5. Soruların çözümü için size ayrıca boş kâğıt verilmeyecektir. Soru kitapçığının içindeki boş alanları soru çözümleri için kullanabilirsiniz.
6. Her sorunun dört seçeneğinden sadece biri doğrudur. Doğru seçeneği, cevap kâğıdınızın ilgili sütununa soru numarasını dikkate alarak yuvarlağın dışına taşımadan kodlayınız. Soru kitapçığı üzerinde yapılan cevaplandırmalar dikkate alınmayacaktır.
7. Cevaplamaya istediğiniz dersin sorusundan başlayabilirsiniz. Cevabını bilmediğiniz sorular üzerinde fazla zaman kaybetmeden diğer sorulara geçiniz. Zamanınız kalırsa bu sorulara daha sonra dönebilirsiniz.
8. Yanlış cevaplarınız dikkate alınmadan sadece doğru cevaplarınız üzerinden puanlama yapılacaktır.
9. Soruları ve sorulara verdiğiniz cevapları, yanınızda götürmek amacıyla kaydetmeyiniz; hiçbir şekilde dışarı çıkarmayınız.
10. Sınav bitiminde soru kitapçığı ve cevap kâğıdını salon görevlilerine teslim ediniz.

## SALON GÖREVLİLERİNCE SINAV BAŞLAMADAN ÖNCE ADAYLARA YAPILACAK SON UYARILAR

- Soracağınız bir şey varsa şimdi sorunuz, sınav başladıktan sonra sorularınıza cevap verilmeyecektir.
- Başlama zilini bekleyiniz.

*Hepinize başarılar dileriz.*

(Salon başkanı başlama ve bitiş saatini tahtaya yazacaktır.)

Bu kitapçığın her hakkı saklıdır. Hangi amaçla olursa olsun, kitapçığın tamamının veya bir kısmının Millî Eğitim Bakanlığı Ölçme, Değerlendirme ve Sınav Hizmetleri Genel Müdürlüğünün yazılı izni olmadan kopya edilmesi, fotoğraflarının çekilmesi, bilgisayar ortamına alınması, herhangi bir yolla çoğaltılması, yayımlanması veya başka bir amaçla kullanılması yasaktır. Bu yasağa uymayanlar, doğabilecek cezai sorumluluğu ve kitapçığın hazırlanmasındaki mali külfeti peşinen kabullenmiş sayılır.



**06 EKİM 2018 TARİHİNDE YAPILAN AÇIKÖĞRETİM LİSESİ / MESLEKİ AÇIKÖĞRETİM LİSESİ /  
AÇIKÖĞRETİM İMAM HATİP LİSESİ  
2017-2018 ÖĞRETİM YILI EK SINAVI 1. OTURUM T KİTAPÇIĞI CEVAP ANAHTARI**

**(111) DİN KÜL. AHL. BİL. – 1**

1. A
2. D
3. C
4. B
5. C
6. D
7. B
8. A
9. B
10. C
11. C
12. B
13. A
14. D
15. C
16. D
17. B
18. A
19. D
20. C

**(114) DİN KÜL. AHL. BİL. – 4**

1. D
2. B
3. A
4. C
5. A
6. B
7. D
8. C
9. B
10. A
11. A
12. C
13. D
14. B
15. C
16. A
17. D
18. B
19. D
20. C

**(121) FELSEFE – 1**

1. B
2. C
3. D
4. A
5. D
6. C
7. D
8. A
9. B
10. C
11. A
12. B
13. D
14. A
15. C
16. B
17. A
18. B
19. D
20. C

**(132) TARİH – 2**

1. D
2. A
3. B
4. B
5. C
6. D
7. C
8. A
9. A
10. B
11. A
12. D
13. A
14. B
15. A
16. C
17. D
18. C
19. D
20. B

**(112) DİN KÜL. AHL. BİL. – 2**

1. B
2. A
3. D
4. A
5. D
6. B
7. C
8. D
9. A
10. B
11. B
12. C
13. C
14. B
15. D
16. A
17. B
18. D
19. A
20. C

**(115) DİN KÜL. AHL. BİL. – 5**

1. C
2. A
3. B
4. D
5. B
6. C
7. D
8. A
9. C
10. D
11. B
12. A
13. D
14. A
15. B
16. C
17. B
18. A
19. C
20. D

**(123) SEÇMELİ FELSEFE – 1**

1. A
2. B
3. D
4. B
5. A
6. C
7. B
8. D
9. B
10. C
11. D
12. C
13. C
14. A
15. D
16. A
17. C
18. D
19. A
20. B

**(133) TARİH – 3**

1. D
2. A
3. C
4. B
5. A
6. D
7. B
8. C
9. A
10. D
11. B
12. D
13. A
14. A
15. C
16. B
17. D
18. D
19. A
20. C

**06 EKİM 2018 TARİHİNDE YAPILAN AÇIKÖĞRETİM LİSESİ / MESLEKİ AÇIKÖĞRETİM LİSESİ /  
AÇIKÖĞRETİM İMAM HATİP LİSESİ  
2017-2018 ÖĞRETİM YILI EK SINAVI 1. OTURUM T KİTAPÇIĞI CEVAP ANAHTARI**

(136) SEÇ. TARİH – 2	(151) COĞRAFYA – 1	(155) SEÇ. COĞRAFYA – 1	(163) MATEMATİK – 3
1. D 2. A 3. D 4. B 5. A 6. C 7. A 8. C 9. B 10. B 11. A 12. D 13. D 14. C 15. A 16. D 17. C 18. A 19. C 20. B	1. A 2. B 3. D 4. C 5. A 6. B 7. C 8. A 9. D 10. D 11. B 12. C 13. C 14. A 15. C 16. D 17. D 18. A 19. B 20. B	1. A 2. D 3. C 4. B 5. A 6. A 7. D 8. D 9. C 10. B 11. B 12. A 13. C 14. B 15. D 16. A 17. B 18. C 19. C 20. D	1. A 2. D 3. B 4. B 5. C 6. A 7. C 8. A 9. D 10. A 11. A 12. B 13. C 14. C 15. D 16. B 17. C 18. D 19. D 20. A
(142) T.C. İNK. TAR. VE ATA-TÜRKÇÜLÜK - 2	(153) COĞRAFYA – 3	(157) SEÇ. COĞRAFYA – 3	(181) İNGİLİZCE – 1
1. A 2. C 3. B 4. D 5. B 6. C 7. A 8. C 9. B 10. D 11. C 12. B 13. D 14. A 15. C 16. D 17. A 18. D 19. A 20. B	1. B 2. C 3. D 4. A 5. A 6. C 7. B 8. A 9. B 10. D 11. D 12. A 13. C 14. A 15. B 16. C 17. C 18. D 19. B 20. D	1. D 2. A 3. B 4. C 5. B 6. A 7. B 8. D 9. A 10. C 11. C 12. B 13. D 14. A 15. C 16. D 17. A 18. B 19. C 20. D	1. A 2. C 3. D 4. A 5. B 6. B 7. D 8. B 9. C 10. A 11. A 12. C 13. A 14. B 15. D 16. C 17. D 18. C 19. A 20. B

**06 EKİM 2018 TARİHİNDE YAPILAN AÇIKÖĞRETİM LİSESİ / MESLEKİ AÇIKÖĞRETİM LİSESİ /  
AÇIKÖĞRETİM İMAM HATİP LİSESİ  
2017-2018 ÖĞRETİM YILI EK SINAVI 1. OTURUM T KİTAPÇIĞI CEVAP ANAHTARI**

**(181) ALMANCA – 1**

1. A
2. C
3. D
4. D
5. B
6. A
7. B
8. C
9. A
10. D
11. B
12. B
13. A
14. B
15. D
16. C
17. C
18. A
19. D
20. C

**(206) SEÇ. PSİKOLOJİ – 1**

1. C
2. A
3. D
4. C
5. A
6. B
7. B
8. D
9. A
10. C
11. B
12. C
13. D
14. D
15. B
16. C
17. A
18. B
19. A
20. D

**(242) İNGİLİZCE – 3**

1. D
2. C
3. B
4. C
5. A
6. C
7. D
8. B
9. B
10. C
11. B
12. A
13. D
14. D
15. C
16. A
17. B
18. C
19. A
20. B

**(242) FRANSIZCA – 3**

1. C
2. D
3. B
4. C
5. D
6. A
7. B
8. C
9. A
10. D
11. A
12. D
13. B
14. D
15. A
16. B
17. B
18. D
19. A
20. C

**(181) FRANSIZCA – 1**

1. A
2. C
3. C
4. A
5. C
6. B
7. A
8. C
9. D
10. B
11. D
12. C
13. A
14. C
15. B
16. D
17. B
18. B
19. A
20. D

**(222) SAĞ. BİL. VE  
TRAFİK KÜLTÜRÜ – 2**

1. A
2. B
3. C
4. A
5. D
6. C
7. B
8. D
9. A
10. C
11. B
12. D
13. A
14. B
15. C
16. D
17. D
18. B
19. A
20. C

**(242) ALMANCA – 3**

1. D
2. B
3. C
4. A
5. B
6. C
7. A
8. C
9. A
10. B
11. C
12. D
13. B
14. C
15. D
16. A
17. B
18. D
19. D
20. A

**(244) İNGİLİZCE – 5**

1. C
2. A
3. B
4. D
5. B
6. D
7. A
8. C
9. D
10. A
11. C
12. D
13. A
14. D
15. B
16. B
17. C
18. D
19. A
20. C

06 EKİM 2018 TARİHİNDE YAPILAN AÇIKÖĞRETİM LİSESİ / MESLEKİ AÇIKÖĞRETİM LİSESİ /  
AÇIKÖĞRETİM İMAM HATİP LİSESİ  
2017-2018 ÖĞRETİM YILI EK SINAVI 1. OTURUM T KİTAPÇIĞI CEVAP ANAHTARI

(244) ALMANCA – 5

1. A
2. D
3. B
4. A
5. D
6. C
7. B
8. C
9. D
10. B
11. A
12. C
13. D
14. B
15. A
16. B
17. D
18. C
19. A
20. C

(401) DİL ve ANLATIM – 1

1. C
2. A
3. B
4. A
5. C
6. B
7. C
8. A
9. D
10. D
11. D
12. C
13. D
14. C
15. A
16. B
17. A
18. D
19. C
20. D

(405) DİL ve ANLATIM – 5

1. D
2. A
3. B
4. C
5. A
6. D
7. B
8. B
9. C
10. A
11. B
12. C
13. B
14. D
15. C
16. A
17. B
18. A
19. C
20. D

(408) DİL ve ANLATIM – 8

1. A
2. C
3. A
4. C
5. D
6. A
7. D
8. D
9. A
10. B
11. C
12. B
13. C
14. B
15. C
16. B
17. C
18. D
19. B
20. D

(244) FRANZIZCA – 5

1. A
2. C
3. A
4. D
5. D
6. B
7. A
8. C
9. B
10. A
11. D
12. C
13. D
14. C
15. B
16. A
17. B
18. C
19. A
20. D

(402) DİL ve ANLATIM – 2

1. C
2. A
3. C
4. A
5. D
6. A
7. A
8. D
9. B
10. B
11. B
12. D
13. C
14. A
15. C
16. B
17. D
18. C
19. B
20. B

(407) DİL ve ANLATIM – 7

1. A
2. D
3. B
4. C
5. C
6. C
7. D
8. A
9. C
10. B
11. A
12. B
13. D
14. C
15. B
16. A
17. B
18. D
19. D
20. D

(413) TÜRK EDEBİYATI – 3

1. A
2. B
3. D
4. A
5. C
6. D
7. C
8. B
9. C
10. B
11. D
12. C
13. B
14. D
15. C
16. A
17. A
18. C
19. D
20. A

06 EKİM 2018 TARİHİNDE YAPILAN AÇIKÖĞRETİM LİSESİ / MESLEKİ AÇIKÖĞRETİM LİSESİ /  
AÇIKÖĞRETİM İMAM HATİP LİSESİ  
2017-2018 ÖĞRETİM YILI EK SINAVI 1. OTURUM T KİTAPÇIĞI CEVAP ANAHTARI

(414) TÜRK EDEBİYATI – 4

1. D
2. B
3. D
4. C
5. D
6. A
7. A
8. C
9. C
10. B
11. A
12. D
13. A
14. C
15. D
16. C
17. C
18. B
19. B
20. C

(418) TÜRK EDEBİYATI – 8

1. D
2. B
3. A
4. C
5. D
6. B
7. A
8. D
9. A
10. B
11. D
12. C
13. C
14. D
15. A
16. C
17. A
18. D
19. D
20. C

(432) KİMYA – 2

1. D
2. A
3. A
4. D
5. B
6. B
7. C
8. A
9. C
10. D
11. C
12. C
13. A
14. D
15. D
16. C
17. B
18. B
19. A
20. B

(441) BİYOLOJİ – 1

1. D
2. C
3. A
4. A
5. B
6. C
7. D
8. D
9. B
10. B
11. C
12. A
13. B
14. A
15. D
16. C
17. A
18. C
19. D
20. B

(417) TÜRK EDEBİYATI – 7

1. D
2. A
3. B
4. A
5. D
6. D
7. C
8. D
9. C
10. B
11. D
12. A
13. C
14. B
15. D
16. A
17. C
18. A
19. C
20. B

(421) FİZİK – 1

1. A
2. A
3. C
4. D
5. D
6. B
7. D
8. C
9. C
10. B
11. B
12. D
13. A
14. C
15. D
16. A
17. A
18. C
19. B
20. B

(434) KİMYA – 4

1. A
2. D
3. B
4. C
5. D
6. D
7. B
8. B
9. A
10. C
11. C
12. D
13. C
14. A
15. C
16. C
17. B
18. D
19. B
20. A

(443) BİYOLOJİ – 3

1. C
2. A
3. B
4. C
5. C
6. B
7. D
8. A
9. A
10. D
11. D
12. B
13. A
14. C
15. D
16. A
17. B
18. C
19. B
20. D

**06 EKİM 2018 TARİHİNDE YAPILAN AÇIKÖĞRETİM LİSESİ / MESLEKİ AÇIKÖĞRETİM LİSESİ /  
AÇIKÖĞRETİM İMAM HATİP LİSESİ  
2017-2018 ÖĞRETİM YILI EK SINAVI 1. OTURUM T KİTAPÇIĞI CEVAP ANAHTARI**

(461) SEÇ. EKONOMİ – 1	(477) SEÇ. İŞLETME – 2	(484) SAĞLIK BİLGİSİ – 2	(500) İNGİLİZCE – 6
1. D 2. B 3. A 4. C 5. D 6. B 7. B 8. C 9. C 10. A 11. D 12. D 13. C 14. B 15. A 16. D 17. A 18. B 19. A 20. C	1. C 2. C 3. B 4. A 5. A 6. C 7. D 8. B 9. A 10. C 11. B 12. A 13. D 14. B 15. C 16. A 17. D 18. C 19. B 20. D	1. B 2. D 3. A 4. B 5. D 6. C 7. B 8. A 9. C 10. C 11. D 12. C 13. B 14. A 15. D 16. B 17. A 18. B 19. D 20. C	1. C 2. A 3. B 4. D 5. B 6. C 7. A 8. D 9. D 10. B 11. D 12. A 13. D 14. C 15. B 16. A 17. D 18. A 19. B 20. C
(465) TEMEL DİNİ BİL. – 1	(478) SEÇ. MANTIK – 1	(491) TRAF. VE İLK YARD. – 1	(500) ALMANCA – 6
1. B 2. D 3. C 4. A 5. D 6. C 7. B 8. A 9. C 10. A 11. B 12. D 13. A 14. B 15. C 16. D 17. C 18. A 19. D 20. B	1. B 2. A 3. D 4. A 5. B 6. B 7. D 8. A 9. C 10. B 11. C 12. D 13. C 14. B 15. A 16. D 17. C 18. C 19. D 20. A	1. D 2. C 3. A 4. D 5. B 6. A 7. C 8. D 9. B 10. A 11. B 12. C 13. B 14. A 15. A 16. D 17. C 18. D 19. B 20. C	1. B 2. C 3. A 4. D 5. C 6. A 7. B 8. C 9. C 10. D 11. B 12. A 13. D 14. B 15. C 16. A 17. D 18. C 19. D 20. B

**06 EKİM 2018 TARİHİNDE YAPILAN AÇIKÖĞRETİM LİSESİ / MESLEKİ AÇIKÖĞRETİM LİSESİ /  
AÇIKÖĞRETİM İMAM HATİP LİSESİ  
2017-2018 ÖĞRETİM YILI EK SINAVI 1. OTURUM T KİTAPÇIĞI CEVAP ANAHTARI**

(500) FRANSIZCA – 6	(502) ALMANCA – 8	(511) FIKIH – 1	(533) SEÇMELİ PEYGAMBERİMİZİN HAY.-3
1. C	1. C	1. B	1. B
2. B	2. D	2. A	2. A
3. D	3. B	3. D	3. D
4. A	4. C	4. C	4. B
5. D	5. D	5. B	5. A
6. D	6. B	6. D	6. B
7. A	7. C	7. A	7. C
8. B	8. A	8. C	8. C
9. C	9. C	9. B	9. B
10. A	10. B	10. A	10. D
11. D	11. A	11. A	11. B
12. B	12. D	12. D	12. C
13. A	13. B	13. A	13. C
14. C	14. D	14. B	14. B
15. B	15. B	15. A	15. A
16. A	16. A	16. C	16. C
17. D	17. A	17. D	17. D
18. C	18. C	18. B	18. A
19. B	19. A	19. D	19. C
20. A	20. D	20. A	20. A
(502) İNGİLİZCE – 8	(502) FRANSIZCA – 8	(532) SEÇMELİ PEYGAMBERİMİZİN HAY.-2	(611) KARŞ. DİN. TARİHİ – 1
1. D	1. B	1. B	1. D
2. C	2. C	2. A	2. B
3. A	3. D	3. D	3. A
4. A	4. B	4. C	4. C
5. B	5. C	5. D	5. A
6. D	6. A	6. C	6. C
7. B	7. D	7. D	7. A
8. B	8. B	8. B	8. D
9. C	9. D	9. A	9. D
10. A	10. C	10. D	10. C
11. A	11. C	11. B	11. D
12. B	12. A	12. A	12. B
13. C	13. B	13. C	13. A
14. A	14. A	14. C	14. C
15. C	15. C	15. A	15. C
16. D	16. D	16. B	16. D
17. B	17. D	17. C	17. B
18. D	18. A	18. B	18. B
19. A	19. C	19. C	19. A
20. C	20. B	20. D	20. D

06 EKİM 2018 TARİHİNDE YAPILAN AÇIKÖĞRETİM LİSESİ / MESLEKİ AÇIKÖĞRETİM LİSESİ /  
AÇIKÖĞRETİM İMAM HATİP LİSESİ  
2017-2018 ÖĞRETİM YILI EK SINAVI 1. OTURUM T KİTAPÇIĞI CEVAP ANAHTARI

(616) SEÇ. DİL ve ANLA. – 6

1. C
2. A
3. C
4. A
5. D
6. C
7. B
8. D
9. A
10. B
11. B
12. B
13. D
14. A
15. C
16. A
17. C
18. B
19. D
20. C

(817) AKAİD – 1

1. D
2. A
3. C
4. B
5. D
6. B
7. A
8. C
9. A
10. D
11. B
12. D
13. B
14. C
15. B
16. A
17. A
18. C
19. D
20. A

(931) SİYER – 1

1. C
2. A
3. B
4. D
5. C
6. D
7. B
8. A
9. A
10. C
11. B
12. B
13. C
14. B
15. A
16. D
17. A
18. C
19. D
20. B

(999) MATEMATİK – 2

1. C
2. B
3. C
4. D
5. A
6. B
7. D
8. B
9. C
10. B
11. A
12. D
13. C
14. B
15. C
16. D
17. D
18. A
19. A
20. C

(713) İSLAM KÜLTÜR  
VE MEDENİYETİ – 1

1. C
2. A
3. D
4. B
5. D
6. A
7. C
8. B
9. A
10. C
11. D
12. A
13. B
14. B
15. C
16. A
17. B
18. C
19. D
20. A

(819) KELAM – 1

1. A
2. D
3. C
4. B
5. A
6. B
7. D
8. C
9. B
10. D
11. A
12. B
13. A
14. C
15. B
16. C
17. A
18. D
19. C
20. D

(974) SEÇ. GİRİŞİMCİLİK – 1

1. C
2. C
3. C
4. B
5. A
6. B
7. A
8. D
9. C
10. D
11. D
12. A
13. B
14. B
15. C
16. D
17. A
18. C
19. D
20. A