

T.C.  
MİLLÎ EĞİTİM BAKANLIĞI  
ÖLÇME, DEĞERLENDİRME VE  
SINAV HİZMETLERİ GENEL MÜDÜRLÜĞÜ



AÇIK ÖĞRETİM LİSESİ / MESLEKİ AÇIK ÖĞRETİM LİSESİ /  
AÇIK ÖĞRETİM İMAM HATİP LİSESİ  
2017 - 2018 ÖĞRETİM YILI  
EK SINAV

2.  
OTURUM

6 EKİM 2018 Saat: 14.00

| DERS KODU VE ADI              | SAYFA | DERS KODU VE ADI          | SAYFA | DERS KODU VE ADI               | SAYFA |
|-------------------------------|-------|---------------------------|-------|--------------------------------|-------|
| (113) DİN KÜL. AHL. BİL. - 3  | 3     | (243) ALMANCA - 4         | 25    | (481) SEÇMELİ SANAT TARİHİ - 1 | 50    |
| (116) DİN KÜL. AHL. BİL. - 6  | 4     | (243) FRANSIZCA - 4       | 26    | (483) SAĞLIK BİLGİSİ - 1       | 51    |
| (117) DİN KÜL. AHL. BİL. - 7  | 5     | (403) DİL VE ANLATIM - 3  | 26    | (492) TRAF. VE İLK YARD. - 2   | 52    |
| (118) DİN KÜL. AHL. BİL. - 8  | 6     | (404) DİL VE ANLATIM - 4  | 28    | (501) İNGİLİZCE - 7            | 53    |
| (122) FELSEFE - 2             | 7     | (406) DİL VE ANLATIM - 6  | 29    | (501) ALMANCA - 7              | 54    |
| (124) SEÇMELİ FELSEFE - 2     | 8     | (411) TÜRK EDEBİYATI - 1  | 30    | (501) FRANSIZCA - 7            | 55    |
| (131) TARİH - 1               | 9     | (412) TÜRK EDEBİYATI - 2  | 32    | (512) FIKİH - 2                | 56    |
| (134) TARİH - 4               | 10    | (415) TÜRK EDEBİYATI - 5  | 34    | (531) SEÇMELİ                  |       |
| (135) SEÇMELİ TARİH - 1       | 11    | (416) TÜRK EDEBİYATI - 6  | 35    | PEYGAMBERİMİZİN HAY. - 1       | 57    |
| (141) T.C. İNK. TAR. ATA. - 1 | 12    | (422) FİZİK - 2           | 36    | (534) SEÇMELİ                  |       |
| (152) COĞRAFYA - 2            | 13    | (423) FİZİK - 3           | 38    | PEYGAMBERİMİZİN HAY. - 4       | 58    |
| (154) COĞRAFYA - 4            | 14    | (424) FİZİK - 4           | 39    | (612) KARŞ. DİN. TAR. - 2      | 60    |
| (156) SEÇMELİ COĞRAFYA - 2    | 15    | (431) KİMYA - 1           | 41    | (615) SEÇ. DİL VE ANLATIM. - 5 | 61    |
| (164) MATEMATİK - 4           | 17    | (433) KİMYA - 3           | 42    | (625) SEÇ. TÜRK ED. - 5        | 62    |
| (182) İNGİLİZCE - 2           | 18    | (442) BİYOLOJİ - 2        | 43    | (714) İSLAM KÜLTÜR VE          |       |
| (182) ALMANCA - 2             | 19    | (444) BİYOLOJİ - 4        | 44    | MEDENİYETİ - 2                 | 63    |
| (182) FRANSIZCA - 2           | 19    | (451) SEÇMELİ ÇAĞDAŞ      |       | (818) AKAİD - 2                | 65    |
| (207) SEÇMELİ PSİKOLOJİ - 2   | 20    | TÜRK VE DÜNYA TARİHİ - 1  | 46    | (820) KELAM - 2                | 66    |
| (208) SEÇMELİ SOSYOLOJİ - 1   | 22    | (455) SEÇMELİ DEMOKRASİ   |       | (932) SİYER - 2                | 67    |
| (221) SAĞLIK BİLGİSİ VE       |       | VE İNSAN HAKLARI - 1      | 47    | (975) SEÇ. GİRİŞİMCİLİK - 2    | 68    |
| TRAFİK KÜLTÜRÜ - 1            | 23    | (466) TEMEL DİNİ BİL. - 2 | 48    | (998) MATEMATİK - 1            | 69    |
| (243) İNGİLİZCE - 4           | 24    | (476) SEÇMELİ İŞLETME - 1 | 49    |                                |       |

### ADAYLARIN DİKKATİNE!

- Her ders için 20 soru bulunmaktadır. Bu oturumda **180** dakikalık cevaplama süreniz vardır. Sınav başladıktan sonra ilk **30** dakika tamamlanmadan dışarı çıkmayınız.
- Sınav sırasında çanta, cep telefonu, saat, kablosuz iletişim sağlayan cihazlar ve kulaklık, kolye, küpe, bilezik, yüzük, broş ve benzeri eşyalar ile her türlü elektronik ve/veya mekanik cihazları yanınızda bulundurmuyunuz. Bu araçları yanınızda bulundurmanız ve kopya çekmeye teşebbüs etmeniz hâlinde sınavınız geçersiz sayılacaktır.
- Başvuru şartlarını taşımadığınız hâlde sınava girmeniz, kopya çekmeniz, başka adayın sınav evrakını kullanmanız, geçerli kimlik belgenizi ve sınav giriş belgenizi ibraz edemediğiniz durumlarda sınavınız geçersiz sayılacaktır.
- Sınavın değerlendirilmesi aşamasında, bilgisayar ortamında yapılan kopya analizinde sistemin ikili ve/veya toplu kopya tespiti hâlinde sınavınız geçersiz sayılacaktır.
- Adaylar, sınav kurallarına ve salon görevlilerinin tüm uyarılarına uymak zorundadır. Kurallara ve uyarılara uymayan adayların sınavları geçersiz sayılacaktır.**
- Sınav başladıktan sonra adayların salon görevlileri ve birbirleri ile konuşmaları; kalem, silgi vb. şeyleri istemeleri yasaktır.
- Adaylar sınav süresince, sınav giriş belgesi ile geçerli kimlik belgelerinden birinin aslını (fotoğraflı nüfus cüzdanı, pasaport veya sürücü belgesi) masalarının üzerinde bulundurmamak zorundadır.
- Sınav evraklarını teslim etmeyen, soru kitapçıklarının sayfalarından bir kısmını eksik teslim edenlerin sınavları geçersiz sayılacaktır.**
- Sınav başlamadan önce kitapçığın arkasındaki açıklamaları okuyunuz.

**BAŞLAYINIZ DENMEDEN SORU KİTAPÇIKLARINI AÇMAYINIZ.**



## 2. OTURUM

### (113) DİN KÜL. AHL. BİL. – 3

1. Kur'an hakkında en geniş açıklamaların ve ayrıntılı yorumların bulunabileceği kaynak aşağıdakilerden hangisidir?

- A) Mealler B) Hadisler  
C) Tercümelemler D) Tefsirler

2. Hz. Peygamber ile ilgili aşağıdaki bilgilerden hangisi yanlıştır?

- A) Hem insan hem peygamberdir.  
B) Peygamberlerin sonuncusudur.  
C) İnsanüstü bazı niteliklere sahiptir.  
D) Kur'an-ı Kerim'i insanlara tebliğ etmiştir.

3. İnsanlar kendi akılları ile Allah'ın varlığını anlayabilirlerse de O'nun zatını kavrayamazlar. Allah'ın kendilerinden ne istediğini, O'na nasıl ibadet edeceklerini ve ölümden sonraki hayatı anlayamazlar. Bunun için yol göstericilere ihtiyaçları vardır.

**Bu metin aşağıdaki sorulardan hangisine cevap oluşturur?**

- A) Peygamberlik niçin gereklidir?  
B) Peygamberlerin özellikleri nelerdir?  
C) Dinde akli kullanmanın önemi nedir?  
D) Dünya ve ahiret hayatının safhaları nelerdir?

4. Aşağıdakilerden hangisi Allah ile iletişim kurma yollarından biri değildir?

- A) Dua etmek B) İstişare etmek  
C) Tövbe etmek D) Kur'an okumak

5. Yaratmak, bir şeyi yokluktan varlık sahasına çıkarmak, Allah'a mahsusdur. Evreni ve evrendeki bütün varlıkları yaratan Allah'tır.

**Bu cümlede Allah'ın hangi sıfatı açıklanmıştır?**

- A) Hayat B) Kıdem  
C) Beka D) Tekvin

6. Tövbe, kişinin yaptığı hatalardan, işlediği günahlardan vazgeçerek pişmanlık duyması ve bunları bir daha tekrarlamamaya karar vermesidir. Tövbe için özel bir yere, zamana veya aracıya ihtiyaç yoktur.

**Buna göre aşağıdakilerden hangisi tövbe etmenin şartlarından biri değildir?**

- A) Günahı terk etmek  
B) Yaptığına pişman olmak  
C) Kandil gecelerinde yapmak  
D) Hatasını tekrarlamamaya karar vermek

7. Aşağıdakilerden hangisi Kur'an'da adı geçen peygamberler arasında yer almaz?

- A) Hz. Musa B) Hz. Şit  
C) Hz. Yahya D) Hz. İlyas

8. Hz. Peygamber'in söz, fiil ve takrirlerini ifade eden kavram aşağıdakilerden hangisidir?

- A) Sünnet B) Hadis  
C) Nafile D) Haber

9. "Onların ne etleri ne de kanları Allah'a ulaşır. Fakat O'na sadece sizin takvanız (Allah'a karşı gelmekten sakınmanız) ulaşır..."  
(Hac suresi, 37. ayet)

**Bu ayetle, kurban ile ilgili aşağıdakilerden hangisine değinilmiştir?**

- A) Etleri ihtiyaç sahipleriyle paylaşılmasıdır.  
B) Allah rızası için samimiyetle yapılmasıdır.  
C) Çevre temizliğine özen gösterilmelidir.  
D) Usulüne uygun yerine getirilmelidir.

10. "Ey iman edenler! Size bir fasık haber getirirse bilmeyerek bir topluluğa zarar verip yaptığınıza pişman olmamak için o haberin doğruluğunu araştırın."  
(Hucurat suresi, 6. ayet)

**Bu ayet aşağıdakilerden hangisinin önemine dikkat çekmektedir?**

- A) Doğru bilgi B) Doğru inanç  
C) Doğru ibadet D) Doğru davranış

11. "Sevap ve günahların tartıldığı özel bir tartıdır."

**Açıklaması verilen kavram aşağıdakilerden hangisidir?**

- A) Sür B) Mizan  
C) Mahşer D) Amel defteri

12. Aşağıdakilerden hangisi namaz kılması gereken kişide aranan şartlardan biridir?

- A) Akıllı olmak B) Yaşlı olmak  
C) Erkek olmak D) Zengin olmak

13. Zekât ile ilgili aşağıdaki bilgilerden hangisi yanlıştır?

- A) Sevgi ve dostluk bağlarının güçlenmesine vesile olur.  
B) Sosyal yardımlaşma ve dayanışma sistemidir.  
C) Çalışarak kazanmaktan uzaklaştırır.  
D) Veren kimsenin malı bereketlenir.

14. Kurban ibadeti aşağıdaki peygamberlerden hangileri ile başlamıştır?

- A) Hz. Yakup - Hz. Yusuf  
B) Hz. Musa - Hz. Davud  
C) Hz. Harun - Hz. Yahya  
D) Hz. İbrahim - Hz. İsmail

15. Hz. Muhammed (sav.) Kur'an'ın hükümlerini sözleriyle yorumlamış, davranışlarıyla da insanlara örnek olmuştur.

**Bu durum Hz. Peygamber'in aşağıdaki özelliklerinden hangisi ile ilgilidir?**

- A) Kur'an'ı açıklayıcı olması  
B) Merhametli olması  
C) Cesaretli olması  
D) Sabırlı olması

16. Ya açar Nazm-ı Celil'in bakarız yapırağına,  
Yahut üfler geçeriz bir ölünün toprağına,  
İnmemiştir hele Kur'an, bunu hakkıyla bilin!  
Ne mezarlıkta okunmak ne de fal bakmak için!

**Bu dizelerde Kur'an'la ilgili aşağıdakilerden hangisi vurgulanmaktadır?**

- A) Kalplere şifa olduğu  
B) Son İlahi kitap olduğu  
C) Sadece belli bir millete gönderilmediği  
D) Okunup anlaşılacak için gönderildiği

17. Aşağıdaki ayetlerden hangisinde doğru davranış vurgulanmaktadır?

- A) "İnanıp da salih ameller işleyenler için devamlı bir mükâfat vardır."  
(Tîn suresi, 6. ayet)  
B) "Peygamberin üzerine düşen ancak tebliğdir. Allah sizin açıkladığınızı da, gizlediğinizi de bilir."  
(Mâide suresi, 99. ayet)  
C) "De ki: Eğer Allah dileseydi, ben size onu okumazdım. Allah da size onu bildirmezdi..."  
(Yûnus suresi, 16. ayet)  
D) "İlahınız bir tek ilahdır. Ondan başka ilah yoktur. O, rahmandır, rahimdir."  
(Bakara suresi, 163. ayet)

18. Hz. Muhammed (sav.), insanları İslam'a davet etmek için Taife gittiğinde, taşlanmasına ve eziyet edilmesine rağmen, onlara beddua değil, bilakis hidayete ulaşmaları için Allah'a dua etmiştir.

**Hz. Peygamber'in bu davranışı aşağıdaki özelliklerinden hangisine örnek oluşturur?**

- A) Cömertliğine B) Cesaretine  
C) Adaletine D) Merhametine

## 2. OTURUM

19. Aşağıdakilerden hangisi ibadetlerin faydalarından biri değildir?

- A) Sorumluluk bilincini geliştirir.
- B) Statü kazanmayı sağlar.
- C) Güven duygusu oluşturur.
- D) İç huzuru artırır.

20. Ahirete inanan bir kimseden aşağıdaki tutum ve davranışlardan hangisi beklenmez?

- A) Söz ve davranışlarında dikkatli ve ölçülü olması
- B) Allah'ın emir ve yasaklarına uymaya özen göstermesi
- C) Sıkıntı ve zorluklar karşısında ümitsizliğe düşmesi
- D) Kalbini kötü duygu ve isteklerden arındırmaya çalışması

### (116) DİN KÜL. AHL. BİL. – 6

1. “Kaynaşmanız için size kendi cinsinizden eşler yaratıp aranızda sevgi ve merhamet oluşturması da onun varlığının delillerindendir ...”  
(Rûm suresi, 21. ayet)

**Bu ayette aşağıdakilerden hangisine değilimemiştir?**

- A) Sevgi
- B) Şefkat
- C) Sabır
- D) Uyum

2. “Hiçbir baba çocuğuna güzel terbiyeden daha üstün bir bağışta bulunmamıştır.”

**Bu hadiste aşağıdakilerden hangisi vurgulanmaktadır?**

- A) Babaların çocuklarına iyi davranması gerektiği
- B) Güzel ahlakın insan ilişkilerindeki rolü
- C) Aile içi iletişimin önemi
- D) Çocuk eğitiminin önemi

3. Allah katında en sevimsiz helal, boşanmadır.

**Bu hadis ile aşağıdakilerden hangisi vurgulanmıştır?**

- A) Ailenin korunması
- B) Boşanmanın zorlaştırılması
- C) Evlilik ile başlayan sıkıntılar
- D) Eşler arası iletişimin önemi

4. Aşağıdakilerden hangisi çocukların aile içindeki sorumlulukları arasında yer almaz?

- A) Ev işlerinde yardımcı olmak
- B) Anne-babasına iyi davranmak
- C) Ailesinin geçimini sağlamak
- D) Kardeşleriyle iyi geçinmek

- 5. • Evlenen çiftler Tanrı tarafından tek bir varlık olarak kabul edilirler.
- Tanrı'nın insanı bir erkek ve kadından yarattığına inanırlar.
- İffetini korumanın ve nesli sürdürmenin yolu olarak görülür.
- Boşanma zina sayılır ve yasaktır.

**Evlilikle ilgili bu görüşler aşağıdaki dinlerden hangisine aittir?**

- A) İslam
- B) Hristiyanlık
- C) Yahudilik
- D) Hinduizm

6. Bir ailede huzur ve mutluluğun sağlanabilmesi için aşağıdakilerin hangisinden kaçınılmalıdır?

- A) Büyüklere saygılı olmak
- B) Çocuklar arasında adaleti gözetmek
- C) Sorumluluklarını başkasına yüklemek
- D) Eşler arasında sevgi ve saygıyı korumak

7. İslam kültüründe “sıla-i rahim” kavramı ile aşağıdakilerden hangisi anlatılmak istenmektedir?

- A) Akrabaların ziyaret edilmesi
- B) Kimsesizlere yardım edilmesi
- C) Ana babaya hürmet edilmesi
- D) Misafire ikram edilmesi

- 8. • İslam medeniyetindeki süsleme sanatlarındandır.
- Nigari ve Levni gibi sanatçılar önemli temsilcileridir.
- Kâğıt veya deri üzerine yapılan, ışık, gölge ve derinliği olmayan küçük boyutlu resimlere denir.

**Hakkında bilgi verilen sanat aşağıdakilerden hangisidir?**

- A) Hat
- B) Tezhip
- C) Ebru
- D) Minyatür

9. Cami ve mescitlerde din hizmetlerinin yürütülmesinde imamla birlikte sürekli görev yapan din görevlisi aşağıdakilerden hangisidir?

- A) Vaiz
- B) Müezzin
- C) Müftü
- D) Diyanet uzmanı

10. Camilerde genellikle cuma ve bayram namazı öncesi ve haftanın belli günlerinde halkı aydınlatıcı konuşmalar yapan din görevlisine --- denir.

**Tanımda boş bırakılan yere aşağıdakilerden hangisi gelmelidir?**

- A) kayyım
- B) müftü
- C) imam
- D) vaiz

11. Kur'an-ı Kerim metninin eksiksiz ve hatasız basım ve yayımını kontrol edip onaylayan kurul aşağıdakilerden hangisidir?

- A) Mushafı İnceleme ve Kıraat Kurulu
- B) Talim ve Terbiye Kurulu
- C) Din İşleri Yüksek Kurulu
- D) Teftiş Kurulu

12. Aşağıdakilerden hangisi Diyanet İşleri Başkanlığını temsil etmez?

- A) Vaiz
- B) Cami dernek başkanı
- C) Müftü
- D) Müezzin-kayyım

13. Aşağıdaki tefsir kitaplarından hangisi Diyanet İşleri Başkanlığınca oluşturulan bir heyet tarafından hazırlanmıştır?

- A) Tefhimü'l-Kur'an
- B) Fi Zilal'i'l-Kur'an
- C) Yüce Kur'an'ın Çağdaş Tefsiri
- D) Kur'an Yolu Türkçe Meal ve Tefsiri

14. Aşağıdaki namazların hangisinde hutbe okunur?

- A) Vakit namazları
- B) Vitir namazı
- C) Cuma namazı
- D) Teravih namazı

15. “O, yedi göğü tabaka tabaka yarattır. Rahmân'ın yaratışında hiçbir uyumsuzluk göremezsin. Bir kere daha bak! Hiçbir çatlak (ve düzensizlik) görüyor musun? Sonra tekrar tekrar bak; bakışların aradığı çatlak ve düzensizliği bulamayıp âciz ve bitkin hâlde sana dönecektir.”  
(Mülk suresi, 3 ve 4. ayetler)

**Bu ayetlerde evren ile ilgili aşağıdakilerden hangisi vurgulanmaktadır?**

- A) Mükemmel bir şekilde yaratıldığı
- B) İnsanın hizmetine sunulduğu
- C) Belirli bir süre için yaratıldığı
- D) Bir yaratıcısının olduğu

16. İnsanda güzellik hissi uyandıran, güzel duygu ve anlamlar içeren sanatla ilgili değer yargısına ne ad verilir?

- A) Üslup
- B) Estetik
- C) Edebiyat
- D) Yorum

## 2. OTURUM

17. Söz ola kese savaşı  
Söz ola kestire başı  
Söz ola ağulu aşı  
Yağ ile bal ede bir söz...  
Yunus Emre

**Bu şiirde aşağıdakilerden hangisinin önemi anlatılmıştır?**

- A) Doğru şahitlik yapmanın  
B) Adaletli davranmanın  
C) Güzel söz söylemenin  
D) İyi güzel yapmanın
18. "Ey iman edenler! Yapmayacağınız şeyleri niçin söylüyorsunuz? Yapmayacağınız şeyleri söylemeniz, Allah katında büyük gazap gerektiren bir iştir."  
(Saf suresi, 2 ve 3. ayetler)

**Bu ayetlerden aşağıdaki sonuçların hangisine ulaşamaz?**

- A) Doğru sözlü olunmalıdır.  
B) Verilen söz yerine getirilmelidir.  
C) İnsanları aldatmak kötüdür.  
D) Gelecekle ilgili söz vermek günahtır.

19.



**Bu görsel aşağıdaki sanat dallarından hangisine örnek oluşturur?**

- A) Hat  
B) Ebru  
C) Tezhip  
D) Minyatür
20. Aşağıdakilerden hangisinin musikin gelişmesinde etkili olduğu söylenemez?
- A) İlahi  
B) Dua  
C) Mevlit  
D) Ezan

### (117) DİN KÜL. AHL. BİL. – 7

1. Ben gelmedim dava için  
Benim işim sevgi için  
Dostun evi gönüllerdir  
Gönüller yapmaya geldim.

**Bu dörtlükte aşağıdakilerden hangisi vurgulanmaktadır?**

- A) Davaya samimiyetle bağlanmak  
B) İbadet etmeye önem vermek  
C) Paylaşmak ve yardımlaşmak  
D) Sevgi ve hoşgörüyü esas almak

2. Aşağıdakilerden hangisi cenaze ile ilgili yapılması gereken sünnet davranışlardan biri değildir?

- A) En kısa zamanda defnetmek  
B) Yakınlarına başsağlığı dilemek  
C) Ardından mevlit okutmak  
D) Ölüyü hayırla yâd etmek

3. Deyiş, nefes, muharrem orucu, musahip, pir, takip, cem ve sofracı gibi kavramlar aşağıdakilerden hangisine aittir?

- A) Mevlevilik  
B) Bektaşilik  
C) Nakşibendilik  
D) Yesevilik

4. "Pir-i Türkistan" ve "Hz. Türkistan" olarak anılan mutasavvıf aşağıdakilerden hangisidir?

- A) Ahmet Yesevi  
B) Mevlana  
C) Yunus Emre  
D) Hacı Bektaş-ı Veli

5. "(Resulüm!) De ki: Eğer Allah'ı seviyorsanız bana uyun ki Allah da sizi sevsin ve günahlarınızı bağışlasın..."  
(Âl-i İmran suresi, 31. ayet)

**Bu ayette, aşağıdakilerden hangisi vurgulanmaktadır?**

- A) Hz. Muhammed'e salavat getirmenin gerekliliği  
B) Hz. Muhammed'in Müminlere şefaet edeceği  
C) Dinin yorumlanmasında tevhit inancının rolü  
D) Allah'a yakınlaşmada sünnetin önemi

6. • "Biz seni âlemlere rahmet olarak gönderdik."  
(Enbiya suresi, 107. ayet)  
• "Biz seni bütün insanlara müjdeleyici ve uyarıcı olarak gönderdik..."  
(Sebe suresi, 28. ayet)

**Bu ayetlerde Hz. Muhammed'in (sav.) peygamberliğinin vurgulanan ortak yönü aşağıdakilerden hangisidir?**

- A) Evrensellik  
B) Uyarıcılık  
C) İşlevsellik  
D) Kolaylaştırıcılık

7. Hz. Muhammed'in (sav.) şahit olduğu bir olaya veya kendisine arz edilen bir meseleye karşı çıkması, onu tasdik etmesi aşağıdakilerden hangisiyle isimlendirilir?

- A) Sözlü sünnet  
B) Fiili sünnet  
C) Takriri sünnet  
D) Örfi sünnet

8. Sözlükte, "söz, haber, yeni şey" anlamlarına gelir. Terim olarak ise, Hz. Muhammed'in (sav.) değişik olaylar ve sorular karşısında insanları aydınlatmak, Kur'an'ın bazı ayetlerini daha açık bir dille ifade etmek için söylediği sözlere denir.

**Tanımlanan kavram aşağıdakilerden hangisidir?**

- A) Tefsir  
B) Hadis  
C) Sünnet  
D) Haber

9. "Tövbe" konusunda aşağıdakilerden hangisi söylenemez?

- A) Kişinin iç dünyası ile ilgili bir durumdur.  
B) Her zaman ve her yerde yapılabilir.  
C) Sevgi temelli bir eylemdir.  
D) Bir türbeye giderek af dilemeyi gerektirir.

10. "İyilik yap, denize at. Balık bilmezse Hâlik (Yaratan) bilir." sözüyle aşağıdakilerden hangisi vurgulanmaktadır?

- A) İyilikler deniz gibidir, saymakla bitmez.  
B) İyiliğin karşılığı Allah'tan beklenmelidir.  
C) En büyük iyilik Yaratan'ı bilmektir.  
D) İyilikler incitilmeden yapılmalıdır.

11. "İstiğfar" sözcüğünün anlamı aşağıdakilerden hangisidir?

- A) Günahlardan uzak durmak  
B) Başka insanlar için dua etmek  
C) Musibetlere karşı sabırlı olmak  
D) Allah'tan bağışlanma dilemek

12. Allah'tan bağışlanma dileme, İslam'ın temel ilkelerine dayanarak nefsi arındırma, ahlaki güzelleştirme ve bu şekilde dini yaşayarak Allah'a ulaşma yoludur.

**Hakkında bilgi verilen kavram aşağıdakilerden hangisidir?**

- A) Fıkıh  
B) Akaid  
C) Tasavvuf  
D) Felsefe

13. "Sizi boşuna yarattığımızı ve bize tekrar döndürülmeyeceğinizi mi sandınız?" (Mü'minün suresi, 115. ayet)

**Bu ayette aşağıdakilerden hangisine vurgu yapılmaktadır?**

- A) Peygamberlerin birer uyarıcı olduklarına  
B) Hayatın amaçsız ve gereksiz olmadığına  
C) Allah'ın birliğine inanılması gerektiğine  
D) Her şeyin insanın hizmetine verildiğine

## 2. OTURUM

14. "Sema" aşağıdaki tasavvufi oluşturmaların hangisinin ayinlerindendir?

- A) Kadirilik B) Nakşibendilik  
C) Mevlevilik D) Bektaşilik

15. Alevi-Bektaşilikte, evli olan iki kişinin aileleri ile birlikte dede huzurunda kurban keserek yol kardeşi olmaya söz vermesine - - - - denir.

**Cümlede boş bırakılan yere hangi kavram getirilmelidir?**

- A) musahiplik B) yarenlik  
C) ahiretlik D) dervişlik

16. Muharrem ayı ile ilgili aşağıdaki bilgilerden hangisi yanlıştır?

- A) Hz. Peygamber, "Allah'ın ayı" olarak niteler.  
B) Hicri takvime göre yılın ilk ayıdır.  
C) Onuncu gününe "aşura" denir.  
D) Hac ibadetinin yapıldığı aydır.

17. Fatih Sultan Mehmet, İstanbul'un fethinden sonra Hristiyan, Yahudi ve diğer din mensuplarının ibadethanelerini yıktırmamış ve ibadetlerine devam etmelerine müsaade etmiştir.

**Bu durum İslam'ın önem verdiği aşağıdaki özelliklerden hangisine örnek oluşturmaktadır?**

- A) Yardımlaşma ve paylaşma  
B) Hoşgörü ve birlikte yaşama  
C) Azimli ve kararlı olma  
D) Eğitim ve öğretim

18. • İçten ve sessiz bir şekilde Allah'ı zikretmek önemlidir.  
• "Sohbet" adı verilen ilim ve irfan meclislerinde bulunma prensibi bulunur.  
• İmam Rabbanî ve Mevlana Halid önemli temsilcilerindedir.

**Hakkında bilgi verilen tasavvufi oluşum aşağıdakilerden hangisidir?**

- A) Kadirilik B) Mevlevilik  
C) Nakşibendilik D) Yesevilik

19. Pek çok ayette Allah'ın çok affedici ve bağışlayıcı olduğu ifadesi bulunmaktadır.

**Bu durum Müslümanları aşağıdakilerden hangisine daha çok yönlendirmektedir?**

- A) Tövbe etmeye  
B) Dua etmeye  
C) Sabretmeye  
D) Şükretmeye

20. Cenaze namazı ile ilgili aşağıdaki bilgilerden hangisi doğrudur?

- A) İki rekât şeklinde kılınır.  
B) Farz-ı ayn olan namazlardandır.  
C) Öğlen ya da ikinci vakti dışında kılınmaz.  
D) Niyet edilirken kadın ya da erkek olduğu belirtilir.

### (118) DİN KÜL. AHL. BİL. – 8

1. Kast sisteminde tüccar, esnaf ve çiftçilerin oluşturduğu sınıfa ne ad verilir?

- A) Sudralar B) Vaisyalar  
C) Kşatriyalar D) Brahmanlar

2. • Çok tanrılı bir dindir.

- Atalara saygı önemlidir.  
• Tanrıların yolu anlamına gelir.  
• Herhangi bir kurucusu ve inanç sistemi yoktur.

**Bazı özellikleri verilen din aşağıdakilerden hangisidir?**

- A) Konfüçyanizm B) Taoizm  
C) Budizm D) Şintoizm

3. • Sözlükte; rağbet edilen, çok istenilen şeyler anlamına gelir.  
• Üç ayların başlangıcı olan Recep ayının ilk cuma gecesinde kutlanır.  
• Allah'ın rahmetinin mümin kullarına bol bol ihlas edildiği bir gecedir.

**Hakkında bilgi verilen kandil aşağıdakilerden hangisidir?**

- A) Regaip B) Mevlit  
C) Berat D) Miraç

4. XVI. yüzyılda Hindistan'da Guru Nanak tarafından kurulmuş olan din aşağıdakilerden hangisidir?

- A) Caynizm B) Taoizm  
C) Şintoizm D) Sihizm

5. • Kutsal metinlerine Tipitaka (Üç Sepet) denir.  
• Kutsal mekânlarına pagoda denir.  
• Bu dinde asıl amaç, Nirvana'ya ulaşmaktır.

**Özellikleri verilen din aşağıdakilerden hangisidir?**

- A) Caynizm B) Konfüçyanizm  
C) Budizm D) Sihizm

6. • Tevhit inancı vardır.  
• Mesajları evrenselidir.  
• Bütün insanlar Allah katında eşittir.  
• Tüm insanlar doğuştan masum ve günahsızdır.

**Bazı özellikleri verilen din aşağıdakilerden hangisidir?**

- A) İslam B) Yahudilik  
C) Hristiyanlık D) Budizm

7. Dünyanın yaşayan en eski dinlerinden biridir. Mensuplarının etnik kültürel birikimlerini ve yaşam tarzlarını yansıtır. Bu dine Brahmanizm de denir.

**Hakkında bilgi verilen din aşağıdakilerden hangisidir?**

- A) Konfüçyanizm B) Şintoizm  
C) Budizm D) Hinduizm

8. Barışın hâkim olduğu bir toplumda aşağıdakilerden hangisi beklenmez?

- A) Huzurlu bir ortamın oluşması  
B) Karşılıklı güvenin yerleşmesi  
C) Güvenlik tedbirlerinin artması  
D) Saygı ve hoşgörünün yaygınlaşması

9. Hristiyanlık ile ilgili aşağıdaki bilgilerden hangisi yanlıştır?

- A) Haftalık ibadetleri pazar günüdür.  
B) Bütün insanlar günahsız olarak doğar.  
C) İbadet yerlerine kilise ve katedral denir.  
D) Eski ve Yeni Ahit'i kutsal kitapları olarak kabul ederler.

10. Hristiyanlıktaki "Baba, Oğul ve Kutsal Ruh" inancını ifade eden kavram aşağıdakilerden hangisidir?

- A) Noel B) Yortu  
C) Teslis D) Mesih

11. Hz. Muhammed'in (sav.) peygamberlik öncesinde toplumun barış ve huzuru için çalıştığına aşağıdaki faaliyetlerinden hangisi örnekdir?

- A) Akabe'de biat alması  
B) Hıful Fudul'a üye olması  
C) Medine vesikasını hazırlaması  
D) Hudeybiye antlaşmasını imzalaması

12. Aşağıdakilerden hangisi 3 Mart 1924 tarihinde çıkarılan Tevhid-i Tedrisat Kanunu'nun uygulamaları arasında yer almaz?

- A) Kur'an kurslarının açılmasına karar verilmiştir.  
B) Medreselerin kapatılması kararı alınmıştır.  
C) Bütün okullar Millî Eğitim Bakanlığı'na bağlanmıştır.  
D) İlahiyat fakültesi ve imam hatip okulu açılmasına karar verilmiştir.

## 2. OTURUM

13. Nasıl ki, her hususta yüksek meslek ve ihtisas sahipleri yetiştirmek gerekli ise dinimizin gerçek felsefesini inceleyecek, araştırarak, bilimsel ve teknik olarak telkin kudretine sahip olacak seçkin ve gerçek din adamlarını yetiştirecek, yükseköğrenim kurumlarına sahip olmalıyız.

**Atatürk bu sözüyle aşağıdakilerden hangisinin gerekliliğine işaret etmiştir?**

- A) Diyanet İşleri Başkanlığının
- B) İmam hatip liselerinin
- C) İlahiyat fakültelerinin
- D) Kur'an kurslarının

14. Cumhuriyetin ilk yıllarında yaşamış aşağıdaki âlimlerden hangisi Diyanet İşleri Başkanlığı yapmıştır?

- A) Elmalılı Muhammed Hamdi Yazır
- B) Babanzade Ahmed Naim Efendi
- C) Mehmet Âkif Ersoy
- D) Rifat Börekçi

15. Aşağıdakilerden hangisi vahye dayalı dinlerden biri değildir?

- A) Budistlik
- B) Yahudilik
- C) Hristiyanlık
- D) İslamiyet

16. İsrailoğulları kavramı aşağıdaki peygamberlerden hangisinin çocukları için kullanılmıştır?

- A) Hz. İbrahim
- B) Hz. Yakup
- C) Hz. İshak
- D) Hz. İsmail

17. İsrailoğulları en güçlü dönemlerini aşağıdaki peygamberlerden hangisinin zamanında yaşamışlardır?

- A) Hz. Yusuf
- B) Hz. Musa
- C) Hz. Zekeriya
- D) Hz. Süleyman

18. Aşağıdakilerin hangisi Hristiyanlıkta kutsal kabul edilen incillerden biri değildir?

- A) Matta
- B) Markos
- C) Barnabas
- D) Yuhanna

19. Hinduizm'de ölen bir kimsenin cesedi için aşağıdaki işlemlerden hangisi yapılır?

- A) Mumyalanarak saklanır.
- B) Yakılarak külleri Ganj Nehri'ne dökülür.
- C) Himalayalar'da buzulların arasına gömülür.
- D) Ganj Nehri'nde yıkanır ve toprağa gömülür.

20. Ey insanlar! Bu günleriniz nasıl kutsal bir gün, bu aylarınız nasıl kutsal bir ay, bu Mekke nasıl kutsal bir şehir ise hayatınız, mülkleriniz ve ırzlarınız da öyle kutsaldır.

**Bu hadiste aşağıdakilerden hangisinin kutsallığına değinilmemiştir?**

- A) Akıl
- B) Mal
- C) Can
- D) Namus

### (122) FELSEFE – 2

1. Toplum düzenleyen ahlak kuralları üzerine derinlemesine düşünen felsefe dalı aşağıdakilerden hangisidir?

- A) Bilim
- B) Sanat
- C) Ahlak
- D) Varlık

2. Bireyin iyi ve doğru eylemlerde bulunmaya mizaç, eğitim ve moral olgunluk açısından yatkın olma durumu aşağıdaki kavramlardan hangisiyle ifade edilir?

- A) Ahlaki eylem
- B) Erdem
- C) Sorumluluk
- D) Vicdan

3. İnsan içten ve dıştan gelen nedenlerle belirlenmiş bir varlıktır. İnsanın iradesini belirleyen bu nedenler bireyin özgürce karar vermesini engellemektedir.

**Bu açıklama ahlak felsefesinin aşağıdaki sorularından hangisine cevap niteliğindedir?**

- A) İnsan ahlaki eylemde bulunurken özgür müdür?
- B) Evrensel ahlak yasası var mıdır?
- C) Ahlak yargılarının özellikleri nelerdir?
- D) Ahlaki eylemin amacı nedir?

4. Ahlak yargıları toplum içinde bireyin neyi yapıp neyi yapmayacağını belirten kurallardır.

**Buna göre aşağıdakilerden hangisi bir ahlak yargısıdır?**

- A) Bir gün 24 saattir.
- B) Namaz kılmak sevaptır.
- C) Orhan Veli'nin şiirleri güzeldir.
- D) Hırsızlık yapmak kötüdür.

5. Sokrates'e göre bilgi bizi doğru davranışa, bilgisizlik ise yanlış davranışa yöneltir. Bilgi bizi erdemli ve mutlu kılar.

**Buna göre Sokrates için ahlağın temelinde aşağıdakilerden hangisi vardır?**

- A) Ödev
- B) Bilgi
- C) Sezgi
- D) Özgürlük

6. Aşağıdakilerden hangisi siyaset felsefesinin sorularından değildir?

- A) İdeal bir toplum düzeni mümkün müdür?
- B) Bireyin temel hakları nelerdir?
- C) Ahlaki eylemin amacı nedir?
- D) En iyi yönetim şekli hangisidir?

7. İktidar, Tanrı'nın yeryüzündeki temsilcisidir. Görevi de Tanrı'nın kendisine gösterdiği amacı gerçekleştirmektir.

**Bu bilgiye göre aşağıdakilerden hangisi doğrudur?**

- A) Toplum sözleşmesi iktidarın temelidir.
- B) İktidar, insanın doğal yapısının sonucudur.
- C) İktidar gücünü sivil toplumdan alır.
- D) İktidarın kaynağı Tanrı'dır.

8. Bu devlette her sınıfın nasıl bir eğitim alacağı, kimlerin ne tür mal ve mülk edineceği ideal bir tasarımla belirlenmiştir. Örneğin; üretici ve zanaatkarlar istedikleri kişi ile evlenebilirken aynı hak askerlere tanınmaz.

**Özellikleri verilen ütopya aşağıdakilerden hangisidir?**

- A) Erdemli Toplum
- B) Güneş Ülkesi
- C) Yeni Dünya
- D) Devlet

9. Platon'a göre devlet, insanların kendi kendine yetememesi, ihtiyaçlarını gidermek için başkalarının yardımına muhtaç olması gibi doğal bir nedenden ortaya çıkmıştır.

**Platon'a göre devletin ortaya çıkmasında aşağıdakilerden hangisi etkilidir?**

- A) İnsan ihtiyaçları
- B) Tanrı buyruğu
- C) Bilgi arayışı
- D) Toplum sözleşmesi

10. Protagoras'a göre her şeyin ölçüsü insan olduğu için bütün insanların üzerinde anlaşabilecekleri tek bir ideal düzen oluşturulamaz.

**Protagoras bu düşünceleriyle aşağıdakilerden hangisini savunmuştur?**

- A) İdeal bir devlet özgürlükle mümkündür.
- B) İnsanlar erdemli bir toplum oluşturabilirler.
- C) Devlet evrensel ahlakı sağlamak için vardır.
- D) İdeal bir devlet düzeni yoktur.

## 2. OTURUM

11. **Güzelliği ve güzel sanatların doğasını inceleyen, Grekçe "aisthesis" kelimesinden gelen kavram aşağıdakilerden hangisidir?**

- A) Estetik B) Zanaat  
C) Sanat D) Yüce

12. • Birey, devlet ve yaşamı konu alan Kutadgu Bilig adlı eseriyle ün kazanmıştır.  
• 11. yüzyılda yaşamış ünlü Türk düşünürü ve şairidir.  
• İdeal bir devletin akla, adalete, doğru ve adil yasalara dayanması gerektiğini söylemiştir.

**Verilen bilgiler aşağıdaki düşünürlerden hangisine aittir?**

- A) Montesquieu  
B) Yusuf Has Hacip  
C) Rousseau  
D) Platon

13. **İnsanın çevresiyle kurduğu ilişkiyi estetik bir biçimde sunması aşağıdakilerden hangisiyle ifade edilir?**

- A) Din B) Bilim  
C) Sanat D) Siyaset

14. Bir müzik parçası onu besteleyen sanatçının zihninde bir kez oluşur ve istese de aynı parçayı ikinci kez yapamaz.

**Bu örnekte sanat eserinin aşağıda verilen özelliklerinden hangisi vurgulanmıştır?**

- A) Tek ve biricik olması  
B) Estetik hazza dayanması  
C) İçerik ve biçimden oluşması  
D) Alımlayıcıya gereksinim duyması

15. **Bir sanat eserine yönelik değerlendirme yapılırken aşağıdaki yargılardan hangisi kullanılır?**

- A) Sevap B) Güzel  
C) İyi D) Doğru

16. Bir doğa parçasına bakıp oraya ev yapmasına yarayacağı için beğenen kişi estetik bir tavır içinde değildir. Aynı yeri sadece güzellik duygusuyla beğenen kişinin tavrı ise estetik bir tavidir.

**Buna göre estetik tavrın belirleyicisi aşağıdakilerden hangisidir?**

- A) Güzellik duygusuna bağlı bir beğeniye dayanması  
B) Toplumsal değerlere uygun olması  
C) Kişisel ölçütlere dayanması  
D) Özgürlüğe ulaştırması

17. **Aşağıdakilerden hangisi din felsefesinin temel kavramları arasında yer alır?**

- A) Fayda B) Mutluluk  
C) Ödev D) Vahiy

18. **Aşağıdakilerden hangisi din felsefesinin temel soruları arasında yer almaz?**

- A) Evren yaratılmış mıdır?  
B) Ölüm bir son mudur?  
C) Sivil toplum nedir?  
D) Tanrı var mıdır?

19. **Tanrı tarafından seçilmiş olan ve Tanrı'nın buyruklarını insanlara ileten kişi aşağıdaki kavramlardan hangisiyle ifade edilir?**

- A) İbadet B) İman  
C) Peygamber D) Kutsal

20. **Aşağıdakilerden hangisi Tanrı'nın varlığını kabul eden görüşler arasında yer almaz?**

- A) Teizm B) Ateizm  
C) Deizm D) Panteizm

### (124) SEÇMELİ FELSEFE – 2

1. İyi ile kötü arasında özgür bir seçim yapmayan birey, davranışlarından ahlaken sorumlu değildir.

**Buna göre bireyin davranışından sorumlu olması aşağıdakilerden hangisine bağlıdır?**

- A) Davranışın hazza dayanmasına  
B) Sonunda kişiyi mutlu etmesine  
C) Özgürce yapılmış olmasına  
D) Temelinde bilgi olmasına

2. İhtiyacı olan birisine yardım etmek iyidir ama sınavda arkadaşımıza yardım etmek iyi değildir.

**Bu örnekten hareketle iyi kavramıyla ilgili aşağıdakilerden hangisine ulaşılabilir?**

- A) Evrenseldir.  
B) Mutluluk verir.  
C) Değer verilir.  
D) Duruma ve kişiye göre değişir.

3. Erdem, iki aşırı uç arasında ortayı bulmaktır. Bir erdem olan cömertlik, savurganlık ile cimrilik arasındaki orta yoldur.

**Aristoteles'in bu ifadesine göre erdem aşağıdakilerden hangisidir?**

- A) Ölçülü olmak  
B) Çıkarıcı olmak  
C) Bencil davranmak  
D) Haz peşinde koşmak

4. Bir eylem, çıkar ya da beklentiyle değil, bir ödev duygusuyla yapılmışsa ahlaki bir eylem olabilir. Burada ödev her çeşit duygunun özellikle de çıkar duygusunun dışında, ahlak yasasına saygı ya da uyma duygusuyla hareket etmek anlamı taşır.

**Kant'ın verilen düşüncesine göre muhtaç olan birine aşağıdaki durumlardan hangisiyle yaklaştığımızda ahlaki bir eylemde bulunmuş oluruz?**

- A) Aynı durumda bize de yardım edilsin diye  
B) Yardıma ihtiyacı olduğu düşüncesiyle  
C) Sevap kazanmak amacıyla  
D) İçimizdeki acıma hissiyle

5. **Tasavvuf düşüncesine göre Tanrı'ya ulaşmanın yolu aşağıdakilerden hangisidir?**

- A) Akıl ve irade B) Duyu verileri  
C) Sezgi ve aşk D) Fayda

6. • Devlet nedir?  
• Meşruiyetin ölçütü nedir?  
• En iyi yönetim şekli nedir?

**Verilen sorular aşağıdaki felsefe alanlarından hangisine aittir?**

- A) Varlık B) Siyaset  
C) Bilim D) Bilgi

7. **Bireyin başka bireylerden ya da kurumlardan isteyebileceği, talepte bulunabileceği şey olarak tanımlanan kavram aşağıdakilerden hangisidir?**

- A) Hukuk B) Yasa  
C) Devlet D) Hak

8. **İdeal bir düzen oluşturulabilmesi için özgürlüğü temele alan liberalizm aşağıdakilerden hangisini savunur?**

- A) Düşünce ve inanç özgürlüğünü  
B) İnsanları baskı altına almayı  
C) Güçlüleri korumayı  
D) Ortak mülkiyeti

9. **Aşağıdakilerden hangisi sivil toplumu oluşturan öğelerden biri değildir?**

- A) Çoğulculuk B) Hoşgörü  
C) Demokrasi D) Karmaşa



## 2. OTURUM

(131) TARİH – 1

10. Bazı düşünürler içinde yaşadıkları toplumsal düzenin iyileştirilemeyeceğine inandıkları için mevcut düzeni eleştirmiş ve gerçekleşmesi mümkün olmayan ideal ya da düşsel bir toplum tasarlamışlardır. Daha mutlu ve iyi bir toplumda yaşama isteğinden doğan bu tasarımlara ütopya denir.

**Buna göre ütopyalar için aşağıdakilerden hangisi söylenemez?**

- A) İyi bir toplumda yaşama isteğinden kaynaklanır.  
B) Gerçekleşmesi mümkün olan bir toplumsal düzendir.  
C) Var olan toplumsal düzeni eleştirir.  
D) İdeal bir düzen tasarımıdır.

11. Aşağıdakilerden hangisi ideal bir düzenin olabileceğini savunan düşünürlerdendir?

- A) Nietzsche B) Protagoras  
C) Mill D) Thrasymachos

12. Aşağıdakilerden hangisinde sanat felsefesinin kavramları bir arada verilmiştir?

- A) Sanatçı - sanat eseri - güzel  
B) Doğru - sanat - yaratım  
C) Güzel - devlet - sanat eseri  
D) Çirkin - erdem - sanat eseri

13. "Renkler, sesler, şekiller kişiler tarafından farklı değerlendirilir. Bu nedenle kimse kendisinin güzel bulduğunu başkalarının da güzel bulmasını bekleyemez. Estetiğin yargıları kişiye özgüdür."

**Verilen bilgi estetik yargıların aşağıdaki özelliklerinden hangisiyle ilgilidir?**

- A) Özne olmasıyla  
B) Zorunlu olmasıyla  
C) Zamana göre değişmesiyle  
D) Kültürel özelliklerden etkilenmesiyle

14. I. Sanatın ortaya çıkmasında sanatçının yaratıcı gücünün önemli bir yeri vardır.  
II. Sanat eseri, aslını en güzel biçimiyle taklit ettiği sürece güzel sayılır.  
III. Sanatçı açısından yaratma her zaman biriciktir.

**Yukarıdakilerden hangileri yaratma olarak sanat anlayışı için doğrudur?**

- A) Yalnız I. B) Yalnız II.  
C) I ve III. D) II ve III.

15. Bazı sanatçıların ortaya koyduğu eserler çok seyrediliyor, dinleniyor ve okunuyorsa bunlarda herkesin kabul ettiği yüksek estetik değerler olduğu içindir.

**Verilen bilgiyi benimseyen bir düşünür aşağıdakilerden hangisini kabul eder?**

- A) Sanatın taklit olduğunu  
B) Ortak estetik yargıların varlığını  
C) Güzelin topluma göre değiştiğini  
D) Estetik beğenilerin kişisel olduğunu

16. Oyun olarak sanat anlayışının temsilcisi aşağıdakilerden hangisidir?

- A) Sokrates B) Aristoteles  
C) Platon D) Schiller

17. Din felsefesiyle ilgili aşağıdaki bilgilerden hangisi doğru değildir?

- A) Dinsel olguları tartışıp sorgulamaya çalışır.  
B) Dini bilgiye yaklaşımı nesnel ve eleştireldir.  
C) Dini, inanca dayanarak açıklamaya çalışır.  
D) Temel amacı, dini akılla temellendirmektir.

18. "Tanrı var mıdır?" sorusu din felsefesinin aşağıdaki konularından hangisiyle ilgilidir?

- A) Tanrı'nın varlığı  
B) Ruhun ölümsüzlüğü  
C) Vahyin olanaklılığı  
D) Evrenin yaratılışı

19. Bütün insanlar iyilik yapmaya kötülükten kaçmaya eğilimlidir. Bu ahlak yasası vicdanlarımızda hazır olarak bulunur.

**Verilen bilgi aşağıdaki Tanrı kanıtlamalarından hangisine aittir?**

- A) Ontolojik B) Ahlaki  
C) Kozmolojik D) Ereklilik

20. Aşağıdakilerden hangisi kelime anlamı "bilinemezlik" olan "agnostisizm" in temel iddiasıdır?

- A) Tanrı vardır.  
B) Tanrı ve evren aşkındır.  
C) Tanrı ve evren özdeştir.  
D) Tanrı'nın varlığı ya da yokluğu bilinemez.

1. Aşağıdakilerden hangisi bir olaydır?

- A) Anadolu'nun fethi  
B) Anadolu'nun Türkleşmesi  
C) Türkiye'nin çağdaşlaşması  
D) İstanbul'un Türk şehri haline gelmesi

2. Aşağıdakilerden hangisi tarihin konusu içinde yer almaz?

- A) Cumhuriyetin ilanı  
B) Malazgirt Savaşı  
C) Doğa olayları  
D) Orta Asya Türk göçleri

3. Tarih bilimi ile ilgili olarak aşağıdakilerden hangisi söylenemez?

- A) Tekrarlanamayan olayları inceler.  
B) Araştırmalarında deney ve gözlemden yararlanır.  
C) İnsan faaliyetlerini inceler.  
D) Sosyal bilim dallarından biridir.

4. Asurlular ile ilgili araştırma yapan Ahmet'in, ulaştığı kaynakları belirli bir sistem içerisinde zamana, mekâna ve konuya göre sınıflandırması tarih biliminin yöntemindeki hangi aşamadır?

- A) Tasnif B) Tarama  
C) Tahlil D) Tenkit

5. Aşağıdakilerden hangisi yazılı kaynaklardan değildir?

- A) Kitabeler B) Fermanlar  
C) Beratlar D) Destanlar

6. Hikayeci tarih yazıcılığını başlatan tarihçi aşağıdakilerden hangisidir?

- A) Thukydides  
B) Leopold von Ranke  
C) H.A. Gibbons  
D) Herodotos

7. Türklerin kullandığı ilk takvim aşağıdakilerden hangisidir?

- A) 12 Hayvanlı Türk takvimi  
B) Celali takvim  
C) Hicri takvim  
D) Rumi takvim

8. Tarihe yardımcı bilimlerden hangisi insan ve mekânın karşılıklı etkileşimini araştırır?

- A) Arkeoloji B) Antropoloji  
C) Coğrafya D) Heraldik

## 2. OTURUM

9. Aşağıdakilerden hangisi tarih öncesi çağlardan değildir?
- A) Eski Taş Çağı B) Yakın Çağ  
C) Bakır Çağı D) Tunç Çağı
10. Yakınođu'daki köy yerleşmelerinin ilk örneđi aşağıdakilerden hangisinde görölmektedir?
- A) Beldibi B) Göbeklitepe  
C) Çatalhöyük D) Çayönü
11. Kadeş Antlaşması'nın önemi aşağıdakilerden hangisidir?
- A) Tarihte bilinen ilk yazılı antlaşma olması  
B) Müslüman devletler arasında imzalanması  
C) Sosyal sınıf ayrımlarını ortadan kaldırması  
D) Koloncilik faaliyetlerini geliştirmesi
12. Aşağıdakilerden hangisi Dünya'daki ticaret yollarından biri değildir?
- A) Kürk Yolu B) Kara Yolu  
C) Baharat Yolu D) İpek Yolu
13. Dođu Akdeniz'de kurulup, deniz koloncililiđinde gelişen medeniyet aşağıdakilerden hangisidir?
- A) Asurlular B) Urartular  
C) Fenikeliler D) Hititler
14. Aşağıdakilerden hangisi İlk Çağ Anadolu medeniyetlerinden biridir?
- A) Babilliler B) Frigler  
C) Sümerler D) Elamlar
15. Mođol İmparatorluđu'nda hayvancılık, Roma İmparatorluđu'nda deniz ticareti, Çin İmparatorluđu'nda ise tarım önemli geçim kaynađı olmuştur.
- Bu imparatorlukların geçim kaynaklarını belirleyen faktör aşağıdakilerden hangisidir?**
- A) Dini inanışlar  
B) Yönetim biçimi  
C) Siyasi anlaşmazlıklar  
D) Cođrafi unsurlar
16. Avrupa'da Feodalizm aşağıdaki imparatorluklardan hangisinin zayıflamasıyla ortaya çıkmıştır?
- A) Roma B) Büyük İskender  
C) Çin D) Mođol
17. Hukuk tarihinde ilk defa kasten adam öldürme ile kazara adam öldürmeyi birbirinden ayıran medeniyet aşağıdakilerden hangisidir?
- A) Sümerler B) Urartular  
C) Hititler D) Lidyalılar
18. Aşağıdakilerden hangisi tarih boyunca kullanılmış olan ticari mekânlara verilen isimlerden değildir?
- A) Kümbet B) Ribat  
C) Han D) Karum
19. Tarih devirlerinin başlangıcı kabul edilen ve insanođunun deneyimlerini nesilden nesile aktarabilmesini sağlayan olay aşağıdakilerden hangisidir?
- A) Ateşin bulunması  
B) Madenin işlenmesi  
C) Yazının icadı  
D) Atın evcilleştirilmesi
20. İlk insanların gökyüzü olaylarını incelemesi aşağıdaki bilimlerden hangisinin gelişmesini sağlamıştır?
- A) Arkeoloji B) Epigrafi  
C) Filoloji D) Astronomi
- (134) TARİH – 4**
1. 18.yüzyılda Avrupalı devletlerin dış politikada hedeflerini gerçekleştirebilmek için her türlü araca başvurmanın uygun olduğunu savunduđu anlayış, aşağıdakilerden hangisidir?
- A) Makyavelizm B) Panslavizm  
C) Sosyalizm D) Kalvenizm
2. 1727 yılında Osmanlı Devleti'nde ilk Türk matbaasını kuran kişi aşağıdakilerden hangisidir?
- A) Ahmet Cevdet Paşa  
B) İbrahim Mütefferika  
C) Ziya Paşa  
D) Mustafa Reşit Paşa
3. III.Selim mevcut askerî birliklerin ıslahına önem vererek yeniçerilere talim yapma zorunluluđu getirdi. 1793 yılında da modern silahlarla donatılan ve düzenli talim yapan askerlerden oluşan yeni bir ordu kurdu. Nizamı Cedit adı verilen bu ordunun eğitiminde Fransa ve İsveç'ten getirilen subaylar ,mühendisler ve teknik elemanlardan yararlandı.”
- Verilen bilgiye göre III. Selim hangi alanda yenilik yapmıştır?**
- A) Sosyal B) Kültürel  
C) Ekonomik D) Askerî
4. 18. yüzyılda üretimde kol gücünün yerine makinaların alınmasıyla İngiltere'de başlayıp Kıta Avrupası'nda da yayılmış olan gelişme aşağıdakilerden hangisidir?
- A) Fransız İhtilali  
B) Kıyafet İnkılabı  
C) Sanayi İnkılabı  
D) Harf İnkılabı
5. Osmanlı Devleti Prut Antlaşması'nı aşağıdaki devletlerin hangisiyle imzalamıştır?
- A) Avusturya B) Rusya  
C) Fransa D) İtalya
6. Osmanlı Devleti'nde 1876'da Türk tarihinin ilk anayasası olan Kanun-ı Esasi'nin yürürlüğe konmasıyla geçilmiş olan yönetim, aşağıdakilerden hangisidir?
- A) Meşrutî yönetim  
B) Cumhuriyet yönetimi  
C) Monarşik yönetim  
D) Oligarşik yönetim
7. 1831'den itibaren yayımlanmaya başlayan İlk Osmanlı resmi gazetesi aşağıdakilerden hangisidir?
- A) Tercüman-ı Ahval  
B) Takvim-i Vekayi  
C) Ceride-i Havadis  
D) Tasvir-i Efkâr
8. Aşağıdakilerden hangisi Osmanlı Devleti'nin I. Dünya Savaşı'nda çarpıştığı cephelerden biri değildir?
- A) Çanakkale Cephesi  
B) Kafkasya Cephesi  
C) Afganistan Cephesi  
D) Irak Cephesi
9. 18. yüzyılda Ađrı'nın Dođubeyazıt ilçesinde inşa edilen barok ve rokoko tarzı süslemeleriyle sanat tarihimizde dikkat çeken bir yere sahip olan saray, aşağıdakilerden hangisidir?
- A) İshakpaşa Sarayı  
B) Topkapı Sarayı  
C) Yıldız Sarayı  
D) Çırađan Sarayı
10. Fransız İhtilali'nin ortaya çıkardığı aşağıdaki hangi düşünce akımı, Osmanlı İmparatorluđu'ndan ayrılarak kendi devletlerini kurmak isteyen milletlerin isyan çıkarmalarına neden olmuştur?
- A) Devletçilik B) Milliyetçilik  
C) Hümanizm D) Realizm

## 2. OTURUM

11. Osmanlı Devleti'nde gerçekleştirilen;
- Avrupa'ya öğrencilerin gönderilmesi,
  - Divanihümayunun kaldırılması,
  - Nizamıcedid Ordusu'nun kurulması,
  - Kütüphanelerin açılması
- İsahatlarından hangileri idari alana ilgilidir?
- A) Yalnız I. B) II ve IV.  
C) I ve III. D) Yalnız II.
12. Aşağıdakilerden hangisi Tanzimat Fermanı ile getirilen yeniliklerden biri değildir?
- A) Herkesin mülkiyet ve miras hakkına sahip olması  
B) Askerlik süresinin belli bir zamanla sınırlandırılması  
C) Meşrutiyet yönetimine geçilmesi  
D) Vatandaşlardan gelirlerine göre vergi alınması
13. Osmanlı Devleti'nin bir Avrupa devleti kabul edildiği ve Avrupa devletler hukukundan yararlanma hakkı elde ettiği antlaşma aşağıdakilerden hangisidir?
- A) Yeşilköy Antlaşması  
B) 1856 Paris Antlaşması  
C) 1840 Londra Antlaşması  
D) Bükreş Antlaşması
14. Fransız İhtilali'nin ortaya çıkardığı özgürlükçü fikirleri benimseyen ve Osmanlı Devleti'nin iç ve dış sorunlarının Mutlakiyet yönetiminden Meşrutiyet yönetime geçmekle çözülebileceğini düşünen aydınların kurduğu cemiyet aşağıdakilerden hangisidir?
- A) Genç Osmanlılar  
B) Etnik-i Eteryay  
C) Hürriyet ve İtilaf Fırkası  
D) Ahrar Fırkası
15. Osmanlı tarihinde seyahat amacıyla yabancı ülkeleri ziyaret eden ilk ve son padişah aşağıdakilerden hangisidir?
- A) II. Abdülhamit  
B) III. Selim  
C) Abdülaziz  
D) I. Abdülmecit
16. Avrupa uygarlığını üstün tutan ve onun benimsenmesi gerektiğini savunan düşünce akımı aşağıdakilerden hangisidir?
- A) Osmanlıcılık B) İslamcılık  
C) Türkçülük D) Batıcılık

17. Ahmet Cevdet Paşa başkanlığında bir heyet tarafından hazırlanan ve Osmanlı Medeni Kanunu olarak da bilinen kanun hangisidir?
- A) Senedi İttifak  
B) Tevhidtedrisat  
C) Kanun-ı Esasi  
D) Mecelle
18. Osmanlı Devleti Trablusgarp Savaşı'nı aşağıdaki devletlerden hangisiyle yapmıştır?
- A) Almanya B) İtalya  
C) Fransa D) Rusya
19. I. Dünya Savaşı sonunda Bulgaristan ile İtilaf Devletleri arasında imzalanan antlaşma aşağıdakilerden hangisidir?
- A) Nöyyi B) Triyanon  
C) Versay D) Sevr
20. Sultan Abdülmecit Dönemi'de Mekatib-i Umumiye Nezareti kurularak rüştüyelerin artırılması ve öğretmen yetiştirmek üzere Darü'l Muallim Okulunun açılması aşağıdaki hangi alana önem verildiğinin göstergesidir?
- A) Eğitime B) Orduya  
C) Ekonomiye D) Sanata

### (135) SEÇMELİ TARİH – 1

1. Aşağıdakilerden hangisi Orta Asya Türk göçlerinin siyasi nedenlerinden biridir?
- A) Boylar arası anlaşmazlıklar  
B) Salgın hastalıklar  
C) Otlakların yetersizliği  
D) İklim şartlarının elverişsizliği
2. Orta Asya'da Afanesyovo'nun devamı olarak kabul edilen kültür Tanrı Dağları ve Balkaş Gölü'nden Yayık Nehri'ne kadar uzanan bozkır sahasında gelişmiştir. İlk defa tunçtan ve altından eşyalar yapılmıştır. Bu kültürü oluşturanların Türklerin atası olduğu kabul edilir.
- Yukarıda sözü edilen kültür, aşağıdakilerden hangisidir?
- A) Anav B) Karasuk  
C) Tagar D) Andronovo
3. Türk adı Uygur kaynaklarında hangi anlamda geçmektedir?
- A) Olgunluk çağı B) Güç, kudret  
C) Miğfer D) Türeme

4. Aşağıdakilerden hangisi Kavimler Göçü'nün dini sonuçlarından biridir?
- A) Roma İmparatorluğu ikiye ayrıldı.  
B) Bugünkü Avrupa milletlerinin temelleri atıldı.  
C) İlk Çağ sona erdi, Orta Çağ başladı.  
D) Hristiyanlığın yayılmasıyla kilise güç kazandı.
5. "Şanyü" unvanıyla devletin başına geçen Hun hükümdarı aşağıdakilerden hangisidir?
- A) Mukan Kağan B) Mete Han  
C) İstemi Yabgu D) Almış Han
6. Doğu Roma ile yapılan Margos Antlaşması aşağıdaki hükümdarlardan hangisi döneminde imzalanmıştır?
- A) Uldız B) Balamir  
C) Attila D) Mete Han
7. Kök Türkler Akhunları ortadan kaldırmak için aşağıdaki devletlerden hangisiyle işbirliği yapmıştır?
- A) Sasani B) Çin  
C) Uygur D) Gazneli
8. Mani dinini benimseyen Orta Asya Türk Devleti aşağıdakilerden hangisidir?
- A) Asya Hun B) Kök Türkler  
C) Uygur D) Akhunlar
9. Tarihte İstanbul'u kuşatan ilk Türk kavmi aşağıdakilerden hangisidir?
- A) Hazarlar B) Bulgarlar  
C) Macarlar D) Avarlar
10. İskitlere aşağıdaki alanlardan hangisinde usta oldukları için "Bozkırın Kuyumcuları" denilmiştir?
- A) Hayvancılık  
B) Maden işlemeciliği  
C) Resim  
D) Dokumacılık
11. Orta Asya'nın son derece elverişsiz olan tabiat ve iklim şartları, Türkleri devamlı bir mücadelenin içine itmiştir. Türk karakteri, yaşayışı, sanat anlayışı, örf ve adetleri üzerinde derin izler bırakmıştır.
- Bu bilgide aşağıdakilerin hangisinden söz edilmiştir?
- A) Coğrafi şartların Türkler üzerindeki etkisinden  
B) Örf ve adetlerin devlet yapısı üzerindeki etkisinden  
C) İnançların mimariye etkisinden  
D) Sanatın dine etkisinden

## 2. OTURUM

12. Batı kaynaklarında Avar, Çin kaynaklarında Juan – Juan adıyla anılan Avarlara, Kök Türkler Apar demişlerdir. Asya Hun Devleti'nin yıkılmasından sonra ortaya çıkan Avarlar, bugünkü Moğolistan'da bir devlet kurmuşlardır.

**Bu bilgiye göre Avarlarla ilgili olarak aşağıdakilerden hangisi söylenemez?**

- A) Sabar devleti tarafından yıkılmışlardır.  
B) Çin kaynaklarında Juan – Juan adıyla anılmışlardır.  
C) Asya Hun Devleti'nin yıkılmasından sonra ortaya çıkmışlardır.  
D) Moğolistan'da devlet kurmuşlardır.

13. Türk tarihinde Musevilği kabul eden ilk ve tek Türk devleti aşağıdakilerden hangisidir?

- A) Peçeneler B) Kıpçaklar  
C) Karluklar D) Hazarlar

14. İslamiyeti kabul eden ilk Türk topluluğu aşağıdakilerden hangisidir?

- A) Sibirler B) Uzlar  
C) Karluklar D) Türgişler

15. Türk tarihinde kendi adına para bastıran ilk hükümdar aşağıdakilerden hangisidir?

- A) Sulu Kağan  
B) Bağa Tarkan  
C) Omurtag Han  
D) Kurum Han

16. Aşağıdakilerden hangisi aileler birliği anlamına gelmektedir?

- A) Oğuş B) Urug  
C) Boy D) Bodun

17. Aşağıdakilerden hangisi ilk Türk devletlerinde hükümdarların kullandıkları unvanlardan biri değildir?

- A) Kağan B) Hakan  
C) Han D) Uluş

18. Aşağıdakilerden hangisi ilk Türk devletlerinde, devlet işlerinin görüşülüp karara bağlandığı meclis için kullanılan isimlerden biri değildir?

- A) Tüz B) Toy  
C) Kengeş D) Kurultay

19. Talas Savaşı'nda Türkler aşağıdakilerden hangisini desteklemişlerdir?

- A) İranlıları B) Rusları  
C) Arapları D) Bizanslıları

20. Sasaniler Mazdek İsyanı'nı aşağıdakilerden hangisinin yardımıyla bastırmışlardır?

- A) Kök Türkler B) Uygurlar  
C) Avarlar D) Akhunlar

### (141) T.C. İNK. TAR. ATA. – 1

1. Çukurova Bölgesi'nin Fransızlar ve Ermeniler tarafından işgal edilmesini önlemek amacıyla İstanbul'da kurulan millî cemiyet aşağıdakilerden hangisidir?

- A) Teali İslam Cemiyeti  
B) İngiliz Muhipleri Cemiyeti  
C) Kilikyalılar Cemiyeti  
D) Hürriyet ve İtilaf Fırkası

2. Millî cemiyetlerin birleştirildiği kongre aşağıdakilerden hangisidir?

- A) Erzurum Kongresi  
B) Sivas Kongresi  
C) Balıkesir Kongresi  
D) Alaşehir Kongresi

3. Mustafa Kemal'in ismi geniş kitlelerce ilk defa hangi savaş sonrasında duyulmuştur?

- A) Çanakkale Savaşı  
B) Trablusgarp Savaşı  
C) Balkan Savaşı  
D) Sakarya Savaşı

4. I. Selanik Askerî Rüştiyesi  
II. Şemsi Efendi Okulu  
III. Harp Okulu  
IV. Manastır Askerî İdadisi

**Mustafa Kemal'in okuduğu okulların doğru sıralaması aşağıdakilerden hangisidir?**

- A) II, I, IV, III B) II, III, I, IV  
C) III, II, I, IV D) I, II, IV, III

5. Mustafa Kemal'in Çanakkale Savaşı'nda düşman donanmasının nereden çıkarma yapacağını önceden sezmesi hangi yönüyle ilgilidir?

- A) Mantıklı ve gerçekçi oluşu  
B) Yaratıcı düşüncesi  
C) Önder oluşu  
D) İleri görüşlülüğü

6. Osmanlı Devleti'nin son padişahı aşağıdakilerden hangisidir?

- A) II. Abdülhamit  
B) VI. Mehmet Vahdettin  
C) V. Mehmet  
D) II. Mahmut

7. Almanya ile İtilaf Devletleri arasında 28 Haziran 1919'da imzalanan antlaşma aşağıdakilerden hangisidir?

- A) Sen Jermen (Saint Germain) Antlaşması  
B) Nöyvi (Neuilly) Antlaşması  
C) Versay (Versailles) Antlaşması  
D) Sevr(Sevres) Antlaşması

8. Osmanlı Devleti I. Dünya Savaşı'nın aşağıdaki cephelerinden hangisinde Ruslarla savaşmıştır?

- A) Galicya Cephesi  
B) Çanakkale Cephesi  
C) Irak Cephesi  
D) Kafkasya Cephesi

9. Güneydoğu Anadolu Bölgesi'nin Fransızlar tarafından işgalini kolaylaştırmak için Fransızların kışkırtması ile Urfa ve civarında ortaya çıkan ayaklanma aşağıdakilerden hangisidir?

- A) Koçkiri İsyanı  
B) Millî Aşireti Ayaklanması  
C) Anzavur Ayaklanması  
D) Ali Batı Ayaklanması

10. Kuvayımillîye hareketinin oluşmasında aşağıdakilerden hangisinin etkisi olmamıştır?

- A) İtilaf Devletleri'nin Anadolu'yu yer yer işgal etmesi  
B) Azınlıkların taşkın faaliyetlerde bulunması  
C) Osmanlı ordularının terhis edilerek devletin savunmasız bırakılması  
D) Türkiye Büyük Millet Meclisine bağlı düzenli ordu kurulması

11. Mustafa Kemal'in askerlik mesleğinden istifası sonrasında "Ben ve kolordum bundan sonra da emrinizdeyiz Paşam." diyerek Mustafa Kemal'i destekleyen 15.Kolordu Komutanı aşağıdakilerden hangisidir?

- A) Ali Fuat Cebesoy  
B) Rauf Orbay  
C) Kazım Karabekir  
D) Refet Bele

## 2. OTURUM

12. Sivas Kongresi'nde seçilen Temsil Heyeti'nin yürütme yetkisini kullanarak Batı Anadolu Millî Kuvvetler Genel Komutanlığı'na atadığı kişi aşağıdakilerden hangisidir?

- A) Ali Fuat Cebesoy
- B) Kazım Karabekir
- C) Cemal Paşa
- D) Rauf Orbay

13. İstanbul Hükûmeti Temsil Heyeti'nin varlığını aşağıdakilerden hangisi ile tanımıştır?

- A) Sivas Kongresi
- B) Erzurum Kongresi
- C) Amasya Genelgesi
- D) Amasya Görüşmeleri

14. • Bölgesel olmasına karşın aldığı kararlar bütün yurdu ilgilendirdiği için millî bir kongre özelliği taşımaktadır.  
• 7 Ağustos 1919'da Mustafa Kemal'in başkanlığında dokuz kişilik bir Temsil Heyeti seçerek çalışmalarını tamamlamıştır.

**Hakkında kısa bilgi verilen kongre, aşağıdakilerden hangisidir?**

- A) Sivas Kongresi
- B) Erzurum Kongresi
- C) Balıkesir Kongresi
- D) Alaşehir Kongresi

15. TBMM Hükûmeti ile Fransa arasındaki Ankara Antlaşması hangi zafer sonucunda imzalanmıştır?

- A) I. İnönü
- B) II. İnönü
- C) Sakarya
- D) Çanakkale

16. 20 Ocak 1921'de TBMM'de kabul edilen yeni Türk devletinin ilk anayasası aşağıdakilerden hangisidir?

- A) Teşkilat-ı Esasiye Kanunu
- B) Kanunu Esasi
- C) Mecelle
- D) Tehvid-i Tedrisat Kanunu

17. Aşağıdakilerden hangisi doğrudan doğruya İstanbul Hükûmeti tarafından Türkiye Büyük Millet Meclisine karşı çıkarılan ayaklanmalardan biridir?

- A) Afyon Ayaklanması
- B) Anzavur Ayaklanması
- C) Konya Ayaklanması
- D) Koçkiri Ayaklanması

18. Millî cemiyetlerin birleştirilmesiyle kurulan cemiyet aşağıdakilerden hangisidir?

- A) Trakya-Paşaeli Müdafaa-i Hukuk Cemiyeti
- B) Doğu Anadolu Müdafaa-i Hukuk Cemiyeti
- C) Millî Kongre Cemiyeti
- D) Anadolu ve Rumeli Müdafaa-i Hukuk Cemiyeti

19. Ermenilerin Doğu Anadolu'ya yönelik toprak taleplerinden resmen vazgeçtiklerini kabul ederek TBMM Hükûmeti ile 3 Aralık 1920'de imzaladıkları antlaşma aşağıdakilerden hangisidir?

- A) Mondros Ateşkes Antlaşması
- B) Gümrü Antlaşması
- C) Ankara Antlaşması
- D) Mudanya Antlaşması

20. I. Dünya Savaşı'ndan sonra işgale uğrayan bölgelerde yaşayan halkın kendiliğinden harekete geçerek kurdukları direnen birlikleri aşağıdakilerden hangisidir?

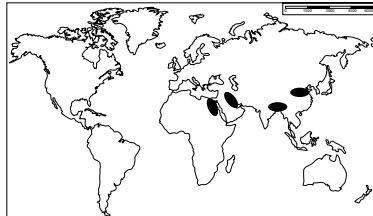
- A) Teşkilat-ı Esasiye
- B) Kanuni Esasi
- C) Kuvayımilliyeye
- D) Kuva-yi İnzibatiye

### (152) COĞRAFYA – 2

1. Aşağıdakilerden hangisi beşeri sistemlerin inceleme alanının dışındadır?

- A) Sanayi kuruluşlarının dağılışı
- B) Meskenlerin yapımında kullanılan malzemeler
- C) İklim özelliklerinin yer şekillerinin oluşumuna etkisi
- D) Enerji kaynaklarının üretim, tüketim ve dağılışı

2. Aşağıdaki harita üzerinde yeryüzündeki ilk yerleşme alanları gösterilmiştir.



**Bu alanların yerleşim yeri olarak seçilmesinde öncelikli etken aşağıdakilerden hangisidir?**

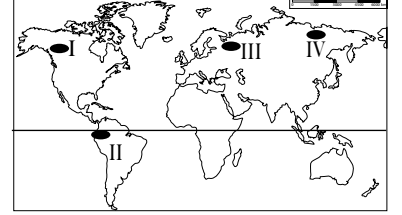
- A) Bitki örtüsü
- B) Su kaynakları
- C) Kayaç türleri
- D) Enerji kaynakları

3. I. Tarımsal faaliyetler  
II. Sanayi faaliyetleri  
III. Hayvancılık faaliyetleri

**Yukarıdaki ekonomik faaliyetlerden hangileri kırsal yerleşmelerin temel geçim kaynaklarıdır?**

- A) Yalnız I.
- B) Yalnız II.
- C) I ve III.
- D) II ve III.

4. Yerleşme alanlarının sona erdiği en yüksek seviyeye yerleşme üst sınırı denir. Ekvator'dan kutuplara doğru gidildikçe yerleşme üst sınırı azalır.



**Buna göre harita üzerinde numaralandırılarak gösterilen alanların hangisinde yerleşme üst sınırının daha yüksek olması beklenir?**

- A) I
- B) II
- C) III
- D) IV

5. Aşağıdakilerden hangisi yerleşme alanlarını sınırlayan faktörlerden biri değildir?

- A) Gür ormanlar
- B) Bataklıklar
- C) Dağlar
- D) Ovalar

6. I. Nüfus miktarı  
II. İklim koşulları  
III. Ekonomik faaliyetler

**Yukarıdakilerden hangileri, kır ve kent yerleşmelerini birbirinden ayırmak için kullanılan ölçütlerdir?**

- A) Yalnız I.
- B) Yalnız III.
- C) I ve II.
- D) I ve III.

7. Aşağıda verilen şehirlerden hangisinin gelişip büyümesinde etkili olan fonksiyonel özellikler daha fazladır?

- A) İzmir
- B) Yozgat
- C) Kütahya
- D) Afyon

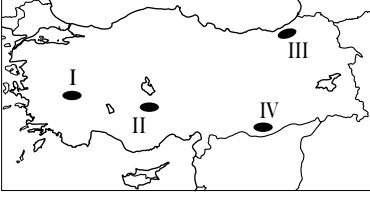
8. Su kaynaklarının fazla ve yer şekillerinin engebeli olduğu alanlarda dağılık yerleşmeler görülür.

**Buna göre aşağıda verilen illerin hangisinde dağınık yerleşmeler yaygındır?**

- A) Rize
- B) Konya
- C) Ankara
- D) Malatya

## 2. OTURUM

9.



Harita üzerinde numaralandırılan yerlerin hangisinin kırsal kesimlerinde mesken yapımında ahşap daha çok kullanılır?

- A) I B) II C) III D) IV

10. ve 11. soruları aşağıdaki metne göre cevaplayınız.

Cumhuriyet'in ilk yıllarında küçük bir kasaba özelliğinde olan Ankara, başkent olmasıyla hızla büyümüş günümüzde beş milyonu aşan nüfusuyla ülkemizin ikinci büyük şehri olmuştur. Büyük üniversiteleri, müzeleri, tiyatroları, gelişmiş hastaneleri bünyesinde barındırır. Çimento, şeker ve traktör fabrikaları başta olmak üzere sanayi işletmeleri, bankacılık faaliyetleri ve çok katlı işyerleriyle önemli bir merkez haline gelmiştir.

10. Ankara fonksiyonel özellikleri göz önüne alındığında hangi şehir sınıfına girmez?

- A) İdari şehir B) Maden şehri  
C) Sanayi şehri D) Kültür Şehri

11. Ankara için aşağıdakilerden hangisi söylenebilir?

- A) Tarım sektörünün gelişmesi ihmal edilmiştir.  
B) Nüfus yoğunluğu en yüksek şehrimizdir.  
C) Şehir yatay ve dikey yönde büyümüştür.  
D) Geleneksel şehir mimarisi örnekleri çoktur.

12. Aşağıdakilerden hangisi Türkiye'nin turizm şehirlerine iyi bir örnektir?

- A) İncirlik B) Marmaris  
C) İnegöl D) Ereğli

13. İç Anadolu, Doğu Anadolu ve Güneydoğu Anadolu'nun volkanik arazilerinin kırsal kesimlerinde hangi malzemeden yapılan meskenler daha çok görülür?

- A) Taş B) Ahşap  
C) Kerpiç D) Betonarme

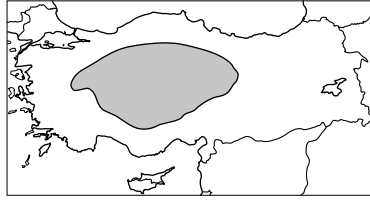
14. Türkiye'de dağlık, yüksek ve engebeli alanlarda yerleşmelerin az olmasında aşağıdakilerden hangisinin etkisi yoktur?

- A) Ulaşımın zor olmasının  
B) Tarımsal düzlüklerin azlığına  
C) Sıcaklık değerleri düşüklüğüne  
D) Hayvancılık faaliyetine uygun olmasının

15. Dini inanış ve özelliklerine göre oluşturulan bölgeler hangi grupta sınıflandırılır?

- A) Doğal özelliklere göre  
B) Beşeri özelliklere göre  
C) Ekonomik özelliklere göre  
D) İşlevsel özelliklere göre

16.



Türkiye haritasında taranarak verilen alan tarım ürünlerine göre yapılan sınıflamada hangi bölge türüne girer?

- A) Fındık B) Zeytin  
C) Tahıl D) Turunçgil

17. Aşağıdaki ülkelerden hangisi nüfus özelliklerine göre yapılan bir sınıflamada yoğun nüfuslu bölge grubuna girer?

- A) Hindistan B) Avustralya  
C) Kanada D) Moğolistan

18. "Şanghay Beşlisi"; 1996 yılında Asya Kıtası'nda yer alan beş ülkenin katılımıyla kurulan siyasi örgüttür. Amacı ABD'nin bölgelerindeki askeri etkinliğini engellemek ve bölgesel güvenlik alanında iş birliği yapmaktır. Teşkilat, Özbekistan'ın katılımıyla Şanghay İş Birliği Örgütü adını almıştır. Hindistan ve Pakistan'ın başvurusu üzerine üyelik için prosedürün başlatıldığı örgüt yetkililerince duyurulmuştur.

Verilen metne bakarak aşağıdaki çıkarımlardan hangisi yapılabilir?

- A) Siyasi özellikteki bölgelerin sınırları değişebilir.  
B) Siyasi bölgelerin oluşması için sınır komşuluğu gerekir.  
C) Bu örgütün esas hedefi ekonomik kalkınmayı sağlamaktır.  
D) Örgütü oluşturan ülkeler sanayi alanında gelişmişlerdir.

19. Marmaray ve Avrasya tünelleri temel olarak insanların hangi ihtiyacını gidermek için yapılmışlardır?

- A) Beslenme B) Dinlenme  
C) Barınma D) Ulaşım

20. Aşağıdakilerden hangisi faaliyet halindeyken atmosferimizde kirliliğe sebep olmaz?

- A) Motorlu taşıtlar  
B) Termik santraller  
C) Sanayi tesisleri  
D) Rüzgâr değişimleri

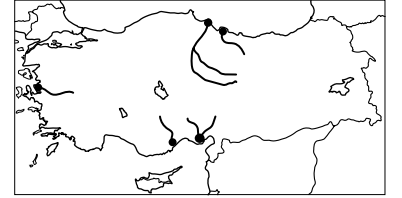
### (154) COĞRAFYA – 4

- Karasal iklimde çayır bitki örtüsü altında oluşan topraklardır.  
• Ülkemizde Erzurum – Kars çevresinde yaygın olarak görülür.  
• Bu topraklar üzerinde gür otlaklar bulunduğu için genellikle büyükbaş hayvancılık faaliyetleri yapılır.

Yukarıda bazı özellikleri verilen zonal toprak aşağıdakilerden hangisidir?

- A) Çernezyom B) Terra rossa  
C) Laterit D) Podzol

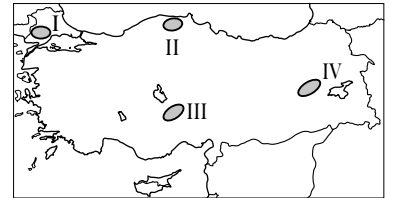
- Aşağıdaki harita üzerinde akarsuların taşıdığı biriktirdiği malzemelerden oluşan toprakların yaygın olduğu bazı alanlar gösterilmiştir.



Bu toprak türü aşağıdakilerden hangisidir?

- A) Moren B) Löss  
C) Alüvyal D) Regosoller

- Türkiye'nin yaklaşık % 35'i ormanlarla kaplıdır. Bu ormanların büyük çoğunluğu yıllık yağış miktarı fazla olan yerlerde bulunmaktadır.



Buna göre harita üzerinde numaralandırılmış alanlardan hangisi orman varlığı bakımından daha zengindir?

- A) I B) II C) III D) IV

## 2. OTURUM

4. Aşağıda verilen akarsu ve döküldüğü deniz eşleştirmelerinden hangisi yanlıştır?

- A) Gediz – Ege Denizi  
B) Ceyhan – Akdeniz  
C) Sakarya – Karadeniz  
D) Fırat – Marmara Denizi

5. Türkiye’de göllerin toplandığı başlıca dört bölge vardır. Bu bölgelerden biri de Göller Yöresi’dir.

Aşağıdakilerden hangisi bu yöredeki göllerden biri değildir?

- A) Beyşehir B) İznik  
C) Eğirdir D) Burdur

6. Türkiye’nin iç kesimlerinde bozkırlarla kaplı dağlarda yer yer adacıklar halinde meşe, ardıç ve karaçam gibi ağaç topluluklarına da rastlanır.

**Bu durum;**

- I. İç bölgelerin daha önceleri ormanlarla kaplı olduğu  
II. Bu alanlardaki ormanların insanlar tarafından tahrip edildiği  
III. Bu alanların volkanik araziler olduğu

fikirlerinden hangilerine kanıt olabilir?

- A) Yalnız I. B) Yalnız II.  
C) I ve II. D) I ve III.

7. Aşağıdakilerden hangisi Türkiye akarsularının genel özelliklerinden biridir?

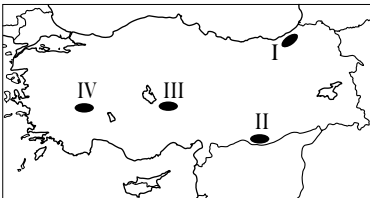
- A) Rejimleri düzenlidir.  
B) Akış hızları yüksektir.  
C) Boyları uzundur.  
D) Debileri yüksektir.

8. Türkiye’de sıcaklık ve yağış şartları uygun olmasına rağmen nüfusu seyrek olan yerler de bulunmaktadır.

Aşağıdakilerden hangisi bu yerlerden biridir?

- A) Kocaeli platosu  
B) Çukurova deltası  
C) Kıyı Ege ovaları  
D) Menteşe yöresi

9. Su kaynaklarının bol, yer şekillerinin engebeli ve tarım arazilerinin parçalı olduğu yerlerde dağınık yerleşmeler yaygındır.



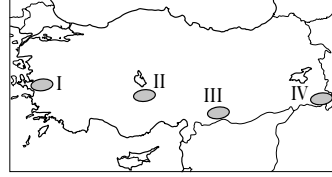
Buna göre, harita üzerinde numaralandırılmış yerlerin hangisinde dağınık yerleşmeler yaygındır?

- A) I B) II C) III D) IV

10. Türkiye akarsuları aşağıdaki faaliyetlerden hangisi için büyük ölçüde uygun değildir?

- A) Kano B) Baraj yapma  
C) Ulaşım D) Rafting

11.



Harita üzerinde numaralandırılmış yerlerin hangisi yer şekillerinin engebeli ve iklim koşullarının elverişsiz olması nedeniyle seyrek nüfusludur?

- A) I B) II C) III D) IV

12. Aşağıdakilerden hangisi geçici kır yerleşmesidir?

- A) Yayla B) Mezra  
C) Çiftlik D) Mahalle

13. Aşağıdaki şehirlerden hangisinin gelişmesinde taş kömürü madeninin etkisi olmuştur?

- A) Antalya B) Kırıkkale  
C) Zonguldak D) Diyarbakır

14. Türkiye nüfusunun 1927 yılından günümüze kadar geçirdiği değişimler ile ilgili aşağıdaki bilgilerden hangisi doğrudur?

- A) Toplam nüfus miktarı artmıştır.  
B) Kentsel nüfus oranı azalmıştır.  
C) Sanayide çalışan nüfus oranı azalmıştır.  
D) Tarımda çalışan nüfus oranı artmıştır.

15. Antalya’nın iklim şartları, doğal güzellikleri ve tarihi zenginlikleri turizmin gelişmesini sağlamıştır. İklim koşullarının elverişli olmasına bağlı olarak tarım oldukça gelişmiştir. Bundan dolayı Antalya göç alan yoğun nüfuslu şehirlerimize örnektir.

Metinde Antalya’nın yoğun nüfuslu olma sebeplerinin hangisinden söz edilmemiştir?

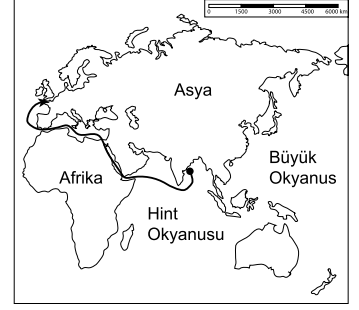
- A) İklim şartları  
B) Ulaşım şartları  
C) Tarımsal faaliyetler  
D) Tarihi zenginlikler

16. I. Hatay’ın ana vatana katılması  
II. Çalışmak için Türkiye’den yurt dışına yapılan işçi göçleri  
III. Lozan Antlaşmasıyla Türkiye’ye yapılan göçler

Yukarıdakilerden hangileri Türkiye nüfusunun artmasında etkili olmuştur?

- A) Yalnız I. B) Yalnız III.  
C) I ve II. D) I ve III.

17.



Harita üzerinde gösterilen doğrultuda giden bir gemi aşağıdaki su yollarından hangisini kullanmaz?

- A) Panama Kanalı  
B) Süveyş Kanalı  
C) Babül Mendep Boğazı  
D) Cebelî Tarık Boğazı

18. İstanbul’daki Yavuz Sultan Selim Köprüsü Asya kıtası ile aşağıdaki kıtalardan hangisini kara yolu ile birbirine bağlar?

- A) Amerika B) Afrika  
C) Antarktika D) Avrupa

19. Can ve mal kayıplarına neden olan doğa olaylarına ne denir?

- A) Küresel ısınma  
B) Doğal kaynak  
C) Doğal afet  
D) Fosil yakıt

20. Aşağıdaki ülkelerden hangisi Alp Himalaya deprem kuşağında yer almaz?

- A) Türkiye B) Brezilya  
C) İtalya D) Yunanistan

### (156) SEÇMELİ COĞRAFYA – 2

1. Her nesil miras olarak devraldığı kültürü değiştirir ve geliştirir.

Bu bilgiye göre kültür nasıl bir yapıya sahiptir?

- A) Yenilenebilir bir yapıya  
B) Etkileşime kapalı yapıya  
C) Teknolojik gelişmelere kapalı yapıya  
D) Toplumdan topluma yazılı olarak aktarılabilen yapıya

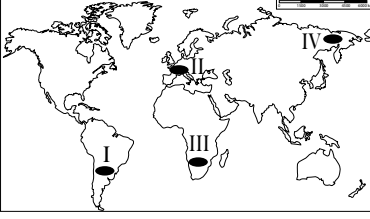
2. Bir kültürün doğduğu yere o kültürün ‘kültür ocağı’ denir.

Buna göre Türk kültürünün ‘kültür ocağı’ aşağıdaki yerlerden hangisidir?

- A) Kuzey Afrika B) Batı Avrupa  
C) Anadolu D) Orta Asya

## 2. OTURUM

3.



Harita üzerinde numaralandırılarak gösterilen yerlerin hangisinde sanayi ürünleri üretimi daha fazladır?

A) I B) II C) III D) IV

4. Gelişmişlik seviyesi yüksek olan ülkeler arasında ticaret yoğunluğu fazla olmaktadır.

Buna göre aşağıdakilerden hangisinde verilen ülkeler arasında ticaret yoğunluğu daha fazladır?

A) Nijerya – Şili  
B) ABD – Japonya  
C) İtalya – Etiyopya  
D) Bangladeş – Brezilya

5. Turizm farklı kültürlerin, etnik yapıların, yaşam tarzlarının ve dillerin birbirini tanımasına olanak sağlar.

Yukarıda turizmin öncelikle hangi alandaki etkisinden bahsedilmiştir?

A) Çevresel B) Ekonomik  
C) Sosyal D) Politik

6. Aşağıdakilerden hangisi dünyanın yedi harikasından biri değildir?

A) Mostar Köprüsü  
B) İskenderiye Feneri  
C) Keops Piramidi  
D) Babilin Asma Bahçeleri

7. Japonya'nın adalar ülkesi olması, diğer ülkelerden izole olmasına neden olmuştur.

Aşağıdakilerden hangisi bu durumun bir sonucudur?

A) Türdeş nüfusa sahip olması  
B) Doğurganlık oranının düşük olması  
C) Ortalama yaşam süresinin uzun olması  
D) Şehirleşme oranının yüksek olması

8. Az gelişmiş veya gelişmekte olan ülkeler genellikle "geçim türü" tarımsal faaliyetler yaparlarken gelişmiş ülkelerde ise daha çok ticari amaçlı tarımsal faaliyetler yapılmaktadır.

Buna göre aşağıdaki ülkelerden hangisi daha çok ticari amaçlı tarımsal faaliyetler yapmaktadır?

A) Kenya B) Mısır  
C) Hollanda D) Hindistan

9. Bir ülkede çalışan nüfusun ekonomik faaliyet kollarına göre dağılımı ülkenin gelişmişlik seviyesi hakkında bilgi verir. Gelişmiş ülkelerde tarımda çalışan nüfus oranı genellikle sanayi ve hizmet sektörlerinde çalışan nüfus oranına göre daha az olmaktadır.

Buna göre;

I. Almanya  
II. Hindistan  
III. İngiltere  
IV. Nijerya

Ülkelerinden hangi ikisinde tarım sektöründe çalışan nüfus oranı daha fazladır?

A) I ve II. B) I ve III.  
C) I ve IV. D) II ve IV.

10. İkinci Dünya Savaşı'ndan sonra Rusya'ya karşı ABD'nin desteğini alarak Avrupa'nın güvenliğini sağlamak için kurulan siyasi ve askeri örgüt aşağıdakilerden hangisidir?

A) BM B) NATO  
C) IMF D) OECD

11. Aşağıdaki ülkelerden hangisi Birleşmiş Milletler Güvenlik Konseyi'nin daimi üyelerinden biri değildir?

A) Fransa B) İran  
C) Rusya D) İngiltere

12. Yenilenemeyen enerji kaynaklarının rezervlerinin azalması, insanları yenilenebilir alternatif enerji kaynaklarına yöneltmiştir.

Aşağıdakilerden hangisi bu enerji kaynaklarından biridir?

A) Kömür B) Petrol  
C) Doğalgaz D) Rüzgâr

13. Doğal kaynakların kullanımı üzerinde aşağıdakilerden hangisinin etkisi daha azdır?

A) Teknolojik gelişmeler  
B) İnsanların ihtiyaç ve talepleri  
C) Doğal kaynağın potansiyeli  
D) Doğal kaynağın çıkarıldığı bölge

14. Daha önce geçim kaynağı tarım ve hayvancılık olan bir yerde taş kömürü bulunmuş ve işletmeye açılmıştır.

Bu duruma bağlı olarak bu yerde aşağıdaki değişikliklerden hangisi beklenmez?

A) İşçi göçü alması  
B) Konut ihtiyacının artması  
C) İşsizlik oranının artması  
D) Sanayi üretiminin artması

15. Aşağıdaki doğal kaynaklardan hangisinin bilinçsiz kullanımı yer altı su seviyesinin düşmesine ve tarım alanlarının çoraklaşmasına neden olur?

A) Akarsu B) Güneş  
C) Jeotermal D) Uranyum

16. Aşağıdakilerden hangisi çevre kirliliği yapmaz?

A) Hızlı nüfus artışı  
B) Motorlu taşıt sayısının artması  
C) Mera alanlarının ıslah edilmesi  
D) Denetimsiz kentleşmenin artması

17. Geri dönüşümle elde edilen bir ton kâğıt, yaklaşık 20 ağacın kesilmemesi anlamına gelir.

Yukarıda geri dönüşümün öncelikle hangi alandaki faydasından bahsedilmiştir?

A) Enerji tasarrufu sağlaması  
B) Doğal kaynakların korunması  
C) Ülke ekonomisine katkı sağlaması  
D) Doğadaki atık miktarının azalması

18. I. Orman yangınları  
II. Biyolojik çeşitlilik  
III. Tarımsal üretim

Küresel ısınma sonucunda yukarıdakilerden hangilerinde artma beklenir?

A) Yalnız I. B) Yalnız II.  
C) I ve II. D) I ve III.



## 2. OTURUM

19. Aşağıdaki kaynaklardan hangisinden nükleer enerji elde edilir?

- A) Rüzgâr      B) Doğal gaz  
C) Uranyum      D) Taş kömürü

20. Aşağıdakilerden hangisi arazinin yanlış kullanılmasına örnektir?

- A) Alüvyal tabanlı ovaların tarım amaçlı kullanılması  
B) Dere yataklarının ıslah edilerek ağaçlandırılması  
C) Tabiat güzelliklerinin bulunduğu alanların koruma altına alınması  
D) Göl tabanlarının katı atık toplama yeri olarak kullanılması

### (164) MATEMATİK – 4

1.  $i^{14} + i^{15} + i^{16}$  ifadesi aşağıdakilerden hangisine eşittir?

- A) 1      B)  $1 - i$   
C)  $1 + i$       D)  $-i$

2.  $x^2 - mx + 6 = 0$  denkleminin bir kökü 3 olduğuna göre m kaçtır?

- A) 5      B) 4      C) 3      D) 2

3.  $z_1 = 3 + 4i$  ve  $z_2 = 5 - 3i$  karmaşık sayıları veriliyor.

Buna göre  $2z_1 + z_2$  aşağıdakilerden hangisine eşittir?

- A)  $1 - 5i$       B)  $8 + i$   
C)  $11 + 5i$       D)  $13 + i$

4.  $f(x) = x^2 - 6x + m - 2$  fonksiyonunun grafiği x eksenine teğet olduğuna göre m kaçtır?

- A) 14      B) 11      C) 8      D) 5

5.  $3x^2 + 7x - 6 = 0$  denkleminin kökleri çarpımı kaçtır?

- A) -2      B) -3      C) -4      D) -7

6.  $P(x) = (3x^2 - 5x)^4$  polinomunun katsayılar toplamı kaçtır?

- A) 2      B) 4      C) 8      D) 16

7.  $P(x) = x^4 + 3x^2 - 4x - 1$  polinomunun  $x - 1$  ile bölümünden kalan kaçtır?

- A) -3      B) -1      C) 2      D) 3

8.  $P(x) = x^4 + 3x + 5$  ve  $Q(x) = 4x^4 + 3x^2 - 2x - 4$  polinomları veriliyor.

Buna göre  $P(x) + Q(x)$  aşağıdakilerden hangisine eşittir?

- A)  $5x^4 + 3x^2 + x + 1$   
B)  $5x^4 + 3x^2 + 1$   
C)  $4x^4 + 3x^2 + x + 1$   
D)  $4x^4 + x^2 + x - 1$

9.  $a^4 + 2a^2 - 8$  ifadesinin çarpanlarından biri aşağıdakilerden hangisidir?

- A)  $a + 4$       B)  $a + 2$   
C)  $a^2 + 2$       D)  $a^2 + 4$

10.  $x - \frac{1}{x} = 8$  olduğuna göre  $x^2 + \frac{1}{x^2}$  ifadesinin değeri kaçtır?

- A) 34      B) 48      C) 62      D) 66

11.  $\frac{x^2 + 2x - 15}{2x^2 + 10x}$  ifadesinin en sade biçimi aşağıdakilerden hangisidir?

- A)  $\frac{x-3}{2x}$       B)  $\frac{x+3}{3x}$   
C)  $\frac{x+5}{2x}$       D)  $\frac{x-5}{3x}$

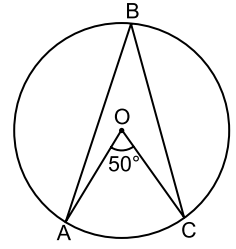
12.  $x^2 - 2x - 3 = 0$  denkleminin çözüm kümesi aşağıdakilerden hangisidir?

- A) {2, 3}      B) {1, 2}  
C) {-1, 3}      D) {-3, 1}

13.  $(2001)^2 - (1999)^2$  işleminin sonucu kaçtır?

- A) 1002      B) 1992  
C) 4000      D) 8000

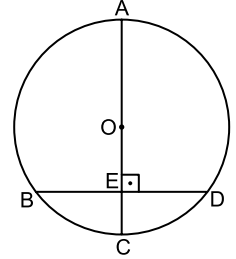
14.



Şekildeki A, B, C noktaları O merkezli çember üzerinde ve  $m(\widehat{AOC}) = 50^\circ$  olduğuna göre  $m(\widehat{ABC})$  kaç derecedir?

- A) 25      B) 50      C) 75      D) 100

15.

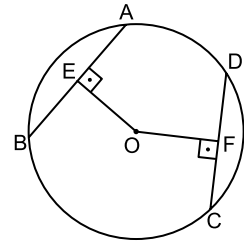


Şekildeki A, B, C, D noktaları O merkezli çember üzerinde ve  $[AC] \perp [BD]$ ,  $[AC] \cap [BD] = \{E\}$ 'dir.

$[BD] = 16$  cm ve  $[OA] = 10$  cm olduğuna göre  $[EC]$  kaç santimetredir?

- A) 3      B) 4      C) 5      D) 6

16.



Şekildeki A, B, C, D noktaları O merkezli çember üzerinde ve  $[OE] \perp [AB]$ ,  $[OF] \perp [DC]$ ,  $[AB] = [DC] = 12$  cm,  $[OE] = 2x + 1$  cm,  $[OF] = 3x$  cm'dir.

Buna göre çemberin yarıçapının uzunluğu kaç santimetredir?

- A) 5      B)  $3\sqrt{5}$   
C)  $\sqrt{37}$       D) 9

17. Yarıçapının uzunluğu 6 cm olan dairenin alanı kaç santimetrekaredir? ( $\pi$  yerine 3 alınız.)

- A) 72      B) 96      C) 108      D) 150

## 2. OTURUM

18. Bir ayrırtının uzunluğu 8 cm olan kúpün hacmi kaç santimetrekúptúr?

- A) 384                      B) 390  
C) 448                      D) 512

19. Boyutları 4 cm, 6 cm ve 8 cm olan dikdörtgenler prizmasının yüzey alanı kaç santimetrekaredir?

- A) 208                      B) 205  
C) 196                      D) 141

20. Yanal alanı  $300\pi$  cm<sup>2</sup> ve yüksekliđi 15 cm olan dik dairesel silindirin hacmi kaç  $\pi$  santimetrekúptúr?

- A) 3000                      B) 2500  
C) 1500                      D) 1000

### (182) İNGİLİZCE – 2

1-20. sorularda boş bırakılan yere uygun gelen kelime ya da ifadeyi işaretleyiniz.

1. **Waiter** : What would you like to drink?

**Customer** : - - - - .

- A) It is traditional food  
B) That was delicious  
C) Just coffee, please  
D) I will have meat

2. **John** : - - - - ?

**Matt** : It's forty dollars.

- A) How will you pay  
B) How much is this  
C) Can I have a menu  
D) How can I help you

3. **Aslı** : Would you like to eat something?

**Anita** : Yes, - - - - .

- A) unfortunately, no  
B) I am starving  
C) nothing else  
D) I like tea

4. **Bill** : - - - - ?

**Kevin** : Yes, I would like to make a reservation.

- A) Can I help you  
B) How will you pay  
C) What would you like to eat  
D) Can I get you anything else

5. **We** - - - - steak and cheese yesterday night.

- A) eating                      B) eaten  
C) eat                          D) ate

6. I - - - - a great film last weekend.

- A) smiled                      B) walked  
C) watched                      D) arranged

7. I - - - - a student 10 years ago.

- A) were                          B) was  
C) are                              D) is

8. **They** - - - - a bike when they were young.

- A) had                              B) looked  
C) played                          D) listened

9. - - - - did they live?

- A) Who                              B) What  
C) Where                          D) Which

10. **I was at the theatre** - - - - .

- A) at the moment  
B) tomorrow  
C) next week  
D) yesterday

11. **Timothy** : - - - - ?

**Samuel** : I have a sore throat.

- A) What is your exact location  
B) What's the matter with you  
C) What should I drink to get well  
D) What kind of an accident did you have

12.



**He has got a** - - - - .

- A) backache                      B) toothache  
C) sore throat                      D) broken arm

13. **You** - - - - speak loudly in a library. It is a rule.

- A) must                              B) should  
C) mustn't                          D) don't have to

14. **Helen** : I have got the flu.

**Alex** : You should - - - - .

- A) have a rest and take vitamins  
B) be quiet during the lessons  
C) stay close to the ground  
D) go to a bookstore

15. **Rebecca** : - - - - go out and drink something?

**Michael** : That is a great idea.

- A) What time                      B) How much  
C) How many                      D) Why don't we

16. **Mark** : Would you like to go to a camp with me?

**Anabel** : Sure. - - - - .

- A) I would rather not  
B) Sorry, but I can't  
C) Let's do that  
D) No, thanks

17. **Bruce** : Hey! It is me, Bruce. What are you doing?

**Betty** : - - - - .

- A) See you later  
B) I like that idea  
C) I am reading a book  
D) That sounds great

18. **Paul** : What do you think about the new TV programme?

**Pam** : - - - - .

- A) I think it is very interesting  
B) I always read books after dinner  
C) I should do my homework on time  
D) I spend all my time to cook the meal

19. **Carol** : I think TV programmes are very interesting.

**Daisy** : Absolutely. - - - - .

- A) You are right  
B) I am not sure  
C) I don't think so  
D) That is not the case

20. **Jordan** : When are you going to do the shopping?

**Thomas** : - - - - .

- A) Yesterday  
B) Last month  
C) Two days ago  
D) Next weekend

## 2. OTURUM

### (182) ALMANCA – 2

1 - 16. sorularda boş bırakılan yere uygun gelen ek, kelime ya da ifadeyi işaretleyiniz.

1. Sibel und Suzi gehen - - - - die Bibliothek.

- A) am B) im  
C) in D) um

2. Wir werden nicht - - - -, wenn wir gut spielen.

- A) verliert B) verlieren  
C) spiele D) spielt


3. Viel, - - - -, am meisten

- A) mehr B) viele  
C) mehrere D) vieles

4. A: - - - - gehört der Bleistift?  
B: Der Lehrerin.

- A) Was B) Wie  
C) Wem D) Womit

5. Das Kind - - - - sein Fahrrad.



- A) kauft B) gehört  
C) repariert D) trinkt

6. Tanja ist jünger - - - - Katja.

- A) so B) so wie  
C) denn D) als

7. A: Ist dieses Haus teuer - - - - billig?  
B: Es ist teuer.

- A) oder B) weil  
C) damit D) um

8. A: Ich komme - - - - Ankara und du?  
B: - - - - Berlin.

- A) zu / Zu B) aus / Aus  
C) aus / Zu D) zu / Aus

9. - - - - ich zehn Jahre alt war, konnte ich Deutsch sprechen.

- A) Als B) Wenn  
C) Damit D) Ob

10. Das Mädchen heiß- - - - Jolanda.

- A) -en B) - C) -e D) -t

11. Er hat - - - - Tasche zu Hause vergessen.

- A) ihr B) seine  
C) ihrer D) seiner

12. - - - - Unterricht soll man leise sein.

- A) Auf B) Zum  
C) Ins D) Im

13. Er - - - - den Mantel fünf Jahre lang. (tragen, Präteritum)

- A) tragt B) trage  
C) trug D) getragen

14. Heute - - - - morgen wird es schneien.

- A) aber B) weil  
C) denn D) oder

15. A: - - - - ist das Geschäft offen?  
B: 20 Uhr.

- A) Bis wann B) Wohin  
C) Um D) Mit wem

16. A: - - - - du auch Kuchen essen?  
B: Ja, gerne.

- A) Ist B) Bist  
C) Willst D) Hast

17. „trinken“ fiilinin 3.tekil şahısa göre çekimi aşağıdakilerden hangisidir?

- A) trinke B) trinkst  
C) trinken D) trinkt

18. Aşağıdakilerden hangisi fiildir? (Verb)

- A) gehen B) jung  
C) blau D) schwer

19. “kaufen” fiilinin “Perfekt” hâli aşağıdakilerden hangisidir?

- A) kauft B) gekauft  
C) kaufen D) kaufte

20. Aşağıdakilerden hangisi sıfattır? (Adjektiv)

- A) lernen B) rot  
C) geht D) lief

### (182) FRANSIZCA – 2

1 - 17. sorularda boş bırakılan yere uygun gelen sözcük ya da ifadeyi işaretleyiniz.

1. - - - - vont en autocar à İzmir.

- A) Vous B) Nous  
C) Elles D) Il

2. Vous les connaissez; - - - - ils ne vous connaissent pas.

- A) aux B) mais  
C) quel D) où

3. - - - - tu es malade, tu iras chez le médecin.

- A) Ce que B) Puisque  
C) Combien D) Comment

4. C'est à Berlin - - - - Pierre apprend l'allemand depuis trois mois.

- A) qui B) quel  
C) donc D) que

5. Je vais à l'école à pied - - - - à moto.

- A) ou B) or  
C) car D) donc

6. Fermez la fenêtre - - - - vous avez ouverte.

- A) qui B) ce qui  
C) où D) que

## 2. OTURUM

7. **Ce printemps, il va passer deux semaines - - - - Italie - - - - Rome.**

- A) à / à                      B) au / en  
C) en / à                      D) aux / au

8. **- - - - lundi et mercredi c'est mardi.**

- A) Sous                      B) Sur  
C) Dans                      D) Entre

9. **Dans la classe il y a beaucoup d'élèves - - - - viennent de Belgique.**

- A) ce qui                      B) qui  
C) dont                      D) que

10. **Jean - - - - dans son lit quand sa mère revient.**

- A) lit                      B) ont lu  
C) as lu                      D) lis

11. **André** : Tu connais le cinéma français ?

**Burak** : Oui, je - - - - connais.

- A) les                      B) la  
C) des                      D) le

12. **Aline** : Pourquoi va-t-elle chez le dentiste ?

**Julien** : Parce qu'elle a mal - - - - .

- A) au cou                      B) aux pieds  
C) à la tête                      D) aux dents

13. **Antoine** : Quand sortent les enfants de l'école ?

**Fabrice** : Ils - - - - sortent à trois heures.

- A) en                      B) y  
C) les                      D) la

14. **Claire** : D'où reviennent-elles ?

**Sarah** : Elles reviennent - - - - France.

- A) du                      B) de  
C) des                      D) une

15. **Daniel** : Françoise est montée dans le train ?

**Thomas** : Oui, elle - - - - est montée.

- A) dans                      B) en  
C) y                      D) de

16. **Lucie** : Tu as une voiture de sport ?  
**Victor** : Non, je n' - - - - ai pas.

- A) en                      B) y  
C) les                      D) au

17. **Jean** mesure 1m 85.  
**Paul** mesure 1m 70.

**Paul est - - - - grand que Jean.**

- A) aussi                      B) autant  
C) moins                      D) plus

18. "**Aykut et Filiz** aiment beaucoup la musique classique." **cümlesinde altı çizili sözcüklerin yerine aşağıdaki şahıs zamirlerinden hangisi konulabilir?**

- A) Ils                      B) Elle  
C) Elles                      D) Il

19.



Verilen resme göre cümlede boş bırakılan kısmı tamamlayan ifadenin bulunduğu seçeneği işaretleyiniz.

**Elle fait - - - - .**

- A) du cinéma  
B) de la peinture  
C) de l'escalade  
D) du théâtre

20.



**Bu trafik işaretinin anlamı nedir?**

- A) Annonce de feux tricolores  
B) Circulation à sens unique  
C) Passage pour piétons  
D) Endroit fréquenté par des enfants

## (207) SEÇMELİ PSİKOLOJİ – 2

1. **Aşağıdakilerden hangisi zeki bir insanda bulunan özelliklerden biri değildir?**

- A) Problem çözmeye başarılı olma  
B) Yeni çözüm yolları bulma  
C) Doğru akıl yürütme  
D) Geç öğrenme

2. Bilgi işleme kuramına göre zihin dört evreden geçerek olgunluk düzeyine ulaşır. Her evrede çocuğun zihinsel gelişimi ve buna bağlı olarak neleri yapabileceği farklılaşır.

**Buna göre bilgi işleme kuramı aşağıdakilerden hangisini açıklamaktadır?**

- A) Kişilik yapısını  
B) Genel yetenekleri  
C) Zihinsel gelişimin evrelerini  
D) Kalıtım ve çevre ilişkisini

3. Herhangi bir nesne veya canlının gözlemlendiği anda onda var olmamakla birlikte ileride gelişebilme olanağı bulunan yetenek ve özellikleridir.

**Verilen tanım aşağıdaki kavramlardan hangisine aittir?**

- A) Çevre                      B) Gizilgüç  
C) Kalıtım                      D) Uyarıcı

4. **Aşağıdakilerden hangisi kişilik ölçeklerinin kullanım amaçları arasında yer almaz?**

- A) Zekâ düzeyini belirlemek  
B) Çeşitli kişilik özelliklerin analizini yapmak  
C) Gözlenebilen kişilik özelliklerini ölçmek  
D) Kişilik özelliklerinin oluşturduğu örüntüleri bulmak

5. Kişiliğin tutum, davranış ve görünüş gibi nesnel bir yanı vardır. Bir de düşünüş ve duyuş gibi öznel bir yanı vardır. Kişiliğin öznel ve nesnel yanı birbirinden ayrı düşünülemez.

**Buna göre kişilik için aşağıdakilerden hangisi söylenebilir?**

- A) Tek yönlü bir yapıdır.  
B) Hormonel yapıyla açıklanır.  
C) Sadece biyolojik etmenlerden oluşur.  
D) Öznel ve nesnel görünüşlerin toplamıdır.

## 2. OTURUM

6. Bir insan normal yaşamını sürdürüyor, çalışabiliyor, gülüp eğlenebiliyorsa sağlıklı bir insandır.

**Buna göre aşağıdakilerden hangisi sağlıklı insan davranışına örnek gösterilemez?**

- A) Ömer'in aşırı kaygı yüzünden okula devam etmekte zorlanması  
B) Burak'ın arkadaşlarıyla buluşması  
C) Eda'nın ödevlerini düzenli yapması  
D) Ayşe'nin her gün işine gitmesi

7. Varoluşçu felsefeye göre, insan gerçekte olduğu gibi anlaşılmalı çalışılmalıdır. İnsan kendisini nasıl var kılmışsa, nasıl gerçekleştirmişse öyledir. Evrende kendi varlığına anlam katabilen tek varlık insandır. Hümanistik yaklaşım varoluşçu felsefeden etkilenmiştir.

**Bu ifadeden hareketle hümanistik kuramla ilgili aşağıdakilerden hangisine ulaşılabılır?**

- A) İnsan bazı temel dürtülerin kontrolü altındadır.  
B) İnsan, hızını kendinden alan, oluşum halinde bir varlıktır.  
C) İnsanın kendini yeterli hissetmesi onu aşağılık duygusundan kurtarır.  
D) İnsan, dışardan gelen uyarıcılara tepki veren bir organizmadır.

8. Bir eşeğin önüne aynı uzaklıkta, aynı tazelikte ve aynı miktarda ot konulmuş. Eşek "Hangisini önce yesem ki?" diye düşünmekten bir karar verememiş ve sonunda açlıktan ölmüş.

**Bu hikâyedeki eşeğin durumu aşağıda verilenlerden hangisine örnek oluşturur?**

- A) Sağlıklı olma B) Çatışma  
C) Engellenme D) Dengelenme

9. Çocuğun boyunun yetmemesi nedeniyle masaya ulaşip istediğini alamaması aşağıdaki engellerden hangisine örnektir?

- A) Ruhsal B) Fiziksel  
C) Toplumsal D) Bedensel

10. Çatışma, bireyin iki ya da daha fazla seçenek arasında kararsız kalma durumudur.

**Buna göre aşağıdakilerden hangisi çatışma örneğidir?**

- A) Çok beğendiğimiz iki ayakkabıdan birini seçmek zorunda olmak  
B) Üniversiteyi bitirebilmek için çok ders çalışmak  
C) Sağlıklı olmak için spor yapmak  
D) Film izlemek için sinemaya gitmek

11. I. Kendine zaman ayırma  
II. Keyif aldığı şeyleri yapma  
III. Hayata sevgiyle bakma

**Yukarıdakilerden hangileri stresle baş etme yöntemlerindedir?**

- A) Yalnız I. B) Yalnız III.  
C) I ve II. D) I, II ve III.

12. Stresin pek çok nedeni vardır. Bu nedenleri, dış çevreden kaynaklanan ve denetimimiz dışında bulunan "çevresel nedenler" ve iç çevreden kaynaklanan ve denetleme şansımız olan "psikolojik nedenler" olarak ayırabiliriz.

**Buna göre aşağıdakilerden hangisi psikolojik nedenlerden kaynaklanan bir stres faktörüdür?**

- A) Çevre kirliliği  
B) Doğal afetler  
C) Düşünsel düzeydeki nedenler  
D) İklim ve doğa şartları

13. Aşağıdakilerden hangisi kötü stresin oluşmasında rol oynayan etkenlerden biri değildir?

- A) Olumlu kişilik yapısı  
B) Zorlanmaların çokluğu  
C) Üst üste gelen terslikler  
D) Stres süresinin uzunluğu

14. Bir tren kazasında yakınlarını kaybedenler üzerinde çeşitli incelemeler yapılmıştır. 5 hafta sonra tekrarlanan incelemeler bağımsız sistemlerinin normal koşullarda yaşayan insanlara göre 10 misli zayıfladığını göstermiştir.

**Bu araştırmadan hareketle stresle ilgili aşağıdakilerden hangisine ulaşılabılır?**

- A) Başarı düzeyini artırmasına  
B) İnsan sağlığını olumsuz etkilemesine  
C) İletişim bozukluklarına yol açmasına  
D) Canlı organizmalar için gerekli olmasına

15. Normal davranış yere, zamana, kurallara ve koşullara uygun davranıştır.

**Buna göre aşağıdakilerden hangisi normal bir davranış değildir?**

- A) Kütüphanede yüksek sesle konuşmak  
B) Sinemada sessizce film izlemek  
C) Hasta olunca doktora gitmek  
D) Konserde eğlenmek

16. İnsanın saçma olduğunu bildiği halde bazı şeylerden aşırı derecede korkmasına fobi denir.

**Buna göre aşağıdakilerden hangisi fobiye örnektir?**

- A) Yaşantının bir bölümünü unutmama  
B) İki ya da daha fazla kişiliğe sahip olma  
C) Öürümekten korkma  
D) Sürekli temizlik yapma

17. Bilinç alanına çıkan ve insanı rahatsız eden anı, olay ve durumların farkında olmadan bilinç altına itilmesidir.

**Tanımı verilen savunma mekanizması aşağıdakilerden hangisidir?**

- A) Bastırma  
B) Mantığa bürüme  
C) Yüceltme  
D) Yansıtma

18. Anormal davranışın tedavisinde, bir hasta grubunun bilinçaltı tikanlıklarının giderilmesi için seçtikleri rolleri oynamaları aşağıdakilerden hangisiyle ifade edilir?

- A) Grup terapisi  
B) Psikodrama  
C) Psikanaliz  
D) İş terapisi

19. Ali bir film seyrediyor, sıkıcı buluyor. Sonra aynı filmi izleyen arkadaşlarının tartışmasına katılır; onlar filmi beğenmişlerdir. Ali de sosyal çevresinin etkisiyle aynı düşüncede olduğunu söyler. Artık görüşü değişmiştir.

**Buna göre Ali'nin düşüncesindeki değişiklik aşağıdakilerden hangisi sonucunda oluşmuştur?**

- A) Obsesyon  
B) Ruhsal hastalık  
C) Sosyal etki  
D) Bellek yitimi

20. Çocukluğun ilk döneminde anne ve babanın taklit edilmesi, onların yargılarının ve davranışlarının benimsenmesi özdeşim kurma olarak adlandırılır.

**Buna göre aşağıdakilerden hangisi özdeşim kurma örneğidir?**

- A) Anne babaya karşı gelme  
B) Kendi isteklerinde ısrarcı olma  
C) Arkadaşlarına önem verme  
D) Anne baba davranışlarının aynısını yapma

## 2. OTURUM

### (208) SEÇMELİ SOSYOLOJİ – 1

1. İçinde yaşanılan toplumu, toplumsal grupları, kurumları ve ilişkileri bilimsel olarak anlayıp açıklamak için aşağıdaki bilimlerden hangisi-ne ihtiyaç duyulur?

- A) Sosyoloji B) Matematik  
C) Coğrafya D) Fizik

2. Yeri ve zamanı belli olan değişimler birer toplumsal olay örneğidir.

**Buna göre aşağıdakilerden hangisi toplumsal olaydır?**

- A) Evlilik kararı alma  
B) Seçim yapma  
C) İstanbul'un fethi  
D) Göç etme

3. Sosyoloji toplumu ve toplumsal ilişkileri konu edinir.

**Buna göre aşağıdakilerden hangisi sosyolojinin konusudur?**

- A) Ruh sağlığı  
B) Coğrafi olaylar  
C) Fizik yasaları  
D) Sosyal ilişkiler

4. Aşağıdakilerden hangisi sosyoloji biliminin amaçları arasında yer almaz?

- A) Kurumların yapısını açıklamak  
B) Bireysel duyguların nedenlerini araştırmak  
C) Toplumu bilimsel yöntemle anlamaya çalışmak  
D) Toplumların nasıl değiştiğini ortaya çıkarmak

5. Belli bir coğrafyaya yerleşen, ihtiyaçlarını karşılamak için ilişkiler kuran, birbirlerini etkileyen, ortak bir kültürü paylaşan insan birlikteliğine toplum denir.

**Verilen tanımda toplumla ilgili aşağıdakilerden hangisine değnilmemiştir?**

- A) İhtiyaca yönelik ilişkiler içinde olmaya  
B) Belli bir toprak parçasında yerleşmiş olmaya  
C) Sürekli değişen düşünceler taşımaya  
D) Ortak bir kültürü paylaşmaya

6. Sosyolog bugünkü toplumsal ilişkileri anlamak için toplumun tarihsel geçmişini bilmek zorundadır.

**Buna göre aşağıdaki yargılardan hangisine ulaşılr?**

- A) Sosyolog araştırmalarında tarih biliminden yararlanır.  
B) İklim toplumsal ilişkileri etkiler.  
C) Sosyoloji ile hukuk arasında güçlü bir bağ vardır.  
D) Ekonomi topluma yön verir.

7. Araştırmacının, gözlemediği olay ya da gruba katılmadan bilgi elde ettiği gözlem türü aşağıdakilerden hangisidir?

- A) Sistematik gözlem  
B) Katılımsız gözlem  
C) Katılımlı gözlem  
D) Basit gözlem

8. Araştırılan konuyla ilgili bireylerle yapılan karşılıklı konuşma şeklinde gerçekleşen sosyolojik araştırma tekniği aşağıdakilerden hangisidir?

- A) Monografi  
B) Sosyometri  
C) Görüşme  
D) Olay inceleme

9. Araştırmacı, incelediği konunun sınırlarını çizmeli, neyi araştıracağını belirlemelidir.

**Bu ifade bilimsel çalışmalarda uyulan aşağıdaki ilkelere hangisiyle ilgilidir?**

- A) Konunun sınırlandırılması  
B) Toplumsal olayların değişebilirliği  
C) Bilmediğini varsaymak  
D) Nedensellik

10. I. Genelleyicilik  
II. Evrensellik  
III. Öznellik

**Yukarıdakilerden hangileri bilimin ilkelerindendir?**

- A) Yalnız I. B) Yalnız III.  
C) I ve II. D) II ve III.

11. Dört yılda bir yapılan olimpiyatlar ya da bir şehirde her yıl kurulan fuarlar aşağıdaki ilişki türlerinden hangisine örnek olabilir?

- A) Periyodik B) Uzun süreli  
C) Kısa süreli D) Birincil

12. Toplumsal ilişki en az iki kişi arasında olmalı ve bu kişiler arasındaki etkileşim belli bir süre devam etmelidir.

**Buna göre aşağıdakilerden hangisi toplumsal ilişki örneğidir?**

- A) Ada'nın televizyon izlemesi  
B) Banu'nun kantinde yalnız oturması  
C) İnsanların karşıdan karşıya geçmesi  
D) Öğretmenin sorularına öğrencilerin cevap vermesi

13. Doğuştan gelen ve çoğunlukla değişmeyen statülere verilmiş statü denir.

**Buna göre aşağıdakilerden hangisi verilmiş statüye örnek olabilir?**

- A) Dişi olmak  
B) Sanatçı olmak  
C) Doktor olmak  
D) Tüccar olmak

14. Aşağıdakilerden hangisi küçük gruplar arasında yer almaz?

- A) Aile  
B) Şehir  
C) Oyun grupları  
D) Arkadaş grupları

15. İlkel göçebe topluluklar avcılık ve toplayıcılık alanlarının azalmasıyla su kenarlarına yerleşerek bitki yetiştirmeye ve ürün elde etmeye başlamışlardır.

**Bu parçadan hareketle aşağıdakilerden hangisi söylenemez?**

- A) Yerleşik yaşama geçilmiştir.  
B) Tarımsal faaliyet başlamıştır.  
C) Toplumsal yapı değişmiştir.  
D) Sanayi üretimi gelişmiştir.

16. Kırsal alanın olumsuz koşulları ile kentsel alanın olumlu özellikleri bireylerin köyden kente akışına neden olmaktadır.

**Buna göre aşağıdakilerden hangisi kırsal alanın olumsuz koşullarından biridir?**

- A) İş bulma olanaklarının fazlalığı  
B) Tüketim ürünlerinin bolluğu  
C) Eğitim, sağlık ve diğer olanakların eksikliği  
D) Daha iyi hayat standardına ulaşma olanağı

## 2. OTURUM

17. Kurtuluş Savaşı'nın halka dayanılarak kazanılmış olması aşağıdaki Atatürk ilkelerinden hangisine örnek olabilir?

- A) Devletçilik B) Halkçılık  
C) Laiklik D) İnkılapçılık

18. Aşağıdakilerden hangisi milleti oluşturan ortak unsurlar arasında yer almaz?

- A) Dil B) Ekonomi  
C) Kültür D) Bencillik

19. I. Gelir düzeyi  
II. Eğitim düzeyi  
III. Toplumsal saygınlık

Yukarıdakilerden hangileri toplumsal tabakayı belirleyen etmenlerdendir?

- A) I ve II. B) I ve III.  
C) II ve III. D) I, II ve III.

20. Birey ya da grupların bir tabakadan başka bir tabakaya geçişine dikey hareketlilik denir.

Buna göre aşağıdakilerden hangisi dikey hareketlilik örneğidir?

- A) Bir işçinin bir fabrikadan başka bir fabrikaya geçmesi  
B) Bir işçinin ailesinden kalan mirasla fabrika açması  
C) Bir köylünün şehre göç ederek işçi olması  
D) Bir fabrikatörün yeni bir fabrika açması

### (221) SAĞLIK BİLGİSİ VE TRAFİK KÜLTÜRÜ – 1

1. Kişinin toplumdan ve devletten sağlığının korunmasını, gerektiğinde tedavi edilerek iyileştirilmesini isteyebilmesine ve toplumun sağladığı imkânlardan faydalanabilmesine ne ad verilir?

- A) Sağlık hakkı  
B) Hastalık hakkı  
C) Engellilik hakkı  
D) Rehabilitasyon hakkı

2. Evsel nitelikli atıklar için hangi renkli atık torbası kullanılmalıdır?

- A) Mavi B) Sarı  
C) Kırmızı D) Siyah

3. En üst düzeyde tıp teknolojisi kullanılan üniversite hastaneleri, kanser araştırma merkezleri, ruh ve sinir hastalıkları hastaneleri ve sanatoryumlardır.

Yukarıdaki açıklamada verilen sağlık kuruluşları, tedavi edici sağlık hizmetlerinin kaçınıcı basamağında yer alır?

- A) Birinci B) İkinci  
C) Üçüncü D) Dördüncü

4. Aşağıdakilerden hangisi su ve besin hijyeninde dikkat edilmesi gereken hususlardandır?

- A) Temizliğinden emin olunmayan suların içilmesi  
B) Gıdaları satın alırken son kullanma tarihine dikkat edilmesi  
C) Sokakta ya da açıkta satılan ve kaynağı bilinmeyen yiyeceklerin tüketilmesi  
D) Hastalık yapabilecek şüpheli besinlerin, özellikle küflenmiş olanların yenilmesi

5. I. Estetik olarak yüze bir bütünlük vermesi  
II. Konuşmayı ve seslerin doğru bir şekilde çıkmasını sağlaması  
III. Kendini çevreleyen destek dokuları koruması ve gelişmelerini sağlaması

Yukarıdakilerden hangileri dişlerin görevlerindedir?

- A) Yalnız I. B) I ve II.  
C) II ve III. D) I, II ve III.

6. Aşağıdakilerden hangisi fiziksel aktivitelerin zihinsel ve sosyal yararlarından biri değildir?

- A) Bireyler arası iletişim becerilerini geliştirilmesi  
B) Olumlu düşünme ve stresle başa çıkabilme yeteneğini azaltılması  
C) Her yaşta bireyler için sosyal uyum ve kabul görme oranını artırması  
D) Vücut düzgünlüğünü geliştirerek bedeni ile barışık, öz güvenli bireyler oluşturması

7. Beslenme piramidinin en altını hangi besin grubu oluşturur?

- A) Tahıllar  
B) Proteinler  
C) Yağ ve şekerler  
D) Sebze ve meyveler

8. I. Yeterli fiziksel aktivite  
II. Sosyo-kültürel etmenler  
III. Aşırı ve yanlış beslenme alışkanlıkları

Yukarıdakilerden hangileri obezitenin oluşmasında başlıca risk etmenlerindedir?

- A) I ve II. B) I ve III.  
C) II ve III. D) I, II ve III.

9. Beden kitle indeksi, yetişkin bir insanın kilosunun boyuna göre normal olup olmadığını gösteren bir parametredir.

Buna göre beden kitle indeksi "18,5 kg/m<sup>2</sup>'nin altında" olan kişiler için ne söylenebilir?

- A) Zayıf B) Normal kilolu  
C) Fazla kilolu D) I. derece obez

10. Stresin yol açabileceği rahatsızlıklarla ilgili olarak verilenlerden hangisi doğrudur?

- A) Stresin vücut fonksiyonlarına etkisi yoktur.  
B) Stresin yol açtığı en ciddi hastalıklardan birisi kalp krizidir.  
C) Fizyolojik stres, bağışıklık sistemi üzerinde olumlu bir etki yapar.  
D) Stres altında olan beyin, vücutta kortizol hormonu üretimini azaltır.

11. Aşağıdakilerden hangisi sınav kaygısının nedenlerindedir?

- A) Öz güvenli olmak  
B) Başkalarıyla karşılaştırılmak  
C) Geçmiş başarısızlıkları unutmak  
D) Geleceğe ilişkin olumlu çıkarımlar yapmak

12. Bir öğrencinin, bir veya daha fazla öğrenci tarafından tekrar eden biçimde olumsuz davranışlara (fiziksel, sözel ve/veya psikolojik) maruz kalmasına ne ad verilir?

- A) İçer kapanma  
B) Stres yönetimi  
C) Nefes egzersizi  
D) Akran zorbalığı

13. I. Damarların tıkanması  
II. Bronşların genişlemesi  
III. Midede gastrit ve ülser oluşması

Yukarıdakilerden hangileri sigaranın yol açtığı sağlık sorunlarıdır?

- A) I ve II. B) I ve III.  
C) II ve III. D) I, II ve III.

## 2. OTURUM

14. Alkol kullananların en belirgin özelliği, nasıl bir kişilik sergilemeleridir?

- A) Bilinçli B) Dayanıklı  
C) Güçsüz D) Mücadeleci

15. Aşağıdakilerden hangisi uyuşturucu madde kullanımının insan sağlığına ve davranışlarına olumsuz etkilerindendir?

- A) Zehirlenmelere sebep olması  
B) Akıl ve iradeyi işler hâle getirmesi  
C) Kişiyi normal yaşama yaklaştırması  
D) Bireyin çevreye uyum yeteneğini artırması

16. Aşağıdakilerden hangisi ilk yardımın temel uygulamalarından biri değildir?

- A) Koruma B) Kurtarma  
C) Bildirme D) Tedavi etme

17. Aşağıdakilerden hangisi olay yerinin değerlendirilmesinde dikkat edilmesi gereken hususlardandır?

- A) Kazaya uğrayan aracın kontağının açık bırakılması  
B) Olay yerinin yeterince görünebilir biçimde işaretlenmesi  
C) Araç LPG'li ise aracın bagajında bulunan tüpün vanasının kapatılmaması  
D) Kivılcım oluşturabilecek ışıklandırma veya çağrı araçlarının kullanılmasına izin verilmesi

18. "Bak-Dinle-Hisset Yöntemi" ile hastanın/yaralının solunum yapip yapmadığı kaç saniye süre ile değerlendirilmelidir?

- A) 10 B) 20 C) 30 D) 40

19. Aşağıdakilerden hangisi şok belirtilerindendir?

- A) Yavaş ve güçlü nabız  
B) Bilinç seviyesinde artma  
C) Kan basıncında yükselme  
D) Hızlı ve yüzeysel solunum

20. Aşağıdakilerden hangisi deri yolu ile zehirlenmelerde yapılması gereken ilk yardım uygulamalarındandır?

- A) Su ile temastan kaçınılması  
B) Zehir bulaşmış giysilerin çıkartılmaması  
C) Ellerin zehirli madde ile temasının önlenmesi  
D) Yaşam bulgularından sadece do-laşımın değerlendirilmesi

### (243) İNGİLİZCE – 4

1 - 20. sorularda boş bırakılan yere uygun gelen kelime ya da ifadeyi işaretleyiniz.

1. My brother and I - - - - the Great Wall of China last year.

- A) smelled B) stayed  
C) visited D) had

2. Germany is the most crowded country in Europe and its - - - - is nearly 80 million.

- A) civilization B) population  
C) postcard D) guest

3. We - - - - in a lovely hotel by the sea in Muğla.

- A) stayed B) solved  
C) bought D) caught

4. - - - - the students - - - - football in the school garden?

- A) Didn't / smell B) Didn't / bite  
C) Did / sleep D) Did / play

5. My sister was born - - - - April, 1992.

- A) on B) of C) in D) at

6. I never get up early - - - - Sundays.

- A) in B) on C) at D) of


7. The meeting starts - - - - 9 a.m.

- A) in B) of C) on D) at

8. - - - -, we went on a holiday to Izmir.

- A) Last summer B) Next week  
C) Very soon D) Tomorrow

9.



There is a cute puppy - - - - the table.

- A) next to B) behind  
C) under D) near

10. Jane went to the cinema and - - - - a film last week.

- A) has watched B) watched  
C) watches D) watch

11. His neighbour was very angry with him because he was listening to music - - - -.

- A) brilliantly B) fluently  
C) loudly D) slowly

12. I have never - - - - Andrew in a suit and tie.

- A) see B) seen  
C) to see D) seeing

13. Tina - - - - her purse yesterday. She couldn't find it.

- A) to lose B) losing  
C) lose D) lost

14. - - - - your best friend ever lied to you?

- A) Has B) Had  
C) Did D) Is

15. Ted - - - - play chess when he was five.

- A) can B) could  
C) should D) have to



## 2. OTURUM

16.



You ---- make noise in the library.

- A) wouldn't      B) mustn't  
C) would          D) must

17. Christie has ---- for the same company for ten years.

- A) slept            B) done  
C) played          D) worked

18. Have you ---- bought something new and never worn it?

- A) yet              B) just  
C) ever            D) never

19. My cousin sent me a photo three days ----.

- A) ago              B) yet  
C) since           D) yesterday

20. You should ---- before having your breakfast.

- A) eat candies  
B) eat junk food  
C) drink fizzy drinks  
D) wash your hands

### (243) ALMANCA – 4

1 - 17. sorularda boş bırakılan yere uygun gelen ek, kelime ya da ifadeyi işaretleyiniz.

1. A : ---- spielst du Tennis?

B : Seit fünf Jahren.

- A) Wie oft          B) Mit wem  
C) Seit wann      D) Womit

2. Susanne hat ein lang- ---- Kleid an.

- A) -es    B) -e    C) -en    D) -er

3. ---- das Fenster!

- A) Offen            B) Öffne  
C) Öffnen        D) Öffnest

4. A: ---- ihr auch Döner essen?

B: Ja, gerne.

- A) Wollt            B) Wollen  
C) Willst          D) Will

5. A : ---- Helga mir bei meinen Hausaufgaben helfen?

B : Ja, sie ---- .

- A) Kannst / kannst  
B) Können / kann  
C) Kann / können  
D) Kann / kann

6. A : ---- du mit mir schwimmen gehen?

B : Ja, ich ---- .

- A) Will / will  
B) Wollt / wollen  
C) Willst / will  
D) Wollen / wollt

7. gut, besser, ---- .

- A) gute              B) beste  
C) am besten      D) besseres

8. A: ---- kannst du heute im Schwimmbad schwimmen?

B: Zwei Stunden.

- A) Warum          B) Wie oft  
C) Weshalb        D) Wie lange

9. ---- ich mir ein neues Handy kaufen kann, arbeite ich in den Ferien.

- A) Somit            B) Damit  
C) Um              D) Womit

10. A : Wann ---- Ali zum Arzt gehen?

B : Heute Nachmittag um 14 Uhr.

- A) müsst            B) müssen  
C) musst          D) muss

11. ---- du willst, können wir zusammen lernen.

- A) Wenn            B) Das  
C) Warum        D) Um

12.



Die Tomate ist ---- .

- A) Getränk        B) Obst  
C) Fleisch        D) Gemüse

13. A : ---- soll der Zug ankommen?

B : Um 15 Uhr.

- A) Wie              B) Wann  
C) Warum        D) Wo

14. ---- ich in der Grundschule war, konnte ich noch kein Deutsch sprechen.

- A) Als              B) Wenn  
C) Denn           D) Ob

15. Die Arbeiter müssen jeden Tag 8 Stunden ---- .

- A) arbeiten        B) arbeitet  
C) arbeitest      D) arbeite

16. Die klein- ---- Katze und der klein- ---- Hund spielen zusammen.

- A) -en / -es        B) -e / -er  
C) -er / -en        D) -e / -e

17. Alle Schüler müssen ---- Samstag ---- 10 Uhr in der Schule sein.

- A) um / am        B) am / um  
C) von / bis        D) bis / zu

18. Was ist das?



- A) Ofen              B) Kühlschrank  
C) Bügeleisen     D) Bürste

19. Zaman kavramı ile ilgili olan hangisidir?

- A) gehen            B) immer  
C) teuer          D) kaufen

20. Kurallı bir cümle oluşturunuz.

$\frac{\text{dein} - \text{gib}}{1} - \frac{\text{Buch} - \text{mir.}}{3} - \frac{\text{mir.}}{4}$

- A) 1 / 2 / 3 / 4      B) 4 / 3 / 2 / 1  
C) 2 / 4 / 1 / 3    D) 3 / 1 / 4 / 2

## 2. OTURUM

### (243) FRANSIZCA – 4

1 - 18. sorularda boş bırakılan yere uygun gelen sözcük ya da ifadeyi işaretleyiniz.

- Lucie, son amie et moi, ---- faisons de la gymnastique dans la salle de sport.**  
A) elles B) vous  
C) on D) nous
- Mme Dubois** : Bonjour, je voudrais un billet pour Paris, pour une personne.  
**Employée** : Oui, madame, ---- ?  
A) vous partez le matin ou l'après-midi  
B) avez-vous des enfants  
C) vous gagnez combien  
D) où allez-vous
- Pour la fête, ne mets pas cette cravate-ci, mais ----.**  
A) celui-ci B) celles-ci  
C) celle-là D) ceux-là
- Ma tarte n'est pas bonne, mais ---- de Fatma est délicieuse.**  
A) celui B) celle  
C) celles D) ceux
- Sylvie a 54 livres. Murat a 61 livres. Sylvie a ---- de livres que Murat.**  
A) plus B) moins  
C) autant D) aussi
- La tante de Jean a 56 ans. L'oncle de Jean a 60 ans. L'oncle de Jean est ---- âgé que sa tante.**  
A) plus B) moins  
C) autant D) aussi
- Ma femme est de Gaziantep et elle cuisine très bien. Elle fait ---- délicieux baklavas du monde.**  
A) les moins B) le plus  
C) les plus D) la moins
- Paul** : C'est bien la bicyclette de ton frère ?  
**Jean** : Oui, c'est ----.  
A) le mien B) le sien  
C) la sienne D) la tienne

- Henri** : Ton blouson, c'est le bleu ?  
**Philippe** : Mais non, ---- est gris.  
A) le mien B) la mienne  
C) le tien D) les nôtres
- Voilà la ville ---- je suis né.**  
A) d'où B) qui  
C) quoi D) où
- Si tu veux faire de la gymnastique, tu peux aller dans ----.**  
A) un bon restaurant  
B) une salle de sport  
C) un immeuble ancien  
D) une salle de bains
- L'année dernière, je ---- au bord de la mer pour passer mes vacances.**  
A) allais B) vais  
C) suis allé D) aller
- Albert** : Voulez-vous manger ---- ?  
**Pierre** : Oui, avec plaisir.  
A) de l'eau minérale  
B) des bonbons  
C) du jus d'orange  
D) de la limonade
- Tu dois prendre l'escalier parce qu'il n'y a pas d' ---- dans l'immeuble.**  
A) avenue  
B) étage  
C) appartement  
D) ascenseur
- Je suis actuellement à Antalya. Je vais écrire ---- à mon amie.**  
A) une carte postale  
B) un cahier  
C) un colis  
D) une gomme
- J'ai très froid, donc je dois mettre mon ----.**  
A) cravate B) parapluie  
C) pull D) bottes
- entre dans la classe et salue les élèves avant de commencer le cours.**  
A) Le chauffeur de taxi  
B) Le collégien  
C) Le professeur  
D) L'agent de police

- Pour aller en France, je dois prendre ---- parce que c'est plus rapide.**  
A) la bicyclette B) l'ascenseur  
C) le métro D) l'avion
- Aşağıdaki cümlelerin hangisinde "passé composé" kullanılmıştır?**  
A) Tu ne viens pas au cinéma avec moi ?  
B) Ils sont allés au bord de la mer.  
C) Nous venons de laver notre voiture.  
D) N'oubliez pas de fermer la fenêtre.
- "Elle vient de garer la voiture." cümlesinde hangi zaman kullanılmıştır?**  
A) passé récent  
B) passé composé  
C) futur proche  
D) futur

### (403) DİL VE ANLATIM – 3

- Ayfer Öğretmen**: Sone, terza-rima gibi nazım şekilleri ilk olarak hangi dönemde kullanılmıştır?  
**Mustafa**: Servetifünun Dönemi öğretmenim.  
**Ayfer Öğretmen**: Tebrik ederim.  
**Bu iletişim örneğiyle ilgili aşağıdaki eşleştirmelerden hangisi yanlıştır?**  
A) Gönderici – Ayfer Öğretmen  
B) Alıcı – Mustafa  
C) Kanal – Yazılı  
D) Dönüt – "Tebrik ederim."
- I. Of, bu çocuk hiç laf dinlemiyor!**  
**II. Yapım ekleri sözcüğün anlamını ve yapısını değiştirir.**  
**III. Ah! Ne olurdu şimdi biz de orada olsaydık?**  
**IV. İstedığınız siparişler elinize ulaştı mı?**  
**Numaralanmış cümlelerin hangilerinde dil, heyecana bağlı işleviyle kullanılmıştır?**  
A) I ve II. B) I ve III.  
C) II ve IV. D) III ve IV.
- Aşağıdakilerden hangisi sunumla ilgili yanlış bir bilgidir?**  
A) Konu, etkili ve anlaşılır bir biçimde aktarılmalıdır.  
B) Önceden konuyla ilgili araştırma yapılarak hazırlanmalıdır.  
C) Görsel öğelere ağırlık verildiğinde daha etkili olan bir anlatım türüdür.  
D) Sunumda kullanılan yazı boyutu mümkün olduğunca küçük olmalıdır.

## 2. OTURUM

4. I. Konuşmacı sunum sonunda, sorulara doyurucu cevaplar verebilmelidir.  
II. Ses ve kelimeleri doğru telaffuz etmeye özen gösterilmelidir.  
III. Sunum yapılacak yer önceden görülmelidir.  
IV. Teknolojik imkânlardan (CD, bilgisayar...) en üst düzeyde yararlanılmalıdır.

**Numaralanmış özelliklerden hangileri sunum sırasındaki yapılması gerekenleri belirtmektedir?**

- A) I ve II.                      B) I ve III.  
C) II ve IV.                    D) III ve IV.

5. • Konuyu özellikleri ve sınırlarıyla dinleyicilere belirtmek  
• Konuşmacıların konu dışına çıkmalarına izin vermek  
• Herkese eşit konuşma süresi vermek

**Tartışma başkanının görevleriyle ilgili verilen bu cümleler doğru yanlış bakımından değerlendirilirse sıralama aşağıdakilerden hangisi olur?**

- A) D – Y – D                      B) Y – Y – D  
C) D – Y – Y                      D) Y – D – D

6. **Tartışma sonunda tartışmanın başkan tarafından özetlendiği aşama aşağıdakilerden hangisidir?**

- A) Araç ve tekniklerin belirlenmesi  
B) Tartışma probleminin seçimi  
C) Tartışmanın yapılacağı fiziksel ortamın düzenlenmesi  
D) Değerlendirme ve sonuç

7. **Panel ile ilgili aşağıdakilerden hangisi söylenemez?**

- A) Konuşmacı sayısı 3 ila 6 arasında değişebilir.  
B) Panelde konuşmacıları değerlendiren bir jüri vardır.  
C) Konuşmalar başkanın verdiği süreye göre yapılır.  
D) Tartışmanın sonunda dinleyiciler panel üyelerine soru sorabilir.

8. **Aşağıdakilerden hangisi anlatıma hazırlık aşamalarından değildir?**

- A) Ezber yapmak  
B) Özet çıkarmak  
C) Alıntı yapmak  
D) Not almak

9. **Aşağıdaki konulardan hangisi en az sınırlandırılmıştır?**

- A) Edebiyatta savaş  
B) Türk edebiyatında savaş  
C) Millî Edebiyat şiirinde savaş  
D) Mehmet Emin'in şiirlerinde savaş

10. Tarih, çoğumuzun öğrencilik yıllarında korkulu belası olan ezber silsilesi olmadığı gibi çocukluğumuzda hayatı yeni yeni tanıırken yaşadığımız heyecanlar, körebe oyunlarımız, bisiklete binerken annelerimizin arkamızdan "Aman dikkatli sür, düşersen!" diye bağırdığı sokaklar, dedelerimizin anlattığı hikâyelerdir aslında. Sayısal bilimlerin somutluğu kadar elle tutulur olmasa da insana dair en büyük cevapların içinde olduğu, ezberle değil de tadına varılarak bilginin hazzını yaşatacak ender bir değerdir.

**Bu parçanın ana düşüncesi aşağıdakilerden hangisidir?**

- A) Tarih somut verilere dayanmayan bir bilim dalıdır.  
B) Tarihle edebiyat iç içe geçmiş, birbirini etkilemiştir.  
C) Öğrencilerin birçoğu tarih dersinden korkmaktadır.  
D) Tarih, zevkle öğrenilecek ve haz alınacak bir derstir.

11. I. Sanat eserinin değeri ancak topluma ne kadar ayna olabildiğiyle ölçülür.  
II. Her yıl navruzlar, baharın ilk günlerinde güzel havaların müjdecisi olarak topraktan çıkmaya başlar.  
III. Galata'daki Azapkapı ve Üsküdar'daki Paşakapısı İstanbul'un kapılı semtlerindedir.  
IV. Nabizade Nazım'ın "Karabibik" adlı romanı edebiyatımızda köyü ele alan ilk eserdir.

**Numaralanmış cümlelerden hangileri nesnel anlatımlıdır?**

- A) I ve II.                      B) I ve III.  
C) II ve IV.                    D) III ve IV.

12. **Yazar bu romanında kendi yaşamını I. II. samimi cümlelerle anlatmış. III. IV.**

**Bu cümledeki numaralanmış sözcüklerden hangisi cümleye öznel katmaktadır?**

- A) I.                      B) II.                      C) III.                      D) IV.

13. **Aşağıdaki parçaların hangisinde birinci kişili anlatım kullanılmıştır?**

- A) Mihail, yeni çevresine çok çabuk uyum sağladı. Nikolay ve diğer arkadaşlarıyla beraber geziyor, eğleniyorlardı. Mihail, özellikle de eski dostu Nikolay ile birlikte olmaktan mutluydu.  
B) Diz çokünce kaplumbağa ile göz göze geldik. Yutkundum. Özur dilerken sesim titriyordu. Sesimi ona duyuracak gücüm kalmamıştı. Gözlerim kendiliğinden yumuldu.  
C) Tekne kıyıya geldiğinde içinden, orta yaş çizgisini biraz geçmiş bir adam indi ve irice dört beş balığın bulunduğu kovasını teknedeki kendisine imrenerek bakan yabancıyla göz göze geldi.  
D) Eşi gecenin geç saatlerinde rahatsızlanan adam, doktor aramak için kentin caddelerinden birine sağa sola bakarak yürüyordu. Büyük bir apartmanın önünde durdu ve kapının yan tarafında dizili zilleri tek tek inceledi.

14. **Büyük bir eleştirmen nasıl olur merak ediyor musunuz? O eleştirmenin ilk eseriyile son yazdığı eseri karşılaştırın. İlk eserinde söylediği ve savunduğu şeyleri son eserinde de söyleyip savunuyorsa hiç çekinmeden o eleştirmenin peşinden gidin.**

**Bu parçada büyük bir eleştirmenin taşınması gereken hangi özellikten bahsedilmektedir?**

- A) Tutarlılık                      B) İlginçlik  
C) Doğallık                      D) Yaratıcılık

15. **Bu uyarı ve ikazlarınız ilerleyen süreçte bize yol gösterici olacak.**

**Bu cümledeki anlatım bozukluğunun nedeni aşağıdakilerden hangisidir?**

- A) Sözcüğün yanlış anlamda kullanılması  
B) Anlamca çelişen sözcüklerin kullanılması  
C) Sözcüğün yanlış yerde kullanılması  
D) Gereksiz sözcük kullanımı

## 2. OTURUM

16. Savaşta kimyasal silahların kullanılması askerin daha çok ölmesine yol açtı.

**Bu cümledeki anlatım bozukluğu aşağıdaki değişikliklerin hangisiyle giderilir?**

- A) "Savaşta" sözcüğünün cümleden çıkarılmasıyla  
B) "yol açtı" sözünün yerine "sağladı" sözünün getirilmesiyle  
C) "daha çok" sözünün "askerin" sözcüğünden önce kullanılmasıyla  
D) "kimyasal" sözcüğünün yerine "nükleer" sözcüğünün kullanılmasıyla

17. • Tartışmacı anlatımda, düşünce ve duygular kısa ve kesin ifadelerle dile getirilir.  
• Öyküleyici anlatım sözcüklerle resim çizme işidir.  
• Öğretici anlatımda dil, daha çok göndergesel işlevde kullanılır.

**Bu cümleler doğru-yanlış bakımından değerlendirildiğinde sıralama aşağıdakilerden hangisi olur?**

- A) D – Y – D      B) Y – Y – Y  
C) D – D – D      D) Y – D – Y

18. İş gelmez elinden gitmez bir kâre Aslında neslinde giymemiş hare Sandığı gömleksiz duran mekkâre Bedestene gelir kaftan beğenmez

**Bu dizelerin anlatım türü aşağıdakilerden hangisidir?**

- A) Emredici  
B) Mizahi  
C) Söyleşmeye bağlı  
D) Kanıtlayıcı

19. • Dil, alıcıyı harekete geçirme işlevinde kullanılır.  
• Emir, telkin, öneri anlamı taşıyan ifadeler yer verilir.  
• Trafik kurallarında, bazı eşyaların kullanma kılavuzlarında bu anlatım kullanılır.

**Özellikleri verilen anlatım türü aşağıdakilerden hangisidir?**

- A) Düşsel  
B) Emredici  
C) Gelecekte söz eden  
D) Öyküleyici

20. **Aşağıdakilerden hangisi bir paragrafın giriş cümlesi olamaz?**

- A) Mezopotamya'nın en önemli kentlerinden biri olan Mardin, çevresinde barındırdığı tarihî zenginliğin ortasında bir fener gibi parlıyor.  
B) İnsan hayatı hep bir yerlerde bıraktığı şeylere yıllar sonra geri dönmek üzere kurgulanmıştır.  
C) Yerinde kullanılan bir söz kadar insanı mutlu kılan pek az şey vardır.  
D) Bir toplumun dilini korumadan varlığını sürdürmeyeceğini burada eklemek gerekiyor.

### (404) DİL VE ANLATIM – 4

1. O sırada canhıraş bir çığlık duyuldu yokuştan. Balıkçı Ali'nin sesiydi bu. Ellerindeki balık torbalarını, üzümli yere atıp koştular. Onlar koşarken Balıkçı Ali'nin motosikleti bayırdan aşağıya güvültüyle yuvarlanıyordu. Selim'le Necip, Balıkçı Ali'yi yerde kıvrınırken buldular.

**Bu parçada aşağıdakilerden hangisi kullanılmıştır?**

- A) Açıklayıcı anlatım  
B) Söyleşmeye bağlı anlatım  
C) Mizahi anlatım  
D) Öyküleyici anlatım

2. Nerden geliyorsun? Nice bir eski kâğıtta Kaldık biz okunmaz yazılar; yok bilen artık Kim yazdı? Kim öfkeyle buruşturdu ve tek tek Kim çiğnedi bilmem? Ne vakit nerde unuttu?

**Bu dizelerde aşağıdakilerden hangisi yoktur?**

- A) Cins isim      B) Özel isim  
C) Çoğul isim      D) Somut isim

3. **Aşağıdaki cümlelerin hangisinde küçültme adı kullanılmıştır?**

- A) Ortasında sevimli bir dereciğin aktığı küçük bir köyde yaşıyormuş anneanesi.  
B) Bir söz bazen kocaman kırıklıklara yol açabilir.  
C) Sözümlü dinleseydin bu sıkıntıları yaşamazdın.  
D) Bu parayla tüm ihtiyaçlarımızı nasıl alacağız?

4. Çevremizde gördüğümüz varlıkları, mekânları tanıtmak ve okuyanın gözünde kolayca canlandırabilmek için - - - - yararlanırsınız.

**Bu cümlede boş bırakılan yere aşağıdakilerden hangisi getirilmelidir?**

- A) emredici anlatımdan  
B) kanıtlayıcı anlatımdan  
C) betimleyici anlatımdan  
D) gelecekte söz eden anlatımdan

5. **Aşağıdaki cümlelerin hangisinde soru anlamı sıfatla sağlanmıştır?**

- A) Bu sonuca nasıl ulaştın?  
B) Eviniz hangi sokakta?  
C) Bizi kim sormuş?  
D) Kapıyı neden kapatmıyorsunuz?

6. Sıfatlar isimlerden önce gelerek onları niteler veya belirtir.

**Buna göre "büyük" sözcüğü aşağıdaki cümlelerin hangisinde sıfat göreviyle kullanılmıştır?**

- A) Büyükerimizden dinlediğimiz masallarla şenlenirdi çocukluğumuz.  
B) Rifat, yaşından oldukça büyük gösteriyordu.  
C) Kutuların büyüğünü şu köşeye bırakabilirsiniz.  
D) Karşımdaki bir çocuk değil, büyük bir insandı sanki.

7. Gülün tam ortasında ağlıyorum Her akşam sokak ortasında öldükçe Önümü arkamı bilmiyorum Azaldığını duyup duyup karanlıkta Beni ayakta tutan gözlerinin

**Bu dizelerde aşağıdakilerden hangisi kullanılmıştır?**

- A) Öğretici anlatım  
B) Açıklayıcı anlatım  
C) Lirik anlatım  
D) Tartışmacı anlatım

8. **Aşağıdaki cümlelerden hangisinin yüklemi zamirdir?**

- A) O gün herkesin içinde beni azarlayan kimdi?  
B) Soğuk bir havada yardım kampanyamızı başlattık.  
C) Babamın ilk arabası büyük, kırmızı bir arabaydı.  
D) Yeni aldığımız ev küçük ve rutubetliydi.

9. Nesne alabilen eylemler geçişlidir.

**Buna göre aşağıdaki eylemlerden hangisi geçişlidir?**

- A) Unutulmuş      B) Kestik  
C) Kaçıştı      D) Ağlıyorum

## 2. OTURUM

10. Aşağıdaki cümlelerin hangisinde **eylem geniş zamanla çekimlenmiştir?**

- A) Öğrencilerin birçoğu tatil haberini sabah öğrenmiş.
- B) Adamlar nedense katıla katıla gülüyorlar.
- C) Bazı insanlar karşısındakine sonsuz bir güven verir.
- D) Her yokuşun bir inişi olduğunu unutmamalıyız.

11. Çağlar boyunca nar; umudun, verimliliğin ve bolluğun simgesiydi. Sanatın, mitolojinin ve edebiyatın da ortak noktası oldu. Eski Mısırlılar yeniden doğmak umuduyla narlarla görmülüyordu. Hitit tarım tanrısı kullarını nar, üzüm ve buğday ile kutsuyordu. Romalılar narın kabuğunu kurutup kösele olarak kullanıyordu. Nar, boya ve dekor işlerinde de kullanılıyordu.

**Bu parçanın anlatım türü aşağıdakilerden hangisidir?**

- A) Betimleyici
- B) Açıklayıcı
- C) Mizahi
- D) Söyleşmeye bağlı

12. Bir yazarın inandırma, aydınlatma, kendi görüşünü kabul ettirme amacıyla yazdığı bir yazıda - - - - anlatımı tercih etmesi beklenir.

**Bu cümlede boş bırakılan yere aşağıdakilerden hangisi getirilmelidir?**

- A) betimleyici
- B) öyküleyici
- C) kanıtlayıcı
- D) düşsel

13. Yılların verdiği yorgunluk dedemi epey yaşlandırmıştı.

**Bu cümledeki altı çizili zarfın türü aşağıdakilerden hangisidir?**

- A) Durum
- B) Zaman
- C) Yer-yön
- D) Nicelik (azlık-çokluk)

14. • Olaylar hayal ürünüdür.

- Kişiler, olağanüstü özellikler taşır.
- Hayal, varsayım, abartma ve kişileştirme gibi unsurlar sıkça kullanılır.

**Özellikleri verilen anlatım türü aşağıdakilerden hangisidir?**

- A) Mizahi
- B) Düşsel
- C) Açıklayıcı
- D) Söyleşmeye bağlı

15. Şimdiye kadarki en etkili kasırgalardan olan Irma'nın Küba ve Karayiplerden sonra iki gün içinde ABD'nin Florida eyaletine ulaşması bekleniyor. Kasırganın Florida'da su baskını ve yıkımlara neden olabileceği tahmin ediliyor.

**Bu parçanın anlatımında aşağıdakilerden hangisi kullanılmış olabilir?**

- A) Gelecekte söz eden
- B) Düşsel
- C) Mizahi
- D) Destansı

16. Aşağıdaki cümlelerin hangisinde **edat (ilgeç) kullanılmamıştır?**

- A) Hilmi Bey, çoğu kişiye göre fedakâr bir insandı.
- B) O gün eve gitmek için üç araç değiştirmek zorunda kaldım.
- C) Kitaplara sığınmak gibi bir zevk var mı bu dünyada?
- D) Türkçe dersinde sınıfımıza okul müdürümüz geldi.

17. Aşağıdaki cümlelerin hangisinde **bağlaç, sıfat türündeki sözcükleri bağlamıştır?**

- A) Hem babama hem de anneme söz vermiştim sınava hazırlanacağıma.
- B) Evin ve arabanın anahtarını dün spor salonunda unutmuşum.
- C) İki saat sonra onu ve seni burada bekliyor olacağım.
- D) Yemeği gayet sık ve ünlü bir restoranda yedik.

18. **Sohbet, mülakat, diyalog ve monolog metinlerinde aşağıdaki anlatım türlerinden hangisi kullanılır?**

- A) Öyküleyici
- B) Betimleyici
- C) Söyleşmeye bağlı
- D) Emredici

19. Aşağıdakilerden hangisi **mizahi anlatıma örnek olabilecek eserlerden biridir?**

- A) Leyla ile Mecnun
- B) Harnâme
- C) Aşk-ı Memnu
- D) Yaprak Dökümü

20. • Aaa, öğretmenimiz de buradaymış!  
• Vah vah, çocuk yere çok kötü düştü!  
• Oh! Biz çalışalım, sen yat.

**Bu ünlem cümlelerinde aşağıdaki duygulardan hangisi yoktur?**

- A) Sitem
- B) Şaşırma
- C) Acıma
- D) Hüzün

### (406) DİL VE ANLATIM – 6

- I. Yersiz ve abartılı söyleyişten kaçınılmalıdır.
- II. Abartılı jest ve mimiklerle dikkat çekilmelidir.
- III. Konuşulan konuya hâkim olunmalıdır.
- IV. Uzun ve süslü cümlelerle dinleyenlerin etkilenmesi sağlanmalıdır.

**Numaralanmış cümlelerden hangileri söylev türü için söylenemez?**

- A) I ve III.
- B) I ve IV.
- C) II ve III.
- D) II ve IV.

2. Dört motorlu helikopterler hava fotoğrafçılığının olmazsa olmazları arasına girmiş durumda. Bu sektörün önde gelen firmalarından biri son ürettiği oyuncak büyüklüğündeki helikopterden profesyonel sonuçlar elde etmeyi başarmışa benziyor. Hava fotoğrafçılığında kullanılan araçlarda sık görülen kameranın havadayken titremesi sorunu bu araçta aşılmış görünüyor.

**Bu parça aşağıdakilerden hangisine örnek gösterilebilir?**

- A) Bir insanı konu alan röportaj
- B) Bir yeri konu alan röportaj
- C) Bir eşyayı konu alan röportaj
- D) Mülakat

3. Dönülmez akşamın ufkundayız, vakit çok geç  
Bu son fasıldır ey ömrüm, nasıl geçersen geç

**Bu dizelerdeki altı çizili sözcüklerde görülen anlam olayı aşağıdakilerden hangisidir?**

- A) Eş seslilik
- B) Eş anlamlılık
- C) Zıt anlamlılık
- D) Yakın anlamlılık

4. Bu tür, tarihimizde özellikle Kurtuluş Savaşı sırasında fazlaca kullanılmıştır. Askerler, devlet adamları, sanatçılar; meydanlarda, camilerde yaptıkları konuşmalarla halkı bilinclendirmiş, millî bilincin oluşmasını sağlamışlardır.

**Bu paragrafta bahsedilen tür aşağıdakilerden hangisidir?**

- A) Röportaj
- B) Roman
- C) Söylev
- D) Mülakat

## 2. OTURUM

5. Aşağıdakilerden hangisi tanınmış mülakat yazarlarından biridir?

- A) Ahmet Hamdi Tanpınar
- B) Necip Fazıl Kısakürek
- C) Namık Kemal
- D) Ruşen Eşref Ünyaydın

6. Bir yeri konu alan röportajlar aşağıdaki türlerin hangisiyle benzerlik gösterir?

- A) Gezi yazısı
- B) Anı
- C) Otobiyografi
- D) Mektup

7. Aşağıdaki cümlelerin hangisinde "ki"nin yazımı yanlıştır?

- A) Evdeki hesap her zaman çarşıya uymaz.
- B) Çocuk kapının önünde ki kediye süt veriyordu.
- C) Bilsen ki beni affedecek, hemen özür dilerim.
- D) Mademki gelmeyecektin, haber verseydin.

8. Aşağıdaki altı çizili sözcüklerin hangisinde hece düşmesine örnek vardır?

- A) Önümüzde halletmemiz gereken işler var.
- B) Mektubun, edebiyatımızda köklü bir geçmişi vardır.
- C) Ünlü sanatçının ismini bir türlü hatırlayamadım.
- D) Kahvelerimizi içip kalkmayı düşünüyörüz.

9. Aşağıdaki sözcüklerden hangisi diğerlerinden farklı bir anlamdadır?

- A) Hitabet
- B) Nutuk
- C) Söylev
- D) Tercümeihâl

10. Aşağıdaki eserlerden hangisi röportaj türündedir?

- A) Kırk Yıl
- B) Çukurova Yana Yana
- C) Frankfurt Seyahatnamesi
- D) Falaka

11. Bir topluluğun önünde belli bir fikri, bir duyguyu aşılacak için yapılan etkili ve inandırıcı konuşmalara - - - - denir.

Bu cümlede boş bırakılan yere aşağıdakilerden hangisi getirilmelidir?

- A) mülakat
- B) röportaj
- C) görüşme
- D) nutuk

12. Aşağıdakilerden hangisi bir söylevde bulunması gereken özelliklerden değildir?

- A) Kısa, yalın ve içten cümleler kurmalıdır.
- B) Konunun bütün yönlerini iyi bilmelidir.
- C) Dikkat çekmek için jest ve mimiklerinde abartıya kaçmalıdır.
- D) Vurgu ve tonlamayı yerinde ve zamanında kullanmalıdır.

13. Söylevde dilin hangi işlevi karşımıza en az çıkar?

- A) Dil ötesi
- B) Kanalı kontrol
- C) Heyecana bağlı
- D) Alıcıyı harekete geçirme

14. • Parlamento  
• İbadethane  
• Mahkeme

Bu yerler aşağıdaki söylev türleriyle eşleştirildiğinde hangisi dışta kalır?

- A) Siyasi
- B) Askerî
- C) Hukuksal
- D) Dinsel

15. Cumhuriyet Dönemi'nin en etkili konuşmacısı - - - - kabul edilir. Nutuk'ta bir tarih belgesi örneği vererek Türk ulusu ile birlikte Kurtuluş Savaşı'nda göstermiş olduğu kahramanlıkları ve Cumhuriyet'in ilan serüvenini ayrıntılarıyla anlatır ve yorumlar.

Bu cümlede boş bırakılan yere aşağıdakilerden hangisi getirilmelidir?

- A) Mustafa Kemal Atatürk
- B) Hamdullah Suphi Tanrıöver
- C) Osman Yüksel Serdengeçti
- D) Behçet Kemal Çağlar

16. • Söylev türünün ilk örnekleri Eski Yunan ve Roma Dönemlerinde görülür.

- Yunan, Latin ve Fransız edebiyatlarından tanınmış söylevciler çıkmıştır.
- Cicero, Türk edebiyatının ilk akla gelen söylevcisidir.

Bu cümleler doğru-yanlış olarak değerlendirildiğinde sıralama aşağıdakilerden hangisi olur?

- A) D - D - Y
- B) D - Y - D
- C) Y - D - Y
- D) Y - Y - D

17. Dokuz Oğuz Beyleri, Milleti! Bu sözümü iyice işit, adamakıllı dinle: Doğuda gün doğusuna, güneyde gün ortasına, batıda gün batısına, kuzeyde gece ortasına kadar onun içinde millet hep bana tabidir. Bunca millet hep düzene soktum. O şimdi kötü değildir. Türk Kağanı, Ötügen Ormanı'nda otursa ilde sıkıntı yoktur.

Orhun Abideleri'nden alınan bu metin aşağıdakilerden hangisine örnektir?

- A) Röportaj
- B) Hitabet
- C) Fıkra
- D) Mülakat

18. Röportaj için aşağıdakilerden hangisi söylenemez?

- A) Halkı aydınlatmak amaçlanır.
- B) Araştırma, inceleme ve soruşturmaya dayanır.
- C) Yapan kişi kendi görüş ve düşüncelerini yansıtmamaya özen gösterir.
- D) Dikkat çekici bir şekilde düzenlenir.

19. Aşağıdakilerin hangisinde virgülün ( , ) kullanımıyla ilgili hata vardır?

- A) Kapısına kadar gidip zili çalar, beklemeye başlar.
- B) Marketten incir, muz, çilek ve kiraz alıp eve dönmüş.
- C) 30,05,2001 tarihinde Anadolu'nun bir köyünde doğar.
- D) Poşettekileri tartınca 1,75 kilogram geldi.

20. Aşağıdaki cümlelerde altı çizili sözcüklerden hangisinin eş seslisi (sesteşi) yoktur?

- A) Evimizin yan tarafında bir bağ var.
- B) Kalenin burçları çok uzaktan seçilebiliyordu.
- C) Çayın demlenmesini beklerken koyu bir sohbete daldılar.
- D) Uçağa yetişmek için acele etmeliyiz.

### (411) TÜRK EDEBİYATI – 1

1. Aşağıdakilerden hangisi edebî bir metin özelliği taşır?

- A) Elektronik cihazların kullanma kılavuzu
- B) İnsan sevgisini konu alan şiir
- C) İş yeri kurallarını anlatan yönerge
- D) Güneş tutulması olayını anlatan yazı

## 2. OTURUM

2. Aşağıdakilerden hangisi edebî metinlerin özelliklerinden değildir?

- A) Estetik zevk uyandırır.
- B) Toplumun kültür ve sanat anlayışını yansıtır.
- C) İnsanların hayal dünyasını geliştirir.
- D) Bir konuda bilgi vermeyi amaçlar.

3. Aşağıdakilerin hangisinde görsel sanatlar bir arada verilmiştir?

- A) Resim – mimari – heykel
- B) Müzik – tiyatro – edebiyat
- C) Edebiyat – resim – müzik
- D) Mimari – heykel – edebiyat

4. Ne zaman seni düşünsem  
Bir ceylan su içmeye iner  
Çayırıları büyürken görürüm  
Her akşam seninle  
Yeşil bir zeytin tanesi  
Bir parça mavi deniz  
Alır beni

**Bu dizeler konusuna göre aşağıdaki şiir türlerinden hangisine örnektir?**

- A) Pastoral
- B) Epik
- C) Lirik
- D) Didaktik

5. Harbe giden sarı saçlı çocuk  
Gene böyle güzel dön  
Dudaklarında deniz kokusu  
Kırpıklarında tuz  
Harbe giden sarı saçlı çocuk

**Bu dizelerle ilgili aşağıdakilerden hangisi söylenemez?**

- A) Ölçü ve kafiye kullanılmamıştır.
- B) Günlük konuşma diliyle yazılmıştır.
- C) Tekrara yer verilmiştir.
- D) Halk şiiri geleneğine bağlı kalınmıştır.

6. Hediye namıyla bir şey gönderme  
Âdet edip hiç misafir kondurma  
Komşun evi yanar iken söndürme  
El kâriyçin bir adım da uzanma

**Bu dörtlükte görülen söz sanatı aşağıdakilerden hangisidir?**

- A) Tariz (iğneleme)
- B) Teşbih (benzetme)
- C) İntak (konuşurma)
- D) Hüsûnâtîl (güzel bir nedene bağlama)

7. I. Tanrım! Şuracıkta sen bari gözlerimi yum.  
Sen bana en son kalan; ben, senin en son kulun.  
Bu akşam, karanlığa gömülen İstanbul'un  
En sessiz köşesinde uyumak istiyorum.
- II. Gözü cân esrütmeğe hammâr imiş  
Kaşı gönül yıkmağa mimâr imiş  
Diledim hâlim ki gözüne diyem  
Turfa budur gözleri bimâr imiş
- III. Sefil baykuş ne gezersin bu yerde  
Yok mudur vatanın illerin hani  
Küsmüş müsün selâmımı almadın  
Şeydâ bülbül şirin dillerin hani
- IV. Bülbülüm bağ gezerim  
Aşığım dağ gezerim  
Yüz yerde yüz yaram var  
El sanır sağ gezerim

**Yukarıdaki dörtlüklerden hangileri aynı edebî geleneğe aittir?**

- A) I ve II.
- B) II ve III.
- C) II ve IV.
- D) III ve IV.

8. Çoktandır tekneyi aldı sular  
Çoktandır ümitler sende ölüm  
Sabır tesbihim kopmak üzredir  
Ne gün kalkacak bu perde ölüm

**Bu dörtlükte görülen söz sanatı aşağıdakilerden hangisidir?**

- A) Tekrir (yineleme)
- B) İntak (konuşurma)
- C) Telmih (hatırlatma)
- D) Tezat (zıtlık)

9. Nice güzellere bağlandım kaldım  
Ne bir vefa gördüm ne fayda buldum  
Her türlü isteğim topraktan aldım  
Benim sadık yârim kara topraktır

Düşman geldi tabur tabur dizildi  
Alnımıza kara yazı yazıldı  
Tüfek icat oldu mertlik bozuldu  
Eğri kılıç kında paslanmalıdır

**Bu iki dörtlükle ilgili aşağıdakilerden hangisi söylenemez?**

- A) Halk şiiri geleneğinin izlerini taşırlar.
- B) Hece ölçüsüyle yazılmışlardır.
- C) Uyak düzenleri benzerdir.
- D) Aynı konuyu işlemişlerdir.

10. Aşağıdakilerden hangisi İslami Devir Türk Edebiyatı'nın dönemlerinden değildir?

- A) Tasavvuf Edebiyatı
- B) Millî Edebiyat
- C) Halk Edebiyatı
- D) Divan Edebiyatı

11. Bugün Boğaz masmavi, gür ve koyu yeşil.  
Yamaçlar çıldırmış renklerle bezenmiş.  
Aydınlık kimi kez bir tarafa, kimi kez öbür tarafa sığıyor.  
Alçak boylu, tüylü ılgınlar, erguvanların eksik bıraktığı etekleri dolduruyor uçuk pembe rengiyle.

**Bu parçayla ilgili aşağıdakilerden hangisi söylenemez?**

- A) Betimleyici anlatımdan yararlanılmıştır.
- B) Anlatımda nesnel bir tavır sergilenmiştir.
- C) Görme duyusuna ait ayrıntılara yer verilmiştir.
- D) Kişileştirmeye başvurulmuştur.

12. Aşağıdakilerden hangisinde hece ölçüsü kullanılmıştır?

- A) Benim doğduğum köylerde  
Buğday tarlaları yoktu  
Dağit saçlarını bebek  
Savur biraz
- B) Sen durub raks idesen karşuna  
ben boynum egem  
İne zülfün koca sen sîm-beri döne  
döne
- C) Uzun ince bir yoldayım  
Gidiyorum gündüz gece  
Bilmiyorum ne hâldeyim  
Gidiyorum gündüz gece
- D) Sevgileri yarınlara bırakınız  
Çekingen, tutuk, saygılı.  
Bütün yakınlarınız  
Sizi yanlış tanıdı

13. Aramızı kesti dumanlı dağlar  
Tepesinden aşan yollar yücedir  
Artıyor efkârım yine bu çağlar  
Bilmiyorum nazlı yârim nicedir

**Yukarıdaki dörtlük ile ilgili verilen bilgilerden hangisi yanlıştır?**

- A) Ayrılık temasını dile getirmektedir.
- B) Hece ölçüsü ile yazılmıştır.
- C) Ek hâlinde redif vardır.
- D) Sarma uyak örgüsü kullanılmıştır.

14. İncecikten bir kar yağar  
Tozar Elif Elif diye  
Deli gönül abdal olmuş  
Gezer Elif Elif diye

**Bu dörtlük Türk şiirinde hangi geleneğe ait olabilir?**

- A) Halk şiiri
- B) Tanzimat şiiri
- C) Divan şiiri
- D) Fecriati şiiri

## 2. OTURUM

15. Herkesçe bilinen tarihî bir olayın, şahsın veya sözün hatırlatılması sanatına telmih denir.

**Buna göre aşağıdakilerden hangisinde telmih sanatına yer verilmiştir?**

- A) Konuştun güneşi hatırlıyordum  
Gariptin yepyeni bir sesin vardı  
Bu ses öyle benim öyle yabancı  
Bu ses saçlarımı ıslatan sessiz bir kardı
- B) Gönlünü Şirin'in aşkı sarınca  
Yol almış hayatın ufuklarınınca  
O hızla dağları Ferhat yarınca  
Başlamış akmağa çoban çeşmesi
- C) Altın kulelerden yine kuşlar  
Tekrârını ömrün eder ilân  
Kuşlar mıdır onlar ki her akşam  
Âlemlerimizden sefer eyler
- D) Seni düşünürken  
Bir çakıl taşı ısınır içimde  
Bir kuş gelir yüreğimin ucuna konar  
Bir gelincik açılır ansızın

16. Yiğitler çağrışır yaman gün olur  
Allah Allah derler yüksek ün olur  
Çarha çarha döğüşecek hun olur  
Hasmın arar koşlar meydan içinde

**Bu dörtlük koşma türlerinden hangisine örnek olabilir?**

- A) Güzelleme B) Taşlama  
C) Koçaklama D) Ağıt

17. Aşağıdakilerden hangisi Tasavvuf şairlerinden değildir?

- A) Pir Sultan Abdal  
B) Yunus Emre  
C) Karacaoğlan  
D) Ahmet Yesevi

18. Aşağıdakilerden hangisi âşık edebiyatının özelliklerinden değildir?

- A) Nazım birimi dörtlüktür.  
B) Hece ölçüsü kullanılır.  
C) Ağır ve sanatlı bir dili vardır.  
D) Sözlü bir edebiyattır.

19. Sabahtan kalktım da sütü pişirdim  
Sütün köpüğünü yere taşırdım  
Burçak tarlasında aklım şaşırdım

Aman ne zor imiş burçak yolması  
Burçak tarlasında gelin olması

**Bu dizeler şekil ve içerik özellikleri dikkate alındığında aşağıdakilerden hangisine örnek olabilir?**

- A) Kaside B) Mesnevi  
C) Gazel D) Türkü

20. Perîşân-hâlin oldum sormadın hâl-i  
perîşânım  
Gamından derde düştüm kılmadın  
tedbîr-i dermânım  
Ne dersin rüzgârım böyle mi geçsin  
güzel hânım  
Gözüm cânım efendim sevdiğim devletlü sultânım

**Bu dizelerle ilgili aşağıdakilerden hangisi söylenemez?**

- A) Toplumsal bir konu dile getirilmiştir.  
B) Arapça, Farsça sözcükler kullanılmıştır.  
C) Divan edebiyatına ait bir şiiirdir.  
D) Aruz ölçüsüyle yazılmıştır.

### (412) TÜRK EDEBİYATI – 2

1. Aşağıdakilerden hangisi olay çevresinde gelişen edebî metinlerden değildir?

- A) Masal B) Hikâye  
C) Deneme D) Roman

2. • İnsanların başlarından geçen veya geçme olasılığı bulunan olaylar anlatılır.  
• Ele alınan olayın ayrıntısına girilmez.  
• Olay ve durum olmak üzere iki türü vardır.

**Bu parçada özellikleri verilen edebî metin aşağıdakilerden hangisidir?**

- A) Öykü (hikâye)  
B) Şiir  
C) Masal  
D) Destan

3. Aşağıdakilerden hangisi masal için söylenemez?

- A) Sonunda iyiler kazanır, kötüler cezalandırılır.  
B) Olayların geçtiği yer ve zaman bellidir.  
C) Anlatılırken duyulan geçmiş zaman(-miş'li) kullanılır.  
D) Kahramanları olağanüstü varlıklar olabilir.

4. Aşağıdakilerden hangisi diğerlerinden farklı bir bakış açısıyla yazılmıştır?

- A) O günlerde Saatleri Ayarlama Enstitüsünün çekirdeği olan küçük dairemiz açıldı. Bir sabah ben, sırtımda bir gece evvel Halit Ayarcı'nın göndermiş olduğu elbiseler, belediyenin civarındaki büromuzun kapısında görüldüm. İhtiyar, aklı başında bir hademe beni karşıladı ve içeri aldı.  
B) Otomobil koşup gittiği hâlde o kadar sıcak bastı ki terlemiyoruz, terimiz, galiba hemen buhar oluyor; boğulacak gibiyiz. "İşte hudut!" dediler. İlerideki tepe üzerinde bir karakol ve tepesinde uzun bir direk: bayrağım asılı...  
C) Arka avluyu geçip arabalarla dolu büyük bir garaja vardım. Beni orada hoş gülmsemeler karşıladı. Bindim, motoru çalıştırdım. Avlunun asfalt yüzeyi sokaktan biraz daha yüksekti, dolayısıyla avluyu sokağa bağlayan dar, eğimli tünele girdiğimde arabamın burnu hafifçe ve sessizce kalkıp indi.  
D) Yusuf, sabahın kendine düşen işlerini hep alacakaranlıkta gördü. Beygirin suyunu, yemini verdi. Kuyudan çektiği bir kova su ile yüzünü, ellerini yıkadı. Ateşin yanmasını, sabah çorbasının pişmesini bekledi. Ahırda beygirin koşumlarını vururken hava karanlık hâlâ.

5. Aşağıdakilerden hangisi doğal destanlardandır?

- A) Çılgın Orlando  
B) Kurtarılmış Kudüs  
C) Kaybolmuş Cennet  
D) İlyada ve Odyssea

6. Aşağıdakilerden hangisi İslamiyet'in kabulünden sonra oluşan destanlardan biridir?

- A) Battalgazi  
B) Alp Er Tunga  
C) Oğuz Kağan  
D) Türeyiş

7. Müzik eşliğinde söylenen şarkılı oyunlara denir. Lirik dram olarak da bilinir. Tamamen şiir şeklinde yazılır ve bestelenir. Eserde şiir, müzik, ışık, kostüm, dans ve estetik zenginlik tam bir uyum içerisinde bulunur. 17. yüzyıl başlarında İtalya'da doğmuştur.

**Bu parçada anlatılan müzikli tiyatro türü aşağıdakilerden hangisidir?**

- A) Bale B) Opera  
C) Dram D) Komedi



## 2. OTURUM

8. Yusuf ile Züleyha'nın işlediği konu bakımından türü aşağıdakilerden hangisidir?

- A) Aşk hikâyeleri mesnevisi
- B) Şehrengiz mesnevi
- C) Cenk destanları mesnevisi
- D) Ahlaki ve didaktik mesnevi

9. • Rol gereği yapılan el, kol ve vücut hareketleri.  
• Oyunun geçtiği yeri canlandırmak amacıyla kullanılan renk, ışık, eşya vb. araçların tümü.  
• Tiyatro eserlerine verilen genel ad.

**Bu tanımlar aşağıdaki tiyatro terimleriyle eşleştirildiğinde hangisi dışta kalır?**

- A) Jest
- B) Dekor
- C) Figüran
- D) Piyes

10. Bu bölümde perdede sadece Hacivat ile Karagöz bulunur. Karagöz Hacivat'a vurur. Hacivat "Yıktın perdeyi eyledin viran, varayım sahibine haber vereyim heman!" diyip perdeden kaçar.

**Bu parçada Karagöz oyununun hangi bölümü tanıtılmaktadır?**

- A) Giriş
- B) Muhavere
- C) Fasil
- D) Bitiş

11. Aşağıdakilerden hangisi fıkranın özelliklerinden değildir?

- A) Günlük olaylarla ilgili kişisel görüşler aktarılır.
- B) Yalın bir dil ve samimi bir üslupla yazılır.
- C) Düşünceler kısa ve öz bir şekilde dile getirilir.
- D) Ele alınan düşüncenin kanıtlanması gerekir.

12. Aşağıdakilerden hangisi geleneksel Türk tiyatrosu türlerinden değildir?

- A) Karagöz
- B) Orta oyunu
- C) Dram
- D) Meddah

13. Romancı da şair de iç içe giren geçmişin özlemi ile geleceğin umudunu kişi olarak, toplum olarak bütün yoğunluğu ile yaşamakta, yazdığını bu iç yaşayışın etkisi altında yazmaktadır. Yaşadığı güzel bir anı ebedileştirmeyi, birbirine benzer günlerin renksizliğinden kurtulmayı, geçmiş güzel günleri daha da güzelleştirmeyi amaçlar. Özlemini taşıdığı bir dünya canlandırmak, onu bütün insanlarla paylaşmak, içindeki ağırlıkları atmak için yazar.

**Bu parçada yazı yazmakla ilgili aşağıdakilerden hangisine değinilmemiştir?**

- A) Gündelik hayatın monotonluğundan kurtardığına
- B) Sosyal aksaklıkları düzelttiğine
- C) Geçmişini daha değerli kıldığına
- D) Yaşanılan anları ölümsüzleştirdiğine

14. Bu eserde bölümler, zaman dilimlerini işaret etmektedir. Daha değişik bir ifadeyle, birbirinden rakamla ayrılan her bölüm, ayrı bir zaman diliminde vuku bulan hadiselerin ve bu hadiseler çevresinde yapılan tahlillerin anlatılmasına tahsis edilmiştir. Ancak yazarın tahlillerinde başarılı olduğunu söylemek zordur.

**Bu parçanın türü aşağıdakilerden hangisidir?**

- A) Anı
- B) Gezi yazısı
- C) Mektup
- D) Eleştiri

15. Adı üstünde, Deli Mahmut demişler, davranıp susturdu herkesi, uzaklaştırdı Garip'in yamacından. "Hele oturun boş bulduğunuz yere, sesinizi soluğunuzu tutun da ağızda kalan diline vursun, diyeceğini bitirsin âşık." diye bağırdı. Bıraktığı yerden başladı Garip:

Bir ulu çay vardır ortadan akar  
Güzelleri her gün başlara çıkar  
Âşıklar bağrını odlara yakar  
Ötüşür bülbül, gülü Tebriz'in

Söz bitti, saz asıldı, duyan duymayan parmak ısırıldı, alkış tuttu Garip'e.

**Bu parçaya bakılarak Âşık Garip hikâyesi ile ilgili aşağıdakilerden hangisi söylenemez?**

- A) Nazım ve nesir karışık söylendiği
- B) Müzik eşliğinde anlatıldığı
- C) Öğretici bir metin olduğu
- D) Sade ve akıcı bir dil kullanıldığı

16. Aşağıdakilerden hangisi edebiyat akımlarına göre roman türlerinden değildir?

- A) Romantik
- B) Natüralist
- C) Polisiye
- D) Realist

17. Bebekle oynar gibi seve seve, sevine sevine Munise'yi süsledim. Küçük kıza, bir el aynası içinde kendisini gösterdiğim vakit, sevinçten kıpkırmızı oldu. Pembe bir kurdele ile iki yandan örülmüş saçlarına, lacivert yünüden kısa entarisine, uzun siyah çoraplarına, bir yabancı seyrederek korka korka bakıyordu. Sonradan anladığıma göre, Munise'nin süsü günlerce Zeyniler köyünde dedikodu malzemesi olmuş.

**Bu parçadan hareketle metnin ait olduğu döneme ilişkin aşağıdakilerden hangisine ulaşılabilir?**

- A) Siyasi yapı
- B) Askerî yapı
- C) Toplumsal yapı
- D) Ekonomik yapı

18. İlk defa yazı kullandığı kabul edilen Sümerler pişmiş kilden yaptıkları tabletlere çivi yazısıyla duygu, düşünce, hayal ve bilgilerini kaydetmişler; düzenli okullarda yazmayı ve okumayı öğretmişlerdir. Sümerlerden, Babillilerden ve Asurlulardan kalma on binlerce tabletlik kütüphaneler 19. ve 20. yüzyılda bulunmuş; onlar sayesinde Mezopotamya'nın yüksek medeniyeti bugünün insanları tarafından öğrenilmiştir.

**Bu metnin türü aşağıdakilerden hangisidir?**

- A) Makale
- B) Deneme
- C) Fıkra
- D) Mektup

19. Bir varmış, bir yokmuş; vaktin zamanında fakir bir değirmenci varmış. Bu değirmencinin de beş altı tane tavuğu varmış. Bu tavuklara da bir tilki dadanmış, günde gelir bir tanesini boğar atarmış. Değirmenci bir gün belindeki kayışını çıkarmış, tilkiyi beklemeye başlamış. Tilki damdan atlayınca hemen kayışı boğazına geçirivermiş. Tilki dile gelmiş: "Etme tutma değirmenci dayı, sen beni öldürme; ben seni zengin edeceğim."

**Bu metin ile ilgili aşağıdakilerden hangisi söylenemez?**

- A) Tekerlemeye yer verilmiştir.
- B) Olayın geçtiği zaman bellidir.
- C) Kişileştirme yapılmıştır.
- D) Olağanüstü bir olay anlatılmaktadır.

## 2. OTURUM

20. Yılın yaklaşık 150 günü karla örtülü, Türkiye'nin en yüksek ve en soğuk illerinden Erzurum'da bulunan Palandöken, Doğu'nun en popüler kayak merkezi. Uzunlukları toplamda 28 km olan 21 pistin yer aldığı merkezde, yüksek irtifa, kaliteli kar ve uzun kış mevsimi sınırsız bir kayak keyfi sunuyor.

**Bu metin türü aşağıdakilerden hangisidir?**

- A) Deneme B) Gezi yazısı  
C) Fıkra D) Sohbet

### (415) TÜRK EDEBİYATI – 5

1. Aşağıdakilerden hangisi edebiyatın yakından ilişkili olduğu bilim dallarından biri değildir?

- A) Tarih B) Psikoloji  
C) Geometri D) Sosyoloji

2. 1839'da Osmanlı Devleti'nin bütünlüğünün ve gücünün korunması adına aşağıdakilerden hangisi ilan edilmiştir?

- A) Tanzimat Fermanı  
B) Cumhuriyet  
C) Lale Devri  
D) Rönesans

3. Tanzimat Dönemi sanatçıları ağırlıklı olarak Batı'daki hangi edebiyatı örnek almıştır?

- A) İtalyan B) Fransız  
C) Alman D) İngiliz

4. Tanzimat Edebiyatı aşağıdakilerin hangisiyle başlamıştır?

- A) Tanzimat Fermanı'nın ilan edilmesiyle  
B) Osmanlı aydınlarının Batı'daki ülkelere gönderilmesiyle  
C) Yabancı tiyatro topluluklarının İstanbul'u ziyaret etmesiyle  
D) Tercüman-ı Ahvâl gazetesinin çıkartılmasıyla

5. Tanzimat Birinci Dönem edebiyatı için aşağıdakilerden hangisi söylenemez?

- A) Toplumsal konular işlenmiştir.  
B) Özgürlük, adalet ve eşitlik gibi kavramlar edebiyatımıza girmiştir.  
C) Sanatlı bir dil kullanılması savunulmuştur.  
D) Gazeteye bağlı yazı türleri (makale, fıkra, eleştiri vb.) ortaya çıkmıştır.

6. Aşağıdakilerden hangisi Tanzimat'ın Birinci Dönemi'nin temsilcilerindendir?

- A) Rezaizâde Mahmut Ekrem  
B) Ziya Paşa  
C) Nabizâde Nazım  
D) Abdülhak Hamit Tarhan

7. Tercüman-ı Ahval Mukaddimesi'nin yazarı aşağıdakilerden hangisidir?

- A) Ziya Paşa  
B) Namık Kemal  
C) Ahmet Mithat Efendi  
D) İbrahim Şinasi

8. Ölen eşi Fatma Hanım için "Makber" adlı şiiri kaleme alan şair aşağıdakilerden hangisidir?

- A) Abdülhak Hamit Tarhan  
B) İbrahim Şinasi  
C) Namık Kemal  
D) Ahmet Mithat Efendi

9. Türk edebiyatının ilk tarihi romanı aşağıdakilerden hangisidir?

- A) Cezmi  
B) Sergüzeşt  
C) Araba Sevdası  
D) Felâton Bey ile Rakım Efendi

10. • Türk toplumuna ait geleneksel bir konu ele alınmıştır.  
• Türk edebiyatının Batılı anlamda ilk tiyatro oyunudur.  
• Oyunda Müştak Bey, Kumru Hanım, Ziba Dudu gibi karakterler yer almaktadır.

**Sözü edilen eser aşağıdakilerden hangisidir?**

- A) Afife Anjelik  
B) Şair Evlenmesi  
C) Macera-yı Aşk  
D) Vatan yahut Silistre

11. Aşağıdakilerden hangisi Rezaizâde Mahmut Ekrem için söylenemez?

- A) Yenilik taraftarı gençleri Servet-i Fünûn çatısı altında toplamıştır.  
B) Batılı anlamda ilk tiyatro oyununu yazmıştır.  
C) Edebiyat konularını öğreten Talim-i Edebiyat adlı eseri yazmıştır.  
D) Şiir, roman, tiyatro, eleştiri türlerinde eser vermiştir.

12. Edebiyatımızdaki ilk yerli roman aşağıdakilerden hangisidir?

- A) İntibah  
B) Sergüzeşt  
C) Taaşşuk-ı Talat ve Fitnat  
D) Telemak

13. Beslemişken bu kadar âdemi ihسانیyle Gitti biçâre vatan ağılıyarak şâniyle Yaz bu mersiyeyi taşâ şühedâ kaniyle Vatanın bağrına düşman dayadı hançerini Yoğ imiş kurtaracak bahtı kara mâderini

**Bu dizelerle ilgili aşağıdakilerden hangisi söylenemez?**

- A) Ek hâlinde redif kullanılmıştır.  
B) Tanzimat Edebiyatı Birinci Dönem'in özelliklerini taşır.  
C) Arapça ve Farsça sözcükler kullanılmıştır.  
D) Bireysel bir konu işlenmiştir.

14. Ali Bey hâli vakti yerinde, iyi bir ailenin tek çocuğudur. Babasını kaybedince üzüntüye kapılır, sık sık Çamlıca'ya gezintiye çıkar. Bu esnada Mehpeyker adlı kötü bir kadınla tanışır. Ali Bey kötü alışkanlıklar edinir. Annesi oğlunu bu kadından kurtarmak için Dilâşup adlı bir cariyeyle evlendirir. Mehpeyker buna çok kızar ve Ali Bey'den intikam alır.

**Bu metinde sözü edilen eser aşağıdakilerden hangisidir?**

- A) Felâton Bey ile Rakım Efendi  
B) Yaban  
C) İntibah  
D) Şair Evlenmesi

15. Aşağıdakilerden hangisi Abdülhak Hamit Tarhan için söylenemez?

- A) Türk şiirine Batılı bir kimlik kazandırmıştır.  
B) Tiyatro türünde eserleri vardır.  
C) En ünlü şiirlerinden biri "Vatan Mersiyesi"dir.  
D) Şiirlerinde bireysel temaları işlemiştir.

16. Aşağıdaki sanatçılardan hangisi Tanzimat Edebiyatı'nın İkinci Dönem temsilcilerindendir?

- A) Mehmet Âkif Ersoy  
B) Ahmet Haşim  
C) Tevfik Fikret  
D) Samipaşazâde Sezai

## 2. OTURUM

17. Aşağıdakilerden hangisi realist bir roman değildir?

- A) İntibah B) Araba Sevdası  
C) Sergüzeşt D) Zehra

18. Osmanlı Devleti'nin ilk resmî gazetesi aşağıdakilerden hangisidir?

- A) Malumat B) Takvim-i Vekayi  
C) İbret D) Diyojen

19. Tanzimat edebiyatı şair ve yazarlarından. Şiir, makale, hiciv, mizah, antoloji vb. birçok alanda eser vermiştir. Şiirlerinde divan edebiyatı nazım biçimlerini kullanmıştır. Harabat, Zafername eserlerinden bazılarıdır.

**Bu metinde sözü edilen sanatçı aşağıdakilerden hangisidir?**

- A) Mehmet Fuat Köprülü  
B) Şemsettin Sami  
C) Ömer Seyfettin  
D) Ziya Paşa

20. Gençlik gitse de hâlâ heyhât!  
Gençlik gitti bütün mahv oldu  
Ne kadar varsa gönülde hevesât  
Geçti ru'yâ gibi âh ol demler!  
O güzel günler o hoş âlemler!

**Bu dizeler aşağıdaki geleneklerden hangisine ait olabilir?**

- A) Halk şiiri  
B) Millî edebiyat şiiri  
C) Cumhuriyet şiiri  
D) Tanzimat şiiri

### (416) TÜRK EDEBİYATI – 6

1. Servet-i Fünûn dergisinin yazı işleri müdürlüğüne Tefvik Fikret'i getirerek yeni bir edebiyat çıkırının başlamasını sağlar. Yenilik yanlısı bir şairdir.

**Bu parçada sözü edilen sanatçı aşağıdakilerden hangisidir?**

- A) Namık Kemal  
B) İbrahim Şinasi  
C) Recaizâde Mahmut Ekrem  
D) Ziya Paşa

2. Aşağıdakilerden hangisi Servetifünun Dönemi'nin belli başlı yazarlarından değildir?

- A) Mehmet Rauf  
B) Orhan Kemal  
C) Halit Ziya Uşaklıgil  
D) Ahmet Hikmet Müftüoğlu

3. Viyana'da bulunduğum süre boyunca ayaklarım sık sık Kertenstrasse'ye giderdi. Bu cadde şehrin süs ve zekâ sergisidir. Gördüğünüz her şeyi Viyanalıların bir dimağ belgesi olarak düşünebilirsiniz. En küçük ve en değersiz şeye bile düşünülmezsizin bir şekil ve yer ayrılmaz. İşte çakır göz kadar firuzeler, göztaşı gibi pırlantalar, kan damlası renginde yakutlar ve pek derin denizleri hatırlatan zümrütlerle dolu kuyumcu camekânları...

**Bu parça aşağıdaki metin türlerinden hangisine örnek olabilir?**

- A) Gezi yazısı B) Hikâye  
C) Edebî tenkit D) Makale

4. Edebiyatımızın ilk gerçekçi hikâye ve romancılarından. Mai ve Siyah, Aşk-ı Memnu, Kırık Hayatlar gibi eserleri bulunur ve birçok farklı türde eser verir.

**Bu parçada sözü edilen servetifünun sanatçısı aşağıdakilerden hangisidir?**

- A) Mehmet Rauf  
B) Ali Ekrem Bolayır  
C) Halit Ziya Uşaklıgil  
D) Hüseyin Cahit Yalçın

5. Tefvik Fikret için aşağıdakilerden hangisi söylenemez?

- A) Türkçeyi aruza ustalıklı uygulamıştır.  
B) Serbest müstezat, sone, terza-rima gibi nazım biçimlerini kullanmıştır.  
C) Şermin adlı kitabında sade bir dil tercih etmiştir.  
D) Roman türünde pek çok eser vermiştir.

6. Servetifünun edebiyatında ön plana çıkan edebî akımlar aşağıdakilerden hangisinde verilmiştir?

- A) Parnasizm – Romantizm  
B) Sembolizm – Parnasizm  
C) Klasisizm – Sembolizm  
D) Romantizm – Klasisizm

7. Aşağıdakilerden hangisi mensur şiirin bir özelliği değildir?

- A) Düzyazı cümleleriyle yazılır.  
B) Ses ve söyleyiş bakımından şiire benzer.  
C) Duyguların daha rahat ifade edilmesini sağlar.  
D) Vezin, redif ve kafiye gibi belirlenmiş öğelere sahiptir.

8. Mehmet Rauf tarafından yazılan Türk edebiyatının ilk psikolojik romanı aşağıdakilerden hangisidir?

- A) Eylül  
B) Nemide  
C) Aşk-ı Memnu  
D) Mai ve Siyah

9. • Romantizme tepki olarak doğmuştur.  
• Gerçeği olduğu gibi anlatmayı amaçlar.  
• Okuyucuda gerçeklik hissi uyandıracak tahlillere ve tasvirlerle yer verilir.

**Özellikleri verilen edebî akım aşağıdakilerden hangisidir?**

- A) Dadaizm B) Klasisizm  
C) Realizm D) Sembolizm

10. Aşağıdakilerden hangisi klasik olay hikâyesinin (Maupassant tarzı hikâye) özelliklerinden değildir?

- A) Seçilmiş olay ve kişiler üzerine kurulur.  
B) Okuyucuda gerçeklik duygusu uyandırır.  
C) Merak unsuru hikâye boyunca devam eder.  
D) Rastlantılara sık sık yer verilir.

11. Yeni sözler gerekse Bunda da uy herkese  
Halkın söz yaratmada Yollarını benimse

**Bu dörtlükle ilgili aşağıdakilerden hangisi söylenemez?**

- A) Millî edebiyat geleneğinin etkisinde kalınmıştır.  
B) Kapalı bir anlatıma yer verilmiştir.  
C) Konuşma dilinden yararlanılması savunulmuştur.  
D) Hece ölçüsüyle yazılmıştır.

12. Klasik şiirimizi Batı şiiri anlayışı içinde ele almıştır. Yeni Mecmua'da yayımladığı gazel, şarkı ve rubai tarzında yazdığı şiirlerle tanınmıştır. Şiirlerinde yalın bir dil ve aruz ölçüsü kullanmıştır. Şiirlerinde İstanbul sevgisi, vatan, deniz vb. temaları işlemiştir. Eserlerinden bazıları şunlardır: Aziz İstanbul, Kendi Gök Kubbeimiz, Eğil Dağlar...

**Bu metinde sözü edilen sanatçı aşağıdakilerden hangisidir?**

- A) Yahya Kemal Beyatlı  
B) Halit Ziya Uşaklıgil  
C) Necip Fazıl Kısakürek  
D) Yakup Kadri Karaosmanoğlu

## 2. OTURUM

13. Zannetme ki güldür, ne de lâle;  
Âteş doludur, tutma yanarsın,  
Karşında şu gül-gün piyale...

İçmişti Fuzûlî bu alevden,  
Düşmüştü bu iksir ile Mecnûn  
Şi'rin sana anlattığı hâle

**Bu dizelerle ilgili aşağıdakilerden hangisi söylenemez?**

- A) Süslü ve sanatlı bir anlatım kullanılmıştır.  
B) Renk öğelerinden yararlanılmıştır.  
C) Kapalı bir anlatım tercih edilmiştir.  
D) Garip akımının etkisinde kalınmıştır.
14. Aşağıdaki şairlerden hangisi şiirlerinde toplumsal konulara yer vermiştir?

- A) Cenap Şehabettin  
B) Ahmet Haşim  
C) Tevfik Fikret  
D) Abdülhak Hamit Tarhan

15. Bu şiir anlayışının Türk edebiyatındaki önemli temsilcileri Ahmet Haşim ve Yahya Kemal Beyatlı'dır. Asıl amaç, şiirde söze önem vermektir. Şiirde sözcüklerin belli bir ahenk içinde düzenlenmesi gerekir. Önce ritim sonra da dilin ahenginin sezdirilmesi amaçlanır. Anlam kapalı olduğu için okuyucudan okuyucuya farklılık gösterir. Sosyal temalardan çok bireysel duyarlılık tercih edilmiştir.

**Bu metinde sözü edilen şiir anlayışı aşağıdakilerden hangisidir?**

- A) Divan şiiri B) Öz (saf) şiir  
C) Halk şiiri D) Fecriati şiiri

16. Yarının ilmi nedir hâlbuki? Gayret müdhiş:  
Maddenin kudret-i zerriyesi, uğraştığı iş,  
O yaman kudrete hâkim olabilsem diyerek,  
Sarfedip durmada birçok kafa, binlerce emek,  
Ona yükseldi mi artık değişir rûy-i zemin:  
Çünkü bir damla kömürden edecektir temin,  
Öyle milyonla değil nâmütenahî kudret,  
İbret al kendi özünden aman oğlum, gayret!

**Bu dizelerle ilgili aşağıdakilerden hangisi söylenebilir?**

- A) Halk şiiri geleneğine uygun yazılmıştır.  
B) Bilimin önemi işlenmiştir.  
C) Sade ve yalın bir anlatım kullanılmıştır.  
D) Kafiye düzeni "aabacada" şeklindedir.

17. Aşağıdaki sanatçı – eser eşleştirmelerinden hangisi yanlıştır?

- A) Tevfik Fikret – Kıralk Konak  
B) Halit Ziya Uşaklıgil – Mai ve Siyah  
C) Cenap Şehabettin – Elhan-ı Şita  
D) Mehmet Âkif Ersoy – Safahat

18. Aşağıdakilerin hangisi Fecriati topluluğu sanatçıları için söylenemez?

- A) "Sanat toplum içindir." ilkesini benimsemişlerdir.  
B) Edebiyatı araç değil amaç olarak görmüşlerdir.  
C) Eserlerinde ağır bir dil kullanmışlardır.  
D) Şiirde güzellik kavramını ön plana çıkarmışlardır.

19. Aşağıdakilerden hangisi Millî Edebiyat Dönemi'nin temsilcilerinden biridir?

- A) Namık Kemal  
B) Ziya Paşa  
C) İbrahim Şinasi  
D) Ömer Seyfettin

20. Aşağıdaki dergilerden hangisi Millî Edebiyat Dönemi'nin başlamasında etkisi olmamıştır?

- A) Genç Kalemler  
B) Türk Yurdu  
C) Yeni Mecmua  
D) Servet-i Fünûn

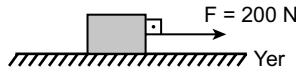
### (422) FİZİK – 2

1. I. Oturarak hareketsiz kitap okuyan kişi  
II. Market arabasının itilerek hareket etmesi  
III. Ağaç dalında duran portakal

**Yukarıdakilerden hangileri fiziksel anlamda iş yapmaya örnek verilebilir?**

- A) Yalnız I. B) Yalnız II.  
C) I ve III. D) II ve III.

2. Bir cisim üzerinde yapılan iş; uygulanan kuvvet ile alınan yolun çarpımıyla bulunur.



Sürtünmenin önemsiz olduğu bir ortamda şekildeki sandık yere paralel olarak 200 N'luk kuvvetle 3 m çekilmektedir.

**Buna göre yapılan iş kaç Joule'dür?**

- A) 200 B) 400 C) 600 D) 800

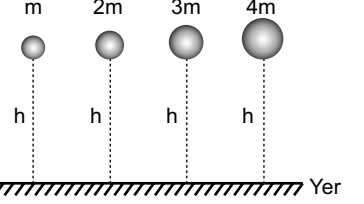
3. Harcadığımız elektrik enerjisinin miktarı Güç (W) × Zaman (s) ile bulunur.

**Buna göre gücü 100 watt olan elektrikli bir alet 1 saat çalıştırıldığında harcanan elektrik enerjisi kaç Joule'dür?**

(1 saat = 3600 saniye)

- A) 360 B) 3600  
C) 36 000 D) 360 000

4. Kütleleri m, 2m, 3m ve 4m olan toplar şekildedeki gibi h yüksekliğinde tutuluyor.



**Buna göre hangi kütleli yerçekimi potansiyel enerjisi en fazladır?**

- A) m B) 2m C) 3m D) 4m

5. Aşağıdakilerden hangisi esnek cisimlere örnek verilemez?

- A) Yay B) Paket lastiği  
C) Tahta D) Sünger

6. Esnek bir yayın esneklik potansiyel enerjisi,

- I. Yayın yay sabiti  
II. Yayın sıkışma ya da gerilme miktarı  
III. Yayın rengi

**ifadelerinden hangilerine bağlıdır?**

- A) Yalnız I. B) Yalnız III.  
C) I ve II. D) I, II ve III.

7. Besinlerden alınan enerji yeterli miktarda ise vücudun enerji dengesi sağlanmış olur.

**Buna göre,**

- I. Günlük beslenmede çeşitli besin gruplarından yeterli miktarda tüketilmeli  
II. Besin gruplarından herhangi birinin fazla ya da az alınması insan sağlığını bozar.  
III. Besinlerden elde edilen enerji miktarı joule ya da kalori birimi ile ifade edilir.

**ifadelerinden hangileri doğrudur?**

- A) I ve II. B) II ve III.  
C) I ve III. D) I, II ve III.

## 2. OTURUM

8. Enerji verimliliğinin yüksek olması insanlara ekonomik anlamda tasarruf sağlar.

**Buna göre,**

- I. Binalarda ısı yalıtımı yapılması
- II. Çamaşır ve bulaşık makinelerinin tam dolmadan çalıştırılmaması
- III. Toplu taşıma araçları yerine kişiye ait özel araçların kullanılması

**İfadelerinden hangileri enerji verimliliğinde ekonomik anlamda tasarruf sağlar?**

- A) I ve II.                      B) II ve III.  
C) I ve III.                      D) I, II ve III.

9. Fosil yakıtlar ile ilgili;

- I. Kömür doğalgaz ve petrol gibi kaynaklardan elde edilir.
- II. Fosil yakıtlardan elektrik, ısı ve ışık enerjisi elde edilir.
- III. Fosil yakıtlar canlı kalıntıların binlerce yıl önce kalması ile oluşur.

**İfadelerinden hangileri doğrudur?**

- A) I ve II.                      B) II ve III.  
C) I ve III.                      D) I, II ve III.

10. Ekmek üretilen bir fırında fırının sıcaklığını ölçmek için aşağıdaki hangi ölçü aleti kullanılır?

- A) Kronometre  
B) Metal termometre  
C) Dinamometre  
D) Dereceli silindir

11. Bir metal parçasının sıcaklığı Kelvin termometresi ile ölçüldüğünde 275 K olarak belirleniyor.

**Aynı metalin sıcaklığını Celsius termometresi ile ölçersek aşağıdakilerden hangisine karşılık gelir?**

- A) 2      B) 3      C) 8      D) 9

12. Öz ısı saf bir maddenin birim kütlesinin sıcaklığını 1 °C arttırmak için gerekli ısı miktarı olarak tanımlanır.

**Buna göre,**

- I. Öz ısı saf maddeler için ayırt edici bir özelliktir.
- II. Öz ısı madde miktarına bağlı değildir.
- III. Öz ısı maddenin ağırlığına bağlıdır.

**İfadelerinden hangileri doğrudur?**

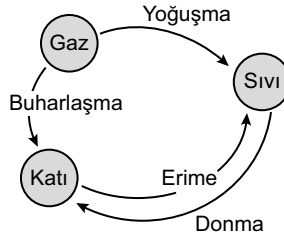
- A) I ve II.                      B) II ve III.  
C) I ve III.                      D) I, II ve III.

13. Bir maddenin sıcaklığını 1 °C değiştirmek için gerekli ısı miktarına ısı sığası denir ve maddenin kütlesi ile öz ısısının çarpımı ile bulunur.

**Buna göre ısı sığası ile ilgili aşağıdaki ifadelerden hangisi doğrudur?**

- A) Isı sığası maddenin kütlesine bağlı değildir.  
B) Isı sığası maddenin öz ısısı ve kütlesine bağlıdır.  
C) Isı sığası maddeler için ayırt edici bir özelliktir.  
D) Isı sığasının birimi gramdır.

14. Katı, sıvı ve gaz maddenin hâl değişimi şeklindeki oklarla gösterilmiştir.



**Buna göre hangi ifade yanlış okla gösterilmiştir?**

- A) Erime                      B) Buharlaşma  
C) Donma                      D) Yoğuşma

15. Isının iletim yolları aşağıdaki gibidir.

- I. Işıma
- II. Konveksiyon
- III. İletim

**Buna göre ısının iletiminde hangilerinde maddesel ortama gerek yoktur?**

- A) Yalnız I.                      B) I ve II.  
C) II ve III.                      D) I, II ve III.

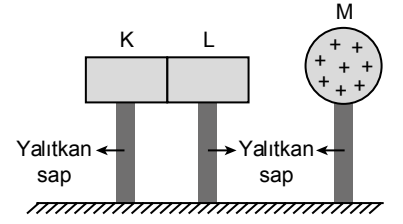
16. Nötr bir cisim için aşağıda yargılar verilmiştir.

- I. Elektron alan cisimlerde negatif yük fazlalığı oluşur.
- II. Elektron veren cisimlerde pozitif yük fazlalığı oluşur.
- III. Proton alan cisimlerde pozitif yük fazlalığı oluşur.

**Buna göre yargılardan hangileri doğrudur?**

- A) I ve II.                      B) I ve III.  
C) II ve III.                      D) I, II ve III.

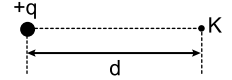
17. Nötr K ve L iletken cisimlerine artı yüklü M küresi şeklindeki gibi yaklaştırılıyor.



**M küresi uzaklaştırılmadan K ve L cisimleri yalıtkan saplarından tutularak ayrılırsa K ve L cisimleri hangi cins yüklerle yüklenirler?**

|    | K | L |
|----|---|---|
| A) | - | + |
| B) | + | + |
| C) | + | - |
| D) | - | - |

18. Şekildeki +q yükünün kendisinden d kadar uzaktaki bir K noktasında oluşturduğu elektriksel alan E'dir.



**Buna göre +2q yükünün d kadar uzaktaki elektriksel alanı kaç E olur?**

- A) 1      B) 2      C) 3      D) 4

19. Elektrik yükleri  $q_1$  ve  $q_2$  olan iki kürenin arasındaki uzaklık d birbirlerine uyguladıkları kuvvet F kadardır.

**Buna göre F kuvvetini azaltmak için aşağıdakilerden hangisi yapılmalıdır?**

- A)  $q_1$  yükü artırılmalı  
B)  $q_2$  yükü artırılmalı  
C) d uzunluğu azaltılmalı  
D) d uzunluğu artırılmalı

20. Plastik çubuk yün kumaşa sürtüldükten sonra,

- I. Çubuk ve kumaş aynı cins elektrik yükü ile yüklenir.
- II. Çubuk ve kumaş farklı cins elektrik yükü ile yüklenir.
- III. Çubuğun ve kumaşın toplam yükleri sıfırdır.

**yargılarından hangileri doğrudur?**

- A) Yalnız I.                      B) Yalnız II.  
C) I ve II.                      D) II ve III.

## 2. OTURUM

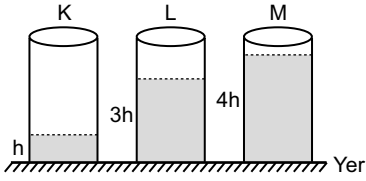
### (423) FİZİK – 3

1. Katı cisimlerde basınç etkisi cismin ağırlığının yüzey alanına oranı ile hesaplanır. Buna göre Hülya ayakta dururken zeminde oluşturduğu basınç  $P$ 'dir.

**Hülya tek ayak üzerinde durunca yeni oluşan basınç kaç  $P$  olur?**

- A)  $P$                       B)  $2P$   
C)  $P/2$                     D)  $P/4$

2. Bir kapta bulunan sıvının basıncı; sıvının yüksekliği, sıvının yoğunluğu ve yer çekimi ivmesinin çarpımı ile bulunur.



**Buna göre şekildeki özdeş K, L ve M kaplarında bulunan h, 3h ve 4h yüksekliğindeki suların kabın dibinde oluşturduğu basınçların ( $P_K, P_L, P_M$ ) büyüklük ilişkisi nedir?**

- A)  $P_M > P_L > P_K$   
B)  $P_K = P_L = P_M$   
C)  $P_L > P_M > P_K$   
D)  $P_K > P_L > P_M$

3. Birim yüzeye dik olarak etki eden kuvvete basınç denir. Basıncın etkisini, yüzey alanını büyütürük veya küçültürük değiştirebiliriz.

**Buna göre,**

- I. Çivinin ucunun sivri olması  
II. Karda yürürken kar ayakkabısı giyilmesi  
III. İş makinelerinin tekerlerinin yere değen kısmının kalın ve büyük olması

**İfadelerinden hangileri basınç etkisini azaltmak için kullanılmıştır?**

- A) Yalnız I.                      B) I ve II.  
C) II ve III.                      D) I, II ve III.

4. Otomobil lastiklerinin basıncı aşağıdaki hangi ölçme aracı ile ölçülür?

- A) Manometre                      B) Termometre  
C) Dinamometre                    D) Barometre

5. Durgun sıvı basıncı ile ilgili olarak,

- I. Sıvının yoğunluğu ile doğru orantılıdır.  
II. Kabin sıvıyla temas yüzeyine diktir.  
III. Kabin şekline ve sıvının miktarına bağlı değildir.

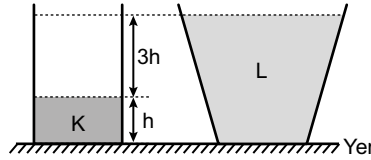
**İfadelerden hangileri doğrudur?**

- A) I ve II.                      B) II ve III.  
C) I ve III.                      D) I, II ve III.

6. Aşağıdakilerden hangisi açık hava basıncıyla çalışan araçtır?

- A) Gezi balonları  
B) Sabit makara  
C) Televizyon  
D) Araba

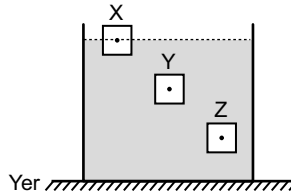
7. Şekildeki kaplarda bulunan ve yoğunlukları  $d_K$  ve  $d_L$  olan K ve L sıvılarının kap tabanında oluşturduğu basınçlar eşittir.



**Buna göre K sıvısının yoğunluğu ( $d_K$ ), L sıvısının yoğunluğunun ( $d_L$ ) kaç katıdır?**

- A) 3                      B) 4                      C) 6                      D) 8

8. Şekildeki eşit kütleli X, Y ve Z cisimleri sıvıda yüzmektedir.



**Cisimlere etki eden kaldırma kuvveti  $F_X, F_Y$  ve  $F_Z$  arasındaki büyüklük ilişkisi nasıldır?**

- A)  $F_Z > F_Y > F_X$   
B)  $F_Y > F_X > F_Z$   
C)  $F_X = F_Y = F_Z$   
D)  $F_Z > F_X = F_Y$

9. Elektrik yüklerinin temel özellikleri ile ilgili aşağıdaki hangi ifade doğrudur?

- A) Doğada iki cins elektrik yükü vardır.  
B) Aynı cins yükler birbirini çeker.  
C) Elektrik yükleri tanecikli özelliğe sahip değildir.  
D) Nötr bir cismin yükü pozitifdir.

10. Okulda yapılan bir deneyde nötr cam çubuğu nötr yünlü kumaşa sürtersek cam çubuk yünlü kumaşa elektron verir.

**Bu durumda cam çubuk ve yünlü kumaş hangi cins yükle yüklenir?**

|    | Cam Çubuk | Yünlü Kumaş |
|----|-----------|-------------|
| A) | -         | -           |
| B) | +         | -           |
| C) | +         | +           |
| D) | -         | +           |

11. Bir maddenin elektron sayısı değiştirilerek yük dengesinin bozulmasına elektriklenme denir.

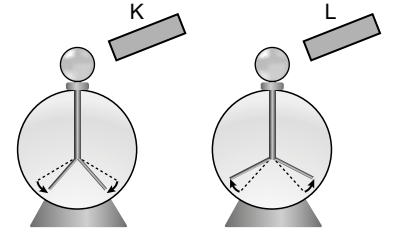
**Buna göre,**

- I. Sürtünme ile  
II. Dokunma ile  
III. Etki ile

**Verilenlerden hangileriyle elektriklenme gerçekleşir?**

- A) Yalnız I.                      B) I ve II.  
C) II ve III.                      D) I, II ve III.

12. Pozitif yüklü elektroskoba şekildeki K cismi yaklaştırıldığında yapraklarının biraz kapandığı L cismi yaklaştırıldığında ise yapraklarının biraz açıldığı gözleniyor.



**Buna göre K ve L'nin yüklerinin işaretleri nedir?**

|    | K | L |
|----|---|---|
| A) | + | - |
| B) | - | - |
| C) | - | + |
| D) | + | + |

13. Aşağıdakilerden hangisi elektrik akımını en iyi ileten maddedir?

- A) Tahta                      B) Bakır  
C) Kâğıt                      D) Cam

## 2. OTURUM

14. Aralarındaki mesafe  $d$  olan  $q_1$  ve  $q_2$  yüklerinin elektriksel etkileşim kuvveti

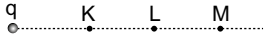
$$F = k \cdot \frac{q_1 \cdot q_2}{d^2} \text{ dir.}$$

**Buna göre mesafe  $3d$  olduğunda elektriksel etkileşim kuvveti kaç**

$$k \cdot \frac{q_1 \cdot q_2}{d^2} \text{ dir?}$$

- A)  $\frac{1}{3}$  B)  $\frac{1}{6}$  C)  $\frac{1}{9}$  D)  $\frac{1}{10}$

15. Elektrik yüklü noktasal bir cismin oluşturduğu elektriksel alan  $E = k \frac{q}{d^2}$  bağıntısıyla bulunur.



**Buna göre şekildedeki K, L ve M noktalarındaki elektriksel alan ( $E_K$ ,  $E_L$  ve  $E_M$ ) büyüklükleri arasındaki ilişki nasıldır?**

- A)  $E_M > E_L > E_K$   
B)  $E_K > E_L > E_M$   
C)  $E_K = E_L = E_M$   
D)  $E_L > E_K > E_M$

16. Bir metal telin direnci;

- I. boyuna ( $l$ )  
II. kesitine ( $A$ )  
III. cinsine ( $\rho$ )

**verilenlerden hangilerine bağlıdır?**

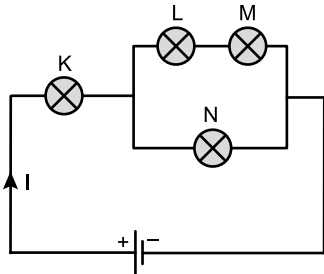
- A) I ve II. B) I ve III.  
C) II ve III. D) I, II ve III.

17. Direnci  $50 \Omega$  olan ısıtıcı prize takıldığında ısıtıcıdan geçen akım  $4 \text{ A}$  oluyor.

**Buna göre prize gerilimi kaç voltur?**

- A) 100 B) 200  
C) 300 D) 800

18. Şekildeki devrede özdeş ampullerin her birinin direnci  $3 \Omega$ 'dur.



$$V = 40 \text{ volt}$$

**Buna göre devredeki K, L, M ve N ampullerinin hangisinden en fazla akım geçer?**

- A) K B) M C) L D) N

19. Aşağıdakilerden hangisi elektrik akımının manyetik etkisinden yararlanılarak çalışan araçlara örnek verilemez?

- A) Hoparlör  
B) Eşit kollu terazi  
C) Bilgisayar  
D) Bulaşık makinesi

20. Direnci  $30 \Omega$  olan bir iletkenin  $1 \text{ A}$  akım geçmektedir.

**Bu iletkenin gücü kaç Watt olur?**

- A) 30 B) 20 C) 10 D) 5

### (424) FİZİK - 4

1. I. Oyun parkındaki salıncakta bir çocuğun salınması  
II. Yaylı bir müzik aletinin tellerinin titreşmesi  
III. Sarkaçlı bir saatin sarkacının hareketi

**İfadelerinden hangileri titreşim hareketine örnek verilir?**

- A) Yalnız I. B) II ve III.  
C) I ve III. D) I, II ve III.

2. Periyodik dalgalar üreten bir kaynağın birim zamanda oluşturduğu dalga sayısına frekans denir.

**Buna göre  $2 \text{ s}$ 'de  $10$  dalga üreten kaynağın frekansı kaç  $\text{s}^{-1}$ 'dir?**

- A) 5 B) 10 C) 12 D) 20

3. Sarmal bir yayda oluşturulan dalgaların yayılma hızını artırmak için,

- I. Yaylı geren kuvvetin büyüklüğünü azaltmak  
II. Yaylı geren kuvvetin büyüklüğünü arttırmak  
III. Daha hafif yay kullanmak

**İfadelerinden hangileri yapılmalıdır?**

- A) Yalnız I. B) II ve III.  
C) Yalnız III. D) Yalnız II.

4. I. Ses dalgaları  
II. Su dalgaları  
III. Deprem dalgaları

**Dalga çeşitlerinden hangileri mekanik dalgalara örnek verilir?**

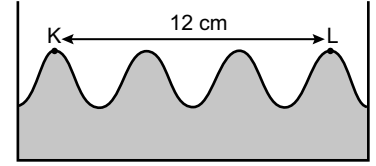
- A) I ve II. B) II ve III.  
C) I ve III. D) I, II ve III.

5. Su yüzeyindeki dalgaların yansımasında gelme açısı yansıma açısına eşittir.

**Buna göre bir dalga leğeninde su yüzeyinde oluşturulan periyodik doğrusal dalgalar düzlem engele  $45^\circ$  lik gelme açısı ile gönderilirse yansıma açısı kaç derecedir?**

- A)  $30^\circ$  B)  $45^\circ$  C)  $60^\circ$  D)  $90^\circ$

6. Bir dalga leğeninde dalga üreticinin oluşturduğu dalgalarda şekildedeki gibi K ve L noktalarında dalga tepeleri arası uzaklık  $12 \text{ cm}$ 'dir.



Dalga leğeni

**Buna göre dalga boyu kaç  $\text{cm}$ 'dir?**

- A) 1 B) 2 C) 3 D) 4

7. Ses dalgaları ile ilgili;

- I. Maddesel ortamlarda yayılır.  
II. Enerji taşır.  
III. Boşlukta yayılır.

**İfadelerinden hangileri doğrudur?**

- A) I ve II. B) II ve III.  
C) I ve III. D) I, II ve III.

8. Kayalardan oluşan yer kabuğu esnek bir ortamdır. Kırılan yer kabuğunun yarattığı titreşimler bu esnek ortamda her yöne yayılır.

**Bu yayılma aşağıdaki hangi dalga türü ile ifade edilir?**

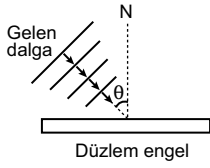
- A) Su dalgası  
B) Yay dalgası  
C) Deprem dalgası  
D) Radyo dalgası

9. Aşağıdakilerden hangisi boşlukta yayılır?

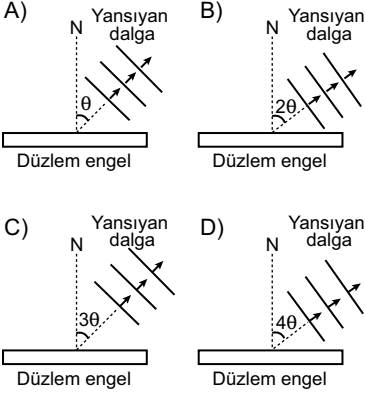
- A) Ses dalgası  
B) Su dalgası  
C) Yay dalgası  
D) Radyo dalgası

## 2. OTURUM

10.



Şekildeki düzlem engele  $\theta$  açısı ile gelen doğrusal su dalgası nasıl yansır? (N: Yüzeyin normali)

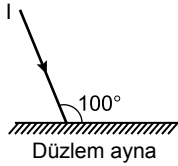


11. Doğrusal bir dalga kaynağı 6 saniyede 30 dalga üretmektedir.

Dalgaların periyodu kaç saniyedir?

- A) 1 B)  $\frac{1}{5}$  C)  $\frac{2}{5}$  D)  $\frac{1}{2}$

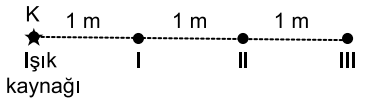
12.



Şekildeki düzlem aynaya gelen I ışınının yansıma açısı kaç derecedir?

- A) 5 B) 10 C) 30 D) 60

13. Şekildeki K ışık kaynağının I, II ve III noktalarındaki aydınlanma şiddetleri  $E_1$ ,  $E_2$  ve  $E_3$ 'dür.



Buna göre aydınlanma şiddetleri  $E_1$ ,  $E_2$  ve  $E_3$  arasındaki ilişki nasıldır?

- A)  $E_1 > E_2 > E_3$   
B)  $E_1 = E_2 = E_3$   
C)  $E_3 > E_2 > E_1$   
D)  $E_2 > E_3 = E_1$

14. Aşağıdaki tablolardan hangisinde yarı saydam ve saydam cisimlerin doğru gruplandırması yapılmıştır?

A)

| Yarı Saydam cisimler | Saydam cisimler |
|----------------------|-----------------|
| Taş                  | Hava            |
| Cam                  | Buzlu cam       |

B)

| Yarı Saydam cisimler | Saydam cisimler |
|----------------------|-----------------|
| Su                   | Beton           |
| Toprak               | Taş             |

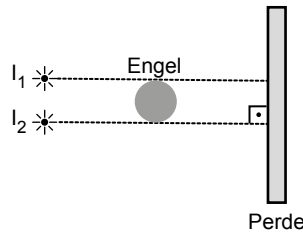
C)

| Yarı Saydam cisimler | Saydam cisimler |
|----------------------|-----------------|
| Beton                | Toprak          |
| Odun                 | Hava            |

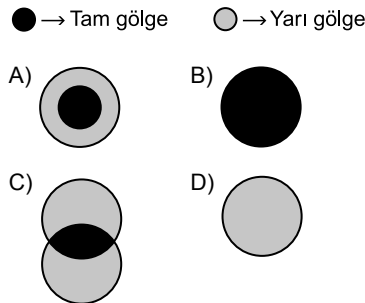
D)

| Yarı Saydam cisimler | Saydam cisimler |
|----------------------|-----------------|
| Mumlu kağıt          | Su              |
| Buzlu cam            | Hava            |

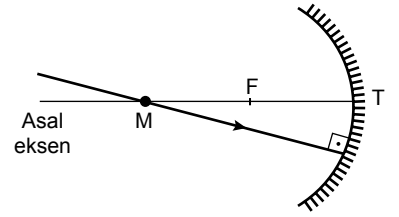
15. Karanlık bir odada noktasal ışık kaynakları  $I_1$  ve  $I_2$  saydam olmayan küresel bir engel perdenin önüne şekildeki gibi konulmuştur.



Buna göre perde üzerindeki tam gölge ve yarı gölgenin görünümü aşağıdakilerden hangisidir?

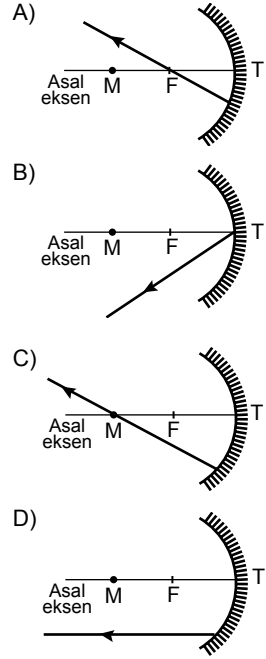


16.



Şekildeki çukur aynanın merkezinden gelen ışının yansıması aşağıdakilerden hangisinde doğru çizilmiştir?

(T=Tepe noktası, F=Odak noktası, M=Merkez noktası)



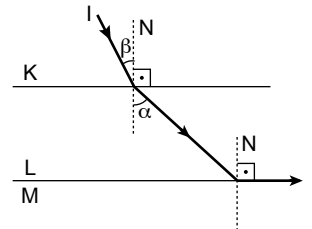
17. Cisim sonsuzda ise çukur aynadaki görüntüsü;

- I. Odak noktasında oluşur.  
II. Noktasaldır.  
III. Cisimden çok büyüktür.

İfadelerinden hangileri doğrudur?

- A) Yalnız I. B) I ve II.  
C) II ve III. D) I, II ve III.

18. Tek renkli I ışınının saydam K, L ve M ortamlarında izlediği yol şekildeki gibidir.



Buna göre K, L ve M ortamlarının kırıcılık indisleri  $n_K$ ,  $n_L$  ve  $n_M$  arasındaki ilişki nasıldır?

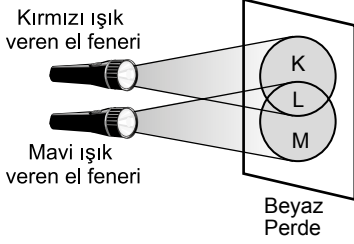
( $\alpha > \beta$ )

- A)  $n_K > n_L > n_M$  B)  $n_M > n_K = n_L$   
C)  $n_K = n_L = n_M$  D)  $n_M > n_L > n_K$



## 2. OTURUM

19. Karanlık bir odada şekildedeki düzenek kuruluyor.



Buna göre beyaz perde üzerindeki K, L ve M bölgelerinde oluşan renklerin sıralanışı aşağıdakilerden hangisinde doğru verilmiştir?

- |    | K       | L       | M    |
|----|---------|---------|------|
| A) | Sarı    | Mor     | Mavi |
| B) | Mavi    | Kırmızı | Sarı |
| C) | Kırmızı | Magenta | Mavi |
| D) | Mavi    | Beyaz   | Mavi |
20. Odak uzaklığı 4 m olan ince kenarlı gözlük camının numarası kaç dioptri'dir?
- A) 0,25      B) 0,5  
C) 1          D) 2

### (431) KİMYA – 1

1. Aşağıda verilenlerden hangisi simyacılar tarafından keşfedilmiş bir madde değildir?

A) Seramik      B) Cam  
C) Mürekkep      D) Plastik

2. Simyacılar değersiz madenleri hangi maddeye dönüştürmeye çalışmışlardır?

A) Bakır      B) Altın  
C) Demir      D) Gümüş

3. Karbon (C) bulunduran bileşiklerin yapılarını, özelliklerini ve tepkimelerini inceleyen kimya disiplini aşağıdakilerden hangisidir?

A) Organik Kimya  
B) Fizikokimya  
C) Biyokimya  
D) Analitik Kimya

4. Aşağıdaki mesleklerden hangisi kimya bilimi ile ilgili değildir?

A) Kimyager  
B) Kimya Mühendisi  
C) Maden Mühendisi  
D) Mimar

5. Aşağıdaki maddelerden hangisi bileşiktir?

A) Ar      B) He      C) P      D) NH<sub>3</sub>

6. "Klor" elementinin sembolü aşağıdakilerden hangisidir?

A) C      B) Cl      C) K      D) Ca

7. "H<sub>2</sub>SO<sub>4</sub> (sülfürik asit)" bileşiğinin yaygın adı aşağıdakilerden hangisidir?

A) Zaç yağı      B) Amonyak  
C) Kireç taşı      D) Su


8.



Kimya laboratuvarlarında kullanılan, yukarıda verilen malzemenin adı aşağıdakilerden hangisidir?

A) Büret      B) Beherglas  
C) Balon joje      D) Erlenmayer

9.



"Üzümlü kek" modeli diye de bilinen yukarıdaki atom modeli hangi bilim insanına aittir?

A) Thomson      B) Rutherford  
C) Dalton      D) Bohr

10. Bir element atomunun çekirdeğinde bulunan proton ve nötron sayılarının toplamı aşağıdakilerden hangisidir?

A) Elektron Sayısı  
B) Atom Numarası  
C) Kütle Numarası  
D) Çekirdek Yükü

11.



Yanda verilen güvenlik uyarı işaretinin anlamı aşağıdakilerden hangisidir?

A) Radyoaktif madde  
B) Tahriş edici madde  
C) Yanıcı madde  
D) Patlayıcı madde

12. Bir elementin tüm özelliklerini taşıyan en küçük taneciğine - - - - denir.

Yukarıda verilen tanımda boş bırakılan yere aşağıdakilerden hangisi yazılmalıdır?

A) bileşik      B) iyon  
C) atom      D) çekirdek

13.



Yukarıda verilen element sembolünün sol alt köşesinde "★" ile gösterilen değer, elemente ait hangi özelliği ifade eder?

A) İyon Yükü  
B) Atom Numarası  
C) Kütle Numarası  
D) Nötron Sayısı

14. I. <sup>1</sup>H      II. <sup>2</sup>D      III. <sup>4</sup>He

Yukarıda verilenlerden hangileri birbirinin izotopu olan atomlardır?

A) I ve II.      B) I ve III.  
C) II ve III.      D) I, II ve III.

15. <sup>20</sup><sub>10</sub>Ne elementinin nötron sayısı kaçtır?

A) 5      B) 10      C) 20      D) 30

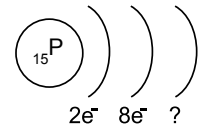
16. <sub>8</sub>O elementinin periyodik sistemde bulunduğu grup aşağıdakilerden hangisidir?

A) 2A      B) 4A      C) 6A      D) 8A

17. Aşağıda verilen elementlerden hangisi soygaz değildir?

A) <sub>2</sub>He      B) <sub>9</sub>F      C) <sub>10</sub>Ne      D) <sub>18</sub>Ar

18. <sup>15</sup>P elementine ait katman elektron dağılımı aşağıda verilmiştir.



Buna göre "?" ile gösterilen yere hangisi yazılmalıdır?

A) 2e<sup>-</sup>      B) 5e<sup>-</sup>      C) 8e<sup>-</sup>      D) 10e<sup>-</sup>

## 2. OTURUM

19. Aşağıda verilen ifadelerden hangisi metallere ait bir özellik değildir?

- A) Isıyı ve elektrik akımını iyi iletmezler.
- B) Tel ve levha haline getirilebilirler.
- C) Yüzeyleri parlak olup ışığı yansıtırlar.
- D) Ametallerle iyonik bağlı bileşik oluştururlar.

20. Periyodik sistem ile ilgili verilen aşağıdaki bilgilerden hangisi yanlıştır?

- A) 1. periyotta iki element vardır.
- B) Toplam 7 periyot bulunur.
- C) Yatay sıralara grup denir.
- D) Elementler, artan atom numaralarına göre dizilmiştir.

### (433) KİMYA – 3

1. Günlük hayatta kullandığımız aşağıdaki maddelerden hangisi asidik özelliktedir?

- A) Sirke
- B) Çamaşır suyu
- C) Diş macunu
- D) Sabun

2. Aşağıdaki maddelerden hangisi suda çözündüğünde ortama OH<sup>-</sup> (hidroksit) iyonu verir?

- A) H<sub>2</sub>SO<sub>4</sub>
- B) NaOH
- C) NaCl
- D) HNO<sub>3</sub>

3. Aşağıda verilen maddelerden hangisinin 25 °C'ta hazırlanan sulu çözeltisi, mavi turnusol kâğıdının rengini kırmızıya çevirir?

- A) NaCl
- B) HNO<sub>3</sub>
- C) KOH
- D) NaOH

4. "HCl" maddesi ile ilgili aşağıda verilen bilgilerden hangisi yanlıştır?

- A) Sulu çözeltisi kırmızı turnusol kâğıdının rengini maviye çevirir.
- B) 25 °C'ta hazırlanan sulu çözeltisinin pH değeri 7'den küçüktür.
- C) İnsan vücudu için zararlı ve tahriş edicidir.
- D) Suda çözündüğünde H<sup>+</sup> iyonu oluşturur.

5. Aşağıda verilen özelliklerden hangisi hem asitlere hem bazlara ait ortak özelliktir?

- A) Suda çözündüklerinde OH<sup>-</sup> iyonu oluştururlar.
- B) Sulu çözeltilerinin pH değeri 7'den küçüktür.
- C) Buldukları maddelere acılık katarlar.
- D) Suda çözündüklerinde iyonlarına ayrışırlar.

6. Aşağıda verilenlerden hangisi saf suyun pH değeridir?

- A) pH=1
- B) pH=5
- C) pH=7
- D) pH=14

7. Aşağıda verilen metallerden hangisi HCl asidi ile tepkime vermez?

- A) Çinko (Zn)
- B) Altın (Au)
- C) Alüminyum (Al)
- D) Magnezyum (Mg)

8. I. pH = 2  
II. pH = 9  
III. pH = 13

Yukarıda pH değerleri verilen sulu çözeltilerden hangileri bazik özelliktedir?

- A) Yalnız I.
- B) I ve II.
- C) II ve III.
- D) I, II ve III.

9. Bir asit çözeltisi için,

- I. pH < 7 dir.
- II. Elektrik akımını iletir.
- III. Mavi turnusolu kırmızıya çevirir.

İfadelerinden hangileri doğrudur?

- A) Yalnız II.
- B) I ve II.
- C) I ve III.
- D) I, II ve III.

10. Halk arasında "sofra tuzu" ya da "yemek tuzu" olarak bilinen bileşiğin formülü aşağıdakilerden hangisidir?

- A) H<sub>2</sub>O
- B) CaCO<sub>3</sub>
- C) KOH
- D) NaCl

11. • Gazoz  
• Hava  
• Süt  
• Su

Verilen maddelerden kaç tanesi karışımdır?

- A) 4
- B) 3
- C) 2
- D) 1

12. "Tuzlu su" çözeltisini oluşturan çözünen ve çözücü maddelerin fiziksel hâlleri aşağıdakilerin hangisinde doğru verilmiştir?

|    | Çözünen | Çözücü |
|----|---------|--------|
| A) | Sıvı    | Katı   |
| B) | Katı    | Gaz    |
| C) | Gaz     | Sıvı   |
| D) | Katı    | Sıvı   |

13. Aşağıda verilenlerden hangisi bir çözeltilidir?





- A) Türk kahvesi
- B) Çamurlu su
- C) Şekerli su
- D) Tebeşir tozlu su

14. "İyonik ve polar maddeler polar çözücülerde, apolar maddeler apolar çözücülerde çözünür."

Buna göre polar olan H<sub>2</sub>O içerisinde aşağıdaki maddelerden hangisi çözünmez?

- A) NH<sub>3</sub> (polar)
- B) NaCl (iyonik)
- C) CCl<sub>4</sub> (apolar)
- D) C<sub>2</sub>H<sub>5</sub>OH (polar)

15. Aynı şartlarda hazırlanan aşağıdaki çözeltilerden hangisi daha seyreltiktir?

|  |  |
|--|--|
| A)  | B)  |
| C)  | D)  |

16. 160 gram suda 40 gram yemek tuzu çözülerek hazırlanan tuzlu su çözeltisinin kütlece yüzde derişimi aşağıdakilerden hangisidir?

- A) 10
- B) 20
- C) 30
- D) 40

17. 100 mL sulu metil alkol çözeltisinde 90 mL su bulunduğuna göre kaç mililitre metil alkol bulunur?

- A) 20
- B) 15
- C) 10
- D) 5

## 2. OTURUM

18. Aynı şartlarda hazırlanan, bileşen miktarları verilmiş aşağıdaki çözeltilerden hangisi diğerlerine göre daha yüksek sıcaklıkta kaynamaya başlar?

- A) 100 g su + 30 g şeker  
B) 100 g su + 15 g şeker  
C) 100 g su + 7 g şeker  
D) 100 g su + 2 g şeker

19. Haşlanmış makarnayı suyundan ayırmak için kullanılan yöntem aşağıdakilerden hangisidir?

- A) Damıtma B) Süzme  
C) Yüzdürme D) Eleme

20. Birbiri içinde çözünmeyen, yoğunlukları farklı iki sıvıdan oluşan karışımlar "ayırma hunisi" ile ayrılır.

Buna göre aşağıdaki karışımlardan hangisi ayırma hunisi ile bileşenlerine ayrılır?

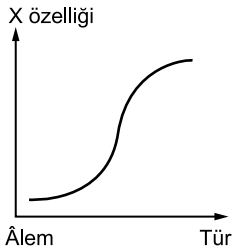
- A) Tuz - su  
B) Şeker - su  
C) Etil alkol - su  
D) Zeytinyağı - su

### (442) BİYOLOJİ – 2

1. Doğal (filogenetik) sınıflandırmada seçeneklerdeki faktörlerden hangisi dikkate alınır?

- A) Fizyolojik benzerlikler  
B) Kromozom sayısı  
C) Analog organlar  
D) Yaşam ortamı

2. Günümüzde kullanılan sınıflandırma basamakları en büyükten küçüğe doğru "Âlem – Şube – Sınıf – Takım – Aile – Cins – Tür" şeklinde sıralanır. Aşağıda âlem basamağından tür basamağına doğru gidildikçe değişen bir özellik grafiklenmiştir.



Buna göre grafikte verilen X özelliği aşağıdakilerden hangisi olabilir?

- A) Birey sayısı  
B) Çeşitlilik  
C) Analog organ  
D) Protein benzerliği

3. Aşağıda verilen canlı âlemlerinden hangisindeki organizmalar prokaryot (basit) hücre yapısına sahiptir?

- A) Bitkiler B) Mantarlar  
C) Bakteriler D) Hayvanlar

4. Tür adları yazılırken ilk isim canlınin cins adı olup akraba grupları ifade eder. İkinci isim canlınin cins adının tamamlayıcısıdır. İki isim birden canlınin tür ismini oluşturmaktadır.

Latince tür ismi verilen canlılardan;

- I. *Felis domesticus*  
II. *Morus nigra*  
III. *Felis leo*  
IV. *Pinus nigra*

hangi ikisi birbiri ile daha yakın akrabadır?

- A) I ve II. B) I ve III.  
C) II ve III. D) II ve IV.

5. Bakterilerle ilgili aşağıdaki ifadelerden hangisi doğrudur?

- A) Tüm bakteriler oksijensiz solunum yapar.  
B) Fotosentez yapan bakterilerde kloroplast organeli bulunur.  
C) Olumsuz çevre koşullarında endospor oluşturmuş bakterilerde metabolizma hızı yüksektir.  
D) Aktif olarak hareket eden bakterilerde kamçı bulunur.

6. Prokaryot konjugasyonlarında sadece kalıtsal yapı değişikliği görülür.

Bakterilerde görülen konjugasyonla ilgili verilenlerden hangisi yanlıştır?

- A) Birey sayısında artış gözlenir.  
B) Kalıtsal çeşitlilik sağlanır.  
C) Bakteriler arasında tek yönlü plazmit (küçük DNA parçaları) transferi olur.  
D) Canlınin çevreye uyum yeteneğini artırır.

7. Protista âleminde yaşayan tüm canlı organizmalarda aşağıdaki hücre organellerinden hangisi ortak olarak bulunmayabilir?

- A) Çekirdek  
B) Ribozom  
C) Kontraktil koful  
D) Endoplazmik retikulum

8. Algler ile ilgili aşağıdaki ifadelerden hangisi doğrudur?

- A) Tamamı koloni şeklinde yaşar.  
B) Gerçek kök, gövde ve yaprakları bulunur.  
C) Hücre çeperleri bulunmaz.  
D) Fotosentez yaparak sudaki oksijen miktarını artırır.

9. Mantarlarla ilgili;

- I. kloroplast taşımaması,  
II. hareket etmemeleri,  
III. hücre duvarı içermeleri,  
IV. heterotrof yaşamaları  
özellikleri verilmiştir.

Verilen özelliklerden hangileri bakımından mantarlar hayvan hücrelerine (K), hangileri bakımından bitki hücrelerine (L) benzerlik gösterirler?

|    | K          | L          |
|----|------------|------------|
| A) | I ve II.   | III ve IV. |
| B) | I ve III.  | II ve IV.  |
| C) | I ve IV.   | II ve III. |
| D) | II ve III. | I ve IV.   |

10. Bitkilerde sürgün sistemde aşağıdaki organlardan hangisi bulunmaz?

- A) Kök B) Gövde  
C) Çiçek D) Yaprak

11. Bitkilerin kökleri,

- I. topraktan su ve suda çözünmüş hâlde bulunan mineral tuzların alınımı,  
II. fotosentez yapma,  
III. bitkiyi toprağa bağlama

verilen görevlerden hangilerini yerine getirebilir?

- A) Yalnız III. B) I ve II.  
C) I ve III. D) I, II ve III.

12. Bitkiler âleminde yaşayan canlı türlerinde,

- I. fotoototrof,  
II. parazit,  
III. otçul

verilen beslenme şekillerinden hangileri gözlenmez?

- A) Yalnız I. B) Yalnız II.  
C) Yalnız III. D) II ve III.

## 2. OTURUM

13. Aşağıda verilenlerden hangisi omurgasız bir hayvan grubudur?

- A) Örümcek B) Timsah  
C) Balık D) Kuş

14. Omurgasız hayvanlarla ilgili;

- I. Bazıları suda, bazıları da karada yaşar.  
II. Tamamı akciğer solunumu yapar.  
III. Sünger, solucan, midye gibi canlılar örnek verilebilir.

verilen ifadelerden hangileri doğrudur?

- A) I ve II. B) I ve III.  
C) II ve III. D) I, II ve III.

15. Aşağıdakilerden hangisi yavrusunu sütle besleyen bir canlıdır?

- A) Ahtapot B) Kanguru  
C) Timsah D) Köpek balığı

16. Kuşlarla ilgili,

- I. Vücutları keratinden yapılmış pul, tüy ve teleklerle kaplıdır.  
II. Beslenme tipine göre gagaları; delmeye, parçalamaya ve yakalamaya uyum sağlayacak biçimde şekillenmiştir.  
III. Kuluçkaya yatma ve yavru bakımı görülür.

yargılardan hangileri doğrudur?

- A) I ve II. B) I ve III.  
C) II ve III. D) I, II ve III.

17. Bakteriler,

- I. antibiyotik ve aşı üretiminde kullanılarak ilaç sektörüne,  
II. biyolojik mücadelede kullanılarak gıda sektörüne,  
III. aseton, bütanol gibi maddelerin üretiminde kullanılarak kimya sektörüne

verilenlerden hangileri ile belirtilen sektörlerde biyolojik süreçlere ve ekonomiye katkı sağlar?

- A) I ve II. B) I ve III.  
C) II ve III. D) I, II ve III.

18. Bitki zararlılarının, doğadaki mevcut doğal düşmanları yardımıyla ekonomik zarar düzeyinin altında tutulması işlemine verilen isim aşağıdakilerden hangisidir?

- A) Biyomimetik  
B) Biyolojik mücadele  
C) Biyolojik tolerans  
D) Biyotop

19. Aşağıdakilerden hangisi virüsler için yanlıştır?

- A) Bakteri âlemi içinde sınıflandırılır.  
B) Sadece konak hücre içinde aktif olurlar.  
C) Zorunlu hücre içi parazitidir.  
D) Kalıtım materyali olarak DNA ya da RNA bulundurulur.

20. Viral hastalıklardan korunmak için aşağıdakilerden hangisini yapmak uygun olmaz?

- A) Yemekten önce ve sonra, tuvaletten önce ve sonra eller sabun ve bol su ile iyice yıkanmalıdır.  
B) Geniş spektrumlu antibiyotikler sürekli kullanılmalıdır.  
C) Kişisel temizliğe ve hijyene özen gösterilmeli, hastalık durumunda insanlarla doğrudan temastan kaçınılmalıdır.  
D) Hayvansal gıdalar iyice pişirilmeli, soğuk hava odalarında saklanmalıdır.

### (444) BİYOLOJİ – 4

1. İnsan ve içinde yaşadığı doğa ayrılmaz bir bütündür. Bu nedenle insan ve doğanın etkileşimi kaçınılmaz bir olaydır. Yaşam için insanın doğadan yararlanması gayet doğaldır. Fakat sadece insanların çıkarını düşünüp doğayı düşünmeksizin hareket etmek bir süre sonra çözümü zor hatta olanaksız sonuçlar doğurabilmektedir.

Yukarıdaki parçaya göre aşağıdakilerden hangisi çıkarılamaz?

- A) İnsan ve doğa sürekli etkileşim halindedir.  
B) İnsan doğadan yararlanabilir.  
C) İnsan ihtiyaçları karşısında doğanın önemi yoktur.  
D) İnsan yaşamak için doğaya muhtaçtır.

2. Aşağıda verilenlerden hangisi ekosistemi etkileyen abiyotik (cansız) faktörlerdendir?

- A) Sıcaklık B) Üreticiler  
C) Ayrıştırıcılar D) Tüketiciler

3. Besin zinciri ve besin piramitleri ile ilgili aşağıdaki ifadelerden hangisi yanlıştır?

- A) Trofik basamaklar arasında üreticilerden son tüketicilere doğru gidildikçe enerji kaybı olur.  
B) Alt trofik basamaklarda biriken zararlı madde miktarı üst basamaklardan daha azdır.  
C) Genellikle üst trofik düzeylere çıkıldıkça vücut büyüklüğü küçülür.  
D) Üst trofik basamaklara çıkıldıkça biyokütle azalır.

4. I. Sıcaklık

II. Yağış

III. Küresel hava sirkülasyonları

Yukarıda verilen durumlardan hangileri biyomların dünya üzerindeki dağılımlarını etkileyebilir?

- A) Yalnız II. B) I ve III.  
C) II ve III. D) I, II ve III.

5. Karasal bir ekosistemde üreticiden tüketicie doğru bir besin zinciri oluşturulduğunda aşağıdaki canlılardan hangisi 4. trofik düzeyde yer alır?

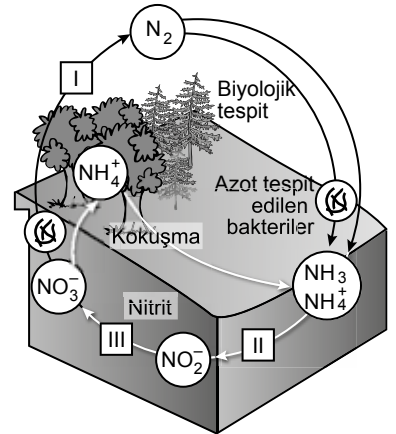
- A) Fare B) Ot  
C) Yılan D) Çekirge

6. • Kuzey Amerika, Avrupa ve Asyanın kutuplara yakın kısımlarında bulunur.  
• Kışın ortalama sıcaklık -30 °C; yazın ise 10 °C'nin altındadır. Donmaya dayanıklı hızlı gelişen parlak çiçekli otsu bitkiler, bodur çalılar, ağaçlar ve likenler bu bölgelerde karışık olarak bulunur.  
• Toprak sürekli donmuş görünümündedir. İri gövdeli misk öküzleri, ayı, kurt, ren geyikleri burada yaşayan hayvanlardır.

Yukarıda özellikleri verilen biyom aşağıdakilerden hangisidir?

- A) Tundra  
B) Çöl  
C) Ilıman yağmur ormanları  
D) Tropikal ormanlar

7. Aşağıda azot döngüsü şematize edilmiştir.



Buna göre numaralandırılmış olayları gerçekleştiren canlılardan hangileri prokaryot hücre yapısına sahip bakteriler olabilir?

- A) I ve II. B) I ve III.  
C) II ve III. D) I, II ve III.

## 2. OTURUM

8. Aşağıda verilen canlılardan hangisi herbivor (otçul) beslenme göstermez?

- A) Tavşan B) Kartal  
C) At D) Ceylan

9. Habitat, bir türün bireylerinin yaşamsal faaliyetlerini en iyi şekilde devam ettirebildiği yaşam alanıdır.

**Buna göre habitatlarla ilgili,**

- I. Okyanus gibi geniş alanlar olabilir.  
II. Yaz ve kış mevsimlerine göre farklılık gösterebilir.  
III. Asla değişmez yaşam alanlarıdır.

**yargılarından hangileri doğrudur?**

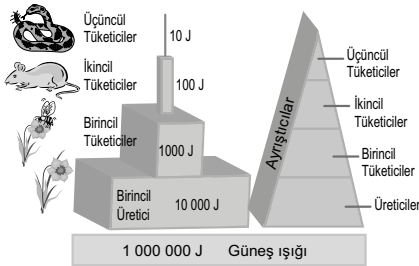
- A) I ve II. B) I ve III.  
C) II ve III. D) I, II ve III.

10. Günümüzde atmosfere verilen karbondioksit gazının artması sera etkisine neden olmaktadır.

**Aşağıdaki olaylardan hangisi atmosfere karbondioksit salınmasına neden olan olaylardan biri değildir?**

- A) Fosil yakıtların(kömür, petrol vb.) kullanılması  
B) Uygun arazilerin ağaçlandırılması  
C) Yanardağ patlamaları  
D) Orman yangınları

11. Aşağıdaki şekilde besin zincirindeki enerji akışı ve besin piramidi verilmiştir.



**Verilen enerji akışı ve besin piramidi için aşağıdakilerden hangisi söylenemez?**

- A) Enerji ekosisteme güneş ışığı şeklinde girer.  
B) Ayrıştırıcılar tüm canlı grupları ile etkileşim halindedir.  
C) Birincil tüketiciler genellikle üretici canlılarla beslenir.  
D) Güneş ışığının tamamı bitkiler tarafından kullanılır.

12. Bazı maddeler zararlı özelliklerini devamlı korur, ne seyreltilir ne de biyolojik olarak zararsız hale getirilebilir. Bu tip maddeler besin zincirini oluşturan organizmaların dokularında birikerek zararlı konsantrasyon düzeyine ulaşabilir.

**Bu olay aşağıdakilerden hangisi ile tanımlanır?**

- A) Ekolojik sistem  
B) Fotosentez  
C) Biyolojik birikim  
D) Heterotrof beslenme

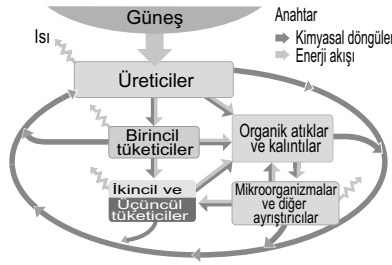
13. Su döngüsünde;

- I. terleme,  
II. buharlaşma,  
III. yoğunlaşma

**olaylarından hangileri suyun atmosfere su buharı şeklinde geçmesine neden olur?**

- A) Yalnız I. B) I ve II.  
C) II ve III. D) I, II ve III.

14. Aşağıda doğada enerji akışı ve madde döngüleri şematize edilmiştir.



**Buna göre verilen şema ile ilgili aşağıdakilerden hangisi yanlıştır?**

- A) Üreticiler güneş enerjisini kullanarak organik madde sentezlerler.  
B) Üreticilerin ürettiği bazı maddeleri yalnızca birincil tüketiciler kullanırlar.  
C) Böyle bir döngüde yer alan bazı canlılar çevreye ısı verir.  
D) İkincil tüketiciler enerji ve besin maddesi temini için birincil tüketicileri kullanırlar.

15. Ekosistemlerin sürdürülebilirliği ile ilgili,

- I. İnsanların daha rahat yaşayabilmesi için yapay yaşam alanları oluşturulmalıdır.  
II. Tarım alanlarındaki verimi artırmak için kimyasal gübre kullanımı teşvik edilmelidir.  
III. Toplumdaki tüm bireylere çevre etiği aşılanmalıdır.

**ifadelerinden hangileri doğrudur?**

- A) Yalnız III. B) I ve II.  
C) II ve III. D) I, II ve III.

16. Doğayı düşünmeksizin yalnızca insanın çıkarı açısından yararlanma ya da tek yönlü yararlanma söz konusu olduğunda beklenen olumlu sonuçlar, bir süre sonra çözümü zor hatta olanaksız sorunlara dönüşmektedir.

**Aşağıdakilerden hangisi yukarıda belirtilen sorunlardan birisi değildir?**

- A) Aşırı avlama  
B) Yenilenebilir enerji kaynaklarının kullanılması  
C) Verimli tarım arazilerine inşaat yapılması  
D) Su kaynaklarının kirlenmesi

17. İnsanların yaptığı,

- I. aşırı otlatma,  
II. aşırı avlanma ya da hasat,  
III. yapılaşma

**faaliyetlerden hangileri ekosistemleri etkiler?**

- A) Yalnız III. B) I ve II.  
C) II ve III. D) I, II ve III.

18. Su biyomları tatlı ve tuzlu su biyomları olmak üzere ikiye ayrılır. Tatlı su biyomlarının ise durgun su kütleleri ve hareketli su kütleleri olmak üzere iki tipi bulunmaktadır.

**Buna göre,**

- I. göller,  
II. akarsular,  
III. okyanuslar

**verilen biyomlardan hangileri hareketli tatlı su biyomudur?**

- A) Yalnız II. B) I ve III.  
C) II ve III. D) I, II ve III.

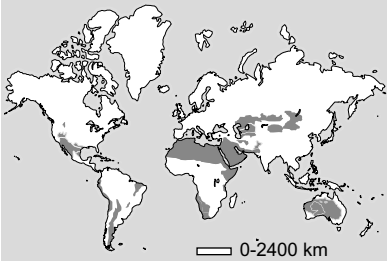
19. I. Küresel ısınma  
II. Ozon tabakasının incelmeye  
III. Ormanların tahribatı

**Yukarıda verilen çevre sorunlarından hangileri günümüzde hala etkisini ve olumsuzluklarını devam ettirmektedir?**

- A) Yalnız I. B) I ve II.  
C) II ve III. D) I, II ve III.

## 2. OTURUM

20. Aşağıda bir biyomun yeryüzündeki dağılımı dünya haritası üzerinde gösterilmiştir.



Bu biyomun bazı özellikleri şunlardır:

- Toprak yüzeyi sıcaklığı 60 °C nin üstüne çıktığı kurak alanlardır.
- Hava sıcaklığı gün içerisinde ve mevsimler arasında büyük farklılıklar gösterir.
- Bitki örtüsü hiç yok ya da seyrek.
- Belli bir yağış mevsimi yoktur.

**Özellikleri ve dünya haritası üzerinde bulunduğu bölgelerin gösterildiği biyom aşağıdakilerden hangisidir?**

- A) Çayır  
B) Tundra  
C) Tropikal yağmur ormanları  
D) Çöl

### (451) SEÇMELİ ÇAĞDAŞ TÜRK VE DÜNYA TARİHİ – 1

1. 28 Haziran 1914'te Saraybosna'da Avusturya-Macaristan veliahdının bir Sırp milliyetçisi tarafından öldürülmesi ile başlayan savaş aşağıdakilerden hangisidir?

- A) I. Dünya Savaşı  
B) II. Dünya Savaşı  
C) I. Balkan Savaşı  
D) II. Balkan Savaşı

2. I. Dünya Savaşı sonunda Avusturya ile İtilaf Devletleri arasında imzalanan antlaşma aşağıdakilerden hangisidir?

- A) Nöyyi  
B) Sen Jermen  
C) Triyanon  
D) Sevr

3. Birinci Dünya Savaşı'nı kesin olarak bitirecek ve bozulan dengeyi yeniden kuracak barış antlaşmalarının imzalanmasını sağlamak amacıyla 18 Ocak 1919 tarihinde düzenlenen konferans aşağıdakilerden hangisidir?

- A) Londra  
B) Montrö  
C) Paris  
D) Cenevre

4. Aşağıdakilerden hangisi I. Dünya Savaşı sonunda imzalanan barış antlaşmalarından biridir?

- A) Versay Antlaşması  
B) Lozan Antlaşması  
C) Roma Antlaşması  
D) Locarno Antlaşması

5. Aşağıdakilerden hangisi San Remo Konferansı'ndan sonra İngiliz Mandası'na bırakılan yerlerden biri değildir?

- A) Ürdün  
B) Irak  
C) Filistin  
D) Suriye

6. Aşağıdakilerden hangisi Sadabat Paketi'ni imzalayan devletlerden biri değildir?

- A) Türkiye  
B) İran  
C) Ürdün  
D) Irak

7. Boğazlarda Türk egemenliğini ve kontrolünü esas alan bir düzenleme yapılarak 20 Temmuz 1936'da imzalanan sözleşme aşağıdakilerden hangisidir?

- A) Londra  
B) Montrö  
C) Helsinki  
D) Roma

8. 23 Temmuz 1939'da Türkiye'ye katılan ilimiz aşağıdakilerden hangisidir?

- A) Kars  
B) Ardahan  
C) Edirne  
D) Hatay

9. Avrupa'da yeni bir savaş ihtimalinin ortaya çıkması üzerine İngiltere, Almanya, Fransa ve İtalya arasında 29 Eylül 1938'de yapılan konferans aşağıdakilerden hangisidir?

- A) Londra  
B) Münih  
C) Paris  
D) Berlin

10. II. Dünya Savaşı sırasında hükümete ekonomik hayatı düzenleyici çok geniş imkânlar sağlamak için 18 Ocak 1940'ta TBMM'de çıkarılmış olan kanun aşağıdakilerden hangisidir?

- A) Millî Korunma Kanunu  
B) Toprak Mahsulleri Vergisi Kanunu  
C) Varlık Vergisi Kanunu  
D) Ödünç Verme ve Kiralama Kanunu

11. Aşağıdakilerden hangisi II. Dünya Savaşı'nın siyasi sonuçlarından biri değildir?

- A) Nazizm ve faşizm rejimlerinin yıkılması  
B) Almanya ve Avusturya topraklarının işgal edilmesi.  
C) Uluslararası Para Fonu'nun (IMF) kurulması  
D) SSCB'nin savaş sonunda büyük bir güç haline gelmesi

12. Uluslararası çalışma örgütü aşağıdakilerden hangisidir?

- A) FAO  
B) ILO  
C) WHO  
D) UNESCO

13. I. Dünya Savaşı sonunda Osmanlı Devleti ile İtilaf Devletleri arasında 30 Ekim 1918'de imzalanan antlaşma aşağıdakilerden hangisidir?

- A) Mudanya Ateşkes Antlaşması  
B) Ankara Antlaşması  
C) Mondros Ateşkes Antlaşması  
D) Lozan Barış Antlaşması

14. II. Dünya Savaşı sonunda SSCB liderliğinde, ideolojik ayrılığa dayalı oluşan blok aşağıdakilerden hangisidir?

- A) Doğu Bloku  
B) Batı Bloku  
C) Kuzey Bloku  
D) Güney Bloku

15. 1957'de Roma Antlaşması ile kurulmuş olan birlik aşağıdakilerden hangisidir?

- A) Kuzey Atlantik İttifakı  
B) Avrupa Konseyi  
C) Comecon  
D) Avrupa Ekonomik Topluluğu

16. Demokrat Parti'nin kurucularından olup 1950-1960 yılları arasında Türkiye'de başbakanlık yapmış siyasetçi aşağıdakilerden hangisidir?

- A) Süleyman Demirel  
B) Turgut Özal  
C) Adnan Menderes  
D) Bülent Ecevit

## 2. OTURUM

17. Afrika'daki devletler, bağımsızlıklarını kazanmalarına rağmen insanlar dünya standartlarının altında yaşamaktadırlar. Kabilecilik anlayışının hâkim olması demokratikleşmenin önünde en büyük engeldir. Serbest seçim, özgür basın vb. kavramların toplum nazarında pek bir değeri yoktur. Ülkelerin çoğunda tek parti ve askerî diktatörlükler işbaşındadır.

**Verilen bilgiye göre Afrika devletlerinde demokratikleşmenin önündeki en büyük engel, aşağıdakilerden hangisidir?**

- A) Bağımsızlıklarını kazanmaları
- B) Kabilecilik anlayışının hakim olması
- C) Serbest seçimlerin yapılması
- D) Halkın fakir olması

18. **Basmacı Hareketi'nin içinde bulunun, Türkistan Millî Birliği'nin kurucusu ve ilk başkanı olan ünlü Türk tarihçisi, aşağıdakilerden hangisidir?**

- A) Cengiz Aytmatov
- B) Yusuf Akçura
- C) İsmail Gaspralı
- D) Zeki Velidi Togan

19. **Filistin'de "Yahudi Yurdu" önerisini reddeden Osmanlı padişahı aşağıdakilerden hangisidir?**

- A) II. Abdülhamit
- B) III. Selim
- C) IV. Murat
- D) II. Mahmut

20. **II. Dünya Savaşı'nda Japonya'nın Hiroşima ve Nagazaki şehirlerine atom bombası atarak 150.000 kişinin ölmesine neden olan ülke, aşağıdakilerden hangisidir?**

- A) Rusya
- B) ABD
- C) Çin
- D) İngiltere

### (455) SEÇMELİ DEMOKRASİ VE İNSAN HAKLARI – 1

1. **İnsanların salt insan olmaktan dolayı devredilemez, vazgeçilemez haklara sahip olması aşağıdakilerden hangisiyle ifade edilir?**

- A) Devlet
- B) Egemenlik
- C) Siyaset
- D) İnsan hakları

2. **Kişinin siyasal gücün kullanılmasına katılmasını sağlayan haklara katılma hakları denir.**

**Buna göre aşağıdakilerden hangisi katılma hakları arasında yer alır?**

- A) Özel hayatın gizliliği
- B) Seçme ve seçilme
- C) Dinlenme
- D) Mülkiyet

3. **"Herkes yaşama, maddi ve manevi varlığını koruma ve geliştirme hakkına sahiptir." ifadesiyle anayasal güvenceye kavuşturulan hak aşağıdakilerden hangisidir?**

- A) Konut dokunulmazlığı
- B) Ailenin korunması
- C) Basın özgürlüğü
- D) Yaşama

4. **"Bir devletin var olabilmesi için devleti oluşturan halkın yaşadığı ve devletin egemenlik alanını oluşturan bir toprak parçasının olması gerekir."**

**Bu ifadede aşağıdakilerden hangisi vurgulanmıştır?**

- A) Ülke
- B) Siyaset
- C) Eğitim
- D) Özgürlük

5. I. Üniter devlet yapısı  
II. Kuvvetler ayrılığı  
III. Hukukun üstünlüğü

**Yukarıdakilerden hangileri Türkiye Cumhuriyeti devletinin dayandığı temel esaslar arasında yer alır?**

- A) I ve II.
- B) I ve III.
- C) II ve III.
- D) I, II ve III.

6. **Kişilere dil, din, cinsiyet, etnik köken, sosyal sınıf ve gelir düzeyi konularında ayırım yapılmaması hukuk devletinin öncelikle aşağıdaki hangi özelliğine dayanmaktadır?**

- A) Kuvvetler ayrılığı
- B) Kanun önünde eşitlik
- C) İdarenin yasal denetimi
- D) İdarenin mali sorumluluğu

7. **Aşağıdakilerden hangisi yazılı hukuk kuralları arasında yer almaz?**

- A) Gelenek
- B) Yönetmelik
- C) Yasa
- D) Tüzük

8. **"Halk iktidarı", "halk egemenliği" anlamlarına gelen kavram aşağıdakilerden hangisidir?**

- A) Yasa
- B) Seçim
- C) Demokrasi
- D) Egemenlik

9. **Sosyal devletin, çalışabilir durumdaki herkesin çalışabilmesi için iş yerleri açması, açılmasını desteklemesi ve toplumdaki herkesin çalışabilmesi için gerekenleri yapması aşağıdakilerden hangisiyle ilgilidir?**

- A) Barışı sağlama
- B) Din ve vicdan özgürlüğü
- C) Mahkemelerin bağımsızlığı
- D) Tam istihdam ve işsizlikle mücadele

10. **Tarihte ilk kez Antik Yunan şehir devletlerinden Atina'da vatandaşlar, yönetime ilişkin kararların alınmasına katılmış ve oy kullanmak yoluyla tercihlerini belirtmiştir.**

**Buna göre aşağıdaki yargılardan hangisine ulaşılabilir?**

- A) Antik Yunan ilkel bir uygarlıktır.
- B) Demokrasinin ilk uygulandığı yer Atina'dır.
- C) Atina'da vatandaşlar özgür değildirlerdir.
- D) Demokrasi her çağda uygulanmıştır.

11. **Düşünce ve menfaatlerini gerçekleştirmek için iktidarı kısmen ya da tamamen elde etmek amacıyla siyasi hayata katılan teşkilatlanmış gruba siyasi parti denir.**

**Buna göre siyasi partiyle ilgili aşağıdaki bilgilerden hangisi yanlıştır?**

- A) Halkın istek ve beklentilerini görmezlikten gelirler.
- B) Halk ile iktidar arasında aracılık yaparlar.
- C) Ülke sorunlarına ilişkin görüş sunarlar.
- D) Ülkeyi yönetmeye adaydırlar.

12. **Aşağıdakilerden hangisi ülkemizde oy kullanmayla ilgili doğru bir bilgi değildir?**

- A) Seçmek hem hak hem de görevdir.
- B) Oy kullanmak zorunludur.
- C) Vatandaş isterse oy kullanır.
- D) Bir sebep olmaksızın oy kullanmayanlara para cezası verilir.

13. **Aşağıdakilerden hangisi Cumhuriyet öncesi gelişmeleri arasında yer almaz?**

- A) 1924 Anayasası
- B) Nizam-ı Cedit
- C) İslahat Fermanı
- D) Sened-i İttifak

## 2. OTURUM

14. Aşağıdakilerden hangisi demokrasiyi yaşama biçimi olarak benimseyen bireyden beklenmeyen bir durumdur?

- A) Alınacak kararlarda ailedeki her bireye söz hakkı tanınması
- B) Günlük eylemlerinde demokrasiye uygun davranması
- C) Kendisinden farklı görünen insanların aşağılanması
- D) Farklı düşüncelere karşı saygılı olması

15. Birleşmiş milletlerin insan haklarını evrensel düzeyde korumak amacıyla 10 Aralık 1948'de imzaladığı belge aşağıdakilerden hangisidir?

- A) İngiliz Haklar Bildirgesi
- B) İnsan Hakları Evrensel Bildirgesi
- C) Virginia Haklar Bildirgesi
- D) Fransız İnsan ve Yurttaş Hakları Bildirgesi

16. I. Cehaletin önlenmesi  
II. İnsan hakları ihlallerinin önlenmesi  
III. Savaşların ortadan kaldırılması  
Verilenlerden hangileri uluslararası sivil toplum örgütlerinin faaliyetleri içinde yer alır?

- A) Yalnız I.
- B) Yalnız III.
- C) I ve II.
- D) I, II ve III.

17. İşkenceye ve Başka Zalimce İnsanlık Dışı ya da Onur Kırıcı Ceza ya da Davranışlara Karşı Sözleşme aşağıdaki komitelerden hangisi tarafından kabul edilmiştir?

- A) İşkenceye Karşı Komite
- B) Apartheid'a Karşı Grup
- C) Kadınlara Karşı Ayrımcılığın Kaldırılması Komitesi
- D) Ekonomik Sosyal ve Kültürel Haklar Komitesi

18. Avrupa Güvenlik ve İşbirliği Teşkilatı'na taraf olan devletlerde seçimlerin sağlıklı bir biçimde yapılabilmesini sağlayan organ aşağıdakilerden hangisidir?

- A) Kıdemli Memurlar Komitesi
- B) Çatışma Önleme Merkezi
- C) Hür Seçimler Bürosu
- D) Danışma Komitesi

19. Atatürk ilkelerinden inkılapçılık aşağıdakilerden öncelikle hangisini ifade eder?

- A) Yönetimin halkın tamamına ait olmasını
- B) Çağdaş bir toplum oluşturulmasını
- C) Milli gelirin adaletli dağıtılmasını
- D) Ekonomik kalkınmanın sağlanmasını

20. Aşağıdakilerden hangisi Atatürk inkılabının ilkeleri arasında yer almaz?

- A) Halkçılık
- B) Devletçilik
- C) Uygarlık
- D) Milliyetçilik

### (466) TEMEL DİNİ BİL. – 2

1. "Kişinin günlük hayatında faydasına ve zararına olan şeyleri bilmesi" şeklinde tanımlanan ilim aşağıdakilerden hangisidir?

- A) Kelam
- B) Fıkıh
- C) Akaid
- D) Siyer

2. Fakih kavramı aşağıdakilerden hangisi ile aynı anlama gelmektedir?

- A) Muhaddis
- B) Müfessir
- C) Müçtehit
- D) Mücahit

3. Aşağıdakilerden hangisi İslam hukukunun "feraiz" başlığı altında incelenir?

- A) Miras ve vasiyet
- B) Suçlar ve cezalar
- C) Evlenme ve boşanma
- D) Günlük hayatla ilgili akideler

4. Aynı dönemde yaşayan müçtehitlerin dini bir konunun hükmü hakkında görüş birliği içinde olmalarıdır.

Bu tanım aşağıdaki kavramlardan hangisine aittir?

- A) İstihsan
- B) Hadis
- C) Kıyas
- D) İcma

5. Aşağıdakilerden hangisi İslam hukukunun temel kaynaklarından biri değildir?

- A) Kur'an
- B) Sünnet
- C) Gelenek
- D) Kıyas

6. Hukuk ile ahlak ilişkisi değerlendirildiğinde aşağıdakilerden hangisi söylenemez?

- A) Hukuk dışsal, ahlak ise içseldir.
- B) Ahlakın yaptırımını zorlayıcı, hukuk ise vicdanidir.
- C) Hukuk, insanların ahlaki ilkelere göre yaşaması için vardır.
- D) Ahlak iyiyi yaşam biçimi olarak sunar, hukuk ise buna yönelik ihlalleri engeller.

7. Aşağıdakilerden hangisi İslam hukukunun temel ilkelerinden biri değildir?

- A) Cezalarda keyfilik
- B) Helallerde genişlik
- C) Tekliflerde kolaylık
- D) Adaletin gözetilmesi

8. Mecelle'de yer alan "Zaruretler, memnu olan şeyleri mübah kılar." ilkesinin anlamı aşağıdakilerden hangisidir?

- A) Yasaklanmamış olan her şey helaldir.
- B) Suç ile ceza arasında doğru orantı olmalıdır.
- C) Kişi, suçu kanıtlanıncaya kadar masum kabul edilir.
- D) Yasaklanan fiiller, zorunlu hâllerde geçici olarak kaldırılır.

9. "... Hiçbir suçlu başkasının suçunu yüklenmez..."  
(En'âm suresi, 164. ayet)

Bu ayet İslam hukukunun aşağıdaki temel ilkelerinden hangisi ile ilgilidir?

- A) Suçun şahsiliği
- B) Haramlarda sınırlılık
- C) Kamu yararının gözetilmesi
- D) Suç ve ceza arasındaki orantı

10. Aşağıdakilerden hangisi mükellef olmanın genel şartlarından biri değildir?

- A) Buluğ çağına ermiş olmak
- B) Akıl sahibi olmak
- C) Müslüman olmak
- D) Zengin olmak

11. "... Kim bir cana kıymayan veya yüzünde bozgunculuk çıkarmayan bir kimseyi öldürürse bütün insanları öldürmüş gibi olur. Kim de bir kimsenin yaşamasını sağlarsa bütün insanları yaşatmış gibi olur..."  
(Mâide suresi, 32. ayet)

Bu ayette aşağıdaki ilkelere hangisi vurgulanmıştır?

- A) Dinin korunması
- B) Aklın korunması
- C) Canın korunması
- D) Namusun korunması

12. Aşağıdakilerden hangisi İslam hukukunun ana konularından biri değildir?

- A) Ukubat
- B) İbadet
- C) Ahiret
- D) Muamelat



## 2. OTURUM

13. İslam hukukundaki "Eşyada aslolan ibâhadır." ilkesine hukukçular aşağıdaki ayetlerden hangisini dayanak göstermemişlerdir?

- A) "Yerde olanların hepsini sizin için yaratan O'dur."  
(Bakara suresi, 29. ayet)
- B) "Muhakkak ki Allah, adaleti, iyiliği, akrabaya yardım etmeyi emreder..."  
(Nahl suresi, 90. ayet)
- C) "Ey insanlar, yeryüzünde bulunanların helal ve temiz olanlarından yiyin..."  
(Bakara suresi, 168. ayet)
- D) "Göklerde olanları, yerde olanları, hepsini sizin buyruğunuz altına vermiştir."  
(Casiye suresi, 13. ayet)

14. İslam fıkında aşağıdakilerden hangisi "ukubat" başlığı altında incelenir?

- A) Evlenme ve boşanma  
B) Miras ve vasiyet  
C) Suçlar ve cezalar  
D) İbadetler

15. Aşağıdaki ayetlerden hangisi hem alacaklı hem de vereceğinin hakkını korumaya yöneliktir?

- A) "Allah yolunda harcayın. Kendi kendinizi tehlikeye atmayın. İyilik edin..."  
(Bakara suresi, 195. ayet)
- B) "Mallarını Allah yolunda harcayanların durumu, yedi başak bitiren ve her başakta yüz tane bulunan bir tohum gibidir..."  
(Bakara suresi, 261. ayet)
- C) "Allah rızık hususunda kiminizi kiminizden üstün kıldı..."  
(Nahl suresi, 71. ayet)
- D) "Ey iman edenler! Belli bir süre için birbirinize borçlandığınız zaman bunu yazın..."  
(Bakara suresi, 282. ayet)

16. "Dinin emir ve tavsiyelerine uyma, haram ve günahlardan kaçınma hususunda gösterilen titizlik" olarak tanımlanan kavram aşağıdakilerden hangisidir?

- A) Takva  
B) Marifet  
C) Tefekkür  
D) Ta'zim

17. Fıkıh Usulü alanında yazılmış ilk eser aşağıdakilerden hangisidir?

- A) Kitabu't-Tevhit  
B) er-Risale  
C) el-Fıkhu'l-Ekber  
D) el-Muvafakat

18. "Allah, bir kimseyi ancak gücünün yettiği şeyle mükellef kılar..."  
(Bakara suresi, 286. ayet)

**Bu ayet İslam hukukunun aşağıdaki temel ilkelerinden hangisine dayanak oluşturur?**

- A) Suçun şahsiliği  
B) Helallerde genişlik  
C) Adaletin gözetilmesi  
D) Tekliflerde kolaylık

19. Osmanlı devletinin hukuk esasları maddelerinden olan "Meşakkat teysiri celbeder" ilkesi aşağıdaki hadislerden hangisi ile ilişkilendirilebilir?

- A) Kişi sevdiğinin dini üzeredir.  
B) Mümin, başkalarının elinden ve dilinden emin olduğu kimsedir.  
C) Kolaylaştırınız, zorlaştırmayınız, sevdiniz, nefret ettirmeyiniz.  
D) Hiç kimse kendi kazandığından daha hayırlı bir lokma yememiştir.

20. Aşağıdakilerden hangisi "edille-i şer'iyye"yi oluşturan kavramlardan biri değildir?

- A) Kıyam  
B) Kitap  
C) Sünnet  
D) İcma

### (476) SEÇMELİ İŞLETME – 1

1. "Mal ve hizmetlerin insan gereksinimlerini karşılama özelliğine denir." ifadesi, aşağıdakilerden hangisinin tanımıdır?

- A) Hizmet  
B) Mal  
C) Fayda  
D) İhtiyaç

2. Ticari işletmelerin öncelikli amacı aşağıdakilerden hangisidir?

- A) Hizmet etmek  
B) Mal üretmek  
C) İşsizliği azaltmak  
D) Kâr elde etmek

3. Aşağıdakilerden hangisi işletmelerin amaçlarına uygun değildir?

- A) Kâr elde etme  
B) Tekel oluşturma  
C) Mal ve hizmet üretme  
D) Sosyal fayda yaratma

4. Aşağıdakilerden hangisi kamu işletmelerinin kurulma amaçlarındandır?

- A) Varolan ulusal kaynakların etkin kullanımını sağlamak  
B) Rekabet yaparak her alanda tekel piyasası oluşturma  
C) Özel işletmelerin yatırım yapmalarını engellemek  
D) Olabildiğince yüksek kâr elde etmek

5. Sermaye şirketlerinde ortakların borçlarından dolayı sorumlulukları ne ile sınırlanmıştır?

- A) Şirketin toplam borcu ile  
B) Şirketin toplam sermayesi ile  
C) Ortakların tüm mal varlıkları ile  
D) Ortakların sermaye payları ile

6. İnsanların çeşitli ihtiyaçlarını karşılayacak mal ve hizmetlerin elde edilmesi faaliyetlerine ne denir?

- A) Üretim  
B) Tüketim  
C) İhtiyaç  
D) Girişim

7. I. Doğal kaynak  
II. Sermaye  
III. Ticaret  
IV. İhtiyaç  
V. Emek

Mal veya hizmet üretmek için yukarıdakilerden hangisi/hangileri işletmelerde bir araya getirilir?

- A) Yalnız I.  
B) III ve IV.  
C) I, II ve V.  
D) II, III, IV ve V.

8. Aşağıdakilerden hangisi dayanıklı mallara örnek olur?

- A) Kâğıt  
B) Otomobil  
C) Konserve  
D) Peynir

9. Aşağıdakilerden hangisi işletme yöneticilerinin görevlerindedir?

- A) İşletmenin yapacağı yeni yatırımlarda en son kararı vermek  
B) İşletme kârının ortaklara hangi oranlarda dağıtılacağına karar vermek  
C) Astlarının üstlenmiş oldukları işleri yapmak  
D) İşletme çalışanlarının görevlerini belirlemek

10. Otel işletmelerinin ana faaliyet konusunu oluşturan hizmet aşağıdakilerden hangisidir?

- A) İletişim  
B) Konaklama  
C) Ulaşım  
D) Finans

11. İşletmelerde amaçların belirlenmesi ve bunlara ulaşmayı sağlayacak araçların belirlenmesi hangi yönetim fonksiyonu ile sağlanır?

- A) Denetim  
B) Planlama  
C) Koordinasyon  
D) Organizasyon

## 2. OTURUM

12. Aşağıdakilerden hangisi işletmenin başlıca işlevlerindendir?

- A) Finansman B) Planlama  
C) Denetim D) Organizasyon

13. Aşağıdakilerden hangisi personel yönetimi kapsamında değildir?

- A) İşletme çalışanlarının izin işlemleri  
B) İşletme çalışanları ile sendika ilişkileri  
C) İşletmeye gerekli krediyi sağlama  
D) İşletmeye yeni personel alma

14. İşletmenin amaçlarına ulaşabilmesi için, işletme çalışanlarının ortak amaçlar çerçevesinde düzenli çalışmalarının sağlanması işlevi aşağıdakilerden hangisidir?

- A) Muhasebe B) Üretim  
C) Pazarlama D) Yönetim

15. İşletmeyi değişen koşullara göre yeniden düzenlemek için, aşağıdakilerden hangisi yapılır?

- A) Aşırı örgütlenme  
B) Eksik örgütlenme  
C) Yeniden örgütlenme  
D) Hiyerarşik örgütlenme

16. Aşağıdaki işletme türlerinden hangisi üretim araçlarının mülkiyetine göre işletmeler sınıflandırması içinde yer alır?

- A) Özel işletmeler  
B) Hizmet işletmeleri  
C) Endüstri işletmeleri  
D) Tarım sektöründeki işletmeler

17. • Üretim faktörleri bir kişide toplanır.  
• İşletmenin sahibi ve yöneticisi aynı kişidir.  
• En basit, en eski ve çok görülen bir işletme biçimidir.

Yukarıda özellikleri verilen işletme türü hangisidir?

- A) Kamu işletmesi  
B) Hizmet işletmesi  
C) Tek sahipli işletme  
D) Dayanaksız mal üreten işletme

18. Aşağıdakilerden hangisi hizmet işletmelerine örnek olmaz?

- A) Hastaneler B) Fabrikalar  
C) Bankalar D) Okullar

19. • Müşterilerin mal ve hizmet alımını sürdürmelerini sağlamak  
• İşletmenin mal veya hizmetlerinin tanıtımını yapmak  
• Yeni müşteriler kazanmak

Yukarıdaki faaliyetler hangi işletme işlevi ile yerine getirilir?

- A) Pazarlama B) Üretim  
C) Yönetim D) Finansman

20. Aşağıdakilerden hangisi, işletmelerde organizasyon aşamasında gerçekleştirilmez?

- A) İşleri yapacak personelin göreve atanması  
B) Yapılacak işlerin belirlenmesi ve gruplandırılması  
C) Göreve atanan kişilerin yetki ve sorumluluklarının belirlenmesi  
D) Planlamada belirlenen hedeflere hangi ölçüde ulaşıldığının araştırılması

### (481) SEÇMELİ SANAT TARİHİ – 1

1. Bir duygunun, tasarımın veya güzelliğin ifadesinde kullanılan yöntemlerin tümüne.....denir.

Cümledeki boşluğa aşağıdakilerden hangisi yazılmalıdır?

- A) Tarih B) Sanat  
C) Hukuk D) Epigrafi

2. Sanat tarihi bilimsel anlamda hangi ülkede ortaya çıkmıştır?

- A) İtalya B) Fransa  
C) İngiltere D) Almanya

3. Aşağıdakilerden hangisi fonetik sanatlardan biridir?

- A) Müzik B) Heykel  
C) Resim D) Mimari

4. Genellikle tarihi veya mitolojik konulu bir drama eşliğinde ortaya konulan, sözlerinin bütünü veya çoğu şarkılı olarak söylenen müzikli tiyatro sanatıdır.

Tanımı yapılan sanat aşağıdakilerden hangisidir?

- A) Resim B) Heykel  
C) Opera D) Dans

5. Aşağıdakilerden hangisi sanat tarihinin faydalandığı bilim dallarından biri değildir?

- A) Fizik B) Coğrafya  
C) Arkeoloji D) Antropoloji

6. Tarih öncesi uygarlığının gelişme süresinde kültürel dönemlerin en uzununu aşağıdakilerden hangisidir?

- A) Taş-Bakır Çağı  
B) Cilalı Taş Çağı  
C) Orta Taş Çağı  
D) Eski Taş Çağı

7. Yerleşik düzene aşağıdaki çağlardan hangisinde geçilmiştir?

- A) Eski Taş Çağı  
B) Cilalı Taş Çağı  
C) Orta Taş Çağı  
D) Taş-Bakır Çağı

8. Değişik uygarlıklara ait yerleşimlerin üst üste zaman içinde yığılmasıyla meydana gelen yassı büyük tepelere ..... denir.

Cümlede boş bırakılan yere aşağıdakilerden hangisi yazılmalıdır?

- A) Höyük B) İdol  
C) Mağara D) Mikrolit

9. Aşağıdakilerden hangisi Maden Çağı yerleşim birimlerinden değildir?

- A) Alacahöyük B) Alişar  
C) Çayönü D) Truva

10. Orta Taş Çağı da denilen tarih öncesi çağ aşağıdakilerden hangisidir?

- A) Paleolitik Çağ  
B) Mezolitik Çağ  
C) Neolitik Çağ  
D) Kalkolitik Çağ

11. Aşağıdakilerden hangisi Rönesans Dönemi dinî mimari örneklerinden biri değildir?

- A) Kilise B) Köşk  
C) Şapel D) Bazilika

12. Aşağıdakilerden hangisi Rönesans Dönemi resim sanatının genel özelliklerinden biri değildir?

- A) Doğaya uygunluk ve güzellik ön planda tutulmuştur.  
B) Güncel konular resimlerde yer almaya başlamıştır.  
C) Resimlerde açık renkler yerine koyu renklere yönelik söz konusudur.  
D) İnsanı gerçeğe daha uygun biçimde gösterme çabasına girilmiştir.

## 2. OTURUM

13. Rönesans'a tepki olarak ortaya çıkmış olan sanat akımı aşağıdaki-lerden hangisidir?

- A) Maniyerizm B) Gotik  
C) Dadaizm D) Fütürizm

14. Aşağıdaki sanatçılardan hangisi Romantizmin önemli temsilcileri arasında yer alır?

- A) Lorenzo Bernini  
B) Francisco Goya  
C) El Greco  
D) Tintoretto

15. Empresyonizmin isim babası olan Claude Monet'in eserleri arasında aşağıdakilerden hangisi yoktur?

- A) Kırdı Öğle Yemeği  
B) Saman Yığınları  
C) Fırtınalı Deniz  
D) Mona Lisa

16. Fovizm akımı sanatçılarının renk açısından en çok etkilendikleri sanatçı aşağıdakilerden hangisidir?

- A) Claude Monet  
B) Rubenis  
C) Van Gogh  
D) Sandro Botticelli

17. Cezanne'nin "Doğa'daki her şey koni, küre ve silindiri gibi geometrik biçimlerden meydana gelir" sözünü benimseyerek oluşan sanat akımı aşağıdakilerden hangisidir?

- A) Kübizm B) Romantizm  
C) Realizm D) Sürealizm

18. Aşağıdaki sanatçılardan hangisi İspanya'daki iç savaşa duyduğu tepkiyi "Guernica" adlı başyapıtı ile bütün dünyaya duyurmuştur?

- A) Botticelli B) Pablo Picasso  
C) Bernini D) Raoul Dufy

19. Roma mimarisinin en önemli eserlerinden biri olan Pisa Katedrali aşağıdaki ülkelerden hangisinde yer almaktadır?

- A) Fransa B) İspanya  
C) İtalya D) Almanya

20. Metafizik resim akımı ile ilgili aşağıdaki bilgilerden hangisi yanlıştır?

- A) Savaşın neden olduğu yalnızlık ve huzursuzluğun etkilerini konu edinmiştir.  
B) Resimlerde derinlik geometrik şekillerle oluşturulmuştur.  
C) Giorgio De Chirico ve Carlo Carra bu akımın en ünlü sanatçılarıdır.  
D) Bu akımın sanatçıları akılcılığı ve mantığı ön planda tutmuşlardır.

### (483) SAĞLIK BİLGİSİ – 1

1. "Normal bir kişinin kişisel ya da sosyal yaşantısında kendi kendisine yapması gereken işleri, bedensel veya ruhsal yeteneklerindeki kalıtsal ya da sonradan olma herhangi bir noksanlık sonucu yapamayanlardır."

Yukarıda tanımı verilen kavram hangisidir?

- A) Sağlıklı B) Bağışık  
C) Engelli D) Antiseptik

2. Aşağıda fizik tedaviyle ilgili verilenlerden hangisi yanlıştır?

- A) Seanslar hâlinde yapılması  
B) Rehabilitasyondan daha kısa bir süre olması  
C) Bozulan kas mekanizmasının düzeltilmesinde de kullanılması  
D) Eklem kısıtlılığı olan hastalara yaptırılan hareketlerin ağrısız olması

3. Bir takvim yılındaki toplam canlı doğum sayısının, toplumun yıl ortası nüfusa bölümünün bin ile çarpımı sonucu elde edilen sağlık ölçütü aşağıdakilerden hangisidir?

- A) Kaba doğum hızı  
B) Nüfus artış hızı  
C) Kaba ölüm hızı  
D) Ana ölüm hızı

4. Nüfus artış oranı bir ülkenin sağlık düzeyini gösteren ölçütler arasındadır. Gelişmiş ülkelerde nüfus artışı az, geri kalmış ülkelerde ise fazladır.

| Ülke | Yıllık Nüfus Artışı (%) |
|------|-------------------------|
| I.   | 1,7                     |
| II.  | 0,6                     |
| III. | 3,5                     |
| IV.  | 1,8                     |

Yukarıdaki açıklamaya göre tabloda verilen ülkelerden hangisi daha gelişmiştir?

- A) I. B) II. C) III. D) IV.

5. Herhangi bir konuda bilgi sahibi olmak, yetenek ve becerileri ilerletmektir.

Bu cümlede tanımı yapılan kavram aşağıdakilerden hangisidir?

- A) Öğrenme B) Gelişme  
C) Olgunlaşma D) Büyüme

6. • Uyku ve temizlik alışkanlıkları büyük ölçüde kazanılmıştır.  
• Büyük oyuncakları itip çekerken önüne çıkan engelleri aşabilir.  
• Çevresinde kendisinden bağımsız bir dünyanın varlığını kabul eder.  
• Son derece benmerkezcidirler ve çoğunlukla kendi başlarına oynarlar.

Yukarıda özellikleri verilen büyüme ve gelişme dönemi hangisidir?

- A) Ergenlik dönemi  
B) Bebeklik dönemi  
C) Çocukluk dönemi  
D) Okul çağı dönemi

7. Aşağıdakilerden hangisi yetişkinlik dönemi yaş aralığını göstermektedir?

- A) 12 - 15 B) 21 - 65  
C) 65 - 85 D) 85 - 95

8. Büyüme ve gelişme için

- Büyüme hormonuna,  
• Tiroksin hormonuna ihtiyaç duyulur.

Verilen cümleler doğru (D) - yanlış (Y) olarak değerlendirildiğinde sıralama aşağıdakilerden hangisi olur?

- A) D - Y B) Y - D  
C) D - D D) Y - Y

9. Aşağıdakilerden hangisi birincil korumaya hizmetlerinden biri değildir?

- A) Beslenme  
B) Sağlık eğitimi  
C) Aile planlaması  
D) Tedavi hizmetleri

10. Şişmanlığı saptamak için kullanılan yöntemlerin en çok tercih edileni beden kitle indeksine (BKİ) göre değerlendirme yöntemidir.

Buna göre beden kitle indeksi "18,5 - 24,9 kg/boy (m<sup>2</sup>)" arasında olan kişiler için ne söylenebilir?

- A) Zayıf B) Normal  
C) Şişman D) Hafif şişman

## 2. OTURUM

11. Ayak sağlığı ve temizliği ile ilgili olarak verilenlerden hangisi doğrudur?

- A) Ayaklar ve eller aynı havlu ile kurulanmalıdır.
- B) Kullanılan çoraplar sentetik kumaştan olmalıdır.
- C) Mantar enfeksiyonlarının oluşmaması için parmak araları iyice kurutulmalıdır.
- D) Ayak iskelet yapısının bozulmaması için sivri burunlu dar ayakkabılar alınmalıdır.

12. Gingivitte enfeksiyon, diş çevresi destek dokularından hangisini etkiler?

- A) Diş etini
- B) Diş kökünü
- C) Diş minesini
- D) Çene kemiğini

13. Aşağıdakilerden hangisi ruh sağlığını etkileyen kişisel faktörlerden biri değildir?

- A) Yaş
- B) Aile
- C) Meslek
- D) Cinsiyet

14. Aşağıdakilerden hangisi ruh sağlığı hizmetlerinin üçüncül düzeyde koruma ilkelerindedir?

- A) İlaç kullanımının takip edilmesi
- B) Klinikte yatan hastanın bakım ve tedavisinin sağlanması
- C) Ruhsal sorunlarda uygulanan tedavi yöntemleri hakkında bilgi verilmesi
- D) Sosyal destek gruplarının oluşturulması ve toplum kaynaklarıyla iş birliğine gidilmesi

15. "Tek bir olaydan hareketle, bütüne yönelik olumsuz düşünceler geliştirilmemelidir. Sınavım kötü geçti, ben bu sene sınıfı geçemeyeceğim gibi. Oysa bu sınavım kötü geçti ama diğer sınavlara daha iyi hazırlanabilirim tarzı düşünce daha yapıcıdır. Kişinin kendi kendine yaptığı bu tarz olumsuz düşünceler zaman geçtikçe otomatikleşir ve olumlu bir içerikle kolaylıkla yer değiştirmez."

**Yukarıdaki açıklama stresle başa çıkmada kullanılan etkili yöntemlerden hangisiyle ilgilidir?**

- A) Fiziksel aktivite
- B) Gevşeme egzersizleri
- C) Sosyal etkinlikleri geliştirme
- D) Aşırı genellemelerden kaçınma

16. Daha çok yaşlıların maruz kaldığı istismar türüdür. Kişinin sosyal ve maddi ihtiyaçlarını gidermeme, bunları sağlamada - - - - göstermektedir.

**Yukarıdaki açıklamada boş bırakılan yere, aile içerisinde şiddet davranışlarından hangisi yazılmalıdır?**

- A) ihmal
- B) cinsel şiddet
- C) fiziksel şiddet
- D) duygusal istismar

17. Kişinin maddeyi keyif verici etkisine bağlı olarak alma arzusu, bu arzunun zamanla irade dışına çıkması ve maddeyi sürekli alma isteğine ne ad verilir?

- A) Yoksunluk sendromu
- B) Tolerans gelişimi
- C) Pasif içicilik
- D) Bağımlılık

18. I. Damarları tıkanması  
II. Kanı pıhtılaştırması  
III. Solunum yolu hastalıklarını önlemesi

**Yukarıdakilerden hangileri sigaranın temel zararlarındandır?**

- A) Yalnız I.
- B) I ve II.
- C) II ve III.
- D) I, II ve III.

19. Aşağıdakilerden hangisi uyuşturucu maddelerin beyin ve merkezi sinir sistemine etkilerindedir?

- A) Gastrit
- B) Kangren
- C) Öksürük
- D) Hezeyan

20. • Sosyal içme evresi olarak bilinir.  
• Bu evre yaşam boyu böyle sürebilir ve kronik alkolizm oluşmaz. Fakat içenlerin bir bölümü birkaç yıl içinde içkiyi artırır ve düzenli almaya başlar.

**Yukarıdaki özellikler alkolizmin kaçınıcı evresine aittir?**

- A) Birinci
- B) İkinci
- C) Üçüncü
- D) Dördüncü

### (492) TRAF. VE İLK YARD. - 2

1. • İlk yardımı, bu konuda eğitim almış herkes yapabilir.  
• Acil yardım için yetişmiş sağlık personeline ihtiyaç duyulur.

**İlk yardım ve acil yardım yapacak kişilerle ilgili verilen cümleler doğru (D) - yanlış (Y) olarak değerlendirildiğinde sıralama aşağıdakilerden hangisi olur?**

- A) D - Y
- B) Y - D
- C) D - D
- D) Y - Y

2. Aşağıdakilerden hangisi 112 Acil Yardım Servisi'nin aranması sırasında dikkat edilmesi gereken hususlardan biri değildir?

- A) Olayın tanımının yapılması
- B) Aceleci ve telaşlı olunması
- C) Kesin yer ve adres bilgilerinin verilmesi
- D) Yaralı sayısı ve durumlarının bildirilmesi

3. I. Olay yeri değerlendirilmeli  
II. Kırıklara yerinde müdahalede bulunulmalı  
III. Kazazede mümkün olduğunca sıcak tutulmalı  
IV. İlk yardımcından önce kazazedenin güvenliği sağlanmalı

**Güvenli bir ilk yardım uygulaması için yukarıda verilenlerden hangileri yapılmalıdır?**

- A) I, II ve III.
- B) I, III ve IV.
- C) II, III ve IV.
- D) I, II, III ve IV.

4. Araçlarda ilk yardım çantası bulundurulmasının amacı aşağıdakilerden hangisidir?

- A) Trafik cezalarından kurtulmak
- B) Acil yardımda bulunabilmek
- C) İlk yardımı istenilen düzeyde uygulayabilmek
- D) Araç muayenesi esnasında sıkıntı yaşamamak

## 2. OTURUM

5. İlk yardımcı;
- Meraklı kişileri olay yerinden uzaklaştırıyor,
  - Olay yerini yeterince görünebilir biçimde işaretliyor,
  - Kıvılcım oluşturabilecek ışıklandırma veya çağrı araçlarının kullanılmasına izin vermiyor.

**Bu ilk yardımcı için aşağıdakilerden hangisi söylenebilir?**

- A) Olay yeri değerlendirmesi yaptığı  
B) Kazazedeleri tedavi etmek istediği  
C) Acil yardım yapmak için hazırlandığı  
D) Kazazedelere yardım etmek isteyenleri engellediği

6. **Aşağıdakilerden hangisi vücutta nabız alınabilecek bölgelerden biri değildir?**

- A) Ayak sırtının merkezi  
B) Kolum dış yüzü, dirseğin altı  
C) Gırtlak çıkıntısının her iki yanı  
D) Bileğin iç yüzü, başparmağın üst hizası

7. **Aşağıdakilerden hangisi kalp durması sonucu kişide görülebilecek belirtilerdendir?**

- A) Nabzın alınması  
B) Bilincin açık olması  
C) Göz bebeklerinin küçülmesi  
D) Derinin soğuması ve nemlenmesi

8. **Doku ve organ bağıışı, aşağıdaki durumların hangisinde yapılabilir?**

- A) Mümeyyiz olmayan kişi başvurduğunda  
B) Bağıışçının yaşamı tıbben sona erdiğinde  
C) Bağıış yapan kişi maddi karşılığını aldığı anda  
D) Bağıış yapacak kişinin bağıışlayacağı organı zarar gördüğünde

9. **Tam tıkanıklık yaşayan kazazedede aşağıdakilerden hangisi görülür?**

- A) Öksürme  
B) Konuşma  
C) Nefes alma  
D) Renginde morarma

10. I. Burkulma  
II. Gazla zehirlenme  
III. Bayılma ve bilinç kaybı sonucu dilin geriye kayması

**Verilenlerden hangileri boğulma sebeplerindendir?**

- A) Yalnız I.                      B) I ve II.  
C) II ve III.                      D) I, II ve III.

11. I. Kenarları birleşmeyen yaralar  
II. Kanaması durdurulamayan yaralar  
III. Yabancı cisim saplanmış olan yaralar

**Verilenlerden hangileri ciddi (ağır) yaralanmalardandır?**

- A) Yalnız I.                      B) Yalnız II.  
C) Yalnız III.                      D) I, II ve III.

12. **Aşağıdakilerden hangisi göze bir cisim batması ya da metal cisim kaçması durumunda yapılacak ilk yardım uygulamalarındandır?**

- A) Üst göz kapağının açık tutulması  
B) Göze hiçbir şekilde dokunulmaması  
C) Nemli temiz bir bezle çıkarılmaya çalışılması  
D) Kazazedeye gözünü kırıştırtmasının söylenmesi

13. **Aşağıdakilerden hangisi sıcak çarpmasından korunmak için alınması gereken önlemlerdendir?**

- A) Bol miktarda sıvı tüketilmesi  
B) Koyu renkli giysiler giyilmesi  
C) Direkt güneş ışığında kalınması  
D) Gereksiz ve bilinçsiz ilaç kullanılması

14. **Dıştan veya içten etki eden kuvvetlerle kemik dokusunda oluşan ayrılmaya veya bu sebeplerle kemiğin anatomik bütünlüğünün ve devamlılığının bozulmasına ne ad verilir?**

- A) Çıkık                              B) Kırık  
C) Yanık                              D) Burkulma

15. **Aşağıdakilerden hangisi bilinç kaybının en ileri durumudur?**

- A) Şok                                B) Bayılma  
C) Koma                              D) Baş dönmesi

16. **Aşağıdakilerden hangisi sara krizi nedeniyle oluşan havalde yapılacak ilk yardım uygulamalarındandır?**

- A) Hastaya su içirilmesi  
B) Sıkın giysilerin gevşetilmesi  
C) Hastanın bağlanmaya çalışılması  
D) Kilitlenmiş çenesinin açılmaya çalışılması

17. • Bilinç kaybı varsa koma pozisyonu verilir.

- Özellikle yakıcı maddelerin alındığı durumlarda hasta kusturulmaya çalışılır.

**Sindirim yoluyla zehirlenmelerde ilk yardım uygulamasıyla ilgili verilen cümleler doğru (D) - yanlış (Y) olarak değerlendirildiğinde sıralama aşağıdakilerden hangisi olur?**

- A) D - Y                              B) Y - D  
C) D - D                              D) Y - Y

18. **Aşağıdakilerden hangisi kedi, köpek gibi hayvan ısırıkları durumunda yapılacak ilk yardım uygulamalarından biri değildir?**

- A) Yaranın üstünün temiz bir bezle kapatılması  
B) Kazazedenin yaşamsal bulgular yönünden değerlendirilmesi  
C) Ciddi yaralanma ve kanama varsa yaraya müdahale etmekten kaçınılması  
D) Hafif yaralanmalarda yaranın 5 dakika süreyle sabun ve soğuk suyla yıkanması

19. **Aşağıdakilerden hangisi yaralı taşımamanın temel kurallarındandır?**

- A) Yaralının baş-boyun-gövde eksenini esas alınarak en az altı destek noktasından kavranması  
B) İlk yardımcının kendi kapasitesinden fazla ağırlık taşıması  
C) Yaralının mümkün olduğunca çok hareket ettirilmesi  
D) İlk yardımcının kendi sağlığını riske sokması

20. "Özellikle, çok kilolu ve iri yaralı kişilerin taşınması gerekiyorsa; dar, basık ve geçiş güçlüğü olan bir yerden çıkarmalarda herhangi bir yaralanmaya neden olmamak için seçilebilecek bir tekniktir."

**Yukarıdaki açıklama yaralı taşıma tekniklerinden hangisine aittir?**

- A) Sırtta taşıma  
B) Köprü tekniği  
C) Kucakta taşıma  
D) Sürükleme tekniği

### (501) İNGİLİZCE - 7

**1-20. sorularda boş bırakılan yere uygun gelen kelime ya da ifadeyi işaretleyiniz.**

1. **My mother is good - - - - cooking.**

- A) in                                B) at  
C) on                                D) of

2. **Van is famous - - - - its cats with blue and green eyes.**

- A) for                                B) at  
C) of                                D) in

3. **My brother is interested - - - - ancient Egypt.**

- A) to                                B) on  
C) at                                D) in

## 2. OTURUM

4. My little son is afraid - - - - darkness.

- A) about                      B) with  
C) of                            D) for

5. I haven't been abroad - - - - .

- A) ever                        B) before  
C) never                       D) just

6. We stopped at the petrol station - - - - buy gasoline.

- A) for                          B) nor  
C) because                    D) in order to

7. Mr. Green - - - - washing his car yet.

- A) hasn't finished  
B) had finished  
C) won't finish  
D) finish

8. She went out after she - - - - the breakfast for the children.

- A) is preparing  
B) have prepared  
C) had prepared  
D) will be preparing

9. My English teacher wanted to know - - - - I had finished my exam.

- A) asked                      B) whether  
C) said                         D) told

10. Teacher: "Sit down."

The teacher - - - - us to sit down.

- A) told                         B) said  
C) spoke                       D) called

11. Ali has been a doctor - - - - 1996.

- A) for                          B) since  
C) as                            D) when

12. My brother has lived in America - - - - ten years.

- A) for                          B) since  
C) while                       D) when

13. Have you - - - - eaten Chinese food?

- A) before                      B) never  
C) ever                         D) yet

14. Nancy is keen - - - - art.

- A) in                            B) on  
C) for                          D) about

15. Sinan has never - - - - a truck.

- A) drive                        B) drives  
C) drove                       D) driven

16. Kerem: "I am going to have an exam tomorrow."

Kerem said that he was going to have an exam - - - - .

- A) the next day  
B) the week before  
C) the previous day  
D) the following week

17. When I arrived at the bus stop, - - - - .

- A) he will go to İzmir  
B) Ali drives carefully  
C) the bus is comfortable  
D) the bus had already left

18. The basket is full - - - - apples.

- A) on                          B) of  
C) at                            D) in

19. I didn't pay the bill because I - - - - my purse.

- A) am lost                      B) was lost  
C) had lost                     D) will have lost

20. Emir : How long have you been working here?

Eve : - - - - .

- A) Last year                    B) Next week  
C) Yesterday                   D) For two months

### (501) ALMANCA – 7

1 - 14. sorularda boş bırakılan yere uygun gelen ek, kelime ya da ifadeyi işaretleyiniz.

1. Hakan und Frank - - - - immer für die Prüfungen.

- A) lernt                        B) lernen  
C) lerne                        D) gelernt

2. A : Hallo, Katja! Was machst du?

B : Ich gehe zum Arzt, weil ich krank bin.

A : - - - - .

- A) Herzlichen Glückwunsch  
B) Gesundheit  
C) Gute Besserung  
D) Guten Morgen


3. Die Vögel sitzen - - - - dem Baum.



- A) ins                          B) neben  
C) unter                        D) auf

4. Wie spät ist es?

Es ist - - - - .



- A) zwanzig nach zwei  
B) zwanzig vor eins  
C) halb zwei  
D) viertel vor zwei

5. Lehrerin : Wie geht es euch, Kinder?

Die Schüler: Danke, es geht - - - - gut.

- A) uns    B) dir    C) mir    D) ihm

6. A: Wie geht es deinem Vater?  
B: - - - -

- A) Es geht ihr gut.  
B) Es geht ihnen gut.  
C) Es geht ihm gut.  
D) Es geht mir gut.

7. Tanem: Ich habe ein Heft. Hast du auch ein Heft?

Asya : Nein, ich habe - - - - Heft.

- A) kein                         B) ein  
C) einen                        D) keinen

8. A: Hast du Kinder?

B: Ja, ich habe - - - - Kinder.

- A) mein                        B) ein  
C) kein                         D) zwei

## 2. OTURUM

9. **Wie heißt - - - ? (Sevgi)**

- A) er B) ihm C) ihn D) sie

10. **Wie geht es - - - Frau?**

- A) deinem B) deiner  
C) deine D) deinen

11. **Für - - - ist dieses Paket?**

- A) wer B) warum  
C) wen D) wo

12. **Wann - - - du ins Kino gehen?**

- A) willst B) will  
C) wollen D) wollt

13. **A: Was ist das?**


**B: Ich - - - es nicht.**

- A) wisst B) wissen  
C) weißt D) weiß

14. **Ich gratuliere - - - zum Geburtstag. (der Mann)**

- A) mir B) ihm  
C) dir D) ihr

15.



- A) links abbiegen  
B) rechts abbiegen  
C) geradeaus fahren  
D) anhalten

16. **„leicht“ sıfatının karşıtı aşağıdakilerden hangisidir?**

- A) leise B) schnell  
C) schwer D) langsam

17. **„Der Vogel“ kelimesinin çoęulu aşağıdakilerden hangisidir? (Pluralform)**

- A) Ein Vogel B) Die Vögel  
C) Das Vogel D) Der Vogel

18. **Was hat er?**



- A) Bauchschmerzen  
B) Kopfschmerzen  
C) Zahnschmerzen  
D) Halzscherzen

19.



**Yukarıdaki resimdeki kadın ne yapıyor?**

- A) Essen kochen  
B) Spazieren gehen  
C) Einkaufen  
D) Wäsche waschen

20. **Was brauchst du, wenn du Pudding machst?**

- A) Milch B) Kartoffel  
C) Brot D) Kochen

**(501) FRANSIZCA – 7**

**1 - 15. sorularda boş bırakılan yere uygun gelen sözcük ya da ifadeyi işaretleyiniz.**

1. **Mehmet est musicien, - - - joue du violon.**

- A) il B) tu C) elle D) ils

2. **- - - êtes- vous sortis de la bibliothèque ?**

- A) Parce que  
B) Combien  
C) À quelle heure  
D) Quel

3. **Lucie : Elif a des chaussures rouges ?**

**Marie : Non, elle n'a pas - - - chaussures rouges.**

- A) la B) les C) des D) de

4. **Ma fille fait de la natation et du bateau - - - elle adore la mer.**

- A) quand  
B) parce que (qu')  
C) pourquoi  
D) comment

5. **J'ai faim ; je vais - - - un sandwich au fromage.**

- A) boire B) manger  
C) oublier D) aller

6. **L'ascenseur ne marche pas, mon grand-père doit monter chez lui - - - .**

- A) à moto B) en train  
C) à pied D) en métro

7. **Les Dupont habitent - - - Antalya - - - Turquie.**

- A) en / à B) en / au  
C) à / en D) à / aux

8. **Carole : Tu connais Picasso ?**

**Laurent : Oui, je - - - connais.**

- A) le B) un C) les D) une

9. **Colette : Qu'est-ce que tu fais dans la vie ?**

**Jacques : - - - .**

- A) J'ai 20 ans  
B) Je suis malade  
C) Je parle français  
D) Je suis ouvrier

10. **Hier, mon mari et son frère sont - - - pour les États-Unis.**

- A) parti B) parties  
C) partis D) partie

11. **Nous avons fait - - - en bateau.**

- A) la mairie  
B) le musée  
C) la tour  
D) le tour du monde

## 2. OTURUM

12. **Mme Arnault** : Alexandre, je n'ai plus de pain, tu peux aller ---- ?

**Alexandre** : D'accord, il faut autre chose ?

**Mme Arnault** : Oui, deux croissants.

- A) à la boulangerie
- B) au stade
- C) à la librairie
- D) à la poste

13. **La sœur de ma mère est ----.**

- A) mon cousin
- B) ma tante
- C) mon oncle
- D) mon grand-père

14. **Bruno** : C'est la moto de Temel ?

**Henri** : Oui, c'est ---- moto.


- A) ses B) son C) sa D) ton

15. **L'addition, s'il vous plait ! Je vous dois ---- ?**

- A) rien B) combien
- C) jamais D) comme

16 - 20. soruları resimleri dikkate alarak işaretleyiniz.

16.



Ils ---- la rue.

- A) traversent
- B) dînent
- C) finissent
- D) donnent

17.



Il est ----.

- A) secrétaire
- B) avocat
- C) professeur
- D) dentiste

18.



Elle a ---- et elle porte ----.

- A) les cheveux courts / des boucles d'oreilles
- B) les cheveux longs / des lunettes
- C) les yeux bleus / un bracelet en or
- D) un petit nez / une jolie jupe

19.



Selon la météo, il ---- la semaine prochaine à Izmir.

- A) y aura du soleil
- B) a neigé
- C) pleuvra
- D) fera chaud

20.



Il partira cette année ---- en juillet.

- A) faire du bateau
- B) faire du surf
- C) faire la vaisselle
- D) faire le ménage

### (512) FIKIH – 2

1. "Ey şu eksiksiz davetin ve kılnacak namazın Rabbi Allah'ım! Muhammed'e (sav.) vesîleyi ve fazîleti ver. Onu, kendisine vâdettiğin makâm-ı mahmûda ulaştır, Muhakkak ki sen vaadinden dönmezsin."

Anlamı verilen dua aşağıdakilerden hangisidir?

- A) Yemek duası B) Ezan duası
- C) Yağmur duası D) İftar duası

2. **Abdestini tutamayacak şekilde devamlı bir rahatsızlığı bulunan kimse aşağıdakilerden hangisiyle isimlendirilir?**

- A) Mükellef B) Tertip sahibi
- C) Mümeyyiz D) Özür sahibi

3. **Aşağıdakilerden hangisi Hanefî mezhebine göre abdestin sünnetlerindedir?**

- A) Niyet etmek
- B) Başı mesh etmek
- C) Yüzü yıkamak
- D) Ayakları yıkamak

4. **Teyemmüm ile ilgili aşağıdaki bilgilerden hangisi yanlıştır?**

- A) Toprak veya toprak cinsinden temiz bir şeyle alınan abdesttir.
- B) Suyu kullanma imkânı doğduğunda teyemmüm bozulur.
- C) Başı mesh etmek teyemmümün farzlarındandır.
- D) Hem namaz abdesti hem de boy abdesti yerine geçer.



## 2. OTURUM

5. Namaz kılariken namazın farzlarından birini geciktiren kimse için aşağıdakilerden hangisi doğrudur?

- A) Herhangi bir şey yapması gerekmez.
- B) Sehv secdesi yapması gerekir.
- C) Namazını yeniden kılmalıdır.
- D) Namazı bozulmuştur.

6. Yatsı namazını eda edip bir süre uyuduktan sonra kalkarak en az iki rekât kılınan ve "gece namazı" olarak isimlendirilen ibadet aşağıdakilerden hangisidir?

- A) Duhâ namazı
- B) Evvâbîn namazı
- C) Terâvih namazı
- D) Teheccüt namazı

7. Bir kimse aşağıdakilerden hangisine zekât verebilir?

- A) Kardeşine
- B) Karısına
- C) Oğluna
- D) Babasına

8. Aşağıdaki durumlardan hangisinde oruç bozulur?

- A) Kan aldırıldığında veya hacamat yaptırıldığında
- B) Oruçlu olduğunu unutarak bir şeyler yenip içildiğinde
- C) Gül, çiçek, esans, misk gibi güzel kokular koklandığında
- D) İftar vaktinin geldiğini zannederek vakit gelmeden oruç açıldığında

9. Hacda yapılan şeytan taşlama görevi aşağıdaki yerlerden hangisinde yapılır?

- A) Arafat
- B) Müzdelife
- C) Mina
- D) Safa-Merve

10. Nikah sırasında kocanın evleneceği kadına verdiği veya vermeyi taahhüt ettiği para yahut mala ne ad verilir?

- A) Nafaka
- B) Mehir
- C) Tazminat
- D) Temlik

11. Aşağıdakilerden hangisi hacın farzlarından biri değildir?

- A) Arafat'ta vakfe yapmak
- B) Kâbe'yi tavaf etmek
- C) Şeytan taşlamak
- D) İhrama girmek

12. Aşağıdakilerden hangisi umre ibadetinde yer almaz?

- A) Kurban kesme
- B) Sa'y
- C) Tavaf
- D) İhram

13. Anne babaların, çocukları dünyaya geldiğinde şükür amacıyla kestikleri ve etinden herkesin yiyebildiği bir kurbandır.

Tanımı yapılan kurban çeşidi aşağıdakilerden hangisidir?

- A) Udhiye
- B) Şükür
- C) Adak
- D) Akika

14. Aşağıdakilerden hangisi ihramlı iken yasak olan davranışlardan biri değildir?

- A) Uyumak
- B) Tırnak kesmek
- C) Bitki koparmak
- D) Hayvan öldürmek

15. Aşağıdakilerden hangisi gusül abdestinin farzı değildir?

- A) Ağız su ile temizlemek
- B) Burnu su ile temizlemek
- C) Başın tamamını mesh etmek
- D) Bütün bedeni kuru yer kalmadan yıkamak

16. "Rabbin, kendisinden başkasına asla ibadet etmemenizi, anaya babaya iyi davranmanızı kesin olarak emretti. Eğer onlardan biri, ya da her ikisi senin yanında ihtiyarlık çağına ulaşırsa, sakın onlara "öfl!" bile deme; onları azarlama; onlara tatlı ve güzel söz söyle."

(İsrâ suresi, 23. ayet)

Bu ayete göre aşağıdakilerden hangisi çocukların anne babalarına karşı görevlerinden biri değildir?

- A) Saygılı davranmak
- B) Her konuda itaat etmek
- C) Şefkat ve merhamet göstermek
- D) Onları üzecek davranışlardan kaçınmak.

17. Bir kişinin seferî sayılabilmesi için yapacağı yolculuğun en az kaç kilometre olması gerekir?

- A) 90
- B) 100
- C) 110
- D) 125

18. Şafî mezhebine göre bir yerde Cuma namazı kılınabilmesi için cemaatin en az kaç kişi olması gerekir?

- A) 3
- B) 12
- C) 40
- D) 60

19. Aşağıdakilerden hangisi kamu haklarının ihlali kapsamına girmez?

- A) Suyu israf etmek
- B) Zamanı boşa harcamak
- C) Deniz, akarsu ve gölleri kirletmek
- D) Ormanların yok olmasına neden olmak

20. Aşağıdakilerden hangisi zekât verilecek mallardan değildir?

- A) Ticaret malları
- B) Altın, gümüş, nakit para
- C) Küçük ve büyük baş hayvanlar
- D) Gelir getirisi olmayan gayrimenkuller

### (531) SEÇMELİ PEYGAMBERİMİZİN HAYATI – 1

1. Aşağıdakilerden hangisi İslamiyet öncesi, Arap Yarımadası'nda topluluğu oluşturan sınıflardan biri değildir?

- A) Hürler
- B) Askerler
- C) Mevali
- D) Köleler

2. Yeryüzünde Allah'a ibadet için yapılan ilk mabet aşağıdakilerden hangisidir?

- A) Kâbe
- B) Kuba Mescidi
- C) Mescid-i Aksa
- D) Mescid-i Nebevi

3. Cahiliye döneminde kabile fertleri arasında sıkı bir bağ vardı. Kabilenin bir ferdine yapılan haksızlık, tamamına yapılmış sayılıyordu. Bu durum kabileler arasında bitmek bilmeyen savaşlar ve kan davalarına sebep oluyordu.

Bu anlayış ve tutum aşağıdaki kavramlardan hangisi ile isimlendirilmiştir?

- A) Biat
- B) Ümmilik
- C) Asabiyet
- D) Muahat

## 2. OTURUM

4. Hz. Peygamber'in doğumundan vefatına kadar hayatını konu edinen ilim dalı aşağıdakilerden hangisidir?

- A) Kelam B) Tefsir  
C) Hadis D) Siyer

5. Cahiliye dönemi Mekke halkı ile ilgili aşağıdaki bilgilerden hangisi yanlıştır?

- A) Okur-yazar olanlar sayıca azdı.  
B) Kâhinlere inanmak ve büyüçülük yaygındı.  
C) Toplumun çoğunluğu Haniflerden oluşmaktaydı.  
D) Halkın geçimi tarım, hayvancılık ve ticarete dayalıydı.

6. Allah beni peygamberlikle şereflendirinceye kadar hiçbir kötülüğe teşebbüs etmemiş.

**Bu hadiste Hz. Peygamber'in aşağıdaki özelliklerinden hangisine işaret edilmiştir?**

- A) İsmet B) Emanet  
C) Tebliğ D) Fetânet

7. Aşağıdaki kavramlardan hangisi anlam bakımından diğerlerinden farklıdır?

- A) Risâlet B) Mucize  
C) Nübüvvet D) Nebilik

8. Hz. Muhammed'e (sav.) gençlik döneminde insanlar tarafından "Muhammedü'l-Emin" lakabı verilmesinin nedeni aşağıdakilerden hangisidir?

- A) Güvenilirliği B) Çalışkanlığı  
C) Sabırlılığı D) Cesareti

9. Aşağıdakilerden hangisi Kâbe'nin isimlerinden biridir?

- A) Dâru'n-Nedve  
B) Mescid-i Nebevi  
C) Beytül-Haram  
D) Ravza-i Mutahhara

10. Aşağıdakilerden hangisi Medine şehrinin hicretten önceki adıdır?

- A) Taif B) Yemen  
C) Cidde D) Yesrib

11. Hz. Peygamber'e ilk vahiy nerede ve ne zaman gelmiştir?

- A) Akabe - 571  
B) Arafat - 622  
C) Sevr Mağarası - 622  
D) Hira Mağarası - 610

12. Peygamberler gönderildikleri toplumun gelişmiş yönlerini aciz bırakacak şekilde mucizelerle desteklenmişlerdir. Hz Muhammed'e (sav.) mucize olarak gönderilen Kur'an-ı Kerim de dil, üslup, mana ve ahengi ile Araplara meydan okumuştur.

**Buna göre İslam öncesi Arap toplumunun aşağıdakilerden hangisinde ileri olduğu söylenebilir?**

- A) Şiir ve hitabet  
B) Sihir ve büyü  
C) Tıp ve eczacılık  
D) Fizik ve astronomi

13. Allah'ın ayetleri, yarattığı tüm varlıklar ve olaylar üzerine kafa yorup düşünmek; Allah ile kâinat arasındaki ilişkiyi kavramak için gayret etmek ve bunlardan ibret almaktır.

**Açıklaması yapılan kavram aşağıdakilerden hangisidir?**

- A) Tebliğ B) Tefekkür  
C) Tevekkül D) İstişare

14. Aşağıdakilerden hangisi Hz. Muhammed'in (sav.) güvenilirliğini gösteren örneklerden biri değildir?

- A) Geçimini ticaret yaparak sağlaması  
B) Kâbe hakemliği olayında adaletle karar vermesi  
C) Mekkelilerin kıymetli eşyalarını O'na emanet etmesi  
D) Mekke'de Muhammed'ül-Emin unvanı ile nitelendirilmesi

15. Cahiliye döneminde Hz. İbrahim'in dinine bağlı olan, Allah'ın birliğine inanan ve putperestliği reddeden kimselere ne ad verilir?

- A) Ümmî B) Seyyit  
C) Sahabi D) Hanif

16. Hz. Muhammed (sav.) dedesinin ölümünden sonra hangi amcasının himayesinde yaşamıştır?

- A) Hz. Hamza B) Hz. Abbas  
C) Ebu Tâlib D) Ebu Lehpe

17. Mekke'den Medine'ye hicret eden Müslümanlara verilen isim aşağıdakilerden hangisidir?

- A) Mülteci B) Ensar  
C) Seyyah D) Muhacir

18. • Hz. Peygamber'in amcası Zübeyr başkanlığında Mekke'deki haksızlıklara karşı kurulmuştur.  
• Hz. Peygamber, yirmili yaşlarda olmasına rağmen bu topluluğa davet edilmiştir.  
• Hz. Peygamber, daha sonraki yıllarda da bu topluluktan övgü ile bahsetmiştir.

**Hakkında bilgi verilen kavram aşağıdakilerden hangisidir?**

- A) Hıfû'l-Fudûl  
B) Dar'ül-Erkam  
C) Ehl-i Beyt  
D) Ashab-ı Suffe

19. Aşağıdakilerden hangisi Hz. Muhammed'in (sav.) görevleri arasında yer almaz?

- A) Kur'an-ı Kerim'i açıklamak  
B) Kıyamet saatini bildirmek  
C) İnsanlara örnek olmak  
D) İnsanları uyarmak

20. Aşağıdakilerden hangisi İslam öncesi Arap toplumundaki dini inançlardan biri değildir?

- A) Sabîlik B) Yahudilik  
C) Budistlik D) Haniflik

### (534) SEÇMELİ PEYGAMBERİMİZİN HAYATI - 4

1. Aşağıdakilerden hangisi Hz. Peygamber'in yönetim ilkeleri arasında yer almaz?

- A) İstişare etmek  
B) Yakınlarına ayrıcalık tanımak  
C) Ehliyet ve liyakate öncelik vermek  
D) Halkın yönetime katılımını sağlamak

2. Hz. Peygamber yönetimle ilgili verdiği kararlarda aşağıdakilerden hangisini temel kriter olarak kabul etmiştir?

- A) Kur'an-ı Kerim  
B) Örf ve âdet  
C) İstişare  
D) Akıl

3. Hz. Muhammed (sav.) Medine'ye hicret ettikten sonra orada bulunan diğer din mensupları ile bir sözleşme yapmıştır.

**Bu sözleşme ile Hz. Peygamber'in aşağıdakilerden hangisini amaçladığı söylenemez?**

- A) Adaleti  
B) Toplumsal barışı  
C) İnanç birliğini  
D) Şehrin güvenliğini

## 2. OTURUM

4. Hz. Peygamber çocukluğunda çobanlık yapmış, gençliğinde ise kervanlara katılarak ticaret yapmıştır.
- Bu durum Hz. Muhammed'in (sav.) hangi yönüne örnek oluşturur?**

A) Dürüstlüğüne  
B) Çalışkanlığına  
C) İnsanlara değer vermesine  
D) Cesaret ve kararlılığına

5. "İki günü birbirine eşit olan zarardadır."
- Bu hadiste aşağıdakilerden hangisi teşvik edilmektedir?**

A) Faydasız şeylerden kaçınılması  
B) İşlerin kolaylaştırılması  
C) İşlerin düzgün yapılması  
D) Üretkenliğin artırılması

6. Aşağıdaki durumlardan hangisinde kadın ve erkek eşitliği beklenmez?

A) Allah'a kullukta  
B) Hukuk karşısında  
C) Fiziksel dayanıklılıkta  
D) Temel hakların kullanımında

7. "... İş konusunda onlarla müşavere et..."
- (Âl-i İmrân suresi, 159. ayet)

**Bu ayet aşağıdakilerden hangisinin önemini ortaya koymaktadır?**

A) Dua ve sabrın  
B) Kararlı olmanın  
C) İlim öğrenmenin  
D) Fikir alışverişinin

8. Aşağıdakilerden hangisi Hz. Muhammed'in (sav.) yönetim anlayışı hakkında önemli bir belge niteliği taşır?

A) Akabe biatları  
B) Medine Sözleşmesi  
C) Hudeybiye Antlaşması  
D) Hıl'ul Fudul'a katılması

9. Aşağıdaki ayetlerden hangisi sosyal adaletin tesis edilmesine yöneliktir?

A) "Göklerin ve yerin mülkü (hükümlerini) Allah'ındır. O, dilediğini yaratır..."  
(Şûra suresi, 49. ayet)

B) "Sizden herhangi bir ücret istemeyen bu kimselere (elçilere) tabi olun..."  
(Yâsîn suresi, 21. ayet)

C) "Mallarında, muhtaç ve yoksullar için bir hak vardır."  
(Zâriyât suresi, 19. ayet)

D) "Andolsun, biz insanoğlunu şereflî kıldık. Onları karada ve denizde taşıdık..."  
(İsrâ suresi, 70. ayet)

10. Hz. Peygamber'in ailesine karşı tutum ve davranışlarında aşağıdakilerden hangisi görülmüştür?

A) Çocukları arasında ayırım yapması  
B) Hoşgörülü ve merhametli davranması  
C) Kararlarını danışarak alması  
D) Ev işlerinde yardımcı olması

11. Aşağıdakilerden hangisi İslam'ın ekonomik özgürlük anlayışına uygundur?

A) Başkasının sırtından geçinmek  
B) Meşru olmayan yollardan kazanmak  
C) Ticaret yoluyla geçimini sağlamak  
D) Malını zararlı ve faydasız işlerde harcamak

12. "Bir Müslümanın izinsiz olarak bir başkasının evinin içini gözetlemesi helal değildir."

**Bu hadise göre aşağıdaki davranışlardan hangisi helal kapsamında değerlendirilebilir?**

A) Yasal yollarla zanlıları takip etmek  
B) Başkalarının evine izinsiz girmek  
C) İnsanların özel görüşmelerini dinlemek  
D) Ailelerin sırlarını elde etmeye çalışmak

13. "Kaynaşmanız için size kendi cinsinizden eşler yaratıp, aranızda sevgi ve merhamet peyda etmesi O'nun varlığının delillerindedir..."  
(Rûm suresi, 21. ayet)

**Bu ayete göre evlilik ile ilgili aşağıdakilerden hangisine ulaşılabılır?**

A) Neslin korunması için iyi bir yoldur.  
B) Helal ve meşru bir şekilde olmalıdır.  
C) Sevgi ve merhamet temeline dayanmalıdır.  
D) İki tarafın da hak ve sorumlulukları vardır.

14. "Müminlerin iman bakımından en mükemmeli, ahlakı en iyi olanıdır. Sizin en hayırlılarınız da kadınlara karşı hayırlı olanlarınızdır."

**Bu hadisten aşağıdakilerden hangisine ulaşılamaz?**

A) Ahlak sahibi bir müminin imanı Allah katında daha değerlidir.  
B) Kadınlara iyi davranmak ahlakın bir gereğidir.  
C) Ahlak aile içinde de varlığını göstermelidir.  
D) Çocukların da aile içinde görevleri vardır.

15. "Onlar öyle kimselerdir ki, şâyet kendilerine yeryüzünde imkân ve iktidar versek, namazı dosdoğru kılar, zekâtı verir, iyiliği emreder ve kötülüğü yasaklarlar. Bütün işlerin âkıbeti Allah'a aittir."  
(Hac suresi, 41. ayet)

**Bu ayette yöneticilerde bulunması gereken özelliklerden hangisine değinilmemiştir?**

A) İstişareye önem vermek  
B) İbadetlerini yerine getirmek  
C) İyiliğin yerleşmesi için çalışmak  
D) Kötülüğü önlemek için tedbir almak

16. Hz. Hatice ticaretle, Abdullah b. Mesud'un eşi Zeynep el sanatlarıyla, Rufeyde, Ümmü Atiyye, Ümmü Ümare gibi hanım sahabeler de hastaları tedavi etmeleriyle tanınmışlardır.

**Buna göre Hz. Peygamber dönemindeki kadınlar ile ilgili aşağıdakilerden hangisine ulaşılabılır?**

A) Evlilik kararlarında kızların görüşü alınmıştır.  
B) Kadınlar sosyal hayatta yer almışlardır.  
C) Kadınlar da mirastan pay almışlardır.  
D) Kadınların eğitimine önem verilmiştir.

17. Aşağıdaki ayetlerden hangisi inanç özgürlüğü ile doğrudan ilgili değildir?

A) "De ki: Hak (bu Kur'an), Rabb'inizdendir. Artık dileyen iman etsin, dileyen inkâr etsin..."  
(Kehf suresi, 29. ayet)

B) "Rabb'in dileseydi, insanları (aynı inanca bağlı) tek bir ümmet yapardı."  
(Hûd suresi, 118. ayet)

C) "Allah kimin gönlünü İslam'a açmışsa o, Rabb'inden bir nur üzerinde değil midir?..."  
(Zümer suresi, 22. ayet)

D) "Dinde zorlama yoktur, artık doğrulukla eğrilik birbirinden ayrılmıştır..."  
(Bakara suresi, 256. ayet)

18. Mekke fethedildiği gün Hz. Muhammed (sav.) ile görüşmeye gelen bir adam onun karşısında birden titremeye başladı. Bunun üzerine Hz. Peygamber adama: "Arkadaş benden korkma, ben de aynen senin gibi kurutulmuş et yiyen bir kadının oğluyum." dedi.

**Hz. Muhammed'in (sav.) bu tavırında yöneticilerde bulunması gereken aşağıdaki özelliklerden hangisi görülmektedir?**

A) Alçak gönüllülük  
B) Cömertlik  
C) Adaletli olma  
D) Sabırlı olma

## 2. OTURUM

19. "Sizin hanımlarınız üzerinde hakkınız olduğu gibi hanımlarınızın da sizin üzerinizde hakları vardır."  
**Bu hadiste aşağıdakilerden hangisi vurgulanmaktadır?**
- A) Ailenin geçiminden erkek sorumludur.  
B) Aile içinde iletişime önem verilmelidir.  
C) Kadınların aile üzerindeki emeği fazladır.  
D) Eşler arasında hak ve hukuk gözetilmelidir.

20. Müslümanların fethettikleri topraklarda uyguladığı tutumlardan hangisi inanç ve ibadet özgürlüğü ile ilgilidir?
- A) Yeşil alanlara zarar vermemişler, su kaynaklarını kirletmemişlerdir.  
B) Din adamlarına, kilise, havra ve sinagoglara zarar vermemişlerdir.  
C) Kadınlara, çocuklara, yaşlılara merhametle yaklaşmışlardır.  
D) İnsanların evine, malına zorla sahip olmamışlardır.

### (612) KARŞ. DİN. TAR. – 2

1. Devlet dini Hinduizm olan ülke aşağıdakilerden hangisidir?
- A) Endonezya B) Pakistan  
C) Nepal D) Bangladeş
2. Hindular kendi dinleri için aşağıdaki kavramlardan hangisini kullanırlar?
- A) Brahma  
B) Hinduizm  
C) Puranalar  
D) Sanatana Dharma
3. Kast sistemindeki "Brahminler" kavramı ile aşağıdakilerden hangisi kastedilmektedir?
- A) Askerler B) Çiftçiler  
C) Din adamları D) İşçiler
4. Hinduizm'de mistik etkisi olduğuna inanılan, kutsal metin ve duaların okunmasından önce; Yoga ve meditasyon yaparken söylenen kutsal hecedir.  
**Hakkında bilgi verilen kavram aşağıdakilerden hangisidir?**
- A) Şiva B) Om  
C) Ehrimen D) Amen
5. Myanmar gibi ülkelerde Müslümanlara yönelik şiddet sergileyen Budistler aşağıdaki inançlarından daha çok hangisine aykırı davranmaktadır?
- A) Doğru söz  
B) Doğru niyet  
C) Doğru kazanç  
D) Doğru davranış

6. • Kurucusu Lao-tzu dur.  
• Çin'in millî ve yerel dinlerinden biridir.  
• Mutluluğun kaynağının tabiatla eylemsizliğe ve mevcutla yetinip, olana razı olmaya bağlı olduğunu savunur.  
**Hakkında bilgi verilen inanç sistemi aşağıdakilerden hangisidir?**
- A) Taoizm B) Caynizm  
C) Sihizm D) Konfüçyanizm

7. "Ahura Mazda, Ehrimen, Ataş Vahram, Ateşgede" gibi inanç esasları aşağıdakilerden hangisine aittir?
- A) Sihizm B) Mecusilik  
C) Caynizm D) Taoizm

8. Mardin'deki Deyru'z-Zaferan manastırı aşağıdakilerden hangisinin ana merkezidir?
- A) Süryani Kilisesi  
B) Ermeni Kilisesi  
C) Fener Rum Patrikhanesi  
D) Türk Ortodoks Kilisesi

9. Tanah ve Talmud üzerine eğitim almıştır. Dinî konularda öğreticilik, sinagogun idaresi, ayinleri, evlilik, cenaze gibi merasimleri yönetme, vaaz ve irşad gibi görevleri vardır.

**Görevleri hakkında bilgi verilen din adamı aşağıdakilerden hangisidir?**

- A) Guru B) Papa  
C) Patrik D) Haham

10. "Ey Şems! Bizi bedbahtlığa ve düşmanlığa karşı koru. Ey Rab! Milletine lütfkâr ol, onu müreffeh kıl, neslimizi koru. Şahidimiz Melek Tâvus'un ismidir."

**Sabah ve akşam vakitlerinde güneşe dönerek bu sözlerle dua eden bir kimse aşağıdaki inançlardan hangisine sahiptir?**

- A) Bahailik B) Yezidilik  
C) Musevilik D) Nusayrilik

11. Tenasüh inancı İslam dinindeki aşağıdaki inançlardan hangisi ile daha çok çelişmektedir?

- A) Ahiret B) Peygamber  
C) Tanrı D) Melek

12. Ermeni kiliseleri hakkında aşağıdaki bilgilerden hangisi yanlıştır?

- A) Ana merkezi Erivan yakınındaki Eçmiyazın'dır.  
B) Kilisenin en üst liderine Katolikas denir.  
C) Ritüeller Süryanice yapılır.  
D) Millî bir kilisedir.

13. • Kurucusu Kong-zi'dir.  
• Çin'de doğup gelişmiştir.  
• Tanrı, ahiret ve kutsal kitap inancına sahiptir.

**Bu bilgiler aşağıdaki dinlerden hangisine aittir?**

- A) Konfüçyanizm B) Yahudilik  
C) Mecusilik D) Sihizm

14. Hristiyanlıkta Ortodoksluk başta olmak üzere Doğu Kiliselerinin başında bulunan en üst rütbeli din adamına - - - - denir.

**Tanımda boş bırakılan yere aşağıdakilerden hangisi getirilmelidir?**

- A) papaz B) patrik  
C) rahip D) peder

15. • Ayin dili Türkçe'dir.  
• Ruhban sınıfında olanların tamamı evlenebilir.  
• Ruhban sınıfına mensup olanlar sakal bırakmazlar.

**Bu bilgiler aşağıdaki dinî gruplardan hangisine aittir?**

- A) Ermeni Kilisesi  
B) Süryani Kilisesi  
C) Türk Ortodoks Kilisesi  
D) Musevi Hahambaşılığı

16. Aşağıdakilerden hangisi Yehova Şahitleri'nin özelliklerinden biri değildir?

- A) Evlere ziyaret, posta, yayın ve broşür gönderme yoluyla misyonerlik yaparlar.  
B) Kendilerini Yehova'nın askerleri olarak görürler ve askerliği reddederler.  
C) Ayinlerinde resim ve heykel (ikon) kullanılmasına izin vermezler.  
D) Diğer Hristiyan grupların teslis inancını aynen kabul ederler.

17. • Kurucusu Mirza Ali Muhammed'dir.  
• Nebi ve resuller, Allah'ın tezahürü olarak kabul edilir.  
• Kitabı'l-Akdes'in tüm kutsal kitapların hükmünü kaldırdığına inanılır.

**Hakkında bilgi verilen dini akım aşağıdakilerden hangisidir?**

- A) Vehhabilik B) Bahailik  
C) Mecusilik D) Yezidilik

## 2. OTURUM

18. Özellikle Hristiyanlık ve Budizm gibi dinlerin yayılması için yapılan sistematik faaliyetlere ----, bununla görevli ve yetkili olan kişiye de ---- denir.

**Cümlede boş bırakılan yerlere aşağıdakilerden hangisi getirilmelidir?**

- A) misyonerlik, misyoner  
B) evanjelizm, evanjelist  
C) şarkiyatçılık, müsteşrik  
D) tebliğ, tebliğci

19. Bir Hristiyan'ın; yaşantısı, hâl ve hareketleriyle iyi bir hayat sürerek Hristiyan olmayanları etkileyebileceğini ifade eden kavram aşağıdakilerden hangisidir?

- A) Evanjelizm B) Misyon  
C) Şahitlik D) Beyan

20. Aşağıdakilerden hangisi yeni dinî hareketlerin özelliklerinden biri değildir?

- A) Otoriter bir lider etrafında toplanılır ve lidere tam teslimiyet beklenir.  
B) Toplumda yaygın olan dinî anlayışa karşı bir tutum içindedirler.  
C) Harekete yeni üye katmak için misyonerlik faaliyetleri yapılır.  
D) Dine akli yaklaşım sergilenir, akla uymayan her şey reddedilir.

### (615) SEÇ. DİL VE ANLATIM. – 5

1. Sarı saçlarına deli gönlümü  
Bağlamışım çözülmüyor Mihriban  
Ayrılıktan zor belleme ölümü  
Görmeyince sezilmiyor Mihriban

**Bu parça aşağıdaki metin türlerinin hangisinden alınmıştır?**

- A) Anlatmaya dayalı  
B) Kişisel hayatı konu alan  
C) Göstermeye dayalı  
D) Coşku ve heyecanı dile getiren

2. Aşağıdakilerden hangisi kişisel hayatı konu alan metinlerden değildir?

- A) Eleştiri B) Mektup  
C) Anı D) Günlük

3. Çaldere köyünde güneş batarken geniş yapraklı ağaçların dallarını koyu bir kızılık kaplar. Yeşille kırmızının birleşmesinden doğan bu renk yağmuru gözleri kamaştırır. Sazların arasında süzülen dere, köyün dört saat uzağındaki ırmağa kavuşmak için dümdüz ova üstünde mavi şerit gibi uzanır.

**Bu parçada ağır basan anlatım türü aşağıdakilerden hangisidir?**

- A) Öyküleyici B) Açıklayıcı  
C) Betimleyici D) Öğretici

4. Aşağıdakilerden hangisi özel mektup çeşitlerinden biridir?

- A) İş B) Davet  
C) Dilekçe D) Resmî

5. Aşağıdaki sanatçılardan hangisi günlük türünde eser vermemiştir?

- A) Salah Bırsel B) Nurullah Ataç  
C) Kemal Tahir D) Oğuz Atay

6. Aşağıdakilerden hangisi anı türü için söylenemez?

- A) Anlatılanların belgelendirilme zorunluluğu vardır.  
B) Açık, sade ve içten bir anlatım kullanılmalıdır.  
C) Kişisel, sosyal ve edebî konularda yazılabilir.  
D) Anılar yazılırken tarafsız olmaya çalışılmalıdır.

7. 15 Ağustos

Dün, bilinçsiz yazdım ama ikiye çeyrek kala paydos ettim. Daha fazla çalışmaktan korktum; korkmakta haklıymışım, hiç uyumadım, işte öylesine perişan durumda büroya yollandım. Dün fabrikayla ilgili olarak babamın suçlaması: "Sen başıma sardın fabrikayı!". Arkasından eve gidip üç saat yazdım. Suçlu olduğum ama suçumun babamın söylediği kadar büyük sayılamayacağı bilinciy-le yaptım bunu.

**Bu parça aşağıdaki metin türlerinin hangisinden alınmıştır?**

- A) Makale B) Otobiyografi  
C) Günlük D) Deneme

8. Uç noktalar beni çok heyecanlandırır. Oralara gitmek, benim için vazgeçilmez bir tutkudur. Merakımı en çok, güneşin batmadığı veya doğmadığı ülkeler çeker. Oraları düşleyerek bir türlü aydınlanmayan günlerde zamanı karşılamayı arzularım.

**Bu parçanın anlatım özellikleri aşağıdakilerin hangisinde verilmiştir?**

- A) Öznel – dolaylı  
B) Nesnel – doğrudan  
C) Öznel – doğrudan  
D) Nesnel – dolaylı

9. Sinop'ta doğdu. İlköğrenimini Sinop'ta tamamlayan Dıranas, çocukluğu ve şiirle tanışması hakkında şunları anlatır: "Benim çocukluğum zengin tabiatlı bir köyde geçti kısmen. Kısmen de İstanbul şehrinin mütareke yıllarında yoksulluk ve sıkıntılar içinde geçti. Hatırlıyorum, ilk defa elime şiir kitabı tutturan dayımdı." Ahmet Muhip Dıranas'ın ailesi daha sonra İstanbul'dan Ankara'ya gelerek Ön Cebeci'de ufak bir evde oturmaya başlarlar. Muhip'in çocukluk ve gençlik yıllarının bir kısmı bu sevimli evde geçmiştir.

**Bu parça aşağıdaki metin türlerinin hangisinden alınmıştır?**

- A) Mektup B) Biyografi  
C) Deneme D) Günlük

10. Aşağıdakilerden hangisi gezi türü için söylenemez?

- A) Dil genellikle göndergesel işlevde kullanılır.  
B) Gezilen yerin sosyal, ekonomik ve kültürel yaşantısı hakkında bilgi verilir.  
C) Tanımlama, betimleme ve açıklamalardan yararlanır.  
D) Genellikle kanıtlayıcı anlatım türü kullanılır.

11. Şiddetli bir gürültü patırtı cebinliği aşip üzerime yükleniyor. Nerede olduğumu algılayabilmem için birkaç saniye geçmesi gerekiyor. Buraya yaptığım son seyahatte beni maymunların sabah çağrıları, fillerin gürlemeleri ve boynuzgagalıların kulakları tırmalayan sesleri uyandırmıştı. Şu anda ise uyku mahmurluğunu üzerimden atarken kamyon gürültüleri ve hidrolik pompaların çıkardığı gürültüleri birbirinden ayırt ediyorum. Burası Myanmar'ın Hukavng Vadisi'nin derinliklerine gizlenmiş ve bir zamanlar sadece birkaç yüz kişiye ev sahipliği yapan küçük sevimli Sinbiyang köyü.

**Bu parça aşağıdaki öğretici metinlerinin hangisinden alınmıştır?**

- A) Deneme B) Gezi yazısı  
C) Günlük D) Makale

12. Beslenme, tüm yaş grupları için sağlıklı yaşamın temelidir. Vücut, ihtiyacı olan besin değerlerinden yoksun kaldığında, zamanla bazı hastalıklar ortaya çıkmaya başlar. Örneğin B grubu vitaminlerin yetersizliği deri enfeksiyonlarına ve çeşitli psikolojik rahatsızlıklara yol açar. Folik asit ve demir yetersizliği özellikle çocuklar ve gebe kadınlarda kansızlığa neden olmaktadır.

**Bu metin aşağıdaki türlerin hangisinden alınmıştır?**

- A) Makale B) Gezi yazısı  
C) Eleştiri D) Fıkra

## 2. OTURUM

13. Gazete yazısı olan fıkra Türk edebiyatının hangi döneminden itibaren görülmeye başlar?

- A) Klasik (Divan) Edebiyat  
B) Tanzimat Edebiyatı  
C) Millî Edebiyat  
D) Sözlü Edebiyat

14. İnsanın arkadaşının, can yoldaşının üç mahalle, beş mahalle ötede değil de cebinde olması ne güzel şey! Ama bu arkadaş bütün arkadaşlıklar gibi bir alışkanlığın, bir sevginin eseri. Kitapla eğer yaşıyorsanız daha pek küçük iken dost olmamışsanız yaşlılık günlerinizde onu sevip arkadaş olmanız mümkün değildir. Nitekim bugünün yaşlı insanları, türlü sebeplerle çocukluklarında kitapla arkadaşlık kurmak imkânını bulamamışlardır. Şimdi onun için yalnızdırlar.

**Bu metin aşağıdaki türlerin hangisinden alınmıştır?**

- A) Anı B) Günlük  
C) Deneme D) Makale

15. Aşağıdakilerden hangisi kişisel hayatı konu alan metinlerden biridir?

- A) Makale B) Deneme  
C) Fıkra D) Anı

16. Boya tüplerinde o renkleri bulamazsınız ( ) onlar karışımlardan doğmuş ( ) ara renklerdir ( )

**Yukarıda yay ayraçlarla gösterilen yerlere sırasıyla aşağıdaki noktalama işaretlerinden hangileri getirilmelidir?**

- A) (;) (,) (.) B) (.) (,) (.)  
C) (;) (,) (,) D) (;) (;) (.)

17. Aşağıdaki cümlelerin hangisinde bağlaç olan "de"nin yazımında yanlışlık yapılmıştır?

- A) Annem de beni böyle severdi.  
B) İşte Mardin' in de böyle bir güzelliği vardı.  
C) Güzel bir film bulayım da seyre delim.  
D) Tamda o günlerde bir roman yazmaktaydım.

18. Bir sarı yaprak gibi düştü gönüm yollarına  
Buğulu gözlerimden geçmediğin gün olmaz

**Bu dizelerdeki altı çizili sözcükte görülen ses olayı aşağıdakilerden hangisidir?**

- A) Ses daralması  
B) Ses düşmesi  
C) Ses benzeşmesi  
D) Ses türemesi

19. Yazılışları ve okunuşları aynı olduğu hâlde anlamları farklı olan kelimelere eş sesli kelime denir.

**Buna göre aşağıdaki dizelerde geçen altı çizili sözcüklerden hangisi eş seslidir?**

- A) Kente kapandık kaldık tutanaklarla belli,  
Yüzlerimiz temmuzdan ötürü salanır ve uzar.  
B) Bin atlı, akınlarda çocuklar gibi şendik;  
Bin atlı, o gün dev gibi bir orduyu yendik!  
C) Bir çok gidenin her biri memnun ki yerinden  
Bir çok seneler geçti; dönen yok seferinden  
D) Çok insan anlayamaz eski musikimizden,  
Ve ondan anlamayan bir şey anlamamaz bizden.

20. Yazarın herhangi bir konu hakkındaki kişisel duygu ve düşüncelerini okuyucuyla konuşuyormuş gibi bir anlatımla yazdığı yazılara - - - - denir.

**Bu cümlede boş bırakılan yere aşağıdakilerden hangisi getirilmelidir?**

- A) makale B) anı  
C) sohbet D) eleştiri

### (625) SEÇ. TÜRK ED. – 5

1. Tanzimat Fermanı'nın hazırlanmasında ve İstanbul'da halka okunmasında rol oynayan devlet adamı aşağıdakilerden hangisidir?

- A) I. Abdülmecit  
B) Mustafa Reşit Paşa  
C) Yusuf Kamil Paşa  
D) Samipaşazâde Sezai

2. Tanzimat edebiyatının kurucuları için aşağıdakilerden hangisi söylenemez?

- A) Sanatta sosyal gayeyi esas aldılar.  
B) Sanat düşüncesinden çok fikri ön plana çıkardılar.  
C) Şiir ve düzyazıda sosyal kavramları kullanmayı tercih ettiler.  
D) Eserlerinde kişisel problemlerini dile getirdiler.

3. Batılı anlamdaki ilk tiyatro eserimiz olan "Şair Evlenmesi" aşağıdakilerden hangisine aittir?

- A) Ziya Paşa  
B) İbrahim Şinasi  
C) Namık Kemal  
D) Ahmet Mithat Efendi

4. - - - insan ve toplum yaşantısından doğan bütün olay, duygu, düşünce hayallerin söz ve yazı ile güzel ve etkili bir biçimde anlatılması sanatıdır.

**Bu cümlede boş bırakılan yere aşağıdakilerden hangisi getirilmelidir?**

- A) Edebiyat B) Sinema  
C) Tiyatro D) Müzik

5. Aşağıdakilerden hangisi Tanzimat Birinci Dönem sanatçısı değildir?

- A) Ömer Seyfettin  
B) Namık Kemal  
C) Ahmet Mithat Efendi  
D) İbrahim Şinasi

6. • Türk edebiyatının ilk makale örneğidir.  
• Bu makalede ilk kez noktalama işaretleri kullanılmıştır.  
• İlk özel gazetede yayımlanan makale "ön söz" anlamına gelmektedir.

**Özellikleri verilen makale aşağıdakilerden hangisidir?**

- A) Tahrib-i Harabat  
B) İstilahat-ı Edebiyye  
C) Renan Müdafaaanesi  
D) Tercüman-ı Ahval Mukaddimesi

7. Tanzimat Dönemi ile ilgili aşağıdakilerden hangisi söylenemez?

- A) Batı'da gerçekleştirilen bilimsel gelişmeler örnek alınmaya başlanmıştır.  
B) Tanzimat; Osmanlı Devleti'nin, bazı kurumlarıyla Batı'ya yönelişini ifade eder.  
C) Kadınlara seçme ve seçilme hakkı verilmiştir.  
D) Adli, siyasi, askerî, mali ve idari alanlarda devlet ve kişiler arasında düzenlemeler yapılmıştır.

8. Aşağıdakilerden hangisi İbrahim Şinasi'nin edebiyatımıza kazandırdıklarından biri değildir?

- A) Edebiyat kurallarını öğreten ilk kitap  
B) Batılı anlamda ilk tiyatro oyunu  
C) Batıdan ilk şiir çevirileri  
D) Noktalama işaretleri

## 2. OTURUM

9. Eski vezirin oğlu olup büyük mirasa konmuş bulunan Bihruz, Çamlıca'da şık bir araba içinde gördüğü Periveş'e âşık olur. Bir gün Çamlıca Bahçesi'nde ilân-ı aşk için ona çiçek verir fakat konuşmak fırsatı bulamaz. Her cuma ona rastlamak için gezinti yerlerinde arabası ile dolaşır. Kadına hiçbir yerde rastlamaz. Yalancılığı ile tanınmış arkadaşı Keşfi Bey, ona Periveş'i artık göremeyeceğini, çünkü onun öldüğünü haber verir.

**Bu parçada sözü edilen eser aşağıdakilerden hangisidir?**

- A) İntibah  
B) Sergüzeşt  
C) Şair Evlenmesi  
D) Araba Sevdası

10. Bir edebî eser incelenirken yazarın ruh hâlini anlayabilmek için - - - - biliminden; eserin yazıldığı dönemin toplumsal şartları, askerî ve siyasi gelişmelerini kavrayabilmek için - - - - ve - - - - bilimlerinden faydalanmak gerekir.

**Bu metinde boş bırakılan yerlere aşağıdakilerden hangisi getirilemez?**

- A) arkeoloji      B) psikoloji  
C) sosyoloji      D) tarih

11. Aşağıdakilerden hangisi Tanzimat'ın Birinci Dönemi'nde şiirde ağırlıklı olarak ele alınan temalardan değildir?

- A) Hak      B) Aşk  
C) Eşitlik      D) Adalet

12. Aşağıdakilerden hangisi Tanzimat'ın İkinci Dönemi'nin özelliklerinden değildir?

- A) Toplumsal temalar kullanılmaya başlanmıştır.  
B) Dilde sadeleşme çabaları bırakılmıştır.  
C) Romantizmden realizme geçilmiştir.  
D) "Sanat sanat içindir." anlayışı hâkim olmuştur.

13. Doğu edebiyatını çok iyi öğrenmiştir. Ahmet Mithat Efendi ile tanıştıktan sonra Batı edebiyatını öğrenmiş ve Fransız sanatçılardan çeviriler yapmıştır. Yeni anlayışla şiirler yazmakla birlikte eskiye daha çok bağlı kalmıştır. Eserlerinden bazıları Ateş-pare, Füzûzan ve Demdeme'dir.

**Bu metinde sözü edilen sanatçı aşağıdakilerden hangisidir?**

- A) Muallim Naci  
B) Şemsettin Sami  
C) Abdülhak Hamit Tarhan  
D) Recaizâde Mahmut Ekrem

14. Aşağıdakilerden hangisi Namık Kemal'in eserlerinden biridir?

- A) Küçük Şeyler  
B) Şerare  
C) Vatan yahut Silistre  
D) Talim-i Edebiyat

15. Tanzimat Dönemi Edebiyatı hikâye ve roman yazarlarındandır. Eserlerinde gerçek yaşamda karşılaşılabilecek olayları ele alır; gereksiz tasvirlerden kaçınır, romantizmden realizme geçiş açıkça görülür. Sergüzeşt adlı romanı Türk edebiyatında kölelik ve insan ticareti üzerine yazılmış en ünlü eserlerden biridir.

**Bu metinde sözü edilen sanatçı aşağıdakilerden hangisidir?**

- A) Ahmet Mithat Efendi  
B) Recaizâde Mahmut Ekrem  
C) Muallim Naci  
D) Samipaşazâde Sezai

16. Aşağıdaki sanatçılardan hangisi terkebî nazım şeklinin Tanzimat Dönemi'ndeki en bilinen temsilcisidir?

- A) Muallim Naci  
B) Ziya Paşa  
C) Namık Kemal  
D) Recaizâde Mahmut Ekrem

17. Mahv eder kendini bülbül bile hürriyyet için  
Çekilir mi bu belâ âlem-i pür-mihnet için  
Dîn için Devlet için can çekişen millet için  
Azme hâil mi olmuş bu çürük ten kafesi

**Namık Kemal'e ait olan bu dördlüğün konusu nedir?**

- A) Ayrılık hüznü  
B) Memleket hasreti  
C) Vatan sevgisi  
D) Yalnızlık acısı

18. Aşağıdakilerden hangisi Tanzimat Dönemi'nde Batı'dan yapılan ilk şiir tercümelerinin toplandığı eserdir?

- A) Cezmi  
B) Taaşuk-ı Talat ve Fitnat  
C) Tercüme-i Manzume  
D) Şair Evlenmesi

19. Aşağıdaki sanatçılardan hangisi roman türünde eser yazmamıştır?

- A) Ziya Paşa  
B) Namık Kemal  
C) Ahmet Mithat Efendi  
D) Recaizâde Mahmut Ekrem

20. Aşağıdakilerden hangisi "İntibah" adlı romanın özelliklerinden biridir?

- A) Şemsettin Sami tarafından kaleme alınmıştır.  
B) Türk edebiyatındaki ilk edebî romandır.  
C) Realizm akımının tesiriyle yazılmıştır.  
D) Millî Edebiyat Dönemi'ne aittir.

### (714) İSLAM KÜLTÜR VE MEDENİYETİ – 2

1. Allah güzeldir, güzeli sever.

**Bu hadiste aşağıdakilerden hangisi teşvik edilmemiştir?**

- A) Estetik duyarlılık  
B) İşleri iyi yapmak  
C) Gösterişe önem vermek  
D) Güzel ahlak sahibi olmak

2. Müslüman sanatçılar, yerleşmiş sanat geleneğini bozup yenisini yapmak yerine kendilerinden önceki birikimi geliştirmeye çalışırlar. Bu birikimin oluşturduğu sanatsal yapıya, geçmişle uyumlu ancak özgün bir parça eklemek gayretiyle eserlerini verirler.

**Bu metinde İslam sanatının aşağıdaki özelliklerinden hangisi anlatılmaktadır?**

- A) Dünya görüşü tevhitir.  
B) Ahlak anlayışı vardır.  
C) Soyutlama esastır.  
D) Tekâmül esastır.

3. Aşağıdakilerden hangisi Osmanlı hat sanatının kurucusu kabul edilir?

- A) Hafız Osman  
B) Şeyh Hamdullah  
C) Ahmed Şemseddin  
D) Yakut el-Mustasimî

4. "Aynalı yazı, meşk murakkâ ve kâralama" gibi kavramlar aşağıdaki sanatlardan hangisi ile ilgilidir?

- A) Minyatür      B) Ebru  
C) Mimari      D) Hüsnühât

## 2. OTURUM

5. Işık ve gölge oyunları ile derinlik kazandırılmayan, küçük boyutlu, renkli resimlere ne ad verilir?

- A) Kâşi                      B) Ahşap sanatı  
C) Minyatür                D) Taş işçiliği

6. Kur'an-ı Kerim de bulunan aşağıdaki kelimelerden hangisi şehir anlamını ifade etmez?

- A) Karye                      B) Mısır  
C) Medine                    D) Akabe

7. Mekke ile ilgili aşağıdakilerden hangisi yanlıştır?

- A) Müslümanların ilk kiblesidir.  
B) Allah tarafından harem kılınmıştır.  
C) İslam medeniyetinin beşiği kabul edilir.  
D) Allah'a ibadet için yapılan ilk mabet bu şehirdedir.

8. Doğu ülkelerinin din, dil, tarih, kültür medeniyetleri üzerinde çalışan batılı araştırmacılar aşağıdakilerden hangisi ile isimlendirilir?

- A) Antropolog                B) Batı bilimci  
C) Oryantalist                D) Sosyolog

9. İslam medeniyeti hakkında Osmanlıda ve İslam dünyasında yayınlanan ilk eser olan Medeniyet-i İslamiyye'nin yazarı aşağıdakilerden hangisidir?

- A) Saadettin Öktem  
B) Şemseddin Sami  
C) Nurettin Topçu  
D) Cemil Meriç

10. Müslüman, kendisini ülkesine ve insanlığa karşı sorumlu hisseder. Çevresinde olup bitenlere karşı duyarsız kalmaz. İnsanlığın huzuru ve güveni, yeryüzünde adaletin tesisi için her zaman mücadele eder.

**Bu durum aşağıdaki kavramlardan hangisi ile ifade edilir?**

- A) Sosyal sorumluluk  
B) Nüfus çokluğu  
C) Tarih şuuru  
D) Hoşgörü

11. Aşağıdakilerden hangisi 19. yüzyılda yaşayan fikir öncülerinden biri değildir?

- A) Cemalettin Afgani  
B) Muhammed İkbâl  
C) İbn Hazm  
D) Muhammed Abduh

12. Türklerin Anadolu'da inşa ettikleri ilk cami aşağıdakilerden hangisidir?

- A) Ulu Camii (Mardin)  
B) Menucehr Camii (Kars)  
C) Süleymaniye Camii (İstanbul)  
D) Halilurrahman Camii (Şanlıurfa)

13. Aşağıdakilerden hangisi doğrudan Müslümanlar tarafından kurulmuş bir şehir değildir?

- A) Basra                      B) Kûfe  
C) Bağdat                    D) Hayber

14. İslam medeniyeti, yeryüzündeki nimetleri ve imkânları, herkesin hakkı sayar. Farklılıkları fitratın gereği olarak görür. Adaletin, mülkün ve yönetimin temeli olduğunu vurgular. Bu ilkeleri insanlığın hakkı kabul eder.

**Bu metinde İslam medeniyetinin aşağıdaki ilkelerinden hangisine değinilmemiştir?**

- A) Hakkı gözetme  
B) Bilimsellik  
C) Hoşgörü  
D) Eşitlik

15. Müslümanlar, fethettikleri coğrafyalarda yaşayan insanların din ve inançlarına müdahale etmemiştir. İbadetlerini yapabilmeleri için gerekli ortamı sağlamış ve güvence altına almışlardır.

**Aşağıdakilerden hangisi bu duruma örnek gösterilmez?**

- A) Mekke Müslümanlarla Medine Müslümanların kardeş ilan edilmesi  
B) Darülacezede cami, havra ve kilisenin bir arada bulunması  
C) Hz. Peygamber'in Hayber Fethinde Tevrat nüshalarını Yahudilere iade etmesi  
D) Osmanlı'nın Yahudi, Hristiyan ve diğer inanç mensuplarına sağladığı ibadet özgürlüğü

16. "Milletler gelir ve gider. İmparatorluklar yükselir ve düşer. Fakat İslam sürer ve göçebelerle yerleşikler, medeniyet kurucularla bu medeniyeti dağıtanları bünyesinde barındırmaya devam eder. O zaman, bilinçli ya da bilinçsizce kendi özgünlüklerini korumakla birlikte, İslam'la olan bağlarını en önemli ruhi servet olarak sürdüren çok sayıda milleti tek bir ümmet olarak bir arada tutan unsurlar nelerdir?"

(Gustave E. Von Grunebaum)

**Bu metinde aşağıdakilerden hangisi vurgulanmaktadır?**

- A) İslam'ın son din olduğu  
B) İslamiyet'te tevhidin esas olduğu  
C) İslam'ın değişmeden günümüze kadar geldiği  
D) İslam'ın Müslümanları bir arada tutacak değerlere sahip olduğu

17. Aşağıdakilerden hangisi İslam kültür ve medeniyetinin günümüzde sahip olduğu başlıca manevi imkânlardandır?

- A) Tarih şuuru                B) Nüfus  
C) Coğrafya                    D) Ekonomi

18. İslam kültür ve medeniyetine dair yapılan araştırmaların Müslümanlara aşağıdakilerden hangisini sağlaması beklenmez?

- A) Doğru bilgiye ulaşmayı  
B) Çağın sorunlarına çözümler üretmeyi  
C) İnanç ve ibadet esaslarını yeniden tespit etmeyi  
D) Kendine ait geçmiş medeniyet havzasını tanımayı

19. Abbasiler döneminde kurulan şehir, Medinetüsselam, Kubbetülislâm ve Darulhilafe gibi isimleriyle meşhur olmuştur. Bu şehirde ilk olarak cami, saray ve çarşı inşa edilmiş, şehir merkezinin her tarafa eşit uzaklıkta olması ve kolayca kontrol edilip korunması için daire şeklinde planlanmıştır.

**Hakkında bilgi verilen şehir aşağıdakilerden hangisidir?**

- A) İstanbul                    B) Bağdat  
C) Kudüs                      D) Kurtuba



## 2. OTURUM

20. Şehrin sakinlerinin şehrin kimliğini oluşturan inanç ve ideallere uygun davranması, şehrin kültüründen ve refahından yararlanması, şehri tanırlar hale gelmesi, şehri sahiplenmesi ve şehre değer katacak bilince ulaşmasıyla şehirli kimliği ortaya çıkmış olur. Adaletle yönetilen böyle bir şehirde toplumun refahı ve mutluluğu artar.

**Farabi böyle bir şehir için aşağıdaki ifadelerden hangisini kullanmıştır?**

- A) Fazıl B) Modern  
C) Âkil D) Cahil

### (818) AKAİD – 2

1. Peygamberlerin kendilerine gönderilen ilahi mesajları hiçbir değişikliğe uğratmadan insanlara ulaştırmalarına ne ad verilir?

- A) İnzal B) Tebliğ  
C) İlaham D) Tevhid

2. "Bilin ki ben, size gönderilmiş güvenilir bir elçiyim."  
(Şuarâ suresi, 107. ayet)

**Bu ayette peygamberlerin aşağıdaki özelliklerinden hangisi vurgulanmıştır?**

- A) Emanet B) Fetanet  
C) Tebliğ D) İsmet

3. Aşağıdakilerden hangisi mucizenin amaçlarındandır?

- A) Peygamberin insanlar üzerinde tahakküm kurmasını sağlamak  
B) Peygamberin sınırsız güç ve irade sahibi olduğunu göstermek  
C) Peygamberin insanüstü güce sahip olduğunu göstermek  
D) Peygamberin nübüvvet davasını ispat edip doğrulamak

4. "Andolsun, senden önce de peygamberler gönderdik. Onlardan sana kıssalarını anlattığımız kimseler de var, durumlarını sana bildirmediğimiz kimseler de var..."  
(Mü'min suresi, 78. ayet)

**Aşağıdakilerden hangisi bu ayetten çıkarılacak bir sonuç değildir?**

- A) Risalet Allah'ın iradesindedir.  
B) Hz. Muhammed (sav.) son peygamberdir.  
C) Bazı peygamberler hakkında ayetlerde bilgi verilmiştir.  
D) Peygamberlerin hikâyeleri Kur'an'da bildirilenlerle sınırlı değildir.

5. Aşağıdakilerden hangisi İznik Konsili'nde kabul edilen incillerden biri değildir?

- A) Luka B) Yuhanna  
C) Barnaba D) Markos

6. Aşağıdakilerden hangisi Kur'an-ı Kerim'in korunmasına yönelik faaliyetlerden biri değildir?

- A) Ayetlerin ezberlenmesi  
B) Ayetlerin yazıya geçirilmesi  
C) Kur'an'ın kitap haline getirilmesi  
D) Kur'an'ın abdestli olarak okunması

7. Aşağıdakilerden hangisi İslam'ın dünyaya bakışı ile ilgili görüşünü yansıtmaz?

- A) Dünya hayatı geçicidir.  
B) Dünya bir imtihan yeridir.  
C) Dünya nimetleri terk edilmelidir.  
D) Dünya ahiret hayatının tarlasıdır.

8. Ahirette amellerin tartılması anlamına gelen kavram aşağıdakilerden hangisidir?

- A) Mahşer B) Mizan  
C) Sırat D) Berzah

9. Allah'ın cennette müminler tarafından görülmesine ne ad verilir?

- A) Lafzatullah B) Sünnetullah  
C) Rü'yetullah D) Kelimetullah

10. Aşağıdakilerden hangisi kader inancının doğrudan ilişkili olduğu sıfatlardan biri değildir?

- A) Vahdaniyet B) İrade  
C) Kudret D) İlim

11. "Gökleri ve yeri yaratan ve onları yaratmaktan yorulmayan Allah'ın, ölüleri diriltmeye gücünün yeteceğini görmediler mi? Evet, şüphesiz O, her şeye hakkıyla gücü yetendir."  
(Ahkâf suresi, 33. ayet)

**Bu ayet aşağıdaki konuların hangisine delil oluşturur?**

- A) Allah'ın gökleri ve yeri insanın hizmetine verdiği  
B) Evrenin de bir sonunun olduğuna  
C) Meleklerin Allah tarafından yaratıldığına  
D) Ahiret hayatının varlığına

12. "Sur'a üflenince, Allah'ın diledikleri müstesna olmak üzere göklerde ve yerde ne varsa hepsi ölecektir. Sonra ona bir daha üflenince, bir de ne görsen, onlar ayağa kalkmış bakıyorlar."  
(Zümer suresi, 68. ayet)

**Ayette altı çizili bölüm aşağıdaki kavramlardan hangisini ifade etmektedir?**

- A) Ba's B) Sırat  
C) Havz D) A'râf

13. Ahirete inanan bir insanın aşağıdaki davranışlardan hangisini yapması beklenmez?

- A) Sorumluluk bilinci ile hareket etmesi  
B) İnsanlara karşı müsamahalı olması  
C) Yakınlarını koruyup, gözetmesi  
D) Haksızlığa duyarsız kalması

14. Kaza; kaderde takdir edilenlerin yeri ve zamanı gelince gerçekleşmesidir.

**Buna göre aşağıdaki cümlelerden hangisi kazaya örnektir?**

- A) İnsanlar hesap vermek için diriltilceklerdir.  
B) Allah vahyini peygamberin diliyle göndermiştir.  
C) Sür'a ilk üfürülme ile dünya hayatı son bulacaktır.  
D) Allah'ın rahmetinin gazabından üstün olacağı umulmaktadır.

15. Aşağıdaki ayetlerin hangisinde ak- lın kullanılması teşvik edilmiştir?

- A) "Rabb'inden sana indirilenin hak olduğunu bilen kimse, kör (inkâr eden) kimse gibi olur mu? Fakat bunu ancak akıl sahipleri anlar."  
(Ra'd suresi, 19. ayet)  
B) "İnsan için kendi çalışmasından başka bir şey yoktur."  
(Necm suresi, 39. ayet)  
C) "İşte Allah gaybı da görünen âlemi de bilendir, mutlak güç sahibidir..."  
(Secde suresi, 6. ayet)  
D) "Nerede olursanız olun ölüm size ulaşır. Sarp ve sağlam kalelerde olsanız bile..."  
(Nisâ suresi, 78. ayet)

16. Aşağıdakilerden hangisi suhuf gönderilen peygamberlerdendir?

- A) Hz. Yahya B) Hz. İdris  
C) Hz. İsmail D) Hz. Süleyman

## 2. OTURUM

17. İnsan-kader ilişkisi ile ilgili aşağıdakilerden hangisi söylenemez?

- A) Akıllı olmak sorumluluğun ilk şartıdır.  
B) İnsan davranışlarından sorumludur.  
C) İnsan sınırsız bir özgürlüğe sahiptir.  
D) Tedbir kuldandır, takdir Allah'tandır.

18. Aşağıdakilerden hangisi küllî irade ile ilgili konulardandır?

- A) Hidayet veya dalaletin seçimi  
B) Cinsiyetin belirlenmesi  
C) Meslek tercihi  
D) Eş seçimi

19. "Kim iyi bir iş yaparsa kendi lehinedir. Kim de kötülük yaparsa kendi aleyhinedir. Rabbin, kullara (zerre kadar) zulmedici değildir."  
(Fussilet suresi, 46. ayet)

Bu ayette vurgulanan konu aşağıdakilerden hangisidir?

- A) Sorumluluk B) Emek  
C) Hidayet D) Tevekkül

20. Rızık ile ilgili aşağıdakilerden hangisi ehl-i sünnet âlimlerinin düşüncesi değildir?

- A) Rızıkın elde edilmesi insanın sorumluluğundadır.  
B) Rızık sadece gıdalarla sınırlı değildir.  
C) Bütün canlıların rızıkını Allah yaratmıştır.  
D) Haram yollardan kazanılanlar rızık değildir.

### (820) KELAM – 2

1. İslam itikadını delilleriyle savunan ilme - - - - denir.

Cümlede boş bırakılan yere aşağıdakilerden hangisi gelmelidir?

- A) fıkh B) kelam  
C) tasavvuf D) tefsir

2. İnanç ve ibadetler konusunda dinin esaslarına bağlı kalarak ve zamanın şartlarını da gözetenek yapılan farklı yorumlara denir.

Tanımı yapılan kavram aşağıdakilerden hangisidir?

- A) İtikat B) Hizip  
C) Mezhep D) Akaid

3. Hz. Muhammed'in (sav.) sünnetine uyan, onun ve ashabının yolundan yürüyen kimselere verilen genel isim aşağıdakilerden hangisidir?

- A) Ehl-i Sünnet B) Mutezile  
C) Mürcie D) Cebriye

4. Müslüman, fırka belâsiyle zebun bir kavmi,  
Medenî Avrupa üç lokma edip yutmaz mı?

Ey cemaât, yeter Allah için olsun, uyanın.

Sesi pek müdhîş öter sonra kulaklarda çanını!

Mehmed Akif Ersoy

Bu şiirde aşağıdakilerden hangisine vurgu yapılmıştır?

- A) Mezheplerin dinî düşünceyi zenginleştirdiğine  
B) Bölünmenin Müslümanların gücünü zayıflatacağına  
C) Avrupa'nın bilim, teknik ve sanatta ilerlemiş olduğuna  
D) Hristiyanlık ve Yahudiliğin tahrif edilmiş dinler olduğuna

5. Aşağıdakilerden hangisi itikadî mezheplerdendir?

- A) Hanefilik B) Malikilik  
C) Caferilik D) Hâricilik

6. Aşağıdaki ayetlerin hangisinde insan iradesi ve özgürlüğünün sınırlı olduğuna vurgu yapılmıştır?

- A) "İnsan için ancak çalışmasının karşılığı vardır."  
(Necm suresi, 39. ayet)  
B) "Allah'ın dilemesi olmadıkça siz dileyemezsiniz..."  
(İnsân suresi, 30. ayet)  
C) "De ki: 'Hak, Rabbinizdendir. Artık dileyen iman etsin, dileyen inkâr etsin.'..."  
(Kehf suresi, 29. ayet)  
D) "Allah hiç kimseye gücünün üstünde bir yük yüklemeyiz. Herkesin kazandığı iyilik kendi yararına, kötülük de kendi zararındır..."  
(Bakara suresi, 286. ayet)

7. • İnsanın iradesi ve hürriyeti yoktur.  
• Allah'ın ilmi ve kelamı hâdistir, sonradan yaratılmıştır.  
• İyilik ve kötülükler sevap ve cezanın verilmesi zorunludur.

Bu düşüncelere sahip mezhep aşağıdakilerden hangisidir?

- A) Mürcie B) Şia  
C) Mutezile D) Cebriye

8. Aşağıdaki ekollerden hangisi tanrının varlığını kabul eder?

- A) Deizm B) Nihilizm  
C) Ateizm D) Materyalizm

9. Aşağıdakilerden hangisi gençlerin satanizme yönelme sebeplerinden biri değildir?

- A) Eksik ve yanlış din eğitimi  
B) Ailede sevgi ve ilgi eksikliği  
C) Doğuştan gelen inanma ihtiyacı  
D) Kötü alışkanlıklar ve yanlış arkadaşlar

10. "Hatemü'l-Enbiya" kavramının anlamı aşağıdakilerden hangisidir?

- A) Son peygamber  
B) Ümmi peygamber  
C) İki cihan peygamberi  
D) Güvenilir peygamber

11. Aşağıdakilerden hangisi deizmin görüşleri arasında yer almaz?

- A) Vahiy, nübüvvet, dua ve ibadet diye bir şey yoktur.  
B) Tanrı âlemi ve insanı yaratmıştır ama işleyişi ile ilgilenmez.  
C) Dünya bir müddet sonra son bulacak ve ahiret hayatı başlayacaktır.  
D) Kâinat, dışarıdan müdahale olmaksızın kendi kanunlarına göre hareket etmektedir.

12. Mutezile mezhebi aşağıdaki âlimlerden hangisinin görüşleri doğrultusunda oluşmuştur?

- A) Hasan Basrî  
B) Vâsil b. Atâ  
C) Cehm b. Safvan  
D) Nureddin es-Sabuni

13. Hayatın anlamını boşluk, hiçlik, anlamsızlık gibi kavramlara indirgeyen ve bu olumsuz bakış açısının etkisiyle varlık, bilgi ve değer başlıklarında olumsuz yaklaşımları öne çıkaran bir anlayıştır.

Hakkında bilgi verilen felsefi düşünce aşağıdakilerden hangisidir?

- A) Agnostisizm B) Ateizm  
C) Nihilizm D) Pozitivizm

## 2. OTURUM

14. Aşağıdakilerden hangisi yorum farklılıklarının ortaya çıkmasında etkili olmamıştır?

- A) İnsanın düşünen bir varlık olması
- B) Dini metinlerde kullanılan lafızlar
- C) Müslümanlar arasındaki iç sa-vaşlar
- D) Peygamberlerin Allah tarafından seçilmesi

15. Tenasüh kavramının açıklaması aşağıdakilerden hangisidir?

- A) Geçmişin kötü ve karanlık, geleceğin ise hep daha iyi olacağı inancı
- B) Ölen insanların ruhunun başka bir canlının bedenine girdiği düşüncesi
- C) Tanrının varlığının ya da yokluğunun kesin olarak bilinemeyeceği düşüncesi
- D) İnsanların, ahiretten çok dünyaya odaklanmasını isteyen anlayış

16. Aşağıdakilerden hangisi "Yeni İlm-i Kelam" dönemi ile özdeşleşen konulardan biridir?

- A) Hilafet meselesi
- B) Allah'ın sıfatları
- C) İnsan iradesi ve özgürlüğü
- D) Kadının toplumsal konumu

17. Aşağıdakilerden hangisi kelam ilminin ele aldığı konulardan biri değildir?

- A) Ahiretin varlığı
- B) Kötülük problemi
- C) Hidayet ve dalalet
- D) Nesh meselesi

18. Tanrının birden çok olduğunu savunan; putlar, atalar, tabiat güçleri, hayvanlar gibi farklı varlıkların da ilahlaştırılmasının sonucu ortaya çıkan inançtır.

Tanımı verilen kavram aşağıdakilerden hangisidir?

- A) Politeizm
- B) Monoteizm
- C) Deizm
- D) Agnostisizm

19. Allah ile beraber başka tanrılara inanmaya - - - - , bu inanca sahip olanlara da - - - - denir.

Bu cümlede boşluklara getirilmesi gereken kavramlar aşağıdakilerden hangisidir?

- A) nifak - münafık
- B) küfür - kâfir
- C) şirk - müşrik
- D) fisk - fask

20. "Sana ne iyilik gelirse Allah'tandır. Sana ne kötülük gelirse de kendindir..."

(Nisâ suresi, 79. ayet)

• "İnsanların bizzat kendi işledikleri kötülükler sebebiyle karada ve denizde düzen bozuldu ki Allah yaptıklarının bir kısmını onlara tattırsın; belki de tuttıkları kötü yoldan dönerler."

(Rûm suresi, 41. ayet)

• "Şüphesiz Allah hiç kimseye zerre kadar zulmetmez. Yapılan çok küçük bir iyilik de olsa onun sevabını kat kat artırır ve kendi katından büyük bir mükâfat verir."

(Nisâ suresi, 40. ayet)

Bu ayetler kelimde tartışılan aşağıdaki konulardan hangisine örnek oluşturur?

- A) Emek ve rızık
- B) Hüsün ve kubuh
- C) Ecel ve Ölüm
- D) Helal ve haram

### (932) SİYER – 2

1. Zerdüştlüğün diğer adı aşağıdakilerden hangisidir?

- A) Haniflik
- B) Mecusilik
- C) Putperestlik
- D) Sabîlik

2. İlk vahiy ile ilgili aşağıdaki bilgilerden hangisi yanlıştır?

- A) 620 yılında nazil olmuştur.
- B) Hira Mağarası'nda gelmiştir.
- C) Ramazan ayında indirilmiştir.
- D) Alak suresinin ilk beş ayetidir.

3. Hz. Peygamber, ilk vahiy geldikten sonra başından geçen olayları anlattığında bunların peygamberlik işaretleri olduğunu söyleyen kişi aşağıdakilerden hangisidir?

- A) Ebu Talip
- B) Hz. Ebu Bekir
- C) Rahip Bahira
- D) Varaka b. Nevfel

4. Aşağıdakilerden hangisi peygamberlerde bulunması gereken özelliklerden biri değildir?

- A) Akıllı ve zeki olmak
- B) Güvenilir olmak
- C) Zengin olmak
- D) Doğru sözlü olmak

5. Hz. Muhammed'in (sav.) peygamberliği sürecinde "Fetret-i vahiy" olayı ne zaman yaşanmıştır?

- A) Alak suresi, 1-5. ayetlerinin indirilişinden sonra
- B) Müslümanlara boykot uygulanmasından sonra
- C) Bedir ve Uhut savaşları arasındaki sürede
- D) Mekke'den Medine'ye hicret esnasında

6. Ümeyye b. Halef'ten, Bilâl-i Habeşî'yi satın alarak kölelikten kurtaran sahabe hangisidir?

- A) Zübeyr b. Avam
- B) Hz. Osman
- C) Hz. Ömer
- D) Hz. Ebu Bekir

7. Hz. Peygamber'in kızlarından hangisi Habeşistan'a yapılan ilk hicrette yer almıştır?

- A) Hz. Zeynep
- B) Hz. Rukayya
- C) Hz. Ümmü Gülsüm
- D) Hz. Fatıma

8. 617 yılında Habeşistan'a hicret eden kafilere aşağıdaki sahabelerden hangisi başkanlık etmiştir?

- A) Osman b. Afvan
- B) Abdurrahman b. Avf
- C) Cafer b. Ebi Talip
- D) Abdullah b. Mes'ud

9. Hz. Peygamber'i öldürmeye giderken uğradığı kız kardeşinin evinde okunan Hadid suresinden etkilenip Hz. Muhammed'in (sav.) huzurunda İslam'ı seçen sahabe kimdir?

- A) Hz. Halid b. Velid
- B) Hz. Hamza
- C) Hz. Mus'ab b. Umeyr
- D) Hz. Ömer

10. • Müslümanlara merhamet edilmeyecek  
• Müslümanların evlerine ziyarete gidilmeyecek  
• Müslüman ailelerinden kız alınıp verilmeyecek

Müşriklerin aldığı bu kararlar aşağıdakilerden hangisi ile ilgilidir?

- A) Hıf'ul Fudul
- B) Boykot uygulaması
- C) Medine Sözleşmesi
- D) Hudeybiye Antlaşması

## 2. OTURUM

11. Aşağıdakilerden hangisi Yahudilerin İslam öncesinde yoğunlukla yaşadığı yerlerden biri değildir?

- A) Mekke B) Hayber  
C) Vadi'l-Kura D) Medine

12. Aşağıdaki surelerden hangisinin ilk ayetleri nazil olduktan sonra Hz. Peygamber, en yakınlarını İslam'a davet etmiştir?

- A) Alak B) Müddessir  
C) Hicr D) Fatiha

13. Aşağıdakilerden hangisi Hz. Muhammed'in (sav.) İslam'a davetine karşı çıkıp tepki gösterenlerden biri değildir?

- A) Ebu Talib  
B) Ebu Cehil  
C) Ebu Leheb  
D) Ümeyye b. Halef

14. Aşağıdakilerden hangisi Mescid-i Nebi'de Suffe ehline ders veren sahabeler arasında yer almaz?

- A) Abdullah b. Mesud  
B) Ubey b. Ka'b  
C) Muaz b. Cebel  
D) Ebu Hureyre

15. Aşağıdakilerden hangisi Mute Savaşı'nda şehit olan komutanlardan biri değildir?

- A) Zeyd b. Harise  
B) Cafer b. Ebu Talip  
C) Halid b. Velid  
D) Abdullah b. Revaha

16. Medine'den sürülen Yahudiler çoğunlukla aşağıdaki şehirlerden hangisine yerleşmişlerdir?

- A) Taif B) Hayber  
C) Bağdat D) Şam

17. Peygamberlerin akıllı ve zeki olmalarını ifade eden kavram aşağıdakilerden hangisidir?

- A) Emanet B) Tebliğ  
C) İsmet D) Fetanet

18. Hz. Peygamber'in hükümdarlara gönderdiği İslam'a çağrı mektuplarında aşağıdakilerden hangisi yer almaz?

- A) Kendisinin Allah tarafından gönderilen bir peygamber olduğunun kabul edilmesi  
B) Çağrıya uymayan yöneticilerin, halklarının da günahlarını yüklenmiş olacakları  
C) Çağrısı kabul edilmediği takdirde kendilerine savaş açılacağı  
D) Yöneticilerin ve halkların Allah'a şirk koşmayı bırakıp İslam'ı kabul etmesi

19. Hz. Ebu Bekir, aşağıdakilerden hangisi ile nitelenmiştir?

- A) Sıddık  
B) Faruk  
C) Zinnureyn  
D) Zü'l-karneyn

20. İslam tarihinde ilk nüfus sayımı aşağıdaki şehirlerin hangisinde yapılmıştır?

- A) Mekke B) Medine  
C) Kudüs D) Şam

### (975) SEÇ. GİRİŞİMCİLİK – 2

1. Aşağıda verilen etmenlerden hangisi bir işletmenin dış çevresinde yer alır?

- A) İş gücü B) Personel  
C) Üretim D) Finans

2. Çelik üretiminde kullanılan pik demir, hangi tür üretim mallarındandır?

- A) Hammaddeler  
B) Yatırım donatım malları  
C) Üretim gereçleri ve malları  
D) Yardımcı araçlar

3. Çevre ile ilgili kalite belgesi aşağıdakilerden hangisidir?

- A) ISO 8000 B) ISO 9000  
C) ISO 14000 D) ISO 22000

4. Bir şirketin diğer işletmelere ait hisse senetlerine sahip olması yolu ile onları finansal ve yönetim olarak kontrolüne alma biçimine ne ad verilir?

- A) Tröst B) Holding  
C) Kartel D) Konsorsiyum

5. "Hizmet işletmesi reklamı" hangi reklam çeşidi kapsamında değerlendirilmelidir?

- A) Reklam içeriği açısından  
B) Hedef kitle açısından  
C) Amaçlar açısından  
D) Yapanlar açısından

6. Aşağıdakilerden hangisi günümüzde müteşebbisliğin çok önemli bir konuma sahip olmasının nedenlerinden biri olarak gösterilemez?

- A) İthalatın artmasını sağlar.  
B) Kamu hizmetlerinin kalitesini artırır.  
C) Vergi gelirlerinin artmasını sağlar.  
D) Alt yapı hizmetlerinin giderilmesini sağlar.

7. Aşağıdakilerden hangisi bir işletmenin kuruluş yeri etmenlerinden birisi olarak düşünülemez?

- A) Sermaye faizi  
B) Askeri tehlike  
C) Personel giderleri  
D) Sosyal kültürel şartlar

8. Maslow'un ihtiyaçlar hiyerarşisine göre, bir insanın saygı ihtiyaçlarından sonra ortaya çıkacak ihtiyaçları aşağıdakilerden hangisidir?

- A) Fizyolojik  
B) Başarma  
C) Güvenlik  
D) Sevgi ve ait olma

9. Giyim mağazaları hangi tür işletmelere örnektir?

- A) Finans işletmeleri  
B) Kiralama işletmeleri  
C) Ticaret işletmeleri  
D) Sanayi işletmeleri

10. Bir kişinin araba satın alması aşağıdakilerden hangisine örnek teşkil eder?

- A) Arz B) Talep  
C) İstek D) Piyasa

11. Aşağıdakilerden hangisi franchising türü değildir?

- A) Ürün ve marka franchisingi  
B) Uluslararası franchising  
C) Ulusal franchising  
D) Patent franchisingi

## 2. OTURUM

12. Aşağıdakilerden hangisi fizibilite etüdünün yapılaş amaçlarından-dır?

- A) Araştırma giderlerini artırmak
- B) İşletmenin hangi büyüklükte ve nerede kurulacağını belirlemek
- C) Prototip üretimi yapacak tesisi kurmak
- D) Müşterilerden gelen şikayetleri dinlemek

13. Mal ya da hizmetleri bireysel gereksinimleri için alanlara "son tüketici" denir.

**Bu tanıma göre, aşağıdakilerden hangisi son tüketicidir?**

- A) Normal insanlar
- B) Fabrikatörler
- C) Girişimciler
- D) Robotlar

14. Aşağıdakilerden hangisi kamu işletmesi değildir?

- A) Özel bütçeli işletmeler
- B) Kooperatifler
- C) Kamu İktisadi Teşekkülleri
- D) Özerk Bütçeli Devlet İşletmeleri

15. Aşağıdakilerden hangisi, iyi bir iş planının girişimciye sağlayacağı yararlarından biri değildir?

- A) Yatırım kararı almış girişimciye rehberlik eder.
- B) İşletmenin pazara yakınlığını sağlar.
- C) Girişimcilerin ve çalışanların dikkatini amaca yöneltir.
- D) İşletmenin pozisyonunu gösterir.

16. Aşağıdakilerden hangisi, hukuki şekilleri bakımından işletmeler grubunda yer almaz?

- A) Ticaret İşletmeleri
- B) Özel İşletmeler
- C) Kamu İşletmeleri
- D) Yabancı Sermayeli İşletmeler

17. Aşağıdaki bankalardan hangisi, ülkemizdeki KOBİ'lere (küçük ve orta büyüklükteki işletmeler) en büyük kredi desteği veren kuruluştur?

- A) Sümerbank
- B) Ziraat Bankası
- C) Türk Eximbank
- D) Türkiye Halk Bankası

18. Özel bir girişimcinin yapacağı yatırıma temel oluşturacak ön projelerin değerlendirilmesinde ana ölçüt, aşağıdakilerden hangisidir?

- A) İstihdam
- B) Üretim temel süreçleri
- C) Projenin yöre için önemi
- D) Girişimin sağlayacağı kâr

19. Türk Ticaret Kanunu'na göre; bir ticari işletmeyi kısmen de olsa kendi adına işleten kişiye ne ad verilir?

- A) İşletmeci
- B) Müdür
- C) Tacir
- D) İşçi

20. İnternet girişimciliğinde paranın yerini, aşağıdakilerden hangisi almıştır?

- A) Hazine bonoları
- B) Kredi kartları
- C) Senet
- D) Çek

### (998) MATEMATİK – 1

1. Aşağıdaki önermelerden hangisinin doğruluk değeri 0 (sıfır) dır?

- A) p : "İki basamaklı en küçük doğal sayı 10'dur."
- B) r : "Bir hafta 7 gündür."
- C) s : "100 çift sayıdır."
- D) t : "3 > 5'tir."

2.  $(p \vee p) \Rightarrow (q \wedge 1)$  ifadesinin en sade şekli aşağıdakilerden hangisidir?

- A) p
- B) q
- C)  $p \Rightarrow q$
- D)  $p \vee q$

3.  $M = \{1, \{2, 3\}, 4, \{5\}\}$  kümesinin alt küme sayısı kaçtır?

- A) 8
- B) 16
- C) 32
- D) 64

4.  $(A' \cup B)' \cap B$  ifadesinin eşiti aşağıdakilerden hangisidir?

- A)  $\emptyset$
- B) E
- C) A
- D) B

5. Bir sınıftaki 22 öğrenciden 14'ü fizik dersinden, 15'i matematik dersinden başarılı olmuştur.

**Buna göre bu iki dersten başarılı olan öğrenci sayısı en az kaç olabilir?**

- A) 6
- B) 7
- C) 8
- D) 9

6.  $\sqrt{5}$  sayısı aşağıdaki kümelerden hangisinin elemanıdır?

- A)  $\mathbb{N}$
- B)  $\mathbb{Z}$
- C)  $\mathbb{Q}$
- D)  $\mathbb{Q}'$

7. a ve b doğal sayılar olmak üzere  $a + b = 10$  ise a·b ifadesinin en büyük değeri kaçtır?

- A) 25
- B) 30
- C) 35
- D) 40

8.  $4x - 7 = 11 - 2x$  denkleminin çözüm kümesi aşağıdakilerden hangisidir?

- A) {4}
- B) {3}
- C) {2}
- D) {1}

9.  $2x + 7 < 18$  eşitsizliğini sağlayan en büyük x doğal sayısı kaçtır?

- A) 7
- B) 6
- C) 5
- D) 4

10.  $-1 < x < 4$  olduğuna göre  $|x + 1| + |4 - x|$  ifadesinin değeri kaçtır?

- A) 0
- B) 2
- C) 3
- D) 5

11.  $\begin{cases} 2x + y = 4 \\ 4x - y = 14 \end{cases}$

denklemin çözüm kümesi aşağıdakilerden hangisidir?

- A)  $\{(-2, 1)\}$
- B)  $\{(1, 2)\}$
- C)  $\{(3, -2)\}$
- D)  $\{(4, -4)\}$

## 2. OTURUM

12.  $\frac{2^{-4} + 2^{-4} + 2^{-4} + 2^{-4}}{2^{-4} \cdot 2^{-4}}$  işleminin sonucu kaçtır?

- A)  $2^2$  B)  $2^4$  C)  $2^6$  D)  $2^8$

13.  $3^{2x-1} = 27$  denklemini sağlayan x kaçtır?

- A) 4 B) 2 C) -1 D) -3

14.  $\frac{\sqrt{20} + \sqrt{5}}{\sqrt{5}}$  işleminin sonucu kaçtır?

- A) 3 B) 5  
C)  $3\sqrt{5}$  D)  $5\sqrt{5}$

15.  $\sqrt[8]{16^3} = 2^m$  olduğuna göre m kaçtır?

- A) 1 B)  $\frac{3}{2}$  C) 2 D)  $\frac{5}{2}$

16.  $\frac{x}{y} = \frac{4}{5}$  ve  $x + y = 54$  olduğuna göre y kaçtır?

- A) 12 B) 18 C) 27 D) 30

17. 3 katının 6 eksiği 24 olan sayı kaçtır?

- A) 10 B) 8 C) 6 D) 3

18. Bir su bardağının ağırlığı  $\frac{1}{3}$ 'i doluyken 160 gram,  $\frac{1}{2}$ 'i doluyken 210 gram gelmektedir.

**Buna göre bu bardak boşken ağırlığı kaç gramdır?**

- A) 40 B) 50 C) 60 D) 70

19. A kentinden B kentine saatte 100 km sabit hızla gidip, durmaksızın saatte 80 km sabit hızla A'ya geri dönen bir sürücünün bu yolculuğu toplam 9 saat sürmüştür.

**Buna göre A kentinin B kentine uzaklığı kaç kilometredir?**

- A) 400 B) 450 C) 500 D) 550

20. Bir pantolon maliyet fiyatı üzerinden % 25 kâr ile 75 liraya satılıyor.

**Buna göre bu pantolonun maliyet fiyatı kaç liradır?**

- A) 48 B) 56 C) 60 D) 70

TEST BİTTİ.

CEVAPLARINIZI KONTROL EDİNİZ.



## CEVAP KÂĞIDI VE SORU KİTAPÇIĞI İLE İLGİLİ AÇIKLAMALAR

1. Cevap kâğıdınızdaki bilgilerin doğruluğunu kontrol ediniz ve cevap kâğıdınızı mürekkepli kalemle imzalayınız.
2. Cevap kâğıdı üzerinde kodlamalarınızı siyah kurşun kalemle yapınız.
3. Değiştirmek istediğiniz bir cevabı, yumuşak silgiyle cevap kâğıdını örselemeden temizce siliniz ve yeni cevabınızı kodlayınız.
4. Soru kitapçığının sayfalarını görevlilerin uyarıları doğrultusunda kontrol ediniz, baskı hatası var ise değiştirilmesini sağlayınız.
5. Soruların çözümü için size ayrıca boş kâğıt verilmeyecektir. Soru kitapçığının içindeki boş alanları soru çözümleri için kullanabilirsiniz.
6. Her sorunun dört seçeneğinden sadece biri doğrudur. Doğru seçeneği, cevap kâğıdınızın ilgili sütununa soru numarasını dikkate alarak yuvarlağın dışına taşımadan kodlayınız. Soru kitapçığı üzerinde yapılan cevaplandırmalar dikkate alınmayacaktır.
7. Cevaplamaya istediğiniz dersin sorusundan başlayabilirsiniz. Cevabını bilmediğiniz sorular üzerinde fazla zaman kaybetmeden diğer sorulara geçiniz. Zamanınız kalırsa bu sorulara daha sonra dönebilirsiniz.
8. Yanlış cevaplarınız dikkate alınmadan sadece doğru cevaplarınız üzerinden puanlama yapılacaktır.
9. Soruları ve sorulara verdiğiniz cevapları, yanınızda götürmek amacıyla kaydetmeyiniz; hiçbir şekilde dışarı çıkarmayınız.
10. Sınav bitiminde soru kitapçığı ve cevap kâğıdını salon görevlilerine teslim ediniz.

## SALON GÖREVLİLERİNCE SINAV BAŞLAMADAN ÖNCE ADAYLARA YAPILACAK SON UYARILAR

- Soracağınız bir şey varsa şimdi sorunuz, sınav başladıktan sonra sorularınıza cevap verilmeyecektir.
- Başlama zilini bekleyiniz.

*Hepinize başarılar dileriz.*

(Salon başkanı başlama ve bitiş saatini tahtaya yazacaktır.)

Bu kitapçığın her hakkı saklıdır. Hangi amaçla olursa olsun, kitapçığın tamamının veya bir kısmının Millî Eğitim Bakanlığı Ölçme, Değerlendirme ve Sınav Hizmetleri Genel Müdürlüğü'nün yazılı izni olmadan kopya edilmesi, fotoğraflarının çekilmesi, bilgisayar ortamına alınması, herhangi bir yolla çoğaltılması, yayımlanması veya başka bir amaçla kullanılması yasaktır. Bu yasağa uymayanlar, doğabilecek cezai sorumluluğu ve kitapçığın hazırlanmasındaki mali külfeti peşinen kabullenmiş sayılır.



**6 EKİM 2018 TARİHİNDE YAPILAN  
AÇIKÖĞRETİM LİSESİ / MESLEKİ AÇIKÖĞRETİM LİSESİ /  
AÇIKÖĞRETİM İMAM HATİP LİSESİ  
2017-2018 ÖĞRETİM YILI EK SINAV 2. OTURUM T KİTAPÇIĞI CEVAP ANAHTARI**

(113) DİN KÜL. AHL.  
BİL. – 3

1. D
2. C
3. A
4. B
5. D
6. C
7. B
8. A
9. B
10. A
11. B
12. A
13. C
14. D
15. A
16. D
17. A
18. D
19. B
20. C

(117) DİN KÜL. AHL.  
BİL. – 7

1. D
2. C
3. B
4. A
5. D
6. A
7. C
8. B
9. D
10. B
11. D
12. C
13. B
14. C
15. A
16. D
17. B
18. C
19. A
20. D

(122) FELSEFE – 2

1. C
2. B
3. A
4. D
5. B
6. C
7. D
8. D
9. A
10. D
11. A
12. B
13. C
14. A
15. B
16. A
17. D
18. C
19. C
20. B

(131) TARİH – 1

1. A
2. C
3. B
4. A
5. D
6. D
7. A
8. C
9. B
10. D
11. A
12. B
13. C
14. B
15. D
16. A
17. C
18. A
19. C
20. D

(116) DİN KÜL.  
AHL. BİL. – 6

1. C
2. D
3. A
4. C
5. B
6. C
7. A
8. D
9. B
10. D
11. A
12. B
13. D
14. C
15. A
16. B
17. C
18. D
19. A
20. B

(118) DİN KÜL. AHL.  
BİL. – 8

1. B
2. D
3. A
4. D
5. C
6. A
7. D
8. C
9. B
10. C
11. B
12. A
13. C
14. D
15. A
16. B
17. D
18. C
19. B
20. A

(124) SEÇ. FELSEFE – 2

1. C
2. D
3. A
4. B
5. C
6. B
7. D
8. A
9. D
10. B
11. C
12. A
13. A
14. C
15. B
16. D
17. C
18. A
19. B
20. D

(134) TARİH – 4

1. A
2. B
3. D
4. C
5. B
6. A
7. B
8. C
9. A
10. B
11. D
12. C
13. B
14. A
15. C
16. D
17. D
18. B
19. A
20. A

**6 EKİM 2018 TARİHİNDE YAPILAN  
AÇIKÖĞRETİM LİSESİ / MESLEKİ AÇIKÖĞRETİM LİSESİ /  
AÇIKÖĞRETİM İMAM HATİP LİSESİ  
2017-2018 ÖĞRETİM YILI EK SINAV 2. OTURUM T KİTAPÇIĞI CEVAP ANAHTARI**

**(135) SEÇMELİ TARİH – 1**

1. A
2. D
3. B
4. D
5. B
6. C
7. A
8. C
9. D
10. B
11. A
12. A
13. D
14. C
15. B
16. B
17. D
18. A
19. C
20. D

**(152) COĞRAFYA – 2**

1. C
2. B
3. C
4. B
5. D
6. D
7. A
8. A
9. C
10. B
11. C
12. B
13. A
14. D
15. B
16. C
17. A
18. A
19. D
20. D

**(156) SEÇMELİ  
COĞRAFYA – 2**

1. A
2. D
3. B
4. B
5. C
6. A
7. A
8. C
9. D
10. B
11. B
12. D
13. D
14. C
15. A
16. C
17. B
18. A
19. C
20. D

**(182) İNGİLİZCE – 2**

1. C
2. B
3. B
4. A
5. D
6. C
7. B
8. A
9. C
10. D
11. B
12. D
13. C
14. A
15. D
16. C
17. C
18. A
19. A
20. D

**(141) T.C. İNK.  
TAR. ATA. – 1**

1. C
2. B
3. A
4. A
5. D
6. B
7. C
8. D
9. B
10. D
11. C
12. A
13. D
14. B
15. C
16. A
17. B
18. D
19. B
20. C

**(154) COĞRAFYA – 4**

1. A
2. C
3. B
4. D
5. B
6. C
7. B
8. D
9. A
10. C
11. D
12. A
13. C
14. A
15. B
16. D
17. A
18. D
19. C
20. B

**(164) MATEMATİK – 4**

1. D
2. A
3. C
4. B
5. A
6. D
7. B
8. A
9. D
10. D
11. A
12. C
13. D
14. A
15. B
16. B
17. C
18. D
19. A
20. C

**(182) ALMANCA – 2**

1. C
2. B
3. A
4. C
5. C
6. D
7. A
8. B
9. A
10. D
11. B
12. D
13. C
14. D
15. A
16. C
17. D
18. A
19. B
20. B

**6 EKİM 2018 TARİHİNDE YAPILAN  
AÇIKÖĞRETİM LİSESİ / MESLEKİ AÇIKÖĞRETİM LİSESİ /  
AÇIKÖĞRETİM İMAM HATİP LİSESİ  
2017-2018 ÖĞRETİM YILI EK SINAV 2. OTURUM T KİTAPÇIĞI CEVAP ANAHTARI**

(182) FRANSIZCA – 2

1. C
2. B
3. B
4. D
5. A
6. D
7. C
8. D
9. B
10. A
11. D
12. D
13. A
14. B
15. C
16. A
17. C
18. B
19. B
20. A

(208) SEÇMELİ  
SOSYOLOJİ – 1

1. A
2. C
3. D
4. B
5. C
6. A
7. B
8. C
9. A
10. C
11. A
12. D
13. A
14. B
15. D
16. C
17. B
18. D
19. D
20. B

(243) İNGİLİZCE – 4

1. C
2. B
3. A
4. D
5. C
6. B
7. D
8. A
9. C
10. B
11. C
12. B
13. D
14. A
15. B
16. B
17. D
18. C
19. A
20. D

(243) FRANSIZCA – 4

1. D
2. A
3. C
4. B
5. B
6. A
7. C
8. C
9. A
10. D
11. B
12. C
13. B
14. D
15. A
16. C
17. C
18. D
19. B
20. A

(207) SEÇMELİ  
PSİKOLOJİ – 2

1. D
2. C
3. B
4. A
5. D
6. A
7. B
8. B
9. D
10. A
11. D
12. C
13. A
14. B
15. A
16. C
17. A
18. B
19. C
20. D

(221) SAĞLIK BİLGİSİ VE  
TRAFİK KÜLTÜRÜ – 1

1. A
2. D
3. C
4. B
5. D
6. B
7. A
8. C
9. A
10. B
11. B
12. D
13. B
14. C
15. A
16. D
17. B
18. A
19. D
20. C

(243) ALMANCA – 4

1. C
2. A
3. B
4. A
5. D
6. C
7. C
8. D
9. B
10. D
11. A
12. D
13. B
14. A
15. A
16. D
17. B
18. C
19. B
20. C

(403) DİL ve ANLATIM – 3

1. C
2. B
3. D
4. C
5. A
6. D
7. B
8. A
9. A
10. D
11. D
12. C
13. B
14. A
15. D
16. C
17. A
18. B
19. B
20. D

**6 EKİM 2018 TARİHİNDE YAPILAN  
AÇIKÖĞRETİM LİSESİ / MESLEKİ AÇIKÖĞRETİM LİSESİ /  
AÇIKÖĞRETİM İMAM HATİP LİSESİ  
2017-2018 ÖĞRETİM YILI EK SINAV 2. OTURUM T KİTAPÇIĞI CEVAP ANAHTARI**

**(404) DİL ve ANLATIM – 4**

1. D
2. B
3. A
4. C
5. B
6. D
7. C
8. A
9. B
10. C
11. B
12. C
13. D
14. B
15. A
16. D
17. D
18. C
19. B
20. D

**(411) TÜRK EDEBİYATI – 1**

1. B
2. D
3. A
4. C
5. D
6. A
7. D
8. A
9. D
10. B
11. B
12. C
13. D
14. A
15. B
16. C
17. C
18. C
19. D
20. A

**(415) TÜRK EDEBİYATI – 5**

1. C
2. A
3. B
4. D
5. C
6. B
7. D
8. A
9. A
10. B
11. B
12. C
13. D
14. C
15. C
16. D
17. A
18. B
19. D
20. D

**(422) FİZİK – 2**

1. B
2. C
3. D
4. D
5. C
6. C
7. D
8. A
9. D
10. B
11. A
12. A
13. B
14. B
15. A
16. A
17. C
18. B
19. D
20. D

**(406) DİL ve ANLATIM – 6**

1. D
2. C
3. A
4. C
5. D
6. A
7. B
8. C
9. D
10. B
11. D
12. C
13. A
14. B
15. A
16. A
17. B
18. C
19. C
20. D

**(412) TÜRK EDEBİYATI – 2**

1. C
2. A
3. B
4. D
5. D
6. A
7. B
8. A
9. C
10. D
11. D
12. C
13. B
14. D
15. C
16. C
17. C
18. A
19. B
20. B

**(416) TÜRK EDEBİYATI – 6**

1. C
2. B
3. A
4. C
5. D
6. B
7. D
8. A
9. C
10. D
11. B
12. A
13. D
14. C
15. B
16. B
17. A
18. A
19. D
20. D

**(423) FİZİK – 3**

1. B
2. A
3. C
4. A
5. D
6. A
7. B
8. C
9. A
10. B
11. D
12. C
13. B
14. C
15. B
16. D
17. B
18. A
19. B
20. A

**6 EKİM 2018 TARİHİNDE YAPILAN  
AÇIKÖĞRETİM LİSESİ / MESLEKİ AÇIKÖĞRETİM LİSESİ /  
AÇIKÖĞRETİM İMAM HATİP LİSESİ  
2017-2018 ÖĞRETİM YILI EK SINAV 2. OTURUM T KİTAPÇIĞI CEVAP ANAHTARI**

**(424) FİZİK – 4**

1. D
2. A
3. B
4. D
5. B
6. D
7. A
8. C
9. D
10. A
11. B
12. B
13. A
14. D
15. C
16. C
17. B
18. A
19. C
20. A

**(433) KİMYA – 3**

1. A
2. B
3. B
4. A
5. D
6. C
7. B
8. C
9. D
10. D
11. B
12. D
13. C
14. C
15. A
16. B
17. C
18. A
19. B
20. D

**(444) BİYOLOJİ – 4**

1. C
2. A
3. C
4. D
5. C
6. A
7. D
8. B
9. A
10. B
11. D
12. C
13. B
14. C
15. A
16. B
17. D
18. A
19. D
20. D

**(455) SEÇ. DEMOKRASİ VE  
İNSAN HAKLARI – 1**

1. D
2. B
3. D
4. A
5. D
6. B
7. A
8. C
9. D
10. B
11. A
12. C
13. A
14. C
15. B
16. D
17. A
18. C
19. B
20. C

**(431) KİMYA – 1**

1. D
2. B
3. A
4. D
5. D
6. B
7. A
8. D
9. A
10. C
11. D
12. C
13. B
14. A
15. B
16. C
17. B
18. B
19. A
20. C

**(442) BİYOLOJİ – 2**

1. A
2. D
3. C
4. B
5. D
6. A
7. C
8. D
9. C
10. A
11. C
12. C
13. A
14. B
15. B
16. D
17. D
18. B
19. A
20. B

**(451) SEÇMELİ  
ÇAĞDAŞ TÜRK  
VE DÜN. TAR – 1**

1. A
2. B
3. C
4. A
5. D
6. C
7. B
8. D
9. B
10. A
11. C
12. B
13. C
14. A
15. D
16. C
17. B
18. D
19. A
20. B

**(466) TEMEL DİNİ BİL. – 2**

1. B
2. C
3. A
4. D
5. C
6. B
7. A
8. D
9. A
10. D
11. C
12. C
13. B
14. C
15. D
16. A
17. B
18. D
19. C
20. A

**6 EKİM 2018 TARİHİNDE YAPILAN  
AÇIKÖĞRETİM LİSESİ / MESLEKİ AÇIKÖĞRETİM LİSESİ /  
AÇIKÖĞRETİM İMAM HATİP LİSESİ  
2017-2018 ÖĞRETİM YILI EK SINAV 2. OTURUM T KİTAPÇIĞI CEVAP ANAHTARI**

**(476) SEÇMELİ  
İŞLETME – 1**

1. C
2. D
3. B
4. A
5. D
6. A
7. C
8. B
9. D
10. B
11. B
12. A
13. C
14. D
15. C
16. A
17. C
18. B
19. A
20. D

**(483) SAĞLIK BİLGİSİ – 1**

1. C
2. D
3. A
4. B
5. A
6. C
7. B
8. C
9. D
10. B
11. C
12. A
13. B
14. D
15. D
16. A
17. D
18. B
19. D
20. A

**(501) İNGİLİZCE – 7**

1. B
2. A
3. D
4. C
5. B
6. D
7. A
8. C
9. B
10. A
11. B
12. A
13. C
14. B
15. D
16. A
17. D
18. B
19. C
20. D

**(501) FRANSIZCA – 7**

1. A
2. C
3. D
4. B
5. B
6. C
7. C
8. A
9. D
10. C
11. D
12. A
13. B
14. C
15. B
16. A
17. D
18. A
19. C
20. B

**(481) SEÇMELİ  
SANAT TARİHİ – 1**

1. B
2. D
3. A
4. C
5. A
6. D
7. B
8. A
9. C
10. B
11. B
12. C
13. A
14. B
15. D
16. C
17. A
18. B
19. C
20. D

**(492) TRAF. VE İLK  
YARD. – 2**

1. C
2. B
3. A
4. C
5. A
6. B
7. D
8. B
9. D
10. C
11. D
12. B
13. A
14. B
15. C
16. B
17. A
18. C
19. A
20. D

**(501) ALMANCA – 7**

1. B
2. C
3. D
4. B
5. A
6. C
7. A
8. D
9. D
10. B
11. C
12. A
13. D
14. B
15. A
16. C
17. B
18. C
19. D
20. A

**(512) FIKİH – 2**

1. B
2. D
3. A
4. C
5. B
6. D
7. A
8. D
9. C
10. B
11. C
12. A
13. D
14. A
15. C
16. B
17. A
18. C
19. B
20. D

**6 EKİM 2018 TARİHİNDE YAPILAN  
AÇIKÖĞRETİM LİSESİ / MESLEKİ AÇIKÖĞRETİM LİSESİ /  
AÇIKÖĞRETİM İMAM HATİP LİSESİ  
2017-2018 ÖĞRETİM YILI EK SINAV 2. OTURUM T KİTAPÇIĞI CEVAP ANAHTARI**

(531) SEÇ. PEYGAMBERİMİZİN  
HAYATI – 1

1. B
2. A
3. C
4. D
5. C
6. A
7. B
8. A
9. C
10. D
11. D
12. A
13. B
14. A
15. D
16. C
17. D
18. A
19. B
20. C

(612) KARŞ. DİN. TAR. – 2

1. C
2. D
3. C
4. B
5. D
6. A
7. B
8. A
9. D
10. B
11. A
12. C
13. A
14. B
15. C
16. D
17. B
18. A
19. C
20. D

(625) SEÇ. TÜRK ED. – 5

1. B
2. D
3. B
4. A
5. A
6. D
7. C
8. A
9. D
10. A
11. B
12. A
13. A
14. C
15. D
16. B
17. C
18. C
19. A
20. B

(818) AKAIİD – 2

1. B
2. A
3. D
4. B
5. C
6. D
7. C
8. B
9. C
10. A
11. D
12. A
13. D
14. B
15. A
16. B
17. C
18. B
19. A
20. D

(534) SEÇ. PEYGAMBERİMİZİN  
HAYATI – 4

1. B
2. A
3. C
4. B
5. D
6. C
7. D
8. B
9. C
10. A
11. C
12. A
13. C
14. D
15. A
16. B
17. C
18. A
19. D
20. B

(615) SEÇ. DİL VE  
ANLATIM. – 5

1. D
2. A
3. C
4. B
5. C
6. A
7. C
8. C
9. B
10. D
11. B
12. A
13. B
14. C
15. D
16. A
17. D
18. B
19. A
20. C

(714) İSLAM KÜLTÜR VE  
MEDENİYETİ – 2

1. C
2. D
3. B
4. D
5. C
6. D
7. A
8. C
9. B
10. A
11. C
12. B
13. D
14. B
15. A
16. D
17. A
18. C
19. B
20. A

(820) KELAM – 2

1. B
2. C
3. A
4. B
5. D
6. B
7. D
8. A
9. C
10. A
11. C
12. B
13. C
14. D
15. B
16. D
17. D
18. A
19. C
20. B

**6 EKİM 2018 TARİHİNDE YAPILAN  
AÇIKÖĞRETİM LİSESİ / MESLEKİ AÇIKÖĞRETİM LİSESİ /  
AÇIKÖĞRETİM İMAM HATİP LİSESİ  
2017-2018 ÖĞRETİM YILI EK SINAV 2. OTURUM T KİTAPÇIĞI CEVAP ANAHTARI**

**(932) SİYER – 2**

1. B
2. A
3. D
4. C
5. A
6. D
7. B
8. C
9. D
10. B
11. A
12. B
13. A
14. D
15. C
16. B
17. D
18. C
19. A
20. B

**(975) SEÇ.  
GİRİŞİMCİLİK – 2**

1. A
2. C
3. C
4. B
5. D
6. A
7. C
8. B
9. C
10. B
11. D
12. B
13. A
14. B
15. B
16. A
17. D
18. D
19. C
20. B

**(998) MATEMATİK – 1**

1. D
2. C
3. B
4. A
5. B
6. D
7. A
8. B
9. C
10. D
11. C
12. C
13. B
14. A
15. B
16. D
17. A
18. C
19. A
20. C