

# LGS

## Çalışma Kitabı

LGS'de Çıkmış Sorular ve  
MEB Örnek Soruları

**SÖZEL**

Türkçe

T.C. İnkılap Tarihi ve Atatürkçülük





Din Kültürü ve Ahlak Bilgisi

İngilizce



[www.meb.gov.tr](http://www.meb.gov.tr)

Bu kitap Milli Eğitim Bakanlığı  
Ölçme Değerlendirme ve Sınav Hizmetleri Genel Müdürlüğü tarafından hazırlanmıştır.



# LGS

## Çalışma Kitabı

LGS'de Çıkmış Sorular ve  
MEB Örnek Soruları

### SÖZEL

Türkçe

TC. İnkılap Tarihi ve Atatürkçülük

Din Kültürü ve Ahlak Bilgisi

İngilizce



[www.meb.gov.tr](http://www.meb.gov.tr)

Bu kitap Millî Eğitim Bakanlığı

Ölçme Değerlendirme ve Sınav Hizmetleri Genel Müdürlüğü tarafından hazırlanmıştır.





## İSTİKLÂL MARŞI

Korkma, sönmez bu şafaklarda yüzen al sancak;  
Sönmeden yurdumun üstünde tüten en son ocak.  
O benim milletimin yıldızıdır, parlayacak;  
O benimdir, o benim milletimindir ancak.

Çatma, kurban olayım, çehreni ey nazlı hilâl!  
Kahraman ırkıma bir gül! Ne bu şiddet, bu celâl!  
Sana olmaz dökülen kanlarımız sonra helâl.  
Hakkıdır Hakk'a tapan milletimin istiklâl.

Ben ezelden beridir hür yaşadım, hür yaşarım.  
Hangi çılgın bana zincir vuracakmış? Şaşarım!  
Kükremiş sel gibiyim, bendimi çiğner, aşarım.  
Yırtarım dağları, enginlere sığmam, taşarım.

Garbın âfâkını sarmışsa çelik zırhlı duvar,  
Benim iman dolu göğsüm gibi serhaddim var.  
Ulusun, korkma! Nasıl böyle bir imanı boğar,  
Medeniyet dediğin tek dişi kalmış canavar?

Arkadaş, yurduma alçakları uğratma sakın;  
Siper et gövdeni, dursun bu hayâsızca akın.  
Doğacaktır sana va'dettiği günler Hakk'ın;  
Kim bilir, belki yarın, belki yarından da yakın.

Bastığın yerleri toprak diyerek geçme, tanı:  
Düşün altındaki binlerce kefensiz yatanı.  
Sen şehit oğlusun, incitme, yazıktır, atanı:  
Verme, dünyaları alsan da bu cennet vatanı.

Kim bu cennet vatanın uğruna olmaz ki feda?  
Şüheda fişkırarak toprağı sıksan, şüheda!  
Cânı, cânânı, bütün varımı alsın da Huda,  
Etmesin tek vatanımdan beni dünyada cüda.

Ruhumun senden İlahî, şudur ancak emeli:  
Değmesin mabedimin göğsüne nâmahrem eli.  
Bu ezanlar -ki şehadetleri dinin temeli-  
Ebedî yurdumun üstünde benim inlemeli.

O zaman vecd ile bin secde eder -varsa- taşım,  
Her cerâhamdan İlahî, boşanıp kanlı yaşım,  
Fışkırır ruh-ı mücerret gibi yerden na'sım;  
O zaman yükselerek arşa değer belki başım.

Dalgalan sen de şafaklar gibi ey şanlı hilâl!  
Olsun artık dökülen kanlarımın hepsi helâl.  
Ebediyyen sana yok, ırkıma yok izmihlâl;  
Hakkıdır hür yaşamış bayrağımın hürriyyet;  
Hakkıdır Hakk'a tapan milletimin istiklâl!

**Mehmet Âkif Ersoy**


## GENÇLİĞE HİTABE

Ey Türk gençliği! Birinci vazifen, Türk istiklâlini, Türk Cumhuriyetini, ilelebet muhafaza ve müdafaa etmektir.

Mevcudiyetinin ve istikbalinin yegâne temeli budur. Bu temel, senin en kıymetli hazinendir. İstikbalde dahi, seni bu hazineden mahrum etmek isteyecek dâhilî ve hâricî bedhahların olacaktır. Bir gün, istiklâl ve cumhuriyeti müdafaa mecburiyetine düşersen, vazifeye atılmak için, içinde bulunacağın vaziyetin imkân ve şeraitini düşünmeyeceksin! Bu imkân ve şerait, çok namüsait bir mahiyette tezahür edebilir. İstiklâl ve cumhuriyetine kastedecek düşmanlar, bütün dünyada emsali görülmemiş bir galibiyetin mümessili olabilirler. Cebren ve hile ile aziz vatanın bütün kaleleri zapt edilmiş, bütün tersanelerine girilmiş, bütün orduları dağıtılmış ve memleketin her köşesi bilfiil işgal edilmiş olabilir. Bütün bu şeraitten daha elîm ve daha vahim olmak üzere, memleketin dâhilinde iktidara sahip olanlar gaflet ve dalâlet ve hattâ hıyanet içinde bulunabilirler. Hattâ bu iktidar sahipleri şahsî menfaatlerini, müstevlîlerin siyasî emelleriyle tevhit edebilirler. Millet, fakr u zaruret içinde harap ve bîtap düşmüş olabilir.

Ey Türk istikbalinin evlâdı! İşte, bu ahval ve şerait içinde dahi vazifen, Türk istiklâl ve cumhuriyetini kurtarmaktır. Muhtaç olduğun kudret, damarlarındaki asil kanda mevcuttur.

Mustafa Kemal Atatürk



MUSTAFA KEMAL ATATÜRK

# İÇİNDEKİLER

## TÜRKÇE

1. Tema	1
2. Tema	17
3. Tema	35
4. Tema	55
5. Tema	77
6. Tema	87
7. Tema	97
8. Tema	107
Cevap Anahtarı	114

## İNKILAP TARİHİ VE ATATÜRKÇÜLÜK

1. Ünite	115
2. Ünite	125
3. Ünite	139
4. Ünite	151
5. Ünite	159
6. Ünite	161
Cevap Anahtarı	163

## DİN KÜLTÜRÜ VE AHLAK BİLGİSİ

1. Ünite	165
2. Ünite	177
3. Ünite	189
4. Ünite	199
5. Ünite	205
Cevap Anahtarı	208

## İNGİLİZCE

Unit 1	209
Unit 2	223
Unit 3	233
Unit 4	247
Unit 5	257
Unit 6	269
Unit 7	277
Unit 8	285
Unit 9	289
Unit 10	291
Cevap Anahtarı	293
<b>2018-2019 Merkezî Sınav Soruları (Sözel Bölüm)</b>	295
Cevap Anahtarı	316
<b>2019-2020 Merkezî Sınav Soruları (Sözel Bölüm)</b>	317
Cevap Anahtarı	340
<b>2020-2021 Merkezî Sınav Soruları (Sözel Bölüm)</b>	341
Cevap Anahtarı	362

# 8. SINIF

# Türkçe



**1. Tema**

**Erdemler**



1. Ünlü besteci Beethoven, yirmili yaşlarının sonlarına doğru işitme sorunları yaşamaya başlamıştı. Bu sorunlar - - - - neredeyse hiçbir şey - - - - hâle gelen Beethoven'ın bu esnada yeni bir yöntem geliştirdiği söylenir. Beethoven, piyanosuna tuttuğu metal bir çubuğu - - - - kemik titreşimi yoluyla sesleri duymaya çalışıyordu. Bu yöntemde, piyanoda oluşan titreşimler metal çubuktan geçerek dişlere ulaşıyor ve buradan kafatası aracılığıyla iç kulağa iletiliyordu.

**Bu metinde boş bırakılan yerlere sırasıyla aşağıdakilerin hangisinde verilenler getirilmelidir?**

- A) çözümlenince - algılayamaz - tutarak  
B) ilerleyince - duyamaz - ısırarak  
C) ortaya çıkınca - işitemez - fırlatarak  
D) yaşanınca - sezemez - bağlayarak

2. • Ben Lecomte, Atlas Okyanusu'nu yüzme tahtası kullanmadan yüzerek geçen ilk kişidir.  
• Fransız yüzücünün 1998 yılında yaptığı bu yolculuk yetmiş üç gün sürmüştür.

**Bu iki cümlede ifade edilenlerin anlamca doğru bir biçimde birleştirilmiş hâli aşağıdakilerden hangisidir?**

- A) Atlas Okyanusu'nu yüzme tahtası kullanmadan yüzerek geçen Ben Lecomte'un 1998 yılında Fransa'da yaptığı bu yolculuk yetmiş üç gün sürmüştür.  
B) 1998'de yetmiş üç gün süren yolculuğunda Atlas Okyanusu'nu geçen ilk kişi olan Ben Lecomte adlı yüzücü, Fransız kökenlidir.  
C) Atlas Okyanusu'nu yüzme tahtası kullanmadan yüzerek geçen ilk kişi olan Fransız yüzücü Ben Lecomte, yetmiş üç gün süren bu yolculuğu 1998'de gerçekleştirmiştir.  
D) Ben Lecomte, Atlas Okyanusu'nu 1998'de yüzme tahtası kullanmadan yetmiş üç günde yüzerek geçen ilk Fransız yüzücüdür.

3. Edebiyatta ve sanatta unutulmaz dönemler vardır. Tüm iyi şair ve yazarlar, yetenekli ressam ve heykeltıraşlar ortaya çıkmak için o dönemleri beklemiştir sanki. Böyle dönemlerde, olağanüstü ikramların bulunduğu sofrada ne yiyeceğini şaşırılmış bir misafir duygusuyla "Ama haksızlık bu!" diye düşünürsünüz.

**Bu metinde yazarın "Ama haksızlık bu!" demesine sebep olan durum aşağıdakilerden hangisidir?**

- A) İyi seçeneklerin çokluğu karşısında kararsızlık yaşanması  
B) Nitelikli sanatçıların, kendi çağına denk gelmemesi  
C) Eser çeşitliliğinin, kalitenin düşmesine yol açması  
D) Bazı dönemlerin başarılı sanatçılardan yoksun olması

4. Öğretmen:

— Kitap okuyor musunuz, Ümit Bey?

Ümit Bey:

— Okumuyorum, bunun eksikliğini de hissetmiyorum.

Öğretmen:

— - - - -

**Bu konuşmada boş bırakılan yere aşağıdakilerin hangisi getirilirse Ümit Bey'in dile getirdiği durumun, çevresi üzerindeki olumsuz etkisi vurgulanmış olur?**

- A) Sizin adınıza çok üzuldüm.  
B) Ama biz hissediyoruz.  
C) İnsanlar bu durumu nasıl karşılıyor?  
D) İleride pişman olabilirsiniz.

5. 1970'li yıllardan itibaren iş dünyasında kullanılmaya başlanan el yazısı biliminden (grafoloji), başta personel seçimi olmak üzere birçok alanda yararlanılmaktadır. El yazısı bilimi sayesinde herhangi birinin kişilik özellikleri hakkında bilgi sahibi olunabilmektedir.


Özel bir şirketin sahibi olan Hilal Hanım, el yazısı bilimiyle ilgili şunları bilmektedir:

- Bastırarak yazan insanlar kuralcı ve titizdir. Silik bir şekilde yazanların ise öz güveni düşüktür.
- Harfler sağa doğru yatıklaştıkça davranışlarda duygusallık, sola doğru yatıklaştıkça mantık ağır basar.
- Kelimelerin arasının açık olması insanlardan uzak durma eğilimini, yakın olması ise insanlarla iç içe olma isteğini gösterir.

Hilal Hanım "insanlarla kaynaşmayı seven, akılcı davranan, disiplinli" birini işe almak istemektedir. Bunun için de başvurana adaylara, aynı niteliklere sahip bir kurşun kalem ve çizgisiz kâğıt vererek onlardan belirli bir metni yazmalarını istemiştir.

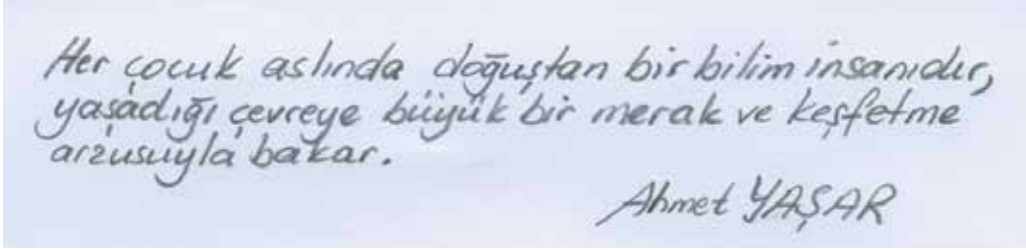
**Bu açıklamaya göre Hilal Hanım, aşağıda el yazısı örnekleri verilen kişilerden hangisini işe almalıdır?**

A)



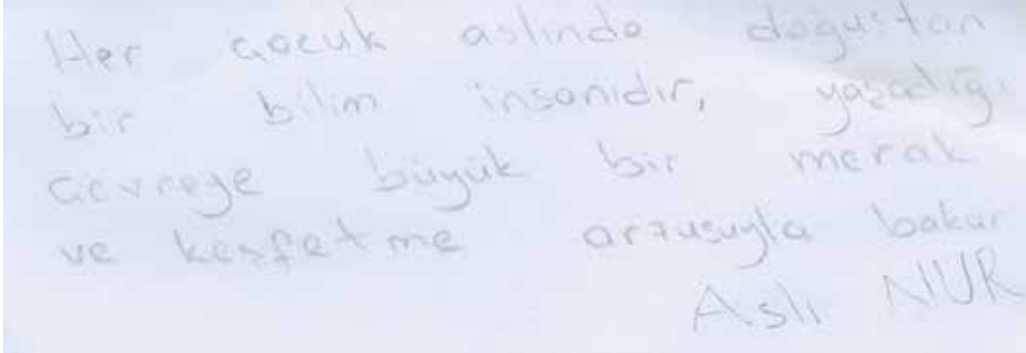
Her çocuk aslında doğuştan bir bilim insanıdır, yaşadığı çevreye büyük bir merak ve keşfetme arzusuyla bakar.  
Kübra İnci

B)




Her çocuk aslında doğuştan bir bilim insanıdır, yaşadığı çevreye büyük bir merak ve keşfetme arzusuyla bakar.  
Ahmet YAŞAR

C)



Her çocuk aslında doğuştan bir bilim insanıdır, yaşadığı çevreye büyük bir merak ve keşfetme arzusuyla bakar.  
Asli NUR

D)



Her çocuk aslında doğuştan bir bilim insanıdır, yaşadığı çevreye büyük bir merak ve keşfetme arzusuyla bakar.  
Salih CAN

6. Yazarın, hikâyede süslü anlatımı öne çıkarması okura yüküdür. Süslü dil, konuyu gölgede bırakarak okurun kafasını karıştırır. Bu yüzden yazarın anlatımıyla hikâye arasında mesafe olması gerektiğine inanıyorum. Başka bir deyişle üslubun cüssesi hikâyeyi gölgelememeli.

**Bu metindeki altı çizili sözle, aşağıdakilerden hangisinin yanlışlığı vurgulanmaktadır?**

- A) Hikâyelerin, yazarın yaşamından izler taşımasının
- B) Hikâye dilini, okurun beğenisi doğrultusunda oluşturmanın
- C) Sanatlı dilin, hikâyede anlatılanların önüne geçmesinin
- D) Hikâye yazarlarının, okuru yönlendirmeye çalışmasının

7.

Beyin üzerine yapılan bazı arařtırmalar, beynin sađ ve sol yarım kürelerinin farklı fonksiyonlara sahip olduğunu göstermiştir. Uzmanlar, bu yarım kürelerden baskın olan tarafa göre kişinin yeteneklerinin farklı olacağını ve bu yarım küreleri geliřtirmek için farklı egzersiz uygulamaları yapılabileceğini belirtiyor. Arařtırmalara göre,

**Beynin sol yarım küresi baskın olan kişilerin genel özellikleri şunlardır:**

- Matematiksel işlemlerde başarılıdır.
- Dili iyi kullanır.
- Net sonuçlarla ilgilenir.
- Sebep-sonuç ilişkisini iyi kurar ve analitik düşünme becerisine sahiptir.
- Bilimsel konularda başarılıdır.
- Mantıksaldır.
- Yararcıdır.



**Beynin sađ yarım küresi baskın olan kişilerin genel özellikleri şunlardır:**

- Sanatsal konularda yeteneklidir.
- Gerçeküstü hayaller kurar, mecaz anlamlarla ilgilenir.
- İnsanı insan yapan özellikleri (empati, şefkat...) ağır basar.
- Yeni şeyler üretir.
- Boyutları iyi algılar.
- Duygusaldır.
- Niyete bakar, iyi niyet arar.

**Bu metinden hareketle, beynin sol yarım küresini geliřtirmek isteyen birinden,**

- I. Bulmaca çözmek
- II. Satranç oynamak
- III. Bir müzik aleti çalmak

**egzersizlerinden özellekle hangilerini tercih etmesi beklenir?**

- A) Yalnız I                      B) Yalnız III                      C) I ve II                      D) II ve III

8. “Çiçekler soldu.” cümlesinde “soldu” sözcüğü çekimli bir “fiil”dir ve cümlenin yüklemidir. “Solun çiçekleri vazodan aldı.” cümlesinde ise “solan” sözcüğü fiil anlamını korumakla birlikte sıfat görevinde olduğu için “sıfat-fiil”dir.

**Bu açıklamaya göre aşağıdaki cümlelerin hangisinde sıfat-fiil kullanılmıştır?**

- A) Çocuk, yıkanacak kıyafetlerini çamaşır makinesine koymuştu.  
B) Yağmur dinince rengârenk bir gökkuşaağı belirdi gökyüzünde.  
C) Büyük sürprizi bozmamak için arkadaşına mecburen yalan söyledi.  
D) Zorlansalar da karşı kıyıya yüzerek geçmişlerdi.

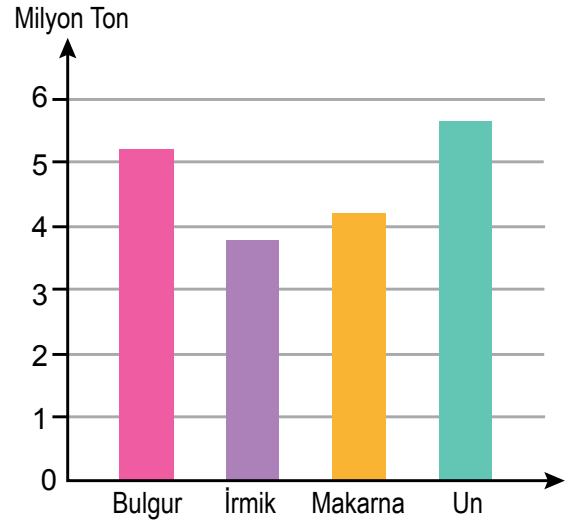
9. Bugün çiçeklerin, ağaçların yüzü güldü. Benim de... Dört beş aylık ayrılıktan sonra “Merhaba!” dedi yağmur. Sabah kahvaltıda duydum şıprıtıyı. Çayımı kaptığım gibi fırladım balkona. Gerçekten yağıyor. Gök yarı güneşli... Her zamanki gibi değil yağış. “Hadi, biraz daha!” diyorum içimden. Islattı epey. Beni, bahçeyi... Tozları yıkadı. Şimdi pırıl pırıl her yer.

**Bu metnin anlatımında aşağıdakilerden hangisi yoktur?**

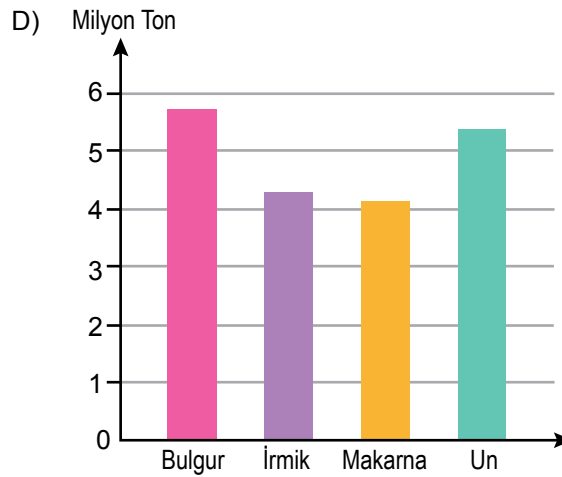
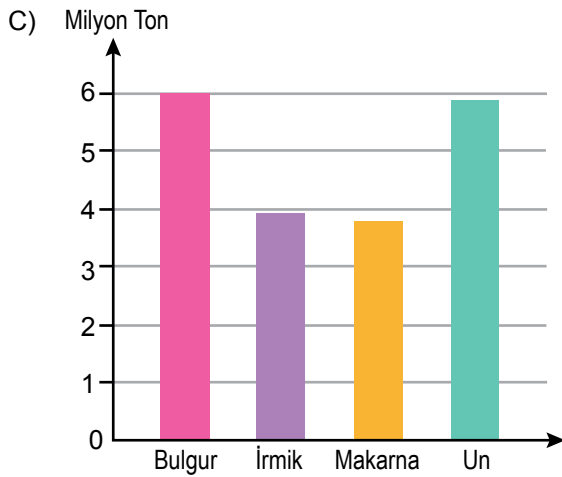
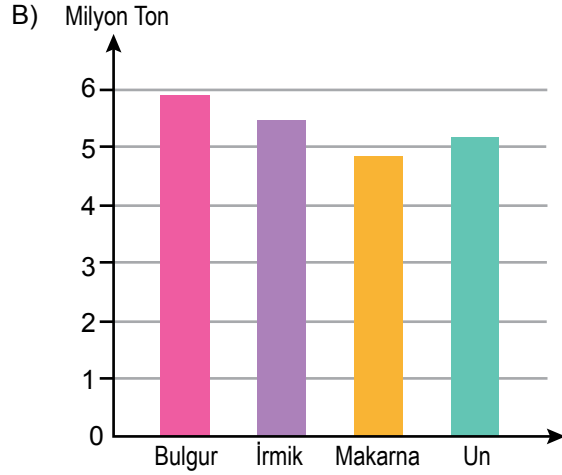
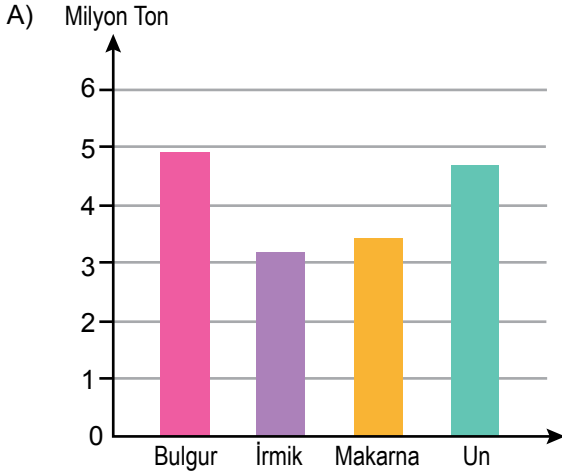
- A) Farklı duyularla ilgili ayrıntılar                      B) Mecazlı söyleyiş  
C) Karşılaştırma                      D) Abartma

10. Yandaki grafikte bir ülkenin 2015 yılındaki buğday ürünleri ihracat miktarı gösterilmiştir. Bu ülkenin 2016'daki buğday ürünleri ihracat miktarı ile ilgili şu sonuçlara ulaşılmıştır:

- En az ihraç edilen ürün makarnadır.
- Un ihracatında 2015'e göre azalma gözlenmiştir.
- 2015'te en çok ihraç edilen ikinci ürün, 2016'da ilk sıraya yükselmiştir.
- 2015'te en az ihraç edilen ürün, 2016'da en çok ihraç edilen üçüncü ürün olmuştur.



Buna göre sözü edilen ülkenin 2016 yılı buğday ürünleri ihracatını gösteren grafik aşağıdakilerden hangisi olabilir?



11. Bazı Nasrettin Hoca fıkralarında, insanlara bireysel özelliklerini göz önünde bulundurarak davranmak gerektiği vurgulanır.

**Aşağıdaki fıkralardan hangisi bu cümlede sözü edilen duruma örnek olabilir?**

- A) Adamın birine babasından büyük bir miras kalır. Kısa zamanda bu mirası tüketen adam, Hoca'ya gelerek "Elimde avucumda hiçbir şey kalmadı Hoca'm, bana bir çare!" diye yalvarır. Hoca, gayet sakin bir şekilde "Merak etme, yakında bu dertten kurtulursun." der. Adam, sevinçle "Yoksa tekrar zengin mi olacağım?" deyince de "Hayır, parasızlığa alışacaksın!" karşılığını verir.
- B) Hoca'nın cimri komşusu bir gün göle düşer. Arkadaşları ona yardım etmek için "Elini ver de seni çıkaralım." derler. Fakat cimrilik, ruhuna öyle işlemiştir ki boğulma tehlikesiyle karşı karşıya kalmasına rağmen elini vermek istemez. Komşusunu çok iyi tanıyan Hoca "Al elimi de seni çıkarayım." deyince adam, Hoca'nın elini tutar ve boğulmaktan kurtulur.
- C) Nasrettin Hoca bir gün yoğurt mayalamak için göl kenarına gitmiş. Göle kaşık kaşık yoğurt dökmeye başlamış. Gölün etrafında piknik yapan köylüler şaşırılmış. İçlerinden biri, Hoca'nın yanına gelerek şöyle demiş:
- Hayırdır Hoca'm, ne yapıyorsun böyle?
  - Göle yoğurt çalıyorum.
  - İlahi Hoca'm, göl maya tutar mı?
  - Ya tutarsa...
- D) Hoca bir gün pazarda bir papağanın çok pahalı satıldığını görünce gidip evden hindisini getirmiş ve yüksek bir fiyata satmaya çalışmış. Yanındakiler gülerek "Hoca'm, bu hindi bu kadar para eder mi?" diye sormuşlar. Hoca, papağana da çok yüksek bir fiyat istediklerini söyleyince "O papağan konuşur da ondan pahalıdır." demişler. Hoca, "O konuşursa bu da düşünür." cevabını vermiş.

12. ULVİYE — Kızım, bugün Hüsrev'in odasına gazete götürdün mü?

HİZMETÇİ — Bir saat evvel götürdüm.

ULVİYE — Umarım, haberi okumamıştır.

HİZMETÇİ — Bilmiyorum, efendim! Ben içeriye girdiğimde yatağında oturuyordu. Eliyle, gazeteyi bırakmamı işaret etti. Ben de iskemlenin üzerine bırakıp çıktım.

ULVİYE — Peki, kızım!

ULVİYE — Demin mutfak katına indiğinde henüz okumamıştı. Ya şimdi okursa?

NEVZAT — Yapacak bir şey yok artık.

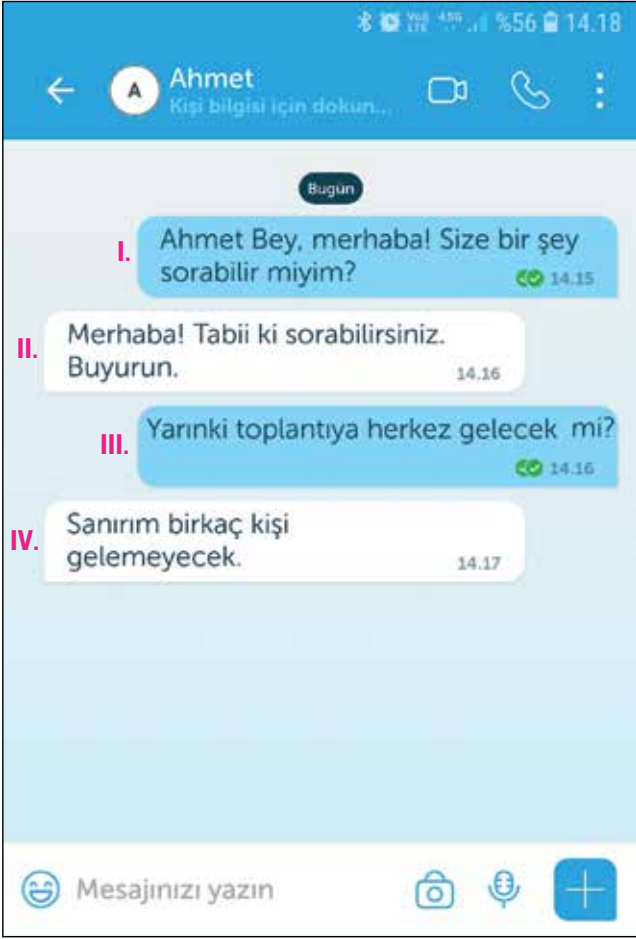
ULVİYE — Odasına girip belli etmeden alamaz mıyız gazeteyi?

NEVZAT — O zaman büsbütün şüphelenir.

**Aşağıdaki yay araç içi ifadelerden hangisi bu metnin herhangi bir yerinde kullanılamaz?**

- A) (Hatırlamak için elini çenesinin altında gezdirdikten sonra)
- B) (Hüsrev'e tedirgin gözlerle bakar.)
- C) (Gözlerini Ulviye'ye dikip bir süre susar.)
- D) (Odada ikisi kalmıştır.)

13.



**Bu yazışmada numaralanmış bölümlerin hangisinde bir yazım yanışı vardır?**

- A) I                                      B) II                                      C) III                                      D) IV

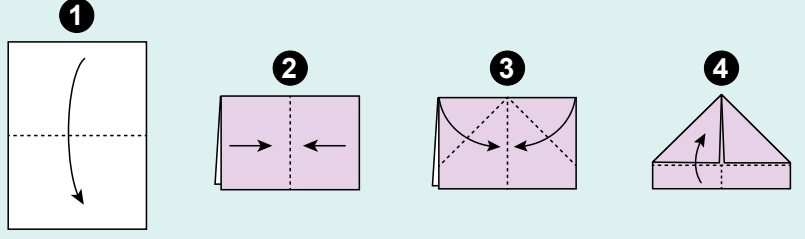
14. Bir kral, huzuru en güzel resmedecek sanatçıya büyük bir ödül vereceğini ilan eder. Yarışmaya çok sayıda sanatçı katılır. Kral, resimlerden sadece ikisini beğenir. Resimlerin birinde bir göl vardır. Göl, etrafında yükselen dağların görüntüsünü yansıtmaktadır. Üst tarafta pamuk beyazı bulutlar gökyüzünü süslemektedir. Resim, bakanlara huzur vermektedir. Diğer resimde de dağlar vardır ama engebeli ve çıplak dağlar... Dağların üstünde gri bulutlarla bezeli, kasvetli bir gökyüzü bulunmaktadır. Kısaca resim, pek de öyle huzur verecek türden değildir. Fakat kral, resme dikkatli bakınca şelalenin ardındaki çalılığın üstünde bir anne kuş ile yavrusunu görür. Sertçe akan suyun orta yerinde anne kuşun kurduğu yuva, görenlere eşsiz bir rahatlama sunmaktadır. Ödülü kim kazanır dersiniz? Tabii ki ikinci resim... Kral bunun nedenini şöyle açıklar: - - - -

**Bu metnin sonuna düşüncenin akışına göre aşağıdaki cümlelerden hangisi getirilmelidir?**

- A) Huzur hiçbir gürültünün, sıkıntının ya da zorluğun bulunmadığı yerdedir.  
 B) Huzur, olumsuzlukların içinde bile olumlu olanı bulabilmektir.  
 C) Sanatçının iç dünyasındaki huzur, eserlerine de yansır.  
 D) Huzuru bulmak için doğru yerde aramak gerekir.

15. Aşağıda kâğıttan gemi yapımının ilk dört aşamasının anlatımı görselleriyle birlikte verilmiştir.

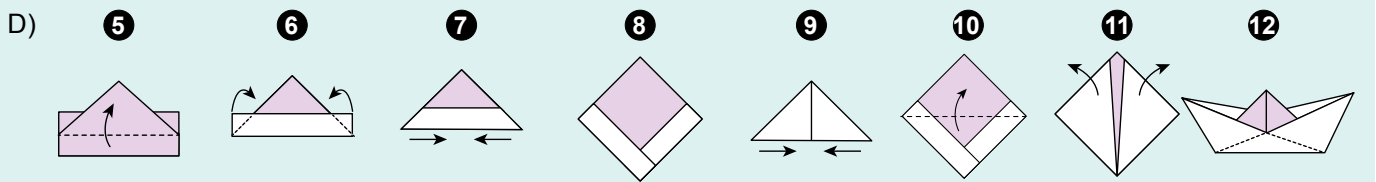
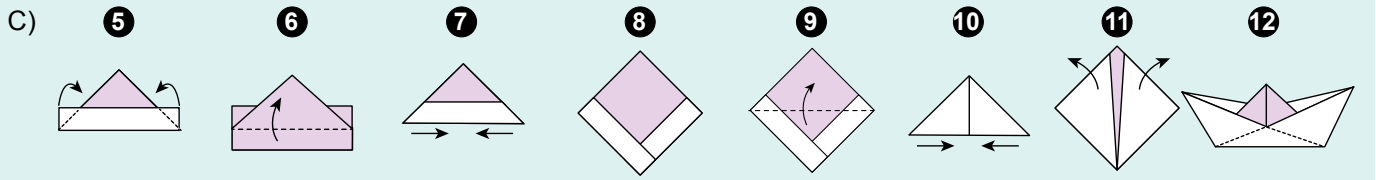
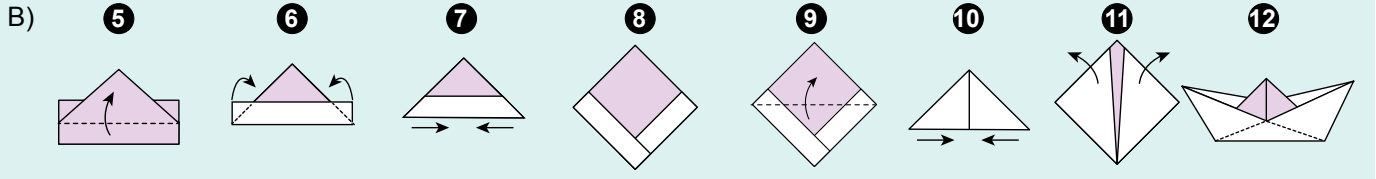
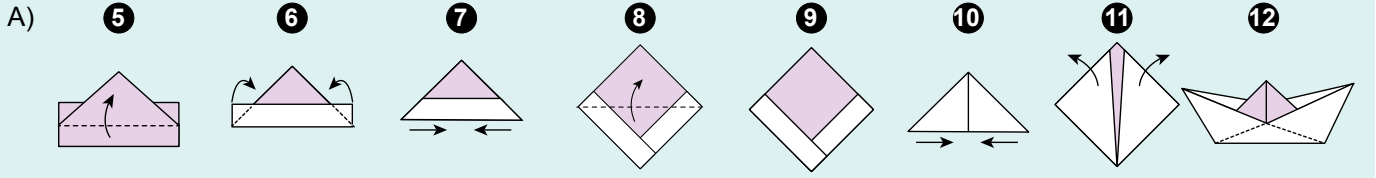
Ön yüzü beyaz, arka yüzü pembe olan dikdörtgen bir kâğıt ok yönünde katlanır. Oluşan şekil tekrar ikiye katlanır ve ortaya çıkan bu kat yeniden açılır. Ortada bir çizgi elde edilir. Üstteki iki köşe ortadaki çizgiye doğru katlanır. Üçgenin altında kalan şeritlerden öndeki, yukarı doğru katlanır.



Kalan aşamalar şu şekildedir:


Kâğıt ters çevrilip kâğıdın diğer şeridi de yukarı doğru katlanır. Daha sonra köşeleri arkaya doğru katlanır. Oluşan üçgenin alt köşeleri tutulup birbirine doğru itilir ve düz bir kare elde edilir. Üst kanat yukarı doğru katlanıp aynı şey diğer tarafta da tekrar edildikten sonra yine bir üçgen elde edilir. Bu üçgenin alt köşeleri tutulup içe doğru itilir. Üst köşeler tutulur ve birbirinden ayrılır. Böylece ortaya bir gemi çıkar.

Bu metindeki açıklamaları içeren görseller aşağıdakilerin hangisinde sırasıyla verilmiştir?







16. Bir kelime oyununda kişilerden, içinde harfler olan kutuları yan yana getirerek anlamlı sözcükler oluşturmaları istenmektedir. Bir kelimedenden yola çıkılarak ikinci bir kelime oluşturulurken şu kurallara uyulacaktır:

- Kutuların yer değiştirmesi zorunludur.
- Kutulardaki harfler, kendi içinde yer değiştirebilir.

Örnek:  Örnek: **M A** **N A** → **A N** **M A**

Bu bilgilere göre aşağıdakilerin hangisindeki kelimeler verilen kurallara uygun oluşturulmuştur?

- A)  A) **Ş E** **K İ L** → **İ Ş** **L E K**
- B)  B) **Ü R K** **E K** → **K Ü R** **E K**
- C)  C) **P A** **T İ K** → **T A** **K İ P**
- D)  D) **K A** **M E R** → **M E R** **A K**

17. Aşağıdaki dizelerden hangisi tema bakımından diğerlerinden farklıdır?

- A) Hayal meyal şeylerden ilk aşkımız  
Hatırası bile yabancı gelir  
Hayata beraber başladığımız  
Dostlarla da yollar ayrıldı bir bir  
Gittikçe artıyor yalnızlığımız
- B) Allah'ım, ne güzel şey bu dost yüzü  
İnsanın kalbine dolan bu bakış  
Ey çorak ruhlara veren bu süsü  
Ey gönül; sana alkış, alkış, alkış
- C) Dostluk dediğin güzel bir kitap  
Hava gibi  
Su gibi  
Ekmek gibi  
Vazgeçilmez bir tat
- D) Kalbindeki cama bir taş değer, dosttandır  
Kırılınca anlaşılır kalbin camdan olduğu  
Kalbin bahçesinde bir gül solar, dosttandır  
Dostun varsa taşı güle sayarlar, akşamı güne



18. Son bestelerimden biri olan 9. Senfoni'yi dinlemeyen yoktur. 90'lı yıllarda okullarınızda teneffüs zili bile oldu. Ne var ki ben 9. Senfoni'nin tek bir notasını bile duyamadım. Duymayan bir müzisyen! Kulağa imkânsız gibi geliyor, değil mi? Oysa kafamın içi seslerle dolup taşıyor.

**Bu parçada,**

- I. Sevinç, kıvanç, acı, korku, şaşma gibi duyguları anlatan cümle veya ibarelerin sonuna ünlem işareti konur.
- II. Özel adlara getirilen iyelik, durum ve bildirme ekleri kesme işaretiyle ayrılır.
- III. Bilinmeyen, kesin olmayan veya şüpheyle karşılanan yer, tarih vb. durumlar için soru işareti kullanılır.

**kurallarından hangilerinin örneği vardır?**

- A) Yalnız I                      B) I ve II                      C) II ve III                      D) I, II ve III

19. Besteyi ilk duyduğumda manzaraya tek başına hâkim, büyük bir ağaç canlandı gözlerimin önünde. Bu hayal, musikinin rüzgârıyla birdenbire beliren bir şeydi. Hâlbuki bu besteyi o anda dinlemeye hazır değildim, nağme beni ansızın yakalamıştı. Bu hayalin meydana gelmesi, âdeta uyanık hâlde görülen bir rüya gibiydi.

**Aşağıdakilerden hangisi bu parçadaki altı çizili sözcüklerden herhangi birinin anlamını karşılıamaz?**

- A) Hatırlama                      B) Ortaya çıkma                      C) Etkileme                      D) Görünme

20. Şair, bir aydınlanma ve doğru olanın farkına varma hâlini ifade ettiği şiirinde, zamanın ve hayatın kıymetini bilmenin ve yaşama sevinçle bağlanmanın önemini kavradığını dile getirmektedir.

**Bu parçada sözü edilen dizeler aşağıdakilerden hangisidir?**

- A) Gökyüzünün başka rengi de varmış  
Geç fark ettim taşın sert olduğunu  
Su insanı boğar, ateş yakarmış  
Her doğan günün bir dert olduğunu  
İnsan bu yaşa gelince anlarmış
- B) Yaşamak güzel şey doğrusu  
Üstelik hava da güzelse  
Hele gücün kuvvetin yerindeyse  
Elin ekmek tutmuşsa bir de  
Hele tertemizse gönlün  
Hele kar gibiye alın
- C) Yaşım ilerledikçe daha çok anlıyorum  
Ne büyük nimet olduğunu ah ey güzel gün  
Boş yere üzülmede mana yok, anlıyorum  
Kadrini bilmek lazım artık her açan gülün  
Şükretmek, türküsüne daldaki her bülbülün
- D) Her mevsimiyle insanı ayrı ayrı saran  
Bunca güzelliği nasıl koyup gideceğiz  
Yaman çalacak o çalmayası saat yaman  
Geçmiş ola, bir kez yumuldu mu gözlerimiz

21. Lebdeğmez (dudakdeğmez), genellikle Türk halk şiirinde yaygın olan ve içinde her iki dudağın birbirine veya alt dudağın üst dişlere dokunmasıyla ortaya çıkan seslerin kullanılmadığı şiir türüdür.

**Bu bilgilere göre aşağıdaki dizelerden hangisi "lebdeğmez" örneğidir?**

- A) Dinle sana bir nasihat edeyim  
Hatırdan, gönülden geçici olma  
Yiğidin başına bir iş gelince  
Anı yad ellere açıcı olma
- B) Ağacınız yapraklarla donanır  
Taşlarınız bir birliğe inanır  
Hep çiçekler bağrınızda gönenir  
Pınarınız çağlar, akışır dağlar
- C) Dikkat et araştır gözlerini aç  
Sanat her yiğidin kârı değildir  
Eser yazarının serindeki taç  
Altındandır, soğan zarı değildir
- D) Bir bağa ki rüzgâr terse vurursa  
Dökülür gazeli soldu diyeler  
Bir güzelin bahtı kara yazılsa  
Toplanıp da hayıf oldu diyeler

22. "İstanbul, Türkiye'nin en güzel şehirlerindedir." cümlesi, söyleyenin kişisel düşüncesini içerdiğinden öznel anlatımlı cümle, "İstanbul, Türkiye'nin en kalabalık şehridir." cümlesi ise söyleyenin kişisel düşüncesini içermediğinden ve kanıtlanabilecek bir yargı bildirdiğinden nesnel anlatımlı cümledir.

**Buna göre,**

(I) Boyoz, mayasız hamurun kat kat açılmasıyla yapılır. (II) Açılan bu hamur, altın sarısı rengine gelene kadar pişirilerek çok farklı bir tada kavuşturulur. (III) Tadını bilenler için kahvaltı sofralarının vazgeçilmezlerinden olan boyoz; sade, çikolata, tahinli olarak üretilmektedir. (IV) İzmir'in bu eşsiz lezzetini herkesin denemesini öneririm.

**metninde numaralanmış cümlelerin hangisinde nesnel anlatım vardır?**

- A) I                                      B) II                                      C) III                                      D) IV

23. Fiil kökünden türediği ve olumsuz, fiiller gibi "-ma /-me" eki ile yapılabildiği hâlde kip eki alamayan sözcüklere "fiilimsi" denir.

**Buna göre,**

- I. Bağışlar sayesinde bir kütüphane dolusu kitap birikmiş.  
II. Suyun birikmesi birkaç saati bulacak gibi görünüyor.  
III. Tarih ve arkeoloji alanlarında büyük birikim sahibidir.

**cümlelerinin hangilerindeki altı çizili sözcükler fiilimsi değildir?**

- A) Yalnız I                                      B) Yalnız II                                      C) I ve III                                      D) II ve III

24. Fiil kök veya gövdelerine -an /-en, -ası /-esi, -maz /-mez gibi belirli eklerin getirilmesiyle sıfat-fiil oluşturulur. Sıfat-fiiller tıpkı sıfatlar gibi isimleri niteleme görevi üstlenir.

**Bu açıklamaya göre,**

Büyük bir bahçe... Ortasında köşk biçiminde yapılmış bir ev... Sağ köşesinde her zaman oturduğumuz beyaz perdeli

I

II

oda... Sabahları annem beni bir bebek gibi pencerenin kenarına oturtur, dersimi tekrarlatır, sütümü içirirdi. Bu pencereden görünen avlunun öbür yanındaki büyük toprak rengi yapının camsız, kapaksız tek bir penceresi vardı.

III

IV

**metninde numaralanmış sözcüklerden hangisi sıfat-fiil değildir?**

A) I

B) II

C) III

D) IV

25. Küçürek hikâye; az sayıda kelimeyle yoğun anlamlar aktarma gücüne sahip, mesaj kaygısı taşımayan, yalnızca bir anın saptaması olan anlatılardır.

**Bu açıklamaya göre,**

I. Küçükken her tarafta "Suyu Koruyun, İdareli Kullanın" yazan afişler vardı. Televizyon ve radyolar sık sık bu konuyu gündeme getirir, insanları uyarırdı. Ama hiç kimse bu ikazlara aldırış etmezdi. Şimdi büyüdük, suyun sonsuza kadar yetmeyeceğini anladık.

II. Ağaç dikmekle meşgul, yaşlı birine sorarlar:

– Diktiğin ağaçların meyvesini büyük ihtimalle yiyemeyeceksin, o hâlde ne diye ağaç dikmekle uğraşıyorsun? Yaşlı adam:

– Bizden evvelkilerin ağaçlarının meyvesini biz yedik, bizim diktiklerimizin meyvesini de bizden sonrakiler yesin diye uğraşıyorum.

III. Sadece kemanını vermedim... Yıllar sonra yeğenine armağan ettim. O da öğrenememiş doğru dürüst, evlerinin bir duvarına asmış. Ben zaten hiç beceremedim... Hiçbir şey... İç yangını anılara yol açmaktan başka.

**metinlerinden hangileri küçürek hikâye örneğidir?**

A) Yalnız I

B) Yalnız III

C) I ve II

D) II ve III

26. Shakespeare (Şekspir), "Hamlet" adlı eserinin bir bölümünde kahramanın ağzından şunları söyler:

Düşüncenin canı kısa sözdür

Uzun sözlerse ancak dış görünüşlerdir

Yunus Emre de Shakespeare'den yüzyıllar önce aynı gerçeğe parmak basmıştır:

Az söz erin yüküdür

Çok söz hayvan yüküdür (er: yetenekli kimse)

**Aşağıdaki cümlelerden hangisi bu görüşlerle benzer bir iletiye sahiptir?**

A) Söz, etkili ve özlü bir şekilde kullanılmalıdır.

B) Düşünce ile söz arasında sarsılmaz bir denge olmalıdır.

C) Kişi her bildiğini söylemeli, her söylediğini de bilmeli.

D) Neyi, kime, ne zaman söylediğini unutma.

27. Ben roman yazmayı, sadece kendi üstlendiğim bir iş gibi görmüyorum. Bunu romanımın kişilerle birlikte üstleniyoruz. Olayları, durumları, kişileri, birlikte yazıp götürüyoruz. El ele, omuz omuzayız. - - - . Her yazdığım insan benim, yazdığım her insan ben. Başka türlü nasıl olabilir? Belirli kurallarla, formüllerle roman yazan bir yazın memuru değil; kahramanlarıyla beraber çalışan bir romancıyım ben.

**Bu parçada boş bırakılan yere anlam akışına göre aşağıdakilerden hangisi getirilebilir?**

- A) Hepimiz kendi yolumuzu çizmişiz
- B) Kahramanlarım şekillendiriyor hikâyelerimi
- C) Farklı rüzgârlar şişiriyor yelkenlerimizi
- D) Hayal gücümüz aynı terziden giyiniyor

28. I. Bende iyi olan ne varsa hepsini kitaplara borçluyum. Bir kitap sevdalıyım ben. Kitaplardan ve yazarlarından söz ederken büyük bir heyecan duymamam imkânsız. Bu ilginç gelebilir size ama bir gerçek. Hatta belki de yaşadığım duygulara, bir insanın coşkun hevesleri denebilir. Ne denirse densin, bu sevdadan kurtulmam olanaksız.

II. Her kitaptan, kulağıma bir ses gelir. Bu öyle bir sestir ki bir vapurdan belediye otobüsüne, bir kişinin çocukluğundan yetişkinliğine; başka bir deyişle farklı mekânlara ve zamanlara değin uzanır. Ses, bana ne denli güçlü çarparsa fikir mağaramda o oranda yankı bulur. Yazarı sayfa sayfa dinledikten sonra söz sırası benim zihnimde beliren duygu, düşünce ve çağrışımlara gelir.

III. Bir yazar olarak şunu söyleyebilirim ki kitaplar, bana yaşamda yol gösterir. Gerçi yaşamı az çok tanırım ama yine de okuduğum her şey insanın bilmediğim veya daha önce fark etmediğim bir yanını bulup çıkarmış, önüme sermiştir. Belki de koca bir kitapta beğeneceğim tek bir cümle bulabilirim ama bu tek cümle beni insanlara yaklaştırabilir.

**Numaralanmış metinlerden hangileri “İyi kitapları okumak, bu kitapların yazarlarıyla konuşmak gibidir.” sözü ile aynı iletiye sahiptir?**

- A) Yalnız I
- B) Yalnız II
- C) I ve III
- D) II ve III

29. Modern çağda şöyle bir problem var: Hep başka bir yerde olmak istiyoruz. Bulduğumuz yer bize hiç mutluluk vermiyor. İnsan hep başka iklimlerin yeşil kırlarına özlem duyuyor. Bir yere tatile gittiğinde acaba buraya değil de başka yere gitseydim daha mı iyi olurdu, diye düşünüyor. Seçmediği her şey için sıkıntı hissetmeye başlıyor.

**Aşağıdakilerden hangisi bu parçada sözü edilen görüşü desteklemektedir?**

- A) Günümüzde her birimiz ağ vatandaşız artık. Ağa bir kez yakalanmayagörün, onun gerçekliği sizin gerçekliğiniz oluverir. Böylece sanal âlem, gerçek hayatımıza bulaşır ve gerçeklikle olan bağımız belirgin olmaktan çıkar.
- B) Herkesin, önündeki ekrana baktığı bir çağda kimse diğerinin yüzüne bakmıyor. Hâlbuki bizi insan kılan şeylerden biri, muhatabımızın yüzünden, sesinden, duruşundan onu okuyabilmektir. İnsan olmak, hâlden anlamaktır.
- C) Anlaşmak için zaman gerekir, zaman ve mekân. Konuşmanın yanında susmak, birbirinin söylediğine dikkat kesilebilmek, kalbini dostunun kalbine yaklaştırmak gerekir.
- D) Yaşantı oburluğu içerisindeyiz. Ne kadar çok yaşantı tüketirsem o kadar mutlu olurum, şeklinde bir yanılgımız var. Hâlbuki sahip olduklarımızla da mutlu olabiliriz.

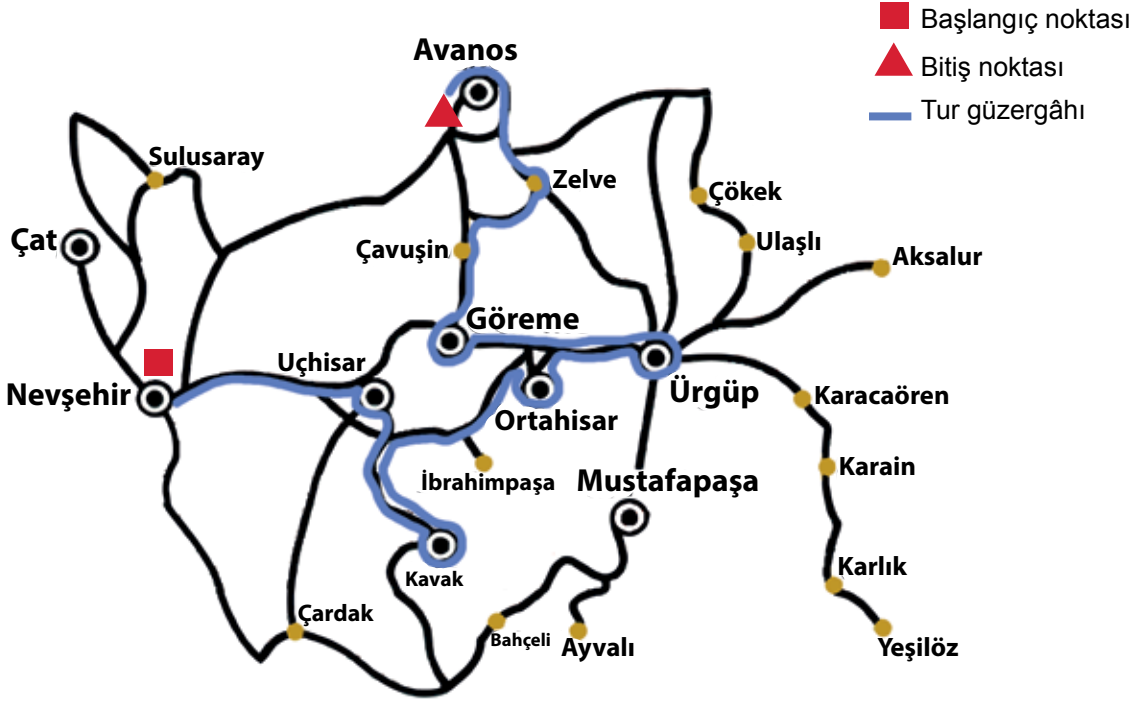
30. Ayşe, Büşra, Cenk, Davut, Ece ve Ferhat bir sürücü kursundaki K, L ve M sınıflarına kaydolmuşlardır. Bu kişilerin sınıflarıyla ilgili şunlar bilinmektedir:

- Ece ve Cenk aynı sınıftadır.
- Büşra'nın sınıfına kendisi dışında bir kişi daha kaydolmuştur.
- M sınıfına kaydolan bir kişi vardır ve bu kişi Ayşe değildir.
- Davut üç kişilik bir sınıftadır.

**Bu bilgilere göre aşağıdakilerden hangisi Büşra ile aynı sınıftadır?**

- A) Davut                      B) Ayşe                      C) Ferhat                      D) Ece

31.



**Bu haritada gösterilen güzergâh aşağıdaki tur programlarından hangisine ait olabilir?**

- A) Ocak Ayı Tur Programı: Her mevsimi ayrı güzel olan Kapadokya, kışın daha cazip bir hâle bürünür. Bu güzel dönemde bölgeyi görmek için önce Nevşehir'in merkezindeki tarihî alanlar gezilir. Bu tarihî alanlar gezildikten sonra Uçhisar'dan, karla kaplı masal diyarı Kapadokya izlenir. Göreme bu masal diyarının sonraki rotasıdır. Onu Ürgüp takip eder. Ürgüp de güzelliğini gösterdikten sonra sıra Çavuşin ve Zelve'ye gelir.
- B) Nisan Ayı Tur Programı: Kapadokya'yı bu ayda gezmek için önce Nevşehir'in merkezindeki Damat İbrahim Paşa Külliyesi'ne gidilir, sonra Uçhisar'a geçilir. Ardından Kavak'ta çay molası verilir. Bundan sonraki duraklar sırasıyla Ortahisar ve Ürgüp'tür. Ürgüp'ten sonra sizi harika manzarasıyla Göreme karşılar. Göreme'yi gizli güzellikleriyle Çavuşin ve saklı kent Zelve izler. Tur programı, Kızılırmak sularının hayat verdiği Avanos'ta biter.
- C) Ağustos Ayı Tur Programı: Turumuz Nevşehir'de, Damat İbrahim Paşa Külliyesi'nde başlayıp Kızılırmak üstüne kurulmuş, nefis manzaralı köprüsüyle ünlü Avanos'ta son bulur. Bu iki rota arasında ise sizi bambaşka ve harika mekânlar bekler. Nevşehir'in ardından Uçhisar gezilir. Sonrasında ise Kavak'a varılır. Kavak'ta verilen kısa bir fotoğraf molasının ardından sırasıyla Göreme ve Ürgüp gezilir. Çavuşin ve Zelve'ye de gidildikten sonra yolumuz Kızılırmak'a çıkar.
- D) Ekim Ayı Tur Programı: Turumuza ik olarak Kızılırmak kıyısındaki Avanos'ta yapacağımız kahvaltıyla başlarız. Çavuşin, diğer bir deyişle gizli güzellik, ikinci durağımızdır. Oradan sonbaharın sararttığı Zelve ve Göreme gezilir. Ürgüp türküsü eşliğinde Ürgüp'ün güzellikleri de görüldükten sonra Ortahisar'a uğranır. Ardından Kavak... Sonrasında Uçhisar'da nefis bir Kapadokya manzarası izlenir. Güneş batarken Nevşehir il merkezine ulaşılır.

## “Mavi Gezegen”in Okyanusları Tehdit Altında



Birleşmiş Milletler (BM),  
2009 itibarıyla 8 Haziran'ı  
“Dünya Okyanuslar Günü”  
ilan etti.

Okyanusların günlük yaşamdaki rolüne dikkat çekmek, onları korumak ve deniz kaynaklarını sürdürülebilir şekilde kullanmanın önemini vurgulamak için ilan edilen 8 Haziran Dünya Okyanuslar Günü'nün bu yılki teması “Sürdürülebilir Okyanus İçin Yenilik” olarak belirlendi.

Okyanuslar  
dünyanın **%71'ini**  
**kaplıyor.**

%71

**3 milyar insan**, ekonomik  
açıdan denizlerdeki biyolojik  
çeşitliliğe bağımlı.



Sanayi Devrimi'nden  
bu yana zehirli atık-  
lardan dolayı **okya-  
nus asitlenmesin-  
de %26 artış**  
kaydedildi.



Okyanuslar aşırı av-  
lanma, iklim değişikliği,  
plastik ve petrol kirliliği  
gibi tehlikelerle karşı  
karşıya.

**Bu infografikten (bilgilendirici görsel) aşağıdakilerin hangisine ulaşamaz?**

- A) Okyanusların, dünyanın büyük bir bölümünü kapladığına
- B) Okyanuslarda insan kaynaklı kirlenmelerin önüne geçildiğine
- C) BM'nin Dünya Okyanuslar Günü'nü ilan etme amacına
- D) Okyanusların bazı insanlar için geçim kaynağı olduğuna

33. • Kişileştirme (teşhis), insana ait özellikleri insan dışındaki varlıklara aktarma sanatıdır.  
• Karşıtlık (tezat), birbirinin zıddı olan duygu, düşünce ve durumları aralarında bir ilgi kurarak dile getirme sanatıdır.

**Buna göre aşağıdaki dizelerin hangisinde hem kişileştirme hem de karşıtlık sanatına başvurulmuştur?**

- A) İçerim köz, dışarım kar  
Savruluyor son umutlar
- B) Sade dosta değil düşman iline  
İnsanlık, adalet saçtık da geldik
- C) Sesimde bulursun suskunluğumu  
Yalnızlık içimde çığlık çığlık susuyor
- D) Yolların bayram telaşı da ne  
Günleri mi şaşırıydın yoksa bugün arife mi

**34 ve 35. soruları aşağıdaki metne göre cevaplayınız.**

Şöyle etrafınıza bir bakın. Kaç kişi, karşısındakini dikkatle dinliyor? Kaç kişi, isteklerini içinden geldiği gibi ifade edebiliyor? Dil, işlerliğini kaybediyor yavaş yavaş. Televizyonun gürültüsü, cep telefonunun zırlıtısı, hayatın telaşı sahici bir konuşmayı imkânsız hâle getiriyor. Oysa insan, hikâyeler anlatmak isteyen bir varlık. Anlattığı hikâyelerin yankılarını duymak isteyen, varoluşunu başkasının yüzünde seyretmek isteyen bir canlı. Can, dilde hayat buluyor ve dil, varlığın evine dönüşüyor.

**34. Bu metinle ilgili aşağıdakilerden hangisi söylenemez?**

- A) Sohbet havasında yazılmıştır.
- B) Eleştirilen durum, gerekçesiyle verilmiştir.
- C) Pişmanlık dile getirilmiştir.
- D) Aşamalı bir durumdan söz edilmiştir.

**35. Bu metindeki altı çizili sözcüğü anlamca karşılayabilecek bir kullanım aşağıdakilerin hangisinde vardır?**

- A) Kurtuluş Savaşı'nın başladığı haberinin uyandırdığı sevinç bütün yurdu kaplıyordu.
- B) İnsanla dünya arasındaki uçurumun aşılması için akılla kalbin buluşması gerekiyor.
- C) Kayalıkların arasındaki bu alanda, en hafif bir ses bile insanı korkutan bir tınıya dönüşüyordu.
- D) Eleştirmenler, genç yazarın son eserini değerlendirirken tarafsız olmaya dikkat etmişler.

**36. 30 Kasım 2020'de Falcon 9 roketiyle uzaya fırlatılması planlanan yeni haberleşme uydumuz Türksat 5A, özel bir uzay taşımacılığı şirketinin Florida'daki fırlatma merkezine götürüldü.**

**Bu cümle aşağıdakilerin hangisinde verilen cümlelerin birleşmesiyle oluşmuştur?**

- A) Yeni haberleşme uydumuz, özel bir uzay taşımacılığı şirketinin Florida'daki fırlatma merkezine götürüldü. Türksat 5A'nın, Falcon 9 roketiyle 30 Kasım 2020'de uzaya fırlatılması planlanıyor. Türksat 5A, yeni haberleşme uydumuzdur.
- B) Yeni haberleşme uydumuz, Türksat 5A'dır. Türksat 5A, özel bir uzay taşımacılığı şirketi tarafından Florida'daki fırlatma merkezine götürüldü. Yeni haberleşme uydumuzun 30 Kasım 2020'de Falcon 9 roketiyle uzaya fırlatılması planlanıyor.
- C) Türksat 5A, 30 Kasım 2020'de özel bir uzay taşımacılığı şirketinin Florida'daki fırlatma merkezine götürülecek. Yeni haberleşme uydumuzun uzaya fırlatılması planlanıyor. Yeni haberleşme uydumuz Türksat 5A uzaya fırlatılırken Falcon 9 roketi kullanılacak.
- D) Yeni haberleşme uydumuz Türksat 5A, Florida'da bulunuyor. Türksat 5A, özel bir uzay taşımacılığı şirketinin fırlatma merkezine götürüldü. Türksat 5A'nın 30 Kasım 2020'de Falcon 9 roketiyle uzaya fırlatılması planlanıyor.

# 8. SINIF

# Türkçe



**2. Tema**

***Millî Mücadele ve Atatürk***



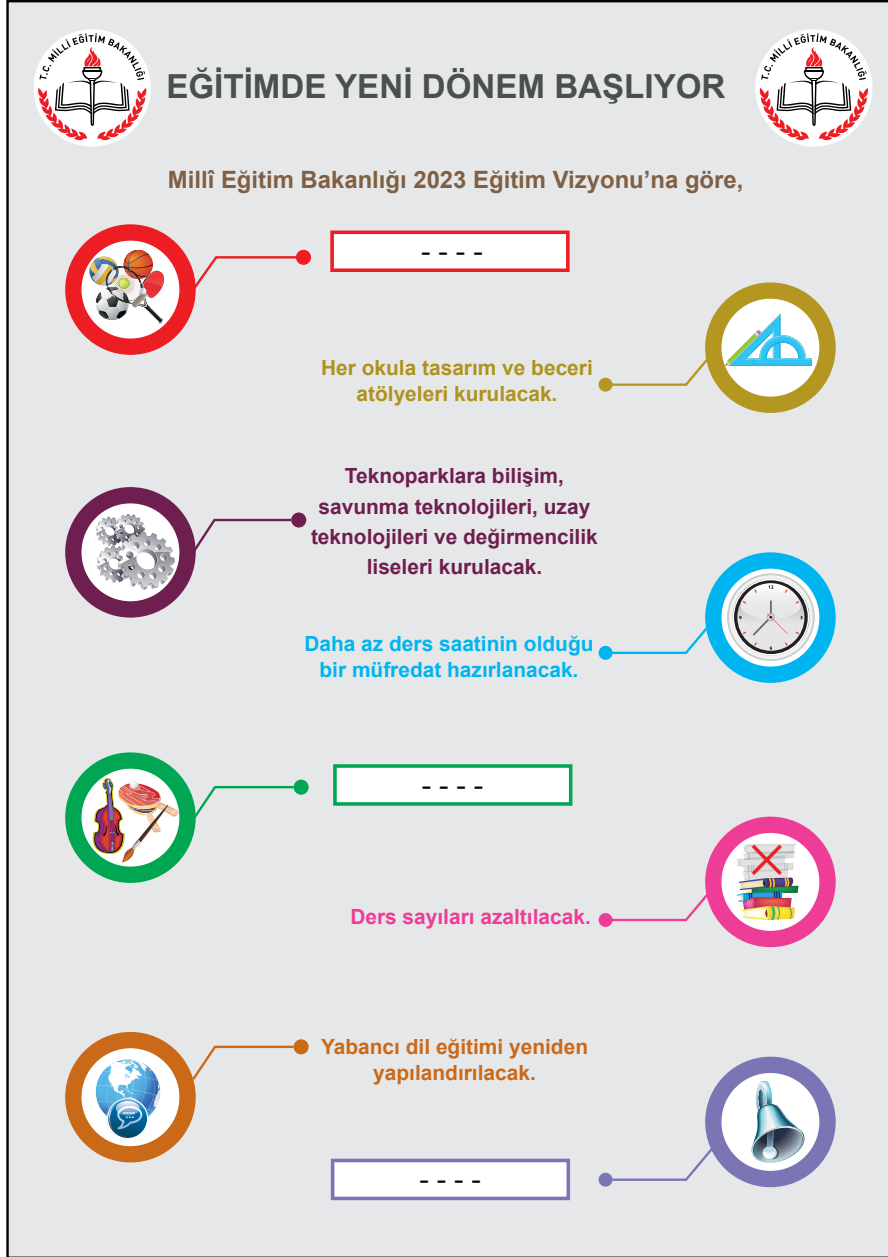
1. Sanatçı, “Bugün hikâye, hayatımızın neresinde duruyor?” sorusu üzerinde düşünen, konuşan, tartışan bir eser ortaya koymuştur. Eserin metinlerine atılan başlıklar, az söz ile çok şey ifade etme özelliği gösteriyor. Başlıkları bu şekilde değerlendirmemin sebebi, onların metnin içeriğini dört başı mamur bir şekilde kuşatmasıdır. Kelime tekrarlarına kolay kolay düşmemesi, incelemelerini çalاکalem değil, söylediklerinin önünü ve arkasını doldurarak yapması gibi birçok neden, sanatçının güçlü bir kalemi olduğunu açık bir biçimde ortaya koyuyor.

**Bu metinde aşağıdakilerden hangisinin anlamını karşılayan bir söz kullanılmamıştır?**

- A) Gelişigüzel  
B) Anlaşılması güç  
C) Kısa ve öz anlatım  
D) Eksiksiz, kusursuz
2. Öznel anlatım, kişisel görüşler içerir. Nesnel anlatım ise kişisel görüşlerden uzak, kanıtlanabilir yargılarla oluşturulur.

**Bu açıklamaya göre aşağıdaki medya metinlerinin hangisinde öznel bir anlatıma başvurulmuştur?**

- A) Kafkas Üniversitesinde yapılan bir araştırmaya göre Türkiye’de 193 çeşit peynir üretiliyor. Üretilen toplam peynir miktarının yaklaşık %96’sı inek sütünden elde ediliyor. Türkiye’de en çok tüketilen peynir çeşidi ise beyaz peynir.
- B) RoboGait, yürüme yeteneğinin tekrar kazanılması ve geliştirilmesi için kullanılan robot destekli bir yürüyüş rehabilitasyon sistemidir. Bu sistemle, yürüme zorluğu çeken hastaların bir askı yardımıyla yürüyüş bandı üzerinde, doğal yürüyüş biçimine uyarak yürütmesi sağlanıyor.
- C) Son dönemlerde yapay zekâ üzerine çalışmalar artmaya başladı. Yapay zekâ sistemlerinin yine de istenen düzeye erişemediğini düşünüyor, bunu da teknik imkânsızlıklardan ziyade insan beyninin tam olarak anlaşılammış olmasına bağlıyorum. Beyinle ilgili daha derin araştırmalar yapılmadan yapay zekâ konusunda gelişme sağlanamayacaktır.
- D) Bir teleskobun ne kadar kuvvetli olduğu aynasının çapı, bir diğer deyişle teleskobun açıklığı ile belirlenir. Bir teleskop, çapı ne kadar büyükse o kadar güçlüdür yani sönük gök cisimlerinin bile detaylı görüntüsünü oluşturabilir.
3. **Aşağıdakilerin hangisi “Hangi konuda yazarsam yazayım, gördüklerimi kendi ruh süzgecimden geçirmeden okuyucuya sunmam.” diyen bir sanatçıya ait olabilir?**
- A) Berber bir süre baktı kapıdan çıkan adama, sonra tezgâha doğru yürüdü. Elinde tespih olan müşteri, sırası geldiği için koltuğa oturdu. Havlusu, çırağın elinde hazırdu. Berber, bir yandan tezgâhın üzerinde duran usturalardan birini seçmeye çalışıyor, bir yandan da koltukta oturan adama bakıyordu.
- B) Arabamı evin önüne park ederken duydum miyavlama seslerini. Başımı camdan uzatınca Tekir’in mahalleye dışarıdan gelen iki kediyi kovaladığını gördüm. Kedilerden sarı tüylüsü bir an dönüp tüylerini kabarttı, anında üzerine yürüdü Tekir. “Dur, Tekir; yapma!” diye bağırdım.
- C) Avluya girip duvar kenarına çömeldi. Sırtında deve tüyü çuldan yapılmış kısa bir cepken, bunun altında yıpranmış bir gömlek vardı. Ucunu sağ yanağının üstüne getirdiği kasketi yağ içindeydi. Kasketin yırtık ucundan koyu sarı bir mukavva sarkmıştı. Uzun süre hiç konuşmadan öylece oturdu.
- D) Her zamanki yerimizde, bahçedeki çınarın gölgesine kurulan masalardan birinde oturuyorduk. Çınarın kalın dallarını süsleyen iri, yeşil yapraklarda ne bir esinti vardı ne de bir kıpırtı. Koca çınar, heykel misali kaskatı eğilmişti masamızın üzerine. Emel, belki serinletir diye vantilatörü çıkarmıştı bahçeye.



- I. Özel yetenekli öğrencilere yönelik seçmeli dersler getirilecek.
- II. Teneffüs süreleri uzatılacak.
- III. Okul ve mahalle spor kulüpleri kurulacak.

Yukarıdaki bilgilendirme grafiğinde bazı simgelerin karşısındaki açıklama bölümleri boş bırakılmıştır.

**Bu simgeler ve numaralanmış cümleler eşleştirildiğinde doğru sıralama aşağıdakilerden hangisi olur?**

A)

B)

C)

D)

5. Malazgirt Parkı'ndaki bir bankta oturan Eray'a, bir kişi Şükûfe Nihal Ortaokuluna yürüyerek nasıl gidebileceğini sormuştur.



**Bu haritaya göre Eray aşağıdakilerden hangisini söylerse yolu doğru tarif etmiş olur?**

- A) 1071. Sokak'tan Selim Caddesi'ne kadar yürüyün ve sağa dönün. Caddeden ilk sola döndüğünüzde 1072. Sokak'a ulaşacaksınız. Bu sokaktan üçüncü sola girip biraz ilerleyince okul, solunuzda kalacak.
- B) 1071. Sokak'tan Selim Caddesi'ne kadar ilerleyip sola dönün ve Kermes Sokağı'na kadar yürüyün. Kermes Sokağı'na girip dördüncü sola dönün. Biraz yürüdükten sonra okul, sağınızda kalacak.
- C) 1072. Sokak'tan Selim Caddesi'ne kadar yürüyün, caddeye ulaştınca sağa dönün, dümdüz gidip ilk sola dönün. Biraz ilerleyince okul, solunuzda kalacak.
- D) 1072. Sokak'la Selim Caddesi'nin kesiştiği yere kadar yürüyün. Bu noktadan sola dönün, Kermes Sokağı'na kadar dümdüz ilerleyin. Kermes Sokağı'na girip sokağın sonuna kadar yürüdüğünüzde okul, sağınızda kalacak.
6. Spor müsabakaları için 8/A ve 8/B sınıflarından Sude, Cüneyt, Elif, Defne, Erkan seçilmiştir. Bu kişilerin her biri; futbol, voleybol, basketbol, masa tenisi ve badminton müsabakaları için İzmir, Afyon, Çanakkale, Erzurum ve Rize şehirlerinden birine gitmiştir. Bu kişilerin sınıfları, gittikleri şehirler ve katıldıkları müsabakalarla ilgili şunlar bilinmektedir:
- Elif, Erzurum'a gitmiştir.
  - Defne, masa tenisi müsabakasına katılmıştır.
  - Futbol, basketbol ve badminton müsabakalarına katılanlar 8/A sınıfındandır.
  - 8/B sınıftan Sude, İzmir'e gitmiştir.
  - Afyon'a giden Erkan, basketbol müsabakasına katılmıştır.

**Bu bilgilere göre kişilerden hangilerinin hem sınıfları hem müsabakaya katıldıkları spor dalları hem de gittikleri şehir kesin olarak bellidir?**

- A) Defne ve Elif                      B) Defne ve Erkan                      C) Elif ve Sude                      D) Erkan ve Sude

7. Hani kimi zaman bir şeyler hissederiz, bir esinti yoklar içimizi. Bu hisleri ifade etmek isteriz ama uygun sözcükleri bir türlü bulamayız. Dilimizin ucuna bir şeyler gelir gibi olur ancak söze dönüştürmez. Bu durumu Orhan Veli ne güzel dile getirmiştir: “- - - -”

**Bu metinde boş bırakılan yere anlam akışına göre aşağıdakilerden hangisi getirilmelidir?**

- A) Eve ekmekle tuz götürmeyi  
Böyle havalarda unuttum  
Şiir yazma hastalığım  
Hep böyle havalarda nüksetti  
Beni bu güzel havalar mahvetti
- B) Garibim  
Ne bir güzel var  
Avutacak gönlümü  
Bu şehirde  
Ne de tanıdık bir çehre  
Bir tren sesi  
Duymaya göreyim  
İki gözüm iki çeşme
- C) İstanbul'da Boğaziçi'nde  
Bir garip Orhan Veli'yim  
Veli'nin oğluyum  
Tarifsiz kederler içinde
- D) Bir yer var biliyorum  
Her şeyi söylemek mümkün  
Epeyce yaklaşmışım, duyuyorum  
Anlatamıyorum
8. Bir sanat alanında başarılı olmuş insanlar, bu alanda adını duyurmak isteyen kişilere bazen doğrudan destek verir, bazen de ilham kaynağı olur.

**Bu cümlede anlatılan durumu,**

- I. Paulo Coelho'nun anne ve babası, onun umut vadeden bir mesleğe yönelmesini istiyordu. Ancak o, yazar olmayı düşünüyordu ve ailesinin karşı çıkmasına rağmen yazmaya devam etti. Coelho'nun "Simyacı" isimli romanı dünya genelinde kırk milyondan fazla satıldı. Kitapları altmıştan fazla dile çevrildi. Mükemmel bir avukat da olabilirdi ancak o, dünyaca ünlü bir yazar oldu.
- II. Minnesota'da doğan Bob Dylan, müzisyenlikle ilgili hayallerini gerçekleştirmek için New York'a gitti. Orada pek çok sanatçıyla tanıştı. Bunlar arasında, onu hayal bile edemeyeceği sanatsal noktaya taşıyan kişi Woody Guthrie oldu. Onun ses kaydını duyduğu anı "Zihnimde bir şimşek çakmış gibiydi." diyerek ifade eden Dylan, yıllardır aradığını o kayıta bulmuştu.
- III. Ressam olma hayaliyle büyüyen Mahişeker Hanım, bulduğu her kâğıda resim çizerek kendini bu alanda yetiştirmiştir. Resim tutkusu, ilkokul öğretmeninin etkisiyle küçük yaşlarda başlayan bu sanat âşığı teyzemiz "Köy yerinde ressam mı olurmuş?" sözlerine inat, resim yapmayı hiç bırakmadığını söylüyor.

**metinlerinden hangileri örneklendirmektedir?**

- A) Yalnız I                      B) Yalnız II                      C) II ve III                      D) I, II ve III



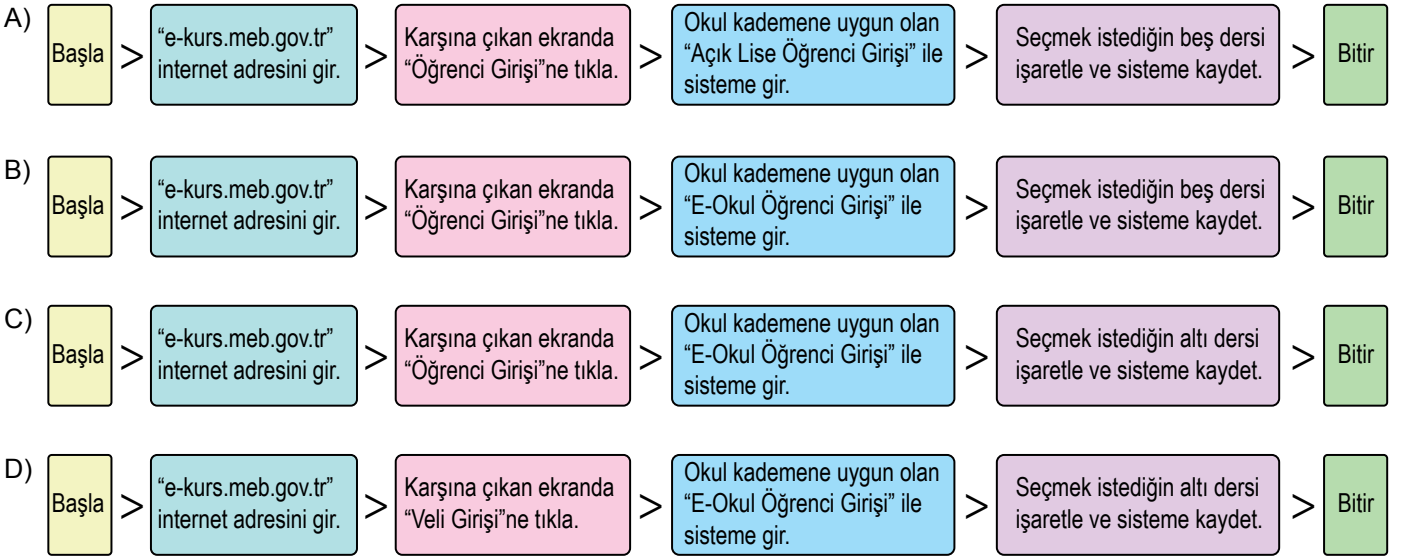
12. Algoritma, sorun çözmek ya da amaca ulaşmak için nasıl bir yol izlenmesi gerektiğinin adım adım tasarlanmasıdır. Algoritmada çözüme ulaşmak için tüm olasılıklar değerlendirilir, doğru ve etkin bir çözüm için komutlarla adımlar tanımlanır. Bu sürecin bir başlangıcı ve bitişi bulunmalıdır.

Bilişim Teknolojileri Öğretmeni Emin Bey, "Destekleme ve Yetiştirme Kursları"na başvuru yapmak isteyen 7. sınıf öğrencileri için bir algoritma hazırlamıştır.

Kurslarla ilgili bilinenler şunlardır:

- Öğrencinin e-okul sistemine kayıtlı olması gerekmektedir.
- Sisteme e-kurs modülü üzerinden "Öğrenci Girişi" sekmesi ile girilir.
- Ortaokulların 5, 6 ve 7. sınıflarındaki öğrenciler en fazla 5 farklı dersten, haftalık 12 saate kadar kurs alabilirler.
- 8. sınıftaki öğrenciler ise en fazla 6 farklı dersten, haftalık 18 saate kadar kurs alabilirler.

**Bu bilgilere göre Emin Bey aşağıdaki algoritmalarından hangisini hazırlamış olabilir?**



13. Kişinin bazı olay ve durumlar karşısında kararsızlık yaşaması çatışmaya neden olur. Bu durum üç şekilde ortaya çıkabilir:

**Yaklaşma-Yaklaşma Çatışması:** Birey, yapmak istediği iki şey arasında kararsızlık yaşar. Futbol oynamayı ve konsere gitmeyi seven birinin aynı saatte gerçekleşen bu iki etkinlik arasında kararsızlık yaşaması, bu çatışma türüne örnektir.

**Yaklaşma-Kaçınma Çatışması:** Birey, bir şeye karşı istek duyar ancak bu istek, bireyin hoşuna gitmeyen bir durumu ortaya çıkarır. Dondurma yemek isteyen birinin, boğazı ağrıdığı için yemekten çekinmesi bu çatışma türüne örnektir.

**Kaçınma-Kaçınma Çatışması:** Birey, istemediği iki durumdan birini seçmek zorunda kalır. Diş tedavisinden korkan birinin bu ağrıyı çekmek ile doktora gitmek arasında bir seçim yapma durumunda kalması, bu çatışma türüne örnektir.

**Aşağıdaki atasözlerinden hangisi bu metinde sözü edilen çatışma türlerinden herhangi biriyle ilgili değildir?**

- A) Ya bu deveyi gütmeli ya bu diyardan gitmeli.  
B) Gülü seven dikenine katlanır.  
C) Kır atın yanında duran ya huyundan ya suyundan...  
D) Ne yârden geçilir ne serden.

14. 2013 yılının Şubat ayında kütlesinin yaklaşık 12 bin ton olduğu düşünülen büyükçe bir meteor, atmosfere girdi ve orada parçalandı. Meteorun parçaları Rusya'nın Çelyabinsk kenti yakınlarına düştü. Çok sayıda bina zarar gördü ve yaralanmalar oldu. Uzmanlar bu büyüklükteki bir meteorun en son 1908 yılında yeryüzüne düştüğünü belirtiyor.

**Bu parçada aşağıdaki yazım kurallarından hangisine örnek olabilecek bir kullanım yoktur?**

- A) Ses düşmesine uğrayan birleşik kelimeler bitişik yazılır.  
B) Özel adlara getirilen çekim ekleri kesme işaretiyle ayrılır.  
C) Belirli bir tarih bildiren ay ve gün adları büyük harfle başlar.  
D) Özel ada dâhil olmayıp tamlama kuran şehir, il, ilçe, belde, köy vb. sözcükler küçük harfle başlar.
15. Işık, gölge ve hacim duygusunun yansıtılmadığı küçük, renkli çizimlerin yapıldığı bu resim sanatında perspektif (bir nesnenin büyüklüğünün, görüldüğü gibi çizilmesi) uygulanmaz.

**Aşağıdakilerden hangisi bu metinde sözü edilen resim sanatının örneğidir?**



16. Bir balıkçının tezgâhında yer alan balık türleri ile ilgili bilgiler aşağıdaki tabloda verilmiştir.

Balık Türü	Balık Boyu	Önerilen Pişirme Şekli	
		Tava	Izgara
Barbun	Küçük	Önerilmez	Önerilir
Hamsi	Küçük	Önerilir	Önerilmez
Kılıç	Büyük	Önerilir	Önerilmez
Tekir	Küçük	Önerilir	Önerilir
Lüfer	Büyük	Önerilmez	Önerilir

Bu balıkçıdan alışveriş yapan Mine, Nermin, Okan, Ömer ve Pelin ile ilgili şunlar bilinmektedir:

- Her bir kişi, diğerlerinden farklı bir balık türü satın almıştır.
- Ömer, hem tavası hem ızgarası önerilen bir balık almıştır.
- Mine ve Pelin'in aldığı balıkların boy özelliği farklı, pişirme önerisi aynıdır.
- Okan tavada pişirilmesi önerilen, küçük bir balık almıştır.

**Buna göre;**

- I. Lüfer,
- II. kılıç,
- III. barbun

**balıklarından hangilerini kimin alacağı kesin olarak söylenemez?**

- A) Yalnız I                      B) Yalnız II                      C) I ve III                      D) II ve III

17. Bir ressamın her tür resmi ortaya çıkarabilmesi söz konusu değildir. - - - -

**Bu cümlelerin sonuna anlam akışına göre aşağıdakilerden hangisi getirilemez?**

- A) Çünkü resim sanatının her bir dalını tam anlamıyla öğrenebilmek ve uygulayabilmek oldukça zaman alır.  
B) Resim sanatının birtakım alt dalları vardır ve bir ressam en fazla dört veya beş dalda kendini yetiştirebilir.  
C) Ama çevremizde veya sanat dünyasında "Elbette ben hepsini yapabilirim." diyen sanatkarlar da yok değil.  
D) Dolayısıyla bir ressam yeteri kadar çalışırsa hem portrede hem soyut resimde hem de natüremortta ustalaşabilir.

18. "Kitap nasıl okunmalı?" sorusunu kendime göre cevaplasam bile söylediklerim, yalnızca benim için geçerli olacaktır. Herkes kendi kararını kendi vermelidir. Birilerinin; neyi, nasıl okuyacağımızı; okuduklarımızı nasıl değerlendireceğimizi söylemesine izin vermek çıkış kapılarımıza kilit vurmaktır.

**Bu parçadaki altı çizili ifadenin yerine aşağıdakilerden hangisi getirilebilir?**

- A) özgürlüklerimize                      B) yeteneklerimize                      C) birikimlerimize                      D) gayretlerimize



19. Hepimiz hayatımız boyunca iki veya daha fazla seçenek arasından birini yeğleriz. Hatta bazen sunulanların hiçbirinden hoşlanmasak da sırf içimizdeki dayanılmaz çelişkiden sıyrılmak için alternatiflerden birini seçeriz. Seçmediğimiz “diğeri”ni, ne olacağını hiç bilemeyeceğimiz bir konuma getiririz. Başka bir deyişle bizim için güzel veya kötü olacak o olasılığı yitiririz.

**Bu parçada anlatılanları en iyi ifade eden söz aşağıdakilerden hangisidir?**

- A) Deneyim en acımasız öğretmendir.
- B) Unutmayın ki bir seçim yaparken seçmemek de seçilebilir.
- C) Deneyen kaybedebilir ama denemeyen zaten kaybetmiştir.
- D) Tercihler, insanın bazı şeylerden vazgeçmesini gerekli kılar.

20. Türkiye Büyük Millet Meclisi Müzesine giden bir öğrencinin, ziyaret ettiği bazı bölümlerle ilgili izlenimleri şunlardır:

Bu odadaki sıralarda milletvekillerinin oturduğunu hayal edip yeni kurulan ülkenin o günkü atmosferinde nelerin görüldüğünü düşünmek oldukça heyecan vericiydi. Gezdiğim başka bir bölümde yerli ve yabancı basın-yayın organlarının farklı olaylarla ilgili manşetlerini okuyarak o dönemin izlerini sürdürdüm âdeta. Mustafa Kemal Atatürk'ün dürbünü, gömleği ve kravatının sergilendiği oda ise beni oldukça duygulandırdı.

**Bu izlenimlerden hareketle söz konusu öğrencinin, müzenin aşağıdaki bölümlerinden hangisini gezdiği söylenemez?**

A) **Girişin Sağ Tarafındaki İkinci Oda**

Buradaki ışıklı pano ve vitrinlerde hukuk alanındaki düzenlemeleri; uluslararası takvim, saat, tartı ve ölçülerin kullanılmaya başlanmasını; yeni Türk harflerinin kabulünü; Türk Hava Kurumu, demir yolları, ekonomi ve sanayi ile ilgili gelişmeleri anlatan gazete kupürleri ve fotoğraflar sergilenmektedir.

B) **Girişin Sol Tarafındaki İkinci Oda**

“İdare Heyeti” olarak kullanılan bu odada Cumhuriyet'in ilanından günümüze kadar basılan kâğıt ve madenî paralar, pullar ve madalyonlar sergilenmektedir.

C) **Meclis Toplantı Salonu**

Bu salon, Cumhuriyet'in ilk yıllarından itibaren gerçekleştirilen büyük atılımların karar merkezi olarak birçok konuşmaya sahne olmuş, tarihî değeri yüksek bir mekândır.

D) **Girişin Sağ Tarafındaki Üçüncü Oda**

Burada Türk Tarih ve Türk Dil Kurumlarının kuruluşu, Montrö Boğazlar Sözleşmesi, tarım, arkeoloji ve güzel sanatlarla ilgili gelişmeler, Türk kadınına seçme ve seçilme hakkının verilmesi fotoğraflarla ve Atatürk'ün sözleriyle anlatılmakta, Atatürk'ün bazı özel eşyaları ve el yazısı örnekleri sergilenmektedir.

21. Birileri bana “Dünyanın en ilginç canlısını görmek ister misin?” diye sorsa cevabım kuşkusuz “Evet!” olurdu ve çim içime sığmazdı. Bu sorunun küçük bir çocuğa yöneltildiğini düşünelim bir de. Hiç şüphesiz yüreğinde davullar

I

gümbürder, bu canlının nasıl bir şey olduğunu görebilmek için yerinde duramazdı. Sevinçten âdeta deliye dönerdi.

II

III

**Numaralanmış sözlerden hangileri bu metinde geçen “yüreğinde davullar gümbürder” sözüyle anlatılmak isteneni karşılar?**

- A) Yalnız I
- B) I ve II
- C) II ve III
- D) I, II ve III

22. Ayşe, Burhan, Cenk, Deniz, Ebru ve Ferhat'tan oluşan yeşil, mavi ve beyaz takım "pas atma" oyunu oynayacaktır. Oyun ile ilgili şunlar bilinmektedir:

- Her takımda ikişer oyuncu vardır.
- Beyaz takım, mavilere; maviler, yeşillere ve yeşiller de beyazlara pas atacaktır.
- Cenk, Ebru'ya; Deniz, Ayşe'ye; Burhan ise Ferhat'a pas atacaktır.
- Ayşe yeşil takımdadır.
- Deniz ve Ferhat aynı takımdadır.

**Bu bilgilerden hareketle aşağıdakilerden hangisi söylenebilir?**

- A) Ayşe ile Cenk aynı takımdadır.
- B) Burhan ile Ebru farklı takımdadır.
- C) Deniz, yeşil takımdadır.
- D) Ferhat beyaz takımdadır.

23. Günümüzde kitaplar, bir tüketim nesnesi olarak sunuluyor ve okur tarafından da öyle algılanıyor. Kitabın, yaşamını kolaylaştırmasını ya da ihtiyacını hemen karşılamasını bekliyor okur. Kitap tanıtım yazıları da bu gereksinimi karşılamak üzere hazırlanıp âdeta bir satış tekniği olarak kullanılıyor.

**Aşağıdakilerden hangisi bu metinde eleştirilen türde bir kitap tanıtım yazısı değildir?**

- A) Bu roman, "İncecik bir kitaba, tarihin en büyük acılarını sığdırmak mümkün müdür?" sorusunun cevabı niteliğini taşıyor. Sembolik ve ders verici anlatımıyla savaşın tüm yıkıcılığını ortaya koyuyor.
- B) Bu kitap; insanın, elindeki en büyük gücü nasıl kullanması gerektiğini, inancın ve düşüncenin neler yapabileceğini söylerken kişinin, kendisi ile bağlantıya geçmesini de sağlıyor.
- C) Bu eser, insanın toplum içindeki yalnızlığını ele alıyor. Yazarın, büyük şehirlerde yaşayan yalnız bireylerin psikolojisini çözümlene çabasına tanık oluyoruz.
- D) Bu yapıt, sizi kendinizi bulmaya çağırıyor. Bu yapıtla duygu dünyanızın başrolü olan benliğinize geri dönecek ve kendinize tüm içtenliğinizle "Hoş geldin!" diyeceksiniz.

24. "Tiyatro ve sinema ip üstünde yürümeye benzer fakat sinemada ip yerededir." sözüyle aşağıdakilerden hangisi vurgulanmıştır?

- A) Sinemanın tiyatroya göre izleyicide daha çok heyecan uyandırdığı
- B) Tiyatro ve sinemanın, kendi içinde birtakım problemler barındırdığı
- C) Tiyatronun, oyuncular açısından sinemaya göre daha riskli olduğu
- D) Sinema ve tiyatronun birçok ortak yönünün bulunduğu

25. - - - - . Örneğin kek pişirmeyi ele alalım. Ürünün tadı; farklı sürelerde yüksek sıcaklıklara maruz bırakılan tereyağı, şeker ve un gibi bileşenlerin etkileşimiyle ortaya çıkar. Kekin tadı; yüzde şu kadar un, yüzde bu kadar tereyağı gibi parçalara ayrılamaz. Her bileşen, ürüne katkı sağlamıştır. Şiir için de aynı durum geçerlidir.

**Bu parçanın başına anlam akışına göre aşağıdaki cümlelerden hangisi getirilmelidir?**

- A) Şiir, anlaşılma için değil hissedilmek içindir
- B) Şiir, düzyazıya çevrilemeyen dildir
- C) Şiir, sözcüklerle güzel olana ulaşma sanatıdır
- D) Şiir, ses ile anlam ortaklığından oluşur

26. I. Garbın âfâkını sarmışsa çelik zırhlı duvar,  
Benim iman dolu göğsüm gibi serhaddim var.  
Ulusun, korkma! Nasıl böyle bir imanı boğar,  
Medeniyet dediğin tek dişi kalmış canavar?

II. Arkadaş, yurduma alçakları uğratma sakın;  
Siper et gövdeni, dursun bu hayâsızca akın.  
Doğacaktır sana va'dettiği günler Hakk'ın;  
Kim bilir, belki yarın, belki yarından da yakın.

III. Ruhumun senden İlâhî, şudur ancak emeli:  
Değmesin mabedimin göğsüne nâmahrem eli.  
Bu ezanlar -ki şehâdetleri dinin temeli-  
Ebedî yurdumun üstünde benim inlemeli.

**Numaralanmış dizelerin hangilerinde ihtimal anlamı vardır?**

A) Yalnız I                      B) Yalnız II                      C) I ve III                      D) II ve III

27. I. Aydınlanma Dönemi'nde Avrupa'da "İnsan, düşünen bir varlık olarak şartlarını ve çağını ileriye taşımak zorundadır." fikri hâkimdir. Bu nedenle insanoğlu, evrenin sırlarını çözmeye çalışarak ve çağın en büyük korkusu olan başarısızlığın üstüne giderek yeni rotalar çizmek mecburiyetindedir. Çağın bir parçası olmak isteyen bilim insanları tarihten ders almak zorundadır.
- II. Türkiye'nin kaderini belirleyen, ülkemizi işgal kuvvetlerinin elinden kurtararak bağımsız bir devlet kurmamızı sağlayan Kurtuluş Savaşı, Mustafa Kemal Atatürk'ün önderliğinde, birçok kahramanın fedakârlığı sayesinde kazanılmıştır. Kadın, erkek, genç, yaşlı demeden herkesin bir olduğu bu mücadele, başta Atatürk olmak üzere kahramanlıkları ile göğsümüzü kabartan karakterlerin zaferidir.
- III. XV. yüzyılda Avrupa'da birçok sanatçı ve bilim adamı tarafından başlatılan Rönesans, Avrupa'nın aydınlanma yaşadığı bir dönemdir. Avrupa'ya öğrenim görmeye gelen kişiler ve Avrupa'dan ticaret yapmak için farklı ülkelere giden tüccarlar bu aydınlanma akımının yayılmasının en temel nedenleri olarak düşünülebilir.

**Numaralanmış metinlerden hangileri "Zor zamanlar güçlü insanları, güçlü insanlar iyi zamanları, iyi zamanlar zayıf insanları, zayıf insanlar da zor zamanları ortaya çıkarır." cümlesinde belirtilen düşüncelerden herhangi biri ile ilişkilendirilemez?**

A) Yalnız I                      B) Yalnız II                      C) I ve III                      D) II ve III

28. Türk şiirinin evelden beri anlamla başı derttedir. "Şiirin konusu ne?", "Ne anladın bu şiirden?" derler. Bütün bunlar çağdaş şiiri bilmeyenlerin sorularıdır. Bana "Bu şiirde ne demek istediniz?" diye sorulduğunda tekrar okurum o şiiri ve "İşte, bunu demek istedim." derim. Çağdaş şiirde her şeyden önemli olan duyumdur. Şiiri duymak, duyurmak, hissettirmek... Ben ilk okuduğumda anladığım şiire kolay kolay şiir diyemem.

**Bu parçanın anlatımında aşağıdakilerden hangisine başvurulmamıştır?**

A) Eleştiriye                      B) Tespite                      C) Tanımlamaya                      D) Karşılaştırmaya

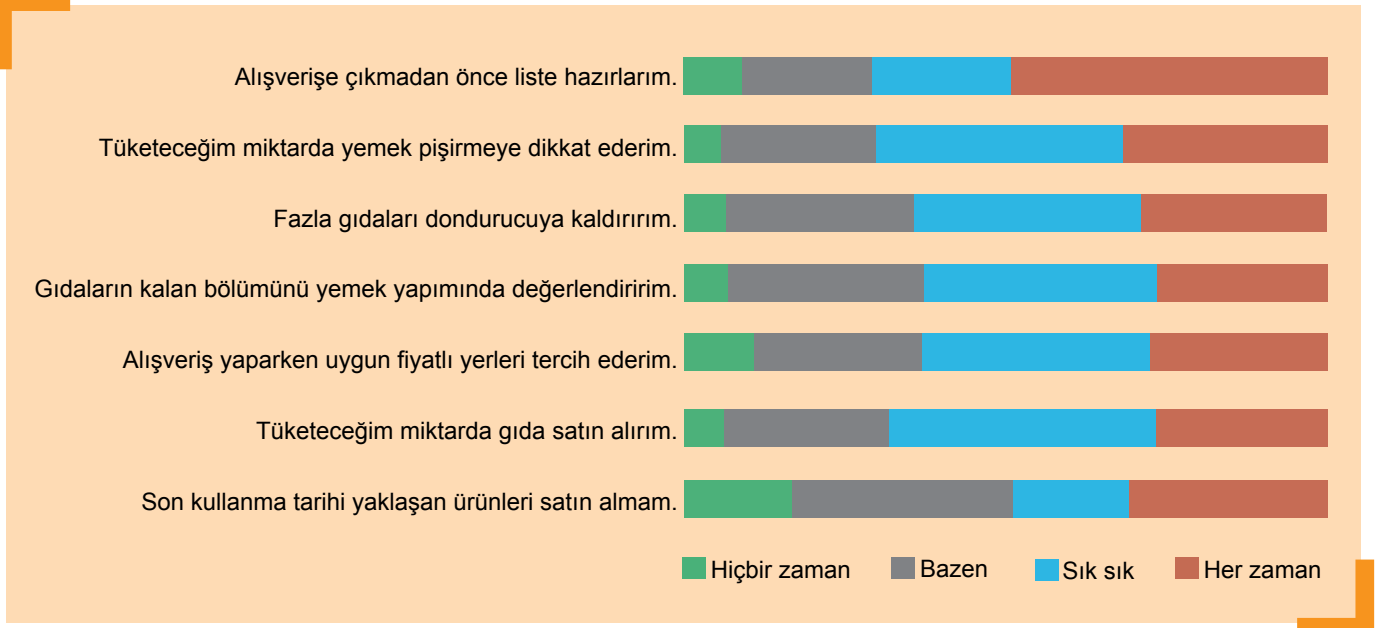


32. Bir sorunu eleştiren yazılar görüyorum. Bu tür yazıları okuduğumda baktığım ilk şey, yazarın çözüme yönelik önerisi oluyor. Eğer yazarın önerisi yoksa o yazı benim için yok hükmündedir. Çünkü sorunu herkes görebilir ama çözümü herkes üretemez, marifet çözümdedir.

**Bu sözleri söyleyen birinin aşağıdaki metinlerden hangisini beğenmesi beklenir?**

- A) Bozkırı boydan boya geçen yolculuklar yaparken içim yanar hep. Yolculuğa çıkmadan önce bir umutla manzaranın değişeceğini düşünsem de zamanla gerçeği kabullenirim. O dağların, tepelerin ağaçlarla dolu olmasını beklerim ama beni çorak topraklar ve tepeler karşılar hep. Nice türkünün yakıldığı, nice güzel âdetin olduğu topraklara bu görüntü yakışmıyor.
- B) Yaşadığım şehrin sokaklarında gezerken içimden şu cümleyi söyler dururum: Bu sokakların ruhu yok! Evet, her gün geçtiğim bu sokaklar asfalt ve taştan oluşuyor; beni kendisine bağlayan bir yönü yok. Hâlbuki bir ruhu olsa bu sokakların... Mesela sokağın her köşesinde eskiden kalma kocaman ağaçlar olsa, o sokakta yaşamış ünlü insanların küçük anıtları olsa...
- C) Şehir yaşamının yol açtığı en önemli sorunlardan biri de trafik. Şehirlerde yaşayan milyonlarca insan her gün bu sıkıntıyı çekiyor. Kendisine ya da ailesine ayıracağı vakti trafikte harcıyor. Oysaki insanlar bu vakti yollarda trafiğin açılmasını bekleyerek değil, daha nitelikli işler yaparak geçirmeli.
- D) Modern çağın devasa mabetleri AVM'ler! Canlı, coşkulu, ele avuca sığmaz eski çarşıların yerini soğuk ve kaba hâlleriyle alarak günbegün hayatımıza girdiler. Evet, bizlere birçok ürünle hizmet sunuyorlar. Ancak bir makine gibi ruhtan ve doğallıktan yoksunlar.

33.



**Bu görsele getirilebilecek en uygun başlık aşağıdakilerden hangisidir?**

- A) İnsanların Gıda Saklama Koşullarına İlişkin Görüşleri
- B) Müşterilerin Alışveriş Tercihlerini Belirleyen Faktörlerin Sıklığı
- C) Tüketicilerin Gıda Tasarrufu Konusundaki Davranış Dağılımı
- D) Tüketicilerin Toplam Harcamalarında Gıda Ürünlerinin Oranı

34. Mecaz anlam; bir kelimenin gerçek anlamının dışında, başka anlamlara gelecek biçimde kullanılmasıdır.

**Bu tanıma göre aşağıdaki dizelerin hangisinde mecaz anlam örneği yoktur?**

- A) Şurda yeşil gözlü bir çocuk  
Naylon geçirmiş şapkasına  
Ferit'e benzettim azıcık  
Kim bilir belki de başkasına
- B) Ufacık yüzünü gördüm kahvenin camında  
Önümden el ele vermiş çocuklar geçiyorlardı  
Bir kırlangıç havayı yarıp geçti  
Gökyüzü neredeyse düşecekti
- C) İstanbul'da serin mevsim sonbahar  
Hazin bir musiki tadıyla başlar  
Ağır adımlarla dolaşır semt semt
- D) Seni bekliyordum yağmur, küçük yağmur  
Ekinlerim için değil kendim için  
Hani ellerinle bende yeşerttiğin  
O yağmur kokulu düşüncelerin için

35. Aşağıda eski kitap ciltlerinde bulunan bazı bölümler tanımlanmıştır.

**Miklep:** Kitabın okunmakta olan yerini belli eden, ucu üçgenimsi, katlanabilir parça.

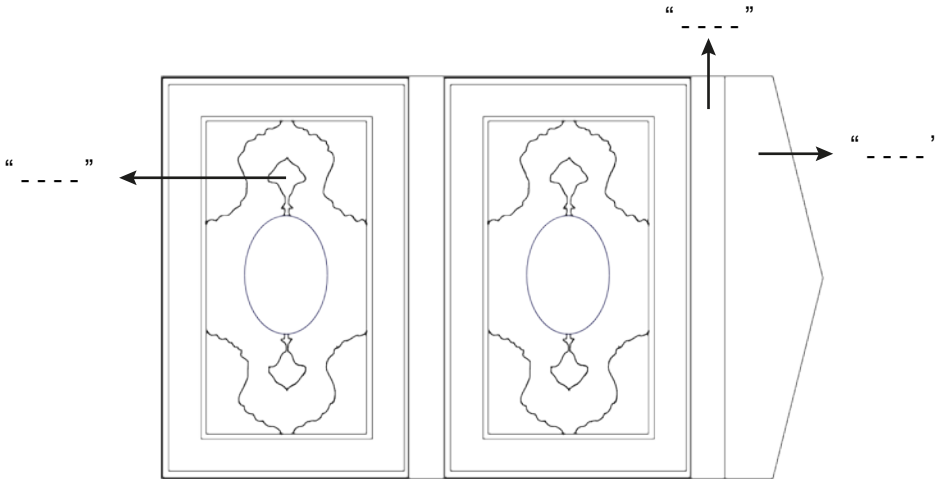
**Şemse:** Kitabın ön ve arka kapağında bulunan dairevi süs.

**Salbek:** Şemsenin iki ucundaki uzantı süs.

**Sırt:** Formaların (Tek kâğıt tabaka üzerine basılan on altı sayfalık kitap parçası) bağlandığı bölümü örten kısım.

**Sertap:** Miklebi kitaba bağlayan ve kitabın ön kısmını muhafaza eden, miklebe hareket kabiliyeti sağlayan bölüm.

**Bu açıklamalara göre,**




**görselinde okla gösterilen alanlara aşağıdakilerden hangisi getirilemez?**

- A) Miklep                      B) Sırt                      C) Sertap                      D) Salbek

Yeşilçam'ın Tonton Amcası:

## HULÛSİ KENTMEN



**1912**

20 Ocak'ta Tırnova'da dünyaya geldi.

**1932**

Sahneye ilk kez "Hisse-i Şayia" adlı oyunla çıktı.

**1942-1988**

Emekliliğinin ardından kendisini tiyatro ve sinemaya adadı.

1942'de kamera karşısına geçti.

1971 yapımı "Senede Bir Gün" filmiyle adını duyurdu.

"Hulûsi Kentmen Tiyatro Topluluğu" ile turnelere çıkıp birçok yerde oyun sahneledi.

500'e yakın filmde rol aldı.

Komiser, esnaf, hâkim ve fabrikatör rollerinin aranan yüzü oldu.

Kariyeri boyunca birçok filmde Adile Naşit, Münir Özkul, Kemal Sunal ve Tarık Akan gibi isimlerle çalıştı.

Aynı zamanda keman ve fotoğrafçılık sanatlarıyla ilgilendi.

**1993**

20 Aralık'ta vefat etti.

**Bu metinden Hulûsi Kentmen'le ilgili aşağıdakilerden hangisine ulaşamaz?**

- A) Sinema ile şöhret kazandığına  
 B) Sanatın farklı dallarıyla uğraştığına  
 C) Sanat hayatına sinema ile başladığına  
 D) Filmlerinde benzer karakterleri canlandırdığına
37. Emre ile Kerem "kelime bulma oyunu" oynamaktadır. Emre aklından, beş farklı harften oluşan bir kelime tutar, Kerem de bu kelimeyi bulmaya çalışır. Kerem, tahminlerini söylemiş ama doğru kelimeyi bulamamıştır. Kerem'in tahminlerine Emre'nin verdiği cevaplar şu şekildedir:

	Kerem'in Tahminleri	Emre'nin Verdiği Cevaplar
1	Ş E H İ R	Tuttuğum kelimenin iki harfi bu kelimedede de var ama biri doğru, diğeri yanlış yerde.
2	B E K Ç İ	Tuttuğum kelimenin iki harfi bu kelimedede de var ve ikisi de doğru yerde.
3	D A V U L	Tuttuğum kelimenin bir harfi bu kelimedede de var ve doğru yerde.
4	M E V Z U	Tuttuğum kelimenin iki harfi bu kelimedede de var ve ikisi de doğru yerde.

**Buna göre Emre'nin aklından tuttuğu kelime aşağıdakilerden hangisi olabilir?**

- A) MEVKİ                      B) MESAI                      C) SELVİ                      D) SEVGİ

38. - - - - Chicago Üniversitesinden Prof. Dr. Benjamin Bloom ve ekibi de 1985 yılında yaptıkları çalışmada bir konuda çok başarılı olan kişilerin bu seviyeye nasıl geldiklerini belirlemeye çalıştı. Araştırmada; aralarında piyanistlerin, olimpik yüzücülerin ve matematikçilerin olduğu, dünya çapında başarı kazanmış yüzlerce kişi ile görüşmeler yapıldı. Araştırmanın başında bu kişilerin, sözü edilen alanlarda doğuştan yetenekli olduğu varsayılmıştı. Ancak araştırma sonuçları; bu kişilerin, çevreleri (anne, baba, öğretmen...) tarafından teşvik edildikleri ve onlardan destek gördükleri için, ilgilendikleri alanlarda başarılı olduklarını göstermiştir.

**Bu parçanın başına anlam akışına göre aşağıdakilerden hangisi getirilmelidir?**

- A) Bilim insanları deneyimin niceliğinin önemli olduğunu belirtse de araştırmalar, niteliğinin daha değerli olduğunu gösteriyor.
- B) Bazı araştırmacılar bir kişinin başarılı olması için farklı alanlarda yetenekli olması gerektiğini öne sürmüştür.
- C) Önceleri bir alanda başarılı olmak için o alanda doğuştan yetenekli olmanın yeterli olduğu düşünülürdü.
- D) Bir konuda uzmanlaşmak için deneyimin en az yetenek kadar önemli olduğu uzun zamandır biliniyor.

39. Bilinçaltının bazı özellikleri şunlardır:

- Olumsuzluk kavramını anlayamaz.
- Ciddiye alınmaması gereken bilgileri ciddiye alır.
- Zaman kavramı yoktur; dün, bugün, yarın arasındaki farkı bilmez.

**Aşağıdaki metinlerden hangisi bilinçaltının bu özelliklerinden herhangi biriyle ilişkilendirilemez?**

- A) Bilinçaltı, dışarıdan gelen tüm tehditlere yanıt vererek sistemi canlı tutmaya çalışır. Ancak bu canlı tutma işlevini buluttan nem kapacak şekilde yerine getirerek tehlikeleri gereğinden fazla abartır.
- B) Bilinçaltı, geçmişte yaşadığımız bir olayın çoktan bittiğinin farkına varmaz. Çünkü insanın başından geçen olumsuz olaylar bilinçaltında hemen çözülmez, her hatırlandığında şu anda yaşanıyor gibi algılanır.
- C) Bilinçaltı her şeyi fiziksel olarak görür. Örneğin işimiz, okulumuz, tuttuğumuz takım, yaklaşan bir sınav gibi soyut durumları anlayamaz. O sadece somut durumlarla ilgilenir. Soyut tehditlere çok ilgisiz cevaplar verebilir.
- D) Bilinçaltı, negatif durumları anlamlandıramıyor; aklımıza gelen her şeyi "istediğimiz bir durum" olarak algılıyor. Kısacası neye odaklanırsak bize onu yaşıyor.

- 40.
- Kitap, dergi, gazete ve sanat eserlerinin her kelimesi büyük harfle başlar ancak özel ada dâhil olmayan gazete, dergi, heykel vb. sözler büyük harfle başlamaz.
  - Yer bildiren özel isimlerde kısaltmalı söyleyiş söz konusu olduğunda yer adının ilk harfi büyük yazılır.
  - Kitap, makale, tiyatro eseri, kurum adı vb. özel adlarda yer alan kelimelerin ilk harfleri büyük yazıldığında "ve, ile, ya, veya, yahut, ki, da, de" sözleriyle "mı, mi, mu, mü" soru eki küçük harfle yazılır.
  - Cümle içinde özel adın yerine kullanılan makam veya unvan sözleri büyük harfle başlar.

**Bu kurallara göre aşağıdaki cümlelerin hangisinde yazım yanlışı vardır?**

- A) Atatürk Kültür, Dil ve Tarih Yüksek Kurumu, yayınlarını yıl sonuna kadar ücretsiz olarak uzaktan erişime açıyor.
- B) Altın Köşk'te çeşitli saraylardan seçilen en güzel süslemelere yer verilmiş, Köşk'ün dış cephesinde kızılağaç kullanılmıştır.
- C) Dün öğle saatlerinde yapılan toplantıda Müdür'ümüz önümüzdeki yıl yapılacak kurslarla ilgili planlarını anlattı.
- D) Osman Hamdi Bey'in "İstanbul Hanımefendisi" Tablosu Avusturya'nın başkenti Viyana'da açık artırımla satıldı.



41. Küçük Prens, bana aniden,  
— Çalıları koyunların yediği doğru mu, diye sordu.  
— Evet, bu doğru, dedim.

**Bu metinde virgülün aşağıdaki işlevlerinden hangisinin örneği yoktur?**

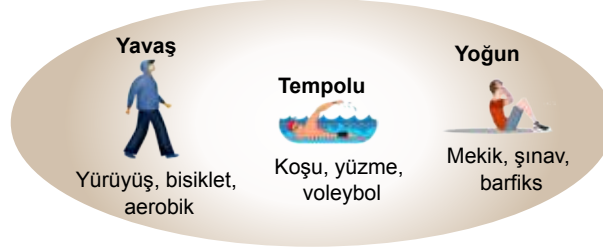
- A) Birbiri ardınca sıralanmış eş görevli sözcük ve sözcük gruplarının arasına konur.  
B) Konuşma çizgisinden sonraki alıntı cümlelerin bitimine konur.  
C) Edebî eserlerde konuşma bölümünden önceki ifadenin sonuna konur.  
D) Kendisinden sonraki cümleye bağlı olarak ret, kabul ve teşvik bildiren “peki, yok, elbette” gibi kelimelerden sonra konur.

**42 ve 43. soruları aşağıdaki metne göre cevaplayınız.**

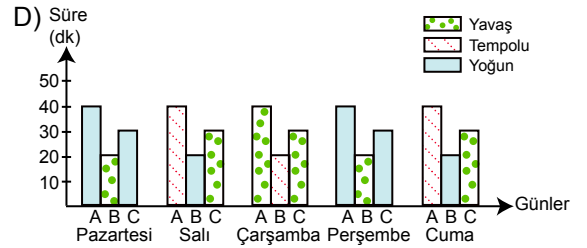
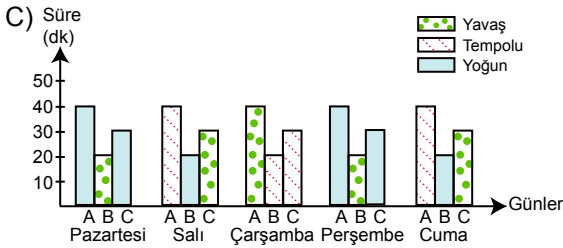
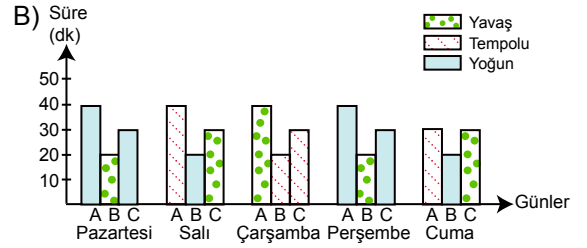
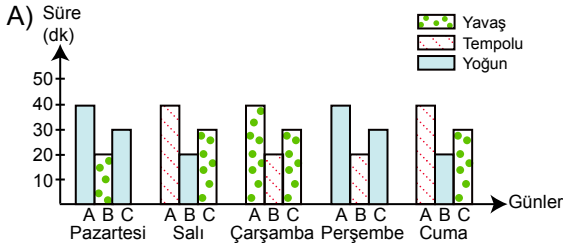
Bir spor salonuna giden kişilerin yapmaları gereken egzersizler vücut tiplerine göre şu şekilde belirlenmiştir:

- A vücut tipine sahip olanlar; günlük kırk dakikaya yakın olmak üzere pazartesi ve perşembe günleri yoğun, salı ve cuma günleri tempolu, çarşamba günü ise yavaş kardiyo (kalp ve damar egzersizi) çalışmaları yapmalıdır.
- B vücut tipine sahip olanlar; günlük yirmişer dakika olmak üzere pazartesi ve perşembe günleri yavaş, salı ve cuma günleri yoğun, çarşamba günü ise tempolu kardiyo çalışmaları yapmalıdır.
- C vücut tipine sahip olanlar; günlük otuz dakikaya yakın olmak üzere pazartesi ve perşembe günleri yoğun, salı ve cuma günleri yavaş, çarşamba günü ise tempolu kardiyo çalışmaları yapmalıdır.

#### Kardiyo Çeşitleri



42. Bu bilgilere göre aşağıdakilerden hangisi sözü edilen vücut tiplerinin beş günlük egzersiz grafiğidir?



43. Bu metne göre aşağıdakilerden hangisi söylenemez?

- A) A vücut tipine sahip kişiler salı, B vücut tipine sahip kişiler çarşamba günü koşu egzersizi yapabilir.  
B) A ve C vücut tipine sahip kişiler haftanın aynı günleri mekik ve barfiks egzersizleri yapabilir.  
C) B vücut tipine sahip kişiler perşembe günü yürüyüş ve aerobik yapabilir.  
D) C vücut tipine sahip kişiler salı günü yüzebilir ve voleybol oynayabilir.

# 8. SINIF

# Türkçe



**3. Tema**

***Bilim ve Teknoloji***

1. Aksaray'daki bir muhasebe bürosunda kurulan sete bacaklarım titreyerek gittim. Masanın arkasındaki deri koltuğa oturduğum o ana kadar oyunculukla ilgili hiçbir tecrübeye sahip değildim. Ancak kamera karşısına çıkmadan önce, usta bir oyuncu olan rol arkadaşımın söylediği şu sözler beni biraz rahatlattı: "Sakın rol yapmaya kalkma! Sinemanın oynayan bir oyuncuya ihtiyacı yok."

**Bu parçada geçen "oynayan bir oyuncu" sözüyle anlatılmak istenen aşağıdakilerden hangisidir?**

- A) Doğallıktan uzak olmak  
B) Senaryoya bağlı kalmamak  
C) İşinin hakkını vermemek  
D) Role kendi yorumunu katmak

2. Kültürümüzün koruyucusu dildir. Dili korumak, kültürü korumak demektir. Bu yüzden konuşurken veya yazarken yabancı sözcüklere mümkün olduğunca yer vermemeliyiz. Ama ne yazık ki çevremize baktığımızda durumun hiç de böyle olmadığını görüyoruz. Çarşıya çıkmak acı veriyor artık insana; mağazaların, dükkânların adları ya İngilizce sözcüklerden oluşuyor ya da Türkçe isimler bile İngilizce sözcükmüş gibi yazılıyor. İnsanlar, konuşurken aralara yabancı sözcükler sıkıştırmayı marifet sayıyorlar.

**Aşağıdaki görsel ve afişlerden hangisi bu parçada yakınılan durumla ilgili değildir?**



3. Çamaşırı bir kadının kızı, okumak için benden kitap isteyince hoşuna gider diye düşünerek ona Orhan Kemal'in "Çamaşırının Kızı" adlı öykü kitabını verdim. Ertesi sabah yanıma gelip kitabı bana uzatınca "Ne o, hemen getirdin kitabı, beğenmedin mi yoksa?" dedim. Kız, gözlerimin içine bakarak "- - -" dedi ve ekledi: "Ben okuduğum her kitapta yeni bir dünyayla tanışmak istiyorum."

**Bu metinde boş bırakılan yere düşüncenin akışına göre aşağıdakilerden hangisi getirilmelidir?**

- A) Önce yazarını tanımalıyım.  
B) Ben bunları biliyorum zaten.  
C) Bana sıkıntılarımı hatırlatıyor.  
D) O kadar akıcıydı ki bir çırpıda bitirdim.
4. Haber yazıları, bir olay ya da olguyla ilgili bilgilerin 5N1K kuralına göre yazılı metin hâline getirilmesiyle oluşur. 5N1K kuralı, haberin "ne, nasıl, niçin, nerede, ne zaman, kim" sorularına göre kurgulanmasıdır.

**Bu açıklamaya göre aşağıdakilerin hangisi 5N1K kuralına göre yazılmış bir haber yazısıdır?**

- A) Gazetede ki köşemizde bir reçete yazdık ya, birçok dostumuz aradı. Yeşillik dediğin sadece yemlik, kuzukulağı, madımaktan mı ibarettir; daha sayılsa neler neler vardır, diye uyardılar beni. Ben ne yemek ustasıyım ne de salata uzmanı. Bahar geldi, tabiat kendini yeniledi; siz de şöyle bir silkinin, kış uykunuzu üstünüzden atın, demek istedim sadece.
- B) "Askerlik süresi kısaltılıyor. Üç ay temel askerlik eğitimi alan herkes, vatani görevini tamamlamış sayılacak. İsteyen, maaş karşılığında ordudaki görevine devam edecek. Yeni yasa, Resmî Gazete'de yayımlanmasının ardından yürürlüğe girecek." haberini okuyan babam gülümsedi. Başladı askerlik anılarını anlatmaya. Biz de her defasında olduğu gibi büyük bir heyecanla dinledik onu.
- C) Bilmem duydunuz mu, Sultanahmet Camii'nin halıları yenilendi. Nasıl bir desen tutturacaklar diye merak ediyordum doğrusu. Sonuç olumlu çıktı. Sevindim. Caminin güzelliğini buradan tekrar anlatmaya gerek yok. Çinilerinin hâkim rengi ile "Mavi Cami" olarak anılıyor. Yapılan süslemeler, bu hâkim renge yer yer lacivert ve kırmızılar eklenerek tamamlanmış.
- D) Kastamonu'da bir aile beş kuşaktır şimşir kaşık üretiyor. Çocukluğundan beri ağaçları yontarak mutfak araç ve gereçleri yapan Mehmet Bey, dede mesleğini yaşatmak için çalışıyor. Bakteri üremesini engelleyen bir özelliğe sahip olduğu için sağlık açısından da tercih edilen bu kaşıklar, kayalıklarda yetişen ve değerli bir ağaç olan şimşirden yapılıyor.
5. Özne; yüklem bildirdiği işi yapan, yüklem bildirdiği durumu üzerine alan ögedir. Nesne ise cümlede öznenin yaptığı "eylemden" etkilenen ögedir. "Seda kütüphaneden kitap aldı." cümlesinde alma işini yapan "Seda"dır ve cümlenin öznesidir. Seda'nın alma eyleminden etkilenense "kitap"tır ve cümlenin nesnesidir.


**Bu açıklamaya göre aşağıdaki cümlelerin hangisinde "nesne" yanlış gösterilmiştir?**

- A) Dere kenarında bir güvercin su içiyordu.  
B) Karşı komşumuz kurabiyeyi çok güzel yapıyor.  
C) Babam ceketinin cebinden bir davetiye çıkardı.  
D) Her seferinde bize taze meyveler getirirdi.

6. Belli bir bölgedeki bitki ve hayvan türlerinin zenginliğine "biyoçeşitlilik" denir. Gezegenimizi yaşanabilir hâle getiren biyoçeşitlilik, insanların sağlığını ve çevreyi korur. Biyoçeşitliliğin korunması için alınabilecek önlemlerden bazıları şunlardır:
- Tarım ilacı ve deterjan gibi kimyasal maddelerin kullanımı konusunda bilinçlendirme çalışmaları yapılmalıdır.
  - Biyohırsızlığa (bitki ve hayvan kaçakçılığı) yönelik önlemler alınmalıdır.
  - Doğal yaşam alanları ve su kaynakları korunmalıdır.
  - Organik tarım tercih edilmeli ve desteklenmelidir.
  - Ormanların tahrip edilmesinin önüne geçilmelidir.

Bu metne göre aşağıdaki afişlerden hangisi biyoçeşitliliğin korunması ile ilgili değildir?

A)



B)



C)



















D)



7. Araştırmalara göre kar taneleri dört gruba ayrılır. Altı kenarlı düz bir levhaya benzeyen levha kar taneleri, donma noktasının hemen altında; sütun benzeri bir yapısı olan sütun kar taneleri çok düşük sıcaklıkta oluşur. Uzun, ince iğneler şeklinde görünen ve orta seviyedeki nemlilikte oluşan iğnemsiz kar taneleri, sıkıştırılabilen yapısından dolayı kayak için mükemmel bir zemin oluşturur. Yüksek nemin etkisiyle oluşan ve karmaşık bir yapısı olan dendrit kar tanelerinde buhar, nemden dolayı çok hızlı yoğunlaştığı için buz kristalleri dallanmış bir yapıya bürünür.

**Bu metinde numaralanmış kar tanesi türlerinin görselleri aşağıdakilerin hangisinde sırasıyla verilmiştir?**

	I	II	III	IV
A)				
B)				
C)				
D)				

8. Aşağıda sinema filmi yapımının, sırasıyla "Geliştirim", "Yapım Öncesi", "Yapım", "Yapım Sonrası" ve "Dağıtım" başlıkları altında incelenen beş aşaması karışık olarak verilmiştir.

- I. Düzgün ve kolay bir film çekimi için iyi bir hazırlık gerekir. Bu aşamada senaryoya uygun oyuncular belirlenir, dekorlar ve kostümler hazırlanır.
- II. Filmin hangi sinemalarda, ne zaman gösterime gireceğine karar verilir ve belirlenen sinema salonlarında gösterimi tamamlandıktan sonra farklı ortamlarda satışı başlar. Bazı filmler de festivallere gönderilir.
- III. Çekimi tamamlanan sahneler bilgisayarda kurgulanır, filme görüntü ve ses efektleri ile müzik eklenir. Yapım ekibinin kontrolünden sonra film, izleyici ile buluşmaya hazır hâle gelir.
- IV. Her film bir fikirle başlar. Bu fikir; önce bir öyküye, sonra senaryoya ve daha sonra resimli taslağa dönüştürülür. Filmde, özel efektler ve fantastik öğeler kullanılacaksa bunları ekibin anlayacağı şekilde çizecek iyi bir ressamın gereksinim duyulur. Daha sonra, masrafları üstlenecek bir yapımcı arayışına gidilir.
- V. Filmin bütün sahneleri, hazırlanan programa uygun şekilde çekilir. Bu sürecin sorunsuz geçmesi için görev dağılımının çok iyi yapılması gerekir.

**Bu aşamalar aşağıdakilerin hangisinde doğru sıralanmıştır?**

- A) I - IV - V - II - III      B) I - V - III - IV - II      C) IV - I - V - III - II      D) IV - V - II - I - III

9. Üçgen, yıldız ve daireden oluşan bir kodlama sisteminde A, Ç, I, K, R harfleri aşağıdaki gibi gösterilmiştir.

A	▲★▲
Ç	★▲
I	▲★
K	★▲▲
R	★●▲★

**Buna göre aşağıdaki beş harfli kelimelerden hangisi "★▲▲★●▲★▲★▲▲" şeklinde kodlanır?**

- A) KIRAK      B) KIRAÇ      C) ÇIRAK      D) ÇARIK


10. "İcat" ve "keşif" kelimeleri çoğu zaman aynı anlamda kullanılsa da aslında anlamları birbirinden çok farklıdır. Keşif, zaten var olan bir şeyin bulunmasıdır. Örneğin yer çekimi her zaman vardı ama biz onu Newton sayesinde fark ettik. İnsanlar olmasa da yer çekimi olacaktı. İcatta ise daha önce var olmayan bir şeyin ortaya çıkarılması söz konusudur.

**Buna göre aşağıdaki metinlerin hangisinde icat veya keşif kavramı yanlış kullanılmıştır?**

- A) Pusula, temel olarak yeryüzünün manyetik alanına göre hareket eden bir iğneden oluşur. İğnenin ucu her zaman dünyanın kuzeyini gösterir. Çinliler tarafından bulunup Araplar vasıtasıyla Avrupa'ya ulaşan bu keşif, günümüzde de kullanılmaya devam etmektedir.
- B) Yazıyı icat eden topluluğun Sümerler olduğu söylene de yazının ilk defa Mısır'da kullanıldığını iddia eden bilim insanları da var. Her ne olursa olsun yazının insanlık tarihinde bilim adına atılmış ilk ve en büyük adım olduğu söylenebilir.
- C) "Biyçeşitlilik, Bilim ve Sürdürülebilirlik Enstitüsü" yeni türlerin keşfine ilişkin raporunda canlı sınıflandırmalarına yüz otuz üç yeni türün eklendiğini açıkladı. Bu türler arasında otuz altı böcek, yirmi üç balık, bir kum yosunu, bir kertenkele, bir de vatoz yer alıyor.
- D) Graham Bell, işitme kaybı olan kişilerle ilgili çalışmaları sırasında seslerin havadaki titreşimlerle nasıl oluştuğunu araştırmaya yönelmiş. Bu araştırma onun, konuşmaları teller aracılığıyla ileten telefonu icat etmesini sağlamıştır.

**GÖBEKLİTEPE UNESCO DÜNYA MİRAS LİSTESİ'NDE**


Dışişleri Bakanlığı, Şanlıurfa'daki Göbeklitepe Arkeolojik Alanı'nın, UNESCO Dünya Miras Listesi'ne girmesiyle Türkiye'nin söz konusu listeye kayıtlı alanlarının sayısının arttığını duyurdu.




Göbeklitepe  
Şanlıurfa'ya  
18 km mesafede  
ŞANLIURFA

**İLK KEZ 1963'TE FARK EDİLEN  
GÖBEKLİTEPE'DE BUGÜNE  
KADAR GÜN YÜZÜNE  
ÇIKARILAN BAZI ESERLER:**

8 ila 30 m çapında  
dünyanın en eski  
tapınak kalıntıları




Çok sayıda  
yabani hayvan  
figürü, insan heykeli



65 cm

Yaklaşık 12 bin yıl  
öncesine ait olduğu  
belirtilen 65 cm uzunluğunda  
insan heykeli



3 ila 6 m

Neolitik Dönem'e ait,  
boyları 3 ila 6 m, ağırlıkları  
40 ila 60 ton olan yabani hayvan  
figürlü, "T" biçimli dikili taşlar

**Göbeklitepe,**  
"dünyanın en eski tapınak  
merkezi" kabul ediliyor.

**6 yıl önce UNESCO  
Dünya Mirası Geçici  
Listesi'ne alındı.**

**Bahreyn'de yapılan  
42'nci Dünya Miras Komitesi  
Toplantısı'nda UNESCO Dünya Kültürel  
Miras Listesi'ne kabul edildi.**

Bu görseldeki bilgilerden hareketle Göbeklitepe ile ilgili,

- I. İnanç tarihine ait bilgileri altüst eden bir tapınaktır.
- II. İçindeki T biçimli ve hayvan figürlü dikili taşlar insanı temsil etmektedir.
- III. Türkiye'nin, Dünya Miras Listesi'nde Göbeklitepe dışında da eserleri vardır.

yargılarından hangilerine ulaşamaz?

- A) Yalnız I                      B) Yalnız III                      C) I ve II                      D) II ve III

12. Ünlü sanatçının Türkçeye ilk kez çevrilen eseri kitapçılardaki yerini aldı. Bu kitap hem metni hem desenleri hem de içeriğiyle iyi ki ve nihayet dedirtecek.

Bu parçadaki altı çizili ifadelerde, söz konusu kitapla ilgili vurgulanmak istenen aşağıdakilerin hangisinde sırasıyla verilmiştir?

- A) Yazarın bu tarzda bir kitap yazma konusunda geç kaldığı – Her okurun, kendisinden bir şeyler bulabileceği bir içeriği olduğu
- B) Eleştirmenlerden olumlu tepkiler geldiği – Şimdiye kadar bu alanda böyle bir kitap yazılmadığı
- C) Yazarın diğer eserlerinden daha iyi olduğu – Ele aldığı konunun daha önce işlenmediği
- D) Yazılmasından memnuniyet duyulduğu – Uzun süredir bu nitelikte bir kitabın beklendiği



## Bisikletin En Çok Kullanıldığı Ülkeler

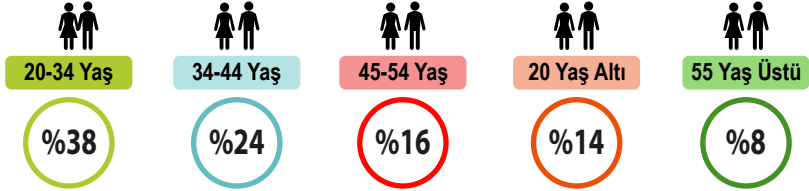


Dünyada **1950'lerde** yılda **20 milyon bisiklet** üretilirken **2000'lerde** yılda **100 milyon** bisiklet üretiliyor.






Dünya genelinde **2 milyardan fazla** bisiklet var.

**Türkiye'de  
Yaşa Göre  
Bisiklet  
Kullanım Oranı**



### Türkiye'nin Bisiklet İhracatı

2017		177 bin 412
2018		280 bin 442
2019		204 bin 694

(Ocak-Temmuz)

**Bu metinden aşağıdaki yargıların hangisi çıkarılamaz?**

- A) Türkiye'nin yurt dışına bisiklet satışı yıllara göre farklılaşmıştır.
- B) Dünyada bisiklet üretimi geçmişten bugüne artmıştır.
- C) İsviçre ve Hollanda, en çok bisiklet kullanılan ülkelerdendir.
- D) Türkiye'de bisiklet kullanım oranı yaş ilerledikçe azalmaktadır.

14. Bazı cisimlerin tek bir rengi veya biçimi olduğunu kabul etme eğilimindeyiz. Mesela çocuklar kimi zaman, yıldızların -aslında öyle olmadıkları hâlde- beş köşeli olduğuna inanır. Bir tabloda gökyüzünün mavi, çayırın da yeşil olmasında ısrar eden birinin bu çocuklardan pek farkı yok bana göre. Bu kişiler, bir tabloda başka renkler görmekten rahatsız olur. Oysa göğe ve çayıra ilişkin duyduğumuz her şeyi unutmayı bir denesek, dünyayı ilk kez görüyor gibi olsak o zaman nesnelere daha değişik ve şaşırtıcı renklerle görünebilir bize. Böylece daha etkileyici sonuçlar elde edebilir, daha özgün eserler verebiliriz.

**Aşağıdaki yargılardan hangisi bu parçada savunulan düşünceyi destekler?**

- A) Sanat yapıtlarının tadına varılmasında alışkanlıklarımızı ve ön yargılarımızı aşmaktaki isteksizliğimizden daha büyük bir engel yoktur. Bilinen bir konuyu alışılmamış biçimde canlandıran bir resim, "doğru" olmadığı gibi bir gerekçeyle körü körüne eleştirilir çoğu zaman.
- B) Bir tabloyu bize sevdiren veya bizi ondan uzaklaştıran, çoğu vakit bir figürün ifadesidir. Bize tanıdık gelen ve böylece bizde heyecan uyandıran bir görüntü çoğumuzun hoşuna gider.
- C) Görünen dünyayı olduğu gibi resmetmedeki sabır ve yeteneğin kuşkusuz övülmesi gerekir. Bu nedenle geçmişin büyük sanatçıları, en ufak ayrıntının bile özenle saptandığı yapıtlarına çok çaba harcamışlardır.
- D) Büyük yapıtlar, önünde her durduğumuzda değişik görünür. Onlar da insan denen canlı gibi tükenmez ve önceden kestirilemez. Kendi serüvenleri ve akıl ermez yasalarıyla başlı başına bir heyecan dünyası oluşturur. Bu yüzden hiç kimse sanat hakkında her şeyi bildiğini ileri sürmemelidir.

15. (I) Gelişim, insanın en temel ihtiyaçlarından biridir. (II) Ancak günümüzde bilgeliğin yerini bilgi, oyunun yerini yarışma aldığı gibi maalesef gelişimin yerini de başarı almış durumda. (III) Hâlbuki her gelişim bir başarıyken her başarı bir gelişim değildir. (IV) Kişi, ehliyet sınavından iyi bir puan alabilir ama bu, onun öğrendiği ve geliştiği anlamına gelmeyebilir.

**Bu parçada numaralanmış cümlelerle ilgili aşağıdakilerden hangisi söylenemez?**

- A) I. cümlede karşılaştırma yapılmıştır.
- B) II. cümlede olumsuz bir eleştiri vardır.
- C) III. cümlede şarta bağlı bir durum söz konusudur.
- D) IV. cümlede örneklemeden faydalanılmıştır.

16. Tarihî ve doğal güzelliklerden ibaret değildir İstanbul sokakları. Aynı zamanda iç içe geçmiş sesler bütünüdür. Bu seslerle şekillenir İstanbul'un ahengi. Bu seslerdir İstanbul'un benzersiz bir orkestraya dönüşmesi.

**Bu parçaya,**

Bu bütünün parçaları Boğaz'da vapurların düdüklelerinden dalga seslerine kadar uzanır. Kimi zaman bir dükkânın önündeki kafeste şakıyan şirin kanaryanın, kimi zaman bir adamın balkonda çaldığı udun, kimi zaman da karşı komşusunu çağıran bir teyzenin sesidir.

**metni eklendiğinde parçanın anlatımıyla ilgili aşağıdakilerden hangisi söylenebilir?**

- A) Karşılaştırma yapılmıştır.
- B) Anlatılanlar benzetme yoluyla somutlaştırılmıştır.
- C) Anlatıma nesnel bir boyut kazandırılmıştır.
- D) Ortaya konan düşünce örneklenmiştir.

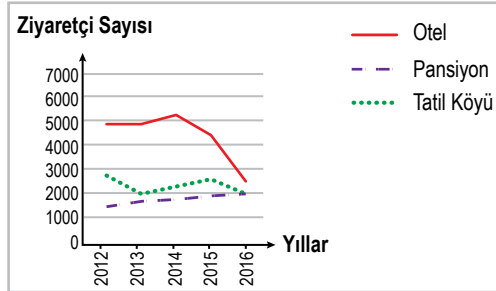
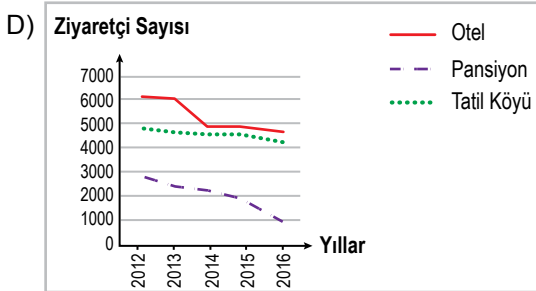
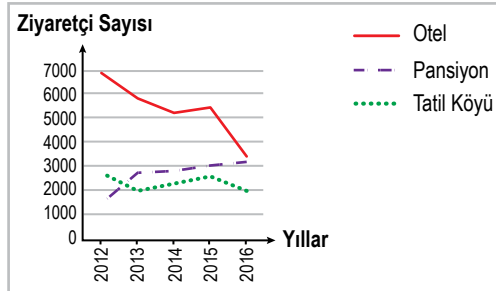
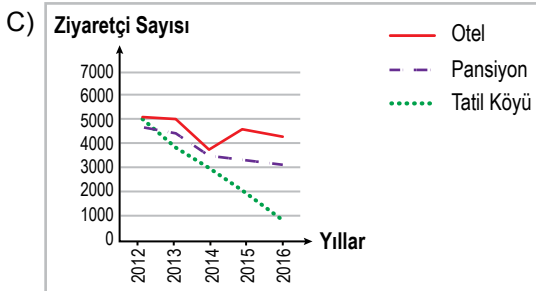
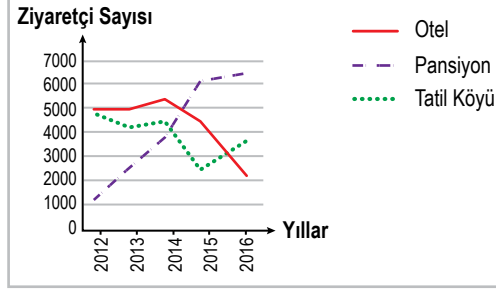
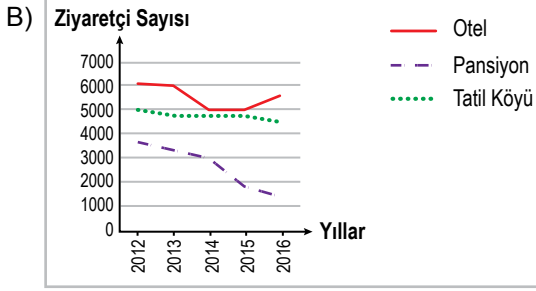
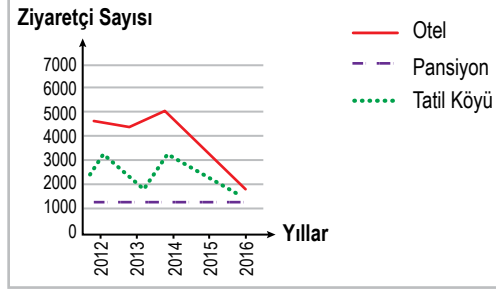
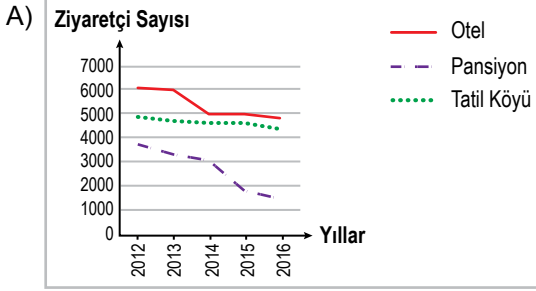
17. 2012-2016 yılları arasında iki ayrı ülkeye gelen yabancı ziyaretçilerin konaklama türleri incelendiğinde şu sonuçlara ulaşılmıştır:

- I. ülkede, tatil köylerini tercih eden ziyaretçi sayısında yıllar itibarıyla keskin bir düşüş gözlenmezken II. ülkede durum inişli çıkışlı seyretmiştir.
- I. ülkede pansiyonlarda kalan ziyaretçi sayısının yıllar içinde düşüş gösterdiği, II. ülkede ise arttığı tespit edilmiştir.
- Otellerin iki ülkede de her yıl diğer konaklama türlerine göre daha çok tercih edildiği görülmüştür.

Buna göre söz konusu yıllar arasında her iki ülkeye yurt dışından gelen ziyaretçilerin konaklama türlerini doğru gösteren grafikler aşağıdakilerin hangisinde verilmiştir?

**I. Ülke**

**II. Ülke**



18. Alan Turing, henüz 16 yaşındayken Einstein ve Newton'ın kuramlarının karşılaştırmasını özgün bir şekilde yazmıştır. Daha sonra ise matematiğin efsane isimlerinden Kurt Gödel'in geliştirmiş olduğu formülleri yeniden düzenleyerek yazdığı "Hesaplanabilir Sayılar" isimli makalesi ile matematik dünyasının unutulmaz isimlerinden biri olmuştur. Kendisinin en önemli özelliği, sayılar arasındaki ilişki olarak adlandırılan örüntüler konusunda üstün becerilere sahip olmasıdır. Turing, hayvanların beneklerinde bir örüntü olduğunu düşünerek bilim dünyasında fırtınalar koparmıştır.

**Bu parçadan Alan Turing ile ilgili aşağıdakilerden hangisi çıkarılamaz?**

- A) Kabul görmüş bilimsel yargıları değiştirmiştir.
- B) Doğa ile matematik arasında ilişki kurmuştur.
- C) Genç yaşta bilimsel bir çalışma ortaya koymuştur.
- D) Ünlü matematikçiler arasında yer almıştır.

19. Ses, dalgalar hâlinde yayılır. Kaynağından çıkan ses, çevresindeki molekülleri titreştirir ve bu titreşim molekülden moleküle aktarılır. Yani sesin yayılabilmesi için ortamda molekül bulunması gerekir. Örneğin ses, havada ve suda yayılabilir çünkü bu ortamlar moleküllerden oluşur. Uzayda yok denecek kadar az madde vardır, dolayısıyla moleküller birbirinden çok uzaktadır. Bu yüzden uzayda oluşan ses, moleküller arasında iletilemez ve yayılamaz.

**Bu metin aşağıdaki sorulardan hangisine cevap olarak yazılmıştır?**

- A) Uzay boşluğundaki moleküllerin sesi duyulur mu?
- B) Ses, uzayda neden yayılmaz?
- C) Ses uzay boşluğunda niçin sonsuza kadar kalmaz?
- D) Ses dalgaları moleküllerden mi oluşur?

20. İnsanların deneyimledikleri farklı durumlar karşısında sabit bir algısı olduğunu düşünmek hatadır. Çünkü insanların algılarını çeşitli yollarla etkilemek mümkündür. Bu etkileme yollarının başında ise karşılaşılan durumun kişiye sunulma biçimi gelmektedir.

**Aşağıdaki deneylerin hangisinde sunuş biçiminin, insan algısı üzerindeki etkisi örneklenmiştir?**

- A) Yetkililerin, metro istasyonlarında yolculara klasik müzik dinletmeleri durumunda onlardaki taşkınlık ve gürültü çıkarma, etrafa zarar verme gibi birçok olumsuz davranış türünün önemli ölçüde azalması
- B) Bir kalemin ortasından ısırılarak bir süre ağızda tutulması durumunda yüzdeki gülme kaslarının harekete geçmesi ve bu yapay gülümsemeden kaynaklı olumlu sinyallerin beyne ulaşması ile kişinin daha mutlu bir ruh hâline girmesi
- C) Araştırmacıların bir dolu bardak suyun yarısını boşalttıklarında durumu gözlemleyenlerin yüzde 69'unun, bardağı yarısı boş olarak değerlendirmesi buna karşılık boş bardağı yarısına kadar su ile doldurdıklarında gözlemcilerin yüzde 88'inin bardağı yarısı dolu olarak değerlendirmesi
- D) Buldukları ortama bırakılan şekerleri yarım saat boyunca yememeleri hâlinde kendilerine o şekerlerin yanında başka şekerler de verileceğinin söylendiği çocuklardan, verilen süre içinde kendini kontrol edip şekerle dokunmayanların şekerleri yiyenlere göre yıllar sonra daha mutlu ve başarılı bir yaşam sürdüklerinin belirlenmesi

21. Cümlede yüklem bildirdiği işi yapan veya o durumda bulunan ögeye “özne” denir.

**Buna göre aşağıdaki cümlelerin hangisinde özne yanlış gösterilmiştir?**

- A) Çocukluk tüm insanların gizli hazinesidir.  
Özne
- B) Son yıllarda hızla gelişen teknoloji kimi riskleri beraberinde getiriyor.  
Özne
- C) Hayatımızın en önemli gününü bir şölene çevirmek en büyük hayalimizdir.  
Özne
- D) Çiçek dikiminde görevlendirilmek üzere işçiler alınacaktır.

22. Bir araştırmada beş yaşındaki çocuklardan oluşan iki gruba bir çocuk programı izletildi. Gruplardan birinin odasına ilgi çekici birçok oyuncak kondu. Oyuncak bulunmayan odadaki çocuklar programın %87’sini izlerken oyuncak bulunan odadaki çocuklar sadece %47’sini izlediler. Fakat bu iki gruptaki çocuklar, programın ne kadarını hatırladıklarını ve anladıklarını ölçen bir teste tabi tutulduklarında iki grup da yüksek puanlar aldı. Bu durum karşısında şaşkına dönen araştırmacılar şöyle bir açıklama yaptılar: “- - - -”

**Bu parçanın sonuna anlam akışına göre aşağıdakilerden hangisi getirilmelidir?**

- A) Çocukların bir hedefe odaklanabilmeleri için buldukları ortamın mümkün olduğunca dikkatlerini dağıtacak unsurlardan arındırılması gerektiğini tespit ettik.
- B) Oyuncakların bulunduğu odadaki çocukların, dikkatlerini oyuncaklarla oynama ve programı izleme arasında kolaylıkla bölüştürebildikleri sonucuna ulaştık.
- C) Anlaşılan o ki öğrenmenin niteliği, öğrenene ait özellikler kadar içinde bulunulan ortamdaki televizyon, oyuncak ve diğer insanlar gibi dış uyarıcılardan da etkilenmektedir.
- D) Hatırlama, sezme, anlama ve hayal kurma becerileri dikkate bağlı olarak gelişmektedir.

23. • Bal arıları, bitki varlığının devamı için önemli bir katkı sağlar.  
• Bal arılarının toplu ölümü günümüzün önemli problemlerindendir.  
• Bal arılarının yok olması ile ilgili araştırmalar yapılmaktadır.









**Aşağıdaki metinlerin hangisinde bu cümlelerde ifade edilenlerin tümüne değinilmiştir?**

- A) Arılar, taşıdıkları polenlerle 130 binden fazla bitkinin üremesine katkıda bulunuyor. Ancak suni gübre, tarım ilaçlarının yoğun kullanımı ve iklim değişikliği nedeniyle arılar yaşamını hızla yitiriyor. Arıların sayısının azalmasıyla birlikte pek çok bitkinin yok olma tehlikesiyle karşı karşıya kalacağı belirtiliyor.
- B) Arıların yaşamı tehdit altında. Zorlu kış şartları, hastalık yapıcı organizmalar ve küresel ısınma gibi sebepler arıların sayısını her geçen gün azaltıyor. Bir biyoteknoloji şirketi, arıların bağışıklık sistemini kuvvetlendirmek ve ölümlerini azaltmak için farklı ürünler geliştirmeye başladı.
- C) Bal arıları çiçek tozlarını taşıdığı için bitkilerin çoğalmasında önemli bir rol oynuyor. Ne var ki son yıllarda birçok ülkede bal arısı topluluklarında işçi arılar aniden yok oluyor. Araştırmacılar, bu sorunu çözmek amacıyla 5 bin bal arısına minik algılayıcılar takarak bu arıların gittiği yerleri belirleyecek ve arıların sayılarının azalma nedenlerini tespit etmeye çalışacak.
- D) Dünya Doğayı Koruma Vakfı, bal arılarının popülasyonunu korumak amacıyla daha önce yerleşim için kullanılan ancak artık kullanılmayan bölgelerin, bal arıları için sığınaklara dönüştürülebileceğini belirtiyor. Bazı araştırmacılar polen taşıyan böceklere yaşam alanı sunan, doğal yaşam dostu çiftçilik ve bahçeciliğin de bal arılarına olumlu etkisi olabileceğini söylüyor.

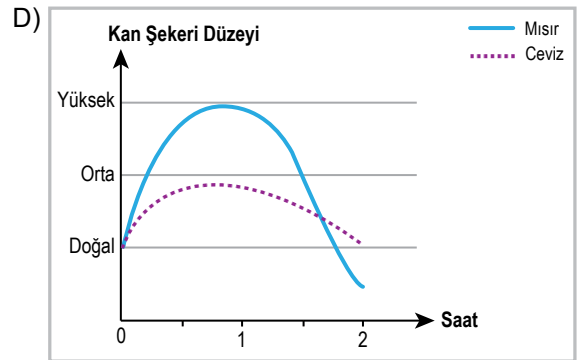
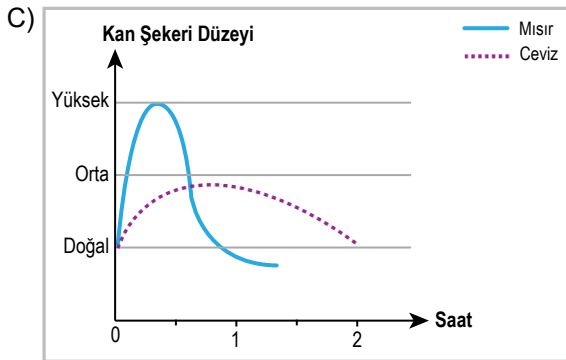
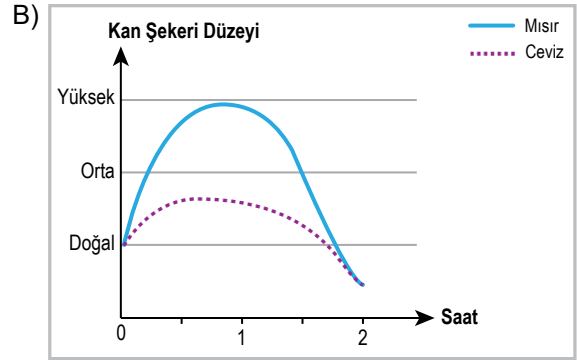
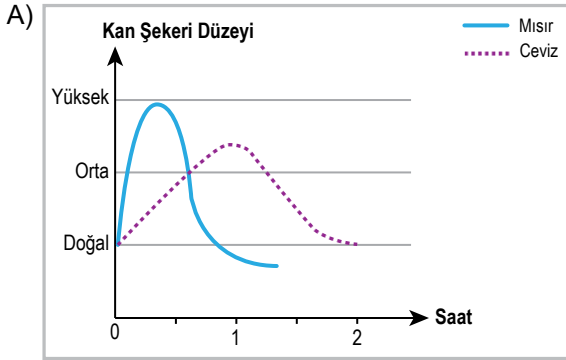
**24 ve 25. soruları aşağıdaki parçaya göre cevaplayınız.**

“Glisemik indeks” karbonhidrat içeren gıdaların, kan şekerini yükseltme oranını ölçen bir değerdir. Glisemik indeksi düşük olan gıdalar tüketildikten sonra kan şekeri yavaş yavaş doğal düzeyin üzerine çıkıp orta düzeye yaklaşır, iki saat içinde de doğal düzeye iner. Bu gıdalar yavaş sindirildiği için uzun süre tok tutar. Kişiyi şeker, tansiyon ve kalp hastalıklarına karşı korur; bağışıklık sistemini güçlendirir. Yüksek glisemik indeksli gıdalar tüketildiğinde ise kan şekeri yarım saat içinde en yüksek düzeye ulaşır, bir saat dolmadan da doğal düzeyin altına düşer. Bu gıdalar kan şekerinde dalgalanmalara yol açar ve uzun vadede vücutta yağlanmaya, şeker ve kalp hastalıklarına neden olur.

Aşağıdaki tabloda bazı gıdalar, glisemik değerlerine göre sınıflandırılmıştır.

GLİSEMİK DEĞERİ DÜŞÜK GIDALAR	GLİSEMİK DEĞERİ YÜKSEK GIDALAR
   	   
Çilek Brokoli Ceviz Elma	Karpuz Ekmek Patates Mısır

**24. Bu metne göre “ceviz” ve “mısır”ın, kan şekeri üzerindeki etkisi aşağıdakilerin hangisinde doğru gösterilmiştir?**



**25. Bu metinden aşağıdaki yargıların hangisi çıkarılamaz?**

- A) Patates, vücuttaki yağ oranının artmasına neden olabilir.
- B) Elma, kan şekerinde ani değişikliklere yol açmaz.
- C) Brokoli, yavaş sindirilen bir besin olduğu için uzun süreli tokluk sağlar.
- D) Karpuz, kişinin hastalıklara karşı direncini artırır.

26. I. Başarılı insanlar, ara vermeden mücadele edenlerdir.  
II. Ne kadar çok bilersen o kadar az emin olursun.  
III. Matematikte zekâdan önce sabır gelir.

**Numaralanmış cümlelerden hangileri,**

Çoğu kişiye göre matematikten anlamak doğuştan sahip olunan bir yetenektir. Bu anlayışa göre matematiksel yeteneğe ya sahipsinizdir ya da değilsinizdir. Oysa bazı araştırmalara göre bu alanda gösterilen performans; yetenekten çok, matematiğe karşı takınılan tavırla ilgili. Çabalamaya istekli hele bir de gayretliyseniz matematikte ustalık kazanmanız pekâlâ mümkün.

**paragrafının ana fikrini desteklemektedir?**

- A) Yalnız I                      B) I ve III                      C) II ve III                      D) I, II ve III

27. Öğrenmenin aşamalarından bazıları şunlardır:

- Bilmeme hâli: Neyi bilmediğini bilmez.
- Öğrenmenin devam etmesi: Ne olduğunu bilir ancak yapamaz.
- Uсталık: Otomatik olarak yapar.

**Aşağıdakilerden hangisi, bu metinde sözü edilen öğrenme aşamalarından herhangi birine örnek olamaz?**

- A) Telefonun video kırpma özelliğinin bilinmesine karşın bu özelliğın kullanılamaması  
B) Bir türkünün, notalara bakılmaksızın bağlama ile kolayca çalınması  
C) Babasının oltayla balık tuttuğunu gören bir çocuğun balık tutmaya çalışması  
D) Bilgisayarın varlığından haberi olmayan birinin, onu açma konusunda da bilgisinin olmaması

28. **Aşağıdaki parçalardan hangisi “Gün batımından sonra neden uykumuz gelir?” sorusuna cevap vermektedir?**

- A) Yaşımız ilerledikçe vücudumuzda melatonin hormonu daha az salgılanıyor. Bu nedenle uykuda geçirdiğimiz zaman azalıyor. Bebekken neredeyse günün tamamını uyuyarak geçiriyoruz. 6-12 yaşlarındayken günde 9-10 saat uyuyoruz. Ninelerimizin ve dedelerimizin yaşına geldiğimizdeyse uykuda geçirdiğimiz süre azalıyor.
- B) Bilim insanları uykuyu çeşitli evrelere ayırmıştır. Bu evreleri uykuda sırasıyla deneyimlemeye başlarız. Derin uyku evresinden sonra hafif uyku evresine kısa süreli bir dönüş yapar ve sonra REM uykusuna geçeriz. Her bir döngü ortalama 90 dakika sürer ve bir gecede dört ya da beş kere tekrarlanır.
- C) REM uykusunun en dikkat çekici yanı, rüyalarımıza ev sahipliği yapması. Aslında uykumuzun herhangi bir aşamasında rüya görebiliyoruz ama REM uykusunda rüya görme olasılığımız daha fazla. Çünkü bu evrede beynimiz çok etkin.
- D) Melatonin hormonunun salınımı akşam gün ışığının ortadan kalkmasıyla artmaya başlıyor. Gece saat 02.00-04.00 arasında en yüksek seviyeye ulaşıyor. Güneşin doğuşuyla da bu seviye tekrar düşmeye başlıyor. İşte bu yüzden akşamları uyku gereksinimimiz doğuyor ve sabah uyandıığımızda güne başlamaya hazır hissediyoruz.

29. Aşağıda Arda, Beril, Ceylin ve Didem adlı kişilerin aldığı bilgisayarların özellikleri verilmiştir.

Adı	Ağırlığı	Fiyatı	Depolama Alanı	Batarya Ömrü	Ekran Boyutu
K	1,9 kg	3.500 TL	256 GB	8 saat	39,60 cm
L	1,7 kg	2.700 TL	128 GB	7 saat	35,56 cm
M	1,4 kg	3.900 TL	256 GB	10 saat	35,56 cm
N	2 kg	2.900 TL	128 GB	6 saat	39,60 cm

Her biri farklı bir bilgisayar alan bu kişilerin satın aldığı bilgisayarların özellikleri şu şekildedir:

- Arda, rahat taşınabilen ve depolama alanı en geniş olan bilgisayarı;
- Beril, şarjı mümkün olduğunca uzun süre dayanan ve en büyük ekranlı bilgisayarı;
- Didem, fiyatı en uygun olan bilgisayarı almıştır.

**Bu bilgilere göre aşağıdakilerden hangisi yanlıştır?**

- A) Arda ile Beril'in aldığı bilgisayarların depolama alanları aynıdır.  
B) Beril'in bilgisayarı Ceylin'in bilgisayarından daha hafiftir.  
C) Ceylin'in bilgisayarının ekran boyutu Didem'inkinden büyüktür.  
D) Didem'in bilgisayarının batarya ömrü Arda'ninkinden fazladır.

30. Yer tamlayıcısı (dolaylı tümleç); cümlede yönelme, bulunma, ayrılma bildiren ve yüklemi yer anlamıyla tamamlayan ögedir.

**Buna göre aşağıdaki cümlelerin hangisinde yer tamlayıcısı yoktur?**

- A) Arkeologlar kazı çalışmalarına katılmak için Göbeklitepe'ye gitti.  
B) Yazar, uzun zamandır ailesiyle birlikte bahçeli bir evde yaşıyor.  
C) Müzeyi, her gün 09.30-18.00 saatleri arasında gezebilirsiniz.  
D) Örümcek ağının ipeği, örümceğin içinde sıvı hâlde bulunur.

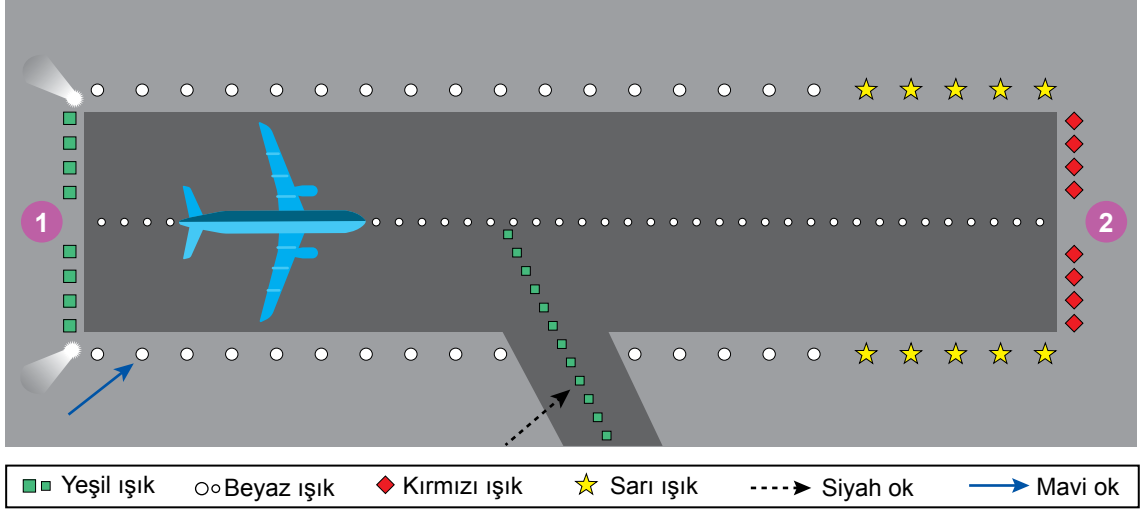
31. ABD'de bulunan Steward Gözlemevindeki gök bilimciler Dünya'nın yörüngesinde dolanan bir gök cisimi keşfettiler. Tıpkı Ay gibi, Dünya'nın çevresinde döndüğü için bu gök cisimine "Mini Ay" dendi. Resmî adıysa "2020 CD3" oldu. Gök cisminin çapının 1,9 ila 3,5 metre arasında olduğu belirlendi. Yani yaklaşık bir otomobil kadar!

**Bu parçada, aşağıda işlevi verilen noktalama işaretlerinden hangisinin örneği yoktur?**

- A) Uzun cümlelerde yüklemden uzak düşmüş olan özneyi belirtmek için virgül kullanılır.  
B) Özel olarak vurgulanmak istenen sözler tırnak içine alınır.  
C) Sevinç, kıvanç, acı, korku, şaşma gibi duyguları anlatan cümle veya ibarelerin sonuna ünlem işareti konur.  
D) Kısaltmalara getirilen ekleri ayırmak için kesme işareti konur.



32. Bir uçak pistinde birbirinden farklı renklerde birçok ışık bulunur. Bu ışıklar pilota ne yapması gerektiği ve pistin durumu hakkında bilgi verir. Örneğin pistin başlangıcında bulunan dördü iki grup yeşil ışık, pistin uçağın inişi için müsait olduğunu belirtir. Pistin ortasındaki beyaz ışıklar, uçağın pistte doğru konumda olup olmadığını belirtir. Uçağın gövdesi tam olarak bu ışıkların üstünde olmalıdır. Pistin ortasından sağa ayrılan yeşil ışıklar iniş yapan uçağın yolcu indireceği alana gideceği yolu gösterir. Dördü, iki grup kırmızı ışık, pistin sonunu haber verir. Pistin kenarlarında beyaz ve sarı renkli ışıklar bulunur. Beyaz ışıklar, pistin kullanılabilir kısımlarını; sarı ışıklar ise pistin sonuna 600 metre kaldığını ifade eder. Eğer uçak kalkıyorsa bu sarı ışıklardan önce yerle temasını kesmelidir. İniş yapıyorsa da bu ışıklara gelmeden durmuş olmalıdır.



Yukarıdaki metne göre bu görseldeki pist ve uçakla ilgili,

- I. Uçağın kalktığı varsayılırsa havalanmasına 600 metre kalmıştır.
- II. İniş yaptığı varsayılırsa uçak, siyah ok ile gösterilen rotayı takip etmelidir.
- III. 1 numaralı ışıklar, pistin iniş için müsait olduğunu, 2 numaralı ışıklar pistin sonunu belirtir.
- IV. Mavi ok ile belirtilen ışıklar, uçağın yolcu indirebileceği alanları gösterir.

İfadelerinden hangileri doğrudur?

- A) Yalnız I                      B) I ve IV                      C) II ve III                      D) III ve IV

33. Bedeninizin, yürüyüşünüzden kalp atışınıza kadar pek çok özellik bakımından başkalarının bedeninden farklı olması, güvenlik sektörünü harekete geçirmiştir. Çünkü günümüzde kötü niyetli yazılım satın almış, beceriksiz bir fırsatçı bile mevcut birçok güvenlik yöntemine rağmen internetteki hesaplarınızı kolayca ele geçirebiliyor; kredi kartı bilgilerinize hatta daha fazlasına ulaşabiliyor. Özellikle kişinin parolası doğum tarihiyse ya da bir yıl içinde yirmi farklı sitede kullanıldıysa... Bu sorun, internete bağlı çalışan şirketlerin de müşterilerin de tahammül sınırlarını zorluyor. Bu noktada sorunun çözümü, her seferinde akılda tutulması daha zor parolalar oluşturmak değil, bedenimiz oluyor.

Bu metinde anlatılanları aşağıdakilerden hangisi en doğru şekilde özetler?

- A) Güvenlik sektörü, kötü niyetli kişilerin internet ortamındaki zararlı faaliyetlerini engellemek için çözüm arayışına girmiştir.
- B) Güvenlik sektörü, hem kullanımı kolay hem de çok güvenli olduğu için insan bedenini parolaya dönüştürmek istemektedir.
- C) İnternete bağlı çalışan şirketler, müşterilerini akılda tutulması kolay ama ele geçirilmesi zor bir parola kullanma konusunda uyarmaktadır.
- D) İnsanların beden özellikleri gibi çok özel bilgilerinin, kötü niyetli yazılımların hedefi olması güvenlik sektörünü harekete geçirmiştir.

34. Çocukluk ve ergenlik boyunca artış gösteren, yetişkinlikte en yüksek seviyeye ulaşan göz kırpmasının öncelikli amaçlarından biri, gözü sürekli olarak nemli tutma çabasıdır. Gözün ön tarafında bulunan ve dış dünya ile temas eden bölüm, bebeklerde yetişkinlere kıyasla daha küçük olduğu için bebek gözü daha geç kurur yani daha geç nemlendirme gerektirir. Bebeklerin uzun uyku süreleri de gözlerinin daha uzun süre nemli kalmasına olanak sağlar. Yetişkinler, yüksek dikkat veya görsel takip gerektiren durumlarda daha az göz kırpmaya eğilimindedir. Ayrıca bebeklerin dış dünyayı sürekli anlamlandırma ve tanımayaya odaklanma çabalarının da göz kırpmaya sayısını azalttığı düşünülmektedir.

**Bu parçadan,**

- I. Göz kırpmaya etki eden birçok faktörün bulunduğu
- II. Bir işe odaklanıldığında göz kırpmaya sayısının yükseldiğine
- III. Yaş ilerledikçe gözü nemli tutma ihtiyacının arttığına

**yargılarından hangilerine ulaşılabilir?**

- A) Yalnız I                      B) I ve III                      C) II ve III                      D) I, II ve III

35. Nitelik ve nicelik bakımından çok iyi bir okur kitlesine sahip olduğumu düşünüyorum. Beni okuyanlar, gündelik ve edebiyat dışı okumalardan uzak duranlardır. Sıradan değildir onlar; kitap değil, yazar okumayı öğrenmişlerdir. Böyle bir okur kitlesini hak ettiğime inanıyorum çünkü kalemimin ucunu gelgeç modalar için yontmadım.

**Bu parçadaki altı çizili sözle anlatılmak istenen aşağıdakilerden hangisidir?**

- A) Metni oluştururken okurun beklentilerini gözetmemek
- B) Yapıtı geleceğe taşıyacak unsurlara önem vermemek
- C) Herhangi bir sanat anlayışına bağlı olmamak
- D) Eseri geçici beğenilere göre oluşturmamak

36. Edison altmış yedi yaşındayken bütün hayatını adadığı atölyesi yanar. O sırada yanında bulunan oğlu, babasının tepkisinin ne olacağını merak eder. Edison, oğluna “Annemi çağır, o da bizimle beraber izlesin.” der. Ertesi sabah kahvaltıda ailesini toplar ve “Şu anda bütün hatalarımız yanmış durumda.” der. Edison bu olaydan üç hafta sonra ses kayıt sisteminin çekirdeğini oluşturan gramofonu icat eder. Bu olay, - - - insan hayatındaki yerini göstermesi bakımından manidardır.

**Bu parçada boş bırakılan yere düşüncenin akışına göre aşağıdakilerden hangisi getirilmelidir?**


- A) iyimserliğin                      B) alçak gönüllülüğün                      C) yardımseverliğin                      D) şefkatin

37. Rivayete göre önce eau admirable (hayranlık verici su), daha sonra da “eau de Cologne” (Köln suyu) adıyla pazarlanmaya başlanan kolonya ilk kez 1709 yılında üretilmiştir. İçeriğindeki maddelerin etkisiyle vücuttaki ısıyı çektiği için ferahlatıcı bir özelliğe sahip olan kolonya, ilk geliştirildiği yıllarda tıbbi amaçla kullanılmıştır. Ağız çalkalamada, yara temizlemede, kas ve eklem ağrılarının ovulmasında faydalanılmış, keskin kokusu sebebi ile bir ayıltıcı olarak çokça tercih edilmiştir. Osmanlı topraklarına girişi II. Abdülhamit Dönemi'nin ilk yıllarına rastlayan ve kozmetik ürünü olarak da kullanılan bu parfüm Türk geleneğinin, türlü şekerlemeler eşliğinde sunulan en gözde ikram ürünlerinden biri olmuştur.

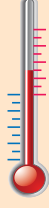
**Bu parçada kolonya ile ilgili aşağıdakilerden hangisine değinilmemiştir?**

- A) Kullanım alanlarına                      B) Türk kültüründeki yerine
- C) İçeriğinde neler bulunduğu                      D) Hangi isimlerle anıldığına

38.



Türkiye, küresel ısınmanın sonuçlarını en çok hissedilen ülkeler arasında yer alıyor.



Türkiye'nin 2000-2019 Yılları Arası  
**Ortalama Sıcaklığı**

**14,1 °C**

**SON 49 YILIN  
EN SICAK 6 YILI**  
(Ortalama sıcaklık)

2010	15,6 °C
2018	15,5 °C
2014	14,9 °C
2019	14,8 °C
2001	14,5 °C
2016	14,4 °C

**2000-2019 ARASI ORTALAMA SICAKLIK DEĞERLERİ**



**Bu görselden,**

- I. Türkiye'de 2000-2019 yılları arasında ortalama sıcaklık değerinin en düşük olduğu yıl 2011'dir.
- II. 2019'da Türkiye'de son 49 yılın dördüncü en sıcak yılı yaşanmıştır.
- III. 2000-2019 yılları arasındaki ortalama sıcaklık, 2001'in ortalama sıcaklığından fazladır.

**yargılarından hangileri çıkarılabilir?**

- A) Yalnız I                      B) I ve II                      C) II ve III                      D) I, II ve III

39. İnsan beyninin karar verme sürecine ilişkin çığır açıcı bilgiler; insana, kendi zihninin işleyişine ilişkin bir ıçğörü sağlayarak onu daha doğru kararlar verme yönünde eğitiyor.

**Altı çizili ifadelerin bu cümleye kazandırdığı anlam aşağıdakilerin hangisinde sırasıyla verilmiştir?**

- A) Var olduğu bilinmeyen bir şeyi ortaya çıkarma / Bir konudaki duyguları diğer bir kişiyle aynı olma  
B) Bir alanda yeni bir yöntem başlatma / Kendi duygularını, kendi kendini anlayabilme yeteneği  
C) Yeni bir şey ortaya koyma / Aynı düşüncede, aynı görüşte olma  
D) Değişen koşullara uyabilmek için yeni metotlar kullanma / Kendine özgü bir nitelik taşıma

40. Amerikan Havacılık ve Uzay Dairesi (NASA), geçtiğimiz aylarda İstanbul Teknik Üniversitesiyle birlikte Burdur ilimizde bulunan Salda Gölü'nde bir saha çalışması yaptı. (I) Salda Gölü'nün önemi; yapısında mikropları ve organik maddeleri koruma özelliği olan karbonat minerali bulunan, yeryüzündeki tek göl olmasından kaynaklanıyor. (II) İşte bu özelliği nedeniyle yapılan çalışmanın ardından NASA, 30 Temmuz 2020'de "Perseverance" adlı bir uzay aracını Mars'a fırlattı. (III) Şubat 2021'de Mars'a inmesi öngörülen uzay aracı, Jezero kraterini inceleyecek; buradan kaya ve toprak örnekleri toplayacak. (IV) Salda Gölü'nün jeolojik yapısı ışığında yapılan bu çalışmalar sonucunda Mars'taki yaşam izlerinin aydınlanması umuluyor.

**NASA'nın bu parçada sözü edilen araştırmasının asıl amacı numaralanmış cümlelerin hangisinde verilmiştir?**

- A) I B) II C) III D) IV

41. Üç doğa kâşifi, aşağıdaki bilgileri internette sürekli takip ettikleri forum (toplu tartışma) sitesinde yer alan bir başlık altında paylaşmıştır.

- Ülkemizde de bulunan fener balıkları denizlerin derinliklerinde yaşıyor. Bu balıklar, avlanmak için sırtlarında bulunan uzun dikenli kullanıyor. Bu dikenin ucunda ışık üreten bakteriler bulunuyor. Fener balığı bu özel dikenli tıpkı bir olta gibi kullanarak çeşitli yönlerde hareket ettirebiliyor. Dikenin ucundaki ışığı besin sanıp ona yaklaşan balıklarsa fener balığına av oluyor.
- Orkide peygamberdeveleri Güneydoğu Asya'da yaşıyor. Minik böceklerle beslenen orkide peygamberdevelerinin avlanmak için uyguladığı yöntem, kendilerini orkideye benzetmek. Bir dalın, yaprağın ya da çiçeğin üzerine konan peygamberdevesi normalden biraz farklı durunca tıpkı bir orkideye benziyor. Bu sayede onu orkide sanıp yaklaşan böcekleri kolayca avlıyor.
- Yaşayan kaya adı verilen ve Doğu Afrika'da görülen bir balık türü, avını kendine çekebilmek için ölü taklidi yapıyor. Bu balık, kendini dibe bırakıyor ve avı tuzağa düşene kadar bu biçimde bekliyor. Ölü olduğunu sanan küçük balıklar ona yaklaşınca da saldırıya geçiyor ve onları yakalıyor.

**Bu bilgilere göre aşağıdakilerden hangisi sözü edilen forum sitesindeki başlık olmaya en uygundur?**

- A) Tropik Suların Garip Sakinleri  
B) Saklanmayı Seven Hayvanlar  
C) Şaşırtıcı Avlanma Yöntemleri  
D) Hayvanlar Kendini Nasıl Savunur?



# 8. SINIF

# Türkçe



**4. Tema**

***Birey ve Toplum***

1.

### I. Metin

Dinamit ağacı, Güney Amerika'da yetişen ve boyu 60 metreye kadar uzayabilen bir ağaçtır. Bu ağaç, tohumlarını yaymak için diğer ağaçlardan farklı bir yol izler. Olgunlaşan meyvelerini orman tabanına düşürmek yerine patlatarak, tohumları 45 metrelik bir alana yayar. "Maymun çıkmaz ağacı" olarak da adlandırılan bu ağaçtan, meyvelerini patlatırken sesler yükselir.

### II. Metin

Bitkiler dünyasının en hızlı eylemini, "bunchberry" ağacının çiçekleri gerçekleştiriyor. Eylemin hızını anlatmak için saniyeyi çok daha küçük zaman birimlerine bölmek gerekiyor. Çiçek, saniyenin binde birinden daha kısa bir süre içinde açıyor. Hesaplamalar doğruysa bu çiçeklerin açtıkları sırada ortaya çıkan basınç, astronotların bir füzenin fırlatılışı sırasında hissettikleri basıncın sekiz yüz katı.

**Aşağıdakilerden hangisi bu metinlerin ortak özelliklerinden biridir?**

- A) Örneklere yer verilmesi
- B) Tanımlama yapılması
- C) Kişileştirmeden yararlanılması
- D) Karşılaştırmaya başvurulması

2. Toplum içine girdiğimde en çok karşılaştığım sözler şunlar oluyor: "Size çok imreniyoruz, okuyacak ne çok vaktiniz oluyor. Sosyal medyadan paylaştığınız kitapları hevesle alıyor ama onları okuyacak vakti bir türlü bulamıyoruz." Hâlbuki - - - -. Okumak hayatı anlamayı ve anlamlandırmayı kolaylaştırdığı için her anımızda, başka zevk arayışına girmeden bir kitabın sayfalarına demir atıveririz.

**Bu parçada boş bırakılan yere düşüncenin akışına göre aşağıdakilerden hangisi getirilmelidir?**

- A) okuyacak zamanımız olduğu için okumayız, okumaktan keyif aldığımız için okuruz
- B) zaman yetersizliği, yalnız okurların değil, toplumun genel bir sorunudur
- C) biz yazarlar da onlardan çok farklı değiliz, hayat telaşı içinde okumaya zaman bulamıyoruz
- D) okumak, gerçekten de öyle ayaküstü yapılabilecek, geçirilecek bir eylem değildir

3. Sanma şahım / herkesi sen / sadıkane / yâr olur  
Herkesi sen / dost mu sandın / belki ol / ağyar olur  
Sadıkane / belki ol / bu âlemde / dildar olur  
-----

Bu dördlükte her dizinin eğik çizgiyle (/) gösterilen ilk bölümleri yukarıdan aşağıya okunduğunda birinci dizeyi, ikinci bölümleri ikinci dizeyi, üçüncü bölümleri ise üçüncü dizeyi oluşturmaktadır.

**Buna göre dördlüğün son dizesi aşağıdakilerin hangisinde doğru verilmiştir?**

- A) Ağyar olur / dildar olur / yâr olur / serdar olur
- B) Herkesi sen / bu âlemde / sadıkane / dost mu sandın
- C) Yâr olur / ağyar olur / dildar olur / serdar olur
- D) Sanma şahım / herkesi sen / sadıkane / dost mu sandın





5. Sanatın, gerçekleri yansıması gerektiğini söyleyen Tolstoy, "Sanatta önemli olan, birtakım karakterler yoluyla hikâye anlatmak değil, okuyucuya gerçekleri hatırlatmaktır." diyerek sanat eserlerinin insanlara boş şeylerle vakit kaybettirmesi gerektiğini vurgular. Çünkü hangi sanat türü olursa olsun, sanatta gerçekçilik çok önemlidir. Sanatın faydası, gerçeği bütün yönleriyle ve samimiyetle anlatmasındadır. Bu yüzden sanat eserlerinde gerçekler olduğu gibi verilmelidir. Hayalî ve gerçekleşmesi imkânsız birtakım eylemleri, durumları ve görüntüleri sanat diye sunmanın insana bir faydası yoktur.

Aşağıdaki tablolardan hangisi bu sözleri söyleyen kişinin onayladığı türden bir sanat eseri değildir?

A)



B)



C)



D)



6.



**Bu görseli en doğru yansıtan metin aşağıdakilerden hangisidir?**

- A) Geçenlerde mahalleden iskeleye kadar yürüyeyim, dedim. Sahilde kimi göreyim? Bizim Emine teyze bir köşeye oturmuş, kuşları yemiyor. Yanına gidip başına dikildim. Beni görünce heyecanlandı, hemen ayağa kalktı. Başladık eski günleri, o meşhur turşularını, benim mavi bisikleti konuşmaya.
- B) Sözde öğleden sonra buluşacaklardı ama Suat yapmıştı yine yapacağını. Bekleye bekleye bir hâl olmuştu. Karnı da epey acıkmıştı. Acaba arkasındaki simitçiden simit alsa açlığını bastırabilir miydi?
- C) Süleyman, dikkat et, diyorum. Ağabey, merak etme, diyor. Hareket hâlindeki kamyona binmeye çalışılır mı hiç? Aşk olsun Mahmut, sen de gece gece şehrin göbeğine ne demeye soktun ki bizi? Oğlum, in aşağı; şimdi bir kaza çıkacak!
- D) Eyvah! Kırmızı hırkalı yaramaz yine çıkageldi. Ne zaman annesi ve kardeşi ile buradan geçseler bizi ürkütmeyi görev sayar. O yetmezmiş gibi bugün bir de şapkalı amcamız var. Dur, şunun etrafında uçup onu rahatsız edeyim!

**7. Aşağıdaki metinlerden hangisine "Sosyal Medyanın Tüketici Davranışlarına Etkisi" başlığının getirilmesi en uygundur?**

- A) Sosyal medya bağımlılığı, özellikle akıllı telefonların hayatımıza girmesiyle giderek arttı. Görünür olma ve başkalarının hayatını takip etme isteğinin günümüzde kimileri için abartılı bir hâl aldığını söyleyen uzmanlar, sosyal medya bağımlılığının kontrol altına alınmadığı takdirde kaygı bozukluklarından depresyona kadar pek çok zararı olabileceğini vurguluyor.
- B) Sosyal medyada bulunan içerikler, bunlardan yararlananların tutumunu ve sosyal medya pazarlamasını biçimlendirmektedir. İnsanlar, bir ürünü satın almaya karar verme noktasında sosyal medyadaki kullanıcı veya firma tarafından oluşturulmuş içeriklerden etkilenmektedir.
- C) Son dönemlerde toplumsal hayatta yaşanan birçok gelişme internetin doğrudan ya da dolaylı etkisiyle ortaya çıkmaktadır. Sosyal medya adı verilen bu yeni iletişim mecrası, eski medya araçlarından farklı ve yaşadığımız zamanın ruhuna daha uygundur.
- D) İnsanlık tarihi boyunca var olan iletişim, çağımızda yeni bir boyut kazanmıştır. Hızla değişen teknoloji, giderek artan istek ve ihtiyaçlar birtakım iletişim araçlarının ortaya çıkmasını sağlamıştır. Bu iletişim araçlarının en önemlisi günümüzde çok etkin kullanılan internettir. İnsanlar, internet ve sosyal medya sayesinde yeni iletişim olanaklarına sahip olmuşlardır.

8. Türklerin bilinen ilk alfabesi olan Orhun alfabesinde 38 harf vardır. Bu alfabeyle oluşturulan yazılar sağdan sola okunur. Orhun alfabesinin bazı özellikleri aşağıdaki tabloda verilmiştir.

Ünlüler					
Orhun alfabesinde ünlüleri veren simgeler dört tanedir.					
A/E	I/İ	O/U	Ö/Ü		
↯	↑	>	N		
Ünlü Uyumu Gerektiren Ünsüzler					
Bazı ünsüzler, kalın ve ince ünlülerle birlikte kullanım durumlarına göre iki farklı simgeyle gösterilir.					
İnce Ses (E, İ, Ö, Ü ile)	B	G	D	K	L
	⊗	⊕	⊗	⊕	⊕
Kalın Ses (A, I, O, U ile)	↯	↑	⊗	⊕	⊕
İnce Ses (E, İ, Ö, Ü ile)	N	R	S	T	Y
	⊕	↑	⊕	⊕	⊕
Kalın Ses (A, I, O, U ile)	↯	⊕	⊕	⊕	⊕

Tüm Ünlüler ile Aynı Yazılan Ünsüzler				
Bazı ünsüzler, hem ince hem de kalın ünsüzlerle kullanıldığında aynı şekilde yazılır.				
Ç	M	P	Ş	Z
⊕	⊗	1	⊕	⊕
Birleşik Sesler				
Bazı semboller birden çok sesi karşılar.				
İÇ/Çİ	İK/Kİ	OK/KO	ÖK/KÖ	
⊕	⊕	⊕	⊕	
NY	NG	NT	NÇ	LT
⊕	⊕	⊕	⊕	⊕

Bu bilgilerden hareketle aşağıdakilerden hangisi "Suna, Tonguç, Bilge, Umay" isimlerinden herhangi birinin Orhun alfabesine göre yazımı değildir?

- A) D ↯ ⊗ >
- B) ↯ ⊕ > ⊕
- C) ⊕ > ⊕ > ⊕
- D) ↯ ↑ ⊕ ↑ ⊗

9. Aşağıda bir cep telefonunun garanti şartları ve kullanım kılavuzu verilmiştir.

### GARANTİ ŞARTLARI

1. Garanti süresi, ürünün teslim tarihinden itibaren başlar ve üç yıldır.
2. Garanti hizmetinden faydalanmak için faturanın gösterilmesi gerekmektedir.
3. Ürünün, garanti süresi içinde gerek malzeme ve işçilik gerekse montaj hatalarından dolayı arızalanması hâlinde hiçbir ücret talep edilmeksizin tamiri yapılacaktır.
4. Ürünün, kullanım kılavuzunda yer alan hususlara aykırı kullanılmasından kaynaklanan arızalar garanti kapsamı dışındadır.

### KULLANIM KILAVUZU

1. Telefonunuz için hasarlı güç kabloları, priz veya fişleri kullanmayınız.
2. Telefonunuzu sıvı temasından koruyunuz.
3. Herhangi bir arıza meydana gelirse telefonunuzu kendiniz tamir etmeyiniz.
4. Telefonunuza, güvenilir olmayan internet siteleri üzerinden yazılım indirmeyiniz.

Dört farklı müşteri, bozulan telefonlarının garanti kapsamında tamir edilmesini istemektedir. Telefonu aldıkları firmaya bu amaçla bir dilekçe yazmışlardır.

**Buna göre aşağıdaki taleplerden hangisinin firmadan olumlu cevap alması beklenir?**

- A) İki yıl önce firmanızdan aldığım cep telefonum şarj olmuyor. Faturam olmadığı için kimlik bilgilerimi gönderiyorum. Ürünün değiştirilmesini veya ücretsiz tamirini talep ediyorum.
- B) İnternet sitenizden iki buçuk yıl önce aldığım ve faturasını sakladığım cep telefonum son iki haftadır aşırı ısınıyor. Ürünün firmanız tarafından tamir edilmesini istiyorum.
- C) Henüz iki ay önce firmanızdan aldığım telefonumun üzerine su döküldü. Telefonum o günden beri çalışmıyor. Cihazımın garanti kapsamında tamir edilmesini istiyorum.
- D) Firmanızdan bir yıl önce aldığım cep telefonu, kullanım kılavuzuna uygun kullandığım hâlde arızalandı. Ürünü onarmak için söktüğümde bazı parçaların paslandığını gördüm. Ürünün tamir edilmesini istiyorum.

10. Bugünkü sanat iklimi, sanatçılardan toplumun dertlerini ele alan şiirler istiyor. Ben de genç bir şair olarak böyle şiirler yazmaya çalışıyorum. Peki, ödevimi tam olarak yerine getirebiliyor muyum, dertlerinin çaresini arayan halka rehberlik edebiliyor muyum? Ne gezer! Bir türlü yapamıyorum. Çünkü yazdığım şiirler, o şiirleri doğuran şartların gerisinde kalıyor. Hayat benden daha hızlı gidiyor, toplum benden daha fazlasını istiyor. Toplum beni takip edecekken ben toplumu takip ediyorum. Bu yüzden son zamanlarda büyük şairlerin, zamanı yakalamaya çalışırken izlediği yöntemlere daha fazla odaklanıyorum.

**Kendisinden böyle söz eden bir şair aşağıdakilerin hangisinde verilenlerle nitelendirilebilir?**

- A) Öz eleştiri yapabilen - Gelişime açık
- B) Şüpheli - Umutlu
- C) Kendine güvenen - Başkalarını önemseyen
- D) Gayretli - İçeride dönük

11. Aşağıda büyük harflerin kullanıldığı yerlerle ilgili bazı kurallar verilmiştir:

- Yer adları (kita, bölge, il, ilçe, semt vb.) büyük harfle başlar.  
*Uyarı: Özel ada dâhil olmayıp tamlama kuran şehir, il, ilçe, belde vb. sözcükler küçük harfle başlar.*
- Yer adlarındaki ilk isimden sonra gelen ve deniz, nehir, göl, dağ, boğaz vb. tür bildiren ikinci isimler büyük harfle başlar.
- Yer, millet ve kişi adlarıyla kurulan birleşik kelimelerde sadece özel adlar büyük harfle başlar.

**Bu kurallara göre,**

- I. Dedem, geçen yıl bana bembeyaz bir Van kedisi almıştı.
- II. Türkiye'nin en önemli ulaşım noktalarından biri de Zigana geçididir.
- III. Marmaris'te bulunan Selimiye Köyü ziyaretçi akınına uğruyor.
- IV. Yarın akşam İç Anadolu'nun kuzey kesimlerinde yağış bekleniyor.

**cümlelerinden hangilerinde yazım yanlışı yapılmıştır?**

- A) I ve II                      B) I ve IV                      C) II ve III                      D) III ve IV

12. Bir kişinin, kendi yaşam öyküsünü anlattığı şiirlere "otobiyografik şiir" denir.

**Buna göre aşağıdakilerden hangisi otobiyografik şiirdir?**

- A) Yeşil, ipek gömleğinin yakası  
Büyük zamana düşer  
Her şeyin fazlası zararlıdır ya  
Fazla şiirden öldü Edip Cansever
- B) Yaş otuz beş! Yolun yarısı eder  
Dante gibi ortasındayız ömrün  
Delikanlı çağımızdaki cevher  
Yalvarmak, yakarmak nafiye bugün  
Gözünün yaşına bakmadan gider
- C) Anam Nergiz, babam Hacı  
Üç kardeşiz, iki bacı  
Şeref der, konuşmam acı  
Yumuşaktır huyum benim  
Bir doksan bir boyum benim
- D) Adı soyadı  
Açılır parantez  
Doğduğu yıl, çizgi, öldüğü yıl, bitti  
Kapanır parantez  
O şimdi kitaplarda bir isim, bir soyadı  
Bir parantez içinde doğum, ölüm yılları

13. Şiir serüveninin başından itibaren her şeyin şiire konu olabileceği ilkesini benimseyen şair, " - - - " anlayışı çerçevesinde sosyal ilişkilere, tabiata, teknolojiye, tarihe dair meseleleri farklı sanat dallarından taşıyıp getirdiği malzemelerle harmanlayarak her zaman güncel kalabilen eserler verdi.

**Bu cümlede boş bırakılan yere aşağıdakilerden hangisi getirilmelidir?**

- A) şiir dünyadan ibaret      B) sanat şiirden ibaret      C) hayat şiirden ibaret      D) şiir insandan ibaret

14 ve 15. soruları aşağıdaki metne göre cevaplayınız.



## “Kudüs Şairi” Nuri Pakdil

“Susunluęu, tırnaklarımın altında  
bir tahta kıymığı gibi taşıyorum.”

• **1934**

Kahramanmaraş'ta dünyaya geldi.

• **1967**

“Büyük Doęu” ve “Diriliş”  
dergileriyle güçlü bağlar kurdu.

• **1969-1984**

Türk edebiyatında “Yedi Güzel Adam”  
olarak bilinen sanatçılardan  
Rasim Özdenören, Erdem Bayazıt  
ve Akif İnan ile birlikte “Edebiyat”  
dergisini yayımlamaya başladı.  
“Edebiyat” dergisinin çevresinde  
çok sayıda yeni şair ve yazar yetişti.

Pakdil, 1984 yılına kadar Harikalar  
Tablosu (çeviri şiir), Umut (oyun),  
Sükût Suretinde (şiir) ve  
Batı Notları'nın (gezi) aralarında  
bulunduęu pek çok kitap çıkardı.

• **1997**

“Otel Gören Defterler” başlıklı  
altı kitaptan oluşan deneme serisi  
okuyucuyla buluştu.

• **2013-2014**

2013'te Kültür ve Turizm Bakanlığı  
Kültür Sanat Büyük Ödülü'ne,  
2014'te ise Necip Fazıl Saygı  
Ödülü'ne layık görüldü.

14. Bu metinde Nuri Pakdil ile ilgili,

- I. Hangi türde eserler verdiği
- II. Fikir hayatının şekillenmesinde kimlerin etkili olduęu
- III. Kendisine niçin “Kudüs Şairi” dendięi

**bilgilerinden hangilerine değinilmiştir?**

- A) Yalnız I                      B) Yalnız II                      C) I ve III                      D) II ve III

15. Nuri Pakdil bu metindeki altı çizili cümlede suskunluęun, kendisine hangi duyguyu yaşattığını ifade etmek istemiştir?

- A) Endişe                      B) Sitem                      C) İzdırıp                      D) Ümitsizlik

16. Öğrencilik yıllarımda Avrupa'ya birçok seyahatim oldu. O dönemde Fransa'daki çanta satıcılarının müşterilere, çanta takma konusundaki ısrarları beni şaşırtmıştı. Sonradan anladım ki insan, bir nesnenin kendisine ait olabileceğini düşündüğünde bir sahiplik duygusu geliştiriyor ve ondan ayrılmak bir kaybetme kaygısı yaratıyor. Böylece kişi, o nesneyi satın alma konusunda daha istekli oluyor.

**Aşağıdakilerden hangisi bu parçada sözü edilen durumu örneklemektedir?**

- A) Bankaların yeni bir uygulamayı herkesçe sevilen kişiler aracılığıyla tanıtması
- B) Marketlerin belirli bir miktarın üzerinde harcama yapan müşterilerine indirim uygulaması
- C) Otomobil satıcılarının, müşterilerine yeni model araçlarla test sürüşü yaptırması
- D) Alışveriş sitelerinin, müşterilerine yeni kampanyalar hakkında bilgi mesajları göndermesi

17. Antroposen adı verilen yeni çağın en belirgin özelliği, ona jeolojik faaliyetlerden çok, insanların yol açmış olmasıdır. - - - -

**Bu cümlelerin ardına anlam akışına göre,**

- I. Antroposen Çağı'nda gezegenin insan eli değmemiş köşeleri gitgide azalırken yerleşim merkezleriyle diğer canlıların paylaştığı kırsal arasında var olduğuna inanılan kültür-doğa ayrımı ortadan kalkıyor.
- II. Canlılar ile makinelerin, doğal ve yapay zekânın iç içe geçtiği bu çağın gözle görünür sonuçlarından en dikkat çeken, Pasifik Okyanusu'ndaki "Yedinci Kıta" adı verilen devasa atık yığınıdır.
- III. Farklı bir jeolojik çağa girildiği konusunda dünyadaki pek çok bilim insanı aynı fikri taşımaktadır.

**cümlelerinden hangileri getirilebilir?**

- A) Yalnız I
- B) I ve II
- C) II ve III
- D) I, II ve III

18. Aynı sözcükler kullanılarak oluşturulan söz öbekleri ve birleşik sözcüklerin bitişik mi, ayrı mı yazıldığına karar vermek için cümlede hangi anlamda kullanıldığına bakılır. Örneğin "yer" ve "altı" sözcüklerinin birleşmesiyle oluşan yapılar, hem "yerin altı (yer altı)" hem de "gizli ve yasa dışı (yeraltı)" anlamlarını sağlar. Bu kullanımlardan ilki (yer altı), anlamsal açıdan şeffaflık taşıdığından söz öbeği işlevindedir ve ayrı yazılmalıdır. Ancak anlamsal şeffaflığın bulunmadığı ikinci durumda sözcük (yeraltı), farklı bir kavramı karşılar hâle geldiği için yeni bir sözcük olarak değerlendirilmeli ve bitişik yazılmalıdır.


**Bu metne göre aşağıdakilerin hangisinde altı çizili sözün yazımı yanlıştır?**

- A) Kendisine çok iyi bakacağımı, isterse sağ kolum olabileceğini söyledim.
- B) Gözlerini açar açmaz, baş ucunda bekleyenlere gülümsemeyi ihmal etmedi.
- C) Müzenin kurulmasına önayak olan sanatçılarımıza, katkılarından dolayı minnettarız.
- D) Büyük bir maharetle attığı topun kaleye girmesine bıçaksırtı kalmıştı.

## “Bozkırın Tezenesi” mütevazılığıyla gönüllerde taht kurdu.

Yaşamı boyunca pek çok plağa ve kasete imza atan, “Garip” mahlasıyla yazdığı şiirlerinde kendi hayatını anlatan Neşet Ertaş, sanatı kadar kişiliği ve her konseri öncesinde sevenlerine söylediği “Ayaklarınızın turabı, gönüllerinizin hizmetçisiyim.” gibi sözleriyle akıllarda kaldı.

- İlkokul çağında önce keman, sonra da bağlama çalmayı öğrenen Neşet Ertaş, müzik hayatına saz üstadı babası Muharrem Ertaş sayesinde başladı.
- İstanbul'a gitti ve Muharrem Ertaş'a ait “Neden Garip Garip Ötersin Bülbül” eseri ile ilk plağını çıkardı.
- Çok beğenilen bu plağın ardından yeni plak ve kasetler çıkaran Ertaş, halk konserleri vermeye başladı.
- “Türkülerin Babası” ve “Anadolu Efsanesi” gibi isimlerle de anılan sanatçı 25 Eylül 2012'de aramızdan ayrıldı.



**Bu metinden Neşet Ertaş ile ilgili aşağıdakilerden hangisi çıkarılamaz?**

- A) Yetişmesinde babasının katkısı olduğu
- B) Konserlerine, benzer sözlerle başladığı
- C) Kimi şiirlerinin, yaşamından izler taşıdığı
- D) Plaklarını çeşitli takma isimlerle çıkardığı

20. İlhan Berk yaptığı resimleri, üstünde “60 bin” yazılı koca bir zarftan tek tek çıkararak döşemeye serdi. Bir süre gülümseyerek baktı otuz resme de. Ferit Edgü ve bana düşüncelerimizi sordu. Ressamların bayıldığı huyları vardır: Yapıtlarını gösterirken eserlerini överler, o arada onların reklamını da yaparlar. İlhan Berk de resim yapmaya başladı. Ona da mı geçmiş bu huy? Değil. Çünkü o, şiirlerini ortaya koyarken de öteden beri böyle yapar. Oysa şairler genellikle utanırlar şiirlerini gösterirken. Bir alçak gönüllülük tavrı benimserler.

**Bu parçada aşağıdakilerden hangisi yoktur?**

- A) Tespit
- B) Karşılaştırma
- C) Betimleme
- D) Öneri



21. Bilinç akışı tekniğinin kullanıldığı modern öykü ve romanlarda okur, olayları değil; olayların insan üzerindeki etkilerini, oluşturduğu çağrışımları ve duyguları izleme imkânı bulur. Bilinç akışında kahramanın zihninden geçen düşünceler arasında mantıksal bir bağ yoktur.

**Buna göre aşağıdaki metinlerin hangisinde bilinç akışı tekniği kullanılmıştır?**

- A) Elektriğe henüz kavuşmuş kasabada doktor, mühendis ve avukatların çok önemsendiği yıllardı. Her şeyi, herkesten daha iyi bilir; bundan dolayı da çarşıda, pazarda, kahvede, lokantada en çok saygıyı onlar görürlerdi. Bir doktor, bir avukat, bir mühendisin çevresi çokluk büyük çiftçiler, tüccarlar tarafından çevrilir; yorumları can kulağıyla dinlenirdi.
- B) Üç torba aldığıma iyi ettim, lahana da alırım ıspanak da. Üç daire... Şimdi apartman katları kira getirmiyor, bankaya yatırmak en iyisi. Bıyıklarını boyamış şu. Arnavut kaldırımının böylesine ne topuk dayanıyor ne pençe. Yarın gözünü kapadı mı hiç yoktan iyi. Ufak tefeğe kulak asma. Katları onlara bölüştürür, ben bana kalan aylığa bakarım.
- C) Bazı hiç sebep yokken annesinin boynuna sarılır; yanaklarını, gözlerini, ellerini öperdi. Melek Hanım bu dakikalarda onun nezaketten ezildiğini, mavi gözlerinin yaşla dolduğunu görürdü. Sebebini sorduğu vakit Kenan, bir şey söyleyemezdi. Çünkü bu sebebi kendi de bilmezdi. Bu, onun için uyumak ve su içmek gibi bir ihtiyaçtı.
- D) Bir kartal yuvasını andıran köy, dağın eteklerine sırtını vermiş, dünyaya kafa tutuyor gibiydi. Köyün yamaçlarına kurulmuş kerpiç evler toprağın yeryüzüne köpürüşü gibi duruyordu. Uzaktan bakanlar, bir tespih gibi dizilen evleri ve maviye boyanmış kapıları görürlerdi. Şehirlerde hızla akıp giden hayat burada iyice yavaşlar, belli bir süre kendini sessizliğe bırakırdı.

22. Sözcüklerin, anlamlarına uygun olmayan bir şekilde cümlede kullanılması anlatım bozukluğuna yol açmaktadır. Türk Dil Kurumu, bu yanlışlardan kaçınmak isteyenlere yardımcı olmak amacıyla birbiriyle sıkça karıştırılan bazı sözcüklerin anlamını şöyle vermiştir:

Yakın: Az bir ara ile ayrılmış olan (zaman veya yer).

Yaklaşık: Gerçek değeri ve miktarı değil, ondan biraz fazla veya eksik bir niceliği gösteren, aşağı yukarı bir değerlendirme yapılarak bulunan.

Maiyet: Üst görevlinin yanında bulunan kimseler, alt kademedekiler.

Mahiyet: İçyüz.

Tabii: Olağan, alışılmış, her zamanki gibi olan, beklendiği gibi.

Tabi: Bağımlı.

Teamül: Bir yerde öteden beri olagelen davranış.

Temayül: Bir tarafa eğilme, meyletme.

**Buna göre aşağıdaki cümlelerin hangisinde bir anlatım bozukluğu vardır?**

- A) Bu işin mahiyetini en kısa zamanda öğrenmeliyiz.
- B) Teyze çocuklarımı üç güne yakındır görmüyorum.
- C) Büyükleğin elini öpme teamülü kültürümüzde bir saygı ifadesidir.
- D) Sosyalleşmek insan ruhu için tabii bir ihtiyaçtır.

23. I. Unutulma hakkı, bireyin ulusal ve uluslararası metinlerde çerçevesi çizilen her türlü kişisel verisinin korunmasını sağlayan bir haktır.
- II. Bu durumu ortadan kaldırmak için kişisel verilerin korunması hakkının bir görünümü sayılabilecek olan “unutulma hakkı” kavramı gündeme gelmiştir.
- III. Kişisel veriler dijital ortamlarda bir kez paylaşıldığında bu ortamda kayıt altına alınmakta, kimi zaman üçüncü kişiler tarafından bireyin rızası dışında kullanılabilir. Bu hak, dijital hafızada yer alan kişisel bir içeriğin, bireylerin talebi üzerine bir daha geri getirilemeyecek biçimde silinmesidir.

**Bu parçanın anlamlı bir bütün oluşturabilmesi için numaralanmış cümlelerden hangileri yer değiştirmelidir?**

A) I ve II





B) I ve III

C) II ve IV

D) III ve IV

24. Aşağıdaki tablolarda bir şehre ait dört günlük hava durumu tahmini ve bu tahminlerde kullanılan simgelerin anlamları verilmiştir.

Tablo 1: Dört Günlük Hava Durumu Tahmini

Tarih	Hadise	Sıcaklık (°C)		Nem (%)		Rüzgâr Hızı (km/sa)
		En Düşük	En Yüksek	En Düşük	En Yüksek	
5 Şubat Salı		13	17	64	92	23
6 Şubat Çarşamba		9	12	83	98	19
7 Şubat Perşembe		6	9	71	83	21
8 Şubat Cuma		5	9	48	73	19

Tablo 2: Hava Tahminlerinde Kullanılan Simgelerin Anlamları

	Açık		Az Bulutlu
	Parçalı Bulutlu		Çok Bulutlu
	Hafif Yağmurlu		Yağmurlu
	Kuvvetli Yağmurlu		Sağanak Yağışlı
	Gök Gürültülü Sağanak Yağışlı		Kar Yağışlı

**Bu tablolardan hareketle yapılan aşağıdaki açıklamalardan hangisi yanlıştır?**

- A) Salı günü havanın sağanak yağışlı, sıcaklığın 13 ila 17 °C arasında olması, rüzgârın ise saatte 23 km hızla esmesi bekleniyor.
- B) Çarşamba gününün gök gürültülü sağanak yağışlı geçmesi bekleniyor ve nem oranının önceki güne göre artacağı tahmin ediliyor.
- C) Perşembe günü havanın yağmurlu, sıcaklığın 6 ila 9 °C arasında olacağı ve nem oranının önceki güne göre azalacağı tahmin ediliyor.
- D) Cuma günü yağışların azalması, havanın az bulutlu olması, sıcaklık ve rüzgâr hızının önceki güne göre artması bekleniyor.

25. Bir yazarın, ana dilini bilmediği düşünülebilir mi? Soruyu ters çevirelim. Ana dilini bilmeyen bir kimse yazar olabilir mi? Maalesef olabiliyor. Üstelik belli ölçüde isim bile yapabiliyor.

**Bu metin aşağıda açıklaması verilen anlatım biçimlerinden hangisine örnektir?**

- A) Herhangi bir konu hakkında bilgi verilir, bir şeyler öğretmek amacına yöneliktir. Yazar, sanatlı söyleyişlerden ve öznellikten kaçınır.
- B) Bir yerin veya varlığın özellikleri, bu özelliklerin yazarda uyandırdığı izlenimler, okurun gözünde canlanacak şekilde anlatılır.
- C) Bir yaşam kesiti, belli bir olaya bağlı olarak anlatılır. Amaç; okuru olayların içinde yaşatmak, kahramanlarla ve olayla özdeşleştirmektir.
- D) Yazar bir konu ile ilgili kişisel görüşünü belirterek okuyucunun o konu hakkındaki fikrini etkilemeye çalışır. Karşılıklı konuşma havası vardır.

26. Ülkemizde sağlık giderlerinin %60'ı ilaç harcamalarından oluşuyor. Bu oran Avrupa ülkelerinde %15 civarında. Eczanelerdeki ilaçların ortalama %7'si kullanım süresi dolduğu için çöpe atılıyor. Evlerde antibiyotiklerin %44'üne hiç dokunulmuyor, diğer ilaçların ise %60'ının kullanım tarihi, kutusu dahi açılmadan sona eriyor.

**Bu açıklamaya göre,**

- I. Son kullanım tarihi geçmemiş ve kullanılmayan ilaçlar için toplama merkezleri oluşturulması
- II. İlaç tüketimi konusunda toplumun bilinçlendirilmesi
- III. İlaç tanıtım yazılarının (prospektüs) dikkatle okunması

**fikirlerinden hangileri metinde sözü edilen soruna yönelik bir çözüm olabilir?**

- A) Yalnız I
- B) I ve II
- C) II ve III
- D) I, II ve III

27. Dünyaya sana ait bir ses, bir renk, bir ezgi, bir eda, bir duruş, bir cümle bırak. Sana has bir düşünüş bırak. Koşmak zorunda değilsin, düşersen kalkmak zorunda değilsin. Düştüysen bir süre çimenlerin tadını çıkarabilirsin. Sana sürekli koşmanı söylüyorlar. Yarışmanı, birilerini arkada bırakmanı, ipi önce göğüslemeni bekliyorlar. Hep daha hızlı koşmanı istiyorlar. Bense sadece annenin, çocukluğunda sana söylediği bir sözü hatırlatacağım: Koşma, düşersen!

**Bu parçada,**

- I. Özgünlük
- II. Sakinlik
- III. Kararlılık

**kavramlarından hangileri vurgulanmaktadır?**

- A) I ve II
- B) I ve III
- C) II ve III
- D) I, II ve III

28.

O	F	D	B	B
M	E	C	A	Z
L	Ç	B	Y	Y

Bu tabloda, her sütündeki harfler aşağıdan yukarıya doğru, harflerin alfabe sırası (...PRSŞTUÜVYZABC...) göz önünde bulundurularak belli bir harf atlama düzenine göre dizilmiş ve orta kısımda "MECAZ" sözcüğü oluşmuştur.

**Bu harf atlama düzenine göre "KARNE" sözcüğü aşağıdaki tabloların hangisinde gizlenmiştir?**

A)

M	B	S	O	F
J	Y	P	M	D

B)

M	B	Ş	L	G
J	Y	P	O	D

C)

M	B	Ş	O	G
J	Y	P	L	D

D)

M	B	Ş	O	G
J	Y	Ö	L	D

29.

- Açıklık, anlatımın hiçbir tartışmaya yol açmayacak şekilde anlaşılır olmasıdır.
- Akıcılık, anlatımda söylenişi kolay sözcüklerin kullanılmasıdır.
- Özgünlük, anlatımın nitelik bakımından benzerlerinden farklı olmasıdır.
- Duruluk, anlatımda gereksiz sözcüğün bulunmamasıdır.

**Bu açıklamalara göre "Bir yazının kusursuzluğu, eklenecek bir söz kalmamasıyla değil çıkarılacak bir söz kalmamasıyla ölçülür." cümlesinde aşağıdaki kavramlardan hangisinin önemi vurgulanmaktadır?**

A) Açıklık

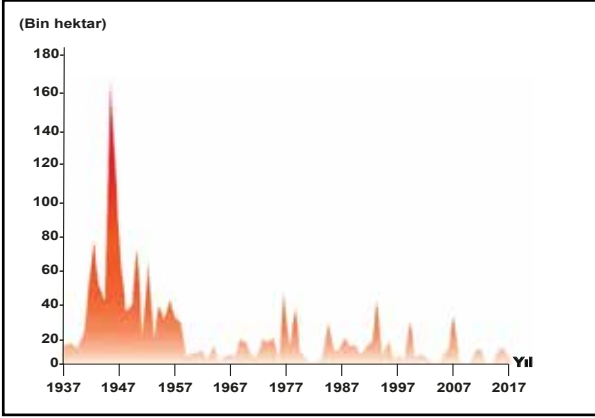
B) Akıcılık

C) Özgünlük

D) Duruluk

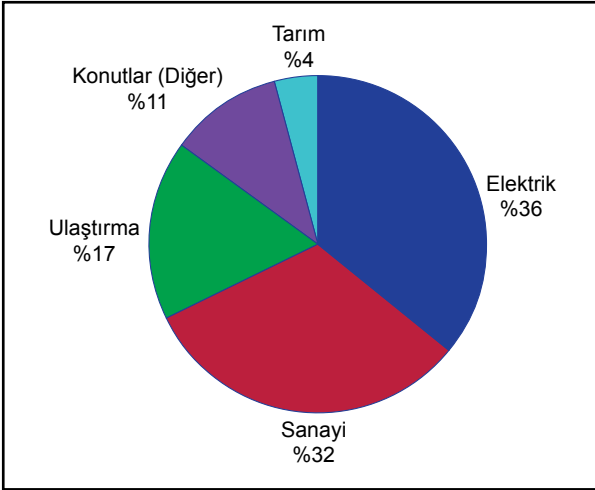
30. Aşağıdaki grafiklerin karşısında açıklamaları verilmiştir.

I. Türkiye'de Orman Yangınlarından Etkilenen Alan Miktarının Yıllara Göre Dağılımı



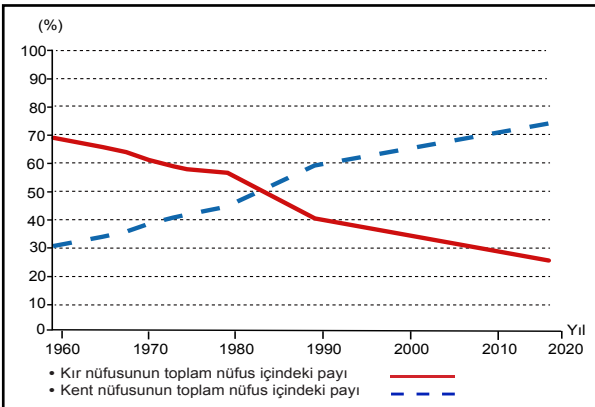
1957'den itibaren Türkiye'de orman yangınlarında kayda değer bir azalma görülüyor.

II. Türkiye'de Sera Gazı Kaynaklarının Dağılımı



Türkiye'de sera gazı salınımı her geçen gün artıyor.

III. Türkiye'de Kent ve Kırsal Nüfusunun Yıllara Göre Toplam Nüfus İçindeki Payı



1960'tan beri Türkiye'de kent nüfusunun toplam nüfus içindeki payı her yıl artarken kırsal nüfusunun payı azalmıştır.

Numaralanmış grafiklerden hangileri açıklamaları ile örtüşmez?

A) Yalnız I

B) Yalnız III

C) I ve II

D) II ve III

31.

I.

Bir tilki, gün doğarken gölgesinin uzunluğuna baktı ve şöyle dedi:

— Bugün öğle yemeğinde bir deve yiyeceğim.

Ve bütün sabah deve arayıp durdu. Ama öğle güneşi yükseldiğinde gölgesinin ne kadar kısa olduğunu görünce kendi kendine şöyle söyledi:

— Bir fare de işimi görür.

II.

Kavağın yanında bir kabak filizi boy vermişti. Bahar ilerledikçe kavak ağacına sarılarak yükselmeye başladı ve neredeyse onunla aynı boya geldi. Bir gün dayanamayıp kavağa sordu:

— Sen kaç ayda bu hâle geldin?

— On yılda...

— On yılda mı; ben neredeyse iki ayda seninle aynı boya geldim, dedi ve güldü.

Günler günleri kovaladı. Sonbahar geldiğinde kabak önce üşümeye başladı, sonra yapraklarını düşürmeye.

Endişeyle kavağa sordu:

— Neler oluyor bana?

— Kuruyorsun.

— Niçin?

— Benim on yılda geldiğim yere, iki ayda gelmeye çalıştığın için...

**Bu metinlerin ortak vurgusu aşağıdaki deyimlerden hangisiyle ifade edilebilir?**

A) Başı göğe ermek

B) Haddini bilmek

C) Tepeden bakmak

D) Bindığı dalı kesmek

32.

I. Sözcüklerini aramaktan yorulmuş anılarımı yüreğimin kuytu bir köşesine ekleyerek seslerin ve kokuların yalnızlaştığı bu kulübede saatlere karışıyorum.

II. İskelenin yanından kalkıp yorgun adımlarla kulübeye doğru yürüyorum yavaş yavaş.

III. Günün akşama döndüğü dakikalarda, pejmürde perdelerini ve deniz kokan tahtalarını ardımda bırakarak kulübeden çıkıyorum bir gölge gibi.

IV. Rüyalarımı ve tedirgin masallarımı kıyıda bırakarak, denizin ve martıların seslerini yüreğime hapsederek açıyorum yılların acısıyla gıcırdayan kapıyı.

**Numaralanmış cümleler düşüncenin akışına göre sıralandığında hangisi baştan üçüncü olur?**

A) I

B) II

C) III

D) IV

33.

## EBA TV Ortaokul Haftalık Ders Programı

Sınıf	Başlangıç Saati	Pazartesi	Salı	Çarşamba	Perşembe	Cuma
5. Sınıf	09.00	Türkçe	Sosyal Bilgiler	İngilizce	Türkçe	İngilizce
	09.30	Matematik	Fen Bilimleri	Din Kültürü ve Ahlak Bilgisi	Matematik	Fen Bilimleri
6. Sınıf	10.00	Türkçe	Sosyal Bilgiler	İngilizce	Türkçe	İngilizce
	10.30	Matematik	Fen Bilimleri	Din Kültürü ve Ahlak Bilgisi	Matematik	Fen Bilimleri
7. Sınıf	11.00	Türkçe	Sosyal Bilgiler	İngilizce	Türkçe	Matematik
	11.30	Matematik	Fen Bilimleri	Din Kültürü ve Ahlak Bilgisi	Matematik	Fen Bilimleri
8. Sınıf	12.00	Türkçe	T.C. İnkılap Tarihi ve Atatürkçülük	İngilizce	Türkçe	İngilizce
	12.30	Matematik	Fen Bilimleri	Din Kültürü ve Ahlak Bilgisi	Matematik	Fen Bilimleri
<b>TEKRAR 13.30-21.30</b>						

Ahmet 7. sınıf, kardeşi Eren ise 5. sınıf öğrencisidir. İki kardeş, MEB'in hazırladığı EBA TV Ortaokul Haftalık Ders Programı'na göre uzaktan eğitim alacaktır. Dersler 20 dakika sürmektedir ve her bir dersten sonra 10 dakikalık etkinlik kuşağı yer almaktadır.

Ahmet ve Eren ilk günlük ders yayınlarını verimli bir şekilde takip eder. Ancak oturdukları apartmanın elektrik tesisatındaki arıza nedeniyle salı günü 09.30-11.30, cuma günü ise 09.00-09.30 ve 11.00-11.30 saatleri arasındaki derslerin yayınlarını izleyemez ve bu derslere ait yayınların tekrarlarını izlemeye karar verir.

**Buna göre Ahmet ve Eren'in, tekrar yayınlarını izleyecekleri dersler aşağıdakilerin hangisinde doğru verilmiştir?**

	Salı	Cuma	
A) Eren: Sosyal Bilgiler	Ahmet: Fen Bilimleri	Eren: Fen Bilimleri	Ahmet: Matematik
B) Eren: Fen Bilimleri	Ahmet: Sosyal Bilgiler	Eren: İngilizce	Ahmet: Fen Bilimleri
C) Eren: Sosyal Bilgiler	Ahmet: Sosyal Bilgiler	Eren: Fen Bilimleri	Ahmet: İngilizce
D) Eren: Fen Bilimleri	Ahmet: Sosyal Bilgiler	Eren: İngilizce	Ahmet: Matematik

- 34.
- İsmnin ne anlama geldiđi
  - Gelir kaynađı
  - Cođrafi konumu
  - Halk arasında nasıl anıldıđı

**Aşađıda tanıtılan şehirlerin hangisinde bu bilgilerin tümüne yer verilmiştir?**

- A) Endonezya'nın başkenti ve en büyük şehri olan Cakarta'nın diđer adı Big Durian'dır. Cakarta; kendine has iklimi, bitki örtüsü ve dođal güzellikleri sayesinde seyahatiniz boyunca sıkılmayacađınız bir şehirdir. Monas, Ancol Rüya Parkı, Endonezya Minyatür Parkı şehirde gezilecek yerler arasındadır.
- B) Bir Güney Asya ülkesi olan Bangladeş'in başkenti Dakka, dünyanın en fazla nüfusa sahip yedinci şehridir. Çok kalabalık olduđu için şehirde "bisiklet taksi" uygulaması yaygındır. Halk arasında "camiler şehri" olarak bilinir. Sıcak, yađışlı ve nemli bir iklimi vardır.
- C) İskenderiye, beş milyonu aşan nüfusuyla Mısır'ın Akdeniz kıyısındaki büyük şehirlerindendir. Önemli bir sanayi bölgesi olan İskenderiye, ülkenin dış ticaretinin büyük bir bölümünü karşılar. İsmni Makedonya Kralı İskender'den almıştır.
- D) Kuzey Afrika'nın batısında, Fas'ın orta kısmında yer alan Marakeş'in kelime anlamı "Tanrı'nın ülkesi"dir. Toprađının kırmızı renkli olmasından dolayı bölgede yaşayanlar ona "kırmızı şehir" demektedir. Marakeş, dünyanın en çok tercih edilen turizm merkezlerinden biri olduđu için ülke ekonomisine büyük katkı sağlar.
35. Büyük firmalar bir yerde mağaza açmadan evvel ön araştırma yapar. Bu araştırmada mağazanın açılacađı bölgeden günde kaç kişinin geçtiđi; geçenlerin yaşı, cinsiyeti ve beğenileri ile ilgili veriler toplanır.

**Bu parçanın sonuna** "Tıpkı bunun gibi, bir konuşmacının da konuşmasından önce dinleyicilerin nelere ilgi duyduđu noktasında titizlik göstermesi gerekir." **cümlesi getirilirse aşağıdakilerden hangisi yapılmış olur?**

- A) İlişkilendirme                      B) Onaylama                      C) Eleştiri                      D) Betimleme

36. Bir yazarın, kendisine yöneltilen sorulara verdiđi cevaplar şunlardır:

- İki birbirinden ayrılabilir şeyler deđil. Bu, herkeste olması gereken bir hassasiyet aslında. Harfler sesleri temsil ediyor. Kâğıdın üzerine yazılan harflerden topluca bir ses çıkıyor. Bu sesi düzenlemesi gerekir yazarın. Sesler tesadüfün eline bırakılırsa tatsız bir gürültüye dönüşür.
- Yazma amacım ilk gün neyse şimdi de o: Kendimi ifade edebilmek. Bu nedenle adımın sıkça anıldıđı ödülleri alıp almamam hiç önemli deđil. Önemli olan, önceki romanlarımdan daha iyi birkaç roman yazabilmek. Ben -insanlar müsaade ederlerse- birkaç roman daha yazıp bu işe nokta koymak istiyorum.
- Hayatımın en olgun dönemini yaşıyorum. Bu yüzden okurken daha seçici davranıyorum. Bugünlerde, denemelere merak saldım. Ayrıca yeni çıkan öykü ve romanları da elimden geldiğince takip etmeye çalışıyorum. Pek azını beğeniyorum. Güzel bir metinle karşılaştınca da kendim yazmış gibi heyecanlanıyorum.

**Aşađıdaki sorulardan hangisi bu cevapların herhangi biri ile ilişkili deđildir?**

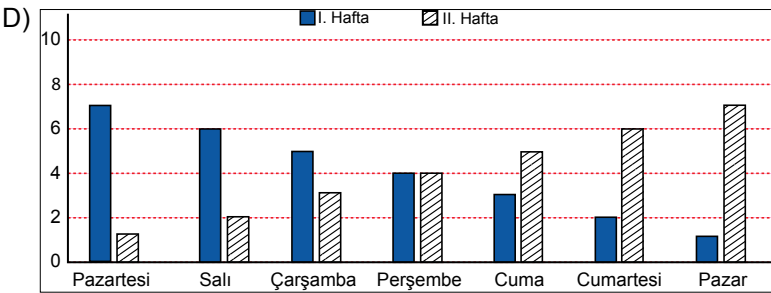
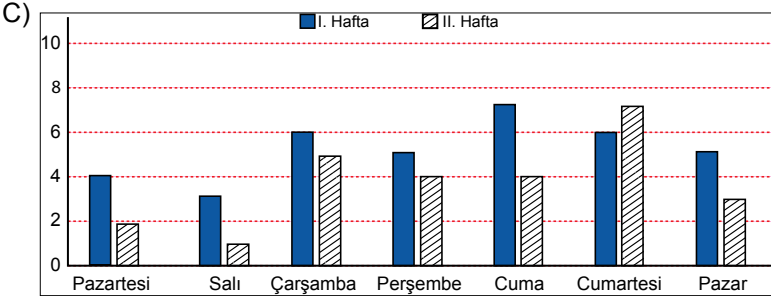
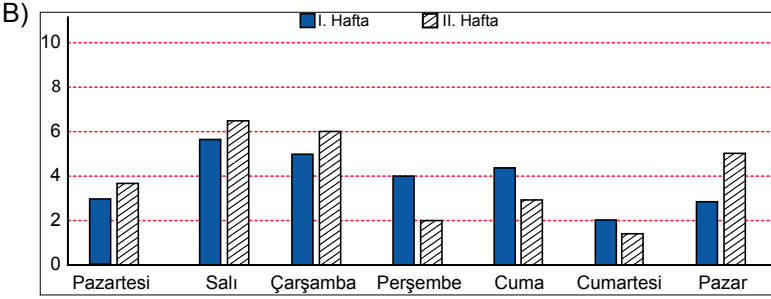
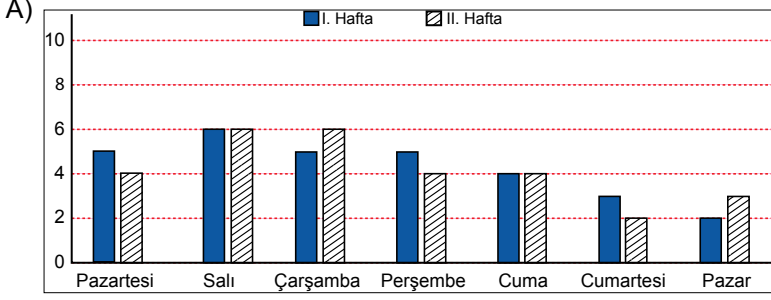
- A) Son zamanlarda ne tür yazılar okuyorsunuz?
- B) "Yazmak beste yapmak gibidir." sözüyle ne anlatmak istiyorsunuz?
- C) Yazmak ve okumak arasında nasıl bir ilişki vardır sizce?
- D) Edebiyat ödüllерinin sanatınız üzerindeki etkisi nedir?



37. Bir bilgi yarışmasına katılacak olan Ayşe, Beril, Cemil ve Demir'in iki hafta boyunca günde kaç saat çalıştıkları belirlenmiş ve her birinin çalışma süresi grafik üzerinde gösterilmiştir. Öğrencilerin çalışma sürelerine ilişkin şunlar bilinmektedir:

- Ayşe: Her iki haftada da en fazla ve en az çalıştığı günler aynıdır.
- Beril: Haftanın her günü; birinci hafta, ikinci haftadan daha fazla çalışmıştır.
- Cemil: Çalışma saatleri, birinci hafta gün geçtikçe azalırken ikinci hafta gün geçtikçe artmıştır.
- Demir: Her iki haftada da hafta sonları, hafta içindeki günlere göre daha az çalışmıştır.

Buna göre aşağıdaki grafiklerin hangisi sözü edilen öğrencilerden herhangi birine ait değildir?



38. Geçen gün gazete okurken “Salgın sönümlenme aşamasında.” cümlesi dikkatimi çekti. Burada “sönümlenme” sözcüğüyle salgının azaldığı anlatılmaya çalışılıyordu. Bir terim olarak fizik alanında kullanılan “sönümlenme” sözcüğünün tıp alanında da kullanılıyor olması beni çok sevindirdi. Dilciler “sönümlenme” sözcüğünü, dilimize başka bir dilden geçen “itfa” sözcüğünün karşılığı olarak önermişti. “İtfa” ile kökteş olan “itfaiye” sözcüğü bugün dilde yaşıyor ama “itfa” sözcüğü kullanılmıyor artık. Şimdi dilcilere ve tabiplere düşen, “sönümlenme” terimini tıpkı “bulaş” terimi gibi sık sık kullanıp sözcüğün kalıcılığını sağlamaktır.

**Bu parçanın yazılış amacı aşağıdakilerden hangisidir?**

- A) Dildeki sözcüklerin doğru kullanımı konusunda toplumsal bilinç oluşturmaya çalışmak
- B) Dile yabancı dillerden geçen terimlerin Türkçelerinin kullanılması için farkındalık oluşturmak
- C) Dilimizdeki tüm yabancı kelimelerin ayıklanıp yerlerine Türkçelerinin kullanılmasını sağlamak
- D) Tıpla ilgili yabancı terimlerin Türkçe karşılığını kullanmanın, anlaşılabilirlik sağladığına dikkat çekmek

39. Bir teknoloji festivaline A, B, C, D ve E takımları; elektrikli araçlar, iletişim teknolojileri, insansız hava araçları ve üç boyutlu yazıcılar kategorilerinde katılmıştır. Yarışmaya sadece C takımı bir kategoride, diğerleri iki kategoride katılmıştır. Bu yarışmaya katılan takımlar ile ilgili bilinenler şunlardır:

- E takımının yarıştığı kategoriler, C ve D takımlarınıninkinden farklıdır.
- A ve E takımları üç boyutlu yazıcılar kategorisinde birlikte yarışmıştır.
- C takımıyla aynı kategoride yarışmayan B takımının yarıştığı kategorilerden biri iletişim teknolojileridir.
- D takımı elektrikli araçlar kategorisinde yarışmamıştır.

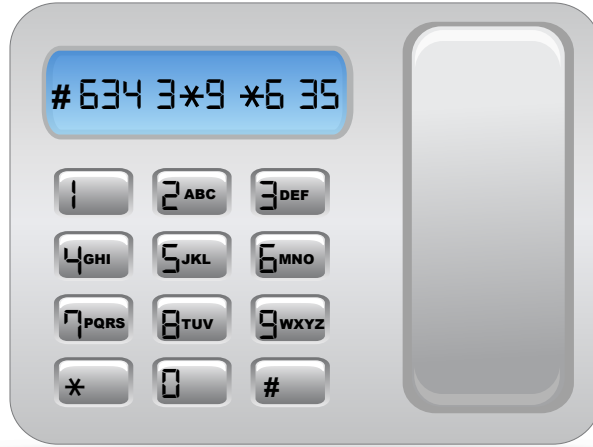
**Bu bilgilerden hareketle,**

- I. B takımının yarıştığı kategorilerden biri elektrikli araçlardır.
- II. C takımı, insansız hava araçları kategorisinde yarışmıştır.
- III. D takımı, iletişim teknolojileri kategorisinde yarışmıştır.

**yargılarından hangileri kesinlikle doğrudur?**

- A) Yalnız I
- B) Yalnız II
- C) I ve III
- D) II ve III

40.



Yukarıda verilen telefon, arızalı olduğu için bir tuşa basıldığında o tuştan bir sonrakine basılmış gibi algılıyor. Ancak Ayşe, bu durumu bilmediğinden aramak istediği numaranın tuşlarına basmış ve ekranda “# 634 3\*9 \*6 35” numarası çıkmıştır.

**Ekranda çıkan numaradan hareketle Ayşe'nin aramak istediği numara için basması gereken tuşlar aşağıdakilerin hangisinde doğru verilmiştir?**

- A) \* 412 187 85 13
- B) \* 412 187 84 13
- C) \* 410 187 85 13
- D) \* 410 187 84 13



# 8. SINIF

# Türkçe



**5. Tema**

**Zaman ve Mekân**

1. Yazarın hikâyelerindeki karakterler, çoğunlukla zor koşullar altında yaşayan insanlardır. O, var olma mücadelesi içindeki bu karakterleri, güçlü bir gözlem yeteneğine ve içgörüyeye dayanarak son derece kanlı canlı biçimde betimler. Hatta yakın arkadaşı olan Cemal Süreya, onun hikâyelerindeki kişiler için şöyle der: “Onun kişilerine iğne batırsan kan çıkar.”

**Bu metindeki altı çizili cümlede, sözü edilen hikâye karakterlerinin hangi özelliği anlatılmak istenmiştir?**

- A) Etkileyciliği                      B) Özgünlüğü                      C) Gerçekçiliği                      D) Evrenselliği

2. Türk sanatında süslemelerin ve onları oluşturan motiflerin ayrı bir önemi vardır. Her biri evrensel bir dile sahip olan motifler kültürümüzde çeşitliliği, renkliliği ve zenginliğiyle dikkat çekmektedir. Tarihten günümüze yetişen nice nakkaş, hattat ve ressam, eserlerini motiflerin binbir renk ve biçimiyle süslemiştir. Türk sanatında kullanılan bu motiflerden biri “ışın”dır. Bir ışık kaynağından çıkarak her yöne yayılan ışık demeti şeklinde oluşturulan bu motif, özellikle Osmanlı armalarında kullanılmıştır. Sürekliliği yansıtan “çarkifelek” motifi; dünyanın dönüşünü, devinimi ve hayatı anlatır. Bu motifte, merkezden dışa doğru açılan çizgiler, rüzgârgülü gibi tek yönde şekillendirilerek oluşturulmuştur. Bir diğer motif olan “zencerek”, belli bir düzenle birbirinin içinden geçirilmiş iplere benzeyen yapısından dolayı “mutluluk düğümü” olarak adlandırılmaktadır. Sonsuzluğu simgeleyen bu motif; güç, birlik ve mutluluğu da temsil eder.

**Aşağıdakilerden hangisi bu metinde sözü edilen motiflerden biri değildir?**



3. Nesne alabilen fiillere geçişli fiil, nesne alamayan fiillere geçişsiz fiil denir. Örneğin “Ufuk çay içiyor.” cümlesindeki “iç-” fiili nesne alabilen bir fiildir. Oysa “Ufuk gülüyordu.” cümlesindeki “gül-” fiili nesne alamaz.

**Buna göre aşağıdaki cümlelerin hangisinde geçişsiz bir fiil vardır?**

- A) İnsan, açıklayamadığı her olaydan korkar.  
B) Empati kurabilenler, karşısındakini daha iyi anlar.  
C) Gençler, duygularının yansımalarını şiirlerde bulur.  
D) Yaşamdaki birtakım zorluklar insanı yorar.

4. Yazar, yaygın bir fikri deęiřtirmek amacıyla yazdıęı bu yazıda, savunduęu dūřünceyi bařkasının gürüřüyle desteklemiřtir.

**Ařaęıdakilerden hangisi bu cümlede sözü edilen yazıdan alınmıř olabilir?**

- A) Birçok sanatçı, sanat eserlerinin hiçbir dūřünceyi yaymadıęını söyler. Böyle bir řey mümkün deęildir. Her eser, ister istemez bir insanın, bir toplumun dūřüncelerini bildirir. Hatta sadece güzellik kaygısıyla yazılmıř olanlar bile bir dünya gürüřünden haber verir. Böyle olmasaydı Benite “Sanat eserleri bir medeniyeti sonraki nesillere anlatan řahitlerdir.” der miydi hiç?
- B) Bir yazarın, dilini geliřtirmesi neye baęlıdır? Bu sorunun cevabı gayet basit: Halkla göbek baęını kesmemesine... Çünkü dili doęuran, besleyip geliřtiren, halktır. řair ve yazarlar ise halkın sesidir. Ne güzel diyor Daęlarca: “řair ve yazarlar çağlarının, ülkelerinin ön duyarlılıklarıdır. Bir karanlıęı, bir acıyı ilk onlar dile getirir.” Bu gerçek, yeryüzündeki bütün řair ve yazarlar için geçerlidir.
- C) Dostluęun temelinde sevgi vardır. Dostlukta hiçbir řey yalan ve yapmacık deęildir, her řey gerçektir ve içten gelir. Bu yüzden dostluk, ihtiyaçlar ve çıkarlar gözetilerek doęmaz. Dostluęun doęuşunda, ruhların sevgiyle birbirine baęlanması vardır. Aristo’nun da dedięi gibi dostluk, iki gövdede yařayan bir ruhtur.
- D) Bir sanatçının eser ortaya koyması; toplum içinde onu isteyen, ondan anlayan; onun güzellięini, çirkinlięini, iyilięini ve kötülüęünü seçebilecek kimseler bulunduęuna inandıęını gösterir. Bu nedenle sanat adamının, eseri ile ilgili eleřtiri yazılmasını istememesine aldanmayın. Onun istemedięi řey, ortaya koyduęu eserin beęenilmemesidir.

5. Ařaęıdaki medya metinlerinden hangisinin yazılıř amacı yay ayrıç içinde yanlıř verilmiřtir?

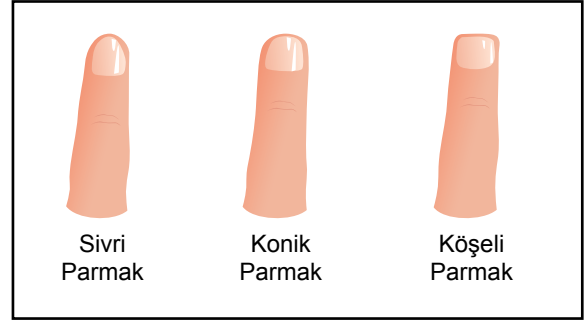
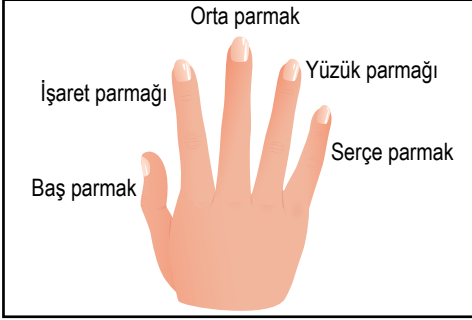
- A) Kahve, Anadolu’nun dillere destan konukseverlięinin en önemli göstergelerinden biridir. Anadolu’da sizi acı bir kahve içmeye çağıran kiřiye “Neden acı kahve?” diyemezsiniz. Bu acılıкта, yıllar yılı sürececek bir tatlılık, yakın bir dostluk vardır. Bu yüzden “Bir fincan kahvenin kırk yıl hatırı vardır.” sözü Anadolu’nun her yerinde, her zaman söylenir durur. (Kültür aktarma)
- B) Dünyadaki böcek türlerinin sayısı her geçen yıl azalıyor. Bu azalmaya zirai endüstri, doęal ortamların yok edilmesi, böcek ilacı kullanımı ve iklim deęiřiklięi neden olmaktadır. Arařtırmacılar önümüzdeki 30-40 yıl içinde gıda üretme yöntemleri deęiřtirilmezse böceklerin yok olacaęını vurguluyor. (Olay yorumlama)
- C) Buęday unu tüketimi ile obezite arasında doęrudan baęlantı kurulamıyor. Dünya Saęlık Örgütü’nün açıklamalarına göre Fransa’da kiři başına düşen buęday tüketimi Amerika’dakinden %50 fazla olmasına raęmen obezite oranı Amerika’dan çok daha düşük. İtalya’da ise Amerika’dakinin iki katı buęday tüketilmesine raęmen obezite oranı Amerika’dakinin dörtte biri oranında. (İkna etme)
- D) Avrupa Nükleer Arařtırma Merkezi (CERN) dünyanın en büyük fizik laboratuvarıdır. On iki Avrupa ülkesi tarafından 1954’te kurulmuřtur. CERN’e üye ülkeler kendi olanakları ile gerçekleřtirecekleri yüksek maliyetli arařtırmaları burada yapmaktadır. 2015’ten beri CERN’e üye olan Türkiye de oradaki çalıřmalara katılabilmektedir. (Bilgilendirme)

6. İnsanların ellerine bakılarak karakterlerine dair hükümler çıkarmak çok eski dönemlerden kalma bir yöntemdir. Bu yöntem, Osmanlıda özellikle sarayda çalıştırılacak kişilerin seçiminde önemli bir değerlendirme aracı olmuştur. Bu yönetime göre,

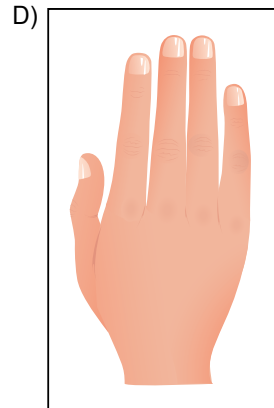
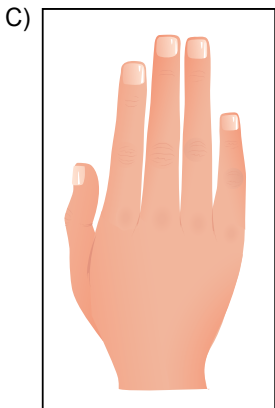
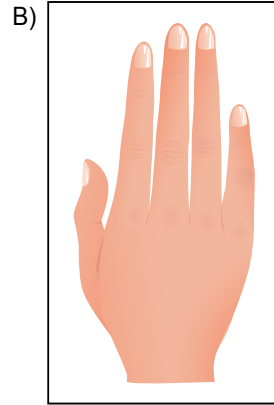
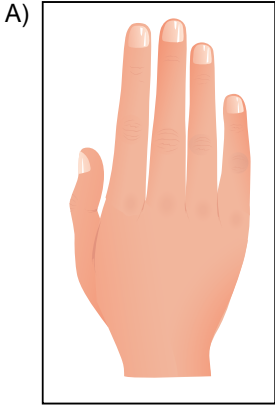
- Yüzük parmağı işaret parmağından uzun olan kişiler, risk almaya açık bir yapıya sahiptir.
- İşaret parmağı ile yüzük parmağı eşit olanlar, hiçbir konuda aşırı gitmezler.
- Orta parmağı ile yüzük parmağı eşit olanlar, ömürlerini serüven arayışı içinde geçirir.

Parmakların şekline göre de karakter tahlili yapılmaktadır. Örneğin,

- Parmakları sivri olanlar, güzel ve etkili konuşur; güçlü bir hayal gücüne sahiptir.
- Konik parmaklı kişiler, kimsenin etkisinde kalmadan kendi başına karar almak isteyen bir yapıya sahiptir.
- Köşeli parmakları olanlar, olaylara sakin ve temkinli yaklaşır.



**Buna göre maceraperest ve özgürlüğüne düşkün bir kişinin parmak yapısının aşağıdakilerden hangisine benzer olması beklenir?**



7. Ankara'dan Avustralya'ya gitmek isteyen bir kişi İnternet'ten uçak bileti alacaktır. Ankara - Avustralya arasında doğrudan uçuş olmadığı için aktarma uçuş yapmak zorundadır. Bu uçuş için hatlar sırasıyla Ankara - İstanbul, İstanbul - Singapur ve Singapur - Avustralya şeklindedir. Yani Ankara'dan uçağa binen bir kişi önce İstanbul'a, sonra Singapur'a, daha sonra ise Avustralya'ya uçacaktır.

NEREDEN	NEREDEN	NEREDEN	NEREDEN	NEREDEN
İSTANBUL	ANKARA	SİNGAPUR	ANKARA	SİNGAPUR
NEREYE	NEREYE	NEREYE	NEREYE	NEREYE
SİNGAPUR	İSTANBUL	AVUSTRALYA	İSTANBUL	AVUSTRALYA
TARİH	TARİH	TARİH	TARİH	TARİH
6 MART 2018	7 MART 2018	7 MART 2018	6 MART 2018	6 MART 2018
KALKIŞ SAATİ	KALKIŞ SAATİ	KALKIŞ SAATİ	KALKIŞ SAATİ	KALKIŞ SAATİ
22:30	19:10	16:45	20:00	14:00
VARIŞ SAATİ	VARIŞ SAATİ	VARIŞ SAATİ	VARIŞ SAATİ	VARIŞ SAATİ
12:30	20:10	02:15	21:00	23:30
I	II	III	IV	V

- Bütün uçuş saatleri Türkiye saatine göredir.

**Ankara'dan Avustralya'ya gitmek isteyen biri numaralanmış biletlerden hangilerini almış olamaz?**

- A) II ve III                      B) II ve V                      C) III ve IV                      D) IV ve V
8. Söylenmemiş aşkın güzelliğiyledir  
Kâğıtlarda yarım bırakılmış şiir  
İnsan, yağmur kokan bir sabaha karşı  
Hatırlar bir gün bir camı açtığını  
Duran bir bulutu, bir kuş uçuşunu  
**Bu dizelerin anlamlı ve kurallı cümleler hâline getirilmiş biçimi aşağıdakilerden hangisidir?**
- A) İnsan, bir gün yağmur kokan bir sabaha karşı söylenmemiş aşkın güzelliğiyle bir camı açtığını, duran bir bulutu, bir kuş uçuşunu, kâğıtlarda yarım bırakılmış şiiri hatırlar.  
B) İnsan, bir gün yağmur kokan bir sabaha karşı duran bir bulutu, bir kuş uçuşunu, kâğıtlarda söylenmemiş aşkın güzelliğiyle yarım bırakılmış şiiri hatırlar.  
C) Kâğıtlarda yarım bırakılmış şiir, aşkın güzelliğiyle söylenmemiştir. İnsan, yağmur kokan bir sabaha karşı bir gün bir camı açtığını, duran bir bulutu seyrettiğini, bir kuş uçuşunu hatırlar.  
D) Kâğıtlarda yarım bırakılmış şiir, söylenmemiş aşkın güzelliğiyledir. İnsan bir gün, yağmur kokan bir sabaha karşı bir camı açtığını, duran bir bulutu, bir kuş uçuşunu hatırlar.



**9 ve 10. soruları aşağıdaki metne göre cevaplayınız.**

“Dede Korkut Kitabı” atasözü, deyim, ağıt vb. sözlü ürünlerin yanı sıra Türk gelenek ve inanışlarına da yer verilen hikâyelerden oluşan zengin bir kaynaktır. 15. yüzyılda yazıya geçirilen ve bugün Türkiye, Azerbaycan ve Kazakistan’ı kapsayan geniş bir bölgede “Dede Korkut veya Korkut Ata” olarak tanınan bilge kişilik etrafında oluşan hikâyeler, edebiyatımızın en özgün eserlerindedir. Kitapta on iki hikâye vardır. Destandan halk hikâyesine geçiş niteliği gösteren bu hikâyelerin en önemli özelliklerinden biri, şiirsel anlatıma sahip olmasıdır. Kahramanlıkların efsanevi unsurlarla birlikte anlatıldığı hikâyelerde Dede Korkut, zaman zaman ortaya çıkar ve bilge bir kişi olarak kurguya katkıda bulunur. İşte geleneğimizin bu eşsiz eseri, “Dede Korkut (Korkut Ata) Mirası: Kültürü, Efsaneleri ve Müziği” adıyla Türkiye, Azerbaycan ve Kazakistan’ın ortak başvurusu sonucu 28 Kasım 2018’de UNESCO İnsanlığın Somut Olmayan Kültürel Mirası Temsilî Listesi’ne kabul edilmiştir.

**9. Bu metinden Dede Korkut hikâyeleri ile ilgili,**

- I. Dede Korkut tarafından kaleme alınmıştır.
- II. Gerçek ve olağanüstü olaylar birlikte anlatılmıştır.
- III. Türk kültürünün zenginliklerini gösteren önemli bir kaynaktır.
- IV. Halk hikâyelerinin oluşumuyla ilgili bilgilere yer verilmiştir.

**yargılarından hangileri çıkarılabilir?**

- A) I ve II                      B) I ve IV                      C) II ve III                      D) III ve IV

**10. Bu metinde iki nokta (:) aşağıdaki işlevlerinden hangisiyle kullanılmıştır?**

- A) Karşılıklı konuşmalarda, konuşan kişiyi belirten sözlerden sonra kullanılır.
- B) Kendisiyle ilgili açıklama yapılacak cümle veya ifadelerin sonuna konur.
- C) Edebî eserlerde konuşma bölümünden önceki ifadenin sonunda kullanılır.
- D) Kendisiyle ilgili örnek verilecek cümle veya ifadelerin sonuna konur.

**11. İnternette yayımlanan yazılarda kullanılan başlıkların özgün olması çok önemlidir. Bu başlıklar okurun ilgisini çekecek şekilde oluşturulmalıdır. Aşağıda ilgi çekici başlık oluşturmayla ilgili bazı ipuçları yer almaktadır.**

- Okuru yönlendiren emir cümleleri kullanılmalıdır.
- Saygı duyulan kişilerden söz eden başlıklar tercih edilmelidir.
- Kişisel bir deneyim anlatılarak hem merak uyandırılmalı hem de okurun empati kurması sağlanmalıdır.
- İki durumun karşılaştırılmasıyla oluşturulan başlıklar kullanılarak okuyucunun ilgisi çekilmelidir.

**Aşağıdaki başlıklardan hangisi bu metinde verilen ipuçlarından herhangi biriyle ilişkilendirilemez?**

- A) Bir Haftalık Orman Kampında Öğrendiklerim
- B) Kahve mi, Çay mı: Ezeli Rakiplerin Sağlığımıza Etkisi
- C) Koruyucu Kalkanımız: Dünya’nın Manyetik Alanı
- D) Başarılı Olmak İstiyorsanız Önce Bunları Yapın

**12. Gazeteci:**

— (I) - - - -

**Müziyen:**

— Bizi biz yapan ve besleyen bir coğrafyanın müzik tarzlarını kullanarak geçmişî taklit etmeden kucaklamak ve tamamen özgün eserler oluşturmak... En baştan beri peşinde olduğumuz şey buydu. Yaptıklarımız bizi tatmin etmedi tabii ki. İnsanın, ürettikçe yenisini yapası geliyor. Ama artık kendimize daha çok güveniyoruz ve daha sade eserler üretebiliyoruz.

**Gazeteci:**

— (II) - - - -

**Müziyen:**

— Canlı ve aracısız kayıt, heyecan vericiydi. Risk alarak doğaçlama ögesini el üstünde tuttuk ve başardığımızı düşünüyorum. Onun sihri, kaydı özellikle de plaktan dinlediğinizde hissedebiliyorsunuz.

**Bu konuşmada numaralanmış yerlere aşağıdakilerden hangisi getirilmelidir?**

- A) (I) Anadolu ezgilerinden yola çıkarak geldiğiniz noktayla ilgili neler söylemek istersiniz?  
(II) Albümünüzü hazırlıksız ve içinizden geldiği gibi oluşturmanızın sonucu sizce nasıl oldu?
- B) (I) Eserlerinizi oluştururken kültürel öğelerden yararlanıyor musunuz?  
(II) Yeni albümünüzdeki şarkılara karar verirken nelere dikkat ettiniz?
- C) (I) Yerli unsurları, eserlerinize her seferinde özgün bir şekilde yansıtmayı nasıl başarıyorsunuz?  
(II) Eserlerinizi hiç deneme yapmadan müzikseverlere aktarmak sizi zorlamıyor mu?
- D) (I) Geçmişten bugüne sanatınızı icra ederken ödün vermediğiniz belli bir ölçütünüz var mı?  
(II) Dinleyicileri müziğin büyüğü dünyasında dolaştırma kararını aldıktan sonra neler yaşadınız?

**13.** Matematikteki “büyüktür (>)” işareti bugün sosyal medyada duygu ve düşüncelerini aktarmak isteyenler tarafından iki nesne, kişi vb. arasında karşılaştırma yapılırken yaygın olarak kullanılmakta; “>” işaretiyle beğeni, istek, destek, tercih anlamı ifade edilmektedir. Örneğin “Fatma’yı değil Ayşe’yi destekliyoruz, beğeniyoruz, tercih ediyoruz...” cümlesi yerine “Ayşe>Fatma” ifadesi kullanılıyor. Böylece “>” işareti “destekliyorum, beğeniyorum, tercih ediyorum...” anlamlarını karşılıyor. Sonuç olarak matematikte “büyüktür” anlamına gelen işaret, anlam genişlemesine uğrayarak sosyal medyada bambaşka anlamlarda kullanılıyor.

**Bu parçada “>” işaretiyle ilgili,**

- I. Sosyal medyada sıklıkla kullanıldığına  
II. Matematikteki kullanımının azaldığına  
III. Farklı anlamlar ifade ettiğine

**yargılarından hangilerine değinilmiştir?**

- A) Yalnız I                      B) I ve III                      C) II ve III                      D) I, II ve III

14. I. Penguenlerin kökeninin Antarktika'ya dayandığı düşünülüyordu.  
II. Ta ki California Üniversitesindeki bilim insanları bir araştırmada, penguenlerin aslında ilk olarak Avustralya ve Yeni Zelanda'da görüldüğünü bulana kadar.  
III. Genetik bilgilerin incelenmesi sonucunda penguenlerin bundan yaklaşık 22 milyon yıl önce Avustralya ve Yeni Zelanda'da yaşadığı tespit edilmiş.  
IV. Bu araştırmada bilim insanları 18 farklı penguen türünden aldıkları kan ve doku örneklerini inceleyerek penguenlerin genetik bilgilerine ulaşmış.

**Bu paragrafın anlam akışındaki bozukluğun giderilmesi için numaralanmış cümlelerden hangileri yer değiştirmelidir?**

- A) I ve III                      B) II ve III                      C) II ve IV                      D) III ve IV

15. Saçların beyazlaması, yaşın ilerlemesiyle birlikte görülen doğal bir süreçtir. Saçların renginden sorumlu olan pigment (boyar madde), saç kökündeki hücrelerden gelir. Bu hücreler önemli miktarda melanin (saça renk veren madde) üretilmesi için genetik olarak kodlanmıştır. Ancak saç köklerindeki melanin üretim kapasitesi zamanla azalır. Bunun nedeni, saç köklerinde biriken "hidrojen peroksit" adlı kimyasal maddedir. Normalde her insanın saç köklerinde az da olsa hidrojen peroksit üretilir fakat vücut, bu maddeyi hemen su ve oksijene çevirir. Yaş ilerledikçe vücudun bu becerisi azalır ve hidrojen peroksit saç köklerinde birikerek melanin yapımını önler.

Saç boyaları genelde %3-6 oranında hidrojen peroksit içerir. Başka bir deyişle bir kez saç boyamak için gerekli olan 50 g saç boyası, ortalama 1,5 g hidrojen peroksit içerir. 1,5 g çok büyüülecek bir miktar gibi görünmese de vücut açısından önemli bir orandır. Bu boyalar kullanıldığı takdirde saçlarda bir miktar hidrojen peroksit birikmiş olur.

**Bu metinlere göre, boya kullanılan saçlarda aşağıdaki durumlardan hangisinin gerçekleşmesi beklenir?**

- A) Saçlardaki melanin miktarı dengelenir.  
B) Saç kökündeki hücrelerin sayısı azalır.  
C) Saçlar daha çabuk beyazlaşır.  
D) Saçlar yıpranmaya başlar.

16. Türkiye'nin ilk millî sondaj (su, maden, petrol vb. arařtırmalar için toprađın derinliklerine sonda atmak) gemisi olan Fatih, 2017'de Türkiye Petrolleri Anonim Ortaklıđı tarafından yapılan bakımın ardından 29 Ekim 2018'de Alanya'da arama alıřmalarına bařladı. İkinci aramasını Dođu Akdeniz'de gerekleřtiren Fatih, 29 Mayıs 2020'de Karadeniz'deki ilk millî sondajını gerekleřtirmek üzere Haydarpařa Limanından uđurlandı. 21 Ađustos 2020'de Zonguldak aıklarında 320 milyar m<sup>3</sup>lük bir dođal gaz kaynađı tespit ederek byk bir bařarıya imza attı.

**Bu metinde ařađıdaki yazım kurallarından hangisinin rneđi yoktur?**

- A) Drt veya daha ok basamaklı sayıların kolay okunabilmesi amacıyla iinde geen bin, milyon vb. szler harfle yazılabilir.
- B) s iřaretili kısaltmalara gelen ekler, kesme iřaretiyle ayrılmaz ve s iřaretinin okunuřuna uygun olarak yazılır.
- C) Kurum, kuruluř ve kurul adlarının her kelimesi byk harfle bařlar.
- D) Tarihî olay, ađ ve dnem adları byk harfle bařlar.

17. nl bir yazar arkadařıma rastladım Kadıky İskelesi'nde. "Ne var, ne yok; yine hikye yazıyor musun?" dedim. O, yazmayı bırakmadıđını kendine has slubuyla řyle ifade etti: "Hayır, yařıyorum."

**Ařađıdaki cmlelerden hangisi bu metindeki altı izili ifadeyle anlatılmak isteneni karřılamaktadır?**

- A) İnsanları ve evreyi herhangi bir kurala bađlı kalmadan zgrce ele alırım btn anlatılarımda.
- B) Hikyelerimde kendimi hikye kahramanlarının yerine koyuyorum; onlarla birlikte oturup kalkıyor, nefes alıyorum.
- C) Balık tutmak, hikye yazmak, insan tanımak ve Beyođlu'nda bir ařađı bir yukarı dolařmaktır benim iin yařamak.
- D) Yařamaktan zevk alan insanlara, martılara, kuřlara, bceklere, ađalara ve ieklere ayna tutuyorum yklerimde.

18. İlk kez karřılařtıđımız insanların bazılarına ok kısa srede gvenirken kimilerini - - - buluruz. Bir arařtırma, bu farklı tepkilerde insanların - - - etkili olduđunu ortaya ıkarmıř. Arařtırma kapsamında katılımcılara hem gerek hem de bilgisayarda izilmiř yzler gsterilmiř ve bu sırada katılımcıların sinirsel tepkileri incelenmiř. İncelemeler sırasında, elmacık kemikleri belirgin ve geniř eneli insanları gren katılımcıların beyinlerinde olumlu tepkiler oluřtuđu grlmř. Dolayısıyla bu yz zelliklerine sahip insanların daha gvenilir bulunduđu sonucuna varılmıř.

**Bu parada boř bırakılan yerlere ařađıdakilerin hangisinde verilenler sırasıyla getirilmelidir?**

- A) tekinsiz - yz hatlarının
- B) samimiyetsiz - konuřmalarının
- C) tehlikeli - jest ve mimiklerinin
- D) gvenilmez - davranıřlarının

**19. Aşağıdakilerden hangisi "İnsan neden okur?" sorusunun cevabıdır?**

- A) Okur; mümkünse gerçek yazarları, öğretilerin kurucularını, kâşifleri, herhangi bir bilim veya sanat alanında kabul görmüş kimseleri okumalıdır.
- B) Bireyler eskiden bir sorunun cevabını ararken ansiklopedik kaynakları okur ve oralarda buldukları cevabın doğru olduğunu düşünürlerdi. Ancak günümüzde arama motorları onlara sayısız cevap sunabilmektedir. Bu cevaplardan hangisinin doğru olduğunu araştırmaksa bireye aittir.
- C) Okuma sürenizi sınırlamaya dikkat edin ve okumak için belirlediğiniz vakti, bütün zamanların ve ülkelerin önemli yazarlarının eserlerine ayırın.
- D) Bazen bir dizeye yahut bir cümleye tesadüf edersiniz ve şöyle dersiniz: "İşte bu, tam da benim yaşadığım ama adını koyamadığım o duyguyu anlatıyor." Yalnızlığınız bir anlığına uçup gider. Başka insanlarla aranızda bir yakınlık kurarsınız. Çoğalır ve iyileşirsiniz.

# 8. SINIF

# Türkçe



**6. Tema**

**Millî Kültürümüz**



4. Aşağıdaki tablolarda yangın türleri ve bu yangın türlerinde kullanılacak söndürme maddeleri gösterilmiştir. Hangi yangın türünde hangi söndürme maddelerinin kullanılacağı “✓” işareti ile belirtilmiştir.

YANGIN TÜRLERİ		
TÜRÜ	MADDESİ	ÖRNEK
<b>A</b>	Katı, Esnemeyen Maddeler	Odun, kömür, ot, dokuma, plastik...
<b>B</b>	Yanıcı Sıvılar, Eriyen Katı Maddeler	Petrol, yağ, mum, polar çözücüler, solventler...
<b>C</b>	Yanıcı Gazlar	Metan, propan, bütan, hidrojen, asetilen, doğal gaz, SPG/LPG...
<b>D</b>	Yanıcı Metaller ve Alaşımlar	Alüminyum, magnezyum, uranyum...
<b>E</b>	A, B, C ve D'deki Maddelerin Elektrik Gerilimi Altında Bulunması	Motor, şalter, elektrik tesisatları...

SÖNDÜRME MADDELERİNİN YANGIN TÜRLERİNE GÖRE KULLANIM ŞEMASI		YANGIN TÜRLERİ				
		A	B	C	D	E
SÖNDÜRME MADDELERİ	Su	✓	--	--	--	--
	Köpük	✓	✓	--	--	--
	ABC Tozu	✓	✓	✓	--	--
	BC Tozu	--	✓	✓	--	✓
	CO <sub>2</sub>	--	✓	✓	--	--
	Halon ve Alternatifleri	--	✓	✓	--	--
	D Tozu	--	--	--	✓	--

**Bu tablolardan hareketle aşağıdaki olayların hangisinde yangın söndürme konusunda hatalı davranıldığı söylenebilir?**

- A) Bir petrol istasyonunun elektrik tesisatında çıkan yangına ABC tozu ile müdahale edilmesi  
 B) Doğal gaz depolama alanında çıkan yangına müdahale edilirken BC tozunun kullanılması  
 C) Mobilya atölyesinde çıkan bir yangına müdahale edilirken köpük kullanılması  
 D) Uranyum işleme tesisinde çıkan yangına D tozuyla müdahale edilmesi
5. Varlıkların, okuyucunun gözünde canlanacak şekilde, resim çizer gibi anlatılması olarak tanımlanan betimleme, açıklayıcı ve sanatsal olmak üzere iki başlık altında incelenir. Açıklayıcı betimlemede varlıkların olduğu gibi tanıtılması amaçlanır, kişisel düşüncelere yer verilmez. Görsellikten çok, izlenim ve sezgilerin ağır bastığı sanatsal betimlemede ise yazar, anlatımına duygu ve yorumlarını da katar.

**Bu metne göre aşağıdakilerin hangisinde açıklayıcı betimleme yapılmıştır?**

- A) Gitgide kararır bulutsuz gökyüzünün altında, Dolmabahçe Sarayı'nın önündeki lokantanın terasında oturuyorduk. Lokantadaki bütün masalar doluydu. Arada bir geçmekte olan vapurların oluşturduğu dalgalar da olmasa durgundu deniz. Kıyıda bir çocuk, martılara ekmek atıyordu.
- B) Mavinin değişik tonları ile boyanmış resimde farklı yollar çizilmişti: dağların arasından geçen bir patika, nehrin üzerine kurulu bir asma köprü, evlerin arasından büyük bir meydana uzanan Arnavut kaldırımları, uçsuz bucaksız çölde güneşe kadar uzanan gümüşten bir asfalt...
- C) Gelinin başında sıra sıra altın ve incilerle süslenmiş bir fes vardı. İki demet sarı tel, yanaklarının üstüne çaresizce uzanıyordu. Onu bugünün hürmetine tahta bir iskemleye oturtmuşlardı. Şaşkın ve nemli gözlerle etrafı süzüyor fakat daha ziyade önüne bakarak bu anın bitmesini bekliyordu.
- D) Vahanın altından, zeytinyağı renginde, elinizi sürseniz bulaşacağını sandığınız koyu bir çay akar. Çayın kenarında, yapraklarının ters tarafları rüzgârla güneşe dönünce parlayan narın kavaklar dizili, kof gölgeler serilidir. İncecik, yumuşak ve sık otlarla kaplı yamaçlar heybetli görünmeye çalışır.



6. Olay : Bir balıkçının, ağına takılan küçük balıkları göle bırakması  
Yer : Göl  
Zaman : Kış, öğleden sonra  
Kişiler : Deniz ve köpeği  
Anlatıcı : I. kişi

**Aşağıdaki metinlerden hangisi bu yapı unsurlarına uygun olarak kurgulanmıştır?**

- A) Bütün göl buz kesmişti. Balıkçılar sabah geldikleri ağıları öğleden sonra toplamaya koyuldular. Ancak ağına takılan balıklar çok küçüktü. Moraller bozuktu ama balıkları tekrar göle bırakmak dışında bir seçenekleri yoktu. Gün kararıyor, köpekler havlıyor, balıkçılar evlerine elleri boş dönüyordu.
- B) Geçen gün öğleden sonra kanepede uzanmış, karın yağışını izliyordum. O ara uyuyakalmışım. Uyku arasında birinin "Denize güven olmaz, inişli çıkışlıdır." diye bağırdığını işitince sıçradım. İsmimi kimin söylediğini anlamak için salona gittiğimde köpeğimin, ağzında kumandayı gevelediğini ve o sırada "Göl ve Deniz Balıkçıları" adlı belgeseli açtığını fark ettim. Balıkçıların, küçük balıkları göle bıraktıkları sahnede bizimkinin nasıl yalandığını görmeliydiniz.
- C) Deniz, o kış her öğle sonu köpeğini de yanına alarak balığa çıkmış. Önceleri olta balıkçılığına merak salsada zamanla ağ ile balık avlamak onu daha çok sarmış. Gölde birçok balık türü yakalamak mümkün olsa da onun turna balığına olan merakı bir başkaymış. Varsa yoksa turna... O kadar ki ağına başka balıklar takıldığında onları gerisin geri göle bırakmış.
- D) Vakit öğleyi geçti, hava çok soğuk. Eee, ne de olsa ocak ayındayız. Buna rağmen köpeğimle birlikte bir gölün ortasındaayım. Neden mi bu havada bu göldeyim? Adımı boşuna Deniz koymamışlar. Herkesin bir uğraşı vardır ya, benimki de balıkçılık. Yalnız prensip sahibiyimdir bu işte. Küçük balıkları avlamam. Örneğin şu ağıdaki balıkların küçük olanlarını az evvel ayırıp göle bıraktım.
7. Levent, yeni aldığı akvaryumda farklı türde balıklar besleyecektir fakat balıkların birbirine zarar vermesinden endişe etmektedir. Balıkları beslerken herhangi bir sorunla karşılaşmamak için bir araştırma yapmış ve aşağıdaki tabloya ulaşmıştır.

AKVARYUM UYUMLULUK TABLOSU						
E : Zarar Vermez H : Zarar Verir D : Zarar Verme İhtimali Vardır	Beta	Büyük kedi balığı	Çöpçü balığı	Gökkuşluğu	Japon balığı	Vatoz
Beta	D	D	E	D	H	E
Büyük kedi balığı	D	D	D	D	H	D
Çöpçü balığı	E	D	E	E	E	E
Gökkuşluğu	D	D	E	E	H	E
Japon balığı	H	H	E	H	E	E
Vatoz	E	D	E	E	E	D

**Buna göre Levent'in aşağıdakilerin hangisinde verilen balıkları aynı akvaryumda beslemesi beklenir?**

- A) Beta - Gökkuşluğu - Japon balığı  
B) Büyük kedi balığı - Çöpçü balığı - Gökkuşluğu  
C) Çöpçü balığı - Japon balığı - Vatoz  
D) Beta - Büyük kedi balığı - Vatoz

8. **Gazeteci:**

(I) - - - -

**Yazar:**

– Bir film düşünün. Filmdeki kişileri, olayların ayrıntılarını beyninize kaydetmekte hiç zorlanmıyorsunuz. Çünkü bu bilgiler duygularla birlikte giriyor zihninize. Edebiyat da beyni duygusal olarak uyarıyor ve bilgiler bu uyarının açtığı kapılardan girip beyne yerleşiyor. Ben de yazdığım bu kitapta matematiği, duygularla birlikte vererek sevdirmeye çalıştım.

**Gazeteci:**

(II) - - - -

**Yazar:**

– Kaliteli kitaplara ulaşmak zor değil aslında. Bunu sağlamanın yöntemi, anne ve babaların kitap okumayı sevmeleri. Anne ve babasını kitap okurken gören çocuk, okumayı sever. Okumayı seven insan, süreç içinde kaliteli kitabı tanıır hâle gelir. Kaliteli kitaptan anlayan okurlar, yazarları da iyi kitap üretmeye zorlar. Seçici okurun olduğu yerde, kolayca kaçan yazar ve yayıncılar barınamaz. Kaliteli kitaplar böyle bir ortamda üretilir ve bunlara ulaşılması daha kolay olur.

**Bu diyalogda boş bırakılan yerlere aşağıdakilerin hangisi getirilmelidir?**

- A) (I) Çocuklar için yazılan bazı hikâyelerde matematiğin konu edilmesini nasıl karşılıyorsunuz?  
(II) Bir kitabın kaliteli olup olmadığını nasıl anlarsınız?
- B) (I) Matematiği çocuklar için eğlenceli hâle getiren bu kitabı neden yazdınız?  
(II) Çocukların nitelikli kitaplara ulaşabilmesinin yolu nereden geçiyor?
- C) (I) Bu kitabı, çocuklara matematiği sevdirmek için mi yazdınız?  
(II) Ülkemizde yapılan çocuk yayıncılığını nasıl değerlendiriyorsunuz?
- D) (I) Çocukları bilimsel çalışmalarla, sanatla, felsefeyle, matematikle tanıştırmada edebiyatın rolü nedir?  
(II) Nitelikli okur olmanın yolunun hangi aşamalardan geçtiğini düşünüyorsunuz?
9. Bazı sözcükler isim-fiil eki aldığı hâlde kalıplaşarak bir varlığın, kavramın ismi olur. Bunlar fiilimsi olarak kabul edilmez. Örneğin “Tatlı yemek istiyorum.” cümlesindeki “yemek” sözcüğü fiilimsidir, “Çok güzel bir yemek yaptım.” cümlesindeki “yemek” sözcüğü ise isimdir.
- Buna göre aşağıdakilerin hangisinde fiilimsi eki aldığı hâlde, kalıplaşarak bir varlığı veya kavramı karşılayan sözcük yoktur?**
- A) Görüşlerinizi bizimle paylaşabilir misiniz?  
B) Bir bebeğin gülüşü hangi insanı mutlu etmez?  
C) Sofrada, haşlanmış yumurta ve kavurma vardı.  
D) Çakmak, kibritten önce bulunmuştur.

10. “Anadolu’nun dört bir yanı medeniyetin beşiğidir.” cümlesinde “medeniyetin beşiğidir” ifadesi yüklemidir. Bu cümlede yüklem dışında yargı bildiren bir sözcük veya söz grubu bulunmadığı için cümle, tek yüklemlidir.

**Buna göre aşağıdakilerden hangisi tek yüklemlidir?**

- A) Yaşamınızdaki her sorun, içinde bir armağan saklar.  
B) Bilimde en yeni, edebiyatta en eski kitapları oku.  
C) Boş oturmak pas gibidir, insanı çabucak eskitir.  
D) Hayatın dengesini sevgi ile birlikte güven oluşturur.

11.



### KULLANMA TALİMATI

- I. Bu ilaç, enfeksiyonların tedavisinde kullanılır ve enfeksiyona neden olan bakterileri etkisiz hâle getirir.
- II. İlaç toz hâlinde olduğundan ilaca, etiket üzerinde işaretli çizginin yaklaşık yarısına denk gelecek kadar su ekleyerek şişeyi iyice çalkalayınız.
- III. Deri yüzeyinin altında küçük noktalar şeklinde kırmızı yuvarlak beneklerin oluşması durumunda ilacı kullanmayı bırakınız.
- IV. Mide ve bağırsak rahatsızlıkları ihtimalini en aza indirmek için yemekten önce alınmalıdır.



**Aldığı ilacı nasıl kullanması gerektiğini bilmeyen bir kişi, kullanma talimatında numaralanmış ifadelerin hangilerine dikkat etmelidir?**

- A) I ve III                      B) I ve IV                      C) II ve III                      D) II ve IV

**12.** Ahmet, Berna, Cem, Deniz ve Elif adlı kişiler hem cuma hem de cumartesi gösterilen K ve L oyunlarına bilet almışlardır. Kişilerin biletlerine ilişkin bazı bilgiler şu şekildedir:

- Her bir kişi, sadece bir bilet almıştır.
- Cuma günü gösterilen oyunlara sadece birer kişi bilet almıştır.
- Cumartesi günü gösterilen L oyununa sadece Elif bilet almıştır.
- Ahmet ve Cem, aynı oyunun farklı günlerine bilet almıştır.
- Berna, cuma günü gösterilen bir oyuna bilet almıştır.

**Buna göre aşağıdakilerden hangisi bilinirse tüm kişilerin bilet bilgileri belirlenebilir?**

- A) Ahmet'in hangi gün için bilet aldığı  
B) Berna'nın hangi oyuna bilet aldığı  
C) Cem'in hangi oyuna bilet aldığı  
D) Deniz'in hangi gün için bilet aldığı

13.

Malzemesi, desenleri, üretim ve kullanım şekliyle kendine has özellikler taşıyan Anadolu kilimleri; sanatsal ve duygusal mesajları ile toplumun kültürel ve psikolojik birikimleridir. Bu kilimlerde yer alan her motifte yaşanmışlığın izleri vardır. Anadolu insanı, kullandığı motiflerin sembolik anlamları ile sessiz bir iletişim dili oluşturmuştur. Bu dilde “koç boynuzu” bereketi, kahramanlığı ve gücü; “kuş” bilgeliği, zeki ve çevik düşünceyi; “hayat ağacı” ölümden sonraki hayatı; “su yolu” bedensel ve ruhsal yenilenmeyi; “göz” fikrî konulardaki algının yüksekliğini temsil eder. Aşağıda bu motiflerin görselleri verilmiştir.



Koç boynuzu



Su yolu



Kuş



Göz

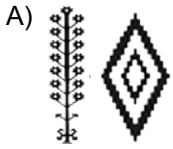


Hayat ağacı

**Bu metne göre,**

Bağdat'ın kapısını Genç Osman açtı  
Gören düşmanların tedbiri şaştı  
Kelle koltukta üç gün savaştı  
Cennet-i âlâya göçtü Genç Osman

**dizelerini oluşturan şair, Genç Osman'ı şiirle değil de kilimle anlatsaydı kiliminde aşağıdakilerin hangisinde verilen motifleri kullanması beklenirdi?**



14. Bir günü daha eskitip anılarımızın arasına gönderdik. Solmuş bir gül yaprağı gibi dökülüp gitti geçmişe. Onu da kurutup özenle koyduk bir kitabın arasına.

**Bu parçada “solmuş bir gül yaprağı” sözüyle aşağıdakilerden hangisi kastedilmiştir?**

A) Anılar

B) Gün

C) Kitap

D) Geçmiş

15. Gezegenimizde kendi kulvarında birinci olan yerleri hiç merak ettiniz mi? İşte, karşınızda gezegenimizin rekortmen yerlerinden bazıları:

**Bu cümlelerle başlayan bir metinde aşağıdakilerden hangisinin yer alması beklenmez?**

A) Uydu ölçümleri, dünyanın en sıcak yerinin 70 °C'yi aşan sıcaklığıyla Lut Çölü olduğunu ortaya koydu. İran'ın güney-doğusundaki bu çöl öylesine sıcaktır ki bilim insanları, önceleri burada canlıların yaşamasının olanaksız olduğunu düşünmüştü. Ancak akıllara sığmayan bu sıcaklığa rağmen çeşitli sürüngen ve örümcekler burada hayatta kalabiliyor.

B) Angel Şelalesi, 979 metre yüksekliğiyle dünyanın en uzun gökdelenini bile geride bırakır. Şelaleden akan su, havanın sıcak ve kuru olduğu dönemlerde tabana ulaşmadan buharlaşmaktadır. 18 Kasım 1933'te ABD'li bir pilot tarafından keşfedilen ve dünyanın en yüksek şelalesi olan Angel Şelalesi, aynı zamanda Venezuela'nın en ünlü turistik yerlerinden biridir.

C) Dünyanın en ilginç mağaralarından biri olan ve Lübnan'ın 18 km kuzeyindeki bir vadide bulunan Jeita Grotto Mağarası; ilginç kaya şekilleri ile ziyaretçilerini büyülüyor. İki kısımdan oluşan mağaranın alt kısmı 1836 yılında Reverend William Thompson tarafından, üst kısmı ise 1958 yılında Lübnanlı mağara bilimciler tarafından keşfedilmiştir.

D) Dünyanın en büyük adası olan Grönland, aslında üç ayrı adadan oluşur ve bu adalar kalın bir buz örtüsüyle birbirine bağlıdır. Kalınlığı yer yer 3 kilometreye varan bu buz örtüsü, altındaki karaya öylesine baskı yapar ki üç ada da deniz seviyesinin 300 metre altında kalır. Dünyada Antarktika dışında buz örtüsü görülen tek yer Grönland'dır.

**16 ve 17. soruları aşağıdaki metne göre cevaplayınız.**

Diyelim için çekti bir sabah vakti  
Erkenceden denize gireyim, dedin  
Kulaç attıkça sen  
Patiska çarşaf lar gibi yırtılıyor su ortadan  
Ege Denizi bu, efendi deniz  
Seslenmiyor

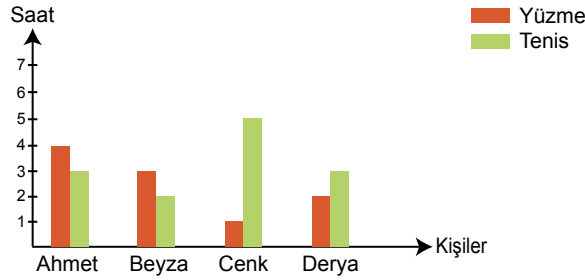
**16. Bu dizelerle ilgili aşağıdakilerden hangisi söylenemez?**

- A) Biri diğerine bağlı olarak değişen bir durumdan bahsedilmiştir.
- B) İnsan dışındaki bir varlığa insana ait özellikler yüklenmiştir.
- C) Varsayım anlamı taşıyan bir cümleye yer verilmiştir.
- D) Hitap bildiren bir sözcük kullanılmıştır.

**17. Bu dizelerdeki altı çizili deyimın cümleye kattığı anlam aşağıdakilerin hangisinde vardır?**

- A) Kurdun kuşun tadını çıkardığı şu havayı ben de doya doya soludum.
- B) Yufkaları görünce canım şöyle çıtır çıtır bir ıspanaklı börek istedi.
- C) Bugün, bir haftadır beklettiği işlerin tümünü bitirmeyi planlıyordu.
- D) İdris Bey'in köye ihtişamla girdiğini gören herkes çok heyecanlandı.

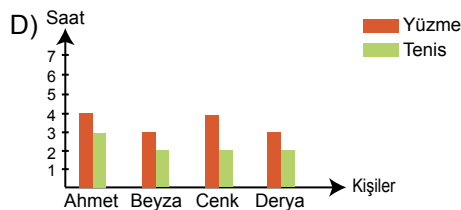
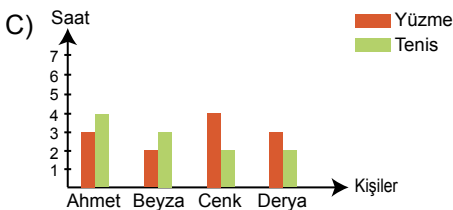
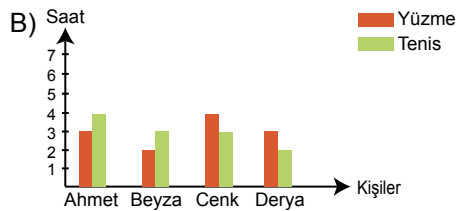
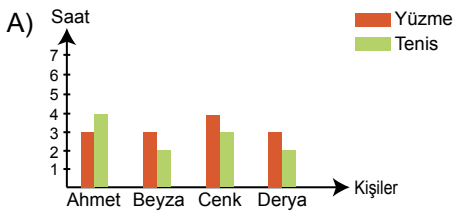
**18. Aşağıdaki grafikte yaz kampına giden Ahmet, Beyza, Cenk ve Derya adlı kişilerin 1. gün yüzme ve tenis için ayırdığı süreler verilmiştir.**



Bu kişilerin 2. gün yüzme ve tenis için ayırdığı sürelerle ilgili bilinenler şunlardır:

- Ahmet'in 1. gün yüzme ve tenis için ayırdığı süreler yer değiştirmiştir.
- Cenk'in yüzme ve tenise ayırdığı süreler, Ahmet'in 1. günündekilerle aynıdır.
- Derya, Beyza'nın; Beyza da Derya'nın 1. gün yüzme ve tenis için ayırdığı süreyi ayırmıştır.

**Buna göre aşağıdaki grafiklerden hangisi 2. güne ait olabilir?**



19. Tereddüt, olumsuzu yakın kararsızlık hâlidir. Kabulden çok, redde yakındır. Zamana yayılan her irade; kabulün düşmanı, reddin dostudur.

**Aşağıdakilerden hangisi bu metinde sözü edilen tereddüt hâline örnek olabilir?**

- A) Vitrindeki o gösterişli elbiseyi alıp almama konusunda bir an duraksadı. Aşağı tükürse sakal, yukarı tükürse bıyık... Asla yanlış bir şey yapmak istemiyordu.
- B) Eğitimini nerede sürdüreceğiyle ilgili düşüncesi netleşmişti artık. Doğru veya yanlış, bir an önce karara varmak onu rahatlatmıştı.
- C) Acele işe şeytan karışır, sözünün doğruluğuna hiçbir zaman itimat etmeyip yapılacak olanı hemen yapıverirdi.
- D) Toplantıya yetişebilmesi için çok hızlı hareket etmesi ve vakit geçirmeden yola çıkması gerektiğini biliyordu.

20. Doğaya beğenisini katan insan, onu sanata dönüştürür. Sanatçı, doğaya yeni bir bakış getiren insandır. Eserini ortaya koyduktan sonra artık iki dünyayla yüz yüzedir: gördüğü dünya ve gösterdiği dünya. Picasso "Resim senin benden istediğin değil, benim sana verdiğimdir." derken de bu duruma vurgu yapmıştır.

**Bu parçada Picasso, sanatçıyla ilgili aşağıdakilerden hangisini vurgulamıştır?**

- A) Yorumlamaz, var olanı ortaya koyar.
- B) Doğayı kopyalamaz, sezdirir.
- C) Beklentileri değil, kendi duygu dünyasını yansıtır.
- D) Bireyden ziyade toplumun taleplerini önceler.

21. Kulakları sağır eden bir sessizliğin içinde bulut bulut parçalanmış gökyüzünü seyrediyorum. Bulutlar mı üstüme koşuyor yoksa ben mi bulutların gölgesindeyim, kestirmek mümkün değil. Güneş, saklambaç oynarcasına arada bir ortaya çıkıyor.

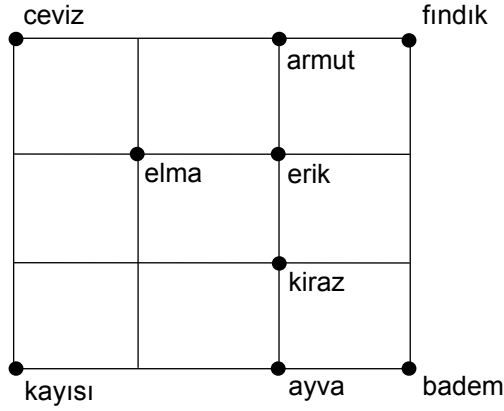
**Bu parçayla ilgili aşağıdakilerden hangisi söylenemez?**

- A) "Anlamak, farkına varmak" anlamına gelen bir sözcük kullanılmıştır.
- B) Karşıt durumlar bir arada verilmiştir.
- C) İnsan dışındaki bir varlığa insana ait bir özellik yüklenmiştir.
- D) Biri diğerine bağlı olarak değişen iki durumdan söz edilmiştir.

22. Bazı meyve fidanlarının aşağıdaki kurallara göre dikilmesi gerekmektedir:

- Elma, armut ve ayva yukarıdan aşağıya aynı hizada olacaktır.
- Kayısı, kiraz ve erik birbirine çapraz olacaktır.
- Ceviz, badem ve fındık bahçenin köşelerinde olacaktır.

Fidanların bahçeye şu şekilde dikildiği görülmüştür.



**Buna göre fidanların kurallara uygun dikilmesi için aşağıdaki değişikliklerden hangisi yapılmalıdır?**

- A) Ceviz ile elma, fındık ile badem fidanının yerleri değiştirilmez.
- B) Kiraz ile erik, elma ile fındık fidanının yerleri değiştirilmelidir.
- C) Elma ile erik, kayısı ile armut fidanının yerleri değiştirilmelidir.
- D) Kayısı ile badem, erik ile elma fidanının yerleri değiştirilmelidir.

# 8. SINIF

# Türkçe



**7. Tema**

**Doğa ve Evren**



1. Deyimler sözlerimizin anlaşılmasını kolaylaştıran, anlatımı renklendiren ve dakikalarca konuşarak ifade edemeyeceğimiz fikirleri bir çırpıda dile getiren kalıplardır. Bu kalıplar dilimize yerleşmiştir ve anlamları hemen herkes tarafından bilinir. Örneğin kötü niyet ve eylemlerin, sahibine zarar verdiği durumlarda - - - -, küçük bir iyilik yapılmak istenirken büyük zararlar verildiğinde - - - -, bir şeyi bildiği hâlde bilmiyormuş gibi görünen kişileri anlatmak için - - - - deyimini kullanırız.

**Aşağıdakilerden hangisi bu metinde boş bırakılan yerlerden herhangi birine getirilemez?**

- A) çizmeyi aşmak  
C) renk vermemek

- B) kaş yapayım derken göz çıkarmak  
D) kazdığı kuyuya düşmek

2.

**10 TL'lik banknotta portresi yer alan, matematik konusunda yaptığı çalışmalarla dünyaca ün kazanmış olan Ord. Prof. Dr. Cahit Arf'ı tanıyor muyuz?**

Beşinci sınıftayken tanıştığı genç bir öğretmen sayesinde matematikle ilgilenmeye başladı.


"Arf Değişmezi" ve "Arf Halkaları" olarak anılan çalışmaların yanı sıra "Hasse-Arf Teoremi"ni de matematik bilimine kazandırdı.

Lisede, okul arkadaşlarının çözemediği matematik sorularını çözüyordu.

Geometri problemlerinin cetvel ve pergel yardımıyla çözülebilirliği konusunda çalışmalar yaptı.

Fransa'da yükseköğrenimini tamamladı.

Türkiye Bilimsel ve Teknik Araştırma Kurumunda (TÜBİTAK) ilk bilim kurulu başkanı oldu.



İstanbul Üniversitesi Fen Fakültesinde profesör ve ordinaryüs profesörlüğe yükseldi, 1962'ye kadar üniversitede çalışmalarını sürdürdü.

**Bu metinden hareketle Cahit Arf'la ilgili aşağıdakilerin hangisine ulaşılabilir?**

- A) Dünyaca ünlü bilim insanları yetiştirmiştir.  
B) Matematikte birtakım özgün buluşlara imza atmıştır.  
C) Türkiye Bilimsel ve Teknolojik Araştırma Kurumunun kurucusudur.  
D) Matematiğe olan tutkusu, yurt dışında başlamıştır.

3. Aşağıda bazı söz sanatlarının açıklaması verilmiştir:

- Teşhis (kişileştirme), insan dışındaki varlıklara insana ait özellikler verme sanatıdır.
- Mübalağa (abartma); bir niteliği, olduğundan çok üstün veya aşağı gösterme sanatıdır.
- Tezat (karşıtlık), birbirine zıt kavram veya durumların bir arada kullanılmasıyla oluşan sanattır.
- İntak (konuşturma), insan dışındaki bir varlığın konuşturulmasıyla oluşan sanattır.

**Aşağıdakilerin hangisinde, açıklaması verilen sanatlardan herhangi birine yer verilmemiştir?**

- A) Gözümde bir damla su, deniz olup taşıyor  
Çöllerde kalmış gibi yanıyor, yanıyorum
- B) Özlediğin hayatı buldun mu bilmem  
Gözlerinde hâlâ hüznün var gibi
- C) Nazlı yârdan kem haberler geliyor  
Dostlarım ağlıyor, düşman gülüyor
- D) Küçük bir çeşmeyim yurdumun  
Unutulmuş bir dağında

4. Cömertlik ve yardım etmede

- Akarsu gibi ol  
Şefkat ve merhamette  
Güneş gibi ol  
Başkalarının kusurunu örtmede  
Gece gibi ol  
Hiddet ve asabiyette  
Ölü gibi ol  
Tevazu ve alçak gönüllülükte  
Toprak gibi ol  
Hoşgörülükte  
Deniz gibi ol  
Ya olduğun gibi görün  
Ya görüdüğün gibi ol

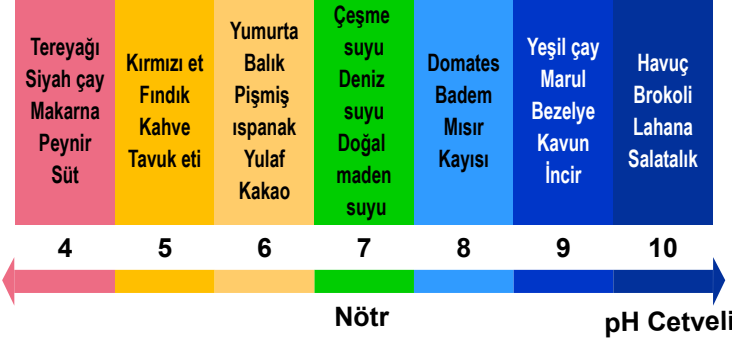
**Aşağıdaki atasözlerinden hangisi Mevlâna'nın bu metindeki öğütlerinden herhangi biriyle ilgili değildir?**

- A) Öfkeyle kalkan, zararlı oturur.
- B) Sana taşla vurana sen ekmekle dokun.
- C) Ağacın meyvesi olunca başını aşağı salar.
- D) Baca eğri de olsa dumanı doğru çıkar.

5. Besinler, mineral içeriğine göre asitli ve alkali olarak sınıflandırılmaktadır. Bir besinin asit ve alkali derecesini belirtmek için pH cetvelindeki 0-14 arası değerler kullanılır. Bu cetvele göre sınıflandırılan besinlerin bazı özellikleri aşağıda verilmiştir.

- **4-7 arası pH değerlerine sahip besinler:** Asitli olarak adlandırılan bu besinler, fazla tüketildiğinde vücut direncini düşürür. Vücut, dengeyi sağlayabilmek için kemik ve kaslardan magnezyum, kalsiyum, çinko gibi alkali mineralleri kullanmaya ve fazla asidi dokularda depolamaya başlar. Bu da eklem ve kas ağrıları, yorgunluk, saç dökülmesi gibi rahatsızlıklara neden olmaktadır.
- **7 pH değerinde olan besinler:** Asit ve alkali bakımından nötr (etkisiz) besinlerdir.
- **7-10 arası pH değerlerine sahip besinler:** Alkali olarak adlandırılan bu besinler kanın temizlenmesini sağlar, yüksek magnezyum ve potasyum içerdiğinden vücuda direnç kazandırır.

Aşağıdaki tabloda bazı besinler pH cetveline göre sınıflandırılmıştır.



**Bu metin ve tablodan hareketle aşağıdakilerin hangisi söylenemez?**

- A) Lahana ve kayısı, vücuda direnç kazandıran besinlerdir.
- B) Et ürünlerinin fazla tüketilmesi eklem ve kas ağrılarına yol açabilir.
- C) Peynir, fındık ve yulaf saç dökülmesine neden olabilir.
- D) Pişmiş ıspanak ve siyah çay, kanı temizleme özelliğine sahiptir.

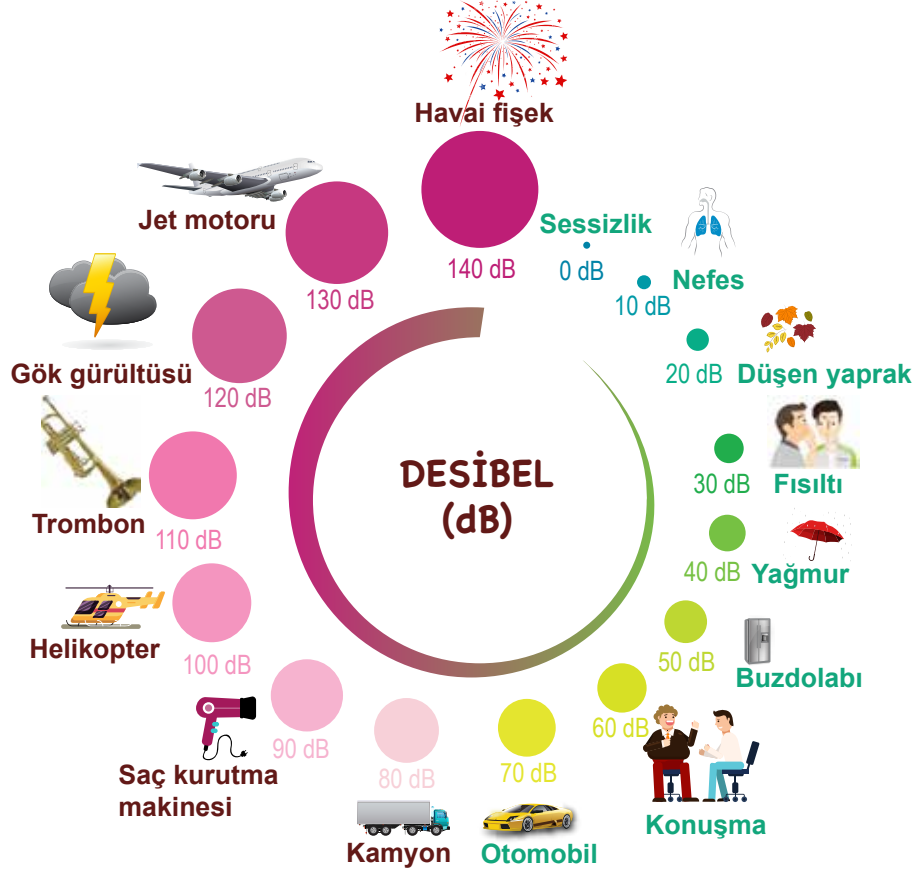
6. Tokyo Üniversitesinde görev yapan Prof. Dr. Hidesaburo Ueno, 1924'te bir köpek yavrusu bulur ve onu sahiplenir. Köpeğe, Japoncada "sekizinci" anlamına gelen "Haçiko" adını koyar. Safkan akita cinsinden olan Haçiko, her sabah üniversiteye gitmek için evden metroya kadar yürüyen sahibine eşlik eder. Metronun dış kapısına kadar getirdiği sahibini uğurlayıp eve döner. Belli bir müddet sonra sahibinin eve dönüşünü de metronun önünde beklemeye başlayan Haçiko, bir yıl boyunca saati şaşırımsızın her sabah, sahibini metroya kadar götürür; her akşam iş çıkışında da metronun önünde karşılar. Bir akşam Ueno, metrodan çıkmaz. Haçiko, gözleri metronun kapısında gece boyunca bekler. Bu bekleyiş dokuz yıl boyunca devam eder. Bugün Tokyo'ya gidenlerin Shibuya İstasyonu'nun kapısında karşılaştığı köpek heykeli Haçiko'ya aittir. Çünkü Japonlar, Haçiko'yu bir vefa sembolü olarak benimsemiştir.

**Bu metinde Haçiko ile ilgili aşağıdakilerden hangisine değinilmiştir?**

- A) Ne zaman doğduğuna
- B) Heykelinin niçin dikildiğine
- C) Çok zeki olduğuna
- D) Adının neden Haçiko olduğuna



9. Desibel, ses şiddetini ölçmek için kullanılan bir birimdir. Uzmanlar, 85 desibel üzerindeki bir sesle sürekli karşı karşıya kalanlarda işitme bozukluğunun oluşabileceği konusunda hemfikir. Aşağıdaki grafikte canlı ve cansız bazı varlıkların çıkardığı seslerin desibeli gösterilmiştir.



Bu bilgi ve görselden hareketle aşağıdakilerin hangisine ulaşamaz?

- A) Helikopter sesinin desibeli, trombonunkinden düşüktür.  
B) Jet motorunun sesine uzun süre maruz kalmak işitme bozukluğuna yol açabilir.  
C) Düşen yaprağın ses şiddeti insan nefesinkinden yüksektir.  
D) Kamyon ve otomobillerin geçtiği bir yolda durmak işitme kaybına neden olabilir.
10. • Topkapı Sarayı'nda bulunan bakır pişirme kapları oldukça büyüktür.  
• Şüphe dolu gözlerle "Dostum, ne'n var; her şey yolunda mı?" diye sordu.  
• III. Selim, İsmail Dede Efendi'nin bestelerini seyerek dinlemiştir.

Bu cümlelerde kesme işaretinin (') aşağıdaki işlevlerinden hangisinin örneği yoktur?

- A) Kişi adlarından sonra gelen saygı ve unvan sözlerine getirilen ekleri ayırmak için kullanılır.  
B) Özel adlara getirilen durum eklerini ayırmak için kullanılır.  
C) Bir ek veya harften sonra gelen ekleri ayırmak için kullanılır.  
D) Seslerin söyleyiş gereği düştüğünü göstermek için kullanılır.

11. Yazar; zamanının çoğunu araştırmalar yaparak, düşünerek, fikir üreterek, bu fikirleri söyleşilerde topluma anlatarak geçirmişti. Küreselleşmeden göçe ve teknolojiye pek çok başlık altında, gençleri ve eğitimi genellemelere başvurmaksızın anlayıp anlatmaya çalışırken, değişen toplumsal yaşamın ancak buralara bakılarak kavranabileceğini hatırlatıyordu. Yaşadığı süre içinde el atmadığı mesele kalmamıştı. Nesli hızla tükenen bilgilerden olan ve bilgisini konuşurken çağını yorumlayan yazar, ömrünün son günlerinde bile, bir öğrenciyle arasındaki tek farkın yaşı olduğunu söyleyebiliyordu. Öğretirken öğrenen, öğrenirken öğreten yazar bu yolda sosyologluğunu hem kullandı hem de geliştirdi.

**Bu metinde sözü edilen yazar aşağıdakilerden hangisiyle nitelendirilemez?**

- A) Sabırlı B) Çok yönlü C) Alçak gönüllü D) Paylaşımçı

12.

1953 yılında İstanbul'da dünyaya gelen Eşref Armağan, görme yetisi olmadığı ve hiçbir sanat eğitimi almadığı hâlde boyut ve perspektifi (eşya ve nesnelerin uzaktan görünüşü) kullanarak resim çizebiliyor. Sanatçı, çocukluğundan beri vazgeçemediği bu sanat dalında kendisini öyle geliştirmiş ki nesnelere âdeta dokunarak görüyor. Bu özelliğinden dolayı beyin yapısı Harvard Üniversitesinde incelenmiştir. Resimleri Amerika, Çin, İtalya gibi birçok ülkede sergilenen ünlü ressam belgesellere de konu olmuştur.

Dünyanın en ünlü bestecisi ve piyanisti olarak kabul edilen Beethoven, Almanya'nın Bonn şehrinde fakir bir ailenin çocuğu olarak dünyaya geldi. Para kazanmak için küçük yaşta piyano çalmaya başladı. 1792 yılında Viyana'ya giden ve burada klasik müziğin ünlü ismi Joseph Haydn ile çalışma imkânı bulan Beethoven, Haydn'in da yardımıyla müziğe olan yeteneğini keşfetti. 1801 yılında duyma kaybı yaşamaya başlayan ünlü besteci, duyma yetisini yıllar içinde kaybetse de müzik sevgisini hiç kaybetmedi. Hatta en ünlü eserlerinden biri olan 9. Senfoni'yi bestelerken duyma yetisini tamamen kaybetmişti.

**Aşağıdakilerden hangisi bu metinlerde anlatılan sanatçıların ortak özelliklerinden biri değildir?**

- A) Engelleri aşarak büyük başarılar imza atmış olmaları  
B) Uluslararası bir üne sahip olmaları  
C) Bilimsel araştırmalara konu edilmeleri  
D) Yaptıkları işe tutkuyla bağlı olmaları

13. Van Kalesi ve çevresi, Çevre ve Şehircilik Bakanlığınca "nitelikli doğal koruma alanı" olarak tescillendi. Van Çevre ve Şehircilik Müdürü, Ocak 2011'den bu yana Bakanlık bünyesinde on dört kişiden oluşan uzman bir ekiple tabiat varlıklarının korunmasına yönelik çalışma yürüttüklerini söyledi.

**Bu parçada büyük harflerin yazımıyla ilgili aşağıdaki kuralların hangisine örnek olabilecek bir kullanım yoktur?**

- A) Kişi adlarından önce ve sonra gelen unvanlar, saygı sözleri, rütbe adları ve lakaplar büyük harfle başlar.  
B) Cümle içinde özel adın yerine kullanılan makam veya unvan sözleri büyük harfle başlar.  
C) Saray, köşk, han, köprü, kule, anıt vb. yapı adlarının bütün kelimeleri büyük harfle başlar.  
D) Belirli bir tarih bildiren ay ve gün adları büyük harfle başlar.

14. İki den fazla eş değ er ö ge arasında virgöl bulunan cümlelerde öz neden sonra noktalı virgöl konabilir.

**Aşağıdakilerin hangisinde noktalı virgöl bu işleviyle kullanılmıştır?**

- A) Sonu gelmeyen çevrim içi toplantılarla geçen, kasvetli ve zor bir yılı geride bıraktık; bazıları bu yılı “gelmiş geçmiş en sıkıntılı yıl” olarak adlandırıyor.
- B) Kişisel hayatı anlatan metinlerde daha çok açıklayıcı, tartışmacı anlatım; sanatsal metinlerde ise öyküleyici, betimleyici anlatım kullanılmaktadır.
- C) Günümüz şiiirleri; soyut, gerçeküstü, bilinçaltını yansıtmaya dönük yazıldığı için anlaşılması zor olarak nitelendiriliyor.
- D) Hepimizi gelecekte doğayla iç içe bir yaşam bekliyor; doğa, insanları yeşile ve maviye yani kendisine çağırıyor.

15 ve 16. soruları aşağıdaki metne göre cevaplayınız.

## 2021 YUNUS EMRE VE TÜRKÇE YILI



# Yunus Emre

2021 yılı; UNESCO tarafından tüm dünyada, her dönemin şairi olarak yaşatılmakta olan ve şiiirlerinde kullandığı duru Türkçe ile dilimizin gelişimine büyük katkı sağlayan sevgi ve irfan insanı "Yunus Emre"nin yılı ilan edildi.

- Türk şiiirinin kurucularından ve millî birliğin önemli tutkallarından biri olarak gösterilen Yunus Emre, halkı Hakk'a davet eden bir ahlak ve sevgi eğitcisidir.
- Yunus Emre, Anadolu'nun her karışını gezen ve yolu Hacı Bektaş Veli'nin dergâhına da uğrayan bir Hak erenidir. Onun Anadolu'da bir misyonu (görev) vardır. Bunu şu dörtlükte anlatmıştır: - - - -
- Evrendeki tüm yaratılmışlar değerlidir. Yunus Emre, tavır ve tutumlarına yön veren bu gerçeği şöyle ifade etmiştir: - - - -
- Yunus'un düşmanı nefrettir. Kimseyle çatışmamaya, kavga etmemeye kararlıdır. Mücadele edilecek bir şey varsa o da heves peşinde koşan nefistir yani insanın kendisidir. Bu durumu şu dizelerde ortaya koymuştur: - - - -

15. Bu parçadan Yunus Emre ile ilgili aşağıdakilerden hangisi çıkarılamaz?

- A) Ulusal bütünlüğün sağlanmasında birleştirici bir rol üstlenmiştir.
- B) Allah aşkını ve doğru davranış kurallarını insanlara öğretmiştir.
- C) Kişiliği ve şiiirleri, yaşadığı çağın dışında da ilgi uyandırmıştır.
- D) Şiiirleriyle toplumsal dil bilincinin oluşmasını sağlamıştır.

16. Aşağıdakilerden hangisi bu metinde boş bırakılan yerlerden herhangi birine getirilemez?

- |                      |                           |                            |                            |
|----------------------|---------------------------|----------------------------|----------------------------|
| A) Elif okuduk ötürü | B) Adımız miskindir bizim | C) Geldi geçti ömrüm benim | D) Ben gelmedim dava için  |
| Pazar eyledik götürü | Düşmanımız kindir bizim   | Şol yel esip geçmiş gibi   | Benim işim sevi (aşk) için |
| Yaratılanı hoş gör   | Biz kimseye kin tutmayız  | Hele bana şöyle gelir      | Dostun evi gönüllerdir     |
| Yaradan'dan ötürü    | Kamu âlem birdir bize     | Şol göz yumup açmış gibi   | Gönüller yapmaya geldim    |

17. Polisiye romanların bir numaralı ismi olan yazar, tüm eserlerinde okurlarını benzer bir sırrın peşinde koşturuyor ve her seferinde yanıltmayı başarıyor.

**Bu cümlede sözü edilen yazarla ilgili,**

- I. Okurları, her eserinde beklenmedik bir durumla karşılaşır.
- II. Polisiye roman alanında başarılıdır.
- III. Yapıtlarının hepsinde bir gizem vardır.

**yargılarından hangileri çıkarılabilir?**

- A) Yalnız I                      B) I ve II                      C) II ve III                      D) I, II ve III

18. Yüzde ısrar etme doksan da olur

İnsan dediğinde noksan da olur  
Sakin büyüklenme elde neler var  
Bir ben varım deme, yoksan da olur  
Hatasız dost arayan, dosttan da olur

**Aşağıdaki atasözlerinden hangisi bu dizelerde anlatılanlarla ilgili değildir?**

- A) Bir el bir eli yıkar, iki el bir yüzü yıkar.
- B) İnsan beşer (insanoğlu), kuldur şaşar.
- C) Kanaat gibi devlet (mutluluk) olmaz.
- D) El yumruğu yemeyen, kendi yumruğunu değirmen taşı sanır.



19. I. Kavurucu sıcaklıktaki çöllerde su içmeden yüzlerce kilometre yol katedebilen develer, hörgüçlerinde su değil yağ depolar. Uzun yolculuklar sırasında bu yağ dokusu kullanıldıkça bir miktar su açığa çıksa da develer susuzlukla mücadelede güçlerini vücutlarının diğer uyum becerilerinden alır.
- II. Diğer canlılarda yağ, vücudun farklı yerlerine yayılarak depolanırken develerde yağın tek bir bölgede toplanması onların daha az terlemelerini sağlar. Gündüz aldıkları ısının bir kısmını gece serinliğinde kaybetmeleri de su tasarrufuna katkıda bulunur. On dakika gibi kısa bir sürede yüz litreden fazla su içebilen develer bu suyu midelerinin üst kısmında bekleterek gerektiğinde dolaşıma azar azar dâhil eder.

**II numaralı metinle ilgili aşağıdakilerden hangisi söylenebilir?**

- A) I. metinde ifade edilen konuyla çelişen bir durumdan söz edilmiştir.
- B) I. metinde anlatılanların sebep olduğu olumsuzluklardan bahsedilmiştir.
- C) I. metinde sözü edilen durumu açıklamak için örnekleme yapılmıştır.
- D) I. metinde bahsedilen durumun başka canlılara etkisi açıklanmıştır.
20. Akıllı telefonlar, her geçen gün gelişerek hayatımızı kolaylaştırır da bazı sağlık sorunlarını beraberinde getiriyor. Bu sorunların en önemli sebebi ise akıllı telefonların yaydığı radyasyon. Her telefonun yaydığı radyasyon değeri (SAR değeri) birbirinden farklı olmakla birlikte cep telefonu ile geçirilen süre, telefon görüşmelerinde kulaklık kullanılması ve telefonun sinyal gücünün seviyesi gibi değişkenler de radyasyona maruz kalma düzeyini etkiliyor.


**Bu metne göre,**

- I. SAR değeri düşük telefonlar tercih edilmelidir.
- II. Telefon kullanılırken boyun ve bel duruşuna dikkat edilmelidir.
- III. Telefon, kullanılmadığı zamanlarda vücuttan uzak tutulmalıdır.

**önerilerinden hangileri sözü edilen tehlikeye yönelik bir çözüm olabilir?**

- A) Yalnız I                      B) I ve III                      C) II ve III                      D) I, II ve III

21.



Yukarıda üç farklı kaplumbağanın üstten görünüşü verilmiştir. Bu kaplumbağaların üzerindeki benek sayısı arttıkça hızları azalmakta, yaşları artmaktadır. Benekler azaldıkça dalış yetenekleri de artmaktadır.

**Bu kaplumbağalarla ilgili,**

- I. Dalış yeteneği en düşük olan, birinci kaplumbağadır.
- II. En hızlı hareket edebilen, ikinci kaplumbağadır.
- III. En yaşlı kaplumbağa, üçüncü kaplumbağadır.
- IV. Dalış yeteneği en fazla olan, en genç kaplumbağadır.

**çıkarımlarından hangileri doğrudur?**

- A) I ve III                      B) I ve IV                      C) II ve III                      D) II ve IV

# 8. SINIF

# Türkçe



*8. Tema*

*Vatandaşlık*

1. • Ateş, düştüğü yeri yakar.  
• Ayağını yorganına göre uzat.  
• Güneş balçıkla sıvanmaz.  
• Ağaç, yaprağıyla gürlür.

**Aşağıdakilerden hangisi, bu atasözlerindeki altı çizili sözcüklerin karşıladığı anlamlardan biri değildir?**

- A) Gerçekler B) Dert C) Akraba D) Meslek

2. • Daha az izle, daha fazla yap.  
• Daha az kork, daha fazla dene.  
• Daha az yargıla, daha fazla kabul et.

**Aşağıdaki özdeyişlerden hangisi bu cümlelerin herhangi biriyle anlamca ilişkilendirilemez?**

- A) Elindekiyle yetinmeyen, elde edeceği ile de yetinmez.  
B) Güllerin dikenini olduğundan yakınma, dikenlerin gülü olduğuna şükret.  
C) Seni hayallerine ulaştıracak en önemli şey cesaretindir.  
D) Hayata seyirci kalmaktansa çaba gösteren bir oyuncu ol.

3. İki hayalî çay markasının lezzet testine tabi tutulduğu bir araştırmada, markaların ilk üç harfi, katılımcıların adlarındaki harflerden oluşmaktaydı. Örneğin Tarık ve Demet isimli katılımcıların deneyeceği çayların markaları "Tarçay" ve "Demlik"ti. Katılımcılar çayların tadına bakmış, ikisi üzerinde de dikkatle düşünmüş ve neredeyse her seferinde isimlerine benzer harflerle başlayan çay markasını yeğlemişlerdi. Yani Demet, "Demlik" markalı çayı; Tarık "Tarçay" markalı çayı lezzetli bulmuştu. Bir başkası da yine adına göre uydurulmuş bir diğer markanın çayını... Katılımcılar bu harf bağlantısının açık bir biçimde farkında değillerdi. Seçtikleri çayın tadının daha iyi olduğuna inanıyorlardı yalnızca. Bilmedikleri ise iki çay fincanının da aynı çaydanlıktan doldurulmuş olmasıydı.

**Bu metinden hareketle aşağıdaki yargıların hangisine ulaşılabilir?**

- A) İnsanoğlu çeşitli olaylar karşısında empati kurmakta zorlanır.  
B) Birçok insan peşin hükümlü davranmayı alışkanlık hâline getirmiştir.  
C) İkilimde kalan insan bu durumdan bir an önce kurtulmak ister.  
D) İnsanlar, kendileriyle ilgili unsurlarla yakınlık kurma eğilimindedir.

4. Küresel Tohum Deposu, Norveç'te bulunuyor. Burada, dünyanın her köşesinden toplanan 4,5 milyon bitki tohumunun her birinden beş yüz, toplamda 2,25 milyar örneğin depolanması hedefleniyor. İstenen çeşitliliğe ve sayıya ulaşıldıktan sonra depo kapılarının kapatılması, gerekli olmadıkça da depoya giriş ve çıkışların durdurulması planlanıyor. Bir sığınağı andıran bu depo, her biri yirmi yedi metre uzunluğunda, on metre genişliğinde ve altı metre yüksekliğinde üç ana bölümden oluşuyor. Yerin yüz yirmi metre altında bulunmasına rağmen deniz seviyesinin üstünde kalan depo, buzullar erise dahi, yükselen deniz sularının altında kalmayacak ve kutuplardan gelen soğuklardan faydalanacak şekilde özenle konumlandırılmış. Nem düzeyi düşük bir ortamda ve -18 derece sıcaklıkta korunan bitki tohumlarının, içinde buldukları ortamda yıllarca bozulmadan kalacağı düşünülüyor.

**Bu metinde "Küresel Tohum Deposu" ile ilgili aşağıdakilerden hangisine değilmiştir?**

- A) Yapı özelliklerine B) Taşıdığı öneme C) Kuruluş amacına D) Ortam koşullarına

5. Köyünden çıkıp zaman zaman aramıza katılan ve büyük bir halk şairi olan Âşık Veysel’le Ankara’da tanışmıştım. Olgunluğu, dürüstlüğü ve inceliğiyle beni kendisine hayran bırakan şair; bildiğini tam biliyor, bilmediğini samimiyetle söylüyordu. Hayatında önemli bir yere sahip olan sazını çalarken, ektiği buğdayı biçen bir köylü kadar doğaldı. Aynı doğallığı sazına şiir söylerken de gösteren şairin şiirlerinin çıkış noktasını insan ve vatan sevgisi, yaşama sevinci, kardeşlik duygusu ve barış özlemi oluşturur. Yenilikleri ve bilimsel gelişmeleri dikkatle takip eden Âşık Veysel, şiirlerinde bu konulara da yer vermiştir. Şiirlerini, yaşadığı topraktan beslenerek oluşturan Veysel’in ne kadar kendine mahsus bir tadı olduğunu ona yakından bakan herkes fark eder.

**Âşık Veysel’e ait aşağıdaki dörtlüklerden hangisi, bu metinde sözü edilen konulardan biriyle ilişkilendirilemez?**

- A) Avrupa Asya ayrı bir kıta  
Bir yıllık yol idi deveye ata  
Uçaklar sığırdı beş on saate  
Daha neler çıkar, dur belli değil
- B) Her ferdin hakkı var, bizimdir vatan  
Babamız, dedemiz döktüler al kan  
Hudut boylarında can verip yatan  
Saygıyla anarız, şehit diyerek
- C) Gezdim dere tepe niceler gibi  
Yağmurlu karanlık geceler gibi  
Bir gemi deryada bocalar gibi  
Geçirdim günümü gaflet içinde
- D) Benim her derdime ortak sen oldun  
Ağlarsam ağladın, gülersem güldün  
Sazım bu sesleri turnadan mı aldın  
Pençe vurup sarı teli sızlatma
6. Rıdvan, kitap sipariş etmek için bir siteye üye olacaktır. Bunun için şifre oluşturması gerekmektedir. Şifre belirleme kuralları aşağıda verilmiştir.

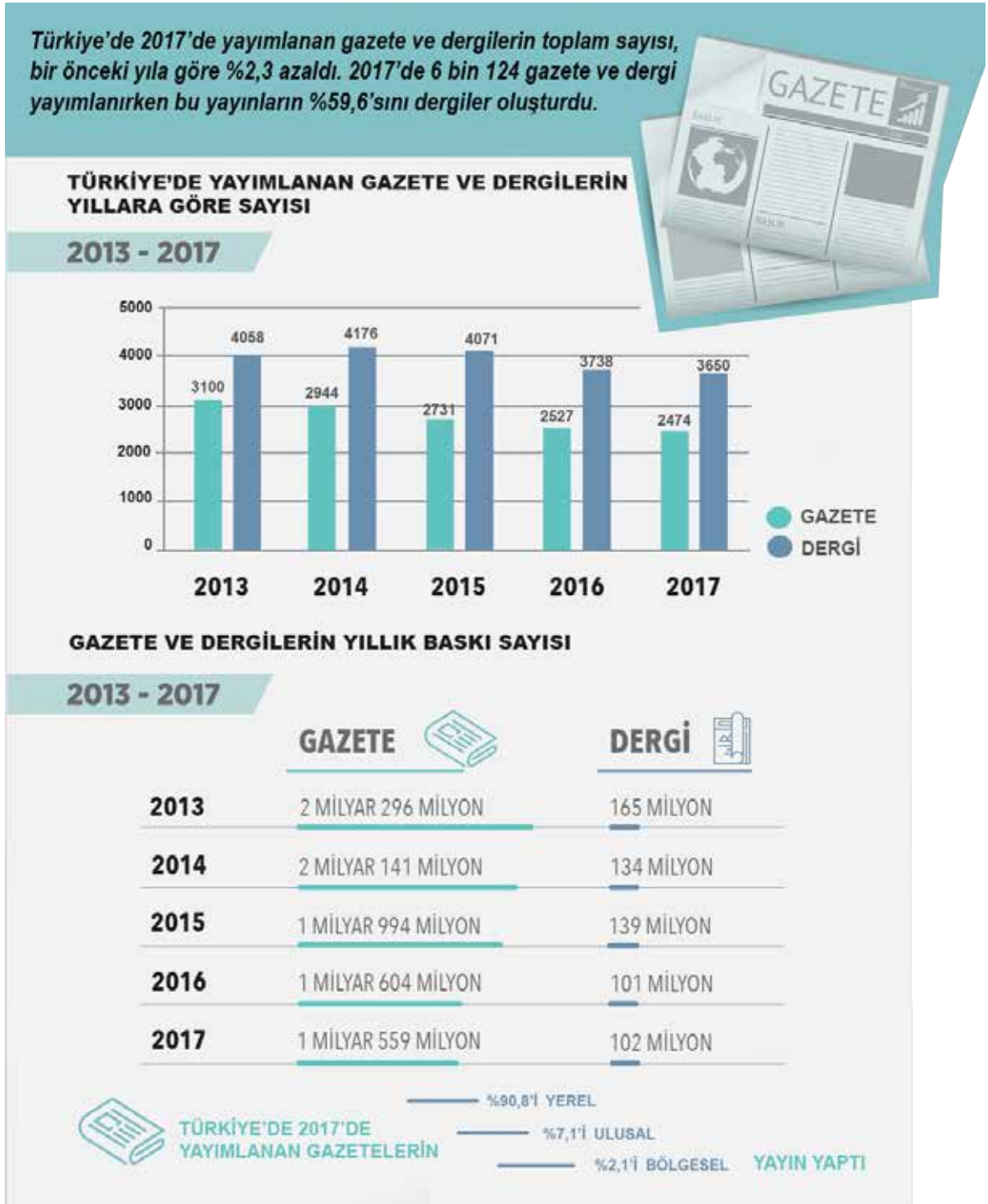
**ŞİFRE**

- Şifreniz en az bir büyük harf, bir küçük harf, bir özel karakter (#, @, &, ?, !) ve bir rakam içermelidir.
- Şifrenizde, alfabetik sıralamada art arda gelen harfler (AB, ab, Ab, aB gibi) yan yana yer almamalıdır.
- Şifreniz en az beş, en çok dokuz karakter uzunluğunda olmalıdır.
- Şifrenizde “ç, ğ, ı, ö, ü, ş” harfleri olmamalıdır.

**Buna göre Rıdvan, aşağıdaki şifrelerden hangisini oluşturursa siteye üye olabilir?**

- A) 46KkLL!S      B) n27@ıRY      C) B?vM34c1      D) a#Ez60T9&G

7. Aşağıda yazılı medya istatistikleri ile ilgili bir görsel verilmiştir.



Bu görselden hareketle,

- 2017'de yayımlanan gazete sayısının aynı yıl yayımlanan dergi sayısına oranı
- 2015-2017 yılları arasında yayımlanan yerel gazetelerin baskı sayısı
- 2016 yılında gazete ve dergi okuyucularının oranı
- 2013-2017 arasında Türkiye'de yayımlanan dergilerin yıllara göre sayısal dağılımı

**bilgilerinden hangilerine kesinlikle ulaşılır?**

A) I ve II

B) I ve IV

C) II ve III

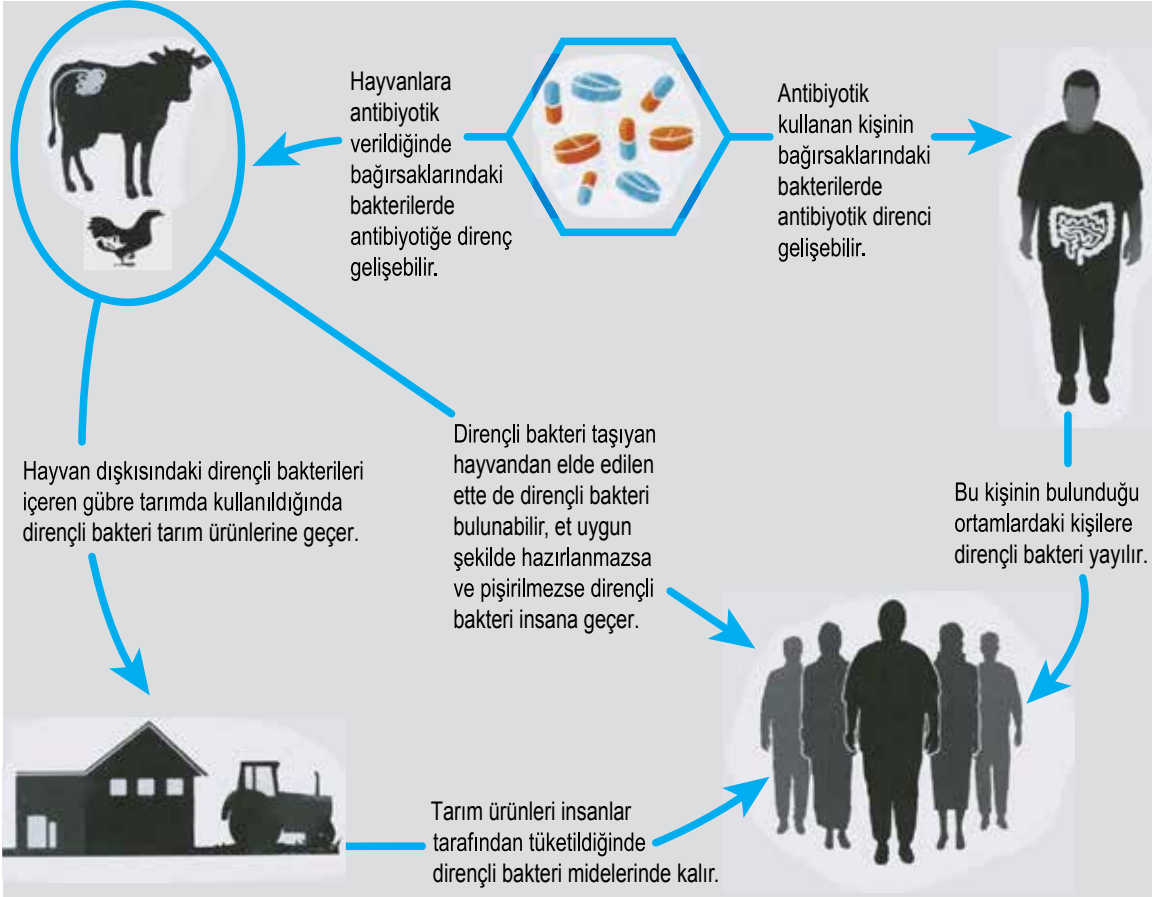
D) III ve IV

8. Eleştiri yazı türünün amacı bir edebiyat veya sanat eserini her yönüyle değerlendirerek anlaşılmasını sağlamaktır.

**Bu açıklamaya göre aşağıdakilerden hangisi bir eleştiriden alınmış olabilir?**

- A) Anadolu Türk'ünün başarısını sadece savaş meydanlarındaki zaferlerle izaha kalkışmak çok yanlış bir görüştür. Anadolu Türk devlet ve medeniyetini kuranlar sadece gaziler değildir. Mevlâna, Hacı Bektaş-ı Veli ve Yunus Emre gibi bütün insanlığı bir felsefe etrafında birleştiren velilerin de bunda büyük rolü vardır.
- B) Hüzün düşkünlerinden değilim. Bu hâlden hoşlanmam, ona değer de vermem. Ama çokları hüznü büyük bir değer kabul eder; onu olgun, erdemli, kafalı insanların bir özelliği sayar.
- C) "Türkçe Bilen Aranıyor" çok hacimli ve titizlikle hazırlanmış bir kitap. Dili, imrenilecek derecede güzel ve akıcı. Bir yandan okuyucuyu bilgilendirirken öte yandan Türkçenin zevkini tattırıyor.
- D) Türkiye Futbol Federasyonunun geçen hafta aldığı kararla yabancı sayısına sınırlama getirmesi uzun vadede Türk Millî Takımı'na fayda sağlayacaktır. Türk futbolcular, takımlarında daha çok oynama şansı bulacağından artık Millî Takım'a oyuncu seçme konusunda bir sıkıntı yaşanmayacaktır.

9. **Şekil : Antibiyotik Direncinin Yayılımı**



**Bu şekilde belirtilen sorunla ilgili aşağıdakilerden hangisi bir çözüm önerisi olamaz?**

- A) Tarımda hayvansal gübre kullanımı yaygınlaştırılmalıdır.
- B) Antibiyotik kullanan kişiler, başkalarıyla yakın temastan kaçınmalıdır.
- C) Et ve et ürünleri, doğru yöntemlerle pişirilerek tüketilmelidir.
- D) Sebze ve meyveler, denetimden geçirildikten sonra tüketiciye sunulmalıdır.

10. • Tüm dizelerin sonunda ses benzerliği vardır.  
• İnsan dışındaki bir varlığa insana ait özellik yüklenmiştir.  
• Bütün dizelerin hece sayıları eşittir.

**Aşağıdaki dörtlüklerden hangisi bu özelliklerin tümünü içerir?**

- A) İçimiz sevgi dolu, neşeler saçacağız  
Beyaz güvercin olup göklerde uçacağız  
Dünyaya, insanlığa barış dağıtacağız  
Bugün küçüğüz ama yarın büyüyeceğiz
- B) Yuvası saçakta kalan kırlangıç  
Yavrusu dallara emanet serçe  
Derken camiler üstünde güvercin  
Minareler katından geçiyorum
- C) Yürüyordum, ağlıyordu ırmaklar  
Yürüyordum, düşüyordu yapraklar  
Yürüyordum, sararmıştı yaylalar  
Yürüyordum, ekilmişti tarlalar
- D) Yaşamak güzel şey doğrusu  
Üstelik hava da güzelse  
Hele gücün kuvvetin yerindeyse  
Elin ekmek tutmuşsa bir de

11. Birden çok yüklemli cümlelerde öznenin bütün yüklemlerle uyumlu olması gerekir. Aksi takdirde özne eksikliğinden kaynaklanan anlatım bozukluğu ortaya çıkar.

**Aşağıdakilerin hangisinde bu açıklamaya uygun bir anlatım bozukluğu vardır?**

- A) Herkes doğayı korumak için elinden geleni yapmalı, sorumluluktan kaçmamalıdır.  
B) Akşamları ben müzik dinlemeyi, kardeşim ise kitap okumayı tercih ediyordu.  
C) Memleketime bir an önce dönmek istiyorum çünkü çok özledim.  
D) Güneş her gün dünyamızı aydınlatıyor, sevinç ve mutluluk veriyordu.

12. **Aşağıdakilerden hangisi “Kutup bölgelerinde hayatta kalmak için almamız gereken tedbirler nelerdir?” sorusunun cevaplarından biri olamaz?**

- A) Vücudumuz, ısınısını üretirken oldukça fazla enerji harcar. Bu enerjiyi tekrar toplamak için de beslenmeye ihtiyaç duyar. Soğuk iklimlerin hâkim olduğu bölgelerde yaşayanlar enerjiye çok fazla ihtiyaç duydukları için et, balık gibi yağlı ve çikolata gibi yüksek kalorili yiyecekleri tercih eder.
- B) Buzla kaplı bir coğrafyanın zorlu koşullarında susuz kalmamak çok önemlidir. Böyle yerlerde içme suyu bulmak sorun olabilir çünkü bu koşullarda su, kısa sürede donar. Karların eritilmesiyle su elde edilmesi buralarda sık kullanılan bir yöntemdir.
- C) Hipotermi; vücudumuzun soğuk hava, rüzgâr ve suya uzun süre maruz kalması sonucu ısı kaybetmesi nedeniyle ortaya çıkan bir durumdur. Hava sıcaklığının -20 ila -30 °C arasında olduğu bölgelerde hipotermi görülebilir.
- D) Soğuk iklimlerde vücut ısınısını korumak ve kuru kalmayı sağlamak için doğru giyinmek önemlidir. Bu nedenle tek kat giyinmek yerine kat kat giyinmek tercih edilmelidir. Böylece giysiler arasındaki hava ile ısı yalıtımı sağlanır.

13. - - - Ben bu konuda ne bulursam okurum: Şölen ve davetlerde neler yendiğini, sokak satıcılarını, tat ustalarını... Yazılanlara bakılırsa ekmek, eski zamanlarda da başlıca yiyecekti. Yunanlılar arpa, Romalılar buğday ekmeğine rağbet ederlerdi. Yunan ve Roma mutfağının baskın tatları ise bal, sirke, mayalanmış balık sosu ve bol miktarda baharattı.

**Bu metnin başına düşüncenin akışına göre aşağıdakilerden hangisi getirilmelidir?**

- A) Eski dönemlerin yeme içme alışkanlıklarının neler olduğuyla ilgili fikriniz var mı?  
B) Yemek tarifleri üzerine yazılmış eski eserleri okumayı sever misiniz?  
C) İnsanlık tarihinde mutfak kültürü en zengin medeniyet hangisiydi dersiniz?  
D) Yunan ve Roma mutfağının Türk mutfağına benzeyen yönlerini merak ettiniz mi hiç?

14. **Yayıncı:** Bir seçme şiirler kitabı yayımladınız. Bu kitabı oluştururken gözettiğiniz ilke neydi?

**Şair:** Öncelikle şunu belirtmek isterim ki şiirleri seçmemi yayıncı olarak siz istediniz, beni oyuna getirmeye çalışmayın. Şiirleri, belirlediğiniz sayfa sayısına göre seçtim. Aslında ben yaşayan bir şairin şiirlerinin böyle seçmelere maruz kalmasına karşıyım. Ha, madem istemediğim bir şeydi; neden bunu yaptım? Herhâlde kıramadım sizi.

**Bu metinde şair altı çizili ifadeyle aşağıdakilerden hangisini vurgulamak istemiştir?**

- A) Yaşayan bir şairin eserlerini yayımlamanın doğru olmadığını
- B) Seçme şiirler kitabı yayımlama fikrinin kendisinden çıkmadığını
- C) Şiirleri yayıncının belirlediği sayfa sayısına göre seçmenin yanlışlığını
- D) Şiirleri arasından seçme yaparak bir kitap yayımlamaktan pişmanlık duyduğunu

15. Çevre ve Şehircilik Bakanlığı, e-atıkların (elektronik atıkların) toplanması ve dönüştürülmesi için bazı kuruluşlara sorumluluk vermiştir. Bu kuruluşlar, topladıkları e-atıkları geri dönüşüm tesislerine götürüyor ve işlemleri takip ediyor. Pek çok okul, belediye ve alışveriş merkezine e-atık toplama kutuları yerleştirildi. Siz de e-atıklarınızı bu kutulara bırakabilirsiniz. Bazen çamaşır makinesi, buzdolabı gibi büyük aygıtlar da atık hâline gelebiliyor. Bu durumda belediyeler ya da aygıtın yenisini aldığınız satıcılar, istediğiniz takdirde e-atıklarınızı evinizden alarak gereken yerlere ulaştırıyor.

**Bu parçadan aşağıdaki yargıların hangisi çıkarılamaz?**

- A) E-atıkların geri dönüşümü konusunda yapılan çalışmalar yeterlidir.
- B) E-atıkların toplanması, belediyelerin görev alanları içindedir.
- C) Büyük e-atıkların evlerden alınması için ilgili kurumlara bilgi verilmesi gerekmektedir.
- D) Çevre ve Şehircilik Bakanlığı e-atıkların geri dönüşümü konusunda yetkilidir.

16. Konuşurken, şarkı söylerken hatta ağızımızı açmadan mırıldanırken bile sesimizi kullanırız. Bazen bağırarak, bazen fısıldayarak, bazen yumuşak, bazen sert tonlarda sesler çıkarabilmemiz için titreşim gereklidir. Titreşim, soluk borumuzun üst kısmında bulunan ses tellerimizde oluşur. Bunu sağlayan da soluk verirken akciğerlerimizden çıkan havadır. Bu havanın ses tellerimizi titreştirmesiyle oluşan ses dalgaları ağızımıza gelir. Ağızımızın içinde de özellikle dilimizin ve dudaklarımızın farklı hareketleriyle değişime uğrar. Bu sayede değişik tonlarda sesler çıkarabiliriz.

**Bu parçada aşağıdaki sorulardan hangisinin cevabı yoktur?**

- A) Sesin oluşumunda ses tellerinin rolü var mıdır?
- B) Sesin kişiye özgü oluşunun nedeni nedir?
- C) Sesin oluşumu nasıl gerçekleşmektedir?
- D) Ağızdan farklı seslerin çıkması nasıl olmaktadır?

17. İnsanın, içini dökmek istediği zamanlar olur. Bir dost, bu anlara erişilmez bir değer katar ancak bazı şeyler bir dostta bile söylenmez ki! İşte böyle durumlarda insan -özellikle de içinin gizli kıvrımlarını görmeyi bilen usta bir yazarsa- masasının başına geçip kalemi eline almadan edemez. Yazmak, insanın kendi kendisiyle alçak sesle konuşmasını gerektiren böyle zamanlarda büyük bir kurtarıcıdır.

**Bu metinle ilgili aşağıdaki açıklamalardan hangisi doğrudur?**

- A) Bir kişinin başından geçen olaylar, yer ve zaman belirtilerek aktarılmıştır.
- B) Fikirler, kanıtlama amacı güdülmeyen kişisel bir üslupla ifade edilmiştir.
- C) Gerçekleşmesi mümkün olmayan olaylar abartılarak anlatılmıştır.
- D) Okuyucuyu bir konuda ikna etmek amacıyla yazılmıştır.



# TÜRKÇE CEVAP ANAHTARI

1. Tema	1. B	2. C	3. A	4. B	5. D	6. C	7. C	8. A	9. D	10. D
	11. B	12. B	13. C	14. B	15. B	16. D	17. A	18. B	19. A	20. C
	21. C	22. A	23. C	24. D	25. B	26. A	27. D	28. B	29. D	30. B
	31. B	32. B	33. C	34. C	35. A	36. A				
2. Tema	1. B	2. C	3. D	4. D	5. B	6. D	7. D	8. B	9. A	10. C
	11. A	12. B	13. C	14. A	15. D	16. C	17. D	18. A	19. D	20. B
	21. D	22. A	23. C	24. C	25. D	26. B	27. A	28. C	29. C	30. B
	31. B	32. B	33. C	34. A	35. B	36. C	37. D	38. C	39. C	40. D
	41. A	42. C	43. D							
3. Tema	1. A	2. D	3. B	4. D	5. A	6. B	7. B	8. C	9. C	10. A
	11. C	12. D	13. D	14. A	15. C	16. D	17. D	18. A	19. B	20. C
	21. C	22. B	23. C	24. C	25. D	26. B	27. C	28. D	29. D	30. C
	31. A	32. C	33. B	34. B	35. D	36. A	37. C	38. B	39. B	40. D
	41. C	42. A	43. C							
4. Tema	1. D	2. A	3. C	4. D	5. C	6. D	7. B	8. D	9. B	10. A
	11. C	12. C	13. A	14. A	15. C	16. C	17. B	18. A	19. D	20. D
	21. B	22. B	23. B	24. D	25. D	26. B	27. A	28. C	29. D	30. C
	31. B	32. A	33. D	34. D	35. A	36. C	37. C	38. B	39. D	40. B
	41. A	42. A	43. B	44. C						
5. Tema	1. C	2. A	3. A	4. A	5. B	6. D	7. B	8. D	9. C	10. B
	11. C	12. A	13. B	14. D	15. C	16. D	17. B	18. A	19. D	
6. Tema	1. C	2. D	3. D	4. A	5. A	6. D	7. C	8. B	9. B	10. C
	11. D	12. A	13. D	14. B	15. C	16. D	17. B	18. B	19. A	20. C
	21. D	22. D								
7. Tema	1. A	2. B	3. B	4. D	5. D	6. B	7. A	8. C	9. D	10. C
	11. A	12. C	13. A	14. C	15. D	16. C	17. D	18. A	19. C	20. B
	21. B									
8. Tema	1. D	2. A	3. D	4. B	5. C	6. C	7. B	8. C	9. A	10. C
	11. A	12. C	13. A	14. B	15. A	16. B	17. B			

# 8. SINIF

## T.C. İnkılap Tarihi ve Atatürkçülük



### 1. Ünite

### *Bir Kahraman Doğuyor*

1. Avrupa'da gelişen Sanayi İnkılabı ile sanayileşen Avrupalı devletler ürettikleri ürünleri kapitülasyonlar sayesinde Osmanlı ülkesine kolaylıkla ihraç ettiler. Osmanlı pazarları Avrupa'dan gelen maliyeti düşük sanayi mallarıyla doldu. İnsanlar, ithal ürünleri satın almaya yöneldiler.

**Buna göre Sanayi İnkılabı'nın Osmanlı Devleti'nde aşağıdakilerden hangisine neden olduğu söylenebilir?**

- A) İşsiz insan sayısında azalma olmasına  
B) Küçük el tezgâhlarının sayısında artış yaşanmasına  
C) Devletin vergi gelirlerinin çok yüksek düzeye ulaşmasına  
D) Ülke topraklarının uluslararası açık bir pazara dönüşmesine
2. "Selanik Mülkiye Rüştîyesinde iken mahallemizdeki Binbaşı Kadri Bey'in oğlu Ahmet askerî rüştiyeye (ortaokul) devam ediyor ve askerî üniforma giyiyordu. Onu gördükçe ben de böyle giyinmeye hevesleniyordum. Sonra sokaklarda subaylar görüyordum. Subay olmak için önce askerî rüştiyeye girmek gerektiğini anlıyordum. O sırada annem Selânik'e gelmişti. Askerî Rüştiyeye girmek istediğimi ona söyledim. Annem asker olmamı istemiyordu. Sınav zamanı ona sezdirmeden rüştiyeye giderek sınava girdim."

**Bu bilgiye göre Mustafa Kemal'in askerlik mesleğine ilgi duymasına aşağıdakilerden hangisi etkili olmuştur?**

- A) Ailesi  
B) Çevresi  
C) Öğretmenleri  
D) Okuduğu kitaplar
3. Aşağıda I. Balkan Savaşı öncesinde ve sonrasında Osmanlı Devleti ve Balkan ülkelerini gösteren haritalara yer verilmiştir.



**I. Balkan Savaşı öncesinde Balkanlar**



**I. Balkan Savaşı sonrasında Balkanlar**

**Bu haritalara göre I. Balkan Savaşı'nın sonuçları ile ilgili aşağıdakilerden hangisi söylenemez?**

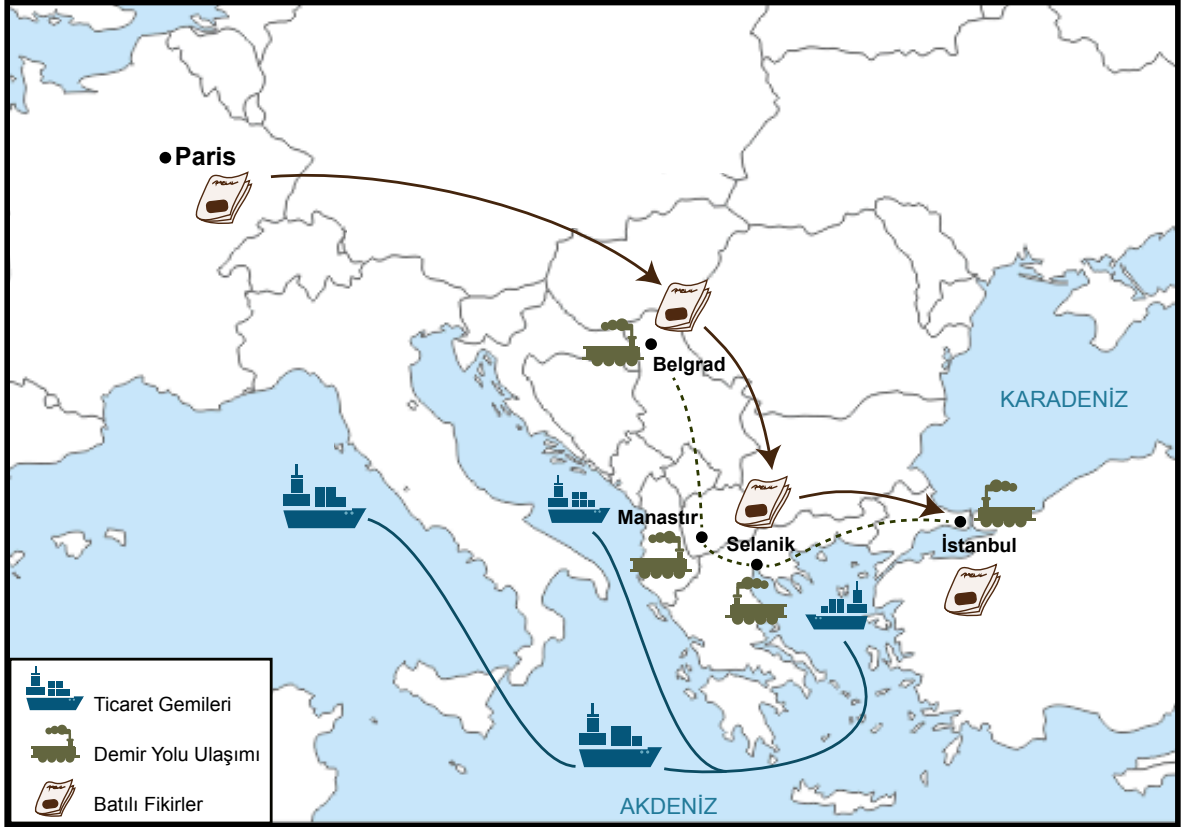
- A) Sırbistan, Karadağ ve Yunanistan, sınırlarını genişletmiştir.  
B) Karadağ'ın Osmanlı Devleti ile kara bağlantısı kalmamıştır.  
C) Osmanlı'nın Balkanlardaki tek sınır komşusu Bulgaristan olmuştur.  
D) Osmanlı Devleti Avrupa kıtasındaki topraklarının tamamını kaybetmiştir.

4. Mustafa Kemal, 31 Mart Vakası'ndan sonra subayların siyasete karışmasının tehlikelerini sezmişti. Subaylar arasında yayılan partililik düşüncesi orduda düzen ve disiplinin bozulmasına neden olmuştu. Mustafa Kemal bu durumun gelecekte, vatanın bekası için tehlikeli sonuçlar doğurabileceğini belirtmişti. Bu nedenle ordunun siyasetten uzak durması gerektiği yönündeki düşüncelerini arkadaşlarıyla paylaşmıştı. Nitekim Balkan Savaşları sırasında Mustafa Kemal'in öngöruları gerçekleşmiş ve ordumuz büyük bir felaketle karşılaşmıştır.

**Bu metinden Mustafa Kemal'in hangi kişisel özelliği çıkarılabilir?**

- A) İleri görüşlülüğü      B) Eğitimciliği      C) İdealistliği      D) Sabırlılığı

5. Aşağıdaki haritada Mustafa Kemal'in doğduğu ve ilk çocukluk yıllarının geçtiği Selanik şehrine ait bazı bilgiler verilmiştir.



**Bu haritaya göre Selanik ile ilgili,**

- I. Ticaretin en yoğun yaşandığı şehirdir.
- II. Kültürel gelişmeler yayılma imkânı bulmuştur.
- III. Farklı dinlere mensup insanların kaynaştığı bir şehirdir.

**çıkartımlarından hangilerine ulaşılabilir?**

- A) Yalnız II      B) Yalnız III      C) I ve III      D) I, II ve III

6. Mustafa Kemal Paşa Havza'ya ulaştıktan sonra halkla toplantı yapmış, toplantı sonunda Havza Müdafaa-i Hukuk Cemiyetinin açılmasını sağlamıştır. Mustafa Kemal Paşa, Havza'dan kolordu komutanlarına gizli bir telgraf göndermiştir. Bu telgrafta, Anadolu'da yaşanan işgallerin mitingler yapılarak ve İtilaf Devletleri ile Osmanlı Hükûmetine telgraflar çekilerek protesto edilmesini istemiştir. Bu telgraftan sonra yurdun birçok yerinde mitingler düzenlenmiştir.

**Bu metinden Mustafa Kemal'in aşağıdaki kişilik özelliklerinden hangisine ulaşamaz?**

- A) Örgütleyiciliği                      B) Vatanseverliği                      C) Açıksözlülüğü                      D) Liderliği

7. Balkan Savaşları sonucunda Balkanlardaki Türk hâkimiyeti sona erdi. Kaybedilen Balkan topraklarından Anadolu'ya büyük bir göç dalgası yaşandı. Yunanistan ve Bulgaristan'da kalan Türklerin kültürel ve dinî hakları antlaşmalarla güvence altına alındı.

**Bu bilgiye göre aşağıdakilerden hangisi söylenemez?**

- A) Anadolu'daki Türk nüfusu artmıştır.  
B) Balkanlarda Türk varlığı sona ermiştir.  
C) Osmanlı Devleti'nin sınırları daralmıştır.  
D) Balkanlarda Müslüman nüfus azalmıştır.

8. 1789'da Fransız İhtilali sonucunda ortaya çıkan milliyetçilik fikri, içerisinde farklı ulusları barındıran imparatorluklarda birtakım sıkıntıların baş göstermesine neden olmuştur. Bazı Avrupalı devletlerin kışkırtmasıyla Osmanlı Devleti içerisinde bulunan Sırp, Rum, Bulgar gibi uluslar Osmanlıya karşı ayaklanmışlar ve bağımsızlıklarını ilan etmişlerdir. Buna karşılık milliyetçilik fikri, Türk ulusunu da etkilemiş ve Kurtuluş Savaşı'nın kazanılmasında önemli bir rol oynamıştır.

**Yukarıdaki bilgiler dikkate alındığında;**

- I. Osmanlı Devleti'nin çok uluslu bir yapıya sahip olduğu,  
II. Avrupalı devletlerin Osmanlı Devleti'ne karşı dostça tavırlar sergilediği,  
III. Milliyetçilik fikrinin Millî Mücadele'nin başarıya ulaşmasında etkili olduğu,

**yargılarından hangilerine ulaşılabilir?**

- A) Yalnız I                      B) I ve III                      C) II ve III                      D) I, II ve III

9. 1876'da ilan edilen anayasa (Kanun-i Esasi) ile Türk tarihinde yeni bir döneme geçilmiş oldu. Devlet, artık padişahın kişisel isteklerine göre değil anayasadaki kurallara göre yönetilecektir. Anayasada kişiler arası eşitlik, mal ve konut dokunulmazlığı, eğitim hakkı, vicdan hürriyeti, basın hürriyeti ve mahkemelerin bağımsızlığı gibi kişi hak ve hürriyetlerine yer verilmiştir.

**Buna göre Kanun-i Esasi'nin ilanı ile aşağıdakilerden hangisinin amaçlandığı söylenemez?**

- A) Temel hakları korumak  
B) Anayasal düzene geçmek  
C) Yargı bağımsızlığını sağlamak  
D) Padişah otoritesini güçlendirmek

10. Aşağıdaki tabloda 19. ve 20. yüzyıllarda Osmanlı Devleti'nin dağılmasını önlemek için ortaya çıkan fikir akımlarıyla ilgili bilgiler verilmiştir.

I. Osmanlıcılık	II. İslamcılık	III. Türkçülük
Hangi din ve ırktan olursa olsun Osmanlı Devleti sınırları içinde yaşayanları kaynaştırarak bir "Osmanlı milleti" oluşturmanın amaçlandığı bu akımla imparatorluğun bütünlüğünü sağlamak hedeflenmiştir.	Devleti kurtarmak için hangi milletten olursa olsun bütün müslümanları halifenin etrafında toplamayı amaçlamıştır.	Devlet; dili, dini, soyu ve ülkesü bir olan topluma dayanarak ayakta durabilir. Bu nedenle Osmanlı Türklerine ulusal bilinç kazandırılmalıdır.

**Bu bilgilere göre, müslüman olan Trablusgarp halkının 1911 yılında yapılan Trablusgarp Savaşı'nda İtalya'ya karşı Osmanlı Devleti'nin yanında yer alması bu akımlardan hangileriyle ilişkilendirilebilir?**

- A) Yalnız I  
B) Yalnız III  
C) I ve II  
D) II ve III

11. Selanik'in karışık sokak aralarında tatlı sürprizlerle karşılaşılırdı; kâh yeşilliklerin arasında birdenbire denize açılan manzaralar, kâh çocuk sesleri ile Kur'an nağmelerinin taşıdığı sıbyan mektepleri, kâh muntazam vuruşlarla bakır veya demir döven çekiç seslerinin duyulduğu karanlık atölyeler, kâh kırlangıç yuvası gibi geçmişin birçok faciasını yaşamış yüksek evler... Bu şehrin dilleri ve dinleri farklı insanları, bu küçük tatlılardan büyük mutluluklar çıkarmasını bilirdi.

**Bu parçaya verilebilecek en uygun başlık aşağıdakilerden hangisidir?**

- A) Selanik ve Milliyetçilik  
B) Selanik ve Milli Mücadele  
C) Selanik ve Kültürel Zenginlik  
D) Selanik'in Jeopolitik Konumu

12. Mustafa Kemal'in doğduğu Selanik, önemli bir liman şehri olmanın yanında demir yolu ile Belgrad, Manastır ve İstanbul gibi şehirlere bağlanmaktaydı. Bu durum Selanik'in hem Batı ile etkileşimini kolaylaştırmış hem de sosyal ve kültürel yönden gelişmesine zemin hazırlamıştır. Avrupa'da çıkarılan gazete, dergi ve kitaplardaki fikirler çok uluslu yapıya sahip olan Selanik üzerinden Osmanlı ülkesine yayılıyordu. Bu yönüyle Selanik, Avrupa'daki gelişmelerin yakından takip edildiği ve Batı ülkeleriyle etkileşimin en yoğun yaşandığı şehirlerden biriydi. Denebilir ki Selanik, Osmanlı Devleti'nin Batı'ya açılan bir penceresi konumundaydı.

**Bu metinden hareketle Selanik'in Mustafa Kemal'in kişisel özelliklerinden hangisi üzerinde etkili olduğu söylenebilir?**

- A) Planlı ve çalışkan olması  
B) Sabırlı ve disiplinli olması  
C) İyi bir asker ve yönetici olması  
D) Zengin bir düşünce yapısına sahip olması

13. Mustafa Kemal'in Vatan ve Hürriyet Cemiyeti'nin Selanik şubesinin açılışında yaptığı konuşma:

"Arkadaşlar, bu gece burada sizleri toplamaktaki amacım şudur: Memleketin yaşadığı tehlikeli anları size söylemeye gerek görmüyorum. Bunu hepimiz anlarsınız. Bu talihsiz memlekete karşı önemli görevlerimiz vardır. Onu kurtarmak tek hedefimizdir. Bugün Makedonya'yı ve bütün Rumeli topraklarını vatan bütünlüğünden ayırmak istiyorlar... Memlekete yabancı etkisi ve egemenliği kısmen ve fiilen girmiştir. Şimdilik gizli çalışmak ve teşkilatı şekillendirmek mecburidir. Sizden fedakârlıklar bekliyorum. Milleti hâkim kılmak, özetle vatani kurtarmak için sizi göreve çağırıyorum."

**Bu konuşmadan hareketle Mustafa Kemal ile ilgili aşağıdakilerden hangisine ulaşamaz?**

- A) Liderlik vasfına sahip olduğuna  
B) Milli bir ordu kurmayı amaçladığına  
C) Bağımsızlık duygusu ile hareket ettiğine  
D) Millî egemenlik anlayışını benimsediğine

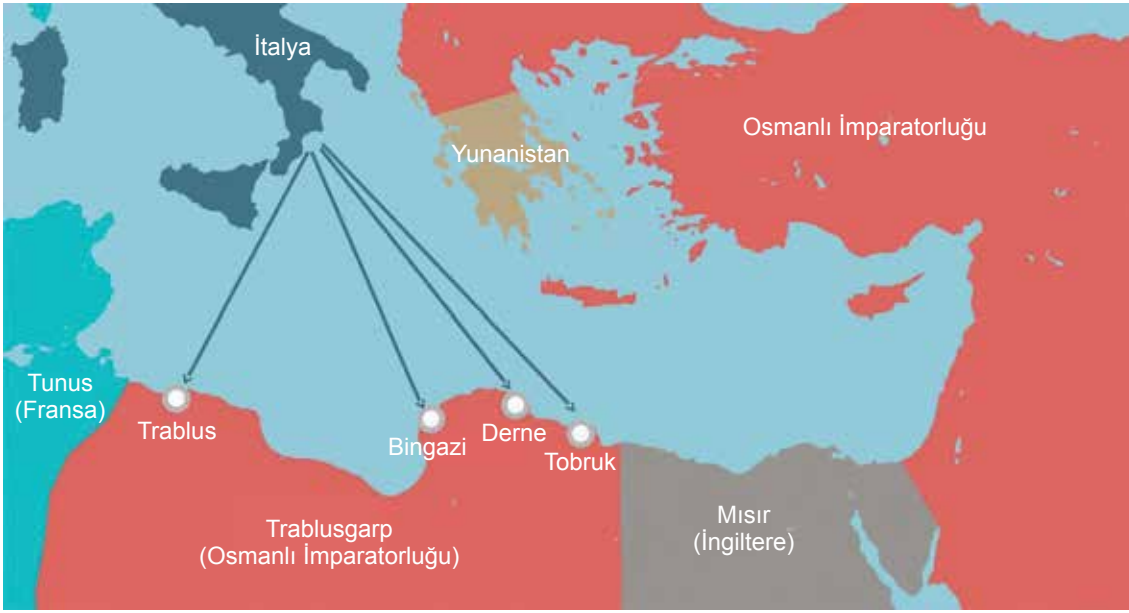
14. Mustafa Kemal, askerî ateşeli görevi nedeniyle bir süre Bulgaristan'ın Sofya kentinde bulunmuştur. Bu görevi sırasında,

- Bulgar parlamentosunu yakından takip etmiştir.
- Bulgaristan'da azınlıkta kalan Türklerle yakın ilişkiler kurmuş ve Türkçe yayımlanan gazetelere destek vermiştir.
- Diğer devletlerin elçileriyle görüş alışverişinde bulunmuştur.
- İstanbul'dan getirttiği gazete ve dergileri özenle takip etmiştir.

**Buna göre Mustafa Kemal ile ilgili aşağıdakilerden hangisi söylenemez?**

- A) Milliyetçi bir kişiliğe sahiptir.  
B) Ülkesindeki ve dünyadaki gelişmeleri takip etmiştir.  
C) Bulgaristan'daki Türk azınlığının sorunlarına çözüm getirmiştir.  
D) Demokratik yönetim sistemleri hakkında fikir sahibi olmuştur.

15. İtalya'nın Trablusgarp'ı işgal etme girişimi sırasında izlediği yollar aşağıdaki haritada verilmiştir.



**Verilen haritaya göre İtalya ile ilgili;**

- I. Akdeniz'deki hakimiyet alanını genişletmek istemiştir.
- II. Osmanlı Devleti'nin toprak bütünlüğünü bozmuştur.
- III. Kuzey Afrika topraklarını egemenliği altına almıştır.

**yargılarından hangilerine ulaşılabilir?**

- A) Yalnız I                      B) I ve III                      C) II ve III                      D) I, II ve III

16. İtalyanlar işgal ettikleri bölgelerde birtakım kurumlar açmışlardı. Bunların başında İtalyanca eğitim yapan okullar bulunuyordu. Açılan bu okullarda aynı zamanda Hristiyanlık propagandası da yapmışlardı. Bunun yanında Anadolu sahilleri ile işgalleri altındaki Rodos ve 12 Ada'ya gemi seferleri düzenlemişlerdi.

**Bu politikayla İtalyanların aşağıdakilerden hangisini amaçladığı söylenebilir?**

- A) Ekonomik kalkınmayı sağlamak                      B) İtalyan kültür ve inancını yaymak  
C) Eğitim kurumlarını çağdaşlaştırmak                      D) Ulaşım ve haberleşmeyi geliştirmek

17. Selanik, önemli bir liman şehri olmanın yanı sıra demir yolu ile de Belgrad, Manastır ve İstanbul gibi önemli şehirlere bağlanmaktaydı. Avrupa'da çıkarılan gazete, dergi ve kitaplardaki fikirler, farklı milletlerin bir arada yaşadığı Selanik üzerinden Osmanlı ülkesine yayılıyordu.

**Verilen bilgide Selanik'in, aşağıdaki özelliklerinden hangisine vurgu yapılmamıştır?**

- A) Çok uluslu yapısına  
B) Sınır kenti olmasına  
C) Deniz kıyısında bulunmasına  
D) Kültürel yönden gelişmişliğine



18.

Avrupalı devletler, keşfettikleri yeni topraklarda yürüttükleri sömürgecilik ve koloncilik faaliyetleri sayesinde büyük bir zenginliğe kavuşmuştur. Avrupa'nın, sömürge topraklarından elde ettiği zenginlik, Avrupa'da bir refah ortamı oluşturmuştur. Bununla birlikte kömür ve demir başta olmak üzere maden kaynaklarının zenginliği, sanayinin ihtiyaç duyduğu enerji ve demir ihtiyacının düşük maliyetle karşılanmasını sağlamıştır. Bu madenlere sahip İngiltere, Almanya ve Fransa gibi ülkeler gerek demir sanayisinde gerekse buhar gücü ile işleyen makinelerin çalışması için ihtiyaç duyulan enerji kaynağının temininde avantaj elde etmişlerdir.

**Buna göre Avrupa'da Sanayi İnkılabı'nın gerçekleşmesinde;**

- I. Enerji kaynaklarının varlığı,
- II. Yeterli sermaye birikiminin oluşu,
- III. Teknolojik gelişmenin sağlanması

**durumlarından hangilerinin etkili olduğu söylenebilir?**

- A) Yalnız I                      B) I ve II                      C) II ve III                      D) I, II ve III

19. Mustafa Kemal, Osmanlı ordusunu temsilen Fransa'da Picardie Manevraları'na katılır (10 Eylül 1910). Bu, onun Batı Avrupa ile ilk temasıdır. Mustafa Kemal, Fethi Bey'le beraber yaptıkları İsviçre, Belçika ve Hollanda'yı da içine alan 14 günlük bir seyahatten sonra vatana döner. Manevralardan çıkardığı sonuç acıdır. "Bu kadar hazırlık barış için yapılmaz. Aklımızı başımıza almamız. Çıkacak savaş bütün dünyayı ateşe atabilir ve biz bunun dışında kalamayız."

**Picardie Manevraları sonrası söylediklerine bakılarak Mustafa Kemal ile ilgili aşağıdaki yargılardan hangisine ulaşılamaz?**

- A) Osmanlı Devleti'nin çıkacak bir savaşta tarafsız kalması gerektiğini savunmuştur.
- B) Avrupa'nın askerî açıdan yaptığı hazırlıkları tehlikeli bulmuştur.
- C) Osmanlı Devleti'nin tedbirli olması gerektiğini vurgulamıştır.
- D) Büyük bir harbin yaşanabileceğini öngörmüştür.

20. Gençlik döneminde Mustafa Kemal'in düşünce dünyasını etkileyen önemli olaylardan biri de 1897'deki Türk-Yunan Savaşı'dır. Osmanlı ordularının ilerleyişi karşısında tutunamayan Yunan kuvvetleri ateşkes istemek zorunda kalmış ve Rusya'nın da talebi üzerine Osmanlı ordusu, ilerleyişini durdurmuştur. Ancak savaş meydanında elde edilen zafere karşılık masa başında aynı başarı gösterilememiştir. İmzalanan İstanbul Antlaşması'na göre Osmanlı Devleti savaş sırasında ele geçirmiş olduğu bölgeleri boşaltacak ve kendisine ait olan Girit Adası'na özerklik verecektir. Tüm bu gelişmeleri yakından takip eden Mustafa Kemal antlaşmanın sonucundan büyük bir üzüntü duymuştur.

**Bu durum Mustafa Kemal'in aşağıdakilerden hangisinin önemini kavramasını sağlamıştır?**

- A) Eğitimin                      B) Askerliğin                      C) Diplomasinin                      D) Ekonominin

21. Kız kardeşi Makbule Atadan, Mustafa Kemal'in çocukluğuna dair şunları anlatıyor:

"Hiç unutmam. Bir kış gecesi, büyük kardeşim sobaya birkaç odun attıktan sonra mindere oturmuş ve kitaplarını karıştırmaya başlamıştı. Annem sordu:

— Ne okuyorsun oğlum?

Büyük kardeşim hemen cevap verdi:

— Tarih... Plevne Muharebeleri, Osman Paşa...

Annem bir şey söylemedi ve derin düşüncelere daldı. Sonra yerinden kalkarak büyük kardeşimin saçlarını okşadı:

— İnşallah sen de onun gibi olursun Mustafa'm, dedi."

**Bu hatıradan,**

- I. Mustafa Kemal, öğrenmeye meraklı bir kişiliğe sahiptir.
- II. Zübeyde Hanım oğlunun tarih okuma hevesinden etkilenmiştir.
- III. Mustafa Kemal'de çocukluk yaşlarından itibaren tarih bilinci oluşmaya başlamıştır.

**yargılarından hangileri çıkarılabilir?**

- A) Yalnız I                      B) Yalnız II                      C) I ve II                      D) I, II ve III

22. 1789 Fransız İhtilali'nden sonra ortaya çıkan milliyetçilik düşüncesinin etkisiyle Balkanlardaki gayrimüslim milletler Osmanlı Devleti'ne karşı ayaklanmaya başlamışlardı. Bu durum karşısında devletin birliğini muhafaza edebilmek ve yeni şartlara uyum sağlayabilmek için Avrupa'nın da etkisiyle 3 Kasım 1839'da Tanzimat Fermanı ilan edilmiştir. Tanzimat ile birlikte din ve mezhep ayrılığının ortadan kaldırılması, hukuksal eşitliğin sağlanması amaçlanmıştır. Daha sonra ise 28 Şubat 1856'da Islahat Fermanı ile gayrimüslim halka yeni haklar verilmiş, bütün siyasal ve sosyal düzenlemeler 1876'daki Kanun-ı Esasi ile birlikte hukuksal bir nitelik kazanmıştır. Bütün bu uygulamalardaki esas amaç, Müslim ve gayrimüslim halkın Osmanlılık üst kimliği ile ortak bir vatandaşlık etrafında birlikteliğini sağlamak olmuştur. Bunun sonucunda oluşan Osmanlılık fikri, aydınlar ve yöneticilerin öncülüğünde imparatorluğun birliğini sağlamak amacıyla bir çözüm olarak gündeme gelmiştir.

**Bu bilgilere göre,**

- I. Fransız İhtilali'nin olumsuz etkileri hukuki düzenlemeler ile engellenmeye çalışılmıştır.
- II. Osmanlılık düşüncesiyle gayrimüslim halkın ayrılıkçı düşüncelerinin önüne geçilmiştir.
- III. Ortak vatandaşlık bilinci dinî inanç, soy ve kültür birliği temel alınarak oluşturulmuştur.

**yargılarından hangilerine ulaşılabilir?**

- A) Yalnız I                      B) I ve II                      C) II ve III                      D) I, II ve III

23. Millî şair olarak bilinen Mehmet Emin Yurdakul'un şiirleriyle okul yıllarında tanışan Mustafa Kemal, onun için: "Şiirlerinde bana millî benliğimin gururunu tattıran ilk anlatımı bulmuştum." demiştir.

**Buna göre Mehmet Emin Yurdakul'un Mustafa Kemal'de;**

- I. vatan sevgisi,
- II. millî şuur,
- III. adalet

**duygularından hangilerinin gelişimine katkı sağladığı söylenebilir?**

- A) I ve II                      B) I ve III                      C) II ve III                      D) I, II ve III

24. Osmanlı Devleti, XIX. yüzyılda Avrupalı devletlerden yüksek faizle borç alarak giderlerini karşılamaya çalıştı. İlk kez Kırım Savaşı sırasında alınan borçlar büyük oranda israf edildi. Devlet, otuz yıl içinde borçlarının faizini dahi ödeyemez hâle gelerek iflas etti. Bunun üzerine alacaklı devletler Osmanlı yönetiminin çağrısıyla bir araya gelerek Düyûn-u Umûmiye adında uluslararası bir teşkilat kurdular. Osmanlı gelir kaynaklarının büyük bir kısmına el koyan bu teşkilat, vergileri topluyor ve alacaklı devletler arasında paylaşıyordu.

**Buna göre XIX. yüzyılda Osmanlı Devleti hakkında aşağıdakilerden hangisi söylenemez?**

- A) Ekonomik bağımsızlığını kaybetmiştir.
- B) Alınan borçlar ekonomik sorunları çözmede yetersiz kalmıştır.
- C) Devletin gelirleri, giderlerini karşılayamaz hâle gelmiştir.
- D) Avrupalı Devletlerin Osmanlı Devleti üzerindeki siyasi nüfuzu azalmıştır.

25. Trablusgarp Savaşı'nın (1911-1912) temel nedeni siyasi birliğini geç tamamlayan İtalya'nın sömürge arayışı içinde olmasıdır. Bu nedenle İtalya; Trablusgarp'ın coğrafi yakınlığı, Osmanlı Devleti'nin Trablusgarp toprağı ile karadan bağlantısının olmaması ve donanmasının zayıflığı gibi nedenlerle Osmanlı Devleti'ne savaş açmıştır.

**Verilen bilgilerden hareketle İtalya ile ilgili,**

- I. Trablusgarp halkı ile tarihî ve kültürel bağlarını kullanmaya çalışmıştır.
- II. Savunmasız olduğu düşüncesiyle Trablusgarp'a göz dikmiştir.
- III. Ekonomik kaygılarla Trablusgarp'a saldırmıştır.

**yargılarından hangilerine ulaşılabilir?**

- A) I ve II
- B) I ve III
- C) II ve III
- D) I, II ve III

# 8. SINIF

## T.C. İnkılap Tarihi ve Atatürkçülük



### 2. Ünite

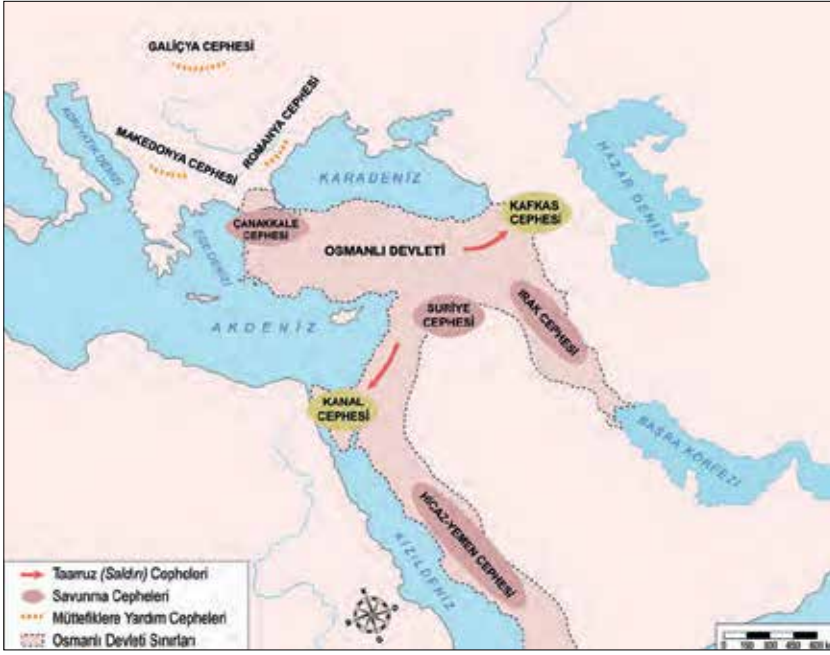
*Millî Uyanış: Bağımsızlık Yolunda  
Atılan Adımlar*

1. Birinci Dünya Savaşı'nın sonunda:
- Sınırlar yeniden çizilmiştir.
  - Milletler Cemiyeti kurulmuştur.
  - İmparatorluklar yıkılmış yerine ulus devletler kurulmuştur.
  - Ülkeler ve şehirler harap olmuştur.

**Birinci Dünya Savaşı'nın yukarıdaki sonuçlarından hangileri savaş sonunda toprak kayıplarının yaşandığına kanıt gösterilebilir?**

- A) I ve II                      B) I ve III                      C) I, II ve IV                      D) II, III ve IV

2. Aşağıdaki haritada Osmanlı Devleti'nin I. Dünya Savaşı'nda mücadele ettiği cepheler gösterilmiştir.



**Haritadaki bilgilere göre;**

- Cephelerin açılmasıyla savaş geniş bir alana yayılmıştır.
- Osmanlı Devleti savunma cephelerinde büyük kayıplar vererek geri çekilmek zorunda kalmıştır.
- Osmanlı Devleti sınırları dışında da savaşmıştır.

**yargılarından hangilerine ulaşılabilir?**

- A) Yalnız I                      B) I ve III                      C) II ve III                      D) I, II ve III

3. 12 Ocak 1920'de Mebusan Meclisi, İstanbul'da çalışmalarına başlamış ve 17 Şubat 1920'de Misakımillî Kararları tüm dünyaya ilan edilmiştir. Ancak İtilaf Devletleri Misakımillî Kararları'nın kabulünden rahatsız olmuştur. 16 Mart 1920'de İngilizler, toplantı halinde olan Mebusan Meclisi'ni basmış ve dağıtmıştır.

**Bu metinde verilen bilgilere göre İtilaf Devletlerinin aşağıdakilerden hangisini amaçladığı söylenebilir?**

- A) İstanbul Hükûmeti'ne yardım etmeyi                      B) Millî iradeyi ortadan kaldırmayı  
C) Misakımillî'yi kabul ettirmeyi                      D) Yeni bir meclis oluşturmayı

4. I. Dünya Savaşı'nda devletler İttifak ve İtilaf olmak üzere iki gruba ayrılmıştır.

İttifak (Bağlaşma) Devletleri	İtilaf (Anlaşma) Devletleri
<b>Savaştan önce:</b> Almanya, Avusturya-Macaristan, İtalya. <b>Savaş sırasında:</b> Osmanlı Devleti ve Bulgaristan katıldı.	<b>Savaştan önce:</b> İngiltere, Fransa, Rusya. <b>Savaş sırasında:</b> İtalya, ABD, Sırbistan, Yunanistan, Japonya, Brezilya, Portekiz ve Romanya bu gruba katıldı.

**Verilen tabloya göre aşağıdakilerden hangisine ulaşamaz?**

- A) Savaş başladıktan sonra her iki gruba da başka devletlerden katılım olmuştur.
- B) Devletler başka devletlerle anlaşarak güç dengesi oluşturmaya çalışmıştır.
- C) Birinci Dünya Savaşı'na en son dahil olan devlet Rusya olmuştur.
- D) Savaş sırasında taraf değiştiren devletler olmuştur.

5. Trakya Paşaeli Müdafaa-i Hukuk Cemiyeti, Rumların bölgede yaptıkları isyanlara ve Yunanların işgaline karşı kurulmuştur. Bölgenin kültürel, ekonomik, nüfus bakımından Türklere ait olduğunu tarihi belgelerle ispatlamak için çalışmalar yapmıştır. Edirne'de iki defa kongre yaparak silahlı direniş kararı almış, gerekirse yerli halktan asker toplanabileceğini ilan etmiştir.

**Buna göre Trakya Paşaeli Müdafaa-i Hukuk Cemiyeti;**

- I. Bölgenin Türklere ait olduğunu ispat etmeye çalışmıştır.
- II. Bölgesel nitelikte kongreler yapmıştır.
- III. İşgallere karşı silah kullanılabileceğini belirtmiştir.
- IV. Askere alma işlemlerini zorunlu hale getirmiştir.

**yargılarından hangilerine ulaşılabilir?**

- A) I ve II
- B) II ve III
- C) I, II ve III
- D) I, II, III ve IV

6. Sevr Antlaşması'nın bazı maddeleri aşağıda verilmiştir:

- Zorunlu askerlik kaldırılacak, asker sayısı sınırlandırılacak ve ordunun ağır silahı olmayacak.
- Boğazlar; içinde Türklerin bulunmadığı uluslararası bir komisyon tarafından yönetilecek, savaş zamanı dahi bütün gemilere açık olacak.
- Kapitülasyonlardan bütün devletler faydalanacak.
- Azınlıkların hakları genişletilecek.

**Bu maddelerden hareketle Osmanlı Devleti ile ilgili aşağıdaki yargılardan hangisine ulaşamaz?**

- A) Azınlıklar müslüman halk ile eşit hale getirilmiştir.
- B) Ekonomik bağımsızlığı yok sayılmıştır.
- C) Askerî gücü yok edilmek istenmiştir.
- D) Egemenlik hakları zedelenmiştir.

7. Misakımillî’de alınan,

- İşgal altındaki Arap halkları, özgürce verecekleri oylarla kendi geleceklerine kendileri karar vermelidir.
- Kendi istekleriyle ana vatana katılmış olan Kars, Ardahan ve Batum için gerekirse tekrar halk oylaması yapılabilir.
- Batı Trakya’nın durumu, orada yaşayan halkın serbestçe verecekleri oylarla belirlenmelidir.

**kararlarından hareketle aşağıdaki yargılardan hangisine ulaşılabilir?**

- A) Kapitülasyonlara karşı çıkıldığına  
B) Halkın kararına saygı duyulduğuna  
C) Uluslararası eşitlik ilkesine vurgu yapıldığına  
D) Türk yurdunun sınırlarının çizildiğine

8. Osmanlı Devletinin I. Dünya Savaşı’nda mücadele ettiği bazı cepheler aşağıda tabloda verilmiştir:

Kanal Cephesi	Kafkas Cephesi
<b>Nedeni:</b> Osmanlı Devleti bu cephede İngilizlerin elinde bulunan Mısır’ı geri almak ve Süveyş Kanalı’nın kontrolünü ele geçirip İngiltere’nin sömürgeleriyle olan bağlantısını kesmek için saldırıya geçmiştir. <b>Sonuç:</b> İngilizler’in güçlü bir orduya sahip olmaları, çölün aşırı sıcakları ve susuzluk nedeniyle Osmanlı ordusu yenilmiştir.	<b>Nedeni:</b> Osmanlı Devleti Rusların kontrolündeki Bakü petrollerini ele geçirmek ve Orta Asya’daki Türkleri kendi çatısı altında birleştirmek amacıyla saldırıya geçmiştir. <b>Sonuç:</b> Osmanlı Devleti kış şartları ve aşırı soğuklar nedeniyle bu cephede ağır kayıplar vererek geri çekilmiştir.

**Buna göre verilen cephelerin benzer özellikleri arasında;**

- I. Taarruz harekâtında bulunulmuştur.
- II. Kaybedilmelerinde doğa koşullarının da etkisi olmuştur.
- III. Daha önce kaybedilen topraklar geri alınmak istenmiştir.

**durumlarından hangilerinin yer aldığı söylenebilir?**

- A) Yalnız I                      B) Yalnız III                      C) I ve II                      D) I, II ve III

9. I. Dünya Savaşı sırasında İtilaf Devletlerinin Çanakkale Cephesi’ni açmalarının amaçları şunlardır:

- İstanbul’u işgal ederek Osmanlı Devleti’ni teslim almak.
- Karadeniz’i geçerek Ruslara yardım götürmek.
- Savaşa girmeyen devletleri kendi yanlarında savaşa çekmek.

**Bu amaçlar dikkate alındığında;**

- I. Rusya’nın henüz İtilaf Devletlerine katılmadığı,
- II. Osmanlı Devleti’nin stratejik açıdan önemli bir konumda olduğu,
- III. İtilaf Devletlerinin savaşı kısa sürede bitirmeyi hedeflediği

**yorumlarından hangilerine ulaşılabilir?**

- A) Yalnız I                      B) Yalnız II                      C) II ve III                      D) I, II ve III

10. Aşağıda Mondros Ateşkes Antlaşması'nın bazı maddeleri verilmiştir:

- Sınırların korunması ve iç güvenliğin sağlanması için gerekli askerlerin dışında Osmanlı ordusu terhis edilecektir.
- İtilaf Devletleri, güvenliklerini tehdit eden stratejik noktaları işgal edebilecektir.
- Boğazlar açık olacak ve İtilaf Devletleri tarafından işgal edilecektir.
- Tüm telsiz ve telgraf hatlarının kontrolü, Toros tünelleri ve bütün demiryollarının denetimi İtilaf Devletlerine bırakılacaktır.

**Bu maddelerden hareketle aşağıdakilerden hangisinin amaçlandığı söylenemez?**

- A) Anadolu'da çıkabilecek azınlık isyanlarının engellenmesi
- B) Haberleşme ve ulaşımın kontrol altına alınması
- C) Anadolu ve Rumeli bağlantısının kesilmesi
- D) Osmanlı Devleti'nin savunmasız bırakılması

11. Reis Bey başını salladı:

"Elbette. En mühimi de etrafınıza Kuvayımilliye'nin çete olmadığını, Kurtuluş Ordusu'nun çekirdeği olduğunu yaymaktır. Eli silah tutanlar gider katılır, kalanlar da karınca kararınca para ve mal yardımında bulunur. Aranızda bir heyet kurun; üç beş kuruş, bir kalıp sabun, bir çift çorap, bir çaputun bile değeri vardır. Toplayın, verin. Önümüz kış. Düşman boyuna ilerliyor. Yakında büyük çarpışmalar başlayacak. Ne kadar kuvvetli olursak o kadar dayanabiliriz. Dayandıkça da derlenip toparlanırsınız..."

**"Küçük Ağa" romanından alınan bu parçadan hareketle Kuvâ-yı Milliye birlikleri ile ilgili;**

- I. ihtiyaçlarını halktan karşılamaktadır,
- II. düşmanı yurttan atacak güçtedir,
- III. halktan oluşan direniş kuvvetleridir.

**yargılarından hangilerine ulaşılabilir?**

- A) Yalnız I
- B) I ve III
- C) II ve III
- D) I, II ve III

12. Mondros Ateşkes Antlaşması'ndan sonra Anadolu'nun bazı bölgelerinde millî varlığa karşı zararlı cemiyetler kurulmuştur. Bu cemiyetlerin bazılarının, kuruluş nedenleri ve etkinlikleri aşağıdaki tabloda verilmiştir.

Mavri Mira	Etnik-i Eteryâ ve Pontus Cemiyetleri
Yunan Hükümeti için çalışan ve Bizans İmparatorluğu'nu yeniden kurma amacı taşıyan cemiyet bu amaç doğrultusunda Trakya, İstanbul ve Batı Anadolu'yu Yunanistan'a katmayı hedefliyordu.	Karadeniz'de Samsun-Trabzon merkezli bir Pontus Rum Devleti kurmayı amaçlayan bu iki cemiyete mensup olan yerli Rumlar silahlanarak eşkıyalık yapmış ve Yunan ordularını desteklemiştir.

**Bu bilgilere göre, sözü edilen cemiyetlerle ilgili;**

- I. Milliyetçilik fikri doğrultusunda hareket ettikleri,
- II. Anadolu'daki Türk varlığını yok saydıkları,
- III. Tüm azınlıkları tek çatı altında toplamaya çalıştıkları

**çıkarmılarından hangilerine ulaşılabilir?**

- A) Yalnız III
- B) I ve II
- C) II ve III
- D) I, II ve III





**Verilen görselden hareketle aşağıdaki yargılardan hangisine ulaşamaz?**

- A) İngilizler Anadolu'daki Rumlara destek olmuşlardır.
- B) Milli Mücadelenin gerekçesi ve yöntemi kararlaştırılmıştır.
- C) Mustafa Kemal bağımsızlık amacıyla Samsun'a çıkmıştır.
- D) Mondros Ateşkesi sonrası Anadolu'da işgaller yaşanmıştır.

**14. Erzurum Kongresi'nde alınan,**

- Millî sınırlar içinde vatan bir bütündür, bölünemez.
- Kuva-yı Milliye'yi tek kuvvet olarak tanımak ve millî iradeyi hakim kılmak esastır.
- Manda ve himaye kabul edilemez.

**kararlarından hareketle aşağıdakilerden hangisi söylenemez?**

- A) Yönetim sisteminin değiştirileceğine işaret edilmiştir.
- B) Osmanlı Hükümeti'nin denetlenmesi amaçlanmıştır.
- C) "Vatanın bütünlüğü" ilkesine vurgu yapılmıştır.
- D) "Tam bağımsızlık" ilkesi dile getirilmiştir.

15. Mustafa Kemal Paşa, Erzurum Kongresi'nin açılış konuşmasında ulusal egemenliğe dayanan bir millet meclisi meydana getirilmesi ve gücünü millettten alacak bir hükümetin kurulması gerektiğinden bahsetmiştir.

**Buna göre kongrenin aşağıdaki kararlarından hangisinin bu doğrultuda alındığı söylenebilir?**

- A) Manda ve himaye kabul edilemez.
- B) Millî sınırları içinde vatan bir bütündür, parçalanamaz.
- C) Kuvâ-yı Millîye'yi etkin ve millî iradeyi hâkim kılmak esastır.
- D) Hristiyan azınlıklara siyasi hâkimiyet ve sosyal dengemizi bozacak ayrıcalıklar verilemez.

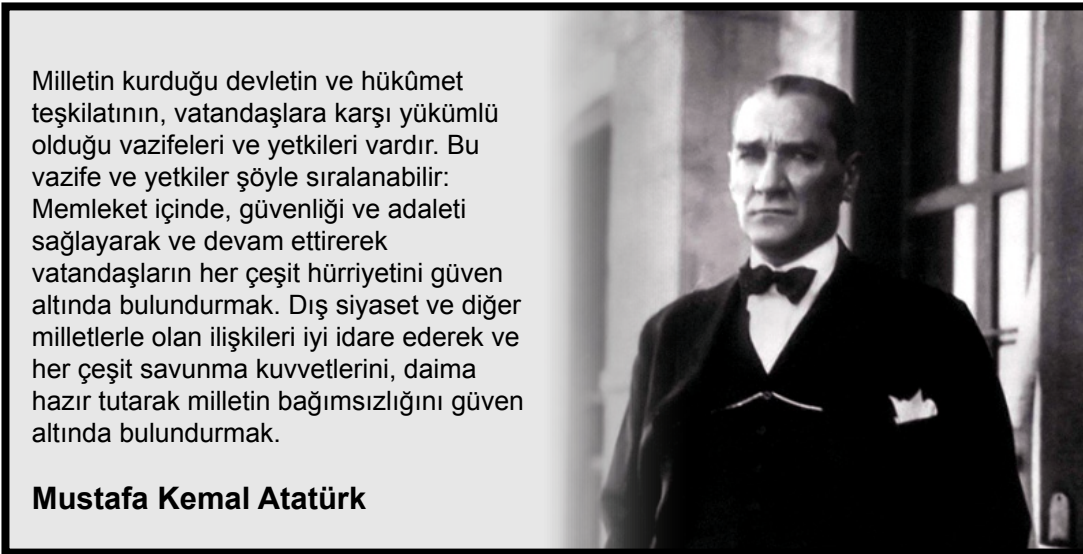
16. Mustafa Kemal Paşa, Milli Mücadele ruhunu "Söylev" adlı eserinde şöyle tanımlamıştır:

"Millet fertleri; yalnız düşman karşısında bulunanlar değil, köyde, evinde, tarlasında bulunan herkes silâhla vuruşan savaşçı gibi kendini vazifeli sayarak bütün varlığını yalnız mücadeleye verecekti. Bütün maddî ve manevî varlığını yalnız vatan savunmasına vermekte ağır davranan milletler, savaş ve çarpışmayı gerçekten göze almış ve başarabileceklerine inanmış sayılmazlar."

**Mustafa Kemal Paşa'nın bu sözlerinden hareketle aşağıdakilerden hangisine ulaşılabilir?**

- A) Vatan savunmasında maddi imkânların kullanılmasına öncelik verilmelidir.
- B) Halkın çatışma bölgelerinden uzak, güvenli alanlara taşınması gereklidir.
- C) Düşman karşısında askerî birliklerin mücadele etmesi yeterlidir.
- D) Topyekûn mücadeleyi benimseyen milletler başarılı olacaktır.

17.



Milletin kurduğu devletin ve hükümet teşkilatının, vatandaşlara karşı yükümlü olduğu vazifeleri ve yetkileri vardır. Bu vazife ve yetkiler şöyle sıralanabilir: Memleket içinde, güvenliği ve adaleti sağlayarak ve devam ettirerek vatandaşların her çeşit hürriyetini güven altında bulundurmak. Dış siyaset ve diğer milletlerle olan ilişkileri iyi idare ederek ve her çeşit savunma kuvvetlerini, daima hazır tutarak milletin bağımsızlığını güven altında bulundurmak.

**Mustafa Kemal Atatürk**

**Atatürk'ün sözlerinden hareketle devletin görev ve sorumlulukları içerisinde,**

- I. Kişi hak ve özgürlüklerini güvence altına almak
- II. Halkı iç ve dış tehditlere karşı korumak
- III. Bağımsızlığın devamı için mücadele etmek

**hedeflerinden hangileri yer alır?**

- A) I ve II
- B) I ve III
- C) II ve III
- D) I, II ve III

18. Mustafa Kemal Paşa, hazırlamış olduğu Amasya Genelgesi'ne ait taslak için; Ali Fuat Bey, Rauf Bey, Refet Bey ve Erzurum'da bulunan Kazım Paşa'nın da görüş ve onayını almıştır. Tarihe Amasya Genelgesi olarak geçen bu ihtilal beyannamesinin öne çıkan maddeleri ise şunlardır:

- Vatanın bütünlüğü, milletin bağımsızlığı tehlikededir.
- Osmanlı hükümeti üzerine aldığı sorumluluğu yerine getirememektedir.
- Milletin bağımsızlığını yine milletin azim ve kararı kurtaracaktır.

**Metne göre Amasya Genelgesi ile ilgili aşağıdakilerden hangisine ulaşamaz?**

- A) Osmanlı hükümet üyeleri değiştirilmiştir.
- B) Milli Mücadelenin gerekçesi belirtilmiştir.
- C) Genelge kararları kişisellikten çıkarılmıştır.
- D) Milli Mücadelenin yol haritası belirlenmiştir.

19. Aşağıdaki tabloda Osmanlı Devleti'nin I. Dünya Savaşı'nda kendi sınırları içinde savaştığı bazı cepheler ve bu cephe-lerin açılma nedenleri verilmiştir.

Cephe	Açılma Nedeni
Çanakkale Cephesi	İtilaf Devletlerinin, müttefiki olan Rusya'ya yardım götürmek istemesi
Kanal Cephesi	İngiltere'nin, sömürgeleriyle olan bağlantısının kesilmek istenmesi
Irak Cephesi	İngiltere'nin, Musul petrollerine sahip olmak ve Rusya'ya Kafkasya üzerinden yardım götürmek istemesi

**Buna göre aşağıdaki yargılardan hangisine ulaşamaz?**

- A) İngiltere ile farklı cephelerde savaş yapılmıştır.
- B) Osmanlı Devleti, Kanal Cephesi'nde başarılı olmuştur.
- C) Osmanlı Devleti, coğrafi olarak önemli bir konumdadır.
- D) Cephe-lerin açılmasında ekonomik nedenler de etkilidir.

20. 23 Nisan 1920'de açılan TBMM; ulusal bağımsızlığı öngördüğü için İtilaf Devletleri'ni, ulusal egemenliği öngördüğü için de Osmanlı yönetimini rahatsız etmiştir. Bu rahatsızlıktan dolayı İstanbul Hükümeti ve İtilaf Devletleri, Türk halkını TBMM'ye karşı kıskırtmış; bu da Anadolu'nun dört bir yanında isyanların çıkmasına neden olmuştur. Bu isyanlar yeni kurulan TBMM için bir otorite sınavı olmuş ve sonuçta TBMM, ayaklanmaları bastırmayı başarmıştır.

**Buna göre,**

- I. TBMM'yi yıpratmak için girişimlerde bulunulmuştur.
- II. Ayaklanmaların bastırılması TBMM'nin otoritesini sağlamlaştırmıştır.
- III. İstanbul Hükümeti ve İtilaf Devletleri TBMM'nin karşısında yer almıştır.

**yargılarından hangilerine ulaşılabilir?**

- A) Yalnız I
- B) I ve III
- C) II ve III
- D) I, II ve III

21. İtilaf Devletleri Mondros Mütarekesi'nin 7. maddesini bahane ederek Anadolu'yu işgale başlamışlardı. Buna karşılık Mustafa Kemal 1919 yılında Havza Genelgesi'nde bu işgallerin protesto edilmesini, mitingler yapılmasını fakat bu faaliyetlerde azınlıklara kötü davranılmaması gerektiğini belirtmişti.

**Buna göre Mustafa Kemal'in aşağıdakilerden hangisini amaçladığı söylenemez?**

- A) Azınlıklara ayrıcalık tanımayı
- B) Halkta millî bilinci uyandırmayı
- C) İşgallerin genişlemesini önlemeyi
- D) İşgallere karşı kamuoyu oluşturmayı

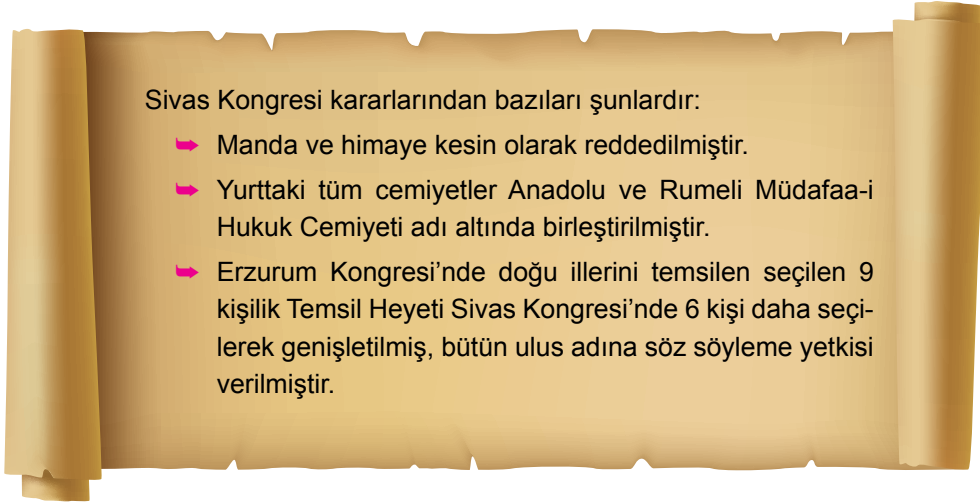
22. Osmanlı Mebusan Meclisi'nde alınan Misakımillî kararlarından bazıları şunlardır:

- Mondros Ateşkes Antlaşması imzalandığı sırada işgal edilmemiş olan bölgelerin tümü, ayrılmaz bir bütündür.
- Batı Trakya'nın durumu, orada yaşayan halkın serbestçe vereceği oylarla belirlenmelidir.
- Tam bağımsızlığın sağlanabilmesi için millî ve ekonomik gelişmemizi engelleyen her türlü siyasi, adli ve mali sınırlamalar kaldırılmalıdır.

**Buna göre aşağıdaki yargılardan hangisine ulaşamaz?**

- A) Kapitülasyonlara karşı çıkmıştır.
- B) Türk yurdunun sınırları belirlenmiştir.
- C) Ulusal egemenliğe vurgu yapılmıştır.
- D) Batı Trakya'nın geleceği, halkın iradesine bırakılmıştır.

23.



**Kongre kararlarına göre;**

- I. Temsil Heyeti bütün vatani temsil eder hâle getirilmiştir.
- II. Ulusal örgütlenme tüm vatani kapsayacak şekilde genişletilmiştir.
- III. Tam bağımsızlık hedeflenmiştir.

**yargılarından hangilerine ulaşılabilir?**

- A) I ve II
- B) I ve III
- C) II ve III
- D) I, II ve III

24. "Temel ilke, Türk milletinin haysiyetli ve şerefli bir millet olarak yaşamasıdır. Bu ilke, ancak tam istiklale sahip olmakla gerçekleştirilebilir. Ne kadar zengin ve bolluk içinde olursa olsun, istiklalden yoksun bir millet, medeni insanlık dünyası karşısında uşak olmak mevkiinden yüksek bir muameleye layık görülemez. Yabancı bir devletin koruyup kollayıcılığını kabul etmek, insanlık vasıflarından yoksunluğu, güçsüzlük ve miskinliği itiraftan başka bir şey değildir. Gerçekten de bu seviyesizliğe düşmemiş olanların, isteyerek başlarına bir yabancı efendi getirmelerine asla ihtimal verilemez."

**Mustafa Kemal Atatürk'ün bu sözünden hareketle,**

- I. Manda ve himaye altında olmayı acizlik olarak kabul etmiştir.
- II. Bağımsızlığın zenginlik ve güçle gerçekleşebileceğini savunmuştur.
- III. Saygın ve onurlu yaşama tam bağımsızlıkla kavuşulabileceğini belirtmiştir.

**yargılarından hangilerine ulaşılabilir?**

- A) Yalnız I                      B) I ve III                      C) II ve III                      D) I, II ve III

25. "Bir ulus, sımsıkı birbirine bağlı olmayı bildikçe yeryüzünde onu dağıtabilecek bir güç düşünülemez."

**Mustafa Kemal Atatürk bu sözü ile aşağıdakilerden hangisinin önemine vurgu yapmıştır?**

- A) Millî birlik ve beraberlik                      B) Teşkilatçılık  
C) Millî egemenlik                      D) Tam bağımsızlık

26. **ERZURUM KONGRESİ**

<b>Toplanma Amacı</b>	Doğu Anadolu'da kurulmak istenen Ermeni Devleti'ne karşı mücadele etmek
<b>Alınan Kararlardan Bazıları</b>	<ul style="list-style-type: none"><li>• Her türlü yabancı işgaline karşı Osmanlı Hükûmetinin dağılması durumunda hep birlikte direniş ve savunma yapılacaktır.</li><li>• Hristiyan azınlığa, siyasi egemenliğimizi ve sosyal dengemizi bozucu ayrıcalık verilemez.</li><li>• Millî sınırlar içinde vatan bir bütündür, parçalanamaz.</li><li>• Manda ve himaye kabul olunamaz.</li></ul>

**Buna göre Erzurum Kongresi ile ilgili aşağıdakilerden hangisi söylenemez?**

- A) İstanbul Hükûmeti ile birlikte hareket edilmiştir.  
B) Tüm yurdu ilgilendiren kararlar alınmıştır.  
C) Toplanış amacı bakımından bölgeseldir.  
D) Tam bağımsızlık ilkesi vurgulanmıştır.

27. 23 Nisan 1920'de açılan Büyük Millet Meclisi bir savaş meclisi olmasından ötürü yasama, yürütme ve yargı yetkilerinin tümünü kendinde toplamıştır. Üyeleri tamamen Türklere oluşmuş mecliste farklı düşüncelere sahip milletvekilleri olmasına rağmen partileşme olmamış, bütün milletvekilleri millî iradeye saygılı bir şekilde, görüşlerini özgürce ifade edebilmiş, ülkenin çıkarlarını savunma konusunda birleşmişlerdir. Bununla birlikte Meclis, işgalcilerin ve İstanbul'daki yönetimin baskılarına boyun eğmeden millî çıkarları korkusuzca savunmuş; karşılaştığı pek çok sıkıntıya rağmen çalışmasını bir an bile durdurmamıştır.

**Buna göre Büyük Millet Meclisinin,**

- I. olağanüstü yetkilere sahip,
- II. demokratik,
- III. millî

**özelliklerinden hangilerine sahip olduğu söylenebilir?**

- A) Yalnız I                      B) I ve II                      C) II ve III                      D) I, II ve III

28. Temsil Heyeti adına Mustafa Kemal'in İstanbul Hükûmeti adına ise Bahriye Nazırı Salih Paşa'nın katıldığı Amasya Görüşmeleri'nde alınan kararlardan bazıları şunlardır:

- Vatanın bütünlüğünün ve bağımsızlığının korunması esastır.
- Müslüman olmayan topluluklara siyasi ve sosyal dengemizi bozacak haklar verilmeyecektir.
- Mebusan Meclisi açılacak ve milletvekili seçimleri serbestçe yapılacaktır.

**Buna göre Amasya Görüşmeleri ile ilgili aşağıdakilerden hangisine ulaşamaz?**

- A) Millî iradenin yönetime yansıtılması amaçlanmıştır.  
B) İstanbul Hükûmeti, Temsil Heyetini resmen tanımıştır.  
C) Toplumda kültürel birlikteliğin sağlanmasına çalışılmıştır.  
D) Bağımsızlığı tehdit edecek tüm girişimlere karşı çıkmıştır.

29. Mustafa Kemal, Millî Mücadele Dönemi'nde basın-yayın kuruluşlarına ayrı bir ehemmiyet veriyordu. Özellikle halkın Millî Mücadele etrafında teşkilatlanmasında basın-yayın kuruluşları ayrı bir önem arz ediyordu. Millî Mücadele'ye karşı olan azınlıklar ve İstanbul Hükûmeti ellerindeki basın gücünü sonuna kadar kullanıyor ve Millî Mücadele'yi yıpratmak için her türlü yalan haberi Anadolu'nun en ücra kasabalarına kadar ulaştırıyordu. Bu ortamda halkın Millî Mücadele etrafında birleşmesi için doğru haber alması gerekiyordu. Bu nedenle Mustafa Kemal ilk olarak 14 Eylül 1919'da İrade-i Millîye gazetesinin, 10 Ocak 1920'de Hâkimiyet-i Millîye gazetesinin, 6 Nisan 1920'de ise Halide Edip ve Yunus Nadi ile birlikte Anadolu Ajansının kurulmasına katkı sağladı. Mustafa Kemal bu girişimleri ile hem milleti ortak düşünceler etrafında birleştirmiş hem de Millî Mücadele Dönemi'nde alınmış olan bazı kararların millete ulaşmasını sağladı.

**Buna göre basın-yayın kuruluşlarının Millî Mücadele'ye katkıları ile ilgili aşağıdakilerden hangisi söylenemez?**

- A) Millî Mücadele lehine kamuoyu oluşturmuşlardır.  
B) Halkın örgütlenmesini sağlamak için çalışmışlardır.  
C) Millî birlik ve beraberliğin sağlanmasında etkili olmuşlardır.  
D) Millî Mücadele'nin haklılığını uluslararası yayınlarla savunmuşlardır.

30.

### Mondros Ateşkes Antlaşması Sonrası Yaşanan İşgaller Karşısında

İstanbul Hükûmeti'nin Görüşü	Halkın Görüşü
Damat Ferit Hükûmeti'ne göre işgaller geçiciydi. Bu nedenle işgallere karşı sessiz kalınmalıydı. İtilaf Devletleri'ni kızdıracak tutum ve davranışlardan kaçınılmalıydı. Barış antlaşması imzalanıncaya kadar İtilaf Devletleri'ne karşı uzlaşmacı bir politika izlenmeliydi.	Türk halkı, vatanını korumak ve bağımsızlığını elde etmek için harekete geçti. Ülkenin çeşitli yerlerinde halk, cemiyetler kurarak ülke topraklarının işgal edilmesini telgraflar çekerek ve mitingler düzenleyerek protesto etmeye başladı. Aynı zamanda işgalcilere karşı vatan topraklarını savunmak için silahlı direniş kuvvetlerini kurdular.

**Verilen bilgilerden hareketle aşağıdaki yargılardan hangisi söylenemez?**

- A) İstanbul Hükûmeti ile halk arasında görüş ayrılığı vardır.  
B) Türk halkı vatan topraklarını korumak için teşkilatlanmıştır.  
C) Ülkenin kurtuluşu için bağımsızlık anlayışından uzak fikirler vardır.  
D) İstanbul Hükûmeti'ne göre milletin istiklalini milletin kararı kurtaracaktır.

31. Aşağıda Birinci Dünya Savaşı sırasında devletlerin durumunu gösteren harita verilmiştir.



Verilen haritadan,

- I. Askerî üstünlük İtilaf Devletlerindedir.
- II. Devletler arasında bloklaşmalar görülmektedir.
- III. Denizlerde hâkimiyet, İttifak Devletlerinin elindedir.

yargılarından hangilerine ulaşılabilir?

- A) Yalnız I                      B) Yalnız II                      C) I ve II                      D) I, II ve III

32. Anadolu Kadınları Müdafaa-i Vatan Cemiyeti Sivas Valisi Reşit Paşa'nın eşi Melek Reşit Hanım ve arkadaşları tarafından Sivas'ta kurulmuş, kısa sürede Anadolu'nun çeşitli şehirlerinde merkeze bağlı birçok şubesi açılmıştır. Düşman işgallerini büyük bir hassasiyet ve dikkatle izleyerek İtilaf Devletleri ve İstanbul Hükümeti'ne karşı zaman zaman protestonameler yayımlayan, millî orduya para ve mal yardımı kampanyaları açan, Millî Mücadele için Anadolu'ya geçenlere kutlama mesajları gönderen bu cemiyet, Türk kadınlığının iftihar edeceği büyük hizmetler görmüştür. Cemiyet, Atatürk'ün büyük takdirini kazanmıştır.

Buna göre Anadolu Kadınları Müdafaa-i Vatan Cemiyeti ile ilgili aşağıdakilerden hangisi söylenemez?

- A) Bölgesel kurtuluşu hedeflemiştir.
- B) Millî Mücadele'ye katılımı teşvik etmiştir.
- C) Örgütlü bir şekilde faaliyette bulunmuştur.
- D) Ordunun ihtiyaçlarını karşılamaya çalışmıştır.

33.

## I. Dünya Savaşı Öncesi Avrupa (1914)



## I. Dünya Savaşı Sonrası Avrupa (1918)



Bu görsellerden hareketle I. Dünya Savaşı sonrası durumla ilgili,

- I. Avrupa'nın siyasi haritası değişmiştir.
- II. Almanya sınırlarını genişletmiştir.
- III. Yeni devletler kurulmuştur.

yargılarından hangilerine ulaşılabilir?

- A) Yalnız I                      B) Yalnız II                      C) I ve III                      D) I, II ve III

34. Aşağıdaki metinde Amiral Bristol Raporu'ndan bir kesit yer almaktadır:

"...İngiliz Hükûmeti liderlerinin kamuoyu önünde verdikleri demeçlerde, İzmir ve çevresindeki bölge nüfusunun çoğunluğunun Rum olduğu, dolayısıyla Yunan koruyuculuğu altında bulunması gerektiği ile ilgili iddialar, gerçeklerle bağdaşmamaktadır. Bazı kıyı kentlerinde, örneğin Ayvalık ve benzeri yerlerde yaşayanların çoğu Rum'du ama bunların çevresindeki bölgeler neredeyse tamamen Türk'tü. İzmir kentinde bile en yetkili kişiler ahali çoğunluğunun Rum olduğunu söyleyemezler. İzmir çevresinde, iç bölgelerde halk tamamen Türk'tür. Yunan işgalinden sonra Aydın demir yoluyla Balçık'tan Ormulu'ya kadar boşalmış bölgeyi görmek, bu durumun açık bir örneğidir. Yunan kuvvetleri tarafından buralarda ayakta bir ev, köy bırakılmamıştır. Tarlalarda ürün toplayan bir kişi görülmemektedir. Ürün terk edilmiş ve çürümektedir. Bölge halkı, evlerini bırakıp bölgeyi terk etmiştir."

Bu metinden,

- I. Rapor, Türklerin haklılığını ortaya koymuştur.
- II. İngiliz Hükûmeti, kamuoyunu yanlış yönlendirmiştir.
- III. Yunanlar Wilson Prensiplerine uygun hareket etmiştir.

yargılarından hangilerine ulaşılabilir?

- A) Yalnız I                      B) I ve II                      C) II ve III                      D) I, II ve III



35. Erzurum Kongresi kararlarından bazıları şunlardır:

- Kuvayımilliye'yi etken, millî iradeyi egemen kılmak esastır.
- Manda ve himaye kabul olunamaz.
- Mebusan Meclisinin bir an önce toplanması ve hükûmet işlerinin meclis denetiminde sürdürülmesini sağlamak için çalışılacaktır.
- Millî sınırlar içinde vatan bir bütündür, parçalanamaz.

**Buna göre Erzurum Kongresi ile ilgili aşağıdakilerden hangisi söylenemez?**

- A) Ülke bütünlüğünün korunacağı belirtilmiştir.  
B) Millî iradenin yönetime yansması hedeflenmiştir.  
C) Bağımsızlığın kayıtsız şartsız sağlanacağı ifade edilmiştir.  
D) İstanbul Hükûmeti'nin temsil gücünün artırılması amaçlanmıştır.

36. İtilaf Devletleri ile İstanbul Hükûmeti arasında imzalanan Sevr Antlaşması'nın bazı maddeleri şunlardır:

- Boğazlar uluslararası bir komisyonun denetiminde olacak ve bütün devletlerin gemilerine açık bulundurulacaktır.
- Antalya, Burdur, Konya ve Isparta çevreleri İtalya'ya verilecektir.
- Irak, Ürdün, Filistin ve Hicaz İngiliz mandasına bırakılacaktır.

**Buna göre Sevr Antlaşması ile ilgili,**

- I. Türk tarafının Boğazlar üzerindeki egemenlik hakları kısıtlanmıştır.  
II. Türk milletinin bağımsızlığının korunması amaçlanmıştır.  
III. Misakımillî'ye aykırı maddeler içermektedir.

**çıkarımlarından hangileri yapılabilir?**

- A) Yalnız I                      B) I ve III                      C) II ve III                      D) I, II ve III

37.

Pontus Rum Cemiyeti Karadeniz Bölgesi'nde Samsun merkez olmak üzere bir Pontus Rum Devleti kurmayı amaçlamaktaydı. Bu doğrultuda kurdukları çetelerle Türk köylerini basarak Türklerin göç etmeleri için çalışıyor ve Yunanistan'dan getirdikleri göçmenleri bölgeye yerleştiriyorlardı.

**Cemiyetin bu çalışmaları Wilson İlkeleri'nin,**

- I. Yenilen devletlerden savaş tazminatı ve toprak alınmayacak.  
II. Osmanlı Devleti'nin Türklerin çoğunlukta olduğu bölgelerine kesin egemenlik hakkı tanınacak, Türk olmayan milletlere ise kendi kendini yönetme hakkı verilecek.  
III. Denizlerin karasuları dışında kalan bölümleri, savaşta ve barışta herkesin özgür ve serbest kullanımına açık olacak.

**maddelerinden hangilerini gerçekleştirilmeye yöneliktir?**

- A) Yalnız II                      B) I ve II                      C) I ve III                      D) I, II ve III

# 8. SINIF

## T.C. İnkılap Tarihi ve Atatürkçülük



### 3. Ünite

*Millî Bir Destan: Ya İstiklal Ya Ölüm!*

1. Mustafa Kemal, taarruz için ordunun yanı sıra kamuoyunu ve meclisi de hazırlamaya önem verdi. Bu amaçla halka dağıtılacak bildirileri kaleme aldı. Bazı milletvekilleri taarruzun bir an önce yapılmasını istemekteydi. Mustafa Kemal bu milletvekillerini "Ordumuzun kararı, taarruzdur. Fakat bu taarruzu erteliyoruz. Sebebi, hazırlığımızı tamamen ikmale biraz daha zaman lazımdır. Yarım hazırlıkla, yarım tedbirle yapılacak taarruz hiç taarruz etmemekten daha fenadır." sözleriyle yatıştırdı. Bu gelişmeler doğrultusunda ordu, 1922 yılının yaz aylarına doğru taarruza hazır hâle gelmişti.

**Buna göre Mustafa Kemal'in taarruzu ertelemesinin sebebi nedir?**

- A) Milletvekillerinin isteklerini yerine getirmek  
B) Savunma savaşı yapmak  
C) Taarruzu yaz aylarında yapmak  
D) Ordunun eksiklerini tamamlamak
2. 1927 yılında başkent Ankara'da Türk halkının katkılarıyla Kurtuluş Savaşı anısına "Zafer Anıtı" yaptırılmıştır. Atatürk, anıtta asker kıyafetleri içinde Sakarya isimli atının üzerinde gösterilmiştir. Anıtın dört yanında taş kaideler üzerinde bronz dökümden üç figür bulunmaktadır. Bunlardan ikisinde ülkesini koruyup gözeten Mehmetçik, diğerinde ise cepheye silah ve cephane taşıyan Türk kadını tasvir edilmiştir.

**Buna göre Zafer Anıtı'nda Kurtuluş Savaşı ile ilgili aşağıdakilerden hangisi anlatılmak istenmiştir?**

- A) Türkiye'deki siyasal gelişmeler  
B) Milli egemenliğin önemi  
C) Milli birlik ve beraberlik  
D) Yurtta ve dünyada barış
3. Kazım Karabekir Paşa, Gümrü Antlaşması ile ilgili olarak şunları söylemiştir: "Ermenilerin Sevr Antlaşması'ndaki imzalarını geri aldık."

**Kazım Karabekir Paşa bu sözünü aşağıdakilerden hangisini anlatmak istemiştir?**

- A) Sevr Antlaşması Ermeni Hükûmeti tarafından geçersiz sayılmıştır.  
B) Doğu Anadolu'da iki yeni devletin kurulmasına karar verilmiştir.  
C) Ermeni Hükûmeti, Sevr Antlaşması'nın yeniden düzenlenmesini istemiştir.  
D) İtilaf Devletleri Sevr Antlaşması'nı yok saymışlardır.
4. Wilson İlkeleri'ne göre Osmanlı Devleti'nin Türklerin çoğunlukta olduğu bölgelerine kesin egemenlik hakkı tanınacak, Türk olmayan milletlere de kendi kendini yönetme hakkı verilecekti. Ancak İngilizlerden destek alan Yunan askerleri 15 Mayıs 1919'da İzmir'e çıkarma yaptılar ve İzmir'i işgal ettiler. İşgalden sonra Yunanistan'dan İzmir'e gemilerle Rum göçmenleri taşıdılar.

**Buna göre Yunanlıların İzmir'e Rum göçmenleri taşıma amacı aşağıdakilerden hangisidir?**

- A) Savaş tazminatı almak  
B) Ekonomiyi canlandırmak  
C) Halkın güvenliğini sağlamak  
D) İzmir'de çoğunluğu sağlamak

5. "Memleketimizi gerçek hedefe ulařtırmak için iki orduya ihtiya vardır: Biri vatanın hayatını kurtaran asker ordusu, diğeri milletin geleceğini yoğuran irfan ordusu."

**Mustafa Kemal'in, bu sözlerle;**

- I. Askerî güç,
- II. Eğitim,
- III. Siyaset

**unsurlarından hangilerine önem verdiği söylenebilir?**

- A) Yalnız I                      B) I ve II                      C) II ve III                      D) I, II ve III

6. Sakarya Savaşı, sadece cephede değil cephe gerisinde de bütün şiddetiyle devam ediyordu. Ankara'da bütün imkânlar seferber edilmiş, herkes vatan için yollara düşmüştü. Kadınından erkeğine, yaşlısından gencine herkes bu savaşın içindeydi.

**Bu metinden hareketle Sakarya Savaşı ile ilgili olarak aşağıdakilerden hangisi söylenemez?**

- A) Vatanseverlik duygusu ön plana çıkmıştır.
- B) Sadece ordu değil millet de savaşmıştır.
- C) Topyekûn mücadele edilmiştir.
- D) Millî Mücadele sona ermiştir.

7. "Şimdiye kadar uygulanan eğitim ve öğretim yöntemlerinin, milletimizin gerilemesinde en önemli nedenlerden biri olduğu kanaatindeyim. Onun için bir millî eğitim programından söz ederken eski devirlerdeki hurafelerden, yaradılışımıza hiç de uymayan yabancı fikirlerden, Doğu'dan ve Batı'dan gelen etkilerden tamamen uzak, millî ve tarihî yapımıza uygun bir kültürü kastediyorum. Çünkü millî dehanın gerçek gelişmesi ancak böyle bir kültürle sağlanabilecektir."

**Mustafa Kemal'in 1921'de Maarif Kongresi'nde yaptığı bu konuşmadan,**

- I. Geri kalışın nedeni olarak eğitim programlarını göstermiştir.
- II. Eğitim programlarında farklı toplumların taklit edilmesine karşı çıkmıştır.
- III. Gelişmenin ancak millî kültüre uygun bir eğitim programıyla mümkün olabileceğini düşünmüştür.

**yargılarından hangilerine ulaşılabilir?**

- A) Yalnız I                      B) I ve II                      C) II ve III                      D) I, II ve III

8. "Her safhasıyla düşünülmüş, hazırlanmış, idare edilmiş ve zaferle sonuçlandırılmış olan bu harekât; Türk ordusunun, Türk subay ve komuta heyetinin yüksek kudret ve kahramanlığını tarihe bir kere daha yazdıran muazzam bir eserdir..."

**Mustafa Kemal'in, Büyük Taarruz'un önemini ifade ettiği bu sözlerinden aşağıdakilerin hangisi çıkarılamaz?**

- A) Büyük Taarruz başarıyla neticelendirilmiştir.
- B) Yunanlılara karşı büyük bir savunma savaşı verilmiştir.
- C) Harekât planı hazırlanırken her detay gözden geçirilmiştir.
- D) Türk ordusu daha önce de böyle kahramanlıklar göstermiştir.

9. Lozan Barış Antlaşması'na göre Ege adalarından Gökçeada, Bozcaada ve Tavşan Adaları Türkiye'ye; Limni, Semadirek, Midilli, Sakız, Sisam ve Nikerya adaları ise Yunanistan'a bırakılacaktı. Fakat Türkiye antlaşmaya Yunanistan'ın bu adalarda deniz üssü kuramayacağına dair bir madde eklemiştir.

**Türkiye bu maddeyi antlaşmaya ekleterek,**

- I. Ege Adalarını silahsızlandırmayı
- II. Diplomatik ilişkileri geliştirmeyi
- III. Sınırlarını güvence altına almayı

**amaçlarından hangilerini hedeflemiştir?**

- A) Yalnız I                      B) Yalnız II                      C) I ve III                      D) I, II ve III

10.



**1935 Milletvekili Seçimlerinde Vatandaşlar Oy Kullanırken**

**Bu fotoğraf dikkate alındığında Cumhuriyetin ilk yılları için,**

- I. Türk kadınına seçme hakkının verildiği
- II. Ülke yönetiminde halkın söz sahibi olduğu
- III. Tek dereceli seçim sisteminin uygulandığı

**yargılarından hangileri çıkarılamaz?**

- A) Yalnız I                      B) Yalnız III                      C) I ve II                      D) II ve III

11. Aşağıda Yakup Kadri Karaosmanoğlu'nun "Yaban" adlı eserinden alınan bazı bölümler verilmiştir:

"... Onlara İstanbul'un dört devletin askerî işgali altında olduğunu, İzmir'in ta Bursa'ya kadar Yunanlılar tarafından istila edildiğini, Adana'dan Fransızların henüz el çekmediğini, Urfa'da, Antep'te kanlı olayların cereyan etmekte olduğunu haber veriyor, her birinin yüzüne ayrı ayrı bakıyordum.

... İstanbul'da ne padişahın ne devletin ne hükûmetin itibarı kaldı. Yüzbaşı rütbesinde yabancı subaylar, sadrazamlara emir veriyor, padişaha filan adamı filan yere tayin et diye akıl veriyor. Memleketin büyüklerini, akıllı adamlarını Malta Adası'na sürdüler. Kimseye göz açtırmıyor, söz söyletmiyorlar..."

**Yukarıdaki metinden hareketle,**

- I. Yunanlılar ve Fransızlar Anadolu'da işgal faaliyetlerinde bulunmuştur.
- II. Toplumdaki aydın insanlar İtilaf Devletleri tarafından baskıya maruz kalmıştır.
- III. Osmanlı Devleti'nin otoritesi sarsılmıştır.

**yargılarından hangilerine ulaşılabilir?**

- A) Yalnız I                      B) Yalnız II                      C) II ve III                      D) I, II ve III

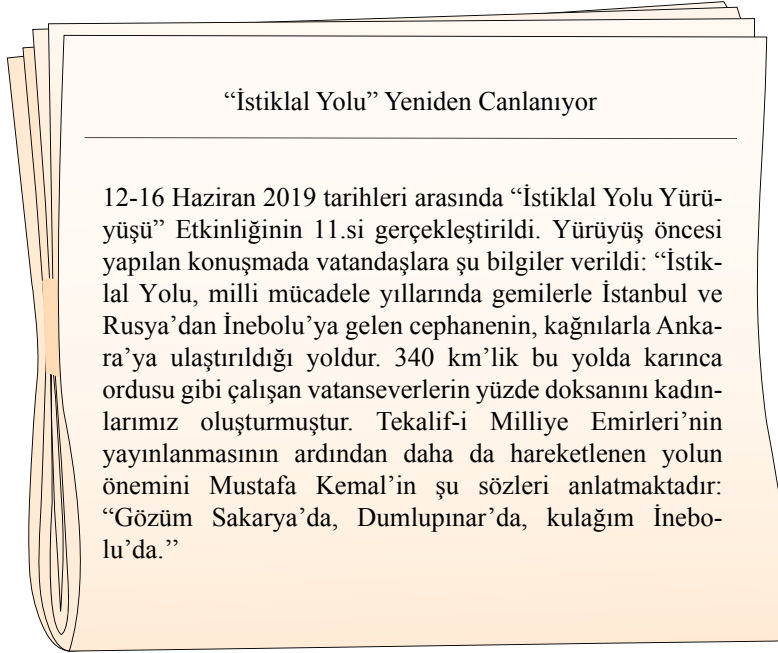
12. Aşağıda İsmet Bey'in Doğu Cephesi'nde kazanılan zaferden sonra Kâzım Karabekir Paşa'ya yazdığı mektuba yer verilmiştir:

*"Sevgili Kardeşim! Şark Harekâtı bizi ve devamızı ihya etti. O kadar sıkılmış idik, o kadar daralmış idik ki nefes alacak bir korunağa ihtiyacımız vardı. Allah'ın yardımıyla bunu büyük bir zaferle sen başardın. Sen, milletimize daha büyük hizmetler edeceksin. Allah seni milletimize bağışlasın."*

**Bu mektuba göre aşağıdakilerden hangisine ulaşılabilir?**

- A) Kazanılan zafer ile Milli Mücadele tamamlanmıştır.  
B) Kâzım Karabekir Paşa'nın askerî rütbesi yükselmiştir.  
C) Doğu'daki zafer kurtuluş mücadelesine umut olmuştur.  
D) Elde edilen başarının sonucunda Yunanlılar geri çekilmiştir.

13.



**Yukarıda verilen gazete haberinden hareketle aşağıdakilerden hangisi söylenemez?**

- A) Halk birlik ve beraberlik içinde hareket etmiştir.  
B) İstanbul Hükümeti ile Türk halkı güç birliği yapmıştır.  
C) Türk kadını cephe gerisinde önemli işler başarmıştır.  
D) Cephe gerisindeki çalışmalar, cephedeki kadar önemli görülmüştür.

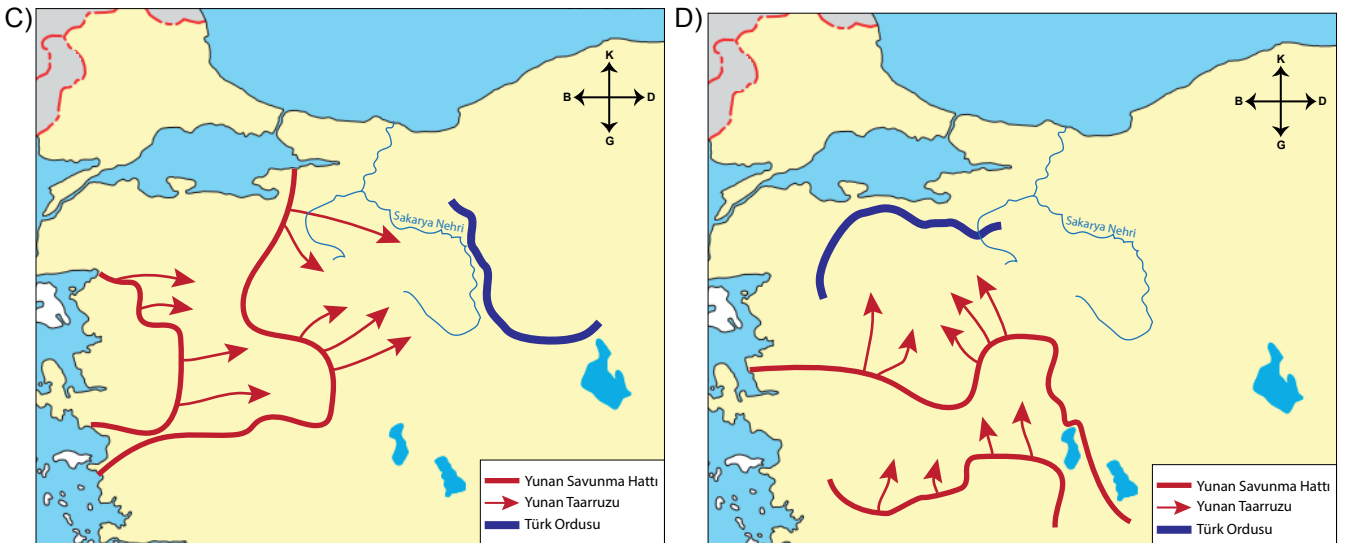
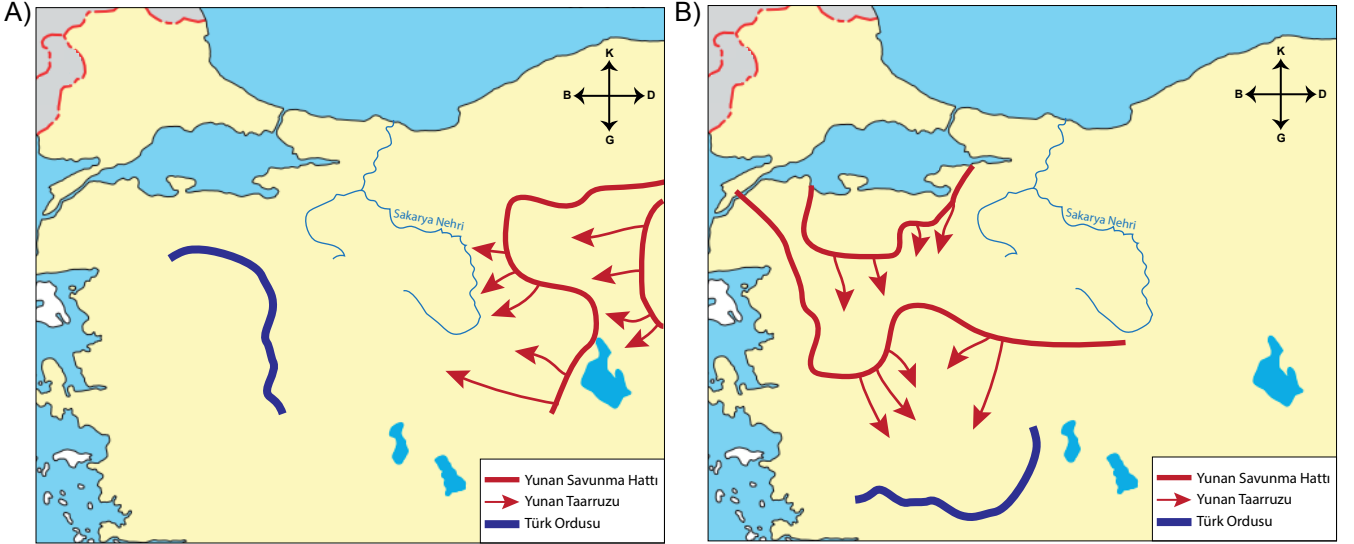
14. Aşağıda, halk tarafından kendilerine "Onikiler" adı verilen bir grup vatanseverin Fransız işgal komutanına gönderdiği uyarı mektubundan bir bölüm verilmiştir.

"...Biz Onikiler; şehirli ve köylü, Türk ve Kürt, yerleşik ve göçebe bütün Urfa halkının hislerine tercümanız. Bizi esir alamazsınız. Alsanız bile bu mücadeleyi durduramazsınız..."

**Bu metne göre aşağıdaki yargılardan hangisine ulaşılabilir?**

- A) Düzenli orduya katılım sağlanacağına  
B) Onikiler'in Batı illerinden destek aldığına  
C) Millî Mücadele'nin başarıya ulaşacağına  
D) Onikiler'in Urfa halkını temsil ettiğine
15. Sakarya Savaşı'ndan önce Türk ordusu, Kütahya-Eskişehir Savaşları'ndaki kayıp sayısını azaltmak, ihtiyaçlarını gidermek, zaman kazanmak ve savunma için daha elverişli koşullar sağlamak üzere, Sakarya Nehri'nin doğusuna çekilmiştir.

**Buna göre aşağıdaki haritalardan hangisi Sakarya Savaşı'ndan önce Türk ve Yunan ordusunun durumunu göstermektedir?**



16.

### I. Durum

I. İnönü Zaferi'nden sonra İtilaf Devletleri Londra'da toplanan barış konferansına TBMM heyeti ile beraber İstanbul Hükümeti'ni de davet ettiler. Ancak konferansta İstanbul Hükümeti adına söz alan Tefik Paşa "Ben sözü Türk milletinin hakiki temsilcisi olan TBMM delegesine bırakıyorum." diyerek İtilaf Devletleri'nin Türk tarafını ikiye bölme planlarını sonuçsuz bıraktı.

### II. Durum

Lozan'da yapılacak barış görüşmelerine İtilaf Devletleri TBMM ile beraber İstanbul Hükümeti'ni de davet edince TBMM 1 Kasım 1922'de aldığı kararla saltanatı kaldırdı. Lozan görüşmelerinde de Türk halkını TBMM temsil etti. Böylece İtilaf Devletleri'nin Türk tarafını ikiye bölme ve Sevr Antlaşması'nı kısmen de olsa Türklere kabul ettirme planları sonuçsuz kaldı.

**Verilen durumlar birlikte değerlendirildiğinde aşağıdaki yargılardan hangisi çıkarılamaz?**

- A) TBMM Misakımillî hedeflerini taviz vermeden gerçekleştirmiştir.
- B) Ulusal bağımsızlık ve ulusal egemenlik mücadelesi birlikte yürütülmüştür.
- C) İtilaf Devletleri farklı zamanlarda benzer politikaları uygulamak istemiştir.
- D) TBMM Türk halkının tek temsilcisi olduğunu göstermiştir.

17. Türkiye, Lozan Konferansı'nda birtakım isteklerde bulunmuştur. Bu istekler şunlardır:

- Kapitülasyonlar ve Düyun-u Umumiye İdaresinin kaldırılması
- İstanbul'un ve Boğazların boşaltılması
- Musul ve Kerkük'ün Türkiye'ye bağlanması
- Yunanistan'ın tazminat ödemesi

**Türkiye'nin bu isteklerle aşağıdakilerden hangisini amaçladığı söylenemez?**

- A) Savaşın neden olduğu ekonomik zararı telafi etmeyi
- B) Ekonomik bağımlılığın ortadan kaldırılmasını
- C) Toprak bütünlüğünün sağlanmasını
- D) Mevcut sınırlarını genişletmeyi

18. Sovyetler Birliği ile TBMM Hükümeti arasında imzalanan Moskova Antlaşması'na göre,

- Uluslar kendi geleceğine kendisi karar verecektir.
- Sovyetler Birliği, kapitülasyonların kaldırıldığını kabul edecektir.
- Taraflardan birinin tanımadığı uluslararası bir antlaşmayı diğeri de tanımayacaktır.

**Buna göre TBMM Hükümeti ile ilgili,**

- I. Uluslararası diplomaside Sovyetler Birliği ile ortak hareket etmeyi kabul etmiştir.
- II. Ekonomik bağımsızlık yolunda önemli bir adım atılmasını sağlamıştır.
- III. Sovyetler Birliği'nin iç işlerine karışmamayı taahhüt etmiştir.

**yargılarından hangilerine ulaşılabilir?**

- A) Yalnız I
- B) I ve II
- C) II ve III
- D) I, II ve III



19. Osmanlının son dönemlerinde Avrupa devletleri birçok bahane ile devletin iç işlerine müdahale etmişlerdir. TBMM Heyeti, Lozan Barış Antlaşması'nda alınacak kararlarla, yeni kurulan Türk devletinin iç işlerine müdahalede bulunulmasını engellemeye çalışmıştır.

**Lozan Antlaşması'nın aşağıdaki maddelerinden hangisi bu doğrultuda alınan kararlardan biri değildir?**

- A) Kapitülasyonlar kaldırılacaktır.
- B) Düyun-u Umumiye Teşkilatı kaldırılacaktır.
- C) Anadolu'daki bütün gayrimüslimler Türk vatandaşı kabul edilecektir.
- D) Boğazlar "Uluslararası Boğazlar Komisyonu" tarafından yönetilecektir.

20. 1 Mart 1921 tarihinde Türkiye ile Afganistan arasında imzalanan dostluk anlaşmasına göre Türkiye Afganistan'ın bağımsızlığını tanımış ve taraflar Doğu uluslarının bağımsızlığını onaylamıştır. Ayrıca taraflardan birine emperyalist güçlerce yapılacak saldırıya karşı ortak tepki verileceği, taraflardan birine düşman olan devletlerle anlaşma imzalanmayacağı ve herhangi bir devletle anlaşma yapmadan önce tarafların birbirlerine bilgi vereceği vurgulanmıştır.

**Buna göre aşağıdakilerden hangisi dostluk antlaşmasının hedeflerinden biri değildir?**

- A) Sömürgeciliğe karşı ortak bir tavır almak
- B) İç politikadaki sorunları çözüme kavuşturmak
- C) İş birliğine dayalı bir yaklaşım ortaya koymak
- D) Taraf devletlerin bağımsızlık mücadelesini desteklemek

21. Maarif Kongresi 16-21 Temmuz 1921 tarihleri arasında askeri, siyasi ve ekonomik alanlarda pek çok sorunla baş edilmeye çalışılan bir süreçte toplanmıştır. Dönemin Maarif Vekili Hamdullah Suphi (Tanrıöver) Meclis'te yaptığı konuşmada, kongreye katılacak delegeler için iki bin lira bütçe kullanıldığı, üç dört delegenin birlikte seyahat ettiği durumlarda yol giderlerinin karşılandığı, konaklama giderlerine ise karşılanmadığı bilgisini vermiştir.

**Buna göre;**

- I. Eğitim konusuna önem verildiği,
- II. Kongrenin zor şartlar altında toplandığı,
- III. Kongreye yönelik tasarruf önlemlerinin alındığı,

**ifadelerinden hangilerine ulaşılabilir?**

- A) I ve II
- B) I ve III
- C) II ve III
- D) I, II ve III

22. Millî Mücadele Dönemi'nde Antep, Urfa ve Maraş; Fransızlar ve Fransızların silahlandığı Ermeniler tarafından işgal edilmiştir. Düzenli bir ordu bulunmadığı için Güney Cephesi'nde Kuvâ-yı Millîye birlikleri işgallere karşı direnmiştir.

**Buna göre Güney Cephesi ile ilgili,**

- I. Bölgesel direniş güçlerinin etkili olduğu
- II. Kuvâ-yı Millîye'nin işgallere son verdiği
- III. Fransızların azınlıklar ile iş birliği yaptığı

**yargılarından hangilerine ulaşılabilir?**

- A) Yalnız III
- B) I ve II
- C) I ve III
- D) I, II ve III

23. Kütahya-Eskişehir Savaşları'nda mağlup olan Türk ordusu Sakarya Irmağı'nın doğusuna çekilince Türk ordusunun savaşı kaybedeceği yönünde TBMM'de büyük tartışmalar yaşanmıştır. Bunun üzerine başarıdan emin ve kararlı olan Mustafa Kemal tüm sorumluluğu ve yetkiyi üzerine almıştır. Sakarya Meydan Muharebesi öncesi Tekâlif-i Milliye Emirleri yayınlanmıştır. Buna karşılık Türk halkı maddi manevi tüm imkânları ile ordusunun yanında yer almıştır.

**Buna göre;**

- I. Tekâlif-i Millîye Emirleri ile ordunun ihtiyaçları halk tarafından karşılanmıştır.
- II. Türk halkı millî birlik ve beraberlik anlayışı içinde hareket etmiştir.
- III. TBMM'de Millî Mücadele'nin başarıya ulaşip ulaşmayacağına yönelik farklı görüşler vardır.

**yargılarından hangilerine ulaşılabilir?**

- A) Yalnız I                      B) I ve II                      C) II ve III                      D) I, II ve III

24. İtilaf Devletleri I. İnönü Savaşı'ndan sonra toplanacak olan Londra Konferansı'na Osmanlı Hükûmetinin yanında TBMM Hükûmetini de çağırmıştır. Bu konferansa Osmanlı Hükûmeti adına Tevfik Paşa, TBMM Hükûmeti adına Bekir Sami Bey katılmıştır. Konferansta söz sırası Tevfik Paşa'ya geldiğinde "Ben sözü Türk milletinin hakiki temsilcisi olan TBMM delegesine bırakıyorum." demiştir.

**Tevfik Paşa bu sözü ile İtilaf Devletleri'nin hangi amacını boşa çıkarmıştır?**

- A) Anadolu topraklarını işgale başlama
- B) Türk delegeler arasında ikilik çıkarma
- C) Düzenli ordunun kurulmasını engelleme
- D) Türk milletini Millî Mücadele'den vazgeçirme

25. 16 Mart 1921'de TBMM Hükûmeti ile Sovyetler Birliği arasında imzalanan Moskova Dostluk Antlaşması'na göre doğu sınırı büyük ölçüde çizilmiş; Batum, Misakımillî sınırları içerisinde olmasına rağmen Gürcistan'a bırakılmıştır. Ayrıca taraflar, bu antlaşma sonrasında uluslararası ilişkilerde birbirlerine zarar verecek faaliyetlerde bulunmayacaklarını kararlaştırmışlardır. Bunun yanında Sovyet yönetimi kapitülasyonların kaldırdığını kabul etmiş ve Osmanlı Devleti ile Çarlık Rusya arasında yapılan bütün antlaşmaların geçersiz olduğu ilan edilmiştir.

**Buna göre Moskova Antlaşması ile ilgili,**

- I. Misakımillî'den taviz verilmiştir.
- II. Ekonomik bağımsızlığa katkı sağlanmıştır.
- III. Sovyetler Birliği TBMM'nin varlığını tanımıştır.

**yargılarından hangilerine ulaşılabilir?**

- A) Yalnız I                      B) I ve II                      C) II ve III                      D) I, II ve III

26. İkinci İnönü Savaşı sonucunda yaşanan gelişmelerden bazıları şunlardır:

- O güne kadar Yunanistan'ın arkasında olan İngiltere, tutumunu değiştirmeye başlamış; hemen sonrasında İtilaf Devletleri savaşta tarafsız olduklarına dair bir bildiri yayımlamıştır.
- Fransa, TBMM Hükûmeti'ni fiilen tanımıştır ve hükûmetin temsilcileriyle görüşmeye başlamıştır.
- Halkın TBMM Hükûmeti ve ordusuna olan güveni artmış, Millî Mücadele ruhu pekiştirilmiştir.
- İtalya, Anadolu'dan kademeli olarak çekilmeye başlamıştır.

**Bu bilgilerden hareketle,**

- I. İtilaf Devletleri arasında görüş ayrılıkları yaşanmaya başlamıştır.
- II. Yunanistan, barış antlaşması istemek zorunda kalmıştır.
- III. TBMM'nin ulusal ve uluslararası saygınlığı artmıştır.

**yargılarından hangilerine ulaşılabilir?**

- A) Yalnız I                      B) Yalnız II                      C) I ve III                      D) I, II ve III

27. Millî Mücadele Dönemi'nde Türk kadını, işgallere karşı çeşitli dernekler kurmuş, mitingler düzenlemiş, yardım dernekleri kurarak ordu, göçmenler ve kimsesizler için yardımlar toplamış, cephane imalathanelerinde çalışmış, kağnı kollarında cepheye erzak ve cephane taşımıştır.

**Buna göre Millî Mücadele Dönemi'nde Türk kadınının yapmış olduğu faaliyetler ile ilgili aşağıdakilerden hangisi söylenemez?**

- A) Anadolu'daki azınlıkların haklarını savunmuşlardır.  
B) Cephe gerisinde faaliyetlerde bulunmuşlardır.  
C) Millî bilincin uyandırılması için çalışmışlardır.  
D) İşgallere karşı örgütlenmişlerdir.

28. Aşağıda Şevket Süreyya Aydemir'in "Tek Adam" adlı eserinden bir alıntı yapılmıştır:

"Mustafa Kemal, Erzurum Kongresi'ne katılmak üzere Sivas üzerinden Erzurum'a ulaştı. Mustafa Kemal'e padişahın saray başkatipliğinden memuriyetine son verildiği için İstanbul'a dönmesi bildirildi. Mustafa Kemal ise aynı gün görevlerinden ve askerlik görevinden istifa ettiğini bildirdi. Diğer bir deyişle "Sineyimillete döndü." Mustafa Kemal artık bir sivildir. Bu durumda Mustafa Kemal'in en büyük destekçisi Kâzım (Karabekir) Paşa olur. 'Emrinizdeyim paşam. Ben, subaylarım, erlerim, kolordum hepimiz emrinizdeyiz.' diyerek Mustafa Kemal'e bağlılığını bildirir. O an hem Mustafa Kemal'in hem de Millî Mücadele'nin tarihinde kader tayin edici bir andır."

**Bu metne göre aşağıdaki yargılardan hangisine ulaşılabilir?**

- A) Kazım Karabekir, askeri görev ve yetkilerini Mustafa Kemal'e devretmiştir.  
B) Yaşanan gelişmeler nedeniyle Erzurum Kongresi toplanamamıştır.  
C) Mustafa Kemal'in liderlik özelliği ön plana çıkmıştır.  
D) Millî Mücadele süreci Erzurum'da başlamıştır.



32. 1921 Teşkilat-ı Esasiye Kanunu, Sivas'ta temelleri atılmış olan "Kuvayimilliyeyi etkin ve millî iradeyi hâkim kılmak" ilkesinin anayasal metin haline dönüştürülmesidir. Bunu sağlayan iradenin sahibi TBMM'dir.

**Bu bilgide Teşkilat-ı Esasiye Kanunu ile ilgili aşağıdakilerden hangisine değinilmemiştir?**

- A) Millî egemenlik ilkesini güvence altına aldığına
- B) Halkın temsilcileri tarafından yapıldığına
- C) Olağanüstü şartlar altında hazırlandığına
- D) Millî Mücadele'nin hazırlık döneminden izler taşıdığına

33. Mehmet Akif Ersoy, İstiklâl Marşı'nın yazıldığı o günleri şöyle anlatmaktadır:

"– İstiklâl Marşı... O günler, ne samimi ne heyecanlı günlerdi. O şiir, milletin o günkü heyecanının ifadesidir. Binbir facia karşısında bunalan ruhların, ızdıraplar içinde kurtuluş dakikalarını beklediği bir zamanda yazılan o marş, o günlerin bir hatırasıdır. O şiir, bir daha yazılamaz. Onu kimse yazamaz. Onu ben de yazamam. Onu yazmak için o günleri görmek, o günleri yaşamak lazım. O şiir artık benim değildir. O, milletin malıdır. Benim millete karşı en kıymetli hediyem budur. – Allah, bir daha bu millete İstiklâl Marşı yazdırmasın."

**Buna göre İstiklâl Marşı'nın yazıldığı dönemle ilgili;**

- I. Ülkenin işgal altında olduğu,
- II. Millî Mücadele'nin sona erdiği,
- III. Türk halkının var olma mücadelesi verdiği,
- IV. Ulusal bağımsızlığın gerçekleştirildiği

**çıkarımlarından hangileri yapılabilir?**

- A) I ve II
- B) I ve III
- C) II ve IV
- D) III ve IV

# 8. SINIF

## T.C. İnkılap Tarihi ve Atatürkçülük



### 4. Ünite

### *Atatürkçülük ve Çağdaşlaşan Türkiye*

1. Halkçılık; bütün vatandaşların yasalar önünde eşit olmalarını, devlet imkânlarından eşit olarak yararlanmalarını esas alan ve her türlü ayrımcılığı reddeden Atatürk ilkesidir.

**Buna göre aşağıdaki uygulamalardan hangisi Atatürk'ün halkçılık ilkesine göre hareket edildiğinin göstergesidir?**

- A) Millî kültürün korunması ve geliştirilmesi
- B) Büyük yatırımların devlet tarafından gerçekleştirilmesi
- C) Dünyadaki bilimsel ve teknolojik gelişmelerin takip edilmesi
- D) Sosyal ve ekonomik alanda kadınlara erkeklerle aynı hakların sağlanması

2. Tevhid-i Tedrisat Kanunu'nun kabul edilmesinden sonra yabancı okullar Türkiye için bir sorun hâline gelmiştir. 1925 yılında bu okullarda;

- Tarih, coğrafya ve yurttaşlık bilgisi derslerinin Türk öğretmenler tarafından okutulması,
- Türk müfettişlerce denetlenmesi,
- Derslerde Türklük aleyhinde ifadelerin yer almaması

kararları alınmıştır.

**Buna göre Türkiye'nin, yabancı okullar konusunda sergilediği tutumla aşağıdakilerden hangisini amaçladığı söylenebilir?**

- A) Eğitim kalitesini artırmayı
- B) Kapatılmalarını sağlamayı
- C) Millî kültüre zarar verilmesini önlemeyi
- D) Laikliğe uygun eğitim yapılmasını sağlamayı

3. Atatürk'ün Osmanlı'nın son yenilmez pehlivanı Kurtdereli Mehmet Efendi'ye yazdığı mektuptan:

Seni cihanda büyük ün almış bir Türk güreşçisi olarak tanıdım. Parlak başarılarının sırrını şu sözlerle açıkladığını da öğrendim: "Güreşirken bütün milletimi arkamda hisseder ve milletimin şerefini korumak için herşeyi yapardım. Ve sanki bütün milletimin kuvvetinin yanımda olduğunu hissederdim." Bu dediğini en az yaptıkların kadar beğendim. Onun için senin bu değerli sözünün Türk sporcularına bir meslek ilkesi olmasını diliyorum.

**Bu mektuba göre Atatürk Türk sporcularına aşağıdakilerden hangisini tavsiye etmektedir?**

- A) Sporun yalnızca yeteneğe bağlı kalması gerektiğini
- B) Sporunun milli heyecan içinde yetişmesi gerektiğini
- C) Sporun sadece başarıyı esas alması gerektiğini
- D) Ata sporlarımızdan güreşe daha fazla önem verilmesi gerektiğini

4. Cumhuriyetçilik ilkesi; yönetim şekli olarak halk egemenliğini esas alan, yöneticilerin halk tarafından belli bir süre için seçilmesini sağlayan, cumhuriyet rejimini ön plana çıkaran ve bunu bir hayat felsefesi hâline getirmeyi amaçlayan Atatürk ilkelerinden birisidir.

**Buna göre cumhuriyetçilik ilkesi için,**

- I. Ülke yönetiminde tek kişinin egemenliğini reddeder.
- II. Halkın, yönetimde söz sahibi olmasını savunur.
- III. Seçimlerin belli aralıklarla yapılmasını öngörür.

**yargılarından hangilerine ulaşılabilir?**

- A) Yalnız I                      B) I ve II                      C) II ve III                      D) I, II ve III

5. İstanbul Hükûmeti adına Tevfik Paşa, 17 Ekim 1922'de bana gönderdiği telgrafta kazanılan zaferin bundan böyle İstanbul ile Ankara arasında anlaşmazlık ve ikiliği ortadan kaldırdığını ve millî birliğimizi sağladığını yazıyordu. Yani Tevfik Paşa şöyle demek istiyordu: "Memlekette düşman kalmadı. O hâlde padişah yerindedir, hükûmet onun yanındadır. Millete düşen de bu makamların vereceği emirlere uymaktır. Böyle olunca da elbette birliğe engel bir şey kalmamış olur."

**Tevfik Paşa, Mustafa Kemal'e çektiği bu telgrafta aşağıdakilerden hangisini yok saymıştır?**

- A) Ülke bütünlüğü                      B) Millî egemenlik                      C) Millî bağımsızlık                      D) Millî kültür

6. Milliyetçilik ilkesi;

- Toplum ve devlet düzeni içerisinde inanç ve mezheplere saygılıdır.
- Sınıf ve zümre egemenliğini reddeder.
- Yer altı ve yer üstü kaynaklarının işletilmesinde ulusallaşmayı amaçlar.

**Buna göre Atatürk'ün milliyetçilik ilkesinin;**

- I. Laiklik,
- II. Devletçilik,
- III. Halkçılık

**ilkelerinden hangileriyle ilişkili olduğu söylenebilir?**

- A) Yalnız I                      B) I ve III                      C) II ve III                      D) I, II ve III



7. Cumhuriyetçilik, devlet yönetiminde millî egemenliği ve millî iradeyi esas alan Atatürk ilkesidir. Bu ilkenin yönetim biçimi ve siyasi rejim olarak ifadesi cumhuriyettir.

**Buna göre Atatürk'ün hangi sözü cumhuriyetçilik ilkesi bağlamında değerlendirilemez?**

- A) Milletın saltanat ve hâkimiyet makamı yalnız ve ancak Türkiye Büyük Millet Meclisidir.  
B) Ben milletimin en büyük ve ecdadımın en kıymetli mirası olan istiklal aşkı ile dolu bir insanım.  
C) Artık hükûmet ile millet arasında geçmişteki ayrılık kalmamıştır. Hükûmet millet; millet hükûmettir.  
D) Efendiler; bu isim gereği bütün dünya bilmelidir ki artık Türkiye halkı hâkimiyetini hiçbir kişi ve makama veremez.

8. Atatürk'ün inkılap anlayışı; çağdaş uygarlığa ulaşma çabasıyla yapılan yeniliklere sahip çıkılmasını, bunların korunmasını ve yeni ihtiyaçlar doğrultusunda geliştirilmesini öngörür. Atatürk'ün anlayışına göre inkılap, bir noktaya varıp orada durmaz, sürekli dir. Yaşam şartlarına ve çağın ihtiyaçlarına uygun biçimde gelişmeye açıktır.

**Buna göre Atatürk'ün,**

- I. "Vatan artık bayındır hâle getirilmek istiyor, zenginlik ve refah istiyor. İlim ve bilgi, yüksek medeniyet, hür fikir ve hür zihniyet istiyor! Bağımsızlık ve öz varlık, vatanın bu isteklerini tam olarak ve hızla yerine getirmek için esaslı ve ciddi bir şekilde çalışma emreder."  
II. "Din ve mezhep, herkesin vicdanına kalmış bir iş tir. Hiç kimse hiç bir kimseyi, ne bir din ne de bir mezhebi kabul etmeye zorlayabilir."  
III. "Bizim milletimiz birbirinden çok farklı menfaatleri takip eden ve bu itibarla birbiriyle mücadele hâlinde bulunagelen çeşitli sınıflara sahip değildir."

**sözlerinden hangileri inkılapçılık ilkesiyle ilişkilidir?**

- A) Yalnız I                      B) I ve II                      C) II ve III                      D) I, II ve III

9. Atatürk'e göre, Türk Devleti'nin dayandığı esaslar, tam bağımsızlık ve kayıtsız şartsız millî egemenliktir. Atatürk tam bağımsızlığı, "siyasi, mali, ekonomik, adli, askeri, kültürel kısaca her hususta bağımsızlık ve serbestlik" olarak tanımlamaktadır.

**Buna göre aşağıdakilerden hangisi millî bağımsızlık doğrultusunda yapılanlardan biri değildir?**

- A) Kapitülasyonların kaldırılması                      B) Büyük Millet Meclisinin açılması  
C) Manda ve himayenin reddedilmesi                      D) Çok partili hayata geçiş denemeleri

10. Misak-ı İktisadi esaslarından bazıları şunlardır:

- Türk milleti tahribat yapmaz, imar eder. Bütün mesai, ekonomik yönden ülkeyi yükseltmek gayesine yönelmiştir.
- Türk vatandaşları kullandığı eşyayı mümkün mertebe kendi üretir. Çok çalışır, vakitte, servette ve ithalatta israftan kaçınır.
- Türkler hangi meslekte olursa olsun birbirlerini candan severler. Meslekler, zümre itibarı ile el ele vererek birlikler oluşturur.

**Buna göre aşağıdakilerden hangisi Misak-ı İktisadi esaslarının amaçlarından biri değildir?**

- A) Tasarruf bilincini geliştirmek
- B) Kalkınmayı ithalat ile arttırmak
- C) Millî üretime katkıda bulunmak
- D) Meslek grupları arasında dayanışmayı sağlamak

11. Halkçılık, bireyler arasında hiçbir ayırım gözetmemek, kişilerin yasalar önünde eşitliğini benimsemek ve egemenliğin halka ait olduğunu kabul etmektir.

**Buna göre halkçılık ilkesinin toplumda,**

- I. Yönetime katılma
- II. Hiçbir kişi ya da gruba ayrıcalık tanımama
- III. Devlet imkânlarından eşit olarak faydalanabilme

**hedeflerinden hangilerini gerçekleştirmeye yönelik olduğu söylenebilir?**

- A) I ve II
- B) I ve III
- C) II ve III
- D) I, II ve III

12. Birinci Beş Yıllık Sanayi Planı, büyük sermaye ve ileri teknoloji gerektiren projelere, ham maddeleri yurt içinde üretilen ve üretilebilecek tesislere ve bu tesislerin kuruluş kapasitelerinin iç tüketimi karşılayabilecek düzeyde tutulmasına öncelik vermiştir. Bu dönemde 20 fabrikanın kurulması öngörülmüş ve dokuma, cam, kimya ve kâğıt sanayinde çok sayıda fabrika açılmıştır. Bu fabrikaların işletme ve yönetimleri Sümerbank'a verilmiş, madencilik ve enerji işlerini yönetmekle Etibank ve Maden Tetkik Arama Enstitüsü görevlendirilmiştir.

**Buna göre aşağıdakilerden hangisinin Birinci Beş Yıllık Sanayi Planı'nın uygulanma nedenlerinden biri olduğu söylenebilir?**

- A) Ham madde ihtiyacını ithal ürünlerle karşılamak
- B) Ekonomide üretim açısından dışa bağımlılığı azaltmak
- C) Yatırımların özel sektör aracılığıyla gerçekleştirilmesini sağlamak
- D) Yer altı kaynaklarının yabancı sermaye eliyle çıkarılmasını teşvik etmek

13. "...Bizim toplumumuz için ilim ve fen lüzumlu ise bunları aynı derecede hem erkek ve hem de kadınlarımızın elde etmeleri gerekir... Bundan dolayı kadınlarımız ilim ve fen sahibi olacaklar ve erkeklerin geçtikleri bütün öğretim basamaklarından geçeceklerdir... Kadınlar toplum yaşamında erkeklerle birlikte yürüyerek birbirinin yardımcısı ve destekçisi olacaklardır."

**Atatürk'ün 31 Ocak 1923 tarihli İzmir konuşmasıyla,**

- I. Kadınların eğitime gereken önemin verilmesi
- II. Kadın-erkek eşitliğine yönelik adımların atılması
- III. Kadınların sosyal hayata aktif katılımının sağlanması

**durumlarından hangilerini amaçladığı söylenebilir?**

- A) I ve II                      B) I ve III                      C) II ve III                      D) I, II ve III

14. Atatürk, İzmir İktisat Kongresi'nin açılış konuşmasında; "...Baylar, tarihimizi dolduran bunca başarının, zaferlerin veya yenilgilerin, sıkıntı veren büyük zararın ve yıkımların tamamı oluştukları devirdeki ekonomimiz ile doğrudan ilgilidir. Yeni Türkiye'mizi hak ettiği yüksek düzeye ulaştırmak için zaman kaybetmeden ekonomimize öncelikle önem vermek zorundayız. Çünkü günümüz bütünüyle ekonomi çağıdır." ifadelerini kullanmıştır.

**Aşağıdakilerden hangisi Atatürk'ün bu sözü doğrultusunda alınan kararlardan biri olamaz?**

- A) Yabancı yatırımların engellenmesi
- B) Aşar vergisinin kaldırılması
- C) Özel girişimcilere kredi imkanı verilmesi
- D) Vergi sisteminin çağın gereklerine uygun düzenlenmesi

15. Aşağıda Atatürk'ün farklı zamanlarda kullandığı imzalar gösterilmiştir.



1921



1928



1934

**Bu imzalardan hareketle,**

- I. Yeni Türk Harfleri'nin kabulü,
- II. Soyadı Kanunu'nun kabulü,
- III. Ayrıcalık ifade eden lakapların kaldırılması

**inkılaplarından hangilerinin gerçekleştirildiği söylenebilir?**

- A) I ve II                      B) I ve III                      C) II ve III                      D) I, II ve III

16. Bizim gözümüzde çiftçi, çoban, amele, tüccar, sanatkâr, doktor, kısacası herhangi bir sosyal kurumda çalışan bir vatandaşın hak, menfaat ve hürriyeti eşittir.

**Atatürk'ün bu sözünden hareketle yeni Türk devletinin ekonomik kalkınma politikası ile ilgili aşağıdakilerden hangisi söylenebilir?**

- A) Yabancı yatırımları özendirdiği
- B) Yerli sermayeyi ön plana çıkardığı
- C) Toplumun tüm kesimlerini kucakladığı
- D) Toprağa dayalı bir sistemi benimsediği

17. Tevhid-i Tedrisat Kanunu gereğince yabancı okullarda uyulması gereken kuralları içeren 26 Eylül 1925 tarihli genelgede şu hükümler yer almıştır:

- Yabancı okullarda mabetler dışındaki mekânlarda bulunan dinî semboller kaldırılacaktır.
- Türkçe, Türk tarih ve coğrafyası ile yurt bilgisi derslerinin Türkçe olarak Türk öğretmenler tarafından okutulması zorunluluğu getirilecektir.

**Buna göre yabancı okullarla ilgili,**

- I. Laik eğitim anlayışı doğrultusunda hareket edilmiştir.
- II. Türk millî kültürünün korunması amaçlanmıştır.
- III. Devlet denetimi artırılmıştır.

**yargılarından hangilerine ulaşılabilir?**

- A) I ve II                      B) I ve III                      C) II ve III                      D) I, II ve III

18. Osmanlı Devleti'nde gerek devlet yönetiminde gerek sosyal hayatın düzenlenmesinde şeri ve örfi hukuk kuralları geçerli olmuştu. Cumhuriyet Dönemi'ne gelindiğinde ise devletin millî egemenlik temelinde ve millî bir yönetim anlayışı ile yapılandırılması yeni bir hukuk sistemini gerektirmişti. Batılılaşmak için şeri ve örfi hukuk yerine akli ve bilimsel düşüncüyü esas alan çağdaş hukuk kurallarının benimsenmesi hedeflenmişti. Gelişmiş dünya milletleri arasında yer almak için Cumhuriyet Dönemi'nde hukuk sisteminde önemli yenilikler yapılmıştı.

**Bu bilgilere göre hukuk sisteminde yapılan yeniliklerde;**

- I. laiklik,
- II. inkılapçılık,
- III. devletçilik,
- IV. cumhuriyetçilik

**ilkelerinden hangilerinin etkili olduğu söylenebilir?**

- A) I ve III                      B) II ve IV                      C) I, II ve IV                      D) II, III ve IV

19. İzmir İktisat Kongresi'nde, İktisat Bakanı Mahmut Esad Bozkurt "Yeni Türkiye'nin iktisadı, bugün dünyada uygulanan ekonomik sistem ve politikalarından hiçbirinin benzeri olamaz. Ülkemiz, iktisadi anlam ve ihtiyacına ve iktisat tarihimizin ruhuna uygun, başlı başına bir iktisat politikası izlemek zorunluluğundadır. Yeni Türkiye karma bir ekonomik sistemi takip etmelidir. İktisadi girişimleri kısmen devlet ve kısmen kişiler, üzerlerine almalıdırlar." demiştir.

**Buna göre,**

- I. Türkiye'nin koşullarına uygun bir ekonomik politika takip edilecektir.
- II. Devlet iktisadi alanda görev ve sorumluluk yüklenecektir.
- III. Tüm ekonomik girişimler devlet eliyle gerçekleştirilecektir.

**yargılarından hangilerine ulaşılabilir?**

- A) Yalnız I                      B) I ve II                      C) II ve III                      D) I, II ve III

20.

	Yasama	Yürütme	Yargı
1921 Anayasası	Büyük Millet Meclisi	Büyük Millet Meclisi Hükümeti	Büyük Millet Meclisi
1924 Anayasası	Türkiye Büyük Millet Meclisi	Cumhurbaşkanı, Başbakan ve Bakanlar Kurulu	Bağımsız Mahkemeler

**Tabloya göre 1921 ve 1924 Anayasaları,**

- I. Hükümet sistemi
- II. Kanunları yapan kurum
- III. Yönetim gücünü oluşturan birimler

**özellikleri yönünden hangilerinde farklılık göstermektedir?**

- A) Yalnız I                      B) I ve III                      C) II ve III                      D) I, II ve III

# 8. SINIF

## T.C. İnkılap Tarihi ve Atatürkçülük



### 5. Ünite

### Demokratikleşme Çabaları

1. Serbest Cumhuriyet Fırkası programında yer alan hükümlerden bazıları şunlardır:
- Fırka, Türk parasının kıymetini bir an önce tespit edecek ve dış sermayenin memlekete girmesini sağlayacaktır.
  - Köylü ve çiftçiye kolay yollardan kredi verilecektir.
  - Yerli mahsuller korunacak ve bunlara dış pazar bulunacaktır.

**Bu hükümlerden,**

- I. Uluslararası ticaretin Türk lirası ile yapılmasının amaçlandığı
- II. Tarımı geliştirmeye yönelik tedbirlerin alındığı
- III. Dış ticaretin geliştirilmesinin hedeflendiği

**çıkartımlarından hangileri yapılabilir?**

- A) Yalnız I                                      B) Yalnız II                                      C) I ve III                                      D) II ve III

2. Atatürk Terakkiperver Cumhuriyet Fırkasının kurulmasını hoşgörü ile karşılıyor, Batılı ülkelerin parlamentolarını örnek gösteriyor ve çok partili rejimin gerekliliğini anlatıyordu. Bu konuda "Biz meclisimizde tek parti ile baskıcı bir yönetim izlenimi vermekteyiz. Bize bakan Batılılar, bu memleketteki idare tarzı için tek parti egemenliğidir derler. Bizim meclisimizde de iki parti olmalı, hükümeti denetleme sistemi kurulmalı ve medeni ülkelerin parlamentolarına benzemeliyiz." demekteydi.

**Buna göre Atatürk'ün çok partili sisteme geçişi desteklemesi,**

- I. İnkıpların yapılmasını kolaylaştırma
- II. Meclisin denetim gücüne etkinlik kazandırma
- III. Uluslararası alanda Türk demokrasisinin saygınlığını artırma,

**amaçlarından hangileri ile ilgilidir?**

- A) Yalnız I                                      B) I ve II                                      C) II ve III                                      D) I, II ve III

3. Atatürk, Ali Fethi Bey'e "Meclis'te bir muhalefet yok ki ben memleketin durumunu anlayayım. Sen bu görevi yapacaksın." demiştir.

**Atatürk, bu sözleriyle aşağıdakilerden hangisinin gerekliliğine vurgu yapmıştır?**

- A) Millî egemenliğin                                      B) Yargı bağımsızlığının  
C) Sivil toplum kuruluşlarının                                      D) Çoğulcu yönetim anlayışının

4. Atatürk, Nutuk'ta Halk Fırkası programı ile ilgili şunları söylemiştir:

"Hâkimiyet milletindir. TBMM dışında hiçbir makam, ulusun geleceğinde söz sahibi olamaz. Hukukta, idarede, eğitimde ve iktisatta millî hâkimiyet esaslarına göre hareket edilecektir. Saltanatın kaldırılması kararı değiştirilemez. Kanunlar yeniden düzenlenecek, aşar usulü değiştirilecek, millî bankaların sermayesi artırılabilecek, demiryolları inşa edilecek, öğretimin birleştirilmesi derhâl gerçekleştirilecek, memleketin imarına çalışılacaktır."

**Bu bilgiye göre aşağıdaki yargılardan hangisine ulaşamaz?**

- A) Ülkenin bayındır hâle getirilmesi amaçlanmıştır.  
B) Gücünü halktan alan bir yönetim şekli benimsenmiştir.  
C) Hükümet sisteminde değişikliğe gidilebileceği vurgulanmıştır.  
D) Farklı alanlarda yeni uygulamalara geçileceği ifade edilmiştir.

# 8. SINIF

## T.C. İnkılap Tarihi ve Atatürkçülük



### 6. Ünite

### *Atatürk Dönemi Türk Dış Politikası*



1.



Taraf devletler Balkan Antantı ile II. Dünya Savaşı öncesi buldukları bölgede barışı ve güvenliği sağlamayı amaçlamışlardır.

**Yukarıdaki harita ve bilgi değerlendirildiğinde Balkan Antantı ile ilgili,**

- I. Antanta katılmayan Balkan ülkeleri vardır.
- II. Karadeniz'in güvenliği sağlanmıştır.
- III. Türkiye barışçıl bir politika izlemektedir.

**yargılarından hangilerine ulaşamaz?**

A) Yalnız II

B) I ve II

C) II ve III

D) I, II ve III

# İNKILAP TARİHİ VE ATATÜRKÇÜLÜK CEVAP ANAHTARI

1. Ünite	1. D	2. B	3. D	4. A	5. A	6. C	7. B	8. B	9. D	10. C
	11. C	12. D	13. B	14. C	15. A	16. B	17. B	18. D	19. A	20. C
	21. D	22. A	23. A	24. D	25. C					

2. Ünite	1. B	2. B	3. B	4. C	5. C	6. A	7. B	8. C	9. C	10. A
	11. B	12. B	13. B	14. B	15. C	16. D	17. D	18. A	19. B	20. D
	21. A	22. C	23. D	24. B	25. A	26. A	27. D	28. C	29. D	30. D
	31. B	32. A	33. C	34. B	35. D	36. B	37. A			

3. Ünite	1. D	2. C	3. A	4. D	5. B	6. D	7. D	8. B	9. C	10. B
	11. D	12. C	13. B	14. D	15. C	16. A	17. D	18. D	19. D	20. B
	21. D	22. C	23. D	24. B	25. D	26. C	27. A	28. C	29. A	30. C
	31. D	32. C	33. B							

4. Ünite	1. D	2. C	3. B	4. D	5. B	6. B	7. B	8. A	9. D	10. B
	11. D	12. B	13. D	14. A	15. A	16. C	17. D	18. C	19. B	20. B

5. Ünite	1. D	2. C	3. D	4. C						
----------	------	------	------	------	--	--	--	--	--	--

6. Ünite	1. A									
----------	------	--	--	--	--	--	--	--	--	--



# 8. SINIF

## Din Kültürü ve Ahlak Bilgisi



### 1. Ünite

### *Kader İnancı*

1. Dere yatağına ev yapan Mustafa Bey yaşanan sel felaketinden sonra “Ne yapayım? Kaderim böyleymiş.” diye yakınır.

**Buna göre onun kader anlayışıyla ilgili,**

- I. Kaderi pasif bir duruş olarak görmüştür.
- II. Kaderde, insanın sorumluluğunun olmadığına inanmıştır.
- III. Kaderi, önünde duramayacağı bir güce boyun eğme olarak anlamıştır.

**sonuçlarından hangileri çıkarılabilir?**

- A) I ve II                      B) I ve III                      C) II ve III                      D) I, II ve III

2. “İnsanoğlu kıyamet gününde şu beş şeyden hesaba çekilmedikçe Rabb’inin huzurundan bir yere kıyılayamaz: Ömrünü nerede ve nasıl tükettiğinden, gençliğini nerede geçirdiğinden, malını nereden kazanıp nereye harcadığından, bildiği ile amel edip etmediğinden.”

**Bu hadisten, insanla ilgili aşağıdakilerden hangisine ulaşamaz?**

- A) Ömrünün sınırlı olduğuna
- B) Yaptıklarından hesaba çekileceğine
- C) İrade ve sorumluluk sahibi olduğuna
- D) Yaratılmışların en şerefli sayıldığına

3. Evrendeki hiçbir şey başıboş, anlamsız ve amaçsız değildir. Hiçbir varlık kendisi için belirlenmiş kanunların dışına çıkmaz. Her varlık, birbiriyle uyum içinde ve büyük bir bütünün parçası olarak hareket eder. Örneğin bazı canlılar oksijen tüketip karbondioksit açığa çıkarır, bitkiler ise besin üretmek için karbondioksit tüketip oksijen üretir.

**Bu parçadan aşağıdakilerin hangisine ulaşamaz?**

- A) Canlıların hiçbir varlığa ihtiyaç duymadan yaşadığına
- B) Bütün varlıkların evrenin işleyişinde görevi olduğuna
- C) Her varlığın, yaratılış gayesine uygun hareket ettiğine
- D) Evrendeki her şeyin belli bir düzene göre yaratıldığına



6. “(Hz. Yakup), ‘Oğullarım! (Şehre) hepiniz bir kapıdan girmeyin, ayrı ayrı kapılardan girin. Ama Allah’tan gelecek hiçbir şeyi sizden uzaklaştıramam. Hüküm Allah’tan başkasının değildir. Ben yalnız ona güvenip dayandım. Güvенеcek olanlar yalnız ona güvenip dayansınlar.’ dedi.” (Yûsuf suresi, 67. ayet)

**Hz. Yakup’un bu öğüdüne uygun olan ilke aşağıdakilerden hangisidir?**

- A) Can tehlikesi olan yerlere gidilmemelidir.  
B) Tedbir aldıktan sonra Allah’a güvenilmelidir.  
C) Her şehre birden çok giriş kapısı yapılmalıdır.  
D) Tehlikeden korunmak için tedbir almak yeterlidir.
7. • “Biz gökleri, yeri ve bunlar arasında bulunanları oyun ve eğlence olsun diye yaratmadık.” (Enbiyâ suresi, 16. ayet)  
• “Göklerin ve yerin yaratılışında, gece ile gündüzün birbiri ardınca gelip gidişinde selim akıl sahipleri için elbette ibretler vardır.” (Âl-i İmrân suresi, 190. ayet)

**Bu ayetlerden aşağıdaki yargıların hangisine ulaşamaz?**

- A) Evrenin yaratıcısı Allah’tır.  
B) Yaratılan her şeyin bir sonu vardır.  
C) Kur’an, aklın kullanılmasını teşvik eder.  
D) Her varlık bir amaç doğrultusunda yaratılmıştır.
8. Yapılan araştırmalar, meyve ve sebzelerin besin değerlerinin geçmişten günümüze önemli bir düşüş gösterdiğini ortaya koymaktadır. Kimyasal atıklar sebebiyle toprağın verimsizleşmesi, tarım ilaçlarının bilinçsiz kullanımı, çabuk olgunlaşmasını sağlamak amacıyla sebze ve meyvelerde çeşitli hormonların kullanılması bu düşüşün nedenleri arasında sayılabilir. Bu durum, insanlığın bugünü ve yarını için büyük risk oluşturmaktadır.

**Aşağıdaki ayetlerden hangisinin mesajı bu metinde anlatılanlarla örtüşmektedir?**

- A) “Allah’ın size helal ve temiz olarak verdiği rızıklardan yiyin ve kendisine inanmakta olduğunuz Allah’a karşı gelmekten sakının.” (Mâide suresi, 88. ayet)  
B) “Biz gökleri, yeri ve ikisi arasındakileri ancak hak ile ve belirli bir süre için yarattık...” (Ahkâf suresi 3. ayet)  
C) “İnsanların kendi işledikleri (kötülükler) sebebiyle karada ve denizde düzen bozuldu. Dönmeleri için Allah, yaptıklarının bazı (kötü) sonuçlarını (dünyada) onlara tattıracaktır.” (Rûm suresi, 41. ayet)  
D) “Size tohumlar, bitkiler, sarmaş dolaş olmuş bağlar, bahçeler yetiştirmeniz için yağmur yüklü bulutlardan bol yağmur indirdik.” (Nebe’ suresi, 14-16. ayetler)

9. İnsan; rızkını kazanmak için, Allah'ın koyduğu yasalar çerçevesinde çalışıp çabalar. Karşısına çıkan imkânları değerlendirir, tercihlerde bulunur ve kendine uygun işi seçer. Allah da yaptığı işin gereklerini yerine getiren kişiye rızkını verir.

**Bu metinde anlatılanlar aşağıdakilerden hangisiyle ilişkilendirilemez?**

- A) Kader                                      B) Ecel                                      C) İrade                                      D) Emek

10. • “Kim iyi bir iş yaparsa kendi lehinedir. Kim de kötülük yaparsa kendi aleyhinedir...” (Kehf suresi, 29. ayet)  
• “Andolsun, size içinde sizin için öğüt bulunan bir kitap indirdik. Hâlâ aklınızı kullanmayacak mısınız?” (Enbiyâ suresi, 10. ayet)

**Bu ayetlerden insan ile ilgili,**

- I. Tercihlerinde özgürdür.  
II. Eylemlerinden sorumludur.  
III. Düşünebilme yeteneğine sahiptir.

**yargılarından hangilerine ulaşılabilir?**

- A) Yalnız I                                      B) I ve II                                      C) II ve III                                      D) I, II ve III

11. “Allah, kendisinden başka hiçbir ilah olmayandır; diridir, her şeyin varlığı ona bağlı ve dayalıdır. Ne uykusu gelir ne de uyur. Göklere ve yerde ne varsa hepsi onundur. Onun izni olmadıkça katında hiçbir kimse şefaath edemez. Onların önlerinde ve arkalarında olanları o bilir. Onun bildirdiklerinin dışında insanlar onun ilminden hiçbir şeyi tam olarak bilemezler...” (Bakara suresi, 255. ayet)

**Bu ayetteki altı çizili bölümler Allah'ın isimleriyle eşleştirildiğinde aşağıdakilerden hangisi dışarıda kalır?**

- A) Rezzak                                      B) Hayy                                      C) Alîm                                      D) Kayyum

12. Ahmet Bey, tarımsal üretimi etkileyen faktörleri dikkate alarak; tarımın bilinçli yapılması konusunda çevresindeki çiftçilere örnek oldu. O, üretime başlamadan önce toprak analizi yaptırdı. Çıkan sonuçlara göre, tarlalarında hangi sebzeleri yetiştirmenin daha uygun olacağı konusunda uzmanlara danıştı. Aldığı tavsiyelerden hareketle tarlalarına uygun sebzeleri ekti ve gerekli bakımları yaptı. Bol ve kaliteli ürün alabilmek için Allah'a dua etti. Hasat mevsimi geldiğinde hem verim hem de kalite açısından iyi bir sonuç elde etti.

**Metinde anlatılanlar aşağıdaki kavramlardan hangisi ile ilişkilendirilemez?**

- A) Rızık                                      B) Emek                                      C) Şükür                                      D) Tevekkül



13. “O, karanlığı yarıp sabahı çıkarandır. Geceyi dinlenme zamanı, Güneş’i ve Ay’ı da ince birer hesap ölçüsü kıldı. Bütün bunlar mutlak güç sahibinin, hakkıyla bilen takdiridir.” (En’âm suresi, 96. ayet)

**Bu ayetteki altı çizili cümleyi karşılayan kavram aşağıdakilerden hangisidir?**

A) Kaza

B) Kader

C) Tevekkül

D) Cüzî irade

14.



**11 MİLYON AĞAÇ**  
**BUGÜN FİDAN**  
**YARIN NEFES**

Ülkemizde ağaç sevgisini geliştirmek, toplumun çevreye olan duyarlılığını artırmak, biyoçeşitliliği korumak ve yok olan ormanların geri kazanılmasını sağlamak amacıyla Tarım ve Orman Bakanlığı tarafından bir kampanya başlatıldı. “11 Milyon Ağaç, Bugün Fidan Yarın Nefes” sloganıyla başlatılan bu kampanya kapsamında tüm Türkiye’de eş zamanlı olarak çok sayıda fidan dikimi gerçekleştirildi. Kampanyaya; öğrencilerden askerî birliklere, sivil toplum kuruluşlarından kamu kurum ve kuruluşlarına, esnafından işçisine toplumun bütün kesimleri yoğun ilgi gösterdi.

**Bu metinde sözü edilen etkinlik aşağıdaki ayet veya hadislerden hangisi ile ilişkilendirilemez?**

- A) “Göğü Allah yükseltti ve mizanı (dengeyi) o koydu. Sakın dengeyi bozmayın.” (Rahmân suresi, 7 ve 8. ayetler)
- B) “Allah size emanetleri mutlaka ehline vermenizi ve insanlar arasında hükmettiğiniz zaman adaletle hükmetmenizi emrediyor.” (Nisâ suresi, 58. ayet)
- C) “Bir kimse ağaç diker de o ağacın meyvesinden bir insan veya Allah’ın mahlûkatından herhangi bir varlık yerse bu, o ağacı diken kimse için sadaka olur.” (Hadis-i şerif)
- D) “Kıyametin kopacağına bilseniz bile elinizdeki fidanı dikiniz.” (Hadis-i şerif)

15. • “Ölçtüğünüz zaman tastamam ölçün ve doğru terazi ile tartın. Bu, hem daha iyidir hem de neticesi bakımından daha güzeldir.” (İsrâ suresi, 35. ayet)
- “Ey iman edenler! Karşılıklı rızaya dayanan ticaret hâli müstesna, mallarınızı bâtil (haksız ve haram yollar) ile aranızda yemeyin...” (Nisâ suresi, 29. ayet)

**Bu ayetler, evrendeki;**

- I. biyolojik,  
II. toplumsal,  
III. fiziksel

**yasalardan hangileriyle ilgilidir?**

- A) Yalnız I                      B) Yalnız II                      C) I ve III                      D) II ve III

16. Allah insana, iyiyi kötüden ayırt edebilmesi için akıl ve düşünme yeteneği vermiştir. Ayrıca kitaplar ve peygamberler göndererek doğru ile yanlış bildirmiş ancak onu seçimlerinde serbest bırakmıştır. Dolayısıyla insan herhangi bir işi yapıp yapmamaya kendi iradesiyle karar verir ve tercihleri sonucunda yaptığı davranışın sorumluluğu da kendisine aittir.

**Aşağıdaki ayetlerden hangisi bu metinde anlatılanlarla ilişkilendirilemez?**

- A) “Şüphesiz biz her şeyi bir ölçüye göre yarattık.” (Kamer suresi, 49. ayet)
- B) “Dinde zorlama yoktur. Artık doğrulukla eğrilik birbirinden ayrılmıştır...” (Bakara suresi, 256. ayet)
- C) “De ki: “Hak, Rabb’inizdendir. Artık dileyen iman etsin, dileyen inkâr etsin.” (Kehf suresi, 29. ayet)
- D) “Şüphesiz biz ona yolu gösterdik. İster şükredici olsun ister nankör.” (İnsan suresi, 3. ayet)

17. Tevekkül, terim olarak insanın bir konuda üzerine düşen her şeyi yapıp sonucu Allah’a bırakmasıdır. Tevekkül eden kişi ortaya çıkacak durum beklentilerini karşılamadığında bile yeni kapıların açılacağı konusunda umudunu yitirmez ve Allah ile bağını güçlü tutar.

**Bu metne göre aşağıdaki ayetlerin hangisinde “tevekkül”den söz edilmektedir?**

- A) “Başınıza her ne musibet gelirse kendi yaptıklarınız yüzündendir. O, yine de çoğunu affeder..” (Şûra suresi, 30. ayet)
- B) “Göklerde, yerde ne varsa hepsini Allah’ın sizin hizmetinize verdiğini ve açıkça yahut gizlice üzerinizdeki nimetlerini tamamladığını görmediniz mi?...” (Lokmân suresi 20. ayet)
- C) “Artık kim zerre ağırlığınca bir hayır işlerse onun mükâfatını görecektir. Kim de zerre ağırlığınca bir kötülük işlerse onun cezasını görecektir.” (Zilzâl suresi, 7 ve 8. ayetler)
- D) “...Kararını verdiğin zaman da artık Allah’a dayanıp güven. Çünkü Allah, kendisine dayanıp güvenenleri sever.” (Âl-i İmrân suresi, 159. ayet)

18. “Şüphesiz biz ona (doğru) yolu gösterdik. İster şükredici olsun ister nankör.” (İnsan suresi, 3. ayet)

**Bu ayette aşağıdaki kavramlardan hangisine vurgu yapılmıştır?**

- A) Emek                                      B) Tevekkül                                      C) Özgürlük                                      D) Ömür

19. Fiziksel yasalar; madde ve enerjinin oluşumu, değişimi, hareketi ve maddeler arası ilişkilerle ilgili yasalardır. Bunlara “doğa yasaları” da denir. Bu yasalar gözlenebilir olgu ve durumlar arasındaki sebep-sonuç ilişkilerini gösterir.

**Buna göre aşağıdakilerden hangisi fiziksel yasalar kapsamında değerlendirilir?**

- A) Dere yatağına yapılan evlerin sel sebebiyle zarar görmesi  
B) Adalet ve eşitliğin olmadığı toplumlarda kargaşa yaşanması  
C) Sağlığına dikkat eden toplumların yaşam süresinin uzun olması  
D) Savaş bölgelerindeki insanların daha güvenli yerlere göç etmesi

20. Aşağıda Allah’ın bazı sıfatları ve bu sıfatların anlamı verilmiştir:

- İlim: Allah’ın her şeyi bilmesi
- Kudret: Allah’ın her şeye gücünün yetmesi
- İrade: Allah’ın istediğini istediği gibi dilemesi ve seçmesi

**Buna göre;**

“O, karanlığı yarıp sabahı çıkarandır. Geceyi dinlenme zamanı, Güneş’i ve Ay’ı da ince birer hesap ölçüsü kıldı. Bütün bunlar mutlak güç sahibinin, hakkıyla bilen takdiridir.” (En’âm suresi, 96. ayet)

**ayeti Allah’ın;**

- I. İlim,  
II. İrade,  
III. Kudret

**sıfatlarından hangileriyle ilişkilendirilebilir?**

- A) Yalnız I                                      B) I ve II                                      C) II ve III                                      D) I, II ve III

21. Üfleme çalgılarımızdan biri olan ney, kargı kamışından yapılır. Ülkemizin sadece belli bölgelerinde yetişen bu kamışlardan ney olmaya uygun olanlar seçilerek kesilir ve kurumaya bırakılır. Kamışların düz olması önemlidir. Bundan dolayı eğriliği bulunan kamışlar doğru kamışlara bağlanarak işleme tabi tutulur ve sonunda onların da düzeldiği görülür. İnsanlar da böyledir. İyilerle, doğrularla vakit geçirdikçe eğrilikleri, hataları düzelir.

**Bu metindeki altı çizili bölüm evrendeki;**

- I. toplumsal,  
II. biyolojik,  
III. fiziksel

**yasalardan hangilerine örnek oluşturur?**

- A) Yalnız I                                      B) I ve II                                      C) II ve III                                      D) I, II ve III

22. "... Yapmakta olduğunuz şeylerden mutlaka sorguya çekileceksiniz." (Nahl suresi, 93. ayet)

"Şüphesiz biz ona doğru yolu gösterdik. İster şükredici olsun ister nankör." (İnsân suresi, 3. ayet)

"Bir şeyi dilediği zaman, onun emri o şeye ancak "Ol!" demektir. O da hemen oluverir." (Yâsin suresi, 82. ayet)

"... Şüphesiz Allah istediği hükmü verir." (Mâide suresi, 1. ayet)

**Verilen ayetler aşağıdaki kavramlardan hangisi ile ilişkilendirilemez?**

- A) Küllî irade                      B) Tevekkül                      C) Sorumluluk                      D) Cüzî irade

23. Toplumsal yasalar; toplumun huzur ve barışını sağlamak, fertlerin güven içinde ve mutlu bir şekilde yaşamalarına ortam hazırlamak için konmuş kurallar, kalıcı değer ve ilkelerdir.

**Buna göre aşağıdakilerden hangisi toplumsal yasa kapsamında değerlendirilemez?**

- A) Kul hakkına riayet etmek  
B) İhtiyaç sahiplerine yardım etmek  
C) Akraba ve komşularla iyi ilişkiler kurmak  
D) Evrenin işleyişi hakkında araştırma yapmak

24. İnsan, evrendeki biyolojik yasalara göre hayatını sürdürür. Onun sağlıklı olması, hastalanması, iyileşmesi ve ölümü de bu yasalar çerçevesinde gerçekleşir. İslam'da sağlığın korunması esas ilke olmasına rağmen insan bazen çeşitli sebeplerle sağlığını kaybedebilir. Bu durumda doktora başvurur, ilacını kullanır ve sonuçta şifayı Allah'tan bekler. Nitekim Hz. Peygamber, Ebu Huzâme isminde bir sahabenin "Biz, hastalıklardan korunmaya çalışıyoruz, dua ediyoruz ve tedavi oluyoruz. Bunlar kaderi değiştirir mi?" sorusuna, "Hastalıklardan korunmaya çalışmak, dua etmek ve hastalanınca tedavi olmak da kaderdir." diye cevap vermiştir. Bu durumda, bir kişinin sağlığı konusunda gerekli özeni göstermeyip bunu kadere yüklemesi İslam'a uygun bir tutum değildir.

**Bu metinde aşağıdaki kavramlardan hangisine değinilmemiştir?**

- A) Adalet                      B) İrade                      C) Tevekkül                      D) Sorumluluk

25. "İnsanoğlu kıyamet gününde şu beş şeyden hesaba çekilmedikçe Rabb'inin huzurundan bir yere kımıldayamaz: Ömrünü nerede ve nasıl tükettiğinden, gençliğini nerede geçirdiğinden, malını nereden kazanıp nereye harcadığından, bildiği ile amel edip etmediğinden."

**Bu hadisi dikkate alan bir kişide;**

- I. kazancının helal olmasına özen gösterme,  
II. hayatını faydalı şeyler yaparak değerlendirme,  
III. eylemlerinden sorumlu olduğu bilinciyle hareket etme

**tutum ve davranışlarından hangilerinin gelişmesi beklenir?**

- A) Yalnız I                      B) I ve II                      C) II ve III                      D) I, II ve III

26. Kaza; Allah'ın ezelde takdir ettiği şeyleri yeri ve zamanı gelince ilim, irade ve takdirine uygun olarak yaratmasıdır.

**Buna göre aşağıdaki cümlelerden hangisi "kaza" kapsamında değerlendirilir?**

- A) Baharın gelişiyi birlikte ağaçlar çiçek açtı.
- B) Sağlıklı yaşamak istiyorsan spor yapmalısın.
- C) Akıl, insanı diğer varlıklardan ayıran en önemli özelliktir.
- D) Erozyonu önlemek için ağaçlandırmaya önem verilmelidir.

27. Mehmet Âkif Ersoy,

- I. 20 Aralık 1873'te İstanbul'da doğdu.
- II. Vatanını ve milletini çok seven bir şairdir.
- III. Halkalı Baytar Mektebi'nden birincilikle mezun oldu.
- IV. Yazmış olduğu İstiklal Marşı'nı Türk milletine armağan etti.

**Mehmet Akif Ersoy'la ilgili numaralanmış cümlelerden hangisi cüzî irade kapsamında değerlendirilmez?**

- A) I
- B) II
- C) III
- D) IV

28.

Buzdolabının icat edilmediği dönemlerde dağların doruklarından buza dönüşen kar parçaları kesilir ve pazarlarda satılmış. Adamın biri bir gün dağlardan bulup getirdiği buzları satmaya çalışmış ancak pek müşteri çıkmamış. Buz parçaları öğleye doğru erimeye başlayınca endişelenen adam "Sermayesi eriyip giden bu adama acıyın, merhamet edin; bu fakirden buz alan yok mu?" diye bağırmağa başlamış. O sırada öğrencileriyle oradan geçmekte olan bir âlim, öğrencilerine dönerek şöyle demiş: "Buzlarını satmaya çalışan adamın sözlerine dikkat edin. Eriyip giden; aslında sadece buzlar değil, en kıymetli sermayemiz olan zamandır. Zamanın boşu boşuna akıp gitmesine endişe etmeyen ziyandadır."

**Bu metinde önemi vurgulanan kavram aşağıdakilerden hangisidir?**


- A) Yardımlaşma
- B) Ömür
- C) Rızık
- D) Tevekkül

- 29.
- İnsanlar, **46 kromozoma** sahiptir.
  - Su molekülü, **2 hidrojen** ve **1 oksijen** atomundan oluşur.
  - Ay, Dünya etrafındaki dönüşünü **belirli bir yörünge ve zamanda** gerçekleştirir.

**Bu bilgiler, aşağıdaki ayetlerden hangisinin vermek istediği temel mesaja örnektir?**

- A) "O, göklerin ve yerin eşsiz yaratıcısıdır." (En'âm suresi, 101. ayet)
- B) "Şüphesiz biz her şeyi bir ölçüye göre yarattık." (Kamer suresi, 49. ayet)
- C) "Gökleri ve yeri yaratan Allah, onların benzerini yaratmaya kadir değil mi?" (Yâsîn suresi, 81. ayet)
- D) "Biz gökleri, yeri ve bunlar arasında bulunanları ancak hak ve adalet temelinde yarattık. ..." (Hicr suresi, 85. ayet)

30.



**Bu görseller ile aşağıdakilerden hangisi anlatılmaktadır?**

- A) Takvalı olmak
- B) Tevekkül etmek
- C) İbadetleri ihlasla yapmak
- D) Güzel ahlak sahibi olmak

31. Tanrı bütün kullara rızkını dağıtırken

Kimi sırtüstü yatar, kimi boşa gezerken  
Kul Ahmet erken kalkar, haydi ya nasip derdi  
Kimseler anlamazdı, ya nasip ne demekti

Mahalleli kahvede muhabbet peşindeyken  
Leylekler lak lak edip peynir gemisi yüklerken  
Kul Ahmet erken yatar, sabaha ya kısmet derdi  
Kimseler anlamazdı, ya kısmet ne demekti

**Bu dizelerde aşağıdaki tutumlardan hangisi eleştirilmektedir?**

- A) Ahiretin yok sayılması
- B) Adaletsizlik yapılması
- C) Sorumluluktan kaçılması
- D) Rızkı verenin unutulması

32. Hayat bir akıştır ve bu akışta birbiriyle aynı olan iki nokta yoktur. Hayır bildiklerimizde şer, şer bildiklerimizde hayır vardır. Hayatımız küçük bir âlemdir. İnişli çıkışlı bir yoldayızdır bu âlemde. Sevap da bizim için günah da. Hayat da bizim için ölüm de. Önemli olan yolun nasıl bittiğidir, yoldan çıkmalarımızdan pişmanlık duyabilmektir yolun kalan kısmında.

**Bu parçadan aşağıdakilerden hangisi çıkarılamaz?**

- A) Hayatın her anı iyi değerlendirilmelidir.
- B) İnsan, hayatına yön verebilen bir varlıktır.
- C) Ömür, sınırlı bir zaman diliminden ibarettir.
- D) Tövbe eden kişi, hiç günah işlememiş gibidir.

33. "Allah, kendisinden başka hiçbir ilah olmayandır. Diridir, her şeyin varlığı ona bağlı ve dayalıdır. Ne uykusu gelir ne de uyur. Göklerde ve yerde ne varsa hepsi onundur. Onun izni olmadıkça katında hiçbir kimse şefaet edemez. Onların önlerinde ve arkalarında olanları o bilir. Onun ilminden hiçbir şeyi -dilediği müstesna- kimse bilgisi içine sığdıramaz. Onun kürsüsü gökleri ve yeri içine almıştır. Onları korumak kendisine zor gelmez. O yücedir, mutlak büyüktür."

(Bakara suresi, 255. ayet)

**Bu ayette aşağıdaki konuların hangisinden bahsedilmektedir?**

- A) Tevhit inancı B) İslam'ın şartları  
C) Evrensel ahlak yasaları D) İbadetlerin temel ilkeleri

34.



**Bu söz aşağıdaki ayetlerden hangisi ile ortak bir mesaj içermez?**

- A) "Bilsin ki insan ancak çabasının sonucunu elde eder." (Necm suresi, 39. ayet)  
B) "Erkeklerin de çalıştıklarından nasipleri vardır, kadınların da çalıştıklarından nasipleri vardır." (Nisâ suresi, 32. ayet)  
C) "Allah'ın sana verdiğiinden ahiret yurdunu kazanmaya bak ve dünyadan da nasibini unutma!" (Kasas suresi, 77. ayet)  
D) "Sizi bir tek nefisten yaratan ve ondan da eşini yaratan, ikisinden birçok erkek ve kadın üretilen yayan Rabb'inize itaatsizlikten sakının." (Nisâ suresi, 1. ayet)

35. Hz. Musa, kendisine inananları Firavun'un zulmünden kurtarmak için Allah'tan aldığı vahiy ve çevresindekiyle yaptığı istişareler doğrultusunda bir plan yaptı. Bu plan gereği iman edenlerle birlikte gece vakti yola çıkarak bir suyun kenarına kadar ilerledi. Bu esnada kendisine inananlarda büyük bir korku ve endişe fark etti. Bunun üzerine "Hayır, korkmayın! Eminim ki Rabb'im benimledir, bana bir çıkış yolu gösterecektir." dedi.

**Hz. Musa'nın bu tutumu aşağıdaki kavramlardan hangisine örnek oluşturur?**

- A) Tevekkül B) Tövbe  
C) Takva D) Şükür

36. Yıldızlar bir adım yolundan şaşmaz.

Dağlar haddin bilir, denizler taşmaz.

Karınca'nın yükü, boyunu aşmaz.

Bunca dengelerin farkında mısın?

**Bu şiirin vermek istediği mesaj aşağıdaki ayetlerin hangisinde yer almaz?**

- A) "O, her şeyi yaratmış ve yarattığı o şeyleri bir ölçüye göre takdir etmiştir." (Furkân suresi, 2. ayet)  
B) "Biz gökleri, yeri ve her ikisi arasında bulunanları ancak hakka ve hikmete uygun olarak yarattık." (Hicr suresi, 85. ayet)  
C) "Allah hakkın ta kendisidir, onu bırakıp da taptıkları ise batıldır. Şüphesiz Allah yücedir, büyüktür." (Lokmân suresi, 30. ayet)  
D) "O, yedi göğü tabaka tabaka yaratandır. Rahman'ın yaratışında hiçbir uyumsuzluk göremezsin. Bir kere daha bak! Hiçbir çatlak ve düzensizlik görüyor musun?" (Mülk suresi, 3. ayet)

37. Ben öğrencilerime hep şunu söyledim: "Diğerleri hayal kurarken sen hazırlan. Diğerleri uyurken sen koş. Diğerleri ertelerken sen başla. Diğerleri pişman olurken sen ders al. Diğerleri vazgeçerken sen azmet. Farklılık oluşturmanın temelinde bunlar vardır."

**Bu metinde aşağıdaki kavramlardan hangisinin önemine vurgu yapılmıştır?**

- A) Şükür B) Emek C) Ömür D) Tevekkül

38. "Ekolojik Ayak İzi" insanoğlunun doğal kaynakları tüketme seviyesinin boyutlarının farkına varılmasına yönelik geliştirilen bir hesaplama yöntemidir. Bu ölçüt, son 40 yılda doğal kaynak talebinin iki katına çıktığını göstermektedir.

**Aşağıdaki hadis ve ayetlerin hangisinde sözü edilen durumun azaltılması ile ilgili bir bilgi yer almaz?**

- A) "Yarın kıyametin kopacağını bilseniz bile, bugün elinizdeki fidanı dikin." (Hadis-i şerif)  
B) "Yeryüzüne dağılın ve Allah'ın lütfundan nasibinizi arayın." (Cuma suresi, 10. ayet)  
C) "Yiyin, için; fakat israf etmeyin. Çünkü Allah israf edenleri sevmez." (A'râf suresi, 31. ayet)  
D) "Göğü o yükseltti ve ölçüyü koydu. Sakın dengeyi bozmayın." (Rahmân suresi, 7 ve 8. ayetler)

# 8. SINIF

## Din Kültürü ve Ahlak Bilgisi



### 2. Ünite

### Zekât ve Sadaka



1. “Gördün mü, o hesap ve ceza gününü yalanlayan! İşte o; yetimi itip kakan, yoksula yedirmeyi özendirme-  
yen kimsedir. Yazıklar olsun o namaz kılanlara ki onlar  
namazlarını ciddiye almazlar. Onlar gösteriş yaparlar.  
Ufacık bir yardıma bile engel olurlar.” (Mâûn suresi,  
1-7. ayetler)

**Aşağıdakilerden hangisi bu ayetlerde eleştirilen  
tutumlardan biri değildir?**

- A) Bencilik  
B) Karamsarlık  
C) Kibir  
D) Riyakârlık

2. “Sadakalar (zekât gelirleri) ancak şunlar içindir: Yok-  
sullar, düşkünler, sadakaların toplanmasında görevli  
olanlar, kalpleri kazanılacak olanlar, azat edilecek kö-  
leler, borçlular, Allah yolunda (çalışanlar) ve yolda kal-  
mışlar. İşte Allah’ın kesin buyruğu budur. Allah bilmek-  
te ve hikmetle yönetmektedir.” (Tevbe suresi, 60. ayet)

**Bu ayet aşağıdaki sorulardan hangisinin cevabıdır?**

- A) Kimler zekâtı verir?  
B) Zekât kimlere verilir?  
C) Nelerden zekât verilir?  
D) Zekât ne zaman verilir?

3. **Aşağıdaki hadislerin hangisinde sadakanın fayda-  
sı vurgulanmaktadır?**

- A) “Güzel söz sadakadır.”  
B) “Sağ elin verdiği sol el bilmemelidir.”  
C) “Sadakanın en hayırlısı ihtiyaç fazlası maldan ve-  
rilendir.”  
D) “Suyun ateşi söndürdüğü gibi sadaka da kötülükleri  
yok eder.”

4. “Bir hurmanın yarısı da olsa onu sadaka olarak vererek  
ateşten korunun! Kim yarım hurma bulamazsa güzel bir  
sözle korunsun!”

**Bu hadisten aşağıdakilerden hangisine ulaşamaz?**

- A) İslam dini yardımlaşmaya çok önem verir.  
B) Yardımların gizli yapılması daha doğru olur.  
C) Yapılan iyilikten, iyilik yapan kişi de fayda görür.  
D) İnsandan gücü oranında yardım etmesi beklenir.

5. “Bir insan öldüğünde şu üç şey dışında amel defteri  
kapanır: Kalıcı hayır işleri, faydalanılan ilim ve kendisi-  
ne dua eden hayırlı evlat.”

**Hadisteki altı çizili bölüm aşağıdaki kavramlardan  
hangisiyle ifade edilir?**

- A) Sadaka-i fitr  
B) Sadaka-i cariye  
C) İnfak  
D) Zekât

6. • Bazı ibadetleri yerine getirebilmek için gerekli  
zenginlik ölçüsüdür.  
• Zenginlerin yılda bir kez mallarının belli miktarını  
vererek yaptıkları ibadettir.  
• Gücü yetenlerin Ramazan Ayı’nın sonuna kadar  
vermekle yükümlü oldukları sadakadır.

**Bu cümlelerde aşağıdakilerden hangisinin tanımi-  
na yer verilmemiştir?**

- A) Fitre  
B) Fidyeye  
C) Nisap  
D) Zekât

7. “Öyleyse yetimi sakın ezme. El açıp isteyeniyi de sakın azarlama ve Rabb’inin nimetini minnet ve şükranla an.” (Duhâ suresi, 9-11. ayetler)

**Bu ayetlerden aşağıdakilerin hangisi çıkarılamaz?**

- A) İhtiyaç sahiplerinin onuru korunmalıdır.  
B) Güçsüzlere haksızlık etmekten kaçınılmalıdır.  
C) Allah’ın verdiği nimetlere teşekkür edilmelidir.  
D) Yardımlaşmaya, en yakın akrabadan başlanmalıdır.

8. Yalnızca Allah rızasını gözeterek, karşılık beklemeksizin bir kişinin yapmış olduğu her türlü maddi veya manevi iyiliğe sadaka denir.

**Buna göre aşağıdakilerden hangisi sadaka kapsamında değerlendirilemez?**

- A) Hastaları ziyaret etmek  
B) Otobüste yaşlılara yer vermek  
C) İşçilerin maaşını vaktinde ödemek  
D) Sokak hayvanlarına yiyecek vermek

9. Semih Bey’in 100 gr altını bulunmaktadır. Bu malın zekâtını, ihtiyaç sahibi komşusuna 1/50 (%2) oranında vermiştir.

**Buna göre Semih Bey, zekât ile ilgili aşağıdakilerden hangisinde yanlışlık yapmıştır?**

- A) Zekât verdiği malın cinsinde  
B) Zekât verdiği oranda  
C) Zekât verdiği kişide  
D) Nisap miktarında

10. Osmanlı ve Selçuklu dönemlerinde şehirlerin belirli noktalarına konan “sadaka taşları”, İslam dininin insanlar arasındaki gelir eşitsizliğini gidermek amacıyla emrettiği yardımlaşmanın büyük bir incelikle yerine getirilmesini sağlıyordu. Cami avlularının en kuytu köşesine konan silindirik şeklindeki bu taşın üst kısmında küçük bir oyuk bulunurdu. İmkânı olan insanlar, bu oyuğa bıraktıkları sadakalarla yoksullara, onları rencide etmeden el uzatıyordu.

**Bu metinde sözü edilen gelenek aşağıdaki hadislerden hangisinin mesajıyla örtüşmektedir?**

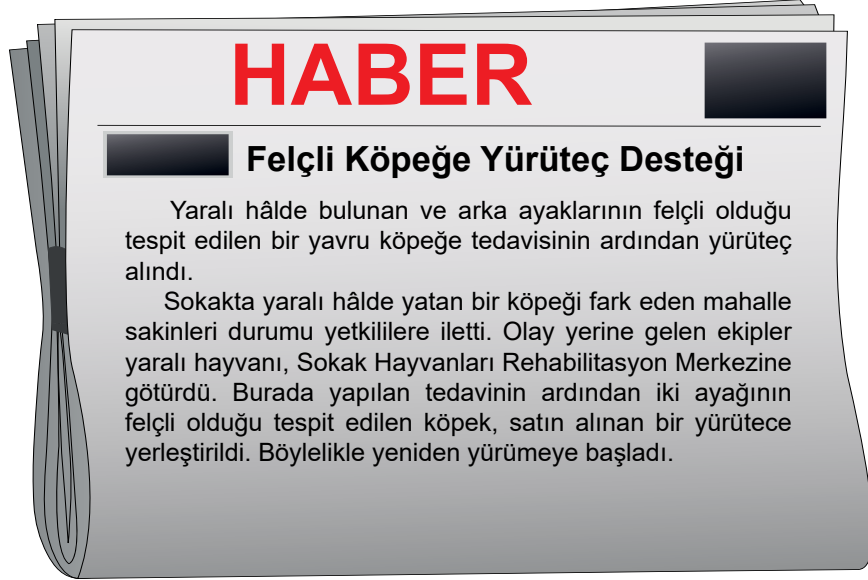
- A) “Sadaka, malı bereketlendirir.”  
B) “Sağ elin verdiğini sol el görmesin.”  
C) “Rızkının bol olmasını isteyen sadaka versin.”  
D) “Sadaka, suyun ateşi söndürdüğü gibi hataları yok eder.”

11. Meyve ağaçlarının budanma zamanıydı. Babasına yardım eden Ömer, merakla sordu: “Baba! Dalları neden kesiyorsun, yazık değil mi?” Baba, oğluna gülümseyerek şöyle dedi: “Budama işlemi, ağaçlarımızın daha iyi gelişmesi ve verimini artırması için kullandığımız bir yöntemdir. Şöyle ki kestiğimiz yerlerden yeni dallar çıkar, zamanla büyür ve gürleşir. Bu sayede ağaçlarımızdan daha çok ürün alabiliriz.”

**Bu metne göre budama işleminin faydaları ile zekât ibadetinin aşağıdaki sonuçlarından hangisi benzeşmektedir?**

- A) Malı bereketlendirmesi  
B) İnsanın iç huzurunu artırması  
C) Toplumsal barışa katkı sağlaması  
D) Toplumdaki gelir dağılımını dengelemesi

12.



Bu haberin konusu aşağıdaki kavramlardan hangisine örnek oluşturur?

A) Sadaka

B) Zekât

C) Fitre

D) Fidyeye

13. Aşağıdaki tabloda zekâtla ilgili bazı bilgilere yer verilmiştir.

?	?	?	
Zengin olan her Müslüman	• Altın, gümüş • Nakit para ve menkul değerler • Ticaret malları	1/40 yani %2.5	<ul style="list-style-type: none"> <li>• Yoksullar</li> <li>• Düşkünler</li> <li>• Borçlular</li> <li>• Yolda kalmış yolcular</li> <li>• Özgürlüğünü yitirmiş olanlar</li> <li>• Kalbi, İslam'a ısındırılmak isteyen kişiler</li> <li>• Allah yolunda çalışanlar</li> <li>• Zekât memurları</li> </ul>
	• Koyun ve keçi	40'tan 120'ye kadar bir koyun, 121'den 200'e kadar iki koyun	
	• Sığır ve manda	1/30 30'dan 40'a kadar bir tane 2 yaşında buzağı, 41'den 59'a kadar bir tane 3 yaşına basmış buzağı	
	• Deve	Her beş deve için bir koyun veya keçi	
	• Toprak ürünleri	1/10 yani %10	
	• Madenler	1/5 yani %20	

Aşağıdaki sorulardan hangisi bu tabloda “?” ile gösterilen bölümlerden herhangi birine getirilemez?

A) Kimlere verilir?

B) Kimlere farzdır?

C) Ne kadar verilir?

D) Nelerden verilmez?

14. “Ey kavmim! Allah’a kulluk edin. Sizin ondan başka ilahınız yoktur. Ölçüyü ve tartıyı eksik yapmayın. Ben sizi bolluk içinde görüyorum. Ben sizin adınıza kuşatıcı bir günün azabından korkuyorum...” (Hûd suresi, 84. ayet)

**Hz. Şuayb’ın halkına seslenişini içeren bu ayet;**

- I. tevhit,
- II. tevekkül,
- III. dürüstlük

**kavramlarından hangileriyle ilişkilendirilebilir?**

- A) Yalnız I                      B) Yalnız II                      C) I ve III                      D) II ve III

15. Bu sabah sağa sola kayarak ilerleyen bir otomobil geçti yanımızdan. O an yüreğimiz ağızımıza geldi âdeta. Yolun buzlu olması nedeniyle hâkimiyetini kaybeden sürücü, kaldırıma çarparak durabildi. O esnada yolda başka bir araç veya yayanın olmaması muhtemel bir kazayı önledi. Hemen kaza yapan aracın yanına gittik. Neyse ki sürücünün durumu iyiydi. Babam sürücüye “Geçmiş olsun, verilmiş sadakanız varmış.” dedi.

**Aşağıdaki hadislerden hangisi bu metindeki altı çizili sözle anlamca aynı doğrultudadır?**

- A) “Az sadaka, çok belayı önler.”  
B) “Her iyilik ve güzel iş, sadakadır.”  
C) “Sadaka vererek rızkınızı bollaştırın.”  
D) “Yoldaki rahatsızlık veren şeyi kaldırmak sadakadır.”

16. Hz. Ömer, aldığı bir arazi için “Ömrüm boyunca böyle güzel ve kıymetli araziye sahip olmamıştım.” diyerek ona verdiği değeri belirtmiş ve daha sonra bu arazinin gelirini ihtiyaç sahiplerine bırakmıştır.

**Hz. Ömer’in bu davranışı aşağıdaki ayetlerden hangisinde verilmek istenen mesajla örtüşmektedir?**

- A) “Ey iman edenler! Allah’a ve ahiret gününe inanmadığı halde insanlara gösteriş olsun diye malını harcayan kimse gibi sadakalarınızı başa kakmak ve gönül kırmak suretiyle boşa çıkarmayın...” (Bakara suresi, 264. ayet.)  
B) “Allah o su ile size; ekin, zeytin, hurma ağaçları, üzümler ve her türlü meyvelerden bitirir. Elbette bunda düşünen bir kavim için bir ibret vardır.” (Nahl suresi, 11. ayet)  
C) “Sevdiğiniz şeylerden Allah yolunda harcamadıkça gerçek iyiliğe asla erişemezsiniz...” (Âl-i İmrân suresi, 92. ayet)  
D) “Öyleyse sakın yetimi ezme! El açıp isteyeniyi de sakın azarlama!” (Duhâ suresi, 9 ve 10. ayetler)

17.



Kahramanmaraş'ın Elbistan ilçesinde hayırsever bir vatandaş, bir bakkala girerek ihtiyaç sahibi ailelerin, veresiye defterindeki borçlarını ödedi ve bu ailelere verilmek üzere birer torba un parası bıraktı. Bakkal sahibi, olayla ilgili şunları anlattı: "Genç bir adam bakkala geldi ve borcunu ödemekte zorlanan müşterimin olup olmadığını sordu. Söylediğim kişilerin borçlarını hesaplatıp ödedi. Kim olduğunu sorduğumda ise 'Sağ elin verdiği sol el bilmemelidir.' hadisini hatırlatarak ismini söylemekten kaçındı."

**Metindeki yardımlaşma şeklinin,**

- I. İhtiyaç sahipleri tespit edilmelidir.
- II. Yardım edilen kimselerin onuru zedelenmemelidir.
- III. Yardım etmeye akraba ve yakınlarından başlanmalıdır.

**İlkelerinden hangileriyle ilgili olduğu söylenebilir?**

- A) Yalnız I                      B) I ve II                      C) II ve III                      D) I, II ve III

18. Bir hükümdar, arkadaşlarıyla birlikte gezmeye çıkmıştı. Yolu üzerindeki bir köyde çok yaşlı bir adamın, tarlasına fidan dikmekle meşgul olduğunu gördü, gayretini takdir etti ve yanına gidip şöyle dedi:

– Baba, sen ne diye fidan dikmeye uğraşıyorsun? Maşallah yaşını yaşamışsın, bu diktiğin fidanların meyvesinden belki de yiyemeyeceksin!

İhtiyar şöyle cevap verdi:

– Diktiğim fidanların meyvesini benim yemem şart değil, evlat! Biz nasıl bizden öncekilerin diktiği fidanların meyvesinden yiyorsak bizim diktiğimiz fidanların meyvesini de bizden sonrakiler yer.

**Bu metindeki yaşlı adamın davranışı aşağıdaki kavramlardan hangisinin kapsamında değerlendirilir?**

- A) Sadaka-i cariyeye                      B) Fıtır sadakası                      C) Zekât                      D) Fidyeye

**19. Aşağıda verilen ayetlerden hangisi zekâtın kimlere, nasıl veya nelerden verilmesi gerektiği ile ilgili bilgi içermez?**

- A) “Sadakalar (zekâtlar)... ancak fakirler, düşkünler, zekât toplayan memurlar, kalpleri İslâm'a ısındırılacak olanlar, (özgürlüğüne kavuşturulacak) köleler, borçlular, Allah yolunda cihat edenler ve yolda kalmış yolcular içindir...” (Tevbe suresi, 60. ayet)
- B) “Mallarını Allah yolunda harcayan, sonra da harcadıklarının peşinden (bunları) başa kaktmayan ve gönül incitmeyenlerin, Rabb'leri katında mükâfatları vardır. Onlar için korku yoktur. Onlar üzülmeyeceklerdir de.” (Bakara suresi, 262. ayet)
- C) “Mallarını Allah yolunda harcayanların durumu, yedi başak bitiren ve her başakta yüz tane bulunan bir tohum gibidir. Allah dilediğine kat kat verir. Allah lütfu geniş olandır, hakkıyla bilendir.” (Bakara suresi, 261. ayet)
- D) “Ey iman edenler! Kazandıklarınızın iyilerinden ve rızık olarak yerden size çıkardıklarımızdan hayra harcayın. Size verilse gözünüzü yummadan alamayacağınız kötü malı, hayır diye vermeye kalkışmayın...” (Bakara suresi, 267. ayet)

**20. İslam dininin beş temel şartından biri olan zekâtın; kimler tarafından, nelerden, ne kadar, kimlere ve nasıl verileceği Kur'an-ı Kerim'de belirtilmiştir.**

**Bu cümleden hareketle zekâtla ilgili,**

- I. Farz bir ibadettir.  
II. Sistemli bir yardımlaşma şeklidir.  
III. Malın bereketlenmesine sebep olur.

**yargılarından hangilerine ulaşılabilir?**

- A) Yalnız I                      B) I ve II                      C) II ve III                      D) I, II ve III

**21. “Kim bir Müslümanın sıkıntılarında birini giderirse Allah da onun kıyamet günündeki sıkıntılarında birini giderir. Kim darda kalan bir kimsenin işini kolaylaştırırsa Allah da dünya ve ahirette onun işlerini kolaylaştırır. Kim bir Müslümanın ayıbını örterse Allah da dünya ve ahirette onun ayıplarını örter. Kul, kardeşine yardım ettiği sürece Allah da onun yardımcı olur.”**

**Bu hadiste aşağıdakilerden hangisinin önemine vurgu yapılmıştır?**

- A) İbadet etmenin  
B) Dünya ve ahiret ilişkisinin  
C) Yardımlaşma ve dayanışmanın  
D) Birey ve toplum arasındaki iletişimin

22. İslam dininde yardımlaşma, insanların maddi ve manevi hayatını kapsayacak şekilde, en geniş sınırları ile ele alınmıştır. Ayrıca yardım edilen insanların incitilmemesi ve onurunun korunması da çok önemsenmiştir. Bu konuyla ilgili Kur'an-ı Kerim'de şöyle buyrulur:

“Allah yolunda, sevdiğiniz şeylerden infak etmedikçe asla iyiliğe eremezsiniz...” (Âl-i İmrân suresi, 92. ayet)

“Sadakaları açıktan verirsiniz ne güzel! Fakat onları gizleyerek fakirlere verirsiniz bu sizin için daha hayırlıdır ve günahlarınızdan bir kısmına da kefarete olur...” (Bakara suresi, 271. ayet)

**Aşağıdakilerden hangisi bu metinde vurgulanmak istenen düşünceye ters düşer?**

- A) Verilen malın iyi olmasına dikkat edilmesi
- B) Yardım yapılırken Allah rızasının hedeflenmesi
- C) Yardım yapılan kimselerin sosyal medyada paylaşılması
- D) İhtiyaç sahiplerinin belirlenmesi için araştırma yapılması

23. Sadaka-i cariye; insana, öldükten sonra da sevap kazandıran amellerdir. Hz. Muhammed (sav.) bu konuda şöyle buyurmuştur: “Bir insan öldüğünde şu üç şey dışında amel defteri kapanır: Kalıcı hayır işleri, faydalanılan ilim ve kendisine dua eden hayırlı evlat.”

**Buna göre salgın hastalık yaşanan bir toplumda aşağıdakilerden hangisini yapmak sadaka-i cariye kapsamında değerlendirilir?**

- A) Hastalığa karşı ilaç geliştirmek
- B) Hastaların iyileşmesi için dua etmek
- C) İhtiyaç sahiplerine gıda yardımı yapmak
- D) Devletçe alınan tedbir ve kararlara uymak

24. Kadir Sami Bey; ihtiyaç sahibi kimselere, sahip olduğu mallardan 1/40 (%2,5) oranında vererek zekât ibadetini yerine getirmiştir.

**Buna göre aşağıdakilerden hangisi Kadir Sami Bey'in, zekâtını verdiği mallardan biri olamaz?**

- A) Altın
- B) Para
- C) Koyun
- D) Buğday

25. • “Bir mümin, aç bir mümini doyurursa Allah da o kimseyi cennet meyveleriyle doyuracaktır.”  
• “İki kişinin arasını düzeltmen sadakadır. Yoldaki rahatsızlık veren bir şeyi kaldırman da sadakadır.”  
• “Bir kimse ağaç diker de o ağacın meyvesinden bir insan veya hayvan yerse bu, o ağacı diken kimse için sadaka olur.”

**Bu hadislerden hareketle,**

- I. Sadaka, kapsamlı bir yardımlaşma şeklidir.  
II. İslam dini yardımlaşma ve dayanışmayı teşvik eder.  
III. Yardımlaşmada, gösterişten kaçınılması esastır.

**ifadelerinden hangilerine ulaşılabilir?**

- A) Yalnız I                      B) I ve II                      C) II ve III                      D) I, II ve III

26. **Hz. Muhammed’in (sav.) “Sağ elin verdiğini sol el görmesin.” sözü ile aşağıdaki ayetlerden hangisi anlamca örtüşür?**

- A) “Öyleyse yetimi sakın ezme. El açıp isteyeniyi de sakın azarlama ve Rabb’inin nimetini minnet ve şükranla an.” (Duhâ suresi, 9-11. ayetler)  
B) “Sevdiğiniz şeylerden Allah yolunda harcamadıkça gerçek iyiliğe asla erişemezsiniz...” (Âl-i İmrân suresi, 92. ayet)  
C) “Ey iman edenler! Kazandıklarınızın iyilerinden ve rızık olarak yerden size çıkardıklarımızdan hayra harcayın. Size verilse gözünüzü yummadan alamayacağınız kötü malı, hayır diye vermeye kalkışmayın...” (Bakara suresi, 267. ayet)  
D) “Eğer sadakaları (zekât ve benzeri hayırları) açıktan verirsiniz ne âlâ! Eğer onu fakirlere gizlice verirsiniz işte bu sizin için daha hayırlıdır...” (Bakara suresi, 271. ayet)

27. “Gördün mü o hesap ve ceza gününü yalanlayanı! İşte o; yetimi itip kakan, yoksula yedirmeyi özendirmeyen kimsedir. Yazıklar olsun o namaz kılanlara ki onlar namazlarını ciddiye almazlar. Onlar (namazlarıyla) gösteriş yaparlar. Ufacık bir yardıma bile engel olurlar.” (Ma’ûn suresi, 1-7. ayetler)

**Aşağıdakilerden hangisi bu sureden çıkarılabilecek sonuçlardan biri değildir?**

- A) Yetim hakları korunmalıdır.  
B) Fakirlere yardım edilmelidir.  
C) Ölçü ve tartıda hile yapmaktan kaçınılmalıdır.  
D) İbadetler sadece Allah rızası gözetilerek yapılmalıdır.



28. Osmanlı Dönemi'nde "Herkes Meyve Vakfı" nı kuran kişi, bağ ve bahçelerini bu vakfa bağışlamış; meyvelerin olgunlaştığı mevsimlerde bahçelerinin şenlenmesini, mahsul devam ettiği müddetçe herkese bu meyvelerden dağıtılmasını ve yedirilmesini istemiştir. Yapmış olduğu bu bağış sayesinde vefatından sonra da insanlara faydalı olmayı amaçlamıştır.

**Metinde sözü edilen kişi ile ilgili aşağıdakilerin hangisi kesinlikle söylenebilir?**

- A) Zekât ibadetinin hangi mallar ile yapılacağını bilmektedir.
- B) Sadaka-i câriye hükmünde bir hayır işlemiştir.
- C) Yaptığı bağış ile fitir sadakasını da ödemiştir.
- D) Malının bereketlenmesini sağlamıştır.

29. Hz. Peygamber, Muaz b. Cebel'i Yemen'e vali ve hâkim olarak gönderirken ona şu talimatı vermiştir: "Ey Muaz! Yemen halkını, öncelikle Allah'tan başka bir ilah olmadığını, benim de Allah'ın elçisi olduğumu bilmeye ve tanımaya davet et. Eğer bunu kabul ederlerse onlara beş vakit namazın farz kıldığını anlat. Bunu da kabul ederlerse Allah'ın kendilerine zekâtı farz kıldığını haber ver. Bu zekât, zenginlerden alınır ve yoksullara verilir."

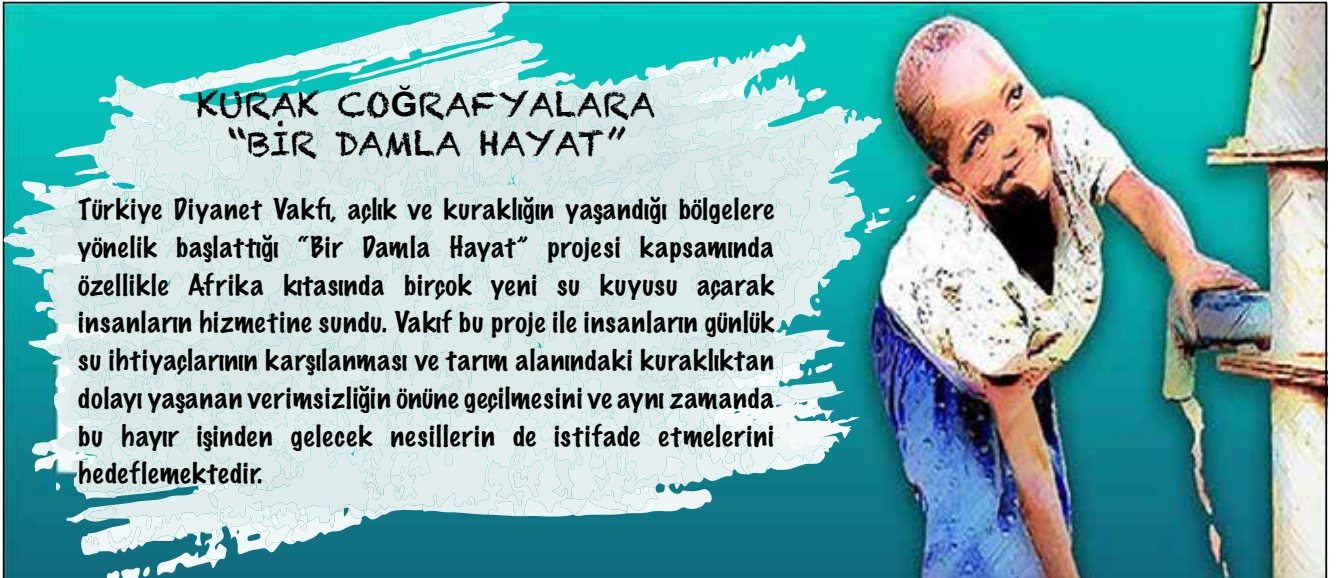
**Bu metinde zekâtın farz olması için gerekli olan;**

- I. Müslüman olmak,
- II. akıl sağlığı yerinde olmak,
- III. ergenlik çağına gelmiş olmak,
- IV. nisap miktarı mala sahip olmak

**şartlarından hangilerine değinilmiştir?**

- A) I ve II
- B) I ve IV
- C) II ve III
- D) III ve IV

30.



**KURAK COĞRAFYALARA  
"BİR DAMLA HAYAT"**

Türkiye Diyanet Vakfı, açlık ve kuraklığın yaşandığı bölgelere yönelik başlattığı "Bir Damla Hayat" projesi kapsamında özellikle Afrika kıtasında birçok yeni su kuyusu açarak insanların hizmetine sundu. Vakıf bu proje ile insanların günlük su ihtiyaçlarının karşılanması ve tarım alanındaki kuraklıktan dolayı yaşanan verimsizliğin önüne geçilmesini ve aynı zamanda bu hayır işinden gelecek nesillerin de istifade etmelerini hedeflemektedir.

**Görselde sözü edilen proje kesin olarak aşağıdakilerden hangisinin kapsamındadır?**

- A) Zekât
- B) Sadaka-i cariye
- C) Fitre
- D) Fidyeye

31. Zekât fakirin hakkı,

Zenginim imtihanı,

----

Budur sadakadan farkı.

**Bu dörtlükte boş bırakılan yere konusu bağlamında aşağıdaki dizelerin hangisi getirilmelidir?**

- A) Beden ile yapılır.
- B) Ramazan'da verilir.
- C) Nisap miktarı vardır.
- D) Her Müslümana farzdır.

32. Zekât verilecek bazı mallar ve miktarları tabloda gösterilmiştir.

NELERDEN?	• Altın, gümüş • Nakit para • Menkul değerler • Ticaret malları	• Koyun ve keçi	• Sığır ve manda
NE KADAR?	1/40 yani %2.5	40'tan 120'ye kadar 1 koyun veya keçi, 121'den 200'e kadar 2 koyun veya keçi	(1/30) 30'dan 40'a kadar 1 tane iki yaşında buzağı, 41'den 59'a kadar 1 tane üç yaşına basmış buzağı

Kerem; 48 keçi, 38 inek ve 30.000 TL paranın zekâtını vermek istemektedir.

**Buna göre vermesi gereken zekât miktarı ile ilgili aşağıdakilerden hangisi doğrudur?**

- A) Parasının zekâtı 1000 TL'dir.
- B) İnekleri için 2 buzağı vermelidir.
- C) Vermesi gereken keçi sayısı 1'dir.
- D) Keçilerin zekâtını 2 koyun olarak da verebilir.

33. Seyahat eden bir bilge, dere kenarında değerli bir taş bulur. Sonraki gün, ihtiyaç sahibi biriyle karşılaşır ve beğendiği bu taşı tereddüt etmeden ona verir. Sevinçle oradan ayrılan adam, ertesi gün bu taşı bilgeye geri getirir ve şöyle der: “Bana verdiğin taşın ne kadar değerli olduğunun farkındayım. Ama düşündüm ki sende bu taştan daha değerli bir şey var. Bu mücevheri verebilmeni mümkün kılan bir şey... Bana onu verir misin?”

**Bu metinde vurgulanan ahlaki tutum aşağıdakilerden hangisidir?**

- A) Hoşgörü                      B) Cömertlik                      C) Dürüstlük                      D) Çalışkanlık

34. Bir gün, Hz. Muhammed (sav.) “Her Müslümanın sadaka vermesi gerekir.” buyurdu. “Ya bulamayan olursa?” diye sorulunca “Elinin emeğiyle çalışır, hem kendi için harcar hem de sadaka olarak verir.” dedi. “Peki bunu yapamazsa?” diye tekrar sorulunca “Bu durumda, sıkışmış bir ihtiyaç sahibine yardım eder.” cevabını verdi. “Buna da gücü yetmezse?” diye yine bir soru sorulunca da “İyiliği veya hayrı tavsiye eder.” dedi. “Bunu da yapamazsa?” denerek yeniden sorulunca “Kötülük yapmaktan uzak durur. Bu da onun için sadakadır.” cevabını verdi.

**Bu hadiste sadaka ile ilgili aşağıdakilerden hangisi anlatılmaktadır?**

- A) Bireye manevi katkılar sağladığı  
B) Gönül kırmadan verilmesi gerektiği  
C) Toplumsal dayanışmayı güçlendirdiği  
D) Çeşitli koşullarda yerine getirilebileceği

35. Yalnız iyilik yapmak yetmez, iyiliği özenle yapmak da lazım.

**Bu sözdeki altı çizili ifade ile aşağıdaki ayetlerin hangisi ilişkilendirilemez?**

- A) “Ey iman edenler! Kazandıklarınızın ve sizin için yerden çıkardıklarımızın iyi olanlarından hayra harcayın. Kendinizin göz yummadan alamayacağınız kötü şeyleri yardım olarak vermeye kalkışmayın.” (Bakara suresi, 267. ayet)  
B) “Sadakaları açık olarak verirseniz ne iyi; fakat yoksullara gizleyip verirseniz bu sizin için daha hayırlıdır. Allah da bu sebeple sizin günahlarınızın bir kısmını bağışlar. Şüphesiz Allah, yaptıklarınızdan haberdardır.” (Bakara suresi, 271. ayet)  
C) “Mallarını Allah yolunda harcayan, sonra da harcadıklarının peşinden bunları başa kakmayan ve gönül incitmeyenlerin, Rabb’leri katında mükâfatları vardır. Onlar için korku yoktur. Onlar üzüntü de çekmeyeceklerdir.” (Bakara suresi, 262. ayet)  
D) “Sana Allah yolunda ne harcayacaklarını soruyorlar. De ki: ‘Hayır olarak ne harcarsanız o; ana-baba, akraba, yetimler, fakirler ve yolda kalmışlar içindir.’ Hayır olarak ne yaparsanız, gerçekten Allah onu hakkıyla bilir.” (Bakara suresi, 215. ayet)

# 8. SINIF

## Din Kültürü ve Ahlak Bilgisi



### 3. Ünite

### *Din ve Hayat*

1. I. “Ey iman edenler! Mallarınızı birbirinize haksızlık ederek değil, karşılıklı rızaya dayalı ticaretle yiyin. ...” (Nisâ suresi, 29. ayet)
- II. “ ... Kim bir kimseyi öldürürse bütün insanları öldürmüş gibi olur. Kim de bir can kurtarırsa bütün insanların hayatını kurtarmış gibi olur...” (Mâide suresi, 32. ayet)
- III. “Kim de bir mümini kasten öldürürse cezası, içinde devamlı kalmak üzere cehennemdir. ...” (Nisâ suresi, 93. ayet)

**Numaralanmış ayetlerden hangileri can güvenliği ile ilgilidir?**

- A) Yalnız I                      B) Yalnız II                      C) I ve III                      D) II ve III

2. Hz. Muhammed bir keresinde, “Müflis kimdir, bilir misiniz?” diye sorar. Sahabe “Bizim aramızda müflis, parası ve eşyası olmayan kimsedir.” diye karşılık verince şöyle buyurur: “Benim ümmetimden müflis o kimsedir ki kıyamet gününde namaz, oruç ve zekât gibi ibadetlerin sevabıyla gelmiş ancak şuna sövmüş, buna iftirada bulunmuş, ötekinin malını yemiş, berikinin kanını dökmüş, diğerini de dövmüştür. Bu nedenle, hesap gününde hakkına girdiği kimselere onun iyiliklerinden alınıp dağıtılır. Eğer yaptığı iyilikleri kötülüklerinin cezasını karşılamaya yetmezse hak sahiplerinin günahlarından alınarak onun üzerine yüklenir. Sonra da günahkâr bir kimse olarak cehenneme atılır. İşte asıl müflis bu kişidir.”

**Bu hadiste aşağıdakilerden hangisi vurgulanmaktadır?**

- A) Yararsız işlerden kaçınma  
B) Kul hakkından uzak durma  
C) Hatalarından ders çıkarma  
D) Bolluk ve darlıkta infak etme

3. • Telif hakkı, kişinin her türlü fikrî emeği ile meydana getirdiği ürünler üzerinde hukuken sağlanan haklardır.  
• İslam’da bir insanın malını onun izni olmadan almak ve kullanmak günah sayılmış ve yasaklanmıştır.

**Buna göre aşağıdaki ayet ve hadislerden hangisi “telif hakkı” ile ilişkilendirilemez?**

- A) “Ey iman edenler! Birbirinizin mallarını batıl yollarla yemeyin. ...” (Nisâ suresi, 29. ayet)
- B) “Hiç kimse kendi el emeğiyle kazandığından daha hayırlı bir lokma yememiştir...” (Hadis-i şerif)
- C) “Kim Allah için elindekinden verir ve sakınıp O’nu tasdik ederse, biz onun işlerini kolaylaştırır, onu başarılı kılarız.” (Leyl suresi, 5-7. ayetler)
- D) “... İnsanların mallarını haksız yere yemeleri sebebiyle önceden kendilerine helal kılınmış temiz ve hoş şeyleri onlara haram kıldık.” (Nisâ suresi, 160. ayet)

4. **Aşağıdaki tutum ve davranışlardan hangisi İslam’da yer alan “canın korunması” ilkesi ile ilişkilidir?**

- A) İş güvenliğini sağlayıcı tedbirlerin alınması  
B) Aile bireylerinin hak ve hukukunun gözetilmesi  
C) İnsanlar arasında yardımlaşma bilincinin geliştirilmesi  
D) Hile, rüşvet gibi haksız kazanç yollarının yasaklanması

5. I. Akraba ve komşularla iyi ilişkiler kurulması  
II. Yardımlaşma ve dayanışma içinde olunması  
III. İnsanlar arasında adalet ve barışın tesis edilmesi  
IV. Evrenin işleyişinin incelenip bundan sonuçlar çıkarılması

**Numaralanmış ifadelerden hangileri dinin toplumla ilgili tavsiyeleri kapsamında değerlendirilir?**

- A) II ve III B) III ve IV C) I, II ve III D) I, II, III ve IV

6. Ey iman edenler! İçki, kumar, dikili taşlar ve fal okları şeytan işi, iğrenç şeylerdir. Bunlardan kaçının ki kurtuluşa eresiniz. (Mâide suresi, 90. ayet)

**Bu ayet, İslam'ın;**

- I. malın,  
II. dinin,  
III. aklın

**korunması ilkelerinden hangileriyle ilgili mesajlar içermektedir?**

- A) I ve II B) I ve III C) II ve III D) I, II ve III

7. 2018'de hayata geçirilen "Turuncu Bayrak Uygulaması" ile otel ve restoranlardaki ihtiyaç fazlası yemeklerin değerlendirilmesi amaçlanmaktadır. Bu proje kapsamında gıdaların satın alma, üretim, tüketim, değerlendirme, ayrıştırma ve geri dönüşüm süreçleri düzenlenecek; ayrıca kurulacak Gıda Bankası aracılığıyla fazla yemekler ihtiyaç sahiplerine ulaştırılacaktır.

**Bu uygulamanın amacı ile aşağıdaki ayetlerden hangisinin mesajı örtüşmektedir?**

- A) "Ey iman edenler! Size verdiğimiz rızıkların temiz olanlarından yiyin ve Allah'a şükredin..." (Bakara suresi, 172. ayet)  
B) "Şüphesiz Rabb'in, dilediğine rızık bol bol verir, dilediğine de kısar..." (İsrâ suresi, 30. ayet)  
C) "...Yiyiniz, içiniz fakat israf etmeyiniz. Çünkü Allah israf edenleri sevmez." (A'râf suresi, 31. ayet)  
D) "Ey iman edenler! Karşılıklı rızaya dayanan ticaret dışında birbirinizin malını haksızlıkla yemeyiniz..." (Nisâ suresi, 29. ayet)

8. İslam'da "malın korunması ilkesi" gereği - - - - yasaklanmıştır.

**Bu cümlede boş bırakılan yere aşağıdaki kavramlarından hangisi getirilemez?**

- A) Hırsızlık B) İnfak C) Kumar D) İsrâf

9. Hz. Peygamber, Allah'tan başkasından yardım alma gayesi güden her türlü batıl inanç ve hurafe ile mücadele etmiş ve Müslümanları bu konuda uyarmıştır. Örneğin insanların hastalıklardan kurtulmak amacıyla putlara kurban kesmelerini, kâhinlere danışmalarını ve sihir yapmalarını yasaklamıştır.

**Bu yasaklar İslam'ın korunmasına önem verdiği temel haklardan hangisiyle doğrudan ilgilidir?**

- A) Mal B) Nesil C) Din D) Can

10.

**öncelik hayatın öncelik yayanın**

2918 sayılı Karayolları Trafik Kanunu'nun 74'üncü maddesinde 26 Ekim 2018 tarihinde yapılan değişiklikle; "Sürücüler, görevli bir kişi veya ışıklı trafik işareti bulunmayan ancak trafik işareti veya levhaları ile belirlenmiş kavşak giriş ve çıkışları ile yaya ve okul geçitlerine yaklaşırken yavaşlamak, varsa buralardan geçen veya geçmek üzere bulunan yayalara durarak ilk geçiş hakkını vermek zorundadırlar." hükmü getirildi.

**BU YOLDA BİRLİKTEYİZ**  
GÜVENLİ YOLLARIMIZI  
TRAFİK DENETİMİ

**Bu afişte sözü edilen uygulama İslam dininin, korunmasına önem verdiği temel haklardan hangisiyle doğrudan ilgilidir?**

- A) Mal                      B) Akıl                      C) Can                      D) Din

11. "Andolsun zamana ki insan gerçekten ziyan içindedir. Ancak iman edip de salih ameller işleyenler, birbirlerine hakkı tavsiye edenler, birbirlerine sabrı tavsiye edenler başka. (Onlar ziyanda değillerdir.)" (Asr suresi)

**Bu sureden,**

- I. Kötülüklerden Allah'a sığınmalıdır.
- II. İnanma ihtiyacı insanda doğuştan vardır.
- III. İnsanların başkalarına karşı sorumlulukları vardır.
- IV. İnsan zamanını iyi şeyler yaparak değerlendirmelidir.

**yargılarından hangilerine ulaşılabilir?**

- A) I ve II                      B) I ve III                      C) II ve IV                      D) III ve IV

12. İslam dini, sadece Allah'a kulluk etmeyi, ona güvenmeyi ve yalnız ondan yardım dilemeyi emreder. Türbe ve yatırırlardan medet ummak, dileğin kabulü için ağaçlara bez bağlamak gibi akla ve mantığa uymayan, insanları dinin özünden uzaklaştıran yanlış anlayış ve inanışlardan uzak durulmasını ve dinin yalnızca Allah'a tahsis edilerek ibadet edilmesini öğütler. Bu durum Kur'an-ı Kerim'de şu şekilde ifade edilmiştir: - - - -

**Metindeki boşluğa anlam akışına göre aşağıdaki ayetlerden hangisi getirilmelidir?**

- A) "De ki: 'Rabb'im adaletle davranmayı emretti.'..." (Âraf suresi, 29. ayet)
- B) "... O hâlde sen de dini Allah'a has kılarak (ihlâs ile) kulluk et." (Zümer suresi, 2. ayet)
- C) "Ey iman edenler, mallarınızı, sizden karşılıklı anlaşmadan (doğan) bir ticaretten başka haksız 'nedenler ve yollarla' (batılca) yemeyin." (Nisâ suresi, 29. ayet)
- D) Eğer Allah'ın dünyada ve ahirette sizin üzerinizde fazlı ve rahmeti olmasaydı içine daldığınız dedikodudan dolayı size büyük bir azap dokunurdu. (Nûr suresi, 14. ayet)

13. "And olsun zamana ki insan gerçekten ziyan içindedir. Ancak, iman edip de salih ameller işleyenler, birbirlerine hakkı ve sabrı tavsiye edenler başka. (Onlar ziyanda değillerdir.)" (Asr suresi, 1-3. ayetler)

**Aşağıdaki atasözlerinden hangisi bu surede vurgulanan ana düşünceyle ters düşer?**

- A) İyilik eden iyilik bulur.
- B) Tatlı dil yılanı deliğinden çıkarır.
- C) Üzüm üzüme baka baka kararır.
- D) Bana dokunmayan yılan bin yaşasın.

14. Aşağıdaki kurum ve kuruluşlar bazı temel hakların korunması amacıyla kurulmuştur.

- I. Çocuk Destek Merkezleri
- II. Tüketici Mahkemeleri
- III. Hastaneler

**Numaralanmış kurum ve kuruluşların korumayı amaçladığı temel haklar aşağıdakilerin hangisinde doğru sıralanmıştır?**

	I	II	III
A)	Neslin Korunması	Canın Korunması	Malın Korunması
B)	Neslin Korunması	Malın Korunması	Canın Korunması
C)	Canın Korunması	Neslin Korunması	Malın Korunması
D)	Malın Korunması	Canın Korunması	Neslin Korunması



15. İslam dininde, bireyin dünya ve ahiret mutluluğunun sağlanması ve güvenli bir toplumun oluşturulması için “zarûrât-ı hamse” denilen beş temel ilke ve değer vardır. Bunlar canın, aklın, malın, neslin ve dinin korunmasıdır. Bu ilkeler kişinin ve toplumun varlığını koruyabilmesini ve devam ettirebilmesini sağlar.

**Aşağıdaki ayetlerden hangisi bu ilkelerin korunmasıyla ilgili değildir?**

- A) “...Kim, haksız yere bir cana kıyarsa bütün insanları öldürmüş gibi olur. Her kim bir canı kurtarırsa bütün insanları kurtarmış gibi olur...” (Mâide suresi, 32. ayet)
- B) “Aranızda birbirinizin mallarını haksız yere yemeyin...” (Bakara suresi, 188. ayet)
- C) “İnsanlardan alırken ölçüp tarttıklarında tam, onlara vermek için ölçüp tarttıklarında ise noksan yapan hilekârlara yazıklar olsun!” (Mutaffifin suresi, 1-3. ayetler)
- D) “Ne Güneş Ay’a yetişebilir, ne de gece gündüzü geçebilir. Her biri bir yörüngede yüzmektedir.” (Yâsin suresi, 40. ayet)

16. Toplumun huzur ve güven içerisinde yaşamasını hedefleyen İslam’ın temel ilkelerinden biri de insan hayatını korumaktır. Bu ilke gereği, insanın canına zarar verebilecek davranışlarda bulunması yasaklanmıştır. Her insanın, akıl ve beden sağlığını koruma hakkı olduğu gibi diğer insanların sağlığını tehlikeye atmama sorumluluğu da vardır. Bununla birlikte kişisel temizliğe ve çevre temizliğine özen göstermek ve sağlıklı beslenmek de her Müslüman’ın vazifesidir.

**Bu metin aşağıdaki ayet veya hadislerden hangisiyle ilişkilendirilemez?**

- A) “Yemekten önce ve yemekten sonra ellerinizi yıkayınız.” (Hadis-i şerif)
- B) “... Kendi kendinizi tehlikeye atmayınız...” (Bakara suresi, 195. ayet)
- C) “...Birbirinizin kusurlarını ve mahremiyetlerini araştırmayınız...” (Hucurât suresi, 12. ayet)
- D) “Bir yerde bulaşıcı hastalık ortaya çıktığını duyduğunuz zaman oraya girmeyiniz. Bulduğunuz yerde bulaşıcı bir hastalık ortaya çıkarsa, oradan da çıkmayınız.” (Hadis-i şerif)

17. İslam dini can, akıl, mal, nesil ve dinin korunmasına özen göstermiş; bu değerlerden her birinin varlığını, sürekliliğini ve korunmasını sağlayan hükümler koymuştur.

**Aşağıdaki ayetlerden hangisi bu kapsamda değerlendirilmez?**

- A) “Rabb’in, kendisinden başkasına asla ibadet etmemenizi, anaya-babaya iyi davranmanızı kesin olarak emretti...” (İsrâ suresi, 23. ayet)
- B) “... Kendi kendinizi tehlikeye atmayın...” (Bakara suresi, 195. ayet)
- C) “... Allah, bir güçlükten sonra bir kolaylık yaratacaktır.” (Talâk suresi, 7. ayet)
- D) “Aranızda birbirinizin mallarını haksız yere yemeyin...” (Bakara suresi, 188. ayet)

18. Muhammed Ali Raşvan 1956 Kahire doğumlu judocudur. 1984'te ABD Los Angeles Yaz Olimpiyatları'nda ülkesini temsil etti.

Judo final müsabakasında minderde rakibi Japon Yasuhiro Yamashita ile karşılaştı.

Yamashita müsabakalar sırasında sağ ayağının kasları yırtıldığı için final karşılaşmasına yaralı olarak çıkmak zorunda kaldı. Yamashita sol ayağıyla yürüyor ve sağ ayağını âdeta peşinden sürüklüyordu.

Müsabaka sırasında Muhammed Ali'nin antrenörü kenardan sürekli bağıırıyordu: "Sağ bacağına oyna! Sağ bacağına vur!" Muhammed Ali'nin rakibinin sağ ayağına bir defa vurması yetecekti. Fakat o, bunu yapmadı. Yenildi ve gümüş madalya ile yetindi.

Müsabakadan sonra etrafını saran bütün gazetecilerin sorusu aynıydı: "Niçin yapmadın, niçin sağ ayağına vurmadin?"

O şöyle cevap verdi: "Ben bir Müslüman'ım. Benim dinim insana zarar vermeyi yasaklıyor. Eğer onun yaralı bacağına vursaydım engelli de kalabilirdi. Bir madalya için bunu ona yapamazdım."

Muhammed'in bu tavrı ayakta alkışlandı ve Uluslararası Fairplay Komitesi tarafından, 1984 Fairplay Ödülüne layık görüldü. O, daha sonra gittiği Japonya'da da bütün ülkenin onur konuğu olarak, bir kral gibi karşılandı.

**Muhammed Ali Raşvan'ın rakibi karşısındaki bu tutumu İslam'ın korunmasını istediği temel ilkelerden hangisinin kapsamında değerlendirilir?**

A) Akıl

B) Can

C) Nesil

D) Mal

19. "Medyen halkına da kardeşleri Şuayb'ı peygamber olarak gönderdik. Dedi ki: Ey kavmim! Allah'a kulluk edin, sizin ondan başka tanrınız yoktur. Size Rabbinizden açık bir delil gelmiştir; artık ölçüyü, tartıyı tam yapın, insanların eşyalarını eksik vermeyin..." (A'râf suresi, 85. ayet)

**Hız. Şuayb'ın bu ayetteki sözleri, İslam'ın;**

I. dinin,

II. malın,

III. canın

**korunması ilkelerinden hangileriyle ilgilidir?**

A) Yalnız I

B) Yalnız III

C) I ve II

D) II ve III

20. • "Ey insanlar! Hayatınız, mallarınız, haysiyet ve şerefınız Rabb'inizle buluşacağınız güne kadar kutsal ve saygındır." (Hadis-i şerif)  
• "Aranızda birbirinizin mallarını haksızlıkla yemeyin..." (Bakara suresi, 188. ayet)  
• "Sizin en hayırlınız, ailesine karşı en iyi davrananınızdır." (Hadis-i şerif)

**Bu ayet ve hadislerin tümü aşağıdaki konulardan hangisine örnek oluşturur?**

A) Biyolojik yasalar

B) Emek- rızık ilişkisi

C) Ahiret hayatının önemi

D) İslam'ın korunmasını istediği temel ilkeler

21. Hz. Peygamber, Hz. Ali'yi Yemen'e yönetici olarak gönderdiğinde ona şöyle demiştir: "Sana iki hasım (düşman) geldiğinde her iki tarafı dinlemeden karar verme! Doğru kararı ancak her iki tarafı dinledikten sonra verebilirsin!"

Hz. Peygamber bu tavsiyesinde aşağıdaki kavramlardan hangisinin önemini vurgulamıştır?

- A) Adalet B) Hoşgörü C) Merhamet D) Yardımseverlik

22. Hz. Peygamber, Veda Hutbesi'nde Müslümanlara hitaben şöyle buyurmuştur:

"Müminler! Sözümü iyi dinleyiniz ve iyi kavrayınız! Müslüman, Müslümanın kardeşidir ve böylece bütün Müslümanlar kardeşler. Bir Müslümana kardeşinin canı da malı da helal olmaz. Fakat malını gönül hoşluğu ile vermişse o başkadır."

Aşağıdakilerden hangisi Hz. Peygamber'in bu sözü söylemekteki amaçlarından biri olamaz?

- A) Yaşam hakkı ihlallerini engellemek  
B) Kişilerin mülkiyet haklarını korumak  
C) Toplum huzurunu sağlamaya yönelik tedbirler almak  
D) Kardeşler arasındaki miras paylaşımının şartları açıklamak

23.



Görselde bilgileri verilen projenin aşağıdakilerden hangisini gerçekleştirilmeyi amaçladığı söylenemez?

- A) Sağlığın korunması  
B) İsraftan kaçınılması  
C) Organik tarımın desteklenmesi  
D) Çevre kirliliğinin önlenmesi

24. İslam dinindeki temel haklardan biri de dinin korunması hakkıdır. İnsanlar, öncelikle bir dini kabul edip-etmeme ve kabul ettiği dinin ibadetlerini yerine getirme özgürlüğüne sahiptir. Ayrıca dinin doğru ve sağlam kaynaklardan öğrenilmesi, dinde dayanağı olmayan ve daha sonra oluşan yanlış inanç ve uygulamalardan uzak durulması da bu hak kapsamında dikkat edilmesi gereken hususlardır.

**Aşağıdaki ayet ve hadislerden hangisi sözü edilen hakkın diğerlerinden farklı bir yönüne değinmektedir?**

- A) “Her kim İslam’da kötü bir çıkar açarsa o kişiye onun günahı vardır.” (Hadis-i şerif)
- B) “De ki: Gerçek, Rabb’inizden gelendir. Artık dileyen iman etsin dileyen inkâr etsin.” (Kehf suresi, 29. ayet)
- C) “Sözlerin en hayırlısı Allah’ın kitabı Kur’an-ı Kerim’dir. Yolların en hayırlısı Muhammed’in yoludur. İşlerin en kötüsü sonradan ortaya çıkarılan bidatlerdir.” (Hadis-i şerif)
- D) “Ağzınıza geldiği gibi yalan yanlış konuşarak ‘Bu helaldir, bu haramdır’ demeyin. Çünkü Allah hakkında asılsız şey söylemiş olursunuz. Allah hakkında asılsız şey söyleyenler de kesinlikle kurtuluşa eremezler.” (Nahl suresi, 116. ayet)

25. “Andolsun zamana ki insan gerçekten ziyan içindedir. Ancak iman edip de salih ameller işleyenler, birbirlerine hakkı ve sabrı tavsiye edenler başka (onlar ziyanda değillerdir).” (Asr suresi)

**Verilen sureden hareketle bir özlü söz üretilmek istendiğinde aşağıdakilerden hangisinin söylenmesi uygun olmaz?**

- A) Kalbini besle, doğruyu eyle!
- B) İyilik kumbaranı doldurmak için geç kalma!
- C) Vakit hızla geçer, yakalamak sana düşer!
- D) Önce hakikati tavsiye et, sonra yaparsın elbet!

26. Medine Sözleşmesi, Medine’de barış ve huzur ortamını sağlamak için 622 yılında Müslümanlar ve Yahudiler arasında imzalanmıştır.

**Antlaşmada yer alan,**

- Müslümanlar ile Yahudiler barış içinde yaşayacaktır.
- Yahudiler, kendi inanç ve ibadetlerinde serbest olacaktır.
- Medine’de yaşanan savaş sonrasında herkes kendi giderlerini karşılayacaktır.

**maddelerinin aşağıdaki temel haklardan hangisini korumaya yönelik olduğu söylenemez?**

- A) Nesli                                      B) Canı                                      C) Malı                                      D) Dini

27. Tabloda Hz. Yusuf'un Kur'an-ı Kerim'de geçen sözleri ile bunlarla ilgili mesajlar eşleştirilmek istenmiştir.

	Ayetler	Verilmek İstlenen Mesaj
I	"Rabb'im! Zindan benim için bunların istediklerini yapmaktan daha iyidir." (Yûsuf suresi, 33. ayet)	Tevhit
II	"Çeşitli tanrılara mı yoksa gücüne karşı durulamaz olan bir tek Allah'a mı (inanıp bağlanmak) daha iyi?" (Yûsuf suresi, 38. ayet)	Öz denetim
III	"Kim kötülükten sakınır ve sabrederse şüphesiz Allah iyilik yapanların mükâfatını zayi etmez." (Yûsuf suresi, 90. ayet)	Takva
IV	"Bugün yaptıklarınız yüzünüze vurulmayacak, Allah sizi affetsin! O acıyıp bağışlayanların en yücesidir!" (Yûsuf suresi, 92. ayet)	Merhamet

**Buna göre, numaralanmış ayetlerden hangileri yer değiştirirse tablo doğru olur?**

- A) I ve II                      B) I ve III                      C) II ve IV                      D) III ve IV

28. Bir tüccar, ürünlerini Mekke'de sattı ancak sattığı kişiden parasını alamadı. Borcunu inkâr eden kişi, Mekke'nin ileri gelenlerinden olduğu için tüccarın bu mağduriyeti kabileler tarafından önemsenmedi. Ertesi gün, insanların Kâbe'nin etrafında toplandıkları sırada tüccar bir konuşma yaparak uğradığı haksızlıktan dolayı Mekkelileri kendisine yardım etmeye çağırdı. Bunun üzerine Hz. Muhammed'in (sav.) de dâhil olduğu bir grup, haksızlığa uğrayan her kim olursa olsun hakkı teslim edilinceye kadar onunla birlikte hareket etmeye yemin etti. Bu grup, borcunu inkâr eden kişiden ürünlerin bedelini alıp tüccara verdi.

**Bu olayda Hz. Muhammed'in (sav.) gösterdiği davranış aşağıdakilerden hangisinin korunması ile ilgilidir?**

- A) Dinin                      B) Canın                      C) Malın                      D) Aklın

29. "Allah, müjdecî ve uyarıcı olarak peygamberler gönderdi ve beraberlerinde, insanların anlaşmazlığa düştükleri şeyler konusunda aralarında hüküm vermek üzere kitapları hak olarak indirdi." (Bakara suresi, 213. ayet)

**Bu ayete göre İslam dini ile ilgili,**

- I. Kişiyi seçimlerinde serbest bırakmıştır.
- II. Toplumsal hayatı düzenleyen ilkeler koymuştur.
- III. İnsanlara doğru yolu bildirmek için gönderilmiştir.

**yargılarından hangilerine ulaşılabilir?**

- A) Yalnız I                      B) Yalnız II                      C) II ve III                      D) I, II ve III

# 8. SINIF

## Din Kültürü ve Ahlak Bilgisi



### 4. Ünite

### *Hz. Muhammed'in Örneği*

1. Hz. Peygamber, bir eve misafir olur. Evin hanımı, çocuđuna “Gelirsen sana bir Őey vereceđim.” diye seslenir. Bunun üzerine Hz. Peygamber anneye “Çocuđa ne vereceksin?” diye sorar. O da hurma vereceđini söyler. Bunun üzerine Allah Resulü, “Eđer aldatıp ona bir Őey vermeseydin sana bir yalan günahı yazılmış olurdu.” buyurur.

**Bu olayda Hz. Peygamber’in verdiđi mesaj aŐađıdakilerden hangisidir?**

- A) Anneler çocuklarına merhametli olmalıdır.  
B) Çocuklar koruyup gözetilmelidir.  
C) Verilen söz yerine getirilmelidir.  
D) Başarı ödüllendirilmelidir.

2. Hz. Ali, bir gün Hz. Ömer’in telaŐ içinde bir yere gittiđini görür ve sorar:

– Müminlerin emiri (halifesi) nereye gidiyorsun?

Hz. Ömer:

- Devlete ait develerden biri kaçmış, onu aramaya gidiyorum, diye cevap verir.

Bunun üzerine Hz. Ali Őöyle der:

– İnan ki senden sonra bu milleti idare edecek olanlara ağır bir yük bırakıyorsun! Herkes senin yaptıđını yapamaz!

Hz. Ömer karŐılık verir:

– Hz. Muhammed’i (sav.) hak peygamber olarak gönderen Allah’a yemin ederim ki Fırat kenarında bir ođlak kay-bolsa korkarım ki kıyamet gününde hesabı Ömer’den sorulur.

**Hz. Ömer’in bu tavrı aŐađıdaki kavramlardan hangisi ile iliŐkilendirilemez?**

- A) EŐitlik                      B) Dürüstlük                      C) Güvenilirlik                      D) Sorumluluk

3. • “Demek sen, bu söze (Kur’an’a) inanmazlarsa, arkalarından üzülerak âdeta kendini tüketeceksin!” (Kehf suresi, 6. ayet)  
• “(Ey Muhammed!) Mümin olmuyorlar diye neredeyse kendini yiyip bitireceksin!” (Őuarâ suresi, 3. ayet)

**Bu ayetlerde Hz. Muhammed’in (sav.) hangi yönüne dikkat çekilmektedir?**

- A) Dođru yola yönlendirme isteđine  
B) İslam’ı tebliđ etmedeki cesaretine  
C) YaŐanılan sıkıntılı durumlara sabretmesine  
D) Őahsına yapılan kaba davranıŐları hoŐ görmesine

4. Hz. Muhammed (sav.), peygamberliğinin ilk yıllarında Safâ tepesinden Mekkelilere “Şu vadinin arkasında size saldırmak isteyen süvari birlikleri var desem bana inanır mısınız?” diye sorduğunda onlar hep bir ağızdan “Evet, inanırız... Biz senin bugüne kadar yalan söylediğini hiç görmedik.” diye karşılık vermişlerdir.

**Parçadaki altı çizili cümle peygamberlerin aşağıdaki özelliklerinden hangisiyle ilişkilidir?**

- A) Fetanet                      B) Tebliğ                      C) Sıdk                      D) İsmet

5. • “Ben âlemlere rahmet olarak gönderildim.”  
• “Güneş’i sağ elime, Ay’ı da sol elime koysalar yine de yolumdan dönmem.”  
• “Ey Müslümanlar, şayet birinize haksız bir muamelede bulunmuşsam onu ödemeye hazırım. Kimin hakkı varsa işte şahsım, işte malım; gelsin, alsın.”

**Bu hadislerden Hz. Muhammed’in (sav.) aşağıdaki özelliklerinden hangisine ulaşamaz?**

- A) Affedicidir.  
B) Kararlıdır.  
C) Adaletlidir.  
D) Merhametlidir.

6. Mekke müşriklerin ileri gelenleri Hz. Muhammed’e (sav.) gelerek “Biz senin yanına geldiğimizde fakir ve zavallı insanları yanından kov. Biz o insanlarla bir arada olmaktan hoşlanmıyoruz. Çünkü biz, toplumun seçkin kişileriyiz.” dediler. Hz. Muhammed (sav.) onların bu isteğini kabul etmedi.

**Bu olay, Hz. Muhammed’in (sav.) aşağıdaki özelliklerinden hangisine örnek oluşturur?**

- A) Yetimler, hastalar ve yaşlılarla ilgilenirdi.  
B) İnsanların sevinç ve üzüntülerini paylaşırdı.  
C) Verdiği sözü yerine getirir, emanete sahip çıkardı.  
D) İnsanlar arasında ayırım yapılmasına izin vermezdi.



7. “Sen onlara Allah’ın lütfu sayesinde yumuşak davrandın. Eğer katı kalpli ve kaba olsaydın onlar etrafından dağılır giderlerdi. Onları affet, onların bağışlanmasını dile; iş hakkında onlara danış, karar verince de Allah’a güven. Doğrusu Allah, kendisine güvenenleri sever.” (Â-i İmrân suresi, 159. ayet)

**Bu ayette aşağıdaki kavramların hangisine vurgu yapılmamıştır?**

- A) İstişare                      B) Tevekkül                      C) Emek                      D) Merhamet

8. Müslüman, insanların elinden ve dilinden emin olduğu kimsedir.

**Bu hadisteki altı çizili ifade;**

- I. çalışkan olmak,  
II. doğru konuşmak,  
III. verdiği sözü tutmak

**tutum ve davranışlarından hangilerini kapsamaktadır?**

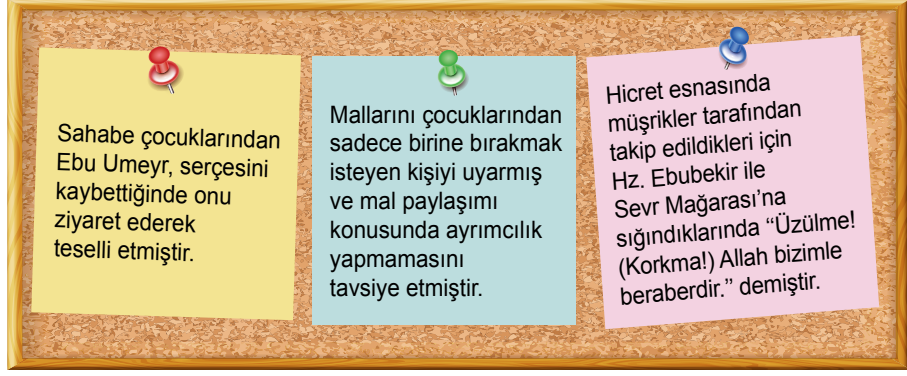
- A) Yalnız I                      B) Yalnız II                      C) II ve III                      D) I, II ve III

9. Hz. Muhammed (sav.), başkasının hurma ağacına taş atan bir çocuğa, ağacı niçin taşıladığını sormuştur. Aç olduğu için yaptığını öğrenince de “Evladım, hurma ağacını taşılama; yere düşmüş olan hurmaları alıp ye.” diyerek çocuğa nasihatte bulunmuş, ardından da “Allah’ım, onun açlığını gider!” diyerek dua etmiştir.

**Hiz. Muhammed’in (sav.) bu davranışı hangi konuda örnek oluşturmaz?**

- A) Merhametli olma                      B) Doğayı koruma                      C) Hakkı gözetme                      D) Cömert olma

10. Verilen panoda Hz. Muhammed'in (sav.) bazı tutum ve davranışları anlatılmıştır.



**Bu tutum ve davranışlarda aşağıdakilerden hangisinin örneği yoktur?**

- A) İstisare etmek                      B) Değer vermek                      C) Adaletli olmak                      D) Cesaretli olmak

11. Hz. Muhammed (sav.); güvenilir bir insan, eş, baba, arkadaş ve dosttur. Etrafındaki herkese güven veren, özü sözü bir, sadık insandır. Ayrıca o, güvenilir olmayı kendisini örnek alan bütün müminlerin ayrılmaz vasfı olarak nitelemiştir. "Bir kişinin kalbinde aynı anda iman ile küfür, doğruluk ile yalancılık, hıyanet ile emanet bir arada bulunmaz." hadisi, iman ile güvenilirlik arasında doğrudan bağ kurması bakımından dikkat çekicidir. Bu açıdan mümin, sahip olduğu güveni davranışlarına ve çevresine yansıtmakla mükelleftir. Onun Allah'a ve resulüne imanı, insanlara sağladığı emniyete dönüşmeli; yüreğindeki güven hissi, toplumda güvenilirliğin teminatı olmalıdır.

**Bu metinden hareketle aşağıdaki yargıların hangisine ulaşamaz?**

- A) Mümin, söylem ve eylem bütünlüğü olan kişidir.  
B) Hz. Muhammed (sav.) toplumun rol modeli konumundadır.  
C) Güven toplumunun oluşmasında Müslümanların sorumlulukları vardır.  
D) Toplumsal sorunların çözümünde uzlaşmacı bir tavır takınmak gerekir.

12.

“Bana şunlar hakkında söz verin,  
ben de size cenneti müjdeleyeyim:  
Konuştuğunuz zaman doğruyu söyleyin.  
Söz verdiğiniz zaman sözünüzü tutun.  
Size emanet edilen şeyi koruyun.”

**Hz. Muhammed'in (sav.) bu sözünde yer alan ilkelere;**

- I. Hudeybiye Antlaşması sonrasında Müslümanların aleyhine bir durum olmasına rağmen antlaşmaya uyması,
- II. Hicret'ten önce insanların, koruması için ona verdiği eşyaları Hz. Ali aracılığıyla sahiplerine geri vermesi,
- III. Bedir Savaşı öncesinde ordunun konumlandırılacağı yeri, arkadaşlarının fikirleri doğrultusunda belirlemesi

**tutum ve davranışlarından hangileri örnek oluşturur?**

- A) Yalnız I                      B) I ve II                      C) I ve III                      D) II ve III

13. Hz. Muhammed'in (sav.) bazı tutum ve davranışları aşağıda numaralanmıştır.

- I. Hayvanlara eziyet etmemeyi ve onlara karşı iyi davranmayı tavsiye etmiştir.
- II. “Güneş'i sağ elime, Ay'ı da sol elime verseniz vallahi ben davamdan vazgeçmem.” demiştir.
- III. Biriyle konuştuğunda onun yüzüne bakmış, karşısındaki yüzünü başka tarafa çevirmedikçe kendisi de çevirmemiştir.
- IV. Kendisine düşmanlık edip yurdundan çıkarılanlar için “Allah'ım! Kavmimi bağışla; çünkü onlar bilmiyor.” diye dua etmiştir.

**Buna göre “Hz. Muhammed (sav.) ve Merhamet” konulu bir kompozisyon yazmak istendiğinde, onun bu tutum ve davranışlarından hangileri örnek olarak kullanılabilir?**

- A) I ve III                      B) I ve IV                      C) I, II ve IV                      D) II, III ve IV

# 8. SINIF

## Din Kültürü ve Ahlak Bilgisi



### 5. Ünite

### *Kur'an-ı Kerim ve Özellikleri*



4. Muamelat, insanlar arasındaki hukukî, malî ve sosyal ilişkileri düzenleyen hükümlerdir.

**Buna göre aşağıdaki ayetlerden hangisi muamelat ile ilgili değildir?**

- A) “Biz insana anne babasına iyi davranmayı emrettik...” (Ahkâf suresi, 15. ayet)
- B) “Kitaptan sana vahyolunanı oku, namazı da dosdoğru kıl.” (Ankebût suresi, 45. ayet)
- C) “Ölçtüğünüzde ölçmeyi tam yapın, doğru terazi ile tartın...” (İsrâ suresi, 35. ayet)
- D) “...Hiçbir suçlu, başkasının suçunu yüklenmez...” (En’âm suresi, 164. ayet)

5. **Aşağıdaki ayetlerin hangisinde “güzel ahlak”a değinilmektedir?**

- A) “Rabb’in, kendisinden başkasına asla kulluk etmemenizi, anaya-babaya iyi davranmanızı kesin olarak emretti. Eğer onlardan biri ya da her ikisi senin yanında ihtiyarlık çağına ulaşırsa sakın onlara ‘öf!’ bile deme, onları azarlama, onlara tatlı ve güzel söz söyle.” (İsrâ suresi, 23. ayet)
- B) “Andolsun onların kıssalarında akıl sahipleri için ibretler vardır. Kur’an, uydurulabilecek bir söz değildir; fakat o, kendinden öncekiler için onay, her şey için detaylı açıklama, iman eden toplum için bir rahmet ve bir hidayettir.” (Yûsuf suresi, 111. ayet)
- C) “Ey insanlar! Allah’ın üzerinizdeki nimetini anın. Gökten ve yerden sizi rızıklandıran Allah’ın dışında bir başka yaratıcı var mı? Ondan başka ilah yoktur. Öyleyse nasıl olur da çevriliyorsunuz?” (Fâtır suresi, 3. ayet)
- D) “Ey iman edenler! Allah’a karşı gelmekten sakınmanız için oruç, sizden öncekilere farz kılındığı gibi size de farz kılındı.” (Bakara suresi, 183. ayet)

# DİN KÜLTÜRÜ VE AHLAK BİLGİSİ

## CEVAP ANAHTARI

1. Ünite	1. D	2. D	3. A	4. C	5. A	6. B	7. B	8. C	9. B	10. D
	11. A	12. C	13. B	14. B	15. B	16. A	17. D	18. C	19. A	20. D
	21. A	22. B	23. D	24. A	25. D	26. A	27. A	28. B	29. B	30. B
	31. C	32. D	33. A	34. D	35. A	36. C	37. B	38. B		

2. Ünite	1. B	2. B	3. D	4. B	5. B	6. B	7. D	8. C	9. B	10. B
	11. A	12. A	13. D	14. C	15. A	16. C	17. B	18. A	19. C	20. B
	21. C	22. C	23. A	24. D	25. B	26. D	27. C	28. B	29. B	30. B
	31. C	32. C	33. B	34. D	35. D					

3. Ünite	1. D	2. B	3. C	4. A	5. C	6. D	7. C	8. B	9. C	10. C
	11. D	12. B	13. D	14. B	15. D	16. C	17. C	18. B	19. C	20. D
	21. A	22. D	23. C	24. B	25. D	26. A	27. A	28. C	29. C	

4. Ünite	1. C	2. A	3. A	4. C	5. A	6. D	7. C	8. C	9. D	10. A
	11. D	12. B	13. B							

5. Ünite	1. B	2. B	3. D	4. B	5. A					
----------	------	------	------	------	------	--	--	--	--	--

# 8<sup>TH</sup> GRADE English

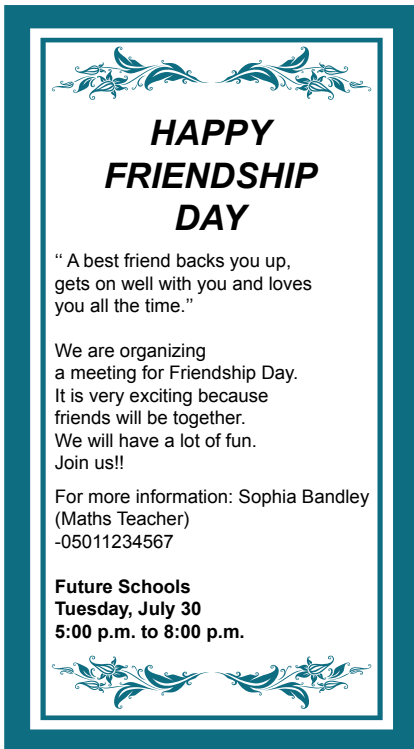


*Unit 1*

*Friendship*



Answer the questions 1 - 2 according to the invitation card below.



1. **Classmates come together on July 30 because - - - .**
- A) some of them like activities  
B) they like playing games together  
C) their teachers want to organize a party  
D) there is an organization on Friendship Day
2. **According to the saying on the card, your best friend can count on you because - - - .**
- A) you always support him/her  
B) you can organize a meeting together  
C) you have a lot of fun with your teachers  
D) your friends come together on Friendship Day

Complete the sentence according to the text below.

3.



Mark Twain



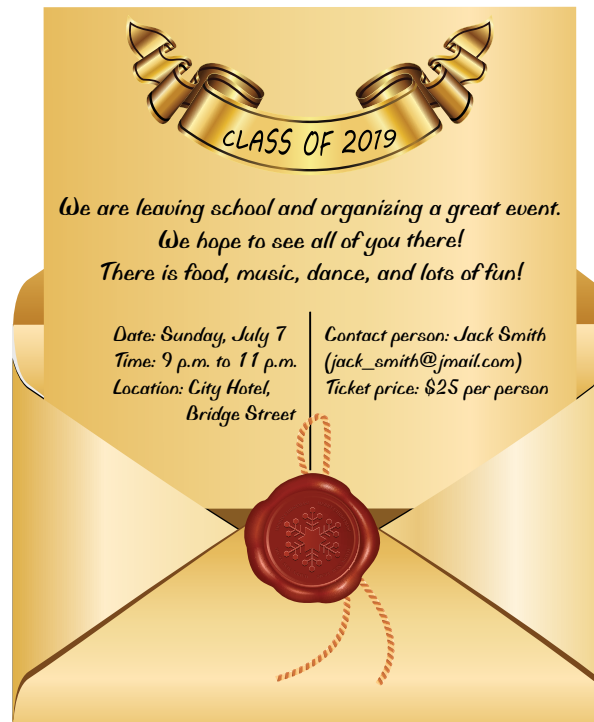
Nikola Tesla

Do you know Mark Twain and Nikola Tesla? I'm sure you do! Mark Twain (1835-1910) wrote many books, and Nikola Tesla (1856-1943) was a famous scientist. They met in New York in 1880s. They spent a lot of time together, and they shared a lot of ideas. When they were in different countries, they wrote letters to each other to keep in touch. Tesla loved Twain's books, and Twain respected Tesla's scientific work. Tesla invited Twain to his lab for a special day when he conducted an important experiment.

We can understand from the text that Mark Twain and Nikola Tesla - - - .

- A) had the same jobs  
B) were good friends  
C) usually argued  
D) rarely met

Read the invitation card below and complete the sentences 4-6.



4. The invitation card is for a/an - - - -.

- A) school lunch
- B) birthday party
- C) graduation party
- D) online exhibition

5. The event will be - - - -.

- A) in the afternoon
- B) at the weekend
- C) \$25 for 2 students
- D) in the school garden

6. If students want to ask for more information, they should - - - -.

- A) call Jack by phone
- B) meet Jack on July 7
- C) visit Jack at the hotel
- D) send an e-mail to Jack

Read the conversation and complete the sentence.

7.

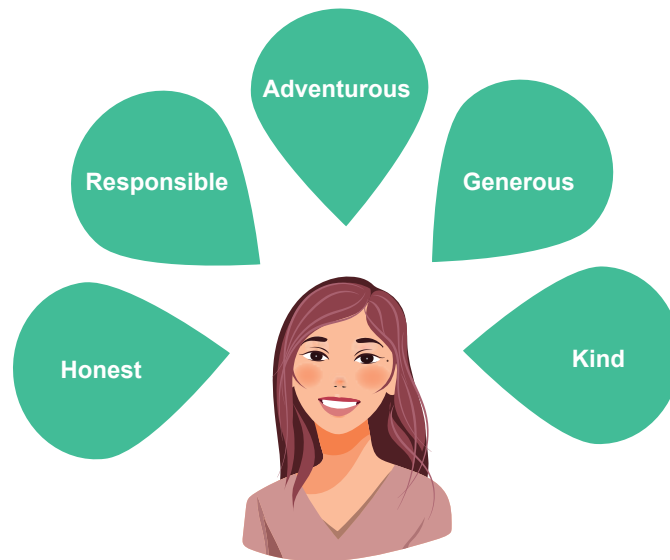


According to the conversation, Sophie - - - .

- A) tells Nathalie what she is doing now
- B) makes an excuse for not going there
- C) cannot go there because she is busy
- D) asks for some details about the event

Read the information about the personal characteristics of Rosa and answer the question.

8.



Which of the following is NOT related to Rosa's personality?

- A) She always says "please" and tells the truth.
- B) She buys presents for her friends.
- C) She likes doing extreme sports.
- D) She never changes her mind.

Read Arthur's plans and the conversation. Answer the question.

9.

MONDAY	TUESDAY	WEDNESDAY	THURSDAY
(6 pm - 8 pm)	(7 pm - 9 pm)	(5 pm - 8 pm)	(4 pm - 6 pm)
Going to the tennis course	Attending John's party	Taking care of my brother	Training for the tournament

**Blake** : We are planning to gather on Monday. Will you come?

**Arthur** : What time?

**Blake** : At 4 pm.

**Arthur** : - - - - .

Which of the following completes the conversation?

- A) It is awesome but I will be at John's party
- B) I'd love to but I have to leave before six
- C) That sounds great but I have to train for the tournament
- D) I am sorry but I am taking care of my brother at that time

Look at the poster below and answer the question.

10.



Which of the following does NOT have an answer in the poster?

- A) How long is the trip?
- B) Is there anything to eat?
- C) How can we learn details?
- D) Which equipment do we need?

Answer the question using the invitation card below.

11.



Which of the following does NOT have an answer in the invitation?

- A) Who is the party for?
- B) What time are they meeting?
- C) Where is the party going to be?
- D) How can they learn about the details of the event?

Read the conversation and answer the question.

12. Dean is organizing a chess tournament on Sunday. He sent messages to his friends to invite them. Here are their responses:

**Tina** : I will definitely be there. You have no chance to win.

**Sam** : That sounds great, but I will be out of the town at the weekend.

**Clark** : That's a good idea. Text me about the time.

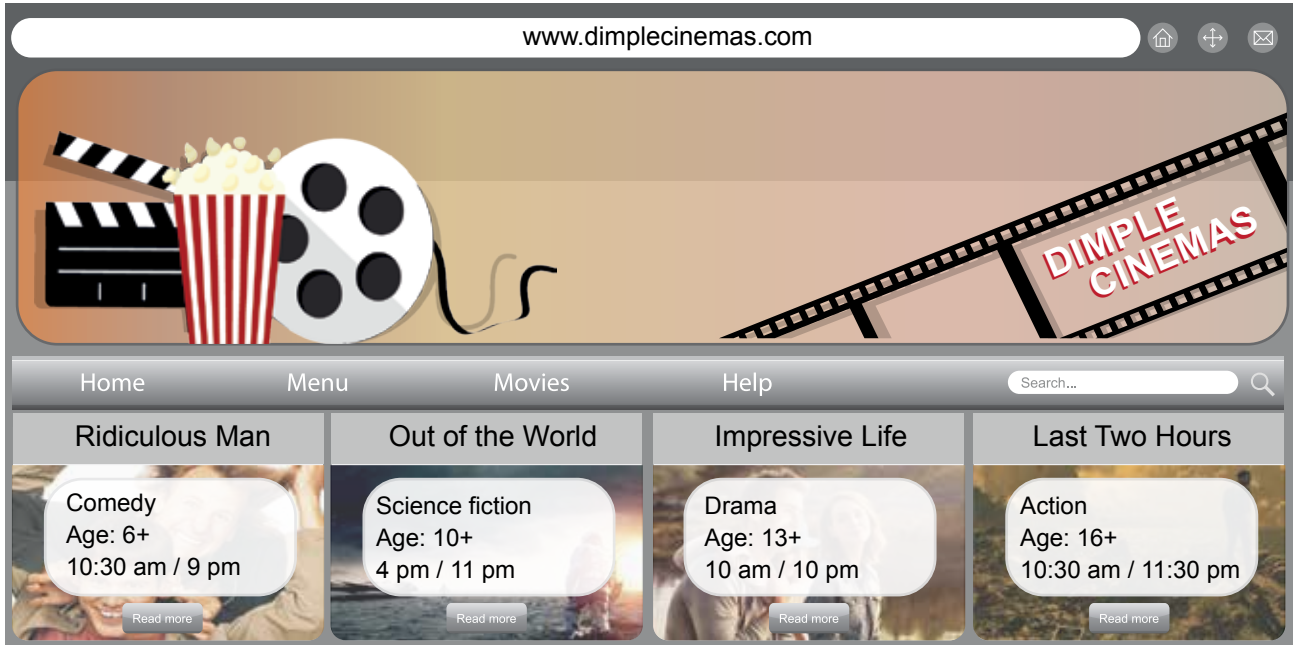
**Peter** : I'd love to join, but I have football training. I can join you after it.

According to the conversation above, which of the following is CORRECT?

- A) Tina isn't interested in playing chess.
- B) Sam has to attend a course, so he can't join the tournament.
- C) Clark needs extra information about the event.
- D) Peter is available all day on Sunday.

Read the text, check the website, and answer the question.

13. Sarah likes comedy films and science fiction movies. However, she finds dramas unbearable. Her 14 year old son, Tim, is fond of watching action movies and comedies. He also thinks science fiction movies are interesting. Sarah wants to go to the cinema on Sunday morning with her son. She wants to find a movie that is appropriate for both of their preferences.



According to the information above, which of the following is an appropriate movie for Sarah and Tim?

- A) Ridiculous Man  
 B) Out of the World  
 C) Impressive Life  
 D) Last Two Hours

Read the text, look at the table, and answer the question.

14. Alice invites her friends for some activities. Here is some information about the invitation and answers:

Invitation for	Invitation's day	Invitee	Invitee's answer
Going trekking	Monday	Sally	"I'd love to but I can't."
Cycling	Wednesday	Jane	"Yeah, why not?"
Drinking something at a cafe	Saturday	Mary	"Sure, it sounds great."

Which of the following does NOT have an answer in the table above?

- A) Which activity is at the weekend?  
 B) When does Alice want to ride a bike?  
 C) Who refuses the offer giving a reason?  
 D) How many people accept the invitation?





**Read the text and answer the question.**

16. Alice's best friend, Sally, invites her to an art exhibition on Sunday. She really wants to go, but her mother's birthday party is on the same day. So, Alice sends her a message to apologize and explain why she cannot attend the event.

**Which of the following CANNOT be Alice's message?**

- A) Thanks for the invitation. I'd love to but I can't make it. I'm busy at the weekend. Have a great time!
- B) Hey Sally, I was so happy to receive your invitation. I always have fun at exhibitions, but on that day, I have to be at a birthday party.
- C) Thanks a lot! I cannot refuse your invitation because I love you and I love art. I will text you to learn the details in the evening.
- D) Dear Sally, that's very kind of you! I really want to come, but I am afraid I cannot. I must join another special event on that day.

**Look at the visual and answer the question.**

17.

**LET'S GO BACK TO SCHOOL**

**CLASS of 2015**

Ticket : \$15 (food included)  
Date : October, 23rd  
Time : 7 p.m.  
Place : Shine Café

For details: 055098765430 (Dean)

**Which of the following is CORRECT according to the poster above?**

- A) You have to bring your own food.
- B) For more information, you can call Dean.
- C) If you want to attend the event, you must pay \$50.
- D) To join, you should be at Shine Café in the morning.

Check the table, read the conversation, and answer the question.

18.

Table 1: Personal characteristics of Charlotte's close friends

Anabel	generous	helpful	amusing
Britney	honest	serious	kind

**Daisy** : Does Anabel back you up when you need her?

**Charlotte** : Yes, she does. (I) She always supports me. (II) I think she is also a funny girl, and she likes making jokes.

**Daisy** : What about Britney?

**Charlotte** : (III) I think she is so nice to her friends. (IV) However, she rarely tells the truth, so I don't think that I can count on her.

Which sentence(s) in the conversation does NOT match the personal characteristics in the Table 1?

A) Only I

B) I and IV

C) II and III

D) Only IV

Read the conversation and answer the question.

19. **Gary** : I am organizing a movie night at home on Sunday evening. Who wants to join?

**Jenny** : Great idea. I don't have any plans on that day.

**Amy** : That sounds awesome, unfortunately, I do not think I can come.

**Joe** : Thanks for inviting me, but my brother is coming on that day.

Which of the following is NOT correct according to the conversation above?

A) Gary is having a birthday party.

B) Jenny is going to attend the event.

C) Amy refuses the invitation without making an excuse.

D) Joe will be with a guest on Sunday.

Read the conversation and answer the question.

20. **Dean** : I want to laugh when I watch a film, so I like funny films.  
**Sam** : Movies about the future and space are my favourite ones.  
**Lily** : I like movies about other planets.  
**Charlie** : I prefer watching movies about difficult situations in real life.

According to the conversation above, who likes the same type of movies?

- A) Dean and Sam                      B) Dean and Charlie                      C) Sam and Lily                      D) Lily and Charlie

Read the text, look at the table, and answer the question.

21.



I have a true friend in my class. She never tells lies and always keeps my secrets. She often makes jokes. We generally get on well with each other because we share the same hobbies. We usually ride a bike and go to the cinema together. I like spending time with her.

	Mary	Rose	Sally	Jane
Personal quality	generous & honest	funny & polite	polite & generous	honest & funny
Favourite activity	playing team sports	going to concerts	doing sports	watching films

According to the information above, who is Sabrina's best friend?

- A) Mary                      B) Rose                      C) Sally                      D) Jane

Read the text and complete the sentence.

22. Emma answered some questions about her buddies. Here are her answers:



1) Who always tells the truth and keeps your secrets?

*Ann and Sophie*

2) Who backs you up when you need help?

*Claire and Jack*

3) Who do you get on really well with?

*Claire*

4) Who always makes jokes and makes you laugh?

*Ann and Jack*

Emma thinks that - - - .

- A) only one person supports her when she needs help
- B) Sophie and Claire are helpful and kind
- C) all of her friends are amusing
- D) Ann is both funny and honest

Read the conversation and answer the question.

23. **Jack** : What do you think of Tim?

**Mary** : I think he is the best person in our office because he always supports us.

**George** : He never lies to us, so we can count on him.

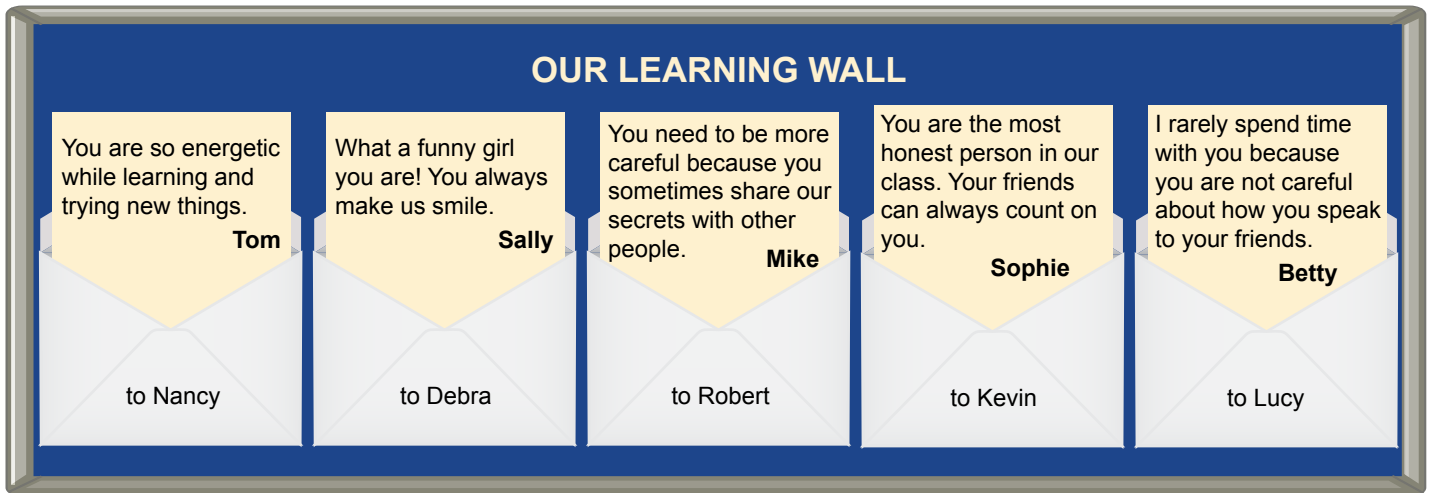
**Ted** : He also says 'please' when he wants us to do something.

According to the conversation above, which of the following is NOT one of the characteristics of Tim?

- A) Amusing
- B) Helpful
- C) Honest
- D) Kind

Read the text, look at the visual, and answer the question.

24. Miss Cooper, an English teacher, and her students prepare a learning wall in their class. Students can share only their positive opinions about their friends on this wall. Here are some students' notes:



Whose notes should NOT be on the learning wall according to the information above?

- A) Tom and Betty's      B) Sally and Mike's      C) Sophie and Sally's      D) Mike and Betty's

# 8<sup>TH</sup> GRADE English





*Unit 2*


*Teen Life*

**Read the text, look at the visuals, and answer the questions 1-2.**

The researcher, Professor Barclay, conducts researches about teenagers. His last research was about teenagers' daily routines. He compared young people in England with those in Korea. He asked young people about their habits. He gave them a questionnaire about their routines. Here are some results of his study from the questionnaire that he gave the teenagers.



**ENGLISH TEENAGERS**

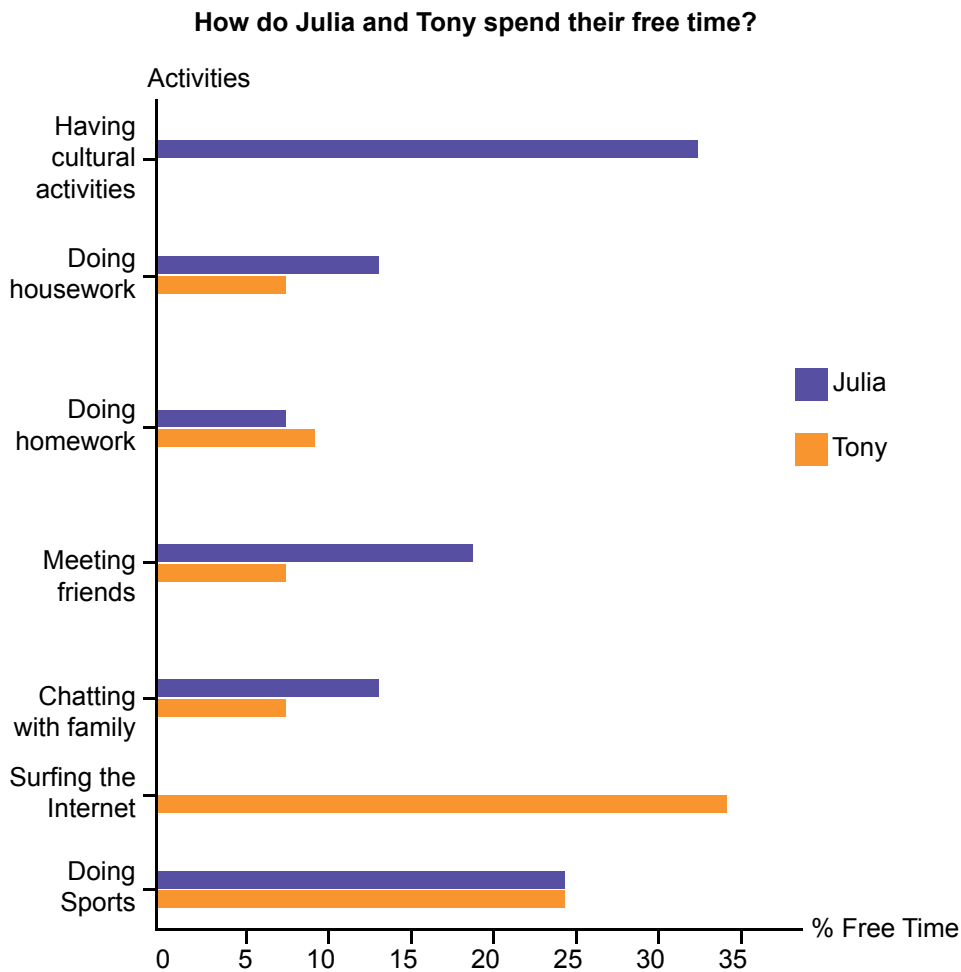


**KOREAN TEENAGERS**

- 1. Which of the following is **CORRECT** according to the research results?
  - A) Korean teens are more interested in sports than English teens are.
  - B) Korean teens spend less time studying than English teens do.
  - C) English teens' favourite activity is going online.
  - D) English teens prefer artistic activities.
  
- 2. Which of the following **CANNOT** be one of the questions in the questionnaire?
  - A) What do you do at weekends?
  - B) Why do you like going to the movies?
  - C) What is your favourite free time activity?
  - D) Which activities do you do on the Internet?

**Read the information below and answer the question.**

3. Tony and Julia are school friends. They have similar and different interests and responsibilities. The table below shows how they spend their free time and the activities they enjoy doing.



**Which of the following is NOT correct according to the information?**

- A) Both Tony and Julia like physical exercise.
- B) They spend same amount of time helping housework.
- C) Julia spends more time with her friends than Tony does.
- D) Tony enjoys spending time online most.



Read the text and answer the question.

4. The table below shows Helena and Tracy's likes. They want to attend a course together.

HELENA	TRACY
Playing the guitar	Preparing traditional dishes
Fishing	Taking photos
Cooking	Swimming

Which of the following is appropriate for both of them?

- A) **HUNT THE BIGGEST**
- B) **IMPROVE MUSICAL SKILLS**
- C) **LEARNERS IN THE KITCHEN**
- D) **ART OF CAMERA**

Read the text below and answer the question.

5. There was a rock concert of a famous singer last weekend. After the concert, some people wrote notes and threw them to the singer. Here are the comments:

*It's the worst performance I've ever seen. Your behavior during the concert was insulting.*  
SAM

*I think your concert was magnificent. At the end of the concert, I was really happy.*  
JANE

*Your music is impressive. I cannot stop listening to your songs.*  
JOHN

*Your concerts are always terrific. I am fond of your voice.*  
MARY

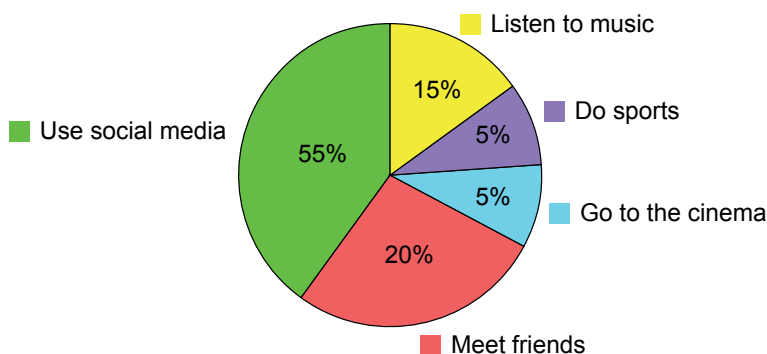
Whose comment was disappointing for the singer?

- A) Sam                      B) John                      C) Jane                      D) Mary

Read the information and answer the question.

6. The pie chart below shows the results of a study on the favorite free time activities of 100 teens.

**Favorite Free Time Activities of the Teenagers**



Which of the following is **CORRECT** according to the information above?

- A) Watching movies is the most favourite activity of the teens.
- B) Doing exercise is very popular among the teens.
- C) The teens usually spend their time on the Net.
- D) The teenagers never listen to music.

Read the text, look at the table, and answer the question.

7. Brian and Jenny want to do something different this weekend. Here is the list of their types of interests:

BRIAN	JENNY
Technology	Sculpture
Books	Sports
Paintings	Fashion

According to the table, which of the following is an appropriate place for them to go?

- A) Art exhibition
- B) Book fair
- C) Amusement park
- D) Cinema

Read the text, look at the table, and answer the question.

8. Alice, David, Mary, and Tom are planning different free time activities for this week.

- Alice is going to go to the cinema with her friends.
- Tom is going to go to the café with his buddies.
- David is going to ride a bike in the morning.
- Mary is going to play bowling after school.

DAYS	ACTIVITIES
Monday	Doing sports
Thursday	Meeting friends
Saturday	Cycling
Sunday	Watching a movie

According to the information above, who is NOT planning an activity for the weekend?

- A) Mary and Alice      B) Mary and Tom      C) David and Tom      D) David and Alice

Read the text and answer the question.

9.



Hello. My name is Frank. I'm 14 years old and a student in 8th grade. On weekdays, I get up at 7:30. I wash my hands and face before I have breakfast with my family. I go to school at 8:40. After school, I like reading books and playing chess with my brother, David. I usually read detective books. I don't like biographical books. My friends and I play basketball on Saturday afternoons. We have lots of fun together. I do my homework on Sunday mornings and help my mother in the kitchen. On Sunday afternoons, I like drawing pictures and spending time on the Internet.

Which of the following does NOT have an answer in the text?

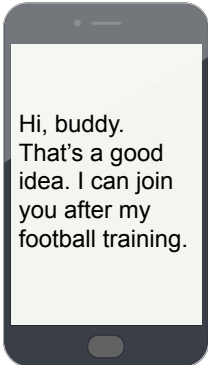
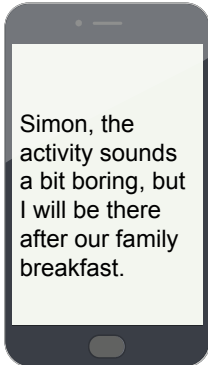
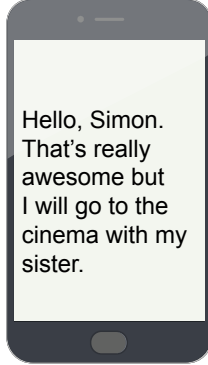
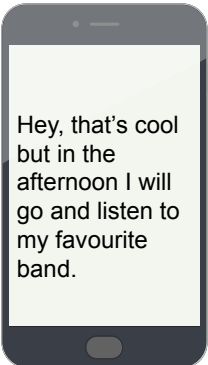
- A) What kind of games does Frank like playing?  
B) What time does he get up on Tuesdays?  
C) What does he do before the breakfast?  
D) Where does he play basketball?

Read the text, look at the table, and answer the question.

10. Simon is planning to go to a book fair on Saturday afternoon with his friends. He sends his friends a message to invite them to the fair. The table below shows his friends' plans for Saturday:

Betty	Carl	Tom	Lily
going to a concert with Jane 4 pm-7 pm	visiting grandparents 10 am-1 pm	doing sports 9 am-12 pm	seeing a new play 3 pm-7 pm

According to the information above, which of the following is NOT an appropriate reply to Simon's invitation?

- A)  B)  C)  D) 

Read the text, look at Tim's plans, and complete the sentence.

11. **Tim** : I have to stay home to be safe because of COVID-19. Being at home is a bit difficult, so I am trying to do different things every day. Here are my favourite activities for each day:

Monday	Tuesday	Wednesday	Thursday	Friday	Saturday	Sunday
Listening to my favourite band	Practising my French	Trying new recipes with my mum	Playing chess with my dad	Watching a pop concert	Joining an online drawing course	Painting

Tim - - - - .

- A) spends time only with his mum
- B) listens to music only once a week
- C) studies two different languages
- D) does art at the weekend

Look at the poster below and complete the sentence.

12.



The poster does NOT have any information about the - - - - of the tournament.

A) date

B) place

C) reward


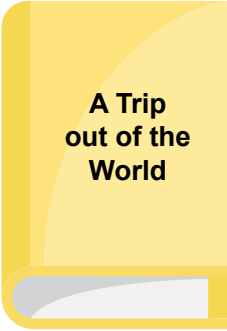


D) time

Read the text and answer the question.

13. Gloria loves reading in her free time. She shares her ideas about the books she reads on her blog every month. Here is this month's blog:



Which of the following is NOT one of the books that Gloria discusses in her blog?

- A) 
- B) 
- C) 
- D) 

**Read the conversation and answer the question.**

14. **Daisy** : What do you like doing in your free time?

**Janet** : I don't miss any plays. I am also fond of jazz and pop, but I dislike playing an instrument and playing team sports.

**Sam** : I enjoy buying new things. I also like doing sports. However, painting and seeing a play are unbearable for me.

**According to the conversation above, which of the following are the most appropriate activities for Janet and Sam?**

- A) **Janet**
- playing volleyball
  - joining a guitar course
- Sam**
- going to the shopping mall
  - doing basketball training
- B) **Janet**
- watching a play
  - going to a concert
- Sam**
- going to the theatre
  - joining a drawing course
- C) **Janet**
- swimming
  - playing the piano
- Sam**
- watching a play
  - visiting an art exhibition
- D) **Janet**
- listening to music
  - going to the theatre
- Sam**
- cycling
  - going shopping

**Check the information below and answer the question.**

15. We conducted a survey about the music preferences of 100 boys and 100 girls in our school, and here are the results:



**Which of the following is CORRECT according to the information above?**

- A) Girls listen to jazz and folk music more than boys do.
- B) More than half of the girls prefer listening to pop music.
- C) Rap music is the most popular kind of music for both groups.
- D) Both boys and girls like classical music at the same rate.

# 8<sup>TH</sup> GRADE English



*Unit 3*

*In The Kitchen*



Answer the question according to the recipe below.

1.

### How to Make a Cupcake

- 🍰 First, heat the oven at 200 °C.
- 🍰 Mix two eggs with a cup of sugar.
- 🍰 Next, add some milk, flour, oil, and powder.
- 🍰 Then, mix all the ingredients and pour the mixture into the cups.
- 🍰 Finally, put the cups into the oven and bake for 30 minutes.
- 🍰 Cupcakes are ready.

Enjoy.

Which picture shows the step after mixing the ingredients?



Answer the questions 2 - 3 according to the recipe below.

Charlotte is baking a brownie today. Here is her recipe:



- First, mix  $\frac{1}{2}$  cup of oil, 1 cup of sugar, and 1 teaspoon of vanilla in a bowl.
- Second, add some flour,  $\frac{1}{3}$  cup of cocoa, and  $\frac{1}{4}$  teaspoon of baking powder into mixture.
- Then, whisk 2 eggs, and pour it into the bowl.
- Mix all the ingredients (I use a mixer. It is easier ☺) and then, pour it into the cake pan.
- Finally, bake it in a preheated oven to  $250^{\circ}\text{C}$  about 20 minutes.
- Let it cool before cutting into slices.

Enjoy it!

P.s.: Use eggs at room temperature for better taste.

2. Which tool will NOT Charlotte use while baking the brownie?

A)



B)



C)



D)



3. You will have a more delicious cake if you - - - .

- A) don't bake it in an oven you heated before
- B) break the eggs into the baking powder
- C) cut it into the slices after it cools
- D) don't use cold eggs

Look at the visual below, read the text, and answer the question.

4.



Rosa and Troy want to buy ice cream. Rosa loves only sour flavors, but Troy likes ice cream with fruits. They have little money, and they can buy only one cup of ice cream.

**Which numbers should they press on the machine to buy a cup that reflects both of their preferences?**

A) 3 - 7 - 8


B) 2 - 3 - 4

C) 1 - 5 - 7

D) 1 - 4 - 6

Look at the visual below, read the text, and answer the question.

5.



Jane had \$20. She came to a shopping mall to watch a movie. She paid \$12 for the ticket. The film is going to start twenty minutes later. She wants to eat something quickly before the film begins.

**Keeping in mind how much money and time Jane has, what should she choose?**

- A) Grilled meatballs      B) Sandwich      C) Chicken      D) Pizza

Read the text and answer the question.

6. Kingston family is in the kitchen. They are talking about their dinner. They want to eat chicken.



Which of the following cooking methods is suitable for all the family members?

- A) roasting                      B) grilling                      C) boiling                      D) frying

Read the text and answer the question.

- 7.



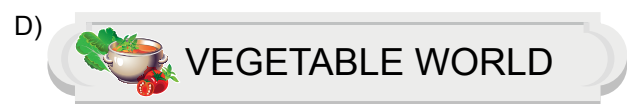
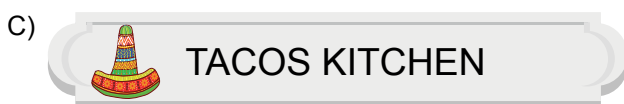
Claire is a chef at a famous restaurant. It is not suitable for the people who like meat and pasta. Today, Claire is cooking the speciality of the restaurant.

Here is the recipe: First, heat the oil in a large pot. Then, chop the onion, the carrot, and some garlic. Next, fry them and add sliced tomatoes and potatoes. After that, pour two glasses of water into the pot and boil them. Cook the mixture for 5 minutes after boiling.

Finally, put a leaf of basil in it. Serve hot.

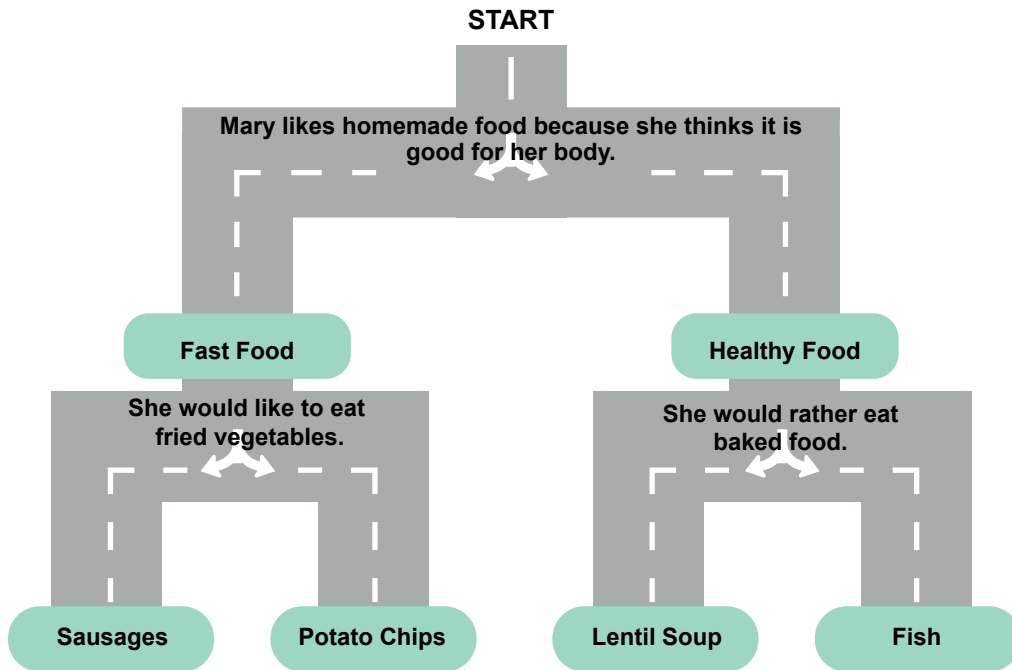
Enjoy!

According to the recipe above, in which restaurant does Claire work as a chef?



**Read the text and complete the sentence.**

8. Nick is playing a game. He should choose the correct moves and find Mary's favourite food.



Mary's favourite food is - - - - .

- A) fish                                      B) lentil soup                                      C) potato chips                                      D) sausages

**Read the text and answer the question.**

9. Mary, Tom, Lisa, and John met at a restaurant. They all ordered what they like most.



According to the information above, which of the following is NOT correct?

- A) Mary ordered pasta as a main course.  
B) Tom chose salad and meatballs.  
C) Lisa ate a slice of strawberry cake.  
D) John had both grilled chicken and ice cream.

Read the conversation and answer the question.

10.



**Philip** : Hi, mom. I need your help. ----?  
**Mom** : Sure, honey.  
**Philip** : ----?  
**Mom** : You need a cup of red lentil, a carrot, a potato, an onion, a tablespoon of olive oil, four cups of water and a pinch of salt.  
**Philip** : They're ready. ----?  
**Mom** : First, peel and cut the carrot, potato and onion. Second, wash the lentil. Put all of them into a pot. Then add water and cook them. After that, mix it with a blender. Finally, add olive oil and salt.  
**Philip** : Thanks mom.



Which of the following does NOT complete the conversation?

- A) Can you give me a recipe for lentil soup
- B) How long does it take to cook
- C) What are the preparation steps
- D) What are the ingredients

Read the text and answer the question.

11. Sam invites his friend, Tom, to dinner. He wants to prepare meals according to Tom's preferences. Here is some information about Tom's food preferences:

- Tom prefers meat to fish.
- He dislikes green vegetables.
- He isn't keen on cold desserts.

According to the information above, which of the following is the most appropriate menu for Tom?

A) *Menu*  
• Potato Soup  
• Meatball  
• Ice Cream

B) *Menu*  
• Parsley Soup  
• Grilled Chicken  
• Cake

C) *Menu*  
• Lentil Soup  
• Fish  
• Pudding

D) *Menu*  
• Tomato Soup  
• Steak  
• Hot Cocoa Rolls

**Read the recipe and answer the question.**

12.

Vegetable soup is very healthy and easy to prepare. You can make it at home in nearly 40 minutes.

First, peel an onion, two carrots, a potato and rinse them under water. Then, rinse a red pepper and broccoli under water. Second, chop the onion and dice the other vegetables. Put four tablespoons of olive oil in a large pot and heat it for half a minute. Then, add the onion and carrots. After cooking them for 5 minutes, add half a cup of flour and stir them for 2 minutes. Then, add the other vegetables and 5 glasses of water. After that, sprinkle a teaspoon of salt and cook for around 20 minutes over low heat. Finally, add 1/2 teaspoon of black pepper and your vegetable soup is ready to eat. Serve it hot.  
Good appetite!



**According to the text, which of the following is CORRECT?**

- A) Making vegetable soup takes less than an hour.
- B) Adding some milk to the soup makes it tastier.
- C) There is sugar and honey in the soup.
- D) We don't need any onions for the soup.

**Read the text and answer the question.**

13.



My parents are going to have some guests for a party at home tonight. We are all very excited. All of us are doing something. We are helping each other. My mother is baking the chicken, and my father is preparing the salad. I am making the desserts, and my sister is setting the table.


**Which of the following has an answer in the text?**

- A) Why are they having a party?
- B) When is the party going to be?
- C) Who is preparing the drinks?
- D) Which desserts is Mike making?



Read the text, look at the visual, and answer the question.

14. Amy and Pam want to join a cooking course together. They both like preparing different desserts and salads. Both of them want to spend less than \$70 for the course. Amy is available between 5th and 12th July. Pam has to be at school on 10th July.

	KITCHEN SKILLS			
	Course 1	Course 2	Course 3	Course 4
	Ice Cream Master	Pasta House	Chocolate World	Vegetable Garden
	\$75 for each person	\$50 for each person	\$40 for each person	\$60 for each person
	July 3 - 7	July 5 - 9	July 6 - 8	July 7 - 11

According to the information above, which of the following should they choose?

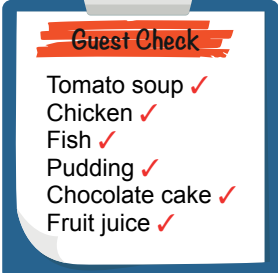
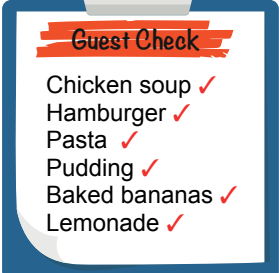
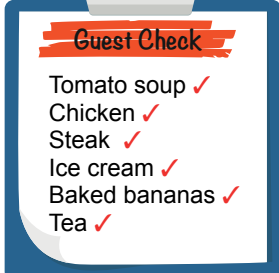
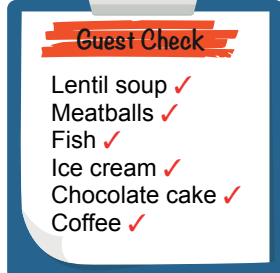
- A) Course 1                      B) Course 2                      C) Course 3                      D) Course 4

Read the text, check the menu, and answer the question.

15. Alice and Thomas meet at a restaurant for dinner. After looking at the menu, Alice orders white meat, a fruit dessert, and a hot drink. Thomas orders a bowl of vegetable soup, red meat, and a cold dessert.

Small House Restaurant MENU				
<b>SOUPS</b> Tomato \$3 Lentil \$3 Chicken \$3	<b>SALADS</b> Carrot \$5 Green \$4 Tomato \$5	<b>DRINKS</b> Coffee \$3 Tea \$3 Lemonade \$4 Fruit juice \$5	<b>MEALS</b> Pasta \$7 Fish \$13 Hamburger \$10 Meatballs \$8 Chicken \$10 Steak \$15	<b>DESSERTS</b> Baked bananas \$6 Pudding \$7 Chocolate cake \$5 Ice cream \$5

According to the information above, which of the following is their order?

- A) 
 B) 
 C) 
 D) 


Read the text and answer the question.

16. A restaurant does a survey about the food preferences of its customers. The purpose is to find the most popular meals and to prepare a different menu according to the preferences of the customers. Here is some information about the results of the survey:

- Vegetable soups are more popular than the other soups.
- Only a few people dislike eating meat.
- Most of the people like having a dessert after their meal.

Which of the following should the restaurant prepare according to the information above?

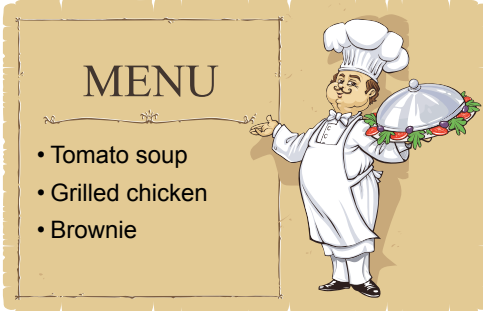
A)



A menu board with a chef illustration. The menu items are:

- Spicy carrot soup
- Steak
- Green salad


B)



A menu board with a chef illustration. The menu items are:

- Tomato soup
- Grilled chicken
- Brownie

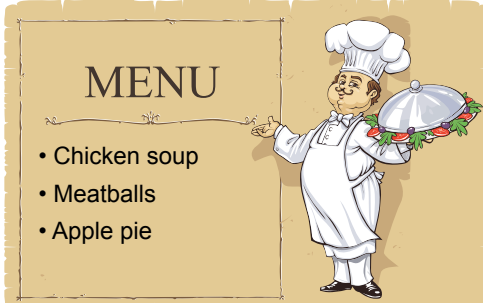
C)



A menu board with a chef illustration. The menu items are:

- Potato soup
- Pasta with tomato sauce
- Carrot balls

D)



A menu board with a chef illustration. The menu items are:


- Chicken soup
- Meatballs
- Apple pie

Read the conversation about the lunch menu and answer the question.

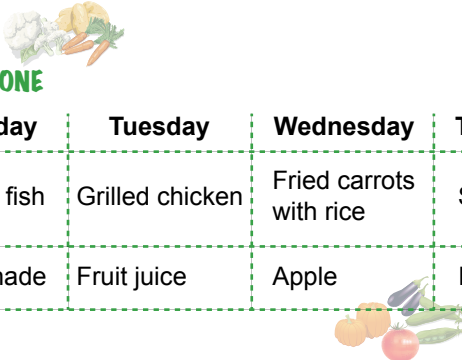

17.

**LUNCH MENU FOR OUR STUDENTS**

**WEEK ONE**



Monday	Tuesday	Wednesday	Thursday	Friday
Baked fish	Grilled chicken	Fried carrots with rice	Steak	Pasta with tomato sauce
Lemonade	Fruit juice	Apple	Ice cream	Green salad

**Lily** : Did you see the lunch menu for this week, Tom?

**Tom** : Yes, I think I am going to prepare my meal at home and bring it to school on - - - .

**Lily** : Why?

**Tom** : I really love meat, but I dislike eating vegetables.

Which of the following completes the conversation above?

A) Monday and Tuesday

B) Tuesday and Thursday

C) Wednesday and Friday

D) Thursday and Friday

Read the text and answer the question.

18. Alice wants to take her family to a restaurant for dinner. She wants to find a quiet and cheap place. Now, she is searching on the Internet and reading other people's comments about some of the restaurants in her town:

<p><b>Star Restaurant</b></p> <p>★★★★★</p> <p><b>JS</b> Joe S.</p> <p>Every Friday, we come here to listen to pop music. The band's music is crazy, and you can dance here after dinner.</p>	<p><b>New Restaurant</b></p> <p>★★★★★</p> <p><b>EH</b> Ellie H.</p> <p>The menu of the restaurant is very rich. The steaks here are the best, but the bill is too high.</p>
<p><b>Moon Restaurant</b></p> <p>★★★★★</p> <p><b>BR</b> Brad R.</p> <p>A lot of people visit this place every day because it is famous for its desserts. You should definitely try them.</p>	<p><b>Sun Restaurant</b></p> <p>★★★★★</p> <p><b>HP</b> Hannah P.</p> <p>Sun restaurant has a beautiful garden, and the restaurant is comfortable and calm. The prices are not expensive.</p>

According to the information above, which of the following restaurants should Alice choose?

A) Star Restaurant

B) New Restaurant

C) Moon Restaurant

D) Sun Restaurant

Answer the question according to the conversation between Jack and Carlos.

19.



Which question does NOT Jack ask Carlos?

- A) How often do you eat Japanese food?
- B) Why do Japanese people like Sushi?
- C) Who cooks well in your family?
- D) What is your favorite food?

Read the brochure and answer the question.

20.

**Suggestions for a healthy life during COVID-19**

- ▶ Eat fresh and homemade foods and drink enough water every day.
- ▶ Do not use too much salt and sugar.
- ▶ Prefer white meat to red meat.
- ▶ Stop eating out.

#COVID19 #CORONAVIRUS  
[www.emro.who.int/nutrition](http://www.emro.who.int/nutrition)



**World Health Organization**



**Who does NOT follow one of the suggestions offered by World Health Organization?**

- A) **Oliver** : I usually make a salad at home and bring it to work for my lunch.
- B) **Emily** : I like every kind of dessert, but I eat less sweet and salty foods these days.
- C) **Daniel** : I try to eat grilled fish two times a week as it is healthier than red meat.
- D) **Isabella** : I always prefer going to restaurants because I dislike cooking.

# 8<sup>TH</sup> GRADE English



*Unit 4*

*On The Phone*

**Answer the question according to Larissa's plans.**

1.

 <p><b>LARISSA'S PLANS</b></p>	<p><b>MONDAY</b></p> <p>SHOPPING WITH MY SISTER</p>	<p><b>TUESDAY</b></p> <p>WATCHING A MOVIE</p>	<p><b>WEDNESDAY</b></p> <p>GOING TO THE CONCERT</p>
	<p><b>THURSDAY</b></p> <p>MEETING FRIENDS</p>	<p><b>FRIDAY</b></p> <p>VISITING THE LIBRARY</p>	<p><b>SATURDAY</b></p> <p>SWIMMING</p>
	<p><b>SUNDAY</b></p> <p>HELPING MOTHER WITH THE HOUSEWORK</p>		

**Wendy** : Hey Larissa. It's Wendy. Are you free this weekend?

**Larissa** : Hi Wendy! Why are you asking?

**Wendy** : I want to go to the new Chinese restaurant with you in the afternoon.

**Larissa** : - - - - .

**Which of the following completes the conversation?**

- A) My sister and I will go shopping together
- B) I'm sorry, I have to finish my homework
- C) I'd love to but I have things to do
- D) Of course, I will be there on time

**Read the conversation and answer the question.**

2. **Mr. Cullingham** : Hello, Mr. Archlair. My car is not working.  
I don't know the problem.

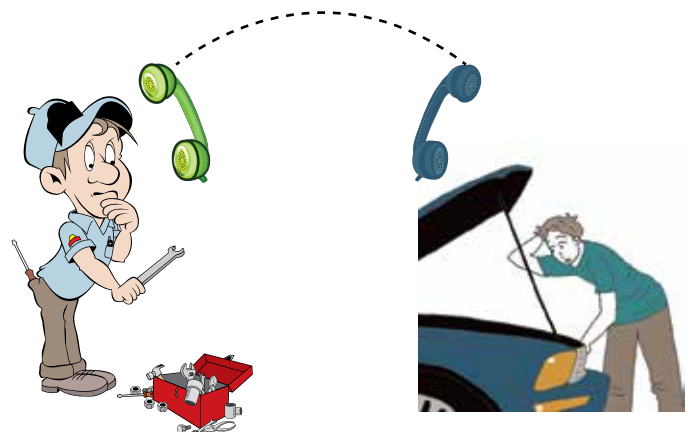
**Mr. Archlair** : Hi, Mr. Cullingham. Oh, I am sorry to hear that.

**Mr. Cullingham** : And I have a meeting at ten o'clock.

**Mr. Archlair** : OK, Tell me where you are and - - - - .


**Which of the following completes the conversation?**

- A) I hope you will be more careful when you drive
- B) I will send someone to take you and your car
- C) I will see your car if you come to the garage
- D) I will go to the meeting if you really want



Read the conversation and answer the question.

3.



This is Angela speaking.  
How can I help you?

I would like to make a reservation from  
Germany to Turkey on August 3.

There is a flight at 11 o'clock in the morning  
and one at 2 o'clock in the afternoon.

One ticket for the 11 o'clock plane,  
please.

Can you- - -, please?

It's Bridget Hopkins.

Which of the following completes the conversation?

- A) repeat that again      B) hold on a moment      C) tell me your name      D) spell your name

Read the text and answer the question.

4. Tom and Alice are talking about smartphones, but they have different opinions about them. Tom thinks that they are useful, while Alice believes that they are harmful.

Which of the following is Tom's speech bubble?

A) Playing games on a bright screen  
causes eye diseases.

B) Having a smartphone gives us a chance to  
connect quickly with emergency services.

C) Buying a smartphone costs  
a lot of money.


D) Constantly checking social media accounts  
creates concentration problems.



Read the text below and answer the question.

5. A research company asked 100 people about why they usually called customer services. Here are their answers:
- 35 people called to change an item they bought.
  - 20 people called to make a reservation for transportation.
  - 15 people called to learn something new.
  - The rest of them called when their products didn't reach them on time.

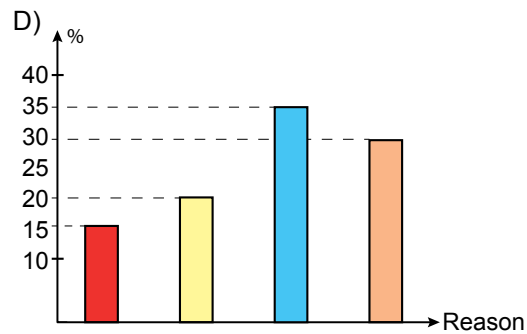
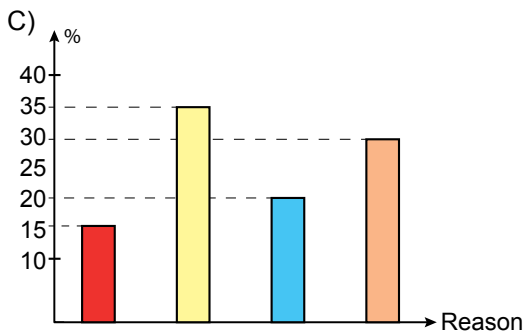
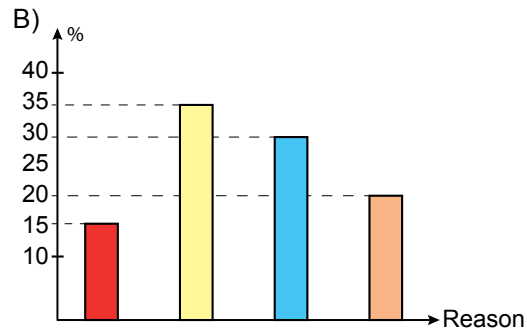
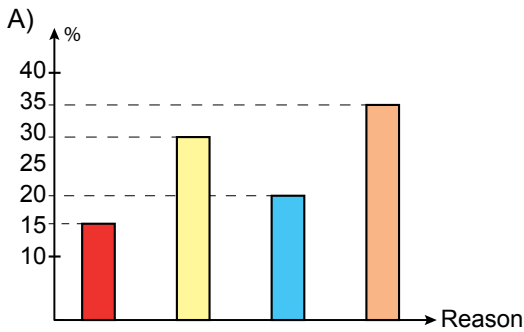
Which of the following shows the results of the research?

 return a product

 book a flight ticket

 get information

 report late arriving products



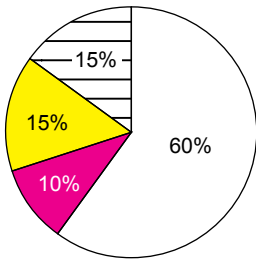
Read the text and answer the question.

6. Mr. Black asked 100 students about their mobile phone usage habits. Here are the results:

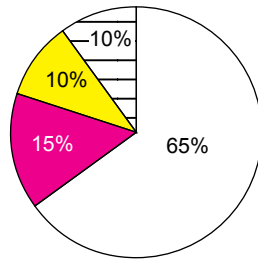
- More than half of the students use it to keep in touch with their friends.
- The number of the students who use mobile phones to find articles related to their lessons is less than all others.
- Playing online games using mobile phones is as popular as buying things from the Internet.

According to the results of the survey, which of the following is CORRECT?

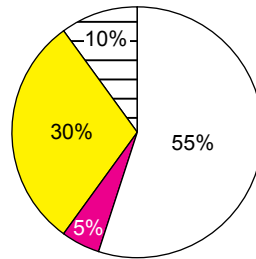
A)



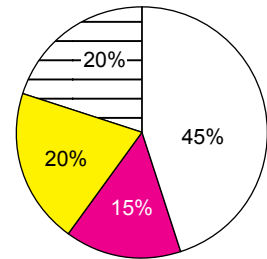
B)



C)



D)



□ communication    ■ doing research    ■ fun    ▨ online shopping

Read the text and answer the question.

7. Susan organizes a birthday party at 8 pm on Monday and calls Mary to invite her. However, Mary doesn't answer the phone, so Susan leaves a message.

Which of the following is Susan's message?

- A) I think you're not available now, I'll call you in the evening.
- B) I'm busy now, I'll get back to you as soon as possible.
- C) It's a bad line. Could you get back to me later?
- D) I'm not at home right now, I'll talk to you soon.

Read the conversation and answer the question.

8. **Customer Service** : Hello, how can I help you?  
**Alice** : Hi, I want to book a flight ticket from London to New York.  
**Customer Service** : Sure. One way or return?  
**Alice** : Return.  
**Customer Service** : Can you tell me the dates on which you want to travel?  
**Alice** : June 15th and June 26th.  
**Customer Service** : Can I have your name and phone number, please?  
**Alice** : Alice Black, 09502345678.  
**Customer Service** : Your flight is reserved. Have a good flight.

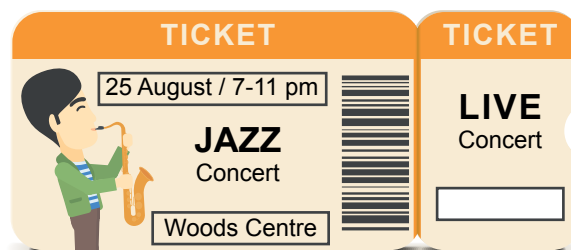


Which of the following does NOT have an answer in the conversation above?

- A) What is the phone conversation about?
- B) What is the destination of the flight?
- C) What are the dates of the flights?
- D) What is Alice's reason for travelling?

Read the conversation, check the ticket, and answer the question.

9. **Scott** : Hello, Scott is speaking. How may I help you?  
**Tina** : Hi! I'd like to book a ticket for a jazz concert.  
**Scott** : Sure. Which one do you prefer, August 21st or August 25th?  
**Tina** : August 25th, please.  
**Scott** : Could I have your name and phone number, please?  
**Tina** : Tina White. My phone number is 48978565. Can I learn when the concert starts?  
**Scott** : It starts at 7 pm and it is 3 hours long. It is at the Woods Centre.  
**Tina** : Thank you.  
**Scott** : You're welcome. Please get your ticket before the concert.



Which information on the ticket is NOT correct according to the conversation above?

- A) genre
- B) time
- C) date
- D) place

Read the conversation and answer the question.

10.

Hi, Nick. How are you?

Not bad bro, you?

Fine, we are organizing a football match on Wednesday evening. Do you want to come and play with us?

What time?

I'm not sure but it can be at 8 or 10 pm.

OK, call me when you know, and I will decide then.

Alright, I will let you know.



John



Nick

Which of the following is **CORRECT** according to the conversation?

- A) John does not tell Nick the exact time.
- B) John and Nick are not close friends.
- C) The match will be at the weekend.
- D) Nick refuses John's invitation.

**Read the text and answer the question.**

11. Tim, Richard, Emily, and Helen want to leave a message for the people they are trying to reach, and they have different excuses:



**Tim**

I have lost my keys and called my mum, but she doesn't answer my call.

I am going to meet a friend for dinner, but I won't arrive on time. I can't reach him.



**Richard**



**Emily**

I have an important exam in English class today, but I don't feel well. I'll leave a message for my teacher.

I will see my doctor, but I am afraid I will be late. I have to call the hospital and leave a message for him.



**Helen**

**Whose message does NOT reflect his/her excuse correctly?**

- A) Tim: I am waiting for you to come home because I cannot get in.
- B) Richard: Hey, buddy. There is too much traffic on the road. Sorry, I will be a bit late.
- C) Emily: I have a cold and feel bad. I have to see a doctor, so I can't come to school today.
- D) Helen: Hi, I have an appointment at the hospital. Can you pick Lisa up from school?

Read the phone conversation about the brochure and answer the question.

12.

## ONLINE COMPUTER CLASSES

Every day  
except Saturday and Sunday

At 7 pm



Contact 4567899797  
maggie@computer.house

**Claire** : I saw a brochure about computer classes on the Internet,  
and I am planning to join one of them. Would you also like to try it?

**Gloria** : That sounds nice. Can I learn the day of the class?

**Claire** : - - - -.

**Gloria** : How much should we pay for the class?

**Claire** : There is no information about it.

**Gloria** : Well, I'll make my decision after I learn it.

Keeping in mind the brochure, which of the following completes the conversation above?

- A) We can attend it at the weekend if you like
- B) There are only morning classes every day
- C) It is in the evening on weekdays
- D) You can join it at any time of day

Read the statements below and answer the question.

13. The students below are talking about the reasons for using smartphones.



Jack

I always buy something using my smartphone.

Mostly, I use it to practice my foreign language.



Julia



Tim

I usually use it to keep in touch with my friends.

I use it to follow the news online every day.



Maggy

Which of the following is NOT correct according to the statements above?

- A) Jack does his shopping online.
- B) Julia improves her science knowledge.
- C) Tim uses his smartphone for communication.
- D) Maggy reads magazines and newspapers on the Net.

# 8<sup>TH</sup> GRADE English



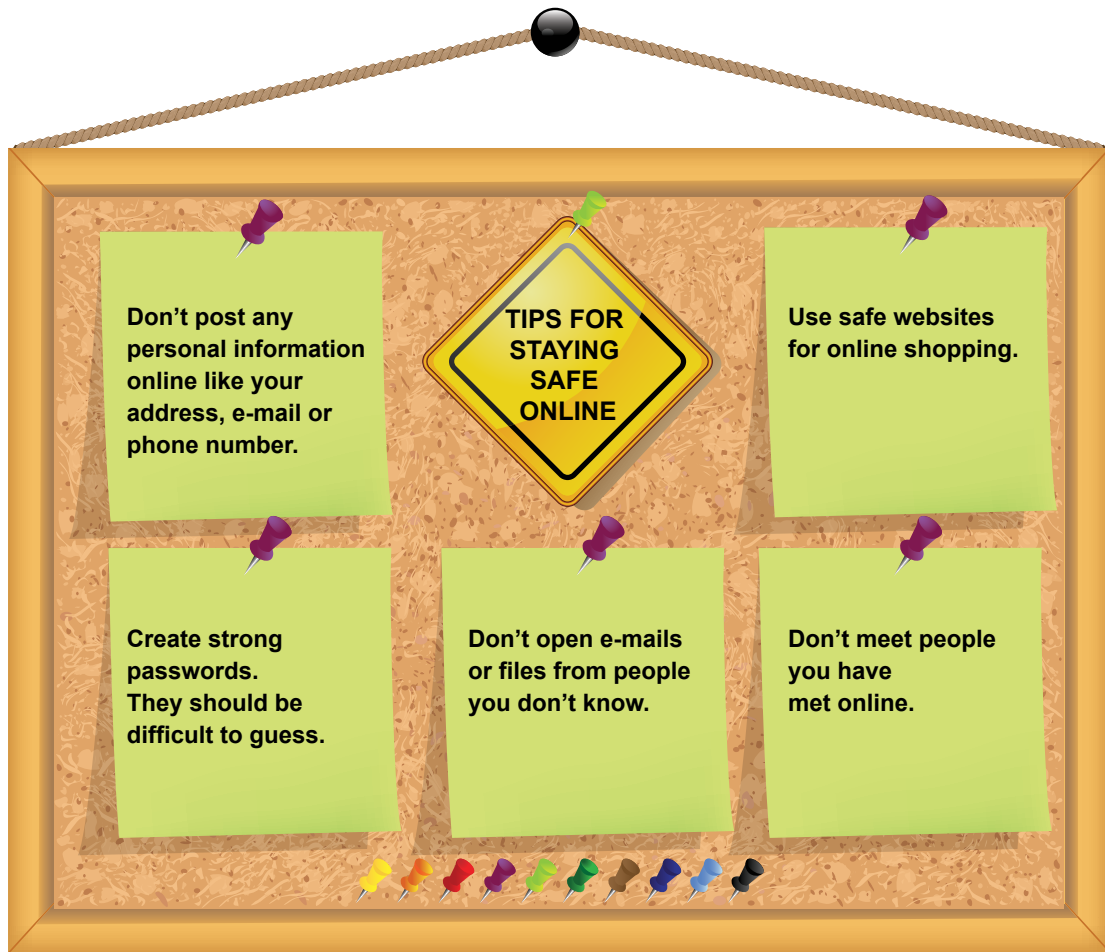
*Unit 5*

*The Internet*



Read the information below and complete the sentence.

1.



**If you want to be safe online, you should - - - .**

- A) invite people you met online to your house
- B) create a password such as your birthday
- C) buy things from websites you trust
- D) tell the place of your school

Answer the questions 2 - 3 according to the text below.

# NEWSPAPER

-----  
?-----  
-----

*The Internet has harmful effects, especially on young people. It can damage their social life, education, and physical health. Firstly, young people don't have many real friends, just online ones. Also, they get bad grades. Many students play computer games, but they don't do their homework. Another bad effect is on their physical health. For example, young people can have problems with their eyes because they look at the screen for a long time. So, young people should spend less time on the Internet.*

2. What can be the best title for the text?

- A) Dangerous Effects of Internet on Physical Health
- B) Disadvantages of Internet on Young People
- C) Social Life, Online Friends, and Internet
- D) Internet: Bad for Teen's Education

3. If young people want to have better grades, they should - - - .

**Complete the sentence.**

- A) have real friends
- B) sit far away from the screen
- C) study more for their lessons
- D) play online games with their friends

**Read the conversation and answer the question.**

4. **Jeremy** : You should be careful about the things you share on the Internet.

**Paul** : What do you mean?

**Jeremy** : I mean, don't - - - .


**Which of the following completes the conversation?**

- A) give personal information on the Internet
- B) shop from the websites you trust
- C) believe everything you read
- D) meet your online friends

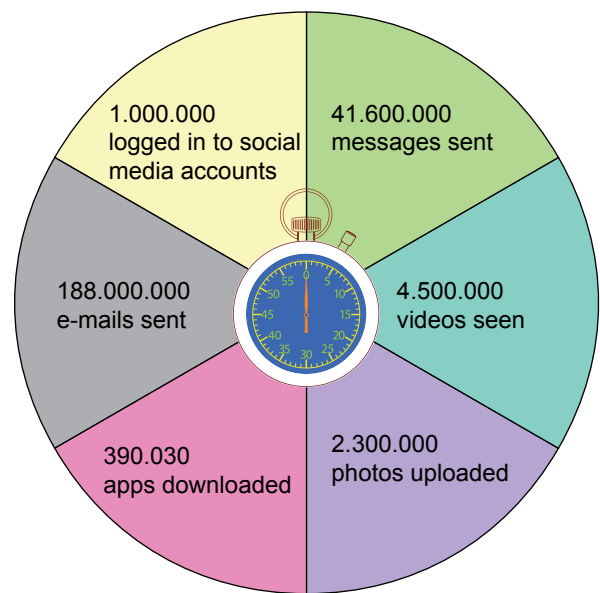


**Complete the sentence according to the information below.**

5. People use the Internet for different reasons. A research compared what happens on the Internet in 60 seconds. The research looked at the years 2018 and 2019.



2018



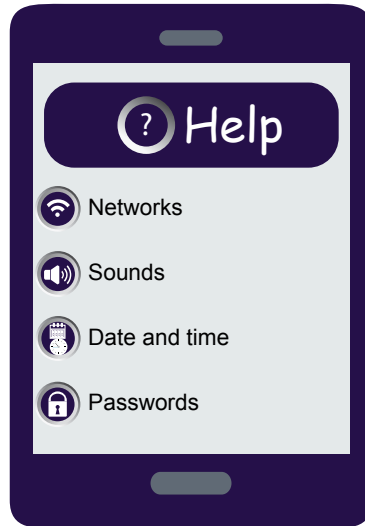
2019

- - - - in 2019 than they did in 2018.

- A) Fewer people logged in to their social media account
- B) More people downloaded photos
- C) People watched more videos
- D) People wrote less e-mails

Answer the question according to the telephone screen and the text below.

6.



Frank has a new telephone. He wants to join the Internet.

Which icon should Frank click?



Read the text and answer the question.

7. Mary and her friends spend most of their free time on the Net at weekends. Here is some information about what they do when they are online:

- Mary keeps in touch with her friends on the Net.
- One of them takes an online foreign language course.
- Two of them use the Net for the same purpose.





According to the information above, which of the following is CORRECT?

A)	<b>Mary</b> Sending e-mails	<b>Julia</b> Doing research	<b>Rose</b> Downloading articles	<b>Ashley</b> Chess training
B)	<b>Mary</b> Following her favourite series	<b>Julia</b> Watching movies	<b>Rose</b> Having video chats	<b>Ashley</b> Practising Italian
C)	<b>Mary</b> Using social networking sites	<b>Julia</b> Learning French	<b>Rose</b> Reading e-books	<b>Ashley</b> Checking bank accounts
D)	<b>Mary</b> Chatting online	<b>Julia</b> Doing online shopping	<b>Rose</b> Studying Spanish	<b>Ashley</b> Ordering what she needs

Read the text and answer the question.

8. Jack wants to create a password for his account and reads the rules below.

#### HOW TO CREATE STRONG PASSWORDS

-  Use at least ten characters.
-  Use a mixture of letters, numbers and punctuation.
-  Do not use ordered letters and numbers (e.g. abcde,12345).
-  Do not use personal information such as names, birth dates or phone numbers.





Which of the following is an appropriate password for Jack?

- A) 3.qa!iwf2m                      B) 2007jack\_7                      C) 123123abc+                      D) 5552660912

Read the text and answer the question.

- 9.

#### RULES FOR USING SOCIAL MEDIA SAFELY

-  Do not believe any information without confirming it.
-  Use private settings to control your account.
-  Be sure that you want to post a photo/ video.
-  Do not talk about your private life.



Tom: In the evenings, I surf the Internet. When I see interesting news, I try to find out its source.

Sally: I am very careful before I post a photo or video online.

Chris: When I sign up to a social media site, I make sure that only my friends see what I post.

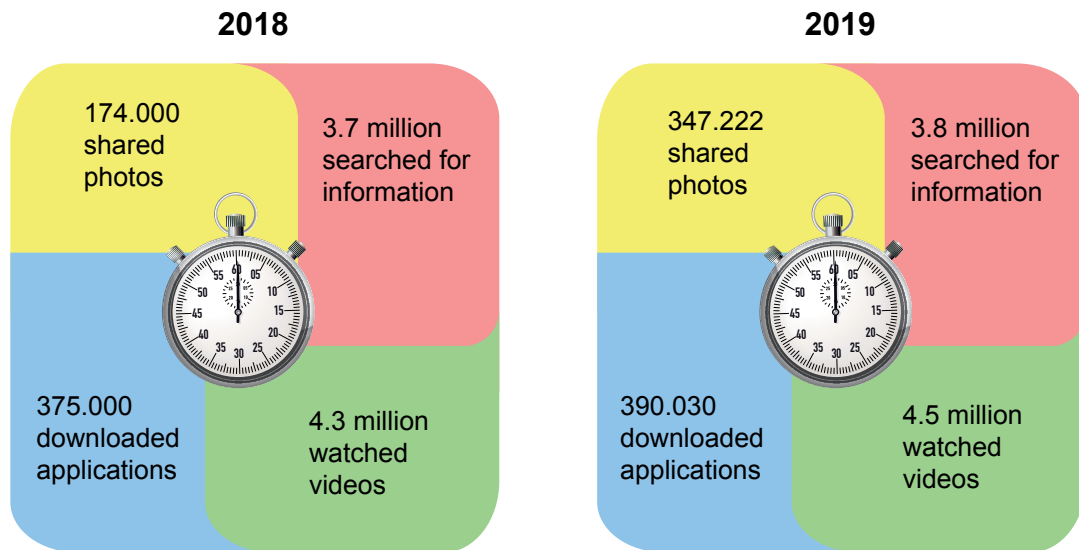
Emily: When I am online, I tell everybody my birthday, where I live and what I like.

Who does NOT follow the rules for using social media safely?

- A) Tom                      B) Sally                      C) Chris                      D) Emily

Read the text, look at the visuals, and answer the question.

10. The visuals below show what kind of activities people did on the Net in a minute in 2018 and 2019.



According to the results above, which of the following is NOT correct?

- A) In 2018, people shared fewer photos than in 2019.
- B) More people watched videos on the Net in 2018 than in 2019.
- C) People downloaded more applications from the stores in 2019.
- D) About four million people used search engines both in 2018 and 2019.

Read the conversation and answer the question.

11.

Hey, there is an online course about Internet habits. - - - -

That would be great. Because I often go online. - - - -

I am sending you the link. Create an account, then register and log in. It will start at 9 p.m. tomorrow evening.

- - - - However, I will try to join it.

**Tommy** **Lilly**

Which of the following does NOT complete the conversation above?

- A) Would you like to register?
- B) My Internet is not working properly.
- C) What is the web address of the course?
- D) I am bad at face-to-face communication.

Read the text and answer the question.

12. Here is Mike's search history in the last two weeks:

History	
← → ↻	2 weeks
<input type="checkbox"/>	<input checked="" type="radio"/> Facts about websites
<input type="checkbox"/>	<input checked="" type="radio"/> Online courses
<input type="checkbox"/>	<input checked="" type="radio"/> Social media addiction
<input type="checkbox"/>	<input checked="" type="radio"/> Internet safety rules

Which of the following is NOT related to Mike's search history?

- A) The exact number of active Internet sites is unknown.
- B) New generation smartphone war takes new shape.
- C) 92% of teens go online daily and 24% say they are always online.
- D) Many people practice a foreign language by using the Internet.

**Read the text and answer the question.**

13. Online games are very popular among young people. Lots of children are becoming addicted to the Internet and online games. They play online games on their tablets or smartphones. These children spend 6-10 hours online and they rarely have face-to-face communication with their families. Some of them refuse to go to school because they want to stay at home and play games. Parents are not happy about their children.



**Which of the following does NOT have an answer in the text above?**

- A) What kind of devices can children use to play online games?
- B) How much time do the addicted children spend online?
- C) What are the reasons for online game addiction?
- D) How do parents feel about their children's habits?

**Read the text and answer the question.**

14. A teacher asks 100 students why they use the Internet. Here are their answers:

- 12 students use the Internet to chat.
- 24 students use the Internet to share their photos.
- 42 students use the Internet to learn something new.
- 22 students use the Internet to follow their favourite series.

**Which of the following is CORRECT according to the information above?**

- A) Only a few students search new things on the Internet.
- B) Nearly 25% of the students post photos on the Internet.
- C) Half of the students prefer watching something on the Internet.
- D) 20% of the students use the Internet for communication.



Read the text, look at the visual, and answer the question.

15. Sally and her friends answered a survey to learn if they are Internet addicts. Here are their answers:

ARE YOU AN INTERNET ADDICT?	
Choose your answers.	
1. Do you play online games every day?	<input type="checkbox"/> Yes <input type="checkbox"/> No
2. Do you use the Internet to do your homework?	<input type="checkbox"/> Yes <input type="checkbox"/> No
3. Do you have more than two social media accounts?	<input type="checkbox"/> Yes <input type="checkbox"/> No
4. Do you comment on all of your friends' photos?	<input type="checkbox"/> Yes <input type="checkbox"/> No
5. Do you spend more than three hours online every day?	<input type="checkbox"/> Yes <input type="checkbox"/> No

*\*If you have answered more than three of the questions with YES, you are an Internet addict.*

SALLY		TOM	
Yes	No	Yes	No
1. <input type="checkbox"/>	<input checked="" type="checkbox"/>	1. <input checked="" type="checkbox"/>	<input type="checkbox"/>
2. <input checked="" type="checkbox"/>	<input type="checkbox"/>	2. <input type="checkbox"/>	<input checked="" type="checkbox"/>
3. <input checked="" type="checkbox"/>	<input type="checkbox"/>	3. <input checked="" type="checkbox"/>	<input type="checkbox"/>
4. <input checked="" type="checkbox"/>	<input type="checkbox"/>	4. <input checked="" type="checkbox"/>	<input type="checkbox"/>
5. <input checked="" type="checkbox"/>	<input type="checkbox"/>	5. <input type="checkbox"/>	<input checked="" type="checkbox"/>

MARIA		JACK	
Yes	No	Yes	No
1. <input type="checkbox"/>	<input checked="" type="checkbox"/>	1. <input checked="" type="checkbox"/>	<input type="checkbox"/>
2. <input checked="" type="checkbox"/>	<input type="checkbox"/>	2. <input type="checkbox"/>	<input checked="" type="checkbox"/>
3. <input type="checkbox"/>	<input checked="" type="checkbox"/>	3. <input checked="" type="checkbox"/>	<input type="checkbox"/>
4. <input checked="" type="checkbox"/>	<input type="checkbox"/>	4. <input checked="" type="checkbox"/>	<input type="checkbox"/>
5. <input type="checkbox"/>	<input checked="" type="checkbox"/>	5. <input checked="" type="checkbox"/>	<input type="checkbox"/>

Which of the following is NOT correct according to the results of the survey?





- A) Sally and Maria use the Internet to get help for their lessons.
- B) Tom and Jack spend more time on the Net than the others.
- C) All of them share their opinions about their friends online.
- D) Two people are Internet addicts according to the results.

Read the text and answer the question.

16. People can use the Internet to do different things. For example, they:


- have fun,
- communicate with others,
- search for information and learn new things.




Whose purpose of using the Internet does NOT match the examples in the text above?

- A)  I often look for different recipes on the Internet.  
Mary
- B)  I use the Internet to send emails and chat with my friends.  
Tom
- C)  I use the Internet to watch movies and play games.  
Sam
- D)  I generally buy what I need on the Internet.  
Sophie


**Read the text and answer the question.**



17. Mr Aslan, an English teacher, creates a discussion topic on EBA and asks his students to share their opinions about the Internet. Here are some of his students' comments:

 **Muharrem ASLAN** - Teacher  
1 hour ago. He created a discussion topic for 8/A.  
What do you think about the advantages and disadvantages of the Internet?  
[Write your opinions](#)

   4 likes 4 opinions

**Asya** : In my opinion, the Internet improves our digital performances and helps us reach the information more effectively.  
**Hakan** : Some teenagers sit in front of the screen and surf on the Net for long hours. I think this may cause some concentration and health problems.  
**Umut** : People can do a lot of things online such as paying the bills and doing the shopping, so I think it is time-saving and more comfortable.  
**Gülce** : Many students prefer staying at home and playing online games to going out and spending time with their real friends and so, they are getting worse at face-to-face communication.



**According to the information above, which two students are talking about the positive sides of the Internet?**

- A) Asya and Hakan      B) Hakan and Gülce      C) Umut and Asya      D) Gülce and Umut

**Read the text and answer the question.**

18. Thirty-six students answered a survey about their use of the Internet. Here are the results:

The number of students	Why they use the Internet
12	to translate texts
10	to find different recipes
8	to order food from a restaurant
6	to solve puzzles

**According to the information above, which of the following is CORRECT?**

- A) Eight students use the Internet to learn something in a foreign language.  
B) The least popular use of the Internet is playing educational games.  
C) Most of the students use the Internet to buy something to eat.  
D) Half of the students learn how to cook something using the Internet.

**Read the text and answer the question.**

19. Chloe and her friends are talking about how they spent time on different websites yesterday.

**Chloe** : I watched movies and studied Italian.

**Ruby** : I searched for tips about different recipes.

**Lucy** : I learned about the latest events in the world.

**According to the information above, which of the following is NOT one of the websites they visited?**

- A) [www.film-choices.com](http://www.film-choices.com)
- B) [www.extreme-sports.com](http://www.extreme-sports.com)
- C) [www.easy-cooking.com](http://www.easy-cooking.com)
- D) [www.news-around.com](http://www.news-around.com)

# 8<sup>TH</sup> GRADE English



*Unit 6*

*Adventures*

Read the brochures below and complete the sentence.

1.

**PARAGLIDING**

- ▶ Are you an adventurer?
- ▶ Do you enjoy watching the view over the sky?
- ▶ What about paragliding together?

Date : **28th May**

- ✓ \$50 for each person
- ✓ Free food
- ✓ Free bus service
- ✓ Paragliding parachute needs \$ 30

Contact us at [prglidng@prglidng.com](mailto:prglidng@prglidng.com)



**SCUBA DIVING**

- ▶ Are you an adrenalin lover?
- ▶ Do you want to explore the world under water with professional trainers?

Then, join us  
**on 17th April.**

- ✓ \$50 for each person
- ✓ Free transportation
- ✓ Equipment included
- ✓ Free sandwiches for lunch

Contact us at [scuba@diving.com](mailto:scuba@diving.com)



Steve loves extreme sports a lot. So far, he has tried several activities such as rafting and rock climbing. He wants to try a different sport, but he doesn't have much money. He has two options. He prefers going scuba diving because - - - -.

- A) it is on April 17
- B) he doesn't like free food
- C) it offers free transportation
- D) he won't pay for equipment

Answer the question according to Martin's statement below.

2.

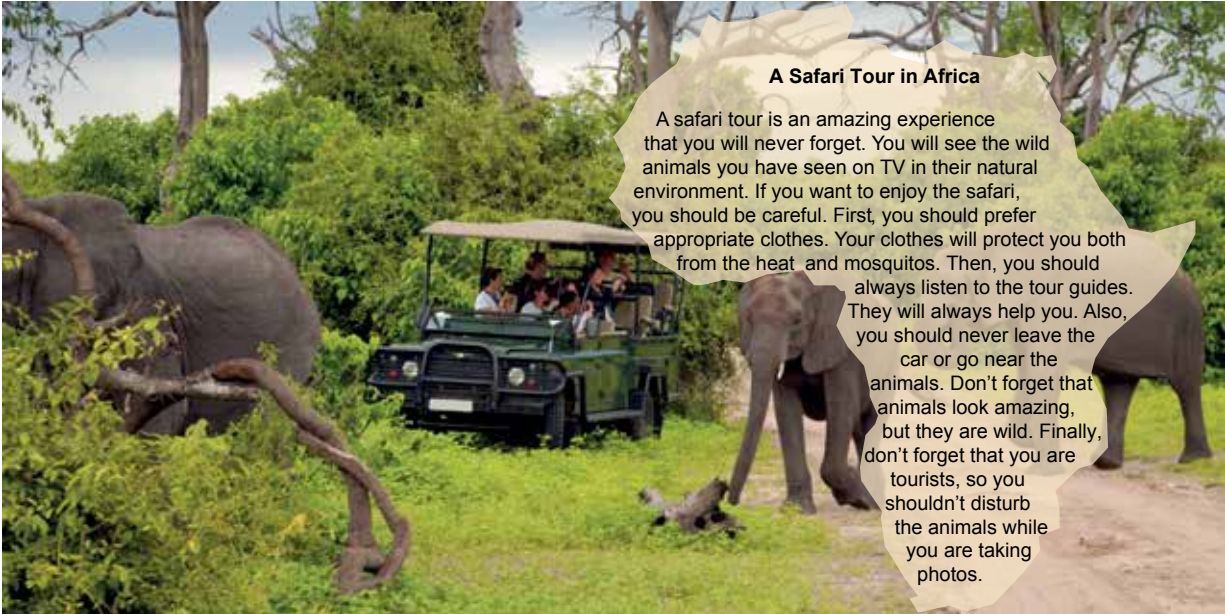


Extreme sports are popular all over the world. People enjoy the adventure and fun. I am one of them. I like extreme sports because they are exciting. I tried paragliding before, and I enjoyed it. Then, I tried water extreme sports such as diving, kayaking, and rafting. They are all exciting, but I enjoy exploring the fish and sea animals most. I think it is more amusing than all other sports. I also take photos of different kinds of fish.

What is Martin's favourite extreme sport?

- A) Paragliding
- B) Kayaking
- C) Rafting
- D) Diving

Read the text and complete the sentences 3-4.



3. If you want to have a safe and amusing safari tour, you should - - - .

- A) wear comfortable clothes
- B) be close to the animals
- C) not stay in the tour car
- D) not take any photos

4. - - - will help you during the safari.

- A) Heat
- B) Mosquitos
- C) Tour guides
- D) Wild animals

Complete the sentence according to the text below.

5.



There is no information about the - - - .

A) clothes

B) equipment

C) climate

D) training

Answer the question according to the text below.

An extreme sports complex conducted a research on what people think about extreme sports. Here are some of the answers.

6.

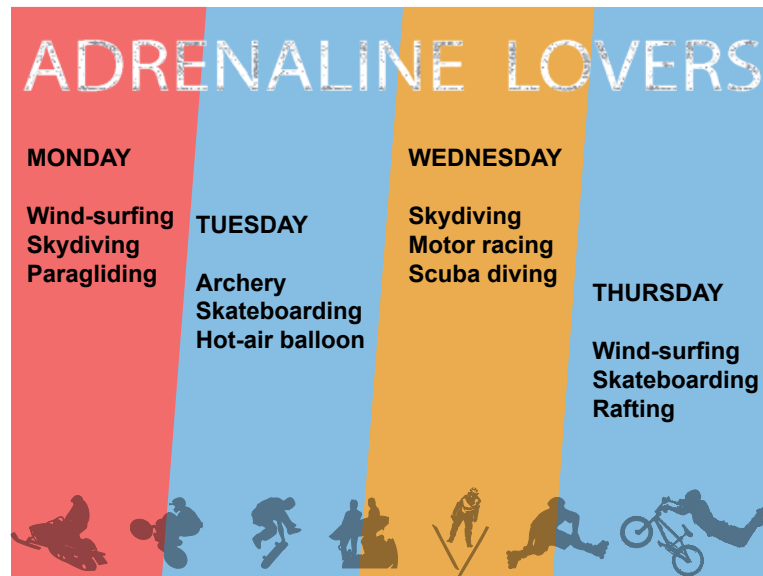
What do you think about extreme sports?	
ANDY	I love extreme sports. I prefer climbing. I go climbing with my friends about three times a year.
JESSICA	I love doing water extreme sports not the others. I am in love with sea. My favourite is exploring fish underwater.
AMELIE	I am afraid of extreme sports, so I prefer indoor exercises. I do sports three or four times a week.
JASON	I love nature, so I like sports such as trekking and canoeing. With the school trekking club, we try a new route every month.

Which of the following is NOT correct according to the people's answers?

- A) Amelie loves sports like bungee jumping.
- B) Jessica enjoys the scuba diving most.
- C) Andy likes camping in the mountains.
- D) Jason is an eco-friendly person.

Read the text, look at the poster, and answer the question.

7. Emily, Sandra, and Sally want to try extreme sports together. However, they like doing different kinds of activities. Emily enjoys being in the air. Sandra is interested in underwater sports. Sally is keen on speed.



According to the information above, which of the following is a suitable day for all of them?

- A) Monday                      B) Tuesday                      C) Wednesday                      D) Thursday

Read the text and complete the sentence.

8.



Nick

When I go on a holiday, I try different sports. I tried skydiving last summer. It requires a lot of courage and it is really exciting. You jump from a plane with a parachute. I have also done rafting and it was awesome. You travel down the river and try to stay on the boat. It is challenging and dangerous, but I would like to do it again. If you ask me which sport I liked more, I would say skydiving.

The text above is mainly about Nick's - - - -.

- A) plans about future holidays  
B) experiences with extreme sports  
C) preferences of equipment for skydiving  
D) thoughts about transportation options



Look at the brochure and answer the question.

9.

## RAFTING ON ÇORUH RIVER

### Would you like to try rafting on Çoruh River?

Çoruh River is in the northeast of Turkey. It is one of the top ten white-water rivers in the world. Because of the water level, the best months for rafting here are May and June. Many travel companies organize rafting holidays on Çoruh River. They provide wet suits, helmets, life jackets and the other necessary things for rafting. While on a rafting holiday, you can camp by the river or you can stay in hotels or village houses.



Which of the following is **CORRECT** according to the text?

- A) People have to bring their own rafting equipment.
- B) If you want to try rafting on Çoruh, go there in the winter.
- C) Çoruh is the most popular white-water river in the world.
- D) There are various accommodation options for rafting lovers.

Read the statements and answer the question.

10.

The sky is my freedom. When I am in the sky, I forget all stressful things. Doing extreme sports is my lifestyle.

I prefer being in nature. Exploring the mountains makes me happy because it is challenging. Watching wonderful views over high mountains is incredible.

Exploring the underwater world is exciting and mysterious. I put on my special equipment and stay underwater for an hour.

Going on the water in a boat is exciting for me. I put on my equipment and clothing. I sometimes feel scared when we travel down the water too fast.

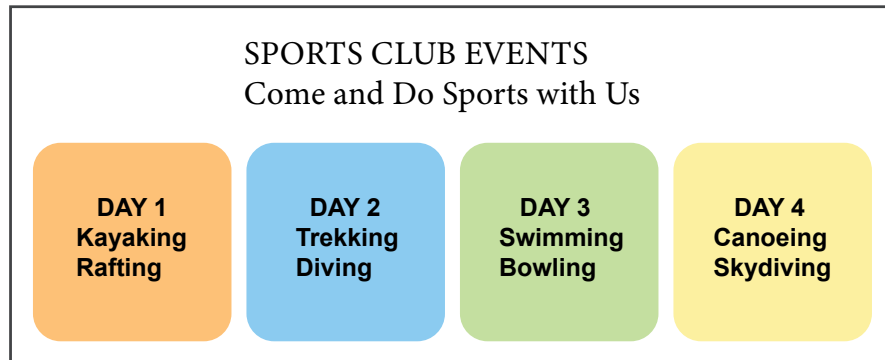


Which of the following does **NOT** match any of the statements above?

- A) motor racing
- B) paragliding
- C) rafting
- D) scuba diving

Read the text, check the brochure, and complete the sentence.

11. Tom is planning to do something different on his off day. He would rather do indoor than outdoor activities. One of his friends offers him to look at the brochure of Sports Club.



According to the information above, Tom should join the events on the - - - - day.

A) 1st

B) 2nd

C) 3rd

D) 4th

Read the text, look at the visual, and complete the statement.

12. A university club is organizing a five-day extreme sports camp for students. The club prepares a form to find out students' preferences for the activities. Here is the form:

Please tick the activities you want to join.

<b>Wednesday</b>	<b>Thursday</b>
<input type="checkbox"/> Skydiving	<input type="checkbox"/> Mountain biking
<input type="checkbox"/> Surfing	<input type="checkbox"/> Hang-gliding
<b>Friday</b>	
<input type="checkbox"/> Bungee jumping	
<input type="checkbox"/> Rock climbing	
<b>Saturday</b>	<b>Sunday</b>
<input type="checkbox"/> Paragliding	<input type="checkbox"/> Scuba diving
<input type="checkbox"/> Canoeing	<input type="checkbox"/> Kayaking

According to the form, students can try - - - - .

- A) an air sport on each day except Sunday
- B) water sports on Thursday and Friday
- C) only team sports on Wednesday
- D) indoor sports at the weekend

# 8<sup>TH</sup> GRADE English



*Unit 7*

*Tourism*

Answer the question according to the brochure below.

1.

- Are you interested in nature?
- Would you like to take a balloon tour?
- What about trying horse-riding or paragliding?

Then, take a trip to Göreme between August 28-30.

Enjoy a two-night stay at a five-star hotel.

**For more information call:  
0 500 123 45 67**



Which question is NOT answered in the text?

- A) What do we eat?
- B) How long is the trip?
- C) What activities do you offer?
- D) Where do we stay during the trip?

Answer the question according to Fiona's statement.

2.



Fiona

I work in a big city, so holidays are important for me. I prefer summer holidays. I love the sea and the beach, but historic places attract me most. I have exciting plans for next summer. First, I am going to visit an ancient city because I like walking through old cities and learning about different cultures. Then, I will go to a beautiful hotel by the beach and swim every day.

Where is she going to start her holiday?

A)



B)



C)



D)



Answer the questions 3 and 4 according to the brochure.

## TRAVEL TO TURKEY

### BALIKESİR

It's famous for Mount Ida (Kazdağı), special desserts, seafood, and local bazaars. You can enjoy swimming and going to the beautiful beaches.

### RİZE

Rize is famous for its natural beauties. Its most important features are: tea gardens, fish (hamsi), and local folk dance (horon). There are so many routes to go trekking.



### ADIYAMAN

It is a city of culture and ancient cities. Mount Nemrut is on the World Heritage List. It is also worth going for its local bazaars and of course its delicious food, especially meatballs (çiğ köfte).

### VAN

Van is not by the sea, but it has Turkey's biggest lake. It is one of the best places for rafting and paragliding. Local bazaars and its famous breakfast attract many local and foreign tourists.

3. After Andrew saw the brochure, he decided to go to Turkey because he studies history at university. He thinks this trip will be useful for his lessons.

**Which city should he go?**

- A) Adıyaman                      B) Balıkesir                      C) Rize                      D) Van

4. In all the cities, a tourist can - - - -.

**Complete the sentence.**

- A) enjoy extreme sports                      B) see an ancient city                      C) do water sports                      D) taste local food

Complete the sentence according to the information on the website.

5.

#### How To Travel

- ◆ Around the city: Travelling by bus is cheap, but it isn't the fastest way.

#### What to do

- ◆ Explore Ancient Rome
- ◆ Enjoy the countryside
- ◆ Try different types of pasta
- ◆ Attend a traditional food festival



#### Where to stay

- ◆ Choose a hotel around the places you will go, so you can walk and enjoy the streets in the city.
- ◆ Try staying in the countryside.

#### When to visit

- ◆ There's really no "bad" time to visit Italy. You can enjoy Italy the whole year. Especially between April and July.

On the website, you can find information about - - - -.

- A) cheaper accommodation tips
- B) the most appropriate months to go to Italy
- C) the activities that local people enjoy most
- D) the fastest transportation way to the countryside

Answer the question according to the information below.

6. The website helps tourists to plan their trip according to their interests. First, write where you are going. Then, choose the topics you are interested in. The website finds the appropriate places or activities for you.

**PLAN YOUR TRIP**  
Because a good trip starts with a good plan.

Enter your destination: country, region or city  
+Add destination

Date Adult - 2 +  
Child - 2 +

Choose

- Culture
- Museum
- Food and Drink
- Fun
- Wildlife
- Beaches
- Shopping
- Historic Sites

If you are interested in eating local food, going to concerts and swimming, which options should you choose?

- A) Culture, Wildlife, and Fun
- B) Beaches, Fun, and Food & Drink
- C) Historic Sites, Beaches, and Wildlife
- D) Food & Drink, Shopping, and Museum



**Read the text and answer the questions 7-8.**

Terry asked some of his friends about their holiday plans and wrote down their answers. Here are his notes:

<u>Names</u>	<u>Preferences</u>	<u>Dates of their holidays</u>
<b>Lily</b>	She likes water sports, so she is going to swim and go scuba diving.	13 - 20 June
<b>Mary</b>	She likes extreme sports. Therefore, she is going to do mountain biking and skydiving.	18 - 22 May
<b>Tom</b>	He is going to a summer camp because many people from different nationalities are going to be there. He is going to learn more about their cultures.	21 - 23 August
<b>Dave</b>	He is interested in history. Therefore, he is going to visit Göbeklitepe, Şanlıurfa which is nearly 12000 years old.	22 - 24 April

**7. Which of the following is NOT correct according to the information above?**

- A) Lily is planning a seaside holiday for the summer.
- B) Mary and Dave prefer different kinds of holidays.
- C) Lily's and Tom's holidays have the same duration.
- D) Dave is going to visit an ancient site.

**8. Which of the following does NOT have an answer in the text above?**

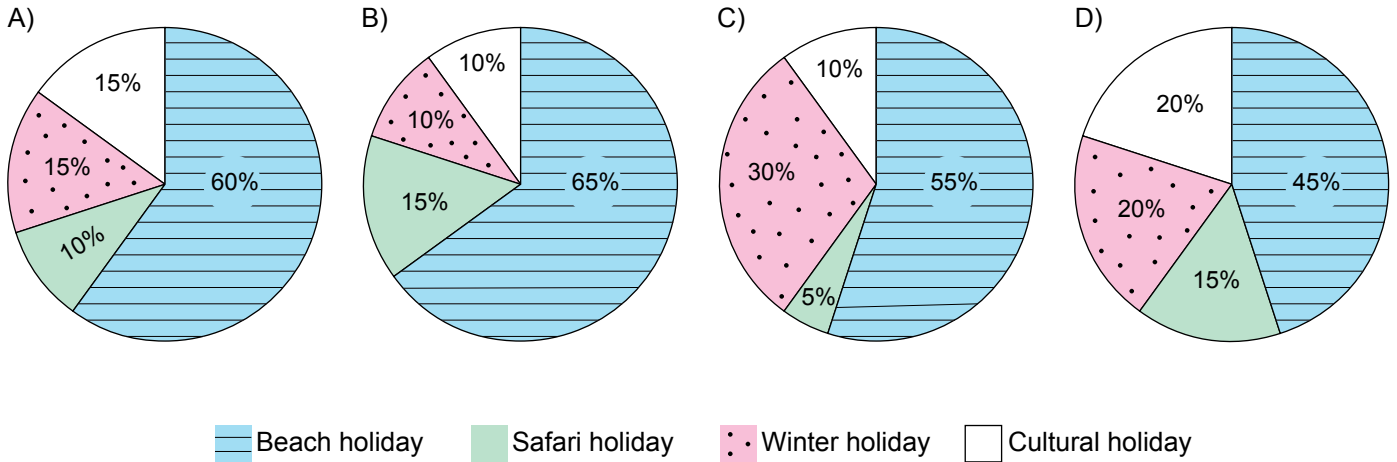
- A) Which equipment do they need on their holidays?
- B) Who prefers going on an adventure holiday?
- C) When are they going to have their holidays?
- D) Why are they going on such holidays?

**Read the text and answer the question.**

9. Mr. Black asked 100 students about their holiday preferences. Here are the results:

- More than half of the students prefer a holiday by the seaside.
- The number of students that are interested in wildlife is the least one.
- Visiting historic sites is as popular as ice-climbing.

**According to the results of the survey, which of the following is CORRECT?**



Read the text, check the website, and answer the question.

10. Mary is a sixteen-year-old girl, and she loves trying extreme sea sports. She also likes visiting ancient places, but she doesn't find wildlife interesting. She has \$750 and wants to buy a tour for herself.

The screenshot shows the website www.dimpletours.com with a navigation bar containing Home, Destinations, Travel Styles, and Help. Below the navigation bar, there are four tour cards:

Tour Name	Description	Age	Price
A nature tour	Walking on different coasts	15+	\$800
A historic tour	Best of Egypt	5+	\$700
A safari tour	Wildlife in Kenya	14+	\$500
A boat tour	Island Hopper Learn to surf	18+	\$600

According to the information above, which of the following tours can Mary choose?

- A) A nature tour      B) A historic tour      C) A safari tour      D) A boat tour

# 8<sup>TH</sup> GRADE English



*Unit 8*

*Chores*

Read the text, check the table, and complete the sentence.

1. Emily Jones is our teacher. Every week, she gives rewards to the student who has most smiling faces for each title on the table. Last week, Jack got a book for keeping the class clean because he had most smiling faces.



Responsibilities in Class				
Responsibilities Students	Coming to class on time	Helping other students	Doing your homework	Keeping the class clean
Mark	☺☺☺	☺☺☺	☺☺☺☺	☺☺
Lily	☺☺☺☺☺	☺☺	☺☺☺	☺☺
Jennifer	☺☺	☺☺☺☺☺	☺☺☺	☺
Amelie	☺☺☺☺☺	☺☺☺	☺☺☺☺☺	☺☺☺
Jack	☺☺☺	☺☺☺☺	☺☺☺	☺☺☺☺☺

Unfortunately, - - - - could not get any prizes last week.

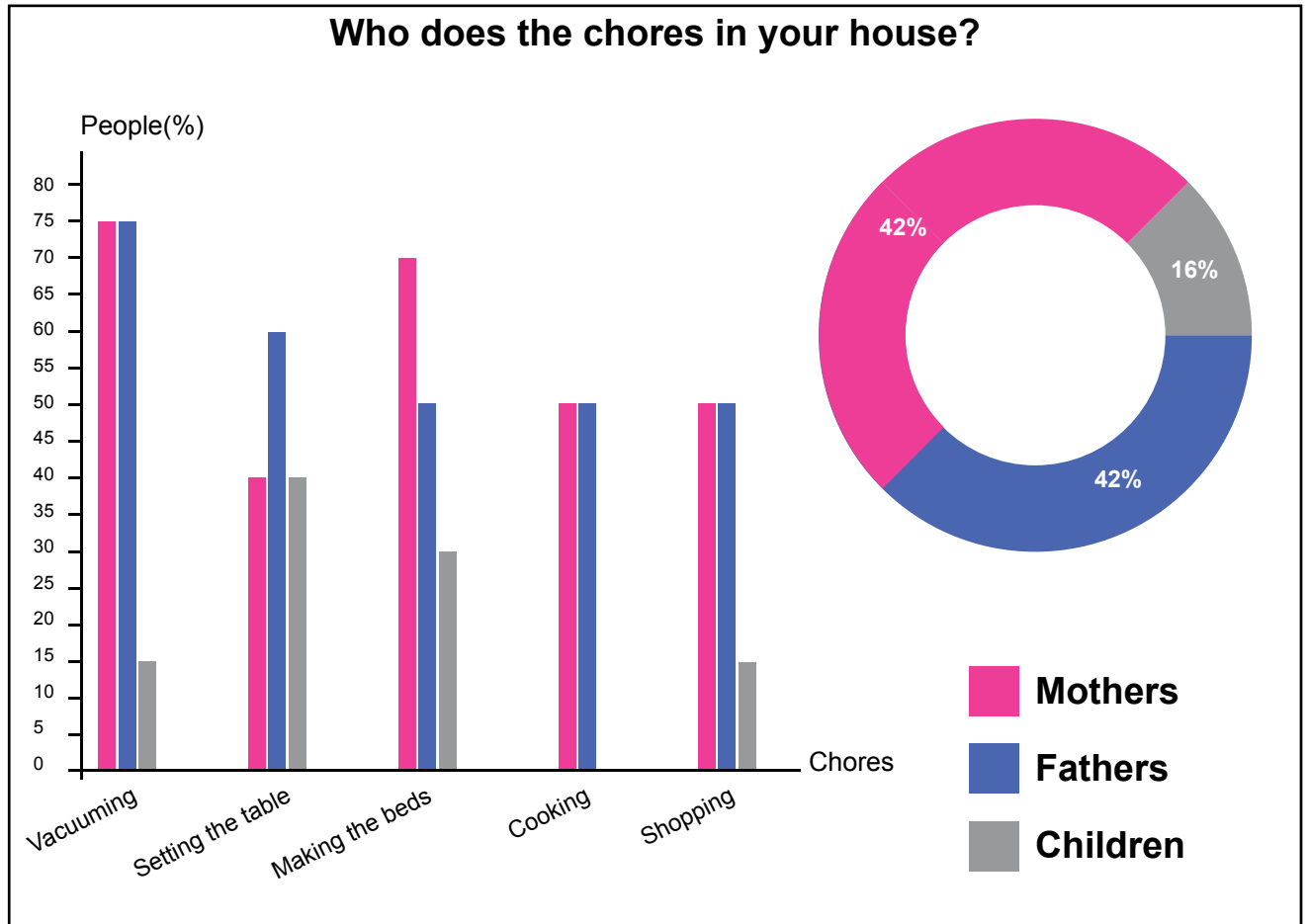
A) Jennifer

B) Amelie

C) Lily

D) Mark

Answer the questions 2 - 3 according to the information below.



---- do most of the chores in the house.

2. Complete the sentence according to the information above.


- A) Mothers                      B) Parents                      C) Children                      D) Fathers

3. Which of the following is CORRECT according to the information?

- A) Every member of the family takes part in all the household chores.
- B) Fathers spend more time on cooking than mothers and children do.
- C) Mothers are in charge of making the beds less than other members of the family are.
- D) The number of mothers vacuuming the house is the same as the number of fathers.

Read the text and complete the sentence.

4.



## Student Responsibilities

As a student of class 3 – A, I accept to obey all the rules in my classroom.

- ✓ Study hard and do all my homework.
- ✓ Dress appropriately.
- ✓ Respect all students and teachers.
- ✓ Come to class on time.
- ✓ Help other students.
- ✓ Listen carefully to my teacher.
- ✓ Keep the classroom clean and tidy.

Name: Susan Bell  
*Susan*

A student in this class should - - - .

- A) hit their friends  
B) be late for the lesson  
C) not do their homework  
D) not throw garbage on floor

Read the text, look at the table, and answer the question.

5. Tom, David, Alice, and Mary are brothers and sisters who have different responsibilities at home on different days. Here is some information about their chores:

- Tom has to prepare the meal.
- David must wash the clothes.
- Alice is responsible for outdoor chores.
- Mary is in charge of cleaning the floors.

DAYS	CHORES
Monday	Doing the shopping
Thursday	Cooking
Friday	Doing the laundry
Sunday	Vacuuming

According to the information above, who has a chore at the weekend?

- A) Tom                      B) David                      C) Alice                      D) Mary

# 8<sup>TH</sup> GRADE English



*Unit 9*

*Science*



Answer the question according to the text.

1.



Aziz Sancar was born in Savur, Mardin in 1946. He had four brothers and three sisters. His parents were not rich and all the children including Aziz helped them with their work. He worked hard to be a doctor. He has conducted a lot of research on medicine. Today, he is a world famous scientist who has the Nobel Prize in chemistry.

**What is the main idea of the text?**

- A) Famous scientists have Nobel prizes.
- B) He had many brothers and sisters.
- C) Hard work brings success.
- D) It was difficult to be a doctor.

# 8<sup>TH</sup> GRADE English



*Unit 10*

*Natural Forces*

Check the visual below and complete the sentence.

1.



- A) Earthquake
- B) Forest fire
- C) Drought
- D) Flood

# ENGLISH ANSWER KEY

Unit 1	1. D	2. A	3. B	4. C	5. B	6. D	7. D	8. D	9. B	10. A
	11. B	12. C	13. A	14. C	15. C	16. C	17. B	18. D	19. A	20. C
	21. D	22. D	23. A	24. D						
Unit 2	1. C	2. B	3. B	4. C	5. A	6. C	7. A	8. C	9. D	10. C
	11. D	12. C	13. D	14. D	15. B					
Unit 3	1. B	2. A	3. D	4. D	5. A	6. C	7. D	8. A	9. B	10. B
	11. D	12. A	13. B	14. C	15. C	16. B	17. C	18. D	19. B	20. D
Unit 4	1. C	2. B	3. C	4. B	5. C	6. A	7. A	8. D	9. B	10. A
	11. D	12. C	13. B							
Unit 5	1. C	2. B	3. C	4. A	5. C	6. A	7. D	8. A	9. D	10. B
	11. D	12. B	13. C	14. B	15. B	16. D	17. C	18. B	19. B	
Unit 6	1. D	2. D	3. A	4. C	5. C	6. A	7. C	8. B	9. D	10. A
	11. C	12. A								
Unit 7	1. A	2. B	3. A	4. D	5. B	6. B	7. C	8. A	9. A	10. B
Unit 8	1. D	2. B	3. D	4. D	5. D					
Unit 9	1. C									
Unit 10	1. A									



# Sözel Bölüm



**2018-2019**

***Sınavla Öğrenci Alacak  
Ortaöğretim Kurumlarına  
İlişkin Merkezî Sınav Soruları***

# TÜRKÇE

1. I. Tedirgin etmek, sataşmak  
II. İnsanın içine işlemek, duygulandırmak, etkilemek  
III. İlişkin olmak, ilgili olmak, değinmek

“Dokunmak” sözcüğü aşağıdaki cümlelerin hangisinde numaralanmış anlamlarından herhangi biriyle kullanılmamıştır?

- A) Masamın üzerindeki evraklara kimse dokunmasın.  
B) Bugün ona dokunmayın, keyfi yerinde değil.  
C) Bu konuya dokunduklarını pek görmedim eleştirmenlerin.  
D) Hiçbir şiirin bana bu kadar dokunduğunu hatırlamıyorum.

2. Aşağıdaki cümlelerin hangisinde “tecrübe”yi anlatan bir söz kullanılmamıştır?

- A) Bizim takımın teknik direktörü eski kurttur, maçlarda takıma iyi taktik veriyor.  
B) Sütten ağzı yandı, yoğurdu üfleyerek yiyor; artık arkadaş seçiminde daha dikkatli.  
C) Ben insan sarrafı oldum, beni kolay kolay kandıramazlar.  
D) İnce eleyip sık dokuduğundan işlerinde başarılı oluyor.

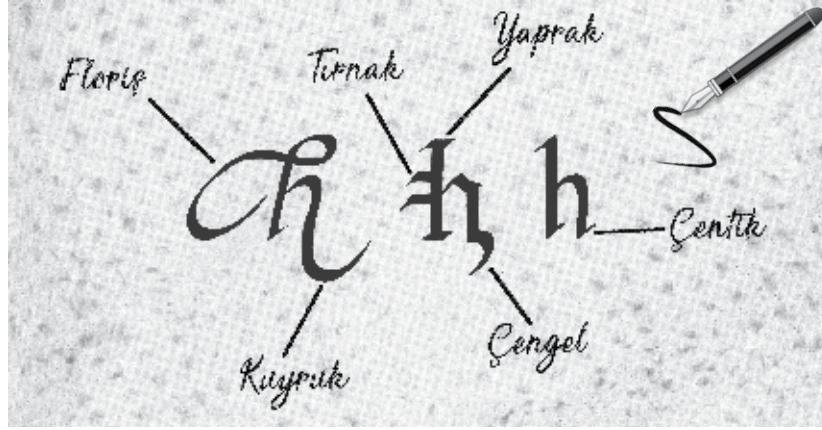
3. Birden çok yüklemli cümlelerde öznenin bütün yüklemlemlerle uyumlu olması gerekir. Aksi takdirde özne eksikliğinden kaynaklanan anlatım bozukluğu meydana gelir.

Aşağıdakilerin hangisinde bu açıklamayı örnekleyen bir anlatım bozukluğu vardır?

- A) Tarlaya tohumlar ekimde atılacak, ürün hazıranda toplanacak.  
B) Bu hastalığın tedavisi bulunmalı, insanlığa tehdit olmaktan çıkarılmalı.  
C) Yazarın her kitabını okuyorum ve takdir ediyorum.  
D) Her akşam bizimle ilgilenir, yemek getirirdi.

4. Kaligrafi sanatı, yazıya ahenkli ve anlamlı şekiller verme sanatıdır ve içinde birçok tekniği barındırır. Sanatçılar eserlerinde bu teknikleri kullanarak kendi tasarımlarını oluşturabilir. Harfin yapısına ve kendi isteklerine göre çizgi tekniklerinin yönlerini değiştirebilir.

Görselde kaligrafi sanatında kullanılan bazı çizgi teknikleri verilmiştir.



Buna göre aşağıdaki sözcüklerden hangisi "kuyruk, çengel, çentik, tırnak" teknikleri kullanılarak yazılmıştır?

A) *Tael*

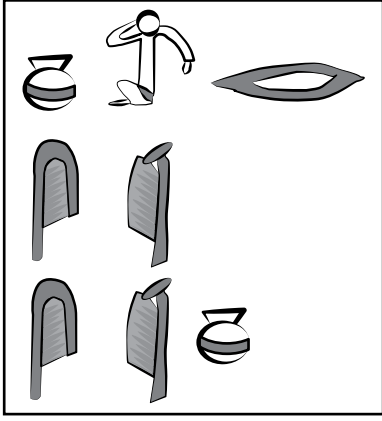
B) *Kum*

C) *NaZ*

D) *Laz*



5.



Bilim insanları, tarihî mağaralardan birinin duvarında yukarıdaki şekilleri buluyorlar. Bu şekillerin bilinmeyen bir yazı sistemi olduğuna karar veriyorlar. Bu yazı sisteminde her şeklin bir sözcük olduğu ve sözcüklerin soldan sağa dizildiği sonucuna varıyorlar.

**Bu bilgilere göre aşağıdaki şiirlerden hangisi mağara duvarında bulunan sembollerin düzenine uygun yazılmıştır?**

- A) Bu bir türkü  
Toprak çanaklarda  
Güneşi içenlerin türküsü
- B) Görmek koklamak hissetmek  
Alabildiğine koşmak  
Alabildiğine koşmak gökyüzüne
- C) Kuşlar kanat çırpıyor  
Süzülüyor gökyüzünde  
Gökyüzünde süzülüyor kuşlar
- D) Sözlerin özlem kokulu  
Beni yüreklendirir  
Beni yüreklendirir sözlerin

6. Deneme, bir konu üzerinde yazarın kesin yargılara varmadan, kanıtlama amacı gütmeyen kişisel görüşlerini ifade ettiği yazı türüdür.

**Aşağıdakilerden hangisi bu açıklamayı örneklendiren bir metindir?**

- A) Bir melodi duyduğumuzda beynimizde, farklı işlevleri olan birçok bölge etkinleşir. Bir müzik aleti çaldığımızda ise bu etki çok daha belirgindir. Çünkü bir müzik aleti çalabilmek için kas hareketlerinin kontrollü ve uyum hâlinde olması gerekir. Bunun için de beyin daha aktif çalışır.
- B) Herkes kendi hayatından bilir ki her gün birbirini görmenin tadı başka, ayrılıp kavuşmanın tadı başkadır. Ayrılıklar benim yakınlarıma sevgimi tazeler, ev hayatımın tadını artırır. Unutulmamalı ki sevginin kolları, birbirimizi dünyanın bir ucundan bir ucuna kucaklayabilecek kadar uzundur.
- C) Şefika Kutluer adına 1-21 Aralık tarihleri arasında uluslararası festival düzenleniyor. "Sihirli Flüt" unvanlı, Türk sanatçı Şefika Kutluer adına düzenlenen bu festivale bu yıl ABD, Çin, Portekiz, Slovakya, Polonya, Avusturya ve Filistin'den sanatçılar katılacak.
- D) On yıl kadar önce, annemin gençlik arkadaşı Bedia Muvahhit'le karşılaşmıştım bir lokantada. Yanına gittim, eğildim "Bedia Teyze, yetmişimi aştım." diye fısıldadım kulağına. Bu münasebetsiz lafımla onun da yetmişini çoktan aştığını söylemek istediğimi hemen anladı. "Sus kız! Herkese ilan edeceksin." diye beni şakadan azarladı.

7. Miyop, gözün uzaktaki cisimleri net olarak göremediği bir göz hastalığıdır. Uzağı yani geleceği göremeyen şirketler de “pazarlama miyobu” olarak adlandırılmıştır. Pazarlama miyopluğunun nedeni şirketlerin pazara ve müşterilere eski usul yaklaşmaya devam etmeleridir. Bunun en açık belirtisi de reklamlarında, ürünün müşterilere fayda sağlayacak özelliklerini ön plana çıkarmamalarıdır.

Bu metne göre, aşağıdaki reklam afişlerinden hangisi “pazarlama miyopluğu” yaşayan bir firmaya ait olabilir?

A)

**Tanınmış Markadan  
Yepyeni Tasarım**



• Keskin çizgiler  
• Göz alıcı renkler

B)


**Ürünlerinizi en güvenli biz  
ulaştırıyoruz.**



• Türkiye'nin her noktasına  
• Depo ve sigorta hizmetleri  
• Hızlı ulaşım

C)


**Takım elbiselerimizde  
gün boyu kırışmama  
garantisi**



İster yatıp uyuyun  
ister spor yapın,  
ütüye hiç gerek  
duymayacaksınız.

D)

**Tabletiniz  
Her An Yanınızda**



• Hafızası geniş  
• Hafif

Kalemiyle  
yaratıcılığınız  
konuşacak.

8. Ön yargı, kişinin bir kimse veya bir şeyle ilgili peşinen varsaydığı olumlu veya olumsuz tutumların tümüdür.

**Buna göre aşağıdakilerin hangisinde ön yargılı bir tutumdan söz edilemez?**

- A) Emanete hıyanet olmaz.  
B) Kişi arkadaşından bellidir.  
C) İnsan yedisinde ne ise yetmişinde de odur.  
D) Çok havlayan köpek ısırılmaz.

9. Anadolu'yu köy köy dolaşmış bir gezgin olarak Maçka'yı her zaman özlerim.

**Bu cümleyi dile getiren kişi için aşağıdakilerden hangisi kesin olarak söylenir?**

- A) Anadolu'da en son Maçka'yı gezmiştir.  
B) Anadolu'nun dışında başka bir yer dolaşmamıştır.  
C) Gezdiği yerler içinde aklında sadece Maçka kalmıştır.  
D) Maçka'yı tekrar görmek istemektedir.

10. "Dedesinin elini öptü." cümlesinde "öptü" sözcüğü çekimli fiildir ve cümlenin yüklemidir. "Dedesinin öpülesi ellerini hatırladı." cümlesinde ise "öpülesi" sözcüğü fiil anlamını korumakla birlikte kendisinden sonra gelen ismi nitelediği için sıfat-fiildir.

**Buna göre aşağıdakilerin hangisinde sıfat-fiil kullanılmıştır?**

- A) Meyvesiz ağaca kimse taş atmaz.  
B) Menfaatleri için küçülmeyen insan büyüktür.  
C) Hayat ancak yaşayarak tecrübe edilir.  
D) Öğrenmenin sınırlarını genellikle kendiniz koyarsınız.

11. "Lavanta kokulu Kuyucak köyü, ziyaretçileri büyülüyor." cümlesi; "büyülüyor" yüklemi fiil olduğu için yüklem türüne göre fiil cümlesi, yüklem sonda olduğu için yüklem yerine göre kurallı cümledir.

**Bu bilgiye göre aşağıdakilerden hangisi kurallı bir fiil cümlesidir?**

- A) Güneşli, güzel günlerin hayalini kuruyorum.  
B) Adım atmaya mecalsiz bir ihtiyar oluyor böyle anlarda zaman.  
C) Soframıza bereket katan şey sıcak bir tebessümdür.  
D) Yapraklarından utanan solgun bir gül taşıyorum göğsümde.

12. • Başka bir kimseden veya yazıdan olduğu gibi aktarılan sözler tırnak içine alınır. Tırnak içindeki alıntının sonunda bulunan işaret tırnak içinde kalır.
- Özel olarak vurgulanmak istenen sözler tırnak içine alınır.
  - Cümle içerisinde eserlerin ve yazıların adları ile bölüm başlıkları tırnak içine alınır. Bunlara getirilen çekim ekleri tırnağın dışında kalır.

**Bu açıklamalara göre aşağıdakilerin hangisinde tırnak işaretinin kullanımıyla ilgili yanlışlık yapılmıştır?**

- A) İnsanın “sevgi” açlığı, maddi değerlere bağımlılığını artırıyor.
- B) Çoğu arkadaşım Attila İlhan’ın “Ben Sana Mecburum” şiirini ezbere biliyor.
- C) Atatürk’ün “Bilgi kuvvettir.” sözü günümüz çağının anahtarıdır.
- D) Kurtuluş Savaşı’nı anlatan “Küçük Ağa’yı” okudumda çok etkilendim.

13. Ay ve gün adları belirli bir tarih bildiriyorsa büyük harfle, bildirmiyorsa küçük harfle başlar.

**Bu açıklamaya göre,**

- I. 2018’de ziyaret ettiğim Kuzey Ege’nin sevimli köyü Assos’u gezmek için Mart belki de en doğru zaman.
- II. Macar bir mimarın grafik resimlerinden oluşan “Türkiye’deki Macar İzleri” başlıklı sergi 2017’nin Eylül ayına kadar ziyaret edilebilecek.
- III. Şebiarus töreni için 15 Aralık çarşamba günü Konya’ya gideceğim.

**cümlelerinin hangilerinde yazım yanlışlığı vardır?**

- A) Yalnız I.
- B) Yalnız II.
- C) I ve III.
- D) II ve III.

14. Koca bir ömür yaşamış tecrübeli insanlar, gençlerin umursamaz hareketlerini gördükçe onlara “- - -.” diye nasihat etmekten geri durmazlar. Ama kaç genç bu sözün önemini kavrayabilir? Hâlbuki hayat ilerledikten sonra insanların duydukları birçok pişmanlık, gençlikte bile bile kaybettikleri imkânlar yüzündendir. “O zamanlar niçin daha çok okumadım? Niçin daha çok çalışmadım?” diye dizlerini döven insanlara hayatta çok rastlanıyor. Bu insanların neden bu kadar üzüldüklerini gençler anlamasa bile feleğin çemberinden geçmiş yaşlılar çok iyi anlıyor.

**Bu metinde boş bırakılan yere düşüncenin akışına göre aşağıdakilerden hangisi getirilmelidir?**

- A) Büyüklerin sözünü dinleyin
- B) Elinizdeki olanakların kıymetini bilin
- C) Geçmişe takılıp kalmayın, geleceğe odaklanın
- D) Hayatta hep mutlu olmaya çalışın

15. Doğup büyüdüğüm mahallede herkes birbirini tanırdı. Kimse aç uyumaz; kimsenin düğünü, cenazesi unutulmazdı. Pek az küslük olur, kalpler kolay kolay kırılmazdı. Bugüne kıyasla masal gibi bir yerdı mahallemiz. Şüphesiz, burası eserlerimdeki konuya ve karakterlere yön verdi.

**Bu metin aşğıdaki sorulardan hangisine cevap vermek amacıyla yazılmıştır?**

- A) Nasıl bir çocukluk geçirdiniz?
- B) Çocukluğunuzun geçtiğı yerler eserlerinizi nasıl etkiledi?
- C) Usta bir yazar, yaşadığı yeri eserlerinde ne ölçüde anlatmalıdır?
- D) Günümüzdeki toplumsal ilişkileri nasıl değerlendiriyorsunuz?

16. Sosyal medya devı bazı şirketler, kendi üyelerinin verilerini işleyip kullanabilmek için bazı özel programlar geliştiriyor. Kişilerle ilgili elde ettikleri verilerden yola çıkarak da onları etkilemeye çalışıyor. 2013'te açıklanan bir araştırmaya göre bu tür programlar, kullanıcılarının karakterini beğendiğı içeriklerden yola çıkarak doğru tahmin edebiliyor. Şirketler bu tip programlar sayesinde sizi, sosyal medya hesabınızdaki 9 beğeninize bakarak bir iş arkadaşınız kadar, 65 beğeninize bakarak bir akranınız kadar, 225 beğeninize bakarak ebeveyniniz kadar tanıyabiliyor. Beğendiğiniz içeriklere dayanarak yaşınızı, cinsiyetinizi, kültür seviyenizi, siyasi görüşlerinizi hatta o anki ruh hâlinizi sadece bir tıkla tespit edebiliyor.

**Bu parçaya göre sosyal medya kullanımı,**

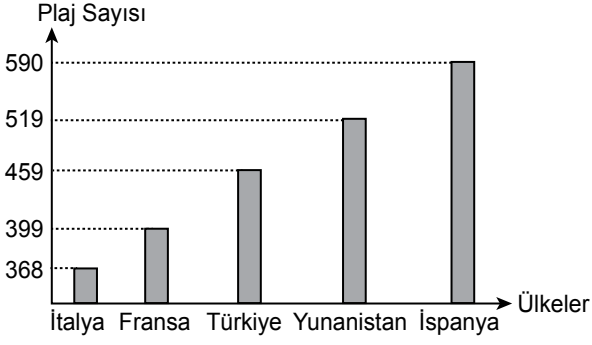
- I. Kişilerin internet şifrelerinin ele geçirilmesi
- II. İnsanların, zamanlarını verimsiz kullanması
- III. İnsanları yönlendirebilecek haber ve yayınlara yer verilmesi
- IV. Kişiyeye özel reklamlar sunulması

**durumlarından hangilerini ortaya çıkarabilir?**

- A) I ve II.
- B) I ve III.
- C) II ve IV.
- D) III ve IV.

17.

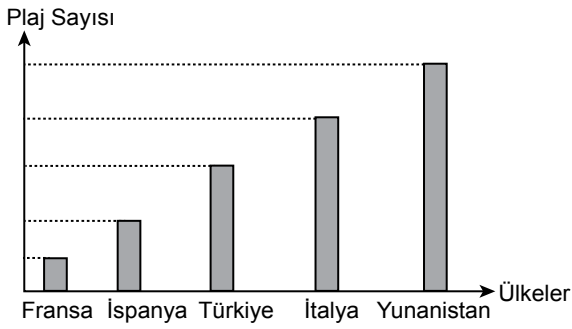
2018 Yılı Ülkelere Göre  
Mavi Bayraklı Plaj Sayısı Grafiği



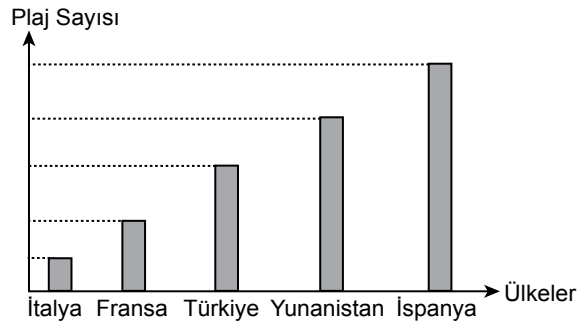
- Türkiye 2018'de sıralamadaki yerini korumuştur.
- 2018'de Fransa, İtalya'yı geçerek son sıradan kurtulmuştur.
- Yunanistan 2018'de liderliğini kaybetmiştir.
- İspanya 2018'de Yunanistan'ı geçerek bir sıra yükselmiştir.

**Bu bilgilere göre 2017 yılına ait "Ülkelere Göre Mavi Bayraklı Plaj Sayısı" nı gösteren grafik aşağıdakilerden hangisi olabilir?**

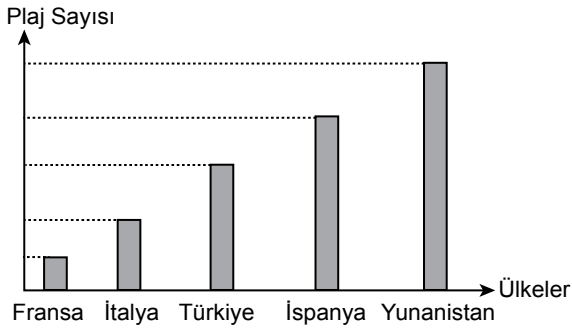
A)



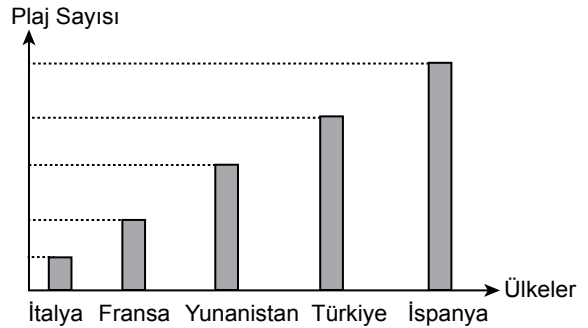
B)



C)



D)



18. Türk Dil Kurumunun e-sözlüğünde yer alan "testi" sözcüğüyle ilgili bazı açıklamalar aşağıda verilmiştir.

**testi**

**Köken:** *Farsça destî*

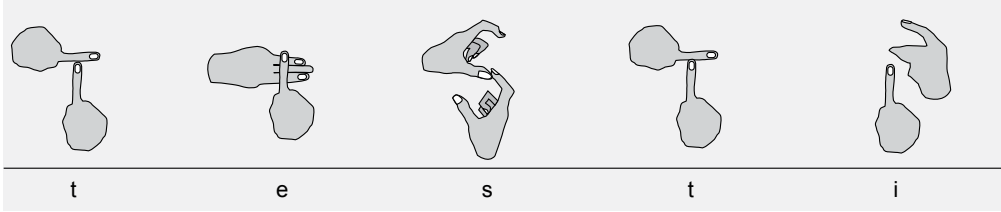
Geniş gövdeli, dar boğazlı, emzikli veya emziksiz olabilen, toprak, cam, metal vb. maddelerden yapılan su kabı.

*Çeşme başında dizleri üstüne çökmüş bir ihtiyar kadın, testisini dolduran genç kıza bakıyordu.*

testi kırılmadan

testi kırılrsa da kulpu elde kalır - testiyi kıran da bir, suyu getiren de

**"testi" Sözcüğünün  
Parmak Alfabetiyle Gösterilişi**



**Buna göre "testi" sözcüğünün açıklamalarında, sözlüklerde bulunması beklenen;**

- I. Sözcüğün tanımlanması ve tanıma uygun kullanımının örneklendirilmesi,
- II. Sözcüğün, içinde kullanıldığı deyim ve atasözlerine yer verilmesi,
- III. Kimi kavramların ifade ettiği anlamların resimle gösterilmesi,
- IV. Sözcüğün ortaya çıktığı dil ve o dildeki hâli ile ilgili bilgi verilmesi,
- V. Sözcüğün yöresel kullanımlarının belirtilmesi

**niteliklerinden hangileri örneklenmiştir?**

- A) I, II ve IV.                      B) I, II ve V.                      C) II, III ve IV.                      D) III, IV ve V.

19. Bazen ilacımızı zamanında içmeyi unutuyor, bazen de içtiğimizi unutup aynı ilacı tekrar alıyoruz. Bu soruna çözüm amaçlı bir akıllı ilaç kapağı tasarlanmış. Bu kapak telefona indirilen bir uygulamayla çalışıyor. Bu uygulamaya ilacın adı ve dozajı giriliyor. Kullanmanız gereken zamanda ilacın kapağını açmadığınızda telefonunuza “İlacını acilen al.”, aynı ilacı içtiğinizi unutup ikinci kez almaya kalktığınızda telefonunuza “Onu zaten almıştın.” uyarı mesajı geliyor. Akıllı ilaç kapağını zamanında açtığınızda ise “Teşekkür ederim.” mesajı geliyor.

Kıvanç Bey sabah alması gereken ilacını “V”, öğle vakti alması gereken ilacını “Y”, akşam alması gereken ilacını da “Z” şeklinde uygulamaya kaydediyor. Kıvanç Bey’in telefonuna gelen mesajlar aşağıdaki tabloda gösterilmiştir.

	Sabah	Öğle	Akşam
Pazartesi	İlacını acilen al.	Onu zaten almıştın.	Onu zaten almıştın.
Salı	Teşekkür ederim.	Teşekkür ederim.	Teşekkür ederim.
Çarşamba	Onu zaten almıştın.	Teşekkür ederim.	Teşekkür ederim.
Perşembe	Onu zaten almıştın.	İlacını acilen al.	Teşekkür ederim.
Cuma	Teşekkür ederim.	Teşekkür ederim.	Teşekkür ederim.

**Bu bilgilere göre Kıvanç Bey’in ilaç kullanımıyla ilgili aşağıdakilerden hangisi söylenemez?**

- A) Uygulamanın uyarıları, en çok pazartesi günü işine yaramıştır.  
B) Çarşamba günü “V” ilacını içtiğini unutmuştur.  
C) Perşembe günü “Y” ilacını içmeyi uygulama sayesinde hatırlamıştır.  
D) Uygulamanın uyarılarına en çok “Z” ilacı için ihtiyaç duymuştur.

20. Trafik kurallarına uymayan sürücülere belirli oranlarda ceza puanı verilir. Bir yıl içinde ceza puanı 100’e ulaşan sürücünün sürücü belgesine el konur.

Bazı kural ihlalleri ve ceza puanları şu şekildedir.

Kanun Maddesi	Trafik Kural İhlalinin Konusu	Ceza Puanı
44/b	Araç kullanırken sürücü belgesini yanında bulundurmamak	5
47/1-b	Kırmızı ışık kuralına uymamak	20
51/2-a	Hız sınırlarını %30’dan fazla aşmak	15
61/o	Taşıt yolu üzerinde engelli araçları için ayrılmış park yerlerinde park etmek	10
78/1-a	Emniyet kemeri bulundurmamak ve kullanmamak	15

Aynur, Meltem, Rıza ve Veysel’in bir yıl içinde aldıkları ceza puanlarıyla ilgili bilinenler şunlardır:

- Veysel iki ihlalden toplam 35 ceza puanı almıştır.
- Aynur, sadece 78/1-a kanun maddesine uymadığı için ceza puanı almıştır.
- Meltem, farklı iki kural ihlalinde bulunmuştur.
- Rıza üç kez aynı kural ihlalinde bulunmuştur.
- Meltem ile Aynur’un ceza puanları aynıdır.

**Bu bilgilere göre aşağıdakilerden hangisine kesin olarak ulaşılır?**

- A) Veysel’in kural ihlallerinden biri de 51/2-a kanun maddesine uymamasıdır.  
B) Aynur ve Rıza aynı kural ihlalden dolayı ceza puanı almıştır.  
C) Meltem’in kural ihlallerinden biri de 61/o kanun maddesine uymamasıdır.  
D) Rıza’nın ceza puanı Veysel’inkinden fazladır.

**TÜRKÇE TESTİ BİTTİ.**  
**T.C. İNKILAP TARİHİ VE ATATÜRKÇÜLÜK TESTİNE GEÇİNİZ.**



# T.C. İNKILAP TARİHİ VE ATATÜRKÇÜLÜK

1. Erzurum Kongresi, toplanma amacı ve temsiliyet açısından bölgesel; aldığı kararlar açısından ulusal bir niteliktedir.

**Buna göre aşağıdakilerden hangisi Erzurum Kongresi'nin bölgesel olduğuna kanıt olarak gösterilebilir?**

- A) Doğu illerinden gelen delegelerin katılımıyla toplanması  
B) Kuvâ-yı Millîye'yi etkin ve ulusal iradeyi egemen kılmamanın temel ilke olarak alınması  
C) Manda ve himaye kabul edilemez ilkesinin benimsenmesi  
D) Ulusal sınırlar içinde vatan bir bütündür, parçalanamaz kararının alınması

2. Atatürk milliyetçiliği ayrıştırıcı değil, bütünleştiricidir. Yayılmacılık veya saldırganlıktan yana değildir. Toplum ve devlet düzeni içerisinde inanç ve mezhep ayrımcılığını reddeder.

**Bu bilgilere göre Atatürk milliyetçiliği ile ilgili aşağıdakilerden hangisine ulaşamaz?**

- A) Birlik ve beraberliği sağlayıcıdır.  
B) Laik ve eşitlikçi bir düşünceye sahiptir.  
C) Irk birliğini temel almıştır.  
D) Barışçı bir politika hedeflemiştir.

3. Mustafa Kemal;

- 31 Mart Olayı'nda sadece isyanın bastırılmasında değil, ordunun kurulması ve harekâtın planlanmasında da rol oynamıştır.
- Mondros Ateşkes Antlaşması'ndan sonra İstanbul'a gelmiş ve ülkeyi kurtarmak için arkadaşlarıyla toplantılar düzenlemiştir.

**Bu bilgilerden Mustafa Kemal'in kişilik özelliklerinden hangileri çıkarılabilir?**

- A) Teşkilatçılık - Vatanseverlik  
B) İleri görüşlülük - Vatanseverlik  
C) Kararlılık - İnkılapçılık  
D) Birleştiricilik - İnkılapçılık

4. Kâzım Karabekir Paşa, Millî Mücadele Dönemi'nde Doğu Cephesi Komutanı olarak görev yaptı. Ermenileri yenilgiye uğratarak doğu illerini işgalden kurtardı. Doğu Anadolu'da ailesini kaybeden binlerce çocuğa babalık yaptı. Onlar için yurtlar ve okullar açtı, onların her birini meslek sahibi yaparak sefaleten kurtardı. Bundan dolayı kendisine "Yetimlerin Babası" unvanı verildi.

**Buna göre Kâzım Karabekir Paşa'nın aşağıdaki alanlardan hangileriyle ilgili çalışmalar yaptığı söylenebilir?**

- A) Siyasi - Askerî  
B) Hukuki - Siyasi  
C) Sosyal - Hukuki  
D) Askerî - Sosyal

5. Mustafa Kemal Paşa, Sakarya Meydan Savaşı'nı şu sözlerle özetlemiştir:

"Düşman, ordumuzu sol kanattan çevirerek çabuk ve yok edici bir sonuç almak istiyordu. Düşmanı savaştan zorlayarak savaşı cephe savaşı şekline soktuk. Ondan sonra Yunanlar merkezimizi yarmak istedi ancak başarılı olamayıp savunma yapmak zorunda kaldı. Taarruzlarımızla buna da engel olduk ve böylece Sakarya Meydan Savaşı ordumuz tarafından kazanıldı..."

**Mustafa Kemal'in bu sözlerine göre Sakarya Meydan Savaşı'nın kazanılmasında aşağıdakilerden hangisi etkili olmuştur?**

- A) Türk ordusunun silah bakımından ve sayıca üstün olması  
B) Savaş meydanında askerî harekât ve stratejilerin başarıyla uygulanması  
C) Yunan ordusunun sürekli savunma savaşı tercih etmesi  
D) Savaşın çok geniş ve engebeli bir alanda yapılması

6. Birinci Dünya Savaşı başladığında Osmanlı Devleti,

- Tarafsızlığını ilan etti.
- Boğazları ulaşıma kapattı.
- Ülke genelinde seferberlik başlattı.
- Kapitülasyonları kaldırdığını duyurdu.

**Buna göre Osmanlı Devleti'nin aşağıdakilerden hangisini amaçladığı söylenemez?**

- A) Ülke güvenliğini sağlamayı  
B) Savaş dışında kalmayı  
C) Ekonomik baskılardan kurtulmayı  
D) Dış borçları kapatmayı

7. Ancak birbirlerinin hâlimden anlayan, derdine ortak olan, geleceğe birlikte yürüyen, ortak hayali paylaşan insanlar millet olabilirler. Onlar birbirlerine gönülden bağlıdır. Dinleri, ırkları farklı olabilir ama sevinçleri ve hüznüleri birdir. Aynı gaye etrafında birleşir ve geleceğe inançla yürürler.

**Atatürkçü düşüncede millet anlayışını bu şekilde yorumlayan birine göre bir insan topluluğunun millet olmasında;**

- I. Ülkü birliği,  
II. Kan bağı,  
III. Din birliği,  
IV. Duygu birliği

**unsurlarından hangileri gerekli görülmektedir?**

- A) I ve III. B) I ve IV.  
C) II ve III. D) II ve IV.

8. İzmir İktisat Kongresi'nde alınan kararlardan bazıları şunlardır:

- Tarım makinelerinin ülkemizde yapılması
- Yabancı sermayeye tekel oluşturma yetkisinin verilmemesi
- Fabrika üretimini yaygınlaştırmak için gerekli kolaylıkların sağlanması
- Yerli malı kullanımını sağlamak için bazı zorunluklar getirilmesi

**Bu kararların ortak amacı aşağıdakilerden hangisidir?**

- A) Yabancılara ekonomik ayrıcalık tanımak  
B) Türk çiftçisini bilinçlendirmek  
C) Başka ülkelere bağımlılığı azaltmak  
D) Geleneksel tarımı sürdürmek

9. Atatürk ilke ve inkılapları, yaşanan tecrübeler ve geleceğe dair hedefler üzerine kurulmuştur. Bu ilke ve inkılaplar Amasya Genelgesi'yle başlayan, Erzurum ve Sivas Kongreleriyle devam eden ve TBMM'nin açılmasıyla ortaya çıkan ulusal iradenin her şeyin üzerinde tutulmasını esas alır. Aynı zamanda hiçbir devletin himayesi ve etkisi altına girmeyi kabul etmez.

**Bu bilgide Atatürk ilke ve inkılaplarının dayandığı temel esaslardan hangisi vurgulanmıştır?**

- A) Millî egemenlik ve tam bağımsızlık
- B) Millî kültürün korunması ve geliştirilmesi
- C) Sürekli gelişim ve değişimi öngörmesi
- D) Uluslararası ilişkilerde saygı ve eşitliği esas alması

10. Atatürk Dönemi Türk dış politikasıyla ilgili bazı ifadeler şunlardır:

- Gerçekleşmeyecek hayaller peşinde koşulmamalıdır.
- Devletler arası ilişkilerde dostça yöntemler takip edilmelidir.
- Siyasi, askerî ve ekonomik alanda kendi iradesiyle hareket etmelidir.

**Bu ifadeler Atatürk Dönemi Türk dış politikasının dayandığı aşağıdaki temel ilke ve esaslarla ilişkilendirildiğinde hangisi dışarıda kalır?**

- A) Barışçılık
- B) Gerçekçilik
- C) Tam bağımsızlık
- D) Karşılıklılık (Mütekabiliyet)

# DİN KÜLTÜRÜ VE AHLAK BİLGİSİ

1. Bir adam, Hz. Muhammed'e (sav.) gelerek hasta olduğunu söyler ve ondan iyileşmesi için dua etmesini ister. Bunun üzerine Hz. Muhammed (sav.) "Bana gelmeden önce bir hekime gittin mi?" diye sorar. Adam gitmediğini söyleyince o da öncelikle hekime gitmesi gerektiğini ifade eder.

**Bu parçada aşağıdakilerden hangisi vurgulanmaktadır?**

- A) Sağlık, insana verilen en büyük nimetlerdendir.  
B) Hastalıkların şifasını veren Allah'tır.  
C) İnsan, hasta olmadan gerekli tedbirleri almalıdır.  
D) İnsan, hastalık durumunda tedavi olmalıdır.

3. Hz. Ömer, Hayber'de çok güzel bir hurma bahçesi satın aldı. Daha sonra Hz. Muhammed'in (sav.) yanına gitti ve "Ey Allah'ın Resûl'ü! Ben bu malımla Allah'ın rızasını kazanmak istiyorum. Onu nasıl değerlendireceğim?" diye sordu. Bunun üzerine Hz. Muhammed (sav.) "Dilersen aslını vakfet, mahsulünü de sadaka olarak dağıt." buyurdu. Hz. Ömer de bahçesini; satılmaması, hibe edilmemesi ve miras bırakılmaması şartıyla fakirlere, kölelere, Allah yolundakilere ve yolculara bağışladı.

**Hz. Ömer'in bu davranışı yardımlaşma ile ilgili aşağıdaki kavramların hangisi kapsamında değerlendirilir?**

- A) Sadaka-i câriye  
B) Sadaka-i fitr  
C) Zekât  
D) Öşür

2. • "Bizim gözetimimiz altında ve öğrettiğimiz şekilde gemiyi yap. Haktan sapanlar için bana başvuruda bulunma!.." (Hûd suresi, 37. ayet)  
• "İkiniz birlikte Firavun'a gidin. Çünkü o, sınırı çok aştı. Yine de ona söyleyeceklerinizi yumuşak bir üslupla söyleyin. Belki öğüt alır yahut korkar." (Tâ-Hâ suresi, 43-44. ayetler)

**Aşağıdakilerden hangisi bu ayetlerde konu edilen peygamberlerden biri değildir?**

- A) Hz. Harun  
B) Hz. Şuayb  
C) Hz. Musa  
D) Hz. Nuh

4. I. Yolda oynayan çocuklara rastladığında onlara hâl hatır sorması  
II. Hacerü'l-Esved'in yerine konması hususunda onun hakem olmasından herkesin memnun olması  
III. Medine'ye hicret edeceği gün, kendisine bırakılan emanetleri sahiplerine teslim etmek üzere Hz. Ali'yi görevlendirmesi  
IV. Hayatının son on yılını Medine'de geçirmesi

**Numaralanmış ifadelerden hangileri Hz. Muhammed'in (sav.) güvenilir olduğuna örnek oluşturur?**

- A) I ve III.  
B) I ve IV.  
C) II ve III.  
D) II ve IV.

5. Hz. Muhammed (sav.), Müslümanlarla beraber umre yapmak için Mekke yakınında Hudeybiye'de konakladı. Durumu haber alan Mekkeli müşrikler Müslümanları şehre sokmama kararı aldılar. Bunun üzerine Hz. Muhammed (sav.), kendileri ile konuşmak üzere Hz. Ömer'i elçi olarak göndermek istedi. Fakat o "Ya Resûlallah! Eğer Mekkeliler bana zarar vermek isterlerse orada bana sahip çıkacak yeterince akrabam yok." diyerek bu görevden affını istedi. Hz. Muhammed (sav.) de Hz. Ömer'in bu isteğini haklı buldu ve Mekke'de akrabaları güçlü olan Hz. Osman'ı elçi olarak gönderdi.

**Bu metinden Hz. Muhammed (sav.) ile ilgili aşağıdakilerden hangisine ulaşamaz?**

- A) İnsanların görüşlerine değer verdiğiğine  
B) Akraba ziyaretini önemseydiğine  
C) Temkinli ve tedbirli davrandığına  
D) Anlayışlı ve uzlaşmacı bir tavır sergilediğine

6. İslam dini; can, mal, nesil, akıl ve dinin korunmasını temel haklar olarak kabul eder.

**Aşağıdaki ayetlerin hangisi bu haklardan birinin korunması ile ilgili değildir?**

- A) "Ne Güneş Ay'a yetişebilir ne de gece gündüzü geçebilir. Her biri bir yörüngede yüzmektedir."  
(Yâsin suresi, 40. ayet)
- B) "Ey iman edenler! Karşılıklı rızaya dayanan ticaret dışında mallarınızı haksızlıkla yemeyin..."  
(Nisâ suresi, 29. ayet)
- C) "(Resûl'üm!) Şüphesiz ki Kitab'ı sana hak olarak indirdik. O hâlde sen de dini Allah'a has kılarak ihlas ile kulluk et."  
(Zümer suresi, 2. ayet)
- D) "... Kim bir kimseyi haksız yere öldürürse bütün insanları öldürmüş gibi olur. Kim de bir insan hayatını kurtarırsa bütün insanların hayatını kurtarmış gibi olur..."  
(Mâide suresi, 32. ayet)

7. Hz. Muhammed (sav.), Muaz bin Cebel'i Yemen'e vali olarak görevlendirdiğinde "Bir sorunla karşılaştığında nasıl çözersin?" diye sorar. Muaz da: "Öncelikle Allah'ın Kitab'ı ile, eğer onda bulamazsam sizden duyduklarım ve gördüklerimle, şayet onda da bulamazsam kendi görüşlerimle." diye cevap verir. Hz. Muhammed (sav.) onun bu cevabından memnun olur.

**Bu metin aşağıdakilerden hangisi hakkında bilgi vermektedir?**

- A) Dinin temel gayesi  
B) Kur'an-ı Kerim'in ana konuları  
C) Kur'an-ı Kerim'in özellikleri  
D) İslam dininin temel kaynakları

8. Zekât vermek için Allah ve Resûl'ü tarafından belirlenen mali yeterlilik ve zenginlik ölçüsüne sahip olmak gerekir. Bir Müslüman'ın kendisi ve bakmakla yükümlü olduğu kimselerin yeme, içme, barınma, giyinme, sağlık, eğitim ve ulaşım gibi giderleri için ayırdığı mallar, asli ihtiyaçlar kapsamına girer. Bu mallardan zekât verilmesi gerekmez.

**Bu metinde zekât ile ilgili aşağıdaki bilgilerden hangisine değinilmemiştir?**

- A) Temel ihtiyaç kapsamı dışında kalan fazla maldan verileceğine  
B) Varlıklı insanların yerine getirmesi gereken bir ibadet olduğuna  
C) Yılda bir defa verilmesi gerektiğine  
D) Kur'an ve sünnet ile belirlendiğine

9. Hz. Muhammed (sav.), Hz. Ali'yi bir bölgeye görev için gönderdiğinde ondan, davalı ve davacının her ikisini de dinledikten sonra hüküm vermesini istemiştir.

**Bu metinde Hz. Muhammed'in (sav.) hangi yönü vurgulanmaktadır?**

- A) Hakkı gözetmedeki hassasiyeti  
B) Merhametli ve affedici oluşu  
C) Davasındaki cesaret ve kararlılığı  
D) İstişareye önem vermesi

10. Hz. Muhammed (sav.), katı kalpli olmaktan şikâyet eden birine, ihtiyaç sahiplerine ikramda bulunmasını ve yetimlere şefkatli davranmasını tavsiye etmiştir.

**Bu metinde sadaka ile ilgili aşağıdakilerden hangisi vurgulanmaktadır?**

- A) Malı bereketlendirir.  
B) Allah rızasını kazandırır.  
C) Merhamet duygusunu güçlendirir.  
D) Birlik ve beraberliği artırır.

# YABANCI DİL (İNGİLİZCE)

1.

**Marcy**  
We have similar interests.

**Lisa**  
Tim is always cool.

**Mel**  
We have fun together.

**Sam**  
He always tells the truth.


**Tim's Best Friends**


According to the information above, who thinks Tim is an honest friend?


- A) Marcy  
B) Lisa  
C) Mel  
D) Sam


2. This afternoon, Jane's mother is coming home from a short trip. Jane's mother can't stand dirty dishes.

Which of the following chores must Jane finish before her mother comes home?

A) 

B) 

C) 

D) 

3. Fill in the blank according to the table below.

Amanda's Exams	
Subject	Day
Chemistry	Monday
History	Tuesday
Physics	Wednesday
English	Friday

Amanda has the - - - - .

- A) chemistry exam after she has the English exam  
B) history and physics exams on the same day  
C) physics exam two days after the chemistry exam  
D) English exam before she has the history exam

4. **Mike** : Good afternoon. This is Mike.

**Sally** : Good afternoon, Mike. This is Sally.

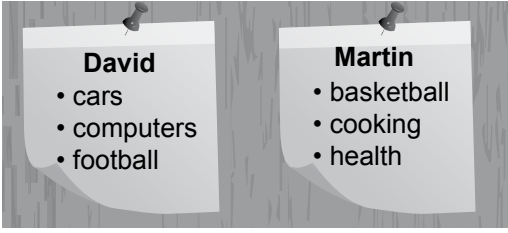
**Mike** : - - - -

**Sally** : Hold on a moment, please. I'll get him.





Which of the following DOES NOT complete the conversation?

- A) Is Nick there?  
B) Nick has gone out.  
C) I want to talk to Nick.  
D) May I speak to Nick?


5. David and Martin decided to read the same book and discuss it later. Here are the lists of their personal interests:



Choose the book that both David and Martin will enjoy reading.

- A)  B) 
- C)  D) 

6.



**Gary** : Hello everybody! Today, our guest is Michael Miller. What is your favorite sport, Michael?

**Michael** : It's paragliding.

**Gary** : ----?

**Michael** : Twice a week.

**Gary** : ----?

**Michael** : Watching the scenery is fascinating.

**Gary** : ----?

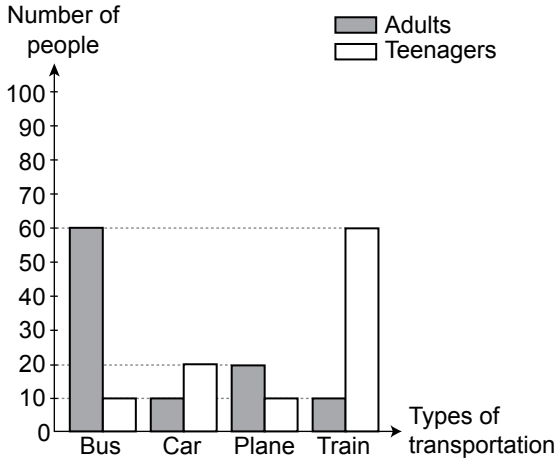
**Michael** : A helmet and a parachute.

Which of the following questions DOES NOT Gary ask Michael?

- A) How often do you do it  
B) Why do you like it  
C) What do you need for it  
D) Where do you try it



7. Researchers asked teenagers and adults about the types of transportation they preferred. Here are the results:



Which of the following is **CORRECT** according to the results?

- A) Travelling by bus is popular among teenagers.  
B) Teenagers mostly travel by train.  
C) Adults always travel by plane.  
D) Adults never travel by car.

8.

## NIKOLA TESLA



### A Famous Scientist

Nikola Tesla was born on July 10, 1856. He became interested in physics when he was just a small boy. He learned different languages, because he wanted to read about scientific achievements in different parts of the world. He invented many new things during his life.

In this paragraph, there is **NO** information about Tesla's - - - - .

- A) relatives  
B) achievements  
C) birthday  
D) early ages


9. The table below shows the results of a study on daily Internet activities of 100 teens in Japan.

Internet activities	Number of teens
reading news	5
shopping online	5
checking emails	10
doing homework	15
watching movies	20
playing games	45

According to the results, which of the following is CORRECT?

- A) Shopping online is very popular among teens in Japan.
- B) Most of the students use the Internet to do their homework.
- C) Nearly half of the students spend their time checking their emails and reading the news.
- D) Many of the teens spend time playing games and watching movies.

10. These are pictures from Lily's video:



Lily is talking about making a delicious dessert.

Which of the following steps DOES NOT match with one of the pictures above?

- A) Put some milk, sugar, flour and vanilla in a saucepan.
- B) Heat the mixture in the saucepan and stir it.
- C) Peel the fruits and chop them into small pieces.
- D) Pour the mixture into the bowls and put some pieces of chocolate on each mixture.

TEST BİTTİ.  
CEVAPLARINIZI KONTROL EDİNİZ.

## SÖZEL BÖLÜM CEVAP ANAHTARI

<b>Türkçe</b>	<b>T.C. İnkılap Tarihi ve Atatürkçülük</b>	<b>Din Kültürü ve Ahlak Bilgisi</b>	<b>Yabancı Dil (İngilizce)</b>
1. A	1. A	1. D	1. D
2. D	2. C	2. B	2. B
3. B	3. A	3. A	3. C
4. C	4. D	4. C	4. B
5. D	5. B	5. B	5. A
6. B	6. D	6. A	6. D
7. A	7. B	7. D	7. B
8. A	8. C	8. C	8. A
9. D	9. A	9. A	9. D
10. B	10. D	10. C	10. C
11. A			
12. D			
13. C			
14. B			
15. B			
16. D			
17. C			
18. A			
19. D			
20. C			

# Sözel Bölüm



**2019-2020**

***Sınavla Öğrenci Alacak  
Ortaöğretim Kurumlarına  
İlişkin Merkezî Sınav Soruları***

# TÜRKÇE

1. Yazar, çocukluk ve ilk gençlik yıllarını yoksulluk içinde geçirmesine rağmen azim ve iradesi sayesinde  
I  
her türlü engeli aşmak suretiyle Türk ilim ve kültür  
II  
hayatının kendisiyle daima iftihar ettiği örnek bir  
III  
ilim insanı olmuştur.

**Bu cümledeki numaralanmış sözcüklerin anlamca karşılıkları aşağıdakilerin hangisinde verilmiştir?**

I	II	III
A) direnme gücü	amacıyla	gururlanmak
B) kararlılık	yoluyla	kıvanç duymak
C) gayret	isteğiyle	saygı göstermek
D) cesaret	şartıyla	iltifat etmek

2. (I) Bizim memlekette dağ taş, orman ağaç hayatın hikâyesini anlatır. (II) Toprak burada ustanın elinden çıkmış bir çinidir, desen desen. (III) Toprak verimlidir; kuru çubuk diksen meyve verir, salkım salkım. (IV) Portakallar dallarında birer güneştir, turuncu turuncu.

**Bu metinde numaralanmış cümlelerin hangilerinde aynı söz sanatı kullanılmıştır?**

- |              |             |
|--------------|-------------|
| A) I ve III  | B) I ve IV  |
| C) II ve III | D) II ve IV |

3. Bir sanatçıya, gazetecilerle yaptığı sohbet sırasında gazetecinin biri "Efendim, uzun süredir yeni bir eser vermiyorsunuz. Yoksa düşüncelerinizin üzerine kar mı yağdı?" diye sordu. Bunun üzerine sanatçı "Kışın yağan kar, toprağı örterek bitkileri şiddetli soğuktan korur. Toprağın altındaki bitki ve hayvanlar ilkbahara hazırlanır. Karlar eridiğinde tüm canlılıklarıyla hayatlarına devam eder. Evet, benim düşüncelerimin üzerine kar yağdı." şeklinde cevap verdi.

**Bu metinde sanatçının "Evet, benim düşüncelerimin üzerine kar yağdı." sözüyle anlatmak istediği aşağıdakilerden hangisidir?**

- A) Sanatçılar ürettikçe var olur, bu yüzden her zaman ortaya koyacakları bir eserleri olmalıdır.  
B) Eser üretmekte zorlanan sanatçılar, sanat güçlerini gittikçe kaybederler.  
C) Sanatçılar verimsiz bir dönemde gibi görünseler de yeni eserleri için zihinlerinde hazırlık yaparlar.  
D) Düşünce kısırlığı çeken sanatçılar, düşüncelerini zenginleştirmek için çok iyi gözlem yapmalıdır.

4. • Kartepe Kayak Merkezi, yüksekliđi 1606 metre olan bir tepenin zirvesinin altında kurulmuştur.  
• Kartepe Kayak Merkezi kış aylarında yoğun bir ziyaretçi akınına uğruyor.

**Bu iki cümlelin anlamca doğru bir biçimde birleştirilmiş hâli aşağıdakilerden hangisidir?**

- A) Kartepe Kayak Merkezi yoğun ziyaretçi akınına uğrayan, yüksekliđi 1606 metre olan bir tepenin zirvesinin altında kış aylarında kurulmuştur.  
B) Yoğun bir ziyaretçi akınına uğrayan Kartepe Kayak Merkezi, kış aylarında yüksekliđi 1606 metre olan bir tepenin zirvesinin altında kurulmuştur.  
C) Yüksekliđi 1606 metre olan bir tepenin zirvesinin altında kurulan Kartepe Kayak Merkezi, kış aylarında yoğun bir ziyaretçi akınına uğruyor.  
D) Bir tepenin zirvesinin altında kurulan Kartepe Kayak Merkezi, yüksekliđi 1606 metre olduğundan kış aylarında yoğun bir ziyaretçi akınına uğruyor.

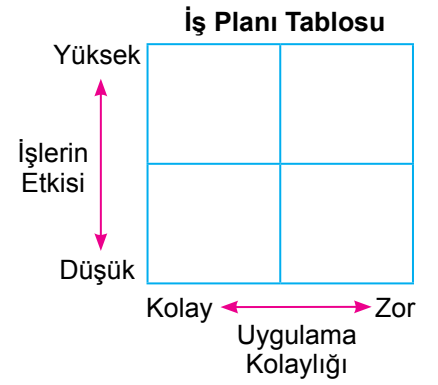
5. Bir projenin başarıya ulaşmasında birçok etken vardır. En başta proje kapsamında çalışacak her bir elemanın, yapacağı işle ilgili üst düzey bilgi birikimine sahip olması gerekir. Bu, çıkacak sorunların hızla çözülmesinde ve projenin sorunsuz ilerlemesinde önemli bir etkidir. Proje çalışanlarının birbiriyle uyumlu ve eş zamanlı çalışması da projenin sağlıklı yürümesi için çok önemlidir. Bunlarla birlikte maliyete ve takvime uygun bir çalışmanın yapılması da gerekir.

**Aşağıdakilerden hangisi bir projede çalışacak kişilerin bu metinde verilen özelliklerinden değildir?**

- A) Liderlik edebilme  
B) Planlı çalışabilme  
C) Ekip çalışması yapabilme  
D) Alanında uzman olma

6. Sudenaz Hanım şirkette hafta boyunca yapacağı planlama, denetleme, personel alımı ve raporlama işleri için şekildeki gibi bir tablo hazırlamıştır. Yapacağı işleri tabloya yerleştirirken işlerin etki derecesini ve uygulama kolaylığını göz önünde bulundurmıştır. Bunları da şu şekilde belirlemiştir:

- Planlama: Uygulanması zor ve etkisi yüksek
- Raporlama: Uygulanması zor ve etkisi düşük
- Personel alımı: Uygulanması kolay ve etkisi yüksek
- Denetleme: Uygulanması kolay ve etkisi düşük



Sudenaz Hanım'ın bir hafta içinde yapacağı işler şunlardır:

- I. Şirketin son üç aylık durumunu ortaya koymak amacıyla üretim-satış verilerine ilişkin grafik ve tablolar hazırlamak
- II. Aksaklık olup olmadığını görmek amacıyla fabrikadaki işleyişi kontrol etmek
- III. Hangi işin, ne zaman yapılacağına dair bir çizelge hazırlamak
- IV. Şirketin ihtiyacı doğrultusunda, iş başvurusunda bulunan adayların öz geçmiş formlarını incelemek

**Bu bilgilere göre Sudenaz Hanım'ın yaptığı İş Planı Tablosu aşağıdakilerden hangisidir?**

A)

IV	III
II	I

B)

I	IV
III	II

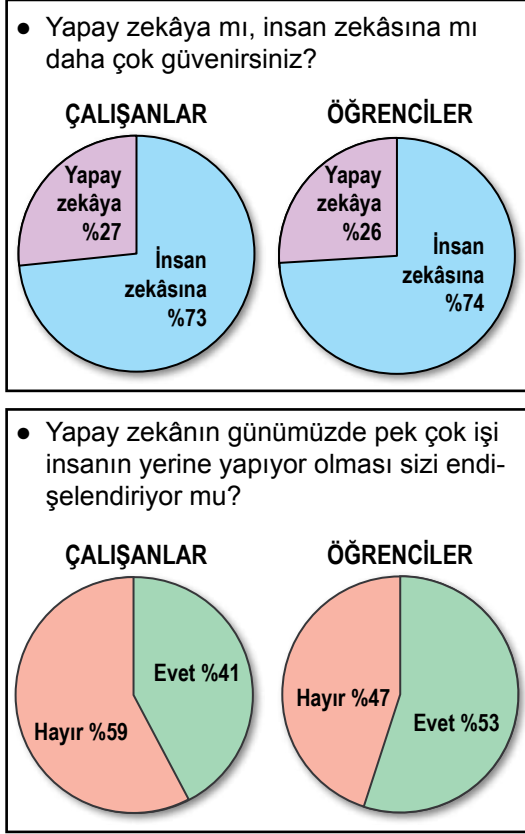
C)

I	III
II	IV

D)

IV	II
III	I

7. Yapılan bir ankette, sorulara verilen cevapların yüzdesi grafiklerde gösterilmiştir.



Aşağıdakilerden hangisi bu grafiklerin raporlaştırılmış hâlidir?

- A) Araştırma sonucuna göre çalışanlar yapay zekâya öğrencilerden çok güvenmektedir. Çalışanlar öğrencilere göre yapay zekânın, işleri insanın yerine yapmasından daha çok endişe duymaktadır.
- B) Yapılan araştırmaya göre insan zekâsına, çalışanlar öğrencilerden daha çok güvenmektedir. İşleri insanın yerine yapay zekânın yapıyor olmasında ise öğrenciler çalışanlardan daha endişelidir.
- C) Araştırma sonuçlarına bakıldığında hem çalışanların hem de öğrencilerin yapay zekâya insan zekâsından çok güvendiği görülür. Ancak iki grup arasındaki en büyük fark, işleri insanın yerine yapay zekânın yapmasından öğrencilerin daha çok endişe duymasıdır.
- D) Öğrenci ve çalışanlarla yapılan bir araştırmanın sonucu her iki kitlenin de insan zekâsına daha çok güvendiğini ortaya koymuştur. Yapay zekânın insanların işini yapmasından duyulan endişenin öğrencilerde daha yüksek olduğu görülmüştür.



8. I. Çünkü bu tepelere değil yükü tırmanmak, yürüyerek çıkmak bile çok ağır bir spor gibi.  
II. Her birimizin taşıması gereken yük altı yedi kilo var.  
III. Oduncular, köküne zarar vermeyecek şekilde meşeleri kesiyor ve kızığa yüklüyorlar.  
IV. Onlar taşınacak ipleri, baltaları ve diğer malzemeleri hazırlamış; bizi bekliyorlar.  
V. Bu ağırlığın ne demek olduğunu dağa tırmandıkça daha iyi anlıyorum.  
VI. Dağdan odun indirecek odun ekibiyle buluşmak için sabah erkenden köyün meydanına geldik.

**Numaralanmış cümlelerle anlamlı bir metin oluşturulduğunda hangisi dışarıda kalır?**

- A) II      B) III      C) IV      D) V

9. Sosyal medyanın gündelik hayata etkisi nasıldır?

**Aşağıdaki metinlerden hangisi bu soruya verilmiş bir yanıt olamaz?**

- A) Asılsız haber ve içerikler sosyal medya yoluyla bilinçli veya bilinçsizce daha fazla ve hızla yayılıyor. Geleneksel medyanın da bunları kaynak almasıyla geniş toplum kitleleri yalan haberlere maruz kalıyor.  
B) Bugün dilimiz yerine parmaklarımız konuşuyor. Eskiden komşu evlerinde yapılan sohbetler şimdi sosyal medya gruplarına taşındı. Aynı evin içinde bile telefonla haberleşir oldu insanlar.  
C) Kullanıcı eğilimleri sosyal medya yazılımlarının güncellenmesine sebep oluyor. Yazılımcılar her geçen gün yeni uygulamalar geliştiriyor. Bu da sosyal medya şirketleri arasında büyük bir rekabet doğuruyor.  
D) Sosyal medya uygulamaları sayesinde gözden uzak olan artık gönülden uzak olmuyor. Araya ne kadar mesafe girerse girsin -isterseniz dünyanın öbür ucuna gidin- fotoğraflarınızı, videolarınızı sevdiklerinizle paylaşabilir hatta onlara canlı yayın yapabilirsiniz.

10. Türkiye’de taşıt plaka kodları, 27 Eylül 1962 tarihinde yayımlanan yönetmelikle düzenlenmiştir. Bu tarihte il niteliğindeki bulunan 67 şehre alfabetik sıraya göre taşıt plaka kodları verilmiştir. Bu tarihten sonra farklı zamanlarda il olan şehirlere de taşıt plaka kodu verilmiştir.

İLLERİN PLAKA KODLARI TABLOSU								
01 Adana	11 Bilecik	21 Diyarbakır	31 Hatay	41 Kocaeli	51 Niğde	61 Trabzon	71 Kırıkkale	81 Düzce
02 Adıyaman	12 Bingöl	22 Edirne	32 Isparta	42 Konya	52 Ordu	62 Tunceli	72 Batman	
03 Afyon	13 Bitlis	23 Elazığ	33 İçel	43 Kütahya	53 Rize	63 Şanlıurfa	73 Şırnak	
04 Ağrı	14 Bolu	24 Erzincan	34 İstanbul	44 Malatya	54 Sakarya	64 Uşak	74 Bartın	
05 Amasya	15 Burdur	25 Erzurum	35 İzmir	45 Manisa	55 Samsun	65 Van	75 Ardahan	
06 Ankara	16 Bursa	26 Eskişehir	36 Kars	46 Kahramanmaraş	56 Siirt	66 Yozgat	76 İğdır	
07 Antalya	17 Çanakkale	27 Gaziantep	37 Kastamonu	47 Mardin	57 Sinop	67 Zonguldak	77 Yalova	
08 Artvin	18 Çankırı	28 Giresun	38 Kayseri	48 Muğla	58 Sivas	68 Aksaray	78 Karabük	
09 Aydın	19 Çorum	29 Gümüşhane	39 Kırklareli	49 Muş	59 Tekirdağ	69 Bayburt	79 Kilis	
10 Balıkesir	20 Denizli	30 Hakkâri	40 Kırşehir	50 Nevşehir	60 Tokat	70 Karaman	80 Osmaniye	

Bu bilgilerden aşağıdakilerin hangisine ulaşamaz?

- A) Ardahan, Eskişehir’den sonra il olmuştur.  
B) Şanlıurfa’ya “Şanlı” unvanı 27 Eylül 1962’den sonra verilmiştir.  
C) Gaziantep “Gazi” unvanını 27 Eylül 1962’deki düzenlemeden önce almıştır.  
D) Bursa, Manisa’dan önce il olmuştur.

11. Bizim zamanımızda şiir, hayatımızın içinde yer alan ve ruhumuzu ince söyleyişleriyle besleyen bir türdü. Şiirin etkisi, on beş yirmi sene öncesine göre çok çok azaldı. İnternet üzerinden de dolaşıma girmesine rağmen şiirin etkisi azalmaya devam etmektedir. Bunun temel sebebi, hayatın bugünkü koşullarının heyecan, zevk, merak unsurlarını anlık duygular hâline getirmesidir. Şairin ilham aldığı bir melek yok artık! Melekler hayatımızdan çekildi! Onları hayatımızdan çekilmeye zorladık. Artık ilhamı, içi boş şeylerden alıyoruz.

**Bu metnin yazıldığı türle ilgili aşağıdakilerden hangisi doğrudur?**

- A) Bir kişinin başından geçen olaylar aktarılmıştır.
- B) Düşünceler bir olay örgüsü çerçevesinde dile getirilmiştir.
- C) Düşünceler kanıtlama amacı güdülmeden öznel bir üslupla ifade edilmiştir.
- D) Bir konuyla ilgili tespitler bilimsel gerçekliğe uygun olarak anlatılmıştır.

12. Avustralya’da yaşayan Rebecca isimli bir kadın, dünyada sadece 80 kişide görülen “süper otobi-yografik hafıza”ya sahip. Rebecca, bugüne kadar yaşadığı en önemsiz olayları bile gayet net hatırlayabiliyor. Çocukken okuduğu kitapların hemen hepsini cümlesi cümlesine ezbere anlatabiliyor. Çoğu insanın gıpta edebileceği bu yetenek, sonradan olumsuz bir duruma dönüşebiliyor. Yeni şeyler öğrenme konusunda zaman zaman güçlükler çeken Rebecca, hatıralarıyla baş etmekte zorlanıyor. Bu özel durum, yeni öğrenmelere yer açan unutmamanın ne kadar güzel olduğunu gösteriyor.

**Bu medya metninin yazılış amacı aşağıdakilerden hangisidir?**

- A) Olay yorumlama – Bilgi aktarma
- B) Bilgi aktarma – İkna etme
- C) Kültür aktarma – Olay yorumlama
- D) İkna etme – Kültür aktarma

13. İlçe çapında düzenlenecek müzik yarışması için A ve B okullarından Ebrar, Gülsüm, Kemal ve Murat seçilmiştir. Birlikte müzik grubu kuracak olan bu isimler; davul, gitar, piyano ve yan flüt çalacaktır. Bu kişilerle ilgili bilinenler şunlardır:

- Her bir kişi sadece bir müzik aleti çalacaktır.
- Gülsüm davul çalacaktır.
- Murat, gitar ve piyanodan birini çalacaktır.
- Kemal'in yan flüt ve piyano çalmayacağı bilinmektedir.
- A okulundan seçilenler davul, yan flüt ve gitardan ikisini çalacaktır.
- Kemal ve Gülsüm farklı okuldan seçilmiştir.

**Bu bilgilere göre aşağıdakilerden hangisi kesin olarak söylenir?**

- A) Gülsüm ve Ebrar aynı okula gitmektedir.
- B) Kemal gitar çalacaktır ve B okulundadır.
- C) Ebrar A okulundadır ve yan flüt çalacaktır.
- D) Kemal ve Murat aynı okula gitmektedir.

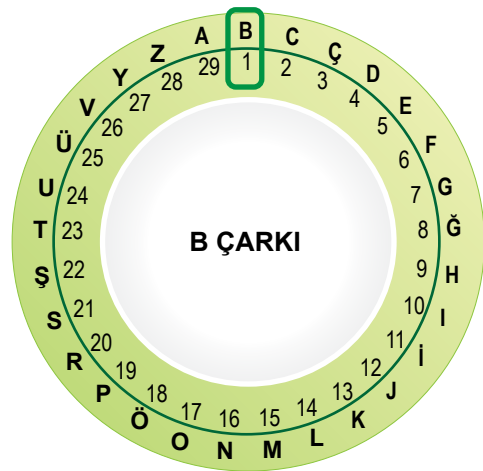
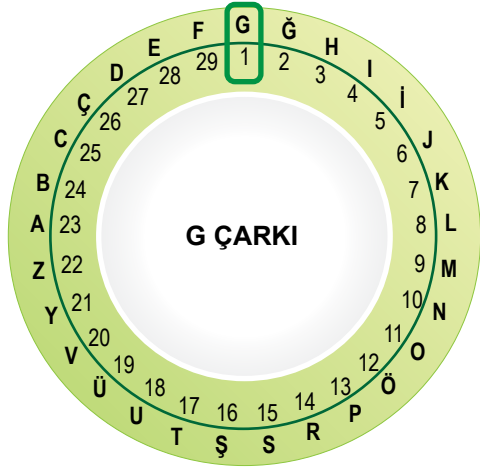
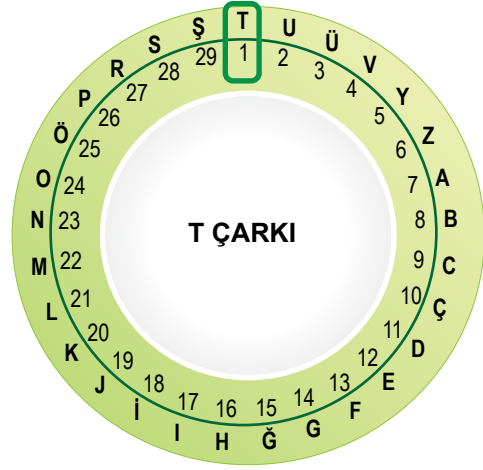
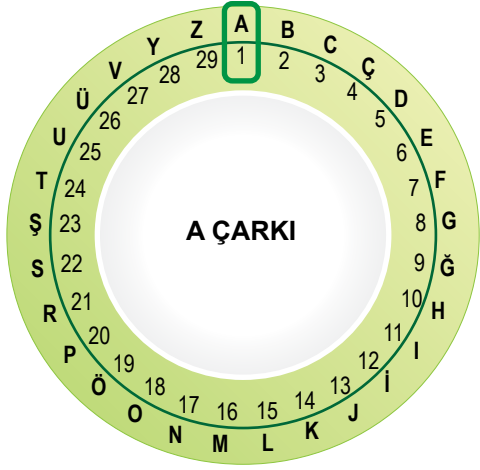
14. Nasıl başladı, ne vakit başladı bilemiyorum ama ilk belirtiler dokuz yaşında iken ortaya çıktı. Misafirlerle bahçede oturuyorduk. Yaşlı bir adam saati sordu. Aksi gibi, kimsede saat yoktu. Eniştem içeri, saate bakmaya koştu. Ben o sırada: "Üçü yirmi geçiyor." deyivermişim.

--- Boğazdan geçen vapurlara bakıp zamanı bazen dakikası dakikasına kestirmek mümkündü. Görünürde vapur olmadığı anlaşılınca gözler fal taşı gibi açıldı ve hep bir ağızdan " - - - " dediler. "Bilmem." dedim. "Dilimin ucuna geliverdi işte." Rahmetli halam: "Tasadüf a canım!" dedi. "Attı tuttu işte. Olmaz mı böyle şeyler?" Öbürküler de: "Evet, tasadüf." dediler. " - - - " diye de eklediler.

**Bu metinde boş bırakılan yerlerden herhangi birine mantık akışına göre aşağıdakilerden hangisi getirilemez?**

- A) Ama bu kadar olur yani!
- B) Aslında saati biliyordu.
- C) Saati tutturamama önce kimse şaşırmadı.
- D) Peki ama nasıl bildin?

15. Görsellerde bir şifreleme sistemine ait çarklar verilmiştir.



Üç harfli bu şifreleme sisteminde, yazılacak sözcüklerin harfleri için önce A çarkından harfin numarası bulunur; sonra sözcüğün birinci harfi için T, ikinci harfi için G, üçüncü harfi için B çarkından o numaraya karşılık gelen harf yazılır. Üçten fazla harfli olan sözcüklerde ise döngü aynı şekilde devam ettirilir.

**Buna göre "VATAN" sözcüğünün bu şifreleme sistemindeki karşılığı aşağıdakilerden hangisidir?**

A) RGUTT

B) RGUGT

C) RTGTU

D) RTGGU

16. Otomobillerde hibrit teknoloji, çevreci ve ekonomik olması nedeniyle son yıllarda tercih edilmeye başlandı. Hibrit araçlarda fosil yakıtla ve elektrikle çalışan iki ayrı motor bulunur. Hibrit otomobil teknolojisi bu iki motoru, uygun durumlar için “değişmeli” veya “beraber” kullanarak aracın yakıt verimliliğini artırırken zararlı gaz salınımını azaltır.

#### **Hibrit Otomobilin Çalışma Sistemi**

**Kalkış:** Sadece elektrikli motor çalışır.

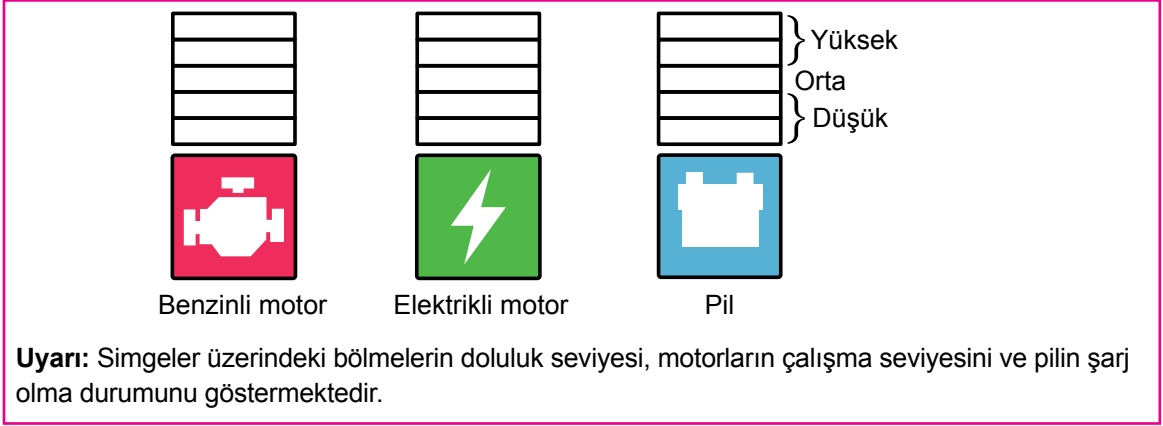
**Normal sürüş:** Asıl gücü elektrikli motor sağlarken diğer motor gerektiğinde destek olur.

**Hızlı sürüş:** Benzinli motor asıl gücü sağlarken elektrikli motor destek olur.

**Yavaşlama-Frenleme:** Benzinli ve elektrikli motor durur.


#### **Pilin Şarj Olma Durumları**

- Benzinli motor çalıştığında düşük düzeyde şarj olur. (Hızlı sürüşte şarj olmaz.)
- Frenleme sırasında yüksek düzeyde şarj olur.

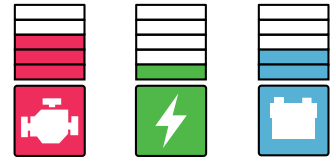


**Bu bilgilerden yola çıkarak benzinli ve elektrikli motorun çalışma seviyeleri ile pilin şarj olma durumunu göstermek isteyen biri, aşağıdakilerin hangisinde yanlışlık yapmış olur?**

A) Kalkış:



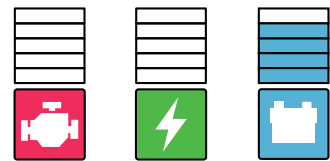
B) Normal sürüş:



C) Hızlı sürüş:



D) Yavaşlama-Frenleme:



17. Shenzen şehri 1980'lerde uygulanmaya başlanan SEZ (Özel Ekonomik Bölge) projesiyle kurulmuş ve bu projeden sonra gelişmiş bir şehir. Shenzen sokaklarını adımlar ve teknolojik dünyanın enerjisini hissederken hep aynı tipler çıkıyor önünüze: düşlerinin peşinden koşan girişimciler, ilham peşindeki sanatçılar, kişilik arayışına çıkmış kayıp ruhlar...

**Bu metindeki noktalama işaretlerinin işlevi aşağıdakilerin hangisinde yanlış verilmiştir?**

- A) İki nokta, kendisiyle ilgili örnek verilecek cümlelerin sonuna konmuştur.  
B) Virgül, birbiri ardınca sıralanan eş görevli kelime ve kelime gruplarının arasında kullanılmıştır.  
C) Yay ayraç, cümledeki anlamı tamamlayan ve cümlelerin dışında kalan ek bilgileri belirtmek amacıyla konmuştur.  
D) Üç nokta, herhangi bir sebepten dolayı açık yazılmak istenmeyen kelime ve bölümlerin yerine konmuştur.

18. Özne; yüklem bildirdiği işi yapan, yüklem bildirdiği durumu üzerine alan ögedir. Nesne ise cümlede öznenin yaptığı eylemden etkilenen ögedir. "Selim çantasını masaya bıraktı." cümlesinde bırakma işini yapan "Selim"dir ve cümlelerin öznesidir. Selim'in bırakma işinden etkilenen ise "çanta"dır ve cümlelerin nesnesidir.

**Bu açıklamaya göre aşağıdakilerin hangisinde altı çizili öge cümlelerin öznesidir?**

- A) Pencerenin önündeki ağacın çiçekli dalları renge renge bir kelebeği ağırlıyordu.  
B) Sağlı sollu ırmaklar kasabadaki doğuya meyilli sokakları canlandırmıştı.  
C) İlkbahar rüzgârıyla neşelenen martılar sessizliğe bürünen sokağı çınlatıyordu.  
D) Derme çatma kır bahçesini genç bir dut ağacının gölgesi koruyordu.

19.

**Açıklama**

Cümlede durum veya zaman bildiren fiilimsiler zarf-fiildir.

Örnekler:

Murat Nehri donunca gençler, üzerinde top zaman bildiren zarf-fiil oynuyormuş.

Gözlerini kitaptan ayırmadan sorduğum durum bildiren zarf-fiil soruya cevap verdi.

(I) Yaz aylarında tamamen kuruyan Kara Muğla Deresi'nin yatağını takip ederek Saburhane Meydanı'na ilerliyorum. (II) Saburhane'nin sürprizli sokaklarına doğru yol alırken yüzleri ısıtan neşeli ilkbahar güneşinin ağaçlara can verdiğini hissetmek zor olmuyor. (III) Kim bilir üst üste kaç kat kireç atılmış bembeyaz boyalı evleri keşfetmek için sokak aralarına dalıyorum. (IV) Evlerin ahşap bölümleri, Saburhaneli kadınların titizliğiyle siline siline özgün ve büyümlü bir sanat eserine dönüşmüş sanki.

**Bu parçada numaralanmış cümlelerin hangisinde zarf-fiil yoktur?**

- A) I      B) II      C) III      D) IV

20.

(I) Çayın hikâyesi yaklaşık beşbin yıl evvel Çin'de başladı. (II) Efsaneye göre İmparator Shen Nung bir öğle istirahatindeyken hizmetkârları, içmesi için ona bir kapta su kaynatıyorlardı. (III) Bu sırada tatlı bir rüzgâr, sıcak suya birkaç çay yaprağı düşürdü. (IV) İmparator, bu suyu içince öyle beğendi ki çay bir içecek olarak keşfedilmiş oldu.

**Bu parçadaki numaralanmış cümlelerin hangisinde yazım yanlışı vardır?**

- A) I      B) II      C) III      D) IV

**TÜRKÇE TESTİ BİTTİ.**

**T.C. İNKILAP TARİHİ VE ATATÜRKÇÜLÜK  
TESTİNE GEÇİNİZ.**



# T.C. İNKILAP TARİHİ VE ATATÜRKÇÜLÜK

1. “Tanzimat Fermanı sadece iç dinamiklerden kaynaklanmış olamaz. Osmanlı Devleti’nin zayıflamasıyla birlikte, ülkedeki gayrimüslimler üzerindeki hâkimiyetini artırmak isteyen Batılı ülkelerin de tesiri son derece önemlidir.” **diyen bir tarihçi Tanzimat Fermanı’nın hangi özelliğine vurgu yapmaktadır?**

- A) Can ve mal güvenliğini devlet güvencesine alması
- B) Azınlıkları kanun önünde eşit kabul eden bir belge oluşu
- C) Ferman’ın ilanında yabancı devletlerin etkisinin bulunması
- D) Osmanlı’nın dağılmasının önüne geçmek için alınan bir tedbir olması

2. Osmanlı Devleti’nin çöküş sürecinde devletin varlığını sürdürmek ve dağılmasını önlemek için bazı fikir akımları geliştirilmiştir. Bu fikir akımlarından biri de Osmanlıcılıktır. Osmanlıcılık akımı, Osmanlı Devleti sınırları içinde yaşayanları hangi din ve soydan olursa olsun kaynaştırarak bir “Osmanlı Milleti” oluşturmayı amaçlamıştır. Ancak Osmanlıcılığın gerçekçi bir çözüm olmadığı kısa sürede görülmüştür.

**Buna göre aşağıdaki gelişmelerden hangisi Osmanlıcılık akımının geçerliliğini yitirmiş olduğunun bir göstergesidir?**

- A) Osmanlı Devleti’nin Birinci Dünya Savaşı’nda İttifak Devletleri yanında savaşa girmesi
- B) Müslüman olmayanlara bütün devlet memurluklarına atanabilme hakkının verilmesi
- C) Mebusan Meclisinde tüm Osmanlı unsurlarına temsil hakkının verilmiş olması
- D) Balkan milletlerinin isyan edip Osmanlı Devleti’nden ayrılması

3. • İngiltere ve Fransa 12-18 Eylül 1910’da bir tatbikat yapma kararı almıştır. Bu tatbikata Picardie (Pikardi) Manevraları adı verilmiştir. Bu manevralara Osmanlı ordusunu temsilen Mustafa Kemal katılmıştır. Tatbikat sırasında yaptığı gözlem ve değerlendirmelerle dikkatleri üzerine toplamıştır.

• Mustafa Kemal, Balkan Savaşlarının sona ermesinden sonra Sofya’ya ataşe olarak atanmıştır. Bu şehirde sık sık üst düzey toplantı, balo ve davetlere katılmıştır.

**Bu bilgilere göre Mustafa Kemal’in aşağıdaki alanlardan hangileri ile ilgili çalışmalar yaptığı söylenebilir?**

- A) Ekonomik - Sosyal
- B) Askerî - Diplomatik
- C) Hukuki - Diplomatik
- D) Siyasi - Ekonomik

4. Müdafaa-i Hukuk Cemiyetleri tarih, dil, din ve ırk bakımından kendilerini ilgilendiren bölgenin Türk ve Müslüman çoğunlukta olduğunu İtilaf Devletleri’ne ve dünya kamuoyuna gazete, kitap vs. dağıtarak türlü yollardan anlatmaya çalışmaktaydı. Bu cemiyetler, faaliyetlerini etkin hâle getirmek ve kamuoyunu harekete geçirmek için bölgelerinde kongreler tertip etmekteydi. Bu cemiyetlerden bazıları gerekirse silahlı mücadeleyi de göze almışlardı.

**Buna göre Müdafaa-i Hukuk Cemiyetleri hakkında aşağıdakilerden hangisi söylenebilir?**

- A) Bölgesel nitelikli kuruluşlardır.
- B) Düzenli ordu birliklerinden oluşmuşlardır.
- C) İhtiyaçları devlet tarafından karşılanmıştır.
- D) İstanbul Hükûmeti tarafından kurulmuşlardır.

5. Büyük Millet Meclisine karşı Anadolu'nun pek çok yerinde ayaklanmalar çıktı. Bu ayaklanmaların çıkmasında İstanbul yönetimi ve İtilaf Devletleri'nin zararlı faaliyetleri etkili oldu.1920 yılı boyunca süren bu ayaklanmaların amacı Kuvâ-yı Millîye'yi etkisiz hâle getirmek ve bağımsızlık hareketini boğmaktır. Ayaklanmalar, Büyük Millet Meclisini uzun süre uğraştırdı. İnsan ve malzeme kaybedildi. Başta Yunanlar olmak üzere düşman hareketleri daha serbest hâle geldi. Ancak her şeye rağmen ayaklanmalar bastırılarak meclisin otoritesi korundu.

**Bu bilgilerden hareketle Büyük Millet Meclisine karşı ayaklanmaların sonuçları ile ilgili,**

- I. Millî Mücadele sürecinin uzamasına sebep olmuştur.
- II. Askerî imkânların bir kısmının gereksiz bir biçimde tüketilmesine neden olmuştur.
- III. Büyük Millet Meclisi, çalışmalarına ara vermek zorunda kalmıştır.
- IV. Anadolu'daki bütün işgaller sona ermiştir.

**yargılarından hangilerine ulaşılabilir?**

- A) I ve II                      B) I ve III  
C) II ve IV                     D) III ve IV

6. Mustafa Kemal, Mondros Ateşkes Antlaşması sonrasındaki süreci şu şekilde değerlendirmiştir:

“Genel savaştan sonra imza edilen ateşkes sonucunda ülkemizin büyük bir kısmı elden gittikten başka vatanımızın önemli parçaları da düşman orduları tarafından işgal edilmişti. Ordumuzun silahları ve cephanesi yabancılar tarafından toplanarak ülke dışına sevk ediliyor ve denize atılıyordu. Kökleri, insanlık tarihinin derinliklerinde bulunan Türk milletinin son ve tek bağımsız devleti yıkılıyordu.”

**Mustafa Kemal'in bu sözlerinden hareketle Mondros Ateşkes Antlaşması ile ilgili aşağıdaki yargılardan hangisine ulaşamaz?**

- A) Türk bağımsızlığına ters düşmektedir.  
B) Osmanlı Devleti'ni hukuken sona erdirmiştir.  
C) Osmanlı topraklarının işgaline zemin hazırlamıştır.  
D) Osmanlı Devleti'nin savunma gücü kırılmaya çalışılmıştır.

7. Aşağıda Urfa direnişine öncülük eden “Onikiler”in, Fransız işgal komutanına gönderdiği notadan bir bölüm yer almaktadır:  
“Biz Urfa Sancağı halkı barışsever insanlarız. Bin yıldan beri bu topraklarda hür olarak yaşıyoruz. Topraklarımıza göz dikenleri hep pişman etmişizdir. Şimdiye dek sizin buraya belli süre için geldiğinizi sanıyorduk. Fakat bayraklarımızı indirmezsiniz, sizin Urfa'yı işgal niyetinde olduğunuzu gösteriyor. Bu kötü niyetinizi gördük ve biz Urfalılar, sizi bu topraklardan atmak için bütün gücümüzle çalışmaya yemin ettik. Bizi on iki kişi sanıyorsunuz. Oysaki bu rakam gerçek sayımızın yanında çok küçük kalır. Zira Urfalılar sizleri buradan çıkarmaya yediden yetmiş kadar yemin etmişlerdir.”

**Buna göre Urfa halkı için aşağıdakilerden hangisi söylenebilir?**

- A) Millî egemenliği benimsemişlerdir.  
B) Anadolu'daki ilk silahlı direnişi başlatmışlardır.  
C) İstanbul Hükûmeti ile birlikte hareket etmişlerdir.  
D) Bölgelerini düşman işgalinden kurtarmaya kararlıdır.

8. Birinci Dünya Savaşı'nda, Osmanlı orduları yedi cephede birden savaşmıştır. Örneğin Galiçya Cephesi'nde Ruslarla ve Romenlerle; Makedonya'da Yunan ve Fransızlarla; Çanakkale'de İngiliz ve Fransızlar ile; Filistin, Suriye ve Irak cephelerinde İngilizler ile...

**Bu bilgilerden hareketle Osmanlı Devleti hakkında,**

- I. Rusya ile farklı blokta yer almıştır.
- II. Savaştığı cepheler taarruz cepheleridir.
- III. İngiliz ve Fransızlarla birden fazla cephede savaşmıştır.
- IV. Osmanlı toplumu savaşa girme düşüncesini desteklemiştir.

**yargılarından hangilerine ulaşılabilir?**

- A) I ve III                      B) II ve IV  
C) I, II ve III                 D) II, III ve IV

9. Aşağıda TBMM ile Sovyetler Birliği arasında imzalanan Moskova Antlaşması'nın bazı maddeleri verilmektedir.

- Taraflar herhangi birine zorla kabul ettirilmek istenen bir antlaşmayı tanımayacaktır.
- Kars, Ardahan ve Artvin Türkiye'ye; Batum Gürcistan'a bırakılacaktır.
- Boğazlar meselesi Karadeniz'e kıyısı olan devletlerle yapılacak bir konferansta görüşülecektir.
- Kapitülasyonlar her iki ülkenin gelişmesini olumsuz etkilediğinden kaldırılacaktır.

**Buna göre Moskova Antlaşması'nın sonuçları hakkında aşağıdakilerden hangisi söylenebilir?**

- A) TBMM'nin uluslararası alandaki ilk siyasi zaferidir.  
B) Millî Mücadele'nin Doğu Cephesi başarı ile kapanmıştır.  
C) Sovyetler Birliği, Sevr Antlaşması'nın geçersizliğini kabul etmiştir.  
D) Boğazlar konusu Avrupalı devletlerin görüşleri çerçevesinde çözümlenmiştir.

10. Yurdun her tarafından iki yüz elli kadar öğretmenin katıldığı Maarif Kongresi hakkında Mustafa Kemal: "Cephede ordu Yunanlarla mücadele ederken Ankara'da muallimler ordusu cehalete karşı müdafaa programı hazırlıyor. Harp ve maarif cephelerinin ikisinde de faaliyetler var. Millî ordu vatandan düşmanı, muallim ordusu da cehalet ve zulmeti kovacak, iki hizmetin aynı zamanda gerçekleşmesi ulvî bir tesadüftür..." ifadelerini kullanmıştır.

**Buna göre Maarif Kongresi hakkında,**

- I. Cephede kazanılan başarılar eğitimden daha önemli görülmüştür.  
II. Kurtuluş Savaşı devam ederken toplanmıştır.  
III. Temsiliyet açısından ulusal nitelik taşımaktadır.  
IV. Ülkedeki eğitim kurumları Millî Eğitim Bakanlığına bağlanmıştır.

**çıkarımlarından hangileri yapılabilir?**

- A) I ve II  
B) I ve IV  
C) II ve III  
D) III ve IV

# DİN KÜLTÜRÜ VE AHLAK BİLGİSİ

1. Toplumun sağlıklı bir şekilde varlığını sürdürebilmesi için uyması gereken yasalara toplumsal yasalar denir. Sevgi, kardeşlik, doğruluk, adalet, kul hakkı gibi ilkeler toplumsal yasaların temelini oluşturur. Toplumsal barış ve uyum bu ilkelere olan bağlılıkla sağlanır. Bu konuda Kur'an-ı Kerim'de "... Şüphesiz ki bir topluluk kendi durumunu değiştirmedikçe Allah onların durumunu değiştirmez..." (Ra'd suresi, 11. ayet) buyrulmaktadır.

**Bu metinden aşağıdakilerin hangisine ulaşılabilir?**

- A) Toplumsal yasalar Allah'ın birliğinin delillerindedir.  
B) Toplamların huzuru, toplumsal yasalara uyup uymamalarına göre değişiklik gösterir.  
C) Allah her topluma durumlarını düzeltmeleri için peygamberler göndermiştir.  
D) Toplumsal yasaların iyi anlaşılması için Kur'an geçmiş toplumların hayatlarından örnekler verir.

2. Kendimi bildim bileli yazıyorum. Bazen bir satır, bazen sayfalarca. Bunun bana hediye edilmiş bir yetenek olduğumu biliyorum. Arkadaşlarım sinemaya, tiyatroya giderken ben masamda oturup yazmayı tercih ediyorum. Saatlerce uykusuz kalsam da yazdıklarımın beğenilmesi tüm yorgunluğumu alıyor. Bazen kendi kendime soruyorum. Kelimelerim olmazsa ben kimim?

**Bu metin, kader ile ilgili aşağıdaki kavramlardan hangisiyle ilişkilendirilemez?**

- A) Emek  
B) Külli irade  
C) Cüzi irade  
D) Sağlık

3. Hz. Muhammed (sav.) döneminde zekât, görevliler tarafından toplanır ve ihtiyaç sahiplerine ulaştırılırdı. Hz. Muhammed (sav.) giyim kuşam ürünlerinin bol olduğu Yemen'e zekât için gönderdiği görevliye, arpa ve buğday gibi toprak ürünlerinin zekâtını elbise olarak almasını söylemişti. Çünkü bu uygulamanın hem zekâtın ulaştırılacağı insanlar hem de zekât verecek olan Yemen halkı için uygun olacağını düşünmüştü.

**Bu metinden aşağıdakilerin hangisine ulaşılabilir?**

- A) Zekâtta insanların durum ve ihtiyaçları gözetilmez.  
B) Zekât verilecek malın üzerinden bir yıl geçmelidir.  
C) Toprak ürünlerinin zekâtı hasat döneminde verilmelidir.  
D) Zekât verirken gizliliğe özen gösterilmelidir.

4. Bir sahabe elinde bir miktar altın ile Hz. Muhammed'e (sav.) gelerek bundan başka malı olmadığını, onu da sadaka olarak vermek istediğini söyledi. Fakat Hz. Muhammed (sav.) onun bu isteğini kabul etmedi. Sahabe ısrarcı davranınca, "Biriniz sahip olduğu her şeyi getirip 'Bu benim sadakamdır.' diyor, sonra da oturup insanlara avuç açıyor. Sadakanın en hayırlısı ihtiyaç fazlası maldan verilir." buyurdu.

**Bu metinde aşağıdakilerden hangisi vurgulanmaktadır?**

- A) Zekâtın hangi mallardan verilmesi gerektiği Hz. Muhammed (sav.) tarafından belirlenmiştir.  
B) Kişinin kendisinin ve ailesinin geçimini sağlama, sadaka vermesinden önceliklidir.  
C) İslam, sadaka beklemek yerine çalışarak kazanmayı teşvik eder.  
D) Sadaka, insanın Allah'a kulluk etmesinin bir göstergesidir.

5. Ordu'nun bir ilçesinde yaşamakta olan zihinsel engelli Salih, her gün evinin yakınındaki kara yolunun kenarına çıkmakta, gelip geçenlere el sallayarak selam vermektedir. İlçe halkının sevgisini kazanan Salih'in her sabah gittiği bu mekân, zamanla "Salih'in Yeri" olarak anılmaya başlanmıştır. Ancak ilçede yapılan kara yolu çalışmasında Salih'in Yeri yıkılmıştır. Bu durum Salih'i çok üzmüştür. Bunu duyan ilçe kaymakamı, Salih için kara yolu kenarına üstü kapalı başka bir yer yaptırmış ve onun tekrar yola çıkıp insanlara el sallayarak mutlu olmasını sağlamıştır.

**Kaymakamın bu davranışı aşağıdaki hadislerden hangisi ile ilişkilendirilemez?**

- A) Sizin en hayırlınız insanlara faydalı olanınızdır.  
B) Her iyilik bir sadakadır.  
C) Kim Allah'a ve ahiret gününe iman ediyorsa misafirine ikram etsin.  
D) Allah her işte güzel davranmayı emretmiştir.

6. Hz. Muhammed (sav.), sorumluluklarını terk ederek kendisini sadece ibadete veren Osman bin Mazun'a şöyle demiştir: "Ailenin senin üzerinde hakkı vardır. Misafirin senin üzerinde hakkı vardır. Senin kendi üzerinde hakkın vardır."

**Bu metinden çıkarılabilecek en kapsamlı yargı aşağıdakilerden hangisidir?**

- A) Konuklara gereken ilgi gösterilmelidir.  
B) Aile fertlerinin ihtiyaçları karşılanmalıdır.  
C) İbadetler noksansız ve zamanında yapılmalıdır.  
D) Dinin yaşanmasında denge gözetilmelidir.

7. Geleneksel Türk motiflerine bakıldığında İslam dinine ait figürlere sıkça rastlanmaktadır. Bunun en güzel örnekleri halı, kilim ve duvar süslemelerinde görülmektedir. Bu eserlerde camiye sembolize eden kubbe ve mihrap figürlerine, ahireti sembolize eden anahtar ve kapı figürlerine sıkça yer verilmektedir.

**Bu metinden aşağıdakilerin hangisine ulaşılabılır?**

- A) Dinin kültür üzerinde etkisi vardır.  
B) Din, kendinden önceki güzel gelenekleri devam ettirir.  
C) Türklerin İslam öncesindeki kültürleri, İslam'ı kabul etmelerinde etkili olmuştur.  
D) İslam sanatı, tevhid anlayışı çerçevesinde şekillenir.

8. Münire Teyze torununa bir miktar parası olduğunu ve bunu kendisine sürekli sevap kazandıracak bir hayır için harcamak istediğini söyledi. O da Afrika'da su ihtiyacı olan insanlar için bir su kuyusu açtırmanın bu amaç için uygun olacağını ifade etti. Bu teklifi beğenen Münire Teyze, bir su kuyusu açtırarak insanların ihtiyaçlarını gidermekten çok mutlu oldu. Torununun iyiliğe aracılık ederek sevap kazanacak olması ise onu ayrıca sevindirdi.

**Bu metinden aşağıdaki sonuçların hangisine ulaşılamaz?**

- A) İslam ihtiyaç sahiplerine yardım etmeyi teşvik eder.  
B) Sadaka-i cariyenin toplumsal faydaları vardır.  
C) Allah, yardım edilen kişinin onurunun korunmasını ister.  
D) İnsanları hayra yönlendirmek Allah'ın rızasını kazandırır.

9. Hz. Musa ve inananları Firavun'un eziyetlerinden dolayı Mısır'dan gizlice çıkarken takip edildiklerini fark eder. Hz. Musa'ya inananlar telaşlanır. Bu durum Kur'an-ı Kerim'de şöyle ifade edilmektedir: "İki topluluk birbirini görünce Musa'nın halkı 'İşte yalandık!' dediler. Musa, 'Hayır! Eminim ki Rabb'im benimledir, bana bir çıkış yolu gösterecektir.' dedi." (Şu'arâ suresi, 61-62. ayetler)

**Bu metinden Hz. Musa ile ilgili aşağıdakilerin hangisine ulaşılabılır?**

- A) Sihirbazların hilelerini boşa çıkarmıştır.  
B) Allah'a olan teslimiyeti ile inananlara örnek olmuştur.  
C) Kardeşi Hz. Harun ile desteklenmiştir.  
D) Firavun'a karşı galip gelmiştir.

10. İslam insana, sahip olduğu imkânlardan, Allah'ın hoşnutluğunu kazandıracak hayır yollarına harcamasını emretmektedir. İslam medeniyetinde -böyle bir niyete dayanması şartıyla- ülkenin savunulması, hac hizmetleri, yoksulların desteklenmesi; okul, cami, yol, köprü, çeşme, bakımevleri gibi toplumsal hizmet ve hayır kurumlarının kurulması hatta tabiatın korunup geliştirilmesine kadar her türlü çaba Allah yolunda harcama sayılmıştır.

**Bu metinden İslam ile ilgili aşağıdakilerin hangisine ulaşılamaz?**

- A) Medeniyetin gelişmesine katkı sağlar.  
B) İnsandan çevresine duyarlı olmasını ister.  
C) İnsanı iyiye ve güzele yönlendirir.  
D) Yardımlaşmada akrabalara öncelik vermeyi öğretir.

# YABANCI DİL (İNGİLİZCE)

1. Read the comments about Jack.

I know he always backs me up.



Jess

We really get on well.



Angelina

I can never count on him.



Tom

He never shares my secrets with other people.



Bill

According to the comments above, who says something bad about Jack?

- A) Jess  
B) Tom  
C) Bill  
D) Angelina

2. You work at a call center and answer customers' questions on the phone. You are there to solve their problems.

According to the information above, which of the following you should NOT say?

- A) If you have a problem again, please contact us.  
B) Our friends will solve your problem today.  
C) I am too busy to solve your problem.  
D) After I talk to our team, I will call you.

3. Read the statements below.

**William** : We must listen to our teachers while they are talking.

**Charles** : We must come home early in the evenings.

**Jane** : We mustn't drink or eat during our lessons.

**Rachel** : We mustn't talk to each other during the exams.

Who does NOT talk about school rules?

- A) William  
B) Charles  
C) Jane  
D) Rachel

4.

There is too much black pepper in this soup. I hate ---- food.



Alice

This lemonade is really ----. Can you add some more sugar, please?



Brad

My brother likes eating ---- things. He always buys chocolate, cookies and cakes.

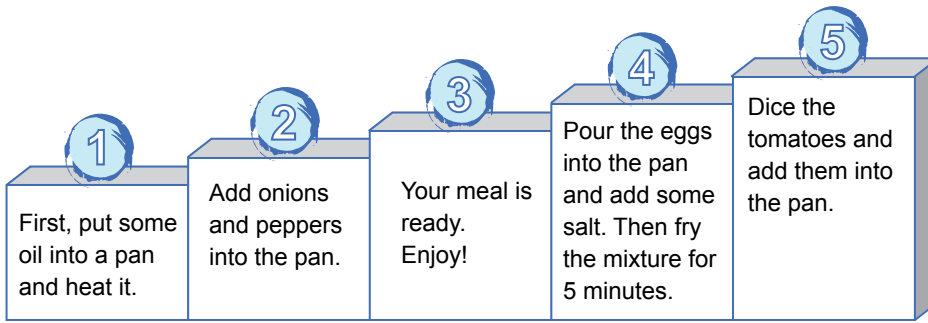


George

Which of the following words CANNOT you use in any of the sentences above?

- A) sour  
B) sweet  
C) spicy  
D) salty

5.



Which of the following steps of the recipe should change places to get the correct order of the cooking process?

A) 1 - 4

B) 2 - 3

C) 3 - 5

D) 1 - 5



6. Read the phone conversation below.

**Greg** : Hello, It's "Green Mobile".  
How can I help you?

**Mr. Carter** : Hello, my computer is  
not working properly.  
I think it is broken.

**Greg** : Oh, OK, I understand. Can  
I take your address, please?

**Mr. Carter** : 8 Freeway Street.

**Greg** : Thank you. Our team  
will be there in an hour to  
check your computer.

**Mr. Carter** : Thank you.

Why does Mr. Carter call "Green Mobile"?

To - - - -.

- A) tell "Green Mobile" about a problem
- B) buy a new computer
- C) change his home address
- D) say "Thank you" to "Green Mobile"

7.

Dear friends,

Our school basketball team has a match  
with a team from Johnson High School  
this Saturday at 3 p.m. Let's watch the  
match together!

Ted

These are Ted's friends' plans for that day:

- Jason will study for his English exam on that day.
- Kevin has to stay with his grandparents.
- Matt likes basketball matches and he will be there.
- Sandy will meet her cousins.

According to the information above, who will  
watch the match?

- A) Sandy
- B) Matt
- C) Kevin
- D) Jason

8. Tomorrow is Kate's birthday. So, Joe decides to buy  
her a book and asks Kate's friends about the books  
she has read or bought. These are their answers:

**Max** : I know she has finished "The  
Friendship".

**Zack** : She wanted to read "The Old World"  
and Jane bought it for her.

**Rose** : She wanted to buy the book "The Indian  
Music" but she bought "The Great Dog".

According to the information above, which of  
the following books should Joe buy for Kate?

- A) The Indian Music
- B) The Great Dog
- C) The Old World
- D) The Friendship

9. Read the information and the telephone  
conversation below.

**ENGLISH DAY**

- Come and Share Your English  
Project with us.
- No rules, just fun!
- All schools and students can join.

**Date** : 20.06.2020  
**Time** : 5 - 7 p.m.  
**Place**: Concert House

For more information call 0123 456 78 99

**Suzanne** : Hello, this is Suzanne Jordan, I'm  
calling you for the English Day  
event.

**Secretary** : Hello Suzanne. How can I help you?

**Suzanne** : What should I do to join the event?

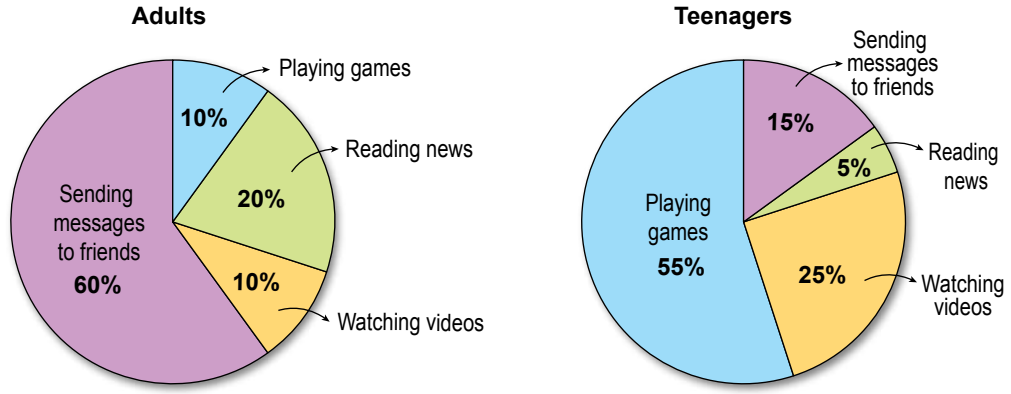
**Secretary** : - - - -.

**Suzanne** : Oh, OK! Thank you.

According to the information above, which of  
the following completes the conversation?

- A) You can't join if you are a student
- B) If you need more information, send an email,  
don't call
- C) The event will be in the morning, so come early
- D) Just bring your project to the Concert House

10. These are the results of a survey about the Internet habits of adults and teenagers.



Which of the following is correct according to the results?

- A) Many adults like watching online videos.
- B) Teenagers prefer reading news to watching videos.
- C) Most of the adults enjoy sending messages.
- D) Teenagers hate playing online games.

TEST BİTTİ.  
CEVAPLARINIZI KONTROL EDİNİZ.

## SÖZEL BÖLÜM CEVAP ANAHTARI

<b>Türkçe</b>	<b>T.C. İnkılap Tarihi ve Atatürkçülük</b>	<b>Din Kültürü ve Ahlak Bilgisi</b>	<b>Yabancı Dil (İngilizce)</b>
1. B	1. C	1. B	1. B
2. D	2. D	2. D	2. C
3. C	3. B	3. A	3. B
4. C	4. A	4. B	4. D
5. A	5. A	5. C	5. C
6. A	6. B	6. D	6. A
7. D	7. D	7. A	7. B
8. B	8. A	8. C	8. A
9. C	9. C	9. B	9. D
10. D	10. C	10. D	10. C
11. C			
12. A			
13. C			
14. B			
15. A			
16. B			
17. D			
18. A			
19. C			
20. A			

# Sözel Bölüm



**2020-2021**

***Sınavla Öğrenci Alacak  
Ortaöğretim Kurumlarına  
İlişkin Merkezî Sınav Soruları***

# TÜRKÇE

1. “Vurmak” sözcüğü aşağıdakilerin hangisinde “olumsuz yönde etkilemek” anlamında kullanılmıştır?

- A) Ayağını kanepenin kenarına sertçe vurdu ve başparmağını incitti.
- B) O akşam sokağın bütün gürültüsü odama vuruyordu.
- C) Yeni yolun açılması, eski yol üzerindeki benzinlikleri vurdu.
- D) Yılların yorgunluğu yaşlı adamın yüzüne vurmuştu.

2. Tipik bir Selçuklu şehri olan Sivas’ı gezerken günlük yaşamla tarihin iç içe olduğunu görebilirsiniz.

Altı çizili söz öbeğinin bu cümleye kattığı anlam aşağıdakilerden hangisi olamaz?

- A) Birbirine karışmak
- B) Bir bütün olmak
- C) Aynı noktada buluşmak
- D) Karmaşık hâle gelmek

3. I. Kendini paralamadan da hedeflerine ulaşabileceğini düşünüyorum.  
II. Daha bu aşamada kendini harap edersen sonrasında ne yapacaksın?  
III. İşler istediği gibi gitmediği için kendini yiyip bitiriyor.  
IV. Bu şarkıyı ne zaman dinlesem kendimi kaybediyorum.

Numaralanmış cümlelerdeki deyimlerin hangilerinde “üzüntü” anlamı vardır?

- A) I ve II
- B) I ve IV
- C) II ve III
- D) III ve IV

4. Sürekli göç veren ilçemizin sessizleşmesinin en önemli sebebi elbette ekonomik sıkıntılar. - - - ilçemiz, ziyaretçilerin beğenisine sunulacak eşsiz doğal değerlere sahip. Kısa zamanda turizm yoluyla bir kalkınma sağlamak mümkün.

Boş bırakılan yere aşağıdakilerden hangisi getirilirse metnin anlam bütünlüğü bozulur?

- A) Çünkü
- B) Halbuki
- C) Ancak
- D) Oysa

5. "Çok sevdiğim şehirlerden biri olan Erzurum'u bir kez daha gezecek olmaktan mutluluk duyuyorum." diyen biriyle ilgili,

- I. Erzurum'dan başka şehirleri de gezmiştir.
- II. Erzurum'u ikinci kez gezecektir.
- III. Sevdiği başka şehirler de vardır.

yargılarından hangilerine kesinlikle ulaşılır?

- A) Yalnız I
- B) Yalnız III
- C) I ve II
- D) II ve III

6. I. Bilgisizliğini ortaya koymaktansa saklamak iyidir.  
II. Çok bilen, bilgisini herkese göstermez.  
III. İnsan ne kadar az bilirse o kadar çok bildiğini sanır.  
IV. İnsanın bilmediği bir şey için bilmiyorum demesi de bir ilimdir.

Numaralanmış özdeyişlerden hangileri anlamca birbirleriyle çelişmektedir?

- A) I ve II
- B) I ve IV
- C) II ve III
- D) III ve IV

7. **Suat:** Bence hayata bakış açını değiştirmelisin.  
**Selvi:** Ama ben böyleyim, değişmiyorum. Keşke değişebilsem. Pastanın biteceğinden korkarak tadını alamıyorum.

**Bu konuşmaya göre Selvi'nin içinde bulunduğu durumu aşağıdakilerden hangisi en iyi tanımlamaktadır?**

- A) İyi başlayan bir şeyin iyi sonuçlanmayacağını düşünmektedir.
- B) Mutlu olduğu zamanlarda üzücü anılarını hatırlamaktadır.
- C) Bir işin sonunda hayal kırıklığına uğramaktan çekinmektedir.
- D) Olumsuz düşünceleri güzellikleri yaşamasına engel olmaktadır.

8. Balzac, yazmakta olduğu romanda geçen kahramanın ağır bir hastalığa yakalanmasına çok üzülüyormuş. Bunu öğrenen bir dostu: "Kurgu senin değil mi, iyileştiriver!" deyince Balzac: "Ben romanın kaderini değiştiremem!" diye cevap vermiş.

**Bu metindeki altı çizili sözle anlatılmak istenen aşağıdakilerden hangisidir?**

- A) Roman yazarı, tasarladığı ana kurgunun dışına her istediğinde çıkamaz.
- B) Romandaki olaylar, gerçek hayattan alınmışsa gerçeklerden uzaklaşamaz.
- C) Roman kahramanlarının kişiliği, gerçek hayata uygun şekillendirilir.
- D) Yazar, romanını kurgularken çevresindeki kişilerden etkilenmez.

9. • Tesla'nın bulduğu dalgalı akım, Edison'un önceden keşfettiği doğru akımdan çok daha üstündü.  
• Doğru akım uzun mesafelere aktarıldığında telleri eritiyordu.

**Bu iki cümlelin anlamca doğru bir biçimde birleştirilmiş hâli aşağıdakilerden hangisidir?**

- A) Tesla'nın bulduğu dalgalı akım, Edison'un önceden keşfettiği, uzun mesafelere aktarıldığında telleri eriten doğru akımdan çok daha üstündü.  
B) Tesla'nın bulduğu dalgalı akımdan önce Edison'un keşfettiği doğru akım uzun mesafelere aktarıldığında telleri eritiyordu.  
C) Tesla'nın bulduğu dalgalı akım uzun mesafelere aktarıldığında telleri erittiğinden, Edison'un önceden keşfettiği doğru akım ondan çok daha üstündü.  
D) Tesla'nın bulduğu, uzun mesafelere aktarıldığında telleri eriten dalgalı akım, Edison'un önceden keşfettiği doğru akımdan çok daha üstündü.

10. Bir çiftçinin baltası kaybolmuş. Çiftçi, komşusunun oğlundan şüphelenmiş çünkü çocuk bir hırsız gibi yürüyor, davranıyor ve bir hırsız gibi konuşuyormuş. Çiftçi ertesi gün baltasını aletlerin arasında bulmuş. Daha sonra komşusunun oğlunu arkadaşlarıyla oynarken görmüş. Çocuk bütün arkadaşları gibi yürüyor, davranıyor ve onlar gibi konuşuyormuş.

**Bu metinde asıl anlatılmak istenen aşağıdakilerden hangisidir?**

- A) Ön yargıyla hareket etmek haksızlığa sebep olur.  
B) Mutsuzluğun kaynağı, insanlardan boş yere şüphelenilmesidir.  
C) Gerçekler gizlenemez, eninde sonunda ortaya çıkar.  
D) İnsan nasıl düşünüyorsa hayatı ve insanları öyle algılar.

11. Arşimet "Acaba bu kap, suyun üzerinde nasıl duruyor?" diye düşünmeseydi ve suyun kaldırma kuvveti yasasını bulmasaydı bugün koca koca gemiler suyun üzerinde yüzdürülemezdi. Veya insanoğlu kuşların nasıl uçtuğu sorusu üzerine kafa yormasaydı dev gövdeli uçaklara biniyor olamazdık. Her buluşun arkasında kafasına bu tür soruları takıp bunlara cevap arayan insanlar vardır.

**Bu metinde vurgulanan düşünce aşağıdakilerden hangisidir?**

- A) Tabiat olayları bilimsel gelişmelere ilham vermiştir.  
B) Buluşlar, ancak uzun süren bilimsel araştırmalar sonucunda ortaya çıkar.  
C) Buluşları doğuran, insanın merak duygusudur.  
D) Uygarlığı bilim insanları geliştirmiştir.

12. Bir kitabım, okuyanı düşünmeye sevk etmezse, çabucak anlaşılırsa yazdıklarım kusurlu demektir. Okuyucular üslubumu basitleştirmemi isteseler de ben okuyucunun eserim üzerine kafa yormasını, gerekirse onu tekrar tekrar okumasını isterim. Eserlerimdeki yoğunluğun, anlam çeşitliliğinin nedeni budur. Bu yüzden eserlerimin çok satılmamasını hiç önemsemiyorum.

**Düşüncelerini bu şekilde dile getiren yazarla ilgili aşağıdakilerden hangisi söylenemez?**

- A) Okurların ilgisini çekmeyen konulara değinir.  
B) Anlaşılması için üzerinde çok düşünülmesi gereken eserler kaleme alır.  
C) Maddi kaygı gözetmeden kitap yazar.  
D) Okuyucunun beklentilerini önemsemez.

13. Mevsim kış, ortalık soğuk. İstiyoruz ki bir helva sohbeti yapalım. Kış günlerine uygun düşer. Bildiğiniz helva, tahin helvası... Kışın yenir. Yazın yiyene de yasak yok. Olsa da yesek diyenler vardır. Lezzeti güzeldir. Eskiden sohbeti de güzeldi. Amaç sohbet, helva bahane. "Tatlı yiyelim, tatlı söyleyelim." deyip helva sohbetine bir giriş yapalım. Sabırla koruk, helva olurmuş. Ama helva helva demekle ağız tatlanmazmış. Sohbet için sohbet ehli dostlar gerektiğini biliyoruz. Bu yüzden de helva eşliğinde tatlı sohbetler yapacak dostlar arıyoruz.

**Bu metnin dil ve anlatımıyla ilgili aşağıdakilerden hangisi söylenemez?**

- A) Kısa cümleler kullanılmıştır.  
B) Olaya dayalı bir anlatım yapılmıştır.  
C) Özlü sözlerden yararlanılmıştır.  
D) Kişisel görüşlere yer verilmiştir.

14. (I) Saatlerde akrep ve yelkovan başladığı noktaya döner daima. (II) Bu iki "Başlangıç" arasında zaman akıp giderken sahneye farklı hayat hikâyeleriyle insanlar girip çıkıyor. (III) Çünkü eserin ilk bölümü olan "Başlangıç", sona geldiğimizde karşımıza tekrar "Başlangıç" adıyla çıkıyor. (IV) Ayşegül Genç, "Kuğu Boynu" adlı romanında saatteki bu mekanik düzeni model almış bence. (V) Sevinçler, üzüntüler, yalnızlıklar, mutluluklar kısacası hayatlarla yoğrulmuş hikâyeler bunlar.

**Bu metindeki düşünce akışını sağlamak için numaralanmış cümlelerden hangileri yer değiştirmelidir?**

- A) II ve III  
B) II ve IV  
C) III ve V  
D) IV ve V

15. Ticaret denince akla ilk gelen unsurlardan biri tabii ki sipariş edilen malın teslimidir. Tekerleğin ve kağının icadı, atın evcilleştirilmesi, çok daha sonra buhar makinesinin icat edilmesi... Gemi, tren, kamyon derken mesafeler kısaltmaya, yük taşıma kapasitesi de artmaya başladı. Uçaklarla da malın teslim süresi en aza indi. Böylece pazarlama imkânları, yaşanan şehrin ve ülkenin sınırlarını aşmış oldu.

**Bu metnin konusu aşağıdakilerden hangisidir?**

- A) Ulaşım araçlarının gelişimi  
B) Alışveriş alışkanlıklarının değişimi  
C) İcatların günlük hayatı kolaylaştırması  
D) Nakliye araçlarının ticarete etkisi



16. Ben eski sokakları arzuluyorum, çocukluğumun geçtiği sokakları... O sokaklar yok artık ama en azından biz o sokaklarda yaşadık çocukluğumuzu. Ya bizden sonrakiler? Onlar, günün birinde karşımıza çıkıp onlardan çaldığımız sokakları isterlerse ne yapacağız, ne cevap vereceğiz onlara?

Aşağıdaki kavramlardan hangisi bu metinde anlatılanlarla ilişkilendirilemez?

- A) Umut B) Özlem  
C) Teselli D) Kaygı

17. Ömer, Uğur, Yeşim ve Zehra "Sınır Tanımayan Doktorlar" teşkilatı aracılığıyla gönüllü olarak Filipinler, Kamboçya, Mozambik ve Somali'de beslenme uzmanı, doktor, eczacı ve iletişim uzmanı olarak görev yapmaktadırlar.

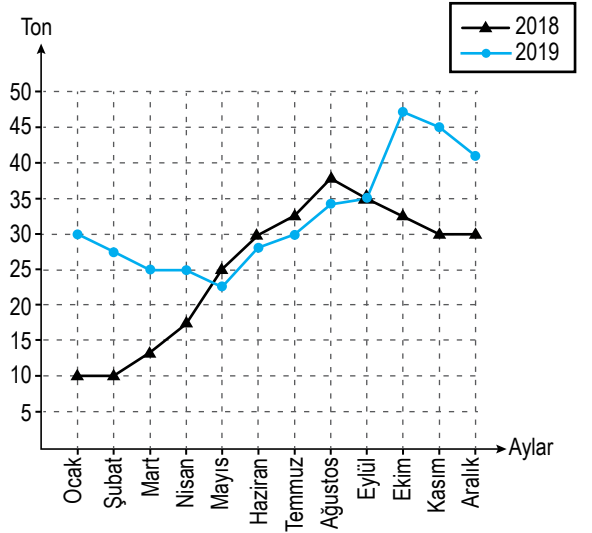
Bu kişilerin meslekleri ve görev yaptıkları ülkelerle ilgili bilinenler şunlardır:

- Herkesin mesleği farklıdır ve kişiler farklı ülkelerde görev yapmaktadır.
- Filipinler'e giden kişi eczacıdır ve bu Yeşim değildir.
- Zehra iletişim uzmanıdır ve Mozambik'e gitmemiştir.
- Uğur doktor değildir ve Somali'de görev yapmaktadır.

Bu bilgilere göre aşağıdakilerden hangisi doğrudur?

- A) Somali'de bulunan kişi iletişim uzmanıdır.  
B) Ömer, Kamboçya'da görev yapmaktadır.  
C) Yeşim'in mesleği doktorluktur.  
D) Mozambik'e giden kişi beslenme uzmanıdır.

18. Bir ilimizin 2018 ve 2019 yıllarında aylık kuru yemiş ihracat miktarı grafikte gösterilmiştir.



Bu grafiğe göre aşağıdakilerden hangisi söylenebilir?

- A) 2018 Kasım ayı ve sonraki iki ayın ihracat miktarı eşittir.  
B) Her iki yılın nisan-ağustos ayları arasında ihracat miktarları düzenli olarak artmıştır.  
C) 2018-2019 yıllarında ihracat miktarları arasındaki farkın en fazla olduğu ay ekimdir.  
D) En fazla ihracat yapılan ay her iki yılda da aynıdır.

19. 1840 kişiyle yapılan bir ankette yer alan sorular ve bu sorulara verilen cevapların dağılımı tablolarda gösterilmiştir.

1. Hangi yaş aralığındasınız?	Kişi sayısı
21-30	540
31-40	410
41-50	330
51-60	300
61-70	260
<b>Toplam</b>	<b>1840</b>


2. Yemek yapmayı kimden öğrendiniz?	Kişi sayısı
Aile büyüklerinden	620
Televizyondan	220
İnternette	450
Yemek kitaplarından	180
Kendim	280
Yemek yapmayı bilmiyorum.	90
<b>Toplam</b>	<b>1840</b>

3. Ne sıklıkla yemek yaparsınız?	Kişi sayısı
Hiç yapmıyorum.	280
Nadiren yapıyorum.	350
Ara sıra yapıyorum.	180
Sık sık yapıyorum.	410
Her zaman yapıyorum.	620
<b>Toplam</b>	<b>1840</b>

**Bu anket uygulamasına göre aşağıdakilerden hangisi kesinlikle doğrudur?**

- A) "Her zaman yapıyorum." cevabını verenler yemek yapmayı aile büyüklerinden öğrenmiştir.  
B) Yaş ilerledikçe yemek yapan kişi sayısı azalmaktadır.  
C) 330 kişi, yemek yapmayı 41-50 yaş aralığında öğrenmiştir.  
D) Yemek yapmayı öğrenmiş kişilerden "Hiç yapmıyorum." cevabını verenler vardır.

20. Görselede bir kasanın şifre mekanizması verilmiştir.



Kasa, şifre mekanizması üzerindeki ok sağa, sola çevrilerek açılmaktadır. Bu mekanizmada 30 birim, çeyreği; 60 birim, yarımı ifade etmektedir. Kasayı açmak için 0 (sıfır) noktasında bulunan ok, sırasıyla aşağıdaki yönergeler takip edilerek hareket ettirilmektedir:

- I. Çeyrek tur sağa döndürünüz.
- II. Yarım tur sola çeviriniz.
- III. Bir yarım bir de çeyrek tur sağa döndürünüz.
- IV. 10 birim sağa çeviriniz.

**Buna göre kasa açıldığında ok hangi sayıyı gösterir?**

- A) 50      B) 60      C) 70      D) 80

## T.C. İNKILAP TARİHİ VE ATATÜRKÇÜLÜK

1. “Mustafa Kemal’in öğrenim gördüğü yıllarda Osmanlı Devleti sınırları içerisindeki okullarda eğitim birliğinden söz etmek mümkün değildi.” diyen bir tarihçi, aşağıdakilerden hangisini bu düşüncesine kanıt olarak gösterir?
- A) Mustafa Kemal, Harp Okulunda iken Batı’daki gelişmeleri takip etmek için Avrupa’dan dergiler getirtti ve kendi çabasıyla Fransızcasını geliştirmeye çalıştı.
- B) Mustafa Kemal’in öğrencilik yıllarında Osmanlı Devleti’nde farklı kurumlarca yönetilen modern okullar, azınlık okulları, yabancı devlet okulları ve medreseler vardı.
- C) Asker olmak isteyen Mustafa Kemal, annesinden habersiz girdiği askerî okul sınavını kazandı ve Selanik Askerî Rüştiyesine başladı.
- D) Mustafa Kemal, Manastır Askerî İdadisinde öğrenci iken yerli ve yabancı fikir adamlarının eserlerini okudu.

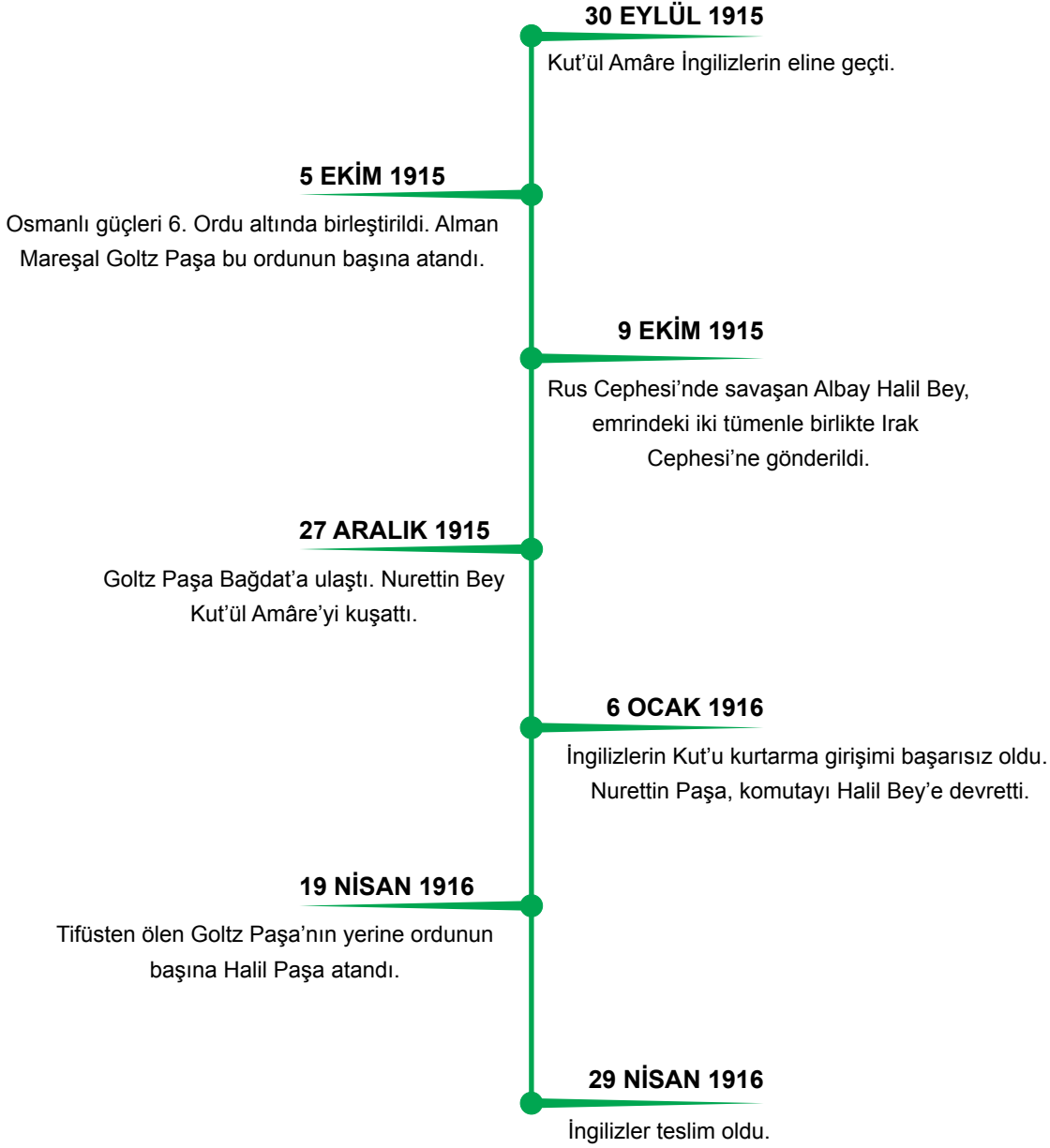
2.

Amasya Genelgesi (22 Haziran 1919)	Yaşanan Gelişme
• Erzurum’da doğu illeri ile ilgili bir kongre toplanacaktır.	➤ 23 Temmuz - 7 Ağustos 1919 tarihleri arasında Erzurum Kongresi düzenlendi.
• Milletın durumunu gözden geçirmek ve haklarını dünyaya duyurmak için her türlü etki ve denetimden uzak, millî bir kurulun varlığı gereklidir.	➤ Erzurum Kongresi’nde Temsil Heyeti kuruldu.
• Anadolu’nun her yönden güvenilir yerlerinden biri olan Sivas’ta millî bir kongre düzenlenecektir.	➤ 4- 11 Eylül 1919 tarihleri arasında Anadolu’nun çeşitli yerlerinden gelen delegelerin katılımıyla Sivas Kongresi düzenlendi.

**Amasya Genelgesi’nin bu kararları ile yaşanan gelişmeler göz önünde bulundurulduğunda aşağıdaki çıkarımlardan hangisi yapılabilir?**

- A) Erzurum Kongresi’nde hükümet değişikliğine gidilmiştir.
- B) Osmanlı Devleti’nin hukuken sona erdiği kabul edilmiştir.
- C) Sivas Kongresi katılımın az olması nedeniyle yerel bir kongredir.
- D) Amasya Genelgesi’yle, Millî Mücadele’nin sonraki aşamaları planlanmıştır.

3. Birinci Dünya Savaşı'nın Irak Cephesi'nde "Kut'ül Amâre Kuşatması"



**Kut'ül Amâre Kuşatması ile ilgili verilen bu bilgilere göre aşağıdakilerden hangisi söylenemez?**

- A) Kuşatmanın başlangıcında Osmanlı birliklerinin başında yabancı bir komutan görev yapmıştır.
- B) Savaş sürecinde Osmanlı ordusunun komuta kademesinde görev değişiklikleri yaşanmıştır.
- C) Yaşanan başarısızlık sonrası İngilizler, Birinci Dünya Savaşı'ndan çekilmişlerdir.
- D) Osmanlı Devleti, Irak Cephesi'ni takviye kuvvetlerle güçlendirmeye çalışmıştır.

4. İstiklal Marşı'nda istiklal davamızı anlatması bakımından büyük bir manası olan mısralar vardır. Benim en beğendiğim yeri de burasıdır:

"Hakkıdır, hür yaşamış, bayrağımın hürriyet;  
Hakkıdır; Hakk'a tapan milletimin istiklâl."

Benim bu milletten asla unutmamasını istediğim mısralar işte bunlardır.

**Atatürk'ün bu sözlerine göre aşağıdaki çıkarımlardan hangisi yapılamaz?**

- A) Türk milleti, barışçı bir dış politikayı benimsemektedir.  
B) İstiklal Marşı, Kurtuluş Savaşı'ndan kesitler içermektedir.  
C) Türk milleti, özgürlük ve bağımsızlığına düşkün bir millettir.  
D) İstiklal Marşı, yazıldığı dönemin millî ruhunu yansıtmaktadır.

5. Millî Mücadele'nin sesini İnönü'de, Sakarya'da, Kocatepe'de de duyarsınız; sevda ile isyanı harmanlayan bir romanın sayfalarında da... Bu mücadeleye kimi elinde silahla katılmıştır, kimi kalemle... Romanlar, resimler, şiirler, heykeller... Milletimizin sevdasını da haykırır, isyanını da... Bazen, yaralanan askerin ayakta kalabilmek için uzanan elleri, bir heykeltıraşın çamurlu ellerine tutunur. Bazen de vatan için yola düşenlerin çilesi, bir hikâyeye yazarının kaleminde gözyaşı olup kalbe dökülür.

**Bu metinde Millî Mücadele'nin hangi alanlara yansımından bahsedilmektedir?**

- A) Kültürel - Ekonomik  
B) Siyasi - Eğitim  
C) Hukuki - Diplomatik  
D) Sanat - Edebiyat

6. İnkılapçılık ilkesi, Atatürk'ün kültür ve uygarlık anlayışı ile yakından ilgilidir. Şöyle ki Atatürk kültür ile uygarlığı aynı görmüş, tüm insanlığa ait değerler olarak ele almıştır. Uygarlığı yüksek kültür olarak gören Atatürk'e göre çağdaş uygarlığın doğuşunda bütün ulusların katkısı vardır. Bu uygarlığa katkı yapamayacak kadar içe kapalı olan toplumların yaşama şansı yoktur.

**Bu metinde Atatürk'ün inkılapçılık anlayışının aşağıdaki özelliklerinden hangisine vurgu yapılmaktadır?**

- A) Millî değerlere bağlılığına  
B) Üretime katkı sağlamasına  
C) Evrensel nitelikler taşımasına  
D) Tam bağımsızlığı olan inancına

7. Türkiye, 1929'a kadar özel girişimi destekleyen bir kalkınma hedefi yürütmüştür. Fakat özel girişimciliğin deneyimsizliği, sermaye ve teknik bilgi yetersizliği ile nitelikli iş gücü eksikliği gibi sorunlar ekonomik kalkınmada istenilen düzeye gelinmesini engellemiştir. Bunun sonucunda Türkiye, ekonomik kalkınmayı daha hızlı gerçekleştirebilmek için devletçilik uygulamasına geçmiştir.

**Bu bilgilere göre devletçilikle ilgili aşağıdakilerden hangisi söylenebilir?**

- A) Uluslararası baskılar sonucunda benimsendiği  
B) Türkiye'nin o günkü ihtiyaçlarından ortaya çıktığı  
C) Özel mülkiyete karşı bir ekonomik model olduğu  
D) Türk halkına millî kimlik kazandırmayı amaçladığı

8.



Balkan Antantı'na Üye Ülkeler (9 Şubat 1934)



Sadabat Paktı'na Üye Ülkeler (8 Temmuz 1937)

**Bu haritalara göre;**

- I. Her iki ittifakta da Türkiye'nin yalnızca sınır komşuları yer almıştır.
- II. Türkiye, batısında ve doğusunda kurulan bölgesel ittifakların içinde bulunmuştur.
- III. Arnavutluk ve Bulgaristan, Balkan Antantı'na katılmamıştır.
- IV. Sadabat Paktı'na üye ülkeler yayılmacı bir politika izlemiştir.

**yargılarından hangilerine ulaşılabilir?**

- A) I ve II                      B) I ve IV                      C) II ve III                      D) III ve IV

9. Cumhuriyet Dönemi'nin ilk yıllarından itibaren devlet, bütün sektörlerde olduğu gibi sağlık alanındaki çalışmalara da destek oldu. Bu amaçla hastaneler ve sağlık ocakları açıldı. 1923 yılından itibaren sağlık hizmetleri Türkiye'nin dört bir yanına yayıldı. Faaliyete geçen hastanelerde 1938 yılında yatak sayısı 9000'e, doktor sayısı 1397'ye ulaştı. Dispanserler ve halk sağlık merkezleri ile yurdun en ücra köşelerine sağlık hizmeti götürülerek vatandaşların sağlık hizmetlerinden ücretsiz yararlanması sağlandı.

**Bu bilgiler Türkiye Cumhuriyeti Devleti'nin aşağıdaki özelliklerinden hangisi ile ilgilidir?**

- A) Sosyal Devlet
- B) Laik Devlet
- C) Hukuk Devleti
- D) Demokratik Devlet

10. "Boşa çıkarılan suikast teşebbüsünden sonra vatandaşlarımdan aldığım mektup ve telgraflar beni çok mutlu etti. Bu elim olayın benim şahsımdan ziyade Cumhuriyetimize ve onun prensiplerine yönelik olduğuna şüphe yoktur. Temeli, büyük Türk milletinin vicdanında, akıl ve şuurunda atılmış olan Cumhuriyetimizin, bir vücudun koparılması ile yok olacağını zannedenler çok zayıf akıllı bahtsızlardır. Benim naçiz vücudum bir gün elbet toprak olacaktır. Fakat Türkiye Cumhuriyeti ilelebet payidar kalacaktır."

**Mustafa Kemal'in kendisine yönelik suikast girişiminden sonra Anadolu Ajansına verdiği bu demeçte aşağıdaki sorulardan hangisinin cevabı yoktur?**

- A) Suikast girişimine halkın tepkisi ne olmuştur?
- B) Suikastçılar amaçlarına ulaşmışlar mıdır?
- C) Suikasti planlayanların asıl hedefi nedir?
- D) Suikastçılar nerede yargılanmışlardır?



# DİN KÜLTÜRÜ VE AHLAK BİLGİSİ

1. • “Mallarını Allah’ın rızasını dileyerek ve içlerinden gelerek harcayanların durumu tatlı bir yamaçta bulunan, üzerine bolca yağmur yağan, bu sebeple ürünü iki misli veren bir bahçe gibidir...”  
(Bakara suresi, 265. ayet)
- “Kim gönül hoşluğu ile helalinden bir sadaka verirse bu sadaka bir hurma bile olsa Allah katında büyüyüp çoğalır, sonunda dağ gibi olur.”  
(Hadis-i şerif)

**Bu ayet ve hadisten ulaşılabacak ortak sonuç aşağıdakilerden hangisidir?**

- A) Sadaka verilecek malın Allah’ın rızasına uygun şekilde kazanılması gerekir.  
B) Allah, samimiyetle verilen sadakanın karşılığını fazlasıyla verir.  
C) Sadaka ibadeti farklı şekillerde yerine getirilebilir.  
D) Kişinin, sadakasını kendi imkânları ölçüsünde vermesi beklenir.

2. İnsanın cinsiyeti, fiziki şekli ve ten rengi Allah’ın iradesinin bir sonucu olup insanın iradesine bağlı değildir. Ancak söz ve davranışlar insanın iradesinin bir sonucudur ve insan bunlardan hesaba çekilecektir.

**Bu metinde aşağıdakilerden hangisi vurgulanmaktadır?**

- A) İnsanı diğer varlıklardan ayıran özellik, akıl ve iradedir.  
B) İnsan, evrensel yasalara uyarak kâinatın düzenini koruyabilir.  
C) İnsanın özgürlüğü ile sorumluluğu arasında doğrudan bir ilişki vardır.  
D) İnsan hem maddi hem de manevi yönü olan bir varlıktır.

3. Bir aile ihtiyaç sahiplerine dağıtmak amacıyla erzak kolileri hazırladı. Kolilerin dağıtımını esnasında çekilen videoları da sosyal medyada paylaştı. Yardım alan ihtiyaç sahibi kişilerden biri kendi görüntüsünün paylaşılmış olmasından dolayı mahcubiyet hissedip üzüldü.

**Bu mahcubiyetin oluşması, aşağıdaki ayetlerden hangisinin dikkate alınmadığını göstermektedir?**

- A) “Ey iman edenler! Kazandıklarınızın iyilerinden ve yerden sizin için çıkardıklarımızdan Allah yolunda harcayın. İçinize sinerek almayacağınız şeyleri hayır olarak vermeye kalkışmayın...”  
(Bakara suresi, 267. ayet)
- B) “... Sadakaları gizleyerek fakirlere verirsiniz bu, sizin için daha hayırlıdır ve günahlarınızın bir kısmına da kefarettir...”  
(Bakara suresi, 271. ayet)
- C) “Sadakalar, kendilerini Allah yoluna adayan, yeryüzünde dolaşmaya güç yetiremeyen fakirler içindir...”  
(Bakara suresi, 273. ayet)
- D) “Eğer borçlu darlık içindeyse, ona eli genişleyinceye kadar mühlet verin. Eğer bilerseniz, borcu sadaka olarak bağışlamanız sizin için daha hayırlıdır.”  
(Bakara suresi, 280. ayet)

4.



**Bu uyarıların asıl amacı aşağıdakilerden hangisidir?**

- A) Dine zarar verecek davranışlardan insanları uzak tutmak
- B) Ziyaret mekânlarının bakım ve düzenini sağlamak
- C) Dinin, maddi menfaat aracı olarak kullanılmasına engel olmak
- D) Sağlık ve temizlik kurallarına dikkat çekmek

5. Hz. Ayşe bir kadının kendisine gönderdiği hediyeyi kabul etmemiştir. Bu durumu öğrenen Hz. Muhammed (sav) bunun sebebini sordu. Hz. Ayşe "Gönderen ihtiyaç sahibi biriydi." diye cevap verdi. Hz. Muhammed (sav) "Sen hediyeyi kabul et ama sonra daha değerli bir hediye ile karşılık vererek ona yardımda bulun." buyurdu.

**Bu metinden Hz. Muhammed (sav) ile ilgili aşağıdakilerden hangisine ulaşamaz?**

- A) İnce düşünceli davranmıştır.
- B) İnsanların sıkıntılarını önemsemiştir.
- C) İyiye ve güzele yönlendirmiştir.
- D) Rızkını, emek harcanarak kazanılmasını istemiştir.

6. Ben işimi çok seven bir öğretmenim. Çocukken ileride öğretmen olup olamayacağımı merak eder ve "Keşke bunu bilebilsem." derdim. Böylece çalışıp çabalama gerekeceğini düşünürdüm. Fakat gözden kaçırdığım nokta şuydu: Ben çabalama saydım, emek vermeseydim, Allah'ın bana verdiği yetenekleri keşfedip kullanmasaydım bugün nasıl öğretmen olabilirdim? Anladım ki - - - -

**Bu metindeki anlam akışına göre boş bırakılan yere aşağıdakilerden hangisi getirilmelidir?**

- A) Allah'tan gelen her şeye sabretmek gerekir.
- B) rızık belirlidir, insana düşerse onu helal şekilde kazanmaktır.
- C) geleceğini, insanın kendi tercih ve çabaları belirler.
- D) insan, geçmişinden ders çıkararak geleceğini yönlendirir.

7. Bir sahabe Hz. Muhammed'e (sav) "Kalbim katılaştı; üzülemiyorum, ağlayamıyorum." der. Bunun üzerine Hz. Muhammed (sav) de "Yetimin sofrasına otur, muhtaçların yanında ol, onların ihtiyaçlarını gider. Kalbinde yumuşama göreceksin." buyurur.

**Bu metinden aşağıdakilerden hangisine ulaşılabilir?**

- A) İyilik, yapana da fayda sağlar.
- B) İnsanın en güzel özelliklerinden biri sabırdır.
- C) Kişinin, ailesine karşı sorumlulukları vardır.
- D) İyiliğe daha güzeli ile karşılık verilmelidir.

8. Bir kişi Hz. Muhammed'e (sav) gelerek kendilerine namaz kıldıran kişinin namazı çok uzun tutması sebebiyle cemaatle namaz kılmaktan uzaklaştığını belirtti. Bunun üzerine Hz. Muhammed (sav), "Biriniz namaz kıldırduğunda gereğinden fazla uzatmasın. Çünkü cemaatin içinde zayıf, yaşlı, acil işi olanlar bulunabilir. Kendi başınıza namaz kıldığınızda ise dilediğiniz kadar uzatabilirsiniz." diyerek Müslümanları uyardı.

**Bu metinden Hz. Muhammed (sav) ile ilgili aşağıdakilerden hangisine ulaşamaz?**

- A) Toplumun sorunları ile yakından ilgilenmiştir.  
B) Kişisel tercihlerin topluma dayatılmasını engellemek istemiştir.  
C) Yanlış tutumları, kişileri hedef göstermeden düzeltmeye çalışmıştır.  
D) Hasta ve yaşlıların namazlarını evde kılmalarına izin vermiştir.

9. İslam dininde "zarûrât-ı hamse" denilen beş temel ilke vardır. Bunlar can, mal, akıl, nesil ve dinin korunmasıdır. İslam'da bütün dinî hükümler bu ilkeleri korumaya yöneliktir. Eğer bu ilkeler yitirilirse hayatın düzeni yok olur, kötülükler topluma yayılır. Bu huzursuzluk ve kargaşa hem dünya hem de ahiret mutluluğunun kaybedilmesi ile sonuçlanır.

**Buna göre zarûrât-ı hamsenin genel amacı aşağıdakilerden hangisidir?**

- A) Yaşam hakkını garanti altına almak  
B) İnsanın huzur ve güvenliğini temin etmek  
C) Haksız kazanç elde edilmesinin önüne geçmek  
D) İnsanı batıl inanç ve düşüncelerden korumak

10. Hz. Yusuf'un kıssasının yer aldığı Yûsuf suresi, Kureyşlilerin Hz. Muhammed'i (sav) öldürmeyi, sürgün etmeyi veya hapsedmeyi planladığı bir dönemde indirilmiştir. Buna dikkat çeken bazı âlimler bu surenin, Hz. Muhammed (sav) ve ona inananlar için bir müjde ve teselli barındırdığını ifade etmiştir.

**Bu metinde Hz. Yusuf ile ilgili aşağıdakilerden hangisi vurgulanmaktadır?**

- A) Yaşadıkları, kendinden sonrakiler için umut olmuştur.  
B) Aldığı tedbirlerle halkını refaha kavuşturmuştur.  
C) Hoşgörü ve merhametiyle ailesinin birliğini sağlamıştır.  
D) Olayları doğru yorumlamasıyla ayrıcalıklı bir konuma sahip olmuştur.

## YABANCI DİL (İNGİLİZCE)

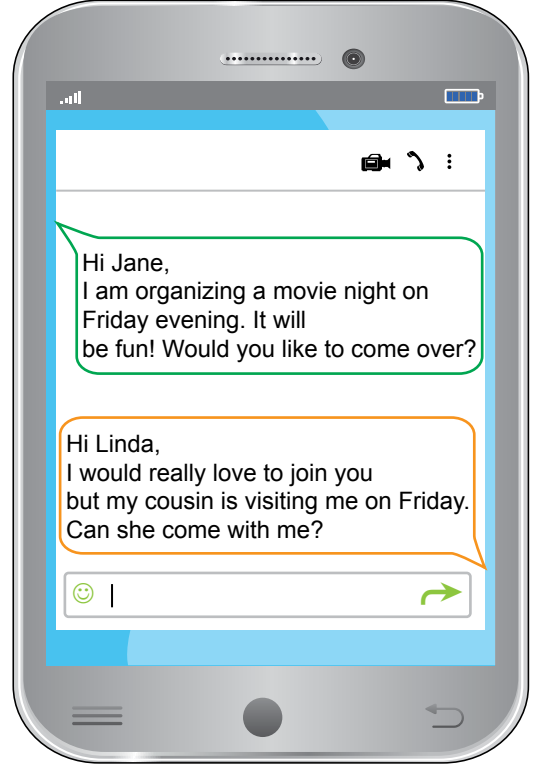
1. **Andy** : Our basketball team plays a match this Saturday. The match starts at 2 p.m. Would you like to watch the match with us?

**David** : - - - - .

**David accepts Andy's invitation. Which of the following can be David's answer to Andy?**

- A) I'm sorry but I am having a picnic with my friends on Saturday
- B) Oh! It sounds awesome but I have to study for an exam
- C) I have to finish my project on Saturday but I'll join you
- D) I'm sorry but I have another plan on Saturday

2.



**According to the conversation above, Jane - - - - .**

- A) may come to the event if she can bring her guest with her
- B) will organize her own movie night on Friday evening
- C) does not like that kind of events
- D) does not want to watch a movie that night

3. **Sam** : I want to have steak for dinner.  
Can you cook it for me, mom?

**Mother:** Sure.

**Sam** : ----?

**Mother:** About 30 minutes.

**Which of the following completes the conversation above?**

- A) What are the ingredients
- B) Can you give me the recipe
- C) Do you need my help to cook it
- D) How long does it take to cook it

4. I. I'm sorry. He is not here at the moment. Would you like to leave a message?  
II. Hi, this is Kevin. How can I help you?  
III. Could you tell him to call me back, please?  
IV. Hi, this is Adam. May I speak to Frank, please?

**Which of the following is the correct order of the sentences in the phone conversation above?**

- A) II - III - IV - I
- B) II - IV - I - III
- C) IV - I - II - III
- D) IV - III - II - I

5.



This is Milo. It helps us with the kitchen chores.

**Which of the following is Milo's responsibility?**

- A) Loading the dishwasher
- B) Taking the dog for a walk
- C) Ironing the clothes
- D) Making the bed

6.











Daniel has read the books above. He wants to buy a new book on a similar topic.

Which of the following books would Daniel buy next?

- A) Famous Sports Festivals
- B) Children's Poems
- C) Traditional Indian Food
- D) History of Modern Physics

7. Mike is a university student in İstanbul. He is going to visit his friends in Ankara next weekend. He has ₺70 for transportation and he wants to go there in the shortest time possible.

Which of the following should Mike prefer?

A) Bus	₺60	5 hours
		
B) Plane	₺100	1 hour
		
C) Train	₺40	8 hours
		
D) Car	₺80	4 hours
		

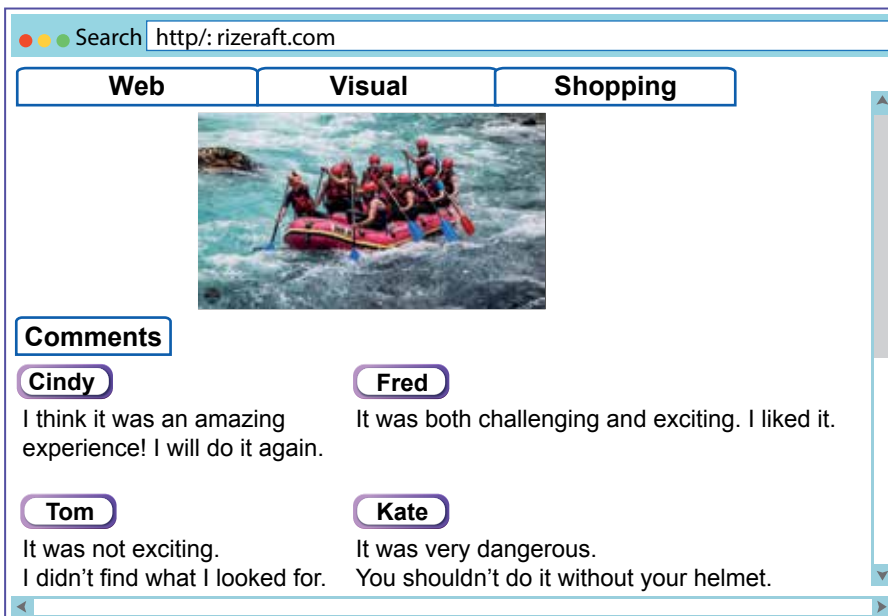
8.



Which of the following questions has Sandra answered in her blog?

- A) Where do you buy your favorite books?
- B) How many books do you read a month?
- C) When will you write about your own life?
- D) What kind of books do you like?

9. You see some comments about rafting in Rize below.



According to the comments above, who says something about safety?

- A) Cindy
- B) Fred
- C) Kate
- D) Tom

10.

**Tina (23 years old)**



- ★ 340 people follow her.
- ★ She has 11 videos on the Internet.
- ★ Her videos have 300 likes.

**Nick (25 years old)**



- ★ 450 people follow him.
- ★ He has 15 videos on the Internet.
- ★ His videos have 265 likes.

**According to the information about Tina's and Nick's social media accounts above, which of the following is NOT correct?**

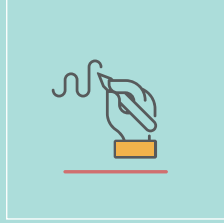

- A) Tina is younger than Nick.
- B) More people follow Tina.
- C) Nick has more videos.
- D) Nick has less likes.

**TEST BİTTİ.  
CEVAPLARINIZI KONTROL EDİNİZ.**



## SÖZEL BÖLÜM CEVAP ANAHTARI

<b>Türkçe</b>	<b>T.C. İnkılap Tarihi ve Atatürkçülük</b>	<b>Din Kültürü ve Ahlak Bilgisi</b>	<b>Yabancı Dil (İngilizce)</b>
1. C	1. B	1. B	1. C
2. D	2. D	2. C	2. A
3. C	3. C	3. B	3. D
4. A	4. A	4. A	4. B
5. B	5. D	5. D	5. A
6. B	6. C	6. C	6. D
7. D	7. B	7. A	7. A
8. A	8. C	8. D	8. D
9. A	9. A	9. B	9. C
10. D	10. D	10. A	10. B
11. C			
12. A			
13. B			
14. B			
15. D			
16. A			
17. C			
18. A			
19. D			
20. C			



[www.meb.gov.tr](http://www.meb.gov.tr)

Bu kitap Milli Eğitim Bakanlığı  
Ölçme Değerlendirme ve Sınav Hizmetleri Genel Müdürlüğü tarafından hazırlanmıştır.