

# 7. SINIF SOSYAL BİLGİLER

PYBS HAZIRLIK

ALTIN SORULAR DENEME SINAVI-2

AHMET KARTAL - MUSTAFA PETEK

I. DÖNEM KONULARINI KAPSAR.

SINAV ÖNCESİ NARTEST HEDİYESİDİR!





**NARTEST**


BECERİ TEMELLİ SORULAR

1

Aşağıda Ahmet'in sınıf arkadaşı Selin'den silgi istemesi (mesajı) farklı şekillerde anlatılmıştır:

 Ahmet, Selin'in omzuna dokunup parmağı ile işaret ederek arkadaşından silgiyi istemiştir.

 Ahmet, "silgi" diyerek vurgu ve tonlama yoluyla Selin'den silgiyi istemiştir.

 Ahmet, bir kâğıda yazmış olduğu "silgi" sözcüğünü göstererek Selin'den silgi istemiştir.

Buna göre Ahmet;

- I. Sözlü
- II. Yazılı
- III. Sözsüz

iletişim yöntemlerinden hangilerini kullanmıştır?

A) I ve II

B) I ve III

C) II ve III

D) I, II ve III

2



İyi bir iletişimde sadece konuşmaların değil, vücut hareketlerinin de önemi büyüktür. Özellikle yüz ifadeleri, gözlerin bakışı iletişimi büyük ölçüde etkiler. El-kol, ayak-bacak ve baş hareketlerimiz jest; yüz ifadelerimiz ise mimik olarak adlandırılır. Jest ve mimiklerimiz bir bütün olarak mesajlar içerir, konuşmalarımızı destekler ve aynı zamanda konuşmalarımızın etkisini güçlendirir.

Verilen metinde aşağıdaki kavramlardan hangisine dikkat çekilmiştir?

A) Beden Dili

B) Ben Dili

C) Empati

D) Sen Dili

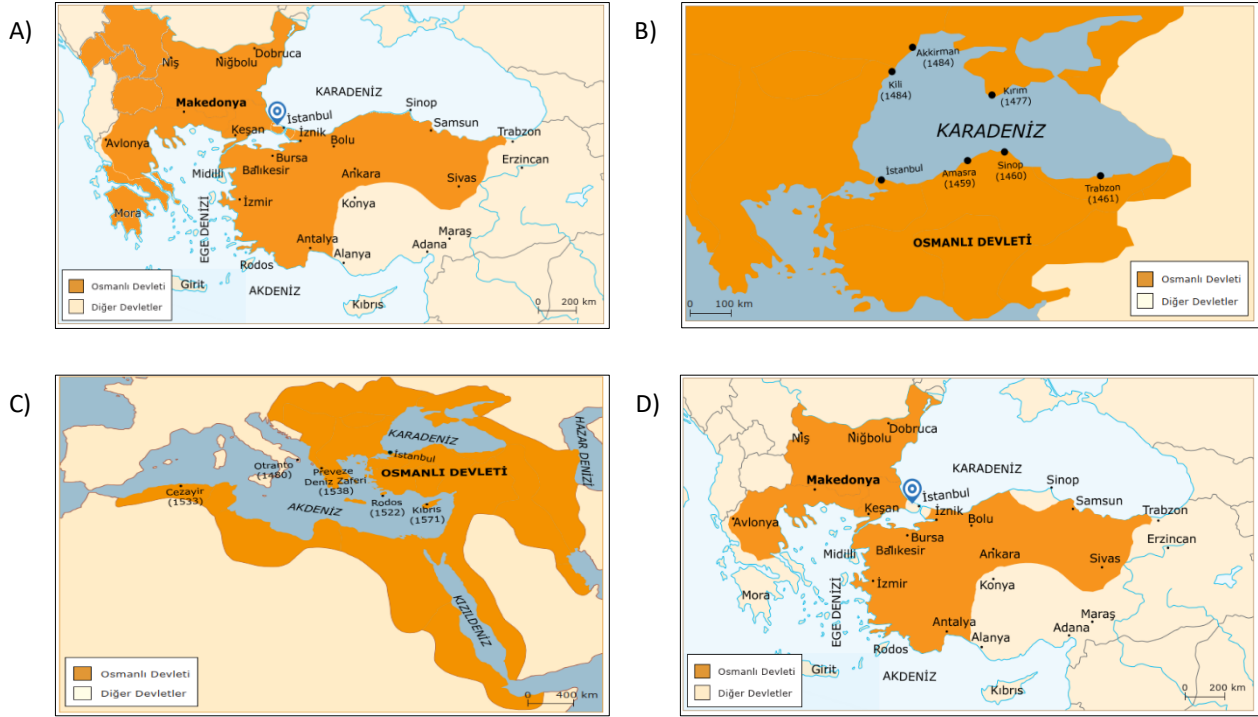
3

Anadolu'da Türk siyasal birliğini kurma çalışmaları ilk kez Orhan Bey döneminde Karesioğulları Beyliği'nin alınmasıyla başlamıştır.

Osmanlı Devleti'nin Anadolu'da Türk siyasal birliğini sağlamak istemesinde;

- ✓ Osmanlı orduları Balkanlarda mücadele ederken Anadolu beyliklerinin Osmanlı topraklarına saldırımları,
- ✓ Anadolu beyliklerinin, Osmanlı Devleti'ne karşı Bizans İmparatorluğu ile ittifak yapmaları,
- ✓ Türk beylikleri arasındaki mücadelelerin Anadolu'daki Türkleri olumsuz etkilemesi etkili olmuştur.

**Buna göre aşağıdaki haritalardan hangisi Anadolu'da Türk siyasal birliğinin sağlandığını kanıtlar?**



4

Selçuklularda olduğu gibi Osmanlılarda da toprağın mülkiyeti genel olarak devletin elindeydi. Fethedilen bölgelerdeki topraklar, devlete yararlılık gösteren asker ve memurlara hizmetleri karşılığında verilmiştir. Bu kişiler toprağı işletme ve vergi toplama hakkına sahip olmuştur. Bu uygulamaya tımar sistemi adı verilmiştir. Tımar sahipleri, topladıkları vergilerin bir kısmıyla geçimini sağlar, bir kısmıyla da asker beslerdi. Tımar sahiplerinin yetiştirdiği bu atlı askerlere tımarlı sipahi deniyordu. Tımarlı sipahiler bulunduğu bölgenin asayişinden de sorumlu tutulmuştur. Tımar sisteminde üretim yapan çiftçi, toprağını sebepsiz yere ekip biçmezse toprağı elinden alınırdı.

**Buna göre Osmanlı Devleti tımar sistemini kullanarak;**

- I. Ordunun asker ihtiyacını karşılamak,
  - II. Ülke içinde güvenliği sağlamak,
  - III. Toprakların boş kalmasını önleyerek üretimi artırmak,
  - IV. Göçebe yaşayan Türkmenleri yerleşik hâle getirmek
- amaçlarından hangilerini gerçekleştirmek istemiştir?**

A) I ve II

B) I, II ve III

C) II, III ve IV

D) I, II, III ve IV



**5****İstanbul'un Fethinin Sebepleri:**

İstanbul'un alınmasıyla kara ve deniz yolu ticareti Osmanlı hâkimiyetine geçerek önemli bir iktisadi kazanç elde edilecekti.

**a**

İstanbul'un alınmasıyla Hazreti Muhammed'in müjdesi olan fetih gerçekleşecek ve bu durum İstanbul'un fatihi olacak sultana büyük bir manevi güç sağlayacaktı.

**b**

İstanbul'un alınmasıyla Bizans İmparatorluğu'nun Osmanlı şehzadelerini ve Anadolu beylerini Osmanlı aleyhine kışkırtması engellenecekti.

**c****1****Siyasi****2****Ekonomik****3****Dini**

Verilenlerden hareketle İstanbul'un fethedilme sebepleri ile ait oldukları alan hangi seçenekte doğru eşleştirilmiştir?

	<u>1</u>	<u>2</u>	<u>3</u>
A)	a	b	c
B)	c	b	a
C)	c	a	b
D)	b	c	a

**6**

Aşağıda, 1538'de Preveze'de karşı karşıya gelen Osmanlı donanması ile Haçlı donanmasına ait bilgilerin yer aldığı bir tablo verilmiştir:

<b>GÜÇLER</b>	
<b>HAÇLILAR</b>	<b>OSMANLI</b>
162 Kadirga	122 Kadirga
140 Barça (Küçük Gemi)	—
2500 Top	160 Top
60.000 Asker	20.000 Asker
(Mağlup oldu) <b>KOMUTANLAR</b>	(Galip geldi)
Andrea Doria	Barbaros Hayrettin Paşa

Verilenlerden yola çıkılarak;

I. Haçlılar kadirga, top ve asker bakımından Osmanlı donanmasından oldukça üstündür.

II. Sayısal üstünlük savaşın kazanılmasında tek başına yeterli değildir.

III. Osmanlı Devleti'nin Karadeniz'deki hâkimiyeti güçlenmiştir.

yargılarından hangilerine ulaşamaz?

A) Yalnız III

B) I ve III

C) II ve III

D) I, II ve III



## KONUT SATIŞ İSTATİSTİKLERİ

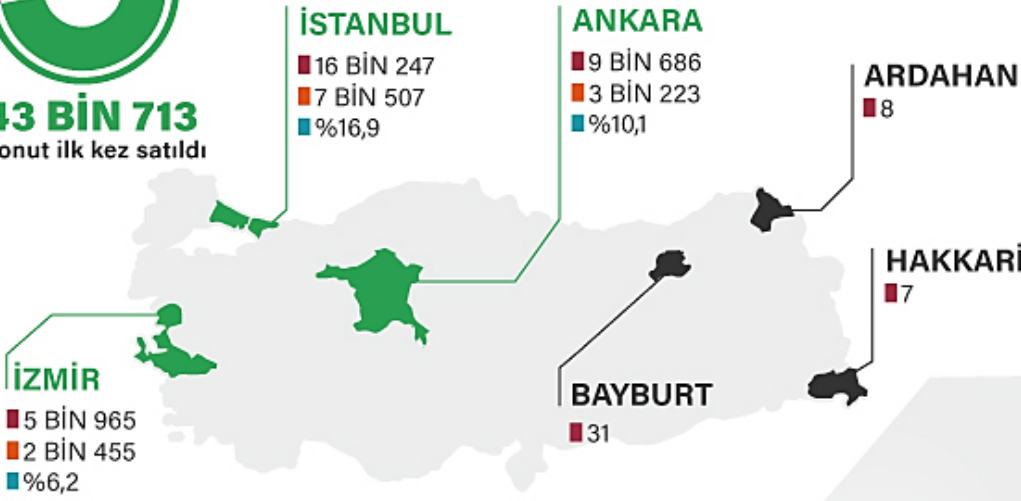
Türkiye genelinde satış sonucu el değiştiren konut sayısı, şubatta geçen yılın aynı ayına göre yüzde 5,4 azalışla 95 bin 953 oldu.

2017 ŞUBAT Toplam konut satışı  
**101 BİN 468**

2018 ŞUBAT Toplam konut satışı  
**95 BİN 953**



**43 BİN 713**  
konut ilk kez satıldı



### YABANCILARIN EN FAZLA KONUT ALDIĞI İLLER



Yabancılara yapılan konut satışları şubatta, bir önceki yılın aynı ayına göre yüzde **32,4 artarak bin 729** oldu.

### Görsele göre aşağıdaki yargılardan hangisine ulaşamaz?

- Satış ilk kez yapılan konut sayısının en fazla olduğu il İstanbul'dur.
- 2018 Şubatta satılan toplam konut sayısı, bir önceki yılın aynı ayına göre azalış göstermiştir.
- Konut satışında en düşük 3 ilin tamamı Karadeniz Bölgesi'nde yer alır.
- Ülkemizde yabancıların en fazla konut aldığı ikinci il Antalya'dır.

8

Mustafa Öğretmen, Sosyal Bilgiler yazılı sınavında öğrencilerine; “Ülkemizde Yerleşmeyi Etkileyen Faktörler” ile ilgili aşağıdaki tabloda yer alan soruları yöneltmiş ve tablodaki her doğru cevabın “2” puan olduğunu vurgulamıştır. Sınav sonrası yazılı kâğıtlarını inceleyen öğretmen, Feyza’nın tablodaki soruları aşağıdaki gibi cevapladığını görmüştür.

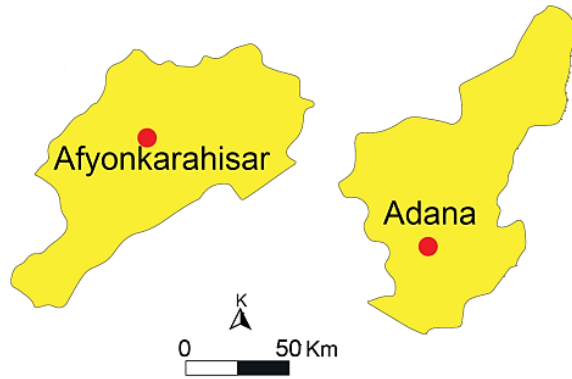
FEYZA			
	AÇIKLAMALAR	Doğal	Beşeri
1.	“Kuraklık bu yıl ürünlerimizi olumsuz etkiledi. Yöremizdeki barajların tamamlanmasıyla artık kurak arazimiz kalmayacak. Toprakla su buluşunca ürünlerimiz artacak.”		✓
2.	“Biz sanayi kuruluşlarında çalışmaktayız. Ham madde kaynaklarına yakın olduğumuz için buraya fabrikalar yapıldı. Burada yaşayan benim gibi birçok insana iş imkânı doğdu.”		✓
3.	“Yaz aylarında oldukça fazla turist kabul ederiz. Ülkemiz için önemli gelir kaynağı olan turizm bizim için de iş imkânı sunuyor.”	✓	
4.	“Bulduğumuz yer engebeli ve dağlıktır. Bu durum birçok olumsuzlukları beraberinde getirmiştir.”	✓	

Buna göre Feyza Sosyal Bilgiler yazılı sınavındaki bu bölümden kaç puan almıştır?

- A) 2                      B) 4                      C) 6                      D) 8

9

Bir yerin nüfus yoğunluğu, o yerin nüfusunun yüz ölçümüne bölünmesi ile bulunur. Nüfus yoğunluğu= Nüfus / Yüz ölçüm şeklinde formüle edilir. Aşağıda Adana ve Afyonkarahisar illerinin haritasını görmekteyiz.



**AFYONKARAHİSAR**

Nüfus: 719.081

Yüz ölçümü: 14.016

Nüfus yoğunluğu: 51

**ADANA**

Nüfus: 2.216.475

Yüz ölçümü: 14.125 km


Nüfus yoğunluğu: 157

(TÜİK, 2018)

Verilen bilgilere göre Adana’nın nüfus yoğunluğunun Afyon’dan fazla olmasında aşağıdaki durumlardan hangisi etkili olmuştur?

- A) Yüz ölçümünün büyük olması                      B) İkliminin kurak olması  
C) Yer altı kaynakları bakımından zengin olması                      D) Nüfusunun fazla olması

# Türkiye nüfusu 83 milyonu geçti



ERKEK NÜFUS  
%50,2  
41 MİLYON  
721 BİN 136



KADIN NÜFUS  
%49,8  
41 MİLYON  
433 BİN 861

## İL VE İLÇE MERKEZLERİNDE İKAMET EDENLERİN ORANI

2018

%92,3

2019

%92,8

## NÜFUSUN YAŞ GRUPLARINA GÖRE DAĞILIMI



## KİLOMETREKAREYE DÜŞEN KİŞİ SAYISI

2018 107

2019 108

**Yukarıdaki görsel incelendiğinde,**

- I. İl ve ilçe merkezlerinde oturanların oranı bir önceki yıla göre artmıştır.
- II. Toplam nüfus içerisinde erkek nüfus sayısı kadın nüfusundan fazladır.
- III. Nüfusun yaş gruplarına göre dağılımında en büyük pay 0-14 yaş grubuna aittir.
- IV. Nüfus yoğunluğu bir önceki yıla göre artış göstermiştir.

**yargılarından hangilerine ulaşılabilir?**

- A) I ve II                      B) I, II ve III                      C) I, II ve IV                      D) I, II, III ve IV

SINAV BİTTİ. CEVAPLARINIZI KONTROL EDİNİZ.

# 2020-2021 Eğitim-öğretim yılına hazırız

8. Sınıf

**TANE TANE**

T.C. İNKILÂP TARİHİ VE ATATÜRKÇÜLÜK

DEFTER TADINDA BOL ALIŞTIRMALI  
ETKİNLİKLİ YENİ NESİL SORU BANKASI

ŞİMDİ ÖĞRENME ZAMANI

DEFTER TADINDA

BEÇERİ TEMELLİ

ALİŞTIRMA ETKİNLİK

AKILLI TAHTA VE MOBİL UYUMLU

ÖĞRETEN SORULAR

Ahmet Kartal  
Mustafa Petek  
ALTIN NOKTA  
NARTEST

T.C. İNKILÂP TARİHİ VE ATATÜRKÇÜLÜĞÜ  
TANE TANE ÖĞRENECEKSİNİZ

8. SINIF

**MAVİ SERİ**

T.C. İNKILÂP TARİHİ VE ATATÜRKÇÜLÜK

BEÇERİ TEMELLİ

SORU BANKASI

ŞİMDİ NARTEST ZAMANI

ÖZGÜN SORULAR

GÖRSEL OKUMA SORULARI

MANTIK MUHAKEME SORULARI

YENİ NESİL SORULARI

ALTIN NOKTA  
NARTEST

ŞİMDİ NARTEST ZAMANI

8. SINIF

**NAR**

FEN LİSELERİNE HAZIRLIK

**TANESİ**

T.C. İNKILÂP TARİHİ VE ATATÜRKÇÜLÜK

YENİ NESİL SORU BANKASI

0 BİLGİ  
%100 ANLAM

DÜŞÜN ANLA ÇÖZ

Görsel Okuma

Analiz Sentez

OKU GÖR

Grafik Yorumlama

Sözel Mantık ve Muhakeme

Çıkarımda Bulunma

Ahmet Kartal  
Mustafa Petek  
NARTEST

8. SINIF

**28'li**

DENEME SINAVI

BEÇERİ TEMELLİ

T.C. İNKILÂP TARİHİ VE ATATÜRKÇÜLÜK

ŞİMDİ NARTEST ZAMANI

ORJİNAL SORULAR

ÖĞRETİCİ SORULAR

MANTIK MUHAKEME

YENİ NESİL SORULAR

ALTIN NOKTA  
NARTEST

BAŞARIYA GİDEN YOL



"Doküman paylaşımlarımızı @sosyalkampuss sayfamızdan takip edebilirsiniz."