

6. SINIF SOSYAL BİLGİLER

PYBS HAZIRLIK

ALTIN SORULAR DENEME SINAVI-1

AHMET KARTAL - MUSTAFA PETEK

I. DÖNEM KONULARINI KAPSAR.
SINAV ÖNCESİ NARTEST HEDİYESİDİR!



BECERİ TEMELLİ SORULAR

SOSYAL BİLGİLER-6

1



Arda;

- ✓ Atatürk Ortaokulu'nda 6. Sınıfa giden bir öğrencidir.
- ✓ İki çocuklu bir ailenin büyük çocuğudur. Dedesinin torunu, halasının yeğenidir.
- ✓ Güzel Sanatlar Etkinliği kulübünün üyesi durumundadır.

Yukarıdaki görsele bakıldığında;

I. İnsanlar, içinde buldukları grup ve kurumlarda çeşitli roller üstlenirler.

II. Bireylerin içinde buldukları rollerle birlikte kendilerinden beklenen davranışlar da değişmektedir.

III. Kişilerin rollerinin bazıları diğerlerinden daha önemlidir.

IV. Bireyler doğuştan gelen veya sonradan edinilen rollere de sahip olabilirler.

çıkarımlarından hangilerine ulaşılabilir?

A) I, II ve III

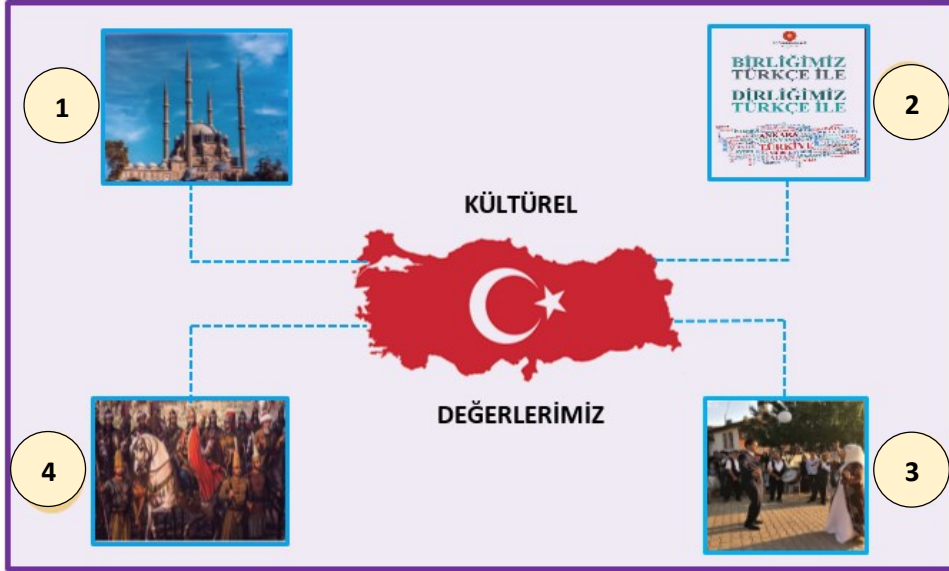
B) I, II ve IV

C) II, III ve IV

D) I, II, III ve IV

2

Kültürümüz, milletimizin her ferdi "biz" duygu ve düşüncesi etrafında birleştiren öğelerden oluşur. Kültürümüzü oluşturan değerler bizi birbirimize bağlar ve böylece daha güçlü olmamızı sağlar. Aşağıda çeşitli kültürel değerler ile ilgili görseller verilmiştir.



Yukarıdaki görselde verilen görseller ile kültürel değerlerimizin eşleşmesi hangi seçenekte doğru olarak gösterilmiştir?

	Gelenek ve Görenekler	Din	Dil	Tarih
A)	1	2	3	4
B)	3	1	2	4
C)	2	1	4	3
D)	3	1	4	2

3



Asalet ve Merhametin Simgesi Sadaka Taşları

“Bir elin verdiği diğer el görmeyecek.” sözünün canlanmış hâlidir sadaka taşları. Osmanlı Devleti’nde insan merkezli mahalle anlayışının en güzel yansımalarından olan sadaka taşlarından Edirne’de de bir adet bulunmaktadır. Genellikle cami etrafında bulunan ve üzerinde para koyabilecek bir oyugu bulunan sadaka taşları, mesaisine akşam karanlığında başlardı. Dar ve çıkmaz sokaklı Osmanlı mahallesine karanlık çöktüğünde canlanırdı sadaka taşları. Sadaka taşlarına para bırakıldıktan sonra ihtiyacı olan kişi sadaka taşından sadece ihtiyacı kadarını alır ve diğer ihtiyaç

sahiplerini de düşünürdü. Din, dil, ırk yardımı yapılmadan herkesin faydalanabildiği bir oluşumdu sadaka taşları. 17. yüzyılda İstanbul’u anlatan bir Fransız gezgin, karşılaşmış olduğu medeniyet karşısında çok şaşırılmış olduğundan olacak ki takip etmiş, sadaka taşında bulunan paraların tam bir hafta boyunca yerinde kaldığını belirtmiştir.

Verilen bilgiler Osmanlı toplumunda;

- I. Birlik ve beraberlik
- II. Hoşgörü
- III. Yardımlaşma
- IV. Paylaşma

kavramlarından hangilerinin ön plana çıktığının göstergesidir?

- A) I, II ve III B) I, II ve IV C) II, III ve IV D) I, II, III ve IV

4

Türklerin ilk anayurdu Orta Asya yani Türkistan’dır. Türkistan Türklerin yaşadığı ülke anlamına gelmektedir. Orta Asya sert karasal iklimin yaşandığı, geniş bozkırların olduğu bir coğrafyadır. Coğrafyanın özellikleri bozkır kültürünün gelişmesine neden olmuştur. Türklerin sosyal ve ekonomik yapısı da bozkır kültürüne göre şekillenmiştir. Dolayısıyla burada yaşayan Türk toplulukları konargöçer bir yaşam sürmüşlerdir. Konargöçerlik, coğrafi ve ekonomik şartlara bağlı olarak mevsimlere göre yer değiştirmedir. Konargöçer hayat şartlarından dolayı çadırlarda yaşayan Türklerin, en önemli geçim kaynağı hayvancılıktır. En çok at, sığır ve koyun yetiştirmişlerdir. Türkler atı ilk evcilleştiren milletlerden birisidir. Bu sayede çok geniş alanlara yayılma imkânı bulmuşlardır. Bunun yanında dokumacılık, madencilik ve tarımla da uğraşmışlardır. Tahılı öğütürerek un ve ekmek yapan Türkler, maden, toprak ve iplikten de eşyalar yapmışlardır. Örnek olarak savaş aletleri, at koşumları, süs eşyaları, kilimler, kemerler, tabaklar, heykeller ve zırhları verebiliriz.

Verilen bilgiler;

- I. Orta Asya’nın coğrafi özellikleri nelerdir?
- II. Yaşadıkları coğrafyanın Türklerin sosyal ve ekonomik yapısına etkileri nelerdir?
- III. Orta Asya Türklerinin ekonomik faaliyetleri neler olmuştur?
- IV. Türklerin çok geniş alalara yayılma imkânı bulmasına neden olan gelişme nedir?

sorularından hangilerinin cevaplarını içinde barındırmaktadır?

- A) I, II ve III B) I, II ve IV C) II, III ve IV D) I, II, III ve IV

5

I. Köktürk Devleti Hükümdarlarından Mukan Kağan şunları anlatmaktadır;



Asya'daki bütün Türk boylarını bir bayrak altında toplayarak devletimizi kurmuştur. Devletimiz tarihte Türk adıyla kurulan ilk Türk devletidir. Başkentimiz Ötüken'dir. Ülkeyi ikili teşkilata uygun olarak kardeşi İstemi Yabgu ile birlikte yönetmiştir. İpek Yolu'nu ele geçirmek için Akhunlar ve Sasanilerle savaşlarımız oldu. Benim zamanımda devletim en güçlü dönemini yaşadı. Ölümünden sonra, Çin entrikaları sonucu devletim zayıfladı ve Çin hâkimiyetine girdi.

Bu anlatıma bakılarak I. Köktürk Devleti'nin;

- I. Siyasi
- II. Askeri
- III. Hukuki
- IV. Ekonomik

alanlarının hangilerinde faaliyet gösterdiği söylenebilir?

- A) I, II ve III B) II, III ve IV C) I, II ve IV D) I, II, III ve IV

6

İslamiyet öncesi Orta Asya'da konargöçer olarak yaşayan Türkler, İslamiyet ile beraber şehir hayatına uyum sağlamışlardır. Bu durum mimari alandaki gelişmelere katkı sağlamış, "Halka hizmet Hakk'a hizmettir." düşüncesiyle hareket eden yöneticiler, han, hamam, kervansaray, türbe, cami, mescit, hastane vb. yapılar inşa etmişlerdir. Karahanlılar, İslamiyet'i resmî din olarak benimsemiş ancak devlet yönetiminde İslamiyet öncesi döneme ait Kut, devletin hanedanının ortak malı sayılması, ikili yönetim vb. anlayışları devam ettirmişlerdir.

Buna göre,

- I. İslam dinine geçiş Türklerin sosyal yaşamını doğrudan etkilemiştir.
- II. Türkler İslam dünyasının dini lideri olmuştur.
- III. Yöneticiler birçok alanda imar faaliyeti gerçekleştirmiştir.
- IV. Karahanlılar, İslam öncesi siyasi geleneklerinin birçoğunu sürdürmüşlerdir.

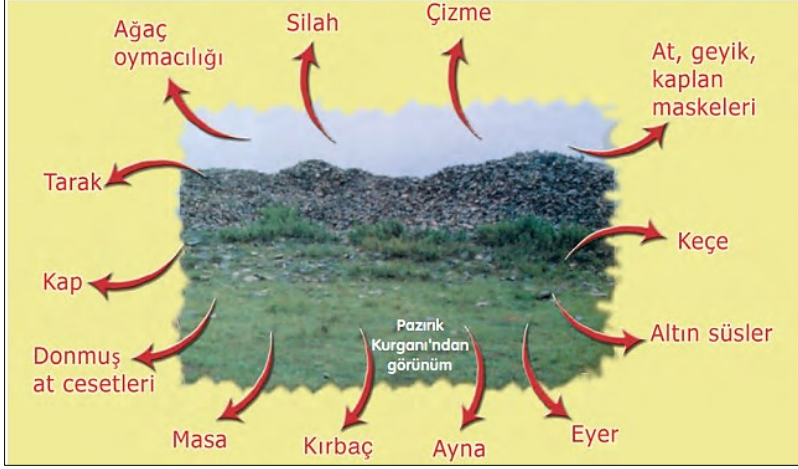
yargılarından hangilerine ulaşılabilir?

- A) I ve II B) I, II ve III C) I, III ve IV D) I, II, III ve IV

SOSYAL BİLGİLER-6

7

Kurgan; İlk Çağda mezar üzerine toprak yığılarak yapılan küçük tepenin adıdır. Aşağıda Hun Türklerine ait, ölenlerin eşyaları ile gömüldüğü "Pazırık Kurganı" görseline yer verilmiştir.



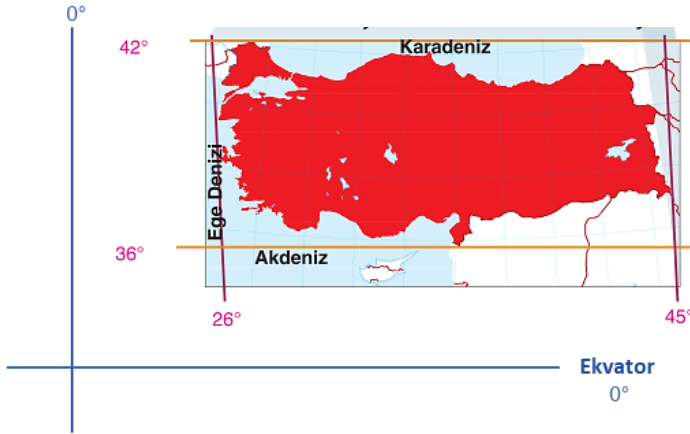
Verilen görselden hareketle Hun Türklerinde aşağıdaki kavramlardan hangisinin görüldüğü söylenebilir?

- A) Ahiret inancının
B) Kut inancının
C) Cihat anlayışının
D) Yerleşik yaşamın

8

Mustafa Öğretmen, Sosyal Bilgiler dersinde öğrencilerine şu açıklamayı yapmıştır: Dünyayı ortadan iki eşit parçaya böldüğü varsayılan çembere ekvator denir. Ekvator çizgisinin kuzey kısmına Kuzey Yarımküre, güney kısmına ise Güney Yarımküre denir. Başlangıç meridyeninin doğu kısmına Doğu Yarımküre, batı kısmına Batı Yarımküre denir.

Başlangıç Meridyeni



Verilen bilgi ve görsele göre Türkiye'nin coğrafi konumu hakkında;

- I. Türkiye, ekvatorun kuzeyinde ve başlangıç meridyeninin doğusunda yer almaktadır.
II. Ülkemizin kuzeyi mutlak konumuna bağlı olarak ekvatora daha yakındır.
III. Ülkemizin güneyinden 36° kuzey paraleli geçer.

Çıkarımlarından hangilerine ulaşılabilir?

- A) I ve II
B) I ve III
C) II ve III
D) I, II ve III

9

KUTUP İKLİMİ

Bu iklimde toprak devamlı donmuş hâlde olduğundan bitki örtüsü yoktur. Aynı zamanda tarım ürünleri yetiştirilemez. Avcılık ve balıkçılık insanların önemli geçim kaynağıdır. Bu bölgedeki insanlar, yaşantılarını iklim koşullarına uydurmuşlardır. Kışın buzdan ve balina kemiklerinden yaptıkları ıgloo denilen kubbeli, geleneksel evlerde yaşarlar.

Verilen bilgilerden hareketle aşağıdaki görsellerin hangisi ile Kutup iklimi arasında bağlantı kurulabilir?



A)



B)



C)



D)

10



2019'un Göbeklitepe Yılı ilan edilmesiyle beklentilerin yükseldiği Şanlıurfa'da, kış mevsimi olmasına ve sezonun açılmamasına rağmen hareketlilik yaşanıyor. Özellikle hafta sonları çok sayıda kişinin geldiği kentte yaşanan yoğunluk, otel işletmecilerini ve esnafın yüzünü güldürüyor. Geçen yıl düzenlenen 42'nci Dünya Miras Komitesi Toplantısı'nda Dünya Mirası Kalıcı Listesi'ne dâhil edilen Göbeklitepe sayesinde ziyaretçi yoğunluğu yaşanan kentte, birçok otel bahar ayları için rezervasyonlarını tamamladı. **(Genel ağ haberi)**

Buna göre Göbeklitepe'nin Şanlıurfa'da aşağıdaki alanlardan hangisine katkı sağladığı söylenebilir?

A) Tarım

B) Sanayi

C) Madencilik

D) Turizm

SINAV BİTTİ. CEVAPLARINIZI KONTROL EDİNİZ.

"Deneme sınavı soruları telif hakkı kapsamında korunmakta olup ticari amaçlı kullanılması **YASAKTIR!**

2020-2021 Eğitim-öğretim yılına hazırız

7. Sınıf

TANE TANE
SOSYAL BİLGİLER

DEFTER TADINDA BOL ALIŞTIRMALI
ETKİNLİKLİ YENİ NESİL SORU BANKASI

ŞİMDİ ÖĞRENME ZAMANI

DEFTER TADINDA
ALIŞTIRMA ETKİNLİK
AKILLI TAHTA VE MOBİL UYUMLU
BECERİ TEMELLİ
ÖĞRETEN SORULAR

Ahmet Kartal
ALTIN NOKTA
NARTEST

SOSYAL BİLGİLERİ
TANE TANE ÖĞRENECEKSİNİZ

7. SINIF

24'LÜ
DENEME SINAVI
BECERİ TEMELLİ

12 SARMAL 12 GENEL

SOSYAL BİLGİLER
8'LERDEN NEYİMİZ EKSİK

ŞİMDİ NARTEST ZAMANI

ÖZGÜN SORULAR
GÖRSEL OKUMA SORULARI
MANTIK MUHAKEME SORULARI
YENİ NESİL SORULAR

Ahmet Kartal
Ali Kiyatsil
Mustafa Petek
ALTIN NOKTA
NARTEST

ŞAMPİYONLARIN TERCİHİ

5. Sınıf

TANE TANE
SOSYAL BİLGİLER

DEFTER TADINDA BOL ALIŞTIRMALI
ETKİNLİKLİ YENİ NESİL SORU BANKASI

ŞİMDİ ÖĞRENME ZAMANI

DEFTER TADINDA
ALIŞTIRMA ETKİNLİK
AKILLI TAHTA VE MOBİL UYUMLU
BECERİ TEMELLİ
ÖĞRETEN SORULAR

Ahmet Kartal
Mustafa Petek
ALTIN NOKTA
NARTEST

SOSYAL BİLGİLERİ
TANE TANE ÖĞRENECEKSİNİZ

6. Sınıf

TANE TANE
SOSYAL BİLGİLER

DEFTER TADINDA BOL ALIŞTIRMALI
ETKİNLİKLİ YENİ NESİL SORU BANKASI

ŞİMDİ ÖĞRENME ZAMANI

DEFTER TADINDA
ALIŞTIRMA ETKİNLİK
AKILLI TAHTA VE MOBİL UYUMLU
BECERİ TEMELLİ
ÖĞRETEN SORULAR

Ahmet Kartal
Mustafa Petek
ALTIN NOKTA
NARTEST

SOSYAL BİLGİLERİ
TANE TANE ÖĞRENECEKSİNİZ

8. Sınıf

TAMAMI ÇÖZÜMLÜ

TANE TANE
SOSYAL BİLGİLER

T.C. İNKILAP TARİHİ VE ATATÜRKÇÜLÜK

DEFTER TADINDA BOL ALIŞTIRMALI
ETKİNLİKLİ YENİ NESİL SORU BANKASI

ŞİMDİ ÖĞRENME ZAMANI

DEFTER TADINDA
ALIŞTIRMA ETKİNLİK
AKILLI TAHTA VE MOBİL UYUMLU
YENİ NESİL SORULAR
ÖĞRETEN SORULAR

Ahmet Kartal
Mustafa Petek
ALTIN NOKTA
NARTEST

T.C. İNKILAP TARİHİ VE ATATÜRKÇÜLÜĞÜ
TANE TANE ÖĞRENECEKSİNİZ

BAŞARI İÇİN NARTEST, HERKES İÇİN NARTEST...



Takip et → Paylaşımlarımızdan haberin olsun.

