

**YURTDIŐINDA ÇALIŐANLARIN
ÇOCUKLARI İÇİN
YÜKSEKÖĞRETİME GİRİŐ SINAVI**

**BU KİTAPÇIK YURTDIŐINDA ÇALIŐANLARIN ÇOCUKLARI İÇİN
YÜKSEKÖĞRETİME GİRİŐ SINAVI (YÇS) ÖRNEK SORU KİTAPÇİĐİDİR.**

İÇİNDEKİLER

<u>TESTİN ADI</u>	<u>SAYFA</u>
YABANCI DİL TESTİ	
ALMANCA	1
FRANSIZCA	12
İNGİLİZCE	24
TÜRKÇE TESTİ	35
GENEL BAŞARI TESTİ	
TÜRKÇE	45
ALMANCA	58
FRANSIZCA	71
İNGİLİZCE	84

YABANCI DİL TESTİ

ALMANCA

Setzen Sie in den folgenden 21 Fragen (1. – 21.) passende Wörter oder Satzteile ein!

1. Es wäre ----, diese Angelegenheit noch einmal gründlich zu durchdenken.
- A) eindringlich B) empfehlenswert
C) bestehend D) zuversichtlich
E) unbedingt
2. Die Verantwortlichen ---- der Warnung, dass die Zulassung des Bauvorhabens das Ende der dort lebenden seltenen Tierart sein würde, keine Beachtung.
- A) siegten B) legten C) schenkten
D) schlugen E) labten
3. Es stellte sich später heraus, dass man dem Direktor diese Information ---- hatte.
- A) verschwiegen B) entlassen C) verloren
D) abgehalten E) geschlossen
4. Bevor ich mich mit einem einzelnen Problem beschäftige, versuche ich, einen ---- über das ganze Gebiet zu gewinnen.
- A) Überfall B) Überdruß C) Übergang
D) Überfluss E) Überblick
5. Er hofft, dass er diese ----, die ihm sehr schwer gefallen ist, niemals bereuen wird.
- A) Kleidung B) Währung C) Überstunden
D) Entscheidung E) Geständnis
6. Es besteht ---- daran, dass in der Medizin große Fortschritte verzeichnet wurden.
- A) kein Hindernis B) kein Zweifel
C) kein Beweis D) nichts Genaueres
E) keine Gelegenheit
7. Sie schob es immer wieder ----, diesen folgenschweren Beschluss zu fassen.
- A) voraus B) daraus C) woraus
D) aus E) hinaus
8. Sie war fremd in dieser Stadt und wusste nicht, ---- sie sich wenden sollte.
- A) zu wem B) mit wem C) an wen
D) an wessen E) mit wessen

Diğer sayfaya geçiniz.

9. Wenn er sich beworben ----, ---- er bestimmt eine Chance gehabt, diese Stelle zu bekommen.

- A) hätte / hätte B) hat / hatte
C) weil / da D) wäre / wäre
E) wird / so

10. Sie hat sich vorgenommen, diesen Brief ---- nach dem Abendessen abzutippen.

- A) hin B) durch C) inzwischen
D) gleich E) für

11. Das Buch erreichte eine höhere Auflage, ---- der Schriftsteller erwartet hatte.

- A) wann B) als C) eher
D) dass E) noch

12. Sie wird sich mit ihm in Verbindung setzen, ---- sie Gelegenheit dazu findet.

- A) anlässlich B) weil C) dass
D) als E) sobald

13. ---- er das Schreiben aufsetzte, ließ er sich von ihr helfen.

- A) Als B) Ob C) Wodurch
D) Zuvor E) Dass

14. Ungewöhnlich niedrige Preise sind für Geschäfte die wirksamste Methode, Kunden zum Kauf von Waren zu verleiten, ---- sie eigentlich gar nicht brauchen.

- A) den B) diesen C) die
D) der E) dessen

15. Die Entfernung zwischen dem Konferenzsaal und dem Hotel ---- 20m betragen.

- A) dürfte B) sei C) beläuft sich
D) weit E) sähe

16. Ich ---- unbedingt wissen, ---- der Direktor zurückkommt.

- A) könnte / wann B) müsste / auf
C) hätte / worauf D) muss / wann
E) brauche / als

17. ---- aller Schwierigkeiten gelang es der Firma, die bestellten Produkte rechtzeitig zu liefern.

- A) Im Gegensatz B) Obwohl C) Statt
D) Bezüglich E) Trotz

18. Es gibt immer noch einiges, ---- Bedeutung mir unklar ist.

- A) dessen B) wessen C) der
D) denen E) seine

Diğer sayfaya geçiniz.

19. Diese Bemerkung ist erstaunlich, ----, als sie im Gegensatz zu seinen früheren Äußerungen steht.

- A) vorausgesetzt
- B) wo doch
- C) um so mehr
- D) als wenn
- E) mehr als

20. Das Umweltproblem ist ---- der wichtigsten Themen, mit denen sich die Weltöffentlichkeit beschäftigt.

- A) einer
- B) eines
- C) ein
- D) eine
- E) einem

21. Eine Weltreise ist genau das, ---- ich mich schon immer gesehnt habe.

- A) worin
- B) woraus
- C) wozu
- D) worunter
- E) wonach

Finden Sie in den folgenden 8 Fragen (22. – 29.) die passenden Neben- bzw. Hauptsätze!

22. Alle Vorbereitungen für das Fest waren abgeschlossen, so dass nur noch die Frage zu klären war, ----.

- A) dass die entsprechenden Pläne eingereicht werden könnten
- B) nachdem die finanziellen Probleme gelöst wurden
- C) wen man als Ehrengast einladen sollte
- D) darum ließ man sich nicht beeinflussen
- E) in dem es sich um die Auslegung handelte

23. Die Bank wird den Kredit gewähren, ----.

- A) inwieweit sie dazu befugt ist
- B) wie er die Zinsen des Kredites zurückzahlen will
- C) ob sie sich auf ein derartiges Risiko einlassen soll
- D) sobald bestimmte Bedingungen erfüllt wurden
- E) welche Abteilung dafür zuständig ist

24. Er findet es äußerst überflüssig, ----, von deren Bedeutung sie sich sowieso kein Bild machen können.

- A) seine Kameraden über seine Erfolge in Kenntnis zu setzen
- B) den Vorstand weiterhin mit seinem Anliegen zu belasten
- C) diesen Zeitungsartikel seinem Kollegen zu zeigen
- D) den Bericht für die Diskussionsteilnehmer noch ausführlicher zu gestalten
- E) den ausstehenden Betrag in bar zu bezahlen

25. Er hatte den Führerschein beantragt, ----.

- A) wann er sich ein Auto leisten kann
- B) sobald er volljährig wurde
- C) wenn die Polizei ihn warnte
- D) dass der Polizist ihm eine Vorladung brachte
- E) ob er den Termin wahrnehmen wird

Diğer sayfaya geçiniz.

26. ----, dass diese Urkunde eine Fälschung ist.

- A) Abgesehen von einem Anwalt können auch andere Personen ermächtigt werden
- B) Diese Urkunde wurde von einem Notar beglaubigt
- C) Schon früher hatte er es sich fest vorgenommen
- D) Erst nach einer genaueren Untersuchung stellte es sich heraus
- E) Die Lage des Fälschers ist um so kritischer

27. ----, wie er einen derart unsinnigen Standpunkt vertreten konnte.

- A) Es war seinen Freunden ein Rätsel
- B) Die Auswirkungen der Krise konnten nicht übersehen werden
- C) Er nahm an einer Diskussion teil
- D) Er äußerte sich über eine der Kundinnen
- E) Dieser Verlust war so groß

28. ----, wer für diesen verhängnisvollen Vorfall verantwortlich war.

- A) Erst nach dem Zwischenfall wurden Vorsichtsmaßnahmen getroffen
- B) Dieser Unfall hätte unter Umständen verhindert werden können
- C) Als Detektiv hat er unter anderem die Aufgabe
- D) Dieser Fall konnte noch immer nicht vollständig geklärt werden
- E) Trotz umfangreicher Nachforschungen konnte man nicht ermitteln

29. Seitdem er diesen Kurs besucht, ----.

- A) ist es für ihn zu teuer
- B) hat er große Fortschritte gemacht
- C) wird er versuchen
- D) hätte es nicht so lange gedauert
- E) sich jeder von ihm abwendet

Übersetzen Sie in den folgenden 4 Fragen (30. – 33.) die deutschen Sätze ins Türkische!

30. Die Bildung der Kinder ist in Bezug auf die Zukunft eines Landes sehr wichtig.

- A) Bu ülkede, çocuklara iyi bir eğitim ve gelecek sağlamak için büyük çaba harcanıyor.
- B) Çocukların eğitimi, bir ülkenin geleceğini belirlemektedir.
- C) Bir ülkedeki eğitim, çocukların geleceği bakımından büyük bir önem taşır.
- D) Çocukların eğitimi, bir ülkenin geleceği bakımından çok önemlidir.
- E) Bir ülke, çocuklara kişilik kazandıran eğitimin büyük bir önem taşıdığını bilmelidir.

31. Um ihren Schülern dieses Thema erklären zu können, gab sie Beispiele aus dem täglichen Leben.

- A) Öğrencilerine bu konuyu açıklayabilmek için, günlük hayattan örnekler veriyordu.
- B) Bu konuyu daha anlaşılır hale getirebilmek için örneklerini günlük hayattan alıyordu.
- C) Öğrencilerine anlayamadıkları konuları açıklayabilmek için, günlük hayattan örnekler vermeye çalışıyordu.
- D) Bu konuyla ilgili örnekler verirken özellikle öğrencilerin günlük hayatta rastlayabilecekleri durumlardan faydalanıyordu.
- E) Günlük hayattan örnekler verdiğinde, öğrencilerin konuyu daha kolay anladıklarını gördü.

Diğer sayfaya geçiniz.

32. **Dass seinen Bildern nicht die gebührende Bedeutung beigemessen wird, heißt nicht, dass sie wertlos sind.**

- A) Resimlerine gereken önemi vermeyenler arasında çok değerli kişiler de vardı.
- B) Aslında, resimlerine değer vermeyenler bile onların önemsiz olmadığının bilincindedir.
- C) Resimlerine gereken önemin verilmemesi, onların değersiz olduğu anlamına gelmez.
- D) Eleştirmenin, sanatçının resimlerine değer vermemesi, onun çalışmalarını etkilemedi.
- E) Resimlerine hiçbir zaman gereken önemin verilmemesi onların değersiz olduğuna inanmasına neden oldu.

33. **Es dauerte lange, bis sie sich entschloss, auf welchem Gebiet sie sich spezialisieren möchte.**

- A) Uzmanlaşabileceği alanı belirlerken çok zorlandı.
- B) Hangi alanda uzmanlaşmak istediğine karar vermesi uzun sürdü.
- C) Uzman olduğu bu alana karar vermeden önce uzun süre düşünmüştü.
- D) Onun gibi bir uzmanın hangi alanda yararlı olabileceğine hâlâ karar veremedi.
- E) Bu alanın ne gibi bir uzmanlık gerektirdiğini anlamakta güçlük çekti.

Übersetzen Sie in den folgenden 4 Fragen (34. – 37.) die türkischen Sätze ins Deutsche!

34. **Kapsamlı alan bilgisine sahip olan adaylar sınavda başarılı oldu.**

- A) Für die Kandidaten sind bei diesen Prüfungen umfangreiche Fachkenntnisse Voraussetzung für ein gutes Ergebnis.
- B) Kandidaten, die bei der Prüfung Erfolg verzeichnen wollen, müssen sich umfangreiche Fachkenntnisse aneignen.
- C) Nur wenn die Kandidaten über umfangreiche Fachkenntnisse verfügen, können sie an dieser Prüfung teilnehmen.
- D) Kandidaten, die über umfangreiche Fachkenntnisse verfügten, wurden bei der Prüfung erfolgreich.
- E) Man erwartet, dass nur Kandidaten, die über umfangreiche Fachkenntnisse verfügen, die Prüfung mit Erfolg bestehen.

35. **Bütün hazırlıkları tamamlamalarına karşın, beklenmedik bir olay yüzünden yolculuğu ertelemek zorunda kaldılar.**

- A) Sie waren auf alle Zwischenfälle vorbereitet, so dass auch der unerwartetste sie nicht dazu veranlassen konnte, ihre Reise zu verschieben.
- B) Sie hatten fast alle Vorbereitungen abgeschlossen, als ein Zwischenfall sie dazu zwang, die Veranstaltung zu verschieben.
- C) Ein unerwarteter Zwischenfall nötigte sie, die Reise, auf die sie sich schon lange gefreut hatte, zu verschieben.
- D) Während sie Vorbereitungen für die Reise trafen, geschah ein unerwarteter Zwischenfall, aufgrund dessen sie ihre Abreise verschieben mussten.
- E) Obwohl sie alle Vorbereitungen abgeschlossen hatten, mussten sie wegen eines unerwarteten Zwischenfalles die Reise verschieben.

Diğer sayfaya geçiniz.

36. Telefonu sürekli meşgul olduğundan, ona son gelişmeler hakkında bilgi veremedi.

- A) Sie konnte ihn nicht erreichen, um ihm die letzten Entwicklungen mitzuteilen, weil sein Telefon laufend besetzt war.
- B) Die Vermittlung der Informationen war nicht möglich, weil das Telefon laufend besetzt war.
- C) Weil sein Telefon laufend besetzt war, konnte sie ihn nicht über die letzten Entwicklungen informieren.
- D) Es war ihr nicht möglich, ihre Kollegen über die letzten Entwicklungen in Kenntnis zu setzen.
- E) Wann immer sie versuchte, ihn über die letzten Entwicklungen zu informieren, war sein Telefon besetzt.

37. Müdür, kapanış konuşmasında, tartışılan konuyu kısaca özetledi ve katılanların ilgisine teşekkür etti.

- A) Nachdem das Diskussionsthema noch einmal zusammengefasst wurde, hielt der Direktor eine kurze Rede, in der er den Teilnehmern für ihr Erscheinen dankte.
- B) In seiner Schlussrede fasste der Direktor das diskutierte Thema kurz zusammen und dankte den Teilnehmern für ihre Aufmerksamkeit.
- C) Einer der Diskussionsteilnehmer hielt eine Abschlussrede, die dem Direktor gewidmet war, der der Diskussion beigewohnt hatte.
- D) Der Direktor betonte in seiner Schlussrede, dass das Diskussionsthema interessant und die Teilnehmer fachkundig waren.
- E) Der Direktor ging kurz auf das Thema der Diskussion ein und dankte den Teilnehmern, die sich dafür interessiert hatten.

Ergänzen Sie die folgenden 4 Dialoge (38. – 41.) durch die passenden Äußerungen!

**38. Claudia:
- Ist es noch weit bis zur nächsten Stadt?**

Sandra:
- **Nein, nach der Straßenkarte sind es nur noch 10 km. Weshalb?**

Claudia:
- ----

Sandra:
- **Mach dir keine Sorgen. Hier ganz in der Nähe gibt es eine.**

- A) Ich fühle mich nicht gut: Die lange Fahrt hat mich ziemlich mitgenommen.
- B) Na, dann ist ja alles in Ordnung. Ich dachte schon, wir hätten uns verfahren!
- C) Es wird schon dunkel. Wir sollten uns ein wenig beeilen.
- D) Wir haben fast kein Benzin mehr. Hoffentlich reicht es bis zur nächsten Tankstelle!
- E) Zeig mir doch, wo genau wir jetzt sind.

**39. Michael:
- ----**

Andrea:
- **Das ist noch nicht klar. Wir haben uns noch nicht entschieden.**

Michael:
- **Dann überlegt nicht zu lange. Die besten Angebote sind immer schnell weg.**

Andrea:
- **Ich weiß, aber wir wissen wirklich noch nicht, was wir wollen.**

Michael:
- **Wir fliegen jedenfalls in die Türkei, das steht fest.**

- A) Wo werdet ihr den Urlaub verbringen?
- B) Ich habe wiederholt versucht, dich zu erreichen. Wo warst du?
- C) Hast du immer noch Schmerzen?
- D) Habt ihr schon von den gestrigen Ereignissen gehört?
- E) Habt ihr schon zuvor eine solche Reise unternommen?

Diğer sayfaya geçiniz.

40. Jürgen:

- ----

Roland:

- **Es tut mir leid, aber ich habe unsere Verabredung vergessen.**

Jürgen:

- **Es ist mir nicht ganz klar, wie man so etwas einfach vergessen kann.**

Roland:

- **Ich war in der letzten Zeit außerordentlich beschäftigt; ich habe leider nicht an den Termin gedacht.**

- A) Weißt du, ob sie an dem Klassentreffen teilnehmen wird?
- B) Wie hat er es nur geschafft, so rasch nach Hause zu kommen?
- C) Bist du dir sicher, dass du die Stelle bekommen wirst?
- D) Wie kommt es, dass sie in letzter Zeit so viel zu tun hat?
- E) Bist du dir darüber bewusst, dass ich mehr als zwei Stunden vergeblich auf dich gewartet habe?

41. Thomas:

- ----

Ulrike:

- **Selbstverständlich. Der Apparat ist im Nebenzimmer.**

Thomas:

- **Es ist aber ein Ferngespräch.**

Ulrike:

- **Kein Problem. Unser Gebührenzähler berechnet deine Einheiten.**

Thomas:

- **Dann kann ich dir das Geld für das Gespräch ja gleich geben.**

- A) Habt ihr vielleicht ein Videogerät im Haus?
- B) Kann ich dein Telefon benutzen?
- C) Deine Freundin telefoniert aber lange.
- D) Meine letzte Telefonrechnung war eine Katastrophe!
- E) Hast du schon mit dem Arzt telefoniert?

Finden Sie die passenden Äußerungen in den folgenden 4 Situationen (42. – 45.)!

42. **Sie sehen am Straßenrand eine Person, die vor ihrem Auto steht. Sie hat eine Reifenpanne. Sie wollen helfen. Was sagen Sie?**

- A) Könnten Sie mir den Weg zur Parkanlage beschreiben?
- B) Meine Scheinwerfer funktionieren einwandfrei.
- C) Ich würde Ihnen gern behilflich sein, wenn Sie erlauben.
- D) Ob es noch lange dauern wird?
- E) Der Wagen gefällt mir sehr. Wie viel kostet er?

43. **Sie stehen unter dem Einfluss eines Ereignisses, welches Sie beim besten Willen nicht vergessen können. Was sagen Sie?**

- A) Das Ereignis verfolgt mich bis in den Schlaf. Ich komme einfach nicht darüber hinweg.
- B) Waren Sie dort, als das Ereignis stattfand?
- C) Ich wüsste nur zu gerne, worum es sich bei diesem Ereignis, das er andeutet, eigentlich handelt.
- D) Laufend stelle ich mir vor, dass sich dieses Ereignis verwirklicht. Das wäre ja furchtbar!
- E) Stellen Sie sich vor, ich soll Zeuge dieses Ereignisses werden!

44. **Sie beobachten einen Unfall. Der zuständige Polizeibeamte fragt Sie, ob Sie wirklich alles genau gesehen haben. Was antworten Sie?**

- A) Aber nein, ich führe doch nur das Protokoll.
- B) Ich gebe Ihnen Bescheid, wenn sie mich anruft.
- C) Der Krankenwagen kommt sicher gleich.
- D) Ja, ich stehe Ihnen als Zeuge zur Verfügung.
- E) Er wäre besser, wenn sie die Polizei informieren würden.

Diğer sayfaya geçiniz.

45. Sie haben bei der Post ein Paket aufgegeben, befürchten aber, dass es auf dem Weg zum Bestimmungsort beschädigt werden könnte. Was sagen Sie?

- A) Die Person, für die dieses Paket bestimmt ist, ist wohlbekannt. Sie können sie nicht verfehlen!
- B) Ließe es sich einrichten, dass ich ihn bis zur Grenze begleite?
- C) Ich nehme an, dass er das Paket nicht rechtzeitig abgeschickt hat.
- D) Diesmal habe ich nur Glas- und Porzellanwaren bei mir. Da kann nichts passieren!
- E) Ich kann nur hoffen, dass es dem Adressaten heil und unversehrt ausgeliefert wird!

Beantworten Sie folgende 3 Fragen (46. – 48.) nach dem folgenden Text!

Wer heutzutage eine Fremdsprache erlernen möchte, dem bieten sich verschiedene Möglichkeiten. Man kann Kurse besuchen oder die Sprache mit Hilfe von Büchern und Tonbändern zu Hause selbst erlernen. Verfügt man über ausreichende finanzielle Mittel, kann man sich auch für längere Zeit in dem betreffenden Land aufhalten. Die letzte Möglichkeit ist wohl die anziehendste, weil man hierbei neben den Sprachkenntnissen, die man dort zwangsweise und fast "nebenbei" erlernt, auch das Land und die dortigen Sitten und Gebräuche kennen lernt.

46. Es gibt unterschiedliche Wege, ----.

- A) dass die Reise mit der Bahn sicherer ist
- B) eine fremde Sprache zu erlernen
- C) Bücher und Tonbänder zu erstehen
- D) sich mit einem Ausländer zu verständigen
- E) sich in der Muttersprache auszudrücken

47. Wer eine Sprache erlernen möchte und es sich leisten kann, der ----.

- A) hält sich dort auf, wo sie gesprochen wird
- B) kann einen Kurs leiten
- C) wirkt ungewöhnlich anziehend
- D) sollte einfach darauf verzichten
- E) ist stets auf einen Fremdenführer angewiesen

48. Ein Aufenthalt im Ausland ----.

- A) kann sich unter Umständen nachteilig auf die Sitten und Gebräuche auswirken
- B) war für niemanden erschwinglich
- C) ist nur möglich, wenn man zuvor bestimmte Kurse abgeschlossen hat
- D) erleichtert die Aneignung von fremdsprachlichen Kenntnissen
- E) muss ausgeschlossen werden

Diğer sayfaya geçiniz.

Beantworten Sie folgende 3 Fragen (49. – 51.) nach dem folgenden Text!

Der Einsatz von Computern wird in Zukunft vor allem das Arbeitsleben stark beeinflussen. Schon sind bei der Einstellung von neuen Arbeitskräften Kenntnisse in Schreibmaschine oder Stenographie nicht mehr unbedingte Voraussetzung. Heute ist die Fähigkeit, einen Computer bedienen zu können, maßgebend. Schon jetzt werden Arbeitsplätze, die auf althergebrachten Methoden beharren oder sich Computer nicht leisten können, als altmodisch angesehen.

49. Computer ----.

- A) haben gegen althergebrachte Methoden einen schweren Stand
- B) werden bald ganz aus Büros verschwunden sein
- C) setzen sich im Arbeitsleben immer mehr durch
- D) verfügen über Kenntnisse in Stenographie
- E) sind im Grunde genommen altmodisch

50. Erfahrungen im Schreibmaschine-Schreiben und in Stenographie sind ----.

- A) neue Entwicklungen am Arbeitsplatz
- B) bei der Bedienung eines Computers unabdinglich
- C) bei der Einstellung neuer Arbeitskräfte maßgebend
- D) Methoden, die sich nicht jeder leisten kann
- E) nicht mehr so gefragt wie früher

51. Arbeitsplätze, die nicht mit Computern ausgerüstet sind, ----.

- A) gelten schon heute als nicht modern
- B) haben gute Chancen
- C) sind von Computern abhängig
- D) stellen neue Arbeitskräfte ein, die sich mit Computern auskennen
- E) haben einen großen Einfluss auf das Arbeitsleben

Beantworten Sie folgende 3 Fragen (52. – 54.) nach dem folgenden Text!

Man unternahm erstmals 1870 in den USA Schritte, Abwasser zu klären. Heute wird dies in allen entwickelten Ländern durchgeführt. Dieser Klärprozess besteht aus drei Phasen, die je nach der späteren Verwendung des Wassers vollständig oder teilweise durchgeführt werden. Zunächst wird das Abwasser in großen Becken gesammelt und vom größten organischen und anorganischen Unrat gereinigt, danach gänzlich von diesem gesäubert und zuletzt, nachdem es biologischen, chemischen oder physischen Methoden unterzogen wurde, zur Wiederverwendung freigegeben.

52. Bei der Klärung ----.

- A) darf anorganischer Schmutz nicht beseitigt werden
- B) ist in vielen entwickelten Ländern der Einsatz von physischen Methoden untersagt
- C) werden unter anderem auch biologische Verfahren angewandt
- D) braucht das Abwasser keine der drei Phasen zu durchlaufen
- E) werden Mittel eingesetzt, die schon 1970 gängig waren

53. Zuerst versuchte man ----.

- A) alle Länder aufzuklären
- B) Kläranlagen in Entwicklungsländern durchzusetzen
- C) das Abwasser abzuleiten
- D) diesen Klärprozess zu unterbinden
- E) in den USA, das Abwasser zu reinigen

54. Es hängt von der Art der Wiederverwendung des Wassers ab, ----.

- A) ob es in den USA oder in anderen entwickelten Ländern geklärt wird
- B) in welchem Umfang die drei Klärphasen stattfinden
- C) in welchem Umfang es die Luft verschmutzt
- D) welche Farbe sie hat
- E) wie das Abwasser später verwendet werden soll

Diğer sayfaya geçiniz.

Beantworten Sie folgende 3 Fragen (55. – 57.) nach dem folgenden Text!

Eine unerwartete Trockenheit kann in der Landwirtschaft verheerende Folgen haben. Die Ähren vertrocknen an den Halmen, und die fruchtbarsten Felder verwandeln sich in trostlose Landstriche. Auch das Wasser in Bewässerungskanälen kann in solchen Fällen nur bis zu einem gewissen Grad wirksam sein. Denn auch sie werden vom Grundwasser genährt, welches in solchen Zeiten knapp ist. Oft ist dann ein ausgiebiger Regenfall die letzte Hoffnung eines Landwirtes, der sonst mit einer schlechten Ernte rechnen muss.

55. Das Wasser in Bewässerungskanälen ist ----.

- A) nach wie vor ein überflüssiger Luxus
- B) oft teurer als Leitungswasser
- C) von geringerer Qualität als Regenwasser
- D) vom Grundwasser abhängig
- E) reich an Mineralien

56. Das Grundwasser wird knapp, ----.

- A) dennoch wird die Ernte nicht davon beeinflusst
- B) weil es für die Landwirtschaft unwichtig ist
- C) obwohl eine Hitzewelle vorbeugend wirken könnte
- D) was Landwirten äußerst willkommen ist
- E) wenn der Regen ausbleibt

57. Eine gute Ernte ----.

- A) erhält man oft auf trostlosen Landstrichen
- B) kann durch unvorhergesehene Wettererscheinungen gefährdet werden
- C) lässt sich am Stand der Ähren vorherbestimmen
- D) hat für den Landwirt in der Regel ernste Konsequenzen
- E) ist ein Problem, mit dem ein erfahrener Landwirt jedes Jahr konfrontiert wird

Diğer sayfaya geçiniz.

Finden Sie die Umschreibung der folgenden 3 Sätze (58. – 60.)!

58. Es wird laufend darauf hingewiesen, wie überaus wichtig der Erwerb einer Fremdsprache ist.

- A) Wie vorteilhaft der Erwerb einer Fremdsprache sein kann, wird sich bald herausstellen.
- B) Es ist darauf hingewiesen worden, dass es von Nutzen sein könnte, eine dieser Fremdsprachen zu beherrschen.
- C) Immer wieder wird betont, von welcher großen Bedeutung es ist, eine Fremdsprache zu erlernen.
- D) Es ist äußerst wichtig, ununterbrochen auf die Bedeutung des Erwerbs fremder Sprachen hinzuweisen.
- E) Der Hinweis, wie wichtig die Beherrschung einer Fremdsprache ist, sollte nicht zu ernst genommen werden.

59. Es war für alle eine Überraschung, dass es ihr gelang, den komplizierten Text fehlerlos vom Türkischen ins Deutsche zu übersetzen.

- A) Sie versuchte alle zu überraschen, indem sie den schwierigen Text fehlerlos vom Türkischen ins Deutsche übersetzte.
- B) Sie war selbst überrascht, dass es ihr gelang, den ganzen schwierigen Text fehlerlos vom Türkischen ins Deutsche zu übertragen.
- C) Der Text war so kompliziert, dass es alle überrascht hätte, wenn sie ihn fehlerlos vom Türkischen ins Deutsche übersetzt hätte.
- D) Als sie auch diesen schwierigen Text fehlerlos vom Türkischen ins Deutsche übertragen hatte, war die Überraschung perfekt.
- E) Dass sie den komplizierten Text fehlerlos vom Türkischen ins Deutsche übertragen konnte, überraschte alle.

60. Dass seine Deutschkenntnisse nicht so gut waren, wie er behauptet hatte, stellte sich erst heraus, als er versuchte, sich mit dem Touristen zu unterhalten.

- A) Nur wenn er sich problemlos mit dem Touristen unterhalten kann, wird man seiner Behauptung, er verfüge über ausgezeichnete Deutschkenntnisse, Glauben schenken.
- B) Erst als er ein Gespräch mit dem Touristen führen wollte, erwies es sich, dass im Gegensatz zu seinen Angaben seine Deutschkenntnisse nicht sonderlich gut waren.
- C) Es war allen bekannt, dass seine Deutschkenntnisse nicht einmal dafür ausreichten, um mit einem Touristen ein einfaches Gespräch zu führen.
- D) Dass seine Deutschkenntnisse so gut waren, wie es vorgegeben wurde, stellte sich während seiner Unterhaltung mit dem Touristen heraus.
- E) Er wird seine von ihm hochgelobten Deutschkenntnisse ausschließlich durch ein Gespräch mit dem Touristen unter Beweis stellen können.

YABANCI DİL TESTİ BİTTİ.

YABANCI DİL TESTİ

FRANSIZCA

Complétez les phrases suivantes, de 1 à 21, par les mots ou les groupes de mots qui conviennent.

- 1. Les ---- matériels sont souvent à la base des conflits entre les gens.**
A) comptables B) taux C) stocks
D) intérêts E) chèques
- 2. Il est préférable de consommer des aliments frais plutôt que des aliments ----.**
A) surgelés B) convenables C) permis
D) récoltés E) recommandés
- 3. Paris est ---- la première des capitales européennes en ce qui concerne la diversité des cuisines.**
A) illogiquement B) indiscutablement
C) incorrectement D) involontairement
E) irrégulièrement
- 4. En Turquie, les femmes ---- souvent la plupart des travaux agricoles.**
A) reçoivent B) donnent C) cherchent
D) répondent E) font
- 5. Les difficultés de la langue française ---- beaucoup de problèmes aux étudiants.**
A) montrent B) indiquent C) posent
D) attirent E) contiennent
- 6. Grâce aux progrès de la médecine, la durée de la vie ----.**
A) augmente B) continue C) étend
D) développe E) élargit
- 7. Les pays riches organisent régulièrement des campagnes ---- la faim dans le monde.**
A) en raison de B) vers C) en vue de
D) envers E) contre
- 8. Beaucoup de jeunes croient à l'astrologie, mais la croyance diminue ---- l'âge.**
A) à B) par C) de
D) avec E) pour

Diğer sayfaya geçiniz.

9. Les malades s'ennuient moins ---- on a installé la télévision dans les chambres des hôpitaux.

- A) alors qu' B) depuis qu'
C) pendant qu' D) jusqu'à ce qu'
E) en attendant qu'

10. ---- il y aura le métro, la circulation en ville sera plus facile.

- A) Avant qu' B) Tandis qu' C) Depuis qu'
D) Lorsqu' E) Bien qu'

11. On n'a ---- nouvelle des jeunes touristes depuis leur départ pour Ağrı.

- A) aucune B) quelque C) sans
D) rien E) plusieurs

12. Mimar Sinan a construit beaucoup de mosquées, mais la "Selimiye" est ---- je préfère.

- A) celle où B) celle-ci C) celle dont
D) celle que E) celle de

13. Comme le tremblement de terre ---- avait fait peur, les habitants de la ville ont passé la nuit dehors.

- A) en B) les C) leur D) y E) eux

14. Savoir par cœur les règles de grammaire ne sert à rien, si on ne sait pas ---- appliquer.

- A) leur B) y C) en D) l' E) les

15. Les intellectuels n'aiment pas beaucoup la télévision, ils se (s') ---- méfient et ---- critiquent.

- A) les / en B) en / la C) y / les
D) en / y E) les / la

16. Dans les usines ---- on pratique le travail à la chaîne, les ouvriers deviennent comme des robots.

- A) qu' B) d'où C) desquelles
D) où E) lesquelles

Diğer sayfaya geçiniz.

17. Les enfants ---- les parents ont divorcé ont parfois des problèmes affectifs.

- A) dont B) que
C) avec lesquels D) pour lesquels
E) auxquels

18. Si on encourage très tôt les enfants à lire, leur culture générale ---- rapidement.

- A) s'était améliorée B) se sera améliorée
C) s'améliorera D) s'améliorerait
E) s'est améliorée

19. Il faut tout faire pour que la nouvelle chaîne de télévision culturelle ne (n') ---- pas un échec.

- A) est B) soit C) était
D) serait E) ait été

20. Si le jeune homme avait écrit plus tôt, on ---- le choisir pour ce travail.

- A) peut B) aurait pu C) avait pu
D) pouvait E) a pu

21. Les légumes perdent leur goût ---- sur des sols contenant beaucoup d'engrais chimiques.

- A) en poussant B) poussés
C) avoir poussé D) sont poussés
E) ayant été poussés

Complétez les phrases suivantes, de 22 à 29, avec les propositions qui conviennent.

22. Pour apprécier Istanbul, il ne faut pas seulement visiter ses monuments, ----.

- A) pourtant son aspect n'est pas en harmonie avec l'environnement
B) et sans bien connaître son histoire
C) cependant, elle n'est plus la capitale de la Turquie
D) mais aussi se promener dans ses vieux quartiers
E) si on y construit des immeubles ultramodernes

23. Le nombre des emplois diminue ----.

- A) puisqu'on vient de créer de nouveaux postes
B) pourtant les usines sont obligées de fermer
C) car les travailleurs sont insatisfaits
D) pour que le nombre des chômeurs n'augmente pas
E) parce que la crise économique est très grave

24. Les petits Anglais mettent plus de temps à apprendre leur langue maternelle que les petits Français la leur, ----.

- A) à cause des nombreuses différences entre l'écrit et l'oral en anglais
B) sous prétexte que l'orthographe du français est très compliquée
C) puisque que l'anglais est parlé sur toute la planète
D) afin que ceux qui le veulent puissent continuer à apprendre le français
E) en raison des mauvaises relations entre l'Angleterre et la France

Diğer sayfaya geçiniz.

25. La plupart des femmes vont régulièrement chez le coiffeur ----.

- A) même si elles ont assez d'argent
- B) à condition qu'elles ne se maquillent pas
- C) par conséquent elles n'aiment pas être à la mode
- D) bien qu'elles en sortent souvent insatisfaites
- E) afin que leurs maris fassent des économies

26. Comme ils sont programmés par des professionnels, ----.

- A) les voyages organisés donnent généralement entière satisfaction
- B) les séminaires n'ont pas intéressé le public
- C) les festivals de musique n'ont pas autant de succès que les autres
- D) les longs voyages en bus sont inconfortables pour les personnes âgées
- E) certains hôtels anciens sont beaux mais manquent d'équipement moderne

27. Quand on est très bien payé ----.

- A) les syndicats ne sont pas d'accord avec les patrons
- B) les travailleurs protestent et font grève
- C) on voudrait une amélioration des salaires
- D) la production des usines ne suffit pas à satisfaire les besoins
- E) on supporte plus facilement la fatigue causée par le travail

28. Les statistiques ---- sont plus faciles à établir grâce aux ordinateurs.

- A) sans lesquelles on ne peut pas étudier les mathématiques élémentaires
- B) qui se sont révélées fausses une fois de plus
- C) dont les économistes ont toujours besoin
- D) d'où l'on sort très fort en calcul
- E) que la technologie moderne a fait disparaître

29. ---- cependant, vivre sur un grand campus plein d'arbres est bien agréable.

- A) Il y a des jeunes qui préfèrent partager leur chambre avec un ami (ou une amie) de classe
- B) Les cités universitaires sont en général assez confortables
- C) Certains étudiants sont heureux de quitter leur ville pour faire leurs études
- D) Les cours pratiques et théoriques sont obligatoires
- E) L'éloignement du centre-ville gêne parfois les étudiants

Diğer sayfaya geçiniz.

Traduisez les phrases françaises, de 30 à 33, en turc.

30. Le problème de l'eau devient très grave et dans un proche avenir, nous risquons de mourir d'un manque d'eau.

- A) Gelecekte susuzluktan ölebiliriz çünkü su sorunu tehlikeli boyutlara ulaştı.
- B) Su sorunu çok ciddi bir hal alıyor ve yakın bir gelecekte susuzluktan ölme tehlikesiyle karşı karşıyayız.
- C) Su sorunu öyle tehlikeli bir hal aldı ki yakın bir gelecekte susuzluktan ölebiliriz.
- D) Yakın bir gelecekte su sorunu daha tehlikeli boyutlara ulaşacak ve belki de susuzluktan öleceğiz.
- E) Su sorunun büyümesi ve susuzluktan ölme tehlikesi yakın bir gelecekte karşılaştığımız en ciddi sorundur.

31. La réussite aux tests ne dépend pas seulement des connaissances des candidats, mais aussi de leur état émotionnel.

- A) Testlerdeki başarı, sadece adayların bilgilerine değil onların heyecan durumlarına da bağlıdır.
- B) Heyecan, en bilgili adayların bile testlerdeki başarısını olumsuz yönde etkiler.
- C) Sınav heyecanı ve bilgi, adayların testlerdeki başarısını önemli ölçüde etkiler.
- D) Heyecan durumları nasıl olursa olsun, adayların bilgi düzeyleri ile testteki başarıları arasında güçlü bir ilişki vardır.
- E) Aday ne kadar bilgili olursa olsun, test sırasında duyduğu heyecan başarısını etkiler.

32. L'homme n'a jamais pensé qu'un jour il serait au chômage à cause des robots créés par lui-même.

- A) İnsan, robotları yaratmasaydı, günün birinde işsiz kalma sorunu ile hiçbir zaman karşılaşmazdı.
- B) Bir gün robotlar, yaratıcıları olan insanların işsiz kalmalarına neden olacaklar.
- C) İnsan, kendi yarattığı robotlar yüzünden günün birinde işsiz kalacağını hiç düşünmemişti.
- D) İnsan robotları yaratırken onların kendisini işsiz bırakacağını aklına bile getirmemişti.
- E) Günün birinde işsiz kalan insan, buna kendi yarattığı robotların neden olduğunu anlayacaktır.

33. Une alimentation déséquilibrée et insuffisante est l'une des principales causes des troubles psychiques.

- A) Ruhsal bozukluklar dengesiz ve yetersiz beslenmeden de kaynaklanabilir.
- B) Dengesiz ve yetersiz beslenenlerde ruhsal bozukluklar daha fazla görülmektedir.
- C) Ruhsal bozuklukları olanların dengesiz ve yetersiz beslendikleri saptanmıştır.
- D) Dengesiz ve yetersiz beslenme hastalıklarına, hatta ruhsal bozukluklara yol açar.
- E) Dengesiz ve yetersiz beslenme ruhsal bozuklukların başlıca nedenlerinden biridir.

Diğer sayfaya geçiniz.

Traduisez les phrases turques, de 34 à 37, en français.

34. **Günümüz insanının genç kalma arzusu, kozmetik endüstrisini yarattı.**

- A) Grâce à son industrie des cosmétiques, l'homme d'aujourd'hui perd sa jeunesse moins vite.
- B) L'industrie des cosmétiques a imposé à l'homme moderne un désir de jeunesse éternelle.
- C) L'homme d'aujourd'hui désire rester jeune, et l'industrie des cosmétiques qu'il a créée l'aide à le faire.
- D) Le désir de rester jeune de l'homme d'aujourd'hui a créé l'industrie des cosmétiques.
- E) L'homme a toujours voulu rester jeune, mais c'est aujourd'hui que son désir a fait naître une industrie des cosmétiques.

35. **Beyaz eşyalar kadınlara daha fazla boş vakit sağladı ve onların yaşamını kolaylaştırdı.**

- A) Certaines femmes aimeraient avoir des appareils ménagers pour avoir plus de temps libre et une vie plus facile.
- B) Les appareils ménagers ont donné plus de temps libre aux femmes et ont facilité leur vie.
- C) Même avec les appareils ménagers qui leur donnent plus de temps libre, il y a des femmes qui continuent à avoir une vie qui est loin d'être facile.
- D) Les appareils ménagers sont seulement un des éléments qui ont facilité la vie des femmes en leur donnant plus de temps libre.
- E) Les femmes qui ont des appareils ménagers ont plus de temps libre et une vie plus facile que les autres.

36. **Gıda mühendisleri çok yakın bir zamanda enzim bireşimi sayesinde, inek ve arılar olmadan süt ve bal üretebileceklerinden eminler.**

- A) La synthèse des enzymes prouve que la production du lait et du miel sans vaches et sans abeilles imaginée par les agronomes est réalisable.
- B) Les ingénieurs agronomes disent que la synthèse des enzymes permet de faire beaucoup de choses, par exemple, produire du lait et du miel sans vaches et sans abeilles.
- C) Bientôt, il sera peut-être possible de fabriquer du lait et du miel, sans vaches et sans abeilles, c'est ce que disent les ingénieurs agronomes qui ont réalisé la synthèse des enzymes.
- D) D'après les ingénieurs agronomes, la production du lait sans vaches et du miel sans abeilles n'est plus un rêve depuis qu'ils ont réalisé la synthèse des enzymes.
- E) Les ingénieurs agronomes sont sûrs de pouvoir bientôt produire du lait et du miel sans vaches et sans abeilles grâce à la synthèse des enzymes.

37. **Çocuklara hareket özgürlüğü sağlayan okul ortamı onların yaratıcılığını geliştirir.**

- A) Le milieu scolaire doit développer la créativité des enfants sans limiter leur liberté de mouvement.
- B) Les enfants qui ont une créativité développée aiment avoir une grande liberté de mouvement, surtout à l'école.
- C) Le milieu scolaire qui laisse aux enfants leur liberté de mouvement, développe leur créativité.
- D) C'est à l'école que les enfants apprennent à contrôler leur liberté de mouvement et à développer leur créativité.
- E) L'école est un des lieux où les enfants développent leur créativité grâce à une très grande liberté de mouvement.

Diğer sayfaya geçiniz.

De 38 à 41, choisissez la réplique qui manque dans chacun de ces dialogues.

38. Le commissaire:

- **Madame, ces bijoux avaient une très grande valeur, n'est-ce pas?**

La dame :

- **Oui, c'étaient des pièces uniques, Monsieur le Commissaire.**

Le commissaire:

- ----

La dame :

- **Parce que je venais de les sortir, je voulais les mettre ce soir pour aller à l'Opéra.**

- A) Pourquoi est-ce qu'ils n'étaient pas dans un endroit sûr, fermé à clef?
- B) Pourquoi est-ce que vous n'avez pas pris une assurance contre le vol?
- C) Dites-moi pourquoi vous préférez les bijoux anciens!
- D) J'aimerais savoir pourquoi le système de sécurité était en panne.
- E) Pourquoi est-ce que vous n'avez pas appelé la police plus tôt?

39. Le client :

- **Madame, vous n'avez pas encore répondu à ma lettre datée du 15 juin, vous ne l'avez pas reçue?**

L'employée :

- **Ah si, nous avons bien reçu votre commande, mais malheureusement nos stocks sont épuisés.**

Le client :

- ----

L'employée:

- **Dans une quinzaine de jours, nous aurons les pièces demandées.**

- A) Alors donnez-moi l'adresse d'une autre firme.
- B) Quand pourrez-vous m'envoyer ce que j'ai demandé?
- C) Pourquoi est-ce que vous ne m'avez pas écrit avant?
- D) Dans ce cas, les prix seront-ils augmentés?
- E) Ne vous inquiétez pas, je ne suis pas pressé.

40. Henri :

- **S'il vous plaît, pouvez-vous faire moins de bruit, cela me gêne, je prépare un examen.**

Paul :

- **Je suis un peu sourd, j'entends mal, c'est pour cela que je mets la musique très fort.**

Henri :

- ----

Paul :

- **Eh bien d'accord, c'est une bonne idée, comme ça, je ne vous gênerai plus.**

- A) Vous ne savez pas qu'il est interdit de faire du bruit après 22h?
- B) Dans ce cas, vous pouvez ouvrir les fenêtres, vous ne serez pas gêné.
- C) Ah, je comprends, ma sœur aussi a des problèmes d'oreille, elle souffre beaucoup.
- D) Si vous voulez, je peux vous prêter mon walkman pendant deux ou trois jours.
- E) Le walkman est une belle invention, mais on dit que c'est dangereux pour l'ouïe.

41. Kemal :

- **Le café est-il dangereux pour le cœur quand on en boit plus de deux tasses par jour?**

Le docteur :

- **La dose dangereuse varie selon les personnes.**

Kemal :

- **Et dans mon cas?**

Le docteur:

- ----

- A) Oh vous, vous êtes en bonne santé, vous pouvez en boire mais quand même, n'exagérez pas!
- B) Dites-lui qu'avec sa maladie de cœur, il faut qu'il arrête d'en boire tout de suite.
- C) Comment voulez-vous que je vous donne une réponse sans l'examiner?
- D) Je ne sais pas, seul un médecin peut le savoir.
- E) Je vous avais dit de ne plus en boire mais vous ne m'avez pas écouté!

Diğer sayfaya geçiniz.

Parmi les phrases, de 42 à 45, choisissez les phrases qui conviennent aux situations données.

42. Votre ami arrive très en retard à votre rendez-vous, très mécontent, vous lui dites: ----

- A) Quelle bonne surprise, tu es à l'heure aujourd'hui!
- B) Excuse-moi, je n'ai pas pu t'attendre.
- C) C'est la dernière fois que je perds plus d'une heure à t'attendre!
- D) Ne t'en fais pas, ce n'est pas important!
- E) La prochaine fois, je viendrai plus tôt

43. Un agent de police en colère dit aux enfants qui jouent au ballon dans la rue : ----

- A) Moi aussi, je jouais au football quand j'avais votre âge!
- B) Je suis sûr que vous deviendrez de grands joueurs de football.
- C) Ah, j'aimerais jouer avec vous, mais je suis en service.
- D) Quel bonheur qu'il y ait le jardin pour les enfants dans ce quartier!
- E) Mais enfin, vous êtes complètement imprudents, vous ne savez pas que c'est dangereux?

44. Une jeune fille, après des mois de chômage, trouve un travail, elle dit à ses parents: ----

- A) Je me demande quand je pourrai enfin gagner de l'argent.
- B) Si cette situation continue, je vais devenir folle!
- C) On m'a dit d'être patiente, de ne pas perdre espoir.
- D) Je vais enfin pouvoir m'acheter ce que je veux!
- E) J'ai une mauvaise nouvelle, je vous annonce que je viens de perdre mon emploi.

45. Vous avez acheté beaucoup de choses avec votre carte de crédit et trop dépensé. Mécontent, vous vous dites: ----

- A) Heureusement que j'ai ma carte, sans elle, je n'aurais pas pu faire mes achats samedi après-midi.
- B) Vive le progrès, cette carte est tellement pratique!
- C) Zut, j'ai perdu ma carte, oh je vais tout de suite le signaler à la banque.
- D) Ah, c'est fini, je n'en veux plus, avec ça, on ne voit pas ce qu'on dépense!
- E) Je ne prendrai plus d'argent pour faire mes gros achats, c'est dangereux.

Diğer sayfaya geçiniz.

Répondez aux questions de 46 à 48 d'après le texte.

Autrefois, les jeunes trouvaient facilement du travail et devenaient assez vite économiquement indépendants. La publicité les a encouragés à consommer de plus en plus. L'apparence et les objets possédés sont devenus pour eux plus importants que le milieu social. Hélas, la crise économique est en train de tout changer. Les jeunes en chômage sont obligés de rester chez leurs parents qui n'ont plus assez d'argent pour leur offrir tout ce qu'ils désirent. En conséquence, les jeunes pensent qu'ils sont victimes du système et deviennent parfois violents.

46. Les jeunes ont du mal à être économiquement indépendants ----.

- A) parce qu'ils trouvent facilement du travail
- B) à cause de la crise économique
- C) car la publicité les encourage à consommer
- D) puisque leurs parents leur offrent tout ce qu'ils désirent
- E) face à la violence généralisée

47. Si les jeunes deviennent violents, c'est surtout parce qu' ----.

- A) ils sont insatisfaits de ne plus pouvoir consommer autant qu'avant
- B) ils donnent beaucoup d'importance à leur milieu social
- C) ils critiquent le rôle de la publicité
- D) ils sont très tôt économiquement indépendants
- E) ils désirent rester plus longtemps chez leurs parents

48. D'après ce texte, pour les jeunes, ----.

- A) le système leur donne entière satisfaction
- B) la publicité n'a aucune influence sur eux
- C) il était plus difficile de trouver du travail avant
- D) le milieu social n'est plus très important
- E) leurs parents ont moins de difficultés économiques

Répondez aux questions de 49 à 51 d'après le texte.

Un soir, à la fin de la dernière séance, un homme a téléphoné au patron d'un grand cinéma, il lui a dit: "j'ai entendu deux hommes parler dans le restaurant à côté de votre cinéma, ils ont dit qu'ils entreraient dans votre bureau après minuit pour voler votre argent. J'ai vite téléphoné à la police pour les informer, ils vont venir vous voir." Le patron a attendu, et en effet, vers deux heures du matin, deux policiers sont arrivés. Ils ont voulu voir le tiroir dans lequel le patron avait mis son argent. Mais quelle surprise pour le patron: les policiers l'ont aussitôt attaché, ont pris l'argent et sont partis tranquillement!

49. Celui qui a téléphoné au patron du cinéma ----.

- A) attendait les policiers
- B) était l'un des voleurs
- C) ne connaissait pas les voleurs
- D) est venu le voir tôt le matin
- E) ne savait pas qu'il avait de l'argent

50. Les voleurs sont arrivés au cinéma ----.

- A) et ont été surpris de voir que le patron avait été informé par la police
- B) avant la fin de la dernière séance
- C) puisque le patron du cinéma les attendait avec la police
- D) juste après le départ du patron
- E) après avoir téléphoné au patron pour le tromper

51. Le patron du cinéma a ouvert le tiroir sans hésiter, car ----.

- A) il pensait que ces hommes étaient des vrais policiers
- B) il y avait mis l'argent comme d'habitude
- C) on voyait bien que les deux hommes jouaient la comédie
- D) il avait très peur
- E) il était complètement vide

Diğer sayfaya geçiniz.

Répondez aux questions de 52 à 54 d'après le texte.

En France, au travail, la situation des femmes est moins bonne que celle des hommes car elles gagnent moins qu'eux, même si elles font le même travail. En général, on leur donne des postes peu intéressants. Quand un patron a le choix, il préfère presque toujours donner du travail à un homme. De plus, elles doivent attendre plus longtemps pour obtenir des augmentations de salaire. Pendant les années 60 et 70, il y a eu un grand mouvement féministe pour l'amélioration de leurs conditions. Hélas, avec la crise actuelle, la situation des femmes redevient difficile. Bien sûr, il y a des femmes ministres, pilotes, cosmonautes, etc.. mais elles sont relativement rares.

52. Le mouvement féministe ----.

- A) refuse que les femmes aient des postes intéressants
- B) a rendu la situation des femmes très difficile
- C) a eu une grande importance dans les années 60 et 70
- D) admet que les femmes gagnent moins que les hommes
- E) a duré moins de dix ans

53. A cause de la crise actuelle, ----.

- A) quelques femmes peuvent devenir ministres ou pilotes
- B) le mouvement féministe n'est plus aussi efficace qu'avant
- C) les salaires sont égaux entre les hommes et les femmes
- D) les femmes ont des postes de plus en plus intéressants
- E) la situation des femmes s'améliore enfin

54. Le titre de ce texte pourrait être: ----

- A) Les femmes et le travail
- B) Une vie de patron, c'est difficile!
- C) La crise politique actuelle
- D) Le féminisme a enfin gagné!
- E) Les métiers typiquement féminins

Diğer sayfaya geçiniz.

Répondez aux questions de 55 à 57 d'après le texte.

Partout dans le monde, les professeurs disent que leurs étudiants ne lisent pas assez ou même pas du tout. Les raisons sont nombreuses, évidemment. Il y a ceux qui n'ont jamais vu leurs parents lire, c'est le cas de 20 % des familles françaises! Et puis, il y a les jeunes qui sont sûrs que les livres sont toujours ennuyeux, car ils pensent qu'ils sont faits pour apprendre des choses difficiles. Pour finir, il y a, bien sûr, la télévision que tout le monde regarde tous les soirs. Cette situation est très dangereuse car on sait que la lecture développe l'imagination et que les images, au contraire, l'appauvrissent.

55. Dans ce texte, on explique pourquoi ----.

- A) la lecture est une activité importante à l'école
- B) certains livres sont difficiles à lire
- C) les jeunes ne lisent pas, ou pas assez
- D) la télévision est une distraction très populaire
- E) l'imagination des enfants se développe mieux grâce aux jeux

56. Le manque d'envie de lire chez les jeunes ----.

- A) est difficile à comprendre
- B) n'apparaît qu'en France
- C) est sans grande gravité
- D) concerne 20 % de la population mondiale
- E) se rencontre dans presque tous les pays

57. La lecture est pourtant importante car ----.

- A) elle développe l'imagination
- B) beaucoup de livres ne sont pas ennuyeux
- C) les professeurs ne sont pas satisfaits
- D) un Français sur cinq ne lit pas du tout
- E) elle est remplacée par les inévitables "soirées télé"

Diğer sayfaya geçiniz.

De 58 à 60, choisissez la phrase qui a le même sens que la phrase donnée.

58. Malgré leurs diplômes, les jeunes ne trouvent pas facilement du travail.

- A) Sans diplômes, les jeunes auraient encore plus de difficultés à trouver un emploi.
- B) Les jeunes diplômés sont comme les autres, ils ont du mal à trouver un travail.
- C) Bien qu'ils aient des diplômes, les jeunes trouvent difficilement un emploi.
- D) C'est parce qu'ils ont des diplômes que certains jeunes n'arrivent pas facilement à trouver un travail.
- E) Parmi les jeunes qui ont des difficultés à trouver un travail, il y a beaucoup de diplômés.

59. Dans certaines banlieues, les crimes sont si nombreux que les gens ont peur de sortir le soir.

- A) Certaines personnes ont peur d'aller dans les banlieues, surtout le soir, parce que les crimes y sont nombreux.
- B) Beaucoup de gens ont peur de sortir le soir, bien que les crimes soient moins nombreux que dans les banlieues.
- C) Dans les banlieues où les crimes augmentent, les gens qui sortent le soir sont ceux qui ignorent la peur.
- D) Le soir, les crimes étant nombreux, les gens ont peur de sortir, comme dans les banlieues.
- E) Comme il y a beaucoup de crimes dans certaines banlieues, les gens ont peur de sortir le soir.

60. C'est en allant souvent voir des expositions qu'on apprend à comprendre la peinture.

- A) Quand on va régulièrement voir des expositions de peinture, on apprend peu à peu à bien comprendre cet art.
- B) Même s'ils visitent des expositions de peinture très souvent, cet art reste incompréhensible à certains.
- C) Ceux qui vont régulièrement voir des expositions ne comprennent pas tous la peinture.
- D) La peinture est un art difficile, on comprend cela quand on va voir beaucoup d'expositions.
- E) Il n'est pas nécessaire de comprendre la peinture pour aimer aller voir très souvent des expositions.

YABANCI DİL TESTİ BİTTİ.

YABANCI DİL TESTİ

İNGİLİZCE

In questions 1 to 21, choose the suitable word or phrase which best completes each sentence.

1. We went to see him ---- after getting your phone call.
- A) generously B) patiently
C) completely D) immediately
E) indefinitely
2. According to a recent report, 70% of smokers ---- the number of cigarettes they smoke.
- A) underestimate B) undersize
C) undertake D) underline
E) understand
3. In late February 2002, the users of the Internet suddenly found themselves ---- the system.
- A) shown over B) cut off from
C) drawn into D) put up with
E) turned into
4. The continued shortage of water and electricity has ---- deep feelings of discontent among the people.
- A) pulled through B) kept up
C) put down D) given rise to
E) made up for
5. Few people take the trouble to read the ---- carefully before using their new equipment.
- A) conflicts B) intentions
C) instructions D) collections
E) reductions
6. In the ---- part of your essay, you should have written something about the life of the author.
- A) introductory B) particular
C) elementary D) identical
E) abundant
7. The people who live in the Arctic ---- Eskimos.
- A) call B) have called
C) had called D) are calling
E) are called
8. Now that ice ---- on Mars, the dreams of science fiction writers ---- nearer to becoming reality.
- A) has been discovered / are
B) was discovered / were
C) had been discovered / had been
D) would be discovered / will be
E) will be discovered / would have been
9. In fact, the meeting ---- by the time I ---- to the office.
- A) started / get B) has started / got
C) would start / get D) had started / got
E) starts / have got
10. The UN ---- to send food to Africa, as many people in the rural areas ---- as a result of the drought.
- A) would decide / were starving
B) had decided / starved
C) decided / were starving
D) had decided / have starved
E) decided / will have starved

Diğer sayfaya geçiniz.

11. I can't find my car keys anywhere; I ---- them in the office.

- A) had to leave B) could leave
C) might leave D) would have left
E) must have left

12. Doctors spent much of the second half of the twentieth century ---- to make childbirth safer for both mothers and babies.

- A) having tried B) trying
C) having had to try D) to try
E) being tried

13. Gold is one of the ---- valuable of all metals.

- A) few B) more C) much
D) most E) many

14. Unlike most companies, their primary goal is to improve society ---- maximize profits.

- A) rather than B) but C) but also
D) as if E) so that

15. When Genghis Khan died, his empire extended ---- the Yellow Sea ---- the Black Sea.

- A) between / into B) from / to
C) after / through D) in / towards
E) by / near

16. I am very pleased with my new bedroom ---- the top of the house, because I can look ---- the window at the stars every night.

- A) at / through B) above / out of
C) under / by D) in / over
E) over / about

17. Almost half of our drugs and medicines are made of the substances extracted ---- wild plants.

- A) through B) up
C) in D) with
E) from

18. ---- many scientists, the threat to the environment is more serious than most people realize.

- A) Besides B) Compared with
C) According to D) Even if
E) In case

19. Several cities in England have set up urban farms ---- children learn about agricultural life.

- A) where B) whenever C) which
D) as though E) just as

20. He doesn't own a motorbike, but he talks ---- he knows everything there is to know about them.

- A) despite B) as if C) although
D) in case E) so that

21. More and more people are rushing to local gymnasiums and health clubs ---- to lose weight ---- to improve their physical fitness.

- A) so / as B) both / but
C) either / or D) whether / and
E) not only / even

Diğer sayfaya geçiniz.

In questions 22 to 29, choose the alternative which best completes the sentence.

22. Sometimes wildlife photographers have to climb high trees ----.

- A) if they want to get close-ups of the creatures that inhabit them
- B) that the best way is to use thick ropes
- C) before they could get even reasonably close to a particular bird
- D) so this was accepted as just part of the job
- E) why patience is such a useful quality

23. ----, make quite sure that you know how it works.

- A) As we seldom have room for everything
- B) Although a windmill needs a lot of clear space for an uninterrupted air-flow
- C) Since electricity seemed to be the cleanest of all forms of energy
- D) As we are exhausting our resources at a terrifying rate
- E) If you are using any technical equipment

24. People who have AIDS die ----.

- A) although few people make use of the medical services
- B) as one of the most vital aims of the country was to improve the health of people
- C) because the body can no longer fight off other serious illnesses
- D) although samples were analyzed in several medical laboratories
- E) since this disease can be prevented by vaccination

25. Why can't she make up her mind about ----?

- A) how much she pays for the flat
- B) if the new members were also to be included in the list
- C) how many people have been invited
- D) that she gives a talk next week
- E) whether the meeting should be on Monday or Tuesday

26. ---- as soon as they retire.

- A) He's been in the same job for over twenty years
- B) I've always wanted to live in a house like theirs
- C) Naturally they left Ankara
- D) They plan to buy a house on the south coast
- E) He was advised to give up his job immediately

27. ---- if they are to communicate with other people.

- A) Language is one of the skills children must acquire
- B) People in a simple society managed with fewer rules than those in a more complex society
- C) News is now transmitted very rapidly
- D) There are too many mouths to feed in many areas of the world
- E) All these children needed praise and recognition for their efforts

Diğer sayfaya geçiniz.

28. Though dams may seem like a good idea on paper, ----.

- A) there would be less water to irrigate crops
- B) they actually kill a river's ecosystem by cutting off its flow
- C) this particular one would actually have cost less
- D) alternative ways of conserving energy had been recommended
- E) the cost turned out to be much higher

29. When the manager went abroad on business, ----.

- A) his deputy took over all his duties
- B) he usually prefers flying
- C) he has been planning to extend their area of operations
- D) he will be looking for some foreign contacts
- E) he has integrated their overseas operations

In questions 30 to 33, find the Turkish equivalent of the given English sentence.

30. Have you got any idea about how many people will be invited to the wedding?

- A) Düğüne kaç kişinin geleceğini biliyor musun?
- B) Düğüne kaç kişinin davet edileceği hakkında bir fikrin var mı?
- C) Düğünde kaç kişinin olacağını tahmin edebilir misin?
- D) Düğüne gelenlerin nasıl ağırlanacağı hakkında bilgin var mı?
- E) Düğüne kimlerin çağrılacağını biliyor musun?

31. The explosion at Chernobyl in 1986 was the world's worst nuclear accident.

- A) 1986'da Çernobil'deki patlama dünyanın en kötü nükleer kazasıydı.
- B) Çernobil'de 1986 yılında meydana gelen patlama, dünya ülkelerini çok büyük bir tehlikeye karşı karşıya bırakmıştı.
- C) Dünyadaki nükleer kazaların en korkuncu 1986 yılında Çernobil'de olan patlamaydı.
- D) 1986 yılında Çernobil'de meydana gelen patlamayla nükleer santrallerin tehlikesini bütün dünya anladı.
- E) 1986'da Çernobil'de yaşanan patlama, dünyanın en korkunç nükleer kazalarından biriydi.

32. Many people in developing countries move from rural areas to cities, to find work and have a better standard of living.

- A) Gelişmekte olan ülkelerdeki pek çok insanın, daha iyi bir yaşam standardına sahip olmak ve iş sahibi olmak için şehirlere göç etmesi doğaldır.
- B) Gelişmekte olan ülkelerdeki insanların çoğunun, şehirlere akın etmesinin nedeni, kendilerine daha iyi bir yaşam standardı sağlayacak işi bulmak istemeleridir.
- C) Gelişmekte olan ülkelerdeki pek çok insan, iş bulmak ve daha iyi bir yaşam standardına sahip olmak için kırsal yörelerden şehirlere göç etmektedir.
- D) Gelişmekte olan ülkelerde, iş bulmak ve yaşam standardını yükseltmek isteyen insanların pek çoğunun kırsal kesimden şehirlere göç ettiği bilinmektedir.
- E) Gelişmekte olan pek çok ülkede, insanlar iş sahibi olmak ve daha iyi bir hayat düzeyine kavuşmak için kırsal yöreleri terk ederek şehirlere yerleşmektedir.

Diğer sayfaya geçiniz.

33. The United Nations has been working for almost a quarter of a century to improve the quality of life for people all over the world.

- A) Birleşmiş Milletler, insanların yaşam şartlarının iyileştirilmesi için önümüzdeki çeyrek yüzyılda da çalışmalarını sürdürecektir.
- B) Birleşmiş Milletler, son çeyrek yüzyıldaki çabalarını dünyadaki bütün insanlara daha iyi bir yaşam sağlamak amacına yöneltmiştir.
- C) Birleşmiş Milletler, dünyada yaşayan tüm insanların yaşam seviyelerinin çeyrek yüzyıl içerisinde yükseltilmesi için büyük çaba göstermektedir.
- D) Birleşmiş Milletler'in yaşam kalitesini iyileştirmeye yönelik çabaları çeyrek yüzyıldır sürmektedir.
- E) Birleşmiş Milletler, yaklaşık çeyrek yüzyıldır tüm dünyada insanların yaşam kalitesini iyileştirmek için çalışmaktadır.

In questions 34 to 37, find the English equivalent of the given Turkish sentence.

34. Orta Asya, dünyada çevre ve sağlık sorunlarının en yaygın olduğu bölgelerden biridir.

- A) In the Central Asian region, environmental factors and health problems are closely related.
- B) The environmental and health problems which resemble those in other parts of the world are now prevalent in Central Asia.
- C) The major problems of Central Asia relate to health and environmental matters in the rest of the world.
- D) Central Asia is one of the regions in the world where environmental and health problems are most prevalent.
- E) Most of the world's environmental and health problems are found together in this and in other Central Asian regions.

35. Kolomb Amerika'ya ulaştığında, keşfinin sonucunda ortaya çıkacak değişikliklerin farkında değildi.

- A) On reaching America, Columbus realized that his discovery would cause few changes.
- B) When Columbus reached America, he was unaware of the changes that would occur as a result of his discovery.
- C) When Columbus discovered America, he failed to realize how important the discovery was.
- D) Columbus didn't expect changes to occur in America after he had discovered it.
- E) America changed greatly after it was discovered by Columbus.

36. Senin kadar akıllı birinin bir yıl sonra üniversiteyi bırakmak istemesi beni şaşırtıyor.

- A) Intelligent people like you, surprisingly enough, don't want to leave university after the first year.
- B) I can't understand why any intelligent person should want to leave the university after only one year.
- C) It's not surprising that anyone as intelligent as you are should get into a university.
- D) After a year at the university, it surprises me that someone with your intelligence should be obliged to leave.
- E) It surprises me that someone as intelligent as you are should want to leave the university after one year.

Diğer sayfaya geçiniz.

37. Bilimsel arařtırmalardaki büyük ilerlemelere rağmen, bazı hastalıkların tedavisi hâlâ mümkün değildir.

- A) The treatment of many diseases has been made possible through improved methods of scientific research.
- B) Due to significant progress in scientific research, it is now possible to treat nearly all diseases.
- C) Despite great progress in scientific research, the treatment of some diseases is still not possible.
- D) Since many diseases cannot yet be treated, scientific research must make further efforts to do so.
- E) Without scientific research, the treatment of disease could not have reached its present level.

In questions 38 to 41, find the alternative which best completes the dialogue.

38. Gary:
- Did you watch *Talking With Animals* last night on TV?

Sally:
- No. What was it about?

Gary:
- ----

Sally:
- That must have been interesting.

- A) It was rather disappointing. The other programme was much better.
- B) It gave an account of the different ways in which animals communicate with each other.
- C) It followed a group of birds migrating south for the winter; but there was nothing original in it.
- D) You didn't miss anything. I turned the TV off half-way through.
- E) I loved it. It was all about the exotic flowers of the rain forests. The colours were amazing.

39. Tony:
- Have you heard the new U2 CD?

Louise:
- Is it as good as their previous ones?

Tony:
- ----

Louise:
- Good. I'd love to listen to it now.

- A) Yes, I think so. I've just bought it.
- B) No. Their first album was their best, wasn't it?
- C) I don't know. Let's hope so.
- D) As far as I know, the group was formed in Dublin.
- E) Would you like to listen to it?

40. Karl:
- There are no copies left of the psychology textbook at the bookstore.

Bob:
- ----

Karl:
- Good idea! I'll ask John for his. He took the same course last semester.

- A) Never mind, I'm sure you'll be successful in the second exam.
- B) I know. I bought the last copy this morning.
- C) I am afraid they are all sold out.
- D) Then you'd better borrow a copy quickly.
- E) John could have given you his lecture notes, but he's thrown them away.

Diğer sayfaya geçiniz.

41. Adrian:
- **What is your occupation?**
- Barbara:
- **I am the sales manager of a private company.**
- Adrian:
- ----
- Barbara:
- **Pretty good, though I have to work hard; and there is a lot of overtime.**
- A) Are there any qualifications needed?
B) How about holidays?
C) Do you think I would make a good sales manager?
D) Did you have to travel a lot?
E) What's the pay like?

In questions 42 to 45, find the best statement to use for the given situation.

42. **The friend you share a flat with is usually very noisy, and this annoys you. So you decide to ask him, politely, to make less noise. You say:**
- A) Would you mind keeping quiet about this?
B) I didn't know you were so upset.
C) Could you be a little quieter?
D) Stop being so noisy! I can't stand it.
E) I wonder why you are so nervous.
43. **A friend has asked your opinion of the novel you have just read. As you didn't enjoy it, you say:**
- A) It is too early to say anything about it.
B) Quite amusing. You'll enjoy it.
C) I think it makes good reading.
D) Better than average, in my opinion.
E) I found it too long and rather boring.

44. **Your company is going to start a new advertising campaign. You want to make sure that it won't be an expensive campaign. So, you say to those involved:**
- A) Don't go to too much trouble with it.
B) I want you to tell me how much this campaign will cost.
C) Be as creative as you can and forget the costs.
D) Make it effective, but keep the costs down.
E) Do everything you can to make the campaign a success.
45. **The pressures of modern-day living have made you rather irritable, although you want to get on well with the people around you. So, you say to yourself:**
- A) I insist on discussing this issue because I know I'm right.
B) People should realize that I'm rather nervous these days and be more considerate.
C) I get on well with people as long as they are ready to help me.
D) I must learn to take it easy and not get drawn into arguments.
E) It is hard to imagine how people lived without the facilities we have today.

Diğer sayfaya geçiniz.

Read the following passage carefully and answer questions 46 to 48 on the basis of what is stated or implied in the passage.

Many people are concerned with the condition of animals used for research purposes. The offense committed against these animals is not the taking of their lives. It is the pain inflicted upon them. It is to be stressed that scientific progress can be achieved without cruelty to animals. Therefore, live animals should be used only when no adequate alternative exists. Even then, every effort should be made to eliminate suffering.

- 46. It is emphasized in the passage that great care should be taken ----.**
- A) to make research involving animals illegal
 - B) not to cause suffering to animals used in scientific research
 - C) to improve the condition of animals everywhere
 - D) not to use animals at all in scientific research
 - E) not to kill animals for research purposes
- 47. The author is obviously against the use of animals for research purposes ----.**
- A) if this is not absolutely necessary
 - B) because this doesn't contribute to scientific progress
 - C) even though he has himself experimented on them
 - D) as he doesn't believe in scientific progress
 - E) since this has led to much public unrest
- 48. In the passage, the author calls upon scientists ----.**
- A) to ignore public opinion completely
 - B) to use animals rather than people for scientific research
 - C) not to pay too much attention to what animals feel
 - D) to keep the use of animals to a minimum in scientific research
 - E) not to use live animals in any circumstances for research purposes

Read the following passage carefully and answer questions 49 to 51 on the basis of what is stated or implied in the passage.

Recently, I read an article on car prices. I was greatly impressed by the views expressed in it. Actually, I am very familiar with the car industry since – until a few years ago – I worked at the head office of a well-known car company as a marketing consultant. There are a number of factors that determine the price of a car. Everyone is aware of the manufacturing costs; but not so many people realize that, for political reasons, car prices can be artificially raised or reduced.

- 49. In the passage, the author points out that ----.**
- A) car prices are rising steadily
 - B) politics can affect car prices
 - C) his main interest is in marketing
 - D) he doesn't agree with the article he read on car prices
 - E) there are ways of manufacturing cars at a lower price
- 50. The author emphasizes that the price of a car ----.**
- A) is of little importance for the majority of people
 - B) is determined by marketing consultants
 - C) is of major importance to the buyer
 - D) cannot be reduced for political reasons
 - E) doesn't depend upon manufacturing costs alone
- 51. Obviously the author has a sound knowledge of the car industry ----.**
- A) as he has already written several articles on it
 - B) because he has been involved in it for years
 - C) although he knows little about manufacturing costs
 - D) since he is at present involved in marketing
 - E) which he uses for political purposes

Diğer sayfaya geçiniz.

Read the following passage carefully and answer questions 52 to 54 on the basis of what is stated or implied in the passage.

5, The Cottages,
Earlsmere Homes,
Littleton
Derbyshire
25th February, 2003

Dear Sir,

I wish to apply for the post of Warden at your hostel for young people in the Crystal Palace area.

I have been in Social Work for over 25 years now. I began by organizing voluntary helpers to visit and take an interest in poor, underprivileged families in my area. Later, I took up a full-time post organizing a hot meals service for pensioners in our area. For the last ten years, I have been the Resident Warden of an Old People's Home. The work requires much patience and understanding, qualities which are surely of use to all Social Workers.

I've always had great sympathy for young people from poor, deprived backgrounds and would be delighted to have the opportunity to help these youngsters.

Sincerely,
(Miss) M. Saunders

52. The writer of the letter ----.

- A) doesn't like working with old people
- B) has only recently become interested in social work
- C) has a great deal of experience of working with old people
- D) is critical of conditions in the hostel near Crystal Palace
- E) is unwilling to work with non-professionals

53. In this letter, Miss Saunders wants to ----.

- A) criticize the way the voluntary helpers work
- B) show she is an experienced social worker
- C) raise money to provide hot meals for pensioners
- D) recruit more voluntary workers
- E) organize a medical service for pensioners

54. The writer asserts that, whether one is working with the young or the old, ----.

- A) patience and understanding are essential qualities
- B) one will eventually grow depressed
- C) the work is hard and unrewarding
- D) the voluntary worker is always the best
- E) the main concern should always be suitable meals

Diğer sayfaya geçiniz.

Read the following passage carefully and answer questions 55 to 57 on the basis of what is stated or implied in the passage.

Joseph Conrad was born in Poland in 1857. His father was a sensitive man of letters and had translated the works of such demanding writers as Shakespeare and Victor Hugo into Polish. He died when his son was only 11 years old. At the age of 16, Conrad began what was to be a twenty-year career as a seaman. His voyages took him to the African Congo, South America, the Indian Ocean, the Malay peninsula and the China seas. They provided him with experiences and insights of such range and intensity that they were to provide him with material for his entire career as a writer of fiction. One of the key legacies of Conrad's sea years was his knowledge that the lives of even the most sensitive, courageous and gifted men can be irrevocably altered by a single moment of hesitation, pride, cowardice or misjudgement.

55. It is clear from the passage that Conrad's father ----.

- A) wanted his son to become a novelist
- B) realized that his son was extremely gifted
- C) had considerable literary talent
- D) was overjoyed when his son decided to go to sea
- E) had never been out of Poland and so wanted his son to see more of the world

56. We understand from the passage that, as a writer, Conrad ----.

- A) was more interested in the background of his stories than in his characters
- B) was deeply influenced by his early years in Poland
- C) took his father as a model
- D) was constantly on the move looking for fresh experiences
- E) drew heavily on his experiences at sea

57. One point made in the passage is that, from his experiences at sea, Conrad learned that ----.

- A) pride and cowardice are two of the worst qualities that a man can have
- B) a mistake that takes only seconds to make can completely change the lives of even the best of men
- C) the experiences of travellers are all very much the same
- D) such places as the China seas and the Malay peninsula give the seaman far more to think about than anywhere in Europe
- E) he was not suited to a life at sea

Diğer sayfaya geçiniz.

In questions 58 to 60, find the sentence which has the same meaning as the one given.

58. I hear the photos of the picnic are wonderful; I can't wait to see them.

- A) A lot of photos were taken on the picnic; I hope they are good.
- B) I'm looking forward to seeing the photos of the picnic; they ought to be ready.
- C) I'm longing to see the photos taken on the picnic; they say they are marvellous.
- D) It was a wonderful picnic; let's hope the photos are good.
- E) Apparently, the photos taken on the picnic were even better.

59. At the concert last night, Miss Maine gave one of the most outstanding performances of her career.

- A) Miss Maine played brilliantly at the concert last night; she has a bright future.
- B) At the concert yesterday, the best performance was given by Miss Maine.
- C) I have never heard Miss Maine play better than she did at last night's concert.
- D) At yesterday's concert, Miss Maine was the only one to give a very excellent performance.
- E) The concert Miss Maine gave last night was one of the best that she has ever given.

60. For his birthday, I shall have to get him something that doesn't cost too much; a book, for instance.

- A) These days, it's hard to find an inexpensive birthday present; there are no cheap books.
- B) I wish I could afford to give him something more exciting than a book for his birthday.
- C) A birthday present doesn't have to be expensive; everyone likes to get a book.
- D) I can't get him an expensive birthday present; I'll give him something like a book.
- E) I paid more than I wanted to for the book I gave him on his birthday.

YABANCI DİL TESTİ BİTTİ.

TÜRKÇE TESTİ

1. – 4. SORULARDA, CÜMLEDE BOŞ BIRAKILAN YERE GETİRİLMESİ UYGUN OLAN SEÇENEĞİ BULUNUZ.

1. Bu sorunuza kolay bir ---- bulmalıyız.
A) yardım çeşidi B) düşünce biçimi
C) anlaşma türü D) cevap şekli
E) çözüm yolu
2. Yol ---- bitmek bilmiyordu.
A) hiçbir zaman B) bir kez C) bir türlü
D) sonunda E) nasıl
3. Marketten aldıkları, tam elli milyon lira ----.
A) saymıştı B) tutmuştu C) harcamıştı
D) vermişti E) bulurdu
4. Olanları o da biliyor ---- kimseye bir şey anlatamıyordu.
A) yoksa B) öyle ki C) gibi
D) ama E) yani

5. Gelir gelmez ---- arayacağını söylemişti; ama ---- aramadı.

Bu cümlede boş bırakılan yerlere aşağıdakilerin hangisinde verilenler sırasıyla getirilmelidir?

- A) beni – nedense
B) doğruca – böylece
C) erkenden – kandırarak
D) ikimizi de – habersizce
E) kesinlikle – yanlışlıkla

6. Güneşin ---- ışınlarından ---- yararlandığımız bu güzel yaz günlerinde, ülkemizde turizm açısından da ---- gelişmeler yaşanıyor.

Bu cümlede boş bırakılan yerlere aşağıdakilerin hangisinde verilenler sırasıyla getirilmelidir?

- A) canlı – istendiği kadar – yavaş
B) sıcaklığını – elden geldiğince – bilmediğimiz
C) renkli – üşüyerek – düşündürücü
D) parlak – biraz – umutlu
E) sıcacık – alabildiğine – sevindirici

7. Dün bütün gün kar yağmıştı, bugün ---- yağdı.

Bu cümlede boş bırakılan yere aşağıdakilerden hangisinin getirilmesi uygun olmaz?

- A) daha az B) her zaman C) tekrar
D) daha çok E) yine

8. Çocuklar, etrafımızı sarıp fotoğraf çektirmek istediler.

Bu cümlede altı çizili sözcüğün yerine aşağıdakilerden hangisi getirilirse cümlenin anlamında değişme ya da bozulma olmaz?

- A) yanımızı B) bitişimizi C) çevremizi
D) yakınımızı E) yönümüzü

Diğer sayfaya geçiniz.

9. Buzdolabında meyve olarak sadece elma kalmıştı.

Bu cümlede altı çizili sözcüğün yerine aşağıdakilerden hangisi getirilebilir?

- A) yalnız B) bazı C) çokça
D) oldukça E) meğer

10. Ben o tür şakalardan hoşlanmam, dedi.

Bu cümlede altı çizili sözün yerine aşağıdakilerden hangisi getirilebilir?

- A) okumadığım B) yorucu C) sanki
D) öyle E) hatalı

11. Bu kayaların yüzeyi, çöllerdeki kaktüs bitkisini andıran süngerlerle kaplıydı.

Bu cümlede altı çizili sözcüğün anlamı aşağıdakilerden hangisidir?

- A) belirtmek B) benzemek C) yansıtmak
D) anlatmak E) göstermek

12. O günkü toplantıya ünlü yazarlar da katılmıştı.

Altı çizili sözcüğün bu cümleye kattığı anlam aşağıdaki cümlelerin hangisinde vardır?

- A) Uzun yıllar öğrenim görmüş, bilgi ve deneyimini geliştirmişti.
B) Alanında uzmanlaşmış, başarılı olmuştu.
C) Çok çalışkan ve yetenekli bir gençti.
D) Çevresindeki herkes, onun güvenilir bir insan olduğunu söylerdi.
E) Ülkemizde müzik alanında oldukça tanınmış bir isimdi.

13. Her zaman seni düşünüyorum, aklımdan hiç çıkmıyorsun.

Bu cümledeki altı çizili sözün yerine aşağıdakilerden hangisi getirilirse cümlelerin anlamı değişir?

- A) Bazen B) Daima C) Hep
D) Aralıksız E) Sürekli

14. “Doğru” sözcüğü, aşağıdaki cümlelerin hangisinde “Anlatılanların gerçek olduğuna bir türlü inanamadık.” cümlesindeki “gerçek” sözcüğüyle aynı anlamda kullanılmıştır?

- A) Elleri titrediği için çizgiyi doğru çizemedi.
B) Bu gece ancak sabaha doğru uyuyabilmiş.
C) Sorulan soruların hepsini doğru yanıtlamış.
D) Sen açıkladıktan sonra işin doğrusunu anladık, dedi.
E) Şiiri doğru okuyabilmek için çok çalışmış.

15. Seyirci azaldığı için sinemaların çoğu kapandı.

“Kapanmak” sözcüğü aşağıdakilerin hangisinde, bu cümledeki anlamıyla kullanılmıştır?

- A) Dizindeki yara artık kapanmış.
B) Başını yastığa koyar koymaz gözleri kapandı.
C) Haziran ayının sonuna doğru okullar kapanmıştı.
D) Bu olaydan sonra hiç dışarı çıkmadı, evine kapandı.
E) Yazarlar anlaşamayınca dergi kapandı.

Diğer sayfaya geçiniz.

16. Aşağıdaki cümlelerin hangisinde "acı" sözcüğü anlamca yerinde kullanılmamıştır?

- A) Çok acı çektiği o yılları anımsamak istemiyordu.
- B) İlacı, acı, diyerek yutmak istemiyordu.
- C) Babasının acı işlerine bir türlü alışmamıştı.
- D) Çocuk, acı bir çılgılık atarak koşmaya başladı.
- E) Yediği acı biber ağzını yakmıştı.

17.

- I. evin bahçesine
- II. küçük çocuk
- III. girdiğini gördü
- IV. yaşlı bir adamın
- V. pencereden aşağı bakan

Yukarıdaki numaralanmış sözlerin anlamlı ve kuralı bir cümle oluşturan sıralanışı aşağıdakilerden hangisidir?

- A) I., V., IV., II., III.
- B) II., I., V., IV., III.
- C) II., IV., V., I., III.
- D) V., II., IV., I., III.
- E) V., IV., I., II., III.

18.

- I. en doğru bilgileri
- II. biridir
- III. bulabileceğiniz
- IV. Atatürk ile ilgili
- V. güvenilir kaynaklardan
- VI. bu kitap

Yukarıdaki numaralanmış sözlerin anlamlı ve kuralı bir cümle oluşturan sıralanışı aşağıdakilerden hangisidir?

- A) I., III., IV., VI., V., II.
- B) III., V., I., IV., VI., II.
- C) V., IV., I., VI., III., II.
- D) VI., IV., I., III., V., II.
- E) VI., V., III., I., IV., II.

19.

- I. sanatçıların duygu ve düşüncelerini
- II. öğrenebileceğimiz gibi
- III. onlarla yapılan
- IV. yapıtlarını okuyarak
- V. söyleşilerden de öğrenebiliriz

Yukarıdaki numaralanmış sözlerin anlamlı ve kuralı bir cümle oluşturan sıralanışı aşağıdakilerden hangisidir?

- A) I., III., II., IV., V.
- B) I., IV., II., III., V.
- C) III., II., IV., I., V.
- D) IV., II., III., I., V.
- E) IV., III., I., II., V.

20.

- I. Babam biraz sonra gelecek.
- II. Nereye gitti?
- III. ----

Yukarıdaki karşılıklı konuşmada sorulan sorunun yanıtı, aşağıdakilerin hangisi olamaz?

- A) Bilmiyorum.
- B) Söylemedi.
- C) Eve gitti.
- D) Bankadan para çekmeye.
- E) Ne zaman döneceğini bildirmedim.

21. İnternet ortamında haberleşirken görüşmeye kendimizi tanıtarak başlamalıyız.

Bu cümlede altı çizili sözlerin yerine aşağıdakilerin hangisi getirilirse cümlenin anlamı değişmez?

- A) kendimizi tanıtmadan görüşme yapmamalıyız
- B) karşımızdakine cevap verme olanağı tanımalıyız
- C) hattı fazla meşgul etmemeliyiz
- D) tanıdıklarımızla görüşmeliyiz
- E) görüştüklerimizle, sonradan tanışmalıyız

Diğer sayfaya geçiniz.

22. Ahmet'in gözü duvarda asılı duran saza takıldı.

Bu cümlede aşağıdaki sorulardan hangisinin cevabı vardır?

- A) Kim? B) Ne kadar? C) Neye?
D) Ne ile? E) Nereden?

23. Bu yayınevi, geçen yıl, çocuklara okuma alışkanlığı kazandırmak için nitelikli birçok kitap yayımladı.

Bu cümlede aşağıdaki sorulardan hangisinin cevabı yoktur?

- A) Ne? B) Nerede? C) Niçin?
D) Kime? E) Ne zaman?

24. Aşağıdaki cümlelerin hangisinde "niçin" sorusunun cevabı vardır?

- A) Yaşamı boyunca insanları kırmamaya çalışmıştı.
B) Gördüğü yerlerin güzelliği onu çok etkilemişti.
C) Geziye gidenlerin çoğu kamerasını da getirmişti.
D) Müzenin önünde içeri girmek için sıra bekledik.
E) Doktor önce hastanın şikâyetlerini dinledi.

25. Aşağıdaki cümlelerin hangisinde işin her zaman yapıldığı anlamı vardır?

- A) O, sabahları saat dokuzda burada olur.
B) Bu kurum, çalışanlarının katkılarıyla daha da büyüyecektir.
C) Bu işletmede çalışanlar birçok sıkıntıya katlanmıştır.
D) Her şirketin sarsıntı geçirdiği zamanlar olmuştur.
E) Onlar da zaman zaman güç durumda kalmışlardır.

26. Aşağıdaki cümlelerden hangisi biçimce olumlu, anlamca olumsuzdur?

- A) Gece saat on bire on kala otobüs geldi.
B) Bu elbise çok pahalıya mal oldu.
C) Adamın ne paltosu ne şapkası ne de ayakkabıları vardı.
D) Kuzeyden, insanı donduran buz gibi bir rüzgâr esiyordu.
E) O havada bir şeyler yemekten çok, bir yere girip ısınmak istiyordu.

27. Aşağıdaki cümlelerden hangisi anlamca ötekilerden farklıdır?

- A) Herkes onun cesaretine şaşırıp kalırdı.
B) O, herkesi şaşırtacak derecede cesaretliydi.
C) İnsan onun cesareti karşısında şaşkınlığa düşerdi.
D) En şaşırtıcı yanı herkesten cesaretli olmasıydı.
E) Onun bu cesareti karşısında herkes şaşırırdı.

28. Aşağıdaki cümlelerden hangisi, anlamca ötekilerden daha farklıdır?

- A) Bu toplantıda derneğimizin sorunlarını tartışacağız.
B) Bu toplantıda derneğimizin sorunları üzerinde duracağız.
C) Bu toplantıda derneğimizin sorunlarını konuşacağız.
D) Bu toplantıda derneğimizin sorunlarını ele alıp irdedeceğiz.
E) Bu toplantıda derneğimizin sorunlarını içeren bir rapor hazırlayacağız.

Diğer sayfaya geçiniz.

29. (I) Nişasta yönünden zengin olduğu için, patatesi şeker hastası olanların çok tüketmemesi gerekir. (II) Öte yandan patateste yağ oranı yok denecek kadar düşüktür. (III) Örneğin 100 gram patateste 0,1 gram yağ bulunmaktadır. (IV) Patates, lif açısından da zengindir; 150 gram patateste 2,7 gram lif vardır. (V) Haşlanmış ya da fırında pişirilmiş orta boy bir patates yalnızca 100 kalori içermektedir.

Bu parçadaki numaralanmış cümlelerin hangisinde önerinin nedeni de belirtilmiştir?

- A) I. B) II. C) III. D) IV. E) V.

30. (I) Tohumlu bitkilerde çiçekler döllenerek tohumu ve onu saran meyveyi oluşturur. (II) Çam ve benzeri tohumlu bitkilerde, tohumun çevresinde meyve olmadığından bunlara çıplak tohumlu bitkiler denir. (III) Jeolojik devirlerde çıplak tohumlu bitkilerin 10 000 kadar türünün yetiştiği bilinirken bugün ancak 1000 kadar türü kalmıştır. (IV) Çünkü bu tür bitkiler, tohumları meyve denen bir yapıyla korunan bitkilere göre iklimsel değişimlerden daha çok etkilenir.

Bu parçadaki numaralanmış cümlelerin hangilerinde neden belirtilmiştir?

- A) I. ve II. B) I. ve III. C) II. ve III.
D) II. ve IV. E) III. ve IV.

31. (I) Boğaziçi'nin süsü olan Anadoluhisarı'nın bir başka adı da Güzelcehisar'dır. (II) Bugün yazık ki bir anıt müze olarak kaderine terk edilmiş durumda. (III) Burçlarından Boğaziçi'ni, karşıdaki Rumelihisarı'nı seyredebilirsiniz. (IV) Sakın aşağılara inmeyin, çünkü her yanı ot bürümüş. (V) Kesme taşların arası yaban incirlerinin tarlası olmuş ve taşları birleştiren harçlar dökülmeye başlamış.

Bu parçadaki numaralanmış cümlelerin hangisinde bir uyarı vardır?

- A) I. B) II. C) III. D) IV. E) V.

32. **Aşağıdaki cümlelerin hangisinde "yakınma" anlamı vardır?**

- A) Eskiden olduğu gibi sık sık ava gitmiyorum.
B) Bu tür konular artık ilgimi çekmiyor.
C) Ne yazık ki dinlenmeye yeterli zaman ayıramıyorum.
D) Sizin gibi bağ bahçe işlerinden zevk almıyorum.
E) Böyle başıboş dolaşmak beni hiç sıkıyor.

33. **Aşağıdaki cümlelerin hangisinde "tahmin" söz konusudur?**

- A) Sigara dumanı, 4000 tür kimyasal madde içermektedir.
B) 2030 yılında sigaranın yılda 10 milyon insanın ölümüne yol açacağı sanılmaktadır.
C) Sigara içen annelerin bebeklerinde, içmeyen annelere göre solunum sistemi hastalıkları daha sık görülmektedir.
D) Sigara, başta akciğerler ve kalp olmak üzere, birçok organa zarar vermektedir.
E) Gelişmiş ülkelerde sigara içenlerin oranı her geçen gün azalırken gelişmekte olan ülkelerde bu oran artmaktadır.

34. **Aşağıdaki cümlelerin hangisinde "daha da artırır" anlamı vardır?**

- A) A vitamini eksikliği bağışıklık sisteminin zayıflamasını hızlandırır.
B) B2 vitamini eksikliği sindirim zorluğuna yol açar.
C) C vitamini eksikliği dişeti iltihabına ortam hazırlar.
D) B1 vitamini eksikliği büyümeyi yavaşlatır.
E) Kalsiyum eksikliği kemik erimesine neden olur.

Diğer sayfaya geçiniz.

35. (I) Rumelifeneri, Boğaz'ın Avrupa yakasının Karadeniz'le birleştiği noktada yer alır. (II) Burası, İstanbulluların hem doğa hem de tarihle buluştuğu yerlerden biridir. (III) Yaz-kış gelen misafirlerini ağırlayan Rumelifeneri'nde Cenevizlilerden kalan kale mutlaka görülmeli. (IV) Bunun yanı sıra taze balığın da tadına bakılmalı. (V) Rumelifeneri'ne hafta içinde gidenler yalnızlığın tadını çıkarıyor, hafta sonu gidenlerse civil civil bir ortamda buluyor kendisini.

Bu parçadaki numaralanmış cümlelerin hangisinde zamana göre değişen bir durumdan söz edilmektedir?

- A) I. B) II. C) III. D) IV. E) V.

36. Karadeniz'in güzelliği dillere destan. Adı konmamış () tanımlanamayan bu güzelliğe bir de Karadeniz insanının sevecenliği () içtenliği ekleniyor mu ()

Bu cümlede ayraçlarla () belirtilen yerlere aşağıdakilerin hangisinde verilen noktalama işaretleri sırasıyla getirilmelidir?

- A) (,) (;) (.) B) (;) (...) (.) C) (,) (,) (...)
D) (,) (,) (;) E) (;) (;) (...)

37. Tepelere doğru uzanan yokuşların (I) dik merdivenlerin bulunduğu (II) bu kent (III) bende hep hüzün uyandırır. Oralardaki eski (IV) karma mimarinin en seçkin örnekleri (V) yıkılacakları günü bekliyordu sanki.

Bu parçadaki numaralanmış yerlerden hangisine virgül (,) getirilmesine gerek yoktur?

- A) I. B) II. C) III. D) IV. E) V.

38. Aşağıdaki cümlelerin hangisinde bir yazım yanlışı vardır?

- A) Kapıyı açtı, mutfaka doğru yürüdü.
B) Grip olmuştu, durmadan öksürüyordu.
C) Sabahtan beri ağzına bir lokma yemek koymamıştı.
D) Çocuklar kapının anahtarını kaybetmişlerdi.
E) Kâğıtları nereye koyduğunu anımsamıyordu.

39. Aşağıdaki cümlelerin hangisindeki altı çizili sözcüğün yazımı yanlıştır?

- A) Çok çalışıp patronun gözüne girmeyi başarmış.
B) Onun ayağına kadar gitmek zorunda kalmış.
C) Ticarete atıldı, boyunun ölçüsünü aldı.
D) Hiçbir şeyi beğenmiyor, her şeye burun kıvırıyordu.
E) Babasının yanında ağızını bıçak açmadı.

40. (I) Bu (II) bölge (III) su altı dünyası (IV) tutkunlarının (V) ilgisini çekiyor.

Bu cümlede numaralanmış yerlerden hangisine "en çok" sözü getirilebilir?

- A) I. ya da II. B) I. ya da III. C) II. ya da IV.
D) II. ya da V. E) III. ya da IV.

41. Genç adamın (I) en zor şartlarda (II) çevresine cesaret ve iyimserlik (III) veren (IV) şakacı bir yanı (V) vardı.

Bu cümledeki numaralanmış yerlerden hangisine "bile" sözcüğü getirilemez?

- A) I. B) II. C) III. D) IV. E) V.

42. Aşağıdakilerden hangisi cevap gerektirmeyen bir soru cümlesidir?

- A) Size ne zaman geleceklerini bildirdiler mi?
B) Bir anne çocuklarına hiç böyle yapar mı?
C) Bugün hangi konu üzerinde duracaksınız?
D) O mektubu bana niçin yazmış?
E) Evini geçindirebilmek için çok mu çalışıyor?

Diğer sayfaya geçiniz.

43. Aşağıdakilerin hangisinde, birlikte verilen cümleler anlamca birbirini **tamamlamamaktadır**?

- A) Kardeşim ara sıra şiir yazar. Kardeşimin bazı şiirleri çocuk dergilerinde yayımlandı.
- B) Kızım bu yıl ortaöğrenimini tamamlayacak. Kızım gelecek yıl üniversite öğrencisi olabilir.
- C) Okullarda yaz tatili yarın başlıyor. Öğrenciler yazın okula gitmeyecek.
- D) Çalıştığı şirket İzmir’de bir şube açmış. İzmir’deki şubede geçici olarak görevlendirilmiş.
- E) Yarından itibaren hava ısınacakmış. Bundan sonra hava durumunu bir başka spiker sunacakmış.

44. Aşağıdakilerin hangisinde, birlikte verilen cümleler anlamca birbirini **tamamlamamaktadır**?

- A) Çok yorulmuştu. Valizini güçlükle taşıyordu.
- B) Adam tek başına yaşıyordu. Yine de yalnızlıktan yakınmıyordu.
- C) Toplantıya komşuların çoğu gelmişti. Bize yardım edeceğini söyledi.
- D) Yaşlı kadın bana uzun uzun baktı. Herhalde beni bir tanıdığına benzetti.
- E) Odada ağır bir koku vardı. Hemen pencereyi açtı.

45. Daha çok film eleştirmenliğiyle tanınıyorsunuz ama öteki alanlarda da ülkemizin önde gelen adlardan birisiniz.

Bu cümledeki anlatım bozukluğunu gidermek için aşağıdaki değişikliklerden hangisi yapılmalıdır?

- A) “adlardan” sözcüğü “adlarından” biçiminde yazılmalı
- B) “daha çok”tan sonra “siz” sözcüğü getirilmeli
- C) “öteki” yerine “başka” sözcüğü getirilmeli
- D) “önde” yerine “ilk” sözcüğü getirilmeli
- E) “daha çok” sözcüğü atılmalı

46. Yazarın hem gazetenin birinde röportajları yayımlanıyor hem de bir başka gazetede sekreterlik yapıyordu.

Bu cümledeki anlatım bozukluğunu gidermek için aşağıdaki değişikliklerden hangisi yapılmalıdır?

- A) “hem” ve “hem de” sözcükleri çıkarılmalı
- B) “bir başka gazetede” sözü atılmalı
- C) “gazetenin birinde” sözü çıkarılmalı
- D) “yapıyordu” yerine “yaptığı biliniyordu” sözü getirilmeli
- E) “yayımlanıyor” yerine “yayımlanırken” sözcüğü getirilmeli

47. Araştırmacılar gelecekte, Dünya’nın sıcaklığının, buzdağlarının eriyeceğini, sahillerin ve ada ülkelerinin sular altında kalacağını söylüyor.

Bu cümledeki anlatım bozukluğu aşağıdakilerden hangisiyle giderilebilir?

- A) “ve” yerine virgül getirilerek
- B) “eriyeceğini” sözcüğü çıkarılarak
- C) “sıcaklığının” yerine “sıcaklığı artacağı için” sözü getirilerek
- D) “söylüyor” yerine “belirtiyor” sözcüğü getirilerek
- E) “Dünya’nın sıcaklığının” yerine “küresel ısınmanın” sözü getirilerek

48. Aşağıdaki cümlelerde altı çizili sözcüklerden hangisi anlamca yerinde **kullanılmamıştır**?

- A) Çocuk bütün oyuncaklarını halının üstüne sıraladı.
- B) Çocuk, oturan arabalara bakıyordu.
- C) Çocuk, annesinin elinden tutmuş, dönüp dönüp bize bakıyordu.
- D) Çocuk, masadaki elmalardan birini almış, yemeye başlamıştı.
- E) Çocuk, dans eden çocukların arasına girdi, onlar gibi oynamaya başladı.

Diğer sayfaya geçiniz.

49. Aşağıdaki cümlelerde altı çizili sözlere anlamca yerinde kullanılmamıştır?

- A) Otobüsten inerken düşüp ayak bileğini incitmiş.
- B) Öğleden sonra birlikte çarşıya gidelim mi?
- C) Sınıftaki öğrencilerden biri beni tanımişti.
- D) Okuduklarından fazlasıyla etkilendiği belli oluyor.
- E) Üzerinde açık mavi bir gömlek ütülü müydü?

50. Aşağıdaki cümlelerin hangisinde bir anlatım bozukluğu vardır?

- A) Müzik dünyasında özgün yapıtlarıyla kısa sürede tanındı.
- B) Gazetecilerle, sanat yaşamı üzerine uzun uzun konuştu.
- C) Bu yapıt, gerçeküstü öykülerden oluşmuştu.
- D) Çalışmalarına hız vererek gelecek ile ilgili kararlarında güçlendi.
- E) Yapıtlarını, herkesin zevkle okuduğu bir sanatçıydı.

51. Aşağıdaki cümlelerin hangisinde gereksiz kullanılan bir sözcük anlatım bozukluğuna neden olmuştur?

- A) Trafik polisi, yanlış hata yapan sürücüyü uyardı.
- B) Trafik polisi, yanlış şeride giren arabanın sürücüsüne ceza yazacağını söyledi.
- C) Trafik polisi, yanlış yere park etmek isteyen sürücüyü engelledi.
- D) Trafik polisi, sürücülerden birine, davranışlarının yanlış olduğunu söyledi.
- E) Trafik polisi, yanlış yapan sürücüyü uyarma gereği duydu.

52. – 53. SORULARI AŞAĞIDAKİ PARÇAYA GÖRE CEVAPLAYINIZ.

Wolfgang Amadeus Mozart 27 Ocak 1756'da dünyaya geldiğinde, babası Salzburg sarayında orkestra yönetmen yardımcısıydı; aynı zamanda kemancı ve besteci idi. Henüz üç yaşına bile gelmeden Wolfgang'ın seslere karşı aşırı duyarlı olduğu anlaşılmıştı. Babasının yaptığı bestelerin en dikkatli dinleyicisiydi. Okuma yazmayı öğrenmeden notaları ayırt etmeyi öğrenmişti. Beş yaşındayken piyano için küçük bir parça besteledi. Bu ilk bestesi kompozisyon kuralları yönünden kusursuzdu.

52. Bu parçada Mozart'la ilgili olarak ne anlatılıyor?

- A) Müzik eğitimini nerede tamamladığı
- B) Müziğe nasıl başladığı
- C) Kimlerin takdirini kazandığı
- D) Hangi yapıtının daha çok tanındığı
- E) Müziğe kimlerin etkisiyle yöneldiği

53. Bu parçada Mozart'la ilgili olarak aşağıdakilerin hangisine değnilmemiştir?

- A) İlk bestesini ne zaman yaptığına
- B) Babasının görevine
- C) Nerede dünyaya geldiğine
- D) İlk yapıtını hangi müzik aleti için yazdığına
- E) İlk bestesinin niteliğine

Diğer sayfaya geçiniz.

54. Astım denilen hastalığın en sık görülen belirtisi, nefes darlığıdır. Daha çok sabaha karşı gelen, kişiyi uykusundan uyandıran nefes darlığı, astımın en tipik belirtisidir. Astımlı hastalarda dışarıdan da işitilebilen, ısığa benzeyen, hırıltılı bir solunum; kuru, kolay kolay geçmeyen bir öksürük görülür.

Bu parçada astım hatalığıyla ilgili olarak vurgulanmak istenen aşağıdakilerden hangisidir?

- A) Sık görülen bir hastalık olduğu
- B) Kimlerde sık görüldüğü
- C) Nefes darlığına yol açtığı
- D) Belirgin özelliklerinin neler olduğu
- E) Uyku düzenini bozduğu

55. Ben dünyanın neresinde yaşıyorsam, oraya, oranın insanına, tarihine, doğasına bakmadan ve orayı yazmadan yapamam. Bana göre, her şey yazılmak için vardır. Bu, kimi zaman yalnız doğadır, tarihtir, kimi zaman yalnız insan yaşamıdır. Bunu yaparken de kendimi zorlamam, ilgi alanım beni neye sürüklerse o yöne giderim.

Yazarın bu parçada anlatmak istediği aşağıdakilerden hangisidir?

- A) Çevreyi ve çevredeki her şeyi ayrıntılarıyla incelediği
- B) Değişik ülkeler hakkında geniş bilgisi olduğu
- C) Tanık olduğu her olaydan etkilendiği
- D) İçinde bulunduğu durumun yaratıcılığını etkilediği
- E) Çevreyi ve çevresindeki insanları yapıtlarında anlattığı

56. Elmada tannik asit vardır. Elmanın kesik yüzeyi havayla temas edince tannik asit havadaki oksijenle tepkimeye girer. Bu da kahverengimsi polifenollerin oluşmasına neden olur. Elmanın kararması, kesik yüzeye limon suyu sürülerek engellenebilir. Limon suyunda sitrik asit vardır. Tannik asidin üzerine sürülen bu asit, oksitlenmeyi önler.

Aşağıdakilerden hangisi bu parçadan çıkarılmaz?

- A) Tannik asit bakımından en zengin meyve elmadır.
- B) Havadaki oksijen, elmada bulunan tannik asitle tepkimeye girebilir.
- C) Elmanın kesilmiş yüzeyindeki kahverengi oluşumlar, polifenollerdir.
- D) Elmanın kesik yüzeyine limon suyu sürülürse kesik yüzey kararmaz.
- E) Limon suyundaki sitrik asit elmadaki tannik asitle tepkimeye girmez.

57. İnsanlardaki apandisit karşılığında, hayvanlarda "çekum" vardır. Çekum, ince ve kalın bağırsağın birleştiği noktadır. Etobur memelilerin çekumu küçük, otobur memelilerinki ise büyüktür. Çekumun görevi, karbonhidratları mayalayarak yağ asitlerine dönüştürmektir. Çekumun bir başka görevi de sindirim sistemindeki sıvıları emmektir.

Bu parçada, "çekum"la ilgili olarak aşağıdaki bilgilerden hangisi yoktur?

- A) İnsandaki karşılığının hangi organ olduğu
- B) İşlevini yerine getirmemesinin ne gibi rahatsızlıklara yol açtığı
- C) Büyüklük ve küçüklüğünün neye göre değiştiği
- D) Vücuttaki konumunun neresi olduğu
- E) Vücuttaki görevlerinin neler olduğu

Diğer sayfaya geçiniz.

58. 27 Mart 1964'te, Üçüncü Dünya Tiyatro Günü'nde açıldı. Nazım Kurşunlu'nun "Merdiven" adlı oyunuyla hizmete giren tiyatro, Ankara'nın Altındağ semtindeydi. Böylece kent merkezindeki tiyatrolara gidemeyen semt halkının ayağına tiyatro getirilmiş oldu. Tiyatro yönetiminin amacı da buydu.

Bu parçada, sözü edilen tiyatroyla ilgili olarak aşağıdaki bilgilerden hangisi yoktur?

- A) Kentin neresinde olduğu
- B) Hangi tarihte açıldığı
- C) Bugün de varlığını sürdürüp sürdürmediği
- D) İlk oynanan oyunu kimin yazdığı
- E) Açılmasında hangi amacın gözetildiği

59. Uzun uzun yazıyorum. Durup yazdıklarımı okuduğumda düşüncelerim değişiyor. Bulanık cümleye gerek yok, şu paragraf aslında şu cümlenin açılımı, ona da gerek yok, gibi yorumlar yaparken buluyorum kendimi. Yazdıklarımı okurken öncelikle fazlalıklara dikkat ediyorum. Attıklarımın artı kalanlar yeter bana. Yeter ki gerekli olanlar kalsın.

Böyle konuşan yazarla ilgili olarak aşağıdakilerden hangisi söylenemez?

- A) Düşünceleri ayrıntılı olarak anlatırken tekrara düştüğü
- B) Yazdıklarını düzeltme çabası içinde olduğu
- C) Ayrımına varmadan yaptığı yinelemeleri yazılarından çıkardığı
- D) Bir konuyu yalın ve öz biçimde anlatmaya çalıştığı
- E) Değerli yapıtlar ortaya koyduğunu sandığı

60. Latince ismi Citrullus Vulgaris olan karpuz, kabakgillerdendir. Anayurdu Afrika'nın tropikal bölgeleridir. Mısır'daki antik kalıntılardaki duvar resimlerinde karpuz figürleri vardır. Karpuz Mısır'dan ticaret yoluyla Akdeniz ülkelerine yayılmıştır. Bugün dünyada 500'e yakın çeşidi yetiştirilmektedir. Karpuzlar, çekirdeklerinin ve kabuklarının biçimine, rengine göre farklılık gösterir. Karpuz mayıs ve eylül aylarında da bulunmakla beraber en çok temmuz ve ağustos aylarında bulunur.

Bu parçada karpuzla ilgili olarak aşağıdakilerden hangisine değnilmemiştir?

- A) Hangi mevsimlerde bolca bulunduğu
- B) Yaklaşık kaç çeşidinin olduğuna
- C) İlk olarak nerede yetiştiğine
- D) İnsan vücudu için yararlarına
- E) Nasıl yayıldığına

TÜRKÇE TESTİ BİTTİ.

GENEL BAŞARI TESTİ

(TÜRKÇE)

Bu testte sırasıyla matematik, edebiyat, tarih, coğrafya, sosyoloji, psikoloji ve temel yurttaşlık bilgileri ile ilgili sorular bulunmaktadır.

Bu testin Almanca çevirisi 58. sayfadan, Fransızca çevirisi 71. sayfadan, İngilizce çevirisi de 84. sayfadan başlamaktadır.

1.

$$\frac{2}{3} + \frac{22}{33} + \frac{222}{333}$$

işleminin sonucu kaçtır?

- A) 1 B) 2 C) 3 D) $\frac{3}{2}$ E) $\frac{4}{3}$

2.

$$\left(\frac{4}{9}\right)^4 \cdot \left(\frac{27}{8}\right)^3$$

işleminin sonucu kaçtır?

- A) 1 B) 2 C) $\frac{4}{9}$ D) $\frac{2}{3}$ E) $\frac{3}{2}$

3.

$$x^3 + 12^3 = y^3 + 9^3 = 1729$$

olduğuna göre, $x + y$ toplamı kaçtır?

- A) 11 B) 10 C) 9 D) 8 E) 7

4.

$$\begin{array}{r} K L M \\ - P R S \\ \hline \end{array}$$

Yukarıdaki çıkarma işleminde KLM, PRS üç basamaklı iki doğal sayıyı ve her harf farklı bir rakamı göstermektedir.

Bu çıkarma işleminin sonucu **en çok kaç** olabilir?

- A) 855 B) 864 C) 876 D) 885 E) 888

5. $3x + 3$ ve $5x - 1$ iki basamaklı ardışık çift sayılar olduğuna göre, x kaçtır?

- A) 2 B) 3 C) 4 D) 5 E) 6

6. İki basamaklı KL sayısı M'ye bölündüğünde bölüm 17, kalan $M - 3$ 'tür.

Buna göre, $KL + 3$ sayısı 18'e bölündüğünde bölüm aşağıdakilerden hangisidir?

- A) 6 B) 8 C) K D) L E) M

Diğer sayfaya geçiniz.

7.

$$s(A - B) = s(B - A)$$

$$s(A \cap B) = 2$$

$$s(A \cup B) = 12$$

olduđuna göre, A kümesinin eleman sayısı kaçtır?

- A) 9 B) 8 C) 7 D) 6 E) 4

8.

$$|x - 3| < 2$$

eşitsizliğini sağlayan x tam sayılarının toplamı kaçtır?

- A) 5 B) 6 C) 7 D) 8 E) 9

9. Her ay maaşının % 5'ini biriktiren bir memur, iki yılın sonunda 504 TL biriktirmiştir.

Bu memurun maaşına yalnızca ikinci yıl başında % 10 zam yapıldığına göre, birinci yıldaki maaşı kaç TL'dir?

- A) 400 B) 440
C) 480 D) 500
E) 580

10. Belirli bir yılın başında sermayesi x olan bir işletmenin yıl sonundaki sermayesi 3x olduğuna göre, sermayedeki bir yıllık artış oranı % kaçtır?

- A) 75 B) 100 C) 125 D) 150 E) 200

11. Aşağıdaki tabloda, bir ailenin bir aylık harcamaları gösterilmiştir.

Aylık Harcamalar (TL)

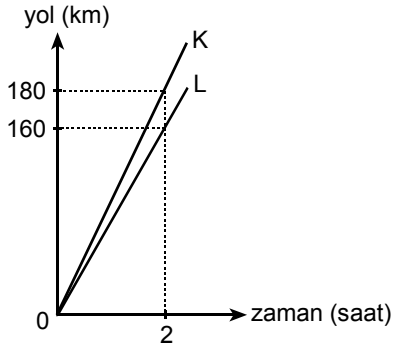
Mutfak	Yakıt	Kira	Diğer
180	50	x	40

Bu ailenin bir aylık yakıt harcaması, tüm harcamaların % $\frac{100}{9}$ u olduğuna göre, x kaçtır?

- A) 200 B) 190 C) 180 D) 170 E) 160

Diğer sayfaya geçiniz.

12.

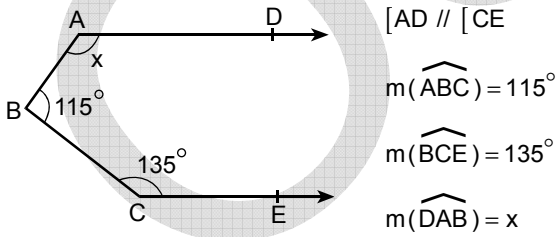


Yukarıdaki grafik, K ve L araçlarının zamana göre aldıkları yolu göstermektedir.

Araçların aynı anda, aynı yerden ve aynı yönde harekete başlamalarından kaç saat sonra, aralarındaki uzaklık 36 km olur?

- A) $\frac{13}{5}$ B) $\frac{14}{5}$ C) $\frac{16}{5}$
 D) $\frac{17}{5}$ E) $\frac{18}{5}$

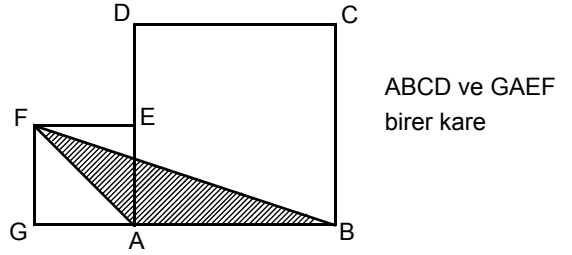
13.



Yukarıdaki verilere göre, x kaç derecedir?

- A) 105 B) 110 C) 115 D) 120 E) 125

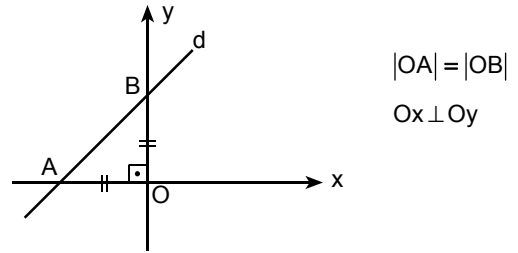
14.



Yukarıdaki şekilde $|AE| = |ED|$ olduğuna göre, ABCD karesinin alanı, FAB üçgeninin alanının kaç katıdır?

- A) 7 B) 6 C) 5 D) 4 E) 3

15.



OAB ikizkenar üçgeninin alanı 8 cm^2 olduğuna göre, d doğrusunun denklemi aşağıdakilerden hangisidir?

- A) $y = -x + 4$ B) $y = x - 4$ C) $y = x + 4$
 D) $y = -x - 2$ E) $y = x + 2$

Diğer sayfaya geçiniz.

16. Kùltür ve uygarlık tarihimizin ana yapıtlarından biridir. Türkçenin ilk sözlüğü olan yapıt, Araplara Türkçeyi öğretmek amacıyla yazılmıştır.

Söz konusu yapıt ve yazarı aşağıdakilerin hangisinde birlikte verilmiştir?

- A) Divanü Lûgât-it Türk – Kaşgarlı Mahmut
- B) Divan-ı Hikmet – Ahmet Yesevi
- C) Kutadgu Bilig – Yusuf Has Hacip
- D) Muhakemetü'l Lûgateyn – Ali Şir Nevai
- E) Atabetü'l Hakayık – Edip Ahmet

17. Türk edebiyatında ilk psikolojik roman sayılan yapıt ve yazarı aşağıdakilerin hangisinde birlikte verilmiştir?

- A) Huzur – Ahmet Hamdi Tanpınar
- B) Yaban – Yakup Kadri Karaosmanoğlu
- C) İntibah – Namık Kemal
- D) Eylül – Mehmet Rauf
- E) Sergüzeşt – Sami Paşazade Sezai

18. Aşağıdakilerden hangisi gerçekçilik akımının ileri bir aşaması sayılan natüralizmin kurucularındandır?

- A) Madam de La Fayette
- B) Émile Zola
- C) Gustave Flaubert
- D) La Bruyère
- E) Sainte-Beuve

19. Aşağıdaki yapıtlardan hangisi birlikte verildiği yazara ait değildir?

- A) Vadideki Zambak – Balzac
- B) Kırmızı ve Siyah – Stendhal
- C) Sefiller – Victor Hugo
- D) Denemeler – Montaigne
- E) Cimri – Pierre Corneille

20. Aşağıdakilerden hangisi, Anadolu'da kurulan uygarlıklardan biri değildir?

- A) Urartu
- B) Lidya
- C) Frig
- D) Hitit
- E) Sümer

21. Aşağıdaki yıllardan hangisi XX. yüzyılın ilk çeyreği içindedir?

- A) 1923
- B) 1951
- C) 1955
- D) 1975
- E) 1995

22.

- I. Leonardo Da Vinci
- II. Salvador Dali
- III. Buonarroti Michelangelo

Yukarıdakilerden hangileri Rönesans Dönemi sanatçıları arasındadır?

- A) Yalnız I
- B) Yalnız III
- C) I ve II
- D) I ve III
- E) I, II ve III

23. Avrupa'da matbaa kaçınıcı yüzyılda bulunmuştur?

- A) XIII.
- B) XIV.
- C) XV.
- D) XVI.
- E) XVII.

Diğer sayfaya geçiniz.

24.

- I. Rönesans Hareketleri
- II. Reform Hareketleri
- III. Haçlı Seferleri

Yukarıdakilerin hangilerinde "Doğunun zenginliklerini elde etme" amacı vardır?

- A) Yalnız I B) Yalnız III C) I ve II
D) II ve III E) I, II ve III

25. Orta Çağ'da insan hak ve özgürlüklerinin giderek daha çok sınırlandırılması aşağıdakilerden hangisine yol açmıştır?

- A) Egemenlik anlayışının ortaya çıkmasına
B) Devletlerin bloklaşmasına
C) Dünyada ticaretin önem kazanmasına
D) Farklı yönetim biçimlerinin uygulanmasına
E) Bilimsel çalışmaların duraklamasına

26. Osmanlı İmparatorluğu'nun nüfusu XVI. yüzyılın başlarında 11 milyon civarındayken, aynı yüzyılın sonlarında sınırların genişlemesiyle birlikte, nüfusu da 16 milyonu geçmiştir.

Bu duruma göre Osmanlı İmparatorluğu'nda,

- I. Sınırlar değişmiştir.
- II. Kültürel yapı farklılaşmıştır.
- III. Giderler azalmıştır.

yargılarından hangilerine ulaşılabilir?

- A) Yalnız I B) Yalnız III C) I ve II
D) I ve III E) I, II ve III

27. Osmanlı İmparatorluğu, anayasal düzene kaçınıcı yüzyılda geçmiştir?

- A) XVI. B) XVII. C) XVIII. D) XIX. E) XX.

28. Aşağıdakilerden hangisi I. Dünya Savaşı'nda kullanılmamıştır?

- A) Atom bombası B) Tank
C) Uçak D) Denizaltı
E) Zehirli gazlar

29. Kurtuluş Savaşı Döneminde, egemenliğin ulusa ait olması gereği ilk kez aşağıdakilerden hangisinde belirtilmiştir?

- A) Sivas Kongresi kararları
B) Misakımillî ilkeleri
C) 1921 Anayasası
D) Erzurum Kongresi kararları
E) Amasya Genelgesi

30. Aşağıdakilerden hangisi, Kurtuluş Savaşı'nda Yunanlılarla yapılan muharebelerden biri değildir?

- A) I. İnönü B) Derne
C) Sakarya D) Başkomutanlık
E) Eskişehir-Kütahya

Diğer sayfaya geçiniz.

31. Atatürk, Türk milletini "Türkiye Cumhuriyeti'ni kuran Türkiye halkına Türk milleti denir." şeklinde tanımlamıştır.

Aşağıdakilerden hangisi bu tanımla bağdaşmaz?

- A) Birlik ve beraberlik ülküsü
- B) İnkılapçılık ve hümanizma
- C) Ulus egemenliği
- D) Dil ve tarih bilinci
- E) Irk ve din ayrımcılığı

32. Lozan Antlaşması'nda,

- I. azınlık hakları,
- II. Ermenistan sınırı,
- III. Boğazların yönetimi

konularından hangileriyle ilgili hüküm vardır?

- A) Yalnız I
- B) Yalnız II
- C) Yalnız III
- D) I ve III
- E) I, II ve III

33. Atatürk ilkelerinden hangisi, ekonomik yapının düzenlenmesiyle ilgilidir?

- A) İnkılapçılık
- B) Cumhuriyetçilik
- C) Devletçilik
- D) Halkçılık
- E) Milliyetçilik

34.

- I. Medreselerin kapatılması
- II. Fes ve kalpak giyilmesini yasaklayan Şapka Giyilmesi Hakkında Kanun'un çıkarılması
- III. Medeni Kanun'un kabul edilmesi

Yukarıdaki inkılapların hangilerinin çağdaşlaşma amacıyla gerçekleştirildiği savunulabilir?

- A) Yalnız I
- B) Yalnız II
- C) Yalnız III
- D) I ve II
- E) I, II ve III

35.

- I. Tekke ve türbelerin kapatılması
- II. Öğretim Birliği Kanunu'nun çıkarılması
- III. Soyadı Kanunu'nun çıkarılması

Yukarıdakilerden hangilerinin Türk toplumunda düşünce birliğinin sağlanmasına yönelik olduğu savunulabilir?

- A) Yalnız I
- B) Yalnız II
- C) I ve II
- D) II ve III
- E) I, II ve III

36.

- I. NATO
- II. Avrupa Ekonomik Topluluğu
- III. Milletler Cemiyeti

Yukarıdakilerden hangileri II. Dünya Savaşı'ndan sonra kurulmuştur?

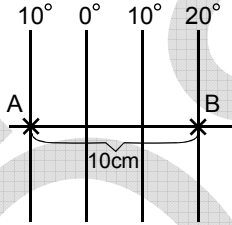
- A) Yalnız I
- B) Yalnız II
- C) Yalnız III
- D) I ve II
- E) II ve III

Diğer sayfaya geçiniz.

37. Aşağıdakilerden hangisinin her çeşit haritada bulunması zorunludur?

- A) Ölçek
- B) Eşderinlik eğrileri
- C) Bitki örtülerini belirten renkler
- D) Yön oku
- E) İl sınırlarını belirten çizgiler

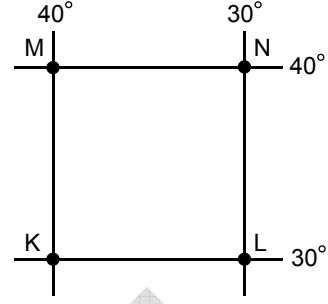
38. Ölçeği bilinmeyen bir haritada, Ekvator üzerinde, 10° Batı meridyenindeki A noktası ile 20° Doğu meridyenindeki B noktası arası 10 cm dir.



Buna göre, haritanın ölçeği aşağıdakilerden hangisidir?

- A) 1/11 100 000
- B) 1/22 200 000
- C) 1/33 300 000
- D) 1/44 400 000
- E) 1/55 500 000

39.



Yukarıda enlem ve boylam dereceleri verilen K, L, M ve N noktaları için aşağıdakilerden hangisi kesinlikle yanlıştır?

- A) Güneş ışınları dört noktaya da hiçbir zaman dik gelmez.
- B) Dört nokta da başlangıç meridyeninin batısındadır.
- C) K ve L noktaları arasında yerel saat farkı 40 dakikadır.
- D) K ve L arasındaki uzaklık M ve N arasındakine eşittir.
- E) K ve M arasındaki uzaklık L ve N arasındakine eşittir.

40.

- I. Güney Afrika Cumhuriyeti
- II. Libya
- III. İsveç
- IV. Türkmenistan

Yukarıdaki ülkelerden, aralık ayında gündüz uzunluğu en fazla olanı ile gece uzunluğu en fazla olanı aşağıdakilerin hangisinde birlikte verilmiştir?

	Gündüz	Gece
A)	I	III
B)	I	II
C)	II	I
D)	III	IV
E)	IV	III

Diğer sayfaya geçiniz.

41. Aşağıdaki boğazlardan hangisi Afrika Kıtası'nı Avrupa Kıtası'ndan ayırmaktadır?

- A) İstanbul B) Cebelitarık
C) Bering D) Kerç
E) Çanakkale

42. Aşağıdaki göllerden hangisinin yüzeyi deniz seviyesinden aşağıdadır?

- A) Baykal B) Aral C) Balkaş
D) Cenevre E) Lut

43. Aşağıdaki ülkelerden hangisinin kıyıları diğerlerinden daha girintili çıkıntılıdır?

- A) Fransa B) Portekiz
C) Kanada D) Norveç
E) Danimarka

44. Aşağıdaki dağ sıralarından hangisi diğerlerinden farklı yarımkürede yer alır?

- A) Alp Dağları B) Altay Dağları
C) Kafkas Dağları D) And Dağları
E) Himalaya Dağları

45. Aşağıdaki yarımadaların hangisinde,

- karasal
- Akdeniz
- ılıman okyanus

iklimlerinin tümü görülür?

- A) İtalya B) Balkan C) Sina
D) Dekkan E) İber

46. Aşağıdaki ülkelerin coğrafi koşulları göz önüne alındığında, hangisinde tarım ürünlerinin diğerlerinden daha çeşitli olması beklenir?

- A) Gürcistan B) Türkiye C) Finlandiya
D) Libya E) Polonya

47. Dünya pirinç üretiminde en fazla paya sahip ülke aşağıdakilerden hangisidir?

- A) Japonya B) Çin
C) Hindistan D) Tayland
E) Vietnam

Diğer sayfaya geçiniz.

48. Afrika ve Asya kıtalarındaki az gelişmiş ülkelerde, nüfusun büyük çoğunluğunun tarım sektöründe çalışmasına karşın tarımsal verim düşüktür.

Aşağıdakilerden hangisi bu durumun bir nedenidir?

- A) Tarıma ayrılan toprakların farklı türlerde olması
- B) Endüstriyel tarım ürünü çeşidinin az olması
- C) Tarım sektörüne yapılan yatırımların sınırlı olması
- D) Nüfus yoğunluğunun fazla olması
- E) Ülkelerin yıllık yağış miktarı arasında fark olması

49. Aşağıdaki ülkelerden hangisi, dışarıdan diğerlerinden **daha fazla** göç almaktadır?

- A) Kanada
- B) Hindistan
- C) Bulgaristan
- D) Kazakistan
- E) Şili

50. Aşağıdaki kıtalardan hangisinin nüfusunun dünya nüfusu içindeki payı **en büyüktür**?

- A) Afrika
- B) Asya
- C) Avrupa
- D) Kuzey Amerika
- E) Güney Amerika

51. Aşağıdaki ülkelerin hangisinin ekonomisinde kayak ve dağ turizmi önemli bir yer tutar?

- A) Portekiz
- B) Libya
- C) Avustralya
- D) Suriye
- E) İsviçre

52. Aşağıdakilerden hangisi ekonomi bilimini **doğrudan** ilgilendiren bir konu **değildir**?

- A) Arz-talep ilişkisi
- B) Enflasyonun yükselmesi
- C) Gelir dağılımındaki adaletsizlik
- D) Fiyatların belirlenmesi
- E) Üretim araçlarının verimliliği

53. Eğitim kurumları üzerinde araştırma yapan sosyolog ekip çalışmasını yeğler. Ekibinde psikolog, pedagog, ekonomist, hukukçu vb. bulundurur; onların bulgularından yararlanır.

Sosyoloğun böyle bir yaklaşımı benimsemesinde temel etken aşağıdakilerden hangisidir?

- A) Sosyal konuların karmaşıklığı
- B) Düzen sağlanması için uzlaşma arayışı
- C) Eğitim kurumlarında farklı alanlardan öğretmenlerin çalışması
- D) Sosyal bilimcilerin kendilerine olan güvensizliği
- E) Sosyal bilimlerin öznel oluşu

54. Günümüzde Avustralya yerlilerinin çağdaş teknolojiyle ilişki kurup değişmeye başladıkları gözlenmektedir.

Sosyolojinin bu değişmeyi açıklayabilmesi için aşağıdaki bilim dallarından özellikle hangisinin bulgularından yararlanması gerekir?

- A) Tarih
- B) Kültürel antropoloji
- C) Klinik psikoloji
- D) Ekonomi
- E) Fiziki coğrafya

Diğer sayfaya geçiniz.

55. Demiryolları ya da karayollarının yapılması devletin ulaşım politikasıyla ilgilidir. Bu yolların yerleşim birimlerinde yapacağı değişmelerin incelenmesi ise sosyolojinin alanına girer.

Bu parçaya göre, yolların hangi yönden araştırılması sosyolojinin kapsamına girmektedir?

- A) Maliyetinin ne kadar olacağı
- B) Kaç kilometre olacağı
- C) Yapılma koşulları
- D) İnsanların yaşayışı üzerindeki etkisi
- E) Coğrafi yapıyla ilişkisi

56. Aşağıdakilerden hangisi hukuk normlarının bir özelliği değildir?

- A) Sistematik olma
- B) Gücünü devletten alma
- C) Akla uygun (rasyonel) olma
- D) Yaptırıcılığını belirli kurumlar aracılığıyla sağlama
- E) Bölgelere göre değişme

57. Hem anne hem öğretmen olan bir kişinin, hasta çocuğunu evde bırakıp okula gitmesi durumunda yaşadığı gerilim, aşağıdakilerden hangisine örnektir?

- A) Rol çatışması
- B) Rol beklentisi
- C) Statü kümesi
- D) Rol pekişmesi
- E) Verilmiş statü

58. Yasalarda boşluk olduğu yani açık seçik bir hükmün bulunmadığı durumlarda yargıç, toplumun örf ve adetlerine göre kararlar alabilir. Kısacası, yazısız normları uygulayabilir.

Buna göre, aşağıdaki yargılardan hangisine varılabilir?

- A) Yasaların evrensel olması gerekir.
- B) Hukuk, sosyal düzeni korumayı amaçlar.
- C) Cezalar hukukun yaptırıcılığını sağlar.
- D) Yasalar toplumdan topluma değişir.
- E) Hukuk da bazen sosyal değerlerden yararlanır.

59. Aşağıdakilerden hangisi bir devletin sosyal devlet olma özelliğinden kaynaklanmaktadır?

- A) Yasalar karşısında herkesin eşit sayılması
- B) Yaşlı ve kimsesizlerin bakımını devletin üstlenmesi
- C) Yurttaşların oy verme hakkının olması
- D) Bireylerin hangi alanda eğitim göreceğinin kendi tercihlerine bırakılması
- E) Başka toplumlarla iyi ilişkiler içinde olunması

60. Sosyal bilimlerden biri olan antropoloji, insanın evrimini, yaşamsal özelliklerini, sosyal ve kültürel yönlerini araştırır. Bir başka sosyal bilim olan ekonomi, insanların yarattığı değerlerin ve ülkelerin zenginliklerinin nasıl oluştuğunu ve bunların nasıl bölüştüğünü inceler.

Yukarıdaki parçada belirtilen durum, sosyal bilimlerin hangi özelliğine örnektir?

- A) Olanla değil, olması gerekenle ilgilenmeleri
- B) Normatif(kural koyucu) olmaktan kaçınmaları
- C) İlgi alanlarının farklı olması
- D) İstatistikten yararlanmaları
- E) Kökenlerinin felsefeye dayanması

Diğer sayfaya geçiniz.

61. Bir balıkçı sabahleyin ırmak kıyısına gittiğinde suyun içinde gerek rengi, gerekse biçimi bakımından ötekilerden farklı bir taş görür ve onu cebine koyar. O gün her günküden çok balık tutan balıkçı, bu sevindirici olayı taşa bağlayarak onu uğur diye saklar ve her balığa çıkışında yanına alır.

Balıkçının taşı uğur diye saklaması aşağıdakilerden hangisine örnektir?

- A) Batıl inanç
- B) Uyarıcı genellemesi
- C) Mantiğa bürüme
- D) Gizil öğrenme
- E) Yüceltme

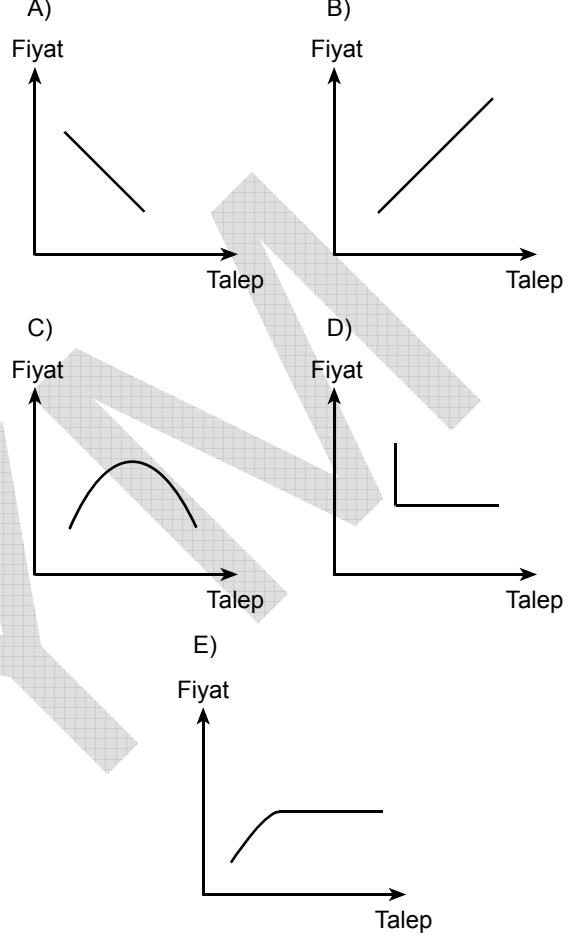
62. Günümüzde bayramların anlam ve işlevlerinde farklılaşmalar gözlenmektedir. İş günleri, tatiller belirli bayramlara göre düzenlenmekte, turizm ve hediyelik eşya satışları bu bayramlarda canlanmaktadır.

Bu durum aşağıdaki görüşlerden hangisini desteklemektedir?

- A) Her toplumda özel günler vardır.
- B) Bayramlar inançların ürünüdür.
- C) Toplumsal kurumlar birbirlerini etkileyip şekillendirir.
- D) Tatil günleri bayram günleridir.
- E) Ticari ilişkiler toplumun yapısına göre şekillenir.

63. Belirli bir piyasada, bir mala talep arttıkça o malın fiyatında yükselme gözlenir.

Bu ilişkiyi gösteren grafik aşağıdakilerden hangisidir?



64. Bir masanın üzerindeki portakalların, hangi açıdan bakarsak bakalım yuvarlak olarak görülmesi aşağıdakilerden hangisine örnektir?

- A) Algıda organizasyona
- B) Biçim değişmezliğine
- C) Algısal hazırlığa
- D) Algı yanılmasına
- E) Büyüklük değişmezliğine

Diğer sayfaya geçiniz.

65. Stresin öğrenme üzerindeki etkilerini arařtırmak amacıyla yapılan bir deneyde **bağımlı deęişken** ařağıdakilerden hangisi olabilir?

- A) Stresli ortam B) Stresiz ortam
C) Öğrenme miktarı D) Stresin nitelięi
E) Eğitim düzeyi

66.

- Gözledięim birinci kuęu beyazdı.
- Gözledięim ikinci kuęu beyazdı.
- Gözledięim üçüncü kuęu beyazdı.
- Gözledięim dördüncü kuęu beyazdı.
- O hâlde tüm kuęular beyazdır.

Böyle bir akıl yürütme ařağıdakilerden hangisine örnektir?

- A) Deneysel yöntem
B) Tümnden gelim
C) Tüme varım
D) Andırma
E) Kanıtlama

67. Ařağıdaki önermelerden hangisinin doęruluęu veya yanlıřlıęı gözlem ve deneye **başvurmadan** bilinebilir?

- A) Bazı resimler güzel deęildir.
B) Hiçbir bitki hayvan deęildir.
C) O iyi bir insandır.
D) Her çocuk uslu deęildir.
E) Bazı kuřlar ötücüdür.

68. Benzer nesnelerin ortak özelliklerini dile getiren terimlere genel terim denir.

Ařağıdakilerden hangisi dięerlerine göre daha genel bir terimdir?

- A) Hayvan B) Güvercin C) Kuř
D) Sürüngen E) Kuęu

Dięer sayfaya geçiniz.

69. 1982 Anayasası'na göre, TBMM seçimleri kaç yılda bir yapılır?

- A) 2 B) 3 C) 4 D) 5 E) 6

70. Aşağıdakilerden hangisi TBMM'nin görev ve yetkilerinden biri değildir?

- A) Para basılmasına karar vermek
B) Savaş ilanına karar vermek
C) Yargı organlarını denetlemek
D) Bütçeyi kabul etmek
E) Kanun koymak

71. Aşağıdakilerden hangisi aynı zamanda Devlet başkanıdır?

- A) Başbakan
B) Cumhurbaşkanı
C) Millî Güvenlik Kurulu Sekreteri
D) İçişleri Bakanı
E) Genelkurmay Başkanı

72. 1982 Anayasası'na göre, millî güvenliğin sağlanmasından ve Silahlı Kuvvetlerin yurt savunmasına hazırlanmasından TBMM'ye karşı aşağıdakilerden hangisi sorumludur?

- A) Genelkurmay Başkanı
B) Millî Savunma Bakanı
C) Millî Güvenlik Kurulu
D) Cumhurbaşkanı
E) Bakanlar Kurulu

73. Yüce Divan sıfatıyla yargılama görevi aşağıdakilerden hangisine aittir?

- A) Danıştay
B) Yargıtay
C) Anayasa Mahkemesi
D) İdare mahkemesi
E) Sayıştay

74. Temsili demokrasilerde yönetenlerin yönetilenler tarafından belirlenmesi aşağıdakilerden hangisi yoluyla gerçekleştirilir?

- A) Seçim B) Atama
C) Onama D) Referandum
E) Doğrudan demokrasi

75. Aşağıdakilerden hangisi kanun teklif etmeye yetkilidir?

- A) Vatandaşlar
B) Milletvekilleri
C) Anayasa Mahkemesi Başkanı
D) Yargıtay Başkanı
E) Hâkimler ve savcılar

GENEL BAŞARI TESTİ BİTTİ.

GENEL BAŞARI TESTİ (ALMANCA)

1.

$$\frac{2}{3} + \frac{22}{33} + \frac{222}{333}$$

Wie lautet das Ergebnis?

- A) 1 B) 2 C) 3 D) $\frac{3}{2}$ E) $\frac{4}{3}$

2.

$$\left(\frac{4}{9}\right)^4 \cdot \left(\frac{27}{8}\right)^3$$

Wie lautet das Ergebnis?

- A) 1 B) 2 C) $\frac{4}{9}$ D) $\frac{2}{3}$ E) $\frac{3}{2}$

3.

$$x^3 + 12^3 = y^3 + 9^3 = 1729$$

Was ist die Summe von $x + y$, wenn ist?

- A) 11 B) 10 C) 9 D) 8 E) 7

4.

$$\begin{array}{r} \text{K L M} \\ \text{P R S} \\ \hline \end{array}$$

KLM und PRS sind zwei dreistellige natürliche Zahlen und jeder Buchstabe bezeichnet eine unterschiedliche Zahl.

Wie kann das Ergebnis höchstens lauten?

- A) 855 B) 864 C) 876 D) 885 E) 888

5. Wenn $3x + 3$ und $5x - 1$ zwei aufeinanderfolgende gerade Zahlen sind, was ist x ?

- A) 2 B) 3 C) 4 D) 5 E) 6

6. Wird die zweistellige Zahl KL durch M dividiert, ist der Quotient 17, und der Rest $M - 3$.

Wenn demnach die Zahl $KL + 3$ mit 18 dividiert wird, welches ist der Quotient?

- A) 6 B) 8 C) K D) L E) M

7. Wenn

$$s(A - B) = s(B - A)$$

$$s(A \cap B) = 2$$

$$s(A \cup B) = 12$$

sind, wie viele Elemente befinden sich in der Menge A?

- A) 9 B) 8 C) 7 D) 6 E) 4

8.

$$|x - 3| < 2$$

Was ist die Summe der ganzen Zahlen x , welche für die Ungleichheit sorgen?

- A) 5 B) 6 C) 7 D) 8 E) 9

Diğer sayfaya geçiniz.

9. Ein Beamter, der jeden Monat 5 % seines Gehalts einspart, besitzt nach Ablauf von zwei Jahren 504 TL.

Mit Rücksichtnahme darauf, dass sich das Gehalt dieses Beamten nur zu Beginn des zweiten Jahres um 10 % erhöhte, wie viel TL betrug dessen Gehalt im ersten Jahr?

- A) 400 B) 440
C) 480 D) 500
E) 580

10. Wenn das Kapital eines Betriebes, das zu Beginn eines bestimmten Jahres x betrug, sich am Ende des Jahres auf $3x$ beläuft, wie viel % ist dann die jährliche Erhöhung seines Kapitals?

- A) 75 B) 100 C) 125 D) 150 E) 200

11. In der folgenden Tabelle sind die monatlichen Ausgaben einer Familie angeführt.

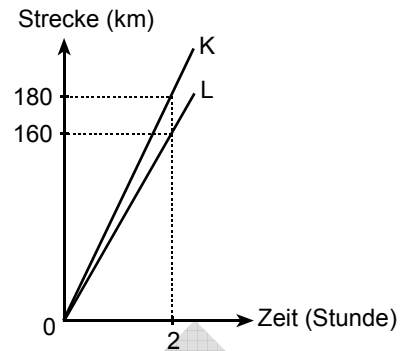
Monatliche Ausgaben (TL)

Küche	Heizung	Miete	Sonstige
180	50	x	40

Wenn die monatlichen Heizkosten $\frac{100}{9}$ % der Gesamtausgaben ausmachen, wie viel ist dann x ?

- A) 200 B) 190 C) 180 D) 170 E) 160

- 12.

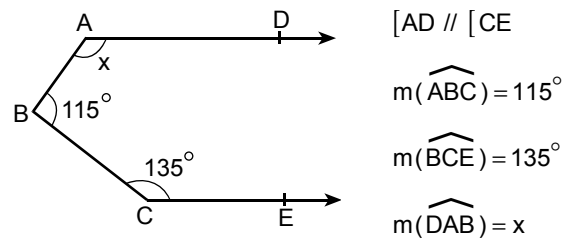


Die obige Graphik zeigt die Strecke, welche die Fahrzeuge K und L in einer bestimmten Zeit zurücklegen.

Wenn man davon ausgeht, dass beide Fahrzeuge zur gleichen Zeit, vom gleichen Ausgangspunkt und in dieselbe Richtung fahren, nach wie viel Stunden beträgt dann die Entfernung zwischen ihnen 36 km?

- A) $\frac{13}{5}$ B) $\frac{14}{5}$ C) $\frac{16}{5}$
D) $\frac{17}{5}$ E) $\frac{18}{5}$

- 13.

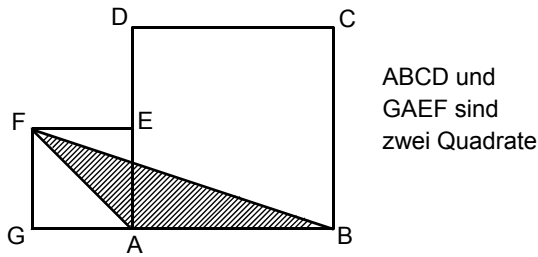


Wie viel Grad beträgt x nach den oben angegebenen Werten?

- A) 105 B) 110 C) 115 D) 120 E) 125

Diğer sayfaya geçiniz.

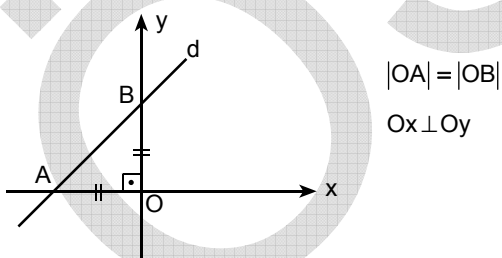
14.



Wenn in der obigen Abbildung $|AE| = |ED|$ ist, um wievielfach größer ist die Fläche des Quadrats ABCD als die des Dreiecks FAB?

- A) 7 B) 6 C) 5 D) 4 E) 3

15.



Wenn die Fläche des zwischenkligen Dreiecks OAB 8 cm^2 ist, wie lautet die Gleichung der Geraden d?

- A) $y = -x + 4$ B) $y = x - 4$ C) $y = x + 4$
 D) $y = -x - 2$ E) $y = x + 2$

16. Es ist eines der grundlegenden Werke unserer Kultur- und Zivilisationsgeschichte. Dieses Werk, welches das erste türkische Wörterbuch ist, wurde mit dem Ziel verfasst, die Araber Türkisch zu lehren.

In welcher der folgenden Möglichkeiten wird das oben bezeichnete Werk und dessen Verfasser zusammen angeführt?

- A) Divan-ı Lügati't Türk – Kaşgarlı Mahmut
 B) Divan-ı Hikmet – Ahmet Yesevi
 C) Kutadgu Bilig – Yusuf Has Hacip
 D) Muhakemetü'l Lûgateyn – Ali Şir Nevai
 E) Atabetü'l Hakayık – Edip Ahmet

17. In welchem wird das Werk, das in der türkischen Literatur als erster psychologischer Roman gilt, zusammen mit dessen Verfasser angeführt?

- A) Huzur – Ahmet Hamdi Tanpınar
 B) Yaban – Yakup Kadri Karaosmanoğlu
 C) İntibah – Namık Kemal
 D) Eylül – Mehmet Rauf
 E) Sergüzeşt – Sami Paşazade Sezai

18. Welche der unten angeführten Personen gehört zu den Gründern des Naturalismus, der als eine fortgeschrittene Stufe des Realismus gilt?

- A) Madam de La Fayette
 B) Emile Zola
 C) Gustave Flaubert
 D) La Bruyère
 E) Sainte-Beuve

19. Welches der unten angeführten Werke ist nicht mit seinem Verfasser zusammen angeführt?

- A) Die Lilie im Tal – Balzac
 B) Rot und Schwarz – Stendahl
 C) Die Elenden – Victor Hugo
 D) Essais – Montaigne
 E) Der Geizige – Pierre Corneille

Diğer sayfaya geçiniz.

20. Welche der unten angeführten Zivilisationen wurde nicht in Anatolien gegründet?

- A) Die urartäische Zivilisation
- B) Die lydische Zivilisation
- C) Die phrygische Zivilisation
- D) Die hethitische Zivilisation
- E) Die sumerische Zivilisation

21. Welches der unten angeführten Jahre befindet sich im ersten Viertel des XX. Jahrhunderts?

- A) 1923 B) 1951 C) 1955
- D) 1975 E) 1995

22.

- I. Leonardo Da Vinci
- II. Salvador Dali
- III. Buonarroti Michelangelo

Welche der oben angeführten Personen gehört zu den Künstlern der Renaissance-Periode?

- A) Nur I B) Nur III C) I und II
- D) I und III E) I, II und III

23. In welchem Jahrhundert wurde der Buchdruck in Europa erfunden?

- A) XIII. B) XIV. C) XV.
- D) XVI. E) XVII.

24.

- I. Renaissance-Bewegungen
- II. Reformations-Bewegungen
- III. Kreuzzüge

Welche der oben genannten Entwicklungen hatte „die Erringung der Reichtümer des Ostens“ zum Ziel?

- A) Nur I B) Nur III C) I und II
- D) II und III E) I, II und III

25. Was war die Folge davon, dass die Rechte und Freiheiten der Menschen im Mittelalter immer mehr eingeschränkt wurden?

- A) Die Entstehung des Souveränitätsgedankens
- B) Die Blockbildung der Staaten
- C) Die Zunahme der Bedeutung des Handels auf der Welt
- D) Die Ausübung unterschiedlicher Verwaltungsformen
- E) Das Stagnieren wissenschaftlicher Forschungen

26. Während die Bevölkerung des Osmanischen Reiches zu Beginn des XVI. Jahrhunderts ungefähr 11 Millionen betrug, belief sie sich zusammen mit der Erweiterung der Grenzen am Ende desselben Jahrhunderts auf mehr als 16 Millionen.

Im Hinblick auf diese Tatsache haben sich im Osmanischen Reich

- I. die Grenzen verändert.
- II. die kulturellen Strukturen differenziert.
- III. die Ausgaben vermindert.

Zu welchen der obigen Schlussfolgerungen kann man gelangen?

- A) Nur I B) Nur III C) I und II
- D) I und III E) I, II und III

Diğer sayfaya geçiniz.

27. In welchem Jahrhundert ging das Osmanische Reich zur verfassungsmäßigen Ordnung über?

- A) XVI. B) XVII. C) XVIII. D) XIX. E) XX.

28. Welches der unten angeführten Mittel kam im I. Weltkrieg nicht zum Einsatz?

- A) Atombombe B) Panzer
C) Flugzeug D) Unterseeboot
E) Giftige Gase

29. In welchem der unten angeführten Akte wurde in der Phase des Freiheitskrieges die Notwendigkeit der Volkssouveränität zum ersten Mal zur Sprache gebracht?

- A) Die Beschlüsse des Kongresses von Sivas
B) Die Prinzipien des Nationalpakt
C) Das Grundgesetz von 1921
D) Die Beschlüsse des Kongresses von Erzurum
E) Der Erlass von Amasya

30. Welches der unten angeführten Gefechte wurde während des Freiheitskrieges nicht gegen die Griechen geführt?

- A) Die I. Schlacht vor İnönü
B) Die Schlacht bei Derne
C) Die Sakarya-Schlacht
D) Die Schlacht des Generalissimus
E) Die Schlachten bei Eskişehir und Kütahya

31. Atatürk hat die türkische Nation folgendermaßen definiert: „Das türkische Volk, welches die Türkische Republik gründete, nennt man die türkische Nation“.

Welcher der unten angeführten Punkte lässt sich nicht mit dieser Definition vereinbaren?

- A) Das Ideal der Einheit und Gemeinschaft
B) Das revolutionäre Prinzip und der Humanismus
C) Die Souveränität der Nation
D) Das Sprach- und Geschichtsbewusstsein
E) Die Rassen- und Glaubensdiskriminierung

32.

- I. Die Rechte von Minoritäten
II. Die Grenze mit Armenien
III. Die Verwaltung der Meerengen

Für welches der oben angeführten Themen liegt ein Beschluss im Vertrag von Lausanne vor?

- A) Nur I B) Nur II C) Nur III
D) I und III E) I, II und III

33. Welches der unten angeführten kemalistischen Prinzipien bezieht sich auf die Regelung der ökonomischen Struktur?

- A) Das revolutionäre Prinzip
B) Der Republikanismus
C) Der Etatismus
D) Der Populismus
E) Der Nationalismus

Diğer sayfaya geçiniz.

34.

- I. Die Schließung der Medressen
- II. Die Verabschiedung des Gesetzes zur Benutzung des Hutes, das die Verwendung des Fez und des Kalpak verbietet
- III. Die Anerkennung des Zivilrechts

Bei welchen der obigen Revolutionen kann man dafür eintreten, dass sie mit dem Ziel der Modernisierung durchgeführt wurden?

- A) Nur I
- B) Nur II
- C) Nur III
- D) I und II
- E) I, II und III

35.

- I. Die Schließung der Derwischklöster und Mauseen
- II. Die Verabschiedung des Gesetzes zur Vereinheitlichung des Schulwesens
- III. Die Verabschiedung des Gesetzes zur Einführung der Familiennamen

Bei welchen der oben angeführten Punkte kann man dafür eintreten, dass sie zur Gewährleistung der gemeinsamen Gesinnung in der türkischen Gesellschaft dienen?

- A) Nur I
- B) Nur II
- C) I und II
- D) II und III
- E) I, II und III

36.

- I. Die NATO
- II. Die Europäische Wirtschaftsgemeinschaft
- III. Der Völkerbund

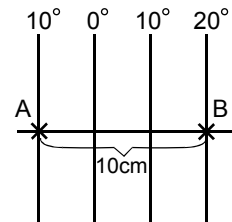
Welche der obigen Vereinigungen wurden nach dem II. Weltkrieg gegründet?

- A) Nur I
- B) Nur II
- C) Nur III
- D) I und II
- E) II und III

37. **Welcher der unten angeführten Hinweise muss auf jeder Landkarte angegeben sein?**

- A) Der Maßstab
- B) Die Isobathen
- C) Die Farben, welche auf die Vegetation hinweisen
- D) Die Himmelsrichtungen
- E) Die Linien, welche die Provinzgrenzen anzeigen

38. Auf einer Karte ohne Maßstab beträgt die Entfernung zwischen Punkt A auf dem 10° Westmeridian und dem Punkt B auf dem 20° Ostmeridian auf dem Äquator 10 cm.

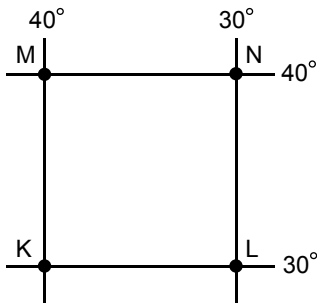


Was ist demnach der Maßstab der Karte?

- A) 1/11 100 000
- B) 1/22 200 000
- C) 1/33 300 000
- D) 1/44 400 000
- E) 1/55 500 000

Diğer sayfaya geçiniz.

39.



Was ist für die Punkte K, L, M und N, deren Breiten und Längen oben angegeben sind, auf jeden Fall **falsch**?

- A) Die Sonnenstrahlen fallen niemals senkrecht auf die vier Punkte.
- B) Alle vier Punkte befinden sich westlich des Nullmeridians.
- C) Der lokale Zeitunterschied zwischen den Punkten K und L beträgt 40 Minuten.
- D) Die Entfernung zwischen den Punkten K und L entspricht der Entfernung zwischen den Punkten M und N.
- E) Die Entfernung zwischen den Punkten K und M entspricht der Entfernung zwischen den Punkten L und N.

40.

- I. Die südafrikanische Republik
- II. Libyen
- III. Schweden
- IV. Turkmenien

In welchem sind die beiden Länder zusammen angeführt, in denen im Dezember der Tag **am längsten** und die Nacht **am längsten** ist?

	Tag	Nacht
A)	I	III
B)	I	II
C)	II	I
D)	III	IV
E)	IV	III

41. Welche der unten angeführten Meeresengen trennt den afrikanischen Kontinent vom europäischen Kontinent?

- A) Bosporus
- B) Gibraltar
- C) Bering-Straße
- D) Cherson
- E) Dardanellen

42. Welcher See hat seine Oberfläche unter dem Meeresspiegel?

- A) Baikalsee
- B) Aralsee
- C) Balkaisee
- D) Genfersee
- E) Das Tote Meer

43. Welches der unten angeführten Länder verfügt über eine Küste, die mehr Ein- und Ausbuchtungen hat als die der anderen?

- A) Frankreich
- B) Portugal
- C) Kanada
- D) Norwegen
- E) Dänemark

44. Welche der unten angeführten Gebirgsketten befindet sich auf einer anderen Halbkugel als die anderen?

- A) Das Alpengebirge
- B) Altaigebirge
- C) Das kaukasische Gebirge
- D) Die Anden
- E) Das Himalajagebirge

Diğer sayfaya geçiniz.

45. Auf welcher Halbinsel kann man

- das Kontinentalklima
- das Mittelmeerklima
- das gemäßigte Meeresklima

zusammen beobachten?

- A) Italien B) Balkan C) Sinai
D) Dekkan E) Iberien

46. In welchem der unten angeführten Länder erwartet man unter Berücksichtigung seiner geographischen Bedingungen, dass die landwirtschaftlichen Erzeugnisse vielfältiger sind, als in den anderen?

- A) Georgien B) Türkei C) Finnland
D) Libyen E) Polen

47. In welchem der unten angeführten Länder ist die Reisproduktion am höchsten?

- A) Japan B) China C) Indien
D) Thailand E) Vietnam

48. Obwohl in den unterentwickelten Ländern des afrikanischen und asiatischen Kontinents ein großer Teil der Bevölkerung auf dem landwirtschaftlichen Sektor arbeitet, ist der landwirtschaftliche Ertrag gering.

Worauf ist dieser Zustand zurückzuführen?

- A) Der Boden, der landwirtschaftlich genutzt wird, ist verschiedenartig.
B) Die Vielfalt der industriell nutzbaren landwirtschaftlichen Produkte ist gering.
C) Die Investitionen auf dem landwirtschaftlichen Gebiet sind begrenzt.
D) Die Bevölkerungsdichte ist hoch.
E) Die jährliche Niederschlagsmenge in den Ländern ist unterschiedlich.

49. Welches der unten angeführten Länder nimmt im Vergleich zu den anderen mehr Einwanderer auf?

- A) Kanada B) Indien C) Bulgarien
D) Kasachstan E) Chile

50. In welchem der unten angeführten Kontinente hält sich der größte Teil der Weltbevölkerung auf?

- A) Afrika B) Asien C) Europa
D) Nordamerika E) Südamerika

51. In welchem der unten angeführten Länder ist der Ski- und Gebirgstourismus für die Ökonomie von großer Bedeutung?

- A) Portugal B) Libyen C) Australien
D) Syrien E) Schweiz

Diğer sayfaya geçiniz.

52. Welches hängt nicht direkt mit der Volkswirtschaftslehre zusammen?

- A) Die Beziehung zwischen Angebot und Nachfrage
- B) Der Anstieg der Inflation
- C) Die Ungerechtigkeit bei der Einkommensverteilung
- D) Die Festlegung der Preise
- E) Die Ergiebigkeit der Produktionsmittel

53. Ein Soziologe, der pädagogische Institutionen untersucht, zieht Gruppenarbeit vor. Seine Gruppe setzt sich aus Psychologen, Pädagogen, Ökonomen, Juristen u.a. zusammen, von deren Untersuchungsergebnissen er Gebrauch macht.

Was ist der grundlegende Faktor dafür, dass der Soziologe eine solche Methode bevorzugt?

- A) Die Komplexität der sozialen Themenbereiche
- B) Der Versuch zum Konsens, um Ordnung herzustellen
- C) Die Beschäftigung von Lehrern verschiedener Fachrichtungen an pädagogischen Institutionen
- D) Der Mangel an Selbstvertrauen der Sozialwissenschaftler
- E) Die Subjektivität der Sozialwissenschaften

54. Heute wird beobachtet, dass sich australische Eingeborene mit der zeitgenössischen Technologie vertraut machen und angefangen haben, sich zu verändern.

Von den Ergebnissen welcher der unten angeführten wissenschaftlichen Bereiche muss die Soziologie vor allem Gebrauch machen, damit sie diese Veränderung erklären kann?

- A) Geschichte
- B) Kulturelle Anthropologie
- C) Klinische Psychologie
- D) Ökonomie
- E) Physikalische Geographie

55. Der Bau von Schienen oder Landstraßen hängt mit der Verkehrspolitik eines Landes zusammen. Die Untersuchung der Veränderungen, die diese Verkehrswege in den besiedelten Gebieten hervorrufen, gehört in den Aufgabenbereich der Soziologie.

In welcher Hinsicht fällt nach dem obigen Text eine Untersuchung bezüglich Verkehrswege in das Gebiet der Soziologie?

- A) Die Festlegung der Unkosten
- B) Die Bestimmung der Länge der Verkehrswege
- C) Die Baubedingungen
- D) Der Einfluss auf das Leben der Einwohner
- E) Die Beziehung zur geographischen Struktur

56. Welcher der unten angeführten Punkte ist keine Eigenschaft juristischer Normen?

- A) Die Systemhaftigkeit
- B) Die Einbeziehung der Wirkungskraft des Staates
- C) Die Rationalität
- D) Die Gewährleistung der Durchführungskraft durch bestimmte Institutionen
- E) Die Unterschiedlichkeit von Gebiet zu Gebiet

57. Eine Person, die sowohl Lehrerin wie auch Mutter ist, lässt ihr krankes Kind zu Hause und geht zur Schule. Wofür ist die Spannung, unter der diese Person steht, ein Beispiel?

- A) Rollenkonflikt
- B) Rollenerwartung
- C) Rollenvermischung
- D) Rollenintensivierung
- E) Zugewiesene Rolle

Diğer sayfaya geçiniz.

58. Wenn in den Gesetzen Lücken oder keine deutlichen Bestimmungen vorhanden sind, kann der Richter nach den Sitten und Gebräuchen der Gesellschaft Urteile fällen. Er kann also ungeschriebene Gesetze anwenden.

Zu welchem Schluss kann man demnach kommen?

- A) Die Gesetze müssen universal sein.
- B) Die Justiz hat das Ziel, die soziale Ordnung zu schützen.
- C) Strafen sorgen für die Sanktionsfähigkeit der Justiz.
- D) Die Gesetze ändern sich von Gesellschaft zu Gesellschaft.
- E) Auch die Justiz macht manchmal von sozialen Werten Gebrauch.

59. Welcher der folgenden Punkte ist darauf zurückzuführen, dass ein Staat die Eigenschaft eines Sozialstaates hat?

- A) Jeder ist vor dem Gesetz gleich.
- B) Der Unterhalt von alten Menschen und Waisen wird vom Staat übernommen.
- C) Die Bürger haben das Wahlrecht.
- D) Es ist der Wahl der Personen überlassen, auf welchem Gebiet sie sich ausbilden lassen.
- E) Der Staat unterhält gute Beziehungen zu anderen Staaten.

60. Die Anthropologie, ein Gebiet der Sozialwissenschaften, untersucht die Evolution, die lebenswichtigen Eigenschaften sowie die sozialen und kulturellen Seiten des Menschen. Die Ökonomie, ein anderes Gebiet der Sozialwissenschaften, beschäftigt sich mit den Werten, die sich der Mensch aneignete und damit, wie die Länder zum Wohlstand gelangten und wie dieser verteilt wurde.

Für welche Eigenschaft der Sozialwissenschaften ist diese im Text dargestellte Situation ein Beispiel?

- A) Sie interessieren sich nicht für den gegenwärtigen Zustand, sondern für den, der anzustreben ist.
- B) Sie vermeiden es, normativ (Regeln vorgehend) vorzugehen.
- C) Sie haben unterschiedliche Beschäftigungsbereiche.
- D) Sie greifen auf die Statistik zurück.
- E) Sie sind in der Philosophie verwurzelt.

61. Ein Fischer findet morgens am Flussufer einen Stein, der sich sowohl durch seine Farbe als auch durch seine Form von den anderen Steinen unterscheidet, und steckt ihn in seine Tasche. An diesem Tag fischt er mehr Fische als sonst und verbindet diese erfreuliche Tatsache mit dem Stein, den er von diesem Tag an als Glücksbringer aufbewahrt und jedes Mal mitnimmt, wenn er fischen geht.

Wofür ist es ein Beispiel, dass der Fischer den Stein als Glücksbringer aufbewahrt?

- A) Aberglaube
- B) Reizgeneralisierung
- C) Rationalisierung
- D) Latentes Lernen
- E) Sublimierung

Diğer sayfaya geçiniz.

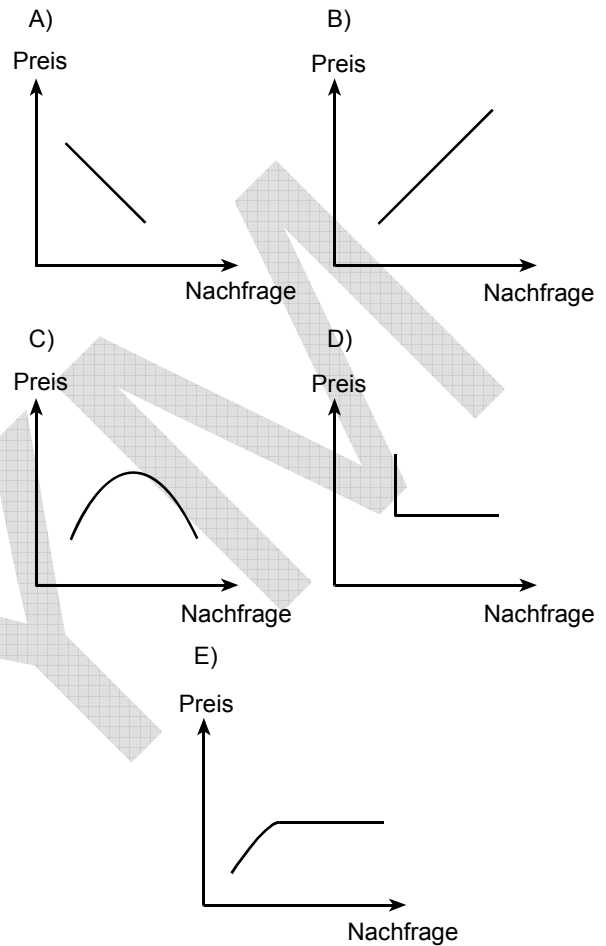
62. Heute ist eine Veränderung der Bedeutung und der Funktion von Feiertagen zu beobachten. Die Arbeitstage und Ferientage werden den Feiertagen entsprechend festgesetzt; der Tourismus und der Geschenkartikelverkauf belebt sich an diesen Feiertagen.

Welche der folgenden Feststellungen wird durch den obigen Text unterstützt?

- A) Es gibt in jeder Gesellschaft besondere Tage.
- B) Die Feiertage sind auf den Glauben zurückzuführen.
- C) Gesellschaftliche Institutionen gewinnen ihre Form, indem sie sich gegenseitig beeinflussen.
- D) Ferientage sind Feiertage.
- E) Die Handelsbeziehungen formen sich nach der Struktur der Gesellschaft.

63. Auf einem bestimmten Markt wird beobachtet, dass der Preis eines Produkts ansteigt, je mehr Nachfrage nach ihm besteht.

In welcher der folgenden Graphiken wird diese Beziehung veranschaulicht?



64. Wofür ist es ein Beispiel, dass Orangen auf einem Tisch, gleich aus welchem Blickwinkel man sie betrachtet, stets rund aussehen?

- A) Für die Organisation der Wahrnehmung
- B) Für die Unveränderlichkeit der Form
- C) Für die Vorbereitung auf die Wahrnehmung
- D) Für die Täuschung der Wahrnehmung
- E) Für die Unveränderlichkeit der Größe

Diğer sayfaya geçiniz.

65. Welcher der unten angeführten Punkte kann bei einem Versuch, der das Ziel hat, die Auswirkungen von Stress auf die Lernfähigkeit zu untersuchen, als abhängige variable Perzeption angewendet werden?

- A) Die Stresssituation
- B) Die stressfreie Situation
- C) Die Lernkapazität
- D) Die Stressform
- E) Der Bildungsgrad

66.

- Der erste Schwan, den ich beobachtete, war weiß.
- Der zweite Schwan, den ich beobachtete, war weiß.
- Der dritte Schwan, den ich beobachtete, war weiß.
- Der vierte Schwan, den ich beobachtete, war weiß.
- Daraus ergibt sich, dass alle Schwäne weiß sind.

Für welche der unten angeführten Methoden ist eine solche Gedankenführung ein Beispiel?

- A) Die experimentelle Methode
- B) Die Deduktion
- C) Die Induktion
- D) Die Analogie
- E) Die Beweisführung

67. Bei welcher der unten angeführten Annahmen kann ihre Richtigkeit oder Unrichtigkeit festgestellt werden, ohne Beobachtungen oder Versuche anzustellen?

- A) Manche Bilder sind nicht schön.
- B) Keine Pflanze ist ein Tier.
- C) Er ist ein guter Mensch.
- D) Nicht jedes Kind ist brav.
- E) Manche Vögel sind Singvögel.

68. Begriffe, welche die gemeinsamen Eigenschaften von ähnlichen Gegenständen bezeichnen, nennt man Allgemeinbegriffe.

Welcher der unten angeführten Begriffe ist im Vergleich zu den anderen allgemeiner?

- A) Tiere
- B) Tauben
- C) Vögel
- D) Reptilien
- E) Schwäne

Diğer sayfaya geçiniz.

69. Nach Ablauf von wie viel Jahren werden entsprechend der Verfassung von 1982 die Wahlen der Großen Türkischen Nationalversammlung durchgeführt?

- A) 2 B) 3 C) 4 D) 5 E) 6

70. Welcher der unten angeführten Punkte ist keine der Aufgaben und Befugnisse der Großen Türkischen Nationalversammlung?

- A) Die Genehmigung des Drucks von Geldscheinen
B) Der Beschluss einer Kriegserklärung
C) Die Inspektion der juristischen Instanzen
D) Die Annahme des Budgets
E) Die Verabschiedung von Gesetzen

71. Welche der unten genannten Personen ist zur gleichen Zeit auch Staatsoberhaupt?

- A) Der Ministerpräsident
B) Der Staatspräsident
C) Der Sekretär des Nationalen Sicherheitsrates
D) Der Innenminister
E) Der Generalstabschef

72. Welches der unten angeführten Organe ist laut der Verfassung von 1982 gegenüber der Großen Türkischen Nationalversammlung für die Gewährleistung der nationalen Sicherheit und für die Vorbereitung des Militärs auf die Verteidigung des Landes verantwortlich?

- A) Der Generalstabschef
B) Der Verteidigungsminister
C) Der Nationale Sicherheitsrat
D) Der Staatspräsident
E) Das Kabinett

73. Welches der unten angeführten Organe übt die Aufgabe der Gerichtsbarkeit in der Funktion des Hochgerichts aus?

- A) Der Verwaltungsgerichtshof
B) Das Kassationsgericht
C) Das Verfassungsgericht
D) Das Verwaltungsgericht
E) Der Rechnungshof

74. Auf welche Weise erfolgt in repräsentativen Demokratien die Bestimmung der Regierenden durch die Regierten?

- A) Wahlen B) Ernennung
C) Bestätigung D) Volksabstimmung
E) Unmittelbare Demokratie

75. Wer ist dazu befugt, einen Gesetzentwurf vorzulegen?

- A) Die Bürger
B) Die Abgeordneten
C) Der Vorsitzende des Verfassungsgerichtshofs
D) Der Vorsitzende des Kassationsgerichtshofs
E) Richter und Staatsanwälte

GENEL BAŞARI TESTİ BİTTİ.

GENEL BAŞARI TESTİ (FRANSIZCA)

1.

$$\frac{2}{3} + \frac{22}{33} + \frac{222}{333}$$

Quel est le résultat de l'opération ci-dessus?

- A) 1 B) 2 C) 3 D) $\frac{3}{2}$ E) $\frac{4}{3}$

2.

$$\left(\frac{4}{9}\right)^4 \cdot \left(\frac{27}{8}\right)^3$$

Quel est le résultat de l'opération ci-dessus?

- A) 1 B) 2 C) $\frac{4}{9}$ D) $\frac{2}{3}$ E) $\frac{3}{2}$

3. Si

$$x^3 + 12^3 = y^3 + 9^3 = 1729$$

quelle est la somme de $x+y$?

- A) 11 B) 10 C) 9 D) 8 E) 7

4.

$$\begin{array}{r} K L M \\ - P R S \\ \hline \end{array}$$

Dans la soustraction ci-dessus, KLM, PRS représentent les deux nombres naturels de trois chiffres, et chaque lettre représente un nombre différent.

Quel serait le résultat maximum de cette soustraction?

- A) 855 B) 864 C) 876 D) 885 E) 888

5. Si $3x + 3$ et $5x - 1$ sont des nombres consécutifs de deux chiffres, quelle est la valeur de x ?

- A) 2 B) 3 C) 4 D) 5 E) 6

6. Quand on divise le nombre KL de deux chiffres par M, le quotient est 17, le reste $M-3$.

Si on divise le nombre $KL+3$ par 18, quel est le quotient?

- A) 6 B) 8 C) K D) L E) M

Diğer sayfaya geçiniz.

7. Si

$$s(A - B) = s(B - A)$$

$$s(A \cap B) = 2$$

$$s(A \cup B) = 12$$

combien d'éléments y a-t-il dans l'ensemble A?

- A) 9 B) 8 C) 7 D) 6 E) 4

8.

$$|x - 3| < 2$$

Dans l'inéquation citée ci-dessus, trouvez la somme des nombres entiers donnant une inégalité vraie lorsqu'ils sont écrits à la place de x ?

- A) 5 B) 6 C) 7 D) 8 E) 9

9. Un fonctionnaire économisant chaque mois 5 % de son salaire obtient 504 TL à la fin de deux ans.

Ce fonctionnaire a eu une augmentation de 10 % au début de la deuxième année. Quelle était son salaire de la première année?

- A) 400 B) 440
C) 480 D) 500
E) 580

10. Si, une entreprise, au commencement de l'année, a un capital x et à la fin de l'année elle en a $3x$, quel est le pourcentage du taux d'augmentation annuelle de son capital?

- A) 75 B) 100 C) 125 D) 150 E) 200

11. Le tableau suivant représente les dépenses mensuelles d'une famille.

Les dépenses mensuelles (TL)

Nourriture	Chauffage	Loyer	Divers
180	50	x	40

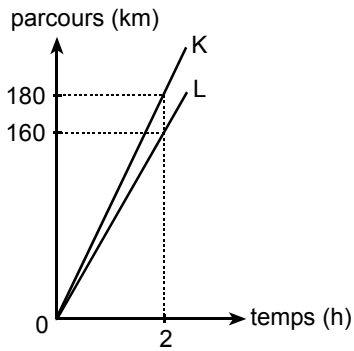
Si les frais mensuels du chauffage de cette famille est $\frac{100}{9}$ % de ses dépenses totales,

quelle est la valeur de x ?

- A) 200 B) 190 C) 180 D) 170 E) 160

Diğer sayfaya geçiniz.

12.

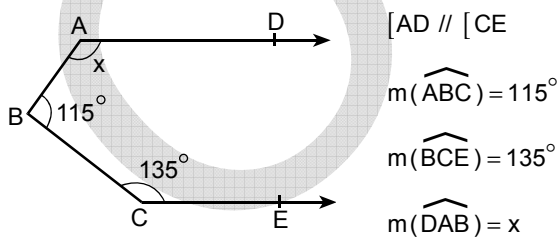


Le graphique ci-dessus représente la route parcourue des véhicules de K et L par heure.

Ces véhicules partent au même moment, du même endroit et vers la même direction. Après combien d'heures, la distance entre ces deux véhicules sera de 36 km?

- A) $\frac{13}{5}$ B) $\frac{14}{5}$ C) $\frac{16}{5}$
 D) $\frac{17}{5}$ E) $\frac{18}{5}$

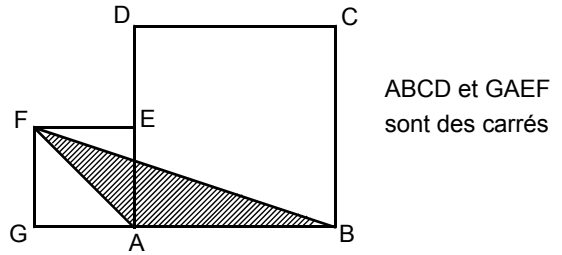
13.



Suivant les données ci-dessus, quel est le degré de x ?

- A) 105 B) 110 C) 115 D) 120 E) 125

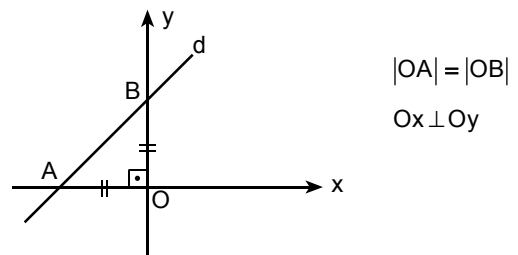
14.



D'après le schéma, si $|AE| = |ED|$, de combien de fois la surface du carré ABCD est-elle plus grande que celle du triangle FAB?

- A) 7 B) 6 C) 5 D) 4 E) 3

15.



Si la surface du triangle isocèle OAB est de 8 cm^2 , quelle est l'équation de la ligne d ?

- A) $y = -x + 4$ B) $y = x - 4$ C) $y = x + 4$
 D) $y = -x - 2$ E) $y = x + 2$

Diğer sayfaya geçiniz.

16. Cette œuvre est l'une des œuvres principales de notre culture et de notre civilisation. Elle est le premier dictionnaire de la langue turque et rédigée dans le but d'enseigner la langue turque aux Arabes.

Parmi les réponses suivantes, trouvez cette œuvre et son auteur.

- A) Divanü Lûgât-it Türk - Kaşgarlı Mahmut
- B) Divan-ı Hikmet - Ahmet Yesevi
- C) Kutadgu Bilig - Yusuf Has Hacip
- D) Muhakemetü'l Lûgateyn - Ali Şir Nevai
- E) Atabetü'l Hakayik - Edip Ahmet

17. Dans quelle réponse citée ci-dessous, le nom d'une œuvre considérée comme le premier roman psychologique de la littérature turque a-t-il été associé avec le nom de son auteur?

- A) Huzur – Ahmet Hamdi Tanpınar
- B) Yaban – Yakup Kadri Karaosmanoğlu
- C) İntibah – Namık Kemal
- D) Eylül – Mehmet Rauf
- E) Sergüzeşt – Sami Paşazade Sezai

18. Parmi les écrivains cités ci-dessous, lequel est l'un des pionniers du naturalisme qui est l'étape avancée du réalisme?

- A) Madame de La Fayette
- B) Émile Zola
- C) Gustave Flaubert
- D) La Bruyère
- E) Sainte-Beuve

19. Dans quelle réponse citée ci-dessous, le nom d'un livre n'a pas été associé avec le nom de son auteur?

- A) Le Lys dans la vallée – Balzac
- B) Le Rouge et Le Noir – Stendhal
- C) Les Misérables – Victor Hugo
- D) Les Essais – Montaigne
- E) L'Avare – Pierre Corneille

20. Parmi les civilisations citées ci-dessous, laquelle n'est pas l'une des civilisations anatoliennes?

- A) Urartu
- B) Lydie
- C) Phrygie
- D) Hittite
- E) Sumer

21. Parmi les années citées ci-dessous, laquelle se situe dans le premier quart du XX^e siècle?

- A) 1923
- B) 1951
- C) 1955
- D) 1975
- E) 1995

22.

- I. Léonard de Vinci
- II. Salvador Dali
- III. Michel-Ange

Parmi les artistes cités ci-dessus, lesquels font partis de la période de la Renaissance?

- A) Seulement I
- B) Seulement III
- C) I et II
- D) I et III
- E) I, II et III

23. Dans quel siècle l'imprimerie a été inventée en Europe?

- A) XIII^e
- B) XIV^e
- C) XV^e
- D) XVI^e
- E) XVII^e

Diğer sayfaya geçiniz.

- 24.
- I. La Renaissance
 - II. La Réforme
 - III. Les Croisades

Parmi les évènements cités ci-dessus, lesquels ont eu pour but d'exploiter les richesses de l'Orient?

- A) Seulement I
- B) Seulement III
- C) I et II
- D) II et III
- E) I, II et III

25. **Au Moyen Âge, la limitation progressive des droits et des libertés humaines a provoqué lequel des évènements cités ci-dessous?**

- A) L'apparition de l'esprit de souveraineté
- B) La polarisation des États
- C) L'importance grandissante du commerce dans le monde
- D) La pratique de diverses formes d'administration
- E) L'arrêt des recherches scientifiques

26. Alors que la population de l'Empire ottoman au début du XVI^e siècle était d'environ 11 millions, à la fin du même siècle, avec l'élargissement de ses frontières, elle atteignit les 16 millions.

Lesquelles de ces situations suivantes

- I. Le changement des frontières
- II. La diversification de la structure culturelle
- III. La diminution des dépenses

sont les conséquences de l'affirmation citée ci-dessus?

- A) Seulement I
- B) Seulement III
- C) I et II
- D) I et III
- E) I, II et III

27. **Dans quel siècle, le passage de l'Empire ottoman à l'ordre constitutionnel a eu lieu?**

- A) XVI^e
- B) XVII^e
- C) XVIII^e
- D) XIX^e
- E) XX^e

28. **Lequel de ceux qui sont cités ci-dessous n'a pas été utilisé durant la Première Guerre mondiale?**

- A) La bombe atomique
- B) Le char
- C) L'avion
- D) Le sous-marin
- E) Les gaz toxiques

29. **Dans lequel de ceux qui sont cités ci-dessous, la nécessité d'appartenance de la souveraineté à la Nation a été soulignée pour la première fois pendant la Guerre de l'indépendance?**

- A) Les décisions du Congrès de Sivas
- B) Les principes de la Convention Nationale (Misakimilli)
- C) La Constitution de 1921
- D) Les décisions du Congrès d'Erzurum
- E) Le décret d'Amasya

30. **Parmi les batailles citées ci-dessous, laquelle n'a pas été menée contre les Grecs?**

- A) La Première bataille d'Inönü
- B) La bataille de Derne
- C) La bataille de Sakarya
- D) La bataille du Commandant en Chef
- E) La bataille d'Eskisehir et de Kutahya

Diğer sayfaya geçiniz.

31. Atatürk a défini la nation turque ainsi: "On appelle 'la nation turque' le peuple de la Turquie qui a fondé la République de la Turquie."

Parmi les réponses suivantes, laquelle ne s'accorde pas à la définition citée ci-dessus?

- A) L'idéal d'unité et de solidarité
- B) Le révolutionnarisme et l'humanisme
- C) La souveraineté de la nation
- D) La conscience d'une langue et d'histoire commune
- E) La ségrégation raciale et religieuse

32.

- I. Les droits des minorités
- II. La frontière arménienne
- III. L'administration du Bosphore et des Dardanelles

Parmi les sujets cités ci-dessus, lesquels sont des dispositions dans le traité de Lausanne?

- A) Seulement I
- B) Seulement II
- C) Seulement III
- D) I et III
- E) I, II et III

33. **Lequel des principes d'Atatürk cités ci-dessous concerne l'organisation de la structure économique?**

- A) Le Révolutionnarisme
- B) Le Republicanisme
- C) L'Étatisme
- D) Le Populisme
- E) Le Nationalisme

34.

- I. La fermeture des médersas
- II. La promulgation de la loi sur la porte du chapeau, qui interdit la porte du fez et du colback
- III. L'adoption du Code Civil

Parmi les révolutions citées ci-dessus, lesquelles ont été rédigées dans le but de modernisation?

- A) Seulement I
- B) Seulement II
- C) Seulement III
- D) I et II
- E) I, II et III

35.

- I. La fermeture des tourbées et des tekkes
- II. La promulgation de la loi de l'unification de l'enseignement
- III. La promulgation de la loi sur l'utilisation du nom de famille

Lesquelles des réformes citées ci-dessus assurent l'unité de pensée dans la société turque?

- A) Seulement I
- B) Seulement II
- C) I et II
- D) II et III
- E) I, II et III

36.

- I. L'OTAN
- II. La Communauté Économique Européenne
- III. La Société des Nations

Parmi les organisations citées ci-dessus, lesquelles ont été créées après la Deuxième Guerre mondiale?

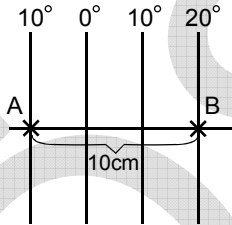
- A) Seulement I
- B) Seulement II
- C) Seulement III
- D) I et II
- E) II et III

Diğer sayfaya geçiniz.

37. Parmi les éléments cités ci-dessous, lequel doit être obligatoirement indiqué sur toutes sortes de cartes?

- A) L'échelle
- B) Les courbes isobathes
- C) Les couleurs représentant la flore
- D) La flèche de direction
- E) Les lignes définissant les frontières des villes

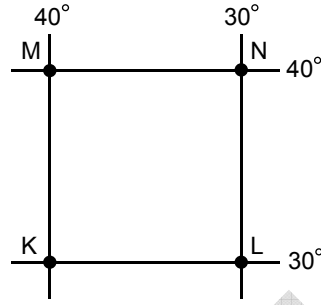
38. Sur l'Équateur, la distance entre le point A situé sur le 10° de méridien Ouest et le point B situé sur le 20° de méridien Est est de 10 cm sur une carte dont l'échelle n'est pas indiquée.



D'après ces données, quelle est l'échelle de cette carte?

- A) 1/11 100 000
- B) 1/22 200 000
- C) 1/33 300 000
- D) 1/44 400 000
- E) 1/55 500 000

39.



Les degrés de latitude et de longitude des points K, L, M et N sont donnés sur le dessin ci-dessus. D'après ces données, laquelle des réponses citées ci-dessous est fausse?

- A) Les rayons solaires n'atteignent jamais directement les quatre points.
- B) Les quatre points sont situés sur l'Ouest du méridien d'origine.
- C) La différence de l'heure locale entre les points K et L est de 40 minutes.
- D) La distance entre K et L est égale à celle entre M et N.
- E) La distance entre K et M est égale à celle entre L et N.

40.

- I. La République d'Afrique du Sud
- II. La Libye
- III. La Suède
- IV. Le Turkménistan

Parmi les réponses citées ci-dessous, sélectionnez le pays où la durée du jour est la plus longue au mois de décembre ainsi que le pays où la durée de la nuit est la plus longue pendant le même mois?

	Jour	Nuit
A)	I	III
B)	I	II
C)	II	I
D)	III	IV
E)	IV	III

Diğer sayfaya geçiniz.

41. Lequel des détroits cités ci-dessous sépare le continent africain du continent européen?

- A) Bosphore
- B) Gibraltar
- C) Béring
- D) Kertch
- E) Dardanelles

42. Parmi les lacs cités ci-dessous lequel a un niveau plus bas par rapport au niveau de la mer?

- A) Baïkal
- B) Aral
- C) Balkhach
- D) Genève
- E) La mer morte (Lut)

43. Parmi les pays cités ci-dessous lequel a des côtes plus dentelées que les autres?

- A) La France
- B) Le Portugal
- C) Le Canada
- D) La Norvège
- E) Le Danemark

44. Parmi les chaînes de montagnes citées ci-dessous laquelle ne se situe pas dans le même hémisphère que les autres?

- A) Les Alpes
- B) L'Altaï
- C) Les Cocasses
- D) Les Andes
- E) L'Himalaya

45.

- continental
- méditerranéen
- tempéré océanique

Dans quelle péninsule citée ci-dessous, on peut constater tous les aspects des climats cités ci-dessus?

- A) Italie
- B) Balkan
- C) Sinai
- D) Dekkan
- E) Ibérie

46. Quand on prend en considération les conditions géographiques des pays cités ci-dessous, lequel offre une plus grande diversité dans la production agricole?

- A) La Géorgie
- B) La Turquie
- C) La Finlande
- D) La Libye
- E) La Pologne

47. Quel est le pays qui se place au premier rang dans la production mondiale de riz?

- A) Le Japon
- B) La Chine
- C) L'Inde
- D) La Thaïlande
- E) Le Viêt-nam

Diğer sayfaya geçiniz.

48. Bien que la plupart de la population des pays en voie de développement en Asie et en Afrique travaille dans le secteur agricole, la productivité agricole est basse.

Parmi les affirmations ci-dessous laquelle est l'une des causes de cette situation?

- A) La diversité des terres réservées à l'agriculture
- B) Le manque de diversité des produits agroalimentaires
- C) L'insuffisance des investissements accordés au secteur agricole
- D) La densité de population
- E) La différence entre les quantités de précipitations annuelles des pays

49. Parmi les pays cités ci-dessous, lequel accueille le plus grand nombre d'immigrés?

- A) Le Canada
- B) L'Inde
- C) La Bulgarie
- D) Le Kazakhstan
- E) Le Chili

50. Quel est le continent le plus peuplé?

- A) L'Afrique
- B) L'Asie
- C) L'Europe
- D) L'Amérique du Nord
- E) L'Amérique du Sud

51. Parmi les pays cités ci-dessous, trouvez le pays où le tourisme de montagne et les sports d'hiver tiennent une place importante dans son économie?

- A) Le Portugal
- B) La Libye
- C) L'Australie
- D) La Syrie
- E) La Suisse

52. Parmi les affirmations suivantes, laquelle ne concerne pas directement les sciences économiques?

- A) La loi de l'offre et de la demande
- B) L'augmentation du taux d'inflation
- C) Une répartition inéquitable du revenu
- D) La fixation des prix
- E) La rentabilité des moyens de production

53. Un sociologue qui fait des études sur les institutions éducatives préfère travailler en équipe. Son équipe est composée d'un psychologue, d'un pédagogue, d'un économiste, d'un juriste etc. Et il profite de leurs connaissances.

Parmi les affirmations suivantes, laquelle confirme l'approche du sociologue?

- A) La complexité des phénomènes sociaux
- B) La recherche d'entente pour assurer l'ordre public
- C) Le travail des professeurs de différentes disciplines dans les institutions éducatives
- D) Le manque de confiance en eux-mêmes des sociologues
- E) La subjectivité des sciences sociales

54. De nos jours, on observe que les indigènes australiens, familiarisés avec la technologie, ont commencé à se transformer.

Pour confirmer l'affirmation citée ci-dessus, la sociologie se réfère notamment à ----.

- A) l'Histoire
- B) l'Anthropologie culturelle
- C) la Psychologie clinique
- D) l'Économie
- E) la Géographie physique

Diğer sayfaya geçiniz.

55. La construction des réseaux ferroviaires ou routiers fait partie de la politique de transport de l'État. L'étude des changements, provoqués par ces réseaux sur les habitats est l'objet de la sociologie.

D'après ce passage, parmi les recherches sur les réseaux citées ci-dessous, lesquelles concernent la sociologie?

- A) Les coûts de leurs constructions
- B) Leurs longueurs
- C) Les conditions de leurs constructions
- D) Leurs effets sur la vie des gens
- E) Leurs relations avec la structure géographique

56. Parmi les affirmations citées ci-dessous, laquelle **n'est pas** l'une des caractéristiques des normes de Droit?

- A) Elles sont systématiques.
- B) Leurs pouvoirs sont conférés par l'État.
- C) Elles sont rationnelles.
- D) Elles prennent des sanctions par l'intermédiaire des institutions précises.
- E) Elles diffèrent selon les régions.

57. Parmi les affirmations suivantes, laquelle reflète le mieux la situation psychologique d'une personne, étant à la fois mère et professeur, lorsqu'elle laisse son enfant malade chez elle pour aller travailler?

- A) Les conflits des rôles
- B) L'expectation de rôle
- C) L'ensemble de statut
- D) Le renforcement de rôle
- E) Le statut donné

58. Si les lois écrites n'indiquent pas les peines de certains crimes, le juge peut prendre une décision selon les usages et les coutumes de la société, en bref il peut appliquer les normes non écrites.

D'après ce passage, on peut dire que ----.

- A) les lois doivent être universelles
- B) le Droit a pour but de protéger l'ordre social
- C) les peines assurent la sanction du Droit
- D) les lois changent selon les sociétés
- E) le Droit profite parfois des valeurs sociales

59. Parmi les affirmations citées ci-dessous, laquelle est l'une des caractéristiques d'être l'État social?

- A) L'égalité des tous devant la loi
- B) La protection des personnes âgées et des orphelins par l'État
- C) Le droit de vote pour tous les citoyens
- D) Le libre choix des individus concernant leur éducation
- E) Avoir de bonnes relations avec les autres sociétés

60. L'anthropologie, l'une des disciplines des sciences sociales, étudie l'évolution, les caractéristiques vitales et les aspects sociaux culturels de l'homme. Une autre discipline de science sociale, l'économie étudie les valeurs créées par l'homme, la constitution des richesses des pays et leurs répartitions.

D'après l'affirmation ci-dessus, laquelle des caractéristiques suivantes est l'exemple des sciences sociales?

- A) Elles s'intéressent à ce qui devrait être et non à ce qui est.
- B) Elles évitent d'être normatives.
- C) Elles ont différents domaines d'intérêts.
- D) Elles profitent des données statistiques.
- E) Elles prennent leurs origines dans la philosophie.

Diğer sayfaya geçiniz.

61. Un pêcheur qui est allé le matin au bord de la rivière voit dans l'eau une pierre tout à fait différente soit par sa couleur, soit par sa forme et la met dans sa poche. Le pêcheur, ayant pêché plus de poissons ce jour-là que les autres jours, pense que cet événement heureux est dû à la pierre qu'il a trouvée. Il la garde comme porte-bonheur, et il la prend à chaque fois qu'il va à la pêche.

Parmi les réponses suivantes laquelle explique pourquoi le pêcheur garde la pierre?

- A) La superstition
- B) La généralisation de stimulant
- C) La rationalisation
- D) L'apprentissage inconscient
- E) La sublimation

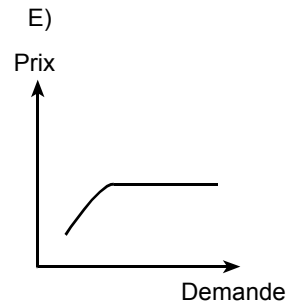
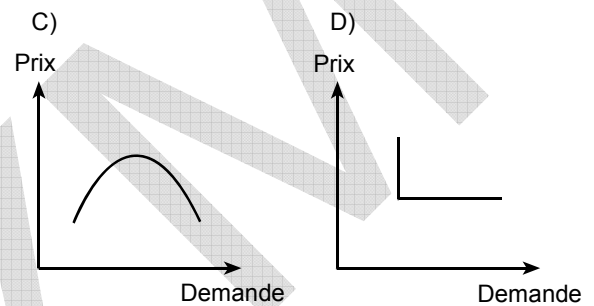
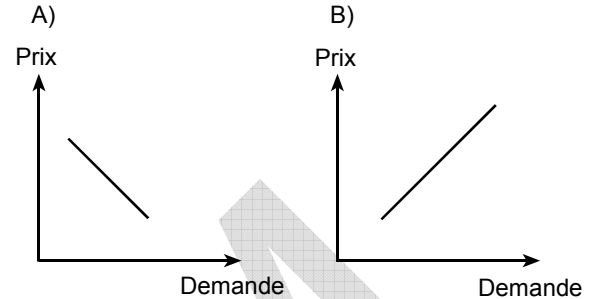
62. De nos jours, on observe que les fêtes se différencient par leurs fonctions, par leurs significations. Les vacances s'organisent selon les fêtes. Le tourisme et la vente des souvenirs s'animent au cours des fêtes.

Cette constatation illustre que ----.

- A) dans chaque société il y a des jours particuliers
- B) les fêtes sont des produits de croyances
- C) les institutions sociales se forment en exerçant une influence réciproquement
- D) les jours des vacances sont des jours fériés
- E) les relations commerciales se forment d'après la structure sociale

63. Dans le marché, tant que la demande d'une marchandise augmente, son prix augmente.

Lequel de ces graphiques suivants illustre cette relation?



64. Une orange placée sur une table est perçue comme ronde peu n'importe de quel angle nous la regardons, ce fait est un exemple de ----.

- A) l'organisation de la perception
- B) la constance de forme
- C) la préparation perceptive
- D) l'illusion de la perception
- E) la constance de grandeur

Diğer sayfaya geçiniz.

65. Dans une expérimentation faite dans le but d'étudier les influences du stress sur l'apprentissage, lequel des éléments suivants est la variable dépendante?

- A) Le milieu stressé
- B) Le milieu non stressé
- C) La quantité d'apprentissage
- D) La qualité du stress
- E) Le niveau d'éducation

66.

- Le premier cygne que j'ai observé était blanc.
- Le deuxième cygne que j'ai observé était blanc.
- Le troisième cygne que j'ai observé était blanc.
- Le quatrième cygne que j'ai observé était blanc.
- Donc tous les cygnes sont blancs.

Ce raisonnement est un exemple de ----.

- A) la méthode expérimentale
- B) la déduction
- C) l'induction
- D) l'analogie
- E) l'argumentation

67. Parmi les propositions citées ci-dessous, laquelle peut être considérée comme vraie ou fausse sans faire d'observation et d'expérimentation?

- A) Certains tableaux ne sont pas beaux.
- B) Aucune plante n'est animale.
- C) Il est un homme bon.
- D) Tout enfant n'est pas sage.
- E) Certains oiseaux chantent.

68. On appelle "le terme général" les termes qui définissent les particularités communes des objets semblables.

Parmi les réponses suivantes laquelle est un terme général plus que les autres?

- A) L'animal B) Le pigeon C) L'oiseau
- D) Le reptile E) Le cygne

Diğer sayfaya geçiniz.

69. D'après la Constitution de 1982, les élections législatives turques se font tous les ---- ans.

- A) 2 B) 3 C) 4 D) 5 E) 6

70. Laquelle des réponses suivantes n'est pas l'une des fonctions et des pouvoirs de la Grande Assemblée de la Nation turque (TBMM)?

- A) Prendre la décision de battre monnaie
B) Prendre la décision de déclarer la guerre
C) Le contrôle des organismes judiciaires
D) L'acceptation du budget
E) Donner des lois

71. Lequel cité ci-dessous représente également le chef d'État?

- A) Le Premier Ministre
B) Le Président de la République
C) Le Secrétaire générale du Conseil de la Sécurité nationale
D) Le Ministre de l'intérieur
E) Le chef d'État Major

72. D'après la Constitution de 1982, qui est responsable envers la Grande Assemblée de la Nation turque (TBMM), de la garantie de la sécurité nationale et de la préparation des Corps d'Armée dans la défense nationale?

- A) Le chef d'État Major
B) Le ministre de la Défense nationale
C) Le conseil de la sécurité nationale
D) Le Président de la République
E) Le conseil des Ministres

73. À titre de la Cour Suprême, la fonction du jugement appartient ----.

- A) au Conseil d'État
B) à la Cour de Cassation
C) au Conseil constitutionnel
D) à la Cour administrative
E) à la cour des comptes

74. Par quelle voie, les dirigeants politiques sont déterminés par le peuple dans la démocratie représentative?

- A) L'élection B) La nomination
C) L'approbation D) Le référendum
E) La démocratie directe

75. Lequel ou lesquels cité(s) ci-dessous a (ont) le pouvoir de proposer des nouvelles lois?

- A) Les citoyens
B) Les députés
C) Le président du Conseil constitutionnel
D) Le Président de la Cour de cassation
E) Les juges et les procureurs

GENEL BAŞARI TESTİ BİTTİ.

GENEL BAŞARI TESTİ (İNGİLİZCE)

1.

$$\frac{2}{3} + \frac{22}{33} + \frac{222}{333}$$

Simplify the above.

- A) 1 B) 2 C) 3 D) $\frac{3}{2}$ E) $\frac{4}{3}$

2.

$$\left(\frac{4}{9}\right)^4 \cdot \left(\frac{27}{8}\right)^3$$

Simplify the above.

- A) 1 B) 2 C) $\frac{4}{9}$ D) $\frac{2}{3}$ E) $\frac{3}{2}$

3. If $x^3 + 12^3 = y^3 + 9^3 = 1729$
what is the sum of $x + y$?

- A) 11 B) 10 C) 9 D) 8 E) 7

4.

$$\begin{array}{r} K L M \\ - P R S \\ \hline \end{array}$$

In the above subtraction, KLM, PRS represent two three-digit natural numbers and each letter stands for a different number.

What can the greatest result of this subtraction be?

- A) 855 B) 864 C) 876 D) 885 E) 888

5. If $3x + 3$ and $5x - 1$ are two-digit, consecutive, even numbers, what is the value of x ?

- A) 2 B) 3 C) 4 D) 5 E) 6

6. If the two-digit number KL is divided by M, the quotient is 17, and the remainder $M - 3$.

According to this information, when $KL + 3$ is divided by 18 what is the quotient?

- A) 6 B) 8 C) K D) L E) M

Diğer sayfaya geçiniz.

7. If

$$s(A - B) = s(B - A)$$

$$s(A \cap B) = 2$$

$$s(A \cup B) = 12$$

what is the number of elements of set A?

- A) 9 B) 8 C) 7 D) 6 E) 4

8.

$$|x - 3| < 2$$

What is the sum of the integers that constitute the inequality?

- A) 5 B) 6 C) 7 D) 8 E) 9

9. An employee who saves 5% of his salary every month saves 504 TL by the end of two years.

If this employee has received only one increase of 10% to his salary and this occurred at the beginning of the second year, what was his salary during the first year?

- A) 400 B) 440
C) 480 D) 500
E) 580

10. If the capital of a company is x at the beginning of a certain year and becomes $3x$ at the end of that same year, what is the percentage of the yearly increase in its capital?

- A) 75 B) 100 C) 125 D) 150 E) 200

11. In the following table we can see the monthly expenditure of a family.

Monthly Expenditure (in TL)

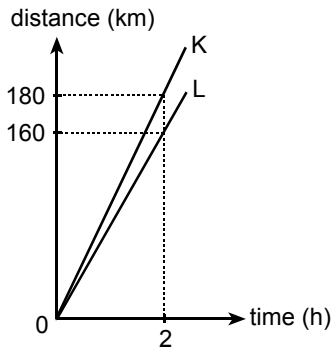
Kitchen	Fuel	Rent	Other
180	50	x	40

If the amount this family spends on fuel is $\frac{100}{9}$ % of their total expenditure, what is the value of x ?

- A) 200 B) 190 C) 180 D) 170 E) 160

Diğer sayfaya geçiniz.

12.

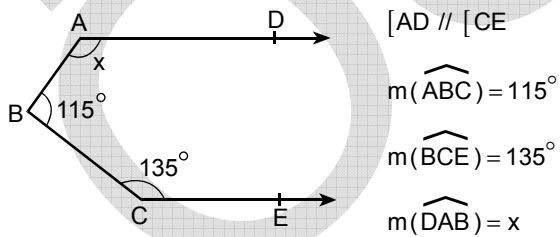


The above graph shows how far vehicles K and L have travelled in relation to the time.

If both vehicles start their journey at the same time, from the same place and travel in the same direction, after how many hours will the distance between them be 36 km?

- A) $\frac{13}{5}$ B) $\frac{14}{5}$ C) $\frac{16}{5}$
 D) $\frac{17}{5}$ E) $\frac{18}{5}$

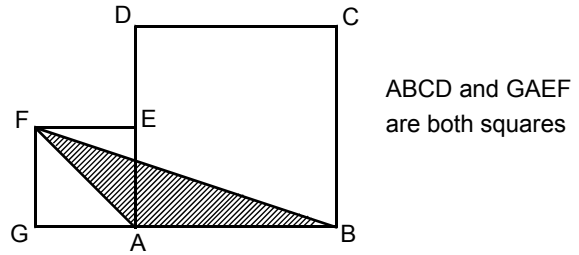
13.



According to the above data, what is the value of x?

- A) 105 B) 110 C) 115 D) 120 E) 125

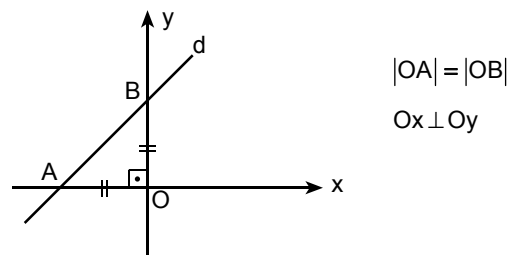
14.



In the above figure, if $|AE| = |ED|$, how many times bigger is the area of the square ABCD than the area of the triangle FAB?

- A) 7 B) 6 C) 5 D) 4 E) 3

15.



If the area of the OAB isosceles triangle is 8 cm^2 , which of the following is the equation of line d?

- A) $y = -x + 4$ B) $y = x - 4$ C) $y = x + 4$
 D) $y = -x - 2$ E) $y = x + 2$

Diğer sayfaya geçiniz.

16. It is one of the principal works concerning the history of our culture and civilization. It is the first dictionary of the Turkish language and was written in order to teach Turkish to the Arabs.

In which of the following is the name of the writer and of the work both given?

- A) Divanü Lûgât-it Türk – Kaşgarlı Mahmut
- B) Divan-ı Hikmet – Ahmet Yesevi
- C) Kutadgu Bilig – Yusuf Has Hacip
- D) Muhakemetü'l Lûgateyn – Ali Şir Nevai
- E) Atabetü'l Hakayık – Edip Ahmet

17. In which of the following do we have both the writer and the title of the work considered to be the first psychological novel in Turkish literature?

- A) Huzur – Ahmet Hamdi Tanpınar
- B) Yaban – Yakup Kadri Karaosmanoğlu
- C) İntibah – Namık Kemal
- D) Eylül – Mehmet Rauf
- E) Sergüzeşt – Sami Paşazade Sezai

18. Which of the following is one of the founders of Naturalism commonly considered to be a late stage of the Realist movement?

- A) Madam de La Fayette
- B) Emile Zola
- C) Gustave Flaubert
- D) La Bruyère
- E) Sainte-Beuve

19. Which one of the following titles does not belong to the writer given together?

- A) The Lily in The Valley – Balzac
- B) The Red and The Black – Stendhal
- C) Les Misérables – Victor Hugo
- D) Essays – Montaigne
- E) The Miser – Pierre Corneille

20. Which of the following was not one of the civilizations established in Anatolia?

- A) Urartian
- B) Lydian
- C) Phrygian
- D) Hittite
- E) Sumerian

21. Which of the following years belongs to the first quarter of the 20th century?

- A) 1923
- B) 1951
- C) 1955
- D) 1975
- E) 1995

22.

- I. Leonardo Da Vinci
- II. Salvador Dali
- III. Buonarroti Michelangelo

Which of the artists above belong to the Renaissance period?

- A) Only I
- B) Only III
- C) I and II
- D) I and III
- E) I, II and III

23. In which century was the printing press invented in Europe?

- A) XIIIth
- B) XIVth
- C) XVth
- D) XVIth
- E) XVIIth

Diğer sayfaya geçiniz.

24.

- I. The Renaissance
- II. The Reformation
- III. The Crusades

In which of the above was the main aim the "exploitation of the riches of the East"?

- A) Only I B) Only III C) I and II
D) II and III E) I, II and III

25. **Which of the following was an outcome of the further limitations imposed on human rights and liberties during the Middle Ages?**

- A) The establishment of the concept of sovereignty
- B) The grouping of the different countries
- C) The gaining of importance of trade in the world
- D) The implementation of different types of administration
- E) The limiting of scientific activities

26. While the population of the Ottoman Empire was around 11 million at the beginning of the 16th century, with the expansion of the boundaries at the end of that century, the population exceeded 16 million.

This being the case, which of the following conclusions can be drawn regarding the situation in the Ottoman Empire?

- I. The boundaries changed.
 - II. The cultural character was diversified.
 - III. The expenses went down.
- A) Only I B) Only III C) I and II
D) I and III E) I, II and III

27. **In which century did the Ottoman Empire take on a constitutional character?**

- A) XVIth B) XVIIth C) XVIIIth D) XIXth E) XXth

28. **Which of the following were not used during World War I?**

- A) Atom Bombs B) Tanks
C) Planes D) Submarines
E) Poisonous Gases

29. **During the War of Independence, in which of the following was the concept of the necessity of sovereignty resting in the nation first set down?**

- A) The Sivas Congress Decisions
- B) Misakı Millî Principles
- C) The Constitution of 1921
- D) The Erzurum Congress Decisions
- E) The Amasya Document

30. **Which of the following was not one of the battles fought against the Greeks?**

- A) The First İnönü Battle
- B) Derne Battle
- C) Sakarya Battle
- D) The Battle of Commander-in-Chief
- E) Battles of Eskişehir and Kütahya

Diğer sayfaya geçiniz.

31. Atatürk defined the Turkish nation as “the people of Turkey who have established the Republic of Turkey”.

Which of the following is not compatible with the definition above?

- A) The ideal of unity and solidarity
- B) Reformism and humanism
- C) National sovereignty
- D) The concept of language and history
- E) Racial and religious discrimination

32.

- I. Minority rights
- II. Boundary with Armenia
- III. The administration of the straits

About which of the above subjects are there articles in the Lausanne Treaty?

- A) Only I
- B) Only II
- C) Only III
- D) I and III
- E) I, II and III

33. **Which of the following principles of Atatürk are related to the organization of the economic structure?**

- A) Reformism
- B) Republicanism
- C) Statism
- D) Populism
- E) Nationalism

34.

- I. The closing down of Medreses
- II. The acceptance of the law concerning the prohibition of the fez and the acceptance of Western head gear
- III. The acceptance of the Civil Code

Which of the reforms above can be considered to have been implemented to ensure modernization?

- A) Only I
- B) Only II
- C) Only III
- D) I and II
- E) I, II and III

35.

- I. The closing down of dervish lodges and cells
- II. The acceptance of the law for the unification of education
- III. The acceptance of law for taking surnames

Which of the above was arguably carried out in order to establish a unified way of thinking in the Turkish community?

- A) Only I
- B) Only II
- C) I and II
- D) II and III
- E) I, II and III

36.

- I. NATO
- II. European Economic Community
- III. League of Nations

Which of the above was/were established after World War II?

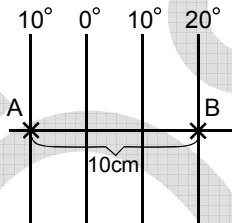
- A) Only I
- B) Only II
- C) Only III
- D) I and II
- E) II and III

Diğer sayfaya geçiniz.

37. Which of the following must be shown on all maps?

- A) Scale
- B) Isobath curve
- C) Colours showing natural vegetation
- D) Position of North
- E) The boundaries of administrative provinces

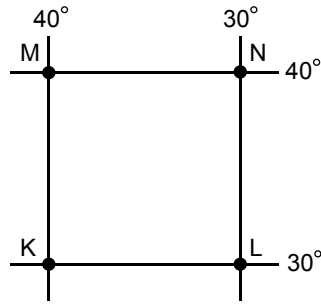
38. On a map with the scale unknown, point A which is 10° on the Western meridian and point B which is 20° on the Eastern meridian are 10 cm apart. Both these points are on the Equator.



According to this information, what is the scale of this map?

- A) 1/11 100 000
- B) 1/22 200 000
- C) 1/33 300 000
- D) 1/44 400 000
- E) 1/55 500 000

39.



The longitude and latitude degrees are given for the above points K, L, M and N. With this in mind, which of the following is definitely wrong?

- A) The rays of the sun never fall on these four points at a right angle.
- B) All four points are to the west of the prime meridian.
- C) The local time difference between points K and L is 40 minutes.
- D) The distance between points K and L and points M and N is the same.
- E) The distance between points K and M and points L and N is the same.

40.

- I. Republic of South Africa
- II. Libya
- III. Sweden
- IV. Turkmenistan

With regard to the above countries, in the month of december, which of the alternatives below gives both the longest day and the longest night?

	<u>Day</u>	<u>Night</u>
A)	I	III
B)	I	II
C)	II	I
D)	III	IV
E)	IV	III

Diğer sayfaya geçiniz.

41. Which of the following straits separates the African continent from the European continent?

- A) Bosphorus B) Gibraltar
C) Bering D) Kerch
E) Dardanelles

42. Which of the following lakes has a surface that is below sea level?

- A) Baykal B) Aral
C) Balkash D) Geneva
E) Dead Sea (Lut Gölü)

43. Which of the following countries has a coastline with more narrow inlets of the sea than the others?

- A) France B) Portugal
C) Canada D) Norway
E) Denmark

44. Which of the following mountain ranges is situated in a different hemisphere from the others?

- A) Alps B) Altai C) Caucasus
D) Andes E) Himalaya

45. In which of the following peninsula can we see

- continental
- Mediterranean
- temperate oceanic

climatic conditions altogether?

- A) Italy B) Balkan C) Sinai
D) Deccan E) Iberia

46. If we take the geographical conditions of the following countries into consideration, which one of them might be expected to produce a larger variety of agricultural produce?

- A) Georgia B) Turkey C) Finland
D) Libya E) Poland

47. Which of the following countries has the largest share in rice production in the world?

- A) Japan B) China
C) India D) Thailand
E) Vietnam

Diğer sayfaya geçiniz.

48. Although most of the population works in the agricultural sector in the underdeveloped countries, situated in Africa and Asia, the agricultural yield is low.

Which of the following is one of the reasons for this state of affairs?

- A) The land allocated to agriculture is of different types.
- B) There is little variety in the industrial agricultural products available.
- C) The investments made in the field of agriculture are limited.
- D) Population density is very high.
- E) There is a big difference in the yearly amount of precipitation in these countries.

49. Which of the following countries gets more immigrants than the others?

- A) Canada
- B) India
- C) Bulgaria
- D) Kazakhstan
- E) Chile

50. Which of the following continents has the largest share of the world population?

- A) Africa
- B) Asia
- C) Europe
- D) North America
- E) South America

51. In which of the following countries does skiing and mountain tourism occupy an important place in the economy?

- A) Portugal
- B) Libya
- C) Australia
- D) Syria
- E) Switzerland

52. Which of the following is not a subject directly related to the study of economics?

- A) Supply-demand relationship
- B) Increase in inflation
- C) Inequality in income distribution
- D) Determination of prices
- E) Efficiency of the factors of production

53. Sociologists doing research on educational institutions prefer to work as a team. In their teams they include psychologists, pedagogues, economists, jurists, etc. and they make use of their findings.

Which of the following is the main reason why a sociologist would adopt such an approach?

- A) The complexity of social issues
- B) The need to establish an order through a consensus of opinion
- C) The fact that teachers from different areas of specialization are employed in educational institutions
- D) The lack of self-confidence common among social scientists
- E) The fact that social science is subjective

54. Nowadays it can be observed that the indigenous people of Australia have accepted modern technology and have started to change.

Which of the findings of the following disciplines should sociology specifically make use of in order to explain this change?

- A) History
- B) Cultural anthropology
- C) Clinical psychology
- D) Economics
- E) Physical geography

Diğer sayfaya geçiniz.

55. The making of railroads or highways is related to the transportation policy of the government. The analysis of the changes that these roads will bring to the residential units is an area of sociology.

According to this statement, the analysis of which aspect of the roads makes it the subject of sociology?

- A) What the cost will be
- B) How many km. long it will be
- C) Conditions of construction
- D) The effects on the lives of the people
- E) The relation with the geographical make-up

56. Which of the following is not a characteristic of norms of law?

- A) Being systematic
- B) Having the backing of the state
- C) Being rational
- D) Ensuring their sanctions through certain institutions
- E) Varying from area to area

57. The tension that someone who is a mother and a teacher faces when she leaves her sick child and goes to school is an example of which of the following?

- A) Conflicting roles
- B) Role expectations
- C) Status set
- D) Role reinforcement
- E) Given status

58. If the punishment for a certain crime is not covered by law, the judge is empowered to make a decision in line with the usage and customs of society, in other words he can implement unwritten norms.

With this in mind, which of the following judgements can be reached?

- A) Laws should be universal.
- B) The law protects the social order through punishments.
- C) Punishments safeguard the sanctions of legal regulations.
- D) Legal regulations differ from society to society.
- E) Sometimes the law makes use of social values.

59. Which of the following characterizes social state?

- A) Everybody being equal in the eye of the law
- B) The state having responsibility for the old and destitute
- C) The right of all citizens to vote
- D) The right of the individual to choose the field of study
- E) Having amicable relations with other societies

60. Anthropology is one of the social sciences, and researches the evolution and vital characteristics of mankind and also his social and cultural aspects. Economics, which is another social science, examines how the values created by man and the riches of a country came into being and how these are being distributed.

To what characteristic of the social sciences does the above passage refer?

- A) They don't deal with what is but with what ought to be.
- B) They refrain from being the rule makers.
- C) They have different areas of interest.
- D) They make use of statistics.
- E) Their origins stem from philosophy.

Diğer sayfaya geçiniz.

61. A fisherman goes to the riverside one morning, and sees a stone with a shape and colour very different from the others. He puts it in his pocket. Having caught more fish than on any other day, he relates this happening to his finding of the stone. He keeps it for good luck and takes it with him whenever he goes fishing.

Which of the following gives the reason why the fisherman carries the stone for good luck?

- A) Superstition
- B) Stimulant generalization
- C) Rationalization
- D) Latent learning
- E) Sublimation

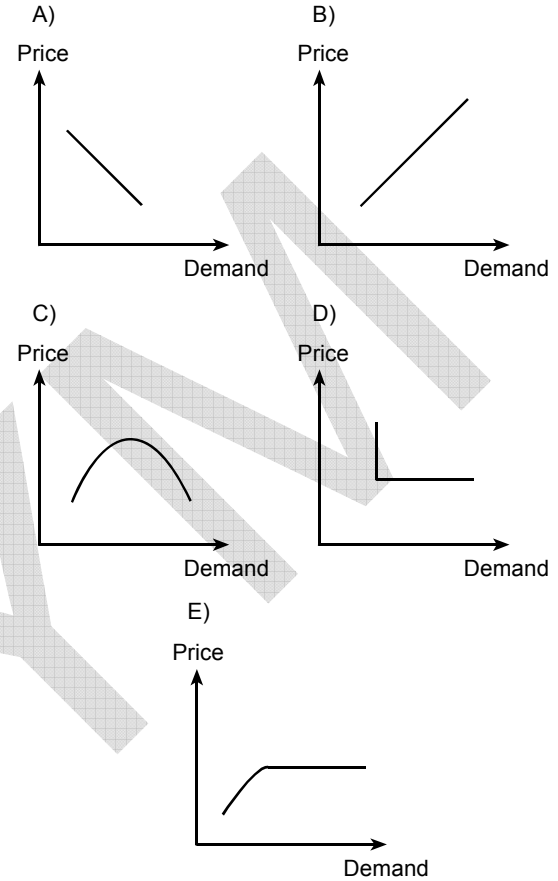
62. Nowadays we can observe a differentiation in the meaning and function of state and religious holidays. The working days and holidays are arranged with these in mind. Tourism and travel and the sale of gifts increase at such times.

Which of the following views points to this situation?

- A) All societies have special days.
- B) Holidays (Bayram) are the result of beliefs.
- C) Social institutions affect and shape one another.
- D) Holidays are non-working days.
- E) Commercial relations are shaped according to the social structure.

63. In a market situation, if the demand for a product increases, we observe an increase in the price of that product.

Which of the following graphs shows this relationship?



64. If we see the orange on the table as being round no matter from which angle we look at it, which of the following is this an example of?

- A) Perceptual organization
- B) Shape constancy
- C) Perceptual preparation
- D) Perceptual illusion
- E) Size constancy

Diğer sayfaya geçiniz.

65. In an experiment conducted to examine the effects of stress on learning, which of the following can be the dependent variable?

- A) A stressful environment
- B) A stress-free environment
- C) The amount of learning
- D) The quality of stress
- E) The level of education

66.

- The first swan that I observed was white.
- The second swan that I observed was white.
- The third swan that I observed was white.
- The fourth swan that I observed was white.
- So all swans are white.

Which of the following is the type of reasoning exemplified above?

- A) Experimental method
- B) Deduction
- C) Induction
- D) Analogy
- E) Proofing

67. For which of the following statements can we decide if it is correct or incorrect without carrying out any observation or experiment?

- A) Some pictures are not nice.
- B) No plants are animals.
- C) He's a good man.
- D) Not all children are well-behaved.
- E) Some birds sing.

68. The expression "general term" is given to words that talk about the common characteristics of similar objects.

Which of the following is a more general term compared to the others?

- A) Animal
- B) Pigeon
- C) Bird
- D) Reptile
- E) Swan

69. According to the 1982 Constitution, how often are elections for the Turkish Grand National Assembly held?

- A) 2
- B) 3
- C) 4
- D) 5
- E) 6

70. Which of the following is not one of the duties and powers of the Turkish Grand National Assembly?

- A) To decide to mint money
- B) To decide on the proclamation of war
- C) To supervise judicial organs
- D) To approve the yearly budget
- E) To make a law

Diğer sayfaya geçiniz.

71. Which of the following is also the head of state?

- A) Prime Minister
- B) President
- C) Secretary General of the National Security Council
- D) Minister of the Interior
- E) Chief of General Staff

72. According to the 1982 Constitution, which of the following is responsible to the Turkish Grand National Assembly for providing national security and preparing the Armed Forces for the defence of the country?

- A) Chief of General Staff
- B) Minister of National Defence
- C) Secretary General of the National Security Council
- D) President
- E) Cabinet

73. Which of the following carries out the duty of passing judgement in its capacity as a High Court?

- A) Council of State
- B) Court of Appeals
- C) Constitutional Court
- D) Administrative Court
- E) Court of Accounts

74. Through which of the following can the act of determining the rulers by the ruled in representative democracies carried out?

- A) Elections
- B) Appointment
- C) Approval
- D) Referendum
- E) Direct democracy

75. Which of the following is empowered to propose a law?

- A) Citizens
- B) Members of the Parliament
- C) The President of the Constitutional Court
- D) The President of the Supreme Court of Appeals
- E) Judges and prosecutors

GENEL BAŞARI TESTİ BİTTİ.

YURT DIŐINDA ALIŐANLARIN OCUKLARI İİN
YÜKSEKÖĐRETİME GİRİŐ SINAVI (YS)

YABANCI DİL

ALMANCA

- | | | |
|-------|-------|-------|
| 1. B | 21. E | 41. B |
| 2. C | 22. C | 42. C |
| 3. A | 23. D | 43. A |
| 4. E | 24. A | 44. D |
| 5. D | 25. B | 45. E |
| 6. B | 26. D | 46. B |
| 7. E | 27. A | 47. A |
| 8. C | 28. E | 48. D |
| 9. A | 29. B | 49. C |
| 10. D | 30. D | 50. E |
| 11. B | 31. A | 51. A |
| 12. E | 32. C | 52. C |
| 13. A | 33. B | 53. E |
| 14. C | 34. D | 54. B |
| 15. A | 35. E | 55. D |
| 16. D | 36. C | 56. E |
| 17. E | 37. B | 57. B |
| 18. A | 38. D | 58. C |
| 19. C | 39. A | 59. E |
| 20. B | 40. E | 60. B |

YURT DIŐINDA ALIŐANLARIN OCUKLARI İİN
YÜKSEKÖĐRETİME GİRİŐ SINAVI (YS)

YABANCI DİL

FRANSIZCA

- | | | |
|-------|-------|-------|
| 1. D | 21. A | 41. A |
| 2. A | 22. D | 42. C |
| 3. B | 23. E | 43. E |
| 4. E | 24. A | 44. D |
| 5. C | 25. D | 45. D |
| 6. A | 26. A | 46. B |
| 7. E | 27. E | 47. A |
| 8. D | 28. C | 48. D |
| 9. B | 29. E | 49. B |
| 10. D | 30. B | 50. E |
| 11. A | 31. A | 51. A |
| 12. D | 32. C | 52. C |
| 13. C | 33. E | 53. B |
| 14. E | 34. D | 54. A |
| 15. B | 35. B | 55. C |
| 16. D | 36. E | 56. E |
| 17. A | 37. C | 57. A |
| 18. C | 38. A | 58. C |
| 19. B | 39. B | 59. E |
| 20. B | 40. D | 60. A |

YURT DIŐINDA ALIŐANLARIN OCUKLARI İİN
YÜKSEKÖĐRETİME GİRİŐ SINAVI (YS)

YABANCI DİL

İNGİLİZCE

- | | | |
|-------|-------|-------|
| 1. D | 21. C | 41. E |
| 2. A | 22. A | 42. C |
| 3. B | 23. E | 43. E |
| 4. D | 24. C | 44. D |
| 5. C | 25. E | 45. D |
| 6. A | 26. D | 46. B |
| 7. E | 27. A | 47. A |
| 8. A | 28. B | 48. D |
| 9. D | 29. A | 49. B |
| 10. C | 30. B | 50. E |
| 11. E | 31. A | 51. B |
| 12. B | 32. C | 52. C |
| 13. D | 33. E | 53. B |
| 14. A | 34. D | 54. A |
| 15. B | 35. B | 55. C |
| 16. A | 36. E | 56. E |
| 17. E | 37. C | 57. B |
| 18. C | 38. B | 58. C |
| 19. A | 39. A | 59. E |
| 20. B | 40. D | 60. D |

**YURT DIŐINDA ALIŐANLARIN OCUKLARI İİN
YÜKSEKÖĐRETİME GİRİŐ SINAVI (YS)**

TÜRKE TESTİ

- | | | |
|-------|-------|-------|
| 1. E | 21. A | 41. D |
| 2. C | 22. C | 42. B |
| 3. B | 23. B | 43. E |
| 4. D | 24. D | 44. C |
| 5. A | 25. A | 45. A |
| 6. E | 26. C | 46. D |
| 7. B | 27. D | 47. C |
| 8. C | 28. E | 48. B |
| 9. A | 29. A | 49. E |
| 10. D | 30. D | 50. D |
| 11. B | 31. D | 51. A |
| 12. E | 32. C | 52. B |
| 13. A | 33. B | 53. C |
| 14. D | 34. A | 54. D |
| 15. E | 35. E | 55. E |
| 16. C | 36. C | 56. A |
| 17. D | 37. B | 57. B |
| 18. D | 38. A | 58. C |
| 19. B | 39. E | 59. E |
| 20. E | 40. B | 60. D |

YURT DIŐINDA ALIŐANLARIN OCUKLARI İİN
YÜKSEKÖĞRETİME GİRİŐ SINAVI (YS)

GENEL BAŐARI TESTİ

- | | | |
|-------|-------|-------|
| 1. B | 26. C | 51. E |
| 2. E | 27. D | 52. C |
| 3. A | 28. A | 53. A |
| 4. D | 29. E | 54. B |
| 5. B | 30. B | 55. D |
| 6. E | 31. E | 56. E |
| 7. C | 32. D | 57. A |
| 8. E | 33. C | 58. E |
| 9. A | 34. E | 59. B |
| 10. E | 35. C | 60. C |
| 11. C | 36. D | 61. A |
| 12. E | 37. A | 62. C |
| 13. B | 38. C | 63. B |
| 14. D | 39. D | 64. B |
| 15. C | 40. A | 65. C |
| 16. A | 41. B | 66. C |
| 17. D | 42. E | 67. B |
| 18. B | 43. D | 68. A |
| 19. E | 44. D | 69. C |
| 20. E | 45. E | 70. C |
| 21. A | 46. B | 71. B |
| 22. D | 47. B | 72. E |
| 23. C | 48. C | 73. C |
| 24. B | 49. A | 74. A |
| 25. E | 50. B | 75. B |