

T Ü R K Ç E T E S T İ

(Bu Testte; 20 Türkçe, 20 Matematik, 20 Hayat Bilgisi sorusu vardır. Süre 80 dakikadır.)

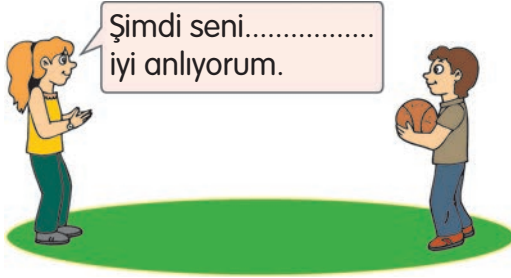
1. Kış, tüm beyazlığı ve soğukluğuyla kendini hissettiriyordu. Göklerde bulutlar bayram yaparken ormanda sert bir rüzgâr, ağaçları sallıyordu. Ormandaki bazı hayvanlar, kış uykusunu tercih etmişti. Böylece hem yazın yorgunluğunu atıyor hem de soğuğun ıslak yüzünü görmüyorlardı. Güneş, bulutların arasından başını arada bir uzatıp, "Beni özlediniz mi?" diyordu.



Yukandaki metinde aşağıdaki sorulardan hangisinin cevabı yoktur?

- A) Metinde hangi mevsimin özellikleri anlatılıyor?
B) Bulutların arasından başını uzatan nedir?
C) Kış mevsiminde ormandaki hayvanlar nasıl besleniyor?

2.



Yukandaki konuşma balonunda boş bırakılan yere aşağıdaki sözcüklerden hangisinin yazılması uygun olur?

- A) ama B) daha C) fakat

3.



Elif, teyzesine başından geçenleri anlatıyor.

Cümlesindeki noktalı yere kaç numaralı elmadaki sözcük yazılmalıdır?

- A) 1 B) 2 C) 3

4. "Ali baba çok yaşlı, sevimli biriymiş. Çok da çalışkanmış. Ali baba, çok iyi bir insanmış. Bu yüzden ona "baba" diyorlarmış. Karısı da onun kadar iyi biriymiş. Ali baba, odunculuk yapıyormuş. Bu yüzden fakirlermiş. Geçim sıkıntısı çekiyorlarmış."



Yukandaki metne göre, aşağıdakilerden hangisi söylenebilir?

- A) Ali baba, iyi bir insan olduğu için ona "baba" diyorlarmış.
 B) Çok zengin, genç bir adammış.
 C) Ali baba, çalışmayı hiç sevmezmiş.
5. "Komşusunun bahçesine oğlu ömerle gelen Halit Bey, bahçeden bir miktar elma topladı." **cümlesinde geçen sözcüklerden hangisinin yazımı yanlıştır?**

- A) bahçesinde B) Halit Bey C) ömer

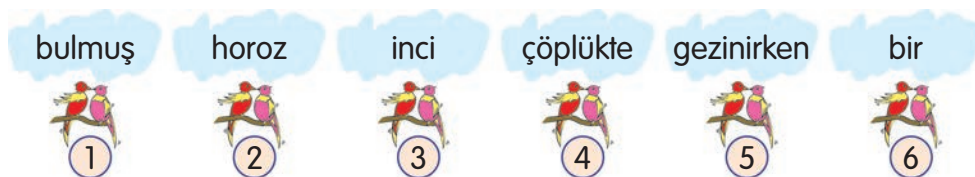
6.



Yukandaki öğrencilerden hangisi, konuşmasının sonuna farklı bir noktalama işareti koymalıdır?

- A) Ezgi B) Fatih C) Eda

7.



Yukandaki bulutların içinde yazılı olan sözcüklerle anlamlı ve kurallı bir cümle kuran Berkay, kelimeleri hangi seçenekteki gibi sıralamalıdır?

- A) 2-4-1-5-3-6 B) 1-3-2-6-4-5 C) 2-4-5-6-3-1

8.

resim fotoğraf makine



Ayşe

Yukandaki sözcükleri, sözlük sırasına göre yazan Ayşe'nin hangi seçenekteki sıralaması doğrudur?

- A) fotoğraf - makine - resim
 B) fotoğraf - resim - makine
 C) makine - resim - fotoğraf

9.



Nur



Pelin



Gül

Yukandaki öğrencilerden hangisi, satır sonuna sığmayan sözcüğü doğru yazmıştır?

- A) Nur B) Pelin C) Gül

10. "Şehirde sessiz sakin dolaşan rüzgâr, hızını gittikçe artırmaktaymış." cümlesinde, aşağıdaki sorulardan hangisinin cevabı yoktur?

- A) Ne zaman? B) Nerede? C) Ne?

11. Aşağıdaki cümlelerin hangisinde özel isim kullanılmıştır?

- A) Ormanın derinliklerinde kayboldu.
 B) Ela da derse katılıyormuş.
 C) Bahçesinde kiraz ağacı da varmış.

12.



1. resim



2. resim




3. resim



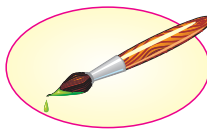
4. resim

Yukarıda anlamca ilişkili sözcükler görsellerle verilmiştir. **1. resim ile 2. resim arasındaki ilişki düşünüldüğünde, 3. resmin görseli aşağıdakilerden hangisi olmalıdır?**


A)



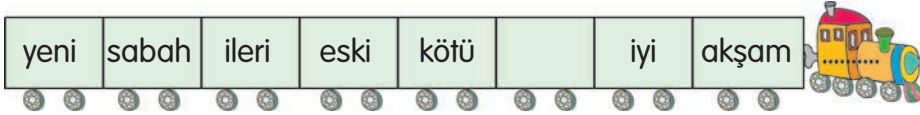
B)



C)



13.



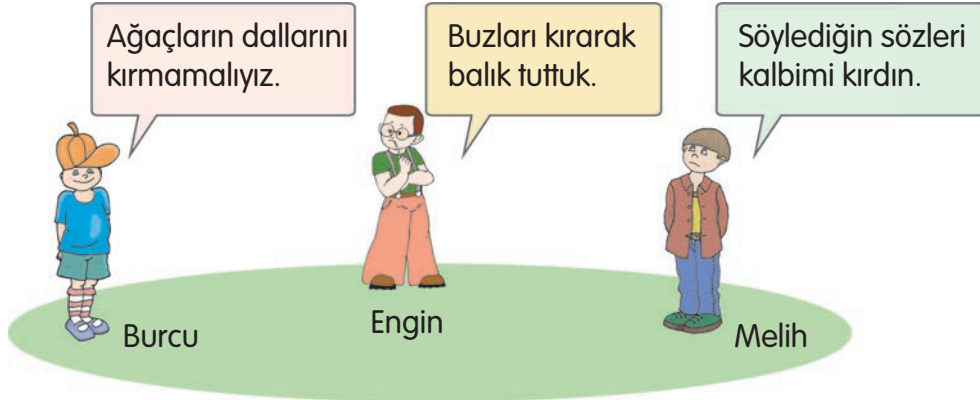
Yukarıdaki trenin vagonlarından yazılan sözcüklerden birinin zıt anlamlısı verilmiştir. **Buna göre, trenin boş vagonuna hangi sözcük yazılmalıdır?**

A) öte

B) başka

C) geri

14.



Yukarıdaki öğrencilerden hangisi "kır" sözcüğünü "üzülmek" anlamında kullanmıştır?

A) Burcu

B) Engin

C) Melih

15. "Bayramlar () sevgi ve saygının artmasını sağlar ()" cümlesinde () parantezle gösterilen yerlere, sırasıyla hangi noktalama işaretleri konulmalıdır?

A) (,) (.)

B) (,) (?)

C) (,) (.)

16.



Karpuz

Kitap

Tren

Yukanda numaralandırılmış varlıklardan hangisinin adı yanlış yazılmıştır?

A) 1

B) 2

C) 3

17. Aşağıdaki cümlelerin hangisinde "beğenme" anlamı vardır?

A) Yemek dediğin böyle olur.

B) Hava, iyice soğumuştur.

C) Kuzuyu yakalamak için koşuyordu.

18. 1. Ne kadar güzel şeydi!

2. Bir gün arkadaşım ile uçurtma yaptık.


3. Bugün bile gözümün önüne geliyor.

Yukarıdaki cümlelerle bir paragraf oluşturmak isteyen Elif, ilk sıraya kaç numaralı cümleyi yazmalıdır?

A) 1

B) 2

C) 3



Elif

19. "Yürüyüşe çıkacağım, sıkıldım." cümlesindeki boşluğa, hangi sözcüğün yazılması uygun olur?

A) daha

B) gibi

C) çünkü



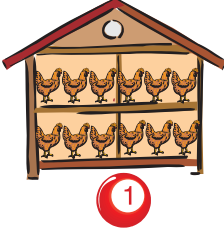
20. Aşağıdaki trenlerin vagonlarına karışık olarak yazılan sözcüklerle cümle kurmak isteniyor. Buna göre, hangi vagondaki sözcüklerle cümle kurulmaz?



**TÜRKÇE TESTİ BİTTİ!
MATEMATİK TESTİNE GEÇİNİZ.**

MATEMATİK TESTİ

1.



Yukardaki numaralandırılmış barnakların hangisindeki hayvan sayısı bir desteye eşittir?

A) 1

B) 2

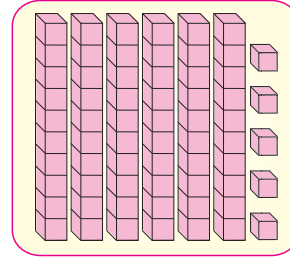
C) 3

2. Yanda Pelin oyun küplerini onluk bloklar halinde dizmiştir. **Pelin, oyun küpleriyle hangi sayıyı modellemiştir?**

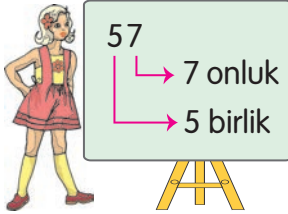
A) 43

B) 56

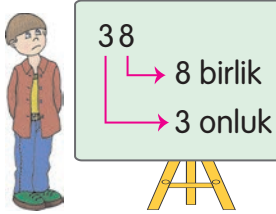
C) 65



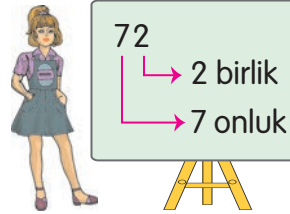
3.



Elanur



Belemir



Goncagül

Yukardaki öğrencilerden hangisi verilen sayıyı onluk ve birliklerine yanlış ayırmıştır?

A) Elanur

B) Belemir

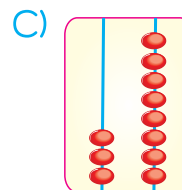
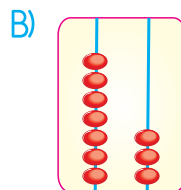
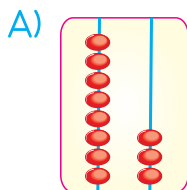
C) Goncagül

4. Yanda Enes'in okul numarasının okunuşu verilmiştir. **Bu sayının abaküslle gösterimi hangi seçenekte verilmiştir?**



Seksen üç

Enes



5. Bir kmesteki tavukların sayısı bir dzineden 6 fazladır. **Buna gre, kmesteki tavuk sayısı katır?**

A) 16

B) 18

C) 20

6. İki deste kalemi olan Eda, Fatma'dan aldığı kalemlerle kalemlerini iki dzineye tamamlıyor. **Eda, Fatma'dan ka kalem almıştır?**

A) 6

B) 5

C) 4

7. Bir sayının onlar basamağındaki rakamın basamak deęeri 70, birler basamağındaki rakamın basamak deęeri 5'tir. **Bu sayı, ařağıdakilerden hangisidir?**

A) 75

B) 65

C) 57

8.

7 → 10 → 13 → 16 → 19 → ...

Yukandaki ritmik sayma iin ne sylenebilir?

A) 4'er ritmik saymadır. B) 3'er ritmik saymadır. C) 2'řer ritmik saymadır.

9.



Yukandaki sayılardan hangisi ift sayı deęildir?

A) 17

B) 38

C) 20

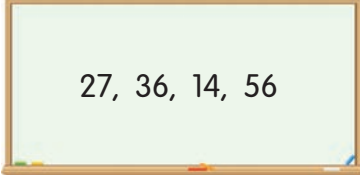
10. **4 ve 9 rakamlarını kullanarak oluřturulabilecek en byk iki basamaklı ift sayı, ařağıdakilerden hangisidir?**

A) 13

B) 49

C) 94

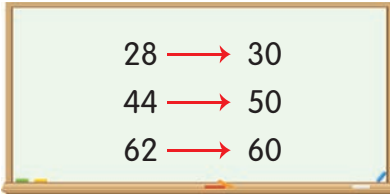
11.



Yukandaki sayılar sembol kullanılarak hangi seçenekte büyükten küçüğe doğru sıralanmıştır?

- A) $14 > 27 > 36 > 56$ B) $56 > 36 > 27 > 14$ C) $27 > 14 > 36 > 56$

12.



Yukandaki sayılardan hangisi en yakın onluğa yanlış yuvarlatılmıştır?

- A) 28 B) 44 C) 62

13. Hasan Bey; manavında elma, ayva ve nar satmaktadır. Bugün; 25 kilogram elma, 13 kilogram ayva, bir miktar da nar satmıştır. **Günün sonunda toplam 50 kilogram meyve satışına göre Hasan Bey, kaç kilogram nar satmıştır?**



- A) 12
B) 18
C) 22

14. Yandaki birinci sepette 15 yumurta vardır. İkinci sepetteki yumurtalar; birinci sepetteki yumurtalardan 5 fazla, üçüncü sepetteki yumurtalardan 5 azdır. **Verilenlere göre, üç sepette toplam kaç yumurta vardır?**



Birinci



İkinci



Üçüncü

- A) 60 B) 50 C) 45

15. Aşağıdaki işlemlerden hangisi doğru yapılmıştır?

$$\begin{array}{r} \text{A) } 57 \\ + 25 \\ \hline 72 \end{array}$$

$$\begin{array}{r} \text{B) } 44 \\ + 18 \\ \hline 62 \end{array}$$

$$\begin{array}{r} \text{C) } 79 \\ + 15 \\ \hline 84 \end{array}$$

16. Yandaki çıkarma işleminde fark kaçtır?

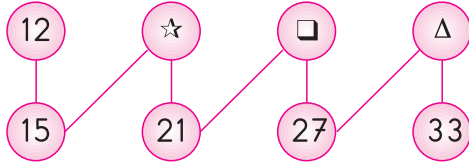
A) 41

B) 42

C) 43

$$\begin{array}{r} 87 \\ - 45 \\ \hline \bullet \bullet \end{array}$$

17.



Yukandaki örüntüye göre, " $\star + \square + \Delta = ?$ " işleminin sonucu kaçtır?

A) 62

B) 72

C) 78

18. Özge'nin parası, Nurten'in parasından 3 TL fazladır. Elif'in parası da Özge'nin parasından 4 TL azdır. Nurten'in 5 TL'si vardır.

Verilenlere göre, aşağıdakilerden hangisi yanlıştır?

A) Özge'nin 8 TL'si vardır.

B) Elif'in 4 TL'si vardır.

C) Üçünün paraları toplamı 12 TL'dir.

19. 96 kg portakalın önce 25 kilogramı sonra da 37 kilogramı satılıyor.
Buna göre, geriye kaç kilogram portakal kalmıştır?

A) 38

B) 36

C) 34

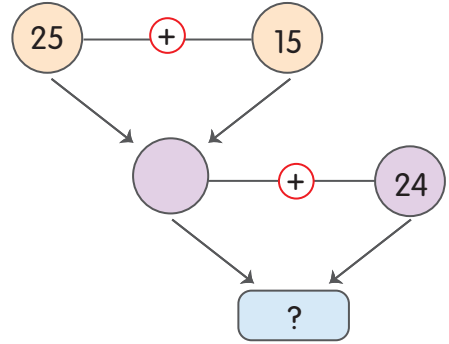
20. Yandaki işlemler yapılarak "?" işareti yerine yazılması gereken sayı bulunuyor.

Bu sayı kaçtır?

A) 64

B) 62

C) 60



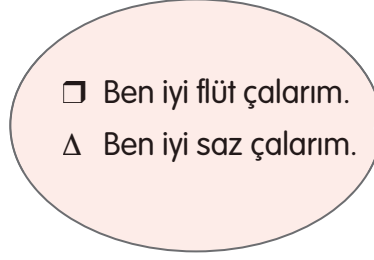
MATEMATİK TESTİ BİTTİ!
HAYAT BİLGİSİ TESTİNE TESTİNE GEÇİNİZ.

HAYAT BİLGİSİ TESTİ

1.



- ☆ Ben iyi basketbol oynarım.
- Ben iyi flüt çalarım.



- Ben iyi flüt çalarım.
- Δ Ben iyi saz çalarım.

Şemaya göre, Ali ve Emel'in ortak olarak yapabildikleri iş, hangi sembole verilmiştir?

A) □

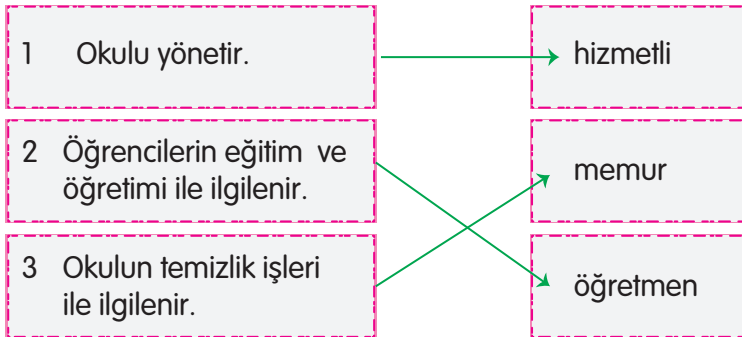
B) ☆

C) Δ

2. **Aşağıdakilerden hangisi okul kurallarına uygun bir davranıştır?**

- A) Koridorlar da yüksek sesle konuşmak
- B) Çöpleri istediğimiz yere atmak
- C) Tuvalet ve lavaboları temiz kullanmak

3.



Yukarıda okul çalışanları ve görevleri eşleştirilmiştir.

Buna göre, yukarıdakilerden hangisi yaptığı görev ile doğru eşleştirilmiştir?

A) 1

B) 2

C) 3

4. Hiç bir kaynak sınırsız değildir. Bu yüzden kaynaklarımızı tasarruflu kullanmalıyız. **Bu açıklamaya göre, evde aşağıdakilerden hangisinden tasarruf etmeliyiz?**

A) sudan

B) uykudan

C) oyundan

5. "Her 29 Ekim'de kutlarız."

Yukandaki boşluğa aşağıdaki seçeneklerden hangisi ile tamamlamamız doğru olur?

A) Zafer Bayramı'nı

B) Ulusal Egemenlik ve Çocuk Bayramı'nı

C) Cumhuriyet Bayramı'nı

6. **Aşağıdakilerden hangisi kişiye ait fiziksel özellikleri anlatmaktadır?**

A) Arkadaşının haksız yere kızması, Ömer'i çok üzdü.

B) Uzun boyu ve kıvrıkcık saçları ile herkesin dikkatini çekiyordu.

C) Sınav sonuçlarını gören Ayşe, çok mutlu oldu.

7. Özge, yaptığı bir etkinlikte yandaki formu doldurmuş, ancak boş bölüme ne yazacağını unutmuştur.

Özge, formdaki boşluğa aşağıdakilerden hangisini yazmalıdır?

Adı	Mustafa Kemal	
Soyadı	Atatürk	
Anne Adı	Zübeyde Hanım	
Baba Adı	Ali Rıza Efendi	
Doğum Yeri	
Doğum Tarihi	Bin sekiz yüz seksen bir	

A) Ankara

B) Erzurum

C) Selanik

8. "Konuşurken sözlerimize dikkat etmeliyiz. Her güzel sözün insanları mutlu ettiğini unutmamalıyız. Olaylara göre sözcükleri yerli yerinde kullanmalıyız." **Buna göre, size hediye alan bir arkadaşınıza karşı aşağıdaki sözlerden hangisini söylemeniz doğru olur?**

- A) Beni düşündüğün için teşekkür ederim.
- B) Ben senden bir şey almanı istemedim.
- C) Sağol. Ama, bu çok küçükmüş.

9. **Aşağıdakilerden hangisi arkadaşlık ilişkilerine yakışır bir davranış değildir?**

A)



B)




C)



10. **Yandaki basket takımının lideri, takımın başarılı olabilmesi için aşağıdakilerden hangisini yapması doğru olmaz?**

- A) Oyuncular arasında iş bölümü yapması
- B) Oyuncularını cesaretlendirmesi
- C) Oyuncularına kırıcı davranması



11. Aşağıdaki ifadelerden hangisi yanlıştır?

- A) Sınıfla ilgili kuralları öğretmen ve sınıf başkanı belirlemelidir.
- B) Sınıfta üzerimize düşen görevleri yerine getirmeliyiz.
- C) Arkadaşlarımızın düşüncelerine her zaman saygı göstermeliyiz.

- 12.** 1. Birlikte zaman geçirme
2. Paylaşma
3. Yardımlaşma




Yukarıda arkadaşlıkla ilgili verilen ifadelerden kaç tanesi doğrudur?

- A) 1 B) 2 C) 3

13. Aşağıdaki özelliklerden hangisine sahip biriyle arkadaşlık yapmak doğru olmaz?

- A) Dürüst olan
- B) Yalan söyleyen
- C) Güvenilir olan

14. Grup çalışması ile ilgili hangi öğrencinin söylediği yanlıştır?

- A)  Grup üyeleri birbirine nazik davranmalıdır.
- B)  Kararları grup lideri vermelidir.
- C)  Grup üyeleri görevlerini yerine getirmelidir.

15. 1. Oyun oynarken kurallara uymalıyız.
2. Oyunda kaybedenlerle alay etmeliyiz.
3. Oyunda kazanmanın da kaybetmenin de doğal olduğunu bilmeliyiz.
Oyunla ilgili yukarıda verilenlerden hangisi ya da hangileri doğrudur

A) 1 ve 3 B) Yalnız 2 C) 1 ve 2

16. Bir öğrencinin ihtiyaçları aşağıda verilmiştir. İhtiyaçlarını karşılariken hangisine öncelik vermesi doğru olur?

A)



B)



C)



- 17.



1



2




3

Yukarıda gün içinde yapılanlar verilmiştir. Bunların oluş sırası hangi seçenekte doğru verilmiştir?

A) 3 - 2 - 1 B) 2 - 1 - 3 C) 1 - 2 - 3

18. Yandaki çocuğun ihtiyacı aşağıdakilerden hangisi olabilir?

A)



B)



C)



19. Her yıl 29 Ekim’de milli bir bayramımızı kutlamaktayız. **Bu milli bayramı kutlamamız hangi tarihi olayla ilgilidir?**

- A) Atatürk’ün Samsun’a çıkması
- B) Ankara’da Meclisin açılması
- C) Cumhuriyetin ilan edilmesi

20. “Arkadaşlarımıza karşı olmalıyız.” **cümlesindeki boşluğa hangisi getirilemez?**

- A) dürüst
- B) kışkırtıcı
- C) saygılı

**TEST BİTTİ.
CEVAPLARINIZI KONTROL EDİNİZ.**