

1. Bu testte 60 soru vardır.

2. Cevaplarınızı, cevap kâğıdının Genel Yetenek Testi için ayrılan kısmına işaretleyiniz.

1. "Uzaklardan Uzaklara", "insan"ı temel alan altı bölümden oluşuyor. Ancak bölümler arasında sert, kalın çizgiler bulunmuyor. Bölümlerden bölümlere şiir serüveninizi yumuşak geçişlerle sürdürüyorsunuz hatta bu geçişlerin ayırımına bile varamıyorsunuz. Çünkü okumak, yazmak, yanmak, sevmek, özlemek, anmak; "insan" denen yüce ve çok yönlü varlıkta kaynaşmış olan bütünsellikler... Bölümlerin birinden ötekine âdeta yüreğinizi götürüyor; önünüzde, arkanızda çeşitli duygu yoğunluklarının tonları sarmalıyor sizi o kadar...

Bu parçada tanıtılan kitapla ilgili olarak altı çizili sözle vurgulanmak istenen aşağıdakilerden hangisidir?

- A) İnsanı farklı hayallere götürdüğü
B) İnsanın ruhsal durumunu değiştirdiği
C) Farklı hisleri aşırı derecede duyumsattığı
D) Anlaşılmaz bir ortam yarattığı
E) Etkinliğini her sayfada biraz daha artırdığı

2. "Gençler İçin Uygarlık Tarihi"; sıcaklığı, sadeliği ve bilgeliğiyle pek çok kuşağı etkilemeyi başararak klasikleşmiş bir yapıt. İlk canlıların oluşumundan başlayıp insanın ve uygarlığın ortaya çıkışıyla devam ederek günümüze uzanan tarihsel süreci eşsiz bir üslupla aydınlatıyor. Tarihsel olayları âdeta bir masal, bir macera anlatıyor gibi aktarıyor.

Bu parçada geçen "eşsiz bir üslupla aydınlatmak" sözüyle anlatılmak istenen aşağıdakilerden hangisidir?

- A) Tarifsiz bir bakış açısıyla işlemek
B) Anlam zenginliği olan sözcükleri kullanmak
C) Değerini kaybetmeyecek bir dil yeğlemek
D) İçerik ve biçemi bir potada eritmek
E) Benzeri olmayan bir anlatımla açığa çıkarmak

3. İtalyan edebiyatının en büyük kalemlerinden Leonardo
I II
Sciascia, "Şarap Rengi Deniz" in ardından "Sicilyalı
Amcalar" ile Türkçede... "Amerikancı Teyze", "Stalin'in
Ölümü", "Kargaşalı Kırk Sekiz" ve "Antimon" adlı hikâyeleri bir araya getiren kitap, Leonardo Sciascia'nın okurunun önüne acı bir gülümseme ile döküp serdiği
III IV V
eşitsiz ve çaresiz bir dünyayı ortaya koyuyor.

Bu parçadaki altı çizili sözcüklerin hangisi gerçek anlamında kullanılmıştır?

- A) I. B) II. C) III. D) IV. E) V.

4. I. karamsarlığa kimi denemelerimde
II. dünyayı yaşanılır kılmanın
III. yazının, yazınsal yaratıların
IV. yetersiz kalışından doğan
V. insanı ve dünyayı değiştirmede
VI. özenle değinmeye çalıştım

Yukarıdaki numaralanmış sözlerden anlamlı ve kurallı bir cümle oluşturulduğunda hangisi, bu cümlede yer almaz?

- A) I. B) II. C) III. D) IV. E) V.

5. Bu yıl 8 - 19 Mayıs tarihleri arasında gerçekleştirilecek Uluslararası İstanbul Kukla Festivali'nde 15 farklı ülkeden katılan grupların 30 değişik gösterisi yer alacak.

Bu cümleden kesin olarak çıkarılabilecek yargı, aşağıdakilerden hangisidir?

- A) Festival kapsamında farklı gösteriler yapılacaktır.
B) Festivale toplam 30 grup katılacaktır.
C) Festivale bu yıl katılım daha fazladır.
D) Festival bir hafta boyunca devam edecektir.
E) Festival her sene mayıs ayında yapılmaktadır.

6. Kurgusal denemelerin birinci özelliği düşlerle gerçekler, düşüncelerle duygular, benzerliklerle ---- arasındaki ---- oluşturulan devingen dokulu metinler oluşlarıdır.

Bu cümlede boş bırakılan yerlere aşağıdakilerden hangileri sırasıyla getirilmelidir?

- A) yakınlıklar - birleşmelerle
B) uzaklıklar - kaynaşmalarla
C) farklılıklar - bezenmişliklerle
D) aynılıklar - karışıklıklarla
E) karşıtlıklar - gelgitlerle
7. (I) Peki, nedir Hayyam'ı ve rubailerini evrensel kılan? (II) Kanımca, Farsçanın güzelliklerine güzellikler, İran şiirinin özgünlüğüne özgünlük katmasının ötesinde, yaşamın ve ölümün gizemleri karşısındaki tedirginliğini, erinçsizliğini başkaldırıya varan bir tepkiyle dile getirmesi. (III) Bir başka deyişle, gerçekliğin ve sonrasızlığın niteliğini, yaşamın süresizliği ve belirsizliğini, insanın Tanrı'yla ilişkisini gözü pek bir yaklaşımla sorgulama yürekliliğini göstermesi. (IV) Bizim daha çok rubailerile tanıdığımız Hayyam'ın, döneminin çok yönlü aydınlarından biri, yaşadığı çağda ve ülkesinde bilimsel çalışmalarıyla ünlenmiş bir matematikçi ve astronom olduğunun kaç kişi ayırında? (V) Hayyam'ın, Büyük Selçuklu Sultanı Melikşah'ın çağrısıyla takvim sistemini yeniden düzenlediğini, o dönemin İslam dünyasında matematiğin en büyük temsilcisi sayıldığını, sayılar kuramı ve cebir dallarında önemli çalışmalar gerçekleştirdiğini kaç kişi biliyor?

Ömer Hayyam'ın tanıtıldığı bu parçadaki numaralanmış cümlelerle ilgili olarak aşağıda verilenlerden hangisi yanlıştır?

- A) I. cümlede, soru yoluyla dikkat çekilmeye çalışılmıştır.
B) II. cümlede, kişisel yoruma yer verilmiştir.
C) III. cümlede, II. cümledeki düşünceye benzer bir düşünce dile getirilmiştir.
D) IV. cümlede, rubailerinin yanında başka tür şiirler de yazdığı açıklanmıştır.
E) V. cümlede, şiir dışında başka alanlarla da ilgilediği belirtilmiştir.

8. (I) Spora başlayacak çocuğun, öncelikle bedensel özellikleri ve yaşı dikkate alınmalı. (II) Yürümeye yeni yeni başlayanlarla okul öncesi çocuklar için uygun hareketler seçilmelidir yoksa profesyonel ve organize etkinlikler için bu çocukların yaşı çok küçük. (III) Özellikle okul öncesi çocuklar için biz, koşma, tırmanma, düşme, tekmeleme, dans ve bisiklete binme gibi serbest oyunları öneriyoruz. (IV) Bu serbest oyunlarla 4 ile 6 yaş arası çocukların koordinasyonları ve dikkat süreleri de gelişir. (V) Bunun için bu yaşlardaki çocuklar basketbol, futbol, jimnastik, yüzme, tenis, golf ve atletizme başlayabilir.

Bu parçadaki numaralanmış cümlelerle ilgili olarak aşağıda verilenlerden hangisi yanlıştır?

- A) I'ncide, önem verilmesi gereken hususlar açıklanmıştır.
B) II'ncide, çelişik ifadelerle yer verilmiştir.
C) III'üncüde, bir eylem amacıyla birlikte belirtilmiştir.
D) IV'üncüde, çocuklardaki değişimden söz edilmiştir.
E) V'incide, bir öneride bulunulmuştur.

9. Her kitabın kendine özgü bir yanı vardır. Kimi üslup I yönünden aksak, kimi içerik yönünden zengindir. Bazı II III

yazarlar sadece üsluba önem verir, bazıları da içeriğe. IV

Önemli olan okuyucunun onda ne aradığıdır. V

Bu parçadaki altı çizili sözlerle ilgili olarak aşağıda verilenlerden hangisi yanlıştır?

- A) I'inci, niteleme amacıyla kullanılmıştır.
B) II'nci, belgisiz zamirdir.
C) III'üncü, ek eylem olarak yüklem olmuştur.
D) IV'üncü, adlaşmış sıfattır.
E) V'inci, soru zamiridir.

10. Aşağıdaki cümlelerin hangisinde altı çizili sözcük farklı türden bir sözcüğü nitellemektedir?

- A) Beğendiğimiz o evi satın aldık ancak bu yıl eve taşınmayı düşünmüyoruz.
- B) İnsanoğlu dikkatsiz davrandığı zamanlarda hep hata yapar.
- C) Bilinçaltı; geçmiş, şimdi ve gelecek zamanı farklı yerlere kodlar.
- D) Bu konunun ayrıntılı bir biçimde ele alınması gerekiyor.
- E) Bu, bizim sizlere bu dönemde verebileceğimiz en önemli ve en güzel ödüldür.

12. Aşağıdaki cümlelerin hangisinde farklı bir isim tamlaması vardır?

- A) Sanatın başlıca amacı okurda heyecan, şaşkınlık yaratmaktır.
- B) İnsan ruhu, birbirine karşıt ve birbiriyle benzer özelliklere sahiptir.
- C) Çağdaşlaşmak için her zaman Batı kültürü kılavuz olarak alınmamalıdır.
- D) Türk edebiyatında roman, geç gelişen bir tür olarak bilinir.
- E) İnsan yaşlandıkça söz varlığındaki değişme günden güne azalıyor.

11. Öğrencilerine, başarısızlıklara karşı durma becerisini öğreten bir okul bulunmamaktadır. Böyle bir okula lüzum da görmüyorum. Zira, hayatta en doğal şey başarısızlıktır. Başarısızlık kadar kolayca ortaya çıkan şey yoktur.

Bu parçada aşağıdakilerden hangisi yoktur?

- A) Durum zarfı
- B) Yaklaşma hâl eki almış isim
- C) Edat
- D) Sıfat - fiil
- E) Birleşik eylem

13. (I) Bireysel gelişmede, kendini ve dünyayı tanımada edebiyatın rolü tartışılmaz. (II) Ancak sanatın ya da edebiyatın birey ve toplum üzerindeki dönüştürücü etkisi, azalmaya başladı. (III) Bunun bir nedeni de yeni teknolojinin ve onun yaydığı kültürün toplumsal yaşam üzerindeki etkisinin artması olabilir. (IV) Öyle ya, çocuklara ait televizyon kanalları var. (V) Özellikle kentlerde cadde, sokak, alışveriş merkezi, metro ekrandan geçilmiyor; âdeta ekranosferde soluk alıp veriyoruz.

Bu parçadaki numaralanmış cümlelerle ilgili olarak aşağıda verilenlerden hangisi yanlıştır?

- A) I. cümlede, kurallı birleşik eylem kullanılmıştır.
- B) II. cümlede özne, söz öbeğinden oluşmuştur.
- C) III. cümlede, zamirlere yer verilmiştir.
- D) IV. cümlede, "ya" sözcüğü bağlaçtır.
- E) V. cümle, sıralı eylem cümlesidir.

18. (I) İlhan Selçuk kimi yazılarında, şiirimizin emperyalizme karşı kazanılan bağımsızlıkta, kurtuluş, kuruluş sürecinde oynadığı önemli rolden söz ederdi. (II) Sonunda da bütün bunların Mustafa Kemal ile bağlantısını gösterirdi bir biçimde bize. (III) Sonra da Tevfik Fikret'ten Nâzım Hikmet'e, öteki şairlerimize, şiirin bu çevredeki işlevine değinirdi. (IV) Bunlara bakılınca gerçekten şiirdeki şahlanışın kuşaklar boyu sürerek günümüze ulaştığını göz ardı etmek olası mı? (V) Bu bağlamda özgürlükçü, bağımsızlıkçı, ötesinde aydınlanmacı bir şiir anlayışının, ne yandan bakılırsa bakılsın, birkaç yüzyıllık geçmişe sahip olduğu söylenebilir pekâlâ.

Bu parçanın anlamlı bir bütün oluşturması için numaralanmış cümlelerden hangileri birbiryle yer değiştirmelidir?

- A) I. ve II. B) I. ve III. C) II. ve III.
D) III. ve IV. E) IV. ve V.

19. Osman Akalın, bu ikinci öyküler denemesinde iki farklı bağlam odağında kaleme almış verimlerini. (I) Bir yandan aykırı karakterlerle öykülerin atkısını çatarak aşk temelinde bunların çözümlerini de kurmuş. (II) Ama aşkların geçmişte yaşandığı, anılarda derin izler yaratarak kendine etkin, derin yer açtığı, böylelikle yaşanmadan yalnızca içlenme hâlinde kaldığı vurgusuyla birlikte kurmuş. (III) Böylece bağlandırmada bir yandan aykırı gerçekçi yaklaşıma yaslarak yapıyı, bir yandan da buna umulmayacak bir romantizm eklemeyi başarabiliyor yazar. (IV) Akalın, öykülerine âdeta telaşlı bir yürek çarpıntısıyla giriyor, bir çocuk çığıltısı eşliğinde. (V) Bunu hemen her öyküsü için söylemek olanaklı.

Bu parçadaki numaralanmış yerlerin hangisine düştüncenin akışına göre "Hem köz besleniyordu öyküde hem de bir bakıma iyice kıvılcımlanıyordu öykü, bu başarıyla." cümlesi getirilmelidir?

- A) I. B) II. C) III. D) IV. E) V.

20. (I) Şiir kütüphanesi denilince aklıma hemen Londra, New York, İskoçya şiir kütüphaneleri gelir. (II) İnternette kısa bir arama yaptığınızda ise dünyaya yayılmış yüzlerce şiir kütüphanesine rastlıyorsunuz. (III) Şiirin ana vatanlarından Türkiye'de kütüphaneler iyice unutulmaya terk edilmişken "şiir kütüphanesi" diye bir şeyden söz etmek gariplik olarak karşılanır sanırım. (IV) Şiirin başkenti olarak adlandırdığımız İstanbul'da bir şiir kütüphanesi kurmak için girişimlerimiz hatta somutlaştıracak bir adımımız olmuştu ama ilgililerin isteksizliği nedeniyle sonuç alamamıştık. (V) Bursa Nilüfer Belediyesinin bir şiir kütüphanesi kurduğunu duyduğumda heyecanlanmış ama gidip görme fırsatı bulamamıştım. (VI) Türkiye'nin ilk şiir kütüphanesi 31 Mart 2012'de kapılarını okurlarına açmıştı. (VII) Geçen 30 Mart'ta kütüphanenin ilk yılı etkileyici bir şiir gecesi ile kutlandı. (VIII) Bu vesile ile hem şiir kütüphanesini ziyaret etmek hem de ilk elden bilgi almak fırsatı doğmuş oldu.

Bu parça iki paragrafa ayrılmak istense ikinci paragraf numaralanmış cümlelerin hangisiyle başlar?

- A) II. B) III. C) IV. D) V. E) VII.

21. Vapur dopdoluydu. Son düdüğü de öttü. İki yandaki çarklar, dar kafeslerinde birden uyanan, müthiş denizaygırları gibi hiddetli bir gürültü çıkararak kıvıldandı. Bütün vapur hafifçe sarsıldı. Hava gayet güzeldi. Kadıköy'e gidiyorduk. Sonu leylak renkli sisler içinde eriyen Marmara'nın kubbeli, ince minareli, uzun ve uyumuş ufuklarında büyük ve beyaz kenarlı bulutlar, parçalanmış köpük dağları hâlinde büyüyor; yüksek tepelerinde morluklar, koyu mavilikler birikiyordu. Haziranın yakıcı güneşi, vapurun dumanlardan ve yağmurlardan esmerleşmiş tentelerine düşüyor, bazen duran ve yine birden esmeye başlayan kararsız rüzgârı sanki ılıklaştırıyor, ona sarhoşluk verici, hareket ettiren şuh ve fettan bir şey katıyordu.

Bu parçanın anlatımıyla ilgili olarak aşağıdakilerden hangisi söylenemez?

- A) İkillemelere yer verilmiştir.
B) Benzetmeye başvurulmuştur.
C) Değişik cümle türleri kullanılmıştır.
D) Kişileştirme yapılmıştır.
E) Olaylar devinin içinde aktarılmıştır.

22. Eskiden Türk sanat müziği, günlük hayatın bir parçasıydı ve herkes tarafından zevkle dinlenirdi. Çünkü aşk, nefret, ayrılık, hasret bu müziğin halkın günlük hayatından alıp şarkılaştırdığı temalardı. Onun için de kulaklardan silinmeyen, her dinleyenin kendinden bir şeyler bulduğu şarkılardı bunlar. Ancak bugün durum Türk sanat müziği açısından hiç de iç açıcı değil. Yeni şarkılar; sanatı, müziği bırakın tamamen tüketim toplumunun ihtiyaçlarını karşılamak amacıyla üretilmektedir. Yani bu şarkılar, ticari kaygılarla yapıldığından, bir iki dinlendikten sonra birer sabun köpüğü gibi kaybolmaktadır.

Bu sözleri söyleyen birinden aşağıdakilerin hangisini yapması beklenebilir?

- A) Bestelediği şarkılardan yüksek gelir elde etmeyi istemesi
- B) Yetenekli olan herkese albüm yapmaya çalışması
- C) Batı tarzında müzikleri dinlemeyi tercih etmesi
- D) Müziği diğer sanatlardan üstün görmesi
- E) Eserlerinde sanat kaygısını ön planda tutması

23. Bazı kimselerin kendilerini yenileyebilmelerine karşın bazılarının bu yeteneğe sahip olmamalarının nedenini kimse bilmiyor. Yeteneklerin gelişmesi, bir bakıma, birey ile çevresi arasındaki diyalogudur. Kendini yenileyen insan, yeteneklerinin tümünün açığa çıkması işini şansa bırakmaz. Yaşamının sonuna dek, yeteneklerini sistematik olarak veya en azından hırslı bir şekilde ortaya çıkarmaya çalışır. Burada sözü edilen yetenekler yalnızca becerilerle sınırlı olmayıp kişinin duyma, merak etme, öğrenme, sevme ve ümit etme kapasitelerinin tümüdür.

Bu parçaya göre

- I. kişinin etrafıyla iletişim içinde olması,
- II. bireyin kendini geliştirmesi,
- III. insanın genetik özelliklerini bilmesi

yargılarından hangileri insanoğlunun yeteneğini geliştirmesi için gereklidir?

- A) Yalnız I
- B) Yalnız II
- C) Yalnız III
- D) I ve II
- E) I ve III

24. Dil; kalıplaşmış, değişmez, durgun bir yapıya sahip değildir. Aksine kendi yapı ve işleyişinin gerekli kıldığı özelliklere, tarihî, sosyal ve kültürel şekillenmelere bağlı olarak zaman içinde az çok değişip gelişerek yol alan, sürekli bir bakış hâlidir. Ünlü dil bilimci Wilhelm Von Humboldt, bu gerçeği dilin bir eser değil, bir faaliyet olduğu şeklinde dile getirmiştir. Eğer dil, bir eser olsaydı bir kere oluştuktan sonra onun bir daha hiç değişmemesi, olduğu gibi kalması gerekirdi. Halbuki dil bir değişme ve gelişme gücüne sahiptir. Bu gücü dolayısıyla dil bilimciler tarafından, sürekli olarak yenilikler doğuran bir kaynağa benzetilmiştir, dil.

Bu parçada dil ile ilgili olarak asıl anlatılmak istenen aşağıdakilerden hangisidir?

- A) Canlı ve sürekli değişim içinde olduğu
- B) Bazı sözcüklerinin zamanla kullanımını yitirdiği
- C) Kullanılmayan sözcükleri de koruduğu
- D) Kalıplaşmış sözleri içinde barındırmasının doğallığı
- E) Gelişim ve değişim gücünü toplumdan aldığı

25. Denemeye bağlarımı tamamen koparmış değilim. Her an düşünce düzeyinde onunla ilgiliyim zaten. Akademik kimliğim de seyreltilmiş makaleler hâlinde denemeye evrilmekte. Fakat denemeye göre hikâyenin taşıdığı bir farklılık cazibesi var bende. Bu, kurgusal bir metin yaratabilmiş olmanın cazibesi. Hem okuyan hem yazan açısından böyle. Deneme mevcut olanın yorumu, tanzimi, takdimidir. Hikâyede ise yepyeni bir hayat sunulur sizlere.

Bu parça aşağıdaki sorulardan hangisine karşılık söylenmiş olabilir?

- A) Neden çeşitli edebî türlerde eserler vermiyorsunuz?
- B) Sizin için denemeci mi, hikâyeci mi desek ne dersiniz?
- C) Deneme yazmaya sonraki yıllarda da devam edecek misiniz?
- D) Denemenin diğer edebî türlerden üstün olduğu görüşüne katılıyor musunuz?
- E) Bir eser oluştururken nelere dikkat ediyorsunuz?

26. “Kemik Roman” gerçekte kurgunun, dün, bugün ve yarının birbiri içine geçtiği kendi içinde bir dünya. Bu kitabı okurken bunun bir roman olduğunu bilerek ve hatırlayarak okumanızı öneririm. Bu kitabı bilimi, sanatı, genetiği, felsefeyi öğrenmek için okumayın. Roman, olsa olsa bu konulara ilgi duymanızı sağlar, o kadar. Bu kitabı sakın tarihî olayları ve siyaseti öğrenmek için de okumayın. Çünkü birçok olayı değiştirerek gerçekte hayalî, olmuş olanla olabilecek olanı karıştırarak aktardım. Bu kitabı, yazarın kendi hayatını veya hayatla ilgili kişisel görüşlerini yansıtan bir yapıt olarak da görmeyin. Yazarın çok farklı yaşamı, bildiğiniz ve bilmediğiniz yönleriyle bir gün otobiyografisinde elinize geldiği zaman, ne demek istediğimi daha iyi anlarsınız.

Bu parçada tanıtılan “Kemik Roman” adlı kitapla ilgili olarak aşağıdakilerden hangisine değinilmemiştir?

- A) Düş ve hakikatin iç içe verildiğine
- B) Anlatılan birçok şeyin kurgulanarak işlendiğine
- C) Okunurken neye dikkat edilmesi gerektiğine
- D) Bazı alanlarla ilgili bilgileri bulamamamızın nedenine
- E) Her yönüyle yazarın yaşamını anlattığına

27. Ölçsüz, uyaksız, söz ve anlam sanatlarından soyunmuş, çıplak, yalın anlatımlı bir şiirdi Garip şiiri. Dize örgüsü yönünden de değişik bir yapısı vardır. Konularını sıradan insanların yaşamlarından almıştır. Dili de alışılmış şiir dilinden farklılıklar gösterir. Örneğin, “nasır, kundura” gibi sözcükler şiire sokulmuştur. Böylece şiirin dili yapaylıktan, kitap dilinden kurtulmuştur. Şiir bütünü ile duyguya değil akla dayandırılmış, şairanelikten labildiğince uzaklaştırılmıştır. Başlangıçta yadırganmıştır bu tutum. Alaya alınmış, tepkiyle karşılanmıştır. Ancak kısa zaman içinde bu alay ve tepki giderek azalmış, bu şiirin yandaşları çoğalmıştır.

Garip şiirinin tanıtıldığı bu parçadan “Garip şairleri” ile ilgili olarak aşağıdakilerden hangisine varılamaz?

- A) Şiirlerinde şekle önem vermediklerine
- B) Şiirlerinde duygusal yönün ağır bastığına
- C) Alışılmış konuların dışına çıktıklarına
- D) Üsluplarının açık ve anlaşılır olduğuna
- E) Bazı çevrelerce şiirlerinin tuhaf karşılandığına

28. Fazıl Hüsnü Dağlarca'nın “Hollandalı Dörtlükler” eseri dikkate değer bir yapıttır. Şair dörtlüklerinin birinde, “Hollanda'daki bisikletleri, eski kiliselerin yeni melekleri” olarak tanımlar. Ancak şairin bu tanımlaması bile bisikleti Türkiye ve Hollanda arasında bugüne kadar güçlü bir ilişkinin kaynağı yapamamıştır. İnsan başına düşen bisiklet sayısı birden fazla olan Amsterdamlılarla, bisikleti üvey evlat gibi gören İstanbullular arasında bisiklet üzerinden nasıl bir bağ kurulabilir ki? Türkiye Bisikletliler Derneğinin geçen yıl düzenlediği “Boğaz Köprüsü'nden Geçiş” etkinliğine katılan bisikletlilerden birinin şakayla karışık sözleri de bunun yanıtı: Hollanda Başkonsolosu ve arkadaşları olmasa İstanbul'da bisiklete binen olmayacak neredeyse!

Bu parçaya göre

- I. bisiklet kullananların daha sağlıklı olduğu,
- II. Avrupa'da insanların bisikleti ulaşım aracı olarak kullandığı,
- III. Türkiye'de bisiklete fazla ilgi gösterilmediği

yargılarından hangilerine ulaşılamaz?

- A) Yalnız I
- B) Yalnız II
- C) Yalnız III
- D) I ve II
- E) II ve III

29. Ben, karamsar olduğum için zaten “kitapsızların uçurumuna” yuvarlanmış durumdayız, diyeceğim. Bakmayın, binlerce yayınevini, her yıl binlerce kitap bastığına. Bunların çoğu; ticaretle ilgili kaygılarla basılan, dilsel, duygusal, düşünsel değeri düşük yığınsal kitaplar. Beğenisi gelişmemiş yığınları oyalayıp eğlendiren türden. Nedeni, büyük ölçüde okullarımızdaki dil ve yazın öğretimine dayanır. Bu öğretim okuma sevgisi, okuma alışkanlığı kazandırmıyor öğrencilere. Düşün ve beğeni dünyalarını kurup geliştirecek eleştirel okumayla tanıştırmıyor onları. Bu yüzden anaokulundan üniversiteye değin dil ve yazın eğitiminden geçmesine karşın okumayan okuryazarlar yetiştirdik. Bunlar, okuryazar ama okur değil. Okur; okuma yazma becerilerini sürekli kullanan, dil, düşünce, yazınsal değer taşıyan kitapları okumadan edemeyendir.

Aşağıdakilerden hangisi, bu parçanın yazarının vereceği öğütlerden biri olamaz?

- A) Edebî eserler, okurun beğenisine göre değil; yazarın isteğine göre kaleme alınmalıdır.
- B) Yazarlar, eserlerinde üslupla birlikte duygu ve düşünceyi de ön plana çıkarmalıdır.
- C) Yayınevleri, ticari endişe gütmeden edebî eserler basmaya çalışmalıdır.
- D) Okurlar, kitap seçimlerinde okuma ve yazma becerilerini geliştirecek kitapları almalıdır.
- E) Eğitimde, öğrencilere okuma alışkanlığının ve sevgisinin kazandırılması temel alınmalıdır.

30. Bazı yazarlar var ki onlarla ilgili kesin yargıya hemen varmamız oldukça güçtür. Kendilerini kolaylıkla anlamamız için yalnızca yazdıklarıyla değil; eylemleri, düşünceleri, sözcükleri seçerken çağrıştırdıklarını; giderek o sözcüklerle kurduğu cümlelere yeni anlamlar katarak başka neler anlatmak istediğini de düşünmemiz gerekir. Bir yazarı tek bir kitapla tanımak olası olduğu kadar, bütün kitapları okunmadan, söyleyip ettikleri bilinmeden yargıya varmak olanaksızdır. Yazdıklarının zor yapıtlar olması gerekmez, kolaylıkla anlaşılabilir yapıtlarda da durum, en karmaşık olanlar kadar karmaşıktır. Alev Alatl, bu tür yazarlardan.

Bu parçadaki sözleri söyleyen birinin aşağıdakilerden hangisini söylemesi beklenemez?

- A) Yazarların söylemlerinden de yazarlar hakkında bilgi edinebiliriz.
- B) Bir yazar, eserlerinde kullandığı üslupla kendini ele verebilir.
- C) Bir kişiyi ilk anda iyi ya da kötü olarak tanımlayamayız.
- D) Sanatçılar eserlerinde her zaman kendi düşüncelerini yansıtır.
- E) Bir sanatçıyı, eserleri ve yaptıklarıyla birlikte ele almak gerekir.

31.

$$\frac{3 \cdot 2^4 \cdot 10^3}{5 + 65 \cdot 5^{-4} + 60 \cdot 5^{-4} + 24 \cdot 5^{-1}}$$

işleminin sonucu kaçtır?

- A) 24 B) 48 C) 480 D) 2400 E) 4800

32. x ve y birer pozitif tam sayıdır.

$$x = 5 - 4a$$

$$y = a + 3$$

olduğuna göre x in alabileceği değerler toplamı kaçtır?

- A) 28 B) 29 C) 30 D) 31 E) 32

33. a pozitif, b negatif birer tam sayı olmak üzere

I. a^b

II. $a \cdot b^2$

III. $|a| - |b|$

IV. $\sqrt{a^2} + \sqrt{b^2}$

işlemlerinden hangilerinin sonucu daima pozitif bir tam sayıdır?

- A) I ve II B) I ve III C) II ve IV
D) II ve III E) III ve IV

34. 4A5B sayısı 5 ile bölündüğünde 1 kalanını veren dört basamaklı bir çift sayıdır.

Bu sayı 9 ile tam bölünebildiğine göre A + B toplamı kaçtır?

- A) 4 B) 5 C) 6 D) 8 E) 9

35. Bir sayı yazma işleminde aşağıdakiler bilinmektedir.
- Sayının en solundaki rakam, sayıdaki 0 adedini vermektedir.
 - Soldan sağa doğru ikinci rakam, 1 adedini vermektedir.
 - Üçüncü rakam ise sayıdaki 2 adedini vermektedir.
- Bu koşullara uygun yazılan doğal sayılara "hesaplı sayı" deniyor.
- Buna göre yazılabilecek en küçük hesaplı sayı kaç basamaklıdır?**
- A) 1 B) 2 C) 3 D) 4 E) 5

36.

$$\frac{\sqrt[3]{2} - \sqrt[4]{2}}{\sqrt[4]{2} - \sqrt[6]{2}}$$

işleminin sonucu aşağıdakilerden hangisidir?

- A) $\sqrt[12]{2}$ B) $\sqrt[6]{2}$ C) $\sqrt[4]{2}$
D) $\sqrt{2}$ E) 2

37.

$$\frac{1}{2^{a+1}} = \frac{1}{3^{a-1}}$$

olduğuna göre $\left(\frac{9}{4}\right)^a$ nın değeri kaçtır?

- A) $\frac{1}{36}$ B) $\frac{1}{6}$ C) 1 D) 6 E) 36

38. x ve y reel sayı değerleri için

$$x + y = 4$$

$$x^2 + y^2 = 6$$

olduğuna göre $x^3 + y^3$ ifadesinin sonucu kaçtır?

- A) 2 B) 4 C) 8 D) 10 E) 24

39. n pozitif bir reel sayı olmak üzere

$$n > |x - y|$$

$$n < \left| \frac{1}{x} - \frac{1}{y} \right|$$

eşitsizlikleri sağlandığına göre aşağıdakilerden hangisi daima doğrudur?

- A) $xy < 2$ B) $xy > -2$ C) $-1 < xy < 1$
D) $0 < xy < 2$ E) $-2 < xy < 1$

40. Bir kutunun içerisinde kırmızı ve sarı renkte toplam 50 adet zarf vardır. Kırmızı zarflar ikişer ve sarı zarflar üçer adet satılmaktadır. Satışlar sonunda kutuda 14 zarf kalmıştır.

Kırmızı zarfların sayısı K , sarı zarfların sayısı S olmak üzere

- I. $K = 3 \cdot S$ olabilir.
II. S kesinlikle çift sayıdır.
III. K kesinlikle tek sayıdır.

İfadelerinden hangileri doğrudur?

- A) Yalnız I B) Yalnız II C) I ve II
D) I ve III E) II ve III

41. Bir lokantada 2 kişilik, 3 kişilik ve 4 kişilik masalar vardır. Her tür masadan en az biri dolu olmak üzere; toplam 14 masa tam dolu, diğerleri boştur.

Buna göre lokantada bulunan kişi sayısı en çok kaçtır?

- A) 31 B) 36 C) 42 D) 53 E) 59

42.



Şekildeki A, B ve C kaplarının hacimleri farklıdır. Tamamen dolu olan A kabındaki su ile önce B kabının $\frac{3}{4}$ ü, daha sonra B kabındaki su ile C kabının $\frac{1}{2}$ si doldurulduğunda kaplardaki su miktarları eşit oluyor.

Buna göre bu üç kabın hacimleri oranı aşağıdakilerden hangisidir?

- A) 10, 8, 6 B) 9, 8, 6 C) 9, 6, 4
D) 8, 6, 2 E) 8, 6, 3

43. Bir babanın yaşı çocuklarının yaşları toplamının üç katıdır. Baba ile çocuklarının yaşları toplamı arasındaki fark 2 yıl sonra 6 azalmaktadır.

10 yıl sonra babanın yaşı çocuklarının yaşları toplamına eşit olacağına göre baba şimdi kaç yaşındadır?

- A) 45 B) 40 C) 36 D) 34 E) 30

44. Ahmet, 2000 ₺'ye aldığı LCD televizyonun %40'ını peşin ödemiştir.

Ahmet, kalan borcunu %5 faiz eklendikten sonra 10 eşit taksitte ödeyeceğine göre bir taksit tutarı kaç ₺'dir?

- A) 84 B) 96 C) 126 D) 132 E) 144

45. A birimlik bir iş x tane işçi tarafından günde 12 saatlik çalışmayla 15 günde bitirilebiliyor. 2A birimlik bir iş ise işçi sayısı artırılarak ve günde 10 saat çalışılarak 24 günde bitiriliyor.

Buna göre 2A birimlik işte çalışan işçi sayısı aşağıdakilerden hangisi olabilir?

- A) 2 B) 4 C) 6 D) 8 E) 10

46. Özdeş 3 musluk boş bir havuzun yarısını doldurduktan sonra 1 musluk kapatılıyor.

Havuzun tamamen dolması 4 saat daha uzun sürdüğüne göre bu musluklardan 1 tanesi aynı havuzu kaç saatte doldurur?

- A) 54 B) 48 C) 32 D) 24 E) 16

47. Aynı yerden, aynı anda hareket eden iki araçtan hızlı olan yolun $\frac{4}{7}$ sini aldığı anda, diğer araç aynı sürede yolun yarısını alıyor.

Buna göre hızlı olan araç yolu tamamladığında, yavaş olan araç yolun kaçta kaçını almış olur?

- A) $\frac{2}{3}$ B) $\frac{3}{4}$ C) $\frac{4}{5}$ D) $\frac{6}{7}$ E) $\frac{7}{8}$

48.

Ürün	Alış Fiyatı (₺)	Satış Fiyatı (₺)
Peynir	10	24
Zeytin	6	16
Yoğurt	2	5
Sucuk	16	40
Salam	12	32

Yukarıdaki tabloda, bir markette satılan ürünlerin 1 kilogramlarının alış ve satış fiyatları verilmiştir.

Buna göre tüm ürünlerden aynı miktarda satış yapıldığında hangi ürünün satışından en düşük oranda kâr edilmiş olur?

- A) Peynir B) Zeytin C) Yoğurt
D) Sucuk E) Salam

49.

a	b	c	d	e
1	3	5	7	9
19	17	15	13	11
21	23	25	27	29
...	31

a, b, c, d ve e olmak üzere 5 sütunu bulunan bir tabloya, pozitif tek tam sayılar yukarıdaki gibi soldan başlanarak sırasıyla ve her kutuya bir sayı gelecek şekilde yazılıyor. Bu yazma işlemi ilk satır bittiğinde, ikinci satır aynı şekilde ve sayıların sıralaması değişmeden sağdan sola olacak şekilde ilerlemektedir.

Her seferinde bu kurala göre devam edildiğinde 2013 sayısı hangi sütuna yazılır?

- A) a B) b C) c D) d E) e

50. 50 kişilik bir sınıfta Almanca ve İngilizce dillerinden en az birini bilenlerin sayısı 45, en çok birini bilenlerin sayısı 35 tir. Yalnız Almanca bilenlerin sayısı ise 10 dur.

Bu gruptan seçilen bir kişinin sadece İngilizce bilme olasılığı kaçtır?

- A) $\frac{1}{2}$ B) $\frac{1}{3}$ C) $\frac{2}{3}$ D) $\frac{2}{5}$ E) $\frac{3}{5}$

51. Reel sayılarda tanımlı $*$ işlemine göre

$$a * b = a^2 - b^2 + ab$$

eşitliği veriliyor.

Buna göre $(-1 * 1) * 2$ ifadesinin sonucu kaçtır?

- A) -5 B) -4 C) -3 D) -2 E) -1

52. – 53. soruları aşağıdaki verilere göre cevaplayınız

$K(n)$; n tam sayısının çift rakamlarının toplamı olarak tanımlanıyor.

- $n = ABCD$ için $K(ABCD) = A + D$ ise A ve D çift rakamlardır.
- $n = BC$ için $K(BC) = 0$ ise B ve C tek rakamlardır.

Örneğin,

$$K(4316) = 4 + 6 = 10$$

$$K(135) = 0$$

52. n beş basamaklı, rakamları farklı bir doğal sayı olmak üzere

$$K(n) = 18 \text{ dir.}$$

Buna göre n sayısının en az kaç basamağı çift olur?

- A) 1 B) 2 C) 3 D) 4 E) 5

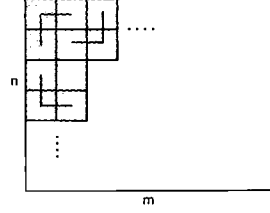
53. $n = ABC$ olmak üzere ABC tüm rakamları çift olan, rakamları farklı üç basamaklı bir doğal sayıdır.

$$K(ABC) = x$$

olduğuna göre x kaç farklı değer alır?

- A) 6 B) 7 C) 8 D) 9 E) 10

54.



Şekildeki $n \times m$ boyutlu bir dikdörtgen yüzey, hiç boşluk kalmayacak şekilde kaplanacaktır.

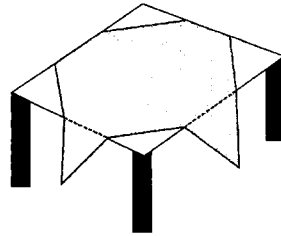
birim kareyi göstermek üzere üç birim karenin yan yana getirilmesiyle oluşturulan



şekli istenilen sayıda kullanılarak kaplama yapıldığında aşağıda boyutları verilen dikdörtgen yüzeylerden hangisi tam kaplanamaz?

- A) 2×3 B) 3×4 C) 3×5
D) 5×6 E) 5×9

55.

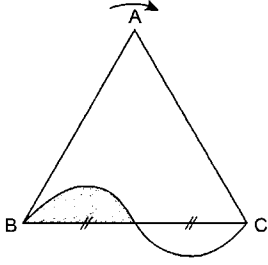


Şekildeki kare yüzeyli masa, kare şeklindeki bir örtü ile örtülmüştür. Örtünün masadan sarkan kısımlarının her biri aynı büyüklükte ve masanın örtülmeyen kısımlarının her birinin yüzey alanına eşittir.

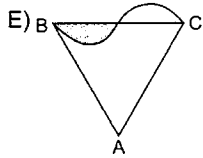
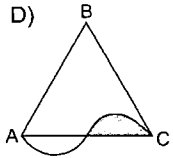
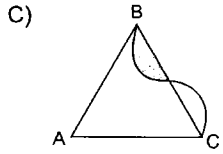
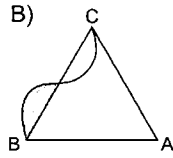
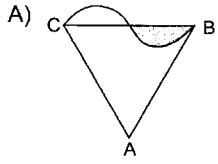
Masanın üzerinde örtünün kaplamadığı alan 200 cm^2 olduğuna göre örtünün bir kenar uzunluğu kaç cm dir?

- A) 30 B) $10 + 10\sqrt{2}$
C) $20 + 20\sqrt{2}$ D) $20 + 10\sqrt{2}$
E) $30 + 10\sqrt{2}$

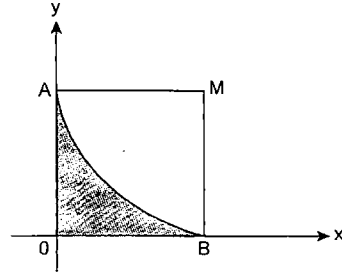
56.



Şekildeki eşkenar üçgen ve eş yarımlarından oluşan şekil, eşkenar üçgenin ağırlık merkezi etrafında ok yönünde 180° döndürülürse aşağıdaki şekillerden hangisi oluşur?



57.



x ve y eksenlerine $A(0, 2)$ ve $B(2, 0)$ noktalarında teğet olan M merkezli çeyrek çember verilmiştir.

Buna göre taralı kısmın alanı kaç br^2 dir?

- A) $2 + \pi$ B) $3 + \pi$ C) $4 - \pi$
 D) $8 - \pi$ E) $16 - 2\pi$

58. – 60. soruları aşağıdaki verilere göre cevaplayınız

Dikkat! Soruları birbirinden bağımsız çözünüz.

Aşağıdaki tabloda (15 – 30) ve (31 – 45) yaş aralığında bulunan kadın ve erkeklerin bir ankette sorulan bir soruya verdikleri evet veya hayır yanıtlarının yüzdeleri verilmiştir.

		(15 – 30) Yaş arası	(31 – 45) Yaş arası
Kadın	Evet	40	70
	Hayır	60	30
Erkek	Evet	20	80
	Hayır	80	20

- Ankete katılanların verdikleri yanıtın sadece evet veya hayır olduğu bilinmektedir.
- Ankete katılan toplam kadın sayısı, toplam erkek sayısının iki katıdır.

58. Evet yanıtı veren (15 – 30) yaş aralığındaki kadınların sayısı, evet yanıtı veren (31 – 45) yaş aralığındaki kadınların sayısının iki katıdır.

Ankete katılan (15 – 30) yaş aralığındaki kadınların sayısı 700 ise (31 – 45) yaş aralığındaki kadınların sayısı kaçtır?

- A) 100 B) 200 C) 300 D) 400 E) 500

59. Ankete katılan toplam kişi sayısını 1200 olduğu bilirse evet yanıtı veren (15 – 30) yaş arası erkeklerle, hayır yanıtı veren (31 – 45) yaş aralığındaki erkeklerin toplam sayısı kaçtır?

- A) 80 B) 120 C) 150 D) 180 E) 200

60. Hayır yanıtı veren (15 – 30) yaş aralığındaki erkek sayısı 20, (31 – 45) yaş aralığındaki erkek sayısı 10 olduğuna göre ankete kaç kadın katılmıştır?

- A) 45 B) 55 C) 75 D) 90 E) 150

1. Bu testte 60 soru vardır.

2. Cevaplarınızı, cevap kâğıdının Genel Kültür Testi için ayrılan kısmına işaretleyiniz.

1. Aşağıdakilerden hangisi İslamiyet'ten önce, Türklerde üzerine hükümdar mührü vurulmuş para yerine kullanılan ipek kumaş parçalarına verilen addır?

- A) Kam B) Kamdu C) Yargu
D) Ağıllıĝ E) Tudun

2. Türk - İslam devletlerinde savaş esirleri arasından ve halktan toplanan küçük yaştaki çocukların askerlik, yönetim ve protokol kuralları ile ilgili eğitilmesi sistemine verilen ad aşağıdakilerden hangisidir?

- A) İltizam Usulü
B) İkta Sistemi
C) Müsadere Sistemi
D) Gulam Sistemi
E) Atabeylik Sistemi

3. • Avicenna adı ile de bilinir.

- El- Kanun fi't Tıb adlı dünyaca ünlü bir eseri vardır.

Özellikleri verilen Türk - İslam bilgini aşağıdakilerden hangisidir?

- A) İbn-i Sina
B) Uluĝ Bey
C) Farabî
D) İbn-i Rüşt
E) Zemahşerî

4. Aşağıdakilerden hangisi Osmanlı Devleti'nde Kuruluş Dönemi'nde yaşanan gelişmeler arasında gösterilemez?

- A) Balkanlarda ilk üssün ele geçirilmesi
B) İlk Osmanlı medresesinin açılması
C) Sadrazamların ordunun başkomutanı olarak sefere çıkması
D) Haçlılara karşı ilk zaferin kazanılması
E) Gayrimüslim tebaadan da vergi alınmaya başlanması

5. Sokullu Mehmet Paşa,

- I. Don - Volga Kanalı,
- II. Karadeniz Marmara Kanalı,
- III. Süveyş Kanalı

projelerinden hangilerini gerçekleştirmeyi amaçlamıştır?

- A) Yalnız I B) Yalnız II C) Yalnız III
D) I ve III E) I, II ve III

6. Osmanlı Devleti'nde görülen mirî arazi uygulamasının,

- I. kişilerin topraklar üzerinde kiracı konumunda olması,
- II. kişilerin toprağın mülkiyet hakkını devredilebilmesi,
- III. öşüriyye ve haraciyye gibi kısımlara ayrılması

özelliklerinden hangilerine sahip olduğu savunulabilir?

- A) Yalnız I B) Yalnız II C) Yalnız III
D) I ve II E) I, II ve III

7. Osmanlı Devleti, göçebe Türkmenleri yerleşik hayata geçirmek için yoğun çaba harcamıştır.

Osmanlı Devleti bu amaç doğrultusunda temelde aşağıdakilerden hangisini uygulamıştır?

- A) Devşirme Sistemi
B) İstimalet Politikası
C) Müsadere Sistemi
D) İskân Politikası
E) İltizam Sistemi

8. Osmanlı Devleti'nde el yazması eser sayısının artması ve bu eserlerin çoğaltılması,

- I. hattat,
- II. müderris,
- III. müstensih

meslek gruplarından hangilerinin önem kazandığına doğrudan kanıttır?

- A) Yalnız I B) Yalnız II C) Yalnız III
D) I ve III E) I, II ve III

9. IV. Mehmet Dönemi'nde yeniçerilerin saraydan bazı devlet adamlarının kendilerine verilmesi isteği ile başlayan ve Çınar Olayı diye de isimlendirilen isyan aşağıdakilerden hangisidir?

- A) Patrona Halil
- B) Baba Zünnun
- C) Vakayı Vakvakiye
- D) Bozoklu Celal
- E) Kabakçı Mustafa

10. Osmanlı Devleti XVIII. yüzyılda imzaladığı aşağıdaki antlaşmalardan hangisinden sonra ilk kez Batı kültürünü tanıyabilmeyi amaçlamış, Batı ile yaptığı savaşlara ara vermiş ve bu devletlere karşı barış politikası uygulamıştır?

- A) Prut Antlaşması
- B) Pasarofça Antlaşması
- C) Belgrad Antlaşması
- D) Küçük Kaynarca Antlaşması
- E) Yaş Antlaşması

11. Aşağıdakilerden hangisi Osmanlı Devleti'nin XIX. yüzyılda yarı sömürge hâline gelmesinin nedenleri arasında gösterilemez?

- A) Endüstriyel tarım ürünlerinin satışının pazar seviyesine ulaşması
- B) Islah-ı Sanayi Komisyonunun kurulması
- C) 1838'de Balta Limanı Ticaret Antlaşması'nın imzalanması
- D) Vergi reformu çalışmalarında kapitülasyonların etkisi
- E) Lonca Teşkilatının güç kaybetmesi

12. II. Mahmut Dönemi'ndeki Sened-i İttifak'ın özellikleri arasında aşağıdakilerden hangisinin yer aldığı savunulamaz?

- A) Osmanlı padişahlarının yetkileri ilk kez kısıtlanmıştır.
- B) Osmanlı'da demokratikleşmenin ilk adımıdır.
- C) İngiltere'deki Magna Carta ile benzerlik gösterir.
- D) Osmanlı'da ilk kez padişah kendi gücü dışında bir gücün resmî varlığını tanımıştır.
- E) Sözleşmenin imzalanmasında Fransız İhtilali'nin getirdiği fikir akımları da etkili olmuştur.

13. Osmanlı Devleti aşağıdaki savaşlardan hangisinin sonucunda Midye - Enez hattını batı sınırı olarak kabul etmek zorunda kalmıştır?

- A) Trablusgarp Savaşı
- B) 93 Harbi
- C) I. Balkan Savaşı
- D) II. Balkan Savaşı
- E) I. Dünya Savaşı

14. Millî Mücadele Hazırlık Dönemi'nde Mustafa Kemal'in kullandığı resmî askerî unvan aşağıdakilerden hangisidir?

- A) Başkomutan
- B) IX. Ordu Müfettişi
- C) Yıldırım Orduları Komutanı
- D) Temsil Heyeti Başkanı
- E) TBMM Başkanı

15. • Adında "millet" kelimesine yer vermiştir.
• Azınlık vekili yer almamıştır.

I. TBMM'nin yukarıdaki özellikleri aşağıdakilerden hangisine kanıt gösterilebilir?

- A) Kurucu meclis olduğuna
- B) Demokratik meclis özelliği taşıdığına
- C) Ulusal meclis yapısı gösterdiğine
- D) Kuvvetler birliği uygulamasını benimsediğine
- E) İhtilalci meclis yapısına sahip olduğuna

16. Millî Mücadele Dönemi'nde TBMM,

- I. Sovyet Rusya,
- II. Afganistan,
- III. Ukrayna

devletlerinden hangileri ile dostluk antlaşması imzalamıştır?

- A) Yalnız II
- B) I ve II
- C) I ve III
- D) II ve III
- E) I, II ve III

17. Ülkemizde yapılan seçimlerde çobanın oyu ile aydın kesimin oyunun eşit olmadığına iddia edilmesi,

- I. cumhuriyetçilik,
- II. halkçılık,
- III. laiklik

ilkelerinden hangilerine doğrudan ters düşmektedir?

- A) Yalnız I
- B) Yalnız II
- C) Yalnız III
- D) I ve II
- E) I, II ve III

18. • Özgür düşünceyi ve insan onurunu temel alır.
• Aklın ve bilimin rehberliğinde hareket eder.

Atatürkçülüğün bu özellikleri dikkate alındığında aşağıdaki ilkelerden en çok hangisine vurgu yapıldığı savunulabilir?

- A) Laiklik
B) Halkçılık
C) Cumhuriyetçilik
D) Devletçilik
E) Milliyetçilik

19. **Atatürk'ün, 1924'te Dumlupınar'da yaptığı konuşmasındaki "Hayat ve geçime egemen olan kuralların zaman ile değişmesi, gelişmesi ve yenilenmesi zorunludur. Medeniyetin buluşlarının, tekniğin harikalarının, dünyayı değişiklikten değişikliğe uğrattığı bir devirde, asırlık köhne zihniyetlerle, geçmişe bağlılıkla varlığın korunması mümkün değildir." sözüyle aşağıdaki ilkelerden en çok hangisine vurgu yaptığı savunulabilir?**

- A) Millî birlik ve beraberlik
B) İnsan ve insanlık sevgisi
C) Çağdaşlaşma ve Batılılaşma
D) Özgürlükçülük
E) Yurtta sulh, cihanda sulh

20. **Atatürk'ün Takrir-i Sükûn Kanunu için kullandığı "Gerekli ve yasal bir uygulamadır." sözüyle,**

- I. gerçekleştirilmiş inkılapları koruma,
II. devletin rejimini güvence altına alma,
III. dış işlerine bu yasa ile yön verme

amaçlarından hangilerine vurgu yaptığı savunulabilir?

- A) Yalnız I
B) Yalnız II
C) Yalnız III
D) I ve II
E) I, II ve III

21. **Aşağıdakilerden hangisinin cumhuriyetin ilan edilmesinden sonraki bir gelişme olduğu söylenemez?**

- A) Kabine Sistemi'ne geçilerek yürütme işlerine hız kazandırılması
B) Ceza Muhakemeleri Usulü Kanunu'nun kabul edilmesi
C) Kadınlara muhtar ve aza seçimlerine katılma hakkı tanınması
D) Anayasada egemenliğin kayıtsız şartsız millete ait olduğunun ilk kez belirtilmesi
E) Atatürk'ün altı temel ilkesinin anayasaya girmesi

22. **Aşağıdakilerden hangisi Türk Tarih Kurumunun kurulma nedenleri arasında yer almaz?**

- A) Türk toplumunda millî bir şuur oluşturmak
B) Batı ile bütünleşmeyi sağlamak
C) Türklerin sarı ırktan olmadığını ortaya koymak
D) Ümmetçi tarih anlayışı yerine, millî tarih anlayışını yerleştirmek
E) Türklerden önce Anadolu'da yaşamış toplulukları araştırmak

23. Saltanat yönetimine 1922 yılında son verilmesine rağmen hilafet kurumunun varlığını 1924 yılına kadar koruyabilmesinin temel nedeni aşağıdakilerden hangisidir?

- A) Halkın ve kamuoyunun hazır hâle gelmesinin beklenmesi
- B) TBMM içindeki vekillerin bu fikri desteklemesi
- C) TBMM'nin halifeliğin siyasi gücünü kullanmak istemesi
- D) Lozan Barış Konferansı'na daha güçlü gitme düşüncesi
- E) Cumhuriyet yönetiminin pekiştirilmek istenmesi

24. Balkanlarda Türkiye'nin öncülüğünde gelişen dostluk ve iş birliği havası sonucunda 9 Şubat 1934'te Türkiye, Romanya, Yugoslavya ve Yunanistan arasında Balkan Antantı imzalanmış, böylece Balkan ülkelerinin sınırları karşılıklı olarak güvence altına alınmıştır.

Buna göre

- I. II. Dünya Savaşı'nın Balkanlara sıçraması,
- II. Türkiye'nin antant hükümlerine aykırı davranması,
- III. dünyada silahlanma yarışının azalması

durumlarından hangisinin Balkan Antantı'nın önemini yitirmesine neden olduğu söylenebilir?

- A) Yalnız I
- B) Yalnız II
- C) I ve II
- D) I ve III
- E) I, II ve III

25. Avrupa Birliği'ne adaylık için başvuruda bulunan ülkelerin tam üyeliğe kabul edilmeden önce Kopenhag Kriterleri'nde belirtilen aşağıdaki alanların hangilerinde belirli bir düzeyi yakalaması gerektiğinden söz edilmemiştir?

- A) Demokrasi
- B) Hukukun üstünlüğü
- C) Azınlık hakları
- D) İnsan hakları
- E) Devletçi ekonomi

26. 18 Ocak 1940'ta savaşın kötü şartlarından korunabilmek amacıyla çıkarılan Millî Korunma Kanunu'nun hükümete,

- I. üretimi aksatan işletmelere gerektiğinde el koyma,
- II. dış ticareti düzenleme ve kontrol etme,
- III. gerektiğinde ihtiyaç maddelerini arama ve bunlara el koyma

imkânlarından hangilerini sağladığı söylenebilir?

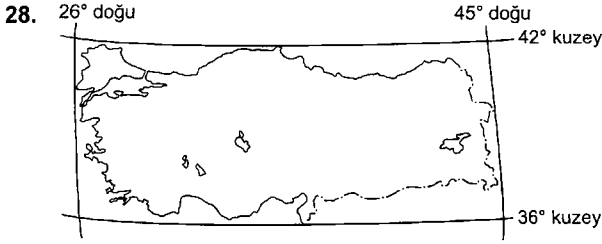
- A) Yalnız I
- B) Yalnız II
- C) I ve II
- D) II ve III
- E) I, II ve III

27. ● 17 Temmuz 1962'de kabul edilen bir yasa ile kurulmuştur.

- Amacı kalkınma planları doğrultusunda bilimsel araştırmalar yapmak ve yaptırmak, bu araştırmalar arasında eş güdümlü sağlamaktır.

Özellikleri verilen kurum aşağıdakilerden hangisidir?

- A) TÜBİTAK
- B) TİKA
- C) KEİT
- D) TÜİK
- E) TSE



Türkiye'nin matematik konumunu gösteren haritadan yararlanarak aşağıdaki bilgilerden hangisine ulaşamaz?

- A) Doğu ve batı uçları arasındaki yerel saat farkı
- B) Bulunduğu yarım küre
- C) Kuzey ve güney uçları arası kuş uçuşu uzaklık
- D) En uzun günün yaşandığı tarih
- E) Ortalama yükselti

29. Aşağıdakilerden hangisi Türkiye'nin yakın bir jeolojik zamanda oluştuğunu kanıtlamada kullanılamaz?

- A) Çok sayıda karstik mağaranın bulunması
- B) Sıcak su kaynaklarının fazla olması
- C) Tektonik depremlerin görülmesi
- D) Aktif fay hatlarının bulunması
- E) Genç volkan konilerinin bulunması

30. Türkiye'nin yükselti basamaklarını sıfırdan başlayarak 500'er metre aralıklarla oransal dağılımını gösteren grafikten yararlanarak

- I. dağ,
- II. ova,
- III. yükselti basamağı

oranlarından hangileri hakkında fikir sahibi olunur?

- A) Yalnız I
- B) Yalnız II
- C) Yalnız III
- D) I ve III
- E) I, II ve III

31. Türkiye'de mevsimler arası seviye değişimi en fazla olan göl Tuz Gölü'dür. Yaz mevsiminde seviyesi kış mevsimindekine oranla yarı yarıya düşer.

Bu durum gölün

- I. yüz ölçümü,
- II. derinlik,
- III. su hacmi

özelliklerinden hangilerini etkiler?

- A) Yalnız I
- B) Yalnız II
- C) Yalnız III
- D) I ve III
- E) I, II ve III

32. Türkiye’de akarsular beslenme şekillerine göre

- yağmur ile beslenen
- kar ve buz erimeleriyle beslenen
- gölden beslenen
- yer altı sularıyla beslenen

akarsular biçiminde sınıflandırılır. Bu durum akarsuyun kabarık ve çekik dönemlerini de belirler.

Buna göre aşağıdaki akarsulardan hangisinin çekik dönemi kış mevsimine rastlar?

- A) Gediz B) Aras C) Sakarya
D) Seyhan E) Büyük Menderes

33. Türkiye iklimlerini Türkiye'nin çevresindeki

- I. denizler,
- II. kara kütleleri,
- III. basınç sistemleri

unsurlarından hangileri etkiler?

- A) Yalnız I B) I ve II C) I ve III
D) II ve III E) I, II ve III

34. Türkiye’de doğal ve beşerî faktörlere bağlı olarak meydana gelen erozyon, doğal erozyonun 6 katı kuvvetinde gerçekleşmektedir. Bu durum Türkiye'nin yakın bir gelecekte çöle dönüşeceği kaygısını kuvvetlendirmektedir.

Buna göre aşağıdaki çalışmalardan hangisinin erozyonun şiddetinin azaltılmasında yararı olmaz?

- A) Vasfını yitirmiş orman alanlarını yeniden ormana kazandırmak
B) Araziyi doğru kullanmak
C) Barajlar yapmak
D) Bitki örtüsünü korumak
E) Şehirlerin plansız büyümesini engellemek

35. Aşağıdakilerden hangisi ilk nüfus sayımının yapıldığı 1927 ile 2012 yılları arasında Türkiye nüfusunun yaşadığı gelişmelerden biri değildir?

- A) Kurtuluş Savaşı sırasında önemli bir erkek nüfus kaybına uğramıştır.
B) Değişkenlik gösterse de sürekli artmıştır.
C) Hatay'ın ana vatana katılmasıyla nüfus artmıştır.
D) Nüfus artış hızı dalgalanma göstermiştir.
E) Başta Almanya olmak üzere Batı Avrupa ülkelerine işçi göçü nüfus artış hızının azalmasına yol açmıştır.

36. Aşağıdaki şehir ve ekonomik etkinlik eşleştirmelerinden hangisi mevsimlik göçe neden olmaz?

- A) Antalya'da deniz turizmi
- B) Ordu'da fındık tarımı
- C) Zonguldak'ta madencilik
- D) Adana'da pamuk tarımı
- E) Bursa'da kış sporları turizmi

37. Aşağıdaki liman şehirlerinden hangisinin gelişmesinde liman faaliyetlerinin katkısı en azdır?

- A) İzmit
- B) Sinop
- C) Trabzon
- D) Mersin
- E) İzmir

38. Bir yörede en çok yetiştirilen ve o yöre ile özdeşleşmiş olan tarım ürününe o yörenin monokültür ürünü denir.

Buna göre aşağıdaki il ve monokültür eşleştirmelerinden hangisi yanlıştır?

- A) Adana - pamuk
- B) Amasya - elma
- C) Bursa - şeftali
- D) Antalya - zeytin
- E) Malatya - kayısı

39. Türkiye çiftçisi, doğal koşullara bağlı olarak hangi tür tarım faaliyetlerini sürdürürse sürdürsün, paralelinde yine doğal koşullara bağlı olarak mutlaka arıcılık, büyükbaş ya da küçükbaş hayvancılık faaliyetlerine de devam eder.

Bu durum aşağıdakilerden en çok hangisiyle ilgilidir?

- A) Yer şekillerinin çeşitlilik göstermesiyle
- B) Hayvancılık faaliyetlerine teşvik kredilerinin verilmesiyle
- C) İklimin kararsızlık göstermesiyle
- D) Verimliliğin düşük olmasıyla
- E) Tarımda makine kullanımının yetersiz olmasıyla

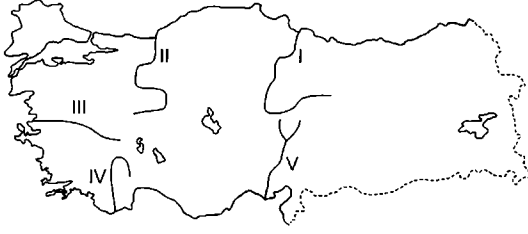
40. Türkiye'de madencilığe ilişkin

- I. Maden çeşitliliği ve rezervi bakımından dünyanın ilk beş ülkesi arasındadır.
- II. Anadolu'da bulunan ve işlenen ilk maden bakırdır.
- III. Anadolu'da madencilik MÖ 7000'li yıllara dayanır.

bilgilerinden hangileri doğrudur?

- A) Yalnız I
- B) Yalnız II
- C) Yalnız III
- D) I ve II
- E) I, II ve III

41.



Haritada numaralanmış akarsulardan hangisinde sanayi faaliyetlerine bağlı olarak kirlilik oranı en azdır?

- A) I B) II C) III D) IV E) V

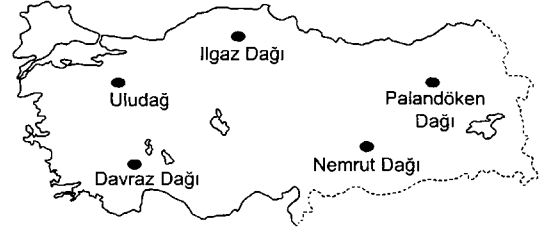
42. Aşağıdaki şehirlerden hangileri arasında deniz ulaşımı ile yolculuk yapılamaz?

- A) Karabük - Zonguldak
B) Trabzon - Samsun
C) İskenderun - Mersin
D) Tekirdağ - İzmit
E) Yalova - İzmir

43. Türkiye'de bölgeler arası ham madde, üretim, nüfus ve doğal ortam farklılıklarına bağlı olarak gelişen iç ticarete aşağıdakilerden hangisinin bir etkisi yoktur?

- A) Ticaret şehirlerinin
B) Pazarların
C) Hallerin
D) Ulaşım güzergâhlarının
E) Sınır kapılarının

44.



Haritada gösterilen dağlardan hangisinde yürütülen turizm etkinliği diğerlerinden farklıdır?

- A) Uludağ
B) Ilgaz Dağı
C) Palandöken Dağı
D) Nemrut Dağı
E) Davraz Dağı

45. Türkiye'de aşağıdaki kriterlere göre oluşturulmuş bölgelerden hangisinin sınırlarının değişmesi daha zordur?

- A) Nüfus özelliklerine göre bölgeler
B) Yerleşme özelliklerine göre bölgeler
C) Bitki örtüsüne göre bölgeler
D) Ekonomik özelliklerine göre bölgeler
E) Yer şekilleri özelliklerine göre bölgeler

46. "B kişisiyle arasında mevcut bir evlilik olan A kişisi, resmî evlendirme memuru huzurunda C kişisiyle de evlenmiştir."

A'nın somut olaydaki evlilikleriyle ilgili olarak aşağıdakilerden hangisi doğrudur?

- A) B ile yapmış olduğu evlilik yoklukla hükümsüzdür.
- B) C iyi niyetliyse yapmış olduğu evlilik geçerlidir.
- C) B ile yapılan evlilik mutlak butlanla hükümsüzdür.
- D) C ile yapılan evlilik yoklukla hükümsüzdür.
- E) C ile yapılan evlilik mutlak butlanla hükümsüzdür.

47. I. Saldırı yalnızca can güvenliğine yönelik olmalıdır.
II. Karşı saldırı orantılı olmalıdır.
III. Saldırı üçüncü kişiye de yapılmış olabilir.

Yukarıdakilerden hangileri haklı savunma (meşru müdafaa) için doğru hükümlerdir?

- A) Yalnız I
- B) Yalnız II
- C) I ve II
- D) II ve III
- E) I, II ve III

48. **Mahkeme kararı (kaza-i rüşt) ile kazanılan erginliğin şartları arasında aşağıdakilerden hangisi yer almaz?**

- A) Küçük, 16 yaşını tamamlamış olmalıdır.
- B) Küçüğün kendi isteği olmalıdır.
- C) Küçüğün menfaatini gerektirmelidir.
- D) Velayet altında ise velisinin rızası gereklidir.
- E) Kararı, görevli mahkeme vermelidir.

49. **Aşağıdaki ifadelerden hangisi Yüksek Seçim Kuruluyla ilgili olarak yanlıştır?**

- A) 7 asil ve 4 yedek üyeden oluşur.
- B) Cumhurbaşkanlığı seçim tutanaklarını tutmak görevleri arasında yer alır.
- C) Kararları aleyhine başka herhangi bir yargı mercisine başvurulamaz.
- D) İlk defa 1982 Anayasası'nda yer almıştır.
- E) Anayasa'da yüksek mahkemeler arasında sayılmıştır.

50. Aşağıdakilerden hangisi Bakanlar Kurulunun görevlerinden biridir?

- A) Başbakanı seçmek
- B) Tüzük çıkarmak
- C) Genelkurmay başkanını atamak
- D) Olağanüstü hâl ilanını kabul etmek
- E) Seçimleri yenilemek

52. İdari fonksiyonun temel amacı aşağıdakilerden hangisini gerçekleştirmektir?

- A) Kamu yararı
- B) Kamulaştırma
- C) İdari eylem
- D) Kamu hizmeti
- E) İdari işlem

51. I. Askerî Yüksek İdare Mahkemesi
II. Hâkimler ve Savcılar Yüksek Kurulu
III. Sayıştay

Yukarıdakilerden hangileri 1982 Anayasası'nda yargı bölümünde düzenlenmiştir?

- A) Yalnız I
- B) I ve II
- C) I ve III
- D) II ve III
- E) I, II ve III

53. I. Kültür Mahallesi
II. Yeşilce köyü
III. Çankaya Kaymaklığı

Yukarıdakilerden hangileri yönetmelik çıkarabilir?

- A) Yalnız I
- B) Yalnız II
- C) Yalnız III
- D) I ve II
- E) II ve III

54. Aşağıdakilerden hangisi devlet memurlarına verilen disiplin cezalarından biri değildir?

- A) Uyarma
- B) Kınama
- C) Disiplin hapsi
- D) Aylıktan kesme
- E) Kademe ilerlemesinin durdurulması

56. Avrupa Adalet Divanı nerede bulunmaktadır?

- A) Lüksemburg
- B) Lahey
- C) Brüksel
- D) Londra
- E) Berlin

55. I. İngiltere
II. İsviçre
III. Fransa
IV. Danimarka

Yukarıdakilerden hangileri euro kullanan Avrupa Birliği ülkelerindedir?

- A) Yalnız II
- B) Yalnız III
- C) I ve IV
- D) II ve III
- E) I, II ve IV

57. 26. NATO Dışişleri Bakanları Toplantısı 2013'te nerede düzenlenmiştir?

- A) İstanbul
- B) Londra
- C) Brüksel
- D) Kiev
- E) New York

58. İstanbul Kültür Sanat Vakfı tarafından düzenlenen 32. İstanbul Film Festivali'nde "Şakir Eczacıbaşı anısına verilen Uluslararası Altın Lale Ödülü'nü" aşağıdaki filmlerden hangisi kazanmıştır?

- A) What Richard Did
- B) Unforgiven
- C) Gangster Squad
- D) The First Time
- E) Pawn

60. 5 Nisan 2013 tarihi itibarıyla İstanbul Menkul Kıymetler Borsasının yerini alan yeni borsamızın ismi aşağıdakilerden hangisidir?

- A) Türkiye Ulusal Borsası
- B) Borsa Türkiye
- C) Yeni İstanbul Borsası
- D) Borsa İstanbul
- E) Borsa Avrasya

59. I. Xanthos-Letoon (Antalya - Muğla)
II. Uzungöl (Trabzon - Çaykara)
III. Truva Antik Kenti (Çanakkale)

Yukarıdakilerden hangileri UNESCO Dünya Miras Listesi'nde yer alan varlıklarımız arasındadır?

- A) Yalnız I
- B) Yalnız II
- C) I ve III
- D) II ve III
- E) I, II ve III