



15 Türkçe
15 Matematik
15 Fen Bilimleri
15 Sosyal Bilgiler

4 ● Sınıf Kazanım

Deneme Sınavı - 1

ADI:.....

SOYADI:.....

SINIFI:.....

Bu bölüm 15 Türkçe sorusundan oluşmaktadır. Cevapları soru altlarındaki şıklara işaretleyiniz

SEVGİ

Sevgi insanların içindeki en büyük güzelliştir. Bir insanda sevgi eksikse huzursuz ve mutsuz olur. Mutluluğun kaynağı sevgidir. Sevgi de kendimizi sevmekle başlar. Kendisini seven, başkalarını da sever. Kendisini sevmeyen insan ise etrafına hep olumsuz düşünceler yayar. Hem kendisini hem başkalarını mutsuz eder. Aile bireylerini, akrabalarını, komşularını

1, 2, 3 ve 4. soruları yukarıdaki metne göre cevaplayınız.

1. Metne göre içinde sevgi olmayan bir insan nasıl olur?

- A) Huzurlu B) Keyifli
C) Mutsuz D) Sevecen





2. Parçadaki "mutlu-mutsuz" sözcükleri arasındaki anlam ilişkisi aşağıdakilerden hangisinde vardır?

- A) Al - Kırmızı
B) Seven - Sevmeyen
C) Küçük - Büyük
D) Yararlı - Zararlı

3. Metne göre sevginin temeli nasıl atılır?

- A) Komşularımızı severek
B) Aile bireylerimizi severek
C) Akrabalarımızı severek
D) Kendimizi severek

4. Metne göre aşağıdakilerden hangisi olumsuz bir davranıştır?

- A)  B) 
C)  D) 

5. Bilgi edineceğimiz dergi, kitap, gazete gibi kaynaklarda özellikle aşağıdakilerden hangisine dikkat etmemiz gerekir?

- A) Yazılarının büyük olmasına
B) Görsellerinin fazla olmasına
C) Konularının faydalı ve ilgi çekici olmasına
D) İnsanları mutlu edecek olmasına



Anlamını bilmediğimiz kelimeleri öğrenmek için sözlük kullanırız. Yazımı yanlış olan kelimelerin doğru yazılışını öğrenmek için ise kullanır

6. Hatice'nin ifadesinde ile gösterilen yere aşağıdakilerden hangisi yazılmalıdır?

- A) ansiklopedi
B) Türkçe kitabı
C) kaynak kitap
D) yazım kılavuzu

7. Akıllı düşman akılsız doştan iyidir.

1 2 3 4

Yukarıdaki atasözünde altı çizili sözcüklerden karşıt anlamlı olanlar hangi seçenekte doğru verilmiştir?

- A) 1 ve 3 B) 2 ve 4
C) 1 ve 2 D) 1 ve 4

8. "Soğuk" kelimesi hangi cümlede gerçek anlamda kullanılmıştır?

- A) Bana karşı soğuktu.
B) Kışın soğuklarda giyersin.
C) O sözünden sonra soğudum.
D) Yüzündeki soğukluk duygularını yansıtıyordu.

9. "Sabahleyin çok erken mi yola çıkarsınız?" cümlesi için aşağıda söylenenlerden hangisi **yanlıştır**?

- A) Kurallı cümle
B) Soru cümlesi
C) Devrik cümle
D) Olumlu cümle

10. "Bırakmak" sözcüğü aşağıdaki cümlelerin hangisinde "ertelemek" anlamında kullanılmıştır?

- A) Teyzemi evine bıraktık.
B) Kötü alışkanlıklarını bırakmalısın.
C) Taşınma işini haftaya bıraktık.
D) Artık peşimi bırak.

11. Ondan merak alamadığı için haber etmeye başlamıştı.

Cümlesindeki karışıklığı gidermek için hangi kelimeler yer değiştirmelidir?

- A) merak - için B) için - haber
C) alamadığı - etmeye D) merak - haber

12. "İsteneni yapmamak için bahaneler ileri sürmek, nazlanmak" anlamına gelen deyim aşağıdakilerden hangisidir?

- A) Ağzı-süt kokmak
B) Mırın kırın etmek
C) Dert yanmak
D) Göz ardı etmek

13. Aşağıdakilerin hangisinde özel ismin yazımıyla ilgili yanlışlık yapılmıştır?

- A) Maraşın dondurması, Antep'in baklavası meşhurdur.
B) Alı'nın kedisi tekir iki gündür kayıp.
C) Komşumuz Hüseyin Bey, iyi bir insandır.
D) Çanakkale Savaşında binlerce şehit verdik.

14. Kayra, annesinin eline sarılmış bırakmıyordu. Özellikle de Berra, sınıfın kapısından içeri girmiyordu. Açıkçası ben de korkuyordum. Öğretmen sınıfa girdi, kendini tanıttı. Doğrusu bu kadar güler yüzlü bir öğretmen beklemiyordum. Yukarıdaki paragrafın kaç yerinde açıklayıcı ve destekleyici ifadeler kullanılmıştır?

- A) 1 B) 2 C) 3 D) 4

15. Aşağıdaki cümlelerin hangisinde karşılaştırma yapılmamıştır?

- A) Dünya, Ay'dan daha büyüktür.
B) Dolabında bir çok elbise var.
C) Bu yıl daha çok kar yağdı.
D) En beğendiğim masal kahramanı Keloğlan'dır.

MATEMATİK TESTİ

Bu bölüm 15 Matematik sorusundan oluşmaktadır. Cevapları soru altlarındaki şıklara işaretleyiniz

1. "202 008" doğal sayısının çözümlenmiş şekli aşağıdakilerden hangisidir?

- A) 2 on binlik + 2 onluk + 8 birlik
B) 2 on binlik + 2 yüzlük + 8 birlik
C) 2 yüz binlik + 2 yüzlük + 8 onluk
D) 2 yüz binlik + 2 binlik + 8 birlik

2. "Sekiz yüz üç bin kırk beş" sayısının yazılışı hangi seçenekte doğru verilmiştir?

- A) 800 345 B) 803 145
C) 803 045 D) 830 045



3. Hakan'ın tahtaya yazdığı sayıların sırasını bozmadan aralarına "<, >" işaretlerini bırakırsak hangi seçenekteki sonucu elde ederiz?

- A) >, <, < B) >, <, >
C) <, <, > D) <, >, <

2 - 5 - 11 - 23 - 47 - ★

4. Yukarıdaki sayı örüntüsünde ★ yerine gelecek sayının sayı değerleri toplamı kaçtır?

- A) 12 B) 13 C) 14 D) 15



5. Yukarıdaki rakamlar kullanılarak yazılabilecek en büyük çift sayı hangisidir?

- A) 9 843 B) 9 438
C) 9 348 D) 9 834

$$\begin{aligned} \blacktriangle + 9 &= 22 \\ \blacktriangle + \bullet &= 30 \end{aligned}$$

6. Yukarıdaki ifadelere "●" göre kaçtır?

- A) 13 B) 17
C) 18 D) 19

+	300	A	700
470	770		
2 300		2 900	
5 700			B

7. Yukarıdaki tabloda verilen bilgilere göre "A + B" kaçtır?

- A) 6900
B) 7000
C) 7100
D) 7200

MATEMATİK TESTİ

8.



Yukarıdaki sayıların en yakın onluğa göre tahmini toplamı kaçtır?

- A) 6 340
- B) 6 440
- C) 6 350
- D) 6 450

9. Atık plastik kapak toplama kampanyasında;
1/A sınıfı 3079 tane,
1/B sınıfı 2456 tane,
1/C sınıfı ise 2703 tane plastik kapak toplamıştır.

Yukarıda verilen bilgiye göre bu üç sınıf kampanyaya toplam kaç kapak toplayarak katkıda bulunmuştur?

- A) 8382
- B) 8228
- C) 7328
- D) 8238

10. Bir çıkarma işleminde eksilen 5728, fark ise 2678'dir.

Buna göre çıkan sayı kaçtır?

- A) 3500
- B) 3005
- C) 3050
- D) 5030

$$3454 - 2643 = ?$$

11. Hasan ve semih yukarıdaki işlemi tahmin yoluyla bulmak için aşağıdaki işlemleri yapmışlardır.



Hasan

$$3450 - 2640 = 810$$



Semih


$$3500 - 2600 = 900$$

Hasan ve Semih'in tahminleri arasındaki farkın az olmasının sebebi aşağıdakilerden hangisidir?

- A) Hasan çıkarma işlemini yanlış yapmıştır.
- B) Hasan en yakın onluğa yuvarlarken Semih de en yakın yüzlüğe yuvarlamıştır.
- C) Semih çıkarma işlemini yanlış yapmıştır.
- D) Semih çıkarma işlemi yerine toplama işlemi yapmıştır.

MATEMATİK TESTİ

1.Çarpan



X

2.Çarpan



12. İşleminde 2. çarpan 3 azaltılırsa çarpım nasıl değişir?

- A) 20 azalır
- B) 21 azalır
- C) 22 azalır
- D) 23 azalır

I. $\blacktriangle \times 20 = 100$

II. $\blacktriangle \times \bullet = 50$

III. $\bullet \times \blacksquare = 130$

13. Çarpma işlemlerinde \blacksquare ile ifade edilen sayı hangisidir?

- A) 10
- B) 11
- C) 12
- D) 13

14. Televizyon mağazasında her gün 208 televizyon satılmaktadır. Mağazada iki haftada toplam kaç televizyon satılmıştır?

- A) 2 702
- B) 2 812
- C) 2 712
- D) 2 912

15. Bir inek günde 8 litre süt vermektedir. Ayşe Hanım sütün litresini 3 TL'den satmaktadır. Ayşe Hanımın 15 ineği olduğuna göre günde kaç TL kazanmaktadır?

- A) 340
- B) 360
- C) 380
- D) 400

Bu bölüm 15 Fen Bilimleri sorusundan oluşmaktadır. Cevapları soru altlarındaki şıklara

1. "Ekonomik değeri olan kayalara **maden** denir."

Buna göre aşağıdakilerden hangisi **maden değildir**?

- A) Elmas B) Mermer
C) Çakıl D) Demir

2. Taş kürenin büyük bölümü sudan oluşmaktadır.

Buna göre su küre ile ilgili hangisi **söylenemez**?

- A) Okyanuslar, su kürededir.
B) Tatlı su kaynakları bulunur.
C) Canlı yaşamamaktadır.
D) Yer altı suları bu katmandadır.

	D	Y
Fosiller her ortamda kolayca oluşur		X
Fosiller uzun sürede kayalarda oluşur.	X	
Fosilleri inceleyen bilim dalına Paleontoloji denir.		X
Fosiller, geçmiş zamanlar hakkında bilgi verir.		X

3. Fosillerle ilgili verilen ifadelerle göre tabloda işaretleme yapılmıştır. Buna göre yapılan işaretlemeden kaç tanesi doğrudur?

- A) 1
B) 2
C) 3
D) 4


4.

I. Canlıların Dünya üzerinde yaşadığı tabakadır.

II. Yer kabuğunun derinliklerinden çıkan ve ekonomik değeri olan kayalardır.

Yukarıda numaralandırılmış ifadelerin ilgili olduğu terimler aşağıdakilerin hangisinde doğru verilmiştir?

- | | |
|---------------|---------|
| I | II |
| A) Yer kabuğu | Maden |
| B) Çekirdek | Mineral |
| C) Ateş küre | Altın |
| D) Yer küre | Mineral |



5. Yukarıdaki görsele göre aşağıdaki açıklamalardan hangisi yanlış olur?

- A) Güneş Dünya'nın etrafında döner.
B) Dünya, Güneş etrafında dolanır.
C) Dünya, kendi etrafında döner.
D) Dünya, Güneş etrafında elips şeklinde yol izler.

6. "Dünyamız ----- etrafındaki bir tur dolanmasını bir yılda tamamlar."
Cümlesinde noktalı yere hangi görsel konmalıdır?



Dünya kendi etrafında batıdan,doğuya doğru döner. Dünya'nın bir tam dönüşü 24 saat sürer.Bu süreye 1 gün denir. Bu hareketi sırasında gece ve gündüz oluşur.



Can'ın açıklamasına göre;

1- Doğuda yaşayanlar Güneş'i batıdakilerden önce görür.

2- 1 gün, 24 saate eşittir.

3- Dünya kendi etrafında dönünce gece ve gündüz oluşur.

7. Yukarıdaki belirtilen açıklamalardan hangilerine ulaşabiliriz?

A) 1 ve 3

B) 2 ve 3

C) 1 ve 2

D) 1, 2 ve 3

8. Güneş, Dünya'mızın tamamını aydınlatmadığı için yarısı gündüz diğer yarısında da gece yaşanır.

Aynı anda hem gece hem de gündüz yaşanmasının nedeni;

I. Güneş'in hareket etmesi

II. Dünya'nın şeklinin yuvarlak olması

III. Güneş ışınlarının yetersiz olması

yukarıdakilerden hangileridir?

A) I ve II

B) Yalnız I

C) Yalnız II

D) II ve III

I. Elma

II. Bal

III. Ekmek

IV. Ayva

V. Yumurta

9. Yukarıdakilerden hangileri bitkisel besinlerdir?

A) I, III ve IV

B) I, III ve V

C) I, II ve IV

D) I, II ve V

10. Aşağıdakilerden hangisi sigaranın zararlarından biri değildir?

A) Cilt zamanla mat ve cansız görünür.

B) Burunda koku alma duyusu artar.

C) Diş eti hastalıklarının oluşmasına sebep olur.

D) Akciğerlerimiz zarar görür

11.

Selim'in öğle yemeği;

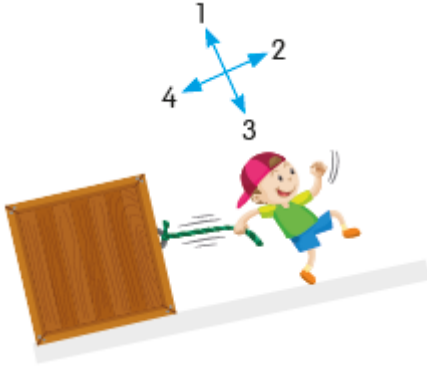
- * Pirinç pilavı
- * Tavuklu patates yemeği
- * Salata
- * Elma

yukarıdaki gibidir.

Yukarıdaki yiyeceklerle beslenen

Selim en fazla hangi besin türünden almıştır?

- A) Protein
- B) Vitamin
- C) Yağ
- D) Karbonhidrat



12. Görsele göre;

I. Çocuk, çekme kuvveti uyguluyor.
II. Cisim 2 numaralı ok yönünde hareket ediyor.

III. Çocuk hızlanan hareket yapar.
yukarıda belirtilen sonuçlardan hangileri doğrudur?

- A) Yalnız II
- B) I ve II
- C) I ve III
- D) I, II ve III

13.

I. Havaalanından kalkan uçak

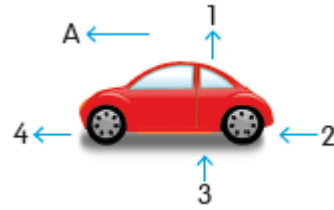
II. Limana yaklaşan gemi

III. Duraktan kalkan otobüs

Yukarıdaki araçların yapacakları hareket türleri hangi seçenekte doğru verilmiştir?



- | | | |
|---------------|------------|------------|
| A) Hızlanan | Yavaşlayan | Hızlanan |
| B) Yavaşlayan | Hızlanan | Yavaşlayan |
| C) Hızlanan | Hızlanan | Yavaşlayan |
| D) Hızlanan | Hızlanan | Yavaşlayan |



14.

A yönünde hareket eden otomobil için, hangisi söylenemez?

- A) 2 numaralı kuvvetin etkisinde hızlanır.
- B) 1 ve 3 numaralı kuvvetlerin etkisinde hızlanır.
- C) 4 numaralı kuvvetin etkisinde hızlanır.
- D) 2 ve 4 numaralı kuvvetlerden hızlanır.



Elimdeki iki mıknatısın uçlarını birbirine yaklaştırdım. Sonra birinin ucunu çevirip tekrar yaklaştırdım. Böylece mıknatısların birbirine uyguladıkları kuvvetleri fark ettim.

15.

Saliha , kuvvetin hangi etkilerini fark etmiştir?

- A) Yön değiştirme - çekme
- B) Döndürme - itme
- C) İtme - çekme
- D) Yön değiştirme - döndürme

SOSYAL BİLGİLER

Bu bölüm 15 Sosyal Bilgiler sorusundan oluşmaktadır. Cevapları soru altlarındaki şıklara

Serkan yufka yürekli, mavi gözlü, utan-
gaç ve hayvan severdir.

1. Serkan'la ilgili verilen bilgilerden hangisi fiziksel özelliğidir?

- A) Yufka yürekli olması.
- B) Mavi gözlü olması.
- C) Utangaç olması.
- D) Hayvan sever olması.

Erkan sokakta yürürken arkasından ken-
disine bir kişi çarpar. Sinirli bir şekilde
arkasına döndüğünde kendisine çarpan
kişinin görme özürlü bir vatandaş oldu-
ğunu fark eder.

**2. Erhan belirtilen durumlarda sırasıyla
hangi duyguları yaşamıştır?**

- A) öfke - utanma
- B) acıma - öfke
- C) üzüntü - acıma
- D) endişe - suçluluk

**3. Aşağıdakilerden hangisi bir insanın nüfus
cüzdanında bulunan bilgilerden değildir?**

- A) Anne ve baba adı
- B) Kan grubu
- C) Yaşadığı şehir
- D) Doğum tarihi

İnsanlar birbirine benzese dahi hiçbir
insanın parmak izi birbirine
benzemez. Aynı şekilde insanların
nüfus cüzdanlarındaki bazı bilgiler
benzeyebilir fakat hiçbir
zaman birbirine benzemez.

**4. Yukarıda verilen boşluğa aşağıdakilerden
hangisi gelirse açıklama doğru olur?**

- A) T.C. kimlik numarası
- B) Anne, baba adı
- C) Doğum yeri
- D) Doğum tarihi

**5. Aşağıdakilerden hangisi milli kültürümüze
ait değildir?**

- A) Havra
- B) Medrese
- C) Türbe
- D) Cami

**6. Oyun ile ilgili aşağıda verilen
ifadelerden
hangisi yanlıştır?**

- A) Eskiden teknoloji gelişmediği için çocuklar el yapımı oyuncaklarla oynardı.
- B) Körebe, beştaş, aşık oyunu günümüzde çokça oynanan oyunlar arasındadır.
- C) Teknolojinin gelişmesi oynanan oyunların da değişmesine neden olmuştur.
- D) Eskiden oyunlar kalabalık arkadaş grubuyla oynanırdı.

SOSYAL BİLGİLER

- I- Nasrettin Hoca geçmişten günümüze taşınan milli kültür öğelerimizdendir.
II- Günümüzde geleneksel çocuk oyunlarının yerini bilgisayar oyunları almıştır.
III- Her bölgenin kendine ait bir yemek kültürü vardır.
VI- Müzeler bizlere geçmiş hakkında bilgiler verir.

7. Yukarıdaki ifadelerden hangileri doğrudur?

- A) I-II-IV B) II-III-IV
C) I-III-IV D) I-II-III-IV

Geçmişte yaşanmış olayların yaşayanlar tarafından sözlü olarak gelecek nesillere aktarılmasına denir.

8. Yukarıdaki cümlede boş bırakılan yere aşağıdakilerden hangisi getirilmelidir?

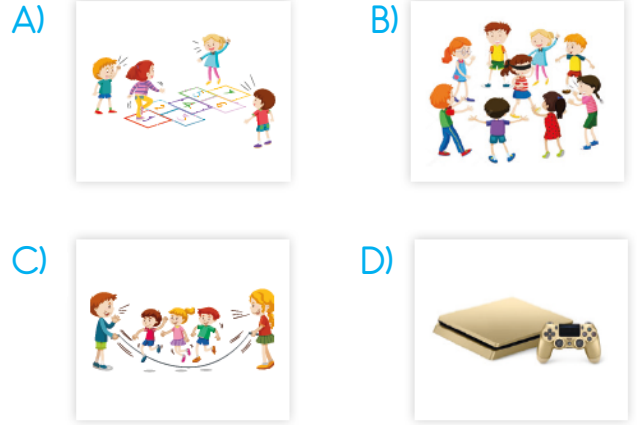
- A) genel tarih B) yazılı tarih
C) sözlü tarih D) Türk tarihi

Milli Mücadele sırasında cephaneye taşırken, ıslanmasını önlemek için cephanenin üzerine kendi battaniyesini örtmüştü ve bebeğine sarılarak onun donmasını engellemiştir.

9. Yukarıda bahsedilen kahraman Türk kadını aşağıdakilerden hangisidir?

- A) Nezahat Onbaşı
B) Şerife Bacı
C) Halide Edip
D) Tayyar Rahmiye

10. Aşağıdakilerden hangisi geçmişte oynayan çocuk oyunlarından biri değildir?



11. Aşağıda verilen tanımlardan hangisi yanlıştır?

- A) Kervansaray: Kervanların ticaret yolları üzerine kurulan konak yerleridir.
B) Cami: İslam dininin ibadet yeridir.
C) Köprü: Aralarında herhangi bir engel bulunan iki yakayı birbirine bağlayan ahşap, beton ya da demir yapıdır.
D) Medrese: Devlet adamlarının veya din alimlerinin mezarlarının bulunduğu oda şeklindeki binadır.

Eski bayramlarda mektuplar yazılır, tebrik kartları gönderilirdi. Günümüzde ise cep telefonlarıyla mesajlar çekiliyor, internetten e-postalar gönderiliyor.

12. Yukarıdaki açıklamayla kültürün hangi yönü vurgulanmıştır?

- A) İnsanları kolaylığa alıştırdığı
- B) Zaman içerisinde değişebildiği
- C) Nesilden nesile aktarıldığı
- D) Yaşantıları olumsuz etkilediği

13. Aşağıdakilerden hangisi Atatürk'ün kişilik özelliklerinden olamaz?

- A) Türk milletini çok sevmesi
- B) Savaş yanlısı olması
- C) Birleştirici ve bütünleştirici olması
- D) Lider olması

I- Cumhuriyetin ilanı

II- Atatürk'ün Samsun'a çıkışı.

III- Çanakkale Savaşı

IV- Meclisin açılması

14. Yukarıdaki olayların kronolojik sıralaması hangi seçenekte doğru olarak verilmiştir?

- A) II-III-IV-I
- B) I-III-IV-II
- C) III-II-IV-I
- D) IV-III-II-I

15. 23 Nisan 1920 tarihinde gerçekleşen tarihi olay hangisidir?

- A) Cumhuriyetin ilanı
- B) Kurtuluş Savaşı'nın başlangıcı
- C) Millet Meclisi'nin açılması
- D) Atatürk'ün Ankara'ya gelişi